


თეორია.On.ge

მართვის მოწმობის გამოცდის ბილეთები



A, A1 კატეგორია



აჭყაა

თემა 1:

მძღოლის, მგზავრის და ქვეითის მოვალეობა,
საცნობი ნიშნები, კონვენცია



Абарт адыргакѳа рѳынтѳа руа иарбан жѳларбжѳаратѳи аитатѳраѳы иѳоу, Қыртѳѳылаѳы ашѳѳѳы иѳаѳу атранспортѳѳ харѳѳага «Ашѳѳѳы иѳазыѳыз аѳѳынѳѳарра чыѳалатѳи адыргѳа»ѳ

1

I

2

II

3

III

განმარტება:

„საგზაო მოძრაობის შესახებ“ საქართველოს კანონის მე-19 მუხლის მე-2 პუნქტის „გ“ ქვეპუნქტის თანახმად, „მარეგისტრირებული სახელმწიფოს განმასხვავებელი ნიშანი“ - საერთაშორისო მოძრაობაში მყოფი საქართველოში რეგისტრირებული სატრანსპორტო საშუალების განმასხვავებელი ნიშანი. ნიშანი არის ელიფსის ფორმის, რომლის ღერძების სიგრძე არანაკლებ 0,175მ X 0,115 მ-ია. ნიშანში ჩაწერილია საქართველოს საერთაშორისო კოდი „GE“. ლათინური ასოების სიმაღლე უნდა იყოს არანაკლებ 0,08 მ-ისა. ისინი გამოსახულია არა ნაკლებ 0,01 მ-ის სიგანის შტრიხებით. ასოები დაიტანება შავი საღებავით თეთრ ფონზე (თეთრი ფონი შეიძლება შექამრეკლი მასალისგან იყოს დამზადებული). სატრანსპორტო საშუალებაზე ნიშანი ისე უნდა დამაგრდეს რომ ის რეგისტრაციის ნომრად (სახელმწიფო სანომრე ნიშნად) არ იქნეს აღთქმული ან არ გაუარესდეს მისი წაკითხვა.

ВОПРОС 2

ПРАВИЛЬНЫЙ ОТВЕТ: 3

Арныкәә амеханикатә транспорттә хархәага арныкәара азин имамЖ

1

Иашьашәалоу арныкәара азин анаанкылоу мацара.

2

Иашьашәалоу арныкәара азин ианимху ма ианаңырху мацара.

3

Иашьашәалоу арныкәара азин аанкылазар, иара убас, азин имырхзар ма иаңырхзар.

განმარტება:

„საგზაო მოძრაობის შესახებ“ საქართველოს კანონის 21-ე მუხლის მე-3 პუნქტის თანახმად, მძღოლს უნდა ჰქონდეს სატრანსპორტო საშუალების მართვისათვის საჭირო აუცილებელი ცოდნა და უნარ-ჩვევები. თუ სატრანსპორტო საშუალების მართვა დასაშვებია მხოლოდ საქართველოს კანონმდებლობით განსაზღვრული წესით შესაბამისი მართვის უფლების მინიჭების შემდეგ, მძღოლს ეკრძალება ამ კატეგორიის ან ქვეკატეგორიის სატრანსპორტო საშუალების მართვა შესაბამისი მართვის უფლების მოპოვების გარეშე, აგრეთვე ამ უფლების შეჩერების, ჩამორთმევის ან შეწყვეტის (გაუქმების) შემთხვევაში.

ВОПРОС 3

ПРАВИЛЬНЫЙ ОТВЕТ: 1

Арныкәә алкогольтә, арфышьыгатә, ма аҭсихотроптәи хархәагала дашьуп хәа агәдара иҭказар, Қырттәыла аҭныцкатәи аускәа рминистрра азинмчы змоу ахаҭы ихәарала, абри арныкәә агәатарақәа дырхысырц ихәтоумаҭ

1

Ихәтоуп

2

Ихәтам

განმარტება:

„საგზაო მოძრაობის შესახებ“ საქართველოს კანონის 21-ე მუხლის მე-16 პუნქტის თანახმად, თუ არსებობს საკმაო საფუძველი, რომ მძღოლი ალკოჰოლური, ნარკოტიკული ან ფსიქოტროპული სიმთვრალის მდგომარეობაშია, მძღოლი ვალდებულია საქართველოს შინაგან საქმეთა სამინისტროს უფლებამოსილი პირის მოთხოვნის საფუძველზე, საქართველოს კანონმდებლობით დადგენილი წესით გაიაროს შემოწმება სიმთვრალე-სიფხიზლის დასადგენად.

ВОПРОС 4

ПРАВИЛЬНЫЙ ОТВЕТ: 3

Атранспорттә хархәага ашәкәы атаѳрей арныкәара азини шыақәзырѳѳәо арныкәаѳ идокументкәа
Қырттәыла аҭақырадгьыл аҿы ирыцзароуп знаҭаҭаѳу аиҭага, адокументкәаЖ

1

Ихартәаамзар ақыртуа нбанкәа рыла, аха
ихартәаазар алатин нбанкәа рыла.

2

Ихартәаамзар алатин нбанкәа рыла, аха
ихартәаазар ақыртуа нбанкәа рыла.

3

Ихартәаамзар ақыртуа ма алатин нбанкәа
рыла.

განმარტება:

„საგზაო მოძრაობის შესახებ“ საქართველოს კანონის 21-ე მუხლის მე-17 პუნქტის „ა“ და „ბ“ ქვეპუნქტების თანახმად, ამ კანონის 54-ე მუხლით განსაზღვრული კატეგორიის ან ქვეკატეგორიის სატრანსპორტო საშუალების მძღოლი ვალდებულია თან იქონიოს, ხოლო საქართველოს შინაგან საქმეთა სამინისტროს უფლებამოსილი პირის მოთხოვნის შემთხვევაში გააჩეროს სატრანსპორტო საშუალება და ამ პირს წარუდგინოს: ა) საქართველოს ტერიტორიაზე იურიდიული ძალის მქონე იმ კატეგორიის ან ქვეკატეგორიის სატრანსპორტო საშუალების მართვის უფლების დამადასტურებელი დოკუმენტი, რომელსაც იგი მართავს, აგრეთვე ამ სატრანსპორტო საშუალების რეგისტრაციის დამადასტურებელი დოკუმენტი (თუ საქართველოს კანონმდებლობით სხვა რამ არ არის გათვალისწინებული); ბ) ამ პუნქტის „ა“ ქვეპუნქტით განსაზღვრული დოკუმენტის/დოკუმენტების სათანადოდ დამონშებული თარგმანი, თუ აღნიშნულ დოკუმენტში/დოკუმენტებში ასახული მონაცემები შესრულებული არ არის ქართული ან ლათინური ასოებით.

ВОПРОС 5

ПРАВИЛЬНЫЙ ОТВЕТ: 1

Амашьына аҭшәма даныкам аамтәзы уи итранспорттә хархәага ала ахәынҭқарратә ахәаа ахысра ма
Қырттәыла аиурисдикция ахьыкам аҭақырадгьыл алаҭара аан, уи арныкәаѳ ари атранспорттә хархәага
амазаара ма ахархәара азин изто ашәкәы имазар ихәтоумаҢ

1

Ихәтоуп

2

Ихәтам

განმარტება:

„საგზაო მოძრაობის შესახებ“ საქართველოს კანონის 21-ე მუხლის მე-17 პუნქტის „გ“ ქვეპუნქტის თანახმად, ამ კანონის 54-ე მუხლით განსაზღვრული კატეგორიის ან ქვეკატეგორიის სატრანსპორტო საშუალების მძღოლი ვალდებულია თან იქონიოს, ხოლო საქართველოს შინაგან საქმეთა სამინისტროს უფლებამოსილი პირის მოთხოვნის შემთხვევაში გააჩეროს სატრანსპორტო საშუალება და ამ პირს წარუდგინოს მოცემული სატრანსპორტო საშუალების ფლობის ან განკარგვის ან მისით სარგებლობის უფლებამოსილების დამადასტურებელი დოკუმენტი -მესაკუთრის არყოფნის შემთხვევაში მისი სატრანსპორტო საშუალებით სახელმწიფო საზღვრის გადაკვეთის ან ქვეყნის იმ ტერიტორიაზე გადასვლის შემთხვევაში, სადაც საქართველოს იურისდიქცია არ ვრცელდება.

ВОПРОС 6

ПРАВИЛЬНЫЙ ОТВЕТ: 3

Апассажира азин имамЖ

1

Еитатца атранспорттә хархәага арныкәаҭ даҭа уск азы ихшыҭзыштыра аиагара

2

Атранспорттә хархәага арныкәаҭ амашына арныкәараҭы иҭырахагара

3

Еитатца атранспорттә хархәага арныкәаҭ даҭа уск азы ихшыҭзыштыра аиагарей атранспорттә хархәага арныкәаҭ амашына арныкәараҭы иҭырахагарей

განმარტება:

„საგზაო მოძრაობის შესახებ“ საქართველოს კანონის 23-ე მუხლის მე-2 პუნქტის „ა“ და „ბ“ ქვეპუნქტების თანახმად, მგზავრს ეკრძალება: ა) მოძრავი სატრანსპორტო საშუალების მართვისას მძღოლის ყურადღების სხვა რამეზე გადატანა; ბ) მძღოლისათვის სატრანსპორტო საშუალების მართვაში ხელის შეშლა.

ВОПРОС 7

ПРАВИЛЬНЫЙ ОТВЕТ: 3

Амҭасыртә даналало ашыакауаҭЖ

1

Излауа ала игҭеанызароуп

2

Атранспорттә хархәагакәа реитатра мзызда даҭырахагамхароуп

3

Излауа ала игҭеанызароуп, иара убас, атранспорттә хархәагакәа реитатра мзызда даҭырахагамхароуп

განმარტება:

„საგზაო მოძრაობის შესახებ“ საქართველოს კანონის 24-ე მუხლის პირველი პუნქტის თანახმად, გარდა ამ კანონით გათვალისწინებული შემთხვევებისა ქვეითმა გადაადგილებისათვის არ უნდა ისარგებლონ სავალი ნაწილით. სავალ ნაწილზე გადაადგილებისას მან უნდა გამოიჩინოს მაქსიმალური სიფრთხილე, უსაფუძვლოდ არ უნდა შეაფერხოს და არ უნდა გააძნელოს სატრანსპორტო საშუალებების მოძრაობა.

ВОПРОС 8

ПРАВИЛЬНЫЙ ОТВЕТ: 1

Амѡахѡастеи ашьаѡамѡеи иѡамзар, ма урт рхархѡаразы алшара ыѡамзар, ашьаѡауаѡ амѡасырта
далалар ма дазааигѡахар каломаѢ

1

Иѡалоит

2

Иѡалом

განმარტება:

„საგზაო მოძრაობის შესახებ“ საქართველოს კანონის 24-ე მუხლის მე-4 პუნქტის თანახმად, ქვეითთა ბილიკის, ტროტუარისა და გზისპირის არარსებობის ან მათი გამოყენების შეუძლებლობის შემთხვევაში ქვეითს შეუძლია გადაადგილდეს გზის სავალ ნაწილზე. თუ არსებობს ველობილიკი და მოძრაობის ინტენსივობა ამის საშუალებას იძლევა, ქვეითს უფლება აქვთ გადაადგილდეს მასზე, თუმცა არ უნდა გაართულოს ველოსიპედებისა და მოპედების მოძრაობა. ამავე მუხლის მე-6 პუნქტის თანახმად, ამ მუხლის მე-2, მე-4 და მე-5 პუნქტებით გათვალისწინებულ შემთხვევებში ქვეითი გზის სავალ ნაწილზე გადაადგილებისას უნდა იმყოფებოდეს სავალი ნაწილის კიდეგან რაც შეიძლება ახლოს.

ВОПРОС 9

ПРАВИЛЬНЫЙ ОТВЕТ: 2

Амѡа ахысыртаѡы ашьаѡауаа рзы иазѡхьагѡаѡу алашарбага ыѡамзар ма аус амуазар, аха
атранспорттѡ хархѡагаѡаа реитатра атранспорттѡ лашарбагала еиѡѡаазар, ашьаѡауаѡ амѡасырташѡа
диасроупѢ

1

Иааигѡахо атранспорттѡ хархѡаганѡа шаѡа
ибѡьюуи, уи аласреи игѡатаны, амѡа ахысра
ишшѡартам агѡра нигалак

2

Алашарбага ма аиѡѡაаѡ абри амѡасыртаѡы
атранспорттѡ хархѡагаѡаа реитатра калоиѡ
хѡа ардырга картѡაанѡа

განმარტება:

„საგზაო მოძრაობის შესახებ“ საქართველოს კანონის 24-ე მუხლის მე-7 პუნქტის „ბ“ ქვეპუნქტის თანახმად, ქვეითთა გადასასვლელზე გადასვლისას, თუ გადასასვლელზე არ არსებობს, ან არ მუშაობს ქვეითთათვის განკუთვნილი შექნიშანი, მაგრამ სატრანსპორტო საშუალებათა მოძრაობის რეგულირება ხორციელდება სატრანსპორტო შექნიშნით მეშვეობით, ქვეითი არ უნდა გადავიდეს გზის სავალ ნაწილზე, ვიდრე შექნიშნის ან მარეგულირებლის სიგნალები ამ სავალ ნაწილზე სატრანსპორტო საშუალებათა მოძრაობის უფლებას იძლევა.

ВОПРОС 10

ПРАВИЛЬНЫЙ ОТВЕТ: 2

Амდөихысыртаҕы ашыакауаа рхысырта иҕамзар, ашыакауаа амдөасырта иахысроупЖ

1

Инеир иахыртаху атыҕ аҕынҕа иҕаҕзоу
атраектория мацарала

2

Ашыаҕамдөа ма аварахытәи аҕааҕа
иаваршәны

განმარტება:

„საგზაო მოძრაობის შესახებ“ საქართველოს კანონის 24-ე მუხლის მე-8 პუნქტის თანახმად, ქვეითმა გზის სავალი ნაწილი უნდა გადაკვეთოს ქვეითთა გადასასვლელზე, მათ შორის, მიწისზედა და მიწისქვეშა გადასასვლელებზე, ხოლო მათი არარსებობის შემთხვევაში – გზაჯვარედინზე, ტროტუარის ან გვერდულის გასწვრივ.

ВОПРОС 11

ПРАВИЛЬНЫЙ ОТВЕТ: 3

Амдәтә атранспорттә хтыс иалахәу арныҕәәд иуалупЖ

1

Ихҕмырҕыакәә атранспорттә хархәага
ааникылароуп Җатыҕаҕынтә деитатыр
каломҢ

2

Амашәыртә алашаратә ардырга иаҕеикроуп

3

Ихҕмырҕыакәә атранспорттә хархәага
ааникылароуп Җатыҕаҕынтә деитатыр
каломҢ, иара убас, амашәыртә алашаратә
ардырга иаҕеикроуп

განმარტება:

„საგზაო მოძრაობის შესახებ“ საქართველოს კანონის 27-ე მუხლის პირველი პუნქტის „ა“ ქვეპუნქტის თანახმად, საგზაო-სატრანსპორტო შემთხვევაში მონაწილე მძღოლი ვალდებულია დაუყოვნებლივ გააჩეროს (არ დაძრას ადგილიდან) სატრანსპორტო საშუალება, ჩართოს საავარიო ზუქური სიგნალიზაცია.

Амбათә атранспорттә хтыс иалахәу арныкәаф иуалупЖ

1

Иатаху зегы каитцароуп амашәыр
ихыыкалаз атыџаџы аитатцра ашәартадара
аикәыршәаразы

2

Амашәыр иахыыкалаз атыџаџы ак аџсахреи,
атакџхыкәра ашыақәыргыларазы кырзџазкәа
ашыатакәа рықәхреи акынтә ие
ааникылароуп

3

Ашахатцәа рыжәлакәа ианитцароуп

4

Абри абилет аџы еикәыџхьажоу
атагылазаашыақәа зегы наигџароуп.

განმარტება:

„საგზაო მოძრაობის შესახებ“ საქართველოს კანონის 27-ე მუხლის პირველი პუნქტის „დ“ ქვეპუნქტის თანახმად, საგზაო-სატრანსპორტო შემთხვევაში მონაწილე მძღოლი ვალდებულია მიიღოს ზომები საგზაო-სატრანსპორტო შემთხვევის ადგილზე მოძრაობის უსაფრთხოების უზრუნველსაყოფად, მოერიდოს შემთხვევის ადგილზე რაიმეს შეცვლას ან იმ ნაკვალევის განადგურებას, რომელიც შესაძლოა სასარგებლო იყოს პასუხისმგებლობის დასადგენად, ჩაიწეროს თვითმხილველთა გვარები.



Иарбоу амѡа амѡаргѡѡа шаѡа амоузеиѢ

1

Акы

2

ѡѡа

3

Хѡѡа

4

Ѣѡѡѡѡа

განმარტება:

„საგზაო მოძრაობის შესახებ“ საქართველოს კანონის 5-ე მუხლის მე-15 პუნქტის თანახმად, გზის სავალი ნაწილი (სავალი ნაწილი) არის გზის ელემენტი, რომელიც განკუთვნილია ურელსო სატრანსპორტო საშუალებების მოძრაობისათვის (გარდა ტროტუარისა, გვერდულისა, ველობილიკისა და ქვეითთა ბილიკისა). ამავე მუხლის მე-12 პუნქტის თანახმად, გზა არის მოძრაობისათვის გახსნილი გზის ან ქუჩის მთელი ზედაპირი. გზას შეიძლება ჰქონდეს როგორც ერთი სავალი ნაწილი, ასევე რამოდენიმე, გამოყოფი ბოლით მკვეთრად გამიჯნული, ან სხვადასხვა დონეზე არსებული სავალი ნაწილები. ეს ტერმინი შეიძლება მოიცავდეს ტრამვაის ლიანდაგს, ტროტუარს, გვერდულას, გამყოფ ბოლსა და ველობილიკს.



Иарбоу амѡа амѡасыртақѡа шака амоузеиѢ

1

Акы

2

ѡба

3

Ѣшьба

განმარტება:

„საგზაო მოძრაობის შესახებ“ საქართველოს კანონის 5-ე მუხლის მე-15 პუნქტის თანახმად, გზის სავალი ნაწილი (სავალი ნაწილი) არის გზის ელემენტი, რომელიც განკუთვნილია ურელსო სატრანსპორტო საშუალებების მოძრაობისათვის (გარდა ტროტუარისა, გვერდულისა, ველობილიკისა და ქვეითთა ბილიკისა). ამავე მუხლის მე-12 პუნქტის თანახმად, გზა არის მოძრაობისათვის გახსნილი გზის ან ქუჩის მთელი ზედაპირი. გზას შეიძლება ჰქონდეს როგორც ერთი სავალი ნაწილი, ასევე რამოდენიმე, გამოყოფი ზოლით მკვეთრად გამიჯნული, ან სხვადასხვა დონეზე არსებული სავალი ნაწილები. ეს ტერმინი შეიძლება მოიცავდეს ტრამვაის ლიანდაგს, ტროტუარს, გვერდულას, გამყოფ ზოლსა და ველობილიკს.

ВОПРОС 15

ПРАВИЛЬНЫЙ ОТВЕТ: 3

Арныкәә имеханикатә машына ааныжыны дцар илшоит инаигзарЖ

1

Амәатә амашәыр аҭацәыхьчара амзызла агәҭанызаара ихымҭадоу аҭагылазаашьақәа зегьы

2

Амашына азинда ахархәара амоурц азы ихымҭадоу аҭагылазаашьақәа

3

Амәатә амашәыр аҭацәыхьчара амзызла агәҭанызаара ихымҭадоу аҭагылазаашьақәәи, иара убас, амашына азинда ахархәара амоурц азы ихымҭадоу аҭагылазаашьақәәи

განმარტება:

„საგზაო მოძრაობის შესახებ“ საქართველოს კანონის 37-ე მუხლის მე-8 პუნქტის თანახმად, მძღოლმა არ უნდა დატოვოს თავისი სატრანსპორტო საშუალება, თუ არ მიიღებს სიფრთხილის ყველა აუცილებელ ზომას საგზაო-სატრანსპორტო შემთხვევის თავიდან ასაცილებლად, ამასთანავე, მექანიკური სატრანსპორტო საშუალების შემთხვევაში მიღებული უნდა იქნეს ყველა ზომა, რათა ის უნებართვოდ არ იქნეს გამოყენებული.

ВОПРОС 16

ПРАВИЛЬНЫЙ ОТВЕТ: 3

Ашыакауаа рхысырта далалаанза, арныкәә агәра игароупЖ

1

Ахысырта шҭаам

2

Ахысыртаҭы еиҭынгылоу ахырхарҭақынҭә даәа транспорттә хархәагак ишеитамҭуа

3

Уи аҭы даанымгылар ада ҭуыхәа имамкәа дшыҭамло

განმარტება:

„საგზაო მოძრაობის შესახებ“ საქართველოს კანონის 25-ე მუხლის მე-6 პუნქტის თანახმად, მძღოლი არ უნდა შევიდეს ქვეითთა გადასასვლელზე, თუ წინასწარ არ დაურწმუნდება, რომ ის იძულებული არ გახდება გაჩერდეს მასზე.

ВОПРОС 17

ПРАВИЛЬНЫЙ ОТВЕТ: 2

Апыжәара иаанагоитЖ

1

Амәатә аитатра алахәыла иуал, амәатә аитатра егырт алахәалацәа иаалыркьаны аласра ма ахырхарта рымҕсахырц ада ҕсыхәа рызымто аманиовр анамҕзаразы

2

Амәатә аитатра алахәыла изин, амәатә аитатра егырт алахәылацәа раҕхьа дызну ахырхартала аитатразы

განმარტება:

„საგზაო მოძრაობის შესახებ“ საქართველოს კანონის 5-ე მუხლის 84-ე პუნქტის თანახმად, უპირატესობა (პრიორიტეტი) – საგზაო მოძრაობის მონაწილის უფლება, სხვა საგზაო მოძრაობის მონაწილეებთან შედარებით პირველმა იმოძრაოს დასახული მიმართულებით.

ВОПРОС 18

ПРАВИЛЬНЫЙ ОТВЕТ: 1

«Алаҕшбара иазхом» хәа иҕхьаҕоуп ахапкылтәа ахысра аан, ианылашьцоу, анаҕәеи, ақәоуреи, асоуреи раан, ма егырт аҕсабаратә цәырцрақәа раан алаҕшбара аитатәраЖ

1

300 метрак еитцу абҕьазараҕы

2

500 метрак еитцу абҕьазараҕы

3

600 метрак еитцу абҕьазараҕы

განმარტება:

„საგზაო მოძრაობის შესახებ“ საქართველოს კანონის 5-ე მუხლის მე-7 პუნქტის თანახმად, არასაკმარისი ხილვადობა – გვირაბში გავლისას, დღე-ღამის ბნელ დროს, ნისლის, წვიმის, თოვის და სხვა ბუნებრივი მოვლენების დროს გზის ხილვადობის 300 მეტრზე ნაკლებ მანძილზე შემცირება.

ВОПРОС 19

ПРАВИЛЬНЫЙ ОТВЕТ: 3

«Аიკეშარატე ცაახა» აუპჯ

1

Абжыаапынтэ, арельскэа змам атранспорттэ хархэагакэа реитатпразы рхы иадырхэо амѡа ацыпцэаха

2

Иаваршэны ицо, амѡатэ азгэатала иазгэатоу ма иазгэатам иарбанзаалак ацэахэа, амѡасырта иалагар иахыыкало атып иаваршэны иалдоу ацэахэакэа ркынтэ руақы

3

Аибыташыа ала иалкаау амѡа аелемент, еиду амѡасыртакэа еикэнашоит, арельскэа змам атранспорттэ хархэагакэа уи иакэланы изеитатцуам

განმარტება:

„საგზაო მოძრაობის შესახებ“ საქართველოს კანონის 5-ე მუხლის მე-9 პუნქტის თანახმად, გამყოფი ზოლი – კონსტრუქციულად გამოყოფილი გზის ელემენტი, რომელიც ყოფს მომიჯნავე სავალ ნაწილებს და არ არის განკუთვნილი მასზე ურელსო სატრანსპორტო საშუალების მოძრაობისათვის.

ВОПРОС 20

ПРАВИЛЬНЫЙ ОТВЕТ: 4

Амѡасырта ада, ტაკა იარბოу аелементкэа ркынтэ руа იარбан амѡа иატანაკეაჲ

1

Атрамваи арельскэеи ашыакамѡакэеи мацара

2

Афыкэკэеи, аиკэшаратэ цэахэакэеи мацара

3

Авеломѡახэастакэа мацара

4

Атрамваи, арельскэеи, ашыакамѡакэеи, афыкэკэеი, аიკэшаратэ цэахэакэеი, იარა убас, авеломѡახэастакэеи

განმარტება:

„საგზაო მოძრაობის შესახებ“ საქართველოს კანონის 5-ე მუხლის მე-12 პუნქტის თანახმად, გზა - მოძრაობისათვის გახსნილი გზის ან ქუჩის მთელი ზედაპირი. გზას შეიძლება ჰქონდეს როგორც ერთი სავალი ნაწილი, ისე რამოდენიმე, გამოყოფი ზოლით მკვეთრად გამიჯნული, ან სხვადასხვა დონეზე არსებული სავალი ნაწილები. ეს ტერმინი შეიძლება მოიცავდეს ტრამვაის ლიანდაგს, ტროტუარს, გვერდულას, გამყოფ ზოლსა და ველობილიკს.

ВОПРОС 21

ПРАВИЛЬНЫЙ ОТВЕТ: 1

«Амდөихысырта» аупЖ

1

Аџазарак аџы амџакџа реиџтџара,
реидылара, ма реидытџра, абри еиџш
аиџтџарей, аидтџарей, аидытџрей рыла иџтџоу
атџакыра налатџаны

2

Иаџну атакырақџа рџкынтџ алтыртақџей
амџакџей реиџтџара

3

Еиуеиџшым аџазарақџа рџы иџоу
амџасыртақџа реиџтџара

განმარტება:

„საგზაო მოძრაობის შესახებ“ საქართველოს კანონის 5-ე მუხლის მე-13 პუნქტის თანახმად, გზატკარედინი - ერთ დონეზე გზების კვეთა, შეერთება ან განშტოება, ასეთი კვეთით, შეერთებით ან განშტოებით წარმოქმნილი ტერიტორიების ჩათვლით. გზატკარედინად არ ითვლება მიმდებარე ტერიტორიებიდან გამომავალი გამოსასვლელების გზებთან კვეთა.

ВОПРОС 22

ПРАВИЛЬНЫЙ ОТВЕТ: 3

«Анхартатџ пункт» аупЖ

1

Ауаа иахьынхо, иарбанзаалак атакырадгьыл

2

Иарбанзаалак амџа, ашьаџауаа реитатџра
иазку

3

Зылалартей зтытыртеи иашьашџалоу амџатџ
дырғақџа рыла иазгџатџоу, аргыларакџа
иахьыџоу атакырадгьыл

განმარტება:

„საგზაო მოძრაობის შესახებ“ საქართველოს კანონის 5-ე მუხლის მე-17 პუნქტის თანახმად, დასახლებული პუნქტი - განაშენიანებული ტერიტორია, სადაც შესასვლელი და გამოსასვლელი აღნიშნულია შესაბამისი საგზაო ნიშნებით.

ВОПРОС 23

ПРАВИЛЬНЫЙ ОТВЕТ: 3

«Зინ იყო ამაქსიმალტე მასა» აუპჯ

1

Атранспорттэ хархэага акапан, арныкэафи, апассажирецэи, аидареи рыда, аха абылтэы ататцэах назеи ихымҭадоу аматэахэкэа ркомплекти рыла

2

Итзыжыыз азауад ала ихэаакэцоу аттранспорттэ хархэага акапан, арныкэафи, апассажирецэи, аидареи рыда

3

Иазгэатоу аамтазы аидара зкэу аттранспорттэ хархэага афакттэ акапан, арныкэафи апассажирецэи рыкапан налатцаны

განმარტება:

„საგზაო მოძრაობის შესახებ“ საქართველოს კანონის 5-ე მუხლის მე-18 პუნქტის თანახმად, დატვირთული მასა (ფაქტობრივი მასა) - მოცემულ დროის მონაკვეთში დატვირთული სატრანსპორტო საშუალების ფაქტობრივი მასა, მძღოლისა და მგზავრების ჩათვლით.

ВОПРОС 24

ПРАВИЛЬНЫЙ ОТВЕТ: 1

«Акэыңѣѣара змам амасса» аупж

1

Итзыжыыз азауад ала ихэаакэцоу аттранспорттэ хархэага акапан, арныкэафи, апассажирецэи, аидареи рыда, аха абылтэы ататцэах назеи ихымҭадоу аматэахэкэа ркомплекти рыла

2

Иазгэатоу аамтазы аидара зкэум аттранспорттэ хархэага афакттэ акапан, арныкэафи апассажирецэи рыкапан налатцаны

3

Ашэкэытаѣратэ матцура ала ихэаакэцоу аттранспорттэ хархэага акапан, арныкэафи, апассажирецэи, аидареи рыда

განმარტება:

„საგზაო მოძრაობის შესახებ“ საქართველოს კანონის 5-ე მუხლის მე-19 პუნქტის თანახმად, დაუტვირთავი მასა (დაუტვირთავი წონა) - ქარხანა-დამამზადებელის მიერ განსაზღვრული სატრანსპორტო საშუალების მასა მძღოლის, მგზავრებისა და ტვირთის გარეშე, მაგრამ სანავის სრული მარაგისა და ხელსაწყოების აუცილებელი კომპლექტის ჩათვლით.

ВОПРОС 25

ПРАВИЛЬНЫЙ ОТВЕТ: 3

«Илашьцоу аамта» иаанагоитЖ

1

Аамта абжызаара асаат 18 инаркны асаат 24нза

2

Аамта абжызаара ашамта инаркны амра аташамтанза

3

Аамта абжызаара амра аташамта инаркны ашамтанза

განმარტება:

„საგზაო მოძრაობის შესახებ“ საქართველოს კანონის 5-ე მუხლის 21-ე პუნქტის თანახმად, დღე-ღამის ბნელი დრო - დროის შუალედი დაბინდებიდან გათენებამდე.

ВОПРОС 26

ПРАВИЛЬНЫЙ ОТВЕТ: 1

«Иаџну атакырадгьыл» аупЖ

1

Амџа иаду, атранспорттџ хархџаага аитатцразы иазџхьагџатџ атакырадгьыл
 Ђагџара, анхартатџ массив, авторгыларта, абылтџытџатџарта, аусхџартџа, уб. егьы.Ѓ

2

Арельскџа зџам атранспорттџ хархџаага аитатцразы иазџхьагџатџоу амџа аелемент
 Ђџашьаџамџеи, амџа агџანი, авеломџахџыстџеи, ашьаџауаа рымџахџастџеи
 рыдаЃ

3

Аџаџарџаџ аџы амџаџџа რეიџტџარა, რეიџдыლარა, მა რეიџдыტრა, აბრი еиџџш
 аиџტџარეи, аидტარეи, аидыტრეи рыла иџტџоу
 атакыრა налатџаны

განმარტება:

„საგზაო მოძრაობის შესახებ“ საქართველოს კანონის 5-ე მუხლის 38-ე პუნქტის თანახმად, მიმდებარე ტერიტორია - ტერიტორია, რომელიც უშუალოდ გზას ეკვრის და არ არის განკუთვნილი სატრანსპორტო საშუალების გამჭოლი მოძრაობისათვის (ეზო, საცხოვრებელი მასივი, ავტოსადგომი, ბენზინგასამართი სადგური, დაწესებულება და სხვა)

ВОПРОС 27

ПРАВИЛЬНЫЙ ОТВЕТ: 3

„Аитатцратә цәахәа“ аупЖ

1

Аиҕкаашыала иалкаау, еиырхоу
амҕасыртакәа рейкәшаратә амҕа аелемент

2

Аитатцразы иаарту амҕа ақәыпшылары зегьы

3

Амҕапысра иалагар излалшо иарбанзаалак
атәахәа, амотоцикл еиҕшым автомобилтә
транспорт цәахәак икәгыланы реитатцразы
иазхаша аура змоу, аноурылатә амҕатә
азгәатала иазгәатоу ма иазгәатам

განმარტება:

„საგზაო მოძრაობის შესახებ“ საქართველოს კანონის 5-ე მუხლის 45-ე პუნქტის თანახმად, „მოძრაობის ზოლი“ - გრძივი საგზაო მონიშვნის საშუალებით მონიშნული ან მოუნიშნავი ნებისმიერი ზოლი იმ გრძივი ზოლებიდან, რომლებიდანაც შეიძლება დაიყოს სავალი ნაწილი, მაგრამ რომელსაც აქვს მოტოციკლისაგან განსხვავებული საავტომობილო ტრანსპორტის ერთ რიგში მოძრაობისათვის საკმარისი სიგანე.

ВОПРОС 28

ПРАВИЛЬНЫЙ ОТВЕТ: 3

„Ззин иҕоу амақсималтә масса“ аупЖ

1

Ихәаакәтоу аамтатә цыҕцәахаҕы аидара
зқәу атранспорттә хархәага афакттә акапан,
арныкәаи апассажирецәи рыкапан
налатцаны

2

Аидареи апассажирецәи рыла итәу, еибытоу
атранспорттә хархәага акапан, уи
атранспорттә хархәага итзыжыыз азауад ала
ишыақәгылоуп

3

Атранспорттә хархәага ашәкәы иахьтаѳу,
иашьашәалоу ахәынтқарратә орган аҕынтә
азин амоуп хәа ишыақәгылоу, аидара зқәу
атранспорттә хархәага амақсималтә акапан

განმარტება:

„საგზაო მოძრაობის შესახებ“ საქართველოს კანონის 5-ე მუხლის 52-ე პუნქტის თანახმად, „ნებადართული მაქსიმალური მასა“ (დასაშვები წონა) - დატვირთული სატრანსპორტო საშუალების მაქსიმალური მასა, რომელიც დასაშვებად არის გამოცხადებული იმ სახელმწიფოს კომპეტენტური ორგანოს მიერ, რომელშიც დარეგისტრირებულია სატრანსპორტო საშუალება.

ВОПРОС 29

ПРАВИЛЬНЫЙ ОТВЕТ: 2

„Иласым ატრანსპორტტე ხარხააგა“ აუპჯ

1

Зконструктивтә аласра сааткала 45км. еихам, арныкәага змоу ма измам аტრანსპორტტә хархәага

2

Зконструктивтә аласра сааткала 40км. еихам, ма ари аласра аихатәразы алшара змам, ма аტრანსპორტტә хархәагакәа реишьтагыла иадхәалам амзызқәа ирыхкәаны еихау аласрала аныкәара азин змам, арныкәага змоу аტრანსპორტტә хархәага

3

Сааткала 50км. еихам аласрала амѡаѡы еიტаѡуа иარбанзаалак аტრანსპორტტә хархәага

განმარტება:

„საგზაო მოძრაობის შესახებ“ საქართველოს კანონის 5-ე მუხლის 53-ე პუნქტის თანახმად, „ნელმავალი სატრანსპორტო საშუალება“ - ძრავიანი სატრანსპორტო საშუალება, რომლის კონსტრუქციული სიჩქარე არ აღემატება 40 კმ/სთ-ს ან რომელიც აღნიშნულ სიჩქარეს ვერ აჭარბებს ან ევრძალება გადაჭარბება ისეთი მიზეზით, რომელიც არ არის დაკავშირებული სატრანსპორტო საშუალებათა ნაკადებთან.

ВОПРОС 30

ПРАВИЛЬНЫЙ ОТВЕТ: 2

„Амаршруттә аტრანსპორტტә хархәага“ აუპჯ

1

Арныкәаѡ итәарტа наламтқәа, 16 еиханы атәарტқәа змоу, иარбанзаалак автобус

2

Апассаѡирцәа рымѡангара иазку, ишьақәгылоу амаршрут ала еიტаѡуа аტრანსპორტტә хархәага

3

Аидара амѡангара ма апассаѡирцәа рымѡангара иазку иარбанзаалак аტრანსპორტტә хархәага

განმარტება:

„საგზაო მოძრაობის შესახებ“ საქართველოს კანონის 5-ე მუხლის 67-ე პუნქტის თანახმად, „სამარშრუტო სატრანსპორტო საშუალება“ - გზაზე მგზავრთა გადასაცვანად განკუთვნილი, დადგენილი მარშრუტით მოძრავი სატრანსპორტო საშუალება.

ВОПРОС 31

ПРАВИЛЬНЫЙ ОТВЕТ: 1

„Ашыакамџа“ аупЖ

1

Амџасырта иаду, ма аиџаашьала уи
иаџыџуа, ашыакауаа реитатџразы
иазџхьагџаџу амџа аелемент

2

Ашыакауаа реитатџразы иазџхьагџаџу, амџа
иаџыџуа амџахџаста

3

Ашыакауаа реитатџа иазку иарбанзаалак
амџа

განმარტება:

„საგზაო მოძრაობის შესახებ“ საქართველოს კანონის 5-ე მუხლის 83-ე პუნქტის თანახმად, „ტროტუარი“ - გზის ელემენტი, რომელიც მიერთებულია სავალ ნაწილთან ან გამოყოფილია მისგან კონსტრუქციულად ან გაზონით და განკუთვნილია ქვეითის მოძრაობისათვის.

ВОПРОС 32

ПРАВИЛЬНЫЙ ОТВЕТ: 2

„Ашыакауаа рымџахџаста“ аупЖ

1

Амџасырта иаду, ашыакауаа реитатџа иазку
амџа аелемент

2

Амџа иаџыџуа, ашыакауаа реитатџа иазку
амџахџаста. Ашыакауаа рымџахџаста
иашьашџалоу амџათџ дыргала иазგџათазар
ჯალიტ

3

Ашыакауаа реитатџа иазку, амџа
иარбанзаалак აცџყტџაха

განმარტება:

„საგზაო მოძრაობის შესახებ“ საქართველოს კანონის 5-ე მუხლის 85-ე პუნქტის თანახმად, „ქვეითთა ბილიკი“ - ქვეითთა მოძრაობისათვის განკუთვნილი, გზისგან განცალკევებული ბილიკი. ქვეითთა ბილიკი შეიძლება აღნიშნული იქნეს შესაბამისი საგზაო ნიშნით.

ВОПРОС 33

ПРАВИЛЬНЫЙ ОТВЕТ: 2

„Алаფшбара цэгъа“ аупЖ

1

Ахапкылтѣа ахысра аан, ианылашыцоу аамтазы, ақѣоура, асоура ма даѣа аѣсабаратѣ цѣыртрак аан 300 метрак еитѣу абѣазаараѣы амѣа алаѣшбара аитатѣра

2

Аѣѣрта кѣаѣ, ахаларта антѣамта, аиатѣара, амѣа аѣыкѣ иқѣгылоу ахыбра ма амѣаѣ иқѣоу аѣынгыла аитатѣра ахырхартала амѣа алаѣшбара еитартѣеит, убри ақынтѣ, амѣа абри аѣыѣѣахаѣы ззин иқѣоу амаксималтѣ аласрала аитатѣра ишѣартахар алшоит.

განმარტება:

„საგზაო მოძრაობის შესახებ“ საქართველოს კანონის 5-ე მუხლის 89-ე პუნქტის თანახმად, „შეზღუდული ხილვადობა“ - გარემოება, რომლის დროსაც მოკლე მოსახვევი, აღმართის დასასრული, გამწვანება, გზისპირა ნაგებობა ან გზაზე არსებული დაბრკოლება მოძრაობის მიმართულებით გზის ხილვადობას ისე ამცირებს, რომ აღნიშნულ გზის მონაკვეთზე ნებადართული მაქსიმალური სიჩქარით მოძრაობამ შეიძლება საფრთხე წარმოშვას.

ВОПРОС 34

ПРАВИЛЬНЫЙ ОТВЕТ: 4

Цѣаа еиқѣыѣхѣаѣоу атранспорттѣ хархѣагақѣа рқынтѣ руа иарбан амеханикатѣ атранспорттѣ хархѣагаѣ

1

Ѣегѣжык змоу аелектро ахаланықѣа

2

Амопѣди уи еиѣшу атранспорттѣ хархѣагақѣеи

3

Атрамваи

4

Абри абилѣт аѣы еиқѣыѣхѣаѣоу рқынтѣ аѣѣгы.

განმარტება:

„საგზაო მოძრაობის შესახებ“ საქართველოს კანონის 5-ე მუხლის 35-ე პუნქტის თანახმად, „მექანიკური სატრანსპორტო საშუალება“ - ძრავიანი (თვითმავალი) სატრანსპორტო საშუალება, გარდა ორბორბლიანი ელექტროთვითმგორავისა, მოპედისა და მასთან გათანაბრებული სხვა სატრანსპორტო საშუალებისა, აგრეთვე სალიანდაგო სატრანსპორტო საშუალებისა.

ВОПРОС 35

ПРАВИЛЬНЫЙ ОТВЕТ: 4

Цақа еиқәыпхьажоу атагылазашьақәа ркынтә, руа иарбан атранспорттә хархәага иарбанзаалак ахәынтқарра ацакырадгьыл ағы «жәларбжыаратәи аитатра»-еҕы икоуп хәа ианырыпхьажоҕ

1

Уи зтәу афизикатә ма аиуристтә хәҕы инхартатып ахәынтқарра нхыт иказар

2

Уи абри ахәынтқарраҕы ашәкәы итаҕымзар

3

Уи аамтала атәыла иалагалазар, аха абри ахәынтқарра азакәанҕцарала ишыақәгылоу аҕхәара иахымгақәа

4

Абри абилет ағы еиқәыпхьажоу атагылазашьақәа зегьы раан.

განმარტება:

„საგზაო მოძრაობის შესახებ“ საქართველოს კანონის 5-ე მუხლის 66-ე პუნქტის თანახმად, საერთაშორისო მოძრაობა – რომელიმე სახელმწიფოს ტერიტორიაზე მყოფი სატრანსპორტო საშუალება საერთაშორისო მოძრაობაში მყოფად მიიჩნევა, თუ იგი: ა) ეკუთვნის ფიზიკურ ან იურიდიულ პირს, რომელსაც ჩვეულებრივი საცხოვრებელი ადგილი ამ სახელმწიფოს გარეთ აქვს; ბ) არ არის რეგისტრირებული ამ სახელმწიფოში; გ) ამ სახელმწიფოში შეტანილია დროებით, მაგრამ არაუმეტეს მისი კანონმდებლობით დადგენილი ვადისა. შენიშვნა: სატრანსპორტო საშუალებათა შემადგენლობა საერთაშორისო მოძრაობაში მყოფად მიიჩნევა, თუ მასში შემავალი თუნდაც ერთი სატრანსპორტო საშუალება აკმაყოფილებს ამ პუნქტით განსაზღვრულ მოთხოვნებს.

ВОПРОС 36

ПРАВИЛЬНЫЙ ОТВЕТ: 2

“Атранспорттә хархәага” аупЖ

1

Амҕаҕы еитатҕа ма уи ағы аитатра иазку, амҕаҕы аҕаапсыра рымҕангара ма аидара амҕангаразы иазпхьагәатоу, арныкәага змоу ахархәага

2

Арныкәагала ма даҕа мчыкала иныкәо, амҕаҕы еитатҕа ма уи ағы аитатра иазку ахархәага

განმარტება:

„საგზაო მოძრაობის შესახებ“ საქართველოს კანონის 5-ე მუხლის 73-ე პუნქტის თანახმად, „სატრანსპორტო საშუალება“ - გზაზე მოძრავი ან გზაზე მოძრაობისათვის განკუთვნილი მონწყობილობა, რომელიც ძრავას ან სხვა ძალის მეშვეობით გადაადგილდება.

ВОПРОС 37

ПРАВИЛЬНЫЙ ОТВЕТ: 3

Атრანспорттә хархәага “амасса наза” аупЖ

1

Атრანспорттә хархәага акапан аекипажи, апассажицәеи, аидареи рыда

2

Иарбоу аамта ацыпцәахафы, аидара зкәу атрანспорттә хархәагеи, аекипажи, апассажицәеи рыкапан

3

Аидареи, аекипажи, апассажицәеи рыла итәу, еибытаны икоу атрანспорттә хархәага акапан, уи ахәаа ишыакәнаргылоит атрანспорттә хархәага итзыжыуа азауад

4

Алыра акәыңәәра иалтшәаны амәа акәыңәәра зхыләаауа атрანспорттә хархәага амасса хәтак

განმარტება:

„საგზაო მოძრაობის შესახებ“ საქართველოს კანონის 5-ე მუხლის მე-80 პუნქტის თანახმად, „სრული მასა“ - ტვირთით, მძღოლითა და მგზავრებით შევსებული, აღჭურვილ მდგომარეობაში მყოფი სატრანსპორტო საშუალების მასა, რომლის ზღვარს ადგენს სატრანსპორტო საშუალების ქარხანა-დამამზადებელი. სატრანსპორტო საშუალებათა შემადგენლობის სრული მასა გამოიანგარიშება მასში შემავალი სატრანსპორტო საშუალებების სრულ მასათა ჯამით.

ВОПРОС 38

ПРАВИЛЬНЫЙ ОТВЕТ: 1

Аикәшаратә цәахәа змоу, ѿеганктәи аитатцразы иазпхьагәаѿоу амѿафы еипынгылоу ахырхартала аитатцратә ганс ипхьазоупЖ

1

Аикәшаратә цәахәа армарахьала икоу амѿасырта

2

Аикәшаратә цәахәа арѿарахьала икоу амѿасырта

3

Абри абилет акны еиәқыпхьазоу ркынтә акгы

განმარტება:

„საგზაო მოძრაობის შესახებ“ საქართველოს კანონის 31-ე მუხლის მე-3 პუნქტის თანახმად, ორმხრივმოძრაობიან გზაზე, რომელსაც აქვს გამყოფი ზოლი, საპირისპირო მიმართულების მოძრაობის მხარედ ითვლება გამყოფი ზოლის მარცხნივ არსებული სავალი ნაწილი.

ВОПРОС 39

ПРАВИЛЬНЫЙ ОТВЕТ: 1

Арныкәә амѡа зеиҭшроу изеилымкаазар Ҕралашыцара, асы, ахәынҭѡа ма егырт атагылазаашьақәа ирыхкьаныҭ, иара убас, аҭыжәара адыргақәа ыҭамзар, уи дыҭоуп хәа иҭхьазоупЖ

1

Ихадам амѡаѡы

2

Амѡа хадаѡы

3

Автомагистраль иашьашәалоу амѡаѡы

განმარტება:

„საგზაო მოძრაობის შესახებ“ საქართველოს კანონის 36-ე მუხლის მე-8 პუნქტის თანახმად, თუ მძღოლი ვერ განსაზღვრავს გზაზე საფრის არსებობას (სიბნელის, თოვლის, ტალახის გამო ან სხვა მიზეზით) და არც პრიორიტეტის ნიშნებია, ითვლება, რომ იგი მეორეხარისხოვან გზაზე იმყოფება.

ВОПРОС 40

ПРАВИЛЬНЫЙ ОТВЕТ: 2

Амѡаѡы амѡათә усурақәа назыҭзо аиѣкаара иатәу амашьына иқәгылоу аамталатәи амѡათә дырга ахәарақәа амѡа абри ацыҭҭәахаѡы абжьааҭыны иқәгылоу адырга ахәарақәа ирышьашәаламзар, арныкәә инаигзароупЖ

1

Абжьааҭыны иқәгылоу амѡათә дырга ахәарақәа

2

Амѡათә усурақәа назыҭзо аиѣкаара иатәу амашьына иқәгылоу аамталатәи амѡათә дырга ахәарақәа

განმარტება:

„საგზაო მოძრაობის შესახებ“ საქართველოს კანონის 28-ე მუხლის მე-5 პუნქტის თანახმად, თუ გზაზე დროებით გადასატან სადგარზე ან საგზაო სამუშაოების მწარმოებელი ორგანიზაციის ავტომობილზე დაყენებულია საგზაო ნიშანი (შემდგომ – დროებითი საგზაო ნიშანი), რომლის მოთხოვნები ეწინააღმდეგება იმავე გზის მონაკვეთზე სტაციონარულად დაყენებული საგზაო ნიშნის მოთხოვნებს, მძღოლი ვალდებულია შეასრულოს დროებითი საგზაო ნიშნის მოთხოვნები.

ВОПРОС 41

ПРАВИЛЬНЫЙ ОТВЕТ: 3

Амотоцикли, автобуси, амашына ласи, аидаратə машыныи рырныкəара илшоит ауады мацараЖ

1

Игəабзиара атагылазаашьа, Қырттəыла азакəанпцарала ихəаакəцоу атранспорттə хархəагакəа рырныкəаразы ихымпцодоу агəабзиара атагылазаашьа иашьашəалазароуп

2

Қырттəыла азакəанпцарала ишьақəгылоу атцасла иатəашьазароуп иашьашəалоу акаategoria иатцанакəа атранспорттə хархəага арныкəара азин, ари азин иаанкылазар ма ипцырхзар калом

3

Абри абилет афы еикəыпцхьацоу ахəаракəа зегы назыгцо

განმარტება:

„საგზაო მოძრაობის შესახებ“ საქართველოს კანონის 54-ე მუხლის პირველი პუნქტის თანახმად, ამ მუხლით განსაზღვრული კატეგორიის ან/და ქვეკატეგორიის სატრანსპორტო საშუალების მართვის უფლება აქვს მხოლოდ იმ პირს: ა) რომლის ჯანმრთელობის მდგომარეობაც შეესაბამება საქართველოს კანონმდებლობით განსაზღვრულ სატრანსპორტო საშუალების მართვისათვის საჭირო ჯანმრთელობის მდგომარეობის მოთხოვნებს; ბ) რომელსაც საქართველოს კანონმდებლობით დადგენილი წესით მიენიჭა შესაბამისი კატეგორიის ან/და ქვეკატეგორიის სატრანსპორტო საშუალების მართვის უფლება და ეს უფლება არ არის შეჩერებული, ჩამორთმეული ან შეწყვეტილი (გაუქმებული).



I



II



III

Абарт адыргаққаа рқынтә руа иарбан адагәуу арныкәаф дзыкәтәо амашына аҭхьатәи ашьтахьтәи аганкәа рҭы ишыақәыргылатәуҭ

1

IIIIII мацара

2

IIII мацара

3

III мацара

განმარტება:

„საგზაო მოძრაობის შესახებ“ საქართველოს კანონის მე-19 მუხლის პირველი პუნქტის „გ“ ქვეპუნქტის თანახმად, მძღოლი, ხოლო ამ კანონის მე-18 მუხლის პირველი პუნქტის „დ“ ქვეპუნქტით გათვალისწინებულ შემთხვევებში – საწარმო ვალდებულია ამ პუნქტით განსაზღვრულ სატრანსპორტო საშუალებებზე დაამაგროს შემდეგი საცნობი ნიშნები: 8) „სმენადაქვეითებული მძღოლი“ – 160 მმ დიამეტრის ყვითელი წრე შიგნით ჩახაზული 40 მმ დიამეტრის სამი შავი წრით, რომლებიც განლაგებულია წარმოსახვითი წვერით ქვევით მიმართული ტოლგვერდა სამკუთხედის კუთხეებში – მაგრდება იმ მექანიკური სატრანსპორტო საშუალების წინა და უკანა მხარეს, რომელსაც მართავს საქართველოს შრომის, ჯანმრთელობისა და სოციალური დაცვის მინისტრისა და საქართველოს შინაგან საქმეთა მინისტრის ერთობლივი ბრძანებით განსაზღვრული სმენადაქვეითებული მძღოლი.

ВОПРОС 43

ПРАВИЛЬНЫЙ ОТВЕТ: 1

Ашыацркыра ма ашыакамѡаѣы ихѡмаруа ахѡычкѡа рымпыл амѡеисырѡаѣы еитатѡуа атранспортѡѡ хархѡага аѡухѡа икаѡазар, амашѡына арныкѡаѡ иазѡухѡагѡеитароупЖ

1

Ахѡычкѡа рымпыл ргарц азы амѡасыртѡ ианылар рылшоит

2

Ахѡычкѡа амѡасыртѡашკა რიასრა აშჲართა ыკამ, избანзар урт амѡасыртѡ атѡამц აѣы иаангыლаны амашѡына иасаанѡა азѡჲრა რыхѡოуп

განმარტება:

თუ გაზონზე ან ტროტუარზე მყოფ მოთამაშე ბავშვებს სატრანსპორტო საშუალების წინ გზის სავალ ნაწილზე გადმოუვარდათ ბურთი, მძღოლმა უნდა გაითვალისწინოს, რომ ბავშვები შეიძლება გამოიქცნენ გზის სავალ ნაწილზე ბურთის ასაღებად.

ВОПРОС 44

ПРАВИЛЬНЫЙ ОТВЕТ: 3

Атранспортѡѡ хархѡага ашыакамѡаѣы ихѡмаруа ахѡычкѡа ирѡაаигѡაхѡзар, арныкѡაѡЖ

1

Ахѡычкѡа ихшѡѡ რჲმშჲტკѡა აიტატრა ნაიგზაროуп, ишѡტაгыланы еитатѡуа амашѡыნაკѡა дырѡჲრაგამхарц азы

2

Абжѡыტѡ რდრგა ჭადანы еиѡჲმრკѡაკѡა აიტატრა ნაიგზაროуп

3

Аласრა ирмачны, амашѡына аанкыლаразы дыхиазароуп

განმარტება:

თუ სატრანსპორტო საშუალება უახლოვდება ტროტუარზე მოთამაშე ბავშვებს, მძღოლმა უნდა შეანელოს სიჩქარე და მზად იყოს დამუხრუჭებისთვის.

ВОПРОС 45

ПРАВИЛЬНЫЙ ОТВЕТ: 3

Амеханиკატე ტრანსპორტტე ხარხეაგა არნыкәаразы даеазы итара икәитымупЖ

1

Уи алкоголь, арғышыга ма аҗсихотропиате матәашьар дашыны дыказар мацара

2

Уи иашьашәалоу акатегория иатцанакәа атранспорттә хархәага арныкәара азин имамзар ма азин аанкылазар, имхзар ма иҗырхзар Қырттәыла азакәанҗцарала ишыақәыргылоу атасла

3

Абри абилет аҗы еикәыҗхьаҗоу иарбанзаалак атагылазаашьаҗы

განმარტება:

„საგზაო მოძრაობის შესახებ“ საქართველოს კანონის მე-20 მუხლის მე-4 და მე-5 პუნქტების თანახმად: 4. აკრძალულია სატრანსპორტო საშუალების სამართავად გადაცემა იმ პირისათვის, რომელიც იმყოფება ალკოჰოლური, ნარკოტიკული ან ფსიქოტროპული სიმთვრალის მდგომარეობაში. 5. აკრძალულია სატრანსპორტო საშუალების სამართავად გადაცემა იმ პირისათვის, რომელსაც არ აქვს შესაბამისი კატეგორიის ან ქვეკატეგორიის სატრანსპორტო საშუალების მართვის უფლება ან ეს უფლება შეჩერებული, ჩამორთმეული ან შეწყვეტილი (გაუქმებული) აქვს საქართველოს კანონმდებლობით დადგენილი წესით.

ВОПРОС 46

ПРАВИЛЬНЫЙ ОТВЕТ: 2

Арныкәә, игәабзиара атагылазаашьа атранспорттә хархәагақәа рырныкәаразы ихымҗадоу агәабзиара атагылазаашьа иашьашәаламзар, уи атранспорттә хархәага арныкәаразыЖ

1

Азин имоуп

2

Азин имам

განმარტება:

„საგზაო მოძრაობის შესახებ“ საქართველოს კანონის 21-ე მუხლის მე-2 პუნქტის თანახმად, მძღოლს, რომლის ჯანმრთელობის მდგომარეობა არ შეესაბამება სატრანსპორტო საშუალების მართვისათვის საჭირო ჯანმრთელობის მდგომარეობის მოთხოვნებს, ეკრძალება სატრანსპორტო საშუალების მართვა.

ВОПРОС 47

ПРАВИЛЬНЫЙ ОТВЕТ: 4

Атრანспорттə хархəага аҭхьа ашьақауаа рымѡахысыртаҭы зықəра дуу ашьақауаѡ деиҭацуазар, арныкəаѡ иазҭхьагəеиҭароупЖ

1

Зықəра дуу ашьақауаѡ ишахəҭоу еиҭш игəнигом изааигəахо атрანспорттə хархəага аласра.

2

Зықəра дуу ашьақауаѡ илымхαι иблеи ирыгзар шықало мацара.

3

Зықəра дуу ашьақауаѡ ақəҭытра алшара шицəмачу мацара.

4

Еиқəыҭхьазоу атагылазаашьақəа зегьы.

განმარტება:

თუ სატრანსპორტო საშუალების წინ ქვეითთა გადასასვლელზე გადაადგილდება მოხუცი ქვეითი, მძღოლმა უნდა გაითვალისწინოს როგორც ის, რომ მოხუცი ქვეითი შეიძლება სათანადოდ ვერ აფასებდეს მოახლოებული სატრანსპორტო საშუალების სიჩქარეს, ასევე ის, რომ მოხუცი ქვეითის რეაქცია უფრო შენელებულია და შესაძლებელია მას მკვეთრად ჰქონდეს დაქვეითებული სმენა და მხედველობა.

ВОПРОС 48

ПРАВИЛЬНЫЙ ОТВЕТ: 3

Арѡышьыга иашьу арныкəаѡ ила атрანспорттə хархəага арныкəара изшəарҭоиҭ

1

Избанзар, арѡышьыга иашьу арныкəаѡ ақəҭыҭразы иаха ирацəаны аамҭа иҭахуп.

2

Избанзар, арѡышьыга иашьу арныкəаѡ ишахəҭоу еиҭш игəнигом амѡაҭы иқоу атагылазаашьа.

3

Арѡышьыгала ашьра иахылҭиаауеит абри абилет аҭы еиқəыҭхьазоу афакторқəа зегьы

განმარტება:

ნარკოტიკული სიმთვრალის მდგომარეობაში მყოფი მძღოლის მიერ სატრანსპორტო საშუალების მართვა სიფრთხილის შემცველია, რადგან ნარკოტიკული სიმთვრალის მდგომარეობაში მყოფი მძღოლის რეაქციის დრო იზრდება, ასევე იგი ადევკატურად ვერ აანალიზებს გზაზე არსებულ სიტუაციას.

დღე-ღამის ბნელ დროს ან არასაკმარისი ხილვადობის პირობებში, სატრანსპორტო საშუალების მოძრაობის სიჩქარის შეზღუდვისას მძღოლმა გადამწყვეტი მნიშვნელობა უნდა მიანიჭოს მხედველობის პირობებს.

თემა 2:

უნესკო-ს და პირობები, რომელთა დროს
აკრძალულია სატრანსპორტო საშუალების
ეკსპლუატაცია

ВОПРОС 50

ПРАВИЛЬНЫЙ ОТВЕТ: 4

Атранспорттә хархәаҭәа ирхылтәа аҭаз аҭы аматәашьар цәҭәаҭә еитҭхит ахархәара роурЖ

1

Атехникатә аҭанахьала еиқәшәоу
атранспорттә хархәаҭә

2

Абылтәы бзиа

3

Атса злам абылтәы

4

Атехникатә аҭанахьала еиқәшәоу
атранспорттә хархәаҭә, иара убас, абылтәы
бзиен, атса злам абылтәи

განმარტება:

სატრანსპორტო საშუალების გამონაბოლქ აირებში მავნე ნივთიერებათა შემადგენლობა შემცირდება, თუ გამოყენებული იქნება ტექნიკურად გამართული სატრანსპორტო საშუალება, ასევე ხარისხიანი და არაეთილირებული (ტყვიის მინარევების გარეშე) სანავი.

ВОПРОС 51

ПРАВИЛЬНЫЙ ОТВЕТ: 3

Ауардынтә транспорт иамазароупЖ

1

Аибыташьа ала иазҭхьаҭәоу, еиқәыршәоу
аанкыларатә хархәаҭә мацара

2

Акәырраҭәацәыхьчаратә атаргыла мацара

3

Аибыташьа ала иазҭхьаҭәоу, еиқәыршәоу
анкыларатә хархәаҭәи акәырраҭә
ацәыхьчаратә атаргылеи

განმარტება:

„საგზაო მოძრაობის შესახებ“ საქართველოს კანონის 22-ე მუხლის მე-3 პუნქტის თანახმად, საჭაპანო ტრანსპორტს უნდა ჰქონდეს კონსტრუქციით გათვალისწინებული გამართული სადგომი სამუხრუჭო მოწყობილობა და დაგორების სანინალმდევო საყრდენები, აგრეთვე ამ კანონით დადგენილი წესით იგი აღჭურვილი უნდა იქნეს სინათლეებით.

Ианылашыцоу, амеханикатә атранспорттә хархәага ааигәатәи харатәи арлашагақәа аамтакала ипұхастахазар, арнықәа азин имамЖ

1

Ипұсабаратәым арлашара иахықам амәағы аитатра

2

Иарбанзаалақ амәағы аитатра, уи ағы ипұсабаратәым арлашара ақазаара иахыпұшымқәа

3

Ипұсабаратәым арлашара иахықоу, әе ганктәи аитатра змоу амәағы

განმარტება:

„საგზაო მოძრაობის შესახებ“ საქართველოს კანონის მე-21-ე მუხლის მე-13 პუნქტის თანახმად, მძღოლს ეკრძალება მოძრაობა მუშა სამუხრუჭო სისტემის, საჭის მექანიზმის, სატრანსპორტო საშუალებათა შემადგენლობაში მისაბმელი მოწყობილობის გაუმართაობისას, აგრეთვე დღე-ღამის ბნელ დროს ერთდროულად მწყობრიდან გამოსული (ჩამქრალი) ახლო და შორი განათების ფარებით (ან მათი არარსებობისას) ან/და უკანა საგაბარიტო სინათლეებით იმ გზაზე, რომელზედაც არ არის ხელოვნური განათება ან არასაკმარისი ხილვადობაა. მძღოლის მხარეს არსებული მინასანმენდის უმოქმედობისას აკრძალულია მექანიკური სატრანსპორტო საშუალების მართვა ნისლის, წვიმისა და თოვის დროს.

ВОПРОС 53

ПРАВИЛЬНЫЙ ОТВЕТ: 1

Аныкәара иалахәу ашыақауаа ргәып амәсырта ианылар каломаҭ

1

Икалоит, аха атранспорттә хархәагақәа
излеитацәа ахырхартала, арҭьарахьтәи
аганала, цәахәак аҭы ҭшьҭык иреихамкәа

2

Икалоит, аха атранспорттә хархәагақәа
излеитацәа ахырхарта иаҭынгыланы,
цәахәак аҭы ҭыцәа иреихамкәа

3

Икалом

განმარტება:

„საგზაო მოძრაობის შესახებ“ საქართველოს კანონის 24-ე მუხლის მე-2 პუნქტის „ბ“ ქვეპუნქტის თანახმად, თუ გზის სავალი ნაწილის კიდესთან არსებობს ქვეითთა მოძრაობისთვის გამოსადეგი ქვეითთა ბილიკი, ტროტუარი ან გზისპირი, ქვეითმა უნდა გამოიყენოს იგი, თუმცა უნდა დაიცვას სიფრთხილის აუცილებელი ზომები. ქვეითთა ჯგუფებს, რომლებიც ორგანიზებულად გადაადგილდებიან ან მსვლელობით მიდიან, შეუძლიათ იარონ გზის სავალ ნაწილზე; ამასთანავე, გზის სავალ ნაწილზე მათი მოძრაობა ნებადართულია მხოლოდ სატრანსპორტო საშუალების მოძრაობის მიმართულებით, მარჯვენა მხარეს, რიგში არაუმეტეს ოთხი ვაციისა. ქვეითთა ჯგუფს წინ და უკან, მარცხენა მხარეს უნდა მიჰყვებოდნენ გამცილებლები წითელი ალმებით, ხოლო დღე-ღამის ბნელ დროს ან არასაკმარისი ხილვადობის პირობებში – ჩართული ფარნებით (წინ – თეთრით, უკან – წითლით).

ВОПРОС 54

ПРАВИЛЬНЫЙ ОТВЕТ: 2

Ашыақауаа, амәсырта данахысуа, иаангылаз атранспорттә хархәага аҭхьатәи аганақынтә аиасра азин
имоумаҭ

1

Азин имазам

2

Азин имоуп, ааигәа уаха атранспорттә
хархәага шықам аҭәра ганы дықазар

3

Азин имоуп ганклатәи аитатцра змоу амәаҭы
мацара

განმარტება:

„საგზაო მოძრაობის შესახებ“ საქართველოს კანონის მე-24 მუხლის მე-9 პუნქტის თანახმად, გზის სავალ ნაწილზე გადასვლისას ქვეითი არ უნდა გამოვიდეს გაჩერებული სატრანსპორტო საშუალების ან ხილვადობის შემზღუდველი სხვა დაბრკოლების წინა მხრიდან, ვიდრე არ დარწმუნდება მოახლოებული სატრანსპორტო საშუალების არარსებობაში.

„საგზაო მოძრაობის შესახებ“ საქართველოს კანონის 24-ე მუხლის მე-5 პუნქტის თანახმად, დაუსახლებელ პუნქტში, იმ ორმხრივმოძრაობიან გზაზე, რომელსაც არ აქვს გამყოფი ზოლი და ტროტუარი, ქვეითმა უნდა დაიკავოს მოძრაობის მიმართულების საწინააღმდეგო მხარეს მდებარე გვერდულა, ხოლო მისი არარსებობის ან გამოყენების შეუძლებლობის შემთხვევაში – გზის სავალი ნაწილის მარცხენა მხარე და გადაადგილდეს მოძრაობის მიმართულების საწინააღმდეგოდ (გარდა იმ შემთხვევისა, როცა მოცემულ სიტუაციაში გზის სავალი ნაწილის მარჯვენა მხარეს მოძრაობის მიმართულებით გადაადგილება უფრო უსაფრთხოა), მაგრამ ველოსიპედის, მოპედის ან მოტოციკლის ხელით გადამყვანმა, აგრეთვე სავარძელ-ეტლით მოძრაობა შემზღუდელი შესაძლებლობის მქონე პირმა გადაადგილების მიზნით უნდა დაიკავონ გზის სავალი ნაწილის მარჯვენა მხარე.



Амашына лас арныкәә акатран җәҗәа змоу амѡа аҗыкә аҗы даангылеит. Уи, алаҗшбара цәҗазар, ахышәаратә арлашагакәа иаҗеимкыр амѡатә аитатра атцаскәа еилеигомаҢ

1

Еилеигоит

2

Еилеигом

განმარტება:

„საგზაო მოძრაობის შესახებ“ საქართველოს კანონის 49-ე მუხლის მე-9 პუნქტის თანახმად, დაბინდებიდან გათენებამდე, აგრეთვე ნებისმიერი სხვა არასაკმარისი ხილვადობის პირობებში, გზაზე გაჩერების ან დგომის დროს მექანიკური სატრანსპორტო საშუალება და მისი მისაბმელი აღნიშნული უნდა იყოს წინა და უკანა საგაბარიტო სინათლეებით. ამავე მუხლის მე-11 პუნქტის „ბ“ ქვეპუნქტის თანახმად, ამ მუხლის მე-9 და მე-10 პუნქტებით დადგენილ მოთხოვნათა მიუხედავად, მექანიკური სატრანსპორტო საშუალება შეიძლება გაჩერდეს ან იმყოფებოდეს სადგომზე ნებისმიერი გარე სანათი ხელსაწყოს ჩაურთველად: ბ) სავალი ნაწილის და მკვრივი საფარის მქონე გვერდულებს მიღმა.



Ахышәаратә арлашагақәа ҭхастазар, ианылашьцоу аамтазы амашына арныкәа ахыц ахырхартала аитатра анагзара азин имоумаҭ

1

Азин имоуп

2

Азин имам

განმარტება:

„საგზაო მოძრაობის შესახებ“ საქართველოს კანონის 49-ე მუხლის პირველი პუნქტის თანახმად, დღე-ღამის ბნელ დროს, აგრეთვე არასაკმარისი ხილვადობის პირობებში მოძრაე მექანიკურ სატრანსპორტო საშუალებებზე, აგრეთვე მოპედზე ჩართული უნდა იყოს ახლო ან შორი განათების ფარა/ფარები და უკანა საგაბარიტო სინათლეები. ამავე კანონის 21-ე მუხლის მე-13 პუნქტის თანახმად მძღოლს ეკრძალება მოძრაობა მუშა სამუხრუჭო სისტემის, საჭის მექანიზმის, სატრანსპორტო საშუალებათა შემადგენლობაში მისაბმელი მოწყობილობის გაუმართაობისას, აგრეთვე დღე-ღამის ბნელ დროს ერთდროულად მწყობრიდან გამოსული (ჩამქრალი) ახლო და შორი განათების ფარებით (ან მათი არარსებობისას) ან/და უკანა საგაბარიტო სინათლეებით იმ გზაზე, რომელზედაც არ არის ხელოვნური განათება ან არასაკმარისი ხილვადობაა.



Алаҭшбара аныцәҭоу аамтазы, амашына арныкәаџ, адәахьалатәи арлашарақәа иаҭеимккәа, асахьаҭы иарбоу атыҭаҭы даангылазар, амџатә аитатра атцасқәа еилеигомаҭ

1

Еилеигоит

2

Еилеигом

განმარტება:

„საგზაო მოძრაობის შესახებ“ საქართველოს კანონის 49-ე მუხლის მე-9 პუნქტის თანახმად, დაბინდებიდან გათენებამდე, აგრეთვე ნებისმიერი სხვა არასაკმარისი ხილვადობის პირობებში, გზაზე გაჩერების ან დგომის დროს მექანიკური სატრანსპორტო საშუალება და მისი მისაბმელი აღნიშნული უნდა იყოს წინა და უკანა საგაბარიტო სინათლეებით. ამავე მუხლის მე-11 პუნქტის „ბ“ ქვეპუნქტის თანახმად, ამ მუხლის მე-9 და მე-10 პუნქტებით დადგენილ მოთხოვნათა მიუხედავად, მექანიკური სატრანსპორტო საშუალება შეიძლება გაჩერდეს ან იმყოფებოდეს სადგომზე ნებისმიერი გარე სანათი ხელსაწყო ჩაურთველად: ბ) სავალი ნაწილის და მკვრივი საფარის მქონე გვერდულებს მიღმა.

ВОПРОС 59

ПРАВИЛЬНЫЙ ОТВЕТ: 2

Арныкәә атранспорттә харәхагала айтәцра анагзара азин имамЖ

1

Абжытә ардырга аус амуазар

2

Ианылашыцоу аамтазы аамтаклаа ирцәазар ааигәа, иара убас, хара изырлашо арлашагакәа Пҭма урт рыдаТ, ма ашьтахьтәи ахышәаратә арлашагакәа, ма алаҭшбара цәҭахар

3

Асаркьарыцкьагакәа ишыкәгылоу арежимла аус рымуазар

4

Ачара асистема агерметирра еилагазар

განმარტება:

„საგზაო მოძრაობის შესახებ“ საქართველოს კანონის 21-ე მუხლის მე-13 პუნქტის თანახმად, მძღოლს ეკრძალება მოძრაობა მუშა სამუხრუჭო სისტემის, საჭის მექანიზმის, სატრანსპორტო საშუალებათა შემადგენლობაში მისაბმელი მოწყობილობის გაუმართაობისას, აგრეთვე დღე-ღამის ბნელ დროს ერთდროულად მწყობრიდან გამოსული (ჩამქრალი) ახლო და შორი განათების ფარებით (ან მათი არარსებობისას) ან/და უკანა საგაბარიტო სინათლეებით იმ გზაზე, რომელზედაც არ არის ხელოვნური განათება ან არასაკმარისი ხილვადობაა. მძღოლის მხარეს არსებული მინასანმენდის უმოქმედობისას აკრძალულია მექანიკური სატრანსპორტო საშუალების მართვა ნისლის, წვიმისა და თოვის დროს.

ВОПРОС 60

ПРАВИЛЬНЫЙ ОТВЕТ: 2

Агежь адура ма амѡангаразы ззин икоу аидара атранспорттә хархәара амодель иашьашәаламзар ари атранспорттә хархәага ахархәара каломаҭ

1

Икалоит

2

Икалом

განმარტება:

აკრძალულია სატრანსპორტო საშუალების ექსპლუატაცია, თუ საბურავი ზომით ან დასაშვები დატვირთვით არ შეესაბამება სატრანსპორტო საშუალების მოდელს.

ВОПРОС 61

ПРАВИЛЬНЫЙ ОТВЕТ: 3

Автотранспорттә хархәагақәа ирзышьақәыргылоу атехникатә ахәарақәа инрықәырҕшны, тақа еиқәыҕхьаҕоу аанкыларатә система аиқәшәамзаара ахкқәа рҕынтә руа иарбан иқәитымуҕ

1

Агидравликатә аанкылага аҕынтә абаазатәы алҕра мацара

2

Апневматикатә ма апневмогидравликатә аанкылагатә ацха амонетрқәа рыҕхастахара мацара

3

Абри абилет аҕы еиқәыҕхьаҕоу иарбанзаалак аиқәшәамзаара

განმარტება:

„ავტოსატრანსპორტო საშუალებების მიმართ წაყენებული ტექნიკური მოთხოვნები, რომლებთან შესაბამისობის დადგენის მიზნითაც ტარდება გზისთვის ვარგისობაზე ტესტირება და მისი ჩატარების მეთოდების“ საქართველოს მთავრობის 2014 წლის 3 იანვარის №30 დადგენილებით დამტკიცებული ტექნიკური რეგლამენტის მე-4 მუხლის მე-9 და მე-17 პუნქტების თანახმად: 9. სამუხრუჭო სისტემების სასიგნალო და საკონტროლო სისტემა, პნევმატიკური და პნევმოჰიდრაულიკური სამუხრუჭო ამძრავის მანომეტრები, სადგომი სამუხრუჭო სისტემის მართვის ორგანოს ფიქსაციის მოწყობილობა უნდა იყოს გამართული. 17. დაუშვებელია სამუხრუჭო სარქველების (სარედუქციო სარქველები და რეგულატორები) დაზიანება, ჰაერის ზედმეტი გაღინება, კომპრესორიდან ზედმეტი ზეთის გაღინება, არასაიმედო მონტაჟი, ჰიდრაულიკური მუხრუჭიდან სითხის გაღინება.

ВОПРОС 62

ПРАВИЛЬНЫЙ ОТВЕТ: 1

Арныкәаф атранспорттә хархәага ахархәара азин имоума, уи адәахьалатәи арлашагақәа рхыҕхьазареи, рыхки, русуратә режими атранспорттә хархәага аибыташьа иашьашәаламзарҕ

1

Азин имазам

2

Азин имоуп

განმარტება:

„ავტოსატრანსპორტო საშუალებების მიმართ წაყენებული ტექნიკური მოთხოვნები, რომლებთან შესაბამისობის დადგენის მიზნითაც ტარდება გზისთვის ვარგისობაზე ტესტირება და მისი ჩატარების მეთოდების“ საქართველოს მთავრობის 2014 წლის 3 იანვარის №30 დადგენილებით დამტკიცებული ტექნიკური რეგლამენტის მე-7 მუხლის მე-3 პუნქტის თანახმად, დასაშვებია წარმოებიდან მოხსნილ ავტოსატრანსპორტო საშუალებებზე სხვა მარკისა და მოდელების ავტოსატრანსპორტო საშუალებების გარე მაშუქი ხელსაწყოების დაყენება. გარე მაშუქი ხელსაწყოების რაოდენობა, ტიპი, განთავსება და მუშაობის რეჟიმი უნდა შეესაბამებოდეს ავტოსატრანსპორტო საშუალების კონსტრუქციის მიმართ დადგენილ მოთხოვნებს.

Цага еиқыпұхыаюу атагылазаашыақәа ркынтә атранспорттә хархәага ахархәара ианбақамлоҭ

1

Абензини адизели рыла аус зуа арныкәага ачаратә система абылтәы анацзаауа мацара

2

Агаз ацәынхақәа роушьтратә система аелементкәа реидхәалага абылтәы анацзаауа мацара

3

Аамта е аамталатәи агәатаразы зыфхәара иасхьоу агазбаллонкәа рхархәара мацараан

4

Абри абилет афы еиқыпұхыаюу иарбанзаалак атагылазаашыа аан

განმარტება:

„ავტოსატრანსპორტო საშუალებების მიმართ წაყენებული ტექნიკური მოთხოვნები, რომლებთან შესაბამისობის დადგენის მიზნითაც ტარდება გზისთვის ვარგისობაზე ტესტირება და მისი ჩატარების მეთოდების“ საქართველოს მთავრობის 2014 წლის 3 იანვარის №30 დადგენილებით დამტკიცებული ტექნიკური რეგლამენტის მე-9 მუხლის მე-18 და 21-ე პუნქტების თანახმად: 18. დაუშვებელია ბენზინის და დიზელის ძრავების კვების სისტემაში საწვავის ჟონვა. 21. აირბალონიანი ასს-ების კვების სისტემა უნდა იყოს ჰერმეტიკული. დაუშვებელია აირბალონიან ასს-ზე ისეთი ბალონების გამოყენება, რომელთაც გასული აქვთ პერიოდული შემოწმების ვადა. ამავე რეგლამენტის მე-14 მუხლის მე-3 პუნქტის თანახმად, დაუშვებელია გაჟონვა ნამწვი აირების გამონაბოლქვის სისტემის ელემენტების შეერთებებში, ხოლო კატალიზური კონვერტორებით აღჭურვილ ასს-ებზე დაუშვებელია ნამწვი აირების ატმოსფეროში გამოყოფა კატალიზური კონვერტორების გვერდის ავლით.

ВОПРОС 64

ПРАВИЛЬНЫЙ ОТВЕТ: 3

Автотранспорттә хархәагақәа ирзышьақәыргылоу атехникатә ахәарақәа инрықәырҕшны, тақа еиқәыҕхьаҕоу атагылазаашьақәа ркынтә руа иарбан атранспорттә хархәага ахархәара анықамлоҕ

1

Атранспорттә хархәага аибыташыа ала иазҕхьаҕаҕоу, ашьтахьтәи алаҕшбара асаркыа ықамзар

2

Абжытә ардырга аус амуазар

3

Абри абилет аҕы еиқәыҕхьаҕоу иарбанзаалак аиқәшәамзаара анықоу

განმარტება:

„ავტოსატრანსპორტო საშუალებების მიმართ წაყენებული ტექნიკური მოთხოვნები, რომლებთან შესაბამისობის დადგენის მიზნითაც ტარდება გზისთვის ვარგისობაზე ტესტირება და მისი ჩატარების მეთოდების“ საქართველოს მთავრობის 2014 წლის 3 იანვარის №30 დადგენილებით დამტკიცებული ტექნიკური რეგლამენტის მე-10 მუხლის პირველი პუნქტის თანახმად, ავტოსატრანსპორტო საშუალების ხმოვანი სასიგნალე მოწყობილობა უნდა იყოს გამართულ მდგომარეობაში. ამავე რეგლამენტის მე-13 მუხლის პირველი პუნქტის „ზ“ ქვეპუნქტის თანახმად, „ავტოსატრანსპორტო საშუალება აღჭურვილი უნდა იყოს კომპლექტაციის შემდეგი ელემენტებით: 8) უკანა ხედვის სარკეებით.

ВОПРОС 65

ПРАВИЛЬНЫЙ ОТВЕТ: 1

Аџшатә саркыаҕы, арнықәаџ иганахьала, асаркыарыцкыага аус ахыау атыҕаҕы ашьара ма ашәытақәа иқазар каломаҕ

1

Иқалом

2

Иқалоит

განმარტება:

„ავტოსატრანსპორტო საშუალებების მიმართ წაყენებული ტექნიკური მოთხოვნები, რომლებთან შესაბამისობის დადგენის მიზნითაც ტარდება გზისთვის ვარგისობაზე ტესტირება და მისი ჩატარების მეთოდების“ საქართველოს მთავრობის 2014 წლის 3 იანვარის №30 დადგენილებით დამტკიცებული ტექნიკური რეგლამენტის მე-6 მუხლის მე-4 პუნქტის თანახმად, დასაშვებია საქარე მინის ზედა ნაწილში გამჭვირვალე ფერადი აფსკის დამაგრება სიგანით არა უმეტეს 140 მმ, ხოლო კატეგორიების ასს-ზე – სიგანით, რომელიც არ აღარბებს საქარე მინის ზედა ნაწილსა და მისი მინასაწმენდით გაწმენდის ზედა ზონის ზღვარს შორის მანძილს. დაუშვებელია საქარე მინაზე, მძღოლის მხარეს, მინმწმენდის მოქმედების არეში, ბზარებისა და ლაქების არსებობა.

ВОПРОС 66

ПРАВИЛЬНЫЙ ОТВЕТ: 4

Атранспорттə хархəага агежьхарџакəа рџы ахаир акəыџџəара лакəызар, уи иахылџиаар алшоитЖ

1

Абылтəы ахарџь азхара мацара.

2

Аџскы аус арура ауадаџхара мацара.

3

Агежьхарџакəа рырщəара мацара.

4

Абылтəы ахарџь азхара, иара убас, аџскы аус арура ауадаџхареи агежьхарџакəа рырщəареи.

განმარტება:

სატრანსპორტო საშუალების საბურავებში აირის დაბალმა წნევამ შეიძლება გამოიწვიოს როგორც სანჯავის ხარჯის მატება, ასევე საჭის მართვის გაძნელება და საბურავების გადახურება.

თემა 3:

მაფრთხილებელი ნიშნები

ВОПРОС 67

ПРАВИЛЬНЫЙ ОТВЕТ: 1



I



II



III



IV

Иарбоу амдәтә дыргакәа ркомбинациакәа ркынтә ауаа ахнымхо атып аҕы, аихамдә амдәкыгатә хысыртанза 150-300 метрак шыбжьоу, амдә армарахьтәи аганаҕы иргылатәуиҕ

1

I

2

II

3

III

4

IV

განმარტება:

„საგზაო მოძრაობის შესახებ“ საქართველოს კანონის პირველი დანართის 1.1, 1.2 და 1.41- 1.46 პუნქტების თანახმად, საგზაო ნიშანი: 1.1. „რკინიგზის შლავგაუმიანი გადასასვლელი“ – იძლევა გაფრთხილებას რკინიგზის შლავგაუმთან გადასასვლელთან მიახლოების თაობაზე. 1.2. „რკინიგზის უშლავგაუმო გადასასვლელი“ – იძლევა გაფრთხილებას რკინიგზის უშლავგაუმო გადასასვლელთან მიახლოების თაობაზე. 1.4.1–1.4.6. „რკინიგზის გადასასვლელთან მიახლოება“ – დამატებით აფრთხილებს მძღოლს დაუსახლებელ პუნქტში რკინიგზის გადასასვლელთან მიახლოების თაობაზე. ამავე დანართის პირველი თავის შენიშვნის „ა“ და „ვ“ ქვეპუნქტების თანახმად: ა) ნიშნები 1.1, 1.2, 1.5–1.34 ნიშნები დაუსახლებელ პუნქტში იდგმება სახიფათო მონაკვეთის დასაწყისამდე 150–300 მეტრ მანძილზე, დასახლებულ პუნქტში – 50–100 მეტრ მანძილზე. აუცილებლობისას ნიშნები იდგმება სხვა მანძილზედაც, რომელიც მითითებულია 8.1.1 დაფაზე; ვ) ნიშნები 1.4.1–1.4.3 ნიშნები იდგმება გზის მარჯვენა მხარეს, ხოლო 1.4.4–1.4.6 ნიშნები – გზის მარცხენა მხარეს. 1.4.1 და 1.4.4 ნიშნები იდგმება მოძრაობის მიმართულებით ძირითად და განმეორებით 1.1 ან 1.2 ნიშანთან ერთად, 1.4.3 და 1.4.6 ნიშნები – მოძრაობის მიმართულებით განმეორებით 1.1 ან 1.2 ნიშანთან ერთად, ხოლო 1.4.2 და 1.4.5 ნიშნები – დამოუკიდებლად, თანაბარ დაშორებაზე ძირითად და განმეორებით 1.1 ან 1.2 ნიშანს შორის.



I



II



III

Иарбоу ардырратә дыргакәа ркынтә руа иарбан «Амашәыртә аангыларә адырга»Ѳ

1

I

2

II

3

III

განმარტება:

„საგზაო მოძრაობის შესახებ“ საქართველოს კანონის 52-ე მუხლის მე-5 პუნქტის თანახმად, „ავარიული გაჩერების ნიშანი“ არის ტოლგვერდა სამკუთხედის ფორმის დაფა არანაკლებ 0,4 მეტრი სიგრძის გვერდებითა და არანაკლებ 0,05 მეტრი სიგანის წითელი არშიით. ამ სამკუთხედის შუა ნაწილი შეიძლება ღრუ იყოს ან ღია ფერის საღებავით შეიღებოს. წითელი არშია შექს არ უნდა ატარებდეს ან უნდა ჰქონდეს შექამრეკლი თვისების მქონე ზოლი. დაფა ისე უნდა იყოს მოწყობილი, რომ შეიძლებოდეს იყოს მისი ვერტიკალურ მდგომარეობაში მდგრად დაყენება.

ВОПРОС 69

ПРАВИЛЬНЫЙ ОТВЕТ: 2



I



II



III



IV

Иარბოუ ამფატე დყრაქაე რკინტე რუა იარბან ამფაკყგა ზმოუ ახყსურტა აზააიგჷაჰარა იაჰკნყ აგჷეანტარა ჰაჰტოჲ

1

I

2

II

3

III

4

IV

განმარტება:

„საგზაო მოძრაობის შესახებ“ საქართველოს კანონის პირველი დანართის პირველი თავის (მაფრთხილებელი ნიშნები) 1.1 პუნქტის თანახმად საგზაო ნიშანი 1.1 „რკინიგზის შლავგაუმთან გადასასვლელი“ - იძლევა გაფრთხილებას რკინიგზის შლავგაუმთან გადასასვლელთან მიახლოების თაობაზე.

ВОПРОС 70

ПРАВИЛЬНЫЙ ОТВЕТ: 4



I



II



III



IV

Иарбоу амѡатѡ дырგакѡа рѣынтѡ руа иарбан ауааѣсыра иахънымхо атыѣ аѣы еитакѡдыргылоѢ

1

Ши ШШи мацара

2

Ши ШШШи мацара

3

Рызынтѡгы

4

ШШи ШМи мацара

განმარტება:

„საგზაო მოძრაობის შესახებ“ საქართველოს კანონის პირველი დანართის პირველი თავის (მაფრთხილებელი ნიშნები) შენიშვნის „ბ“ ქვეპუნქტის თანახმად 1.1 „რკინიგზის ჰლაგბაუმიანი გადასასვლელი“ და 1.10 „სანაპიროზე გასასვლელი“ ნიშნები მეორდება დაუსახლებულ პუნქტში. მეორე ნიშანი იდგმება სახიფათო მონაკვეთის დასაწყისიდან არანაკლებ 50 მეტრ მანძილზე.

ВОПРОС 71

ПРАВИЛЬНЫЙ ОТВЕТ: 4



I



II



III



IV

Иарбоу амѡатѡ дьргакѡа рѡынтѡ руа иарбан анхартатыѡ аѡы еитакѡдыргылоѡ

1

ში შში მაцარა

2

Рызынтѡгы

3

შიში შშიში მაцარა

4

ში შში შში მაцარა

განმარტება:

„საგზაო მოძრაობის შესახებ“ საქართველოს კანონის პირველი დანართის პირველი თავის (მაფრთხილებელი ნიშნები) შენიშვნის „ბ“ ქვეპუნქტის თანახმად 1.23 „ქვეითთა გადასასვლელი“, 1.24 „ბავშვები“ და 1.26 „საგზაო სამუშაოები“ ნიშნები მეორდება დაუსახლებელ პუნქტში, ხოლო 1.24 და 1.26 ნიშნები – დასახლებულ პუნქტშიც. მეორე ნიშანი იდგმება სახიფათო მონაკვეთის დასაწყისიდან არანაკლებ 50 მეტრ მანძილზე.

ВОПРОС 72

ПРАВИЛЬНЫЙ ОТВЕТ: 3



I



II

Иарбоу амѡатѡ дыргакѡа икѡыргылатѡупЖ

1

Аихамѡа ахысыртанѡа 100 – 120 метра
ишыбжѡу

2

Аихамѡа ахысыртанѡа 150 метра еитѡамкѡа
ишыбжѡу

3

Амхамѡа ахысырта аѡхѡа

განმარტება:

„საგზაო მოძრაობის შესახებ“ საქართველოს კანონის პირველი დანართის პირველი თავის (მაფრთხილებელი ნიშნები) პენიშვნის „ე“ ქვეპუნქტის თანახმად 1.3.1 „ერთლიანდაგიანი რკინიგზა“ და 1.3.2 „მრავალლიანდაგიანი რკინიგზა“ ნიშნები იდგმება უშუალოდ რკინიგზის გადასასვლელის წინ.

ВОПРОС 73

ПРАВИЛЬНЫЙ ОТВЕТ: 4



I



II



III



IV

Иარბოу амѡатѡ дыргакѡа рѣынтѡ руа иარбан ѡба ма еиѣаны арельскѡа змоу аихамѡа амѡакыга змам ахысырта азааигѡахара иазкны агѡѡанѡара ѣазѡѡѢ

1

ში შში მაцара

2

Рызынтѡгы

3

შიში შშიში მაцара

4

შიმი მაцара

განმარტება:

„საგზაო მოძრაობის შესახებ“ საქართველოს კანონის პირველი დანართის პირველი თავის მაფრთხილებელი ნიშნები) 1.3.2 პუნქტის საგზაო ნიშანი 1.3.2. „მრავალლიანდაგიანი რკინიგზა“—იძლევა გაფრთხილებას ორი ან ორზე მეტი ლიანდაგის მქონე რკინიგზის უშლავბაუმო გადასასვლელთან მიახლოების თაობაზე.

ВОПРОС 74

ПРАВИЛЬНЫЙ ОТВЕТ: 1



I



II



III



IV

Иарбоу амѡатѡ дыргакѡа анхартатыѡ аѡы, ишѡартоу ацыѡѡѡаха алагамтанѡа иѡѡыргылатѡупѢ

1

5ტელტ მეტრკ იშობჟოუ

2

1ტელ15ტ მეტრკ იშობჟოუ

3

15ტელტ მეტრკ იშობჟოუ

განმარტება:

„საგზაო მოძრაობის შესახებ“ საქართველოს კანონის პირველი დანართის პირველი თავის (მაფრთხილებელი ნიშნები) შენიშვნის „ა“ ქვეპუნქტის თანახმად 1.1, 1.2, 1.5–1.34 ნიშნები დაუსახლებელ პუნქტში იდგმება სახიფათო მონაკვეთის დასაწყისამდე 150–300 მეტრ მანძილზე, დასახლებულ პუნქტში – 50–100 მეტრ მანძილზე. აუცილებლობისას ნიშნები იდგმება სხვა მანძილზედაც, რომელიც მითითებულია 8.1.1 დაფაზე.

ВОПРОС 75

ПРАВИЛЬНЫЙ ОТВЕТ: 3



I



II

Иარბოу амѡатѡ дьргакѡа ауаапѡсыра иахънымхо атыѡ аѡы еиѡадыргылоит ишѡартоу ацыѡѡѡаха алагамѡанѡа ишыбжьѡуЖ

1

15т метрак еитѡымкѡа

2

1тт метрак еитѡымкѡа

3

5т метрак еитѡымкѡа

განმარტება:

„საგზაო მოძრაობის შესახებ“ საქართველოს კანონის პირველი დანართის პირველი თავის (მაფრთხილებელი ნიშნები) შენიშვნის „ბ“ ქვეპუნქტის თანახმად 1.1 „რკინიგზის ზღაგბაუმიანი გადასასვლელი“, 1.2 „რკინიგზის უზღაგბაუმო გადასასვლელი“, 1.10 „გასახსნელი ხიდი“, 1.11 „სანაპიროზე გასასვლელი“, 1.23 „ქვეითა გადასასვლელი“, 1.24 „ბავშვები“ და 1.26 „საგზაო სამუშაოები“ ნიშნები მეორედება დაუსახლებელ პუნქტში, ხოლო 1.24 და 1.26 ნიშნები - დასახლებულ პუნქტშიც. მეორე ნიშანი იდგმება სახიფათო მონაკვეთის დასაწყისიდან არანაკლებ 50 მეტრის მანძილზე.



Иарбоу амѡатѡ дыргакѡа, 8. 1. 1. ჭაობიექტ აკынჯა აბჯაზაარაჲ აფჷ ადა, ამფასურტაფჷ, აამტაკჷაფლა აუსურაკჷა რჷნაგზარაან იკჷრგჷლათჷუპ აუსურაკჷა იახჷმფაჲჷსუა ატჷჲაკჷნტჷჲ

1

3t მეტრაკ იშჷბჷოუ

2

1t-15 მეტრაკ იშჷბჷოუ

3

5t მეტრაკ იშჷბჷოუ

განმარტება:

„საგზაო მოძრაობის შესახებ“ საქართველოს კანონის პირველი დანართის პირველი თავის (მაფრთხილებელი ნიშნები) შენიშვნის „დ“ ქვეპუნქტის თანახმად 1.26 „საგზაო სამუშაოები“ ნიშანი სავალ ნაწილზე ხანმოკლე სამუშაოს ჩატარებისას იდგმება სამუშაოს ჩატარების ადგილიდან 10–15 მეტრ მანძილზე, 8.1.1 დატის გარეშე.

ВОПРОС 77

ПРАВИЛЬНЫЙ ОТВЕТ: 3



Иарбоу амѡатѣ дыргакѣа ркомбинациакѣа ркынтѣ руа иарбан ауааѣсыра иахьнымхо атыѣаѣы, аихамѡа амѡаркыга змоу ахысыртанѣа 150 ѣ 300 метрак ишыбѣжоу, амѡа арѣѣарахьтѣи аганала иргылатѣუ

1

I

2

II

3

III

4

IV

განმარტება:

„საგზაო მოძრაობის შესახებ“ საქართველოს კანონის პირველი დანართის პირველი თავის (მაფრთხილებელი ნიშნები) შენიშვნის „ა“, „ბ“ და „ვ“ ქვეპუნქტების თანახმად: ა) 1.1 „რკინიგზის ზღაგზაუმიანი გადასასვლელი“ და 1.2 „რკინიგზის უზღაგზაუმო გადასასვლელი“ ნიშნები დაუსახლებელ პუნქტში იდგმება სახიფათო მონაკვეთის დასაწყისამდე 150–300 მეტრ მანძილზე, ბ) 1.1 „რკინიგზის ზღაგზაუმიანი გადასასვლელი“, 1.2 „რკინიგზის უზღაგზაუმო გადასასვლელი“, 1.10 „გასახსნელი ხიდი“, 1.11 „სანაპიროზე გასასვლელი“, 1.23 „ქვეითთა გადასასვლელი“, 1.24 „ბავშვები“ და 1.26 „საგზაო სამუშაოები“ ნიშნები მეორდება დაუსახლებელ პუნქტში, ხოლო 1.24 და 1.26 ნიშნები - დასახლებულ პუნქტშიც. მეორე ნიშანი იდგმება სახიფათო მონაკვეთის დასაწყისიდან არანაკლებ 50 მეტრის მანძილზე. ვ) 1.4.1-1.4.3 „რკინიგზის გადასასვლელთან მიახლოება“ ნიშნები იდგმება გზის მარჯვენა მხარეს, ხოლო 1.4.4-1.4.6 „რკინიგზის გადასასვლელთან მიახლოება“ ნიშნები - მარცხენა მხარეს. 1.4.1 და 1.4.4 ნიშნები იდგმება მოძრაობის მიმართულებით ძირითად და დუბლირებულ 1.1 ან 1.2 ნიშნებთან ერთად. ნიშნები 1.4.3 და 1.4.6 იდგმება მოძრაობის მიმართულებით განმეორებით 1.1 ან 1.2 ნიშნებთან, ხოლო ნიშნები 1.4.2 და 1.4.5 - დამოუკიდებლად, თანაბარ დაშორებაზე ძირითად და განმეორებითი 1.1 ან 1.2 ნიშნებს შორის.

ВОПРОС 78

ПРАВИЛЬНЫЙ ОТВЕТ: 2



I



II



III



IV

Иарбоу амѡатѣ дыргакѡа ркынтѣ руа иарбан амѡатѣ дыргала П5.1პ.1 მა 5.1პ.2ტ მა ამѡატѣ აზგѡატალა
 П1.14.1ე1.14.3ტ აშააკაუაა რხისურტა აზააიგѡახარა იაზკნის აგѡჲანტარა ჯაზტოჲ

1

I

2

II

3

III

4

IV

განმარტება:

„საგზაო მოძრაობის შესახებ“ საქართველოს კანონის პირველი დანართის პირველი თავის (მაფრთხილებელი ნიშნები) 1.23 პუნქტის თანახმად საგზაო ნიშანი 1.23 „ქვეითთა გადასასვლელი“ - იძლევა გაფრთხილებას 5.19.1 და 5.19.2 ნიშნებით ან/და 1.14.1–1.14.3 მონიშვნებით აღნიშნულ ქვეითთა გადასასვლელთან მიახლოების თაობაზე.

ВОПРОС 79

ПРАВИЛЬНЫЙ ОТВЕТ: 4



I



II



III



IV

Иარბოუ ამოათე დыргакәа ркынтә руа иарбан амдасыртафәы ахәычтәы усхәарта аказаара иазкны агәе
анцара хазтоҭ

1

I

2

II

3

III

4

IV

განმარტება:

„საგზაო მოძრაობის შესახებ“ საქართველოს კანონის პირველი დანართის პირველი თავის (მაფრთხილებელი ნიშნები) 1.24 პუნქტის თანახმად საგზაო ნიშანი 1.24 „ბავშვები“ - იძლევა გაფრთხილებას გზის მონაკვეთთან საბავშვო დაწესებულების არსებობის თაობაზე, საიდანაც დიდი ბავშვების სავალ ნაწილზე გამოჩენის ალბათობა.

ВОПРОС 80

ПРАВИЛЬНЫЙ ОТВЕТ: 4



I



II



III



IV

Иарбоу амәатә дыргакәа ркынтә руа иарбан аусуракәа иахьымәаҭысуа амәа ацыҭәаха хзырбѳ

1

I

2

II

3

III

4

IV

განმარტება:

„საგზაო მოძრაობის შესახებ“ საქართველოს კანონის პირველი დანართის პირველი თავის (მაფრთხილებელი ნიშნები) 1.26 პუნქტის თანახმად საგზაო ნიშანი 1.26 „საგზაო სამუშაოები“ - აღნიშნავს გზის მონაკვეთს, რომლის ფარგლებში სამუშაოები მიმდინარეობს.

ВОПРОС 81

ПРАВИЛЬНЫЙ ОТВЕТ: 2



I



II



III



IV

Иარბოუ ამოათე დყრაქაა რკინტე რუა იარბან ასხის, ადგყლყბგარა მა ახაჟყბგარაკყნტე ზყმდასყრტა
იხყჩამ ამდა აცყრტაჟა ჰზყრბოჟ

1

I

2

II

3

III

4

IV

განმარტება:

„საგზაო მოძრაობის შესახებ“ საქართველოს კანონის პირველი დანართის პირველი თავის (მაფრთხილებელი ნიშნები) 1.29 პუნქტის თანახმად საგზაო ნიშანი 1.29 „ქვის ცვენა“ - აღნიშნავს გზის მონაკვეთს, რომლის სავალი ნაწილი არ არის დაცული ზვავისაგან, მენყერისაგან ან ქვების ცვენისაგან.

ВОПРОС 82

ПРАВИЛЬНЫЙ ОТВЕТ: 1



I



II



III



IV

Иарбоу амѡათѡ дьргакѡа ркынтѡ руа иарбан ахаирпланкѡеи атѡицѡрыгакѡеи илакѡны иахьыцѡруа ахаирплантѡарта иавсны ицо амѡа ацыцѡѡаха хзырбоѢ

1

I

2

II

3

III

4

IV

განმარტება:

„საგზაო მოძრაობის შესახებ“ საქართველოს კანონის პირველი დანართის პირველი თავის (მაფრთხილებელი ნიშნები) 1.31 პუნქტის თანახმად საგზაო ნიშანი 1.31 „დაბლამფრენი თვითმფრინავები“ - აეროდრომთან ახლოს გამავალი გზის მონაკვეთი, რომელზედაც თვითმფრინავები ან ვერტმფრენები დაბალ სიმაღლეზე დაფრინავენ.

ВОПРОС 83

ПРАВИЛЬНЫЙ ОТВЕТ: 3



I



II



III



IV

Иарбоу амѡатѡ дыргакѡа рѣынтѡ руа иарбан аамтала ирку амѡа ацыѣѣѡаха хзырѡѣ

1

I

2

II

3

III

4

IV

განმარტება:

„საგზაო მოძრაობის შესახებ“ საქართველოს კანონის პირველი დანართის პირველი თავის (მაფრთხილებელი ნიშნები) 1.33 პუნქტის თანახმად საგზაო ნიშანი 1.33 „ხერგილი“ - აღნიშნავს გზის მონაკვეთს, რომელიც დროებით ჩახერგილია.

ВОПРОС 84

ПРАВИЛЬНЫЙ ОТВЕТ: 3



I



II



III



IV

Иарбоу амѡатѡ дыргакѡа ркынтѡ руа иарбан егырт агѡѡанцаратѡ дыргакѡа рыла иазпхьагѡатам ашѡартакѡа цѡырцыр иахьыкало амѡа ацыпцѡаха хьырбоѢ

1

I

2

II

3

III

4

IV

განმარტება:

„საგზაო მოძრაობის შესახებ“ საქართველოს კანონის პირველი დანართის პირველი თავის (მაფრთხილებელი ნიშნები) 1.34 პუნქტის თანახმად საგზაო ნიშანი 1.34 „სხვა საფრთხეები“ - გზის მონაკვეთი, რომელზედაც შეიძლება წარმოიშვას ისეთი საფრთხე, რომელიც არ არის განსაზღვრული სხვა მაფრთხილებელი ნიშნებით.

ВОПРОС 85

ПРАВИЛЬНЫЙ ОТВЕТ: 4



I



II



III



IV

Иარბოу амѡатѡ дьргакѡа ркынтѡ руа иарбан 'Е' аформа змоу амѡеихысыртаѡы ма амѡакѡа реидыцраѡы аитатра ахырхартеи, ма амѡатѡ усуракѡа иахьымѡаѡысуа атыѡаѡы – иакѡшаны иѡо амѡа ахырхартеи хзырѡѡ

1

I

2

II

3

III

4

IV

განმარტება:

„საგზაო მოძრაობის შესახებ“ საქართველოს კანონის პირველი დანართის პირველი თავის (მაფრთხილებელი ნიშნები) 1.36.1 და 1.36.2 პუნქტების თანახმად საგზაო ნიშნები 1.36.1 და 1.36.2 „მოხვევის მიმართულება“ - მიუთითებს "T"-სებურ გზაჯვარედინზე ან გზების განშტოებაზე მოძრაობის მიმართულებას (მარჯვნივ და მარცხნივ), ან საგზაო სამუშაოების მიმდინარეობის ადგილის შემოვლის შესაბამის მიმართულებას.

ВОПРОС 86

ПРАВИЛЬНЫЙ ОТВЕТ: 1



I



II



III



IV

Иარბოუ ამფატე დყრგაკეა რკყნტე რუა იარბან ეიჟეკაამ ამფეიხყსურტა ახყსრა აან არნყკეაფ აჟყჟეარა
изтоѢ

1

I

2

II

3

III

4

IV

განმარტება:

„საგზაო მოძრაობის შესახებ“ საქართველოს კანონის პირველი დანართის მე-2 თავის (პრიორიტეტის ნიშანი) 2.1 პუნქტების თანახმად საგზაო ნიშანი 2.1 „მთავარი გზა“ - გზა, რომელზე მოძრავ მძღოლსაც ენიჭება არარეგულირებული გზაჯვარედინის გავლის უპირატესობა. ნიშანი იდგმება გზის დასაწყისში და მეორდება უშუალოდ ყოველი გზაჯვარედინის წინ. 2.1 ნიშანი 8.13 დაფით დასახლებულ პუნქტში იდგმება გზაჯვარედინის წინ, რომელზედაც მთავარი გზა იცვლის მიმართულებას, დაუსახლებელ პუნქტში – წინასწარ გზაჯვარედინამდე 150–300 მეტრ მანძილზე და გზაჯვარედინის წინ.

ВОПРОС 87

ПРАВИЛЬНЫЙ ОТВЕТ: 3

Агежыкѣа зцоу ашьацакѣа, агежыкѣа зцоу аҭы, ахаланыкѣа, аҭынах ма абарт иреиҭшу ахархѣагакѣа зхы иазырхѣо ашьакауаѣ ашѣарта иҭаиргылар каломЖ

1

Акреслокалиаскала ма шыапыла ашьакамѣа иану ауааҭсыра

2

Акреслокалиаскала ма шыапыла ашьакауаа рымѣахѣаста иану ауааҭсыра

3

Акреслокалиаскала ма шыапыла ашьакамѣа, иара убас, ашьакауаа рымѣахѣаста иану ауааҭсыра

განმარტება:

„საგზაო მოძრაობის შესახებ“ საქართველოს კანონის 24-ე მუხლის მე-12 პუნქტის თანახმად, ქვეითმა, რომელიც სარგებლობს გორგოლაჭებით, გორგოლაჭებიანი დაფით, თვითმგორავით, ციგით ან სხვა მსგავსი საშუალებით, არ უნდა შეუქმნას საფრთხე ტროტუარზე ან ქვეითთა ბილივზე სავარძელ-ეტლით მოძრავ ადამიანებს ან ქვეითებს.

ВОПРОС 88

ПРАВИЛЬНЫЙ ОТВЕТ: 1

Амѣаҭы ауардынтѣ транспортла аиҭаҭра калонтЖ

1

Амѣасырта аган зегы реиҭа иазааигѣо аҭыҭаҭы, ма надаада Ҧашыакауаа ирҭырхагамзарҭ, риадк ала еишьтаргыланы, аиҭаҭра ахырхара иашыашѣаланы

2

Амѣасыртаҭы амашыынакѣа реиҭаҭра иаҭынгыланы

3

Ауардынхыча иахытаху амѣа аҭыҭаҭаҭаҭы

განმარტება:

„საგზაო მოძრაობის შესახებ“ საქართველოს კანონის 22-ე მუხლის მე-2 პუნქტის თანახმად, გზაზე მოძრავი პირუტყვის, აგრეთვე საჭაპანო ტრანსპორტის მართვა უნდა განხორციელდეს სავალი ნაწილის კიდესთან ყველაზე ახლო მანძილზე ან გვერდულაზე (თუ ეს არ აბრკოლებს ქვეითს) ერთრიგად, მოძრაობის მიმართულებით.

თემა 4:

პროგრესის ნიშნები



Иარბოу амѡათѡ дыргაЖ

1

Еиѣкаам амѡасырта ахысра аан арныѣაѡ
აჟყჟჲარა იახჲიმოუ ამѡა იაზგჲანათოიტ

2

Ишѡართოу аидара имѡанызго амашьынаѣჲა
რეიტაჲრა იკჲაითჲნათჲეიტ

3

Еიტაჲყუა арныѣაѡ, еиѡჲჲაჲი იცო ამѡა იკჲუ
ატრანსპორტჲჲ харჲჲაგა ამѡა ატარა
იახჲიახჲჲოუ ამѡა ჲნარბოიტ

განმარტება:

„საგზაო მოძრაობის შესახებ“ საქართველოს კანონის პირველი დანართის მე-2 თავის (პრიორიტეტის ნიშანი) 2.1 პუნქტების თანახმად საგზაო ნიშანი 2.1 „მთავარი გზა“ - გზა, რომელზე მოძრავ მძღოლსაც ენიჭება არარეგულირებული გზაჯვარედინის გავლის უპირატესობა. ნიშანი იდგმება გზის დასაწყისში და მეორდება უშუალოდ ყოველი გზაჯვარედინის წინ. 2.1 ნიშანი 8.13 დაფით დასახლებულ პუნქტში იდგმება გზაჯვარედინის წინ, რომელზედაც მთავარი გზა იცვლის მიმართულებას, დაუსახლებელ პუნქტში – წინასწარ გზაჯვარედინამდე 150–300 მეტრ მანძილზე და გზაჯვარედინის წინ.

ВОПРОС 90

ПРАВИЛЬНЫЙ ОТВЕТ: 3



I



II



III



IV

Иарбоу амѡатѣ дыргакѣа ркынтѣ руа иарбан, амѡа ахадаратѣ статус ацѣызრა иахъантѣалаго ацыѣтѣаха антѣамтѣ хзырбоѣ

1

I

2

II

3


III

4

IV

განმარტება:

„საგზაო მოძრაობის შესახებ“ საქართველოს კანონის პირველი დანართის მე-2 თავის (პრიორიტეტის ნიშანი) 2.2 პუნქტების თანახმად საგზაო ნიშანი 2.2 „მთავარი გზის დასასრული“ - გზის იმ მონაკვეთის ბოლო, საიდანაც იგი კარგავს მთავარი გზის სტატუსს. თუ მთავარი გზა იმ გზის გადაკვეთის წინმთავერდება, რომელზედაც დაწესებულია მოცემული გზაჯვარედინის გავლის უპირატესობა, 2.2 ნიშანს დაუსახლებელ პუნქტში დგამენ წინასწარ 2.4 ნიშანთან ერთად, დასახლებულ პუნქტში – გზაჯვარედინიდან 25 მეტრ მანძილზე ან/და 2.3 ან 2.4 ნიშანთან ერთად. ნიშანი შეიძლება დაიდგას სხვა, 8.1.1 დაფაზე მითითებულ მანძილზედაც.



Иარბოу ამოათე დყრა იაზგანათოიტჟ

1

Еитатца арныкәә еиҕкаам амдасырта
ахысра аан аҕыжәара иахымоу амда

2

Еитатца арныкәә, еиҕынгылоу
ахырхартала еитатца атранспорттә хархәага
ацкыс аҕыжәара иахымоу амда итшәоу
ацыҕтәаха

3

Амда, уи ахадаратә статус ацәызра
иахьантәалаго ацыҕтәаха антәамтә

განმარტება:

„საგზაო მოძრაობის შესახებ“ საქართველოს კანონის პირველი დანართის მე-2 თავის (პრიორიტეტის ნიშანი) 2.2 პუნქტების თანახმად საგზაო ნიშანი 2.2 „მთავარი გზის დასასრული“ - გზის იმ მონაკვეთის ბოლო, საიდანაც იგი ვარგავს მთავარი გზის სტატუსს. თუ მთავარი გზა იმ გზის გადაკვეთის წინმთავერდება, რომელზედაც დაწესებულია მოცემული გზაჯვარედინის გავლის უპირატესობა, 2.2 ნიშანს დაუსახლებელ პუნქტში დგამენ წინასწარ 2.4 ნიშანთან ერთად, დასახლებულ პუნქტში – გზაჯვარედინიდან 25 მეტრ მანძილზე ან/და 2.3 ან 2.4 ნიშანთან ერთად. ნიშანი შეიძლება დაიდგას სხვა, 8.1.1 დაფაზე მითითებულ მანძილზედაც.

ВОПРОС 92

ПРАВИЛЬНЫЙ ОТВЕТ: 2



I



II



III



IV

Иარბოუ ამოათე დыргакәа ркынтә руа иарбан еитатүа арныкәащәа амәа атәра иахьрыхәтоу амәакәа
рейщәара иазгәазтә

1

I

2

II

3

III

4

IV

განმარტება:

„საგზაო მოძრაობის შესახებ“ საქართველოს კანონის პირველი დანართის პირველი თავის (მაფრთხილებელი ნიშნები) 1.7.1- 1.7.7 პუნქტების თანახმად საგზაო ნიშანი 1.7.1. „მეორეხარისხოვან გზასთან გადაკვეთა“, 1.7.2–1.7.7. „მეორეხარისხოვანი გზის შეერთება“ (შეერთება მარჯვნიდან – 1.7.2, 1.7.4 და 1.7.6, შეერთება მარცხნიდან – 1.7.3, 1.7.5 და 1.7.7) – ისეთ გზასთან გადაკვეთა ან ისეთ გზასთან შეერთება, რომელზე მოძრავ მძღოლსაც აქვს გზის დათმობის ვალდებულება. 1.7.1–1.7.7 ნიშნები სახიფათო მონაკვეთის დასაწყისამდე იდგმება დაუსახლებელ პუნქტში 150–300 მეტრ მანძილზე, დასახლებულ პუნქტში – 50–100 მეტრ მანძილზე.

ВОПРОС 93

ПРАВИЛЬНЫЙ ОТВЕТ: 2



I



II



III



IV

Иარბოუ ამოათე დыргაკეა რკინტე რუა იარბან ეიტაცუა არნიქეაფცეა ამოა ატარა იახьрыхэтоу амѡакѡа
радлара иазгѡазтоѢ

1

IIIИи IIIМи мацара

2

Ии IIIИИИи мацара

3

IIIИ мацара

4

IIIИИИ мацара

განმარტება:

„საგზაო მოძრაობის შესახებ“ საქართველოს კანონის პირველი დანართის პირველი თავის (მაფრთხილებელი ნიშნები) 1.7.1- 1.7.7 პუნქტების თანახმად საგზაო ნიშანი 1.7.1. „მეორეხარისხოვან გზასთან გადაკვეთა“, 1.7.2–1.7.7. „მეორეხარისხოვანი გზის შეერთება“ (შეერთება მარჯვნიდან – 1.7.2, 1.7.4 და 1.7.6, შეერთება მარცხნიდან – 1.7.3, 1.7.5 და 1.7.7) – ისეთ გზასთან გადაკვეთა ან ისეთ გზასთან შეერთება, რომელზე მოძრავ მძღოლსაც აქვს გზის დათმობის ვალდებულება. 1.7.1–1.7.7 ნიშნები სახიფათო მონაკვეთის დასაწყისამდე იდგმება დაუსახლებელ პუნქტში 150–300 მეტრ მანძილზე, დასახლებულ პუნქტში – 50–100 მეტრ მანძილზე.

ВОПРОС 94

ПРАВИЛЬНЫЙ ОТВЕТ: 3



I



II



III



IV

Иარბოу амѡатѡ дыргакѡа рѣынтѡ руа иარбан ентатѡа арныѣѡѡѡѡа амѡа атара иахѣрыхѡтоу амѡакѡа радлара иазгѡазтоѢ

1

IIIИи IIIИИИи мацара

2

Ии Ими мацара

3

Рызынтѡгы

4

Акызатѡыкгы

განმარტება:

„საგზაო მოძრაობის შესახებ“ საქართველოს კანონის პირველი დანართის პირველი თავის (მაფრთხილებელი ნიშნები) 1.7.1- 1.7.7 პუნქტების თანახმად საგზაო ნიშანი 1.7.1. „მეორეხარისხოვან გზასთან გადაკვეთა“, 1.7.2–1.7.7. „მეორეხარისხოვანი გზის შეერთება“ (შეერთება მარჯვნიდან – 1.7.2, 1.7.4 და 1.7.6, შეერთება მარცხნიდან – 1.7.3, 1.7.5 და 1.7.7) – ისეთ გზასთან გადაკვეთა ან ისეთ გზასთან შეერთება, რომელზე მოძრავ მძღოლსაც აქვს გზის დათმობის ვალდებულება. 1.7.1–1.7.7 ნიშნები სახიფათო მონაკვეთის დასაწყისამდე იდგმება დაუსახლებელ პუნქტში 150–300 მეტრ მანძილზე, დასახლებულ პუნქტში – 50–100 მეტრ მანძილზე.

ВОПРОС 95

ПРАВИЛЬНЫЙ ОТВЕТ: 3



I



II



III



IV

Иарбоу амѡათѣ дыргакѣа ркынтѣ руа иарабан арныкѣаѡ аѣхыкѣра икѣызтѣо еиѡѣѣаны иѣо амѡаѣы еитатѣуа атранспортѣ хархѣага арныкѣаѡ амѡа итѣразыѣ

1

I

2

II

3

III

4

IV

განმარტება:

„საგზაო მოძრაობის შესახებ“ საქართველოს კანონის პირველი დანართის მე-2 თავის (პრიორიტეტის ნიშანი) 2.3 პუნქტების თანახმად საგზაო ნიშანი 2.3 „დაუთმე გზა“ - გზა, რომელზე მოძრაობა მძღოლიც ვალდებულია გზა დაუთმოს გადასაღვეთ გზაზე მოძრაობ მძღოლს, ხოლო 8.13 დაფის არსებობისას – მთავარ გზაზე მოძრაობ მძღოლს. 2.3 ნიშანი დაუსახლებელ პუნქტში იდგმება წინასწარ გზაჯვარედინამდე 150–300 მეტრ მანძილზე 8.1.1 დაფით, თუ გზაჯვარედინის წინ დადგმულია 2.3 ნიშანი, ან 8.1.2 დაფით, თუ გზაჯვარედინის წინ დადგმულია 2.4 ნიშანი.



Иარბოу амѡათѣ дырга иаанагоитЖ

1

Арныкѡად амѡа итшѡоу ацыѣѣаха алалара азин имам

2

Иарбанзаалак атранспорттѣ хархѡагала аитѣѣра калом

3

Арныкѡად, еиѣѣаны иѣо амѡაѣы еитѣѣуа атранспорттѣ хархѡага арныкѡად амѡа иѣара ихѣѣоуп

განმარტება:

„საგზაო მოძრაობის შესახებ“ საქართველოს კანონის პირველი დანართის მე-2 თავის (პრიორიტეტის ნიშანი) 2.3 პუნქტების თანახმად საგზაო ნიშანი 2.3 „დაუთმე გზა“ - გზა, რომელზე მოძრავი მძღოლიც ვალდებულია გზა დაუთმოს გადასაღვეთ გზაზე მოძრავ მძღოლს, ხოლო 8.13 დაფის არსებობისას – მთავარ გზაზე მოძრავ მძღოლს. 2.3 ნიშანი დაუსახლებელ პუნქტში იდგმება წინასწარ გზაჯვარედინამდე 150–300 მეტრ მანძილზე 8.1.1 დაფით, თუ გზაჯვარედინის წინ დადგმულია 2.3 ნიშანი, ან 8.1.2 დაფით, თუ გზაჯვარედინის წინ დადგმულია 2.4 ნიშანი.



Иარბოу ამოათე დყრა იაანაგოიტჟ

1

Атранспорттә хархәагақәа зегьы иарбоу ахырхаратала амџа алалара рылшом

2

Иарбанзаалак атранспорттә хархәагала аитатра қалом

3

Арнықәаџцәа иаанымгылакәа аитатра анагзара азин рымам, еиџцәаны иџо амџаџы еитатрау атранспорттә хархәагақәа рырнықәаџцәа амџа рытара рыхәтоуп

განმარტება:

„საგზაო მოძრაობის შესახებ“ საქართველოს კანონის პირველი დანართის მე-2 თავის (პრიორიტეტის ნიშანი) 2.4 პუნქტების თანახმად საგზაო ნიშანი 2.4 „მოძრაობა გაუჩერებლად აკრძალულია“- უკრძალავს მძღოლს მოძრაობის გაგრძელებას „სდექ“ ხაზის წინ გაუჩერებლად, ხოლო თუ ის არ არის – გადასაკვეთი სავალი ნაწილის ნაპირთან. მძღოლი ვალდებულია გზა დაუთმოს გადასაკვეთ გზაზე მოძრავ მძღოლს, ხოლო 8. 13 დაფის არსებობისას – მთავარ გზაზე მოძრავ მძღოლს. ნიშანი იდგმება, თუ არაა უზრუნველყოფილი გადამკვეთ გზაზე მოძრავი სატრანსპორტო საშუალებათა ხილვადობა, ის აგრეთვე შეიძლება დაიდგას რკინიგზის გადასასვლელის ან საკარანტინო საგუშაგოს წინ (ამ შემთხვევაში მძღოლი ვალდებულია გაჩერდეს „სდექ“ ხაზის წინ, ხოლო თუ ის არ არის – ნიშნის წინ).

ВОПРОС 98

ПРАВИЛЬНЫЙ ОТВЕТ: 3



I



II



III



IV

Иарбоу амѡатѣ дыргакѣа ркынтѣ руа иарбан, арныкѣаѡ, амѡа итшѣоу ацыѣтѣаха даныланы данцо, еиѣынгылоу ахырхартала еитатѣуа атранспортѣ хархѣага ацкыс аѣыжѣара изтоѣ

1

I

2

II

3

III

4

IV

განმარტება:

„საგზაო მოძრაობის შესახებ“ საქართველოს კანონის პირველი დანართის მე-2 თავის (პრიორიტეტის ნიშანი) 2.6 პუნქტების თანახმად საგზაო ნიშანი 2.6 „უპირატესობა შემხვედრ მოძრაობასთან“ - ანიჭებს მძღოლს უპირატესობას გზის ვიწრო მონაკვეთზე მოძრაობისას საპირისპირო მიმართულებით მოძრავ სატრანსპორტო საშუალებასთან შედარებით.

ВОПРОС 99

ПРАВИЛЬНЫЙ ОТВЕТ: 1



I



II



III



IV

Иარბოу амѡатѡ дьргакѡа ркнытѡ руа иარбан зымч алартѡара иахьамоу атыѡаѡы арныкѡаѡ, еиѡѡаам амхеихьсырта ахьсра аѡьжѡара иахьымоуѢ

1

III Ши ШМи мацара

2

Ши ШШШи мацара

3

Акьзатѡыкгы

4

Рьзынтѡгы

განმარტება:

„საგზაო მოძრაობის შესახებ“ საქართველოს კანონის პირველი დანართის პირველი თავის (მაფრთხილებელი ნიშნები) 1.7.1- 1.7.7 პუნქტების თანახმად საგზაო ნიშანი 1.7.1. „მეორეხარისხოვან გზასთან გადაკვეთა“, 1.7.2–1.7.7. „მეორეხარისხოვანი გზის შეერთება“ (შეერთება მარცხნიდან – 1.7.2, 1.7.4 და 1.7.6, შეერთება მარცხნიდან – 1.7.3, 1.7.5 და 1.7.7) – ისეთ გზასთან გადაკვეთა ან ისეთ გზასთან შეერთება, რომელზე მოძრავე მძღოლსაც აქვს გზის დათმობის ვალდებულება. ამავე კანონის პირველი დანართის მე-2 თავის (პრიორიტეტის ნიშანი) 2.1 პუნქტების თანახმად საგზაო ნიშანი 2.1 „მთავარი გზა“ - გზა, რომელზე მოძრავე მძღოლსაც ენიჭება არარეგულირებული გზაჯვარედინის გავლის უპირატესობა. ნიშანი იდგმება გზის დასაწყისში და მეორდება უშუალოდ ყოველი გზაჯვარედინის წინ. 2.1 ნიშანი 8.13 დაფით დასახლებულ პუნქტში იდგმება გზაჯვარედინის წინ, რომელზედაც მთავარი გზა იცვლის მიმართულებას, დაუსახლებელ პუნქტში – წინასწარ გზაჯვარედინამდე 150–300 მეტრ მანძილზე და გზაჯვარედინის წინ.



I



II



III



IV

Иარბოუ ამოათე დыргაკეа ауаапсыра иахьнымхо атыѳаѳы иргылатеуп ишѳартоу ацыѳтѳаха алагамтанѳаЖ

1

5тѳ1тт метрак ишыбѳью

2

1тѳ15т метрак ишыбѳью

3

15тѳ3тт метрак ишыбѳью

4

3тѳ4тт метрак ишыбѳью

განმარტება:

„საგზაო მოძრაობის შესახებ“ საქართველოს კანონის პირველი დანართის პირველი თავის (მაფრთხილებელი ნიშნები) შენიშვნის „ა“ პუნქტის თანახმად 1.1, 1.2, 1.5–1.34 ნიშნები დაუსახლებელ პუნქტში იდგმება სახიფათო მონაკვეთის დასაწყისამდე 150–300 მეტრ მანძილზე, დასახლებულ პუნქტში – 50–100 მეტრ მანძილზე. აუცილებლობისას ნიშნები იდგმება სხვა მანძილზედაც, რომელიც მითითებულია 8.1.1 დაფაზე. სურათზე ნაჩვენები ნიშნებია: 1.7.1 „მეორეხარისხოვან გზებთან გადაკვეთა“, 1.7.2, 1.7.3 და 1.7.7 „მეორეხარისხოვანი გზის შეერთება“.

თემა 5:

ამკრძალავი ნიშნები



Иарбоу амѡатѡ дырга амч ахѡамоу атыѡаѡы амопеди уи еиѡшу атранспорттѡ хархѡагаѡѡеи рыла аитѡѡრა злаѡало аласра еиѡамзароупЖ

1

Сааткала 20 км

2

Сааткала 50 км

3

Сааткала 45 км

განმარტება:

„საგზაო მოძრაობის შესახებ“ საქართველოს კანონის პირველი დანართის 3.24 პუნქტის თანახმად საგზაო ნიშანი 3.24 „მაქსიმალური სიჩქარის შეზღუდვა“ - კრძალავს მოძრაობას ნიშანზე აღნიშნულზე მეტი სიჩქარით(კმ/სთ). ამავე კანონის 33-ე მუხლის მე-8 პუნქტის „ბ“ ქვეპუნქტის თანახმად, თუ ამ კანონით სხვა რამ არ არის დადგენილი, დასახლებულ ან დაუსახლებელ პუნქტში ნებადართულია მოპედისა და მასთან გათანაბრებული სატრანსპორტო საშუალების მოძრაობა ყველა გზაზე, სადაც ამ კატეგორიის სატრანსპორტო საშუალების მოძრაობა დასაშვებია, არაუმეტეს 45 კმ/სთ სიჩქარით.



Иарбоу амѡатѡ дырга иаанагоитЖ

1

Адыргаѡы иарбоу ацкыс еиѡау аласрала
аитѡтра калом

2

Амаксималтѡ аласра аѡкра шѡаѡзыргыло
амѡатѡ дырга амч аѡѡамоу атыѡ антѡамтѡ

3

Амѡа абри аѡѡѡѡѡѡѡѡ аитѡтра злакало
аласра

განმარტება:

„საგზაო მოძრაობის შესახებ“ საქართველოს კანონის პირველი დანართის 3.25 პუნქტის თანახმად საგზაო ნიშანი 3.25 „მაქსიმალური სიჩქარის შეზღუდვის დასასრული“ – 3.24 ნიშნის („მაქსიმალური სიჩქარის შეზღუდვა“) მოქმედების ზონის დასასრული.



Амашына лас арныкәә, амз еиџшо арыцхәкәа рзы асаат 19 инаркны асаат 21 акынза асахьаҕы иарбоу атыҕаҕы, аргылартаҕы, амашына аргылара азин имоумаҕ

1

Азин имоуп

2

Азин имазам

განმარტება:

„საგზაო მოძრაობის შესახებ“ საქართველოს კანონის პირველი დანართის მე-3 თავის (ამკრძალავი ნიშნები) 3.29 და 3.30 პუნქტების თანახმად საგზაო ნიშანი 3.29 „დგომა აკრძალულია კენტ რიცხვებში“ - კრძალავს სატრანსპორტო საშუალების დგომას თვის კენტ რიცხვებში, ხოლო საგზაო ნიშანი 3.30 „დგომა აკრძალულია ლუნ რიცხვებში“ - კრძალავს სატრანსპორტო საშუალების დგომას თვის ლუნ რიცხვებში. ამავე პუნქტების შენიშვნის თანახმად 3.29 და 3.30 ნიშნების ერთდროულად გამოყენებისას, სატრანსპორტო საშუალებების გზის ერთი მხრიდან მეორეზე გადაყენების დროა 19-დან 21 საათამდე, ამ პერიოდში დგომა ნებადართულია სავალი ნაწილის ორივე მხარეს.



Иарбоу амѡатѡ дыргაჲ

1

Агѡѡანцара ჲნათოит ამѡაფы ахѡычкѡა
цыртыр шыკало азы

2

Икѡитымнатѡუеит ашьакауаа реитатра

3

Анхартатыჲ антѡამტა იазგѡანათოит

განმარტება:

„საგზაო მოძრაობის შესახებ“ საქართველოს კანონის პირველი დანართის მე-3 თავის (ამკრძალავი ნიშნები) 3.10 პუნქტის თანახმად საგზაო ნიშანი 3.10 „ქვეითთა მოძრაობა აკრძალულია“. - კრძალავს ქვეითთა მოძრაობას. ნიშანი იდგმება იმ ადგილას, სადაც ქვეითთა მოძრაობა დაუშვებელია, მათი უსაფრთხოებიდან გამომდინარე.

ВОПРОС 105

ПРАВИЛЬНЫЙ ОТВЕТ: 1



I



II



III



IV

Иарбоу амѡათѣ дыргакѣа ркынтѣ руа иარбан амარшруттѣ атранспорттѣ хархѣагазы амч змамѢ

1

ში შიშიში მაцარა

2

შიში შიმი მაцარა

3

შიში შიშიში მაцარა

4

ში შიმი მაцარა

განმარტება:

„საგზაო მოძრაობის შესახებ“ საქართველოს კანონის პირველი დანართის მე-3 თავის (ამკრძალავი ნიშნები) შენიშვნის „გ.ა“ ქვეპუნქტის თანახმად ნიშნების მოქმედება არ ვრცელდება: გ.ა) 3.1–3.3, 3.18.1, 3.18.2, 3.19, 3.27 ნიშნებისა – სამარშრუტო სატრანსპორტო საშუალებაზე. სურათზე ნაჩვენები საგზაო ნიშნებია: 3.18.2 „მარცხნივ მოხვევა აკრძალულია“, 3.24 „მაქსიმალური სიჩქარის შეზღუდვა“, 3.19 „მობრუნება აკრძალულია“ და 3.29 „დგომა აკრძალულია კენტ რიცხვებში“.

„საგზაო მოძრაობის შესახებ“ საქართველოს კანონის პირველი დანართის მე-3 თავის (ამჟრძალავი ნიშნები) შენიშვნის „გ.ბ“ ქვეპუნქტის თანახმად ნიშნების მოქმედება არ ვრცელდება: გ.ბ) 3.2–3.8 ნიშნებისა – სატრანსპორტო საშუალებაზე, რომელიც ემსახურება აღნიშნულ ზონაში მდებარე საწარმოს, ანდა ემსახურება ან ეკუთვნის ამავე ზონაში მცხოვრებ ან მომუშავე პირს. ამ შემთხვევაში სატრანსპორტო საშუალება შედის აღნიშნულ ზონაში და გამოდის იქიდან დანიშნულების ადგილისაკენ უახლოეს გზაჯვარედინზე. სურათზე ნაჩვენები საგზაო ნიშნებია: 3.1 „შესვლა აკრძალულია“, 3.2 „მოძრაობა აკრძალულია“, 3.13 „სიმაღლის შეზღუდვა“ და 3.8 „საჭაპანო მოძრაობა აკრძალულია“.



I



II



III



IV

Иარბოу амѡатѡ дыргакѡа ркынтѡ руа иарбан абри адырга анырра иахѡамоу азонаѡы инхо ма аус зуа ахаѡы иматц зуа ма итѡу амаршруттѡ атранспорттѡ хархѡагазы амч змамѢ

1

Ши ШШи мацара

2

Ши ШШШШи мацара

3

ШШШШи ШМи мацара

4

Иარბოу амѡатѡ дыргакѡа зегы

განმარტება:

„საგზაო მოძრაობის შესახებ“ საქართველოს კანონის პირველი დანართის მე-3 თავის (ამკრძალავი ნიშნები) შენიშვნის „გ.ბ“ ქვეპუნქტის თანახმად ნიშნების მოქმედება არ ვრცელდება: გ.ბ) 3.2–3.8 ნიშნებისა – სატრანსპორტო საშუალებაზე, რომელიც ემსახურება აღნიშნულ ზონაში მდებარე სანარმოს, ანდა ემსახურება ან ეკუთვნის ამავე ზონაში მცხოვრებ ან მომუშავე პირს. ამ შემთხვევაში სატრანსპორტო საშუალება შედის აღნიშნულ ზონაში და გამოდის იქიდან დანიშნულების ადგილისაკენ უახლოეს გზაჯვარედინზე. სურათზე ნაჩვენები საგზაო ნიშნებია: 3.2 „მოძრაობა აკრძალულია“, 3.3 „მექანიკური სატრანსპორტო საშუალებით მოძრაობა აკრძალულია“, 3.5 „მოტოციკლით მოძრაობა აკრძალულია“ და 3.8 „საჭაპანო მოძრაობა აკრძალულია“.



Иарбоу атагылазаашьафы, арныкәә ахыц ала иазгәатоу атып афы амашына аанкылар азин имоумаџ

1

Азин имам

2

Азин имоуп

განმარტება:

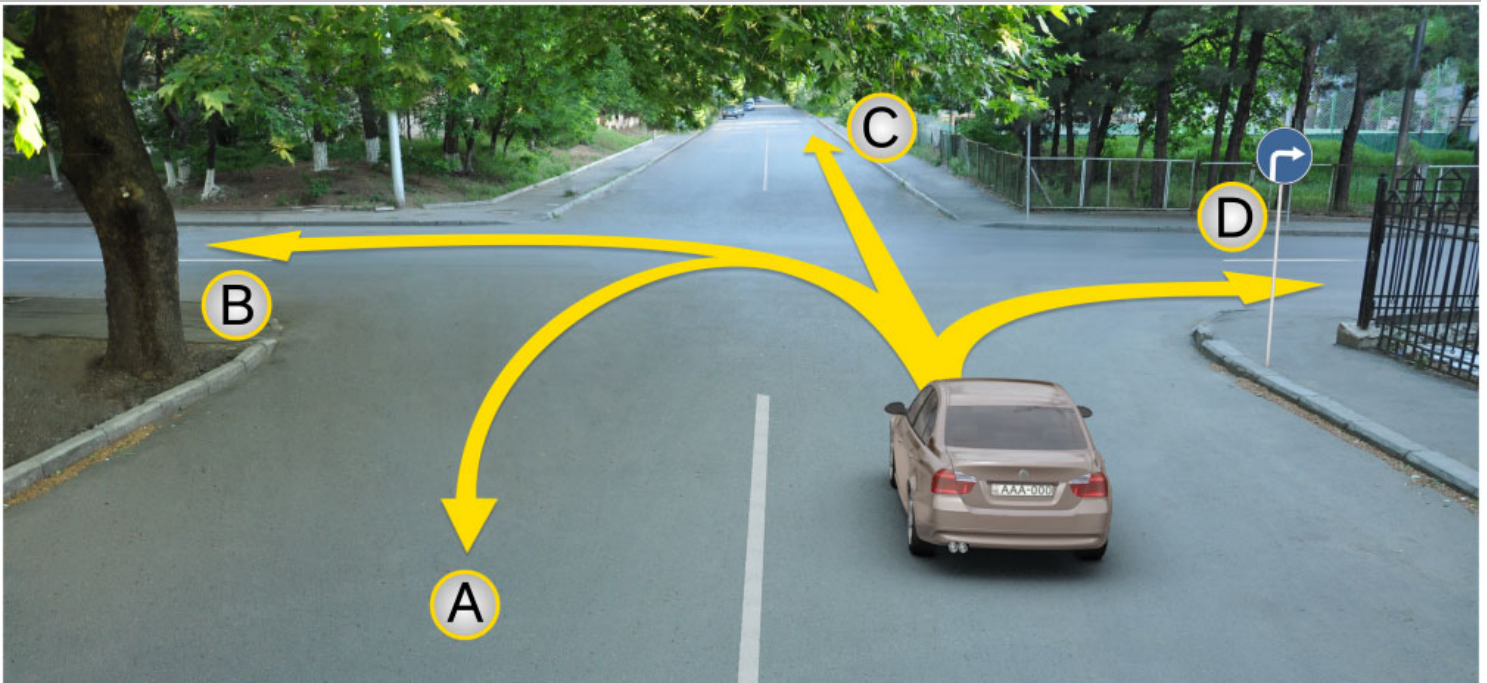
„საგზაო მოძრაობის შესახებ“ საქართველოს კანონის პირველი დანართის მე-3 თავის (ამკრძალავი ნიშნები) 3.27 პუნქტის თანახმად, საგზაო ნიშანი 3.27 „გაჩერება აკრძალულია“ - კრძალავს სატრანსპორტო საშუალების როგორც გაჩერებას, ასევე დგომას. ამავე თავის შენიშვნის „ე“ ქვეპუნქტის თანახმად 3.26–3.30 ნიშნების მოქმედება ვრცელდება სათანადო ნიშნის შემდეგ, ნიშნის დადგმის ადგილიდან უახლოეს გზაჯვარედინამდე, ხოლო დასახლებულ პუნქტში გზაჯვარედინის არარსებობისას – დასახლებული პუნქტის ბოლომდე. ნიშნების მოქმედება ვრცელდება აგრეთვე მიმდებარე ტერიტორიის გამოსასვლელთან, საველე, სატყეო და სხვა მეორეხარისხოვანი გზების გადაკვეთასთან (შეერთებასთან), რომელთა წინ არ დგას სათანადო ნიშანი. ამავე კანონის მე-5 მუხლის მე-13 პუნქტის თანახმად, გზაჯვარედინი არის ერთ დონეზე გზების კვეთა, შეერთება ან განშტოება, ასეთი კვეთით, შეერთებით ან განშტოებით წარმოქმნილი ტერიტორიების ჩათვლით. გზაჯვარედინად არ ითვლება მიმდებარე ტერიტორიებიდან გამომავალი გამოსასვლელების გზებთან კვეთა.

თემა 6:

მიმთითებული ნიშნები

ВОПРОС 109

ПРАВИЛЬНЫЙ ОТВЕТ: 4



Амашына лас арныкәә аитатра анагзара азин имоупЖ

1

А, С, Д ахырхартакәа рыла

2

А, В, С, Д ахырхартакәа рыла

3


В, С ахырхартакәа рыла

4

Д ахырхартала

განმარტება:

„საგზაო მოძრაობის შესახებ“ საქართველოს კანონის პირველი დანართის 4.1.2 პუნქტის თანახმად საგზაო ნიშანი 4.1.2 „მოძრაობა მარჯვნივ“ რთავს მხოლოდ ისრით ნაჩვენები მიმართულებით მოძრაობის ნებას.



Иарбоу ატაგჲლაზააშაჲყ, ატჲირტა იახჲსჲზ ამაშჲყნა არნჲკჲაჲ, არჲყარახჲტჲი ახატჲირტა ალალარა ამჲჲლაჲ

- | | | | |
|---|--|---|---|
| 1 | A ახჲრჲარტალა ახატჲირა აჲინ იმოუპ | 2 | B ახჲრჲარტალა შჲტაჲჲლა აჲარა აჲინ იმოუპ |
| 3 | აი ბი ახჲრჲარტაკჲა რჲლა აიტატრა აჲინ იმოუპ | 4 | აი ბი ახჲრჲარტაკჲა რჲლა აიტატრა აჲინ იმამ |

განმარტება:

„საგზაო მოძრაობის შესახებ“ საქართველოს კანონის 32-ე მუხლის მე-16 პუნქტის თანახმად, მძღოლი, რომელიც მობრუნებას ან უკუსვლით მოძრაობას აპირებს, უნდა დარწმუნდეს, რომ მას შეუძლია ისე შეასრულოს ეს მანევრი, რომ საფრთხე არ შეუქმნას და ხელი არ შეუშალოს სხვა საგზაო მოძრაობის მონაწილეებს. აუცილებლობის შემთხვევაში მიზანშეწონილია სხვა პირის დახმარება. აკრძალულია უკუსვლით მოძრაობა გზატკარციდზე, ავტომაგისტრალზე და ამ მუხლის მე-15 პუნქტით განსაზღვრულ ადგილებში. ამავე კანონის პირველი დანართის მე-4 თავის (მიმთითებული ნიშნები) 4.1.4 პუნქტის და ამავე პუნქტის შენიშვნის თანახმად საგზაო ნიშანი 4.1.4 „მოძრაობა პირდაპირ ან მარჯვნივ“ - რთავს მხოლოდ ისრებით ნაჩვენები მიმართულებებით მოძრაობის ნებას.

ВОПРОС 111

ПРАВИЛЬНЫЙ ОТВЕТ: 4



I



II



III



IV

Иарбоу амѡათѣ дыргакѣа рѣынтѣ руа иарбан арныѣѣаѣ агѣеанѣара изѣто ахагѣжѣратѣ аитѣѣра змоу амѣеихѣсырта азааигѣахара иазкныѣ

1

ში ში ში მაძარა

2

ში ში ში მაძარა

3


ში ში ში ში ში მაძარა

4

ში ში ში მაძარა

განმარტება:

„საგზაო მოძრაობის შესახებ“ საქართველოს კანონის პირველი დანართის პირველი თავის (მაფრთხილებელი ნიშნები) 1.8 პუნქტის თანახმად საგზაო ნიშანი 1.8 „წრიული მოძრაობიანი გადაკვეთა“ - იძლევა გაფრთხილებას 4.3 „წრიული მოძრაობა“ ნიშნით აღნიშნულ წრიულ მოძრაობიან გზაჯვარედინთან მიახლოების თაობაზე.



Ахыц ахырхартала еиҭацуа амашынакәа рырныкәаџцәа рҭкынтә амџатә аиҭаҭра аҭаскәа еилазгода, урт агәара аҭакыра иҭалозарҭ

1

Амашына шкәакәа арныкәаџ

2

Амашына кәҭушь арныкәаџ

3

Аџемашынак рырныкәаџцәа

4

Азәҭгы

განმარტება:

„საგზაო მოძრაობის შესახებ“ საქართველოს კანონის პირველი დანართის მე-4 თავის (მიმთითებული ნიშნები) 4.1.1 პუნქტისა და ამავე პუნქტის შენიშვნის „ა“ და „დ“ ქვეპუნქტების თანახმად, საგზაო ნიშანი 4.1.1 „მოძრაობა პირდაპირ“ რთავს მხოლოდ ისრებით ნაჩვენები მიმართულებებით მოძრაობის ნებას. 4.1.1 ნიშნის მოქმედება, რომელიც გზის მონაკვეთის დასაწყისშია დადგმული, ვრცელდება უახლოეს გზაჯვარედინამდე. ნიშანი არ კრძალავს მარჯვნივ ეზოში მოხვევას და სხვა მიმდებარე ტერიტორიაზე შესვლას.



Амашына лас арныкѣа аитатра анагзара азин имоупЖ

1

Дышиашоу, иара убас, арѣарахь

2

Дышиашоу, иара убас, армарахь

3

Дышиашоу

4

Ахырхартѣа зегы рыла

განმარტება:

„საგზაო მოძრაობის შესახებ“ საქართველოს კანონის პირველი დანართის მე-4 თავის (მიმთითებული ნიშნები) 4.1.1 პუნქტისა და ამავე პუნქტის შენიშვნის „ა“ და „დ“ ქვეპუნქტების თანახმად, საგზაო ნიშანი 4.1.1 „მოძრაობა პირდაპირ“ რთავს მხოლოდ ისრებით ნაჩვენები მიმართულებებით მოძრაობის ნებას. 4.1.1 ნიშნის მოქმედება, რომელიც გზის მონაკვეთის დასაწყისშია დადგმული, ვრცელდება უახლოეს გზაჯვარედინამდე. ნიშანი არ კრძალავს მარჯვნივ ეზოში მოხვევას და სხვა მიმდებარე ტერიტორიაზე შესვლას.



Амашына лас арныкѣа аитатра азин имоупЖ

1

Дышиашоу мацара

2


Арѣарахь мацара

3

Дышиашоу, иара убас, арѣарахь

განმარტება:

„საგზაო მოძრაობის შესახებ“ საქართველოს კანონის 28-ე მუხლის მე-5 პუნქტის თანახმად, თუ გზაზე დროებით გადასატან სადგარზე ან საგზაო სამუშაოების მწარმოებელი ორგანიზაციის ავტომობილზე დაყენებულია საგზაო ნიშანი (შემდგომ – დროებითი საგზაო ნიშანი), რომლის მოთხოვნები ეწინააღმდეგება იმავე გზის მონაკვეთზე სტაციონარულად დაყენებული საგზაო ნიშნის მოთხოვნებს, მძღოლი ვალდებულია შეასრულოს დროებითი საგზაო ნიშნის მოთხოვნები.



Амашына лас арныкәә айтатра азин имоупЖ

1

Армарахь мацара

2

Дтәины шытахька мацара

3


Армарахь, иара убас, дтәины шытахька

განმარტება:

„საგზაო მოძრაობის შესახებ“ საქართველოს კანონის 28-ე მუხლის მე-5 პუნქტის თანახმად, თუ გზაზე დროებით გადასატან სადგარზე ან საგზაო სამუშაოების მწარმოებელი ორგანიზაციის ავტომობილზე დაყენებულია საგზაო ნიშანი (შემდგომ – დროებითი საგზაო ნიშანი), რომლის მოთხოვნები ეწინააღმდეგება იმავე გზის მონაკვეთზე სტაციონარულად დაყენებული საგზაო ნიშნის მოთხოვნებს, მძღოლი ვალდებულია შეასრულოს დროებითი საგზაო ნიშნის მოთხოვნები. ამავე კანონის პირველი დანართის მე-4 თავის (მიმთითებული ნიშნები) 4.1.1–4.1.6 პუნქტების შენიშვნის „ა“ ქვეპუნქტის თანახმად, 4.1.1–4.1.6 ნიშნები რთავს მხოლოდ ისრებით ნაჩვენები მიმართულებებით მოძრაობის ნებას, ხოლო ნიშნები, რომლებიც მარცხნივ მოხვევის ნებას რთავს, მობრუნების უფლებასაც იძლევა.

ВОПРОС 116

ПРАВИЛЬНЫЙ ОТВЕТ: 1



Иарбоу атагылазаашьаџы, амашына лас арныкџаџ ахыц ахырхартала атџира азин имоумаџ

1


Азин имаџам

2

Азин имоуп

განმარტება:

„საგზაო მოძრაობის შესახებ“ საქართველოს კანონის პირველი დანართის მე-4 თავის (მიმთითებული ნიშნები) 4.1.5 პუნქტისა და 4.1.1-4.1.6 პუნქტების შენიშვნის „ა“ და „დ“ ქვეპუნქტების თანახმად, საგზაო ნიშანი 4.1.5 „მოძრაობა პირდაპირ ან მარცხნივ“ - რთავს მხოლოდ ისრებით ნაჩვენები მიმართულებებით მოძრაობის ნებას, ხოლო ნიშნები, რომლებიც მარცხნივ მოხვევის ნებას რთავს, მობრუნების უფლებასაც იძლევა.



Абарт атранспорттә хархәагақәа рырныкәаџцәа ркынтә ахыц ахырхартала аитатра аан амџатә аитатра атцасқәа еилазымгодаџ

1

Амашына лас арныкәаџ мацара.

2

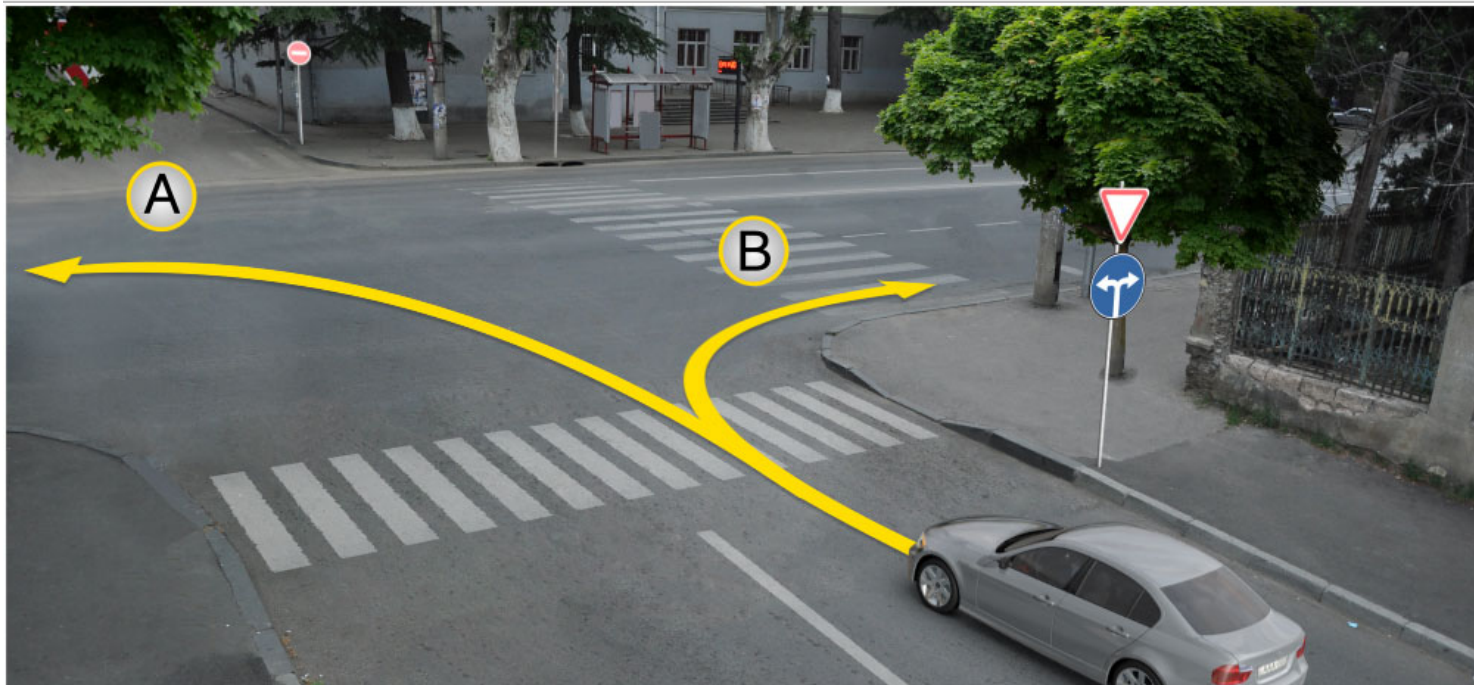
Амотоцикл арныкәаџ мацара.

3

Аџетранспорттә хархәагақ рырныкәаџцәа

განმარტება:

„საგზაო მოძრაობის შესახებ“ საქართველოს კანონის პირველი დანართის მე-4 თავის (მიმთითებული ნიშნები) 4.2.2 პუნქტის თანახმად, საგზაო ნიშანი 4.2.2 „დაბრკოლების შემოვლა მარცხნიდან“ - მიუთითებს გამყოფი ზოლის, უსაფრთხოების კუნძულის ან რაიმე დაბრკოლების მხოლოდ მარცხნიდან შემოვლის მიმართულებას.



Иарбоу ატაგელაზააშაფყ, ამაშყნა ლას არწყკაფ აიტატრა ანაგზარა აზინ იმოუპჟ

1

A ახყრჰართალა

2

B ახყრჰართალა

3

Ai Bi ახყრჰარტაჰა რყლა

განმარტყბა:

„საგზაო მოძრაობის შესახებ“ საქართველოს კანონის პირველი დანართის მე-4 თავის (მიმთითებული ნიშნები) 4.1.6 პუნქტისა და ამავე პუნქტის შენიშვნის „ა“ ქვეპუნქტის თანახმად, საგზაო ნიშანი 4.1.6 „მოძრაობა მარჯვნივ ან მარცხნივ“ - რთავს მხოლოდ ისრებით ნაჩვენები მიმართულებებით მოძრაობის ნებას, ხოლო ნიშნები რომლებიც მარცხნივ მოხვევის ნებას რთავენ, მობრუნების ნებასაც იძლევა.

თემა 7:

საინფორმაციო-მარკეტინგული ნიშნები



Ахыт ахырхартала аитатра аан абарт атранспорттә хархәагакәа рырныкәаџәа ркынтә амџәтә аитатра атас еилазгодаџ

1

Амашына лас арныкәаџ затәы

2

Аидаратә машына арныкәаџ затәы

3

Амотоцикл арныкәаџ затәы

4

Азәгы

განმარტება:

„საგზაო მოძრაობის შესახებ“ საქართველოს კანონის 31-ე მუხლის მე-12 პუნქტის თანახმად, თუ ამ კანონით სხვა რამ არ არის გათვალისწინებული, ნებისმიერ სავალ ნაწილზე, თანმხვედრი მიმართულებით მოძრაობისთვის განკუთვნილი სამი ან მეტი მოძრაობის ზოლის არსებობისას განაპირა მარცხენა მოძრაობის ზოლის დაკავება ნებადართულია მხოლოდ ინტენსიური მოძრაობისას, როცა სხვა მოძრაობის ზოლები დაკავებულია, აგრეთვე გასწრების, მარცხნივ მოხვევის ან მობრუნების მიზნით, ხოლო სატვირთო ავტომობილისათვის – მხოლოდ მარცხნივ მოხვევის ან მობრუნების დროს.



Абарт атранспорттə хархəагақəа ркынтə аргылара атас аилағарала иргылоупЖ

1

Амотоцикл

2

Амашына шкəакəа

3

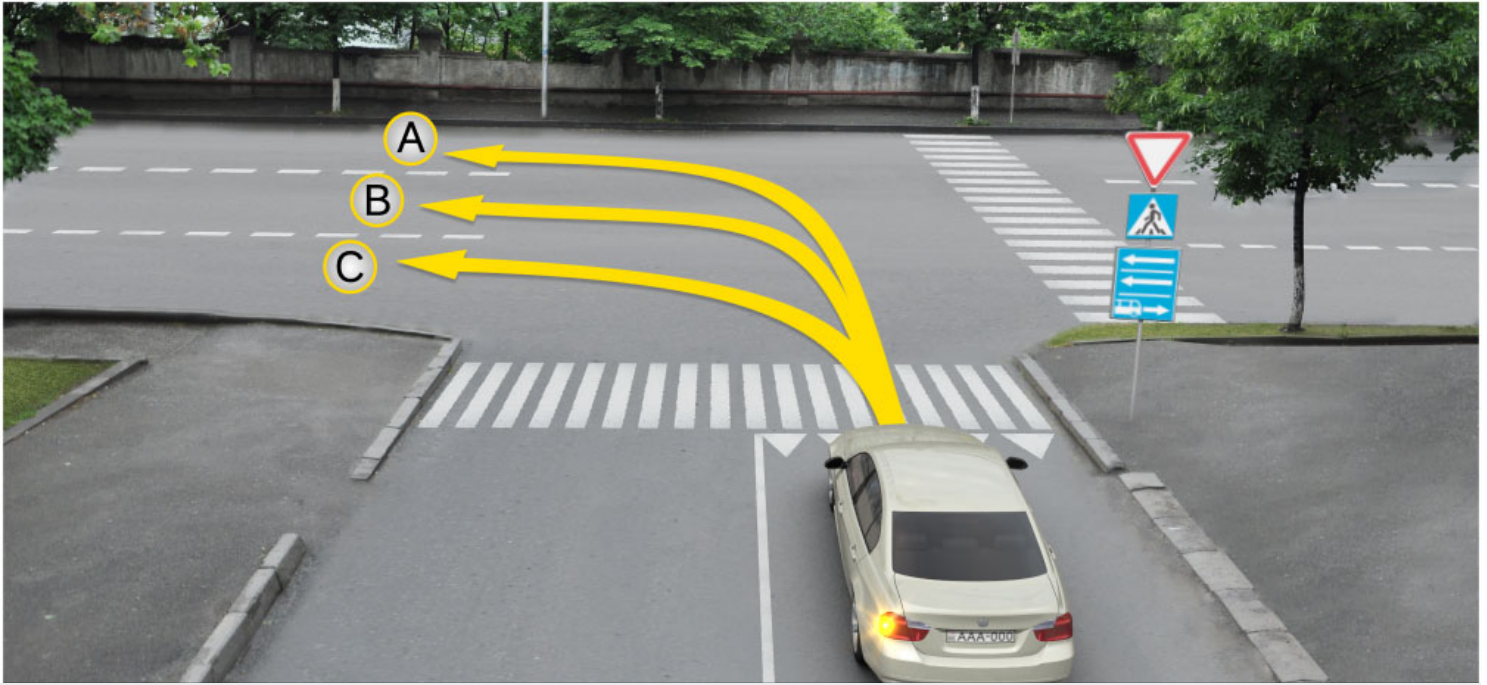
Амашына иатцəа

4

Атранспорттə хархəагақəа зегы

განმარტება:

„საგზაო მოძრაობის შესახებ“ საქართველოს კანონის პირველი დანართის 5.29 პუნქტის თანახმად საგზაო ნიშანი 5.29 „რეგულირებადი სადგომის ზონა“ - აღნიშნავენ ტერიტორიას, რომლის ფარგლებში რეგლამინტირებულია დგომა. ამავე დანართის 8.6.1-8.6.9 პუნქტის თანახმად დამატებითი ინფორმაციის ნიშანი (დაფა) 8.6.8 - განსაზღვრავს სადგომზე სატრანსპორტო საშუალების გაჩერების ხერხს; ამასთანავე, 8.6.1 დაფა მიუთითებს, რომ სადგომზე ყველა სატრანსპორტო საშუალება უნდა დადგეს სავალ ნაწილზე ტროტუარის გასწვრივ, ხოლო 8.6.2–8.6.9 დაფები მიუთითებს მსუბუქი ავტომობილისა და მოტოციკლის ტროტუართან მიმდებარე სადგომზე დაყენების ხერხზე.



Амашына лас арныкәә айтатра азин имоупЖ

1

Аи Си ахырхартәә мацара рыла.

2

Ви Си ахырхартәә мацара рыла.

3


Аи Ви ахырхартәә мацара рыла

4

А ахырхартала

განმარტება:

„საგზაო მოძრაობის შესახებ“ საქართველოს კანონის პირველი დანართის მე-5 თავის (განსაკუთრებული მითითებების ნიშნები) 5.13.2 პუნქტის თანახმად 5.13.2 „სამარშრუტო სატრანსპორტო საშუალებისათვის განკუთვნილი მოძრაობის ზოლის მქონე გზაზე გასვლა“ - მიუთითებს 5.11 ნიშნით აღნიშნულ გზაზე გასვლას და იდგმება ყველა გვერდითი შესასვლელის წინ. ნიშანი შეიძლება არა დაიდგას მიმდებარე ტერიტორიებიდან გამოსასვლელების გზასთან გადაკვეთებზე, იმ შემთხვევაში თუ ამ ტერიტორიებზე შესვლა შესაძლებელია მხოლოდ 5.11 ნიშნით აღნიშნულ გზიდან. ამავე კანონის 32-ე მუხლის მე-7 პუნქტის „ბ“ ქვეპუნქტის თანახმად, სხვა გზაზე გასასვლელად ან გზის მიმდებარე ტერიტორიაზე შესასვლელად მარჯვნივ ან მარცხნივ მოხვევის წინ, ისე, რომ არ დაარღვიოს ამ კანონის მე-20 მუხლის მე-2 პუნქტითა და ამ მუხლის პირველი და მე-2 პუნქტებით დადგენილი მოთხოვნები, თუ სატრანსპორტო საშუალების მძღოლი აპირებს გზიდან გასვლას მარცხენა მხრიდან, სატრანსპორტო საშუალება, რამდენადაც ეს შესაძლებელია, უნდა მიუახლოვდეს გზის სავალი ნაწილის ღერძს (ორმხრივმოძრაობიან გზაზე) ან სავალი ნაწილის მარცხენა კიდე (ცალმხრივმოძრაობიან გზაზე), ხოლო თუ ის სხვა ორმხრივმოძრაობიან გზაზე აპირებს გასვლას, მოხვევა ისე უნდა შეასრულოს, რომ სავალი ნაწილების გადაკვეთიდან გამოსვლისას სატრანსპორტო საშუალება საპირისპირო მოძრაობის მხარეს არ აღმოჩნდეს.



Амашына лас арныкөөд айтатра азин имоупЖ

1

Дышиашоу, иара убас, арбъарахь

2

Дышиашоу, иара убас, армарахь

3

Армарахь, иара убас, дцѣины шытахька

4

Дышиашоу, армарахь, иара убас, дцѣины шытахька

განმარტება:

„საგზაო მოძრაობის შესახებ“ საქართველოს კანონის პირველი დანართის მე-5 თავის (განსაკუთრებული მითითებების ნიშნები) 5.13.2 პუნქტის თანახმად 5.13.2 „სამარშრუტო სატრანსპორტო საშუალებისათვის განკუთვნილი მოძრაობის ზოლის მქონე გზაზე გასვლა“ - მიუთითებს 5.11 ნიშნით აღნიშნულ გზაზე გასვლას და იდგმება ყველა გვერდითი შესასვლელის წინ. ნიშანი შეიძლება არა დაიდგას მიმდებარე ტერიტორიებიდან გამოსასვლელების გზასთან გადაკვეთებზე, იმ შემთხვევაში თუ ამ ტერიტორიებზე შესვლა შესაძლებელია მხოლოდ 5.11 ნიშნით აღნიშნულ გზიდან. ამავე კანონის 41-ე მუხლის მე-3 პუნქტის თანახმად, გზაზე, სადაც 5.11, 5.13.1, 5.13.2 და 5.14 საგზაო ნიშნებით აღნიშნული სამარშრუტო სატრანსპორტო საშუალებების მოძრაობისათვის განკუთვნილი ზოლია, აკრძალულია ამ ზოლზე სხვა სატრანსპორტო საშუალებათა მოძრაობა და გაჩერება. თუ ეს ზოლი დანარჩენი სავალი ნაწილისგან მონიშვნის წყვეტილი ხაზითაა გამოყოფილი, მოხვევისას სხვა სატრანსპორტო საშუალებები ამ ზოლზე უნდა გადაჭკუდნენ. ნებადართულია აგრეთვე ამ ზოლის ასეთ ადგილებში შესვლა გზაზე გასვლისას და მგზავრთა ჩასხდომა-გადმოსხდომისას სავალი ნაწილის მარჯვენა კიდედან, თუ ეს არ დააბრკოლებს სამარშრუტო სატრანსპორტო საშუალების მოძრაობას.



Иарбоу амѡатѡ дыргакѡЖ

1

Иахнарбоит гантѡи аитатра иазку амѡа ма амѡасырта алааларта

2

Аитатратѡ цѡахѡа алагамта иазгѡартѡит

3

Автобускѡа реитатразы иалкаау ацѡахѡа иазгѡартѡит

განმარტება:

„საგზაო მოძრაობის შესახებ“ საქართველოს კანონის პირველი დანართის მე-5 თავის (განსაკუთრებული მითითებების ნიშნები) 5.7.1, 5.7.2 პუნქტების თანახმად, საგზაო ნიშნები 5.7.1 და 5.7.2 „ცალმხრივმოძრაობიან გზაზე გასვლა“ - მითითებს ცალმხრივმოძრაობიან გზაზე ან სავალ ნაწილზე გასვლას. ნიშნები იდგმება ყველა გვერდითი შესასვლელის წინ. ნიშანი შეიძლება არა დაიდგას მიმდებარე ტერიტორიებიდან გამოსასვლელების გზასთან გადაკვეთებზე, თუ ამ ტერიტორიებზე შესვლა შესაძლებელია მხოლოდ 5.5 ნიშნით აღნიშნულ გზიდან.



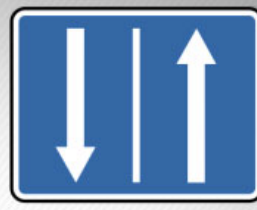
I



II



III



IV

Иарбоу амѡатѡ дыргакѡа ркынтѡ руа иарбан аревѡрстѡ аитѡцра змоу амѡа ацыѡцѡаха алагамѡа
иазгѡазѡѡ

1

I

2

II

3


III

4

IV

განმარტება:

„საგზაო მოძრაობის შესახებ“ საქართველოს კანონის პირველი დანართის მე-5 თავის (განსაკუთრებული მითითებების ნიშნები) 5.8 პუნქტის თანახმად, საგზაო ნიშანი 5.8 „რევერსული მოძრაობა“ – გზის მონაკვეთის დასაწყისი, სადაც ერთ ან რამდენიმე ზოლზე მოძრაობის მიმართულება შეიძლება საპირისპიროდ შეიცვალოს.



Ахыц ахырхартала еитатца атранспорттә хархәагақәа рырныкәаџцәа ркынтә амџатә аитатцра атцасқәа еилазгодаџ

1

Амотоцикл арныкәаџ затәы

2

Амашына џежь арныкәаџ затәы

3

Амашына еикәатцәа арныкәаџ затәы

4

Азәгы

განმარტება:

„საგზაო მოძრაობის შესახებ“ საქართველოს კანონის 32-ე მუხლის მე-6 პუნქტის თანახმად, მარცხენა მხარეს სავალ ნაწილთან ერთ დონეზე განლაგებული, თანმხვედრი მიმართულების ტრამვაის ლიანდაგების არსებობის შემთხვევაში სატრანსპორტო საშუალების მძღოლი მარცხნივ მოხვევასა და მობრუნებას ასრულებს ამ ვაკისზე, თუ 5.15.1 და 5.15.2 საგზაო ნიშნებით მოძრაობის სხვა წესრიგი დადგენილი არ არის. ამასთანავე, ტრამვაის მოძრაობას არ უნდა შეექმნას დაბრკოლება.

“Анхартатә зона” аупЖ

1

Ауааҭсыра иахьынхо, иарбанзаалак
аҭакырадгьыл

2

Амѡатѡ аитатра чыдалатѡи атасқѡа амч
иахьрымоу, алалартѡи алтыртѡи
иашьашѡалоу амѡатѡ дыргакѡа рыла
иахьазгѡатоу, ауаа иахьынхо аҭакырадгьыл

3

Ашьаҭауаа ринтенсивтѡ аитатра иазку,
иарбанзаалак амѡа

განმარტება:

„საგზაო მოძრაობის შესახებ“ საქართველოს კანონის 5-ე მუხლის 75-ე პუნქტის თანახმად, „საცხოვრებელი ზონა“ - განაშენიანებული ტერიტორია, სადაც მოქმედებს სპეციალური საგზაო მოძრაობის წესები და სადაც შესასვლელი და გამოსასვლელი აღნიშნულია შესაბამისი საგზაო ნიშნებით.

თემა 8:

სერვისის ნიშნები

ВОПРОС 127

ПРАВИЛЬНЫЙ ОТВЕТ: 2



I



II



III



IV

Иарбоу амѡათѡ дыргакѡа рѡынтѡ руа иარბან რაფუხუაზათѡი ამედიცინათѡ ცხურაარა აპუნკტ იაზკნუ ადურრა ზაჰუიფ

1

I

2

II

3

III

4

IV

განმარტება:

„საგზაო მოძრაობის შესახებ“ საქართველოს კანონის პირველი დანართის მე-6 თავის (სერვისის ნიშნები) 6.1 პუნქტის თანახმად, საგზაო ნიშანი 6.1 „პირველადი სამედიცინო დახმარების პუნქტი“ საგზაო მოძრაობის მონაწილეებს აძლევენ ინფორმაციას შესაბამისი ობიექტის ან სერვისის შესახებ.

ВОПРОС 128

ПРАВИЛЬНЫЙ ОТВЕТ: 4



I



II



III



IV

Иарбоу амѡатѡ дыргакѡа рѣынтѡ руа иарбан абылтѡытѡтѡарта иазкны адырра кѡзѡѡѢ

1

I

2

II

3

III

4

IV

განმარტება:

„საგზაო მოძრაობის შესახებ“ საქართველოს კანონის პირველი დანართის მე-6 თავის (სერვისის ნიშნები) 6.2 პუნქტის თანახმად, საგზაო ნიშანი 6.2 „ავტოგასამართი სადგური“ საგზაო მოძრაობის მონაწილეებს აძლევენ ინფორმაციას შესაბამისი ობიექტის ან სერვისის შესახებ.

ВОПРОС 129

ПРАВИЛЬНЫЙ ОТВЕТ: 3




I



II



III



IV

Иарбоу амѡатѡ дьргакѡа ркынтѡ руа иарбан амашына атехникатѡ аматцура иазкны адырра казтѡѢ

1

I

2

II

3

III

4

IV

განმარტება:

„საგზაო მოძრაობის შესახებ“ საქართველოს კანონის პირველი დანართის მე-6 თავის (სერვისის ნიშნები) 6.3 პუნქტის თანახმად, საგზაო ნიშანი 6.3 „ავტომობილის ტექნიკური მომსახურება“ საგზაო მოძრაობის მონაწილეებს აძლევენ ინფორმაციას შესაბამისი ობიექტის ან სერვისის შესახებ.

ВОПРОС 130

ПРАВИЛЬНЫЙ ОТВЕТ: 3



I



II



III



IV

Иарбоу амѡათѡ дьргакѡа ркынтѡ руа иарбан амашына арыцкѡара атыѡ иазкны адырра казѡѡ

1

I

2

II

3

III

4

IV

განმარტება:

„საგზაო მოძრაობის შესახებ“ საქართველოს კანონის პირველი დანართის მე-6 თავის (სერვისის ნიშნები) 6.4 პუნქტის თანახმად, საგზაო ნიშანი 6.4 „ავტომობილის რეცხვა“ საგზაო მოძრაობის მონაწილეებს აძლევს ინფორმაციას შესაბამისი ობიექტის ან სერვისის შესახებ.

ВОПРОС 131

ПРАВИЛЬНЫЙ ОТВЕТ: 3



I



II



III



IV

Иарбоу амѡатѡ дыргакѡа рѡынтѡ руа иарбан ателтѡ пункт иазкны адырра казтѡѢ

1

I

2

II

3

III

4

IV

განმარტება:

„საგზაო მოძრაობის შესახებ“ საქართველოს კანონის პირველი დანართის მე-6 თავის (სერვისის ნიშნები) 6.5 პუნქტის თანახმად, საგზაო ნიშანი 6.5 „ტელეფონი“ საგზაო მოძრაობის მონაწილეებს აძლევენ ინფორმაციას შესაბამისი ობიექტის ან სერვისის შესახებ.

ВОПРОС 132

ПРАВИЛЬНЫЙ ОТВЕТ: 2



I



II



III



IV

Иарбоу амѡатѡ дьргакѡа ркынтѡ руа иарбан акрыфарта иазкны адырра казѡѡ

1

I

2

II

3

III

4

IV

განმარტება:

„საგზაო მოძრაობის შესახებ“ საქართველოს კანონის პირველი დანართის მე-6 თავის (სერვისის ნიშნები) 6.6 პუნქტის თანახმად, საგზაო ნიშანი 6.6 „კვების პუნქტი“ საგზაო მოძრაობის მონაწილეებს აძლევენ ინფორმაციას შესაბამისი ობიექტის ან სერვისის შესახებ.



I



II



III



IV

Иарбоу амѡатѡ дыргакѡа ркынтѡ руа иарбан арыжѡтѡ иазкны адырра казѡѡ

1

I

2

II

3

III

4

IV

განმარტება:

„სავგაო მოძრაობის შესახებ“ საქართველოს კანონის პირველი დანართის მე-6 თავის (სერვისის ნიშნები) 6.7 პუნქტის თანახმად, სავგაო ნიშანი 6.7 „სასმელი წყალი“ სავგაო მოძრაობის მონაწილეებს აძლევენ ინფორმაციას შესაბამისი ობიექტის ან სერვისის შესახებ.

ВОПРОС 134

ПРАВИЛЬНЫЙ ОТВЕТ: 4



I



II



III



IV

Иарбоу амѡатѡ дыргакѡа ркынтѡ руа иарбан асасаиртѡ ма амотель иазкны адырра казѡѡ

1

I

2

II

3

III

4

IV

განმარტება:

„საგზაო მოძრაობის შესახებ“ საქართველოს კანონის პირველი დანართის მე-6 თავის (სერვისის ნიშნები) 6.8 პუნქტის თანახმად, საგზაო ნიშანი 6.8 „სასტუმრო ან მოტელი“ საგზაო მოძრაობის მონაწილეებს აძლევს ინფორმაციას შესაბამისი ობიექტის ან სერვისის შესახებ.

ВОПРОС 135

ПРАВИЛЬНЫЙ ОТВЕТ: 1



I



II



III



IV

Иарбоу амѡатѡ дыргакѡа рѡынтѡ руа иарбан акемпинг иазкны адырра казцоѢ

1

I

2

II

3

III

4

IV

განმარტება:

„საგზაო მოძრაობის შესახებ“ საქართველოს კანონის პირველი დანართის მე-6 თავის (სერვისის ნიშნები) 6.9 პუნქტის თანახმად, საგზაო ნიშანი 6.9 „კემპინგი“ საგზაო მოძრაობის მონაწილეებს აძლევენ ინფორმაციას შესაბამისი ობიექტის ან სერვისის შესახებ.



Иарбоу амѡатѡ дьрга адырра канатѡитЖ

1

Апатрультѡ полиция аѣыѣшырта аѡазаара
иазкны

2

Амашѡыртѡ матураѡкны арадиоаимадара
азона аѡазаара иазкны

განმარტება:

„საგზაო მოძრაობის შესახებ“ საქართველოს კანონის პირველი დანართის მე-6 თავის (სერვისის ნიშნები) 6.11 პუნქტის თანახმად, საგზაო ნიშანი 6.11 „საპატრულო პოლიციის საგუშაგო“ საგზაო მოძრაობის მონაწილეებს აძლევენ ინფორმაციას შესაბამისი ობიექტის ან სერვისის შესახებ.

ВОПРОС 137

ПРАВИЛЬНЫЙ ОТВЕТ: 1



I



II



III



IV

Иарбоу амѡатѡ дырგакѡа рѣынтѡ руа иарбан жѡларбжѡаратѡи автомобилтѡ мѡангаракѡа ргѡатаратѡ пункт аѣазаара иазкны адырра ѣазѡѡѢ

1

I

2

II

3

III

4

IV

განმარტება:

„საგზაო მოძრაობის შესახებ“ საქართველოს კანონის პირველი დანართის მე-6 თავის (სერვისის ნიშნები) 6.13 პუნქტის თანახმად, საგზაო ნიშანი 6.13 „საერთაშორისო საავტომობილო გადაზიდვების საკონტროლო პუნქტი“ საგზაო მოძრაობის მონაწილეებს აძლევენ ინფორმაციას შესაბამისი ობიექტის ან სერვისის შესახებ.

ВОПРОС 138

ПРАВИЛЬНЫЙ ОТВЕТ: 1



Иარბოу амѡатѡ дырга адырра канатѡитЖ

1

жѡларбжыаратѡи автомобилтѡ амѡангарақѡа
ргѡатаратѡ пункт ақѡзаара иазкны

2

Апатрультѡ полиция ағыпшырта ақѡзаара
иазкны

განმარტება:

„საგზაო მოძრაობის შესახებ“ საქართველოს კანონის პირველი დანართის მე-6 თავის (სერვისის ნიშნები) 6.13 პუნქტის თანახმად, საგზაო ნიშანი 6.13 „საერთაშორისო საავტომობილო გადაზიდვების საკონტროლო პუნქტი“ საგზაო მოძრაობის მონაწილეებს აძლევენ ინფორმაციას შესაბამისი ობიექტის ან სერვისის შესახებ.

ВОПРОС 139

ПРАВИЛЬНЫЙ ОТВЕТ: 2



Иარბოу амѡатѡ дырга адырра канатѡитЖ

1

Амашѡыртѡ матцурақкны арадиоаимадара
азона ақѡзаара иазкны

2

Амѡатѡ аитатцра иазку адырра қазцѡ
арадиостанция адкыларатѡ зона ақѡзаара
иазкны

განმარტება:

„საგზაო მოძრაობის შესახებ“ საქართველოს კანონის პირველი დანართის მე-6 თავის (სერვისის ნიშნები) 6.14 პუნქტის თანახმად, საგზაო ნიშანი 6.14 „საგზაო მოძრაობის შესახებ ინფორმაციის გადამცემი რადიოსადგურის მიღების ზონა“ საგზაო მოძრაობის მონაწილეებს აძლევენ ინფორმაციას შესაბამისი ობიექტის ან სერვისის შესახებ.

ВОПРОС 140

ПРАВИЛЬНЫЙ ОТВЕТ: 2



I



II



III



IV

Иарбоу амѡатѣ дыргакѣа рѣынтѣ руа иарбан амѡатѣ аитатра иазкны адырра кѣзцо, арадиостанция адкыларатѣ зона аѣазаара иазгѣазтоѢ

1

I

2

II

3

III

4

IV

განმარტება:

„საგზაო მოძრაობის შესახებ“ საქართველოს კანონის პირველი დანართის მე-6 თავის (სერვისის ნიშნები) 6.14 პუნქტის თანახმად, საგზაო ნიშანი 6.14 „საგზაო მოძრაობის შესახებ ინფორმაციის გადამცემი რადიოსადგურის მიღების ზონა“ საგზაო მოძრაობის მონაწილეებს აძლევენ ინფორმაციას შესაბამისი ობიექტის ან სერვისის შესახებ.



Иарбоу амѡатѡ дьрга адырра канатѡитЖ

1

Амашѡыртѡ матуракны арадиоаимадара
атыл аказаара иазкны

2

Амѡатѡ аитатра иазкны адырра канто
арадиостанция адкыларатѡ зона аказаара
иазкны

განმარტება:

„საგზაო მოძრაობის შესახებ“ საქართველოს კანონის პირველი დანართის მე-6 თავის (სერვისის ნიშნები) 6.15 პუნქტის თანახმად, საგზაო ნიშანი 6.15 „საავარიო სამსახურთან რადიოკავშირის ზონა“ საგზაო მოძრაობის მონაწილეებს აძლევენ ინფორმაციას შესაბამისი ობიექტის ან სერვისის შესახებ.

ВОПРОС 142

ПРАВИЛЬНЫЙ ОТВЕТ: 3



I



II



III



IV

Иарбоу адыргакәа ркынтә руа иарбан амашәыртә матурақны арадиоаимадара азона шықоу иахзырбоҕ

1

I

2

II

3

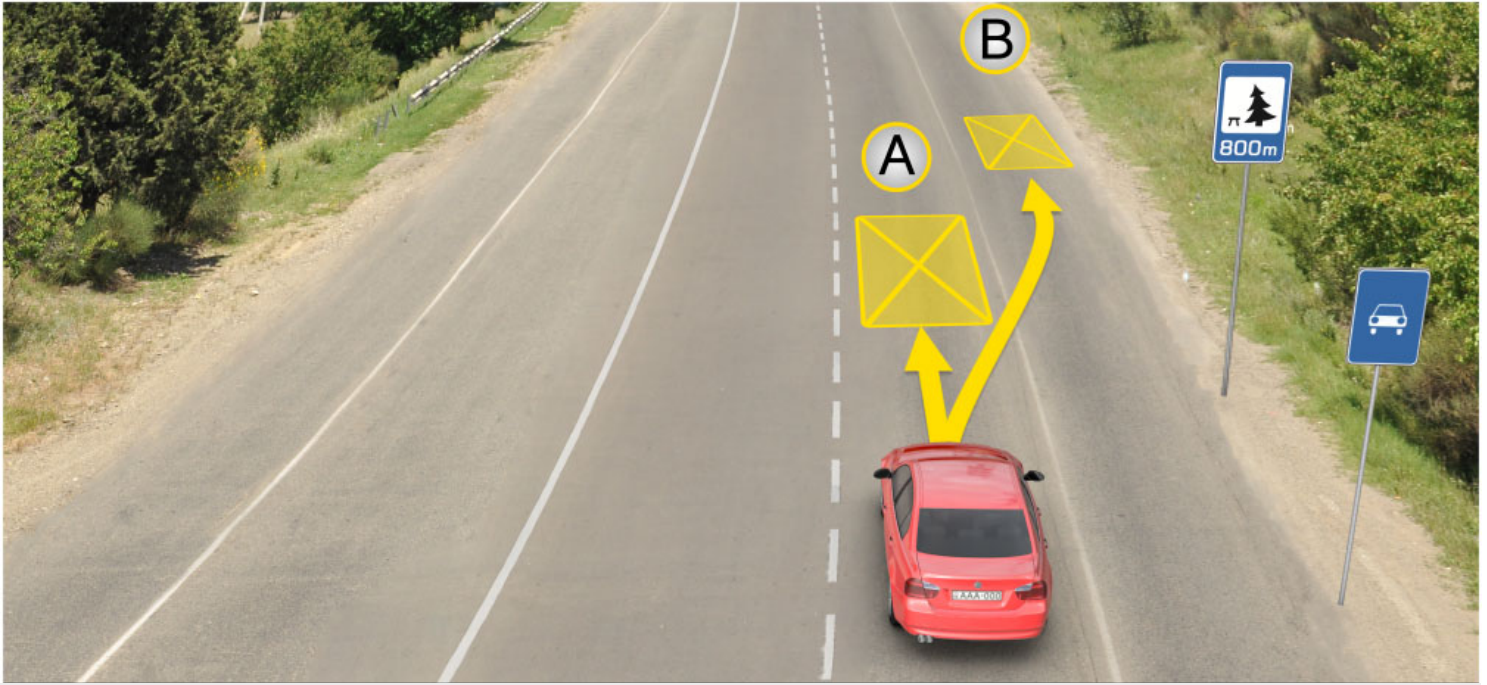
III

4

IV

განმარტება:

„საგზაო მოძრაობის შესახებ“ საქართველოს კანონის პირველი დანართის მე-6 თავის (სერვისის ნიშნები) 6.15 პუნქტის თანახმად, საგზაო ნიშანი 6.15 „საავარიო სამსახურთან რადიოკავშირის ზონა“ საგზაო მოძრაობის მონაწილეებს აძლევენ ინფორმაციას შესაბამისი ობიექტის ან სერვისის შესახებ.



Иარბოუ ატაგლაზააშაფყი არწყჲაფ აзин имоуп кыраамтатәи аҭсшьара амзызла амашына иргыларцЖ

1

A ატყაფყი

2

B ატყაფყი

3

800 მეტრაკ რნეფს იჲოუ ცჲდალა იალკააუ
ატყაფყი მა ამფა ნჲყტ

განმარტება:

„საგზაო მოძრაობის შესახებ“ საქართველოს კანონის 37-ე მუხლის მე-11 პუნქტის თანახმად, დაუსახლებელ პუნქტში ხანგრძლივი დასვენების (ღამის გასათევად ან სხვა) მიზნით დგომა ნებადართულია, მხოლოდ ამისათვის განკუთვნილ სადგომზე ან გზის ფარგლებს მიღმა.



I



II



III



IV

Иარბოу амѡათѡ дьргакѡа рѣынтѡ азысратѡ бассейн ма аплиаж иазкны адырра ѣазподаѢ

1

I

2

II

3

III

4

IV

განმარტება:

„საგზაო მოძრაობის შესახებ“ საქართველოს კანონის პირველი დანართის მე-6 თავის (სერვისის ნიშნები) 6.16 პუნქტის თანახმად, საგზაო ნიშანი 6.16 „საცურაო აუზი ან პლაჟი“ საგზაო მოძრაობის მონაწილეებს აძლევს ინფორმაციას შესაბამისი ობიექტის ან სერვისის შესახებ.

თემა 9:

დამატებითი ინფორმაციის ნიშნები



Иარბოу амѡათѡ дыргакѡа ркомбинация арныѡѡѡ идирдыруеит аѡысра шыѡамлоЖ

1

Ианылашьцоу

2

Ажѡѡан аѡстѡѡа анху

3

Амѡасырта ианыбаазоу

განმარტება:

„საგზაო მოძრაობის შესახებ“ საქართველოს კანონის პირველი დანართის 3.20 პუნქტის თანახმად, საგზაო ნიშანი 3.20. „გასწრება აკრძალულია“ – კრძალავს ყველა სახის მექანიკური სატრანსპორტო საშუალების გასწრებას (გარდა 30 კმ/სთ-ზე ნაკლები სიჩქარით მოძრავი ტრანსპორტისა). ნებადართულია გასწრება უეტლო მოტოციკლის, მოპედისა და ველოსიპედის შემხვედრი მოძრაობის ზოლში გადაუსვლელად. ამავე კანონის პირველი დანართის მე-8 თავის (დამატებითი ინფორმაციის ნიშნები (დაფები)) 8.16 პუნქტის თანახმად, დაფა 8.16 „სველი საფარი“ - მიუთითებს, რომ ნიშნის მოქმედება ვრცელდება დროის იმ პერიოდში, როცა სავალი ნაწილის საფარი სველია. გამოიყენება 1.16, 3.20, 3.22 და 3.24 ნიშნებთან ერთად.

„საგზაო მოძრაობის შესახებ“ საქართველოს კანონის პირველი დანართის მე-7 თავის (საინფორმაციო-მარეგულირებელი ნიშნები) 7.16 პუნქტის თანახმად, 7.16 „სდექ ხაზი“ - მიუთითებს სატრანსპორტო საშუალების გაჩერების ადგილს რეგულირებულ გზაჯვარედინსა და არარეგულირებულ რკინიგზის გადასასვლელზე.



Иарбоу амѡатѡ дыргакѡа арныкѡაფ идирдыруეит адыргакѡа иახыгылоу атыჲ აჲხაჲЖ

1

400 მეტრა აცჲჲტაჲაჲყე ამჲა ჲეიმ, უაჲა აიტატრა ეიჲჲუჲ საატკალა 30კმ. ალასრალა

2

400 მეტრა აამჲშჲტაჲხ იალაგოიტ იჲეიმ ამჲა აცჲჲტაჲა, უაჲა აიტატრა ეიჲჲუჲ საატკალა 30კმ. ალასრალა

3

150ჲ 300 მეტრა რაამჲშჲტაჲხ იალაგოიტ 400 მეტრა იაჲაროუ, ამჲა იახჲჲეიმ აცჲჲტაჲა, უაჲა აიტატრა ეიჲჲუჲ საატკალა 30კმ. ალასრალა

განმარტება:

„საგზაო მოძრაობის შესახებ“ საქართველოს კანონის პირველი დანართის პირველი თავის (მაფრთხილებელი ნიშნები) 1.17 პუნქტისა და ამავე თავის შენიშვნის „ა“ ქვეპუნქტის თანახმად, საგზაო ნიშანი 1.17 „უსწორმასწორო გზა“ - გზის მონაკვეთი, რომლის სავალი ნაწილი დაზიანებულია ტალღოვანი, ღრანტეებიანი, ხიდთან უსწორმასწორო შეუღლებებით და ა. შ.. 1.1, 1.2, 1.5–1.34 ნიშნები დაუსახლებელ პუნქტში იდგმება სახიფათო მონაკვეთის დასაწყისამდე 150–300 მეტრ მანძილზე. ამავე დანართის მე-8 თავის (დამატებითი ინფორმაციის ნიშნები (დაფები)) 8.2.1 პუნქტის თანახმად, დაფა 8.2.1 „მოქმედების ზონა“ - მიუთითებს მაფრთხილებელი ნიშნით აღნიშნული გზის სახიფათო მონაკვეთის სიგრძეს, ან ამკრძალავი და საინფორმაციო-მაჩვენებელი ნიშნის მოქმედების ზონას. ამავე დანართის მე-7 თავის (საინფორმაციო-მაჩვენებელი ნიშნები) 7.2 პუნქტის თანახმად, საგზაო ნიშანი 7.2 „რეკომენდებული სიჩქარე“ - მიუთითებს სიჩქარეს, რომლითაც რეკომენდებულია მოძრაობა გზის მოცემულ მონაკვეთზე. ნიშანი იდგმება გზის დასაწყისში. ნიშნის მოქმედება ვრცელდება უახლოეს გზაჯვარედინამდე, ხოლო მაფრთხილებელ ნიშანთან ერთად – სახიფათო უბნის მთელ სიგრძეზე.



Иарбоу амѡатѡ дьрга арныѡѡ ианаѡѡит абарт адыргаѡѡ ртыѡ аѡѡѡѡѡ

1

300 метრაკ аѡѡѡѡѡѡѡѡ аитѡѡѡ ѡѡѡм
саатѡѡѡ 50 км. еиѡѡѡ аласრაѡѡ

2

300 метრაკ რაამѡѡѡѡѡѡ аитѡѡѡ ѡѡѡм
саатѡѡѡ 50 км. еиѡѡѡ аласრაѡѡ

განმარტება:

„საგზაო მოძრაობის შესახებ“ საქართველოს კანონის პირველი დანართის მე-3 თავის (ამკრძალავი ნიშნები) 3.24 პუნქტის თანახმად, საგზაო ნიშნი 3.24 „მაქსიმალური სიჩქარის შეზღუდვა“ - კრძალავს მოძრაობას ნიშანზე აღნიშნულზე მეტი სიჩქარით(კმ/სთ). ამავე დანართის მე-8 თავის (დამატებითი ინფორმაციის ნიშნები (დაფები)) 8.2.1 პუნქტის თანახმად, დაფა 8.2.1 „მოქმედების ზონა“ - მიუთითებს მატრთხილებელი ნიშნით აღნიშნული გზის სახიფათო მონაკვეთის სიგრძეს, ან ამკრძალავი და საინფორმაციო-მაჩვენებელი ნიშნის მოქმედების ზონას.



Иარბოу амѡатѡ дыргакѡа ркомбинациа арныѡѡа ианаѡѡит, абарт адыргакѡа ртыѡ аѡѡѡаЖ

1

300 метრაკ ацыѡѡѡаѡѡы аитѡტრა ѡალოит
саатѡала 50 км. еиѡამ аласрала

2

300 метრაკ раамышьѡаѡ аитѡტრა ѡალოит
саатѡала 50км. еиѡამ аласрала

განმარტება:

„საგზაო მოძრაობის შესახებ“ საქართველოს კანონის პირველი დანართის მე-3 თავის (ამკრძალავი ნიშნები) 3.24 პუნქტის თანახმად, საგზაო ნიშნი 3.24 „მაქსიმალური სიჩქარის შეზღუდვა“ - კრძალავს მოძრაობას ნიშანზე აღნიშნულზე მეტი სიჩქარით(კმ/სთ). ამავე დანართის მე-8 თავის (დამატებითი ინფორმაციის ნიშნები (დაფები)) 8.1.1 პუნქტის თანახმად, დაფა 8.1.1 „მანძილი ობიექტამდე“ - მიუთითებს მანძილს ნიშნიდან სახიფათო მონაკვეთის დასაწყისამდე, სათანადო შეზღუდვის შემოღების ადგილამდე ან წინ, მოძრაობის მიმართულებით არსებულ გარკვეულ ობიექტამდე (ადგილამდე).

თემა 10:

პუნიშის სიგნალები



Алашарбага абри ардыргазы абарт атранспорттә хархәагақәа рҕынтә ахыц ахырхартала аитатра азин змадаҕ

1


Амашына лас арныкәа

2

Амотоцикл арныкәа

განმარტება:

„საგზაო მოძრაობის შესახებ“ საქართველოს კანონის 29-ე მუხლის მე-2 პუნქტის „ა“ და „ე“ ქვეპუნქტების თანახმად, შექნიშნის ფერად მაშუქ სიგნალებს აქვთ შემდეგი მნიშვნელობა: ა) წითელი მაშუქი სიგნალი ან წითელი მოციმციმე მაშუქი სიგნალი კრძალავს მოძრაობას; ე) მწვანე მაშუქი სიგნალი რთავს მოძრაობის ნებას.



Ахыц ахырхартала аитатра аан абарт атранспорттә хархәагақәа рырныкәаџцәа ркынтә аҭыжәара змадаҭ

1


Амотоцикл арныкәаџ

2

Амашына лас арныкәаџ

განმარტება:

„საგზაო მოძრაობის შესახებ“ საქართველოს კანონის 36-ე მუხლის მე-3 პუნქტის „ბ“ ქვეპუნქტის თანახმად, რეგულირებულ გზაჯვარედინზე, შექნიშნის დამატებით სექციაში ძირითად ყვითელ ან წითელ მაშუქ სიგნალთან ერთად ჩართული ისრის მიმართულებით მოძრაობისას სატრანსპორტო საშუალების მძღოლი ვალდებულია გზა დაუთმოს სხვა მიმართულებიდან მოძრავ სატრანსპორტო საშუალებას.



Атранспорттә хархәагақәа амџеихысырта аамышьтахь иҕоу амџасырта дыркызар, алашарбага абри ардыргазы ахыц ахырхартала аитатра азин змамдаҕ

1

Амашына цѣыш арныкѣаџ мацара.

2

Амашына џежь арныкѣаџ мацара.

3

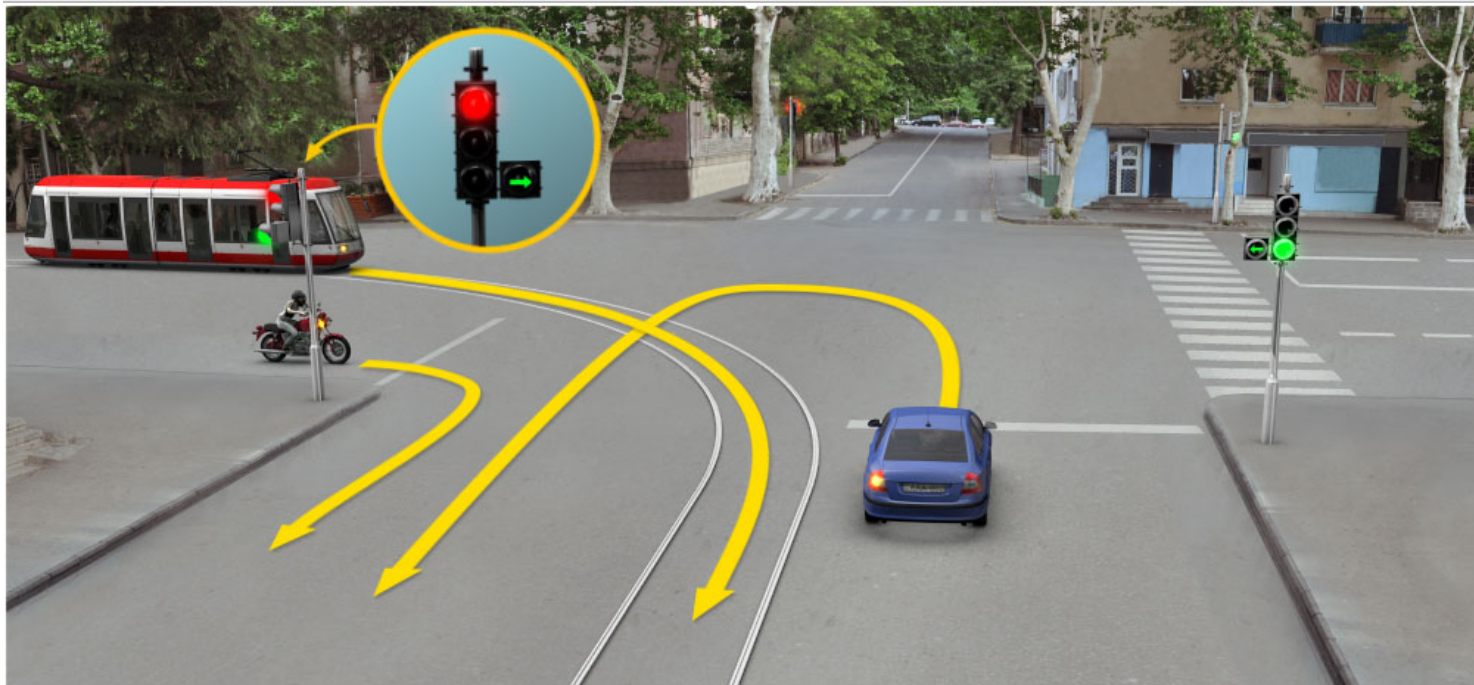
Азѣгы

4

Аџемашынак рырныкѣаџџа

განმარტება:

„საგზაო მოძრაობის შესახებ“ საქართველოს კანონის 36-ე მუხლის მე-5 პუნქტის თანახმად, მძღოლი არ უნდა გავიდეს გზაჯვარედინზე, თუ შექმნილია ისეთი ხერგილი, რომ იგი, სავარაუდოდ, იძულებული გახდება, გაჩერდეს გზაჯვარედინზე და ამით დააბრკოლოს განივი მიმართულებით მოძრაობა. ეს წესი მოქმედებს მაშინაც, თუ შექნიშნის მაშუქი სიგნალები იძლევა მოძრაობის უფლებას.



Ахыц ахырхартала аитатра аан абарт автотранспорттә хархәагақәа рырныкәащәа ркынтә зегьы раҭхьа амџеихысырта ахысра зыхәтадаҭ

1

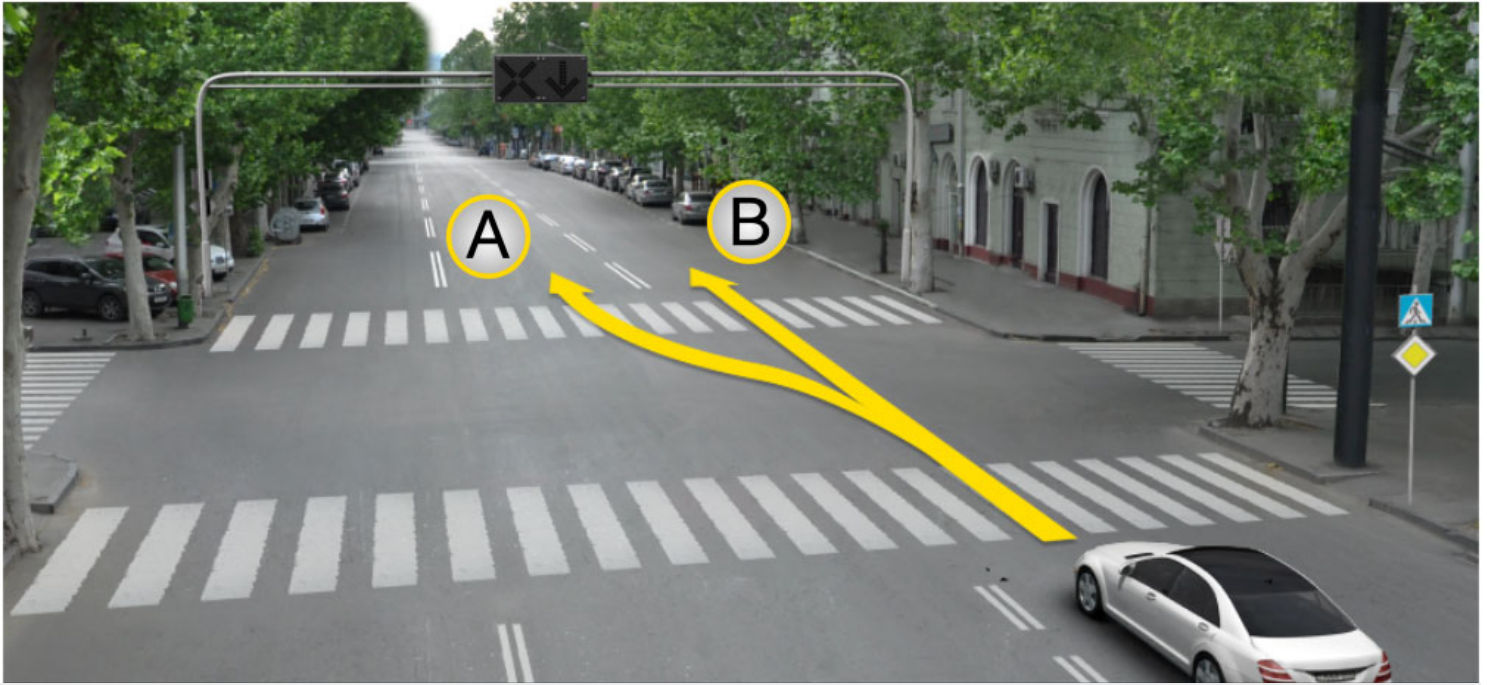
Амашына лас арныкәаџ

2

Атрамваи амотоцикли

განმარტება:

„საგზაო მოძრაობის შესახებ“ საქართველოს კანონის 36-ე მუხლის მე-3 პუნქტის „გ“ ქვეპუნქტის თანახმად, რეგულირებულ გზაჯვარედინზე, თუ შექნიშნის ან მარეგულირებლის სიგნალები ერთდროულად მოძრაობის ნებას რთავს რელსიან და ურელსო სატრანსპორტო საშუალებებს, რელსიან სატრანსპორტო საშუალებას აქვს უპირატესობა, მიუხედავად მისი მოძრაობის მიმართულებისა, მაგრამ შექნიშნის დამატებით სექციაში ძირითად ყვითელ ან წითელ მაშუქ სიგნალთან ერთად ჩართული ისრის მიმართულებით მოძრაობისას რელსიანი სატრანსპორტო საშუალების მძღოლი ვალდებულია გზა დაუთმოს სხვა მიმართულებიდან მოძრავ სატრანსპორტო საშუალებას.



Амашына лас арныкәә азин имоуп аитатра наигзарцЖ

1

A ახერხატალა

2


B ახერხატალა

3

A ახერხატალეი B ახერხატალეი

განმარტება:

„საგზაო მოძრაობის შესახებ“ საქართველოს კანონის 29-ე მუხლის მე-4 პუნქტის ქვეპუნქტის თანახმად, სატრანსპორტო საშუალების მოძრაობის რეგულირებისათვის გზის სავალი ნაწილის ზოლებზე, სადაც მოძრაობის მიმართულება საპირისპიროდ იცვლება, გამოიყენება რევერსული შუქნიშანი წითელი X ნიშნის მაშუქი სიგნალითა და ქვემოთ მიმართული მწვანე ისრით. ეს სიგნალი და ისარი შესაბამისად იმ ზოლზე მოძრაობას კრძალავს ან იმ ზოლზე მოძრაობის ნებას რთავს, რომლის ზემოთაც ისინია განლაგებული. რევერსული შუქნიშნის ძირითად ფერად მაშუქ სიგნალებს შეიძლება დაემატოს დიაგონალურად ქვემოთ – მარჯვნივ ან მარცხნივ დახრილი ისრის მქონე ყვითელი ან თეთრი მაშუქი სიგნალი, რომლის ჩართვა იტყობინება ფერადი მაშუქი სიგნალის შემდგომი შეცვლისა და ისრით მითითებულ ზოლზე გადასვლის ვალდებულების შესახებ. ორივე მხრიდან 1.9 საგზაო მონიშვნით აღნიშნული ზოლის ზემოთ მდებარე გამორთული რევერსული შუქნიშანი კრძალავს ამ ზოლზე გასვლას.



Амашына лас арныкәә азин имоуп аитатра наигзарцЖ

1

A ახერხარტა მაцარალა.

2


B ახერხარტა მაцарალა.

3

A ახერხარტეи B ახერხარტეи рыла.

განმარტება:

„საგზაო მოძრაობის შესახებ“ საქართველოს კანონის 29-ე მუხლის მე-4 პუნქტის ქვეპუნქტის თანახმად, სატრანსპორტო საშუალების მოძრაობის რეგულირებისათვის გზის სავალი ნაწილის ზოლებზე, სადაც მოძრაობის მიმართულება საპირისპიროდ იცვლება, გამოიყენება რევერსული შუქნიშანი წითელი X ნიშნის მაშუქი სიგნალითა და ქვემოთ მიმართული მწვანე ისრით. ეს სიგნალი და ისარი შესაბამისად იმ ზოლზე მოძრაობას კრძალავს ან იმ ზოლზე მოძრაობის ნებას რთავს, რომლის ზემოთაც ისინია განლაგებული. რევერსული შუქნიშნის ძირითად ფერად მაშუქ სიგნალებს შეიძლება დაემატოს დიაგონალურად ქვემოთ – მარჯვნივ ან მარცხნივ დახრილი ისრის მქონე ყვითელი ან თეთრი მაშუქი სიგნალი, რომლის ჩართვა იტყობინება ფერადი მაშუქი სიგნალის შემდგომი შეცვლისა და ისრით მითითებულ ზოლზე გადასვლის ვალდებულების შესახებ. ორივე მხრიდან 1.9 საგზაო მონიშვნით აღნიშნული ზოლის ზემოთ მდებარე გამორთული რევერსული შუქნიშანი კრძალავს ამ ზოლზე გასვლას.



Алашарбага абри ардыргазы амашына капшь арныкәә аитатра наигзар илшоитЖ

1

Дышиашоу, иара убас, армарахь

2

Арбъарахь

3

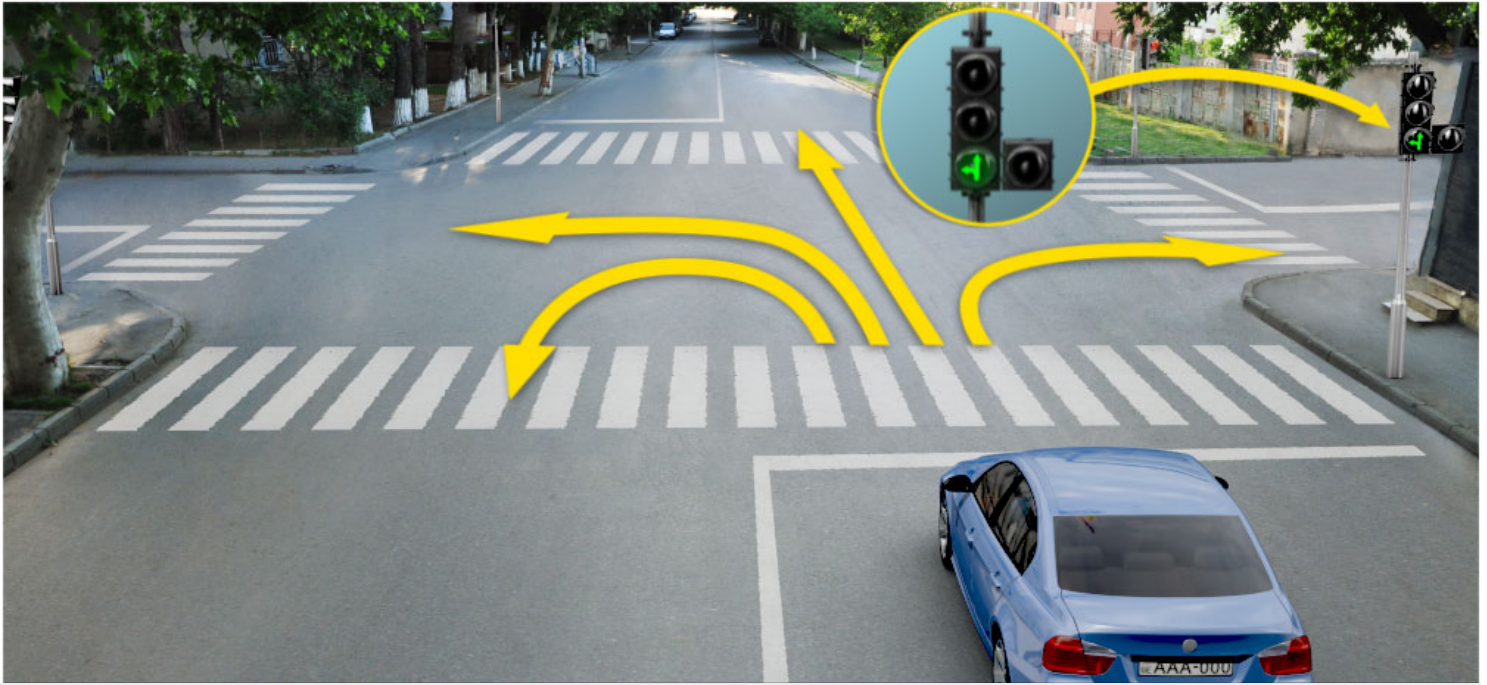
Дышиашоу, иара убас, арбъарахь

4

Ахырхартакәа зегъы рыла

განმარტება:

„საგზაო მოძრაობის შესახებ“ საქართველოს კანონის 29-ე მუხლის მე-2 პუნქტის „ე“ ქვეპუნქტისა და მე-10 პუნქტის თანახმად: 2. შექნიშნის მაშუქ სიგნალებს აქვთ შემდეგი მნიშვნელობა: ე) მწვანე მაშუქი სიგნალი რთავს მოძრაობის ნებას. 10. მწვანე, ყვითელ და წითელ მაშუქ სიგნალებს, რომლებზედაც გამოსახულია ისარი/ისრები, იგივე მნიშვნელობა აქვს, რაც შესაბამისი ფერის უისრო მაშუქ სიგნალებს, მაგრამ მათი მოქმედება ვრცელდება მხოლოდ ისრით/ისრებით მითითებული მიმართულებით/მიმართულებებით. ამასთანავე, ისარი, რომელიც მარცხნივ მოხვევის ნებას რთავს, მობრუნების უფლებასაც იძლევა, თუ ეს აკრძალული არ არის შესაბამისი საგზაო ნიშნით ან საგზაო მონიშვნით. იგივე მნიშვნელობა აქვს შექნიშნის დამატებით სექციაში მწვანე მაშუქ სიგნალზე გამოსახულ ისარს. შექნიშნის დამატებითი სექციის გამორთული მაშუქი სიგნალი იტყობინება, რომ ამ სექციით რეგულირებული მიმართულებით მოძრაობა აკრძალულია.



Алашарбага абри ардыргазы амашына иатџа арныкџа аитатра наигзар илшоитЖ

1

Дышиашоу, иара убас, армарахь

2

2. Арџарахь

3


3. Дышиашоу, иара убас, арџарахь

4

Дышиашоу, армарахь, иара убас, шьтахьџа дџџиир илшоит

განმარტება:

„საგზაო მოძრაობის შესახებ“ საქართველოს კანონის 29-ე მუხლის მე-2 პუნქტის „ე“ ქვეპუნქტის და მე-10 პუნქტის თანახმად: 2. შექნიშნის მაშუქ სიგნალებს აქვთ შემდეგი მნიშვნელობა: ე) მწვანე მაშუქი სიგნალი რთავს მოძრაობის ნებას. 10. მწვანე, ყვითელ და წითელ მაშუქ სიგნალებს, რომლებზედაც გამოსახულია ისარი/ისრები, იგივე მნიშვნელობა აქვს, რაც შესაბამისი ფერის უისრო მაშუქ სიგნალებს, მაგრამ მათი მოქმედება ვრცელდება მხოლოდ ისრით/ისრებით მითითებული მიმართულებით/მიმართულებებით. ამასთანავე, ისარი, რომელიც მარცხნივ მოხვევის ნებას რთავს, მობრუნების უფლებასაც იძლევა, თუ ეს აკრძალული არ არის შესაბამისი საგზაო ნიშნით ან საგზაო მონიშვნით. იგივე მნიშვნელობა აქვს შექნიშნის დამატებით სექციაში მწვანე მაშუქ სიგნალზე გამოსახულ ისარს. შექნიშნის დამატებითი სექციის გამორთული მაშუქი სიგნალი იტყობინება, რომ ამ სექციით რეგულირებული მიმართულებით მოძრაობა აკრძალულია.



Ахыц ахырхартала аитатра аан амашына лас арныкәә ашыакауаа амџа рытара ихџоумаѢ

1

Ихџоуп

2

Ихџам

განმარტება:

„საგზაო მოძრაობის შესახებ“ საქართველოს კანონის 25-ე მუხლის მე-2 პუნქტის „ა“ ქვეპუნქტის თანახმად, ქვეითთა გადასასვლელზე ამ კანონის 21-ე მუხლის მე-6 პუნქტით, 33-ე მუხლის მე-2 პუნქტითა და 34-ე მუხლის მე-11 პუნქტით დადგენილ მოთხოვნათა დაცვით უნდა შესრულდეს შემდეგი მოთხოვნები: ა) თუ სატრანსპორტო საშუალებათა მოძრაობა საგზაო შუქნიშნით ან მარეგულირებლის მეშვეობით რეგულირდება, მოძრაობის ამკრძალავი სიგნალის დროს მძღოლი უნდა გაჩერდეს ქვეითთა გადასასვლელის წინ ან მის წინ მდებარე განივ მონიშვნასთან, ხოლო როცა მოძრაობის გაგრძელების უფლებას მიიღებს, არ უნდა დააბრკოლოს და საფრთხე არ უნდა შეუქმნას ქვეითთა გადასასვლელზე შესულ ქვეითებს. თუ მძღოლი ასრულებს მოხვევას სხვა გზაზე შესასვლელად, რომლის შესასვლელთანაც მდებარეობს ქვეითთა გადასასვლელი, მან ეს მოხვევა უნდა შეასრულოს მხოლოდ დაბალი სიჩქარით, ხოლო საჭიროების შემთხვევაში უნდა გაჩერდეს და გაატაროს გადასასვლელზე შესული ან შემავალი ქვეითები.



Алашарбагақәа зегъы рҧы ардырга ҟежь иаҕакызар, амашына лас арныкәа ахыц ахырхартала аитатра азин имоумаҕ

1


Азин имоуп

2

Азин имазам

განმარტება:

„საგზაო მოძრაობის შესახებ“ საქართველოს კანონის 29-ე მუხლის მე-2 პუნქტის „დ“ ქვეპუნქტის თანახმად, ყვეთელი მოციმციმე მაშუქი სიგნალი რთავს მოძრაობის ნებას და იტყობინება არარეგულირებული გზაჯვარედინის, ქვეითთა ან ველოსიპედისტთა გადასასვლელის არსებობის ან მოსალოდნელი საფრთხის შესახებ.



Алашарбага ардырга иатцә аамышътахъ, ардырга ъежъ ианцәыртылак, амашына арныкәаф иаалыркъаны амашына аанкыларა ада «Сдек» ацәахәафы дзаанымгылар, аитатра анагъара азин имоума

1

Азин имоуп

2

Азин имазам

განმარტება:

„საგზაო მოძრაობის შესახებ“ საქართველოს კანონის 29-ე მუხლის მე-14 პუნქტის თანახმად, მძღოლს, რომელსაც ყვითელი მაშუქი სიგნალის ჩართვის დროს მკვეთრად დამუხრუჭების გარეშე არ შეუძლია გაჩერდეს ამ მუხლის მე-13 პუნქტით განსაზღვრულ ადგილებში, უფლება აქვს, განაგრძოს მოძრაობა. ქვეითმა, რომელიც ამკრძალავი მაშუქი სიგნალის ჩართვის დროს გზის სავალ ნაწილზე იმყოფება, უნდა გაათავისუფლოს იგი, ხოლო თუ ეს შეუძლებელია – გაჩერდეს ურთიერთსაპირისპირო მიმართულებით მოძრავი სატრანსპორტო ნაკადების გამყოფ ხაზზე.



Алашарбага абри ардыргазы амашына лас арныкѳаѳ аитатра анагзара азин имоумаѳ

1

Азин имоуп

2

Азин имазам

განმარტება:

„საგზაო მოძრაობის შესახებ“ საქართველოს კანონის 29-ე მუხლის მე-2 პუნქტის „ბ“ ქვეპუნქტის თანახმად, ერთობლივად ჩართული წითელი და ყვითელი მაშუქი სიგნალები კრძალავს მოძრაობას და იტყობინება მწვანე მაშუქი სიგნალის მოსალოდნელი ჩართვის შესახებ.



Алашарбага абри ардыргазы амашына арныкәә ахыц ахырхартала аитатра азин имоума᠓

1

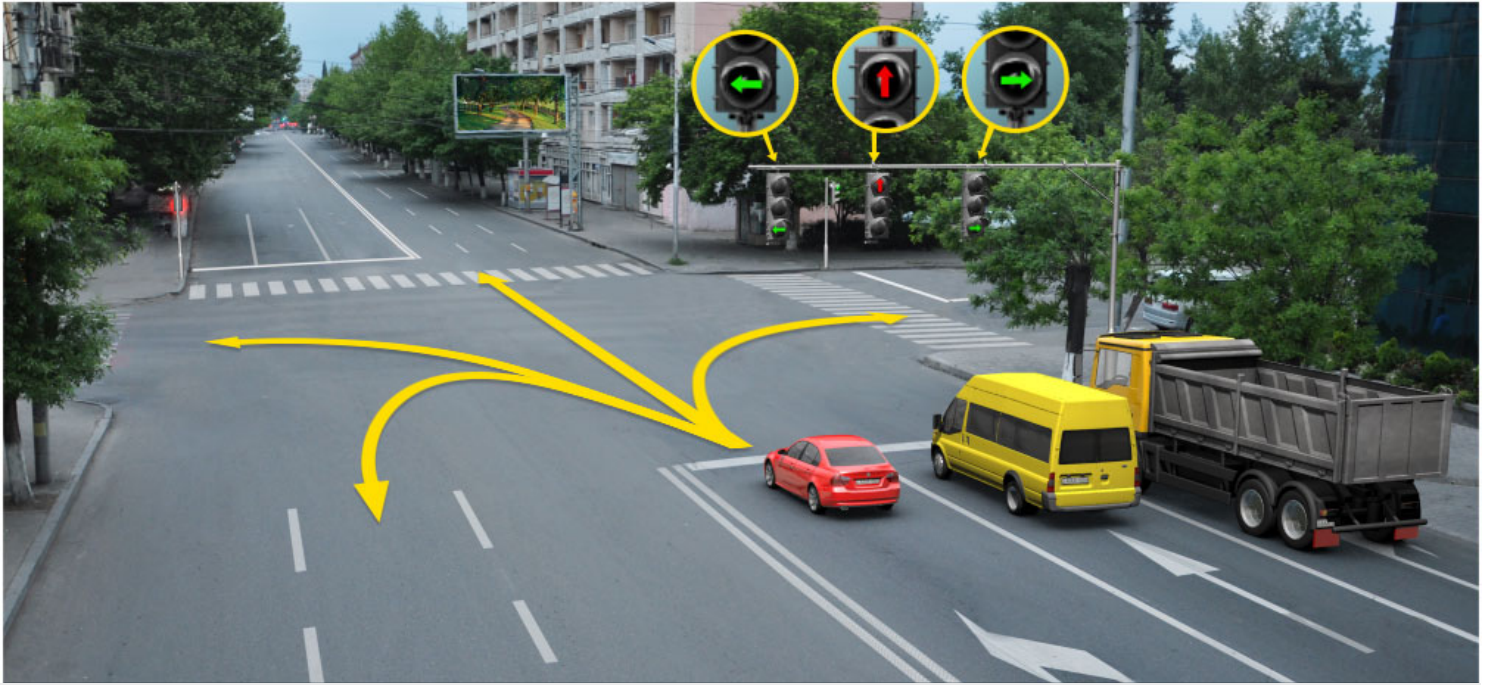
Азин имоуп

2

Азин имазам

განმარტება:

„საგზაო მოძრაობის შესახებ“ საქართველოს კანონის 29-ე მუხლის მე-2 პუნქტის „გ“ ქვეპუნქტის თანახმად, ყვითელი მაშუქი სიგნალი ჯრძალავს მოძრაობას გარდა ამ მუხლის მე-14 პუნქტით გათვალისწინებული შემთხვევებისა და იტყობინება მაშუქი სიგნალის მოსალოდნელი შეცვლის შესახებ.



Алашарбага абри ардыргазы амашына кагышь арныкѣѣ дцар илшоитЖ

1

Дышиашоу, иара убас, армарахь

2

Дышиашоу, иара убас арѣъарахь

3

Армарахь

4

Армарахь, иара убас, шьтахьѣ дцѣиир илшоит

განმარტება:

„საგზაო მოძრაობის შესახებ“ საქართველოს კანონის 29-ე მუხლის მე-10 პუნქტის თანახმად, მწვანე, ყვითელ და წითელ მაშუქ სიგნალებს, რომლებზედაც გამოსახულია ისარი/ისრები, იგივე მნიშვნელობა აქვს, რაც შესაბამისი ფერის უისრო მაშუქ სიგნალებს, მაგრამ მათი მოქმედება ვრცელდება მხოლოდ ისრით/ისრებით მითითებული მიმართულებით/მიმართულებებით. ამასთანავე, ისარი, რომელიც მარცხნივ მოხვევის ნებას რთავს, მობრუნების უფლებასაც იძლევა, თუ ეს აკრძალული არ არის შესაბამისი საგზაო ნიშნით ან საგზაო მონიშვნით. იგივე მნიშვნელობა აქვს შექნიშნის დამატებით სექციაში მწვანე მაშუქ სიგნალზე გამოსახულ ისარს. შექნიშნის დამატებითი სექციის გამორთული მაშუქი სიგნალი იტყობინება, რომ ამ სექციით რეგულირებული მიმართულებით მოძრაობა აკრძალულია.



Амашына лас арныкææ ахыц ахырхартала аитатра анагзара азин имоума

1


Азин имазам

2

Азин имоуп

განმარტება:

„საგზაო მოძრაობის შესახებ“ საქართველოს კანონის 29-ე მუხლის მე-2 პუნქტის „ე“ ქვეპუნქტის თანახმად, მწვანე მაშუქი სიგნალი რთავს მოძრაობის ნებას. ამავე კანონის 32-ე მუხლის მე-5 პუნქტის თანახმად გარდა იმ შემთხვევისა, როცა მოხვევა სრულდება გზატკარედინზე გასასვლელად, სადაც წრიული მოძრაობაა ორგანიზებული, მარჯვნივ ან მარცხნივ მოხვევის წინ, აგრეთვე მობრუნების წინ სატრანსპორტო საშუალების მძღოლი ვალდებულია დროულად დაიკავოს შესაბამისი განაპირა მდებარეობა სავალ ნაწილზე, რომელიც თანმხვედრი მიმართულებით მოძრაობისთვისაა განკუთვნილი.



Абарт амашынакәа рырныкәацәа ркынтә ахыц ахырхартала аитатра азин змамдаҕ

1

Амашына иатәа арныкәац мацара.

2

Амашына дежь арныкәац мацара.

3


Аа е машынак рырныкәацәа

4

Азәгы

განმარტება:

„საგზაო მოძრაობის შესახებ“ საქართველოს კანონის პირველი დანართის 4.1.1 პუნქტის თანახმად საგზაო ნიშანი 4.1.1 „მოძრაობა პირდაპირ“ რთავს მხოლოდ ისრით ნაჩვენები მიმართულებით მოძრაობის ნებას. ამავე პუნქტის შენიშვნის „ბ“ ქვეპუნქტის თანახმად, 4.1.1-4.1.6 ნიშნების მოქმედება ვრცელდება სავალი ნაწილების იმ გადაკვეთაზე, რომლის წინაც დადგმულია სათანადო ნიშანი.



Иарбоу ატაგელაზააშაფყ ამაშყნა არწყკაფ აიტატრა ანაგზარა აზინ იმოუპჟ

1

A ახყრჲართალა

2

B ახყრჲართალა

3

C ახყრჲართალა

4

ხყრჲარტაკ ალაგყ აზინ იმამ

განმარტყბა:

„საგზაო მოძრაობის შესახებ“ საქართველოს კანონის 29-ე მუხლის მე-2 პუნქტის „ა“ ქვეპუნქტის თანახმად, წითელი მაშუქი სიგნალი ან წითელი მოციმციმე მაშუქი სიგნალი კრძალავს მოძრაობას.



Алашарбага абри ардыргазы амашына лас арныкәә ахыц ахырхартала аитатра анагзара азин имоумаџ

1

Азин имоуп


2

Азин имаџам

განმარტება:

„საგზაო მოძრაობის შესახებ“ საქართველოს კანონის 29-ე მუხლის მე-10 პუნქტის თანახმად, მწვანე, ყვითელ და წითელ მაშუქ სიგნალებს, რომლებზედაც გამოსახულია ისარი/ისრები, იგივე მნიშვნელობა აქვს, რაც შესაბამისი ფერის უისრო მაშუქ სიგნალებს, მაგრამ მათი მოქმედება ვრცელდება მხოლოდ ისრით/ისრებით მითითებული მიმართულებით/მიმართულებებით. ამასთანავე, ისარი, რომელიც მარცხნივ მოხვევის ნებას რთავს, მობრუნების უფლებასაც იძლევა, თუ ეს აკრძალული არ არის შესაბამისი საგზაო ნიშნით ან საგზაო მონიშვნით. იგივე მნიშვნელობა აქვს შუქნიშნის დამატებით სექციაში მწვანე მაშუქ სიგნალზე გამოსახულ ისარს. შუქნიშნის დამატებითი სექციის გამორთული მაშუქი სიგნალი იტყობინება, რომ ამ სექციით რეგულირებული მიმართულებით მოძრაობა აკრძალულია.

„საგზაო მოძრაობის შესახებ“ საქართველოს კანონის 36-ე მუხლის მე-3 პუნქტის „ე“ ქვეპუნქტის თანახმად, შექნიშნის ნებადამრთველ სიგნალზე გზაჯვარედინზე შესულ მძღოლს შეუძლია იმოძრაოს დასახული მიმართულებით, გზაჯვარედინიდან გასასვლელზე არსებული შექნიშნის ამკრძალავი სიგნალების მიუხედავად, მაგრამ იმ პირობით, რომ ეს არ დააბრკოლებს სხვა საგზაო მოძრაობის მონაწილეთა იმ მიმართულებით მოძრაობას, რომელზედაც მოძრაობა გახსნილია. თუ გზაჯვარედინზე მისი მოძრაობისას გზაზე არსებული შექნიშნების წინ „სდექ“ ხაზებია (ან/და 7.16 საგზაო ნიშნებია), მძღოლმა უნდა იხელმძღვა-ნელოს თითოეული შექნიშნის სიგნალით.



Алашарбага абри ардыргазы амашына лас арныкѣаѡ дцар илшоитЖ

1

Дышиашоу, иара убас, армарахь

2

Дышиашоу, иара убас, арѣарахь

3

Армарахь

4

Дышиашоу, армарахь, иара убас, шьтахьѣа дѣиир илшоит

განმარტება:

„საგზაო მოძრაობის შესახებ“ საქართველოს კანონის 29-ე მუხლის მე-3 პუნქტის თანახმად თუ შექნიშნები გზის სავალი ნაწილის თანმხვედრი მიმართულებების მხარეს არსებული თითოეული მოძრაობის ზოლის ზევიტაა განლაგებული, თითოეული შექნიშნის მოქმედება ვრცელდება მხოლოდ იმ მოძრაობის ზოლზე, რომლის ზემოთაც არის იგი. ამავე მუხლის მე-10 პუნქტის თანახმად, მწვანე, ყვითელ და წითელ მაშუქ სიგნალებს, რომლებზედაც გამოსახულია ისარი/ისრები, იგივე მნიშვნელობა აქვს, რაც შესაბამისი ფერის უისრო მაშუქ სიგნალებს, მაგრამ მათი მოქმედება ვრცელდება მხოლოდ ისრით/ისრებით მითითებული მიმართულებით/ მიმართულებებით. ამასთანავე, ისარი, რომელიც მარცხნივ მოხვევის ნებას რთავს, მობრუნების უფლებასაც იძლევა, თუ ეს აკრძალული არ არის შესაბამისი საგზაო ნიშნით ან საგზაო მონიშვნით. იგივე მნიშვნელობა აქვს შექნიშნის დამატებით სექციაში მწვანე მაშუქ სიგნალზე გამოსახულ ისარს. შექნიშნის დამატებითი სექციის გამორთული მაშუქი სიგნალი იტყობინება, რომ ამ სექციით რეგულირებული მიმართულებით მოძრაობა აკრძალულია.

ВОПРОС 171

ПРАВИЛЬНЫЙ ОТВЕТ: 1

Алашарбага ардыргакәа рыхәарақәеи аиасра аҭыжәарақәа ихәаакәызто амәатә дыргакәа рыхәарақәеи еиқәымшәозар, амәатә аитәтра алахәылацәа иазҭхьагәатароупЖ

1

Алашарбага ардыргакәа рыхәарақәа

2

Аиасра аҭыжәарақәа ихәаакәызто амәатә дыргакәа рыхәарақәа

განმარტება:

„საგზაო მოძრაობის შესახებ“ საქართველოს კანონის 29-ე მუხლის მე-12 პუნქტის თანახმად, საგზაო მოძრაობის მონაწილეები ვალდებული არიან, შეასრულონ პუქნიშნის ფერადი მაშუეი სიგნალის მოთხოვნები იმ შემთხვევაშიც კი, თუ ეს მოთხოვნები ეწინააღმდეგება გავლის უპირატესობის განმსაზღვრელი საგზაო ნიშნებისა და მონიშვნების მოთხოვნებს.

ВОПРОС 172

ПРАВИЛЬНЫЙ ОТВЕТ: 2

Алашарбага ардыргакәа рыхәарақәеи аиасра аҭыжәарақәа ихәаакәызто амәатә дыргакәа рыхәарақәеи еиқәымшәозар, амәатә аитәтра алахәылацәа иазҭхьагәатароупЖ

1

Аиасра аҭыжәарақәа ихәаакәызто амәатә дыргакәа рыхәарақәа

2

Алашарбага ардыргакәа рыхәарақәа

განმარტება:

„საგზაო მოძრაობის შესახებ“ საქართველოს კანონის 29-ე მუხლის მე-12 პუნქტის თანახმად, საგზაო მოძრაობის მონაწილეები ვალდებული არიან, შეასრულონ პუქნიშნის ფერადი მაშუეი სიგნალის მოთხოვნები იმ შემთხვევაშიც კი, თუ ეს მოთხოვნები ეწინააღმდეგება გავლის უპირატესობის განმსაზღვრელი საგზაო ნიშნებისა და მონიშვნების მოთხოვნებს.

Аангылартак афы, аѡазарак афы ишыақѡыргылоу, ганк ахь зхы рхоу, еишьтаргыланы илацѡкѡысуа ма илацѡкѡысуа ардырга қапшыыки, ардырга ѡежьи змоу алашарбага ахархѡара амоупЖ

1

Аихамѡа ахысыртаѡы, еидыцуа ацха анеиртеи, аѡба ма апаран агылартеи, амѡаѡы абылрацѡыхьчаратѡ машына атытыртеи, илакѡны ицо ахаирплан атраектория амѡа иахьхнатѡо атыпѡкѡеи рѡы

2

Аитатра ахырхарта еиѡынгыланы иахьаѡ аѡсахуа амѡасырта ацѡахѡаѡы

3

Амаршруттѡ транспортттѡ хархѡагакѡа реитатпразы чыдала иалкаау ацѡахѡаѡы.

განმარტება:

„საგზაო მოძრაობის შესახებ“ საქართველოს კანონის 29-ე მუხლის მე-8 პუნქტის თანახმად, რკინიგზის გადასასვლელზე, გასასხნელი ხიდის მისასვლელთან, გემის ან ბორნის მისადგომთან, გზაზე სახანძრო ავტომობილის გამოსასვლელთან და იმ ადგილას, სადაც გზას დაბალ სიმაღლეზე კვეთს საფრენი აპარატის ტრაექტორია, გამოიყენება ერთ სადგარზე, ერთსა და იმავე სიმაღლეზე განლაგებული, ერთ მხარეს მიმართული ორი მორიგეობით მოციმციმე ან ერთი მოციმციმე წითელი ან ყვითელი მაშუქი სიგნალი, რომელთაგან წითელი მაშუქი სიგნალი კრძალავს „სდევ“ ხაზის გადაკვეთას, მისი არარსებობის შემთხვევაში კი – შექნიშნის იქით გადასვლას, ხოლო ყვითელი მაშუქი სიგნალი ნიშნავს, რომ მძღოლებს შეუძლიათ გააგრძელონ მოძრაობა, მაგრამ, ამასთანავე, ვალდებული არიან, დაიცვან განსაკუთრებული სიფრთხილე. თუ ფერადი მაშუქი სიგნალები გამორთულია, მოძრაობა ნებადართულია მხოლოდ მაშინ, როცა ხილვადობის ფარგლებში არ ჩანს გადასასვლელთან მოახლოებული მატარებელი (ლოკომოტივი, დრეზინა).

Ч ардырга каҕышы, алада зхы рхоу ардырга иатҕеи змоу ареверстә лашарбага ахархәара амоупЖ

1

Амаршруттә атранспорттә хархәагақәа чыдалатәи ацәахәаҕы реитатра аиҕкаара мацаразы.

2

Аитатра ахырхарта еиҕынҕыланы иахьае аҕсахуа амҕасырта ацәахәаҕы атранспорттә хархәагақәа реитатра аиҕкаара мацаразы.

3

Абри абилет аҕы еиҕыҕхьаҕоу атагылазаашьақәа зегьы раан.

განმარტება:

„საგზაო მოძრაობის შესახებ“ საქართველოს კანონის 29-ე მუხლის მე-4 პუნქტის თანახმად, სატრანსპორტო საშუალების მოძრაობის რეგულირებისათვის გზის სავალი ნაწილის ზოლებზე, სადაც მოძრაობის მიმართულება საპირისპიროდ იცვლება, გამოიყენება რევერსული შუქნიშანი წითელი X ნიშნის მაშუქი სიგნალითა და ქვემოთ მიმართული მწვანე ისრით. ეს სიგნალი და ისარი შესაბამისად იმ ზოლზე მოძრაობას კრძალავს ან იმ ზოლზე მოძრაობის ნებას რთავს, რომლის ზემოთაც ისინია განლაგებული. რევერსული შუქნიშნის ძირითად ფერად მაშუქ სიგნალებს შეიძლება დაემატოს დიაგონალურად ქვემოთ – მარჯვნივ ან მარცხნივ დახრილი ისრის მქონე ყვითელი ან თეთრი მაშუქი სიგნალი, რომლის ჩართვა იტყობინება ფერადი მაშუქი სიგნალის შემდგომი შეცვლისა და ისრით მითითებულ ზოლზე გადასვლის ვალდებულების შესახებ. ორივე მხრიდან 1.9 საგზაო მონიშვნით აღნიშნული ზოლის ზემოთ მდებარე გამორთული რევერსული შუქნიშანი კრძალავს ამ ზოლზე გასვლას.

ВОПРОС 175

ПРАВИЛЬНЫЙ ОТВЕТ: 2

Алашарбага ахадаратә ардырга иатәа аҭы иарбоу ахыцҭ ахыцкәаЖ

1

Арныкәаҭ адырра инатоит алашарбагаҭы иацтаны асекциа шыкоу, иара убас, иацтаны икоу асекциа алашаратә ардыргала ихәаакәцоу ахырхартакәа инарбоит.

2

Арныкәаҭ адырра инатоит алашарбагаҭы иацтаны асекциа ыказар шыкало, иара убас, ари асекциа алашаратә ардырга еиҭшым, егырт ззин икоу аитатра ахырхартакәа инарбоит.

3

Абри абилет аҭы еикәыҭхьаҭоу атаккәа зегы ииашоуп.

განმარტება:

„საგზაო მოძრაობის შესახებ“ საქართველოს კანონის 29-ე მუხლის მე-11 პუნქტის თანახმად, შუქნიშნის ძირითად მწვანე მაშუქ სიგნალზე გამოსახული კონტურის ისარი/ისრები მძღოლს ამცნობს შუქნიშანზე დამატებითი სექციის შესაძლო არსებობის შესახებ და მიუთითებს ამ სექციის ფერადი მაშუქი სიგნალისაგან განსხვავებული მოძრაობის სხვა ნებადართული მიმართულებების შესახებ.

ВОПРОС 176

ПРАВИЛЬНЫЙ ОТВЕТ: 2

„Е“ე асахьала еиҭкаау игежыу алашарбага 4 рдыргак рхархәара калоитЖ

1

„Е“ე асахьа змоу амҭеихысыртаҭы аитатра аиҭкааразы

2

Амаршруттә атранспорттә хархәагакәа реитатҭразы чыдала иалкаау ацәахәаҭы аитатра аиҭкааразы

3

Амашынабла змоу атракторкәа реитатра аиҭкааразы

განმარტება:

„საგზაო მოძრაობის შესახებ“ საქართველოს კანონის 29-ე მუხლის მე-5 პუნქტის თანახმად, სამარშრუტო სატრანსპორტო საშუალებების მოძრაობისათვის სპეციალურად გამოყოფილ ზოლზე მოძრაობის რეგულირებისათვის შეიძლება გამოყენებულ იქნეს „Т“-სებურად განლაგებული მოყვითალო ოთხი მრგვალი მაშუქი სიგნალი. მოძრაობა ნებადართულია მხოლოდ მაშინ, როცა ერთდროულად ჩართულია ქვედა და ერთი ან რამდენიმე ზედა მაშუქი სიგნალი, რომელთაგან მარცხენა მარცხნივ მოძრაობის უფლებას იძლევა, საშუალო – პირდაპირ, მარჯვენა კი – მარჯვნივ. თუ ჩართულია მხოლოდ სამი ზედა მაშუქი სიგნალი, მოძრაობა აკრძალულია.

„საგზაო მოძრაობის შესახებ“ საქართველოს კანონის 29-ე მუხლის მე-5 პუნქტის თანახმად, სამარშრუტო სატრანსპორტო საშუალებების მოძრაობისათვის სპეციალურად გამოყოფილ ზოლზე მოძრაობის რეგულირებისათვის შეიძლება გამოყენებულ იქნეს „T“-სებურად განლაგებული მოყვითალო ოთხი მრგვალი მაშუქი სიგნალი. მოძრაობა ნებადართულია მხოლოდ მაშინ, როცა ერთდროულად ჩართულია ქვედა და ერთი ან რამდენიმე ზედა მაშუქი სიგნალი, რომელთაგან მარცხენა მარცხნივ მოძრაობის უფლებას იძლევა, საშუალო – პირდაპირ, მარჯვენა კი – მარჯვნივ. თუ ჩართულია მხოლოდ სამი ზედა მაშუქი სიგნალი, მოძრაობა აკრძალულია.

ВОПРОС 179

ПРАВИЛЬНЫЙ ОТВЕТ: 1

Алашаратә ардырга ѓежь аан иаалырѓаны амашына аанкыларә ада арныѓааѓ «Сдеѓ» аѓааѓаѓы
дзаанымгылозар, аитатра анагзара азин имоумаѓ

1

Азин имоуп

2

Азин имам

განმარტება:

„საგზაო მოძრაობის შესახებ“ საქართველოს კანონის 29-ე მუხლის მე-14 პუნქტის თანახმად, მძღოლს, რომელსაც ყვითელი მაშუქი სიგნალის ჩართვის დროს მკვეთრად დამუხრუჭების გარეშე არ შეუძლია გაჩერდეს ამ მუხლის მე-13 პუნქტით განსაზღვრულ ადგილებში, უფლება აქვს, განაგრძოს მოძრაობა. ქვეითმა, რომელიც ამკრძალავი მაშუქი სიგნალის ჩართვის დროს გზის სავალ ნაწილზე იმყოფება, უნდა გაათავისუფლოს იგი, ხოლო თუ ეს შეუძლებელია – გაჩერდეს ურთიერთსაპირისპირო მიმართულებით მოძრავი სატრანსპორტო ნაკადების გამყოფ ხაზზე.

ВОПРОС 180

ПРАВИЛЬНЫЙ ОТВЕТ: 2

Амѓа ахысыртаѓы ашьаѓауаа рзы алашарбага ыѓамзар, амѓа ахысырта данахысуа ашьаѓауаа
инаигзароупѓ

1

Амашынатә лашарбага ардырга аҳәарақәа

2

Ашьаѓауаа рзы иазѓухьаѓათоу алашарбага
ардырга аҳәарақәа

განმარტება:

„საგზაო მოძრაობის შესახებ“ საქართველოს კანონის 24-ე მუხლის მე-7 პუნქტის „ა“ ქვეპუნქტის თანახმად, ქვეითთა გადასასვლელზე გადასვლისას, თუ გადასასვლელზე არსებობს ქვეითთათვის განკუთვნილი შექნიშანი, ქვეითმა უნდა შეასრულოს ამ შექნიშნის მაშუქი სიგნალების მოთხოვნები.



Алашарбага ақәйтымзааратә ардыргазы иаангылаз абарт амашынакәа рырныкәацәа ркынтә амәатә аитәцра атцаскәа еилазгадаҭ

1

Амашына шкәакәа арныкәаҭ

2

Амашына дежь арныкәаҭ

3

Азәгы

განმარტება:

„საგზაო მოძრაობის შესახებ“ საქართველოს კანონის 29-ე მუხლის მე-13 პუნქტის თანახმად, შეუნიშნის (რევერსულის გარდა) ამკრძალავი მაშუქი სიგნალის დროს მძღოლი ვალდებულია გაჩერდეს „სდექ“ ხაზთან (ან 7.16 ნიშანთან).

Алашарбага алашаратә ардырга иатәа аанЖ

1


Аитатра азин иҕоуп, адырра канатоит
еиҕкаам амҕеихысырҕеи, ашыакауаҕ ма
амаланыкҕаҕ рхысырта аҕазаареи ма
ицәырҕыр зылшо ашәарҕеи ирызкны

2

Аитатра азин иҕоуп, амҕатә аитатра
алахәылацәа иранахәоит ардырга иатәа
аамта шиасуа, ирласны ишцәырҕуа аитатра
ақәитымзааратә ардырга

განმარტება:

„საგზაო მოძრაობის შესახებ“ საქართველოს კანონის 29-ე მუხლის მე-2 პუნქტის „ვ“ ქვეპუნქტის თანახმად, მწვანე მოციმციმე მაშუქი სიგნალი რთავს მოძრაობის ნებას და საგზაო მოძრაობის მონაწილეებს ამცნობს, რომ მისი მოქმედების დრო იწურება და მალე ჩაირთვება ამკრძალავი სიგნალი.



Амашына лас арныкæд айтатра азин имоупЖ

1

A ახერხარტა მაцარალა

2

B ახერხარტა მაцარალა

3


C ახერხარტა მაцარალა

4

Хырхартак алагы дзеитатцаум

განმარტება:

„საგზაო მოძრაობის შესახებ“ საქართველოს კანონის 31-ე მუხლის მე-17 პუნქტის თანახმად, შესვლის მიზნით იმ სავალ ნაწილზე მოხვევის დროს, რომელზედაც რევერსული მოძრაობაა, სატრანსპორტო საშუალების მძღოლმა ისე უნდა იმოძრაოს, რომ სავალი ნაწილების გადაკვეთიდან გამოსვლისას განაპირა მარჯვენა მოძრაობის ზოლი დაიკავოს. სხვა მოძრაობის ზოლზე გადაჯგუფება დასაშვებია მხოლოდ მას შემდეგ, რაც მძღოლი დარწმუნდება, რომ აღნიშნულ მოძრაობის ზოლზე ნებადართულია თანმხვედრი მოძრაობა. ამავე კანონის პირველი დანართის მე-5 თავის (განსაკუთრებული მითითებების ნიშნები) 5.10 პუნქტის თანახმად საგზაო ნიშანი 5.10 „გასვლა გზაზე, რომელზედაც რევერსული მოძრაობაა“ – მიუთითებს 5.8 „რევერსული მოძრაობა“ ნიშნით აღნიშნულ გზის მონაკვეთზე გასვლას. ნიშანი იდგმება ყველა გვერდითი გასასვლელის წინ. ნიშანი შეიძლება არ დაიდგას მიმდებარე ტერიტორიიდან გამოსასვლელის გზასთან გადაკვეთაზე, თუ ამ ტერიტორიაზე შესვლა შესაძლებელია მხოლოდ 5.8 „რევერსული მოძრაობა“ ნიშნით აღნიშნული გზიდან.



Амашына лас арныкѣа ахыц ахырхартала деитатцуазар, абарт атрамваикѣа рырныкѣаѣа ркынтѣа амѣа атара зыхѣтадаѢ

1

Актѣи атрамваи арныкѣаѣа мацара.

2

Аѣбатѣи атрамваи арныкѣаѣа мацара.

3


Аѣѣтрамваик рырныкѣаѣаѣа

4

Азѣгы

განმარტება:

„საგზაო მოძრაობის შესახებ“ საქართველოს კანონის 36-ე მუხლის მე-3 პუნქტის „ე“ ქვეპუნქტის თანახმად, რეგულირებულ გზაჯვარედინზე, შუქნიშნის ნებადართვლ სიგნალზე გზაჯვარედინზე შესულ მძღოლს შეუძლია იმოძრაოს დასახული მიმართულებით, გზაჯვარედინიდან გასასვლელზე არსებული შუქნიშნის ამკრძალავი სიგნალების მიუხედავად, მაგრამ იმ პირობით, რომ ეს არ დააბრკოლებს სხვა საგზაო მოძრაობის მონაწილეთა იმ მიმართულებით მოძრაობას, რომელზედაც მოძრაობა გახსნილია. თუ გზაჯვარედინზე მისი მოძრაობისას გზაზე არსებული შუქნიშნების წინ „სდექ“ ხაზებია (ან/და 7.16 საგზაო ნიშნებია), მძღოლმა უნდა იხელმძღვა-ნელოს თითოეული შუქნიშნის სიგნალით.



Амашына лас арныкәә, ахыц ахырхартала деитатыр, амѡатә аитатра атасқәа еилеигомаҕ

1


Еилеигоит

2

Еилеигом

განმარტება:

„საგზაო მოძრაობის შესახებ“ საქართველოს კანონის 34-ე მუხლის მე-9 პუნქტის „ა.გ“ ქვეპუნქტის თანახმად, ამ მუხლის მე-3 პუნქტით დადგენილ მოთხოვნათა გათვალისწინებით გასწრება აკრძალულია წრიულმოძრაობიანი გზაჯვარედინისაგან განსხვავებულ გზაჯვარედინზე ან უშუალოდ ამ გზაჯვარედინის წინ, გარდა იმ შემთხვევისა, როდესაც გასწრება ხორციელდება რეგულირებულ გზაჯვარედინზე საპირისპირო მოძრაობის ზოლზე გაუსვლელად.



Иарбоу атагылазаашьафы амашына лас арныкәә, ахыц ахырхартала деитатцазар, аитатцра икәитызымтәуа алашарбага ардыргазы аангылара ихәтоумаҕ

1


Ихәтоуп

2

Ихәтам

განმარტება:

„საგზაო მოძრაობის შესახებ“ საქართველოს კანონის 36-ე მუხლის მე-3 პუნქტის „ე“ ქვეპუნქტის თანახმად, რეგულირებულ გზაჯვარედინზე შუქნიშნის ნებადამრთველ სიგნალზე გზაჯვარედინზე შესულ მძღოლს შეუძლია იმოძრაოს დასახული მიმართულებით, გზაჯვარედინიდან გასასვლელზე არსებული შუქნიშნის ამკრძალავი სიგნალების მიუხედავად, მაგრამ იმ პირობით, რომ ეს არ დააბრკოლებს სხვა საგზაო მოძრაობის მონაწილეთა იმ მიმართულებით მოძრაობას, რომელზედაც მოძრაობა გახსნილია. თუ გზაჯვარედინზე მისი მოძრაობისას გზაზე არსებული შუქნიშნების წინ „სდექ“ ხაზებია (ან/და 7.16 საგზაო ნიშნებია), მძღოლმა უნდა იხელმძღვა-ნელოს თითოეული შუქნიშნის სიგნალით.



Иарбоу атагылазаашьаҕы амашына лас арныкѳѳ, ахыц ахырхартала деитатцуазар, аитатцра икѳѳтызымтѳуа алашарбага ардыргазы аангылара ихѳѳоумаҕ

1

Ихѳѳоуп

2

Ихѳѳам

განმარტება:

„საგზაო მოძრაობის შესახებ“ საქართველოს კანონის 36-ე მუხლის მე-3 პუნქტის „ე“ ქვეპუნქტის თანახმად, რეგულირებულ გზაჯვარედინზე შექნიშნის ნებადამრთველ სიგნალზე გზაჯვარედინზე შესულ მძღოლს შეუძლია იმოძრაოს დასახული მიმართულებით, გზაჯვარედინიდან გასასვლელზე არსებული შექნიშნის ამკრძალავი სიგნალების მიუხედავად, მაგრამ იმ პირობით, რომ ეს არ დააბრკოლებს სხვა საგზაო მოძრაობის მონაწილეთა იმ მიმართულებით მოძრაობას, რომელზედაც მოძრაობა გახსნილია. თუ გზაჯვარედინზე მისი მოძრაობისას გზაზე არსებული შექნიშნების წინ „სდექ“ ხაზებია (ან/და 7.16 საგზაო ნიშნებია), მძღოლმა უნდა იხელმძღვა-ნელოს თითოეული შექნიშნის სიგნალით.

Арныкәә, айтатра азин изто алашаратә ардырга кырааамта изҕаку асветофор дазааигәахозар, арныкәәЖ

1

Аласра ирдуны алашаратә ардырга дацклаҕшроуп.

2

Атранспорттә хархәага ирласзаны аанкыларә илшаратәы айтатра наигзароуп.

3

Аласра ззин иҕоу ахәаа иахысуазаргы, аласра ирдуны, айтатра икәитызымтәуа асветофор алашаратә ардырга цәырцаанза амҕа ари ацыҕҕәаха ахысра дахьзароуп.

განმარტება:

თუ მძღოლი უახლოვდება ჰუქნიშანს, რომელზეც მოძრაობის ნებადამრთველი მაშუქი სიგნალი უკვე დიდი ხნის განმავლობაშია ჩართული, მან უნდა გააგრძელოს მოძრაობა, ისე, რომ მზად იყოს სატრანსპორტო საშუალების ნებისმიერ მომენტში უსაფრთხოდ გასაჩერებლად.

თემა 11:

მარეგულირებლის სიგნალები



Абарт атранспорттә хархәагакәа рырныкәаџәа ркынтә аиџкааџ икаитцаз абри ардыргазы ахыц ахырхартала аитатра илшомЖ

1

Амотоцикли арныкәаџ

2

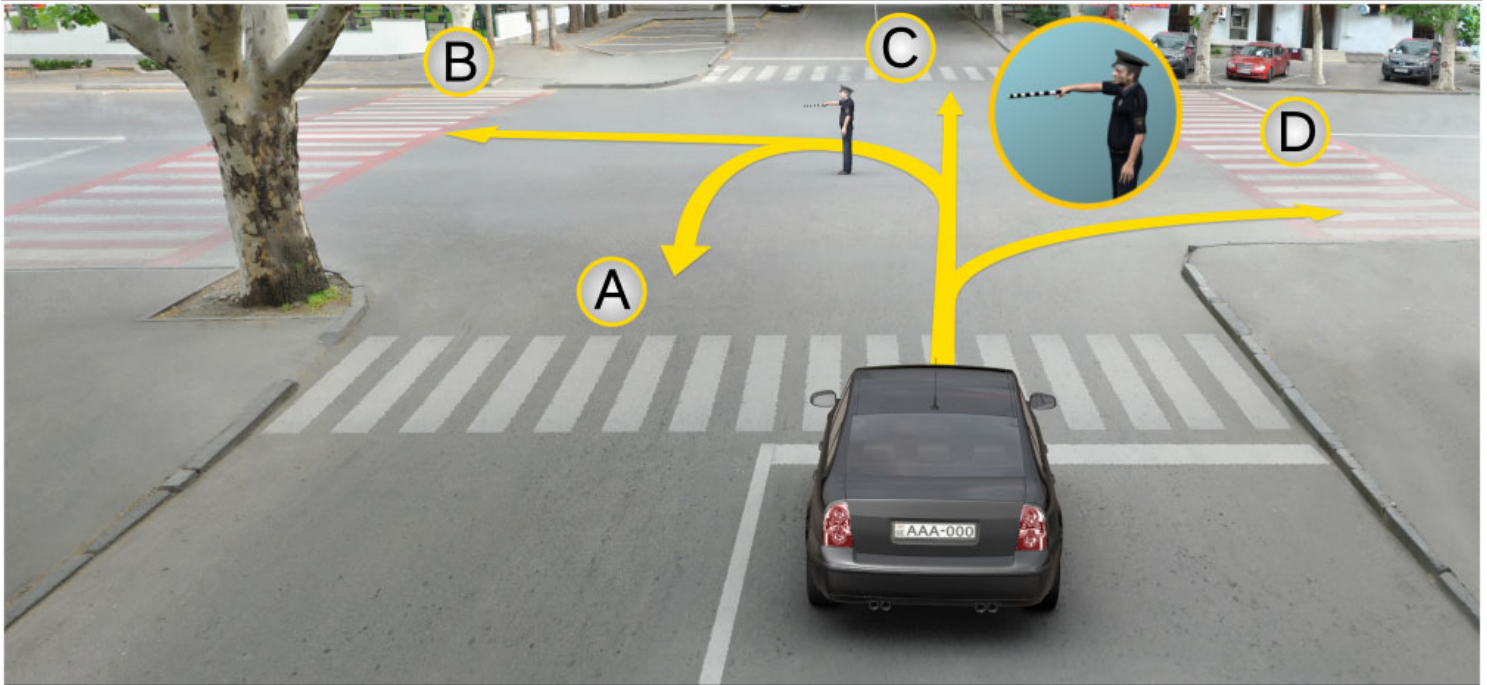
Автобус арныкәаџ

3

Амашына лас арныкәаџ

განმარტება:

„საგზაო მოძრაობის შესახებ“ საქართველოს კანონის 30-ე მუხლის მე-5 პუნქტის „გ“ ქვეპუნქტის თანახმად, მარეგულირებლის სიგნალებს აქვთ შემდეგი მნიშვნელობა: გ) წინ გაშვებული მარჯვენა ხელი – ეს უესტი ნიშნავს „სდექ“ სიგნალს მარეგულირებლის მარჯვენა გვერდისა და ზურგის მხრიდან მოძრავი ყველა მძღოლისათვის; ამასთანავე, მარეგულირებლის მარცხენა გვერდის მხრიდან ტრამვაის უფლება აქვს, იმოძრაოს მარცხნივ, ხოლო ურელსო სატრანსპორტო საშუალებას უფლება აქვს, იმოძრაოს ყველა მიმართულებით. მარეგულირებლის მკერდის მხრიდან ყველა სატრანსპორტო საშუალებას უფლება აქვს, იმოძრაოს მხოლოდ მარჯვნივ. ქვეითს უფლება აქვს, გადავიდეს სავალ ნაწილზე მარეგულირებლის ზურგის უკან.



Абарт ахырхартакәа ркынтә аиҕкааҕ иҕаитҕаз абри ардырҕазы амашыына лас арныкәаҕ дҕар иабаилшоҕ

1

А, В, С ахырхартакәа мацара рыла

2

В, Д ахырхартакәа мацара рыла

3

А, С, Д ахырхартакәа мацара рыла

4

А, В, С, Д ахырхартакәа рыла

განმარტება:

„საგზაო მოძრაობის შესახებ“ საქართველოს კანონის 30-ე მუხლის მე-5 პუნქტის „გ“ ქვეპუნქტის თანახმად, მარეგულირებლის სიგნალებს აქვთ შემდეგი მნიშვნელობა: გ) წინ გაშვებული მარჯვენა ხელი – ეს ჟესტი ნიშნავს „სდექ“ სიგნალს მარეგულირებლის მარჯვენა გვერდისა და ზურგის მხრიდან მოძრავი ყველა მძღოლისათვის; ამასთანავე, მარეგულირებლის მარცხენა გვერდის მხრიდან ტრამვაის უფლება აქვს, იმოძრაოს მარცხნივ, ხოლო ურელსო სატრანსპორტო საშუალებას უფლება აქვს, იმოძრაოს ყველა მიმართულებით. მარეგულირებლის მკერდის მხრიდან ყველა სატრანსპორტო საშუალებას უფლება აქვს, იმოძრაოს მხოლოდ მარჯვნივ. ქვეითს უფლება აქვს, გადავიდეს სავალ ნაწილზე მარეგულ-ირებლის ზურგის უკან.



Абарт автотранспорттә хархәагақәа рырныкәащәа ркынтә ахыц ахырхартала аитәцра анагзара зылшода иџкааџ икаитцаз абри ардыргазыџ

1

Аидаратәи, акапшыи, аџежьи амашынақәа рырныкәащәа

2


Аџежьи аиатџеи амашынақәа рырныкәащәа

3

Аџежьи акапшыи амашынақәа рырныкәащәа

განმარტება:

„საგზაო მოძრაობის შესახებ“ საქართველოს კანონის 30-ე მუხლის მე-5 პუნქტის „გ“ ქვეპუნქტის თანახმად, მარეგულირებლის სიგნალებს აქვთ შემდეგი მნიშვნელობა: გ) წინ გაშვებული მარჯვენა ხელი – ეს ჟესტი ნიშნავს „სდექ“ სიგნალს მარეგულირებლის მარჯვენა გვერდისა და ზურგის მხრიდან მოძრავი ყველა მძღოლისათვის; ამასთანავე, მარეგულირებლის მარცხენა გვერდის მხრიდან ტრამვაის უფლება აქვს, იმოძრაოს მარცხნივ, ხოლო ურელსო სატრანსპორტო საშუალებას უფლება აქვს, იმოძრაოს ყველა მიმართულებით. მარეგულირებლის მკერდის მხრიდან ყველა სატრანსპორტო საშუალებას უფლება აქვს, იმოძრაოს მხოლოდ მარჯვნივ. ქვეითს უფლება აქვს, გადავიდეს სავალ ნაწილზე მარეგულირებლის ზურგის უკან.



Аиѣкааѣ иѣаитѣаз абри ардырга аан ахыѣ ахырхартала еитѣѣуа амашынаѣѣа рырныѣѣаѣѣа рѣынѣтѣ амѣатѣ аитѣѣра атѣас еилазгодаѢ

1

Атрамваи амотоѣкли рырныѣѣаѣѣа

2

Атрамваи амашына ласи рырныѣѣаѣѣа

3

Амашына ласи амотоѣкли рырныѣѣаѣѣа

განმარტება:

„საგზაო მოძრაობის შესახებ“ საქართველოს კანონის 30-ე მუხლის მე-5 პუნქტის „ბ“ ქვეპუნქტის თანახმად, მარეგულირებლის სიგნალებს აქვთ შემდეგი მნიშვნელობა: ბ) განზე გაშვებული ან ჩამოშვებული ხელები – ეს ჟესტი ნიშნავს „სდექ“ სიგნალს იმ საგზაო მოძრაობის მონაწილეებისათვის, რომლებიც, მათი მოძრაობის მიმართულების მიუხედავად, მოძრაობენ იმ მიმართულებით, რომელიც კვეთს მარეგულირებლის განვდილი ხელით ან ხელებით მინიშნებულ მიმართულებას; ამასთანავე, მარეგულირებლის მარჯვენა და მარცხენა გვერდების მხრიდან ტრამვაის უფლება აქვს, იმოძრაოს პირდაპირ, ურელსო სატრანსპორტო საშუალებას უფლება აქვს, იმოძრაოს პირდაპირ და მარჯვნივ, ხოლო ქვეითს უფლება აქვს, გადავიდეს გზის სავალ ნაწილზე.



Абарт амашынақәа рырныкәаџцәа ркынтә аиџкааџ икаитаз абри ардыргазы ахыц ахырхартала аитатра азин змадаџ

1

Амашына шкәакәа арныкәаџ мацара.

2

Амашына каҭшь арныкәаџ мацара

3

Азәгы.

4

Арныкәаџцәа рџыцагы.

განმარტება:

„საგზაო მოძრაობის შესახებ“ საქართველოს კანონის 30-ე მუხლის მე-5 პუნქტის „გ“ ქვეპუნქტის თანახმად, მარეგულირებლის სიგნალებს აქვთ შემდეგი მნიშვნელობა - წინ გაშვებული მარჯვენა ხელი — ეს ჟესტი ნიშნავს „სდექ“ სიგნალს მარეგულირებლის მარჯვენა გვერდისა და ზურგის მხრიდან მოძრავი ყველა მძღოლისათვის; ამასთანავე, მარეგულირებლის მარცხენა გვერდის მხრიდან ტრამვაის უფლება აქვს, იმოძრაოს მარცხნივ, ხოლო ურელსო სატრანსპორტო საშუალებას უფლება აქვს, იმოძრაოს ყველა მიმართულებით. მარეგულირებლის მკერდის მხრიდან ყველა სატრანსპორტო საშუალებას უფლება აქვს, იმოძრაოს მხოლოდ მარჯვნივ. ქვეითს უფლება აქვს, გადავიდეს სავალ ნაწილზე მარეგულირებლის ზურგის უკან.



Аиҕааа иҕаитҕа аҕри ардырҕазы амашыына лас арныкҕаа амҕеихысыртаҕы арҕыарахь аитатҕра азин имоумаҕ

1


Азин имоуп

2

Азин имаҕам

განმარტება:

„საგზაო მოძრაობის შესახებ“ საქართველოს კანონის 30-ე მუხლის მე-5 პუნქტის „გ“ ქვეპუნქტის თანახმად, მარეგულირებლის სიგნალებს აქვთ შემდეგი მნიშვნელობა - წინ გაშვებული მარჯვენა ხელი – ეს ჟესტი ნიშნავს „სდექ“ სიგნალს მარეგულირებლის მარჯვენა გვერდისა და ზურგის მხრიდან მოძრავი ყველა მძღოლისათვის; ამასთანავე, მარეგულირებლის მარცხენა გვერდის მხრიდან ტრამვაის უფლება აქვს, იმოძრაოს მარცხნივ, ხოლო ურელსო სატრანსპორტო საშუალებას უფლება აქვს, იმოძრაოს ყველა მიმართულებით. მარეგულირებლის მკერდის მხრიდან ყველა სატრანსპორტო საშუალებას უფლება აქვს, იმოძრაოს მხოლოდ მარჯვნივ. ქვეითს უფლება აქვს, გადავიდეს სავალ ნაწილზე მარეგულირებლის ზურგის უკან; ამავე კანონის 32-ე მუხლის მე-5 პუნქტის თანახმად, გარდა იმ შემთხვევისა, როცა მოხვევა სრულდება გზატკარედინზე გასასვლელად, სადაც წრიული მოძრაობაა ორგანიზებული, მარჯვნივ ან მარცხნივ მოხვევის წინ, აგრეთვე მობრუნების წინ სატრანსპორტო საშუალების მძღოლი ვალდებულია დროულად დაიკავოს შესაბამისი განაპირა მდებარეობა სავალ ნაწილზე, რომელიც თანმხვედრი მიმართულებით მოძრაობისთვისაა განკუთვნილი.



Аиҕааҕ иҕаитҕаз абри ардыргазы амашыына шкәәкәә арныкәә аитатҕра анаҕзара азин имоупЖ

1

Армарахь

2

Армарахь, иара убас, шытахька Ыдтәиныҕ

3

Дышиашоу, иара убас, арҕьарахь

4

Дышиашоу мацара

განმარტება:

„საგზაო მოძრაობის შესახებ“ საქართველოს კანონის 30-ე მუხლის მე-5 პუნქტის „გ“ ქვეპუნქტის თანახმად, მარეგულირებლის სიგნალებს აქვთ შემდეგი მნიშვნელობა - წინ გაშვებული მარჯვენა ხელი — ეს ჟესტი ნიშნავს „სდექ“ სიგნალს მარეგულირებლის მარჯვენა გვერდისა და ზურგის მხრიდან მოძრავი ყველა მძღოლისათვის; ამასთანავე, მარეგულირებლის მარცხენა გვერდის მხრიდან ტრამვაის უფლება აქვს, იმოძრაოს მარცხნივ, ხოლო ურელსო სატრანსპორტო საშუალებას უფლება აქვს, იმოძრაოს ყველა მიმართულებით. მარეგულირებლის მკერდის მხრიდან ყველა სატრანსპორტო საშუალებას უფლება აქვს, იმოძრაოს მხოლოდ მარჯვნივ. ქვეითს უფლება აქვს, გადავიდეს სავალ ნაწილზე მარეგულირებლის ზურგის უკან; ამავე კანონის 32-ე მუხლის მე-5 პუნქტის თანახმად, გარდა იმ შემთხვევისა, როცა მოხვევა სრულდება გზატკარედინზე გასასვლელად, სადაც წრიული მოძრაობაა ორგანიზებული, მარჯვნივ ან მარცხნივ მოხვევის წინ, აგრეთვე მობრუნების წინ სატრანსპორტო საშუალების მძღოლი ვალდებულია დროულად დაიკავოს შესაბამისი განაპირა მდებარეობა სავალ ნაწილზე, რომელიც თანმხვედრი მიმართულებით მოძრაობისთვისაა განკუთვნილი.



Аиҕааа иҕаитҕаа аҕри ардырҕааы амашьына арныкҕаа аитатҕра анаҕзара азин имоупЖ

1

Армарахь

2

Армарахь, иара убас, шытахька ЫдтҕиныТ

3


Ахырхартакҕаа зегьы рыла

4

Дышиашоу, иара убас, арҕьарахь

ბანმარტუბა:

„საგზაო მოძრაობის შესახებ“ საქართველოს კანონის 30-ე მუხლის მე-5 პუნქტის „გ“ ქვეპუნქტის თანახმად, მარეგულირებლის სიგნალებს აქვთ შემდეგი მნიშვნელობა - წინ გაშვებული მარჯვენა ხელი — ეს ჟესტი ნიშნავს „სდექ“ სიგნალს მარეგულირებლის მარჯვენა გვერდისა და ზურგის მხრიდან მოძრავი ყველა მძღოლისათვის; ამასთანავე, მარეგულირებლის მარცხენა გვერდის მხრიდან ტრამვაის უფლება აქვს, იმოძრაოს მარცხნივ, ხოლო ურელსო სატრანსპორტო საშუალებას უფლება აქვს, იმოძრაოს ყველა მიმართულებით. მარეგულირებლის მკერდის მხრიდან ყველა სატრანსპორტო საშუალებას უფლება აქვს, იმოძრაოს მხოლოდ მარჯვნივ. ქვეითს უფლება აქვს, გადავიდეს სავალ ნაწილზე მარეგულირებლის ზურგის უკან.



Аиѣкааѣ иѣаитѣаз абри ардыргазы абарт атранспорттѣ хархѣагаѣаа рырныѣаѣѣѣаа рѣынтѣ ахыѣ ахырхартала аитѣѣра анаѣѣзара азин змаѣаѣ

1

Амашына ѣѣѣ арныѣаѣ заѣѣы

2

Амашына шѣѣаѣа арныѣаѣ заѣѣы

3


Рѣѣѣѣѣѣѣ

4

Азѣѣѣѣ

ბანმარტეპა:

„საგზაო მოძრაობის შესახებ“ საქართველოს კანონის 30-ე მუხლის მე-5 პუნქტის „გ“ ქვეპუნქტის თანახმად, მარეგულირებლის სიგნალებს აქვთ შემდეგი მნიშვნელობა - წინ გაშვებული მარჯვენა ხელი – ეს ჟესტი ნიშნავს „სდექ“ სიგნალს მარეგულირებლის მარჯვენა გვერდისა და ზურგის მხრიდან მოძრავი ყველა მძღოლისათვის; ამასთანავე, მარეგულირებლის მარცხენა გვერდის მხრიდან ტრამვაის უფლება აქვს, იმოძრაოს მარცხნივ, ხოლო ურელსო სატრანსპორტო საშუალებას უფლება აქვს, იმოძრაოს ყველა მიმართულებით. მარეგულირებლის მვერდის მხრიდან ყველა სატრანსპორტო საშუალებას უფლება აქვს, იმოძრაოს მხოლოდ მარჯვნივ. ქვეითს უფლება აქვს, გადავიდეს სავალ ნაწილზე მარეგულირებლის ზურგის უკან.



Ахыц ахырхартала аитатра азин имоупЖ

1

Амашына арныкѣаѣ затѣы

2

Амотоцикли амашынеи рырныкѣаѣцѣа

3

Атрамваи арныкѣаѣ

4

Рызынтѣгы

ბანმარტუბა:

„საგზაო მოძრაობის შესახებ“ საქართველოს კანონის 30-ე მუხლის მე-5 პუნქტის „გ“ ქვეპუნქტის თანახმად, მარეგულირებლის სიგნალებს აქვთ შემდეგი მნიშვნელობა - წინ გაშვებული მარჯვენა ხელი — ეს ჟესტი ნიშნავს „სდექ“ სიგნალს მარეგულირებლის მარჯვენა გვერდისა და ზურგის მხრიდან მოძრავი ყველა მძღოლისათვის; ამასთანავე, მარეგულირებლის მარცხენა გვერდის მხრიდან ტრამვაის უფლება აქვს, იმოძრაოს მარცხნივ, ხოლო ურელსო სატრანსპორტო საშუალებას უფლება აქვს, იმოძრაოს ყველა მიმართულებით. მარეგულირებლის მკერდის მხრიდან ყველა სატრანსპორტო საშუალებას უფლება აქვს, იმოძრაოს მხოლოდ მარჯვნივ. ქვეითს უფლება აქვს, გადავიდეს სავალ ნაწილზე მარეგულირებლის ზურგის უკან.



Аოперативтә матцура амашына чыдалатәи иатәоу, иара убас, абжытә ардырга иаҕакызар, аиҕааа иҕаитаз абри ардыргазы абарт атранспорттә хархәагакәа ырыныкәаҕа рҕынтә ахыц ахырхартала аитатцра анагзара азин змадаҕ

1

Аоперативтә матцура амашына арныкәаа затцәы

2

Аидаратәи иласуи амашынакәа ырыныкәаҕа

3

Рызынтәгы

ბანმარტუბა:

„საგზაო მოძრაობის შესახებ“ საქართველოს კანონის 30-ე მუხლის მე-5 პუნქტის „გ“ ქვეპუნქტის თანახმად, მარეგულირებლის სიგნალებს აქვთ შემდეგი მნიშვნელობა - წინ გაშვებული მარჯვენა ხელი – ეს ჟესტი ნიშნავს „სდექ“ სიგნალს მარეგულირებლის მარჯვენა გვერდისა და ზურგის მხრიდან მოძრავი ყველა მძღოლისათვის; ამასთანავე, მარეგულირებლის მარცხენა გვერდის მხრიდან ტრამვაის უფლება აქვს, იმოძრაოს მარცხნივ, ხოლო ურელსო სატრანსპორტო საშუალებას უფლება აქვს, იმოძრაოს ყველა მიმართულებით. მარეგულირებლის მკერდის მხრიდან ყველა სატრანსპორტო საშუალებას უფლება აქვს, იმოძრაოს მხოლოდ მარჯვნივ. ქვეითს უფლება აქვს, გადავიდეს სავალ ნაწილზე მარეგულირებლის ზურგის უკან; ამავე კანონის 51-ე მუხლის პირველი პუნქტის თანახმად, ოპერატიული ან სპეციალური სამსახურის სატრანსპორტო საშუალებების მძღოლს, რომელსაც სატრანსპორტო საშუალებაზე ჩართული აქვს ლურჯი მოელვარე სპეციალური ციმციმა სიგნალი და ასრულებს სამსახურებრივ დავალებას, შეუძლია საგზაო მოძრაობის უსაფრთხოების უზრუნველყოფის პირობების დაცვით გადაუხვიოს ამ კანონის 25-ე, 31-ე–41-ე და 44-ე მუხლებით, აგრეთვე ამ კანონის № 1 და № 2 დანართებით დადგენილ მოთხოვნებს.



Аиѣкааѣ иѣаитѣаз абри ардыргазы абарт атранспорттѣ хархѣагаѣа рырныѣаѣѣа рѣынтѣ аитѣѣра анагѣара азин змаѣаѢ

1

Аѣѣмашыынаѣ рырныѣаѣѣа

2

Автобус арныѣаѣ заѣѣы

3


Амашыына лас арныѣаѣ заѣѣы

4

Азѣгы

განმარტება:

„საგზაო მოძრაობის შესახებ“ საქართველოს კანონის 30-ე მუხლის მე-5 პუნქტის „ა“ ქვეპუნქტის თანახმად, მარეგულირებლის სიგნალებს აქვთ შემდეგი მნიშვნელობა - ზემოთ აწეული ერთი ხელი — ეს ჟესტი ყველა საგზაო მოძრაობის მონაწილისათვის ნიშნავს „ყურადღება, სდექ“ სიგნალს, გარდა იმ მძღოლებისა, რომლებიც უკვე ვეღარ შეძლებენ გაჩერებას მკვეთრი დამუხრუჭებისა და საკმაო უსაფრთხოების პირობების დაცვით. გარდა ამისა, თუ ეს სიგნალი მიცემულია გზაჯვარედინზე, მძღოლს, რომელიც უკვე შესულია გზაჯვარედინზე, შეუძლია განაგრძოს მოძრაობა. ქვეითმა, რომელიც სიგნალის მიცემისას გზის სავალ ნაწილზე იმყოფება, უნდა გაათავისუფლოს იგი, ხოლო თუ ეს შეუძლებელია — უნდა გაჩერდეს ურთიერთსაპირისპირო მიმართულებით მოძრავი სატრანსპორტო ნაკადების გამყოფ ხაზზე.



АиѣкааѢ иѣаитѣаз абри ардыргазы абарт атранспорттѢ хархѢагаѣа ырыныѣаѢѣа рѣынтѢ аитѣѣра анагѣара азин змаѢаѢ

1

АѢѢмашыынак ырыныѣаѢѣа

2

АзѢгы

3


Автобус арныѣаѢ затѢы

4

АоперативтѢ матѣура амашыына арныѣаѢ затѢы

განმარტება:

„საგზაო მოძრაობის შესახებ“ საქართველოს კანონის 30-ე მუხლის მე-5 პუნქტის „ა“ ქვეპუნქტის თანახმად, მარეგულირებლის სიგნალებს აქვთ შემდეგი მნიშვნელობა - ზემოთ აწეული ერთი ხელი - ეს ჟესტი ყველა საგზაო მოძრაობის მონაწილისათვის ნიშნავს „ყურადღება, სდექ“ სიგნალს, გარდა იმ მძღოლებისა, რომლებიც უკვე ვეღარ შეძლებენ გაჩერებას მკვეთრი დამუხრუჭებისა და საკმაო უსაფრთხოების პირობების დაცვით. გარდა ამისა, თუ ეს სიგნალი მიცემულია გზაჯვარედინზე, მძღოლს, რომელიც უკვე შესულია გზაჯვარედინზე, შეუძლია განაგრძოს მოძრაობა. ქვეითმა, რომელიც სიგნალის მიცემისას გზის სავალ ნაწილზე იმყოფება, უნდა გაათავისუფლოს იგი, ხოლო თუ ეს შეუძლებელია – უნდა გაჩერდეს ურთიერთსაპირისპირო მიმართულებით მოძრავი სატრანსპორტო ნაკადების გამყოფ ხაზზე.



Аиҕааа иҕаиттаз аҕри ардыргазы ашыаҕауаа ашыаҕауаа рхысыртаҕы амҕа ахысра азин имоумаҕ

1

Азин имоуп

2

Азин имам

განმარტება:

„საგზაო მოძრაობის შესახებ“ საქართველოს კანონის 30-ე მუხლის მე-5 პუნქტის „ა“ ქვეპუნქტის თანახმად, მარეგულირებლის სიგნალებს აქვთ შემდეგი მნიშვნელობა - ზემოთ აწეული ერთი ხელი - ეს ჟესტი ყველა საგზაო მოძრაობის მონაწილისათვის ნიშნავს „ყურადღება, სდექ“ სიგნალს, გარდა იმ მძღოლებისა, რომლებიც უკვე ვეღარ შეძლებენ გაჩერებას მკვეთრი დამუხრუჭებისა და საკმაო უსაფრთხოების პირობების დაცვით. გარდა ამისა, თუ ეს სიგნალი მიცემულია გზაჯვარედინზე, მძღოლს, რომელიც უკვე შესულია გზაჯვარედინზე, შეუძლია განაგრძოს მოძრაობა. ქვეითმა, რომელიც სიგნალის მიცემისას გზის სავალ ნაწილზე იმყოფება, უნდა გაათავისუფლოს იგი, ხოლო თუ ეს შეუძლებელია – უნდა გაჩერდეს ურთიერთსაპირისპირო მიმართულებით მოძრავი სატრანსპორტო ნაკადების გამყოფ ხაზზე.



Аиѣкааѣ иѣаитѣаз абри ардыргазы аитѣтѣра анагѣара азин имоупЖ

1

Амашына иатѣа арныѣаѣ маѣара.

2

Амашына шѣаѣаѣ арныѣаѣ маѣара.

3

Аѣѣгы

4

Арныѣаѣѣаѣ рѣыѣаѣгы.

განმარტება:

„საგზაო მოძრაობის შესახებ“ საქართველოს კანონის 30-ე მუხლის მე-5 პუნქტის „ბ“ ქვეპუნქტის თანახმად, მარეგულირებლის სიგნალებს აქვთ შემდეგი მნიშვნელობა - განზე გაშვებული ან ჩამოშვებული ხელები - ეს უესტი ნიშნავს „სდექ“ სიგნალს იმ საგზაო მოძრაობის მონაწილეებისათვის, რომლებიც, მათი მოძრაობის მიმართულების მიუხედავად, მოძრაობენ იმ მიმართულებით, რომელიც კვეთს მარეგულირებლის განვდილი ხელით ან ხელებით მინიშნებულ მიმართულებას; ამასთანავე, მარეგულირებლის მარჯვენა და მარცხენა გვერდების მხრიდან ტრამვაის უფლება აქვს, იმოძრაოს პირდაპირ, ურელსო სატრანსპორტო საშუალებას უფლება აქვს, იმოძრაოს პირდაპირ და მარჯვნივ, ხოლო ქვეითს უფლება აქვს, გადავიდეს გზის სავალ ნაწილზე.



Аиҕааҕ иҕаитҕаз абри ардыргазы амашыына арныкҕаа аитатҕра анаҕзара азин имоупЖ

1

Дышиашоу, иара убас, армарахь

2


Дышиашоу, иара убас, арҕыарахь

3

Дышиашоу мацара

განმარტება:

„საგზაო მოძრაობის შესახებ“ საქართველოს კანონის 30-ე მუხლის მე-5 პუნქტის „ბ“ ქვეპუნქტის თანახმად, მარეგულირებლის სიგნალებს აქვთ შემდეგი მნიშვნელობა - განზე გაშვებული ან ჩამოშვებული ხელები - ეს უესტი ნიშნავს „სდექ“ სიგნალს იმ საგზაო მოძრაობის მონაწილეებისათვის, რომლებიც, მათი მოძრაობის მიმართულების მიუხედავად, მოძრაობენ იმ მიმართულებით, რომელიც კვეთს მარეგულირებლის განვდილი ხელით ან ხელებით მინიშნებულ მიმართულებას; ამასთანავე, მარეგულირებლის მარჯვენა და მარცხენა გვერდების მხრიდან ტრამვაის უფლება აქვს, იმოძრაოს პირდაპირ, ურელსო სატრანსპორტო საშუალებას უფლება აქვს, იმოძრაოს პირდაპირ და მარჯვნივ, ხოლო ქვეითს უფლება აქვს, გადავიდეს გზის სავალ ნაწილზე; ამავე კანონის 32-ე მუხლის მე-5 პუნქტის თანახმად, გარდა იმ შემთხვევისა, როცა მოხვევა სრულდება გზატკარციდინზე გასასვლელად, სადაც წრიული მოძრაობაა ორგანიზებული, მარჯვნივ ან მარცხნივ მოხვევის წინ, აგრეთვე მობრუნების წინ სატრანსპორტო საშუალების მძღოლი ვალდებულია დროულად დაიკავოს შესაბამისი განაპირა მდებარეობა სავალ ნაწილზე, რომელიც თანმხვედრი მიმართულებით მოძრაობისთვისაა განკუთვნილი.



Аиѣкааѣ иѣаитѣаз абри ардыргазы амашына арныкѣаѣ аитѣѣтра анаѣѣара азин имоупЖ

1

Дышиашоу маѣара

2

Дышиашаоу, иара убас, арѣѣарахь

3

Арѣѣарахь, иара убас, армарахь

4

Ахырхарѣаѣа зегы рыла

განმარტება:

„საგზაო მოძრაობის შესახებ“ საქართველოს კანონის 30-ე მუხლის მე-5 პუნქტის „ბ“ ქვეპუნქტის თანახმად, მარეგულირებლის სიგნალებს აქვთ შემდეგი მნიშვნელობა - განზე გაშვებული ან ჩამოშვებული ხელები - ეს უესტი ნიშნავს „სდექ“ სიგნალს იმ საგზაო მოძრაობის მონაწილეებისათვის, რომლებიც, მათი მოძრაობის მიმართულების მიუხედავად, მოძრაობენ იმ მიმართულებით, რომელიც კვეთს მარეგულირებლის განვდილი ხელით ან ხელებით მინიშნებულ მიმართულებას; ამასთანავე, მარეგულირებლის მარჯვენა და მარცხენა გვერდების მხრიდან ტრამვაის უფლება აქვს, იმოძრაოს პირდაპირ, ურელსო სატრანსპორტო საშუალებას უფლება აქვს, იმოძრაოს პირდაპირ და მარჯვნივ, ხოლო ქვეითს უფლება აქვს, გადავიდეს გზის სავალ ნაწილზე; ამავე კანონის 32-ე მუხლის მე-5 პუნქტის თანახმად, გარდა იმ შემთხვევისა, როცა მოხვევა სრულდება გზატკარციდინზე გასასვლელად, სადაც წრიული მოძრაობაა ორგანიზებული, მარჯვნივ ან მარცხნივ მოხვევის წინ, აგრეთვე მობრუნების წინ სატრანსპორტო საშუალების მძღოლი ვალდებულია დროულად დაიკავოს შესაბამისი განაპირა მდებარეობა სავალ ნაწილზე, რომელიც თანმხვედრი მიმართულებით მოძრაობისთვისაა განკუთვნილი.



Абарт атранспорттə хархəагақəа рырныкəацəа ркынтə айқааа икайтəз абри ардырғазы ахыц ахырхартала аитатра азин змадаҕ

1

Амашына лас арныкəаа затəы

2

Амотоцикл арныкəаа затəы

3


Амотоцикли автобуси рырныкəаацəа

4

Атранспорттə хархəагақəа зегьы рырныкəаацəа

განმარტება:

„საგზაო მოძრაობის შესახებ“ საქართველოს კანონის 30-ე მუხლის მე-5 პუნქტის „გ“ ქვეპუნქტის თანახმად, მარეგულირებლის სიგნალებს აქვთ შემდეგი მნიშვნელობა - წინ გაშვებული მარჯვენა ხელი - ეს უესტი ნიშნავს „სდეე“ სიგნალს მარეგულირებლის მარჯვენა გვერდისა და ზურგის მხრიდან მოძრავი ყველა მძღოლისათვის; ამასთანავე, მარეგულირებლის მარცხენა გვერდის მხრიდან ტრამვაის უფლება აქვს, იმოძრაოს მარცხნივ, ხოლო ურელსო სატრანსპორტო საშუალებას უფლება აქვს, იმოძრაოს ყველა მიმართულებით. მარეგულირებლის მვერდის მხრიდან ყველა სატრანსპორტო საშუალებას უფლება აქვს, იმოძრაოს მხოლოდ მარჯვნივ. ქვეითს უფლება აქვს, გადავიდეს სავალ ნაწილზე მარეგულირებლის ზურგის უკან.



Аиѣкааѣ иѣаитѣаз абри ардыргазы амашьына лас арныѣкааѣ аитѣѣтра анагѣара азин имоупЖ

1

Аи Си ахырхарѣаѣа рыла

2


Ви Ди ахырхарѣаѣа рыла

3

Ахырхарѣаѣа зегы рыла

ბანმარტუბა:

„საგზაო მოძრაობის შესახებ“ საქართველოს კანონის 30-ე მუხლის მე-5 პუნქტის „გ“ ქვეპუნქტის თანახმად, მარეგულირებლის სიგნალებს აქვთ შემდეგი მნიშვნელობა - წინ გაშვებული მარჯვენა ხელი - ეს ჟესტი ნიშნავს „სდექ“ სიგნალს მარეგულირებლის მარჯვენა გვერდისა და ზურგის მხრიდან მოძრავი ყველა მძღოლისათვის; ამასთანავე, მარეგულირებლის მარცხენა გვერდის მხრიდან ტრამვაის უფლება აქვს, იმოძრაოს მარცხნივ, ხოლო ურელსო სატრანსპორტო საშუალებას უფლება აქვს, იმოძრაოს ყველა მიმართულებით. მარეგულირებლის მკერდის მხრიდან ყველა სატრანსპორტო საშუალებას უფლება აქვს, იმოძრაოს მხოლოდ მარჯვნივ. ქვეითს უფლება აქვს, გადავიდეს სავალ ნაწილზე მარეგულირებლის ზურგის უკან.



Аиѣкааѣ иѣаитѣаз абри ардыргазы амашына лас арныѣаѣ аитѣѣра анаѣѣара азин имоупЖ

1

Иарбанзаалак хырхартак ала дзеитѣтуам

2

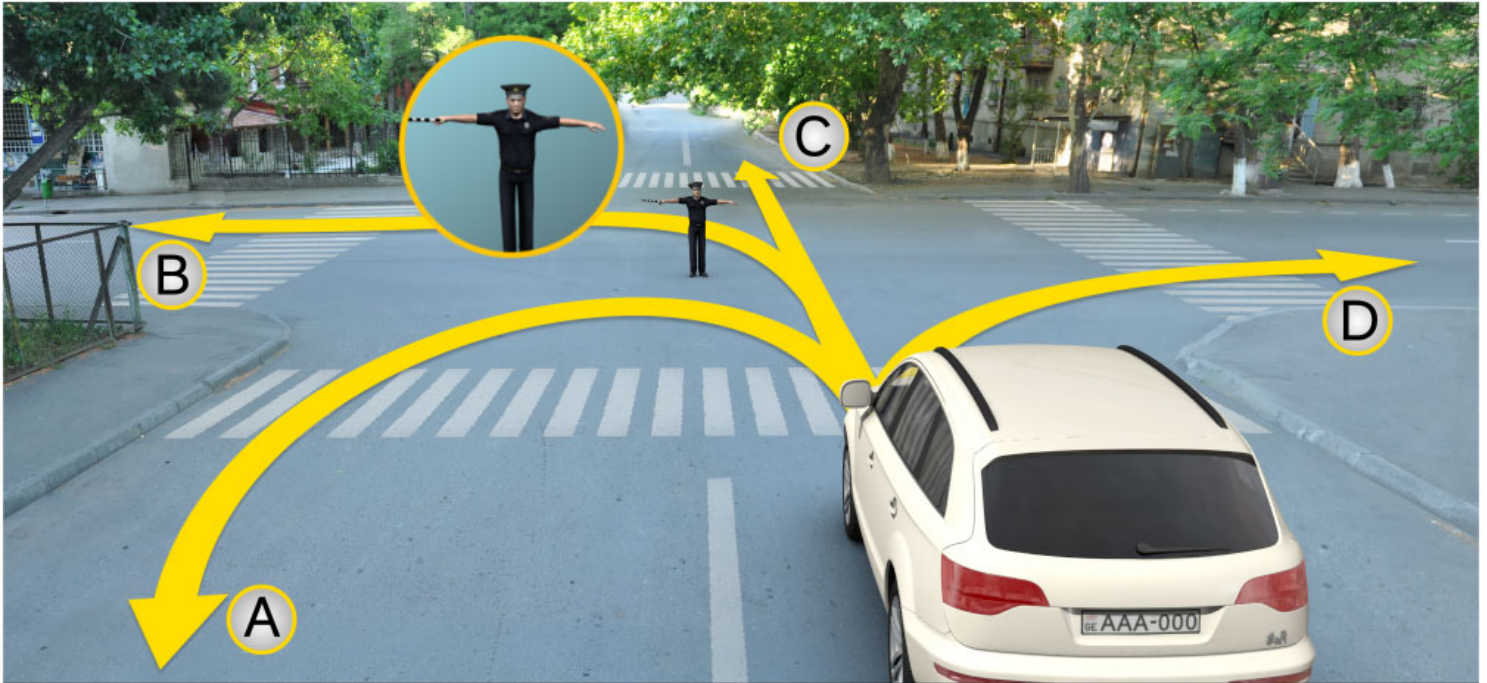
Аи Ди ахырхартакѣа маѣара рыла.

3

Ви Си ахырхартакѣа маѣара рыла.

განმარტება:

„საგზაო მოძრაობის შესახებ“ საქართველოს კანონის 30-ე მუხლის მე-5 პუნქტის „ა“ ქვეპუნქტის თანახმად, მარეგულირებლის სიგნალებს აქვთ შემდეგი მნიშვნელობა - ზემოთ აწეული ერთი ხელი - ეს ჟესტი ყველა საგზაო მოძრაობის მონაწილისათვის ნიშნავს „ყურადღება, სდექ“ სიგნალს, გარდა იმ მძღოლებისა, რომლებიც უკვე ვეღარ შეძლებენ გაჩერებას მკვეთრი დამუხრუჭებისა და საკმაო უსაფრთხოების პირობების დაცვით. გარდა ამისა, თუ ეს სიგნალი მიცემულია გზაჯვარედინზე, მძღოლს, რომელიც უკვე შესულია გზაჯვარედინზე, შეუძლია განაგრძოს მოძრაობა. ქვეითმა, რომელიც სიგნალის მიცემისას გზის სავალ ნაწილზე იმყოფება, უნდა გაათავისუფლოს იგი, ხოლო თუ ეს შეუძლებელია – უნდა გაჩერდეს ურთიერთსაპირისპირო მიმართულებით მოძრავი სატრანსპორტო ნაკადების გამყოფ ხაზზე.



Аиҕааҕ иҕаитҕаз абри ардыргазы амашыына лас арныҕааҕ аитҕатра анаҕзара азин имоупЖ

1

Аи Си ахырхарҕаҕа рыла

2

Иарбанзаалак хырхарҕак ала дзеитҕауам

3

Ви Ди ахырхарҕаҕа рыла

განმარტება:

„საგზაო მოძრაობის შესახებ“ საქართველოს კანონის 30-ე მუხლის მე-5 პუნქტის „ბ“ ქვეპუნქტის თანახმად, მარეგულირებლის სიგნალებს აქვთ შემდეგი მნიშვნელობა - განზე გაშვებული ან ჩამოშვებული ხელები - ეს უესტი ნიშნავს „სდექ“ სიგნალს იმ საგზაო მოძრაობის მონაწილეებისათვის, რომლებიც, მათი მოძრაობის მიმართულების მიუხედავად, მოძრაობენ იმ მიმართულებით, რომელიც კვეთს მარეგულირებლის განვდილი ხელით ან ხელებით მინიშნებულ მიმართულებას; ამასთანავე, მარეგულირებლის მარჯვენა და მარცხენა გვერდების მხრიდან ტრამვაის უფლება აქვს, იმოძრაოს პირდაპირ, ურელსო სატრანსპორტო საშუალებას უფლება აქვს, იმოძრაოს პირდაპირ და მარჯვნივ, ხოლო ქვეითს უფლება აქვს, გადავიდეს გზის სავალ ნაწილზე.

ВОПРОС 210

ПРАВИЛЬНЫЙ ОТВЕТ: 1

Аиѣкааѣ икаитѣаз ардыргеи, алашарбага ардыргақѣеи, амѣатѣ рбагақѣеи, амѣатѣ дыргақѣеи рыхѣарақѣа еиқѣымшѣѣозар, аитѣтѣра алахѣылацѣа инарыгѣзарц рыхѣтоупѣЖ

1

Аиѣкааѣ икаитѣаз ардырга ахѣарақѣа

2

Алашарбага ардырга ахѣарақѣа

3

Амѣатѣ рбагақѣа рыхѣарақѣа

4

Амѣатѣ дыргақѣа рыхѣарақѣа

განმარტება:

„საგზაო მოძრაობის შესახებ“ საქართველოს კანონის 28-ე მუხლის მე-2 პუნქტის თანახმად, მარეგულირებლის სიგნალებს აქვს უპირატესი ძალა შექნიშნის მაშუქი სიგნალების, საგზაო ნიშნებისა და საგზაო მონიშვნების მოთხოვნების და საგზაო მოძრაობის წესების მოთხოვნების მიმართ. გზაჯვარედინზე მარეგულირებლის მიერ მოძრაობის რეგულირებისას ამკრძალავი და მიმითითებელი საგზაო ნიშნები აგრძელებს მოქმედებას, გარდა იმ შემთხვევისა, როდესაც მარეგულირებელი კონკრეტულად მიუთითებს მათი მოთხოვნების უგულებელყოფაზე.

ВОПРОС 211

ПРАВИЛЬНЫЙ ОТВЕТ: 3

Аиѣкааѣ, абжырдуга ала ма инапы рханы атранспорттѣ хархѣага аангылара иазкны ахѣара каитѣазар, арныкѣаѣ даангылароупѣЖ

1

Ихѣмыркѣакѣа, дахыкѣоу атыѣаѣы

2

Иахызыманшѣалоу атыѣаѣы

3

Аиѣкааѣ иахырбаз атыѣаѣы

განმარტება:

„საგზაო მოძრაობის შესახებ“ საქართველოს კანონის 30-ე მუხლის მე-8 პუნქტის თანახმად, თუ მარეგულირებელი სატრანსპორტო საშუალების გაჩერების შესახებ მოთხოვნას გადასცემს ხმამაღლამოლაპარაკე მონწყობილობით ან სატრანსპორტო საშუალებისაკენ მიმართული ფესტიკულაციით, მძღოლი უნდა გაჩერდეს მარეგულირებლის მიერ მითითებულ ადგილზე.

ВОПРОС 212

ПРАВИЛЬНЫЙ ОТВЕТ: 4

Аиџааџ ардырга кайтар илшоитЖ

1

Аџааџа еиџаџаџаџаи аџааџа шкџаџаџаџаи
зну чыдалатџ и алабей ма иџаџшыу
агџеџџџаџс ала

2

Анапала, ма амџатџ дырга – аитатра
иџаџтымуп зону агџеџџџаџс ала

3

Иџаџшыу ма иџеџу абираџла, ма алашара
џаџшы аитатрала

4

Абри абилет аџы еиџаџџџаџзџу
иарбанзаалак харџааџа ала.

განმარტება:

„საგზაო მოძრაობის შესახებ“ საქართველოს კანონის 30-ე მუხლის მე-9 პუნქტის თანახმად, მარეგულირებელი სიგნალს აძლევს: ა) შავი და თეთრი ზოლების მქონე ხელკეტი; ბ) შექამრეკლი წითელი დისკით; გ) დისკით, რომელზედაც გამოსახულია საგზაო ნიშანი „მოძრაობა აკრძალულია“; დ) ხელით; ე) წითელი ან ყვითელი ალმით; ვ) წითელი სინათლის მოძრაობით.

ВОПРОС 213

ПРАВИЛЬНЫЙ ОТВЕТ: 2

Аиџааџ атрышџасгала иџаџтаз ардырга иаанаџоитЖ

1

Аитатра иџаџтымуп

2

Аитатра алахџылаџџа рыхшыџзышытра
адыџџџალара иазкуп

3

Аитатра азин иџџуп

4

Иааиџџаџо ашџართазы агџџантара џანатџоит

განმარტება:

„საგზაო მოძრაობის შესახებ“ საქართველოს კანონის 30-ე მუხლის მე-10 პუნქტის თანახმად, მარეგულირებლის მიერ სასტვენით მიცემული დამატებითი სიგნალი გამიზნულია მოძრაობის მონაწილეების ყურადღების მისაპყრობად.

ВОПРОС 214

ПРАВИЛЬНЫЙ ОТВЕТ: 1

Аиџкааџ алашара каџшь иртысыр, абри алашара зхырхартахь ирхоу амџатџ аитатра алахџылацџа иранахџоитЖ

1

Урт иаангылароуп

2

Аитатра дырщакроуп

3

Ашџарта ааигџахоит

განმარტება:

„საგზაო მოძრაობის შესახებ“ საქართველოს კანონის 30-ე მუხლის მე-5 პუნქტის „დ“ ქვეპუნქტების თანახმად, მარეგულირებლის სიგნალებს აქვთ შემდეგი მნიშვნელობა - წითელი სინათლის მოძრაობა - ეს სიგნალი ყველა საგზაო მოძრაობის მონაწილისათვის, რომელთა მხარესაც მიმართულია ეს სინათლე, ნიშნავს „სდექ“ სიგნალს.

ВОПРОС 215

ПРАВИЛЬНЫЙ ОТВЕТ: 1

Аиџкааџ икаитаз ардырга ахџарақџеи алашарбага ардырга ахџарақџеи еиқџымшџџозар, амџатџ аитатра алахџылацџа инарыгзароупЖ

1

Аиџкааџ икаитаз ардырга ахџарақџа

2

Алашарбага ардырга ахџарақџа

განმარტება:

„საგზაო მოძრაობის შესახებ“ საქართველოს კანონის 28-ე მუხლის მე-2 პუნქტის თანახმად, მარეგულირებლის სიგნალებს აქვს უპირატესი ძალა შეუწიშნის მაშუქი სიგნალების, საგზაო ნიშნებისა და საგზაო მონიშვნების მოთხოვნების და საგზაო მოძრაობის წესების მოთხოვნების მიმართ. გზაჯვარედინზე მარეგულირებლის მიერ მოძრაობის რეგულირებისას ამკრძალავი და მიმითითებელი საგზაო ნიშნები აგრძელებს მოქმედებას, გარდა იმ შემთხვევისა, როდესაც მარეგულირებელი კონკრეტულად მიუთითებს მათი მოთხოვნების უგულებელყოფაზე.



Иарбоу атагылазашаафы амашына арныкәә иуалупЖ

1

Аитатра анагзара

2

Аигәаза икоу арельскәә ркнынза 10 метрак
eitымкәә ишыбжьоу аангылара

3

„Сдек“ ацәахәафы аангылара

4

Алашарбагафы аангылара

ბანმარტუბა:

„საგზაო მოძრაობის შესახებ“ საქართველოს კანონის 39-ე მუხლის მე-4 პუნქტის თანახმად, რკინიგზის გადასასვლელზე მოძრაობის ამკრძალავი სიგნალის მიცემისას მარეგულირებელი დგას მძღოლის მიმართ მკერდით ან ზურგშეცევით, თავის ზემოთ აწეული კვერთხით, წითელი ფარნით ან ალმით ან განზე გაწეული ხელებით. ამავე მუხლის პირველი პუნქტის „გ“ ქვეპუნქტის თანახმად, მარეგულირებლის ან შუქნიშნის ამკრძალავი სიგნალის დროს არცერთი საგზაო მოძრაობის მონაწილე არ უნდა შევიდეს რკინიგზის გადასასვლელზე, მიუხედავად შლაგბაუმის ან ნახევარშლაგბაუმის მდგომარეობისა ან მისი არსებობისა. ამავე მუხლის მე-3 პუნქტის თანახმად თუ რკინიგზის გადასასვლელზე მოძრაობა აკრძალულია, მძღოლი ჩერდება „სდექ“ ხაზთან, 2.4 საგზაო ნიშანთან ან შუქნიშანთან, ხოლო მათი არარსებობისას – შლაგბაუმიდან ან ნახევარშლაგბაუმიდან არანაკლებ 5 მეტრისა. თუ არ არის არც შლაგბაუმი და არც ნახევარშლაგბაუმი, მძღოლი უნდა გაჩერდეს უახლოეს რელსამდე არანაკლებ 10 მეტრისა.



Иарбоу атагылазашааы амашына арныкәә иуалупЖ

1

Аитатра анагзара

2

„Сдек“ ацәахәаы аангылара

3

Аигәаза икоу арельскәа ркнынза 10 метрак
еитцымкәа ишыбжьоу аангылара

4

Алашарбагаы аангылара

განმარტება:

„საგზაო მოძრაობის შესახებ“ საქართველოს კანონის 39-ე მუხლის მე-4 პუნქტის თანახმად, რკინიგზის გადასასვლელზე მოძრაობის ამკრძალავი სიგნალის მიცემისას მარეგულირებელი დგას მძღოლის მიმართ მკერდით ან ზურგშექცევით, თავის ზემოთ აწეული კვერთხით, წითელი ფარნით ან ალმით ან განზე გაწეული ხელებით. ამავე მუხლის პირველი პუნქტის „გ“ ქვეპუნქტის თანახმად, მარეგულირებლის ან შუქნიშნის ამკრძალავი სიგნალის დროს არცერთი საგზაო მოძრაობის მონაწილე არ უნდა შევიდეს რკინიგზის გადასასვლელზე, მიუხედავად შლაგბაუმის ან ნახევარშლაგბაუმის მდგომარეობისა ან მისი არსებობისა. ამავე მუხლის მე-3 პუნქტის თანახმად თუ რკინიგზის გადასასვლელზე მოძრაობა აკრძალულია, მძღოლი ჩერდება „სდექ“ ხაზთან, 2.4 საგზაო ნიშანთან ან შუქნიშანთან, ხოლო მათი არარსებობისას – შლაგბაუმიდან ან ნახევარშლაგბაუმიდან არანაკლებ 5 მეტრისა. თუ არ არის არც შლაგბაუმი და არც ნახევარშლაგბაუმი, მძღოლი უნდა გაჩერდეს უახლოეს რელსამდე არანაკლებ 10 მეტრისა.

„საგზაო მოძრაობის შესახებ“ საქართველოს კანონის 5-ე მუხლის 32-ე პუნქტის თანახმად, მარეგულირებელი - საქართველოს კანონმდებლობით განსაზღვრული, საგზაო მოძრაობის რეგულირების უფლებამოსილების მქონე პირი, რომელსაც თავისი კომპეტენციის ფარგლებში უფლება აქვს, საგზაო მოძრაობის მონაწილეს შეუზღუდოს მოძრაობა, შეუცვალოს მიმართულება ან/და შეაჩეროს მისი მოძრაობა.

„საგზაო მოძრაობის შესახებ“ საქართველოს კანონის 36-ე მუხლის მე-3 პუნქტის „დ“ ქვეპუნქტის თანახმად, რეგულირებულ გზაჯვარედინზე, თუ მარეგულირებლის სიგნალი ერთდროულად მოძრაობის ნებას რთავს ურთიერთგადაძვეთი ტრაექტორიებით მოძრავ ურელსო სატრანსპორტო საშუალებებს, მძღოლებმა უნდა იხელმძღვანელონ არარეგულირებული გზაჯვარედინის გავლის წესებითა და გზაჯვარედინზე დაყენებული პრიორიტეტის ნიშნებით.



Аиџкааџ конкретла армарахь аитџцразы ардырга кџаитџазар, амашьына лас арныкџаџ аитџцра анаџзара илшоитЖ

1

Дышиашоу мацара

2

Армарахь мацара

3

Армарахь, иара убас дыкџџџины шыџахька

4

Ахырхарџакџа зегьы рыла

განმარტება:

„საგზაო მოძრაობის შესახებ“ საქართველოს კანონის 28-ე მუხლის მე-2 პუნქტის თანახმად, მარეგულირებლის სიგნალებს აქვს უპირატესი ძალა შეუწიშნის მაშუქი სიგნალების, საგზაო ნიშნებისა და საგზაო მონიშვნების მოთხოვნების და საგზაო მოძრაობის წესების მოთხოვნების მიმართ. გზაჯვარედინზე მარეგულირებლის მიერ მოძრაობის რეგულირებისას ამკრძალავი და მიმთითებელი საგზაო ნიშნები აგრძელებს მოქმედებას, გარდა იმ შემთხვევისა, როდესაც მარეგულირებელი კონკრეტულად მიუთითებს მათი მოთხოვნების უგულებელყოფაზე.

თემა 12:

სპეციალური სიგნალის გამოყენება

ВОПРОС 222

ПРАВИЛЬНЫЙ ОТВЕТ: 1

Алашарбага ардырга каҭшыи ардырга ҭежьи еицѣакупЖ

1

Аитатра калом, ардырга иатѣа иақыроуп

2

Аитатра калоит, амѣа ацыҭѣахаҭы иҭоу
ашѣарта иазкны адырра канатѣоит

განმარტება:

„საგზაო მოძრაობის შესახებ“ საქართველოს კანონის 29-ე მუხლის მე-2 პუნქტის „ბ“ ქვეპუნქტის თანახმად, ერთობლივად ჩართული წითელი და ყვითელი მაშუქი სიგნალები კრძალავს მოძრაობას და იტყობინება მწვანე მაშუქი სიგნალის მოსალოდნელი ჩართვის შესახებ.

ВОПРОС 223

ПРАВИЛЬНЫЙ ОТВЕТ: 4

Аихамѣа ахысыртаҭы иҭалоитЖ

1

Ахысырта аҭхьа игылоу атранспорттѣ
хархѣага акѣшара еиҭынгылоу аитатратѣ
ѣахѣашка аиасрала

2

Амѣакыга ма амѣакыгабжа хаҭызарала
аартра

3

Аихабы изин ада аихамѣа адистанциала,
зыласра сааткала 8 км. еиҭам, ҭышала
иныҭѣо амашьынала, иара убас, атракторла
аитатра

4

Даанымгылакѣа уи ахысра

განმარტება:

„საგზაო მოძრაობის შესახებ“ საქართველოს კანონის 39-ე მუხლის მე-2 პუნქტის „ა“, „ბ“ და „დ“ ქვეპუნქტების თანახმად, რკინიგზის გადასასვლელზე აკრძალულია: ა) საპირისპირო მოძრაობის ზოლზე გასვლით, გადასასვლელის წინ მდგომი სატრანსპორტო საშუალების შემოვლა; ბ) შლაგბაუმის ან ნახევარშლაგბაუმის თვითნებური გახსნა; დ) რკინიგზის ლიანდაგის დისტანციის უფროსის ნებართვის გარეშე ნელმავალი სატრანსპორტო საშუალების, რომლის სიჩქარე არ აღემატება 8 კმ/სთ, და ტრაქტორის მარხილ-სათრეველას მოძრაობა.

ВОПРОС 224

ПРАВИЛЬНЫЙ ОТВЕТ: 3

Амѡათѣ дыргакѣи азгѣатаракѣи рыхѣараკѣа иახыпышымკѣა, აფыჯѣара იმოუპ აოპერативტѣ матура амашына арныკѣაფ, уи иაფაკны имазарЖ

1

Чыдалатѣи ардырга иатѣა

2

Иатѣოуи иკაჟшыუი чыдалатѣи ардыргаკѣა

3

Чыдалатѣи ардырга иатѣეи აბჯყტѣ
ардыргეи

განმარტება:

„საგზაო მოძრაობის შესახებ“ საქართველოს კანონის 51-ე მუხლის პირველი პუნქტის თანახმად, ოპერატიული ან სპეციალური სამსახურის სატრანსპორტო საშუალების მძღოლს, რომელსაც სატრანსპორტო საშუალებაზე ჩართული აქვს ლურჯი მოელვარე სპეციალური ციმციმა სიგნალი და ასრულებს სამსახურებრივ დავალებას, შეუძლია საგზაო მოძრაობის უსაფრთხოების უზრუნველყოფის პირობების დაცვით გადაუხვიოს ამ კანონის 25-ე, 31-ე–41-ე და 44-ე მუხლებით, აგრეთვე ამ კანონის №1 და №2 დანართებით დადგენილ მოთხოვნებს. ლურჯ მოელვარე სპეციალურ ციმციმა სიგნალთან ერთად დამატებით შეიძლება ჩაირთოს წითელი მოელვარე ციმციმა სიგნალიც. სხვა საგზაო მოძრაობის მონაწილეების მიმართ უპირატესობის მისაღებად ამ სატრანსპორტო საშუალების მძღოლმა უნდა ჩართოს ლურჯი მოელვარე სპეციალური ციმციმა სიგნალი და ხმოვანი სიგნალი. პრიორიტეტით სარგებლობა მხოლოდ მაშინ შეიძლება, როცა მძღოლი დარწმუნდება, რომ მას გზას უთმობენ.

ВОПРОС 225

ПРАВИЛЬНЫЙ ОТВЕТ: 1

Амѡათѣ аитѣцра алахѣыла чыдалатѣи ардырга иатѣეи აბჯყტѣ ардыргეი иაფაკны измоу აოპერативტѣ матура атранспортტѣ хархѣაга имѡაჟნაგო, ააიგѣა изырлашо амашынаблѡკѣა иაფაკны измоу атранспортტѣ хархѣაга ამѡა ატარა ихѣტოумаჲ

1

Ихѣტოуп

2

Ихѣტამ

განმარტება:

„საგზაო მოძრაობის შესახებ“ საქართველოს კანონის 51-ე მუხლის მე-2 პუნქტის თანახმად, საგზაო მოძრაობის მონაწილეები ვალდებული არიან, ოპერატიული ან სპეციალური სამსახურის სატრანსპორტო საშუალების მოახლოებისას, რომელსაც ჩართული აქვს ლურჯი მოელვარე სპეციალური ციმციმა სიგნალი და ხმოვანი სიგნალი ან/და რომელიც ხმამაღლამოლაპარაკე ხელსაწყოთი იძლევა სიგნალს, მას, აგრეთვე მის მიერ გასაცემებელ სატრანსპორტო საშუალებას, რომელსაც ჩართული აქვს ახლო განათების ფარები, გაუთავისუფლონ სავალ ნაწილზე ადგილი, ხოლო აუცილებლობის შემთხვევაში – გაჩერდნენ.

ВОПРОС 226

ПРАВИЛЬНЫЙ ОТВЕТ: 2

Чыдалатәи ардырга иатәеи абжытә ардыргеи иаҭакны измоу, ма абжырдугатә хархәагала ардырга кәзцо аоперативтә ма чыдалатәи аматұра атранспорттә хархәага ианааигәахо, амәатә аитатұра алахәылацәа ируалупЖ

1

Ихҭмырҭьякәа иаангылароуп иахыҭкоу атыҭаҭы

2

Амәасырҭаҭы атыҭ тадырцәыроуп, ихымҭадахар иаангылароуп

3

Инамәатәны иҭкоу ахыртартала армарахытәи ацәахәаҭы иаангылароуп

განმარტება:

„საგზაო მოძრაობის შესახებ“ საქართველოს კანონის 51-ე მუხლის მე-2 პუნქტის თანახმად, საგზაო მოძრაობის მონაწილეები ვალდებული არიან, ოპერატიული ან სპეციალური სამსახურის სატრანსპორტო საშუალების მოახლოებისას, რომელსაც ჩართული აქვს ლურჯი მოელვარე სპეციალური ციმციმა სიგნალი და ხმოვანი სიგნალი ან/და რომელიც ხმამაღლამოლაპარაკე ხელსაწყოთი იძლევა სიგნალს, მას, აგრეთვე მის მიერ გასაცემებელ სატრანსპორტო საშუალებას, რომელსაც ჩართული აქვს ახლო განათების ფარები, გაუთავისუფლონ სავალ ნაწილზე ადგილი, ხოლო აუცილებლობის შემთხვევაში – გაჩერდნენ.

ВОПРОС 227

ПРАВИЛЬНЫЙ ОТВЕТ: 2

Чыдалатәи ардырга иатәа иаҭакны игылоу чыдалатәи аматұра атранспорттә хархәага даназааигәахо, арныҭәаЖ

1

Аласра имҭсахкәа аитатұра наигзароуп

2

Аласра ирмацроуп, иатаххар, атранспорттә хархәага аанкыла аилшаратәы

3

Аласра иацитцароуп, иаамтаны абри атыҭ дахысырҭ азы

განმარტება:

„საგზაო მოძრაობის შესახებ“ საქართველოს კანონის 51-ე მუხლის მე-3 პუნქტის თანახმად, ჩართული ლურჯი მოელვარე სპეციალური ციმციმა სიგნალით მდგომ სატრანსპორტო საშუალებასთან მიახლოებისას მძღოლმა უნდა შეანელოს სიჩქარე, რათა აუცილებლობის შემთხვევაში შეძლოს ტრანსპორტის დაუყოვნებლივ გაჩერება.

ВОПРОС 228

ПРАВИЛЬНЫЙ ОТВЕТ: 2

Апатыркалпштәы змоу чыдалатәи ардырга иаҕакны измоу чыдалатәи аматұра атранспорттә хархәага арныкәаҕ, аусуратә пұхықәрақәа рынағзараан, амәатә дырғақәа рыхәарақәа дрыцәхьатұр илшоитЖ

1

Ааигәа изырлашо амашынаблақәа иаҕакны имазар

2

Амәатә аитатұра ашәартадара еикәиршәозар

3

Имашынаҕы ишыақәыргылазар аамталатәи амәатә дырғақәа

განმარტება:

„საგზაო მოძრაობის შესახებ“ საქართველოს კანონის 51-ე მუხლის მე-4 პუნქტის თანახმად, მძღოლს, რომელსაც სატრანსპორტო საშუალებაზე ჩართული აქვს ნარინჯისფერი ან ყვითელი მოელვარე სპეციალური ციმციმა სიგნალი და რომელიც გზაზე ასრულებს სამშენებლო, სარემონტო ან დასასუფთავებელ სამუშაოებს, ან საინვასაციო სატრანსპორტო საშუალებით გადააქვს ძვირფასეულობა ან ფასიანი ქაღალდები, ან გადააქვს სახიფათო ტვირთი, ან გადაადგილდება არაგაბარითული (მსხვილგაბარითიანი) ან ზენორმატიული (მძიმეწონიანი) სატრანსპორტო საშუალებით, შეუძლია გადაუხვიოს საგზაო ნიშნებისა და მონიშვნების, აგრეთვე ამ კანონის 31-ე მუხლის მე-5–მე-10, მე-15 და მე-16 პუნქტებითა და 38-ე მუხლის პირველი პუნქტით დადგენილ მოთხოვნებს, თუ უზრუნველყოფს საგზაო მოძრაობის უსაფრთხოებას. ნარინჯისფერი ან ყვითელი მოელვარე სპეციალური ციმციმა სიგნალი არ იძლევა უპირატესობას საგზაო მოძრაობის სხვა მონაწილეების მიმართ და გამოიყენება ყურადღების მისაპყრობად მოსალოდნელი საშიშროების თავიდან აცილებისათვის.

ВОПРОС 229

ПРАВИЛЬНЫЙ ОТВЕТ: 2

Чыдалатәи аматұра атранспорттә хархәага чыдалатәи ардырга ҕежь иаҕаркуеитЖ

1

Амәатә аитатұра еҕырта алахәылацәа рҕаҕұхьа аҕыжәара аиуразы

2

Икалар зылшо ашәарта аеацәыхьчара амзызла ахшыҕышьтра аиуразы

განმარტება:

„საგზაო მოძრაობის შესახებ“ საქართველოს კანონის 51-ე მუხლის მე-4 პუნქტის თანახმად, მძღოლს, რომელსაც სატრანსპორტო საშუალებაზე ჩართული აქვს ნარინჯისფერი ან ყვითელი მოელვარე სპეციალური ციმციმა სიგნალი და რომელიც გზაზე ასრულებს სამშენებლო, სარემონტო ან დასასუფთავებელ სამუშაოებს, ან საინვასაციო სატრანსპორტო საშუალებით გადააქვს ძვირფასეულობა ან ფასიანი ქაღალდები, ან გადააქვს სახიფათო ტვირთი, ან გადაადგილდება არაგაბარითული (მსხვილგაბარითიანი) ან ზენორმატიული (მძიმეწონიანი) სატრანსპორტო საშუალებით, შეუძლია გადაუხვიოს საგზაო ნიშნებისა და მონიშვნების, აგრეთვე ამ კანონის 31-ე მუხლის მე-5–მე-10, მე-15 და მე-16 პუნქტებითა და 38-ე მუხლის პირველი პუნქტით დადგენილ მოთხოვნებს, თუ უზრუნველყოფს საგზაო მოძრაობის უსაფრთხოებას. ნარინჯისფერი ან ყვითელი მოელვარე სპეციალური ციმციმა სიგნალი არ იძლევა უპირატესობას საგზაო მოძრაობის სხვა მონაწილეების მიმართ და გამოიყენება ყურადღების მისაპყრობად მოსალოდნელი საშიშროების თავიდან აცილებისათვის.

Атранспорттə хархəагазы чыдалатəи алашаратəи абжытəи ардыргақəа иқəдыргылоит, иара убас, амашынақəа чыдалатəи аҭштəи ыртоитЖ

1

Қыртəыла афинансқəа рминистрра ала ихəаақəтоу атас иашьашəаланы

2


Қыртəыла аиустиция аминистрра ала ихəаақəтоу атас иашьашəаланы

3

Қыртəыла аиустиция аминистрра ала ихəаақəтоу атас иашьашəаланы

განმარტება:

„საგზაო მოძრაობის შესახებ“ საქართველოს კანონის 51-ე მუხლის მე-8 პუნქტის თანახმად, სატრანსპორტო საშუალებაზე სპეციალური ციმციმა სიგნალისა და ხმოვანი სიგნალის, აგრეთვე სპეციალური ხმამაღლამოლაპარაკე ხელსაწყო დაყენება და სატრანსპორტო საშუალებისათვის სპეციალური შეფერილობის მიცემა ხორციელდება საქართველოს შინაგან საქმეთა მინისტრის მიერ განსაზღვრული წესის შესაბამისად.



Ааигға изырлашо амашынаблақға иағакны измоу аидаратə машыына имѡаѡнагоит чыдалатəи ардырга иатѡеи абжытə ардыргеи иағакны измоу аоперативтə матѡра амашыына. Автобус арныкəѡ ахыц ахырхартала деитѡуазар, алашарбага абри ардыргазы амѡа атара зыхѡтадаѡ

1

Азəгы ихѡтам

2

Аоперативтə матѡра амашыына арныкəѡ
зѡцəы

3

Аоперативтə матѡра амашыынеи, иара убас,
аидаратə машыынеи рырнакəѡѡѡ

განმარტება:

„საგზაო მოძრაობის შესახებ“ საქართველოს კანონის 51-ე მუხლის მე-2 პუნქტის თანახმად, საგზაო მოძრაობის მონაწილეები ვალდებული არიან, ოპერატიული ან სპეციალური სამსახურის სატრანსპორტო საშუალების მოახლოებისას, რომელსაც ჩართული აქვს ლურჯი მოელვარე სპეციალური ციმციმა სიგნალი და ხმოვანი სიგნალი ან/და რომელიც ხმამაღლამოლაპარაკე ხელსაწყოთი იძლევა სიგნალს, მას, აგრეთვე მის მიერ გასაცემებელ სატრანსპორტო საშუალებას, რომელსაც ჩართული აქვს ახლო განათების ფარები, გაუთავისუფლონ სავალ ნაწილზე ადგილი, ხოლო აუცილებლობის შემთხვევაში – გაჩერდნენ.



Абарт ахырхартакәа ркынтә руа иарбан алашарбага абри ардыргазы аоперативтә матура амашына арныкәа аитатра анагзара злаилшо, амашына чыдалатәи ардырга иатәа иаҕакызарҕ

1

Дышиашоу, иара убас, арҕырахь мацара

2

Арҕырахь мацара

3

Ахырхартакәа зегы рыла

4

Армарахь, иара убас, шытахька Гҕдҕиныҕ

განმარტება:

„საგზაო მოძრაობის შესახებ“ საქართველოს კანონის 51-ე მუხლის პირველი პუნქტის თანახმად ოპერატიული ან სპეციალური სამსახურის სატრანსპორტო საშუალების მძღოლს, რომელსაც სატრანსპორტო საშუალებაზე ჩართული აქვს ლურჯი მოელვარე სპეციალური ციმციმა სიგნალი და ასრულებს სამსახურებრივ დავალებას, შეუძლია საგზაო მოძრაობის უსაფრთხოების უზრუნველყოფის პირობების დაცვით გადაუხვიოს ამ კანონის 25-ე, 31-ე—41-ე და 44-ე მუხლებით, აგრეთვე ამ კანონის №1 და №2 დანართებით დადგენილ მოთხოვნებს.



Амашына ზაღუშ არნჲჲაჲ ახჲც ახჲრჲართალა აიტატრა ანაგჲარა აზინ იმოუმა, აოპერატივტჲ მატურა ამашჲა ჩჲდალათჲი არდჲრგა იატჲა იაჲაკჲზარჲ

1

Азин имам

2

Азин имоуп

განმარტება:

„საგზაო მოძრაობის შესახებ“ საქართველოს კანონის 51-ე მუხლის მე-2 პუნქტის თანახმად, საგზაო მოძრაობის მონაწილეები ვალდებული არიან, ოპერატიული ან სპეციალური სამსახურის სატრანსპორტო საშუალების მოახლოებისას, რომელსაც ჩართული აქვს ლურჯი მოელვარე სპეციალური ციმციმა სიგნალი და ხმოვანი სიგნალი ან/და რომელიც ხმამაღლამოლაპარაკე ხელსაწყოთი იძლევა სიგნალს, მას, აგრეთვე მის მიერ გასაცემებელ სატრანსპორტო საშუალებას, რომელსაც ჩართული აქვს ახლო განათების ფარები, გაუთავისუფლონ სავალ ნაწილზე ადგილი, ხოლო აუცილებლობის შემთხვევაში – გაჩერდნენ.



Аоперативтә матура амашына иаџакуп чыдалатәи ардырга иатџеи абжытә ардыргеи. Амашына каџшь арныкәа амџатә аитатра атаскәа еилеигом, уиЖ

1

Амашына џежь иоушьтны арџьарала икоу аџахәашка диасыр

2

Амашына џежь иоумышьткәа арџьарала икоу аџахәашка диасыр

3

Дызну аџахәала аитатра наигзар

განმარტება:

„საგზაო მოძრაობის შესახებ“ საქართველოს კანონის 51-ე მუხლის მე-2 პუნქტის თანახმად, საგზაო მოძრაობის მონაწილეები ვალდებული არიან, ოპერატიული ან სპეციალური სამსახურის სატრანსპორტო საშუალების მოახლოებისას, რომელსაც ჩართული აქვს ლურჯი მოელვარე სპეციალური ციმციმა სიგნალი და ხმოვანი სიგნალი ან/და რომელიც ხმამაღლამოლაპარაკე ხელსაწყოთი იძლევა სიგნალს, მას, აგრეთვე მის მიერ გასაცემებელ სატრანსპორტო საშუალებას, რომელსაც ჩართული აქვს ახლო განათების ფარები, გაუთავისუფლონ სავალ ნაწილზე ადგილი, ხოლო აუცილებლობის შემთხვევაში – გაჩერდნენ. ამავე კანონის 32-ე მუხლის მე-4 პუნქტის თანახმად მოძრაობის ზოლიდან ზოლში მოძრაობის მიმართულების შეუცვლელად გადასვლისას მძღოლმა გზა უნდა დაუთმოს გადასასვლელ მოძრაობის ზოლში თანმხვედრი მიმართულებით მოძრავ სატრანსპორტო საშუალებას.



Аოперативтә матура амашына иаангылеит, аха чыдалатәи ардырга иатәа иаҕакуп. Амашына лас арныкәаҕ дызлеитатүа аласра еихамзароупЖ

1

Сааткала 90 км

2


Сааткала 70 км

3

Ихымҕадахар, амашына ихҕмыркыакәа
аанкылара злаилшо аласрала

განმარტება:

„საგზაო მოძრაობის შესახებ“ საქართველოს კანონის 51-ე მუხლის მე-3 პუნქტის თანახმად, ჩართული ღურჯი მოელვარე სპეციალური ციმციმა სიგნალით მდგომ სატრანსპორტო საშუალებასთან მიახლოებისას მძღოლმა უნდა შეანელოს სიჩქარე, რათა აუცილებლობის შემთხვევაში შეძლოს ტრანსპორტის დაუყოვნებლივ გაჩერება.



Ахыц ахырхартала еитатѳа амашынаѳа амѳеихысырата ианалсуа еишьтаргылашьас ирымазарѳ рыхѳтѳи, аоперативтѳ матѳура амашына чыдалатѳи ардырга иатѳеи абжьытѳ ардыргеи иаѳакызарѳ

- | | | | |
|---|---|---|---|
| 1 | Зны ицѳышу амашына лас иасроуп, анеѳс – амотоцикл, атыхѳтѳаны – аоперативтѳ матѳура амашына | 2 | Зны амотоцикл иасроуп, анеѳс – аоперативтѳ матѳура амашына, атыхѳтѳаны – ицѳышу амашына лас |
| 3 | Зны аоперативтѳ матѳура амашына иасроуп, анеѳс – ицѳышу амашына лас, атыхѳтѳаны – амотоцикл | | |

განმარტება:

„საგზაო მოძრაობის შესახებ“ საქართველოს კანონის 51-ე მუხლის მე-2 პუნქტის თანახმად, საგზაო მოძრაობის მონაწილეები ვალდებული არიან, ოპერატიული ან სპეციალური სამსახურის სატრანსპორტო საშუალების მოახლოებისას, რომელსაც ჩართული აქვს ლურჯი მოელვარე სპეციალური ციმციმა სიგნალი და ხმოვანი სიგნალი ან/და რომელიც ხმამაღლამოლაპარაკე ხელსაწყოთი იძლევა სიგნალს, მას, აგრეთვე მის მიერ გასაცემებელ სატრანსპორტო საშუალებას, რომელსაც ჩართული აქვს ახლო განათების ფარები, გაუთავისუფლონ სავალ ნაწილზე ადგილი, ხოლო აუცილებლობის შემთხვევაში – გაჩერდნენ. ამავე კანონის 36-ე მუხლის მე-3 პუნქტის „ა“ ქვეპუნქტის თანახმად, რეგულირებულ გზაჯვარედინზე, შექნიშნის მწვანე სიგნალის ჩართვის დროს მარცხნივ მოხვევისას ან მობრუნებისას ურელსო სატრანსპორტო საშუალების მძღოლი ვალდებულია გზა დაუთმოს საპირისპირო მიმართულებიდან პირდაპირ ან მარჯვნივ მოძრავ სატრანსპორტო საშუალებას.



Алашарбага абри ардыргазы аоперативтә мацура амашына арныкәаҭ хырхартас дцар иабакало, амашына чыдалатәи ардырга иатәа иаҭақызарҭ

1

Дышиашоу, иара убас, арҭырахь мацара

2

Дышиашоу, иара убас, армарахь мацара

3

Ахырхартәа зегы рыла

4

Дышиашоу мацара

განმარტება:

„საგზაო მოძრაობის შესახებ“ საქართველოს კანონის 51-ე მუხლის პირველი პუნქტის თანახმად, ოპერატიული ან სპეციალური სამსახურის სატრანსპორტო საშუალების მძღოლს, რომელსაც სატრანსპორტო საშუალებაზე ჩართული აქვს ლურჯი მოელვარე სპეციალური ციმციმა სიგნალი და ასრულებს სამსახურებრივ დავალებას, შეუძლია საგზაო მოძრაობის უსაფრთხოების უზრუნველყოფის პირობების დაცვით გადაუხვიოს ამ კანონის 25-ე, 31-ე—41-ე და 44-ე მუხლებით, აგრეთვე ამ კანონის № 1 და № 2 დანართებით დადგენილ მოთხოვნებს. ამავე კანონის 32-ე მუხლის მე-5 პუნქტის თანახმად, გარდა იმ შემთხვევისა, როცა მოხვევა სრულდება გზატკარციდინზე გასასვლელად, სადაც წრიული მოძრაობაა ორგანიზებული, მარჯვნივ ან მარცხნივ მოხვევის წინ, აგრეთვე მობრუნების წინ სატრანსპორტო საშუალების მძღოლი ვალდებულია დროულად დაიკავოს შესაბამისი განაპირა მდებარეობა სავალ ნაწილზე, რომელიც თანმხვედრი მიმართულებით მოძრაობისთვისაა განკუთვნილი. ამავე კანონის პირველი დანართის მე-4 თავის (მიმთითებული ნიშნები) 4.1.4 პუნქტისა და ამავე პუნქტის შენიშვნის „ა“ და „დ“ ქვეპუნქტების თანახმად, საგზაო ნიშანი 4.1.4 „მოძრაობა პირდაპირ ან მარჯვნივ“ რთავს მხოლოდ ისრებით ნაჩვენები მიმართულებებით მოძრაობის ნებას.



Ахыц ахырхартала еитатца атранспорттә хархәагақәа амѳеихысырта ианалсуа еишьтаргылашьас ирымазарц рыхәтѳи, аоперативтә матцра амашьына чыдалатѳи ардырга иатцѳеи абжытә ардыргеи иаѳакызарѳ

1

Зны амашьына лас иасроуп, анеѳс – амотоцикл, атыхәтәаны – аоперативтә матцра амашьына

2

Зны аоперативтә матцра амашьына иасроуп, анеѳс – амашьына лас, атыхәтәаны – амотоцикл

3

Зны амотоцикл иасроуп, анеѳс – аоперативтә матцра амашьына, атыхәтәаны – амашьына лас

განმარტება:

„საგზაო მოძრაობის შესახებ“ საქართველოს კანონის 51-ე მუხლის მე-2 პუნქტის თანახმად, ოპერატიული ან სპეციალური სამსახურის სატრანსპორტო საშუალების მოახლოებისას, რომელსაც ჩართული აქვს ლურჯი ფერის მოელვარე სპეციალური შუქური და ხმოვანი სიგნალებით ან/და ხმამაღლამოლაპარაკე ხელსაწყოთი იძლევა სიგნალს, აგრეთვე მათ მიერ გასაცემებელ სატრანსპორტო საშუალებებს, რომლებსაც ჩართული აქვთ ახლო ნათების ფარები, საგზაო მოძრაობის მონაწილეები ვალდებული არიან გაანთავისუფლონ სავალ ნაწილზე ადგილი, ხოლო აუცილებლობის შემთხვევაში გაჩერდნენ. ამავე კანონის 36-ე მუხლის მე-4 პუნქტის „გ“ ქვეპუნქტის თანახმად არარეგულირებულ გზაჯვარედინზე, თანაბარმნიშვნელოვანი გზების გადაკვეთაზე ურელსო სატრანსპორტო საშუალების მძღოლი ვალდებულია გზა დაუთმოს მარჯვნიდან მოახლოებულ სატრანსპორტო საშუალებას. ამავე წესით უნდა იხელმძღვანელონ ურთიერთმორის რელსიანი სატრანსპორტო საშუალებების მძღოლებმაც. ასეთ გზაჯვარედინზე რელსიან სატრანსპორტო საშუალებას აქვს უპირატესობა ურელსო სატრანსპორტო საშუალების მიმართ, მიუხედავად მისი მოძრაობის მიმართულებისა.

თემა 13:

საავარიო ჰუქური სიგნალიზაცია

Атранспорттә хархәага цыхәа амамкәа иаанкылоуп хәа ицыхәзоупЖ

1

Аитатра аанкылазар атехникатә
ауадафрақәа ирыхъаны

2


Аитатра 5 минутк иреиханы хықәкыла
иаанкылазар, уи апассажирцәа
рақәыртәареи рылбаагареи, ма аидара
ақәцареи ақәхреи ирыдхәаламзар

3

Аитатра хықәкыла, 5 минут рқынза
иаанкылазар

განმარტება:

„საგზაო მოძრაობის შესახებ“ საქართველოს კანონის მე-5 მუხლის მე-26 პუნქტის თანახმად იძულებით გაჩერება არის სატრანსპორტო საშუალების მოძრაობის შეწყვეტა მისი ტექნიკური გაუმართაობის, გადასაზიდი ტვირთის, მძღოლის (მგზავრის) მდგომარეობის ან გზაზე მოულოდნელად შექმნილი დაბრკოლებით განპირობებული საფრთხის გამო.



Иарбоу атагылазаашьафы арныкѣаѣ иѣхастахаз атранспорттѣ хархѣага ихѣмырѣакѣа амѣа алгара илымшозар, зыда ѣсыхѣа иѣам аангыларазы ишыѣкѣгылоу ахѣаракѣа еилеигомаѢ

1

Еилеигом

2

Еилеигоит

განმარტება:

„საგზაო მოძრაობის შესახებ“ საქართველოს კანონის 42-ე მუხლის „ე“ პუნქტის თანახმად, საგზაო ნიშნით აღნიშნულ გვირაბებში მოქმედებს შემდეგი წესი იძულებითი გაჩერებისას მძღოლმა უნდა უზრუნველყოს ამ კანონით დადგენილი, აკრძალულ ადგილებში იძულებით გაჩერებასთან დაკავშირებული მოთხოვნების შესრულება. ამავე კანონის 52-ე მუხლის პირველი პუნქტის „ბ“ ქვეპუნქტის, მე-2 პუნქტის „ბ“ ქვეპუნქტისა და მე-3 პუნქტის თანახმად: - საავარიო შექერი სიგნალიზაცია უნდა ჩაერთოს იმ ადგილას იძულებითი გაჩერების დროს, სადაც გაჩერება აკრძალულია. - საავარიო შექსიგნალიზაციის ჩართვის შემდეგ, აგრეთვე თუ ასეთი სიგნალიზაცია არ არსებობს ან მწყობრიდანაა გამოსული, მძღოლმა დაუყოვნებლივ უნდა დადგას „საავარიო გაჩერების ნიშანი“, ხოლო არასაკმარისი ხილვადობის პირობებში – მოციმციმე წითელი ფარანი იმ ადგილას იძულებით გაჩერების დროს, სადაც გაჩერება აკრძალულია. - „საავარიო გაჩერების ნიშანი“ და მოციმციმე წითელი ფარანი უნდა დაიდგას სატრანსპორტო საშუალებიდან იმ მანძილზე, რომელიც კონკრეტულ პირობებში უზრუნველყოფს საშიშროების შესახებ სხვა მძღოლების დროულ გაფრთხილებას, მაგრამ ეს მანძილი დასახლებულ პუნქტში არ უნდა იყოს 15 მეტრზე ნაკლები, ხოლო დაუსახლებელ პუნქტში – 30 მეტრზე ნაკლები.

ВОПРОС 241

ПРАВИЛЬНЫЙ ОТВЕТ: 2

Анхартатә пункт аҧы, иазгәаҭоу аангыларҭа алҭҭазы аитҭҭра аиталагара иазкны атҭәира арбага ала иҭаҭоу ардырга аамышьҭахь амаршруттә атранспорттә хархәаҭақәа рырныкәаҭәа ируалупЖ

1

Амҭаҧы иҭоу аҭагылазаашьа иамыхәаҭҭшкәа, рҭҭыжәара рхы иархәаны, ихҭҭмырҭҭкәкәа аитҭҭра иалагароуп

2

Амҭатә амашәыр аҭаҭәыхьҭаразы ихымҭҭадоу аҭагылазаашьақәа зегьы ихьҭаны, аитҭҭра иалагароуп еҭҭырт атранспорттә хархәаҭақәа амҭа шрыртә аҭәра ныргалак аамышьҭахь

განმარტება:

„საგზაო მოძრაობის შესახებ“ საქართველოს კანონის 41-ე მუხლის პირველი პუნქტის თანახმად, ამ კანონის 33-ე მუხლის მე-4 პუნქტით დადგენილ მოთხოვნათა გათვალისწინებით, დასახლებულ პუნქტში სამარშრუტო სატრანსპორტო საშუალებისთვის მოძრაობის გასაადვილებლად სხვა სატრანსპორტო საშუალებების მძღოლებმა უნდა შეანელონ მოძრაობა და აუცილებლობის შემთხვევაში გაჩერდნენ, რათა სამარშრუტო სატრანსპორტო საშუალებამ შეძლოს გასაჩერებელი პუნქტიდან გამოსვლისთვის საჭირო მანევრის შესრულება. სამარშრუტო სატრანსპორტო საშუალების მძღოლი ვალდებულია მოძრაობის განახლების განმზახვის შესახებ მოხვედის შეუძლებლობით სიგნალის მიცემის შემდეგ მიიღოს საგზაო-სატრანსპორტო შემთხვევის თავიდან აცილებისთვის საჭირო სიფრთხილის ზომები და მოძრაობა დაიწყოს მხოლოდ მას შემდეგ, რაც დარწმუნდება, რომ სხვა სატრანსპორტო საშუალებები გზას უთმობენ.

ВОПРОС 242

ПРАВИЛЬНЫЙ ОТВЕТ: 1

Амашәыртә алашаратә ардырга ыҭамзар ма аус амуазар, иаханы ирго амеханикатә атранспорттә хархәаҭа ашьҭахьтәи аган аҧы ишьақәыргылатәупЖ

1

Амашәыртә аангылара адырга

2

Амаксималтә аласра аҭҭкра адырга

3

Еҭҭырт ашәарҭақәа аазырҭҭшуа адырга

განმარტება:

„საგზაო მოძრაობის შესახებ“ საქართველოს კანონის 45-ე მუხლის მე-7 პუნქტის თანახმად, დღე-ღამის ნებისმიერ პერიოდში მობუქსირე მექანიკურ სატრანსპორტო საშუალებას ჩართული უნდა ჰქონდეს ახლო განათების ფარები, საბუქსირო მექანიკურ სატრანსპორტო საშუალებას ჩართული უნდა ჰქონდეს საავარიო შექსიგნალიზაცია, ხოლო მისი არარსებობის ან გაუმართაობის შემთხვევაში ამ ტრანსპორტის უკანა ნაწილზე უნდა დამაგრდეს საავარიო გაჩერების ნიშანი.

ВОПРОС 243

ПРАВИЛЬНЫЙ ОТВЕТ: 2

«Зыда псыхაа икам аангылара» иаанагоитЖ

1

Атранспорттэ хархэага аитатра хыкэкыла аанкылара атранспорттэ еишьтаргылафы, атранспорттэ аитатра аиџкаара атехникатэ хархэагакэа ма аиџкааџ рыдтала

2

Атранспорттэ хархэага аитатра аанкылара уи аџхастахара, аидара амџангагара, арныкэаџ ПџапассажирТ итагылазаашыа, ма иаалыркъаны амџаџы ицџырцыз ашџарта иахкъаны

განმარტება:

„საგზაო მოძრაობის შესახებ“ საქართველოს კანონის 5-ე მუხლის 26-ე პუნქტის თანახმად, იძულებით გაჩერება - სატრანსპორტო საშუალების მოძრაობის შეწყვეტა მისი ტექნიკური გაუმართაობის, გადასაზიდი ტვირთის, მძღოლის (მგზავრის) მდგომარეობის ან გზაზე მოულოდნელად შექმნილი დაბრკოლებით განპირობებული საფრთხის გამო.

ВОПРОС 244

ПРАВИЛЬНЫЙ ОТВЕТ: 3

Еиџынгыло ахырхартакынтэ еитатџа амеханикатэ атранспорттэ хархэага амашынаблакэа рылашара арныкэаџ ибла пџнакџозар, уи иуалупЖ

1

Аласра ирмачны, излауа ала ирласны арџьаратџи аганала иџоу аитатратэ цџахџашка диасроуп, иатаххар, даангылароуп

2

Аамтџаамтала амашынаблакэа рылашара ирцџаны, иџылыны иаауа атранспорттэ хархэага арныкэаџ абри ауадаџара шыџоу идирдырроуп

3

Аитатратэ цџахџа имџсахкэа аласра ирмачроуп, иатаххар даангыланы, амашџыртэ алашаратэ ардырга иаџеикроуп. Аитатра анагзара калоит алаџшбара аиташыакџыргыლара аамышьтахъ мацара

4

Хара изырлашо аблакэа ееикроуп

განმარტება:

„საგზაო მოძრაობის შესახებ“ საქართველოს კანონის 36-ე მუხლის მე-5 პუნქტის თანახმად, მძღოლი არ უნდა გავიდეს გზატკარედინზე, თუ შექმნილია ისეთი ხერგილი, რომ იგი, სავარაუდოდ, იძულებული გახდება, გაჩერდეს გზატკარედინზე და ამით დააბრკოლოს განივი მიმართულებით მოძრაობა. ეს წესი მოქმედებს მაშინაც, თუ შექმნილის მაშუქი სიგნალები იძლევა მოძრაობის უფლებას.

ВОПРОС 245

ПРАВИЛЬНЫЙ ОТВЕТ: 2

Атრანспорттə хархəага арныкəаф амашəыртə алашартə ардырга Пҭма уи еипҭшу даеа дыргакТ аҕакра иуалупЖ

1

Иаҭну аҭақырадгыл аҕынтə автомобилтə мҭа даналало

2

Амашəыр иалахəу ма иҭхастахаз атрანспорттə хархəагакəа ихҭмырҭкьакəа амҭасырта ралгаразы алшара иҕамзар

3

Шьҭахьла данеиҭаҭуа

განმარტება:

„საგზაო მოძრაობის შესახებ“ საქართველოს კანონის 52-ე მუხლის პირველი პუნქტის „ა“ ქვეპუნქტის თანახმად, საავარიო შეუსიგნალიზაცია გამოიყენება მოსალოდნელი საფრთხის შესახებ სხვა საგზაო მოძრაობის მონაწილეთა გაფრთხილებისათვის. საავარიო შეუსიგნალიზაცია უნდა ჩაირთოს: ა) თუ საგზაო-სატრანსპორტო შემთხვევის მონაწილე ან მწყობრიდან გამოსული სატრანსპორტო საშუალების გაყვანა ან ბუქსირება დაუყოვნებლივ შეუძლებელია და ეს აბრკოლებს საგზაო მოძრაობის სხვა მონაწილეებს.

ВОПРОС 246

ПРАВИЛЬНЫЙ ОТВЕТ: 3

Атრანспорттə хархəага арныкəаф амашəыртə алашартə ардырга Пҭма уи еипҭшу даеа дыргакТ аҕакра иуалупЖ

1

Еиҕкаау атрანспорттə колонна далаланы данеиҭаҭуа

2

Амҭеихысырта нтыҭ , даныҭеиуа

3

Иҭыლаны иаауа амеханикатə атрანспорттə хархəага амашынаблакəа рылашара ибла ҭнаҕəозар, ҭсыхəа имамкəа даангылазар

განმარტება:

„საგზაო მოძრაობის შესახებ“ საქართველოს კანონის 52-ე მუხლის პირველი პუნქტის „გ“ ქვეპუნქტის თანახმად, საავარიო შეუსიგნალიზაცია გამოიყენება მოსალოდნელი საფრთხის შესახებ სხვა საგზაო მოძრაობის მონაწილეთა გაფრთხილებისათვის. საავარიო შეუსიგნალიზაცია უნდა ჩაირთოს: გ) მძღოლისთვის შემხვედრი მექანიკური სატრანსპორტო საშუალების ფარების შექით თვალის მოჭრის დროს, თუ იგი იძულებულია გაჩერდეს.

Арныкәә, алаҭшбара ианыцәгьоу, уаха ҭсыхәа имамкәа аангылара иахыкәамло атыҭ аҭы даангылазар, уи адырга каҭшь Пҭма уи еиҭшу даеа дыргакҭ ихҭмыркәакәа иқәиргылароупЖ

1

Амашәыртә ардырга аҭакра аамышьтахь

2

Амашәыртә алашаратә ардырга иқамзар ма иҭхастазар

3

Амашәыртә ардырга аҭакра аамышьтахь, иара убас, уи еиҭш ардырга иқамзар ма иҭхастазар

განმარტება:

„საგზაო მოძრაობის შესახებ“ საქართველოს კანონის 52-ე მუხლის მე-2 პუნქტის „ბ“ ქვეპუნქტის თანახმად, საავარიო შეუსიგნალიზაციის ჩართვის შემდეგ, აგრეთვე თუ ასეთი სიგნალიზაცია არ არსებობს ან მწყობრიდანაა გამოსული, მძღოლმა დაუყოვნებლივ უნდა დადგას „საავარიო გაჩერების ნიშანი“, ხოლო არასაკმარისი ხილვადობის პირობებში – მოციმციმე წითელი ფარანი: ბ) იმ ადგილას იძულებით გაჩერების დროს, სადაც გაჩერება აკრძალულია, და იქ, სადაც, ხილვადობის პირობების გათვალისწინებით, სხვა მძღოლები ვერ შეძლებენ სატრანსპორტო საშუალების დროულად შემჩნევას. ამავე მუხლის მე-4 პუნქტის თანახმად საავარიო გაჩერების ნიშნის ან მოციმციმე წითელი ფარნის არარსებობის შემთხვევაში მძღოლმა უნდა უზრუნველყოს სხვა მსგავსი ეფექტიანი საშუალებებით მოახლოებულ მძღოლთა დროული გაფრთხილება.

Арныкәә, аангылара иахыкамло атыцкәа р҃ы, егырт арныкәәцәа иаамтаны дахырымбаша атыц а҃ы уаха цысхәа имамкәа даангылазар, уи адырга кацшь П҃ма уи еицшу даәа дыргак҃ ихцмыркыакәа икәиргылароупЖ

1

Амашәыртә алашаратә ардырга а҃аakra аамышьтахь

2

Амашәыртә алашаратә ардырга и҃амзар ма и҃хастазар

3

Амашәыртә ардырга а҃аakra аамышьтахь, иара убас, уи еицш ардырга и҃амзар ма и҃хастазар

განმარტება:

„საგზაო მოძრაობის შესახებ“ საქართველოს კანონის 52-ე მუხლის მე-2 პუნქტის „ბ“ ქვეპუნქტის თანახმად, საავარიო ზუსტიგნალიზაციის ჩართვის შემდეგ, აგრეთვე თუ ასეთი სიგნალიზაცია არ არსებობს ან მწყობრიდანაა გამოსული, მძღოლმა დაუყოვნებლივ უნდა დადგას „საავარიო გაჩერების ნიშანი“, ხოლო არასაკმარისი ხილვადობის პირობებში – მოციმციმე წითელი ფარანი: ბ) იმ ადგილას იძულებით გაჩერების დროს, სადაც გაჩერება აკრძალულია, და იქ, სადაც, ხილვადობის პირობების გათვალისწინებით, სხვა მძღოლები ვერ შეძლებენ სატრანსპორტო საშუალების დროულად შემჩნევას. ამავე მუხლის მე-4 პუნქტის თანახმად საავარიო გაჩერების ნიშნის ან მოციმციმე წითელი ფარნის არარსებობის შემთხვევაში მძღოლმა უნდა უზრუნველყოს სხვა მსგავსი ეფექტიანი საშუალებებით მოახლოებულ მძღოლთა დროული გაფრთხილება.

Анхартатың ағы, арныкәә, уаха псыхәа имамкәа, аангылара иахыкамло атыпкәа рғы даангылазар, уи амашәыртә аангылара адырга Пума уи еипышу даеа дыргакТ икәиргылароуп атранспорттә хархәага акынтәЖ

1

5 метрак абжъазаарағы

2

10 метрак абжъазаарағы

3

15 метрак абжъазаарағы

განმარტება:

„საგზაო მოძრაობის შესახებ“ საქართველოს კანონის 52-ე მუხლის მე-2 პუნქტის „ბ“ ქვეპუნქტისა და მე-3 და მე-4 პუნქტების თანახმად: 2. საავარიო შეუსიგნალიზაციის ჩართვის შემდეგ, აგრეთვე თუ ასეთი სიგნალიზაცია არ არსებობს ან მწყობრიდანაა გამოსული, მძღოლმა დაუყოვნებლივ უნდა დადგას „საავარიო გაჩერების ნიშანი“, ხოლო არასაკმარისი ხილვადობის პირობებში – მოციმციმე წითელი ფარანი: ბ) იმ ადგილას იძულებით გაჩერების დროს, სადაც გაჩერება აკრძალულია, და იქ, სადაც, ხილვადობის პირობების გათვალისწინებით, სხვა მძღოლები ვერ შეძლებენ სატრანსპორტო საშუალების დროულად შემჩნევას. 3. „საავარიო გაჩერების ნიშანი“ და მოციმციმე წითელი ფარანი უნდა დაიდგას სატრანსპორტო საშუალებიდან იმ მანძილზე, რომელიც კონკრეტულ პირობებში უზრუნველყოფს საშიშროების შესახებ სხვა მძღოლების დროულ გაფრთხილებას, მაგრამ ეს მანძილი დასახლებულ პუნქტში არ უნდა იყოს 15 მეტრზე ნაკლები, ხოლო დაუსახლებელ პუნქტში – 30 მეტრზე ნაკლები. 4. საავარიო გაჩერების ნიშნის ან მოციმციმე წითელი ფარნის არარსებობის შემთხვევაში მძღოლმა უნდა უზრუნველყოს სხვა მსგავსი ეფექტიანი საშუალებებით მოახლოებულ მძღოლთა დროული გაფრთხილება.

ВОПРОС 250

ПРАВИЛЬНЫЙ ОТВЕТ: 3

Ауаа иахьнымхо атыџаџы, арныкџаџ, уаха џыхџаа имамкџа, аангылара иахьыџамло атыџкџа рџы даангылазар, уи амашџыртџ аангылара адырга џџма уи еипџшу даџа дыргакџ иџџирыгылароуп атранспортџ харџџааа аџынџџ

1

15 метრაკ абџџаџараџы

2

20 метრაკ абџџаџараџы

3

30 метრაკ абџџаџараџы

განმარტება:

„საგზაო მოძრაობის შესახებ“ საქართველოს კანონის 52-ე მუხლის მე-2, პუნქტის „ბ“ ქვეპუნქტისა და მე-3 და მე-4 პუნქტების თანახმად: 2. საავარიო შექსიგნალიზაციის ჩართვის შემდეგ, აგრეთვე თუ ასეთი სიგნალიზაცია არ არსებობს ან მწყობრიდანაა გამოსული, მძღოლმა დაუყოვნებლივ უნდა დადგას „საავარიო გაჩერების ნიშანი“, ხოლო არასაკმარისი ხილვადობის პირობებში – მოციმციმე წითელი ფარანი: ბ) იმ ადგილას იძულებით გაჩერების დროს, სადაც გაჩერება აკრძალულია, და იქ, სადაც, ხილვადობის პირობების გათვალისწინებით, სხვა მძღოლები ვერ შეძლებენ სატრანსპორტო საშუალების დროულად შემჩნევას. 3. „საავარიო გაჩერების ნიშანი“ და მოციმციმე წითელი ფარანი უნდა დაიდგას სატრანსპორტო საშუალებიდან იმ მანძილზე, რომელიც კონკრეტულ პირობებში უზრუნველყოფს საშიშროების შესახებ სხვა მძღოლების დროულ გაფრთხილებას, მაგრამ ეს მანძილი დასახლებულ პუნქტში არ უნდა იყოს 15 მეტრზე ნაკლები, ხოლო დაუსახლებელ პუნქტში – 30 მეტრზე ნაკლები.

ВОПРОС 251

ПРАВИЛЬНЫЙ ОТВЕТ: 2

„Амашџыртџ аангылара адырга“ ма алашаратџ ардырга џаџџшь иџамзар, арныкџаџџ

1

Иааигџаџо арныкџаџџџаа агџџанџара рыџара ихымџџадам

2

Егџырт ахарџџаџаџџаа рыла иааигџаџо арныкџаџџџаа агџџанџара рыџароуп

განმარტება:

„საგზაო მოძრაობის შესახებ“ საქართველოს კანონის 52-ე მუხლის მე-4 პუნქტის თანახმად, საავარიო გაჩერების ნიშნის ან მოციმციმე წითელი ფარანის არარსებობის შემთხვევაში მძღოლმა უნდა უზრუნველყოს სხვა მსგავსი ეფექტიანი საშუალებებით მოახლოებულ მძღოლთა დროული გაფრთხილება.

Амашәыр иалахәу ма ип̄хастахаз атранспорттә хархәагакәа амѳасыртә ралгара калом, уи амѳа аитатцра егырт алахәылацәа ирп̄ырхагоуп. Амашәыртә алашаратә ардырга аѳакра аамышьтахь, иара убас, абри еип̄ш ардырга икамзар, ма итхастазар, арныкәаѳЖ

1

Ихп̄мыркьакәа иқәиргылароуп „Амашәыртә аангыларა адырга“, алап̄шбара цәгьазар – алашарбага кап̄шь

2

Ахышәаратә алашарақәа иаѳеикроуп

3

Хара изырлашо алашарбагақәа иаѳеикроуп

განმარტება:

„საგზაო მოძრაობის შესახებ“ საქართველოს კანონის 52-ე მუხლის პირველი პუნქტის „ა“ ქვეპუნქტის თანახმად, საავარიო ზუსტიგნალიზაცია გამოიყენება მოსალოდნელი საფრთხის შესახებ სხვა საგზაო მოძრაობის მონაწილეთა გაფრთხილებისათვის. საავარიო ზუსტიგნალიზაცია უნდა ჩაირთოს: ა) თუ საგზაო-სატრანსპორტო შემთხვევის მონაწილე ან მწყობრიდან გამოსული სატრანსპორტო საშუალების გაყვანა ან ბუქსირება დაუყოვნებლივ შეუძლებელია და ეს აბრკოლებს საგზაო მოძრაობის სხვა მონაწილეებს. ამავე მუხლის მე-2 პუნქტის „ა“ ქვეპუნქტის თანახმად, საავარიო ზუსტიგნალიზაციის ჩართვის შემდეგ, აგრეთვე თუ ასეთი სიგნალიზაცია არ არსებობს ან მწყობრიდანაა გამოსული, მძღოლმა დაუყოვნებლივ უნდა დადგას „საავარიო გაჩერების ნიშანი“, ხოლო არასაკმარისი ხილვადობის პირობებში – მოციმციმე წითელი ფარანი: ა) საგზაო-სატრანსპორტო შემთხვევის დროს.



Амашына лас арныкәә асахьаҕы иарбоу атыҕаҕы ҕысхәа имамкәа даангылазар, амашыртә алашаратә ардырга иаҕакны амашыртә аангылара адырга ақәыргылара иуалумаҕ

1

Амашыртә алашаратә ардырга аҕакра мацара иуалуп

2

Амашына ашытахь 15 метрак аҕы амашыртә адырга аргылара мацара иуалуп

3

Иуалым

განმარტება:

„საგზაო მოძრაობის შესახებ“ საქართველოს კანონის 52-ე მუხლის პირველი პუნქტის „ბ“ ქვეპუნქტის თანახმად, საავარიო შუქსიგნალიზაცია გამოიყენება მოსალოდნელი საფრთხის შესახებ სხვა საგზაო მოძრაობის მონაწილეთა გაფრთხილებისათვის. საავარიო შუქსიგნალიზაცია უნდა ჩაირთოს: ბ) იმ ადგილას იძულებით გაჩერების დროს, სადაც გაჩერება აკრძალულია. ამავე კანონის 37-ე მუხლის მე-6 პუნქტის „ა.გ“ ქვეპუნქტის თანახმად აკრძალულია სატრანსპორტო საშუალების გაჩერება, გზის სავალ ნაწილზე: ა.გ) სავალი ნაწილების გადაკვეთაზე, აგრეთვე მათი გადაკვეთის ნაპირებიდან 5 მეტრზე ახლოს, გარდა იმ შემთხვევისა, როცა გაჩერება ხდება იმ გვერდითი გასასვლელების მოპირდაპირე სამხრივ გადაკვეთებზე (გზაჯვარედინებზე), რომლებზედაც მონიშვნის უწყვეტი ხაზი ან გამყოფი ზოლია.

Амѡათѡатранспорттѡ амашѡыр иалахѡу атранспорттѡ хархѡага ихѡუმьрѡьякѡа амѡа алгара ма ак иацрахѡаны агара алшара иѡамзар, амѡатѡ аитѡатра егѡырт алахѡалацѡа уи рѡѡырхагазар, усѡан абри атранспорттѡ хархѡага арнѡыкѡаѡ иаѡѡеикроупѡЖ

1

Ааигѡа ма хара изырлашо арлашагакѡа ма ашьѡахѡтѡи ахышѡаратѡ арлашагакѡа

2

Амашѡыртѡ алашаратѡ ардырга

3

Абжѡытѡ ардырга

განმარტება:

„საგზაო მოძრაობის შესახებ“ საქართველოს კანონის 52-ე მუხლის პირველი პუნქტის „ა“ ქვეპუნქტის თანახმად, საავტომობილო ტრანსპორტის მოძრაობის განმარტებით გათვალისწინებული მოსალოდნელი საფრთხის შესახებ სხვა საგზაო მოძრაობის მონაწილეთა გაფრთხილებისათვის. საავტომობილო ტრანსპორტის მოძრაობის უნდა ჩაირთოს: ა) თუ საგზაო-სატრანსპორტო შემთხვევის მონაწილე ან მწყობრიდან გამოსული სატრანსპორტო საშუალების გაყვანა ან ბუქსირება დაუყოვნებლივ შეუძლებელია და ეს აბრკოლებს საგზაო მოძრაობის სხვა მონაწილეებს.

Амѡатѡеатранспорттѡ амашѡыр иалахѡу атранспорттѡ хархѡагаѡы амашѡыртѡ алашаратѡ ардырга аѡakra аамышьтахь, иара убас, абри еиѡш ардырга иѡамзар ма иѡхастазар, арныѡѡѡ ихѡмырѡьякѡѡЖ

1

Хара изырлашо арлашагаѡѡ иаѡеикроуп

2

Абжытѡ ардырга иаѡеикроуп

3

Амашѡыртѡ аангыларა ардырга иѡѡиргылароуп, алаѡшбара цѡгъазар – ардырга ѡаѡшь иаѡеикроуп

განმარტება:

„საგზაო მოძრაობის შესახებ“ საქართველოს კანონის 52-ე მუხლის პირველი პუნქტის „ა“ ქვეპუნქტის თანახმად, საავარიო ზუსტიგნალიზაცია გამოიყენება მოსალოდნელი საფრთხის შესახებ სხვა საგზაო მოძრაობის მონაწილეთა გაფრთხილებისათვის. საავარიო ზუსტიგნალიზაცია უნდა ჩაირთოს: ა) თუ საგზაო-სატრანსპორტო შემთხვევის მონაწილე ან მწყობრიდან გამოსული სატრანსპორტო საშუალების გაყვანა ან ბუქსირება დაუყოვნებლივ შეუძლებელია და ეს აბრკოლებს საგზაო მოძრაობის სხვა მონაწილეებს; ამავე მუხლის მე-2 პუნქტის „ა“ ქვეპუნქტის თანახმად საავარიო ზუსტიგნალიზაციის ჩართვის შემდეგ, აგრეთვე თუ ასეთი სიგნალიზაცია არ არსებობს ან მწყობრიდანაა გამოსული, მძღოლმა დაუყოვნებლივ უნდა დადგას „საავარიო გაჩერების ნიშანი“, ხოლო არასაკმარისი ხილვადობის პირობებში – მოციმციმე წითელი ფარანი: ა) საგზაო-სატრანსპორტო შემთხვევის დროს.

Алаფшбара ианыцэгьоу амѳатѳ амашѳыр калар, уи иалахѳу атранспорттѳ хархѳагаѳы амашѳыртѳ ардырга аѳакра аамышьтахь, иара убас, абри еипш ардырга икамзар ма иѳхастазар, арныкѳаѳ ихѳмыркѳакѳаЖ

1

Ицѳырганы икѳირгылароуп арлашага каѳшь, уи икамзар, егырт ахархѳагакѳа рыла иааигѳахо арныкѳаѳцѳа иаамтаны агѳе антцара ритароуп

2

Ашьтахьтѳи ахышѳаратѳ арлашагакѳа иаѳеикроуп

3

Аѳхьатѳи ашьтахьтѳи анакѳაѳაцѳыхьчаратѳ арлашагакѳа иаѳеикроуп

განმარტება:

„საგზაო მოძრაობის შესახებ“ საქართველოს კანონის 52-ე მუხლის პირველი პუნქტის „ა“ ქვეპუნქტის თანახმად, საავარიო შექსიგნალიზაცია გამოიყენება მოსალოდნელი საფრთხის შესახებ სხვა საგზაო მოძრაობის მონაწილეთა გაფრთხილებისათვის. საავარიო შექსიგნალიზაცია უნდა ჩაირთოს: ა) თუ საგზაო-სატრანსპორტო შემთხვევის მონაწილე ან მწყობრიდან გამოსული სატრანსპორტო საშუალების გაყვანა ან ბუქსირება დაუყოვნებლივ შეუძლებელია და ეს აბრკოლებს საგზაო მოძრაობის სხვა მონაწილეებს; ამავე მუხლის მე-2 პუნქტის „ა“ ქვეპუნქტისა და მე-4 პუნქტის თანახმად: 2. საავარიო შექსიგნალიზაციის ჩართვის შემდეგ, აგრეთვე თუ ასეთი სიგნალიზაცია არ არსებობს ან მწყობრიდანაა გამოსული, მძღოლმა დაუყოვნებლივ უნდა დადგას „საავარიო გაჩერების ნიშანი“, ხოლო არასაკმარისი ხილვადობის პირობებში – მოციმციმე წითელი ფარანი: ა) საგზაო-სატრანსპორტო შემთხვევის დროს. 4. საავარიო გაჩერების ნიშნის ან მოციმციმე წითელი ფარნის არარსებობის შემთხვევაში მძღოლმა უნდა უზრუნველყოს სხვა მსგავსი ეფექტიანი საშუალებებით მოახლოებულ მძღოლთა დროული გაფრთხილება.

თემა 14:

გარე სანათი ხელსაწყოები, ხმოვანი
სიგნალით სარგებლობა

ВОПРОС 257

ПРАВИЛЬНЫЙ ОТВЕТ: 3

Закѣанла ихѣаакѣтѣоу абарт аҭагылазаашьақѣа раан ашьақауаа реитатцразы иазҭхьагѣатоу атыҭ алаalara азин змоу арнықѣаҭ иуалупЖ

1

Излауа ала игѣѣанызароуп

2

Аласра хѣычы ала деитатцроуп, иатаххар амашына аанкыlara илшаратѣы

3

Излауа ала игѣѣанызароуп, иара убас, аласра хѣычы ала деитатцроуп, иатаххар амашына аанкыlara илшаратѣы

განმარტება:

„საგზაო მოძრაობის შესახებ“ საქართველოს კანონის 25-ე მუხლის მე-5 პუნქტის თანახმად, იმ სატრანსპორტო საშუალების მძღოლი, რომელსაც ამ კანონით განსაზღვრულ შემთხვევებში უფლება აქვს შევიდეს ქვეითთა მოძრაობისათვის განკუთვნილ ადგილებში, ვალდებულია გამოიჩინოს მაქსიმალური სიფრთხილე და იმოძრაოს დაბალი სიჩქარით, რათა აუცილებლობის შემთხვევაში გაჩერდეს.



Амашына лас арныкәә ахыц ахырхартала деитатүазар, армарахь атәиҭа алашаратә ардырга аҭакра ихәтоумаҭ

1

Ихәтазам

2

Ихәтоуп

განმარტება:

„საგზაო მოძრაობის შესახებ“ საქართველოს კანონის 32-ე მუხლის მე-2 პუნქტის თანახმად, მანევრის დაწყებამდე მძღოლი ვალდებულია ჩართოს შესაბამისი მიმართულების მოხვევის შუქ-მაჩვენებელი, ხოლო თუ ის არ არის ან გამოსულია მწყობრიდან — ანიშნოს ხელით.

ВОПРОС 259

ПРАВИЛЬНЫЙ ОТВЕТ: 3

Аманиовр анагзара аеазкра иазкны алашаратә ардыргала ма напыла икатоу ардырга атранспорттә хархәага арныкәаЖ

1

Апыжәара инаҭоит

2

Агәанҭара ахымҭадаратә тагылазаашьақәа рыдкыла аҭынтә дхақәитнәтәуеит

3

Хыхь иарбоу атаккәа ииашам

განმარტება:

„საგზაო მოძრაობის შესახებ“ საქართველოს კანონის 32-ე მუხლის მე-2 პუნქტის თანახმად, მოხვევის შექმნა მანქანებით ან ხელით სიგნალის მიცემა მძღოლს არ აძლევს უპირატესობას და არ ათავისუფლებს სიფრთხილის აუცილებელი ზომების მიღების ვალდებულებისაგან.

ВОПРОС 260

ПРАВИЛЬНЫЙ ОТВЕТ: 2

Арныкәа, аманиовр анагзара шитаху иазкны, иашьашәалоу ахырхартала атәира алашарбагала ардырга каитцароупЖ

1

Аманиовр даналагалак, аманиовр даналгалак ардырга иакәихроуп

2

Иаамтаны, аманиовრ далагаанҭа, ардырга иакәыхроуп аманиовр даналгалактәкәа

განმარტება:

„საგზაო მოძრაობის შესახებ“ საქართველოს კანონის 32-ე მუხლის მე-2 პუნქტის თანახმად, მოხვევის შექმნა მანქანებით ან ხელით სიგნალი მიცემული უნდა იქნეს დროულად, მანევრის დაწყების წინ და უნდა შეწყდეს დაუყოვნებლივ, მისი დასრულებისთანავე (სიგნალის ხელით მიცემა შეიძლება შეწყდეს უშუალოდ მანევრის დაწყების წინ). ამასთანავე, სიგნალმა არ უნდა შეაცდინოს სხვა საგზაო მოძრაობის მონაწილეები.



Амотоцикл арныкѣаф аитатпразы ззин имоу аласра еихамзароупЖ

1

Сааткала 60км

2

Сааткала 40км

3

Сааткала 20км

განმარტება:

„საგზაო მოძრაობის შესახებ“ საქართველოს კანონის 33-ე მუხლის მე-6 პუნქტის თანახმად, თუ ამ კანონით სხვა რამ არ არის დადგენილი, დასახლებულ პუნქტში ნებადართულია სატრანსპორტო საშუალების მოძრაობა არაუმეტეს 60 კმ/სთ სიჩქარით, ხოლო საცხოვრებელ ზონაში - არაუმეტეს 20 კმ/სთ სიჩქარით. ამავე კანონის 44-ე მუხლის პირველი პუნქტის „ბ“ ქვეპუნქტის თანახმად, შესაბამისი ნიშნით აღნიშნულ საცხოვრებელ ზონებში, მძღოლი უნდა გადაადგილდეს არაუმეტეს 20კმ/სთ სიჩქარით. ამავე კანონის პირველი დანართის მე-5 თავის (განსაკუთრებული მითითებების ნიშნები) 5.21 პუნქტის თანახმად საგზაო ნიშანი 5.21 „საცხოვრებელი ზონა“ - აღნიშნავს ტერიტორიას (ზონას) სადაც მოქმედებს საცხოვრებელ ზონაში მოძრაობისათვის დადგენილი წესები. ნიშანი იდგმება ასეთი საცხოვრებელი ზონის ყველა შესასვლელში.

ВОПРОС 262

ПРАВИЛЬНЫЙ ОТВЕТ: 1

Амотоцикл ала аидара аиагара калом уи аура ма атбаара амотоцикл ахышәара ацкысЖ

1

0,5 метрак ала еихазар

2

0,7 метрак ала еихазар

3

Метрак ала еихазар

განმარტება:

„საგზაო მოძრაობის შესახებ“ საქართველოს კანონის 43-ე მუხლის მე-7 პუნქტის თანახმად, ველოსიპედის, მოპედისა და ორბორბლიანი ელექტროთვითმგორავის მძღოლებს ეკრძალებათ გადაადგილება, თუ საჭე ერთი ხელით მაინც არ უჭირავთ. აკრძალულია ველოსიპედის, მოპედისა და ორბორბლიანი ელექტროთვითმგორავის ბუქსირება, ან აღნიშნული ტრანსპორტით სხვა სატრანსპორტო საშუალების ბუქსირება (გარდა ამ მუხლის მე-8 პუნქტით გათვალისწინებული შემთხვევებისა), ან იმ ტვირთის გადაზიდვა, რომელიც გაბარიტების გარეთ სიგანეზე ან სიგრძეზე 0,5 მეტრზე მეტადაა გადმოშვებული, ან ისეთი საგნის გადატანა/მიწოლა, რომელსაც შეუძლია მძღოლს ხელი შეუშალოს მართვაში ან საფრთხე შეუქმნას სხვა საგზაო მოძრაობის მონაწილეს. ეს წესი გამოიყენება მოტოციკლის მძღოლის მიმართ, მაგრამ, ამასთანავე, მას ორივე ხელით უნდა ეჭიროს საჭე, გარდა იმ შემთხვევისა, როცა აუცილებელია, ხელით მისცეს ამ კანონით განსაზღვრული მანევრის შესრულებასთან დაკავშირებული სიგნალები.

ВОПРОС 263

ПРАВИЛЬНЫЙ ОТВЕТ: 1

Аманиовр анагзара иадхәаланы напыла ардырга ақатара ианхымҕадоу ада, егырт атагылазаашыақәа рҕы амотоцикл арныкәә аитатра азин имам, уиЖ

1

Иәнапык рыла аҕҕскы икымзар

2

Напык ала акәзарҕы аҕҕскы икымзар

განმარტება:

„საგზაო მოძრაობის შესახებ“ საქართველოს კანონის 43-ე მუხლის მე-7 პუნქტის თანახმად, ველოსიპედის, მოპედისა და ორბორბლიანი ელექტროთვითმგორავის მძღოლებს ეკრძალებათ გადაადგილება, თუ საჭე ერთი ხელით მაინც არ უჭირავთ. აკრძალულია ველოსიპედის, მოპედისა და ორბორბლიანი ელექტროთვითმგორავის ბუქსირება, ან აღნიშნული ტრანსპორტით სხვა სატრანსპორტო საშუალების ბუქსირება (გარდა ამ მუხლის მე-8 პუნქტით გათვალისწინებული შემთხვევებისა), ან იმ ტვირთის გადაზიდვა, რომელიც გაბარიტების გარეთ სიგანეზე ან სიგრძეზე 0,5 მეტრზე მეტადაა გადმოშვებული, ან ისეთი საგნის გადატანა/მიწოლა, რომელსაც შეუძლია მძღოლს ხელი შეუშალოს მართვაში ან საფრთხე შეუქმნას სხვა საგზაო მოძრაობის მონაწილეს. ეს წესი გამოიყენება მოტოციკლის მძღოლის მიმართ, მაგრამ, ამასთანავე, მას ორივე ხელით უნდა ეჭიროს საჭე, გარდა იმ შემთხვევისა, როცა აუცილებელია, ხელით მისცეს ამ კანონით განსაზღვრული მანევრის შესრულებასთან დაკავშირებული სიგნალები.

ВОПРОС 264

ПРАВИЛЬНЫЙ ОТВЕТ: 3

Амотоцикл ала ак иаацраҳәаны агара каломаҭ

1

Иқалоит, ззин иқоу амаксималтә масса 750
килак еитцу ацраҳәагақәа зегьы

2

Иқалом

3

Иқалоит, абри атранспорт иацны зхархәара
иазпұхьагәаҭоу ацраҳәагақәа мацара

განმარტება:

„საგზაო მოძრაობის შესახებ“ საქართველოს კანონის 43-ე მუხლის მე-8 პუნქტის თანახმად, დასაშვებია ველოსიპედით, მოპედით, ორბორბლიანი ელექტროთვითმგორავითა და უეტლო მოტოციკლით იმ მისაბმელის ბუქსირება, რომელიც განკუთვნილია აღნიშნულ ტრანსპორტთან ერთად ექსპლუატაციისათვის.

ВОПРОС 265

ПРАВИЛЬНЫЙ ОТВЕТ: 1

Амотоцикли амопеди рырнықәаҟцәеи урт рпассажирцәеи акәылзхылҭа анықәгара ируалумаҭ

1

Ируалуп

2

Ируалым

განმარტება:

„საგზაო მოძრაობის შესახებ“ საქართველოს კანონის 43-ე მუხლის მე-10 პუნქტის თანახმად, გადაადგილებისას მოტოციკლისა და მოპედის მძღოლებმა, აგრეთვე მათმა მგზავრებმა მოტოჩაფხუტები უნდა გამოიყენონ.

ВОПРОС 266

ПРАВИЛЬНЫЙ ОТВЕТ: 1

Амаланыкәеи ампеди рырныкәаџәа, атыџ иазхозар, иаангылаз ма џшыала еитаџау атранспорттә хархәага арџьарахьтәи аганала авсра азин рымоумаџ

1

Азин рымоуп

2

Азин рымам

განმარტება:

„საგზაო მოძრაობის შესახებ“ საქართველოს კანონის 34-ე მუხლის მე-2 პუნქტის თანახმად, საკმარისი ადგილის არსებობისას ველოსიპედისტსა და მოპედის მძღოლს შეუძლიათ გაჩერებულ ან დაბალი სიჩქარით მოძრავ სატრანსპორტო საშუალებებს მარჯვენა მხრიდან შემოუარონ.

ВОПРОС 267

ПРАВИЛЬНЫЙ ОТВЕТ: 2

Адәныкатәи арлашага иаџакны ма зышәкәа аартны игылоу атранспорттә хархәага иаваршәны аитәџра аан, арныкәаџ

1

Абжытә ардырга катаны аласра иацитароуп

2

џыдалатәи агәеанызаара ааирџшыроуп, ашьакауаа хәыџкәа иаалыркәаны рџәырџра иахылџиаар зылшо ашәарта иаамтаны аџәџара амзыла

3

Аласра ирмаџны, амашәыртә алашаратә ардырга иаџеикроуп, игылоу атранспорттә хархәага иаалыркәаны еитәџыр, иаамтаны ашәарта даџәџарџ азы

განმარტება:

„საგზაო მოძრაობის შესახებ“ საქართველოს კანონის 25-ე მუხლის მე-8 პუნქტის თანახმად, გზაზე გაჩერებული სატრანსპორტო საშუალების გასწვრივ მოძრაობისას მძღოლმა განსაკუთრებული სიფრთხილე უნდა გამოიჩინოს ჩართული გარე სანათი ხელსაწყოს ან ღია კარის მქონე სატრანსპორტო საშუალების მიმართ, რათა აუცილებლობის შემთხვევაში დროულად უზრუნველყოს გზაზე ქვეითთა და ბავშვების მოულოდნელი გამოჩენით წარმოშობილი საფრთხის თავიდან აცილება.

ВОПРОС 268

ПРАВИЛЬНЫЙ ОТВЕТ: 1

Арныкәә, шыпыла еитатца ахәычкәеи, зыкәра неихьоуи, агра змоуи ауааҭсыреи чыдалатәи агәе анызаарала дрызныкәар ихәтоумаҭ

1

Ихәтоуп

2

Ихәтам

განმარტება:

„საგზაო მოძრაობის შესახებ“ საქართველოს კანონის 21-ე მუხლის მე-6 პუნქტის თანახმად, მძღოლმა განსაკუთრებული სიფრთხილე უნდა გამოიჩინოს საგზაო მოძრაობის ისეთი მონაწილეების მიმართ, როგორებიც არიან ქვეითები (განსაკუთრებით ბავშვები, ხანდაზმულები, შეზღუდული შესაძლებლობის მქონე პირები) და ველოსიპედისტები.

ВОПРОС 269

ПРАВИЛЬНЫЙ ОТВЕТ: 3

Амотоцикл арныкәә итранспорттә хархәага гежык мацара амџа иадкысҭозар, амџаҭы аитатцра азин имоумаҭ

1

Азин имоуп, иარბანзаалаკ ათაгылазаашьаҭы

2

Азин имоуп, ауаа иахьнымхо апункт аҭы

3

Азин имам

განმარტება:

„საგზაო მოძრაობის შესახებ“ საქართველოს კანონის 21-ე მუხლის მე-11 პუნქტის თანახმად, მოპედის, მოტოციკლის, ორბორბლიანი ელექტროთვითმგორავის, ველოსიპედის მძღოლი ვალდებულია გზაზე ისე იმოძრაოს, რომ სატრანსპორტო საშუალების ყველა თვალი ეხებოდეს გზის ზედაპირს.

ВОПРОС 270

ПРАВИЛЬНЫЙ ОТВЕТ: 2

Ицәгьоу ма иҥку алаҭшбара аан арныкәаҭЖ

1

Амашәыртә алашаратә ардырга иаҭакны, иареи уи иаҭхьа еитатҭа атранспорттә хархәагеи ирыбжьоу адистанциа ирмачроуп

2

Аласра ирмачны, иареи иара иаҭхьа еитатҭа атранспорттә хархәагеи ирыбжьоу адистанциа ирдуроуп

3

Амашәыртә алашаратә ардырга иаҭакны, излауа ала амәасырта армарахьтәи аганала деитатҭроуп

განმარტება:

„საგზაო მოძრაობის შესახებ“ საქართველოს კანონის 25-ე მუხლის მე-10 პუნქტის „ა“ ქვეპუნქტის თანახმად, გზაზე მოძრაობისას მძღოლმა უნდა გაითვალისწინოს შემდეგი გარემოებები - არასაკმარისი ან შეზღუდული ხილვადობის პირობებში მძღოლმა უნდა შეამციროს სიჩქარე და გაზარდოს დისტანცია თავის სატრანსპორტო საშუალებასა და მის წინ მიმავალ სატრანსპორტო საშუალებას შორის.

ВОПРОС 271

ПРАВИЛЬНЫЙ ОТВЕТ: 3

Арныкәаҭ икаитцо абжьытә ардырга аураЖ

1

3 секундк иреихамзароуп

2

5 секундк иреихамзароуп

3

Ихымҭҭадоу ацкыс еихамзароуп

განმარტება:

„საგზაო მოძრაობის შესახებ“ საქართველოს კანონის 48-ე მუხლის მე-2 პუნქტის თანახმად, ხმოვანი სიგნალი არ უნდა იყოს უფრო ხანგრძლივი, ვიდრე ეს აუცილებელია.

ВОПРОС 272

ПРАВИЛЬНЫЙ ОТВЕТ: 2

Ианылашоу аамтазы анхартатып афы аҭысра аеазкра иазкны егы арныкәа агәеанцара иҭаразы ахархәара калоитЖ

1

Абжытә ардырга

2

Амашынаблақәа рылашара аамтаеаамтала рҭакреи рырцәарей

3

Амашәыртә алашаратә ардырга

4

Амашынаблақәа ааигәатә рылашара харатә рылашарашка изныкымкәа аиагара

განმარტება:

„საგზაო მოძრაობის შესახებ“ საქართველოს კანონის 48-ე მუხლის მე-3 პუნქტის თანახმად, დასახლებულ პუნქტში გასწრების განზრახვის შესახებ სხვა სატრანსპორტო საშუალების მძღოლის გასაფრთხილებლად შეიძლება ჩაირთოს მანათობელი სიგნალი დღე-ღამის ნათელ დროს ფარების შუქის პერიოდული, ხანმოკლე ჩართვა-გამორთვით, ხოლო დღე-ღამის ბნელ დროს – ფარების ახლო შუქის შორ შუქზე მრავალჯერადი გადართვით, დაუსახლებულ პუნქტში კი – ხმოვანი სიგნალის ნაცვლად ან მასთან ერთად.

ВОПРОС 273

ПРАВИЛЬНЫЙ ОТВЕТ: 4

Ианылашьцоу аамтазы анхартатып афы аҭысра аеазкра иазкны егы арныкәа агәеанцара иҭаразы ахархәара калоитЖ

1

Абжытә ардырга

2

Амашынаблақәа рылашара аамтаеаамтала рҭакреи рырцәарей

3

Амашәыртә алашаратә ардырга

4

Амашынаблақәа ааигәатә рылашара харатә рылашарашка изныкымкәа аиагара

განმარტება:

„საგზაო მოძრაობის შესახებ“ საქართველოს კანონის 48-ე მუხლის მე-3 პუნქტის თანახმად, დასახლებულ პუნქტში გასწრების განზრახვის შესახებ სხვა სატრანსპორტო საშუალების მძღოლის გასაფრთხილებლად შეიძლება ჩაირთოს მანათობელი სიგნალი დღე-ღამის ნათელ დროს ფარების შუქის პერიოდული, ხანმოკლე ჩართვა-გამორთვით, ხოლო დღე-ღამის ბნელ დროს – ფარების ახლო შუქის შორ შუქზე მრავალჯერადი გადართვით, დაუსახლებულ პუნქტში კი – ხმოვანი სიგნალის ნაცვლად ან მასთან ერთად.

ВОПРОС 274

ПРАВИЛЬНЫЙ ОТВЕТ: 1

Аҟысра аеазкра иазкны егы арныкѳаѳ агѳеанцара иҵаразы абжытѳ ардырга ахархѳара каломаҾ

1

Икалоит, ауаа иахьнымхо атыҾ аѳы мацара

2

Икалоит, анхартатыҾ аѳы мацара

3

Икалоит, анхартатыҾ аѳы, иара убас, ауаа иахьнымхо атыҾ аѳы

4

Икалом

განმარტება:

„საგზაო მოძრაობის შესახებ“ საქართველოს კანონის 48-ე მუხლის პირველი პუნქტის „ბ“ ქვეპუნქტის თანახმად, ხმოვანი სიგნალი შეიძლება გამოყენებულ იქნეს მხოლოდ დასახლებულ პუნქტს გარეთ, როდესაც საჭიროა სხვა სატრანსპორტო საშუალების მძღოლის გაფრთხილება გასწრების განმრახვის შესახებ.

ВОПРОС 275

ПРАВИЛЬНЫЙ ОТВЕТ: 4

Цака еикѳыҾхьаҵоу атыҾкѳа ркынтѳ руа иარбан арныкѳаѳ аманиовр далагаанҵа атѳира иахьитаху ахырхарта иашьашѳალოу алашарбага аѳакра иахьихѳтамҾ

1

АнхартатыҾ аѳы

2

ИаҾну атакырадгьыл аѳы

3

Агѳара атакыраѳы

4

Ихѳтоуп, абри абилет аѳы еикѳыҾхьаҵоу иარбанзаалак тыҾк аѳы

განმარტება:

„საგზაო მოძრაობის შესახებ“ საქართველოს კანონის 32-ე მუხლის მე-2 პუნქტის თანახმად, მანევრის დაწყებამდე მძღოლი ვალდებულია ჩართოს შესაბამისი მიმართულების მოხვევის შუქ-მაჩვენებელი, ხოლო თუ ის არ არის ან გამოსულია მწყობრიდან – ანიშნოს ხელით.

ВОПРОС 276

ПРАВИЛЬНЫЙ ОТВЕТ: 2

Ианылашьцалак инаркны шаанза, иара убас, алаџшбара цѣгъа аџагылазаашъаџы, амѡаџы аангылара ма агылара аан амеханикатѣ атраснпорттѣ хархѣагакѣи урт рыцрахѣагакѣи иазгѣаџазароупЖ

1

Хара изырлашо алашарбагакѣа рыла

2

Аџхьатѣи ашьтахьтѣи ахышѣаратѣ алашаракѣа рыла

3

Ааигѣа изырлашо алашарбагакѣа рыла

4

Аџхьатѣи анакѣаѣацѣыхьчаратѣ аблакѣа рыла

განმარტება:

„საგზაო მოძრაობის შესახებ“ საქართველოს კანონის 49-ე მუხლის მე-9 პუნქტის თანახმად, დაბინდებიდან გათენებამდე, აგრეთვე ნებისმიერი სხვა არასაკმარისი ხილვადობის პირობებში, გზაზე გაჩერების ან დგომის დროს მექანიკური სატრანსპორტო საშუალება და მისი მისაბმელი აღნიშნული უნდა იყოს წინა და უკანა საგაბარიტო სინათლეებით.

ВОПРОС 277

ПРАВИЛЬНЫЙ ОТВЕТ: 3

Ианылашьцоу ма алаџшбара ианыцѣгъоу аамџазы еитатџа амеханикатѣ атранспорттѣ хархѣага иаѣакызароупЖ

1

Ааигѣа ма хара изырлашо алашарбагакѣа мацара

2

Анакѣаѣацѣыхьчаратѣ алашарбагакѣа мацара

3

Ааигѣа ма хара изырлашо алашарбагакѣи ашьтахьтѣи ахышѣаратѣ алашараკѣи

4

Аџхьатѣи ашьтахьтѣи ахышѣаратѣ алашараკѣа мацара

განმარტება:

„საგზაო მოძრაობის შესახებ“ საქართველოს კანონის 49-ე მუხლის პირველი პუნქტის თანახმად, დღე-ღამის ბნელ დროს, აგრეთვე არასაკმარისი ხილვადობის პირობებში მოძრავ მექანიკურ სატრანსპორტო საშუალებაზე, აგრეთვე მოპედზე ჩართული უნდა იყოს ახლო ან შორი განათების ფარა/ფარები და უკანა საგაბარიტო სინათლეები.

ВОПРОС 278

ПРАВИЛЬНЫЙ ОТВЕТ: 2

Алаფшбара ианырцэгъоу ма икьахәу амѡаѣы аитатѡраан анакәаеацәыхьчаратә амашынаблақәа иаѣактәупЖ

1

Амашәыртә алшаратә ардырга иацны

2

Хара изырлашоуи ааигәа изырлашоуи амашынаблақәа ирыцны

3

Апхьатәи ашьтахьтәи ахышәаратә алашарақәа мацара ирыцны

განმარტება:

„საგზაო მოძრაობის შესახებ“ საქართველოს კანონის 49-ე მუხლის მე-5 პუნქტის თანახმად, არასაკმარისი ხილვადობის პირობებში ან ვიწრო მიხვეულ-მოხვეულ გზებზე მოძრაობისას, ნისლსაწინააღმდეგო ფარები ირთვება შორი ან ახლო განათების ფარებთან ერთად.

ВОПРОС 279

ПРАВИЛЬНЫЙ ОТВЕТ: 4

Апхьатәи ахышәаратә алашарақәа рыла еибытоу амеханикатә атранспорттә хархәагеи амопеди рѣы абарт алашарақәа иаѣактәупЖ

1

Хара изырлашо амашынаблақәа ирыцны мацара

2

Ааигәа изырлашо амашынаблақәа ирыцны мацара

3

Апхьатәи анакәаеацәыхьчаратә амашынаблақәа ирыцны

4

Хара изырлашо, ааигәа изырлашо, иара убас, апхьатәи анакәаеацәыхьчаратә амашынаблақәа ирыцны

განმარტება:

„საგზაო მოძრაობის შესახებ“ საქართველოს კანონის 49-ე მუხლის მე-6 პუნქტის თანახმად, წინა საგაბარიტო სინათლეებით აღჭურვილ მექანიკურ სატრანსპორტო საშუალებაზე, აგრეთვე მოპედზე ასეთი სინათლეები უნდა ჩაირთოს შორი ან ახლო განათების ფარებთან ან წინა ნისლსაწინააღმდეგო ფარებთან ერთად.

ВОПРОС 280

ПРАВИЛЬНЫЙ ОТВЕТ: 1

Амеханиკატე ატრანსპორტტე ხარხეაგაფი მა უი ატრაჲეაგაფი აშტახტეი ანაქეაეაფიხხარატე არლაშაგაქეა იშჲაქეგჲლაზარ, ურტჲ

1

Икаѳшызароуп

2

Ишкәәкәазароуп

3

Иѡежьзароуп

განმარტება:

„საგზაო მოძრაობის შესახებ“ საქართველოს კანონის 49-ე მუხლის მე-4 პუნქტის თანახმად, თუ მექანიკურ სატრანსპორტო საშუალებაზე ან მისაბმელზე დაყენებულია უკანა ნისლსაწინააღმდეგო ფარები, ისინი წითელი უნდა იყოს.

ВОПРОС 281

ПРАВИЛЬНЫЙ ОТВЕТ: 1

Еиѳынгыланы еитатѳа аტრანსპორტტე ხარხეაგა არნჲქეაფ უი ახჲმჲაღარა იაზგეიმტარ, იჲჲლаны იააჲა არნჲქეაფ დანჲვსჲა, ხარა იზჲრლაშო ამაშჲნაბლაქეა ირცეანჲ, ურტ რცჲნხერას, ააიგეა იზჲრლაშო ამაშჲნაბლაქეა იაფეიკროჲ ატრანსპორტტე ხარხეაგაჲყნჲა იშჲბჲჲოჲჲ

1

150 მეტრაქ

2

200 მეტრაქ

3

300 მეტრაქ

განმარტება:

„საგზაო მოძრაობის შესახებ“ საქართველოს კანონის 49-ე მუხლის მე-2 პუნქტის „ბ“ ქვეპუნქტის თანახმად, ზორი განათების ფარები უნდა გამოირთოს და მათ ნაცვლად უნდა ჩაირთოს ახლო განათების ფარები შემდეგ შემთხვევებში: ბ) შემხვედრისთვის გვერდის აქცევის დროს, სატრანსპორტო საშუალებამდე არანაკლებ 150 მეტრ მანძილზე, რათა ფარების ზეჲმა შემხვედრი სატრანსპორტო საშუალების მძღოლს თვალი არ მოსჭრას და მას მიეცეს მოძრაობის მჲვიდად და უსაფრტოხოდ გაგრძელების საშუალება, აგრევე უფრო ზორ მანძილზე, თუ საპირისპირო მიმართულებით მიმავალი სატრანსპორტო საშუალების მძღოლი ფარის/ფარების ზეჲის პერიოდული გადართვით მიანიშნებს ამის აუცილებლობაზე.

ВОПРОС 282

ПРАВИЛЬНЫЙ ОТВЕТ: 1

Хара изырлашо амашынаблақәа ирцәаны, урт рцынхәрас ааигәа изырлашо амашынаблақәа иафәктәупЖ

1

Амәатә аитатра егырт алахәылацәа ма имәатәны еитатра, анавигациатә ма аихатә амәа зхы иазырхәо атранспорттә хархәагақәа рылапшбара ацәгәахара ацәцара амзызла

2

Анхартатып аҭы аитатраан

3

Алапшбара 300 метрақ еитызар

განმარტება:

„საგზაო მოძრაობის შესახებ“ საქართველოს კანონის 49-ე მუხლის მე-2 პუნქტის „გ“ ქვეპუნქტის თანახმად, შორი განათების ფარები უნდა გამოირთოს და მათ ნაცვლად უნდა ჩაირთოს ახლო განათების ფარები შემდეგ შემთხვევებში: გ) ნებისმიერ სხვა პირობებში, როცა თავიდან უნდა იქნეს აცილებული სხვა საგზაო მოძრაობის მონაწილეთა ან გზის გასწვრივ გამავალი სანაოსნო ან სალიანდაგო გზით მოსარგებლეთა მხედველობის დაბინდვა.

ВОПРОС 283

ПРАВИЛЬНЫЙ ОТВЕТ: 2

Анхартатып аҭы амәа ишахәтоу еипш ирлашазарЖ

1

Ахышәаратә алашарақәа иафәктәуп

2

Ааигәа изырлашо амашынаблақәа иафәктәуп

3

Хара изырлашо амашынаблақәа иафәктәуп

განმარტება:

„საგზაო მოძრაობის შესახებ“ საქართველოს კანონის 49-ე მუხლის მე-2 პუნქტის „ა“ ქვეპუნქტის თანახმად, შორი განათების ფარები უნდა გამოირთოს და მათ ნაცვლად უნდა ჩაირთოს ახლო განათების ფარები შემდეგ შემთხვევებში: ა) დასახლებულ პუნქტში, თუ გზა საკმარისად არის განათებული, და დაუსახლებელ პუნქტში, თუ სავალი ნაწილი თანაბრად არის განათებული და ეს განათება საკმარისია მძღოლისათვის საკმარის მანძილზე კარგი ხილვადობის უზრუნველსაყოფად, აგრეთვე იმისათვის, რომ სხვა საგზაო მოძრაობის მონაწილეები საკმარის მანძილზე ხედავდნენ მოცემულ სატრანსპორტო საშუალებას.

ВОПРОС 284

ПРАВИЛЬНЫЙ ОТВЕТ: 2

Атранспорттә хархәага аҭхьала алашара ҭаҭшь ала, ашьҭахьла алашара шкәакәала аибытара ҭаломаҭ

1

Иҭалоит

2

Иҭалом

3

Иҭалоит, чыдалатәи аматұра атранспорттә хархәагакәа рҭы мацара

განმარტება:

„საგზაო მოძრაობის შესახებ“ საქართველოს კანონის 49-ე მუხლის მე-13 პუნქტის თანახმად, აკრძალულია სატრანსპორტო საშუალების წინ წითელი და უკან თეთრი სინათლეებით აღჭურვა. დაუშვებელია სატრანსპორტო საშუალების კონსტრუქციის შეცვლა ან აღჭურვა დამატებითი სინათლეებით, რომლებიც შეიძლება ეწინააღმდეგებოდეს მოცემულ მოთხოვნებს.

ВОПРОС 285

ПРАВИЛЬНЫЙ ОТВЕТ: 2

Атранспорттә хархәага аибыташьа аҭсахра ма иаццаны алашарақәа рыла аибытара ҭаломаҭ

1

Иҭалом

2

Иҭалоит, азакәанҭцарала иазҭхьагәаҭоу ахәарақәа рыхьчарала мацара

განმარტება:

„საგზაო მოძრაობის შესახებ“ საქართველოს კანონის 49-ე მუხლის მე-13 პუნქტის თანახმად, აკრძალულია სატრანსპორტო საშუალების წინ წითელი და უკან თეთრი სინათლეებით აღჭურვა. დაუშვებელია სატრანსპორტო საშუალების კონსტრუქციის შეცვლა ან აღჭურვა დამატებითი სინათლეებით, რომლებიც შეიძლება ეწინააღმდეგებოდეს მოცემულ მოთხოვნებს.

ВОПРОС 286

ПРАВИЛЬНЫЙ ОТВЕТ: 2

Атранспорттә хархәгак аҧы, азкрак змоу, хырхартак ахь зхы рхоу, зыпштәкәа еипшым амашынаблақәа рышыақыргыларә каломаҭ

1

Икалоит

2

Икалом

3

Икалоит, аоперативтә матура амашынаҧы мацара

განმარტება:

„საგზაო მოძრაობის შესახებ“ საქართველოს კანონის 49-ე მუხლის მე-14 პუნქტის თანახმად, ერთ სატრანსპორტო საშუალებაზე ერთნაირი დანიშნულებისა და ერთსა და იმავე მხარეს მიმართული ფარები ერთი ფერის უნდა იყოს. ლუწი რაოდენობის ფარები და შექამრეკლი მონყობილობები სატრანსპორტო საშუალების შუა გრძივ კვეთასთან მიმართებით სიმეტრიულად უნდა იყოს განლაგებული, გარდა იმ სატრანსპორტო საშუალებისა, რომლის გარეგანი ფორმა არ არის სიმეტრიული. ერთნაირი დანიშნულების ფარების ყოველ წყვილს აშკარად ერთნაირი შექცალა უნდა ჰქონდეს.

ВОПРОС 287

ПРАВИЛЬНЫЙ ОТВЕТ: 3

Анхартатыҭ аҧы амашынаблаҭпрожектори амашынаблаҭ аҭшаагеи рхы иадырхәар рылшоитҭЖ

1

Ишәартоу аидара имҭанызго автотранспорттә хархәага арныкәаҭцәа

2

Арныкәаҭцәа зегьы, рхатә таххарала

3

Аоперативтәи чыдалатәи аматурақәа ртранспорти хархәагақәа рырныкәаҭцәа мацара, аусуратә пхыкәрақәа нырагзараан

განმარტება:

„საგზაო მოძრაობის შესახებ“ საქართველოს კანონის 49-ე მუხლის მე-15 პუნქტის თანახმად, ფარა-პროექტორითა და ფარა-მადიებლით სარგებლობა ნებადართულია მხოლოდ დაუსახლებელ პუნქტში, თუ არ არის საპირისპირო მიმართულებით მოძრავი სატრანსპორტო საშუალება. დასახლებულ პუნქტში ასეთი ფარებით სარგებლობა შეუძლიათ მხოლოდ ოპერატიული და სპეციალური სამსახურების სატრანსპორტო საშუალებათა მძღოლებს სამსახურებრივი მოვალეობის შესრულებისას.

ВОПРОС 288

ПРАВИЛЬНЫЙ ОТВЕТ: 2

Амашынаблаეპროжектори амашынаблаე აუშააგეი რარხაჲა კალიტჲ

1

Анхартатыҭ аҭы ганклатәи аитатҭразы
иазҭҭхьагәаҭоу амҭа амҭасыртәҭы

2

Ауаа иахьнымхо атыҭ аҭы, еиҭынҭыланҭы
еитатҭуа атранспорттә хархәага иҭамзар

3

Анхартатыҭ аҭы, ахырхартә цыҭхьаҭазы
аитатҭратә цәахәак иахьыҭоу, атрамваи
арельскәа змам амҭаҭы

განმარტება:

„საგზაო მოძრაობის შესახებ“ საქართველოს კანონის 49-ე მუხლის მე-15 პუნქტის თანახმად, ფარა-პროექტორითა და ფარა-მანიტულით სარგებლობა ნებადართულია მხოლოდ დაუსახლებელ პუნქტში, თუ არ არის საპირისპირო მიმართულებით მოძრავი სატრანსპორტო საშუალება. დასახლებულ პუნქტში ასეთი ფარებით სარგებლობა შეუძლიათ მხოლოდ ოპერატიული და სპეციალური სამსახურების სატრანსპორტო საშუალებათა მძღოლებს სამსახურებრივი მოვალეობის შესრულებისას.

ВОПРОС 289

ПРАВИЛЬНЫЙ ОТВЕТ: 3

Атранспорттә хархәагақәа аанҭылартәҭы иаанҭылар қалит иарбанзаалақ арлашаратә
ашьақәырҭыламтәқ иаҭақымқәаЖ

1

Иазхоу абҭҭазаараҭы атранспорттә хархәага
ибзианы иубаратәы ирлашоу амҭаҭы

2

Амҭасыртәи, ақәыҭшыларә қәҭәа змоу амҭа
аҭықә нхыҭи

3

Абри абилет аҭы еиқәыҭхьаҭоу
атәҭылазаашьақәа зегьы раан.

განმარტება:

„საგზაო მოძრაობის შესახებ“ საქართველოს კანონის 49-ე მუხლის მე-11 პუნქტის „ა“ და „ბ“ ქვეპუნქტების თანახმად, ამ მუხლის მე-9 და მე-10 პუნქტებით დადგენილ მოთხოვნათა მიუხედავად, მექანიკური სატრანსპორტო საშუალება შეიძლება გაჩერდეს ან იმყოფებოდეს სადგომზე ნებისმიერი გარე სანათი ხელსაწყო ჩაურთველად: ა) იმგვარად განათებულ გზაზე, სადაც სატრანსპორტო საშუალების კარგად დანახვა (გარჩევა) შესაძლებელია სავალი მანძილზე; ბ) სავალი ნაწილისა და მკვრივი საფარის მქონე გვერდულების მიღმა.

ВОПРОС 290

ПРАВИЛЬНЫЙ ОТВЕТ: 1

Ианылашьцоу аамтазы ма алаҭшбара аныцэгьоу, ахаларта атыхәа иазааигәахо атранспорттә хархәага арныкәа хара изырлашо амашынаблакәа ирцәаны, ааигәа изырлашо амашынаблакәа феикроупЖ

1

Иарбанзаалак атагылазаашьаҭы, ахаларта даназааигәахо

2

Иҭылань иаауа амашына ианцәырцлак

განმარტება:

დღე-ღამის ბნელ დროს ან არასაკმარისი ხილვადობის პირობებში, აღმართის ბოლოსთან მიახლოებისას სატრანსპორტო საშუალების მძღოლმა ნებისმიერ შემთხვევაში უნდა გამოერთოს შორი ნათების ფარები და ჩართოს ახლო ნათების ფარები.

ВОПРОС 291

ПРАВИЛЬНЫЙ ОТВЕТ: 3

Асоура цәҭа аан, ианылашьцоу аамтазы, атранспорттә хархәага адәныкәтәи арлашагакәа ркынтә руа иарбан амҭа алаҭшбара бзиа еикәзыршәоҭ

1

Хара изырлашо амашынабла

2

Анакәаеацәыхьчаратә амашынаблакәеи хара изырлашо амашынаблакәеи

3

Анакәаеацәыхьчаратә амашынаблакәеи ааигәа изырлашо амашынаблакәеи

განმარტება:

დღე-ღამის ბნელ დროს, ძლიერი თოვის პირობებში გზის უკეთეს ხილვადობის უზრუნველსაყოფად მიზანშეწონილია ნისლსაწინააღმდეგო ფარების ახლო ნათების ფარებთან ერთად ჩართვა.

ВОПРОС 292

ПРАВИЛЬНЫЙ ОТВЕТ: 3

Амотокәылзхылҭа ишьазар, арныкәаџ

1

Амотокәылзхылҭа аҭақа ихаитцароуп аба иалху ахылҭа

2

Ашьара ирҭабны, амотокәылзхылҭа ирҭыцны ишьаыроуп

3

Амотокәылзхылҭа ҭыц ааихәароуп, избанзар ажәытә мотокаылзхылҭа дзахьчом

განმარტება:

„საგზაო მოძრაობის შესახებ“ საქართველოს კანონის 43-ე მუხლის მე-10 პუნქტის თანახმად, გადაადგილებისას მოტოციკლისა და მოპედის მძღოლებმა, აგრეთვე მათმა მგზავრებმა მოტორაფხუტები უნდა გამოიყენონ. მოტორაფხუტზე ბმარების გაჩენის შემთხვევაში მოტოციკლეთის მძღოლმა უნდა შეიძინოს ახალი მოტორაფხუტი, რადგან ძველი (ბმარებიანი მოტორაფხუტი) ვეღარ უზრუნველყოფს დაცვას.

ВОПРОС 293

ПРАВИЛЬНЫЙ ОТВЕТ: 2

Амџа иангылоу ала иавсны ицо амотоцикл арныкәаџ

1

Иазҭхьагәетароуп алакәа зегьы еитатҭа атранспорттә хархәагақәа ишрыцәшәо, убри аҭынтә, агрессиа шаадмырҭшуа

2

Игәәанызароуп, избанзар ала агрессиа аарҭшны иара ишқа идәықәлар алшоит.

განმარტება:

გზაზე მყოფი ძაღლის სიახლოვეს გამავალმა მოტოციკლის მძღოლმა უნდა გამოიჩინოს განსაკუთრებული სიფრთხილე, რადგან ძაღლმა შესაძლოა გამოამუღავნოს აგრესია და გამოიწიოს მისი მიმართულებით.

ВОПРОС 294

ПРАВИЛЬНЫЙ ОТВЕТ: 3

Асфальт зқәу амѡа ақынтѡ ииашам амѡашка иасуа амотоцикл арныкѡаѡЖ

1

Даангылароуп, избанзар ииашам амѡаѡы амотоцикл ала аитѡтра калом

2

Аласра иацитѡароуп, аѡсқы азы амѡа ачыдарақѡа рнырра аитѡтѡразы

3

Амѡа иашьашѡалоу аласра алхны, иаалырқѡаны аитѡтра ақынтѡ иѡ ааникылароуп

განმარტება:

ასფალტის საფარის მქონე გზიდან ღორღიან გზაზე გასვლისას, მოტოციკლის მძროლმა უნდა შეარჩიოს შესაბამისი მოძრაობის სიჩქარე და მოერიდოს მკვეთრ მოძრაობებს.

ВОПРОС 295

ПРАВИЛЬНЫЙ ОТВЕТ: 3

Амотоцикл аѡхьатѡи аанкылага ашьѡахьтѡи аанкылага ацкыс еиѡьуп, избанзарЖ

1

аѡхьатѡи аанкылага аус ахаруеит напыла

2

Амотоцикл аѡхьатѡи агежьхарѡа ашьѡахьтѡи ацкыс итѡѡоуп

3

Аанкылараан алыракѡа рыкѡыңѡара аѡ аѡсахуеит, аѡхьатѡи агежьхарѡа иаха ақѡыңѡара аиоуоит

4

Абри абилет аѡы еиқѡыпхьѡоу атакқѡа зегьы ииашоуп

განმარტება:

მოტოციკლის წინა მუხრუჭი უკანა მუხრუჭზე ეფექტურია, რადგან მოტოციკლის დამუხრუჭების დროს იცვლება ღერძებზე დატვირთვის გადანაწილება და მეტი დატვირთვა მოდის წინა საბურავზე.

ВОПРОС 296

ПРАВИЛЬНЫЙ ОТВЕТ: 3

Амотоцикл агежьхарџақәа рџы ахауа акәыџџәара лақәызар, уи иахылџиаар алшоитЖ

1

Апротектор амортизация ахара мацара

2

Амотоцикл арнықәара ауадаџхара мацара

3

Хыхь еикәыџхьаџоу атагылазаашьақәа зегьы

განმარტება:

მოტოციკლის საბურავებში დაბალმა ჰაერის წნევამ შეიძლება გამოიწვიოს როგორც საბურავის პროტექტორის კიდეების არათანაბარი ცვეთა, ასევე მოტოციკლის მართვადობის გაუარესება.

ВОПРОС 297

ПРАВИЛЬНЫЙ ОТВЕТ: 3

Автомџангага аитатра иахылџиаауа ахаутә цәқәырџа амотоцикл арнықәара иаџырхагахар алшомаџ

1

Иалшоит, автомџангага еитатцуазар
ეიџынгылоу ахырхартала

2

Иалшоит, автомџангага инамџатәны ицо
амотоцикл иаџысуазар

3

Икалоит, абри абилет аџы еикәыџхьаџоу
иарбанзаалак атагылазаашьа аан

განმარტება:

ავტომატარებლის მოძრაობისგან გამონეულებმა ჰაერის ტალღამ შესაძლებელია დაბრკოლება შეუქმნას მოტოციკლის მართვას როგორც იმ შემთხვევაში, თუ ავტომატარებელი მოძრაობს საპირისპირო მიმართულებიდან, ასევე თუ ავტომატარებელი ახორციელებს თანხვედრი მიმართულებით მოტოციკლის გასწრებას.

თემა 15:

მოძრაობის დანყება, მანევრირება,
სატრანსპორტო საშუალების განლაგება
სავალ ნაწილზე



Амашына ჯაჭუშ არნიკაფ, იაჭუ ატაკყრადგულ აკინტე ამფასრტა დანალალო აშუაყაუაფ ამფა იტარა იხატოუმაჲ

1


Ихәтоуп

2

Ихәтам

განმარტება:

„საგზაო მოძრაობის შესახებ“ საქართველოს კანონის 25-ე მუხლის მე-7 პუნქტის თანახმად, მძღოლმა მიმდებარე ტერიტორიიდან გზაზე გამოსვლისას ან გზიდან ასეთ ტერიტორიაზე შესვლისას გზა უნდა დაუთმოს ქვეითებს.



Амашына лас арныкәә атәира азин имоупЖ

1

Ф ахырхартала

2


И ахырхартала

3

Ф еипштәкыаб И ахырхарталагы

განმარტება:

„საგზაო მოძრაობის შესახებ“ საქართველოს კანონის პირველი დანართის 4.3 პუნქტის თანახმად, საგზაო ნიშანი 4.3 „წრიული მოძრაობა“ - რთავს ისრებით ნაჩვენები მიმართულებებით მოძრაობის ნებას გზატკარედინზე, რომელზედაც წრიული მოძრაობაა ორგანიზებული.



Амашына шкәәкәа арныкәәд ахыц ахырхартала деитатцазар, абарт автотранспорттә хархәагакәа
рырныкәәдцәа ркынтә амәа атара зыхәтадаҭ

1

Амотоцикл арныкәәд затәы

2

Атрамваи арныкәәд затәы

3

Амотоцикл арныкәәди атрамваи арныкәәди

განმარტება:

„საგზაო მოძრაობის შესახებ“ საქართველოს კანონის 32-ე მუხლის მე-3 და მე-9 პუნქტების თანახმად: 3. მიმდებარე ტერიტორიიდან გზაზე გასვლისას მძღოლი ვალდებულია გზა დაუთმოს გზაზე მოძრავ სატრანსპორტო საშუალებასა და ქვეითს, ხოლო გზიდან გადასვლისას – იმ ქვეითს, ველოსიპედისტს, მოპედისა და ორბორბლიანი ელექტროთვითმგორავის მძღოლებს, რომლებსაც გზას უჭრის. 9. მარცხნივ მოხვევისას ან გზაჯვარედინის მიღმა მობრუნებისას ურელსო სატრანსპორტო საშუალების მძღოლი ვალდებულია გზა დაუთმოს საპირისპირო მიმართულებით მოძრავ სატრანსპორტო საშუალებას და თანმხვედრი მიმართულებით მოძრავ ტრამვაის.



Иарбоუ аидаратә машына 3,5 тонна еиханы аидара амѡанегара азин амоуп. Абарт атранспорттә хархәагақәа рырныкәаѡцәа ркынтә ахыц ахырхартала аитатра азин змадаѲ

1

Амопед арныкәаѡ

2

Амашына лас арныкәаѡ

3

Аидаратә машына арныкәаѡ

განმარტება:

„საგზაო მოძრაობის შესახებ“ საქართველოს კანონის პირველი დანართის 3.22 პუნქტის თანახმად, საგზაო ნიშანი 3.22 „სატვირთო ავტომობილით გასწრება აკრძალულია“ - კრძალავს 3,5 ტონაზე მეტი ნებადართული მაქსიმალური მასის მქონე სატვირთო ავტომობილით სხვა სატრანსპორტო საშუალების გასწრებას (გარდა 30 კმ/სთ-ზე ნაკლები სიჩქარით მოძრავი ტრანსპორტისა), აგრეთვე ტრაქტორით სხვა სატრანსპორტო საშუალების გასწრებას (გარდა საჭაპანო ტრანსპორტისა და ველოსიპედისა). ამავე კანონის 38-ე მუხლის მე-5 პუნქტის თანახმად, ამ მუხლის პირველი–მე-3 პუნქტების გამოყენებისას ავტომაგისტრალს უთანაბრდება საავტომობილო მოძრაობისათვის განკუთვნილი და 5.3 საგზაო ნიშნით აღნიშნული ის გზები, რომლებიც მიმდებარე ტერიტორიებს არ ემსახურება. ამავე დანართის 5.3 პუნქტის თანახმად საგზაო ნიშანი 5.3. „საავტომობილო გზა“ – გზა, რომელიც განკუთვნილია მხოლოდ ავტომობილისა და მოტოციკლის მოძრაობისათვის.

ВОПРОС 302

ПРАВИЛЬНЫЙ ОТВЕТ: 1

Аҳаракырағы иҗоу аангылартаҗынтә атранспорттә хархәага ақәтәаразы амәасырта ангылара калоитЖ

1

Атранспорт ианаангылалак

2

Заанаты, атранспорт цәырцаанза

განმარტება:

„საგზაო მოძრაობის შესახებ“ საქართველოს კანონის 24-ე მუხლის მე-13 პუნქტის თანახმად, ამაღლებული ჩასასხდომი ბაქნის გასაჩერებელი პუნქტიდან (გაჩერებიდან) სატრანსპორტო საშუალებაში ჩასაჯდომად გზის სავალ ნაწილზე გასვლა ნებადართულია მხოლოდ მისი გაჩერების შემდეგ. სატრანსპორტო საშუალებიდან გადმოსვლისას ქვეითმა დაუყოვნებლივ უნდა გაათავისუფლოს გზის სავალი ნაწილი.

ВОПРОС 303

ПРАВИЛЬНЫЙ ОТВЕТ: 2

Амәатә аитатра аиҗкаара ала уаха акгы иазҗхьагәатамзар, амәатә арбагала иазгәатоу, аитатратә хә цәахәак змоу җеганклатәи аитатратә амәаҗы хырхартак ала аитатратә цәахәас иҗхьаҗоупЖ

1

Абжьаратәи арҗьарахьтәи аитатратә цәахәақәа

2

Арҗьарахьала иҗоу аитатратә цәахәа мацара

განმარტება:

„საგზაო მოძრაობის შესახებ“ საქართველოს კანონის 31-ე მუხლის მე-3 პუნქტის თანახმად, საგზაო მონიშვნით აღნიშნული სამი მოძრაობის ზოლის მქონე ორმხრივმოძრაობიან გზაზე თანხვედრი მიმართულების მოძრაობის მხარედ ითვლება მხოლოდ მარჯვენა მხარეს მდებარე მოძრაობის ზოლი, თუ საგზაო მოძრაობის ორგანიზაციის საშუალებებით სხვა რამ არ არის დადგენილი.



Амашына цѣыш ахыц ахырхартала еитатцазар, абарт атранспорттѣ хархѣагакѣа рырныкѣаѡцѣа
ркынтѣ аѣыжѣара змадаѢ

1

Амотоцикл арныкѣаѡ затѣы

2

Амашына шкѣакѣа арныкѣаѡ затѣы

3

Амотоцикли амашына шкѣакѣеи
рырныкѣаѡцѣа

4

Азѣгы

განმარტება:

„საგზაო მოძრაობის შესახებ“ საქართველოს კანონის 32-ე მუხლის მე-4 პუნქტის თანახმად, მოძრაობის მიმართულების შეუცვლელად მოძრაობის ზოლიდან ზოლში გადასვლისას, მძღოლმა გზა უნდა დაუთმოს გადასასვლელ მოძრაობის ზოლში თანმხვედრი მიმართულებით მოძრავ სატრანსპორტო საშუალებას.



Иарбоу ატაგლაზააშაფყ, ატრანსპორტტე ხარხეაგაქეა აამტაკალა აიტატრატე ცეაქეაქეა რყჸსახყრ, აიასრა აჸყჟეარა იოჸოიტჸ

1

Амашына лас арныкәә

2

Аидаратә машына арныкәә

განმარტება:

„საგზაო მოძრაობის შესახებ“ საქართველოს კანონის 32-ე მუხლის მე-4 პუნქტის თანახმად, მოძრაობის მიმართულების შეუცვლელად მოძრაობის ზოლიდან ზოლში გადასვლისას, მძღოლმა გზა უნდა დაუთმოს გადასასვლელ მოძრაობის ზოლში თანმხვედრი მიმართულებით მოძრავ სატრანსპორტო საშუალებას. თანმხვედრი მიმართულებით მოძრავი სატრანსპორტო საშუალებების მიერ, მოძრაობის ზოლების ერთდროულად შეცვლისას, მოძრაობის ტრაექტორიების გადაკვეთის შემთხვევაში, გავლის უპირატესობა ენიჭება მარჯნივ მყოფ სატრანსპორტო საშუალების მძღოლს.



90 მეტრის ინრტაკნის ალატუშბარა ცეგზაზარ, არნყკაფ ახყც ახყრხარტალა ამაშყყნა ატყყრა აზინ იმოუმატ

1


Азин имаџам

2

Азин имоуп

განმარტეზა:

„საგზაო მოძრაობის შესახებ“ საქართველოს კანონის 32-ე მუხლის მე-15 პუნქტის „ე“ ქვეპუნქტის თანახმად, აკრძალულია სატრანსპორტო საშუალების მობრუნება გზაზე, სადაც ხილვადობა თუნდაც ერთი მიმართულებით 100 მეტრზე ნაკლებია.



Иарбоу ატაგელაზააშაფე ამაშყნა ატყირა კალოიტჲ

1

A ახყრტალა

2

B ახყრტალა

3


Ai Bi ახყრტაქა რყლა

4

Aფეხყრტაქ რყლა იქალომ

განმარტყბა:

„საგზაო მოძრაობის შესახებ“ საქართველოს კანონის 32-ე მუხლის მე-15 პუნქტის „გ“ ქვეპუნქტის თანახმად, აკრძალულია სატრანსპორტო საშუალების მობრუნება ხიდზე, გზაგამტარზე, ესტაკადაზე და მათ ქვეშ. ამავე კანონის მე-2 დანართის პირველი თავის (ჰორიზონტალური მონიშვნა) 1.5 პუნქტის თანახმად ჰორიზონტალური მონიშვნა 1.5. ყოფს საპირისპირო მიმართულებით მოძრავ სატრანსპორტო ნაკადებს გზაზე, რომელსაც მოძრაობის ორი ან სამი ზოლი აქვს; აღნიშნავს მოძრაობის ზოლების საზღვრებს ერთი მიმართულებით მოძრაობისათვის განკუთვნილი ორი და მეტი ზოლის არსებობისას. 1.5 ხაზის გადაკვეთა ნებადართულია ნებისმიერი მხრიდან.



Иарбоу атагылазаашьафы амашына атәира калоитЖ

1

A ახერხართალა

2

B ახერხართალა

3


Аи Ви ахерхартакәа рыла

4

Аәхерхартак рыла иҕалом

განმარტება:

„საგზაო მოძრაობის შესახებ“ საქართველოს კანონის 32-ე მუხლის მე-15 პუნქტის „ა“ და „ვ“ ქვეპუნქტების თანახმად, აკრძალულია სატრანსპორტო საშუალების მოძრუნება: ა) ქვეითთა გადასასვლელზე; ვ) იმ ადგილას, სადაც გასაჩერებელი პუნქტია. ამავე კანონის პირველი დანართის მე-5 თავის (განსაკუთრებული მითითებების ნიშნები) 5.16 პუნქტის თანახმად საგზაო ნიშანი 5.16 „ავტობუსის და (ან) ტროლეიბუსის გაჩერების ადგილი“ აღნიშნავს შესაბამისი სახის სამარშრუტო სატრანსპორტო საშუალების გასაჩერებელ ადგილს. ამავე თავის 5.19.1 და 5.19.2 პუნქტების თანახმად საგზაო ნიშნები 5.19.1 და 5.19.2 „ქვეითთა გადასასვლელი“ - აღნიშნავს გზაზე ქვეითთა გადასასვლელისთვის გამოყოფილ ადგილს. ნიშანი 5.19.1 იდგმება გზის მარჯვენა მხარეს, ხოლო 5.19.2 - გზის მარცხენა მხარეს. გადასასვლელზე 1.14 მონიშვნის არ არსებობისას ნიშანი 5.19.1 იდგმება გადასასვლელის ახლო საზღვართან, ხოლო ნიშანი 5.19.2 - გადასასვლელის შორ საზღვართან.



Амашына лас арныкææ айтатра азин имоупЖ

1

Армарахь

2

Дышиашоу, иара убас, арфъарахь

3

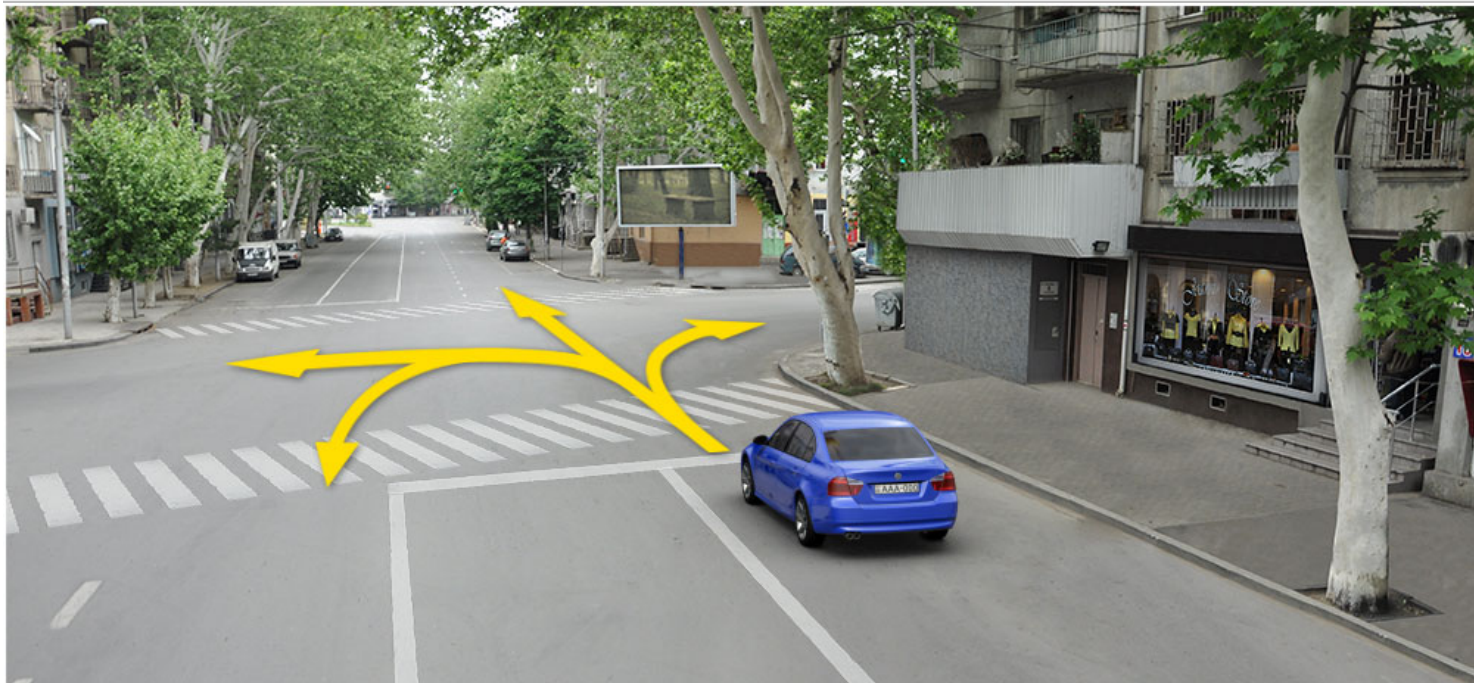
Армарахь, иара убас, арфъарахь

4

Дышиашоу, армарахь, аифынгыларатæ
хырхартала ПъахатæираТ

განმარტება:

„საგზაო მოძრაობის შესახებ“ საქართველოს კანონის 32-ე მუხლის მე-7 პუნქტების თანახმად, სხვა გზაზე გასასვლელად ან გზის მიმდებარე ტერიტორიაზე შესასვლელად მარჯვნივ ან მარცხნივ მოხვევის წინ, ისე, რომ არ დაარღვიოს ამ კანონის მე-20 მუხლის მე-2 პუნქტითა და ამ მუხლის პირველი და მე-2 პუნქტებით დადგენილი მოთხოვნები, თუ სატრანსპორტო საშუალების მძღოლი აპირებს გზიდან გასვლას: ა) მარჯვენა მხრიდან, სატრანსპორტო საშუალებამ უნდა იმოძრაოს რაც შეიძლება ახლოს სავალი ნაწილის მარჯვენა კიდეებთან და შემდეგ შეასრულოს შეძლებისდაგვარად მოკლე მანევრი; ბ) მარცხენა მხრიდან, სატრანსპორტო საშუალება, რამდენადაც ეს შესაძლებელია, უნდა მიუახლოვდეს გზის სავალი ნაწილის ღერძს (ორმხრივმოძრაობიან გზაზე) ან სავალი ნაწილის მარცხენა კიდე (ცალმხრივმოძრაობიან გზაზე), ხოლო თუ ის სხვა ორმხრივმოძრაობიან გზაზე აპირებს გასვლას, მოხვევა ისე უნდა შეასრულოს, რომ სავალი ნაწილების გადაკვეთიდან გამოსვლისას სატრანსპორტო საშუალება საპირისპირო მოძრაობის მხარეს არ აღმოჩნდეს. ამავე კანონის მე-2 დანართის პირველი თავის (ჰორიზონტალური მონიშვნა) 1.1 პუნქტის თანახმად ჰორიზონტალური მონიშვნა 1.1 ყოფს საპირისპირო მიმართულებით მოძრავ სატრანსპორტო ნაკადებს და გზის სახიფათო მონაკვეთზე - აღნიშნავს მოძრაობის ზოლების საზღვრებს ან სავალი ნაწილის საზღვრებს, რომლებზედაც შესვლა აკრძალულია; 1.1 ხაზის გადაკვეთა აკრძალულია. დასაშვებია სავალი ნაწილის ნაპირის აღმნიშვნელი და მძღოლის მარჯვენა მხარეს განლაგებული 1.1 ხაზის გადაკვეთა სატრანსპორტო საშუალების გზის ნაპირზე გასაჩერებლად.



Амашына лас арныкөөд айтатра азин имоупЖ

1

Арбъарахь

2

Армарахь, иара убас, арбъарахь

3

Дышиашоу, иара убас, арбъарахь

4

Дышиашоу, армарахь, аиҕынгыларатә
хырхартала ҖахаҗҗираҢ

განმარტება:

„საგზაო მოძრაობის შესახებ“ საქართველოს კანონის 32-ე მუხლის მე-7 პუნქტების თანახმად, სხვა გზაზე გასასვლელად ან გზის მიმდებარე ტერიტორიაზე შესასვლელად მარჯვნივ ან მარცხნივ მოხვევის წინ, ისე, რომ არ დაარღვიოს ამ კანონის მე-20 მუხლის მე-2 პუნქტითა და ამ მუხლის პირველი და მე-2 პუნქტებით დადგენილი მოთხოვნები, თუ სატრანსპორტო საშუალების მძღოლი აპირებს გზიდან გასვლას: ა) მარჯვენა მხრიდან, სატრანსპორტო საშუალებამ უნდა იმოძრაოს რაც შეიძლება ახლოს სავალი ნაწილის მარჯვენა კიდეებთან და შემდეგ შეასრულოს შეძლებისდაგვარად მოკლე მანევრი; ბ) მარცხენა მხრიდან, სატრანსპორტო საშუალება, რამდენადაც ეს შესაძლებელია, უნდა მიუახლოვდეს გზის სავალი ნაწილის ღერძს (ორმხრივმოძრაობიან გზაზე) ან სავალი ნაწილის მარცხენა კიდე (ცალმხრივმოძრაობიან გზაზე), ხოლო თუ ის სხვა ორმხრივმოძრაობიან გზაზე აპირებს გასვლას, მოხვევა ისე უნდა შეასრულოს, რომ სავალი ნაწილების გადაკვეთიდან გამოსვლისას სატრანსპორტო საშუალება საპირისპირო მოძრაობის მხარეს არ აღმოჩნდეს. ამავე კანონის მე-2 დანართის პირველი თავის (ჰორიზონტალური მონიშვნა) 1.1 პუნქტის თანახმად ჰორიზონტალური მონიშვნა 1.1 ყოფს საპირისპირო მიმართულებით მოძრავ სატრანსპორტო ნაკადებს და გზის სახიფათო მონაკვეთზე - აღნიშნავს მოძრაობის ზოლების საზღვრებს ან სავალი ნაწილის საზღვრებს, რომლებზედაც შესვლა აკრძალულია; 1.1 ხაზის გადაკვეთა აკრძალულია. დასაშვებია სავალი ნაწილის ნაპირის აღმნიშვნელი და მძღოლის მარჯვენა მხარეს განლაგებული 1.1 ხაზის გადაკვეთა სატრანსპორტო საშუალების გზის ნაპირზე გასაჩერებლად.



Амашына арныкәә арбъарахтәи ахатәирта давсит. Ахатәирта алаларазы ахыц ахырхартала шьтахыла ацара азин имоумаҭ

1

Азин имаџам

2

Азин имоуп

განმარტება:

„საგზაო მოძრაობის შესახებ“ საქართველოს კანონის 32-ე მუხლის მე-16 პუნქტის თანახმად, მძღოლი, რომელიც მობრუნებას ან უკუსვლით მოძრაობას აპირებს, უნდა დარწმუნდეს, რომ მას შეუძლია ისე შეასრულოს ეს მანევრი, რომ საფრთხე არ შეუქმნას და ხელი არ შეუშალოს სხვა საგზაო მოძრაობის მონაწილეებს. აუცილებლობის შემთხვევაში მიზანშეწონილია სხვა პირის დახმარება. აკრძალულია უკუსვლით მოძრაობა გზაჯვარედინზე, ავტომაგისტრალზე და ამ მუხლის მე-15 პუნქტით განსაზღვრულ ადგილებში.

ფეგანკალათეი აიტატრა ზმოუ ამფასურტა აგეტანყ ატრამვაი აიჰამფა იკაზარ, აიფყინგყლარატე აიტატრა აგანკჲა რეიკჲაშაგას იფყჰყაჰოუპჰ

1

ეიფყინგყლანყ ეიტატყა ატრამვაი არელყკჲა ირყბჰყოუ აგეტანყტე ცეაჰჲა

2

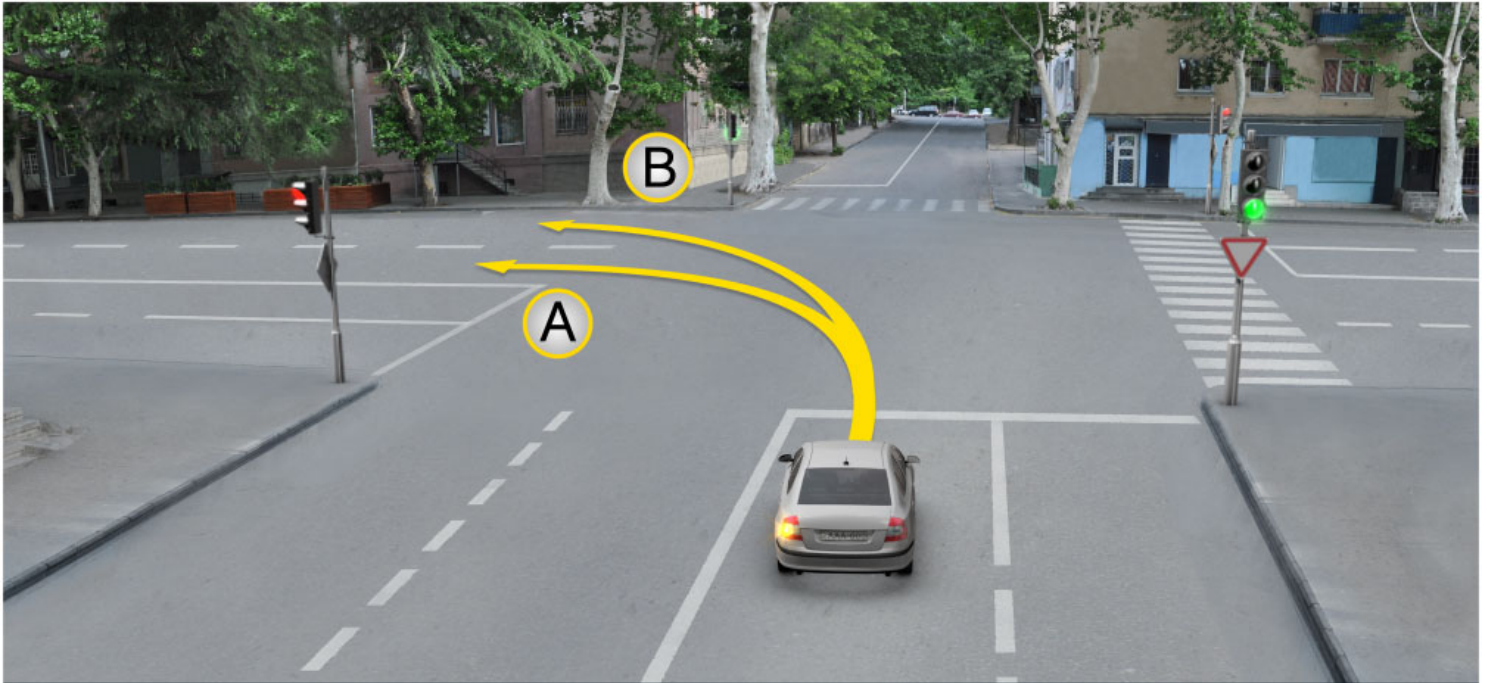
ჰყრჰარტაკ ალა ეიტატყა ატრამვაი არფყარაჰყტეი აიჰამფა

3

აიფყინგყლარატე ჰყრჰართალა ეიტატყა ატრამვაი არმარაჰყტეი არელყკჲა

განმარტყბა:

„საგზაო მოძრაობის შესახებ“ საქართველოს კანონის 31-ე მუხლის მე-3 პუნქტის თანახმად, ორმხრივმოძრაობიან გზაზე, სავალი ნაწილის შუაში, მასთან ერთ დონეზე ტრამვაის ლიანდაგის მდებარეობისას, საპირისპირო მოძრაობის მხარეების გამყოფად მიიჩნევა საპირისპიროდ მოძრავი ტრამვაის ლიანდაგებს შორის წარმოსახვითი შუა ხაზი.



Амашына лас арныкәә айтатра азин имоупЖ

1

А ахырхартала

2

В ахырхартала

3

Аи Ви ахырхартәә рыла

განმარტება:

„საგზაო მოძრაობის შესახებ“ საქართველოს კანონის 32-ე მუხლის მე-7 პუნქტის „ბ“ ქვეპუნქტის თანახმად, სხვა გზაზე გასასვლელად ან გზის მიმდებარე ტერიტორიაზე შესასვლელად მარჯვნივ ან მარცხნივ მოხვევის წინ, ისე, რომ არ დაარღვიოს ამ კანონის მე-20 მუხლის მე-2 პუნქტითა და ამ მუხლის პირველი და მე-2 პუნქტებით დადგენილი მოთხოვნები, თუ სატრანსპორტო საშუალების მძღოლი აპირებს გზიდან გასვლას მარცხენა მხრიდან, სატრანსპორტო საშუალება, რამდენადაც ეს შესაძლებელია, უნდა მიუახლოვდეს გზის სავალი ნაწილის ღერძს (ორმხრივმოძრაობიან გზაზე) ან სავალი ნაწილის მარცხენა კიდე (ცალმხრივმოძრაობიან გზაზე), ხოლო თუ ის სხვა ორმხრივმოძრაობიან გზაზე აპირებს გასვლას, მოხვევა ისე უნდა შეასრულოს, რომ სავალი ნაწილების გადაკვეთიდან გამოსვლისას სატრანსპორტო საშუალება საპირისპირო მოძრაობის მხარეს არ აღმოჩნდეს.

„საგზაო მოძრაობის შესახებ“ საქართველოს კანონის 31-ე მუხლის მე-15 პუნქტის თანახმად, ამ კანონის 32-ე მუხლის მე-6 პუნქტით დადგენილ მოთხოვნათა გათვალისწინებით, მოძრაობა ნებადართულია თანმხვედრი მიმართულების ტრამვაის ლიანდაგზე, რომელიც მარცხენა მხარეს სავალ ნაწილთან ერთ დონეზე მდებარეობს, თუ თანმხვედრი მიმართულებით მოძრაობისთვის განკუთვნილი ყველა მოძრაობის ზოლი დაკავებულია, აგრეთვე დაბრკოლების შემოვლის ან გასწრების, ან მარცხნივ მოხვევის ან მობრუნების დროს. ამასთანავე, ტრამვაის მოძრაობას არ უნდა შეექმნას დაბრკოლება. საპირისპირო მიმართულების ტრამვაის ლიანდაგზე გასვლა აკრძალულია.

ВОПРОС 316

ПРАВИЛЬНЫЙ ОТВЕТ: 4

Цака еиқәыпхьазоу атыпқәа ркынтә атранспорттә хархәага ацәира иабақалоҭ

1

Ганкала акәзаргы, 100 метрак еитңы алапшбара иахьықоу амәаҭы

2

Аангыларатә пункт иахьықоу атыпәҭы

3

Автомагистраль аҭы

4

Абри абилет аҭы еиқәыпхьазоу иарбанзаалак атыпәҭы

განმარტება:

„საგზაო მოძრაობის შესახებ“ საქართველოს კანონის 32-ე მუხლის მე-15 პუნქტის „ე“ და „ვ“ ქვეპუნქტების თანახმად, აკრძალულია სატრანსპორტო საშუალების მოძრუნება: ე) გზაზე, სადაც ხილვადობა თუნდაც ერთი მიმართულებით 100 მეტრზე ნაკლებია; ვ) იმ ადგილას, სადაც გასაჩერებელი პუნქტია. ამავე კანონის 38-ე მუხლის პირველი პუნქტის „გ.ბ“ ქვეპუნქტის თანახმად ავტომაგისტრალზე, ავტომაგისტრალის შესასვლელზე და გამოსასვლელზე მძღოლს ეკრძალება მოძრუნება ან უკუსვლით მოძრაობა, აგრეთვე ცენტრალურ გამყოფ ზოლსა და გზის ორივე სავალი ნაწილის განივ შეერთებაზე გასვლა.

ВОПРОС 317

ПРАВИЛЬНЫЙ ОТВЕТ: 1

Ганкала еитатца атранспорттә хархәагақәа аамтакала аитатцратә цәахәақәа рыпсахыр, аитатцра атраекториакәа еихтәозар, амәасра апыжәара имоупЖ

1

Арҭыраҳьала иқоу атранспорттә хархәага арнықәа

2

Армарахьала иқоу атранспорттә хархәага арнықәа

განმარტება:

„საგზაო მოძრაობის შესახებ“ საქართველოს კანონის 32-ე მუხლის მე-4 პუნქტის თანახმად, მოძრაობის ზოლიდან ზოლში მოძრაობის მიმართულების შეუცვლელად გადასვლისას მძღოლმა გზა უნდა დაუთმოს გადასასვლელ მოძრაობის ზოლში თანმხვედრი მიმართულებით მოძრავ სატრანსპორტო საშუალებას. თანმხვედრი მიმართულებით მოძრავი სატრანსპორტო საშუალებების მიერ მოძრაობის ზოლების ერთდროულად შეცვლისას მოძრაობის ტრაექტორიების გადაკვეთის შემთხვევაში გავლის უპირატესობა ენიჭება მარჯვნივ მყოფი სატრანსპორტო საშუალების მძღოლს.

Атранспорттә хархәагақәа реитаттра атраекториакәа еихтәозар, амџасра аишьтаргылашьа ихәаакәтцамзар, арныкәаџ амџа аитароупЖ

1

Арџьарахьала изааигәахо атранспорттә хархәага

2

Армарахьала изааигәахо атранспорттә хархәага

განმარტება:

„საგზაო მოძრაობის შესახებ“ საქართველოს კანონის 32-ე მუხლის მე-12 პუნქტის თანახმად, თუ სატრანსპორტო საშუალებების მოძრაობის ტრანექტორიები იკვეთება, ხოლო გავლის რიგითობა განსაზღვრული არ არის, მძღოლმა გზა უნდა დაუთმოს იმ სატრანსპორტო საშუალებას, რომელიც მას მარჯვნიდან უახლოვდება.



Амашына лас арныкәә ахыц ахырхартала деитатцазар, уи ишьтахь атранспорттә хархәага ыкамзар, арҕырахь атәира алашаратә ардырга аҕакра ихәтоумаҕ

1

Ихәтоуп

2

Ихәтазам

განმარტება:

„სავგაო მოძრაობის შესახებ“ საქართველოს კანონის 32-ე მუხლის მე-2 პუნქტის თანახმად, მანევრის დაწყებამდე მძღოლი ვალდებულია ჩართოს შესაბამისი მიმართულების მოხვევის შუქ-მაჩვენებელი, ხოლო თუ ის არ არის ან გამოსულია მწყობრიდან — ანიშნოს ხელით.

ВОПРОС 320

ПРАВИЛЬНЫЙ ОТВЕТ: 1



I



II



III

Абарт асахьақәа рҕынтә руа иарбан амотоцикл арныкәаф напыла иҕаитһаз армарахь аҗәира ардырга хырыҕыҕ

1

I

2

II

3

III

განმარტება:

„საგზაო მოძრაობის შესახებ“ საქართველოს კანონის 32-ე მუხლის მე-2 პუნქტის თანახმად, მანევრის დაწყებამდე მძღოლი ვალდებულია ჩართოს შესაბამისი მიმართულების მოხვევის შუქ-მაჩვენებელი, ხოლო თუ ის არ არის ან გამოსულია მწყობრიდან – ანიშნოს ხელით. მარცხნივ მოხვევის ან მობრუნების სიგნალს შეესაბამება გვერდზე ჰორიზონტალურად გაშვებული მარცხენა ხელი ან გვერდზე გაშვებული, იდაყვში სწორი კუთხით ზემოთ მოხრილი მარჯვენა ხელი. მარჯვნივ მოხვევის სიგნალს შეესაბამება გვერდზე ჰორიზონტალურად გაშვებული მარჯვენა ხელი ან გვერდზე გაშვებული, იდაყვში სწორი კუთხით ზემოთ მოხრილი მარცხენა ხელი. დამუხრუჭების სიგნალს შეესაბამება ზემოთ ვერტიკალურად აწეული მარცხენა ან მარჯვენა ხელი.

ВОПРОС 321

ПРАВИЛЬНЫЙ ОТВЕТ: 3



I



II



III

Абарт асахьакәа ркынтә руа иарбан амотоцикл арныкәаф напыла иҟаитаз арҟьарахь атәира ардырга хзырбиҭ

1

I

2

II

3

III

განმარტება:

„საგზაო მოძრაობის შესახებ“ საქართველოს კანონის 32-ე მუხლის მე-2 პუნქტის თანახმად, მანევრის დაწყებამდე მძღოლი ვალდებულია ჩართოს შესაბამისი მიმართულების მოხვევის შუქ-მაჩვენებელი, ხოლო თუ ის არ არის ან გამოსულია მწყობრიდან – ანიშნოს ხელით. მარცხნივ მოხვევის ან მობრუნების სიგნალს შეესაბამება გვერდზე ჰორიზონტალურად გაშვებული მარცხენა ხელი ან გვერდზე გაშვებული, იდაყვში სწორი კუთხით ზემოთ მოხრილი მარჯვენა ხელი. მარჯვნივ მოხვევის სიგნალს შეესაბამება გვერდზე ჰორიზონტალურად გაშვებული მარჯვენა ხელი ან გვერდზე გაშვებული, იდაყვში სწორი კუთხით ზემოთ მოხრილი მარცხენა ხელი. დამუხრუჭების სიგნალს შეესაბამება ზემოთ ვერტიკალურად აწეული მარცხენა ან მარჯვენა ხელი.

ВОПРОС 322

ПРАВИЛЬНЫЙ ОТВЕТ: 2



I



II



III

Абарт асахьакәа рҕынтә руа иарбан амотоцикл арныкәаф напыла иҕаитаз аанкыларә ардырга хзырбоҕ

1

I

2

II

3

III

განმარტება:

„საგზაო მოძრაობის შესახებ“ საქართველოს კანონის 32-ე მუხლის მე-2 პუნქტის თანახმად, მანევრის დაწყებამდე მძღოლი ვალდებულია ჩართოს შესაბამისი მიმართულების მოხვევის შუქ-მაჩვენებელი, ხოლო თუ ის არ არის ან გამოსულია მწყობრიდან – ანიშნოს ხელით. მარცხნივ მოხვევის ან მობრუნების სიგნალს შეესაბამება გვერდზე ჰორიზონტალურად გაშვებული მარცხენა ხელი ან გვერდზე გაშვებული, იდაყვში სწორი კუთხით ზემოთ მოხრილი მარჯვენა ხელი. მარჯვნივ მოხვევის სიგნალს შეესაბამება გვერდზე ჰორიზონტალურად გაშვებული მარჯვენა ხელი ან გვერდზე გაშვებული, იდაყვში სწორი კუთხით ზემოთ მოხრილი მარცხენა ხელი. დამუხრუჭების სიგნალს შეესაბამება ზემოთ ვერტიკალურად აწეული მარცხენა ან მარჯვენა ხელი.

ВОПРОС 323

ПРАВИЛЬНЫЙ ОТВЕТ: 1



I



II



III

Абарт асахьакәа рҕынтә руа иарбан амотоцикл арныкәаф напыла иҕаитаз аанкылаа ардырга хыырбоҕ

1

I

2

II

3

III

განმარტება:

„საგზაო მოძრაობის შესახებ“ საქართველოს კანონის 32-ე მუხლის მე-2 პუნქტის თანახმად, მანევრის დაწყებამდე მძღოლი ვალდებულია ჩართოს შესაბამისი მიმართულების მოხვევის შუქ-მაჩვენებელი, ხოლო თუ ის არ არის ან გამოსულია მწყობრიდან – ანიშნოს ხელით. მარცხნივ მოხვევის ან მობრუნების სიგნალს შეესაბამება გვერდზე ჰორიზონტალურად გაშვებული მარცხენა ხელი ან გვერდზე გაშვებული, იდაყვში სწორი კუთხით ზემოთ მოხრილი მარჯვენა ხელი. მარჯვნივ მოხვევის სიგნალს შეესაბამება გვერდზე ჰორიზონტალურად გაშვებული მარჯვენა ხელი ან გვერდზე გაშვებული, იდაყვში სწორი კუთხით ზემოთ მოხრილი მარცხენა ხელი. დამუხრუჭების სიგნალს შეესაბამება ზემოთ ვერტიკალურად აწეული მარცხენა ან მარჯვენა ხელი.

ВОПРОС 324

ПРАВИЛЬНЫЙ ОТВЕТ: 2



I



II



III

Абарт асахьакәа ркынтә руа иарбан амашына арныкәаҭ напыла икаитаз арҭырахь атәира ардырга хзырбиҭ

1

I

2

II

3

III

განმარტება:

„საგზაო მოძრაობის შესახებ“ საქართველოს კანონის 32-ე მუხლის მე-2 პუნქტის თანახმად, მანევრის დაწყებამდე მძღოლი ვალდებულია ჩართოს შესაბამისი მიმართულების მოხვევის შუქ-მაჩვენებელი, ხოლო თუ ის არ არის ან გამოსულია მწყობრიდან – ანიშნოს ხელით. მარცხნივ მოხვევის ან მობრუნების სიგნალს შეესაბამება გვერდზე ჰორიზონტალურად გაშვებული მარცხენა ხელი ან გვერდზე გაშვებული, იდაყვში სწორი კუთხით ზემოთ მოხრილი მარჯვენა ხელი. მარჯვნივ მოხვევის სიგნალს შეესაბამება გვერდზე ჰორიზონტალურად გაშვებული მარჯვენა ხელი ან გვერდზე გაშვებული, იდაყვში სწორი კუთხით ზემოთ მოხრილი მარცხენა ხელი. დამუხრუჭების სიგნალს შეესაბამება ზემოთ ვერტიკალურად აწეული მარცხენა ან მარჯვენა ხელი.

ВОПРОС 325

ПРАВИЛЬНЫЙ ОТВЕТ: 3



I



II



III

Абарт асахьақәа рҕынтә руа иарбан амашына арныкәаф напыла иҕаитаз армарахь атҕеира ардырга хырыҕы

1

I

2

II

3

III

განმარტება:

„საგზაო მოძრაობის შესახებ“ საქართველოს კანონის 32-ე მუხლის მე-2 პუნქტის თანახმად, მანევრის დაწყებამდე მძღოლი ვალდებულია ჩართოს შესაბამისი მიმართულების მოხვევის შუქ-მაჩვენებელი, ხოლო თუ ის არ არის ან გამოსულია მწყობრიდან – ანიშნოს ხელით. მარცხნივ მოხვევის ან მობრუნების სიგნალს შეესაბამება გვერდზე ჰორიზონტალურად გაშვებული მარცხენა ხელი ან გვერდზე გაშვებული, იდაყვში სწორი კუთხით ზემოთ მოხრილი მარჯვენა ხელი. მარჯვნივ მოხვევის სიგნალს შეესაბამება გვერდზე ჰორიზონტალურად გაშვებული მარჯვენა ხელი ან გვერდზე გაშვებული, იდაყვში სწორი კუთხით ზემოთ მოხრილი მარცხენა ხელი. დამუხრუჭების სიგნალს შეესაბამება ზემოთ ვერტიკალურად აწეული მარცხენა ან მარჯვენა ხელი.

ВОПРОС 326

ПРАВИЛЬНЫЙ ОТВЕТ: 2

Амѳеихысыртаѳы арѳьарахь атѳѳира иазку аитатцратѳ цѳахѳеи еѳгы амѳасыртеи ихараку ашѳартадаратѳ адѳгылбѳжѳахалала еиѳѳашазар, амѳахысырта аѳѳхѳа арѳьарахѳала алашарбаѳа иѳамзар, арныѳѳаѳ арѳьарахь дѳѳѳѳир илшоит амѳеихысыртаѳы иѳоу алашарбаѳаЖ

1

Аитатцразы азин изѳо ардырга аѳакра аамышьтахь

2

Ардырга дахѳыѳшымѳѳა, еѳгырт ахѳрхартაѳა რѳყნტე еიტაცუа атრანსპორტტე хархѳაѳაѳა ზეგყი ამѳა რყტანი

განმარტება:

„საგზაო მოძრაობის შესახებ“ საქართველოს კანონის 36-ე მუხლის მე-3 პუნქტის „ბ“ ქვეპუნქტის თანახმად, თუ გზატკარვედინზე მარტვნივ მოხვევისთვის განკუთვნილი მოძრაობის ზოლი დანარჩენი სავალი ნაწილისგან გამოყოფილია ამღლებული უსაფრტხოების კუნძულით და გზატკარვედინის წინ, მარტვნივ შექნიშანი არ არის, მარტვნივ მოხვევა სრულდება გზატკარვედინზე არსებული შექნიშნის მაშუქი სიგნალებისაგან დამოუკიდებლად სხვა მიმართულებებიდან მოძრაი ყველა სატრანსპორტო საშუალებისთვის გზის დატმობით.

ВОПРОС 327

ПРАВИЛЬНЫЙ ОТВЕТ: 1

Аихамѳа ахысырта даназааигѳахо, иара убас, уи данахысуа, атрანსპორტტე хархѳаѳа арнѳყѳაѳაЖ

1

Иаѳѳам аласрала деитатцроуп, иара убас, аихамѳа данахысуа, арныѳѳაѳ аихамѳа ахысырта мацара ихы иаирхѳѳароуп, адѳყნѳა Рѳалокомотивტ ამѳა аитароуп

2

Амѳა აბრი აყყნტѳაჲა ირლასჲანი დახყსროуп, иара убас, ахысырта аѳѳхѳა დაѳა атრანსპორტტე хархѳაѳაგ იგყლასარ, аиѳყნგყლარატѳ цѳахѳაშѳა დიასყი, уи დაკѳაშანი дцароуп

განმარტება:

„საგზაო მოძრაობის შესახებ“ საქართველოს კანონის 39-ე მუხლის პირველი პუნქტის „ა“ ქვეპუნქტის თანახმად, სატრანსპორტო საშუალების მძღოლი უნდა მოძრაობდეს ზომიერი სიჩქარით; ამასთანავე, რკინიგზის ლიანდაგზე გადასვლისას მძღოლმა უნდა ისარგებლოს მხოლოდ რკინიგზის გადასასვლელით და გზა უნდა დაუტმოს მატარებელს (ლოკომოტივს, დრეზინას).

ВОПРОС 328

ПРАВИЛЬНЫЙ ОТВЕТ: 2

Амбасыртაფы, амѡа икѡу атрамваитѡ ма автоеицраҳѡатѡ рельскѡа рѣы ма урт рааигѡара атранспорттѡ хархѡага аанкыларѡ кѡлома, уи атрамваи ма автоеицраҳѡа аитѡтра иаѡырхагазарѡ

1

Икалоит

2

Икалом

განმარტება:

„საგზაო მოძრაობის შესახებ“ საქართველოს კანონის 37-ე მუხლის მე-6 პუნქტის „ა.ბ“ ქვეპუნქტის თანახმად, ავრძალულია სატრანსპორტო საშუალებების გაჩერება გზის სავალ ნაწილზე გზაზე გამავალი ტრამვაის და რკინიგზის ლიანდაგებზე ან მათ ახლოს, თუ ამას შეუძლია გააძნელოს ტრამვაის ან მატარებლების მოძრაობა.



Анхартатә тыџ аџы амаршруттә автобус арныкәаџ аангыларта алтџа далагеит, амашына лас арныкәаџЖ

1


Аласра имџсахкәа аитатџа наигзоит

2

Аласра ирмачны, иатаххар даангылоит

განმარტება:

„საგზაო მოძრაობის შესახებ“ საქართველოს კანონის 41-ე მუხლის პირველი პუნქტის თანახმად, ამ კანონის 33-ე მუხლის მე-4 პუნქტით დადგენილ მოთხოვნათა გათვალისწინებით, დასახლებულ პუნქტში სამარშრუტო სატრანსპორტო საშუალებისთვის მოძრაობის გასაადვილებლად სხვა სატრანსპორტო საშუალებების მძღოლებმა უნდა შეანელონ მოძრაობა და აუცილებლობის შემთხვევაში გაჩერდნენ, რათა სამარშრუტო სატრანსპორტო საშუალებამ შეძლოს გასაჩერებელი პუნქტიდან გამოსვლისთვის საჭირო მანევრის შესრულება. სამარშრუტო სატრანსპორტო საშუალების მძღოლი ვალდებულია მოძრაობის განახლების განზრახვის შესახებ მოხვედრის შეუ-მაჩვენებლით სიგნალის მიცემის შემდეგ მიიღოს საგზაო-სატრანსპორტო შემთხვევის თავიდან აცილებისთვის საჭირო სიფრთხილის ზომები და მოძრაობა დაიწყოს მხოლოდ მას შემდეგ, რაც დარწმუნდება, რომ სხვა სატრანსპორტო საშუალებები გზას უთმობენ.



Анхартатыჲ აფы ахыц ахырхартала аитатра аан, амаршруттә атранспорттә хархәага арныкәаф аангылартакынтә аитатра далагазар, абарт амашынакәа рырныкәаџәа ркынтә амџа атара зыхәтадаҭ

1

Амашына лас арныкәаф

2

Амаршруттә атранспорттә хархәага арныкәаф

განმარტება:

„საგზაო მოძრაობის შესახებ“ საქართველოს კანონის 41-ე მუხლის პირველი პუნქტის თანახმად, ამ კანონის 33-ე მუხლის მე-4 პუნქტით დადგენილ მოთხოვნათა გათვალისწინებით, დასახლებულ პუნქტში სამარშრუტო სატრანსპორტო საშუალებისთვის მოძრაობის გასაადვილებლად სხვა სატრანსპორტო საშუალებების მძღოლებმა უნდა შეანელონ მოძრაობა და აუცილებლობის შემთხვევაში გაჩერდნენ, რათა სამარშრუტო სატრანსპორტო საშუალებამ შეძლოს გასაჩერებელი პუნქტიდან გამოსვლისთვის საჭირო მანევრის შესრულება. სამარშრუტო სატრანსპორტო საშუალების მძღოლი ვალდებულია მოძრაობის განახლების განზრახვის შესახებ მოხვედრის შეუ-მაჩვენებლით სიგნალის მიცემის შემდეგ მიიღოს საგზაო-სატრანსპორტო შემთხვევის თავიდან აცილებისთვის საჭირო სიფრთხილის ზომები და მოძრაობა დაიწყოს მხოლოდ მას შემდეგ, რაც დარწმუნდება, რომ სხვა სატრანსპორტო საშუალებები გზას უთმობენ. ამავე კანონის 32-ე მუხლის პირველი პუნქტის თანახმად მძღოლმა, რომელსაც განზრახული აქვს რომელიმე მანევრის შესრულება, ეს მანევრი უნდა დაიწყოს მხოლოდ მას შემდეგ, რაც დარწმუნდება, რომ არ შეუქმნის საფრთხეს მის უკან, წინ და გვერდით როგორც თანმხვედრი, ისე საპირისპირო მიმართულებით მოძრავ საგზაო მოძრაობის მონაწილეებს, მათი მდებარეობის, მოძრაობის მიმართულებისა და სიჩქარის გათვალისწინებით.



არნიკაო ახი ახრხართალა ამაშყინა ატჳირა აზინ იმოუმაჲ

1


Азин имаџам

2

Азин имоуп

განმარტება:

„საგზაო მოძრაობის შესახებ“ საქართველოს კანონის 42-ე მუხლის „ა“ პუნქტის თანახმად, საგზაო ნიშნით აღნიშნულ გვირაბებში მოქმედებს შემდეგი წესი -მძღოლს ეკრძალება უკუსვლით მოძრაობა ან მობრუნება.



Иарбоу атагылазаашьафы амашьына лас арныкәә еиҥкыарада аитатпра анагзара азин имоумаҥ

1


Азин имоуп

2

Азин имазам

განმარტება:

„საგზაო მოძრაობის შესახებ“ საქართველოს კანონის 25-ე მუხლის მე-4 პუნქტის თანახმად, მძღოლმა, რომელიც მოძრაობის მიმართულების შესაბამისი მხრიდან სათანადო წესით მონიშნულ გაჩერებაზე მყოფი სამარბრუტო სატრანსპორტო საშუალებისთვის გვერდის ავლას აპირებს, უნდა შეამციროს სიჩქარე და, აუცილებლობის შემთხვევაში, გაჩერდეს, რათა უზრუნველყოს მგზავრების საზოგადოებრივ ტრანსპორტში უსაფრთხო ჩასხდომის ან იქიდან გადმოსხდომის შესაძლებლობა.



Анхартатә пункт аҧы амаршруттә автобус арныкәаҭ иагҭаҭоу аангылартакынтә аитатра далагозар, ахыц ахырхартала аитатра аан аҧыжәара змадаҭ

1


Амашына лас арныкәаҭ

2

Автобус арныкәаҭ

განმარტება:

„საგზაო მოძრაობის შესახებ“ საქართველოს კანონის 41-ე მუხლის პირველი პუნქტის თანახმად, ამ კანონის 33-ე მუხლის მე-4 პუნქტით დადგენილ მოთხოვნათა გათვალისწინებით, დასახლებულ პუნქტში სამარშრუტო სატრანსპორტო საშუალებისთვის მოძრაობის გასაადვილებლად სხვა სატრანსპორტო საშუალებების მძღოლებმა უნდა შეანელონ მოძრაობა და აუცილებლობის შემთხვევაში გაჩერდნენ, რათა სამარშრუტო სატრანსპორტო საშუალებამ შეძლოს გასაჩერებელი პუნქტიდან გამოსვლისთვის საჭირო მანევრის შესრულება. სამარშრუტო სატრანსპორტო საშუალების მძღოლი ვალდებულია მოძრაობის განახლების განზრახვის შესახებ მოხვედრის შეუმაჩვენებლით სიგნალის მიცემის შემდეგ მიიღოს საგზაო-სატრანსპორტო შემთხვევის თავიდან აცილებისთვის საჭირო სიფრთხილის ზომები და მოძრაობა დაიწყოს მხოლოდ მას შემდეგ, რაც დარწმუნდება, რომ სხვა სატრანსპორტო საშუალებები გზას უთმობენ.



Абарт атранспорттә хархәагақәа рырныкәащәа ркынтә ахыц ахырхартала аитатра азин змадаҕ

1

Амотоциклкәа рырныкәащәа мацара

2


Аидаратә машына арныкәащәа затәы

3

Атранспорттә хархәагақәа рыхҕагы
рырныкәащәа

განმარტება:

„საგზაო მოძრაობის შესახებ“ საქართველოს კანონის 31-ე მუხლის მე-14 პუნქტის თანახმად, დასაშვებია მოძრაობის ზოლზე მოპედების ან/და უეტლო მოტოციკლების თანმხვედრი მიმართულებით ორ რიგად მოძრაობა. ამავე მუხლის მე-15 პუნქტის თანახმად ამ კანონის 32-ე მუხლის მე-6 პუნქტით დადგენილ მოთხოვნათა გათვალისწინებით, მოძრაობა ნებადართულია თანმხვედრი მიმართულების ტრამვაის ლიანდაგზე, რომელიც მარცხენა მხარეს სავალ ნაწილთან ერთ დონეზე მდებარეობს, თუ თანმხვედრი მიმართულებით მოძრაობისთვის განკუთვნილი ყველა მოძრაობის ზოლი დაკავებულია, აგრეთვე დაბრკოლების შემოვლის ან გასწრების, ან მარცხნივ მოხვევის ან მობრუნების დროს. ამასთანავე, ტრამვაის მოძრაობას არ უნდა შეექმნას დაბრკოლება. საპირისპირო მიმართულების ტრამვაის ლიანდაგზე გასვლა აკრძალულია.



Абарт атранспорттә хархәагақәа рырныкәащәа ркынтә ахыц ахырхартала аитатра азин змамдаҥ

1

Амашына дежь арныкәаҭ

2

Аидаратә машына арныкәаҭ

3

Иаханы ирго амашына арныкәаҭ

4

Азәгы

განმარტება:

„საგზაო მოძრაობის შესახებ“ საქართველოს კანონის 31-ე მუხლის მე-7 პუნქტის თანახმად, სამი მოძრაობის ზოლის მქონე (გარდა 1.9 საგზაო მონიშვნისა) ორმხრივმოძრაობიან გზაზე სატრანსპორტო საშუალების მძღოლი არ უნდა გადავიდეს სავალი ნაწილის განაპირა ზოლზე, სადაც საპირისპირო მიმართულების მოძრაობა ხორციელდება. თუ სამი მოძრაობის ზოლის მქონე გზაზე შუა ზოლი ორივე მიმართულებით მოძრაობისათვის გამოიყენება, ამ ზოლზე გასვლა ნებადართულია მხოლოდ გასწრების, დაბრკოლების შემოვლის, მარცხნივ მოხვევის ან მობრუნების მიზნით. ამავე კანონის პირველი დანართის მე-3 თავის (ამკრძალავი ნიშნები) 3.7 პუნქტის თანახმად, საგზაო ნიშანი 3.7 „მისაბმელით მოძრაობა აკრძალულია“ - კრძალავს ყველა სახის მისაბმელიანი სატვირთო ავტომობილითა და მისაბმელიანი ტრაქტორით მოძრაობას, აგრეთვე მექანიკური სატრანსპორტო საშუალების ბუქსირებას.

ВОПРОС 336

ПРАВИЛЬНЫЙ ОТВЕТ: 1

Заанкылага п̄хастоу амеханикат̄ атранспортт̄ харх̄аага афактт̄и амасса иаханы изго атранспортт̄ харх̄аага афактт̄и амасса абжа еихазар, уи иаханы агараЖ

1

Икалом

2

Икалоит

განმარტება:

„საგზაო მოძრაობის შესახებ“ საქართველოს კანონის 45-ე მუხლის მე-6 პუნქტის „გ“ ქვეპუნქტის თანახმად, აკრძალულია ბუქსირება უმოქმედო სამუხრუჭო სისტემის მქონე მექანიკური სატრანსპორტო საშუალებისა, თუ მისი ფაქტობრივი მასა მობუქსირე სატრანსპორტო საშუალების ფაქტობრივი მასის ნახევარს აღემატება, ხოლო თუ მასა ნაკლებია, ბუქსირება დასაშვებია მხოლოდ ხისტი გადაბმით ან ნაწილობრივი დატვირთვით.

ВОПРОС 337

ПРАВИЛЬНЫЙ ОТВЕТ: 3

Иаханы ирго амеханикат̄ атранспортт̄ харх̄аага уахиეენი иაფაკызароупЖ

1

Ахыш̄аарат̄ алашара

2

Ааиг̄а изырлашо амашынаблақ̄а

3

Амаш̄აырт̄ алашарат̄ ардырга

განმარტება:

„საგზაო მოძრაობის შესახებ“ საქართველოს კანონის 45-ე მუხლის მე-7 პუნქტის თანახმად, დღე-ღამის ნებისმიერ პერიოდში მობუქსირე მექანიკურ სატრანსპორტო საშუალებას ჩართული უნდა ჰქონდეს ახლო განათების ფარები, საბუქსირო მექანიკურ სატრანსპორტო საშუალებას ჩართული უნდა ჰქონდეს საავარიო შუქსიგნალიზაცია, ხოლო მისი არარსებობის ან გაუმართაობის შემთხვევაში ამ ტრანსპორტის უკანა ნაწილზე უნდა დამაგრდეს საავარიო გაჩერების ნიშანი.

ВОПРОС 338

ПРАВИЛЬНЫЙ ОТВЕТ: 2

Ауаа иахьнымхо атыџаџы, џеганктџи аитатџра змоу, айкџшаратџ цџахџџи ашьаџкамџџи иахьыџкам амџаџы, напыла амаланыџкџа ма ампед имџанызго ахаџы деитатџроупџ

1

Амџасыртџа армарахьтџи аганала

2

Амџасыртџа арџьарахьтџи аганала

3

Иарбанзаалак аитатџратџ цџахџџала

განმარტება:

„საგზაო მოძრაობის შესახებ“ საქართველოს კანონის 24-ე მუხლის მე-5 პუნქტის თანახმად, დაუსახლებელ პუნქტში, იმ ორმხრივმოძრაობიან გზაზე, რომელსაც არ აქვს გამყოფი ზოლი და ტროტუარი, ქვეითმა უნდა დაიკავოს მოძრაობის მიმართულების საწინააღმდეგო მხარეს მდებარე გვერდულა, ხოლო მისი არარსებობის ან გამოყენების შეუძლებლობის შემთხვევაში — გზის სავალი ნაწილის მარცხენა მხარე და გადაადგილდეს მოძრაობის მიმართულების საწინააღმდეგოდ (გარდა იმ შემთხვევისა, როცა მოცემულ სიტუაციაში გზის სავალი ნაწილის მარცხენა მხარეს მოძრაობის მიმართულებით გადაადგილება უფრო უსაფრთხოა), მაგრამ ველოსიპედის, მოპედის ან მოტოციკლის ხელით გადამყვანმა, აგრეთვე სავარძელ-ეტლით მოძრაობა შეზღუდული შესაძლებლობის მქონე პირმა გადაადგილების მიზნით უნდა დაიკავონ გზის სავალი ნაწილის მარცხენა მხარე.

ВОПРОС 339

ПРАВИЛЬНЫЙ ОТВЕТ: 2

Кыртџџылатџи амџаџџа зегьы рџы аитатџра ахырхартџ ишьаџџгылоупџ

1

Армарахьтџи аганала

2

Арџьарахьџтџи аганала

3

Армарахьтџი, იარა უბას, არџьарахьтџი აგანკџა რыла

განმარტება:

„საგზაო მოძრაობის შესახებ“ საქართველოს კანონის 31-ე მუხლის პირველი პუნქტის თანახმად, საქართველოს ყველა გზაზე მოძრაობის მიმართულებად დადგენილია მარჯვენა მხარეს მოძრაობა.

ВОПРОС 340

ПРАВИЛЬНЫЙ ОТВЕТ: 2

Амѡათѣ аитѡцра аиѣкаарала уаха акгы иазѣхѡаѣтамзар, ѡба ма хѣмѡеисыртѡკ змоу амѡაѣы, атранспорттѣ хархѡага арныкѡაѡ азин имамЖ

1

Инамѡათѣны иѡо аитѡцратѣ аганала амѡასырტაѣы аитѡцратѣ цѡახѡა аѣსახრა

2

Еиѣынгыланы иѡо аитѡцратѣ аганала амѡასырტა алалара

განმარტება:

„საგზაო მოძრაობის შესახებ“ საქართველოს კანონის 31-ე მუხლის მე-6 პუნქტის თანახმად, თუ საგზაო მოძრაობის ორგანიზებით სხვა რამ არ არის გათვალისწინებული, ორი ან სამი სავალი ნაწილის მქონე გზაზე, სატრანსპორტო საშუალების მძღოლს ეკრძალება საპირისპირო მიმართულების მოძრაობის მხარის სავალ ნაწილზე გასვლა.

ВОПРОС 341

ПРАВИЛЬНЫЙ ОТВЕТ: 1

Иარბანзаалаკ маниоврк назыгзар зტаху арныкѡაѡ, ამანიовრ დაღაგაროуп აგѣრა ნიგალაკЖ

1

უი იაѣხѡა, იშѣტახѣ, მა ივარა, იმѡათѣны მა ეიѣынгыლаны ეიტѡცუა ამѡათѣ აიტѡцრა ალახѣylaцѡა აშѡარტა იშტაიმьргыло, ურტ რტყჴი, რეიტѡцრა ახырхარტეი, რylасреи იაიზѣхѡაѣათаны

2

უი იშѣტახѣ მა ივარა ეიტѡცუა атранспорттѣ хархѡаგაқѡა აშѡარტა იშტაიмьргыло, აიტѡцრა ახырхარტეи ალასреи იაიზѣхѡაѣათаны

განმარტება:

„საგზაო მოძრაობის შესახებ“ საქართველოს კანონის 32-ე მუხლის პირველი პუნქტის თანახმად, მძღოლმა, რომელსაც განზრახული აქვს რომელიმე მანევრის შესრულება, ეს მანევრი უნდა დაიწყოს მხოლოდ მას შემდეგ, რაც დარწმუნდება, რომ არ შეუქმნის საფრთხეს მის უკან, წინ და გვერდით როგორც თანმხვედრი, ისე საპირისპირო მიმართულებით მოძრავ საგზაო მოძრაობის მონაწილეებს, მათი მდებარეობის, მოძრაობის მიმართულებისა და სიჩქარის გათვალისწინებით.

ВОПРОС 342

ПРАВИЛЬНЫЙ ОТВЕТ: 1

Еиқәыпхьызоу атыпқәа ркынтә атәира азин икоупЖ

1

Амәеихысыртақәа рҭы

2

Ацхеи, амәа ахысыртеи, аестакадеи уи
атәкеи рҭы

3

Аихамәа ахысыртаҭы

4

Ахапкылтәаҭы

განმარტება:

„საგზაო მოძრაობის შესახებ“ საქართველოს კანონის 32-ე მუხლის მე-15 პუნქტის „ბ“, „გ“ და „დ“ ქვეპუნქტების თანახმად, აკრძალულია სატრანსპორტო საშუალების მოძრუნება: ბ) გვირაბში; გ) ხიდზე, გზაგამტარზე, ესტაკადაზე და მათ ქვეშ; დ) რკინიგზის გადასასვლელზე.

ВОПРОС 343

ПРАВИЛЬНЫЙ ОТВЕТ: 4

Шәәра шәмашына аҭхьа ицо аидаратә машына арныкәаф, арҭьарахь, зымәеисырта тшәоу амәашка
дыбжьалар итахызар, шәәра иазпхьагәашәтароупЖ

1

Атранспорттә хархәага абжьаларатә радиус
ду ахьамоу аҭынтә, уи абжьаларта аҭхьа
армарахь деитатыр илшоит

2

Уи иласра ирмачуеит

3

Амәасырта иахысуа ашьақауаа амәа
иахьрито аҭынтә, уи даәа мәак ахь
дыбжьалаанза даангылар илшоит

4

Абри абилет аҭы еиқәыпхьазоу
иарбанзаалак атагылазаашьа цәыртыр
шыкало

განმარტება:

თუ თქვენი სატრანსპორტო საშუალების წინ მიმავალი სატვირთო ავტომობილის მძღოლი აპირებს მარჯვნივ შეუხვიოს ვიწრო სავალი ნაწილის მქონე ქუჩაზე თქვენ უნდა გაითვალისწინოთ, რომ სატრანსპორტო საშუალების დიდი მოხვევის რადიუსის გამო ის უშუალოდ მოსახვევის წინ შეიძლება გადაადგილდეს მარცხნივ, ასევე შეიძლება მკვეთრად შეამციროს სიჩქარე და გადამავალი ქვეითების გზის დათმობის გამო შეიძლება გაჩერდეს მოხვევის შესრულების დროს.

Цага еиқыпхыажоу атагылазашыақаа ркынтә руа иарбан арныкәаџ атәиира аманиовр далагаанза алашаратә арбагала ма напала ардырга акатцара нихәтамџ

1

Уи иашьтахь даџа транспорттә хархәагак ианейтамцуа мацара.

2

Уи ирдырга амџатә аитатцра егырт алахәылацәа рымџа ианахнакьо мацара.

3

Абри абилет аџы еиқыпхыажоу атагылазашыақаа зегьы раан.

განმარტება:

„საგზაო მოძრაობის შესახებ“ საქართველოს კანონის 32-ე მუხლის მე-2 პუნქტის თანახმად, მანევრის დაწყებამდე მძღოლი ვალდებულია ჩართოს შესაბამისი მიმართულების მოხვევის შუქ-მაჩვენებელი, ხოლო თუ ის არ არის ან გამოსულია მწყობრიდან – ანიშნოს ხელით. მარცხნივ მოხვევის ან მობრუნების სიგნალს შეესაბამება გვერდზე ჰორიზონტალურად გაშვებული მარცხენა ხელი ან გვერდზე გაშვებული, იდაყვში სწორი კუთხით ზემოთ მოხრილი მარჯვენა ხელი. მარჯვნივ მოხვევის სიგნალს შეესაბამება გვერდზე ჰორიზონტალურად გაშვებული მარჯვენა ხელი ან გვერდზე გაშვებული, იდაყვში სწორი კუთხით ზემოთ მოხრილი მარცხენა ხელი. დამუხრუჭების სიგნალს შეესაბამება ზემოთ ვერტიკალურად აწეული მარცხენა ან მარჯვენა ხელი. მოხვევის შუქ-მაჩვენებლით ან ხელით სიგნალი მიცემული უნდა იქნეს დროულად, მანევრის დაწყების წინ და უნდა შეწყდეს დაუყოვნებლივ, მისი დასრულებისთანავე (სიგნალის ხელით მიცემა შეიძლება შეწყდეს უშუალოდ მანევრის დაწყების წინ). ამასთანავე, სიგნალმა არ უნდა შეაცდინოს სხვა საგზაო მოძრაობის მონაწილეები.

თემა 16:

გასწრება შემხვედრი ტრანსპორტის გვერდის
ავლით



Иარბოუ ათაгылазашыаџы амашыына лас арныкџаа аџысра азин имоумаџ

1


Азин имаџам

2

Азин имоуп

განმარტება:

„საგზაო მოძრაობის შესახებ“ საქართველოს კანონის 34-ე მე-9 პუნქტის „ბ“ ქვეპუნქტის თანახმად, ამ მუხლის მე-3 პუნქტით დადგენილ მოთხოვნათა გათვალისწინებით გასწრება აკრძალულია რკინიგზის გადასასვლელზე და მის წინ 100 მეტრზე ახლოს, გარდა იმ შემთხვევისა, როცა ამ ადგილებზე მოძრაობა რეგულირდება ისეთი ტიპის შუქნიშნით, რომელიც გზაჯვარედინებზე გამოიყენება.



Амашына лас арныкææ ахыц ахырхартала аитатра анагзара азин имоумаӔ

1

Азин имоуп

2

Азин имазам

განმარტება:

„საგზაო მოძრაობის შესახებ“ საქართველოს კანონის 31-ე მუხლის მე-18 პუნქტის თანახმად, ამ კანონის 37-ე მუხლის პირველი პუნქტითა და 43-ე მუხლის მე-2 პუნქტით გათვალისწინებული შემთხვევების გარდა, აკრძალულია მექანიკური სატრანსპორტო საშუალების მოძრაობა გვერდულაზე, ველოსიპედის მოძრაობის ზოლზე, ველობილიკზე, ტროტუარსა და ქვეითთა ბილიკზე. მოძრაობის უსაფრთხოების ზომების დაცვით ნებადართულია უშუალოდ გვერდულასთან, ველოსიპედის მოძრაობის ზოლთან, ველობილიკთან, ტროტუართან და ქვეითთა ბილიკთან განლაგებულ სანარმოსა და ობიექტთან ტვირთის მიმტანი მექანიკური სატრანსპორტო საშუალების უმოკლესი გზით მიდგომა, თუ ამისათვის სხვა შესაძლებლობა არ არსებობს. ამ პუნქტით დადგენილი აკრძალვა არ ვრცელდება საგზაო-საექსპლუატაციო და კომუნალური სამსახურების სატრანსპორტო საშუალებებზე.



Иатцоу амашына лас арныкәә ахыц ахырхартала аҭысра азин имоумаҭ

1


Азин имоуп

2

Азин имазам

განმარტება:

„საგზაო მოძრაობის შესახებ“ საქართველოს კანონის 34-ე მუხლის მე-9 პუნქტის „ა“ და „ა.ბ“ ქვეპუნქტების თანახმად, ამ მუხლის მე-3 პუნქტით დადგენილ მოთხოვნათა გათვალისწინებით გასწრება აკრძალულია წრიულმოძრაობიანი გზაჯვარედინისაგან განსხვავებულ გზაჯვარედინზე ან უშუალოდ ამ გზაჯვარედინის წინ, გარდა იმ შემთხვევისა, როდესაც გასწრება ხორციელდება გზაზე, რომელზე მოძრაობის დროსაც მძღოლს ენიჭება გზაჯვარედინზე უპირატესი მოძრაობის უფლება. ამავე კანონის მე-2 დანართის 1.5 პუნქტის თანახმად ჰორიზონტალური საგზაო მონიშვნა 1.5 ყოფს საპირისპირო მიმართულებით მოძრავ სატრანსპორტო ნაკადებს გზაზე, რომელსაც მოძრაობის ორი ან სამი ზოლი აქვს; აღნიშნავს მოძრაობის ზოლის საზღვარს ერთი მიმართულებით მოძრაობისათვის განკუთვნილი ორი და მეტი ზოლის არსებობისას. 1.5 ხაზის გადაკვეთა ნებადართულია ნებისმიერი მხრიდან.



Ицәышу амашына лас арныкәаф ахыц ахырхартала аҟысра азин имоумаҭ

1

Азин имоуп

2

Азин имазам

განმარტება:

„საგზაო მოძრაობის შესახებ“ საქართველოს კანონის 34-ე მუხლის მე-9 პუნქტის „ა“ და „ა.ბ“ ქვეპუნქტების თანახმად, ამ მუხლის მე-3 პუნქტით დადგენილ მოთხოვნათა გათვალისწინებით გასწრება აკრძალულია წრიულმოძრაობიანი გზატკარედინისაგან განსხვავებულ გზატკარედინზე ან უშუალოდ ამ გზატკარედინის წინ, გარდა იმ შემთხვევისა, როდესაც გასწრება ხორციელდება გზაზე, რომელზე მოძრაობის დროსაც მძღოლს ენიჭება გზატკარედინზე უპირატესი მოძრაობის უფლება. ამავე კანონის მე-2 დანართის პირველი თავის 1.1 პუნქტის თანახმად ჰორიზონტალური საგზაო მონიშვნა 1.1. ყოფს საპირისპირო მიმართულებით მოძრავ სატრანსპორტო ნაკადებს და გზის სახიფათო მონაკვეთზე აღნიშნავს მოძრაობის ზოლის საზღვარს ან სავალი ნაწილის საზღვარს, რომელზე შესვლაც აკრძალულია; აღნიშნავს სატრანსპორტო საშუალების დგომის ადგილის საზღვარს და იმ გზის სავალი ნაწილის ნაპირს, რომელიც მოძრაობის პირობებით არ განეკუთვნება ავტომაგისტრალს. 1.1 ხაზის გადაკვეთა აკრძალულია. დასაშვებია სავალი ნაწილის ნაპირის აღმნიშვნელი და მძღოლის მარჯვენა მხარეს განლაგებული 1.1 ხაზის გადაკვეთა სატრანსპორტო საშუალების გზის ნაპირზე გასაჩერებლად.



Амашына лас арныкææ ахыц ахырхартала аитатра анагзара азин имоума

1

Азин имоуп

2

Азин имазам

პანმარტეზა:

„საგზაო მოძრაობის შესახებ“ საქართველოს კანონის 34-ე მუხლის მე-9 პუნქტის „ბ“ ქვეპუნქტის თანახმად, ამ მუხლის მე-3 პუნქტით დადგენილ მოთხოვნათა გათვალისწინებით გასწრება აკრძალულია რკინიგზის გადასასვლელზე და მის წინ 100 მეტრზე ახლოს, გარდა იმ შემთხვევისა, როდესაც ამ ადგილებში მოძრაობა რეგულირდება ისეთი ტიპის შეწყნებით, რომელიც გზაჯვარედინებზე გამოიყენება. ამავე კანონის პირველი დანართის პირველი თავის (მაფრთხილებელი ნიშნები) 1.1 პუნქტის თანახმად საგზაო ნიშანი 1.1. „რკინიგზის შლაგბაუმიანი გადასასვლელი“ – იძლევა გაფრთხილებას რკინიგზის შლაგბაუმიან გადასასვლელთან მიახლოების თაობაზე. ამავე თავის შენიშვნის „ბ“ ქვეპუნქტის თანახმად ნიშნები 1.1, 1.2, 1.10, 1.11, 1.23, 1.24 და 1.26 ნიშნები მეორდება დაუსახლებელ პუნქტში, ხოლო 1.24 და 1.26 ნიშნები – დასახლებულ პუნქტშიც. მეორე ნიშანი იდგმება სახიფათო მონაკვეთის დასაწყისიდან არანაკლებ 50 მეტრ მანძილზე.



Амашына лас арныкѣаф ахыц ахырхартала деитатыр, амѣатѣ аитатѣра атцаскѣа еилеигомаѢ

1

Еилеიგოит

2

Еилეიგაჲომ

განმარტება:

„საგზაო მოძრაობის შესახებ“ საქართველოს კანონის 25-ე მუხლის მე-2 პუნქტის „ბ“ ქვეპუნქტის თანახმად . ქვეითთა გადასასვლელზე ამ კანონის 21-ე მუხლის მე-6 პუნქტით, 33-ე მუხლის მე-2 პუნქტითა და 34-ე მუხლის მე-11 პუნქტით დადგენილ მოთხოვნათა დაცვით უნდა შესრულდეს შემდეგი მოთხოვნები: ბ) თუ სატრანსპორტო საშუალებათა მოძრაობა არ რეგულირდება არც საგზაო შექნიშნით და არც მარეგულირებლის მეშვეობით, მძღოლმა ქვეითთა გადასასვლელთან მიახლოებისას სათანადოდ უნდა შეამციროს სიჩქარე, რათა საფრთხე არ შეუქმნას ამ გადასასვლელზე შესულ ან შემავალ ქვეითებს, ხოლო საჭიროების შემთხვევაში უნდა გაჩერდეს და გაატაროს ქვეითები. ამავე კანონის 34-ე მუხლის მე-11 პუნქტის თანახმად, სატრანსპორტო საშუალებას შეუძლია იმ სატრანსპორტო საშუალებას, რომელიც უახლოვდება ქვეითთა გადასასვლელს ან რომელიც შეჩერდა უშუალოდ ამ გადასასვლელის წინ, გაუსწროს მხოლოდ საკმარისად შემცირებული სიჩქარით, რათა უზრუნველყოს დროული გაჩერება გადასასვლელზე ქვეითის აღმოჩენის შემთხვევაში. აკრძალულია ქვეითთა გადასასვლელზე გასწრება, თუ მასზე ქვეითი მოძრაობს.

Ашыақауа амға ахысра дахымзазар, даангылар калоитЖ

1

Ашәартадара адгьылбжьахалафь

2

Аиҭынгыларатә хырхартала еитатҭуа
атранспорттә аишьтагыла аикәшаратә
цаахәафь

3

Ашәартадара адгьылбжьахалафь, иара убас,
аиҭынгыларатә хырхартала еитатҭуа
атранспорттә аишьтагыла аикәшаратә
цаахәафь

განმარტება:

„საგზაო მოძრაობის შესახებ“ საქართველოს კანონის 24-ე მუხლის მე-10 პუნქტის თანახმად, ქვეითი, რომელმაც ვერ მოასწრო გზაზე გადასვლა, უნდა შეჩერდეს უსაფრთხოების კუნძულზე, ურთიერთსაპირისპირო მიმართულებით მოძრავი სატრანსპორტო ნაკადების გამყოფ ზოლზე ან ხაზზე და გადასვლა უნდა გააგრძელოს მხოლოდ შემდგომი მოძრაობის უსაფრთხოებაში დარწმუნების შემდეგ, შექნიშნის ან მარეგულირებლის სიგნალების გათვალისწინებით.



Амашына лас арныкәә ахыц ахырхартала аҥысра азин имоумаҥ

1


Амашына лас арныкәә ахыц ахырхартала аҥысра азин имоумаҥ

2

Азин имоуп

განმარტება:

„საგზაო მოძრაობის შესახებ“ საქართველოს კანონის 34-ე მუხლის მე-9 პუნქტის „ა.ბ“ ქვეპუნქტის თანახმად, ამ მუხლის მე-3 პუნქტით დადგენილ მოთხოვნათა გათვალისწინებით გასწრება აკრძალულია წრიულმოძრაობიანი გზაჯვარედინისაგან განსხვავებულ გზაჯვარედინზე ან უშუალოდ ამ გზაჯვარედინის წინ, გარდა იმ შემთხვევისა, როდესაც გასწრება ხორციელდება გზაზე, რომელზე მოძრაობის დროსაც მძღოლს ენიჭება გზაჯვარედინზე უპირატესი მოძრაობის უფლება. ამავე მუხლის მე-10 პუნქტის თანახმად ამ მუხლის მე-9 პუნქტის „ა“ და „ბ“ ქვეპუნქტებით განსაზღვრული აკრძალვები არ ვრცელდება ორთვლიანი ველოსიპედის, მოპედისა და ორთვლიანი უეტლო მოტოციკლის გასწრების შემთხვევებზე.



Амашына лас арныкææ ахыц ахырхартала афысра азин имоумаӢ

1

Азин имазам

2

Азин имоуп

განმარტება:

„საგზაო მოძრაობის შესახებ“ საქართველოს კანონის 34-ე მუხლის მე-9 პუნქტის „ა.ბ“ ქვეპუნქტის თანახმად, ამ მუხლის მე-3 პუნქტით დადგენილ მოთხოვნათა გათვალისწინებით გასწრება აკრძალულია წრიულმოძრაობიანი გზაჯვარედინისაგან განსხვავებულ გზაჯვარედინზე ან უშუალოდ ამ გზაჯვარედინის წინ, გარდა იმ შემთხვევისა, როდესაც გასწრება ხორციელდება გზაზე, რომელზე მოძრაობის დროსაც მძღოლს ენიჭება გზაჯვარედინზე უპირატესი მოძრაობის უფლება. ამავე მუხლის მე-10 პუნქტის თანახმად ამ მუხლის მე-9 პუნქტის „ა“ და „ბ“ ქვეპუნქტებით განსაზღვრული აკრძალვები არ ვრცელდება ორთვლიანი ველოსიპედის, მოპედისა და ორთვლიანი უეტლო მოტოციკლის გასწრების შემთხვევებზე.



Ашыакауаа армарахьтәи аган акынтә амџа ахысра далагазар, амашына шкәакәа арныкәаа ахыц ала иарбоу аманиовр наигзар амџатә аитатра атаскәа еилеигомаџ

1

Еилеიგოит

2

Еилеიგაჟომ

განმარტება:

„საგზაო მოძრაობის შესახებ“ საქართველოს კანონის 34-ე მუხლის მე-11 პუნქტის თანახმად, სატრანსპორტო საშუალებას შეუძლია იმ სატრანსპორტო საშუალებას, რომელიც უახლოვდება ქვეითთა გადასასვლელს ან რომელიც შეჩერდა უშუალოდ ამ გადასასვლელის წინ, გაუსწროს მხოლოდ საკმარისად შემცირებული სიჩქარით, რათა უზრუნველყოს დროული გაჩერება გადასასვლელზე ქვეითის აღმოჩენის შემთხვევაში. აკრძალულია ქვეითთა გადასასვლელზე გასწრება, თუ მასზე ქვეითი მოძრაობს.

Арныкәәд, аҭысра далагаанза, абри аҭагылазашыа шыҕам агәра игароупЖ

1

Иара ишьтагыланы ицо амашынакәа
рырныкәәдцәа ркынтә азәгы аҭысра игәы
иҭам

2

Аитатра абри ацәахәатәкәа даныланы
иаҭхәа ицо амашына арныкәәд даәа
машынак даҭысырц шитаху ардырга
каимҭацт

3

Диасыр иахыҭаху аитатратә цәахәа
ианыланы иаҭхәа ицо амашынакәа ркынза
акырбжьоуп, урт рыласра иахьдуум акынтә,
ирласзаны раҭысра илшоит

4

Абри абилет аҭы еикәыҭхьажоу
аҭагылазашыақәа зегы раан.

განმარტება:

„საგზაო მოძრაობის შესახებ“ საქართველოს კანონის 34-ე მუხლის მე-3 პუნქტის „ა“, „ბ“ და „გ“ ქვეპუნქტების თანახმად, გასწრების დაწყებამდე მძღოლი, ისე, რომ არ დაარღვიოს ამ კანონის მე-20 მუხლის მე-2 პუნქტითა და 32-ე მუხლით დადგენილი მოთხოვნები, უნდა დარწმუნდეს, რომ: ა) მის უკან მომავალი არცერთი სატრანსპორტო საშუალების მძღოლს გასწრება არ დაუწყია; ბ) მოძრაობის იმავე ზოლზე მის წინ მიმავალი სატრანსპორტო საშუალების მძღოლს არ მიუცია სიგნალი, რომ აპირებს, გაუსწროს სხვა სატრანსპორტო საშუალებას. აკრძალულია იმ სატრანსპორტო საშუალების გასწრება, რომელიც ახორციელებს გასწრე-ბას ან დაბრკოლების შემოვლას; გ) მას შეუძლია გასწრება ისე განახორციელოს, რომ არ შეუქმნას საფრთხე ან დაბრკოლება სხვა საგზაო მოძრაობის მონაწილეებს. იგი აგრეთვე უნდა დარწმუნდეს, რომ მოძრაობის ზოლი, რომელზედაც აპირებს გასვლას, საკმარის მანძილზე თავისუფალია და ორი სატრანსპორტო საშუალების სიჩქარეთა ფარდობა საკმარისად მოკლე დროში გასწრების საშუალებას იძლევა.

ВОПРОС 356

ПРАВИЛЬНЫЙ ОТВЕТ: 2

Аტრანსპორტზე ხარჯება არნიჭებ არჯერაჟთე აგანაჟინტე აჟყსრა აზინ იმოუმაჟ

1

Азин имаџам

2

Азин имоуп, иаჟჟა იცო амашына
арныџа армараჟ ატჟира шитаჟу азы
ардырга катцаны, даџа мџак давалар, ма
амџа иаჟну ацакыра далалар ма уа
даангылар

განმარტება:

„საგზაო მოძრაობის შესახებ“ საქართველოს კანონის 34-ე მუხლის პირველი პუნქტის თანახმად, გასწრება უნდა განხორციელდეს მარცხენა მხრიდან. მარჯვენა მხრიდან გასწრება ნებადართულია იმ შემთხვევაში, თუ მძღოლმა, რომელსაც უსწრებენ, მისცა სიგნალი, რომ მარცხნივ მოხვევას აპირებს, და თავისი სატრანსპორტო საშუალება ისე მიმართა, რომ შეუხვიოს სხვა გზაზე ან შევიდეს გზის მიმდებარე ტერიტორიაზე ან გაჩერდეს ამ მხარეს.

ВОПРОС 357

ПРАВИЛЬНЫЙ ОТВЕТ: 1

Амџасыртаჟყ ცыдалა иазგџათоу ашыџакуаа рхысырта иазааигџахо, ма абри ахысырта аჟჟა иаангылаз
амашына аჟყსრა каломаჟ

1

Икалоит, ашыџакуаа рхысыртаჟყ ашыџакуаа
ыџამзар, аха амашына аласра ирмаџтџуп,
ахысыртаჟყ ашыџакуаа цџыртыр, амашына
аанкыларა аиџџыршџара амызла

2

Ашыџакуаа рхысыртаჟყ, иара убас,
ахысыртанза 100 метраკ иреитымკџа
шыбџьоу аჟყსრა калом

3

Икалоит, ауаа ахынымхо атыჟაჟყ маџара,
сааткала 60კმ. еиџаны амаксималტџ
аласрала аитатრა иахыџало амџაჟყ.

განმარტება:

„საგზაო მოძრაობის შესახებ“ საქართველოს კანონის 34-ე მუხლის მე-11 პუნქტის თანახმად, სატრანსპორტო საშუალებას შეუძლია იმ სატრანსპორტო საშუალებას, რომელიც უახლოვდება ქვეითთა გადასასვლელს ან რომელიც შეჩერდა უშუალოდ ამ გადასასვლელის წინ, გაუსწროს მხოლოდ საკმარისად შემცირებული სიჩქარით, რათა უზრუნველყოს დროული გაჩერება გადასასვლელზე ქვეითის აღმოჩენის შემთხვევაში. აკრძალულია ქვეითთა გადასასვლელზე გასწრება, თუ მასზე ქვეითი მოძრაობს.



Амашына лас арныкәә ахыц ахырхартала аҗысра азин имоумаҢ

1


Азин имазам

2

Азин имоуп

განმარტება:

„საგზაო მოძრაობის შესახებ“ საქართველოს 34-ე მუხლის მე-9 პუნქტის „დ“ ქვეპუნქტის თანახმად, ამ მუხლის მე-3 პუნქტით დადგენილ მოთხოვნათა გათვალისწინებით გასწრება აკრძალულია გასწრების ამკრძალავი ნიშნით ან მონიშვნით განსაზღვრულ ადგილზე. ამავე კანონის პირველი დანართის 3.20 პუნქტის თანახმად, საგზაო ნიშანი 3.20 „გასწრება აკრძალულია“ - კრძალავს ყველა სახის მექანიკური სატრანსპორტო საშუალების გასწრებას (გარდა 30 კმ/სთ-ზე ნაკლები სიჩქარით მოძრავი ტრანსპორტისა). ნებადართულია გასწრება უეტლო მოტოციკლის, მოპედისა და ველოსიპედის შემხვედრი მოძრაობის ზოლში გადაუსვლელად.



Ахыц ахырхартала аитатра аан абарт амашынакәа рырныкәаџәа ркынтә амџатә аитатра атцаскәа еилазгодаѢ

1

Амашына каҭшь арныкәаџ

2

Амашына еиқәатәа арныкәаџ

3

Аџемашынак рырныкәаџәа

განმარტება:

„საგზაო მოძრაობის შესახებ“ საქართველოს კანონის პირველი დანართის მე-ს თავის (ამკრძალავი ნიშანები) 3.20 პუნქტის თანახმად, საგზაო ნიშანი 3.20 „გასწრება აკრძალულია“ - კრძალავს ყველა სახის მექანიკური სატრანსპორტო საშუალების გასწრებას (გარდა 30 კმ/სთ-ზე ნაკლები სიჩქარით მოძრავი ტრანსპორტისა). ნებადართულია გასწრება უეტლო მოტოციკლის, მოპედისა და ველოსიპედის შემხვედრი მოძრაობის ზოლში გადაუსვლელად. ამავე კანონის 45-ე მუხლის მე-6 პუნქტის „დ“ ქვეპუნქტის თანახმად აკრძალულია ბუქსირება მოტოციკლით, გვერდითი მისაბმელის გარეშე, აგრეთვე ასეთი მოტოციკლის ბუქსირება.



Атрактор сааткала 25км., ამოპედ – საატკალა 35კმ. ალასრალა ეიტატუაზარ, აბარტ ამაშყნაჲა რყრნყჲაჲჲჲა რყნტჲ აჲყ აჲყრჲარტალა აიტატრა აზინ ჴმამდაჲ

1

Иატჲოუ ამაშყნა ლას არნყჲაჲ მაჲარა.

2

Автобус არნყჲაჲ მაჲარა.

3


Иატჲოუ ამაშყნა ლას არნყჲაჲი автобус არნყჲაჲი

4

Аჴგყ

განმარტება:

„საგზაო მოძრაობის შესახებ“ საქართველოს 34-ე მუხლის მე-9 პუნქტის „დ“ ქვეპუნქტის თანახმად, ამ მუხლის მე-3 პუნქტით დადგენილ მოთხოვნათა გათვალისწინებით გასწრება აკრძალულია გასწრების ამკრძალავი ნიშნით ან მონიშვნით განსაზღვრულ ადგილზე. ამავე კანონის პირველი დანართის 3.20 პუნქტის თანახმად, საგზაო ნიშანი 3.20 „გასწრება აკრძალულია“ - კრძალავს ყველა სახის მექანიკური სატრანსპორტო საშუალების გასწრებას (გარდა 30 კმ/სთ-ზე ნაკლები სიჩქარით მოძრავი ტრანსპორტისა). ნებადართულია გასწრება უეტლო მოტოციკლის, მოპედისა და ველოსიპედის შემხვედრი მოძრაობის ზოლში გადაუსვლელად.



Амотоцикл арныкәә ахыц ахырхартала аҗысра азин имоума, амашына лас даҗысырц азы уи сааткала 85км. аласрала аитатра икәшәарҥ

1


Азин имаџам

2

Азин имоуп

განმარტება:

„საგზაო მოძრაობის შესახებ“ საქართველოს კანონის 33-ე მუხლის მე-7 პუნქტის „ა“ ქვეპუნქტის თანახმად, გარდა ამ კანონით დადგენილი შემთხვევებისა, დაუსახლებელ პუნქტსა და დასახლებულ პუნქტში გზის იმ მონაკვეთზე, რომელზედაც შესაბამისი საგზაო ნიშნით მოძრაობა დაშვებულია 60 კმ/სთ-ზე მეტი სიჩქარით, ნებადართულია: ა) „A“ კატეგორიის, აგრეთვე „A1“ და „B1“ ქვეკატეგორიების სატრანსპორტო საშუალებების მოძრაობა ყველა გზაზე არაუმეტეს 80 კმ/სთ სიჩქარით.



Иарбоу амѡа ацыпѡѡахаѡы алапѡшбара цѡгѡазар, амотоцикл арныкѡаѡ ахыц ахырхартала аѡысра азин имоумаѢ

1


Азин имаѡам

2

Азин имоуп

განმარტება:

„საგზაო მოძრაობის შესახებ“ საქართველოს კანონის 34-ე მუხლის მე-9 პუნქტის „ე“ ქვეპუნქტის თანახმად, ამ მუხლის მე-3 პუნქტით დადგენილ მოთხოვნათა გათვალისწინებით გასწრება აკრძალულია შეზღუდული ხილვადობის პირობებში საპირისპირო მოძრაობის ზოლზე გასვლით. ამავე კანონის პირველი დანართის პირველი 1.12.2 პუნქტის თანახმად საგზაო ნიშანი 1.12.2, „სახიფათო მოსახვევი“ აღნიშნავს აღნიშნავს მცირე რადიუსიანი ან შეზღუდული ხილვადობის მქონე გზის სახიფათო მოსახვევს - მარცხნივ.



Иарбоუ ატაгылазашьафь, ак зыцрахѐу амотоцикл арныкѐа аҭынгыла акѐшара далагазар, абарт атранспорттѐ хархѐагакѐа рырныкѐаѐцѐа ркынтѐ ахыц ахырхартала аитатра азин змамдаҭ

1

Ак зыцрахѐуи ак иацрахѐуи амотоциклкѐа рырныкѐаѐцѐа

2

Амашьына лас арныкѐа

3

Ак зыцрахѐуи ак иацрахѐуи амотоциклкѐа рырныкѐаѐцѐеи, иара убас, амашьына лас арныкѐаѐи

პანმარტუბა:

„საგზაო მოძრაობის შესახებ“ საქართველოს კანონის 34-ე მუხლის მე-3 პუნქტის „ბ“ ქვეპუნქტის თანახმად, გასწრების დაწყებამდე მძღოლი, ისე, რომ არ დაარღვიოს ამ კანონის მე-20 მუხლის მე-2 პუნქტითა და 32-ე მუხლით დადგენილი მოთხოვნები, უნდა დარწმუნდეს, რომ მოძრაობის იმავე ზოლზე მის წინ მიმავალი სატრანსპორტო საშუალების მძღოლს არ მიუცია სიგნალი, რომ აპირებს, გაუსწროს სხვა სატრანსპორტო საშუალებას. აკრძალულია იმ სატრანსპორტო საშუალების გასწრება, რომელიც ახორციელებს გასწრე-ბას ან დაბრკოლების შემოვლას. ამავე მუხლის მე-9 პუნქტის „გ“ ქვეპუნქტის თანახმად, ამ მუხლის მე-3 პუნქტით დადგენილ მოთხოვნათა გათვალისწინებით გასწრება აკრძალულია იმ სატრანსპორტო საშუალებისა, რომელიც ახორციელებს გასწრე-ბას ან შემოვლას. ამავე კანონის 45-ე მუხლის მე-6 პუნქტის „დ“ ქვეპუნქტის თანახმად აკრძალულია ბუქსირება მოტოციკლით, გვერდითი მისაბმელის გარეშე, აგრეთვე ასეთი მოტოციკლის ბუქსირება.

ВОПРОС 364

ПРАВИЛЬНЫЙ ОТВЕТ: 3

Амѡაѣы аитатѣра аан арныѣѡаѣ иазѣѣхѣаѣеитароуп аѣысраан абѣеихан амашѣыр шыѣалоЖ

1

Адиѣанѣиа аилаѣара иахѣѣаны

2

Еиѣынѣыланы иѣо атранѣпорттѣ харѣѣаѣа атѣамѣара иахѣѣаны

3

Адиѣанѣиа аилаѣареи еиѣынѣыланы иѣо атранѣпорттѣ харѣѣаѣа атѣамѣареи ирыхѣѣаны

განმარტება:

„საგზაო მოძრაობის შესახებ“ საქართველოს კანონის 25-ე მუხლის მე-10 პუნქტის „მ“ ქვეპუნქტის თანახმად, გზაზე მოძრაობისას მძღოლმა უნდა გაითვალისწინოს შემდეგი გარემოებები: მ) გასწრებისას ყველაზე უფრო ხშირად ავარიული სიტუაცია იქმნება დისტანციის დაუცველობის მიზეზით და საპირისპირო მიმართულებით მოძრავი სატრანსპორტო საშუალებების მიმართ არასაკმარისი ყურადღების გამოჩენის გამო.

ВОПРОС 365

ПРАВИЛЬНЫЙ ОТВЕТ: 3

Амѡа армарахѣтѣи аган ала данавсуа ада, арныѣѡаѣ, иара ишьѣтахѣ иаауа арныѣѡаѣ аѣысра игѣы иштоу агѣра нигалак, иуалуп, изауа алаЖ

1

Амѣеисырѣа арѣѣарахѣтѣи аган азааигѣахара

2

Аласра аѣѣара

3

Амѣеисырѣа арѣѣарахѣтѣი аган азааигѣахара, иара убас, аласра аѣѣара.

განმარტება:

„საგზაო მოძრაობის შესახებ“ საქართველოს კანონის 34-ე მუხლის მე-12 პუნქტის თანახმად, მძღოლი, რომელიც დარწმუნდება, რომ მის უკან მომავალი მძღოლი აპირებს გასწრებას, გარდა ამ კანონის 32-ე მუხლის მე-7 პუნქტის „ბ“ ქვეპუნქტში გათვალისწინებული შემთხვევისა, შეძლებისდაგვარად უნდა მიუახლოვდეს გზის სავალი ნაწილის მარჯვენა კიდე და არ გაზარდოს სიჩქარე. ხოლო ამავე კანონის 32-ე მუხლის მე-7 პუნქტის „ბ“ ქვეპუნქტის თანახმად, სხვა გზაზე გასასვლელად ან გზის მიმდებარე ტერიტორიაზე შესასვლელად მარჯვნივ ან მარცხნივ მოხვევის წინ, ისე, რომ არ დაარღვიოს ამ კანონის მე-20 მუხლის მე-2 პუნქტითა და ამ მუხლის პირველი და მე-2 პუნქტებით დადგენილი მოთხოვნები, თუ სატრანსპორტო საშუალების მძღოლი აპირებს გზიდან გასვლას მარცხენა მხრიდან, სატრანსპორტო საშუალება, რამდენადაც ეს შესაძლებელია, უნდა მიუახლოვდეს გზის სავალი ნაწილის ღერძს (ორმხრივმოძრაობიან გზაზე) ან სავალი ნაწილის მარცხენა კიდე (ცალმხრივმოძრაობიან გზაზე).



Иарбоу атагылазашааҕы амашыына лас арныкһаа ахыц ахырхартала аҕысра азин имоумаҕ

1

Азин имазам

2

Азин имоуп

განმარტება:

„საგზაო მოძრაობის შესახებ“ საქართველოს კანონის 34-ე მე-9 პუნქტის „ბ“ ქვეპუნქტის თანახმად, ამ მუხლის მე-3 პუნქტით დადგენილი მოთხოვნების გათვალისწინებით, გასწრება აკრძალულია რკინიგზის გადასასვლელზე და მის წინ 100 მეტრზე ახლოს, გარდა იმ შემთხვევებისა, როცა ამ ადგილებში მოძრაობა რეგულირდება ისეთი ტიპის შექნიშნით რომელიც გზაჯვარედინებზე გამოიყენება. ამავე კანონის პირველი დანართის პირველი თავის (მაფრთხილებელი ნიშნები) 1.2 და 1.4.6-1.4.6 პუნქტების თანახმად საგზაო ნიშანი: 1.2 „რკინიგზის უშლავაუმო გადასასვლელი“ - აფრთხილებს უშლავაუმო რკინიგზის გადასასვლელთან მიახლოების შესახებ; 1.4.1 „რკინიგზის გადასასვლელთან მიახლოება“ - დამატებით აფრთხილებს მძღოლს დაუსახლებელ პუნქტში რკინიგზის გადასასვლელთან მიახლოების შესახებ. ამავე თავის შენიშვნის „ა“ და „ვ“ ქვეპუნქტების თანახმად: ა) ნიშნები 1.1, 1.2, 1.5–1.34 სახიფათო მონაკვეთის დასაწყისამდე იდგმება დაუსახლებელ პუნქტში 150-300 მეტრის მანძილზე. ვ) ნიშნები 1.4.1 და 1.4.4 იდგმება მოძრაობის მიმართულებით ძირითად და დუბლირებულ 1.1 ან 1.2 ნიშნებთან ერთად.

ВОПРОС 367

ПРАВИЛЬНЫЙ ОТВЕТ: 1

Изпысуа атранспорттә хархәага арныкәаџ, аласра аццарала ма даџакала апысра дапырхагахар азин
имоумаџ

1

Азин имаџам

2

Азин имоуп

განმარტება:

„საგზაო მოძრაობის შესახებ“ საქართველოს კანონის 34-ე მუხლის მე-16 პუნქტის თანახმად, გასასწრები სატრანსპორტო საშუალების მძღოლს ევრძა-ლება ხელი შეუშალოს გასწრებას მოძრაობის სიჩქარის მომატებით ან სხვა მოქმედებით.



Аҳафқылтҳа иашъашӊалоу адыргала иазгӊатазар, амашына лас арныкӊаӊ ахыц ахырхартала аитатра анагзара азин имоумаӊ

1

Азин имоуп, аҳафқылтҳа анхартапыҗаҗы иҗазар

2


Азин имоуп, аҳафқылтҳа ауаа ахнымхо атыҗаҗы иҗазар

3

Азин имаҗам

განმარტება:

„საგზაო მოძრაობის შესახებ“ საქართველოს კანონის 42-ე მუხლის „ა“ პუნქტის თანახმად, საგზაო ნიშნით აღნიშნულ გვირაბებში მოქმედებს შემდეგი წესი -მძღოლს ეკრძალება უკუსვლით მოძრაობა ან მობრუნება.



ხუც ახერხართალა აიტატრა აან აბართ ამაშყინაქაა რყრწყააქაა რყინტა აყყჟაარა ჰმადაჲ

1


ამაშყინა ეიქაქაა არწყააა

2

ამაშყინა ჟქააქაა არწყააა

განმარტება:

„საგზაო მოძრაობის შესახებ“ საქართველოს კანონის პირველი დანართის პირველი თავის (მაფრთხილებელი ნიშნები) 1.15 პუნქტის თანახმად საგზაო ნიშანი 1.15 „ციცაბო აღმართი“- იძლევა გაფრთხილებას ციცაბოაღმართიან გზის მონაკვეთთან მიახლოების თაობაზე. ამავე კანონის 35-ე მუხლის მე-2 პუნქტის თანახმად, მთის გზასა და ანალოგიური მახასიათებლების მქონე დიდი დახრილობის გზაზე, აგრეთვე 1.14 და 1.15 საგზაო ნიშნებით აღნიშნულ გზებზე, სადაც გვერდის აქცევა შეუძლებელია ან გართულებულია, დადმართზე მოძრავი სატრანსპორტო საშუალების მძღოლი ვალდებულია გაჩერდეს და გზა დაუთმოს აღმართზე მოძრავი სატრანსპორტო საშუალების მძღოლს, გარდა იმ შემთხვევისა, როცა გვერდის ასაქცევი ადგილი სავალი ნაწილის გასწვრივ ისეა განლაგებული, რომ აღმართზე მოძრავი სატრანსპორტო საშუალების მძღოლი, სატრანსპორტო საშუალების სიჩქარისა და მდგომარეობის გათვალისწინებით, შეძლებდა მის წინ მდებარე ასაქცევ ადგილზე გაჩერებას, რითაც გამოირიცხებოდა ერთ-ერთი სატრანსპორტო საშუალების უკუსვლით მოძრაობის აუცილებლობა.



Амопედ არნყკაფ ამფატე აიტატრა ატასკჲა ეილეიგოიტ ახყც ალა იარბოუ ახყრჲარტაკჲა რყნტე დეიტყცყრჲ

1

A ახყრჲარტალა

2

B ახყრჲარტალა

3

Aი Bი ახყრჲარტაკჲა რყლა

განმარტება:

„საგზაო მოძრაობის შესახებ“ საქართველოს კანონის 31-ე მუხლის მე-2 პუნქტის თანახმად, განსაკუთრებული, აუცილებელი შემთხვევების გარდა, მძღოლმა უნდა იმოძრაოს მხოლოდ იმ გზაზე, გზის სავალ ნაწილზე, მოძრაობის ზოლზე ან ბილიკზე, რომლიც მისი კატეგორიის (ან ქვეკატეგორიის) საგზაო მოძრაობის მონაწილესათვის არის განკუთვნილი. ამავე კანონის 43-ე მუხლის მე-2 პუნქტის თანახმად ველოსიპედის მოძრაობის ზოლის ან ველობილიკის არსებობისას ველოსიპედისა და მოპედის მძღოლებს ეკრძალებათ გზის სავალ ნაწილზე, ველოსიპედის მოძრაობის ზოლის ან ველობილიკის მიღმა გადაადგილება. ველოსიპედისა და მოპედის გზის სავალ ნაწილზე მოძრაობა დასაშვებია მხოლოდ გზის განაპირა მარჯვენა ზოლზე ერთ რიგად, ხოლო გვერდულაზე – იმ შემთხვევაში, თუ ეს არ შეაფერხებს ქვეითთა მოძრაობას.



Абарт атранспорттә хархәагакәа рырныкәаџәа ркынтә ахыц ахырхартала аитатра азин змамдаҢ

1

Амаланыкәа арныкәаџ

2

Амопед арныкәаџ

3

Аџетранспорттә хархәагак рырныкәаџәа

4

Азәгы

განმარტება:

„საგზაო მოძრაობის შესახებ“ საქართველოს კანონის 31-ე მუხლის მე-2 პუნქტის თანახმად, განსაკუთრებული, აუცილებელი შემთხვევების გარდა, მძღოლმა უნდა იმოძრაოს მხოლოდ იმ გზაზე, გზის სავალ ნაწილზე, მოძრაობის ზოლზე ან ბილიკზე, რომლიც მისი კატეგორიის (ან ქვეკატეგორიის) საგზაო მოძრაობის მონაწილესათვის არის განკუთვნილი. ამავე კანონის 43-ე მუხლის მე-2 და მე-3 პუნქტების თანახმად: 2. ველოსიპედის მოძრაობის ზოლის ან ველობილიკის არსებობისას ველოსიპედისა და მოპედის მძღოლებს ეკრძალებათ გზის სავალ ნაწილზე, ველოსიპედის მოძრაობის ზოლის ან ველობილიკის მიღმა გადაადგილება. ველოსიპედისა და მოპედის გზის სავალ ნაწილზე მოძრაობა დასაშვებია მხოლოდ გზის განაპირა მარჯვენა ზოლზე ერთ რიგად, ხოლო გვერდულაზე – იმ შემთხვევაში, თუ ეს არ შეაფერხებს ქვეითთა მოძრაობას. 3. ველოსიპედის მოძრაობის ზოლის ან ველობილიკის ან გვერდულას არარსებობისას, ამასთანავე, თუ გზის სავალ ნაწილზე გართულებულია მოძრაობა, დასაშვებია ველოსიპედით ტროტუარზე გადაადგილება იმ პირობით, რომ არ შეფერხდება ქვეითთა მოძრაობა. აკრძალულია მოპედით ტროტუარზე მოძრაობა.



Аквадроцикл сааткала 20км. аласрала еитатцазар, амопед арныкѧа ахыц ахырхартала аҭысра азин имоумаҭ

1

Азин имам

2

Азин имоуп

განმარტება:

„საგზაო მოძრაობის შესახებ“ საქართველოს კანონის 34-ე მუხლის მე-2 პუნქტის თანახმად, საკმარისი ადგილის არსებობისას ველოსიპედისტსა და მოპედის მძღოლს შეუძლიათ გაჩერებულ ან დაბალი სიჩქარით მოძრავ სატრანსპორტო საშუალებებს მარჯვენა მხრიდან შემოუარონ. ამავე კანონის 33-ე მუხლის მე-6 პუნქტის თანახმად, თუ ამ კანონით სხვა რამ არ არის დადგენილი, დასახლებულ პუნქტში ნებადართულია სატრანსპორტო საშუალების მოძრაობა არაუმეტეს 60 კმ/სთ სიჩქარით, ხოლო საცხოვრებელ ზონაში – არაუმეტეს 20 კმ/სთ სიჩქარით. ამავე კანონის პირველი დანართის მე-5 თავის (განსაკუთრებული მითითებების ნიშნები) 5.21 პუნქტის თანახმად საგზაო ნიშანი 5.21 „საცხოვრებელი ზონა“ - აღნიშნავს ტერიტორიას (ზონას) სადაც მოქმედებს საცხოვრებელ ზონაში მოძრაობისათვის დადგენილი წესები. ნიშანი იდგმება საცხოვრებელი ზონის ყველა შესასვლელში.



Абарт атранспорттә хархәагақәа рырныкәащәа ркынтә ахыт ахырхартала аитатцра азин змамдаҥ

1

Амопед арныкәаҭ

2

Амашына лас арныкәаҭ

3

Ащәатранспорттә хархәагақ рырныкәащәа

4

Азәгы

განმარტება:

„საგზაო მოძრაობის შესახებ“ საქართველოს კანონის პირველი დანართის მე-3 თავის (ამკრძალავი ნიშნები) 3.5 და 3.20 პუნქტების თანახმად საგზაო ნიშნები: 3.5 „მოტოციკლით მოძრაობა აკრძალულია“ - კრძალავს ყველა სახის მოტოციკლით მოძრაობას; 3.20 „გასწრება აკრძალულია“ - კრძალავს ყველა სახის მექანიკური სატრანსპორტო საშუალების გასწრებას (გარდა 30 კმ/სთ-ზე ნაკლები სიჩქარით მოძრავი ტრანსპორტისა). ნებადართულია გასწრება უეტლო მოტოციკლის, მოპედისა და ველოსიპედის შემხვედრი მოძრაობის ზოლში გადაუსვლელოდ. ამავე კანონის 43-ე მუხლის მე-2 პუნქტის თანახმად, ველოსიპედების მოძრაობის ზოლის ან ველობილიკის არსებობისას, ველოსიპედის და მოპედის მძღოლებს ეკრძალებათ გზის სავალ ნაწილზე, ველოსიპედების მოძრაობის ზოლის ან ველობილიკის მიღმა გაადაადგილება. ველოსიპედისა და მოპედის გზის სავალ ნაწილზე მოძრაობა დასაშვებია, მხოლოდ გზის განაპირა მარჯვენა ზოლზე ერთრიგად, ხოლო გვერდულაზე, მხოლოდ იმ შემთხვევაში თუ ეს არ შეაფერხებს ქვეითთა მოძრაობას.



Ахыц ахырхартала аитатра аан абарт атранспорттә хархәагақәа рырныкәаџцәа ркынтә амџатә аитатра атцасқәа еилазгодаџ

1

Амашына лас арныкәаџ мацара.

2

Амотоцикл арныкәаџ мацара.

3

Азәгы

განმარტება:

„საგზაო მოძრაობის შესახებ“ საქართველოს კანონის 31-ე მუხლის მე-14 პუნქტის თანახმად, დასაშვებია მოძრაობის ზოლზე მოპედების ან/და უეტლო მოტოციკლების თანმხვედრი მიმართულებით ორ რიგად მოძრაობა. ამავე კანონის მე-2 დანართის პირველი თავის (ჰორიზონტალური მონიშვნა) 1.5 პუნქტის თანახმად საგზაო მონიშვნა 1.5. ყოფს საპირისპირო მიმართულებით მოძრავ სატრანსპორტო ნაკადებს გზაზე, რომელსაც მოძრაობის ორი ან სამი ზოლი აქვს; აღნიშნავს მოძრაობის ზოლების საზღვრებს ერთი მიმართულებით მოძრაობისათვის განკუთვნილი ორი და მეტი ზოლის არსებობისას. 1.5 ხაზის გადაკვეთა ნებადართულია ნებისმიერი მხრიდან.

ВОПРОС 375

ПРАВИЛЬНЫЙ ОТВЕТ: 1

«Аფყსრა» აუპჴ

1

Иаанкылоу ацѣахѣа алтцрала, абри ацѣахѣаѣы еишьтаргыланы хырхартак ала а҃хѣа еитатцѣа акы ма еиханы атранспорттѣ хархѣагакѣа ра҃ысра

2

Хырхартак змоу аитатцратѣ цѣахѣақѣа рѣы, амѣасырта аган иазааигѣаны иқоу ацѣахѣақѣа рѣы еитатцѣа атранспорттѣ хархѣагакѣа рацкыс иаха ирласны атранспорттѣ хархѣага аитатцра

3

Агѣыларатѣ аитатцратѣ цѣахѣаѣы еи҃ынгылоу ахырхартала еитатцѣа акы ма еиханы атранспорттѣ хархѣагақѣа рывсра

განმარტება:

„საგზაო მოძრაობის შესახებ“ საქართველოს კანონის 5-ე მუხლის მე-10 პუნქტის თანახმად, გასწრება - დაკავებული ზოლიდან გამოსვლით იმავე ზოლში თანხვედნილი მიმართულებით წინ მოძრავი ერთი ან რამდენიმე სატრანსპორტო საშუალების გადასწრება.

ВОПРОС 376

ПРАВИЛЬНЫЙ ОТВЕТ: 2

Амѣатѣ аитатцра аан абжытѣ ма алашаратѣ ардырга ақатцарала, арнықѣаѣ, амѣатѣ аитатцра егырт алахѣылацѣа рѣа҃хѣаЖ

1

А҃ыжѣара иоуоит

2

А҃ыжѣара иоузом

3

А҃ыжѣара иоузом аоперативтѣ матцѣра атранспорттѣ хархѣага мацара аѣа҃хѣа

4

А҃ыжѣара иоуоит, абри абжытѣ ма алашаратѣ ардырга ззықайтаз амѣатѣ аитатцра аконкреттѣ алахѣылацѣа рѣа҃хѣа

განმარტება:

„საგზაო მოძრაობის შესახებ“ საქართველოს კანონის 48-ე მუხლის მე-4 პუნქტის თანახმად, ხმოვანი და მანათობელი სიგნალების მიცემა მძღოლს არ ანიჭებს უპირატესობას სხვა საგზაო მოძრაობის მონაწილეების მიმართ.

ВОПРОС 377

ПРАВИЛЬНЫЙ ОТВЕТ: 3

Арныкәә абжытә ардырга ихы иаирхәар илшоитЖ

1

Иаамтаны агәанцара атаразы мацара, амәатә атранспорттә амашәыр ае ацәыхьчара амзызла

2

Анхартатыҭ нхыт мацара, егы атранспорттә хархәага арныкәә агәанцара итозар дигьысырц шитаху азы

3

Абри абилет ағы еикәыҭхьаҭоу атагылазашьақәа зегьы раан.

განმარტება:

„საგზაო მოძრაობის შესახებ“ საქართველოს კანონის 48-ე მუხლის პირველი პუნქტის თანახმად, ხმოვანი სიგნალი შეიძლება გამოყენებულ იქნეს მხოლოდ: ა) საგზაო მოძრაობის მონაწილეთა დროული გაფრთხილებისთვის, საგზაო-სატრანსპორტო შემთხვევის თავიდან ასაცილებლად; ბ) დასახლებულ პუნქტებს გარეთ, როდესაც საჭიროა სხვა სატრანსპორტო საშუალების მძღოლის გაფრთხილება გასწრების განზრახვის შესახებ.

ВОПРОС 378

ПРАВИЛЬНЫЙ ОТВЕТ: 3

Аҭысра аан, уаанза зызҭхьагәатара камлоз ашәарта цәырцзар, арныкәә иуалупЖ

1

Аласра аццара, аҭысра аманиовр иаамтаны анагзаразы

2

Абжытә ардырга катаны, аҭысра аманиовр анагзара

3

Аҭысра дакәытпроуп

განმარტება:

„საგზაო მოძრაობის შესახებ“ საქართველოს კანონის 34-ე მუხლის მე-17 პუნქტის თანახმად, თუ გასწრებისას აღმოჩნდა დაბრკოლება ან საფრთხე, რომლის გათვალისწინება მძღოლს არ შეეძლო გასწრების დაწყებამდე, ან თუ მან ვერ შეძლო სიტუაციის სწორი შეფასება, მძღოლი ვალდებულია შეწყვიტოს გასწრება. თუ მძღოლმა გასწრება შეწყვიტა და ადრე დაკავებულ მოძრაობის ზოლში დაბრუნებას აპირებს, მის უკან მომავალი სატრანსპორტო საშუალებების მძღოლებმა მას უნდა მისცენ ამის შესაძლებლობა.

თემა 17:

მოდრობის სიჩქარე



Автомостраль аҧы «А» акатегориа иатцанакәа атранспорттә хархәага арныкәаҭ аитатцра злаилшо аласра еиҳамзароупЖ

1

Сааткала 60 км

2

Сааткала 80 км

3

Сааткала 90 км

4

Сааткала 110 км

განმარტება:

„საგზაო მოძრაობის შესახებ“ საქართველოს კანონის 33-ე მუხლის მე-7 პუნქტის „ა“ ქვეპუნქტის თანახმად, გარდა ამ კანონით დადგენილი შემთხვევებისა, დაუსახლებელ პუნქტსა და დასახლებულ პუნქტში გზის იმ მონაკვეთზე, რომელზედაც შესაბამისი საგზაო ნიშნით მოძრაობა დაშვებულია 60 კმ/სთ-ზე მეტი სიჩქარით, ნებადართულია, „А“ კატეგორიის, აგრეთვე „А1“ და „В1“ ქვეკატეგორიების სატრანსპორტო საშუალებების მოძრაობა ყველა გზაზე არაუმეტეს 80 კმ/სთ სიჩქარით.

Арныкәә, атранспорттә хархәага аласра аниҭсахуа, абарт аҭагылазаашьақәа рҕынтә иазҭхьагәитарц ихәтәиҭ

1

Атыҭ аҭелиеҭи аитатра аинтенсивҭеи

2

Ахаиртә тагылазаашьақәеи, иара убас, иазымхо ма иҭку алаҭшбара

3

Амәеи атранспорттә хархәага аҭагылазаашьеи мацара

4

Абри абилет аҭы еиқәыҭхьажоу амәатә тагылазаашьақәа зегьы.

განმარტება:

„საგზაო მოძრაობის შესახებ“ საქართველოს კანონის 33-ე მუხლის მე-2 პუნქტის თანახმად, სატრანსპორტო საშუალების სიჩქარის შეცვლისას მძღოლმა უნდა გაითვალისწინოს საგზაო პირობები (ადგილის რელიეფი, გზისა და სატრანსპორტო საშუალების მდგომარეობა, მისი დატვირთვა, ატმოსფერული პირობები, მოძრაობის ინტენსივობა, არასაკმარისი ან შემდეგდელი ხილვადობა), რათა საჭიროების შემთხვევაში, აგრეთვე ნებისმიერი დაბრკოლების წინ, რომლის განჭვრეტაც მას შეუძლია, შეამციროს სიჩქარე, ხოლო აუცილებლობის შემთხვევაში გაჩერდეს.



Абарт атранспорттә хархәагақәа рырныкәацәа ркынтә амѡатә аитатра атцаскәа еилазгода, ауаа ахьнымхо атыѡаѡы сааткала 90км. аласрала еитатцуазарѢ

1

Аквадроцикл арныкәаѡ затѡы

2

Амашына лас арныкәаѡ затѡы

3

Амотоцикл арныкәаѡ затѡы

4

Аквадроцикли амотоцикли рырныкәацәа

განმარტება:

„საგზაო მოძრაობის შესახებ“ საქართველოს 33-ე მუხლის მე-7 პუნქტის „ა“ და „ბ.ა“ ქვეპუნქტების თანახმად, გარდა ამ კანონით დადგენილი შემთხვევებისა, დაუსახლებელ პუნქტსა და დასახლებულ პუნქტში გზის იმ მონაკვეთზე, რომელზედაც შესაბამისი საგზაო ნიშნით მოძრაობა დაშვებულია 60 კმ/სთ-ზე მეტი სიჩქარით, ნებადართულია: ა) „А“ კატეგორიის, აგრეთვე „А1“ და „В1“ ქვეკატეგორიების სატრანსპორტო საშუალებების მოძრაობა ყველა გზაზე არაუმეტეს 80 კმ/სთ სიჩქარით; ბ) „В“ კატეგორიის სატრანსპორტო საშუალებების მოძრაობა: ბ.ა) თუ ის არ ახორციელებს მსუბუქი მისაბმელის ბუქსირებას, ავტომაგისტრალზე არაუმეტეს 110 კმ/სთ სიჩქარით, ხოლო სხვა გზაზე – არაუმეტეს 90 კმ/სთ სიჩქარით.

ВОПРОС 382

ПРАВИЛЬНЫЙ ОТВЕТ: 1

ფეგეჟყკ ზმოუ აფყმცატე ახალანყკეა არნყკეაფ ანხარტატყჲ აფყ მა აუაა ახყნყმო ატყჲაფყ აიტატრა ზლაილშო ამაყსიმალტე ალასრა ზეიჲშირიჲ

1

Сааткала 20км

2

Сааткала 30км

3

Сааткала 40км

განმარტება:

„საგზაო მოძრაობის შესახებ“ საქართველოს კანონის 33-ე მუხლის მე-8 პუნქტის „გ“ ქვეპუნქტის თანახმად, თუ ამ კანონით სხვა რამ არ არის დადგენილი, დასახლებულ ან დაუსახლებელ პუნქტში ნებადართულია, ორბორბლიანი ელექტროთვითმგორავისა მოძრაობა ყველა გზაზე, სადაც ამ კატეგორიის სატრანსპორტო საშუალების მოძრაობა დასაშვებია, არაუმეტეს 20 კმ/სთ სიჩქარით.

ВОПРОС 383

ПРАВИЛЬНЫЙ ОТВЕТ: 1

«Аконструктивтэ аласра» аупЖ

1

Итзыжыыз азауад ала ихэаакэцоу
атранспорттэ хархэага амаксималтэ аласра

2

Иарбоу амѳа ацыѲтѳахафы атранспорттэ
хархэагазы ишыақѳылоу аласра
амаксималтэ ахѳаа

3

Атранспорттэ хархэага иамоу адырга
«Аласра аѲкра» афы иарбоу аласра

განმარტება:

„საგზაო მოძრაობის შესახებ“ საქართველოს კანონის 5-ე მუხლის 29-ე პუნქტის თანახმად, კონსტრუქციული სიჩქარე – ქარხანა-დამამზადებლის მიერ განსაზღვრული სატრანსპორტო საშუალების მაქსიმალური სიჩქარე.

ВОПРОС 384

ПРАВИЛЬНЫЙ ОТВЕТ: 3

Ианылашоу аамтазы амѡაѣы еиѡаѣуа амотоцикл иаѣаѣызароупЖ

1

Ааигѡа изырлашо амашынабла маѡара

2

Хара изырлашо амашынабла маѡара

3

Аѡхьала, аѣы адымхарѣы ааигѡа изырлашо амашынабла, ашьѡахьла – алашарбаѣа ѡаѡшь

4

Ашьѡахьла маѡара ѣ алашарбаѣа ѡаѡшь

განმარტება:

„საგზაო მოძრაობის შესახებ“ საქართველოს კანონის 49-ე მუხლის მე-7 პუნქტის თანახმად, დღის ნათელ დროს გზაზე მოძრავე ნებისმიერ მოტოციკლზე წინ ჩართული უნდა იყოს ახლო განათების ერთი ფარა მაინც, ხოლო უკან - წითელი მაშუქი.

ВОПРОС 385

ПРАВИЛЬНЫЙ ОТВЕТ: 2

Анаѡა ѡѣѣი, асоуреи, аѡѡура ѡѣѣи რაან მა урт иреиѡшу аѡаѣылаѡაшьѡაѣы, амѡაѣы аанѣыლара მა аѣыლара аан, ამეხანიკაѡ ატრანსპორტѡ харѡაѣაგაѡეи урт რыѡრაѡაგაѡეи რѣы, аѡхьაѡეи ашьѡахьѡეи ахьშѡარაѡე алашараѡეи, иара убас, ааигѡа изырлашо алашарбаѣეи, аѡхьაѡეи ашьѡахьѡეи анаѡაѣ აѡѣыхьჩარაѡე алашარбаѣაგაѡეи иაѣаѣызარ ѡალომაჲ

1

Иѡალომ

2

Иѡალოიტ

განმარტება:

„საგზაო მოძრაობის შესახებ“ საქართველოს კანონის 49-ე მუხლის მე-9 პუნქტის თანახმად, დაბინდებიდან გათენებამდე, აგრეთვე ნებისმიერი სხვა არასავმარისი ხილვადობის პირობებში, გზაზე გაჩერების ან დგომის დროს მექანიკური სატრანსპორტო საშუალება და მისი მისაბმელი აღნიშნული უნდა იყოს წინა და უკანა საგაბარიტო სინათლეებით. სქელი ნისლის, ხშირი თოვის, ძლიერი წვიმის დროს ან ანალოგიურ პირობებში შეიძლება ჩართულ იქნეს ახლო განათების ფარები ან წინა ნისლსაწინააღმდეგო ფარები. ასეთ პირობებში უკანა საგაბარიტო სინათლეებთან ერთად დამატებით შეიძლება ჩართულ იქნეს უკანა ნისლსაწინააღმდეგო ფარები.

ВОПРОС 386

ПРАВИЛЬНЫЙ ОТВЕТ: 3

Метрак еиханы атбаара змоу ауардынтә атранспортә хархәагафы хымҭада ишьақәыргылатәупЖ

1

Акы иадымхаргы, ишкәакәоу ма иџежы
аҭхьатәи аселекциатә алашара

2

Аҭхьала е ишкәакәоу алашараки ашьтахьла
е иҭаҭшыу алашараки

3

Ашьтахьла, армархьатәи аганафы, ма
агәтаны е алашара здыҭхаало
ашьақәыргыламта

განმარტება:

„საგზაო მოძრაობის შესახებ“ საქართველოს კანონის 50-ე მუხლის მე-3 პუნქტის თანახმად, ფარანი არ არის აუცილებელი იმ სატაპანო ტრანსპორტისათვის, რომლის სიგანე 1 მეტრს არ აღემატება, მაგრამ ამ შემთხვევაში უკან, მარცხენა მხარეს, ან ცენტრში დაყენებული უნდა იყოს ერთი შექამრეკლი მოწყობილობა.

ВОПРОС 387

ПРАВИЛЬНЫЙ ОТВЕТ: 2

Цхыбжьон амџасыртафы еитатџа ашьақауаа ргәыҭқәа анапхгафы дырхагылазар ма баша дрыцзар,
армарахьтәи аганафы ирымазароупЖ

1

Акы иадымхаргы, аҭхьала аселекциатә
алашара шкәакәеи, ашьтахьла аселекциатә
алашара шкәакәеи

2

Акы иадымхаргы, аҭхьала аселекциатә
алашара шкәакәа ма аселекциатә алашара
џеж, иара убас, ашьтахьла аселекциатә
алашара шкәакәа, ма аҭхьалеи ашьтахьлеи
алашара џеж

3

Акы иадымхаргы, аҭхьала аселекциатә
алашара ҭаҭшыи ашьтахьла алашара џежы

განმარტება:

„საგზაო მოძრაობის შესახებ“ საქართველოს კანონის 50-ე მუხლის მე-4 პუნქტის „ა“ ქვეპუნქტის თანახმად, სავალ ნაწილზე ღამის საათებში მოძრაობისას: ა) ქვეითთა ჯგუფმა, რომელსაც ხელმძღვანელი მეთაურობს ან რომელიც სვლით მიდის, მარცხენა მხრიდან უნდა იქონიოს სულ მცირე ერთი თეთრი ან ყვითელი სელექციური სინათლე წინ და სულ მცირე ერთი წითელი სინათლე უკან ან ყვითელი შუქი წინ და უკან.

თემა 18:

სამუხრუჭე მანძილი, დისტანცია

ВОПРОС 388

ПРАВИЛЬНЫЙ ОТВЕТ: 2

Анхартатың ағы, айтатпазы атагылазаашыақәа бзиазар, еишътаргыланы еитатцау атранспорттә хархәагақәа ирыбжьоу адистанциа ахысразы иатаху аамтәЖ

1

2 секундк еихамзароуп

2

2 секундк еитымзароуп

3

5 секундк еихамзароуп

4

7 секундк еитымзароуп

განმარტება:

„საგზაო მოძრაობის შესახებ“ საქართველოს კანონის 25-ე მუხლის მე-10 პუნქტის „ჰ“ ქვეპუნქტის თანახმად, გზაზე მოძრაობისას მძღოლმა უნდა გაითვალისწინოს შემდეგი გარემოებები: პ) ნორმალური მოძრაობის პირობებში ერთმანეთის მიყოლებით მოძრავ სატრანსპორტო საშუალებათა შორის არსებული დისტანციის დასაფარავად საჭირო დრო დასახლებულ პუნქტში უნდა იყოს არანაკლებ 2 წამისა, ხოლო დაუსახლებელ პუნქტში – არანაკლებ 3 წამისა. აღნიშნული წესი არ ვრცელდება გასწრების მიზნით იმ სატრანსპორტო საშუალების მოძრაობის ზოლიდან გამოსვლის შემთხვევაზე, რომლის მძღოლსაც გასწრების განზრახვის თაობაზე მიცემული აქვს შესაბამისი სიგნალი, აგრეთვე ამ პუნქტის „ჟ“ ქვეპუნქტით გათვალისწინებულ შემთხვევებზე.

ВОПРОС 389

ПРАВИЛЬНЫЙ ОТВЕТ: 2

Ауаа иахьнымхо апункт ағы, айтатпазы атагылазаашыақәа бзиазар, еишътаргыланы еитатцау атранспорттә хархәагақәа ирыбжьоу адистанциа ахысразы иатаху аамтәЖ

1

4 секундк еихамзароуп

2

3 секундк еитымзароуп

3

6 секундк еитымзароуп

4

9 секундк еихамзароуп

განმარტება:

„საგზაო მოძრაობის შესახებ“ საქართველოს კანონის 25-ე მუხლის მე-10 პუნქტის „ჰ“ ქვეპუნქტის თანახმად, გზაზე მოძრაობისას მძღოლმა უნდა გაითვალისწინოს შემდეგი გარემოებები: პ) ნორმალური მოძრაობის პირობებში ერთმანეთის მიყოლებით მოძრავ სატრანსპორტო საშუალებათა შორის არსებული დისტანციის დასაფარავად საჭირო დრო დასახლებულ პუნქტში უნდა იყოს არანაკლებ 2 წამისა, ხოლო დაუსახლებელ პუნქტში – არანაკლებ 3 წამისა. აღნიშნული წესი არ ვრცელდება გასწრების მიზნით იმ სატრანსპორტო საშუალების მოძრაობის ზოლიდან გამოსვლის შემთხვევაზე, რომლის მძღოლსაც გასწრების განზრახვის თაობაზე მიცემული აქვს შესაბამისი სიგნალი, აგრეთვე ამ პუნქტის „ჟ“ ქვეპუნქტით გათვალისწინებულ შემთხვევებზე.

ВОПРОС 390

ПРАВИЛЬНЫЙ ОТВЕТ: 3

Анхартатың ағы, итаау амғағы, еишътаргыланы ейтатца атранспорттә хархәагақәа ирыбжьоу адистанциа ахысразы иатаху аамтаЖ

1

2 секундк еихамзароуп

2

4 секундк еитцымзароуп

3

6 секундк еихамзароуп

4

9 секундк еитцымзароуп

განმარტება:

„საგზაო მოძრაობის შესახებ“ საქართველოს კანონის 25-ე მუხლის მე-10 პუნქტის „ჟ“ ქვეპუნქტის თანახმად, გზაზე მოძრაობისას მძღოლმა უნდა გაითვალისწინოს შემდეგი გარემოებები: ჟ) მოყინულ გზაზე მოძრაობისას ერთმანეთის მიყოლებით მოძრავ სატრანსპორტო საშუალებათა შორის არსებული დისტანციის დასაფარავად საჭირო დრო დასახლებულ პუნქტში უნდა იყოს არანაკლებ 6 წამისა, ხოლო დაუსახლებელ პუნქტში – არანაკლებ 9 წამისა. აღნიშნული წესი არ ვრცელდება გასწრების მიზნით იმ სატრანსპორტო საშუალების მოძრაობის ზოლიდან გამოსვლის შემთხვევაზე, რომლის მძღოლსაც გასწრების განზრახვის თაობაზე მიცემული აქვს შესაბამისი სიგნალი.

ВОПРОС 391

ПРАВИЛЬНЫЙ ОТВЕТ: 3

Ауаа иахънымхо атың ағы, итаау амғағы, еишътаргыланы ейтатца атранспорттә хархәагақәа ирыбжьоу адистанциа ахысразы иатаху аамтаЖ

1

4 секундк еихамзароуп

2

6 секундк еитцымзароуп

3

9 секундк еитцымзароуп

4

12 секундк еитцызароуп

განმარტება:

„საგზაო მოძრაობის შესახებ“ საქართველოს კანონის 25-ე მუხლის მე-10 პუნქტის „ჟ“ ქვეპუნქტის თანახმად, გზაზე მოძრაობისას მძღოლმა უნდა გაითვალისწინოს შემდეგი გარემოებები: ჟ) მოყინულ გზაზე მოძრაობისას ერთმანეთის მიყოლებით მოძრავ სატრანსპორტო საშუალებათა შორის არსებული დისტანციის დასაფარავად საჭირო დრო დასახლებულ პუნქტში უნდა იყოს არანაკლებ 6 წამისა, ხოლო დაუსახლებელ პუნქტში – არანაკლებ 9 წამისა. აღნიშნული წესი არ ვრცელდება გასწრების მიზნით იმ სატრანსპორტო საშუალების მოძრაობის ზოლიდან გამოსვლის შემთხვევაზე, რომლის მძღოლსაც გასწრების განზრახვის თაობაზე მიცემული აქვს შესაბამისი სიგნალი.

ВОПРОС 392

ПРАВИЛЬНЫЙ ОТВЕТ: 4

«Амѡа атара ГѡаѡырхагамхараТ» аупЖ

1

Амѡათѡ аитатра алахѡыла изин, егырт
раѡухѡа ишьақѡгылоу ахырхартала
адѡықѡларазы

2

Амѡათѡ аитатра алахѡыла иѡухықѡра,
аитатра анамгѡаразы ма аиталамгѡаразы, ма
аманиовр ақамтѡаразы, уи иахқѡаны,
аѡыжѡара змоу амѡათѡ аитатра егы
алахѡыла иаалырқѡаны аласра ма ахырхарт
имѡсахыр ада ѡсыхѡа имамқѡа дқалозар

3

Арнықѡа игыѡанымзаара мацара.

4

Абри абилет аѡы еиқѡыѡухѡазоу
иарбанзаалак атагылазаашѡа

განმარტება:

„საგზაო მოძრაობის შესახებ“ საქართველოს კანონის 33-ე მუხლის მე-11 პუნქტის თანახმად, იმ სატრანსპორტო საშუალების მძღოლმა, რომელიც მიჰყვება სხვა სატრანსპორტო საშუალებას, უნდა დაიცვას სათანადო დისტანცია, რათა თავიდან აიცილოს შეჯახება მის წინ მიმავალი სატრანსპორტო საშუალების მოულოდნელი დამუხრუჭების ან გაჩერების შემთხვევაში. მოძრაობის უსაფრთხოების უზრუნველსაყოფად აუცილებელია აგრეთვე გვერდითი ინტერვალის დაცვა. ამავ კანონის 25-ე მუხლის მე-10 პუნქტის „მ“ ქვეპუნქტის თანახმად, გასწრებისას ყველაზე უფრო ხშირად საავარიო სიტუაცია იქმნება დისტანციის დაუცველობის და საპირისპირო მიმართულებით მოძრავი სატრანსპორტო საშუალებების მიმართ არასაკმარისი ყურადღების გამოჩენის გამო.

ВОПРОС 393

ПРАВИЛЬНЫЙ ОТВЕТ: 3

“Аангылагатѡ абѡызаара” аупЖ

1

Амѡаѡы аитатра аласра агырхартѡ ацѡахѡа
аура

2

Закѡанѡѡარала ихѡаақѡтоу амаксималтѡ
абѡызаара, уи инацакны атранспорттѡ
хархѡага хымѡада иаангылароуп

3

Атранспорттѡ хархѡага аанкыларა инаркны
атѡхѡანѡа аангыларанѡа абѡызаара

განმარტება:

„საგზაო მოძრაობის შესახებ“ საქართველოს კანონის 5-ე მუხლის 68-ე პუნქტის თანახმად, „სამუხრუჭე მანძილი“ - მანძილი, რომელსაც გადის სატრანსპორტო საშუალება მუხრუჭების ამოქმედებიდან სრულ გაჩერებამდე.

ВОПРОС 394

ПРАВИЛЬНЫЙ ОТВЕТ: 3

წყდალათეი ალასარათე არდირგა იატჿეი აბჯყთე არდირგეი იაფაკნე ეიტატუა ცყდალათეი ამატურა ატრანსპორტტე ჰარხეაგა არნყკეაფ იატეაშუ აფყჟეარა აჰარხეარა აზინ იმოუპჟ

1

იარბანზაალაკ ატაგყლაზააშყაფყ, ამჿათე აიტატრა ეგყრტ ალახეყლაჿეა ამჿა ირტოუ ირყმტოუ იახყყშყმკეა.

2

ამჿა შირტო აგერა ნიგალაკ მაჿარა.

განმარტყბა:

„საგზაო მოძრაობის შესახებ“ საქართველოს კანონის 51-ე მუხლის პირველი პუნქტის თანახმად, ოპერატიული ან სპეციალური სამსახურის სატრანსპორტო საშუალების მძღოლს, რომელსაც სატრანსპორტო საშუალებაზე ჩართული აქვს ლურჯი მოელვარე სპეციალური ციმციმა სიგნალი და ასრულებს სამსახურებრივ დავალებას, შეუძლია საგზაო მოძრაობის უსაფრთხოების უზრუნველყოფის პირობების დაცვით გადაუხვიოს ამ კანონის 25-ე, 31-ე–41-ე და 44-ე მუხლებით, აგრეთვე ამ კანონის №1 და №2 დანართებით დადგენილ მოთხოვნებს. ლურჯ მოელვარე სპეციალურ ციმციმა სიგნალთან ერთად დამატებით შეიძლება ჩაირთოს წითელი მოელვარე ციმციმა სიგნალიც. სხვა საგზაო მოძრაობის მონაწილეების მიმართ უპირატესობის მისაღებად ამ სატრანსპორტო საშუალების მძღოლმა უნდა ჩართოს ლურჯი მოელვარე სპეციალური ციმციმა სიგნალი და ხმოვანი სიგნალი. პრიორიტეტით სარგებლობა მხოლოდ მაშინ შეიძლება, როცა მძღოლი დარწმუნდება, რომ მას გზას უთმობენ.

ВОПРОС 395

ПРАВИЛЬНЫЙ ОТВЕТ: 3

იეალყრყანე აანკყლაგა აჰარხეარალა ატრანსპორტტე ჰარხეაგა აანკყლარა კელოიტჟ

1

აიეკააფ ატრანსპორტტე ჰარხეაგა აანკყლარაყ ადტა კეიტჿაჿარ

2

ალაშარბაგა იკაყშყუი იჿეჟყუი არდყრგაკეა აამტაკალა რეაკრა აან

3

ამჿათეატრანსპორტტე ამაშეყრ აე აჿეყყყარა ამჿყლა

4

აბრი აბილეთ აფე ეიკეყყყჿაჟოუ ატაგყლაზააშყაკეა ჰეგყყ რეან.

განმარტყბა:

„საგზაო მოძრაობის შესახებ“ საქართველოს კანონის 33-ე მუხლის მე-4 პუნქტის თანახმად, მძღოლს ევრძალება მკვეთრი დამუხრუჭება, გარდა საგზაო-სატრანსპორტო შემთხვევის თავიდან აცილების აუცილებლობით გამოწვეული დამუხრუჭებისა.

ВОПРОС 396

ПРАВИЛЬНЫЙ ОТВЕТ: 3

Амеханиკატә аиҿадаратә атра змоу атранспорттә хархәага албаарта аҕьаҕы аитатра аан аанкыларა бзиоупЖ

1

Аибаркра ирцәаны, аамтала аанкылага ақьыңҕәарала

2

Аибаркра иаҕакны аиҿадаратә атрала аамтаеаамтала ашышыхәа аанкылага ақьыңҕәарала

3

Арныкәага ала аанкылара

განმარტება:

მექანიკური გადაცემათა კოლოფის მქონე სატრანსპორტო საშუალების ციცაბო დაღმართზე მოძრაობისას დამუხრუჭების ეფექტური ხერხია - დამუხრუჭება ძრავით. რაც უფრო მკვეთრია დაღმართი მით უფრო მეტი სიფრთხილეა საჭირო. მექანიკური გადაცემათა კოლოფის მქონე ავტომობილის მკვეთრ დაღმართზე ძრავით დამუხრუჭებისას მძღოლმა, რაც უფრო მკვეთრია დაღმართი, მით უფრო დაბალი გადაცემა უნდა ჩართოს.

ВОПРОС 397

ПРАВИЛЬНЫЙ ОТВЕТ: 2

Албаартаҕы амеханиკатә аибаркра змоу амашына арныкәага аанкылара аан, арныкәаҕ, аиҿадара аҿалихәа иазпұхьаҕеитароупЖ

1

Албаарта аҕьра адура иахьыпұшны аибаркра харакызароуп

2

Албаарта аҕьра адура иахьыпұшны аибаркра лақьызароуп

3

Аибаркра алхра албаарта аҕьра иахьыпұшым

განმარტება:

რაც უფრო მკვეთრია დაღმართი მით უფრო მეტი სიფრთხილეა საჭირო. მექანიკური გადაცემათა კოლოფის მქონე ავტომობილის მკვეთრ დაღმართზე ძრავით დამუხრუჭებისას მძღოლმა, რაც უფრო მკვეთრია დაღმართი, მით უფრო დაბალი გადაცემა უნდა ჩართოს.

ВОПРОС 398

ПРАВИЛЬНЫЙ ОТВЕТ: 2

Аекстремалтә тагылазаашьаҕы атранспорттә хархәага аангылыраан арныкәаҕ аанкыларатә цәахәа аитцатәра илшароупЖ

1

Знык аанкылага дақәыңғәаны амашынаблақәа рблокаданза

2

Амашынаблақәа рблокада ахәааҕы изныкымкәа аанкылага ақәыңғәарала

განმარტება:

ექსტრემალურ სიტუაციაში სატრანსპორტო საშუალების გაჩერებისას სამუხრუჭე მანძილის შემცირება მიიღწევა თვლების ბლოკირების ზღვარზე მრავალჯერადი მკვეთრი ზემოქმედებით მუხრუჭის სატერფულზე.

ВОПРОС 399

ПРАВИЛЬНЫЙ ОТВЕТ: 2

Атранспорттә хархәага аццакра аихатәра аан, агежь амҕа излақәыңғәа амчЖ

1

Иазхауент

2

Еитцхоит

3

Аҕаҕсахуам

განმარტება:

სატრანსპორტო საშუალების მოძრაობის სიჩქარის გაზრდისას საბურავის გზასთან ჩაჭიდების ძალა მცირდება.

ВОПРОС 400

ПРАВИЛЬНЫЙ ОТВЕТ: 4

Арныкәә абарт акатегориакәа ирыцанакәа атранспорттә хархәагакәа рырныкәара илшомЖ

1

Иашьашәалоу азин ада

2

Иашьашәалоу азин аанкылазар ма ипырхзар

3

Иашьашәалоу азин ада, иара убас, ари азин аанкылазар ма ипырхзар

4

Абри абилет афы еикәыпхьазоу иарбанзаалак аҭагылазаашьафы

განმარტება:

სამუხრუტო მანძილის მნიშვნელობა დამოკიდებულია როგორც სატრანსპორტო საშუალების სიჩქარეზე, ასევე გზის საფარის მდგომარეობაზე და სატრანსპორტო საშუალების საბურავების ცვეთაზე.

ВОПРОС 401

ПРАВИЛЬНЫЙ ОТВЕТ: 2

Албаарта цәгьа афы аитатра аан, амеханикатә аимадаратә атра змоу атранспорттә хархәага, аифарпҭага иафыхны кыраамта инатакны аанкыла аиахылҭиаар алшоитЖ

1

Апҭскы ахархәаратә механизм апҭхастахара.

2

Аанкыларатә система аршцәареи, аанкыла аеффектра аитатәреи.

3

Аанкыларатә бжьазаара аитатәра.

4


Абри абилет афы еикәыпхьазоу иарбанзаалак аҭагылазаашьа

განმარტება:

ციცაბო დაღმართზე მოძრაობისას, მექანიკური გადაცემათა კოლოფის მექონე სატრანსპორტო საშუალების ხანგრძლივმა დამუხრუჭებამ გამორთული გადაბმულობით შეიძლება გამოიწვიოს სამუხრუტო სისტემის გადახურება და დამუხრუჭების ეფექტურობის შენეცირება.

თემა 19:

გაჩერება, დგომა



Арныкәә, ахыц ала иарбоу атыңағы амашынала ағылара азин имоумаң

1

Азин имазам

2

Азин имоуп

განმარტება:

„საგზაო მოძრაობის შესახებ“ საქართველოს კანონის 37-ე მუხლის მე-7 პუნქტის „ვ“ ქვეპუნქტის თანახმად, აკრძალულია სატრანსპორტო საშუალების დგომა, დაუსახლებელ პუნქტში 2.1, 5.1 და 5.3 საგზაო ნიშნებით აღნიშნულ გზის სავალ ნაწილზე, აგრეთვე დასახლებულ პუნქტში გზის სავალ ნაწილზე, სადაც მოძრაობა დაშვებულია 80 კმ/სთ-ზე მეტი სიჩქარით, გარდა სპეციალურად აღნიშნული ადგილებისა.



Амашына лас арныкѣаф апассажирецѣа рақѣыртѣареи рылбаагареи дафымзар, абарт атранспорттѣ хархѣагақѣа ырныкѣаѣцѣа рқынтѣ аангыларѣа атасқѣа еилазымгодаѢ

1

Амашына лас арныкѣаф затѣы

2

Автобус арныкѣаф затѣы

3

Аидаратѣ машына арныкѣаф затѣы

4

Амашына ласи аидаратѣ машынеи ырныкѣаѣцѣа

განმარტება:

„საგზაო მოძრაობის შესახებ“ საქართველოს კანონის 37-ე მუხლის მე-6 პუნქტის „ა.ა“ ქვეპუნქტის თანახმად, აკრძალულია სატრანსპორტო საშუალების გაჩერება გზის სავალ ნაწილზე ქვეითთა და ველოსიპედისტთა გადასასვლელებზე და მათ წინ 5 მეტრზე ახლოს. ამავე კანონის 41-ე მუხლის მე-3 პუნქტის თანახმად გზაზე, სადაც 5.11, 5.13.1, 5.13.2 და 5.14 საგზაო ნიშნებით აღნიშნული სამარშრუტო სატრანსპორტო საშუალებების მოძრაობისათვის განკუთვნილი ზოლია, აკრძალულია ამ ზოლზე სხვა სატრანსპორტო საშუალებათა მოძრაობა და გაჩერება. თუ ეს ზოლი დანარჩენი სავალი ნაწილისგან მონიშვნის წყვეტილი ხაზითაა გამოყოფილი, მოხვევისას სხვა სატრანსპორტო საშუალებები ამ ზოლზე უნდა გადაჭყუდნენ. ნებადართულია აგრეთვე ამ ზოლის ასეთ ადგილებში შესვლა გზაზე გასვლისას და მგზავრთა ჩასხდომა-გადმოსხდომისას სავალი ნაწილის მარჯვენა კიდედან, თუ ეს არ დააბრკოლებს სამარშრუტო სატრანსპორტო საშუალების მოძრაობას. ამავე კანონის პირველი დანართის 5.14 პუნქტის თანახმად საგზაო ნიშანი 5.14 „სამარშრუტო სატრანსპორტო საშუალებისათვის განკუთვნილი მოძრაობის ზოლი“ - გზა, რომელზედაც სამარშრუტო სატრანსპორტო საშუალებამოძრაობს სპეციალურად გამოყოფილ ზოლზე სატრანსპორტო საშუალებათა საერთო ნაკადის თანმხვედრი მიმართულებით. ნიშნის მოქმედება ვრცელდება იმ მოძრაობის ზოლზე, რომელზედაც ის დგას. გზის მარჯვენა მხარეს დადგმული ნიშნის მოქმედება ვრცელდება სავალი ნაწილის უკიდურეს მარჯვენა ზოლზე.

„საგზაო მოძრაობის შესახებ“ საქართველოს კანონის 25-ე მუხლის მე-9 პუნქტის თანახმად, თუ არარეგულირებული ქვეითთა გადასასვლელის წინ გაჩერდა ან მოძრაობა შეანელა სამარშრუტო სატრანსპორტო საშუალებამ, მეზობელ ზოლებზე მოძრავ სხვა სატრანსპორტო საშუალებათა მძღოლებმა მოძრაობა უნდა განაგრძონ მხოლოდ მას შემდეგ, რაც დარწმუნდებიან, რომ გაჩერებული სამარშრუტო სატრანსპორტო საშუალების წინ არ არის ქვეითი.



Амашына лас арныкѣаф апассажирецѣа рақѣыртѣара амзызла ахыц ала иарбоу атыѣафѣ аангылара азин имоумаѢ

1

Азин имоуп

2

Азин имаѣам

განმარტება:

„საგზაო მოძრაობის შესახებ“ საქართველოს კანონის 41-ე მუხლის მე-3 პუნქტის თანახმად გზაზე, სადაც 5.11, 5.13.1, 5.13.2 და 5.14 საგზაო ნიშნებით აღნიშნული სამარშრუტო სატრანსპორტო საშუალებების მოძრაობისათვის განკუთვნილი ზოლია, აკრძალულია ამ ზოლზე სხვა სატრანსპორტო საშუალებათა მოძრაობა და გაჩერება. თუ ეს ზოლი დანარჩენი სავალი ნაწილისგან მონიშვნის წყვეტილი ხაზითაა გამოყოფილი, მოხვევისას სხვა სატრანსპორტო საშუალებები ამ ზოლზე უნდა გადაჯგუფდნენ. ნებადართულია აგრეთვე ამ ზოლის ასეთ ადგილებში შესვლა გზაზე გასვლისას და მგზავრთა ჩასხდომა-გადმოსხდომისას სავალი ნაწილის მარჯვენა კიდედან, თუ ეს არ დააბრკოლებს სამარშრუტო სატრანსპორტო საშუალების მოძრაობას. ამავე კანონის პირველი დანართის 5.14 პუნქტის თანახმად საგზაო ნიშანი 5.14 „სამარშრუტო სატრანსპორტო საშუალებისათვის განკუთვნილი მოძრაობის ზოლი“ - გზა, რომელზედაც სამარშრუტო სატრანსპორტო საშუალებამოძრაობს სპეციალურად გამოყოფილ ზოლზე სატრანსპორტო საშუალებათა საერთო ნაკადის თანმხვედრი მიმართულებით. ნიშნის მოქმედება ვრცელდება იმ მოძრაობის ზოლზე, რომელზედაც ის დგას. გზის მარჯვენა მხარეს დადგმული ნიშნის მოქმედება ვრცელდება სავალი ნაწილის უკიდურეს მარჯვენა ზოლზე.



Амотоцикл арныкәә аангылара азин имоупЖ

1

А атыңағы

2

В атыңағы

3


С атыңағы

4

Ви Си атыңкәа рғы

განმარტება:

„საგზაო მოძრაობის შესახებ“ საქართველოს კანონის 37-ე მუხლის მე-2 პუნქტის თანახმად, სატრანსპორტო საშუალება, რომელიც ჩერდება ან დგას სავალ ნაწილზე, უნდა იმყოფებოდეს სავალი ნაწილის კიდედან რაც შეიძლება ახლოს. ამავე მუხლის მე-4 პუნქტის თანახმად, სატრანსპორტო საშუალებების დგომა ნებადართულია ერთ რიგად, სავალი ნაწილის კიდის პარალელურად, გარდა იმ ადგილისა, რომელიც სატრანსპორტო საშუალების სხვაგვარად დაყენების პირობებს ქმნის. დასაშვებია გვერდითი მისაბმელის გარეშე ორთვლიანი სატრანსპორტო საშუალებების ორ რიგად დაყენება.



Амотоцикл арныкәә аангылара азин имоупЖ

1

А атыңағы

2

В атыңағы

3

С атыңағы

4

Ви Си атыңкәа рғы

განმარტება:

„საგზაო მოძრაობის შესახებ“ საქართველოს კანონის 37-ე მუხლის მე-2 პუნქტის თანახმად, სატრანსპორტო საშუალება, რომელიც ჩერდება ან დგას სავალ ნაწილზე, უნდა იმყოფებოდეს სავალი ნაწილის კიდედან რაც შეიძლება ახლოს. ამავე მუხლის მე-4 პუნქტის თანახმად, სატრანსპორტო საშუალებების დგომა ნებადართულია ერთ რიგად, სავალი ნაწილის კიდის პარალელურად, გარდა იმ ადგილისა, რომელიც სატრანსპორტო საშუალების სხვაგვარად დაყენების პირობებს ქმნის. დასაშვებია გვერდითი მისაბმელის გარეშე ორთვლიანი სატრანსპორტო საშუალებების ორ რიგად დაყენება.



Зны ишкәакәоу амашына лас, анеѿс, акәырчыжь змам амотоцикл, нас җ акәырчыжь змоу амотоцикл игылазар, урт рҕынтә руа иарбан аргылара атас еилаганы идыргылазѿ

1

Ишкәакәоу амашына лас

2

Акәырчыжь змам амотоцикл

3


Акәырчыжь змоу амотоцикл

4

Атранспорттә хархәагакгы атас еиланамгеит

განმარტება:

„საგზაო მოძრაობის შესახებ“ საქართველოს კანონის 37-ე მუხლის მე-2 პუნქტის თანახმად, სატრანსპორტო საშუალება, რომელიც ჩერდება ან დგას სავალ ნაწილზე, უნდა იმყოფებოდეს სავალი ნაწილის კიდედან რაც შეიძლება ახლოს. ამავე მუხლის მე-4 პუნქტის თანახმად, სატრანსპორტო საშუალებების დგომა ნებადართულია ერთ რიგად, სავალი ნაწილის კიდის პარალელურად, გარდა იმ ადგილისა, რომელიც სატრანსპორტო საშუალების სხვაგვარად დაყენების პირობებს ქმნის. დასაშვებია გვერდითი მისაბმელის გარეშე ორთვლიანი სატრანსპორტო საშუალებების ორ რიგად დაყენება.



Амашына лас арныкææ, апассажирцæа ракæыртæара амзызла ахыц ала иазгæагъу атыфæфы аангыларæ азин имоумаф

1


Азин имоуп

2

Азин имазам

განმარტება:

„საგზაო მოძრაობის შესახებ“ საქართველოს კანონის 37-ე მუხლის მე-6 პუნქტის „ბ.ა“ ქვეპუნქტის თანახმად, აკრძალულია სატრანსპორტო საშუალებების გაჩერება ნებისმიერ ადგილზე, სადაც მას შეუძლია შექმნას საფრთხე, მათ შორის, ესტაკადაზე, ხიდსა და გზაგამტარზე, გარდა იმ შემთხვევისა, როცა აღნიშნულ ადგილებში ორზე მეტი თანმხვედრი მიმართულების მოძრაობის ზოლია.



Ахыц ала иарбоу атыџаџы иаангылар, абарт амашынакџа рырныкџаџџа ркынтџа амџатџа аитатџа атџаскџа еилазгодаџ

1

Амашына шкџакџа арныкџаџ маџара.

2

Амашына кџаџшь арныкџаџ маџара.

3

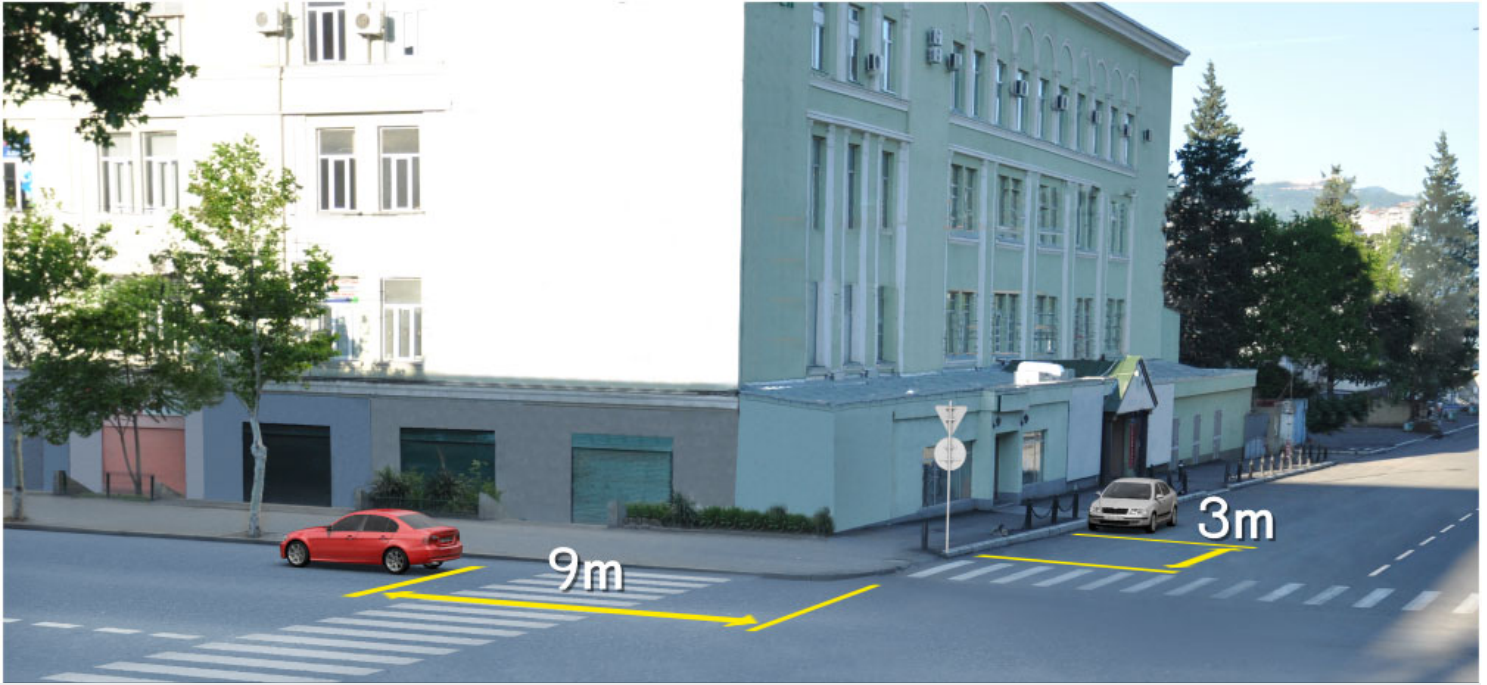
Аџџамашынак рырныкџаџџа

4

Азџгы

განმარტება:

„საგზაო მოძრაობის შესახებ“ საქართველოს კანონის 37-ე მუხლის მე-6 პუნქტის „ბ.ა“ ქვეპუნქტის თანახმად, აკრძალულია სატრანსპორტო საშუალებების გაჩერება ნებისმიერ ადგილზე, სადაც მას შეუძლია შექმნას საფრთხე, მათ შორის, ესტაკადაზე, ხიდსა და გზაგამტარზე, გარდა იმ შემთხვევისა, როცა აღნიშნულ ადგილებში ორზე მეტი თანმხვედრი მიმართულების მოძრაობის ზოლია.



Асахьафы иарбоу атыџафы аангылара аан абарт амашьынакџа рырныкџаџџа ркынтџа амџатџа аитџатра атџаскџа еилазгодаџ

1

Аџемашьынак рырныкџаџџа

2

Азџџгы

3

Амашьына иатџџа арныкџаџ маџара.

4

Амашьына шкџџџа арныкџаџ маџара.

განმარტება:

„საგზაო მოძრაობის შესახებ“ საქართველოს კანონის 37-ე მუხლის მე-6 პუნქტის „ა.ა“ და „ა.გ“ ქვეპუნქტების თანახმად, აკრძალულია სატრანსპორტო საშუალებების გაჩერება გზის სავალ ნაწილზე: ა.ა) ქვეითთა და ველოსიპედიტთა გადასასვლელებზე და მათ წინ 5 მეტრზე ახლოს; ა.გ) სავალი ნაწილების გადაკვეთაზე, აგრეთვე მათი გადაკვეთის ნაპირებიდან 5 მეტრზე ახლოს, გარდა იმ შემთხვევისა, როცა გაჩერება ხდება იმ გვერდითი გასასვლელების მოპირდაპირე სამხრივ გადაკვეთებზე (გზაჯვარედინებზე), რომლებზედაც მონიშვნის უწყვეტი ხაზი ან გამყოფი ზოლია.



Иарбоу атагылазаашьаџы арныкџаџ, иазгџаџоу атыџаџы аидаратџ машьына аргыларა азин имоумаџ

1

Азин имаџам

2


Азин имоуп

განმარტება:

„საგზაო მოძრაობის შესახებ“ საქართველოს კანონის 37-ე მუხლის მე-6 პუნქტის „ბ.“ ქვეპუნქტის თანახმად, აკრძალულია სატრანსპორტო საშუალების გაჩერება ნებისმიერ ადგილზე, სადაც მას შეუძლია შექმნას საფრთხე, მათ შორის, ესტაკადის, ხიდისა და გზაგამტარის ქვეშ, აგრეთვე გვირაბში, გარდა ამისათვის სპეციალურად გამოყოფილი ადგილებისა.

ВОПРОС 413

ПРАВИЛЬНЫЙ ОТВЕТ: 2



Амашына лас арныкәә ахыц ала иарбоу атыңағы аргылартағы амашына иргылар, амәәтә айтатра атасқәа еилеигомаҕ

1

Еилеигоит

2

Еилеигаҕом

განმარტება:

„საგზაო მოძრაობის შესახებ“ საქართველოს კანონის 37-ე მუხლის მე-6 პუნქტის „ბ.ბ“ ქვეპუნქტის თანახმად, აკრძალულია სატრანსპორტო საშუალების გაჩერება ნებისმიერ ადგილზე, სადაც მას შეუძლია შეეშნას საფრთხე, მათ შორის, ესტაკადის, ხიდისა და გზაგამტარის ქვეშ, აგრეთვე გვირაბში, გარდა ამისათვის სპეციალურად გამოყოფილი ადგილებისა.



Абарт атранспорттә хархәагақәа ркынтә аргыларә атцәс аилагаралә иргылоупЖ

1

Амотоцикл мацара

2

Амашына лас мацара

3

Аәетранспорттә хархәагак

4

Атранспорттә хархагакгы атцәс еиланагом

განმარტება:

„საგზაო მოძრაობის შესახებ“ საქართველოს კანონის 37-ე მუხლის მე-6 პუნქტის „ა.გ“ და „გ“ ქვეპუნქტების თანახმად, აკრძალულია სატრანსპორტო საშუალების გაჩერება: ა.გ) სავალი ნაწილების გადაკვეთაზე, აგრეთვე მათი გადაკვეთის ნაპირებიდან 5 მეტრზე ახლოს, გარდა იმ შემთხვევისა, როცა გაჩერება ხდება იმ გვერდითი გასასვლელების მოპირდაპირე სამხრივ გადაკვეთებზე (გზაჯვარედინებზე), რომლებზედაც მონიშვნის უწყვეტი ხაზი ან გამყოფი ზოლია; გ) გაჩერების ამკრძალავი საგზაო ნიშნის ან/და საგზაო მონიშვნის მოქმედების ზონაში. ამავე კანონის პირველი დანართის მე-3 თავის (ამკრძალავი ნიშანები) 3.28 პუნქტის თანახმად საგზაო ნიშანი 3.28 „დგომა აკრძალულია“ - კრძალავს სატრანსპორტო საშუალების დგომას. ამავე თავის პენიშვნის „ე“ და „ი“ ქვეპუნქტების თანახმად: ე) 3.16, 3.20, 3.22, 3.24, 3.26–3.30 ნიშნების მოქმედება ვრცელდება სათანადო ნიშნის შემდეგ, ნიშნის დადგმის ადგილიდან უახლოეს გზაჯვარედინამდე, ხოლო დასახლებულ პუნქტში გზაჯვარედინის არარსებობისას – დასახლებული პუნქტის ბოლომდე; ი) 3.10, 3.27–3.30 ნიშნების მოქმედება ვრცელდება მხოლოდ გზის იმ მხარეს, რომელზედაც ისინია დადგმული.

ВОПРОС 415

ПРАВИЛЬНЫЙ ОТВЕТ: 1

Атრანспорттə хархəага аргылартаҕы игылоуп хəа иҕхьаҕоупЖ

1

Аитатра 5 минутк иреиханы хықəкыла иаанкылазар, уи апассаҗирцəа рақəыртəареи рылбааҗареи, ма аидара ақəтареи ақəхреи ирыдхəаламзар

2

Аитатра хықəкыла, 5 минут рқынза иаанкылазар

3

Аитатра аанкылазар атехникатə ауадаѡрақəа ирыхкьаны

განმარტება:

„საგზაო მოძრაობის შესახებ“ საქართველოს კანონის მე-5 მუხლის მე-20 პუნქტის თანახმად დგომა არის სატრანსპორტო საშუალების მოძრაობის გამიზნულად შეწყვეტა 5 წუთზე მეტი ხნით, თუ ეს აუცილებელი არ არის მგზავრთა ჩასხდომა-გადმოსხდომისათვის ან სატრანსპორტო საშუალების დატვირთვა-გადმოტვირთვისათვის.

ВОПРОС 416

ПРАВИЛЬНЫЙ ОТВЕТ: 4

Амѡасыртаҕы атрანспорттə хархəага аанкылара каломЖ

1

Амѡа иалсны ицо атрамваи аихамѡеи ма урт ирзааигəаны амашына аанкылара атрамваи ма адəыҕба аитатра иаҕырхаҗазар

2

Атрანспорттə хархəага аанкылара иахкьаны амѡатə аитатра еҕырт алхəылацəа алашарбага ардырҗақəа ма амѡатə дырҗақəа иахырымбо атыҕқəа мацара рѣы.

3


Ашышьыхəа еитатра атрანспорттə хархəаҗақəа реитатразы иазҕхьагəатоу, иашьашəалоу амѡатə дыргала иазгəатоу, иацтаны икоу аитатратə цəахəаҕы

4

Абри абилет аҕы еикəыҕхьаҕоу атаҗылазаашьақəа зегы раан

განმარტება:

„საგზაო მოძრაობის შესახებ“ საქართველოს კანონის 37-ე მუხლის მე-6 პუნქტის „ა.ბ“ ქვეპუნქტის თანახმად აკრძალულია სატრანსპორტო საშუალებების გაჩერება გზის სავალ ნაწილზე, გზაზე გამავალი ტრამვაის და რკინიგზის ლიანდაგებზე ან მათ ახლოს, თუ ამას შეუძლია გააძნელოს ტრამვაის ან მატარებლების მოძრაობა. ამავე პუნქტის „ბ.ე“ და „ბ.ვ“ ქვეპუნქტების თანახმად აკრძალულია სატრანსპორტო საშუალებების გაჩერება ნებისმიერ ადგილზე, სადაც მას შეუძლია შექმნას საფრთხე, მათ შორის: ბ.ე) იმ ადგილზე, სადაც იგი სხვა საგზაო მოძრაობის მონაწილეებს უფარავს შექნიშნის ფერად მაშუქ სიგნალებს ან საგზაო ნიშნებს; ბ.ვ) ნელმავალი სატრანსპორტო საშუალებების მოძრაობისათვის განკუთვნილ, შესაბამის საგზაო ნიშნით აღნიშნულ დამატებით მოძრაობის ზოლზე.



Ацхаფы апассажира рақәыртәара амзызла амашына лас ахыц ахырхартала шытахыла ицозар, амотоцикл ахыц ахырхартала дцәиуазар, иарбоу атагылазашыафы абарт атранспорттә хархәагакәа рырныкәащәа ркынтә амәатә аитатра атаскәа еилазгодаҕ

1

Амотоцикл арныкәа

2

Амашына арныкәа

3

Азәгы

4

Аәетранспорттә хархәагак рырныкәащәа

განმარტება:

„საგზაო მოძრაობის შესახებ“ საქართველოს კანონის 32-ე მუხლის მე-15 პუნქტის „გ“ ქვეპუნქტის თანახმად, აკრძალულია სატრანსპორტო საშუალების მობრუნება ხიდზე, გზაგამტარზე, ესტაკადაზე და მათ ქვეშ. ამავე მუხლის მე-16 პუნქტის თანახმად, მძღოლი, რომელიც მობრუნებას ან უკუსვლით მოძრაობას აპირებს, უნდა დარწმუნდეს, რომ მას შეუძლია ისე შეასრულოს ეს მანევრი, რომ საფრთხე არ შეუქმნას და ხელი არ შეუშალოს სხვა საგზაო მოძრაობის მონაწილეებს. აუცილებლობის შემთხვევაში მიზანშეწონილია სხვა პირის დახმარება. აკრძალულია უკუსვლით მოძრაობა გზაჯვარედინზე, ავტომაგისტრალზე და ამ მუხლის მე-15 პუნქტით განსაზღვრულ ადგილებში.

ВОПРОС 418

ПРАВИЛЬНЫЙ ОТВЕТ: 3

Ауаа ахнымхо атыңағы 2.1 амғатө дыргала Ў«Амға хада»Т изгғатоу амғасыртағы атранспорттө хархғаа аргылара каломаб

1

Икалоит

2

Икалоит, аха ганклатәи ахырхартала аитатпразы ъецәахәак еитцымкәа иахьыкоу амғағы

3

Икалом

განმარტება:

„საგზაო მოძრაობის შესახებ“ საქართველოს კანონის 37-ე მუხლის მე-7 პუნქტის „ვ“ ქვეპუნქტების თანახმად, აკრძალულია სატრანსპორტო საშუალებების დგომა, დაუსახლებელ პუნქტში 2.1, 5.1 და 5.3 საგზაო ნიშნებით აღნიშნულ გზის სავალ ნაწილზე, აგრეთვე დასახლებულ პუნქტში გზის სავალ ნაწილზე, სადაც მოძრაობა დაშვებულია 80 კმ/სთ-ზე მეტი სიჩქარით, გარდა სპეციალურად აღნიშნული ადგილებისა.

ВОПРОС 419

ПРАВИЛЬНЫЙ ОТВЕТ: 1

Автотранспорттө хархғаа аанкылара калом амғасырта ишғартоу ацыңтәахеи, амға аноурылатө профиль илгәыгәу аңцәарстеи ирзааигәаны, хырхартак алагы, амға алаңшбара иахьыкоуЖ

1


100 метრაკ еитңы

2

100 метრაკ еиханы, аха 150 метრაკ еитңы

განმარტება:

„საგზაო მოძრაობის შესახებ“ საქართველოს კანონის 37-ე მუხლის მე-6 პუნქტის „ბ.გ“ ქვეპუნქტის თანახმად, აკრძალულია სატრანსპორტო საშუალებების გაჩერება გზის სავალ ნაწილზე სახიფათო მოსახვევისა და გზის გრძივი პროფილის ამობურცული გადატეხვის ახლოს, სადაც გზის ხილვადობა თუნდაც ერთი მიმართულებით 100 მეტრზე ნაკლებია.



Иазგაოთუ აანგylარტაფყ იგყლოუ ატრამვაი აზგყყ დაყყმტყозар, აзгყყ длымбаауазар, амашына лас арныкѳаѳ ахыц ахырхартала аитатра анагзара азин имоумаѢ

1

Азин имоуп

2

Азин имазам

განმარტება:

„სავგაო მოძრაობის შესახებ“ საქართველოს კანონის 25-ე მუხლის მე-4 პუნქტის თანახმად, მძღოლმა, რომელიც მოძრაობის მიმართულების შესაბამისი მხრიდან სათანადო წესით მონიშნულ გაჩერებაზე მყოფი სამარშრუტო სატრანსპორტო საშუალებისთვის გვერდის ავლას აპირებს, უნდა შეამციროს სიჩქარე და, აუცილებლობის შემთხვევაში, გაჩერდეს, რათა უზრუნველყოს მგზავრების საზოგადოებრივ ტრანსპორტში უსაფრთხო ჩასხდომის ან იყიდან გადმოსხდომის შესაძლებლობა.



Амашына лас арныкѣаѣ амѣихысыртаѣы арѣырахѣ дѣѣиыр игѣы иѣоуп, уи амѣатѣ аитатѣра атасѣкѣа еилеигомЖ

1

Автобус даѣысны, арѣырахѣтѣи аѣѣахѣа ашѣа диасны, уаантѣ арѣырахѣ дѣѣиыр

2

Автобус даѣысны, аѣбатѣи аѣѣахѣаѣынтѣ арѣырахѣ дѣѣиыр

3


Автобус иоужѣтны, арѣырахѣтѣи аѣѣахѣа ашѣа диасны, уаантѣ арѣырахѣ дѣѣиыр

4

Автобус иоужѣтны, аѣбатѣи аѣѣахѣаѣынтѣ арѣырахѣ дѣѣиыр

განმარტება:

„საგზაო მოძრაობის შესახებ“ საქართველოს კანონის 32-ე მუხლის მე-7 პუნქტის „ა“ ქვეპუნქტის თანახმად, სხვა გზაზე გასასვლელად ან გზის მიმდებარე ტერიტორიაზე შესასვლელად მარჯვნივ ან მარცხნივ მოხვევის წინ, ისე, რომ არ დაარღვიოს ამ კანონის მე-20 მუხლის მე-2 პუნქტითა და ამ მუხლის პირველი და მე-2 პუნქტებით დადგენილი მოთხოვნები, თუ სატრანსპორტო საშუალების მძღოლი აპირებს გზიდან გასვლას მარჯვენა მხრიდან, სატრანსპორტო საშუალებამ უნდა იმოძრაოს რაც შეიძლება ახლოს სავალი ნაწილის მარჯვენა კიდესთან და შემდეგ შეასრულოს შეძლებისდაგვარად მოკლე მანევრი; ამავე კანონის მეორე დანართის პირველი თავის (ჰორიზონტალური მონიშვნა) 1.23 პუნქტის თანახმად საგზაო მონიშვნა 1.23 აღნიშნავს სპეციალურ ზოლს, რომელიც განკუთვნილია სამარშრუტო სატრანსპორტო საშუალების მოძრაობისათვის. ამავე კანონის 41-ე მუხლის მე-3 პუნქტის თანახმად, გზაზე, სადაც 5.11, 5.13.1, 5.13.2 და 5.14 საგზაო ნიშნებით აღნიშნული სამარშრუტო სატრანსპორტო საშუალებების მოძრაობისათვის განკუთვნილი ზოლია, აკრძალულია ამ ზოლზე სხვა სატრანსპორტო საშუალებათა მოძრაობა და გაჩერება. თუ ეს ზოლი დანარჩენი სავალი ნაწილისგან მონიშვნის წყვეტილი ხაზითაა გამოყოფილი, მოხვევისას სხვა სატრანსპორტო საშუალებები ამ ზოლზე უნდა გადაჭეუდნენ. ნებადართულია აგრეთვე ამ ზოლის ასეთ ადგილებში შესვლა გზაზე გასვლისას და მგზავრთა ჩასხდომა-გადმოსხდომისას სავალი ნაწილის მარჯვენა კიდესთან, თუ ეს არ დააბრკოლებს სამარშრუტო სატრანსპორტო საშუალების მოძრაობას.



Амашына лас арныкѣаѣ анхартатѣ пункт аѣы, асахѣаѣ иазгѣаѣоу атыѣаѣ апассажирѣа раѣѣырѣаѣра амзызла аангылара азин имоумаѢ

1

Азин имаѣам

2

Азин имоуп

განმარტება:

„საგზაო მოძრაობის შესახებ“ საქართველოს კანონის პირველი დანართის მე-5 თავის (განსაკუთრებული მითითებების ნიშნები) 5.11 პუნქტის თანახმად 5.11 „სამარშრუტო სატრანსპორტო საშუალებისათვის განკუთვნილი მოძრაობის ზოლის მქონე გზა“ - აღნიშნავს გზას, რომელზედაც სამარშრუტო სატრანსპორტო საშუალება მოძრაობს სპეციალურად გამოყოფილ ზოლზე სატრანსპორტო საშუალებათა საერთო ნაკადის საპირისპირო მიმართულებით. ამავე კანონის 41-ე მუხლის მე-3 პუნქტის თანახმად, გზაზე, სადაც 5.11, 5.13.1, 5.13.2 და 5.14 საგზაო ნიშნებით აღნიშნული სამარშრუტო სატრანსპორტო საშუალებების მოძრაობისათვის განკუთვნილი ზოლია, აკრძალულია ამ ზოლზე სხვა სატრანსპორტო საშუალებათა მოძრაობა და გაჩერება. თუ ეს ზოლი დანარჩენი სავალი ნაწილისგან მონიშვნის წყვეტილი ხაზითაა გამოყოფილი, მოხვევისას სხვა სატრანსპორტო საშუალებები ამ ზოლზე უნდა გადაჯგუფდნენ. ნებადართულია აგრეთვე ამ ზოლის ასეთ ადგილებში შესვლა გზაზე გასვლისას და მგზავრთა ჩასხდომა-გადმოსხდომისას სავალი ნაწილის მარჯვენა კიდედან, თუ ეს არ დააბრკოლებს სამარშრუტო სატრანსპორტო საშუალების მოძრაობას.

ВОПРОС 423

ПРАВИЛЬНЫЙ ОТВЕТ: 2

Амѡათѣ амашѡыр аан ма ашѡарта иѡазар, арныѡѡѡ, чыдала аангыларазы иазгѡათѡу атыѡ ахыѡѡам, амѡათѣ дыргала иазгѡათѡу аѡаѡкылтѡѡѡѡ амашыѡна аанкылара ма аргылара азин имѡумаѡ

1

Азин имазам

2

Азин имѡуп

განმარტება:

„საგზაო მოძრაობის შესახებ“ საქართველოს კანონის 42-ე მუხლის „გ“ პუნქტის თანახმად, საგზაო ნიშნით აღნიშნულ გვირაბებში მოქმედებს შემდეგი წესები - მძღოლს შეუძლია გააჩეროს ან დააყენოს სატრანსპორტო საშუალება მხოლოდ საავარიო სიტუაციის ან საფრთხის შემთხვევაში. ამასთანავე, მან უნდა გამოიყენოს სპეციალურად მონიშნული ადგილი, თუ ამის შესაძლებლობა არსებობს.

ВОПРОС 424

ПРАВИЛЬНЫЙ ОТВЕТ: 2

Атранспорттѣ харѡѡага амѡათѣ дыргала иазгѡათѡу аѡаѡкылтѡѡѡѡ кыраамтала иаангылазар, аус зуа арныѡѡѡгала игылазар ѡѡѡѡѡѡ

1

Иѡѡѡѡѡ

2

Иѡѡѡѡ

განმარტება:

„საგზაო მოძრაობის შესახებ“ საქართველოს კანონის 42-ე მუხლის „დ“ პუნქტის თანახმად, საგზაო ნიშნით აღნიშნულ გვირაბებში მოქმედებს შემდეგი წესები - ხანგრძლივი გაჩერების შემთხვევაში მძღოლმა ძრავი უნდა გამორთოს.

ВОПРОС 425

ПРАВИЛЬНЫЙ ОТВЕТ: 1

Амаршруттә атранспорттә хархәага ма атакси азы иалкаау аангыларә атыпқәа рҕы, уи еипш атыпқәа иҕамзар – амаршруттә атранспорттә хархәага ма атакси аангыларта арбагаҕы, уи амаршруттә атранспорттә хархәага аитатра иаҕырхагазар, атранспорттә хархәага аанкыларә каломЖ

1

10 метрак рацкыс иааигәаны

2

15 метрак рацкыс иааигәаны

3

15 метрак иреитцымкәа ирыбжъазароуп

განმარტება:

„საგზაო მოძრაობის შესახებ“ საქართველოს კანონის 37-ე მუხლის მე-6 პუნქტის „ბ.8“ ქვეპუნქტის თანახმად, ავრძალულია სატრანსპორტო საშუალებების გაჩერება ნებისმიერ ადგილზე, სადაც მას შეუძლია შექმნას საფრთხე, მათ შორის სამარშრუტო სატრანსპორტო საშუალების ან ტაქსის კონსტრუქციულად გამოყოფილი გაჩერების ადგილებიდან, ხოლო მათი არარსებობის შემთხვევაში – სამარშრუტო სატრანსპორტო საშუალების ან ტაქსის გაჩერების მაჩვენებლიდან 15 მეტრზე ახლოს, თუ ეს აბრკოლებს აღნიშნული სატრანსპორტო საშუალებების მოძრაობას.

ВОПРОС 426

ПРАВИЛЬНЫЙ ОТВЕТ: 2

Аангыларазы чыдала иалкаау атып ахыҕам аестакадақәеи, ацхақәеи, амҕангагақәеи рытқаа атранспорттә хархәага аангыларә каломаҕ

1

Икалом, ззин иҕоу амаксималтә масса 3,5 тонна еихау атранспорттә хархәага мацара аанкыларә

2

Икалом

3

Икалоит

განმარტება:

„საგზაო მოძრაობის შესახებ“ საქართველოს კანონის 37-ე მუხლის მე-6 პუნქტის „ბ.ბ“ ქვეპუნქტის თანახმად, ავრძალულია სატრანსპორტო საშუალებების გაჩერება ნებისმიერ ადგილზე, სადაც მას შეუძლია შექმნას საფრთხე, მათ შორის ესტაკადის, ხიდისა და გზაგამტარის ქვეშ, აგრეთვე გვირაბში, გარდა ამისათვის სპეციალურად გამოყოფილი ადგილებისა.

ВОПРОС 427

ПРАВИЛЬНЫЙ ОТВЕТ: 3

«Аангылара» аупЖ

1

Атранспорттә хархәага аитатра иазызбаны аҕытра атранспорттә еишьтагылаҕы

2

Атранспорттә хархәага аитатра иазызбаны аҕытра атранспорттә аитатра еиҕызкаауа атехникатә хархәагаҕа ма аиҕкаааҕ рыхәрала

3

Атранспорттә хархәага аитатра иазызбаны аҕытра 5 минутк ыла ма еиҕау аамтала, уи ихымҕадазар апасажирцәа рақәтәреи ылбаареи ма аидара ақәтәреи ақәхреи рзы

განმარტება:

„საგზაო მოძრაობის შესახებ“ საქართველოს კანონის 5-ე მუხლის მე-11 პუნქტის თანახმად, გაჩერება – სატრანსპორტო საშუალების მოძრაობის წინასწარგანზრახული შეწყვეტა 5 წუთამდე, ან უფრო მეტი ხნით, თუ ეს აუცილებელია მგზავრთა ჩასხდომა-გადმოსხდომისათვის ან სატრანსპორტო საშუალების დატვირთვა-გადმოტვირთვისათვის. გაჩერებად არ ითვლება სატრანსპორტო საშუალების მოძრაობის წინასწარგანზრახული შეწყვეტა სატრანსპორტო ნაკადში, საგზაო მოძრაობის ორგანიზების ტექნიკური საშუალებების ან მარეგულირებლის მოთხოვნათა გამო.

ВОПРОС 428

ПРАВИЛЬНЫЙ ОТВЕТ: 2

«Агылара» иаанагоитЖ

1

Атранспорттә хархәага аитатра хықәкыла аанкылара 5 минутк ыла ма еиҕау аамтала, уи ихымҕадазар апасажирцәа рақәтәреи ылбаареи ма аидара ақәтәреи ақәхреи рзы

2

Атранспорттә хархәага хықәкыла аанкылара 5 минутк ыла ма еиҕау аамтала, уи апасажирцәа рақәтәреи ылбаареи ма аидара ақәтәреи ақәхреи ирыдхәаламзар

განმარტება:

„საგზაო მოძრაობის შესახებ“ საქართველოს კანონის 5-ე მუხლის მე-20 პუნქტის თანახმად, დგომა - სატრანსპორტო საშუალების მოძრაობის გამიზნულად შეწყვეტა 5 წუთზე მეტი ხნით, თუ ეს აუცილებელი არ არის მგზავრთა ჩასხდომა-გადმოსხდომისათვის ან სატრანსპორტო საშუალების დატვირთვა-გადმოტვირთვისათვის.

ВОПРОС 429

ПРАВИЛЬНЫЙ ОТВЕТ: 2

Атრანспорттә хархәага амѡасырта армарахьтәи аганафы игылазар каломаѢ

1

Икалоит, ауаа иахьнымхо атыѡафы мацара

2

Икалоит, анхартатыѡ афы, ахырхарта
цыѡхьажазы аитатцратә цәахәак иахьыкоу,
агәтаны атрамваи арельскәа змам амѡафы

3

Икалоит, изеиѡшразаалак амѡафы, уи
агәтаны атрамваи арельскәа ыѡамзар

4

Икалом

განმარტება:

„საგზაო მოძრაობის შესახებ“ საქართველოს კანონის 37-ე მუხლის მე-2 პუნქტის „ბ“ ქვეპუნქტის თანახმად, სატრანსპორტო საშუალება, რომელიც ჩერდება ან დგას სავალ ნაწილზე, უნდა იმყოფებოდეს სავალი ნაწილის კიდეგან რაც შეიძლება ახლოს. მძღოლს შეუძლია გაჩერდეს ან დააყენოს სატრანსპორტო საშუალება სავალ ნაწილზე, მარჯვენა მხარეს. სატრანსპორტო საშუალების გაჩერება და დგომა სავალი ნაწილის მარცხენა მხარეს ნებადართულია დასახლებულ პუნქტში იმ გზაზე, სადაც თითოეული მიმართულებისათვის ერთი სამოძრაო ზოლია შუაში ტრამვაის ლიანდაგების გარეშე.

ВОПРОС 430

ПРАВИЛЬНЫЙ ОТВЕТ: 4

Атрანспорттә хархәага игылазар калоитЖ

1

Аангылара иқәитызымтәуа амѡатә дырга амч
иахьамоу атыѡафы

2

Амѡа амѡасыртафы, аихамѡа ахысырта 50
метрак рацкыс иаха иазааигәаны

3

Агәарақынтә амашына атытыртақны

4

Абри абилеть афы еиқәыѡхьажоу атыѡқәа
зегьы рфы иқәитымуп

განმარტება:

„საგზაო მოძრაობის შესახებ“ საქართველოს კანონის 36-ე მუხლის მე-7 პუნქტის „ა“, „ბ“, და „დ“ ქვეპუნქტების თანახმად, აკრძალულია სატრანსპორტო საშუალებების დგომა: ა) იმ ადგილას, სადაც გაჩერება აკრძალულია; ბ) გზის სავალ ნაწილზე რკინიგზის გადასასვლელთან 50 მეტრზე ახლოს; დ) ეზოდან ავტომობილის გამოსასვლელთან.

ВОПРОС 431

ПРАВИЛЬНЫЙ ОТВЕТ: 1

Аტრანსპორტტე ხარხეაგა არნყკეაფ ამაშყრტე ალაშარტე არდყრგა იყი იაირხეაროუპჟ

1

Иқалар зылшо ашқарта иазкны амқатэ айтатра егырт алахылацэа агёантара рытаразы

2

Амқатэ айтатра егырт алахылацэа рёауҕа аҕыжара аиуразы

განმარტება:

„საგზაო მოძრაობის შესახებ“ საქართველოს კანონის 52-ე მუხლის პირველი პუნქტის თანახმად, საავარიო შეუსიგნალიზაცია გამოიყენება მოსალოდნელი საფრთხის შესახებ სხვა საგზაო მოძრაობის მონაწილეთა გაფრთხილებისათვის.

ВОПРОС 432

ПРАВИЛЬНЫЙ ОТВЕТ: 1

Аტრანსპორტტე ხარხეაგა არნყკეაფ ამაშყრტე ალაშარტე არდყრგა ჭმა უი ეიუშუ დაეა დყრგაკჲ აფაკრა იუალუპჟ

1

Аангылар иахықамло атыңағы ҥсыхэа имамкэа даангылазар

2

Амёеихысырта нтыц, даныцэиуа

3

Аласра ду ала ашыақауаа рхысырта дахысуазар

განმარტება:

„საგზაო მოძრაობის შესახებ“ საქართველოს კანონის 52-ე მუხლის პირველი პუნქტის „ბ“ ქვეპუნქტის თანახმად, საავარიო შეუსიგნალიზაცია გამოიყენება მოსალოდნელი საფრთხის შესახებ სხვა საგზაო მოძრაობის მონაწილეთა გაფრთხილებისათვის. საავარიო შეუსიგნალიზაცია უნდა ჩაერთოს: ბ) იმ ადგილას იძულებით გაჩერების დროს, სადაც გაჩერება აკრძალულია.

Арныкәә, аангыларә иахыкәмло атыцкәә рҕы уаха цысхәә имамкәә даангылазар, уи амашәыртә аангыларә ардырга Пума уи еипушу даәа дыргакт ихцмыркыакәә иқәиргылароупЖ

1

Амашәыртә алашаратә ардырга аҕакра аамышытахь

2


Амашәыртә алашаратә ардырга иҕамзар ма ицхастазар

3

Амашәыртә ардырга аҕакра аамышытахь, иара убас, уи еипуш ардырга иҕамзар ма ицхастазар

განმარტება:

„საგზაო მოძრაობის შესახებ“ საქართველოს კანონის 52-ე მუხლის მე-2 პუნქტის „ბ“ ქვეპუნქტის თანახმად, საავარიო შეუსიგნალიზაციის ჩართვის შემდეგ, აგრეთვე თუ ასეთი სიგნალიზაცია არ არსებობს ან მწყობრიდანაა გამოსული, მძღოლმა დაუყოვნებლივ უნდა დადგას „საავარიო გაჩერების ნიშანი“, ხოლო არასაკმარისი ხილვადობის პირობებში – მოციმციმე წითელი ფარანი: ბ) იმ ადგილას იძულებით გაჩერების დროს, სადაც გაჩერება აკრძალულია, და იქ, სადაც, ხილვადობის პირობების გათვალისწინებით, სხვა მძღოლები ვერ შეძლებენ სატრანსპორტო საშუალების დროულად შემჩნევას.



Ахәыцқәа имѡанызго автобус арныкәаѡ, амашәыртә алашаратә ардырга иаѡамккәа даангылар, абарт атыпқәа ркынтә руа иарбан амѡатә аитатра атаскәа иахьеилеигоѢ

1

А атып ағы мацара

2


В атып ағы мацара

3

Аи Ви атыпқәа рѡы

ბანმარტუბა:

„საგზაო მოძრაობის შესახებ“ საქართველოს კანონის 26-ე მუხლის მე-4 პუნქტის თანახმად, ბავშვთა ჯგუფის გადაყვან ავტობუსზე დამაგრებული უნდა იყოს საცნობი ნიშანი „ბავშვების გადაყვანა“. ავტობუსის გაჩერების შემთხვევაში მძღოლმა უნდა ჩართოს საავარიო შექსიგნალიზაცია. ბავშვების თანმხლები სრულწლოვანი პირები ვალდებული არიან, უზრუნველყონ ბავშვების ავტობუსში ჩასხდომა და ავტობუსიდან გადმოსხდომა, აგრეთვე ბავშვების მიერ გზის სავალი ნაწილის უსაფრთხო გადაკვეთა.



Амашына лас арныкәә аангылара азин имоупЖ

1

А атыңағы

2


В атыңағы

3

Аи Ви атыңкәа рғы

განმარტება:

„საგზაო მოძრაობის შესახებ“ საქართველოს კანონის პირველი დანართის მე-3 თავის (ამკრძალავი ნიშნები) 3.27 პუნქტის თანახმად, საგზაო ნიშანი 3.27 „გაჩერება აკრძალულია“ - კრძალავს სატრანსპორტო საშუალების, როგორც გაჩერებას, ასევე დგომას. ამავე თავის შენიშვნის „ბ.დ“ ქვეპუნქტის თანახმად, 3.27–3.30 ნიშნების მოქმედების ზონა მცირდება, მათი მოქმედების ზონის ბოლოში 8.2.3 დაფიანი განმეორებითი 3.27–3.30 ნიშნების დადგმით ან 8.2.2 დაფის გამოყენებით, ან 7.4 „დგომის ადგილი“ ნიშნის 8.2.1 დაფით დადგმით.



Амашына лас арныкәә, апассажирцәа рақәыртәара амзызла ахыц ала иазгәаҭоу атыҭаҕы аангыларә азин имоумаҭ

1

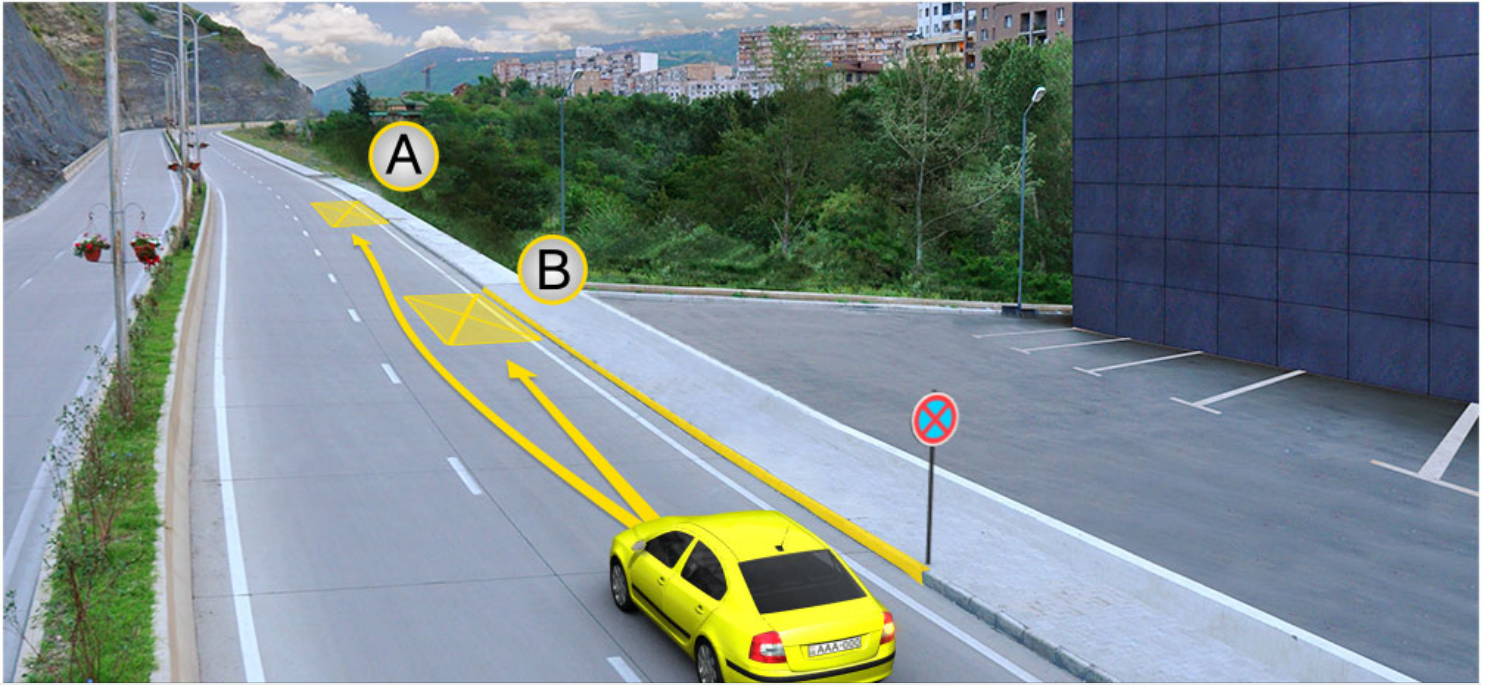
Азин имоуп

2

Азин имаҭам

განმარტება:

„საგზაო მოძრაობის შესახებ“ საქართველოს კანონის მე-2 დანართის პირველი თავის (ჰორიზონტალური მონიშვნა) 1.4 პუნქტის თანახმად, საგზაო მონიშვნა 1.4 მთლიანი ყვითელი ხაზი აღნიშნავს ადგილს, სადაც აკრძალულია გაჩერება; გამოიყენება დამოუკიდებლად ან 3.27 ნიშანთან ერთად; იხაზება სავალი ნაწილის ნაპირთან ან ბორდიურზე ზემოდან.



Амашына лас арныкәә аангылара азин имоупЖ

1

А атып мацарафы.

2

В атып мацарафы.

3

Аи Ви атыпкәа рфы

განმარტება:

„საგზაო მოძრაობის შესახებ“ საქართველოს კანონის მე-2 დანართის პირველი თავის (ჰორიზონტალური მონიშვნა) 1.4 პუნქტის თანახმად, საგზაო მონიშვნა 1.4 მთლიანი ყვითელი ხაზი აღნიშნავს ადგილს, სადაც აკრძალულია გაჩერება; გამოიყენება დამოუკიდებლად ან 3.27 ნიშანთან ერთად; იხაზება სავალი ნაწილის ნაპირთან ან ბორდიურზე ზემოდან. ამავე კანონის პირველი დანართის მე-3 თავის (ამკრძალავი ნიშნები) 3.27 პუნქტის და ამავე თავის შენიშვნის „თ“ ქვეპუნქტის თანახმად, საგზაო ნიშანი 3.27 „გაჩერება აკრძალულია“ - კრძალავს სატრანსპორტო საშუალების, როგორც გაჩერებას, ასევე დგომას. 3.27 ნიშნის გამოყენება შეიძლება 1.4 მონიშვნასთან, ხოლო 3.28 ნიშნისა – 1.10 მონიშვნასთან ერთად. ამასთანავე, ნიშნების მოქმედების ზონა მონიშვნის ხაზის სიგრძით განისაზღვრება.



Амашына лас арныкѣа аангылара азин имоупЖ

1

А атып мацарафы

2

В атып мацарафы

3

Аи Ви атыпкѣа рѣы

განმარტება:

„საგზაო მოძრაობის შესახებ“ საქართველოს კანონის 37-ე მუხლის მე-6 პუნქტის „ა.ა“ და „ა.გ“ ქვეპუნქტების თანახმად, აკრძალულია სატრანსპორტო საშუალების გაჩერება გზის სავალ ნაწილზე: ა.ა) ქვეითთა და ველოსიპედისტთა გადასასვლელებზე და მათ წინ 5 მეტრზე ახლოს; ა.გ) სავალი ნაწილების გადაკვეთაზე, აგრეთვე მათი გადაკვეთის ნაპირებიდან 5 მეტრზე ახლოს, გარდა იმ შემთხვევისა, როცა გაჩერება ხდება იმ გვერდითი გასასვლელების მოპირდაპირე სამმხრივ გადაკვეთებზე (გზაჯვარედინებზე), რომლებზედაც მონიშვნის უწყვეტი ხაზი ან გამყოფი ზოლია.

თემა 20:

გზავრედინის გავლა



Ахыц ахырхартала аитацра аан абарт атранспорттә хархәагакәа рырныкәаџәа ркынтә амџа атара зыхәтадаҕ

1

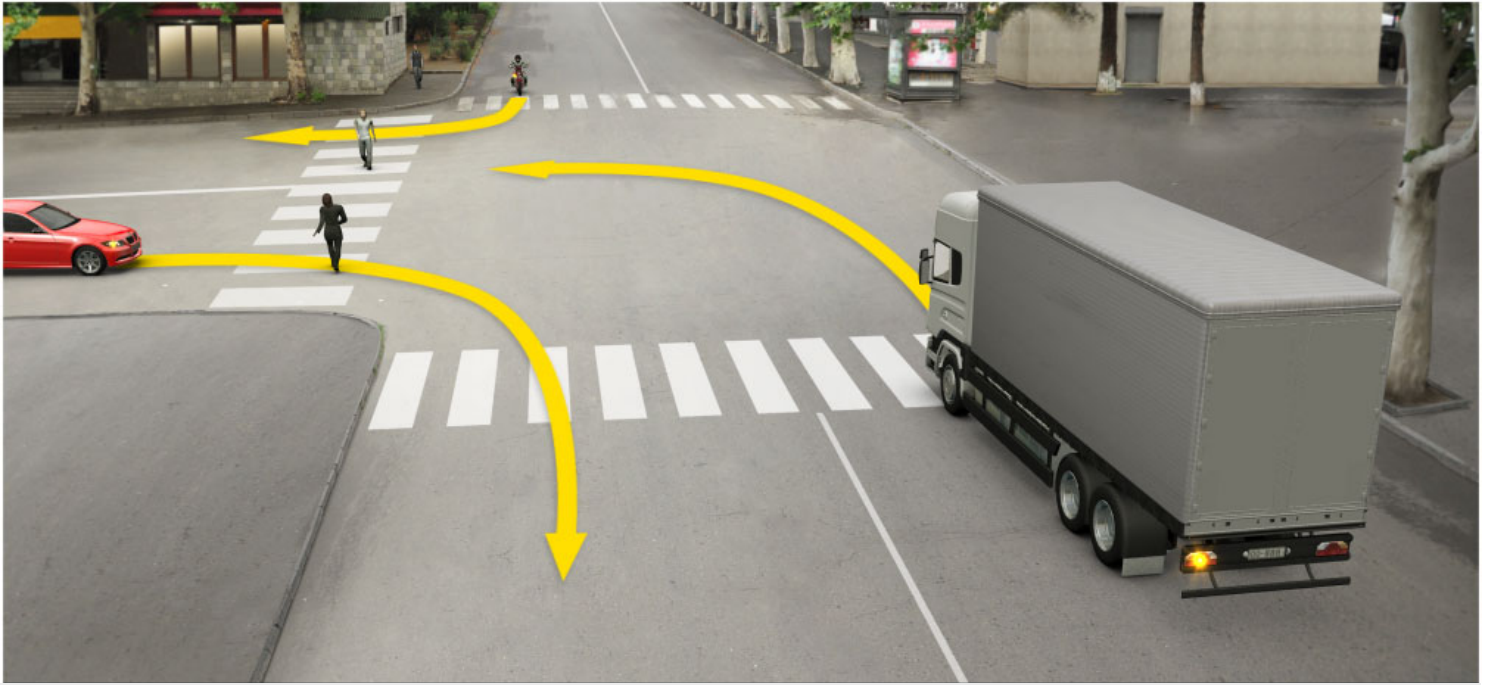
Амашына лас арныкәаџ

2

Амотоцикл арныкәаџ

განმარტება:

„საგზაო მოძრაობის შესახებ“ საქართველოს კანონის პირველი დანართის 2.3 პუნქტის თანახმად, საგზაო ნიშანი 2.3 „დაუთმე გზა“ - გზა, რომელზე მოძრავი მძღოლის ვალდებულია გზა დაუთმოს გადასაღვეთ გზაზე მოძრავ მძღოლს. ამავე კანონის მე-2 დანართის 1.13 პუნქტის თანახმად ჰორიზონტალური საგზაო მონიშვნა 1.13. აღნიშნავს ადგილს, სადაც მძღოლი აუცილებლობის შემთხვევაში უნდა გაჩერდეს და გზა უნდა დაუთმოს გადამკვეთ გზაზე მოძრავ სატრანსპორტო საშუალებას.



Ахыц ахырхартала аитатра аан абарт атранспорттә хархәагакәа рырныкәаџәа ркынтә ашьакауаџ амџа итара зыхәтадаџ

1

Аидаратә машына арныкәаџ затәы

2

Амашына лас арныкәаџ затәы

3


Амотоцикл арныкәаџ затәы

4

Атранспорттә хархәагакәа рыхџагы рырныкәаџәа

განმარტება:

„საგზაო მოძრაობის შესახებ“ საქართველოს კანონის 25-ე მუხლის მე-2 პუნქტის „ბ“ ქვეპუნქტის თანახმად, ქვეითთა გადასასვლელზე ამ კანონის 21-ე მუხლის მე-6 პუნქტით, 33-ე მუხლის მე-2 პუნქტითა და 34-ე მუხლის მე-11 პუნქტით დადგენილ მოთხოვნათა დაცვით უნდა შესრულდეს შემდეგი მოთხოვნები: ბ) თუ სატრანსპორტო საშუალებათა მოძრაობა არ რეგულირდება არც საგზაო პუქნიშნით, არც მარეგულირებლის მეშვეობით, მძღოლმა ქვეითთა გადასასვლელთან მიახლოებისას სათანადოდ უნდა შეამციროს სიჩქარე, რათა საფრთხე არ შეუქმნას ამ გადასასვლელზე შესულ ან შემავალ ქვეითებს, ხოლო საჭიროების შემთხვევაში უნდა გაჩერდნეს და გაატაროს ქვეითები.



Ахыт ахырхартала еитатца атранспорттә хархәагақәа амѳеихысырта ианалсуа еишьтаргылашьас ирымазарц рыхәтѳиѳ

1

Зны атрамваи иасроуп, анеѳс – амашына лас, атыхәтәаны – амотоцикл

2

Зны амашына лас иасроуп, анеѳс – атрамваи, атыхәтәаны – амотоцикл

3

Зны амотоцикл иасроуп, анеѳс – атрамваи, атыхәтәаны – амашына лас

განმარტება:

„საგზაო მოძრაობის შესახებ“ საქართველოს კანონის 36-ე მუხლის მე-4 პუნქტის „ა“ და „გ“ ქვეპუნქტების თანახმად, არარეგულირებულ გზაჯვარედინზე: ა) არათანაბარმნიშვნელოვანი გზების გადაკვეთაზე მეორეხარისხოვან გზაზე მოძრავი სატრანსპორტო საშუალების მძღოლი ვალდებულია გზა დაუთმოს მთავარი გზიდან მოახლოებულ სატრანსპორტო საშუალებას, მიუხედავად მისი შემდგომი მოძრაობის მიმართულებისა; გ) თანაბარმნიშვნელოვანი გზების გადაკვეთაზე ურელსო სატრანსპორტო საშუალების მძღოლი ვალდებულია გზა დაუთმოს მარჯვნიდან მოახლოებულ სატრანსპორტო საშუალებას. ამავე წესით უნდა იხელმძღვანელონ ურთიერთშორის რელსიანი სატრანსპორტო საშუალებების მძღოლებმაც. ასეთ გზაჯვარედინზე რელსიან სატრანსპორტო საშუალებას აქვს უპირატესობა ურელსო სატრანსპორტო საშუალების მიმართ, მიუხედავად მისი მოძრაობის მიმართულებისა.



Ахыц ахырхартала еитатца абарт атранспорттә хархәагақәа рырныкәаџцәа ркынтә амџа атара зыхәтадаҕ

1


Амашына џежь арныкәаџ

2

Амотоцикл арныкәаџ

განმარტება:

„საგზაო მოძრაობის შესახებ“ საქართველოს კანონის 32-ე მუხლის მე-12 პუნქტის თანახმად, თუ სატრანსპორტო საშუალებების მოძრაობის ტრადიციური იკვეთება, ხოლო გავლის რიგითობა განსაზღვრული არ არის, მძღოლმა გზა უნდა დაუთმოს იმ სატრანსპორტო საშუალებას, რომელიც მას მარჯვნიდან უახლოვდება.



Амფეიხისურთა იალსნი იცო ამაშყინაჲა ახყც ახყრჲართალა ეიტაცუაზარ, ეიშყტარყლაშყას ირყმაზარც რყხჲთიჲ

1

ჲნი ამაშყინა ჲას იასროუპ, ანეჲს – ამოტოყკლ, ატყხჲტჲანი – აიდარატჲ მაშყინა

2


ჲნი აიდარატჲ მაშყინა იასროუპ, ანეჲს – ამაშყინა ჲას, ატყხჲტჲანი – ამოტოყკლ

3

ჲნი ამოტოყკლ იასროუპ, ანეჲს – ამაშყინა ჲასი აიდარატჲ მაშყინეი

განმარტება:

„საგზაო მოძრაობის შესახებ“ საქართველოს კანონის 36-ე მუხლის მე-4 პუნქტის „ა“, „ბ“ და „გ“ ქვეპუნქტების თანახმად, არარეგულირებულ გზაჯვარედინზე: ა) არათანაბარმნიშვნელოვანი გზების გადაკვეთაზე მეორეხარისხოვან გზაზე მოძრავი სატრანსპორტო საშუალების მძღოლი ვალდებულია გზა დაუთმოს მთავარი გზიდან მოახლოებულ სატრანსპორტო საშუალებას, მიუხედავად მისი შემდგომი მოძრაობის მიმართულებისა; ბ) თუ გზაჯვარედინზე მთავარი გზა იცვლის მიმართულებას, ამ გზაზე მოძრავმა მძღოლებმა ურთიერთშორის უნდა იხელმძღვანელონ თანაბარმნიშვნელოვანი გზების გავლის წესებით. ამავე წესით უნდა იხელმძღვანელონ ურთიერთშორის მეორეხარისხოვან გზაზე მოძრავმა მძღოლებმაც; გ) თანაბარმნიშვნელოვანი გზების გადაკვეთაზე ურელსო სატრანსპორტო საშუალების მძღოლი ვალდებულია გზა დაუთმოს მარჯვნიდან მოახლოებულ სატრანსპორტო საშუალებას. ამავე წესით უნდა იხელმძღვანელონ ურთიერთშორის რელსიანი სატრანსპორტო საშუალებების მძღოლებმაც.



Амѳеихысырта иалсны ицо амашынақәа ахыц ахырхартала еитатцуазар, еишьтаргылашьас ирымазарц рыхәтәиҭ

1

Зны амашына ъежь иасроуп, анеѳс – амотоцикл, атыхәтәаны – амашына қаҭшь

2


Зны амашына ъежь иасроуп, анеѳс – амашына қаҭшь, атыхәтәаны – амотоцикл

3

Зны амотоцикл иасроуп, анеѳс – амашына ъежь, атыхәтәаны – амашына қаҭшь

განმარტება:

„საგზაო მოძრაობის შესახებ“ საქართველოს კანონის 36-ე მუხლის მე-4 პუნქტის „ა“ და „დ“ ქვეპუნქტების თანახმად, არარეგულირებულ გზაჯვარედინზე: ა) არათანაბარმნიშვნელოვანი გზების გადაკვეთაზე მეორეხარისხოვან გზაზე მოძრავი სატრანსპორტო საშუალების მძღოლი ვალდებულია გზა დაუთმოს მთავარი გზიდან მოახლოებულ სატრანსპორტო საშუალებას, მიუხედავად მისი შემდგომი მოძრაობის მიმართულებისა; დ) მარცხნივ მოხვევისას ან მობრუნებისას ურელსო სატრანსპორტო საშუალების მძღოლი ვალდებულია გზა დაუთმოს თანაბარ-მნიშვნელოვან გზაზე საპირისპირო მიმართულებიდან პირდაპირ ან მარჯვნივ მოძრავ სატრანსპორტო საშუალებას. ამავე წესით უნდა იხელმძღვანელონ ურთიერთშორის რელსიანი სატრანსპორტო საშუალებების მძღოლებმაც.



Амәтә дыргақәа асы рықәзар, ахыц ахырхартала аитәцра аан аҟыжәара змадаҥ

1


Амашына шкәакәа арныкәа

2

Амашына кәҟшь арныкәа

განმარტება:

„საგზაო მოძრაობის შესახებ“ საქართველოს კანონის 36-ე მუხლის მე-8 პუნქტის თანახმად, თუ მძღოლი ვერ განსაზღვრავს გზაზე საფარის არსებობას (სიბნელის, თოვლის, ტალახის გამო ან სხვა მიზეზით) და არც პრიორიტეტის ნიშნებია, ითვლება, რომ ის მეორეხარისხოვან გზაზე იმყოფება. ამავე კანონის 36-ე მუხლის მე-4 პუნქტის „გ“ ქვეპუნქტის თანახმად, არარეგულირებულ გზაჯვარედინზე, თანაბარმნიშვნელოვანი გზების გადაკვეთაზე ურელსო სატრანსპორტო საშუალების მძღოლი ვალდებულია გზა დაუთმოს მარჯვნიდან მოახლოებულ სატრანსპორტო საშუალებას. ამავე წესით უნდა იხელმძღვანელონ ურთიერთშორის რელსიანი სატრანსპორტო საშუალებების მძღოლებმაც.



Амотоцикл арныкәә ахыц ахырхартала деитатцазар, абарт атранспорттә хархәагакәа рырныкәәцәа ркынтә амәа атара зыхәтадаҕ

1

Амашына лас арныкәә зацәы

2

Аидаратә машына арныкәә зацәы

3

Аидаратә машынеи амашына ласи
рырныкәәцәа

განმარტება:

„საგზაო მოძრაობის შესახებ“ საქართველოს კანონის 36-ე მუხლის მე-4 პუნქტის „ა“ და „დ“ ქვეპუნქტების თანახმად, არარეგულირებულ გზაჯვარედინზე: ა) არათანაბარმნიშვნელოვანი გზების გადაკვეთაზე მეორეხარისხოვან გზაზე მოძრავი სატრანსპორტო საშუალების მძღოლი ვალდებულია გზა დაუთმოს მთავარი გზიდან მოახლოებულ სატრანსპორტო საშუალებას, მიუხედავად მისი შემდგომი მოძრაობის მიმართულებისა; დ) მარცხნივ მოხვევისას ან მობრუნებისას ურელსო სატრანსპორტო საშუალების მძღოლი ვალდებულია გზა დაუთმოს თანაბარ-მნიშვნელოვან გზაზე საპირისპირო მიმართულებიდან პირდაპირ ან მარჯვნივ მოძრავ სატრანსპორტო საშუალებას. ამავე წესით უნდა იხელმძღვანელონ ურთიერთშორის რელსიანი სატრანსპორტო საშუალებების მძღოლებმაც.



Амფეიხისურთა იალსნი იცო ამაშყინაқәа ахыц ахырхартала еитатқуазар, еишқтаргылашқас ирымазарц рыхәтәиҕ

1

Зны амашына лас иасроуп, анеџс – амотоцикл, атыхәтәаны – аидаратә машына

2

Зны аидаратә машына иасроуп, анеџс – амотоцикл, атыхәтәаны – амашына лас

3

Зны амотоцикл иасроуп, анеџс – амашына лас, атыхәтәаны – аидаратә машына

განმარტება:

„საგზაო მოძრაობის შესახებ“ საქართველოს კანონის 36-ე მუხლის მე-4 პუნქტის „გ“ ქვეპუნქტების თანახმად, არარეგულირებულ გზაჯვარედინზე, თანაბარმნიშვნელოვანი გზების გადაკვეთაზე ურელსო სატრანსპორტო საშუალების მძღოლი ვალდებულია გზა დაუთმოს მარჯვნიდან მოახლოებულ სატრანსპორტო საშუალებას. ამავდროულად უნდა იხელმძღვანელონ ურთიერთშორის რელსიანი სატრანსპორტო საშუალებების მძღოლებმაც. ასეთ გზაჯვარედინზე რელსიან სატრანსპორტო საშუალებას უპირატესობა აქვს ურელსო სატრანსპორტო საშუალების მიმართ, მიუხედავად მისი მოძრაობის მიმართულებისა.



Ахыц ахырхартала аитатра аан абарт автотранспорттә хархәагакәа рырныкәащәа ркынтә аҭыжәара змадаҭ

1


Амашына лас арныкәа

2

Атрамваи арныкәа

განმარტება:

„საგზაო მოძრაობის შესახებ“ საქართველოს კანონის 41-ე მუხლის მე-2 პუნქტის თანახმად, გზაჯვარედინის მიღმა, სადაც ტრამვაის ლიანდაგი სავალ ნაწილს კვეთს, ტრამვაის აქვს უპირატესობა ურელსო სატრანსპორტო საშუალებების მიმართ, გარდა დეჰოდან გამოსვლის შემთხვევისა.



Амашына лас арныкәә ахыц ахырхартала деитатцазар, абарт атранспорттә хархәагакәа ркынтә аҟыжәара змадаҭ

1

Амотоцикл мацара

2


Амашына ҟежь мацара

3

Амотоцикли амашына ҟежьи

განმარტება:

„საგზაო მოძრაობის შესახებ“ საქართველოს კანონის 36-ე მუხლის მე-4 პუნქტის „გ“ და „დ“ ქვეპუნქტების თანახმად, არარეგულირებულ გზაჯვარედინზე: გ) თანაბარმნიშვნელოვანი გზების გადაკვეთაზე ურელსო სატრანსპორტო საშუალების მძღოლი ვალდებულია გზა დაუთმოს მარჯვნიდან მოახლოებულ სატრანსპორტო საშუალებას. ამავე წესით უნდა იხელმძღვანელონ ურთიერთშორის რელსიანი სატრანსპორტო საშუალებების მძღოლებმაც. ასეთ გზაჯვარედინზე რელსიან სატრანსპორტო საშუალებას აქვს უპირატესობა ურელსო სატრანსპორტო საშუალების მიმართ, მიუხედავად მისი მოძრაობის მიმართულებისა; დ) მარცხნივ მოხვევისას ან მობრუნებისას ურელსო სატრანსპორტო საშუალების მძღოლი ვალდებულია გზა დაუთმოს თანაბარმნიშვნელოვან გზაზე საპირისპირო მიმართულებიდან პირდაპირ ან მარჯვნივ მოძრავ სატრანსპორტო საშუალებას. ამავე წესით უნდა იხელმძღვანელონ ურთიერთშორის რელსიანი სატრანსპორტო საშუალებების მძღოლებმაც.



Ахыц ахырхартала аитатра аан амашына лас арныкәә ашыакауаа амџа рытара ихџоумаѢ

1


Ихџоуп

2

Ихџам

განმარტება:

„საგზაო მოძრაობის შესახებ“ საქართველოს კანონის 25 მუხლის მე-3 პუნქტის თანახმად, ამ კანონის მე-20 მუხლის მე-2 პუნქტითა და 34-ე მუხლის მე-11 პუნქტით დადგენილ მოთხოვნათა დაცვით, გზის სავალ ნაწილზე შესაბამისი საგზაო მონიშვნით, საგზაო ნიშნით ან შუქნიშნით აღნიშნული ქვეითთა გადასასვლელის არარსებობისას მძღოლი, რომელიც სხვა გზაზე შესასვლელად მოხვევას ასრულებს, ვალდებულია გზა დაუთმოს ამ გზის სავალ ნაწილზე შესულ ქვეითებს. მან უნდა გამოიჩინოს განსაკუთრებული სიფრთხილე იმ ქვეითების მიმართ, რომლებიც გზის სავალ ნაწილზე გადადიან სამარშრუტო სატრანსპორტო საშუალებაში ჩასასხდომად ან იქიდან გადმოსხდომის შემდეგ.



Атранспорттə хархəагақəа ахыц ахырхартала еитатцуазар еишьтаргылашьас ирымазарц рыхəтəиҢ

1

Зны амопед иасроуп, анеџс – атрамваи,
атыхəтəаны – амашына лас

2


Зны атрамваи иасроуп, анеџс – амопед,
атыхəтəаны – амашына лас

3

Зны атрамваи иасроуп, анеџс – амашына
лас, атыхəтəаны – амопед

განმარტეზა:

„საგზაო მოძრაობის შესახებ“ საქართველოს კანონის 36-ე მუხლის მე-4 პუნქტის „ა“ და „დ“ ქვეპუნქტების თანახმად: ა) არათანაბარმნიშვნელოვანი გზების გადაკვეთაზე მეორეხარისხოვან გზაზე მოძრავი სატრანსპორტო საშუალების მძღოლი ვალდებულია გზა დაუთმოს მთავარი გზიდან მოახლოებულ სატრანსპორტო საშუალებას, მიუხედავად მისი შემდგომი მოძრაობის მიმართულებისა; დ) მარცხნივ მოხვევისას ან მობრუნებისას ურელსო სატრანსპორტო საშუალების მძღოლი ვალდებულია გზა დაუთმოს თანაბარმნიშვნელოვან გზაზე საპირისპირო მიმართულებიდან პირდაპირ ან მარჯვნივ მოძრავ სატრანსპორტო საშუალებას. ამავე წესით უნდა იხელმძღვანელონ ურთიერთშორის რელსიანი სატრანსპორტო საშუალებების მძღოლებმაც.



Атранспорттә хархәагақәа ахыц ахырхартала еитатцазар, амѳеихысырта ахысра аан еишьтаргылашьас ирымазарц рыхәтѳиѲ

1

Зны амашына иатцәа иасроуп, анеѳс – амашына қаҭшь, атыхәтәаны – амаланықәа

2

Зны амаланықәа иасроуп, анеѳс – амашына иатцәа, атыхәтәаны – амашына шкәакәа

3

Зны амашына қаҭшь иасроуп, анеѳс – амаланықәа, атыхәтәаны – амашына иатцәа

განმარტება:

„საგზაო მოძრაობის შესახებ“ საქართველოს კანონის 36-ე მუხლის მე-4 პუნქტის „დ“ ქვეპუნქტის თანახმად, არარეგულირებულ გზაჯვარედინზე მარცხნივ მოხვევისას ან მობრუნებისას ურელსო სატრანსპორტო საშუალების მძღოლი ვალდებულია გზა დაუთმოს თანაბარ-მნიშვნელოვან გზაზე საპირისპირო მიმართულებიდან პირდაპირ ან მარჯვნივ მოძრავ სატრანსპორტო საშუალებას. ამავე წესით უნდა იხელმძღვანელონ ურთიერთშორის რელსიანი სატრანსპორტო საშუალებების მძღოლებმაც. ამავე კანონის 44-ე მუხლის პირველი პუნქტის „ე“ ქვეპუნქტის თანახმად, შესაბამისი ნიშნით აღნიშნულ საცხოვრებელ ზონებში, საცხოვრებელი ზონიდან გამოსვლისას საგზაო მოძრაობის მონაწილემ, გადაკვეთებზე გზა უნდა დაუთმოს სხვა საგზაო მოძრაობის მონაწილეს. ამავე კანონის პირველი დანართის მე-5 თავის (განსაკუთრებული მითითებების ნიშნები) 5.22 პუნქტის თანახმად საგზაო ნიშანი 5.22 „საცხოვრებელი ზონის დასასრული“ - მიუთითებს 5.21 ნიშნით აღნიშნული საცხოვრებელი ზონის დასასრულს. ნიშანი იდგმება საცხოვრებელი ზონის ყველა გამოსასვლელში.

ВОПРОС 453

ПРАВИЛЬНЫЙ ОТВЕТ: 2

არნიკაფ, ამფეიხისურტაფი დაანგილარ ადა უსიხა იმამკა დკალარ ალშოზარ, უი ალა ეიფტაოუ ახერხართალა აიტატრა დაფურხაგაჰარ, ამფეიხისურტა ალალარა აზინ იმოუმაფ

1

აზინ იმოუპ, ალასარბაგა ადურგა აიტატრა აზინ ინატოზარ

2


აზინ იმამ

განმარტება:

„საგზაო მოძრაობის შესახებ“ საქართველოს კანონის 36-ე მუხლის მე-5 პუნქტის თანახმად, მძღოლი არ უნდა გავიდეს გზაჯვარედინზე, თუ შეეშინილია ისეთი ხერგილი, რომ იგი, სავარაუდოდ, იძულებული გახდება, გაჩერდეს გზაჯვარედინზე და ამით დააბრკოლოს განივი მიმართულებით მოძრაობა. ეს წესი მოქმედებს მაშინაც, თუ შეუნიშნის მამუქი სიგნალები იძლევა მოძრაობის უფლებას.

ВОПРОС 454

ПРАВИЛЬНЫЙ ОТВЕТ: 1



ახიყ ახერხართალა ეიტატუა ატრანსპორტტე ხარხეაგაკა ამფეიხისურტა იანალსუა ეიშტარგულაშას ირყმარც რიხეთი, აოპერატიატე მატურა ამაშყნა ყიდალათეი არდურგა იატეა იაფაკყზარფ

1

ჰნი ამოტოყკლ იასროუპ, ანეფს – ამაშყნა ლას, ატყხეტანყ – აოპერატივტე მატურა ამაშყნა ლას

2

ჰნი ამაშყნა ლას იასროუპ, ანეფს – ამოტოყკლ, ატყხეტანყ – აოპერატივტე მატურა ამაშყნა

3

ჰნი აოპერატივტე მატურა ამაშყნა იასროუპ, ანეფს – ამაშყნა ლას, ატყხეტანყ – ამოტოყკლ

განმარტება:

„საგზაო მოძრაობის შესახებ“ საქართველოს კანონის 51-ე მუხლის პირველი პუნქტის თანახმად, ოპერატიული ან სპეციალური სამსახურის სატრანსპორტო საშუალების მძღოლს, რომელსაც სატრანსპორტო საშუალებაზე ჩართული აქვს ლურჯი მოელვარე სპეციალური ციმციმა სიგნალი და ასრულებს სამსახურებრივ დავალებას, შეუძლია საგზაო მოძრაობის უსაფრთხოების უზრუნველყოფის პირობების დაცვით გადაუხვიოს ამ კანონის 25-ე, 31-ე–41-ე და 44-ე მუხლებით, აგრეთვე ამ კანონის №1 და №2 დანართებით დადგენილ მოთხოვნებს. ლურჯ მოელვარე სპეციალურ ციმციმა სიგნალთან ერთად დამატებით შეიძლება ჩაირთოს წითელი მოელვარე ციმციმა სიგნალიც. სხვა საგზაო მოძრაობის მონაწილეების მიმართ უპირატესობის მისაღებად ამ სატრანსპორტო საშუალების მძღოლმა უნდა ჩართოს ლურჯი მოელვარე სპეციალური ციმციმა სიგნალი და ხმოვანი სიგნალი. ამავე კანონის 36-ე მუხლის მე-4 პუნქტის „ა“, „ბ“ და „გ“ ქვეპუნქტების თანახმად არარეგულირებულ გზაჯვარედინზე: ა) არათანაბარმნიშვნელოვანი გზების გადაკვეთაზე მეორეხარისხოვან გზაზე მოძრავი სატრანსპორტო საშუალების მძღოლი ვალდებულია გზა დაუთმოს მთავარი გზიდან მოახლოებულ სატრანსპორტო საშუალებას, მიუხედავად მისი შემდგომი მოძრაობის მიმართულებისა; ბ) თუ გზაჯვარედინზე მთავარი გზა იცვლის მიმართულებას, ამ გზაზე მოძრავმა მძღოლებმა ურთიერთშორის უნდა იხელმძღვანელონ თანაბარმნიშვნელოვანი გზების გავლის წესებით. ამავე წესებით უნდა იხელმძღვანელონ ურთიერთშორის მეორეხარისხოვან გზაზე მოძრავმა მძღოლებმაც; გ) თანაბარმნიშვნელოვანი გზების გადაკვეთაზე ურელსო სატრანსპორტო საშუალების მძღოლი ვალდებულია გზა დაუთმოს მარჯვნიდან მოახლოებულ სატრანსპორტო საშუალებას. ამავე წესით უნდა იხელმძღვანელონ ურთიერთშორის რელსიანი სატრანსპორტო საშუალებების მძღოლებმაც. ასეთ გზაჯვარედინზე რელსიან სატრანსპორტო საშუალებას აქვს უპირატესობა ურელსო სატრანსპორტო საშუალების მიმართ, მიუხედავად მისი მოძრაობის მიმართულებისა.

თეორია.On.ge

ВОПРОС 455

ПРАВИЛЬНЫЙ ОТВЕТ: 3

„А“ категория иатцанакәа атранспорттә хархәага арныкәара азин змоу ахаҧы, иара убас арныкәара азин имоупЖ

1

Акалиаска змам амотоцикл мацара

2

Арныкәага аусуратә тазара 125 см.³ еихам, амақсималтә аҭәҭәара 11 квт. еихам амотоцикл мацара

3

Изеиҭшразаалак амотоцикл

განმარტება:

„საგზაო მოძრაობის შესახებ“ საქართველოს კანონის 54-ე მუხლის მე-2 პუნქტის „ა“ ქვეპუნქტის თანახმად, სატრანსპორტო საშუალებები, რომელთა სამართავად სავალდებულოა შესაბამისი მართვის უფლების მოპოვება, იყოფა შემდეგ კატეგორიებად: ა) „А“ — მოტოციკლი.

ВОПРОС 456

ПРАВИЛЬНЫЙ ОТВЕТ: 1

„Ф1“ აკატეგორია იატანაკეა ატრანსპორტტე ხარხეაგა არნჷკეარა აზინ ზმოუ ახაფე, იარა უბას აზინ იმოუპ 11 კვტ. აკჷნჯა ამაქსიმალტე ამჩ ზმოუ ამოტოცკლ არნჷკეარა, უი არნჷკეაგა ატაჟარაჟ

1

125 სმ³ ეიხაზარ

2

125 სმ³ ეიხაზარ, ახა 150 სმ³ ეიხამზარ

3

125 სმ³ ეიხაზარ, ახა 200 სმ³ ეიხამზარ

განმარტება:

„საგზაო მოძრაობის შესახებ“ საქართველოს კანონის 54-ე მუხლის მე-3 პუნქტის „ა“ ქვეპუნქტის თანახმად, „А“, „В“, „С“, „СЕ“, „D“ და „DE“ კატეგორიების ფარგლებში დაწესებული სატრანსპორტო საშუალებები, რომელთა სამართავად სავალდებულოა შესაბამისი მართვის უფლების მოპოვება, იყოფა შემდეგ ქვეკატეგორიებად: ა) „A1“ – მოტოციკლი, რომლის ძრავას მუშა მოცულობა არ აღემატება 125 სმ³-ს, ხოლო მაქსიმალური სიმძლავრე – 11 კვტ-ს (მსუბუქი მოტოციკლი).

ВОПРОС 457

ПРАВИЛЬНЫЙ ОТВЕТ: 1

„Ф“ აკატეგორია იატანაკეა ატრანსპორტტე ხარხეაგა არნჷკეარა აზინ ზმოუ ახაფე, უი ადა იარბან კატეგორიაკეოუ ზტრანსპორტტე ხარხეაგაკეა რჷრნჷკეარა ილშოჟ

1

„Ф1“

2

„C1“

3

„И1“

4

„B1“

განმარტება:

„საგზაო მოძრაობის შესახებ“ საქართველოს კანონის 56-ე მუხლის პირველი პუნქტის თანახმად, „А“, „В“, „С“ ან „D“ კატეგორიის სატრანსპორტო საშუალების მართვის უფლების მქონე პირს აგრეთვე უფლება აქვს, მართოს მინიჭებული კატეგორიის ფარგლებში დაწესებული „A1“, „B1“, „C1“ ან „D1“ ქვეკატეგორიის სატრანსპორტო საშუალებაც.

Амотоциклқәа рыла аитәтра калоитЖ

1

Ауаа иахьнымхо апункт амѡакѡа рѣы

2

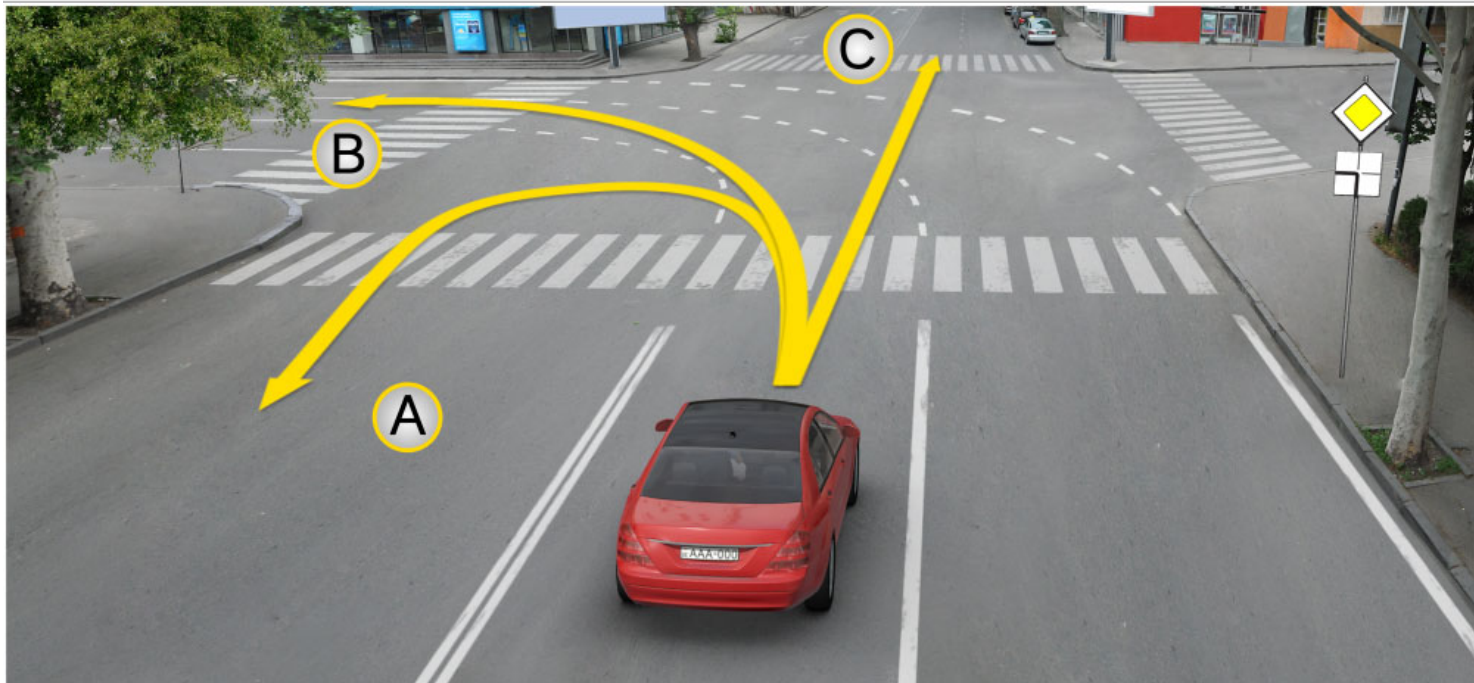
Анхартатѡ пункт агѡта инахыганы иѡоу
амѡакѡа рѣы

3

Ихыбу аштаѣы ма автодром аѣы

განმარტება:

„საგზაო მოძრაობის შესახებ“ საქართველოს კანონის 61-ე მუხლის მე-7 პუნქტის თანახმად, მოტოციკლით, სპეციალიზებული თვითმავალი მანქანითა და სასოფლო-სამეურნეო მანქანით სასწავლო სვლა ნებადართულია მხოლოდ დახურულ მოედანსა და ავტოდრომზე.



Иарбоу амѡатѡ азгѡатақѡа ианыкоу, амѡасыртафѡ амашьына лас арныкѡѡ аитатцра анагзара илшоитЖ

1

A ახერხართალა

2

B ახერხართალა

3

C ახერხართალა

4

Ai, Vi, Si ახერხართაқѡა რыла

განმარტება:

„საგზაო მოძრაობის შესახებ“ საქართველოს კანონის მე-2 დანართის პირველი თავის (ჰორიზონტალური მონიშვნა) 1.7 პუნქტის თანახმად, საგზაო მონიშვნა 1.7 წყვეტილი ხაზი მოკლე შტრიხებითა და იმავე ზომის შუალედებით - აღნიშნავს მოძრაობის ზოლებს გზაჯვარედინის ფარგლებში. 1.7 ხაზის გადაკვეთა ნებადართულია ნებისმიერი მხრიდან.

Ишахутоу еиџш еиџкаам ашыакауаа рхысырта аџхьа иаангылаз атранспорттѣ хархѣага иахѣаны ахысыртаџы алаџшбара цѣгьахазар, ахысырта иазааигѣахо арныкѣаѣ аитатра анаџзара азин имоупЖ

1

Ахысырта икѣлаз ма иахысуа ашыакауаа шыкам агѣра нигалак маџара.

2

Абжытѣ ардырга ахархѣара аамышьѣахь маџара.

3

Ахысыртаџы атагылазаашьа зеиџшразаалак, аласра имџсахкѣа аитатра наигџароуп

განმარტება:

თუ არარეგულირებული ქვეითთა გადასასვლელის წინ გაჩერებული სატრანსპორტო საშუალების გამო, გადასასვლელზე ნაწილობრივ შეზღუდულია მხედველობა, გადასასვლელთან მოახლოებულ მძღოლს მოძრაობის გაგრძელების უფლება აქვს მხოლოდ მას შემდეგ, რაც დარწმუნდება, გადასასვლელზე შესული ან შემავალი ქვეითის არარსებობაში.

თემა 21:

რკინიგზის გადასასვლელი

ВОПРОС 461

ПРАВИЛЬНЫЙ ОТВЕТ: 1

Аихамѡа ахысыртаѣы, алашарбага ардырга каѣшь ада абжьытѣ дыргагы иаѣакуп, уи ала аитатра алахылацѣа иацѣаны адырра роуоитЖ

- 1 Ахысыртаѣы аитатра шыѣамло азы
- 2 Ахысыртаѣы аитатра анагзара шыѣало азы

განმარტება:

„საგზაო მოძრაობის შესახებ“ საქართველოს კანონის 29-ე მუხლის მე-9 პუნქტის თანახმად, რკინიგზის გადასასვლელზე შეუნიშნის წითელ მოციმციმე მაშუქ სიგნალთან ერთად შეიძლება მიეცეს ხმოვანი სიგნალი, რომელიც საგზაო მოძრაობის მონაწილეებს დამატებით ამცნობს რკინიგზის გადასასვლელზე მოძრაობის აკრძალვის შესახებ.

ВОПРОС 462

ПРАВИЛЬНЫЙ ОТВЕТ: 2

Аихамѡа ахысырта аангылартак аѣы, аѡазарак аѣы ишыѣѡыргылоу, ганк ахь зхы рхоу, еишьтаргыланы илацѣѡѣысуа ѡердыргак ма иѡежью рдыргак амашына арныѣѡѡѣа иранаѣѡитЖ

- 1 Аитатра анагзара азин рымам
- 2 Аитатра анагзара азин рымоуп, аха уи аан чыдалა ирыхьчароуп ашѣартадара атцасѣа

განმარტება:

„საგზაო მოძრაობის შესახებ“ საქართველოს კანონის 29-ე მუხლის მე-8 პუნქტის თანახმად, რკინიგზის გადასასვლელზე, გასახსნელი ხიდის მისასვლელთან, გემის ან ბორნის მისადგომთან, გზაზე სახანძრო ავტომობილის გამოსასვლელთან და იმ ადგილას, სადაც გზას დაბალ სიმაღლეზე კვეთს საფრენი აპარატის ტრაექტორია, გამოიყენება ერთ სადგარზე, ერთსა და იმავე სიმაღლეზე განლაგებული, ერთ მხარეს მიმართული ორი მორიგეობით მოციმციმე ან ერთი მოციმციმე წითელი ან ყვითელი მაშუქი სიგნალი, რომელთაგან წითელი მაშუქი სიგნალი კრძალავს „სდექ“ ხაზის გადაკვეთას, მისი არარსებობის შემთხვევაში კი – შეუნიშნის იქით გადასვლას, ხოლო ყვითელი მაშუქი სიგნალი ნიშნავს, რომ მძღოლებს შეუძლიათ გააგრძელონ მოძრაობა, მაგრამ, ამასთანავე, ვალდებული არიან, დაიცვან განსაკუთრებული სიფრთხილე. თუ ფერადი მაშუქი სიგნალები გამორთულია, მოძრაობა ნებადართულია მხოლოდ მაშინ, როცა ხილვადობის ფარგლებში არ ჩანს გადასასვლელთან მოახლოებული მატარებელი (ლოკომოტივი, დრეზინა).

Аихамѡа ахысыртаѣы алашарбага ардыргакѡа ирѣазарЖ

1


Аитатра калоит, ахысырта иазааигѡаны
адѡѣѣба ма алокомотив иубартамзар

2

Аитатра икѡѣтымуп

განმარტება:

„საგზაო მოძრაობის შესახებ“ საქართველოს კანონის 29-ე მუხლის მე-8 პუნქტის თანახმად, რკინიგზის გადასასვლელზე, გასახსნელი ხიდის მისასვლელთან, გემის ან ბორნის მისადგომთან, გზაზე სახანძრო ავტომობილის გამოსასვლელთან და იმ ადგილას, სადაც გზას დაბალ სიმაღლეზე კვეთს საფრენი აპარატის ტრაექტორია, გამოიყენება ერთ სადგარზე, ერთსა და იმავე სიმაღლეზე განლაგებული, ერთ მხარეს მიმართული ორი მორიგეობით მოციმციმე ან ერთი მოციმციმე წითელი ან ყვითელი მაშუქი სიგნალი, რომელთაგან წითელი მაშუქი სიგნალი კრძალავს „სდექ“ ხაზის გადაკვეთას, მისი არარსებობის შემთხვევაში კი – შექნიშნის იქით გადასვლას, ხოლო ყვითელი მაშუქი სიგნალი ნიშნავს, რომ მძღოლებს შეუძლიათ გააგრძელონ მოძრაობა, მაგრამ, ამასთანავე, ვალდებული არიან, დაიცვან განსაკუთრებული სიფრთხილე. თუ ფერადი მაშუქი სიგნალები გამორთულია, მოძრაობა ნებადართულია მხოლოდ მაშინ, როცა ხილვადობის ფარგლებში არ ჩანს გადასასვლელთან მოახლოებული მატარებელი (ლოკომოტივი, დრეზინა).



Абарт амашынакәа рырныкәаџәа ркынтә ахыц ахырхартала аитатра азин змамдаџ

1

Аидаратә машына арныкәаџ мацара.

2

Амашына лас арныкәаџ мацара.

3

Аџемашынак рырныкәаџәа

4

Азәгы

ბანმარტუბა:

„საგზაო მოძრაობის შესახებ“ საქართველოს კანონის 29-ე მუხლის მე-8 პუნქტის თანახმად რკინიგზის გადასასვლელზე, გასახსნელი ხიდის მისასვლელთან, გემის ან ბორნის მისადგომთან, გზაზე სახანძრო ავტომობილის გამოსასვლელთან და იმ ადგილას, სადაც გზას დაბალ სიმაღლეზე კვეთს საფრენი აპარატის ტრაექტორია, გამოიყენება ერთ სადგარზე, ერთსა და იმავე სიმაღლეზე განლაგებული, ერთ მხარეს მიმართული ორი მორიგეობით მოციმციმე ან ერთი მოციმციმე წითელი ან ყვითელი მაშუქი სიგნალი, რომელთაგან წითელი მაშუქი სიგნალი კრძალავს „სდექ“ ხაზის გადაკვეთას, მისი არარსებობის შემთხვევაში კი – შექნიშნის იქით გადასვლას, ხოლო ყვითელი მაშუქი სიგნალი ნიშნავს, რომ მძღოლებს შეუძლიათ გააგრძელონ მოძრაობა, მაგრამ, ამასთანავე, ვალდებული არიან, დაიცვან განსაკუთრებული სიფრთხილე. თუ ფერადი მაშუქი სიგნალები გამორთულია, მოძრაობა ნებადართულია მხოლოდ მაშინ, როცა ხილვადობის ფარგლებში არ ჩანს გადასასვლელთან მოახლოებული მატარებელი (ლოკომოტივი, დრეზინა). ამავე კანონის 32-ე მუხლის მე-15 პუნქტის „დ“ ქვეპუნქტის თანახმად, აკრძალულია სატრანსპორტო საშუალების მობრუნება რკინიგზის გადასასვლელზე.



Иарбоу атагылазаашыаҕы арныкѡаѡЖ

1

Азин имоуп, агѡантцаратѡ тагылазаашыакѡ ихъчаны, иара ихала амѡакыга аартны аитатцра наигзарц

2

Азин имоуп амѡакыга давсны аитатцра наигзарц

3

Азин имоуп „Сдек“ аѡѡѡѡѡѡ даангыларц

4

Хыхъ еикѡыѡѡѡѡѡѡ атакѡѡ ииашам

ბანმარტმბა:

„საგზაო მოძრაობის შესახებ“ საქართველოს კანონის 39-ე მუხლის პირველი პუნქტის „ბ“ ქვეპუნქტის თანახმად, მიუხედავად მაშუქი და ხმოვანი სიგნალების მითითებისა, არცერთი საგზაო მოძრაობის მონაწილე არ უნდა შევიდეს რკინიგზის გადასასვლელზე, რომლის შლავგაზე ან ნახევარშლავგაზე დაკეტილია, ივეტება ან იწევა. ამავე მუხლის მე-2 პუნქტის „ბ“ ქვეპუნქტის თანახმად, რკინიგზის გადასასვლელზე აკრძალულია შლავგაუმის ან ნახევარშლავგაუმის თვითნებური გახსნა. ამავე მუხლის მე-3 პუნქტის თანახმად თუ რკინიგზის გადასასვლელზე მოძრაობა აკრძალულია, მძღოლი ჩერდება „სდექ“ ხაზთან, 2.4 საგზაო ნიშანთან ან შექნიშანთან, ხოლო მათი არარსებობისას – შლავგაუმიდან ან ნახევარშლავგაუმიდან არანაკლებ 5 მეტრისა. თუ არ არის არც შლავგაუმი და არც ნახევარშლავგაუმი, მძღოლი უნდა გაჩერდეს უახლოეს რელსამდე არანაკლებ 10 მეტრისა.



Амѡაკыгабжа аркра иалагахъеит. Амашына арныкѡѡ амѡатѡ аитатра атаскѡа еилеигом, уиЖ

1

Аитатра дакѡытыр, избанзар амхамѡа ахысра дахъзоит

2

Алашарбагаѡы даангылар

3

Алапшбара ақѡыпшылараѡы адѡыңба ахысырта ишазааимгѡахо агѡра ганы, аихамѡа ахысырта дахысыр

ბანმარტიბა:

„საგზაო მოძრაობის შესახებ“ საქართველოს კანონის 39-ე მუხლის პირველი პუნქტის „ბ“ ქვეპუნქტის თანახმად, მიუხედავად მაშუქი და ხმოვანი სიგნალების მითითებისა, არცერთი საგზაო მოძრაობის მონაწილე არ უნდა შევიდეს რკინიგზის გადასასვლელზე, რომლის შლაგბაუმი ან ნახევარშლაგბაუმი დაკეტილია, ივეტება ან იწევა. ამავე მუხლის მე-3 პუნქტის თანახმად თუ რკინიგზის გადასასვლელზე მოძრაობა აკრძალულია, მძღოლი ჩერდება „სდექ“ ხაზთან, 2.4 საგზაო ნიშანთან ან შეუნიშანთან, ხოლო მათი არარსებობისას – შლაგბაუმიდან ან ნახევარშლაგბაუმიდან არანაკლებ 5 მეტრისა. თუ არ არის არც შლაგბაუმი და არც ნახევარშლაგბაუმი, მძღოლი უნდა გაჩერდეს უახლოეს რელსამდე არანაკლებ 10 მეტრისა.



Иარბოу атагылазаашыаҕы арныкѣаҕ даангылароупЖ

1

Алашарбага иаваршѣны

2

Ааигѣаза иѣоу арельскѣа рѣкнынза 10 метрак
еитѣымкѣа ишыбѣжоу

3

„Сдек“ аѣѣаѣаѣы

4

Ааигѣаза иѣоу арельскѣа рѣкнынза 5 метрак
еитѣымкѣа ишыбѣжоу

განმარტება:

„საგზაო მოძრაობის შესახებ“ საქართველოს კანონის 29-ე მუხლის მე-8 პუნქტის თანახმად, რკინიგზის გადასასვლელზე, გასასხნელი ხიდის მისასვლელთან, გემის ან ბორნის მისადგომთან, გზაზე სახანძრო ავტომობილის გამოსასვლელთან და იმ ადგილას, სადაც გზას დაბალ სიმაღლეზე კვეთს საფრენი აპარატის ტრაექტორია, გამოიყენება ერთ სადგარზე, ერთსა და იმავე სიმაღლეზე განლაგებული, ერთ მხარეს მიმართული ორი მორიგეობით მოციმციმე ან ერთი მოციმციმე წითელი ან ყვითელი მაშუქი სიგნალი, რომელთაგან წითელი მაშუქი სიგნალი კრძალავს „სდექ“ ხაზის გადაკვეთას, მისი არარსებობის შემთხვევაში კი – შექნიშნის იქით გადასვლას, ხოლო ყვითელი მაშუქი სიგნალი ნიშნავს, რომ მძღოლებს შეუძლიათ გააგრძელონ მოძრაობა, მაგრამ, ამასთანავე, ვალდებული არიან, დაიცვან განსაკუთრებული სიფრთხილე. ამავე კანონის 39-ე მუხლის პირველი პუნქტის „გ“ ქვეპუნქტის თანახმად, მარეგულირებლის ან შექნიშნის ამკრძალავი სიგნალის დროს არცერთი საგზაო მოძრაობის მონაწილე არ უნდა შევიდეს რკინიგზის გადასასვლელზე, მიუხედავად შლაგბაუმის ან ნახევარშლაგბაუმის მდგომარეობისა ან მისი არსებობისა. ამავე მუხლის მე-3 პუნქტის თანახმად თუ რკინიგზის გადასასვლელზე მოძრაობა აკრძალულია, მძღოლი ჩერდება „სდექ“ ხაზთან, 2.4 საგზაო ნიშანთან ან შექნიშანთან, ხოლო მათი არარსებობისას – შლაგბაუმიდან ან ნახევარშლაგბაუმიდან არანაკლებ 5 მეტრისა. თუ არ არის არც შლაგბაუმი და არც ნახევარშლაგბაუმი, მძღოლი უნდა გაჩერდეს უახლოეს რელსამდე არანაკლებ 10 მეტრისა.



Амѡакыгабжа иркуп. Амашына арныкѡѡ амѡатѡ аитѡцра атѡсқѡ еилеигоит уиЖ

1

Амѡакыгабжа акынза 5 метрак иретцымкѡ ишыбжѡу даангылар

2

Амѡакыга давсны амхамѡа ахысырта дахысыр

3

Агѡѡанѡаратѡ тагылазаашыакѡа иазѡхыагѡатаны иара ихала амѡакыга аартны аитѡцра наигзар

4

Абри абилет аѡы еикѡыѡхыазѡу атѡкқѡ ркынѡ акызѡтѡыкгы ииашам.

განმარტება:

„საგზაო მოძრაობის შესახებ“ საქართველოს კანონის 39-ე მუხლის პირველი პუნქტის „ბ“ ქვეპუნქტის თანახმად, მიუხედავად მაშუქი და ხმოვანი სიგნალების მითითებისა, არცერთი საგზაო მოძრაობის მონაწილე არ უნდა შევიდეს რკინიგზის გადასასვლელზე, რომლის შლავგბაუმი ან ნახევარშლავგბაუმი დაკეტილია, ივეტება ან იწევა. ამავე მუხლის მე-2 პუნქტის „ბ“ ქვეპუნქტის თანახმად, რკინიგზის გადასასვლელზე აკრძალულია შლავგბაუმის ან ნახევარშლავგბაუმის თვითნებური გახსნა. ამავე მუხლის მე-3 პუნქტის თანახმად თუ რკინიგზის გადასასვლელზე მოძრაობა აკრძალულია, მძღოლი ჩერდება „სდექ“ ხაზთან, 2.4 საგზაო ნიშანთან ან შექნიშანთან, ხოლო მათი არარსებობისას – შლავგბაუმიდან ან ნახევარშლავგბაუმიდან არანაკლებ 5 მეტრისა. თუ არ არის არც შლავგბაუმი და არც ნახევარშლავგბაუმი, მძღოლი უნდა გაჩერდეს უახლოეს რელსამდე არანაკლებ 10 მეტრისა.



Иарбоу атагылазашаафы амашына арныкѳаѳ иуалупЖ

1

Аитатра анагзара, избанзар амѳакыга
иаартуп

2

Алашарбагааѳы аангылара

განმარტება:

„საგზაო მოძრაობის შესახებ“ საქართველოს კანონის 39-ე მუხლის პირველი პუნქტის „გ“ ქვეპუნქტის თანახმად, მარეგულირებლის ან შექნიშნის ამკრძალავი სიგნალის დროს არცერთი საგზაო მოძრაობის მონაწილე არ უნდა შევიდეს რკინიგზის გადასასვლელზე, მიუხედავად შლაგბაუმის ან ნახევარშლაგბაუმის მდგომარეობისა ან მისი არსებობისა. ამავე მუხლის მე-3 პუნქტის თანახმად თუ რკინიგზის გადასასვლელზე მოძრაობა აკრძალულია, მძღოლი ჩერდება „სდექ“ ხაზთან, 2.4 საგზაო ნიშანთან ან შექნიშანთან, ხოლო მათი არარსებობისას – შლაგბაუმიდან ან ნახევარშლაგბაუმიდან არანაკლებ 5 მეტრისა. თუ არ არის არც შლაგბაუმი და არც ნახევარშლაგბაუმი, მძღოლი უნდა გაჩერდეს უახლოეს რელსამდე არანაკლებ 10 მეტრისა.



Иарбоу атагылазаашьяеы, аихамбатэ хысыртаеы иаангылаз амашынакэа рырныкэащэа ркынтэ амбатэ аитатра атдаскэа еилазгадаБ

1

Амашына ђежь арныкѡађ мацара.

2

Амашына шкэакэа арныкэа мацара.

3

Аѳемашынак рырныкѳаѳцѳа

4

Азәггы

განმარტება:

„საგზაო მოძრაობის შესახებ“ საქართველოს კანონის 39-ე მუხლის პირველი პუნქტის „გ“ ქვეპუნქტის თანახმად, მარეგულირებლის ან შუქნიშნის ამკრძალავი სიგნალის დროს არცერთი საგზაო მოძრაობის მონაწილე არ უნდა შევიდეს რკინიგზის გადასასვლელზე, მიუხედავად შლაგბაუმის ან ნახევარშლაგბაუმის მდგომარეობისა ან მისი არსებობისა. ამავე მუხლის მე-3 პუნქტის თანახმად თუ რკინიგზის გადასასვლელზე მოძრაობა აკრძალულია, მძღოლი ჩერდება „სდექ“ ხაზთან, 2.4 საგზაო ნიშანთან ან შუქნიშანთან, ხოლო მათი არარსებობისას – შლაგბაუმიდან ან ნახევარშლაგბაუმიდან არანაკლებ 5 მეტრისა. თუ არ არის არც შლაგბაუმი და არც ნახევარშლაგბაუმი, მძღოლი უნდა გაჩერდეს უახლოეს რელსამდე არანაკლებ 10 მეტრისა.



Иарбоу атагылазаашьаҕы амашына иатҕа арныкҕаа ахыц ахырхартала аҕысра азин имоумаҕ

1

Азин имазам

2

Азин имоуп

განმარტება:

„საგზაო მოძრაობის შესახებ“ საქართველოს კანონის 34-ე მე-9 პუნქტის „ბ“ ქვეპუნქტის თანახმად, ამ მუხლის მე-3 პუნქტით დადგენილი მოთხოვნების გათვალისწინებით, გასწრება აკრძალულია რკინიგზის გადასასვლელზე და მის წინ 100 მეტრზე ახლოს, გარდა იმ შემთხვევებისა, როცა ამ ადგილებში მოძრაობა რეგულირდება ისეთი ტიპის შექნიშნით რომელიც გზაჯვარედინებზე გამოიყენება. ამავე კანონის 39-ე მუხლის მე-2 პუნქტის „ა“ ქვეპუნქტის თანახმად, რკინიგზის გადასასვლელზე აკრძალულია საპირისპირო მოძრაობის ზოლზე გასვლით, გადასასვლელის წინ მდგომი სატრანსპორტო საშუალების შემოვლა.



Аиѣкааџ амашынакынтџ арѣарахьала дгылоуп, инапкџа лашьтуп, амашына лас арныкџаџЖ

1

Аласра ирмачны даангылароуп

2

Ааигџаза иџоу арельскџа рџынза 10 метрак ишыбжьоу даангылароуп

3

Амџаркыгабжа аџынза 5 метрак еитымкџа ишыбжьоу даангылароуп

4

Аитатра наигзароуп

ბანმარტუბა:

„საგზაო მოძრაობის შესახებ“ საქართველოს კანონის 39-ე მუხლის მე-4 პუნქტის თანახმად, რკინიგზის გადასასვლელზე მოძრაობის ამკრძალავი სიგნალის მიცემისას მარეგულირებელი დგას მძღოლის მიმართ მკერდით ან ზურგშექცევით, თავის ზემოთ აწეული კვერთხით, წითელი ფარნით ან ალმით ან განზე გაწეული ხელებით.



Иарбоу атагылазаашыафы амотоцикл арныкәәЖ

1

Адыргафы даангылароуп

2


Ааигәаза икоу арельскәа ркынза 10 метрак
ишыбжьоу даангылароуп

3

Алапшбара ақәыпшыларафы адәыңба
ахысырта ишазааимгәахо агәра ганы,
аихамға ахысырта дахысроуп

ბანმარტიბა:

„საგზაო მოძრაობის შესახებ“ საქართველოს კანონის 39-ე მუხლის პირველი პუნქტის „დ“ ქვეპუნქტის თანახმად, თუ რკინიგზის გადასასვლელი აღჭურვილი არ არის შლაგბაუმებით, ნახევარშლაგბაუმებით ან მაშუქი სიგნალებით, არცერთმა საგზაო მოძრაობის მონაწილემ არ უნდა გაიაროს მასზე, სანამ არ დარწმუნდება, რომ ხილვადობის ფარგლებში რკინიგზის გადასასვლელს არანაირი რელსიანი სატრანსპორტო საშუალება არ უახლოვდება.



ადეჟბა აიხამდა ახისრა იალგოიტ, ამაშყა არწყაფ აიტატრა ანაგჯარა აზინ იმოუპჟ

1

ადეჟბა იანიასლაკ

2

ადეჟბა იანიასლაკ აამყშყაჟ
ალაშარბაგაჟყ არდყრა ჟეჟ იანცყერთლაკ

განმარტება:

„საგზაო მოძრაობის შესახებ“ საქართველოს კანონის 39-ე მუხლის პირველი პუნქტის „გ“ ქვეპუნქტის თანახმად, მარეგულირებლის ან შექნიშნის ამკრძალავი სიგნალის დროს არცერთი საგზაო მოძრაობის მონაწილე არ უნდა შევიდეს რკინიგზის გადასასვლელზე, მიუხედავად შლაგბაუმის ან ნახევარშლაგბაუმის მდგომარეობისა ან მისი არსებობისა. ამავე კანონის 29-ე მუხლის მე-8 პუნქტის თანახმად რკინიგზის გადასასვლელზე, გასახსნელი ხიდის მისასვლელთან, გემის ან ბორნის მისადგომთან, გზაზე სახანძრო ავტომობილის გამოსასვლელთან და იმ ადგილას, სადაც გზას დაბალ სიმაღლეზე კვეთს საფრენი აპარატის ტრაექტორია, გამოიყენება ერთ სადგარზე, ერთსა და იმავე სიმაღლეზე განლაგებული, ერთ მხარეს მიმართული ორი მორიგეობით მოციმციმე ან ერთი მოციმციმე წითელი ან ყვითელი მაშუქი სიგნალი, რომელთაგან წითელი მაშუქი სიგნალი კრძალავს „სდექ“ ხაზის გადაკვეთას, მისი არარსებობის შემთხვევაში კი – შექნიშნის იქით გადასვლას, ხოლო ყვითელი მაშუქი სიგნალი ნიშნავს, რომ მძღოლებს შეუძლიათ გააგრძელონ მოძრაობა, მაგრამ, ამასთანავე, ვალდებული არიან, დაიცვან განსაკუთრებული სიფრთხილე.



Иარბოу ატაгылазаашьафы амашьына арныкѣаф аангылара ихѣтоупЖ

1

Амѣакыгабжа акынза 5 метрак етымкѣа ишыбжьоу

2

Ааигѣаза икоу арельскѣа ркынза 10 метрак ишыбжьоу

3

Алашарбагафы

განმარტება:

„საგზაო მოძრაობის შესახებ“ საქართველოს კანონის 39-ე მუხლის პირველი პუნქტის „ბ“ ქვეპუნქტის თანახმად, მიუხედავად მაშუქი და ხმოვანი სიგნალების მითითებისა, არცერთი საგზაო მოძრაობის მონაწილე არ უნდა შევიდეს რკინიგზის გადასასვლელზე, რომლის შლაგბაუმი ან ნახევარშლაგბაუმი დაკეტილია, იკეტება ან იწევა. ამავე მუხლის მე-3 პუნქტის თანახმად თუ რკინიგზის გადასასვლელზე მოძრაობა აკრძალულია, მძღოლი ჩერდება „სდექ“ ხაზთან, 2.4 საგზაო ნიშანთან ან შუქნიშანთან, ხოლო მათი არარსებობისას – შლაგბაუმიდან ან ნახევარშლაგბაუმიდან არანაკლებ 5 მეტრისა. თუ არ არის არც შლაგბაუმი და არც ნახევარშლაგბაუმი, მძღოლი უნდა გაჩერდეს უახლოეს რელსამდე არანაკლებ 10 მეტრისა.



Иарбоу атагылазаашьафы амашына арныкәә даангылароупЖ

1


Амҕаркыгаҕы

2

„Сдек“ аҕахәаҕы

განმარტება:

„საგზაო მოძრაობის შესახებ“ საქართველოს კანონის 39-ე მუხლის პირველი პუნქტის “გ” ქვეპუნქტის თანახმად, მარეგულირებლის ან შექნიშნის ამკრძალავი სიგნალის დროს არცერთი საგზაო მოძრაობის მონაწილე არ უნდა შევიდეს რკინიგზის გადასასვლელზე, მიუხედავად შლაგბაუმის ან ნახევარშლაგბაუმის მდგომარეობისა ან მისი არსებობისა. ამავე მუხლის მე-3 პუნქტის თანახმად თუ რკინიგზის გადასასვლელზე მოძრაობა აკრძალულია, მძღოლი ჩერდება „სდექ“ ხაზთან, 2.4 საგზაო ნიშანთან ან შექნიშანთან, ხოლო მათი არარსებობისას – შლაგბაუმიდან ან ნახევარშლაგბაუმიდან არანაკლებ 5 მეტრისა. თუ არ არის არც შლაგბაუმი და არც ნახევარშლაგბაუმი, მძღოლი უნდა გაჩერდეს უახლოეს რელსამდე არანაკლებ 10 მეტრისა.



Иарбоу атагылазаашыафы алашарбага ардырга ъежь азыЖ

1

Арныкѡаѡ „Сѡеѡ“ аѡѡаѡаѡы даангыланы ардырга аѡсахра дазыѡшыроуп

2

Арныкѡаѡ иуалуп ааигѡаѡа иѡоу арельскѡа рѡнынѡа 10 метрак еитѡымкѡа ишыѡжьоу аангылара

3

Арныкѡаѡ, ѡыѡалатѡи агѡѡаныѡара ала аитѡѡრა анаѡѡара аѡин имоуп

4

Алашарбагаѡы аангылара маѡара ихѡѡоуп

განმარტება:

„საგზაო მოძრაობის შესახებ“ საქართველოს კანონის 29-ე მუხლის მე-8 პუნქტის თანახმად რკინიგზის გადასასვლელზე, გასახსნელი ხიდის მისასვლელთან, გემის ან ბორნის მისადგომთან, გზაზე სახანძრო ავტომობილის გამოსასვლელთან და იმ ადგილას, სადაც გზას დაბალ სიმაღლეზე კვეთს საფრენი აპარატის ტრაექტორია, გამოიყენება ერთ სადგარზე, ერთსა და იმავე სიმაღლეზე განლაგებული, ერთ მხარეს მიმართული ორი მორიგეობით მოციმციმე ან ერთი მოციმციმე წითელი ან ყვითელი მაშუქი სიგნალი, რომელთაგან წითელი მაშუქი სიგნალი კრძალავს „სდექ“ ხაზის გადაკვეთას, მისი არარსებობის შემთხვევაში კი – შექნიშნის იქით გადასვლას, ხოლო ყვითელი მაშუქი სიგნალი ნიშნავს, რომ მძღოლებს შეუძლიათ გააგრძელონ მოძრაობა, მაგრამ, ამასთანავე, ვალდებული არიან, დაიცვან განსაკუთრებული სიფრთხილე.

ВОПРОС 478

ПРАВИЛЬНЫЙ ОТВЕТ: 4

Аихამა ахысыртаҕы иҕэитымупЖ

1

Аиҕынгыларатэ ҕааҕаашка аиасрей,
ахысырта аҕхҕа иҕылоу атранспорттэ
хархэага акөшарей

2

Амҕакыга ма амҕакыгабжа хаҕызарала
аартра

3

Ахысырта аҕхастатэра ма уи ала аитатра
аҕкра зхылҕаар зылшо, ақытахамҕатэ,
амҕаҕаргыларатэ, ма еҕырт амашыһнакөи
амеханизмкөи риагаразы ихэартам
атагылазашыаҕы рымҕангагара

4

Абри абилет аҕы еиҕыһхҕазоу
иарбанзаалак атагылазашыа анаҕзара

განმარტება:

„საგზაო მოძრაობის შესახებ“ საქართველოს კანონის 39-ე მუხლის მე-2 პუნქტის „ა“, „ბ“ და „გ“ ქვეპუნქტების თანახმად, რკინიგზის გადასასვლელზე აკრძალულია: ა) საპირისპირო მოძრაობის ზოლზე გასვლით რკინიგზის გადასასვლელის წინ მდგომი სატრანსპორტო საშუალების შემოვლა; ბ) ჭლაგბაუმის ან ნახევარშლაგბაუმის თვითნებური გახსნა; გ) იმ სასოფლო-სამეურნეო, საგზაო-სამშენებლო და სხვა მანქანებისა და მექანიზმების არასატრანსპორტო მდგომარეობაში გადატანა, რომლებმაც შეიძლება დააზიანონ რკინიგზის გადასასვლელი ან შეაფერხონ მასზე მოძრაობა;

ВОПРОС 479

ПРАВИЛЬНЫЙ ОТВЕТ: 2

„Аихама ахысырта“ аупЖ

1

Аихама иарбанзаалак ацыҕтҕаха

2

Амҕеи ихыһышым адәкаршәрей змоу
амхама ма атрамваи арельскәа ааҕарак рҕы
рейтҕәара

3

Амҕеи ихыһышым адәкаршәрей змоу
амхама ма атрамваи арельскәа еиуеиһышым
ааҕаракәа рҕы рейтҕәара

განმარტება:

„საგზაო მოძრაობის შესახებ“ საქართველოს კანონის 5-ე მუხლის 58-ე პუნქტის თანახმად, „რკინიგზის გადასასვლელი“ - გზისა და დამოუკიდებელი ვაკისის მქონე რკინიგზის ან ტრამვაის ლიანდაგების ერთ ღონეზე გადაკვეთა.

ВОПРОС 480

ПРАВИЛЬНЫЙ ОТВЕТ: 1

Амотоцикли амопеди рхархәара калом, агежь апроектор иаанханы икоу аураЖ

1

0,8 мм. еитызар

2

0,8 мм. еихазар, аха 1,6 мм. еитызар

3

1,6 мм. еихазар, аха 2 мм. еитызар

განმარტება:

ავრძალულია მოტოციკლებისა და მოპედების ექსპლუატაცია. თუ საბურავის პროტექტორის დარჩენილი სიმაღლე 0,8 მმ-ზე ნაკლებია.

თემა 22:

მოდრობა ავტომაგისტრალზე



Амашына ზაუშ არჩეაფ არჯარაхтәи ахатәирта давсит. Ахатәирта алаларазы ахыц ахырхартала шытахьла ацара азин имоумаџ

1


Азин имаџам

2

Азин имоуп

განმარტება:

„საგზაო მოძრაობის შესახებ“ საქართველოს კანონის 38-ე მუხლის პირველი პუნქტის „გ.ბ“ ქვეპუნქტის თანახმად ავტომანქანების, ავტომანქანების შესასვლელებზე და გამოსასვლელებზე მძღოლს ეკრძალება მობრუნება ან უკუსვლით მოძრაობა, აგრეთვე ცენტრალურ გამყოფ ზოლსა და გზის ორივე სავალი ნაწილის განივ შეერთებაზე გასვლა. ამავე კანონის პირველი დანართის მე-5 თავის (განსაკუთრებული მითითებების ნიშნები) 5.1 პუნქტის თანახმად საგზაო ნიშანი 5.1 „ავტომანქანა“ - აღნიშნავს ავტომანქანას, რომელზედაც მოქმედებს ავტომანქანების მოძრაობის მომწესრიგებელი ნორმების მოთხოვნები.



Амашына лас арныкææ амдасыртакæа рнадаадатæи аиушъра атыу давсит. Уи ахыц ахырхартала шътахъла аитатра азин имоумау

1

Азин имауам

2

Азин имоуп

განმარტება:

„საგზაო მოძრაობის შესახებ“ საქართველოს კანონის 38-ე მუხლის პირველი პუნქტის „გ.ბ“ ქვეპუნქტის თანახმად ავტომაგისტრალზე, ავტომაგისტრალის შესასვლელზე და გამოსასვლელზე მძღოლს ეკრძალება მობრუნება ან უკუსვლით მოძრაობა, აგრეთვე ცენტრალურ გამყოფ ზოლსა და გზის ორივე სავალი ნაწილის განივ შეერთებაზე გასვლა. ამავე კანონის პირველი დანართის მე-5 თავის (განსაკუთრებული მითითებების ნიშნები) 5.1 პუნქტის თანახმად საგზაო ნიშანი 5.1 „ავტომაგისტრალი“ - აღნიშნავს ავტომაგისტრალს, რომელზედაც მოქმედებს ავტომაგისტრალზე მოძრაობის მომწესრიგებელი ნორმების მოთხოვნები.

ВОПРОС 483

ПРАВИЛЬНЫЙ ОТВЕТ: 2

Аанкыларатә цәахәа иҕазар, атәира згәы иҕоу арныкәаҕ иуалупЖ

1

Заанаты аласра армачреи, аанкыларатә цәахәа данымлакәа атәира аманиовр анагзарей

2

Иаамтаны диасроуп аанкыларатә цәахәашка, нас аласра ирмачроуп.

3

Атәира аманиовр наигзаанза аанкыларатә цәахәаҕы даангылароуп.

განმარტება:

„საგზაო მოძრაობის შესახებ“ საქართველოს კანონის 32-ე მუხლის მე-13 პუნქტის თანახმად, დამუხრუჭების ბოლის არსებობის შემთხვევაში მძღოლი, რომელიც მოხვევას აპირებს, დროულად უნდა გადაადგილდეს ამ ბოლზე და შემდეგ უნდა შეანელოს სიჩქარე.

ВОПРОС 484

ПРАВИЛЬНЫЙ ОТВЕТ: 4

Цаҕа еиҕыҕхьаҕоу атранспорттә хархәаҕакәа рырныкәаҕцәеи амҕатә аитатра алахәылацәеи ркынтә, автомагистралькәа рҕы, иара убас, автомагистралькәа ралалартақәеи ртытыртақәеи рҕы аитатра азин змадаҕ

1

Амопед арныкәаҕ

2

Ашьакауаа

3

Өегежык змоу афымцамаланыкәа арныкәаҕ

4

Автоицраҳәа арныкәаҕ

განმარტება:

„საგზაო მოძრაობის შესახებ“ საქართველოს კანონის 38-ე მუხლის პირველი პუნქტის „ა“ ქვეპუნქტის თანახმად, ავტომანქანებზე, ავტომანქანის შესასვლელსა და გამოსასვლელზე აკრძალულია ქვეითის, ცხოველის, ველოსიპედის, მოპედის, ორბორბლიანი ელექტროთვითმგორავის, ავტომობილისა და მათი მისაბმელებისგან განსხვავებული ყველა სატრანსპორტო საშუალების მოძრაობა, აგრეთვე იმ ავტომობილის (მისაბმელით ან მის გარეშე) მოძრაობა, რომლის კონსტრუქციული სიჩქარე არ აღემატება 40 კმ/სთ-ს (ეს შეზღუდვა არ ვრცელდება იმ მექანიკურ სატრანსპორტო საშუალებაზე, რომელიც ავტომანქანებზე მოძრაობს უფლებამოსილ ორგანოსთან (უნეცხასთან) საქართველოს კანონმდებლობით დადგენილი წესით შეთანხმებისა და ამ შეთანხმების პირობების შესაბამისად).

Автомагისტრალზე რფი, იარა უბას, ავტომაგისტრალზე რალარტაქფი რტყტარტაქფი რფი იკალმჟ

1

ატრანსპორტტე ხარხეაგა ატფირა მა შტახლა აიტატრა

2

ატრანსპორტტე ხარხეაგალა ალა აცენტრტე აიკეშარატე ტეახფი ამფასყრტაქე რყფაგყ ნადაადატე რეიფტარეი რალალარა

3


აფბატეი ატეახეა ნხყტ, ჰჰინ იკოუ აკაპან 3,5 ტონა ეიჰამ, აპასაჰირტეა რიაგარა იაჰკუ ამაშყნალა აიტატრა

4

ატარატე აიტატრა

განმარტება:

„საგზაო მოძრაობის შესახებ“ საქართველოს კანონის 38-ე მუხლის პირველი პუნქტის „ბ“ ქვეპუნქტის თანახმად, ავტომაგისტრალზე, ავტომაგისტრალის შესასვლელსა და გამოსასვლელზე აკრძალულია სასწავლო სვლა. ამავე პუნქტის „გ.ბ“ ქვეპუნქტის თანახმად ავტომაგისტრალზე, ავტომაგისტრალის შესასვლელზე და გამოსასვლელზე მძღოლს ეკრძალება მობრუნება ან უკუსვლით მოძრაობა, აგრეთვე ცენტრალურ გამყოფ ზოლსა და გზის ორივე სავალი ნაწილის განივ შეერთებაზე გასვლა.



Автомагистраль ალტრავა ამაშყნა ლას არნყჲაფ აიტატრა აზინ იმოუპჲ

1

A ახყრჲართალა

2


B ახყრჲართალა

3

Ai Bi ახყრჲართაჲა რყლა

ბანმარტყბა:

„საგზაო მოძრაობის შესახებ“ საქართველოს კანონის 38-ე მუხლის მე-3 პუნქტის თანახმად, ავტომაგისტრალიდან გამოსვლისას მძღოლი დროულად უნდა გადავიდეს ავტომაგისტრალიდან გამოსასვლელის მიმდებარე ზოლზე და რაც შეიძლება სწრაფად შევიდეს მოძრაობის შენელების ზოლზე, თუ ასეთი ზოლი არსებობს.



Автоматгистრალ алааразы амашына лас арныкәә аитатра азин имоупЖ

1

А ахырхарт мацарала

2

В ахырхарт мацарала

3

Аи Ви ахырхарткәа рыла

განმარტება:

„საგზაო მოძრაობის შესახებ“ საქართველოს კანონის 32-ე მუხლის მე-14 პუნქტის თანახმად, გზაზე გასასვლელ ადგილზე გაქანების ზოლის არსებობის შემთხვევაში მძღოლმა ამ ზოლზე უნდა იმოძრაოს და მეზობელ მოძრაობის ზოლზე გადაადგილებისას გზა უნდა დაუთმოს მასზე მოძრავ სატრანსპორტო საშუალებებს. ამავე კანონის 38-ე მუხლის მე-2 პუნქტის თანახმად, ავტომაგისტრალზე შესვლისას მძღოლი ვალდებულია გზა დაუთმოს ავტომაგისტრალზე მოძრავ ავტომობილებს. აჩქარების ზოლის არსებობისას მან უნდა ისარგებლოს ასეთი ზოლით.



Ахыц ахырхартала аитатра аан аҕыжэара имоупЖ

1

Амашына лас арныҕаа

2

Амотоцикл арныҕаа

განმარტება:

„საგზაო მოძრაობის შესახებ“ საქართველოს კანონის 38-ე მუხლის მე-2 პუნქტის თანახმად, ავტომაგისტრალზე შესვლისას მძღოლი ვალდებულია გზა დაუთმოს ავტომაგისტრალზე მოძრავ ავტომობილებს. აჩქარების ზოლის არსებობისას მან უნდა ისარგებლოს ასეთი ზოლით.



Амашына лас арныкәәф, уаха псыхәа имамкәа автомагистраль афы иазгәаҭоу атыҭаҭы даангылар, амәатә аитәҭра атасқәа еилеиҭомаҭ

1


Еилеиҭом

2

Еилеиҭоит

განმარტება:

„საგზაო მოძრაობის შესახებ“ საქართველოს კანონის 38-ე მუხლის პირველი პუნქტის „გ.ა“ და „გ.ბ“ ქვეპუნქტების თანახმად, ავტომაგისტრალზე, ავტომაგისტრალის შესასვლელსა და გამოსასვლელზე მძღოლს ეკრძალება: გ.ა) ავტომობილის (ან/და მისი მისაბმელის) გაჩერება ან დგომა, დგომისთვის გამოყოფილი, სპეციალურად მონიშნული ადგილების გარდა. გ.ბ) მობრუნება ან უკუსვლით მოძრაობა, აგრეთვე ცენტრალურ გამყოფ ზოლსა და გზის ორივე სავალი ნაწილის განივ შეერთებაზე გასვლა; ამავე კანონის მე-2 დანართის პირველი თავის (ჰორიზონტალური მონიშვნა) 1.2.1 პუნქტის თანახმად, 1.2.1 მთლიანი ფართო ხაზი - აღნიშნავს ავტომაგისტრალზე სავალი ნაწილის ნაპირებს. 1.2.1 ხაზის გადაკვეთა აკრძალულია. დასაშვებია სავალი ნაწილის ნაპირის აღმნიშვნელი და მძღოლის მარჯვენა მხარეს განლაგებული 1.2.1 ხაზის გადაკვეთა სატრანსპორტო საშუალების გზის ნაპირზე გასაჩერებლად.



Иарбоу атагылазашыаџы абарт атранспорттџ хархџагаџа рырныџџаџџа рџынтџ ахыџ ахырхартала аитџтра азин змадаџ

1

Аидаратџ машына арныџџаџ маџара.

2

Амопед арныџџаџ маџара.

3

Амашына лас арныџџаџ маџара.

4

Атранспорттџ хархџагаџа зегы рырныџџаџџа

განმარტება:

„საგზაო მოძრაობის შესახებ“ საქართველოს კანონის 38-ე მუხლის პირველი პუნქტის „ა“ ქვეპუნქტის თანახმად, აკრძალულია ქვეითების, ცხოველების, ველოსიპედების, მოპედების, ავტომობილებისა და მათი მისაბმელებისგან განსხვავებული ყველა სატრანსპორტო საშუალების მოძრაობა, აგრეთვე იმ ავტომობილების (მისაბმელებით ან მათ გარეშე) მოძრაობა, რომელთა კონსტრუქციული სიჩქარე არ აღემატება 40 კმ/სთ (აღნიშნული შეზღუდვა არ ვრცელდება იმ მექანიკურ სატრანსპორტო საშუალებებზე, რომლებიც ავტომაგისტრალზე გადაადგილდებიან უფლებამოსილი ორგანოსთან (უნწყებასთან) კანონმდებლობით დადგენილი წესით შეთანხმებისა და ამ შეთანხმების პირობების შესაბამისად). ამავე პუნქტის „გ.გ“ ქვეპუნქტის თანახმად, ავტომაგისტრალზე, ავტომაგისტრალის შესასვლელსა და გამოსასვლელზე მძღოლს ეკრძალება მეორე ზოლის იქით იმ ტვირთის გადამზიდავი ავტომობილით (მისაბმელებით ან მათ გარეშე) მოძრაობა, რომლის ნებადართული მაქსიმალური მასა 3,5 ტონას აღემატება ან იმ მისაბმელიანი ავტომობილებით მოძრაობა, რომელთა საერთო სიგრძე 7 მეტრზე მეტია.



Амашына лас арныкѣаф, уаха псыхѣа имамкѣа асахѣафы иазгѣатоу атыѣафы даангылар, амѣатѣ аитатра атаскѣа еилеигомаფ

1

Еилеигом

2

Еилеიგოит

განმარტება:

„საგზაო მოძრაობის შესახებ“ საქართველოს კანონის 38-ე მუხლის პირველი პუნქტის „გ.ა“ ქვეპუნქტის თანახმად, ავტომაგისტრალზე, ავტომაგისტრალის შესასვლელსა და გამოსასვლელზე მძღოლს ეკრძალება, ავტომობილის (ან/და მისი მისაბმელის) გაჩერება ან დგომა, დგომისთვის გამოყოფილი, სპეციალურად მონიშნული ადგილების გარდა. მძღოლმა, რომელიც მისგან დამოუკიდებელი გარემოებების გამო იძულებულია, გაჩერდეს, უნდა მიიღოს ყველა ზომა ავტომობილის (ან/და მისი მისაბმელის) გზის სავალი ნაწილიდან გასაყვანად, ხოლო თუ ამის დაუყოვნებლივ გაკეთება შეუძლებელია – ჩართოს საავარიო შექსიგნალიზაცია (მისი არსებობის შემთხვევაში) და შესაბამისი ნიშნით მონიშნოს ავტომობილი (ან/და მისი მისაბმელი) საკმარის მანძილზე, რათა დროულად გააფრთხილოს მოახლოებული მძღოლები. ამავე კანონის 52-ე მუხლის მე-3 პუნქტის თანახმად, „საავარიო გაჩერების ნიშანი“ და მოციმციმე წითელი ფარანი უნდა დაიდგას სატრანსპორტო საშუალებიდან იმ მანძილზე, რომელიც კონკრეტულ პირობებში უზრუნველყოფს საშიშროების შესახებ სხვა მძღოლების დროულ გაფრთხილებას. მაგრამ ეს მანძილი დასახლებულ პუნქტში არ უნდა იყოს 15 მეტრზე, ხოლო დაუსახლებელში - 30 მეტრზე ნაკლები.



Автобусი აიდარტე მანქანის სათქალა 80კმ. ალასრალა ეიტაცუაზარ, ამოპედ – სათქალა 40კმ. ალასრა ამაზარ, აბარტ ატრანსპორტტე ზარხეაგაკეა რზრნჲეაფეა რჲინტე ამფატე აიტატრა ატასკეა ეილაზგოდაჲ

1

Автобус არნჲეაფ ზატჲე

2

აიდარტე მანქანა არნჲეაფ ზატჲე

3

ამოპედ არნჲეაფ ზატჲე

4

აიდარტე მანქანის ამოპედი რზრნჲეაფეა

განმარტება:

„საგზაო მოძრაობის შესახებ“ საქართველოს კანონის 38-ე მუხლის პირველი პუნქტის „ა“ და „გ.გ“ ქვეპუნქტების თანახმად, ავტომაგისტრალზე, ავტომაგისტრალის შესასვლელზე და გამოსასვლელზე: ა) აკრძალულია ქვეითების, ცხოველების, ველოსიპედების, მოპედების, ავტომობილებისა და მათი მისაბმელებისგან განსხვავებული ყველა სატრანსპორტო საშუალების მოძრაობა; გ.გ) მძღოლს ეკრძალება მეორე ზოლის იქით იმ ტვირთის გადამზიდავი ავტომობილით (მისაბმელებით ან მათ გარეშე) მოძრაობა, რომლის ნებადართული მაქსიმალური მასა 3,5 ტონას აღემატება ან იმ მისაბმელიანი ავტომობილებით მოძრაობა, რომელთა საერთო სიგრძე 7 მეტრზე მეტია. ამავე კანონის მე-5 მუხლის 71-ე პუნქტის თანახმად, სატვირთო ავტომობილი არის ტვირთის გადასაზიდად განკუთვნილი ავტოსატრანსპორტო საშუალება, რომლის ნებადართული მაქსიმალური მასა აღემატება 3 500 კგ-ს.

ВОПРОС 493

ПРАВИЛЬНЫЙ ОТВЕТ: 3

Қырттәыла ахәаа ахысра аан ахазалхратә гәатара иахысроупЖ

1

Атранспорттә хархәагақәа мацара

2

Атранспорттә хархәагақәа имҭанырго
аматәарқәа зегы Пҭатауари амазареиТ

3

Атауари атранспорттә хархәагеи абри
абилет аҭы еиқәыпхьазоу иарбанзаалак
атагылазашьаҭы

განმარტება:

საქართველოს საგადასახადო კოდექსის 214-ე მუხლის მე-2 პუნქტის „ა“ და „ბ“ ქვეპუნქტების თანახმად, საბაჟო კონტროლს ექვემდებარება: ბ) საბაჟო ზედამხედველობას დაქვემდებარებული საქონელი და სატრანსპორტო საშუალება; გ) ტერიტორია, სადაც განთავსებულია საბაჟო ზედამხედველობას დაქვემდებარებული საქონელი და სატრანსპორტო საშუალება.

ВОПРОС 494

ПРАВИЛЬНЫЙ ОТВЕТ: 1

Қырттәыла административтә азинеилагара иазку азакәанейдкыла инақәырҭшны, амотоцикл ала
аитәцра аан арнықәа ма апассажир еибарку акәалхылҭа ихаимцар, уи иахылҭаауеитЖ

1

100 ლარი იაқарოу ахараҭса.

2

100 ლარი იაқарოу ахараҭсеи хымз рыла
амотоцикл арнықәара азин анкылареи.

3


50 ლარი იაқарოу ахараҭса.

განმარტება:

საქართველოს ადმინისტრაციული სამართალდარღვევათა კოდექსის 118³-ე მუხლის თანახმად, მოტოციკლით მოძრაობისას მძღოლის ან/და მგზავრის მიერ შეკრული მოტოჩაფხუტის გამოუყენებლობა - გამოიწვევს დაჯარიმებას 100 ლარის ოდენობით.

თემა 23:

საცხოვრებელი ზონა, სამარშრუტო
ტრანსპორტის პრიორიტეტი



Амашына шкәкәа арныкәа ахыц ахырхартала деитатүазар, абарт атранспорттә хархәагакәа рырныкәаџцәа ркынтә амџа атара зыхәтадаҕ

1

Амопед арныкәаџ затәы

2

Ашыакауаџ затәы

3

Амопед арныкәаџи ашыакауаџи

განმარტება:

„საგზაო მოძრაობის შესახებ“ საქართველოს კანონის 25-ე მუხლის მე-2 პუნქტის „ა“ ქვეპუნქტის თანახმად, თუ მძღოლი ასრულებს მოხვევას სხვა გზაზე შესასვლელად, რომლის შესასვლელთანაც მდებარეობს ქვეითთა გადასასვლელი, მან ეს მოხვევა უნდა შეასრულოს მხოლოდ დაბალი სიჩქარით, ხოლო საჭიროების შემთხვევაში უნდა გაჩერდეს და გაატაროს გადასასვლელზე შესული ან შემავალი ქვეითები. ამავე კანონის 32-ე მუხლის მე-12 პუნქტის თანახმად, თუ სატრანსპორტო საშუალებების მოძრაობის ტრეფექტორიები იკვეთება, ხოლო გავლის რიგითობა განსაზღვრული არ არის, მძღოლმა გზა უნდა დაუთმოს იმ სატრანსპორტო საშუალებას, რომელიც მას მარჯვნიდან უახლოვდება.

ВОПРОС 496

ПРАВИЛЬНЫЙ ОТВЕТ: 2

Алапшбара азонаფы ашьакауаа рхысырта ма амѳеихысырта иҕамзар, амѳа ахысра калоит амѳасырта алыра аперпендикулиарла, абарт ацытѳаахақәа руакы аҕыЖ

1

Аиҕашаратѳ цѳахѳа иахыыкоу, аѳеганкт рҕынтѳ амѳа ибзианы иахыубартоу

2

Аиҕашаратѳ цѳахѳа иахыыкам, аѳеганкт рҕынтѳ амѳа ибзианы иахыубартоу

განმარტება:

„საგზაო მოძრაობის შესახებ“ საქართველოს კანონის 24-ე მუხლის მე-8 პუნქტის თანახმად, თუ ხილვადობის ზონაში არ არის ქვეითთა გადასასვლელი ან გზაჯვარედინი, გზაზე გადასვლა ნებადართულია გზის სავალი ნაწილის ღერძის პერპენდიკულარულად, იმ მონაკვეთში, სადაც არ არის გამყოფი ზოლი ან ღობურა და გზა ორივე მხრიდან კარგად ჩანს.

ВОПРОС 497

ПРАВИЛЬНЫЙ ОТВЕТ: 4

Ашьакауаа рхысырта иахыыкам атытѳаҕы ашьакауаѳ амѳасырташка диасроупЖ

1

Иааигѳахо атранспорттѳ хархѳаага аҕынза ибжьоу ианибалак аамышьтахь

2

Иааигѳахо атранспорттѳ хархѳаага аласра иангѳеиталак аамышьтахь

3

Амѳа ахысра ишшѳартам аҕѳра анигалак аамышьтахь

4

Иааигѳахо атранспорттѳ хархѳаага аҕынза ибжьоуи, иааигѳахо атранспорттѳ хархѳаага аласреи иангѳеиталак, иара убас, амѳа ахысра ишшѳартам аҕѳра анигалак аамышьтахь

განმარტება:

„საგზაო მოძრაობის შესახებ“ საქართველოს კანონის 24-ე მუხლის მე-8 პუნქტის თანახმად, იქ სადაც არ არის ქვეითთა გადასასვლელი, ქვეითი არ უნდა გადავიდეს გზის სავალ ნაწილზე მოახლოებულ სატრანსპორტო საშუალებამდე მანძილის, მისი სიჩქარის განსაზღვრამდე და გადასვლის უსაფრთხოებაში დარწმუნებამდე.



Амашына лас арныкѣа ахыц ахырхартала деитатцуазар, амѣатѣ аитатцра абарт алахѣylaцѣа ркынтѣ амѣа зитѣрц ихѣтадаѢ

1

Ашьакауаа

2

Амаланыкѣа арныкѣаа

3

Аидаратѣ машына арныкѣаа

4

Ашьакауааи, иара убас, амаланыкѣеи
аидаратѣ машынеи рырныкѣаацѣеи

განმარტება:

„საგზაო მოძრაობის შესახებ“ საქართველოს კანონის 32-ე მუხლის მე-3 პუნქტის თანახმად, მიმდებარე ტერიტორიიდან გზაზე გასვლისას მძღოლი ვალდებულია გზა დაუთმოს გზაზე მოძრავ სატრანსპორტო საშუალებასა და ქვეითს, ხოლო გზიდან გადასვლისას – იმ ქვეითს, ველოსიპედისტს, მოპედისა და ორბორბლიანი ელექტროთვითმგორავის მძღოლებს, რომლებსაც გზას უჭრის.



Ашыакауаа агәара ацакыараҕы еитатҕуеит, урт ирыхәтоупЖ

1


Ишиашоу аитатра нарыгзароуп

2

Арҕыарахь ма армарахь иасны амашына лас
амҕа артароуп

განმარტება:

„საგზაო მოძრაობის შესახებ“ საქართველოს კანონის 44-ე მუხლის პირველი პუნქტის „დ“ ქვეპუნქტის თანახმად, შესაბამისი ნიშნით აღნიშნულ საცხოვრებელ ზონებში, ქვეითმა უსაფუძვლოდ არ უნდა შეაფერხოს ტრანსპორტის მოძრაობა. ამავე კანონის პირველი დანართის მე-5 თავის (განსაკუთრებული მითითებების ნიშნები) 5.21 პუნქტის თანახმად საგზაო ნიშანი 5.21 „საცხოვრებელი ზონა“ - აღნიშნავს ტერიტორიას (ზონას) სადაც მოქმედებს საცხოვრებელ ზონაში მოძრაობისათვის დადგენილი წესები. ნიშანი იდგმება ასეთი საცხოვრებელი ზონის ყველა შესასვლელში.



Амашына лас арныкәә ахыц ахырхартала деитатцазар, амәтә аитатра алахәылацәа ркынтә амәа атара зыхәтадаҕ

1

Ашыакауаа

2

Амаланыкәа арныкәә

3

Амопед арныкәә

4

Ашыакауааи, иара убас, амаланыкәеи
амопеди рырныкәәдцәа.

განმარტება:

„საგზაო მოძრაობის შესახებ“ საქართველოს კანონის პირველი დანართის მე-5 თავის (განსაკუთრებული მითითებების ნიშნები) 5.22 პუნქტის თანახმად საგზაო ნიშანი 5.22 „საცხოვრებელი ზონის დასასრული“ - აღნიშნავს 5.21 „საცხოვრებელი ნიშნით აღნიშნული საცხოვრებელი ზონის დასასრულს. ნიშანი იდგმება საცხოვრებელი ზონის ყველა გამოსასვლელში. ამავე კანონის 44-ე მუხლის პირველი პუნქტის „ე“ ქვეპუნქტის თანახმად, შესაბამისი ნიშნით აღნიშნულ საცხოვრებელ ზონებში, საცხოვრებელი ზონიდან გამოსვლისას საგზაო მოძრაობის მონაწილემ, გადაკვეთაზე გზა უნდა დაუთმოს სხვა საგზაო მოძრაობის მონაწილეს.

Ашыакауаа ртыҕс, иара убас, анхартатыҕс иҕхьазоу атакырақәа рҕы аҕыжәара рымоупЖ

1

Арныкәащәа

2

Ашыакауаа

განმარტება:

„საგზაო მოძრაობის შესახებ“ საქართველოს კანონის 44-ე მუხლის მე-3 პუნქტის თანახმად, ქვეითთა ზონად გამოცხადებულ ადგილზე და საცხოვრებელ ზონაში აკრძალულია გამჭოლი მოძრაობა, სასწავლო სვლა და ჩართული ძრავითი დგომა; ამასთანავე, ქვეითს უპირატესობა აქვს სხვა საგზაო მოძრაობის მონაწილეების მიმართ.

ВОПРОС 502

ПРАВИЛЬНЫЙ ОТВЕТ: 1



Иарбоу амѡатѣ дыргакѣа ркомбинациакѣа ркынтѣ руа иарбан ауааѣсыра иахьнымхо атыѣаѣы, аихамѡа амѡаркыга змам ахысыртанѣа 150 ѣ 300 метрак ишыбѣжоу, амѡа арѣѣарахьтѣи аганала иргылатѣუ

1

I

2

II

3

III

4

IV

განმარტება:

„საგზაო მოძრაობის შესახებ“ საქართველოს კანონის პირველი დანართის პირველი თავის (მაფრთხილებელი ნიშნები) შენიშვნის „ა“, „ბ“ და „ვ“ ქვეპუნქტების თანახმად: ა) 1.1 „რკინიგზის ზღაგზაუმიანი გადასასვლელი“ და 1.2 „რკინიგზის უზღაგზაუმი გადასასვლელი“ ნიშნები დაუსახლებელ პუნქტში იდგმება სახიფათო მონაკვეთის დასაწყისამდე 150–300 მეტრ მანძილზე; ბ) 1.1 „რკინიგზის ზღაგზაუმიანი გადასასვლელი“, 1.2 „რკინიგზის უზღაგზაუმი გადასასვლელი“, 1.10 „გასახსნელი ხიდი“, 1.11 „სანაპიროზე გასასვლელი“, 1.23 „ქვეითთა გადასასვლელი“, 1.24 „ბავშვები“ და 1.26 „საგზაო სამუშაოები“ ნიშნები მეორდება დაუსახლებელ პუნქტში, ხოლო 1.24 და 1.26 ნიშნები - დასახლებულ პუნქტშიც. მეორე ნიშანი იდგმება სახიფათო მონაკვეთის დასაწყისიდან არანაკლებ 50 მეტრის მანძილზე; ვ) 1.4.1-1.4.3 „რკინიგზის გადასასვლელთან მიახლოება“ ნიშნები იდგმება გზის მარჯვენა მხარეს, ხოლო 1.4.4-1.4.6 „რკინიგზის გადასასვლელთან მიახლოება“ ნიშნები - მარცხენა მხარეს. 1.4.1 და 1.4.4 ნიშნები იდგმება მოძრაობის მიმართულებით ძირითად და დუბლირებულ 1.1 ან 1.2 ნიშნებთან ერთად. ნიშნები 1.4.3 და 1.4.6 იდგმება მოძრაობის მიმართულებით განმეორებით 1.1 ან 1.2 ნიშნებთან, ხოლო ნიშნები 1.4.2 და 1.4.5 - დამოუკიდებლად, თანაბარ დაშორებაზე ძირითად და განმეორებითი 1.1 ან 1.2 ნიშნებს შორის.



I



II



III



IV

Иарбоу амѡатѡ дыргакѡа ркынтѡ руа иарбан зрадиус хѡычу ма алаѡшбара иахыѡѡгьѡу амѡа ишѡартоу аѡыѡѡѡаха хзырѡѡ

1

I

2

II

3

III

4

IV

განმარტება:

„საგზაო მოძრაობის შესახებ“ საქართველოს კანონის პირველი დანართის პირველი თავის (მაფრთხილებელი ნიშნები) 1.12.1 და 1.12.2 პუნქტების თანახმად საგზაო ნიშნები 1.12.1, 1.12.2 „სახიფათო მოსახვევი“ - აღნიშნავს მცირერადიუსიან ან შემლუდული ხილვადობის მქონე გზის სახიფათო მოსახვევს: 1.12.1 – მარჯვნივ, 1.12.2 – მარცხნივ.



I



II



III



IV

Иарбоу амѡатѡ дыргакѡа рѡынтѡ руа иарбан ахаларта ѡѡа змоу амѡа ацыѡѡѡаха азааигѡахара иазкны агѡѡандара хазѡѡѡ

1

I

2

II

3

III

4

IV

განმარტება:

„საგზაო მოძრაობის შესახებ“ საქართველოს კანონის პირველი დანართის პირველი თავის (მაფრთხილებელი ნიშნები) 1.15 პუნქტის თანახმად საგზაო ნიშანი 1.15 „ციცაბო აღმართი“- იძლევა გაფრთხილებას ციცაბოაღმართიან გზის მონაკვეთთან მიახლოების თაობაზე.



I



II



III



IV

Иарбоу амѡатѡ дыргакѡа ркынтѡ руа иარбан амѡა ათაгыლაзаашѡа астандарткѡа иახѡыршьашѡалам амѡა ацыѡтѡаха хѡырბიѡ

1

I

2

II

3

III

4

IV

განმარტება:

„საგზაო მოძრაობის შესახებ“ საქართველოს კანონის პირველი დანართის პირველი თავის (მაფრთხილებელი ნიშნები) 1.20 პუნქტის თანახმად საგზაო ნიშანი 1.20 „სახიფათო გზისპირი“ - აღნიშნავს გზის მონაკვეთს, რომლის გზისპირის მდგომარეობა არ შეესაბამება არსებულ სტანდარტებს.

ВОПРОС 506

ПРАВИЛЬНЫЙ ОТВЕТ: 2



I



II



III



IV

Иარბოუ ამფათე დыргაკეა რკინტე რუა იარბან ამფასურტა ატბაარა არმარახტეი აგანაკინტე იახყიტშეახო
ამფა აცყჷცეაჲა ჯყირბოჲ

1

I

2

II

3

III

4

IV

განმარტება:

„საგზაო მოძრაობის შესახებ“ საქართველოს კანონის პირველი დანართის პირველი თავის (მაფრთხილებელი ნიშნები) 1.21.1-1.21.3 პუნქტების თანახმად საგზაო ნიშნები 1.21.1–1.21.3 „გზის შევიწროება“ - აღნიშნავს გზის მონაკვეთს, რომლის სავალი ნაწილის სიგანე ვიწროვდება. 1.21.1 - ორივე მხრიდან; 1.21.2 - მარჯვნიდან; 1.21.3 - მარცხნიდან.

ВОПРОС 507

ПРАВИЛЬНЫЙ ОТВЕТ: 3

ატალარატე ტყჷ იკამზარ, ამარშრუტტე ატრანსპორტტე ჰარჲეაგაკეი ატაკსი ჰარჷყჷშყრ კალოიტჲ

1

ამფასურტა არჲყარახტეი აგან მაყარაყე.

2

ამფასურტა აგეტანი იკოუ აშეარტადარატე
ადგყილბჲყახალა მაყარაყე.

3

აშყაკამფაყე მა ამფა აგან მაყარაყე.

4

აბრი აბილეთ აყე ეიკყყჲყჲჷჷოუ რკინტე
იარბანჷაალაკ ატყჲაყე

განმარტება:

„საგზაო მოძრაობის შესახებ“ საქართველოს კანონის 24-ე მუხლის მე-13 პუნქტის „ თანახმად, სამარშრუტო სატრანსპორტო საშუალებისა და ტაქსის მოცდა ნებადართულია მხოლოდ გზის სავალი ნაწილის შედარებით ამაღლებულ ჩასასხდომ ბაჲანზე, ხოლო მისი არარსებობისას – ტროტუარზე ან გვერდულაზე.

თემა 24:

ბუქსირება



Иарбоу ატაგელააშაფე იახანე изго амашына арныкәә ахыц ахырхартала аитатра азин имоума, амәа цаазарџ

1

Азин имаџам

2

Азин имоуп

განმარტება:

„საგზაო მოძრაობის შესახებ“ საქართველოს კანონის 45-ე მუხლის მე-6 პუნქტის „ე“ ქვეპუნქტის თანახმად, აკრძალულია ბუქსირება მოქნილი გადაბმით, როცა გზა მოყინულია.

ВОПРОС 509

ПРАВИЛЬНЫЙ ОТВЕТ: 4

Амеханиკატე ატრანსპორტტე ხარხეაგა იახანყ აგара კალოიტჲ

1

Икьакьоу аѣахѣагала

2

Итаруа аѣахѣагала

3

Бжала аидарақѣтарала

4

Икьакьоу аѣахѣагала, итаруа аѣахѣагала, иара убас, бжала аидарақѣтарала

განმარტება:

„საგზაო მოძრაობის შესახებ“ საქართველოს კანონის 45-ე მუხლის მე-2 პუნქტის თანახმად, მექანიკური სატრანსპორტო საშუალების ბუქსირება შეიძლება განხორციელდეს ხისტი ან მოქნილი გადაბმით ან ნაწილობრივი დატვირთვით.

ВОПРОС 510

ПРАВИЛЬНЫЙ ОТВЕТ: 2

Икьакьоу аѣахѣагала ахара аан, аконструкция аибарკра иабзоуранყ იახანყ იрго амашьына იახანყ изго амашьына атраектория иакѣыршѣаны ицозар, იახანყ იрго атრანსპორტტე хархѣага арныкѣаѣ дамазар иახѣтоумаჲ

1

Иახѣтоуп

2

Иახѣтам

განმარტება:

„საგზაო მოძრაობის შესახებ“ საქართველოს კანონის 45-ე მუხლის მე-3 პუნქტის თანახმად, მექანიკური სატრანსპორტო საშუალების ხისტი ან მოქნილი გადაბმით ბუქსირებისას საბუქსირო სატრანსპორტო საშუალებას მძღოლი უნდა მართავდეს, გარდა იმ შემთხვევისა, როცა მოძრაობისას ხისტი გადაბმის კონსტრუქცია უზრუნველყოფს საბუქსირო სატრანსპორტო საშუალების მობუქსირე სატრანსპორტო საშუალების ტრავექტორიით მიყოლას.

ВОПРОС 511

ПРАВИЛЬНЫЙ ОТВЕТ: 1

Икьაკьоу აფაჰაგალა იახანა აგარა აან იახანა ირგოი იახანა იზგოი ატრანსპორტე ჰარჰაგაკჲა ირყბჟაზაროუპჟ

1

4 მეტრაკ

2

5 მეტრაკ

3

კ მეტრაკ

განმარტება:

„საგზაო მოძრაობის შესახებ“ საქართველოს კანონის 45-ე მუხლის მე-5 პუნქტის თანახმად, მობუქსირე და საბუქსირო სატრანსპორტო საშუალებებს შორის მანძილი მოქნილი გადაბმით ბუქსირებისას უნდა იყოს 4–6 მეტრი, ხოლო ხისტი გადაბმით ბუქსირებისას – არაუმეტეს 4 მეტრისა.

ВОПРОС 512

ПРАВИЛЬНЫЙ ОТВЕТ: 2

Икьაკьоу მა იტარუა აფაჰაგაკჲა რჲლა იახანა რგარა ჭალომჟ

1

Ачара асистема агерметирра еилагазар

2

Апскы амеханизм п̄хастазар

3

Амашəртə алашаратə рдырга п̄хастазар

განმარტება:

„საგზაო მოძრაობის შესახებ“ საქართველოს კანონის 45-ე მუხლის მე-6 პუნქტის „ა“ ქვეპუნქტის თანახმად, ავრძალულია ბუქსირება ხისტი ან მოქნილი გადაბმით, იმ მექანიკური სატრანსპორტო საშუალებისა, რომლის საჭის მექანიზმი გაუმართავია.

ВОПРОС 513

ПРАВИЛЬНЫЙ ОТВЕТ: 3

Атრანспорттә хархәага иаханы агара калоитЖ

1

Амотоцикл ала, агантәи аҭахәага ада, иара
убас абри еипҭш икоу амотоцикл ала

2

Итаруа аҭахәагала, амҭақәа ианцаау

3

Абри абилет аҭы еиқәыпҭхьажоу атакқәа
рҭынтә акызатҭәыкҭгы ииашам

განმარტება:

„საგზაო მოძრაობის შესახებ“ საქართველოს კანონის 45-ე მუხლის მე-6 პუნქტის „დ“ და „ე“ ქვეპუნქტების თანახმად, აკრძალულია ბუქსირება: დ) მოტოციკლით, გვერდითი მისაბმელის გარეშე, აგრეთვე ასეთი მოტოციკლის ბუქსირება; ე) მოქნილი გადაბმით, როცა გზა მოყინულია.

ВОПРОС 514

ПРАВИЛЬНЫЙ ОТВЕТ: 1

Амеханикатә атрანспорттә хархәага итаруа аҭахәагала иаханы ианырго, аидхәалагатә агежь аҭы агәе
антцаратә шыақәыргыламтақәа шака иқәыргылатәуиҭ

1

Оҭа

2

Хҭа

3

ҭҭшьба

განმარტება:

„საგზაო მოძრაობის შესახებ“ საქართველოს კანონის 45-ე მუხლის მე-9 პუნქტის თანახმად, მექანიკური სატრანსპორტო საშუალების ბუქსირებისას დრეკადი შემაერთებელი რგოლების აღსანიშნავად გამოიყენება ალმები, გამაფრთხილებელი მოწყობილობა ან 200X200 მმ ზომის დაფა, რომელზედაც დიაგონალურადაა დახაზული 50 მმ სიგანის ურთიერთმონაცვლე წითელი და თეთრი ზოლები შექამრეკლი ზედაპირით. დრეკად შემაერთებელ რგოლზე მაგრდება არანაკლებ ორი გამაფრთხილებელი მოწყობილობა (ალამი).



Иарбоу амѡатѡ дырга инакѡырѡшны, иѡаломЖ

1

Ахылаѡшратѡ пункт Ђаполициатѡ ма ахылаѡшратѡ ѡыѡшырта, ахѡатѡ ма ирку а зона алалартакѡ, ахѡса зкѡу амѡакѡа рхысыртакѡ, уб. егѡ.Ѓ аангыларада ахысра

2

Ахазалхратѡ аужѡтратѡ пункт ЂКыртѡыла ахазалхратѡ ахѡааѡы иѡоу ахазалхратѡ хылаѡшратѡ зонаЃ аангыларада ахысра

განმარტება:

„საგზაო მოძრაობის შესახებ“ საქართველოს კანონის პირველი დანართის მე-3 თავის (ამკრძალავი ნიშნები) 3.17.1 პუნქტის თანახმად საგზაო ნიშანი 3.17.1 „საბაჟო გამშვები პუნქტი“ - კრძალავს საბაჟო გამშვებ პუნქტთან (საქართველოს საბაჟო საზღვართან მდებარე საბაჟო კონტროლის ზონა) გაუჩერებლად გავლას.



Иарбоу амѡათѣ дырга инакѣырѣшны, иѣаломЖ

1

Амѡაѣы иѣоу ашѡарѣа иахѣаны
амашынакѣа рыла аитатѣра анагзара

2

Ахылаѣшратѣ пункт Ђаполициатѣ ма
ахылаѣшратѣ ѣыѣшыртѣ, ахѣаатѣ ма ирку
азона алаларѣакѣа, ахѣѣса зѣѣу амѡаѣа
рхысыртѣакѣа, уб. егѣ.Ѓ аангыларѣада ахысра

3

Амѡаѣы иѣоу ашѡарѣа иахѣаны
атранспортѣтѣ харѣѣагаѣа рыла аитатѣра
анагзара

განმარტება:

„საგზაო მოძრაობის შესახებ“ საქართველოს კანონის პირველი დანართის მე-3 თავის (ამკრძალავი ნიშნები) 3.17.3 პუნქტის თანახმად საგზაო ნიშანი 3.17.3 „კონტროლი“ – კრძალავს საკონტროლო პუნქტთან (პოლიციის ან საკარანტინო საგუშაგოსთან, სასაზღვრო ან დახურულ ზონაში შესასვლელთან, ფასიან გზაზე გასასვლელთან და ა.შ.) გაუჩერებლად გავლას.



Иарбоу амѡатѡ дырга инакѡырѡшныЖ

1

Амѡасыртақѡа ааигѡазатѡи реиѡѡѡараѡы
атѡира ზалом

2

Амѡасыртақѡа ааигѡазатѡи реиѡѡѡараѡы
армарахь атѡира ზалом

3

Арныкѡѡ армарахь мацара аитѡტრა იუალუპ

განმარტეზა:

„საგზაო მოძრაობის შესახებ“ საქართველოს კანონის პირველი დანართის მე-3 თავის (ამკრძალავი ნიშნები) 3.18.2 პუნქტის თანახმად საგზაო ნიშანი 3.18.2 „მარცხნივ მოხვევა აკრძალულია“ - კრძალავს სავალი ნაწილების უახლოეს გადაკვეთაზე მარცხნივ მოხვევას.



Иарбоу амѡатѡ дыргაჲ

1

ადყრგაფყ იარბოუ მა უი ეიჲაუ ალასრალა
ჲყმჲსაატჲ აიტატრა шыќало იჲანაჲჲოიტ

2

ადყრგაფყ იარბოუ აცყს ეიჲაუ ალასრალა
ჲყმჲსაატჲ აიტატრა шыќамლო იჲანაჲჲოიტ

3

ადყრგაყინტჲ იშჲართოუ აყყჲტჲაჲაყინჲა
იბჲოუ ჲნარბოიტ

განმარტება:

„საგზაო მოძრაობის შესახებ“ საქართველოს კანონის პირველი დანართის მე-3 თავის (ამკრძალავი ნიშნები) 3.24 პუნქტის თანახმად საგზაო ნიშანი 3.24 „მაქსიმალური სიჩქარის შეზღუდვა“ - კრძალავს მოძრაობას ნიშანზე აღნიშნულზე მეტი სიჩქარით (კმ/სთ).



Иარბოу ამოატე დყრაქაჟ

1

ამოასყრტაფი ფბანი ეიდუ ალყრატე ცააქაა
შყკამ იაქნარბოიტ

2

ამჰ ეიოშამ არყქაა რჰყ ატრანსპორტტე
ქარქააგა არყლარა შყკამლო იაქნარბოიტ

3

ამჰ ეიოშოუ არყქაა რჰყ ატრანსპორტტე
ქარქააგა არყლარა შყკამლო იაქნარბოიტ

განმარტება:

„საგზაო მოძრაობის შესახებ“ საქართველოს კანონის პირველი დანართის მე-3 თავის (ამკრძალავი ნიშნები) 3.30 პუნქტის თანახმად საგზაო ნიშანი 3.30 „დგომა აკრძალულია ლუწ რიცხვებში“ - კრძალავს სატრანსპორტო საშუალების დგომას თვის ლუწ რიცხვებში.



I



II



III



IV

Иарбоу амѡатѡ дьргакѡа рѣынтѡ руа иарбан абри адырга анырра иахѡамоу азонаѣы иѣоу ааглыхра
амаѣ зуа амаршруттѡ транспорттѡ хархѡагазы амѣ змамѢ

1

ში შში მაцარა

2

ში შშიში მაцარა

3

შიში შში მაцარა

4

შიშიში შში მაцარა

განმარტება:

„საგზაო მოძრაობის შესახებ“ საქართველოს კანონის პირველი დანართის მე-3 თავის (ამკრძალავი ნიშნები) შენიშვნის „გ.ბ“ ქვეპუნქტის თანახმად ნიშნების მოქმედება არ ვრცელდება: გ.ბ) 3.2–3.8 ნიშნებისა – სატრანსპორტო საშუალებაზე, რომელიც ემსახურება აღნიშნულ ზონაში მდებარე სანარმოს, ანდა ემსახურება ან ეკუთვნის ამავე ზონაში მცხოვრებ ან მომუშავე პირს. ამ შემთხვევაში სატრანსპორტო საშუალება შედის აღნიშნულ ზონაში და გამოდის იქიდან დანიშნულების ადგილისაკენ უახლოეს გზაჯვარედინზე. სურათზე ნაჩვენებია საგზაო ნიშნებია: 3.4 „სატვირთო მოძრაობა აკრძალულია“, 3.24 „მაქსიმალური სიჩქარის შეზღუდვა“, 3.5 „მოტოციკლით მოძრაობა აკრძალულია“ და 3.26 „ხმოვანი სიგნალის მიცემა აკრძალულია“.



I



II



III



IV

Иарбоу амѡатѡ дыргакѡа ркынтѡ руа иарбан абри адырга анырра иахѡамоу азонаѡы инхо ма аус зуа ахаѡы иматц зуа ма итѡу амаршруттѡ атранспорттѡ хархѡагазы амч змамѢ

1

IIIИи ШМи мацара

2

IIIИ мацара

3

ШИ ШМи мацара

4

IIIИИи ШМи мацара

განმარტება:

„საგზაო მოძრაობის შესახებ“ საქართველოს კანონის პირველი დანართის მე-3 თავის (ამკრძალავი ნიშნები) შენიშვნის „გ.ბ“ ქვეპუნქტის თანახმად ნიშნების მოქმედება არ ვრცელდება: გ.ბ) 3.2–3.8 ნიშნებისა – სატრანსპორტო საშუალებაზე, რომელიც ემსახურება აღნიშნულ ზონაში მდებარე სანარმოს, ანდა ემსახურება ან ეკუთვნის ამავე ზონაში მცხოვრებ ან მომუშავე პირს. ამ შემთხვევაში სატრანსპორტო საშუალება შედის აღნიშნულ ზონაში და გამოდის იქიდან დანიშნულების ადგილისაკენ უახლოეს გზაჯვარედინზე. სურათზე ნაჩვენები საგზაო ნიშნებია: 3.24 „მაქსიმალური სიჩქარის შეზღუდვა“, 3.4 „სატვირთო მოძრაობა აკრძალულია“, 3.19 „მობრუნება აკრძალულია“ და 3.7 „მისაბმელით მოძრაობა აკრძალულია“



I



II



III



IV

Иარბოუ ამჟათე დыргაკჳა რკინტე რუა იარბან ლაბჳაბა იუბარტოუ აგრა ზმოუ მა ზылშარა მაჩუ აუაფი
ისტატუს ზმოუ ახაფი ირწყიკეიგო ატრანსპორტტე хархѳагазы, მა убарт иреиѳшу ауаа имѳанызго
ატრანსპორტ азы амч змамѳ

1

ში შში მაцარა

2

ში შშიში მაцარა

3

შიში შმი მაцარა

4

შიშიში შმი მაцარა

განმარტება:

„საგზაო მოძრაობის შესახებ“ საქართველოს კანონის პირველი დანართის მე-3 თავის (ამკრძალავი ნიშნები) შენიშვნის „გ.დ“ ქვეპუნქტის თანახმად ნიშნების მოქმედება არ ვრცელდება: გ.დ) 3.2, 3.3, 3.28–3.30 ნიშნებისა – იმ სატრანსპორტო საშუალებაზე, რომელსაც მნიშვნელოვნად გამოხატული ან მკვეთრად გამოხატული შეზღუდული შესაძლებლობის სტატუსის მქონე პირი მართავს, ან იმ სატრანსპორტო საშუალებაზე, რომელსაც აღნიშნული პირები გადაჰყავს. სურათზე ნაჩვენები საგზაო ნიშნებია: 3.2 „მოძრაობა აკრძალულია“, 3.26 „ხმოვანი სიგნალის მიცემა აკრძალულია“, 3.28 „დგომა აკრძალულია“ და 3.20 „გასწრება აკრძალულია“.



I



II

Иარბოу амѡатѡ дыргакѡа амч рымоупЖ

1

Адырга заҭҭхѡа иҭылоу амѡасырта
аиѡѡѡараѡы

2

Адыргакѡа иахѡылоу амѡа аҭанаѡы.

განმარტება:

„საგზაო მოძრაობის შესახებ“ საქართველოს კანონის პირველი დანართის მე-3 თავის (ამკრძალავი ნიშნები) შენიშვნის „დ“ პუნქტის თანახმად 3.18.1 (მარჯვნივ მოხვევა აკრძალულია), 3.18.2 (მარცხნივ მოხვევა აკრძალულია) ნიშნების მოქმედება ვრცელდება სავალი ნაწილების იმ გადაკვეთაზე, რომლის წინაც დადგმულია სათანადო ნიშანი.



I



II



III



IV

Иარბოუ ამფატე დыргакәа рҕынтә руа иарбан, урт заҕхҕа игылоу амфасырта аиџџараҕы амч змоуџ

1

III мацара

2

IIIIII IIIIII мацара

3

IIIIII мацара

4

Рызынтәгы

განმარტება:

„საგზაო მოძრაობის შესახებ“ საქართველოს კანონის პირველი დანართის მე-3 თავის (ამკრძალავი ნიშნები) შენიშვნის „დ“ პუნქტის თანახმად 3.18.1, 3.18.2 ნიშნების მოქმედება ვრცელდება სავალი ნაწილების იმ გადაკვეთაზე, რომლის წინაც დადგმულია სათანადო ნიშანი. ამავე დანართის მე-4 თავის (მიმითმეველი ნიშნები) 4.1.1-4.1.6 პუნქტების შენიშვნის „ბ“ ქვეპუნქტის თანახმად ბ) 4.1.1-4.1.6 ნიშნების მოქმედება ვრცელდება სავალი ნაწილების იმ გადაკვეთაზე, რომლის წინაც დადგმულია სათანადო ნიშანი. სურათზე ნაჩვენებ ნიშნებია: 3.18.2 „მარცხნივ მოხვევა აკრძალულია“, 4.1.4 „მოძრაობა პირდაპირ ან მარჯვნივ“, 3.18.1 „მარჯვნივ მოხვევა აკრძალულია“ და 4.1.5 „მოძრაობა პირდაპირ ან მარცხნივ“.



I



II



III

Иарбоу амѡатѡ дьргакѡа амч рымоупЖ

1

Адырга заҭҭхѡа игылоу амѡасырта
аиѡѡѡараѡы

2

Адыргаѡа иахѡгылоу амѡа аҭанаѡы

განმარტება:

„საგზაო მოძრაობის შესახებ“ საქართველოს კანონის პირველი დანართის მე-3 თავის (ამკრძალავი ნიშნები) შენიშვნის „ი“ პუნქტის თანახმად 3.10, 3.27–3.30 ნიშნების მოქმედება ვრცელდება მხოლოდ გზის იმ მხარეს, რომელზედაც ისინია დადგმული. სურათზე ნაჩვენები ნიშნებია: 3.10 „ქვეითთა მოძრაობა აკრძალულია“, 3.27 „გაჩერება აკრძალულია“ და 3.29 „დგომა აკრძალულია კენტ რიცხვებში“.



I



II



III

Иарбоу амѡатѡ дыргакѡа амч рымоупЖ

1

Адырга иахьгылоу атып инаркны уи
аамышьтахь ааигѡаза иѡоу амѡеихысыртанза
анхартатып аѡы мацара, амѡеихысырта
иѡамзар – анхартатып атыхѡанза

2

Адырга заѡухѡа игылоу амѡасырта
аиѡѡѡараѡы

განმარტება:

„საგზაო მოძრაობის შესახებ“ საქართველოს კანონის პირველი დანართის მე-3 თავის (ამკრძალავი ნიშნები) შენიშვნის „ე“ პუნქტის თანახმად, 3.16, 3.20, 3.22, 3.24, 3.26–3.30 ნიშნების მოქმედება ვრცელდება სათანადო ნიშნის შემდეგ, ნიშნის დადგმის ადგილიდან უახლოეს გზაჯვარედინამდე, ხოლო დასახლებულ პუნქტში გზაჯვარედინის არარსებობისას – დასახლებული პუნქტის ბოლომდე. ნიშნების მოქმედება ვრცელდება აგრეთვე მიმდებარე ტერიტორიის გამოსას-ვლე-ლთან, საველე, სატყეო და სხვა მეორეხარისხოვანი გზების გადაკვეთასთან (შეერთებასთან), რომელთა წინ არ დგას სათანადო ნიშანი. სურათზე ნაჩვენებ ნიშნებია: 3.16 „მინიმალური დისტანციის შეზღუდვა“, 3.24 „მაქსიმალური სიჩქარის შეზღუდვა“ და 3.28 „დგომა აკრძალულია“.



I



II



III



IV

Анхартатың ағы амөеихысырта иқамзар, иарбоу амөатө дырғақәа рқынтө руа иарбан анхартатың антәамтанға амч змоуҒ

1

III мацара

2

IIIИб IIIИИ, IIIИи мацара

3

IIIи IIIИи мацара

4

IIIIИ мацара

განმარტება:

„საგზაო მოძრაობის შესახებ“ საქართველოს კანონის პირველი დანართის მე-3 თავის (ამკრძალავი ნიშნები) შენიშვნის „ე“ პუნქტის თანახმად, 3.16, 3.20, 3.22, 3.24, 3.26–3.30 ნიშნების მოქმედება ვრცელდება სათანადო ნიშნის შემდეგ, ნიშნის დადგმის ადგილიდან უახლოეს გზაჯვარედინამდე, ხოლო დასახლებულ პუნქტში გზაჯვარედინის არარსებობისას – დასახლებული პუნქტის ბოლომდე. ნიშნების მოქმედება ვრცელდება აგრეთვე მიმდებარე ტერიტორიის გამოსასვლელ-ლთან, საველე, სატყეო და სხვა მეორეხარისხოვანი გზების გადაკვეთასთან (შეერთებასთან), რომელთა წინ არ დგას სათანადო ნიშანი. სურათზე ნაჩვენები ნიშნებია: 3.4 „სატვირთო მოძრაობა აკრძალულია“, 3.20 „გასწრება აკრძალულია“, 3.27 „გაჩერება აკრძალულია“ და 3.30 „დგომა აკრძალულია ღუწ რიცხვებში“.

თემა 25:

სასწავლო სვლა

ВОПРОС 528

ПРАВИЛЬНЫЙ ОТВЕТ: 3



I



II



III



IV

Абарт амფატე дыргакეа ркынтე руа иарбан иарбоу ахырхартала атранспорттэ хархэагакеа зегьы рыла амѡа алалара икѡитызымтѡуаჲ

1

I

2

II

3

III

4

IV

განმარტება:

„საგზაო მოძრაობის შესახებ“ საქართველოს კანონის პირველი დანართის მე-3 თავის (ამკრძალავი ნიშნები) 3.1 პუნქტის თანახმად საგზაო ნიშანი 3.1 „შესვლა აკრძალულია“ - კრძალავს ყველა სახის სატრანსპორტო საშუალებით შესვლას მოცემული მიმართულებით.



I



II



III



IV

Иарбоу амѡатѡ дыргакѡа ркынтѡ руа иарбан атранспорттѡ хархѡагакѡа зегыы рыла аитатцра
икѡитызымтѡуаѢ

1

I

2

II

3

III

4

IV

განმარტება:

„საგზაო მოძრაობის შესახებ“ საქართველოს კანონის პირველი დანართის მე-3 თავის (ამკრძალავი ნიშნები) 3.2 პუნქტის თანახმად საგზაო ნიშანი 3.2 „მოძრაობა აკრძალულია“ - კრძალავს ყველა სახის სატრანსპორტო საშუალებით მოძრაობას.

ВОПРОС 530

ПРАВИЛЬНЫЙ ОТВЕТ: 2



I



II



III



IV

Иарбоу амѡათѡ дьргакѡа ркынтѡ руа иарбан амеханикатѡ атранспорттѡ хархѡагакѡа зегьы рыла аитатра икѡитызымтѡаѢ

1

I

2

II

3

III

4

IV

განმარტება:

„საგზაო მოძრაობის შესახებ“ საქართველოს კანონის პირველი დანართის მე-3 თავის (ამჟრძალავი ნიშნები) 3.3 პუნქტის თანახმად საგზაო ნიშანი 3.3 „მექანიკური სატრანსპორტო საშუალებით მოძრაობა აკრძალულია“ - კრძალავს ყველა სახის მექანიკური სატრანსპორტო საშუალებით მოძრაობას.



Иарбоу амѡатѡ дьрга иаанагоитЖ

1

Изеиџшразаалак, амеханикатѡ атранспорттѡ хархѡагақѡа зегьы рыла аитѡцра иқѡѡтымуп

2

Изеиџшразаалак, атранспорттѡ хархѡагақѡа зегьы рыла аитѡцра иқѡѡтымуп

3

Амашьына лас аитѡцразы иазџхьагѡѡу амѡа хнарбоит

განმარტება:

„საგზაო მოძრაობის შესახებ“ საქართველოს კანონის პირველი დანართის მე-3 თავის (ამკრძალავი ნიშნები) 3.3 პუნქტის თანახმად საგზაო ნიშანი 3.3 „მექანიკური სატრანსპორტო საშუალებით მოძრაობა აკრძალულია“ - კრძალავს ყველა სახის მექანიკური სატრანსპორტო საშუალებით მოძრაობას.



Иарбоу амѡатѡ дьрга инаѡѡырѡшны иѡаломЖ

1

Ѣегежыѡ змоу атранспорттѡ харѡѡагала
аитѡѡრა

2

Акресло змам амотоѡѡл ала аитѡѡრა

3

Изеиѡшრაзаалаѡ, амотоѡѡл ала аитѡѡრა

ბანმარტუბა:

„საგზაო მოძრაობის შესახებ“ საქართველოს კანონის პირველი დანართის მე-3 თავის (ამკრძალავი ნიშნები) 3.5 პუნქტის თანახმად საგზაო ნიშანი 3.5 „მოტოციკლით მოძრაობა აკრძალულია“ - კრძალავს ყველა სახის მოტოციკლით მოძრაობას.



Иарбоу амѡатѡ дырга иаанагоитЖ

1

Изеиѡшразаалак, амеханикатѡ атранспорттѡ хархѡагақѡа зегыы рыла аитѡцра иқѡнтымуп

2

Изеишразаалак атрактори ахала инақѡо амашынеи рыла аитѡцра иқѡнтымуп

3

Атрактор ала аитѡцразы иазѡхыагѡѡѡу амѡѡа хнарѡоит

განმარტება:

„საგზაო მოძრაობის შესახებ“ საქართველოს კანონის პირველი დანართის მე-3 თავის (ამკრძალავი ნიშნები) 3.6 პუნქტის თანახმად საგზაო ნიშანი 3.6 „ტრაქტორით მოძრაობა აკრძალულია“ - კრძალავს ყველა სახის ტრაქტორითა და სპეციალიზებული თვითმავალი მანქანით მოძრაობას.



Иарбоу амѡათѡ дьрга иаанагоитЖ

1

Ацраҳѡага змоу аидаратѡ машьынакѡа
мацара реитѡтцразы иазѡхьагѡѡтѡу амѡа
хнарбоит

2

Ацраҳѡага змоу аидаратѡ машьынакѡеи,
ацраҳѡага змоу атрактори, иара убас,
ამეხანიკატѡ ატრანსპორტტѡ ხარხѡაგა
იახანყ აგარეი ზალომ

3

არნყკѡაგა ჰამამ ატრანსპორტტѡ
ხარხѡაგაკѡა რეიტѡტცრა ზალომ

განმარტყბა:

„საგზაო მოძრაობის შესახებ“ საქართველოს კანონის პირველი დანართის მე-3 თავის (ამჰრძალავი ნიშნები) 3.7 პუნქტის თანახმად საგზაო ნიშანი 3.7 „მისაბმელით მოძრაობა აკრძალულია“ - კრძალავს ყველა სახის მისაბმელიანი სატვირთო ავტომობილითა და მისაბმელიანი ტრაქტორით მოძრაობას, აგრეთვე მექანიკური სატრანსპორტო საშუალების ბუქსირებას.

„საგზაო მოძრაობის შესახებ“ საქართველოს კანონის პირველი დანართის მე-3 თავის (ამკრძალავი ნიშნები) 3.8 პუნქტის თანახმად საგზაო ნიშანი 3.8 „სატაპანო მოძრაობა აკრძალულია“ - კრძალავს სატაპანო ტრანსპორტით, სასაპალნე და დასაჯდომი ცხოველებით მოძრაობას, ასევე პირუტყვის გადარეკვას.



I



II



III



IV

Иарбоу амѡათѡ дыргакѡа ркынтѡ руа иარბან амаланыкѡეи ამოპედი рыла аитѡტრა иკѡнтызымтѡუაჲ

1

I

2

II

3

III

4

IV

განმარტება:

„საგზაო მოძრაობის შესახებ“ საქართველოს კანონის პირველი დანართის მე-3 თავის (ამკრძალავი ნიშნები) 3.9 პუნქტის თანახმად საგზაო ნიშანი 3.9 „ველოსიპედით მოძრაობა აკრძალულია“ - კრძალავს ველოსიპედითა და მოპედით მოძრაობას.



I



II



III



IV

Иарбоу амѡатѡ дыргакѡа рѡынтѡ руа иарбан ашьаѡауаа реитатра иѡѡтызымтѡуаѢ

1

I

2

II

3

III

4

IV

განმარტება:

„საგზაო მოძრაობის შესახებ“ საქართველოს კანონის პირველი დანართის მე-3 თავის (ამკრძალავი ნიშნები) 3.9 პუნქტის თანახმად საგზაო ნიშანი 3.9 „ველოსიპედით მოძრაობა აკრძალულია“ - კრძალავს ველოსიპედითა და მოპედით მოძრაობას.



Иарбоу амფატე дырга инакәырҭшныЖ

1

Амѡаѣы иҭоу ашѡарҭа иахҭьаны ашьаҭауаа
реитатҭра ҭалом

2

Арныҭәаѡцәа амақсималҭә гәҭанызаарала,
сааткала 20км. еихам аласрала еитатҭроуп

3

Амѡатә атранспортҭә амашәыр ма даҭа
шѡартак иахҭьаны иарбанзаалак
атранспортҭә хархәагак ала аитатҭра ҭалом

განმარტება:

„საგზაო მოძრაობის შესახებ“ საქართველოს კანონის პირველი დანართის მე-3 თავის (ამკრძალავი ნიშნები) 3.17.2 პუნქტის თანახმად საგზაო ნიშანი 3.17.2 „საფრთხე“ - კრძალავს ყველა სახის სატრანსპორტო საშუალებით შემდგომ მოძრაობას საგზაო-სატრანსპორტო შემთხვევის ან სხვა საფრთხის გამო.



Иарбоу амѡათѡ дырга инакѡырѡшныЖ

1

Амѡасыртакѡа ааигѡазатѡи რეიქტѡარაფყ
აქѡირა ზალომ

2

Арныкѡაფ არѡყარახь мацара аитатра иуалуп

3

Амѡасыртакѡа ааигѡазатѡи რეიქტѡარაფყ
არѡყარახь აქѡირა ზალომ

განმარტება:

„საგზაო მოძრაობის შესახებ“ საქართველოს კანონის პირველი დანართის მე-3 თავის (ამკრძალავი ნიშნები) 3.18.1 პუნქტის თანახმად საგზაო ნიშანი 3.18.1 „მარჯვნივ მოხვევა აკრძალულია“ - კრძალავს სავალი ნაწილების უახლოეს გადაკვეთაზე მარჯვნივ მოხვევას.



Иарбоу амѡатѡ дырга инакѡырѡшныЖ

1

Амѡасыртақѡа ааигѡазатѡи реиѡѡѡараѡы
атѡѡира ზალომ

2

Амѡасыртақѡа ааигѡазатѡи реиѡѡѡараѡы
армарахь атѡѡира ზალომ

3

Арныкѡѡ армарахь иара убас, шытахька
маѡара аитѡѡრა иуалуп

განმარტება:

„საგზაო მოძრაობის შესახებ“ საქართველოს კანონის პირველი დანართის მე-3 თავის (ამკრძალავი ნიშნები) 3.19 პუნქტის თანახმად საგზაო ნიშანი 3.19 „მობრუნება აკრძალულია“ - კრძალავს სავალი ნაწილების უახლოეს გადაკვეთაზე მობრუნებას.



Иарбоу амѡათѣ дырга инаѡырѡшны иѡаломЖ

1

Изеиѡшრაзаалак атранспорттѣ харѡаагак
აფყსრა, უი ალასრა იაჰყიფყშყმკჲა

2

Амашყына лас еиѡшым егьырт атранспорттѣ
харѡааგჲა рыла аитатра

3

Изеиѡшრაзаалак атранспорттѣ харѡаагак
ჲსაატკალა 30კმ. еиѡყ ალასრალა еიტაѡყა
ადაჲ აფყსრა

განმარტება:

„საგზაო მოძრაობის შესახებ“ საქართველოს კანონის პირველი დანართის მე-3 თავის (ამკრძალავი ნიშნები) 3.20 პუნქტის თანახმად საგზაო ნიშანი 3.20 „გასწრება აკრძალულია“ - კრძალავს ყველა სახის მექანიკური სატრანსპორტო საშუალების გასწრებას (გარდა 30 კმ/სთ-ზე ნაკლები სიჩქარით მოძრავი ტრანსპორტისა). ნებადართულია გასწრება უეტლო მოტოციკლის, მოპედისა და ველოსიპედის შემხვედრი მოძრაობის ზოლში გადაუსვლელად.



Иარბოუ амѡатѡ дыргаЖ

1

Абжытѡ ардырга икѡнтызымтѡуа амѡатѡ дырга амч иахьамоу а зона антѡамтѡ хнарбоит

2

Амитингкѡеи аманифестациакѡеи рымѡаџгара иахьыкамло амѡа ацыџтѡаха хнарбоит

3

Абжытѡ ардырга ахархѡара икѡнтымнатѡеит, ари ардырга амѡатѡе атранспорттѡ амашѡыр аѡацѡыхьчара амзызла ианыџатѡу аџагылазаашьѡ иналамџакѡа

განმარტება:

„საგზაო მოძრაობის შესახებ“ საქართველოს კანონის პირველი დანართის მე-3 თავის (ამკრძალავი ნიშნები) 3.26 პუნქტის თანახმად საგზაო ნიშანი 3.26 „ხმოვანი სიგნალის მიცემა აკრძალულია“ - კრძალავს ხმოვანი სიგნალით სარგებლობას, გარდა იმ შემთხვევისა, როცა სიგნალი გამოიყენება საგზაო-სატრანსპორტო შემთხვევის თავიდან ასაცილებლად.



Иარბოუ ამოატე დыргაჟ

1

Иარбанзаалак атранспорттэ хархэага
აფყსრა шыკამლო иханахэоит

2

Амоатэ адырга 3.2т „Афყсრა калом” амч
иахьамоу азона антэамта хнарбоит

3

Абжытэ ардырга ахархэара шыკამლო
иханахэоит, ари ардырга амоатэ
атранспорттэ амашэыр аеацэхьчара
амызла ианыкатоу аҭагылазаашьа
иналамҭакәа

განმარტება:

„საგზაო მოძრაობის შესახებ“ საქართველოს კანონის პირველი დანართის მე-3 თავის (ამკრძალავი ნიშნები) 3.21 პუნქტის თანახმად საგზაო ნიშანი 3.21 „გასწრების აკრძალვის დასასრული“ - აღნიშნავს საგზაო ნიშნის 3.20-ის („გასწრება აკრძალულია“) მოქმედების ზონის დასასრულს.

ВОПРОС 544

ПРАВИЛЬНЫЙ ОТВЕТ: 4



I



II



III



IV

Иарбоу амѡатѡ дыргакѡа ркынтѡ руа иарбан амѡатѡ дырга 3.24 П, „Амаксималтѡ аласра аѣкра“Т амч
иахѡамоу азона антѡамта хзырбоѣ

1

I

2

II

3

III

4

IV

განმარტება:

„საგზაო მოძრაობის შესახებ“ საქართველოს კანონის პირველი დანართის მე-3 თავის (ამჟრძალავი ნიშნები) 3.25 პუნქტის თანახმად საგზაო ნიშანი 3.25. „მაქსიმალური სიჩქარის შეზღუდვის დასასრული“ - აღნიშნავს 3.24 „მაქსიმალური სიჩქარის შეზღუდვა“ ნიშნის მოქმედების ზონის დასასრულს.



Иарбоу амѡათѡ дыргаЖ

1

Атранспорттѡ хархѡага аанкыларა, иара
убас, агыларა шыѡамло иахнарбоит

2

Атранспорттѡ хархѡага аанкыларა шыѡамло,
аха агыларა шыѡало иахнарбоит

3

Атранспорттѡ хархѡага агыларა шыѡамло,
аха аанкыларა шыѡало иахнарбоит

განმარტება:

„საგზაო მოძრაობის შესახებ“ საქართველოს კანონის პირველი დანართის მე-3 თავის (ამკრძალავი ნიშნები) 3.27 პუნქტის თანახმად საგზაო ნიშანი 3.27 „გაჩერება აკრძალულია“ - კრძალავს სატრანსპორტო საშუალების, როგორც გაჩერებას, ისე დგომას.



I



II



III



IV

Иარბოუ ატრანსპორტტე ხაჩააგაქეა რკინტე რუა იარბან ზიმჩ ახჷყოუ აზონაფე ატრანსპორტტე ხარხააგა აგჷლარა шыკამლო იაჩჷყრბოფ

1

III შაყარა

2

II შაყარა

3

III ში IIIIII შაყარა

4

III ში II ში შაყარა

განმარტება:

„საგზაო მოძრაობის შესახებ“ საქართველოს კანონის პირველი დანართის მე-3 თავის (ამჟრძალაჷვი ნიშნები) 3.27 და 3.28 პუნქტების თანახმად: - საგზაო ნიშანი 3.27 „გაჩერება აკრძალულია“ - კრძალაჷს სატრანსპორტო საშუალების, როგორც გაჩერებას, ისე დგომას. - საგზაო ნიშანი 3.28 პუნქტის თანახმად საგზაო ნიშანი 3.28 „დგომა აკრძალულია“ კრძალაჷს სატრანსპორტო საშუალების დგომას.



I



II



III



IV

Иарбоу амѡатѡ дыргакѡа рѡынтѡ руа иарбан амз еиѡымшо арыцхѡкѡа рзы атранспорттѡ хархѡага аргылаа икѡитызымтѡуаѢ

1

I

2

II

3

III

4

IV

განმარტება:

„საგზაო მოძრაობის შესახებ“ საქართველოს კანონის პირველი დანართის მე-3 თავის (ამკრძალავი ნიშნები) 3.29 პუნქტის თანახმად საგზაო ნიშანი 3.29 „დგომა აკრძალულია კენტ რიცხვებში“ - კრძალავს სატრანსპორტო საშუალების დგომას თვის კენტ რიცხვებში.



I



II



III

Иарбоу амѡათѣ дыргакѣа ркынтѣ руа иარбан амаршруттѣ атранспорттѣ хархѣагазы амч змамѢ

1

III მაцარა

2

III მაцარა

3

IIIIII მაцარა

4

Амѡათѣ дыргакѣа рыхѢагы

განმარტება:

„საგზაო მოძრაობის შესახებ“ საქართველოს კანონის პირველი დანართის მე-3 თავის (ამკრძალავი ნიშნები) შენიშვნის „გ.ა“ ქვეპუნქტის თანახმად ნიშნების მოქმედება არ ვრცელდება: გ.ა) 3.1–3.3, 3.18.1, 3.18.2, 3.19, 3.27 ნიშნებისა – სამარშრუტო სატრანსპორტო საშუალებაზე. სურათზე ნაჩვენები საგზაო ნიშნებია: 3.1 „შესვლა აკრძალულია“, 3.2 „მოძრაობა აკრძალულია“ და 3.3 „მექანიკური სატრანსპორტო საშუალებით მოძრაობა აკრძალულია“.



I



II



III



IV

Иარბოუ ამფატე დыргაკეა რკынтე რუა იარბან ამარшруттэ атранспорттэ хархэагазы амч змамѢ

1

ში შიშიში მაцარა

2

შიში შიში მაцარა

3

შიში შიშიში მაцარა

4

შიშიში შიში მაцარა

განმარტება:

„საგზაო მოძრაობის შესახებ“ საქართველოს კანონის პირველი დანართის მე-3 თავის (ამკრძალავი ნიშნები) შენიშვნის „გ.ა“ ქვეპუნქტის თანახმად ნიშნების მოქმედება არ ვრცელდება: გ.ა) 3.1–3.3, 3.18.1, 3.18.2, 3.19, 3.27 ნიშნებისა – სამარშრუტო სატრანსპორტო საშუალებაზე. სურათზე ნაჩვენები საგზაო ნიშნებია: 3.18.2 „მარცხნივ მოხვევა აკრძალულია“, 1.8 „წრიულიმოძრაობიანი გადაკვეთა“, 3.19 „მობრუნება აკრძალულია“ და 1.33 „ხერგილი“.

ВОПРОС 550

ПРАВИЛЬНЫЙ ОТВЕТ: 4

Апრაქტიკატე амашынарныкæара атцара иазку атцаратæ атранспорттæ хархæага еибытазароупЖ

1

Аинструктореартæады изы икоу аибаркыгеи
иаццаны ишыакæырғылоу аанкылагакæеи
рыла

2

Аинструктореартæады изы икоу ашьтахьтæи
алафшбара асаркыала

3

Аилыркааратæ дырга е „Атцаратæ
атранспорттæ хархæага“ ала

4

Абри абилет афы еикæуыхъазоу
ашыакæырғыламтакæа зегъы рыла

განმარტება:

„საგზაო მოძრაობის შესახებ“ საქართველოს კანონის 61-ე მუხლის მე-3 პუნქტის თანახმად, სასწავლო სატრანსპორტო საშუალება, რომლითაც ხდება პრაქტიკული მართვის სწავლება (სასწავლო სვლა), უნდა აღიჭურვოს ინსტრუქტორ-მასწავლებლისათვის განკუთვნილი გადაბმულობისა და მუხრუჭის დამატებითი სატერფულებით, აგრეთვე უკუხედვის სარკით. ასეთ სატრანსპორტო საშუალებაზე ამ კანონის მე-19 მუხლის პირველი პუნქტის „თ“ ქვეპუნქტით დადგენილი წესით უნდა დამაგრდეს საცნობი ნიშანი.

ВОПРОС 551

ПРАВИЛЬНЫЙ ОТВЕТ: 2

Атранспорттæ хархæага апრაქტიკატე арныкæара атцара калоитЖ

1

Ускак амашынакæа иахьырацæам
иарбанзаалак амæафы

2


Ихыбу аштафы ма автодром афы

3

Анхартатыл акалт афы

განმარტება:

„საგზაო მოძრაობის შესახებ“ საქართველოს კანონის 61-ე მუხლის მე-2 და მე-4 პუნქტების თანახმად: 2. სატრანსპორტო საშუალების პრაქტიკული მართვის სწავლება (სასწავლო სვლა) ნებადართულია მხოლოდ საქართველოს კანონმდებლობით დადგენილი წესით, დახურულ მოედანსა და ავტოდრომზე, აგრეთვე იმ გზებზე, რომელთა სიასაც დადგენილი წესით ამტკიცებენ ადგილობრივი თვითმმართველობის ორგანოები. 4. გზაზე სასწავლო სვლა დასაშვებია მხოლოდ სასწავლო სატრანსპორტო საშუალებით ინსტრუქტორ-მასწავლებელთან ერთად იმ შემთხვევაში, თუ პირი ფლობს სატრანსპორტო საშუალების პრაქტიკული მართვის სანყის ჩვენებს. ინსტრუქტორ-მასწავლებელს გზაზე სასწავლო სვლის განხორციელების უფლება აქვს მხოლოდ მას შემდეგ, რაც დარწმუნდება, რომ პირმა (მოსწავლემ) საკმარისად აითვისა სატრანსპორტო საშუალების პრაქტიკული მართვის სანყისი ჩვენები.



Иарбан хырхартоу атаратә машына аитатра злалымшо, уи ацафы ирныкәозарҭ

1

А ахырхартала мацара

2

В ахырхартала мацара

3

Аи Ви ахырхартакәа рыла

განმარტება:

„საგზაო მოძრაობის შესახებ“ საქართველოს კანონის 38-ე მუხლის პირველი პუნქტის „ბ“ ქვეპუნქტის თანახმად, ავტომაგისტრალზე, ავტომაგისტრალის შესასვლელსა და გამოსასვლელზე აკრძალულია სასწავლო სვლა.



Ацаратә машына ахыц ахырхартала аитатра азин амоума, уи ацафы ирныкәозарҕ

1

Азин амам

2

Азин амоуп

განმარტება:

„საგზაო მოძრაობის შესახებ“ საქართველოს კანონის 38-ე მუხლის პირველი პუნქტის „ბ“ ქვეპუნქტის თანახმად, ავტომაგისტრალზე, ავტომაგისტრალის შესასვლელსა და გამოსასვლელზე აკრძალულია სასწავლო სვლა.

თემა 26:

გადაზიდვები, ხალხი, ტვირთი

ВОПРОС 554

ПРАВИЛЬНЫЙ ОТВЕТ: 2

Арныкәә, ахәыцкәа ргәыпкәа мѡапызго ахафы икаитаз азгәатара ала амѡасырта иахысуа ахәыцкәа амѡа рытара ихәтоумаѢ

1

Ихәтам

2

Ихәтоуп

განმარტება:

„საგზაო მოძრაობის შესახებ“ საქართველოს კანონის 26-ე მუხლის მე-5 პუნქტის თანახმად, ბავშვთა ჯგუფების გამცილებლის მინიშნებისას მძღოლი ვალდებულია გზა დაუთმოს იმ ბავშვებს, რომლებიც კვეთენ გზის სავალ ნაწილს.

ВОПРОС 555

ПРАВИЛЬНЫЙ ОТВЕТ: 2

Аикәшаратә цәахәа змам, ѡеганктәи аитатра иахыikoу амѡафы ахәыцкәа ргәып еитатроуп аитатра ахырхаралаЖ

1

Иkoу аган иапну афыкә афы

2

Еипынгылоу аганафы иkoу амѡа афпыкә афы

განმარტება:

„საგზაო მოძრაობის შესახებ“ საქართველოს კანონის 26-ე მუხლის მე-5 პუნქტის თანახმად, ორმხრივ მოძრაობიან გზაზე, რომელსაც არა აქვს გამყოფი ზოლი, ბავშვთა ჯგუფი უნდა გადაადგილდებოდეს მოძრაობის მიმართულების საწინააღმდეგო მხარეს მდებარე გვერდულაზე.

ВОПРОС 556

ПРАВИЛЬНЫЙ ОТВЕТ: 1

Апассажи́рцәа рхыпхьа́зара ма урт рымџангашьа арныкџара иапырхагазар, ма арныкџаџ алапшбара издыркуазар, урт рымџангара каломаџ

1

Икалом

2

Икалоит, аха арныкџаџ икџахатрала

3

Икалоит, аха ауаа ахнымхо апункт аџы, ихадам амџаџы, атранспорттџ хархџага аласра сааткала 40км. еихамзар

განმარტება:

„საგზაო მოძრაობის შესახებ“ საქართველოს კანონის 46-ე მუხლის პირველი პუნქტის თანახმად, აკრძალულია მგზავრთა იმ რაოდენობით ან ისე გადაყვანა, რომ ეს ხელს უშლიდეს სატრანსპორტო საშუალების მართვას ან მძღოლს უზღუდავდეს ხედვის არეს.

ВОПРОС 557

ПРАВИЛЬНЫЙ ОТВЕТ: 4

Апассажи́рцәа рымџангара калоитЖ

1

Атрактор ма ахала иныкџо даџа машьынак асалон ма акабина нхыт

2

Аидаратџ машьына ацрахџагала, иара убас, ацрахџагаџнкџа рыла

3

Аидаратџ машьына ачарт ала

4

Иаханы изго автобус

განმარტება:

„საგზაო მოძრაობის შესახებ“ საქართველოს კანონის 46-ე მუხლის მე-10 პუნქტის „ა“ ქვეპუნქტის თანახმად, აკრძალულია მგზავრთა გადაყვანა ავტომობილის (ფურგონძარიანი ან ბორტის პლატფორმის მქონე სატვირთო ავტომობილის ძარათი მგზავრთა გადაყვანის შემთხვევის გარდა), ტრაქტორის, სხვა თვითმავალი მანქანის სალონის ან კაბინის გარეთ, სატვირთო ავტომობილის მისაბმელით, მისაბმელ-აგარაკით, სატვირთო მოტოციკლის ძარათი და მოტოციკლის კონსტრუქციით გათვალისწინებული დასასხდომი ადგილების გარეთ.

ВОПРОС 558

ПРАВИЛЬНЫЙ ОТВЕТ: 2

Атранспорттә хархәага афакттәи амасса ззин икоу амаксималтә масса еихазар, уи ала апассажирцәа рымѡангара каломаѢ

1

Икалоит

2

Икалом

განმარტება:

„საგზაო მოძრაობის შესახებ“ საქართველოს კანონის 46-ე მუხლის მე-10 პუნქტის „გ“ ქვეპუნქტის თანახმად, აკრძალულია მგზავრთა გადაყვანა თუ სატრანსპორტო საშუალების ფაქტობრივი მასა აღემატება მის ნებადართულ მაქსიმალურ მასას.

ВОПРОС 559

ПРАВИЛЬНЫЙ ОТВЕТ: 4

Атранспорттә хархәагаҕы изеиҕшразаалак аидара убас еиҕш ишьтататәуп, иатаххар ирҕәҕәатәуп, уи амѡангара аанЖ

1

Амѡатә аитатра еҕырт алахәылацәа ашәартә рызцәырымтырц, ахәынтқарратә ма ахатәы амазара аҕхаста амоурц, аидара амѡа иқәымхарц

2

Алаҕшбара ҕхастамхарц, атранспорттә хархәага атаҕылазаашәа ҕхастамхарц, уи арныкәара уадаѡымхарц

3

Алашареи, сдек ардыргеи, атәира арбагеи, ашәкәы атаѡра аномери, ашәкәы иахьтаѡу ахәынтқарра чыдалатәи адыргеи, иара убас, азакәанла ихәаакәтѡу напыла иқататәу ардыргеи иубартазарц

4

Ихьчазароуп абри абилет аҕы еиқәыҕхьаѡу атаҕылазаашәақәа зегьы

განმარტება:

„საგზაო მოძრაობის შესახებ“ საქართველოს კანონის 47-ე მუხლის მე-11 პუნქტის „ა“, „ბ“ და „გ“ ქვეპუნქტების თანახმად, სატრანსპორტო საშუალებაზე ნებისმიერი ტვირთი იმგვარად უნდა მოთავსდეს და აუცილებლობის შემთხვევაში დამაგრდეს, რომ მისი გადაზიდვისას: ა) საფრთხე არ შეექმნას სხვა საგზაო მოძრაობის მონაწილეებს, ზიანი არ მიაღდეს სახელმწიფო, საზოგადოებრივ და კერძო ქონებას, ტვირთი არ ეთრეოდეს და არ ცვიოდეს გზაზე; ბ) არ შეიზღუდოს ხილვადობა და ხედვის არე, არ დაირღვეს სატრანსპორტო საშუალების მდგრადობა და არ გაძნელდეს მისი მართვა; გ) არ დაიფაროს სატრანსპორტო საშუალების სინათლეები, „სდექ“ სიგნალი, მოხვევის შუქ-მაჩვენებლები, შუქმარეკლი მოწყობილობები, რეგისტრაციის ნომერი და მარეგისტრირებელი სახელმწიფოს განმასხვავებელი ნიშანი, აგრეთვე ამ კანონით განსაზღვრული ხელით მისაცემი სიგნალები.

ВОПРОС 560

ПРАВИЛЬНЫЙ ОТВЕТ: 1

Аидара иазгәататәуп адыргала е „Ихышәарам аидара“, уи аҭхьала ма ашьтахьла атранспорттә хархәага ахышәара иалыхәхәозарЖ

1

16т метрак еиханы

2

165 метрак еиханы

3

26т метрак еиханы

განმარტება:

„საგზაო მოძრაობის შესახებ“ საქართველოს კანონის 47-ე მუხლის მე-13 პუნქტის თანახმად, სატრანსპორტო საშუალების გაბარიტის გარეთ წინ ან/და უკან 1 მეტრზე მეტად ან გვერდიდან საგაბარიტო სინათლის გარე ნაპირიდან 0,4 მეტრზე მეტად გადმოშვებული ტვირთი უნდა აღინიშნოს საცნობი ნიშნით „არაგაბარიტული (მსხვილგაბარიტიანი) ტვირთი“, აგრეთვე დღე-ღამის ბნელ დროს ან არასაკმარისი ხილვადობის პირობებში, წინ – თეთრი ფარნით ან შექამრეკლით, უკან – წითელი ფარნით ან შექამრეკლით.

ВОПРОС 561

ПРАВИЛЬНЫЙ ОТВЕТ: 3

Аидара иазгәататәуп адыргала е „Ихышәарам аидара“, уи аганала, ахышәаратә алашара нхытҭәи ақәыҭшылара иалыхәхәозарЖ

1

16т метрак еиханы

2

165 метрак еиханы

3

164 метрак еиханы

განმარტება:

„საგზაო მოძრაობის შესახებ“ საქართველოს კანონის 47-ე მუხლის მე-13 პუნქტის თანახმად, სატრანსპორტო საშუალების გაბარიტის გარეთ წინ ან/და უკან 1 მეტრზე მეტად ან გვერდიდან საგაბარიტო სინათლის გარე ნაპირიდან 0,4 მეტრზე მეტად გადმოშვებული ტვირთი უნდა აღინიშნოს საცნობი ნიშნით „არაგაბარიტული (მსხვილგაბარიტიანი) ტვირთი“, აგრეთვე დღე-ღამის ბნელ დროს ან არასაკმარისი ხილვადობის პირობებში, წინ – თეთრი ფარნით ან შექამრეკლით, უკან – წითელი ფარნით ან შექამრეკლით.

ВОПРОС 562

ПРАВИЛЬНЫЙ ОТВЕТ: 3

Ианылашьцоу ма алапшбара ианыцэгъоу, атранспорттə хархəага ахышəара нхыт, апхьала ма ашьтахьла метрак еиханы, ма аганала ахышəаратə алашара нхыттəи ақəыпшылара 0,4 метрак еиханы иалыхəхəо аидара иаццаны иазгəататəупЖ

1

Апхьала мацарала е арлашага шкəакəа ала

2

Ашьтахьла мацарала – арлашага кəпшь ала

3

Апхьала е арлашага шкəакəа ала, иара убас, ашьтахьла мацарала – арлашага кəпшь ала

განმარტება:

„საგზაო მოძრაობის შესახებ“ საქართველოს კანონის 47-ე მუხლის მე-13 პუნქტის თანახმად, სატრანსპორტო საშუალების გაბარიტის გარეთ წინ ან/და უკან 1 მეტრზე მეტად ან გვერდიდან საგაბარიტო სინათლის გარე ნაპირიდან 0,4 მეტრზე მეტად გადმოშვერილი ტვირთი უნდა აღინიშნოს საცნობი ნიშნით „არაგაბარიტული (მსხვილგაბარიტიანი) ტვირთი“, აგრეთვე დღე-ღამის ბნელ დროს ან არასაკმარისი ხილვადობის პირობებში, წინ – თეთრი ფარნით ან შექამრეკლით, უკან – წითელი ფარნით ან შექამრეკლით.

ВОПРОС 563

ПРАВИЛЬНЫЙ ОТВЕТ: 2

Арныкəаа амəафь ма уи иазааигəаны ахəыцкəа ибарЖ

1

Атранспорттə хархəага аанкыланы, амашьыртə алашаратə ардырга иақəеикроуп

2

Агəəанызаара аарпшны, ашəарта дызлацəо, иатаххар, иаалыркəаны акəымкəа, пшьыала амашьына аанкылара злаилшо аласрала деитатцроуп

3

Амəа абри аыпцтəаха ирласны дахысырц азы аласра иацитцароуп

განმარტება:

„საგზაო მოძრაობის შესახებ“ საქართველოს კანონის 26-ე მუხლის მე-2 პუნქტის თანახმად, გზაზე ან მის სიახლოვეს ბავშვის დანახვისას ან გაჩერებული ავტობუსის დანახვისას, რომელზედაც დამაგრებულია საცნობი ნიშანი „ბავშვების გადაყვანა“, მძღოლმა უნდა გამოიჩინოს განსაკუთრებული სიფრთხილე და იმოძრაოს ისეთი სიჩქარით, რომელიც თავიდან ააცილებს საფრთხეს და აუცილებლობის შემთხვევაში მკვეთრი დამუხრუჭების გარეშე გაჩერების შესაძლებლობას მისცემს.

ВОПРОС 564

ПРАВИЛЬНЫЙ ОТВЕТ: 3

«Амѡაѣы иаангылаз автобус «Ахѡычкѡа риагара» адырга ианызар, уи збаз арныкѡаѡ ихѡтоупЖ

1

Абжытѡ ардырга кѡтаны, аангыларада аиасра

2

Атранспорттѡ хархѡага аанкыланы, автобус аитѡтра нанагзаанжа дѡѡыкѡымлароуп

3

Цыдалатѡи агѡѡанызаара аарѡшны, ашѡарта дызлацѡѡ, иаѡаххар, иаалыркѡаны акѡымкѡа, ѡшѡала амашѡына аанкылара злаилшо аласрала деитѡцроуп

განმარტება:

„საგზაო მოძრაობის შესახებ“ საქართველოს კანონის 26-ე მუხლის მე-2 პუნქტის თანახმად, გზაზე ან მის სიახლოვეს ბავშვის დანახვისას ან გაჩერებული ავტობუსის დანახვისას, რომელზედაც დამაგრებულია საცნობი ნიშანი „ბავშვების გადაყვანა“, მძღოლმა უნდა გამოიჩინოს განსაკუთრებული სიფრთხილე და იმოძრაოს ისეთი სიჩქარით, რომელიც თავიდან ააცილებს საფრთხეს და აუცილებლობის შემთხვევაში მკვეთრი დამუხრუჭების გარეშე გაჩერების შესაძლებლობას მისცემს.

ВОПРОС 565

ПРАВИЛЬНЫЙ ОТВЕТ: 1

Амѡа икѡუ атранспорттѡ хархѡага арныкѡаѡ, алаба шкѡაკѡа кны амѡасырта иахысуа ашѡაკѡауаѡ лашѡ амѡа иѡара ихѡтоумаѡ

1

Ихѡтоуп აѡაгыლაзаашѡაკѡა зегѡы რѡы

2

Ихѡтоуп, ашѡაკѡაуаѡ деитѡцუазარ еиѡკაау ашѡაკѡაа რхысыртаѡы

3

Ихѡѡამ

განმარტება:

„საგზაო მოძრაობის შესახებ“ საქართველოს კანონის 21-ე მუხლის მე-6 პუნქტის თანახმად, მძღოლმა განსაკუთრებული სიფრთხილე უნდა გამოიჩინოს საგზაო მოძრაობის ისეთი მონაწილეების მიმართ, როგორებიც არიან ქვეითები (განსაკუთრებით ბავშვები, ხანდაზმულები, შეზღუდული შესაძლებლობის მქონე პირები) და ველოსიპედისტები. მძღოლი ვალდებულია ყველა შემთხვევაში გზა დაუთმოს თეთრი ხელჯოხით ან გამყოლ-ძაღლთან ერთად მოძრავ უსინათლო ქვეითს.

ВОПРОС 566

ПРАВИЛЬНЫЙ ОТВЕТ: 1

Амѡа икѡუ атранспорттѡ хархѡага арныкѡაѡ, дымѡанызго ала зцу ашьакауаѡ лашѡ амѡа итара ихѡтоумаѢ

1

Ихѡтоуп атагылазаашьақѡа зегы рѡы

2

Ихѡтоуп, ашьакауаѡ деитатуазар еиѡкаау ашьакауаа рхысыртаѡы

3

Ихѡтоуп, ашьакауаѡ деитатуазар еиѡкааа ашьакауаа рхысыртаѡы

განმარტება:

„საგზაო მოძრაობის შესახებ“ საქართველოს კანონის 21-ე მუხლის მე-6 პუნქტის თანახმად, მძღოლმა განსაკუთრებული სიფრთხილე უნდა გამოიჩინოს საგზაო მოძრაობის ისეთი მონაწილეების მიმართ, როგორებიც არიან ქვეითები (განსაკუთრებით ბავშვები, ხანდაზმულები, შეზღუდული შესაძლებლობის მქონე პირები) და ველოსიპედისტები. მძღოლი ვალდებულია ყველა შემთხვევაში გზა დაუთმოს თეთრი ხელჯოხით ან გამყოლ-ძაღლთან ერთად მოძრავ უსინათლო ქვეითს.

ВОПРОС 567

ПРАВИЛЬНЫЙ ОТВЕТ: 4

12 шықасанза изхытца ахѡыцқѡа рымѡангара калоитЖ

1

Амашына лас аѡхьатѡи атѡартала

2

Амопед ала

3

Амотоцикл ала

4

Хыхь еиқѡыѡхьажоу атакқѡа ркынтѡ акызацѡыкгы ииашам

განმარტება:

„საგზაო მოძრაობის შესახებ“ საქართველოს კანონის 26-ე მუხლის მე-6 პუნქტის „ა“ და „ბ“ ქვეპუნქტების თანახმად, აკრძალულია 12 წლამდე ბავშვის გადაყვანა: ა) მსუბუქ ავტომობილის წინა სავარძლით; ბ) მოპედით და მოტოციკლით.

Имѡаныгатѡუ аидара атранспорттѡ хархѡага ианаѡѡырტო ма иандырѡѡѡѡ, ტაѡა еиѡѡჲჲაჲოუ ატაგჲლაზაშჲაѡა რჲყნტѡ რუა იარბან ჲჲჲაგѡატარა იჲყმჲაჲამჲ

1

ამѡატѡ აიტატრა ეგჲყრტ ალახѡჲლაѡაა აშѡართა რაჲცѡჲყრმჲტროუპ, აჲყჲნტყარრა აზარალ ამოუროუპ, აიდარა იჲჲაზანჲ იყრმგაროუპ, ამѡა იѡჲყმჲაროუპ

2

ალაჲშბარა იჲჲყყმზაროუპ, ალაჲშბარატѡ ჲყჲჲჲაჲარა атранспорттѡ хархѡაга ატჲშჲყნტალარა ეილანამგაროუპ, უი არნჲჲჲარა უაჲაѡჲარ ჲალომ

3

ალაშარბაგაჲეი, სდეჲ არდჲრგეი, ატѡირა ალაშარატѡ არდჲრგაჲეი, აშჲჲჲაჲაѡარა ანომერი, აშჲჲჲაჲ იაჲჲაჲაჲუ აჲყჲნტყარრა ჲჲჲალატჲი ადჲრგეი, იარა უბას, ნაჲჲაჲა იჲჲატატѡუ არდჲრგაჲეი უბარტაზაროუპ

4

აბრი აბილეტ აჲყ ეიѡѡჲჲაჲოუ აჲჲარაჲა ჲეგჲყ იაჲჲჲაგѡატატѡუპ

განმარტჲბა:

„საგზაო მოძრაობის შესახებ“ საქართველოს კანონის 47-ე მუხლის მე-11 პუნქტის „ა“, „ბ“ და „გ“ ქვეპუნქტების თანახმად, სატრანსპორტო საშუალებაზე ნებისმიერი ტვირთი იმგვარად უნდა მოთავსდეს და აუცილებლობის შემთხვევაში დამაგრდეს, რომ მისი გადაზიდვისას: ა) საფრთხე არ შეექმნას სხვა საგზაო მოძრაობის მონაწილეებს, ზიანი არ მიაღწეს სახელმწიფო, საზოგადოებრივ და კერძო ქონებას, ტვირთი არ ეთრეოდეს და არ ცვიოდეს გზაზე; ბ) არ შეიზღუდოს ხილვადობა და ხედვის არე, არ დაირღვეს სატრანსპორტო საშუალების მდგრადობა და არ გაძნელდეს მისი მართვა; გ) არ დაიფაროს სატრანსპორტო საშუალების სინათლეები, „სდეჲ“ სიგნალი, მოხვევის შუჲ-მაჲვენებლები, შუჲამრეკლი მოწყობილობები, რეგისტრაციის ნომერი და მარეგისტრირებელი სახელმწიფოს განმასხვავებელი ნიშანი, აგრეთვე ამ კანონით განსაზღვრული ხელით მისაცემი სიგნალები;



I



II



III



IV

Иარბოუ ამჯათე დыргакәа рҕынтә руа иарбан ишиашоу ахырхарта мацарала аитатра азин хазтоҕ

1

ШШи ШМи

2

Ш мацара

3

ШМ мацара

4

ШШШ мацара

განმარტება:

„საგზაო მოძრაობის შესახებ“ საქართველოს კანონის პირველი დანართის მე-4 თავის (მიმთითებული ნიშნები) 4.1.1 პუნქტისა და ამავე პუნქტის შენიშვნის „ა“ ქვეპუნქტის თანახმად, საგზაო ნიშანი 4.1.1 „მოძრაობა პირდაპირ“ რთავს მხოლოდ ისრებით ნაჩვენები მიმართულებებით მოძრაობის ნებას.

ВОПРОС 570

ПРАВИЛЬНЫЙ ОТВЕТ: 1



I



II



III



IV

Иарбоу амѡатѡ дыргакѡа ркынтѡ руа иарбан арѡыарахьтѡи ахырхарта мацарала аитатра азин хазтоѢ

1

I

2

II

3

III

4

IV

განმარტება:

„საგზაო მოძრაობის შესახებ“ საქართველოს კანონის პირველი დანართის მე-4 თავის (მიმთითებული ნიშნები) 4.1.2 პუნქტისა და ამავე პუნქტის შენიშვნის „ა“ ქვეპუნქტის თანახმად, საგზაო ნიშანი 4.1.2 „მოძრაობა მარჯვნივ“ რთავს მხოლოდ ისრებით ნაჩვენები მიმართულებებით მოძრაობის ნებას.



Иарбоу амѡатѡ дырга иазгѡანатѡитЖ

1

Ганктѡи аитатра змоу амѡа ма амѡасырта
алаларта

2

Аикѡшаратѡ цѡахѡа, ашѡартадаратѡ
адгьылбжьахала ма иарбанзаалак пьынгылак
авсра арѡьарахьтѡи аганакьнтѡ

3

Ганктѡи аитатра змоу амѡа

განმარტება:

„საგზაო მოძრაობის შესახებ“ საქართველოს კანონის პირველი დანართის მე-4 თავის (მიმთითებული ნიშნები) 4.2.1 პუნქტის თანახმად, საგზაო ნიშანი 4.2.1 „დაბრკოლების შემოვლა მარჯვნიდან“ - მიუთითებს გამყოფი ზოლის, უსაფრთხოების კუნძულის ან რაიმე დაბრკოლების მხოლოდ მარჯვნიდან შემოვლის მიმართულებას.



I



II



III



IV

Иარბოუ ამჟათე დыргაკჳა რჳინტე რუა იარბან აჴынгыла аикѳшаратѳ цѳахѳа, ашѳартадаратѳ адгѳылбжѳахала ма иარбанзаалак даѳа ჴынгылак армარაхѳала авსრა иазგѳაჳტѳ

1

I

2

II

3

III

4

IV

განმარტება:

„საგზაო მოძრაობის შესახებ“ საქართველოს კანონის პირველი დანართის მე-4 თავის (მიმთითებელი ნიშნები) 4.2.2 პუნქტის თანახმად, საგზაო ნიშანი 4.2.2 „დაბრკოლების შემოვლა მარცხნიდან“ - მიუთითებს გამყოფი ზოლის, უსაფრთხოების კუნძულის ან რაიმე დაბრკოლების მხოლოდ მარცხნიდან შემოვლის მიმართულებას.



I



II



III



IV

Иарбоу адыргакәа рҕынтә руа иарбан арҕырахь ма армарахь аитатра иазгәазтоҕ

1

I

2

II

3

III

4

IV

განმარტება:

„საგზაო მოძრაობის შესახებ“ საქართველოს კანონის პირველი დანართის მე-4 თავის (მიმთითებული ნიშნები) 4.1.6 პუნქტისა და ამავე პუნქტის შენიშვნის „ა“ ქვეპუნქტის თანახმად, საგზაო ნიშანი 4.1.6 „მოძრაობა მარჯვნივ ან მარცხნივ“ - როგორც მხოლოდ ისრებით ნაჩვენები მიმართულებებით მოძრაობის ნიშანს,



I



II



III



IV

Иарбоу амѡатѡ дьргакѡа рѡынтѡ руа иарбан ашьаѡауаа реитѡтѡразь иазѡхьагѡѡѡ, амѡа иалѡау амѡахѡастѡ иазгѡазтѡ

1

I

2

II

3

III

4

IV

განმარტება:

„საგზაო მოძრაობის შესახებ“ საქართველოს კანონის პირველი დანართის მე-4 თავის (მიმთითებული ნიშნები) 4.5 პუნქტის თანახმად, საგზაო ნიშანი 4.5 „ქვეითთა ბილიკი“ - ქვეითთა მოძრაობისათვის განკუთვნილი, გზისგან განცალკევებული ბილიკი. 4.5 ნიშანს ძირითად ნიშნად დგამენ ქვეითთა ბილიკის დასაწყისში, განმეორებითად კი – გზასთან ყოველი გადაკვეთის შემდეგ.



I



II



III



IV

Иარბოუ ამფათე დыргакეа ркынтэ руа иарбан шытахька атәира шыкало иазгәазтоѲ

1

III и IIII

2

III и IIIIII

3

IIIIIII IIII

4

III и IIIIII

განმარტება:

„საგზაო მოძრაობის შესახებ“ საქართველოს კანონის პირველი დანართის მე-7 თავის (საინფორმაციო-მაჩვენებელი ნიშნები) 7.3.1 პუნქტისა და ამავე პუნქტის შენიშვნის თანახმად, საგზაო ნიშანი 7.3.1 „მობრუნების ადგილი“ - მიუთითებს მობრუნების ადგილზე. ნიშნები 7.3.1 და 7.3.2 იდგმება მობრუნების ადგილის წინ ან მის ზემოთ, ან წინასწარ 8.1.1 დაფით. ნიშნები მარცხნივ მოხვევის ნებას არ რთავს. ამავე დანართის მე-4 თავის (მიმთითებელი ნიშნები) 4.1.3 პუნქტისა და ამავე პუნქტის შენიშვნის „ა“ ქვეპუნქტის თანახმად, საგზაო ნიშანი 4.1.3 „მოძრაობა მარცხნივ“ რთავს მხოლოდ ისრებით ნაჩვენები მიმართულებებით მოძრაობის ნებას, ხოლო ნიშნები, რომლებიც მარცხნივ მოხვევის ნებას რთავს, მობრუნების უფლებასაც იძლევა.

თემა 27:

ველოსიპედის, მოპედის, სატაპნე ოთხთვალის
მოძრაობა და პირუტყვის გადარეკვა



Амашына лас абылтәытәтәрта ацакыра иалцуазар, ахыц ахырхартала еитатца амашынакәа
рырныкәаџәа ркынтә амәа атара зыхәтадаҕ

1

Амашына лас арныкәаџ

2

Амопед арныкәаџ

განმარტება:

„საგზაო მოძრაობის შესახებ“ საქართველოს კანონის 32-ე მუხლის მე-3 პუნქტის თანახმად, მიმდებარე ტერიტორიიდან გზაზე გასვლისას მძღოლი ვალდებულია გზა დაუთმოს გზაზე მოძრავ სატრანსპორტო საშუალებასა და ქვეითს, ხოლო გზიდან გადასვლისას – იმ ქვეითს, ველოსიპედისტს, მოპედისა და ორბორბლიანი ელექტროთვითმგორავის მძღოლებს, რომლებსაც გზას უჭრის.

ВОПРОС 577

ПРАВИЛЬНЫЙ ОТВЕТ: 4

Аидаратә, иара убас, атәарта змоу аҳаиуантәи ауардынтәи атранспорт ргәыпқәа амџа ианыланы ицозар, аҟысра армариара амзызла агәыпқәа ирыбжәазароупЖ

1

2тә4т метрак

2

4тәкт метрак

3

ктәџт метрак

4

џтә1тт метрак

განმარტება:

„საგზაო მოძრაობის შესახებ“ საქართველოს კანონის 22-ე მუხლის მე-4 პუნქტის თანახმად, სასაპალნე და დასაჯდომი პირუტყვის, აგრეთვე საჭაპანო ტრანსპორტის კოლონები გზის სავალ ნაწილზე მოძრაობისას უნდა დაიყოს ჯგუფებად, მაგრამ არაუმეტეს 10 სასაპალნე და დასაჯდომი პირუტყვისა და 5 საჭაპანო ტრანსპორტისა თითოეულში. გასწრების გასაადვილებლად ჯგუფებს შორის მანძილი უნდა იყოს 80-100 მეტრი.

ВОПРОС 578

ПРАВИЛЬНЫЙ ОТВЕТ: 2

Ауардын иакәтәоу ауардынхьча амџа иаҟну ацакырадгьыл аҟынтә ма ихадам амџаҟынтә алаҟшбара иахьыцәҟьоу атыҟахь даниасуа аҳаиуан аҟәра икыр ихәтоумаҟ

1

Ихәтам

2

Ихәтоуп

განმარტება:

„საგზაო მოძრაობის შესახებ“ საქართველოს კანონის 22-ე მუხლის მე-5 პუნქტის თანახმად, საჭაპანო ტრანსპორტის მებრემ გზის მიმდებარე ტერიტორიიდან ან მეორეხარისხოვანი გზიდან იმ ადგილზე გასვლისას, სადაც ცუდი ხილვადობაა, პირუტყვი აღვირით უნდა ატაროს.

ВОПРОС 579

ПРАВИЛЬНЫЙ ОТВЕТ: 2

Иштасу еиџш, ахаиуан амѡашка аужьтра калоитЖ

1

Ианылашьцоу

2

Ианылашоу

3

Ианылашьцоуи ианылашоуи

განმარტება:

„საგზაო მოძრაობის შესახებ“ საქართველოს კანონის 22-ე მუხლის მე-6 პუნქტის თანახმად, პირუტყვის გზაზე გადარეკვა, როგორც წესი, უნდა განხორციელდეს დღე-ღამის ნათელ დროს.

ВОПРОС 580

ПРАВИЛЬНЫЙ ОТВЕТ: 3

Ауардынхьча азин имамЖ

1

Ахаиуан амѡაფы ахылаџшрада ааныжьра

2

Даѡа мѡაკ ыказар, асфальти абетони зкѡу амѡала ахаиуан ахцара

3

Ахаиуан амѡაფы ахылаџшрада ааныжьреи,
иара убас, даѡа мѡაკ ыказар, асфальти
абетони зкѡу амѡала ахаиуан ахцареи

განმარტება:

„საგზაო მოძრაობის შესახებ“ საქართველოს კანონის 22-ე მუხლის მე-8 პუნქტის „ა“ და „გ“ ქვეპუნქტების თანახმად, მეხრეს ეკრძალება: ა) პირუტყვის გზაზე უმეტესწილად მიტოვება; გ) სხვა გზის არსებობისას პირუტყვის გარეკვა ასფალტისა და ცემენტ-ბეტონის საფრის მქონე გზებზე.

ВОПРОС 581

ПРАВИЛЬНЫЙ ОТВЕТ: 1

Амფაхაастეи ашыакамџеи иџамзар, ма урт рхархџаразы алшара ыџамзар, аитџтра аинтенсивра уи азы алшара инаџозар, ашыаџауаџ амаланыџџамџашџа аиасра азин имоумаџ

1

Азин имоуп

2

Азин имазам

განმარტება:

„საგზაო მოძრაობის შესახებ“ საქართველოს კანონის 24-ე მუხლის მე-4 პუნქტის თანახმად, ქვეითთა ბილიკის, ტროტუარისა და გზისპირის არარსებობის ან მათი გამოყენების შეუძლებლობის შემთხვევაში ქვეითს შეუძლია გადაადგილდეს გზის სავალ ნაწილზე. თუ არსებობს ველობილიკი და მოძრაობის ინტენსივობა ამის საშუალებას იძლევა, ქვეითს უფლება აქვთ გადაადგილდეს მასზე, თუმცა არ უნდა გაართულოს ველოსიპედებისა და მოპედების მოძრაობა.

ВОПРОС 582

ПРАВИЛЬНЫЙ ОТВЕТ: 1

Ауаа ахьнымхо атыџ аџы, алаџшбара џџгьазар ма атранспорттџ хархџагаџџа раџџаны еитџџуазар, амџасырта иану ашыаџауаа џџარი аныџџара аџы иазџымзарџ, иауазар, еитџџроупџ

1

џџахџџџ иџџџыლаны

2

џџџџахџџџ ирыџџџыლаны

3

Хџџџахџџџ ирыџџџыланы

განმარტება:

„საგზაო მოძრაობის შესახებ“ საქართველოს კანონის 24-ე მუხლის მე-5 პუნქტის თანახმად, მოძრაობის უსაფრთხოების უზუნველსაყოფად, კერძოდ, ცუდი ხილვადობის პირობებში ან სატრანსპორტო საშუალებათა მოძრაობის მაღალი ინტენსივობის შემთხვევაში ქვეითებმა (გარდა მსვლელობით სიარულის შემთხვევებისა), რომლებიც გზის სავალ ნაწილზე მოძრაობენ, შეძლებისდაგვარად ერთ მწკრივად უნდა იმოძრაონ. ამავე მუხლის მე-6 პუნქტის თანახმად, ამ მუხლის მე-2, მე-4 და მე-5 პუნქტებით გათვალისწინებულ შემთხვევებში ქვეითები გზის სავალ ნაწილზე გადაადგილებისას უნდა იმყოფებოდნენ სავალი ნაწილის კიდესთან რაც შეიძლება ახლოს.

ВОПРОС 583

ПРАВИЛЬНЫЙ ОТВЕТ: 2

Ауады амѡаѡы амаланыкѡеи ѡегежык змоу аелектро ахаланыкѡеи рырныкѡара азин имоупЖ

1

12 шықѡса ныхытлак

2

14 шықѡса ныхытлак

3

16 шықѡса ныхытлак

4

18 шықѡса ныхытлак

განმარტება:

„საგზაო მოძრაობის შესახებ“ საქართველოს კანონის 43-ე მუხლის პირველი პუნქტის თანახმად, გზაზე ველოსიპედისა და ორბორბლიანი ელექტროთვითმგორავის მართვა ნებადართულია არანაკლებ 14 წლის ასაკის პირისთვის, ხოლო მოპედის მართვა – 16 წლის ასაკის პირისთვის.

ВОПРОС 584

ПРАВИЛЬНЫЙ ОТВЕТ: 3

Ауады амѡаѡы амопед арныкѡара азин имоупЖ

1

12 шықѡса ныхытлак

2

14 шықѡса ныхытлак

3

16 шықѡса ныхытлак

4

18 шықѡса ныхытлак

განმარტება:

„საგზაო მოძრაობის შესახებ“ საქართველოს კანონის 43-ე მუხლის პირველი პუნქტის თანახმად, გზაზე ველოსიპედისა და ორბორბლიანი ელექტროთვითმგორავის მართვა ნებადართულია არანაკლებ 14 წლის ასაკის პირისთვის, ხოლო მოპედის მართვა – 16 წლის ასაკის პირისთვის.

ВОПРОС 585

ПРАВИЛЬНЫЙ ОТВЕТ: 2

Амаланыქეи ამოპედი რკოლანაქა ამფასურთა იანыланы ицозар, გაჟჟკ იალაზაროუქ

1

5 ცჟრაქ ირეიქამქა

2

10 ცჟრაქ ირეიქამქა

3

15 ცჟრა ირეიქამქა

განმარტება:

„საგზაო მოძრაობის შესახებ“ საქართველოს კანონის 43-ე მუხლის მე-4 პუნქტის თანახმად, ველოსიპედისა და მოპედის მძღოლებისათვის დასაშვებია კოლონად გადაადგილება. ველოსიპედებისა და მოპედების კოლონების გზის სავალ ნაწილზე მოძრაობის შემთხვევაში ისინი უნდა დაიყოს ჯგუფებად, მაგრამ არაუმეტეს 10 ერთეულისა თითოეულში. გასწრების გასაადვილებლად ჯგუფებს შორის მანძილი უნდა იყოს 80–100 მეტრი.

ВОПРОС 586

ПРАВИЛЬНЫЙ ОТВЕТ: 3

Цака еиқәыпхьазоу амѡақәа ркынтә амаланыქеи ამოპედი არმარაхь рытәира ма шытахька рытәира каломЖ

1

Атрамваитә цәахәа иахьыкоу амѡақәа рѣы

2

Ганктәи ахырхартала аитатцразы цәахәак еиҳаны иахьыкоу амѡақәа рѣы

3

Атрамваитә цәахәа иахьыкоу, иара убас, ганктәи ахырхартала аитатцразы цәахәак еиҳаны иахьыкоу амѡақәа рѣы

განმარტება:

„საგზაო მოძრაობის შესახებ“ საქართველოს კანონის 43-ე მუხლის მე-5 პუნქტის თანახმად, ველოსიპედისა და მოპედის მძღოლებს ეკრძალებათ მარცხნივ მოხვევა ან გზაზე მობრუნება იქ, სადაც ტრამვაის ლიანდაგია, აგრეთვე იმ გზაზე, რომელზედაც თანმხვედრი მიმართულებით მოძრაობისათვის განკუთვნილი ერთზე მეტი ზოლია.

ВОПРОС 587

ПРАВИЛЬНЫЙ ОТВЕТ: 2

Амდეихысырта нхыц, иасны ицо амѡаѡы авеломѡахѡаста ахысыртаѡы, амаланыѡѡеи амопеди рырныѡѡаѡѡѡаЖ

1

Аѡыжѡара рымоуп

2

Амѡа атара рыхѡтоуп

განმარტება:

„საგზაო მოძრაობის შესახებ“ საქართველოს კანონის 43-ე მუხლის მე-6 პუნქტის თანახმად, გზატკარციდინის მიღმა გამავალ გზასთან ველობილიკის არარეგულირებულ გადაკვეთაზე ველოსიპედისა და მოპედის მძღოლეებმა გზა უნდა დაუთმონ ამ გზაზე მოძრავ სატრანსპორტო საშუალებათა მძღოლეებს.

ВОПРОС 588

ПРАВИЛЬНЫЙ ОТВЕТ: 1

Амопеди, амотоцикли, ѡегежык змоу аелектро ахаланыѡѡеи, амаланыѡѡеи рырныѡѡаѡѡѡа амѡаѡы аитѡტრა азин рымоума, ртранспорттѡ хархѡага рыгежыѡѡа зегы амѡа иадкыымслозарѤ

1

Азин рымам

2

Азин рымоуп

განმარტება:

„საგზაო მოძრაობის შესახებ“ საქართველოს კანონის 21-ე მუხლის მე-11 პუნქტის თანახმად, მოპედის, მოტოციკლის, ორბორბლიანი ელექტროთვითმგორავის, ველოსიპედის მძღოლი ვალდებულია გზაზე ისე იმოძრაოს, რომ სატრანსპორტო საშუალების ყველა თვალი ეხებოდეს გზის ზედაპირს.



Иარბოу амѡатѣ дырга иазгѣანатѡитЖ

1

Еитѡтѡа арныѣѡѡѡѡ амѡа атѡра
иахьрыхѣтѡу амѡа

2

Амѡа аханы иасѡа аѡѡа ма аѡѡаѡаѡа

3

Аѡтѡмаѡისტѡრѡლ аѣы аитѡѡრა аиѣѡааратѣ
нѡмерѡѡа рыхѣараѡѡа анырра иахьрыѡѡу
аѡтѡмаѡისტѡрѡл

განმარტება:

„საგზაო მოძრაობის შესახებ“ საქართველოს კანონის პირველი დანართის მე-5 თავის (განსაკუთრებული მითითებების ნიშნები) 5.1 პუნქტის თანახმად, საგზაო ნიშანი 5.1 „ავტომაგისტრალი“ - აღნიშნავს ავტომაგისტრალს, რომელზედაც მოქმედებს ავტომაგისტრალზე მოძრაობის მომწესრიგებელი ნორმების მოთხოვნები. ნიშანი იდგმება ავტომაგისტრალის დასაწყისში ან მის სიახლოვეს 8.1.1 დაფით.



Иарбоу амѡатѡ дырга иазгѡანатѡитЖ

1

Амашьынакѡеи амотоциклкѡеи мацара
реитатра иазку амѡа

2

Амашьына лас мацарала аитатра иазку
аитатратѡ цѡахѡа

3

Атранспорттѡ хархѡагакѡа ргыларта

განმარტება:

„საგზაო მოძრაობის შესახებ“ საქართველოს კანონის პირველი დანართის მე-5 თავის (განსაკუთრებული მითითებების ნიშნები) 5.3 პუნქტის თანახმად, საგზაო ნიშანი 5.3 „საავტომობილო გზა“ - გზა, რომელიც განკუთვნილია მხოლოდ ავტომობილისა და მოტოციკლის მოძრაობისათვის.

ВОПРОС 591

ПРАВИЛЬНЫЙ ОТВЕТ: 3



I



II



III



IV

Иарбоу амѡатѡ дыргакѡа рѡынтѡ руа иარბან амашьынамѡа антѡамта ჯჷრბოფ

1

I

2

II

3

III

4

IV

განმარტება:

„საგზაო მოძრაობის შესახებ“ საქართველოს კანონის პირველი დანართის მე-5 თავის (განსაკუთრებული მითითებების ნიშნები) 5.4 პუნქტის თანახმად, საგზაო ნიშანი 5.4 „საავტომობილო გზის დასასრული“ - მითითებს 5.3 ნიშნით აღნიშნული გზის დასასრულს.



I



II



III



IV

Иарбоу амѡатѡ дыргакѡа ркынтѡ руа иарбан атранспорттѡ хархѡагакѡа, атбаара зегы инатцакны хырхартак ала иахьеитатца амѡа ма амѡасырта хзырбоѢ

1

I

2

II

3

III

4

IV

განმარტება:

„საგზაო მოძრაობის შესახებ“ საქართველოს კანონის პირველი დანართის მე-5 თავის (განსაკუთრებული მითითებების ნიშნები) 5.5 პუნქტის თანახმად, საგზაო ნიშანი 5.5 „ცალმხრივმოძრაობიანი გზა“ - გზა ან სავალ ნაწილი, რომელ-ზედაც სატრანსპორტო საშუალებებით მოძრაობა მთელ სიგანეზე ერთი მიმართულებით მოძრაობს.



Иарбоу амѡათѣ дырга иазгѣანათѡитЖ

1

ფეგანკთჲი აიტაცრა ზმოუ ამსა ანტსამტა

2

არევერსტჲ აიტაცრა ზმოუ ამსა აცყჲჲაჲა
ალგამტა

3

არლასრატჲ ცჲაჲჲა ანტსამტა

განმარტება:

„საგზაო მოძრაობის შესახებ“ საქართველოს კანონის პირველი დანართის მე-5 თავის (განსაკუთრებული მითითებების ნიშნები) 5.9 პუნქტის თანახმად, საგზაო ნიშანი 5.9 „რევერსული მოძრაობის დასასრული“ - მიუთითებს 5.8 ნიშნით აღნიშნული გზის მონაკვეთის დასასრულს.



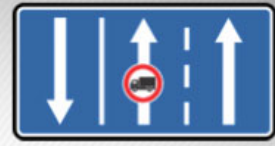
I



II



III



IV

Иარბოუ ამჟათე დыргაკჳა რკынტე რუა იარბან ამარшруტტე ატრანსპორტტე харჳაგაკჳა, чыдалა иалкаау ацѳаѳаѳы, аტრანსპორტტე харჳაგაკჳა რზეიუშ ეიшьტაгыла иаѳынгыланы иахьеиτατуа амѳა хзырბოѳ

1

I

2

II

3

III

4

IV

განმარტება:

„საგზაო მოძრაობის შესახებ“ საქართველოს კანონის პირველი დანართის მე-5 თავის (განსაკუთრებული მითითებების ნიშნები) 5.11 პუნქტის თანახმად, საგზაო ნიშანი 5.11 „სამარშრუტო სატრანსპორტო საშუალებისათვის განკუთვნილი მოძრაობის ზოლის მქონე გზა“ - გზა, რომელზედაც სამარშრუტო სატრანსპორტო საშუალება მოძრაობს სპეციალურად გამოყოფილ ზოლზე სატრანსპორტო საშუალებათა საერთო ნაკადის საპირისპირო მიმართულებით. ნიშნის მოქმედება ვრცელდება იმ მოძრაობის ზოლზე, რომელზედაც ის დგას.



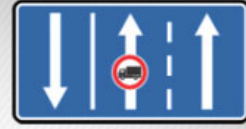
I



II



III



IV

Иарбоу амѡათѡ дьргакѡа ркынтѡ руа иарбан амаршруттѡ атранспорттѡ хархѡагакѡа, чьдала иалкаау аѡѡахѡаѡы, атранспорттѡ хархѡагакѡа рзеиѡѡш еишьѡагыла иамариашаны иахьеиѡѡѡѡау амѡа хзырбоѡѡ

1

I

2

II

3

III

4

IV

განმარტება:

„საგზაო მოძრაობის შესახებ“ საქართველოს კანონის პირველი დანართის მე-5 თავის (განსაკუთრებული მითითებების ნიშნები) 5.14 პუნქტის თანახმად, საგზაო ნიშანი 5.14 „სამარშრუტო სატრანსპორტო საშუალებისათვის განკუთვნილი მოძრაობის ზოლი“ - გზა, რომელზედაც სამარშრუტო სატრანსპორტო საშუალება მოძრაობს სპეციალურად გამოყოფილ ზოლზე სატრანსპორტო საშუალებათა საერთო ნაკადის თანმხვედრი მიმართულებით. ნიშნის მოქმედება ვრცელდება იმ მოძრაობის ზოლზე, რომელზედაც ის დგას. გზის მარჯვენა მხარეს დადგმული ნიშნის მოქმედება ვრცელდება სავალი ნაწილის უკიდურეს მარჯვენა ზოლზე.



Амѡа арѣыарахьтѣи аганаѣы икѣыргылоу, иарѡу амѡатѣ дыргакѣа амч рымоупЖ

1

Амѡасырта атѡаара зегы аѣы

2

Амѡасырта агантѣи арѣыарахьтѣи аѡѡахѡѣы

განმარტება:

„საგზაო მოძრაობის შესახებ“ საქართველოს კანონის პირველი დანართის მე-5 თავის (განსაკუთრებული მითითებების ნიშნები) 5.14 პუნქტის თანახმად, საგზაო ნიშანი 5.14 „სამარშრუტო სატრანსპორტო საშუალებისათვის განკუთვნილი მოძრაობის ზოლი“ - აღნიშნავს გზას, რომელზედაც სამარშრუტო სატრანსპორტო საშუალება მოძრაობს სპეციალურად გამოყოფილ ზოლზე სატრანსპორტო საშუალებათა საერთო ნაკადის თანმხვედრი მიმართულებით. ნიშნის მოქმედება ვრცელდება იმ მოძრაობის ზოლზე, რომელზედაც ის დგას. გზის მარჯვენა მხარეს დადგმული ნიშნის მოქმედება ვრცელდება სავალი ნაწილის უკიდურეს მარჯვენა ზოლზე.



I



II



III



IV

Иарбоу амѡатѡ дыргакѡа рѣынтѡ руа иарбан анхартатыѣ аѣы аитатцразы ишыакѡгылоу атцаскѡа амч
иахѣрымоу атакырадгыл ПѣазонаТ хзырбоѣ

1

I

2

II

3

III

4

IV

განმარტება:

„საგზაო მოძრაობის შესახებ“ საქართველოს კანონის პირველი დანართის მე-5 თავის (განსაკუთრებული მითითებების ნიშნები) 5.21 პუნქტის თანახმად, საგზაო ნიშანი 5.21 „საცხოვრებელი ზონა“ - ტერიტორიას (ზონა), სადაც მოქმედებს საცხოვრებელ ზონაში მოძრაობისათვის დადგენილი წესები. ნიშანი იდგმება საცხოვრებელი ზონის ყველა შესასვლელში.

„საგზაო მოძრაობის შესახებ“ საქართველოს კანონის პირველი დანართის მე-5 თავის (განსაკუთრებული მითითებების ნიშნები) 5.23.1 და 5.23.2 პუნქტების თანახმად, საგზაო ნიშნები: - 5.23.1 „დასახლებული პუნქტის დასაწყისი“ - მიუთითებს იმ დასახლებული პუნქტის დასაწყისს, რომელშიც მოქმედებს დასახლებულ პუნქტებში მოძრაობისათვის დადგენილი წესები. - 5.23.2 „დასახლებული პუნქტის დასაწყისი“ - მიუთითებს განაშენიანებული გზის მონაკვეთის დასაწყისს, რომელიც არ შედის რომელიმე დასახლებულ პუნქტში და რომელშიც მოქმედებს დასახლებულ პუნქტებში მოძრაობისათვის დადგენილი წესები (სააგარაკო დაბები, ცალკე მდგომი დაწესებულებები და ა. შ.).

სამტრედი

გურჯაანი



I

II

III

Иарбоу амѡатѣ дыргакѣа ркынтѣ руа иарбан нхартатыпк иатцанамкѣа, ауаа иахынхо атып аѣы аитатцразы ишыакѣгылоу атаскѣа амч иахьрымоу Пѣаѣсшыаратѣ хаблакѣа, хазы игылоу аусхѣартакѣа, уб егѣ. Т анхартатып алагамта хзырбоѣ

1

I

2

II

3

III

განმარტება:

„საგზაო მოძრაობის შესახებ“ საქართველოს კანონის პირველი დანართის მე-5 თავის (განსაკუთრებული მითითებების ნიშნები) 5.23.2 პუნქტის თანახმად, საგზაო ნიშანი 5.23.2 „დასახლებული პუნქტის დასაწყისი“ - მიუთითებს განაშენიანებული გზის მონაკვეთის დასაწყისს, რომელიც არ შედის რომელიმე დასახლებულ პუნქტში და რომელშიც მოქმედებს დასახლებულ პუნქტებში მოძრაობისათვის დადგენილი წესები (საავტოზო დაბები, ცალკე მდგომი დაწესებულებები და ა. შ.).

ВОПРОС 600

ПРАВИЛЬНЫЙ ОТВЕТ: 3



I



II



III



IV

Иარბოუ ამოათე დირგაკეა რკინტე რუა იარბან აიტატრა ამაქსიმალტე ალასრა აჟკრა იახუამოუ ატაკყრადგჳლ ჰჳყრბოჳ

1

I

2

II

3

III

4

IV

განმარტება:

„საგზაო მოძრაობის შესახებ“ საქართველოს კანონის პირველი დანართის მე-5 თავის (განსაკუთრებული მითითებების ნიშნები) 5.27 და 5.29 პუნქტების თანახმად, საგზაო ნიშანი 5.31. „მაქსიმალური სიჩქარის შეზღუდვის ზონა“. აღნიშნავს ტერიტორიას, რომლის ფარგლებშიც შეზღუდულია მოძრაობის მაქსიმალური სიჩქარე.

ВОПРОС 601

ПРАВИЛЬНЫЙ ОТВЕТ: 3

Амаршруттэ транспорттэ хархэага азჟшра калоитЖ

1

Амѳасыртაѳы

2

Ашьаќамѳаѳы ма амѳа аѓанаѳы

3

Амѳасыртაѳы хэычык ирхараќны иќоу аѓалартатэ платформаѳы, уи иќамзар – ашьаќамѳаѳы ма амѳа аѓанаѳы

განმარტება:

„საგზაო მოძრაობის შესახებ“ საქართველოს კანონის 24-ე მუხლის მე-13 პუნქტის თანახმად, სამარშრუტო სატრანსპორტო საშუალებისა და ტაქსის მოცდა ნებადართულია მხოლოდ გზის სავალი ნაწილის შედარებით ამღლებულ ჩასასხდომ ბაქანზე, ხოლო მისი არარსებობისას – ტროტუარზე ან გვერდულაზე.

Хөгөжык змоу ампед арныкәә амѡаѡы убас деитатроуп уи итранспорттә хархәагаЖ

1

Агөжыкәа зеггы амѡа иадкысларатәы

2

Гөжык иадымхаргы амѡа иадкысларатәы

3

Өөгөжык ирыдымхаргы амѡа
иадкысларатәы

განმარტება:

„საგზაო მოძრაობის შესახებ“ საქართველოს კანონის 21-ე მუხლის მე-11 პუნქტის თანახმად, მოპედის, მოტოციკლის, ორბორბლიანი ელექტროთვითმგორავის, ველოსიპედის მძღოლი ვალდებულია გზაზე ისე იმოძრაოს, რომ სატრანსპორტო საშუალების ყველა თვალი ეხებოდეს გზის ზედაპირს.



I



II



III



IV

Иарбоу амѡатѡ дырგакѡа рѡынтѡ руа иарбан Қыртѡылатѡи амѡакѡа рѡы ишьақѡгылоу аласра азеитѡш аѡқрақѡа иазкны адырра казѡѡѡ

1

I

2

II

3

III

4

IV

განმარტება:

„საგზაო მოძრაობის შესახებ“ საქართველოს კანონის პირველი დანართის მე-7 თავის (საინფორმაციო-მაჩვენებელი ნიშნები) 7.1 პუნქტის თანახმად, საგზაო ნიშანი 7.1 „მაქსიმალური სიჩქარის ზოგადი შეზღუდვები“ - იძლევა ინფორმაციას სიჩქარის ზოგადი შეზღუდვების თაობაზე, რომლებიც საგზაო მოძრაობის წესებით დადგენილია საქართველოს გზებზე. ნიშანი იდგმება საქართველოს ტერიტორიაზე შემოსასვლელში საკონტროლო გამშვებ პუნქტთან.



I



II



III



IV

Иарбоу амѡатѣ дыргакѣа ркынтѣ руа иарбан амѡа абри ацыџтѣахаџы аитатра злакало аласра хзырбоџ

1

I

2

II

3

III

4

IV

განმარტება:

„საგზაო მოძრაობის შესახებ“ საქართველოს კანონის პირველი დანართის მე-7 თავის (საინფორმაციო-მაჩვენებელი ნიშნები) 7.2 პუნქტის თანახმად, საგზაო ნიშანი 7.2 „რეკომენდებული სიჩქარე“ - მიუთითებს სიჩქარეს, რომლითაც რეკომენდებულია მოძრაობა გზის მოცემულ მონაკვეთზე. ნიშანი იდგმება გზის დასაწყისში. ნიშნის მოქმედება ვრცელდება უახლოეს გზაჯვარედინამდე, ხოლო მათერთხილებელ ნიშანთან ერთად – სახიფათო უბნის მთელ სიგრძეზე.

ВОПРОС 605


ПРАВИЛЬНЫЙ ОТВЕТ: 4



I



II



III



IV

Иарбоу амѡатѣ дыргакѣа рѣынтѣ руа иარбан ашьаѣауаа мацара реитѣтѣра иахьыѣало аѣаѣырадгьыл хзырѣი

1

I

2

II

3

III

4

IV

განმარტება:

„საგზაო მოძრაობის შესახებ“ საქართველოს კანონის პირველი დანართის მე-5 თავის (განსაკუთრებული მითითებების ნიშნები) 5.33 პუნქტის თანახმად, საგზაო ნიშანი 5.33 „ქვეითთა ზონა“ - ტერიტორია, რომლებზედაც მოძრაობა ნებადართულია, მხოლოდ ქვეითებისათვის.



I



II



III



IV

Иარბოუ ამდათე დыргакეа ркынтә руа иарбан ахысырта змам амда хзырбоѳ

1

I

2

II

3

III

4

IV

განმარტება:

„საგზაო მოძრაობის შესახებ“ საქართველოს კანონის პირველი დანართის მე-7 თავის (საინფორმაციო-მაჩვენებელი ნიშნები) 7.8.1-7.8.3 პუნქტების თანახმად, საგზაო ნიშნები 7.8.1-7.8.3 „ჩიხი“ - გზა, რომელსაც არ აქვს გამჭოლი გასასვლელი. 7.8.1 ნიშანი იდგმება გზის დასაწყისში, ხოლო 7.8.2 და 7.8.3 ნიშნები—იმ გზის გადაკვეთის წინ, რომელსაც არ აქვს გამჭოლი გასასვლელი.



I



II



III



IV

Иარბოუ амѳатѳ дьргакѳа рѳынтѳ руа иარбан армарахѳ атѳѳиразы аѳѳитымра ѳазпоѳ

1

IIIIII მაцара

2

IIII მაцара

3

IIIეი IIМеи

4


III მაцара

განმარტება:

„საგზაო მოძრაობის შესახებ“ საქართველოს კანონის პირველი დანართის მე-7 თავის (საინფორმაციო-მაჩვენებელი ნიშნები) 7.3.1 და 7.3.2 პუნქტების შენიშვნის თანახმად, საგზაო ნიშნები 7.3.1 „მობრუნების ადგილი“ და 7.3.2 „მობრუნების ზონა“ იდგმება მობრუნების ადგილის წინ ან მის ზემოთ, ან წინასწარ 8.1.1 დაფით. ნიშნები მარცხნივ მოხვევის ნებას არ რთავს.

ВОПРОС 608

ПРАВИЛЬНЫЙ ОТВЕТ: 1



Ахыц ахырхартала аитатра аан абарт атранспорттә хархәагақәа рырныкәаџәа ркынтә амџа атара зыхәтадаҕ

1

Амаланыкәа арныкәаџ

2

Амашына лас арныкәаџ

განმარტება:

„საგზაო მოძრაობის შესახებ“ საქართველოს კანონის 43-ე მუხლის მე-6 პუნქტის თანახმად, გზაჯვარედინის მიღმა გამავალ გზასთან ველობილიკის არარეგულირებულ გადაკვეთაზე ველოსიპედისა და მოპედის მძღოლებმა გზა უნდა დაუთმონ ამ გზაზე მოძრავ სატრანსპორტო საშუალებათა მძღოლებს.

ВОПРОС 609

ПРАВИЛЬНЫЙ ОТВЕТ: 2

Амџасыртафы атранспорттә хархәага аҭхәа араҳә ргәарта иасуазар, арныкәаџ иазҭхәагәиҭароупЖ

1

Арахә ргәарта иანიаслак, амџасыртафы
ҭстәқәак шцәырымҭуа

2

Арахә ргәарта иანიаслак, амџеисырҭафы
ҭстәқәак цәырҭыр шыҭкало

განმარტება:

თუ სატრანსპორტო საშუალების წინ გზის სავალ ნაწილზე გადადის საქონლის ჯოგი, მძღოლმა უნდა გაითვალისწინოს, რომ ჯოგის გადასვლის შემდეგ გზის სავალ ნაწილზე შეიძლება გამოვიდეს ერთეული ცხოველები.

Атранспорттә хархәага аҭхәа зықәра дуу ашьақауаҭ деиҭацуазар, арнықәаҭ иазҭхәагәеиҭароупЖ

1

Уи, амҭатә аиҭаҭра егырт алахәылацәа
реиҭш акәымкәа, ашышықәа амҭасырта
дахысуеит

2

Уи амҭабжа дахысны шыҭахьҭа дхынхәыр
илшоит

3

Уи дкаҳар илшоит

4

Абри абилет аҭы еиқәыҭхәзоу
иарбанзаалак аҭагылазаашьа цәырҭыр
шықало

განმარტება:

თუ სატრანსპორტო საშუალების წინ ქვეითთა გადასასვლელზე გადაადგილდება მოხუცი ქვეითი მძღოლმა უნდა გაითვალისწინოს, რომ ის სავალ ნაწილზე მოძრაობენ უფრო ნელა ვიდრე სხვა საგზაო მოძრაობის მონაწილეები, ასევე შეიძლება ნახევარი გზიდან მობრუნდნენ უკან და მან შეიძლება დაკარგონ წონასწორება და წაიქცნენ.

თემა 28:

საგზაო მონიშვნა

ВОПРОС 611

ПРАВИЛЬНЫЙ ОТВЕТ: 1

Амѡათѣ дыргакѣи амѡათѣ арбагакѣи еиқѣымшѡозар, арныкѣаѡ инаигзароупЖ

1

Амѡათѣ дыргакѣа рыхѣарақѣа

2

Амѡათѣ арбагакѣа рыхѣарақѣа

განმარტება:

„საგზაო მოძრაობის შესახებ“ საქართველოს კანონის 28-ე მუხლის მე-4 პუნქტის თანახმად, თუ საგზაო ნიშნებისა და საგზაო მონიშვნების მოთხოვნები ერთმანეთს ეწინააღმდეგება, მძღოლი ვალდებულია შეასრულოს საგზაო ნიშნების მოთხოვნები.

ВОПРОС 612

ПРАВИЛЬНЫЙ ОТВЕТ: 1

Ашѣартадаратѣ бжѣახала ма ашыѣакѣыргыламта ѡѣганктѣи аитатра змоу амѡаргѣы алыраѣы ишыѣтазар, арныкѣаѡ уи давсроупЖ

1

Арѣырахьтѣи аган ақынтѣ

2

Армарახьтѣи аган ақынтѣ

3

Арѣырахьтѣи ма армарახьтѣи аган ақынтѣ

განმარტება:

„საგზაო მოძრაობის შესახებ“ საქართველოს კანონის 32-ე მუხლის მე-17 პუნქტის „ბ“ ქვეპუნქტის თანახმად, ამ მუხლით დადგენილ მოთხოვნათა გათვალისწინებით, მძღოლს შეუძლია მარჯვნიდან ან მარცხნიდან შემოუაროს იმ სავალ ნაწილზე დაყენებულ უსაფრთხოების კუნძულს, ტუმბოს ან სხვა მოწყობილობას, რომელზედაც იგი მოძრაობს, გარდა იმ შემთხვევისა, როცა უსაფრთხოების კუნძული, ტუმბო ან სხვა მოწყობილობა ორმხრივმოძრაობიანი გზის სავალი ნაწილის ღერძზეა განლაგებული. ამ შემთხვევაში მძღოლმა უსაფრთხოების კუნძულს, ტუმბოს ან სხვა მოწყობილობას მხოლოდ მარჯვენა მხრიდან უნდა შემოუაროს.

Атранспорттə хархəага аитатра аиґкааҭ ила ма алашарбагала еиґкаамзар, арныкəаҭ ашьакауаа рхысырта даназааиґəахалакЖ

1

Абжытə ардырга катаны, аангыларада давсroup

2

Ашьакауаа рґаҭхьа аҭыжəара змоу иеиҭш, ашьакауаа рхысырта давсroup иарбанзаалак аласрала

3

Аласра ирмацroup, ахысырта иалалаз ма иану ашьакауаа ашəарта иҭаимыргыларц азы, иатаххар, даангыланы ашьакауаа иоуижьтroup

განმარტება:

„საგზაო მოძრაობის შესახებ“ საქართველოს კანონის 25-ე მუხლის მე-2 პუნქტის „ბ“ ქვეპუნქტის თანახმად, ქვეითთა გადასასვლელზე ამ კანონის 21-ე მუხლის მე-6 პუნქტით, 33-ე მუხლის მე-2 პუნქტითა და 34-ე მუხლის მე-11 პუნქტით დადგენილ მოთხოვნათა დაცვით უნდა შესრულდეს შემდეგი მოთხოვნები: ბ) თუ სატრანსპორტო საშუალებათა მოძრაობა არ რეგულირდება არც საგზაო შუქნიშნით და არც მარეგულირებლის მეშვეობით, მძღოლმა ქვეითთა გადასასვლელთან მიახლოებისას სათანადოდ უნდა შეამციროს სიჩქარე, რათა საფრთხე არ შეუქმნას ამ გადასასვლელზე შესულ ან შემავალ ქვეითებს, ხოლო საჭიროების შემთხვევაში უნდა გაჩერდეს და გაატაროს ქვეითები.

ВОПРОС 614

ПРАВИЛЬНЫЙ ОТВЕТ: 1

Аიტატრა ахырхарта иашьашәалоу аганақынтә, иахәтоу атасла иазгәтоу аангылартаҕы игылоу атранспорттә хархәага авсра згәы итоу арныкәаҕәаЖ

1

Аласра ирмачны, иатаххар, иаангылароуп, апассажирцәа шәартада ауаажәларратә транспорт акәтәара ма албаара рылшарц азы

2

Аласра иацтаны, ирласны ари атыҕ иавсроуп, ауаажәларратә транспортә иакәтәо ма иалбаауа апассажирцәа ирҕырхагамхарц азы

3

Надаадатәи ацәахәаҕы иаангыланы, ауаажәларратә транспорт аитатра еиталанаагза дгылазароуп

განმარტება:

„საგზაო მოძრაობის შესახებ“ საქართველოს კანონის 25-ე მუხლის მე-4 პუნქტის თანახმად, მძღოლმა, რომელიც მოძრაობის მიმართულების შესაბამისი მხრიდან სათანადო წესით მონიშნულ გაჩერებაზე მყოფი სამარბრუტო სატრანსპორტო საშუალებისთვის გვერდის ავლას აპირებს, უნდა შეამციროს სიჩქარე და, აუცილებლობის შემთხვევაში, გაჩერდეს, რათა უზრუნველყოს მგზავრების საზოგადოებრივ ტრანსპორტში უსაფრთხო ჩასხდომის ან იქიდან გადმოსხდომის შესაძლებლობა.

ВОПРОС 615

ПРАВИЛЬНЫЙ ОТВЕТ: 1

Иашьашәалоу адыргакәеи арбагакәеи иқамзар, арельскәа змам атранспорттә хархәагақәа реитатцразы ацәахәақәа рхыҕхьазара ихәаакәтцоупЖ

1

Арныкәаҕ ихата ила, амҕасырта атбаареи, атранспорттә хархәагақәа рхышәареи, урт рыбжьара ихымҕадоу аинтервали иазҕхьагәатаны

2

Атыҕантәи ахатәхеиҕкааратә орган ала

3

Азакәанла, уи инакәырҕшны, абри еиҕш амҕа ганклатәи аитатцразы иазҕхьагәтоу мҕас иҕхьазоуп

განმარტება:

„საგზაო მოძრაობის შესახებ“ საქართველოს კანონის 31-ე მუხლის მე-3 პუნქტის თანახმად, ურელსო სატრანსპორტო საშუალების მოძრაობისათვის მოძრაობის ზოლების რაოდენობა განისაზღვრება საგზაო მონიშვნით ან/და 5.15.1, 5.15.2, 5.15.7 და 5.15.8 საგზაო ნიშნებით, ხოლო მისი/მათი არარსებობის შემთხვევაში – თვით მძღოლის მიერ, გზის სავალი ნაწილის სიგანის, სატრანსპორტო საშუალებების გაბარიტებისა და მათ შორის აუცილებელი ინტერვალის გათვალისწინებით.

ფეგაქთეი აიტაძრავი იაიჭუხაგათოუ ამფასურტა ალყრაფეი იშიუთოუ აშეარტადარატე ადგჳილბჯახალა არნჳქეაფ დავსროუქჟ

1

Армарахьтѣи аганала мацара

2

Арѣьарахьтѣи аганала мацара

3

Арѣьарахьтѣи ма армарахьтѣи аганала

განმარტეპა:

„საგზაო მოძრაობის შესახებ“ საქართველოს კანონის 32-ე მუხლის მე-17 პუნქტის „ბ“ ქვეპუნქტის თანახმად, ამ მუხლით დადგენილ მოთხოვნათა გათვალისწინებით, მძღოლს შეუძლია მარჯვნიდან ან მარცხნიდან შემოუაროს იმ სავალ ნაწილზე დაყენებულ უსაფრთხოების კუნძულს, ტუმბოს ან სხვა მოწყობილობას, რომელზედაც იგი მოძრაობს, გარდა იმ შემთხვევისა, როცა: ბ) უსაფრთხოების კუნძული, ტუმბო ან სხვა მოწყობილობა ორმხრივმოძრაობიანი გზის სავალი ნაწილის ღერძზეა განლაგებული. ამ შემთხვევაში მძღოლმა უსაფრთხოების კუნძულს, ტუმბოს ან სხვა მოწყობილობას მხოლოდ მარჯვენა მხრიდან უნდა შემოუაროს.



Иацпаны адырра кызцо, иарбоу адыргакѳа иазгѳартѳитЖ

1

Агѳѳанцаратѳ дыргала иазгѳаѳоу амѳа
ишѳаѳѳоу аѳѳѳѳѳаха аура

2

Амѳа егѳы аганахѳала иѳоу аѳѳѳѳѳ аѳынѳа
ибѳѳѳоу

3

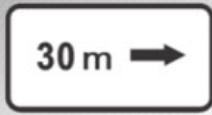
Адыргакѳынтѳ ишѳаѳѳоу аѳѳѳѳѳаха алагамѳа
аѳынѳа, аѳѳѳѳѳа ахѳѳѳѳѳ аѳѳѳѳѳаѳынѳа, ма
аѳѳѳѳѳ, аитѳѳѳѳѳ ахѳѳѳѳѳѳѳѳѳѳѳ иѳоу аѳѳѳѳѳ
аѳынѳа ибѳѳѳоу

განმარტება:

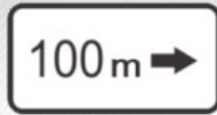
„სავგზაო მოძრაობის შესახებ“ საქართველოს კანონის პირველი დანართის მე-8 თავის (დამატებითი ინფორმაციის ნიშნები (დაფები)) 8.1.1 პუნქტის თანახმად, დაფა 8.1.1 „მანძილი ობიექტამდე“ - მიუთითებს მანძილს ნიშნიდან სახიფათო მონაკვეთის დასაწყისამდე, სათანადო შემლუდვის შემოტანის ადგილამდე ან წინ, მოძრაობის მიმართულებით არსებულ გარკვეულ ობიექტამდე (ადგილამდე).

ВОПРОС 618

ПРАВИЛЬНЫЙ ОТВЕТ: 1



I



II



III



IV

Иаццаны адырра казцо, иарбоу адыргақәа ркынтә руа иарбан амџа нхыт, иацәыхараны икоу аобъект акынза абжъазаара ҳзырбоџ

1

Ши ШШШШи

2

Ши ШМи

3

IV

4

III

განმარტება:

„საგზაო მოძრაობის შესახებ“ საქართველოს კანონის პირველი დანართის მე-8 თავის (დამატებითი ინფორმაციის ნიშნები (დაფები)) 8.1.3, 8.1.4 პუნქტების თანახმად, დაფები 8.1.3 და 8.1.4 „მანძილი ობიექტამდე“ - მიუთითებს მანძილს გზის მიღმა (მოშორებით) მდებარე ობიექტამდე.

„საგზაო მოძრაობის შესახებ“ საქართველოს კანონის პირველი დანართის მე-8 თავის (დამატებითი ინფორმაციის ნიშნები (დაფები)) 8.2.1 პუნქტის თანახმად, 8.2.1 „მოქმედების ზონა“ - მიუთითებს მაფრთხილებელი ნიშნით აღნიშნული გზის სახიფათო მონაკვეთის სიგრძეს, ან ამკრძალავი და საინფორმაციო-მაჩვენებელი ნიშნის მოქმედების ზონას.



I



II



III

Иарбоу аҕэкәа рҕынтә руа иарбан агылара икәитызымтәуа адырга амч иахьамоу атыҕ антәамта хзырбиҕ

1

I

2

II

3

III

განმარტება:

„სავზაო მოძრაობის შესახებ“ საქართველოს კანონის პირველი დანართის მე-8 თავის (დამატებითი ინფორმაციის ნიშნები (დაფები)) 8.2.3 პუნქტის თანახმად, დაფა 8.2.3 „მოქმედების ზონა“ - მიუთითებს 3.27–3.30 ნიშნების მოქმედების ზონის დასასრულს.



I



II



III

Иарбоу, иацпаны адырра казцо адыргақәа ЂаҕәкәаТ ркынтә руа иарбан агылареи аангылареи икәитызымтәуа адыргақәа амч иахьрымоу атыҕаҕы иказаара иазкны арныкәаа адырра изтоҕ

1

IIIIII мацара

2

II мацара

3

IIII мацара

4

IIIIи IIIIIIи

განმარტება:

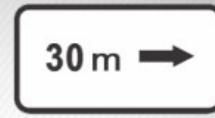
„საგზაო მოძრაობის შესახებ“ საქართველოს კანონის პირველი დანართის მე-8 თავის (დამატებითი ინფორმაციის ნიშნები (დაფები)) 8.2.4 პუნქტის თანახმად, დაფა 8.2.4 „მოქმედების ზონა“- მძღოლს აწვდის ინფორმაციას მისი 3.27–3.30 ამკრძალავი ნიშნების მოქმედების ზონაში ყოფნის თაობაზე.



I



II



III

Иარბოუ, иаццаны адырра казцо адыргакәа ПҭаҭәкәаТ ркынтә руа иарбан амҭеихысырта аҭхьа игылоу адырга амч иахьамоу ахырхарта ма амҭаҭы иҭоу аобъект ашка аитатра ахырхарта хзырбоҭ

1

III IIIIII

2

III мацара

3

III мацара

4

IIIIIIII мацара

განმარტება:

„საგზაო მოძრაობის შესახებ“ საქართველოს კანონის პირველი დანართის მე-8 თავის (დამატებითი ინფორმაციის ნიშნები (დაფები)) 8.3.1-8.3.3 პუნქტების თანახმად, დაფები 8.3.1-8.3.3 „მოქმედების მიმართულება“ - მიუთითებს გზაჯვარედინის წინ დადგმული ნიშნის მოქმედების მიმართულებას ან უშუალოდ გზასთან მდებარე აღნიშნული ობიექტისაკენ მოძრაობის მიმართულებას.

ВОПРОС 623

ПРАВИЛЬНЫЙ ОТВЕТ: 2



I



II



III



IV

Иарбоу амѡатѡ дыргакѡа ркомбинациакѡа ркынтѡ руа иарбан асабши амѡышеи аныхѡамшкѡеи рзы амч змоуѢ

1

IIIIII მაцარა

2

III IIIII

3

IIIII IIIIIII

4

III მაцარა

განმარტება:

„საგზაო მოძრაობის შესახებ“ საქართველოს კანონის პირველი დანართის მე-8 თავის (დამატებითი ინფორმაციის ნიშნები (დაფები)) 8.5.1 პუნქტის თანახმად, დაფა 8.5.1 „შაბათი, კვირა და სადღესასწაულო დღეები“ - მიუთითებს კვირის დღეებზე, როცა მოქმედებს ნიშნები. ამავე თავის 8.5.5-8.5.7 პუნქტების თანახმად დაფები 8.5.5–8.5.7 „მოქმედების დრო“ - მიუთითებს კვირის დღეებსა და დღე-ღამის დროზე, როცა მოქმედებს ნიშანი.

ВОПРОС 624

ПРАВИЛЬНЫЙ ОТВЕТ: 1



ორშაბათი -
პარასკევი

I



8.00-17.30

II



8.00-17.30

III



8.00-17.30

IV

Иарбоу амѡатѡ дьргакѡа ркомбинациақѡа рқьнтѡ руа иарбан уи амч ианамоу амчыбжѡ амшқѡеи, амш аамтѡи хзырбоѢ

1

IIIИ IIIИИ

2

III мацара

3

IIIИ IIIIIIИ мацара

4

IIIIИ мацара

განმარტება:

„საგზაო მოძრაობის შესახებ“ საქართველოს კანონის პირველი დანართის მე-8 თავის (დამატებითი ინფორმაციის ნიშნები (დაფები)) 8.5.2 და 8.5.3 პუნქტების თანახმად, დაფები 8.5.2 „სამუშაო დღეები“ და 8.5.3 „კვირის დღეები“ - მიუთითებენ კვირის დღეებზე, როცა მოქმედებს ნიშანი. ამავე თავის 8.5.5-8.5.7 პუნქტების თანახმად დაფები 8.5.5–8.5.7 „მოქმედების დრო“ - მიუთითებს კვირის დღეებსა და დღე-ღამის დროზე, როცა მოქმედებს ნიშანი.

ВОПРОС 625

ПРАВИЛЬНЫЙ ОТВЕТ: 3



ორშაბათი -
პარასკევი

I



ორშაბათი
8.30-9.30

II



III



*
8.00-17.30

IV

Иарбоу амѡатѡ дьргакѡа ркомбинациақѡа ркынтѡ руа иарбан уи амч ианамоу амчыбжѡ амшқѡеи, амш аамтѡеи хзырбоѢ

1

IIIIII მაцара

2

IIII მაцара

3


IIIIи IIми მაцара

4

II მაцара

განმარტება:

„საგზაო მოძრაობის შესახებ“ საქართველოს კანონის პირველი დანართის მე-8 თავის (დამატებითი ინფორმაციის ნიშნები (დაფები)) 8.5.5-8.5.7 პუნქტების თანახმად დაფები 8.5.5-8.5.7 „მოქმედების დრო“ - მიუთითებს კვირის დღეებსა და დღე-ღამის დროზე, როცა მოქმედებს ნიშანი.



Иарбоу ატაგჲლაზააშაფჲ, აბარტ ატრანსპორტტჲ хархჲაგაჲა რჲრნჲჲაჲჲჲა რჲრნტჲ აჲჲც აჲრჲარტალა ატჲირა აზინ ჲმამდაჲ

1

Амотоцикл арнჲჲაჲ მაцара.

2


Амашჲჲა шკჲაკჲა арнჲჲაჲ მაцара.

3

Аჲგჲჲ

განმარტება:

„საგზაო მოძრაობის შესახებ“ საქართველოს კანონის მე-2 დანართის პირველი თავის (ჰორიზონტალური მონიშვნა) 1.11 პუნქტის თანახმად, საგზაო მონიშვნა 1.11 ყოფს საპირისპირო ან იმავე მიმართულებით მოძრავ სატრანსპორტო ნაკადებს გზის მონაკვეთზე, სადაც გადაჯგუფება ნებადართულია მხოლოდ ერთი ზოლიდან; აღნიშნავს მობრუნების ადგილს, სადგომი მოედნიდან გამოსასვლელსა და შესასვლელს და ა. შ., სადაც მოძრაობა ნებადართულია მხოლოდ ერთ მხარეს. 1.11 ხაზის გადაკვეთა ნებადართულია წყვეტილი ხაზის მხრიდან, ასევე უწყვეტი ხაზის მხრიდან, მაგრამ მხოლოდ გასწრების ან შემოვლის დამთავრებისას.



Иарбоу ატაგჲლაზააშაფჲ, აბარტ არნჲკჲაფცჲა რჲყინტჲ ახჲც ახჲრხარტალა ამაშჲყინა ატჲირა აზინ ჴამადაჲ

1

Амашына фѣжь арнѡкѡа мацара.

2

Амашына кѡѡшь арнѡкѡа мацара.

3

Азѡгѡы

განმარტება:

„საგზაო მოძრაობის შესახებ“ საქართველოს კანონის მე-2 დანართის პირველი თავის (ჰორიზონტალური მონიშვნა) 1.11 პუნქტის თანახმად, საგზაო მონიშვნა 1.5. ყოფს საპირისპირო მიმართულებით მოძრავ სატრანსპორტო ნაკადებს გზაზე, რომელსაც მოძრაობის ორი ან სამი ზოლი აქვს; აღნიშნავს მოძრაობის ზოლის საზღვარს ერთი მიმართულებით მოძრაობისათვის განკუთვნილი ორი ან ორზე მეტი ზოლის არსებობისას. 1.5 ხაზის გადაკვეთა ნებადართულია ნებისმიერი მხრიდან.



Амбасыртафы икоу ақёдырақәа иазгәартоитЖ

1

Ааигәаза икоу анхартапың ақынза ибжьоу

2

Амбә ПәамаршрутТ аномер

3

Иашьашәалоу аномер змоу амаршруттә хархәагазы иазгәагәаҭоу аитатратә цәахәа

განმარტება:

„საგზაო მოძრაობის შესახებ“ საქართველოს კანონის მე-2 დანართის პირველი თავის (ჰორიზონტალური მონიშვნა) 1.22 პუნქტის თანახმად, საგზაო მონიშვნა 1.22 აღნიშნავს გზის (მარშრუტის) ნომერს.



Амбасыртағы икоу азгәта деж иазгәнаҗитЖ

1

Амаршруттә атранспорттә хархәага
аангылар атыҗи атакси аангылартеи

2

Кыраамтәтәи аҗсшьаразы агылар атыҗ

განმარტება:

„საგზაო მოძრაობის შესახებ“ საქართველოს კანონის მე-2 დანართის პირველი თავის (ჰორიზონტალური მონიშვნა) 1.17 პუნქტის თანახმად, საგზაო მონიშვნა 1.17 ყვითელი ხაზი აღნიშნავს სამარშრუტო სატრანსპორტო საშუალების გაჩერების ადგილს და ტაქსის სადგომს.



Амбасыртаҕы иҕоу атбаара азгэата иазгэанатоит атыҕыҔ

1

Ашыаҕауаа рымҕахэаста амбасырта
иахьахысуа

2

Амаланыҕэатэ мҕахэаста амбасырта
иахьахысуа

განმარტება:

„საგზაო მოძრაობის შესახებ“ საქართველოს კანონის მე-2 დანართის პირველი თავის (ჰორიზონტალური მონიშვნა) 1.15 პუნქტის თანახმად, საგზაო მონიშვნა 1.15 აღნიშნავს ადგილს, სადაც ველობილიკი კვეთს გზის სავალ ნაწილს.



Амფასრტაფы икоу ѿбаны еиду еипѣкьоу ацѣахѣа иаанагоитЖ

1

Амѿеихысрტაფы амаланыѣათѣ цѣахѣа

2

Арныѣаѿ хымѣада дахѣаангылаша атыѣ

3

Арѣверсла еиѣкаау аитатѣратѣ цѣахѣаѣа
рхѣааѣа

განმარტება:

„საგზაო მოძრაობის შესახებ“ საქართველოს კანონის მე-2 დანართის პირველი თავის (ჰორიზონტალური მონიშვნა) 1.9 პუნქტის თანახმად, საგზაო მონიშვნა 1.9 აღნიშნავს რევერსულად მოწესრიგებული მოძრაობის ბოლის საზღვარს; ყოფს საპირისპირო მიმართულებით მოძრავ სატრანსპორტო ნაკადებს (როდესაც გამორთულია რევერსული შუქნიშანი) გზაზე, რომელიც რევერსულად წესრიგდება.



Амбасырта иану ақёдыра “ИҒЫ” чыдалатәи ацәахәа иазгәанатоит, уи Ж

1

Гҭшьала еитатцуа атранспорттә хархәагақәа ирызкуп

2

Амаланыҕәақәеи ампедқәеи ирызкуп

3

Амаршруттә атранспорттә хархәагақәа ирызкуп

განმარტეზა:

„საგზაო მოძრაობის შესახებ“ საქართველოს კანონის მე-2 დანართის პირველი თავის (ჰორიზონტალური მონიშვნა) 1.23 პუნქტის თანახმად, საგზაო მონიშვნა 1.23 აღნიშნავს სპეციალურ ზოლს, რომელიც განკუთვნილია სამარშრუტო სატრანსპორტო საშუალების მოძრაობისათვის.



ამდგისრტა აიტატრატე აცეაჰეა აგეტანი იჰოუ ახუც აფორმა ზმოუ აზგეათა აგეანტარა ჯანატოიტჟ

1

იშეარტოუ ატეირტა ახუიჰოუ ამეა
აყუტეაჰა აზააიგეაჰარა იაზკნუ

2

იარბოუ ახურხართალა აიტატრატე ცეაჰეაჰეა
რხუტუაჰარა იახუეიტხოუ, ამდგისრტა
იახუტშეოუ აყუტეაჰა აზააიგეაჰარა
იაზკნუ

განმარტება:

„საგზაო მოძრაობის შესახებ“ საქართველოს კანონის მე-2 დანართის პირველი თავის (ჰორიზონტალური მონიშვნა) 1.19 პუნქტის თანახმად, საგზაო მონიშვნა 1.19 იძლევა გაფრთხილებას სავალი ნაწილის შევიწროებასთან, იმ მონაკვეთთან, სადაც მცირდება მოცემული მიმართულებით მოძრაობის ზოლების რაოდენობა, ან საპირისპირო მიმართულებით მოძრაოვი სატრანსპორტო ნაკადების გამყოფ 1.1 ან 1.11 მონიშვნასთან მიახლოების თაობაზე. 1.19 მონიშვნა პირველ შემთხვევაში შეიძლება გამოყენებულ იქნეს 1.21.1–1.21.3 ნიშნებთან ერთად.



Абри хагәцәылатәи ардырга иаанагоитЖ

1

Амҭасытаҭы аитатратә цәахәакәа
рхыпхьазара

2

5 метрақ аҳарақырағ амҭасырта иаагылоу,
зыҭақа амҭасырта иасуа, ахытцыртеи,
ацхеи, егырт ашыакәыргыларакәеи
релементкәа ҭақатәи рҭыкә

განმარტება:

„საგზაო მოძრაობის შესახებ“ საქართველოს კანონის მე-2 დანართის მე-2 თავის (ვერტიკალური მონიშვნა) 2.2 პუნქტის თანახმად, საგზაო მონიშვნა 2.2 - აღნიშნავს გვირაბის, ხიდის, გზაგამტარისა და სხვა ნაგებობის ელემენტის ქვედა ნაპირს, რომელიც განთავსებულია გზის სავალი ნაწილიდან 5 მეტრზე ნაკლებ სიმაღლეზე და რომლის ქვეშ მთლიანად ან ნაწილობრივ გადის გზის სავალი ნაწილი.

თემა 29:

სამედიცინო დახმარება

Амѡатѣ амашѣыр иалтѣшѣаны азарал зауз итагылазаашѣа аилкаара амзызла зегѣы раѣухѣа ихымѣадоупЖ

1

Аѣсыѣулаѣаѣагаратѣ мѣакѣа раартреи
аѣсыѣулаѣаѣагара ахылаѣушреи

2

Ахдырра ахылаѣушра

3

Адаѣушь аѣы адеисра ахылаѣушра

4

Аѣсыѣулаѣаѣагаратѣ мѣакѣа раартреи
аѣсыѣулаѣаѣагара ахылаѣушреи, ахдырра
ахылаѣушреи, иара убас, адаѣушь аѣы
адеисра ахылаѣушреи

განმარტება:

მნიშვნელოვანია დაზარალებულის მდგომარეობა სწრაფად და მართებულად შეფასდეს. პირველი ეტაპი არის ცნობიერების შემოწმება (არის თუ არა დაზარალებული გონზე). მეორე ეტაპი - სასუნთქი გზების გახსნა მესამე ეტაპი - სუნთქვის კონტროლი. მეოთხე ეტაპი - საძილე არტერიაზე პულსაციის შემოწმება.

ВОПРОС 636

ПРАВИЛЬНЫЙ ОТВЕТ: 3

Амფატე ამაშფერ იალტშფანყ აზარალ ზაუზ აუაფყ 2ეტყი აფაზარა იატანაკჲა აბყლრა იმავარ ჭაჲჲა აჲაჲყრყრა ეყლაგავარ, მა ყკაჲშყჲავარ, აბყლრა ატყჲაფყ აბაავატყყ ალა იტყუ ამტყშტა ყკავარ, აჲყაა ჲჲგყ იმავარტ, რაჲყჲავატყყ ამედყნატჲ ჲყყრაარა იტარა ამზყლა ყყჲ

1

ავყ ჲყშფაშფალა აბყლრა ატყჲ ჲჲჲანყ, აყოდ ალა ირყჲყვატყუ, ანეფს, აფაჲჲაგა ჲყყა აკჲჲანყ აბყნტ ალა ყფაჲჲატყუ

2

ამტყშტაკჲა ჲჲჲანყ, აბყლრა ატყჲ ამატჲაყნტჲ ირყჲყვატყუ, აფაჲჲაგა ჲყყა აკჲჲანყ, აბყლრა ზაუზ ავყ ირჲჲატყუ

3

ამტყშტაკჲა ყჲჲჲატყყმ, აბყლრა ატყჲ ამატჲაყნტჲ ირყჲყვატყყმ, აჲჲრა აფაჲჲაგა ჲყყა ყაკჲჲატყუ, აბყნტ ალა ყფაჲჲატჲჲამ, ატაა ყაკჲჲატყუ, აჲყაა ეყკჲყრტჲო აჲჲჲ იტატყუ ჭავარალ ზაუზ ყყ ავყ ალლერგყა ყმამავარტ, ანეფს, ავყ ირჲჲატყუ

განმარტყბა:

ტყ საგზაო-სატრანსპორტო ჲემტყჲევეყს ჲედეგად დამავებულს აღენყშნება ჲანყს მე-2 ჲარყსყს დამწვრობა (ჲანყს ჲსოვყლყს დარღვევა და მონყთალო ჲეფერყლობა, დამწვრობყს ადგყლზე სყთყბო ჲევესებული ბუშტებყს წარმოქმნა, ძლოერყ ტყვყვყლი) ჲყრველადყ სამედყცყნო დახმარებყს აღმოჩენყს მყზნოტ მას ბუშტებყ არ უნდა გავუხსნათ, ტანსაცმლყს წარჩენებყ დამწვარი ჲედაპყრყდან არ მოვაცყლოტ, ჲრყლობაზე დავადოტ სტერყლურყ საფენყ, ბყნტოტ არ ჲევეხვოტ, მყვადოტ ყყნული ან ცყვყ საფენყ, მყვეტ ტყვყლგამაყუჩებელი საშუალება (ტყ დამავებულს მყს მყმართ აღერგყა არ გააჩნყა) და დამავებულს დავაღვეყნოტ წყალი.

ВОПРОС 637

ПРАВИЛЬНЫЙ ОТВЕТ: 3

Амфатэ амашфэр иалтшфаны ааха зауз ауафы аҧсыҭлагафәгара даҭәыҭзар, адаҭшҭ афы адейсра ыҭамзар, раҭҭхьазатҭи амедицинатҭ цхьраара итара амзызла уи ызыҭататҭупҭ

1

ყჲსაბარატყყმ აჲსყჲლაგაფაგარა

2

აგყ ყყყაშამ ამასა

3

ყჲსაბარატყყმ აჲსყჲლაგაფაგარეყ აგყ ყყყაშამ ამასაჲყ

განმარტყბა:

ტყ დამარაღებულს არ აღენყშნება სუნტყვა და ჲულსაცყა საძყლე არტერყაზე, მას უნდა ჩაუტარდეს ჲელოვნური სუნტყვა და გულის არაპყრდაპყრყ მასაჲყ (ორყ ჩაბერვა და 30 გულის მასაჲყ, ჲამმყ უნდა გამოვყდეს გულის მასაჲყ ერთ წუტმყ 100).

დამხმარეს გარეშე დაშავებულის გადათრევით გადაადგილება კისრის ან ხერხემლის დაზიანების ეჭვის შემთხვევაში, თუ მის სიცოცხლეს საფრთხე ემუქრება უნდა მოხდეს შემდეგნაირად - მოათავსეთ დაშავებული მჯდომარე პოზიციაში. დადებით დაშავებულის ზურგს უკან, მკლავები მხრებქვეშ შეუცურეთ, დავაფიქსიროთ ქვედა ყბა და კისერი და ისე გადათრევით გადაადგილოთ უკან.

ВОПРОС 642

ПРАВИЛЬНЫЙ ОТВЕТ: 2

Амდәтә амашәыр иалтшәаны ааха зауз ауады ихшыбаџ тысызар, уи машынала диагатәупЖ

1

Ибџа дықәырианы, ахәдеи абџазареи ахчқәа
рыцатцаны

2

Ганла дықәырианы

განმარტება:

თავის ტვინის შერყევის შემთხვევაში დაშავებული უნდა დავანვინოთ გვერდზე და გადავიყვანოთ ასეთ მდგომარეობაში უახლოეს სამედიცინო დაწესებულებაში.

ВОПРОС 643

ПРАВИЛЬНЫЙ ОТВЕТ: 3

Амдәтә амашәыр иалтшәаны ааха зауз ауады игәышпы ахәра анызар, уи машынала диагатәупЖ

1

Имгәа дықәырианы

2

Ибџа дықәырианы

3

Ахәра змам аганала дырианы ма
дкыдыртәаланы

განმარტება:

დაშავებულის გულმკერდის გამჭოლი ჭრილობით ტრანსპორტირება შეიძლება ჯანმრთელ გვერდზე დანოლილ ან ნახევრადმჯდომარე მდგომარეობაში.

ВОПРОС 644

ПРАВИЛЬНЫЙ ОТВЕТ: 1

Амѡათѣ амашѣыр аан напык ааха аиузар, апиѣѡак ма ахарѣ ишѣаххроупѢ

1

Зны ибзиоу, анеѡс, ааха зауз анаѡѣы

2

Зны ааха зауз, анеѡс, ибзиоу анаѡѣы

3

Аамѡакала анаѡѡѣа рыѡбагы рѣы

განმარტება:

ერთი ხელის დაზიანების შემთხვევაში დაზავებულს პიტაკი ან პერანგი ჯერ უნდა გავხადოთ ჯანსაღ, ხოლო შემდეგ დაზავებულ ხელზე.

ВОПРОС 645

ПРАВИЛЬНЫЙ ОТВЕТ: 3

Ааха иахѡѡаз ашок аан раѣхѡѡათѣи амедицинатѣ цхыраара атара амзызла, ааха заузѢ

1

Ахѡаахератѣ ахѣшѣ иѡтаны, атѡარшѣ ма аматѣа иѡѡѡтаны ибѢа даѡѣыриатѣуп

2

Иматѣაѡѣа ишѣѡыхны, ахѡаахератѣ ахѣшѣ иѡтаны, иლაхѣ аѣахѣაга хѣშѣაშѣа иаѡѣѡѡათѣуп

3

Иатаххар, ашѣаѡара аанкыланы, дзырѣхаша ак иѡѣѡѡათѣуп. Иѡныѡѡѡათѣи ѡѣეიѡхѣѡაѡѣа шыбзиоу агѣра ганы хაѡაѡარ, арыѡѣѣѣ ѣуха иრѡѣѣѣуп

განმარტება:

ტრამველი შოკის დროს დაზავებულს უნდა გაეწიოს შემდეგი პირველადი სამედიცინო დახმარება - აუცილებლობის შემთხვევაში შევაჩეროთ სისხლდენა, დავაფაროთ სათბურები, თუ არ ვეჭვობთ მუცლის ღრუს შიდა ორგანოების დაზიანებას - დავალევეინოთ თბილი სასმელი.

ВОПРОС 646

ПРАВИЛЬНЫЙ ОТВЕТ: 1

Амѡათѣ амашѣыр иалтѣшѣаны ааха зауз идаѣушь аѣынтѣ ашьацара аѣазшьярбагатѣ дыргакѣа роупЖ

1

Иматѣакѣа ирылалойт апульсациатѣ арѣаш
ейѣушь ихѣра иалыѣѣѣѣо ашьа ѣѣаѣушь

2

Иматѣакѣа ирласзаны ирылалойт ѣушьала
ихѣра иалѣуа ашьа ейѣѣа

3

Иматѣакѣа ирылалойт ѣушьала ихѣра аѣыѣ
маѣара иалѣуа ашьа

განმარტება:

არტერიის დაზიანების დროს სისხლს აქვს ღია-აღისფერი და ჭრილობიდან გამოედინება პულსირებული ნაკადით. არტერიული სისხლდენა საშიშია სიცოცხლისათვის, განსაკუთრებით მსხვილი არტერიის დაზიანებისას, რადგა დაზარალებულმა დროის მოკლე მონაკვეთში შეიძლება დაკარგოს დიდი რაოდენობის სისხლი.

ВОПРОС 647

ПРАВИЛЬНЫЙ ОТВЕТ: 2

Амѡათѣ амашѣыр иалтѣшѣаны ааха зауз аѣаѣы ихѣრაѣынтѣ адаѣушьтѣ ашьацаразы иѣазшьярбагоу
дыргакѣоупЖ

1

Иматѣакѣа ирылалойт апульсациатѣ арѣаш
ейѣушь ихѣра иалыѣѣѣѣо ашьа ѣѣаѣушь

2

Иматѣакѣа ѣушьала ирылалойт ихѣра иалѣуа
აშია ейѣѣა

განმარტება:

ჭრილობიდან ვენური სისხლდენის დამახასიათებელია მექი-ალუბლისფერი სისხლის სუსტი ნაკადი. აუცილებელია მჭიდრო სახვევის დადება უშუალოდ ჭრილობის ადგილზე. სახვევის ქვედა ფენის სისხლით გაჟღენთვისას, ის არ უნდა მოცილდეს და უნდა დაემატოს ახალი სახვევი.

ВОПРОС 648

ПРАВИЛЬНЫЙ ОТВЕТ: 1

ამდეთ ატრანსპორტთ ამაშჲრ აან აზარალ ჯაუზ იმახჲარჲეი იშჲახჲარჲეი ააჲა როუზარ, ადაჲშჲ აჲყინტჲ აშჲაჲარა აანჲყლარაჲყ აანჲყლაგა იაჲჲატატჲუჲ აჲჲრაჲ

1

Атыџ аханы

2

Атыџ аџаџа

3

АхѲра иѲჲატატჲუჲ

განმარტება:

საგზაო-სატრანსპორტო შემთხვევის შემდეგად დაშავებულის კიდურების დაზიანების შემთხვევაში არტერიული სისხლდენის შემაჩერებელი ლახტი უნდა დავადოთ ჭრილობის ადგილის გემოთ.

ВОПРОС 649

ПРАВИЛЬНЫЙ ОТВЕТ: 2

აშჲჲ არმაჲეირაჲყ იაჲაჲუ ამატჲაჲჲჲა იჲამჲარ, ამდეთ ატრანსპორტთ ამაშჲრ იალტშჲანყ ააჲა ჯაუზ აუაფყ იშჲაჲყ ჲჲჲაჲარჲ

1

Ааჲა ჯაუზ აშჲაჲყ იშეიბოყ აბინტ აჲჲყრშატჲუჲ

2

Ааჲა ჯაუზი იბზიოყ იშჲაჲჲა აბინტ ალა ეიდჲაჲაჲატჲუჲ, აჲა აშჲაჲჲა აბა ჲჲა რყბჲაჲატატჲუჲ

განმარტება:

საგზაო-სატრანსპორტო შემთხვევის შემდეგად დაშავებულის ფეხის ძვლის მოტეხილობის შემთხვევაში, თუ არა გვაქვს არტაშანის დასამზადებელი მასალა დაშავებულს დაზიანებული და ჯანმრთელი ფეხი უნდა დავამაგროთ ერთმანეთს ბინტის სახვევის გამოყენებით. ამასთან აუცილებელია ფეხებს შორის ჩავუდოთ რბილი ქსოვილი.

ВОПРОС 650

ПРАВИЛЬНЫЙ ОТВЕТ: 1

Амფატე ატრანსპორტტე ამაშაჲრ აან ააჲა ჯაუზ აუაფი იგეჲამაბაფი იჲეტეი ჟუჲაზარ, «ამედიცინატე ცხჲრაარა ლას» იაიაანჲა, უიჲ

1

იჲეაჲე დჲჲჲჲრიანი, იშჲამხჲ აჲეტა მა ამატეა იატატატეჲ, იხჲაა ჲჲრტეაშა ახეშე იტატეჲ

2

განლა დჲრიატეჲ იბჲიოუ აგანაჲჲნტე, ააჲა ჯაუზ ატჲჲ აჲაჲჲაგა ხჲშეაშეა იაჲეტატეჲ, იხჲაა ჲჲრტეაშა ახეშე იტატეჲ

განმარტეჲა:

მენჯისა და ბარძაყის ძვლის მოტეხილობის შემთხვევაში „სასწრაფო სამედიცინო დახმარების“ მოსვლამდე დაშავებული უნდა დავანვინოთ ზურგზე მუხლებ ქვეშ ამოვუდოთ მჭიდროდ დახვეული საფენი ან ტანსაცმელი, მივცეთ ტკივილგამაყუჩებელი საშუალება.

ВОПРОС 651

ПРАВИЛЬНЫЙ ОТВЕТ: 3

Амფატეატრანსპორტტე ამაშაჲრ აან აზარალ ჯაუზ აჲაჲე ამაშჲჲა აკაბინა დანბატჲგატეჲ

1

ესნაგჲ, ააჲა ჯაუზ აჲაჲე იჲჲსჲ იანმაცხო

2

ააჲა ჯაუზ იშჲაჲჲჲა ჟუჲაზარ

3

ააჲა ჯაუზ იჲჲსჲ მაჲჲაზარ, აჲჲსჲჲლაგაჲაგარეი არჲეაგა დაჲშჲ აჲჲ ადეისრეი იუბარტამზარ

განმარტეჲა:

საგზაო-სატრანსპორტო შემთხვევის შედეგად დაშავებულის ავტომობილის კაბინიდან გადმოყვანა მიზანშეწონილია, როცა დაშავებულს გონება აქვს დავარგული და არ აღენიშნება სუნთქვა და პულსაცია საძილე არტერიაზე.

ВОПРОС 652

ПРАВИЛЬНЫЙ ОТВЕТ: 2

Амდәтә атранспорттә амашәыр аан ааха зауз ахаҕы ибҕахәырш акгы амыхкәа ихәда кәыркәылкәа рхәахәара адыргақәа иҕазарЖ

1

Ааха зауз имахәарқәа изиртысуам,
аҕсыҕлагааҕара иҕәуадаау

2

Ааха зауз ахаҕы ихәдеи ибҕеи ихьонт,
уанрылаккыслак ихьаа цәҕахоит

განმარტება:

საგზაო-სატრანსპორტო შემთხვევის შედეგად დაშავებულის ზურგის ტვინის დაზიანებლად კისრის ხერხემალი მალევის ტრავმების სიმპტომებია - ტკივილი კისრისა და ზურგის არეში. ტკივილი მატულობს ხელით შეხებისას.

ВОПРОС 653

ПРАВИЛЬНЫЙ ОТВЕТ: 4

Амдәтәатранспорттә амашәыр аан ахаҕы ихәда ма ибҕашшара ааха аиузар, ма уи азы агәдара иҕазар, иҕаломЖ

1

Ааха зауз ихь ихәдеи ртысра

2

Ааха зауз ихәра алаккысра

3

Ааха зауз ибаҕкәа рыриашареи аҕежь
иатәым даҕа матәарк алхреи

4

Ааха зауз ихь ихәдеи ртысреи, ихәра
алаккысреи, иара убас, ибаҕкәа рыриашареи
аҕежь иатәым даҕа матәарк алхреи

განმარტება:

საგზაო-სატრანსპორტო შემთხვევის შედეგად დაშავებულის კისრის ან ხერხემალის დაზიანებისას ან მასზე ეჭვის მიტანისას არ შეიძლება: - დაზარალებულისთვის თავისა და კისრის მოძრაობა; - ჭრილობაზე შეხება; - ძვლის ნამსხვრევების ჩასწორება; - უცხო სხეულების მოცილება.

ВОПРОС 654

ПРАВИЛЬНЫЙ ОТВЕТ: 2

Амԁათԁ атранспорттԁ амашԁყრ аан ахаԁყ иԛაშшара ааха аиузар, уиЖ

1

Ииашоу, иԛԁԛოу ак ганла дыԁყყрианы, ихы ахчы аԛаԛатԁуп

2

Ииашоу, иԛԁԛოу ак иԛალა дыԁყყрианы, ихԁდეи изареи ахԁԁა рыԛаԛатԁуп

განმარტება:

საგზაო-სატრანსპორტო შემთხვევის შემდეგად დაშავებულის ხერხემლის დაზიანების დროს დაშავებული უნდა დავანვინოთ ზურგზე, სწორ და მაგარ ზედაპირზე და ამოვუდოთ ბალიში კისრისა და წელის არეში.

ВОПРОС 655

ПРАВИЛЬНЫЙ ОТВЕТ: 2

Амԁათԁ атранспорттԁ амашԁყр аан ахаԁყ иԛაშшара ааха аиузар, уи диагатԁупЖ

1

Ииашоу, иԛԁԛოу ак ганла дыԁყყрианы

2

Ииашоу, иԛԁԛოу ак иԛალა дыԁყყрианы

3

Ииашоу, иԛԁԛოу ак дыԁყყრԁаны

განმარტება:

ყველაზე საშიშია დაზიანებული ხერხემლით დაშავებულის ტრანსპორტირება. ხერხემლის ოდნავ გადაადგილებამ შეიძლება გამოიწვიოს ზურგის ტვინის განყვეტა, ამიტომ თუ ეჭვი გვეპარება დაშავებულის ხერხემლის დაზიანებაზე, აკრძალულია მისი დაჯდომა ან ფეხზე დგომა. უპირველეს ყოვლისა აუცილებელია დავანვინოთ სწორ და მაგარ ზედაპირზე (ხის დაფა, ფიცარი და სხვა მსგავსი). იგივე საგნები გამოიყენება ტრანსპორტირებისათვის.

ВОПРОС 656

ПРАВИЛЬНЫЙ ОТВЕТ: 3

Адаჭшь акынтә ашьацара аан, ауады иџстазаара ашәарта итагыларатәы убри акара ашьа ицәцар калоитЖ

1

2÷5 минутк рыла

2

5÷10 минутк рыла

3

10÷15 минутк рыла

განმარტება:

დაშავებული სიცოცხლისათვის საშიში სისხლის რაოდენობა არტერიული სისხლდენის დროს შეიძლება დაიკარგოს 10-15 წთ-ის შემდეგ.

ВОПРОС 657

ПРАВИЛЬНЫЙ ОТВЕТ: 2

Амџатәеатранспорттә амашәыр иалтцәаны ахафы ицәеи ижъеатцәақәеи ааха роузар, раџхьатәи амедицинатә цыхыраара итара амзызла, уиЖ

1

Ихәра аиод иакәтәтәуп

2

Ахәра иаакәыршаны аиод ала ирыцканы, абактерицидтә аџахәага иакәтәтәуп Ѓуи иҟамзар, аџахәага цкә иакәтәтәупҢ

3

Ижъеитцәақәа рыцканы абактерицидтә аџахәага иакәтәтәуп

განმარტება:

საგზაო-სატრანსპორტო შემთხვევის შედეგად დაშავებულის კანის საფარველისა და კუნთოვანი ქსოვილის დაზიანების შემთხვევაში ჭრილობა უნდა დამუშავდეს გარშემო იოდის ხსნარით და დაედოს ბაქტერიციდული საფენი (მისი არ ქონის შემთხვევაში დაედოს სუფთა საფენი).

ВОПРОС 658

ПРАВИЛЬНЫЙ ОТВЕТ: 2

Амԁათԁ амашԁыр аан ахаԁы ишьаргԁыцԁ аԁԁартԁра ааха аиузარ, иარбан ԁахԁагоу зхархԁара иахԁтоуԁ

1

Ачахы асахыа змоу

2

Ацъар асахыа змоу

3

Ахахԁыршԁга асахыа змоу

განმარტება:

საგზაო-სატრანსპორტო შემთხვევის შედეგად დაშავებულის წვივ-ტერფის სახსრის დაზიანებისას გამოიყენება რვიანისებური სახვევი.

ВОПРОС 659

ПРАВИЛЬНЫЙ ОТВЕТ: 1

Амԁათԁ атранспорттԁ амашԁыр аан ааха зауз ахаԁы илтԁжԁԁа ԁцԁазар, уи диагатԁупЖ

1

Дыртԁаны

2

Ганла дықԁырианы

3

Ибԁа дықԁырианы

4

Имгԁа дықԁрианы.

განმარტება:

საგზაო-სატრანსპორტო შემთხვევის შედეგად დაშავებულის ტრანსპორტირება ლავინის ძვლის მოტეხილობის დროს უნდა მოხდეს მჭდომარე მდგომარეობაში.

ВОПРОС 660

ПРАВИЛЬНЫЙ ОТВЕТ: 2

Амѡатѡеатранспорттѡ амашѡыр аан ахаѡы ихшыбаѡ ааха иахѡьаны иѡсы маѡхазар, уиЖ

1

Дыртѡатѡуп

2

Ганла дыриатѡуп

3

Ибѡа дыѡѡыриатѡуп

განმარტება:

საგზაო-სატრანსპორტო შემთხვევის შედეგად დაშავებულის თავის ქალისა და ტვინის დაზიანების გამო, გონების დაკარგვის შემთხვევაში დაშავებული უნდა დავანვინოთ გვერდზე.

ВОПРОС 661

ПРАВИЛЬНЫЙ ОТВЕТ: 3

Амѡатѡ-атранспорттѡ амашѡыр аан атыѡшатѡ тѡытѡѡырала абылра зауз ахаѡы иблыз иѡѡаЖ

1

Аспирт ала ирыѡѡьатѡуп

2

Аиод ала ирыѡѡьатѡуп

3

Ираѡѡаны аѡы аѡѡѡаны иѡѡѡѡатѡуп

განმარტება:

საგზაო-სატრანსპორტო შემთხვევის შედეგად დაშავებულს გოგირდის მჟავით დაზიანებული კანის უბნები უნდა გადაერეცხოს წყლის უხვი რაოდენობით.

ВОПРОС 662

ПРАВИЛЬНЫЙ ОТВЕТ: 1

Амѡათѣ атранспорттѣ амашѣыр аан ааха зауз ахаѣы ишьахѣырзыџџѡа пџѡазар, ааха зауз ишьапы аѡѡаѡѡа иаѡѡѡатѡупЖ

1

Аѡѡганк рѡынтѣ, ашьапсыргѣыѡа инаркны иуатѣа агѣтанџа

2

Адѡахѣатѣи аганаѡынтѣ, ашьапсыргѣыѡаѡынтѣ агѣчаманџа

განმარტება:

საგზაო-სატრანსპორტო შემთხვევის შედეგად დაშავებულის წვივის ძვლების მოტეხილობის დროს დაშავებულ ფეხზე არტაშანი უნდა დაედოს ორივე მხრიდან ტერფიდან შუა ბარძაყამდე.

ВОПРОС 663

ПРАВИЛЬНЫЙ ОТВЕТ: 1

Амѡათѣ атранспорттѣ амашѣыр аан ааха зауз ахаѣы имахеи ишьахеи ашьаѡара ааныџкыло аѣахѣага рыѡѡѡѡара аамѡа азгѣатара ихымѡѡадоумаѢ

1

Ихымѡѡадоуп

2

Ихымѡѡадам

განმარტება:

საგზაო-სატრანსპორტო შემთხვევის შედეგად დაშავებულის სისხლდენის შემაჩერებელი ლახტი დადება მიზანშეწონილია კიდურის იმ ნაწილში, სადაც მხოლოდ ერთი ძვალია (მხარი, ბარძაყი). ლახტი არ იდება უშუალოდ კანზე: მის ქვეშ აუცილებლად უნდა მოთავსდეს ბამბა, ნაჭერი, ტანსაცმელი. სწორად დადებისას ჭრილობიდან წყდება სისხლდენა, პერიფერიაზე ქრება პულსაცია. აუცილებლად უნდა აღინიშნოს ლახტის დადების ზუსტი დრო.

ВОПРОС 664

ПРАВИЛЬНЫЙ ОТВЕТ: 2

Амღათეатრანспорттә амашәыр аан ааха зауз ахафы ишьахәырзынџа пџџазар, адапџшь аџынтә ашьацара аанызкыло аџахәага иақџџатәупџ

1

Ишьахәырзыз аџы, ахәра аханы

2

Иуатәаџы

განმარტება:

საგზაო-სატრანსპორტო შემთხვევის შედეგად დაშავებულის წვივის ძვლის დაზიანების შემთხვევაში არტერიული სისხლდენის შემაჩერებელი ლახტი უნდა დავადოთ ბარძაყზე.

ВОПРОС 665

ПРАВИЛЬНЫЙ ОТВЕТ: 1

Амღათეатრანспорттә амашәыр аан ааха зауз ахафы апџсыпџ лагаџагара дақџџџзар, аха адапџшь аџы адеисра иқазар, идеисра гџатџатәупџ

1

2 минутк рахь знык

2

5 минутк рахь знык

3

6 минутк рахь знык

განმარტება:

თუ საგზაო-სატრანსპორტო შემთხვევის შედეგად დაშავებული არ სუნთქავს, მაგრამ აღენიშნება პულსი საძილე არტერიაზე, ყოველ 2 წუთში ერთხელ უნდა მოხდეს პულსის შემოწმება.

„საგზაო მოძრაობის შესახებ“ საქართველოს კანონის 27-ე მუხლის პირველი პუნქტის „ე“ ქვეპუნქტის თანახმად, საგზაო-სატრანსპორტო შემთხვევაში მონაწილე მძღოლი ვალდებულია: ე) მიიღოს საჭირო ზომები, რათა პირველადი სამედიცინო დახმარება აღმოუჩინოს საგზაო-სატრანსპორტო შემთხვევის შედეგად დაშავებულს, გამოიძახოს სასწრაფო სამედიცინო დახმარება, გადაუდებელი აუცილებლობის შემთხვევაში დაშავებული გაგზავნოს უახლოეს სამკურნალო დაწესებულებაში გზად მიმავალი სხვა სატრანსპორტო საშუალებით, ხოლო თუ ეს შეუძლებელია – თავად წაიყვანოს იგი, გარდა იმ შემთხვევისა, როდესაც არსებობს საფუძვლიანი ეჭვი, რომ გადაყვანამ შეიძლება ზიანი მიაყენოს დაშავებულს.

ВОПРОС 668

ПРАВИЛЬНЫЙ ОТВЕТ: 3

Иарбоу атагылазашьақәа ркынтә, амѳатѳеатранспорттә амашәыр алахәылацәа, амашәыр аан ааха зауз ахафы ахәшәтәыртахь иагара ируалымЖ

1 Лабѳаба иубартазар, уи ПѳарныкәаѳТ амашәыр шихарам

2 Уи итранспорттә хархәага аитатра аан, атакпхықәра ақәцаразы зтцак дуу ашьатақәа икәзаар

3 Атранспорттә хархәага аитатра ааха хауз ахафы ипѳырхагахар калап хәа агѳара иказар

4 Абри абилет афы еикәыпхьажоу атагылазашьақәа зегьы раан.

განმარტება:

„საგზაო მოძრაობის შესახებ“ საქართველოს კანონის 27-ე მუხლის პირველი პუნქტის „ე“ ქვეპუნქტის თანახმად, საგზაო-სატრანსპორტო შემთხვევაში მონაწილე მძღოლი ვალდებულია: ე) მიიღოს საჭირო ზომები, რათა პირველადი სამედიცინო დახმარება აღმოუჩინოს საგზაო-სატრანსპორტო შემთხვევის შედეგად დაშავებულს, გამოიძახოს სასწრაფო სამედიცინო დახმარება, გადაუდებელი აუცილებლობის შემთხვევაში დაშავებული გაგზავნოს უახლოეს სამკურნალო დაწესებულებაში გზად მიმავალი სხვა სატრანსპორტო საშუალებით, ხოლო თუ ეს შეუძლებელია – თავად წაიყვანოს იგი, გარდა იმ შემთხვევისა, როდესაც არსებობს საფუძვლიანი ეჭვი, რომ გადაყვანამ შეიძლება ზიანი მიაყენოს დაშავებულს.

ВОПРОС 669

ПРАВИЛЬНЫЙ ОТВЕТ: 2

Амѳатѳеатранспорттә амашәыр аан ааха зауз ахафы ивакыцқәа ма игѳабыцақьа абѳа пѳцәазар, уи диагатәупЖ

1 Ганла дықәырианы

2 Дыртәаны ма дкыдыртәаланы

3 Икәакә дықәырианы

განმარტება:

საგზაო-სატრანსპორტო შემთხვევის შედეგად დაშავებულის ნეკნებისა და მკერდის ძვლის მოტეხილობის დროს დაშავებულის ტრანსპორტირება უნდა მოხდეს მჭიდროდ ან ნახევარმჭიდროდ მდგომარეობაში.

ВОПРОС 670

ПРАВИЛЬНЫЙ ОТВЕТ: 3

Ам֊ათ֊ა ამაშ֊აჲრ აან ააჲა ჯაუჲ აუაფ֊ი იჲჲნტა აშ֊ა აც֊ოჯარ, აშ֊აჯარა აანკჲლარაჲი უიჲ

1

Дкыдырт֊ალат֊აუჲ. Иჲჲ შ֊ტჲჲჲნჲ ა֊აჲაჲაჲა
ჲშ֊ააშ֊ა იაჲჲტატ֊აუჲ

2

Гანლა дырианы, იჲჲნტა ა֊აჲაჲაჲა ჲშ֊ააშ֊ა
იაჲჲტატ֊აუჲ

3

Дкыдырт֊ალат֊აუჲ. Иგ֊ჲშჲჲ აგანაჲალა იჲჲ
ნარჲჲნჲ იჲჲნტა ა֊აჲაჲაჲა ჲშ֊ააშ֊ა
იაჲჲტატ֊აუჲ

განმარტება:

საგზაო-სატრანსპორტო შემთხვევის შედეგად დაზარალებულის ცხვირიდან სისხლდენის შესაჩერებლად დაზარალებული უნდა დავსვათ ნახევარმჯდომარე მდგომარეობაში, მკერდისკენ თავის დახრით გამოვრიცხვოთ სისხლის სასუნთქ ორგანოებში მოხვედრას. ცხვირზე ცივი საფენის დადებით ვცდილობთ სისხლდენის შეჩერებას.

ВОПРОС 671

ПРАВИЛЬНЫЙ ОТВЕТ: 2

Ам֊ათ֊ა ამაშ֊აჲრ იალტშ֊აჲნჲ ააჲა ჯაუჲ აუაფ֊ი აჲრაჲა იმაჲარ, ადჲინფჲკციატ֊ა ჲარჲაჲა ეიჲშ აიოდ
აჲარჲაჲა ჲალოიტჲ

1

Аჲრა აჲჲჲშჲრა არჲჲჲარაჲი

2

Аჲრა აჲჲჲშჲრეი უი აჲშაჲჲჲა იჲოუ
აჲეი რრჲჲჲარაჲი

განმარტება:

საგზაო-სატრანსპორტო შემთხვევის შედეგად დაზარალებულის ჭრილობის შემთხვევაში იოდის ხსნარი, როგორც სადებიზინფექციო საშუალება გამოიყენება ჭრილობის ნაპირებისა და მისი მიმდებარე ჯანის დასამუშავებლად.

ВОПРОС 672

ПРАВИЛЬНЫЙ ОТВЕТ: 1

Амѡათѣ амашѣыр иалтѣшѣаны азарал зауз ауаѡы ибла ахѣра ианызар, уиЖ

1

Икѣаѣкѣ дыкѣырианы, ихы шытыхтѣуп.
Азарал зауз ауаѡы ибла аѣахѣага цѣа
иаѣѣтѣатѣуп

2

Ганла дыриатѣуп ибзиоу ибла аганхѣала.
Азарал зауз ауаѡы ибла аѣахѣага цѣа
иаѣѣтѣатѣуп

3

Дкыдыртѣалатѣуп. Ихы шытахѣѣка инаханы
ибла аѣахѣага цѣа иаѣѣтѣатѣуп

განმარტება:

საგზაო-სატრანსპორტო შემთხვევის შედეგად დაშავებულის თვალის ჭრილობის დროს დაშავებული უნდა დავანვინოთ ზურგზე და თავი წამოვუწიოთ წინ. დაზიანებულ თვალზე უნდა დავადოთ სუფთა საფენი.

ВОПРОС 673

ПРАВИЛЬНЫЙ ОТВЕТ: 1

Амѡათѣ амашѣыр иалтѣшѣаны ааха зауз ауаѡы имышьхѣылтѣ атѣаѣка инапы пѣѣѣазар, адапѣшьтѣ
шьанкылага аѣѣтѣатѣупЖ

1

Имышьхѣылтѣ аханы, ижѣѣахыр аѣы

2

Ахѣра аханы, ишьамхѣылтѣынѣа

განმარტება:

საგზაო-სატრანსპორტო შემთხვევის შედეგად დაშავებულის იდაყვის ქვემოთ ხელის ძვლის დაზიანების შემთხვევაში არტერიული სისხლდენის შემაჩერებელი ლახტი უნდა დავადოთ იდაყვის ზემოთ, მხართან.

ВОПРОС 674

ПРАВИЛЬНЫЙ ОТВЕТ: 2

Амѡათѣ амашѡыр аан азарал зауз ауаѡы ахѡы зкѡу ихы атыѡкѡа рѣы аахаѡѡа иѡазар, раѡхѡазатѣи амедицинатѣ цхыраара итаразы уиЖ

1

Ихѡда аѣахѡага акѣтатѡуп, аахаѡѡа ирыкѣтатѡуп ицѡѡу абамбатѣ цахархѡы, ааха зауз ибѡа дыѡѡыриатѡуп

2

Ихѡда аѣахѡага иакѣтатѡуп, ицѡѡу абинт ала ахѡра аѣахѡага ѣѡѡа иакѣтатѡуп, ааха зауз ишьамхѡѣы ишьапкѡа харѡѡаланы ганла дыриатѡуп, ихы атѡа ма аѣахѡага хышѡашѡа иакѣтатѡуп

განმარტება:

თუ საგზაო-სატრანსპორტო შემთხვევის შედეგად დაშავებულს აღენიშნება ტრამბები თავის თმიან ადგილებზე, პირველადი სამედიცინო დახმარების აღმოჩენის მიზნით, მას უნდა კისერზე დაედოს იმპროვიზირებული ნახვევი, ჭრილობაზე სტერილური ბინტით დაედოს დამწოლი ნახვევი, დაშავებული დავანვინოთ გვერდზე მუხლებში მოხრილი ფეხებით, თავზე მივადოთ ყინული ან ცივი საფენი.

ВОПРОС 675

ПРАВИЛЬНЫЙ ОТВЕТ: 1

Амѡათѣ амашѡыр аан ааха зауз ауаѡы иѡсыѡლაгаѡагаратѣ цѣеижѡѡа рѡынтѣ атѡым матѡар атыгара амзызла хымѡѡадаЖ

1

Анапсыргѡытѡала иѡѡაѡѣ асра, уи алтѡშѡа ахылымѡარ, ааха зауз ишьѡтахѣ хгыланы ѡაკатѣи иваѡыѡ აფაზარაფы хტაѡკѡымკѡა имგѡა иაკѣტаны, аамტაѡალა иваѡыѡკѣეи имგѣეи хрыკѡыѡѣაროуп აფныტკატѣи хыхѣტѣи ахырхარტალა

2

Ааха зауз иѣы алада ирханы ишьамхы дыѡѡыргыლаны ტაѡკѡымლა იბѡა хასუეит

განმარტება:

საგზაო-სატრანსპორტო შემთხვევის შედეგად დაშავებულის სასუნთქ გზებში უცხო სხეულის მოსაცილებლად აუცილებლად უნდა რამდენჯერმე ხელისგული დავარტყათ ზურგზე, უარყოფითი შედეგის შემთხვევაში დავდგეთ დაშავებულის უკან, ქვედა ნეკნის დონეზე მუცელთან ხელები მუშტად გადავაჭდოთ ერთმანეთს, ერთდროულად მოვახდინოთ დანოლა ნეკნებზე და მკვეთრად დავანვით მუშტებით მუცლის არეში შიდა და ზედა მიმართულებით.

ВОПРОС 676

ПРАВИЛЬНЫЙ ОТВЕТ: 2

Амѡათѡ амашѡыр иалтѡшѡаны зыпѡсы маѡхаз ауаѡы ахѡшѡкѡа иѡара каломаѡ

1

Икалоит

2

Икалом

განმარტება:

საგზაო-სატრანსპორტო შემთხვევის შედეგად უგონო მდგომარეობაში მყოფ დაშავებულისათვის სამკურნალო პრეპარატების მიცემა ნებადართული არ არის.

ВОПРОС 677

ПРАВИЛЬНЫЙ ОТВЕТ: 2

Арѡѡѡარатѡ харѡѡага армазеира иатаху аматѡарკѡа ыкамзар, амѡათѡ амашѡыр аан ааха зауз инапы
пѡѡѡазар, уиЖ

1

Инапы ириашаны, абинт иакѡыршаны
иѡѡеижѡ аѡы ирѡѡѡѡათѡуп

2

Имышѡхѡылтѡ аѡы инапы харკѡѡаланы, ихѡѡა
иаѡѡкнаханы, абинт аѡѡыршаны иѡѡеижѡ
аѡы ирѡѡѡѡათѡуп

განმარტება:

არტაშანის დასამზადებელი მასალის არარსებობისას საგზაო-სატრანსპორტო შემთხვევის შედეგად დაშავებულის ხელის ძვლის მოტეხილობის შემთხვევაში, მას უნდა იდაყვში მოხრილი ხელი ჩამოვკიდოთ კისერზე და ბინტის დახვევით მივუმაგროთ ტანზე.



Амотоцикл арныкәә ахыц ахырхартала деитатцазар, абарт атранспорттә хархәагақәа рырныкәәцәа ркынтә амәа атара зыхәтадаҕ

1

Автобус арныкәә зацәы

2


Амашына лас арныкәә зацәы

3

Автобус арныкәәи, амашына лас арныкәәи

განმარტება:

„საგზაო მოძრაობის შესახებ“ საქართველოს კანონის 36-ე მუხლის მე-4 პუნქტის „ა“ ქვეპუნქტის თანახმად, არარეგულირებულ გზაჯვარედინზე არათანაბარმნიშვნელოვანი გზების გადაკვეთაზე მეორეხარისხოვან გზაზე მოძრავი სატრანსპორტო საშუალების მძღოლი ვალდებულია გზა დაუთმოს მთავარი გზიდან მოახლოებულ სატრანსპორტო საშუალებას, მიუხედავად მისი შემდგომი მოძრაობის მიმართულებისა.



Амотоцикл арныкәә ахыц ахырхартала деитатцазар, абарт атранспорттә хархәагакәа ырныкәәцәа ркынтә амәа атара зыхәтада, амәихысыртә арбьарахьтәи аганакынтә иалало амәа анышә иакәзарҭ

1

Амашына лас арныкәә зацәы

2

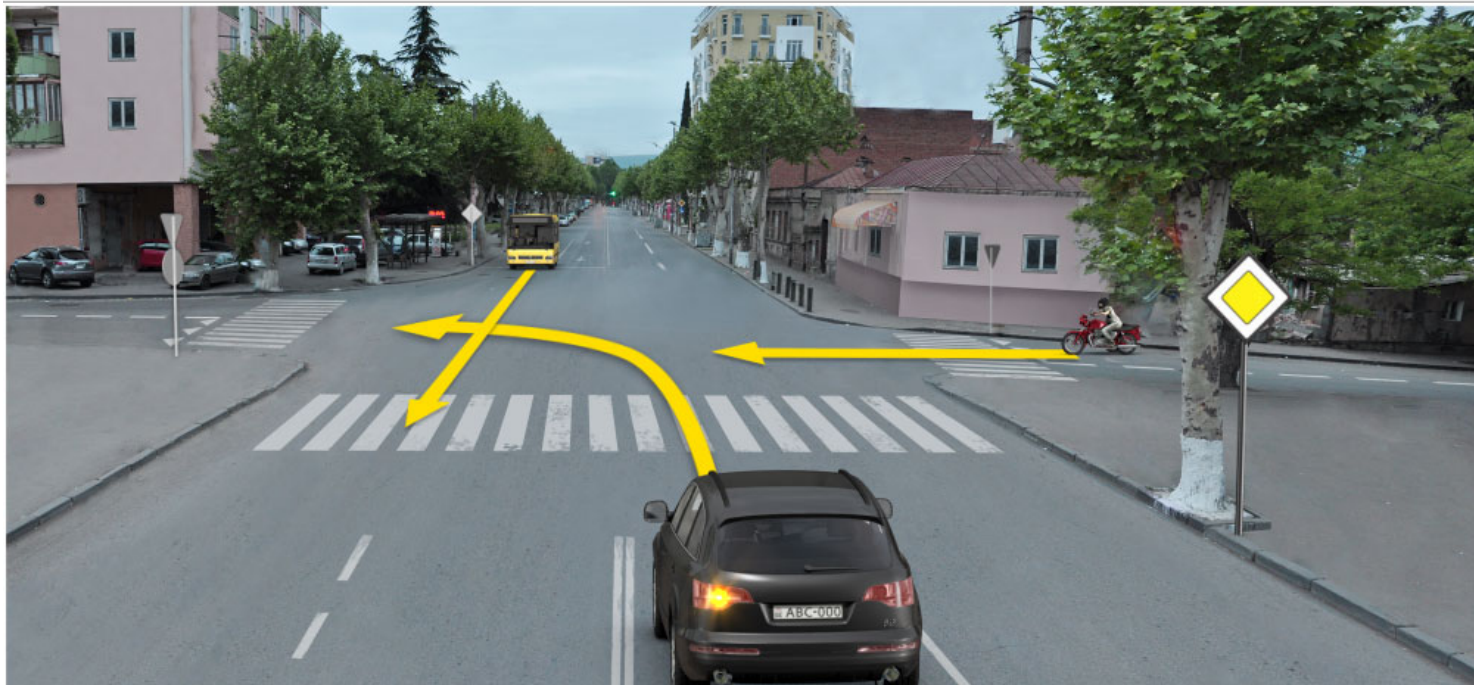
Автобуси аидаратә машынеи ырныкәәцәа

3

Автобуси, аидаратә машынеи, амашына ласи ырныкәәцәа

განმარტება:

„საგზაო მოძრაობის შესახებ“ საქართველოს კანონის 36-ე მუხლის მე-4 პუნქტის „გ“ ქვეპუნქტის თანახმად, არარეგულირებულ გზაჯვარედინზე, თანაბარმნიშვნელოვანი გზების გადაკვეთაზე ურელსო სატრანსპორტო საშუალების მძღოლი ვალდებულია გზა დაუთმოს მარჯვნიდან მოახლოებულ სატრანსპორტო საშუალებას. ამავე წესით უნდა ხელმძღვანელონ ურთიერთშორის რელსიანი სატრანსპორტო საშუალებების მძღოლებმაც. ასეთ გზაჯვარედინზე რელსიან სატრანსპორტო საშუალებას უპირატესობა აქვს ურელსო სატრანსპორტო საშუალების მიმართ, მიუხედავად მისი მოძრაობის მიმართულებისა. ამავე მუხლის მე-6 პუნქტის თანახმად, თუ საგზაო ნიშნით სხვა რამ არ არის გათვალისწინებული, გრუნტოვანი გზიდან იმ გზაზე გასვლისას, რომელიც არ არის გრუნტოვანი გზა, მძღოლი ვალდებულია გზა დაუთმოს ამ გზაზე მოძრავ სატრანსპორტო საშუალებას. ამავე კანონის მე-5 მუხლის 37-ე პუნქტის თანახმად ღორღიან ან გრუნტოვან გზაზე უშუალოდ გზაჯვარედინის წინ, გზის მკვრივსაფარიანი უბნის არსებობა არ ათანაბრებს მას მკვრივსაფარიან გზასთან.



Амотоцикл арныкәә ахыц ахырхартала деитатцуазар, абарт атранспорттә хархәагақәа рырныкәәцәа ркынтә амәа атара зыхәтадаҕ

1

Автобус арныкәә зацәы

2

Амашына лас арныкәә зацәы

3

Автобуси, иара убас, амашына ласи
рырныкәәцәа

განმარტება:

„საგზაო მოძრაობის შესახებ“ საქართველოს კანონის 36-ე მუხლის მე-4 პუნქტის „ა“ ქვეპუნქტის თანახმად, არარეგულირებულ გზაჯვარედინზე, არათანაბარმნიშვნელოვანი გზების გადაკვეთაზე მეორეხარისხოვან გზაზე მოძრავი სატრანსპორტო საშუალების მძღოლი ვალდებულია გზა დაუთმოს მთავარი გზიდან მოახლოებულ სატრანსპორტო საშუალებას, მიუხედავად მისი შემდგომი მოძრაობის მიმართულებისა.



Амотоцикл арныкәә ахыц ахырхартала деитатцуазар, абарт атранспорттә хархәагақәа рырныкәәцәа ркынтә амәа атара зыхәтадаҕ

1

Автобус арныкәә зацәы

2


Иатцәоу амашына лас арныкәә зацәы

3

Аиатцәи ашкәакәи амашына ласқәа
рырныкәәцәа мацара

განმარტება:

„საგზაო მოძრაობის შესახებ“ საქართველოს კანონის 36-ე მუხლის მე-4 პუნქტის „ა“ და „დ“ ქვეპუნქტების თანახმად, არარეგულირებულ გზაჯვარედინზე: ა) არათანაბარმნიშვნელოვანი გზების გადაკვეთაზე მეორეხარისხოვან გზაზე მოძრავი სატრანსპორტო საშუალების მძღოლი ვალდებულია გზა დაუთმოს მთავარი გზიდან მოახლოებულ სატრანსპორტო საშუალებას, მიუხედავად მისი შემდგომი მოძრაობის მიმართულებისა; დ) მარცხნივ მოხვევისას ან მობრუნებისას ურელსო სატრანსპორტო საშუალების მძღოლი ვალდებულია გზა დაუთმოს თანაბარ-მნიშვნელოვან გზაზე საპირისპირო მიმართულებიდან პირდაპირ ან მარჯვნივ მოძრავ სატრანსპორტო საშუალებას.



Амотоцикл арныкәә ахыц ахырхартала деитатцазар, абарт атранспорттә хархәагакәа рырныкәәцәа ркынтә амәа атара зыхәтадаҢ

1

Аидаратә машына арныкәә зәтәы

2


Амашына лас арныкәә зәтәы

3

Азәгы

განმარტება:

„საგზაო მოძრაობის შესახებ“ საქართველოს კანონის 36-ე მუხლის მე-4 პუნქტის „ა“ ქვეპუნქტის თანახმად, არარეგულირებულ გზაჯვარედინზე, არათანაბარმნიშვნელოვანი გზების გადაკვეთაზე მეორეხარისხოვან გზაზე მოძრავი სატრანსპორტო საშუალების მძღოლი ვალდებულია გზა დაუთმოს მთავარი გზიდან მოახლოვებულ სატრანსპორტო საშუალებას, მიუხედავად მისი შემდგომი მოძრაობის მიმართულებისა.



Амотоцикл арныкәә ахыц ахырхартала деитатцазар, абарт атранспорттә хархәагакәа рырныкәәцәа ркынтә амәа атара зыхәтадаҕ

1

Атрамваи арныкәәд затцәы

2

Амашына лас арныкәәд затцәы

3

Атрамваи амашына ласи рырныкәәцәа

4

Азәгы

განმარტება:

„საგზაო მოძრაობის შესახებ“ საქართველოს კანონის 36-ე მუხლის მე-4 პუნქტის „გ“ ქვეპუნქტის თანახმად, არარეგულირებულ გზაჯვარედინზე, თანაბარმნიშვნელოვანი გზების გადაკვეთაზე ურელსო სატრანსპორტო საშუალების მძღოლი ვალდებულია გზა დაუთმოს მარჯვნიდან მოახლოებულ სატრანსპორტო საშუალებას. ამავდროულად უნდა იხელმძღვანელონ ურთიერთშორის რელსიანი სატრანსპორტო საშუალებების მძღოლებმაც. ასეთ გზაჯვარედინზე რელსიანი სატრანსპორტო საშუალებას უპირატესობა აქვს ურელსო სატრანსპორტო საშუალების მიმართ, მიუხედავად მისი მოძრაობის მიმართულებისა.



Амотоцикл арныкәә ахыц ахырхартала деитатцазар, абарт атранспорттә хархәагақәа рырныкәәцәа ркынтә амәа атара зыхәтадаҕ

1

Атрамваи амашына ласи рырныкәәцәа мацара

2

Автобус арныкәә зацәы

3


Азәгы

4

Автобуси, атрамваи, амашына ласи рырныкәәцәа

განმარტება:

„საგზაო მოძრაობის შესახებ“ საქართველოს კანონის 36-ე მუხლის მე-4 პუნქტის „ა“, „ბ“ და „გ“ ქვეპუნქტების თანახმად, არარეგულირებულ გზაჯვარედინზე: ა) არათანაბარმნიშვნელოვანი გზების გადაკვეთაზე მეორეხარისხოვან გზაზე მოძრავი სატრანსპორტო საშუალების მძღოლი ვალდებულია გზა დაუთმოს მთავარი გზიდან მოახლოებულ სატრანსპორტო საშუალებას, მიუხედავად მისი შემდგომი მოძრაობის მიმართულებისა; ბ) თუ გზაჯვარედინზე მთავარი გზა იცვლის მიმართულებას, ამ გზაზე მოძრავმა მძღოლებმა ურთიერთშორის უნდა იხელმძღვანელონ თანაბარმნიშვნელოვანი გზების გავლის წესებით. ამავე წესებით უნდა იხელმძღვანელონ ურთიერთშორის მეორეხარისხოვან გზაზე მოძრავმა მძღოლებმაც; გ) თანაბარმნიშვნელოვანი გზების გადაკვეთაზე ურელსო სატრანსპორტო საშუალების მძღოლი ვალდებულია გზა დაუთმოს მარჯვნიდან მოახლოებულ სატრანსპორტო საშუალებას. ამავე წესით უნდა იხელმძღვანელონ ურთიერთშორის რელსიანი სატრანსპორტო საშუალებების მძღოლებმაც.



Амотоцикл арныкәә ахыц ахырхартала деитатцызар, абарт атранспорттә хархәагакәа рырныкәәцәа рҕынтә амәа атара зыхәтадаҕ

1

Амашына дежь арныкәә затцәы

2


Амашына каҕушь арныкәә затцәы

3

Акаҕушы адежьи амашынакәа рырныкәәцәа

განმარტება:

„საგზაო მოძრაობის შესახებ“ საქართველოს კანონის 36-ე მუხლის მე-4 პუნქტის „ა“ და „დ“ ქვეპუნქტების თანახმად, არარეგულირებულ გზაჯვარედინზე: ა) არათანაბარმნიშვნელოვანი გზების გადაკვეთაზე მეორეხარისხოვან გზაზე მოძრავი სატრანსპორტო საშუალების მძღოლი ვალდებულია გზა დაუთმოს მთავარი გზიდან მოახლოებულ სატრანსპორტო საშუალებას, მიუხედავად მისი შემდგომი მოძრაობის მიმართულებისა; დ) მარცხნივ მოხვევისას ან მობრუნებისას ურელსო სატრანსპორტო საშუალების მძღოლი ვალდებულია გზა დაუთმოს თანაბარ-მნიშვნელოვან გზაზე საპირისპირო მიმართულებიდან პირდაპირ ან მარჯვნივ მოძრავ სატრანსპორტო საშუალებას. ამავე წესით უნდა იხელმძღვანელონ ურთიერთშორის რელსიანი სატრანსპორტო საშუალებების მძღოლებმაც.



Амотоцикл арныкәә ахыц ахырхартала деитатцазар, абарт атранспорттә хархәагақәа рырныкәәцәа ркынтә амәа атара зыхәтадаҕ

1

Амашына лас арныкәә зәцәы

2


Аидаратә машына арныкәә зәцәы

3

Амашына ласи аидаратә машынеи
рырныкәәцәа

განმარტება:

„საგზაო მოძრაობის შესახებ“ საქართველოს კანონის 36-ე მუხლის მე-3 პუნქტის „ა“ და „ბ“ ქვეპუნქტების თანახმად, რეგულირებულ გზაჯვარედინზე: ა) შექნიშნის მწვანე სიგნალის ჩართვის დროს მარცხნივ მოხვევისას ან მობრუნებისას ურელსო სატრანსპორტო საშუალების მძღოლი ვალდებულია გზა დაუთმოს საპირისპირო მიმართულებიდან პირდაპირ ან მარჯვნივ მოძრავ სატრანსპორტო საშუალებას. ამავე წესით უნდა იხელმძღვანელონ ურთიერთშორის მოძრავი ტრამვაის მძღოლებმაც; ბ) შექნიშნის დამატებითი სექციაში ძირითად ყვითელ ან წითელ მაშუქ სიგნალთან ერთად ჩართული ისრის მიმართულებით მოძრაობისას სატრანსპორტო საშუალების მძღოლი ვალდებულია გზა დაუთმოს სხვა მიმართულებიდან მოძრავ სატრანსპორტო საშუალებას.



Амотоцикл арныкәә ахыц ахырхартала деитатцуазар, абарт атранспорттә хархәагақәа рырныкәәцәа ркынтә амәа атара зыхәтадаҕ

1

Автобус арныкәәд затцәы

2


Амашына лас арныкәәд затцәы

3

Автобуси амашына ласи рырныкәәцәа

განმარტება:

„საგზაო მოძრაობის შესახებ“ საქართველოს კანონის 36-ე მუხლის მე-4 პუნქტის „ა“, „ბ“ და „გ“ ქვეპუნქტების თანახმად, არარეგულირებულ გზაჯვარედინზე: ა) არათანაბარმნიშვნელოვანი გზების გადაკვეთაზე მეორეხარისხოვან გზაზე მოძრავი სატრანსპორტო საშუალების მძღოლი ვალდებულია გზა დაუთმოს მთავარი გზიდან მოახლოებულ სატრანსპორტო საშუალებას, მიუხედავად მისი შემდგომი მოძრაობის მიმართულებისა; ბ) თუ გზაჯვარედინზე მთავარი გზა იცვლის მიმართულებას, ამ გზაზე მოძრავმა მძღოლებმა ურთიერთშორის უნდა იხელმძღვანელონ თანაბარმნიშვნელოვანი გზების გავლის წესებით. ამავე წესებით უნდა იხელმძღვანელონ ურთიერთშორის მეორეხარისხოვან გზაზე მოძრავმა მძღოლებმაც; გ) თანაბარმნიშვნელოვანი გზების გადაკვეთაზე ურელსო სატრანსპორტო საშუალების მძღოლი ვალდებულია გზა დაუთმოს მარჯვნიდან მოახლოებულ სატრანსპორტო საშუალებას. ამავე წესით უნდა იხელმძღვანელონ ურთიერთშორის რელსიანი სატრანსპორტო საშუალებების მძღოლებმაც.



Амотоцикл арныкѣаѿ ахыц ахырхартала деитатуазар, абарт арныкѣаѿцѣа ркынтѣ руа дарбан зѣаѣхѣа
аѣыжѣара имоуѢ

1

Автобус арныкѳаѳ затѳы

2


Амашына лас арныкѣаѿ затцѣы

3

Автобуси амашына ласи рырныкэащэа

განმარტება:

„საგზაო მოძრაობის შესახებ“ საქართველოს კანონის 36-ე მუხლის მე-4 პუნქტის „ა“ ქვეპუნქტის თანახმად, არარეგულირებულ გზაჯვარედინზე, არათანაბარმნიშვნელოვანი გზების გადაკვეთაზე მეორეხარისხოვან გზაზე მოძრავი სატრანსპორტო საშუალების მძღოლი ვალდებულია გზა დაუთმოს მთავარი გზიდან მოახლოებულ სატრანსპორტო საშუალებას, მიუხედავად მისი შემდგომი მოძრაობის მიმართულებისა.



Амотоцикл арныкәә ахыц ахырхартала деитатцазар, абарт атранспорттә хархәагақәа рырныкәәцәа ркынтә амәа атара зыхәтадаҕ

1

Автобуси амашына ласи рырныкәәцәа мацара

2

Аидаратә машына арныкәә зацәы

3

Азәгы

განმარტება:

„საგზაო მოძრაობის შესახებ“ საქართველოს კანონის 36-ე მუხლის მე-4 პუნქტის „ა“, „ბ“ და „გ“ ქვეპუნქტების თანახმად, არარეგულირებულ გზაჯვარედინზე: ა) არათანაბარმნიშვნელოვანი გზების გადაკვეთაზე მეორეხარისხოვან გზაზე მოძრავი სატრანსპორტო საშუალების მძღოლი ვალდებულია გზა დაუთმოს მთავარი გზიდან მოახლოებულ სატრანსპორტო საშუალებას, მიუხედავად მისი შემდგომი მოძრაობის მიმართულებისა; ბ) თუ გზაჯვარედინზე მთავარი გზა იცვლის მიმართულებას, ამ გზაზე მოძრავმა მძღოლებმა ურთიერთშორის უნდა იხელმძღვანელონ თანაბარმნიშვნელოვანი გზების გავლის წესებით. ამავე წესებით უნდა იხელმძღვანელონ ურთიერთშორის მეორეხარისხოვან გზაზე მოძრავმა მძღოლებმაც; გ) თანაბარმნიშვნელოვანი გზების გადაკვეთაზე ურელსო სატრანსპორტო საშუალების მძღოლი ვალდებულია გზა დაუთმოს მარჯვნიდან მოახლოებულ სატრანსპორტო საშუალებას. ამავე წესით უნდა იხელმძღვანელონ ურთიერთშორის რელსიანი სატრანსპორტო საშუალებების მძღოლებმაც. ასეთ გზაჯვარედინზე რელსიან სატრანსპორტო საშუალებას აქვს უპირატესობა ურელსო სატრანსპორტო საშუალების მიმართ, მიუხედავად მისი მოძრაობის მიმართულებისა.



Амотоцикл арныкәә ахыц ахырхартала деитатцазар, абарт атранспорттә хархәагақәа рырныкәәцәа ркынтә амәа атара зыхәтадаҕ

1

Амашына каҕушь арныкәә затцәы

2


Амашына иатцәа арныкәә затцәы

3

Азәгы

განმარტება:

„საგზაო მოძრაობის შესახებ“ საქართველოს კანონის 36-ე მუხლის მე-4 პუნქტის „ა“, „ბ“ და „გ“ ქვეპუნქტების თანახმად, არარეგულირებულ გზაჯვარედინზე: ა) არათანაბარმნიშვნელოვანი გზების გადაკვეთაზე მეორეხარისხოვან გზაზე მოძრავი სატრანსპორტო საშუალების მძღოლი ვალდებულია გზა დაუთმოს მთავარი გზიდან მოახლოებულ სატრანსპორტო საშუალებას, მიუხედავად მისი შემდგომი მოძრაობის მიმართულებისა; ბ) თუ გზაჯვარედინზე მთავარი გზა იცვლის მიმართულებას, ამ გზაზე მოძრავმა მძღოლებმა ურთიერთშორის უნდა იხელმძღვანელონ თანაბარმნიშვნელოვანი გზების გავლის წესებით. ამავე წესებით უნდა იხელმძღვანელონ ურთიერთშორის მეორეხარისხოვან გზაზე მოძრავმა მძღოლებმაც; გ) თანაბარმნიშვნელოვანი გზების გადაკვეთაზე ურელსო სატრანსპორტო საშუალების მძღოლი ვალდებულია გზა დაუთმოს მარჯვნიდან მოახლოებულ სატრანსპორტო საშუალებას. ამავე წესით უნდა იხელმძღვანელონ ურთიერთშორის რელსიანი სატრანსპორტო საშუალებების მძღოლებმაც. ასეთ გზაჯვარედინზე რელსიან სატრანსპორტო საშუალებას აქვს უპირატესობა ურელსო სატრანსპორტო საშუალების მიმართ, მიუხედავად მისი მოძრაობის მიმართულებისა.



Амотоцикл арныкәә ахыц ахырхартала деитатцазар, абарт атранспорттә хархәагақәа рырныкәәцәа ркынтә амәа атара зыхәтадаҕ

1

Амашына лас арныкәә зәцәы

2

Автобус арныкәә зәцәы

3

Азәгы

განმარტება:

„საგზაო მოძრაობის შესახებ“ საქართველოს კანონის 36-ე მუხლის მე-4 პუნქტის „ა“, „ბ“ და „გ“ ქვეპუნქტების თანახმად, არარეგულირებულ გზაჯვარედინზე: ა) არათანაბარმნიშვნელოვანი გზების გადაკვეთაზე მეორეხარისხოვან გზაზე მოძრავი სატრანსპორტო საშუალების მძღოლი ვალდებულია გზა დაუთმოს მთავარი გზიდან მოახლოებულ სატრანსპორტო საშუალებას, მიუხედავად მისი შემდგომი მოძრაობის მიმართულებისა; ბ) თუ გზაჯვარედინზე მთავარი გზა იცვლის მიმართულებას, ამ გზაზე მოძრავმა მძღოლებმა ურთიერთშორის უნდა იხელმძღვანელონ თანაბარმნიშვნელოვანი გზების გავლის წესებით. ამავე წესებით უნდა იხელმძღვანელონ ურთიერთშორის მეორეხარისხოვან გზაზე მოძრავმა მძღოლებმაც; გ) თანაბარმნიშვნელოვანი გზების გადაკვეთაზე ურელსო სატრანსპორტო საშუალების მძღოლი ვალდებულია გზა დაუთმოს მარჯვნიდან მოახლოებულ სატრანსპორტო საშუალებას. ამავე წესით უნდა იხელმძღვანელონ ურთიერთშორის რელსიანი სატრანსპორტო საშუალებების მძღოლებმაც. ასეთ გზაჯვარედინზე რელსიან სატრანსპორტო საშუალებას აქვს უპირატესობა ურელსო სატრანსპორტო საშუალების მიმართ, მიუხედავად მისი მოძრაობის მიმართულებისა.

თემა 30:

მოდრობის უსაფრთხოება

ВОПРОС 692

ПРАВИЛЬНЫЙ ОТВЕТ: 2

Арныкѳа, иара итѳу амашына аѳсабара иазаанаго азарал излауа ала аитатѳра ихѳтоумаѳ

1

Ихѳтам

2

Ихѳтоуп

განმარტება:

„საგზაო მოძრაობის შესახებ“ საქართველოს კანონის მე-16 მუხლის პირველი პუნქტის თანახმად, მძღოლმა უნდა უზრუნველყოს, რომ მის მფლობელობაში მყოფმა სატრანსპორტო საშუალებამ მინიმალური ზიანი მიაყენონ გარემოს.

ВОПРОС 693

ПРАВИЛЬНЫЙ ОТВЕТ: 4

Иашьашѳалоу атак зыѳхыкѳу аорганкѳа ркынтѳ азин, акѳшахатра ада, ма ари аорган акны еикѳшахатрада, икѳитымупЖ

1

Амеханикатѳ атранспорттѳ хархѳагакѳа ирѳыцны, ѳакала рыкатцара

2

Чыдалатѳи алашаратѳи абжытѳи ардыргакѳеи, иара убас, абжырдугатѳ чыдалатѳ ахархѳагакѳеи рышьакѳыргылара

3

Амеханикатѳ транспорттѳ хархѳага ачарт аганкѳа рѳы ирнааны ацѳахѳа шкѳაკѳа атыхра

4

Ари абилет аѳы еикѳыѳхыазоу иარбанзаалак ауранагзара

განმარტება:

„საგზაო მოძრაობის შესახებ“ საქართველოს კანონის მე-17 მუხლის პირველი პუნქტის „ვ“ ქვეპუნქტის თანახმად, საგზაო მოძრაობის უსაფრთხოების უზრუნველსაყოფად მხოლოდ საქართველოს კანონმდებლობით დადგენილი წესით შესაბამისი უფლებამოსილი ორგანოსაგან (უწყებისაგან) ნებართვის, დაშვების, თანხმობის მიღების ან ამ ორგანოსთან (უწყებასთან) შეთანხმებითაა დასაშვანი შემდეგი საქმიანობა: ვ) სატრანსპორტო საშუალების გადაკეთება, მასზე სპეციალური ციმიკმა ან/და ხმოვანი სიგნალის ან/და სპეციალური ხმამაღლამოლაპარაკე ხელსაწყოთა დაყენება, ან/და სატრანსპორტო საშუალებისათვის სპეციალური შეფერილობის მიცემა ან/და სატრანსპორტო საშუალების ძარას გვერდებზე დახრილი თეთრი ზოლების დახატვა.

ВОПРОС 694

ПРАВИЛЬНЫЙ ОТВЕТ: 4

Амѡатѣ аитѣтра алахѣыла азин имоуп Кырттѣыла азакѣанѣцарала ишьѡкѣгылоу атѣас инакѣырѣшны атак зыѣхыкѣу ахѣынѣтѣкѣрратѣ ма аѣѣѣанѣтѣи ахатѣхеиѣкааратѣ орган аѣынѣтѣ, иара убас, азинмчы змоу ахаѣы иѣынѣтѣ адырѣакѣа иоурЖ

1

Амѡаѣы аитѣтра ашѣарѣтадара
аѣагылазаашѣакѣа маѣара ирызкны

2

Амѡатѣ аитѣтра аѣѣკრა ма аанкыларა
зыхѣкѣаз азы

3

Амѡатѣ аитѣтра ашѣарѣтадара аиკѣыршѣара
иадхѣалоу аалыѣи амаѣзура ахатѣბიარეи
ირызкны

4

Ари абилет аѣы еиკѣырѣхѣазоу адырѣакѣა
зегы

განმარტება:

„საგზაო მოძრაობის შესახებ“ საქართველოს კანონის მე-20 მუხლის პირველი პუნქტის „ბ.ა“, „ბ.ბ“ და „ბ.გ“ ქვეპუნქტების თანახმად, საგზაო მოძრაობის მონაწილეს უფლება აქვს საქართველოს კანონმდებლობით დადგენილი წესით უფლებამოსილი სახელმწიფო და ადგილობრივი თვითმმართველობის ორგანოებისაგან, აგრეთვე სხვა უფლებამოსილი პირებისგან მიიღოს: ბ.ა) ინფორმაცია გზაზე მოძრაობის უსაფრთხოების პირობების შესახებ; ბ.ბ) ინფორმაცია გზაზე მოძრაობის შემღუდვის ან შეწყვეტის დაწესების მიზეზთა შესახებ; ბ.გ) ინფორმაცია პროდუქციისა და მომსახურების ხარისხის შესახებ, რომელიც დაკავშირებულია საგზაო მოძრაობის უსაფრთხოების უზრუნველყოფასთან.

ВОПРОС 695

ПРАВИЛЬНЫЙ ОТВЕТ: 2

Амѡатѣ аитѣтра алахѣыла, амаѣтарѣკѣа амѡа ақѣѣтѣара ала ма амѡаѣы рааныѣжѣра ала, ма даѣа ѣырѣхаგак ала амѡатѣ аитѣтра аѣѣკრავы ма ашѣарѣта аѣѣѣარავы азин имоумаѢ

1

Азин имоуп

2

Азин имаѣам

განმარტება:

„საგზაო მოძრაობის შესახებ“ საქართველოს კანონის მე-20 მუხლის მე-3 პუნქტის თანახმად, საგზაო მოძრაობის მონაწილემ გზაზე ნივთების დაწყობით, დაყრით ან დატოვებით ან მასზე რაიმე სხვა დაბრკოლების შექმნით არ უნდა შეზღუდოს საგზაო მოძრაობა ან/და შექმნას საფრთხე.

ВОПРОС 696

ПРАВИЛЬНЫЙ ОТВЕТ: 1

ამდგომარეობა იაფურხაგაზ, მა აშერთა იაფურხაგაზ ამდგომარეობა ალაჟა, აობიექტივტა მზიკაა ირუხაჟი აბრი ეიფუშ აჟკრეი აშერთეი რუცარა ილმშოზარ, უი იჟმურჟაკაჟ

1

აბრტ ამზიკაა რუცარაჟი იჟმურჟადოუ ატაგლაჟაჟაკაა ნაიგზაროუ

2

აიტატრა ნაიგზაროუ, იზბანარ, აბრტ იტაგლაჟაჟაკაა რუგზარა იუალჟ

განმარტება:

„საგზო მოძრაობის შესახებ“ საქართველოს კანონის მე-20 მუხლის მე-3 პუნქტის თანახმად, საგზო მოძრაობის მონაწილემ გზაზე ნივთების დანაშაურობით, დაყრით ან დატოვებით ან მასზე რაიმე სხვა დაბრკოლების შექმნით არ უნდა შეზღუდოს საგზო მოძრაობა ან/და შექმნას საფრთხე. საგზო მოძრაობის მონაწილემ, რომელმაც ობიექტური მიზეზის გამო ვერ მოახერხა ასეთი შეზღუდვის ან ასეთი საფრთხის შექმნის თავიდან აცილება, დაუყოვნებლივ უნდა მიიღოს აუცილებელი ზომები მისი თავიდან აცილებისათვის, ხოლო თუ ამის დაუყოვნებლივ გაკეთება შეუძლებელია, მან უნდა უზრუნველყოს აღნიშნულის თაობაზე სხვა საგზო მოძრაობის მონაწილეთა დროული გაფრთხილება.

ВОПРОС 697

ПРАВИЛЬНЫЙ ОТВЕТ: 1

ამდგომარეობა იაფურხაგაზ, მა აშერთა იაფურხაგაზ ამდგომარეობა ალაჟა, აობიექტივტა მზიკაა ირუხაჟი აბრი აჟკრეი აშერთეი რუცარაჟი ალშარა იკამარ, უიჟ

1

ამდგომარეობა ეგურტ ალაჟაჟაჟა აბრი იაკნჟი იამტანი აგეანტარა რიტაროუ

2

აიტატრა ნაიგზაროუ, იზბანარ ამდგომარეობა ეგურტ ალაჟაჟაჟა აგეანტარა რიტარა იუალჟ

განმარტება:

„საგზო მოძრაობის შესახებ“ საქართველოს კანონის მე-20 მუხლის მე-3 პუნქტის თანახმად, საგზო მოძრაობის მონაწილემ გზაზე ნივთების დანაშაურობით, დაყრით ან დატოვებით ან მასზე რაიმე სხვა დაბრკოლების შექმნით არ უნდა შეზღუდოს საგზო მოძრაობა ან/და შექმნას საფრთხე. საგზო მოძრაობის მონაწილემ, რომელმაც ობიექტური მიზეზის გამო ვერ მოახერხა ასეთი შეზღუდვის ან ასეთი საფრთხის შექმნის თავიდან აცილება, დაუყოვნებლივ უნდა მიიღოს აუცილებელი ზომები მისი თავიდან აცილებისათვის, ხოლო თუ ამის დაუყოვნებლივ გაკეთება შეუძლებელია, მან უნდა უზრუნველყოს აღნიშნულის თაობაზე სხვა საგზო მოძრაობის მონაწილეთა დროული გაფრთხილება.

ВОПРОС 698

ПРАВИЛЬНЫЙ ОТВЕТ: 4

Алашарбага аҭҭхьа ахәычкәа амҭа иахысырц ргәы иҭазар, алашарбага иазааигәахаз автотранспорттә хархәага арныкәаҭ иазпҭхьагәеитароупЖ

1

Алашарбага ардырга иатәа ахатыҭҭан ардырга ҭежь ианҭәырҭҭлак ахәычкәа амҭеисырҭа икәлар рылшоит

2

Ахәычкәа, ргәыҭ аҭынҭә азә игәҭасны амҭеисырҭа дыкәларц идырцалоит

3

Ахәычкәа, амҭеисырҭа ахысра азин рызҭо алашарбага ардырга аҭакра иазымҭҭшкәа амҭеисырҭа икәлар шрылшо мацара.

4

Абри абилет аҭы еикәыҭҭхьаҭоу аҭагылазаашьақәа зегьы.

განმარტება:

თუ შუენიშანის წინ ბავშვები აპირებენ გზაზე გადასვლას შუენიშანთან მიახლოებული სატრანსპორტო საშუალების მძღოლმა უნდა გაითვალისწინოს, რომ: - ბავშვები შეიძლება სავალ ნაწილზე გადმოვიდნენ შუენიშნის მწვანე მაშუეი სიგნალის ყვითელი სიგნალით შეცვლისთანავე; - ჭგუფიდან ხელის კვრით რომელიმე ბავშვს შეიძლება აიძულონ სავალ ნაწილზე გადმოსვლა; - შეიძლება ბავშვები სავალ ნაწილზე გადმოვიდნენ მათთვის შუენიშნის ნებადამრთველი სიგნალის ჩართვამდე.

ВОПРОС 699

ПРАВИЛЬНЫЙ ОТВЕТ: 2

Арныкәаҭ, уи имашьына, аҭыжәара змоу амҭатә аитатҭра егырт алахәылацәа ирҭырхагамхаратәы иҭаитарц ихәҭоумаҭ

1

Ихәҭам

2

Ихәҭоуп

განმარტება:

„საგზაო მოძრაობის შესახებ“ საქართველოს კანონის 21-ე მუხლის მე-7 პუნქტის თანახმად, მძღოლმა უნდა უზრუნველყოს, რომ მისმა სატრანსპორტო საშუალებამ დაბრკოლება არ შეუქმნას პრიორიტეტის მქონე სხვა საგზაო მოძრაობის მონაწილეებს.

ВОПРОС 700

ПРАВИЛЬНЫЙ ОТВЕТ: 4

Қырттәыла аҕытқатәи аусқәа рминистрра азинмчы змоу ахаҕы ида, азақәантұцарала иратәашьу аҕыхықәрақәа инрытқакны, амҕатә айтатра аиҕекаара рылшоитЖ

1

Қырттәыла атәылахьчара азинмчы змоу ахаҕқәа

2

Амедицинатә цыхыраара лас абригада алахәылацәа

3

Ахәычқәа рҕәып мҕаҕызго ЏирыцуТ ахаҕқәа

4

Абри абилет аҕы еикәыпхьажоу дарбанзаалак.

განმარტება:

„საგზაო მოძრაობის შესახებ“ საქართველოს კანონის 30-ე მუხლის მე-3 პუნქტის „ა“, „დ“ და „ე“ ქვეპუნქტების თანახმად, საგზაო მოძრაობას არეგულირებენ საქართველოს შინაგან საქმეთა სამინისტროს უფლებამოსილი პირები. საქართველოს კანონმდებლობით მინიჭებული უფლებამოსილების ფარგლებში საგზაო მოძრაობის რეგულირება აგრეთვე შეიძლება განახორციელონ/განახორციელოს: ა) საქართველოს თავდაცვის სამინისტროს უფლებამოსილმა პირებმა – საქართველოს თავდაცვის სამინისტროს კუთვნილი სატრანსპორტო კოლონების გადაადგილებისას; დ) სასწრაფო დახმარების ბრიგადის წევრებმა – სასწრაფო სამედიცინო დახმარების განვეისას; ე) ბავშვთა ჯგუფის გამცილებელმა (თანმხლებმა) – ბავშვების უსაფრთხოების უზრუნველსაყოფად.

ВОПРОС 701

ПРАВИЛЬНЫЙ ОТВЕТ: 4

Қырттәыла аҕытқатәи аусқәа рминистрра азинмчы змоу ахаҕы ида, азақәантұцарала иратәашьу аҕыхықәрақәа инрытқакны, амҕатә айтатра аиҕекаара рылшоитЖ

1

Аиқәырхащәеи аиқәырхаратә операция иалахәу ахаҕқәеи

2

Аихамҕа аусуацәа е аихамҕа ахысыртаҕы

3

Апарантә айтатра аиҕекаащәа – абаҕәазақәа рҕы

4

Абри абилет аҕы еикәыпхьажоу дарбанзаалак.

განმარტება:

„საგზაო მოძრაობის შესახებ“ საქართველოს კანონის 30-ე მუხლის მე-3 პუნქტის „გ“, „ვ“ და „ზ“ ქვეპუნქტების თანახმად, საგზაო მოძრაობას არეგულირებენ საქართველოს შინაგან საქმეთა სამინისტროს უფლებამოსილი პირები. საქართველოს კანონმდებლობით მინიჭებული უფლებამოსილების ფარგლებში საგზაო მოძრაობის რეგულირება აგრეთვე შეიძლება განახორციელონ/განახორციელოს: გ) მაშველებმა და პირებმა, რომლებიც მონაწილეობენ სამაშველო სამუშაოებში, – სამაშველო სამუშაოების შესრულების უზრუნველსაყოფად; ვ) რკინიგზის თანამშრომლებმა - რკინიგზის გადასასვლელზე; ზ) საბორანე გადაზიდვის ორგანიზატორებმა - ნავსადგურში.

ВОПРОС 702

ПРАВИЛЬНЫЙ ОТВЕТ: 2

Ашыақауа амдасырта данықела аамышытахь аангылара азин имоума, уи аитатра ашәартадара аиқәыршәара иадхәаламзарҭ

1

Азин имоуп

2

Азин имазам

განმარტება:

„საგზაო მოძრაობის შესახებ“ საქართველოს კანონის 24-ე მუხლის მე-10 პუნქტის თანახმად, გზის სავალ ნაწილზე გასვლის შემდეგ, ქვეითმა არ უნდა დააყოვნოს გადასვლა, არ უნდა შეეცუნდეს ან შეჩერდეს მასზე, თუ ეს არ უკავშირდება მოძრაობის უსაფრთხოების უზრუნველყოფას.

ВОПРОС 703

ПРАВИЛЬНЫЙ ОТВЕТ: 4

Цака еиқәыпхьазоу атагылазаашьақәа ркынтә руа иарбан арнықәа дааҭсаны дшықоу хзырбоҭ

1

Илацәа ахьантара мацара.

2

Лассыҭелассы аҭархасра мацара.

3

Акәҭытра ацәҭахара мацара.

4

Абри абилет аҭы еиқәыпхьазоу иарбанзаалак атагылазаашьа.

განმარტება:

სატრანსპორტო საშუალების მართვისას მძღოლის დადლილობაზე მიანიშნებს როგორც ქუთუთოების დამძიმება, ასევე ხშირი მოქნარება და რეცციის გაუარესება.

ВОПРОС 704

ПРАВИЛЬНЫЙ ОТВЕТ: 4

Азакәан ала ихәаакәцоу амаксималтә аласра аҭкра ада, арныкәаф аихатәра азин имамЖ

1

Атранспорттә хархәагазы ишыақәгылоу амаксималтә конструктивтә аласра

2

Атранспорттә хархәагаҭы ишыақәыргылоу адырга «Аласра аҭкра» иану аласра

3

Амәатә дыргала ишыақәгылоу амаксималтә аласра

4

Атранспорттә хархәагазы ишыақәгылоу амаксималтә конструктивтә аласреи, атранспорттә хархәагаҭы ишыақәыргылоу адырга «Аласра аҭкра» иану аласреи, амәатә дыргала ишыақәгылоу амаксималтә аласреи

განმარტება:

„საგზაო მოძრაობის შესახებ“ საქართველოს კანონის 33-ე მუხლის მე-9 პუნქტის „ა“, „ბ“ და „გ“ ქვეპუნქტების თანახმად, გარდა ამ მუხლის მე-6-მე-8 პუნქტებით განსაზღვრული მაქსიმალური სიჩქარის შეზღუდვისა, მძღოლს ეკრძალება: ა) სატრანსპორტო საშუალებისათვის დადგენილი მაქსიმალური კონსტრუქციული სიჩქარის გადაჭარბება; ბ) სატრანსპორტო საშუალებაზე დამაგრებულ საცნობ ნიშანზე „სიჩქარის შეზღუდვა“ მითითებული სიჩქარის გადაჭარბება; გ) საგზაო ნიშნით დადგენილი მაქსიმალური სიჩქარის გადაჭარბება.

ВОПРОС 705

ПРАВИЛЬНЫЙ ОТВЕТ: 1

Амәатә аитатра алахәыла амәасырта ма уи иаҭну аҭақыра ақьамсар ақәыжьра ма арқьашьра азин имоумаҭ

1

Азин имазам

2

Азин имазам, уи амәатә аитатра егырт алахәылацәа рзы ишәартазар

3

Азин имоуп

განმარტება:

„საგზაო მოძრაობის შესახებ“ საქართველოს კანონის მე-16 მუხლის მე-3 პუნქტის „ა“ ქვეპუნქტის თანახმად, საგზაო მოძრაობის მონაწილეს ეკრძალება გზის საფარის და გზის მიმდებარე ტერიტორიის დანაგვიანება ან სხვაგვარად დაზიანება.

ВОПРОС 706

ПРАВИЛЬНЫЙ ОТВЕТ: 3

Амшыни, азиақәи, азытәахыртақәи, азиасқәи, еғырт азқәыпшыларатә объектқәи рғы, иара убас, 10 метрак еитдымқәа урт ирзааигәаны атранспорттә хархәагақәа рызәжәара каломаҕ

1

Икалоит, анхартатыпқәи, иара убас, ауаапысыра иахнымхо атыпқәи рғы

2

Анхартатыпқәа рғы икалом, ауаапысыра иахнымхо атыпқәа рғы амашына ласқәа мацара рызәжәара калоит

3

Икалом

განმარტება:

„საგზაო მოძრაობის შესახებ“ საქართველოს კანონის მე-16 მუხლის მე-2 პუნქტის თანახმად, დაუშვებელია სატრანსპორტო საშუალების გარეცხვა ზღვაში, ტბაში, წყალსაცავში, მდინარეში, ზედაპირული წყლის სხვა ობიექტში და მათ ნაპირებთან წყლიდან 10 მეტრზე უფრო ახლო მანძილზე.

ВОПРОС 707

ПРАВИЛЬНЫЙ ОТВЕТ: 3

Атранспорттә хархәага аҕсабара зырқашыа аматәашьарқәа иалцуазар, уи арныкәара каломаҕ

1

Икалоит

2

Икалоит, азакәан инақәырпышны, ари атранспорттә хархәага аитатпразы иахынжае еиу агәатара иахәтамзар

3

Икалом

განმარტება:

„საგზაო მოძრაობის შესახებ“ საქართველოს კანონის მე-16 მუხლის მე-3 პუნქტის „გ“ ქვეპუნქტის თანახმად, საგზაო მოძრაობის მონაწილეს ეკრძალება სატრანსპორტო საშუალების მართვა ისეთი ნივთიერებების გაჟონვის შემთხვევაში, რომელიც აბინძურებს გარემოს.

ВОПРОС 708

ПРАВИЛЬНЫЙ ОТВЕТ: 3

Арныкәә, ирныкәашьазы анырра змоу афакторкәа Пѳиаххәап, ааѳсара, ацәадара, ахәшәкәа рыдкыларә, арыжәтә ажәра, уѳ. егь.Т ихшыѳ рзышьтра иуалумаѳ

1

Иуалым

2

Иуалуп, арныкәага змоу атранспорттә хархәага зырныкәо арныкәә затәы

3

Иуалуп, ирныкәо атранспорттә хархәага ахкы иахьыѳшымкәа

4

Иуалуп, еиѳкьарада апассажирцәа имѳанызго автобус ма аидара имѳанызго аидаратә машына арныкәә затәы

განმარტება:

„საგზაო მოძრაობის შესახებ“ საქართველოს კანონის 21-ე მუხლის მე-5 პუნქტის თანახმად, მძღოლი ვალდებულია იცოდეს საგზაო მოძრაობის წესები, აგრეთვე გათვითცნობიერებული ჰქონდეს ისეთი ფაქტორები, რომლებიც გეგავლენას ახდენს მძღოლის მოქმედებაზე, მაგალითად დაღლილობა, უძილობა, სამედიცინო პრეპარატების მიღება, ალკოჰოლის მიღება და ა.შ..

ВОПРОС 709

ПРАВИЛЬНЫЙ ОТВЕТ: 2

Амѳатә аитатра алахәылацәа ирымоу азинкәа рхы иадырхәар калома, уи ала амѳатә аитатра егьырт алахәылацәа рзинкәа еиларгозарѳ

1

Икалоит

2

Икалом

განმარტება:

„საგზაო მოძრაობის შესახებ“ საქართველოს კანონის მე-20 მუხლის მე-2 პუნქტის თანახმად, საგზაო მოძრაობის მონაწილის მიერ თავისი უფლებების განხორციელება არ უნდა ზღუდავდეს ან არღვევდეს საგზაო მოძრაობის სხვა მონაწილეთა უფლებებს. საგზაო მოძრაობის მონაწილე თავისი მოქმედებით არ უნდა უქმნიდეს საფრთხეს ან დაბრკოლებას საგზაო მოძრაობას. მან არ უნდა შეუქმნას საფრთხე ადამიანებს და არ უნდა მიაყენოს ზიანი სახელმწიფო, საზოგადოებრივ ან კერძო ქონებას.

ВОПРОС 710

ПРАВИЛЬНЫЙ ОТВЕТ: 4

Цаха еиқәыпхьазоу афакторқәа ркынтә руа иарбан арныкәаҭ изы анырра змамҭ

1

Амцәадара

2

Ааҭсара

3

Алкоҭоль злоу арыжәтә адкыларა

4

Хыхь еиқәыпхьазоу атакқәа ркынтә акызатцәыкгы ииашам

განმარტება:

„საგზაო მოძრაობის შესახებ“ საქართველოს კანონის 21-ე მუხლის მე-5 პუნქტის თანახმად, მძღოლი ვალდებულია იცოდეს საგზაო მოძრაობის წესები, აგრეთვე გათვითცნობიერებული ჰქონდეს ისეთი ფაქტორები, რომლებიც გავლენას ახდენს მძღოლის მოქმედებაზე, მაგალითად, დადლილობა, უძილობა, სამედიცინო პრეპარატების მიღება, ალკოჰოლის მიღება და ა. შ.

ВОПРОС 711

ПРАВИЛЬНЫЙ ОТВЕТ: 2

Атранспорттә хархәага арныкәара аан арныкәаҭ амобилтә телла дцәажәар каломаҭ

1

Икалом, иარბანзаалак ატაгыლაзаაშაფყ

2

Икалоит, уи абжы дула ацәажәара афункциа ихы иаирхәозар, атранспорттә хархәага арныкәаразы иҭнапык тацәызар

3

Икалоит, атранспорттә хархәага арныкәаразы иҭнапык тацәызар

განმარტება:

„საგზაო მოძრაობის შესახებ“ საქართველოს კანონის 21-ე მუხლის მე-8 პუნქტის თანახმად, სატრანსპორტო საშუალების გადაადგილებისას მძღოლი უნდა მოერიდოს ნებისმიერ მოქმედებას, რომელიც დაკავშირებული არ არის მართვასთან. მძღოლს ეკრძალება სატრანსპორტო საშუალების მართვისას მობილური კომუნიკაციის საშუალებით სარგებლობა. ეს აკრძალვა არ ვრცელდება ისეთ შემთხვევებზე, როდესაც მძღოლი სარგებლობს მობილური კომუნიკაციის საშუალების ყურსასმენით ან მობილური კომუნიკაციის ხმამაღალი (ან დისტანციური) საუბრის ფუნქციით და ორივე ხელი თავისუფალი აქვს სატრანსპორტო საშუალების სამართავად.

ВОПРОС 712

ПРАВИЛЬНЫЙ ОТВЕТ: 2

Арныкәә атранспорттә хархәагала айтатра азин имам итранспорттә хархәагаҟы еиҟкаамзарЖ

1

Абжытә ардырга ианыҟхастоу мацара.

2

Аҟсқы амеханизм ианыҟхастоу мацара.

3

Анакәаеацәыхьчаратә арлашагакәа ианыҟхастоу мацара.

4

Абри абилет аҟы еиқәыҟхьаҟоу аҟагылазаашьақәа зегьы раан.

განმარტება:

„საგზაო მოძრაობის შესახებ“ საქართველოს კანონის მე-21-ე მუხლის მე-13 პუნქტის თანახმად, მძღოლს ევრძალება მოძრაობა მუშა სამუხრუჭო სისტემის, სატრანსპორტო საშუალებათა შემადგენლობაში მისაბმელი მოწყობილობის გაუმართაობისას, აგრეთვე დღე-ღამის ბნელ დროს ერთდროულად მწყობრიდან გამოსული (ჩამქრალი) ახლო და შორი განათების ფარებით (ან მათი არარსებობისას) ან/და უკანა საგაბარიტო სინათლეებით იმ გზაზე, რომელზედაც არ არის ხელოვნური განათება ან არასაკმარისი ხილვადობა. მძღოლის მხარეს არსებული მინასანმენდის უმოქმედობისას აკრძალულია მექანიკური სატრანსპორტო საშუალების მართვა ნისლის, წვიმისა და თოვლის დროს.

ВОПРОС 713

ПРАВИЛЬНЫЙ ОТВЕТ: 2

Арныкәә игәнигароуп зегьы рейха амҟа шҟаауЖ

1

Иҟсабаратәым арлашара иахьықам ахапкылцақәа рҟы

2

Ацҳеи, амҟангагеи, аестакадеи рҟы

3

Анхартатыҟ амҟа хадақәа рҟы

განმარტება:

„საგზაო მოძრაობის შესახებ“ საქართველოს კანონის 25-ე მუხლის მე-10 პუნქტის „დ“ ქვეპუნქტის თანახმად, გზაზე მოძრაობისას მძღოლმა უნდა გაითვალისწინოს შემდეგი გარემოებები - მოყინულ გზის მონაკვეთზე მძღოლმა შეძლებისდაგვარად თავი უნდა აარიდოს დამუხრუჭებას, სიჩქარის ცვლილებასა და მიმართულების მკვეთრ შეცვლას. ამასთანავე, მძღოლმა უნდა გააცნობიეროს, რომ ყველაზე უფრო ხშირად გზა მოყინულია ხიდზე, გზაგამტარსა და ესტაკადაზე.

ВОПРОС 716

ПРАВИЛЬНЫЙ ОТВЕТ: 1

Иტააუ ამჟა აცუტეაჟაფი არნიქაჟ

1

Иауазар, амашына аанкыларей, аласра
ацсаჟრეი, иаалырქаны ахырхართа ацсаჟრეი
დრეცეცაროуп

2

Аанкыларазы иаццаны ихы иаирхეароуп
напылатеи аанкылага

3

Ахырхართа ицсаჟროуп иаалырქаны ацსკы
აჟეირეи аласра аццареи рыла

განმარტება:

„საგზაო მოძრაობის შესახებ“ საქართველოს კანონის 25-ე მუხლის მე-10 პუნქტის „დ“ ქვეპუნქტის თანახმად, გზაზე მოძრაობისას მძღოლმა უნდა გაითვალისწინოს შემდეგი გარემოებები - მოყინულ გზის მონაკვეთზე მძღოლმა შეძლებისდაგვარად თავი უნდა აარიდოს დამუხრუჭებას, სიჩქარის ცვლილებასა და მიმართულების მკვეთრ შეცვლას. ამასთან მძღოლმა უნდა გაათვინობიეროს, რომ ყველაზე უფრო ხშირად გზა მოყინულია ხიდზე, გზაგამტარებზე და ესტაკადებზე.

ВОПРОС 717

ПРАВИЛЬНЫЙ ОТВЕТ: 2

Ақәәуреи асоуреи раан деитацуазар, арниқәәЖ

1

Иареи иара иацхьа еитацуа атранспорттә
хархәәгеи рыбжьара адистанциа ирмачроуп

2

Аласра ирмачны, иареи иара иацхьа
еитацуа атранспорттә хархәәгеи ирыбжьәу
адистанциа ирдуроуп

3

Амашәыртә алашаратә ардырга иаҟеиკროуп

განმარტება:

„საგზაო მოძრაობის შესახებ“ საქართველოს კანონის 25-ე მუხლის მე-10 პუნქტის „ე“ ქვეპუნქტის თანახმად, გზაზე მოძრაობისას მძღოლმა უნდა გაითვალისწინოს შემდეგი გარემოებები - ვინაიდან წვიმისა და თოვლის დროს მოძრაობისას იზრდება სატრანსპორტო საშუალების დამუხრუჭებისათვის საჭირო დრო და მანძილი, ამასთანავე, ნალექი აუარესებს ხილვადობას, მძღოლმა უნდა შეამციროს სიჩქარე და გაზარდოს დისტანცია თავის სატრანსპორტო საშუალებასა და მის წინ მიმავალ სატრანსპორტო საშუალებას შორის.

ВОПРОС 718

ПРАВИЛЬНЫЙ ОТВЕТ: 3

Ақәуреи асоуреи раан деитатүазар, арныкәә иазпұхьагәеитароупЖ

1

Шьтахьла аитатра калом

2

Иареи иара иапұхьа еитатүа атранспорттә хархәагеи рыбжьара адистанциа аитатәра иахәтоуп

3

Атранспорттә хархәага аанкыларазы иатаху аамтеи абжьазареи иазхауеит, иара убас, алышәшәақәа ирыхкьаны алапұшбара цәгьахоит

განმარტება:

„საგზაო მოძრაობის შესახებ“ საქართველოს კანონის 25-ე მუხლის მე-10 პუნქტის „ე“ ქვეპუნქტის თანახმად, გზაზე მოძრაობისას მძღოლმა უნდა გაითვალისწინოს შემდეგი გარემოებები - ვინაიდან წვიმისა და თოვის დროს მოძრაობისას იზრდება სატრანსპორტო საშუალების დამუხრუჭებისათვის საჭირო დრო და მანძილი, ამასთან ნალექი აუარესებს ხილვადობას, მძღოლმა უნდა შეამციროს სიჩქარე და გაზარდოს დისტანცია მისი და მის წინ მიმავალ სატრანსპორტო საშუალებას შორის.

ВОПРОС 719

ПРАВИЛЬНЫЙ ОТВЕТ: 1

Ақәоура аан амџа кьашьуп, ақәтәраара ашәарта цәырцүеит, убри акынтә, арныкәәЖ

1

Аласра ирмачроуп, хәычыехәыцла амашьына аанкыло

2

Аласра ирмачроуп иаалыркьаны аанкыларала

3

Аласра ирдуроуп

განმარტება:

„საგზაო მოძრაობის შესახებ“ საქართველოს კანონის 25-ე მუხლის მე-10 პუნქტის „ვ“ ქვეპუნქტის თანახმად, გზაზე მოძრაობისას მძღოლმა უნდა გაითვალისწინოს შემდეგი გარემოებები - წვიმის დაწყებისას გზის ზედაპირი ტალახიანდება და ქმნის მოცურების საშიშროებას, რის გამოც მძღოლმა უნდა შეამციროს სიჩქარე მდორე დამუხრუჭებით.

ВОПРОС 720

ПРАВИЛЬНЫЙ ОТВЕТ: 1

Арныкәә иазпұхәгәйтәроупЖ

1

Ацәиртәҕы иалыркыаны аанкылага ахархәара ма аласра ду ала ацәирта алалара иахкыаны, арныкәә атранспорттә хархәага арныкәаразы ахылаҕшра ицәызыр илшоит

2

Ацәирта алаларазы аласра ирмачтәуп иаалыркыаны аанкыларала

3

Ацәира аласра ду ала инаҕзатәуп

განმარტება:

„საგზაო მოძრაობის შესახებ“ საქართველოს კანონის 25-ე მუხლის მე-10 პუნქტის „თ“ ქვეპუნქტის თანახმად, გზაზე მოძრაობისას მძღოლმა უნდა გაითვალისწინოს შემდეგი გარემოებები - მოსახვევში მუხრუჭის მკვეთრად გამოყენებამ ან/და მაღალი სიჩქარით შესვლამ (განსაკუთრებით გზის სველი ზედაპირის არსებობისას) შესაძლოა გამოიწვიოს სატრანსპორტო საშუალებაზე კონტროლის დაკარგვა.

ВОПРОС 721

ПРАВИЛЬНЫЙ ОТВЕТ: 2

Амҕаҕы азтатәа иказар, арныкәә иазпұхәгәйтәроупЖ

1

Азтатәаҕы аласра ардура иахәтоуп

2

Атранспорттә хархәага арныкәареи аанкылареи уадаҕуп, атранспорттә хархәага ақәцәраара ашәарта дууп

3

Иареи иара иаҕхәа ицо атранспорттә хархәагеи рыбжьара адистанциа ирмачтәуп

განმარტება:

„საგზაო მოძრაობის შესახებ“ საქართველოს კანონის 25-ე მუხლის მე-10 პუნქტის „ი“ ქვეპუნქტის თანახმად, გზაზე მოძრაობისას მძღოლმა უნდა გაითვალისწინოს შემდეგი გარემოებები - გზაზე წყლის გუბეების არსებობისას მძღოლმა უნდა გაითვალისწინოს, რომ სატრანსპორტო საშუალების მართვა და დამუხრუჭება გართულებულია, ამასთანავე, დიდია სატრანსპორტო საშუალების მოცურების ალბათობა (განსაკუთრებით გაცვეთილი საბურავებით ან მაღალი სიჩქარით მოძრაობისას).

ВОПРОС 722

ПРАВИЛЬНЫЙ ОТВЕТ: 3

Атრანспорттə хархəага арныкəара аан арныкəаа даафсазар, уи ихəтоупЖ

1

Атრანспорттə хархəага аласра ардура

2

Акофеин злоу арыжəтə ажəра

3

Атრანспорттə хархəага аанкылареи
афсшыареи, алшара икəазар, даəажəы афскы
иркра

განმარტება:

„საგზაო მოძრაობის შესახებ“ საქართველოს კანონის 25-ე მუხლის მე-10 პუნქტის „ვ“ ქვეპუნქტის თანახმად, გზაზე მოძრაობისას მძღოლმა უნდა გაითვალისწინოს შემდეგი გარემოებები - თუ სატრანსპორტო საშუალების მართვისას მძღოლი გრძნობს დაღლილობას, მიზანშეწონილია სატრანსპორტო საშუალების გაჩერება და დასვენება, ხოლო შესაძლებლობის შემთხვევაში – საჭესთან სხვა მძღოლის დასმა.

ВОПРОС 723

ПРАВИЛЬНЫЙ ОТВЕТ: 1

Арныкəаа, амəაფы, зəыруазкəауа зхы мəაფызго атрანспорттə хархəага арныкəаа дибар, уиЖ

1

Иєиртынчны, итранспорттə хархəага
дахылаფшыроуп

2

Иауны ъердыргаки икьафны рдыргаки
кəтəны, зəыруазкəауа зхы мəაფызго
атрანспорттə хархəага арныкəаа иє
иртынчырц ибжьеигароуп

3

Иара ихəтагы иєыруазкəауа ихы
мəაфигароуп

განმარტება:

„საგზაო მოძრაობის შესახებ“ საქართველოს კანონის 25-ე მუხლის მე-10 პუნქტის „ღ“ ქვეპუნქტის თანახმად, გზაზე მოძრაობისას მძღოლმა უნდა გაითვალისწინოს შემდეგი გარემოებები - თუ მძღოლი გზაზე ამჩნევს სხვა სატრანსპორტო საშუალების მძღოლს, რომელიც აგრესიულად არის განწყობილი და გამომწვევად იქცევა, მან უნდა შეინარჩუნოს სიმშვიდე და აკონტროლოს თავისი სატრანსპორტო საშუალება.

ВОПРОС 724

ПРАВИЛЬНЫЙ ОТВЕТ: 2

Кыраамтала аласра дула атранспорттә хархәага арныкәара иахылҕаауеитЖ

1

Атранспорттә хархәага аанкыларатә система
пҕаастахоит

2

Арныкәаф аизакреи аласра ду ацәанырреи
ицәызуеит

3

Абри абилет аҕы еиқәыпҕхьаҕоу
атагылазаашьақәа зегы

განმარტება:

„საგზაო მოძრაობის შესახებ“ საქართველოს კანონის 25-ე მუხლის მე-10 პუნქტის „ნ“ ქვეპუნქტის თანახმად, გზაზე მოძრაობისას მძღოლმა უნდა გაითვალისწინოს შემდეგი გარემოებები - დიდი ხნის განმავლობაში მაღალი სიჩქარით მოძრაობა აქვეითებს კონცენტრაციასა და მაღალი სიჩქარის შეგრძნებას.

ВОПРОС 725

ПРАВИЛЬНЫЙ ОТВЕТ: 3

Арныкәаф атранспорттә хархәага ирныкәароупЖ

1

Иеыруазкәауа, амѡаҕы аҕыжәара имазшәа

2

Тынч, аха, амѡаҕы аҕыжәара змоу иеипҕш
ихы ааирпҕшыроуп

3

Тынч, иеыруазкәауа ихы мѡаҕиимгароуп,
амѡаҕы аҕыжәара змоу иеипҕш ихы
ааимырпҕшыроуп

განმარტება:

„საგზაო მოძრაობის შესახებ“ საქართველოს კანონის 25-ე მუხლის მე-10 პუნქტის „ო“ ქვეპუნქტის თანახმად, გზაზე მოძრაობისას მძღოლმა უნდა გაითვალისწინოს შემდეგი გარემოებები - მძღოლი სატრანსპორტო საშუალებას უნდა მართავდეს მშვიდად, არ უნდა იჩენდეს აგრესიულობას და არ უნდა ცდილობდეს თავის გამოჩენას, როგორც უპირატესი გზაზე.

ВОПРОС 726

ПРАВИЛЬНЫЙ ОТВЕТ: 2

Амедицинатә мзыққәа рзы, аҳақым ибжьгарала арџышыгәтә матәашьар здызкылаз, арџышыга иашьны икоу ахаҟы атранспорттә хархәага арныкәара азин имоумаҟ

1

Азин имоуп

2

Азин имам

განმარტება:

„საგზაო მოძრაობის შესახებ“ საქართველოს კანონის 21-ე მუხლის მე-15 პუნქტის თანახმად, აკრძალულია სატრანსპორტო საშუალების მართვა ალკოჰოლური, ნარკოტიკული ან ფსიქოტროპული სიმთვრალის მდგომარეობაში, ან იმ სამკურნალო პრეპარატის ზემოქმედებისას, რომელიც აქვეითებს რეაქციას და ყურადღებას.

ВОПРОС 727

ПРАВИЛЬНЫЙ ОТВЕТ: 2

Амедицинатә мзыққәа рзы, аҳақым ибжьгарала аҟсихотропиатә матәашьар здызкылаз, аҟсихотропиатә матәашьар иашьны икоу ахаҟы атранспорттә хархәага арныкәара азин имоумаҟ

1

Азин имоуп

2

Азин имам

განმარტება:

„საგზაო მოძრაობის შესახებ“ საქართველოს კანონის 21-ე მუხლის მე-15 პუნქტის თანახმად, აკრძალულია სატრანსპორტო საშუალების მართვა ალკოჰოლური, ნარკოტიკული ან ფსიქოტროპული სიმთვრალის მდგომარეობაში, ან იმ სამკურნალო პრეპარატის ზემოქმედებისას, რომელიც აქვეითებს რეაქციას და ყურადღებას.

ВОПРОС 728

ПРАВИЛЬНЫЙ ОТВЕТ: 1

Амედიცინატә мзызкәа рзы, ахақым ибжыгарала арџышыгәтә матәашьар здызкылаз ахафы арныкәаразы атранспорттә хархәага итара каломаџ

1

Икалом

2

Икалоит

განმარტება:

„საგზაო მოძრაობის შესახებ“ საქართველოს კანონის მე-20 მუხლის მე-4 პუნქტის თანახმად, აკრძალულია სატრანსპორტო საშუალების სამართავად გადაცემა იმ პირისათვის, რომელიც იმყოფება ალკოჰოლური, ნარკოტიკული ან ფსიქოტროპული სიმთვრალის მდგომარეობაში,

ВОПРОС 729

ПРАВИЛЬНЫЙ ОТВЕТ: 1

Амედიცინатә мзызкәа рзы, ахақым ибжыгарала аџсихотропиатә матәашьар здызкылаз ахафы арныкәаразы атранспорттә хархәага итара каломаџ

1

Икалом

2

Икалоит

განმარტება:

„საგზაო მოძრაობის შესახებ“ საქართველოს კანონის მე-20 მუხლის მე-4 პუნქტის თანახმად, აკრძალულია სატრანსპორტო საშუალების სამართავად გადაცემა იმ პირისათვის, რომელიც იმყოფება ალკოჰოლური, ნარკოტიკული ან ფსიქოტროპული სიმთვრალის მდგომარეობაში,

ВОПРОС 730

ПРАВИЛЬНЫЙ ОТВЕТ: 3

Ақәытрей агәанызаарей зырҭсыҭеуа ахәшәкәа рнырра аҭақа иҭоу ахаҭы атранспорттә хархәара арныкәара азин имоумаҭ

1

Азин имоуп, абарт ахәшәкәа идиқылазар амедицинатә мзызкәа рзы, ахақым ибжьгарала

2

Азин имоуп, уи агәанызаара ихымҭадоу атагылазаашьақәа зегьы рхархәарала деитатүазар

3

Азин имам

განმარტება:

„საგზაო მოძრაობის შესახებ“ საქართველოს კანონის 21-ე მუხლის მე-15 პუნქტის თანახმად, ავრძალულია სატრანსპორტო საშუალების მართვა ალკოჰოლური, ნარკოტიკული ან ფსიქოტროპული სიმთვრალის მდგომარეობაში, ან იმ სამკურნალო პრეპარატის ზემოქმედებისას, რომელიც აქვეითებს რეაქციას და ყურადღებას.

ВОПРОС 731

ПРАВИЛЬНЫЙ ОТВЕТ: 1

Ақәытрей агәанызаарей зырҭсыҭеуа ахәшәкәа рнырра аҭақа иҭоу ахаҭы арныкәаразы атранспорттә хархәага иҭара каломаҭ

1

Икалом

2

Икалоит, абарт ахәшәкәа идиқылазар амедицинатә мзызкәа рзы, ахақым ибжьгарала

3

Икалоит, уи агәанызаара ихымҭадоу атагылазаашьақәа зегьы рхархәарала деитатүазар

განმარტება:

„საგზაო მოძრაობის შესახებ“ საქართველოს კანონის მე-20 მუხლის მე-4 პუნქტის თანახმად, ავრძალულია სატრანსპორტო საშუალების სამართავად გადაცემა იმ პირისათვის, რომელიც იმყოფება ალკოჰოლური, ნარკოტიკული ან ფსიქოტროპული სიმთვრალის მდგომარეობაში. ამავე კანონის 21-ე მუხლის მე-15 პუნქტის თანახმად, ავრძალულია სატრანსპორტო საშუალების მართვა ალკოჰოლური, ნარკოტიკული ან ფსიქოტროპული სიმთვრალის მდგომარეობაში, ან იმ სამკურნალო პრეპარატის ზემოქმედებისას, რომელიც აქვეითებს რეაქციას და ყურადღებას.

ВОПРОС 732

ПРАВИЛЬНЫЙ ОТВЕТ: 3

Арფышыгы иашьны икоу ахафы атранспорттә хархәага арныкәара азин имоумаҭ

1

Азин имоуп, уи арфышыгы идикилазар амедицинатә мзызқәа рзы, ахақым ибжьгарала

2

Азин имоуп, уи убри азы заанаты адырра кайтар аполиция иашьашәалоу аматурахы

3

Азин имам

განმარტება:

„საგზაო მოძრაობის შესახებ“ საქართველოს კანონის 21-ე მუხლის მე-15 პუნქტის თანახმად, აკრძალულია სატრანსპორტო საშუალების მართვა ალკოჰოლური, ნარკოტიკული ან ფსიქოტროპული სიმთვრალის მდგომარეობაში, ან იმ სამკურნალო პრეპარატის ზემოქმედებისას, რომელიც აქვეითებს რეაქციას და ყურადღებას.

ВОПРОС 733

ПРАВИЛЬНЫЙ ОТВЕТ: 1

Апсихотропиатә матәашьар здызкылаз ахафы атранспорттә хархәага арныкәара азин имоумаҭ

1

Азин имам

2

Азин имоуп, уи ари ахәшә идикилазар амедицинатә мзызқәа рзы, ахақым ибжьгарала

3

Азин имоуп, уи агәәанызаара ихымҭадоу аҭагылазаашьақәа зегьы рхархәарала деитатуазар

განმარტება:

„საგზაო მოძრაობის შესახებ“ საქართველოს კანონის 21-ე მუხლის მე-15 პუნქტის თანახმად, აკრძალულია სატრანსპორტო საშუალების მართვა ალკოჰოლური, ნარკოტიკული ან ფსიქოტროპული სიმთვრალის მდგომარეობაში, ან იმ სამკურნალო პრეპარატის ზემოქმედებისას, რომელიც აქვეითებს რეაქციას და ყურადღებას.

ВОПРОС 734

ПРАВИЛЬНЫЙ ОТВЕТ: 1

Алкоголь злоу арыжәтә иашьыз ахаҭы атранспорттә хархәага арныкәара азин имоумаҭ

1

Азин имам

2

Азин имоуп, арныкәаҭ Қырттәыла аҭакырадгьыл аҭы дыказар жәларбжьаратәи аитатра инаткны

3

Азин имоуп, уи агәҭанызаара ихымҭадоу аҭагылазаашьақәа зегьы рхархәарала деитатпуазар

განმარტება:

„საგზაო მოძრაობის შესახებ“ საქართველოს კანონის 21-ე მუხლის მე-15 პუნქტის თანახმად, აკრძალულია სატრანსპორტო საშუალების მართვა ალკოჰოლური, ნარკოტიკული ან ფსიქოტროპული სიმთვრალის მდგომარეობაში, ან იმ სამკურნალო პრეპარატის ზემოქმედებისას, რომელიც აქვეითებს რეაქციას და ყურადღებას.

ВОПРОС 735

ПРАВИЛЬНЫЙ ОТВЕТ: 1

Ибаазоу амҭаҭы аитатраан арныкәаҭ иазпұхьагәҭтароупЖ

1

Аҭәиртәҭы иаалырқьаны аанкылага ахархәара ма аласра дула аҭәирта алалара иахқьаны арныкәаҭ амашьына ахылапұшра иҭәызыр калоит

2

Иаалырқьаны аанкылага ахархәара атранспорттә хархәага ақәҭәраара алшара еитнатәуеит

3

Аҭәиртә алалара аан, атранспорттә хархәага ақәҭәраара ашәарта аҭәцара амзызла, иаалырқьаны аанкылага ахархәарала аласра ирмачтәуп

განმარტება:

„საგზაო მოძრაობის შესახებ“ საქართველოს კანონის 25-ე მუხლის მე-10 პუნქტის „თ“ ქვეპუნქტის თანახმად, გზაზე მოძრაობისას მძღოლმა უნდა გაითვალისწინოს შემდეგი გარემოებები: თ) მოსახვევში მუხრუჭის მკვეთრად გამოყენებამ ან/და მაღალი სიჩქარით შესვლამ (განსაკუთრებით გზის სველი ზედაპირის არსებობისას) შესაძლოა გამოიწვიოს სატრანსპორტო საშუალებაზე კონტროლის დაკარგვა.

ВОПРОС 736

ПРАВИЛЬНЫЙ ОТВЕТ: 1

Атранспорттə хархəага акəтəраара ашəарта иаха идуупЖ

1

Акəоура ианалаго

2

Акəа ианауа, уи ианалага аамышьтахь 30 минут раамышьтахь

3

Акəоура ианалгалак

განმარტება:

„საგზაო მოძრაობის შესახებ“ საქართველოს კანონის 25-ე მუხლის მე-10 პუნქტის „ვ“ ქვეპუნქტის თანახმად, გზაზე მოძრაობისას მძღოლმა უნდა გაითვალისწინოს შემდეგი გარემოებები: ვ) წვიმის დაწყებისას გზის ზედაპირი ტალახიანდება და ქმნის მოცურების საშიშროებას, რის გამოც მძღოლმა უნდა შეამციროს სიჩქარე მდორე დამუხრუჭებით.

ВОПРОС 737

ПРАВИЛЬНЫЙ ОТВЕТ: 2

Акəоураан еитатцуа арныкəаа чыдала ихшыа рзишьтроупЖ

1

Аидара имəанызго амашына, избанзар уи ачарт иакəу аидара амəа иакəхар алшоит

2

Ашьакауаа, избанзар уи рыццакра иахкьаны ишəартоу атагылазаашьа калар алшоит

3

Пшьыала еитатцуа атранспорттə хархəага

განმარტება:

„საგზაო მოძრაობის შესახებ“ საქართველოს კანონის 25-ე მუხლის მე-10 პუნქტის „ზ“ ქვეპუნქტის თანახმად, გზაზე მოძრაობისას მძღოლმა უნდა გაითვალისწინოს შემდეგი გარემოებები: ზ) წვიმიან ამინდში მოძრაობისას მძღოლმა განსაკუთრებული ყურადღება უნდა გამოიჩინოს ქვეითთა მიმართ, რადგან მათი შესაძლო სიჩქარის გამო შეიძლება შეიქმნას საფრთხის შემცველი სიტუაცია.

ВОПРОС 738

ПРАВИЛЬНЫЙ ОТВЕТ: 1

Арныкәә, даәа мѳак даныларц азы дтәиуазар, дызныло амѳа алалартафы ашьакауаа рхысырта иҕазар, уи аитатра наигзароупЖ

1

Аласра хәычы ала, иатаххар, даангыланы ахысырта иалалаз ма иану ашьакауаа иоуижьтроуп

2

Иарбанзаалак аласрала, избанзар ахысырта иалалаз ма иану ашьакауаа рҕаҕхҕа аҕыжәара имоуп

3

Аласра ду ала, амѳа абри ацыҕҕааха ирласзаны дахысырц азы

განმარტება:

„საგზაო მოძრაობის შესახებ“ საქართველოს კანონის 25-ე მუხლის მე-2 პუნქტის „ა“ ქვეპუნქტის თანახმად, ქვეითთა გადასასვლელზე ამ კანონის 21-ე მუხლის მე-6 პუნქტით, 33-ე მუხლის მე-2 პუნქტითა და 34-ე მუხლის მე-11 პუნქტით დადგენილ მოთხოვნათა დაცვით უნდა შესრულდეს შემდეგი მოთხოვნები: ა) თუ სატრანსპორტო საშუალებათა მოძრაობა საგზაო უქონიშნით ან მარეგულირებლის მეშვეობით რეგულირდება, მოძრაობის ამკრძალავი სიგნალის დროს მძღოლი უნდა გაჩერდეს ქვეითთა გადასასვლელის წინ ან მის წინ მდებარე განივ მონიშვნასთან, ხოლო როცა მოძრაობის გაგრძელების უფლებას მიიღებს, არ უნდა დააბრკოლოს და საფრთხე არ უნდა შეუქმნას ქვეითთა გადასასვლელზე შესულ ქვეითებს. თუ მძღოლი ასრულებს მოხვევას სხვა გზაზე შესასვლელად, რომლის შესასვლელთანაც მდებარეობს ქვეითთა გადასასვლელი, მან ეს მოხვევა უნდა შეასრულოს მხოლოდ დაბალი სიჩქარით, ხოლო საჭიროების შემთხვევაში უნდა გაჩერდეს და გაატაროს გადასასვლელზე შესული ან შემავალი ქვეითები.

ВОПРОС 739

ПРАВИЛЬНЫЙ ОТВЕТ: 3

Ҷыдалатәи аҭаҭҕәы имамзар, арныкәә, даараза ихәычу аласрала еҕырт атранспорттә хархәаҕакәа аитатрафы дырҕырхаҕахар азин имоумаҢ

1

Азин имоуп, избанзар амѳатә аитатра атаскәа инрыкәырҕшны, икәитымуп ззин иҕоу амаксималтә аласра аҭҭара маҭара

2

Азин имоуп, уи аҭыхәтәантәи арҕьарахьтәи аитатратә җаахәафы деитатцуазар

3

Азин имам

განმარტება:

„საგზაო მოძრაობის შესახებ“ საქართველოს კანონის 33-ე მუხლის მე-3 პუნქტის თანახმად, მძღოლმა განსაკუთრებული საფუძვლის გარეშე მეთისმეტად დაბალი სიჩქარით მოძრაობით არ უნდა გაართულოს სხვა სატრანსპორტო საშუალებების გადაადგილება.

ВОПРОС 740

ПРАВИЛЬНЫЙ ОТВЕТ: 1

Амѡатѣ аитатѣра атаскѣа инрыкѣырѣшны арныкѣаѡ амѡатѣ аитатѣра егырт алахѣылацѣа амѡа рытара ихѣтазар, уи амѡа ритар шитаху иааирѣшыроупЖ

1

Аласра армачра ма аангыларала

2

Абжытѣ ма алашаратѣ ардыргала

3

Абри абилет аѣы еикѣыѣхѣаѣоу
иарбанзаалак ауранагѣарала

განმარტება:

„საგზაო მოძრაობის შესახებ“ საქართველოს კანონის 36-ე მუხლის მე-9 პუნქტის თანახმად, მძღოლმა, რომელმაც ამ კანონის მოთხოვნათა შესაბამისად გზა უნდა დაუთმოს სხვა საგზაო მოძრაობის მონაწილეებს, ვალდებულია გზის დათმობის თაობაზე თავისი განზრახვა ნათლად გამოხატოს სიჩქარის შემცირებით ან გაჩერებით.

ВОПРОС 741

ПРАВИЛЬНЫЙ ОТВЕТ: 3

Алкоголь арныкѣаѡ иреакѣиазы ныррас иамоуиБ

1

Ареакѣиазы анырра амам

2

Ареакѣи аамტა еитѣნатѣუеит

3

Ареакѣи аамტა иазნარѣаუеит

განმარტება:

ალკოჰოლის მიღება ზრდის მძღოლის რეაქციის დროს.

ВОПРОС 742

ПРАВИЛЬНЫЙ ОТВЕТ: 1

Арныкәә ицәанырратә тагылазашыа айтатра ашәартадаразы анырра амоумаҭ

1

Ааи, иамоуп

2

Мап, иамазам

განმარტება:

მძღოლის ემოციური მდგომარეობაზე გავლენას ახდენს მოძრაობის უსაფრთხოებაზე.

ВОПРОС 743

ПРАВИЛЬНЫЙ ОТВЕТ: 1

Арныкәә иааҭсара амѳатә айтатраан уи игәеанызаареи акәҭыртазы илшареи рзы ныррас иамоиҭ

1

Игәеанызаара еитҭхоит, акәҭытра аамҭа
иазхауеит

2

Игәеанызаара еитҭхоит, акәҭытра аамҭа
еитҭхоит

3

Агәеанызаареи акәҭытра аамҭеи рҭ
ырыҭсахуам

განმარტება:

მძღოლის გადაღლილობა მის ყურადღებას აქვეითებს, რეაქციის დრო ზრდის.

ВОПРОС 744

ПРАВИЛЬНЫЙ ОТВЕТ: 1

Атრანспорттә хархәагала аитатра анагзара икәйтүмүпЖ

1

Аусуратә аанкылагатә система пұхастазар

2

Ачаратә система агерметирра еилагазар

3

Абжыхәаеыга пұхастазар

4

Абри абилет ағы еикәыпұхәзоу
иарбанзаалак аҭагылазаашьа аан

განმარტება:

„საგზაო მოძრაობის შესახებ“ საქართველოს კანონის 21-ე მუხლის მე-13 პუნქტის თანახმად, მძღოლს ევრძალება მოძრაობა მუშა სამუხრუჭო სისტემის, საჭის მექანიზმის, სატრანსპორტო საშუალებათა შემადგენლობაში მისაბმელი მოწყობილობის გაუმართაობისას, აგრეთვე დღე-ღამის ბნელ დროს ერთდროულად მწყობრიდან გამოსული (ჩამქრალი) ახლო და შორი განათების ფარებით (ან მათი არარსებობისას) ან/და უკანა საგაბარიტო სინათლეებით იმ გზაზე, რომელზედაც არ არის ხელოვნური განათება ან არასაკმარისი ხილვადობაა. მძღოლის მხარეს არსებული მინასანმენდის უმოქმედობისას აკრძალულია მექანიკური სატრანსპორტო საშუალების მართვა ნისლის, წვიმისა და თოვის დროს.

ВОПРОС 745

ПРАВИЛЬНЫЙ ОТВЕТ: 2

Арныкәа атрანспорттә хархәага агәатарей атехникатә тагылазаашьа аикәыршәарей иуалупЖ

1

Аитатра далагаанза мацара

2

Аитатра далагаанза, иара убас, аитатра аан

3

Аитатра аан мацара

განმარტება:

„საგზაო მოძრაობის შესახებ“ საქართველოს კანონის 21-ე მუხლის მე-12 პუნქტის თანახმად, მძღოლი ვალდებულია მგზავრობის დაწყებამდე შეამოწმოს და მგზავრობისას უზრუნველყოს სატრანსპორტო საშუალების ტექნიკური გამართულობა.

ВОПРОС 746

ПРАВИЛЬНЫЙ ОТВЕТ: 2

Ианылашьцоу, иара убас, алапшбара ианыцэгъоу иапыланы иаауа атранспорттә хархәара аласра игәнахгоитЖ

1

Ииашатәкьаны ишыкоу ацкыс еиханы

2

Ииашатәкьаны ишыкоу ацкыс еитцны

3

Ииашатәкьаны ишыкоу еипш

განმარტება:

დღის ნათელ დროს, შემხვედრი სატრანსპორტო საშუალების სიჩქარეს, ადამიანის თვალი განსაზღვრავს სივრცეში არსებულ სხვა ორიენტირებთან შედარებით (საგზაო ნიშნები, მონიშვნა, გზისპირზე გამწვანება და სხვა), ხოლო დღე-ღამის ბნელ დროს და არასაკმარისი ხილვადობის პირობებში ორიენტირება ხდება მხოლოდ ფარების შუქზე, ამიტომ შემხვედრი სატრანსპორტო საშუალების სიჩქარეს აღვიქვამთ უფრო ნაკლებად, ვიდრე რეალურადაა.

ВОПРОС 747

ПРАВИЛЬНЫЙ ОТВЕТ: 1

Амеханикатә аимадаратә атра змоу атранспорттә хархәага аитатра ианалаго актәи аимадара иаҕакызар, кыраамтатәи аитатра аан абылтәы ахарцъЖ

1

Иазхауеит

2

Еитцхоит

3

Аеаҕсахуам

განმარტება:

მექანიკური გადაცემათა კოლოფის მქონე სატრანსპორტო საშუალების ჩართული პირველი გადაცემით მოძრაობისას სიჩქარე დაბალია, ხოლო ძრავი მუშაობს მაღალი ბრუნთა რიცხვით და საჭიროებს მეტ სანვავს. მოძრაობის დაწყებისას, პირველი გადაცემით ჩართული სატრანსპორტო საშუალების ხანგრძლივი გაქნების დროს სანვავის ხარჯი იზრდება.

ВОПРОС 748

ПРАВИЛЬНЫЙ ОТВЕТ: 1

Атранспорттә хархәага аахәра ашәарта аҕынтә иаҕа ихьчазаауеит уи ахьантара ацентр иҕазарЖ

1

Цаҕа

2

Хыхь

განმარტება:

რაც უფრო მაღლაა განლაგებული სატრანსპორტო საშუალების სიმძიმის ცენტრი მით უფრო ნაკლებია მისი მდგრადობა გადაყირავების წინააღმდეგ, განურჩევლად ტვირთის ხასიათისა. ტვირთიანი სატრანსპორტო საშუალების სიმძიმის ცენტრი ყოველთვის უფრო მაღლაა განლაგებული ვიდრე უტვირთოსი.

ВОПРОС 749

ПРАВИЛЬНЫЙ ОТВЕТ: 3

Аамтакала амашынақәа рацәаны ианейтатцүа амашәыр ашәарта еитцхоит, шәара шәттранспорттә хархәага аласра аттранспорттә аишьтагылаЖ

1

Аласра акыр еиҕазар

2

Аласра акыр еитцызар

3

Аласра иаҕаразар

განმარტება:

მჭიდრო სატრანსპორტო ნაკადში მოძრაობისას ავრიული სიტუაციის წარმოქმნის ალბათობა ნაკლებია, თუ თქვენი სატრანსპორტო საშუალების სიჩქარე იქნება სატრანსპორტო ნაკადის სიჩქარის ტოლი.

ВОПРОС 750

ПРАВИЛЬНЫЙ ОТВЕТ: 1

Амფასრტა асду ақəзар, аґрунттə амѡаѣы аитацра аан атранспорттə хархəага арнықəаѡ деитатцроупЖ

1

Заанаты иаихуа илақəу аибаркреи аласреи
рыла, иаалырқьаны атцэиреи аангылареи
рыда

2

Амѡа атагылазаашьа иашьашəаланы
аибаркреи аласреи цьсахны

განმარტება:

სავალ ნაწილზე ღრმა თოვლის არსებობისას, გრუნტოვან გზაზე მოძრაობის შემთხვევაში სატრანსპორტო საშუალების მძღოლმა უნდა იმოძრაოს წინასწარ შერჩეული გადაცემითა და სიჩქარით გაჩერებების გარეშე, გამორიცხოს საჭის თვლის მკვეთრი მობრუნება.

ВОПРОС 751

ПРАВИЛЬНЫЙ ОТВЕТ: 2

Атцэиртəѣы атранспорттə хархəага аццакра аҳаратəра аан ацентридантə амчЖ

1

Еитцхоит

2

Иазхауеит

3

Аѡацьсахуам

განმარტება:

სატრანსპორტო საშუალების მოსახვევში მოძრაობისას სიჩქარის გაზრდის შემთხვევაში ცენტრიდანული ძალა იზრდება.

ВОПРОС 752

ПРАВИЛЬНЫЙ ОТВЕТ: 3

Аტრანსპორტთა ხარხააგა არნყკააფ ამა იაშა დშანუ იააღრყბანყ იკატარააუა აცყტააха кыаф данылар, уиЖ

1

Знык аанкылага дақаыңғааны аццакра ирмацроуп

2

Изныкымкәа аанкылага дақаыңғааны аццакра ирмацроуп

3

Аццакра имҕсахкәа, дызлацоз ахырхартала аитатра наигзароуп

განმარტება:

თუ სატრანსპორტო საშუალების მძღოლი სწორ გზაზე მოძრაობისას მოულოდნელად მოხვდა მოლიპულ მოკლე მონაკვეთზე, მოძრაობის სიჩქარის შეუცვლელად უნდა გააგრძელოს მოძრაობა იმავე ტრაექტორიით.

ВОПРОС 753

ПРАВИЛЬНЫЙ ОТВЕТ: 1

Азылеикәыршәара иадхәалоу ауадафракәа рҕыхра аамышьтахь, аанкыларатә колодкакәа баазазар, атрანсپорттә хархәага арнқкәаф аанкылага аусура аиташьақәыргыларазыЖ

1

Аитатра нагзаны, шыапыла изныкымкәа апедаль дақаыңғааны аанкыларатә колодкакәа ирбароуп.

2

Деитатроуп аангыларатә нкылага бжала ишьтыху арымаала.

3

Гәыәанрыла деитатроуп, амашына арееира атыңақынза

განმარტება:

წყლის დაბრკოლების გადალახვის შემდეგ სამუხრუტო ხუნდების დასველების შემთხვევაში, სატრანსპორტო საშუალების მუხრუტების ეფექტურობის აღსადგენად, მძღოლმა უნდა გააგრძელოს მოძრაობა და გააშროს სამუხრუტე ხუნდები მუხრუტის სატერფულზე ფეხის მრავალჯერადი ხანმოკლე დაჭერით.

ВОПРОС 754

ПРАВИЛЬНЫЙ ОТВЕТ: 2

Ианылашьцоу, ма алапшбара аныцэгъоу аамтазы, атранспорттə хархəага арныкəаф дызлеитатша аласра иалихроуп, аангыларанза абжəазаараЖ

1

Алапшбара ақəпшылары ианеихау

2

Алапшбара ақəпшылары ианеитцу

განმარტება:

დღე-ღამის ბნელ დროს ან არასაკმარისი ხილვადობის პირობებში, სატრანსპორტო საშუალების მოძრაობის სიჩქარე მძღოლმა უნდა შეარჩიოს ისე, რომ გასაჩერებელი მანძილი იყოს მხედველობის არეზე ნაკლები.

ВОПРОС 755

ПРАВИЛЬНЫЙ ОТВЕТ: 2

Амашына аанкылары иахылѣиааз ақəтəраара аанкыларазы, атранспорттə хархəага арныкəафЖ

1

Аиѣарѣага ирцəароуп

2

Аанкылары дақəытцоуп

3

Аанкылары наигзароуп аанкылага
ақəыңѣəара имѣсахкуа

განმარტება:

დამუხრუჭებით გამოწვეული მოცურების შესაწყვეტად სატრანსპორტო საშუალების მძღოლმა, უნდა შეწყვიტოს დამუხრუჭება.

ВОПРОС 756

ПРАВИЛЬНЫЙ ОТВЕТ: 3

Автотранспорттә хархәагақәа ирзышьақәыргылоу атехникатә ахәарақәа инрықәырғшны, икаломЖ

1

Агежькьаҭҥҥәа зырҭҭәо абрук ма абрухатҭак адымхарҭгы аҭамзаара ма иҭҭәамкәа арххара мацара

2

Агежькьаҭҥҥәа рҭы ашьара аҭазаара мацара

3

Агежькьаҭҥҥәа зырҭҭәо абрук ма абрухатҭак адымхарҭгы аҭамзаара ма иҭҭәамкәа арххареи, иара убас, агежькьаҭҥҥәа рҭы ашьара аҭазаареи

განმარტება:

„ავტოსატრანსპორტო საშუალებების მიმართ წაყენებული ტექნიკური მოთხოვნები, რომლებთან შესაბამისობის დადგენის მიზნითაც ტარდება გზისთვის ვარგისობაზე ტესტირება და მისი ჩატარების მეთოდების“ საქართველოს მთავრობის 2014 წლის 3 იანვარის №30 დადგენილებით დამტკიცებული ტექნიკური რეგლამენტის მე-8 მუხლის მე-6 და მე-7 პუნქტების თანახმად: 6. დაუშვებელია დისკების დასამაგრებელი თუნდაც ერთი ჭანჭიკის ან ქანჩის არქონა ან მათი სუსტი მოჭერა. 7. დაუშვებელია დისკებზე ბზარების არსებობა.

ВОПРОС 757

ПРАВИЛЬНЫЙ ОТВЕТ: 2

Ацәиртаҭы аитатҭра аан ацәира ацентр еҭгы аҭанаҭы еитатҭуа аҭхьатәи, иара убас ацәира аҭанаҭы еитатҭуа ашьтахьтәи амашьынаблақәа рҭнынза ацәира ацентр аҭынтә иҭоу арадиусқәа реиҭшымра хәа иашьтоупЖ

1

Амашьына ацәира арадиус

2

Амашьына адинамикатә коридор

3

Ззин иҭоу амашьына абжьазара

განმარტება:

მოსახვევში მოძრაობისას სატვირთო ავტომობილებისა და ავტობუსების მოძრაობისათვის საჭირო ზოლი მნიშვნელოვნად ფართოვდება. მოხვევისას ავტომობილის წინა თვლები იკავებს მოხვევის ცენტრის სანინაალმდეგო მხარეს, ხოლო ავტომობილის ან მისაბმელის უკანა თვლები მოხვევის ცენტრის მხარეს. მოხვევის ცენტრის სანინაალმდეგო მხარეს მოძრავი წინა და მოხვევის მხარეს მოძრავი უკანა თვლებამდე მოხვევის ცენტრიდან გავლებული რადიუსების სხვაობას ეწოდება ავტომობილის დინამიკური დერეფანი.

ВОПРОС 758

ПРАВИЛЬНЫЙ ОТВЕТ: 3

Амеханиკატე ტრანსპორტტე ჰარხეაგა არნიჭეაშყა აბარტ ახკეა რყინტე რუა იარბან აбылтэы ахарцэ еицазтэуაჲ

1

Ашышыыхэа аласра ардуреи иаразнак аласра армачреи.

2

Иаразнак аласра ардуреи ашышыыхэа аласра армачреи.

3

Ашышыыхэа аласра ардуреи ашышыыхэа аласра армачреи.

განმარტება:

მექანიკური სატრანსპორტო საშუალების მოძრაობისას საწვავის ნაკლებ ხარჯს უზრუნველყოფს მართვის სტილი მდორე აჩქარება მდორე შენელებით.

ВОПРОС 759

ПРАВИЛЬНЫЙ ОТВЕТ: 3

Азынразы азынтэ гежыкэа рхархэара атранспорттэ ჰარხეაгазы ბზიარას იამოიჲ

1

Ипырххоит атранспорттэ ჰარხეაგა განლა აკეტერაара აშერთა

2

Амш зеиушразаалак, атранспорттэ ჰარხეაგა амаксималтэ аласрала аитатра алшоит.

3

Итаау амѡаѡы агежыкэа рыкетераареи абуксирреи ашერთа еитцоит.

განმარტება:

სატრანსპორტო საშუალებაზე ზამთრის საბურავების გამოყენება ზამთრის პერიოდში ამცირებს მოლიკულ გზის საფარზე თვლების სრიალსა და ბუქსაობის შესაძლებლობას.

ВОПРОС 760

ПРАВИЛЬНЫЙ ОТВЕТ: 4

Аитатра ашәартадара аикәыршәаразы аварахьтәи интервал ианбазырхатәуҭ

1

Аласра ду ала иҭылань иаау атранспорттә хархәага авсра мацара аан.

2

Аура ду змоу атранспорттә хархәага авсра мацара аан.

3

Ибаазоу, иҭаау ма ииашам амҭа аҭыҭдәахаҭы аитатра мацара аан

4

Абри абилет аҭы еикәыҭхьазоу аҭагылазаашьақәа зегьы раан.

განმარტება:

მოდრობის უსაფრთხოების უზრუნველსაყოფად გვერდითი ინტერვალის გაზრდა მიზანშეწონილია როგორც მაღალი სიჩქარით შემხვედრი სატრანსპორტო საშუალების გვერდის აქცევისას, ასევე გრძელი სატრანსპორტო საშუალების გვერდის აქცევისას და სველი, მოლიპული ან უსწორმასწორო გზის მონაკვეთზე მოძრაობისას.

ВОПРОС 761

ПРАВИЛЬНЫЙ ОТВЕТ: 1

Аитатра аиҭынгыларатә хырхартә аҭәахәашка аиасрала аҭысра аманиовр аҭацара аан, амашәыртә тагылазаашьа зыхкьо амзызқәа ируакзар алшоит арнықәаҭ ила аиҭынгыларатә хырхартала еитатра атранспорттә хархәага аласра ашьткаараҭ

1

Ииашатәҭыаны ишыҭкоу аҭкыс иаха ихәыҭны.

2

Ииашатәҭыаны ишыҭкоу аҭкыс иаха идууны.

განმარტება:

მოდრობის საპირისპირო მიმართულების ზოლზე გადასვლით გასწრების მანევრის შესრულებისას, საავარიო სიტუაციის შექმნის ერთ-ერთ ძირითადი მიზეზია ის გარემოება, რომ მძღოლი საპირისპირო მიმართულებით მოძრავ სატრანსპორტო საშუალების სიჩქარეს აფასებს, როგორცუფრო ნაკლებს ვიდრე სინამდვილეშია.

ВОПРОС 762

ПРАВИЛЬНЫЙ ОТВЕТ: 2

Амца иаша аҧы, кыраамта аласра ду ала еитацуа атранспорттә хархәага арныкәа аласра игәнигоитЖ

1

Ииашатәкьаны ишыкоу еипш акәымкәа, иаха идуузшәа.

2

Ииашатәкьаны ишыкоу еипш акәымкәа, иаха ихәычушәа.

3

Ииашатәкьаны ишыкоу еипштәкьа.

განმარტება:

სწორ გზაზე, ხანგრძლივი დროის განმავლობაში მაღალი სიჩქარით მოძრაობისას სატრანსპორტო საშუალების სიჩქარეს მძღოლი აღიქვამს უფრო ნაკლებად, ვიდრე სინამდვილეშია.

ВОПРОС 763

ПРАВИЛЬНЫЙ ОТВЕТ: 2

Атранспорттә хархәага аласра азырхара арныкәа илапшхәаазы ныррас иамоиҦ

1

Илапшхәаа иаха итбаахоит.

2

Илапшхәаа иаха итшәахоит.

3

Илапшхәаа аеаҭсахуам.

განმარტება:

სატრანსპორტო საშუალების სიჩქარის გაზრდისას მძღოლის მხედველობის მხედველობის არე ვიწროვდება.

ВОПРОС 764

ПРАВИЛЬНЫЙ ОТВЕТ: 4

Еиқәыпхьа́жоу атагылазаашьақәа ркынтә руа иарбан атранспорттә хархәага арныкәара алшара зырцәгьоҕ

1

Ақәҕытреи ахшыҕыштытреи еитцәзтәуа ахәшәқәа мацара.

2

Ааҕсареи ацәара агхареи мацара.

3

Арҕышыгытәи, алкогольтәи, аҕсихотропиатәи ашьра мацара.

4

Абри абилет аҕы еиқәыпхьа́жоу иарбанзаалак атагылазаашьа

განმარტება:

სატრანსპორტო საშუალებების მართვის უნარის გაუარესება შეიძლება გამოიწვიოს როგორც იმ სამკურნალო პრეპარატის მიღებამ, რომელიც აქვეითებს რეაქციას და ყურადღებას, ასევე ძლიერმა დადლილობამ ან უძილობამ და ალკოჰოლურმა, ნარკოტიკულმა ან ფსიქოტროპულმა თრობამ.

ВОПРОС 765

ПРАВИЛЬНЫЙ ОТВЕТ: 3

Амашәыртә тагылазаашьа аҕцара ашәарта иазхауеитЖ

1

Арныкәаҕ ишахәтоу еиҕш адистанциа ма егырт атранспорттә хархәагақәа ркынза агантә интервал имхьчозар мацара.

2

Арныкәаҕ аманиовр ақатара далагаанза уи ишшәартам аҕәра имгар мацара.

3

Абри абилет аҕы еиқәыпхьа́жоу атагылазаашьақәа зегьы раан.

განმარტება:

საავარიო სიტუაციის წარმოქმნის საფრთხე იზრდება იმ შემთხვევაში, თუ მძღოლი სათანადოდ არ იცავს დისტანციას ან გვერდით ინტერვალს სხვა სატრანსპორტო საშუალებების მიმართ, ასევე თუ მძღოლი მანევრს იწყებს ისე, რომ არ რწმუნდება მის უსაფრთხოებაში.

ВОПРОС 766

ПРАВИЛЬНЫЙ ОТВЕТ: 1

Еиқыпхыажоу атагылазаашыақәа ркынтә руа иарбан арныкәага ачаратә система аҭхастахара ма ииашамкәа арныкәага аиҭкаара иахкьаны абылтәы ахарцъ шацлаз хзырбоҭ

1

Абжыхәаҭыга иалцуа алтәцәаратә аҭлаа еиқәатәа

2

Абжыхәаҭыга иалытәцәо аконденсациатә баазашьар

3

Абри абилет аҭы еиқыпхыажоу иарбанзаалак атагылазаашыа

განმარტება:

ჩამოთვლილი გარემოებიდან, ძრავის კვების სისტემის გაუმართაობაზე ან ძრავის არასწორი რეგულირების შედეგად საწვავის ხარჯის მკვეთრ მომატებაზე მიანიშნებს მაყუჩიდან გამონაბოლქვი მძლავრი მუქი კვამლი.

ВОПРОС 767

ПРАВИЛЬНЫЙ ОТВЕТ: 1

Амотоцикл аҭы аидараҭахәа иабақәтатәуҭ

1

Амотоцикл аидаратә шәыра ма аидаратыҭ.

2

Амотоцикл абензинтра.

3

Амотоцикл аҭскы арҭьаратәи армаратәи аганкәа рҭы, еиқараны ишаны.

განმარტება:

მოტოციკლზე ბარგი შეიძლება განთავსდეს მოტოციკლის საბარგო ჩანთაში ან საბარგულზე.

ВОПРОС 768

ПРАВИЛЬНЫЙ ОТВЕТ: 1

Амотоцикл ატარგyla ჰადა იანაჲდyrგyლო, აბარტ ატაგyლაზააშyაჲჲა იაზჲუხyაგაჲაზაროუჲ

1

ატარგyla ჰადა ატაჲა აკატრან ჲჲჲაზაროუ.

2

ატარგyla ჰადა აჲყyrგylaრა ჲალოიტ აამტა ჲაჲლა მაჲარა.

განმარტება:

ძირითად საყრდენზე მოტოციკლის დაყენებისას, ყურადღება უნდა მიიქცეს გარემოებას, რომ ძირითადი საყრდენის ქვეშ საფარი იყოს მყარი.

ВОПРОС 769

ПРАВИЛЬНЫЙ ОТВЕТ: 4

Амотоцикл аласра ду ала еитатyазар, ганла аиагара аан ашჲარტა იანბაჲყyrტyაჲ

1

Автомѡангага აჲყსრა аан მაჲარა.

2

Ганлатѡи აჲშა ჲგyა ანасyа მაჲარა.

3

Аанყylараан აჲუხატѡи аблаჲჲა რაанყylaგატѡ დისჲჲა რyѡბაგy რუსушyа იანეიჲшым მაჲარა.

4

Абри абилет аჲყ еиჲყyჲუხyაჲოу იარბანзаалаჲ ატაგyლაზააშyа аан

განმარტება:

მოტოციკლის გვერდით გადაადგილების (გადაწევის) საფრთხე მაღალი სიჩქარით მოძრაობისას წარმოიქმნება როგორც ავტომატარებლის გადასწრებისას, ასევე ძლიერი გვერდითი ქარის არსებობისას და თუ დამუხრუჭებისას, წინა თვლის ორივე სამუხრუჭე დისკის მოქმედება განსხვავდება ერთმანეთისაგან.

ВОПРОС 770

ПРАВИЛЬНЫЙ ОТВЕТ: 1

Амотоцикл арныкәәд аматәа җыаҗыа ишәызарҖ

1

Амәатә аитатра егырт алахәылацәа иаха ибзианы дырбоит.

2

Уи ианылашоу аамтазы амәаҕы деитатүазар, амотоцикл аҗхәтәи аган аҕы ааигәа изырлашо аблақәа рҕакра иуалым.

3

Уи аитатра аан амотокәалзхылҗа ахархәара иуалым.

განმარტება:

მოტოციკლის მძღოლის მიერ მკვეთრი ფერების ტასაცმლით სარგებლობის შემთხვევაში იგი უკეთესად შესაძრწევი ხდება საგზაო მოძრაობის სხვა მონაწილეებისათვის.

ВОПРОС 771

ПРАВИЛЬНЫЙ ОТВЕТ: 3

Ианылашьцоу аамтазы аипҗынгыларатә хыртартакынтә иаауа атранспорттә хархәага аблақәа рылашарала аблахкра амч аитатәра амзызла, арныкәәд иқәнагоупҖ

1

Амашына асалон алашара аркра.

2

Иаразнак амашына аанкылареи, амра ае ацәыхьчратә абласаркыа атареи.

3

Излауа ала илаҗш иахигароуп амәеисырта арҗьаратәи аган ашқа.

განმარტება:

დღე-ღამის ბნელ დროს საპირისპირო მიმართულებიდან მომავალი სატრანსპორტო საშუალების ფარების შუქით თვალის მოჭრის სიძლიერის შემცირების მიზნით, მძღოლისათვის მიზანშეწონილია შეძლებისდაგვარად მიმართოს მზერა სავალი ნაწილის მარჯვენა ნაპირის მხარეს.

ВОПРОС 772

ПРАВИЛЬНЫЙ ОТВЕТ: 2

Арныкәә икәҕытра аамта иаанаҕойҕ

1

Ашәарта абара аҕынтә амашына аангылара аҕынза ибжьоу аамта.

2

Ашәарта абара аҕынтә уи аҕаҕаразы ихымҕадоу аҕаҕылазаашыақәа рынаҕзара аҕынза ибжьоу аамта

3

Акселератор аҕаҕа аҕынтә аанкыларатә аҕаҕа ашҕа ашҕапы ааҕаразы иаҕаху аамта.

განმარტება:

მძღოლის რეაქციის დროში იგულისხმება - დრო საფრთხის აღმოჩენიდან მისი თავიდან აცილებისათვის საჭირო ზომების მიღებამდე.

ВОПРОС 773

ПРАВИЛЬНЫЙ ОТВЕТ: 1

Анакәа аан атранспорттә хархәагала еитатҕа арныкәә аҕаҕаҕара рҕынза абжыазаара игәниҕойҕ

1

Ииашатәҕыаны ишыҕоу еиҕш акәымкәа, иаҕа идуушәа.

2

Ииашатәҕыаны ишыҕоу еиҕш акәымкәа, иаҕа ихәычушәа.

3

Ииашатәҕыаны ишыҕоу еиҕштәҕа.

განმარტება:

ნისლიან ამინდში სატრანსპორტო საშუალებით მოძრაობისას მანძილს საგნებამდე აღვიქვამთ უფრო მეტად, ვიდრე რეალურადაა.

Автомобилтә зет анышә иакәшәарЖ

1

Ирласзаны иатцабоит, аҭсабара
иарҭьяшыуам

2

Аматәар хәычкәа рыла еиҭешәшәоит, убри
аҭынтә аекология ианыруам

3

Кыраамтала анышәи аҭрунти иарҭьяшыуеит

განმარტება:

საავტომობილო გეთი ნიადაგში მოხვედრისას იწვევს ნიადაგისა და გრუნტის წყლების ხანგრძლივ დაბინძურებას.

თემა 31:

ადმინისტრაციული კანონი

ВОПРОС 775

ПРАВИЛЬНЫЙ ОТВЕТ: 1

Хылапшрада, ма арахә ахьчара атцаскәа еилаганы амѳа ианыз арахә амѳатә амашәыр иалтцшәаны ааха аиузар ма ипсызарЖ

1

Арныкәаѳ арахә аҭсра ма аахара
иахылѳиааз азарал ахә ахшәара ихәтам

2

Арныкәаѳ арахә аҭсра ма аахара
иахылѳиааз азарал ахә ахшәара ихәтоуп

განმარტება:

„საგზაო მოძრაობის შესახებ“ საქართველოს კანონის 22-ე მუხლის მე-9 პუნქტის თანახმად, თუ საგზაო-სატრანსპორტო შემთხვევის შედეგად დაიღუპა ან დაშავდა პირუტყვი, რომელიც გზაზე უმეტადად უნაღებოდ ან პირუტყვის ძოვების ან გარეკვის წესების დარღვევით იმყოფებოდა, მძღოლი თავისუფლდება მისი დაღუპვით ან დაშავებით მიყენებული ზიანის ანაზღაურების ვალდებულებისაგან.

ВОПРОС 776

ПРАВИЛЬНЫЙ ОТВЕТ: 2

Аоперативтәаҭшааратәи аусҭшааратәи аусмѳаҭҭгәтәкәа рынагзара аамышьтахь, атранспорттә хархәага арныкәаѳ, ахәара калар, аѳныцкәтәи аускәа рминистрра азинмчы змоу ахаҭы агәатаразы иирбароупЖ

1

Игәабзиара шыкәзырҭҭҭәо амедицинатә
аилыркаага

2

Ихатә гәраргага мацара

3

Атранспорттә хархәага ашәкәытәѳра
аилыркаага.

განმარტება:

„საგზაო მოძრაობის შესახებ“ საქართველოს კანონის მე-13 მუხლის პირველი პუნქტის „ბ“ ქვეპუნქტისა და მე-2 პუნქტის თანახმად: 1. გზაზე სატრანსპორტო საშუალების მოძრაობის შემლუდვა ან დროებით შეწყვეტა ხორციელდება: ბ) ცალკეული ოპერატიულ-სამძებრო და საგამოძიებო მოქმედებების ჩასატარებლად; 2. ამ მუხლის პირველი პუნქტის „ბ“ და „გ“ ქვეპუნქტებით გათვალისწინებულ შემთხვევებში სატრანსპორტო საშუალების მძღოლი ვალდებულია მოთხოვნისას საქართველოს შინაგან საქმეთა სამინისტროს უფლებამოსილ პირს შემონგებისათვის წარუდგინოს მხოლოდ პირადობის დამადასტურებელი დოკუმენტი.

„საგზაო მოძრაობის შესახებ“ საქართველოს კანონის 27-ე მუხლის პირველი პუნქტის „გ“ ქვეპუნქტის თანახმად, საგზაო-სატრანსპორტო შემთხვევის მონაწილე მძღოლი ვალდებულია: გ) მომხდარის შესახებ დაუყოვნებლივ აცნობოს საქართველოს შინაგან საქმეთა სამინისტროს სისტემაში შემავალ შესაბამის სამსახურს და, თუ არ არსებობს სამკურნალო დაწესებულებაში მისი მისვლის ან მის მიერ დაშავებულის გადაყვანის გადაუდებელი აუცილებლობა, დარჩეს საგზაო-სატრანსპორტო შემთხვევის ადგილზე და დაელოდოს უფლებამოსილი პირის მისვლას.

Амбատეатранспорттә амашәыр иалахәу арныкәаҭ икалаз атәы ихҭмыркҭақәа идирдырроупЖ

1

Қыртәыла аҕныкәатәи аусқәа рминистрра
иалоу иашьашәалоу аматұра

2

Атыңантәи ахатәхеиҕкааратә орган

3

Қыртәыла аҕьауси, аҕәабзиарахьчарей,
асоциалтә ахьчарей рминистрра

განმარტება:

„საგზაო მოძრაობის შესახებ“ საქართველოს კანონის 27-ე მუხლის პირველი პუნქტის „გ“ ქვეპუნქტის თანახმად, საგზაო-სატრანსპორტო შემთხვევის მონაწილე მძღოლი ვალდებულია: გ) მომხდარის შესახებ დაუყოვნებლივ აცნობოს საქართველოს შინაგან საქმეთა სამინისტროს სისტემაში შემავალ შესაბამის სამსახურს და, თუ არ არსებობს სამკურნალო დაწესებულებაში მისი მისვლის ან მის მიერ დაშავებულის გადაყვანის გადაუდებელი აუცილებლობა, დარჩეს საგზაო-სატრანსპორტო შემთხვევის ადგილზე და დაელოდოს უფლებამოსილი პირის მისვლას.

„საგზაო მოძრაობის შესახებ“ საქართველოს კანონის 27-ე მუხლის მე-2 პუნქტის თანახმად, თუ საგზაო-სატრანსპორტო შემთხვევის შედეგად არავინ დაშავებულა, მძღოლებს, არსებულ გარემოებათა შეფასებით, შეთანხმების საფუძველზე შეუძლიათ წინასწარ შეადგინონ შემთხვევის სქემა, მოაწერონ ხელი და მივიდნენ საპატრულო პოლიციის უახლოეს დანაყოფში ამ ფაქტის გასაფორმებლად.

ВОПРОС 782

ПРАВИЛЬНЫЙ ОТВЕТ: 1

Амღათეატრანსპორტტე ამაშჲყრ აან აზღჲყ ააჲა იმოუზარ, ასჲემა იანეიკადჲრშალაკ, ამღათე ატრანსპორტტე ამაშჲყრ იალაჲუ არნჲკააფჲა, ეიკაშაჲატნჲჲ

1

Ааигға икоу аполициа акәшахы инеины, ари афакт ашәкәы итарыроуп

2

Еиқәшахатроуп аҭхаста ахә ахшәара атагылазаашьақәа рзы, уи аамтазы ааигға икоу аполициа акәшахы анеиреи ари афакт ашәкәы атаѳреи ихымҭадам.

განმარტება:

„საგზაო მოძრაობის შესახებ“ საქართველოს კანონის 27-ე მუხლის მე-2 პუნქტის თანახმად, თუ საგზაო-სატრანსპორტო შემთხვევის შედეგად არავინ დაშავებულია, მძღოლებს, არსებულ გარემოებათა შეფასებით, შეთანხმების საფუძველზე შეუძლიათ წინასწარ შეადგინონ შემთხვევის სქემა, მოაწერონ ხელი და მივიღნენ საპატრულო პოლიციის უახლოეს დანაყოფში ამ ფაქტის გასაფორმებლად.

ВОПРОС 783

ПРАВИЛЬНЫЙ ОТВЕТ: 1

Амღათეატრანსპორტტე ამაშჲყრ იალაჲუ არნჲკააფ, აჲშეტჲყრტაჲყ ანეირა ამჲყლა ამაშჲყრ ატჲჲ აანჲჲრა იკაშჲარ, აჲშეტჲყრტაჲყ უი იუალუჲჲ

1

Ихъзи ижәлеи рәхәаны Җахатә гәраргагеи атранспорттә хархәага ашәкәытаѳратә документи цәырганыТ, илшозар, амашәыр атыҭахь дхынхәыроуп

2

Иара ихәтеи, ааჲა ჲაუჲი, ამაშჲყრ აშაჲატჲეი რჲჲჲჲჲეი რჲჲალაკჲეი იჲჲანი, ამღათეატრანსპორტტე ამაშჲყრ ასჲემა იდირბაროуп

განმარტება:

„საგზაო მოძრაობის შესახებ“ საქართველოს კანონის 27-ე მუხლის მე-3 პუნქტის თანახმად, თუ ამ მუხლის პირველი პუნქტის „გ“ და „ე“ ქვეპუნქტებით განსაზღვრული გარემოებების არსებობისას მძღოლი იძულებულია მიატოვოს საგზაო-სატრანსპორტო შემთხვევის ადგილი სამკურნალო დაწესებულებაში მისვლის აუცილებლობის გამო, იგი ვალდებულია სამკურნალო დაწესებულებაში განაცხადოს თავისი ვინაობა (წარადგინოს პირადობის დამადასტურებელი დოკუმენტი და სატრანსპორტო საშუალების სარეგისტრაციო დოკუმენტები) და, თუ ეს შეუძლებელი არ არის, დაბრუნდეს შემთხვევის ადგილზე.

ВОПРОС 784

ПРАВИЛЬНЫЙ ОТВЕТ: 1

Амფატეატრანსპორტტა амашәыр алахәылацәа, азин мчы змоу ахәынтқарратәи, атыңантәи ахатәхеиҕааратәи аорганқәа рҕынтә, иара убас, азин мчы змоу ахаҕқәа рҕынтә раҕуҕаҕатәи амедицинатә, аиқәырхаратә, ма даҕа цхыраарак аиура азин рымоумаҕ

1

Азин рымоуп

2

Азин рымам

განმარტება:

„საგზაო მოძრაობის შესახებ“ საქართველოს კანონის მე-20 მუხლის პირველი პუნქტის „ბ.დ“ ქვეპუნქტის თანახმად, საგზაო მოძრაობის მონაწილეს უფლება აქვთ კანონმდებლობით დადგენილი წესით უფლებამოსილი სახელმწიფო და ადგილობრივი თვითმმართველობის ორგანოებისაგან, აგრეთვე სხვა უფლებამოსილი პირებისგან მიიღოს პირველადი სამედიცინო, სამაშველო და სხვა დახმარება საგზაო-სატრანსპორტო შემთხვევის დროს.

ВОПРОС 785

ПРАВИЛЬНЫЙ ОТВЕТ: 1

Амфатә амашәыр иалтшәаны ааха хауз ауааҕы изы амедицинатә цхыраара лас ааҕуҕара аан адиспетчер иахәатәупЖ

1

Амфатә амашәыр ахыҕкалаз атыҕтәҕа
Җамға, аҕны аномер, ари атыҕ ирласзаны
изларбаша хырхартакТ, аахақәа зауз ауаа
рхыҕуҕазареи, рыжәлеи, рықәреи,
аҕстазаара адырғақәеи, иара убас, ашыацара
иазку адырғақәеи

2

Амфатә амашәыр ахыҕкалаз атыҕтәҕа
иазааиҕәоу ахырхартәи, аахақәа зауз ауаа
рхыҕуҕазареи, рыжәлеи, рықәреи

განმარტება:

საგზაო-სატრანსპორტო შემთხვევის შედეგად დაშავებულების სასწრაფო სამედიცინო დახმარების გამოძახებისათვის დისპეჩერს უნდა ვაცნობოთ საგზაო-სატრანსპორტო შემთხვევის ზუსტი ადგილი (ქუჩა, სახლის ნომერი და უახლოესი ორიენტირი), დაშავებულთა რაოდენობა, მათი სქესი, მიახლოებითი წლოვანება, სასიცოცხლო ნიშნების არსებობა, ასევე ძლიერი სისხლდენა.

ВОПРОС 786

ПРАВИЛЬНЫЙ ОТВЕТ: 1

Қырттәыла административтә азинеилагарақәа ирызку азақәанейдкыла инақәырқшны, атранспорттә хархәага ала ахәыцқәа рымџангара ашәартадара атасқәа реилагара иахылџаауеитЖ

1

40 лари иақароу ахарақса.

2

50 лари иақароу ахарақса.

3

50 лари иақароу ахарақса ма атранспорттә хархәага арнықәара азин аанкыла 30€-мш рыла.

განმარტება:

საქართველოს ადმინისტრაციული სამართალდარღვევათა კოდექსის 1271-ე მუხლის 11 ნაწილის თანახმად, სატრანსპორტო საშუალებით ბავშვთა გადაყვანის უსაფრთხოების წესების დარღვევა – გამოიწვევს დაჯარიმებას 40 ლარის ოდენობით.

ВОПРОС 787

ПРАВИЛЬНЫЙ ОТВЕТ: 2

Қырттәыла ахәаа ахысра аан, ахазалхратә орган азинмчы змоу ахафы, апассажир, иҟнытқатәи ацәеиҟхәтәқәа ргәатара амзызла, ахазалхратә аорган азинмчы змоу ахафы диццаны, амедицинатә усурташқа дишьтыр азин имоумаҭ

1

Азин имам

2

Азин имоуп, апассажир иҟнытқатәи ацәеиҟхәтәқәа рҟы атауар итәахуеит хәа гәдәрас имазар

განმარტება:

საქართველოს საგადასახადო კოდექსის 2071 მუხლის მე-3 პუნქტის თანახმად, თუ დევლარანტის მიერ საგადასახადო ორგანოში წარდგენილი დოკუმენტები შედგენილია უცხოურ ენაზე და გაუგებარია საგადასახადო ორგანოს უფლებამოსილი პირისათვის, მას უფლება აქვს, მოითხოვოს ამ დოკუმენტების თარგმანი სახელმწიფო ენაზე.

ВОПРОС 788

ПРАВИЛЬНЫЙ ОТВЕТ: 1

Қырттәыла ахәаа ахысра аан апассажи́р ма́зала атауар иаигоит хәа гәәарас дыркызар, уи, ахазалхыртатә орган азинмчы змоу ахафы изтаарақәа рзы атакқатарей иҳәарақәа рынағзарей иҳәтоумаҕ

1

Ихәтоуп

2

Ихәтам

განმარტება:

საქართველოს საგადასახადო კოდექსის 222-ე მუხლის პირველი პუნქტის თანახმად, სასაქონლო ოპერაციის განხორციელებისას საგადასახადო ვალდებულების წარმოშობის დროდ ითვლება საბაჟო დეკლარაციის რეგისტრაციის დღე. თუ საქონლის სასაქონლო ოპერაციაში მოქცევა არ საჭიროებს საბაჟო დეკლარაციის წარდგენას, საგადასახადო ვალდებულების წარმოშობის დროდ ითვლება საბაჟო გამშვებ პუნქტში, საბაჟო ტერმინალში ან საქართველოს ფინანსთა მინისტრის მიერ განსაზღვრულ სხვა ადგილში შესაბამისი დოკუმენტის რეგისტრაციის დღე.

ВОПРОС 789

ПРАВИЛЬНЫЙ ОТВЕТ: 1

Атауар, Қырттәыла ахазалхырта атакырадгғыл изакәанымкәа иалагалазар, ма ахазалхратә орган афы ицәыргамзар, ахазалхратә орган ари атауар аанкыларазы азин амоумаҕ

1

Азин амоуп

2

Азин амазам

განმარტება:

თუ საბაჟო ზედამხედველობის ქვეშ მყოფი საქონელი განადგურდა ან დაზიანდა, საქონლის მფლობელი ვალდებულია, დაუყოვნებლივ შეატყობინოს უახლოეს საბაჟო ორგანოს და წარუდგინოს მას საქონლის განადგურების ან დაზიანების უტყუარი მტკიცებულებები, რომლებიც დამოწმებულია შესაბამისი უფლებამოსილი სახელმწიფო ორგანოს მიერ. სხვა შემთხვევებში საქონელი ჩაითვლება საბაჟო ზედამხედველობიდან უკანონოდ გასულად.

ВОПРОС 790

ПРАВИЛЬНЫЙ ОТВЕТ: 1

Ахәаәеаужьтратә пункт ала Қырттәыла ахәаа иахысуа атранспорттә хархәага арныкәгад ахәааҕы икоу ахазалхратә пункт аҕы аангыларә ихәтоумаҕ

1

Ихәтоуп

2

Ихәтазам

განმარტება:

საქართველოს საგადასახადო კოდექსის 214-ე მუხლის მე-4 პუნქტის თანახმად, საქართველოს საბაჟო საზღვრის გადაკვეთა ნებადართულია მხოლოდ იმ საქონლისათვის, რომლის შემოტანა ან გატანა არ არის აკრძალული.

ВОПРОС 791

ПРАВИЛЬНЫЙ ОТВЕТ: 2

Амҕатәеаужьтратә пункт иҕамзар, Қырттәыла ахазалхырта иахысуа атранспорттә хархәага арныкәгад иуалупЖ

1

Даанымгылакәа, дызлацоз ахырхартала аитатра

2

Даанымгылакәа, ихәаақәцоу ахазалхратә маршрут ала, днеираны дахыкоу атакырадгыл ахазалхратә пункт акынза аитатра

განმარტება:

საქართველოს საგადასახადო კოდექსის 215-ე მუხლის მე-2 პუნქტის თანახმად, საქონელი საბაჟო ზედამხედველობას ექვემდებარება საქართველოს საბაჟო ტერიტორიაზე შემოტანიდან გაფორმების დასრულებამდე, ხოლო მიზნობრივი დანიშნულებით გაფორმებისას – საბაჟო ტერიტორიაზე შემოტანიდან მიზნობრივი დანიშნულების დასრულებამდე.

ВОПРОС 792

ПРАВИЛЬНЫЙ ОТВЕТ: 3

Қырттәыла ахәаа ахысра аан атранспорттә хархәага зыда ҟсыхәа ыҕамыз аанкыла а иазкны излауа ала ирласны адырра кататәупЖ

1

Ааигәазатәи апатрультә полиция а пункт ахь

2

Ааигәазатәи атыҕантәи анапхгаратә орган ахь

3

Ааигәазатәи ахазалхратә орган ахь

განმარტება:

საქართველოს საგადასახადო კოდექსის 220-ე მუხლის მე-2 პუნქტის თანახმად, ერთი საბაჟო დეკლარაციით დეკლარირებული საქონელი გაშვებული უნდა იქნეს ერთდროულად, გარდა გამონაკლისი შემთხვევისა, რომელზედაც გადაწყვეტილებას იღებს საგადასახადო ორგანო.

ВОПРОС 793

ПРАВИЛЬНЫЙ ОТВЕТ: 1

Қырттәыла административтә азинеилагара иазку азақәанейдкыла инақәырҟшны, ауады арыжәтә дашыны атранспорттә хархәага ныҕәйгозарЖ

1

Зықәра назоу арныкәа – атранспорттә хархәага арныкәара азин имырхуеит фымзтәи аҭхәарала, 18 шықәса зхымтц ауады – атранспорттә хархәага арныкәара азин имырхуеит шықәсыктәи аҭхәарала.

2

Зықәра назоу арныкәа – атранспорттә хархәага арныкәара азин имырхуеит хымзтәи аҭхәарала, 18 шықәса зхымтц ауады – атранспорттә хархәага арныкәара азин имырхуеит фымзтәи аҭхәарала.

3

Атранспорттә хархәага арныкәа 200 лари ахараҟса иқәырцоит.

განმარტება:

საქართველოს ადმინისტრაციულ სამართალდარღვევათა კოდექსის 116-ე მუხლის პირველი ნაწილის „ა“ და „ბ“ ქვეპუნქტების თანახმად, სატრანსპორტო საშუალების მართვა ალკოჰოლური სიმთვრალის მდგომარეობაში, ან სატრანსპორტო საშუალების მართვისას საქართველოს კანონმდებლობით დადგენილი წესით ალკოჰოლური სიმთვრალის დასადგენად შემოწმებისათვის თავის არიდება – გამოიწვევს: ა) სატრანსპორტო საშუალების მართვის უფლების 6 თვით შეჩერებას; ბ) 18 წლის ასაკს მიუღწეველი პირისთვის – სატრანსპორტო საშუალების მართვის უფლების 1 წლით შეჩერებას.

Қырттәыла административтә азинеилагара иазку азакәанейдыла инақәырҕшны, арыжәтә дашьны атранспорттә хархәага ахьныкәигоз ақынтә атранспорттә хархәага арныкәаразы ззин аанкылоу ауады, азин иахьынзаанкылоу арыжәтә дашьны амашьына дақәтәарҖ

1

Арныкәа 800 лари иақароу ахараҕса иқәшәоит, иара убас, атранспорттә хархәага арныкәаразы азин аанкыла аамта итегы фымз ацлоит.

2

Арныкәа атранспорттә хархәага арныкәаразы азин имырхуеит.

3

Арныкәа 700 лари иақароу ахараҕса иқәшәоит, иара убас, атранспорттә хархәага арныкәаразы азин аанкыла аамта итегы шықәсык ацлоит.

განმარტება:

საქართველოს ადმინისტრაციული სამართალდარღვევათა კოდექსის 116-ე მუხლის მე-2 ნაწილის თანახმად, იმ პირის მიერ, რომელსაც დადებული აქვს ამ მუხლის პირველი ნაწილით გათვალისწინებული ადმინისტრაციული სახდელი, (შეჩერებული აქვს მართვის უფლება სატრანსპორტო საშუალების ალკოჰოლური სიმთვრალის მდგომარეობაში მართვისთვის), სატრანსპორტო საშუალების მართვის უფლების შეჩერების პერიოდში იმავე ნაწილით გათვალისწინებული სამართალდარღვევის ჩადენა (სატრანსპორტო საშუალების მართვა ალკოჰოლური სიმთვრალის მდგომარეობაში) - გამოიწვევს მძღოლის დაჯარიმებას 700 ლარის ოდენობით და სატრანსპორტო საშუალების მართვის უფლების შეჩერების ვადის 1 წლით გაზრდას.

ВОПРОС 795

ПРАВИЛЬНЫЙ ОТВЕТ: 2

Қырттәыла административтә азинеилагара иазку азакәанейдыла инақәырғшны, арыжәтә ижәны икоу ауады арныкәаразы атранспорттә хархәага итара иахылҕаауеитЖ

1

1500 лари иакароу ахараҕса.

2

1000 лари иакароу ахараҕса.

3

1000 лари иакароу ахараҕсеи, фымз рыла атранспорттә хархәага арныкәара азин аанкылареи.

განმარტება:

საქართველოს ადმინისტრაციული სამართალდარღვევათა კოდექსის 116-ე მუხლის მე-3 ნაწილის თანახმად, სატრანსპორტო საშუალების სამართავად გადაცემა წინასწარი შეცნობით ალკოჰოლური სიმთვრალის მდგომარეობაში მყოფი პირისათვის - გამოიწვევს დაჯარიმებას 1000 ლარის ოდენობით.

ВОПРОС 796

ПРАВИЛЬНЫЙ ОТВЕТ: 1

Қырттәыла административтә азинеилагара иазку азакәанейдыла инақәырғшны, раҕхәтәи азинеилагара аамышьтахь шыкәсык аҕнытҕкала, еитах арыжәтә ижәны икоу ауады арныкәаразы атранспорттә хархәага итара иахылҕаауеитЖ

1

1500 лари иакароу ахараҕса.

2

2000 лари иакароу ахараҕса.

3

1500 лари иакароу ахараҕсеи, фымз рыла атранспорттә хархәага арныкәара азин аанкылареи.

განმარტება:

საქართველოს ადმინისტრაციული სამართალდარღვევათა კოდექსის 116-ე მუხლის მე-4 ნაწილის თანახმად, ამ მუხლის მე-3 ნაწილით გათვალისწინებული სამართალდარღვევის (სატრანსპორტო საშუალების სამართავად გადაცემა წინასწარი შეცნობით ალკოჰოლური სიმთვრალის მდგომარეობაში მყოფი პირისათვის) განმეორებით ჩადენა 1 წლის განმავლობაში – გამოიწვევს დაჯარიმებას 1500 ლარის ოდენობით.

Қырттәыла административтә азинеилагара иазку азакәанейдкыла инақәырғшны, даға еилагарақ азы атранспорттә хархәага арнықәара азин ианаанкылоу аамтазы, арыжәтә ижәны атранспорттә хархәага арнықәара иахылғиаауеитЖ

1

1500 лари иақароу ахарағса.

2

Арнықәағ 1000 лари иқароу ахарағса иқәцареи, фымз рыла атранспорттә хархәага арнықәара азин аанкылареи

3

1000 лари иақароу ахарағса.

განმარტება:

საქართველოს ადმინისტრაციული სამართალდარღვევათა კოდექსის 116-ე მუხლის მე-4² ნაწილის თანახმად, ამ მუხლის პირველი ნაწილით გათვალისწინებული სამართალდარღვევის ჩადენა (სატრანსპორტო საშუალების მართვა ალკოჰოლური სიმთვრალის მდგომარეობაში), როდესაც სატრანსპორტო საშუალების ექსპლუატაციის განმახორციელებელ პირს არ აქვს სატრანსპორტო საშუალების მართვის უფლება ან ეს უფლება შეჩერებული აქვს სხვა დარღვევისათვის, – გამოიწვევს დაჯარიმებას 1000 ლარის ოდენობით.

ВОПРОС 798

ПРАВИЛЬНЫЙ ОТВЕТ: 2

Қырттәыла административтә азинеилагара иазку азакәанейдыла инакәырҭшны, арҭышыгытә ма аҭсихотропиатә матәашьарқәа рыла иашьу ауафы ила атранспорттә хархәага арныкәара, ма атранспорттә хархәага арныкәара иазку Қырттәыла азакәанҭцарала ишыакәырғылоу атасла арҭышыгытә ма аҭсихотропиатә матәашьарқәа рыла ашьра афакт ашыакәырғыларазы агәатара аҭ ахгара иахылҭиаауеитЖ

1

Ҧышықәса рыла атранспорттә хархәага арныкәара азин аанкылара.

2

Хышықәса рыла атранспорттә хархәага арныкәара азин аанкылара.

3

1000 лари иакароу ахараҭсеи хышықәса рыла атранспорттә хархәага арныкәара азин аанкылареи.

განმარტება:

საქართველოს ადმინისტრაციული სამართალდარღვევათა კოდექსის 116-ე მუხლის მე-5 ნაწილის თანახმად, სატრანსპორტო საშუალების მართვა ნარკოტიკული ან ფსიქოტროპული სიმთვრალის მდგომარეობაში, ანდა სატრანსპორტო საშუალების მართვისას საქართველოს კანონმდებლობით დადგენილი წესით ნარკოტიკული ან ფსიქოტროპული სიმთვრალის დასადგენად შემონმუშებისათვის თავის არიდება - გამოიწვევს სატრანსპორტო საშუალების მართვის უფლების 3 წლით შეჩერებას.

ВОПРОС 799

ПРАВИЛЬНЫЙ ОТВЕТ: 3

Қырттәыла административтә азинеилагара иазку азакәанейдыла инакәырҭшны, арҭышыгытә ма аҭсихотропиатә матәашьарқәа рыла иашьу ауафы арныкәаразы атранспорттә хархәага итара иахылҭиаауеитЖ

1

1500 лари иакароу ахараҭса.

2

1000 лари икароу ахараҭсеи шықәсык ала атранспорттә хархәага арныкәара азин аанкылареи

3

1000 лари иакароу ахараҭса.

განმარტება:

საქართველოს ადმინისტრაციული სამართალდარღვევათა კოდექსის 116-ე მუხლის მე-51 ნაწილის თანახმად, სატრანსპორტო საშუალების სამართავად გადაცემა წინასწარი შეცნობით ნარკოტიკული ან ფსიქოტროპული სიმთვრალის მდგომარეობაში მყოფი პირისათვის - გამოიწვევს დაჯარიმებას 1000 ლარის ოდენობით.

ВОПРОС 800

ПРАВИЛЬНЫЙ ОТВЕТ: 1

Қырттәыла административтә азинеилагара иазку азакәанейдкыла инақәырҕшны, амәатә аитатра алахәылацәа ршәартадара еикәзыршәо, амәатә аитатра атасқәа рыхьчара иахылаҕшуа аполиция аусуә иуалуп ауады атранспорттә хархәага арныкәара дақәихырҕЖ

1

Арҕышыҕатә ма аҕсихотропиатә матәашьарқәа идиқылеит хәа шыатанкыла гәәарас димазар, усқан аполиция аусуә, агәатара амзызла, арныкәаҭ днаигароуп Қырттәыла аҭныҕқатәи аусқәа рминистр иҕынтә иашьашәалоу азинмчы змоу ахаҕы иахь.

2

Арыжәтә дашьны дыҕоуп хәа шыатанкыла гәәарас димазар, усқан, аполиция аусуә 15е мш рыла арныкәаҭ ибаандаәтәра ихәтоуп

განმარტება:

საქართველოს ადმინისტრაციული სამართალდარღვევათა კოდექსის 116-ე მუხლის პენიშვნის პირველი ნაწილის თანახმად, პოლიციელი, რომელიც უზრუნველყოფს საგზაო მოძრაობის მონაწილეთა უსაფრთხოებას და ზედამხედველობს საგზაო მოძრაობის წესების დაცვას, ვალდებულია სატრანსპორტო საშუალების მართვას ჩამოაშოროს პირი რომლის მიმართაც არსებობს საკმაო საფუძველი, რომ იგი ნარკოტიკული ან ფსიქოტროპული სიმთვრალის მდგომარეობაშია, და გამოკვლევის მიზნით წარადგინოს საქართველოს შინაგან საქმეთა მინისტრის მიერ საამისოდ უფლებამოსილ პირთან.

ВОПРОС 801

ПРАВИЛЬНЫЙ ОТВЕТ: 1

Қырттәыла административтә азинеилагара иазку азакәанейдкыла инақәырҕшны, арныкәаҭ арыжәтә дашьуп хәа иҕхьазахоитЖ

1

Арныкәаҭ ишья иалазар 0,3 промилле еиҳаны аетанол.

2

Арныкәаҭ ишья иалазар 0,2 промилле ма 0,2 промилле еиҳаны аетанол.

3

Арныкәаҭ ишья иалазар 0,1 промилле еиҳаны аетанол.

განმარტება:

საქართველოს ადმინისტრაციული სამართალდარღვევათა კოდექსის 116-ე მუხლის პენიშვნის მე-10 ნაწილის თანახმად, ალკოჰოლური სიმთვრალის მდგომარეობად მიიჩნევა მძღოლის სისხლში 0,3 პრომილეზე მეტი ოდენობით ეთანოლის შემცველობა.

ВОПРОС 802

ПРАВИЛЬНЫЙ ОТВЕТ: 3

Қырттәыла административтә азинеилагара иазку азакәанейдкыла инақәырғшны, амеханикатә транспорттә хархәага арныкәара аан арныкәаҭ амобилтә еиладара ахархәага ихы иаирхәозар, уи иахылҭиаауеитҖ

1

Хымз рыла атранспорттә хархәага арныкәара азин аанкыларა

2

50 лари иакароу ахараҭса.

3

10 лари иакароу ахараҭса.

განმარტება:

საქართველოს ადმინისტრაციული სამართალდარღვევათა კოდექსის 118²-ე მუხლის თანახმად, მექანიკური სატრანსპორტო საშუალების მართვის დროს მძღოლის მიერ მობილური კომუნიკაციის საშუალებით სარგებლობა- გამოიწვევს დაჯარიმებას 10 ლარის ოდენობით.

ВОПРОС 803

ПРАВИЛЬНЫЙ ОТВЕТ: 1

Қырттәыла административтә азинеилагара иазку азакәанейдкыла инақәырғшны, атранспорттә хархәага арныкәара азин змам ма егырт аилагарақәа рзы ззин аанкылоу ауаҭы ила атранспорттә хархәага арныкәара иахылҭиаауеитҖ

1

Атранспорттә хархәага зхы иазырхәаз ахаҭы 500 лари иакароу ахараҭса икәшәოит.

2

Атранспорттә хархәага зхы иазырхәаз ахаҭы 1000 лари иакароу ахараҭса икәшәოит

3

Атранспорттә хархәага зтәу ауаҭы 1000 лари иакароу ахараҭса икәшәოит, уи зхы иазырхәаз ауаҭы ажәала агәеанҭара иრთოит.

განმარტება:

საქართველოს ადმინისტრაციული სამართალდარღვევათა კოდექსის 121-ე მუხლის პირველი ნაწილის თანახმად, სატრანსპორტო საშუალების მართვა პირის მიერ, რომელსაც არ აქვს სატრანსპორტო საშუალების მართვის უფლება ან ეს უფლება შეჩერებული აქვს სხვა დარღვევისათვის, - გამოიწვევს სატრანსპორტო საშუალების ექსპლუატაციის განმახორციელებელი პირის დაჯარიმებას 500 ლარის ოდენობით.

ВОПРОС 804

ПРАВИЛЬНЫЙ ОТВЕТ: 3

Қырттәыла административтә азинеилагара иазку азакәанейдкыла инакәырҭшны, атранспорттә хархәага арныкәа иҭырху атранспорттә хархәага арныкәара агәраргага закәандарала ихы иаирхәар, уи икәшәоитҖ

1

15ემშ ркынза административтә баандаџтәра.

2

100 лари иакароу ахараҭсеи ажәала агәе антцареи.

3

150 лари иакароу ахараҭса.

განმარტება:

საქართველოს ადმინისტრაციული სამართალდარღვევათა კოდექსის 1211-ე მუხლის პირველი ნაწილის თანახმად, სატრანსპორტო საშუალების მძღოლის მიერ აღრე დაკარგული ან დაზიანებული და მის სანაცვლოდ გაცემული სატრანსპორტო საშუალებათა მართვის მოწმობებით ერთდროულად სარგებლობა ან გაუქმებული სატრანსპორტო საშუალების მართვის მოწმობით უკანონოდ სარგებლობა ან/და პირის მიერ სატრანსპორტო საშუალების მართვის მოწმობის დაკარგვის, დაზიანების ან განადგურების შესახებ უფლებამოსილი ორგანოსათვის ცრუ ინფორმაციის მიწოდება სანაცვლო სატრანსპორტო საშუალების მართვის მოწმობის მიღების მიზნით – გამოიწვევს დაჯარიმებას 150 ლარის ოდენობით.

ВОПРОС 805

ПРАВИЛЬНЫЙ ОТВЕТ: 1

Қырттәыла административтә азинеилагара иазку азакәанейдкыла инакәырҭшны, ахәынтқарратә аномертә дырга ада ма еакала иҭсаху ахәынтқарратә аномертә дыргала, иара убас, аҭшатә саркыаҭы ишьақәырғылоу ахәынтқарратә аномертә дыргала атранспорттә хархәага арныкәара иахылҭиаауеитҖ

1

100 лари иакароу ахараҭса.

2

100 лари иакароу ахараҭсеи 15ემშ ркынза административтә баандаџтәреи.

3

50 лари иакароу ахараҭса.

განმარტება:

საქართველოს ადმინისტრაციული სამართალდარღვევათა კოდექსის 122-ე მუხლის პირველი ნაწილის თანახმად, სატრანსპორტო საშუალების მართვა წინასწარი შეცნობით სახელმწიფო სანომრე ნიშნის გარეშე, ან სხვაგვარად შეცვლილი სახელმწიფო სანომრე ნიშნით, ან სატრანსპორტო საშუალების საქარე მინაზე დამაგრებული სახელმწიფო სანომრე ნიშნით -გამოიწვევს დაჯარიმებას 100 ლარის ოდენობით.

ВОПРОС 806

ПРАВИЛЬНЫЙ ОТВЕТ: 2

Қырттәыла административтә азинеилагара иазку азакәанейдыла инақәырғшыны, амәәттранспорттә амашәыр иалахәу арныкәа амашәыр ахықалаз атығ аанижыыр ма закәанла иазғұхәағәтоу атағылазашыақәа рыда амәәттранспорттә амашәыр ахықалаз атығ атранспорттә хархәага иалигар, уи иахылғиаауейтЖ

1

Хымз рқынза административтә баандаәтәра.

2

250 лари иақароу ахарағса.

3

200 лари иақароу ахарағсеи 15-мш рқынза административтә баандаәтәрей.

განმარტება:

საქართველოს ადმინისტრაციული სამართალდარღვევათა კოდექსის 123-ე მუხლის პირველი ნაწილის თანახმად, საგზაო-სატრანსპორტო შემთხვევის მონაწილე მძღოლის მიერ შემთხვევის ადგილის მიტოვება ან საგზაო-სატრანსპორტო შემთხვევის მონაწილე სატრანსპორტო საშუალების შემთხვევის ადგილიდან გადაადგილება, გარდა კანონით გათვალისწინებული შემთხვევებისა, - გამოიწვევს დაჯარიმებას 250 ლარის ოდენობით.

ВОПРОС 807

ПРАВИЛЬНЫЙ ОТВЕТ: 1

Қырттәыла административтә азинеилагара иазку азакәанейдыла инақәырғшыны, амәәтә айтатра ашәартадара еикәзыршәо, амәәтә айтатра атасқәа рыхьчара иахылағшуа аполиция аусуғ атранспорттә хархәага аанкылара иазкны икайтқаз адта анамғзара иахылғиаауейтЖ

1

300 лари иақароу ахарағса ма шықәсык ала атранспорттә хархәага арныкәара азин аанкылара.

2

500 лари иақароу ахарағса ма хышықәса рыла атранспорттә хархәага арныкәара азин аанкылара.

3

1000 лари иақароу ахарағса.

განმარტება:

საქართველოს ადმინისტრაციული სამართალდარღვევათა კოდექსის 123-ე მუხლის მე-2 ნაწილის თანახმად, სატრანსპორტო საშუალების გაჩერების შესახებ იმ პოლიციელის მოთხოვნის შეუსრულებლობა, რომელიც უზრუნველყოფს საგზაო მოძრაობის მონაწილეთა უსაფრთხოებას და ზედამხედველობს საგზაო მოძრაობის წესების დაცვას, - გამოიწვევს დაჯარიმებას 300 ლარის ოდენობით ან სატრანსპორტო საშუალების მართვის უფლების 1 წლით შეჩერებას.

ВОПРОС 808

ПРАВИЛЬНЫЙ ОТВЕТ: 3

Қырттәыла административтә азинеилагара иазку азакәанейдкыла инақәырғшны, атранспорттә хархәага арныкәаф ила айтатцразы ишыақәырғылоу аласра аихатәра сааткала 15 км. еихау аласрала иахылҕаауеитЖ

1

Ажәала агәәанцара.

2

10 лари иақароу ахараҕса.

3

50 лари иақароу ахараҕса.

განმარტება:

საქართველოს ადმინისტრაციული სამართალდარღვევათა კოდექსის 125-ე მუხლის პირველი ნაწილის თანახმად, სატრანსპორტო საშუალების მძღოლის მიერ მოძრაობის დადგენილი სიჩქარის გადაჭარბება 15 კმ/სთ-ზე მეტი სიჩქარით - გამოიწვევს დაჯარიმებას 50 ლარის ოდენობით.

ВОПРОС 809

ПРАВИЛЬНЫЙ ОТВЕТ: 3

Қырттәыла административтә азинеилагара иазку азакәанейдкыла инақәырғшны, атранспорттә хархәага арныкәаф ила айтатцразы ишыақәырғылоу аласра, сааткала 15 км. еихау аласрала аихатәра иахкәаны амашәыртә тагылазаашыа калазар ма айтатцра иаҕырхагазар, уи иахылҕаауеитЖ

1

30смш ркынза административтә баандаџтәра.

2

1000 лари иақароу ахараҕса.

3

250 лари иақароу ахараҕса.

განმარტება:

საქართველოს ადმინისტრაციული სამართალდარღვევათა კოდექსის 125-ე მუხლის მე-4 ნაწილის თანახმად, ამ მუხლის პირველი ნაწილით გათვალისწინებული სამართალდარღვევა (სატრანსპორტო საშუალების მძღოლის მიერ მოძრაობის დადგენილი სიჩქარის გადაჭარბება 15 კმ/სთ-ზე მეტი სიჩქარით), რომელსაც მოჰყვა საავარიო ვითარების შექმნა ან მოძრაობის შეფერხება, -გამოიწვევს დაჯარიმებას 250 ლარის ოდენობით.

Қырттәыла административтә азинеилагара иазку азакәанейдыла инақәырғшны, атранспорттә хархәага, аидара, амџа, амџатә ма даеа шыақәгылартак, даеа мазарак рыҭхастахара ма ауады иаахара зыхъяз, атранспорттә хархәага арныкәаф ила аитатҭразы ишыақәыргылоу аласра, сааткала 15 км. еихау аласрала аихатәра иахылҭиаауеитЖ

1

Шықәсык ала атранспорттә хархәага арныкәара азин аанкыларა.

2

500 лари иақароу ахараҭса ма шықәсык ала атранспорттә хархәага арныкәара азин аанкыларა

3

500 лари иақароу ахараҭса ма 15смш ркынҭа административтә баандаџтәра.

განმარტება:

საქართველოს ადმინისტრაციული სამართალდარღვევათა კოდექსის 125-ე მუხლის მე-5 ნაწილის თანახმად, ამ მუხლის პირველი ნაწილით გათვალისწინებული სამართალდარღვევა (სატრანსპორტო საშუალების მძღოლის მიერ მოძრაობის დადგენილი სიჩქარის გადაჭარბება 15 კმ/სთ-ზე მეტი სიჩქარით), რომელსაც მოჰყვა სატრანსპორტო საშუალების, ტვირთის, გზის, საგზაო თუ სხვა ნაგებობის, სხვა ქონების ან ადამიანის სხეულის მსუბუქი დაზიანება, –გამოიწვევს სატრანსპორტო საშუალების მართვის უფლების 1 წლით შეჩერებას.

ВОПРОС 811

ПРАВИЛЬНЫЙ ОТВЕТ: 3

Қыртәыла административтә азинеилагара иазку азакәанейдыла инакәырҭшны, арныкәаф ила ашыақауаа рхысырта ахысра атҭаси, амәатә дырга ма амәатә азгәатә ахәарақәеи реилагара ма амотоциклла аума даеа транспорттә хархәагак ала аума, гәыҭла аитатра аеалархәра амәатә аитатра иаҭырхагазар ма аитатразы ишәартазар, уи иахылҭиаауейтЖ

1

Ажәала агәеантара.

2

50 лари иақароу ахараҭса.

3

20 лари иақароу ахараҭса.

განმარტება:

საქართველოს ადმინისტრაციული სამართალდარღვევათა კოდექსის 125-ე მუხლის მე-6 ნაწილის თანახმად, მძღოლის მიერ ქვეითთა გადასასვლელის გავლის, საგზაო ნიშნის ან საგზაო მონიშვნის, ბუქსირების, გარე სანათი ხელსაწყოთი, ხმოვანი სიგნალით ან საავარიო შუქსიგნალიზაციით სარგებლობის, სასწავლო სვლის, საცხოვრებელ ზონაში ან გზაზე მოძრაობის წესების, სამარშრუტო სატრანსპორტო საშუალების მოძრაობის პრიორიტეტის ან/და საჭაპანო ტრანსპორტის მართვის წესების დარღვევა, ან მოტოციკლით ან სხვა სატრანსპორტო საშუალებით ჯგუფურ მოძრაობაში მონაწილეობა, რაც აფერხებს საგზაო მოძრაობას ან საშიშროებას უქმნის მოძრაობის უსაფრთხოებას, –გამოიწვევს დაჯარიმებას 20 ლარის ოდენობით.

ВОПРОС 812

ПРАВИЛЬНЫЙ ОТВЕТ: 2

Қыртәыла административтә азинеилагара иазку азакәанейдыла инакәырҭшны, амәеисыртаҭы атранспорттә хархәагакәа ртыҭ аанкылара, аитатра алагара ма аманиовр ақатара атҭаскәа реилагара иахылҭиаауейтЖ

1

100 лари иақароу ахараҭса.

2

50 лари иақароу ахараҭса.

3

15смш рқынза атранспорттә хархәага арныкәара азин аанкыларა

განმარტება:

საქართველოს ადმინისტრაციული სამართალდარღვევათა კოდექსის 125-ე მუხლის მე-6 ნაწილის თანახმად, გზის სავალ ნაწილზე სატრანსპორტო საშუალებათა განლაგების, მოძრაობის დაწყების ან/და მანევრირების წესების დარღვევა - გამოიწვევს დაჯარიმებას 50 ლარის ოდენობით.

Қырттәыла административтә азинеилагара иазку азакәанейдкыла инақәырҕшны, аиасразы аҕыжәара змоу атранспорттә хархәага аҕырхагахара иахылҕаауеитЖ

1

Шықәсык ала атранспорттә хархәага арныкәара азин аанкыларა.

2

50 лари иақароу ахараҕса.

3

100 лари иақароу ахараҕса ма хымз рыла атранспорттә хархәага арныкәара азин аанкылара.

განმარტება:

საქართველოს ადმინისტრაციული სამართალდარღვევათა კოდექსის 125-ე მუხლის მე-7 ნაწილის თანახმად, მარეგულირებლის ან შუქნიშნის ამკრძალავ ნიშანზე გავლის წესების, პრიორიტეტული („დაუთმე გზა“, „მოძრაობა გაუჩერებლად აკრძალულია“) ან ამკრძალავი („შესვლა აკრძალულია“, „მოძრაობა აკრძალულია“) ნიშნის მოთხოვნის დაუცველობა, გასწრების, გზაჯვარედინის, რკინიგზაზე გადასასვლელის გავლის წესების დარღვევა, გავლის უპირატესობის მქონე სატრანსპორტო საშუალებისათვის დაბრკოლების შექმნა – გამოიწვევს დაჯარიმებას 50 ლარის ოდენობით.