

# თეორია.On.ge

## მართვის მოწმობის გამოცდის ბილეთები



C კატეგორია



Аԥсшәа

თემა 1:

მძღოლის, მგზავრის და ქვეითის მოვალეობა,  
საცნობი ნიშნები, კონვენცია

---





I



II



III

Абарт адыргакәа ркынтә руа иарбан жәларбжьаратәи аитатраҭы икоу, Қырттәылаҭы ашәкәы итаҭу атранспорттә хархәага «Ашәкәы итазыҭыз ахәынтқарра чыдалатәи адырга»ҭ

1

I

2

II

3

III

### განმარტება:

„საგზაო მოძრაობის შესახებ“ საქართველოს კანონის მე-19 მუხლის მე-2 პუნქტის „გ“ ქვეპუნქტის თანახმად, „მარეგისტრირებული სახელმწიფოს განმასხვავებელი ნიშანი“ - საერთაშორისო მოძრაობაში მყოფი საქართველოში რეგისტრირებული სატრანსპორტო საშუალების განმასხვავებელი ნიშანი. ნიშანი არის ელიფსის ფორმის, რომლის ღერძების სიგრძე არანაკლებ 0,175მ X 0,115 მ-ია. ნიშანში ჩაწერილია საქართველოს საერთაშორისო კოდი „GE“. ლათინური ასოების სიმაღლე უნდა იყოს არანაკლებ 0,08 მ-ისა. ისინი გამოსახულია არა ნაკლებ 0,01 მ-ის სიგანის შტრიხებით. ასოები დაიტანება შავი საღებავით თეთრ ფონზე (თეთრი ფონი შეიძლება შექამრეკლი მასალისგან იყოს დამზადებული). სატრანსპორტო საშუალებაზე ნიშანი ისე უნდა დამაგრდეს რომ ის რეგისტრაციის ნომრად (სახელმწიფო სანომრე ნიშნად) არ იქნეს აღთქმული ან არ გაუარესდეს მისი წაკითხვა.

## ВОПРОС 2

ПРАВИЛЬНЫЙ ОТВЕТ: 3

Арныкәә амеханикатә транспорттә хархәага арныкәара азин имамЖ

1

Иашьашәалоу арныкәара азин анаанкылоу мацара.

2

Иашьашәалоу арныкәара азин ианимху ма ианаңырху мацара.

3

Иашьашәалоу арныкәара азин аанкылазар, иара убас, азин имырхзар ма иаңырхзар.

## განმარტება:

„საგზაო მოძრაობის შესახებ“ საქართველოს კანონის 21-ე მუხლის მე-3 პუნქტის თანახმად, მძღოლს უნდა ჰქონდეს სატრანსპორტო საშუალების მართვისათვის საჭირო აუცილებელი ცოდნა და უნარ-ჩვევები. თუ სატრანსპორტო საშუალების მართვა დასაშვებია მხოლოდ საქართველოს კანონმდებლობით განსაზღვრული წესით შესაბამისი მართვის უფლების მინიჭების შემდეგ, მძღოლს ეკრძალება ამ კატეგორიის ან ქვეკატეგორიის სატრანსპორტო საშუალების მართვა შესაბამისი მართვის უფლების მოპოვების გარეშე, აგრეთვე ამ უფლების შეჩერების, ჩამორთმევის ან შეწყვეტის (გაუქმების) შემთხვევაში.

## ВОПРОС 3

ПРАВИЛЬНЫЙ ОТВЕТ: 1

Арныкәә алкогольтә, арфышыгытә, ма аҭсихотроптәи хархәагала дашьуп хәа агәдара иҭказар, Қырттәыла аҭныҭкатәи аускәа рминистрра азинмчы змоу ахаҭы ихәарала, абри арныкәә агәәтарақәа дырхысырц ихәтоумаҭ

1

Ихәтоуп

2

Ихәтам

## განმარტება:

„საგზაო მოძრაობის შესახებ“ საქართველოს კანონის 21-ე მუხლის მე-16 პუნქტის თანახმად, თუ არსებობს საკმაო საფუძველი, რომ მძღოლი ალკოჰოლური, ნარკოტიკული ან ფსიქოტროპული სიმთვრალის მდგომარეობაშია, მძღოლი ვალდებულია საქართველოს შინაგან საქმეთა სამინისტროს უფლებამოსილი პირის მოთხოვნის საფუძველზე, საქართველოს კანონმდებლობით დადგენილი წესით გაიაროს შემოწმება სიმთვრალე-სიფხიზლის დასადგენად.

## ВОПРОС 4

ПРАВИЛЬНЫЙ ОТВЕТ: 3

Атранспорттә хархәага ашәкәы атаџреи арныкәара азини шыақәзырџџәо арныкәаџ идокументкәа  
Қырттәыла аҟақырадгьыл аҟы ирыцзароуп знаҟаҟаџу аиҟага, адокументкәаЖ

1

Ихартәаамзар ақыртуа нбанкәа рыла, аха  
ихартәаазар алатин нбанкәа рыла.

2

Ихартәаамзар алатин нбанкәа рыла, аха  
ихартәаазар ақыртуа нбанкәа рыла.

3

Ихартәаамзар ақыртуа ма алатин нбанкәа  
рыла.

## განმარტება:

„საგზაო მოძრაობის შესახებ“ საქართველოს კანონის 21-ე მუხლის მე-17 პუნქტის „ა“ და „ბ“ ქვეპუნქტების თანახმად, ამ კანონის 54-ე მუხლით განსაზღვრული კატეგორიის ან ქვეკატეგორიის სატრანსპორტო საშუალების მძღოლი ვალდებულია თან იქონიოს, ხოლო საქართველოს შინაგან საქმეთა სამინისტროს უფლებამოსილი პირის მოთხოვნის შემთხვევაში გააჩეროს სატრანსპორტო საშუალება და ამ პირს წარუდგინოს: ა) საქართველოს ტერიტორიაზე იურიდიული ძალის მქონე იმ კატეგორიის ან ქვეკატეგორიის სატრანსპორტო საშუალების მართვის უფლების დამადასტურებელი დოკუმენტი, რომელსაც იგი მართავს, აგრეთვე ამ სატრანსპორტო საშუალების რეგისტრაციის დამადასტურებელი დოკუმენტი (თუ საქართველოს კანონმდებლობით სხვა რამ არ არის გათვალისწინებული); ბ) ამ პუნქტის „ა“ ქვეპუნქტით განსაზღვრული დოკუმენტის/დოკუმენტების სათანადოდ დამონშებული თარგმანი, თუ აღნიშნულ დოკუმენტში/დოკუმენტებში ასახული მონაცემები შესრულებული არ არის ქართული ან ლათინური ასოებით.

## ВОПРОС 5

ПРАВИЛЬНЫЙ ОТВЕТ: 1

Амашьына аҟшәма даныкәам аамтәзы уи итранспорттә хархәага ала ахәынҟқарратә ахәаа ахысра ма  
Қырттәыла аиурисдикция ахьыкәам аҟақырадгьыл алаҟара аан, уи арныкәаџ ари атранспорттә хархәага  
амазаара ма ахархәара азин изто ашәкәы имазар ихәтоумаҟ

1

Ихәтоуп

2

Ихәтам

## განმარტება:

„საგზაო მოძრაობის შესახებ“ საქართველოს კანონის 21-ე მუხლის მე-17 პუნქტის „გ“ ქვეპუნქტის თანახმად, ამ კანონის 54-ე მუხლით განსაზღვრული კატეგორიის ან ქვეკატეგორიის სატრანსპორტო საშუალების მძღოლი ვალდებულია თან იქონიოს, ხოლო საქართველოს შინაგან საქმეთა სამინისტროს უფლებამოსილი პირის მოთხოვნის შემთხვევაში გააჩეროს სატრანსპორტო საშუალება და ამ პირს წარუდგინოს მოცემული სატრანსპორტო საშუალების ფლობის ან განკარგვის ან მისით სარგებლობის უფლებამოსილების დამადასტურებელი დოკუმენტი -მესაკუთრის არყოფნის შემთხვევაში მისი სატრანსპორტო საშუალებით სახელმწიფო საზღვრის გადაკვეთის ან ქვეყნის იმ ტერიტორიაზე გადასვლის შემთხვევაში, სადაც საქართველოს იურისდიქცია არ ვრცელდება.

## ВОПРОС 6

ПРАВИЛЬНЫЙ ОТВЕТ: 3

«Жәларбжыаратәи автомобилтә аитатра назыгзо ахархәагәа рекипажкәа русура иазку» Европатәи аикәшахәтрала ишыақәгылоу ахәарақәа инрықәырҭшыны, жәларбжыаратәи аитатра иалахәу арныкәа иуалупЖ

1

Атехникатә ганахьала еикәыршәоу атахограф ала аитатра мацара

2

Аусуреи аҭсшьареи ррежим ахьчара мацара

3

Атехникатә ганахьала еикәыршәоу атахограф ала аитатреи аусуреи аҭсшьареи ррежим ахьчареи

## განმარტება:

„საგზაო მოძრაობის შესახებ“ საქართველოს კანონის 21-ე მუხლის მე-19 პუნქტის თანახმად, საერთაშორისო მოძრაობაში მონაწილე მძღოლი ვალდებულია უზრუნველყოს „საერთაშორისო საავტომობილო მიმოსვლის მწარმოებელი საშუალებების ეკიპაჟების მუშაობის შესახებ“ ევროპის შეთანხმებით (AETR) დადგენილი მოთხოვნების შესაბამისად ტექნიკურად გამართული საკონტროლო მოწყობილობით (ტაქოგრაფით) მოძრაობა, აგრეთვე შრომისა და დასვენების რეჟიმის დაცვა.

## ВОПРОС 7

ПРАВИЛЬНЫЙ ОТВЕТ: 3

Апассажир азин имамЖ

1

Еитатҭуа атранспорттә хархәага арныкәа даәа уск азы ихшыадышьтра аиагара

2

Атранспорттә хархәага арныкәа амашьына арныкәараҭы иҭырхагахара

3

Еитатҭуа атранспорттә хархәага арныкәа даәа уск азы ихшыадышьтра аиагареи атранспорттә хархәага арныкәа амашьына арныкәараҭы иҭырхагахареи

## განმარტება:

„საგზაო მოძრაობის შესახებ“ საქართველოს კანონის 23-ე მუხლის მე-2 პუნქტის „ა“ და „ბ“ ქვეპუნქტების თანახმად, მგზავრს ევრძალება: ა) მოძრავი სატრანსპორტო საშუალების მართვისას მძღოლის ყურადღების სხვა რამეზე გადატანა; ბ) მძღოლისათვის სატრანსპორტო საშუალების მართვაში ხელის შეშლა.

## ВОПРОС 8

ПРАВИЛЬНЫЙ ОТВЕТ: 3

Амფასრტა даналало ашьақауаѠЖ

1

Излауа ала игѣанызароуп

2

Атранспорттѣ хархѣагақѣа реитатра мзызда  
даңырхагамхароуп

3

Излауа ала игѣанызароуп, иара убас,  
атранспорттѣ хархѣагақѣа реитатра мзызда  
даңырхагамхароуп

## განმარტება:

„საგზაო მოძრაობის შესახებ“ საქართველოს კანონის 24-ე მუხლის პირველი პუნქტის თანახმად, გარდა ამ კანონით გათვალისწინებული შემთხვევებისა ქვეითმა გადაადგილებისათვის არ უნდა ისარგებლონ სავალი ნაწილით. სავალ ნაწილზე გადაადგილებისას მან უნდა გამოიჩინოს მაქსიმალური სიფრთხილე, უსაფუძვლოდ არ უნდა შეაფერხოს და არ უნდა გააძნელოს სატრანსპორტო საშუალებების მოძრაობა.

## ВОПРОС 9

ПРАВИЛЬНЫЙ ОТВЕТ: 1

Амѣахѣастеи ашьақамѣеи иқамзар, ма урт рхархѣаразы алшара ықамзар, ашьақауаѠ амѣасыртѣ  
далалар ма дазааигѣахар қаломѣѠ

1

Иқалоит

2

Иқалом

## განმარტება:

„საგზაო მოძრაობის შესახებ“ საქართველოს კანონის 24-ე მუხლის მე-4 პუნქტის თანახმად, ქვეითთა ბილიკის, ტროტუარისა და გზისპირის არარსებობის ან მათი გამოყენების შეუძლებლობის შემთხვევაში ქვეითს შეუძლია გადაადგილდეს გზის სავალ ნაწილზე. თუ არსებობს ველობილიკი და მოძრაობის ინტენსივობა ამის საშუალებას იძლევა, ქვეითს უფლება აქვთ გადაადგილდეს მასზე, თუმცა არ უნდა გაართულოს ველოსიპედებისა და მოპედების მოძრაობა. ამავე მუხლის მე-6 პუნქტის თანახმად, ამ მუხლის მე-2, მე-4 და მე-5 პუნქტებით გათვალისწინებულ შემთხვევებში ქვეითი გზის სავალ ნაწილზე გადაადგილებისას უნდა იმყოფებოდეს სავალი ნაწილის კიდეგან რაც შეიძლება ახლოს.

## ВОПРОС 10

ПРАВИЛЬНЫЙ ОТВЕТ: 2

Амფა ახისყრტაფი აშყაყაყაა რყი იაიჭყყაგაყოუ ალაშარბაგა ყყამყარ მა აუს ამუაყარ, აყა ატრანსპორტტა ჰარყაგაყა რეიტატრა ატრანსპორტტა ლაშარბაგალა ეიყყაყარ, აშყაყაყაფ ამფასყრტაშყა დიასროუპჲ

1

Иааигаахо атранспортиа хархааганжа шаќа ибжьоуи, уи аласреи игаатаны, амфа ахысра ишшэартам агэра нигалаќ

2

Алашарбага ма аиყааф абри амфасყრტაფи атранспортиа хархаагаყаа реитатра ќалонит хэа ардырга ќарќаанжа

## განმარტება:

„საგზაო მოძრაობის შესახებ“ საქართველოს კანონის 24-ე მუხლის მე-7 პუნქტის „ბ“ ქვეპუნქტის თანახმად, ქვეითთა გადასასვლელზე გადასვლისას, თუ გადასასვლელზე არ არსებობს, ან არ მუშაობს ქვეითთათვის განკუთვნილი შექნიშანი, მაგრამ სატრანსპორტო საშუალებათა მოძრაობის რეგულირება ხორციელდება სატრანსპორტო შექნიშნით მეშვეობით, ქვეითი არ უნდა გადავიდეს გზის სავალ ნაწილზე, ვიდრე შექნიშნის ან მარეგულირებლის სიგნალები ამ სავალ ნაწილზე სატრანსპორტო საშუალებათა მოძრაობის უფლებას იძლევა.

## ВОПРОС 11

ПРАВИЛЬНЫЙ ОТВЕТ: 2

Амфеиყისყრტაფი აშყაყაყაა რყისყრტა იყამყარ, აშყაყაყაა ამფასყრტა იაყისროუპჲ

1

Инеир иахьыртаху атып аќынжа иќьяфзоу атраектория мацарала

2

Ашьяќамфа ма аварахьтэи ацэахэа иаваршэны

## განმარტება:

„საგზაო მოძრაობის შესახებ“ საქართველოს კანონის 24-ე მუხლის მე-8 პუნქტის თანახმად, ქვეითმა გზის სავალი ნაწილი უნდა გადაკვეთოს ქვეითთა გადასასვლელზე, მათ შორის, მიწისზედა და მიწისქვეშა გადასასვლელებზე, ხოლო მათი არარსებობის შემთხვევაში – გზაჯვარედინზე, ტროტუარის ან გვერდულის გასწვრივ.

„საგზაო მოძრაობის შესახებ“ საქართველოს კანონის 27-ე მუხლის პირველი პუნქტის „ა“ ქვეპუნქტის თანახმად, საგზაო-სატრანსპორტო შემთხვევაში მონაწილე მძღოლი ვალდებულია დაუყოვნებლივ გააჩეროს (არ დაძრას ადგილიდან) სატრანსპორტო საშუალება, ჩართოს საავარიო შეჭერი სიგნალიზაცია.





Иарбоу амѡа амѡаргѡѡа шаѡа амоузеиѢ

1

Акы

2

Ѣба

3

ХѢа

4

ѢшьѢа

### განმარტება:

„საგზაო მოძრაობის შესახებ“ საქართველოს კანონის 5-ე მუხლის მე-15 პუნქტის თანახმად, გზის სავალი ნაწილი (სავალი ნაწილი) არის გზის ელემენტი, რომელიც განკუთვნილია ურელსო სატრანსპორტო საშუალებების მოძრაობისათვის (გარდა ტროტუარისა, გვერდულისა, ველობილიკისა და ქვეითთა ბილიკისა). ამავე მუხლის მე-12 პუნქტის თანახმად, გზა არის მოძრაობისათვის გახსნილი გზის ან ქუჩის მთელი ზედაპირი. გზას შეიძლება ჰქონდეს როგორც ერთი სავალი ნაწილი, ასევე რამოდენიმე, გამოყოფი ბოლით მკვეთრად გამიჯნული, ან სხვადასხვა დონეზე არსებული სავალი ნაწილები. ეს ტერმინი შეიძლება მოიცავდეს ტრამვაის ლიანდაგს, ტროტუარს, გვერდულას, გამყოფ ბოლსა და ველობილიკს.





Иарбоу амѡа амѡасыртақѡа шака амоузеиѢ

1

Акы

2

ѡба

3

Ѣшьба

### განმარტება:

„საგზაო მოძრაობის შესახებ“ საქართველოს კანონის 5-ე მუხლის მე-15 პუნქტის თანახმად, გზის სავალი ნაწილი (სავალი ნაწილი) არის გზის ელემენტი, რომელიც განკუთვნილია ურელსო სატრანსპორტო საშუალებების მოძრაობისათვის (გარდა ტროტუარისა, გვერდულისა, ველობილიკისა და ქვეითთა ბილიკისა). ამავე მუხლის მე-12 პუნქტის თანახმად, გზა არის მოძრაობისათვის გახსნილი გზის ან ქუჩის მთელი ზედაპირი. გზას შეიძლება ჰქონდეს როგორც ერთი სავალი ნაწილი, ასევე რამოდენიმე, გამოყოფი ზოლით მკვეთრად გამიჯნული, ან სხვადასხვა დონეზე არსებული სავალი ნაწილები. ეს ტერმინი შეიძლება მოიცავდეს ტრამვაის ლიანდაგს, ტროტუარს, გვერდულას, გამყოფ ზოლსა და ველობილიკს.

## ВОПРОС 15

ПРАВИЛЬНЫЙ ОТВЕТ: 3

Арныкәә имеханикатә машына ааныжыны дцар илшоит инаигзарЖ

1

Амәатә амашәыр аҭацәыхьчара амзызла агәҭанызаара ихымҭадоу аҭагылазаашьақәа зегьы

2

Амашына азинда ахархәара амоурц азы ихымҭадоу аҭагылазаашьақәа

3

Амәатә амашәыр аҭацәыхьчара амзызла агәҭанызаара ихымҭадоу аҭагылазаашьақәәи, иара убас, амашына азинда ахархәара амоурц азы ихымҭадоу аҭагылазаашьақәәи

## განმარტება:

„საგზაო მოძრაობის შესახებ“ საქართველოს კანონის 37-ე მუხლის მე-8 პუნქტის თანახმად, მძღოლმა არ უნდა დატოვოს თავისი სატრანსპორტო საშუალება, თუ არ მიიღებს სიფრთხილის ყველა აუცილებელ ზომას საგზაო-სატრანსპორტო შემთხვევის თავიდან ასაცილებლად, ამასთანავე, მექანიკური სატრანსპორტო საშუალების შემთხვევაში მიღებული უნდა იქნეს ყველა ზომა, რათა ის უნებართვოდ არ იქნეს გამოყენებული.

## ВОПРОС 16

ПРАВИЛЬНЫЙ ОТВЕТ: 3

Ашыакауаа рхысырта далалаанза, арныкәә агәра игароупЖ

1

Ахысырта шҭаам

2

Ахысыртаҭы еиҭынгылоу ахырхарҭақынҭә даәа транспорттә хархәагак ишеитамҭуа

3

Уи аҭы даанымгылар ада ҭсыхәа имамкәа дшыҭамло

## განმარტება:

„საგზაო მოძრაობის შესახებ“ საქართველოს კანონის 25-ე მუხლის მე-6 პუნქტის თანახმად, მძღოლი არ უნდა შევიდეს ქვეითთა გადასასვლელზე, თუ წინასწარ არ დაურწმუნდება, რომ ის იძულებული არ გახდება გაჩერდეს მასზე.

## ВОПРОС 17

ПРАВИЛЬНЫЙ ОТВЕТ: 2

Апыжәара иаанагоитЖ

1

Амәатә аитатра алахәыла иуал, амәатә аитатра егырт алахәалацәа иаалыркьаны аласра ма ахырхарта рымҕсахырц ада ҕсыхәа рызымто аманиовр анамҕзаразы

2

Амәатә аитатра алахәыла изин, амәатә аитатра егырт алахәылацәа раҕхьа дызну ахырхартала аитатразы

## განმარტება:

„საგზაო მოძრაობის შესახებ“ საქართველოს კანონის 5-ე მუხლის 84-ე პუნქტის თანახმად, უპირატესობა (პრიორიტეტი) – საგზაო მოძრაობის მონაწილის უფლება, სხვა საგზაო მოძრაობის მონაწილეებთან შედარებით პირველმა იმოძრაოს დასახული მიმართულებით.

## ВОПРОС 18

ПРАВИЛЬНЫЙ ОТВЕТ: 2

«Автоеицраҳәа» аупЖ

1

Автобуси ззин иҕоу амаксималтә масса 1200 килак еиҳау ацраҳәагеи ҖацраҳәагақәаҢ ркомбинация

2

Аидаратә машьынеи ззин иҕоу амаксималтә масса 750 килак еиҳау ацраҳәагеи ҖацраҳәагақәаҢ ркомбинация

3

Амашьына ласи ззин иҕоу амаксималтә масса 750 килак еиҳау ацраҳәагеи ҖацраҳәагақәаҢ ркомбинация

## განმარტება:

„საგზაო მოძრაობის შესახებ“ საქართველოს კანონის 5-ე მუხლის მე-3 პუნქტის თანახმად, ავტომატარებელი – სატვირთო ავტომობილის 750 კგ-ზე მეტი ნებადართული მაქსიმალური მასის მქონე მისაბმელთან/ მისაბმელებთან კომბინაცია.

## ВОПРОС 19

ПРАВИЛЬНЫЙ ОТВЕТ: 3

«Аидарамџангага» аупЖ

1

Ацраҳаагала ахархәаразы иазпхьагәатоу, ззин иҟоу амаксималтә масса 12000 килак еихау, иарбанзаалак амеханикатәи атранспорттә хархәага

2

Ишәартоу аидара аамџангара иазку аидаратә машына

3

Амашынакәеи, агежкәа змоу иласу атракторкәеи ррымџангара иазку чыдалатәи атранспорттә хархәага

## განმარტება:

„საგზაო მოძრაობის შესახებ“ საქართველოს კანონის 5-ე მუხლის მე-4 პუნქტის თანახმად, ავტომობილი – სპეციალიზებული ავტოსატრანსპორტო საშუალება, რომელიც განკუთვნილია ავტომობილისა და თვლიანი მსუბუქი ტრაქტორის გადასაზიდად.

## ВОПРОС 20

ПРАВИЛЬНЫЙ ОТВЕТ: 1

«Алапшбара иазхом» хәа ипхьазоуп аҳапкылтәа ахысра аан, ианылашыцоу, анакәеи, ақәоуреи, асоуреи раан, ма егырт аҟсабаратә цәыртракәа раан алапшбара аитатәраЖ

1

300 метрак еитцу абжьазараҟы

2

500 метрак еитцу абжьазараҟы

3

600 метрак еитцу абжьазараҟы

## განმარტება:

„საგზაო მოძრაობის შესახებ“ საქართველოს კანონის 5-ე მუხლის მე-7 პუნქტის თანახმად, არასაკმარისი ხილვადობა – გვირაბში გავლისას, დღე-ღამის ბნელ დროს, ნისლის, წვიმის, თოვის და სხვა ბუნებრივი მოვლენების დროს გზის ხილვადობის 300 მეტრზე ნაკლებ მანძილზე შემცირება.

## ВОПРОС 21

ПРАВИЛЬНЫЙ ОТВЕТ: 3

«Аიკეშარატე ცაახა» აუპჯ

1

Абжыаапынтэ, арельскэа змам атранспорттэ хархэагакэа реитатпразы рхы иадырхэо амѡа ацыпцэаха

2

Иаваршэны ицо, амѡатэ азгэатала иазгэатоу ма иазгэатам иарбанзаалак ацэахэа, амѡасырта иалагар иахыыкало атып иаваршэны иалдоу ацэахэакэа ркынтэ руақы

3

Аибыташыа ала иалкаау амѡа аелемент, еиду амѡасыртакэа еикэнашоит, арельскэа змам атранспорттэ хархэагакэа уи иакэланы изеитатцуам

## განმარტება:

„საგზაო მოძრაობის შესახებ“ საქართველოს კანონის 5-ე მუხლის მე-9 პუნქტის თანახმად, გამყოფი ზოლი – კონსტრუქციულად გამოყოფილი გზის ელემენტი, რომელიც ყოფს მომიჯნავე სავალ ნაწილებს და არ არის განკუთვნილი მასზე ურელსო სატრანსპორტო საშუალების მოძრაობისათვის.

## ВОПРОС 22

ПРАВИЛЬНЫЙ ОТВЕТ: 4

Амѡасырта ада, ტაკა იარბოу аелементкэа ркынтэ руа იარбан амѡа иატანაკეაჲ

1

Атрамваи арельскэеи ашыакамѡакэеи мацара

2

Афыкэკэеи, аиკэшаратэ цэахэакэеи мацара

3

Авеломѡахэастакэа мацара

4

Атрамваи, арельскэеи, ашыакамѡакэеи, афыкэკэеი, аიკэшаратэ цэахэакэеი, იარა убас, авеломѡахэастაკეаი

## განმარტება:

„საგზაო მოძრაობის შესახებ“ საქართველოს კანონის 5-ე მუხლის მე-12 პუნქტის თანახმად, გზა - მოძრაობისათვის გახსნილი გზის ან ქუჩის მთელი ზედაპირი. გზას შეიძლება ჰქონდეს როგორც ერთი სავალი ნაწილი, ისე რამოდენიმე, გამოყოფი ზოლით მკვეთრად გამიჯნული, ან სხვადასხვა დონეზე არსებული სავალი ნაწილები. ეს ტერმინი შეიძლება მოიცავდეს ტრამვაის ლიანდაგს, ტროტუარს, გვერდულას, გამყოფ ზოლსა და ველობილიკს.

## ВОПРОС 23

ПРАВИЛЬНЫЙ ОТВЕТ: 1

«Амდөихысырта» аупЖ

1

Аџазарак аџы амџакџа реиџтџара,  
реидылара, ма реидытџра, абри еиџш  
аиџтџарей, аидтџарей, аидытџрей рыла иџтџоу  
атџакыра налатџаны

2

Иаџну атакыраџџа рџкынтџ алтџыртаџџей  
амџакџей реиџтџара

3

Еиуеиџшым аџазараџџа рџы иџоу  
амџасыртаџџа реиџтџара

## განმარტება:

„საგზაო მოძრაობის შესახებ“ საქართველოს კანონის 5-ე მუხლის მე-13 პუნქტის თანახმად, გზატკარედინი - ერთ დონეზე გზების კვეთა, შეერთება ან განშტოება, ასეთი კვეთით, შეერთებით ან განშტოებით წარმოქმნილი ტერიტორიების ჩათვლით. გზატკარედინად არ ითვლება მიმდებარე ტერიტორიებიდან გამომავალი გამოსასვლელების გზებთან კვეთა.

## ВОПРОС 24

ПРАВИЛЬНЫЙ ОТВЕТ: 3

«Анхартатџ пункт» аупЖ

1

Ауаа иахьынхо, иарбанзаалак атакырадгьыл

2

Иарбанзаалак амџа, ашьаџауаа реитатџра  
иазку

3

Зылалартџей зтытџыртџей иашьашџалоу амџатџ  
дырџаџџа рыла иазгџатџоу, аргыларაџџа  
иахьыџоу атакырадгьыл

## განმარტება:

„საგზაო მოძრაობის შესახებ“ საქართველოს კანონის 5-ე მუხლის მე-17 პუნქტის თანახმად, დასახლებული პუნქტი - განაშენიანებული ტერიტორია, სადაც შესასვლელი და გამოსასვლელი აღნიშნულია შესაბამისი საგზაო ნიშნებით.

## ВОПРОС 25

ПРАВИЛЬНЫЙ ОТВЕТ: 3

«Ззин иҟоу амақсималтә масса» аупҔЖ

1

Атранспорттә хархәага акапан, арныкәаџи, апассажирцәеи, аидареи рыда, аха абылтәы ататцәах наҟеи ихымҕадоу аматәахәкәа ркомплекти рыла

2

Итзыжыыз азауад ала ихәаакәцоу аттранспорттә хархәага акапан, арныкәаџи, апассажирцәеи, аидареи рыда

3

Иазгәатоу аамтазы аидара зкәу аттранспорттә хархәага афакттә акапан, арныкәаџи апассажирцәеи рыкапан налатцаны

## განმარტება:

„საგზაო მოძრაობის შესახებ“ საქართველოს კანონის 5-ე მუხლის მე-18 პუნქტის თანახმად, დატვირთული მასა (ფაქტობრივი მასა) - მოცემულ დროის მონაკვეთში დატვირთული სატრანსპორტო საშუალების ფაქტობრივი მასა, მძღოლისა და მგზავრების ჩათვლით.

## ВОПРОС 26

ПРАВИЛЬНЫЙ ОТВЕТ: 1

«Акәыңәџәара змам амасса» аупҔЖ

1

Итзыжыыз азауад ала ихәаакәцоу аттранспорттә хархәага акапан, арныкәаџи, апассажирцәеи, аидареи рыда, аха абылтәы ататцәах наҟеи ихымҕадоу аматәахәкәа ркомплекти рыла

2

Иазгәатоу аамтазы аидара зкәум аттранспорттә хархәага афакттә акапан, арныкәаџи апассажирцәеи рыкапан налатцаны

3

Ашәкәытаџратә матцура ала ихәаакәцоу аттранспорттә хархәага акапан, арныкәаџи, апассажирцәеи, аидареи рыда

## განმარტება:

„საგზაო მოძრაობის შესახებ“ საქართველოს კანონის 5-ე მუხლის მე-19 პუნქტის თანახმად, დაუტვირთავი მასა (დაუტვირთავი წონა) - ქარხანა-დამამზადებელის მიერ განსაზღვრული სატრანსპორტო საშუალების მასა მძღოლის, მგზავრებისა და ტვირთის გარეშე, მაგრამ სანავის სრული მარაგისა და ხელსაწყოების აუცილებელი კომპლექტის ჩათვლით.

## ВОПРОС 27

ПРАВИЛЬНЫЙ ОТВЕТ: 3

«Илашьцоу аамта» иаанагоитЖ

1

Аамта абжызаара асаат 18 инаркны асаат 24нза

2

Аамта абжызаара ашамта инаркны амра аташамтанза

3

Аамта абжызаара амра аташамта инаркны ашамтанза

## განმარტება:

„საგზაო მოძრაობის შესახებ“ საქართველოს კანონის 5-ე მუხლის 21-ე პუნქტის თანახმად, დღე-ღამის ბნელი დრო - დროის შუალედი დაბინდებიდან გათენებამდე.

## ВОПРОС 28

ПРАВИЛЬНЫЙ ОТВЕТ: 1

«Иаџну атакырадгьыл» аупЖ

1

Амџа иаду, атранспорттџ хархџаага аитатцразы иазџхьагџатам атакырадгьыл  
 Ђагџара, анхартатџ массив, авторгыларта, абылтџытатџарта, аусхџартакџа, уб. егьы.Ѓ

2

Арельскџа змам атранспорттџ хархџаага аитатцразы иазџхьагџаџу амџа аелемент  
 Ђашьакамџеи, амџа агани, авеломџахџыстеи, ашьакауаа рымџахџастеи  
 рыдаЃ

3

Аџаџарак аџы амџакџа реиџџџара, реидыларა, ма реидыџრა, абри еиџш  
 аиџџџареи, аидџџареи, аидыџџреи рыла иџџџџџџџџ  
 атакыра налатџаны

## განმარტება:

„საგზაო მოძრაობის შესახებ“ საქართველოს კანონის 5-ე მუხლის 38-ე პუნქტის თანახმად, მიმდებარე ტერიტორია - ტერიტორია, რომელიც უშუალოდ გზას ეკვრის და არ არის განკუთვნილი სატრანსპორტო საშუალების გამჭოლი მოძრაობისათვის (ეზო, საცხოვრებელი მასივი, ავტოსადგომი, ბენზინგასამართი სადგური, დაწესებულება და სხვა)



## ВОПРОС 29

ПРАВИЛЬНЫЙ ОТВЕТ: 3

„Аитатратә цәахәа“ аупЖ

1

Аиҕкаашыала иалкаау, еизырхоу  
амҕасыртақәа рейкәшаратә амҕа аелемент

2

Аитатразы иаарту амҕа ақәыпшылары зегьы

3

Амҕапысра иалагар излалшо иарбанзаалак  
атәахәа, амотоцикл еиҕшым автомобилтә  
транспорт цәахәак икәгыланы реитатразы  
иазхаша аура змоу, аноурылатә амҕатә  
азгәатала иазгәатоу ма иазгәатам

## განმარტება:

„საგზაო მოძრაობის შესახებ“ საქართველოს კანონის 5-ე მუხლის 45-ე პუნქტის თანახმად, „მოძრაობის ზოლი“ - გრძივი საგზაო მონიშვნის საშუალებით მონიშნული ან მოუნიშნავი ნებისმიერი ზოლი იმ გრძივი ზოლებიდან, რომლებიდანაც შეიძლება დაიყოს სავალი ნაწილი, მაგრამ რომელსაც აქვს მოტოციკლისაგან განსხვავებული საავტომობილო ტრანსპორტის ერთ რიგში მოძრაობისათვის საკმარისი სიგანე.

## ВОПРОС 30

ПРАВИЛЬНЫЙ ОТВЕТ: 1

„Ацрахәагабжа“ аупЖ

1

Зыхәтак амашына иакәгылоу, зыбжа  
амашына иацрахәоу, зеидара акапан  
абжеиҳара амашына иакәу ацрахәага

2

Иарбанзаалак амеханикатә атранспорттә  
хархәага ала, икьакьоу аҕахәагала иаханы  
агаразы иазпхьагәатоу, ҭе лырак змоу  
ацрахәага

## განმარტება:

„საგზაო მოძრაობის შესახებ“ საქართველოს კანონის 5-ე მუხლის 51-ე პუნქტის თანახმად, „ნახევარმისაბმელი“ - მისაბმელი, რომელიც განკუთვნილია ავტომობილზე ისეთი სახით ჩასაბმელად, როდესაც მისი ნაწილი ეყრდნობა ავტომობილს და ავტომობილზევე მოდის ნახევარმისაბმელისა და მისი ტვირთის მასის მნიშვნელოვანი ნაწილი.

## ВОПРОС 31

ПРАВИЛЬНЫЙ ОТВЕТ: 3

„Ззин иყო амақсималтә масса“ аупЖ

1

Иҳаақәтәоу аамтатә цыҭцәахәҭы аидара зқәу атранспорттә хархәага афактә акапан, арныкәаҭи апассажирцәеи рыкапан налатцаны

2

Аидареи апассажирцәеи рыла итәу, еибытоу атранспорттә хархәага акапан, уи атранспорттә хархәага итзыжыыз азауад ала ишыақәгылоуп

3

Атранспорттә хархәага ашәкәы иахьтәу, иашьашәалоу ахәынтқарратә орган аҭынтә азин амоуп хәа ишыақәгылоу, аидара зқәу атранспорттә хархәага амақсималтә акапан

## განმარტება:

„საგზაო მოძრაობის შესახებ“ საქართველოს კანონის 5-ე მუხლის 52-ე პუნქტის თანახმად, „ნებადართული მაქსიმალური მასა“ (დასაშვები წონა) - დატვირთული სატრანსპორტო საშუალების მაქსიმალური მასა, რომელიც დასაშვებად არის გამოცხადებული იმ სახელმწიფოს კომპეტენტური ორგანოს მიერ, რომელშიც დარეგისტრირებულია სატრანსპორტო საშუალება.

## ВОПРОС 32

ПРАВИЛЬНЫЙ ОТВЕТ: 2

„Иласым атранспорттә хархәага“ аупЖ

1

Зконструктивтә аласра сааткала 45км. еиҳам, арныкәага змоу ма измам атранспорттә хархәага

2

Зконструктивтә аласра сааткала 40км. еиҳам, ма ари аласра аиҳатәразы алшара змам, ма атранспорттә хархәагақәа реишьтагыла иадхәалам амзызқәа ирыхкәаны еиҳау аласрала аныкәара азин змам, арныкәага змоу атранспорттә хархәага

3

Сааткала 50км. еиҳам аласрала амҭаҭы еитатәуа иარбанзаалак атранспорттә хархәага

## განმარტება:

„საგზაო მოძრაობის შესახებ“ საქართველოს კანონის 5-ე მუხლის 53-ე პუნქტის თანახმად, „ნელმავალი სატრანსპორტო საშუალება“ - ძრავიანი სატრანსპორტო საშუალება, რომლის კონსტრუქციული სიჩქარე არ აღემატება 40 კმ/სთ-ს ან რომელიც აღნიშნულ სიჩქარეს ვერ აჭარბებს ან ეკრძალება გადაჭარბება ისეთი მიზეზით, რომელიც არ არის დაკავშირებული სატრანსპორტო საშუალებათა ნაკადებთან.

## ВОПРОС 33

ПРАВИЛЬНЫЙ ОТВЕТ: 1

„Аидаратә машына“ аупЖ

1

Ззин иҥоу амаксималтә масса 3500 килак еихам, аидара амѡангара иазку автотранспорттә хархәага

2

Аидара амѡангара иазку иарбанзаалак амеханикатә транспорттә хархәага

3

Зыкапан наза 3500 килак еихам, аидара амѡангара иазку иарбанзаалак амеханикатә атранспорттә хархәага

## განმარტება:

„საგზაო მოძრაობის შესახებ“ საქართველოს კანონის 5-ე მუხლის 71-ე პუნქტის თანახმად, „სატვირთო ავტომობილი“ - ტვირთის გადასაზიდად განკუთვნილი ავტოსატრანსპორტო საშუალება, რომლის ნებადართული მაქსიმალური მასა აღემატება 3 500 კგ-ს.

## ВОПРОС 34

ПРАВИЛЬНЫЙ ОТВЕТ: 2

„Амаршруттә атранспорттә хархәага“ аупЖ

1

Арныкәаф итәарта наламтәкәа, 16 еиханы атәартәкәа змоу, иарбанзаалак автобус

2

Апассажирцәа рымѡангара иазку, ишьақғылоу амаршрут ала еитәцәа атранспорттә хархәага

3

Аидара амѡангара ма апассажирцәа рымѡангара иазку иарбанзаалак атранспорттә хархәага

## განმარტება:

„საგზაო მოძრაობის შესახებ“ საქართველოს კანონის 5-ე მუხლის 67-ე პუნქტის თანახმად, „სამარშრუტო სატრანსპორტო საშუალება“ - გზაზე მგზავრთა გადასაცვანად განკუთვნილი, დადგენილი მარშრუტით მოძრავი სატრანსპორტო საშუალება.

## ВОПРОС 35

ПРАВИЛЬНЫЙ ОТВЕТ: 1

„Ашыакамѡа“ аупЖ

1

Амѡасырта иаду, ма аиѣкаашьала уи  
иаѣыѣуа, ашыакауаа реитатцразы  
иазѣхьагѣаѣоу амѡа аелемент

2

Ашыакауаа реитатцразы иазѣхьагѣаѣоу, амѡа  
иаѣыѣуа амѡахѣаста

3

Ашыакауаа реитатцра иазку иарбанзаалак  
амѡа

## განმარტება:

„საგზაო მოძრაობის შესახებ“ საქართველოს კანონის 5-ე მუხლის 83-ე პუნქტის თანახმად, „ტროტუარი“ - გზის ელემენტი, რომელიც მიერთებულია სავალ ნაწილთან ან გამოყოფილია მისგან კონსტრუქციულად ან გაბონით და განკუთვნილია ქვეითის მოძრაობისათვის.

## ВОПРОС 36

ПРАВИЛЬНЫЙ ОТВЕТ: 2

„Ашыакауаа рымѡахѣаста“ аупЖ

1

Амѡасырта иаду, ашыакауаа реитатцра иазку  
амѡа аелемент

2

Амѡа иаѣыѣуа, ашыакауаа реитатцра иазку  
амѡахѣаста. Ашыакауаа рымѡахѣаста  
иашьашѣалоу амѡათѣ дыргала иазгѣათазар  
ѡалоит

3

Ашыакауаа реитатцра иазку, амѡа  
иарбанзаалак аѣыѣѣѣаха

## განმარტება:

„საგზაო მოძრაობის შესახებ“ საქართველოს კანონის 5-ე მუხლის 85-ე პუნქტის თანახმად, „ქვეითთა ბილიკი“ - ქვეითთა მოძრაობისათვის განკუთვნილი, გზისგან განცალკევებული ბილიკი. ქვეითთა ბილიკი შეიძლება აღნიშნული იქნეს შესაბამისი საგზაო ნიშნით.

## ВОПРОС 37

ПРАВИЛЬНЫЙ ОТВЕТ: 1

“Алыра ақәыңәәра” аупЖ

1

Алыра ақәыңәәра иалтшәаны амәафы аидара акапан иацызтәуа транспорттә хархәага афактә масса ахәта

2

Атранспорттә хархәага итзыжәа азауад ала ишыақәгылоу, алыра ақәыңәәра амақсималтә масса, уи аиццалыт ала ихәаакәцоуп атранспорттә хархәага амасса наҗа ахәаа

## განმარტება:

„საგზაო მოძრაობის შესახებ“ საქართველოს კანონის 5-ე მუხლის 88-ე პუნქტის თანახმად, „ღერძზე დატვირთვა“ - სატრანსპორტო საშუალების ფაქტიური მასის ნაწილი, რომელიც ღერძზე დანოლის შედეგად წარმოშობს გზაზე დატვირთვას. თითოეულ წამყვან ან არანამყვან ღერძზე დატვირთვის განსაზღვრისას, სატრანსპორტო საშუალების განივ ჭრილში ერთ ხაზზე განლაგებული, კონსტრუქციულად განცალკევებული ღერძები, განიხილება, როგორც ერთი მთლიანი ღერძი.

## ВОПРОС 38

ПРАВИЛЬНЫЙ ОТВЕТ: 2

„Алапшбара цәгьа“ аупЖ

1

Ахапкылтәа ахысра аан, ианылашыцоу аамтазы, ақәоура, асоура ма даәа аҭсабаратә цәырцрак аан 300 метрак еитцу абжызаарафы амәа алапшбара аитатәра

2

Атәиртә кьаф, ахаларта антәамта, аиатәара, амәа афькә иқәгылоу ахыбра ма амәаф икоу аҭынгыла аитатра ахырхартала амәа алапшбара еитартәуеит, убри акынтә, амәа абри ацыҭцәахафы ззин икоу амақсималтә аласрала аитатра ишәартахар алшоит.

## განმარტება:

„საგზაო მოძრაობის შესახებ“ საქართველოს კანონის 5-ე მუხლის 89-ე პუნქტის თანახმად, „შეზღუდული ხილვადობა“ - გარემოება, რომლის დროსაც მოკლე მოსახვევი, აღმართის დასასრული, გამწვანება, გზისპირა ნაგებობა ან გზაზე არსებული დაბრკოლება მოძრაობის მიმართულებით გზის ხილვადობას ისე ამცირებს, რომ აღნიშნულ გზის მონაკვეთზე ნებადართული მაქსიმალური სიჩქარით მოძრაობამ შეიძლება საფრთხე წარმოშვას.

## ВОПРОС 39

ПРАВИЛЬНЫЙ ОТВЕТ: 4

Цақа еиқәыпхьазоу атранспорттә хархәагақәа ркынтә руа иарбан амеханикатә атранспорттә хархәагаҕ

1

Өегежык змоу аелектро ахаланықәа

2

Амопеди уи еиңшу атранспорттә хархәагақәеи

3

Атрамваи

4

Абри абилет аҕы еиқәыпхьазоу ркынтә азәгы.

## განმარტება:

„საგზაო მოძრაობის შესახებ“ საქართველოს კანონის 5-ე მუხლის 35-ე პუნქტის თანახმად, „მექანიკური სატრანსპორტო საშუალება“ - ძრავიანი (თვითმავალი) სატრანსპორტო საშუალება, გარდა ორბორბლიანი ელექტროთვითმგორავისა, მოპედისა და მასთან გათანაბრებული სხვა სატრანსპორტო საშუალებისა, აგრეთვე სალიანდაგო სატრანსპორტო საშუალებისა.

## ВОПРОС 40

ПРАВИЛЬНЫЙ ОТВЕТ: 1

„Ацрахәага лас“ аупЖ

1

Ззин иқоу амаксималтә масса 750 килак еиҳам ацрахәага

2

Аидара ада змасса 850 килак еиҳам ацрахәага

3

Змасса наза 950 килак еиҳам ацрахәага.

## განმარტება:

„საგზაო მოძრაობის შესახებ“ საქართველოს კანონის 5-ე მუხლის 48-ე პუნქტის თანახმად, „მსუბუქი მისაბმელი“ - მისაბმელი, რომლის ნებადართული მაქსიმალური მასა არ აღემატება 750 კგ-ს.

## ВОПРОС 41

ПРАВИЛЬНЫЙ ОТВЕТ: 4

Цақа еиқәыпхьажоу атагылазашьақәа ркынтә, руа иарбан атранспорттә хархәага иарбанзаалак ахәынтқарра ацакырадгьыл ағы «жәларбжыаратәи аитатра»-еҕы икоуп хәа ианырыпхьажоҕ

1

Уи зтәу афизикатә ма аиуристтә хәҕы инхартатып ахәынтқарра нхыт иказар

2

Уи абри ахәынтқарраҕы ашәкәы итаҕымзар

3

Уи аамтала атәыла иалагалазар, аха абри ахәынтқарра азақәанҕцарала ишыақәгылоу аҕхәара иахымгақәа

4

Абри абилет ағы еиқәыпхьажоу атагылазашьақәа зегьы раан.

## განმარტება:

„საგზაო მოძრაობის შესახებ“ საქართველოს კანონის 5-ე მუხლის 66-ე პუნქტის თანახმად, საერთაშორისო მოძრაობა – რომელიმე სახელმწიფოს ტერიტორიაზე მყოფი სატრანსპორტო საშუალება საერთაშორისო მოძრაობაში მყოფად მიიჩნევა, თუ იგი: ა) ეკუთვნის ფიზიკურ ან იურიდიულ პირს, რომელსაც ჩვეულებრივი საცხოვრებელი ადგილი ამ სახელმწიფოს გარეთ აქვს; ბ) არ არის რეგისტრირებული ამ სახელმწიფოში; გ) ამ სახელმწიფოში შეტანილია დროებით, მაგრამ არაუმეტეს მისი კანონმდებლობით დადგენილი ვადისა. შენიშვნა: სატრანსპორტო საშუალებათა შემადგენლობა საერთაშორისო მოძრაობაში მყოფად მიიჩნევა, თუ მასში შემავალი თუნდაც ერთი სატრანსპორტო საშუალება აკმაყოფილებს ამ პუნქტით განსაზღვრულ მოთხოვნებს.

## ВОПРОС 42

ПРАВИЛЬНЫЙ ОТВЕТ: 2

“Атранспорттә хархәага” аупЖ

1

Амҕаҕы еитатҕа ма уи ағы аитатра иазку, амҕаҕы аҕаапсыра рымҕангара ма аидара амҕангаразы иазпхьагәатоу, арныкәага змоу ахархәага

2

Арныкәагала ма даҕа мчыкала иныкәо, амҕаҕы еитатҕа ма уи ағы аитатра иазку ахархәага

## განმარტება:

„საგზაო მოძრაობის შესახებ“ საქართველოს კანონის 5-ე მუხლის 73-ე პუნქტის თანახმად, „სატრანსპორტო საშუალება“ - გზაზე მოძრავი ან გზაზე მოძრაობისათვის განკუთვნილი მონწყობილობა, რომელიც ძრავას ან სხვა ძალის მეშვეობით გადაადგილდება.

## ВОПРОС 43

ПРАВИЛЬНЫЙ ОТВЕТ: 3

Атრანспорттə хархəага “амасса наза” аупЖ

1

Атრანспорттə хархəага акапан аекипажи, апассажицəеи, аидареи рыда

2

Иарбоу аамта ацыпцəахафь, аидара зкəу атрანспорттə хархəагеи, аекипажи, апассажицəеи рыкапан

3

Аидареи, аекипажи, апассажицəеи рыла итəу, еибытаны икоу атрანспорттə хархəага акапан, уи ахəаа ишыакəнаргылоит атрანспорттə хархəага итзыжьуа азауад

4

Алыра акəыңғəара иалтцəаны амəа акəыңғəара зхылəиаауа атрანспорттə хархəага амасса хəтак

## განმარტება:

„საგზაო მოძრაობის შესახებ“ საქართველოს კანონის 5-ე მუხლის მე-80 პუნქტის თანახმად, „სრული მასა“ - ტვირთით, მძღოლითა და მგზავრებით შევსებული, აღჭურვილ მდგომარეობაში მყოფი სატრანსპორტო საშუალების მასა, რომლის ზღვარს ადგენს სატრანსპორტო საშუალების ქარხანა-დამამზადებელი. სატრანსპორტო საშუალებათა შემადგენლობის სრული მასა გამოიანგარიშება მასში შემავალი სატრანსპორტო საშუალებების სრულ მასათა ჯამით.

## ВОПРОС 44

ПРАВИЛЬНЫЙ ОТВЕТ: 2

Ихадоу ма ихадам алыра цыпцəазазы акəыңғəара ахəаакəтара аан, атрანспорттə хархəага надаадатəи аиқəйтхарафь цəахəак икəу, аиқəкашья инақəырпцшны еидыху алыракəа ирыхəапцштəупЖ

1

Ихьыпцшым алыракəа реипцш

2

Еибгоу лырак еипцш

3

Еибгоу лырак еипцш є ихадам алыра акəзар, ихьыпцшым алыракəа реипцш є ихадоу алыра акəзар

## განმარტება:

„საგზაო მოძრაობის შესახებ“ საქართველოს კანონის მე-5 მუხლის 88-ე პუნქტის თანახმად, ღერძზე დატვირთვა არის სატრანსპორტო საშუალების ფაქტობრივი მასის ნაწილი, რომელიც ღერძზე დაწოლის შედეგად წარმოშობს გზაზე დატვირთვას. თითოეულ წამყვან ან არაწამყვან ღერძზე დატვირთვის განსაზღვრისას სატრანსპორტო საშუალების განივ ჭრილში ერთ ხაზზე განლაგებული, კონსტრუქციულად განცალკევებული ღერძები განიხილება, როგორც ერთი მთლიანი ღერძი.



## ВОПРОС 45

ПРАВИЛЬНЫЙ ОТВЕТ: 1

Аიკეშარატე ცაახეა ზმოუ, ღეგანკთეი აიტატყრავი იაჰუხეაგათოუ ამდაფე ეიჰუნგელოუ ახერხართალა აიტატყრატე განს იჰუხეაჰოუჰ

1

Аиқешаратә цәахәа армарахьала иқоу амдасырта

2

Аиқешаратә цәахәа арғьарахьала иқоу амдасырта

3

Абри абилет ақны еиәқыпхьаჰოუ რқынтә акғы

## განმარტება:

„საგზაო მოძრაობის შესახებ“ საქართველოს კანონის 31-ე მუხლის მე-3 პუნქტის თანახმად, ორმხრივმოძრაობიან გზაზე, რომელსაც აქვს გამყოფი ზოლი, საპირისპირო მიმართულებების მოძრაობის მხარედ ითვლება გამყოფი ზოლის მარცხნივ არსებული სავალი ნაწილი.

## ВОПРОС 46

ПРАВИЛЬНЫЙ ОТВЕТ: 1

Арныкәаф амда ზეიჰუშროუ იზეილმკააჰარ ჭალაშყარა, ასე, ახყინტეა მა ეგყრტ ათაგელაჰაშყაჰეა ირყჰყანყ, იარა უბას, აჰყჰეარა ადყრგაჰეა ყკამჰარ, ყი დყკოუჰ ჰეა იჰუხეაჰოუჰ

1

Ихадам амдаყ

2

Амда хадаყ

3

Автомагистраль иашьашәалоу амдаყ

## განმარტება:

„საგზაო მოძრაობის შესახებ“ საქართველოს კანონის 36-ე მუხლის მე-8 პუნქტის თანახმად, თუ მძღოლი ვერ განსაზღვრავს გზაზე საფრის არსებობას (სიბნელის, თოვლის, ტალახის გამო ან სხვა მიზეზით) და არც პრიორიტეტის ნიშნებია, ითვლება, რომ იგი მეორეხარისხოვან გზაზე იმყოფება.

## ВОПРОС 47

ПРАВИЛЬНЫЙ ОТВЕТ: 2

Амდაფე ამდათე усურაქაа назыгзо аиѣкаара иатәу амашына икәгылоу аамталатәи амдаთә дырга ахәарақәа амда абри ацыпцәахафы абжыаапыны икәгылоу адырга ахәарақәа ирышьашәаламзар, арныкәаа инаигзароупЖ

1

Абжыаапыны икәгылоу амдаთә дырга ахәарақәа

2

Амдаთә усურაқәа назыгзо аиѣкаара иатәу амашына икәгылоу аамталатәи амдаთә дырга ахәарақәа

## განმარტება:

„საგზაო მოძრაობის შესახებ“ საქართველოს კანონის 28-ე მუხლის მე-5 პუნქტის თანახმად, თუ გზაზე დროებით გადასატან სადგარზე ან საგზაო სამუშაოების მწარმოებელი ორგანიზაციის ავტომობილზე დაყენებულია საგზაო ნიშანი (შემდგომ – დროებითი საგზაო ნიშანი), რომლის მოთხოვნები ეწინააღმდეგება იმავე გზის მონაკვეთზე სტაციონარულად დაყენებული საგზაო ნიშნის მოთხოვნებს, მძღოლი ვალდებულია შეასრულოს დროებითი საგზაო ნიშნის მოთხოვნები.

## ВОПРОС 48

ПРАВИЛЬНЫЙ ОТВЕТ: 1

Атранспорттә хархәага, аитатцразы ахәартара гәазто атестирра ишахысыз ишьақәзырҕәҕәо акыддыла амашынафы ишьақәыргылатәуп аҕшацәыхьчаратә саркыаЖ

1

Цақатәи армарахьтәи акәакь афы

2

Цақатәи арҕьарахьтәи акәакь афы

3

Хыхьтәи армарахьтәи акәакь афы

4

Хыхьтәи арҕьарахьтәи акәакь афы

## განმარტება:

„საგზაო მოძრაობის შესახებ“ საქართველოს კანონის მე-11 მუხლის მე-7 პუნქტის თანახმად, გზისთვის ვარგისობაზე ტესტირების გავლის დამადასტურებელი ფირნიში თავსდება ავტომობილზე, საქარე მინის ქვედა მარცხენა კუთხეში.

Зфакт масса, ззин иґоу амаксималтә масса еихау атранспорттә хархәага амѡаҕы аитатра азин амоумаҕ

1

Азин амоуп, уи ахадаратә лыразы ззин иґоу амаксималтә аҕыҕаҕара 11,5 тонна еихам, ахадаратә лырак змоу атранспорттә хархәагазар

2

Азин амоуп, уи, азакәанҕцарала ишьаҕыҕылоу атасқәа рыла, азинмчы змоу аорганқәа ҖамацурақәаҢ рҕны аиқәшахатра иашьаҕакны амѡаҕы еитатра, зыкапан дуу атранспорттә хархәагазар

3

Азин амам, иарбанзаалак атагылазаашьаҕы

### განმარტება:

„საგზაო მოძრაობის შესახებ“ საქართველოს კანონის 47-ე მუხლის მე-3 პუნქტის „ა“ თანახმად, აკრძალულია გზაზე იმ სატრანსპორტო საშუალების მოძრაობა, რომლის: ა) თითოეულ წამყვან ან არაწამყვან ღერძზე მაქსიმალური დატვირთვა აღემატება 10 ტონას (გარდა ერთწამყვანღერძიანი ავტოსატრანსპორტო საშუალებისა, რომლის წამყვან ღერძზე მაქსიმალური დატვირთვა არ უნდა აღემატებოდეს 11,5 ტონას) ან/და ფაქტობრივი მასა აღემატება 44 ტონას ან/და ფაქტობრივი მასა აღემატება ნებადართულ მაქსიმალურ მასას. ამავე მუხლის მე-5 პუნქტის „ა“ ქვეპუნქტის თანახმად, გარდა ნებადართულ მაქსიმალურ მასაზე ფაქტობრივი მასის გადაჭარბების აკრძალვისა, ამ მუხლის მე-3 პუნქტის მოქმედება არ ვრცელდება: ა) იმ არაგაბარიტულ (მსხვილგაბარიტიან) ან ზენორმატიულ (მძიმეწონიან) სატრანსპორტო საშუალებაზე, რომელიც გზაზე მოძრაობს საქართველოს კანონმდებლობით დადგენილი წესით უფლებამოსილ ორგანოსთან (უწყებასთან) შეთანხმების შემდეგ, ამ შეთანხმების პირობების შესაბამისად.

## ВОПРОС 50

## ПРАВИЛЬНЫЙ ОТВЕТ: 3

Амотоцикли, автобуси, амашына ласи, аидаратә машыныи рырныкәара илшоит ауады мацараЖ

1

Игәабзиара атагылазаашыа, Қырттәыла азақәанҕцарала ихәаакәцоу атранспорттә хархәагақәа рырныкәаразы ихымҕадоу агәабзиара атагылазаашыа иашыашәалазароуп

2

Қырттәыла азақәанҕцарала ишыақәгылоу атцасла иатәашыазароуп иашыашәалоу акаategoria иатцанакәа атранспорттә хархәага арныкәара азин, ари азин иаанкылазар ма иҕырхзар калом

3

Абри абилет аґы еикәыҕхьаґоу ахәарақәа зегы назыґо

## განმარტება:

„საგზაო მოძრაობის შესახებ“ საქართველოს კანონის 54-ე მუხლის პირველი პუნქტის თანახმად, ამ მუხლით განსაზღვრული კატეგორიის ან/და ქვეკატეგორიის სატრანსპორტო საშუალების მართვის უფლება აქვს მხოლოდ იმ პირს: ა) რომლის ჯანმრთელობის მდგომარეობაც შეესაბამება საქართველოს კანონმდებლობით განსაზღვრულ სატრანსპორტო საშუალების მართვისათვის საჭირო ჯანმრთელობის მდგომარეობის მოთხოვნებს; ბ) რომელსაც საქართველოს კანონმდებლობით დადგენილი წესით მიენიჭა შესაბამისი კატეგორიის ან/და ქვეკატეგორიის სატრანსპორტო საშუალების მართვის უფლება და ეს უფლება არ არის შეჩერებული, ჩამორთმეული ან შეწყვეტილი (გაუქმებული).

## ВОПРОС 51

ПРАВИЛЬНЫЙ ОТВЕТ: 3



I



II



III

Абарт адыргакәа ркынтә руа иарбан чыдалатәи агьежьхарҭақәа змоу амеханикатә атранспорттә хархәага ашьтахьтәи аган аҭы ишьақәыргылатәуҭ

1

IIIIII мацара

2

III мацара

3

III мацара

4

Рыхҭагы

## განმარტება:

„საგზაო მოძრაობის შესახებ“ საქართველოს კანონის მე-19 მუხლის პირველი პუნქტის „ბ“ ქვეპუნქტის თანახმად, მძღოლი, ხოლო ამ კანონის მე-18 მუხლის პირველი პუნქტის „დ“ ქვეპუნქტით გათვალისწინებულ შემთხვევებში – საწარმო ვალდებულია ამ პუნქტით განსაზღვრულ სატრანსპორტო საშუალებებზე დაამაგროს შემდეგი საცნობი ნიშნები: ბ) „კოტები“ – წვერით ზევით მიმართული თეთრი ტოლგვერდა სამკუთხედი წითელი არხით, რომელშიც ჩანერილია შავი ასო „კ“ (სამკუთხედის გვერდი არანაკლებ 200 მმ-ია, არხის სიგანე – გვერდის 1/10) – მაგრდება იმ სატრანსპორტო საშუალების უკანა მხარეს, რომელზედაც დამაგრებულია კოტებიანი სალტები.

## ВОПРОС 52

ПРАВИЛЬНЫЙ ОТВЕТ: 2



I



II



III

Абарт адыргакѡа ркынтѡ руа иарбан ишѡартѡу аидара имѡанызго атранспорттѡ хархѡага аѡхѡатѡи ашьтахьтѡи аганкѡа рѡы ишьақѡыргылатѡуѢ

1

III მაძარა

2

III მაძარა

3

IIIIII მაძარა

4

III IIII

## განმარტება:

„საგზაო მოძრაობის შესახებ“ საქართველოს კანონის მე-19 მუხლის პირველი პუნქტის „გ“ ქვეპუნქტის თანახმად, მძღოლი, ხოლო ამ კანონის მე-18 მუხლის პირველი პუნქტის „დ“ ქვეპუნქტით გათვალისწინებულ შემთხვევებში – საწარმო ვალდებულია ამ პუნქტით განსაზღვრულ სატრანსპორტო საშუალებებზე დაამაგროს შემდეგი საცნობი ნიშნები: გ) „სახიფათო ტვირთი“ – 400X300 მმ ზომის, სწორკუთხედი, ნარინჯისფერი ფირფიტა გარშემო 15 მმ სიგანის შავი არშიით – ასეთი ტვირთის გადამზიდავი სატრანსპორტო საშუალების წინა და უკანა მხარეს, ხოლო ცისტერნის შემთხვევაში – გვერდებზედაც (ფირფიტის ქვედა ნაწილში უნდა აღინიშნოს ტვირთის გაერთიანებული ერების ორგანიზაციის ნომერი, ხოლო ზედა ნაწილში – საშიშროების საიდენტიფიკაციო ნომერი. ისინი უნდა გაიყოს 15 მმ სისქის შავი ჰორიზონტალური ხაზით, რომელიც ფირფიტას ნახევარ სიმაღლეზე გადაკვეთს).





I



II



III

Абарт адыргакәа ркынтә руа иарбан атаразы иазпұхьагәтоу амеханикатә атранспорттә хархәага апұхьатәи ашьтахьтәи аганқәа рқы ишыақыргылатәуҭ

1

IIIIII мацара

2

III мацара

3

III мацара

### განმარტება:

„საგზაო მოძრაობის შესახებ“ საქართველოს კანონის მე-19 მუხლის პირველი პუნქტის „თ“ ქვეპუნქტის თანახმად, მძღოლი, ხოლო ამ კანონის მე-18 მუხლის პირველი პუნქტის „დ“ ქვეპუნქტით გათვალისწინებულ შემთხვევებში – საწარმო ვალდებულია ამ პუნქტით განსაზღვრულ სატრანსპორტო საშუალებებზე დაამაგროს შემდეგი საცნობი ნიშნები: თ) „სასწავლო-სატრანსპორტო საშუალება“ – წვერიტ ზევით მიმართული თეთრი ტოლფერდა სამკუთხედი წითელი არშიით, რომელშიც ჩანერილია შავი ასო „ს“ (სამკუთხედის გვერდი არანაკლებ 200 მმ-ია, არშიის სიგანე – გვერდის 1/10) – მაგრდება სასწავლო სატრანსპორტო საშუალების წინა და უკანა მხარეს. აგრეთვე დასაშვებია მსუბუქი ავტომობილის სახურავზე ორმხრივი ნიშნის დაყენება.



„საგზაო მოძრაობის შესახებ“ საქართველოს კანონის მე-19 მუხლის პირველი პუნქტის „ი“ ქვეპუნქტის თანახმად, მძღოლი, ხოლო ამ კანონის მე-18 მუხლის პირველი პუნქტის „დ“ ქვეპუნქტით გათვალისწინებულ შემთხვევებში – საწარმო ვალდებულია ამ პუნქტით განსაზღვრულ სატრანსპორტო საშუალებებზე დაამაგროს შემდეგი საცნობი ნიშნები: ი) „სიჩქარის შეზღუდვა“ – 3.24 საგზაო ნიშნის შემცირებული ფერადი გამოსახულება, რომელზედაც მითითებულია ნებადართული მოძრაობის სიჩქარე (ნიშნის დიამეტრი არანაკლებ 160 მმ-ია, არშიის სიგანე – დიამეტრის 1/10) – მაგრდება იმ არაგაბარიტული (მსხვილგაბარიტიანი) სატრანსპორტო საშუალების ან სახიფათო ტვირთის გადამზიდავი სატრანსპორტო საშუალების ძარას უკანა მხარეს, მარცხნივ, რომელსაც მართავს მძღოლად მუშაობის 2 წლამდე სტაჟის მქონე მძღოლი, აგრეთვე იმ შემთხვევაში, როცა ტექნიკური მახასიათებლით სატრანსპორტო საშუალების მაქსიმალური სიჩქარე ამ კანონის 33-ე მუხლის მე-7 პუნქტით განსაზღვრულზე ნაკლებია.



I



II



III

Арныкәә итахарала, иарбан адыррақатаратә дыргоузеи агра змоу ахақкәа ирныкәырго амеханикатә атранспорт аҭхьатәи ма ашьтахьтәи аган аҭы, ма абарт ауаа имҭанызго атранспорт аҭы зышыақәырҭәҭәара калоҭ

1

IIIIII мацара

2

III мацара

3

II мацара

### განმარტება:

„საგზაო მოძრაობის შესახებ“ საქართველოს კანონის მე-19 მუხლის მე-2 პუნქტის „ა“ ქვეპუნქტის თანახმად, მძღოლის სურვილისამებრ სატრანსპორტო საშუალებაზე შეიძლება დამაგრდეს შემდეგი საცნობი ნიშნები: ა) „შეზღუდული შესაძლებლობის მქონე პირი“ – ყვითელი კვადრატი 150-მმ-იანი გვერდით და 8.17 საგზაო ნიშნის სიმბოლო შავი გამოსახულებით – შეიძლება დამაგრდეს იმ მექანიკური სატრანსპორტო საშუალების წინა და უკანა მხარეს, რომელსაც მნიშვნელოვნად გამოხატული ან მკვეთრად გამოხატული შეზღუდული შესაძლებლობის სტატუსის მქონე პირი მართავს, ან სატრანსპორტო საშუალებაზე, რომელსაც აღნიშნული პირები გადაჰყავს.

## ВОПРОС 57

ПРАВИЛЬНЫЙ ОТВЕТ: 2



I



II



III

არნიკაჲ იტაჲარალა, იარბან ადირრაკატარატჲ დირგოუზეი აჲაკჲყმ არნიკაჲ დჲყკეტჲო ატრანსპორტჲ  
 ხარხაგაფჲ ჲშჲაკჲყრჲჲჲარა კალოჲ

1

IIIIII მაჲარა

2

III მაჲარა

3

II მაჲარა

## განმარტჲბა:

„საგზაო მოძრაობის შესახებ“ საქართველოს კანონის მე-19 მუხლის მე-2 პუნქტის „ბ“ ქვეპუნქტის თანახმად, მძღოლის სურვილისამებრ სატრანსპორტო საშუალებაზე შეიძლება დამაგრდეს შემდეგი საცნობი ნიშნები: ბ) „ექიმი“ – ლურჯი კვადრატი 140-მმ-იანი გვერდით, შიგ ჩახაზული 125 მმ დიამეტრის თეთრი წრით, რომელზედაც გამოსახულია წითელი ჯვარი (სიმაღლე – 90 მმ, შტრიხის სიგანე – 25 მმ) – შეიძლება დამაგრდეს იმ სატრანსპორტო საშუალებაზე, რომელსაც ექიმი მძღოლი მართავს.

## ВОПРОС 58

ПРАВИЛЬНЫЙ ОТВЕТ: 1

აშჲაჲყრკჲრა მა აშჲაკამჲაფჲ იხჲმარუა ახჲყკჲა რჲმჲყლ ამჲეისჲრტაფჲ ეიტაჲუა ატრანსპორტჲ  
 ხარხაგა აჲჲხა იკაჲაზარ, ამაშჲყნა არნიკაჲ იაჲჲჲხაგჲეიტაროუჲჲ

1

ახჲყკჲა რჲმჲყლ რგარჲ აჲყ ამჲასჲრტა  
 იანჲყლ რჲლშოიტ

2

ახჲყკჲა ამჲასჲრტაშკა რიასრა აშჲარტა  
 ყკამ, იზბანჲარ ურტ ამჲასჲრტა ატჲამჲ აფჲ  
 იაანგჲლანჲ ამაშჲყნა იასაანჲა აჲჲჲრა  
 რჲხჲტოუჲ

## განმარტჲბა:

თუ გაზონზე ან ტროტუარზე მყოფ მოთამაშე ბავშვებს სატრანსპორტო საშუალების წინ გზის სავალ ნაწილზე გადმოუვარდათ ბურთი, მძღოლმა უნდა გაითვალისწინოს, რომ ბავშვები შეიძლება გამოიქცნენ გზის სავალ ნაწილზე ბურთის ასაღებად.

## ВОПРОС 59

ПРАВИЛЬНЫЙ ОТВЕТ: 3

Атранспорттә хархәага ашьаҕамҕаҕы ихәмаруа ахәычкәа ирзааигәахозар, арныкәаҕЖ

1

Ахәычкәа ихшыҕ рзымшьткәа айтатра  
наигзароуп, ишьтагыланы еитатра  
амашынакәа дырҕырхаҕамхарц азы

2

Абжытә рдырга катцаны еипұмырҕыакәа  
аитатра наигзароуп

3

Аласра ирмачны, амашына аанкыларазы  
дыхиазароуп

## განმარტება:

თუ სატრანსპორტო საშუალება უახლოვდება ტროტუარზე მოთამაშე ბავშვებს, მძღოლმა უნდა შეანელოს სიჩქარე და მზად იყოს დამუხრუჭებისთვის.

## ВОПРОС 60

ПРАВИЛЬНЫЙ ОТВЕТ: 3

Амеханикатә транспорттә хархәага арныкәаразы даеазәы итара икәитымупЖ

1

Уи алкоголь, арғышыҕа ма аҕсихотропиатә  
матәашьар дашыны дыказар мацара

2

Уи иашьашәалоу акатегория иатцанакәа  
атранспорттә хархәага арныкәара азин  
имамзар ма азин аанкылазар, имхзар ма  
иҕырхзар Қыртәыла азақәанҕтарала  
ишьақәыргылоу атасла

3

Абри абилет аҕы еикәыҕхьазоу  
иарбанзаалак атагылазаашьаҕы

## განმარტება:

„საგზაო მოძრაობის შესახებ“ საქართველოს კანონის მე-20 მუხლის მე-4 და მე-5 პუნქტების თანახმად: 4. აკრძალულია სატრანსპორტო საშუალების სამართავად გადაცემა იმ პირისათვის, რომელიც იმყოფება ალკოჰოლური, ნარკოტიკული ან ფსიქოტროპული სიმთვრალის მდგომარეობაში. 5. აკრძალულია სატრანსპორტო საშუალების სამართავად გადაცემა იმ პირისათვის, რომელსაც არ აქვს შესაბამისი კატეგორიის ან ქვეკატეგორიის სატრანსპორტო საშუალების მართვის უფლება ან ეს უფლება შეჩერებული, ჩამორთმეული ან შეწყვეტილი (გაუქმებული) აქვს საქართველოს კანონმდებლობით დადგენილი წესით.

## ВОПРОС 61

ПРАВИЛЬНЫЙ ОТВЕТ: 2

Арныкәә, игәбзиара аҭагылазаашьа атранспорттә хархәаҭаҭа рырныкәаразы ихымҭадоу агәабзиара аҭагылазаашьа иашьашәаламзар, уи атранспорттә хархәаҭа арныкәаразыЖ

1

Азин имоуп

2

Азин имам

## განმარტება:

„საგზაო მოძრაობის შესახებ“ საქართველოს კანონის 21-ე მუხლის მე-2 პუნქტის თანახმად, მძღოლს, რომლის ჯანმრთელობის მდგომარეობა არ შეესაბამება სატრანსპორტო საშუალების მართვისათვის საჭირო ჯანმრთელობის მდგომარეობის მოთხოვნებს, ეკრძალება სატრანსპორტო საშუალების მართვა.

## ВОПРОС 62

ПРАВИЛЬНЫЙ ОТВЕТ: 4

Атранспорттә хархәаҭа аҭхьа ашьаҭауаа рымәахысыртаҭы зыкәра дуу ашьаҭауаа деиҭаҭуазар, арныкәә иазҭхьагәеиҭаҭроупЖ

1

Зыкәра дуу ашьаҭауаа ишахәтоу еиҭш игәнигом изааигәахо атранспорттә хархәаҭа аласра.

2

Зыкәра дуу ашьаҭауаа илымҳаи иблеи ирыгзар шыҭало мацара.

3

Зыкәра дуу ашьаҭауаа ақәҭытра алшара шицәмачу мацара.

4

Еиқәыҭхьаҭоу аҭагылазаашьақәа зегьы.

## განმარტება:

თუ სატრანსპორტო საშუალების წინ ქვეითთა გადასასვლელზე გადაადგილდება მოხუცი ქვეით, მძღოლმა უნდა გაითვალისწინოს როგორც ის, რომ მოხუცი ქვეითი შეიძლება სათანადოდ ვერ აფასებდეს მოახლოებული სატრანსპორტო საშუალების სიჩქარეს, ასევე ის, რომ მოხუცი ქვეითის რეაქცია უფრო შენელებულია და შესაძლებელია მას მკვეთრად ჰქონდეს დაქვეითებული სმენა და მხედველობა.

## ВОПРОС 63

ПРАВИЛЬНЫЙ ОТВЕТ: 3

Ардышыгы иашыу арныкәә ила атранспорттә хархәага арныкәара изшәартоиҥ

1

Избанзар, ардышыгы иашыу арныкәә акәҕытразы иаха ирацәаны аамта итахуп.

2

Избанзар, ардышыгы иашыу арныкәә ишахәтоу еиҥш игәнигом амәаҕы иҥоу атагылазашыа.

3

Ардышыгыала ашыра иахылҕаауеит абри абилет аҕы еиҥыҥхыаҕоу афакторкәа зегы

## განმარტება:

ნარკოტიკული სიმთვრალის მდგომარეობაში მყოფი მძღოლის მიერ სატრანსპორტო საშუალების მართვა სიფრთხილის შემცველია, რადგან ნარკოტიკული სიმთვრალის მდგომარეობაში მყოფი მძღოლის რეაქციის დრო იზრდება, ასევე იგი ადეკვატურად ვერ აანალიზებს გზაზე არსებულ სიტუაციას.

## ВОПРОС 64

ПРАВИЛЬНЫЙ ОТВЕТ: 1

Ианылашыцоу аамтазы ма алаҭшбара аныцәҕоу, арныкәә атранспорттә хархәага аитатра аласра ианалихуа, иара изы ахадаратә ҭакы амазароупҤ

1

Алаҭшбаратә тагылазашыа.

2

Амәа абри ацыҭцәахаҕы амәатә дыргакәа рыла ихәаакәтоу ахәарақәа.

3

Иҭыланы иаауа ахырхартаҕы аитатратә цәахәақәа рхыҭхыаҕара.

4

Абри абилет аҕы еиҥыҥхыаҕоу атагылазашыақәа ркынтә акызатцәыкгы иазҭхыагәататәым

## განმარტება:

დღე-ღამის ბნელ დროს ან არასაკმარისი ხილვადობის პირობებში, სატრანსპორტო საშუალების მოძრაობის სიჩქარის შეზღუდვისას მძღოლმა გადამწყვეტი მნიშვნელობა უნდა მიანიჭოს მხედველობის პირობებს.

თემა 2:

უნესკო-ს და პირობები, რომელთა დროს  
აკრძალულია სატრანსპორტო საშუალების  
ეკსპლუატაცია

---

**ВОПРОС 65****ПРАВИЛЬНЫЙ ОТВЕТ: 4**

Аттранспорттә хархәаҕаҕа ирхылтҕаа аҕаз аҕы аматәашьар цәҕьаҕа еитҕоит ахархәара роурЖ

**1**

Атехникатә аҕанахьала еикәшәоу  
аттранспорттә хархәаҕа

**2**

Абылтәы бзиа

**3**

Атса злам абылтәы

**4**

Атехникатә аҕанахьала еикәшәоу  
аттранспорттә хархәаҕа, иара убас, абылтәы  
бзиен, атса злам абылтәи

**განმარტება:**

სატრანსპორტო საშუალების გამონაბოლქ აირებში მავნე ნივთიერებათა შემადგენლობა შემცირდება, თუ გამოყენებული იქნება ტექნიკურად გამართული სატრანსპორტო საშუალება, ასევე ხარისხიანი და არაეთილირებული (ტყვიის მინარევების გარეშე) სანჯავი.

**ВОПРОС 66****ПРАВИЛЬНЫЙ ОТВЕТ: 1**

Ианылашыцоу, амеханикатә аттранспорттә хархәаҕа ааигәатәи харатәи арлашаҕаҕа аамтәкала иҕхастахазар, арныкәа азин имамЖ

**1**

Иҕсабаратәым арлашара иахьыҕам амәаҕы  
аитатра

**2**

Иарбанзаалак амәаҕы аитатра, уи аҕы  
иҕсабаратәым арлашара аҕазаара  
иахьыҕшымкәа

**3**

Иҕсабаратәым арлашара иахьыҕоу, әе  
ганктәи аитатра змоу амәаҕы

**განმარტება:**

„საგზაო მოძრაობის შესახებ“ საქართველოს კანონის მე-21-ე მუხლის მე-13 პუნქტის თანახმად, მძღოლს ეკრძალება მოძრაობა მუშა სამუხრუჭო სისტემის, საჭის მექანიზმის, სატრანსპორტო საშუალებათა შემადგენლობაში მისაბმელი მონწყობილობის გაუმართაობისას, აგრეთვე დღე-ღამის ბნელ დროს ერთდროულად მწყობრიდან გამოსული (ჩამქრალი) ახლო და შორი განათების ფარებით (ან მათი არარსებობისას) ან/და უკანა საგაბარიტო სინათლეებით იმ გზაზე, რომელზედაც არ არის ხელოვნური განათება ან არასაკმარისი ხილვადობაა. მძღოლის მხარეს არსებული მინასანმენდის უმოქმედობისას აკრძალულია მექანიკური სატრანსპორტო საშუალების მართვა ნისლის, წვიმისა და თოვის დროს.





Амашына лас арныкѣаф акатран цѣѣа змоу амѣа аѣыкѣ аѣы даангылеит. Уи, алаѣшбара цѣгъазар, ахышѣаратѣ арлашагакѣа иаѣеимкыр амѣатѣ аитѣцра атѣаскѣа еилеигомаѢ

1

Еилеიგოит

2

Еилеიგომ

### განმარტება:

„საგზაო მოძრაობის შესახებ“ საქართველოს კანონის 49-ე მუხლის მე-9 პუნქტის თანახმად, დაბინდებიდან გათენებამდე, აგრეთვე ნებისმიერი სხვა არასაკმარისი ხილვადობის პირობებში, გზაზე გაჩერების ან დგომის დროს მექანიკური სატრანსპორტო საშუალება და მისი მისაბმელი აღნიშნული უნდა იყოს წინა და უკანა საგაბარიტო სინათლეებით. ამავე მუხლის მე-11 პუნქტის „ბ“ ქვეპუნქტის თანახმად, ამ მუხლის მე-9 და მე-10 პუნქტებით დადგენილ მოთხოვნათა მიუხედავად, მექანიკური სატრანსპორტო საშუალება შეიძლება გაჩერდეს ან იმყოფებოდეს სადგომზე ნებისმიერი გარე სანათი ხელსაწყოს ჩაურთველად: ბ) სავალი ნაწილის და მკვრივი საფარის მქონე გვერდულებს მიღმა.



Ахышәаратә арлашагақәа ҭхастазар, ианылашьцоу аамтазы амашына арныкәа ахыц ахырхартала аитатра анагзара азин имоумаҭ

1

Азин имоуп

2

Азин имам

### განმარტება:

„საგზაო მოძრაობის შესახებ“ საქართველოს კანონის 49-ე მუხლის პირველი პუნქტის თანახმად, დღე-ღამის ბნელ დროს, აგრეთვე არასაკმარისი ხილვადობის პირობებში მოძრაე მექანიკურ სატრანსპორტო საშუალებებზე, აგრეთვე მოპედზე ჩართული უნდა იყოს ახლო ან შორი განათების ფარა/ფარები და უკანა საგაბარიტო სინათლეები. ამავე კანონის 21-ე მუხლის მე-13 პუნქტის თანახმად მძღოლს ეკრძალება მოძრაობა მუშა სამუხრუჭო სისტემის, საჭის მექანიზმის, სატრანსპორტო საშუალებათა შემადგენლობაში მისაბმელი მოწყობილობის გაუმართაობისას, აგრეთვე დღე-ღამის ბნელ დროს ერთდროულად მწყობრიდან გამოსული (ჩამქრალი) ახლო და შორი განათების ფარებით (ან მათი არარსებობისას) ან/და უკანა საგაბარიტო სინათლეებით იმ გზაზე, რომელზედაც არ არის ხელოვნური განათება ან არასაკმარისი ხილვადობაა.



Алаҭшбара аныцәҭоу аамтазы, амашына арныкәаџ, адәахьалатәи арлашарақәа иаҭеимккәа, асахьаҭы иарбоу атыҭаҭы даангылазар, амџатә аитатра атцасқәа еилеигомаҭ

1

Еилеигоит

2

Еилеигом

### განმარტება:

„საგზაო მოძრაობის შესახებ“ საქართველოს კანონის 49-ე მუხლის მე-9 პუნქტის თანახმად, დაბინდებიდან გათენებამდე, აგრეთვე ნებისმიერი სხვა არასაკმარისი ხილვადობის პირობებში, გზაზე გაჩერების ან დგომის დროს მექანიკური სატრანსპორტო საშუალება და მისი მისაბმელი აღნიშნული უნდა იყოს წინა და უკანა საგაბარიტო სინათლეებით. ამავე მუხლის მე-11 პუნქტის „ბ“ ქვეპუნქტის თანახმად, ამ მუხლის მე-9 და მე-10 პუნქტებით დადგენილ მოთხოვნათა მიუხედავად, მექანიკური სატრანსპორტო საშუალება შეიძლება გაჩერდეს ან იმყოფებოდეს სადგომზე ნებისმიერი გარე სანათი ხელსაწყო ჩაურთველად: ბ) სავალი ნაწილის და მკვრივი საფარის მქონე გვერდულებს მიღმა.

## ВОПРОС 70

ПРАВИЛЬНЫЙ ОТВЕТ: 2

Арныкәә атранспорттә харәхагала айтәцра анагзара азин имамЖ

1

Абжытә ардырга аус амуазар

2

Ианылашыцоу аамтазы аамтаклаа ирцәазар  
ааигәа, иара убас, хара изырлашо  
арлашагакәа Пҭма урт рыдаТ, ма ашьтахьтәи  
ахышәаратә арлашагакәа, ма алаҭшбара  
цәгьахар

3

Асаркьарыцкьагакәа ишыақәгылоу арежимла  
аус рымуазар

4

Ачара асистема агерметирра еилагазар

## განმარტება:

„საგზაო მოძრაობის შესახებ“ საქართველოს კანონის 21-ე მუხლის მე-13 პუნქტის თანახმად, მძღოლს ეკრძალება მოძრაობა მუშა სამუხრუჭო სისტემის, საჭის მექანიზმის, სატრანსპორტო საშუალებათა შემადგენლობაში მისაბმელი მოწყობილობის გაუმართაობისას, აგრეთვე დღე-ღამის ბნელ დროს ერთდროულად მწყობრიდან გამოსული (ჩამქრალი) ახლო და შორი განათების ფარებით (ან მათი არარსებობისას) ან/და უკანა საგაბარიტო სინათლეებით იმ გზაზე, რომელზედაც არ არის ხელოვნური განათება ან არასაკმარისი ხილვადობაა. მძღოლის მხარეს არსებული მინასანმენდის უმოქმედობისას აკრძალულია მექანიკური სატრანსპორტო საშუალების მართვა ნისლის, წვიმისა და თოვის დროს.

## ВОПРОС 71

ПРАВИЛЬНЫЙ ОТВЕТ: 2

Агежь адурә ма амѡангаразы ззин иҭоу аидара атранспорттә хархәара амодель иашьашәаламзар ари  
атранспорттә хархәага ахархәара каломаҭ

1

Икалоит

2

Икалом

## განმარტება:

აკრძალულია სატრანსპორტო საშუალების ექსპლუატაცია, თუ საბურავი ზომით ან დასაშვები დატვირთვით არ შეესაბამება სატრანსპორტო საშუალების მოდელს.

## ВОПРОС 72

ПРАВИЛЬНЫЙ ОТВЕТ: 2



I



II



III

Абарт асахьакәа ркынтә анапкәа ииашаны аҭсҭы иакәп асахьаҭыЖ

1

I

2

II

3

III

## განმარტება:

საჭის თვალზე ხელების სწორი განლაგებაა, როდესაც ავარიული სიტუაციის წარმოშობის შემთხვევაში მძღოლს შეუძლია სწრაფად და მოხერხებულად მოაბრუნოს საჭე ყველა მიმართულებით და დააბრუნოს იგი საწყის მდგომარეობაში. გარდა ამისა სწორი განლაგება უზღუნველყოფს ხელებზე მინიმალურ დატვირთვას, ამცირებს დაღლილობას. მძღოლი ყოველთვის მზადაა რეაგირება მოახდინოს საგზაო სიტუაციის ცვლილებაზე. საჭის თვალზე ხელების სწორი განლაგება ნაჩვენებია მეორე ნახატზე.

## ВОПРОС 73

ПРАВИЛЬНЫЙ ОТВЕТ: 2

Автотранспорттә хархәагақәа ирзышьақәыргылоу атехникатә ахәарақәа инрықәырҭшны, тақа еиқәыҭхьазоу аанкыларатә система аиқәшәамзаара ахкқәа рҕынтә руа иарбан иқәитымуҭ

1

Анапалатә аанкылага ахылаҭшратә клапан аиқәшәамзаара, ацзаара, ахылаҭшга аҭхастахара, адеформация ма ахара мацара.

2

Абри абилет аҕы еиқәыҭхьазоу иарбанзаалак аиқәшәамзаара

3

Анапалатә аанкылага амеханизм аиқәшәамзаара, аберкет ахара мацара.

## განმარტება:

„ავტოსატრანსპორტო საშუალებების მიმართ წაყენებული ტექნიკური მოთხოვნები, რომლებთან შესაბამისობის დადგენის მიზნითაც ტარდება გზისთვის ვარგისობაზე ტესტირება და მისი ჩატარების მეთოდების“ საქართველოს მთავრობის 2014 წლის 3 იანვარის №30 დადგენილებით დამტკიცებული ტექნიკური რეგლამენტის მე-4 მუხლის მე-15 და მე-16 პუნქტების თანახმად: 15. დაუშვებელია ხელით მართვადი მუხრუჭის საკონტროლო სარქველის არადამაკმაყოფილებელი მოქმედება, გაჟონვა, მისი მავონტროლებლის დაზიანება, დეფორმირება ან ზედმეტი ცვეთა. 16. დაუშვებელია ხელის მუხრუჭის ხრუტუნა მექანიზმის გაუმართაობა, ბერკეტის ზედმეტი სვლა.



## ВОПРОС 74

ПРАВИЛЬНЫЙ ОТВЕТ: 3

Автотранспорттә хархәагақәа ирзышьақәырғылоу атехникатә ахәарақәа инрықәырғышны, тақа еиқәыпхьажоу аанкыларатә система аиқәшәамзаара ахкқәа ркынтә руа иарбан иқәитымуҭ

1

Агидравликатә аанкылага акынтә абаазатәы алтра мацара

2

Апневматикатә ма апневмогидравликатә аанкылагатә ацха амонетрқәа рыпхастахара мацара

3

Абри абилет аґы еиқәыпхьажоу иарбанзаалак аиқәшәамзаара

## განმარტება:

„ავტოსატრანსპორტო საშუალებების მიმართ წაყენებული ტექნიკური მოთხოვნები, რომლებთან შესაბამისობის დადგენის მიზნითაც ტარდება გზისთვის ვარგისობაზე ტესტირება და მისი ჩატარების მეთოდების“ საქართველოს მთავრობის 2014 წლის 3 იანვარის №30 დადგენილებით დამტკიცებული ტექნიკური რეგლამენტის მე-4 მუხლის მე-9 და მე-17 პუნქტების თანახმად: 9. სამუხრუჭო სისტემების სასიგნალო და საკონტროლო სისტემა, პნევმატიკური და პნევმოჰიდრავლიკური სამუხრუჭო ამძრავის მანომეტრები, სადგომი სამუხრუჭო სისტემის მართვის ორგანოს ფიქსაციის მოწყობილობა უნდა იყოს გამართული. 17. დაუშვებელია სამუხრუჭო სარქველების (სარედუქციო სარქველები და რეგულატორები) დაზიანება, ჰაერის ზედმეტი გაღინება, კომპრესორიდან ზედმეტი ზეთის გაღინება, არასაიმედო მონტაჟი, ჰიდრავლიკური მუხრუჭიდან სითხის გაღინება.

## ВОПРОС 75

ПРАВИЛЬНЫЙ ОТВЕТ: 1

Арныкәаҭ атранспорттә хархәага ахархәара азин имоума, уи адәахьалатәи арлашагақәа рхыпхьазареи, рыхки, русуратә режими атранспорттә хархәага аибыташьа иашьашәаламзарҭ

1

Азин имазам

2

Азин имоуп

## განმარტება:

„ავტოსატრანსპორტო საშუალებების მიმართ წაყენებული ტექნიკური მოთხოვნები, რომლებთან შესაბამისობის დადგენის მიზნითაც ტარდება გზისთვის ვარგისობაზე ტესტირება და მისი ჩატარების მეთოდების“ საქართველოს მთავრობის 2014 წლის 3 იანვარის №30 დადგენილებით დამტკიცებული ტექნიკური რეგლამენტის მე-7 მუხლის მე-3 პუნქტის თანახმად, დასაშვებია წარმოებიდან მოხსნილ ავტოსატრანსპორტო საშუალებებზე სხვა მარკისა და მოდელების ავტოსატრანსპორტო საშუალებების გარე მაშუქი ხელსაწყოების დაყენება. გარე მაშუქი ხელსაწყოების რაოდენობა, ტიპი, განთავსება და მუშაობის რეჟიმი უნდა შეესაბამებოდეს ავტოსატრანსპორტო საშუალების კონსტრუქციის მიმართ დადგენილ მოთხოვნებს.

## ВОПРОС 76

ПРАВИЛЬНЫЙ ОТВЕТ: 3

Лырак аҧы зпротекторкәа еиҧшым агежхарҧақәа рышыақәыргылаҧа каломаҧ

1

Икалоит

2

Икалоит, амашына лас мацараҧы

3

Икалом

## განმარტება:

„ავტოსატრანსპორტო საშუალებების მიმართ წაყენებული ტექნიკური მოთხოვნები, რომლებთან შესაბამისობის დადგენის მიზნითაც ტარდება გზისთვის ვარგისობაზე ტესტირება და მისი ჩატარების მეთოდების“ საქართველოს მთავრობის 2014 წლის 3 იანვარის №30 დადგენილებით დამტკიცებული ტექნიკური რეგლამენტის მე-8 მუხლის მე-5 პუნქტის თანახმად, „ავტოსატრანსპორტო საშუალება უნდა იყოს დაკომპლექტებული საბურავებით, რომელიც გამორიცხავს ავტოსატრანსპორტო საშუალების მოძრაობის ნებისმიერ რეჟიმში, საბურავების შეხებას დაკიდების ან ავტოსატრანსპორტო საშუალების ნებისმიერ სხვა ელემენტთან. დაუშვებელია ერთ ღერძზე სხვადასხვა პროტექტორის მქონე საბურავების დაყენება.

## ВОПРОС 77

ПРАВИЛЬНЫЙ ОТВЕТ: 4

Цака еиқәыҧхьажоу атагылазаашьақәа ркынтә атранспорттә хархәага ахархәара ианбақамлоҧ

1

Абензини адизели рыла аус зуа арныкәага ачаратә система абылтәы анацзаауа мацара

2

Агаз ацәынхақәа роушьтратә система аелементкәа реидхәалага абылтәы анацзаауа мацара

3

Аамта е аамталатәи агәатаразы зыҧхәара иасхьоу агазбаллонкәа рхархәара мацараан

4

Абри абилет аҧы еиқәыҧхьажоу иарбанзаалак атагылазаашьа аан

## განმარტება:

„ავტოსატრანსპორტო საშუალებების მიმართ წაყენებული ტექნიკური მოთხოვნები, რომლებთან შესაბამისობის დადგენის მიზნითაც ტარდება გზისთვის ვარგისობაზე ტესტირება და მისი ჩატარების მეთოდების“ საქართველოს მთავრობის 2014 წლის 3 იანვარის №30 დადგენილებით დამტკიცებული ტექნიკური რეგლამენტის მე-9 მუხლის მე-18 და 21-ე პუნქტების თანახმად: 18. დაუშვებელია ბენზინის და დიზელის ძრავების კვების სისტემაში საწვავის ჟონვა. 21. აირბალონიანი ასს-ების კვების სისტემა უნდა იყოს ჰერმეტიკული. დაუშვებელია აირბალონიანი ასს-ზე ისეთი ბალონების გამოყენება, რომელთაც გასული აქვთ პერიოდული შემოწმების ვადა. ამავე რეგლამენტის მე-14 მუხლის მე-3 პუნქტის თანახმად, დაუშვებელია გაჟონვა ნამწვი აირების გამონაბოლქვის სისტემის ელემენტების შეერთებებში, ხოლო კატალიზური კონვერტორებით აღჭურვილ ასს-ებზე დაუშვებელია ნამწვი აირების ატმოსფეროში გამოყოფა კატალიზური კონვერტორების გვერდის ავლით.



## ВОПРОС 78

ПРАВИЛЬНЫЙ ОТВЕТ: 3

Автотранспорттә хархәаҭәа ирзышьақәыргылоу атехникатә ахәарақәа инрықәырҭшны, ҭақа еиқәыҭхьаҭоу аҭагылазаашьақәа рҭынтә руа иарбан атранспорттә хархәаҭәа ахархәара анықамлоҭ

1

Атранспорттә хархәаҭәа аибыҭашьа ала иазҭхьаҭәоу, ашьҭахьтәи алаҭшбара асаркьа ықамзар

2

Абжьытә ардырга аус амуазар

3

Абри абилет аҭы еиқәыҭхьаҭоу иарбанзаалак аиқәшәамзаара анықоу

## განმარტება:

„ავტოსატრანსპორტო საშუალებების მიმართ წაყენებული ტექნიკური მოთხოვნები, რომლებთან შესაბამისობის დადგენის მიზნითაც ტარდება გზისთვის ვარგისობაზე ტესტირება და მისი ჩატარების მეთოდების“ საქართველოს მთავრობის 2014 წლის 3 იანვარის №30 დადგენილებით დამტკიცებული ტექნიკური რეგლამენტის მე-10 მუხლის პირველი პუნქტის თანახმად, ავტოსატრანსპორტო საშუალების ხმოვანი სასიგნალე მოწყობილობა უნდა იყოს გამართულ მდგომარეობაში. ამავე რეგლამენტის მე-13 მუხლის პირველი პუნქტის „ზ“ ქვეპუნქტის თანახმად, „ავტოსატრანსპორტო საშუალება აღჭურვილი უნდა იყოს კომპლექტაციის შემდეგი ელემენტებით: 8) უკანა ხედვის სარკეებით.

## ВОПРОС 79

ПРАВИЛЬНЫЙ ОТВЕТ: 1

Аџшатә саркьаҭы, арнықәаџ иганахьала, асаркьарыцкьаҭа аус ахьауа атыҭаҭы ашьара ма ашәыҭақәа иқазар каломаҭ

1

Иқалом

2

Иқалоит

## განმარტება:

„ავტოსატრანსპორტო საშუალებების მიმართ წაყენებული ტექნიკური მოთხოვნები, რომლებთან შესაბამისობის დადგენის მიზნითაც ტარდება გზისთვის ვარგისობაზე ტესტირება და მისი ჩატარების მეთოდების“ საქართველოს მთავრობის 2014 წლის 3 იანვარის №30 დადგენილებით დამტკიცებული ტექნიკური რეგლამენტის მე-6 მუხლის მე-4 პუნქტის თანახმად, დასაშვებია საქარე მინის ზედა ნაწილში გამჭვირვალე ფერადი აფსკის დამაგრება სიგანით არა უმეტეს 140 მმ, ხოლო კატეგორიების ასს-ზე – სიგანით, რომელიც არ აღემატება საქარე მინის ზედა ნაწილსა და მისი მინასაწმენდით გაწმენდის ზედა ზონის ზღვარს შორის მანძილს. დაუშვებელია საქარე მინაზე, მძღოლის მხარეს, მიწმენდის მოქმედების არეში, ბზარებისა და ლაქების არსებობა.

## ВОПРОС 80

ПРАВИЛЬНЫЙ ОТВЕТ: 4

Атранспорттə хархəага агежьхарџакəа рџы ахаир ақəыңџəара лəкəызар, уи иахылџиаар алшоитЖ

1

Абылтəы ахарџь азхара мацара.

2

Аџскы аус арура ауадаџхара мацара.

3

Агежьхарџакəа рырщəара мацара.

4

Абылтəы ахарџь азхара, иара убас, аџскы аус арура ауадаџхареи агежьхарџакəа рырщəареи.

## განმარტება:

სატრანსპორტო საშუალების საბურავებში აირის დაბალმა წნევამ შეიძლება გამოიწვიოს როგორც სანჯავის ხარჯის მატება, ასევე საჭის მართვის გაძნელება და საბურავების გადახურება.

თემა 3:

## მაფრთხილებელი ნიშნები

---

## ВОПРОС 81

ПРАВИЛЬНЫЙ ОТВЕТ: 1



I



II



III



IV

Иарбоу амдәтә дыргакәа ркомбинациакәа ркынтә ауаа ахнымхо атып аҕы, аихамдә амдәкыгәтә хысыртанза 150-300 метрак шыбжьоу, амдә армарахьтәи аҕанаҕы иргылатәуиҕ

1

I

2

II

3

III

4

IV

## განმარტება:

„საგზაო მოძრაობის შესახებ“ საქართველოს კანონის პირველი დანართის 1.1, 1.2 და 1.41- 1.46 პუნქტების თანახმად, საგზაო ნიშანი: 1.1. „რკინიგზის შლავგაუმიანი გადასასვლელი“ – იძლევა გაფრთხილებას რკინიგზის შლავგაუმთან გადასასვლელთან მიახლოების თაობაზე. 1.2. „რკინიგზის უშლავგაუმო გადასასვლელი“ – იძლევა გაფრთხილებას რკინიგზის უშლავგაუმო გადასასვლელთან მიახლოების თაობაზე. 1.4.1–1.4.6. „რკინიგზის გადასასვლელთან მიახლოება“ – დამატებით აფრთხილებს მძღოლს დაუსახლებელ პუნქტში რკინიგზის გადასასვლელთან მიახლოების თაობაზე. ამავე დანართის პირველი თავის შენიშვნის „ა“ და „ვ“ ქვეპუნქტების თანახმად: ა) ნიშნები 1.1, 1.2, 1.5–1.34 ნიშნები დაუსახლებელ პუნქტში იდგმება სახიფათო მონაკვეთის დასაწყისამდე 150–300 მეტრ მანძილზე, დასახლებულ პუნქტში – 50–100 მეტრ მანძილზე. აუცილებლობისას ნიშნები იდგმება სხვა მანძილზედაც, რომელიც მითითებულია 8.1.1 დაფაზე; ვ) ნიშნები 1.4.1–1.4.3 ნიშნები იდგმება გზის მარჯვენა მხარეს, ხოლო 1.4.4–1.4.6 ნიშნები – გზის მარცხენა მხარეს. 1.4.1 და 1.4.4 ნიშნები იდგმება მოძრაობის მიმართულებით ძირითად და განმეორებით 1.1 ან 1.2 ნიშანთან ერთად, 1.4.3 და 1.4.6 ნიშნები – მოძრაობის მიმართულებით განმეორებით 1.1 ან 1.2 ნიშანთან ერთად, ხოლო 1.4.2 და 1.4.5 ნიშნები – დამოუკიდებლად, თანაბარ დაშორებაზე ძირითად და განმეორებით 1.1 ან 1.2 ნიშანს შორის.



I



II



III

Иарбоу ардырратә дыргакәа ркынтә руа иарбан «Амашәыртә аангыларә адырга»Ѳ

1

I

2

II

3

III

### განმარტება:

„საგზაო მოძრაობის შესახებ“ საქართველოს კანონის 52-ე მუხლის მე-5 პუნქტის თანახმად, „ავარიული გაჩერების ნიშანი“ არის ტოლგვერდა სამკუთხედის ფორმის დაფა არანაკლებ 0,4 მეტრი სიგრძის გვერდებითა და არანაკლებ 0,05 მეტრი სიგანის წითელი არშიით. ამ სამკუთხედის შუა ნაწილი შეიძლება ღრუ იყოს ან ღია ფერის საღებავით შეიღებოს. წითელი არშია შექს არ უნდა ატარებდეს ან უნდა ჰქონდეს შექამრეკლი თვისების მქონე ზოლი. დაფა ისე უნდა იყოს მოწყობილი, რომ შეიძლებოდეს იყოს მისი ვერტიკალურ მდგომარეობაში მდგრად დაყენება.

## ВОПРОС 83

ПРАВИЛЬНЫЙ ОТВЕТ: 2



I



II



III



IV

Иარბოუ ამფატე დყრაკეა რყინტე რუა იარბან ამფაკყგა ჰმოუ ახყსურტა აზააიგეახარა იაჰკნყ აგეანტარა ჰაჰტოჲ

1

I

2

II

3

III

4

IV

## განმარტება:

„საგზაო მოძრაობის შესახებ“ საქართველოს კანონის პირველი დანართის პირველი თავის (მაფრთხილებელი ნიშნები) 1.1 პუნქტის თანახმად საგზაო ნიშანი 1.1 „რკინიგზის შლავგაუმთან გადასასვლელი“ - იძლევა გაფრთხილებას რკინიგზის შლავგაუმთან გადასასვლელთან მიახლოების თაობაზე.

## ВОПРОС 84

ПРАВИЛЬНЫЙ ОТВЕТ: 4



I



II



III



IV

Иарбоу амѡатѡ дьргакѡа рѣынтѡ руа иарбан ауааѣсыра иахьнымхо атыѣ аѣы еитакѡдыргылоѣ

1

Ши ШШи мацара

2

Ши ШШШи мацара

3

Рызынтѡгы

4

ШШи ШМи мацара

## განმარტება:

„საგზაო მოძრაობის შესახებ“ საქართველოს კანონის პირველი დანართის პირველი თავის (მაფრთხილებელი ნიშნები) შენიშვნის „ბ“ ქვეპუნქტის თანახმად 1.1 „რკინიგზის ჰლაგბაუმიანი გადასასვლელი“ და 1.10 „სანაპიროზე გასასვლელი“ ნიშნები მეორდება დაუსახლებულ პუნქტში. მეორე ნიშანი იდგმება სახიფათო მონაკვეთის დასაწყისიდან არანაკლებ 50 მეტრ მანძილზე.

## ВОПРОС 85

ПРАВИЛЬНЫЙ ОТВЕТ: 1



I



II



III



IV

Иарбоу амѡатѡ дыргакѡа рѡынтѡ руа иарбан ауааѡсыра иахьнымхо атыѡ аѡы еитакѡдыргылоѡ

1

Акызатѡыкгы

2

Ши ШШШи мацара

3

Рызынтѡгы

4

ШШи ШМи мацара

## განმარტება:

„საგზაო მოძრაობის შესახებ“ საქართველოს კანონის პირველი დანართის პირველი თავის (მაფრთხილებელი ნიშნები) შენიშვნის „ბ“ ქვეპუნქტის თანახმად 1.1, 1.2, 1.10, 1.11, 1.23, 1.24 და 1.26 ნიშნები მეორდება დაუსახლებელ პუნქტში, ხოლო 1.24 და 1.26 ნიშნები – დასახლებულ პუნქტშიც. მეორე ნიშანი იდგმება სახიფათო მონაკვეთის დასაწყისიდან არანაკლებ 50 მეტრ მანძილზე.



## ВОПРОС 86

ПРАВИЛЬНЫЙ ОТВЕТ: 2



I



II



III



IV

Иарбоу амѡатѡ дыргакѡа рѣынтѡ руа иарбан ауааѣсыра иахънымхо атыѣ аѣы еитакѡдыргылоѢ

1

Ши ШШи мацара

2

ШШи ШШШи мацара

3

Рызынтѡгы

4

ШШи ШМи мацара

## განმარტება:

„საგზაო მოძრაობის შესახებ“ საქართველოს კანონის პირველი დანართის პირველი თავის (მაფრთხილებელი ნიშნები) შენიშვნის „ბ“ ქვეპუნქტის თანახმად 1.1, 1.2, 1.10, 1.11, 1.23, 1.24 და 1.26 ნიშნები მეორდება დაუსახლებელ პუნქტში, ხოლო 1.24 „ბავშვები“ და 1.26 „საგზაო სამუშაოები“ ნიშნები – დასახლებულ პუნქტშიც. მეორე ნიშანი იდგმება სახიფათო მონაკვეთის დასაწყისიდან არანაკლებ 50 მეტრ მანძილზე.

## ВОПРОС 87

ПРАВИЛЬНЫЙ ОТВЕТ: 1



I



II



III



IV

Иарбоу амѡатѡ дырგакѡа рѡынтѡ руа иарбан арныкѡѡ агѡѡантѡара изто ауаа ахънымхо атыѡ ааигѡара аихамѡа ахысыртѡ шыѡоу азыѤ

1

ში ში ში მაцარა

2

Рызынтѡгы

3

ში ში ში ში ში მაцარა

4

ში ში ში მაцარა

## განმარტება:

„საგზაო მოძრაობის შესახებ“ საქართველოს კანონის პირველი დანართის პირველი თავის მაფრთხილებელი ნიშნები) 1.4.1-1.4.6 პუნქტების თანახმად საგზაო ნიშნები 1.4.1 – 1.4.6. „რკინიგზის გადასასვლელთან მიახლოება“ - დამატებით აფრთხილებს მძღოლს დაუსახლებელ პუნქტში რკინიგზის გადასასვლელთან მიახლოების თაობაზე.

## ВОПРОС 88

ПРАВИЛЬНЫЙ ОТВЕТ: 3



I



II



III



IV

Иარბოუ ამფატე დыргакეа ауаа ахьнымхо атып афы ентадыргылоит ишәартоу ачыпдәаха алагамтанжа ишыбжьоуЖ

1

15т метрак еитымкәа

2

1тт метрак еитымкәа

3

5т метрак еитымкәа

## განმარტება:

„საგზაო მოძრაობის შესახებ“ საქართველოს კანონის პირველი დანართის პირველი თავის (მაფრთხილებელი ნიშნები) შენიშვნის „ბ“ ქვეპუნქტის თანახმად 1.1 „რკინიგზის შლავგაუმთანადე გადასასვლელი“, 1.2 „რკინიგზის უშლავგაუმთანადე გადასასვლელი“, 1.10 „გასახსნელი ხიდი“, 1.11 „სანაპიროზე გასასვლელი“, 1.23 „ქვეითა გადასასვლელი“, 1.24 „ბავშვები“ და 1.26 „საგზაო სამუშაოები“ ნიშნები მეორდება დაუსახლებელ პუნქტში, ხოლო 1.24 და 1.26 ნიშნები - დასახლებულ პუნქტშიც. მეორე ნიშანი იდგმება სახიფათო მონაკვეთის დასაწყისიდან არანაკლებ 50 მეტრის მანძილზე.



Иарбоу амѡатѡ дьргакѡа, 8. 1. 1. ჭაობიექტ აკынჯა აბჯაზაარაჲ აფჷ ადა, ამფასურტაფჷ, აამტაკჷაფლა აუსურაკჷა რჷნაგზარაან იკჷყრგჷლათჷუპ აუსურაკჷა იახჷმფაჲჷსუა ატჷჲაკჷნტჷჲ

1

3t მეტრაკ იშჷბჷჷოუ

2

1t-15 მეტრაკ იშჷბჷჷოუ

3

5t მეტრაკ იშჷბჷჷოუ

### განმარტება:

„საგზაო მოძრაობის შესახებ“ საქართველოს კანონის პირველი დანართის პირველი თავის (მაფრთხილებელი ნიშნები) შენიშვნის „დ“ ქვეპუნქტის თანახმად 1.26 „საგზაო სამუშაოები“ ნიშანი სავალ ნაწილზე ხანმოკლე სამუშაოს ჩატარებისას იდგმება სამუშაოს ჩატარების ადგილიდან 10–15 მეტრ მანძილზე, 8.1.1 დატის გარეშე.

## ВОПРОС 90

ПРАВИЛЬНЫЙ ОТВЕТ: 3



Иарбоу амѡатѣ дыргакѣа ркомбинациакѣа ркынтѣ руа иарбан ауааѣсыра иахьнымхо атыѣаѣы, аихамѡа амѡаркыга змоу ахысыртанѣа 150 ѣ 300 метрак ишыбѣжоу, амѡа арѣѣарахьтѣи аганала иргылатѣუ

1

I

2

II

3

III

4

IV

## განმარტება:

„საგზაო მოძრაობის შესახებ“ საქართველოს კანონის პირველი დანართის პირველი თავის (მაფრთხილებელი ნიშნები) შენიშვნის „ა“, „ბ“ და „ვ“ ქვეპუნქტების თანახმად: ა) 1.1 „რკინიგზის ზღაგზაუმიანი გადასასვლელი“ და 1.2 „რკინიგზის უზღაგზაუმო გადასასვლელი“ ნიშნები დაუსახლებელ პუნქტში იდგმება სახიფათო მონაკვეთის დასაწყისამდე 150–300 მეტრ მანძილზე, ბ) 1.1 „რკინიგზის ზღაგზაუმიანი გადასასვლელი“, 1.2 „რკინიგზის უზღაგზაუმო გადასასვლელი“, 1.10 „გასახსნელი ხიდი“, 1.11 „სანაპიროზე გასასვლელი“, 1.23 „ქვეითთა გადასასვლელი“, 1.24 „ბავშვები“ და 1.26 „საგზაო სამუშაოები“ ნიშნები მეორდება დაუსახლებელ პუნქტში, ხოლო 1.24 და 1.26 ნიშნები - დასახლებულ პუნქტშიც. მეორე ნიშანი იდგმება სახიფათო მონაკვეთის დასაწყისიდან არანაკლებ 50 მეტრის მანძილზე. ვ) 1.4.1-1.4.3 „რკინიგზის გადასასვლელთან მიახლოება“ ნიშნები იდგმება გზის მარჯვენა მხარეს, ხოლო 1.4.4-1.4.6 „რკინიგზის გადასასვლელთან მიახლოება“ ნიშნები - მარცხენა მხარეს. 1.4.1 და 1.4.4 ნიშნები იდგმება მოძრაობის მიმართულებით ძირითად და დუბლირებულ 1.1 ან 1.2 ნიშნებთან ერთად. ნიშნები 1.4.3 და 1.4.6 იდგმება მოძრაობის მიმართულებით განმეორებით 1.1 ან 1.2 ნიშნებთან, ხოლო ნიშნები 1.4.2 და 1.4.5 - დამოუკიდებლად, თანაბარ დაშორებაზე ძირითად და განმეორებითი 1.1 ან 1.2 ნიშნებს შორის.

## ВОПРОС 91

ПРАВИЛЬНЫЙ ОТВЕТ: 1



I



II



III



IV

Иарбоу амѡатѡ дыргакѡа рѡынтѡ руа иარბან иშѡართუ атѡირტაკѡа иახыѡѡу амѡა ацыѡѡѡаха хзырბѡѢ

1

I

2

II

3

III

4

IV

## განმარტება:

„საგზაო მოძრაობის შესახებ“ საქართველოს კანონის პირველი დანართის პირველი თავის (მაფრთხილებელი ნიშნები) 1.13.1 და 1.13.2 პუნქტების თანახმად საგზაო ნიშნები 1.13.1, 1.13.2 „სახიფათო მოსახვევები“ - აღნიშნავს გზის მონაკვეთს სახიფათო მოსახვევებით: 1.13.1 – პირველი მოსახვევით მარჯვნივ, 1.13.2 – პირველი მოსახვევით მარცხნივ.

## ВОПРОС 92

ПРАВИЛЬНЫЙ ОТВЕТ: 3



I



II



III



IV

Иარბოუ ამფათე დыргაკეა რკინტე რუა იარბან, აგეჯხარტა ამფა აკეტერაარა აკოэффициент 0,4 еитцны  
იახьыкоу, икეტერაауа амფа ацыцтәаха хзырбиџ

1

I

2

II

3

III

4

IV

## განმარტება:

„საგზაო მოძრაობის შესახებ“ საქართველოს კანონის პირველი დანართის პირველი თავის (მაფრთხილებელი ნიშნები) 1.16 პუნქტის თანახმად საგზაო ნიშანი 1.16 „მოლიპული გზა“ - აღნიშნავს გზის მოლიპულ მონაკვეთს, რომლზედაც საბურავის გზის საფართან ჩაჭიდების კოეფიციენტი 0,4-ზე ნაკლებია.



## ВОПРОС 93

ПРАВИЛЬНЫЙ ОТВЕТ: 2



I



II



III



IV

Иარბოუ ამოათე დыргაკეა რკინტე რუა იარბან ატრანსპორტტე хархეага агежькეа ркынте аҭслымз ма ахрешь атыгара иахьыкало амѡа ацыҭцѡаха хзырбо Ё

1

III IIIIII მაцара

2

III მაцара

3

III მაцара

4

III IIII. მაцара

## განმარტება:

„საგზაო მოძრაობის შესახებ“ საქართველოს კანონის პირველი დანართის პირველი თავის (მაფრთხილებელი ნიშნები) 1.19 პუნქტის თანახმად საგზაო ნიშანი 1.19 „ქვის ასხლეტა“ - აღნიშნავს გზის მონაკვეთს, რომელზედაც შესაძლებელია სატრანსპორტო საშუალების თვლებიდან ღორღის, ხრეშის ასხლეტა და ა. შ..



## ВОПРОС 94

ПРАВИЛЬНЫЙ ОТВЕТ: 1



I



II



III



IV

Иарбоу амѡатѡ дыргакѡа ркынтѡ руа иარбан амѡასырთა атѡაара არѡყარახტѡი აგანაჲკынტѡ იახჲყტშѡაჲო  
ამѡა აცჲყტѡაჲა ჲჲყრბოჲ

1

I

2

II

3

III

4

IV

## განმარტება:

„საგზაო მოძრაობის შესახებ“ საქართველოს კანონის პირველი დანართის პირველი თავის (მაფრთხილებელი ნიშნები) 1.21.1-1.21.3 პუნქტების თანახმად საგზაო ნიშნები 1.21.1–1.21.3 „გზის შევიწროება“ - აღნიშნავს გზის მონაკვეთს, რომლის სავალი ნაწილის სიგანე ვიწროვდება. 1.21.1 - ორივე მხრიდან; 1.21.2 - მარჯვნიდან; 1.21.3 - მარცხნიდან.

## ВОПРОС 95

ПРАВИЛЬНЫЙ ОТВЕТ: 2



I



II



III



IV

Иарбоу амѡათѣ дыргакѡа ркынтѣ руа иарбан амѡათѣ дыргала П5.1п.1 ма 5.1п.2Т ма амѡათѣ азгѡათала  
П1.14.1ѣ1.14.3Т ашьакауаа рхысырта азааигѡахара иазкны агѡѣанѡара хазтѡѢ

1

I

2

II

3

III

4

IV

## განმარტება:

„საგზაო მოძრაობის შესახებ“ საქართველოს კანონის პირველი დანართის პირველი თავის (მაფრთხილებელი ნიშნები) 1.23 პუნქტის თანახმად საგზაო ნიშანი 1.23 „ქვეითთა გადასასვლელი“ - იძლევა გაფრთხილებას 5.19.1 და 5.19.2 ნიშნებით ან/და 1.14.1–1.14.3 მონიშვნებით აღნიშნულ ქვეითთა გადასასვლელთან მიახლოების თაობაზე.

## ВОПРОС 96

ПРАВИЛЬНЫЙ ОТВЕТ: 4



I



II



III



IV

Иარბოუ ამფათე დыргакәа ркынтә руа иарбан амҭасыртаҭы ахәычтәы усхәарта аҭазаара иазкны агәе  
анҭара хазтәҭ

1

I

2

II

3

III

4

IV

## განმარტება:

„საგზაო მოძრაობის შესახებ“ საქართველოს კანონის პირველი დანართის პირველი თავის (მაფრთხილებელი ნიშნები) 1.24 პუნქტის თანახმად საგზაო ნიშანი 1.24 „ბავშვები“ - იძლევა გაფრთხილებას გზის მონაკვეთთან საბავშვო დაწესებულების არსებობის თაობაზე, საიდანაც დიდი ბავშვების სავალ ნაწილზე გამოჩენის ალბათობა.

## ВОПРОС 97

ПРАВИЛЬНЫЙ ОТВЕТ: 1



I



II



III



IV

Иарбоу амѡათѣ дыргакѣа рѣынтѣ руа иарбан амѡათѣ дыргала П4.4Т иазгѣათоу авеломѡахѣаста амѡасырта аихтѣара атыпѣ азааигѣахара иазкны агѣѣантѣара хазтѣ

1

I

2

II

3

III

4

IV

## განმარტება:

„საგზაო მოძრაობის შესახებ“ საქართველოს კანონის პირველი დანართის პირველი თავის (მაფრთხილებელი ნიშნები) 1.25 პუნქტის თანახმად საგზაო ნიშანი 1.25 „ველობილიკის გადაკვეთა“ - იძლევა გაფრთხილებას 4.4 ნიშნით აღნიშნული ველობილიკის სავალი ნაწილის გადაკვეთის ადგილთან მიახლოების თაობაზე.

## ВОПРОС 98

ПРАВИЛЬНЫЙ ОТВЕТ: 4



I



II



III



IV

Иарбоу амәатә дыргакәа ркынтә руа иарбан аусуракәа иахьымәаҭысуа амәа ацыҭәаха хзырбоҭ

1

I

2

II

3

III

4

IV

## განმარტება:

„საგზაო მოძრაობის შესახებ“ საქართველოს კანონის პირველი დანართის პირველი თავის (მაფრთხილებელი ნიშნები) 1.26 პუნქტის თანახმად საგზაო ნიშანი 1.26 „საგზაო სამუშაოები“ - აღნიშნავს გზის მონაკვეთს, რომლის ფარგლებში სამუშაოები მიმდინარეობს.

## ВОПРОС 99

ПРАВИЛЬНЫЙ ОТВЕТ: 2



I



II



III



IV

Иარბოუ ამოათ დყრაქა რკინტე რუა იარბან ასხის, ადგყლყბგარა მა ახაჟყბგარაკინტე ზყმდასყრტა  
იხყამ ამა აცყტაჟა ჰყრბოჟ

1

I

2

II

3

III

4

IV

## განმარტება:

„საგზაო მოძრაობის შესახებ“ საქართველოს კანონის პირველი დანართის პირველი თავის (მაფრთხილებელი ნიშნები) 1.29 პუნქტის თანახმად საგზაო ნიშანი 1.29 „ქვის ცვენა“ - აღნიშნავს გზის მონაკვეთს, რომლის სავალი ნაწილი არ არის დაცული ზვავისაგან, მენყერისაგან ან ქვების ცვენისაგან.



I



II



III



IV

Иарбоу амѡатѡ дыргакѡа ркынтѡ руа иарбан егырт агѡѡанцаратѡ дыргакѡа рыла иазпхьагѡатам ашѡартакѡа цѡырцыр иахьыкало амѡа ацыпцѡаха хьырбоѢ

1

I

2

II

3

III

4

IV

### განმარტება:

„საგზაო მოძრაობის შესახებ“ საქართველოს კანონის პირველი დანართის პირველი თავის (მაფრთხილებელი ნიშნები) 1.34 პუნქტის თანახმად საგზაო ნიშანი 1.34 „სხვა საფრთხეები“ - გზის მონაკვეთი, რომელზედაც შეიძლება წარმოიშვას ისეთი საფრთხე, რომელიც არ არის განსაზღვრული სხვა მაფრთხილებელი ნიშნებით.

## ВОПРОС 101

ПРАВИЛЬНЫЙ ОТВЕТ: 4



I



II



III



IV

Иарбоу амѡатѡ дыргакѡа рѡынтѡ руа иарбан алаѡшбара иахьыѡѡѡ, зрадиус хѡычу амѡаѡы аитатра ахырхартеи, иара убас, амѡатѡ усураѡа иахьымѡаѡысуа аѡыѡаѡы – иакѡшаны иѡо амѡа ахырхартеи хьырѡѡ

1

I

2

II

3

III

4

IV

## განმარტება:

„საგზაო მოძრაობის შესახებ“ საქართველოს კანონის პირველი დანართის პირველი თავის (მაფრთხილებელი ნიშნები) 1.35.1-1.35.6 პუნქტების თანახმად საგზაო ნიშნები 1.35.1- 1.35.6 „მოხვევის მიმართულება“ - მიუთითებს შეზღუდული ხილვადობის მქონე მცირერადიუსიან გზის მრუდებზე მოძრაობის მიმართულებას (1.35.1–1.35.3 – მარჯვნივ, 1.35.4–1.35.6 – მარცხნივ) ან საგზაო სამუშაოების მიმდინარეობის ადგილის შემოვლის შესაბამის მიმართულებას.





I



II



III



IV

Иарбоу амѡათѡ дыргакѡа ркынтѡ руа иარბან еиѡკаам амѡეихысыртѡ ахысра аан арныкѡаѡ аѡыжѡара  
изтоѡ

1

I

2

II

3

III

4

IV

### განმარტება:

„საგზაო მოძრაობის შესახებ“ საქართველოს კანონის პირველი დანართის მე-2 თავის (პრიორიტეტის ნიშანი) 2.1 პუნქტების თანახმად საგზაო ნიშანი 2.1 „მთავარი გზა“ - გზა, რომელზე მოძრავ მძღოლსაც ენიჭება არარეგულირებული გზაჯვარედინის გავლის უპირატესობა. ნიშანი იდგმება გზის დასაწყისში და მეორდება უშუალოდ ყოველი გზაჯვარედინის წინ. 2.1 ნიშანი 8.13 დაფით დასახლებულ პუნქტში იდგმება გზაჯვარედინის წინ, რომელზედაც მთავარი გზა იცვლის მიმართულებას, დაუსახლებელ პუნქტში – წინასწარ გზაჯვარედინამდე 150–300 მეტრ მანძილზე და გზაჯვარედინის წინ.

## ВОПРОС 103

ПРАВИЛЬНЫЙ ОТВЕТ: 3

Агежьқәа зтоу ашьаҭақәа, агежьқәа зтоу аҭы, ахаланықәа, аҭынах ма абарт иреиҭшу ахархәагақәа зхы иазырхәо ашьақауаҭ ашәарҭа иҭаиргылар каломЖ

1

Акреслоекалиаскала ма шыапыла ашьақамҭа иану ауааҭсыра

2

Акреслоекалиаскала ма шыапыла ашьақауаа рымҭахәаста иану ауааҭсыра

3

Акреслоекалиаскала ма шыапыла ашьақамҭа, иара убас, ашьақауаа рымҭахәаста иану ауааҭсыра

## განმარტება:

„საგზაო მოძრაობის შესახებ“ საქართველოს კანონის 24-ე მუხლის მე-12 პუნქტის თანახმად, ქვეითმა, რომელიც სარგებლობს გორგოლაჭებით, გორგოლაჭებიანი დაფით, თვითმგორავით, ციგით ან სხვა მსგავსი საშუალებით, არ უნდა შეუქმნას საფრთხე ტროტუარზე ან ქვეითთა ბილიკზე სავარძელ-ეტლით მოძრავ ადამიანებს ან ქვეითებს.

თემა 4:

## პროგრესის ნიშნები

---



Иარბოу амѡათѡ дыргაЖ

1

Еиѣкаам амѡасырта ахысра аан арныѣაѡ  
აჟყჲაჲრა იახჲიმოუ ამѡა იაზგჲანათოიტ

2

Ишѡართოу аидара имѡанызго амашынаѣა  
реитатჲრა იѣჲიტымნათѡეიტ

3

Еитатჲუа арныѣაѡ, еиѡჲჲаны иѡო ამѡა იѣჲ  
ატრანსპორტჲჲ харჲჲაგა ამѡა атара  
იახჲიახჲჲოу ამѡა ჲნარბოიტ

### განმარტჲბა:

„საგზაო მოძრაობის შესახებ“ საქართველოს კანონის პირველი დანართის მე-2 თავის (პრიორიტეტის ნიშანი) 2.1 პუნქტების თანახმად საგზაო ნიშანი 2.1 „მთავარი გზა“ - გზა, რომელზე მოძრავ მძღოლსაც ენიჭება არარეგულირებული გზაჯვარედინის გავლის უპირატესობა. ნიშანი იდგმება გზის დასაწყისში და მეორდება უშუალოდ ყოველი გზაჯვარედინის წინ. 2.1 ნიშანი 8.13 დაფით დასახლებულ პუნქტში იდგმება გზაჯვარედინის წინ, რომელზედაც მთავარი გზა იცვლის მიმართულებას, დაუსახლებელ პუნქტში – წინასწარ გზაჯვარედინამდე 150–300 მეტრ მანძილზე და გზაჯვარედინის წინ.

## ВОПРОС 105

ПРАВИЛЬНЫЙ ОТВЕТ: 3



I



II



III



IV

Иарбоу амѡатѡ дыргакѡа ркынтѡ руа иარბან, амѡა ахадаратѡ статус ацѡызრა иახъантѡალაგო ацыѡтѡаха антѡамტა хзыრბოფ

1

I

2

II

3


III

4

IV

## განმარტება:

„საგზაო მოძრაობის შესახებ“ საქართველოს კანონის პირველი დანართის მე-2 თავის (პრიორიტეტის ნიშანი) 2.2 პუნქტების თანახმად საგზაო ნიშანი 2.2 „მთავარი გზის დასასრული“ - გზის იმ მონაკვეთის ბოლო, საიდანაც იგი კარგავს მთავარი გზის სტატუსს. თუ მთავარი გზა იმ გზის გადაკვეთის წინმთავერდება, რომელზედაც დაწესებულია მოცემული გზაჯვარედინის გავლის უპირატესობა, 2.2 ნიშანს დაუსახლებელ პუნქტში დგამენ წინასწარ 2.4 ნიშანთან ერთად, დასახლებულ პუნქტში – გზაჯვარედინიდან 25 მეტრ მანძილზე ან/და 2.3 ან 2.4 ნიშანთან ერთად. ნიშანი შეიძლება დაიდგას სხვა, 8.1.1 დაფაზე მითითებულ მანძილზედაც.



Иარბოу амѡатѣ дырга иазгѣანатѡитЖ

1

Еитѡтѡа арныкѣѡ еиѣкаам амѡасыртѡ  
ахысра аан аѣыжѣара иахымоу амѡ

2

Еитѡтѡа арныкѣѡ, еиѣынгылоу  
ахырхартала еитѡтѡа атранспорттѣ хархѣага  
ацкыс аѣыжѣара иахымоу амѡ итшѣоу  
ацыѣѡаха

3

Амѡ, уи ахадаратѣ статус аѣѡзრა  
иахѡантѣалаго ацыѣѡаха антѣамтѡ

### განმარტება:

„საგზაო მოძრაობის შესახებ“ საქართველოს კანონის პირველი დანართის მე-2 თავის (პრიორიტეტის ნიშანი) 2.2 პუნქტების თანახმად საგზაო ნიშანი 2.2 „მთავარი გზის დასასრული“ - გზის იმ მონაკვეთის ბოლო, საიდანაც იგი ვარგავს მთავარი გზის სტატუსს. თუ მთავარი გზა იმ გზის გადაკვეთის წინმთავერდება, რომელზედაც დაწესებულია მოცემული გზაჯვარედინის გავლის უპირატესობა, 2.2 ნიშანს დაუსახლებელ პუნქტში დგამენ წინასწარ 2.4 ნიშანთან ერთად, დასახლებულ პუნქტში – გზაჯვარედინიდან 25 მეტრ მანძილზე ან/და 2.3 ან 2.4 ნიშანთან ერთად. ნიშანი შეიძლება დაიდგას სხვა, 8.1.1 დაფაზე მითითებულ მანძილზედაც.

## ВОПРОС 107

ПРАВИЛЬНЫЙ ОТВЕТ: 2



I



II



III



IV

Иარბოუ ამოათე დыргაკეა რკინტე რუა იარბან ეიტაცუა არნიქეაფცეა ამოა ატარა იახьрыхэтоу амѡакѡа  
рейѡѡѡара иазგѡазтоѢ

1

I

2

II

3

III

4

IV

## განმარტება:

„საგზაო მოძრაობის შესახებ“ საქართველოს კანონის პირველი დანართის პირველი თავის (მაფრთხილებელი ნიშნები) 1.7.1- 1.7.7 პუნქტების თანახმად საგზაო ნიშანი 1.7.1. „მეორეხარისხოვან გზასთან გადაკვეთა“, 1.7.2–1.7.7. „მეორეხარისხოვანი გზის შეერთება“ (შეერთება მარჯვნიდან – 1.7.2, 1.7.4 და 1.7.6, შეერთება მარცხნიდან – 1.7.3, 1.7.5 და 1.7.7) – ისეთ გზასთან გადაკვეთა ან ისეთ გზასთან შეერთება, რომელზე მოძრაობა მძღოლსაც აქვს გზის დათმობის ვალდებულება. 1.7.1–1.7.7 ნიშნები სახიფათო მონაკვეთის დასაწყისამდე იდგმება დაუსახლებელ პუნქტში 150–300 მეტრ მანძილზე, დასახლებულ პუნქტში – 50–100 მეტრ მანძილზე.



I



II



III



IV

Иარბოუ ამოათე დыргакәа ркынтә руа иарбан еитатүа арныкәащәа амәа атара иахьрыхәтоу амәакәа  
радлара иазгәазтәҭ

1

IIIИи IIIМи мацара

2

Ии IIIИИИи мацара

3

IIIИ мацара

4

IIIИИИ мацара

### განმარტება:

„საგზაო მოძრაობის შესახებ“ საქართველოს კანონის პირველი დანართის პირველი თავის (მაფრთხილებელი ნიშნები) 1.7.1- 1.7.7 პუნქტების თანახმად საგზაო ნიშანი 1.7.1. „მეორეხარისხოვან გზასთან გადაკვეთა“, 1.7.2–1.7.7. „მეორეხარისხოვანი გზის შეერთება“ (შეერთება მარჯვნიდან – 1.7.2, 1.7.4 და 1.7.6, შეერთება მარცხნიდან – 1.7.3, 1.7.5 და 1.7.7) – ისეთ გზასთან გადაკვეთა ან ისეთ გზასთან შეერთება, რომელზე მოძრავ მძღოლსაც აქვს გზის დათმობის ვალდებულება. 1.7.1–1.7.7 ნიშნები სახიფათო მონაკვეთის დასაწყისამდე იდგმება დაუსახლებელ პუნქტში 150–300 მეტრ მანძილზე, დასახლებულ პუნქტში – 50–100 მეტრ მანძილზე.





I



II



III



IV

Иარბოу амѡатѡ дыргакѡа рѣынтѡ руа иარбан ентатѡа арныѣѡѡѡѡа амѡа атара иахѣрыхѡтоу амѡакѡа радлара иазгѡазтоѢ

1

IIIИи IIIИИИи мацара

2

Ии Ими мацара

3

Рызынтѡгѣы

4

Акызатѡѣыкѣы

### განმარტება:

„საგზაო მოძრაობის შესახებ“ საქართველოს კანონის პირველი დანართის პირველი თავის (მაფრთხილებელი ნიშნები) 1.7.1- 1.7.7 პუნქტების თანახმად საგზაო ნიშანი 1.7.1. „მეორეხარისხოვან გზასთან გადაკვეთა“, 1.7.2–1.7.7. „მეორეხარისხოვანი გზის შეერთება“ (შეერთება მარჯვნიდან – 1.7.2, 1.7.4 და 1.7.6, შეერთება მარცხნიდან – 1.7.3, 1.7.5 და 1.7.7) – ისეთ გზასთან გადაკვეთა ან ისეთ გზასთან შეერთება, რომელზე მოძრავ მძღოლსაც აქვს გზის დათმობის ვალდებულება. 1.7.1–1.7.7 ნიშნები სახიფათო მონაკვეთის დასაწყისამდე იდგმება დაუსახლებელ პუნქტში 150–300 მეტრ მანძილზე, დასახლებულ პუნქტში – 50–100 მეტრ მანძილზე.

## ВОПРОС 110

ПРАВИЛЬНЫЙ ОТВЕТ: 3



I



II



III



IV

Иарбоу амѡათѣ дыргакѣа ркынтѣ руа иарабан арныкѣаѣ аҭхыкѣра икѣызтѣ еиѣтѣаны иѣѣ амѣаѣы еитатѣуа атранспорттѣ хархѣага арныкѣаѣ амѣа итѣразыҭ

1

I

2

II

3

III

4

IV

## განმარტება:

„საგზაო მოძრაობის შესახებ“ საქართველოს კანონის პირველი დანართის მე-2 თავის (პრიორიტეტის ნიშანი) 2.3 პუნქტების თანახმად საგზაო ნიშანი 2.3 „დაუთმე გზა“ - გზა, რომელზე მოძრაობა მძღოლიც ვალდებულია გზა დაუთმოს გადასაღვეთ გზაზე მოძრაობ მძღოლს, ხოლო 8.13 დაფის არსებობისას – მთავარ გზაზე მოძრაობ მძღოლს. 2.3 ნიშანი დაუსახლებელ პუნქტში იდგმება წინასწარ გზაჯვარედინამდე 150–300 მეტრ მანძილზე 8.1.1 დაფით, თუ გზაჯვარედინის წინ დადგმულია 2.3 ნიშანი, ან 8.1.2 დაფით, თუ გზაჯვარედინის წინ დადგმულია 2.4 ნიშანი.



Иარბოу амѡатѡ дырга иаанагоитЖ

1

Арныкѡѡ амѡа итшѡоу ацыѡѡѡаха алалара азин имам

2

Иарбанзаалак атранспорттѡ хархѡагала аитѡѡრა калом

3

Арныкѡѡѡ, еиѡѡѡаны иѡѡ амѡაѡы еитѡѡѡа атранспорттѡ хархѡага арныкѡѡѡ амѡа иѡара ихѡѡѡуп

### განმარტება:

„საგზაო მოძრაობის შესახებ“ საქართველოს კანონის პირველი დანართის მე-2 თავის (პრიორიტეტის ნიშანი) 2.3 პუნქტების თანახმად საგზაო ნიშანი 2.3 „დაუთმე გზა“ - გზა, რომელზე მოძრავი მძღოლიც ვალდებულია გზა დაუთმოს გადასაღვეთ გზაზე მოძრავ მძღოლს, ხოლო 8.13 დაფის არსებობისას – მთავარ გზაზე მოძრავ მძღოლს. 2.3 ნიშანი დაუსახლებელ პუნქტში იდგმება წინასწარ გზაჯვარედინამდე 150–300 მეტრ მანძილზე 8.1.1 დაფით, თუ გზაჯვარედინის წინ დადგმულია 2.3 ნიშანი, ან 8.1.2 დაფით, თუ გზაჯვარედინის წინ დადგმულია 2.4 ნიშანი.



I



II



III



IV

Иарбоу амѡათѡ дьргакѡа рѣынтѡ руа иарбан арныкѡаѡ азин изымтѡ „Сдек“ аѡѡахѡа аѣхѡа даанымгылакѡа аитатра анаѣзразыѣ

1

I

2

II

3

III

4

IV

### განმარტება:

„საგზაო მოძრაობის შესახებ“ საქართველოს კანონის პირველი დანართის მე-2 თავის (პრიორიტეტის ნიშანი) 2.4 პუნქტების თანახმად საგზაო ნიშანი 2.4 „მოძრაობა გაუჩერებლად აკრძალულია“- უკრძალავს მძღოლს მოძრაობის გაგრძელებას „სდექ“ ხაზის წინ გაუჩერებლად, ხოლო თუ ის არ არის – გადასაკვეთი სავალი ნაწილის ნაპირთან. მძღოლი ვალდებულია გზა დაუთმოს გადასაკვეთ გზაზე მოძრავ მძღოლს, ხოლო 8. 13 დაფის არსებობისას – მთავარ გზაზე მოძრავ მძღოლს. ნიშანი იდგმება, თუ არაა უზრუნველყოფილი გადამკვეთ გზაზე მოძრავი სატრანსპორტო საშუალებათა ხილვადობა, ის აგრეთვე შეიძლება დაიდგას რკინიგზის გადასასვლელის ან საკარანტინო საგუშაგოს წინ (ამ შემთხვევაში მძღოლი ვალდებულია გაჩერდეს „სდექ“ ხაზის წინ, ხოლო თუ ის არ არის – ნიშნის წინ).



Иარბოу ამოათე დყრა იაანაგოიტჟ

1

Атранспорттə хархəагақəа зегьы иарбоу ахырхаратала амѡа алалара рылшом

2

Иарбанзаалак атранспорттə хархəагала аитатра қалом

3

Арнықəаѡцəа иаанымгылакəа аитатра анагзара азин рымам, еиѡцəаны ицѡ амѡафь еитатцуа атранспорттə хархəагақəа рырнықəаѡцəа амѡа рытара рыхəтоуп

### განმარტება:

„საგზაო მოძრაობის შესახებ“ საქართველოს კანონის პირველი დანართის მე-2 თავის (პრიორიტეტის ნიშანი) 2.4 პუნქტების თანახმად საგზაო ნიშანი 2.4 „მოძრაობა გაუჩერებლად აკრძალულია“- უკრძალავს მძღოლს მოძრაობის გაგრძელებას „სდექ“ ხაზის წინ გაუჩერებლად, ხოლო თუ ის არ არის – გადასაკვეთი სავალი ნაწილის ნაპირთან. მძღოლი ვალდებულია გზა დაუთმოს გადასაკვეთ გზაზე მოძრავ მძღოლს, ხოლო 8. 13 დაფის არსებობისას – მთავარ გზაზე მოძრავ მძღოლს. ნიშანი იდგმება, თუ არაა უზრუნველყოფილი გადამკვეთ გზაზე მოძრავი სატრანსპორტო საშუალებათა ხილვადობა, ის აგრეთვე შეიძლება დაიდგას რკინიგზის გადასასვლელის ან საკარანტინო საგუშაგოს წინ (ამ შემთხვევაში მძღოლი ვალდებულია გაჩერდეს „სდექ“ ხაზის წინ, ხოლო თუ ის არ არის – ნიშნის წინ).



I



II



III



IV

Иарбоу амѡათѣ дыргакѣа рѣынтѣ руа иарбан арныкѣаѣ азин изымтѣ амѣа итшѣоу ацыѣтѣаха алаларазы, уи еиѣынгылоу ахырхартала аитѣтра иаѣырхагазарѣ

1

I

2

II

3

III

4

IV

### განმარტება:

„საგზაო მოძრაობის შესახებ“ საქართველოს კანონის პირველი დანართის მე-2 თავის (პრიორიტეტის ნიშანი) 2.5 პუნქტების თანახმად საგზაო ნიშანი 2.5 „შემხვედრი მოძრაობის უპირატესობა“- უკრძალავს მძღოლს გზის ვიწრო მონაკვეთზე შესვლას, თუ ეს აძნელებს საპირისპირო მიმართულებით მოძრაობას. მძღოლი ვალდებულია გზა დაუთმოს შემხვედრ სატრანსპორტო საშუალებას, რომელიც მოპირდაპირე მისასვლელთან ან გზის ვიწრო მონაკვეთზე იმყოფება.



Иარბოუ ამფათე დыრაჟ

1

ცაახაკ მა ცაახაკაჟ რფი აიტატრა  
ახერხარტა ეიფინგყო ახერხარტალა აე  
აფსახერ იახხიკალო ამფა აცუტაჟა  
ალაგამტა ხნარბოიტ

2

ატრანსპორტ ხერხარტაკ ალა იახხეიტატუა  
ამფა ხნარბოიტ

3

არნიკაჟ ამფა იტშოუ აცუტაჟა  
ალალარაზი აზინ ინატომ, უი ეიფინგყო  
ახერხარტალა აიტატრა იაფერხაგაზარ

### განმარტება:

„საგზაო მოძრაობის შესახებ“ საქართველოს კანონის პირველი დანართის მე-2 თავის (პრიორიტეტის ნიშანი) 2.5 პუნქტების თანახმად საგზაო ნიშანი 2.5 „შემხვედრი მოძრაობის უპირატესობა“- უკრძალავს მძღოლს გზის ვიწრო მონაკვეთზე შესვლას, თუ ეს აძნელებს საპირისპირო მიმართულებით მოძრაობას. მძღოლი ვალდებულია გზა დაუთმოს შემხვედრ სატრანსპორტო საშუალებას, რომელიც მოპირდაპირე მისასვლელთან ან გზის ვიწრო მონაკვეთზე იმყოფება.



## ВОПРОС 116

ПРАВИЛЬНЫЙ ОТВЕТ: 3



I



II



III



IV

Иарбоу амѡатѣ дыргакѣа ркынтѣ руа иарбан, арныкѣаѡ, амѡа итшѣоу ацыѣтѣаха даныланы данцо, еиѣынгылоу ахырхартала еитатѣуа атранспортѣ хархѣага ацкыс аѣыжѣара изтоѣ

1

I

2

II

3

III

4

IV

## განმარტება:

„საგზაო მოძრაობის შესახებ“ საქართველოს კანონის პირველი დანართის მე-2 თავის (პრიორიტეტის ნიშანი) 2.6 პუნქტების თანახმად საგზაო ნიშანი 2.6 „უპირატესობა შემხვედრ მოძრაობასთან“ - ანიჭებს მძღოლს უპირატესობას გზის ვიწრო მონაკვეთზე მოძრაობისას საპირისპირო მიმართულებით მოძრავ სატრანსპორტო საშუალებასთან შედარებით.





Иარბოу амѡათѣ дырга иаанагоитЖ

1

Арныкѡѡ, амѡა итшѡоу ацыпѣѡаха даныланы данцо, еиѣынгылоу ахырхартала еиѣаѣуа атранспорттѣ хархѡага аѣаѣухѡа аѣыжѡара имоуп

2

Арныкѡѡ, еиѡѣѡаны иѡо амѡа икѡუ атранспорттѣ хархѡага арныкѡѡ амѡа иѣара ихѡѡоуп

3

Арныкѡѡ амѡа итшѡоу ацыпѣѡаха алаლара азин имам, уи еиѣынгылоу ахырхартала аиѣаѣრა иаѣырхагазар

### განმარტება:

„საგზაო მოძრაობის შესახებ“ საქართველოს კანონის პირველი დანართის მე-2 თავის (პრიორიტეტის ნიშანი) 2.6 პუნქტების თანახმად საგზაო ნიშანი 2.6 „უპირატესობა შემხვედრ მოძრაობასთან“ - ანიჭებს მძღოლს უპირატესობას გზის ვიწრო მონაკვეთზე მოძრაობისას საპირისპირო მიმართულებით მოძრავ სატრანსპორტო საშუალებასთან შედარებით.

## ВОПРОС 118

ПРАВИЛЬНЫЙ ОТВЕТ: 1



I



II



III



IV

Иარბოу амѡатѡ дьргакѡа ркнытѡ руа иарбан зымч алартѡара иахьамоу атыѡаѡы арныкѡаѡ, еиѡѡаам амхеихьсырта ахьсра аѡьжѡара иахьымоуѢ

1

III Ши ШМи мацара

2

Ши IIIIII Ши мацара

3

Акьзатѡыкгы

4

Рьзынтѡгы

## განმარტება:

„საგზაო მოძრაობის შესახებ“ საქართველოს კანონის პირველი დანართის პირველი თავის (მაფრთხილებელი ნიშნები) 1.7.1- 1.7.7 პუნქტების თანახმად საგზაო ნიშანი 1.7.1. „მეორეხარისხოვან გზასთან გადაკვეთა“, 1.7.2–1.7.7. „მეორეხარისხოვანი გზის შეერთება“ (შეერთება მარჯვნიდან – 1.7.2, 1.7.4 და 1.7.6, შეერთება მარცხნიდან – 1.7.3, 1.7.5 და 1.7.7) – ისეთ გზასთან გადაკვეთა ან ისეთ გზასთან შეერთება, რომელზე მოძრავ მძღოლსაც აქვს გზის დათმობის ვალდებულება. ამავე კანონის პირველი დანართის მე-2 თავის (პრიორიტეტის ნიშანი) 2.1 პუნქტების თანახმად საგზაო ნიშანი 2.1 „მთავარი გზა“ - გზა, რომელზე მოძრავ მძღოლსაც ენიჭება არარეგულირებული გზაჯვარედინის გავლის უპირატესობა. ნიშანი იდგმება გზის დასაწყისში და მეორდება უშუალოდ ყოველი გზაჯვარედინის წინ. 2.1 ნიშანი 8.13 დაფით დასახლებულ პუნქტში იდგმება გზაჯვარედინის წინ, რომელზედაც მთავარი გზა იცვლის მიმართულებას, დაუსახლებელ პუნქტში – წინასწარ გზაჯვარედინამდე 150–300 მეტრ მანძილზე და გზაჯვარედინის წინ.

## ВОПРОС 119

ПРАВИЛЬНЫЙ ОТВЕТ: 2



I



II



III



IV

Иарбоу амѡатѡ дьргакѡа рѡынтѡ амѡа итѡѡу аѡыѡѡѡаха аѡѡѡа иргылатѡуиѢ

1

IIIИ IIIИИИ маѡара

2

ИИ ИИИИ маѡара

3

I

4

ИИ IIIИИ

## განმარტება:

„საგზაო მოძრაობის შესახებ“ საქართველოს კანონის პირველი დანართის მე-2 თავის (პრიორიტეტის ნიშანი) შენიშვნის „ბ“ ქვეპუნქტის თანახმად საგზაო ნიშნები 2.5 „შემხვედრი მოძრაობის უპირატესობა“ და 2.6 „უპირატესობა შემხვედრ მოძრაობასთან“ იდგმება უშუალოდ გზის ვიწრო უბნის წინ. ნიშანი 2.5 შეიძლება დაიდგას წინასწარ 8.1.1 დაფით.



I



II



III



IV

Иარბოუ ამოათე დыргакეа ауаапсыра иахьнымхо атыѳаѳы иргылатеуп ишѳартоу ацыѳтѳаха алагамтанѳаЖ

1

5тѳ1тѳ метрак ишыбѳюу

2

1тѳ15т метрак ишыбѳюу

3

15тѳ3тѳ метрак ишыбѳюу

4

3тѳ4тѳ метрак ишыбѳюу

### განმარტება:

„საგზაო მოძრაობის შესახებ“ საქართველოს კანონის პირველი დანართის პირველი თავის (მაფრთხილებელი ნიშნები) შენიშვნის „ა“ პუნქტის თანახმად 1.1, 1.2, 1.5–1.34 ნიშნები დაუსახლებელ პუნქტში იდგმება სახიფათო მონაკვეთის დასაწყისამდე 150–300 მეტრ მანძილზე, დასახლებულ პუნქტში – 50–100 მეტრ მანძილზე. აუცილებლობისას ნიშნები იდგმება სხვა მანძილზედაც, რომელიც მითითებულია 8.1.1 დაფაზე. სურათზე ნაჩვენები ნიშნებია: 1.7.1 „მეორეხარისხოვან გზებთან გადაკვეთა“, 1.7.2, 1.7.3 და 1.7.7 „მეორეხარისხოვანი გზის შეერთება“.

## ВОПРОС 121

ПРАВИЛЬНЫЙ ОТВЕТ: 2

Жәларбжьаратәи анормақәи атасқәи ирышьашәаланы, ишәартоу аидара ашәартара ахкқәа инрықәырҭшны еизшоупЖ

1

k класск рыла

2

p класск рыла

3

11 класск рыла

## განმარტება:

საქართველოს ეკონომიკისა და მდგრადი განვითარების მინისტრის 2011 წლის 18 აგვისტოს № 1-1/1562 ბრძანებით დამტკიცებული ტექნიკური რეგლამენტის „ავტოსატრანსპორტო საშუალებებით ტვირთის გადაზიდვის წესის“ მე-9 მუხლის პირველი პუნქტის თანახმად, სახიფათო ტვირთი საშიშროების ტიპის მიხედვით იყოფა 9 კლასად საერთაშორისო ნორმებისა და წესების შესაბამისად.

## ВОПРОС 122

ПРАВИЛЬНЫЙ ОТВЕТ: 3

Ишәартоу аидара имџанызго автотранспорттә хархәага арныкәгаразы азин имоупЖ

1

Шыкәсык еитцымкәа астаж змоу

2

Ҧышықәса иреитцымкәа астаж змоу

3

Хышықәса иреитцымкәа астаж змоу

## განმარტება:

საქართველოს ეკონომიკისა და მდგრადი განვითარების მინისტრის 2011 წლის 18 აგვისტოს № 1-1/1562 ბრძანებით დამტკიცებული ტექნიკური რეგლამენტის „ავტოსატრანსპორტო საშუალებებით ტვირთის გადაზიდვის წესის“ მე-9 მუხლის მე-4 პუნქტის თანახმად, ავტოსატრანსპორტო საშუალებაზე, რომლითაც გადაიზიდება სახიფათო ტვირთი, სამართავად დაიშვებიან მძღოლები მუშაობის არანაკლებ სამი წლის სტაჟით.

Ишәарту аидара амџангара аан амџаетранспорттә ма чыдалатәи атагылазашьақәа раан амашьына арныкәгаџ ихы мџаџигароупЖ

1

Аконкреттә ишәарту аидара аиагаразы иҿоу атас мацара иашьашәаланы

2

Аконкреттә ишәарту аидара атехникатә тагылазашьақәа мацара ирышашәаланы

3

Аидара адәықәтәџ иџыратә абжьагарақәа мацара ирышашәаланы

4

Аконкреттә ишәарту аидара аиагаразы иҿоу атаси, иара убас, атехникатә тагылазашьақәеи, аидара адәықәтәџ иџыратә абжьагарақәеи ирышашәаланы

### განმარტება:

საქართველოს ეკონომიკისა და მდგრადი განვითარების მინისტრის 2011 წლის 18 აგვისტოს № 1-1/1562 ბრძანებით დამტკიცებული ტექნიკური რეგლამენტის „ავტოსატრანსპორტო საშუალებებით ტვირთის გადაზიდვის წესის“ მე-9 მუხლის მე-5 პუნქტის „ბ“ ქვეპუნქტის თანახმად, სახიფათო ტვირთის გადაზიდვისას მძღოლი წინამდებარე წესის პირველი მუხლის მე-3 პუნქტით განსაზღვრული მოთხოვნების შესრულებასთან ერთად ვალდებულია, საგზაო სატრანსპორტო ან/და საგანგებო შემთხვევებში იმოქმედოს კონკრეტული სახის სახიფათო ტვირთის გადაზიდვაზე არსებული წესის, ტექნიკური პირობების და ტვირთის გამგზავნის მიერ გაცემული წერილობითი ინსტრუქციის შესაბამისად.

Ишәартоу аидара амғангара аан арныкәгад азин имамЖ

1

Автотранспорттә хархәага иаалырҕаны аус арурей, иаалырҕаны аанкыларей мацара

2

Саатк ала 30 км. зыласра еихам автотранспорттә хархәагақәа мацара раҕысра

3

Арныкәага ирцәаны ма еицраҳәагала аитатра

4

Автотранспорттә хархәага иаалырҕаны аус арурей, иаалырҕаны аанкыларей, саатк ала 30 км. зыцакра еихам автотранспорттә хархәагақәа мацара раҕысрей, арныкәага ирцәаны ма еицраҳәагала аитатрей

### განმარტება:

საქართველოს ეკონომიკისა და მდგრადი განვითარების მინისტრის 2011 წლის 18 აგვისტოს № 1-1/1562 ბრძანებით დამტკიცებული ტექნიკური რეგლამენტის „ავტოსატრანსპორტო საშუალებებით ტვირთის გადაზიდვის წესის“ მე-9 მუხლის მე-6 პუნქტის თანახმად სახიფათო ტვირთის გადაზიდვისას მძღოლს ეკრძალება: ა) სანავით გამართვა ავტოგასამართ სადგურებში საერთო სარგებლობის სვეტებიდან (ფეთქებადი და ცეცხლსაშიში ნივთიერების გადაზიდვის შემთხვევაში); ბ) ავტოსატრანსპორტო საშუალების მკვეთრი დაძვრა და დამუხრუჭება; გ) იმ ავტოსატრანსპორტო საშუალების გასწრება, რომელიც მოძრაობს 30 კმ/სთ-ზე მეტი სიჩქარით; დ) გამორთული ძრავით ან/და გადაბმულობით მოძრაობა; ე) თამბაქოს მოწევა ავტოსატრანსპორტო საშუალების სალონში; ვ) ავტოსატრანსპორტო საშუალების გაჩერება/დგომა ცეცხლის კერისგან 200 მეტრით ნაკლებ მანძილზე; ზ) ავტოსატრანსპორტო საშუალების უმეტესად ყურედ დატოვება; თ) სხვა ტვირთის გადაზიდვა ან/და იმ პირების გადაყვანა, რომლებიც არ არიან ავტოსატრანსპორტო საშუალების ეკიპაჟის წევრები.

Ишәартоу аидара амғангара аан арныкәгад азин имамЖ

1

Автотранспорттә хархәага асалон аҧы аҧатын ахара мацара

2

200 метрак рыла амца ахыҭхырҭа иазааигәаны амашына ангылареи аргылареи

3

Автотранспорттә хархәага хылаҭшрада ааныжыра

4

Автотранспорттә хархәага асалон аҧы аҧатын ахареи, 200 метрак рыла амца ахыҭхырҭа иазааигәаны амашына ангылареи аргылареи, автотранспорттә хархәага хылаҭшрада ааныжыреи

### განმარტება:

საქართველოს ეკონომიკისა და მდგრადი განვითარების მინისტრის 2011 წლის 18 აგვისტოს № 1-1/1562 ბრძანებით დამტკიცებული ტექნიკური რეგლამენტის „ავტოსატრანსპორტო საშუალებებით ტვირთის გადაზიდვის წესის“ მე-9 მუხლის მე-6 პუნქტის თანახმად სახიფათო ტვირთის გადაზიდვისას მძღოლს ეკრძალება: ა) სანავიით გამართვა ავტოგასამართ სადგურებში საერთო სარგებლობის სვეტებიდან (ფეთქებადი და ცეცხლსაშიში ნივთიერების გადაზიდვის შემთხვევაში); ბ) ავტოსატრანსპორტო საშუალების მკვეთრი დაძვრა და დამუხრუჭება; გ) იმ ავტოსატრანსპორტო საშუალების გასწრება, რომელიც მოძრაობს 30 კმ/სთ-ზე მეტი სიჩქარით; დ) გამორთული ძრავით ან/და გადაბმულობით მოძრაობა; ე) თამბაქოს მოწევა ავტოსატრანსპორტო საშუალების სალონში; ვ) ავტოსატრანსპორტო საშუალების გაჩერება/დგომა ცეცხლის კერისგან 200 მეტრით ნაკლებ მანძილზე; ზ) ავტოსატრანსპორტო საშუალების უმეთვალყურეოდ დატოვება; თ) სხვა ტვირთის გადაზიდვა ან/და იმ პირების გადაყვანა, რომლებიც არ არიან ავტოსატრანსპორტო საშუალების ეკიპაჟის წევრები.



## ВОПРОС 126

ПРАВИЛЬНЫЙ ОТВЕТ: 3

Иშეარტოუ აიდარა იმფანызго арныкәгаф азин имамЖ

1

Даҕа аидарак аиагаразы

2

Автотранспорттә хархәага аекипаж иалам ахаҕкәа рымҕангара

3

Даҕа аидарак амфангареи автотранспорттә хархәага аекипаж иалам ахаҕкәа рымфангареи

## განმარტება:

საქართველოს ეკონომიკისა და მდგრადი განვითარების მინისტრის 2011 წლის 18 აგვისტოს № 1-1/1562 ბრძანებით დამტკიცებული ტექნიკური რეგლამენტის „ავტოსატრანსპორტო საშუალებებით ტვირთის გადაზიდვის წესის“ მე-9 მუხლის მე-6 პუნქტის თანახმად სახიფათო ტვირთის გადაზიდვისას მძღოლს ეკრძალება: ა) სანვავით გამართვა ავტოგასამართ სადგურებში საერთო სარგებლობის სვეტებიდან (ფეთქებადი და ცეცხლსაშიში ნივთიერების გადაზიდვის შემთხვევაში); ბ) ავტოსატრანსპორტო საშუალების მკვეთრი დაძვრა და დამუხრუჭება; გ) იმ ავტოსატრანსპორტო საშუალების გასწრება, რომელიც მოძრაობს 30 კმ/სთ-ზე მეტი სიჩქარით; დ) გამორთული ძრავით ან/და გადაბმულობით მოძრაობა; ე) თამბაქოს მოწვევა ავტოსატრანსპორტო საშუალების სალონში; ვ) ავტოსატრანსპორტო საშუალების გაჩერება/დგომა ცეცხლის ვერისგან 200 მეტრით ნაკლებ მანძილზე; ზ) ავტოსატრანსპორტო საშუალების უმეტესადიწიურად დატოვება; თ) სხვა ტვირთის გადაზიდვა ან/და იმ პირების გადაყვანა, რომლებიც არ არიან ავტოსატრანსპორტო საშუალების ეკიპაჟის წევრები.

## ВОПРОС 127

ПРАВИЛЬНЫЙ ОТВЕТ: 2

Ишეарტოუ აიდარა ამფანგара аан агазла аус зуа автотранспорттә хархәага ахәархәара каломаҖ

1

Икалоит

2

Икалом

## განმარტება:

საქართველოს ეკონომიკისა და მდგრადი განვითარების მინისტრის 2011 წლის 18 აგვისტოს № 1-1/1562 ბრძანებით დამტკიცებული ტექნიკური რეგლამენტის „ავტოსატრანსპორტო საშუალებებით ტვირთის გადაზიდვის წესის“ მე-9 მუხლის მე-16 პუნქტის „ა“ ქვეპუნქტის თანახმად სახიფათო ტვირთის გადაზიდვის დროს დაუშვებელია აირზე მომუშავე ავტოსატრანსპორტო საშუალების გამოყენება.

## ВОПРОС 128

ПРАВИЛЬНЫЙ ОТВЕТ: 1

Ишәартуу аидара амғангара аан автотранспорттә хархәага ацраҳәага иацроухәар каломаҭ

1

Икалом

2

Икалоит

## განმარტება:

საქართველოს ეკონომიკისა და მდგრადი განვითარების მინისტრის 2011 წლის 18 აგვისტოს № 1-1/1562 ბრძანებით დამტკიცებული ტექნიკური რეგლამენტის „ავტოსატრანსპორტო საშუალებებით ტვირთის გადაზიდვის წესის“ მე-9 მუხლის მე-16 პუნქტის „ბ“ ქვეპუნქტის თანახმად სახიფათო ტვირთის გადაზიდვის დროს დაუშვებელია ავტოსატრანსპორტო საშუალებაზე ერთზე მეტი მისაბმელის ან ნახევარმისაბმელის ჩაბმა.

## ВОПРОС 129

ПРАВИЛЬНЫЙ ОТВЕТ: 3

Иҟәҟәу, иара убас, ибаазуу аидара амғангара аан, амәаҟы аидара каҳар ма икаҟәар, автотранспорттә хархәага арныкәгаҭ иуалупЖ

1

Абри атәы телла идирдыроуп аидара  
адәыкәҟаҭ, нас аитаҟра наигзароуп

2

Аитаҟра наигзароуп сааткала 40 км.  
аласрала, амәаҟы икаҟсаз аидара амәатә  
аитаҟра еҟырт алахәылаҟәа  
ирҟырхагамхарц

3

Аангылареи амашәыр зыхкьаз амзызқәа  
рҟырхреи

## განმარტება:

საქართველოს ეკონომიკისა და მდგრადი განვითარების მინისტრის 2011 წლის 18 აგვისტოს № 1-1/1562 ბრძანებით დამტკიცებული ტექნიკური რეგლამენტის „ავტოსატრანსპორტო საშუალებებით ტვირთის გადაზიდვის წესის“ მე-12 მუხლის მე-3 პუნქტის თანახმად, საყარი და თხევადი ტვირთების გადაზიდვისას ავტოსატრანსპორტო საშუალების მძღოლი ვალდებულია ტრანსპორტირებისას გამორიცხოს ტვირთის გაბნევა/დაღვრა სავალ ნაწილზე. გზაზე ტვირთის გაბნევა/დაღვრის შემთხვევაში, შეწყვიტოს მოძრაობა და მიიღოს ზომები აღნიშნულის გამომწვევი მიზეზების აღმოსაფხვრელად.

თემა 5:

## ამკრძალავი ნიშნები

---



Иარბოу амѡатѡ дырга иаанагоитЖ

**1**

Адыргаѡы иарбоу ацкыс еихау аласрала  
аитатра калом

**2**

Амаксималтѡ аласра аѡкра шыаѡзыргыло  
амѡатѡ дырга амч ахьамоу атыѡ антѡамтѡ

**3**

Амѡа абри ацыѡѡѡахаѡы аитатра злакало  
аласра

### განმარტება:

„საგზაო მოძრაობის შესახებ“ საქართველოს კანონის პირველი დანართის 3.25 პუნქტის თანახმად საგზაო ნიშანი 3.25 „მაქსიმალური სიჩქარის შეზღუდვის დასასრული“ – 3.24 ნიშნის („მაქსიმალური სიჩქარის შეზღუდვა“) მოქმედების ზონის დასასრული.



Амашына лас арныкәә, амз еиџшо арыцхәкәа рзы асаат 19 инаркны асаат 21 акынза асахьаҭы иарбоу атыҭаҭы, аргылартаҭы, амашына аргылара азин имоумаҭ

1

Азин имоуп


2

Азин имазам

### განმარტება:

„საგზაო მოძრაობის შესახებ“ საქართველოს კანონის პირველი დანართის მე-3 თავის (ამკრძალავი ნიშნები) 3.29 და 3.30 პუნქტების თანახმად საგზაო ნიშანი 3.29 „დგომა აკრძალულია კენტ რიცხვებში“ - კრძალავს სატრანსპორტო საშუალების დგომას თვის კენტ რიცხვებში, ხოლო საგზაო ნიშანი 3.30 „დგომა აკრძალულია ლუნ რიცხვებში“ - კრძალავს სატრანსპორტო საშუალების დგომას თვის ლუნ რიცხვებში. ამავე პუნქტების შენიშვნის თანახმად 3.29 და 3.30 ნიშნების ერთდროულად გამოყენებისას, სატრანსპორტო საშუალებების გზის ერთი მხრიდან მეორეზე გადაყენების დროა 19-დან 21 საათამდე, ამ პერიოდში დგომა ნებადართულია სავალი ნაწილის ორივე მხარეს.





Иარბოუ ატაგლაზააშაფყ აბარტ ამაშყნაჲა რყრწყჲაჲჲა რყნტჲ ახყც ახყრჲართალა აიტატრა აზინ ჲმადა, აიდარატჲ მაშყნა აფაქტჲ მასა 7 ტონაკ იაჲარაჲარჲჲ

1

АидаратѲ машына арწყჲაჲ

2

Икаჲყყუ ამაშყნა ლას арწყჲაჲ

3

Аჲგყყ

### განმარტყბა:

„საგბაო მოძრაობის შესახებ“ საქართველოს კანონის 31-ე მუხლის მე-7 პუნქტის თანახმად, სამი მოძრაობის ზოლის მქონე (გარდა 1.9 საგბაო მონიშვნისა) ორმხრივმოძრაობიან გზაზე სატრანსპორტო საშუალების მძღოლი არ უნდა გადავიდეს სავალი ნაწილის განაპირა ზოლზე, სადაც საპირისპირო მიმართულების მოძრაობა ხორციელდება. თუ სამი მოძრაობის ზოლის მქონე გზაზე შუა ზოლი ორივე მიმართულებით მოძრაობისათვის გამოიყენება, ამ ზოლზე გასვლა ნებადართულია მხოლოდ გასწრების, დაბრკოლების შემოვლის, მარცხნივ მოხვევის ან მობრუნების მიზნით. ამავე კანონის პირველი დანართის მე-3 თავის (ამკრძალავი ნიშნები) 3.11 პუნქტის თანახმად, საგბაო ნიშანი 3.11 „მასის შეზღუდვა“ - კრძალავს იმ სატრანსპორტო საშუალებით და სატრანსპორტო საშუალებათა შემადგენლობით მოძრაობას, რომელთა საერთო ფაქტობრივი მასა აღემატება ნიშანზე მითითებულს.



Иарбоу амѡათѣ дыргакѣа инрыкѣырѣшны, иѣаломЖ

1

Зхышѣаратѣ аура адыргаѣы иазгѣათоу аура ацкыс еихау атранспорттѣ хархѣагала аитѣцра

2

Зхышѣаратѣ аура Ђаидарала ма аидара адаТ адыргаѣы иазгѣათоу аура ацкыс еихау атранспорттѣ хархѣагала аитѣцра

3

Адыргала иазѣхѣагѣათоу адистация ацкыс еиѣу адистанциала атранспорттѣ хархѣага аитѣцра

### განმარტება:

„საგზაო მოძრაობის შესახებ“ საქართველოს კანონის პირველი დანართის მე-3 თავის (ამკრძალავი ნიშნები) 3.13 პუნქტის თანახმად საგზაო ნიშანი 3.13 „სიმაღლის შეზღუდვა“ - კრძალავს იმ სატრანსპორტო საშუალებით მოძრაობას, რომლის გაბარიტული სიმაღლე (ტვირთიანად ან უტვირთოდ) აღემატება ნიშანზე აღნიშნულს.



Иарбоу амѡатѣ дырга инакѣырѣшныЖ

- 1** Зхышѣаратѣ ахаракыра Ђаидарала ма аидара адаТ адыргаѣы иазгѣатѡу ахаракыра ацкыс еихау атранспорттѣ хархѣагала аитѣцра калом
- 2** Зхышѣаратѣ атбаара Ђаидарала ма аидара адаТ адыргаѣы иазгѣатѡу атбаара ацкыс еихау атранспорттѣ хархѣагала аитѣцра калом
- 3** Амѣатѣ дырга амч иахѣамоу азона аореал ианарѣшуеит

### განმარტება:

„საგზაო მოძრაობის შესახებ“ საქართველოს კანონის პირველი დანართის მე-3 თავის (ამკრძალავი ნიშნები) 3.14 პუნქტის თანახმად საგზაო ნიშანი 3.14 „სიგანის შეზღუდვა“ - კრძალავს იმ სატრანსპორტო საშუალებით მოძრაობას, რომლის გაბარიტული სიგანე (ტვირთიანად ან უტვირთოდ) აღემატება ნიშანზე აღნიშნულს.





Иарбоу амѡатѡ дыргакѡაЖ

1

Амѡასырტაფы алыратѡ цѡахѡа шыკამ  
иаҳнарбоит

2

Ганктѡи аитатра змоу амѡа антѡамტა  
иаҳнарбоит

3

Амз еиფымшо арыцхѡკѡа рзы атранспортტѡ  
хархѡაга аргыლара шыკамლო иаҳнарбоит

### განმარტება:

„საგზაო მოძრაობის შესახებ“ საქართველოს კანონის პირველი დანართის მე-3 თავის (ამკრძალავი ნიშნები) 3.29 პუნქტის თანახმად საგზაო ნიშანი 3.29 „დგომა აკრძალულია კენტ რიცხვებში“ - კრძალავს სატრანსპორტო საშუალების დგომას თვის კენტ რიცხვებში.



I



II



III



IV

Иარბოу амѡатѣ дыргакѣа ркынтѣ руа иарбан азакѣанѣцара инакѣырѣшны иашѣашѣалоу азгѣатаратѣ дырга иамазаарц зыхѣтоу, иѣжѣарц зылшо ма удаѣрада амца зыцрало аидара имѣанызго атранспорттѣ хархѣага аитатра икѣитызымтѣуаѢ

1

I

2

II

3

III

4

IV

### განმარტება:

„საგზაო მოძრაობის შესახებ“ საქართველოს კანონის პირველი დანართის მე-3 თავის (ამკრძალავი ნიშნები) 3.33 პუნქტის თანახმად საგზაო ნიშანი 3.33 „ფეთქებადი და ადვილად აალებადი ტვირთის გადამზიდი სატრანსპორტო საშუალებით მოძრაობა აკრძალულია“ - კრძალავს 19433-88 სახელმწიფო სტანდარტით განსაზღვრული 1.22–2.4, 3.1, 3.2, 5.2 კლასის ფეთქებადი და ადვილად აალებადი ტვირთის გადამზიდი სატრანსპორტო საშუალებით მოძრაობას, რომელიც, საქართველოს კანონმდებლობის თანახმად აღნიშნული უნდა იყოს საცნობი ნიშნით „სახიფათო ტვირთი“.

## ВОПРОС 137

ПРАВИЛЬНЫЙ ОТВЕТ: 2



I



II



III



IV

Иарбоу амѡათѣ дыргакѣа ркынтѣ руа иарбан амаршруттѣ атранспорттѣ хархѣагазы амч змамѢ

1

III მაцარა

2

III III III III მაцარა

3

III III III მაцარა

4

III III III მაцარა

## განმარტება:

„საგზაო მოძრაობის შესახებ“ საქართველოს კანონის პირველი დანართის მე-3 თავის (ამკრძალავი ნიშნები) შენიშვნის „გ.ა“ ქვეპუნქტის თანახმად ნიშნების მოქმედება არ ვრცელდება: გ.ა) 3.1–3.3, 3.18.1, 3.18.2, 3.19, 3.27 ნიშნებისა – სამარშრუტო სატრანსპორტო საშუალებაზე. სურათზე ნაჩვენები საგზაო ნიშნებია: 3.1 „შესვლა აკრძალულია“, 3.14 „სიგანის შეზღუდვა“, 3.2 „მოძრაობა აკრძალულია“ და 3.11 „მასის შეზღუდვა“.

## ВОПРОС 138

ПРАВИЛЬНЫЙ ОТВЕТ: 1



I



II



III



IV

Иарбоу амѡათѣ дыргакѣа ркынтѣ руа иარбан амаршруттѣ атранспорттѣ хархѣагазы амч змамѢ

1

ში შიში მაцარა

2

შიში შიმი მაцარა

3

შიში შიში მაцარა

4

ში შიმი მაцარა

## განმარტება:

„საგზაო მოძრაობის შესახებ“ საქართველოს კანონის პირველი დანართის მე-3 თავის (ამკრძალავი ნიშნები) შენიშვნის „გ.ა“ ქვეპუნქტის თანახმად ნიშნების მოქმედება არ ვრცელდება: გ.ა) 3.1–3.3, 3.18.1, 3.18.2, 3.19, 3.27 ნიშნებისა – სამარშრუტო სატრანსპორტო საშუალებაზე. სურათზე ნაჩვენები საგზაო ნიშნებია: 3.18.2 „მარცხნივ მოხვევა აკრძალულია“, 3.24 „მაქსიმალური სიჩქარის შეზღუდვა“, 3.19 „მობრუნება აკრძალულია“ და 3.29 „დგომა აკრძალულია კენტ რიცხვებში“.



I



II



III



IV

Иарбоу амѡатѡ дыргакѡа ркынтѡ руа иარბან абри адырга анырра иახѡმოу азонаფы икоу ааглыхра  
ამატ ჯუა ამარшруტტѡ атранспортტѡ хархѡაгазы ამჩ ჯამაფ

1

III IIII მაцара

2

III IIII მაцара

3

IIII IIIII მაцара

4

IIII IIII მაцара

### განმარტება:

„საგზაო მოძრაობის შესახებ“ საქართველოს კანონის პირველი დანართის მე-3 თავის (ამკრძალავი ნიშნები) შენიშვნის „გ.ბ“ ქვეპუნქტის თანახმად ნიშნების მოქმედება არ ვრცელდება: გ.ბ) 3.2–3.8 ნიშნებისა – სატრანსპორტო საშუალებაზე, რომელიც ემსახურება აღნიშნულ ზონაში მდებარე სანარმოს, ანდა ემსახურება ან ეკუთვნის ამავე ზონაში მცხოვრებ ან მომუშავე პირს. ამ შემთხვევაში სატრანსპორტო საშუალება შედის აღნიშნულ ზონაში და გამოდის იქიდან დანიშნულების ადგილისაკენ უახლოეს გზაჯვარედინზე. სურათზე ნაჩვენებია საგზაო ნიშნებია: 3.1 „შესვლა აკრძალულია“, 3.2 „მოძრაობა აკრძალულია“, 3.13 „სიმაღლის შეზღუდვა“ და 3.8 „საჭაპანო მოძრაობა აკრძალულია“.



I



II



III



IV

Иარბოу амѡатѡ дыргакѡа ркынтѡ руа иарбан абри адырга анырра иахѡамоу азонаѡы инхо ма аус зуа ахаѡы иматц зуа ма итѡу амаршруттѡ атранспорттѡ хархѡагазы амч змамѢ

1

Ши ШШи мацара

2

Ши ШШШШи мацара

3

ШШШШи ШМи мацара

4

Иარბოу амѡатѡ дыргакѡа зегы

### განმარტება:

„საგზაო მოძრაობის შესახებ“ საქართველოს კანონის პირველი დანართის მე-3 თავის (ამკრძალავი ნიშნები) შენიშვნის „გ.ბ“ ქვეპუნქტის თანახმად ნიშნების მოქმედება არ ვრცელდება: გ.ბ) 3.2–3.8 ნიშნებისა – სატრანსპორტო საშუალებაზე, რომელიც ემსახურება აღნიშნულ ზონაში მდებარე სანარმოს, ანდა ემსახურება ან ეკუთვნის ამავე ზონაში მცხოვრებ ან მომუშავე პირს. ამ შემთხვევაში სატრანსპორტო საშუალება შედის აღნიშნულ ზონაში და გამოდის იქიდან დანიშნულების ადგილისაკენ უახლოეს გზაჯვარედინზე. სურათზე ნაჩვენები საგზაო ნიშნებია: 3.2 „მოძრაობა აკრძალულია“, 3.3 „მექანიკური სატრანსპორტო საშუალებით მოძრაობა აკრძალულია“, 3.5 „მოტოციკლით მოძრაობა აკრძალულია“ და 3.8 „საჭაპანო მოძრაობა აკრძალულია“.





Иарбоу атагылазаашыаҕы, арныкөөд ахыц ала иазгэатоу атыҕ аҕы амашына аанкылар азин имоумаҕ

1

Азин имам

2

Азин имоуп

### განმარტება:

„საგზაო მოძრაობის შესახებ“ საქართველოს კანონის პირველი დანართის მე-3 თავის (ამკრძალავი ნიშნები) 3.27 პუნქტის თანახმად, საგზაო ნიშანი 3.27 „გაჩერება აკრძალულია“ - კრძალავს სატრანსპორტო საშუალების როგორც გაჩერებას, ასევე დგომას. ამავე თავის შენიშვნის „ე“ ქვეპუნქტის თანახმად 3.26–3.30 ნიშნების მოქმედება ვრცელდება სათანადო ნიშნის შემდეგ, ნიშნის დადგმის ადგილიდან უახლოეს გზაჯვარედინამდე, ხოლო დასახლებულ პუნქტში გზაჯვარედინის არარსებობისას – დასახლებული პუნქტის ბოლომდე. ნიშნების მოქმედება ვრცელდება აგრეთვე მიმდებარე ტერიტორიის გამოსასვლელთან, საველე, სატყეო და სხვა მეორეხარისხოვანი გზების გადაკვეთასთან (შეერთებასთან), რომელთა წინ არ დგას სათანადო ნიშანი. ამავე კანონის მე-5 მუხლის მე-13 პუნქტის თანახმად, გზაჯვარედინი არის ერთ დონეზე გზების კვეთა, შეერთება ან განშტოება, ასეთი კვეთით, შეერთებით ან განშტოებით წარმოქმნილი ტერიტორიების ჩათვლით. გზაჯვარედინად არ ითვლება მიმდებარე ტერიტორიებიდან გამომავალი გამოსასვლელების გზებთან კვეთა.

თემა 6:

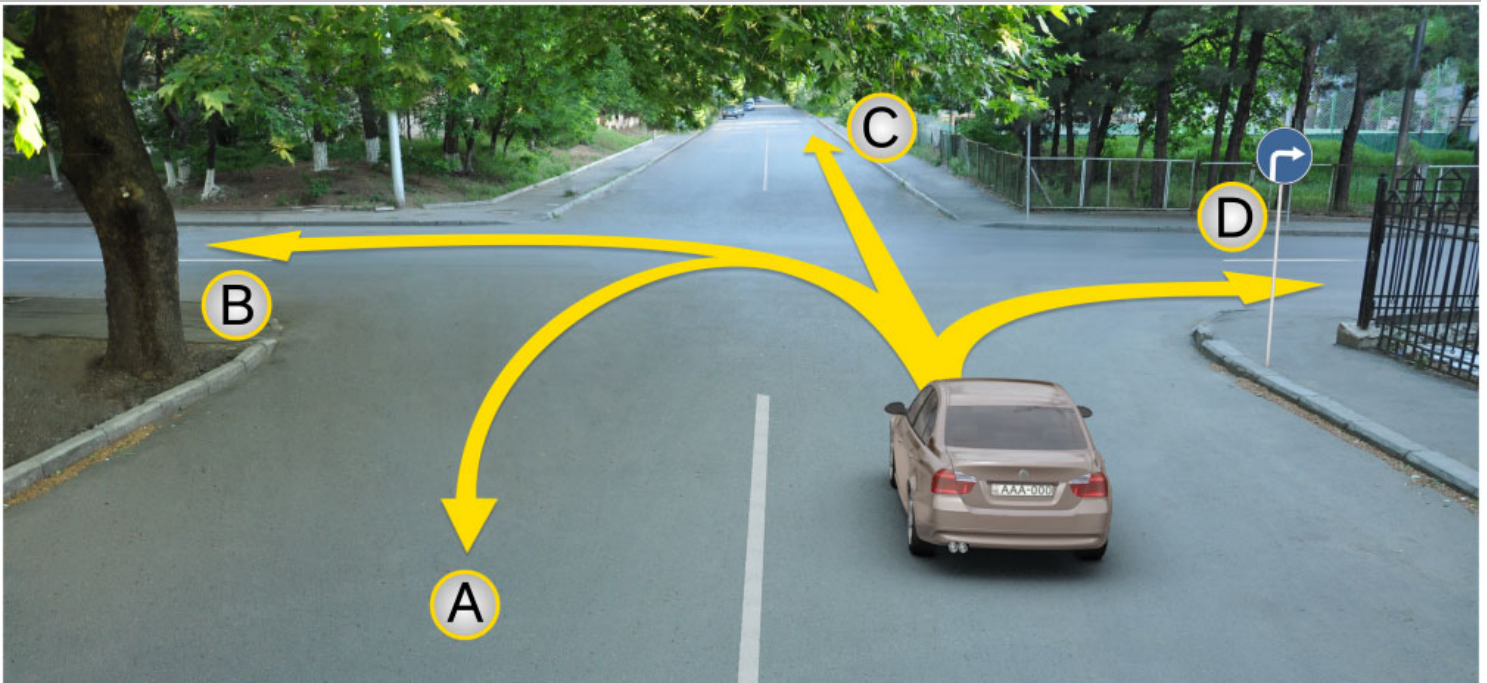
## მიმთითებული ნიშნები

---



**ВОПРОС 142**

ПРАВИЛЬНЫЙ ОТВЕТ: 4



Амашына лас арныкәә аитатра анагзара азин имоупЖ

1

А, С, Д ахырхартакәа рыла

2

А, В, С, Д ахырхартакәа рыла

3


В, С ахырхартакәа рыла

4

Д ахырхартала

**განმარტება:**

„საგზაო მოძრაობის შესახებ“ საქართველოს კანონის პირველი დანართის 4.1.2 პუნქტის თანახმად საგზაო ნიშანი 4.1.2 „მოძრაობა მარჯვნივ“ რთავს მხოლოდ ისრით ნაჩვენები მიმართულებით მოძრაობის ნებას.



Амашына лас арныкææ айтатра азин имоупЖ

1

А ахырхартала

2

В ахырхартала


3

Аи Ви ахырхартакæа рыла

### განმარტება:

„საგზაო მოძრაობის შესახებ“ საქართველოს კანონის 32-ე მუხლის მე-17 პუნქტის „ა“ ქვეპუნქტის თანახმად, ამ მუხლით დადგენილ მოთხოვნათა გათვალისწინებით, მძღოლს შეუძლია მარჯვნიდან ან მარცხნიდან შემოუაროს იმ სავალ ნაწილზე დაყენებულ უსაფრთხოების კუნძულს, ტუმბოს ან სხვა მოწყობილობას, რომელზედაც იგი მოძრაობს, გარდა იმ შემთხვევისა, როცა საგზაო ნიშანი მიუთითებს, რომელი მხრიდან უნდა შემოუაროს მძღოლმა უსაფრთხოების კუნძულს, ტუმბოს ან სხვა მოწყობილობას. ამავე კანონის პირველი დანართის მე-4 თავის (მიმთითებელი ნიშნები) 4.2.3 პუნქტის თანახმად საგზაო ნიშანი 4.2.3 „დაბრკოლების შემოვლა მარჯვნიდან ან მარცხნიდან“ - მიუთითებს დაბრკოლების შემოვლის მიმართულებას მარჯვნიდან ან მარცხნიდან.





Иарбоу ატაგჲლაზააშაფჲ, ატჲირტა იახჲსჲზ ამაშჲყნა არნჲკჲაფ, არჲყარახჲტჲი ახატჲირტა ალალარა ამჲყლაჲ

- |   |  |   |   |
|---|--|---|---|
| 1 | A ახჲრჲარტალა ახატჲირა აჲინ იმოუპ          | 2 | B ახჲრჲარტალა შჲტაჲლა აცარა აჲინ იმოუპ    |
| 3 | აი ბი ახჲრჲარტაკჲა რჲლა აიტატრა აჲინ იმოუპ | 4 | აი ბი ახჲრჲარტაკჲა რჲლა აიტატრა აჲინ იმამ |

### განმარტება:

„საგზაო მოძრაობის შესახებ“ საქართველოს კანონის 32-ე მუხლის მე-16 პუნქტის თანახმად, მძღოლი, რომელიც მობრუნებას ან უკუსვლით მოძრაობას აპირებს, უნდა დარწმუნდეს, რომ მას შეუძლია ისე შეასრულოს ეს მანევრი, რომ საფრთხე არ შეუქმნას და ხელი არ შეუშალოს სხვა საგზაო მოძრაობის მონაწილეებს. აუცილებლობის შემთხვევაში მიზანშეწონილია სხვა პირის დახმარება. აკრძალულია უკუსვლით მოძრაობა გზატკარცილობაზე, ავტომაგისტრალზე და ამ მუხლის მე-15 პუნქტით განსაზღვრულ ადგილებში. ამავე კანონის პირველი დანართის მე-4 თავის (მიმთითებული ნიშნები) 4.1.4 პუნქტის და ამავე პუნქტის შენიშვნის თანახმად საგზაო ნიშანი 4.1.4 „მოძრაობა პირდაპირ ან მარჯვნივ“ - რთავს მხოლოდ ისრებით ნაჩვენები მიმართულებებით მოძრაობის ნებას.



I



II



III



IV

Иарбоу амѡათѣ дыргакѣа рѣынтѣ руа иарбан арныѣѣаѣ агѣѣанѣара изѣто ахагѣжѣратѣ аитѣѣра змоу амѣѣихѣсырта азааигѣахара иазкныѣ

1

ში ში ში მაძარა

2

ში ში ში მაძარა

3

ში ში ში ში ში მაძარა

4

ში ში ში მაძარა

### განმარტება:

„საგზაო მოძრაობის შესახებ“ საქართველოს კანონის პირველი დანართის პირველი თავის (მაფრთხილებელი ნიშნები) 1.8 პუნქტის თანახმად საგზაო ნიშანი 1.8 „წრიული მოძრაობიანი გადაკვეთა“ - იძლევა გაფრთხილებას 4.3 „წრიული მოძრაობა“ ნიშნით აღნიშნულ წრიულ მოძრაობიან გზაჯვარედინთან მიახლოების თაობაზე.



I



II



III



IV

Иарбоу амѡатѡ дыргакѡа рѡынтѡ руа иარბან ахадаратѡ ѡѡ гежык иреитѡымкѡа измоу атранспортѡ хархѡагакѡа акѡтѡраарацѡыхѡчаратѡ адацкѡа рыла аитатѡра иахѡрыхѡтѡу атыѡѡ хзырბѡѡ

1

I

2

II

3

III


4

IV

### განმარტება:

„საგზაო მოძრაობის შესახებ“ საქართველოს კანონის პირველი დანართის მე-4 თავის (მიმთითებული ნიშნები) 4.8 პუნქტის თანახმად, საგზაო ნიშანი 4.8 „მოცურების საწინააღმდეგო ჯაჭვები აუცილებელია“ - გზის მონაკვეთი, რომელზე მოძრავ სატრანსპორტო საშუალებას არანაკლებ ორ წამყვან ბორბალზე მოცურების საწინააღმდეგო ჯაჭვები უნდა ჰქონდეს დამაგრებული.





Ахыц ахырхартала еиҭацуа амашынакәа рырныкәаџцәа рҭкынтә амџатә аиҭаҭра аҭаскәа еилазгода, урт агәара аҭакыра иҭалозарҭ

1

Амашына шкәакәа арныкәаџ

2

Амашына кәҭушь арныкәаџ

3

Аџемашынак рырныкәаџцәа

4

Азәҭгы

### განმარტება:

„საგზაო მოძრაობის შესახებ“ საქართველოს კანონის პირველი დანართის მე-4 თავის (მიმთითებული ნიშნები) 4.1.1 პუნქტისა და ამავე პუნქტის შენიშვნის „ა“ და „დ“ ქვეპუნქტების თანახმად, საგზაო ნიშანი 4.1.1 „მოძრაობა პირდაპირ“ რთავს მხოლოდ ისრებით ნაჩვენები მიმართულებებით მოძრაობის ნებას. 4.1.1 ნიშნის მოქმედება, რომელიც გზის მონაკვეთის დასაწყისშია დადგმული, ვრცელდება უახლოეს გზაჯვარედინამდე. ნიშანი არ კრძალავს მარჯვნივ ეზოში მოხვევას და სხვა მიმდებარე ტერიტორიაზე შესვლას.



Амашына лас арныкѣа аитатра анагзара азин имоупЖ

1

Дышиашоу, иара убас, арѣарахь

2

Дышиашоу, иара убас, армарахь

3

Дышиашоу

4

Ахырхартѣа зегъы рыла

### განმარტება:

„საგზაო მოძრაობის შესახებ“ საქართველოს კანონის პირველი დანართის მე-4 თავის (მიმთითებული ნიშნები) 4.1.1 პუნქტისა და ამავე პუნქტის შენიშვნის „ა“ და „დ“ ქვეპუნქტების თანახმად, საგზაო ნიშანი 4.1.1 „მოძრაობა პირდაპირ“ რთავს მხოლოდ ისრებით ნაჩვენები მიმართულებებით მოძრაობის ნებას. 4.1.1 ნიშნის მოქმედება, რომელიც გზის მონაკვეთის დასაწყისშია დადგმული, ვრცელდება უახლოეს გზაჯვარედინამდე. ნიშანი არ კრძალავს მარჯვნივ ეზოში მოხვევას და სხვა მიმდებარე ტერიტორიაზე შესვლას.





Амашына лас арныкѣа аитатра азин имоупЖ

1

Дышиашоу мацара

2

Арѣарахь мацара


3

Дышиашоу, иара убас, арѣарахь

### განმარტება:

„საგზაო მოძრაობის შესახებ“ საქართველოს კანონის 28-ე მუხლის მე-5 პუნქტის თანახმად, თუ გზაზე დროებით გადასატან სადგარზე ან საგზაო სამუშაოების მწარმოებელი ორგანიზაციის ავტომობილზე დაყენებულია საგზაო ნიშანი (შემდგომ – დროებითი საგზაო ნიშანი), რომლის მოთხოვნები ეწინააღმდეგება იმავე გზის მონაკვეთზე სტაციონარულად დაყენებული საგზაო ნიშნის მოთხოვნებს, მძღოლი ვალდებულია შეასრულოს დროებითი საგზაო ნიშნის მოთხოვნები.





Амашына лас арныкәә айтатра азин имоупЖ

1

Армарахь мацара

2

Дтәины шытахька мацара

3

Армарахь, иара убас, дтәины шытахька

### განმარტება:

„საგზაო მოძრაობის შესახებ“ საქართველოს კანონის 28-ე მუხლის მე-5 პუნქტის თანახმად, თუ გზაზე დროებით გადასატან სადგარზე ან საგზაო სამუშაოების მწარმოებელი ორგანიზაციის ავტომობილზე დაყენებულია საგზაო ნიშანი (შემდგომ – დროებითი საგზაო ნიშანი), რომლის მოთხოვნები ეწინააღმდეგება იმავე გზის მონაკვეთზე სტაციონარულად დაყენებული საგზაო ნიშნის მოთხოვნებს, მძღოლი ვალდებულია შეასრულოს დროებითი საგზაო ნიშნის მოთხოვნები. ამავე კანონის პირველი დანართის მე-4 თავის (მიმთითებული ნიშნები) 4.1.1–4.1.6 პუნქტების შენიშვნის „ა“ ქვეპუნქტის თანახმად, 4.1.1–4.1.6 ნიშნები რთავს მხოლოდ ისრებით ნაჩვენები მიმართულებებით მოძრაობის ნებას, ხოლო ნიშნები, რომლებიც მარცხნივ მოხვევის ნებას რთავს, მობრუნების უფლებასაც იძლევა.



Амашына иатцә агәара италозар, амашына џежь иаангылазар, урт рырныкәаџцә ркынтә амџатә аитатра атцәскә еилазгодаџ

1

Амашына иатцә арныкәаџ мацара.

2


Амашына џежь арныкәаџ мацара.

3

Аџамашынак рырныкәаџцә

### განმარტება:

„საგზაო მოძრაობის შესახებ“ საქართველოს კანონის პირველი დანართის მე-4 თავის (მიმთითებული ნიშნები) 4.1.1 პუნქტისა და ამავე პუნქტის შენიშვნის „ა“ და „დ“ ქვეპუნქტების თანახმად, საგზაო ნიშანი 4.1.1 „მოძრაობა პირდაპირ“ რთავს მხოლოდ ისრებით ნაჩვენები მიმართულებებით მოძრაობის ნებას. 4.1.1 ნიშნის მოქმედება, რომელიც გზის მონაკვეთის დასაწყისშია დადგმული, ვრცელდება უახლოეს გზაჯვარედინამდე. ნიშანი არ კრძალავს მარჯვნივ მოხვევას ეზოში და გზასთან მიმდებარე სხვა ტერიტორიებზე შესასვლელად. ამავე დანართის მე-3 თავის (ამკრძალავი ნიშნები) 3.27 პუნქტისა და ამავე თავის შენიშვნის „ე“ ქვეპუნქტის თანახმად: - 3.27. საგზაო ნიშანი 3.27 „გაჩერება აკრძალულია“ - კრძალავს სატრანსპორტო საშუალების, როგორც გაჩერებას, ასევე დგომას. - ე) 3.16, 3.20, 3.22, 3.24, 3.26–3.30 ნიშნების მოქმედება ვრცელდება სათანადო ნიშნის შემდეგ, ნიშნის დადგმის ადგილიდან უახლოეს გზაჯვარედინამდე, ხოლო დასახლებულ პუნქტში გზაჯვარედინის არარსებობისას – დასახლებული პუნქტის ბოლომდე. ნიშნების მოქმედება ვრცელდება აგრეთვე მიმდებარე ტერიტორიის გამოსასვლელულთან, საველე, სატყეო და სხვა მეორეხარისხოვანი გზების გადაკვეთასთან (შეერთებასთან), რომელთა წინ არ დგას სათანადო ნიშანი.



Иарбоу атагылазаашьаџы, амашына лас арныкџаџ ахыц ахырхартала атџира азин имоумаџ

1

Азин имаџам

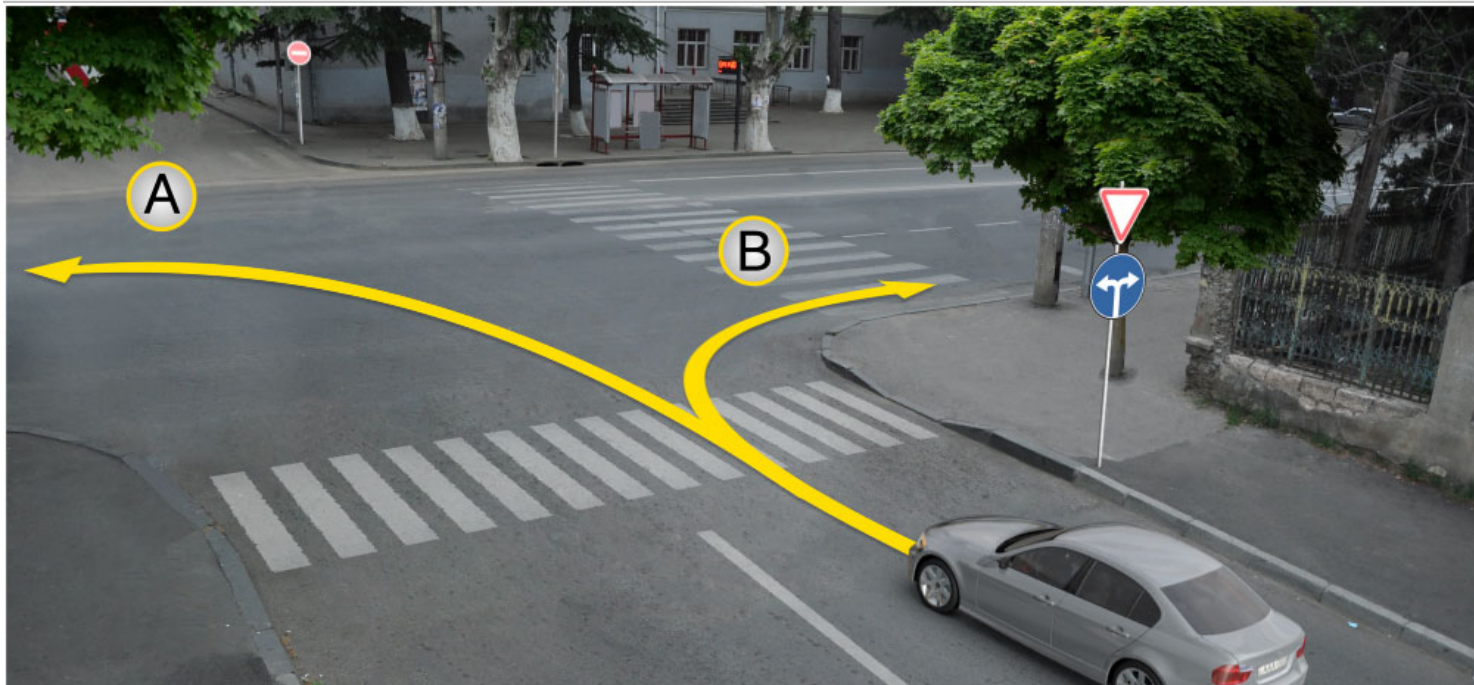
2

Азин имоуп

### განმარტება:

„საგზაო მოძრაობის შესახებ“ საქართველოს კანონის პირველი დანართის მე-4 თავის (მიმთითებული ნიშნები) 4.1.5 პუნქტისა და 4.1.1-4.1.6 პუნქტების შენიშვნის „ა“ და „დ“ ქვეპუნქტების თანახმად, საგზაო ნიშანი 4.1.5 „მოძრაობა პირდაპირ ან მარცხნივ“ - რთავს მხოლოდ ისრებით ნაჩვენები მიმართულებებით მოძრაობის ნებას, ხოლო ნიშნები, რომლებიც მარცხნივ მოხვევის ნებას რთავს, მობრუნების უფლებასაც იძლევა.





Иарбоу ატაგელაზააშაფი, ამაშყნა ლას არწყკაფ აიტატრა ანაგზარა აზინ იმოუპჟ

1

A ახყრჰრტალა

2

B ახყრჰრტალა

3

აი ბი ახყრჰრტაჰა რყლა

### ბანმარტყბა:

„საგზაო მოძრაობის შესახებ“ საქართველოს კანონის პირველი დანართის მე-4 თავის (მიმთითებული ნიშნები) 4.1.6 პუნქტისა და ამავე პუნქტის შენიშვნის „ა“ ქვეპუნქტის თანახმად, საგზაო ნიშანი 4.1.6 „მოძრაობა მარჯვნივ ან მარცხნივ“ - რთავს მხოლოდ ისრებით ნაჩვენები მიმართულებებით მოძრაობის ნებას, ხოლო ნიშნები რომლებიც მარცხნივ მოხვევის ნებას რთავენ, მობრუნების ნებასაც იძლევა.



I



II



III



IV

Иарбоу амѡатѣ дыргакѣа ркынтѣ иуа иарбан амч змоу урт иахыкѣгылоу амѡасырта ахысыртаѣыѢ

1

ში შში

2

ში შშიში

3

შიში შმი

4

Рызынтѣгы

### განმარტება:

„საგზაო მოძრაობის შესახებ“ საქართველოს კანონის პირველი დანართის მე-4 თავის (მიმთითებული ნიშნები) 4.1.1-4.1.6 პუნქტების შენიშვნის „ბ“ ქვეპუნქტის თანახმად, 4.1.1-4.1.6 ნიშნების მოქმედება ვრცელდება სავალი ნაწილების იმ გადაკვეთაზე, რომლის წინაც დადგმულია სათანადო ნიშანი. ამავე დანართის მე-3 თავის (ამკრძალავი ნიშნები) შენიშვნის „დ“ ქვეპუნქტის თანახმად, 3.18.1 და 3.18.2 ნიშნების მოქმედება ვრცელდება სავალი ნაწილების იმ გადაკვეთაზე, რომლის წინაც დადგმულია ნიშანი.

თემა 7:

## საინფორმაციო-მარკეტინგული ნიშნები

---



Ахыт ахырхартала аитатра аан абарт атранспорттә хархәагакәа ырныкәаџәа ркынтә амџәтә аитатра атас еилазгодаџ

1

Амашына лас арныкәаџ затәы

2

Аидаратә машына арныкәаџ затәы

3

Амотоцикл арныкәаџ затәы


4

Азәгы

### განმარტება:

„საგზაო მოძრაობის შესახებ“ საქართველოს კანონის 31-ე მუხლის მე-12 პუნქტის თანახმად, თუ ამ კანონით სხვა რამ არ არის გათვალისწინებული, ნებისმიერ სავალ ნაწილზე, თანმხვედრი მიმართულებით მოძრაობისთვის განკუთვნილი სამი ან მეტი მოძრაობის ზოლის არსებობისას განაპირა მარცხენა მოძრაობის ზოლის დაკავება ნებადართულია მხოლოდ ინტენსიური მოძრაობისას, როცა სხვა მოძრაობის ზოლები დაკავებულია, აგრეთვე გასწრების, მარცხნივ მოხვევის ან მობრუნების მიზნით, ხოლო სატვირთო ავტომობილისათვის – მხოლოდ მარცხნივ მოხვევის ან მობრუნების დროს.





Ахыт ахырхартала айтатра аан абарт атранспорттә хархәагақәа рырныкәаџәа ркынтә амџатә айтатра атас еилазгодаџ

1

Аидаратә машына арныкәаџ мацара.

2

Амашына лас арныкәаџ мацара.

3

Рџыцџагы


4

Азџгы

### განმარტება:

„საგზაო მოძრაობის შესახებ“ საქართველოს კანონის 32-ე მუხლის მე-5 პუნქტის თანახმად, გარდა იმ შემთხვევისა, როცა მოხვევა სრულდება გზატკარცილობა გასასვლელად, სადაც წრიული მოძრაობაა ორგანიზებული, მარჯვნივ ან მარცხნივ მოხვევის წინ, აგრეთვე მობრუნების წინ სატრანსპორტო საშუალების მძღოლი ვალდებულია დროულად დაიკავოს შესაბამისი განაპირა მდებარეობა სავალ ნაწილზე, რომელიც თანმხვედრი მიმართულებით მოძრაობისთვისაა განკუთვნილი. ამავე კანონის პირველი დანართის 7.15.1 – 7.15.3 პუნქტის თანახმად საგზაო ნიშანი 7.15.3 „სატვირთო ავტომობილით მოძრაობის მიმართულება“ - მიუთითებს სატვირთო ავტომობილის, ტრაქტორისა და თვითმავალი მანქანის მოძრაობის რეკომენდებულ მიმართულებას, თუ გზატკარცილობა ერთ-ერთი მიმართულებით მათი მოძრაობა აკრძალულია. ნიშნები იდგმება რეკომენდებული მიმართულების დასაწყისში გზატკარცილობის წინ ან გზატკარცილობამდე 100–150 მეტრ მანძილზე.





Иарбоу атагылазаашыаҕы ахыц ахырхартала аитатра азин змамдаҕ

1

Амашына иатҕа арныкҕааҕ мацара

2

Амашына ҕаҕшь арныкҕааҕ мацара

3

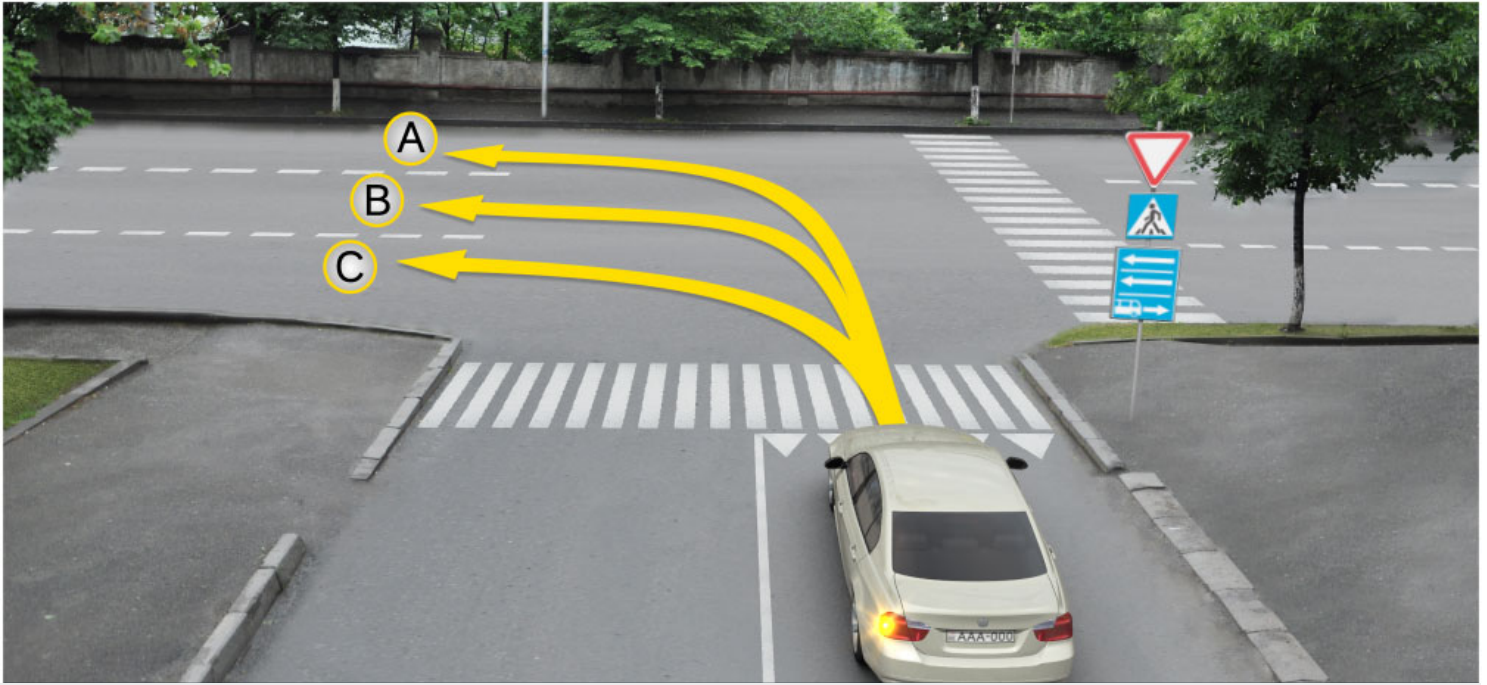
Амашына иатҕа арныкҕааҕ мацара.

4

Амашына ҕаҕшь арныкҕааҕ мацара.

### განმარტება:

„საგზაო მოძრაობის შესახებ“ საქართველოს კანონის პირველი დანართის მე-5 თავის (განსაკუთრებული მითითებების ნიშნები) 5.14 პუნქტის თანახმად საგზაო ნიშანი 5.14 „სამარშრუტო სატრანსპორტო საშუალებისათვის განკუთვნილი მოძრაობის ზოლი“ - აღნიშნავს გზას, რომელზედაც სამარშრუტო სატრანსპორტო საშუალება მოძრაობს სპეციალურად გამოყოფილ ზოლზე სატრანსპორტო საშუალებათა საერთო ნაკადის თანმხვედრი მიმართულებით. ნიშნის მოქმედება ვრცელდება იმ მოძრაობის ზოლზე, რომელზედაც ის დგას. გზის მარჯვენა მხარეს დადგმული ნიშნის მოქმედება ვრცელდება სავალი ნაწილის უკიდურეს მარჯვენა ზოლზე. ამავე კანონის მეორე დანართის პირველი თავის (ჰორიზონტალური მონიშვნა) 1.23 პუნქტის თანახმად საგზაო მონიშვნა 1.23 აღნიშნავს სპეციალურ ზოლს, რომელიც განკუთვნილია სამარშრუტო სატრანსპორტო საშუალების მოძრაობისათვის. ამავე კანონის 41-ე მუხლის მე-3 პუნქტის თანახმად, გზაზე, სადაც 5.11, 5.13.1, 5.13.2 და 5.14 საგზაო ნიშნებით აღნიშნული სამარშრუტო სატრანსპორტო საშუალებების მოძრაობისათვის განკუთვნილი ზოლია, აკრძალულია ამ ზოლზე სხვა სატრანსპორტო საშუალებათა მოძრაობა და გაჩერება. თუ ეს ზოლი დანარჩენი სავალი ნაწილისგან მონიშვნის წყვეტილი ხაზითაა გამოყოფილი, მოხვევისას სხვა სატრანსპორტო საშუალებები ამ ზოლზე უნდა გადაჭყუდდნენ. ნებადართულია აგრეთვე ამ ზოლის ასეთ ადგილებში შესვლა გზაზე გასვლისას და მგზავრთა ჩასხდომა-გადმოსხდომისას სავალი ნაწილის მარჯვენა კიდედან, თუ ეს არ დააბრკოლებს სამარშრუტო სატრანსპორტო საშუალების მოძრაობას.



Амашына лас арныкәә айтатра азин имоупЖ

1

Аи Си ахырхартәә мацара рыла.

2

Ви Си ахырхартәә мацара рыла.

3

Аи Ви ахырхартәә мацара рыла


4

А ахырхартала

### განმარტება:

„საგზაო მოძრაობის შესახებ“ საქართველოს კანონის პირველი დანართის მე-5 თავის (განსაკუთრებული მითითებების ნიშნები) 5.13.2 პუნქტის თანახმად 5.13.2 „სამარშრუტო სატრანსპორტო საშუალებისათვის განკუთვნილი მოძრაობის ზოლის მქონე გზაზე გასვლა“ - მიუთითებს 5.11 ნიშნით აღნიშნულ გზაზე გასვლას და იდგმება ყველა გვერდითი შესასვლელის წინ. ნიშანი შეიძლება არა დაიდგას მიმდებარე ტერიტორიებიდან გამოსასვლელების გზასთან გადაკვეთებზე, იმ შემთხვევაში თუ ამ ტერიტორიებზე შესვლა შესაძლებელია მხოლოდ 5.11 ნიშნით აღნიშნულ გზიდან. ამავე კანონის 32-ე მუხლის მე-7 პუნქტის „ბ“ ქვეპუნქტის თანახმად, სხვა გზაზე გასასვლელად ან გზის მიმდებარე ტერიტორიაზე შესასვლელად მარჯვნივ ან მარცხნივ მოხვევის წინ, ისე, რომ არ დაარღვიოს ამ კანონის მე-20 მუხლის მე-2 პუნქტითა და ამ მუხლის პირველი და მე-2 პუნქტებით დადგენილი მოთხოვნები, თუ სატრანსპორტო საშუალების მძღოლი აპირებს გზიდან გასვლას მარცხენა მხრიდან, სატრანსპორტო საშუალება, რამდენადაც ეს შესაძლებელია, უნდა მიუახლოვდეს გზის სავალი ნაწილის ღერძს (ორმხრივმოძრაობიან გზაზე) ან სავალი ნაწილის მარცხენა კიდე (ცალმხრივმოძრაობიან გზაზე), ხოლო თუ ის სხვა ორმხრივმოძრაობიან გზაზე აპირებს გასვლას, მოხვევა ისე უნდა შეასრულოს, რომ სავალი ნაწილების გადაკვეთიდან გამოსვლისას სატრანსპორტო საშუალება საპირისპირო მოძრაობის მხარეს არ აღმოჩნდეს.





Амашына лас арныкææ айтатра азин имоупЖ

1

Дышиашоу, иара убас, арбъарахъ

2

Дышиашоу, иара убас, армарахъ

3

Армарахъ, иара убас, дцæины шытахъкæ

4

Дышиашоу, армарахъ, иара убас, дцæины шытахъкæ

### განმარტება:

„საგზაო მოძრაობის შესახებ“ საქართველოს კანონის პირველი დანართის მე-5 თავის (განსაკუთრებული მითითებების ნიშნები) 5.13.2 პუნქტის თანახმად 5.13.2 „სამარშრუტო სატრანსპორტო საშუალებისათვის განკუთვნილი მოძრაობის ზოლის მქონე გზაზე გასვლა“ - მიუთითებს 5.11 ნიშნით აღნიშნულ გზაზე გასვლას და იდგმება ყველა გვერდითი შესასვლელის წინ. ნიშანი შეიძლება არა დაიდგას მიმდებარე ტერიტორიებიდან გამოსასვლელების გზასთან გადაკვეთებზე, იმ შემთხვევაში თუ ამ ტერიტორიებზე შესვლა შესაძლებელია მხოლოდ 5.11 ნიშნით აღნიშნულ გზიდან. ამავე კანონის 41-ე მუხლის მე-3 პუნქტის თანახმად, გზაზე, სადაც 5.11, 5.13.1, 5.13.2 და 5.14 საგზაო ნიშნებით აღნიშნული სამარშრუტო სატრანსპორტო საშუალებების მოძრაობისათვის განკუთვნილი ზოლია, აკრძალულია ამ ზოლზე სხვა სატრანსპორტო საშუალებათა მოძრაობა და გაჩერება. თუ ეს ზოლი დანარჩენი სავალი ნაწილისგან მონიშვნის წყვეტილი ხაზითაა გამოყოფილი, მოხვევისას სხვა სატრანსპორტო საშუალებები ამ ზოლზე უნდა გადაჭკუდნენ. ნებადართულია აგრეთვე ამ ზოლის ასეთ ადგილებში შესვლა გზაზე გასვლისას და მგზავრთა ჩასხდომა-გადმოსხდომისას სავალი ნაწილის მარჯვენა კიდედან, თუ ეს არ დააბრკოლებს სამარშრუტო სატრანსპორტო საშუალების მოძრაობას.



Иарбоу амѡатѡ дьрга иазгѡანатѡитЖ

1

Аитатратѡ цѡахѡаѣы икѡитыму  
ахьрхартакѡа

2

Автоматгистраль адыргала иазгѡатѡу амѡа  
антѡамтѡ

3

Арѡверстѡ амѡа ацьѡѡѡаха антѡамтѡ

### განმარტება:

„საგზაო მოძრაობის შესახებ“ საქართველოს კანონის პირველი დანართის მე-5 თავის (განსაკუთრებული მითითებების ნიშნები) 5.2 პუნქტის თანახმად, საგზაო ნიშანი 5.2 „ავტომაგისტრალის დასასრული“ - მიუთითებს 5.1 „ავტომაგისტრალი“ ნიშნით აღნიშნული გზის დასასრულს. 5.2 ნიშანი იდგმება ავტომაგისტრალის ბოლოში, ავტომაგისტრალიდან გასასვლელში და წინასწარ 8.1.1 დაფით ავტომაგისტრალის ბოლომდე 400 და 1000 მეტრის მანძილებზე.



Иარბოუ ამჟათე დырга იაზგანათოიტჟ

1

არევერსტა ამჟა აცყუტაჟა ანტჟამტა

2

ამაშყნაჟა რეიტატრა იაჟკუ აცჟაჟა ანტჟამტა

3

ამაშყნამჟა ანტჟამტა

### განმარტეჟა:

„საგზაო მოძრაობის შესახებ“ საქართველოს კანონის პირველი დანართის მე-5 თავის (განსაკუთრებული მითითებების ნიშნები) 5.4 პუნქტის თანახმად, საგზაო ნიშანი 5.4 „საავტომობილო გზის დასასრული“ - მითითებს 5.3 ნიშნით აღნიშნული გზის დასასრულს.



Иარბოу амѳатѳ дырგакѳაЖ

1

Иахнарбоит гантѳи аитатра иазку амѳа ма амѳасырта алааларта

2

Аитатратѳ цѳахѳа алагамта иазгѳартѳит

3

Автобускѳа реитатразы иалкаау ацѳахѳа иазгѳартѳит

### განმარტება:

„საგზაო მოძრაობის შესახებ“ საქართველოს კანონის პირველი დანართის მე-5 თავის (განსაკუთრებული მითითებების ნიშნები) 5.7.1, 5.7.2 პუნქტების თანახმად, საგზაო ნიშნები 5.7.1 და 5.7.2 „ცალმხრივმოძრაობიან გზაზე გასვლა“ - მითითებს ცალმხრივმოძრაობიან გზაზე ან სავალ ნაწილზე გასვლას. ნიშნები იდგმება ყველა გვერდითი შესასვლელის წინ. ნიშანი შეიძლება არა დაიდგას მიმდებარე ტერიტორიებიდან გამოსასვლელების გზასთან გადაკვეთებზე, თუ ამ ტერიტორიებზე შესვლა შესაძლებელია მხოლოდ 5.5 ნიშნით აღნიშნულ გზიდან.

## ВОПРОС 163

ПРАВИЛЬНЫЙ ОТВЕТ: 1



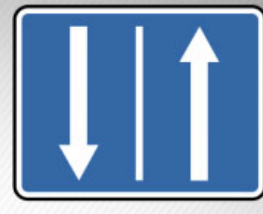
I



II



III



IV

Иарбоу амѡатѡ дыргакѡа ркынтѡ руа иарбан аревѡрстѡ аитѡцра змоу амѡа ацыѡцѡаха алагамѡа  
иазгѡазѡѡ

1

I

2

II

3

III


4

IV

## განმარტება:

„საგზაო მოძრაობის შესახებ“ საქართველოს კანონის პირველი დანართის მე-5 თავის (განსაკუთრებული მითითებების ნიშნები) 5.8 პუნქტის თანახმად, საგზაო ნიშანი 5.8 „რევერსული მოძრაობა“ – გზის მონაკვეთის დასაწყისი, სადაც ერთ ან რამდენიმე ზოლზე მოძრაობის მიმართულება შეიძლება საპირისპიროდ შეიცვალოს.





Иარბოу амѡатѣ дырга иазгѣანатѡитЖ

1

Арласратѣ цѣахѣа анылара

2

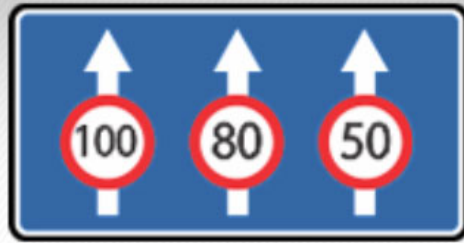
Ѣеганктѣи аитѡцра змоу амѡа анылара

3

Ареверстѣ аитѡцра змоу амѡа ацыѡцѣаха  
анылара

### განმარტება:

„საგზაო მოძრაობის შესახებ“ საქართველოს კანონის პირველი დანართის მე-5 თავის (განსაკუთრებული მითითებების ნიშნები) 5.10 პუნქტის თანახმად, საგზაო ნიშანი 5.10 „გზაზე გასვლა, რომელზედაც რევერსული მოძრაობაა“ - მიუთითებს 5.8 ნიშნით აღნიშნულ გზის მონაკვეთებზე გასვლას. ნიშანი იდგმება ყველა გვერდითი გასასვლელის წინ. ნიშანი შეიძლება არა დაიდგას მიმდებარე ტერიტორიებიდან გამოსასვლელების გზასთან გადაკვეთებზე, თუ ამ ტერიტორიებზე შესვლა შესაძლებელია მხოლოდ 5.8 ნიშნით აღნიშნული გზიდან.



Иарбоу амѡатѡ дырга иахнарбоитЖ

1

Аитатцратѡ цѡахѡაკѡа рхыпѡхѡазара мацара

2

Ацѡахѡაკѡа рѡы аитатцrazy ишьაკѡгылоу  
арежимкѡа

3

Аитатцратѡ цѡахѡაკѡа рхыпѡхѡазареи, иара  
убас, ацѡахѡაკѡа рѡы аитатцrazy  
ишьაკѡгылоу арежимкѡеи

### განმარტება:

„საგზაო მოძრაობის შესახებ“ საქართველოს კანონის პირველი დანართის მე-5 თავის (განსაკუთრებული მითითებების ნიშნები) 5.15.8 პუნქტის თანახმად, საგზაო ნიშანი 5.15.8 „ზოლების რაოდენობა“ - მიუთითებს მოცემული მიმართულებით ზოლების რაოდენობას და ზოლებზე მოძრაობისათვის დადგენილ რეჟიმებს. ნიშანი იდგმება დაუსახლებელ პუნქტში გზის უბნის დასაწყისიდან 150–300 მეტრ მანძილზე, დასახლებულ პუნქტში – 50–150 მეტრ მანძილზე.



Иარბოу амѡатѣ дырга иазгѣანатѡитЖ

1

Ишѣартѡу амѡა

2


Иѣсабаратѣым аиашамрақѣа

3

Иашам амѡа

### განმარტება:

„საგზაო მოძრაობის შესახებ“ საქართველოს კანონის პირველი დანართის მე-5 თავის (განსაკუთრებული მითითებების ნიშნები) 5.20 პუნქტის თანახმად, საგზაო ნიშანი 5.20 „ხელოვნური უსწორმასწორობა“ - მიუთითებს გზის სავალ ნაწილზე არსებულ ხელოვნურ უსწორმასწორობას. ნიშანი იდგმება ხელოვნურ უსწორმასწორობასთან ან 1.25 მონიშვნასთან მოახლოებული სატრანსპორტო საშუალების მხარეს.



Иарбоу ათაგელაზააშაფი, აბარტ ამაშყინაქა რყრწყააა რყრწყა აყყ აყრყარტალა აიტატრა აзин змамдаჲ

1

Амашყина лас арწყაа

2

Аидаратә машყина арწყаа

3

Ааамашყинак рырწყааа

4

Рыаааа азин рымоуп

### განმარტება:

„საგზაო მოძრაობის შესახებ“ საქართველოს კანონის პირველი დანართის მე-5 თავის (განსაკუთრებული მითითებების ნიშნები) 5.15.2 პუნქტის თანახმად, საგზაო ნიშანი 5.15.2 „ზოლზე მოძრაობის მიმართულებები“ - მიუთითებს ზოლზე მოძრაობის ნებადართულ მიმართულებებს.

## “Анхартатә зона” аупЖ

1

Ауааҭсыра иахьынхо, иарбанзаалак  
аҭакырадгьыл

2

Амѡатѡ аитатра чыдалатѡи атасқѡа амч  
иахьрымоу, алалартѡи алтыртѡи  
иашьашѡалоу амѡатѡ дыргакѡа рыла  
иахьазгѡатоу, ауаа иахьынхо аҭакырадгьыл

3

Ашьаҭауаа ринтенсивтѡ аитатра иазку,  
иарбанзаалак амѡа

## განმარტება:

„საგზაო მოძრაობის შესახებ“ საქართველოს კანონის 5-ე მუხლის 75-ე პუნქტის თანახმად, „საცხოვრებელი ზონა“ - განაშენიანებული ტერიტორია, სადაც მოქმედებს სპეციალური საგზაო მოძრაობის წესები და სადაც შესასვლელი და გამოსასვლელი აღნიშნულია შესაბამისი საგზაო ნიშნებით.

თემა 8:

## სერვისის ნიშნები

---

**ВОПРОС 169**

ПРАВИЛЬНЫЙ ОТВЕТ: 2




I



II



III



IV

Иарбоу амѡатѡ дыргакѡа рѡынтѡ руа иарбан раѡѡхѡзатѡи амедицинатѡ цхыраара апункт иазкны адырра казпѡѢ

1

I

2

II

3

III

4

IV

**განმარტება:**

„საგზაო მოძრაობის შესახებ“ საქართველოს კანონის პირველი დანართის მე-6 თავის (სერვისის ნიშნები) 6.1 პუნქტის თანახმად, საგზაო ნიშანი 6.1 „პირველადი სამედიცინო დახმარების პუნქტი“ საგზაო მოძრაობის მონაწილეებს აძლევენ ინფორმაციას შესაბამისი ობიექტის ან სერვისის შესახებ.




## ВОПРОС 170

ПРАВИЛЬНЫЙ ОТВЕТ: 4



I



II



III



IV

Иарбоу амѡатѡ дыргакѡа рѣынтѡ руа иарбан абылтѡытѡтѡарта иазкны адырра кѡзѡѡ

1

I

2

II

3

III

4

IV

## განმარტება:

„საგზაო მოძრაობის შესახებ“ საქართველოს კანონის პირველი დანართის მე-6 თავის (სერვისის ნიშნები) 6.2 პუნქტის თანახმად, საგზაო ნიშანი 6.2 „ავტოგასამართი სადგური“ საგზაო მოძრაობის მონაწილეებს აძლევს ინფორმაციას შესაბამისი ობიექტის ან სერვისის შესახებ.

## ВОПРОС 171

ПРАВИЛЬНЫЙ ОТВЕТ: 3




I



II



III



IV

Иарбоу амѡათѡ дьргакѡа ркынтѡ руа иарбан амашына атехникатѡ аматцура иазкны адырра казтѡѢ

1

I

2

II

3

III

4

IV

## განმარტება:

„საგზაო მოძრაობის შესახებ“ საქართველოს კანონის პირველი დანართის მე-6 თავის (სერვისის ნიშნები) 6.3 პუნქტის თანახმად, საგზაო ნიშანი 6.3 „ავტომობილის ტექნიკური მომსახურება“ საგზაო მოძრაობის მონაწილეებს აძლევენ ინფორმაციას შესაბამისი ობიექტის ან სერვისის შესახებ.

## ВОПРОС 172

ПРАВИЛЬНЫЙ ОТВЕТ: 3



I



II



III



IV

Иарбоу амѡათѡ дыргакѡа ркынтѡ руа иарбан амашына арыцкѡара атыѡ иазкны адырра казѡѡ

1

I

2

II

3

III

4

IV

## განმარტება:

„საგზაო მოძრაობის შესახებ“ საქართველოს კანონის პირველი დანართის მე-6 თავის (სერვისის ნიშნები) 6.4 პუნქტის თანახმად, საგზაო ნიშანი 6.4 „ავტომობილის რეცხვა“ საგზაო მოძრაობის მონაწილეებს აძლევს ინფორმაციას შესაბამისი ობიექტის ან სერვისის შესახებ.

## ВОПРОС 173

ПРАВИЛЬНЫЙ ОТВЕТ: 3



I



II



III



IV

Иарбоу амѡатѡ дыргакѡа рѡынтѡ руа иарбан ателтѡ пункт иазкны адырра казтѡѢ

1

I

2

II

3

III

4

IV

## განმარტება:

„საგზაო მოძრაობის შესახებ“ საქართველოს კანონის პირველი დანართის მე-6 თავის (სერვისის ნიშნები) 6.5 პუნქტის თანახმად, საგზაო ნიშანი 6.5 „ტელეფონი“ საგზაო მოძრაობის მონაწილეებს აძლევენ ინფორმაციას შესაბამისი ობიექტის ან სერვისის შესახებ.

## ВОПРОС 174

ПРАВИЛЬНЫЙ ОТВЕТ: 2



I



II



III



IV

Иарбоу амѡатѡ дьргакѡа ркынтѡ руа иарбан акрыфарта иазкны адырра казѡѡ

1

I

2

II

3

III

4

IV

## განმარტება:

„საგზაო მოძრაობის შესახებ“ საქართველოს კანონის პირველი დანართის მე-6 თავის (სერვისის ნიშნები) 6.6 პუნქტის თანახმად, საგზაო ნიშანი 6.6 „კვების პუნქტი“ საგზაო მოძრაობის მონაწილეებს აძლევენ ინფორმაციას შესაბამისი ობიექტის ან სერვისის შესახებ.

## ВОПРОС 175

ПРАВИЛЬНЫЙ ОТВЕТ: 3



I



II



III



IV

Иарбоу амѡатѡ дыргакѡа ркынтѡ руа иарбан арыжѡтѡ иазкны адырра казѡѡ

1

I

2

II

3

III

4

IV

## განმარტება:

„სავგაო მოძრაობის შესახებ“ საქართველოს კანონის პირველი დანართის მე-6 თავის (სერვისის ნიშნები) 6.7 პუნქტის თანახმად, სავგაო ნიშანი 6.7 „სასმელი წყალი“ სავგაო მოძრაობის მონაწილეებს აძლევენ ინფორმაციას შესაბამისი ობიექტის ან სერვისის შესახებ.



## ВОПРОС 176

ПРАВИЛЬНЫЙ ОТВЕТ: 4



I



II



III



IV

Иарбоу амѡатѡ дыргакѡа ркынтѡ руа иарбан асасаиртѡ ма амотель иазкны адырра казѡѡ

1

I

2

II

3

III

4

IV

## განმარტება:

„საგზაო მოძრაობის შესახებ“ საქართველოს კანონის პირველი დანართის მე-6 თავის (სერვისის ნიშნები) 6.8 პუნქტის თანახმად, საგზაო ნიშანი 6.8 „სასტუმრო ან მოტელი“ საგზაო მოძრაობის მონაწილეებს აძლევს ინფორმაციას შესაბამისი ობიექტის ან სერვისის შესახებ.

## ВОПРОС 177

ПРАВИЛЬНЫЙ ОТВЕТ: 1



I



II



III



IV

Иарбоу амѡатѡ дыргакѡа рѡынтѡ руа иарбан акемпинг иазкны адырра казцоѢ

1

I

2

II

3

III

4

IV

## განმარტება:

„საგზაო მოძრაობის შესახებ“ საქართველოს კანონის პირველი დანართის მე-6 თავის (სერვისის ნიშნები) 6.9 პუნქტის თანახმად, საგზაო ნიშანი 6.9 „კემპინგი“ საგზაო მოძრაობის მონაწილეებს აძლევენ ინფორმაციას შესაბამისი ობიექტის ან სერვისის შესახებ.



Иарбоу амѡатѡ дьрга адырра канатѡитЖ

1

Апатрультѡ полиция аѣыѣшырта аѡазаара  
иазкны

2

Амашѡыртѡ матураѡкны арадиоаимадара  
азона аѡазаара иазкны

### განმარტება:

„საგზაო მოძრაობის შესახებ“ საქართველოს კანონის პირველი დანართის მე-6 თავის (სერვისის ნიშნები) 6.11 პუნქტის თანახმად, საგზაო ნიშანი 6.11 „საპატრულო პოლიციის საგუშაგო“ საგზაო მოძრაობის მონაწილეებს აძლევს ინფორმაციას შესაბამისი ობიექტის ან სერვისის შესახებ.

## ВОПРОС 179

ПРАВИЛЬНЫЙ ОТВЕТ: 1



I



II



III



IV

Иарбоу амѡатѡ дыргакѡа рѣынтѡ руа иарбан жѡларбжѡаратѡи автомобилтѡ мѡангаракѡа ргѡатаратѡ пункт аѣазаара иазкны адырра ѣазѡѡ

1

I

2

II

3

III

4

IV

## განმარტება:

„საგზაო მოძრაობის შესახებ“ საქართველოს კანონის პირველი დანართის მე-6 თავის (სერვისის ნიშნები) 6.13 პუნქტის თანახმად, საგზაო ნიშანი 6.13 „საერთაშორისო საავტომობილო გადაზიდვების საკონტროლო პუნქტი“ საგზაო მოძრაობის მონაწილეებს აძლევს ინფორმაციას შესაბამისი ობიექტის ან სერვისის შესახებ.

## ВОПРОС 180

ПРАВИЛЬНЫЙ ОТВЕТ: 1



Иарбоу амѡათѡ дьрга адырра канатѡитЖ

1

жѡларбжьаратѡи автомобилтѡ амѡангарақѡа  
ргѡатаратѡ пункт ақѡзаара иазкны

2

Апатрультѡ полиция ағыпұшырта ақѡзаара  
иазкны

## განმარტება:

„საგზაო მოძრაობის შესახებ“ საქართველოს კანონის პირველი დანართის მე-6 თავის (სერვისის ნიშნები) 6.13 პუნქტის თანახმად, საგზაო ნიშანი 6.13 „საერთაშორისო საავტომობილო გადაზიდვების საკონტროლო პუნქტი“ საგზაო მოძრაობის მონაწილეებს აძლევენ ინფორმაციას შესაბამისი ობიექტის ან სერვისის შესახებ.

## ВОПРОС 181

ПРАВИЛЬНЫЙ ОТВЕТ: 2



Иарбоу амѡათѡ дьрга адырра канатѡитЖ

1

Амашѡыртѡ матурақкны арадиоаимадара  
азона ақѡзаара иазкны

2

Амѡათѡ айтатра иазку адырра қазтѡ  
арадиостанция адкыларатѡ зона ақѡзаара  
иазкны

## განმარტება:

„საგზაო მოძრაობის შესახებ“ საქართველოს კანონის პირველი დანართის მე-6 თავის (სერვისის ნიშნები) 6.14 პუნქტის თანახმად, საგზაო ნიშანი 6.14 „საგზაო მოძრაობის შესახებ ინფორმაციის გადამცემი რადიოსადგურის მიღების ზონა“ საგზაო მოძრაობის მონაწილეებს აძლევენ ინფორმაციას შესაბამისი ობიექტის ან სერვისის შესახებ.

## ВОПРОС 182

ПРАВИЛЬНЫЙ ОТВЕТ: 2



I



II



III



IV

Иарбоу амѡатѣ дыргакѣа рѣынтѣ руа иарбан амѡатѣ аитатра иазкны адырра кѣзцо, арадиостанция адкыларатѣ зона аѣазаара иазгѣазтоѢ

1

I

2

II

3

III

4

IV

## განმარტება:

„საგზაო მოძრაობის შესახებ“ საქართველოს კანონის პირველი დანართის მე-6 თავის (სერვისის ნიშნები) 6.14 პუნქტის თანახმად, საგზაო ნიშანი 6.14 „საგზაო მოძრაობის შესახებ ინფორმაციის გადამცემი რადიოსადგურის მიღების ზონა“ საგზაო მოძრაობის მონაწილეებს აძლევენ ინფორმაციას შესაბამისი ობიექტის ან სერვისის შესახებ.





Иарбоу амѡатѡ дьрга адырра канатѡитЖ

1

Амашѡыртѡ матураҕны арадиоаимадара  
атыҕ аҕазаара иазкны

2

Амѡатѡ аитатҕра иазкны адырра казѡо  
арадиостанѡиа адкыларатѡ зона аҕазаара  
иазкны

### განმარტება:

„საგზაო მოძრაობის შესახებ“ საქართველოს კანონის პირველი დანართის მე-6 თავის (სერვისის ნიშნები) 6.15 პუნქტის თანახმად, საგზაო ნიშანი 6.15 „საავარიო სამსახურთან რადიოკავშირის ზონა“ საგზაო მოძრაობის მონაწილეებს აძლევენ ინფორმაციას შესაბამისი ობიექტის ან სერვისის შესახებ.

## ВОПРОС 184

ПРАВИЛЬНЫЙ ОТВЕТ: 3



I



II



III



IV

Иарбоу адыргакәа ркынтә руа иарбан амашәыртә матурақны арадиоаимадара азона шықоу иахзырбоҭ

1

I

2

II

3

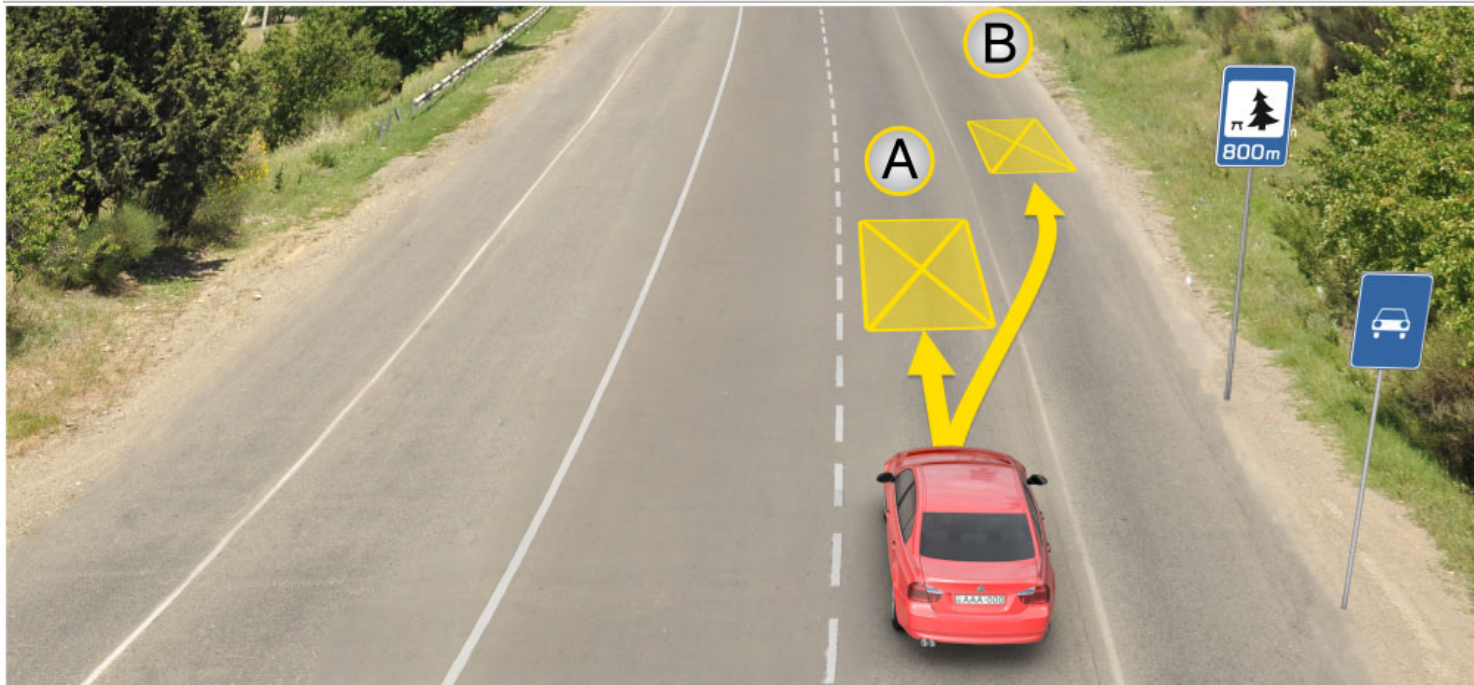
III

4

IV

## განმარტება:

„საგზაო მოძრაობის შესახებ“ საქართველოს კანონის პირველი დანართის მე-6 თავის (სერვისის ნიშნები) 6.15 პუნქტის თანახმად, საგზაო ნიშანი 6.15 „საავარიო სამსახურთან რადიოკავშირის ზონა“ საგზაო მოძრაობის მონაწილეებს აძლევენ ინფორმაციას შესაბამისი ობიექტის ან სერვისის შესახებ.



Иარბოუ ატაგლაზააშაფყი არწყჲაფ აзин имоуп кыраамтатѳи аҭсшьара амзызла амашьына иргыларцЖ

1

A ატყაფყი

2

B ატყაფყი

3

800 მეტრაკ რნეფს იჲოუ ცჲდალა იალკააუ  
ატყაფყი მა ამფა ნჲყტ

### განმარტება:

„საგზაო მოძრაობის შესახებ“ საქართველოს კანონის 37-ე მუხლის მე-11 პუნქტის თანახმად, დაუსახლებელ პუნქტში ხანგრძლივი დასვენების (ღამის გასათევად ან სხვა) მიზნით დგომა ნებადართულია, მხოლოდ ამისათვის განკუთვნილ სადგომზე ან გზის ფარგლებს მიღმა.



Аидарატე машыныи амашына ласи ахыц ахырхартала еитатუеит, амашына шкәәкәә арныкәәд кыраамтатәи аҭсшьара амзызла даангылеит. Иарбоу амѡа абжьаратә цәахәа аѡе хырхартак рыла аитатцразы иазҭхьагәатазар, абарт амашынакәа рырныкәәѡцәа ркынтә амѡатә аитатцра атаскәа еилазгодаҭ

1

Аидаратә машыныи амашына шкәәкәеи рырныкәәѡцәа

2

Амашына ѡежьи амашына шкәәкәеи рырныкәәѡцәа

3

Амашына шкәәкәа арныкәәд

4

Амашына ѡежь арныкәәд

### განმარტება:

„საგზაო მოძრაობის შესახებ“ საქართველოს კანონის 37-ე მუხლის მე-11 პუნქტის თანახმად, დაუსახლებელ პუნქტში ხანგრძლივი დასვენების (ღამის გასათევად ან სხვა) მიზნით დგომა ნებადართულია, მხოლოდ ამისათვის განკუთვნილ სადგომზე ან გზის ფარგლებს მიღმა. ამავე კანონის 31-ე მუხლის მე-7 პუნქტის თანახმად, თუ სამი მოძრაობის ზოლის მქონე გზაზე შუა ზოლი ორივე მიმართულებით მოძრაობისათვის გამოიყენება, ამ ზოლზე გასვლა ნებადართულია მხოლოდ გასწრების, დაბრკოლების შემოვლის, მარცხნივ მოხვევის ან მობრუნების მიზნით.





I



II



III



IV

Иარბოу амѡათѡ дьргакѡа рѡынтѡ азысратѡ бассейн ма аплиаж иазкны адырра ѡазподаѢ

1

I

2

II

3

III

4

IV

### განმარტება:

„საგზაო მოძრაობის შესახებ“ საქართველოს კანონის პირველი დანართის მე-6 თავის (სერვისის ნიშნები) 6.16 პუნქტის თანახმად, საგზაო ნიშანი 6.16 „საცურაო აუზი ან პლაჟი“ საგზაო მოძრაობის მონაწილეებს აძლევს ინფორმაციას შესაბამისი ობიექტის ან სერვისის შესახებ.

თემა 9:

## დამატებითი ინფორმაციის წიგნები

---



**ВОПРОС 188**

ПРАВИЛЬНЫЙ ОТВЕТ: 1

**I****II****III****IV**

Иарбоу амѡათѡ дыргакѡа ркомбинациакѡа ркынтѡ руа иარბან амашына лас азы амч змоуѢ

**1**

III мацара

**2**

III IIIIII

**3**

III мацара

**4**


III мацара

**განმარტება:**

„საგზაო მოძრაობის შესახებ“ საქართველოს კანონის პირველი დანართის მე-8 თავის (დამატებითი ინფორმაციის ნიშნები (დაფები)) 8.4.1-8.4.8 პუნქტისა და ამავე პუნქტის შენიშვნის „გ“ ქვეპუნქტის თანახმად, დაფები 8.4.1–8.4.8 „სატრანსპორტო საშუალების სახეობა“ - მიუთითებს იმ სატრანსპორტო საშუალების სახეობას, რომლებზედაც ვრცელდება ნიშნის მოქმედება. დაფა 8.4.3 ნიშნის მოქმედებას ავრცელებს მსუბუქ ავტომობილზე.

Иарбоу амѡатѣ дырга иаанагоитЖ

„საგზაო მოძრაობის შესახებ“ საქართველოს კანონის პირველი დანართის პირველი თავის (მაფრთხილებელი ნიშნები) 1.17 პუნქტისა და ამავე თავის შენიშვნის „ა“ ქვეპუნქტის თანახმად, საგზაო ნიშანი 1.17 „უსწორმასწორო გზა“ - გზის მონაკვეთი, რომლის სავალი ნაწილი დაზიანებულია ტალღოვანი, ღრანტეებიანი, ხიდთან უსწორმასწორო შეუღლებებით და ა. შ.. 1.1, 1.2, 1.5–1.34 ნიშნები დაუსახლებელ პუნქტში იდგმება სახიფათო მონაკვეთის დასაწყისამდე 150–300 მეტრ მანძილზე. ამავე დანართის მე-8 თავის (დამატებითი ინფორმაციის ნიშნები (დაფები)) 8.2.1 პუნქტის თანახმად, დაფა 8.2.1 „მოქმედების ზონა“ - მიუთითებს მაფრთხილებელი ნიშნით აღნიშნული გზის სახიფათო მონაკვეთის სიგრძეს, ან ამკრძალავი და საინფორმაციო-მაჩვენებელი ნიშნის მოქმედების ზონას. ამავე დანართის მე-7 თავის (საინფორმაციო-მაჩვენებელი ნიშნები) 7.2 პუნქტის თანახმად, საგზაო ნიშანი 7.2 „რეკომენდებული სიჩქარე“ - მიუთითებს სიჩქარეს, რომლითაც რეკომენდებულია მოძრაობა გზის მოცემულ მონაკვეთზე. ნიშანი იდგმება გზის დასაწყისში. ნიშნის მოქმედება ვრცელდება უახლოეს გზაჯვარედინამდე, ხოლო მაფრთხილებელ ნიშანთან ერთად – სახიფათო უბნის მთელ სიგრძეზე.



Иарбоу аҭагылазаашьаҭы амашьына шкәакәа арныкәа ахыц ахырхартала аитатра азин имоумаҭ

1

Азин имазам

2

Азин имоуп

### განმარტება:

„საგზაო მოძრაობის შესახებ“ საქართველოს კანონის პირველი დანართის მე-4 თავის (მიმთითებელი ნიშნები) 4.1.1 პუნქტის შენიშვნის „ა“ ქვეპუნქტის თანახმად, საგზაო ნიშანი 4.1.1 „მოძრაობა პირდაპირ“ რთავს მხოლოდ ისრებით ნაჩვენები მიმართულებებით მოძრაობის ნებას. ამავე დანართის მე-8 თავის (დამატებითი ინფორმაციის ნიშნები (დაფები)) 8.18 პუნქტის თანახმად, დაფა 8.18 „გარდა შეზღუდული შესაძლებლობის მქონე პირისა“ - მიუთითებს, რომ ნიშნის მოქმედება არ ვრცელდება სატრანსპორტო საშუალებაზე, რომელზედაც დამაგრებულია საცნობი ნიშანი „შეზღუდული შესაძლებლობის მქონე პირი“.





Иарбоу атагылазаашьафы амашына ѓежь арныкѓаѓ ахыц ахырхартала аитатра азин имоумаѓ

1

Азин имазам

2

Азин имоуп

### განმარტება:

„საგზაო მოძრაობის შესახებ“ საქართველოს კანონის პირველი დანართის მე-4 თავის (მიმთითებული ნიშნები) 4.1.1 პუნქტის შენიშვნის „ა“ ქვეპუნქტის თანახმად, საგზაო ნიშანი 4.1.1 „მოძრაობა პირდაპირ“ რთავს მხოლოდ ისრებით ნაჩვენები მიმართულებებით მოძრაობის ნებას. ამავე დანართის მე-8 თავის (დამატებითი ინფორმაციის ნიშნები (დაფები)) 8.18 პუნქტის თანახმად, დაფა 8.18 „გარდა შეზღუდული შესაძლებლობის მქონე პირისა“ - მიუთითებს, რომ ნიშნის მოქმედება არ ვრცელდება სატრანსპორტო საშუალებაზე, რომელზედაც დამაგრებულია საცნობი ნიშანი „შეზღუდული შესაძლებლობის მქონე პირი“.



Иарбоу амѡатѡ дьрга арныѡѡ ианаѡѡит абарт адыргаѡѡ ртыѡ аѡѡѡѡѡ

1

300 метრაკ аѡѡѡѡѡѡѡѡ аитѡѡѡ ѡѡѡм  
саатѡѡѡ 50 км. еиѡѡѡ аласრაѡѡ

2

300 метრაკ რაამѡѡѡѡѡѡ аитѡѡѡ ѡѡѡм  
саатѡѡѡ 50 км. еиѡѡѡ аласრაѡѡ

### განმარტება:

„საგზაო მოძრაობის შესახებ“ საქართველოს კანონის პირველი დანართის მე-3 თავის (ამკრძალავი ნიშნები) 3.24 პუნქტის თანახმად, საგზაო ნიშნი 3.24 „მაქსიმალური სიჩქარის შეზღუდვა“ - კრძალავს მოძრაობას ნიშანზე აღნიშნულზე მეტი სიჩქარით(კმ/სთ). ამავე დანართის მე-8 თავის (დამატებითი ინფორმაციის ნიშნები (დაფები)) 8.2.1 პუნქტის თანახმად, დაფა 8.2.1 „მოქმედების ზონა“ - მიუთითებს მატრთხილებელი ნიშნით აღნიშნული გზის სახიფათო მონაკვეთის სიგრძეს, ან ამკრძალავი და საინფორმაციო-მაჩვენებელი ნიშნის მოქმედების ზონას.





Иарбоу амѡатѡ дыргакѡа ркомбинациа арныѡѡа ианаѡѡит, абарт адыргакѡа ртыѡ аѡѡѡаЖ

1

300 метრაკ ацыѡѡѡаѡѡы аитѡѡრა ѡაаит  
саатѡала 50 км. еиѡам аласрала

2

300 метრაკ раамышѡѡѡы аитѡѡრა ѡааит  
саатѡала 50км. еиѡам аласрала


### განმარტება:

„საგზაო მოძრაობის შესახებ“ საქართველოს კანონის პირველი დანართის მე-3 თავის (ამკრძალავი ნიშნები) 3.24 პუნქტის თანახმად, საგზაო ნიშნი 3.24 „მაქსიმალური სიჩქარის შეზღუდვა“ - კრძალავს მოძრაობას ნიშანზე აღნიშნულზე მეტი სიჩქარით(კმ/სთ). ამავე დანართის მე-8 თავის (დამატებითი ინფორმაციის ნიშნები (დაფები)) 8.1.1 პუნქტის თანახმად, დაფა 8.1.1 „მანძილი ობიექტამდე“ - მიუთითებს მანძილს ნიშნიდან სახიფათო მონაკვეთის დასაწყისამდე, სათანადო შეზღუდვის შემოღების ადგილამდე ან წინ, მოძრაობის მიმართულებით არსებულ გარკვეულ ობიექტამდე (ადგილამდე).

თემა 10:

## პუნიშის სიგნალები

---



Амашына ზაღშ არწყაფ, алашарбага ардырга иатәа аамышьтахь ардырга ферж афакра анефс, иаалыркъаны амашына аанкыларა ада „Сдек“ ацәахәафы дзаанымгылазар, ахыц ахырхартала аитатра анагзаразы азин имоумаџ

1


Азин имоуп

2

Азин имазам

### განმარტება:

„საგზაო მოძრაობის შესახებ“ საქართველოს კანონის 29-ე მუხლის მე-14 პუნქტის თანახმად, მძღოლს, რომელსაც ყვითელი მაშუქი სიგნალის ჩართვის დროს მკვეთრად დამუხრუჭების გარეშე არ შეუძლია გაჩერდეს ამ მუხლის მე-13 პუნქტით განსაზღვრულ ადგილებში, უფლება აქვს, განაგრძოს მოძრაობა. ამავე კანონის 36-ე მუხლის მე-3 პუნქტის „ვ“ ქვეპუნქტის თანახმად, რეგულირებულ გზაჯვარედინზე, შექნიშნის ნებადამრთველი სიგნალის ჩართვისას მძღოლი ვალდებულია გზა დაუთმოს იმ სატრანსპორტო საშუალებას, რომელიც ამთავრებს გზაჯვარედინზე გადასვლას, და ქვეითს, რომელმაც ვერ დაამთავრა სავალ ნაწილზე გადასვლა მოცემული მიმართულებით.



Амашына лас арныкәә амдехысырта иалсны ицо автобус арныкәә амда иитар ихәтоумаџ

1

Ихәтоуп


2

Ихәтам

### განმარტება:

„საგზაო მოძრაობის შესახებ“ საქართველოს კანონის 29-ე მუხლის მე-14 პუნქტის თანახმად, მძღოლს, რომელსაც ყვითელი მაშუქი სიგნალის ჩართვის დროს მკვეთრად დამუხრუჭების გარეშე არ შეუძლია გაჩერდეს ამ მუხლის მე-13 პუნქტით განსაზღვრულ ადგილებში, უფლება აქვს, განაგრძოს მოძრაობა. ამავე კანონის 36-ე მუხლის მე-3 პუნქტის „ვ“ ქვეპუნქტის თანახმად, რეგულირებულ გზაჯვარედინზე, შექნიშნის ნებადამრთველი სიგნალის ჩართვისას მძღოლი ვალდებულია გზა დაუთმოს იმ სატრანსპორტო საშუალებას, რომელიც ამთავრებს გზაჯვარედინზე გადასვლას, და ქვეითს, რომელმაც ვერ დაამთავრა სავალ ნაწილზე გადასვლა მოცემული მიმართულებით.





Атранспорттə хархəагақəа амѡеихысырта аамышьтахь икоу амѡасырта дыркызар, алашарбага абри ардыргазы ахыц ахырхартала аитатра азин змамдаѢ

1

Амашына цəыш арныкəаѡ мацара.

2

Амашына ѡежь арныкəаѡ мацара.

3


Азəгы

4

Аѡемашынак рырныкəаѡцəа

### ბანმარტიბა:

„საგზაო მოძრაობის შესახებ“ საქართველოს კანონის 36-ე მუხლის მე-5 პუნქტის თანახმად, მძღოლი არ უნდა გავიდეს გზაჯვარედინზე, თუ შექმნილია ისეთი ხერგილი, რომ იგი, სავარაუდოდ, იძულებული გახდება, გაჩერდეს გზაჯვარედინზე და ამით დააბრკოლოს განივი მიმართულებით მოძრაობა. ეს წესი მოქმედებს მაშინაც, თუ შექნიშნის მაშუქი სიგნალები იძლევა მოძრაობის უფლებას.



Ахыц ахырхартала аитатра аан абарт автотранспорттә хархәагакәа рырныкәащәа ркынтә аҭыжәара змадаҭ

1

Амашына лас арныкәаџ

2

Аидаратә машына арныкәаџ

### განმარტება:

„საგზაო მოძრაობის შესახებ“ საქართველოს კანონის 36-ე მუხლის მე-4 პუნქტის „გ“ ქვეპუნქტების თანახმად, არარეგულირებულ გზაჯვარედინზე, თანაბარმნიშვნელოვანი გზების გადაკვეთაზე ურელსო სატრანსპორტო საშუალების მძღოლი ვალდებულია გზა დაუთმოს მარჯვნიდან მოახლოებულ სატრანსპორტო საშუალებას. ამავდროულად უნდა იხელმძღვანელონ ურთიერთშორის რელსიანი სატრანსპორტო საშუალებების მძღოლებმაც. ასეთ გზაჯვარედინზე რელსიან სატრანსპორტო საშუალებას უპირატესობა აქვს ურელსო სატრანსპორტო საშუალების მიმართ, მიუხედავად მისი მოძრაობის მიმართულებისა.





Ахыц ахырхартала аитатра аан абарт автотранспорттә хархәагақәа рырныкәащцәа ркынтә амџа атара зыхәтадаҥ

1

Амашына лас арныкәаџ

2

Атрамваи арныкәаџ

### განმარტება:

„საგზაო მოძრაობის შესახებ“ საქართველოს კანონის 36-ე მუხლის მე-3 პუნქტის „გ“ ქვეპუნქტის თანახმად, რეგულირებულ გზაჯვარედინზე, თუ შექნიშნის ან მარეგულირებლის სიგნალები ერთდროულად მოძრაობის ნებას რთავს რელსიან და ურელსო სატრანსპორტო საშუალებებს, რელსიან სატრანსპორტო საშუალებას აქვს უპირატესობა, მიუხედავად მისი მოძრაობის მიმართულებისა, მაგრამ შექნიშნის დამატებით სექციაში ძირითად ყვითელ ან წითელ მაშუქ სიგნალთან ერთად ჩართული ისრის მიმართულებით მოძრაობისას რელსიანი სატრანსპორტო საშუალების მძღოლი ვალდებულია გზა დაუთმოს სხვა მიმართულებიდან მოძრავ სატრანსპორტო საშუალებას.



Ахыц ахырхартала аитатцра аан абарт автотранспорттә хархәагақәа рырныкәаџцәа ркынтә амџа атара зыхәтадаҥ

1

Амашына лас арныкәаџ


2

Атрамваи арныкәаџ

### განმარტება:

„საგზაო მოძრაობის შესახებ“ საქართველოს კანონის 36-ე მუხლის მე-3 პუნქტის „გ“ ქვეპუნქტის თანახმად, რეგულირებულ გზაჯვარედინზე, თუ შექნიშნის ან მარეგულირებლის სიგნალები ერთდროულად მოძრაობის ნებას რთავს რელსიან და ურელსო სატრანსპორტო საშუალებებს, რელსიან სატრანსპორტო საშუალებას აქვს უპირატესობა, მიუხედავად მისი მოძრაობის მიმართულებისა, მაგრამ შექნიშნის დამატებით სექციაში ძირითად ყვითელ ან წითელ მაშუქ სიგნალთან ერთად ჩართული ისრის მიმართულებით მოძრაობისას რელსიანი სატრანსპორტო საშუალების მძღოლი ვალდებულია გზა დაუთმოს სხვა მიმართულებიდან მოძრავ სატრანსპორტო საშუალებას.





Ахыц ахырхартала аитатра аан абарт автотранспорттә хархәагақәа рырныкәащцәа ркынтә амџа атара зыхәтадаҥ

1


Амашына лас арныкәаџ

2

Атрамваи арныкәаџ

### განმარტება:

„საგზაო მოძრაობის შესახებ“ საქართველოს კანონის 36-ე მუხლის მე-3 პუნქტის „გ“ ქვეპუნქტის თანახმად, რეგულირებულ გზაჯვარედინზე, თუ შექნიშნის ან მარეგულირებლის სიგნალები ერთდროულად მოძრაობის ნებას რთავს რელსიან და ურელსო სატრანსპორტო საშუალებებს, რელსიან სატრანსპორტო საშუალებას აქვს უპირატესობა, მიუხედავად მისი მოძრაობის მიმართულებისა, მაგრამ შექნიშნის დამატებით სექციაში ძირითად ყვითელ ან წითელ მაშუქ სიგნალთან ერთად ჩართული ისრის მიმართულებით მოძრაობისას რელსიანი სატრანსპორტო საშუალების მძღოლი ვალდებულია გზა დაუთმოს სხვა მიმართულებიდან მოძრავ სატრანსპორტო საშუალებას.



Ахыц ахырхартала аитатра аан абарт автотранспорттә хархәагақәа рырныкәаџцәа ркынтә амџа атара зыхәтадаҥ

1

Атрамваи арныкәаџ

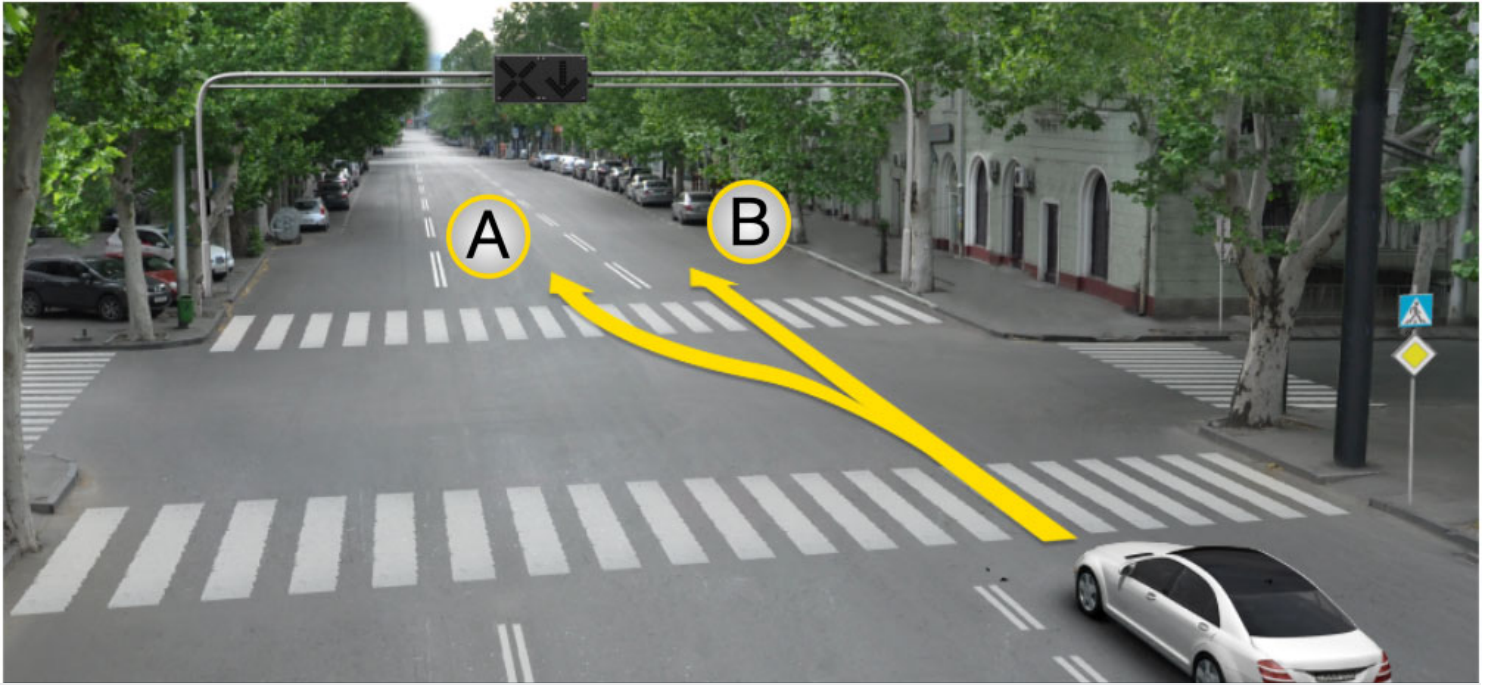
2

Амашына лас арныкәаџ

### განმარტება:

„საგზაო მოძრაობის შესახებ“ საქართველოს კანონის 36-ე მუხლის მე-3 პუნქტის „გ“ ქვეპუნქტის თანახმად, რეგულირებულ გზაჯვარედინზე, თუ შექნიშნის ან მარეგულირებლის სიგნალები ერთდროულად მოძრაობის ნებას რთავს რელსიან და ურელსო სატრანსპორტო საშუალებებს, რელსიან სატრანსპორტო საშუალებას აქვს უპირატესობა, მიუხედავად მისი მოძრაობის მიმართულებისა, მაგრამ შექნიშნის დამატებით სექციაში ძირითად ყვითელ ან წითელ მაშუქ სიგნალთან ერთად ჩართული ისრის მიმართულებით მოძრაობისას რელსიანი სატრანსპორტო საშუალების მძღოლი ვალდებულია გზა დაუთმოს სხვა მიმართულებიდან მოძრავ სატრანსპორტო საშუალებას.





Амашына лас арныкәә азин имоуп аитатра наигзарцЖ

1

A ახერხატალა

2

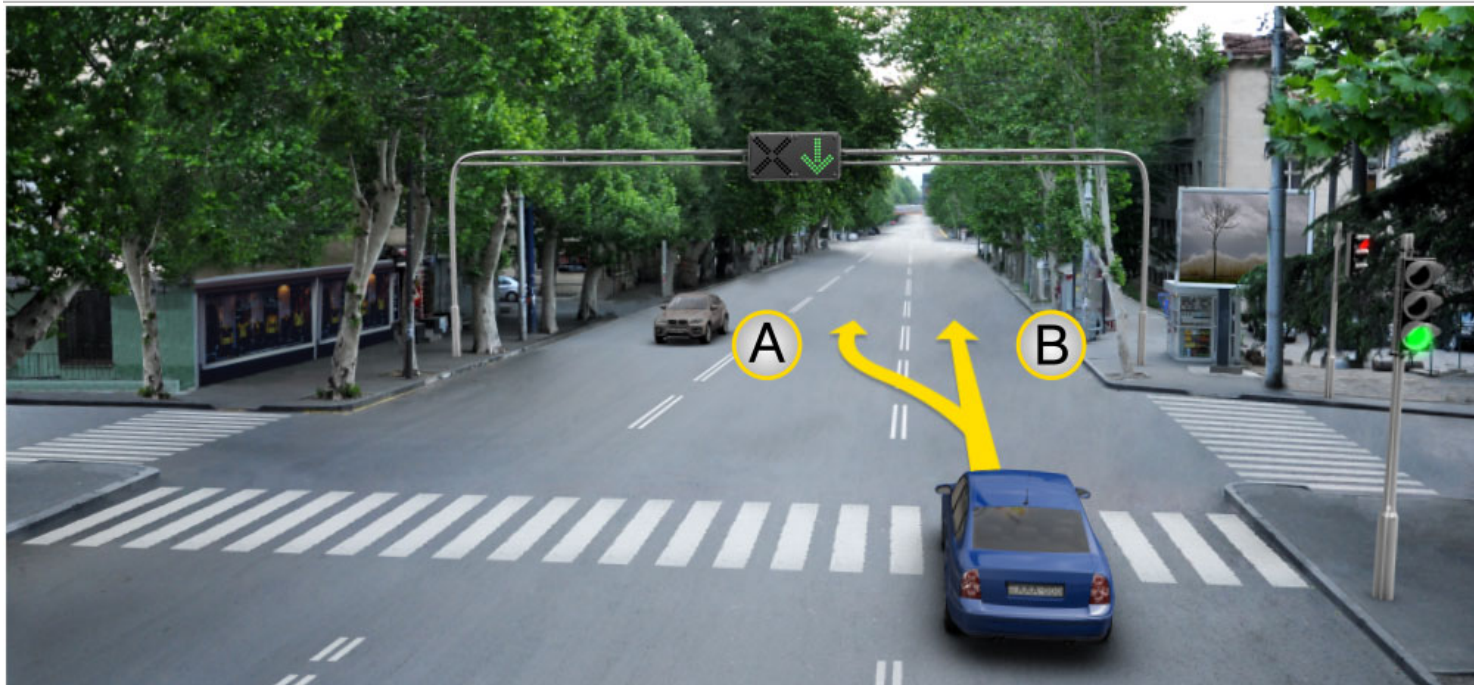
B ახერხატალა

3

A ახერხატალეი B ახერხატალეი

### განმარტება:

„საგზაო მოძრაობის შესახებ“ საქართველოს კანონის 29-ე მუხლის მე-4 პუნქტის ქვეპუნქტის თანახმად, სატრანსპორტო საშუალების მოძრაობის რეგულირებისათვის გზის სავალი ნაწილის ზოლებზე, სადაც მოძრაობის მიმართულება საპირისპიროდ იცვლება, გამოიყენება რევერსული შუქნიშანი წითელი X ნიშნის მაშუქი სიგნალითა და ქვემოთ მიმართული მწვანე ისრით. ეს სიგნალი და ისარი შესაბამისად იმ ზოლზე მოძრაობას კრძალავს ან იმ ზოლზე მოძრაობის ნებას რთავს, რომლის ზემოთაც ისინია განლაგებული. რევერსული შუქნიშნის ძირითად ფერად მაშუქ სიგნალებს შეიძლება დაემატოს დიაგონალურად ქვემოთ – მარჯვნივ ან მარცხნივ დახრილი ისრის მქონე ყვითელი ან თეთრი მაშუქი სიგნალი, რომლის ჩართვა იტყობინება ფერადი მაშუქი სიგნალის შემდგომი შეცვლისა და ისრით მითითებულ ზოლზე გადასვლის ვალდებულების შესახებ. ორივე მხრიდან 1.9 საგზაო მონიშვნით აღნიშნული ზოლის ზემოთ მდებარე გამორთული რევერსული შუქნიშანი კრძალავს ამ ზოლზე გასვლას.



Амашына лас арныкәә азин имоуп аитатра наигзарцЖ

1

A ახырхарტა მაцარალა.

2

B ახырхарტა მაцарალა.


3

A ახырхарტეი B ახырхарტეი рыла.

### განმარტება:

„საგზაო მოძრაობის შესახებ“ საქართველოს კანონის 29-ე მუხლის მე-4 პუნქტის ქვეპუნქტის თანახმად, სატრანსპორტო საშუალების მოძრაობის რეგულირებისათვის გზის სავალი ნაწილის ზოლებზე, სადაც მოძრაობის მიმართულება საპირისპიროდ იცვლება, გამოიყენება რევერსული შუქნიშანი წითელი X ნიშნის მაშუქი სიგნალითა და ქვემოთ მიმართული მწვანე ისრით. ეს სიგნალი და ისარი შესაბამისად იმ ზოლზე მოძრაობას კრძალავს ან იმ ზოლზე მოძრაობის ნებას რთავს, რომლის ზემოთაც ისინია განლაგებული. რევერსული შუქნიშნის ძირითად ფერად მაშუქ სიგნალებს შეიძლება დაემატოს დიაგონალურად ქვემოთ – მარჯვნივ ან მარცხნივ დახრილი ისრის მქონე ყვითელი ან თეთრი მაშუქი სიგნალი, რომლის ჩართვა იტყობინება ფერადი მაშუქი სიგნალის შემდგომი შეცვლისა და ისრით მითითებულ ზოლზე გადასვლის ვალდებულების შესახებ. ორივე მხრიდან 1.9 საგზაო მონიშვნით აღნიშნული ზოლის ზემოთ მდებარე გამორთული რევერსული შუქნიშანი კრძალავს ამ ზოლზე გასვლას.





Алашарбага абри ардыргазы амашына капшь арныкәә аитатра наигзар илшоитЖ

1

Дышиашоу, иара убас, армарахь

2

Арбъарахь

3

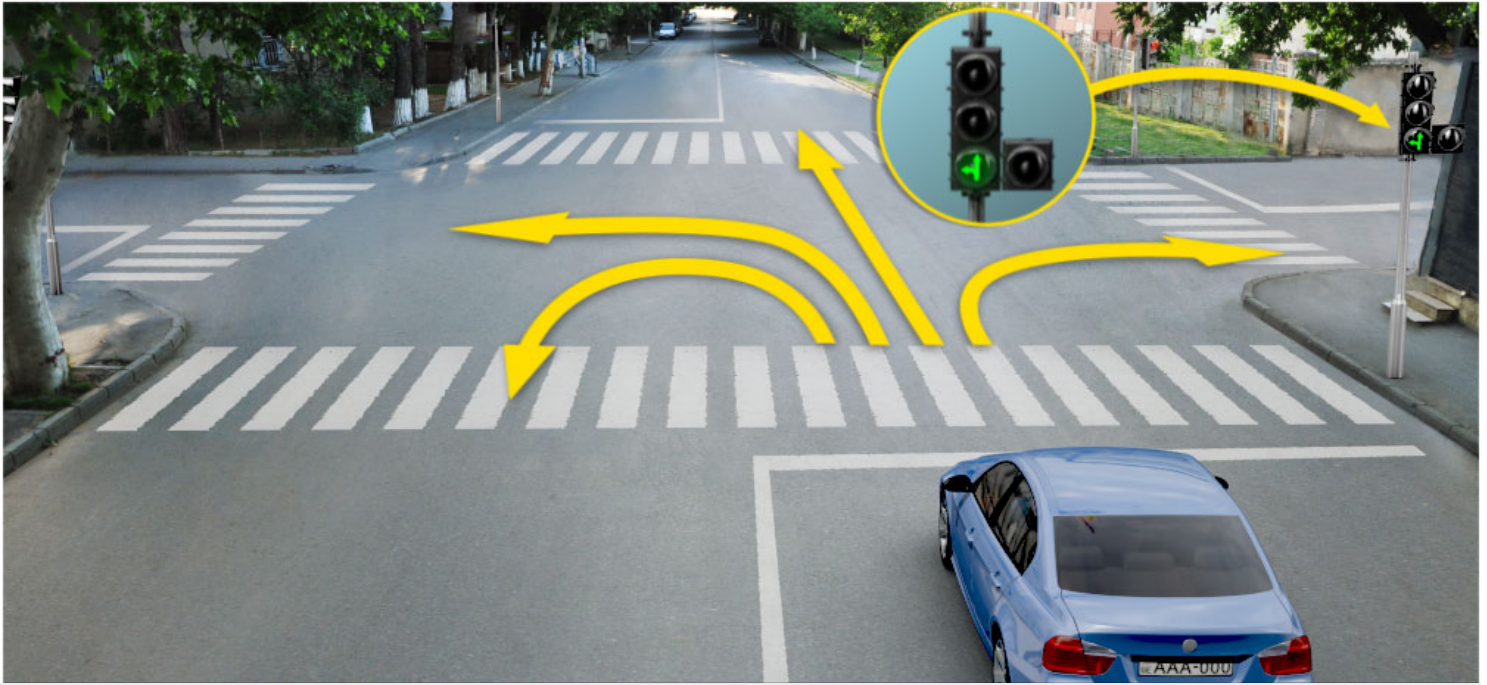
Дышиашоу, иара убас, арбъарахь

4

Ахырхартакәа зегъы рыла

### განმარტება:

„საგზაო მოძრაობის შესახებ“ საქართველოს კანონის 29-ე მუხლის მე-2 პუნქტის „ე“ ქვეპუნქტისა და მე-10 პუნქტის თანახმად: 2. შექნიშნის მაშუქ სიგნალებს აქვთ შემდეგი მნიშვნელობა: ე) მწვანე მაშუქი სიგნალი რთავს მოძრაობის ნებას. 10. მწვანე, ყვითელ და წითელ მაშუქ სიგნალებს, რომლებზედაც გამოსახულია ისარი/ისრები, იგივე მნიშვნელობა აქვს, რაც შესაბამისი ფერის უისრო მაშუქ სიგნალებს, მაგრამ მათი მოქმედება ვრცელდება მხოლოდ ისრით/ისრებით მითითებული მიმართულებით/მიმართულებებით. ამასთანავე, ისარი, რომელიც მარცხნივ მოხვევის ნებას რთავს, მობრუნების უფლებასაც იძლევა, თუ ეს აკრძალული არ არის შესაბამისი საგზაო ნიშნით ან საგზაო მონიშვნით. იგივე მნიშვნელობა აქვს შექნიშნის დამატებით სექციაში მწვანე მაშუქ სიგნალზე გამოსახულ ისარს. შექნიშნის დამატებითი სექციის გამორთული მაშუქი სიგნალი იტყობინება, რომ ამ სექციით რეგულირებული მიმართულებით მოძრაობა აკრძალულია.



Алашарбага абри ардыргазы амашына иатѣа арныкѣа аитатра наигзар илшоитЖ

1

Дышиашоу, иара убас, армарахь

2

2. Арѣарахь

3

3. Дышиашоу, иара убас, арѣарахь


4

Дышиашоу, армарахь, иара убас, шьтахька дѣиир илшоит

### განმარტება:

„საგზაო მოძრაობის შესახებ“ საქართველოს კანონის 29-ე მუხლის მე-2 პუნქტის „ე“ ქვეპუნქტის და მე-10 პუნქტის თანახმად: 2. შექნიშნის მაშუქ სიგნალებს აქვთ შემდეგი მნიშვნელობა: ე) მწვანე მაშუქი სიგნალი რთავს მოძრაობის ნებას. 10. მწვანე, ყვითელ და წითელ მაშუქ სიგნალებს, რომლებზედაც გამოსახულია ისარი/ისრები, იგივე მნიშვნელობა აქვს, რაც შესაბამისი ფერის უისრო მაშუქ სიგნალებს, მაგრამ მათი მოქმედება ვრცელდება მხოლოდ ისრით/ისრებით მითითებული მიმართულებით/მიმართულებებით. ამასთანავე, ისარი, რომელიც მარცხნივ მოხვევის ნებას რთავს, მობრუნების უფლებასაც იძლევა, თუ ეს აკრძალული არ არის შესაბამისი საგზაო ნიშნით ან საგზაო მონიშვნით. იგივე მნიშვნელობა აქვს შექნიშნის დამატებით სექციაში მწვანე მაშუქ სიგნალზე გამოსახულ ისარს. შექნიშნის დამატებითი სექციის გამორთული მაშუქი სიგნალი იტყობინება, რომ ამ სექციით რეგულირებული მიმართულებით მოძრაობა აკრძალულია.





Ахыц ахырхартала аитатра аан амашына лас арныкәә ашыакауаа амџа рытара ихџоумаѢ

1

Ихџоуп

2

Ихџам

### პანმარტივა:

„საგზაო მოძრაობის შესახებ“ საქართველოს კანონის 25-ე მუხლის მე-2 პუნქტის „ა“ ქვეპუნქტის თანახმად, ქვეითთა გადასასვლელზე ამ კანონის 21-ე მუხლის მე-6 პუნქტით, 33-ე მუხლის მე-2 პუნქტითა და 34-ე მუხლის მე-11 პუნქტით დადგენილ მოთხოვნათა დაცვით უნდა შესრულდეს შემდეგი მოთხოვნები: ა) თუ სატრანსპორტო საშუალებათა მოძრაობა საგზაო შუქნიშნით ან მარეგულირებლის მეშვეობით რეგულირდება, მოძრაობის ამკრძალავი სიგნალის დროს მძღოლი უნდა გაჩერდეს ქვეითთა გადასასვლელის წინ ან მის წინ მდებარე განივ მონიშვნასთან, ხოლო როცა მოძრაობის გაგრძელების უფლებას მიიღებს, არ უნდა დააბრკოლოს და საფრთხე არ უნდა შეუქმნას ქვეითთა გადასასვლელზე შესულ ქვეითებს. თუ მძღოლი ასრულებს მოხვევას სხვა გზაზე შესასვლელად, რომლის შესასვლელთანაც მდებარეობს ქვეითთა გადასასვლელი, მან ეს მოხვევა უნდა შეასრულოს მხოლოდ დაბალი სიჩქარით, ხოლო საჭიროების შემთხვევაში უნდა გაჩერდეს და გაატაროს გადასასვლელზე შესული ან შემავალი ქვეითები.



Алашарбагақәа зегъы рѣы ардырга ѓежъ иаѣакызар, амашына лас арныкәа ахыц ахырхартала аитатра азин имоумаѢ

1


Азин имоуп

2

Азин имаѢам

### განმარტება:

„საგზაო მოძრაობის შესახებ“ საქართველოს კანონის 29-ე მუხლის მე-2 პუნქტის „დ“ ქვეპუნქტის თანახმად, ყვეთელი მოციმციმე მაშუქი სიგნალი რთავს მოძრაობის ნებას და იტყობინება არარეგულირებული გზაჯვარედინის, ქვეითთა ან ველოსიპედისტთა გადასასვლელის არსებობის ან მოსალოდნელი საფრთხის შესახებ.



Алашарбага ардырга иатцә аамышътахь, ардырга ъежъ ианцәыртылак, амашына арныкәаф иаалыркъаны амашына аанкыларა ада «Сдек» ацәахәафы дзаанымгылар, аитатра анагъара азин имоума

1

Азин имоуп

2

Азин имазам

### განმარტება:

„საგზაო მოძრაობის შესახებ“ საქართველოს კანონის 29-ე მუხლის მე-14 პუნქტის თანახმად, მძღოლს, რომელსაც ყვითელი მაშუქი სიგნალის ჩართვის დროს მკვეთრად დამუხრუჭების გარეშე არ შეუძლია გაჩერდეს ამ მუხლის მე-13 პუნქტით განსაზღვრულ ადგილებში, უფლება აქვს, განაგრძოს მოძრაობა. ქვეითმა, რომელიც ამკრძალავი მაშუქი სიგნალის ჩართვის დროს გზის სავალ ნაწილზე იმყოფება, უნდა გაათავისუფლოს იგი, ხოლო თუ ეს შეუძლებელია – გაჩერდეს ურთიერთსაპირისპირო მიმართულებით მოძრავი სატრანსპორტო ნაკადების გამყოფ ხაზზე.





Алашарбага абри ардыргазы амашына лас арныкѳаѳ аитатѳра анаѳзара азин имоумаѳ

1

Азин имоуп

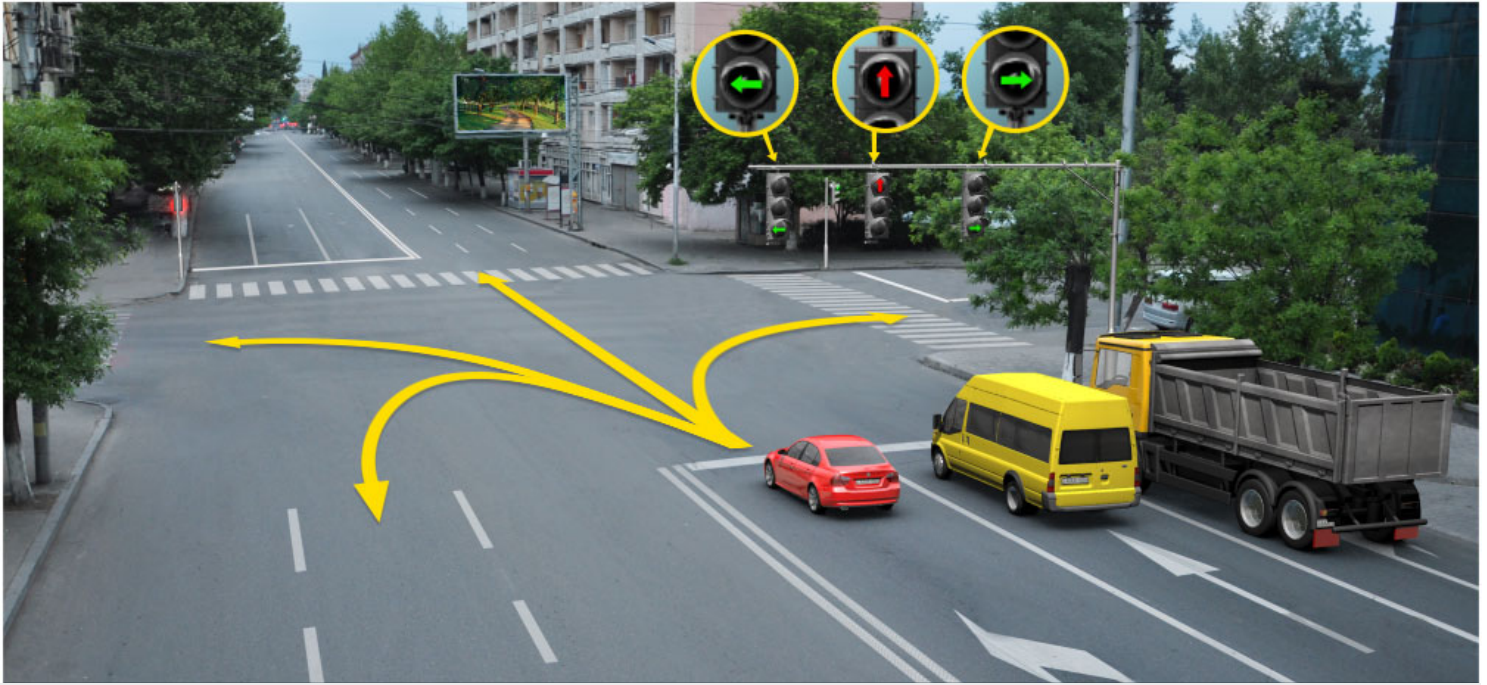
2

Азин имаѳам

### განმარტება:

„საგზაო მოძრაობის შესახებ“ საქართველოს კანონის 29-ე მუხლის მე-2 პუნქტის „ბ“ ქვეპუნქტის თანახმად, ერთობლივად ჩართული წითელი და ყვითელი მაშუქი სიგნალები კრძალავს მოძრაობას და იტყობინება მწვანე მაშუქი სიგნალის მოსალოდნელი ჩართვის შესახებ.





Алашарбага абри ардыргазы амашына кагышь арныкѳаѳ дцар илшоитЖ

1

Дышиашоу, иара убас, армарахь

2

Дышиашоу, иара убас арѳъарахь

3


Армарахь

4

Армарахь, иара убас, шьтахьѳа дцѳиир илшоит

### განმარტება:

„საგზაო მოძრაობის შესახებ“ საქართველოს კანონის 29-ე მუხლის მე-10 პუნქტის თანახმად, მწვანე, ყვითელ და წითელ მაშუქ სიგნალებს, რომლებზედაც გამოსახულია ისარი/ისრები, იგივე მნიშვნელობა აქვს, რაც შესაბამისი ფერის უისრო მაშუქ სიგნალებს, მაგრამ მათი მოქმედება ვრცელდება მხოლოდ ისრით/ისრებით მითითებული მიმართულებით/მიმართულებებით. ამასთანავე, ისარი, რომელიც მარცხნივ მოხვევის ნებას რთავს, მობრუნების უფლებასაც იძლევა, თუ ეს აკრძალული არ არის შესაბამისი საგზაო ნიშნით ან საგზაო მონიშვნით. იგივე მნიშვნელობა აქვს შექნიშნის დამატებით სექციაში მწვანე მაშუქ სიგნალზე გამოსახულ ისარს. შექნიშნის დამატებითი სექციის გამორთული მაშუქი სიგნალი იტყობინება, რომ ამ სექციით რეგულირებული მიმართულებით მოძრაობა აკრძალულია.



Абарт амашынакәа рырныкәацәа ркынтә ахыц ахырхартала аитатра азин змамдаჲ

1

Амашына иатәа арныкәац мацара.

2

Амашына дежь арныкәац мацара.

3


Аә е машынак рырныкәацәа

4

Азәгы

### განმარტება:

„საგზაო მოძრაობის შესახებ“ საქართველოს კანონის პირველი დანართის 4.1.1 პუნქტის თანახმად საგზაო ნიშანი 4.1.1 „მოძრაობა პირდაპირ“ რთავს მხოლოდ ისრით ნაჩვენები მიმართულებით მოძრაობის ნებას. ამავე პუნქტის შენიშვნის „ბ“ ქვეპუნქტის თანახმად, 4.1.1-4.1.6 ნიშნების მოქმედება ვრცელდება სავალი ნაწილების იმ გადაკვეთაზე, რომლის წინაც დადგმულია სათანადო ნიშანი.



Иарбоу ატაგელაზააშაფყ ამაშყნა არწყკაფ აიტატრა ანაგზარა აзин имоупЖ

1

A ახყრჰართალა

2

B ახყრჰართალა

3

C ახყრჰართალა

4

ჰყრჰართაკ ალაგყ აзин имам

### განმარტეზა:

„საგზაო მოძრაობის შესახებ“ საქართველოს კანონის 29-ე მუხლის მე-2 პუნქტის „ა“ ქვეპუნქტის თანახმად, წითელი მაშუქი სიგნალი ან წითელი მოციმციმე მაშუქი სიგნალი კრძალავს მოძრაობას.





Алашарбага абри ардыргазы амашына лас арныкәә ахыц ахырхартала айтатра анагзара азин имоумаҥ

1


Азин имоуп

2

Азин имазам

### განმარტება:

„საგზაო მოძრაობის შესახებ“ საქართველოს კანონის 29-ე მუხლის მე-10 პუნქტის თანახმად, მწვანე, ყვითელ და წითელ მაშუქ სიგნალებს, რომლებზედაც გამოსახულია ისარი/ისრები, იგივე მნიშვნელობა აქვს, რაც შესაბამისი ფერის უისრო მაშუქ სიგნალებს, მაგრამ მათი მოქმედება ვრცელდება მხოლოდ ისრით/ისრებით მითითებული მიმართულებით/მიმართულებებით. ამასთანავე, ისარი, რომელიც მარცხნივ მოხვევის ნებას რთავს, მობრუნების უფლებასაც იძლევა, თუ ეს აკრძალული არ არის შესაბამისი საგზაო ნიშნით ან საგზაო მონიშვნით. იგივე მნიშვნელობა აქვს შუქნიშნის დამატებით სექციაში მწვანე მაშუქ სიგნალზე გამოსახულ ისარს. შუქნიშნის დამატებითი სექციის გამორთული მაშუქი სიგნალი იტყობინება, რომ ამ სექციით რეგულირებული მიმართულებით მოძრაობა აკრძალულია.



Иარბოუ ატაგჲლაზააშაფჲ, ამაშჲნა იატჲა არნჲკჲაფ, ახჲც ახჲრხართალა ატჲირა ამანიოვრ იანჲნაიგჲო, აიკჲშართჲ ცჲახჲაკჲა რჲბჲარა იკოუ, აიტატრა იკჲიტჲჲჲმტჲა არდჲრგაფჲ აანგჲლარა იხჲტოუმაფ

1

Ихѣтоуп

2

Ихѣтам

3


Ихѣтам, егჲჲ ახჲრხართაკჲნტჲ ეიტატუა  
ატრანსპორტტჲ ხარჲჲაგაკჲა დჲრჲჲრჲაგაზარ

### განმარტება:

„საგზაო მოძრაობის შესახებ“ საქართველოს კანონის 36-ე მუხლის მე-3 პუნქტის „ე“ ქვეპუნქტის თანახმად, შუქნიშნის ნებადართველ სიგნალზე გზაჯვარედინზე შესულ მძღოლს შეუძლია იმოძრაოს დასახული მიმართულებით, გზაჯვარედინიდან გასასვლელზე არსებული შუქნიშნის ამკრძალავი სიგნალების მიუხედავად, მაგრამ იმ პირობით, რომ ეს არ დააბრკოლებს სხვა საგზაო მოძრაობის მონაწილეთა იმ მიმართულებით მოძრაობას, რომელზედაც მოძრაობა გახსნილია. თუ გზაჯვარედინზე მისი მოძრაობისას გზაზე არსებული შუქნიშნების წინ „სდექ“ ხაზებია (ან/და 7.16 საგზაო ნიშნებია), მძღოლმა უნდა იხელმძღვა-ნელოს თითოეული შუქნიშნის სიგნალით.







Алашарбага абри ардыргазы амашына лас арныкѣаѡ дцар илшоитЖ

1

Дышиашоу, иара убас, армарахь

2

Дышиашоу, иара убас, арѣарахь

3

Армарахь

4

Дышиашоу, армарахь, иара убас, шьтахьѣа дѣиир илшоит

### განმარტება:

„საგზაო მოძრაობის შესახებ“ საქართველოს კანონის 29-ე მუხლის მე-3 პუნქტის თანახმად თუ შექნიშნები გზის სავალი ნაწილის თანმხვედრი მიმართულებების მხარეს არსებული თითოეული მოძრაობის ზოლის ზევიტაა განლაგებული, თითოეული შექნიშნის მოქმედება ვრცელდება მხოლოდ იმ მოძრაობის ზოლზე, რომლის ზემოთაც არის იგი. ამავე მუხლის მე-10 პუნქტის თანახმად, მწვანე, ყვითელ და წითელ მაშუქ სიგნალებს, რომლებზედაც გამოსახულია ისარი/ისრები, იგივე მნიშვნელობა აქვს, რაც შესაბამისი ფერის უისრო მაშუქ სიგნალებს, მაგრამ მათი მოქმედება ვრცელდება მხოლოდ ისრით/ისრებით მითითებული მიმართულებით/ მიმართულებებით. ამასთანავე, ისარი, რომელიც მარცხნივ მოხვევის ნებას რთავს, მობრუნების უფლებასაც იძლევა, თუ ეს აკრძალული არ არის შესაბამისი საგზაო ნიშნით ან საგზაო მონიშვნით. იგივე მნიშვნელობა აქვს შექნიშნის დამატებით სექციაში მწვანე მაშუქ სიგნალზე გამოსახულ ისარს. შექნიშნის დამატებითი სექციის გამორთული მაშუქი სიგნალი იტყობინება, რომ ამ სექციით რეგულირებული მიმართულებით მოძრაობა აკრძალულია.

## ВОПРОС 218

ПРАВИЛЬНЫЙ ОТВЕТ: 1

Алашарбага ардыргакәа рыхәарақәеи аиасра аҭыжәарақәа ихәаакәызто амәатә дыргакәа рыхәарақәеи еикәымшәозар, амәатә аитәтра алахәылацәа иазҭхьагәатароупЖ

1

Алашарбага ардыргакәа рыхәарақәа

2

Аиасра аҭыжәарақәа ихәаакәызто амәатә дыргакәа рыхәарақәа

## განმარტება:

„საგზაო მოძრაობის შესახებ“ საქართველოს კანონის 29-ე მუხლის მე-12 პუნქტის თანახმად, საგზაო მოძრაობის მონაწილეები ვალდებული არიან, შეასრულონ პუქნიშნის ფერადი მაშუეი სიგნალის მოთხოვნები იმ შემთხვევაშიც კი, თუ ეს მოთხოვნები ეწინააღმდეგება გავლის უპირატესობის განმსაზღვრელი საგზაო ნიშნებისა და მონიშვნების მოთხოვნებს.

## ВОПРОС 219

ПРАВИЛЬНЫЙ ОТВЕТ: 2

Алашарбага ардыргакәа рыхәарақәеи аиасра аҭыжәарақәа ихәаакәызто амәатә дыргакәа рыхәарақәеи еикәымшәозар, амәатә аитәтра алахәылацәа иазҭхьагәатароупЖ

1

Аиасра аҭыжәарақәа ихәаакәызто амәатә дыргакәа рыхәарақәа

2

Алашарбага ардыргакәа рыхәарақәа

## განმარტება:

„საგზაო მოძრაობის შესახებ“ საქართველოს კანონის 29-ე მუხლის მე-12 პუნქტის თანახმად, საგზაო მოძრაობის მონაწილეები ვალდებული არიან, შეასრულონ პუქნიშნის ფერადი მაშუეი სიგნალის მოთხოვნები იმ შემთხვევაშიც კი, თუ ეს მოთხოვნები ეწინააღმდეგება გავლის უპირატესობის განმსაზღვრელი საგზაო ნიშნებისა და მონიშვნების მოთხოვნებს.

Аангылартак афы, аѡазарак афы ишыақѡыргылоу, ганк ахь зхы рхоу, еишьтаргыланы илацѡкѡысуа ма илацѡкѡысуа ардырга қапшыыки, ардырга ѡежьи змоу алашарбага ахархѡара амоупЖ

1

Аихамѡа ахысыртаѡы, еидыцуа ацха анеиртеи, аѡба ма апаран агылартеи, амѡаѡы абылрацѡыхьчаратѡ машына атытыртеи, илакѡны ицо ахаирплан атраекториа амѡа иахьхнатѡо атыпѡкѡеи рѡы

2

Аитатра ахырхарта еипѡынгыланы иахьаѡ аѡсахуа амѡасырта ацѡахѡаѡы

3

Амаршруттѡ транспортттѡ хархѡагакѡа реитатпразы чыдала иалкаау ацѡахѡаѡы.

### განმარტება:

„საგზაო მოძრაობის შესახებ“ საქართველოს კანონის 29-ე მუხლის მე-8 პუნქტის თანახმად, რკინიგზის გადასასვლელზე, გასასხნელი ხიდის მისასვლელთან, გემის ან ბორნის მისადგომთან, გზაზე სახანძრო ავტომობილის გამოსასვლელთან და იმ ადგილას, სადაც გზას დაბალ სიმაღლეზე კვეთს საფრენი აპარატის ტრაექტორია, გამოიყენება ერთ სადგარზე, ერთსა და იმავე სიმაღლეზე განლაგებული, ერთ მხარეს მიმართული ორი მორიგეობით მოციმციმე ან ერთი მოციმციმე წითელი ან ყვითელი მაშუქი სიგნალი, რომელთაგან წითელი მაშუქი სიგნალი კრძალავს „სდევ“ ხაზის გადაკვეთას, მისი არარსებობის შემთხვევაში კი – შეუნიშნის იქით გადასვლას, ხოლო ყვითელი მაშუქი სიგნალი ნიშნავს, რომ მძღოლებს შეუძლიათ გააგრძელონ მოძრაობა, მაგრამ, ამასთანავე, ვალდებული არიან, დაიცვან განსაკუთრებული სიფრთხილე. თუ ფერადი მაშუქი სიგნალები გამორთულია, მოძრაობა ნებადართულია მხოლოდ მაშინ, როცა ხილვადობის ფარგლებში არ ჩანს გადასასვლელთან მოახლოებული მატარებელი (ლოკომოტივი, დრეზინა).

Ч ардырга каҕышы, алада зхы рхоу ардырга иатҕеи змоу ареверстә лашарбага ахархәара амоупЖ

1

Амаршруттә атранспорттә хархәагақәа чыдалатәи ацәахәаҕы реитатра аиҕкаара мацаразы.

2

Аитатра ахырхартә еиҕынҕыланы иахьае аҕсахуа амҕасырта ацәахәаҕы атранспорттә хархәагақәа реитатра аиҕкаара мацаразы.

3

Абри абилет аҕы еиҕыҕхьаҕоу атагылазаашьақәа зегьы раан.

### განმარტება:

„საგზაო მოძრაობის შესახებ“ საქართველოს კანონის 29-ე მუხლის მე-4 პუნქტის თანახმად, სატრანსპორტო საშუალების მოძრაობის რეგულირებისათვის გზის სავალი ნაწილის ზოლებზე, სადაც მოძრაობის მიმართულება საპირისპიროდ იცვლება, გამოიყენება რევერსული შუქნიშანი წითელი X ნიშნის მაშუქი სიგნალითა და ქვემოთ მიმართული მწვანე ისრით. ეს სიგნალი და ისარი შესაბამისად იმ ზოლზე მოძრაობას კრძალავს ან იმ ზოლზე მოძრაობის ნებას რთავს, რომლის ზემოთაც ისინია განლაგებული. რევერსული შუქნიშნის ძირითად ფერად მაშუქ სიგნალებს შეიძლება დაემატოს დიაგონალურად ქვემოთ – მარჯვნივ ან მარცხნივ დახრილი ისრის მქონე ყვითელი ან თეთრი მაშუქი სიგნალი, რომლის ჩართვა იტყობინება ფერადი მაშუქი სიგნალის შემდგომი შეცვლისა და ისრით მითითებულ ზოლზე გადასვლის ვალდებულების შესახებ. ორივე მხრიდან 1.9 საგზაო მონიშვნით აღნიშნული ზოლის ზემოთ მდებარე გამორთული რევერსული შუქნიშანი კრძალავს ამ ზოლზე გასვლას.

## ВОПРОС 222

ПРАВИЛЬНЫЙ ОТВЕТ: 2

Алашарбага ахадаратә ардырга иатәа аҭы иарбоу ахыцҭ ахыцкәаҖ

1

Арныкәаҭ адырра инатоит алашарбагаҭы иацтаны асекциа шыкоу, иара убас, иацтаны икоу асекциа алашаратә ардыргала ихәаакәцоу ахырхартакәа инарбоит.

2

Арныкәаҭ адырра инатоит алашарбагаҭы иацтаны асекциа ыказар шыкало, иара убас, ари асекциа алашаратә ардырга еиҭшым, егырт ззин икоу аитатра ахырхартакәа инарбоит.

3

Абри абилет аҭы еикәыҭхьаҭоу атаккәа зегы ииашоуп.

## განმარტება:

„საგზაო მოძრაობის შესახებ“ საქართველოს კანონის 29-ე მუხლის მე-11 პუნქტის თანახმად, შექნიშნის ძირითად მწვანე მაშუქ სიგნალზე გამოსახული კონტურის ისარი/ისრები მძღოლს ამცნობს შექნიშანზე დამატებითი სეცციის შესაძლო არსებობის შესახებ და მიუთითებს ამ სეცციის ფერადი მაშუქი სიგნალისაგან განსხვავებული მოძრაობის სხვა ნებადართული მიმართულებების შესახებ.

## ВОПРОС 223

ПРАВИЛЬНЫЙ ОТВЕТ: 2

„Е“ე асахьала еиҭкаау игежыу алашарбага 4 рдыргак рхархәара калоитҖ

1

„Е“ე асахьа змоу амҭеихысыртаҭы аитатра аиҭкааразы

2

Амаршруттә атранспорттә хархәагакәа реитатразы чыдала иалкаау ацәахәаҭы аитатра аиҭкааразы

3

Амашынабла змоу атракторкәа реитатра аиҭкааразы

## განმარტება:

„საგზაო მოძრაობის შესახებ“ საქართველოს კანონის 29-ე მუხლის მე-5 პუნქტის თანახმად, სამარშრუტო სატრანსპორტო საშუალებების მოძრაობისათვის სპეციალურად გამოყოფილ ზოლზე მოძრაობის რეგულირებისათვის შეიძლება გამოყენებულ იქნეს „Т“-სებურად განლაგებული მოყვითალო ოთხი მრგვალი მაშუქი სიგნალი. მოძრაობა ნებადართულია მხოლოდ მაშინ, როცა ერთდროულად ჩართულია ქვედა და ერთი ან რამდენიმე ზედა მაშუქი სიგნალი, რომელთაგან მარცხენა მარცხნივ მოძრაობის უფლებას იძლევა, საშუალო – პირდაპირ, მარჯვენა კი – მარჯვნივ. თუ ჩართულია მხოლოდ სამი ზედა მაშუქი სიგნალი, მოძრაობა აკრძალულია.



## ВОПРОС 224

ПРАВИЛЬНЫЙ ОТВЕТ: 1

„Е“ ადრგა ეიწჟუ ალაშარბაგალა აიტატრა აიეჲკაარა აან ამარშრუტტე ატრანსპორტტე ხარხეაგაკეა აიტატრა აზინ რымоупЖ

1

Ладахьтэи аки, ѳадахьтэи аки ма иакымкэа ардыргакэа иаѳакызар.

2

Ѳадахьтэи алашарбага 3 рдыргак мацара иаѳакызар.

3

Абри абилет аѳы еиқәыпхьажоу иарбанзаалак атагылазаашьак аан.

## განმარტება:

„საგზაო მოძრაობის შესახებ“ საქართველოს კანონის 29-ე მუხლის მე-5 პუნქტის თანახმად, სამარშრუტო სატრანსპორტო საშუალებების მოძრაობისათვის სპეციალურად გამოყოფილ ზოლზე მოძრაობის რეგულირებისათვის შეიძლება გამოყენებულ იქნეს „Т“-სებურად განლაგებული მოყვითალო ოთხი მრგვალი მაშუქი სიგნალი. მოძრაობა ნებადართულია მხოლოდ მაშინ, როცა ერთდროულად ჩართულია ქვედა და ერთი ან რამდენიმე ზედა მაშუქი სიგნალი, რომელთაგან მარცხენა მარცხნივ მოძრაობის უფლებას იძლევა, საშუალო – პირდაპირ, მარჯვენა კი – მარჯვნივ. თუ ჩართულია მხოლოდ სამი ზედა მაშუქი სიგნალი, მოძრაობა აკრძალულია.

## ВОПРОС 225

ПРАВИЛЬНЫЙ ОТВЕТ: 2

„Е“ ადრგა ეიწჟუ ალაშარბაგალა აიტატრა აიეჲკაარა აან ამარშრუტტე ატრანსპორტტე ხარხეაგაკეა აიტატრა აზინ рымоупЖ

1

Ладахьтэи аки, ѳадахьтэи аки ма иакымкэа ардыргакэа иаѳакызар.

2

Ѳадахьтэи алашарбага 3 рдыргак мацара иаѳакызар.

3

Абри абилет аѳы еиқәыпхьажоу иарбанзаалак атагылазаашьак аан.

## განმარტება:

„საგზაო მოძრაობის შესახებ“ საქართველოს კანონის 29-ე მუხლის მე-5 პუნქტის თანახმად, სამარშრუტო სატრანსპორტო საშუალებების მოძრაობისათვის სპეციალურად გამოყოფილ ზოლზე მოძრაობის რეგულირებისათვის შეიძლება გამოყენებულ იქნეს „Т“-სებურად განლაგებული მოყვითალო ოთხი მრგვალი მაშუქი სიგნალი. მოძრაობა ნებადართულია მხოლოდ მაშინ, როცა ერთდროულად ჩართულია ქვედა და ერთი ან რამდენიმე ზედა მაშუქი სიგნალი, რომელთაგან მარცხენა მარცხნივ მოძრაობის უფლებას იძლევა, საშუალო – პირდაპირ, მარჯვენა კი – მარჯვნივ. თუ ჩართულია მხოლოდ სამი ზედა მაშუქი სიგნალი, მოძრაობა აკრძალულია.

Алашаратә ардырга ѓежь аан иаалыркъаны амашына аанкылара ада арныкәаѓ «Сдеқ» ацәахәаѓы  
дзаанымгылозар, аитатра анагзара азин имоумаѓ

1

Азин имоуп

2

Азин имам

### განმარტება:

„საგზაო მოძრაობის შესახებ“ საქართველოს კანონის 29-ე მუხლის მე-14 პუნქტის თანახმად, მძღოლს, რომელსაც ყვითელი მაშუქი სიგნალის ჩართვის დროს მკვეთრად დამუხრუჭების გარეშე არ შეუძლია გაჩერდეს ამ მუხლის მე-13 პუნქტით განსაზღვრულ ადგილებში, უფლება აქვს, განაგრძოს მოძრაობა. ქვეითმა, რომელიც ამკრძალავი მაშუქი სიგნალის ჩართვის დროს გზის სავალ ნაწილზე იმყოფება, უნდა გაათავისუფლოს იგი, ხოლო თუ ეს შეუძლებელია – გაჩერდეს ურთიერთსაპირისპირო მიმართულებით მოძრავი სატრანსპორტო ნაკადების გამყოფ ხაზზე.



Абарт амашынакәа рырныкәаџәа ркынтә ахыц ахырхартала аитатра азин змамдаџ

1

Рџыџагы

2

Азәгы

3

Аидаратә машына арныкәаџ маџара.

4

Амашына лас арныкәаџ маџара.

### განმარტება:

„საგზაო მოძრაობის შესახებ“ საქართველოს კანონის 32-ე მუხლის მე-5 პუნქტის თანახმად, გარდა იმ შემთხვევისა, როცა მოხვევა სრულდება გზაჯვარედინზე გასასვლელად, სადაც წრიული მოძრაობაა ორგანიზებული, მარჯვნივ ან მარცხნივ მოხვევის წინ, აგრეთვე მობრუნების წინ სატრანსპორტო საშუალების მძღოლი ვალდებულია დროულად დაიკავოს შესაბამისი განაპირა მდებარეობა სავალ ნაწილზე, რომელიც თანმხვედრი მიმართულებით მოძრაობისთვისაა განკუთვნილი. ამავე კანონის პირველი დანართის 4.9.1 პუნქტის თანახმად საგზაო ნიშანი 4.9.1 „სახიფათო ტვირთის გადამზიდავი სატრანსპორტო საშუალებით მოძრაობის მიმართულება“ - მიუთითებს იმ სახიფათო ტვირთის გადამზიდავი სატრანსპორტო საშუალებით ნებადართულ მოძრაობის მიმართულებას პირდაპირ, რომელიც მოქმედი კანონმდებლობის შესაბამისად აღნიშნულნი უნდა იქნეს საცნობი ნიშნით „სახიფათო ტვირთი“.

## ВОПРОС 228

ПРАВИЛЬНЫЙ ОТВЕТ: 2

Амѡа ахысыртаѣы ашьаѡауаа рзы алашарбага ыѡамзар, амѡа ахысырта данахысуа ашьаѡауаѡ  
инаигзароупЖ

1

Амашынатѡ лашарбага ардырга ахѡараѡѡ

2

Ашьаѡауаа рзы иазѡхьагѡѡу алашарбага  
ардырга ахѡараѡѡ

## განმარტება:

„საგზაო მოძრაობის შესახებ“ საქართველოს კანონის 24-ე მუხლის მე-7 პუნქტის „ა“ ქვეპუნქტის თანახმად, ქვეითთა გადასასვლელზე გადასვლისას, თუ გადასასვლელზე არსებობს ქვეითთათვის განკუთვნილი შუქნიშანი, ქვეითმა უნდა შეასრულოს ამ შუქნიშნის მაშუქი სიგნალების მოთხოვნები.



Алашарбага ақәйтымзааратә ардыргазы иаангылаз абарт амашынакәа рырныкәацәа ркынтә амәатә аитәцра атцаскәа еилазгадаҭ

1

Амашына шкәакәа арныкәаҭ

2

Амашына дежь арныкәаҭ

3

Азәгы

### განმარტება:

„საგზაო მოძრაობის შესახებ“ საქართველოს კანონის 29-ე მუხლის მე-13 პუნქტის თანახმად, შეუნიშნის (რევერსულის გარდა) ამკრძალავი მაშუქი სიგნალის დროს მძღოლი ვალდებულია გაჩერდეს „სდექ“ ხაზთან ( ან 7.16 ნიშანთან).



Алашарбага алашаратә ардырга иатәа аанЖ

1


Аитатра азин иҕоуп, адырра канатоит  
еиҕкаам амҕеихысырҕеи, ашыакауаҕ ма  
амаланыкҕаҕ рхысырта аҕазаареи ма  
ицәырҕыр зылшо ашәарҕеи ирызкны

2

Аитатра азин иҕоуп, амҕатә аитатра  
алахылацәа иранахәоит ардырга иатәа  
аамта шиасуа, ирласны ишцәырҕуа аитатра  
аҕәитымзааратә ардырга

### განმარტება:

„საგზაო მოძრაობის შესახებ“ საქართველოს კანონის 29-ე მუხლის მე-2 პუნქტის „ვ“ ქვეპუნქტის თანახმად, მწვანე მოციმციმე მაშუქი სიგნალი რთავს მოძრაობის ნებას და საგზაო მოძრაობის მონაწილეებს ამცნობს, რომ მისი მოქმედების დრო იწურება და მალე ჩაირთვება ამკრძალავი სიგნალი.



Амашына лас арныкæд айтатра азин имоупЖ

1

A ახერხარტა მაцარალა

2

B ახერხარტა მაцარალა

3

C ახერხარტა მაцარალა

4

Хырхартак алагы дзеитатуам

### განმარტება:

„საგზაო მოძრაობის შესახებ“ საქართველოს კანონის 31-ე მუხლის მე-17 პუნქტის თანახმად, შესვლის მიზნით იმ სავალ ნაწილზე მოხვევის დროს, რომელზედაც რევერსული მოძრაობაა, სატრანსპორტო საშუალების მძღოლმა ისე უნდა იმოძრაოს, რომ სავალი ნაწილების გადაკვეთიდან გამოსვლისას განაპირა მარჯვენა მოძრაობის ზოლი დაიკავოს. სხვა მოძრაობის ზოლზე გადაჯგუფება დასაშვებია მხოლოდ მას შემდეგ, რაც მძღოლი დარწმუნდება, რომ აღნიშნულ მოძრაობის ზოლზე ნებადართულია თანმხვედრი მოძრაობა. ამავე კანონის პირველი დანართის მე-5 თავის (განსაკუთრებული მითითებების ნიშნები) 5.10 პუნქტის თანახმად საგზაო ნიშანი 5.10 „გასვლა გზაზე, რომელზედაც რევერსული მოძრაობაა“ – მიუთითებს 5.8 „რევერსული მოძრაობა“ ნიშნით აღნიშნულ გზის მონაკვეთზე გასვლას. ნიშანი იდგმება ყველა გვერდითი გასასვლელის წინ. ნიშანი შეიძლება არ დაიდგას მიმდებარე ტერიტორიიდან გამოსასვლელის გზასთან გადაკვეთაზე, თუ ამ ტერიტორიაზე შესვლა შესაძლებელია მხოლოდ 5.8 „რევერსული მოძრაობა“ ნიშნით აღნიშნული გზიდან.



Ахыц ахырхартала еитатцуа атранспорттә хархәагақәа амѡеихысырта ианахысуа еишьтаргылашьас ирымазарц рыхәтѡиѢ

1

Зны аидаратә машына иасроуп, анеѡс –  
атрамваи, атыхәтәаны – автобус

2

Зны аидаратә машына иасроуп, анеѡс –  
автобус, атыхәтәаны – атрамваи

3

Зны атрамваи иасроуп, анеѡс – автобус,  
атыхәтәаны – аидаратә машына


### განმარტება:

„საგზაო მოძრაობის შესახებ“ საქართველოს კანონის 36-ე მუხლის მე-3 პუნქტის „ა“ და „გ“ ქვეპუნქტის თანახმად, რეგულირებულ გზაჯვარედინზე: ა) შექნიშნის მწვანე სიგნალის ჩართვის დროს მარცხნივ მოხვევისას ან მობრუნებისას ურელსო სატრანსპორტო საშუალების მძღოლი ვალდებულია გზა დაუთმოს საპირისპირო მიმართულებიდან პირდაპირ ან მარჯვნივ მოძრავ სატრანსპორტო საშუალებას. ამავე წესით უნდა იხელმძღვანელონ ურთიერთშორის მოძრავი ტრამვაის მძღოლებმაც; გ) თუ შექნიშნის ან მარეგულირებლის სიგნალები ერთდროულად მოძრაობის ნებას რთავს რელსიან და ურელსო სატრანსპორტო საშუალებებს, რელსიან სატრანსპორტო საშუალებას აქვს უპირატესობა, მიუხედავად მისი მოძრაობის მიმართულებისა, მაგრამ შექნიშნის დამატებით სეცციაში ძირითად ყვითელ ან წითელ მაშუქ სიგნალთან ერთად ჩართული ისრის მიმართულებით მოძრაობისას რელსიანი სატრანსპორტო საშუალების მძღოლი ვალდებულია გზა დაუთმოს სხვა მიმართულებიდან მოძრავ სატრანსპორტო საშუალებას;



## ВОПРОС 233

ПРАВИЛЬНЫЙ ОТВЕТ: 3



Амашына лас арныкѣа ахыц ахырхартала деитатцуазар, абарт атрамваикѣа рырныкѣаѣа ркынтѣа амѣа атара зыхѣтадаѢ

1

Актѣи атрамваи арныкѣаѣа мацара.

2

Аѣбатѣи атрамваи арныкѣаѣа мацара.

3


Аѣѣтрамваик рырныкѣаѣаѣа

4

Азѣгы

## განმარტება:

„საგზაო მოძრაობის შესახებ“ საქართველოს კანონის 36-ე მუხლის მე-3 პუნქტის „ე“ ქვეპუნქტის თანახმად, რეგულირებულ გზაჯვარედინზე, შუქნიშნის ნებადამრთველ სიგნალზე გზაჯვარედინზე შესულ მძღოლს შეუძლია იმოძრაოს დასახული მიმართულებით, გზაჯვარედინიდან გასასვლელზე არსებული შუქნიშნის ამკრძალავი სიგნალების მიუხედავად, მაგრამ იმ პირობით, რომ ეს არ დააბრკოლებს სხვა საგზაო მოძრაობის მონაწილეთა იმ მიმართულებით მოძრაობას, რომელზედაც მოძრაობა გახსნილია. თუ გზაჯვარედინზე მისი მოძრაობისას გზაზე არსებული შუქნიშნების წინ „სდექ“ ხაზებია (ან/და 7.16 საგზაო ნიშნებია), მძღოლმა უნდა იხელმძღვა-ნელოს თითოეული შუქნიშნის სიგნალით.



Иарбоу атагылазаашьафы амашына лас арныкәә, ахыц ахырхартала деитатцазар, аитатра икәитызымтәуа алашарбага ардыргазы аангылара ихәтоумаҕ

1

Ихәтоуп


2

Ихәтам

### განმარტება:

„საგზაო მოძრაობის შესახებ“ საქართველოს კანონის 36-ე მუხლის მე-3 პუნქტის „ე“ ქვეპუნქტის თანახმად, რეგულირებულ გზაჯვარედინზე შუქნიშნის ნებადამრთველ სიგნალზე გზაჯვარედინზე შესულ მძღოლს შეუძლია იმოძრაოს დასახული მიმართულებით, გზაჯვარედინიდან გასასვლელზე არსებული შუქნიშნის ამკრძალავი სიგნალების მიუხედავად, მაგრამ იმ პირობით, რომ ეს არ დააბრკოლებს სხვა საგზაო მოძრაობის მონაწილეთა იმ მიმართულებით მოძრაობას, რომელზედაც მოძრაობა გახსნილია. თუ გზაჯვარედინზე მისი მოძრაობისას გზაზე არსებული შუქნიშნების წინ „სდექ“ ხაზებია (ან/და 7.16 საგზაო ნიშნებია), მძღოლმა უნდა იხელმძღვა-ნელოს თითოეული შუქნიშნის სიგნალით.





Аидаратә машына арныкәа ахыц ахырхартала деитатцазар, абарт атранспорттә хархәагақәа рырныкәацәа ркынтә амәа атара зыхәтадаҕ

1

Актәи аџбатәи атрамваикәа рырныкәацәа мацара

2

Амашына лас арныкәа зацәы

3

Актәи аџбатәи атрамваикәеи, иара убас, амашына ласи рырныкәацәа

### განმარტება:

„საგზაო მოძრაობის შესახებ“ საქართველოს კანონის 36-ე მუხლის მე-4 პუნქტის „გ“ ქვეპუნქტის თანახმად, არარეგულირებულ გზაჯვარედინზე, თანაბარმნიშვნელოვანი გზების გადაკვეთაზე ურელსო სატრანსპორტო საშუალების მძღოლი ვალდებულია გზა დაუთმოს მარჯვნიდან მოახლოებულ სატრანსპორტო საშუალებას. ამავდროულად უნდა ხელმძღვანელონ ურთიერთშორის რელსიანი სატრანსპორტო საშუალებების მძღოლებმაც. ასეთ გზაჯვარედინზე რელსიანი სატრანსპორტო საშუალებას უპირატესობა აქვს ურელსო სატრანსპორტო საშუალების მიმართ, მიუხედავად მისი მოძრაობის მიმართულებისა.

Арныкәә, айтатра азин изто алашаратә ардырга кыраамта изҕаку асветофор дазааигәахозар, арныкәәЖ

1

Аласра ирдуны алашаратә ардырга дацклаҕшроуп.

2

Атранспорттә хархәага ирласзаны аанкыларә илшаратәы айтатра наигзароуп.

3

Аласра ззин иҕоу ахәаа иахысуазаргы, аласра ирдуны, айтатра икәитызымтәуа асветофор алашаратә ардырга цәырцаанза амҕа ари ацыҕҕәаха ахысра дахьзароуп.


### განმარტება:

თუ მძღოლი უახლოვდება ჰუქნიშანს, რომელზეც მოძრაობის ნებადამრთველი მაშუქი სიგნალი უკვე დიდი ხნის განმავლობაშია ჩართული, მან უნდა გააგრძელოს მოძრაობა, ისე, რომ მზად იყოს სატრანსპორტო საშუალების ნებისმიერ მომენტში უსაფრთხოდ გასაჩერებლად.

თემა 11:

## მარეგულირებლის სიგნალები

---



Амедицинатә цыхыраара лас амашына чыдалатәи ардыргакәа иаҧакуп. Абарт амашынакәа рырныкәацәа ркынтә аиҧкааџ икаитцаз абри ардыргазы ахыц ахырхартала аитатцра зылшодаҭ

1

Ацыхыраара ласи, аидаратә машынеи, икаҧшыу амашына ласи рырныкәацәа

2

Аидаратә машынеи икаҧшыу амашына ласи рырныкәацәа


3

Ацыхыраара ласи, аидаратә машынеи, иатцәоу амашына ласи рырныкәацәа

### განმარტება:

„საგზაო მოძრაობის შესახებ“ საქართველოს კანონის 30-ე მუხლის მე-5 პუნქტის „გ“ ქვეპუნქტის თანახმად, მარეგულირებლის სიგნალებს აქვთ შემდეგი მნიშვნელობა: გ) წინ გაშვებული მარჯვენა ხელი – ეს უესტი ნიშნავს „სდექ“ სიგნალს მარეგულირებლის მარჯვენა გვერდისა და ზურგის მხრიდან მოძრავი ყველა მძღოლისათვის; ამასთანავე, მარეგულირებლის მარცხენა გვერდის მხრიდან ტრამვაის უფლება აქვს, იმოძრაოს მარცხნივ, ხოლო ურელსო სატრანსპორტო საშუალებას უფლება აქვს, იმოძრაოს ყველა მიმართულებით. მარეგულირებლის მკერდის მხრიდან ყველა სატრანსპორტო საშუალებას უფლება აქვს, იმოძრაოს მხოლოდ მარჯვნივ. ქვეითს უფლება აქვს, გადავიდეს სავალ ნაწილზე მარეგულირებლის ზურგის უკან.





Абарт автотранспорттә хархәагақәа ырныкәацәа ркынтә ахыц ахырхартала аитәцра анагзара зылшода иҟкааф иҟаитцаз абри ардыргазыҭ

1

Аидаратәи, аҟаҭшыи, аҟежьи амашынақәа ырныкәацәа

2

Аҟежьи аиатҟеи амашынақәа ырныкәацәа

3

Аҟежьи аҟаҭшыи амашынақәа ырныкәацәа

### განმარტება:

„საგზაო მოძრაობის შესახებ“ საქართველოს კანონის 30-ე მუხლის მე-5 პუნქტის „გ“ ქვეპუნქტის თანახმად, მარეგულირებლის სიგნალებს აქვთ შემდეგი მნიშვნელობა: გ) წინ გაშვებული მარჯვენა ხელი – ეს ჟესტი ნიშნავს „სდექ“ სიგნალს მარეგულირებლის მარჯვენა გვერდისა და ზურგის მხრიდან მოძრავი ყველა მძღოლისათვის; ამასთანავე, მარეგულირებლის მარცხენა გვერდის მხრიდან ტრამვაის უფლება აქვს, იმოძრაოს მარცხნივ, ხოლო ურელსო სატრანსპორტო საშუალებას უფლება აქვს, იმოძრაოს ყველა მიმართულებით. მარეგულირებლის მკერდის მხრიდან ყველა სატრანსპორტო საშუალებას უფლება აქვს, იმოძრაოს მხოლოდ მარჯვნივ. ქვეითს უფლება აქვს, გადავიდეს სავალ ნაწილზე მარეგულირებლის ზურგის უკან.





Абарт атранспорттә хархәагақәа ркынтә аиҕааҕ икаитҕаз абри ардырҕазы ахыц ахырхартала аитатҕра зылшодаҕ

1

Атрамваи арныкәаҕ

2

Аидаратә машына арныкәаҕ

3


Азәҕы

4

Амашына лас арныкәаҕ

### განმარტება:

„საგზაო მოძრაობის შესახებ“ საქართველოს კანონის 30-ე მუხლის მე-5 პუნქტის „გ“ ქვეპუნქტის თანახმად, მარეგულირებლის სიგნალებს აქვთ შემდეგი მნიშვნელობა: ა) ზემოთ აწეული ერთი ხელი – ეს ჟესტი ყველა საგზაო მოძრაობის მონაწილისათვის ნიშნავს „ყურადღება, სდექ“ სიგნალს, გარდა იმ მძღოლებისა, რომლებიც უკვე ვეღარ შეძლებენ გაჩერებას მკვეთრი დამუხრუჭებისა და საკმაო უსაფრთხოების პირობების დაცვით. გარდა ამისა, თუ ეს სიგნალი მიცემულია გზაჯვარედინზე, მძღოლს, რომელიც უკვე შესულია გზაჯვარედინზე, შეუძლია განაგრძოს მოძრაობა. ქვეითმა, რომელიც სიგნალის მიცემისას გზის სავალ ნაწილზე იმყოფება, უნდა გაათავისუფლოს იგი, ხოლო თუ ეს შეუძლებელია – უნდა გაჩერდეს ურთიერთსაპირისპირო მიმართულებით მოძრავი სატრანსპორტო ნაკადების გამყოფ ხაზზე.



Иარბოუ ათაგჲლაზააშაფჲ, აიჭააფ იჭაიტაზ აბრი არდჲრგაზჲ ამაშჲნაქა რტრაექტორიაქა ეიხტჲოზარ, აბჲყსრავჲ აჭჲჯჲარა ჴმადაჲ

1

АидаратѲ машына арныкѲѲ

2

Амашына лас арныкѲѲ

### განმარტება:

„საგზაო მოძრაობის შესახებ“ საქართველოს კანონის 36-ე მუხლის მე-3 პუნქტის „დ“ ქვეპუნქტის თანახმად, თუ მარეგულირებლის სიგნალი ერთდროულად მოძრაობის ნებას რთავს ურთიერთგადამკვეთი ტრანექტორიებით მოძრავ ურელსო სატრანსპორტო საშუალებებს, მძღოლებმა უნდა იხელმძღვანელონ არარეგულირებული გზაჯვარედინის გავლის წესებითა და გზაჯვარედინზე დაყენებული პრიორიტეტის ნიშნებით;



Аиѣкааѣ иѣаитѣз абри ардыргазы амашыына лас арныѣѣаѣ амѣеихысыртаѣы арѣыарахь аитатѣра азин имоумаѢ

1

Азин имоуп


2

Азин имаѣам

### განმარტება:

„საგზაო მოძრაობის შესახებ“ საქართველოს კანონის 30-ე მუხლის მე-5 პუნქტის „გ“ ქვეპუნქტის თანახმად, მარეგულირებლის სიგნალებს აქვთ შემდეგი მნიშვნელობა - წინ გაშვებული მარჯვენა ხელი – ეს ჟესტი ნიშნავს „სდექ“ სიგნალს მარეგულირებლის მარჯვენა გვერდისა და ზურგის მხრიდან მოძრავი ყველა მძღოლისათვის; ამასთანავე, მარეგულირებლის მარცხენა გვერდის მხრიდან ტრამვაის უფლება აქვს, იმოძრაოს მარცხნივ, ხოლო ურელსო სატრანსპორტო საშუალებას უფლება აქვს, იმოძრაოს ყველა მიმართულებით. მარეგულირებლის მკერდის მხრიდან ყველა სატრანსპორტო საშუალებას უფლება აქვს, იმოძრაოს მხოლოდ მარჯვნივ. ქვეითს უფლება აქვს, გადავიდეს სავალ ნაწილზე მარეგულირებლის ზურგის უკან; ამავე კანონის 32-ე მუხლის მე-5 პუნქტის თანახმად, გარდა იმ შემთხვევისა, როცა მოხვევა სრულდება გზატკარედინზე გასასვლელად, სადაც წრიული მოძრაობაა ორგანიზებული, მარჯვნივ ან მარცხნივ მოხვევის წინ, აგრეთვე მობრუნების წინ სატრანსპორტო საშუალების მძღოლი ვალდებულია დროულად დაიკავოს შესაბამისი განაპირა მდებარეობა სავალ ნაწილზე, რომელიც თანმხვედრი მიმართულებით მოძრაობისთვისაა განკუთვნილი.





Аиҕааҕ иҕаитҕаз абри ардыргазы амашыына шкәәкәә арныкәә аитатҕра анагзара азин имоупЖ

- |   |                                |   |  |
|---|--------------------------------|---|--|
| 1 | Армарахь                       | 2 | Армарахь, иара убас, шытахька Ыдтәиныт |
| 3 | Дышиашоу, иара убас, арҕьарахь | 4 | Дышиашоу мацара                        |

### განმარტება:

„საგზაო მოძრაობის შესახებ“ საქართველოს კანონის 30-ე მუხლის მე-5 პუნქტის „გ“ ქვეპუნქტის თანახმად, მარეგულირებლის სიგნალებს აქვთ შემდეგი მნიშვნელობა - წინ გაშვებული მარჯვენა ხელი — ეს ჟესტი ნიშნავს „სდექ“ სიგნალს მარეგულირებლის მარჯვენა გვერდისა და ზურგის მხრიდან მოძრავი ყველა მძღოლისათვის; ამასთანავე, მარეგულირებლის მარცხენა გვერდის მხრიდან ტრამვაის უფლება აქვს, იმოძრაოს მარცხნივ, ხოლო ურელსო სატრანსპორტო საშუალებას უფლება აქვს, იმოძრაოს ყველა მიმართულებით. მარეგულირებლის მკერდის მხრიდან ყველა სატრანსპორტო საშუალებას უფლება აქვს, იმოძრაოს მხოლოდ მარჯვნივ. ქვეითს უფლება აქვს, გადავიდეს სავალ ნაწილზე მარეგულირებლის ზურგის უკან; ამავე კანონის 32-ე მუხლის მე-5 პუნქტის თანახმად, გარდა იმ შემთხვევისა, როცა მოხვევა სრულდება გზატკარედინზე გასასვლელად, სადაც წრიული მოძრაობაა ორგანიზებული, მარჯვნივ ან მარცხნივ მოხვევის წინ, აგრეთვე მობრუნების წინ სატრანსპორტო საშუალების მძღოლი ვალდებულია დროულად დაიკავოს შესაბამისი განაპირა მდებარეობა სავალ ნაწილზე, რომელიც თანმხვედრი მიმართულებით მოძრაობისთვისაა განკუთვნილი.



Аиҕааа иҕаитҕаа аҕри ардырҕааы амашьына арныкҕаа аитатҕра анаҕзара азин имоупЖ

1

Армарахь

2

Армарахь, иара убас, шытахька Ыдтҕиныт

3

Ахырхартакҕаа зегьы рыла


4

Дышиашоу, иара убас, арҕьарахь

### ბანმარტუბა:

„საგზაო მოძრაობის შესახებ“ საქართველოს კანონის 30-ე მუხლის მე-5 პუნქტის „გ“ ქვეპუნქტის თანახმად, მარეგულირებლის სიგნალებს აქვთ შემდეგი მნიშვნელობა - წინ გაშვებული მარჯვენა ხელი — ეს ჟესტი ნიშნავს „სდექ“ სიგნალს მარეგულირებლის მარჯვენა გვერდისა და ზურგის მხრიდან მოძრავი ყველა მძღოლისათვის; ამასთანავე, მარეგულირებლის მარცხენა გვერდის მხრიდან ტრამვაის უფლება აქვს, იმოძრაოს მარცხნივ, ხოლო ურელსო სატრანსპორტო საშუალებას უფლება აქვს, იმოძრაოს ყველა მიმართულებით. მარეგულირებლის მკერდის მხრიდან ყველა სატრანსპორტო საშუალებას უფლება აქვს, იმოძრაოს მხოლოდ მარჯვნივ. ქვეითს უფლება აქვს, გადავიდეს სავალ ნაწილზე მარეგულირებლის ზურგის უკან.





Аиѣкааџ иџаитџаз абри ардыргазы абарт атранспорттџ хархџагаџџа рырныџџаџџа рџынтџ ахыџ ахырхартала аитџџра анаџџара азин змаџаџ

1

Амашына џџџ арныџџаџ заџџы

2

Амашына шџџаџ арныџџаџ заџџы

3

Рџџџаџџы

4

Азџџы

### ბანმარტეზა:

„საგზაო მოძრაობის შესახებ“ საქართველოს კანონის 30-ე მუხლის მე-5 პუნქტის „გ“ ქვეპუნქტის თანახმად, მარეგულირებლის სიგნალებს აქვთ შემდეგი მნიშვნელობა - წინ გაშვებული მარჯვენა ხელი – ეს ჟესტი ნიშნავს „სდექ“ სიგნალს მარეგულირებლის მარჯვენა გვერდისა და ზურგის მხრიდან მოძრავი ყველა მძღოლისათვის; ამასთანავე, მარეგულირებლის მარცხენა გვერდის მხრიდან ტრამვაის უფლება აქვს, იმოძრაოს მარცხნივ, ხოლო ურელსო სატრანსპორტო საშუალებას უფლება აქვს, იმოძრაოს ყველა მიმართულებით. მარეგულირებლის მვერდის მხრიდან ყველა სატრანსპორტო საშუალებას უფლება აქვს, იმოძრაოს მხოლოდ მარჯვნივ. ქვეითს უფლება აქვს, გადავიდეს სავალ ნაწილზე მარეგულირებლის ზურგის უკან.



Аოперативтә матцура амашына чыдалатәи иатәоу, иара убас, абжытә ардырга иаҕакызар, аиҕааа иҕаитаз абри ардыргазы абарт атранспорттә хархәагакәа ырыныкәаҕа ркынтә ахыц ахырхартала аитатцра анагзара азин змадаҕ

1

Аоперативтә матцура амашына арныкәаа затцәы

2

Аидаратәи иласуи амашынакәа ырыныкәаҕа

3

Рызынтәгы

### ბანმარტუბა:

„საგზაო მოძრაობის შესახებ“ საქართველოს კანონის 30-ე მუხლის მე-5 პუნქტის „გ“ ქვეპუნქტის თანახმად, მარეგულირებლის სიგნალებს აქვთ შემდეგი მნიშვნელობა - წინ გაშვებული მარჯვენა ხელი – ეს ჟესტი ნიშნავს „სდექ“ სიგნალს მარეგულირებლის მარჯვენა გვერდისა და ზურგის მხრიდან მოძრავი ყველა მძღოლისათვის; ამასთანავე, მარეგულირებლის მარცხენა გვერდის მხრიდან ტრამვაის უფლება აქვს, იმოძრაოს მარცხნივ, ხოლო ურელსო სატრანსპორტო საშუალებას უფლება აქვს, იმოძრაოს ყველა მიმართულებით. მარეგულირებლის მკერდის მხრიდან ყველა სატრანსპორტო საშუალებას უფლება აქვს, იმოძრაოს მხოლოდ მარჯვნივ. ქვეითს უფლება აქვს, გადავიდეს სავალ ნაწილზე მარეგულირებლის ზურგის უკან; ამავე კანონის 51-ე მუხლის პირველი პუნქტის თანახმად, ოპერატიული ან სპეციალური სამსახურის სატრანსპორტო საშუალებების მძღოლს, რომელსაც სატრანსპორტო საშუალებაზე ჩართული აქვს ლურჯი მოელვარე სპეციალური ციმციმა სიგნალი და ასრულებს სამსახურებრივ დავალებას, შეუძლია საგზაო მოძრაობის უსაფრთხოების უზრუნველყოფის პირობების დაცვით გადაუხვიოს ამ კანონის 25-ე, 31-ე–41-ე და 44-ე მუხლებით, აგრეთვე ამ კანონის № 1 და № 2 დანართებით დადგენილ მოთხოვნებს.





Абарт атранспорттә хархәагақәа рырныкәащәа ркынтә аиҟкааф иҟаитҟаз абри ардырга азы ахыц ахыртархала аитҟцра аан амҟа атара зыхәтадаҟ

1

Амашына арныкәаф

2

Атрамваи арныкәаф

### განმარტება:

„საგზაო მოძრაობის შესახებ“ საქართველოს კანონის 30-ე მუხლის მე-5 პუნქტის „გ“ ქვეპუნქტის თანახმად, მარეგულირებლის სიგნალებს აქვთ შემდეგი მნიშვნელობა - წინ გაშვებული მარჯვენა ხელი - ეს ჟესტი ნიშნავს „სდექ“ სიგნალს მარეგულირებლის მარჯვენა გვერდისა და ზურგის მხრიდან მოძრავი ყველა მძღოლისათვის; ამასთანავე, მარეგულირებლის მარცხენა გვერდის მხრიდან ტრამვაის უფლება აქვს, იმოძრაოს მარცხნივ, ხოლო ურელსო სატრანსპორტო საშუალებას უფლება აქვს, იმოძრაოს ყველა მიმართულებით. მარეგულირებლის მკერდის მხრიდან ყველა სატრანსპორტო საშუალებას უფლება აქვს, იმოძრაოს მხოლოდ მარჯვნივ. ქვეითს უფლება აქვს, გადავიდეს სავალ ნაწილზე მარეგულირებლის ზურგის უკან. ამავე კანონის 36-ე მუხლის მე-3 პუნქტის „დ“ ქვეპუნქტის თანახმად, რეგულირებულ გზაჯვარედინზე თუ მარეგულირებლის სიგნალი ერთდროულად მოძრაობის ნებას რთავს ურთიერთგადამკვეთი ტრაექტორიებით მოძრავ ურელსო სატრანსპორტო საშუალებებს, მძღოლებმა უნდა იხელმძღვანელონ არარეგულირებული გზაჯვარედინის გავლის წესებითა და გზაჯვარედინზე დაყენებული პრიორიტეტის ნიშნებით;



Аиҕаааҕ иҕаитҕаз аҕри ардыргазы аитатҕра анаҕзара азин имоупЖ

1

Амашына иатҕа арныкҕааҕ мацара.

2

Амашына шкҕакҕа арныкҕааҕ мацара.

3

Азҕҕы

4

Арныкҕааҕцҕа рҕыцҕаҕы.

### განმარტება:

„საგზაო მოძრაობის შესახებ“ საქართველოს კანონის 30-ე მუხლის მე-5 პუნქტის „ბ“ ქვეპუნქტის თანახმად, მარეგულირებლის სიგნალებს აქვთ შემდეგი მნიშვნელობა - განზე გაშვებული ან ჩამოშვებული ხელები - ეს უესტი ნიშნავს „სდექ“ სიგნალს იმ საგზაო მოძრაობის მონაწილეებისათვის, რომლებიც, მათი მოძრაობის მიმართულების მიუხედავად, მოძრაობენ იმ მიმართულებით, რომელიც კვეთს მარეგულირებლის განვდილი ხელით ან ხელებით მინიშნებულ მიმართულებას; ამასთანავე, მარეგულირებლის მარჯვენა და მარცხენა გვერდების მხრიდან ტრამვაის უფლება აქვს, იმოძრაოს პირდაპირ, ურელსო სატრანსპორტო საშუალებას უფლება აქვს, იმოძრაოს პირდაპირ და მარჯვნივ, ხოლო ქვეითს უფლება აქვს, გადავიდეს გზის სავალ ნაწილზე.





Аиҕааҕ иҕаитҕаз абри ардыргазы амашыына арныкҕаа аитатҕра анаҕзара азин имоупЖ

1

Дышиашоу, иара убас, армарахь

2

Дышиашоу, иара убас, арҕьарахь


3

Дышиашоу мацара

### განმარტება:

„საგზაო მოძრაობის შესახებ“ საქართველოს კანონის 30-ე მუხლის მე-5 პუნქტის „ბ“ ქვეპუნქტის თანახმად, მარეგულირებლის სიგნალებს აქვთ შემდეგი მნიშვნელობა - განზე გაშვებული ან ჩამოშვებული ხელები - ეს უესტი ნიშნავს „სდექ“ სიგნალს იმ საგზაო მოძრაობის მონაწილეებისათვის, რომლებიც, მათი მოძრაობის მიმართულების მიუხედავად, მოძრაობენ იმ მიმართულებით, რომელიც კვეთს მარეგულირებლის განვდილი ხელით ან ხელებით მინიშნებულ მიმართულებას; ამასთანავე, მარეგულირებლის მარჯვენა და მარცხენა გვერდების მხრიდან ტრამვაის უფლება აქვს, იმოძრაოს პირდაპირ, ურელსო სატრანსპორტო საშუალებას უფლება აქვს, იმოძრაოს პირდაპირ და მარჯვნივ, ხოლო ქვეითს უფლება აქვს, გადავიდეს გზის სავალ ნაწილზე; ამავე კანონის 32-ე მუხლის მე-5 პუნქტის თანახმად, გარდა იმ შემთხვევისა, როცა მოხვევა სრულდება გზატკარციდინზე გასასვლელად, სადაც წრიული მოძრაობაა ორგანიზებული, მარჯვნივ ან მარცხნივ მოხვევის წინ, აგრეთვე მობრუნების წინ სატრანსპორტო საშუალების მძღოლი ვალდებულია დროულად დაიკავოს შესაბამისი განაპირა მდებარეობა სავალ ნაწილზე, რომელიც თანმხვედრი მიმართულებით მოძრაობისთვისაა განკუთვნილი.





Аиҕааҕ иҕаитҕаҕ аҕри ардырҕаҕы амашына арныкҕаа аитатҕра анаҕҕара азин имоупҔЖ

1

Дышиашоу мацара

2

Дышиашаоу, иара убас, арҕыарахь

3


Арҕыарахь, иара убас, армарахь

4

Ахырхартакҕа зегыҕы рыла

### განმარტება:

„საგზაო მოძრაობის შესახებ“ საქართველოს კანონის 30-ე მუხლის მე-5 პუნქტის „ბ“ ქვეპუნქტის თანახმად, მარეგულირებლის სიგნალებს აქვთ შემდეგი მნიშვნელობა - განზე გაშვებული ან ჩამოშვებული ხელები - ეს უესტი ნიშნავს „სდექ“ სიგნალს იმ საგზაო მოძრაობის მონაწილეებისათვის, რომლებიც, მათი მოძრაობის მიმართულების მიუხედავად, მოძრაობენ იმ მიმართულებით, რომელიც კვეთს მარეგულირებლის განვდილი ხელით ან ხელებით მინიშნებულ მიმართულებას; ამასთანავე, მარეგულირებლის მარჯვენა და მარცხენა გვერდების მხრიდან ტრამვაის უფლება აქვს, იმოძრაოს პირდაპირ, ურელსო სატრანსპორტო საშუალებას უფლება აქვს, იმოძრაოს პირდაპირ და მარჯვნივ, ხოლო ქვეითს უფლება აქვს, გადავიდეს გზის სავალ ნაწილზე; ამავე კანონის 32-ე მუხლის მე-5 პუნქტის თანახმად, გარდა იმ შემთხვევისა, როცა მოხვევა სრულდება გზატკარციდინზე გასასვლელად, სადაც წრიული მოძრაობაა ორგანიზებული, მარჯვნივ ან მარცხნივ მოხვევის წინ, აგრეთვე მობრუნების წინ სატრანსპორტო საშუალების მძღოლი ვალდებულია დროულად დაიკავოს შესაბამისი განაპირა მდებარეობა სავალ ნაწილზე, რომელიც თანმხვედრი მიმართულებით მოძრაობისთვისაა განკუთვნილი.



Аиѣкааѣ иѣаитѣаз абри ардыргазы амашьына лас арныѣкааѣ аитѣѣтра анагѣара азин имоупЖ

1

Аи Си ахырхарѣаѣ рыла

2

Ви Ди ахырхарѣаѣ рыла

3

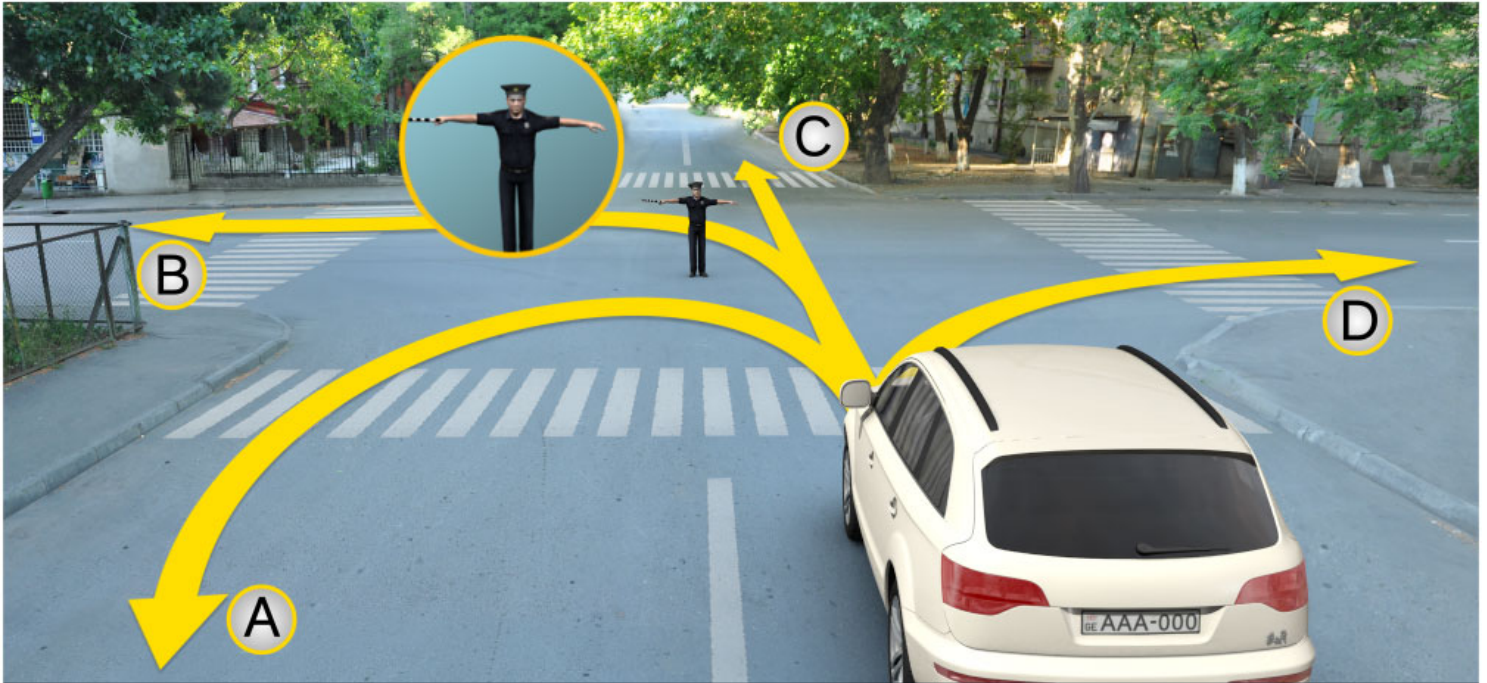
Ахырхарѣаѣ зегы рыла

### განმარტება:

„საგზაო მოძრაობის შესახებ“ საქართველოს კანონის 30-ე მუხლის მე-5 პუნქტის „გ“ ქვეპუნქტის თანახმად, მარეგულირებლის სიგნალებს აქვთ შემდეგი მნიშვნელობა - წინ გაშვებული მარჯვენა ხელი - ეს ჟესტი ნიშნავს „სდექ“ სიგნალს მარეგულირებლის მარჯვენა გვერდისა და ზურგის მხრიდან მოძრავი ყველა მძღოლისათვის; ამასთანავე, მარეგულირებლის მარცხენა გვერდის მხრიდან ტრამვაის უფლება აქვს, იმოძრაოს მარცხნივ, ხოლო ურელსო სატრანსპორტო საშუალებას უფლება აქვს, იმოძრაოს ყველა მიმართულებით. მარეგულირებლის მკერდის მხრიდან ყველა სატრანსპორტო საშუალებას უფლება აქვს, იმოძრაოს მხოლოდ მარჯვნივ. ქვეითს უფლება აქვს, გადავიდეს სავალ ნაწილზე მარეგულირებლის ზურგის უკან.



„საგზაო მოძრაობის შესახებ“ საქართველოს კანონის 30-ე მუხლის მე-5 პუნქტის „ა“ ქვეპუნქტის თანახმად, მარეგულირებლის სიგნალებს აქვთ შემდეგი მნიშვნელობა - ზემოთ აწეული ერთი ხელი - ეს ჟესტი ყველა საგზაო მოძრაობის მონაწილისათვის ნიშნავს „ყურადღება, სდექ“ სიგნალს, გარდა იმ მძღოლებისა, რომლებიც უკვე ველარ შეძლებენ გაჩერებას მკვეთრი დამუხრუჭებისა და საკმაო უსაფრთხოების პირობების დაცვით. გარდა ამისა, თუ ეს სიგნალი მიცემულია გზაჯვარედინზე, მძღოლს, რომელიც უკვე შესულია გზაჯვარედინზე, შეუძლია განაგრძოს მოძრაობა. ქვეითმა, რომელიც სიგნალის მიცემისას გზის სავალ ნაწილზე იმყოფება, უნდა გაათავისუფლოს იგი, ხოლო თუ ეს შეუძლებელია – უნდა გაჩერდეს ურთიერთსაპირისპირო მიმართულებით მოძრავი სატრანსპორტო ნაკადების გამყოფ ხაზზე.



Аиѣкааѣ иѣаитѣаз абри ардыргазы амашына лас арныѣкааѣ аитѣѣра анагѣара азин имоупЖ

1

Аи Си ахырхарѣаѣа рыла

2

Иарбанзаалак хырхарѣаѣ ала дзеитѣѣуам

3

Ви Ди ахырхарѣаѣа рыла

### განმარტება:

„საგზაო მოძრაობის შესახებ“ საქართველოს კანონის 30-ე მუხლის მე-5 პუნქტის „ბ“ ქვეპუნქტის თანახმად, მარეგულირებლის სიგნალებს აქვთ შემდეგი მნიშვნელობა - განზე გაშვებული ან ჩამოშვებული ხელები - ეს უესტი ნიშნავს „სდექ“ სიგნალს იმ საგზაო მოძრაობის მონაწილეებისათვის, რომლებიც, მათი მოძრაობის მიმართულების მიუხედავად, მოძრაობენ იმ მიმართულებით, რომელიც კვეთს მარეგულირებლის განვდილი ხელით ან ხელებით მინიშნებულ მიმართულებას; ამასთანავე, მარეგულირებლის მარჯვენა და მარცხენა გვერდების მხრიდან ტრამვაის უფლება აქვს, იმოძრაოს პირდაპირ, ურელსო სატრანსპორტო საშუალებას უფლება აქვს, იმოძრაოს პირდაპირ და მარჯვნივ, ხოლო ქვეითს უფლება აქვს, გადავიდეს გზის სავალ ნაწილზე.

## ВОПРОС 253

ПРАВИЛЬНЫЙ ОТВЕТ: 1

Аиѣкааѣ икаитѣз ардыргѣи, алашарбага ардыргакѣи, амѣатѣ рбагакѣи, амѣатѣ дыргакѣи рыхѣарақѣа еиқѣымшѣозар, аитѣтѣра алахѣылацѣа инарыгѣзарц рыхѣтоупѣЖ

1

Аиѣкааѣ икаитѣз ардырга ахѣарақѣа

2

Алашарбага ардырга ахѣарақѣа

3

Амѣатѣ рбагақѣа рыхѣарақѣа

4

Амѣатѣ дыргакѣа рыхѣарақѣа

## განმარტება:

„საგზაო მოძრაობის შესახებ“ საქართველოს კანონის 28-ე მუხლის მე-2 პუნქტის თანახმად, მარეგულირებლის სიგნალებს აქვს უპირატესი ძალა შექნიშნის მაშუქი სიგნალების, საგზაო ნიშნებისა და საგზაო მონიშვნების მოთხოვნების და საგზაო მოძრაობის წესების მოთხოვნების მიმართ. გზაჯვარედინზე მარეგულირებლის მიერ მოძრაობის რეგულირებისას ამკრძალავი და მიმითითებელი საგზაო ნიშნები აგრძელებს მოქმედებას, გარდა იმ შემთხვევისა, როდესაც მარეგულირებელი კონკრეტულად მიუთითებს მათი მოთხოვნების უგულებელყოფაზე.

## ВОПРОС 254

ПРАВИЛЬНЫЙ ОТВЕТ: 4

Аиѣкааѣ ардырга каитѣар илшоитѣЖ

1

Ацѣахѣа еиқѣатѣақѣеи ацѣахѣа шкѣақѣақѣеи зну чыдалатѣ и алабѣи ма икаѣушыу агыѣжѣкѣаѣс ала

2

Анапала, ма амѣатѣ дырга – аитѣтѣра иқѣитѣмуп зну агыѣжѣкѣаѣс ала

3

Икаѣушыу ма иѣѣжѣу абирақѣла, ма алашара каѣушь аитѣтрала

4

Абри абилет аѣы еиқѣыѣхѣаѣзоу иарбанзаалақ хархѣагақ ала.

## განმარტება:

„საგზაო მოძრაობის შესახებ“ საქართველოს კანონის 30-ე მუხლის მე-9 პუნქტის თანახმად, მარეგულირებელი სიგნალს აძლევს: ა) შავი და თეთრი ზოლების მქონე ხელკეტი; ბ) შექამრეკლი წითელი დისკით; გ) დისკით, რომელზედაც გამოსახულია საგზაო ნიშანი „მოძრაობა აკრძალულია“; დ) ხელით; ე) წითელი ან ყვითელი ალმით; ვ) წითელი სინათლის მოძრაობით.



„საგზაო მოძრაობის შესახებ“ საქართველოს კანონის 28-ე მუხლის მე-2 პუნქტის თანახმად, მარეგულირებლის სიგნალებს აქვს უპირატესი ძალა შექნიშნის მაშუქი სიგნალების, საგზაო ნიშნებისა და საგზაო მონიშვნების მოთხოვნების და საგზაო მოძრაობის წესების მოთხოვნების მიმართ. გზატკარავდინზე მარეგულირებლის მიერ მოძრაობის რეგულირებისას ამკრძალავი და მიმთითებელი საგზაო ნიშნები აგრძელებს მოქმედებას, გარდა იმ შემთხვევისა, როდესაც მარეგულირებელი კონკრეტულად მიუთითებს მათი მოთხოვნების უგულებელყოფაზე.



Иарбоу атагылазашаафы амашына арныкәә иуалупЖ

1

Аитатра анагзара

2

Аигәаза икоу арельскәа ркнынза 10 метрак  
eitымкәа ишыбжьоу аангылара

3

„Сдек“ ацәәхәафы аангылара

4

Алашарбагафы аангылара

### განმარტება:

„საგზაო მოძრაობის შესახებ“ საქართველოს კანონის 39-ე მუხლის მე-4 პუნქტის თანახმად, რკინიგზის გადასასვლელზე მოძრაობის ამკრძალავი სიგნალის მიცემისას მარეგულირებელი დგას მძღოლის მიმართ მკერდით ან ზურგშეცევით, თავის ზემოთ აწეული კვერთხით, წითელი ფარნით ან ალმით ან განზე გაწეული ხელებით. ამავე მუხლის პირველი პუნქტის „გ“ ქვეპუნქტის თანახმად, მარეგულირებლის ან შუქნიშნის ამკრძალავი სიგნალის დროს არცერთი საგზაო მოძრაობის მონაწილე არ უნდა შევიდეს რკინიგზის გადასასვლელზე, მიუხედავად შლაგბაუმის ან ნახევარშლაგბაუმის მდგომარეობისა ან მისი არსებობისა. ამავე მუხლის მე-3 პუნქტის თანახმად თუ რკინიგზის გადასასვლელზე მოძრაობა აკრძალულია, მძღოლი ჩერდება „სდექ“ ხაზთან, 2.4 საგზაო ნიშანთან ან შუქნიშანთან, ხოლო მათი არარსებობისას – შლაგბაუმიდან ან ნახევარშლაგბაუმიდან არანაკლებ 5 მეტრისა. თუ არ არის არც შლაგბაუმი და არც ნახევარშლაგბაუმი, მძღოლი უნდა გაჩერდეს უახლოეს რელსამდე არანაკლებ 10 მეტრისა.



Иарбоу атагылазаашыафы амашына арныкәә иуалупЖ

1

Аитатра анагзара

2

„Сдек“ ацәахәафы аангылара

3

Аигәаза икоу арельскәа ркнынза 10 метрак  
еитцымкәа ишыбжьоу аангылара

4

Алашарбагафы аангылара

### განმარტება:

„საგზაო მოძრაობის შესახებ“ საქართველოს კანონის 39-ე მუხლის მე-4 პუნქტის თანახმად, რკინიგზის გადასასვლელზე მოძრაობის ამკრძალავი სიგნალის მიცემისას მარეგულირებელი დგას მძღოლის მიმართ მკერდით ან ზურგშეცევით, თავის ზემოთ აწეული კვერთხით, წითელი ფარნით ან ალმით ან განზე გაწეული ხელებით. ამავე მუხლის პირველი პუნქტის „გ“ ქვეპუნქტის თანახმად, მარეგულირებლის ან შუქნიშნის ამკრძალავი სიგნალის დროს არცერთი საგზაო მოძრაობის მონაწილე არ უნდა შევიდეს რკინიგზის გადასასვლელზე, მიუხედავად შლაგბაუმის ან ნახევარშლაგბაუმის მდგომარეობისა ან მისი არსებობისა. ამავე მუხლის მე-3 პუნქტის თანახმად თუ რკინიგზის გადასასვლელზე მოძრაობა აკრძალულია, მძღოლი ჩერდება „სდექ“ ხაზთან, 2.4 საგზაო ნიშანთან ან შუქნიშანთან, ხოლო მათი არარსებობისას – შლაგბაუმიდან ან ნახევარშლაგბაუმიდან არანაკლებ 5 მეტრისა. თუ არ არის არც შლაგბაუმი და არც ნახევარშლაგბაუმი, მძღოლი უნდა გაჩერდეს უახლოეს რელსამდე არანაკლებ 10 მეტრისა.





Иарбоу атагылазашыаҕы, аоперативтэ матура амашына чыдалатэи, иара убас, абжытэ ардырга иаҕакызар, арныкөө даанымгылакэ аитатра анаҕзара азин имоумаҕ

1

Азин имаҕам

2

Азин имоуп


### განმარტება:

„საგზაო მოძრაობის შესახებ“ საქართველოს კანონის 39-ე მუხლის მე-4 პუნქტის თანახმად, რკინიგზის გადასასვლელზე მოძრაობის ამკრძალავი სიგნალის მიცემისას მარეგულირებელი დგას მძღოლის მიმართ მკერდით ან ზურგშეცევით, თავის ზემოთ აწეული კვერთხით, წითელი ფარნით ან ალმით ან განზე გაწეული ხელებით. ამავე კანონის 30-ე მუხლის მე-7 პუნქტის „ბ“ ქვეპუნქტის თანახმად მძღოლი, რომელსაც მარეგულირებელმა სიგნალის მიცემით აუკრძალა მოძრაობა, ვალდებულია გაჩერდეს რკინიგზის გადასასვლელის წინ – ამ კანონის 39-ე მუხლის მე-3 პუნქტის შესაბამისად. ამავე კანონის 51 მუხლის პირველი პუნქტის თანახმად, ოპერატიული ან ოპერატიული ან სპეციალური სამსახურის სატრანსპორტო საშუალების მძღოლს, რომელსაც სატრანსპორტო საშუალებაზე ჩართული აქვს ლურჯი მოელვარე სპეციალური ციმციმა სიგნალი და ასრულებს სამსახურებრივ დავალებას, შეუძლია საგზაო მოძრაობის უსაფრთხოების უზრუნველყოფის პირობების დაცვით გადაუხვიოს ამ კანონის 25-ე, 31-ე–41-ე და 44-ე მუხლებით, აგრეთვე ამ კანონის №1 და №2 დანართებით დადგენილ მოთხოვნებს.

„საგზაო მოძრაობის შესახებ“ საქართველოს კანონის 5-ე მუხლის 32-ე პუნქტის თანახმად, მარეგულირებელი - საქართველოს კანონმდებლობით განსაზღვრული, საგზაო მოძრაობის რეგულირების უფლებამოსილების მქონე პირი, რომელსაც თავისი კომპეტენციის ფარგლებში უფლება აქვს, საგზაო მოძრაობის მონაწილეს შეუზღუდოს მოძრაობა, შეუცვალოს მიმართულება ან/და შეაჩეროს მისი მოძრაობა.



„საგზაო მოძრაობის შესახებ“ საქართველოს კანონის 37-ე მუხლის მე-2 პუნქტის „გ“ ქვეპუნქტის თანახმად, სატრანსპორტო საშუალება, რომელიც ჩერდება ან დგას სავალ ნაწილზე, უნდა იმყოფებოდეს სავალი ნაწილის კიდეგან რაც შეიძლება ახლოს. მძღოლს შეუძლია გაჩერდეს ან დააყენოს სატრანსპორტო საშუალება სავალ ნაწილზე, მარჯვენა მხარეს. სატრანსპორტო საშუალების გაჩერება და დგომა სავალი ნაწილის მარცხენა მხარეს ნებადართულია ცალმხრივმოძრაობიანი გზის სავალ ნაწილზე (სატვირთო ავტომობილის ცალმხრივი მოძრაობის გზის მარცხენა მხარეს გაჩერება ნებადართულია მხოლოდ მისი დატვირთვის ან გადმოტვირთვის დროს).



Аиҕааҕ иҕаитҕаз абри ардыргазы амашыына лас арныҕааҕ аитатҕра анаҕзара илшоитҔЖ

1

Ви Си ахырхарҕаҕа рыла

2

Аи, Ви, Ди ахырхарҕаҕа рыла

3

Аи Ди ахырхарҕаҕа рыла

4

Ахырхарҕаҕа зегы рыла

### განმარტება:

„საგზაო მოძრაობის შესახებ“ საქართველოს კანონის 30-ე მუხლის მე-5 პუნქტის „გ“ ქვეპუნქტის თანახმად, მარეგულირებლის სიგნალებს აქვთ შემდეგი მნიშვნელობა - წინ გაშვებული მარჯვენა ხელი — ეს ჟესტი ნიშნავს „სდექ“ სიგნალს მარეგულირებლის მარჯვენა გვერდისა და ზურგის მხრიდან მოძრავი ყველა მძღოლისათვის; ამასთანავე, მარეგულირებლის მარცხენა გვერდის მხრიდან ტრამვაის უფლება აქვს, იმოძრაოს მარცხნივ, ხოლო ურელსო სატრანსპორტო საშუალებას უფლება აქვს, იმოძრაოს ყველა მიმართულებით. მარეგულირებლის მკერდის მხრიდან ყველა სატრანსპორტო საშუალებას უფლება აქვს, იმოძრაოს მხოლოდ მარჯვნივ. ქვეითს უფლება აქვს, გადავიდეს სავალ ნაწილზე მარეგულირებლის ზურგის უკან. ამავე კანონის 28-ე მუხლის მე-2 პუნქტის თანახმად, მარეგულირებლის სიგნალებს აქვს უპირატესი ძალა შექნიშნის მაშუქი სიგნალების, საგზაო ნიშნებისა და საგზაო მონიშვნების მოთხოვნების და საგზაო მოძრაობის წესების მოთხოვნების მიმართ. გზაჯვარედინზე მარეგულირებლის მიერ მოძრაობის რეგულირებისას ამკრძალავი და მიმითითებელი საგზაო ნიშნები აგრძელებს მოქმედებას, გარდა იმ შემთხვევისა, როდესაც მარეგულირებელი კონკრეტულად მიუთითებს მათი მოთხოვნების უგულებელყოფაზე.



Аиҕкааҕ конкретла армарахь аитатҕразы ардырга ҕаитҕазар, амашына лас арныкҕааҕ аитатҕра анаҕзара илшоитҔЖ

1

Дышиашоу мацара

2

Армарахь мацара

3

Армарахь, иара убас дықәтҕины шытахьҕа

4

Ахырхартакҕа зегы рыла

### განმარტება:

„საგზაო მოძრაობის შესახებ“ საქართველოს კანონის 28-ე მუხლის მე-2 პუნქტის თანახმად, მარეგულირებლის სიგნალებს აქვს უპირატესი ძალა შეუჩიშნის მაშუქი სიგნალების, საგზაო ნიშნებისა და საგზაო მონიშვნების მოთხოვნების და საგზაო მოძრაობის წესების მოთხოვნების მიმართ. გზატკარვედინზე მარეგულირებლის მიერ მოძრაობის რეგულირებისას ამკრძალავი და მიმთითებელი საგზაო ნიშნები აგრძელებს მოქმედებას, გარდა იმ შემთხვევისა, როდესაც მარეგულირებელი კონკრეტულად მიუთითებს მათი მოთხოვნების უგულებელყოფაზე.

თემა 12:

## სპეციალური სიგნალის გამოყენება

---

## ВОПРОС 266

ПРАВИЛЬНЫЙ ОТВЕТ: 1

Алашарбага ардырга каҭшыи ардырга ҭежьи еицѣакупЖ

1

Аитатра калом, ардырга иатѣа иақыроуп

2

Аитатра калоит, амѣа ацыҭѣахаҭы иҭоу ашѣарта иазкны адырра канатѣоит

## განმარტება:

„საგზაო მოძრაობის შესახებ“ საქართველოს კანონის 29-ე მუხლის მე-2 პუნქტის „ბ“ ქვეპუნქტის თანახმად, ერთობლივად ჩართული წითელი და ყვითელი მაშუქი სიგნალები კრძალავს მოძრაობას და იტყობინება მწვანე მაშუქი სიგნალის მოსალოდნელი ჩართვის შესახებ.

## ВОПРОС 267

ПРАВИЛЬНЫЙ ОТВЕТ: 4

Аихамѣа ахысыртаҭы иҭалоитЖ

1

Ахысырта аҭхьа игылоу атранспорттѣ хархѣага акѣшара еиҭынгылоу аитатратѣ цѣахѣашка аиасрала

2

Амѣакыга ма амѣакыгабжа хаҭызарала аартра

3

Аихабы изин ада аихамѣа адистанциала, зыласра сааткала 8 км. еиҭам, ҭышала иныҭѣо амашьынала, иара убас, атракторла аитатра

4

Даанымгылакѣа уи ахысра

## განმარტება:

„საგზაო მოძრაობის შესახებ“ საქართველოს კანონის 39-ე მუხლის მე-2 პუნქტის „ა“, „ბ“ და „დ“ ქვეპუნქტების თანახმად, რკინიგზის გადასასვლელზე აკრძალულია: ა) საპირისპირო მოძრაობის ზოლზე გასვლით, გადასასვლელის წინ მდგომი სატრანსპორტო საშუალების შემოვლა; ბ) შლაგბაუმის ან ნახევარშლაგბაუმის თვითნებური გახსნა; დ) რკინიგზის ლიანდაგის დისტანციის უფროსის ნებართვის გარეშე ნელმავალი სატრანსპორტო საშუალების, რომლის სიჩქარე არ აღემატება 8 კმ/სთ, და ტრაქტორის მარხილ-სათრეველას მოძრაობა.



## ВОПРОС 268

ПРАВИЛЬНЫЙ ОТВЕТ: 3

Амѡათѣ дыргакѣи азгѣатаракѣи рыхѣараკѣа иახыпышымკѣა, აჟყჟჳარა იმოუპ აოპერატივტѣ მატურა ამაშყნა არნყკѣაფ, უი იაფაკნყ იმავარჟ

1

ყყდალათჳი არდყრგა იატჳა

2

იატჳოუი იკაჟყყუი ყყდალათჳი არდყრგაკѣა

3

ყყდალათჳი არდყრგა იატჳეი აბჟყტѣ  
არდყრგეი

## განმარტყბა:

„საგზაო მოძრაობის შესახებ“ საქართველოს კანონის 51-ე მუხლის პირველი პუნქტის თანახმად, ოპერატიული ან სპეციალური სამსახურის სატრანსპორტო საშუალების მძღოლს, რომელსაც სატრანსპორტო საშუალებაზე ჩართული აქვს ლურჯი მოელვარე სპეციალური ციმციმა სიგნალი და ასრულებს სამსახურებრივ დავალებას, შეუძლია საგზაო მოძრაობის უსაფრთხოების უზრუნველყოფის პირობების დაცვით გადაუხვიოს ამ კანონის 25-ე, 31-ე–41-ე და 44-ე მუხლებით, აგრეთვე ამ კანონის №1 და №2 დანართებით დადგენილ მოთხოვნებს. ლურჯ მოელვარე სპეციალურ ციმციმა სიგნალთან ერთად დამატებით შეიძლება ჩაირთოს წითელი მოელვარე ციმციმა სიგნალიც. სხვა საგზაო მოძრაობის მონაწილეების მიმართ უპირატესობის მისაღებად ამ სატრანსპორტო საშუალების მძღოლმა უნდა ჩართოს ლურჯი მოელვარე სპეციალური ციმციმა სიგნალი და ხმოვანი სიგნალი. პრიორიტეტით სარგებლობა მხოლოდ მაშინ შეიძლება, როცა მძღოლი დარწმუნდება, რომ მას გზას უთმობენ.

## ВОПРОС 269

ПРАВИЛЬНЫЙ ОТВЕТ: 1

Амѡათѣ აიტატრა ალახყლა ყყდალათჳი არდყრგა იატჳეი აბჟყტѣ არდყრგეი იაფაკნყ იზმოუ აოპერატივტѣ მატურა ატრანსპორტტѣ ჰარჟჳაგა იმფაჟნაგო, ააიგჳა იყყრლაშო ამაშყნაბლაკѣა იაფაკნყ იზმოუ ატრანსპორტტѣ ჰარჟჳაგა ამფა ატარა იჟჳოუმაჟ

1

იჟჳოუპ

2

იჟჳტამ

## განმარტყბა:

„საგზაო მოძრაობის შესახებ“ საქართველოს კანონის 51-ე მუხლის მე-2 პუნქტის თანახმად, საგზაო მოძრაობის მონაწილეები ვალდებული არიან, ოპერატიული ან სპეციალური სამსახურის სატრანსპორტო საშუალების მოახლოებისას, რომელსაც ჩართული აქვს ლურჯი მოელვარე სპეციალური ციმციმა სიგნალი და ხმოვანი სიგნალი ან/და რომელიც ხმამაღლამოლაპარაკე ხელსაწყოთი იძლევა სიგნალს, მას, აგრეთვე მის მიერ გასაცემებელ სატრანსპორტო საშუალებას, რომელსაც ჩართული აქვს ახლო განათების ფარები, გაუთავისუფლონ სავალ ნაწილზე ადგილი, ხოლო აუცილებლობის შემთხვევაში – გაჩერდნენ.

## ВОПРОС 270

ПРАВИЛЬНЫЙ ОТВЕТ: 2

ყადალათაი არდირა იაყაი აბჯაყა არდირეი იაყაკნა იაყო, მა აბჯაყადუგაყა ჰარჰაგალა არდირა ჰაყა აოპერაყვათა მა ყადალათაი ამაყრა ატრანსპორტა ჰარჰაგა იანააიგაყო, ამაყა აიტაყრა ალაჰაყლაყა ირუალუჰ

1

იჰყაყრყაკა იანგყლაროუპ იაჰყიყო აყაყაყა

2

ამაყაყრაყა აყაყა თადყაყროუპ, იჰყაყაყარ იანგყლაროუპ

3

იანაყათაყა იყო აჰყრარტალა არმარაჰყაი აყაჰაყა იანგყლაროუპ

## განმარტაყა:

„საგაო მოძრაობის შესახებ“ საქართველოს კანონის 51-ე მუხლის მე-2 პუნქტის თანახმად, საგაო მოძრაობის მონაწილეები ვალდებული არიან, ოპერატიული ან სპეციალური სამსახურის სატრანსპორტო საშუალების მოახლოებისას, რომელსაც ჩართული აქვს ლურჯი მოელვარე სპეციალური ციმციმა სიგნალი და ხმოვანი სიგნალი ან/და რომელიც ხმამაღლამოლაპარაკე ჰელსანყოთი იძლევა სიგნალს, მას, აგრეყვე მის მიერ გასაყილებელ სატრანსპორტო საშუალებას, რომელსაც ჩართული აქვს ახლო განათების ფარები, გაუთავისუფლონ სავალ ნაწილზე ადგილი, ხოლო აუყილებლობის შემთხვევაში – გაყერდნენ.

## ВОПРОС 271

ПРАВИЛЬНЫЙ ОТВЕТ: 2

ყადალათაი არდირა იაყა იაყაკნა იგყლო ყადალათაი ამაყრა ატრანსპორტა ჰარჰაგა დანააიგაყო, არნყააჰ

1

ალასრა იმყსაჰკა აიტაყრა ნაიგაროუპ

2

ალასრა ირმაყროუპ, იათაჰარ, ატრანსპორტა ჰარჰაგა აანყლარა ილშარაყა

3

ალასრა იაყაყაროუპ, იაამტაყა აბრი აყაყა დაჰყაყრ აყა

## განმარტაყა:

„საგაო მოძრაობის შესახებ“ საქართველოს კანონის 51-ე მუხლის მე-3 პუნქტის თანახმად, ჩართული ლურჯი მოელვარე სპეციალური ციმციმა სიგნალით მდგომ სატრანსპორტო საშუალებასთან მიახლოებისას მძღოლმა უნდა შეანელოს სიყარე, რათა აუყილებლობის შემთხვევაში შეძლოს ტრანსპორტის დაუყოვნებლივ გაყერბა.

## ВОПРОС 272

ПРАВИЛЬНЫЙ ОТВЕТ: 2

Апатыркалпштәы змоу чыдалатәи ардырга иаҕакны измоу чыдалатәи аматұра атранспорттә хархәага арныкәаҭ, аусуратә пұхықәрақәа рынагзараан, амәатә дыргақәа рыхәарақәа дрыцәхьатұр илшоитЖ

1

Ааигәа изырлашо амашынаблақәа иаҕакны имазар

2

Амәатә аитатұра ашәартадара еикәиршәозар

3

Имашынаҕы ишыақәыргылазар аамталатәи амәатә дыргақәа

## განმარტება:

„საგზაო მოძრაობის შესახებ“ საქართველოს კანონის 51-ე მუხლის მე-4 პუნქტის თანახმად, მძღოლს, რომელსაც სატრანსპორტო საშუალებაზე ჩართული აქვს ნარინჯისფერი ან ყვითელი მოელვარე სპეციალური ციმციმა სიგნალი და რომელიც გზაზე ასრულებს სამშენებლო, სარემონტო ან დასასუფთავებელ სამუშაოებს, ან საინჟინსპორტო სატრანსპორტო საშუალებით გადააქვს ძვირფასეულობა ან ფასიანი ქაღალდები, ან გადააქვს სახიფათო ტვირთი, ან გადაადგილდება არაგაბარითული (მსხვილგაბარითიანი) ან ზენორმატიული (მძიმეწონიანი) სატრანსპორტო საშუალებით, შეუძლია გადაუხვიოს საგზაო ნიშნებისა და მონიშვნების, აგრეთვე ამ კანონის 31-ე მუხლის მე-5–მე-10, მე-15 და მე-16 პუნქტებითა და 38-ე მუხლის პირველი პუნქტით დადგენილ მოთხოვნებს, თუ უზრუნველყოფს საგზაო მოძრაობის უსაფრთხოებას. ნარინჯისფერი ან ყვითელი მოელვარე სპეციალური ციმციმა სიგნალი არ იძლევა უპირატესობას საგზაო მოძრაობის სხვა მონაწილეების მიმართ და გამოიყენება ყურადღების მისაპყრობად მოსალოდნელი საშიშროების თავიდან აცილებისათვის.

## ВОПРОС 273

ПРАВИЛЬНЫЙ ОТВЕТ: 2

Чыдалатәи аматұра атранспорттә хархәага чыдалатәи ардырга ҭежь иаҕаркуеитЖ

1

Амәатә аитатұра еҕырта алахәылацәа рҕаҕұхәа аҕыжәара аиуразы

2

Икалар зылшо ашәарта аеацәыхьчара амзызла ахшыҭзышьтра аиуразы

## განმარტება:

„საგზაო მოძრაობის შესახებ“ საქართველოს კანონის 51-ე მუხლის მე-4 პუნქტის თანახმად, მძღოლს, რომელსაც სატრანსპორტო საშუალებაზე ჩართული აქვს ნარინჯისფერი ან ყვითელი მოელვარე სპეციალური ციმციმა სიგნალი და რომელიც გზაზე ასრულებს სამშენებლო, სარემონტო ან დასასუფთავებელ სამუშაოებს, ან საინჟინსპორტო სატრანსპორტო საშუალებით გადააქვს ძვირფასეულობა ან ფასიანი ქაღალდები, ან გადააქვს სახიფათო ტვირთი, ან გადაადგილდება არაგაბარითული (მსხვილგაბარითიანი) ან ზენორმატიული (მძიმეწონიანი) სატრანსპორტო საშუალებით, შეუძლია გადაუხვიოს საგზაო ნიშნებისა და მონიშვნების, აგრეთვე ამ კანონის 31-ე მუხლის მე-5–მე-10, მე-15 და მე-16 პუნქტებითა და 38-ე მუხლის პირველი პუნქტით დადგენილ მოთხოვნებს, თუ უზრუნველყოფს საგზაო მოძრაობის უსაფრთხოებას. ნარინჯისფერი ან ყვითელი მოელვარე სპეციალური ციმციმა სიგნალი არ იძლევა უპირატესობას საგზაო მოძრაობის სხვა მონაწილეების მიმართ და გამოიყენება ყურადღების მისაპყრობად მოსალოდნელი საშიშროების თავიდან აცილებისათვის.

## ВОПРОС 274

ПРАВИЛЬНЫЙ ОТВЕТ: 2

Атრანспорттә хархәагазы чыдалатәи алашаратәи абжытәи ардыргақәа иқәдыргылоит, иара убас, амашынақәа чыдалатәи аҭштәи ыртоитЖ

1

Қыртәыла афинансқәа рминистрра ала ихәаақәтоу атас иашьашәаланы

2

Қыртәыла аиустициа аминистрра ала ихәаақәтоу атас иашьашәаланы

3

Қыртәыла аиустициа аминистрра ала ихәаақәтоу атас иашьашәаланы

## განმარტება:

„საგზაო მოძრაობის შესახებ“ საქართველოს კანონის 51-ე მუხლის მე-8 პუნქტის თანახმად, სატრანსპორტო საშუალებაზე სპეციალური ციმციმა სიგნალისა და ხმოვანი სიგნალის, აგრეთვე სპეციალური ხმამაღლამოლაპარაკე ხელსაწყოთა დაყენება და სატრანსპორტო საშუალებისათვის სპეციალური შეფერილობის მიცემა ხორციელდება საქართველოს შინაგან საქმეთა მინისტრის მიერ განსაზღვრული წესის შესაბამისად.

## ВОПРОС 275

ПРАВИЛЬНЫЙ ОТВЕТ: 1

Аинкасациатә матура чыдалатәи атрანспорттә хархәага иамоу апатыркалпштәи змоу ма иџежыу чыдалатәи ардырга иацны, чыдалатәи абжытә ардырга иафактәупЖ

1

Ақәлара ашәартә ианықоу, ма ақәлара аан

2


Амџатә аитатра егырта алахәылацәа рҭаҭхәа аҭыжәара аиуразы

3

Алаҭшбара ианыцәҭыоу аамтазы аитатраан

## განმარტება:

„საგზაო მოძრაობის შესახებ“ საქართველოს კანონის 51-ე მუხლის მე-7 პუნქტის თანახმად, ინვასაციის სამსახურის სპეციალურ სატრანსპორტო საშუალებაზე დაყენებულ ნარინჯისფერ ან ყვითელ მოელვარე სპეციალურ ციმციმა სიგნალთან ერთად სპეციალური ხმოვანი სიგნალი ირთვება მხოლოდ თავდასხმის საშიშროების ან თავდასხმის შემთხვევაში.



Ааигға изырлашо амашынаблақға иағакны измоу аидаратə машыына имѡаѡнагоит чыдалатəи ардырга иатѡеи абжытə ардыргеи иағакны измоу аоперативтə матѡра амашыына. Автобус арнықəѡ ахыц ахырхартала деитѡуазар, алашарбага абри ардыргазы амѡа атара зыхѡтадаѡ

1

Азəгы ихѡтам

2

Аоперативтə матѡра амашыына арнықəѡ  
зѡцəы


3

Аоперативтə матѡра амашыынеи, иара убас,  
аидаратə машыынеи рырнақəѡѡѡ

### განმარტება:

„საგზაო მოძრაობის შესახებ“ საქართველოს კანონის 51-ე მუხლის მე-2 პუნქტის თანახმად, საგზაო მოძრაობის მონაწილეები ვალდებული არიან, ოპერატიული ან სპეციალური სამსახურის სატრანსპორტო საშუალების მოახლოებისას, რომელსაც ჩართული აქვს ლურჯი მოელვარე სპეციალური ციმციმა სიგნალი და ხმოვანი სიგნალი ან/და რომელიც ხმამაღლამოლაპარაკე ხელსაწყოთი იძლევა სიგნალს, მას, აგრეთვე მის მიერ გასაცემებელ სატრანსპორტო საშუალებას, რომელსაც ჩართული აქვს ახლო განათების ფარები, გაუთავისუფლონ სავალ ნაწილზე ადგილი, ხოლო აუცილებლობის შემთხვევაში – გაჩერდნენ.





Абарт ахырхартакәа ркынтә руа иарбан алашарбага абри ардыргазы аоперативтә матура амашына арныкәа аитатра анагзара злаилшо, амашына чыдалатәи ардырга иатәа иаҕакызарҕ

1

Дышиашоу, иара убас, арҕарахь мацара

2

Арҕарахь мацара

3

Ахырхартакәа зегы рыла

4

Армарахь, иара убас, шытахька Гҕдҕиныҕ

### განმარტება:

„საგზაო მოძრაობის შესახებ“ საქართველოს კანონის 51-ე მუხლის პირველი პუნქტის თანახმად ოპერატიული ან სპეციალური სამსახურის სატრანსპორტო საშუალების მძღოლს, რომელსაც სატრანსპორტო საშუალებაზე ჩართული აქვს ლურჯი მოელვარე სპეციალური ციმციმა სიგნალი და ასრულებს სამსახურებრივ დავალებას, შეუძლია საგზაო მოძრაობის უსაფრთხოების უზრუნველყოფის პირობების დაცვით გადაუხვიოს ამ კანონის 25-ე, 31-ე—41-ე და 44-ე მუხლებით, აგრეთვე ამ კანონის №1 და №2 დანართებით დადგენილ მოთხოვნებს.



Амашына ზაღუშ არныკაფ ахыц ахырхартала аитатра анагзара азин имоума, аоперативтә матура амашына чыдалатәи ардырга иатәа иаҕакызарҕ

1

Азин имам

2

Азин имоуп

### განმარტება:

„საგზაო მოძრაობის შესახებ“ საქართველოს კანონის 51-ე მუხლის მე-2 პუნქტის თანახმად, საგზაო მოძრაობის მონაწილეები ვალდებული არიან, ოპერატიული ან სპეციალური სამსახურის სატრანსპორტო საშუალების მოახლოებისას, რომელსაც ჩართული აქვს ლურჯი მოელვარე სპეციალური ციმციმა სიგნალი და ხმოვანი სიგნალი ან/და რომელიც ხმამაღლამოლაპარაკე ხელსაწყოთი იძლევა სიგნალს, მას, აგრეთვე მის მიერ გასაცემებელ სატრანსპორტო საშუალებას, რომელსაც ჩართული აქვს ახლო განათების ფარები, გაუთავისუფლონ სავალ ნაწილზე ადგილი, ხოლო აუცილებლობის შემთხვევაში – გაჩერდნენ.



Аоперативтә матура амашына иаџакуп чыдалатәи ардырга иатџеи абжытә ардыргеи. Амашына каџшь арныкәа амџатә аитатра атаскәа еилеигом, уиЖ

1

Амашына џежь иоушьтны арџьарала икоу аџахәашка диасыр

2

Амашына џежь иоумышьткәа арџьарала икоу аџахәашка диасыр

3

Дызну аџахәала аитатра наигзар

### განმარტება:

„საგზაო მოძრაობის შესახებ“ საქართველოს კანონის 51-ე მუხლის მე-2 პუნქტის თანახმად, საგზაო მოძრაობის მონაწილეები ვალდებული არიან, ოპერატიული ან სპეციალური სამსახურის სატრანსპორტო საშუალების მოახლოებისას, რომელსაც ჩართული აქვს ლურჯი მოელვარე სპეციალური ციმციმა სიგნალი და ხმოვანი სიგნალი ან/და რომელიც ხმამაღლამოლაპარაკე ხელსაწყოთი იძლევა სიგნალს, მას, აგრეთვე მის მიერ გასაცემებელ სატრანსპორტო საშუალებას, რომელსაც ჩართული აქვს ახლო განათების ფარები, გაუთავისუფლონ სავალ ნაწილზე ადგილი, ხოლო აუცილებლობის შემთხვევაში – გაჩერდნენ. ამავე კანონის 32-ე მუხლის მე-4 პუნქტის თანახმად მოძრაობის ზოლიდან ზოლში მოძრაობის მიმართულების შეუცვლელად გადასვლისას მძღოლმა გზა უნდა დაუთმოს გადასასვლელ მოძრაობის ზოლში თანმხვედრი მიმართულებით მოძრავ სატრანსპორტო საშუალებას.





Аоперативтә матура амашына иаангылеит, аха чыдалатәи ардырга иатәа иаҕакуп. Амашына лас арныкәаҕ дызлеитатүа аласра еихамзароупЖ

1

Сааткала 90 км

2

Сааткала 70 км

3

Ихымҕадахар, амашына ихҕмыркыакәа  
аанкылара злаилшо аласрала

### განმარტება:

„საგზაო მოძრაობის შესახებ“ საქართველოს კანონის 51-ე მუხლის მე-3 პუნქტის თანახმად, ჩართული ღურჯი მოელვარე სპეციალური ციმციმა სიგნალით მდგომ სატრანსპორტო საშუალებასთან მიახლოებისას მძღოლმა უნდა შეანელოს სიჩქარე, რათა აუცილებლობის შემთხვევაში შეძლოს ტრანსპორტის დაუყოვნებლივ გაჩერება.



Алашарбага абри ардыргазы аоперативтә мацура амашына арныкәаҭ хырхартас дцар иабакало, амашына чыдалатәи ардырга иатәа иаҭақызарҭ

1

Дышиашоу, иара убас, арҭырахь мацара

2

Дышиашоу, иара убас, армарахь мацара

3

Ахырхартакәа зегы рыла


4

Дышиашоу мацара

### განმარტება:

„საგზაო მოძრაობის შესახებ“ საქართველოს კანონის 51-ე მუხლის პირველი პუნქტის თანახმად, ოპერატიული ან სპეციალური სამსახურის სატრანსპორტო საშუალების მძღოლს, რომელსაც სატრანსპორტო საშუალებაზე ჩართული აქვს ლურჯი მოელვარე სპეციალური ციმციმა სიგნალი და ასრულებს სამსახურებრივ დავალებას, შეუძლია საგზაო მოძრაობის უსაფრთხოების უზრუნველყოფის პირობების დაცვით გადაუხვიოს ამ კანონის 25-ე, 31-ე—41-ე და 44-ე მუხლებით, აგრეთვე ამ კანონის № 1 და № 2 დანართებით დადგენილ მოთხოვნებს. ამავე კანონის 32-ე მუხლის მე-5 პუნქტის თანახმად, გარდა იმ შემთხვევისა, როცა მოხვევა სრულდება გზატკარციდან გასასვლელად, სადაც წრიული მოძრაობაა ორგანიზებული, მარჯვნივ ან მარცხნივ მოხვევის წინ, აგრეთვე მობრუნების წინ სატრანსპორტო საშუალების მძღოლი ვალდებულია დროულად დაიკავოს შესაბამისი განაპირა მდებარეობა სავალ ნაწილზე, რომელიც თანმხვედრი მიმართულებით მოძრაობისთვისაა განკუთვნილი. ამავე კანონის პირველი დანართის მე-4 თავის (მიმთითებული ნიშნები) 4.1.4 პუნქტისა და ამავე პუნქტის შენიშვნის „ა“ და „დ“ ქვეპუნქტების თანახმად, საგზაო ნიშანი 4.1.4 „მოძრაობა პირდაპირ ან მარჯვნივ“ რთავს მხოლოდ ისრებით ნაჩვენები მიმართულებებით მოძრაობის ნებას.





Аидаратә машына автомагистраль аҧы арыцкьаратә усурақәа нанагзоит. Аидаратә машына арныкәа ахыц ахырхартала аитатра анагзара азин имоума, амашына чыдалатәи ардырга дежь иаҕакызарҭ

1

Азин имоуп

2

Азин имам

### განმარტება:

„საგზაო მოძრაობის შესახებ“ საქართველოს კანონის 51-ე მუხლის მე-4 პუნქტის თანახმად, მძღოლს, რომელსაც სატრანსპორტო საშუალებაზე ჩართული აქვს ნარინჯისფერი ან ყვითელი მოელვარე სპეციალური ციმციმა სიგნალი და რომელიც გზაზე ასრულებს სამშენებლო, სარემონტო ან დასასუფთავებელ სამუშაოებს, ან საინჟინსაციო სატრანსპორტო საშუალებით გადააქვს ძვირფასეულობა ან ფასიანი ქაღალდები, ან გადააქვს სახიფათო ტვირთი, ან გადაადგილდება არაგაბარიტული (მსხვილგაბარიტიანი) ან ზენორმატიული (მძიმეწონიანი) სატრანსპორტო საშუალებით, შეუძლია გადაუხვიოს საგზაო ნიშნებისა და მონიშვნების, აგრეთვე ამ კანონის 31-ე მუხლის მე-5–მე-10, მე-15 და მე-16 პუნქტებითა და 38-ე მუხლის პირველი პუნქტით დადგენილ მოთხოვნებს, თუ უზრუნველყოფს საგზაო მოძრაობის უსაფრთხოებას. ნარინჯისფერი ან ყვითელი მოელვარე სპეციალური ციმციმა სიგნალი არ იძლევა უპირატესობას საგზაო მოძრაობის სხვა მონაწილეების მიმართ და გამოიყენება ყურადღების მისაპყრობად მოსალოდნელი საშიშროების თავიდან აცილებისათვის.

თემა 13:

## საავარიო შუქური სიგნალიზაცია

---



Асахьафы иарбоу атыџафы, ауаа ахнымхо атыџафы амашына аангылар, арныкәәЖ

1

Амашәртә алашаратә ардырга аџакра ихәтоуп.

2

Амашына ашьтахь «Амашәртә аангылар адырга» аргылар ихәтоуп.

3

Амашәртә алашаратә ардырга аџакреи, иара убас, амашына ашьтахь «Амашәртә аангылар адырга» аргылареи ихәтоуп

4

Амашәртә алашаратә ардырга аџакреи, амашына ашьтахь «Амашәртә аангылар адырга» аргылареи ихәтам.

### განმარტება:

„საგზაო მოძრაობის შესახებ“ საქართველოს კანონის 37-ე მუხლის პირველი პუნქტის თანახმად, სატრანსპორტო საშუალება, რომელიც ჩერდება ან დგას დაუსახლებელ პუნქტში, შესაძლებლობის ფარგლებში, სავალი ნაწილის გარეთ უნდა იმყოფებოდეს. ამავე კანონის 52-ე მუხლის პირველი პუნქტის „ბ“ და მე-2 პუნქტის „ბ“ ქვეპუნქტების თანახმად: 1. საავარიო შექერი სიგნალიზაცია გამოიყენება მოსალოდნელი საფრთხის შესახებ სხვა საგზაო მოძრაობის მონაწილეთა გაფრთხილებისათვის. საავარიო შექსიგნალიზაცია უნდა ჩაირთოს იმ ადგილას იძულებითი გაჩერების დროს, სადაც გაჩერება აკრძალულია; 2. საავარიო შექსიგნალიზაციის ჩართვის შემდეგ, აგრეთვე თუ ასეთი სიგნალიზაცია არ არსებობს ან მწყობრიდანაა გამოსული, მძღოლმა დაუყოვნებლივ უნდა გამოდგას „საავარიო გაჩერების ნიშანი“, ხოლო არასაკმარისი მხედველობის პირობებში - მოციმციმე წითელი ფანარი იმ ადგილებში იძულებით გაჩერების დროს, სადაც გაჩერება აკრძალულია და იქ, სადაც ხილვადობის პირობების გათვალისწინებით, სხვა მძღოლები ვერ შესძლებენ სატრანსპორტო საშუალების დროულად შემჩნევას.

Атранспорттә хархәага ҭсыхәа амамкәа иаанкылоуп хәа иҭхьаҭоупЖ

1

Аитатра аанкылазар атехникатә  
ауадаҭрақәа ирыхьаны

2

Аитатра 5 минутк иреиханы хықәкыла  
иаанкылазар, уи апассажирцәа  
рақәыртәареи рылбаагареи, ма аидара  
ақәцареи ақәхреи ирыдхәаламзар


3

Аитатра хықәкыла, 5 минут рқынза  
иаанкылазар

### განმარტება:

„საგზაო მოძრაობის შესახებ“ საქართველოს კანონის მე-5 მუხლის მე-26 პუნქტის თანახმად იძულებით გაჩერება არის სატრანსპორტო საშუალების მოძრაობის შეწყვეტა მისი ტექნიკური გაუმართაობის, გადასაზიდი ტვირტის, მძღოლის (მგზავრის) მდგომარეობის ან გზაზე მოულოდნელად შექმნილი დაბრკოლებით განპირობებული საფრტხის გამო.





Иарбоу атагылазаашьафы арныкѣаѣ иѣхастахаз атранспорттѣ хархѣага ихѣмырѣакѣа амѣа алгара илымшозар, зыда ѣсыхѣа иѣам аангыларазы ишыѣкѣгылоу ахѣаракѣа еилеигомаѢ

1

Еилеигом

2

Еилеигоит

### განმარტება:

„საგზაო მოძრაობის შესახებ“ საქართველოს კანონის 42-ე მუხლის „ე“ პუნქტის თანახმად, საგზაო ნიშნით აღნიშნულ გვირაბებში მოქმედებს შემდეგი წესი იძულებითი გაჩერებისას მძღოლმა უნდა უზრუნველყოს ამ კანონით დადგენილი, აკრძალულ ადგილებში იძულებით გაჩერებასთან დაკავშირებული მოთხოვნების შესრულება. ამავე კანონის 52-ე მუხლის პირველი პუნქტის „ბ“ ქვეპუნქტის, მე-2 პუნქტის „ბ“ ქვეპუნქტისა და მე-3 პუნქტის თანახმად: - საავარიო შექერი სიგნალიზაცია უნდა ჩაირთოს იმ ადგილას იძულებითი გაჩერების დროს, სადაც გაჩერება აკრძალულია. - საავარიო შექსიგნალიზაციის ჩართვის შემდეგ, აგრეთვე თუ ასეთი სიგნალიზაცია არ არსებობს ან მწყობრიდანაა გამოსული, მძღოლმა დაუყოვნებლივ უნდა დადგას „საავარიო გაჩერების ნიშანი“, ხოლო არასაკმარისი ხილვადობის პირობებში – მოციმციმე წითელი ფარანი იმ ადგილას იძულებით გაჩერების დროს, სადაც გაჩერება აკრძალულია. - „საავარიო გაჩერების ნიშანი“ და მოციმციმე წითელი ფარანი უნდა დაიდგას სატრანსპორტო საშუალებიდან იმ მანძილზე, რომელიც კონკრეტულ პირობებში უზრუნველყოფს საშიშროების შესახებ სხვა მძღოლების დროულ გაფრთხილებას, მაგრამ ეს მანძილი დასახლებულ პუნქტში არ უნდა იყოს 15 მეტრზე ნაკლები, ხოლო დაუსახლებელ პუნქტში – 30 მეტრზე ნაკლები.



## ВОПРОС 286

ПРАВИЛЬНЫЙ ОТВЕТ: 1

Амашәыртә алашаратә ардырга ы́камзар ма аус амуазар, иаханы ирго амеханикатә атранспорттә хархәага ашьтахьтәи аган аґы ишьақәыргылатәупЖ

1

Амашәыртә аангыларә адырга

2

Амаксималтә аласра аҭкра адырга

3

Егьырт ашәартакәа аазырҭшуа адырга

## განმარტება:

„საგზაო მოძრაობის შესახებ“ საქართველოს კანონის 45-ე მუხლის მე-7 პუნქტის თანახმად, დღე-ღამის ნებისმიერ პერიოდში მობუქსირე მექანიკურ სატრანსპორტო საშუალებას ჩართული უნდა ჰქონდეს ახლო განათების ფარები, საბუქსირო მექანიკურ სატრანსპორტო საშუალებას ჩართული უნდა ჰქონდეს საავარიო შუქსიგნალიზაცია, ხოლო მისი არარსებობის ან გაუმართაობის შემთხვევაში ამ ტრანსპორტის უკანა ნაწილზე უნდა დამაგრდეს საავარიო გაჩერების ნიშანი.

## ВОПРОС 287

ПРАВИЛЬНЫЙ ОТВЕТ: 2

«Зыда ҭсыхәа и́кам аангыларә» иаанагоитЖ

1

Атранспорттә хархәага аитәцра хықәкыла аанкыларә атранспорттә еишьтаргылаґы, атранспорттә аитәцра аиґкаара атехникатә хархәагақәа ма аиґкааґ рыдҭала

2

Атранспорттә хархәага аитәцра аанкыларә уи аҭхастахара, аидара амґангагара, арнықәаґ ҭҭапасажирТ иҭагылазаашьа, ма иаалырқьаны амґаґы ицәырҭыз ашәарта иахқьаны

## განმარტება:

„საგზაო მოძრაობის შესახებ“ საქართველოს კანონის 5-ე მუხლის 26-ე პუნქტის თანახმად, იძულებით გაჩერება - სატრანსპორტო საშუალების მოძრაობის შეწყვეტა მისი ტექნიკური გაუმართაობის, გადასაზიდი ტვირთის, მძღოლის (მგზავრის) მდგომარეობის ან გზაზე მოულოდნელად შექმნილი დაბრკოლებით განპირობებული საფრთხის გამო.

## ВОПРОС 288

ПРАВИЛЬНЫЙ ОТВЕТ: 3

Еиფынгыло ахырхартакынтә еитатцуа амеханикатә атранспорттә хархәага амашынаблақәа рылашара арныкәаф ибла пұнакәозар, уи иуалупЖ

1

Аласра ирмачны, излауа ала ирласны арбьаратәи аганала икоу аитатцратә цәахәашка диасроуп, иатаххар, даангылароуп

2

Аамтәаамтала амашынаблақәа рылашара ирцәаны, ифылыны иаауа атранспорттә хархәага арныкәаф абри ауадаөра шыкоу идирдырроуп

3

Аитатцратә цәахәа импсакәа аласра ирмачроуп, иатаххар даангыланы, амашәыртә алашаратә ардырга иафәеикроуп. Аитатцра анагзара калоит алапшбара аиташьақәыргылара аамышьтахь мацара

4

Хара изырлашо аблақәа ееикроуп

## განმარტება:

„საგზაო მოძრაობის შესახებ“ საქართველოს კანონის 36-ე მუხლის მე-5 პუნქტის თანახმად, მძღოლი არ უნდა გავიდეს გზატკარციდზე, თუ შექმნილია ისეთი ხერგილი, რომ იგი, სავარაუდოდ, იძულებული გახდება, გაჩერდეს გზატკარციდზე და ამით დააბრკოლოს განივი მიმართულებით მოძრაობა. ეს წესი მოქმედებს მაშინაც, თუ შექმნილის მაშუქი სიგნალები იძლევა მოძრაობის უფლებას.

## ВОПРОС 289

ПРАВИЛЬНЫЙ ОТВЕТ: 2

Атранспорттә хархәага арныкәаф амашәыртә алашартә ардырга Пума уи еипушу даәа дыргакТ афәakra иуалупЖ

1

Иапуу атакырадгыл акынтә автомобилтә мѡа даналало

2

Амашәыр иалахәу ма ипұхастахаз атранспорттә хархәагақәа ихпұмырқьақәа амѡасырта ралгаразы алшара иқамзар

3

Шьтахьла данеитатцуа

## განმარტება:

„საგზაო მოძრაობის შესახებ“ საქართველოს კანონის 52-ე მუხლის პირველი პუნქტის „ა“ ქვეპუნქტის თანახმად, საავარიო შექსიგნალიზაცია გამოიყენება მოსალოდნელი საფრთხის შესახებ სხვა საგზაო მოძრაობის მონაწილეთა გაფრთხილებისათვის. საავარიო შექსიგნალიზაცია უნდა ჩაირთოს: ა) თუ საგზაო-სატრანსპორტო შემთხვევის მონაწილე ან მწყობრიდან გამოსული სატრანსპორტო საშუალების გაყვანა ან ბუქსირება დაუყოვნებლივ შეუძლებელია და ეს აბრკოლებს საგზაო მოძრაობის სხვა მონაწილეებს.

## ВОПРОС 290

ПРАВИЛЬНЫЙ ОТВЕТ: 3

Атრანспорттә хархәага арныкәаф амашәыртә алашартә ардырга Пҭма уи еипҭшу даәа дыргакТ аҕакра иуалупЖ

1

Еиҕкаау атрანспорттә колонна далаланы данеитатҭуа

2

Амҕеихысырта нтыт , данытәиуа

3

Ипҭыланы иаауа амеханикатә атрანспорттә хархәага амашынаблакәа рылашара ибла пҭнакәозар, пҭсыхәа имамкәа даангылазар

## განმარტება:

„საგზაო მოძრაობის შესახებ“ საქართველოს კანონის 52-ე მუხლის პირველი პუნქტის „ვ“ ქვეპუნქტის თანახმად, საავარიო შექსიგნალიზაცია გამოიყენება მოსალოდნელი საფრთხის შესახებ სხვა საგზაო მოძრაობის მონაწილეთა გაფრთხილებისათვის. საავარიო შექსიგნალიზაცია უნდა ჩაირთოს: გ) მძღოლისთვის შემხვედრი მექანიკური სატრანსპორტო საშუალების ფარების შექით თვალის მოჭრის დროს, თუ იგი იძულებულია გაჩერდეს.

## ВОПРОС 291

ПРАВИЛЬНЫЙ ОТВЕТ: 3

Арныкәаф, аангылара иахыкәамло атыпкәа рҕы, егьырт арныкәафцәа иаамтаны дахырымбаша атып аҕы уаха пҭсыхәа имамкәа даангылазар, уи адырга капҭшь Пҭма уи еипҭшу даәа дыргакТ ихпҭмыркәкәа икәиргылароупЖ

1

Амашәыртә алашартә ардырга аҕакра аамышьтахь

2

Амашәыртә алашартә ардырга икәмзар ма ипҭхастазар

3

Амашәыртә ардырга аҕакра аамышьтахь, иара убас, уи еипҭш ардырга икәмзар ма ипҭхастазар

## განმარტება:

„საგზაო მოძრაობის შესახებ“ საქართველოს კანონის 52-ე მუხლის მე-2 პუნქტის „ბ“ ქვეპუნქტის თანახმად, საავარიო შექსიგნალიზაციის ჩართვის შემდეგ, აგრეთვე თუ ასეთი სიგნალიზაცია არ არსებობს ან მწყობრიდანაა გამოსული, მძღოლმა დაუყოვნებლივ უნდა დადგას „საავარიო გაჩერების ნიშანი“, ხოლო არასაკმარისი ხილვადობის პირობებში – მოციმციმე წითელი ფარანი: ბ) იმ ადგილას იძულებით გაჩერების დროს, სადაც გაჩერება აკრძალულია, და იქ, სადაც, ხილვადობის პირობების გათვალისწინებით, სხვა მძღოლები ვერ შეძლებენ სატრანსპორტო საშუალების დროულად შემჩნევას. ამავე მუხლის მე-4 პუნქტის თანახმად საავარიო გაჩერების ნიშნის ან მოციმციმე წითელი ფარნის არარსებობის შემთხვევაში მძღოლმა უნდა უზრუნველყოს სხვა მსგავსი ეფექტიანი საშუალებებით მოახლოებულ მძღოლთა დროული გაფრთხილება.

Анхартатың ағы, арныкәә, уаха псыхәа имамкәа, аангылара иахыкамло атыпкәа рғы даангылазар, уи амашәыртә аангылара адырга Пума уи еипшу даеа дыргакТ икәиргылароуп атранспорттә хархәага акынтәЖ

1

5 метрак абжъазаарағы

2

10 метрак абжъазаарағы

3

15 метрак абжъазаарағы

### განმარტება:

„საგზაო მოძრაობის შესახებ“ საქართველოს კანონის 52-ე მუხლის მე-2 პუნქტის „ბ“ ქვეპუნქტისა და მე-3 და მე-4 პუნქტების თანახმად: 2. საავარიო შეუსიგნალიზაციის ჩართვის შემდეგ, აგრეთვე თუ ასეთი სიგნალიზაცია არ არსებობს ან მწყობრიდანაა გამოსული, მძღოლმა დაუყოვნებლივ უნდა დადგას „საავარიო გაჩერების ნიშანი“, ხოლო არასაკმარისი ხილვადობის პირობებში – მოციმციმე წითელი ფარანი: ბ) იმ ადგილას იძულებით გაჩერების დროს, სადაც გაჩერება აკრძალულია, და იქ, სადაც, ხილვადობის პირობების გათვალისწინებით, სხვა მძღოლები ვერ შეძლებენ სატრანსპორტო საშუალების დროულად შემჩნევას. 3. „საავარიო გაჩერების ნიშანი“ და მოციმციმე წითელი ფარანი უნდა დაიდგას სატრანსპორტო საშუალებიდან იმ მანძილზე, რომელიც კონკრეტულ პირობებში უზრუნველყოფს საშიშროების შესახებ სხვა მძღოლების დროულ გაფრთხილებას, მაგრამ ეს მანძილი დასახლებულ პუნქტში არ უნდა იყოს 15 მეტრზე ნაკლები, ხოლო დაუსახლებელ პუნქტში – 30 მეტრზე ნაკლები. 4. საავარიო გაჩერების ნიშნის ან მოციმციმე წითელი ფარნის არარსებობის შემთხვევაში მძღოლმა უნდა უზრუნველყოს სხვა მსგავსი ეფექტიანი საშუალებებით მოახლოებულ მძღოლთა დროული გაფრთხილება.

## ВОПРОС 293

ПРАВИЛЬНЫЙ ОТВЕТ: 3

Ауаа иахьнымхо атыџаџы, арныкџаџ, уаха џыхџаа имамкџа, аангылара иахьыџамло атыџкџа рџы даангылазар, уи амашџыртџ аангылара адырга џџма уи еипџшу даџа дыргакџ иџџаиргылароуп атранспортџ харџџааа аџынџџ

1

15 метრაџ абџџаџараџы

2

20 метრაџ абџџаџараџы

3

30 метრაџ абџџаџараџы

## განმარტება:

„საგზაო მოძრაობის შესახებ“ საქართველოს კანონის 52-ე მუხლის მე-2, პუნქტის „ბ“ ქვეპუნქტისა და მე-3 და მე-4 პუნქტების თანახმად: 2. საავარიო შექსიგნალიზაციის ჩართვის შემდეგ, აგრეთვე თუ ასეთი სიგნალიზაცია არ არსებობს ან მწყობრიდანაა გამოსული, მძღოლმა დაუყოვნებლივ უნდა დადგას „საავარიო გაჩერების ნიშანი“, ხოლო არასაკმარისი ხილვადობის პირობებში – მოციმციმე წითელი ფარანი: ბ) იმ ადგილას იძულებით გაჩერების დროს, სადაც გაჩერება აკრძალულია, და იქ, სადაც, ხილვადობის პირობების გათვალისწინებით, სხვა მძღოლები ვერ შეძლებენ სატრანსპორტო საშუალების დროულად შემჩნევას. 3. „საავარიო გაჩერების ნიშანი“ და მოციმციმე წითელი ფარანი უნდა დაიდგას სატრანსპორტო საშუალებიდან იმ მანძილზე, რომელიც კონკრეტულ პირობებში უზრუნველყოფს საშიშროების შესახებ სხვა მძღოლების დროულ გაფრთხილებას, მაგრამ ეს მანძილი დასახლებულ პუნქტში არ უნდა იყოს 15 მეტრზე ნაკლები, ხოლო დაუსახლებელ პუნქტში – 30 მეტრზე ნაკლები.

## ВОПРОС 294

ПРАВИЛЬНЫЙ ОТВЕТ: 2

„Амашџыртџ аангылара адырга“ ма алашаратџ ардырга џаџџшь иџамзар, арныкџаџџ

1

Иааигџаџо арныкџаџџџаа агџџанџара рџџара ихымџџадам

2

Егџырт ахарџџаџаџџаа рџџаа иааигџаџо арныкџаџџџаа агџџанџара рџџароуп

## განმარტება:

„საგზაო მოძრაობის შესახებ“ საქართველოს კანონის 52-ე მუხლის მე-4 პუნქტის თანახმად, საავარიო გაჩერების ნიშნის ან მოციმციმე წითელი ფარანის არარსებობის შემთხვევაში მძღოლმა უნდა უზრუნველყოს სხვა მსგავსი ეფექტიანი საშუალებებით მოახლოებულ მძღოლთა დროული გაფრთხილება.



Амашәыр иалахәу ма иҭхастахаз атранспорттә хархәагакәа амџасыртә ралгара калом, уи амџа аитатцра егырт алахәылацәа ирҭырхагоуп. Амашәыртә алашаратә ардырга аџакра аамышьтахь, иара убас, абри еиҭш ардырга иҭамзар, ма итхастазар, арныкәаџЖ

1

Ихҭмырҭыақәа иқәиргылароуп „Амашәыртә аангылар адырга“, алаҭшбара цәгьазар – алашарбага каҭшь

2

Ахышәаратә алашарақәа иаџеикроуп

3

Хара изырлашо алашарбагақәа иаџеикроуп

### განმარტება:

„საგზაო მოძრაობის შესახებ“ საქართველოს კანონის 52-ე მუხლის პირველი პუნქტის „ა“ ქვეპუნქტის თანახმად, საავარიო ზუსტიგნალიზაცია გამოიყენება მოსალოდნელი საფრთხის შესახებ სხვა საგზაო მოძრაობის მონაწილეთა გაფრთხილებისათვის. საავარიო ზუსტიგნალიზაცია უნდა ჩაირთოს: ა) თუ საგზაო-სატრანსპორტო შემთხვევის მონაწილე ან მწყობრიდან გამოსული სატრანსპორტო საშუალების გაყვანა ან ბუქსირება დაუყოვნებლივ შეუძლებელია და ეს აბრკოლებს საგზაო მოძრაობის სხვა მონაწილეებს. ამავე მუხლის მე-2 პუნქტის „ა“ ქვეპუნქტის თანახმად, საავარიო ზუსტიგნალიზაციის ჩართვის შემდეგ, აგრეთვე თუ ასეთი სიგნალიზაცია არ არსებობს ან მწყობრიდანაა გამოსული, მძღოლმა დაუყოვნებლივ უნდა დადგას „საავარიო გაჩერების ნიშანი“, ხოლო არასაკმარისი ხილვადობის პირობებში – მოციმციმე წითელი ფარანი: ა) საგზაო-სატრანსპორტო შემთხვევის დროს.



Амашына лас арныкәә асахьаҕы иарбоу атыҕаҕы ҕысхәа имамкәа даангылазар, амашыртә алашаратә ардырга иаҕакны амашыртә аангылара адырга ақәыргылара иуалумаҕ

1

Амашыртә алашаратә ардырга аҕакра мацара иуалуп

2

Амашына ашытахь 15 метрак аҕы амашыртә адырга аргылара мацара иуалуп

3

Иуалым

### განმარტება:

„საგზაო მოძრაობის შესახებ“ საქართველოს კანონის 52-ე მუხლის პირველი პუნქტის „ბ“ ქვეპუნქტის თანახმად, საავარიო ზუსტიგნალიზაცია გამოიყენება მოსალოდნელი საფრთხის შესახებ სხვა საგზაო მოძრაობის მონაწილეთა გაფრთხილებისათვის. საავარიო ზუსტიგნალიზაცია უნდა ჩაირთოს: ბ) იმ ადგილას იძულებით გაჩერების დროს, სადაც გაჩერება აკრძალულია. ამავე კანონის 37-ე მუხლის მე-6 პუნქტის „ა.გ“ ქვეპუნქტის თანახმად აკრძალულია სატრანსპორტო საშუალების გაჩერება, გზის სავალ ნაწილზე: ა.გ) სავალი ნაწილების გადაკვეთაზე, აგრეთვე მათი გადაკვეთის ნაპირებიდან 5 მეტრზე ახლოს, გარდა იმ შემთხვევისა, როცა გაჩერება ხდება იმ გვერდითი გასასვლელების მოპირდაპირე სამხრივ გადაკვეთებზე (გზაჯვარედინებზე), რომლებზედაც მონიშვნის უწყვეტი ხაზი ან გამყოფი ზოლია.



Иарбоу атагылазашьаџы арныкџаџ зыда пџыхџа иџам аангыларазы ишџакџылоу аџџараџџа еилеиџома, иџхастаџаз амашџына ихџмырџкџакџа амџа алгара алшара иџамзарџ

1

Еилеиџоит

2

Еилеиџом

### განმარტება:

„საგზაო მოძრაობის შესახებ“ საქართველოს კანონის 38-ე მუხლის პირველი პუნქტის „გ.ა“ ქვეპუნქტის თანახმად, ავტომაგისტრალზე, ავტომაგისტრალის შესასვლელსა და გამოსასვლელზე მძღოლს ეკრძალება ავტომობილის (ან/და მისი მისაბმელის) გაჩერება ან დგომა, დგომისთვის გამოყოფილი, სპეციალურად მონიშნული ადგილების გარდა. მძღოლმა, რომელიც მისგან დამოუკიდებელი გარემოებების გამო იძულებულია, გაჩერდეს, უნდა მიიღოს ყველა ზომა ავტომობილის (ან/და მისი მისაბმელის) გზის სავალი ნაწილიდან გასაყვანად, ხოლო თუ ამის დაუყოვნებლივ გაკეთება შეუძლებელია – ჩართოს საავარიო შექსიგნალიზაცია (მისი არსებობის შემთხვევაში) და შესაბამისი ნიშნით მონიშნოს ავტომობილი (ან/და მისი მისაბმელი) საკმარის მანძილზე, რათა დროულად გააფრთხილოს მოახლოებული მძღოლები. ამავე კანონის 52-ე მუხლის მე-3 პუნქტის თანახმად, „საავარიო გაჩერების ნიშანი“ და მოციმციმე წითელი ფარანი უნდა დაიდგას სატრანსპორტო საშუალებიდან იმ მანძილზე, რომელიც კონკრეტულ პირობებში უზრუნველყოფს საშიშროების შესახებ სხვა მძღოლების დროულ გაფრთხილებას, მაგრამ ეს მანძილი დასახლებულ პუნქტში არ უნდა იყოს 15 მეტრზე ნაკლები, ხოლო დაუსახლებელ პუნქტში – 30 მეტრზე ნაკლები.

Атехникатә ауадаѳракәа ирыхъяны автомагистраль аѳы даанымгылар ада п̄сыхәа змам атранспорттә хархәага арныкәаѳ иуалупЖ

1

Атранспорттә хархәага амѳасырта иалигарц азы атагылазаашьақәа зегьы ихы иаихәароуп, уи еип̄ш алшара икамзар, амашәыртә алашаратә ардырга иаѳеикроуп  
 Пурт иказарТ, анеѳс, иааигәахо арныкәаѳцәа иаамтаны агәеанцара рытара амзызла, иашьашәалоу адыргала, иазхаша абжьазаараѳы атранспорттә хархәага иазгәеитароу

2

Атехникатә аматцзура ахатарнақәа ихп̄мыр̄кьакәа адырра ритароуп, урт иаиаанза, итранспорттә хархәага амѳасырта арѳьарахьтәи ацәахәашка иаигароуп, амашәыртә алашаратә ардыргеи, ааигәа изырлашо алашарбагақәеи иаѳеикроуп

### განმარტება:

„საგზაო მოძრაობის შესახებ“ საქართველოს კანონის 38-ე მუხლის პირველი პუნქტის „გ.ა“ ქვეპუნქტის თანახმად, ავტომანქანებზე, ავტომანქანის შესასვლელსა და გამოსასვლელზე მძღოლს ეკრძალება ავტომობილის (ან/და მისი მისაბმელის) გაჩერება ან დგომა, დგომისთვის გამოყოფილი, სპეციალურად მონიშნული ადგილების გარდა. მძღოლმა, რომელიც მისგან დამოუკიდებელი გარემოებების გამო იძულებულია, გაჩერდეს, უნდა მიიღოს ყველა ზომა ავტომობილის (ან/და მისი მისაბმელის) გზის სავალი ნაწილიდან გასაყვანად, ხოლო თუ ამის დაუყოვნებლივ გაკეთება შეუძლებელია – ჩართოს საავარიო შექსიგნალიზაცია (მისი არსებობის შემთხვევაში) და შესაბამისი ნიშნით მონიშნოს ავტომობილი (ან/და მისი მისაბმელი) საკმარის მანძილზე, რათა დროულად გააფრთხილოს მოახლოებული მძღოლები.

Амѡათѡатранспорттѡ амашѡыр иалахѡу атранспорттѡ хархѡага ихѡუმьрѡьякѡа амѡа алгара ма ак иацрахѡаны агара алшара иѡамзар, амѡатѡ аитѡатра егѡырт алахѡалацѡа уи рѡѡырхагазар, усѡан абри атранспорттѡ хархѡага арнѡыкѡаѡ иаѡеиѡроупѡЖ

1

Ааигѡа ма хара изырлашо арлашагакѡа ма ашьѡахѡтѡи ахышѡаратѡ арлашагакѡа

2

Амашѡыртѡ алашаратѡ ардырга

3

Абжѡытѡ ардырга

### განმარტება:

„საგზაო მოძრაობის შესახებ“ საქართველოს კანონის 52-ე მუხლის პირველი პუნქტის „ა“ ქვეპუნქტის თანახმად, საავარიო შუქსიგნალიზაცია გამოიყენება მოსალოდნელი საფრთხის შესახებ სხვა საგზაო მოძრაობის მონაწილეთა გაფრთხილებისათვის. საავარიო შუქსიგნალიზაცია უნდა ჩაირთოს: ა) თუ საგზაო-სატრანსპორტო შემთხვევის მონაწილე ან მწყობრიდან გამოსული სატრანსპორტო საშუალების გაყვანა ან ბუქსირება დაუყოვნებლივ შეუძლებელია და ეს აბრკოლებს საგზაო მოძრაობის სხვა მონაწილეებს.



Амѡатѡеатранспорттѡ амашѡыр иалахѡу атранспорттѡ хархѡагаѡы амашѡыртѡ алашаратѡ ардырга аѡakra аамышьтахь, иара убас, абри еиѡш ардырга иѡамзар ма иѡхастазар, арныѡѡѡ ихѡмырѡьякѡѡЖ

1

Хара изырлашо арлашагаѡѡ иаѡеикроуп

2

Абжытѡ ардырга иаѡеикроуп

3

Амашѡыртѡ аангылара ардырга иѡѡиргылароуп, алаѡшбара цѡгъазар – ардырга ѡаѡшь иаѡеикроуп

### განმარტება:

„საგზაო მოძრაობის შესახებ“ საქართველოს კანონის 52-ე მუხლის პირველი პუნქტის „ა“ ქვეპუნქტის თანახმად, საავარიო შეუსიგნალიზაცია გამოიყენება მოსალოდნელი საფრთხის შესახებ სხვა საგზაო მოძრაობის მონაწილეთა გაფრთხილებისათვის. საავარიო შეუსიგნალიზაცია უნდა ჩაირთოს: ა) თუ საგზაო-სატრანსპორტო შემთხვევის მონაწილე ან მწყობრიდან გამოსული სატრანსპორტო საშუალების გაყვანა ან ბუქსირება დაუყოვნებლივ შეუძლებელია და ეს აბრკოლებს საგზაო მოძრაობის სხვა მონაწილეებს; ამავე მუხლის მე-2 პუნქტის „ა“ ქვეპუნქტის თანახმად საავარიო შეუსიგნალიზაციის ჩართვის შემდეგ, აგრეთვე თუ ასეთი სიგნალიზაცია არ არსებობს ან მწყობრიდანაა გამოსული, მძღოლმა დაუყოვნებლივ უნდა დადგას „საავარიო გაჩერების ნიშანი“, ხოლო არასაკმარისი ხილვადობის პირობებში – მოციმციმე წითელი ფარანი: ა) საგზაო-სატრანსპორტო შემთხვევის დროს.

Алаფшбара ианыцэгъоу амѡатѡ амашѡыр калар, уи иалахѡу атранспорттѡ хархѡагафѡ амашѡыртѡ ардырга аѡакра аамышьтахѡ, иара убас, абри еипѡш ардырга икѡмзар ма ипѡхастазар, арныкѡаѡ ихпѡмыркѡакѡаЖ

1

Ицѡырганы икѡиргылароуп арлашага капѡшь, уи икѡмзар, егырт ахархѡагакѡа рыла иааигѡахо арныкѡаѡцѡа иаамтаны агѡе антцара ритароуп

2


Ашьтахѡтѡи ахышѡаратѡ арлашагакѡа иаѡеикроуп

3

Апѡхѡатѡи ашьтахѡтѡи анакѡაѡაцѡыхѡчаратѡ арлашагакѡа иаѡеикроуп

### განმარტება:

„საგზაო მოძრაობის შესახებ“ საქართველოს კანონის 52-ე მუხლის პირველი პუნქტის „ა“ ქვეპუნქტის თანახმად, საავარიო შექსიგნალიზაცია გამოიყენება მოსალოდნელი საფრთხის შესახებ სხვა საგზაო მოძრაობის მონაწილეთა გაფრთხილებისათვის. საავარიო შექსიგნალიზაცია უნდა ჩაირთოს: ა) თუ საგზაო-სატრანსპორტო შემთხვევის მონაწილე ან მწყობრიდან გამოსული სატრანსპორტო საშუალების გაყვანა ან ბუქსირება დაუყოვნებლივ შეუძლებელია და ეს აბრკოლებს საგზაო მოძრაობის სხვა მონაწილეებს; ამავე მუხლის მე-2 პუნქტის „ა“ ქვეპუნქტისა და მე-4 პუნქტის თანახმად: 2. საავარიო შექსიგნალიზაციის ჩართვის შემდეგ, აგრეთვე თუ ასეთი სიგნალიზაცია არ არსებობს ან მწყობრიდანაა გამოსული, მძღოლმა დაუყოვნებლივ უნდა დადგას „საავარიო გაჩერების ნიშანი“, ხოლო არასაკმარისი ხილვადობის პირობებში – მოციმციმე წითელი ფარანი: ა) საგზაო-სატრანსპორტო შემთხვევის დროს. 4. საავარიო გაჩერების ნიშნის ან მოციმციმე წითელი ფარნის არარსებობის შემთხვევაში მძღოლმა უნდა უზრუნველყოს სხვა მსგავსი ეფექტიანი საშუალებებით მოახლოებულ მძღოლთა დროული გაფრთხილება.



Аидаратә машына арныкәа ахыц ахырхартала деитатыр амѡатә аитатра атасқәа еилеигомаѢ

1

Еилеigoит

2

Еилеигаѡом

### განმარტება:

„საგზაო მოძრაობის შესახებ“ საქართველოს კანონის პირველი დანართის მე-3 თავის (ამკრძალავი ნიშნები) 3.22 პუნქტის თანახმად, საგზაო ნიშანი 3.22 „სატვირთო ავტომობილით გასწრება აკრძალულია“ - კრძალავს 3,5 ტონაზე მეტი ნებადართული მაქსიმალური მასის მქონე სატვირთო ავტომობილით სხვა სატრანსპორტო საშუალების გასწრებას (გარდა 30 კმ/სთ-ზე ნაკლები სიჩქარით მოძრავი ტრანსპორტისა), აგრეთვე ტრაქტორით სხვა სატრანსპორტო საშუალების გასწრებას (გარდა საჭაპანო ტრანსპორტისა და ველოსიპედისა).

თემა 14:

გარე სანათი ხელსაწყოები, ხმოვანი  
სიგნალით სარგებლობა

---

## ВОПРОС 303

ПРАВИЛЬНЫЙ ОТВЕТ: 3

Закѣанла ихѣаакѣтѣоу абарт атагылазашѣакѣа раан ашѣакауаа реитатцразы иазѣхѣагѣათѣоу атыѣ алаалара азин змоу арныѣкѣаѣ иуалупЖ

1

Излауа ала игѣѣанызароуп

2

Аласра хѣычы ала деитатцроуп, иатаххар амашѣына аанкыларა илшаратѣы

3

Излауа ала игѣѣанызароуп, иара убас, аласра хѣычы ала деитатцроуп, иатаххар амашѣына аанкыларა илшаратѣы

## განმარტება:

„საგზაო მოძრაობის შესახებ“ საქართველოს კანონის 25-ე მუხლის მე-5 პუნქტის თანახმად, იმ სატრანსპორტო საშუალების მძღოლი, რომელსაც ამ კანონით განსაზღვრულ შემთხვევებში უფლება აქვს შევიდეს ქვეითთა მოძრაობისათვის განკუთვნილ ადგილებში, ვალდებულია გამოიჩინოს მაქსიმალური სიფრთხილე და იმოძრაოს დაბალი სიჩქარით, რათა აუცილებლობის შემთხვევაში გაჩერდეს.

## ВОПРОС 304

ПРАВИЛЬНЫЙ ОТВЕТ: 1

Атѣира алашаратѣ дырга иѣамзар, ма иѣхастазар, арныѣкѣаѣ, аманиовр аѣатцара далагаанѣа, аманиовр ѣаитцар шитаху напала ардырга аѣатцара даѣѣытыр ѣаломаѣ

1

Иѣалоит

2

Иѣалом

## განმარტება:

„საგზაო მოძრაობის შესახებ“ საქართველოს კანონის 32-ე მუხლის მე-2 პუნქტის თანახმად მანევრის დაწყებამდე მძღოლი ვალდებულია ჩართოს შესაბამისი მიმართულების მოხვევის შუქ-მაჩვენებელი, ხოლო თუ ის არ არის ან გამოსულია მწყობრიდან – ანიშნოს ხელით. მარცხნივ მოხვევის ან მობრუნების სიგნალს შეესაბამება გვერდზე ჰორიზონტალურად გაშვებული მარცხენა ხელი ან გვერდზე გაშვებული, იდაყვში სწორი კუთხით ზემოთ მოხრილი მარჯვენა ხელი. მარჯვნივ მოხვევის სიგნალს შეესაბამება გვერდზე ჰორიზონტალურად გაშვებული მარჯვენა ხელი ან გვერდზე გაშვებული, იდაყვში სწორი კუთხით ზემოთ მოხრილი მარცხენა ხელი. დამუხრუჭების სიგნალს შეესაბამება ზემოთ ვერტიკალურად აწეული მარცხენა ან მარჯვენა ხელი. მოხვევის შუქ-მაჩვენებლით ან ხელით სიგნალი მიცემული უნდა იქნეს დროულად, მანევრის დაწყების წინ და უნდა შეწყდეს დაუყოვნებლივ, მისი დასრულებისთანავე (სიგნალის ხელით მიცემა შეიძლება შეწყდეს უშუალოდ მანევრის დაწყების წინ). ამასთანავე, სიგნალმა არ უნდა შეაცდინოს სხვა საგზაო მოძრაობის მონაწილეები. მოხვევის შუქ-მაჩვენებლით ან ხელით სიგნალის მიცემა მძღოლს არ აძლევს უპირატესობას და არ ათავისუფლებს სიფრთხილის აუცილებელი ზომების მიღების ვალდებულებისაგან.





Амашына лас арныкәә ахыц ахырхартала деитатүазар, армарахь атәиҭа алашаратә ардырга аҭакра ихәтоумаҭ

1

Ихәтазам

2

Ихәтоуп

### განმარტება:

„საგზაო მოძრაობის შესახებ“ საქართველოს კანონის 32-ე მუხლის მე-2 პუნქტის თანახმად, მანევრის დაწყებამდე მძღოლი ვალდებულია ჩართოს შესაბამისი მიმართულების მოხვევის შუქ-მაჩვენებელი, ხოლო თუ ის არ არის ან გამოსულია მწყობრიდან — ანიშნოს ხელით.

## ВОПРОС 306

ПРАВИЛЬНЫЙ ОТВЕТ: 3

Аманиовრ анагзარა აეазკრა იაზკნы алашаратә ардыргала ма напыла икатоу ардырга атранспорттә хархәага арныкәаЖ

1

Апыжәара инаҭоит

2

Агәанҭара ахымҭадаратә тагылазаашьақәа  
рыдкылара аҭынтә дхақәитнәтәуеит

3

Хыхь иарбоу атаккәа ииашам

## განმარტება:

„საგზაო მოძრაობის შესახებ“ საქართველოს კანონის 32-ე მუხლის მე-2 პუნქტის თანახმად, მოხვევის შექმნა მანქანებით ან ხელით სიგნალის მიცემა მძღოლს არ აძლევს უპირატესობას და არ ათავისუფლებს სიფრთხილის აუცილებელი ზომების მიღების ვალდებულებისაგან.

## ВОПРОС 307

ПРАВИЛЬНЫЙ ОТВЕТ: 2

Арныкәа, аманиовр анагзარა шитаху иазкны, иашьашәалоу ахырхартала атәира алашарбагала ардырга каитцароупЖ

1

Аманиовр даналагалак, аманиовр даналгалак  
ардырга иакәихроуп

2

Иаамтаны, аманиовრ далагаанҭа, ардырга  
иакәыхроуп аманиовр даналгалактәкәа

## განმარტება:

„საგზაო მოძრაობის შესახებ“ საქართველოს კანონის 32-ე მუხლის მე-2 პუნქტის თანახმად, მოხვევის შექმნა მანქანებით ან ხელით სიგნალი მიცემული უნდა იქნეს დროულად, მანევრის დაწყების წინ და უნდა შეწყდეს დაუყოვნებლივ, მისი დასრულებისთანავე (სიგნალის ხელით მიცემა შეიძლება შეწყდეს უშუალოდ მანევრის დაწყების წინ). ამასთანავე, სიგნალმა არ უნდა შეაცდინოს სხვა საგზაო მოძრაობის მონაწილეები.



## ВОПРОС 309

ПРАВИЛЬНЫЙ ОТВЕТ: 2

ადენიკატეი არლაშაგა იაფაკნყ მა ზყშეკეა აართყ იგყლო ატრანსპორტე ჰარჰეაგა იავარშენყ აიტატრა აან, არნყკეაფჟ

1

აბჟყტე არდყრგა კატანყ ალასრა იაციტაროუპ

2

ყყდალათეი აგეენყზაარა ააირყყყოუპ, აყყაყაყაა ჰეყკეა იაალყრყანყ რეყრტრა იაყყლეიარ ზყლშო აშეარტა იაამტანყ აეეცარა ამჰყლა

3

ალასრა ირმაცნყ, ამაშეყრტე ალასარატე არდყრგა იაფეიკროუპ, იგყლო ატრანსპორტე ჰარჰეაგა იაალყრყანყ ეიტატყრ, იაამტანყ აშეარტა დაეეცარე აჰყ

## განმარტება:

„საგზაო მოძრაობის შესახებ“ საქართველოს კანონის 25-ე მუხლის მე-8 პუნქტის თანახმად, გზაზე გაჩერებული სატრანსპორტო საშუალების გასწვრივ მოძრაობისას მძღოლმა განსაკუთრებული სიფრთხილე უნდა გამოიჩინოს ჩართული გარე სანათი ხელსაწყოს ან ღია კარის მქონე სატრანსპორტო საშუალების მიმართ, რათა აუცილებლობის შემთხვევაში დროულად უზრუნველყოს გზაზე ქვეითთა და ბავშვების მოულოდნელი გამოჩენით წარმოშობილი საფრთხის თავიდან აცილება.

## ВОПРОС 310

ПРАВИЛЬНЫЙ ОТВЕТ: 1

არნყკეაფ, ყყაყყლა ეიტატყა აჰეყკეეი, ზყკერა ნეიყყოი, აგრა ჰმოიყ აყააყყყრეი ყყდალათეი აგეე ანყზაარალა დრყზნყკეარ იჰეტოუმაფ

1

იჰეტოუპ

2

იჰეტამ

## განმარტება:

„საგზაო მოძრაობის შესახებ“ საქართველოს კანონის 21-ე მუხლის მე-6 პუნქტის თანახმად, მძღოლმა განსაკუთრებული სიფრთხილე უნდა გამოიჩინოს საგზაო მოძრაობის ისეთი მონაწილეების მიმართ, როგორებიც არიან ქვეითები (განსაკუთრებით ბავშვები, ხანდაზმულები, შეზღუდული შესაძლებლობის მქონე პირები) და ველოსიპედიტები.

## ВОПРОС 311

ПРАВИЛЬНЫЙ ОТВЕТ: 2

Ицәгьоу ма иҥку алаҭшбара аан арныкәаџ

1

Амашәыртә алашаратә ардырга иаҭакны, иареи уи иаҭхьа еитатҭа атранспорттә хархәагеи ирыбжьоу адистанциа ирмачроуп

2

Аласра ирмачны, иареи иара иаҭхьа еитатҭа атранспорттә хархәагеи ирыбжьоу адистанциа ирдуруп

3

Амашәыртә алашаратә ардырга иаҭакны, излауа ала амҭасырта армарахьтәи аганала деитатроуп

## განმარტება:

„საგზაო მოძრაობის შესახებ“ საქართველოს კანონის 25-ე მუხლის მე-10 პუნქტის „ა“ ქვეპუნქტის თანახმად, გზაზე მოძრაობისას მძღოლმა უნდა გაითვალისწინოს შემდეგი გარემოებები - არასაკმარისი ან შეზღუდული ხილვადობის პირობებში მძღოლმა უნდა შეამციროს სიჩქარე და გაზარდოს დისტანცია თავის სატრანსპორტო საშუალებასა და მის წინ მიმავალ სატრანსპორტო საშუალებას შორის.

## ВОПРОС 312

ПРАВИЛЬНЫЙ ОТВЕТ: 2

Арныкәаџ абжьытә ардырга ихы иаирхәар илшоитЖ

1

Иарбанзаалак атагылазаашьаҭы, иахәтоуп хәа иҭхьаҟозар

2

Иаамтаны агәантара атаразы мацара, амҭатәе атранспорттә амашәыр ае ацәыхьчара амзызла

3

Амҭеихысыртаҭы аҭыжәара аиуразы

## განმარტება:

„საგზაო მოძრაობის შესახებ“ საქართველოს კანონის 48-ე მუხლის პირველი პუნქტის თანახმად, ხმოვანი სიგნალი შეიძლება გამოყენებულ იქნეს მხოლოდ: ა) საგზაო მოძრაობის მონაწილეთა დროული გაფრთხილებისთვის, საგზაო-სატრანსპორტო შემთხვევის თავიდან ასაცილებლად; ბ) დასახლებულ პუნქტებს გარეთ, როდესაც საჭიროა სხვა სატრანსპორტო საშუალების მძღოლის გაფრთხილება გასწრების განზრახვის შესახებ.



## ВОПРОС 313

ПРАВИЛЬНЫЙ ОТВЕТ: 3

Арныкәә икаитцо абжытә ардырга аураЖ

1

3 секундк иреихамзароуп

2

5 секундк иреихамзароуп

3

Ихымҕадоу ацкыс еихамзароуп

განმარტება:

„საგზაო მოძრაობის შესახებ“ საქართველოს კანონის 48-ე მუხლის მე-2 პუნქტის თანახმად, ხმოვანი სიგნალი არ უნდა იყოს უფრო ხანგრძლივი, ვიდრე ეს აუცილებელია.

## ВОПРОС 314

ПРАВИЛЬНЫЙ ОТВЕТ: 2

Ианылашоу аамтазы анхартатыҕ аҕы аҕысра аҕазкра иазкны еҕы арныкәә аҕҕеантара итаразы ахархәара калоитЖ

1

Абжытә ардырга

2

Амашынаблақәа рылашара аамтаҕаамтала  
рҕакреи рырцәарей

3

Амашәыртә алашаратә ардырга

4

Амашынаблақәа ааигәатә рылашара харатә  
рылашарашҕа изныкымкәа аиагара

განმარტება:

„საგზაო მოძრაობის შესახებ“ საქართველოს კანონის 48-ე მუხლის მე-3 პუნქტის თანახმად, დასახლებულ პუნქტში გასწრების განზრახვის შესახებ სხვა სატრანსპორტო საშუალების მძღოლის გასაფრთხილებლად შეიძლება ჩაირთოს მანათობელი სიგნალი დღე-ღამის ნათელ დროს ფარების შუქის პერიოდული, ხანმოკლე ჩართვა-გამორთვით, ხოლო დღე-ღამის ბნელ დროს – ფარების ახლო შუქის შორ შუქზე მრავალჯერადი გადართვით, დაუსახლებულ პუნქტში კი – ხმოვანი სიგნალის ნაცვლად ან მასთან ერთად.

## ВОПРОС 315

ПРАВИЛЬНЫЙ ОТВЕТ: 4

Ианылашьцоу аамтазы анхартатып ағы аңысра аеазкра иазкны егы арныкәә агәәанцара итаразы ахархәара калоитЖ

1

Абжытә ардырга

2

Амашынаблақәа рылашара аамтаәаамтала рҕакрей рырцәареи

3

Амашәыртә алашаратә ардырга

4

Амашынаблақәа ааигәатә рылашара харатә рылашарашка изныкымкәа аиагара

## განმარტება:

„საგზაო მოძრაობის შესახებ“ საქართველოს კანონის 48-ე მუხლის მე-3 პუნქტის თანახმად, დასახლებულ პუნქტში გასწრების განზრახვის შესახებ სხვა სატრანსპორტო საშუალების მძღოლის გასაფრთხილებლად შეიძლება ჩაირთოს მანათობელი სიგნალი დღე-ღამის ნათელ დროს ფარების შუქის პერიოდული, ხანმოკლე ჩართვა-გამორთვით, ხოლო დღე-ღამის ბნელ დროს – ფარების ახლო შუქის შორ შუქზე მრავალჯერადი გადართვით, დაუსახლებულ პუნქტში კი – ხმოვანი სიგნალის ნაცვლად ან მასთან ერთად.

## ВОПРОС 316

ПРАВИЛЬНЫЙ ОТВЕТ: 1

Аңысра аеазкра иазкны егы арныкәә агәәанцара итаразы абжытә ардырга ахархәара каломаБ

1

Икалоит, ауаа иахнымхо атып ағы мацара

2

Икалоит, анхартатып ағы мацара

3

Икалоит, анхартатып ағы, иара убас, ауаа иахнымхо атып ағы

4

Икалом

## განმარტება:

„საგზაო მოძრაობის შესახებ“ საქართველოს კანონის 48-ე მუხლის პირველი პუნქტის „ბ“ ქვეპუნქტის თანახმად, ხმოვანი სიგნალი შეიძლება გამოყენებულ იქნეს მხოლოდ დასახლებულ პუნქტს გარეთ, როდესაც საჭიროა სხვა სატრანსპორტო საშუალების მძღოლის გაფრთხილება გასწრების განზრახვის შესახებ.

## ВОПРОС 317

ПРАВИЛЬНЫЙ ОТВЕТ: 4

Цақа еиқыпхыажоу атыпқәа ркынтә руа иарбан арныкәәд аманиовр далагаанза атәира иахытаху ахырхарта иашьашәалоу алашарбага аҕакра иахыхәтамҕ

1

Анхартатып аҕы

2

Иаҕну атакырадгыл аҕы

3

Агәара атакыраҕы

4

Ихәтоуп, абри абилет аҕы еиқыпхыажоу иарбанзаалак тыпк аҕы

## განმარტება:

„საგზაო მოძრაობის შესახებ“ საქართველოს კანონის 32-ე მუხლის მე-2 პუნქტის თანახმად, მანევრის დაწყებამდე მძღოლი ვალდებულია ჩართოს შესაბამისი მიმართულების მოხვევის შუქ-მაჩვენებელი, ხოლო თუ ის არ არის ან გამოსულია მწყობრიდან – ანიშნოს ხელით.

## ВОПРОС 318

ПРАВИЛЬНЫЙ ОТВЕТ: 2

Ианылашыцалак инаркны шаанза, иара убас, алапшбара цәгәа атагылазаашьаҕы, амҕаҕы аангылара ма агылара аан амеханикатә атраснпорттә хархәагакәеи урт рыцрахәагакәеи иазгәатазароупЖ

1

Хара изырлашо алашарбагакәа рыла

2

Апхьатәи ашьтахьтәи ахышәаратә алашаракәа рыла

3

Ааигәа изырлашо алашарбагакәа рыла

4

Апхьатәи анакәаеацәыхьчаратә аблакәа рыла

## განმარტება:

„საგზაო მოძრაობის შესახებ“ საქართველოს კანონის 49-ე მუხლის მე-9 პუნქტის თანახმად, დაბინდებიდან გათენებამდე, აგრეთვე ნებისმიერი სხვა არასაკმარისი ხილვადობის პირობებში, გზაზე გაჩერების ან დგომის დროს მექანიკური სატრანსპორტო საშუალება და მისი მისაბმელი აღნიშნული უნდა იყოს წინა და უკანა საგაბარიტო სინათლეებით.

## ВОПРОС 319

ПРАВИЛЬНЫЙ ОТВЕТ: 3

Ианылашьцоу ма алапшбара ианыцэґоу аамтазы еитатца амеханикатэ атранспорттэ хархэага иаґақызароупЖ

1

Ааигға ма хара изырлашо алашарбаґақға мацара

2

Анақғаеацэыхьчаратэ алашарбаґақға мацара

3

Ааигға ма хара изырлашо алашарбаґақґеи ашьтахьтэи ахышэаратэ алашарақґеи

4

Апхьатэи ашьтахьтэи ахышэаратэ алашарақға мацара

## განმარტება:

„საგზაო მოძრაობის შესახებ“ საქართველოს კანონის 49-ე მუხლის პირველი პუნქტის თანახმად, დღე-ღამის ბნელ დროს, აგრეთვე არასაკმარისი ხილვადობის პირობებში მოძრავ მექანიკურ სატრანსპორტო საშუალებაზე, აგრეთვე მოპედზე ჩართული უნდა იყოს ახლო ან შორი განათების ფარა/ფარები და უკანა საგაბარიტო სინათლეები.

## ВОПРОС 320

ПРАВИЛЬНЫЙ ОТВЕТ: 2

Амеханикатэ атранспорттэ хархэага апхьатэи анақғаеацэыхьчаратэ амашыынаблақға убас ишьақэыргылатэупЖ

1

Арнықға ишитаху еиңш

2

Уи иарлашо ақэыпшылара кэакькғы ааигға изырлашо машыынаблақға идырлашо ақэыпшылара зегы рейха ихараку акэакь аханы иқамзаратэи

3

Уи иарлашо ақэыпшылара кэакькғы ахышэаратэ алашарақға идырлашо ақэыпшылара зегы рейха илақәу акэакь ацақа иқамзаратэи

## განმარტება:

„საგზაო მოძრაობის შესახებ“ საქართველოს კანონის 49-ე მუხლის მე-4 პუნქტის თანახმად, თუ მექანიკური სატრანსპორტო საშუალება აღჭურვილია წინა ნისლსანინააღმდეგო ფარებით, ისინი უნდა იყოს თეთრი ან ყვითელი სელექციური სინათლის, ორი, ხოლო მოტოციკლზე – ერთი. წინა ნისლსანინააღმდეგო ფარები ისე უნდა დაყენდეს, რომ მათი გამნათებელი ზედაპირის არცერთი წერტილი არ იყოს ახლო განათების ფარების გამნათებელი ზედაპირის ყველაზე მაღალი წერტილის ზემოთ. თუ მექანიკურ სატრანსპორტო საშუალებაზე ან მისაბმელზე დაყენებულია უკანა ნისლსანინააღმდეგო ფარები, ისინი წითელი უნდა იყოს.

## ВОПРОС 321

ПРАВИЛЬНЫЙ ОТВЕТ: 2

Алаფшбара ианырцэгъоу ма икьахәу амѡаѣы аитатѡраан анакәаеацәыхьчаратә амашьынаблақәа иаѣактәупЖ

1

Амашәыртә алшаратә ардырга иацны

2

Хара изырлашоуи ааигәа изырлашоуи амашьынаблақәа ирыцны

3

Апхьатәи ашьтахьтәи ахышәаратә алашарақәа мацара ирыцны

## განმარტება:

„საგზაო მოძრაობის შესახებ“ საქართველოს კანონის 49-ე მუხლის მე-5 პუნქტის თანახმად, არასაკმარისი ხილვადობის პირობებში ან ვიწრო მიხვეულ-მოხვეულ გზებზე მოძრაობისას, ნისლსაწინააღმდეგო ფარები ირთვება შორი ან ახლო განათების ფარებთან ერთად.

## ВОПРОС 322

ПРАВИЛЬНЫЙ ОТВЕТ: 4

Апхьатәи ахышәаратә алашарақәа рыла еибытоу амеханикатә атранспорттә хархәагеи амопеди рѣы абарт алашарақәа иаѣактәупЖ

1

Хара изырлашо амашьынаблақәа ирыцны мацара

2

Ааигәа изырлашо амашьынаблақәа ирыцны мацара

3

Апхьатәи анакәаеацәыхьчаратә амашьынаблақәа ирыцны

4

Хара изырлашо, ааигәа изырлашо, иара убас, апхьатәи анакәаеацәыхьчаратә амашьынаблақәа ирыцны

## განმარტება:

„საგზაო მოძრაობის შესახებ“ საქართველოს კანონის 49-ე მუხლის მე-6 პუნქტის თანახმად, წინა საგაბარიტო სინათლეებით აღჭურვილ მექანიკურ სატრანსპორტო საშუალებაზე, აგრეთვე მოჰედზე ასეთი სინათლეები უნდა ჩაირთოს შორი ან ახლო განათების ფარებთან ან წინა ნისლსაწინააღმდეგო ფარებთან ერთად.



## ВОПРОС 323

ПРАВИЛЬНЫЙ ОТВЕТ: 2

Ианылашьцоу ма алапшбара ианыцэґоу аамтазы еитатца амеханикатә атранспорттә хархәага ацраҳәаґаґыЖ

1

Ишьақьыргылазароуп алашара здыпхаало ашьақьыргыламта мацара

2

Иаґақьызароуп аґхьатәи ахышәаратә алашарақәи Пұрт рыґазаара Қырттәыла азақәанґцарала иазґхьаґәатазарТ ґба иреитымкәа ашьтахьтәи ахышәаратә алашарақәи

3

Иаґақьызароуп ашьтахьтәи ахышәратә алашарак мацара

## განმარტება:

„საგზაო მოძრაობის შესახებ“ საქართველოს კანონის 49-ე მუხლის პირველი პუნქტის თანახმად, დღე-ღამის ბნელ დროს, აგრეთვე არასაკმარისი ხილვადობის პირობებში მოძრავე მექანიკურ სატრანსპორტო საშუალებებზე, აგრეთვე მოპედზე ჩართული უნდა იყოს ახლო ან შორი განათების ფარა/ფარები და უკანა საგაბარიტო სინათლეები, ხოლო მისაბმელზე – წინა საგაბარიტო სინათლეები (თუ მათ არსებობას ითვალისწინებს საქართველოს კანონმდებლობა) და არანაკლებ ორი უკანა საგაბარიტო სინათლე.

## ВОПРОС 324

ПРАВИЛЬНЫЙ ОТВЕТ: 1

Амашьына Пґапхьатәи аґанаґыТ анакәаґацәыхьчаратә арлашаґақәа рыла еибытазар, уи иамазароупЖ

1

Ишкәакәоу ма иґежьу аселекциатә алашарақәа ґба

2

Икапшьу ма иґежьу аселекциатә алашарақәа пшьба

3

Икапшьу аселекциатә алашарак

## განმარტება:

„საგზაო მოძრაობის შესახებ“ საქართველოს კანონის 49-ე მუხლის მე-4 პუნქტის თანახმად, თუ მექანიკური სატრანსპორტო საშუალება აღჭურვილია წინა ნისლსაწინააღმდეგო ფარებით, ისინი უნდა იყოს თეთრი ან ყვითელი სელექციური სინათლის, ორი, ხოლო მოტოციკლზე – ერთი.

## ВОПРОС 325

ПРАВИЛЬНЫЙ ОТВЕТ: 1

Амеханиკატე ატრანსპორტტე ხარხეაგაფე მა უი ატრაჲეაგაფე აშტახტეი ანაკეაეაფეხყარატე არლაშაგაჲეა იშყაკეგყლაზარ, ურტჲ

1

Икаѳшызароуп

2

Ишкәәкәзароуп

3

Иѡежьзароуп

## განმარტება:

„საგზაო მოძრაობის შესახებ“ საქართველოს კანონის 49-ე მუხლის მე-4 პუნქტის თანახმად, თუ მექანიკურ სატრანსპორტო საშუალებაზე ან მისაბმელზე დაყენებულია უკანა ნისლსაწინააღმდეგო ფარები, ისინი წითელი უნდა იყოს.

## ВОПРОС 326

ПРАВИЛЬНЫЙ ОТВЕТ: 1

Еиѳынгыланы еитатѳа атрანсѳорттә хархәага арныкәәф уи ахымѳадара иазгәеимтар, иѳыланы иааѳа арныкәәф данивсуа, хара изырлашо амашынаблакәа ирцәаны, урт рцынхәрас, ааигәа изырлашо амашынаблакәа иаѳеикроуп атрანсѳорттә хархәагакынѳа ишыбжьоѳჲ

1

150 მეტრაკ

2

200 მეტრაკ

3

300 მეტრაკ

## განმარტება:

„საგზაო მოძრაობის შესახებ“ საქართველოს კანონის 49-ე მუხლის მე-2 პუნქტის „ბ“ ქვეპუნქტის თანახმად, ზორი განათების ფარები უნდა გამოირთოს და მათ ნაცვლად უნდა ჩაირთოს ახლო განათების ფარები შემდეგ შემთხვევებში: ბ) შემხვედრისთვის გვერდის აქცევის დროს, სატრანსპორტო საშუალებამდე არანაკლებ 150 მეტრ მანძილზე, რათა ფარების შექმა შემხვედრი სატრანსპორტო საშუალების მძღოლს თვალი არ მოსჭრას და მას მიეცეს მოძრაობის მშვიდად და უსაფრთხოდ გაგრძელების საშუალება, აგრეთვე უფრო შორ მანძილზე, თუ საპირისპირო მიმართულებით მიმავალი სატრანსპორტო საშუალების მძღოლი ფარის/ფარების შექის პერიოდული გადართვით მიაწინებს ამის აუცილებლობაზე.

## ВОПРОС 327

ПРАВИЛЬНЫЙ ОТВЕТ: 1

Хара изырлашо амашынаблақәа ирцәаны, урт рцынхәрас ааигәа изырлашо амашынаблақәа иафактәупЖ

1

Амәатә аитатра егырт алахәылацәа ма имәатәны еитатра, анавигациатә ма аихатә амәа зхы иазырхәо атранспорттә хархәагақәа рылаҭшбара ацәҭахара ацәцара амзызла

2

Анхартатыҭ аҭы аитатраан

3

Алаҭшбара 300 метрак еитызар

## განმარტება:

„საგზაო მოძრაობის შესახებ“ საქართველოს კანონის 49-ე მუხლის მე-2 პუნქტის „გ“ ქვეპუნქტის თანახმად, შორი განათების ფარები უნდა გამოირთოს და მათ ნაცვლად უნდა ჩაირთოს ახლო განათების ფარები შემდეგ შემთხვევებში: გ) ნებისმიერ სხვა პირობებში, როცა თავიდან უნდა იქნეს აცილებული სხვა საგზაო მოძრაობის მონაწილეთა ან გზის გასწვრივ გამავალი სანაოსნო ან სალიანდაგო გზით მოსარგებლეთა მხედველობის დაბინდვა.

## ВОПРОС 328

ПРАВИЛЬНЫЙ ОТВЕТ: 1

Шьтахьла аитатра алашарбагақәа рафакра калоитЖ

1

Атранспорттә хархәага арныкәа шьтахьла данеитатра ма уи еиҭш аеазкра ианимоу мацара

2

Атранспорттә хархәага аанкылара аан мацара

3

Абарт атакқәа рыѡбагы ииашоуп

## განმარტება:

„საგზაო მოძრაობის შესახებ“ საქართველოს კანონის 49-ე მუხლის მე-12 პუნქტის თანახმად, უკუსვლის მაშუქის ჩართვა ნებადართულია, მხოლოდ იმ შემთხვევაში, როცა სატრანსპორტო საშუალება ახორციელებს ან აპირებს უკუსვლით მოძრაობას.

## ВОПРОС 329

ПРАВИЛЬНЫЙ ОТВЕТ: 2

Атранспорттә хархәага аҭхьала алашара ҭаҭшь ала, ашьҭахьла алашара шкәакәала аибытара ҭаломаҭ

1

Иҭалоит

2

Иҭалом

3

Иҭалоит, чыдалатәи аматұра атранспорттә хархәагакәа рҭы мацара

## განმარტება:

„საგზაო მოძრაობის შესახებ“ საქართველოს კანონის 49-ე მუხლის მე-13 პუნქტის თანახმად, აკრძალულია სატრანსპორტო საშუალების წინ წითელი და უკან თეთრი სინათლეებით აღჭურვა. დაუშვებელია სატრანსპორტო საშუალების კონსტრუქციის შეცვლა ან აღჭურვა დამატებითი სინათლეებით, რომლებიც შეიძლება ეწინააღმდეგებოდეს მოცემულ მოთხოვნებს.

## ВОПРОС 330

ПРАВИЛЬНЫЙ ОТВЕТ: 2

Атранспорттә хархәага аибыташьа аҭсахра ма иаццаны алашарақәа рыла аибытара ҭаломаҭ

1

Иҭалом

2

Иҭалоит, азакәанҭцарала иазҭхьагәаҭоу аҳәарақәа рыхьчарала мацара

## განმარტება:

„საგზაო მოძრაობის შესახებ“ საქართველოს კანონის 49-ე მუხლის მე-13 პუნქტის თანახმად, აკრძალულია სატრანსპორტო საშუალების წინ წითელი და უკან თეთრი სინათლეებით აღჭურვა. დაუშვებელია სატრანსპორტო საშუალების კონსტრუქციის შეცვლა ან აღჭურვა დამატებითი სინათლეებით, რომლებიც შეიძლება ეწინააღმდეგებოდეს მოცემულ მოთხოვნებს.





## ВОПРОС 333

ПРАВИЛЬНЫЙ ОТВЕТ: 1

Аидаратә машыына арныкәаф, иусуратә аанкылагатә система пұхастахазар, амашәыртә алашаратә ардырга иаҕакны амашыына арҕеира атыпұақынза дңеир, амҕатә аитатра атасқәа еилеигомаҕ

1

Еилеигоит

2

Еилеигом

## განმარტება:

„საგზაო მოძრაობის შესახებ“ საქართველოს კანონის მე-21-ე მუხლის მე-13 პუნქტის თანახმად, მძღოლს ეკრძალება მოძრაობა მუშა სამუხრუჭო სისტემის, საჭის მექანიზმის, სატრანსპორტო საშუალებათა შემადგენლობაში მისაბმელი მოწყობილობის გაუმართაობისას, აგრეთვე დღე-ღამის ბნელ დროს ერთდროულად მწყობრიდან გამოსული (ჩამქრალი) ახლო და შორი განათების ფარებით (ან მათი არარსებობისას) ან/და უკანა საგაბარიტო სინათლეებით იმ გზაზე, რომელზედაც არ არის ხელოვნური განათება ან არასაკმარისი ხილვადობა. მძღოლის მხარეს არსებული მინასანმენდის უმოქმედობისას აკრძალულია მექანიკური სატრანსპორტო საშუალების მართვა ნისლის, წვიმისა და თოვის დროს.

## ВОПРОС 334

ПРАВИЛЬНЫЙ ОТВЕТ: 2

Аидаратә машыына арныкәаф, имашыына арныкәага пұхастахазар, амашәыртә алашаратә ардырга иаҕакны амашыына арҕеира атыпұақынза дңеир, амҕатә аитатра атасқәа еилеигомаҕ

1

Еилеигом

2

Еилеигоит

## განმარტება:

„საგზაო მოძრაობის შესახებ“ საქართველოს კანონის მე-21-ე მუხლის მე-13 პუნქტის თანახმად, მძღოლს ეკრძალება მოძრაობა მუშა სამუხრუჭო სისტემის, საჭის მექანიზმის, სატრანსპორტო საშუალებათა შემადგენლობაში მისაბმელი მოწყობილობის გაუმართაობისას, აგრეთვე დღე-ღამის ბნელ დროს ერთდროულად მწყობრიდან გამოსული (ჩამქრალი) ახლო და შორი განათების ფარებით (ან მათი არარსებობისას) ან/და უკანა საგაბარიტო სინათლეებით იმ გზაზე, რომელზედაც არ არის ხელოვნური განათება ან არასაკმარისი ხილვადობა. მძღოლის მხარეს არსებული მინასანმენდის უმოქმედობისას აკრძალულია მექანიკური სატრანსპორტო საშუალების მართვა ნისლის, წვიმისა და თოვის დროს.

## ВОПРОС 335

ПРАВИЛЬНЫЙ ОТВЕТ: 1

Ианылашьцоу аамтазы ма алаҭшбара аныцәгьоу, ахаларта атыхәа иазааигәахо атранспорттә хархәага арныкәа хара изырлашо амашынаблакәа ирцәаны, ааигәа изырлашо амашынаблакәа ҟеикроупЖ

1

Иарбанзаалак атагылазаашьаҟы, ахаларта даназааигәахо

2

Иҭылань иаауа амашына ианцәырцлак

## განმარტება:

დღე-ღამის ბნელ დროს ან არასაკმარისი ხილვადობის პირობებში, აღმართის ბოლოსთან მიახლოებისას სატრანსპორტო საშუალების მძღოლმა ნებისმიერ შემთხვევაში უნდა გამოერთოს შორი ნათების ფარები და ჩართოს ახლო ნათების ფარები.

## ВОПРОС 336

ПРАВИЛЬНЫЙ ОТВЕТ: 3

Асоура цәҟа аан, ианылашьцоу аамтазы, атранспорттә хархәага адәныкәтәи арлашагакәа ркынтә руа иарбан амҟа алаҭшбара бзиа еикәзыршәоҭ

1

Хара изырлашо амашынабл

2

Анакәаецәыхьчаратә амашынаблакәеи хара изырлашо амашынаблакәеи

3

Анакәаецәыхьчаратә амашынаблакәеи ааигәа изырлашо амашынаблакәеи

## განმარტება:

დღე-ღამის ბნელ დროს, ძლიერი თოვის პირობებში გზის უკეთეს ხილვადობის უზრუნველსაყოფად მიზანშეწონილია ნისლსაწინააღმდეგო ფარების ახლო ნათების ფარებთან ერთად ჩართვა.

## ВОПРОС 337

ПРАВИЛЬНЫЙ ОТВЕТ: 4

Цაქა ეიკჷყხაჲოუ აიკჷჲალაგაჲა რჷნტჷ რუა იარბან ეიჲყჷარადა იგჷათატჷჲ

1

Аѳскы ахархѳаратѳ механизм мацара.

2

АгежѳхарѲаჲა мацара.

3

Адѳахѳала арлашаратѳ хархѳагаჲა мацара.

4

Абри абилет аѳы еиკჷყხაჲოუ  
აიკჷჲალაგაჲა ჲეგჷ

## განმარტჷბა:

ავტომობილის მძღოლმა რეგულარულად უნდა ჲეამონჲოს როგორც საჲის მართვის მექანიზმის, ასევე საბურავების და გარე სანათი ხელსაწყოების გამართულობა.

## ВОПРОС 338

ПРАВИЛЬНЫЙ ОТВЕТ: 2

Цаქა ეიკჷყხაჲოუ აპარამეტრჲა რჷნტჷ რუა იარბან აიდარატჷ ფურგონ აიდარატჷ აკჷშა აზეიჲშ თაჲარა  
აჲყხაჲარაან იაჲჲყხაგჷათატჷჲ

1

Афургон аидаратѳ аკჷშა ахараკჷრა

2

Автомобиль аზეიჲშ аура.

3

Афургон аидаратѳ аკჷშა атბაара.

4

Афургон аидаратѳ аკჷშა аура.

## განმარტჷბა:

სატვირთო ფურგონის სატვირთო განყოფილების ტეჲადობის გამოთჲლისას არ უნდა გავითჲალისწინოთ ავტომობილის საერთო სიგრძე.

## ВОПРОС 339

ПРАВИЛЬНЫЙ ОТВЕТ: 1

Еиқәыпұхьазоу аанкыларатә системақәа рқынтә руа иарбан иаха ирласны аанкылағақәа аус дзыруаҕ

1

Агидравликатә аанкыларатә система

2

Апневматикатә аанкыларатә система

3

Еилоу аанкыларатә система

4

Аанкылағақәа аус рура аласра аанкыларатә система аибыташыа иахыпұшым

## განმარტება:

ჩამოთვლილი სამუხრუჭო სისტემებიდან, ავტომობილის მუხრუჭების უფრო სწრაფად ამოქმედებას უზრუნველყოფს ჰიდრავლიკური სამუხრუჭო სისტემა.

## ВОПРОС 340

ПРАВИЛЬНЫЙ ОТВЕТ: 4

Аидаратә машыына аидара акәцараан иазпұхьагәататәупЖ

1

Аидара ацентр атып мацара

2

Алыра аидара акәцара иазку ахәарақәа мацара

3

Амѡаѡтранспорттә амашәыр аан аидара даѡа тыпұк ахь аиагара ахымұадара

4

Абри абилет аѡы еиқәыпұхьазоу ахәарақәеи аүагылазаашыақәеи зегы

## განმარტება:

სატვირთო ავტომობილზე ტვირთის მოთავსებისას გათვალისწინებული უნდა იქნეს როგორც სიმძიმის ცენტრის მდებარეობა, ასევე ღერძზე დატვირთვისთან დაკავშირებული მოთხოვნები და სავგაო-სატრანსპორტო შემთხვევის დროს, ტვირთის გადაადგილების ალბათობა.

Аанкыларатә агежькәа ажьац рацәаны ирықәзар, уи аанкыларатә система аусуразы ныррас иамоиҭ

1

Ибзианы ианыруеит, избанзар ажьац анырацәоу агежькәеи ахчкәеи рыбжьара аихьшҭра амч еиҭхьоит

2

Анырра цәҭа амоуп, избанзар ажьац иахкҭаны аанкыларатә система еицеиҭкарамкәа аус аҭеит

3

Агежькәа ажьац рацәаны рықәзаргьы, уи аанкыларатә система аусура ианыпшуам

### განმარტება:

სამუხრუჭო სისტემის გამართულ მუშაობაზე სამუხრუჭო დისკებზე დიდი ოდენობით ჟანგის არსებობა ახდენს უარყოფით გავლენას, რადგანაც დიდი ოდენობით ჟანგი იწვევს სამუხრუჭო სისტემის არათანაბარ მუშაობას.



თემა 15:

მოძრაობის დანყება, მანევრირება,  
სატრანსპორტო საშუალების განლაგება  
სავალ ნაწილზე

---



Амашына ჯაჭუშ არნიკაფ, იაჭუ ატაკყრადგულ აკინტე ამფასრტა დანალალო აშუაყაუაფ ამფა იტარა იხატოუმაჲ

1


Ихәтоуп

2

Ихәтам

### განმარტება:

„საგზაო მოძრაობის შესახებ“ საქართველოს კანონის 25-ე მუხლის მე-7 პუნქტის თანახმად, მძღოლმა მიმდებარე ტერიტორიიდან გზაზე გამოსვლისას ან გზიდან ასეთ ტერიტორიაზე შესვლისას გზა უნდა დაუთმოს ქვეითებს.



Амашына лас арныкәә атәира азин имоупЖ

1

Ф ахырхартала

2


И ахырхартала

3

Ф еипштәкыаб И ахырхарталагы

### განმარტება:

„საგზაო მოძრაობის შესახებ“ საქართველოს კანონის პირველი დანართის 4.3 პუნქტის თანახმად, საგზაო ნიშანი 4.3 „წრიული მოძრაობა“ - რთავს ისრებით ნაჩვენები მიმართულებებით მოძრაობის ნებას გზატკარედინზე, რომელზედაც წრიული მოძრაობაა ორგანიზებული.



Абарт атранспорттə хархəагақəа рырныкəацəа ахыц ахырхарта еитатыр, амəатə аитатра атас еилазгодаҕ

1

Амашына ѓежь арныкəа

2

Амашына шкəакəа арныкəа

3

Амашына каҕшь арныкəа

4

Амашына иатцəа арныкəа

### განმარტება:

„საგზაო მოძრაობის შესახებ“ საქართველოს კანონის 31-ე მუხლის მე-12 პუნქტის თანახმად, თუ ამ კანონით სხვა რამ არ არის გათვალისწინებული, ნებისმიერ სავალ ნაწილზე, თანმხვედრი მიმართულებით მოძრაობისთვის განკუთვნილი სამი ან მეტი მოძრაობის ზოლის არსებობისას განაპირა მარცხენა მოძრაობის ზოლის დაკავება ნებადართულია მხოლოდ ინტენსიური მოძრაობისას, როცა სხვა მოძრაობის ზოლები დაკავებულია, აგრეთვე გასწრების, მარცხნივ მოხვევის ან მობრუნების მიზნით, ხოლო სატვირთო ავტომობილებისათვის - მხოლოდ მარცხნივ მოხვევის ან მობრუნების დროს.





Абарт атранспорттә хархәагақәа рырныкәацәа ркынтә амџа атара зыхәтада, урт ахыц ахырхартала еитатцүазарџ

1

Амашына џежь арныкәаџ


2

Амашына шкәакәа арныкәаџ

### განმარტება:

„სავგაო მოძრაობის შესახებ“ საქართველოს კანონის 32-ე მუხლის მე-4 პუნქტის თანახმად, მოძრაობის ზოლიდან ზოლში მოძრაობის მიმართულების შეუცვლელად გადასვლისას მძღოლმა გზა უნდა დაუთმოს გადასასვლელ მოძრაობის ზოლში თანმხვედრი მიმართულებით მოძრავ სატრანსპორტო საშუალებას. თანმხვედრი მიმართულებით მოძრავი სატრანსპორტო საშუალებების მიერ მოძრაობის ზოლების ერთდროულად შეცვლისას მოძრაობის ტრაექტორიების გადაკვეთის შემთხვევაში გავლის უპირატესობა ენიჭება მარჯნივ მყოფ სატრანსპორტო საშუალების მძღოლს.





Амашына шкәакәа арныкәа ахыц ахырхартала деитатцазар, абарт автотранспорттә хархәагакәа рырныкәацәа ркынтә амәа атара зыхәтадаҭ

1

Амотоцикл арныкәаа затәы

2

Атрамваи арныкәаа затәы

3

Амотоцикл арныкәааи атрамваи арныкәааи

### განმარტება:

„საგზაო მოძრაობის შესახებ“ საქართველოს კანონის 32-ე მუხლის მე-3 და მე-9 პუნქტების თანახმად: 3. მიმდებარე ტერიტორიიდან გზაზე გასვლისას მძღოლი ვალდებულია გზა დაუთმოს გზაზე მოძრავ სატრანსპორტო საშუალებასა და ქვეითს, ხოლო გზიდან გადასვლისას – იმ ქვეითს, ველოსიპედისტს, მოპედისა და ორბორბლიანი ელექტროთვითმგორავის მძღოლებს, რომლებსაც გზას უჭრის. 9. მარცხნივ მოხვევისას ან გზაჯვარედინის მიღმა მობრუნებისას ურელსო სატრანსპორტო საშუალების მძღოლი ვალდებულია გზა დაუთმოს საპირისპირო მიმართულებით მოძრავ სატრანსპორტო საშუალებას და თანმხვედრი მიმართულებით მოძრავ ტრამვაის.



„СУ“ категория иатанакэа аидаратэ машына сааткала 70 км. аласрала еитатцазар, ахыц ахырхартала аитатцаан абарт атранспорттэ хархэагакэа рырынкэаэцэа ркынтэ амэатэ аитатца атаскэа еилазгодаБ

1

## Атрактор арныкѳаѳ зацѳы

2

Аидаратə машына арныкəаа зацəы

3

Атрактори аидаратə машынеи  
рырныкəаѿцəа

4

Аидаратə машынеи автобуси рырныкəаццəа

**განმარტები:**

„საგზაო მოძრაობის შესახებ“ საქართველოს კანონის 38-ე მუხლის პირველი პუნქტის „ა“ და „გ.გ“ ქვეპუნქტების თანახმად, ავტომაგისტრალზე, ავტომაგისტრალის შესასვლელსა და გამოსასვლელზე: ა) აკრძალულია ქვეითის, ცხოველის, ველოსიპედის, მოპედის, ორბორბლიანი ელექტროთვითმგორავის, ავტომობილისა და მათი მისაბმელებისგან განსხვავებული ყველა სატრანსპორტო საშუალების მოძრაობა. გ.გ) მძღოლს ეკრძალება მეორე ზოლის იქით იმ ტვირთის გადამზიდავი ავტომობილით (მისაბმელებით ან მათ გარეშე) მოძრაობა, რომლის ნებადართული მაქსიმალური მასა 3,5 ტონას აღემატება ან იმ მისაბმელიანი ავტომობილებით მოძრაობა, რომელთა საერთო სიგრძე 7 მეტრზე მეტია.





Иарбоу აიდარატე მашყინა 3,5 ტონა ეიჰანყ აიდარა ამჟანეგარა აზინ ამოუპ. აბარტ ატრანსპორტტე ჰარჰეაგაჰეა რყრწყეაჰეა რყყნტე აჰყც აჰყრჰარტალა აიტატრა აზინ ჰმადაჲ

1

Амопед арწყეაჰე

2

Амашყინა ლას арწყეაჰე

3

Аидарატე მашყინა арწყეაჰე

### განმარტყბა:

„საგზაო მოძრაობის შესახებ“ საქართველოს კანონის პირველი დანართის 3.22 პუნქტის თანახმად, საგზაო ნიშანი 3.22 „სატვირთო ავტომობილით გასწრება აკრძალულია“ - კრძალავს 3,5 ტონაზე მეტი ნებადართული მაქსიმალური მასის მქონე სატვირთო ავტომობილით სხვა სატრანსპორტო საშუალების გასწრებას (გარდა 30 კმ/სთ-ზე ნაკლები სიჩქარით მოძრავი ტრანსპორტისა), აგრეთვე ტრაქტორით სხვა სატრანსპორტო საშუალების გასწრებას (გარდა საჭაპანო ტრანსპორტისა და ველოსიპედისა). ამავე კანონის 38-ე მუხლის მე-5 პუნქტის თანახმად, ამ მუხლის პირველი–მე-3 პუნქტების გამოყენებისას ავტომაგისტრალს უთანაბრდება საავტომობილო მოძრაობისათვის განკუთვნილი და 5.3 საგზაო ნიშნით აღნიშნული ის გზები, რომლებიც მიმდებარე ტერიტორიებს არ ემსახურება. ამავე დანართის 5.3 პუნქტის თანახმად საგზაო ნიშანი 5.3. „საავტომობილო გზა“ – გზა, რომელიც განკუთვნილია მხოლოდ ავტომობილისა და მოტოციკლის მოძრაობისათვის.

## ВОПРОС 349

ПРАВИЛЬНЫЙ ОТВЕТ: 1

Аҳаракырафы иҶоу аангылартақынты атранспорттә хархәага ақәтәаразы амәасырта ангылара калоитЖ

1

Атранспорт ианаангылалак

2

Заанаты, атранспорт цәырцаанза

## განმარტება:

„საგზაო მოძრაობის შესახებ“ საქართველოს კანონის 24-ე მუხლის მე-13 პუნქტის თანახმად, ამაღლებული ჩასასხდომი ბაქნის გასაჩერებელი პუნქტიდან (გაჩერებიდან) სატრანსპორტო საშუალებაში ჩასაჯდომად გზის სავალ ნაწილზე გასვლა ნებადართულია მხოლოდ მისი გაჩერების შემდეგ. სატრანსპორტო საშუალებიდან გადმოსვლისას ქვეითმა დაუყოვნებლივ უნდა გაათავისუფლოს გზის სავალი ნაწილი.

## ВОПРОС 350

ПРАВИЛЬНЫЙ ОТВЕТ: 2

Амәатә аитәцра аиҶкаара ала уаха акгы иазпҭхьагәатамзар, амәатә арбагала иазгәатоу, аитәцратә хә цәахәак змоу ҭеганклатәи аитәцратә амәаҭы хырхартак ала аитәцратә цәахәас иҭхьазоупЖ

1

Абжьаратәи арҭьарахьтәи аитәцратә цәахәақәа

2

Арҭьарахьала иҶоу аитәцратә цәахәа мацара

## განმარტება:

„საგზაო მოძრაობის შესახებ“ საქართველოს კანონის 31-ე მუხლის მე-3 პუნქტის თანახმად, საგზაო მონიშვნით აღნიშნული სამი მოძრაობის ზოლის მქონე ორმხრივმოძრაობიან გზაზე თანხვედრი მიმართულების მოძრაობის მხარედ ითვლება მხოლოდ მარჯვენა მხარეს მდებარე მოძრაობის ზოლი, თუ საგზაო მოძრაობის ორგანიზაციის საშუალებებით სხვა რამ არ არის დადგენილი.



Амашына цѣыш ахыц ахырхартала еитатцазар, абарт атранспорттѣ хархѣагакѣа рырныкѣаѡцѣа  
ркынтѣ аѣыжѣара змадаѢ

1

Амотоцикл арныкѣаѡ затѣы

2

Амашына шкѣакѣа арныкѣаѡ затѣы

3

Амотоцикли амашына шкѣакѣеи  
рырныкѣаѡцѣа

4

Азѣгы

### განმარტება:

„საგზაო მოძრაობის შესახებ“ საქართველოს კანონის 32-ე მუხლის მე-4 პუნქტის თანახმად, მოძრაობის მიმართულების შეუცვლელად მოძრაობის ზოლიდან ზოლში გადასვლისას, მძღოლმა გზა უნდა დაუთმოს გადასასვლელ მოძრაობის ზოლში თანმხვედრი მიმართულებით მოძრავ სატრანსპორტო საშუალებას.





Иარბოუ ატაგჲლაზააშაფჲ, ატრანსპორტტჲ хархჲაგაқჲა аамтақала аитатқратჲ цѳахѳақჲа рыпсахыр, аиасра аңыжѳара иоуоитЖ

1


Амашына лас арнықѳаѳ

2

Аидаратѳ машына арнықѳаѳ

### განმარტება:

„საგზაო მოძრაობის შესახებ“ საქართველოს კანონის 32-ე მუხლის მე-4 პუნქტის თანახმად, მოძრაობის მიმართულების შეუცვლელად მოძრაობის ზოლიდან ზოლში გადასვლისას, მძღოლმა გზა უნდა დაუთმოს გადასასვლელ მოძრაობის ზოლში თანმხვედრი მიმართულებით მოძრავ სატრანსპორტო საშუალებას. თანმხვედრი მიმართულებით მოძრავი სატრანსპორტო საშუალებების მიერ, მოძრაობის ზოლების ერთდროულად შეცვლისას, მოძრაობის ტრაექტორიების გადაკვეთის შემთხვევაში, გავლის უპირატესობა ენიჭება მარჯნივ მყოფ სატრანსპორტო საშუალების მძღოლს.



Аидаратә машына арныкәаф ахыц ахырхартала аитатра азин имоума, армарахьтәи ацәахәаҕынтә ацәиразы амҕасырта атбаара иазымхозарҕ

1

Азин имаҕам


2

Азин имоуп

### განმარტება:

„საგზაო მოძრაობის შესახებ“ საქართველოს კანონის 32-ე მუხლის მე-10 პუნქტის თანახმად, თუ გზატკარვედინის მიღმა, მობრუნებისას სავალი ნაწილის სიგანე არასაკმარისია უკიდურესი მარცხენა მდებარეობიდან მანევრისთვის, ეს უკანასკნელი შეიძლება შესრულდეს სავალი ნაწილის მარჯვენა ნაპირიდან ან მარჯვენა გვერდულიდან, ამასთან, მძღოლმა გზა უნდა დაუთმოს თანმხვედრი და საპირისპირო მიმართულებით მოძრავ სატრანსპორტო საშუალებებს. ამავე კანონის მე-2 დანართის 1.11 პუნქტის თანახმად, ჰორიზონტალური საგზაო მონიშვნა 1.11. ყოფს საპირისპირო ან თანმხვედრი მიმართულებით მოძრავ სატრანსპორტო ნაკადებს გზის მონაკვეთზე, სადაც გადაჯგუფება ნებადართულია მხოლოდ ერთი ზოლიდან; აღნიშნავს მობრუნების ადგილს, სადგომი მოედნიდან გამოსასვლელსა და შესასვლელს და ა. შ., სადაც მოძრაობა ნებადართულია მხოლოდ ერთ მხარეს. 1.11 ხაზის გადაკვეთა ნებადართულია წყვეტილი ხაზის მხრიდან, აგრეთვე უწყვეტი ხაზის მხრიდან, მაგრამ მხოლოდ გასწრების ან შემოვლის დამთავრებისას.





Армарахътәи ацәахәақынтә аидаратә машына атәиразы амѳасырта атбаара иазымхозар, ахыц ахырхартала еитатцуа аидаратә машына арныкәаѳ амѳа ритароупЖ

1

Атрамваи арныкәаѳ затцәы

2

Ишкәакәоу амашына лас арныкәаѳ затцәы

3


Еикәатцәоу амашына лас арныкәаѳ затцәы

4

Амашынакәа зегы рырныкәаѳцәа

### განმარტება:

„საგზაო მოძრაობის შესახებ“ საქართველოს კანონის 32-ე მუხლის მე-10 და მე-11 პუნქტების თანახმად: 10. თუ გზატკარედინის მიღმა მობრუნებისას სავალი ნაწილის სიგანე არასაკმარისია უკიდურესი მარცხენა მდებარეობიდან მობრუნებისთვის, ეს მანევრი შეიძლება შესრულდეს სავალი ნაწილის მარჯვენა კიდიდან ან მარჯვენა გვერდულადან. ამასთანავე, მძღოლმა გზა უნდა დაუთმოს თანმხვედრი და საპირისპირო მიმართულებებით მოძრავ სატრანსპორტო საშუალებებს. 11. თუ გზატკარედინზე სავალი ნაწილის სიგანე არასაკმარისია უკიდურესი მარცხენა მდებარეობიდან მობრუნებისთვის, მძღოლი ვალდებულია ეს მანევრი შეასრულოს გზატკარედინის მიღმა, გარდა იმ შემთხვევისა, როცა გზატკარედინის სიახლოვეს გზის სიგანე ამის შესაძლებლობას არ იძლევა. ყველა შემთხვევაში უზრუნველყოფილი უნდა იქნეს მოძრაობის უსაფრთხოება და დაბრკოლება არ უნდა შეექმნას სხვა საგზაო მოძრაობის მონაწილეებს. ამ პუნქტით განსაზღვრული წესი არ ვრცელდება იმ გზატკარედინებზე, რომლებზედაც მობრუნება აკრძალულია შესაბამისი საგზაო ნიშნით ან საგზაო მონიშვნით.



Армарахьтәи ацәахәақынтә атәиразы амҭасырта атбаара иазымхозар, аидаратә машьына арныкәаҭ ахыц ахырхартала аитатра анагзара азин имоумаҭ

1

Азин имоуп


2

Азин имазам

### განმარტება:

„საგზაო მოძრაობის შესახებ“ საქართველოს კანონის 32-ე მუხლის მე-7 პუნქტის „ბ“ ქვეპუნქტისა და მე-8 პუნქტის თანახმად: 7. სხვა გზაზე გასასვლელად ან გზის მიმდებარე ტერიტორიაზე შესასვლელად მარჯვნივ ან მარცხნივ მოხვევის წინ, ისე, რომ არ დაარღვიოს ამ კანონის მე-20 მუხლის მე-2 პუნქტითა და ამ მუხლის პირველი და მე-2 პუნქტებით დადგენილი მოთხოვნები, თუ სატრანსპორტო საშუალების მძღოლი აპირებს გზიდან გასვლას: ბ) მარცხენა მხრიდან, სატრანსპორტო საშუალება, რამდენადაც ეს შესაძლებელია, უნდა მიუახლოვდეს გზის სავალი ნაწილის ღერძს (ორმხრივმოძრაობიან გზაზე) ან სავალი ნაწილის მარცხენა კიდე (ცალმხრივმოძრაობიან გზაზე), ხოლო თუ ის სხვა ორმხრივმოძრაობიან გზაზე აპირებს გასვლას, მოხვევა ისე უნდა შეასრულოს, რომ სავალი ნაწილების გადაკვეთიდან გამოსვლისას სატრანსპორტო საშუალება საპირისპირო მოძრაობის მხარეს არ აღმოჩნდეს. 8. თუ მძღოლი სატრანსპორტო საშუალების გაბარიტის ან სხვა მიზეზის გამო ვერ ასრულებს მოხვევას, ამ მუხლის მე-7 პუნქტით დადგენილ მოთხოვნათა გათვალისწინებით დასაშვებია ამ წესებიდან გადახვევა, თუ უზრუნველყოფილი იქნება მოძრაობის უსაფრთხოება და დაბრკოლება არ შეექმნება სხვა საგზაო მოძრაობის მონაწილეებს.





Амѳеихысырта иазааигѳоу амѳа атѳаара атѳѳиразы иазхѳом. Аидаратѳ машыына арныѳѳаѳ ахыѳ ахырхартала аитѳѳра анаѳзара азин имѳумаѳ

1

Азин имѳоуп


2

Азин имаѳам

### განმარტება:

„საგზაო მოძრაობის შესახებ“ საქართველოს კანონის 32-ე მუხლის მე-11 პუნქტის თანახმად, თუ გზატკარვედინზე სავალი ნაწილის სიგანე არასაკმარისია უკიდურესი მარცხენა მდებარეობიდან მობრუნებისთვის, მძღოლი ვალდებულია ეს მანევრი შესრულოს გზატკარვედინის მიღმა, გარდა იმ შემთხვევისა, როცა გზატკარვედინის სიახლოეს გზის სიგანე ამის შესაძლებლობას არ იძლევა. ყველა შემთხვევაში უზრუნველყოფილი უნდა იქნას მოძრაობის უსაფრთხოება და დაბრკოლება არ უნდა შეექმნას სხვა საგზაო მოძრაობის მონაწილეებს. ამ პუნქტით განსაზღვრული წესი არ ვრცელდება იმ გზატკარვედინებზე, რომლებზე მობრუნება აკრძალულია შესაბამისი საგზაო ნიშნით ან მონიშვნით. ამავე კანონის პირველი დანართის მე-3 თავის (ამკრძალავი ნიშანები) 3.19 პუნქტის თანახმად საგზაო ნიშანი 3.19 „მობრუნება აკრძალულია“ - კრძალავს სავალი ნაწილების უახლოეს გადაკვეთაზე მობრუნებას.





Амცა ალტრა ამჟღელა ამაშჷნა ლას არნჷკაფ აიტატრა აზინ იმოუპჷ

1

A ახჷრჷრტა მაჷარალა

2

B ახჷრჷრტა მაჷარალა

3

Ai Bi ახჷრჷრტაჷა რჷლა

### განმარტება:

„საგზაო მოძრაობის შესახებ“ საქართველოს კანონის 32-ე მუხლის მე-13 პუნქტის თანახმად, დამუხრუჭების ზოლის არსებობის შემთხვევაში მძღოლი, რომელიც მოხვევას აპირებს, დროულად უნდა გადაადგილდეს ამ ზოლზე და შემდეგ უნდა შეანელოს სიჩქარე.



90 მეტრის ინრტაკნის ალატუშბარა ცეგზაზარ, არნყკაფ ახყც ახყრხარტალა ამაშყყნა ატყჲრა აზინ იმოუმატ

1

Азин имаџам


2

Азин имоуп

### განმარტება:

„საგზაო მოძრაობის შესახებ“ საქართველოს კანონის 32-ე მუხლის მე-15 პუნქტის „ე“ ქვეპუნქტის თანახმად, აკრძალულია სატრანსპორტო საშუალების მობრუნება გზაზე, სადაც ხილვადობა თუნდაც ერთი მიმართულებით 100 მეტრზე ნაკლებია.





Иარბოუ ატაгылазаашыафы амашына атџира калоитЖ

1

A ახырхართალა

2

B ახырхართალა

3

Аи Ви ахырхартакџа рыла

4

Aფეხырхартაკ рыла иџалом

### განმარტება:

„საგზაო მოძრაობის შესახებ“ საქართველოს კანონის 32-ე მუხლის მე-15 პუნქტის „გ“ ქვეპუნქტის თანახმად, აკრძალულია სატრანსპორტო საშუალების მობრუნება ხიდზე, გზაგამტარზე, ესტაკადაზე და მათ ქვეშ. ამავდროულად კანონის მე-2 დანართის პირველი თავის (ჰორიზონტალური მონიშვნა) 1.5 პუნქტის თანახმად ჰორიზონტალური მონიშვნა 1.5. ყოფს საპირისპირო მიმართულებით მოძრავ სატრანსპორტო ნაკადებს გზაზე, რომელსაც მოძრაობის ორი ან სამი ზოლი აქვს; აღნიშნავს მოძრაობის ზოლების საზღვრებს ერთი მიმართულებით მოძრაობისათვის განკუთვნილი ორი და მეტი ზოლის არსებობისას. 1.5 ხაზის გადაკვეთა ნებადართულია ნებისმიერი მხრიდან.



Иарбоу атагылазаашьафы амашына атәира калоитЖ

1

А ахырхартала

2

В ахырхартала

3

Аи Ви ахырхартакәа рыла


4

Аҟахырхартак рыла иҟалом

### განმარტება:

„საგზაო მოძრაობის შესახებ“ საქართველოს კანონის 32-ე მუხლის მე-15 პუნქტის „ა“ და „ვ“ ქვეპუნქტების თანახმად, აკრძალულია სატრანსპორტო საშუალების მოძრუნება: ა) ქვეითთა გადასასვლელზე; ვ) იმ ადგილას, სადაც გასაჩერებელი პუნქტია. ამავე კანონის პირველი დანართის მე-5 თავის (განსაკუთრებული მითითებების ნიშნები) 5.16 პუნქტის თანახმად საგზაო ნიშანი 5.16 „ავტობუსის და (ან) ტროლეიბუსის გაჩერების ადგილი“ აღნიშნავს შესაბამისი სახის სამარშრუტო სატრანსპორტო საშუალების გასაჩერებელ ადგილს. ამავე თავის 5.19.1 და 5.19.2 პუნქტების თანახმად საგზაო ნიშნები 5.19.1 და 5.19.2 „ქვეითთა გადასასვლელი“ - აღნიშნავს გზაზე ქვეითთა გადასასვლელისთვის გამოყოფილ ადგილს. ნიშანი 5.19.1 იდგმება გზის მარჯვენა მხარეს, ხოლო 5.19.2 - გზის მარცხენა მხარეს. გადასასვლელზე 1.14 მონიშვნის არ არსებობისას ნიშანი 5.19.1 იდგმება გადასასვლელის ახლო საზღვართან, ხოლო ნიშანი 5.19.2 - გადასასვლელის შორ საზღვართან.





Амашына лас арныкææ айтатра азин имоупЖ

1

Армарахь

2

Дышиашоу, иара убас, арфъарахь

3

Армарахь, иара убас, арфъарахь


4

Дышиашоу, армарахь, аифынгыларатæ  
хырхартала ПъахатæираТ

### განმარტება:

„საგზაო მოძრაობის შესახებ“ საქართველოს კანონის 32-ე მუხლის მე-7 პუნქტების თანახმად, სხვა გზაზე გასასვლელად ან გზის მიმდებარე ტერიტორიაზე შესასვლელად მარჯვნივ ან მარცხნივ მოხვევის წინ, ისე, რომ არ დაარღვიოს ამ კანონის მე-20 მუხლის მე-2 პუნქტითა და ამ მუხლის პირველი და მე-2 პუნქტებით დადგენილი მოთხოვნები, თუ სატრანსპორტო საშუალების მძღოლი აპირებს გზიდან გასვლას: ა) მარჯვენა მხრიდან, სატრანსპორტო საშუალებამ უნდა იმოძრაოს რაც შეიძლება ახლოს სავალი ნაწილის მარჯვენა კიდეებთან და შემდეგ შეასრულოს შეძლებისდაგვარად მოკლე მანევრი; ბ) მარცხენა მხრიდან, სატრანსპორტო საშუალება, რამდენადაც ეს შესაძლებელია, უნდა მიუახლოვდეს გზის სავალი ნაწილის ღერძს (ორმხრივმოძრაობიან გზაზე) ან სავალი ნაწილის მარცხენა კიდე (ცალმხრივმოძრაობიან გზაზე), ხოლო თუ ის სხვა ორმხრივმოძრაობიან გზაზე აპირებს გასვლას, მოხვევა ისე უნდა შეასრულოს, რომ სავალი ნაწილების გადაკვეთიდან გამოსვლისას სატრანსპორტო საშუალება საპირისპირო მოძრაობის მხარეს არ აღმოჩნდეს. ამავე კანონის მე-2 დანართის პირველი თავის (ჰორიზონტალური მონიშვნა) 1.1 პუნქტის თანახმად ჰორიზონტალური მონიშვნა 1.1 ყოფს საპირისპირო მიმართულებით მოძრავ სატრანსპორტო ნაკადებს და გზის სახიფათო მონაკვეთზე - აღნიშნავს მოძრაობის ზოლების საზღვრებს ან სავალი ნაწილის საზღვრებს, რომლებზედაც შესვლა აკრძალულია; 1.1 ხაზის გადაკვეთა აკრძალულია. დასაშვებია სავალი ნაწილის ნაპირის აღმნიშვნელი და მძღოლის მარჯვენა მხარეს განლაგებული 1.1 ხაზის გადაკვეთა სატრანსპორტო საშუალების გზის ნაპირზე გასაჩერებლად.





Амашына лас арныкөөд айтатра азин имоупЖ

1

Арбъарахъ

2

Армарахъ, иара убас, арбъарахъ

3

Дышиашоу, иара убас, арбъарахъ

4

Дышиашоу, армарахъ, айпынгыларатә  
хырхартала ПѣахѣираТ

### განმარტება:

„საგზაო მოძრაობის შესახებ“ საქართველოს კანონის 32-ე მუხლის მე-7 პუნქტების თანახმად, სხვა გზაზე გასასვლელად ან გზის მიმდებარე ტერიტორიაზე შესასვლელად მარჯვნივ ან მარცხნივ მოხვევის წინ, ისე, რომ არ დაარღვიოს ამ კანონის მე-20 მუხლის მე-2 პუნქტითა და ამ მუხლის პირველი და მე-2 პუნქტებით დადგენილი მოთხოვნები, თუ სატრანსპორტო საშუალების მძღოლი აპირებს გზიდან გასვლას: ა) მარჯვენა მხრიდან, სატრანსპორტო საშუალებამ უნდა იმოძრაოს რაც შეიძლება ახლოს სავალი ნაწილის მარჯვენა კიდეებთან და შემდეგ შეასრულოს შეძლებისდაგვარად მოკლე მანევრი; ბ) მარცხენა მხრიდან, სატრანსპორტო საშუალება, რამდენადაც ეს შესაძლებელია, უნდა მიუახლოვდეს გზის სავალი ნაწილის ღერძს (ორმხრივმოძრაობიან გზაზე) ან სავალი ნაწილის მარცხენა კიდე (ცალმხრივმოძრაობიან გზაზე), ხოლო თუ ის სხვა ორმხრივმოძრაობიან გზაზე აპირებს გასვლას, მოხვევა ისე უნდა შეასრულოს, რომ სავალი ნაწილების გადაკვეთიდან გამოსვლისას სატრანსპორტო საშუალება საპირისპირო მოძრაობის მხარეს არ აღმოჩნდეს. ამავე კანონის მე-2 დანართის პირველი თავის (ჰორიზონტალური მონიშვნა) 1.1 პუნქტის თანახმად ჰორიზონტალური მონიშვნა 1.1 ყოფს საპირისპირო მიმართულებით მოძრავ სატრანსპორტო ნაკადებს და გზის სახიფათო მონაკვეთზე - აღნიშნავს მოძრაობის ზოლების საზღვრებს ან სავალი ნაწილის საზღვრებს, რომლებზედაც შესვლა აკრძალულია; 1.1 ხაზის გადაკვეთა აკრძალულია. დასაშვებია სავალი ნაწილის ნაპირის აღმნიშვნელი და მძღოლის მარჯვენა მხარეს განლაგებული 1.1 ხაზის გადაკვეთა სატრანსპორტო საშუალების გზის ნაპირზე გასაჩერებლად.



Амашына арныкәә арбьарахьтәи ахатәирта давсит. Ахатәирта алаларазы ахыц ахырхартала шьтахьла ацара азин имоумаҭ

1

Азин имаџам

2

Азин имоуп

### განმარტება:

„საგზაო მოძრაობის შესახებ“ საქართველოს კანონის 32-ე მუხლის მე-16 პუნქტის თანახმად, მძღოლი, რომელიც მობრუნებას ან უკუსვლით მოძრაობას აპირებს, უნდა დარწმუნდეს, რომ მას შეუძლია ისე შეასრულოს ეს მანევრი, რომ საფრთხე არ შეუქმნას და ხელი არ შეუშალოს სხვა საგზაო მოძრაობის მონაწილეებს. აუცილებლობის შემთხვევაში მიზანშეწონილია სხვა პირის დახმარება. აკრძალულია უკუსვლით მოძრაობა გზაჯვარედინზე, ავტომაგისტრალზე და ამ მუხლის მე-15 პუნქტით განსაზღვრულ ადგილებში.

ფეგანკალათეი აიტატრა ზმოუ ამფასურტა აგეტანყ ატრამვაი აიჰამფა იკაზარ, აიფყინგყლარატე აიტატრა აგანკჲა რეიკჲაშაგას იფყჰყაჰოუპჰ

1

ეიფყინგყლანყ ეიტატუა ატრამვაი არელსკჲა ირყბჰოუ აგეტანყტე ცეაჰჲა

2

ჰყრჰარტაკ ალა ეიტატუა ატრამვაი არფყარაჰყტეი აიჰამფა

3

აიფყინგყლარატე ჰყრჰართალა ეიტატუა ატრამვაი არმარაჰყტეი არელსკჲა

### განმარტეჰა:

„საგზაო მოძრაობის შესახებ“ საქართველოს კანონის 31-ე მუხლის მე-3 პუნქტის თანახმად, ორმხრივმოძრაობიან გზაზე, სავალი ნაწილის შუაში, მასთან ერთ დონეზე ტრამვაის ლიანდაგის მდებარეობისას, საპირისპირო მოძრაობის მხარეების გამყოფად მიიჩნევა საპირისპიროდ მოძრავი ტრამვაის ლიანდაგებს შორის წარმოსახვითი შუა ხაზი.





Иარბოუ ღეგანკალათეი აიტატრა ზმოუ ამდა აბჯარატე ცეახეაფე აფე ხყრხარტაკ რჲლა აიტატრა კალოზარ, აიდარატე машына арныкәәд ахыц ахырхартала аитатра азин имоумаԥ

1

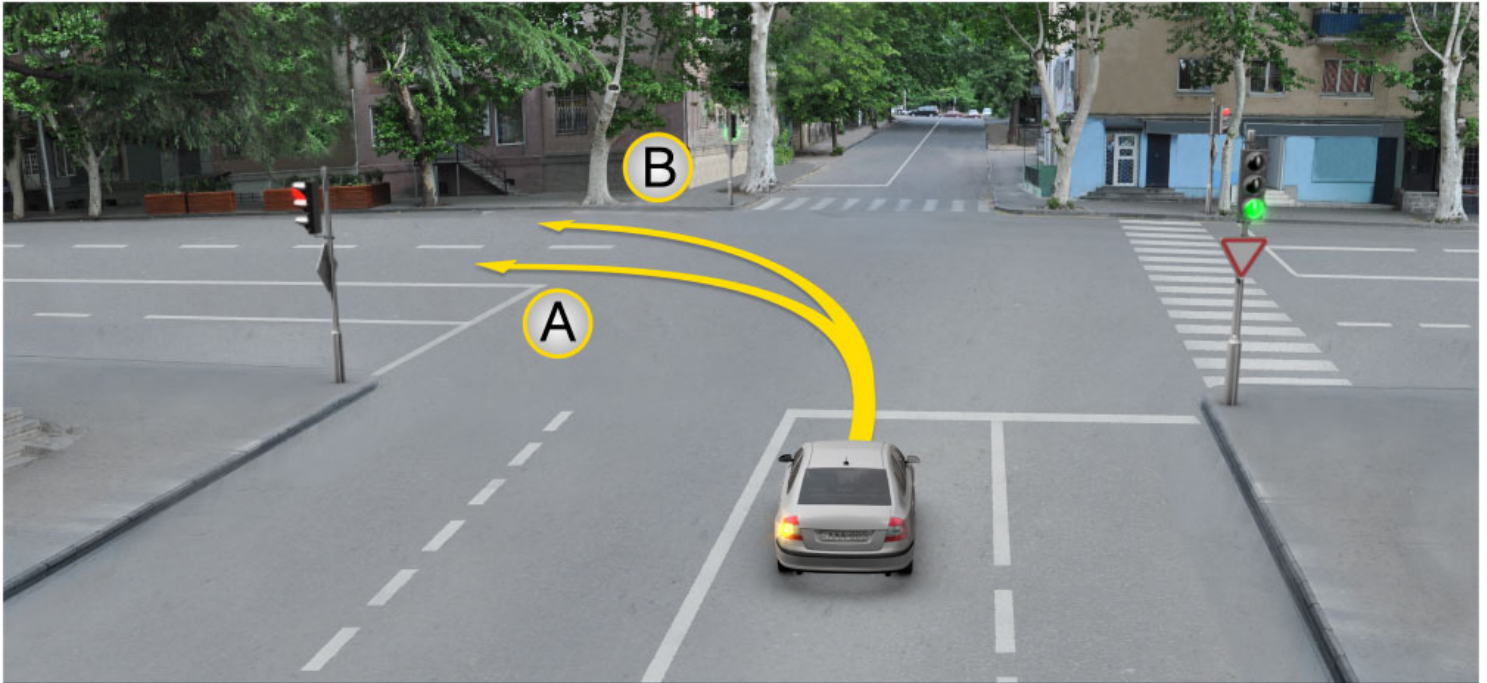
Азин имоуп

2

Азин имаџам

### განმარტება:

„საგზაო მოძრაობის შესახებ“ საქართველოს კანონის 31-ე მუხლის მე-7 პუნქტის თანახმად, სამი მოძრაობის ზოლის მქონე (გარდა 1.9 საგზაო მონიშვნისა) ორმხრივმოძრაობიან გზაზე სატრანსპორტო საშუალების მძღოლი არ უნდა გადავიდეს სავალი ნაწილის განაპირა ზოლზე, სადაც საპირისპირო მიმართულების მოძრაობა ხორციელდება. თუ სამი მოძრაობის ზოლის მქონე გზაზე შუა ზოლი ორივე მიმართულებით მოძრაობისათვის გამოიყენება, ამ ზოლზე გასვლა ნებადართულია მხოლოდ გასწრების, დაბრკოლების შემოვლის, მარცხნივ მოხვევის ან მობრუნების მიზნით.



Амашына лас арныкәә айтатра азин имоупЖ

1

A ახერხართალა

2

B ახერხართალა

3

Аи Ви ахерхартәә рыла

### განმარტება:

„საგზაო მოძრაობის შესახებ“ საქართველოს კანონის 32-ე მუხლის მე-7 პუნქტის „ბ“ ქვეპუნქტის თანახმად, სხვა გზაზე გასასვლელად ან გზის მიმდებარე ტერიტორიაზე შესასვლელად მარჯვნივ ან მარცხნივ მოხვევის წინ, ისე, რომ არ დაარღვიოს ამ კანონის მე-20 მუხლის მე-2 პუნქტითა და ამ მუხლის პირველი და მე-2 პუნქტებით დადგენილი მოთხოვნები, თუ სატრანსპორტო საშუალების მძღოლი აპირებს გზიდან გასვლას მარცხენა მხრიდან, სატრანსპორტო საშუალება, რამდენადაც ეს შესაძლებელია, უნდა მიუახლოვდეს გზის სავალი ნაწილის ღერძს (ორმხრივმოძრაობიან გზაზე) ან სავალი ნაწილის მარცხენა კიდე (ცალმხრივმოძრაობიან გზაზე), ხოლო თუ ის სხვა ორმხრივმოძრაობიან გზაზე აპირებს გასვლას, მოხვევა ისე უნდა შეასრულოს, რომ სავალი ნაწილების გადაკვეთიდან გამოსვლისას სატრანსპორტო საშუალება საპირისპირო მოძრაობის მხარეს არ აღმოჩნდეს.



## ВОПРОС 367

ПРАВИЛЬНЫЙ ОТВЕТ: 4

Цақа еиқәыпхьазоу аҭагылазаашьақәа ркынтә, амҭасырта армарахьтәи аган аҭы икоу, ганклатәи аитатцразы иазпхьагәаҭоу атрамваи арельсқәа рҭы арельсқәа змам атранспорттә хархәагала аитатцра ианбақалоҭ

1

Ганкла аитатцразы иазпхьагәаҭоу аҭәахәақәа зегьы аанкылазар

2

Апҭынгыла авсра ма аҭысра мацара аан

3

Армарахь аҭәира ма аахәра аан

4

Абри абилет аҭы еиқәыпхьазоу иарбанзаалак аҭагылазаашьақәа аан, уи атрамваи аитатцра иаҭырхагамзар.

## განმარტება:

„საგზაო მოძრაობის შესახებ“ საქართველოს კანონის 31-ე მუხლის მე-15 პუნქტის თანახმად, ამ კანონის 32-ე მუხლის მე-6 პუნქტით დადგენილ მოთხოვნათა გათვალისწინებით, მოძრაობა ნებადართულია თანმხვედრი მიმართულების ტრამვაის ლიანდაგზე, რომელიც მარცხენა მხარეს სავალ ნაწილთან ერთ დონეზე მდებარეობს, თუ თანმხვედრი მიმართულებით მოძრაობისთვის განკუთვნილი ყველა მოძრაობის ზოლი დაკავებულია, აგრეთვე დაბრკოლების შემოვლის ან გასწრების, ან მარცხნივ მოხვევის ან მობრუნების დროს. ამასთანავე, ტრამვაის მოძრაობას არ უნდა შეექმნას დაბრკოლება. საპირისპირო მიმართულების ტრამვაის ლიანდაგზე გასვლა აკრძალულია.

## ВОПРОС 368

ПРАВИЛЬНЫЙ ОТВЕТ: 4

Цақа еиқәыпхьазоу атыпқәа ркынтә атранспорттә хархәага аҭәира иабақалоҭ

1

Ганкала акәзаргы, 100 метрак еитңы алапшбара иахьыкоу амҭаҭы

2

Аангыларатә пункт иахьыкоу атыпәҭы

3

Автомагистраль аҭы

4

Абри абилет аҭы еиқәыпхьазоу иарбанзаалак атыпәҭы

## განმარტება:

„საგზაო მოძრაობის შესახებ“ საქართველოს კანონის 32-ე მუხლის მე-15 პუნქტის „ე“ და „ვ“ ქვეპუნქტების თანახმად, აკრძალულია სატრანსპორტო საშუალების მობრუნება: ე) გზაზე, სადაც ხილვადობა თუნდაც ერთი მიმართულებით 100 მეტრზე ნაკლებია; ვ) იმ ადგილას, სადაც გასაჩერებელი პუნქტია. ამავ კანონის 38-ე მუხლის პირველი პუნქტის „გ.ბ“ ქვეპუნქტის თანახმად ავტომაგისტრალზე, ავტომაგისტრალის შესასვლელზე და გამოსასვლელზე მძღოლს ეკრძალება მობრუნება ან უკუსვლით მოძრაობა, აგრეთვე ცენტრალურ გამყოფ ზოლსა და გზის ორივე სავალი ნაწილის განივ შეერთებაზე გასვლა.

## ВОПРОС 369

ПРАВИЛЬНЫЙ ОТВЕТ: 1

Ганкала еитатუа атранспорттә хархәагәа аамтакала аитатратә цәахәагәа рыҭсахыр, аитатра атраекториакәа еихтәозар, амәасра аҭыжәара имоупЖ

1

Арҭыраҳьала иҭоу атранспорттә хархәага арныкәа

2

Армарахьала иҭоу атранспорттә хархәага арныкәа

## განმარტება:

„საგზაო მოძრაობის შესახებ“ საქართველოს კანონის 32-ე მუხლის მე-4 პუნქტის თანახმად, მოძრაობის ზოლიდან ზოლში მოძრაობის მიმართულების შეუცვლელად გადასვლისას მძღოლმა გზა უნდა დაუთმოს გადასასვლელ მოძრაობის ზოლში თანმხვედრი მიმართულებით მოძრავ სატრანსპორტო საშუალებას. თანმხვედრი მიმართულებით მოძრავი სატრანსპორტო საშუალებების მიერ მოძრაობის ზოლების ერთდროულად შეცვლისას მოძრაობის ტრაექტორიების გადაკვეთის შემთხვევაში გავლის უპირატესობა ენიჭება მარჯვნივ მყოფი სატრანსპორტო საშუალების მძღოლს.

## ВОПРОС 370

ПРАВИЛЬНЫЙ ОТВЕТ: 4

Цака еиқәыҭхьаҭоу атыҭқәа ркынтә атранспорттә хархәага шытахьла аитатра каломЖ

1

Ахапкылтәаҭы

2

Автомагистраль аҭы

3

Амәеихысыртаҭы

4

Абри абилет аҭы еиқәыҭхьаҭоу иарбанзаалак атыҭаҭы

## განმარტება:

„საგზაო მოძრაობის შესახებ“ საქართველოს კანონის 32-ე მუხლის მე-15 პუნქტის „ბ“ ქვეპუნქტისა და მე-16 პუნქტის თანახმად: 15. „ბ“ აკრძალულია სატრანსპორტო საშუალების მობრუნება გვირაბში; 16. მძღოლი, რომელიც მობრუნებას ან უკუსვლით მოძრაობას აპირებს, უნდა დარწმუნდეს, რომ მას შეუძლია ისე შეასრულოს ეს მანევრი, რომ საფრთხე არ შეუქმნას და ხელი არ შეუშალოს სხვა საგზაო მოძრაობის მონაწილეებს. აუცილებლობის შემთხვევაში მიზანშეწონილია სხვა პირის დახმარება. აკრძალულია უკუსვლით მოძრაობა გზატკარცილობაზე, ავტომაგისტრალზე და ამ მუხლის მე-15 პუნქტით განსაზღვრულ ადგილებში.



Амашына лас арныкæф ахыц ахырхартала деитатцазар, уи ишьтахь атранспорттæ хархæага ыкамзар, аръырахь атæира алашаратæ ардырга афæakra ихæтоумаф

1

Ихæтоуп

2

Ихæтазам

### განმარტება:

„საგზაო მოძრაობის შესახებ“ საქართველოს კანონის 32-ე მუხლის მე-2 პუნქტის თანახმად, მანევრის დაწყებამდე მძღოლი ვალდებულია ჩართოს შესაბამისი მიმართულების მოხვევის შუქ-მაჩვენებელი, ხოლო თუ ის არ არის ან გამოსულია მწყობრიდან — ანიშნოს ხელით.

## ВОПРОС 372

ПРАВИЛЬНЫЙ ОТВЕТ: 1



I



II



III

Абарт асахьақәа рҕынтә руа иарбан амотоцикл арнықәаф напыла иҕаитһаз армарахь аҗәира ардырга хзырһиҕ

1

I

2

II

3

III

## განმარტება:

„საგზაო მოძრაობის შესახებ“ საქართველოს კანონის 32-ე მუხლის მე-2 პუნქტის თანახმად, მანევრის დაწყებამდე მძღოლი ვალდებულია ჩართოს შესაბამისი მიმართულების მოხვევის შუქ-მაჩვენებელი, ხოლო თუ ის არ არის ან გამოსულია მწყობრიდან – ანიშნოს ხელით. მარცხნივ მოხვევის ან მობრუნების სიგნალს შეესაბამება გვერდზე ჰორიზონტალურად გაშვებული მარცხენა ხელი ან გვერდზე გაშვებული, იდაყვში სწორი კუთხით ზემოთ მოხრილი მარჯვენა ხელი. მარჯვნივ მოხვევის სიგნალს შეესაბამება გვერდზე ჰორიზონტალურად გაშვებული მარჯვენა ხელი ან გვერდზე გაშვებული, იდაყვში სწორი კუთხით ზემოთ მოხრილი მარცხენა ხელი. დამუხრუჭების სიგნალს შეესაბამება ზემოთ ვერტიკალურად აწეული მარცხენა ან მარჯვენა ხელი.

## ВОПРОС 373

ПРАВИЛЬНЫЙ ОТВЕТ: 3



I



II



III

Абарт асахьакәа рҕынтә руа иарбан амотоцикл арныкәаҥ напыла иҕаиттаз арҕьарахь атәиҕа ардырҕа хыырбыҕ

1

I

2

II

3

III

## განმარტება:

„საგზაო მოძრაობის შესახებ“ საქართველოს კანონის 32-ე მუხლის მე-2 პუნქტის თანახმად, მანევრის დაწყებამდე მძღოლი ვალდებულია ჩართოს შესაბამისი მიმართულების მოხვევის შუქ-მაჩვენებელი, ხოლო თუ ის არ არის ან გამოსულია მწყობრიდან – ანიშნოს ხელით. მარცხნივ მოხვევის ან მობრუნების სიგნალს შეესაბამება გვერდზე ჰორიზონტალურად გაშვებული მარცხენა ხელი ან გვერდზე გაშვებული, იდაყვში სწორი კუთხით ზემოთ მოხრილი მარჯვენა ხელი. მარჯვნივ მოხვევის სიგნალს შეესაბამება გვერდზე ჰორიზონტალურად გაშვებული მარჯვენა ხელი ან გვერდზე გაშვებული, იდაყვში სწორი კუთხით ზემოთ მოხრილი მარცხენა ხელი. დამუხრუჭების სიგნალს შეესაბამება ზემოთ ვერტიკალურად აწეული მარცხენა ან მარჯვენა ხელი.




## ВОПРОС 374

ПРАВИЛЬНЫЙ ОТВЕТ: 2



I



II



III

Абарт асахьакәа рҕынтә руа иарбан амотоцикл арныкәаҕ напыла иҕаиттаз аанкылара ардырга хыырбыҕ

1

I

2

II

3

III

## განმარტება:

„საგზაო მოძრაობის შესახებ“ საქართველოს კანონის 32-ე მუხლის მე-2 პუნქტის თანახმად, მანევრის დაწყებამდე მძღოლი ვალდებულია ჩართოს შესაბამისი მიმართულების მოხვევის შუქ-მაჩვენებელი, ხოლო თუ ის არ არის ან გამოსულია მწყობრიდან – ანიშნოს ხელით. მარცხნივ მოხვევის ან მობრუნების სიგნალს შეესაბამება გვერდზე ჰორიზონტალურად გაშვებული მარცხენა ხელი ან გვერდზე გაშვებული, იდაყვში სწორი კუთხით ზემოთ მოხრილი მარჯვენა ხელი. მარჯვნივ მოხვევის სიგნალს შეესაბამება გვერდზე ჰორიზონტალურად გაშვებული მარჯვენა ხელი ან გვერდზე გაშვებული, იდაყვში სწორი კუთხით ზემოთ მოხრილი მარცხენა ხელი. დამუხრუჭების სიგნალს შეესაბამება ზემოთ ვერტიკალურად აწეული მარცხენა ან მარჯვენა ხელი.

## ВОПРОС 375

ПРАВИЛЬНЫЙ ОТВЕТ: 1



I



II



III

Абарт асахьакәа рҕынтә руа иарбан амотоцикл арныкәаф напыла иҕаитаз аанкылаа ардырга хзырбоҕ

1

I

2

II

3

III

## განმარტება:

„საგზაო მოძრაობის შესახებ“ საქართველოს კანონის 32-ე მუხლის მე-2 პუნქტის თანახმად, მანევრის დაწყებამდე მძღოლი ვალდებულია ჩართოს შესაბამისი მიმართულების მოხვევის შუქ-მაჩვენებელი, ხოლო თუ ის არ არის ან გამოსულია მწყობრიდან – ანიშნოს ხელით. მარცხნივ მოხვევის ან მობრუნების სიგნალს შეესაბამება გვერდზე ჰორიზონტალურად გაშვებული მარცხენა ხელი ან გვერდზე გაშვებული, იდაყვში სწორი კუთხით ზემოთ მოხრილი მარჯვენა ხელი. მარჯვნივ მოხვევის სიგნალს შეესაბამება გვერდზე ჰორიზონტალურად გაშვებული მარჯვენა ხელი ან გვერდზე გაშვებული, იდაყვში სწორი კუთხით ზემოთ მოხრილი მარცხენა ხელი. დამუხრუჭების სიგნალს შეესაბამება ზემოთ ვერტიკალურად აწეული მარცხენა ან მარჯვენა ხელი.

## ВОПРОС 376

ПРАВИЛЬНЫЙ ОТВЕТ: 2



I



II



III

Абарт асахьакәа ркынтә руа иарбан амашына арныкәаф напыла икаитаз арҭырахь атәира ардырга хзырбиҭ

1

I

2

II

3

III

## განმარტება:

„საგზაო მოძრაობის შესახებ“ საქართველოს კანონის 32-ე მუხლის მე-2 პუნქტის თანახმად, მანევრის დაწყებამდე მძღოლი ვალდებულია ჩართოს შესაბამისი მიმართულების მოხვევის შუქ-მაჩვენებელი, ხოლო თუ ის არ არის ან გამოსულია მწყობრიდან – ანიშნოს ხელით. მარცხნივ მოხვევის ან მობრუნების სიგნალს შეესაბამება გვერდზე ჰორიზონტალურად გაშვებული მარცხენა ხელი ან გვერდზე გაშვებული, იდაყვში სწორი კუთხით ზემოთ მოხრილი მარჯვენა ხელი. მარჯვნივ მოხვევის სიგნალს შეესაბამება გვერდზე ჰორიზონტალურად გაშვებული მარჯვენა ხელი ან გვერდზე გაშვებული, იდაყვში სწორი კუთხით ზემოთ მოხრილი მარცხენა ხელი. დამუხრუჭების სიგნალს შეესაბამება ზემოთ ვერტიკალურად აწეული მარცხენა ან მარჯვენა ხელი.

## ВОПРОС 377

ПРАВИЛЬНЫЙ ОТВЕТ: 3



I



II



III

Абарт асахьақәа рҕынтә руа иарбан амашына арныкәаф напыла иҕаитаз армарахь атҕеира ардырга хырыҕыҕ

1

I

2

II

3

III

## განმარტება:

„საგზაო მოძრაობის შესახებ“ საქართველოს კანონის 32-ე მუხლის მე-2 პუნქტის თანახმად, მანევრის დაწყებამდე მძღოლი ვალდებულია ჩართოს შესაბამისი მიმართულების მოხვევის შუქ-მაჩვენებელი, ხოლო თუ ის არ არის ან გამოსულია მწყობრიდან – ანიშნოს ხელით. მარცხნივ მოხვევის ან მობრუნების სიგნალს შეესაბამება გვერდზე ჰორიზონტალურად გაშვებული მარცხენა ხელი ან გვერდზე გაშვებული, იდაყვში სწორი კუთხით ზემოთ მოხრილი მარჯვენა ხელი. მარჯვნივ მოხვევის სიგნალს შეესაბამება გვერდზე ჰორიზონტალურად გაშვებული მარჯვენა ხელი ან გვერდზე გაშვებული, იდაყვში სწორი კუთხით ზემოთ მოხრილი მარცხენა ხელი. დამუხრუჭების სიგნალს შეესაბამება ზემოთ ვერტიკალურად აწეული მარცხენა ან მარჯვენა ხელი.

## ВОПРОС 378

ПРАВИЛЬНЫЙ ОТВЕТ: 2

Амѡа атбаареи, апрофили, амѡасырта атагылазашьеи ирыхъаны, иуѣыланы иаауа аитатра аинтенсивра иазѣхьагѡатаны, ашышьхѡа иѡо ма зхышѡара дуу атранспорттѡ хархѡага уадаѡрада шѡартада аѣысра алшара амамзар, абри атранспорттѡ хархѡага арныкѡаѡЖ

1

Амѡа абри аѡыѣѡѡаха ирласны ахысра амзызла аласра иаѡѡѡроуп.

2

Аласра ирмачны, иатаххар, алшара аниоулаѡѡѡѡѡ, уи ишьтахъ еитѡѡѡа атранспорттѡ хархѡага амѡа аитароуп

## განმარტება:

„საგზაო მოძრაობის შესახებ“ საქართველოს კანონის 34-ე მუხლის მე-12 პუნქტის თანახმად, თუ გზის არასაკმარისი სიგანე, პროფილი ან სავალი ნაწილის მდგომარეობა, საპირისპირო მოძრაობის ინტენსივობის გათვალისწინებით, არ იძლევა ნელმავალი ან დიდგაბარითიანი სატრანსპორტო საშუალების ადვილად და უსაფრთხოდ გასწრების საშუალებას, ამ სატრანსპორტო საშუალების მძღოლმა უნდა შეანელოს მოძრაობა და აუცილებლობის შემთხვევაში პირველივე შესაძლებლობისას დაუთმოს გზა მის უკან მოძრავ სატრანსპორტო საშუალებებს.

## ВОПРОС 379

ПРАВИЛЬНЫЙ ОТВЕТ: 3

Ѣѡѡа еиѡѡыѣхьѡѡѡ аѡыѣѡѡ რქынტѡ რუა იარბან არныкѡაѡ იახьылшо იაха изыманшѡალოუ аитѡѡრѡѡ ѡѡѡѡѡа алхразы заѡѡанла иатѡѡашьѡ азин ахархѡარѡѡ

1

Анхартатыѣѡ аѡы иѡѡѡ იარბანзаалаკ амѡაѡы, арныкѡაѡ деитѡѡѡазარ зыласრა дуум атранспорттѡ хархѡაгала.

2

Сааткала 80 км. аласра еиѡѡѡ аласрала аитѡѡѡ ахьыѡѡѡѡѡ анхартатыѣѡѡ аѡѡѡ ахьнымхѡ аѡыѣѡѡ რымѡეისыრѡѡѡѡ რѡы.

3

Инамѡѡѡѡѡѡ იѡѡ ახырхართალა аитѡѡѡѡѡѡѡ ѡѡѡѡѡ იазგѡѡѡѡѡ ѡѡѡѡѡѡѡѡ еитѡѡѡѡѡ იახьыѡѡѡѡѡ анхартатыѣѡѡ амѡაѡы.

## განმარტება:

„საგზაო მოძრაობის შესახებ“ საქართველოს კანონის 34-ე მუხლის მე-13 პუნქტის თანახმად, ამ კანონის 31-ე მუხლით (გარდა მე-5 პუნქტისა) დადგენილი მოთხოვნათა გათვალისწინებით, დასახლებულ პუნქტში, გზაზე, სადაც თანმხვედრი მიმართულებით მოძრაობისათვის არანაკლებ ორი მოძრაობის ზოლია და ისინი აღნიშნულია გრძივი მონიშვნით, მძღოლს შეუძლია ისარგებლოს მისთვის უფრო მოსახერხებელი მოძრაობის ზოლით (გარდა ამ კანონით გათვალისწინებული შემთხვევებისა). სხვა მოძრაობის ზოლზე ის უნდა გადავიდეს მხოლოდ მარჯვნივ ან მარცხნივ მოხვევის, გასწრების, გაჩერების ან დგომის მანევრის შესრულების მარეგულირებელი წესების შესაბამისად.





Иарбоу атагылазаашыаҕы амашына шкэакэа арныкэа ахыц ахырхартала аитатра азин имоумаҕ

1

Азин имазам

2

Азин имоуп

### განმარტება:

„საგზაო მოძრაობის შესახებ“ საქართველოს კანონის 39-ე მუხლის მე-2 პუნქტის „ა“ ქვეპუნქტის თანახმად, რკინიგზის გადასასვლელზე აკრძალულია საპირისპირო მოძრაობის ზოლზე გასვლით, გადასასვლელის წინ მდგომი სატრანსპორტო საშუალების შემოვლა. ამავე კანონის მე-2 დანართის პირველი თავის (ჰორიზონტალური მონიშვნა) 1.1 პუნქტის თანახმად, საგზაო მონიშვნა 1.1 ყოფს საპირისპირო მიმართულებით მოძრავ სატრანსპორტო ნაკადებს და გზის სახიფათო მონაკვეთზე აღნიშნავს მოძრაობის ზოლის საზღვარს ან სავალი ნაწილის საზღვარს, რომელზე შესვლაც აკრძალულია; აღნიშნავს სატრანსპორტო საშუალების დგომის ადგილის საზღვარს და იმ გზის სავალი ნაწილის ნაპირს, რომელიც მოძრაობის პირობებით არ განეკუთვნება ავტომაგისტრალს. 1.1 ხაზის გადაკვეთა აკრძალულია. დასაშვებია სავალი ნაწილის ნაპირის აღმნიშვნელი და მძღოლის მარჯვენა მხარეს განლაგებული 1.1 ხაზის გადაკვეთა სატრანსპორტო საშუალების გზის ნაპირზე გასაჩერებლად.

## ВОПРОС 381

ПРАВИЛЬНЫЙ ОТВЕТ: 2

Амѡеихысыртаѣы арѣыарахь атѣира иазку аитатцратѣ цѣахѣеи егыы амѡасыртеи ихараку ашѣартадаратѣ адгьылбжьахалала еиѣѣшазар, амѡахысырта аѣухьа арѣыарахьала алашарбага иѣамзар, арныѣѣѡ арѣыарахь дтѣиир илшоит амѡеихысыртаѣы иѣоу алашарбагаЖ

1

Аитатцразы азин изто ардырга аѣакра аамышьтахь

2

Ардырга дахьыѣшымкѣа, егырт ахырхартаѣа рѣынтѣ еитатцуа атранспорттѣ хархѣаѣа зегьы амѡа рытаны

## განმარტება:

„საგზაო მოძრაობის შესახებ“ საქართველოს კანონის 36-ე მუხლის მე-3 პუნქტის „ბ“ ქვეპუნქტის თანახმად, თუ გზატკარვედინზე მარჯვნივ მოხვევისთვის განკუთვნილი მოძრაობის ზოლი დანარჩენი სავალი ნაწილისგან გამოყოფილია ამღლებული უსაფრთხოების კონძულით და გზატკარვედინის წინ, მარჯვნივ შექნიშანი არ არის, მარჯვნივ მოხვევა სრულდება გზატკარვედინზე არსებული შექნიშნის მაშუქი სიგნალებისაგან დამოუკიდებლად სხვა მიმართულებებიდან მოძრავი ყველა სატრანსპორტო საშუალებისთვის გზის დათმობით.

## ВОПРОС 382

ПРАВИЛЬНЫЙ ОТВЕТ: 2

Амѡасыртаѣы, амѡа иѣѣу атрамваитѣ ма автоеицрахѣатѣ рельскѣа рѣы ма урт рааигѣара атранспорттѣ хархѣага аанкылара ѣалома, уи атрамваи ма автоеицрахѣа аитатцра иаѣырхагазарѣ

1

Иѣалоит

2

Иѣалом

## განმარტება:

„საგზაო მოძრაობის შესახებ“ საქართველოს კანონის 37-ე მუხლის მე-6 პუნქტის „ა.ბ“ ქვეპუნქტის თანახმად, აკრძალულია სატრანსპორტო საშუალებების გაჩერება გზის სავალ ნაწილზე გზაზე გამავალი ტრამვაის და რკინიგზის ლიანდაგებზე ან მათ ახლოს, თუ ამას შეუძლია გააძნელოს ტრამვაის ან მატარებლების მოძრაობა.



Иарбоу ატაგჲლაზააშყაფყ აბარტ ატრანსპორტტჲ хархჲაგაჲა рырныჲაჲჲა რჲынტჲ ахыц ахырхарტала аитატრა азин змамдаჲ

1

Аквadroцикл арныჲაჲ მაцара.

2

Аидаратჲ машьына арныჲაჲ მაцара

3

Атрактор арныჲაჲ მაцара.

4

Аტრანსპორტტჲ хархჲაგაჲა ჲეგყ рырныჲაჲჲა

### განმარტება:

„საგზაო მოძრაობის შესახებ“ საქართველოს კანონის 38-ე მუხლის პირველი პუნქტის „გ.გ“ ქვეპუნქტის თანახმად, ავტომანქანებზე, ავტომანქანის შესასვლელსა და გამოსასვლელზე მძღოლს ეკრძალება მეორე ზოლის იქით იმ ტვირთის გადამზიდავი ავტომობილით (მისაბმელებით ან მათ გარეშე) მოძრაობა, რომლის ნებადართული მაქსიმალური მასა 3,5 ტონას აღემატება ან იმ მისაბმელიანი ავტომობილებით მოძრაობა, რომელთა საერთო სიგრძე 7 მეტრზე მეტია. ამავე მუხლის პირველი პუნქტის „ა“ ქვეპუნქტის თანახმად, აკრძალულია ქვეითების, ცხოველების, ველოსიპედების, მოპედების, ავტომობილებისა და მათი მისაბმელებისგან განსხვავებული ყველა სატრანსპორტო საშუალების მოძრაობა, აგრეთვე იმ ავტომობილების (მისაბმელებით ან მათ გარეშე) მოძრაობა, რომელთა კონსტრუქციული სიჩქარე არ აღემატება 40 კმ/სთ (აღნიშნული შემთხვევა არ ვრცელდება იმ მექანიკურ სატრანსპორტო საშუალებებზე, რომლებიც ავტომანქანებზე გადაადგილდებიან უფლებამოსილი ორგანოსთან (უნეცხასთან) კანონმდებლობით დადგენილი წესით შეთანხმებისა და ამ შეთანხმების პირობების შესაბამისად). ამავე კანონის 33-ე მუხლის მე-8 პუნქტის „ა“ ქვეპუნქტის თანახმად, თუ ამ კანონით სხვა რამ არ არის დადგენილი დასახლებულ ან დაუსახლებელ პუნქტებში მოძრაობა ნებადართულია T და S კატეგორიის სატრანსპორტო საშუალებებისა, ყველა გზაზე - არა უმეტეს 40 კმ/სთ სიჩქარით.





Анхартатә тыџ аџы амаршруттә автобус арныкәаф аангыларта алтџра далагеит, амашына лас арныкәаџ

1


Аласра имџсахкәа аитџтра наигзоит

2

Аласра ирмачны, иатаххар даангылоит

### განმარტება:

„საგზაო მოძრაობის შესახებ“ საქართველოს კანონის 41-ე მუხლის პირველი პუნქტის თანახმად, ამ კანონის 33-ე მუხლის მე-4 პუნქტით დადგენილ მოთხოვნათა გათვალისწინებით, დასახლებულ პუნქტში სამარშრუტო სატრანსპორტო საშუალებისთვის მოძრაობის გასაადვილებლად სხვა სატრანსპორტო საშუალებების მძღოლებმა უნდა შეანელონ მოძრაობა და აუცილებლობის შემთხვევაში გაჩერდნენ, რათა სამარშრუტო სატრანსპორტო საშუალებამ შეძლოს გასაჩერებელი პუნქტიდან გამოსვლისთვის საჭირო მანევრის შესრულება. სამარშრუტო სატრანსპორტო საშუალების მძღოლი ვალდებულია მოძრაობის განახლების განზრახვის შესახებ მოხვედრის შეუ-მაჩვენებლით სიგნალის მიცემის შემდეგ მიიღოს საგზაო-სატრანსპორტო შემთხვევის თავიდან აცილებისთვის საჭირო სიფრთხილის ზომები და მოძრაობა დაიწყოს მხოლოდ მას შემდეგ, რაც დარწმუნდება, რომ სხვა სატრანსპორტო საშუალებები გზას უთმობენ.



Анхартатың ағы ахыц ахырхартала аитатра аан, амаршруттә атранспорттә хархәага арныкәә аангылартакынтә аитатра далагазар, абарт амашынакәа рырныкәәцәа ркынтә амәа атара зыхәтадаҢ

1

Амашына лас арныкәә

2

Амаршруттә атранспорттә хархәага арныкәә

### განმარტება:

„საგზაო მოძრაობის შესახებ“ საქართველოს კანონის 41-ე მუხლის პირველი პუნქტის თანახმად, ამ კანონის 33-ე მუხლის მე-4 პუნქტით დადგენილ მოთხოვნათა გათვალისწინებით, დასახლებულ პუნქტში სამარშრუტო სატრანსპორტო საშუალებისთვის მოძრაობის გასაადვილებლად სხვა სატრანსპორტო საშუალებების მძღოლებმა უნდა შეანელონ მოძრაობა და აუცილებლობის შემთხვევაში გაჩერდნენ, რათა სამარშრუტო სატრანსპორტო საშუალებამ შეძლოს გასაჩერებელი პუნქტიდან გამოსვლისთვის საჭირო მანევრის შესრულება. სამარშრუტო სატრანსპორტო საშუალების მძღოლი ვალდებულია მოძრაობის განახლების განზრახვის შესახებ მოხვედრის შემთხვევაში სიგნალის მიცემის შემდეგ მიიღოს საგზაო-სატრანსპორტო შემთხვევის თავიდან აცილებისთვის საჭირო სიფრთხილის ზომები და მოძრაობა დაიწყოს მხოლოდ მას შემდეგ, რაც დარწმუნდება, რომ სხვა სატრანსპორტო საშუალებები გზას უთმობენ. ამავე კანონის 32-ე მუხლის პირველი პუნქტის თანახმად მძღოლმა, რომელსაც განზრახული აქვს რომელიმე მანევრის შესრულება, ეს მანევრი უნდა დაიწყოს მხოლოდ მას შემდეგ, რაც დარწმუნდება, რომ არ შეუქმნის საფრთხეს მის უკან, წინ და გვერდით როგორც თანმხვედრი, ისე საპირისპირო მიმართულებით მოძრავ საგზაო მოძრაობის მონაწილეებს, მათი მდებარეობის, მოძრაობის მიმართულებისა და სიჩქარის გათვალისწინებით.





არნიკაო ახი ახრხართალა ამაშყინა ატჳირა აზინ იმოუმაჲ

1


Азин имаџам

2

Азин имоуп

### განმარტება:

„საგზაო მოძრაობის შესახებ“ საქართველოს კანონის 42-ე მუხლის „ა“ პუნქტის თანახმად, საგზაო ნიშნით აღნიშნულ გვირაბებში მოქმედებს შემდეგი წესი -მძღოლს ეკრძალება უკუსვლით მოძრაობა ან მობრუნება.



Анхартатә пункт аҧы амаршруттә автобус арныкәаҭ иагҭаҭоу аангылартакынтә аитатра далагозар, ахыц ахырхартала аитатра аан аҧыжәара змадаҭ

1


Амашына лас арныкәаҭ

2

Автобус арныкәаҭ

### განმარტება:

„საგზაო მოძრაობის შესახებ“ საქართველოს კანონის 41-ე მუხლის პირველი პუნქტის თანახმად, ამ კანონის 33-ე მუხლის მე-4 პუნქტით დადგენილ მოთხოვნათა გათვალისწინებით, დასახლებულ პუნქტში სამარშრუტო სატრანსპორტო საშუალებისთვის მოძრაობის გასაადვილებლად სხვა სატრანსპორტო საშუალებების მძღოლებმა უნდა შეანელონ მოძრაობა და აუცილებლობის შემთხვევაში გაჩერდნენ, რათა სამარშრუტო სატრანსპორტო საშუალებამ შეძლოს გასაჩერებელი პუნქტიდან გამოსვლისთვის საჭირო მანევრის შესრულება. სამარშრუტო სატრანსპორტო საშუალების მძღოლი ვალდებულია მოძრაობის განახლების განზრახვის შესახებ მოხვედრის შეუმაჩვენებლით სიგნალის მიცემის შემდეგ მიიღოს საგზაო-სატრანსპორტო შემთხვევის თავიდან აცილებისთვის საჭირო სიფრთხილის ზომები და მოძრაობა დაიწყოს მხოლოდ მას შემდეგ, რაც დარწმუნდება, რომ სხვა სატრანსპორტო საშუალებები გზას უთმობენ.



Абарт атранспорттә хархәагақәа рырныкәащәа ркынтә ахыц ахырхартала аитатра азин змадаҕ

1

Амотоциклкәа рырныкәащәа мацара

2

Аидаратә машына арныкәащәа затәы


3

Атранспорттә хархәагақәа рыхҕагы  
рырныкәащәа

### განმარტება:

„საგზაო მოძრაობის შესახებ“ საქართველოს კანონის 31-ე მუხლის მე-14 პუნქტის თანახმად, დასაშვებია მოძრაობის ზოლზე მოპედების ან/და უეტლო მოტოციკლების თანმხვედრი მიმართულებით ორ რიგად მოძრაობა. ამავე მუხლის მე-15 პუნქტის თანახმად ამ კანონის 32-ე მუხლის მე-6 პუნქტით დადგენილ მოთხოვნათა გათვალისწინებით, მოძრაობა ნებადართულია თანმხვედრი მიმართულების ტრამვაის ლიანდაგზე, რომელიც მარცხენა მხარეს სავალ ნაწილთან ერთ დონეზე მდებარეობს, თუ თანმხვედრი მიმართულებით მოძრაობისთვის განკუთვნილი ყველა მოძრაობის ზოლი დაკავებულია, აგრეთვე დაბრკოლების შემოვლის ან გასწრების, ან მარცხნივ მოხვევის ან მობრუნების დროს. ამასთანავე, ტრამვაის მოძრაობას არ უნდა შეექმნას დაბრკოლება. საპირისპირო მიმართულების ტრამვაის ლიანდაგზე გასვლა აკრძალულია.





Абарт атранспорттә хархәагакәа рырныкәащәа ркынтә ахыц ахырхартала аитатра азин змамдаҥ

1

Амашына дежь арныкәаҭ

2

Аидаратә машына арныкәаҭ

3

Иаханы ирго амашына арныкәаҭ

4

Азәгы

### განმარტება:

„საგზაო მოძრაობის შესახებ“ საქართველოს კანონის 31-ე მუხლის მე-7 პუნქტის თანახმად, სამი მოძრაობის ზოლის მქონე (გარდა 1.9 საგზაო მონიშვნისა) ორმხრივმოძრაობიან გზაზე სატრანსპორტო საშუალების მძღოლი არ უნდა გადავიდეს სავალი ნაწილის განაპირა ზოლზე, სადაც საპირისპირო მიმართულების მოძრაობა ხორციელდება. თუ სამი მოძრაობის ზოლის მქონე გზაზე შუა ზოლი ორივე მიმართულებით მოძრაობისათვის გამოიყენება, ამ ზოლზე გასვლა ნებადართულია მხოლოდ გასწრების, დაბრკოლების შემოვლის, მარცხნივ მოხვევის ან მობრუნების მიზნით. ამავე კანონის პირველი დანართის მე-3 თავის (ამკრძალავი ნიშნები) 3.7 პუნქტის თანახმად, საგზაო ნიშანი 3.7 „მისაბმელით მოძრაობა აკრძალულია“ - კრძალავს ყველა სახის მისაბმელიანი სატვირთო ავტომობილითა და მისაბმელიანი ტრაქტორით მოძრაობას, აგრეთვე მექანიკური სატრანსპორტო საშუალების ბუქსირებას.

## ВОПРОС 390

ПРАВИЛЬНЫЙ ОТВЕТ: 1

Заанкылаგა ქუჩასოუ ამეხანიკატე ატრანსპორტე хархეага афакттәи амасса иаханы изго аტრანსპორტე хархეага афакттәи амасса абжа еихазар, уи иаханы агараЖ

1

Икалом

2

Икалоит

## განმარტება:

„საგზაო მოძრაობის შესახებ“ საქართველოს კანონის 45-ე მუხლის მე-6 პუნქტის „გ“ ქვეპუნქტის თანახმად, ავრძალულია ბუქსირება უმოქმედო სამუხრუჭო სისტემის მქონე მექანიკური სატრანსპორტო საშუალებისა, თუ მისი ფაქტობრივი მასა მობუქსირე სატრანსპორტო საშუალების ფაქტობრივი მასის ნახევარს აღემატება, ხოლო თუ მასა ნაკლებია, ბუქსირება დასაშვებია მხოლოდ ხისტი გადაბმით ან ნაწილობრივი დატვირთვით.

## ВОПРОС 391

ПРАВИЛЬНЫЙ ОТВЕТ: 2

Апассажицеа имџанызго, ачарт змоу аидаратә машына еибытазароупЖ

1

Адашьмакынтә 0,2 – 0,3 метрак  
аҳаракыраҕы ачарт хыхьтәи  
ақәыпшыларакынтә 0,5 метрак аҕазараҕы  
ишьақәыргылоу атәартақәа, иара убас,  
ашьтахьтәи ма агантәи адаанқәа  
ирываршәны игылоу, иҕәҕәоу азқәа змоу  
атәартақәа рыла

2

Адашьмакынтә 0,3 – 0,5 метрак  
аҳаракыраҕы ачарт хыхьтәи  
ақәыпшыларакынтә 0,3 метрак аҕазараҕы  
ишьақәыргылоу атәартақәа, иара убас,  
ашьтахьтәи ма агантәи адаанқәа  
ирываршәны игылоу иҕәҕәоу азқәа змоу  
атәартақәа рыла

## განმარტება:

„საგზაო მოძრაობის შესახებ“ საქართველოს კანონის 46-ე მუხლის მე-9 პუნქტის თანახმად, მგზავრთა გადასაცემი ბორტის პლატფორმის მქონე სატვირთო ავტომობილი უზრუნველყოფილი უნდა იყოს იატაკიდან 0,3–0,5 მეტრ სიმაღლეზე და ბორტის ზედა ნაპირიდან არანაკლებ 0,3 მეტრზე განლაგებული დასასხდომი ადგილებით, ხოლო ბავშვთა ჯგუფის გადაყვანისას ბორტების სიმაღლე იატაკიდან 0,8 მეტრზე ნაკლები არ უნდა იყოს. უკანა ან გვერდითი ბორტების გასწვრივ განლაგებულ დასასხდომ ადგილებს მყარი საბურღეები უნდა ჰქონდეს.



Ишахәтәу еиҗш еиқәыршәу аидаратә машына ачарт ала апассажирцәа рымѡангара аан, амѡа ддәықәлаанзә арнықәаѡЖ

1

Апассажирцәа ирзентеихәроуп амашына ақәтәареи ачарт аҿы ртықәа раанкылареи атас иазкны, анеѡс, амѡа дықәлароуп апассажирцәа шәартада рымѡангаразы атагылазаашьақәа зегьы ишыхьчоу агәра нигалак

2

Апассажирцәа рхықьхьазара ачарт аҿы иқоу атәартақәа рхықьхьазара еихазар, зшьапы иқәгылоу апассажирцәа ачарт аҿы иахьгылаша реихәроуп

3

Инаигзароуп абри абилет аҿы еиқәықьхьазоу ахәарақәа зегьы

### განმარტება:

„საგზაო მოძრაობის შესახებ“ საქართველოს კანონის 46-ე მუხლის მე-5 პუნქტის თანახმად, სატვირთო ავტომობილის ძარათი გადასაცემ მგზავრთა რაოდენობა არ უნდა აღემატებოდეს დასასხდომად მოწყობილი ადგილების რაოდენობას. მგზავრობის დაწყების წინ სატვირთო ავტომობილის მძღოლი ვალდებულია მგზავრებს ჩაუტაროს ინსტრუქტაჟი ჩასხდომისა და ძარაზე განლაგების წესის შესახებ. მძღოლმა მხოლოდ მაშინ უნდა დაიწყოს მოძრაობა, როცა დარწმუნდება, რომ მგზავრთა უსაფრთხოდ გადაყვანის ყველა პირობა დაცულია.



Аидаратә машына арныкәаф, сааткала 50км. аласрала деитатцазар, ахыц ахыртартала аитатра аан амәатә аитатра атцаскәа еилеигомаҭ

1


Еилеигом

2

Еилеიგოит

### განმარტება:

„საგზაო მოძრაობის შესახებ“ საქართველოს კანონის 33-ე მუხლის მე-7 პუნქტის „დ.ბ“ ქვეპუნქტის თანახმად, გარდა ამ კანონით დადგენილი შემთხვევებისა, დაუსახლებელ პუნქტებში, აგრეთვე დასახლებულ პუნქტებში გზის იმ მონაკვეთზე, რომელზეც შესაბამისი ნიშნით მოძრაობა დაშვებულია 60 კმ/ზე მეტი სიჩქარით, ნებადართული C და CE კატეგორიის, აგრეთვე C1 და C1E ქვეკატეგორიების სატრანსპორტო საშუალებების მოძრაობა, დადგენილი წესით, ძარით მგზავრების გადაყვანის შემთხვევაში, ყველა გზაზე არა უმეტეს 60 კმ/სთ სიჩქარით.



Иарбоу атагылазаашьафы, ахыц ахырхартала еитатцуа, иаханы изго аидаратә машьына арныкәаф сааткала 70км. аласрала деитатцуазар, амәатә аитатцра атцаскәа шака еилеигоиҭ

1

Акызацәыкгы

2

Акы

3

Әба

4

Хҭа

### განმარტება:

„საგზაო მოძრაობის შესახებ“ საქართველოს კანონის 33-ე მუხლის მე-8 პუნქტის „დ“ ქვეპუნქტის თანახმად, თუ ამ კანონით სხვა რამ არ არის დადგენილი, დასახლებულ ან დაუსახლებელ პუნქტში ნებადართულია იმ მექანიკური სატრანსპორტო საშუალების მოძრაობა, რომელიც ახორციელებს სხვა მექანიკური სატრანსპორტო საშუალების ბუქსირებას, არაუმეტეს 50 კმ/სთ სიჩქარით. ამავე კანონის 45-ე მუხლის მე-4 პუნქტის თანახმად ხისტი ან მოქნილი გადაბმით ბუქსირებისას აკრძალულია მგზავრის გადაყვანა საბუქსირო ავტობუსით, ტროლეიბუსითა და სატვირთო ავტომობილის ძარათი. ამავე კანონის 45-ე მუხლის მე-5 პუნქტის თანახმად, მობუქსირე და საბუქსირო სატრანსპორტო საშუალებებს შორის მანძილი მოქნილი გადაბმით ბუქსირებისას უნდა იყოს 4–6 მეტრი. ამავე მუხლის მე-9 პუნქტის თანახმად, მექანიკური სატრანსპორტო საშუალების ბუქსირებისას დრეკადი შემაერთებელი რგოლების აღსანიშნავად გამოიყენება ალმები, გამაფრთხილებელი მოწყობილობა ან 200X200 მმ ზომის დაფა, რომელზედაც დიაგონალურადაა დახაზული 50 მმ სიგანის ურთიერთმონაცვლე წითელი და თეთრი ზოლები შუქამრეკლი ზედაპირით. დრეკად შემაერთებელ რგოლზე მაგრდება არანაკლებ ორი გამაფრთხილებელი მოწყობილობა (ალამი). აქ დარღვევაა: სიჩქარე; საბუქსირო მოწყობილობაზე არ არის ალმები და მგზავრების გადაყვანა საბუქსირო სატვირთო ავტომობილის ძარათი.



## ВОПРОС 395

ПРАВИЛЬНЫЙ ОТВЕТ: 3

Автоахага ма аконтейнер ала амѡангара аан атранспорттѡ хархѡага ихышѡарам Ѓзхышѡара дууТ хѡа иѣхѡაჟოуп амѡასырტა ასყუშыლარაუынტѡ უი ასარაუყრაჟ

1

2,30 მეტრაუ ეისაჰარ, ასა 3,50 მეტრაუ ეისამჰარ

2

3,50 მეტრაუ ეისაჰარ, ასა 4,30 მეტრაუ ეისამჰარ

3

4,30 მეტრაუ ეისაჰარ

## განმარტება:

„საგზაო მოძრაობის შესახებ“ საქართველოს კანონის 47-ე მუხლის მე-8 პუნქტის „ა“ ქვეპუნქტის თანახმად, სატრანსპორტო საშუალება არაგაბარითულად (მსხვილგაბარითიანად) ითვლება, თუ მისი პარამეტრები აღემატება შემდეგი მაჩვენებლებიდან ერთ-ერთს მაინც: ა) სიმაღლე (სავალი ნაწილის ზედაპირიდან) - ავტომობილის ან კონტეინერის გადაზიდვის შემთხვევაში - 4,30 მეტრს, ყველა სხვა შემთხვევაში - 4 მეტრს.

## ВОПРОС 396

ПРАВИЛЬНЫЙ ОТВЕТ: 3

Автоахага ма аконтейнер ала амѡанგара аан ასყუმუსა, ეგყრტ ატაგყლაჰაშყსუსა რუყ ატრანსპორტტѡ хархѡага ихышѡარам Ѓзхышѡара дууТ хѡა иѣхѡაჟოуп амѡასырტა ასყუშыლარაუынტѡ უი ასარაუყრაჟ

1

2 მეტრაუ ეისაჰარ, ასა 3 მეტრაუ ირეისამჰარ

2

3 მეტრაუ ეისაჰარ, ასა 3,70 ეისამჰარ

3

4 მეტრაუ ეისაჰარ

## განმარტება:

„საგზაო მოძრაობის შესახებ“ საქართველოს კანონის 47-ე მუხლის მე-8 პუნქტის „ა“ ქვეპუნქტის თანახმად, სატრანსპორტო საშუალება არაგაბარითულად (მსხვილგაბარითიანად) ითვლება, თუ მისი პარამეტრები აღემატება შემდეგი მაჩვენებლებიდან ერთ-ერთს მაინც: ა) სიმაღლე (სავალი ნაწილის ზედაპირიდან) - ავტომობილის ან კონტეინერის გადაზიდვის შემთხვევაში - 4,30 მეტრს, ყველა სხვა შემთხვევაში - 4 მეტრს.

## ВОПРОС 397

ПРАВИЛЬНЫЙ ОТВЕТ: 2

Атრანспорттә хархәага ихышәарам Пҭзхышәара дууТ хәа иҭхьазоуп, уи аураЖ

1

Автоацраҳәа акәзар € 20 метрак еихамзар, егырт атагылазашьакәа рҭы € 12 метрак еихамзар

2

Автоацраҳәа акәзар € 20 метрак еихазар, егырт атагылазашьакәа рҭы € 12 метрак еихазар

3

Атагылазашьакәа зегьы рҭы € 12 метрак еихазар, аха 20 метрак еихамзар

## განმარტება:

„საგზაო მოძრაობის შესახებ“ საქართველოს კანონის 47-ე მუხლის მე-8 პუნქტის „გ“ ქვეპუნქტის თანახმად, სატრანსპორტო საშუალება არაგაბარითულად (მსხვილგაბარითიანად) ითვლება, თუ მისი პარამეტრები აღემატება შემდეგი მაჩვენებლებიდან ერთ-ერთს მაინც: გ) სიგრძე - ავტომატარებელის შემთხვევაში - 20 მეტრს, ყველა სხვა შემთხვევაში - 12 მეტრს, ან, თუ ტვირთი სატრანსპორტო საშუალების უკანა გაბარითის წერტილიდან 2 მეტრზე მეტადაა გამოშვებული.

## ВОПРОС 398

ПРАВИЛЬНЫЙ ОТВЕТ: 2

Амѡатә аитатра аиѣкаарала уаха акгы иаҭхьагәатамзар, ѡба ма хәмѡеисыртак змоу амѡаѣы, атрანспорттә хархәага арныкәаѡ азин имамЖ

1

Инамѡатәны иѡо аитатратә аганала амѡасыртаѣы аитатратә цәахәа аҭсахра

2

Еиҭынгыланы иѡо аитатратә аганала амѡасырта алалара

## განმარტება:

„საგზაო მოძრაობის შესახებ“ საქართველოს კანონის 31-ე მუხლის მე-6 პუნქტის თანახმად, თუ საგზაო მოძრაობის ორგანიზებით სხვა რამ არ არის გათვალისწინებული, ორი ან სამი სავალი ნაწილის მქონე გზაზე, სატრანსპორტო საშუალების მძღოლს ეკრძალება საპირისპირო მიმართულების მოძრაობის მხარის სავალ ნაწილზე გასვლა.



## ВОПРОС 399

ПРАВИЛЬНЫЙ ОТВЕТ: 1

Иарбанзаалак маниоврк назыгзар зтаху арныкәаф, аманиовр далагароуп агәра нигалакЖ

1

Уи иагҭхьа, ишьтахь, ма ивара, имѳатәны ма еиҭынгыланы еитатҭуа амѳатә аитатҭра алахәылацәа ашәарта иштаимыргыло, урт ртыҭи, реитатҭра ахырхартеи, рыласреи иазгҭхьагәатаны

2

Уи ишьтахь ма ивара еитатҭуа атранспорттә хархәагақәа ашәарта иштаимыргыло, аитатҭра ахырхартеи аласреи иазгҭхьагәатаны

## განმარტება:

„საგზაო მოძრაობის შესახებ“ საქართველოს კანონის 32-ე მუხლის პირველი პუნქტის თანახმად, მძღოლმა, რომელსაც განზრახული აქვს რომელიმე მანევრის შესრულება, ეს მანევრი უნდა დაიწყოს მხოლოდ მას შემდეგ, რაც დარწმუნდება, რომ არ შეუქმნის საფრთხეს მის უკან, წინ და გვერდით როგორც თანმხვედრი, ისე საპირისპირო მიმართულებით მოძრავ საგზაო მოძრაობის მონაწილეებს, მათი მდებარეობის, მოძრაობის მიმართულებისა და სიჩქარის გათვალისწინებით.

## ВОПРОС 400

ПРАВИЛЬНЫЙ ОТВЕТ: 1

Еиқәыҭхьызоу атыҭқәа ркынтә атәира азин иқоупЖ

1

Амѳеихысыртқәа рҭы

2

Ацҭеи, амѳа ахысыртҭеи, аестакадеи уи атақҭеи рҭы

3

Аихамѳа ахысыртаҭы

4

Аҳапкылтәаҭы

## განმარტება:

„საგზაო მოძრაობის შესახებ“ საქართველოს კანონის 32-ე მუხლის მე-15 პუნქტის „ბ“, „გ“ და „დ“ ქვეპუნქტების თანახმად, აკრძალულია სატრანსპორტო საშუალების მობრუნება: ბ) გვირაბში; გ) ხიდზე, გზაგამტარზე, ესტაკადაზე და მათ ქვეშ; დ) რკინიგზის გადასასვლელზე.

Ахадаратә ма ихадам алыра цыфхьазазы змаксиамалтә ақәыңәҟәара 10 тоннак еихау Пҟихадам алыра змоу атранспорттә хархәага ахадаратә лыразы – 11,5 тоннаТ атранспорттә хархәага амџаҟы аитатра азин амоумаБ

1

Азин амоуп, уи, ахадаратә лыразы змаксималтә ақәыңәҟәара 11,5 тонна еихам, ахадаратә лыра затәык змоу атранспорттә хархәагазар

2

Азин амоуп, уи, азакәанҟцарала ишьақәгылоу атасқәа рыла, азинмчы змоу аорганқәа ПҟаматұрақәаТ рҟны айқәшахатра иашьатакны, абри айқәшахатра атагылазаашьақәа инрықәырҟшны амџаҟы еитатра, ихышәаратәым Пҟзыкапан дууТ атранспорттә хархәагазар

3

Азин амам, иарбанзаалак атагылазаашьаҟы

### განმარტება:

„საგზაო მოძრაობის შესახებ“ საქართველოს კანონის 47-ე მუხლის მე-3 პუნქტის „ა“ თანახმად, აკრძალულია გზაზე იმ სატრანსპორტო საშუალების მოძრაობა, რომლის: ა) თითოეულ წამყვან ან არანამყვან ღერძზე მაქსიმალური დატვირთვა აღემატება 10 ტონას (გარდა ერთნამყვანღერძიანი ავტოსატრანსპორტო საშუალებისა, რომლის წამყვან ღერძზე მაქსიმალური დატვირთვა არ უნდა აღემატებოდეს 11,5 ტონას) ან/და ფაქტობრივი მასა აღემატება 44 ტონას ან/და ფაქტობრივი მასა აღემატება ნებადართულ მაქსიმალურ მასას. ამავე მუხლის მე-5 პუნქტის „ა“ ქვეპუნქტის თანახმად, გარდა ნებადართულ მაქსიმალურ მასაზე ფაქტობრივი მასის გადაჭარბების აკრძალვისა, ამ მუხლის მე-3 პუნქტის მოქმედება არ ვრცელდება: ა) იმ არაგაბარიტულ (მსხვილგაბარიტიან) ან ზენორმატიულ (მძიმეწონიან) სატრანსპორტო საშუალებაზე, რომელიც გზაზე მოძრაობს საქართველოს კანონმდებლობით დადგენილი წესით უფლებამოსილ ორგანოსთან (უნყებასთან) შეთანხმების შემდეგ, ამ შეთანხმების პირობების შესაბამისად.

შეარა შამაშყა აჟა იო აიდარატე მაშყა არნყაფ, არყარაჟ, ზყმფეისყრტა ტშფოუ ამფაშკა დყბჟალარ იტაჟყარ, შეარა იაჟჟაგაშეტაროუპჟ

1

ატრანსპორტტე ჟარჟაგა აბჟალარატე რადიუს დუ აჟამოუ აჟყნტე, უი აბჟალარტა აჟა არმარაჟ დეიტატყრ ილშოიტ

2

უი ილასრა ირმაცუეიტ

3

ამფასყრტა იაჟყსუა აშაჟაყაა ამფა იაჟყრტო აჟყნტე, უი დაეა მფაკ აჟ დყბჟალაანჟა დაანგყლარ ილშოიტ

4

აბრი აბილეთ აფყ ეიჟყჟჟაჟოუ იარბანჟაალაკ ატაგყლაჟაშაჟა ცყრტყრ შყკალო

### განმარტეჟა:

თუ თეჟენი სატრანსპორტო საშუალების წინ მიმავალი სატვირთო ავტომობილის მძღოლი აპირებს მარჯვნივ შეუხვიოს ვიწრო სავალი ნაწილის მქონე ქუჩაზე თეჟენ უნდა გაითვალისწინოთ, რომ სატრანსპორტო საშუალების დიდი მოხვევის რადიუსის გამო ის უშუალოდ მოსახვევის წინ შეიძლება გადაადგილდეს მარცხნივ, ასევე შეიძლება მკვეთრად შეამციროს სიჩქარე და გადამავალი ქვეითების გზის დათმობის გამო შეიძლება გაჩერდეს მოხვევის შესრულების დროს.

Цака еиқыпхыажоу атагылазашыақа ркынтә руа иарбан арныкәаф атәиира аманиовр далагаанза алашаратә арбагала ма напала ардырга акатара нихәтамб

1

Уи иашьтахь даеа транспорттә хархәагак ианеитамцуа мацара.

2

Уи ирдырга амәатә аитатра егырт алахәылацәа рымәа ианахнакьо мацара.

3

Абри абилет афы еиқыпхыажоу атагылазашыақа зегьы раан.

### განმარტება:

„საგზაო მოძრაობის შესახებ“ საქართველოს კანონის 32-ე მუხლის მე-2 პუნქტის თანახმად, მანევრის დაწყებამდე მძღოლი ვალდებულია ჩართოს შესაბამისი მიმართულების მოხვევის შუქ-მაჩვენებელი, ხოლო თუ ის არ არის ან გამოსულია მწყობრიდან – ანიშნოს ხელით. მარცხნივ მოხვევის ან მობრუნების სიგნალს შეესაბამება გვერდზე ჰორიზონტალურად გაშვებული მარცხენა ხელი ან გვერდზე გაშვებული, იდაყვში სწორი კუთხით ზემოთ მოხრილი მარჯვენა ხელი. მარჯვნივ მოხვევის სიგნალს შეესაბამება გვერდზე ჰორიზონტალურად გაშვებული მარჯვენა ხელი ან გვერდზე გაშვებული, იდაყვში სწორი კუთხით ზემოთ მოხრილი მარცხენა ხელი. დამუხრუჭების სიგნალს შეესაბამება ზემოთ ვერტიკალურად აწეული მარცხენა ან მარჯვენა ხელი. მოხვევის შუქ-მაჩვენებლით ან ხელით სიგნალი მიცემული უნდა იქნეს დროულად, მანევრის დაწყების წინ და უნდა შეწყდეს დაუყოვნებლივ, მისი დასრულებისთანავე (სიგნალის ხელით მიცემა შეიძლება შეწყდეს უშუალოდ მანევრის დაწყების წინ). ამასთანავე, სიგნალმა არ უნდა შეაცდინოს სხვა საგზაო მოძრაობის მონაწილეები.

თემა 16:

გასწრება შემხვედრი ტრანსპორტის გვერდის  
ავლით

---





Амашына шкәакәа арныкәәа ахыц ахырхартала айтатра азин имоумаҥ

1


Азин имазам

2

Азин имоуп

### განმარტება:

„საგზაო მოძრაობის შესახებ“ საქართველოს კანონის 34-ე მუხლის მე-3 პუნქტის „ბ“ ქვეპუნქტის თანახმად, გასწრების დაწყებამდე მძღოლი, ისე, რომ არ დაარღვიოს ამ კანონის მე-20 მუხლის მე-2 პუნქტითა და 32-ე მუხლით დადგენილი მოთხოვნები, უნდა დარწმუნდეს, რომ მოძრაობის იმავე ზოლზე მის წინ მიმავალი სატრანსპორტო საშუალების მძღოლს არ მიუცია სიგნალი, რომ აპირებს, გაუსწროს სხვა სატრანსპორტო საშუალებას. აკრძალულია იმ სატრანსპორტო საშუალების გასწრება, რომელიც ახორციელებს გასწრებას ან დაბრკოლების შემოვლას. ამავე მუხლის მე-9 პუნქტის „ა.გ“ ქვეპუნქტის თანახმად, ამ მუხლის მე-3 პუნქტით დადგენილ მოთხოვნათა გათვალისწინებით გასწრება აკრძალულია წრიულმოძრაობიანი გზაჯვარედინისაგან განსხვავებულ გზაჯვარედინზე ან უშუალოდ ამ გზაჯვარედინის წინ, გარდა, იმ შემთხვევისა, როდესაც გასწრება ხორციელდება რეგულირებულ გზაჯვარედინზე საპირისპირო მოძრაობის ზოლზე გაუსვლელად. ამავე კანონის 36-ე მუხლის მე-2 პუნქტის თანახმად, გზაჯვარედინი, რომელზედაც მოძრაობის რიგითობა შექნიშნის ან მარეგულირებლის სიგნალებით განისაზღვრება, რეგულირებული გზაჯვარედინია.



Иарбоу атагылазаашьаџы амашьына лас арныкџаџ аџысра азин имоумаџ

1

Азин имаџам


2

Азин имоуп

### განმარტება:

„საგზაო მოძრაობის შესახებ“ საქართველოს კანონის 34-ე მე-9 პუნქტის „ბ“ ქვეპუნქტის თანახმად, ამ მუხლის მე-3 პუნქტით დადგენილ მოთხოვნათა გათვალისწინებით გასწრება აკრძალულია რკინიგზის გადასასვლელზე და მის წინ 100 მეტრზე ახლოს, გარდა იმ შემთხვევისა, როცა ამ ადგილებზე მოძრაობა რეგულირდება ისეთი ტიპის შუქნიშნით, რომელიც გზაჯვარედინებზე გამოიყენება.





Амашына лас арныкææ ахыц ахырхартала аитатра анагзара азин имоумаӔ

1

Азин имоуп

2

Азин имазам

### განმარტება:

„საგზაო მოძრაობის შესახებ“ საქართველოს კანონის 31-ე მუხლის მე-18 პუნქტის თანახმად, ამ კანონის 37-ე მუხლის პირველი პუნქტითა და 43-ე მუხლის მე-2 პუნქტით გათვალისწინებული შემთხვევების გარდა, აკრძალულია მექანიკური სატრანსპორტო საშუალების მოძრაობა გვერდულაზე, ველოსიპედის მოძრაობის ზოლზე, ველობილიკზე, ტროტუარსა და ქვეითთა ბილიკზე. მოძრაობის უსაფრთხოების ზომების დაცვით ნებადართულია უშუალოდ გვერდულასთან, ველოსიპედის მოძრაობის ზოლთან, ველობილიკთან, ტროტუართან და ქვეითთა ბილიკთან განლაგებულ სანარმოსა და ობიექტთან ტვირთის მიმტანი მექანიკური სატრანსპორტო საშუალების უმოკლესი გზით მიდგომა, თუ ამისათვის სხვა შესაძლებლობა არ არსებობს. ამ პუნქტით დადგენილი აკრძალვა არ ვრცელდება საგზაო-საექსპლუატაციო და კომუნალური სამსახურების სატრანსპორტო საშუალებებზე.



Ишкәакәоу амашына лас арныкәә ахыц ахырхартала аңысра азин имоумаҥ

1

Азин имазам

2

Азин имоуп

### განმარტება:

„საგზაო მოძრაობის შესახებ“ საქართველოს კანონის 34-ე მუხლის მე-9 პუნქტის „ე“ ქვეპუნქტის თანახმად, ამ მუხლის მე-3 პუნქტით დადგენილ მოთხოვნათა გათვალისწინებით გასწრება აკრძალულია შეზღუდული ხილვადობის პირობებში საპირისპირო მოძრაობის ზოლზე გასვლით.





Ицәышу амашына лас арныкәаф ахыц ахырхартала аҧысра азин имоумаҭ

1

Азин имазам

2

Азин имоуп

### განმარტება:

„საგზაო მოძრაობის შესახებ“ საქართველოს კანონის 34-ე მუხლის მე-9 პუნქტის „ა“ და „ა.ბ“ ქვეპუნქტების თანახმად, ამ მუხლის მე-3 პუნქტით დადგენილ მოთხოვნათა გათვალისწინებით გასწრება აკრძალულია წრიულმოძრაობიანი გზაჯვარედინისაგან განსხვავებულ გზაჯვარედინზე ან უშუალოდ ამ გზაჯვარედინის წინ, გარდა იმ შემთხვევისა, როდესაც გასწრება ხორციელდება გზაზე, რომელზე მოძრაობის დროსაც მძღოლს ენიჭება გზაჯვარედინზე უპირატესი მოძრაობის უფლება. ამავე კანონის პირველი დანართის პირველი თავის 1.7.1 პუნქტის თანახმად საგზაო ნიშანი 1.7.1 „მეორეხარისხოვან გზასთან გადაკვეთა“ - ისეთ გზასთან გადაკვეთა ან ისეთ გზასთან შეერთება, რომელზე მოძრავ მძღოლსაც აქვს გზის დათმობის ვალდებულება.





Иатцоу амашына лас арныкѣаѣ ахыц ахырхартала аѣысра азин имоумаѢ

1


Азин имоуп

2

Азин имазам

### განმარტება:

„საგზაო მოძრაობის შესახებ“ საქართველოს კანონის 34-ე მუხლის მე-9 პუნქტის „ა“ და „ა.ბ“ ქვეპუნქტების თანახმად, ამ მუხლის მე-3 პუნქტით დადგენილ მოთხოვნათა გათვალისწინებით გასწრება აკრძალულია წრიულმოძრაობიანი გზაჯვარედინისაგან განსხვავებულ გზაჯვარედინზე ან უშუალოდ ამ გზაჯვარედინის წინ, გარდა იმ შემთხვევისა, როდესაც გასწრება ხორციელდება გზაზე, რომელზე მოძრაობის დროსაც მძღოლს ენიჭება გზაჯვარედინზე უპირატესი მოძრაობის უფლება. ამავე კანონის მე-2 დანართის 1.5 პუნქტის თანახმად ჰორიზონტალური საგზაო მონიშვნა 1.5 ყოფს საპირისპირო მიმართულებით მოძრავ სატრანსპორტო ნაკადებს გზაზე, რომელსაც მოძრაობის ორი ან სამი ზოლი აქვს; აღნიშნავს მოძრაობის ზოლის საზღვარს ერთი მიმართულებით მოძრაობისათვის განკუთვნილი ორი და მეტი ზოლის არსებობისას. 1.5 ხაზის გადაკვეთა ნებადართულია ნებისმიერი მხრიდან.



Ицәышу амашына лас арныкәә ахыц ахырхартала аҟысра азин имоумаҥ

1

Азин имоуп


2

Азин имазам

### განმარტება:

„საგზაო მოძრაობის შესახებ“ საქართველოს კანონის 34-ე მუხლის მე-9 პუნქტის „ა“ და „ა.ბ“ ქვეპუნქტების თანახმად, ამ მუხლის მე-3 პუნქტით დადგენილ მოთხოვნათა გათვალისწინებით გასწრება აკრძალულია წრიულმოძრაობიანი გზატკარედინისაგან განსხვავებულ გზატკარედინზე ან უშუალოდ ამ გზატკარედინის წინ, გარდა იმ შემთხვევისა, როდესაც გასწრება ხორციელდება გზაზე, რომელზე მოძრაობის დროსაც მძღოლს ენიჭება გზატკარედინზე უპირატესი მოძრაობის უფლება. ამავე კანონის მე-2 დანართის პირველი თავის 1.1 პუნქტის თანახმად ჰორიზონტალური საგზაო მონიშვნა 1.1. ყოფს საპირისპირო მიმართულებით მოძრავ სატრანსპორტო ნაკადებს და გზის სახიფათო მონაკვეთზე აღნიშნავს მოძრაობის ზოლის საზღვარს ან სავალი ნაწილის საზღვარს, რომელზე შესვლაც აკრძალულია; აღნიშნავს სატრანსპორტო საშუალების დგომის ადგილის საზღვარს და იმ გზის სავალი ნაწილის ნაპირს, რომელიც მოძრაობის პირობებით არ განეკუთვნება ავტომაგისტრალს. 1.1 ხაზის გადაკვეთა აკრძალულია. დასაშვებია სავალი ნაწილის ნაპირის აღმნიშვნელი და მძღოლის მარჯვენა მხარეს განლაგებული 1.1 ხაზის გადაკვეთა სატრანსპორტო საშუალების გზის ნაპირზე გასაჩერებლად.





Амашына каҕыш арныкѣа ахыц ахырхартала аҕысра азин имоумаҕ

1

Азин имоуп

2

Азин имазам

### განმარტება:

„საგზაო მოძრაობის შესახებ“ საქართველოს კანონის 34-ე მუხლის პირველი პუნქტის თანახმად, გასწრება უნდა განხორციელდეს მარცხენა მხრიდან. მარჯვენა მხრიდან გასწრება ნებადართულია იმ შემთხვევაში, თუ მძღოლმა, რომელსაც უსწრებენ, მისცა სიგნალი, რომ მარცხნივ მოხვევას აპირებს, და თავისი სატრანსპორტო საშუალება ისე მიმართა, რომ შეუხვიოს სხვა გზაზე ან შევიდეს გზის მიმდებარე ტერიტორიაზე ან გაჩერდეს ამ მხარეს.



Атрактор сааткала 30км. аласрала еитатүазар, амашына лас арныкәә ахыц ахырхартала аҗысра азин имоумаҖ

1

Азин имаҗам

2

Азин имоуп

### განმარტება:

„საგზაო მოძრაობის შესახებ“ საქართველოს კანონის 34-ე მუხლის პირველი პუნქტის თანახმად, კანონის 31-ე მუხლის მე-11 პუნქტის თანახმად, დაუსახლებელ და დასახლებულ პუნქტებში საავალი ნაწილის იმ მონაკვეთზე, რომელზედაც მოძრაობა ნებადართულია 80 კმ/სთ-ზე მეტი სიჩქარით, მძღოლმა უნდა იმოძრაოს საავალი ნაწილის მარჯვენა კიდედან რაც შეიძლება ახლოს. აკრძალულია მარცხენა ზოლის დაკავება, როცა მარჯვენა ზოლი თავისუფალია, გარდა დაბრკოლების შემთხვევის, მარცხნივ მოხვევის ან მობრუნების შემთხვევისა. ამავე კანონის 34-ე მუხლის პირველი პუნქტის თანახმად, გასწრება უნდა განხორციელდეს მარცხენა მხრიდან. მარჯვენა მხრიდან გასწრება ნებადართულია იმ შემთხვევაში, თუ მძღოლმა, რომელსაც უსწრებენ, მისცა სიგნალი, რომ მარცხნივ მოხვევას აპირებს, და თავისი სატრანსპორტო საშუალება ისე მიმართა, რომ შეუხვიოს სხვა გზაზე ან შევიდეს გზის მიმდებარე ტერიტორიაზე ან გაჩერდეს ამ მხარეს.



Абарт амашынакәа рырныкәаџәа ркынтә ахыц ахырхартала аитатра аан амџатә аитатра атцаскәа еилазгодаџ

1

Аидаратә машына арныкәаџ затәы

2

Амашына лас арныкәаџ затәы

3

Аџемашына рырныкәаџәа

4

Азәгы

### განმარტება:

„საგზაო მოძრაობის შესახებ“ საქართველოს კანონის 34-ე მუხლის პირველი პუნქტის თანახმად, გასწრება უნდა განხორციელდეს მარცხენა მხრიდან. მარჯვენა მხრიდან გასწრება ნებადართულია იმ შემთხვევაში, თუ მძღოლმა, რომელსაც უსწრებენ, მისცა სიგნალი, რომ მარცხნივ მოხვევას აპირებს, და თავისი სატრანსპორტო საშუალება ისე მიმართა, რომ შეუხვიოს სხვა გზაზე ან შევიდეს გზის მიმდებარე ტერიტორიაზე ან გაჩერდეს ამ მხარეს. ამავე მუხლის მე-9 პუნქტის „ა.ა“ და „ა.ბ“ ქვეპუნქტების თანახმად ამ მუხლის მე-3 პუნქტით დადგენილ მოთხოვნათა გათვალისწინებით გასწრება აკრძალულია წრიულმოძრაობიანი გზაჯვარედინისაგან განსხვავებულ გზაჯვარედინზე ან უშუალოდ ამ გზაჯვარედინის წინ, გარდა: ა.ა) ამ კანონით გათვალისწინებული მარჯვნიდან ნებადართული გასწრების შემთხვევისა; ა.ბ) იმ შემთხვევისა, როდესაც გასწრება ხორციელდება გზაზე, რომელზე მოძრაობის დროსაც მძღოლს ენიჭება გზაჯვარედინზე უპირატესი მოძრაობის უფლება.





3,5 тонна еиҳаны амѡангара азин змоу аидаратѡ машына арныкѡаѡ ахыц ахырхартала аѡысра азин имоумаѢ

1

Азин имоуп

2

Азин имаѡам

### განმარტება:

„საგზაო მოძრაობის შესახებ“ საქართველოს კანონის მე-3 თავის (ამკრძალავი ნიშანები) 3.22 პუნქტის თანახმად, საგზაო ნიშანი 3.22 „სატვირთო ავტომობილით გასწრება აკრძალულია“ - კრძალავს 3,5 ტონაზე მეტი ნებადართული მაქსიმალური მასის მქონე სატვირთო ავტომობილით სხვა სატრანსპორტო საშუალების გასწრებას (გარდა 30 კმ/სთ-ზე ნაკლები სიჩქარით მოძრავი ტრანსპორტისა), აგრეთვე ტრაქტორით სხვა სატრანსპორტო საშუალების გასწრებას (გარდა საჭაპანო ტრანსპორტისა და ველოსიპედისა). ამავე კანონის 34-ე მუხლის მე-9 პუნქტის „დ“ ქვეპუნქტის თანახმად, ამ მუხლის მე-3 პუნქტით დადგენილ მოთხოვნათა გათვალისწინებით გასწრება აკრძალულია გასწრების ამკრძალავი ნიშნით ან მონიშვნით განსაზღვრულ ადგილზე.

An aerial photograph of a two-lane asphalt road winding through a green, wooded area. A red sedan is in the left lane, and a grey dump truck is in the right lane, both moving away from the camera. Two yellow curved arrows originate from the red car, one pointing towards the left shoulder and the other towards the truck, illustrating a lane change or overtaking maneuver.





Амашына лас арныкѣаф ахыц ахырхартала деитатыр, амѣатѣ аитатѣра атцаскѣа еилеигомаѢ

1

Еилеიგოит

2

Еилეიგაჲომ

### განმარტება:

„საგზაო მოძრაობის შესახებ“ საქართველოს კანონის 25-ე მუხლის მე-2 პუნქტის „ბ“ ქვეპუნქტის თანახმად . ქვეითთა გადასასვლელზე ამ კანონის 21-ე მუხლის მე-6 პუნქტით, 33-ე მუხლის მე-2 პუნქტითა და 34-ე მუხლის მე-11 პუნქტით დადგენილ მოთხოვნათა დაცვით უნდა შესრულდეს შემდეგი მოთხოვნები: ბ) თუ სატრანსპორტო საშუალებათა მოძრაობა არ რეგულირდება არც საგზაო შექნიშნით და არც მარეგულირებლის მეშვეობით, მძღოლმა ქვეითთა გადასასვლელთან მიახლოებისას სათანადოდ უნდა შეამციროს სიჩქარე, რათა საფრთხე არ შეუქმნას ამ გადასასვლელზე შესულ ან შემავალ ქვეითებს, ხოლო საჭიროების შემთხვევაში უნდა გაჩერდეს და გაატაროს ქვეითები. ამავე კანონის 34-ე მუხლის მე-11 პუნქტის თანახმად, სატრანსპორტო საშუალებას შეუძლია იმ სატრანსპორტო საშუალებას, რომელიც უახლოვდება ქვეითთა გადასასვლელს ან რომელიც შეჩერდა უშუალოდ ამ გადასასვლელის წინ, გაუსწროს მხოლოდ საკმარისად შემცირებული სიჩქარით, რათა უზრუნველყოს დროული გაჩერება გადასასვლელზე ქვეითის აღმოჩენის შემთხვევაში. აკრძალულია ქვეითთა გადასასვლელზე გასწრება, თუ მასზე ქვეითი მოძრაობს.

Ашыақауа амға ахысра дахымзазар, даангылар калоитЖ

1

Ашәартадара адгылбжьахалафы

2


Аиҭынгыларатә хырхартала еитатҭуа  
атранспорттә аишьтагыла аикәшаратә  
цаахәафы

3

Ашәартадара адгылбжьахалафы, иара убас,  
аиҭынгыларатә хырхартала еитатҭуа  
атранспорттә аишьтагыла аикәшаратә  
цаахәафы

### განმარტება:

„საგზაო მოძრაობის შესახებ“ საქართველოს კანონის 24-ე მუხლის მე-10 პუნქტის თანახმად, ქვეითი, რომელმაც ვერ მოასწრო გზაზე გადასვლა, უნდა შეჩერდეს უსაფრთხოების კუნძულზე, ურთიერთსაპირისპირო მიმართულებით მოძრავი სატრანსპორტო ნაკადების გამყოფ ზოლზე ან ხაზზე და გადასვლა უნდა გააგრძელოს მხოლოდ შემდგომი მოძრაობის უსაფრთხოებაში დარწმუნების შემდეგ, შექნიშნის ან მარეგულირებლის სიგნალების გათვალისწინებით.



Амашына лас арныкәә ахыц ахырхартала аҟысра азин имоумаҥ

1

Амашына лас арныкәә ахыц ахырхартала аҟысра азин имоумаҥ


2

Азин имоуп

### განმარტება:

„საგზაო მოძრაობის შესახებ“ საქართველოს კანონის 34-ე მუხლის მე-9 პუნქტის „ა.ბ“ ქვეპუნქტის თანახმად, ამ მუხლის მე-3 პუნქტით დადგენილ მოთხოვნათა გათვალისწინებით გასწრება აკრძალულია წრიულმოძრაობიანი გზაჯვარედინისაგან განსხვავებულ გზაჯვარედინზე ან უშუალოდ ამ გზაჯვარედინის წინ, გარდა იმ შემთხვევისა, როდესაც გასწრება ხორციელდება გზაზე, რომელზე მოძრაობის დროსაც მძღოლს ენიჭება გზაჯვარედინზე უპირატესი მოძრაობის უფლება. ამავე მუხლის მე-10 პუნქტის თანახმად ამ მუხლის მე-9 პუნქტის „ა“ და „ბ“ ქვეპუნქტებით განსაზღვრული აკრძალვები არ ვრცელდება ორთვლიანი ველოსიპედის, მოპედისა და ორთვლიანი უეტლო მოტოციკლის გასწრების შემთხვევებზე.





Амашына лас арныкæд ахыц ахырхартала афысра азин имоума

1


Азин имазам

2

Азин имоуп

### პანმარტება:

„საგზაო მოძრაობის შესახებ“ საქართველოს კანონის 34-ე მუხლის მე-9 პუნქტის „ა.ბ“ ქვეპუნქტის თანახმად, ამ მუხლის მე-3 პუნქტით დადგენილ მოთხოვნათა გათვალისწინებით გასწრება აკრძალულია წრიულმოძრაობიანი გზაჯვარედინისაგან განსხვავებულ გზაჯვარედინზე ან უშუალოდ ამ გზაჯვარედინის წინ, გარდა იმ შემთხვევისა, როდესაც გასწრება ხორციელდება გზაზე, რომელზე მოძრაობის დროსაც მძღოლს ენიჭება გზაჯვარედინზე უპირატესი მოძრაობის უფლება. ამავე მუხლის მე-10 პუნქტის თანახმად ამ მუხლის მე-9 პუნქტის „ა“ და „ბ“ ქვეპუნქტებით განსაზღვრული აკრძალვები არ ვრცელდება ორთვლიანი ველოსიპედის, მოპედისა და ორთვლიანი უეტლო მოტოციკლის გასწრების შემთხვევებზე.



Амашына иатჲა арныკაჲ აიჴынгыларатჲ აიტატრა აცჲახჲაშკა დიასны აჴყსრა ამანიовრ анагзара азин имоумаჲ

1

Азин имаџам

2

Азин имоуп

### განმარტება:

„საგზაო მოძრაობის შესახებ“ საქართველოს კანონის პირველი დანართის პირველი თავის (მაფრთხილებელი ნიშნები) 1.15 პუნქტის თანახმად საგზაო ნიშანი 1.15. „ციცაბო აღმართი“ – იძლევა გაფრთხილებას ციცაბოაღმართიან გზის მონაკვეთთან მიახლოების თაობაზე. ამავე კანონის 34-ე მუხლის მე-9 პუნქტის „ე“ ქვეპუნქტის თანახმად, ამ მუხლის მე-3 პუნქტით დადგენილ მოთხოვნათა გათვალისწინებით გასწრება აკრძალულია შეზღუდული ხილვადობის პირობებში საპირისპირო მოძრაობის ზოლზე გასვლით.





Амарда атыхәанза 80 метр иаанхазар, иатәоу амашына лас арныкәа ахыц ахырхартала деитатыр амәатә аитәтра атаскәа еилеигомаҭ

1

Еилеიгоит

2

Еилеიгазом

### განმარტება:

„საგზაო მოძრაობის შესახებ“ საქართველოს კანონის პირველი დანართის პირველი თავის (მაფრთხილებელი ნიშნები) 1.15 პუნქტის თანახმად საგზაო ნიშანი 1.15. „ციცაბო აღმართი“ – იძლევა გაფრთხილებას ციცაბოაღმართიან გზის მონაკვეთთან მიახლოების თაობაზე. ამავე კანონის 34-ე მუხლის მე-9 პუნქტის „ე“ ქვეპუნქტის თანახმად, ამ მუხლის მე-3 პუნქტით დადგენილ მოთხოვნათა გათვალისწინებით გასწრება აკრძალულია შეზღუდული ხილვადობის პირობებში საპირისპირო მოძრაობის ზოლზე გასვლით.



Амашына kaჭუშ არныкәаф аиҭынгыларатә аитатра ацәахәашка диасны аҭысра аманиовр анагзара азин имоумаҭ

1

Азин имазам

2

Азин имоуп

### განმარტება:

„საგზაო მოძრაობის შესახებ“ საქართველოს კანონის პირველი დანართის პირველი თავის (მაფრთხილებელი ნიშნები) 1.15 პუნქტის თანახმად საგზაო ნიშანი 1.15. „ციცაბო აღმართი“ – იძლევა გაფრთხილებას ციცაბოაღმართიან გზის მონაკვეთთან მიახლოების თაობაზე. ამავე კანონის 34-ე მუხლის მე-9 პუნქტის „ე“ ქვეპუნქტის თანახმად, ამ მუხლის მე-3 პუნქტით დადგენილ მოთხოვნათა გათვალისწინებით გასწრება აკრძალულია შეზღუდული ხილვადობის პირობებში საპირისპირო მოძრაობის ზოლზე გასვლით.



Амашына иатәа арныкәа ахыц ахырхартала аҭысра азин имоумаҭ

1

Азин имазам

2

Азин имоуп

### განმარტება:

„საგზაო მოძრაობის შესახებ“ საქართველოს კანონის პირველი დანართის პირველი თავის (მაფრთხილებელი ნიშნები) 1.15 პუნქტის თანახმად საგზაო ნიშანი 1.15. „ციცაბო აღმართი“ – იძლევა გაფრთხილებას ციცაბოაღმართიან გზის მონაკვეთთან მიახლოების თაობაზე. ამავე კანონის 34-ე მუხლის მე-9 პუნქტის „ე“ ქვეპუნქტის თანახმად, ამ მუხლის მე-3 პუნქტით დადგენილ მოთხოვნათა გათვალისწინებით გასწრება აკრძალულია შეზღუდული ხილვადობის პირობებში საპირისპირო მოძრაობის ზოლზე გასვლით.





Ашыакауаа армарахьтәи аган акынтә амџа ахысра далагазар, амашына шкәакәа арныкәаа ахыц ала иарбоу аманиовр наигзар амџатә аитатра атаскәа еилеигомаџ

1


Еилеიგოит

2

Еилеიგაჟომ

### განმარტება:

„საგზაო მოძრაობის შესახებ“ საქართველოს კანონის 34-ე მუხლის მე-11 პუნქტის თანახმად, სატრანსპორტო საშუალებას შეუძლია იმ სატრანსპორტო საშუალებას, რომელიც უახლოვდება ქვეითთა გადასასვლელს ან რომელიც შეჩერდა უშუალოდ ამ გადასასვლელის წინ, გაუსწროს მხოლოდ საკმარისად შემცირებული სიჩქარით, რათა უზრუნველყოს დროული გაჩერება გადასასვლელზე ქვეითის აღმოჩენის შემთხვევაში. აკრძალულია ქვეითთა გადასასვლელზე გასწრება, თუ მასზე ქვეითი მოძრაობს.



Иарбоу атагылазаашьаҕы амашына лас арныкһаа аҕысра азин имоумаҕ

1

Азин имазам


2

Азин имоуп

### განმარტება:

„საგზაო მოძრაობის შესახებ“ საქართველოს კანონის 34-ე მუხლის მე-11 პუნქტის თანახმად, სატრანსპორტო საშუალებას შეუძლია იმ სატრანსპორტო საშუალებას, რომელიც უახლოვდება ქვეითთა გადასასვლელს ან რომელიც შეჩერდა უშუალოდ ამ გადასასვლელის წინ, გაუსწროს მხოლოდ საკმარისად შემცირებული სიჩქარით, რათა უზრუნველყოს დროული გაჩერება გადასასვლელზე ქვეითის აღმოჩენის შემთხვევაში. აკრძალულია ქვეითთა გადასასვლელზე გასწრება, თუ მასზე ქვეითი მოძრაობს.





Амашына лас арныкѣа армарахь ацѣира арбага иаѣакны аѣысра далагахьазар, аидаратѣ машына арныкѣа аѣысра алагара азин имоумаѢ

1

Азин имаѣам

2

Азин имоуп

### განმარტება:

„საგზაო მოძრაობის შესახებ“ საქართველოს კანონის 34-ე მუხლის მე-3 პუნქტის „ა“ ქვეპუნქტის თანახმად, გასწრების დაწყებამდე მძღოლი, ისე, რომ არ დაარღვიოს ამ კანონის მე-20 მუხლის მე-2 პუნქტითა და 32-ე მუხლით დადგენილი მოთხოვნები, უნდა დარწმუნდეს, რომ მის უკან მომავალი არცერთი სატრანსპორტო საშუალების მძღოლს გასწრება არ დაუწყია.

Арныкәә, аҭысра далагаанза, абри аҭагылазашыа шыҕам агәра игароупЖ

1

Иара ишьтагыланы ицо амашынакәа  
рырныкәәцәа ркынтә азәгы аҭысра игәы  
иҭам

2

Аитатра абри ацәахәатәкәа даныланы  
иаҭхәа ицо амашына арныкәә даәа  
машынак даҭысырц шитаху ардырга  
каимтацт

3

Диасыр иахытаху аитатратә цәахәа  
ианыланы иаҭхәа ицо амашынакәа ркынза  
акырбжьоуп, урт рыласра иахьдуум акынтә,  
ирласзаны раҭысра илшоит

4

Абри абилет аҭы еикәыҭхьажоу  
аҭагылазашыақәа зегы раан.

### განმარტება:

„საგზაო მოძრაობის შესახებ“ საქართველოს კანონის 34-ე მუხლის მე-3 პუნქტის „ა“, „ბ“ და „გ“ ქვეპუნქტების თანახმად, გასწრების დაწყებამდე მძღოლი, ისე, რომ არ დაარღვიოს ამ კანონის მე-20 მუხლის მე-2 პუნქტითა და 32-ე მუხლით დადგენილი მოთხოვნები, უნდა დარწმუნდეს, რომ: ა) მის უკან მომავალი არცერთი სატრანსპორტო საშუალების მძღოლს გასწრება არ დაუწყია; ბ) მოძრაობის იმავე ზოლზე მის წინ მიმავალი სატრანსპორტო საშუალების მძღოლს არ მიუცია სიგნალი, რომ აპირებს, გაუსწროს სხვა სატრანსპორტო საშუალებას. აკრძალულია იმ სატრანსპორტო საშუალების გასწრება, რომელიც ახორციელებს გასწრე-ბას ან დაბრკოლების შემოვლას; გ) მას შეუძლია გასწრება ისე განახორციელოს, რომ არ შეუქმნას საფრთხე ან დაბრკოლება სხვა საგზაო მოძრაობის მონაწილეებს. იგი აგრეთვე უნდა დარწმუნდეს, რომ მოძრაობის ზოლი, რომელზედაც აპირებს გასვლას, საკმარის მანძილზე თავისუფალია და ორი სატრანსპორტო საშუალების სიჩქარეთა ფარდობა საკმარისად მოკლე დროში გასწრების საშუალებას იძლევა.



## ВОПРОС 428

ПРАВИЛЬНЫЙ ОТВЕТ: 2

Аტრანსპორტზე ხარჯება არნიჭებ არჯერაჟთე აგანაჟინტე აჟყსრა აზინ იმოუმაჟ

1

Азин имаџам

2

Азин имоуп, иаჟჟა იცო амашჟына არნიჭებ არმარაჟ ატჟირა შიტаჟу азы ардырга ჟატаны, დაეа მოაკ დავалар, ма амџа иаჟну атაკыра далалар ма уа даангылар

## განმარტება:

„საგზაო მოძრაობის შესახებ“ საქართველოს კანონის 34-ე მუხლის პირველი პუნქტის თანახმად, გასწრება უნდა განხორციელდეს მარცხენა მხრიდან. მარჯვენა მხრიდან გასწრება ნებადართულია იმ შემთხვევაში, თუ მძღოლმა, რომელსაც უსწრებენ, მისცა სიგნალი, რომ მარცხნივ მოხვევას აპირებს, და თავისი სატრანსპორტო საშუალება ისე მიმართა, რომ შეუხვიოს სხვა გზაზე ან შევიდეს გზის მიმდებარე ტერიტორიაზე ან გაჩერდეს ამ მხარეს.

## ВОПРОС 429

ПРАВИЛЬНЫЙ ОТВЕТ: 1

Амџасыртаჟყ ყыдалა иазგџათоу ашџакауаа рхысырта иазааигџахо, ма абри ахысырта аჟჟა иаангылаз амашჟына აჟყსრა ჟალომაჟ

1

Икалоит, ашџакауаа рхысыртаჟყ ашџакауаа ыჟამзар, аха амашჟына аласრა ирмаჟტჟуп, ахысыртаჟყ ашџакауаа цџыртыр, амашჟына аанкыlara аიჟჟыршџара амызла

2

Ашџакауаа рхысыртаჟყ, иара убас, ахысыртанза 100 метраკ иреитымკџа шыбჟьоу аჟყსრა ჟალომ

3

Икалоит, ауаа ахьнымхо атыჟაჟყ мацара, сааткала 60კმ. еиჟаны амаксималტџ аласрала аитатრა иахьыჟало амџაჟყ.

## განმარტება:

„საგზაო მოძრაობის შესახებ“ საქართველოს კანონის 34-ე მუხლის მე-11 პუნქტის თანახმად, სატრანსპორტო საშუალებას შეუძლია იმ სატრანსპორტო საშუალებას, რომელიც უახლოვდება ქვეითთა გადასასვლელს ან რომელიც შეჩერდა უშუალოდ ამ გადასასვლელის წინ, გაუსწროს მხოლოდ საკმარისად შემცირებული სიჩქარით, რათა უზრუნველყოს დროული გაჩერება გადასასვლელზე ქვეითის აღმოჩენის შემთხვევაში. აკრძალულია ქვეითთა გადასასვლელზე გასწრება, თუ მასზე ქვეითი მოძრაობს.



Амашына лас арныкæд ахыц ахырхартала афысра азин имоума

1


Азин имазам

2

Азин имоуп

### განმარტება:

„საგზაო მოძრაობის შესახებ“ საქართველოს 34-ე მუხლის მე-9 პუნქტის „დ“ ქვეპუნქტის თანახმად, ამ მუხლის მე-3 პუნქტით დადგენილ მოთხოვნათა გათვალისწინებით გასწრება აკრძალულია გასწრების ამკრძალავი ნიშნით ან მონიშვნით განსაზღვრულ ადგილზე. ამავე კანონის პირველი დანართის 3.20 პუნქტის თანახმად, საგზაო ნიშანი 3.20 „გასწრება აკრძალულია“ - კრძალავს ყველა სახის მექანიკური სატრანსპორტო საშუალების გასწრებას (გარდა 30 კმ/სთ-ზე ნაკლები სიჩქარით მოძრავი ტრანსპორტისა). ნებადართულია გასწრება უეტლო მოტოციკლის, მოპედისა და ველოსიპედის შემხვედრი მოძრაობის ზოლში გადაუსვლელად.



Амашына лас арныкѣаф ахыц ахырхартала деитатыр, амѣатѣ аитатѣра атцаскѣа еилеигомаѢ

1

Еилеიგოит

2

Еилეიგაჟომ

### პანმარტეზა:

„საგზაო მოძრაობის შესახებ“ საქართველოს კანონის 34-ე მუხლის მე-18 პუნქტის თანახმად, გზაზე ჩართული ლურჯი მოელვარე სპეციალური ციმციმა სიგნალით გაჩერებული ოპერატიული ან ჩართული ნარინჯისფერი ან ყვითელი მოელვარე სპეციალური ციმციმა სიგნალით გაჩერებული სპეციალური ან საგზაო-საექსპლუატაციო სამსახურის სატრანსპორტო საშუალების, ნელა მოძრავი ტექნიკური სამსახურის სატრანსპორტო საშუალების ან კომუნალური სამსახურის საგზაო საშუალების შემსრულებლის გასწრება, შემოვლა ან მისთვის გვერდის აქცევა, სავალ ნაწილზე მისი განლაგების, სიტუაციისა და საფრთხის გათვალისწინებით, ნებადართულია როგორც მარჯვნიდან, ისე მარცხნიდან, მიუხედავად აღნიშნულ გზის მონაკვეთზე არსებული საგზაო ნიშნებისა და ჰორიზონტალური საგზაო მონიშვნის მოთხოვნებისა. ამავე კანონის პირველი დანართის მე-4 თავის (მიმთითებელი ნიშნები) 4.2.2 პუნქტის თანახმად, საგზაო ნიშანი 4.2.2 „დაბრკოლების შემოვლა მარცხნიდან“ - მიუთითებს გამყოფი ზოლის, უსაფრთხოების კუნძულის ან რაიმე დაბრკოლების მხოლოდ მარცხნიდან შემოვლის მიმართულებას. ამავე კანონის მე-2 დანართის პირველი აბზაცის თანახმად, საგზაო მონიშვნა ადგენს მოძრაობის გარკვეულ რეჟიმებსა და წესრიგს, არის მძღოლის ვიზუალური ორიენტაციის საშუალება და შეიძლება გამოყენებულ იქნეს როგორც დამოუკიდებლად, ისე საგზაო მოძრაობის ორგანიზების სხვა ტექნიკურ საშუალებებთან ერთად. თუ გადასატან სადგარზე გამოსახული დროებითი საგზაო ნიშნებისა და მონიშვნის ხაზების მნიშვნელობა ურთიერთსაპირისპიროა, მძღოლი ხელმძღვანელობს საგზაო ნიშნებით.





Иарбоу амѡа ацыѡѡѡаѡѡ алаѡѡшбара ѡѡѡазар, амашѡына лас арныѡѡѡ ахѡѡ ахырхартала аѡѡсра азин имѡумаѢ

1

Азин имаѡам


2

Азин имѡоуп

### განმარტება:

„საგზაო მოძრაობის შესახებ“ საქართველოს კანონის 34-ე მუხლის მე-9 პუნქტის „ე“ ქვეპუნქტის თანახმად, ამ მუხლის მე-3 პუნქტით დადგენილ მოთხოვნათა გათვალისწინებით გასწრება აკრძალულია შეზღუდული ხილვადობის პირობებში საპირისპირო მოძრაობის ზოლზე გასვლით. ამავე კანონის პირველი დანართის 1.12.1 პუნქტის თანახმად საგზაო ნიშანი 1.12.1, „სახიფათო მოსახვევი“ აღნიშნავს მცირე რადიუსიანი ან შეზღუდული ხილვადობის მქონე გზის სახიფათო მოსახვევს - მარჯვნივ. ამავე კანონის მე-2 დანართის პირველი თავის (ჰორიზონტალური მონიშვნა) 1.5 პუნქტის თანახმად, ჰორიზონტალური მონიშვნა 1.5. ყოფს საპირისპირო მიმართულებით მოძრავ სატრანსპორტო ნაკადებს გზაზე, რომელსაც მოძრაობის ორი ან სამი ზოლი აქვს; აღნიშნავს მოძრაობის ზოლის საზღვარს ერთი მიმართულებით მოძრაობისათვის განკუთვნილი ორი ან ორზე მეტი ზოლის არსებობისას. 1.5 ხაზის გადაკვეთა ნებადართულია ნებისმიერი მხრიდან.





Иарбоუ ატაгылазаашьафь, ак зыцрахѐу амотоцикл арныкѐа аҭынгыла акѐшара далагазар, абарт атранспорттѐ хархѐагакѐа рырныкѐаѐцѐа ркынтѐ ахыц ахырхартала аитатра азин змадаҭ

1

Ак зыцрахѐуи ак иацрахѐуи амотоциклкѐа рырныкѐаѐцѐа

2


Амашьына лас арныкѐа

3

Ак зыцрахѐуи ак иацрахѐуи амотоциклкѐа рырныкѐаѐцѐеи, иара убас, амашьына лас арныкѐаѐи

### პანმარტუბა:

„საგზაო მოძრაობის შესახებ“ საქართველოს კანონის 34-ე მუხლის მე-3 პუნქტის „ბ“ ქვეპუნქტის თანახმად, გასწრების დაწყებამდე მძღოლი, ისე, რომ არ დაარღვიოს ამ კანონის მე-20 მუხლის მე-2 პუნქტითა და 32-ე მუხლით დადგენილი მოთხოვნები, უნდა დარწმუნდეს, რომ მოძრაობის იმავე ზოლზე მის წინ მიმავალი სატრანსპორტო საშუალების მძღოლს არ მიუცია სიგნალი, რომ აპირებს, გაუსწროს სხვა სატრანსპორტო საშუალებას. აკრძალულია იმ სატრანსპორტო საშუალების გასწრება, რომელიც ახორციელებს გასწრეუბას ან დაბრკოლების შემოვლას. ამავე მუხლის მე-9 პუნქტის „გ“ ქვეპუნქტის თანახმად, ამ მუხლის მე-3 პუნქტით დადგენილ მოთხოვნათა გათვალისწინებით გასწრება აკრძალულია იმ სატრანსპორტო საშუალებისა, რომელიც ახორციელებს გასწრეუბას ან შემოვლას. ამავე კანონის 45-ე მუხლის მე-6 პუნქტის „დ“ ქვეპუნქტის თანახმად აკრძალულია ბუქსირება მოტოციკლით, გვერდითი მისაბმელის გარეშე, აგრეთვე ასეთი მოტოციკლის ბუქსირება.



Ахыц ахырхартала аитатра аан абарт атранспорттә хархәагақәа рырныкәаџцәа ркынтә амџа атара зыхәтадаҕ

1

Амашына лас арныкәаџ

2

Аидаратә машына арныкәаџ

### განმარტება:

„საგზაო მოძრაობის შესახებ“ საქართველოს კანონის 35-ე მუხლის მე-2 პუნქტის თანახმად, მთის გზასა და ანალოგიური მახასიათებლების მქონე დიდი დახრილობის გზაზე, აგრეთვე 1.14 და 1.15 საგზაო ნიშნებით აღნიშნულ გზებზე, სადაც გვერდის აქცევა შეუძლებელია ან გართულებულია, დადმართზე მოძრავი სატრანსპორტო საშუალების მძღოლი ვალდებულია გაჩერდეს და გზა დაუთმოს აღმართზე მოძრავი სატრანსპორტო საშუალების მძღოლს, გარდა იმ შემთხვევისა, როცა გვერდის ასაქცევი ადგილი სავალი ნაწილის გასწვრივ ისეა განლაგებული, რომ აღმართზე მოძრავი სატრანსპორტო საშუალების მძღოლი, სატრანსპორტო საშუალების სიჩქარისა და მდგომარეობის გათვალისწინებით, შეძლებდა მის წინ მდებარე ასაქცევ ადგილზე გაჩერებას, რითაც გამოირიცხებოდა ერთ-ერთი სატრანსპორტო საშუალების უკუსვლით მოძრაობის აუცილებლობა. ამავე კანონის პირველი დანართის პირველი თავის (მაფრთხილებელი ნიშნები) 1.15 პუნქტის თანახმად საგზაო ნიშანი 1.15 „ციცაბო აღმართი“- იძლევა გაფრთხილებას ციცაბოაღმართიან გზის მონაკვეთთან მიახლოების თაობაზე.



## ВОПРОС 435

ПРАВИЛЬНЫЙ ОТВЕТ: 3

Амцаფы аитатра аан арныкѣаѣ иазѣхѣаѣеитароуп аѣысраан абжеихан амашѣыр шыѣалоЖ

1

Адистанциа аилагара иахѣяны

2

Еиѣынгыланы иѣо атранспорттѣ хархѣага атѣамбара иахѣяны

3

Адистанциа аилагареи еиѣынгыланы иѣо атранспорттѣ хархѣага атѣамбарей ирыхѣяны

## განმარტება:

„საგზაო მოძრაობის შესახებ“ საქართველოს კანონის 25-ე მუხლის მე-10 პუნქტის „მ“ ქვეპუნქტის თანახმად, გზაზე მოძრაობისას მძღოლმა უნდა გაითვალისწინოს შემდეგი გარემოებები: მ) გასწრებისას ყველაზე უფრო ხშირად ავარიული სიტუაცია იქმნება დისტანციის დაუცველობის მიზეზით და საპირისპირო მიმართულებით მოძრავი სატრანსპორტო საშუალებების მიმართ არასაკმარისი ყურადღების გამოჩენის გამო.

## ВОПРОС 436

ПРАВИЛЬНЫЙ ОТВЕТ: 2

Ганклатѣи ахырхартала аитатцразы ѣба рыдымхаргѣы аѣѣахѣаѣа ахѣыѣоу амѣаѣы, арныкѣаѣ, раѣхѣатѣи аѣысра аан иааникѣылаз аитатцратѣ ѣѣахѣаѣы даанхар азин имоума, уаанѣа дахѣыѣказ аѣѣахѣа ашѣа дахѣынынхѣлактѣѣа ма аамѣа кѣаѣла еитах аѣысра далагозарѣ

1

Азин имам

2

Азин имоуп, заанатѣы агѣра игар уи ишьѣахѣ иаѣа идуу аласрала еитатѣуа атранспорттѣ хархѣага дшаѣырхагамхо

## განმარტება:

„საგზაო მოძრაობის შესახებ“ საქართველოს კანონის 34-ე მუხლის მე-6 პუნქტის თანახმად, თუ გზაზე, რომელზედაც თანმხვედრი მიმართულებით მოძრაობისთვის სულ მცირე ორი ზოლია, სატრანსპორტო საშუალების მძღოლს, რომელსაც გასწრების დამთავრების შემდეგ ამ კანონის მე-31 მუხლის მე-10-მე-12 პუნქტებით დადგენილ მოთხოვნათა შესასრულებლად ადრე დაკავებულ მოძრაობის ზოლზე დაბრუნებისთანავე ან დაბრუნებიდან მოკლე დროში მოუწევს ახალი გასწრების დაწყება, ამ მანევრის შესასრულებლად შეუძლია დარჩეს პირველი გასწრების დროს დაკავებულ მოძრაობის ზოლზე, თუ წინასწარ დარწმუნდება, რომ ეს არ შეუქმნის დაბრკოლებას მის უკან მეტი სიჩქარით მოძრავი სატრანსპორტო საშუალების მძღოლს.

Амѡа армарахѣтѣи аган ала данавсуа ада, арныѣѡѡ, иара ишьѣтахѣ иаауа арныѣѡѡ аѣысра игѣы ишѣѡу агѣра нигалак, иуалуп, изауа алаЖ

1

Амѡеисырѣа арѣѣарахѣтѣи аган азааигѣахара

2

Аласра аѣѣара

3

Амѡеисырѣа арѣѣарахѣтѣи аган азааигѣахара, иара уѣас, аласра аѣѣара.

### განმარტება:

„საგზაო მოძრაობის შესახებ“ საქართველოს კანონის 34-ე მუხლის მე-12 პუნქტის თანახმად, მძღოლი, რომელიც დარწმუნდება, რომ მის უკან მომავალი მძღოლი აპირებს გასწრებას, გარდა ამ კანონის 32-ე მუხლის მე-7 პუნქტის „ბ“ ქვეპუნქტში გათვალისწინებული შემთხვევისა, შეძლებისდაგვარად უნდა მიუახლოვდეს გზის სავალი ნაწილის მარჯვენა კიდეს და არ გაზარდოს სიჩქარე. ხოლო ამავე კანონის 32-ე მუხლის მე-7 პუნქტის „ბ“ ქვეპუნქტის თანახმად, სხვა გზაზე გასასვლელად ან გზის მიმდებარე ტერიტორიაზე შესასვლელად მარჯვნივ ან მარცხნივ მოხვევის წინ, ისე, რომ არ დაარღვიოს ამ კანონის მე-20 მუხლის მე-2 პუნქტითა და ამ მუხლის პირველი და მე-2 პუნქტებით დადგენილი მოთხოვნები, თუ სატრანსპორტო საშუალების მძღოლი აპირებს გზიდან გასვლას მარცხენა მხრიდან, სატრანსპორტო საშუალება, რამდენადაც ეს შესაძლებელია, უნდა მიუახლოვდეს გზის სავალი ნაწილის ღერძს (ორმხრივმოძრაობიან გზაზე) ან სავალი ნაწილის მარცხენა კიდეს (ცალმხრივმოძრაობიან გზაზე).





Иарбоу атагылазаашьаҕы амашына лас арныкһаа ахыц ахырхартала аҕысра азин имоумаҕ

1


Азин имазам

2

Азин имоуп

### განმარტება:

„საგზაო მოძრაობის შესახებ“ საქართველოს კანონის 34-ე მე-9 პუნქტის „ბ“ ქვეპუნქტის თანახმად, ამ მუხლის მე-3 პუნქტით დადგენილი მოთხოვნების გათვალისწინებით, გასწრება აკრძალულია რკინიგზის გადასასვლელზე და მის წინ 100 მეტრზე ახლოს, გარდა იმ შემთხვევებისა, როცა ამ ადგილებში მოძრაობა რეგულირდება ისეთი ტიპის შუქნიშნით რომელიც გზაჯვარედინებზე გამოიყენება.



Иарбоу атагылазашьаҕы амашына лас арныкһаа ахыц ахырхартала аҕысра азин имоумаҕ

1

Азин имазам

2

Азин имоуп

### განმარტება:

„საგზაო მოძრაობის შესახებ“ საქართველოს კანონის 34-ე მე-9 პუნქტის „ბ“ ქვეპუნქტის თანახმად, ამ მუხლის მე-3 პუნქტით დადგენილი მოთხოვნების გათვალისწინებით, გასწრება აკრძალულია რკინიგზის გადასასვლელზე და მის წინ 100 მეტრზე ახლოს, გარდა იმ შემთხვევებისა, როცა ამ ადგილებში მოძრაობა რეგულირდება ისეთი ტიპის შექნიშნით რომელიც გზაჯვარედინებზე გამოიყენება. ამავე კანონის პირველი დანართის პირველი თავის (მაფრთხილებელი ნიშნები) 1.2 და 1.4.6-1.4.6 პუნქტების თანახმად საგზაო ნიშანი: 1.2 „რკინიგზის უშლავაუმო გადასასვლელი“ - აფრთხილებს უშლავაუმო რკინიგზის გადასასვლელთან მიახლოების შესახებ; 1.4.1 „რკინიგზის გადასასვლელთან მიახლოება“ - დამატებით აფრთხილებს მძღოლს დაუსახლებელ პუნქტში რკინიგზის გადასასვლელთან მიახლოების შესახებ. ამავე თავის შენიშვნის „ა“ და „ვ“ ქვეპუნქტების თანახმად: ა) ნიშნები 1.1, 1.2, 1.5–1.34 სახიფათო მონაკვეთის დასაწყისამდე იდგმება დაუსახლებელ პუნქტში 150-300 მეტრის მანძილზე. ვ) ნიშნები 1.4.1 და 1.4.4 იდგმება მოძრაობის მიმართულებით ძირითად და დუბლირებულ 1.1 ან 1.2 ნიშნებთან ერთად.

## ВОПРОС 440

ПРАВИЛЬНЫЙ ОТВЕТ: 1

Изпысуа атранспорттә хархәага арныкәаџ, аласра аццарала ма даџакала апысра дапырхагахар азин  
имоумаџ

1

Азин имаџам

2

Азин имоуп

## განმარტება:

„საგზაო მოძრაობის შესახებ“ საქართველოს კანონის 34-ე მუხლის მე-16 პუნქტის თანახმად, გასასწრები სატრანსპორტო საშუალების მძღოლს ევრძა-ლება ხელი შეუშალოს გასწრებას მოძრაობის სიჩქარის მომატებით ან სხვა მოქმედებით.



Аҳафкылтәа иашьашәалоу адыргала иазгәатазар, амашына лас арныкәа ахыц ахырхартала аитатра анагзара азин имоумаҭ

1

Азин имоуп, аҳафкылтәа анхартаҭыҭаҭы иҭказар

2

Азин имоуп, аҳафкылтәа ауаа ахьнымхо аҭыҭаҭы иҭказар

3

Азин имаҭам

### განმარტება:

„საგზაო მოძრაობის შესახებ“ საქართველოს კანონის 42-ე მუხლის „ა“ პუნქტის თანახმად, საგზაო ნიშნით აღნიშნულ გვირაბებში მოქმედებს შემდეგი წესი -მძღოლს ეკრძალება უკუსვლით მოძრაობა ან მობრუნება.





Ахыц ахырхартала аитатра аан абарт атранспорттә хархәагақәа рырныкәаџцәа ркынтә амџатә аитатра атцасқәа еилазгодаџ

1

Амашына лас арныкәаџ мацара.

2

Амотоцикл арныкәаџ мацара.

3

Азәгы

### განმარტება:

„საგზაო მოძრაობის შესახებ“ საქართველოს კანონის 31-ე მუხლის მე-14 პუნქტის თანახმად, დასაშვებია მოძრაობის ზოლზე მოპედების ან/და უეტლო მოტოციკლების თანმხვედრი მიმართულებით ორ რიგად მოძრაობა. ამავე კანონის მე-2 დანართის პირველი თავის (ჰორიზონტალური მონიშვნა) 1.5 პუნქტის თანახმად საგზაო მონიშვნა 1.5. ყოფს საპირისპირო მიმართულებით მოძრავ სატრანსპორტო ნაკადებს გზაზე, რომელსაც მოძრაობის ორი ან სამი ზოლი აქვს; აღნიშნავს მოძრაობის ზოლების საზღვრებს ერთი მიმართულებით მოძრაობისათვის განკუთვნილი ორი და მეტი ზოლის არსებობისას. 1.5 ხაზის გადაკვეთა ნებადართულია ნებისმიერი მხრიდან.



Аидаратә машына ззин амоу амақсималтә масса 15 тонна иақаразар, аидаратә машына арнықәаҭ аитатра наигзар илшоитЖ

1

Дышиашоу, иара убас, арғыарахь мацара

2

Дышиашоу, армарахь, иара убас, шытахьқа  
ҒдтәиныҢ

3

Дышиашоу, арғыарахь, иара убас, шытахьқа  
ҒдтәиныҢ

4

Ахырхартәкәа зегы рыла

### განმარტება:

„საგზაო მოძრაობის შესახებ“ საქართველოს კანონის პირველი დანართის მე-3 თავის (ამკრძალავი ნიშნები) 3.18.2 პუნქტის თანახმად საგზაო ნიშანი 3.18.2 „მარცხნივ მოხვევა აკრძალულია“ - კრძალავს სავალი ნაწილების უახლოეს გადაკვეთაზე მარცხნივ მოხვევას. ამავე დანართის მე-8 თავის (დამატებითი ინფორმაციის ნიშნები) 8.11 პუნქტის თანახმად საგზაო ნიშანი (დაფა) 8.11 „ნებადართული მაქსიმალური მასის შეზღუდვა“ - მიუთითებს, რომ ნიშნის მოქმედება ვრცელდება მხოლოდ იმ სატრანსპორტო საშუალებაზე, რომლის ნებადართული მაქსიმალური მასა აღემატება დაფაზე მითითებულს.





Аидаратә машына ззин амоу амақсималтә масса 9 тонна иақаразар, аидаратә машына арнықәа аитатра наигзар илшоитЖ

1

Дышиашоу, иара убас, арғырахь мацара

2

Арғырахь, армарахь, иара убас, шытахька  
Җдтәиныҭ

3

Дышиашоу, армарахь, иара убас, шытахька  
Җдтәиныҭ

### განმარტება:

„საგზაო მოძრაობის შესახებ“ საქართველოს კანონის პირველი დანართის მე-3 თავის (ამკრძალავი ნიშნები) 3.18.2 და 3.32 პუნქტების თანახმად საგზაო ნიშანი: - 3.18.2 „მარცხნივ მოხვევა აკრძალულია“ - კრძალავს სავალი ნაწილების უახლოეს გადაკვეთაზე მარცხნივ მოხვევას; - 3.32 „სახიფათო ტვირთის გადამზიდი სატრანსპორტო საშუალებით მოძრაობა აკრძალულია“ - კრძალავს იმ სახიფათო ტვირთის გადამზიდი სატრანსპორტო საშუალებით მოძრაობას, რომელიც კანონმდებლობის თანახმად აღნიშნული უნდა იყოს შესაბამისი საცნობი ნიშნით. ამავე დანართის მე-8 თავის (დამატებითი ინფორმაციის ნიშნები) 8.11 პუნქტის თანახმად საგზაო ნიშანი (დაფა) 8.11 „ნებადართული მაქსიმალური მასის შეზღუდვა“ - მიუთითებს, რომ ნიშნის მოქმედება ვრცელდება მხოლოდ იმ სატრანსპორტო საშუალებაზე, რომლის ნებადართული მაქსიმალური მასა აღემატება დაფაზე მითითებულს.

## ВОПРОС 445

ПРАВИЛЬНЫЙ ОТВЕТ: 1

«Аფყსრა» აუპჴ

1

Иаанкылоу ацѣахѣа алтцрала, абри ацѣахѣаѣы еишьтаргыланы хырхартак ала аҭхѣа еитатцѣа акы ма еиҳаны атранспорттѣ хархѣагақѣа раҭҭысра

2

Хырхартак змоу аитатцратѣ цѣахѣақѣа рѣы, амѣасырта аган иазааигѣаны иҭоу ацѣахѣақѣа рѣы еитатцѣа атранспорттѣ хархѣагақѣа рацкыс иаҳа ирласны атранспорттѣ хархѣага аитатцра

3

Агѣыларатѣ аитатцратѣ цѣахѣаѣы еиҭынгылоу ахырхартала еитатцѣа акы ма еиҳаны атранспорттѣ хархѣагақѣа рывсра

განმარტება:

„საგზაო მოძრაობის შესახებ“ საქართველოს კანონის 5-ე მუხლის მე-10 პუნქტის თანახმად, გასწრება - დაკავებული ზოლიდან გამოსვლით იმავე ზოლში თანხვედნილი მიმართულებით წინ მოძრავი ერთი ან რამდენიმე სატრანსპორტო საშუალების გადასწრება.

## ВОПРОС 446

ПРАВИЛЬНЫЙ ОТВЕТ: 2

Амѣатѣ аитатцра аан абжытѣ ма алашаратѣ ардырга аҭацарала, арнықѣаѣ, амѣатѣ аитатцра егьырт алахѣылацѣа рѣаҭҭхѣаЖ

1

Аҭыжѣара иоуоит

2

Аҭыжѣара иоузом

3

Аҭыжѣара иоузом аоперативтѣ матцѣра атранспорттѣ хархѣага мацара аҭаҭхѣа

4

Аҭыжѣара иоуоит, абри абжытѣ ма алашаратѣ ардырга ззыҭаитцаз амѣатѣ аитатцра аконкреттѣ алахѣылацѣа рѣаҭҭхѣа

განმარტება:

„საგზაო მოძრაობის შესახებ“ საქართველოს კანონის 48-ე მუხლის მე-4 პუნქტის თანახმად, ხმოვანი და მანათობელი სიგნალების მიცემა მძღოლს არ ანიჭებს უპირატესობას სხვა საგზაო მოძრაობის მონაწილეების მიმართ.



Аҧысра аан, уаанза зызҭхьагәатара камлоз ашәарта цәырҭзар, арныкәаҭ иуалупЖ

1

Аласра аццара, аҧысра аманиовр иаамтаны анагзаразы

2


Абжытә ардырга катаны, аҧысра аманиовр анагзара

3

Аҧысра дакәыҭроуп

### განმარტება:

„საგზაო მოძრაობის შესახებ“ საქართველოს კანონის 34-ე მუხლის მე-17 პუნქტის თანახმად, თუ გასწრებისას აღმოჩნდა დაბრკოლება ან საფრთხე, რომლის გათვალისწინება მძღოლს არ შეეძლო გასწრების დაწყებამდე, ან თუ მან ვერ შეძლო სიტუაციის სწორი შეფასება, მძღოლი ვალდებულია შეწყვიტოს გასწრება. თუ მძღოლმა გასწრება შეწყვიტა და ადრე დაკავებულ მოძრაობის ზოლში დაბრუნებას აპირებს, მის უკან მომავალი სატრანსპორტო საშუალებების მძღოლებმა მას უნდა მისცენ ამის შესაძლებლობა.



Амда абри ацыцџаахџы „С1“ акатегориа иатџанакџа амашына арныкџаџ аитџџра иабаихџџџ

1

А ахырхартала

2

В ахырхартала

3

Аи Ви ахырхартџџа рыла

### განმარტება:

„საგზაო მოძრაობის შესახებ“ საქართველოს კანონის პირველი დანართის მე-4 თავის (მიმთითებელი ნიშნები) 4.6 პუნქტის თანახმად 4.6 „მინიმალური სიჩქარის შეზღუდვა“ - ადგენს გზაზე მოძრაობის მინიმალური სიჩქარის ზღვარს. ნიშნის მოქმედება ვრცელდება ნიშნის შემდეგ, ნიშნის დადგმის ადგილიდან უახლოეს გზაჯვარედინამდე, ხოლო დასახლებულ პუნქტში გზაჯვარედინის არარსებობისას — დასახლებული პუნქტის ბოლომდე. ამავე დანართის მე-8 თავის (დამატებითი ინფორმაციის ნიშნები (დაფები)) 8.14 პუნქტის თანახმად 8.14 „მოძრაობის ზოლი“ - მიუთითებს მოძრაობის ზოლს, რომელზედაც ვრცელდება ნიშნის ან შექნიშნის მოქმედება. დაფა თავსდება მოძრაობის ზოლის ზემოთ. ამავე კანონის 33-ე მუხლის მე-7 პუნქტის „დ.ა“ ქვეპუნქტის თანახმად, გარდა ამ კანონით დადგენილი შემთხვევებისა, დაუსახლებელ პუნქტებში, აგრეთვე დასახლებულ პუნქტებში გზის იმ მონაკვეთზე, რომელზეც შესაბამისი ნიშნით მოძრაობა დაშვებულია 60 კმ/ზე მეტი სიჩქარით, ნებადართულია „C“ და „CE“ კატეგორიის, აგრეთვე „C1“ და „C1E“ ქვეკატეგორიების სატრანსპორტო საშუალებების მოძრაობა ავტომგისტრალეზე არაუმეტეს 80კმ/სთ სიჩქარით, ხოლო სხვა გზაზე - არაუმეტეს 70 კმ/სთ სიჩქარით.

თემა 17:

## მოდრობის სიჩქარე

---



«C1» აკატეგორია იატანაკეა აიდარატე მანქანა არნყქეაჲ საატკ ალა 70კმ. ალასრალა დეიტატუაზარ, იარბოუ ატაგყლაზააშყაჲყ ახყც ახყრხართალა აიტატრა აზინ იმოუმაჲ

1

Азин имоуп

2

Азин имаџам

### განმარტება:

„საგზაო მოძრაობის შესახებ“ საქართველოს კანონის 33-ე მუხლის მე-7 პუნქტის „დ“ ქვეპუნქტის თანახმად, გარდა ამ კანონით დადგენილი შემთხვევებისა, დაუსახლებელ პუნქტსა და დასახლებულ პუნქტში გზის იმ მონაკვეთზე, რომელზედაც შესაბამისი საგზაო ნიშნით მოძრაობა დაშვებულია 60 კმ/სთ-ზე მეტი სიჩქარით, ნებადართულია: დ) „C“ და „CE“ კატეგორიების, აგრეთვე „C1“ და „C1E“ ქვეკატეგორიების სატრანსპორტო საშუალებების მოძრაობა: დ.ა) ავტომანქანებზე არაუმეტეს 80 კმ/სთ სიჩქარით, ხოლო სხვა გზაზე – არაუმეტეს 70 კმ/სთ სიჩქარით. ამავე კანონის 31-ე მუხლის მე-11 პუნქტის თანახმად, დაუსახლებელ პუნქტში, აგრეთვე დასახლებულ პუნქტში გზის სავალი ნაწილის იმ მონაკვეთზე, რომელზედაც მოძრაობა ნებადართულია 80 კმ/სთ-ზე მეტი სიჩქარით, მძღოლმა უნდა იმოძრაოს სავალი ნაწილის მარჯვენა კიდედან რაც შეიძლება ახლოს. აკრძალულია მარცხენა ბოლის დაკავება, როცა მარჯვენა ბოლი თავისუფალია, გარდა დაბრკოლების შემთხვევის, მარცხნივ მოხვევის ან მობრუნების შემთხვევისა.





Атранспорттə хархəагақəа зегьы саткала 100км. аласрала еитəцуазар, абарт атранспорттə хархəагақəа рырныкəацəа ркынтə амəатə айтəтра атцас еилазгодаҢ

1

Амашьына лас арныкəацəа затəы

2

Амашьына ласи аидаратə машьынеи рырныкəацəа

3

Амашьына ласи автобуси рырныкəацəа

4

Аидаратə машьынеи автобуси рырныкəацəа

### განმარტება:

„საგზაო მოძრაობის შესახებ“ საქართველოს კანონის 33-ე მუხლის მე-7 პუნქტის „დ.ა“ ქვეპუნქტის თანახმად, გარდა ამ კანონით დადგენილი შემთხვევებისა, დაუსახლებელ პუნქტსა და დასახლებულ პუნქტში გზის იმ მონაკვეთზე, რომელზედაც შესაბამისი საგზაო ნიშნით მოძრაობა დაშვებულია 60 კმ/სთ-ზე მეტი სიჩქარით, ნებადართულია: დ) „C“ და „CE“ კატეგორიების, აგრეთვე „C1“ და „C1E“ ქვეკატეგორიების სატრანსპორტო საშუალებების მოძრაობა: დ.ა) ავტომაგისტრალზე არაუმეტეს 80 კმ/სთ სიჩქარით, ხოლო სხვა გზაზე – არაუმეტეს 70 კმ/სთ სიჩქარით.



„C1Y“ აკატეგორია იატანაკაა აიდარატე მაშხყაა, ამაა აბრი აცყუტაჟაჟყ საატკალა 70 კმ. ალასრალა აიტატრა ნაიგჟარ, ამატატე აიტატრა ატასკჟა ეილეიგომაჟ

1

Ейлеигоит

2

Ейлеигом

### განმარტება:

„საგზაო მოძრაობის შესახებ“ საქართველოს კანონის 33-ე მუხლის მე-7 პუნქტის „დ.ა“ ქვეპუნქტის თანახმად, გარდა ამ კანონით დადგენილი შემთხვევებისა, დაუსახლებელ პუნქტსა და დასახლებულ პუნქტში გზის იმ მონაკვეთზე, რომელზედაც შესაბამისი საგზაო ნიშნით მოძრაობა დაშვებულია 60 კმ/სთ-ზე მეტი სიჩქარით, ნებადართულია, „C“ და „CE“ კატეგორიების, აგრეთვე „C1“ და „C1E“ ქვეკატეგორიების სატრანსპორტო საშუალებების მოძრაობა ავტომაგისტრალზე არაუმეტეს 80 კმ/სთ სიჩქარით, ხოლო სხვა გზაზე – არაუმეტეს 70 კმ/სთ სიჩქარით. ამავე კანონის პირველი დანართის 7.2 პუნქტის თანახმად საგზაო ნიშანი 7.2 „რეკომენდებული სიჩქარე“ – მიუთითებს სიჩქარეს, რომლითაც რეკომენდებულია მოძრაობა გზის მოცემულ მონაკვეთზე. ნიშანი იდგმება გზის დასაწყისში. ნიშნის მოქმედება ვრცელდება უახლოეს გზაჯვარედინამდე, ხოლო მაფრთხილებელ ნიშანთან ერთად – სახიფათო უბნის მთელ სიგრძეზე.





«C1» აკატეგორია იატანაკაა ამაშყა არწყაა ამაშყა ღეჟ იაცრაჟაყა დაჟოჟარ, ანჟართაყა აყა აიტაყრა ჟლაილშო ამაყსიმალტა ალასრა ჟეიყჟროიყ

1

საატკალა 50 კმ

2

საატკალა 60 კმ

3

საატკალა 70 კმ

4

საატკალა 90 კმ

### განმარტება:

„საგზაო მოძრაობის შესახებ“ საქართველოს კანონის 33-ე მუხლის მე-8 პუნქტის „დ“ ქვეპუნქტის თანახმად, თუ ამ კანონით სხვა რამ არ არის დადგენილი, დასახლებულ ან დაუსახლებელ პუნქტში ნებადართულია იმ მექანიკური სატრანსპორტო საშუალების მოძრაობა, რომელიც ახორციელებს სხვა მექანიკური სატრანსპორტო საშუალების ბუქსირებას, არაუმეტეს 50 კმ/სთ სიჩქარით.



Иарбоу атагылазашьаფы, «С» акаategoria иатцанакәа аидаратә машьына арныкәаф ауаа ахьнымхо атып афы сааткала 70км. аласрала деитатцуазар, ахыц ахырхарტала дцар амѳатә аитатцра атцаскәа еилеигомаჲ

1

Еилеიგოит

2

Еилეიгом

### განმარტება:

„საგზაო მოძრაობის შესახებ“ საქართველოს კანონის 31-ე მუხლის მე-11 პუნქტის თანახმად, დაუსახლებელ და დასახლებულ პუნქტებში სავალი ნაწილის იმ მონაკვეთზე, რომელზედაც მოძრაობა ნებადართულია 80 კმ/სთ-ზე მეტი სიჩქარით, მძღოლმა უნდა იმოძრაოს სავალი ნაწილის მარჯვენა კიდედან რაც შეიძლება ახლოს. აკრძალულია მარცხენა ზოლის დაკავება, როცა მარჯვენა ზოლი თავისუფალია, გარდა დაბრკოლების შემთხვევის, მარცხნივ მოხვევის ან მობრუნების შემთხვევისა.





«В» აკატეგორია იატანაკა, ამაშყინა ღეჟ იახანა იზგო ამაშყინა არწყკაფ, ანხარტატყ აყი ამფა აბრი აცყტაჟაჟი აიტატრა ზლაილშო ამაქსიმალტა ალასრა ზეიყშროიფ

1

საატკალა 50 კმ

2

საატკალა 60 კმ

3

საატკალა 70 კმ

4

საატკალა 90 კმ

### განმარტება:

„საგზაო მოძრაობის შესახებ“ საქართველოს კანონის 33-ე მუხლის მე-8 პუნქტის „დ“ ქვეპუნქტის თანახმად, თუ ამ კანონით სხვა რამ არ არის დადგენილი, დასახლებულ ან დაუსახლებელ პუნქტში ნებადართულია იმ მექანიკური სატრანსპორტო საშუალების მოძრაობა, რომელიც ახორციელებს სხვა მექანიკური სატრანსპორტო საშუალების ბუქსირებას, არაუმეტეს 50 კმ/სთ სიჩქარით.

Арныкәә, атранспорттә хархәага аласра аниҭсахуа, абарт аҭагылазаашьақәа рҕынтә иазҭхьагәитарц ихәтәиҭ

1

Атыҭ аҭелиеҭи аитатра аинтенсивҭеи

2

Ахаиртә тагылазаашьақәеи, иара убас, иазымхо ма иҭку алаҭшбара

3

Амәеи атранспорттә хархәага аҭагылазаашьеи мацара

4

Абри абилет аҭы еиқәыҭхьаҭоу амәатә тагылазаашьақәа зегьы.

### განმარტება:

„საგზაო მოძრაობის შესახებ“ საქართველოს კანონის 33-ე მუხლის მე-2 პუნქტის თანახმად, სატრანსპორტო საშუალების სიჩქარის შეცვლისას მძღოლმა უნდა გაითვალისწინოს საგზაო პირობები (ადგილის რელიეფი, გზისა და სატრანსპორტო საშუალების მდგომარეობა, მისი დატვირთვა, ატმოსფერული პირობები, მოძრაობის ინტენსივობა, არასაკმარისი ან შემდეგდელი ხილვადობა), რათა საჭიროების შემთხვევაში, აგრეთვე ნებისმიერი დაბრკოლების წინ, რომლის განჭვრეტაც მას შეუძლია, შეამციროს სიჩქარე, ხოლო აუცილებლობის შემთხვევაში გაჩერდეს.



Иарбоу амѡათѡ дырга амч ахьамоу атыѡаѡы, „C1“ ѡи „C1Y“ѡи акаатегориаѡѡа ирыѡанаѡѡа атранспортѡ хархѡагаѡѡа рыла аитѡѡრა злаѡало аласра еиѡამзароупЖ

1

Сааткала 110 км

2

Сааткала 80 км

3

Сааткала 70 км

### განმარტება:

„საგზაო მოძრაობის შესახებ“ საქართველოს კანონის პირველი დანართის 5.1 პუნქტის თანახმად საგზაო ნიშანი 5.1 „ავტომაგისტრალი“ - ავტომაგისტრალი, რომელზედაც მოქმედებს ავტომაგისტრალზე მოძრაობის მომწესრიგებელი ნორმების მოთხოვნები. ნიშანი იდგმება ავტომაგისტრალის დასაწყისში ან მის სიახლოვეს 8.1.1 დაფით. ამავე კანონის 33-ე მუხლის მე-7 პუნქტის „დ.ა“ ქვეპუნქტების თანახმად, გარდა ამ კანონით დადგენილი შემთხვევებისა, დაუსახლებელ პუნქტებში, აგრეთვე დასახლებულ პუნქტებში გზის იმ მონაკვეთზე, რომელზეც შესაბამისი ნიშნით მოძრაობა დაშვებულია 60 კმ/ზე მეტი სიჩქარით, მოძრაობა ნებადართულია C და CE კატეგორიის, აგრეთვე C1 და C1E ქვეკატეგორიების სატრანსპორტო საშუალებებისა, ავტომაგისტრალზე - არაუმეტეს 80კმ/სთ სიჩქარით.

## ВОПРОС 457

ПРАВИЛЬНЫЙ ОТВЕТ: 1

ფეგეჟჲყკ ჳმოუ აფჲმცატე აჲალანჲკეა არნჲკეაფ ანჲართატჲყ აფჲ მა აუაა აჲნჲმჲხო ატჲყაფჲ აიტატრა ჳლაილშო ამაჲსიმალტე ალასრა ჳეიჲშროიჲ

1

Сааткала 20км

2

Сааткала 30км

3

Сааткала 40км

## განმარტება:

„საგზაო მოძრაობის შესახებ“ საქართველოს კანონის 33-ე მუხლის მე-8 პუნქტის „გ“ ქვეპუნქტის თანახმად, თუ ამ კანონით სხვა რამ არ არის დადგენილი, დასახლებულ ან დაუსახლებელ პუნქტში ნებადართულია, ორბორბლიანი ელექტროთვითმგორავისა მოძრაობა ყველა გზაზე, სადაც ამ კატეგორიის სატრანსპორტო საშუალების მოძრაობა დასაშვებია, არაუმეტეს 20 კმ/სთ სიჩქარით.

## ВОПРОС 458

ПРАВИЛЬНЫЙ ОТВЕТ: 3

ანჲართატჲყ აფჲ მა აუაა აჲნჲმჲხო ატჲყაფჲ იჲჲშეარამ ჲჲჲჲშეარა დუუტ მა ანორმა აცკჲს ეიჲაუ ჲჲჲყაჲან დუუტ ატრანსპორტტე ჲარჲეაგაჲეა რჲრნჲკეაფეაა ილჲეიტატუა ამაჲსიმალტე ალასრა ჳეიჲშროიჲ

1

Сааткала 40км

2

Сааткала 60км

3

ყრტტეჲლა აზაკეანჲყარალა იშჲაკეგჲლოუ ატასლა აზინმჲჲ ჳმოუ აორგან ჲჲამატურატ აიკეშაჲატრაფჲ იაზგეათოუ ალასრა ეიჲამკეა

## განმარტება:

„საგზაო მოძრაობის შესახებ“ საქართველოს კანონის 33-ე მუხლის მე-8 პუნქტის „ე“ ქვეპუნქტის თანახმად თუ ამ კანონით სხვა რამ არ არის დადგენილი დასახლებულ ან დაუსახლებელ პუნქტში ნებადართულია, არაგაბარიტული (მსხვილგაბარიტიანი) ან ბენორმატიული (მძიმეწონიანი) სატრანსპორტო საშუალების მოძრაობა არაუმეტეს იმ სიჩქარით, რომელიც მითითებულია საქართველოს კანონმდებლობით დადგენილი წესით უფლებამოსილი ორგანოს (უნეების) მიერ გაცემულ შეთანხმებაში.



## ВОПРОС 459

ПРАВИЛЬНЫЙ ОТВЕТ: 3

Анхартатың ағы ма ауаа ахнымхо атыңағы ишәртоу аидара иазго амеханикатә атранспорттә хархәага арныкәаҭ дызлеитатұа амаксималтә аласра зейңшроиҢ

1

Сааткала 40км

2

Сааткала 60км

3

Аиагара атагылазаашьақәа рыла ихәаакәтцоу аласра еихамкәа

## განმარტება:

„საგზაო მოძრაობის შესახებ“ საქართველოს კანონის 33-ე მუხლის მე-8 პუნქტის „ვ“ ქვეპუნქტის თანახმად, თუ ამ კანონით სხვა რამ არ არის დადგენილი დასახლებულ ან დაუსახლებელ პუნქტში ნებადართულია, სახიფათო ტვირთის გადამზიდავი მექანიკური სატრანსპორტო საშუალების მოძრაობა არაუმეტეს გადაზიდვის პირობებით განსაზღვრული სიჩქარით.

## ВОПРОС 460

ПРАВИЛЬНЫЙ ОТВЕТ: 1

Атак зыңхықәу аорганқәа ма аматурақәа ркны еикәшахатрада, автомагистральқәа рғы, иара убас, автомагистральқәа ралалартақәеи ртыцыртақәеи рғы айтатра азин рымам амашыынақәа, зконкреттә аласра еихамЖ

1

Сааткала 40км

2

Сааткала 60км

3

Сааткала 90км

4

Сааткала 110км

## განმარტება:

„საგზაო მოძრაობის შესახებ“ საქართველოს კანონის 38-ე მუხლის პირველი პუნქტის „ა“ ქვეპუნქტის თანახმად, ავტომაგისტრალზე, ავტომაგისტრალის შესასვლელსა და გამოსასვლელზე აკრძალულია ქვეითის, ცხოველის, ველოსიპედის, მოპედის, ორბორბლიანი ელექტროთვითმგორავის, ავტომობილისა და მათი მისაბმელებისგან განსხვავებული ყველა სატრანსპორტო საშუალების მოძრაობა, აგრეთვე იმ ავტომობილის (მისაბმელით ან მის გარეშე) მოძრაობა, რომლის კონსტრუქციული სიჩქარე არ აღემატება 40 კმ/სთ-ს (ეს შეზღუდვა არ ვრცელდება იმ მექანიკურ სატრანსპორტო საშუალებაზე, რომელიც ავტომაგისტრალზე მოძრაობს უფლებამოსილ ორგანოსთან (უნეებასთან) საქართველოს კანონმდებლობით დადგენილი წესით შეთანხმებისა და ამ შეთანხმების პირობების შესაბამისად).



Аидаратә машына арныкәаф икьакьоу ахархәагала иацраҳәаны дахозар, аитатра анагзара злаилшо амаксималтә аласра зепҭшроиҭ

1

Сааткала 50км. аласрала

2

Сааткала 60км. аласрала

3

Сааткала 80км. аласрала

### განმარტება:

„საგზაო მოძრაობის შესახებ“ საქართველოს კანონის 33-ე მუხლის მე-8 პუნქტის „დ“ ქვეპუნქტის თანახმად, თუ ამ კანონით სხვა რამ არ არის დადგენილი, დასახლებულ ან დაუსახლებელ პუნქტში ნებადართულია იმ მექანიკური სატრანსპორტო საშუალების მოძრაობა, რომელიც ახორციელებს სხვა მექანიკური სატრანსპორტო საშუალების ბუქსირებას, არაუმეტეს 50 კმ/სთ სიჩქარით.

## ВОПРОС 462

ПРАВИЛЬНЫЙ ОТВЕТ: 3

Ацхақәеи, аестакадақәеи, авольтхарақытә цәахәақәеи рытақа, иара убас, ахапкылцәақәа ралаларанза, автобуси аидаратә машынеи рырныкәаџәа ируалупЖ

1

Амашына лас арныкәаџ амџа итара

2

Амашыртә ардырга аџакра

3

Атранспорттә хархәагақәа риасра  
ашәартадара агәрагара

## განმარტება:

„საგზაო მოძრაობის შესახებ“ საქართველოს კანონის 21-ე მუხლის მე-10 პუნქტის თანახმად, ხიდის, ესტაკადის, მაღალი ძაბვის გადამცემი ხაზის ქვეშ, აგრეთვე გვირაბში ან სხვა მსგავს ადგილას გავლამდე ავტობუსის, სატვირთო ავტომობილის მძღოლი ვალდებულია დარწმუნდეს სატრანსპორტო საშუალების გავლის უსაფრთხოებაში.

## ВОПРОС 463

ПРАВИЛЬНЫЙ ОТВЕТ: 1

«Аконструктивтә аласра» аупЖ

1

Итзыжыыз азауад ала ихәаакәтцоу  
атранспорттә хархәага амаксималтә аласра

2

Иарбоу амџа ацыпцәахаџы атранспорттә  
хархәагазы ишәақәгылоу аласра  
амаксималтә ахәаа

3

Атранспорттә хархәага иамоу адырга  
«Аласра аҟкра» аџы иарбоу аласра

## განმარტება:

„საგზაო მოძრაობის შესახებ“ საქართველოს კანონის 5-ე მუხლის 29-ე პუნქტის თანახმად, კონსტრუქციული სიჩქარე – ქარხანა-დამამზადებლის მიერ განსაზღვრული სატრანსპორტო საშუალების მაქსიმალური სიჩქარე.

## ВОПРОС 464

ПРАВИЛЬНЫЙ ОТВЕТ: 2

Ардырратә дырга „Автоицраҳәа“ иаҕактәупЖ

1

Ианылашыцоу аамтазы автоицраҳәа аитаттраан мацара

2

Автоицраҳәа аитаттраан, ианылашыцоу аамтазы, иара убас алаҕшбара аныцәҕьоу – амашына ианаангыло ма иангылоу аамтазы

3

Автоицраҳәа алаҕшбара цәҕа атагылазаашыаҕы еитатцуазар

## განმარტება:

„საგზაო მოძრაობის შესახებ“ საქართველოს კანონის 49-ე მუხლის მე-16 პუნქტის თანახმად, საცნობი ნიშანი „ავტომატარებელი“ უნდა ჩაირთოს ავტომატარებლის მოძრაობისას, ხოლო დღე-ღამის ბნელ დროს და არასაკმარისი ხილვადობის პირობებში – მისი გაჩერებისა და დგომის პერიოდშიც.

## ВОПРОС 465

ПРАВИЛЬНЫЙ ОТВЕТ: 3

Ианылашоу аамтазы амҕаҕы еитатцуа ишәартоу аидара имҕанызго амеханикатә атранспорттә хархәага азгәатара амзызла хымҕада иаҕактәупЖ

1

Аҕхьатәи ахышәаратә алашарақәа мацара

2

Ашьтахьтәи ахышәаратә алашарақәа мацара

3

Ааигәа изырлашо амашынаблқәеи ашьтахьтәи ахышәаратә алашарақәеи

## განმარტება:

„საგზაო მოძრაობის შესახებ“ საქართველოს კანონის 49-ე-ე მუხლის მე-8 პუნქტის „გ“ ქვეპუნქტის თანახმად, დღის ნათელ დროს გზაზე მოძრავი სატრანსპორტო საშუალების აღნიშვნის მიზნით სავალდებულოა ახლო განათების ფარებისა და უკანა საგაბარიტო სინათლეების ჩართვა: გ) არაგაბარიტული (მსხვილგაბარიტიანი) ან ზენორმატიული (მძიმეზენონიანი) სატრანსპორტო საშუალების, აგრეთვე სახიფათო ტვირთის გადამზიდავი სატრანსპორტო საშუალების გადაადგილებისას.



„საგზაო მოძრაობის შესახებ“ საქართველოს კანონის 49-ე მუხლის მე-9 პუნქტის თანახმად, დაბინდებიდან გათენებამდე, აგრეთვე ნებისმიერი სხვა არასაკმარისი ხილვადობის პირობებში, გზაზე გაჩერების ან დგომის დროს მექანიკური სატრანსპორტო საშუალება და მისი მისაბმელი აღნიშნული უნდა იყოს წინა და უკანა საგაბარიტო სინათლეებით. სქელი ნისლის, ხშირი თოვის, ძლიერი წვიმის დროს ან ანალოგიურ პირობებში შეიძლება ჩართულ იქნეს ახლო განათების ფარები ან წინა ნისლსაწინააღმდეგო ფარები. ასეთ პირობებში უკანა საგაბარიტო სინათლეებთან ერთად დამატებით შეიძლება ჩართულ იქნეს უკანა ნისლსაწინააღმდეგო ფარები.



Ирлашоу აჰაპკылтჿა დანალსუა, ამაშყნა არნყჿაფ, აბარტ ადჿაჰყტჿი ალაშარატჿ ჰარჿჿაგაჿჿა რჿყნტჿ იაჿეიკყრ იჿჿთიჿ

1

ამაშჿყრტჿ ალაშარატჿ არდყრგა

2

აჿყშჿარატჿ ალაშარაჿჿა

3


ჰარა მა ააიგჿა იზყრლაშო ამაშყნაბლაჿჿა

4

აკგყ

### განმარტება:

„საგზაო მოძრაობის შესახებ“ საქართველოს კანონის 42-ე მუხლის პირველი პუნქტის „ბ“ ქვეპუნქტის თანახმად, საგზაო ნიშნით აღნიშნულ გვირაბებში მოქმედებს შემდეგი წესები, მძღოლმა უნდა ჩართოს შორი ან ახლო განათების ფარები, მიუხედავად იმისა, განათებულია თუ არა გვირაბი.



Амашына лас арныкææ сааткала 90 км. аласрала ахыц ахырхартала деитатыр амæтæ аитатра атаскæа еилеигомаӕ

1

Еилеигоит

2

Еилеигом

### განმარტება:

„საგზაო მოძრაობის შესახებ“ საქართველოს კანონის 33-ე მუხლის მე-7 პუნქტის „ბ.ბ“ ქვეპუნქტის თანახმად, გარდა ამ კანონით დადგენილი შემთხვევებისა, დაუსახლებელ პუნქტებში, აგრეთვე დასახლებულ პუნქტებში გზის იმ მონაკვეთზე, რომელზეც შესაბამისი ნიშნით მოძრაობა დაშვებულია 60 კმ/ზე მეტი სიჩქარით, ნებადართულია B კატეგორიის სატრანსპორტო საშუალების მოძრაობა, თუ ის ახორციელებს მსუბუქი მისაბმელის ბუქსირებას, ყველა გზაზე არაუმეტეს 80 კმ/სთ სიჩქარით.

თემა 18:

სამუხრუჭე მანძილი, დისტანცია

---



## ВОПРОС 470

ПРАВИЛЬНЫЙ ОТВЕТ: 2

Аидаратә машына ачарт ала зиагара кало апассажира рхыпхьазараЖ

1

Арныкәаҭ иҭәаакәитҭоит

2

Атәартакәа рхыпхьазара еихамзароуп

## განმარტება:

„საგზაო მოძრაობის შესახებ“ საქართველოს კანონის 46-ე მუხლის მე-5 პუნქტის თანახმად, სატვირთო ავტომობილის ძარათი გადასაცემი მგზავრთა რაოდენობა არ უნდა აღემატებოდეს დასასხდომად მოწყობილი ადგილების რაოდენობას. მგზავრობის დაწყების წინ სატვირთო ავტომობილის მძღოლი ვალდებულია მგზავრებს ჩაუტაროს ინსტრუქტაჟი ჩასხდომისა და ძარაზე განლაგების წესის შესახებ. მძღოლმა მხოლოდ მაშინ უნდა დაიწყოს მოძრაობა, როცა დარწმუნდება, რომ მგზავრთა უსაფრთხოდ გადაყვანის ყველა პირობა დაცულია.

## ВОПРОС 471

ПРАВИЛЬНЫЙ ОТВЕТ: 3

Амашына, адаанкәа рыѡазара ацкыс илакәны игылоу атәартакәа рыла еикәшәазар, зчарт еикәыршәам аидаратә машынала аитацра азин имоупЖ

1

Дарбанзаалак зыкәра назоу ахаҭы, аҭахмадацәи зцәазтәымкәа икоу ахәсеи рыда

2

Аекипаж алахәыла Пҭаҭхьатәатә арныкәаҭ

3

Аидара иацу ма имѡанызго ахаҭы

## განმარტება:

„საგზაო მოძრაობის შესახებ“ საქართველოს კანონის 46-ე მუხლის მე-6 პუნქტის თანახმად, მგზავრთა გადაყვანისათვის მოუწყობელი ბორტის პლატფორმის მქონე სატვირთო ავტომობილის ძარათი მგზავრობის უფლება აქვს მხოლოდ ტვირთის თანმხლებ ან მის მიმღებ პირს, თუ ავტომობილი ბორტების დონეზე დაბლა განლაგებული დასაჯდომი ადგილით არის უზრუნველყოფილი.

## ВОПРОС 472

ПРАВИЛЬНЫЙ ОТВЕТ: 2

Апассажирцѣа рымѣангара иазку, ачарт змоу аидаратѣ машынаლა ахѣыцкѣа рымѣангара аан адашмакынтѣ адаанкѣа роура иказароупЖ

1

ტბმ მეტრაკ ეიხანყ

2

ტბმ მეტრაკ ეიტყნყ

3

ტბ3 მეტრაკ ეიხანყ, ახა ტბ5 მეტრაკ ეიტყნყ

4

ტბ4 მეტრაკ ეიხანყ, ახა ტბკ მეტრაკ ეიტყნყ

## განმარტება:

„საგზაო მოძრაობის შესახებ“ საქართველოს კანონის 46-ე მუხლის მე-9 პუნქტის თანახმად, მგზავრთა გადასაცემი ბორტის პლატფორმის მქონე სატვირთო ავტომობილი უზრუნველყოფილი უნდა იყოს იატაკიდან 0,3–0,5 მეტრ სიმაღლეზე და ბორტის ზედა ნაპირიდან არანაკლებ 0,3 მეტრზე განლაგებული დასასხდომი ადგილებით, ხოლო ბავშვთა ჯგუფის გადაყვანისას ბორტების სიმაღლე იატაკიდან 0,8 მეტრზე ნაკლები არ უნდა იყოს. უკანა ან გვერდითი ბორტების გასწვრივ განლაგებულ დასასხდომ ადგილებს მყარი საბურღეები უნდა ჰქონდეს.

## ВОПРОС 473

ПРАВИЛЬНЫЙ ОТВЕТ: 2

Зчарт еикѣыршѣоу аидаратѣ машынаლა апассажирцѣа рымѣангара калоитЖ

1

Ршьапы ишыкѣгылоу мацара

2

Иртѣаны мацара

3

Ршьапы ишыкѣгылоу, иара убас, иртѣаны

## განმარტება:

„საგზაო მოძრაობის შესახებ“ საქართველოს კანონის 23-ე მუხლის მე-2 პუნქტის „გ“ ქვეპუნქტის თანახმად, მგზავრს ეკრძალება ბორტის პლატფორმის მქონე სატვირთო ავტომობილით მგზავრობისას ძარაზე დგომა, ბორტზე ჩამოჯდომა ან მასზე ტვირთის დადება.

## ВОПРОС 474

ПРАВИЛЬНЫЙ ОТВЕТ: 1

Аидаратә машына ачарт ала ахәыцкәа рымѡангара аан урт дрыцзароуп зыкәра назоу, аҭышәара змоуЖ

1

Ҧыцәа ахаҭкәа иреитцымкәа

2

Хҭѡык ахаҭкәа иреитцымкәа

3

Ҧшьѡык ахаҭкәа иреитцымкәа

## განმარტება:

„საგზაო მოძრაობის შესახებ“ საქართველოს კანონის 46-ე მუხლის მე-7 პუნქტის თანახმად, ბავშვთა ჯგუფის ავტობუსით ან ფურგონდარიანი სატვირთო ავტომობილით გადაყვანისას ჯგუფს უნდა ახლდეს სრულწლოვანი გამცილებელი, ხოლო დასახელოვანი ადგილებით უზრუნველყოფილი ბორტის პლატფორმის მქონე სატვირთო ავტომობილის ძარათი გადაყვანისას – არანაკლებ ორი ასეთი პირი. სატრანსპორტო საშუალებაზე წინ და უკან უნდა დამაგრდეს საცნობი ნიშანი „ბავშვების გადაყვანა“.

## ВОПРОС 475

ПРАВИЛЬНЫЙ ОТВЕТ: 2

Ауаа иахьнымхо апункт аҭы, аитатцразы атагылазаашьақәа бзиазар, еишьтаргыланы еитатцуа атранспорттә хархәагақәа ирыбжьоу адистанция ахьсразы иатаху аамтҭаЖ

1

4 секундк еихамзароуп

2

3 секундк еитцымзароуп

3

6 секундк еитцымзароуп

4

9 секундк еихамзароуп

## განმარტება:

„საგზაო მოძრაობის შესახებ“ საქართველოს კანონის 25-ე მუხლის მე-10 პუნქტის „3“ ქვეპუნქტის თანახმად, გზაზე მოძრაობისას მძღოლმა უნდა გაითვალისწინოს შემდეგი გარემოებები: 3) ნორმალური მოძრაობის პირობებში ერთმანეთის მიყოლებით მოძრავ სატრანსპორტო საშუალებათა შორის არსებული დისტანციის დასაფარავად საჭირო დრო დასახლებულ პუნქტში უნდა იყოს არანაკლებ 2 წამისა, ხოლო დაუსახლებელ პუნქტში – არანაკლებ 3 წამისა. აღნიშნული წესი არ ვრცელდება გასწრების მიზნით იმ სატრანსპორტო საშუალების მოძრაობის ზოლიდან გამოსვლის შემთხვევაზე, რომლის მძღოლსაც გასწრების განმზავის თაობაზე მიცემული აქვს შესაბამისი სიგნალი, აგრეთვე ამ პუნქტის „ჟ“ ქვეპუნქტით გათვალისწინებულ შემთხვევებზე.

## ВОПРОС 476

ПРАВИЛЬНЫЙ ОТВЕТ: 3

Анхартатың ағы, итаау амғағы, еишътаргыланы ейтатца атранспорттә хархәагақәа ирыбжьоу адистанциа ахысразы иатаху аамтаЖ

1

2 секундк еихамзароуп

2

4 секундк еитцымзароуп

3

6 секундк еихамзароуп

4

9 секундк еитцымзароуп

## განმარტება:

„საგზაო მოძრაობის შესახებ“ საქართველოს კანონის 25-ე მუხლის მე-10 პუნქტის „ჟ“ ქვეპუნქტის თანახმად, გზაზე მოძრაობისას მძღოლმა უნდა გაითვალისწინოს შემდეგი გარემოებები: ჟ) მოყინულ გზაზე მოძრაობისას ერთმანეთის მიყოლებით მოძრავ სატრანსპორტო საშუალებათა შორის არსებული დისტანციის დასაფარავად საჭირო დრო დასახლებულ პუნქტში უნდა იყოს არანაკლებ 6 წამისა, ხოლო დაუსახლებელ პუნქტში – არანაკლებ 9 წამისა. აღნიშნული წესი არ ვრცელდება გასწრების მიზნით იმ სატრანსპორტო საშუალების მოძრაობის ზოლიდან გამოსვლის შემთხვევაზე, რომლის მძღოლსაც გასწრების განზრახვის თაობაზე მიცემული აქვს შესაბამისი სიგნალი.

## ВОПРОС 477

ПРАВИЛЬНЫЙ ОТВЕТ: 3

Ауаа иахьнымхо атың ағы, итаау амғағы, еишътаргыланы ейтатца атранспорттә хархәагақәа ирыбжьоу адистанциа ахысразы иатаху аамтаЖ

1

4 секундк еихамзароуп

2

6 секундк еитцымзароуп

3

9 секундк еитцымзароуп

4

12 секундк еитцызароуп

## განმარტება:

„საგზაო მოძრაობის შესახებ“ საქართველოს კანონის 25-ე მუხლის მე-10 პუნქტის „ჟ“ ქვეპუნქტის თანახმად, გზაზე მოძრაობისას მძღოლმა უნდა გაითვალისწინოს შემდეგი გარემოებები: ჟ) მოყინულ გზაზე მოძრაობისას ერთმანეთის მიყოლებით მოძრავ სატრანსპორტო საშუალებათა შორის არსებული დისტანციის დასაფარავად საჭირო დრო დასახლებულ პუნქტში უნდა იყოს არანაკლებ 6 წამისა, ხოლო დაუსახლებელ პუნქტში – არანაკლებ 9 წამისა. აღნიშნული წესი არ ვრცელდება გასწრების მიზნით იმ სატრანსპორტო საშუალების მოძრაობის ზოლიდან გამოსვლის შემთხვევაზე, რომლის მძღოლსაც გასწრების განზრახვის თაობაზე მიცემული აქვს შესაბამისი სიგნალი.



## ВОПРОС 478

ПРАВИЛЬНЫЙ ОТВЕТ: 4

«Амѡа атара ГѡаѡырхагамхараТ» аупЖ

1

Амѡатѡ аитатра алахѡыла изин, егырт  
раѡухѡа ишьақѡгылоу ахырхартала  
адѡықѡларазы

2

Амѡатѡ аитатра алахѡыла иѡухықѡра,  
аитатра анамгѡаразы ма аиталамгѡаразы, ма  
аманиовр ақамтѡаразы, уи иахқѡаны,  
аѡыжѡара змоу амѡатѡ аитатра егы  
алахѡыла иаалырқѡаны аласра ма ахырхарт  
имѡсахыр ада ѡсыхѡа имамқѡа дқѡалозар

3

Арнықѡа игыѡанымзаара мацара.

4

Абри абилет аѡы еиқѡыѡухѡазоу  
иарбанзаалак атагылазаашѡа

## განმარტება:

„საგზაო მოძრაობის შესახებ“ საქართველოს კანონის 33-ე მუხლის მე-11 პუნქტის თანახმად, იმ სატრანსპორტო საშუალების მძღოლმა, რომელიც მიჰყვება სხვა სატრანსპორტო საშუალებას, უნდა დაიცვას სათანადო დისტანცია, რათა თავიდან აიცილოს შეჯახება მის წინ მიმავალი სატრანსპორტო საშუალების მოულოდნელი დამუხრუჭების ან გაჩერების შემთხვევაში. მოძრაობის უსაფრთხოების უზრუნველსაყოფად აუცილებელია აგრეთვე გვერდითი ინტერვალის დაცვა. ამავ კანონის 25-ე მუხლის მე-10 პუნქტის „მ“ ქვეპუნქტის თანახმად, გასწრებისას ყველაზე უფრო ხშირად საავარიო სიტუაცია იქმნება დისტანციის დაუცველობის და საპირისპირო მიმართულებით მოძრავი სატრანსპორტო საშუალებების მიმართ არასაკმარისი ყურადღების გამოჩენის გამო.

## ВОПРОС 479

ПРАВИЛЬНЫЙ ОТВЕТ: 3

“Аангылагатѡ абѡѡазаара” аупЖ

1

Амѡაѡы аитатра аласра агырхартѡ ацѡахѡа  
аура

2

Закѡанѡѡარала ихѡаақѡтоу амаксималтѡ  
абѡѡазаара, уи инацакны атранспорттѡ  
хархѡага хымѡада иаангылароуп

3

Атранспорттѡ хархѡага аанкыларა инаркны  
атѡхѡანѡа аангыларанѡа абѡѡазаара

## განმარტება:

„საგზაო მოძრაობის შესახებ“ საქართველოს კანონის 5-ე მუხლის 68-ე პუნქტის თანახმად, „სამუხრუჭე მანძილი“ - მანძილი, რომელსაც გადის სატრანსპორტო საშუალება მუხრუჭების ამოქმედებიდან სრულ გაჩერებამდე.

Чыдалатѳи алашаратѳ ардырга иатѳѳи абжытѳ ардыргеи иаѳакны еитатѳа чыдалатѳи аматѳура атранспорттѳ хархѳага арныкѳаѳ иатѳашѳу аѳыжѳара ахархѳара азин имоупЖ

1

Иарбанзаалак атагылазаашѳаѳы, амѳатѳ аитатѳра егырт алахѳылаѳѳа амѳа иртоу ирымтоу иахѳыѳшымкѳа.

2

Амѳа ширтѳ агѳра нигалак маѳара.

### განმარტება:

„საგზაო მოძრაობის შესახებ“ საქართველოს კანონის 51-ე მუხლის პირველი პუნქტის თანახმად, ოპერატიული ან სპეციალური სამსახურის სატრანსპორტო საშუალების მძღოლს, რომელსაც სატრანსპორტო საშუალებაზე ჩართული აქვს ლურჯი მოელვარე სპეციალური ციმციმა სიგნალი და ასრულებს სამსახურებრივ დავალებას, შეუძლია საგზაო მოძრაობის უსაფრთხოების უზრუნველყოფის პირობების დაცვით გადაუხვიოს ამ კანონის 25-ე, 31-ე—41-ე და 44-ე მუხლებით, აგრეთვე ამ კანონის №1 და №2 დანართებით დადგენილ მოთხოვნებს. ლურჯ მოელვარე სპეციალურ ციმციმა სიგნალთან ერთად დამატებით შეიძლება ჩაირთოს წითელი მოელვარე ციმციმა სიგნალიც. სხვა საგზაო მოძრაობის მონაწილეების მიმართ უპირატესობის მისაღებად ამ სატრანსპორტო საშუალების მძღოლმა უნდა ჩართოს ლურჯი მოელვარე სპეციალური ციმციმა სიგნალი და ხმოვანი სიგნალი. პრიორიტეტით სარგებლობა მხოლოდ მაშინ შეიძლება, როცა მძღოლი დარწმუნდება, რომ მას გზას უთმობენ.



Ахыц ахырхарала еитатцуа арныкѣаѣца ркынтѣ амѣа атара зыхѣтада, амедицинатѣ цыхраара лас амашына чыдалатѣи ардырга иатѣа иаѣакызарѢ

1

Аидаратѣ машына арныкѣаѣ

2

Амедицинатѣ цыхраара лас арныкѣаѣ

### განმარტება:

„საგზაო მოძრაობის შესახებ“ საქართველოს კანონის 51-ე მუხლის პირველი პუნქტის თანახმად, ოპერატიული ან სპეციალური სამსახურის სატრანსპორტო საშუალების მძღოლს, რომელსაც სატრანსპორტო საშუალებაზე ჩართული აქვს ლურჯი მოელვარე სპეციალური ციმციმა სიგნალი და ასრულებს სამსახურებრივ დავალებას, შეუძლია საგზაო მოძრაობის უსაფრთხოების უზრუნველყოფის პირობების დაცვით გადაუხვიოს ამ კანონის 25-ე, 31-ე—41-ე და 44-ე მუხლებით, აგრეთვე ამ კანონის №1 და №2 დანართებით დადგენილ მოთხოვნებს. ლურჯ მოელვარე სპეციალურ ციმციმა სიგნალთან ერთად დამატებით შეიძლება ჩაირთოს წითელი მოელვარე ციმციმა სიგნალიც. სხვა საგზაო მოძრაობის მონაწილეების მიმართ უპირატესობის მისაღებად ამ სატრანსპორტო საშუალების მძღოლმა უნდა ჩართოს ლურჯი მოელვარე სპეციალური ციმციმა სიგნალი და ხმოვანი სიგნალი. ამავე კანონის 36-ე მუხლის მე-4 პუნქტის „გ“ ქვეპუნქტის თანახმად, არარეგულირებულ გზაჯვარედინზე, თანაბარმნიშვნელოვანი გზების გადაკვეთაზე ურელსო სატრანსპორტო საშუალების მძღოლი ვალდებულია გზა დაუთმოს მარჯვნიდან მოახლოებულ სატრანსპორტო საშუალებას.

## ВОПРОС 482

ПРАВИЛЬНЫЙ ОТВЕТ: 3

Иаалыркъаны аанкылага ахархээрала атранспорттә хархәага аанкыларა калоитЖ

1

Аиѣкааѿ атранспорттә хархәага  
аанкыларазы адтә кайтѿазар

2

Алашарбага иѿаѿшыуи иѿежьюи ардыргақәа  
аамтәкала рѣакра аан

3

Амѿатәатранспорттә амашәыр аѿ  
ацәыхьчара амзызла

4

Абри абилет аѿы еиқәыѿхьѿзоу  
аѿагылазаашьѿқәа зегьы раан.

## განმარტება:

„საგზაო მოძრაობის შესახებ“ საქართველოს კანონის 33-ე მუხლის მე-4 პუნქტის თანახმად, მძღოლს ევრძალება მკვეთრი დამუხრუჭება, გარდა საგზაო-სატრანსპორტო შემთხვევის თავიდან აცილების აუცილებლობით გამონკვეული დამუხრუჭებისა.

## ВОПРОС 483

ПРАВИЛЬНЫЙ ОТВЕТ: 3

Амеханикатә аимадаратә атра змоу атранспорттә хархәага албаарта аѿѿаѿы аитатра аан аанкыларა  
бзиоупЖ

1

Аибаркра ирцәаны, аамтала аанкылага  
ақәыңѿѿарала

2

Аибаркра иаѿакны аимадаратә атрала  
аамтәааамтала ашышьхәа аанкылага  
ақәыңѿѿарала

3

Арныкәага ала аанкыларა

## განმარტება:

მექანიკური გადაცემათა კოლოფის მქონე სატრანსპორტო საშუალების ციცაბო დაღმართზე მოძრაობისას დამუხრუჭების ეფექტური ხერხია - დამუხრუჭება ძრავით. რაც უფრო მკვეთრია დაღმართი მით უფრო მეტი სიფრთხილეა საჭირო. მექანიკური გადაცემათა კოლოფის მქონე ავტომობილის მკვეთრ დაღმართზე ძრავით დამუხრუჭებისას მძღოლმა, რაც უფრო მკვეთრია დაღმართი, მით უფრო დაბალი გადაცემა უნდა ჩართოს.



## ВОПРОС 484

ПРАВИЛЬНЫЙ ОТВЕТ: 2

Албаартағы амеханикатә айбаркра змоу амашына арныкәага аанкылара аан, арныкәаф, аимадара  
аналихәа иазпұхьагәеитароупЖ

**1** Албаарта аҕыра адура иахыыҕышны аибаркра  
ҳаракызароуп

**2** Албаарта аҕыра адура иахыыҕышны аибаркра  
лаҕаызароуп

3 Аибаркра алхра албаарта аѳра иахыпѳшым

**განმარტება:**

რაც უფრო მკვეთრია დაღმართი მით უფრო მეტი სიფრთხილეა საჭირო. მექანიკური გადაცემათა კოლოფის მქონე ავტომობილის მკვეთრ დაღმართზე ძრავით დამუხრუჭებისას მძღოლმა, რაც უფრო მკვეთრია დაღმართი, მით უფრო დაბალი გადაცემა უნდა ჩართოს.

## ВОПРОС 485

ПРАВИЛЬНЫЙ ОТВЕТ: 2

Аекстремалтэ тагылазаашьяаы атранспорттэ хархэага аангылараан арныкэаа аанкыларатэ цэахэа айтатэра илшароупЖ

1 Знык аанкылага дақыбұбұаны  
амашыынаблақәа рблокаданза

**2** Амашынаблақәа рблокада ахәааҕы  
изныкымкәа аанкылага ақәыҕәҕәарала

**განმარტება:**

ექსტრემალურ სიტუაციაში სატრანსპორტო საშუალების გაჩერებისას სამუხრუჭე მანძილის შემცირება მიიღწევა თვლების ბლოკირების გზარზე მრავალჯერადი მკვეთრი ზემოქმედებით მუხრუჭის სატერფულზე.

## ВОПРОС 486

ПРАВИЛЬНЫЙ ОТВЕТ: 2

Атранспорттә хархәага аццакра аихатәра аан, агежь амџа излақәыңџәа амчЖ

1

Иазхауеит

2

Еицхоит

3

Аеаҭсахуам

## განმარტება:

სატრანსპორტო საშუალების მოძრაობის სიჩქარის გაზრდისას საბურავის გზასთან ჩაჭიდების ძალა მცირდება.

## ВОПРОС 487

ПРАВИЛЬНЫЙ ОТВЕТ: 4

Арныкәаџ абарт акатегориақәа ирыцанақәа атранспорттә хархәагақәа рырныкәара илшомЖ

1

Иашьашәалоу азин ада

2

Иашьашәалоу азин аанкылазар ма иҭырхзар

3

Иашьашәалоу азин ада, иара убас, ари азин  
аанкылазар ма иҭырхзар

4

Абри абилет аҭы еиқәыҭхьазоу  
иарбанзаалак аҭагылазаашьаҭы

## განმარტება:

სამუხრუჭო მანძილის მნიშვნელობა დამოკიდებულია როგორც სატრანსპორტო საშუალების სიჩქარეზე, ასევე გზის საფარის მდგომარეობაზე და სატრანსპორტო საშუალების საბურავების ცვეთაზე.

## ВОПРОС 488

ПРАВИЛЬНЫЙ ОТВЕТ: 2

Албаарта цэгъа афѣ аитатра аан, амеханикатѣ аимадаратѣ атра змоу атранспорттѣ хархѣага, аифарѣага иафѣхны кыраамтѣ инатакны аанкыларѣ иахылѣиаар алшоитЖ

1

Аѣскы ахархѣаратѣ механизм аѣхастахара.

2

Аанкыларатѣ система аршцѣареи, аанкыларѣ аефѣектра аитатѣареи.

3

Аанкыларатѣ бжѣазаара аитатѣара.

4

Абри абилет афѣ еиқѣыѣхѣазоу иарбанзаалак атагылазаашѣа

## განმარტება:

ციცაბო დაღმართზე მოძრაობისას, მექანიკური გადაცემათა კოლოფის მქონე სატრანსპორტო საშუალების ხანგრძლივმა დამუხრუჭებამ გამორთული გადაბმულობით შეიძლება გამოიწვიოს სამუხრუჭო სისტემის გადახურება და დამუხრუჭების ეფექტურობის შენეობა.

## ВОПРОС 489

ПРАВИЛЬНЫЙ ОТВЕТ: 2

Амашѣына арѣаратѣи агежѣқѣа иасызар иѣѣѣам, ибаазоу амѣасырта аган ашѣа, арнықѣаѣ ихѣтоупЖ

1

Амашѣына атѣхѣанза иаангылаанза уи аанкыларѣ.

2

Амашѣына аанымкылакѣа, ашѣшѣыхѣа амѣасырта ашѣа ахынхѣара.

3

Аласра ацѣареи амашѣына армаратѣи аган ашѣа ахырхѣареи.

## განმარტება:

თუ ავტომობილის მარჯვენა თვლები გადავიდა არამდგრადი და სველი საფარის მქონე გვერდულზე, მიზანშეწონილია დამუხრუჭების გარეშე ავტომობილის მდორედ დაბრუნება გზის სავალ ნაწილზე.

Автомобиль аблокадаѐацѐыхьчаратѐ системала ГѐАВСТѐ еибыѐазарЖ

1

Арныѐаѐ ихьшѐаны амашьына ааникылар илшоит, избанзар аанкыларатѐ бжьазара еитѐхоит

2

Аанкыларатѐ система амч иацлоит

3

Аанкылараан абри еиѐш амашьына арныѐара иаѐа иманшѐалоуп

განმარტება:


მუხრუჭების ბლოკირების საწინააღმდეგო სისტემით (ABS) აღჭურვილი ავტომობილი დამუხრუჭებისას უკეთ სამართავია.



თემა 19:

გაჩერება, დგომა

---



Арныкәә, ахыц ала иарбоу атыңағы амашынала ағылара азин имоумаң

1

Азин имазам

2

Азин имоуп

### განმარტება:

„საგზაო მოძრაობის შესახებ“ საქართველოს კანონის 37-ე მუხლის მე-7 პუნქტის „ვ“ ქვეპუნქტის თანახმად, აკრძალულია სატრანსპორტო საშუალების დგომა, დაუსახლებელ პუნქტში 2.1, 5.1 და 5.3 საგზაო ნიშნებით აღნიშნულ გზის სავალ ნაწილზე, აგრეთვე დასახლებულ პუნქტში გზის სავალ ნაწილზე, სადაც მოძრაობა დაშვებულია 80 კმ/სთ-ზე მეტი სიჩქარით, გარდა სპეციალურად აღნიშნული ადგილებისა.



Амашына лас арныкѣаф апассажирецѣа рақѣыртѣареи рылбаагареи дафымзар, абарт атранспорттѣ хархѣагақѣа ырныкѣаѣцѣа рқынтѣ аангыларѣа атасқѣа еилазымгодаѢ

1

Амашына лас арныкѣаф затѣы

2

Автобус арныкѣаф затѣы

3

Аидаратѣ машына арныкѣаф затѣы

4

Амашына ласи аидаратѣ машынеи ырныкѣаѣцѣа

### განმარტება:

„საგზაო მოძრაობის შესახებ“ საქართველოს კანონის 37-ე მუხლის მე-6 პუნქტის „ა.ა“ ქვეპუნქტის თანახმად, აკრძალულია სატრანსპორტო საშუალების გაჩერება გზის სავალ ნაწილზე ქვეითთა და ველოსიპედისტთა გადასასვლელებზე და მათ წინ 5 მეტრზე ახლოს. ამავე კანონის 41-ე მუხლის მე-3 პუნქტის თანახმად გზაზე, სადაც 5.11, 5.13.1, 5.13.2 და 5.14 საგზაო ნიშნებით აღნიშნული სამარშრუტო სატრანსპორტო საშუალებების მოძრაობისათვის განკუთვნილი ზოლია, აკრძალულია ამ ზოლზე სხვა სატრანსპორტო საშუალებათა მოძრაობა და გაჩერება. თუ ეს ზოლი დანარჩენი სავალი ნაწილისგან მონიშვნის წყვეტილი ხაზითაა გამოყოფილი, მოხვევისას სხვა სატრანსპორტო საშუალებები ამ ზოლზე უნდა გადაჭყუდნენ. ნებადართულია აგრეთვე ამ ზოლის ასეთ ადგილებში შესვლა გზაზე გასვლისას და მგზავრთა ჩასხდომა-გადმოსხდომისას სავალი ნაწილის მარჯვენა კიდედან, თუ ეს არ დააბრკოლებს სამარშრუტო სატრანსპორტო საშუალების მოძრაობას. ამავე კანონის პირველი დანართის 5.14 პუნქტის თანახმად საგზაო ნიშანი 5.14 „სამარშრუტო სატრანსპორტო საშუალებისათვის განკუთვნილი მოძრაობის ზოლი“ - გზა, რომელზედაც სამარშრუტო სატრანსპორტო საშუალებამოძრაობს სპეციალურად გამოყოფილ ზოლზე სატრანსპორტო საშუალებათა საერთო ნაკადის თანმხვედრი მიმართულებით. ნიშნის მოქმედება ვრცელდება იმ მოძრაობის ზოლზე, რომელზედაც ის დგას. გზის მარჯვენა მხარეს დადგმული ნიშნის მოქმედება ვრცელდება სავალი ნაწილის უკიდურეს მარჯვენა ზოლზე.





Амашына лас арныкѣаф апассажирецѣа рақѣыртѣара амзызла ахыц ала иарбоу атыѣафѣ аангылара азин имоумаѢ

1

Азин имоуп

2

Азин имаѣам

### განმარტება:

„საგზაო მოძრაობის შესახებ“ საქართველოს კანონის 41-ე მუხლის მე-3 პუნქტის თანახმად გზაზე, სადაც 5.11, 5.13.1, 5.13.2 და 5.14 საგზაო ნიშნებით აღნიშნული სამარშრუტო სატრანსპორტო საშუალებების მოძრაობისათვის განკუთვნილი ზოლია, აკრძალულია ამ ზოლზე სხვა სატრანსპორტო საშუალებათა მოძრაობა და გაჩერება. თუ ეს ზოლი დანარჩენი სავალი ნაწილისგან მონიშვნის წყვეტილი ხაზითაა გამოყოფილი, მოხვევისას სხვა სატრანსპორტო საშუალებები ამ ზოლზე უნდა გადაჯგუფდნენ. ნებადართულია აგრეთვე ამ ზოლის ასეთ ადგილებში შესვლა გზაზე გასვლისას და მგზავრთა ჩასხდომა-გადმოსხდომისას სავალი ნაწილის მარჯვენა კიდედან, თუ ეს არ დააბრკოლებს სამარშრუტო სატრანსპორტო საშუალების მოძრაობას. ამავე კანონის პირველი დანართის 5.14 პუნქტის თანახმად საგზაო ნიშანი 5.14 „სამარშრუტო სატრანსპორტო საშუალებისათვის განკუთვნილი მოძრაობის ზოლი“ - გზა, რომელზედაც სამარშრუტო სატრანსპორტო საშუალებამოძრაობს სპეციალურად გამოყოფილ ზოლზე სატრანსპორტო საშუალებათა საერთო ნაკადის თანმხვედრი მიმართულებით. ნიშნის მოქმედება ვრცელდება იმ მოძრაობის ზოლზე, რომელზედაც ის დგას. გზის მარჯვენა მხარეს დადგმული ნიშნის მოქმედება ვრცელდება სავალი ნაწილის უკიდურეს მარჯვენა ზოლზე.





Амашына кагъшь арныкѣа кыраамтатѣи аҭсшьара амзызла даангылазар, абарт атранспорттѣ хархѣагакѣа ркынтѣ руа иарбан агылара атцас еилаганы идыргылазѣ

1

Амашына еикѣатѣа

2

Амашына кагъшь

3


Аѣѣмашынак

4

Атранспорттѣ хархѣагакгы атцас  
еиланамгеит

### განმარტება:

„საგზაო მოძრაობის შესახებ“ საქართველოს კანონის 37-ე მუხლის პირველი პუნქტის თანახმად, სატრანსპორტო საშუალება, რომელიც ჩერდება ან დგას დაუსახლებელ პუნქტში, შესაძლებლობის ფარგლებში, სავალი ნაწილის გარეთ უნდა იმყოფებოდეს. ამავე მუხლის მე-11 პუნქტის თანახმად დაუსახლებელ პუნქტში ხანგრძლივი დასვენების (ღამის გათევის ან სხვა) მიზნით დგომა ნებადართულია მხოლოდ ამისათვის განკუთვნილ სადგომზე ან გზის ფარგლების მიღმა. ამავე კანონის პირველი დანართის 5.24.1 პუნქტის თანახმად საგზაო ნიშანი 5.24.1 „დასახლებული პუნქტის დასასრული“ - მიუთითებს შესაბამისად 5.23.1 ნიშნით აღნიშნული დასახლებული პუნქტების დასასრულს.



Амашына лас арныкææ, апассажирцæа ракæыртæара амзызла ахыц ала иазгæагтоу атыфæфы аангыларæ азин имоумаф

1

Азин имоуп


2

Азин имазам

### განმარტება:

„საგზაო მოძრაობის შესახებ“ საქართველოს კანონის 37-ე მუხლის მე-6 პუნქტის „ბ.ა“ ქვეპუნქტის თანახმად, აკრძალულია სატრანსპორტო საშუალებების გაჩერება ნებისმიერ ადგილზე, სადაც მას შეუძლია შექმნას საფრთხე, მათ შორის, ესტაკადაზე, ხიდსა და გზაგამტარზე, გარდა იმ შემთხვევისა, როცა აღნიშნულ ადგილებში ორზე მეტი თანმხვედრი მიმართულების მოძრაობის ზოლია.





Ахыц ала иарбоу атыџаџы иаангылар, абарт амашынакџа рырныкџаџџа ркынтџа амџатџа аитатџа атџаскџа еилазгодаџ

1

Амашына шкџакџа арныкџаџ маџара.

2

Амашына кџаџшь арныкџаџ маџара.

3

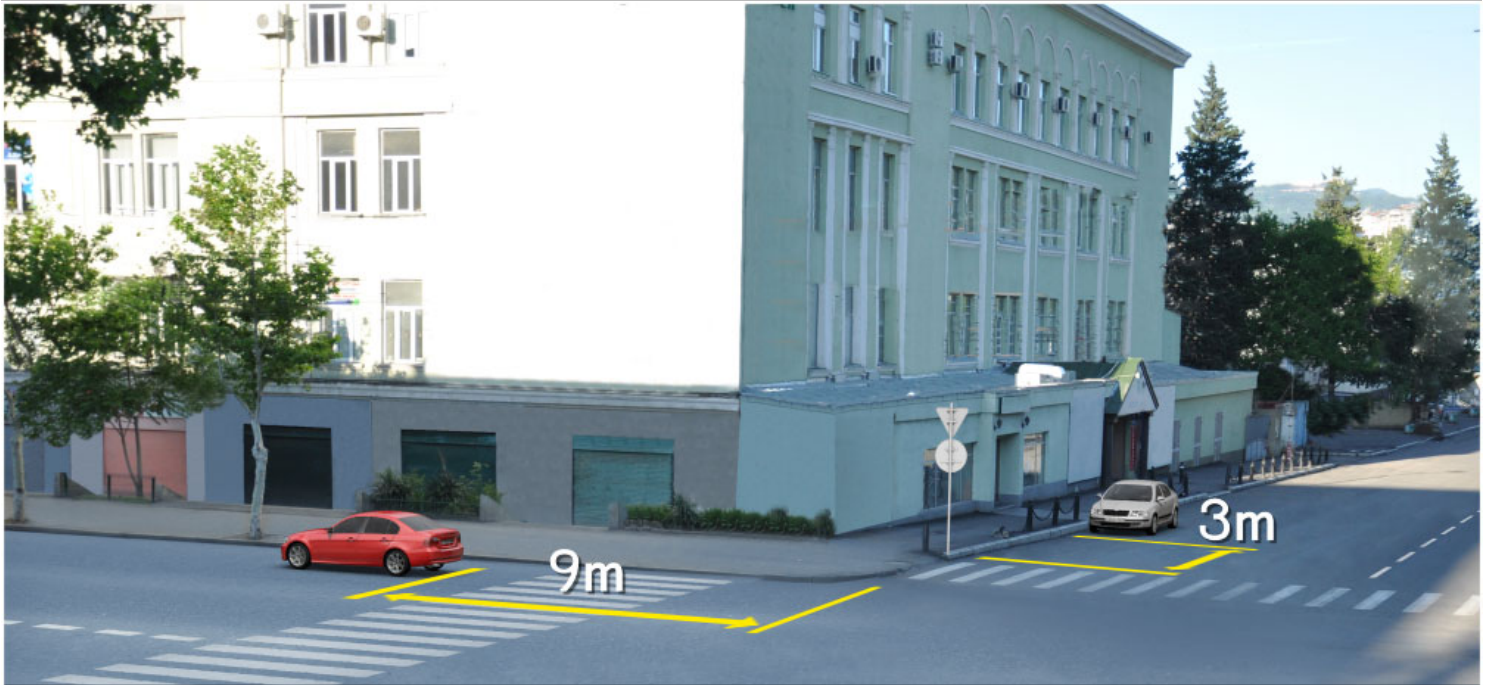
Аџџамашынак рырныкџаџџа

4

Азџџгы

### განმარტება:

„საგზაო მოძრაობის შესახებ“ საქართველოს კანონის 37-ე მუხლის მე-6 პუნქტის „ბ.ა“ ქვეპუნქტის თანახმად, აკრძალულია სატრანსპორტო საშუალებების გაჩერება ნებისმიერ ადგილზე, სადაც მას შეუძლია შექმნას საფრთხე, მათ შორის, ესტაკადაზე, ხიდსა და გზაგამტარზე, გარდა იმ შემთხვევისა, როცა აღნიშნულ ადგილებში ორზე მეტი თანმხვედრი მიმართულების მოძრაობის ზოლია.



Асахьафы иарбоу атыџафы аангыла аан абарт амашынакџа рырныкџаџа ркынтџа амџатџа аитџатра аџаскџа еилазгодаџ

1

Аџемашынак рырныкџаџа

2

Азџџы

3

Амашына иатџа арныкџаџ маџара.

4

Амашына шкџакџа арныкџаџ маџара.

### განმარტება:

„საგზაო მოძრაობის შესახებ“ საქართველოს კანონის 37-ე მუხლის მე-6 პუნქტის „ა.ა“ და „ა.გ“ ქვეპუნქტების თანახმად, აკრძალულია სატრანსპორტო საშუალებების გაჩერება გზის სავალ ნაწილზე: ა.ა) ქვეითთა და ველოსიპედიტთა გადასასვლელებზე და მათ წინ 5 მეტრზე ახლოს; ა.გ) სავალი ნაწილების გადაკვეთაზე, აგრეთვე მათი გადაკვეთის ნაპირებიდან 5 მეტრზე ახლოს, გარდა იმ შემთხვევისა, როცა გაჩერება ხდება იმ გვერდითი გასასვლელების მოპირდაპირე სამხრივ გადაკვეთებზე (გზაჯვარედინებზე), რომლებზედაც მონიშვნის უწყვეტი ხაზი ან გამყოფი ზოლია.





Амашына лас арныкәә, иарбоу атыңағы имашына аргылартағы иргылар, аха уи ала ашыакауаа дырңырхагахар, амәтә айтатра атаскәа еилеигомаҕ

1

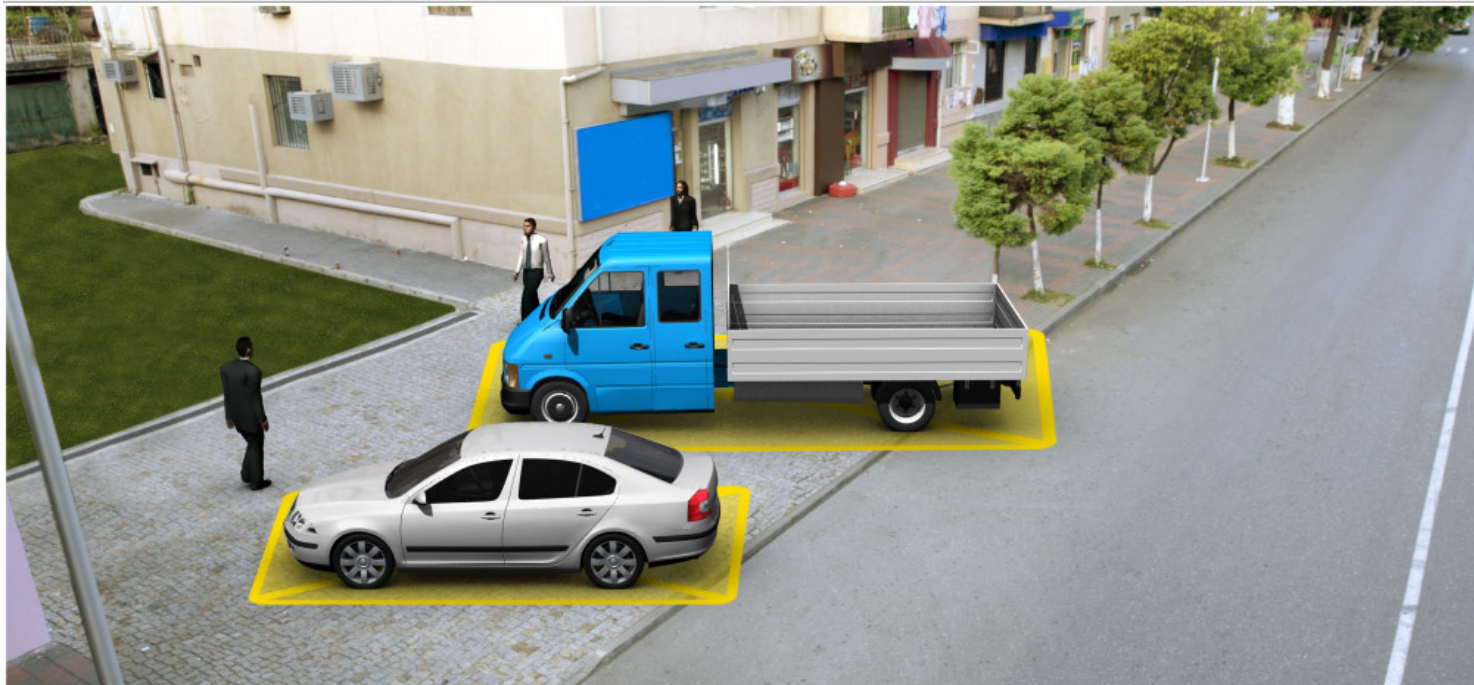
Еилеигоит

2

Еилеигагом

### განმარტება:

„სავაზო მოძრაობის შესახებ“ საქართველოს კანონის 37-ე მუხლის მე-4 პუნქტის თანახმად, სავალ ნაწილთან მოსაზღვრე ტროტუარის ნაპირზე დგომა ნება-დარ-თულია მხოლოდ მსუბუქი ავტომობილისთვის, მოტოციკლისთვის, მოპედისა და ველოსიპედისთვის, თუ ისინი დაბრკოლებას არ უქმნიან ქვეითს.



Иარბან машыыноу аргылары атас еилаганы иргылоуѢ

1

Амашыына лас

2

АидаратѢ машыына

3

АѢмашыынак

4

Машыынакгы атас еиланагом

### განმარტება:

„საგზაო მოძრაობის შესახებ“ საქართველოს კანონის 37-ე მუხლის მე-4 პუნქტის თანახმად, სატრანსპორტო საშუალებების დგომა ნებადართულია ერთ რიგად, სავალი ნაწილის კიდის პარალელურად, გარდა იმ ადგილისა, რომელიც სატრანსპორტო საშუალებების სხვაგვარად დაყენების პირობებს ქმნის. დასაშვებია გვერდითი მისაბმელის გარეშე ორთვლიანი სატრანსპორტო საშუალებების ორ რიგად დაყენება. სავალ ნაწილთან მოსაზღვრე ტროტუარის ნაპირზე დგომა ნებადართულია მხოლოდ მსუბუქი ავტომობილისთვის, მოტოციკლისთვის, მოპედისა და ველოსიპედისთვის, თუ ისინი დაბრკოლებას არ უქმნიან ქვეითს.



Иарбоу амѡа ахырхарта цыѭхьаза аитатцратѭ цѭахѭак амазар, аидаратѭ машьына арныѭѭаѭ ахыц ала иарбоу атыѭаѭы аангылара азин имоумаѭ

1

Азин имаѭам

2

Азин имоуп

### განმარტება:

„საგზაო მოძრაობის შესახებ“ საქართველოს კანონის 37-ე მუხლის მე-2 პუნქტის „ბ“ ქვეპუნქტის თანახმად, სატრანსპორტო საშუალება, რომელიც ჩერდება ან დგას სავალ ნაწილზე, უნდა იმყოფებოდეს სავალი ნაწილის კიდეგან რაც შეიძლება ახლოს. მძღოლს შეუძლია გაჩერდეს ან დააყენოს სატრანსპორტო საშუალება სავალ ნაწილზე, მარჯვენა მხარეს. სატრანსპორტო საშუალების გაჩერება და დგომა სავალი ნაწილის მარცხენა მხარეს ნებადართულია დასახლებულ პუნქტში იმ გზაზე, სადაც თითოეული მიმართულებისათვის ერთი სამოძრაო ზოლია შუაში ტრამვაის ლიანდაგების გარეშე. ამავე კანონის პირველი დანართის 5.26 პუნქტის თანახმად საგზაო ნიშანი 5.26 „დასახლებული პუნქტის დასასრული“ - მიუთითებს 5.25 ნიშნით აღნიშნული დასახლებული პუნქტის დასასრულს.





Иარბოუ ატაგლაზააშაჲაჲი არნჲკაჲ, იაზგჲათოუ ატჲაჲი აიდარატჲ მაშჲინა არგჲლარა აზინ იმოუმაჲ

1

Азин имаџам

2

Азин имоуп

### განმარტება:

„საგზაო მოძრაობის შესახებ“ საქართველოს კანონის 37-ე მუხლის მე-6 პუნქტის „ბ.“ ქვეპუნქტის თანახმად, აკრძალულია სატრანსპორტო საშუალების გაჩერება ნებისმიერ ადგილზე, სადაც მას შეუძლია შექმნას საფრთხე, მათ შორის, ესტაკადის, ხიდისა და გზაგამტარის ქვეშ, აგრეთვე გვირაბში, გარდა ამისათვის სპეციალურად გამოყოფილი ადგილებისა.





Амашына лас арныкәә ахыц ала иарбоу атыңағы аргылартағы амашына иргылар, амәатә айтатра атасқәа еилеигомаҕ

1

Еилеигоит

2

Еилеигагом

### განმარტება:

„საგზაო მოძრაობის შესახებ“ საქართველოს კანონის 37-ე მუხლის მე-6 პუნქტის „ბ.ბ“ ქვეპუნქტის თანახმად, აკრძალულია სატრანსპორტო საშუალების გაჩერება ნებისმიერ ადგილზე, სადაც მას შეუძლია შეეშნას საფრთხე, მათ შორის, ესტაკადის, ხიდისა და გზაგამტარის ქვეშ, აგრეთვე გვირაბში, გარდა ამისათვის სპეციალურად გამოყოფილი ადგილებისა.



Абарт атранспорттә хархәагақәа ркынтә аргыларә атцәс аилагаралә иргылоупЖ

1

Амотоцикл мацара

2

Амашына лас мацара

3

Аәетранспорттә хархәагак


4

Атранспорттә хархагакгы атцәс еиланагом

### განმარტება:

„საგზაო მოძრაობის შესახებ“ საქართველოს კანონის 37-ე მუხლის მე-6 პუნქტის „ა.გ“ და „გ“ ქვეპუნქტების თანახმად, აკრძალულია სატრანსპორტო საშუალების გაჩერება: ა.გ) სავალი ნაწილების გადაკვეთაზე, აგრეთვე მათი გადაკვეთის ნაპირებიდან 5 მეტრზე ახლოს, გარდა იმ შემთხვევისა, როცა გაჩერება ხდება იმ გვერდითი გასასვლელების მოპირდაპირე სამხრივ გადაკვეთებზე (გზაჯვარედინებზე), რომლებზედაც მონიშვნის უწყვეტი ხაზი ან გამყოფი ზოლია; გ) გაჩერების ამკრძალავი საგზაო ნიშნის ან/და საგზაო მონიშვნის მოქმედების ზონაში. ამავე კანონის პირველი დანართის მე-3 თავის (ამკრძალავი ნიშანები) 3.28 პუნქტის თანახმად საგზაო ნიშანი 3.28 „დგომა აკრძალულია“ - კრძალავს სატრანსპორტო საშუალების დგომას. ამავე თავის პენიშვნის „ე“ და „ი“ ქვეპუნქტების თანახმად: ე) 3.16, 3.20, 3.22, 3.24, 3.26–3.30 ნიშნების მოქმედება ვრცელდება სათანადო ნიშნის შემდეგ, ნიშნის დადგმის ადგილიდან უახლოეს გზაჯვარედინამდე, ხოლო დასახლებულ პუნქტში გზაჯვარედინის არარსებობისას – დასახლებული პუნქტის ბოლომდე; ი) 3.10, 3.27–3.30 ნიშნების მოქმედება ვრცელდება მხოლოდ გზის იმ მხარეს, რომელზედაც ისინია დადგმული.





Асахьаფы иарбоу атыџафы иаангылаз амашынакџа рырныкџаџџа ркынтџа амџатџа аитатџа атџас еилазымгадаџ

1

Амашына лас арныкџаџ маџара.

2

Аидаратџ машына арныкџаџ маџара.

3

Аџџамашынак рырныкџаџџа

4

Азџџы

### განმარტება:

„საგზაო მოძრაობის შესახებ“ საქართველოს კანონის 37-ე მუხლის მე-2 პუნქტის „გ“ ქვეპუნქტის თანახმად, სატრანსპორტო საშუალება, რომელიც ჩერდება ან დგას სავალ ნაწილზე, უნდა იმყოფებოდეს სავალი ნაწილის კიდესთან რაც შეიძლება ახლოს. მძღოლს შეუძლია გაჩერდეს ან დააყენოს სატრანსპორტო საშუალება სავალ ნაწილზე, მარჯვენა მხარეს. სატრანსპორტო საშუალების გაჩერება და დგომა სავალი ნაწილის მარცხენა მხარეს ნებადართულია ცალმხრივმოძრაობიანი გზის სავალ ნაწილზე (სატვირთო ავტომობილის ცალმხრივი მოძრაობის გზის მარცხენა მხარეს გაჩერება ნებადართულია მხოლოდ მისი დატვირთვის ან გადმოტვირთვის დროს). ამავე მუხლის მე-6 პუნქტის „ა.გ“ ქვეპუნქტის თანახმად, აკრძალულია სატრანსპორტო საშუალებების გაჩერება გზის სავალ ნაწილზე, სავალი ნაწილების გადაკვეთაზე, აგრეთვე მათი გადაკვეთის ნაპირებიდან 5 მეტრზე ახლოს, გარდა იმ შემთხვევისა, როცა გაჩერება ხდება იმ გვერდითი გასასვლელების მოპირდაპირე სამმხრივ გადაკვეთებზე (გზაჯვარედინებზე), რომლებზედაც მონიშვნის უწყვეტი ხაზი ან გამყოფი ზოლია.



Иарбан машыноу ауаа ахнымхо атыџаџы аргыларა атас аилагарала иргылоуџ

1

Аџемашынак

2

Машынакџы атас еиланамгеит

3

Амашына каџшь

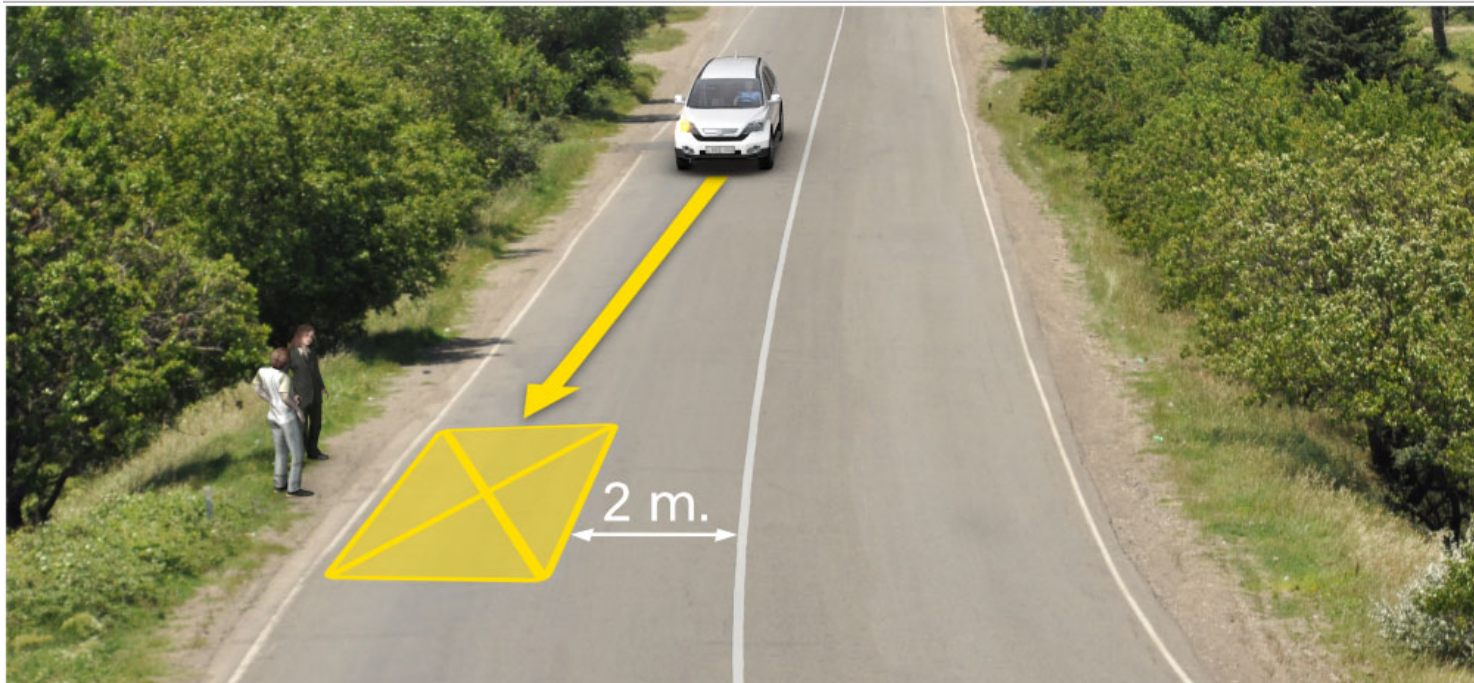
4

Амашына иатџа

### განმარტება:

„საგზაო მოძრაობის შესახებ“ საქართველოს კანონის 37-ე მუხლის პირველი პუნქტის თანახმად, სატრანსპორტო საშუალება, რომელიც ჩერდება ან დგას დაუსახლებელ პუნქტში, შესაძლებლობის ფარგლებში, სავალი ნაწილის გარეთ უნდა იმყოფებოდეს. ამავე კანონის პირველი დანართის მე-5 თავის (განსაკუთრებული მითითებების ნიშნები) 5.26 პუნქტის თანახმად საგზაო ნიშანი 5.26 „დასახლებული პუნქტის დასასრული“ - მიუთითებს 5.25 ნიშნით აღნიშნული დასახლებული პუნქტის დასასრულს.





Амашына шкәкәә арныкәә, асахьаҕы иарбоу атыҕаҕы даангылар, амҕатә аитатра атаскәә еилеигомаҕ

1

Еилеigoит

2

Еилеигагом

### განმარტება:

„საგზაო მოძრაობის შესახებ“ საქართველოს კანონის 37-ე მუხლის მე-6 პუნქტის „ბ.დ“ ქვეპუნქტის თანახმად, აკრძალულია სატრანსპორტო საშუალებების გაჩერება ნებისმიერ ადგილზე, სადაც მას შეუძლია შექმნას საფრთხე, მათ შორის, იმ ადგილას, სადაც მონიშვნის უწყვეტ ხაზსა (სავალი ნაწილის ნაპირის აღმნიშვნელი მონიშვნის გარდა) და გაჩერებულ სატრანსპორტო საშუალებას შორის მანძილი 3 მეტრზე ნაკლებია.

## ВОПРОС 507

ПРАВИЛЬНЫЙ ОТВЕТ: 1

Атранспорттə хархəага аргылартаҕы игылоуп хəа иҕхьаҕоупЖ

1

Аитатра 5 минутк иреиханы хықəкыла иаанкылазар, уи апассаҗирцəа рақəыртəареи рылбааҗареи, ма аидара ақəтареи ақəхреи ирыдхəаламзар

2

Аитатра хықəкыла, 5 минут рқынза иаанкылазар

3

Аитатра аанкылазар атехникатə ауадаѡрақəа ирыхкьаны

## განმარტება:

„საგზაო მოძრაობის შესახებ“ საქართველოს კანონის მე-5 მუხლის მე-20 პუნქტის თანახმად დგომა არის სატრანსპორტო საშუალების მოძრაობის გამიზნულად შეწყვეტა 5 წუთზე მეტი ხნით, თუ ეს აუცილებელი არ არის მგზავრთა ჩასხდომა-გადმოსხდომისათვის ან სატრანსპორტო საშუალების დატვირთვა-გადმოტვირთვისათვის.

## ВОПРОС 508

ПРАВИЛЬНЫЙ ОТВЕТ: 4

Амѡасыртаҕы атранспорттə хархəага аанкылара каломЖ

1

Амѡа иалсны ицо атрамваи аихамѡеи ма урт ирзааигəаны амашына аанкылара атрамваи ма адəыҕба аитатра иаҕырхаҗазар

2

Атранспорттə хархəага аанкылара иахкьаны амѡатə аитатра еҕырт алхəылацəа алашарбага ардырҗақəа ма амѡатə дырҗақəа иахырымбо атыҕқəа мацара рҕы.

3


Ашышьыхəа еитатуа атранспорттə хархəагақəа реитатцразы иазҕхьагəатоу, иашьашəалоу амѡатə дыргала иазгəатоу, иаццаны икоу аитатратə цəахəаҕы

4

Абри абилет аҕы еикəыҕхьаҕоу атаҗылазаашьақəа зегы раан

## განმარტება:

„საგზაო მოძრაობის შესახებ“ საქართველოს კანონის 37-ე მუხლის მე-6 პუნქტის „ა.ბ“ ქვეპუნქტის თანახმად აკრძალულია სატრანსპორტო საშუალებების გაჩერება გზის სავალ ნაწილზე, გზაზე გამავალი ტრამვაის და რკინიგზის ლიანდაგებზე ან მათ ახლოს, თუ ამას შეუძლია გააძნელოს ტრამვაის ან მატარებლების მოძრაობა. ამავე პუნქტის „ბ.ე“ და „ბ.ვ“ ქვეპუნქტების თანახმად აკრძალულია სატრანსპორტო საშუალებების გაჩერება ნებისმიერ ადგილზე, სადაც მას შეუძლია შექმნას საფრთხე, მათ შორის: ბ.ე) იმ ადგილზე, სადაც იგი სხვა საგზაო მოძრაობის მონაწილეებს უფარავს შექნიშნის ფერად მაშუქ სიგნალებს ან საგზაო ნიშნებს; ბ.ვ) ნელმავალი სატრანსპორტო საშუალებების მოძრაობისათვის განკუთვნილ, შესაბამის საგზაო ნიშნით აღნიშნულ დამატებით მოძრაობის ზოლზე.



აქცაფე აპასაჟირცეა რაქყერთეარა ამჟილა ახჟც ალა იარბოუ ატყაფე აანგჟლარა აან ამჟატე აიტატრა ატასკეა ეილაზგოდაჲ

1

აჟემაშჟინაკ რჟრჟიკეაჟცეა

2

ამაშჟინა შკეაკეა არჟიკეაჟ მაცარა.

3

ამაშჟინა იატეა არჟიკეაჟ მაცარა.


4

აჟგჟი

### განმარტება:

„საგზაო მოძრაობის შესახებ“ საქართველოს კანონის 37-ე მუხლის მე-6 პუნქტის „ბ.ა“ ქვეპუნქტის თანახმად, აკრძალულია სატრანსპორტო საშუალებების გაჩერება ნებისმიერ ადგილზე, სადაც მას შეუძლია შექმნას საფრთხე, მათ შორის, ესტაკადებზე, ხიდეებზე და გზაგამტარებზე, გარდა იმ შემთხვევებისა როცა აღნიშნულ ადგილებში ორზე მეტი თანმხვედრი მიმართულების მოძრაობის ზოლია.





Ацхаფы апассажира рақәыртәара амзызла амашына лас ахыц ахырхартала шытахыла ицозар, амотоцикл ахыц ахырхартала дцәиуазар, иарбоу атагылазашыафы абарт атранспорттә хархәагакәа рырныкәащәа ркынтә амәатә аитатра атаскәа еилазгодаҕ

1

Амотоцикл арныкәа

2

Амашына арныкәа

3

Азәгы

4

Аәетранспорттә хархәагак рырныкәащәа

### განმარტება:

„საგზაო მოძრაობის შესახებ“ საქართველოს კანონის 32-ე მუხლის მე-15 პუნქტის „გ“ ქვეპუნქტის თანახმად, აკრძალულია სატრანსპორტო საშუალების მობრუნება ხიდზე, გზაგამტარზე, ესტაკადაზე და მათ ქვეშ. ამავე მუხლის მე-16 პუნქტის თანახმად, მძღოლი, რომელიც მობრუნებას ან უკუსვლით მოძრაობას აპირებს, უნდა დარწმუნდეს, რომ მას შეუძლია ისე შეასრულოს ეს მანევრი, რომ საფრთხე არ შეუქმნას და ხელი არ შეუშალოს სხვა საგზაო მოძრაობის მონაწილეებს. აუცილებლობის შემთხვევაში მიზანშეწონილია სხვა პირის დახმარება. აკრძალულია უკუსვლით მოძრაობა გზაჯვარედინზე, ავტომაგისტრალზე და ამ მუხლის მე-15 პუნქტით განსაზღვრულ ადგილებში.



## ВОПРОС 511

ПРАВИЛЬНЫЙ ОТВЕТ: 3

Ауаа ахнымхо атыңағы 2.1 амғатө дыргала Ы«Амға хада»Т изгәәтоу амғасыртағы атранспорттө хархәага аргылара каломаб

1

Икалоит

2

Икалоит, аха ганклатәи ахырхартала аитатпразы өецәәхәк еитцымкәа иахыыкоу амғағы

3

Икалом

## განმარტება:

„საგზაო მოძრაობის შესახებ“ საქართველოს კანონის 37-ე მუხლის მე-7 პუნქტის „ვ“ ქვეპუნქტების თანახმად, აკრძალულია სატრანსპორტო საშუალებების დგომა, დაუსახლებელ პუნქტში 2.1, 5.1 და 5.3 საგზაო ნიშნებით აღნიშნულ გზის სავალ ნაწილზე, აგრეთვე დასახლებულ პუნქტში გზის სავალ ნაწილზე, სადაც მოძრაობა დაშვებულია 80 კმ/სთ-ზე მეტი სიჩქარით, გარდა სპეციალურად აღნიშნული ადგილებისა.

## ВОПРОС 512

ПРАВИЛЬНЫЙ ОТВЕТ: 1

Автотранспорттө хархәага аанкылара калом амғасырта ишәартоу ацыңтәахеи, амға аноурылатө профиль илгәыгәу аңцәарстеи ирзааигәаны, хырхартак алагы, амға алаңшбара иахыыкоуЖ

1

100 метრაკ еитцны

2

100 метრაკ еиханы, аха 150 метრაკ еитцны

## განმარტება:

„საგზაო მოძრაობის შესახებ“ საქართველოს კანონის 37-ე მუხლის მე-6 პუნქტის „ბ.გ“ ქვეპუნქტის თანახმად, აკრძალულია სატრანსპორტო საშუალებების გაჩერება გზის სავალ ნაწილზე სახიფათო მოსახვევისა და გზის გრძივი პროფილის ამობურცული გადატეხვის ახლოს, სადაც გზის ხილვადობა თუნდაც ერთი მიმართულებით 100 მეტრზე ნაკლებია.

Арныкѣаѣ, апассажирцѣа рақѣыртѣара ма рылбаагара атранспорттѣ хархѣага иназаны ианаангылалак аамышьтахь инаигзароума, ашѣқѣа ианирклак аамышьтахь аитѣтра аиталагара, иара убас, иназаны даангылаанѣа ашѣқѣа иааимыртыр ихѣтоумаѢ

1

Ихѣтам

2

Ихѣтоуп

**განმარტება:**

„საგზაო მოძრაობის შესახებ“ საქართველოს კანონის 46-ე მუხლის მე-8 პუნქტის თანახმად, მძღოლი ვალდებულია მგზავრთა ჩასხდომა—გადმოსხდომა განახორციელოს მხოლოდ სატრანსპორტო საშუალების სრული გაჩერების შემდეგ, ხოლო მოძრაობა დაიწყოს მაშინ, როცა კარი დახურულია, და არ გააღოს ის სრულ გაჩერებამდე.



Абарт атранспорттә хархәагақәа ркынтә руа иарбан агылара атас еилаганы игылоуѳ

1

Аидаратә машына мацара.

2

Амашына лас мацара.

3


Аҗемашынак

4

Акызатҗыкгы

### განმარტება:

„საგზაო მოძრაობის შესახებ“ საქართველოს კანონის 37-ე მუხლის მე-7 პუნქტის „8“ ქვეპუნქტის თანახმად, აკრძალულია სატრანსპორტო საშუალებების დგომა, დგომის ამკრძალავი საგზაო ნიშნის ან/და საგზაო მონიშვნის მოქმედების ზონაში. ამავე კანონის პირველი დანართის მე-3 თავის (ამკრძალავი ნიშნები) 3.28 პუნქტის თანახმად საგზაო ნიშანი 3.28 „დგომა აკრძალულია“ - კრძალავს სატრანსპორტო საშუალებების დგომას. ამავე თავის შენიშვნის „ე“ და „ი“ ქვეპუნქტების თანახმად: ე) 3.16, 3.20, 3.22, 3.24, 3.26–3.30 ნიშნების მოქმედება ვრცელდება სათანადო ნიშნის შემდეგ, ნიშნის დადგმის ადგილიდან უახლოეს გზაჯვარედინამდე, ხოლო დასახლებულ პუნქტში გზაჯვარედინის არარსებობისას – დასახლებული პუნქტის ბოლომდე. ნიშნების მოქმედება ვრცელდება აგრეთვე მიმდებარე ტერიტორიის გამოსასვლელ-ულთან, საველე, სატყეო და სხვა მეორეხარისხოვანი გზების გადაკვეთასთან (შეერთებასთან), რომელთა წინ არ დგას სათანადო ნიშანი; ი) 3.10, 3.27–3.30 ნიშნების მოქმედება ვრცელდება მხოლოდ გზის იმ მხარეს, რომელმედაც ისინია დადგმული.



Иазგაოთუ აანგylარტაფყ იგყლოუ ატრამვაი აзғғы дақымтәозар, азғғы длымбаауазар, амашына лас арныкәә ахыц ахырхартала аитатра анагзара азин имоумаҕ

1

Азин имоуп


2

Азин имазам

### განმარტება:

„სავგაო მოძრაობის შესახებ“ საქართველოს კანონის 25-ე მუხლის მე-4 პუნქტის თანახმად, მძღოლმა, რომელიც მოძრაობის მიმართულების შესაბამისი მხრიდან სათანადო წესით მონიშნულ გაჩერებაზე მყოფი სამარშრუტო სატრანსპორტო საშუალებისთვის გვერდის ავლას აპირებს, უნდა შეამციროს სიჩქარე და, აუცილებლობის შემთხვევაში, გაჩერდეს, რათა უზრუნველყოს მგზავრების საზოგადოებრივ ტრანსპორტში უსაფრთხო ჩასხდომის ან იქიდან გადმოსხდომის შესაძლებლობა.





Амашына лас арныкѣаѣ анхартатѣ пункт аѣы, асахѣаѣ иазгѣаѣоу атыѣаѣы апассаѣирѣѣа раѣѣырѣтѣара амѣѣзла аанѣыла азин имоумаѢ

1

Азин имаѣам

2

Азин имоуп

### განმარტება:

„საგზაო მოძრაობის შესახებ“ საქართველოს კანონის პირველი დანართის მე-5 თავის (განსაკუთრებული მითითებების ნიშნები) 5.11 პუნქტის თანახმად 5.11 „სამარშრუტო სატრანსპორტო საშუალებისათვის განკუთვნილი მოძრაობის ზოლის მქონე გზა“ - აღნიშნავს გზას, რომელზედაც სამარშრუტო სატრანსპორტო საშუალება მოძრაობს სპეციალურად გამოყოფილ ზოლზე სატრანსპორტო საშუალებათა საერთო ნაკადის საპირისპირო მიმართულებით. ამავე კანონის 41-ე მუხლის მე-3 პუნქტის თანახმად, გზაზე, სადაც 5.11, 5.13.1, 5.13.2 და 5.14 საგზაო ნიშნებით აღნიშნული სამარშრუტო სატრანსპორტო საშუალებების მოძრაობისათვის განკუთვნილი ზოლია, აკრძალულია ამ ზოლზე სხვა სატრანსპორტო საშუალებათა მოძრაობა და გაჩერება. თუ ეს ზოლი დანარჩენი სავალი ნაწილისგან მონიშვნის წყვეტილი ხაზითაა გამოყოფილი, მოხვევისას სხვა სატრანსპორტო საშუალებები ამ ზოლზე უნდა გადაჯგუფდნენ. ნებადართულია აგრეთვე ამ ზოლის ასეთ ადგილებში შესვლა გზაზე გასვლისას და მგზავრთა ჩასხდომა-გადმოსხდომისას სავალი ნაწილის მარჯვენა კიდედან, თუ ეს არ დააბრკოლებს სამარშრუტო სატრანსპორტო საშუალების მოძრაობას.

## ВОПРОС 517

ПРАВИЛЬНЫЙ ОТВЕТ: 4

Цака еиқәыпхьажоу атыпқәа ркынтә иарбан тыпшуи зхысра иалагаанза автобуси аидаратә машынеи рырныкәаџәа аиасра ишшәартам агәра ргарц ианрыхәтоуџ

1

Ацхақәеи аестакадақәеи рыцақа

2

Авольтхаракытә мџангагақәа рыцақа

3

Ахапкылтәарақәеи уи еипшу атыпқәеи рҭы

4

Абри абилет аҭы еиқәыпхьажоу иарбанзаалак атыпҭаҭы

## განმარტება:

„საგზაო მოძრაობის შესახებ“ საქართველოს კანონის 21-ე მუხლის მე-10 პუნქტის თანახმად, ხიდის, ესტაკადის, მაღალი ძაბვის გადამცემი ხაზის ქვეშ, აგრეთვე გვირაბში ან სხვა მსგავს ადგილას გავლამდე ავტობუსის, სატვირთო ავტომობილის მძღოლი ვალდებულია დარწმუნდეს სატრანსპორტო საშუალების გავლის უსაფრთხოებაში.

## ВОПРОС 518

ПРАВИЛЬНЫЙ ОТВЕТ: 2

Амџатә амашәыр аан ма ашәарта иказар, арныкәаџ, чыдала аангыларазы иазгәатоу атып ахьыкам, амџатә дыргала иазгәатоу ахапкылтәаҭы амашына аанкыlara ма аргыlara азин имоумаџ

1

Азин имазам

2

Азин имоуп

## განმარტება:

„საგზაო მოძრაობის შესახებ“ საქართველოს კანონის 42-ე მუხლის „გ“ პუნქტის თანახმად, საგზაო ნიშნით აღნიშნულ გვირაბებში მოქმედებს შემდეგი წესები - მძღოლს შეუძლია გააჩეროს ან დააყენოს სატრანსპორტო საშუალება მხოლოდ საავარიო სიტუაციის ან საფრთხის შემთხვევაში. ამასთანავე, მან უნდა გამოიყენოს სპეციალურად მონიშნული ადგილი, თუ ამის შესაძლებლობა არსებობს.

## ВОПРОС 519

ПРАВИЛЬНЫЙ ОТВЕТ: 2

Атრანспорттə хархəага амəатə дыргала иазгəათу ахапкылтəафы кыраамтала иаангылазар, аус зуа арныкəагала игылазар каломаҢ

1

Икалоит

2

Икалом

## განმარტება:

„საგზაო მოძრაობის შესახებ“ საქართველოს კანონის 42-ე მუხლის „დ“ პუნქტის თანახმად, საგზაო ნიშნით აღნიშნულ გვირაბებში მოქმედებს შემდეგი წესები - ხანგრძლივი გაჩერების შემთხვევაში მძღოლმა ძრავი უნდა გამორთოს.

## ВОПРОС 520

ПРАВИЛЬНЫЙ ОТВЕТ: 1

Амаршруттə атрანспорттə хархəага ма атакси азы иалкаау аангылара атыпкəа рфы, уи еипш атыпкəа икамзар – амаршруттə атрანспорттə хархəага ма атакси аангыларта арбагафы, уи амаршруттə атрანспорттə хархəага аитатра иапырхагазар, атрანспорттə хархəага аанкылара каломЖ

1

10 метრაқ рацкыс иааигəаны

2

15 метრაқ рацкыс иааигəаны

3

15 метრაқ иреитцымкəа ирыбжəазароуп

## განმარტება:

„საგზაო მოძრაობის შესახებ“ საქართველოს კანონის 37-ე მუხლის მე-6 პუნქტის „ბ.8“ ქვეპუნქტის თანახმად, ავრძალულია სატრანსპორტო საშუალებების გაჩერება ნებისმიერ ადგილზე, სადაც მას შეუძლია შექმნას საფრთხე, მათ შორის სამარშრუტო სატრანსპორტო საშუალების ან ტაქსის კონსტრუქციულად გამოყოფილი გაჩერების ადგილებიდან, ხოლო მათი არარსებობის შემთხვევაში – სამარშრუტო სატრანსპორტო საშუალების ან ტაქსის გაჩერების მაჩვენებლიდან 15 მეტრზე ახლოს, თუ ეს აბრკოლებს აღნიშნული სატრანსპორტო საშუალებების მოძრაობას.

## ВОПРОС 521

ПРАВИЛЬНЫЙ ОТВЕТ: 2

Аангыларазы чыдала иалкаау атып ахыкам аестакадакәи, ацхақәи, амѳангагақәи рыцака атранспорттә хархәага аангыларә каломаѲ

1

Икалом, ззин икоу амаксималтә масса 3,5 тонна еихау атранспорттә хархәага мацара аанкыларә

2

Икалом

3

Икалоит

## განმარტება:

„საგზაო მოძრაობის შესახებ“ საქართველოს კანონის 37-ე მუხლის მე-6 პუნქტის „ბ.ბ“ ქვეპუნქტის თანახმად, აკრძალულია სატრანსპორტო საშუალებების გაჩერება ნებისმიერ ადგილზე, სადაც მას შეუძლია შექმნას საფრთხე, მათ შორის ესტაკადის, ხიდისა და გზაგამტარის ქვეშ, აგრეთვე გვირაბში, გარდა ამისათვის სპეციალურად გამოყოფილი ადგილებისა.

## ВОПРОС 522

ПРАВИЛЬНЫЙ ОТВЕТ: 2

Амѳасыртә аганақынтә ма атранспорттә хархәага ашьтахьтәи аганақынтә апассажиртәа рақәыртәарей рылбаагарей каломаѲ

1

Икалом

2

Икалоит, амѳათә аитатра егырт алахәылацәа рзы ишәартамзар

## განმარტება:

„საგზაო მოძრაობის შესახებ“ საქართველოს კანონის მე-20 მუხლის მე-6 პუნქტის თანახმად, აკრძალულია სატრანსპორტო საშუალების ვარის გაღება მის სრულ გაჩერებამდე. ვარის გაღებამ არ უნდა შეუქმნას დაბრკოლება ან საფრთხე სხვა საგზაო მოძრაობის მონაწილეებს. გზის სავალი ნაწილის, ველობილიკის ან ველოსიპედის მოძრაობის ზოლის მხარეს სატრანსპორტო საშუალების ვარი არ უნდა იყოს გაღებული მგზავრთა ჩასხდომა-გადმოსხდომისთვის საჭირო დროზე მეტი ხნით. გზის სავალი ნაწილის მხარეს ან სატრანსპორტო საშუალების უკანა მხრიდან მგზავრთა ჩასხდომა-გადმოსხდომა ნებადართულია მხოლოდ იმ შემთხვევაში, თუ ეს არ შეუქმნის საფრთხეს სხვა საგზაო მოძრაობის მონაწილეებს.



## ВОПРОС 523

ПРАВИЛЬНЫЙ ОТВЕТ: 1

Аტრანსპორტეტ ხარხააგა იაანგყლაანჴა უი აშაქა რაართრა ჭალომაჴ

1

Икалом

2

Икалоит

3

Икалоит, атранспортә хархәага излеитатҭуа  
аласра хәычызар

## განმარტება:

„საგზაო მოძრაობის შესახებ“ საქართველოს კანონის მე-20 მუხლის მე-6 პუნქტის თანახმად, აკრძალულია სატრანსპორტო საშუალების კარის გაღება მის სრულ გაჩერებამდე. კარის გაღებამ არ უნდა შეუქმნას დაბრკოლება ან საფრთხე სხვა საგზაო მოძრაობის მონაწილეებს. გზის სავალი ნაწილის, ველობილიკის ან ველოსიპედის მოძრაობის ზოლის მხარეს სატრანსპორტო საშუალების კარი არ უნდა იყოს გაღებული მგზავრთა ჩასხდომა-გადმოსხდომისთვის საჭირო დროზე მეტი ხნით. გზის სავალი ნაწილის მხარეს ან სატრანსპორტო საშუალების უკანა მხრიდან მგზავრთა ჩასხდომა-გადმოსხდომა ნებადართულია მხოლოდ იმ შემთხვევაში, თუ ეს არ შეუქმნის საფრთხეს სხვა საგზაო მოძრაობის მონაწილეებს.

## ВОПРОС 524

ПРАВИЛЬНЫЙ ОТВЕТ: 2

Амѡасыртა аганақынтә атранспорттә хархәага ақәтәра ჭალომაჴ

1

Икалом

2

Икалоит, ашыақамѡа ма амѡа аганақынтә  
апассажир атранспорт дзақәымтәозар, иара  
убас, амѡатә аитатра егырт алахәылацәа  
дырҭырхагамзар

3

Икалоит, ауаа иахьнымхо апункт аҭы

## განმარტება:

„საგზაო მოძრაობის შესახებ“ საქართველოს კანონის 23-ე მუხლის პირველი პუნქტის თანახმად, მგზავრი ვალდებულია სატრანსპორტო საშუალებაში ჩაჯდეს და იქიდან გადმოვიდეს მისი სრული გაჩერების შემდეგ, ტროტუარის ან გვერდულას მხრიდან, ხოლო თუ ეს შეუძლებელია – გზის სავალი ნაწილის მხრიდან, თუ იგი არ შეუქმნის დაბრკოლებას სხვა საგზაო მოძრაობის მონაწილეებს.

## ВОПРОС 525

ПРАВИЛЬНЫЙ ОТВЕТ: 2

Ашәартадаратә маҕа змоу амеханикатә атранспорттә хархәага зҕыгҳара жәпоу амәаҕы ианеитатҕа, ашәартадаратә маҕа ахархәара ихымҕадамЖ

1

Арныкәаҕ изы

2

Ашьтахьтәи атәарта икәтәоу апассажирцәа рзы

3

Арныкәаҕ икынтә арҕьарахьала ма армарахьала итәоу апассажир изы

## განმარტება:

„საგზაო მოძრაობის შესახებ“ საქართველოს კანონის 21-ე მუხლის მე-9 პუნქტის თანახმად, მძღოლი ვალდებულია მექანიკური სატრანსპორტო საშუალების (გარდა იმ სატრანსპორტო საშუალებისა, რომლის კონსტრუქცია არ ითვალისწინებს უსაფრთხოების ღვედებს) მართვისას დადგენილი წესით ისარგებლოს უსაფრთხოების ღვედით და უზრუნველყოს მისგან მარჯვენა (ან მარცხენა) მხარეს მჭდომი მგზავრის მიერ უსაფრთხოების ღვედით სარგებლობა.

## ВОПРОС 526

ПРАВИЛЬНЫЙ ОТВЕТ: 3

«Аангыларა» аупЖ

1

Атранспорттә хархәага аитатра иазыҕбаны аҕәытра атранспорттә еишьтагылаҕы

2

Атранспорттә хархәага аитатра иазыҕбаны аҕәытра атранспорттә аитатра еиҕызкаауа атехникатә хархәагақәа ма аиҕқааҕ рыхәрала

3

Атранспорттә хархәага аитатра иазыҕбаны аҕәытра 5 минутк рыла ма еиҳау аамтала, уи ихымҕадазар апасажирцәа рақәтәреи рылбаареи ма аидара ақәтәреи ақәхреи рзы

## განმარტება:

„საგზაო მოძრაობის შესახებ“ საქართველოს კანონის 5-ე მუხლის მე-11 პუნქტის თანახმად, გაჩერება – სატრანსპორტო საშუალების მოძრაობის წინასწარგანზრახული შეწყვეტა 5 წუთამდე, ან უფრო მეტი ხნით, თუ ეს აუცილებელია მგზავრთა ჩასხდომა-გადმოსხდომისათვის ან სატრანსპორტო საშუალების დატვირთვა-გადმოტვირთვისათვის. გაჩერებად არ ითვლება სატრანსპორტო საშუალების მოძრაობის წინასწარგანზრახული შეწყვეტა სატრანსპორტო ნაკადში, საგზაო მოძრაობის ორგანიზების ტექნიკური საშუალებების ან მარეგულირებლის მოთხოვნათა გამო.

## ВОПРОС 527

ПРАВИЛЬНЫЙ ОТВЕТ: 2

«Агылара» иаанагоитЖ

1

Атранспорттә хархәага аитатра хықәкыла аанкыла 5 минутк рыла ма еихау аамтала, уи ихымҭадазар апассажирцәа рақәтәареи рылбаареи ма аидара ақәцареи ақәхреи рзы

2

Атранспорттә хархәага хықәкыла аанкыла 5 минутк рыла ма еихау аамтала, уи апассажирцәа рақәтәареи рылбаареи ма аидара ақәцареи ақәхреи ирыдхәаламзар

## განმარტება:

„საგზაო მოძრაობის შესახებ“ საქართველოს კანონის 5-ე მუხლის მე-20 პუნქტის თანახმად, დგომა - სატრანსპორტო საშუალების მოძრაობის გამიზნულად შეწყვეტა 5 წუთზე მეტი ხნით, თუ ეს აუცილებელი არ არის მგზავრთა ჩასხდომა-გადმოსხდომისათვის ან სატრანსპორტო საშუალების დატვირთვა-გადმოტვირთვისათვის.

## ВОПРОС 528

ПРАВИЛЬНЫЙ ОТВЕТ: 2

Атранспорттә хархәага амѡасырта армарахьтәи аганафы игылазар каломаѢ

1

Икалоит, ауаа иахьнымхо атыҭафы мацара

2

Икалоит, анхартатыҭ афы, ахырхарта цыҭхьазазы аитатратә цәахәак иахьыкоу, агәтаны атрамваи арельскәа змам амѡафы

3

Икалоит, изеиҭшразаалак амѡафы, уи агәтаны атрамваи арельскәа ыҭамзар

4

Икалом

## განმარტება:

„საგზაო მოძრაობის შესახებ“ საქართველოს კანონის 37-ე მუხლის მე-2 პუნქტის „ბ“ ქვეპუნქტის თანახმად, სატრანსპორტო საშუალება, რომელიც ჩერდება ან დგას სავალ ნაწილზე, უნდა იმყოფებოდეს სავალი ნაწილის კიდესთან რაც შეიძლება ახლოს. მძღოლს შეუძლია გაჩერდეს ან დააყენოს სატრანსპორტო საშუალება სავალ ნაწილზე, მარჯვენა მხარეს. სატრანსპორტო საშუალების გაჩერება და დგომა სავალი ნაწილის მარცხენა მხარეს ნებადართულია დასახლებულ პუნქტში იმ გზაზე, სადაც თითოეული მიმართულებისათვის ერთი სამოძრაო ზოლია შუაში ტრამვაის ლიანდაგების გარეშე.

Арныкәә, аангыларә иахыкәмло атыпкәә рҕы уаха псыхәә имамкәә даангылазар, уи амашәыртә аангыларә ардырга Пума уи еипушу даәа дыргакт ихпмыркыакәә иқәиргылароупЖ

1

Амашәыртә алашаратә ардырга аҕакра аамышытахь

2

Амашәыртә алашаратә ардырга иҕамзар ма ипхастазар


3

Амашәыртә ардырга аҕакра аамышытахь, иара убас, уи еипуш ардырга иҕамзар ма ипхастазар

### განმარტება:

„საგზაო მოძრაობის შესახებ“ საქართველოს კანონის 52-ე მუხლის მე-2 პუნქტის „ბ“ ქვეპუნქტის თანახმად, საავარიო შუქსიგნალიზაციის ჩართვის შემდეგ, აგრეთვე თუ ასეთი სიგნალიზაცია არ არსებობს ან მწყობრიდანაა გამოსული, მძღოლმა დაუყოვნებლივ უნდა დადგას „საავარიო გაჩერების ნიშანი“, ხოლო არასაკმარისი ხილვადობის პირობებში – მოციმციმე წითელი ფარანი: ბ) იმ ადგილას იძულებით გაჩერების დროს, სადაც გაჩერება აკრძალულია, და იქ, სადაც, ხილვადობის პირობების გათვალისწინებით, სხვა მძღოლები ვერ შეძლებენ სატრანსპორტო საშუალების დროულად შემჩნევას.





Ахәыцқәа имѡанызго автобус арныкәаѡ, амашәыртә алашаратә ардырга иаѡамккәа даангылар, абарт атыцкәа ркынтә руа иарбан амѡатә аитатра атцаскәа иахьеилеигоѢ

1

A атыц аѡы мацара

2

B атыц аѡы мацара

3

Аи Ви атыцкәа рѡы

### ბანმარტუბა:

„საგზაო მოძრაობის შესახებ“ საქართველოს კანონის 26-ე მუხლის მე-4 პუნქტის თანახმად, ბავშვთა ჯგუფის გადაყვან ავტობუსზე დამაგრებული უნდა იყოს საცნობი ნიშანი „ბავშვების გადაყვანა“. ავტობუსის გაჩერების შემთხვევაში მძღოლმა უნდა ჩართოს საავარიო შექსიგნალიზაცია. ბავშვების თანმხლები სრულწლოვანი პირები ვალდებული არიან, უზრუნველყონ ბავშვების ავტობუსში ჩასხდომა და ავტობუსიდან გადმოსხდომა, აგრეთვე ბავშვების მიერ გზის სავალი ნაწილის უსაფრთხო გადაკვეთა.



Ахәыцқәа имѡанызго автобус арныкәа асахьаѡы иарбоу атыѡаѡы даангылар, амѡатә аитатра атцасқәа еилеигома, автобус иаѡакымзар амашәыртә алашаратә ардыргаѡ

1


Еилеიგოит

2

Еилеიგომ

### ბანმარტიბა:

„საგზაო მოძრაობის შესახებ“ საქართველოს კანონის 26-ე მუხლის მე-4 პუნქტის თანახმად, ბავშვთა ჯგუფის გადამყვან ავტობუსზე დამაგრებული უნდა იყოს საცნობი ნიშანი „ბავშვების გადაყვანა“. ავტობუსის გაჩერების შემთხვევაში მძღოლმა უნდა ჩართოს საავარიო შექსიგნალიზაცია. ბავშვების თანმხლები სრულწლოვანი პირები ვალდებული არიან, უზრუნველყონ ბავშვების ავტობუსში ჩასხდომა და ავტობუსიდან გადმოსხდომა, აგრეთვე ბავშვების მიერ გზის სავალი ნაწილის უსაფრთხო გადაკვეთა.



Амашына лас арныкææ, апассажирцæа рақәыртæара амзызла ахыц ала иазгæагтоу атыѳаѳы аангыларæ  
азин имоумаѳ

1

Азин имоуп

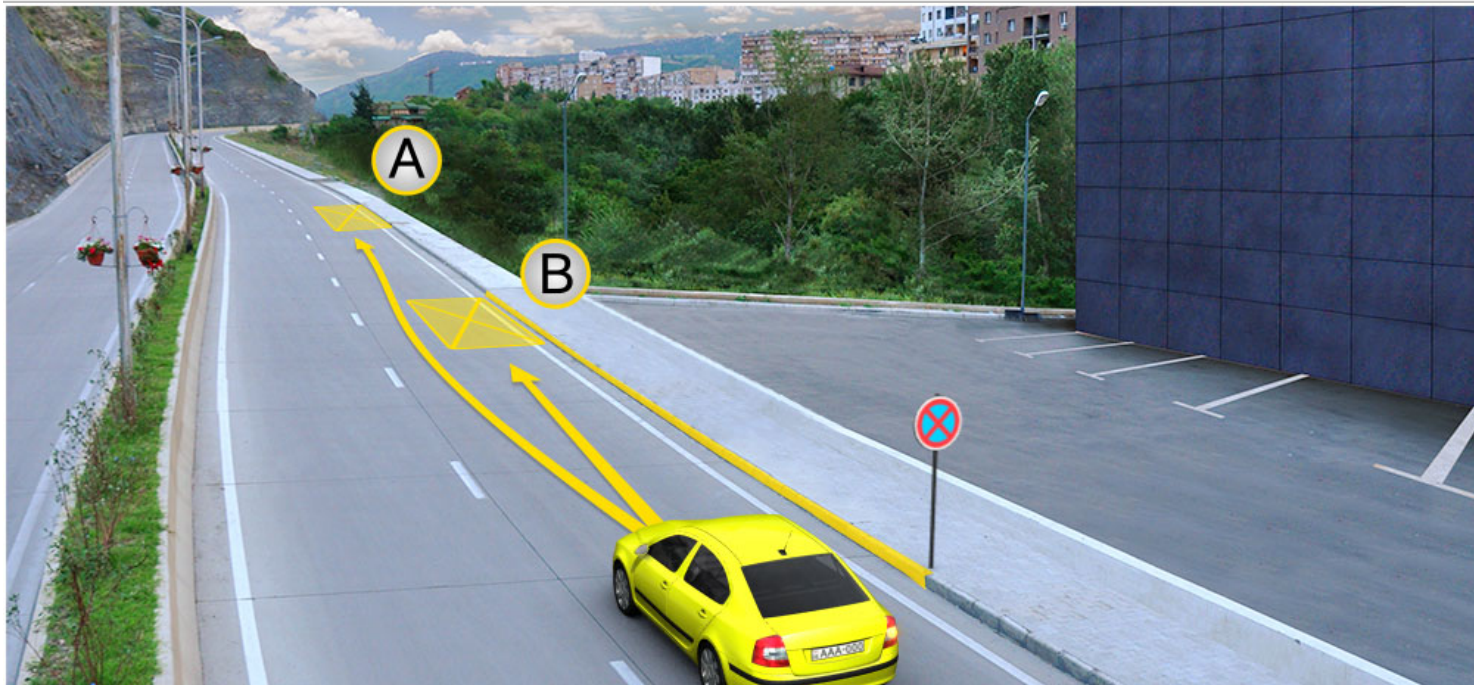
2

Азин имаѳам

### განმარტება:

„საგზაო მოძრაობის შესახებ“ საქართველოს კანონის მე-2 დანართის პირველი თავის (ჰორიზონტალური მონიშვნა) 1.4 პუნქტის თანახმად, საგზაო მონიშვნა 1.4 მთლიანი ყვითელი ხაზი აღნიშნავს ადგილს, სადაც აკრძალულია გაჩერება; გამოიყენება დამოუკიდებლად ან 3.27 ნიშანთან ერთად; იხაზება სავალი ნაწილის ნაპირთან ან ბორდიურზე ზემოდან.





Амашына лас арныкәә аангылара азин имоупЖ

1

А атып мацарафы.

2

В атып мацарафы.


3

Аи Ви атыпкәа рфы

### განმარტება:

„საგზაო მოძრაობის შესახებ“ საქართველოს კანონის მე-2 დანართის პირველი თავის (ჰორიზონტალური მონიშვნა) 1.4 პუნქტის თანახმად, საგზაო მონიშვნა 1.4 მთლიანი ყვითელი ხაზი აღნიშნავს ადგილს, სადაც აკრძალულია გაჩერება; გამოიყენება დამოუკიდებლად ან 3.27 ნიშანთან ერთად; იხაზება სავალი ნაწილის ნაპირთან ან ბორდიურზე ზემოდან. ამავე კანონის პირველი დანართის მე-3 თავის (ამკრძალავი ნიშნები) 3.27 პუნქტის და ამავე თავის შენიშვნის „თ“ ქვეპუნქტის თანახმად, საგზაო ნიშანი 3.27 „გაჩერება აკრძალულია“ - კრძალავს სატრანსპორტო საშუალების, როგორც გაჩერებას, ასევე დგომას. 3.27 ნიშნის გამოყენება შეიძლება 1.4 მონიშვნასთან, ხოლო 3.28 ნიშნისა – 1.10 მონიშვნასთან ერთად. ამასთანავე, ნიშნების მოქმედების ზონა მონიშვნის ხაზის სიგრძით განისაზღვრება.





Амашына лас арныкѣа аангылара азин имоупЖ

1

А атып мацарафы

2

В атып мацарафы

3

Аи Ви атыпкѣа рѣы


### განმარტება:

„საგზაო მოძრაობის შესახებ“ საქართველოს კანონის 37-ე მუხლის მე-6 პუნქტის „ა.ა“ და „ა.გ“ ქვეპუნქტების თანახმად, აკრძალულია სატრანსპორტო საშუალების გაჩერება გზის სავალ ნაწილზე: ა.ა) ქვეითთა და ველოსიპედისტთა გადასასვლელებზე და მათ წინ 5 მეტრზე ახლოს; ა.გ) სავალი ნაწილების გადაკვეთაზე, აგრეთვე მათი გადაკვეთის ნაპირებიდან 5 მეტრზე ახლოს, გარდა იმ შემთხვევისა, როცა გაჩერება ხდება იმ გვერდითი გასასვლელების მოპირდაპირე სამმხრივ გადაკვეთებზე (გზაჯვარედინებზე), რომლებზედაც მონიშვნის უწყვეტი ხაზი ან გამყოფი ზოლია.

თემა 20:

## გზავრედინის გავლა

---



Ахыц ахырхартала аитатра аан абарт атранспорттә хархәагакәа рырныкәацәа ркынтә ашьакауаа амәа итара зыхәтадаҕ

1

Аидаратә машына арныкәац затәы

2

Амашына лас арныкәац затәы

3


Амотоцикл арныкәац затәы

4

Атранспорттә хархәагакәа рыхҭагы рырныкәацәа

### განმარტება:

„საგზაო მოძრაობის შესახებ“ საქართველოს კანონის 25-ე მუხლის მე-2 პუნქტის „ბ“ ქვეპუნქტის თანახმად, ქვეითთა გადასასვლელზე ამ კანონის 21-ე მუხლის მე-6 პუნქტით, 33-ე მუხლის მე-2 პუნქტითა და 34-ე მუხლის მე-11 პუნქტით დადგენილ მოთხოვნათა დაცვით უნდა შესრულდეს შემდეგი მოთხოვნები: ბ) თუ სატრანსპორტო საშუალებათა მოძრაობა არ რეგულირდება არც საგზაო შექნიშნით, არც მარეგულირებლის მეშვეობით, მძღოლმა ქვეითთა გადასასვლელთან მიახლოებისას სათანადოდ უნდა შეამციროს სიჩქარე, რათა საფრთხე არ შეუქმნას ამ გადასასვლელზე შესულ ან შემავალ ქვეითებს, ხოლო საჭიროების შემთხვევაში უნდა გაჩერდეს და გაატაროს ქვეითები.



Абарт атранспорттә хархәагақәа рырныкәаџцәа ркынтә амџа атара зыхәтәда, амашына лас ахыц ахырхартала еитатцуазарѢ

1

Аидаратә машына арныкәаџ мацара.

2

Атрамваи арныкәаџ мацара.

3

Атранспорттә хархәагақәа зеггы рырныкәаџцәа


4

Азәгы

### განმარტება:

„საგზაო მოძრაობის შესახებ“ საქართველოს კანონის 36-ე მუხლის მე-4 პუნქტის „ა“ და „ბ“ ქვეპუნქტების თანახმად, არარეგულირებულ გზაჯვარედინზე: ა) არათანაბარმნიშვნელოვანი გზების გადაკვეთაზე მეორეხარისხოვან გზაზე მოძრავი სატრანსპორტო საშუალების მძღოლი ვალდებულია გზა დაუთმოს მთავარი გზიდან მოახლოებულ სატრანსპორტო საშუალებას, მიუხედავად მისი შემდგომი მოძრაობის მიმართულებისა; ბ) თუ გზაჯვარედინზე მთავარი გზა იცვლის მიმართულებას, ამ გზაზე მოძრავმა მძღოლებმა ურთიერთშორის უნდა იხელმძღვანელონ თანაბარმნიშვნელოვანი გზების გავლის წესებით. ამავე წესებით უნდა იხელმძღვანელონ ურთიერთშორის მეორეხარისხოვან გზაზე მოძრავმა მძღოლებმაც.





Амәтә дыргакәа асы рыкәзар, ахыц ахырхартала аитатра аан аҭыжәара змадаҭ

1

Амашына шкәакәа арныкәа

2

Амашына кәҭшь арныкәа

### განმარტება:

„საგზაო მოძრაობის შესახებ“ საქართველოს კანონის 36-ე მუხლის მე-8 პუნქტის თანახმად, თუ მძღოლი ვერ განსაზღვრავს გზაზე საფარის არსებობას (სიბნელის, თოვლის, ტალახის გამო ან სხვა მიზეზით) და არც პრიორიტეტის ნიშნებია, ითვლება, რომ ის მეორეხარისხოვან გზაზე იმყოფება. ამავე კანონის 36-ე მუხლის მე-4 პუნქტის „გ“ ქვეპუნქტის თანახმად, არარეგულირებულ გზაჯვარედინზე, თანაბარმნიშვნელოვანი გზების გადაკვეთაზე ურელსო სატრანსპორტო საშუალების მძღოლი ვალდებულია გზა დაუთმოს მარჯვნიდან მოახლოებულ სატრანსპორტო საშუალებას. ამავე წესით უნდა იხელმძღვანელონ ურთიერთშორის რელსიანი სატრანსპორტო საშუალებების მძღოლებმაც.



ამდენისა და იალსნი იცო ამაშყინაჲა ახყ ახყრჲარტალა ეიტაჲუაჲარ, ეიშყარგყლაშყას ირყმარჲარჲ რყჲჲთი, ატეჲნყკატჲ ამატჲჲრა ამაშყინა ჲყდალატჲი აბჲყჲტჲ არდყრგა იაჲაკყჲარჲ

1

ჲნი ავტობუს იასროჲ, ანეჲს – აიდარატჲ მაშყინა, ატყჲჲტჲანი – ატეჲნყკატჲ ამატჲჲრა ამაშყინა

2

ჲნი აიდარატჲ მაშყინა იასროჲ, ანეჲს – ავტობუს, ატყჲჲტჲანი – ატეჲნყკატჲ ამატჲჲრა ამაშყინა

3

ჲნი აიდარატჲ მაშყინა იასროჲ, ანეჲს – ატეჲნყკატჲ ამატჲჲრა ამაშყინა, ატყჲჲტჲანი – ავტობუს

## განმარტყბა:

„საგზაო მოძრაობის შესახებ“ საქართველოს კანონის 36-ე მუხლის მე-4 პუნქტის „ა“ და „გ“ ქვეპუნქტების თანახმად, არარეგულირებულ გზაჯვარედინზე: ა) არათანაბარმნიშვნელოვანი გზების გადაკვეთაზე მეორეხარისხოვან გზაზე მოძრაი სატრანსპორტო საშუალების მძღოლი ვალდებულია გზა დაუთმოს მთავარი გზიდან მოახლოებულ სატრანსპორტო საშუალებას, მიუხედავად მისი შემდგომი მოძრაობის მიმართულებისა; გ) თანაბარმნიშვნელოვანი გზების გადაკვეთაზე ურელსო სატრანსპორტო საშუალების მძღოლი ვალდებულია გზა დაუთმოს მარჯვნიდან მოახლოებულ სატრანსპორტო საშუალებას. ამავე წესით უნდა იხელმძღვანელონ ურთიერთშორის რელსიანი სატრანსპორტო საშუალებების მძღოლებმაც. ამავე კანონის 51-ე მუხლის მე-4 პუნქტის თანახმად, მძღოლს, რომელსაც სატრანსპორტო საშუალებაზე ჩართული აქვს ნარინჯისფერი ან ყვითელი მოელვარე სპეციალური ციმციმა სიგნალი და რომელიც გზაზე ასრულებს სამშენებლო, სარემონტო ან დასასუფთავებელ სამუშაოებს, ან საინჟინსპექციო სატრანსპორტო საშუალებით გადააქვს ძვირფასეულობა ან ფასიანი ქაღალდები, ან გადააქვს სახიფათო ტვირთი, ან გადაადგილდება არაგაბარითული (მსხვილგაბარითიანი) ან ზენორმატიული (მძიმეწონიანი) სატრანსპორტო საშუალებით, შეუძლია გადაუხვიოს საგზაო ნიშნებისა და მონიშვნების, აგრეთვე ამ კანონის 31-ე მუხლის მე-5–მე-10, მე-15, მე-16 და 38-ე მუხლის პირველი პუნქტით დადგენილ მოთხოვნებს, თუ უზრუნველყოფს საგზაო მოძრაობის უსაფრთხოებას. ნარინჯისფერი ან ყვითელი მოელვარე სპეციალური ციმციმა სიგნალი არ იძლევა უპირატესობას საგზაო მოძრაობის სხვა მონაწილეების მიმართ და გამოიყენება ყურადღების მისაპყრობად მოსალოდნელი საშიშროების თავიდან ასაცილებლისათვის.





Абарт атранспорттə хархəагақəа рырныкəацəа ркынтə амѡа атара зыхəтада, урт ахыц ахырхартала еитатцуазарѢ

1


Аидаратə машына арныкəаѡ

2

Амашына ѡежь арныкəаѡ

### განმარტეპა:

„სავგაო მოძრაობის შესახებ“ საქართველოს კანონის 32-ე მუხლის მე-12 პუნქტის თანახმად, თუ სატრანსპორტო საშუალებების მოძრაობის ტრადეცტორიეები იკვეთება, ხოლო გავლის რიგიოთობა განსაზღვრული არ არის, მძღოლმა გბა უნდა დაუთმოს იმ სატრანსპორტო საშუალებას, რომელიც მას მარჯვნიდან უახლოვდება.



Абарт атранспорттә хархәагақәа рырныкәаџцәа ркынтә амџа атара зыхәтада, урт ахыц ахырхартала еитатцызарџ

1

Амашына шкәакәа арныкәаџ

2

Амашына цәыш арныкәаџ

### განმარტება:

„სავგაო მოძრაობის შესახებ“ საქართველოს კანონის 32-ე მუხლის მე-4 პუნქტის თანახმად, მოძრაობის ზოლიდან ზოლში მოძრაობის მიმართულების შეუცვლელად გადასვლისას მძღოლმა გზა უნდა დაუთმოს გადასასვლელ მოძრაობის ზოლში თანმხვედრი მიმართულებით მოძრავ სატრანსპორტო საშუალებას. თანმხვედრი მიმართულებით მოძრავი სატრანსპორტო საშუალებების მიერ მოძრაობის ზოლების ერთდროულად შეცვლისას მოძრაობის ტრაექტორიების გადაკვეთის შემთხვევაში გავლის უპირატესობა ენიჭება მარჯნივ მყოფ სატრანსპორტო საშუალების მძღოლს.





Амფეიხისურთა იალსნი იცო ამაშყინაჲა ახყც ახყრჲართალა ეიტაცუაზარ, ეიშყტარყლაშყას ირყმარყრყ  
რყჲჲოიფ

1

ჰნი ამაშყინა ლას იასროუპ, ანეფს –  
ამოტოყკლ, ატყჲჲტჲანი – აიდარატჲ მაშყინა

2


ჰნი აიდარატჲ მაშყინა იასროუპ, ანეფს –  
ამოტოყკლ, ატყჲჲტჲანი – ამაშყინა ლას

3

ჰნი ამოტოყკლ იასროუპ, ანეფს – ამაშყინა  
ლას, ატყჲჲტჲანი – აიდარატჲ მაშყინა

### განმარტება:

„საგზაო მოძრაობის შესახებ“ საქართველოს კანონის 36-ე მუხლის მე-4 პუნქტის „გ“ ქვეპუნქტების თანახმად, არარეგულირებულ გზაჯვარედინზე, თანაბარმნიშვნელოვანი გზების გადაკვეთაზე ურელსო სატრანსპორტო საშუალების მძღოლი ვალდებულია გზა დაუთმოს მარჯვნიდან მოახლოებულ სატრანსპორტო საშუალებას. ამავდროულად უნდა იხელმძღვანელონ ურთიერთშორის რელსიანი სატრანსპორტო საშუალებების მძღოლებმაც. ასეთ გზაჯვარედინზე რელსიან სატრანსპორტო საშუალებას უპირატესობა აქვს ურელსო სატრანსპორტო საშუალების მიმართ, მიუხედავად მისი მოძრაობის მიმართულებისა.



Ахыц ахырхартала аитатра аан абарт автотранспорттә хархәагакәа рырныкәащәа ркынтә аҭыжәара змадаҭ

1

Амашына лас арныкәа

2

Атрамваи арныкәа

### განმარტება:

„საგზაო მოძრაობის შესახებ“ საქართველოს კანონის 41-ე მუხლის მე-2 პუნქტის თანახმად, გზაჯვარედინის მიღმა, სადაც ტრამვაის ლიანდაგი სავალ ნაწილს კვეთს, ტრამვაის აქვს უპირატესობა ურელსო სატრანსპორტო საშუალებების მიმართ, გარდა დეჰოდან გამოსვლის შემთხვევისა.





Амდөихысырта иалсны ицо амашынақәа ахыц ахырхартала еитатцүазар, еишьтаргылашьас ирымазарц рыхәтәиҭ

1

Зны атрамваи иасроуп, анеџс – аидаратә машыына, атыхәтәаны – амашыына џежь

2


Зны аидаратә машыына иасроуп, анеџс – амашыына џежь, атыхәтәаны – атрамваи

3

Зны амашыына џежь иасроуп, анеџс – атрамваи, атыхәтәаны – аидаратә машыына

### განმარტება:

„საგზაო მოძრაობის შესახებ“ საქართველოს კანონის 36-ე მუხლის მე-4 პუნქტის „ა“ და „გ“ ქვეპუნქტების თანახმად, არარეგულირებულ გზაჯვარედინზე: ა) არათანაბარმნიშვნელოვანი გზების გადაკვეთაზე მეორეხარისხოვან გზაზე მოძრავი სატრანსპორტო საშუალების მძღოლი ვალდებულია გზა დაუთმოს მთავარი გზიდან მოახლოებულ სატრანსპორტო საშუალებას, მიუხედავად მისი შემდგომი მოძრაობის მიმართულებისა; გ) თანაბარმნიშვნელოვანი გზების გადაკვეთაზე ურელსო სატრანსპორტო საშუალების მძღოლი ვალდებულია გზა დაუთმოს მარჯვნიდან მოახლოებულ სატრანსპორტო საშუალებას. ამავე წესით უნდა იხელმძღვანელონ ურთიერთშორის რელსიანი სატრანსპორტო საშუალებების მძღოლებმაც. ასეთ გზაჯვარედინზე რელსიან სატრანსპორტო საშუალებას აქვს უპირატესობა ურელსო სატრანსპორტო საშუალების მიმართ, მიუხედავად მისი მოძრაობის მიმართულებისა.



Ахыц ахырхартала аитатра аан амашына лас арныкәә ашьакауаа амџа рытара ихәтоумаѢ

1

Ихәтоуп

2

Ихәтам

### განმარტება:

„საგზაო მოძრაობის შესახებ“ საქართველოს კანონის 25 მუხლის მე-3 პუნქტის თანახმად, ამ კანონის მე-20 მუხლის მე-2 პუნქტითა და 34-ე მუხლის მე-11 პუნქტით დადგენილ მოთხოვნათა დაცვით, გზის სავალ ნაწილზე შესაბამისი საგზაო მონიშვნით, საგზაო ნიშნით ან შუქნიშნით აღნიშნული ქვეითთა გადასასვლელის არარსებობისას მძღოლი, რომელიც სხვა გზაზე შესასვლელად მოხვევას ასრულებს, ვალდებულია გზა დაუთმოს ამ გზის სავალ ნაწილზე შესულ ქვეითებს. მან უნდა გამოიჩინოს განსაკუთრებული სიფრთხილე იმ ქვეითების მიმართ, რომლებიც გზის სავალ ნაწილზე გადადიან სამარშრუტო სატრანსპორტო საშუალებაში ჩასასხდომად ან იქიდან გადმოსხდომის შემდეგ.





Армарахьтәи ацәахәақынтә атәиразы амҭасырта атбаара иазхом, аидаратә машьына арныкәаф ахыц ахырхартала деитатүазар, абарт атранспорттә хархәагакәа рқынтә апыжәара змадаҭ

1

Ишкәакәоу амашьына лас

2

Иатәоу амашьына лас

3

Амотоцикл

4

Атранспорттә хархәагакгы апыжәара амам

### განმარტება:

„საგზაო მოძრაობის შესახებ“ საქართველოს კანონის 32-ე მუხლის მე-7 პუნქტის „ბ“ ქვეპუნქტისა და მე-8 პუნქტის თანახმად: 7. სხვა გზაზე გასასვლელად ან გზის მიმდებარე ტერიტორიაზე შესასვლელად მარჯვნივ ან მარცხნივ მოხვევის წინ, ისე, რომ არ დაარღვიოს ამ კანონის მე-20 მუხლის მე-2 პუნქტითა და ამ მუხლის პირველი და მე-2 პუნქტებით დადგენილი მოთხოვნები, თუ სატრანსპორტო საშუალების მძღოლი აპირებს გზიდან გასვლას: ბ) მარცხენა მხრიდან, სატრანსპორტო საშუალება, რამდენადაც ეს შესაძლებელია, უნდა მიუახლოვდეს გზის სავალი ნაწილის ღერძს (ორმხრივმოძრაობიან გზაზე) ან სავალი ნაწილის მარცხენა კიდე (ცალმხრივმოძრაობიან გზაზე), ხოლო თუ ის სხვა ორმხრივმოძრაობიან გზაზე აპირებს გასვლას, მოხვევა ისე უნდა შეასრულოს, რომ სავალი ნაწილების გადაკვეთიდან გამოსვლისას სატრანსპორტო საშუალება საპირისპირო მოძრაობის მხარეს არ აღმოჩნდეს. 8. თუ მძღოლი სატრანსპორტო საშუალების გაბარიტის ან სხვა მიზეზის გამო ვერ ასრულებს მოხვევას, ამ მუხლის მე-7 პუნქტით დადგენილ მოთხოვნათა გათვალისწინებით დასაშვებია ამ წესებიდან გადახვევა, თუ უზრუნველყოფილი იქნება მოძრაობის უსაფრთხოება და დაბრკოლება არ შეექმნება სხვა საგზაო მოძრაობის მონაწილეებს.

## ВОПРОС 546

ПРАВИЛЬНЫЙ ОТВЕТ: 2

Арныкәә, амәихысыртаҕы даангылар ада ҕыыхәа имамкәа дкалар алшозар, уи ала еиөтәоу ахырхартала аитатра даҕырхаҕахар, амәихысырта алаalara азин имоумаҕ

1

Азин имоуп, алашарбага адырга аитатра азин инатозар

2

Азин имам

## განმარტება:

„საგზაო მოძრაობის შესახებ“ საქართველოს კანონის 36-ე მუხლის მე-5 პუნქტის თანახმად, მძღოლი არ უნდა გავიდეს გზაჯვარედინზე, თუ შექმნილია ისეთი ხერგილი, რომ იგი, სავარაუდოდ, იძულებული გახდება, გაჩერდეს გზაჯვარედინზე და ამით დააბრკოლოს განივი მიმართულებით მოძრაობა. ეს წესი მოქმედებს მაშინაც, თუ შექმნილის მაშუქი სიგნალები იძლევა მოძრაობის უფლებას.

## ВОПРОС 547

ПРАВИЛЬНЫЙ ОТВЕТ: 2

„C1“ აკატეგორია იატანაკәа атранспорттә хархәага арныкәара азин змоу ахаҕы, иара убас азин имоуп П„B1“и ма „B“ აკატეგორიაკәа ирытнанакәа атранспорттә хархәагакәа рыдаТ амашына арныкәара, уи ззин амоу амаксималтә массаЖ

1

3500 კილაკ ეიҳамзар

2

3500 კილაკ ეიҳазარ, аха 7500 კილაკ ეიҳамзар

3

7500 კილაკ ეიҳазარ, аха 12000 კილაკ ეიҳамзар

## განმარტება:

„საგზაო მოძრაობის შესახებ“ საქართველოს კანონის 54-ე მუხლის მე-3 პუნქტის „გ“ ქვეპუნქტის თანახმად, „A“, „B“, „C“, „CE“, „D“ და „DE“ კატეგორიების ფარგლებში დაწესებული სატრანსპორტო საშუალებები, რომელთა სამართავად სავალდებულოა შესაბამისი მართვის უფლების მოპოვება, იყოფა შემდეგ ქვეკატეგორიებად: გ) „C1“ – ავტომობილი (გარდა იმ ავტომობილებისა, რომლებიც მიეკუთვნება „D1“ ქვეკატეგორიას ან „D“ კატეგორიას), რომლის ნებადართული მაქსიმალური მასა აღემატება 3500 კგ-ს, მაგრამ არ აღემატება 7500 კგ-ს, აგრეთვე „C1“ ქვეკატეგორიის ავტომობილი, გადაბმული მისაბმელთან, რომლის ნებადართული მაქსიმალური მასა არ აღემატება 750 კგ-ს.

## ВОПРОС 548

ПРАВИЛЬНЫЙ ОТВЕТ: 3

„C1“ აკატეგორია იატანაკა ატრანსპორტთა ხარხააგა არნჱკაარა აზინ ზმოუ ახაფჱ, იარა უბას აზინ იმოუპ „C1“ აკატეგორია იატანაკა, აცრაჱაგა ზმოუ ამაშჱა არნჱკაარა, უი ზზინ ამოუ ამაქსიმალტა მასაჱ

1

750 კილაკ ეიჱაზარ

2

750 კილაკ ეიჱაზარ, ახა 2500 კილაკ ეიჱამზარ

3

750 კილაკ ეიჱამზარ

## განმარტება:

„საგზაო მოძრაობის შესახებ“ საქართველოს კანონის 54-ე მუხლის მე-3 პუნქტის „გ“ ქვეპუნქტის თანახმად, „A“, „B“, „C“, „CE“, „D“ და „DE“ კატეგორიების ფარგლებში დაწესებული სატრანსპორტო საშუალებები, რომელთა სამართავად სავალდებულოა შესაბამისი მართვის უფლების მოპოვება, იყოფა შემდეგ ქვეკატეგორიებად: გ) „C1“ – ავტომობილი (გარდა იმ ავტომობილებისა, რომლებიც მიეკუთვნება „D1“ ქვეკატეგორიას ან „D“ კატეგორიას), რომლის ნებადართული მაქსიმალური მასა აღემატება 3500 კგ-ს, მაგრამ არ აღემატება 7500 კგ-ს, აგრეთვე „C1“ ქვეკატეგორიის ავტომობილი, გადაბმული მისაბმელთან, რომლის ნებადართული მაქსიმალური მასა არ აღემატება 750 კგ-ს.

## ВОПРОС 549

ПРАВИЛЬНЫЙ ОТВЕТ: 1

„C1Y“ აკატეგორია იატანაკა ატრანსპორტთა ხარხააგა არნჱკაარა აზინ ზმოუ ახაფჱ „C1“ აკატეგორია იატანაკა, აცრაჱაგა ზმოუ, ზზინ ამოუ ამაქსიმალტა მასა 750 კილაკ ეიჱაუ ამაშჱა არნჱკაარა აზინ იმოუმა, უი აილაზააშჱა ზზინ ამოუ აზეიჱშ ამაქსიმალტა მასა 12000 კილაკ ეიჱამზარჱ

1

აზინ იმოუპ

2

აზინ იმამ

## განმარტება:

„საგზაო მოძრაობის შესახებ“ საქართველოს კანონის 54-ე მუხლის მე-3 პუნქტის „ე“ ქვეპუნქტის თანახმად, „A“, „B“, „C“, „CE“, „D“ და „DE“ კატეგორიების ფარგლებში დაწესებული სატრანსპორტო საშუალებები, რომელთა სამართავად სავალდებულოა შესაბამისი მართვის უფლების მოპოვება, იყოფა შემდეგ ქვეკატეგორიებად: ე) „C1E“ – „C1“ ქვეკატეგორიის ავტომობილი, გადაბმული მისაბმელთან, რომლის ნებადართული მაქსიმალური მასა აღემატება 750 კგ-ს, მაგრამ არ აღემატება ავტომობილის დაუტვირთავ მასას, ხოლო ასეთი შემადგენლობის საერთო ნებადართული მაქსიმალური მასა არ აღემატება 12 000 კგ-ს.

## ВОПРОС 550

ПРАВИЛЬНЫЙ ОТВЕТ: 1

„C1Y“ и „B1“ი აკატეგორიაკაა ირყცანაკაა ატრანსპორტტა ჰარჰააგაკაა რყრნყკაარა აზინ ჰმოუ აჰაფყ, ურტ რყდა „B1Y“ აკატეგორია იატცანაკაა ატრანსპორტტა ჰარჰააგა არნყკაარა აზინ იმოუმაფ

1

Азин имоуп

2

Азин имам

## განმარტყბა:

„საგზაო მოძრაობის შესახებ“ საქართველოს კანონის 56-ე მუხლის მე-5 პუნქტის თანახმად, „C1E“ ქვეკატეგორიის სატრანსპორტო საშუალების მართვის უფლების მქონე პირს, რომელსაც აქვს „D1“ ქვეკატეგორიის სატრანსპორტო საშუალების მართვის უფლება, აგრეთვე უფლება აქვს, მართოს „D1E“ ქვეკატეგორიის სატრანსპორტო საშუალებაც.

## ВОПРОС 551

ПРАВИЛЬНЫЙ ОТВЕТ: 2

„BY“ი „C1“ი აკატეგორიაკაა ირყცანაკაა ატრანსპორტტა ჰარჰააგაკაა რყრნყკაარა აზინ ჰმოუ აჰაფყ, ურტ რყდა C1Y აკატეგორია იატცანაკაა ატრანსპორტტა ჰარჰააგა არნყკაარა აზინ იმოუმაფ

1

Азин имам

2

Азин имоуп

## განმარტყბა:

„საგზაო მოძრაობის შესახებ“ საქართველოს კანონის 56-ე მუხლის მე-6 პუნქტის თანახმად, „DE“ კატეგორიის სატრანსპორტო საშუალების მართვის უფლების მქონე პირს, რომელსაც აქვს „C1“ ქვეკატეგორიის სატრანსპორტო საშუალების მართვის უფლება, აგრეთვე უფლება აქვს, მართოს „C1E“ ქვეკატეგორიის სატრანსპორტო საშუალებაც.



## ВОПРОС 552

ПРАВИЛЬНЫЙ ОТВЕТ: 2

„C“ აკატეგორია იატანაკა ატრანსპორტტა ხარხააგა არნჲკაარა აზინ ჳმოუ ახაფჲ, ამაშჲნაბლა ჳმოუ აკჲტანხამფატა ტრაქტორ არნჲკაარა აზინ იმოუპ, უი ჳზინ ამოუ ამაქსიმალტა მასაჲ

1

8250 კილაქ ეიხაზარ, ახა 12000 კილაქ  
ეიხამაზარ

2

8250 კილაქ ეიხამაზარ

## განმარტება:

„საგზაო მოძრაობის შესახებ“ საქართველოს კანონის 56-ე მუხლის მე-10 პუნქტის თანახმად, „C1“ ქვეკატეგორიის სატრანსპორტო საშუალების მართვის უფლების მქონე პირს უფლება აქვს, მართოს თვლიანი სასოფლო-სამეურნეო ტრაქტორი, რომლის ნებადართული მაქსიმალური მასა არ აღემატება 8250 კგ-ს, აგრეთვე აღნიშნული მექანიკური სატრანსპორტო საშუალება, გადაბმული მისაბმელთან, თუ ასეთი შემადგენლობის საერთო ნებადართული მაქსიმალური მასა არ აღემატება 8 250 კგ-ს.

## ВОПРОС 553

ПРАВИЛЬНЫЙ ОТВЕТ: 1

„C“ აკატეგორია იატანაკა ატრანსპორტტა ხარხააგა არნჲკაარა აზინ ჳმოუ ახაფჲ, ამაშჲნაბლა ჳმოუ, აცრაჲაგა ჳყცრაჲოუ აკჲტანხამფატა ტრაქტორ არნჲკაარა აზინ იმოუპ, აბრი აილაზაარა იშეიბგოუ ჳზინ ამოუ ამაქსიმალტა მასაჲ

1

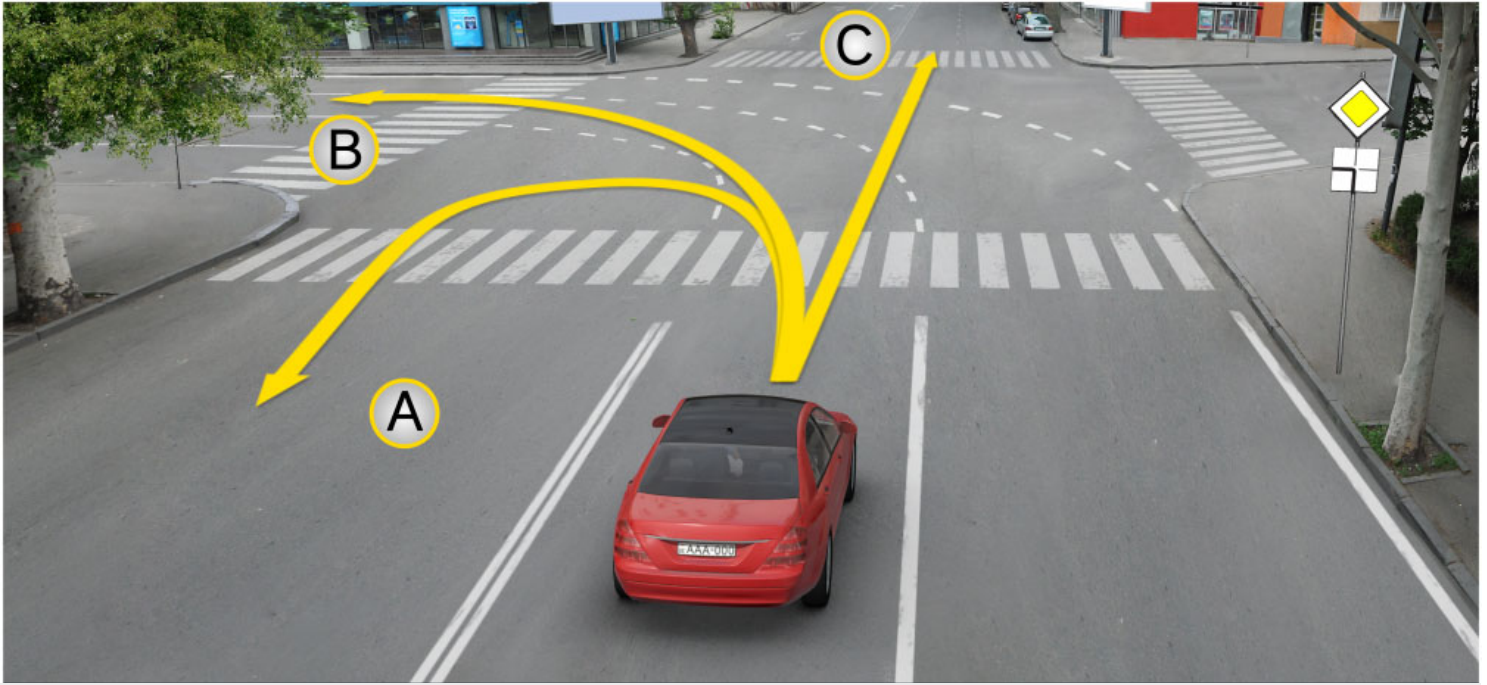
8250 კილაქ ეიხამაზარ

2

8250 კილაქ ეიხაზარ, ახა 12000 კილაქ  
ეიხამაზარ

## განმარტება:

„საგზაო მოძრაობის შესახებ“ საქართველოს კანონის 56-ე მუხლის მე-10 პუნქტის თანახმად, „C1“ ქვეკატეგორიის სატრანსპორტო საშუალების მართვის უფლების მქონე პირს უფლება აქვს, მართოს თვლიანი სასოფლო-სამეურნეო ტრაქტორი, რომლის ნებადართული მაქსიმალური მასა არ აღემატება 8 250 კგ-ს, აგრეთვე აღნიშნული მექანიკური სატრანსპორტო საშუალება, გადაბმული მისაბმელთან, თუ ასეთი შემადგენლობის საერთო ნებადართული მაქსიმალური მასა არ აღემატება 8 250 კგ-ს.



Иარბოუ ამდებე ავტობილი იანუიკოუ, ამდასურტაფი ამაშყინა ლას არნიკეაფ აიტატრა ანაგჟარა ილშოიტჲ

1

A ახურხართალა

2

B ახურხართალა

3

C ახურხართალა

4

Ai, Bi, Si ახურხარტაქეა რილა

### განმარტება:

„საგზაო მოძრაობის შესახებ“ საქართველოს კანონის მე-2 დანართის პირველი თავის (ჰორიზონტალური მონიშვნა) 1.7 პუნქტის თანახმად, საგზაო მონიშვნა 1.7 წყვეტილი ხაზი მოკლე შტრიხებითა და იმავე ზომის შუალედებით - აღნიშნავს მოძრაობის ზოლებს გზაჯვარედინის ფარგლებში. 1.7 ხაზის გადაკვეთა ნებადართულია ნებისმიერი მხრიდან.



Ахыц ахырхартала аитатра аан абарт атранспорттә хархәагақәа рырныкәәцәа ркынтә амәа атара зыхәтадаҥ

1

Амашына лас арныкәә

2

Атрактор арныкәә

### განმარტება:

„საგზაო მოძრაობის შესახებ“ საქართველოს კანონის 36-ე მუხლის მე-4 პუნქტის „გ“ ქვეპუნქტის თანახმად, არარეგულირებულ გზატვარედინზე, თანაბარმნიშვნელოვანი გზების გადაკვეთაზე ურელსო სატრანსპორტო საშუალების მძღოლი ვალდებულია გზა დაუთმოს მარჯვნიდან მოახლოებულ სატრანსპორტო საშუალებას.

## ВОПРОС 556

ПРАВИЛЬНЫЙ ОТВЕТ: 3

Абарт аиқәшахатрақәа ркынтә Қырттәылаҕы арныкәҕаҕаҕа рҕыаустәи рыҕысшыаратәи арежимқәа ихәаакәнаҕоитЖ

1

Автотранспорттә хархәагақәа русура иазку аиқәшахатра

2

Ишәартоу аидарақәа жәларбжьаратәи рымҕангара иазку аиқәшахатра

3

„Жәларбжьаратәи автомобилтә аитатра назыгзо атранспорттә хархәагақәа рекипаж аусура иазку“ европатәи аиқәшахатра ПҭФУЕКТ

## განმარტება:

მძღოლთა შრომისა და დასვენების რეჟიმების რეგლამინტაცია საქართველოში ხდება „საერთაშორისო საავტომობილო მიმოსვლის მწარმოებელი სატრანსპორტო საშუალებების ეკიპაჟის მუშაობის შესახებ“ ევროპული შეთანხმების (AETR). მოთხოვნათა შესაბამისად.

## ВОПРОС 557

ПРАВИЛЬНЫЙ ОТВЕТ: 1

„Жәларбжьаратәи автомобилтә аитатра назыгзо атранспорттә хархәагақәа рекипаж аусура иазку“ европатәи аиқәшахатра ПҭФУЕКТ инакәырҕшны, атермин «жәларбжьаратәи атранспорттә аитатра» иаанаҕоитЖ

1

Хәаак иадымхаргы, уи ахысрала иარбанзаалак автомобилтә аитатра

2

100 კმ. еиҳаны иარбанзаалак автомобилтә аитатра

## განმარტება:

„საერთაშორისო საავტომობილო მიმოსვლის მწარმოებელი სატრანსპორტო საშუალებების ეკიპაჟის მუშაობის შესახებ“ ევროპული შეთანხმების (AETR) თანახმად ტერმინი „საერთაშორისო სატრანსპორტო მიმოსვლა“ ნიშნავს ნებისმიერ საავტომობილო მიმოსვლას ერთი საზღვრის გადაკვეთით მაინც.



Аиҭаҭра ахьымџаҭысуа аҭаҭырадгьыл зтәу, аиқәшахатра зықәнагоу аганқәа изеиқәшахатымхар, „Жәларбжьаратәи автомобилтә аиҭаҭра назыгзо атранспорттә хархәагақәа рекипаж аусура иазку“ европатәи аиқәшахатра ГҭФУЕКТ амч аиуом жәларбжьаратәи аидара амџангарақәа назыгзо атранспорттә хархәагақәа рзы, урт азкрас ирымазарЖ

1

Ацраҳәагақәа рыкапан иналатаны, 3,5 тонна еиҳамқәа акапан змоу аидара амџангара мацара

2

Арныкәгад дрылатаны, 9џык апассажирцәа иреиҳамқәа имџанызго атранспорттә хархәагақәа рыла апассажирцәа рымҭангара

3

50 км. иреиҳам арегулиартә цәахәақәа рыла апассажирцәа рымҭангара

4

Абри абилет аҭы еиқәыҭхьазоу аҭагылазаашьақәа зегьы раан.

### განმარტება:

თუ ხელშემკვრელი მხარეები, რომელთა ტერიტორიაზე ხორციელდება მიმოსვლა არ შეთახმდნენ საპირისპიროს შესახებ, „საერთაშორისო საავტომობილო მიმოსვლის მწარმოებელი სატრანსპორტო საშუალებების ეკიპაჟის მუშაობის შესახებ“ ევროპული შეთანხმების (AETR) მოთხოვნები არ გამოიყენება საერთაშორისო საავტომობილო ტვირთბიდვის მიმართ, რომელიც სრულდება: ა) სატრანსპორტო საშუალებების მიერ, რომლებიც გამოიყენება ტვირთის გადასაზიდად და რომელთა ნებადართული მაქსიმალური მასა, მისაბმელებისა და ნახევარმისაბმელების მასის ჩათვლის, არ აღემატება 3,5 ტონას; ბ) სატრანსპორტო საშუალებების მიერ, რომლებიც გამოიყენება მგზავრთა გადასაცვანად და რომლებსაც თავიანთი კონსტრუქციისა და აღჭურვილობის გამო მძღოლის ჩათვლით ცხრა კაცზე მეტის გადაყვანა არ შეუძლია და განკუთვნილია ამ მიზნისთვის; გ) სატრანსპორტო საშუალებების მიერ, რომლებიც გამოიყენება მგზავრთა გადასაცვანად რეგულარულ ხაზებზე, რომელთა სიგრძე 50 კმ-ს არ აღემატება.

## ВОПРОС 559

ПРАВИЛЬНЫЙ ОТВЕТ: 3

Аитатра иახьымფაჟისუა ატაკყრადგჳыл зтѳу, айкѳшахатра зыкѳнагоу аганкѳа изеикѳшахатѳымхар, „Жѳларбжѳаратѳи автомобилтѳ аитатра назыгзо атранспорттѳ хархѳагакѳа рекипаж аусура иазку“ европатѳи айкѳшахатра ГѳФУЕКТ амч аиуом жѳларбжѳаратѳи аидара амѳангаракѳа назыгзо атранспорттѳ хархѳагакѳа рзыЖ

1

Чыдалатѳи амашѳыртѳ атранспорттѳ хархѳагакѳа ашѳѳѳы иახѳალაგалоу апункт акынтѳ 100 км. инрытѳакны еитѳцуазар

2

7,5 тонна еихѳамкѳа, акомерциатѳ азкრა змам аидара амѳангаразы азин змоу чыдалатѳи амашѳыртѳ атранспорттѳ хархѳагакѳа

3

Абри абилет аѳы еикѳѳѳхѳაჟოу ატაгылазашѳაკѳа зегѳы რაან.

## განმარტება:

თუ ხელშემკვრელი მხარეები, რომელთა ტერიტორიაზე ხორციელდება მიმოსვლა არ შეთახმდნენ საპირისპიროს შესახებ, „საერთაშორისო საავტომობილო მიმოსვლის მწარმოებელი სატრანსპორტო საშუალებების ეკიპჟის მუშაობის შესახებ“ ევროპული შეთანხმების (AETR) მოთხოვნები არ გამოიყენება საერთაშორისო საავტომობილო ტვირთბიდვის მიმართ, რომელიც სრულდება: ა) სპეციალური საავარიო სატრანსპორტო საშუალებების მიერ, რომელთა ექსპლუატაცია წარმოებს მათი მიწერის პუნქტიდან 100 კმ ფარგლებში. ბ) სატრანსპორტო საშუალებების მიერ, რომელთა ნებადართული მაქსიმალური მასა არ აღემატება 7,5 ტონას და რომლებიც გამოიყენება არაკომერციული გადაზიდვისათვის.

## ВОПРОС 560

ПРАВИЛЬНЫЙ ОТВЕТ: 3

„Жѳларбжѳаратѳи автомобилтѳ аитатра назыгзо атранспорттѳ хархѳагакѳа рекипаж аусура иазку“ европатѳи айкѳшахатра ГѳФУЕКТ инакѳѳრჟჳჳჳ, есымчыбжѳტѳი арныкѳარა аамტა еихѳამзарოупЖ

1

4ტ საათ

2

4კ საათ

3

5კ საათ

## განმარტება:

„საერთაშორისო საავტომობილო მიმოსვლის მწარმოებელი სატრანსპორტო საშუალებების ეკიპჟის მუშაობის შესახებ“ ევროპული შეთანხმების (AETR) თანახმად ყოველკვირეული მართვის ხანგრძლივობა არ უნდა აღემატებოდეს 56 საათს.

## ВОПРОС 561

ПРАВИЛЬНЫЙ ОТВЕТ: 4

„Жәларбжыратәи автомобилтә айтатра назыгзо атранспорттә хархәагақәа рекипаж аусура иазку“ европатәи аиқәшақатра ПДФУЕКТ инақәырпшны, еишьтаргылоу ҧымчыбжь инрытакны амашына арныкәара азеипш аамта аицталыц иреихамзароупЖ

1

1т саат

2

1к саат

3

1д саат

4

1т саат

## განმარტება:

„საერთაშორისო საავტომობილო მიმოსვლის მწარმოებელი სატრანსპორტო საშუალებების ეკიპაჟის მუშაობის შესახებ“ ევროპული შეთანხმების (AETR) თანახმად მართვის საერთო ჯამური ხანგრძლივობა ნებისმიერი ორი ერთმანეთის მომდევნო კვირის განმავლობაში არ უნდა აღემატებოდეს 90 საათს.

## ВОПРОС 562

ПРАВИЛЬНЫЙ ОТВЕТ: 2

„Жәларбжыратәи автомобилтә айтатра назыгзо атранспорттә хархәагақәа рекипаж аусура иазку“ европатәи аиқәшақатра ПДФУЕКТ инақәырпшны, аҧсшьара аамтанҭа арныкәга1 45 минут иҧсы ишьарц азы шака саат ам1а дыкәзарц ихәт0иҦ

1

3 саатки бжаки

2

4 саатки бжаки

3

5 саатки бжаки

## განმარტება:

„საერთაშორისო საავტომობილო მიმოსვლის მწარმოებელი სატრანსპორტო საშუალებების ეკიპაჟის მუშაობის შესახებ“ ევროპული შეთანხმების (AETR) თანახმად ოთხნახევარი საათის განმავლობაში მართვის პერიოდის შემდეგ მძღოლმა უნდა შეისვენოს არანაკლებ 45 წუთისა, თუ არა დგება დასვენების პერიოდი.

## ВОПРОС 563

ПРАВИЛЬНЫЙ ОТВЕТ: 3

„Жәларбжыратәи автомобилтә айтатра назыгзо атранспорттә хархәагақәа рекипаж аусура иазку“ европатәи аикәшахатра ПДФУЕКТ инақәырпшны, аҭсшьара аамтанза арныкәгад 4 саатки бжаки еиханы амәа дықәзар, уи даанҭасны иҭсы ишьароупЖ

1

2т минут еитцымкәа

2

3т минут еитцымкәа

3

45 минут еитцымкәа

## განმარტება:

„საერთაშორისო საავტომობილო მიმოსვლის მწარმოებელი სატრანსპორტო საშუალებების ეკიპაჟის მუშაობის შესახებ“ ევროპული შეთანხმების (AETR) თანახმად, ოთხნახევარი საათის განმავლობაში მართვის პერიოდის შემდეგ მძღოლმა უნდა შეისვენოს არანაკლებ 45 წუთისა, თუ არა დგება დასვენების პერიოდი.

## ВОПРОС 564

ПРАВИЛЬНЫЙ ОТВЕТ: 1

„Жәларбжыратәи автомобилтә айтатра назыгзо атранспорттә хархәагақәа рекипаж аусура иазку“ европатәи аикәшахатра ПДФУЕКТ инақәырпшны, арныкәгад, аҭсшьаранзатәи есымшатәи ма есымчыбжтәи апериод аамышьтахь, 24 саат инрытакны, есымшатәи аҭсшьаратә период ҭыц ахархәара ихәтоумаҭ

1

Ихәтоуп

2

Ихәтазам

## განმარტება:

„საერთაშორისო საავტომობილო მიმოსვლის მწარმოებელი სატრანსპორტო საშუალებების ეკიპაჟის მუშაობის შესახებ“ ევროპული შეთანხმების (AETR) თანახმად, დასვენების წინა ყოველდღიური პერიოდის ან ყოველკვირეული პერიოდის დასრულებიდან ყოველი 24-საათიანი პერიოდის განმავლობაში მძღოლმა უნდა გამოიყენოს ახალი ყოველდღიური დასვენების პერიოდი.



## ВОПРОС 565

ПРАВИЛЬНЫЙ ОТВЕТ: 1

„Жәларбжыратәи автомобилтә аитатра назыгзо атранспорттә хархәагақәа рекипаж аусура иазку“ европатәи аиқәшақатра ПДФУЕКТ инақәырғшны, атермин «абжыаағнытә ағсшыара аамта» ала иазғхәагәауоп абарт арбагақәа иреитым ағсшыара аамтаЖ

1 11 саат

2 15 саатк

3 k саатк

## განმარტება:

„საერთაშორისო საავტომობილო მიმოსვლის მწარმოებელი სატრანსპორტო საშუალებების ეკიპაჟის მუშაობის შესახებ“ ევროპული შეთანხმების (AETR) თანახმად ტერმინი „დასვენების ნორმალური ყოველდღიური პერიოდი“ ნიშნავს დასვენების ნებისმიერ პერიოდს არანაკლებ 11 საათის ხანგრძლივობით.

## ВОПРОС 566

ПРАВИЛЬНЫЙ ОТВЕТ: 2

„Жәларбжыратәи автомобилтә аитатра назыгзо атранспорттә хархәагақәа рекипаж аусура иазку“ европатәи аиқәшақатра ПДФУЕКТ инақәырғшны, атермин «ирмачу есымшатәи ағсшыара аамта» ала иазғхәагәауоп абарт арбагақәа иреитым ағсшыара аамтаЖ

1 7 саатк еитымқәа, аха 9 саатк еихамқәа

2 9 саатк еитымқәа, аха 11 саат еихамқәа

3 11 саат

## განმარტება:

„საერთაშორისო საავტომობილო მიმოსვლის მწარმოებელი სატრანსპორტო საშუალებების ეკიპაჟის მუშაობის შესახებ“ ევროპული შეთანხმების (AETR) თანახმად ტერმინი „დასვენების შემცირებული ყოველდღიური პერიოდი“ ნიშნავს დასვენების ნებისმიერ პერიოდს არანაკლებ 9 საათის, მაგრამ 11 საათზე ნაკლები ხანგრძლივობით.

## ВОПРОС 567

ПРАВИЛЬНЫЙ ОТВЕТ: 3

„Жәларбжыаратәи автомобилтә айтатра назыгзо атранспорттә хархәагақәа рекипаж аусура иазку“ европатәи аиқәшахатра ПДФУЕКТ инақәырҭшны, атранспорттә хархәага арнықәара аperiодқәа ирыцанакәеит арнықәара аамтә зегыЖ

1

Еиқәшахату аганқәа рыцакырадгыл мацарағы

2

Еиқәшахату аганқәа ирылам ахәынтқаррақәа рыцакырадгыл мацарағы

3

Еиқәшахату аганқәа рыцакырадгыли еиқәшахату аганқәа ирылам ахәынтқаррақәа рыцакырадгыли рҭы

## განმარტება:

„საერთაშორისო საავტომობილო მიმოსვლის მწარმოებელი სატრანსპორტო საშუალებების ეკიპაჟის მუშაობის შესახებ“ ევროპული შეთანხმების (AETR) თანახმად, სატრანსპორტო საშუალების მართვის პერიოდები მოიცავს მართვის ნებისმიერ დროს ხელშემკვრელ მხარეთა ტერიტორიაზე და იმ სახელმწიფოთა ტერიტორიაზე, რომლებიც არ წარმოადგენენ ხელშემკვრელ მხარეებს.

## ВОПРОС 568

ПРАВИЛЬНЫЙ ОТВЕТ: 3

„Жәларбжыаратәи автомобилтә айтатра назыгзо атранспорттә хархәагақәа рекипаж аусура иазку“ европатәи аиқәшахатра ПДФУЕКТ инақәырҭшны, арнықәаг агәатаратә хархәага змоу амашына дақәтәазар, уи айтатреи аҭсшыареи раамтә иазку антцамтә цәыригароупЖ

1

Амашынағы ацифратә тахограф шыақәыргылазар, иасхьоу 14 амзартә мшқәа рзы

2

Амашынағы ацифратә тахограф шыақәыргылазар, дызну амш мацаразы

3

Агәатаратә хархәара иახыҭшымқәа, дызну амши иасхьоу 28 амзартә мшқәеи рзы

## განმარტება:

„საერთაშორისო საავტომობილო მიმოსვლის მწარმოებელი სატრანსპორტო საშუალებების ეკიპაჟის მუშაობის შესახებ“ ევროპული შეთანხმების (AETR) თანახმად, თუ მძღოლი მართავს საკონტროლო მოწყობილობით აღჭურვილ სატრანსპორტო საშუალებას მას უნდა შეეძლოს წარადგინოს ჩანაწერები მართვისა და დასვენების დროის შესახებ, რომელიც უნდა მოიცავდეს მიმდინარე დღეს და წინა 28 კალენდარულ დღეს.

## ВОПРОС 569

ПРАВИЛЬНЫЙ ОТВЕТ: 4

„Жәларбжыратәи автомобилтә аитатра назыгзо атранспорттә хархәагақәа рекипаж аусура иазку“ европатәи аиқәшақатра ПҶФУЕКТ инақәырҶшны, атранспорттә хархәагақәа рҶы ишыақәгылоу ахахәагақәа ишыақәдыргылароупЖ

1

Атранспорттә хархәага аласреи изхысыз амҶеи мацара

2

Арнықәара аҶхәара мацара

3

АҶсшыареи аанҶасреи раамта

4

Атранспорттә хархәага аласреи изхысыз амҶеи, иара убас, арнықәара аҶхәареи, асшыареи, аанҶасреи раамтеи

## განმარტება:

„საერთაშორისო საავტომობილო მიმოსვლის მწარმოებელი სატრანსპორტო საშუალებების ეკიპაჟის მუშაობის შესახებ“ ევროპული შეთანხმების (AETR) თანახმად, სატრანსპორტო საშუალებაზე დაყენებული საკონტროლო მოწყობილობა უნდა უზრუნველყოფდეს, რომ დაფიქსირდეს: 1. სატრანსპორტო საშუალების სიჩქარე და გავლილი მანძილი. 2. მართვის ხანგრძლივობა. 3. დასვენების და შესვენების ხანგრძლივობა.

## ВОПРОС 570

ПРАВИЛЬНЫЙ ОТВЕТ: 1

Ишажутоу еиҶш еиҶкаам ашыақауаа рхысырта аҶхьа иаангылаз атранспорттә хархәага иахкьаны ахысыртаҶы алаҶшбара цәҶахазар, ахысырта иазааигәахо арнықәа аитатра анаҶзара азин имоупЖ

1

Ахысырта иқәлаз ма иахысуа ашыақауаа шықам аҶра нигалак мацара.

2

Абжытә ардырга ахархәара аамышытахь мацара.

3

АхысыртаҶы атагылазаашьа зеиҶшразаалак, аласра имҶсахкәа аитатра наигзaroуп

## განმარტება:

თუ არარეგულირებული ქვეითა გადასასვლელის წინ გაჩერებული სატრანსპორტო საშუალების გამო, გადასასვლელზე ნაწილობრივ შეზღუდულია მხედველობა, გადასასვლელთან მოახლოებულ მძღოლს მოძრაობის გაგრძელების უფლება აქვს მხოლოდ მას შემდეგ, რაც დარწმუნდება, გადასასვლელზე შესული ან შემავალი ქვეითის არარსებობაში.

თემა 21:

## რკინიგზის გადასასვლელი

---





Алашарбага иаџакуп ардырга ѓежьЖ

1

Арныкџаџ «Сдек» аџџаџаџы даангылароуп

2

Арныкџаџ алашарбагаџы даангылароуп

3

Арныкџаџ, џыдала ашџართадара ихьчаны, аитџџრა наигџარ илшоит

4

Арныкџаџ даангылароуп ааигџџаза иџоу арельс акынџа 10 метრაკ иრეიტџამკџა шыбџьоу.

### განმარტება:

„საგზაო მოძრაობის შესახებ“ საქართველოს კანონის 29-ე მუხლის მე-8 პუნქტის თანახმად, რკინიგზის გადასასვლელზე, გასახსნელი ხიდის მისასვლელთან, გემის ან ბორნის მისადგომთან, გზაზე სახანძრო ავტომობილის გამოსასვლელთან და იმ ადგილას, სადაც გზას დაბალ სიმაღლეზე კვეთს საფრენი აპარატის ტრაექტორია, გამოიყენება ერთ სადგარზე, ერთსა და იმავე სიმაღლეზე განლაგებული, ერთ მხარეს მიმართული ორი მორიგეობით მოციმციმე ან ერთი მოციმციმე წითელი ან ყვითელი მაშუქი სიგნალი, რომელთაგან წითელი მაშუქი სიგნალი კრძალავს „სდექ“ ხაზის გადაკვეთას, მისი არარსებობის შემთხვევაში კი – შექნიშნის იქით გადასვლას, ხოლო ყვითელი მაშუქი სიგნალი ნიშნავს, რომ მძღოლებს შეუძლიათ გააგრძელონ მოძრაობა, მაგრამ, ამასთანავე, ვალდებული არიან, დაიცვან განსაკუთრებული სიფრთხილე. თუ ფერადი მაშუქი სიგნალები გამორთულია, მოძრაობა ნებადართულია მხოლოდ მაშინ, როცა ხილვადობის ფარგლებში არ ჩანს გადასასვლელთან მოახლოებული მატარებელი (ლოკომოტივი, დრეზინა).

## ВОПРОС 572

ПРАВИЛЬНЫЙ ОТВЕТ: 1

Аихамѡа ахысыртаѣы, алашарбага ардырга каѣшь ада абжытѡ дыргагы иаѣакуп, уи ала аитѡтра алахылаѡѡа иаѡѡаны адырра роуоитЖ

1

Ахысыртаѣы аитѡтра шыѡамло азы

2

Ахысыртаѣы аитѡтра анагзара шыѡало азы

## განმარტება:

„საგზაო მოძრაობის შესახებ“ საქართველოს კანონის 29-ე მუხლის მე-9 პუნქტის თანახმად, რკინიგზის გადასასვლელზე შექნიშნის წითელ მოციმციმე მაშუქ სიგნალთან ერთად შეიძლება მიეცეს ხმოვანი სიგნალი, რომელიც საგზაო მოძრაობის მონაწილეებს დამატებით ამცნობს რკინიგზის გადასასვლელზე მოძრაობის აკრძალვის შესახებ.

## ВОПРОС 573

ПРАВИЛЬНЫЙ ОТВЕТ: 2

Аихамѡа ахысырта аангылартак аѣы, аѡазарак аѣы ишыѡѡыргылоу, ганк ахь зхы рхоу, еишѡтаргыланы илаѡѡѡѡысуа ѡердыргак ма иѡежѡу рдыргак амашѡына арныѡѡѡѡѡѡѡа иранахѡоитЖ

1

Аитѡтра анагзара азин рымам

2

Аитѡтра анагзара азин рымоуп, аха уи аан чыѡала ирыхѡчароуп ашѡართადара атѡსѡѡა

## განმარტება:

„საგზაო მოძრაობის შესახებ“ საქართველოს კანონის 29-ე მუხლის მე-8 პუნქტის თანახმად, რკინიგზის გადასასვლელზე, გასახსნელი ხიდის მისასვლელთან, გემის ან ბორნის მისადგომთან, გზაზე სახანძრო ავტომობილის გამოსასვლელთან და იმ ადგილას, სადაც გზას დაბალ სიმაღლეზე კვეთს საფრენი აპარატის ტრაექტორია, გამოიყენება ერთ სადგარზე, ერთსა და იმავე სიმაღლეზე განლაგებული, ერთ მხარეს მიმართული ორი მორიგეობით მოციმციმე ან ერთი მოციმციმე წითელი ან ყვითელი მაშუქი სიგნალი, რომელთაგან წითელი მაშუქი სიგნალი კრძალავს „სდექ“ ხაზის გადაკვეთას, მისი არარსებობის შემთხვევაში კი – შექნიშნის იქით გადასვლას, ხოლო ყვითელი მაშუქი სიგნალი ნიშნავს, რომ მძღოლებს შეუძლიათ გააგრძელონ მოძრაობა, მაგრამ, ამასთანავე, ვალდებული არიან, დაიცვან განსაკუთრებული სიფრთხილე. თუ ფერადი მაშუქი სიგნალები გამორთულია, მოძრაობა ნებადართულია მხოლოდ მაშინ, როცა ხილვადობის ფარგლებში არ ჩანს გადასასვლელთან მოახლოებული მატარებელი (ლოკომოტივი, დრეზინა).

Аихамѡа ахысыртаѣы алашарбага ардыргакѡа ирѣазарЖ

1

Аитатра калоит, ахысырта иазааигѡаны  
адѡѣѣба ма алокомотив иубартамзар


2

Аитатра икѡѣтымуп

### განმარტება:

„საგზაო მოძრაობის შესახებ“ საქართველოს კანონის 29-ე მუხლის მე-8 პუნქტის თანახმად, რკინიგზის გადასასვლელზე, გასახსნელი ხიდის მისასვლელთან, გემის ან ბორნის მისადგომთან, გზაზე სახანძრო ავტომობილის გამოსასვლელთან და იმ ადგილას, სადაც გზას დაბალ სიმაღლეზე კვეთს საფრენი აპარატის ტრაექტორია, გამოიყენება ერთ სადგარზე, ერთსა და იმავე სიმაღლეზე განლაგებული, ერთ მხარეს მიმართული ორი მორიგეობით მოციმციმე ან ერთი მოციმციმე წითელი ან ყვითელი მაშუქი სიგნალი, რომელთაგან წითელი მაშუქი სიგნალი კრძალავს „სდექ“ ხაზის გადაკვეთას, მისი არარსებობის შემთხვევაში კი – შექნიშნის იქით გადასვლას, ხოლო ყვითელი მაშუქი სიგნალი ნიშნავს, რომ მძღოლებს შეუძლიათ გააგრძელონ მოძრაობა, მაგრამ, ამასთანავე, ვალდებული არიან, დაიცვან განსაკუთრებული სიფრთხილე. თუ ფერადი მაშუქი სიგნალები გამორთულია, მოძრაობა ნებადართულია მხოლოდ მაშინ, როცა ხილვადობის ფარგლებში არ ჩანს გადასასვლელთან მოახლოებული მატარებელი (ლოკომოტივი, დრეზინა).





Абарт амашынакәа рырныкәаџәа ркынтә ахыц ахырхартала аитатра азин змамдаџ

1

Аидаратә машына арныкәаџ мацара.

2

Амашына лас арныкәаџ мацара.

3

Аџемашынак рырныкәаџәа

4

Азәгы

### ბანმარტუბა:

„საგზაო მოძრაობის შესახებ“ საქართველოს კანონის 29-ე მუხლის მე-8 პუნქტის თანახმად რკინიგზის გადასასვლელზე, გასახსნელი ხიდის მისასვლელთან, გემის ან ბორნის მისადგომთან, გზაზე სახანძრო ავტომობილის გამოსასვლელთან და იმ ადგილას, სადაც გზას დაბალ სიმაღლეზე კვეთს საფრენი აპარატის ტრაექტორია, გამოიყენება ერთ სადგარზე, ერთსა და იმავე სიმაღლეზე განლაგებული, ერთ მხარეს მიმართული ორი მორიგეობით მოციმციმე ან ერთი მოციმციმე წითელი ან ყვითელი მაშუქი სიგნალი, რომელთაგან წითელი მაშუქი სიგნალი კრძალავს „სდექ“ ხაზის გადაკვეთას, მისი არარსებობის შემთხვევაში კი – შექნიშნის იქით გადასვლას, ხოლო ყვითელი მაშუქი სიგნალი ნიშნავს, რომ მძღოლებს შეუძლიათ გააგრძელონ მოძრაობა, მაგრამ, ამასთანავე, ვალდებული არიან, დაიცვან განსაკუთრებული სიფრთხილე. თუ ფერადი მაშუქი სიგნალები გამორთულია, მოძრაობა ნებადართულია მხოლოდ მაშინ, როცა ხილვადობის ფარგლებში არ ჩანს გადასასვლელთან მოახლოებული მატარებელი (ლოკომოტივი, დრეზინა). ამავე კანონის 32-ე მუხლის მე-15 პუნქტის „დ“ ქვეპუნქტის თანახმად, აკრძალულია სატრანსპორტო საშუალების მობრუნება რკინიგზის გადასასვლელზე.





Иарбоу атагылазаашыаҕы арныкѳаѳЖ

1

Азин имоуп, агѳеантцаратѳ тагылазаашыакѳа ихъчаны, иара ихала амѳакыга аартны аитатцра наигзарц

2

Азин имоуп амѳакыга давсны аитатцра наигзарц

3

Азин имоуп „Сдек“ аѳѳахѳаҕы даангыларц

4

Хыхъ еикѳыпѳхѳаҕоу атаккѳа ииашам

### ბანმარტმბა:

„საგზაო მოძრაობის შესახებ“ საქართველოს კანონის 39-ე მუხლის პირველი პუნქტის „ბ“ ქვეპუნქტის თანახმად, მიუხედავად მაშუქი და ხმოვანი სიგნალების მითითებისა, არცერთი საგზაო მოძრაობის მონაწილე არ უნდა შევიდეს რკინიგზის გადასასვლელზე, რომლის შლავგბაუმი ან ნახევარშლავგბაუმი დაკეტილია, ივეტება ან იწევა. ამავე მუხლის მე-2 პუნქტის „ბ“ ქვეპუნქტის თანახმად, რკინიგზის გადასასვლელზე აკრძალულია შლავგბაუმის ან ნახევარშლავგბაუმის თვითნებური გახსნა. ამავე მუხლის მე-3 პუნქტის თანახმად თუ რკინიგზის გადასასვლელზე მოძრაობა აკრძალულია, მძღოლი ჩერდება „სდექ“ ხაზთან, 2.4 საგზაო ნიშანთან ან შექნიშანთან, ხოლო მათი არარსებობისას – შლავგბაუმიდან ან ნახევარშლავგბაუმიდან არანაკლებ 5 მეტრისა. თუ არ არის არც შლავგბაუმი და არც ნახევარშლავგბაუმი, მძღოლი უნდა გაჩერდეს უახლოეს რელსამდე არანაკლებ 10 მეტრისა.



Амѡакыгабжа аркра иалагахъеит. Амашына арныкѡѡ амѡатѡ аитатра атаскѡа еилеигом, уиЖ

1

Аитатра дакѡытыр, избанзар амхамѡа ахысра дахъзоит

2

Алашарбагаѡы даангылар

3

Алапшбара ақѡыпшылараѡы адѡыңба ахысырта ишазааимгѡахо агѡра ганы, аихамѡа ахысырта дахысыр

### ბანმარტიბა:

„საგზაო მოძრაობის შესახებ“ საქართველოს კანონის 39-ე მუხლის პირველი პუნქტის „ბ“ ქვეპუნქტის თანახმად, მიუხედავად მაშუქი და ხმოვანი სიგნალების მითითებისა, არცერთი საგზაო მოძრაობის მონაწილე არ უნდა შევიდეს რკინიგზის გადასასვლელზე, რომლის შლაგბაუმი ან ნახევარშლაგბაუმი დაკეტილია, ივეტება ან იწევა. ამავე მუხლის მე-3 პუნქტის თანახმად თუ რკინიგზის გადასასვლელზე მოძრაობა აკრძალულია, მძღოლი ჩერდება „სდექ“ ხაზთან, 2.4 საგზაო ნიშანთან ან შეუნიშანთან, ხოლო მათი არარსებობისას – შლაგბაუმიდან ან ნახევარშლაგბაუმიდან არანაკლებ 5 მეტრისა. თუ არ არის არც შლაგბაუმი და არც ნახევარშლაგბაუმი, მძღოლი უნდა გაჩერდეს უახლოეს რელსამდე არანაკლებ 10 მეტრისა.





Амѡакыгабжа иркуп. Амашына арныкѡѡ амѡатѡ аитѡцра атѡсқѡ еилеигоит уиЖ

1

Амѡакыгабжа акынза 5 метрак иретцымкѡ ишыбжѡу даангылар

2

Амѡакыга давсны амхамѡа ахысырта дахысыр

3

Агѡѡанѡаратѡ тагылазаашыѡкѡа иазѡхыгаѡатаны иара ихала амѡакыга аартны аитѡцра наигзар

4

Абри абилет аѡы еикѡыѡхыѡѡу атѡккѡа ркынѡ акызѡтѡыкгы ииашам.

### განმარტება:

„საგზაო მოძრაობის შესახებ“ საქართველოს კანონის 39-ე მუხლის პირველი პუნქტის „ბ“ ქვეპუნქტის თანახმად, მიუხედავად მაშუქი და ხმოვანი სიგნალების მითითებისა, არცერთი საგზაო მოძრაობის მონაწილე არ უნდა შევიდეს რკინიგზის გადასასვლელზე, რომლის შლაგბაუმი ან ნახევარშლაგბაუმი დაკეტილია, ივეტება ან იწევა. ამავე მუხლის მე-2 პუნქტის „ბ“ ქვეპუნქტის თანახმად, რკინიგზის გადასასვლელზე აკრძალულია შლაგბაუმის ან ნახევარშლაგბაუმის თვითნებური გახსნა. ამავე მუხლის მე-3 პუნქტის თანახმად თუ რკინიგზის გადასასვლელზე მოძრაობა აკრძალულია, მძღოლი ჩერდება „სდექ“ ხაზთან, 2.4 საგზაო ნიშანთან ან შექნიშანთან, ხოლო მათი არარსებობისას – შლაგბაუმიდან ან ნახევარშლაგბაუმიდან არანაკლებ 5 მეტრისა. თუ არ არის არც შლაგბაუმი და არც ნახევარშლაგბაუმი, მძღოლი უნდა გაჩერდეს უახლოეს რელსამდე არანაკლებ 10 მეტრისა.



Иарбоу аҭагылазаашьаҭы амашьына арныкәаҭ иуалупЖ

1

Аитатра анагзара, избанзар амҭакыга  
иаартуп

2

Алашарбагаҭы аангылара

### პანმარტუბა:

„საგზაო მოძრაობის შესახებ“ საქართველოს კანონის 39-ე მუხლის პირველი პუნქტის „გ“ ქვეპუნქტის თანახმად, მარეგულირებლის ან შექნიშნის ამკრძალავი სიგნალის დროს არცერთი საგზაო მოძრაობის მონაწილე არ უნდა შევიდეს რკინიგზის გადასასვლელზე, მიუხედავად შლაგბაუმის ან ნახევარშლაგბაუმის მდგომარეობისა ან მისი არსებობისა. ამავე მუხლის მე-3 პუნქტის თანახმად თუ რკინიგზის გადასასვლელზე მოძრაობა აკრძალულია, მძღოლი ჩერდება „სდექ“ ხაზთან, 2.4 საგზაო ნიშანთან ან შექნიშანთან, ხოლო მათი არარსებობისას – შლაგბაუმიდან ან ნახევარშლაგბაუმიდან არანაკლებ 5 მეტრისა. თუ არ არის არც შლაგბაუმი და არც ნახევარშლაგბაუმი, მძღოლი უნდა გაჩერდეს უახლოეს რელსამდე არანაკლებ 10 მეტრისა.





Иарбоу атагылазаашьафы, аихамѡатѡ хысыртаѡы иаангылаз амашьынаѡѡа рырныѡѡѡѡа рѡынтѡ амѡатѡ аитѡцра атѡскѡа еилазгадаѢ

1

Амашьына ѡѡѡ арныѡѡѡ маѡара.

2

Амашьына шѡѡѡ арныѡѡѡ маѡара.

3

Аѡѡамашьынак рырныѡѡѡѡа

4

Азѡѡѡ

### ბანმარტეპა:

„საგზაო მოძრაობის შესახებ“ საქართველოს კანონის 39-ე მუხლის პირველი პუნქტის „გ“ ქვეპუნქტის თანახმად, მარეგულირებლის ან შექნიშნის ამკრძალავი სიგნალის დროს არცერთი საგზაო მოძრაობის მონაწილე არ უნდა შევიდეს რკინიგზის გადასასვლელზე, მიუხედავად შლაგბაუმის ან ნახევარშლაგბაუმის მდგომარეობისა ან მისი არსებობისა. ამავე მუხლის მე-3 პუნქტის თანახმად თუ რკინიგზის გადასასვლელზე მოძრაობა აკრძალულია, მძღოლი ჩერდება „სდექ“ ხაზთან, 2.4 საგზაო ნიშანთან ან შექნიშანთან, ხოლო მათი არარსებობისას – შლაგბაუმიდან ან ნახევარშლაგბაუმიდან არანაკლებ 5 მეტრისა. თუ არ არის არც შლაგბაუმი და არც ნახევარშლაგბაუმი, მძღოლი უნდა გაჩერდეს უახლოეს რელსამდე არანაკლებ 10 მეტრისა.



Иарбоу атагылазаашьаџы амашьына иатџа арныкџа ахыц ахырхартала аџысра азин имоумаџ

1

Азин имазам

2

Азин имоуп

### განმარტება:

„საგზაო მოძრაობის შესახებ“ საქართველოს კანონის 34-ე მე-9 პუნქტის „ბ“ ქვეპუნქტის თანახმად, ამ მუხლის მე-3 პუნქტით დადგენილი მოთხოვნების გათვალისწინებით, გასწრება აკრძალულია რკინიგზის გადასასვლელზე და მის წინ 100 მეტრზე ახლოს, გარდა იმ შემთხვევებისა, როცა ამ ადგილებში მოძრაობა რეგულირდება ისეთი ტიპის შექნიშნით რომელიც გზაჯვარედინებზე გამოიყენება. ამავე კანონის 39-ე მუხლის მე-2 პუნქტის „ა“ ქვეპუნქტის თანახმად, რკინიგზის გადასასვლელზე აკრძალულია საპირისპირო მოძრაობის ზოლზე გასვლით, გადასასვლელის წინ მდგომი სატრანსპორტო საშუალების შემოვლა.





Аиџааџ амашынакынтџ арџарахьала дгылоуп, инапкџа лашьтуп, амашына лас арныкџаџЖ

1

Аласра ирмачны даангылароуп

2

Ааигџаза иџоу арельскџа рџынза 10 метрак ишыбџьоу даангылароуп

3


Амџаркыабџа аџынза 5 метрак еитымкџа ишыбџьоу даангылароуп

4

Аитатра наигзароуп

### ბანმარტუბა:

„საგზაო მოძრაობის შესახებ“ საქართველოს კანონის 39-ე მუხლის მე-4 პუნქტის თანახმად, რკინიგზის გადასასვლელზე მოძრაობის ამკრძალავი სიგნალის მიცემისას მარეგულირებელი დგას მძღოლის მიმართ მკერდით ან ზურგშექცევით, თავის ზემოთ აწეულ კვერთხით, წითელი ფარნით ან ალმით ან განზე გაწეული ხელებით.



ადეჟბა აიხამდა ახისრა იალგოიტ, ამაშყა არწყაფ აიტატრა ანაგჯარა აზინ იმოუპჟ

1

ადეჟბა იანიასლაკ

2

ადეჟბა იანიასლაკ აამყშყაჟ  
ალაშარბაგაჟყ არდყრა ჟეჟ იანცყერთლაკ

### განმარტება:

„საგზაო მოძრაობის შესახებ“ საქართველოს კანონის 39-ე მუხლის პირველი პუნქტის „გ“ ქვეპუნქტის თანახმად, მარეგულირებლის ან შექნიშნის ამკრძალავი სიგნალის დროს არცერთი საგზაო მოძრაობის მონაწილე არ უნდა შევიდეს რკინიგზის გადასასვლელზე, მიუხედავად შლაგბაუმის ან ნახევარშლაგბაუმის მდგომარეობისა ან მისი არსებობისა. ამავე კანონის 29-ე მუხლის მე-8 პუნქტის თანახმად რკინიგზის გადასასვლელზე, გასახსნელი ხიდის მისასვლელთან, გემის ან ბორნის მისადგომთან, გზაზე სახანძრო ავტომობილის გამოსასვლელთან და იმ ადგილას, სადაც გზას დაბალ სიმაღლეზე კვეთს საფრენი აპარატის ტრაექტორია, გამოიყენება ერთ სადგარზე, ერთსა და იმავე სიმაღლეზე განლაგებული, ერთ მხარეს მიმართული ორი მორიგეობით მოციმციმე ან ერთი მოციმციმე წითელი ან ყვითელი მაშუქი სიგნალი, რომელთაგან წითელი მაშუქი სიგნალი კრძალავს „სდექ“ ხაზის გადაკვეთას, მისი არარსებობის შემთხვევაში კი – შექნიშნის იქით გადასვლას, ხოლო ყვითელი მაშუქი სიგნალი ნიშნავს, რომ მძღოლებს შეუძლიათ გააგრძელონ მოძრაობა, მაგრამ, ამასთანავე, ვალდებული არიან, დაიცვან განსაკუთრებული სიფრთხილე.





Иარბოу ატაгылазаашьафы амашьына арныкѣаф аангылара ихѣтоупЖ

1

Амѣакыгабжа акынза 5 метрак етымкѣа ишыбжьоу

2

Ааигѣаза икоу арельскѣа ркынза 10 метрак ишыбжьоу

3

Алашарбагафы

### განმარტება:

„საგზაო მოძრაობის შესახებ“ საქართველოს კანონის 39-ე მუხლის პირველი პუნქტის „ბ“ ქვეპუნქტის თანახმად, მიუხედავად მაშუქი და ხმოვანი სიგნალების მითითებისა, არცერთი საგზაო მოძრაობის მონაწილე არ უნდა შევიდეს რკინიგზის გადასასვლელზე, რომლის შლავგბაუმი ან ნახევარშლავგბაუმი დაკვეტილია, იკეტება ან იწევა. ამავე მუხლის მე-3 პუნქტის თანახმად თუ რკინიგზის გადასასვლელზე მოძრაობა აკრძალულია, მძღოლი ჩერდება „სდექ“ ხაზთან, 2.4 საგზაო ნიშანთან ან შუქნიშანთან, ხოლო მათი არარსებობისას – შლავგბაუმიდან ან ნახევარშლავგბაუმიდან არანაკლებ 5 მეტრისა. თუ არ არის არც შლავგბაუმი და არც ნახევარშლავგბაუმი, მძღოლი უნდა გაჩერდეს უახლოეს რელსამდე არანაკლებ 10 მეტრისა.



Иарбоу атагылазаашьафы амашына арныкәә даангылароупЖ

1

Амҕаркыгаҕы

2

„Сдек“ ацәахәаҕы

### განმარტება:

„საგზაო მოძრაობის შესახებ“ საქართველოს კანონის 39-ე მუხლის პირველი პუნქტის „გ“ ქვეპუნქტის თანახმად, მარეგულირებლის ან შექნიშნის ამკრძალავი სიგნალის დროს არცერთი საგზაო მოძრაობის მონაწილე არ უნდა შევიდეს რკინიგზის გადასასვლელზე, მიუხედავად შლაგბაუმის ან ნახევარშლაგბაუმის მდგომარეობისა ან მისი არსებობისა. ამავე მუხლის მე-3 პუნქტის თანახმად თუ რკინიგზის გადასასვლელზე მოძრაობა აკრძალულია, მძღოლი ჩერდება „სდექ“ ხაზთან, 2.4 საგზაო ნიშანთან ან შექნიშანთან, ხოლო მათი არარსებობისას – შლაგბაუმიდან ან ნახევარშლაგბაუმიდან არანაკლებ 5 მეტრისა. თუ არ არის არც შლაგბაუმი და არც ნახევარშლაგბაუმი, მძღოლი უნდა გაჩერდეს უახლოეს რელსამდე არანაკლებ 10 მეტრისა.





Иарбоу атагылазашьаџы, абарт амашьынаџа рырныџаџџа рџынтџ ахыџ ахырхартала аитџџра азин змамдаџ

1

Аквadroцикл арныџаџ маџара

2

Азџгы

3


Амашьына џаџшь арныџаџ маџара.

4

Амашьына иатџа арныџаџ маџара.

### განმარტება:

„საგზაო მოძრაობის შესახებ“ საქართველოს კანონის 34-ე მე-9 პუნქტის „ბ“ ქვეპუნქტის თანახმად, ამ მუხლის მე-3 პუნქტით დადგენილი მოთხოვნების გათვალისწინებით, გასწრება აკრძალულია რკინიგზის გადასასვლელზე და მის წინ 100 მეტრზე ახლოს, გარდა იმ შემთხვევებისა, როცა ამ ადგილებში მოძრაობა რეგულირდება ისეთი ტიპის შექნიშნით რომელიც გზაჯვარედინებზე გამოიყენება. ამავე კანონის პირველი დანართის პირველი თავის (მაფრთხილებელი ნიშნები) 1.2 და 1.4.6-1.4.6 პუნქტების თანახმად საგზაო ნიშანი: 1.2 „რკინიგზის უშლავაუშო გადასასვლელი“ - აფრთხილებს უშლავაუშო რკინიგზის გადასასვლელთან მიახლოების შესახებ; 1.4.3 „რკინიგზის გადასასვლელთან მიახლოება“ - დამატებით აფრთხილებს მძღოლს დაუსახლებელ პუნქტში რკინიგზის გადასასვლელთან მიახლოების შესახებ. ამავე თავის შენიშვნის „ბ“ და „ვ“ ქვეპუნქტების თანახმად: ბ) ნიშნები 1.1 და 1.2, დაუსახლებელ პუნქტში მეორდება, მეორე ნიშანი იდგმება სახიფათო მონაკვეთის დასაწყისიდან არანაკლებ 50 მეტრის მანძილზე; ვ) ნიშნები 1.4.3 და 1.4.6 იდგმება მოძრაობის მიმართულებით განმეორებით 1.1 ან 1.2 ნიშნებთან.



Иарбоу атагылазаашьафь, арныкѣаѳ, ахыц ахырхартала шытахьла аитатцрей, анеѳс, атѳира аманиовр анагзареи азин имоумаѳ

1

Азин имаѳам

2

Азин имоуп

### განმარტება:

„საგზაო მოძრაობის შესახებ“ საქართველოს კანონის 32-ე მუხლის მე-15 პუნქტის „დ“ ქვეპუნქტისა და მე-16 პუნქტის თანახმად: 15. აკრძალულია სატრანსპორტო საშუალების მობრუნება რკინიგზის გადასასვლელზე; 16. მძღოლი, რომელიც მობრუნებას ან უკუსვლით მოძრაობას აპირებს, უნდა დარწმუნდეს, რომ მას შეუძლია ისე შეასრულოს ეს მანევრი, რომ საფრთხე არ შეუქმნას და ხელი არ შეუშალოს სხვა საგზაო მოძრაობის მონაწილეებს. აუცილებლობის შემთხვევაში მიზანშეწონილია სხვა პირის დახმარება. აკრძალულია უკუსვლით მოძრაობა გზატკარავდინზე, ავტომაგისტრალზე და ამ მუხლის მე-15 პუნქტით განსაზღვრულ ადგილებში.





Ахысырта аамышътахъ амашъынақәа изеитамтџа игылазар, амашъына қапъшь арнықәаф амхамџа ахысырта алалара азин имоумаџ

1

Азин имаџам

2

Азин имоуп

### განმარტება:

„საგზაო მოძრაობის შესახებ“ საქართველოს კანონის 39-ე მუხლის პირველი პუნქტის „ე“ ქვეპუნქტის თანახმად, მძღოლი არ უნდა შევიდეს რკინიგზის გადასასვლელზე, თუ წინასწარ არ დარწმუნდება, რომ იძულებული არ იქნება, გაჩერდეს მასზე.

## ВОПРОС 589

ПРАВИЛЬНЫЙ ОТВЕТ: 4

Аихამდა ახისართაჲ იკაითუმუჲ

1

აიჲინგყლართაჲ ცაჲჲაშჲა აიასრეი,  
ახისართა აჲჲა იგყო ატრანსპორტაჲ  
არჲაჲა აკაშარეი

2

ამჲაკყა მა ამჲაკყაბჲა ჰაჲყზარალა  
აართა

3

ახისართა აჲჲასტატაჲ მა უი ალა აიტატრა  
აჲკრა ჲყლჲაარ ჲყლშო, აყტაჲამჲათა,  
ამჲაარგყლართაჲ, მა ეგყრტ ამაშყნაჲეი  
ამეჲანიჲმჲეი რიაგარაჲი იჲართამ  
ატაგყლაჲაშყაჲყ რყმჲანგარა

4

აბრი აბილეთ აჲყ ეიკაჲყჲაჲო  
იარბანჲაალაკ ატაგყლაჲაშყა ანაგჲარა

## განმარტება:

„საგზაო მოძრაობის შესახებ“ საქართველოს კანონის 39-ე მუხლის მე-2 პუნქტის „ა“, „ბ“ და „გ“ ქვეპუნქტების თანახმად, რკინიგზის გადასასვლელზე აკრძალულია: ა) საპირისპირო მოძრაობის ზოლზე გასვლით რკინიგზის გადასასვლელის წინ მდგომი სატრანსპორტო საშუალების შემოვლა; ბ) ჭლაგზაუმის ან ნახევარჭლაგზაუმის თვითნებური გახსნა; გ) იმ სასოფლო-სამეურნეო, საგზაო-სამშენებლო და სხვა მანქანებისა და მექანიზმების არასატრანსპორტო მდგომარეობაში გადატანა, რომლებმაც შეიძლება დააზიანონ რკინიგზის გადასასვლელი ან შეაფერხონ მასზე მოძრაობა;

## ВОПРОС 590

ПРАВИЛЬНЫЙ ОТВЕТ: 2

„Аихамда ахисарта“ аупЖ

1

Аихамда иарбанჲაალაკ აყჲჲტაჲა

2

ამჲეი იჲყჲჲყშყმ ადჲარშარეი ჲმო  
ამჲამდა მა ატრამვაი არელჲკჲა ჲაჲარაკ რყ  
რეიჲტარა

3

ამჲეი იჲყჲჲყშყმ ადჲარშარეი ჲმო  
ამჲამდა მა ატრამვაი არელჲკჲა ეიუეიჲჲყშყმ  
აჲაჲარაკჲა რყ რეიჲტარა

## განმარტება:

„საგზაო მოძრაობის შესახებ“ საქართველოს კანონის 5-ე მუხლის 58-ე პუნქტის თანახმად, „რკინიგზის გადასასვლელი“ - გზისა და დამოუკიდებელი ვაკისის მქონე რკინიგზის ან ტრამვაის ლიანდაგების ერთ ღონეზე გადაკვეთა.

## ВОПРОС 591

ПРАВИЛЬНЫЙ ОТВЕТ: 1

Атәиртаҕы аитатра аан иарбан цистерноу аахәра аганахьала иаха ишәартамҕ

1

Елипс аформа змоу

2

Игежьу аформа змоу

## განმარტება:

რაც უფრო მაღლაა განლაგებული სატრანსპორტო საშუალების სიმძიმის ცენტრი მით უფრო ნაკლებია მისი მდგრადობა გადაყირავების წინააღმდეგ, განურჩევლად ტვირთის ხასიათისა. ტვირთიანი სატრანსპორტო საშუალების სიმძიმის ცენტრი ყოველთვის უფრო მაღლაა განლაგებული ვიდრე უტვირთოსი. ელიფსის ფორმის პროფილის მქონე ავტოცისტერნის სიმძიმის ცენტრი განლაგებულია უფრო დაბლა ვიდრე მრგვალი პროფილის მქონე ავტოცისტერნის, ამიტომ ელიფსის ფორმის პროფილის მქონე ავტოცისტერნა უფრო მდგრადია გადაყირავების წინააღმდეგ.

## ВОПРОС 592

ПРАВИЛЬНЫЙ ОТВЕТ: 3

Итаҕоу аидара амҕангара аан автоцистерна аахәра ашәарта аҕынтә иаха ихьчазаауеит уи итәызарЖ

1

Бжала

2

к50ელა

3

Инагзаны, атыхәанза

## განმარტება:

რაც უფრო მაღლაა განლაგებული სატრანსპორტო საშუალების სიმძიმის ცენტრი მით უფრო ნაკლებია მისი მდგრადობა გადაყირავების წინააღმდეგ, განურჩევლად ტვირთის ხასიათისა. ტვირთიანი სატრანსპორტო საშუალების სიმძიმის ცენტრი ყოველთვის უფრო მაღლაა განლაგებული ვიდრე უტვირთოსი. ავტოცისტერნით თხევადი ტვირთის გადაზიდვის შემთხვევაში აგრეთვე გასათვალისწინებელია, რომ შეუვსებელ ცისტერნაში სითხეს აქვს გადაადგილების საშუალება, რაც დამატებით მომქმედ ინერციულ ძალას წარმოშობს და ამცირებს სატრანსპორტო საშუალების მდგრადობას გადაყირავების წინააღმდეგ.

## ВОПРОС 593

ПРАВИЛЬНЫЙ ОТВЕТ: 4

Атәиртаҕы айтатра аан амашына икәтәраар ма иаахәыр алшоитЖ

1

Аласра аццара иахканы

2

Иаалырканы ахатәира иахканы

3

Иаалырканы аанкылара иахканы

4

Аласра аццареи, иаалырканы ахатәиреи,  
иаалырканы аанкылареи ирыхканы

## განმარტება:

მოსახვევში მოძრაობისას სიჩქარის შერჩევა უნდა მოხდეს იმის გათვალისწინებით, რომ დიდია ავტომატარებლის მოცურების, დაკეცვის და გადაყირავების საშიშროება. მოსახვევები უნდა გავიაროთ მდორედ, არ უნდა გავაკეთოთ მკვეთრი დამუხრუჭება, ვიმოძრაოთ დაბალი სიჩქარით. საჭის თვლის მკვეთრი მობრუნება, მკვეთრი დამუხრუჭება ან გადამეტებული სიჩქარე მისაბმელის დიდი ინერციის გავლენით მოსალოდნელია გახდეს ავტომატარებლის მოცურების, გადაყირავების და დაკეცვის მიზეზი.

## ВОПРОС 594

ПРАВИЛЬНЫЙ ОТВЕТ: 3

Икәтәраауа амѡаҕы, ахалартаҕы айтатра аан, амашына икәтәраар ма иаахәыр алшоитЖ

1

Иаалырканы ахатәира иахканы

2

Иаалырканы аанкылара иахканы

3

Иаалырканы ахатәира, иара убас,  
иаалырканы аанкылара иахканы

## განმარტება:

ზამთრის პირობებში აღმართზე მოძრაობისას მძღოლმა უნდა ჩართოს დაბალი გადაცემა ან ჩართოს სარიგებელი კოლოფი, რათა გამორიცხოს აღმართზე სიჩქარის გადართვის აუცილებლობა, რამაც თავის მხრივ შეიძლება გამოიწვიოს წამყვანი თვლების მოცურება. აღმართზე ყინულით დაფარული გზის პირობებში ავტომობილი ვერ შეძლებს მოძრაობის განახლებას და მისაბმელი თვითნებურად დაიწყებს მოცურებას უკან. მოლიპულ გზაზე საჭის თვლის მკვეთრი მობრუნება ან დამუხრუჭება ასევე შეიძლება გახდეს ავტომობილის და მისაბმელის მოცურების, დაკეცვის ან გადაყირავების მიზეზი.



## ВОПРОС 595

ПРАВИЛЬНЫЙ ОТВЕТ: 2

Ацәиртәҕы аитатцраан автоеицрахәеи еилахәу автобуси рдинамикатә коридор арбага амашына адинамикатә коридон арбага ацкыс еихаупЖ

1

50ელა

2

1тә4т0ელა

3

5тәкт0ელა

## განმარტება:

მოსახვევში მოძრაობისას ავტომატარებლისა და შესასხრებელი ავტობუსების მოძრაობისათვის საჭირო ზოლი მნიშვნელოვნად ფართოვდება. მოხვევისას გამწვანებული ავტომობილის წინა თვლები იკავებს მოხვევის ცენტრის სანინალმდეგო მხარეს, ხოლო ავტომობილის უკანა და მისაბმელის თვლები მოხვევის ცენტრის მხარეს. ავტომატარებლისა და შესასხრებელი ავტობუსის დინამიკური დერეფანი 10-40%-ით მეტია ვიდრე ერთეული ავტომობილის და ჩვეულებრივი ავტობუსის დინამიკური დერეფანი.

## ВОПРОС 596

ПРАВИЛЬНЫЙ ОТВЕТ: 3

Автоеицрахәеи еилахәу автобуси рыла аҕысра аан, изҕысуа атранспорттә хархәаганҗа ишәаратам аганакынтә ибжыазароупЖ

1

Метрак еитңы

2

Метракибжаки еитңы

3

Ғеметрак еитңы

## განმარტება:

„საგზაო მოძრაობის შესახებ“ საქართველოს კანონის 34-ე მუხლის მე-5 პუნქტის თანახმად, უსაფრთხოების უზრუნველყოფის მიზნით, გასწრების მომენტში მძღოლმა გასასწრებ სატრანსპორტო საშუალებებისათვის (საშუალებებისათვის) უნდა დატოვოს საკმარისი გვერდითი სივრცე. გასწრების წინ მძღოლი უნდა დარწმუნდეს, რომ სავალი ნაწილის სიგანე იძლევა საშუალებას დაიკავოს გასასწრებ სატრანსპორტო საშუალებასთან მიმართებაში გვერდითი ინტერვალი არა ნაკლები 1-1,5 მეტრი. ავტომატარებლისა და შესასხრებელი ავტობუსების მძღოლებმა დამატებით უნდა გაითვალისწინონ, რომ მისაბმელის გვერდითი გადაადგილება ზრდის სატრანსპორტო შემადგენლობის დინამიკურ კარიდორს 10-40%-ით. უსაფრთხო გვერდითი ინტერვალი ამ შემთხვევაში არ უნდა იყოს 2 მეტრზე ნაკლები.

Автотранспорттә хархәагақәа ирзышьяқәыргылоу атехникатә ахәарақәа инрықәырҭшны, еихацалаку амашыынаблақәа убас ала ишьяқәыргылатәуп, урт рыгьежъкьаҭсқәа рвентилиациатә кылтәарақәа ртагылазаашья еикәнаршәарцЖ

1

Агежхарҭақәа ртарчрей, иара убас, ақәыҭәҭәара ашәарей алшара

2

Агежхарҭақәа рықәыҭәҭәара ашәара алшара мацара

3

Агежхарҭақәа ртарчра алшара мацара

### განმარტება:

„ავტოსატრანსპორტო საშუალებების მიმართ წაყენებული ტექნიკური მოთხოვნები, რომლებთან შესაბამისობის დადგენის მიზნითაც ტარდება გზისთვის ვარგისობაზე ტესტირება და მისი ჩატარების მეთოდების“ საქართველოს მთავრობის 2014 წლის 3 იანვარის №30 დადგენილებით დამტკიცებული ტექნიკური რეგლამენტის მე-8 მუხლის მე-3 პუნქტის თანახმად, შეწყვილებული თვლები ისე უნდა იყოს დაყენებული, რომ მათი დისკების სავენტილაციო ნახვრეტების მდგომარეობა უზრუნველყოფდეს საბურავების როგორც დაბერვის, ისე წნევის გაზომვის შესაძლებლობას.

## ВОПРОС 598

ПРАВИЛЬНЫЙ ОТВЕТ: 4

Автотранспорттә хархәагакәа ирзышьякәыргылоу атехникатә ахәарақәа инрықәырпышны, хымҭада еикәшәазароуп атранспорттә хархәагаЖ

1 Ашәкәа рыкнахагакәаи рцыпҭхақәаи мацара

2 Аидаратә платформа ачарткәа рыркыга мацара

3 Ацистерна артәыга аркыга мацара

4 Абри абилет аҭы еикәыпҭхьажоу ашьақәгыламтақәа зегьы

## განმარტება:

„ავტოსატრანსპორტო საშუალებების მიმართ წაყენებული ტექნიკური მოთხოვნები, რომლებთან შესაბამისობის დადგენის მიზნითაც ტარდება გზისთვის ვარგისობაზე ტესტირება და მისი ჩატარების მეთოდების“ საქართველოს მთავრობის 2014 წლის 3 იანვარის №30 დადგენილებით დამტკიცებული ტექნიკური რეგლამენტის მე-9 მუხლის მე-19 პუნქტის თანახმად, „ავტოსატრანსპორტო საშუალების კარების საკეტები, სატვირთო პლატფორმის ბორტის ჩამრაბი, ცისტერნების ჩასასხმელის ჩამრაბი, მძღოლთა და მგზავრთა სავარძლების ფიქსირებისა და რეგულირების მექანიზმები, ხმოვანი სიგნალი, საქარე მინის გაქრევისა და გათბობის მოწყობილობა, დამამზადებლის მიერ გათვალისწინებული გატაცების სანინალმდეგო მოწყობილობა, კარების ავარიული გამომრთველი და გაჩერების მანიშნებელი სიგნალი, ავტობუსების ავარიული გამოსასვლელები და მათი მოქმედებაში მომყვანი მოწყობილობა, ავტობუსის სალონის შიგა განათების ჩამრთველები, კარების მართვის ამძრავი და მათი მუშაობის სიგნალიზაცია უნდა იყოს მუშა მდგომარეობაში.

## ВОПРОС 599

ПРАВИЛЬНЫЙ ОТВЕТ: 2

Автотранспорттә хархәагакәа ирзышьякәыргылоу атехникатә ахәарақәа инрықәырпышны, аидаратә машынақәа рзы агежххарҭа апротектор аура еитцамзароупЖ

1 1, 6 мм

2 1,0 мм

3 2,0 мм

## განმარტება:

„ავტოსატრანსპორტო საშუალებების მიმართ წაყენებული ტექნიკური მოთხოვნები, რომლებთან შესაბამისობის დადგენის მიზნითაც ტარდება გზისთვის ვარგისობაზე ტესტირება და მისი ჩატარების მეთოდების“ საქართველოს მთავრობის 2014 წლის 3 იანვარის №30 დადგენილებით დამტკიცებული ტექნიკური რეგლამენტის პირველი მუხლის პირველი პუნქტის „გ“ ქვეპუნქტის თანახმად, საბურავების პროტექტორის ნახატის სიმაღლე უნდა იყოს არანაკლებ: გ) სატვირთო ავტომობილებისათვის – 1,0 მმ.

## ВОПРОС 600

ПРАВИЛЬНЫЙ ОТВЕТ: 3

Атыжыды еикәиршәо ахархәаратә документ аҕы иарбамзар, аидаратә машына аҕсҕы ахархәаратә асистемаҕы аихшыаалатә лиуфт еихамзароупЖ

1 15°

2 20°

3 25°

## განმარტება:

„ავტოსატრანსპორტო საშუალებების მიმართ წაყენებული ტექნიკური მოთხოვნები, რომლებთან შესაბამისობის დადგენის მიზნითაც ტარდება გზისთვის ვარგისობაზე ტესტირება და მისი ჩატარების მეთოდების“ საქართველოს მთავრობის 2014 წლის 3 იანვარის №30 დადგენილებით დამტკიცებული ტექნიკური რეგლამენტის მე-5 მუხლის მე-3 პუნქტის „გ“ ქვეპუნქტის თანახმად, საჭით მართვის სისტემაში ჯამური ფოლხვა არ უნდა აღემატებოდეს დამამზადებლის საექსპლუატაციო დოკუმენტში მოცემულ ზღვრულ მნიშვნელობას, ხოლო თუ ასეთი მნიშვნელობები არ არის მითითებული, შემდეგ ზღვრულ მნიშვნელობებს: გ) სატვირთო ავტომობილებისთვის – 25°.

## ВОПРОС 601

ПРАВИЛЬНЫЙ ОТВЕТ: 2

Автомѡангагала аитатра аан, амашына лас ала аитатра аан еипш акәымкәа иаха идуу адистанциа аанкылатәума аҕхьа еитатра атранспорттә хархәага аҕынжаҢ

1 Мап, избанзар автомѡангага арныкәгаѡ аҕышәа ду ахымоу аҕынтә, уи икәҕытра аамта еитуп еҕырт арныкәгаѡцаа акәҕытразы иртаху аамта ацкыс

2 Ааи, избанзар акапан ахыдуу аҕынтә автомѡангага аанкыларатә бжәазара амашына лас аанкыларатә бжәазара ацкыс иаха идууп

3 Мап, избанзар автомѡангага аанкыларатә цаахәа, амашына лас аанкыларатә цаахәа ацкыс икьаҕуп

## განმარტება:

ავტომატარებლით მოძრაობისას საჭიროა დავიცვათ მეტი დისტანცია წინ მოძრავ სატრანსპორტო საშუალებამდე, ვიდრე მსუბუქი ავტომობილით მოძრაობისას რადგან ავტომატარებლის დიდი მასა და მუხრუჭების რეაგირებისათვის საჭირო დრო საშუალებას არ იძლევა სწრაფად დამუხრუჭების.



თემა 22:

## მოდრობა ავტომაგისტრალზე

---



Асахьафь иарбоу атыџафь машӕырла амашьына иаангылазар, арныкӕаџ

1

Амашӕыртӕ алашаратӕ ардырга иафӕеикроуп

2

Иазхаша абжьазаарафь иашьашӕалоу  
адыргакӕа икӕиргылароуп

3

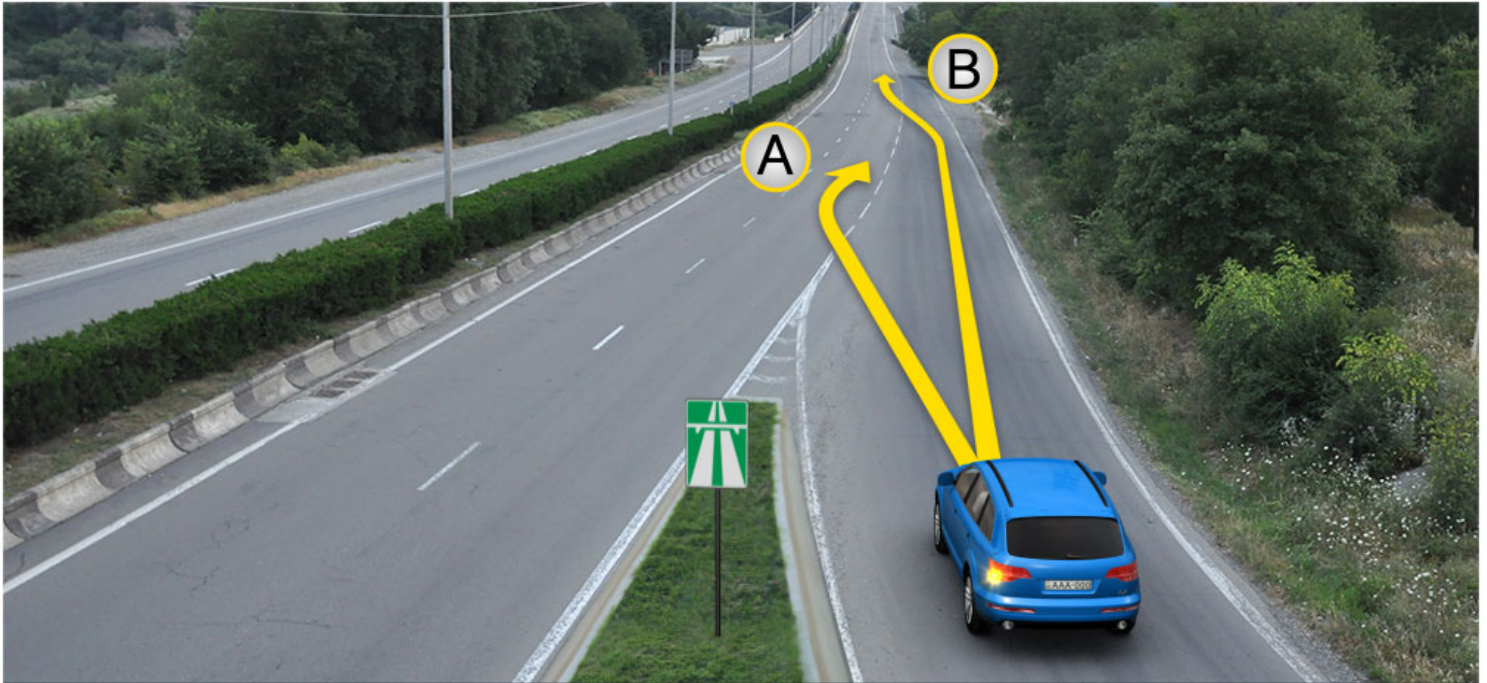
Амашӕыртӕ алашаратӕ ардырга иафӕеикроуп,  
иара убас, иазхаша абжьазаарафь  
иашьашӕалоу адыргакӕа икӕиргылароуп

### განმარტება:

„საგზაო მოძრაობის შესახებ“ საქართველოს კანონის პირველი დანართის მე-5 თავის (განსაკუთრებული მითითებების ნიშნები) 5.1 პუნქტის თანახმად საგზაო ნიშანი 5.1 „ავტომაგისტრალი“ - ავტომაგისტრალი, რომელზედაც მოქმედებს ავტომაგისტრალზე მოძრაობის მომწესრიგებელი ნორმების მოთხოვნები. ნიშანი იდგმება ავტომაგისტრალის დასაწყისში ან მის სიახლოვეს 8.1.1 დაფით. ამავე კანონის 38-ე მუხლის პირველი პუნქტის „გ.ა“ ქვეპუნქტის თანახმად ავტომაგისტრალზე, ავტომაგისტრალის შესასვლელსა და გამოსასვლელზე მძღოლს ეკრძალება ავტომობილის (ან/და მისი მისაბმელის) გაჩერება ან დგომა, დგომისთვის გამოყოფილი, სპეციალურად მონიშნული ადგილების გარდა. მძღოლმა, რომელიც მისგან დამოუკიდებელი გარემოებების გამო იძულებულია, გაჩერდეს, უნდა მიიღოს ყველა ზომა ავტომობილის (ან/და მისი მისაბმელის) გზის სავალი ნაწილიდან გასაყვანად, ხოლო თუ ამის დაუყოვნებლივ გაკეთება შეუძლებელია – ჩართოს საავარიო შექსიგნალიზაცია (მისი არსებობის შემთხვევაში) და შესაბამისი ნიშნით მონიშნოს ავტომობილი (ან/და მისი მისაბმელი) საკმარის მანძილზე, რათა დროულად გააფრთხილოს მოახლოებული მძღოლები. ამავე კანონის 52-ე მუხლის პირველი პუნქტის „ა“ ქვეპუნქტისა და მე-2 პუნქტის „ბ“ ქვეპუნქტის თანახმად: 1. საავარიო შექსიგნალიზაცია გამოიყენება მოსალოდნელი საფრთხის შესახებ სხვა საგზაო მოძრაობის მონაწილეთა გაფრთხილებისათვის. საავარიო შექსიგნალიზაცია უნდა ჩაირთოს: ბ) იმ ადგილას იძულებით გაჩერების დროს, სადაც გაჩერება აკრძალულია; 2. საავარიო შექსიგნალიზაციის ჩართვის შემდეგ, აგრეთვე თუ ასეთი სიგნალიზაცია არ არსებობს ან მწყობრიდანაა გამოსული, მძღოლმა დაუყოვნებლივ უნდა დადგას „სავარიო გაჩერების ნიშანი“, ხოლო არასაკმარისი ხილვადობის პირობებში – მოციმციმე წითელი ფარანი: ბ) იმ ადგილას იძულებით გაჩერების დროს, სადაც გაჩერება აკრძალულია, და იქ, სადაც, ხილვადობის პირობების

ВОПРОС 603

ПРАВИЛЬНЫЙ ОТВЕТ: 2



Амцаფы арласратә цәахәа иҟазар, амашына лас арныкәаҭ аитатра азин имоупЖ

1

А ахырхартә мацарала

2

В ахырхартә мацарала

3

Аи Ви ахырхартәкәа рыла

განმარტება:

„საგზაო მოძრაობის შესახებ“ საქართველოს კანონის 32-ე მუხლის მე-14 პუნქტის თანახმად, გზაზე გასასვლელ ადგილზე გაქანების ზოლის არსებობის შემთხვევაში მძღოლმა უნდა იმოძრაოს ამ ზოლზე და მეზობელ მოძრაობის ზოლზე გადაადგილებისას გზა უნდა დაუთმოს მასზე მოძრავ სატრანსპორტო საშუალებებს.





Амашына каҭшь арныкәа арҭьарахьтәи ахатцәирта давсит. Ахатцәирта алаларазы ахыц ахырхартала шьтахьла ацара азин имоумаҭ

1

Азин имаҭам

2

Азин имоуп

### განმარტება:

„საგზაო მოძრაობის შესახებ“ საქართველოს კანონის 38-ე მუხლის პირველი პუნქტის „გ.ბ“ ქვეპუნქტის თანახმად ავტომაგისტრალზე, ავტომაგისტრალის შესასვლელზე და გამოსასვლელზე მძღოლს ეკრძალება მობრუნება ან უკუსვლით მოძრაობა, აგრეთვე ცენტრალურ გამყოფ ზოლსა და გზის ორივე სავალი ნაწილის განივ შეერთებაზე გასვლა. ამავე კანონის პირველი დანართის მე-5 თავის (განსაკუთრებული მითითებების ნიშნები) 5.1 პუნქტის თანახმად საგზაო ნიშანი 5.1 „ავტომაგისტრალი“ - აღნიშნავს ავტომაგისტრალს, რომელზედაც მოქმედებს ავტომაგისტრალზე მოძრაობის მომწესრიგებელი ნორმების მოთხოვნები.





Амашына лас арныкææ амдасыртакæа рнадаадатæи аиушъра атыу давсит. Уи ахыц ахырхартала шътахъла аитатра азин имоумау

1

Азин имауам

2

Азин имоуп

### განმარტება:

„საგზაო მოძრაობის შესახებ“ საქართველოს კანონის 38-ე მუხლის პირველი პუნქტის „გ.ბ“ ქვეპუნქტის თანახმად ავტომაგისტრალზე, ავტომაგისტრალის შესასვლელებზე და გამოსასვლელებზე მძღოლს ეკრძალება მობრუნება ან უკუსვლით მოძრაობა, აგრეთვე ცენტრალურ გამყოფ ზოლსა და გზის ორივე სავალი ნაწილის განივ შეერთებაზე გასვლა. ამავე კანონის პირველი დანართის მე-5 თავის (განსაკუთრებული მითითებების ნიშნები) 5.1 პუნქტის თანახმად საგზაო ნიშანი 5.1 „ავტომაგისტრალი“ - აღნიშნავს ავტომაგისტრალს, რომელზედაც მოქმედებს ავტომაგისტრალზე მოძრაობის მომწესრიგებელი ნორმების მოთხოვნები.

Цага еиқыпхызоу атранспорттә хархәагақәа рырныкәаџцәеи амџатә аитатра алахәылацәеи ркынтә, автомагистральқәа рҕы, иара убас, автомагистральқәа ралалартақәеи ртытыртақәеи рҕы аитатра азин змадаҕ

1

Амопед арныкәаџ

2

Ашыакауаа

3


Өегежык змоу афымцамаланыкәа арныкәаџ

4

Автоицрақәа арныкәаџ

### განმარტება:

„საგზაო მოძრაობის შესახებ“ საქართველოს კანონის 38-ე მუხლის პირველი პუნქტის „ა“ ქვეპუნქტის თანახმად, ავტომაგისტრალზე, ავტომაგისტრალის შესასვლელსა და გამოსასვლელზე აკრძალულია ქვეითის, ცხოველის, ველოსიპედის, მოპედის, ორბორბლიანი ელექტროთვითმგორავის, ავტომობილისა და მათი მისაბმელებისგან განსხვავებული ყველა სატრანსპორტო საშუალების მოძრაობა, აგრეთვე იმ ავტომობილის (მისაბმელით ან მის გარეშე) მოძრაობა, რომლის კონსტრუქციული სიჩქარე არ აღემატება 40 კმ/სთ-ს (ეს შეზღუდვა არ ვრცელდება იმ მექანიკურ სატრანსპორტო საშუალებაზე, რომელიც ავტომაგისტრალზე მოძრაობს უფლებამოსილ ორგანოსთან (უნწყებასთან) საქართველოს კანონმდებლობით დადგენილი წესით შეთანხმებისა და ამ შეთანხმების პირობების შესაბამისად).



Автомагистრალ ალტრავა ამაშყნა ღას არნყკაფ აიტატრა აზინ იმოუპჟ

1

A ახყრხართალა

2

B ახყრხართალა


3

Ai Bi ახყრხართაკა რყლა

### განმარტყბა:

„საგზაო მოძრაობის შესახებ“ საქართველოს კანონის 38-ე მუხლის მე-3 პუნქტის თანახმად, ავტომაგისტრალიდან გამოსვლისას მძღოლი დროულად უნდა გადავიდეს ავტომაგისტრალიდან გამოსასვლელის მიმდებარე ზოლზე და რაც შეიძლება სწრაფად შევიდეს მოძრაობის შენელების ზოლზე, თუ ასეთი ზოლი არსებობს.





Ахыц ахырхартала аитатцра аан абарт амашынакәа рырныкәащцәа ркынтә амәатә аитатцра атцаскәа еилазгодаҕ

1

Аидаратә машына арныкәащ цатәы

2

Аәәмашынак рырыкәащцәа

3

Амашына лас арныкәащ цатәы

4

Азәҕы

### განმარტება:

„საგზაო მოძრაობის შესახებ“ საქართველოს კანონის 38-ე მუხლის პირველი პუნქტის „გ.გ“ ქვეპუნქტის თანახმად, ავტომანქანებზე, ავტომანქანის შესასვლელსა და გამოსასვლელზე მძღოლს ეკრძალება მეორე ზოლის იქით იმ ტვირთის გადამზიდავი ავტომობილით (მისაბმელებით ან მათ გარეშე) მოძრაობა, რომლის ნებადართული მაქსიმალური მასა 3,5 ტონას აღემატება ან იმ მისაბმელიანი ავტომობილებით მოძრაობა, რომელთა საერთო სიგრძე 7 მეტრზე მეტია. ამავე მუხლის მე-3 პუნქტის თანახმად, ავტომანქანებიდან გამოსვლისას მძღოლი დროულად უნდა გადავიდეს ავტომანქანებიდან გამოსასვლელის მიმდებარე ზოლზე და რაც შეიძლება სწრაფად შევიდეს მოძრაობის შენელების ზოლზე, თუ ასეთი ზოლი არსებობს.





Амашына лас арныкәәф, уаха псыхәа имамкәа автомагистраль афы иазгәаҭоу атыҭаҭы даангылар, амәатә аитәҭра атаскәа еилеигомаҭ

1


Еилеигом

2

Еилеიგოит

### განმარტება:

„საგზაო მოძრაობის შესახებ“ საქართველოს კანონის 38-ე მუხლის პირველი პუნქტის „გ.ა“ და „გ.ბ“ ქვეპუნქტების თანახმად, ავტომაგისტრალზე, ავტომაგისტრალის შესასვლელსა და გამოსასვლელზე მძღოლს ეკრძალება: გ.ა) ავტომობილის (ან/და მისი მისაბმელის) გაჩერება ან დგომა, დგომისთვის გამოყოფილი, სპეციალურად მონიშნული ადგილების გარდა. გ.ბ) მობრუნება ან უკუსვლით მოძრაობა, აგრეთვე ცენტრალურ გამყოფ ზოლსა და გზის ორივე სავალი ნაწილის განივ შეერთებაზე გასვლა; ამავე კანონის მე-2 დანართის პირველი თავის (ჰორიზონტალური მონიშვნა) 1.2.1 პუნქტის თანახმად, 1.2.1 მთლიანი ფართო ხაზი - აღნიშნავს ავტომაგისტრალზე სავალი ნაწილის ნაპირებს. 1.2.1 ხაზის გადაკვეთა აკრძალულია. დასაშვებია სავალი ნაწილის ნაპირის აღმნიშვნელი და მძღოლის მარჯვენა მხარეს განლაგებული 1.2.1 ხაზის გადაკვეთა სატრანსპორტო საშუალების გზის ნაპირზე გასაჩერებლად.



Иарбоу атагылазашыаҕы абарт атранспорттэ хархэаҕаҕа ырыныкэаҕаҕа ркынтэ ахыц ахырхартала аитатра азин змадаҕ

1

Аидаратэ машына арныкэаҕ мацара.

2

Амопед арныкэаҕ мацара.

3


Амашына лас арныкэаҕ мацара.

4

Атранспорттэ хархэаҕаҕа зегы ырыныкэаҕаҕа

### განმარტება:

„საგზაო მოძრაობის შესახებ“ საქართველოს კანონის 38-ე მუხლის პირველი პუნქტის „ა“ ქვეპუნქტის თანახმად, აკრძალულია ქვეითების, ცხოველების, ველოსიპედების, მოპედების, ავტომობილებისა და მათი მისაბმელებისგან განსხვავებული ყველა სატრანსპორტო საშუალების მოძრაობა, აგრეთვე იმ ავტომობილების (მისაბმელებით ან მათ გარეშე) მოძრაობა, რომელთა კონსტრუქციული სიჩქარე არ აღემატება 40 კმ/სთ (აღნიშნული შეზღუდვა არ ვრცელდება იმ მექანიკურ სატრანსპორტო საშუალებებზე, რომლებიც ავტომაგისტრალზე გადაადგილდებიან უფლებამოსილი ორგანოსთან (უნწყებასთან) კანონმდებლობით დადგენილი წესით შეთანხმებისა და ამ შეთანხმების პირობების შესაბამისად). ამავე პუნქტის „გ.გ“ ქვეპუნქტის თანახმად, ავტომაგისტრალზე, ავტომაგისტრალის შესასვლელსა და გამოსასვლელზე მძღოლს ეკრძალება მეორე ზოლის იქით იმ ტვირთის გადამზიდავი ავტომობილით (მისაბმელებით ან მათ გარეშე) მოძრაობა, რომლის ნებადართული მაქსიმალური მასა 3,5 ტონას აღემატება ან იმ მისაბმელიანი ავტომობილებით მოძრაობა, რომელთა საერთო სიგრძე 7 მეტრზე მეტია.



Аидаратә машына арныкәа амѡаѡарѡеиратә усурақәа наигзѡит. Абарт арныкәаѡцәа ркынтә ахыц ахырхартала аитатра азин змамдаѢ

1

Аидаратә машына арныкәаѡ мацара.

2

Амашына лас арныкәаѡ мацара.

3

Аѡемашынак рырныкәаѡцәа

4

Азѡгы

### განმარტება:

„საგზაო მოძრაობის შესახებ“ საქართველოს კანონის კანონის 51-ე მუხლის მე-4 პუნქტის თანახმად, მძღოლს, რომელსაც სატრანსპორტო საშუალებაზე ჩართული აქვს ნარინჯისფერი ან ყვითელი ფერის მოელვარე სპეციალური შუქური სიგნალი და რომელიც გზაზე ასრულებს სამშენებლო, სარემონტო ან დასასუფთავებელ სამუშაოებს, ან საინჟინერო სატრანსპორტო საშუალებით გადა აქვს ძვირფასეულობა ან ფასიანი ქაღალდები, ან გადააქვს სახიფათო ტვირთი, ან გადაადგილდება არაგაბარითული (მსხვილგაბარითიანი) ან ზენორმატიული (მძიმეწონიანი) სატრანსპორტო საშუალებით, შეუძლია გადაუხვიოს საგზაო ნიშნებისა და მონიშვნების, აგრეთვე ამ კანონის 31-ე მუხლის მე-5–მე-10, მე-15, მე-16 და 38-ე მუხლის პირველი პუნქტების მოთხოვნებს თუ უზრუნველყოფს საგზაო მოძრაობის უსაფრთხოებას. ნარინჯისფერი ან ყვითელი მოელვარე სპეციალური შუქური სიგნალი არ იძლევა უპირატესობას საგზაო მოძრაობის სხვა მონაწილეების მიმართ და გამოიყენება ყურადღების მისაპყრობად მოსალოდნელი საშიშროების თავიდან ასაცილებლად.





Иарбоу ატაგჲლაზააშაფჲ, იჲჲახსტაჲაზ ამაშჲყნა ამჲა აჲგარაზჲ ალშარა ԝჲამზარ, არნჲჲაჲ ჲჲა ჲსჲჲჲა იჲამ აანგჲლარაზჲ იშჲაჲგჲჲოუ აჲჲარაჲჲა ეილეიგომაჲ

1

Еилеигом

2

Еилеигоит

### განმარტება:

„საგზაო მოძრაობის შესახებ“ საქართველოს კანონის 38-ე მუხლის პირველი პუნქტის „გ.ა“ ქვეპუნქტის თანახმად, ავტომაგისტრალზე, ავტომაგისტრალის შესასვლელსა და გამოსასვლელზე მძღოლს ეკრძალება, ავტომობილის (ან/და მისი მისაბმელის) გაჩერება ან დგომა, დგომისთვის გამოყოფილი, სპეციალურად მონიშნული ადგილების გარდა. მძღოლმა, რომელიც მისგან დამოუკიდებელი გარემოებების გამო იძულებულია, გაჩერდეს, უნდა მიიღოს ყველა ზომა ავტომობილის (ან/და მისი მისაბმელის) გზის სავალი ნაწილიდან გასაყვანად, ხოლო თუ ამის დაუყოვნებლივ გაკეთება შეუძლებელია – ჩართოს საავარიო ჭეშისგნალიზაცია (მისი არსებობის შემთხვევაში) და შესაბამისი ნიშნით მონიშნოს ავტომობილი (ან/და მისი მისაბმელი) საკმარის მანძილზე, რათა დროულად გააფრთხილოს მოახლოებული მძღოლები.





Амашына лас арныкѣад, уаха псыхѣа имамкѣа асахѣаы иазгѣатоу атыѣаѣ даангылар, амѣатѣ аитатра атаскѣа еилеигомаѢ

1

Еилеигом

2

Еилеიგოит

### განმარტება:

„საგზაო მოძრაობის შესახებ“ საქართველოს კანონის 38-ე მუხლის პირველი პუნქტის „გ.ა“ ქვეპუნქტის თანახმად, ავტომაგისტრალზე, ავტომაგისტრალის შესასვლელსა და გამოსასვლელზე მძღოლს ეკრძალება, ავტომობილის (ან/და მისი მისაბმელის) გაჩერება ან დგომა, დგომისთვის გამოყოფილი, სპეციალურად მონიშნული ადგილების გარდა. მძღოლმა, რომელიც მისგან დამოუკიდებელი გარემოებების გამო იძულებულია, გაჩერდეს, უნდა მიიღოს ყველა ზომა ავტომობილის (ან/და მისი მისაბმელის) გზის სავალი ნაწილიდან გასაყვანად, ხოლო თუ ამის დაუყოვნებლივ გაკეთება შეუძლებელია – ჩართოს საავარიო შექსიგნალიზაცია (მისი არსებობის შემთხვევაში) და შესაბამისი ნიშნით მონიშნოს ავტომობილი (ან/და მისი მისაბმელი) საკმარის მანძილზე, რათა დროულად გააფრთხილოს მოახლოებული მძღოლები. ამავე კანონის 52-ე მუხლის მე-3 პუნქტის თანახმად, „საავარიო გაჩერების ნიშანი“ და მოციმციმე წითელი ფარანი უნდა დაიდგას სატრანსპორტო საშუალებიდან იმ მანძილზე, რომელიც კონკრეტულ პირობებში უზრუნველყოფს საშიშროების შესახებ სხვა მძღოლების დროულ გაფრთხილებას. მაგრამ ეს მანძილი დასახლებულ პუნქტში არ უნდა იყოს 15 მეტრზე, ხოლო დაუსახლებელში - 30 მეტრზე ნაკლები.



Автобусი აიდარტე მანქანის სათქალა 80კმ. ალასრალა ეიტაცუაზარ, ამოპედ – სათქალა 40კმ. ალასრა ამაზარ, აბარტ ატრანსპორტტე ჰარხეაგაკეა რყრნყეაფცეა რყრნყე ამფატე აიტატრა ატცასკეა ეილაცგოდაჲ

1

Автобус არნყეაფ ზატყე

2

აიდარტე მანქანა არნყეაფ ზატყე

3

ამოპედ არნყეაფ ზატყე

4

აიდარტე მანქანის ამოპედი რყრნყეაფცეა

### განმარტება:

„საგზაო მოძრაობის შესახებ“ საქართველოს კანონის 38-ე მუხლის პირველი პუნქტის „ა“ და „გ.გ“ ქვეპუნქტების თანახმად, ავტომაგისტრალზე, ავტომაგისტრალის შესასვლელზე და გამოსასვლელზე: ა) აკრძალულია ქვეითების, ცხოველების, ველოსიპედების, მოპედების, ავტომობილებისა და მათი მისაბმელებისგან განსხვავებული ყველა სატრანსპორტო საშუალების მოძრაობა; გ.გ) მძღოლს ეკრძალება მეორე ზოლის იქით იმ ტვირთის გადამზიდავი ავტომობილით (მისაბმელებით ან მათ გარეშე) მოძრაობა, რომლის ნებადართული მაქსიმალური მასა 3,5 ტონას აღემატება ან იმ მისაბმელიანი ავტომობილებით მოძრაობა, რომელთა საერთო სიგრძე 7 მეტრზე მეტია. ამავე კანონის მე-5 მუხლის 71-ე პუნქტის თანახმად, სატვირთო ავტომობილი არის ტვირთის გადასაზიდად განკუთვნილი ავტოსატრანსპორტო საშუალება, რომლის ნებადართული მაქსიმალური მასა აღემატება 3 500 კგ-ს.

## ВОПРОС 615

ПРАВИЛЬНЫЙ ОТВЕТ: 3

Қырттәыла ахәаа ахысра аан ахазалхратә гәатара иахысроупЖ

1

Атранспорттә хархәагақәа мацара

2

Атранспорттә хархәагақәа имѳанырго  
аматәарқәа зегы Пҭатауари амазареиТ

3

Атауари атранспорттә хархәагеи абри  
абилет аҿы еикәыпхьаҿоу иарбанзаалак  
аҿагылазаашьаҿы

## განმარტება:

საქართველოს საგადასახადო კოდექსის 214-ე მუხლის მე-2 პუნქტის „ა“ და „ბ“ ქვეპუნქტების თანახმად, საბაჟო კონტროლს ექვემდებარება: ბ) საბაჟო ზედამხედველობას დაქვემდებარებული საქონელი და სატრანსპორტო საშუალება; გ) ტერიტორია, სადაც განთავსებულია საბაჟო ზედამხედველობას დაქვემდებარებული საქონელი და სატრანსპორტო საშუალება.

## ВОПРОС 616

ПРАВИЛЬНЫЙ ОТВЕТ: 2

Атауар зтәу ахаҿы, ахазалхратә орган ахәарала, ихатә харцҭыла атауар атәахра ма ахазалхратә гәатара ахымҭадара иазпхьагәатаны, ахазалхратә орган ахәарала, аорган ала иазгәаҿоу атып ашка атауар анагара ихәҿоумаҾ

1

Ихәҿам

2

Ихәҿоуп

## განმარტება:

საქართველოს საგადასახადო კოდექსის 220-ე მუხლის მე-3 პუნქტის თანახმად, თუ ერთი საბაჟო დეკლარაციით დეკლარირებულია სხვადასხვა სახეობის საქონელი, საქონლის თითოეული სახეობა ითვლება ცალ-ცალკე დეკლარირებულად.

## ВОПРОС 617

ПРАВИЛЬНЫЙ ОТВЕТ: 3

Ахазалхратә гәтара иахысыз атауар, ахаҭы ихәарала, аамтала, ашьтатцартаҭы иҭәахызар калоитЖ

1

Мызкы еиҳамкәа

2

Ҧымз иреиҳамкәа

3

Хымз иреиҳамкәа

## განმარტება:

საქართველოს საგადასახადო კოდექსის 217-ე მუხლის მე-3 პუნქტის თანახმად საქონელი, რომელზედაც უკვე განსაზღვრულია სასაქონლო ოპერაცია (გარდა ექსპორტისა), პირის მოთხოვნით, შეიძლება საბაჟო სანცობში დროებით ინახებოდეს არა უმეტეს 5 კალენდარული წლისა, ხოლო ექსპორტის შემთხვევაში – არა უმეტეს 120 დღისა.

## ВОПРОС 618

ПРАВИЛЬНЫЙ ОТВЕТ: 3

Ахазалхратә хылаҭшра анагзараЖ

1

Ауаҭытәыҭса иҭстазаареи игәабзиареи рзы ишәартамзароуп

2

Игәарто атауари аҭсабареи аҭхаста рзаанамгароуп

3

Абри абилет аҭы еиқәыҭхьазоу аҭагылазаашьақәа зегьы раан.

## განმარტება:

საქართველოს საგადასახადო კოდექსის 218-ე მუხლის მე-4 პუნქტის „ა“ და „ბ“ ქვეპუნქტების თანახმად, რეგისტრირებულ საბაჟო დეკლარაციაში შესაძლებელია ცვლილებები შეტანილ იქნეს: ა) საქონლის გაშვებამდე, საგადასახადო ორგანოს ინიციატივით, საბაჟო დეკლარაციის შემოწმებისას, თუ დადგინდა ამ დეკლარაციაში არასწორი მონაცემის არსებობა; ბ) საქონლის გაშვებამდე, დეკლარანტის ინიციატივით, თუ საგადასახადო ორგანოს არ შეუტყობინებია დეკლარანტისთვის ამ საბაჟო დეკლარაციის შემოწმების განზრახვა ან არ დაუდგენია დეკლარირებული მონაცემების მცდარობა.



## ВОПРОС 619

ПРАВИЛЬНЫЙ ОТВЕТ: 4

Ашәкәы иалагалоу ахазалхратә декларация агәатара амзызла ахазалхратә орган азин амоупЖ

1

Ахазалхратә декларациеи уи иацу ашәкәкәеи, атауари реишьашәалара мацара агәатара

2

Адекларация иану адырракәа ирыдхәалоу адокументкәа мацара рцәыргаразы ахәара

3

Атауар агәатарей ахкы агарей

4

Абри абилет аґы еикәыпхьазоу аформақәа зегы ахазалтә хылапшра аформа иатцанакәеит

## განმარტება:

საქართველოს საგადასახადო კოდექსის 214-ე მუხლის მე-3 პუნქტის „ბ“, „ე“ და „ვ“ ქვეპუნქტების თანახმად, საბაჟო კონტროლის ფორმებია: ბ) ზეპირი გამოკითხვა; ე) საქონლის, სატრანსპორტო საშუალებისა და ტერიტორიის დათვალიერება; ვ) ლაბორატორიული კვლევის მიზნით სინჯისა და ნიმუშის აღება;

## ВОПРОС 620

ПРАВИЛЬНЫЙ ОТВЕТ: 2

Қырттәыла административтә азинеилагара иазку азакәанейдыла инақәырпшны, амґа арқьашьра ма аґхастатәара зхылґиаарц зылшо, зеидаратыґ ма зыцрақәага хәартам атранспорттә харқәага ала арғыларатә материалқәа ма еґырт аматериалқәеи ацәынхакәеи рымґангаразы арнықәаґ иқәшәоитЖ

1

300 лари иақароу ахараґсеи хымз рыла атранспорттә харқәага арнықәара азин аанкыларей.

2

300 лари иақароу ахараґса.

3

250 лари иақароу ахараґса.

## განმარტება:

საქართველოს ადმინისტრაციული სამართალდარღვევათა კოდექსის 1191-ე მუხლის თანახმად, სამშენებლო ან სხვა სახის მასალების, ნარჩენების გადაზიდვა ისეთი სატრანსპორტო საშუალებებით, რომლებსაც აქვს გაუმართავი საბარგული ან მისაბმელი მოწყობილობა, რაც ქმნის გზის საფარის დანაგვიანების ან დაზიანების საფრთხეს, - გამოიწვევს დაჯარიმებას 300 ლარით.

## ВОПРОС 621

## ПРАВИЛЬНЫЙ ОТВЕТ: 2

Қырттәыла административтә азинеилагара иазку азакәанейдыла инакәырҕшны, жәларбжьаратәи автомобилтә амҕангара иазку «Жәларбжьаратәи автомобилтә анеиааира назыгзо атранспорттә хархәагакәа рекипажкәа русура иазку» европатәи аикәшахатра ГҖФУЕКТ атаскәа реилагара иахылҕиаауеитЖ

1

Шыкәсык ала атранспорттә хархәага арныкәара азин аанкылара.

2

500 лари иакароу ахараҕса.

3

1000 лари иакароу ахараҕса.

## განმარტება:

საქართველოს ადმინისტრაციული სამართალდარღვევათა კოდექსის 1271-ე მუხლის მე-7 ნაწილის თანახმად, საერთაშორისო საავტომობილო გადაზიდვა-გადაყვანის „საერთაშორისო საავტომობილო მიმოსვლის მწარმოებელი სატრანსპორტო საშუალებების ეკიპაჟების მუშაობის შესახებ“ ევროპის შეთანხმების (AETR) წესების დარღვევით განხორციელება გამოიწვევს დაჯარიმებას 500 ლარის ოდენობით.

თემა 23:

საცხოვრებელი ზონა, სამარშრუტო  
ტრანსპორტის პრიორიტეტი

---

## ВОПРОС 622

ПРАВИЛЬНЫЙ ОТВЕТ: 2

Алапшбара азонафы ашыакауаа рхысырта ма амѳеихысырта икамзар, амѳа ахысра калоит амѳасырта алыра аперпендикулиарла, абарт ацыпѳѳаахақѳа руақы аѳыЖ

1

Аикѳшаратѳ цѳахѳа иахыыкоу, аѳеганкт ркынтѳ амѳа ибзианы иахыубартоу

2

Аикѳшаратѳ цѳахѳа иахыыкам, аѳеганкт ркынтѳ амѳа ибзианы иахыубартоу

## განმარტება:

„საგზაო მოძრაობის შესახებ“ საქართველოს კანონის 24-ე მუხლის მე-8 პუნქტის თანახმად, თუ ხილვადობის ზონაში არ არის ქვეითთა გადასასვლელი ან გზაჯვარედინი, გზაზე გადასვლა ნებადართულია გზის სავალი ნაწილის ღერძის პერპენდიკულარულად, იმ მონაკვეთში, სადაც არ არის გამყოფი ზოლი ან ღობურა და გზა ორივე მხრიდან კარგად ჩანს.

## ВОПРОС 623

ПРАВИЛЬНЫЙ ОТВЕТ: 4

Ашыакауаа рхысырта иахыыкам атыпѳаѳы ашыакауаѳ амѳасырташқа диасроупЖ

1

Иааигѳахо атранспорттѳ хархѳаага ақынза ибжьоу ианибалак аамышьтахь

2

Иааигѳахо атранспорттѳ хархѳаага аласра иангѳеиталак аамышьтахь

3

Амѳа ахысра ишшѳартам агѳра анигалак аамышьтахь

4

Иааигѳахо атранспорттѳ хархѳаага ақынза ибжьоуи, иааигѳахо атранспорттѳ хархѳаага аласреи иангѳеиталак, иара убас, амѳа ахысра ишшѳартам агѳра анигалак аамышьтахь

## განმარტება:

„საგზაო მოძრაობის შესახებ“ საქართველოს კანონის 24-ე მუხლის მე-8 პუნქტის თანახმად, იქ სადაც არ არის ქვეითთა გადასასვლელი, ქვეითი არ უნდა გადავიდეს გზის სავალ ნაწილზე მოახლოებულ სატრანსპორტო საშუალებამდე მანძილის, მისი სიჩქარის განსაზღვრამდე და გადასვლის უსაფრთხოებაში დარწმუნებამდე.





Амашына лас арныкѣа ахыц ахырхартала деитатцуазар, амѣатѣ аитатцра абарт алахѣылацѣа ркынтѣ амѣа зитѣрц ихѣтадаѢ

1

Ашьакауаа

2

Амаланыкѣа арныкѣаа

3

Аидаратѣ машына арныкѣаа

4

Ашьакауааи, иара убас, амаланыкѣеи аидаратѣ машынеи рырныкѣаацѣеи

### განმარტება:

„საგზაო მოძრაობის შესახებ“ საქართველოს კანონის 32-ე მუხლის მე-3 პუნქტის თანახმად, მიმდებარე ტერიტორიიდან გზაზე გასვლისას მძღოლი ვალდებულია გზა დაუთმოს გზაზე მოძრავ სატრანსპორტო საშუალებასა და ქვეითს, ხოლო გზიდან გადასვლისას – იმ ქვეითს, ველოსიპედისტს, მოპედისა და ორბორბლიანი ელექტროთვითმგორავის მძღოლებს, რომლებსაც გზას უჭრის.



Ашыакауаа агәара ацакыараҕы еитатҕеит, урт ирыхәтоупЖ

1

Ишиашоу аитатра нарыгзароуп


2

Арҕыарахь ма армарахь иасны амашына лас  
амҕа артароуп

### განმარტება:

„საგზაო მოძრაობის შესახებ“ საქართველოს კანონის 44-ე მუხლის პირველი პუნქტის „დ“ ქვეპუნქტის თანახმად, შესაბამისი ნიშნით აღნიშნულ საცხოვრებელ ზონებში, ქვეითმა უსაფუძვლოდ არ უნდა შეაფერხოს ტრანსპორტის მოძრაობა. ამავე კანონის პირველი დანართის მე-5 თავის (განსაკუთრებული მითითებების ნიშნები) 5.21 პუნქტის თანახმად საგზაო ნიშანი 5.21 „საცხოვრებელი ზონა“ - აღნიშნავს ტერიტორიას (ზონას) სადაც მოქმედებს საცხოვრებელ ზონაში მოძრაობისათვის დადგენილი წესები. ნიშანი იდგმება ასეთი საცხოვრებელი ზონის ყველა შესასვლელში.





Агәара ацакыраҕы амашына лас арныкѣѣ дызлеитатѣу аласра еихамзароупЖ

1

Сааткала 20км

2

Сааткала 40км

3

Сааткала 60км

### განმარტება:

„საგზაო მოძრაობის შესახებ“ საქართველოს კანონის 33-ე მუხლის მე-6 პუნქტის თანახმად, თუ ამ კანონით სხვა რამ არ არის დადგენილი, დასახლებულ პუნქტში ნებადართულია სატრანსპორტო საშუალების მოძრაობა არა უმეტეს 60 კმ/სთ სიჩქარით, ხოლო საცხოვრებელ ზონაში - არაუმეტეს 20 კმ/სთ სიჩქარით. ამავე კანონის 44-ე მუხლის პირველი პუნქტის „ბ“ ქვეპუნქტის თანახმად, შესაბამისი ნიშნით აღნიშნულ საცხოვრებელ ზონებში, მძღოლი უნდა გადაადგილდეს არაუმეტეს 20კმ/სთ სიჩქარით. ამავე კანონის პირველი დანართის მე-5 თავის (განსაკუთრებული მითითებების ნიშნები) 5.21 პუნქტის თანახმად საგზაო ნიშანი 5.21 „საცხოვრებელი ზონა“ - აღნიშნავს ტერიტორიას (ზონას) სადაც მოქმედებს საცხოვრებელ ზონაში მოძრაობისათვის დადგენილი წესები. ნიშანი იდგმება ასეთი საცხოვრებელი ზონის ყველა შესასვლელში.



Аидаратə машына арныкəаф аитатцразы ззин имоу аласра еихамзароупЖ

1

Сааткала 50км

2

Сааткала 40км

3

Сааткала 30км


4

Сааткала 20км

### განმარტება:

„საგზაო მოძრაობის შესახებ“ საქართველოს კანონის 33-ე მუხლის მე-6 პუნქტის თანახმად, თუ ამ კანონით სხვა რამ არ არის დადგენილი, დასახლებულ პუნქტში ნებადართულია სატრანსპორტო საშუალების მოძრაობა არაუმეტეს 60 კმ/სთ სიჩქარით, ხოლო საცხოვრებელ ზონაში - არაუმეტეს 20 კმ/სთ სიჩქარით. ამავე კანონის 44-ე მუხლის პირველი პუნქტის „ბ“ ქვეპუნქტის თანახმად, შესაბამისი ნიშნით აღნიშნულ საცხოვრებელ ზონებში, მძღოლი უნდა გადაადგილდეს არაუმეტეს 20კმ/სთ სიჩქარით. ამავე კანონის პირველი დანართის მე-5 თავის (განსაკუთრებული მითითებების ნიშნები) 5.21 პუნქტის თანახმად საგზაო ნიშანი 5.21 „საცხოვრებელი ზონა“ - აღნიშნავს ტერიტორიას (ზონას) სადაც მოქმედებს საცხოვრებელ ზონაში მოძრაობისათვის დადგენილი წესები. ნიშანი იდგმება ასეთი საცხოვრებელი ზონის ყველა შესასვლელში.





Амашына лас арныкәә ахыц ахырхартала деитатцазар, амәтә аитатра алахәылацә ркынтә амәа атара зыхәтадаҭ

1

Ашыакауаа

2

Амаланыкәа арныкәә

3

Амопед арныкәә

4

Ашыакауааи, иара убас, амаланыкәеи  
амопеди рырныкәәцәа.

### განმარტება:

„საგზაო მოძრაობის შესახებ“ საქართველოს კანონის პირველი დანართის მე-5 თავის (განსაკუთრებული მითითებების ნიშნები) 5.22 პუნქტის თანახმად საგზაო ნიშანი 5.22 „საცხოვრებელი ზონის დასასრული“ - აღნიშნავს 5.21 „საცხოვრებელი ნიშნით აღნიშნული საცხოვრებელი ზონის დასასრულს. ნიშანი იდგმება საცხოვრებელი ზონის ყველა გამოსასვლელში. ამავე კანონის 44-ე მუხლის პირველი პუნქტის „ე“ ქვეპუნქტის თანახმად, შესაბამისი ნიშნით აღნიშნულ საცხოვრებელ ზონებში, საცხოვრებელი ზონიდან გამოსვლისას საგზაო მოძრაობის მონაწილემ, გადაკვეთაზე გზა უნდა დაუთმოს სხვა საგზაო მოძრაობის მონაწილეს.

## ВОПРОС 629

ПРАВИЛЬНЫЙ ОТВЕТ: 4

Ашыаауаа ртыҭс, иара убас, анхартатыҭс иҭхьаҭоу аҭакырақәа рҭы иҭалоитҭЖ

1

Автотранспорттә хархәагақәа ҭырхагада  
реитатра

2

Ацаратә аитатра

3

Аус зуа арныкәагала атранспорттә хархәага  
аргылара

4

Сааткала 120км. еиҳаны аконструктивтә  
аласра змоу амашынаала аитатра

## განმარტება:

„საგზაო მოძრაობის შესახებ“ საქართველოს კანონის 44-ე მუხლის მე-3 პუნქტის თანახმად, ქვეითთა ზონად გამოცხადებულ ადგილზე და საცხოვრებელ ზონაში აკრძალულია გამჭოლი მოძრაობა, სასწავლო სვლა და ჩართული ძრავითი დგომა; ამასთანავე, ქვეითს უპირატესობა აქვს სხვა საგზაო მოძრაობის მონაწილეების მიმართ.

## ВОПРОС 630

ПРАВИЛЬНЫЙ ОТВЕТ: 2

Ашыаауаа ртыҭс, иара убас, анхартатыҭс иҭхьаҭоу аҭакырақәа рҭы аҭыжәара рымоупҭЖ

1

Арныкәаҭцәа

2

Ашыаауаа

## განმარტება:

„საგზაო მოძრაობის შესახებ“ საქართველოს კანონის 44-ე მუხლის მე-3 პუნქტის თანახმად, ქვეითთა ზონად გამოცხადებულ ადგილზე და საცხოვრებელ ზონაში აკრძალულია გამჭოლი მოძრაობა, სასწავლო სვლა და ჩართული ძრავითი დგომა; ამასთანავე, ქვეითს უპირატესობა აქვს სხვა საგზაო მოძრაობის მონაწილეების მიმართ.

## ВОПРОС 631

ПРАВИЛЬНЫЙ ОТВЕТ: 1



I



II



III



IV

Иарбоу амѡатѣ дыргакѣа ркомбинациакѣа ркынтѣ руа иарбан ауааѣсыра иахьнымхо атыѣаѣы, аихамѡа амѡаркыга змам ахысыртанѣа 150 ѣ 300 метрак ишыбѣжоу, амѡа арѣѣарахьтѣи аганала иргылатѣუ

1

I

2

II

3

III

4

IV

## განმარტება:

„საგზაო მოძრაობის შესახებ“ საქართველოს კანონის პირველი დანართის პირველი თავის (მაფრთხილებელი ნიშნები) შენიშვნის „ა“, „ბ“ და „ვ“ ქვეპუნქტების თანახმად: ა) 1.1 „რკინიგზის ჭლაგბაუმიანი გადასასვლელი“ და 1.2 „რკინიგზის უშლაგბაუმი გადასასვლელი“ ნიშნები დაუსახლებელ პუნქტში იდგმება სახიფათო მონაკვეთის დასაწყისამდე 150–300 მეტრ მანძილზე; ბ) 1.1 „რკინიგზის ჭლაგბაუმიანი გადასასვლელი“, 1.2 „რკინიგზის უშლაგბაუმი გადასასვლელი“, 1.10 „გასახსნელი ხიდი“, 1.11 „სანაპიროზე გასასვლელი“, 1.23 „ქვეითთა გადასასვლელი“, 1.24 „ბავშვები“ და 1.26 „საგზაო სამუშაოები“ ნიშნები მეორდება დაუსახლებელ პუნქტში, ხოლო 1.24 და 1.26 ნიშნები - დასახლებულ პუნქტშიც. მეორე ნიშანი იდგმება სახიფათო მონაკვეთის დასაწყისიდან არანაკლებ 50 მეტრის მანძილზე; ვ) 1.4.1-1.4.3 „რკინიგზის გადასასვლელთან მიახლოება“ ნიშნები იდგმება გზის მარჯვენა მხარეს, ხოლო 1.4.4-1.4.6 „რკინიგზის გადასასვლელთან მიახლოება“ ნიშნები - მარცხენა მხარეს. 1.4.1 და 1.4.4 ნიშნები იდგმება მოძრაობის მიმართულებით ძირითად და დუბლირებულ 1.1 ან 1.2 ნიშნებთან ერთად. ნიშნები 1.4.3 და 1.4.6 იდგმება მოძრაობის მიმართულებით განმეორებით 1.1 ან 1.2 ნიშნებთან, ხოლო ნიშნები 1.4.2 და 1.4.5 - დამოუკიდებლად, თანაბარ დაშორებაზე ძირითად და განმეორებითი 1.1 ან 1.2 ნიშნებს შორის.



I



II



III



IV

Иарбоу амѡათѣ дыргакѣа ркынтѣ руа иарбан акѣарахы ма азытѣахырташка абжысырта хзырбоѢ

1

Ши ШШи мацара

2

ШШ мацара

3

ШШШШ мацара

4

Ши ШМи

### განმარტება:

„საგზაო მოძრაობის შესახებ“ საქართველოს კანონის პირველი დანართის პირველი თავის (მაფრთხილებელი ნიშნები) 1.11 პუნქტის თანახმად საგზაო ნიშანი 1.11 „სანაპიროზე გასასვლელი“ - აღნიშნავს სანაპიროზე ან წყალსაცავის ნაპირზე გასასვლელს.





I



II



III



IV

Иарбоу амѡатѡ дыргакѡа рѡынтѡ руа иарбан ахаларта ѡѡа змоу амѡа ацыѡѡѡаха азааигѡахара иазкны агѡѡандара хазѡѡѡ

1

I

2

II

3

III

4

IV

### განმარტება:

„საგზაო მოძრაობის შესახებ“ საქართველოს კანონის პირველი დანართის პირველი თავის (მაფრთხილებელი ნიშნები) 1.15 პუნქტის თანახმად საგზაო ნიშანი 1.15 „ციცაბო აღმართი“- იძლევა გაფრთხილებას ციცაბოაღმართიან გზის მონაკვეთთან მიახლოების თაობაზე.



I



II



III



IV

Иарбоу амѡатѡ дыргакѡа рѡынтѡ руа иарбан аласра аитатѡра ада рѡсыхѡа аныѡам атѡгылазаашѡазы иѡсабаратѡым аѡынгыла иахѡеиѡкаау амѡа аѡырѡѡаха хѡырѡѡѡѢ

1

IIIИ IIIИИИ маѡара

2

ИИ ИИИИ. маѡара

3

IIИИИ маѡара

4

ИИИ маѡара

### განმარტება:

„საგზაო მოძრაობის შესახებ“ საქართველოს კანონის პირველი დანართის პირველი თავის (მაფრთხილებელი ნიშნები) 1.18 პუნქტის თანახმად საგზაო ნიშანი 1.18 „ხელოვნური უსწორმასწორობა“ - აღნიშნავს გზის მონაკვეთს, რომელზედაც მოწყობილია ხელოვნური უსწორმასწორობა სიჩქარის იძულებით შემცირებისათვის.



I



II



III



IV

Иарбоу амѡатѡ дыргакѡа ркынтѡ руа иარбан амѡა ატაгыლაзаашѡა астандарткѡа иახѡыршьашѡалам амѡა ацыѡтѡаха хѡырბიѡ

1

I

2

II

3

III

4

IV

### განმარტება:

„საგზაო მოძრაობის შესახებ“ საქართველოს კანონის პირველი დანართის პირველი თავის (მაფრთხილებელი ნიშნები) 1.20 პუნქტის თანახმად საგზაო ნიშანი 1.20 „სახიფათო გზისპირი“ - აღნიშნავს გზის მონაკვეთს, რომლის გზისპირის მდგომარეობა არ შეესაბამება არსებულ სტანდარტებს.



I



II



III



IV

Иарбоу амѡатѡ дыргакѡа рѡынтѡ руа иარбан ахаиуан ма арахѡ ргыларта ма арахѡაазарта иалсны иѡо  
ამѡა აცყჲთაჲა ჯჷრბოჲ

1

I

2

II

3

III

4

IV

### განმარტება:

„საგზაო მოძრაობის შესახებ“ საქართველოს კანონის პირველი დანართის პირველი თავის (მაფრთხილებელი ნიშნები) 1.27 პუნქტის თანახმად საგზაო ნიშანი 1.27 „პირუტყვის გადარეკვა“ - გზის მონაკვეთი, რომელიც გადის პირუტყვის (საქონლის) სადგომთან, ფერმასთან ან/და პირუტყვის (საქონლის) მუდმივი გადარეკვის ადგილთან, სადაც მოსალოდნელია მისი სავალ ნაწილზე გამოჩენა.



## ВОПРОС 637

ПРАВИЛЬНЫЙ ОТВЕТ: 1



I



II



III



IV

Иარბოу амѡатѡ дыргакѡа рѣынтѡ руа иარбан аѡѡырѣсарра, ашѡарацаратѡ нхамѡа, ма абнатѡ массив иалсны иѡо амѡа аѡѣѣѡѡаха ма абнатѡ ѣстѡкѡа иѡѡѡырѣыр иахѣѣѣало аѡѣѣ хѡырѡѡѣ

1

I

2

II

3

III

4

IV

## განმარტება:

„საგზაო მოძრაობის შესახებ“ საქართველოს კანონის პირველი დანართის პირველი თავის (მაფრთხილებელი ნიშნები) 1.28 პუნქტის თანახმად საგზაო ნიშანი 1.28 „გარეული ცხოველები“ - ნაკრძალთან, სანადირო მეურნეობასთან, ტყის მასივთან გამავალი გზის მონაკვეთიან სხვა უბანი, სადაც მოსალოდნელია გარეული ცხოველების გამოჩენა.



I



II



III



IV

Иарбоу амѡатѡ дыргакѡа ркынтѡ руа иарбан иѣсабаратѡым арлашара ахыѣкам ма, атыѣ арелиеф иахѣаны, алалартатѡ портал алаѣшбара 150 метрак еитѣны иахѣѣкоу аѣаѣкылѣѡа хѣырбоѣ

1

I

2

II

3

III

4

IV


### განმარტება:

„საგზაო მოძრაობის შესახებ“ საქართველოს კანონის პირველი დანართის პირველი თავის (მაფრთხილებელი ნიშნები) 1.32 პუნქტის თანახმად საგზაო ნიშანი 1.32 „გვირაბი“ - აღნიშნავს გვირაბს, რომელშიც არ არსებობს ხელოვნური განათება ან რომლის შესასვლელი პორტალის ხილვადობა, ადგილის რელიეფის გამო, 150 მ-ზე ნაკლებია.

თემა 24:

## ბუქსირება

---



Автомобильная дорога с односторонним движением в направлении движения транспорта. Водитель автомобиля должен пропустить транспортное средство, движущееся в противоположном направлении.

1

А в конце дороги

2

В в конце дороги


3

А и В в конце дороги

### პანმარტივა:

„საგზაო მოძრაობის შესახებ“ საქართველოს კანონის 38-ე მუხლის მე-4 პუნქტის თანახმად, თვითნაკვეთი მოწყობილობით ბუქსირებულ სატრანსპორტო საშუალებას ეკრძალება ავტომაგისტრალზე შესვლა. თვითნაკვეთი მოწყობილობით ბუქსირებულმა გაუმართავმა სატრანსპორტო საშუალებამ, რომელიც ავტომაგისტრალზე მწყობრიდან გამოვიდა, ავტომაგისტრალი უახლოეს გამოსასვლელზე უნდა დატოვოს. ამ პუნქტით გათვალისწინებულ თვითნაკვეთი მოწყობილობაში იგულისხმება თოკი, მავთული და სხვა მსგავსი საშუალება.





Иаханы изго амашына арныкәә ахыц ахырхартала аитатра анагзара азин имоума, уи атранспорттә хархәагак ашахала иацраҳәаны дахозарҥ

1

Азин имоуп

2

Азин имам

### განმარტება:

„საგზაო მოძრაობის შესახებ“ საქართველოს კანონის 38-ე მუხლის მე-4 პუნქტის თანახმად, თვითნაკვეთი მონეობილობით ბუქსირებულ სატრანსპორტო საშუალებას ეკრძალება ავტომაგისტრალზე შესვლა. თვითნაკვეთი მონეობილობით ბუქსირებულმა გაუმართავმა სატრანსპორტო საშუალებამ, რომელიც ავტომაგისტრალზე მწყობრიდან გამოვიდა, ავტომაგისტრალი უახლოეს გამოსასვლელზე უნდა დატოვოს. ამ პუნქტით გათვალისწინებულ თვითნაკვეთ მონეობილობაში იგულისხმება თოკი, მავთული და სხვა მსგავსი საშუალება.



Ахыц ахырхартала еитатца, даѐа транспорттѐ хархѐагак иаханы изго амашына арныкѐаѐ амеханикатѐ атранспорттѐ хархѐага ахаразы ишыакѐгылоу анормақѐа еилеигомаѢ

1

Еилеигоит

2

Еилеигом

### განმარტება:

„საგზაო მოძრაობის შესახებ“ საქართველოს კანონის 45-ე მუხლის მე-6 პუნქტის „ბ“ ქვეპუნქტის თანახმად, აკრძალულია ბუქსირება, ორი ან მეტი მექანიკური სატრანსპორტო საშუალებისა, აგრეთვე მექანიკური სატრანსპორტო საშუალებისა, რომელსაც ორი ან მეტი მისაბმელი აქვს.





Ахыц ахырхартала еитатца, даѐа атранспорттѐ хархѐагак иаханы изго амашына арныкѐаѐ  
амеханикатѐ атранспорттѐ хархѐага ахаразы ишыақѐгылоу ахѐарақѐа еилеигомаҕ

1


Еилеигоит

2

Еилеигом

### განმარტება:

„საგზაო მოძრაობის შესახებ“ საქართველოს კანონის 45-ე მუხლის მე-4 პუნქტის თანახმად, ხისტი ან მოქნილი გადაბმით ბუქსირებისას აკრძალულია მგზავრის გადაყვანა საბუქსირო ავტობუსით, ტროლეიბუსითა და სატვირთო ავტომობილის ძარათი, ხოლო ნაწილობრივი დატვირთვით ბუქსირებისას – ადამიანის ყოფნა საბუქსირო მექანიკურ სატრანსპორტო საშუალებაში, აგრეთვე მობუქსირე სატრანსპორტო საშუალების ძარაზე.



Амашына лас аҭскы ахархәара амеханизм ҭхастазар, ишарбоу ала уи иаханы агара каломаҭ

1

Икалоит

2

Икалом

### განმარტება:

„საგზაო მოძრაობის შესახებ“ საქართველოს კანონის 45-ე მუხლის მე-6 პუნქტის „ა“ ქვეპუნქტის თანახმად, აკრძალულია ბუქსირება ხისტი ან მოქნილი გადაბმით, იმ მექანიკური სატრანსპორტო საშუალებისა, რომლის საჭის მართვის მექანიზმი გაუმართავია.





Амашына лас аҭскы ахархәара амеханизм ҭхастазар, ишарбоу ала уи иаханы агара каломаҭ

1

Икалоит

2


Икалом

### განმარტება:

„საგზაო მოძრაობის შესახებ“ საქართველოს კანონის 45-ე მუხლის მე-6 პუნქტის „ა“ ქვეპუნქტის თანახმად, აკრძალულია ბუქსირება ხისტი ან მოქნილი გადაბმით, იმ მექანიკური სატრანსპორტო საშუალებისა, რომლის საჭის მართვის მექანიზმი გაუმართავია.

## ВОПРОС 645

ПРАВИЛЬНЫЙ ОТВЕТ: 1



Ахыц ахырхартала еиҭаҭуа абарт амашынакәа рырныкәаҭцәа ркынтә амҭатә аиҭаҭра аҭасқәа еилазгодаҭ

1

Автоеиҭрақәа арныкәаҭ

2

Икаҭшыу амашына лас арныкәаҭ


## განმარტება:

„საგზაო მოძრაობის შესახებ“ საქართველოს კანონის 45-ე მუხლის პირველი პუნქტის თანახმად, დასაშვებია მექანიკური სატრანსპორტო საშუალებით (მისაბმელის გარეშე) სხვა მექანიკური სატრანსპორტო საშუალების ბუქსირება ამ კანონით დადგენილი წესით.

## ВОПРОС 646

ПРАВИЛЬНЫЙ ОТВЕТ: 3



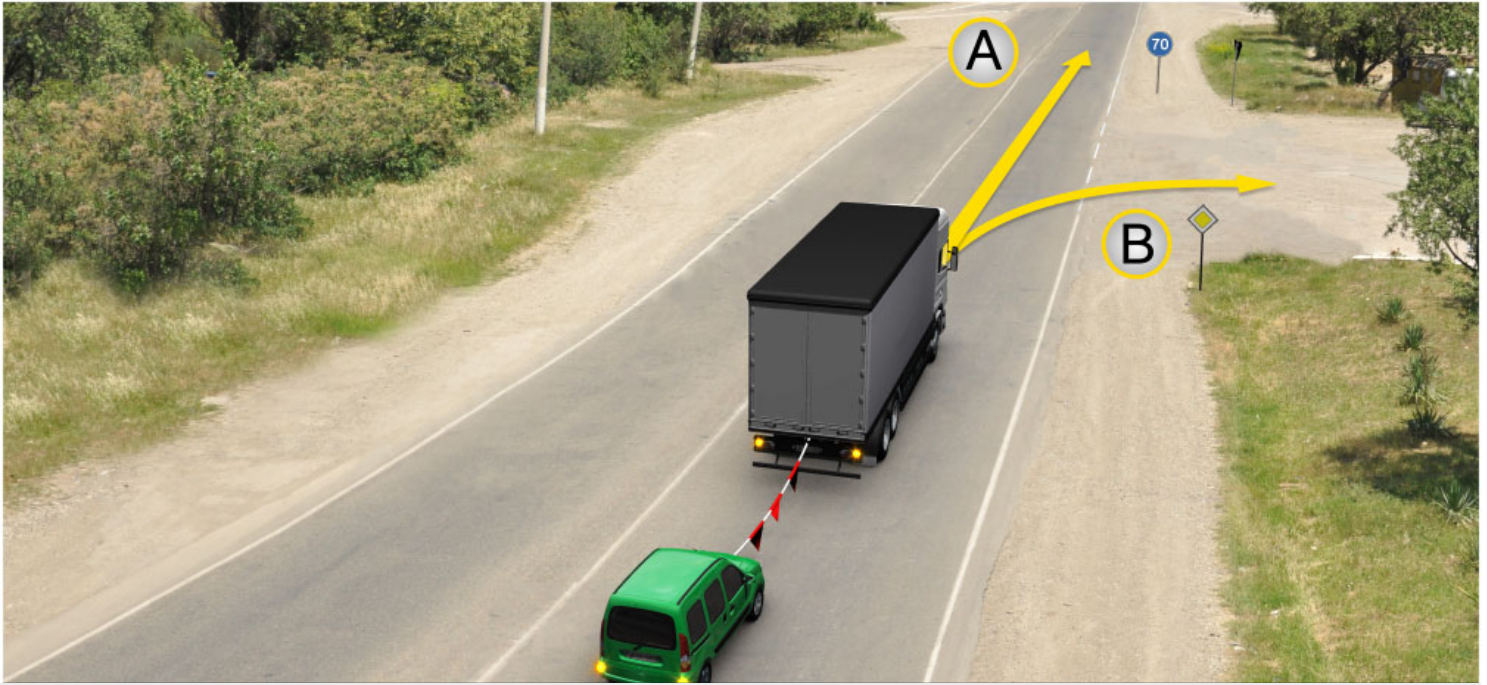


Ияханы ирго аилазаара еитатцеит сааткала 50км. аласрала. Иарбоу атагылазаашьяаы, ҫеганктәи аитатра змоу амҫа абжьаратә цәахәа аҫехырхартак рыла аитатцразы ахархәара амазар, аитатцра атцаскәа шаҫа еилагоиБ

1

**განმარტება:**

„საგზაო მოძრაობის შესახებ“ საქართველოს კანონის 45-ე მუხლის მე-7, მე-8 და მე-9 პუნქტების თანახმად: 7. დღე-ღამის ნებისმიერ პერიოდში მობუქსირე მექანიკურ სატრანსპორტო საშუალებას ჩართული უნდა ჰქონდეს ახლო განათების ფარები, საბუქსირო მექანიკურ სატრანსპორტო საშუალებას ჩართული უნდა ჰქონდეს საავარიო ბუქსიგნალიზაცია, ხოლო მისი არარსებობის ან გაუმართაობის შემთხვევაში ამ ტრანსპორტის უკანა ნაწილზე უნდა დამაგრდეს საავარიო გაჩერების ნიშანი. 8. მექანიკური სატრანსპორტო საშუალების ბუქსირებისას საბუქსირო (შემაერთებელი) მოწყობილობა აღნიშნული უნდა იქნეს აღმებით ან სხვა გამათრახილებელი მოწყობილობით, ისე, რომ აღვილი შესამჩნევი იყოს სხვა საგზაო მოძრაობის მონაწილისათვის დღე-ღამის ნებისმიერ პერიოდში. 9. მექანიკური სატრანსპორტო საშუალების ბუქსირებისას დრეკადი შემაერთებელი რგოლების აღსანიშნავად გამოიყენება აღმები, გამათრახილებელი მოწყობილობა ან 200X200 მმ ზომის დაფა, რომელზედაც დიაგონალურადაა დახაზული 50 მმ სიგანის ურთიერთმონაცვლე წითელი და თეთრი ზოლები შუქამრეკლი ზედაპირით. დრეკად შემაერთებელ რგოლზე მაგრდება არანაკლებ ორი გამათრახილებელი მოწყობილობა (ალამი). ამავე კანონის 31-ე მუხლის მე-11 პუნქტის თანახმად, დაუსახლებელ პუნქტში, აგრეთვე დასახლებულ პუნქტში გზის სავალი ნაწილის იმ მონაკვეთზე, რომელზედაც მოძრაობა ნებადართულია 80 კმ/სთ-ზე მეტი სიჩქარით, მძღოლმა უნდა იმოძრაოს სავალი ნაწილის მარჯვენა კიდედან რაც შეიძლება ახლოს. აკრძალულია მარცხენა ზოლის დაკავება, როცა მარჯვენა ზოლი თავისუფალია, გარდა დაბრკოლების შემთხვევის, მარცხნივ მოხვევის ან მობრუნების შემთხვევისა. აქ დარღვევაა: სავალ ნაწილზე განლაგება; მობუქსირე ავტომობილს არა აქვს ჩართული ახლო განათების ფარები; საბუქსიროს - ავარიული სიგნალიზაცია და საბუქსირო მოწყობილობა აღნიშნული არ არის აღმებით.



Иарбоу атагылазаашьаџы иаханы изго амашьына арныкџаџ аитатра анагзара илшоитЖ

1

A ახერხარტა მაцარალა

2

B ახერხარტა მაцარალა

3

Аи Ви ахерхартџџа рыла

### განმარტება:

„საგზაო მოძრაობის შესახებ“ საქართველოს კანონის პირველი დანართის მე-4 თავის (მიმთითებული ნიშნები) 4.6 პუნქტის თანახმად საგზაო ნიშანი 4.6 „მინიმალური სიჩქარის შემლუღვა“ - ადგენს გზაზე მოძრაობის მინიმალური სიჩქარის ზღვარს. ნიშნის მოქმედება ვრცელდება ნიშნის შემდეგ, ნიშნის დადგმის ადგილიდან უახლოეს გზაჯვარედინამდე, ხოლო დასახლებულ პუნქტში გზაჯვარედინის არ არსებობისას - დასახლებულ პუნქტის ბოლომდე. ამავე კანონის 33-ე მუხლის მე-8 პუნქტის „დ“ ქვეპუნქტის თანახმად, თუ ამ კანონით სხვა რამ არ არის დადგენილი, დასახლებულ ან დაუსახლებელ პუნქტში ნებადართულია, იმ მექანიკური სატრანსპორტო საშუალების მოძრაობა, რომელიც ახორციელებს სხვა მექანიკური სატრანსპორტო საშუალების ბუქსირებას, არაუმეტეს 50 კმ/სთ სიჩქარით.





Иарбоу атагылазаашьафы иаханы изго амашына арныкәә ахыц ахырхартала аитатра азин имоума, амџа цаазарџ

1

Азин имаџам

2

Азин имоуп

### განმარტება:

„საგზაო მოძრაობის შესახებ“ საქართველოს კანონის 45-ე მუხლის მე-6 პუნქტის „ე“ ქვეპუნქტის თანახმად, აკრძალულია ბუქსირება მოქნილი გადაბმით, როცა გზა მოყინულია.

## ВОПРОС 649

ПРАВИЛЬНЫЙ ОТВЕТ: 4

Амеханиკატე ატრანსპორტტე ხარხეაგა იახანყ აგара კალოიტჲ

1

Икьакьоу аѣахѣагала

2

Итаруа аѣахѣагала

3

Бжала аидарақѣтарала

4

Икьакьоу аѣахѣагала, итаруа аѣахѣагала,  
иара убас, бжала аидарақѣтарала

## განმარტება:

„საგზაო მოძრაობის შესახებ“ საქართველოს კანონის 45-ე მუხლის მე-2 პუნქტის თანახმად, მექანიკური სატრანსპორტო საშუალების ბუქსირება შეიძლება განხორციელდეს ხისტი ან მოქნილი გადაბმით ან ნაწილობრივი დატვირთვით.

## ВОПРОС 650

ПРАВИЛЬНЫЙ ОТВЕТ: 2

Икьакьоу аѣахѣагала ахара аан, аконструкция аибарკра иабзоуранყ იახანყ ирго амашьына იახანყ изго амашьына атраектория иакѣыршѣаны ицозар, იახანყ ирго ატრანსპორტტე ხარხეაგა არწყკეაფ  
дамазар иახѣтоумаფ

1

Иахѣтоуп

2

Иахѣтам

## განმარტება:

„საგზაო მოძრაობის შესახებ“ საქართველოს კანონის 45-ე მუხლის მე-3 პუნქტის თანახმად, მექანიკური სატრანსპორტო საშუალების ხისტი ან მოქნილი გადაბმით ბუქსირებისას საბუქსირო სატრანსპორტო საშუალებას მძღოლი უნდა მართავდეს, გარდა იმ შემთხვევისა, როცა მოძრაობისას ხისტი გადაბმის კონსტრუქცია უზრუნველყოფს საბუქსირო სატრანსპორტო საშუალების მობუქსირე სატრანსპორტო საშუალების ტრავექტორიით მიყოლას.

## ВОПРОС 651

ПРАВИЛЬНЫЙ ОТВЕТ: 1

Итаруа აფაჰაგალა იახანს ირგო ატრანსპორტტა хархәага арныкәаҭ дамазар иахәтоумаҭ

1

Иахәтоуп

2

Иахәтам

## განმარტება:

„საგზაო მოძრაობის შესახებ“ საქართველოს კანონის 45-ე მუხლის მე-3 პუნქტის თანახმად, მექანიკური სატრანსპორტო საშუალების ხისტი ან მოქნილი გადაბმით ბუქსირებისას საბუქსირო სატრანსპორტო საშუალებას მძღოლი უნდა მართავდეს, გარდა იმ შემთხვევისა, როცა მოძრაობისას ხისტი გადაბმის კონსტრუქცია უზრუნველყოფს საბუქსირო სატრანსპორტო საშუალების მობუქსირე სატრანსპორტო საშუალების ტრავექტორიით მიყოლას.

## ВОПРОС 652

ПРАВИЛЬНЫЙ ОТВЕТ: 4

Икьакьоу, иара убас, итаруа აფაჰაგალა იახანს აგარა აან აპასაჟირცა რымფანგარა იკәитымუҭЖ

1

Иахანს ირგო автобус ала

2

Иахანს ირგო атролейбус ала

3

Иахანს ირგო аидаратә машына ачарт ала

4

Иахანს ირგო автобус ала, иахანს ირგო атролейбус ала, иара убас, иахანს ირგო аидаратә машына ачарт ала

## განმარტება:

„საგზაო მოძრაობის შესახებ“ საქართველოს კანონის 45-ე მუხლის მე-4 პუნქტის თანახმად, ხისტი ან მოქნილი გადაბმით ბუქსირებისას აკრძალულია მგზავრის გადაყვანა საბუქსირო ავტობუსით, ტროლეიბუსითა და სატვირთო ავტომობილის ძარათი, ხოლო ნაწილობრივი დატვირთვით ბუქსირებისას – ადამიანის ყოფნა საბუქსირო მექანიკურ სატრანსპორტო საშუალებაში, აგრეთვე მობუქსირე სატრანსპორტო საშუალების ძარაზე.

## ВОПРОС 653

ПРАВИЛЬНЫЙ ОТВЕТ: 3

Бжала აჭყაფაარალა машынак иаханы ианырго ауаа рыказаара каломЖ

1

Иаханы ирго амеханикатә транспорттә хархәагаҭы

2

Иаханы изго амеханикатә транспорттә хархәага ачарт аҭы

3

Иаханы ирго амеханикатә атранспорттә хархәагаҭы, иара убас, иаханы изго амеханикатә атранспорттә хархәага ачарт аҭы

## განმარტება:

„საგზაო მოძრაობის შესახებ“ საქართველოს კანონის 45-ე მუხლის მე-4 პუნქტის თანახმად, ხისტი ან მოქნილი გადაბმით ბუქსირებისას აკრძალულია მგზავრის გადაყვანა საბუქსირო ავტომობილით, ტროლეიბუსითა და სატვირთო ავტომობილის ძარათი, ხოლო ნაწილობრივი დატვირთვით ბუქსირებისას – ადამიანის ყოფნა საბუქსირო მექანიკურ სატრანსპორტო საშუალებაში, აგრეთვე მობუქსირე სატრანსპორტო საშუალების ძარაზე.

## ВОПРОС 654

ПРАВИЛЬНЫЙ ОТВЕТ: 1

Икьакьоу аҭахәагала иаханы агара аан иаханы иргои иаханы изгои атранспорттә хархәагақәа ирыбжьазароупЖ

1

4 метрак

2

5 метрак

3

კ метрак

## განმარტება:

„საგზაო მოძრაობის შესახებ“ საქართველოს კანონის 45-ე მუხლის მე-5 პუნქტის თანახმად, მობუქსირე და საბუქსირო სატრანსპორტო საშუალებებს შორის მანძილი მოქნილი გადაბმით ბუქსირებისას უნდა იყოს 4–6 მეტრი, ხოლო ხისტი გადაბმით ბუქსირებისას – არაუმეტეს 4 მეტრისა.



## ВОПРОС 655

ПРАВИЛЬНЫЙ ОТВЕТ: 2

Икьакьоу ма итаруа аҭахәагақәа рыла иаханы ргара каломЖ

1

Ачара асистема аҭерметирра еилагазар

2

Аҭсқы амеханизм ҭхастазар

3

Амашәыртә алашаратә рдырга ҭхастазар

## განმარტება:

„საგზაო მოძრაობის შესახებ“ საქართველოს კანონის 45-ე მუხლის მე-6 პუნქტის „ა“ ქვეპუნქტის თანახმად, აკრძალულია ბუქსირება ხისტი ან მოქნილი გადაბმით, იმ მექანიკური სატრანსპორტო საშუალებისა, რომლის საჭის მექანიზმი გაუმართავია.

## ВОПРОС 656

ПРАВИЛЬНЫЙ ОТВЕТ: 2

Ծეცრაхәагак змоу амеханикатә атранспорттә хархәага иаханы агара каломаԥ

1

Иқалоит

2

Иқалом

## განმარტება:

„საგზაო მოძრაობის შესახებ“ საქართველოს კანონის 45-ე მუხლის მე-6 პუნქტის „ბ“ ქვეპუნქტის თანახმად, ორი ან მეტი მექანიკური სატრანსპორტო საშუალებისა, აგრეთვე მექანიკური სატრანსპორტო საშუალებისა, რომელსაც ორი ან მეტი მისაბმელი აქვს.

## ВОПРОС 657

ПРАВИЛЬНЫЙ ОТВЕТ: 3

Атრანспорттә хархәага иаханы агара калоитЖ

1

Амотоцикл ала, агантәи аҭахәага ада, иара  
убас абри еиҭш иҭоу амотоцикл ала

2

Итаруа аҭахәагала, амҭақәа ианҭаау

3

Абри абилет аҭы еиқәыҭхьаҭоу атакқәа  
рҭынтә акызатцәыкгы ииашам

## განმარტება:

„საგზაო მოძრაობის შესახებ“ საქართველოს კანონის 45-ე მუხლის მე-6 პუნქტის „დ“ და „ე“ ქვეპუნქტების თანახმად, აკრძალულია ბუქსირება: დ) მოტოციკლით, გვერდითი მისაბმელის გარეშე, აგრეთვე ასეთი მოტოციკლის ბუქსირება; ე) მოქნილი გადაბმით, როცა გზა მოყინულია.

## ВОПРОС 658

ПРАВИЛЬНЫЙ ОТВЕТ: 2

Атრანспорттә хархәагак иаханы изго амеханикатә атрანспорттә хархәага уахиҭени иаҭакызароупЖ

1

Ахышәаратә алашара

2

Ааигәа изырлашо амашынаблақәа

3

Анақәаеацәхьхаратә амашынаблақәа

## განმარტება:

„საგზაო მოძრაობის შესახებ“ საქართველოს კანონის 45-ე მუხლის მე-7 პუნქტის თანახმად, დღე-ღამის ნებისმიერ პერიოდში მობუქსირე მექანიკურ სატრანსპორტო საშუალებას ჩართული უნდა ჰქონდეს ახლო განათების ფარები, საბუქსირო მექანიკურ სატრანსპორტო საშუალებას ჩართული უნდა ჰქონდეს საავარიო შუქსიგნალიზაცია, ხოლო მისი არარსებობის ან გაუმართაობის შემთხვევაში ამ ტრანსპორტის უკანა ნაწილზე უნდა დამაგრდეს საავარიო გაჩერების ნიშანი.

Амеханиკატә атранспорттә хархәага итаруа аҭахәагала иаханы ианырго, аидхәалагатә агежь аҭы агәә антцаратә шыақәыргыламтақәа шака иқәыргылатәуиҭ

1

ᄁᄁᄁ

2


Хҭа

3

ҭшьба

### განმარტება:

„საგზაო მოძრაობის შესახებ“ საქართველოს კანონის 45-ე მუხლის მე-9 პუნქტის თანახმად, მექანიკური სატრანსპორტო საშუალების ბუქსირებისას დრეკადი შემაერთებელი რგოლების აღსანიშნავად გამოიყენება ალმები, გამაფრთხილებელი მოწყობილობა ან 200X200 მმ ზომის დაფა, რომელზედაც დიაგონალურადაა დახაზული 50 მმ სიგანის ურთიერთმონაცვლე წითელი და თეთრი ზოლები შექამრეკლი ზედაპირით. დრეკად შემაერთებელ რგოლზე მაგრდება არანაკლებ ორი გამაფრთხილებელი მოწყობილობა (ალამი).



Иарбоу атагылазаашьафы, ахыц ахырхартала еитатцуа, иаханы изго аидаратә машьына арныкәаф сааткала 60км. аласрала деитатцуазар, амәатә аитатцра атцаскәа шака еилеигоиҭ

1

Акызацәыкгы

2

Акы

3

Әба

4

Хҭа

### განმარტება:

„საგზაო მოძრაობის შესახებ“ საქართველოს კანონის 33-ე მუხლის მე-8 პუნქტის „დ“ ქვეპუნქტის თანახმად, თუ ამ კანონით სხვა რამ არ არის დადგენილი, დასახლებულ ან დაუსახლებელ პუნქტში ნებადართულია იმ მექანიკური სატრანსპორტო საშუალების მოძრაობა, რომელიც ახორციელებს სხვა მექანიკური სატრანსპორტო საშუალების ბუქსირებას, არაუმეტეს 50 კმ/სთ სიჩქარით. ამავე კანონის 45-ე მუხლის მე-5 პუნქტის თანახმად, მობუქსირე და საბუქსირო სატრანსპორტო საშუალებებს შორის მანძილი მოქნილი გადაბმით ბუქსირებისას უნდა იყოს 4–6 მეტრი, ხოლო ხისტი გადაბმით ბუქსირებისას – არაუმეტეს 4 მეტრისა. ამავე მუხლის მე-9 პუნქტის თანახმად, მექანიკური სატრანსპორტო საშუალების ბუქსირებისას დრეკადი შემაერთებელი რგოლების აღსანიშნავად გამოიყენება ალმები, გამაფრთხილებელი მოწყობილობა ან 200X200 მმ ზომის დაფა, რომელზედაც დიაგონალურადაა დახაზული 50 მმ სიგანის ურთიერთმონაცვლე წითელი და თეთრი ზოლები შექმარებული ზედაპირით. დრეკად შემაერთებელ რგოლზე მაგრდება არანაკლებ ორი გამაფრთხილებელი მოწყობილობა (ალამი). აქ დარღვევაა: სიჩქარე და საბუქსირო მოწყობილობაზე ერთი ალამი





Иарбоу амѡათѣ дырга инакѣырѣшныЖ

1

Адыргаѣы иазгѣათоу адистанциа ацкыс еиѣу адистанциала атранспорттѣ хархѣага аитѣѣра калом

2

Ззеиѣш афакттѣ масса адыргаѣы иазгѣათоу амасса ацкыс еиѣау атранспорттѣ хархѣагакѣеи атранспорттѣ хархѣагакѣа реилазаареи рыла аитѣѣра калом

3

Лырак азы зфакттѣ акѣыѣѣѣара адыргаѣы иазгѣათоу акѣыѣѣѣара еиѣау атранспорттѣ хархѣагала аитѣѣра калом

### განმარტება:

„საგზაო მოძრაობის შესახებ“ საქართველოს კანონის პირველი დანართის მე-3 თავის (ამკრძალავი ნიშნები) 3.12 პუნქტის თანახმად საგზაო ნიშანი 3.12 „ღერძზე დატვირთვის შეზღუდვა“ - კრძალავს იმ სატრანსპორტო საშუალებით მოძრაობას, რომლის ფაქტობრივი დატვირთვა რომელიმე ღერძზე აღემატება ნიშანზე აღნიშნულს.



Иარბოу амѡათѣ дырга инаѡѣырѣшны иѡаломЖ

1

Зхышѣаратѣ аура Ђаидарала ма аидара  
адаТ адыргаѣы иазгѣათоу аура аѡкыс еихау  
атранспорттѣ хархѣагала ма атранспорттѣ  
хархѣагаѡѣа реилазаара ала аитатра

2

Зхышѣаратѣ аура адыргаѣы иазгѣათоу аура  
аѡкыс еихау атранспорттѣ хархѣагала  
аитатра

3

Адыргаѣы иазгѣათоу адистанѡია аѡкыс еитѣ  
адистанѡиала атранспорттѣ хархѣагала  
аитатра

### ბანმარტეზა:

„საგზაო მოძრაობის შესახებ“ საქართველოს კანონის პირველი დანართის მე-3 თავის (ამკრძალავი ნიშნები) 3.15 პუნქტის თანახმად საგზაო ნიშანი 3.15 „სიგრძის შეზღუდვა“ - კრძალავს იმ სატრანსპორტო საშუალებით და სატრანსპორტო საშუალებათა შემადგენლობით მოძრაობას, რომელთა გაბარიტული სიგრძე (ტვირთიანად ან უტვირთოდ) აღემატება ნიშანზე აღნიშნულს.



Иарбоу амფატე дьрга инакәырҭшны, иҭаломЖ

1

Аидара имѡанызго иарбанзаалак  
атранспорттә хархәага аитатра

2

Аидаратә машынакәа раанкылареи  
рыргылареи

3

Ззин ыҭоу амаксималтә масса адыргаҭы  
иазгәаҭоу ззин иҭоу амаксималтә масса  
еихау атранспорттә хархәагала ма  
атранспорттә хархәагакәа реилазаара ала  
аитатра

### განმარტება:

„საგზაო მოძრაობის შესახებ“ საქართველოს კანონის პირველი დანართის მე-3 თავის (ამკრძალავი ნიშნები) 3.4 პუნქტის თანახმად საგზაო ნიშანი 3.4 „სატვირთო მოძრაობა აკრძალულია“ - კრძალავს იმ სატრანსპორტო საშუალებით და სატრანსპორტო საშუალებათა შემადგენლობებით მოძრაობას, რომელთა ნებადართული მაქსიმალური მასა აღემატება ნიშანზე აღნიშნულ ნებადართული მაქსიმალური მასის ზღვარს.



Иарбоу амѡатѡ дырга инакѡырѡшны, иѡаломЖ

1

Ахылаѡшратѡ пункт Ђаполициатѡ ма ахылаѡшратѡ ѡыѡшырта, ахѡатѡ ма ирку а зона алалартакѡ, ахѡса зкѡу амѡакѡа рхысыртакѡ, уб. егѡ.Ѓ аангыларада ахысра

2

Ахазалхратѡ аужѡтратѡ пункт ЂКыртѡыла ахазалхратѡ ахѡааѡы иѡоу ахазалхратѡ хылаѡшратѡ зонаЃ аангыларада ахысра

### განმარტება:

„საგზაო მოძრაობის შესახებ“ საქართველოს კანონის პირველი დანართის მე-3 თავის (ამკრძალავი ნიშნები) 3.17.1 პუნქტის თანახმად საგზაო ნიშანი 3.17.1 „საბაჟო გამშვები პუნქტი“ - კრძალავს საბაჟო გამშვებ პუნქტთან (საქართველოს საბაჟო საზღვართან მდებარე საბაჟო კონტროლის ზონა) გაუჩერებლად გავლას.





Иарбоу амѡათѣ дырга инакѣырѣшны, иѣаломЖ

1

Амѡაѣы иѣоу ашѡарѣа иахѣяны  
амашыынаѣа рыла аитатѣра анагѣара

2

Ахылаѣшратѣ пункт Ђаполиѣиатѣ ма  
ахылаѣшратѣ ѣыѣшыртѣ, ахѡаатѣ ма ирку  
азона алаларѣаѣа, ахѣѣса зѣѡу амѡаѣа  
рхысыртѣаѣа, уб. еѣ.Ѣ аангыларѣада ахысра

3

Амѡаѣы иѣоу ашѡарѣа иахѣяны  
атранспортѣа харѣѡагаѣаѣа рыла аитатѣра  
анагѣара

### განმარტება:

„საგზაო მოძრაობის შესახებ“ საქართველოს კანონის პირველი დანართის მე-3 თავის (ამკრძალავი ნიშნები) 3.17.3 პუნქტის თანახმად საგზაო ნიშანი 3.17.3 „კონტროლი“ – კრძალავს საკონტროლო პუნქტთან (პოლიციის ან საკარანტინო საგუშაგოსთან, სასაზღვრო ან დახურულ ზონაში შესასვლელთან, ფასიან გზაზე გასასვლელთან და ა.შ.) გაუჩერებლად გავლას.



Иарбоу амѡатѡ дырга инакѡырѡшныЖ

1

Амѡасыртақѡа ааигѡазатѡи реиѡѡѡараѡы  
атѡира калом

2

Амѡасыртақѡа ааигѡазатѡи реиѡѡѡараѡы  
армарахь атѡира калом

3

Арныкѡѡ армарахь мацара аитѡтра иуалуп

### განმარტება:

„საგზაო მოძრაობის შესახებ“ საქართველოს კანონის პირველი დანართის მე-3 თავის (ამკრძალავი ნიშნები) 3.18.2 პუნქტის თანახმად საგზაო ნიშანი 3.18.2 „მარცხნივ მოხვევა აკრძალულია“ - კრძალავს სავალი ნაწილების უახლოეს გადაკვეთაზე მარცხნივ მოხვევას.



Иарбоу амѡатѡ дыргაჲ

1

ადყრგაფყ იარბოუ მა უი ეიჲაუ ალასრალა  
ჲყმჲსაატჲ აიტატრა шыќало იჲანაჲჲოიტ

2

ადყრგაფყ იარბოუ აცყს ეიჲაუ ალასრალა  
ჲყმჲსაატჲ აიტატრა шыќамლო იჲანაჲჲოიტ

3

ადყრგაყინტჲ იშჲართოუ აყყჲტჲაჲაყინჲა  
იბჲოუ ჲნარბოიტ

### განმარტება:

„საგზაო მოძრაობის შესახებ“ საქართველოს კანონის პირველი დანართის მე-3 თავის (ამკრძალავი ნიშნები) 3.24 პუნქტის თანახმად საგზაო ნიშანი 3.24 „მაქსიმალური სიჩქარის შეზღუდვა“ - კრძალავს მოძრაობას ნიშანზე აღნიშნულზე მეტი სიჩქარით (კმ/სთ).



Иარბოუ ამფატე დыრაჟ

1

Иარбанзаалак атранспорттө хархәага  
аҭысра шыҕамло иханахәоит

2

Амфатә дырга 3.22 П„Аидаратә машына  
аҭысра калом”ҭ амч иахьамоуц азона  
анцәамта хнарбоит

3

Афатә дырга 3.2ҭ „Аҭысра калом” амч  
иахьамоу азона анцәамта хнарбоит

### განმარტება:

„საგზაო მოძრაობის შესახებ“ საქართველოს კანონის პირველი დანართის მე-3 თავის (ამკრძალავი ნიშნები) 3.23 პუნქტის თანახმად საგზაო ნიშანი 3.23 „სატვირთო ავტომობილით გასწრების აკრძალვის დასასრული” - აღნიშნავს საგზაო ნიშნის 3.22-ის („სატვირთო ავტომობილით გასწრება აკრძალულია”) მოქმედების ზონის დასასრულს.





Иარბოу ამოათე დыргакეაჟ

1

ამოასურტაფი ფბანი ეიდუ ალყრატე ცეაჟეა  
შყკამ იაჟნარბოიტ

2

ამჰ ეიოშამ არყჟეა რჰყ ატრანსპორტტე  
ჟარჟეაგა არყლარა შყკამლო იაჟნარბოიტ

3

ამჰ ეიოშოუ არყჟეა რჰყ ატრანსპორტტე  
ჟარჟეაგა არყლარა შყკამლო იაჟნარბოიტ

### განმარტეზა:

„საგზაო მოძრაობის შესახებ“ საქართველოს კანონის პირველი დანართის მე-3 თავის (ამკრძალავი ნიშნები) 3.30 პუნქტის თანახმად საგზაო ნიშანი 3.30 „დგომა აკრძალულია ლუწ რიცხვებში“ - კრძალავს სატრანსპორტო საშუალების დგომას თვის ლუწ რიცხვებში.



Иარბოу амѡатѣ дырга инаѡѣырѣшны иѡаломЖ

1

Изеиѣшრაзаалак, аидаратѣ машьынала аитѣцра

2

Изеиѣшრაзаалак, ацраѡѣага змоу аидаратѣ машьынала аитѣцра

3

Азакѣанѣцара инаѡѣырѣшны иашьашѣалоу азгѣатаратѣ дырга иамазаарц зыхѣтоу, ишѣартоу аидара имѣанызго атранспорттѣ харѡѣагала аитѣцра

### განმარტება:

„საგზაო მოძრაობის შესახებ“ საქართველოს კანონის პირველი დანართის მე-3 თავის (ამკრძალავი ნიშნები) 3.32 პუნქტის თანახმად საგზაო ნიშანი 3.32 „სახიფათო ტვირთის გადამზიდი სატრანსპორტო საშუალებით მოძრაობა აკრძალულია“ - კრძალავს იმ სახიფათო ტვირთის გადამზიდი სატრანსპორტო საშუალებით მოძრაობას, რომელიც, საქართველოს კანონმდებლობის თანახმად, აღნიშნული უნდა იყოს შესაბამისი საცნობი ნიშნით.



Иарбоу амѡათѡ дырга инаѡырѡшны, иѡаломЖ

1

Азакѡанѡцара инаѡырѡшны иашьашѡалоу азгѡатаратѡ дырга иамазаарц зыхѡтоу, иѡжѡарц зылшо ма уадаѡрада амца зыцрало аидара имѡанызго атранспорттѡ хархѡага аитатра

2

Изеиѡшразаалак, ишѡартоу аидара имѡанызго атранспорттѡ хархѡага аитатра

### ბანმარტიბა:

„საგზაო მოძრაობის შესახებ“ საქართველოს კანონის პირველი დანართის მე-3 თავის (ამკრძალავი ნიშნები) 3.33 პუნქტის თანახმად საგზაო ნიშანი 3.33 „ფეთქებადი და ადვილად აალებადი ტვირთის გადამზიდი სატრანსპორტო საშუალებით მოძრაობა აკრძალულია“ - კრძალავს 19433-88 სახელმწიფო სტანდარტით განსაზღვრული 1.22–2.4, 3.1, 3.2, 5.2 კლასის ფეთქებადი და ადვილად აალებადი ტვირთის გადამზიდი სატრანსპორტო საშუალებით მოძრაობას, რომელიც, საქართველოს კანონმდებლობის თანახმად აღნიშნული უნდა იყოს საცნობი ნიშნით „სახიფათო ტვირთი“.



I



II



III



IV

Иарбоу амѡатѡ дьргакѡа рѣынтѡ руа иарбан абри адырга анырра иахѡамоу азонаѣы иѣоу ааглыхра  
амаѣ зуа амаршруттѡ транспорттѡ харѣѡагазы амѣ змамѢ

1

ში შში მაцარა

2

ში შშიში მაцარა

3

შიში შში მაцარა

4

შიშიში შში მაцარა

### განმარტება:

„საგზაო მოძრაობის შესახებ“ საქართველოს კანონის პირველი დანართის მე-3 თავის (ამკრძალავი ნიშნები) შენიშვნის „გ.ბ“ ქვეპუნქტის თანახმად ნიშნების მოქმედება არ ვრცელდება: გ.ბ) 3.2–3.8 ნიშნებისა – სატრანსპორტო საშუალებაზე, რომელიც ემსახურება აღნიშნულ ზონაში მდებარე სანარმოს, ანდა ემსახურება ან ეკუთვნის ამავე ზონაში მცხოვრებ ან მომუშავე პირს. ამ შემთხვევაში სატრანსპორტო საშუალება შედის აღნიშნულ ზონაში და გამოდის იქიდან დანიშნულების ადგილისაკენ უახლოეს გზაჯვარედინზე. სურათზე ნაჩვენებია საგზაო ნიშნებია: 3.4 „სატვირთო მოძრაობა აკრძალულია“, 3.24 „მაქსიმალური სიჩქარის შეზღუდვა“, 3.5 „მოტოციკლით მოძრაობა აკრძალულია“ და 3.26 „ხმოვანი სიგნალის მიცემა აკრძალულია“.





I



II



III



IV

Иарбоу амѡатѡ дыргакѡа ркынтѡ руа иарбан абри адырга анырра иахѡамоу азонаѡы инхо ма аус зуа ахаѡы иматц зуа ма итѡу амаршруттѡ атранспорттѡ хархѡагазы амч змамѢ

1

IIIИи ШМи мацара

2

IIIИ мацара

3

ШИ ШМи мацара

4

IIIИИи ШМи мацара

### განმარტება:

„საგზაო მოძრაობის შესახებ“ საქართველოს კანონის პირველი დანართის მე-3 თავის (ამკრძალავი ნიშნები) შენიშვნის „გ.ბ“ ქვეპუნქტის თანახმად ნიშნების მოქმედება არ ვრცელდება: გ.ბ) 3.2–3.8 ნიშნებისა – სატრანსპორტო საშუალებაზე, რომელიც ემსახურება აღნიშნულ ზონაში მდებარე სანარმოს, ანდა ემსახურება ან ეკუთვნის ამავე ზონაში მცხოვრებ ან მომუშავე პირს. ამ შემთხვევაში სატრანსპორტო საშუალება შედის აღნიშნულ ზონაში და გამოდის იქიდან დანიშნულების ადგილისაკენ უახლოეს გზაჯვარედინზე. სურათზე ნაჩვენებია საგზაო ნიშნები: 3.24 „მაქსიმალური სიჩქარის შეზღუდვა“, 3.4 „სატვირთო მოძრაობა აკრძალულია“, 3.19 „მობრუნება აკრძალულია“ და 3.7 „მისაბმელით მოძრაობა აკრძალულია“



I



II



III



IV

Иარბოუ ამჟათე დыргაკჳა რკინტე რუა იარბან ლაბჳაბა იუბარტოუ აგრა ზმოუ მა ზылშარა მაჩუ აუაფი  
ისტატუს ზმოუ ახაფი ირწყჳეიგო ატრანსპორტტე хархჳაგაჳი, მა უბარტ ირეიწყჳუ აუაა იმჳანყზგო  
ატრანსპორტ აჳი ამჩ ზმამჳ

1

ში შში მაჳარა

2

ში შშიში მაჳარა

3

შიში შმი მაჳარა

4

შიშიში შმი მაჳარა

### განმარტება:

„საგზაო მოძრაობის შესახებ“ საქართველოს კანონის პირველი დანართის მე-3 თავის (ამკრძალავი ნიშნები) შენიშვნის „გ.დ“ ქვეპუნქტის თანახმად ნიშნების მოქმედება არ ვრცელდება: გ.დ) 3.2, 3.3, 3.28–3.30 ნიშნებისა – იმ სატრანსპორტო საშუალებაზე, რომელსაც მნიშვნელოვნად გამოხატული ან მკვეთრად გამოხატული შეზღუდული შესაძლებლობის სტატუსის მქონე პირი მართავს, ან იმ სატრანსპორტო საშუალებაზე, რომელსაც აღნიშნული პირები გადაჰყავს. სურათზე ნაჩვენები საგზაო ნიშნებია: 3.2 „მოძრაობა აკრძალულია“, 3.26 „ხმოვანი სიგნალის მიცემა აკრძალულია“, 3.28 „დგომა აკრძალულია“ და 3.20 „გასწრება აკრძალულია“.



I



II

Иარბოу амѡатѡ дыргакѡа амч рымоупЖ

1

Адырга заҭҭхѡа игылоу амѡасырта  
аиѡѡѡараѡы

2

Адыргакѡа иахѡгылоу амѡа аҭанаѡы.

### განმარტება:

„საგზაო მოძრაობის შესახებ“ საქართველოს კანონის პირველი დანართის მე-3 თავის (ამკრძალავი ნიშნები) შენიშვნის „დ“ პუნქტის თანახმად 3.18.1 (მარჯვნივ მოხვევა აკრძალულია), 3.18.2 (მარცხნივ მოხვევა აკრძალულია) ნიშნების მოქმედება ვრცელდება სავალი ნაწილების იმ გადაკვეთაზე, რომლის წინაც დადგმულია სათანადო ნიშანი.



I



II



III



IV

Иარბოუ ამფატე დыргакәа ркынтә руа иарбан, урт заҭхьа игылоу амфасырта аиџцәараҕы амч змоуџ

1

III мацара

2

IIIIII IIIIII мацара

3

IIIIII мацара

4

Рызынтәгы

### განმარტება:

„საგზაო მოძრაობის შესახებ“ საქართველოს კანონის პირველი დანართის მე-3 თავის (ამკრძალავი ნიშნები) შენიშვნის „დ“ პუნქტის თანახმად 3.18.1, 3.18.2 ნიშნების მოქმედება ვრცელდება სავალი ნაწილების იმ გადაკვეთაზე, რომლის წინაც დადგმულია სათანადო ნიშანი. ამავე დანართის მე-4 თავის (მიმითმეველი ნიშნები) 4.1.1-4.1.6 პუნქტების შენიშვნის „ბ“ ქვეპუნქტის თანახმად ბ) 4.1.1-4.1.6 ნიშნების მოქმედება ვრცელდება სავალი ნაწილების იმ გადაკვეთაზე, რომლის წინაც დადგმულია სათანადო ნიშანი. სურათზე ნაჩვენები ნიშნებია: 3.18.2 „მარცხნივ მოხვევა აკრძალულია“, 4.1.4 „მოძრაობა პირდაპირ ან მარჯვნივ“, 3.18.1 „მარჯვნივ მოხვევა აკრძალულია“ და 4.1.5 „მოძრაობა პირდაპირ ან მარცხნივ“.





I



II



III

Иарбоу амѡатѡ дьргакѡа амч рымоупЖ

1

Адырга заҭҭхѡа игылоу амѡасырта  
аиѡѡѡараѡы

2

Адыргаѡѡа иахѡгылоу амѡа аҭанаѡы

### განმარტება:

„საგზაო მოძრაობის შესახებ“ საქართველოს კანონის პირველი დანართის მე-3 თავის (ამკრძალავი ნიშნები) შენიშვნის „ი“ პუნქტის თანახმად 3.10, 3.27–3.30 ნიშნების მოქმედება ვრცელდება მხოლოდ გზის იმ მხარეს, რომელზედაც ისინია დადგმული. სურათზე ნაჩვენები ნიშნებია: 3.10 „ქვეითთა მოძრაობა აკრძალულია“, 3.27 „გაჩერება აკრძალულია“ და 3.29 „დგომა აკრძალულია კენტ რიცხვებში“.

**I****II****III**

Иарбоу амѡатѡ дыргакѡа амч рымоупЖ

**1**

Адырга иахьгылоу атып инаркны уи  
аамышьтахь ааигѡажа иѡоу амѡеихысыртанѡа  
анхартатып аѡы мацара, амѡеихысырта  
иѡамзар – анхартатып атыхѡанѡа

**2**

Адырга заѡухѡа игылоу амѡасырта  
аиѡѡѡараѡы

### განმარტება:

„საგზაო მოძრაობის შესახებ“ საქართველოს კანონის პირველი დანართის მე-3 თავის (ამკრძალავი ნიშნები) შენიშვნის „ე“ პუნქტის თანახმად, 3.16, 3.20, 3.22, 3.24, 3.26–3.30 ნიშნების მოქმედება ვრცელდება სათანადო ნიშნის შემდეგ, ნიშნის დადგმის ადგილიდან უახლოეს გზაჯვარედინამდე, ხოლო დასახლებულ პუნქტში გზაჯვარედინის არარსებობისას – დასახლებული პუნქტის ბოლომდე. ნიშნების მოქმედება ვრცელდება აგრეთვე მიმდებარე ტერიტორიის გამოსას-ვლე-ლთან, საველე, სატყეო და სხვა მეორეხარისხოვანი გზების გადაკვეთასთან (შეერთებასთან), რომელთა წინ არ დგას სათანადო ნიშანი. სურათზე ნაჩვენები ნიშნებია: 3.16 „მინიმალური დისტანციის შეზღუდვა“, 3.24 „მაქსიმალური სიჩქარის შეზღუდვა“ და 3.28 „დგომა აკრძალულია“.



I



II



III



IV

Анхартатың ағы амөеихысырта иқамзар, иарбоу амөатө дырғақәа рқынтө руа иарбан анхартатың антәамтанға амч змоуҒ

1

III мацара

2

IIIИб IIIИИ, IIIИи мацара

3

IIIи IIIИи мацара

4

IIIIИ мацара

### განმარტება:

„საგზაო მოძრაობის შესახებ“ საქართველოს კანონის პირველი დანართის მე-3 თავის (ამკრძალავი ნიშნები) შენიშვნის „ე“ პუნქტის თანახმად, 3.16, 3.20, 3.22, 3.24, 3.26–3.30 ნიშნების მოქმედება ვრცელდება სათანადო ნიშნის შემდეგ, ნიშნის დადგმის ადგილიდან უახლოეს გზაჯვარედინამდე, ხოლო დასახლებულ პუნქტში გზაჯვარედინის არარსებობისას – დასახლებული პუნქტის ბოლომდე. ნიშნების მოქმედება ვრცელდება აგრეთვე მიმდებარე ტერიტორიის გამოსასვლელ-ლთან, საველე, სატყეო და სხვა მეორეხარისხოვანი გზების გადაკვეთასთან (შეერთებასთან), რომელთა წინ არ დგას სათანადო ნიშანი. სურათზე ნაჩვენები ნიშნებია: 3.4 „სატვირთო მოძრაობა აკრძალულია“, 3.20 „გასწრება აკრძალულია“, 3.27 „გაჩერება აკრძალულია“ და 3.30 „დგომა აკრძალულია ღუწ რიცხვებში“.



Иარბოუ ამოათ დყრა იკეიყымნათეუეიტჟ

1

Дызпысырц иҭаху атранспорттә хархәага аласра иахьыҭшымкәа, аидаратә машына арныкәа ила егырт атранспорттә хархәагакәа раҭысра

2

3,5 тонна еиҳаны ззин иҭоу амаксмалтә масса змоу аидаратә машына ала егырт атранспорттә хархәагакәа раҭысра  
Ҳсааткала 30км. еицны аласрала еиҭацуа ахархәагакәа рыдаҭ

3

Иарбоу амѡа ацыҭцәахаҭы амашына ласқәеи аидаратә машынақәеи рыла аиҭацра

### განმარტება:

„საგზაო მოძრაობის შესახებ“ საქართველოს კანონის პირველი დანართის მე-3 თავის (ამკრძალავი ნიშნები) 3.22 პუნქტის თანახმად, საგზაო ნიშანი 3.22 „სატვირთო ავტომობილით გასწრება აკრძალულია“ - კრძალავს 3,5 ტონაზე მეტი ნებადართული მაქსიმალური მასის მქონე სატვირთო ავტომობილით სხვა სატრანსპორტო საშუალების გასწრებას (გარდა 30 კმ/სთ-ზე ნაკლები სიჩქარით მოძრავი ტრანსპორტისა), აგრეთვე ტრაქტორით სხვა სატრანსპორტო საშუალების გასწრებას (გარდა საჭაპანო ტრანსპორტისა და ველოსიპედისა).



თემა 25:

## სასწავლო სვლა

---

ВОПРОС 681

ПРАВИЛЬНЫЙ ОТВЕТ: 3



I



II



III



IV

Абарт амѡათѡ дыргакѡа ркынтѡ руа иარბან иარბოу ахырхарტала атранспорттѡ хархѡаგакѡа зегьы рыла  
ამѡა ალალარა იკѡიტყызымტѡაჲ

1

I

2

II

3

III

4

IV

### განმარტება:

„საგზაო მოძრაობის შესახებ“ საქართველოს კანონის პირველი დანართის მე-3 თავის (ამკრძალავი ნიშნები) 3.1 პუნქტის თანახმად საგზაო ნიშანი 3.1 „შესვლა აკრძალულია“ - კრძალავს ყველა სახის სატრანსპორტო საშუალებით შესვლას მოცემული მიმართულებით.

## ВОПРОС 682

ПРАВИЛЬНЫЙ ОТВЕТ: 1



I



II



III



IV

Иарбоу амѡатѡ дыргакѡа ркынтѡ руа иарбан атранспорттѡ хархѡагакѡа зегыы рыла аитатцра  
икѡитызымтѡуаѢ

1

I

2

II

3

III

4

IV

## განმარტება:

„საგზაო მოძრაობის შესახებ“ საქართველოს კანონის პირველი დანართის მე-3 თავის (ამკრძალავი ნიშნები) 3.2 პუნქტის თანახმად საგზაო ნიშანი 3.2 „მოძრაობა აკრძალულია“ - კრძალავს ყველა სახის სატრანსპორტო საშუალებით მოძრაობას.

## ВОПРОС 683

ПРАВИЛЬНЫЙ ОТВЕТ: 2



I



II



III



IV

Иарбоу амѡათѣ дыргакѣа ркынтѣ руа иарбан амеханикатѣ атранспорттѣ хархѣагакѣа зегы рыла аитѣтра икѣитызымтѣуаѢ

1

I

2

II

3

III

4

IV

## განმარტება:

„საგზაო მოძრაობის შესახებ“ საქართველოს კანონის პირველი დანართის მე-3 თავის (ამკრძალავი ნიშნები) 3.3 პუნქტის თანახმად საგზაო ნიშანი 3.3 „მექანიკური სატრანსპორტო საშუალებით მოძრაობა აკრძალულია“ - კრძალავს ყველა სახის მექანიკური სატრანსპორტო საშუალებით მოძრაობას.





Иарбоу амѡатѡ дьрга иаанагоитЖ

1

Изеиѡшразаалак, амеханикатѡ атранспорттѡ хархѡагақѡа зегьы рыла аитѡцра иқѡѡтымуп

2

Изеиѡшразаалак, атранспорттѡ хархѡагақѡа зегьы рыла аитѡцра иқѡѡтымуп

3

Амашьына лас аитѡцразы иазѡхьагѡѡу амѡа хнарбоит

### განმარტება:

„საგზაო მოძრაობის შესახებ“ საქართველოს კანონის პირველი დანართის მე-3 თავის (ამკრძალავი ნიშნები) 3.3 პუნქტის თანახმად საგზაო ნიშანი 3.3 „მექანიკური სატრანსპორტო საშუალებით მოძრაობა აკრძალულია“ - კრძალავს ყველა სახის მექანიკური სატრანსპორტო საშუალებით მოძრაობას.



Иарбоу амѡатѡ дьрга инаѡѡырѡшны иѡаломЖ

1

ფეგეჟჲყკ ჰმოუ ატრანსპორტტჲ ხარხჲაგალა აიტატჲრა

2

Акресло ჰმამ амотоцикл ала аитцара

3

Изеиѡჲშრაჰაალაკ, амотоцикл ала аитатჲრა

### განმარტება:

„საგზაო მოძრაობის შესახებ“ საქართველოს კანონის პირველი დანართის მე-3 თავის (ამკრძალავი ნიშნები) 3.5 პუნქტის თანახმად საგზაო ნიშანი 3.5 „მოტოციკლით მოძრაობა აკრძალულია“ - კრძალავს ყველა სახის მოტოციკლით მოძრაობას.



Иарбоу амѡатѡ дьрга иаанагоитЖ

1

Изеиџшразаалак, амеханикатѡ атранспорттѡ хархѡагақѡа зегьы рыла аитѡцра иқѡнтымуп

2

Изеишразаалак атрактори ахала инақѡо амашьынеи рыла аитѡцра иқѡнтымуп

3

Атрактор ала аитѡцразы иазџхьагѡѡѡу амѡѡ хнарбоит

### განმარტება:

„საგზაო მოძრაობის შესახებ“ საქართველოს კანონის პირველი დანართის მე-3 თავის (ამკრძალავი ნიშნები) 3.6 პუნქტის თანახმად საგზაო ნიშანი 3.6 „ტრაქტორით მოძრაობა აკრძალულია“ - კრძალავს ყველა სახის ტრაქტორითა და სპეციალიზებული თვითმავალი მანქანით მოძრაობას.



Иарбоу амѡатѡ дьрга иаанагоитЖ

1

Ацраҳѡага змоу аидаратѡ машьынақѡа  
мацара реитѡтцразы иазѡхьагѡѡтѡу амѡа  
хнарбоит

2

Ацраҳѡага змоу аидаратѡ машьынақѡеи,  
ацраҳѡага змоу атрактори, иара убас,  
амеханикатѡ атранспортѡ харҳѡага иаханы  
агареи қалом

3

Арнықѡага змам атранспортѡ харҳѡақѡа  
реитѡтцра қалом

### განმარტება:

„საგზაო მოძრაობის შესახებ“ საქართველოს კანონის პირველი დანართის მე-3 თავის (ამკრძალავი ნიშნები) 3.7 პუნქტის თანახმად საგზაო ნიშანი 3.7 „მისაბმელით მოძრაობა აკრძალულია“ - კრძალავს ყველა სახის მისაბმელიანი სატვირთო ავტომობილითა და მისაბმელიანი ტრაქტორით მოძრაობას, აგრეთვე მექანიკური სატრანსპორტო საშუალების ბუქსირებას.





I



II



III



IV

Иარბოუ ამფატე დыргაკეა რკინტე რუა იარბან აუარდინტეი აჩაიუანტეი ატრანსპორტ რыла аитатцрей, аҭҭстәы уақәтәаны аитатцрей, иара убас, аჩаиуан рыхцареи иқәитызымтәуаҭ

1

III и IIII მაцара

2

IIII и IIIII მაцара

3

IIIIII მაцара

4

III მაцара

### განმარტება:

„საგზაო მოძრაობის შესახებ“ საქართველოს კანონის პირველი დანართის მე-3 თავის (ამკრძალავი ნიშნები) 3.8 პუნქტის თანახმად საგზაო ნიშანი 3.8 „საჭაპანო მოძრაობა აკრძალულია“ - კრძალავს საჭაპანო ტრანსპორტით, სასაპალნე და დასაჯდომი ცხოველებით მოძრაობას, ასევე პირუტყვის გადარეკვას.



I



II



III



IV

Иარბოუ ამფატე დыргакეа ркынтә руа иарбан амаланыкәеи амопеди рыла аитатра икәитызымтәуаҭ

1

I

2

II

3

III

4

IV

### განმარტება:

„საგზაო მოძრაობის შესახებ“ საქართველოს კანონის პირველი დანართის მე-3 თავის (ამკრძალავი ნიშნები) 3.9 პუნქტის თანახმად საგზაო ნიშანი 3.9 „ველოსიპედით მოძრაობა აკრძალულია“ - კრძალავს ველოსიპედითა და მოპედით მოძრაობას.



I



II



III



IV

Иарбоу амѡатѡ дыргакѡа рѡынтѡ руа иарбан ашьаѡауаа реитатра иѡѡтызымтѡуаѢ

1

I

2

II

3

III

4

IV

### განმარტება:

„საგზაო მოძრაობის შესახებ“ საქართველოს კანონის პირველი დანართის მე-3 თავის (ამკრძალავი ნიშნები) 3.9 პუნქტის თანახმად საგზაო ნიშანი 3.9 „ველოსიპედით მოძრაობა აკრძალულია“ - კრძალავს ველოსიპედითა და მოპედით მოძრაობას.



I



II



III



IV

Иარბოუ ამფატე დыргაკეა რჳყნტე რუა იარბან ატრანსპორტტე харჲაგაკჲეი, იარა უბას, ჳეიჲშ ფაქტტე  
 масса адыргаѳы иазгѳаѳоу амасса аѳкыс еиѲау аტრანსპორტტე харჲაგაკჲე რეილაჳარა ალა аитатра  
 иѲѳиѳыѳтѳаѳ

1

I

2

II

3

III

4

IV

### განმარტება:

„საგზაო მოძრაობის შესახებ“ საქართველოს კანონის პირველი დანართის მე-3 თავის (ამკრძალავი ნიშნები) 3.11 პუნქტის თანახმად საგზაო ნიშანი 3.11 „მასის შეზღუდვა“ - კრძალავს იმ სატრანსპორტო საშუალებით და სატრანსპორტო საშუალებათა შემადგენლობით მოძრაობას, რომელთა საერთო ფაქტობრივი მასა აღემატება ნიშანზე აღნიშნულს.





I



II



III



IV

Иарбоу амѡатѡ дыргакѡа рѡынтѡ руа иарбан лырак азы зфактѡ акѡыѡѡѡѡаа адыргаѡы иазгѡათоу акѡыѡѡѡѡаа еиѡау атранспорттѡ харѡѡага ала аитѡцра иѡѡитѡзымтѡѡаѡ

1

I

2

II

3

III

4

IV

### განმარტება:

„საგზაო მოძრაობის შესახებ“ საქართველოს კანონის პირველი დანართის მე-3 თავის (ამჟრძალავი ნიშნები) 3.12 პუნქტის თანახმად საგზაო ნიშანი 3.12 „ღერძზე დატვირთვის შეზღუდვა“ - კრძალავს იმ სატრანსპორტო საშუალებით მოძრაობას, რომლის ფაქტობრივი დატვირთვა რომელიმე ღერძზე აღემატება ნიშანზე აღნიშნულს.

## ВОПРОС 693

ПРАВИЛЬНЫЙ ОТВЕТ: 1



I



II



III



IV

Иарбоу амѡათѡ дьргакѡа рѣынтѡ руа иарбан адыргаѣы иарбоу адистанѣиа аѣкыс еитѣу адистанѣиала атранспорттѡ хархѡага аитѡѣра иѣѡыитѣызымтѡуаѢ

1

I

2

II

3

III

4

IV

## განმარტება:

„საგზაო მოძრაობის შესახებ“ საქართველოს კანონის პირველი დანართის მე-3 თავის (ამკრძალავი ნიშნები) 3.16 პუნქტის თანახმად საგზაო ნიშანი 3.16 „მინიმალური დისტანციის შეზღუდვა“ - კრძალავს სატრანსპორტო საშუალებებით მოძრაობას ნიშანზე აღნიშნულ მანძილზე ნაკლები დისტანციით.



Иарბოу амოათე дырга инакәырҭшныЖ

1

Амѡаѣы иҭоу ашѡарҭа иахҭьаны ашьаҭауаа  
реитатҭра ҭалом

2

Арныҭѡаѡѡа амақсималҭѡ гѡѡанызаарала,  
сааткала 20км. еихам аласрала еитатҭроуп

3

Амѡатѡ атранспортҭѡ амашѡыр ма даѡа  
шѡарҭак иахҭьаны иарбанзаалак  
атранспортҭѡ хархѡагак ала аитатҭра ҭалом

### განმარტება:

„საგზაო მოძრაობის შესახებ“ საქართველოს კანონის პირველი დანართის მე-3 თავის (ამკრძალავი ნიშნები) 3.17.2 პუნქტის თანახმად საგზაო ნიშანი 3.17.2 „საფრთხე“ - კრძალავს ყველა სახის სატრანსპორტო საშუალებით შემდგომ მოძრაობას საგზაო-სატრანსპორტო შემთხვევის ან სხვა საფრთხის გამო.



Иарбоу амѡათѡ дырга инакѡырѡшныЖ

1

Амѡасыртакѡа ааигѡазатѡи რეიქტѡარაფყ  
აქѡირა ზალომ

2

Арныкѡაფ არѡყარახყ мацара аитатра иуалуп

3

Амѡасыртакѡа ааигѡазатѡи რეიქტѡარაფყ  
არѡყარახყ აქѡირა ზალომ

### განმარტება:

„საგზაო მოძრაობის შესახებ“ საქართველოს კანონის პირველი დანართის მე-3 თავის (ამკრძალავი ნიშნები) 3.18.1 პუნქტის თანახმად საგზაო ნიშანი 3.18.1 „მარჯვნივ მოხვევა აკრძალულია“ - კრძალავს სავალი ნაწილების უახლოეს გადაკვეთაზე მარჯვნივ მოხვევას.





Иарбоу амѡатѡ дырга инакѡырѡшныЖ

1

Амѡасыртақѡа ааигѡазатѡи реиѡѡѡараѡы  
атѡѡира ზალომ

2

Амѡасыртақѡа ааигѡазатѡи реиѡѡѡараѡы  
армарахь атѡѡира ზალომ

3

Арныкѡѡ армарахь иара убас, шытахька  
маѡара аитѡѡრა иуалуп

### განმარტება:

„საგზაო მოძრაობის შესახებ“ საქართველოს კანონის პირველი დანართის მე-3 თავის (ამკრძალავი ნიშნები) 3.19 პუნქტის თანახმად საგზაო ნიშანი 3.19 „მობრუნება აკრძალულია“ - კრძალავს სავალი ნაწილების უახლოეს გადაკვეთაზე მობრუნებას.



I



II



III



IV

Иарбоу амѡათѣ дыргакѣа рѣынтѣ руа иарбан 3,5 тонна амаксималтѣ амасса ззин амоу аидаратѣ машынаლა даѣа атранспорттѣ хархѣагак аѣысра Пѣсааткала 30км. еитѣу аласрала еитѣтѣуа адаТ, иара убас – атрактор ала даѣа атранспорттѣ хархѣагак аѣысра Пѣауардыни амаланыкѣеи рыдаТ икѣитѣзымтѣуаѣ

1

I

2

II

3

III

4

IV

### ბანმარტეზა:

„საგზაო მოძრაობის შესახებ“ საქართველოს კანონის პირველი დანართის მე-3 თავის (ამკრძალავი ნიშნები) 3.22 პუნქტის თანახმად საგზაო ნიშანი 3.22 „სატვირთო ავტომობილით გასწრება აკრძალულია“ - კრძალავს 3,5 ტონაზე მეტი ნებადართული მაქსიმალური მასის მქონე სატვირთო ავტომობილით სხვა სატრანსპორტო საშუალების გასწრებას (გარდა 30 კმ/სთ-ზე ნაკლები სიჩქარით მოძრავისა), აგრეთვე - ტრაქტორით სხვა სატრანსპორტო საშუალების გასწრებას (გარდა საჭაპნე ტრანსპორტისა და ველოსიპედისა).



Иარბოу амѡатѡ дыргаЖ

1

Абжытѡ ардырга икѡнтызымтѡуа амѡатѡ дырга амч иахьамоу азона антѡамтѡ хнарбоит

2

Амитингкѡеи аманифестациакѡеи рымѡаџгара иахьыкамло амѡа ацыџтѡаха хнарбоит

3

Абжытѡ ардырга ахархѡара икѡнтымнатѡеит, ари ардырга амѡатѡе атранспорттѡ амашѡыр аѡацѡыхьчара амзызла ианыџатѡу аџагылазаашьѡ иналамџакѡа

### განმარტება:

„საგზაო მოძრაობის შესახებ“ საქართველოს კანონის პირველი დანართის მე-3 თავის (ამკრძალავი ნიშნები) 3.26 პუნქტის თანახმად საგზაო ნიშანი 3.26 „ხმოვანი სიგნალის მიცემა აკრძალულია“ - კრძალავს ხმოვანი სიგნალით სარგებლობას, გარდა იმ შემთხვევისა, როცა სიგნალი გამოიყენება საგზაო-სატრანსპორტო შემთხვევის თავიდან ასაცილებლად.



Иარბოუ ამოატე დыргაჟ

1

Иარбанзаалак атранспорттэ хархэага  
აფყსრა шыკამლო иханахэоит

2

Амоатэ адырга 3.2т „Афყсრა калом” амч  
иахьамоу азона антэамта хнарбоит

3

Абжытэ ардырга ахархэара шыკამლო  
иханахэоит, ари ардырга амоатэ  
атранспорттэ амашэыр аеацэхьчара  
амызла ианыкатоу аҭагылазаашьа  
иналамҭакәа

### განმარტება:

„საგზაო მოძრაობის შესახებ“ საქართველოს კანონის პირველი დანართის მე-3 თავის (ამკრძალავი ნიშნები) 3.21 პუნქტის თანახმად საგზაო ნიშანი 3.21 „გასწრების აკრძალვის დასასრული“ - აღნიშნავს საგზაო ნიშნის 3.20-ის („გასწრება აკრძალულია“) მოქმედების ზონის დასასრულს.





I



II



III



IV

Иарбоу амѡатѡ дыргакѡа ркынтѡ руа иарбан амѡатѡ дырга 3.24 П, „Амаксималтѡ аласра аѣкра“ Т амч  
иахѡамоу азона антѡамта хзырбоѣ

1

I

2

II

3

III

4

IV

### განმარტება:

„საგზაო მოძრაობის შესახებ“ საქართველოს კანონის პირველი დანართის მე-3 თავის (ამჟრძალავი ნიშნები) 3.25 პუნქტის თანახმად საგზაო ნიშანი 3.25. „მაქსიმალური სიჩქარის შეზღუდვის დასასრული“ - აღნიშნავს 3.24 „მაქსიმალური სიჩქარის შეზღუდვა“ ნიშნის მოქმედების ზონის დასასრულს.



Иарбоу амѡათѡ дыргаЖ

1

Атранспорттѡ хархѡага аанкыларა, иара  
убас, агыларა шыѡамло иахнарбоит

2

Атранспорттѡ хархѡага аанкыларა шыѡамло,  
аха агыларა шыѡало иахнарбоит

3

Атранспорттѡ хархѡага агыларა шыѡамло,  
аха аанкыларა шыѡало иахнарбоит

### განმარტება:

„საგზაო მოძრაობის შესახებ“ საქართველოს კანონის პირველი დანართის მე-3 თავის (ამკრძალავი ნიშნები) 3.27 პუნქტის თანახმად საგზაო ნიშანი 3.27 „გაჩერება აკრძალულია“ - კრძალავს სატრანსპორტო საშუალების, როგორც გაჩერებას, ისე დგომას.



I



II



III



IV

Иარბოუ ატრანსპორტტე ხაჩაგაკეა რკინტე რუა იარბან ზიმჩ ახჷყოუ აზონაფი ატრანსპორტტე ხარხაგა აგილარა шыკამლო იაჩჷრბოფ

1

III შაцара

2

II შაцара

3

III ში IIIIII შაцара

4

III ში II ში შაцара

### განმარტება:

„საგზაო მოძრაობის შესახებ“ საქართველოს კანონის პირველი დანართის მე-3 თავის (ამჟრძალავი ნიშნები) 3.27 და 3.28 პუნქტების თანახმად: - საგზაო ნიშანი 3.27 „გაჩერება აკრძალულია“ - კრძალავს სატრანსპორტო საშუალების, როგორც გაჩერებას, ისე დგომას. - საგზაო ნიშანი 3.28 პუნქტის თანახმად საგზაო ნიშანი 3.28 „დგომა აკრძალულია“ კრძალავს სატრანსპორტო საშუალების დგომას.



I



II



III



IV

Иарбоу амѡатѡ дыргакѡа рѡынтѡ руа иарбан амз еиѡымшо арыцхѡкѡа рзы атранспорттѡ хархѡага аргылаа икѡитызымтѡуаѢ

1

I

2

II

3

III

4

IV

### განმარტება:

„საგზაო მოძრაობის შესახებ“ საქართველოს კანონის პირველი დანართის მე-3 თავის (ამკრძალავი ნიშნები) 3.29 პუნქტის თანახმად საგზაო ნიშანი 3.29 „დგომა აკრძალულია კენტ რიცხვებში“ - კრძალავს სატრანსპორტო საშუალების დგომას თვის კენტ რიცხვებში.



## ВОПРОС 704

ПРАВИЛЬНЫЙ ОТВЕТ: 1



I



II



III



IV

Иარბოუ ამფათე დыრაქაე რკინტე რუა იარბან ამარшруттэ атранспорттэ хархэагазы амч змамѢ

1

ში შიშიში მაцარა

2

შიში შიში მაцარა

3

შიში შიშიში მაцარა

4

შიშიში შიში მაцარა

## განმარტება:

„საგზაო მოძრაობის შესახებ“ საქართველოს კანონის პირველი დანართის მე-3 თავის (ამკრძალავი ნიშნები) შენიშვნის „გ.ა“ ქვეპუნქტის თანახმად ნიშნების მოქმედება არ ვრცელდება: გ.ა) 3.1–3.3, 3.18.1, 3.18.2, 3.19, 3.27 ნიშნებისა – სამარშრუტო სატრანსპორტო საშუალებაზე. სურათზე ნაჩვენები საგზაო ნიშნებია: 3.18.2 „მარცხნივ მოხვევა აკრძალულია“, 1.8 „წრიულიმოძრაობიანი გადაკვეთა“, 3.19 „მობრუნება აკრძალულია“ და 1.33 „ხერგილი“.

## ВОПРОС 705

ПРАВИЛЬНЫЙ ОТВЕТ: 2

Ацаратэ аныкэара аан аинструкторѣарцаѣы диейкароупЖ

1

Апассажи́р

2

Арныкэаѣ

3

Абри абилет аѣы еикэыпхьаѣоу ркынтэ аѣэгьы.

## განმარტება:

„საგზაო მოძრაობის შესახებ“ საქართველოს კანონის 5-ე მუხლის 49-ე პუნქტის თანახმად, მძღოლი - ფიზიკური პირი, რომელიც მართავს სატრანსპორტო საშუალებას. მძღოლთან გათანაბრებულია მეხრე, სასწავლო სვლის განხორციელებისას მძღოლთან გათანაბრებულია ინსტრუქტორ-მასწავლებელიც.

## ВОПРОС 706

ПРАВИЛЬНЫЙ ОТВЕТ: 1

Атრანსპორტტა хархაага апрактикатә арныкәара атцара калоит чыдалатәи асиа иалоу амѡакәа рѣы, ари асиа ишыакәгылоу атцасла ишыакәнарѣѡѡитЖ

1

Атыѡантәи ахатәхеиѣкааратә орган

2

Арныкәаѡцәа иаыѡказѡо аусбарта анапхгара

3

Аинструктореарѡаѡы избарала

## განმარტება:

„საგზაო მოძრაობის შესახებ“ საქართველოს კანონის 61-ე მუხლის მე-2 პუნქტის თანახმად, სატრანსპორტო საშუალების პრაქტიკული მართვის სწავლება (სასწავლო სვლა) ნებადართულია მხოლოდ საქართველოს კანონმდებლობით დადგენილი წესით, დახურულ მოედანსა და ავტოდრომზე, აგრეთვე იმ გზებზე, რომელთა სიასაც დადგენილი წესით ამტკიცებენ ადგილობრივი თვითმმართველობის ორგანოები.

## ВОПРОС 707

ПРАВИЛЬНЫЙ ОТВЕТ: 4

Апрактикатә амашынарныкәара атцара иазку атцаратә атрანსпорттә хархәага еибытазароупЖ

1

Аинструктореарѡаѡы изы иѡоу аибаркыгеи иаѡѡаны ишыакәыргылоу аанкылагакәеи рыла

2

Аинструктореарѡаѡы изы иѡоу ашытахьтәи алаѡшбара асаркыала

3

Аилыркааратә дырга е „Атцаратә атрანსпорттә хархәага“ ала

4

Абри абилет аѣы еиқәыѡхьаѡоу ашыакәыргыламытакәа зегы рыла

## განმარტება:

„საგზაო მოძრაობის შესახებ“ საქართველოს კანონის 61-ე მუხლის მე-3 პუნქტის თანახმად, სასწავლო სატრანსპორტო საშუალება, რომლითაც ხდება პრაქტიკული მართვის სწავლება (სასწავლო სვლა), უნდა აღიჭურვოს ინსტრუქტორ-მასწავლებლისათვის განკუთვნილი გადაბმულობისა და მუხრუჭის დამატებითი სატერფულებით, აგრეთვე უკუხედვის სარკით. ასეთ სატრანსპორტო საშუალებაზე ამ კანონის მე-19 მუხლის პირველი პუნქტის „თ“ ქვეპუნქტით დადგენილი წესით უნდა დამაგრდეს საცნობი ნიშანი.

## ВОПРОС 708

ПРАВИЛЬНЫЙ ОТВЕТ: 2

Аტრანსპორტტე ხარხეაგა აპრაქტიკატე არნჱეარა ატარა ჭალოიტჴ

1

Ускак амашынақәа иахьырацәам  
иарбанзаалак амѡафы

2

Ихыбу аштафы ма автодром афы

3

АнхартатыѴ акалт афы

## განმარტება:

„საგზაო მოძრაობის შესახებ“ საქართველოს კანონის 61-ე მუხლის მე-2 და მე-4 პუნქტების თანახმად: 2. სატრანსპორტო საშუალების პრაქტიკული მართვის სწავლება (სასწავლო სვლა) ნებადართულია მხოლოდ საქართველოს კანონმდებლობით დადგენილი წესით, დახურულ მოედანსა და ავტოდრომზე, აგრეთვე იმ გზებზე, რომელთა სიასაც დადგენილი წესით ამტკიცებენ ადგილობრივი თვითმმართველობის ორგანოები. 4. გზაზე სასწავლო სვლა დასაშვებია მხოლოდ სასწავლო სატრანსპორტო საშუალებით ინსტრუქტორ-მასწავლებელთან ერთად იმ შემთხვევაში, თუ პირი ფლობს სატრანსპორტო საშუალების პრაქტიკული მართვის სანყის ჩვენებს. ინსტრუქტორ-მასწავლებელს გზაზე სასწავლო სვლის განხორციელების უფლება აქვს მხოლოდ მას შემდეგ, რაც დარწმუნდება, რომ პირმა (მოსწავლემ) საკმარისად აითვისა სატრანსპორტო საშუალების პრაქტიკული მართვის სანყისი ჩვენები.

## ВОПРОС 709

ПРАВИЛЬНЫЙ ОТВЕТ: 1

Амѡაფы ატარატე აიტატრა ჭალოიტჴ

1

Атцаратэ атранспорттэ хархэага мацарала,  
аинструктореарцафы ихылаѴшрала

2


Иарбанзаалак атранспорттэ хархэагала, уи  
зтѴу ихылаѴшрала

3

Атцаратэ атранспорттэ хархэагала,  
аинструктореарцафы ихылаѴшрала, иара  
убас, иарбанзаалак атранспорттэ  
хархэагала, уи зтѴу ихылаѴшрала

## განმარტება:

„საგზაო მოძრაობის შესახებ“ საქართველოს კანონის 61-ე მუხლის მე-4 პუნქტის თანახმად, გზაზე სასწავლო სვლა დასაშვებია მხოლოდ სასწავლო სატრანსპორტო საშუალებით ინსტრუქტორ-მასწავლებელთან ერთად იმ შემთხვევაში, თუ პირი ფლობს სატრანსპორტო საშუალების პრაქტიკული მართვის სანყის ჩვენებს. ინსტრუქტორ-მასწავლებელს გზაზე სასწავლო სვლის განხორციელების უფლება აქვს მხოლოდ მას შემდეგ, რაც დარწმუნდება, რომ პირმა (მოსწავლემ) საკმარისად აითვისა სატრანსპორტო საშუალების პრაქტიკული მართვის სანყისი ჩვენები.



Иарбан хырхартоу атаратә машына аитатра злалымшо, уи ацафы ирныкәозарҭ

1

А ахырхартала мацара

2

В ахырхартала мацара


3

Аи Ви ахырхартакәа рыла

### განმარტება:

„საგზაო მოძრაობის შესახებ“ საქართველოს კანონის 38-ე მუხლის პირველი პუნქტის „ბ“ ქვეპუნქტის თანახმად, ავტომაგისტრალზე, ავტომაგისტრალის შესასვლელსა და გამოსასვლელზე აკრძალულია სასწავლო სვლა.





Ацаратә машына ахыц ахырхартала аитатра азин амоума, уи ацафы ирныкәозарҭ

1

Азин амам

2

Азин амоуп

### განმარტება:

„საგზაო მოძრაობის შესახებ“ საქართველოს კანონის 44-ე მუხლის მე-3 პუნქტის თანახმად, ქვეითთა ზონად გამოცხადებულ ადგილზე და საცხოვრებელ ზონაში აკრძალულია გამჭოლი მოძრაობა, სასწავლო სვლა და ჩართული ძრავითი დგომა; ამასთანავე, ქვეითს უპირატესობა აქვს სხვა საგზაო მოძრაობის მონაწილეების მიმართ.



Ацаратә машына ахыц ахырхартала аитатра азин амоума, уи ацафы ирныкәозарҥ

1

Азин амам

2

Азин амоуп

### განმარტება:

„საგზაო მოძრაობის შესახებ“ საქართველოს კანონის 38-ე მუხლის პირველი პუნქტის „ბ“ ქვეპუნქტის თანახმად, ავტომაგისტრალზე, ავტომაგისტრალის შესასვლელსა და გამოსასვლელზე აკრძალულია სასწავლო სვლა.

თემა 26:

გადაზიდვები, ხალხი, ტვირთი

---

## ВОПРОС 713

ПРАВИЛЬНЫЙ ОТВЕТ: 2

Арныкәә, ахәыцкәа ргәыпкәа мѡапызго ахафы икаитаз азгәатара ала амѡасырта иахысуа ахәыцкәа амѡа рытара ихәтоумаѢ

1

Ихәтам

2

Ихәтоуп

## განმარტება:

„საგზაო მოძრაობის შესახებ“ საქართველოს კანონის 26-ე მუხლის მე-5 პუნქტის თანახმად, ბავშვთა ჯგუფების გამცილებლის მინიშნებისას მძღოლი ვალდებულია გზა დაუთმოს იმ ბავშვებს, რომლებიც კვეთენ გზის სავალ ნაწილს.

## ВОПРОС 714

ПРАВИЛЬНЫЙ ОТВЕТ: 2

Аикәшаратә цәахәа змам, ѡеганктәи аитатра иахыikoу амѡафы ахәыцкәа ргәып еитатроуп аитатра ахырхаралаЖ

1

Иkoу аган иапну афыкә афы

2

Еипынгылоу аганафы иkoу амѡа афпыкә афы

## განმარტება:

„საგზაო მოძრაობის შესახებ“ საქართველოს კანონის 26-ე მუხლის მე-5 პუნქტის თანახმად, ორმხრივ მოძრაობიან გზაზე, რომელსაც არა აქვს გამყოფი ზოლი, ბავშვთა ჯგუფი უნდა გადაადგილდებოდეს მოძრაობის მიმართულების საწინააღმდეგო მხარეს მდებარე გვერდულაზე.



## ВОПРОС 715

ПРАВИЛЬНЫЙ ОТВЕТ: 1

Апассажи́рцәа рхыпхьа́зара ма урт рымџангашьа арныкџара иапырхагазар, ма арныкџаџ алапшбара издыркуазар, урт рымџангара каломаџ

1

Икалом

2

Икалоит, аха арныкџаџ икџахатрала

3

Икалоит, аха ауаа ахнымхо апункт аџы, ихадам амџаџы, атранспорттџ хархџаага аласра сааткала 40км. еихамзар

## განმარტება:

„საგზაო მოძრაობის შესახებ“ საქართველოს კანონის 46-ე მუხლის პირველი პუნქტის თანახმად, აკრძალულია მგზავრთა იმ რაოდენობით ან ისე გადაყვანა, რომ ეს ხელს უშლიდეს სატრანსპორტო საშუალების მართვას ან მძღოლს უზღუდავდეს ხედვის არეს.

## ВОПРОС 716

ПРАВИЛЬНЫЙ ОТВЕТ: 4

Апассажи́рцәа рымџангара калоитЖ

1

Атрактор ма ахала иныкџо даџа машьынак асалон ма акабина нхыт

2

Аидаратџ машьына ацрахџагала, иара убас, ацрахџагаџнкџа рыла

3

Аидаратџ машьына ачарт ала

4

Иаханы изго автобус

## განმარტება:

„საგზაო მოძრაობის შესახებ“ საქართველოს კანონის 46-ე მუხლის მე-10 პუნქტის „ა“ ქვეპუნქტის თანახმად, აკრძალულია მგზავრთა გადაყვანა ავტომობილის (ფურგონძარიანი ან ბორტის პლატფორმის მქონე სატვირთო ავტომობილის ძარათი მგზავრთა გადაყვანის შემთხვევის გარდა), ტრაქტორის, სხვა თვითმავალი მანქანის სალონის ან კაბინის გარეთ, სატვირთო ავტომობილის მისაბმელით, მისაბმელ-აგარაკით, სატვირთო მოტოციკლის ძარათი და მოტოციკლის კონსტრუქციით გათვალისწინებული დასასხდომი ადგილების გარეთ.

## ВОПРОС 717

ПРАВИЛЬНЫЙ ОТВЕТ: 2

Атранспорттә хархәага афакттәи амасса ззин икоу амаксималтә масса еихазар, уи ала апассажирцәа рымѡангара каломаѢ

1

Икалоит

2

Икалом

## განმარტება:

„საგზაო მოძრაობის შესახებ“ საქართველოს კანონის 46-ე მუხლის მე-10 პუნქტის „გ“ ქვეპუნქტის თანახმად, აკრძალულია მგზავრთა გადაყვანა თუ სატრანსპორტო საშუალების ფაქტობრივი მასა აღემატება მის ნებადართულ მაქსიმალურ მასას.

## ВОПРОС 718

ПРАВИЛЬНЫЙ ОТВЕТ: 4

Атранспорттә хархәагаґы изеиґшразаалак аидара убас еиґш ишьтататәуп, иатаххар ирґәґәатәуп, уи амѡангара аанЖ

1

Амѡатә аитатра еґырт алахәылацәа ашәарта рызцәырымтырц, ахәынтқарратә ма ахатәы амазара аґхаста амоурц, аидара амѡа иқәымхарц

2

Алаґшбара ґхастамхарц, атранспорттә хархәага атаґылазаашәа ґхастамхарц, уи арныкәара уадаґымхарц

3

Алашареи, сдеқ ардыргеи, атәира арбагеи, ашәкәы атаґра аномери, ашәкәы иахьтаґу ахәынтқарра чыдалатәи адыргеи, иара убас, азакәанла ихәаакәтґоу напыла иқататәу ардыргеи иубартазарц

4

Ихьчазароуп абри абилет аґы еиқәыґхьаґоу атаґылазаашәақәа зегьы

## განმარტება:

„საგზაო მოძრაობის შესახებ“ საქართველოს კანონის 47-ე მუხლის მე-11 პუნქტის „ა“, „ბ“ და „გ“ ქვეპუნქტების თანახმად, სატრანსპორტო საშუალებაზე ნებისმიერი ტვირთი იმგვარად უნდა მოთავსდეს და აუცილებლობის შემთხვევაში დამაგრდეს, რომ მისი გადაზიდვისას: ა) საფრთხე არ შეექმნას სხვა საგზაო მოძრაობის მონაწილეებს, ზიანი არ მიაღდეს სახელმწიფო, საზოგადოებრივ და კერძო ქონებას, ტვირთი არ ეთრეოდეს და არ ცვიოდეს გზაზე; ბ) არ შეიზღუდოს ხილვადობა და ხედვის არე, არ დაირღვეს სატრანსპორტო საშუალების მდგრადობა და არ გაძნელდეს მისი მართვა; გ) არ დაიფაროს სატრანსპორტო საშუალების სინათლეები, „სდექ“ სიგნალი, მოხვევის შუქ-მაჩვენებლები, შუქმარეკლი მოწყობილობები, რეგისტრაციის ნომერი და მარეგისტრირებელი სახელმწიფოს განმასხვავებელი ნიშანი, აგრეთვე ამ კანონით განსაზღვრული ხელით მისაცემი სიგნალები.

## ВОПРОС 719

ПРАВИЛЬНЫЙ ОТВЕТ: 1

Аидара иазгәататәуп адыргала е „Ихышәарам аидара“, уи аҭхьала ма ашьтахьла атранспорттә хархәага ахышәара иалыхәхәозарЖ

1

16т метрак еиханы

2

165 метрак еиханы

3

26т метрак еиханы

## განმარტება:

„საგზაო მოძრაობის შესახებ“ საქართველოს კანონის 47-ე მუხლის მე-13 პუნქტის თანახმად, სატრანსპორტო საშუალების გაბარიტის გარეთ წინ ან/და უკან 1 მეტრზე მეტად ან გვერდიდან საგაბარიტო სინათლის გარე ნაპირიდან 0,4 მეტრზე მეტად გადმოშვებული ტვირთი უნდა აღინიშნოს საცნობი ნიშნით „არაგაბარიტული (მსხვილგაბარიტიანი) ტვირთი“, აგრეთვე დღე-ღამის ბნელ დროს ან არასაკმარისი ხილვადობის პირობებში, წინ – თეთრი ფარნით ან შექამრეკლით, უკან – წითელი ფარნით ან შექამრეკლით.

## ВОПРОС 720

ПРАВИЛЬНЫЙ ОТВЕТ: 3

Аидара иазгәататәуп адыргала е „Ихышәарам аидара“, уи аганала, ахышәаратә алашара нхытҭәи ақәыпшыла иалыхәхәозарЖ

1

16კ მტრაკ еиханы

2

165 მტრაკ еиханы

3

164 მტრაკ еиханы

## განმარტება:

„საგზაო მოძრაობის შესახებ“ საქართველოს კანონის 47-ე მუხლის მე-13 პუნქტის თანახმად, სატრანსპორტო საშუალების გაბარიტის გარეთ წინ ან/და უკან 1 მეტრზე მეტად ან გვერდიდან საგაბარიტო სინათლის გარე ნაპირიდან 0,4 მეტრზე მეტად გადმოშვებული ტვირთი უნდა აღინიშნოს საცნობი ნიშნით „არაგაბარიტული (მსხვილგაბარიტიანი) ტვირთი“, აგრეთვე დღე-ღამის ბნელ დროს ან არასაკმარისი ხილვადობის პირობებში, წინ – თეთრი ფარნით ან შექამრეკლით, უკან – წითელი ფარნით ან შექამრეკლით.

## ВОПРОС 721

ПРАВИЛЬНЫЙ ОТВЕТ: 3

Ианылашьцоу ма алапшбара ианыцэгъоу, атранспорттə хархəага ахышəара нхыт, апхьала ма ашьтахьла метрак еиханы, ма аганала ахышəаратə алашара нхыттəи ақəпышылара 0,4 метрак еиханы иалыхəхəо аидара иаццаны иазгəататəупЖ

1

Апхьала мацарала е арлашага шкəакəа ала

2

Ашьтахьла мацарала – арлашага кəпшь ала

3

Апхьала е арлашага шкəакəа ала, иара убас, ашьтахьла мацарала – арлашага кəпшь ала

## განმარტება:

„საგზაო მოძრაობის შესახებ“ საქართველოს კანონის 47-ე მუხლის მე-13 პუნქტის თანახმად, სატრანსპორტო საშუალების გაბარიტის გარეთ წინ ან/და უკან 1 მეტრზე მეტად ან გვერდიდან საგაბარიტო სინათლის გარე ნაპირიდან 0,4 მეტრზე მეტად გადმოშვებული ტვირთი უნდა აღინიშნოს საცნობი ნიშნით „არაგაბარიტული (მსხვილგაბარიტიანი) ტვირთი“, აგრეთვე დღე-ღამის ბნელ დროს ან არასაკმარისი ხილვადობის პირობებში, წინ – თეთრი ფარნით ან შექამრეკლით, უკან – წითელი ფარნით ან შექამრეკლით.

## ВОПРОС 722

ПРАВИЛЬНЫЙ ОТВЕТ: 3

Атранспорттə хархəагала ахəыцкəа рымəангара кəлоитЖ

1

Ршьапы иқəыргылары мацара

2

Иртəаны, атранспорттə хархəага аибытəшьала атəартакəа иазпхьагəагəазар, иазпхьагəагəагəазар е ршьапы иқəыргылары

3

Иртəаны мацара

## განმარტება:

„საგზაო მოძრაობის შესახებ“ საქართველოს კანონის 26-ე მუხლის მე-3 პუნქტის თანახმად, სატრანსპორტო საშუალებით ბავშვთა გადაყვანა დასაშვებია მხოლოდ დამსხდარ მდგომარეობაში, კონსტრუქციულად განსაზღვრული დასასხდომი ადგილებით. ბავშვთა დამდგარ მდგომარეობაში გადაყვანა აკრძალულია.



## ВОПРОС 723

ПРАВИЛЬНЫЙ ОТВЕТ: 2

Арныкәә амәәы ма уи иазааигәаны ахәыцкәа ибарЖ

1

Атранспорттә хархәага аанкыланы, амашәыртә алашаратә ардырга иаҕеикроуп

2

Агәеанызаара аарҭшны, ашәарта дызлацәо, иатаххар, иаалыркәаны акәымкәа, ҭшьала амашына аанкылара злаилшо аласрала деитатроуп

3

Амәа абри ацыҭцәаха ирласны дахысырц азы аласра иацитцароуп

## განმარტება:

„საგზაო მოძრაობის შესახებ“ საქართველოს კანონის 26-ე მუხლის მე-2 პუნქტის თანახმად, გზაზე ან მის სიახლოვეს ბავშვის დანახვისას ან გაჩერებული ავტობუსის დანახვისას, რომელზედაც დამაგრებულია საცნობი ნიშანი „ბავშვების გადაყვანა“, მძღოლმა უნდა გამოიჩინოს განსაკუთრებული სიფრთხილე და იმოძრაოს ისეთი სიჩქარით, რომელიც თავიდან ააცილებს საფრთხეს და აუცილებლობის შემთხვევაში მკვეთრი დამუხრუჭების გარეშე გაჩერების შესაძლებლობას მისცემს.

## ВОПРОС 724

ПРАВИЛЬНЫЙ ОТВЕТ: 3

«Амәәы иаангылаз автобус «Ахәыцкәа риагара» адырга ианызар, уи збаз арныкәә ихәтоупЖ

1

Абжытә ардырга катаны, аангыларада аиасра

2

Атранспорттә хархәага аанкыланы, автобус аитатра нанагзаанза ддәықәымлароуп

3

Цыдалатәи агәеанызаара аарҭшны, ашәарта дызлацәо, иатаххар, иаалыркәаны акәымкәа, ҭшьала амашына аанкылара злаилшо аласрала деитатроуп

## განმარტება:

„საგზაო მოძრაობის შესახებ“ საქართველოს კანონის 26-ე მუხლის მე-2 პუნქტის თანახმად, გზაზე ან მის სიახლოვეს ბავშვის დანახვისას ან გაჩერებული ავტობუსის დანახვისას, რომელზედაც დამაგრებულია საცნობი ნიშანი „ბავშვების გადაყვანა“, მძღოლმა უნდა გამოიჩინოს განსაკუთრებული სიფრთხილე და იმოძრაოს ისეთი სიჩქარით, რომელიც თავიდან ააცილებს საფრთხეს და აუცილებლობის შემთხვევაში მკვეთრი დამუხრუჭების გარეშე გაჩერების შესაძლებლობას მისცემს.

## ВОПРОС 725

ПРАВИЛЬНЫЙ ОТВЕТ: 1

ამა იკუ ატრანსპორტე хархәага арныкәа, алаба шкәакәа кны амәасырта иахысуа ашьакауа лашә  
ама итара ихәтоумаҥ

1

Ихәтоуп атагылазаашьақәа зегы рҕы

2

Ихәтоуп, ашьакауа деитатцуазар еиҕкаау  
ашьакауаа рхысыртаҕы

3

Ихәтам

## განმარტება:

„საგზაო მოძრაობის შესახებ“ საქართველოს კანონის 21-ე მუხლის მე-6 პუნქტის თანახმად, მძღოლმა განსაკუთრებული სიფრთხილე უნდა გამოიჩინოს საგზაო მოძრაობის ისეთი მონაწილეების მიმართ, როგორებიც არიან ქვეითები (განსაკუთრებით ბავშვები, ხანდაზმულები, შეზღუდული შესაძლებლობის მქონე პირები) და ველოსიპედისტები. მძღოლი ვალდებულია ყველა შემთხვევაში გზა დაუთმოს თეთრი ხელჯოხით ან გამყოლ-ძაღლთან ერთად მოძრავ უსინათლო ქვეითს.

## ВОПРОС 726

ПРАВИЛЬНЫЙ ОТВЕТ: 1

ამა იკუ ატრანსპორტე хархәага арныкәа, дымәанызго ала зцу ашьакауа лашә ама итара  
ихәтоумаҥ

1

Ихәтоуп атагылазаашьақәа зегы рҕы

2

Ихәтоуп, ашьакауа деитатцуазар еиҕкаау  
ашьакауаа рхысыртаҕы

3

Ихәтоуп, ашьакауа деитатцуазар еиҕкаам  
ашьакауаа рхысыртаҕы

## განმარტება:

„საგზაო მოძრაობის შესახებ“ საქართველოს კანონის 21-ე მუხლის მე-6 პუნქტის თანახმად, მძღოლმა განსაკუთრებული სიფრთხილე უნდა გამოიჩინოს საგზაო მოძრაობის ისეთი მონაწილეების მიმართ, როგორებიც არიან ქვეითები (განსაკუთრებით ბავშვები, ხანდაზმულები, შეზღუდული შესაძლებლობის მქონე პირები) და ველოსიპედისტები. მძღოლი ვალდებულია ყველა შემთხვევაში გზა დაუთმოს თეთრი ხელჯოხით ან გამყოლ-ძაღლთან ერთად მოძრავ უსინათლო ქვეითს.

## ВОПРОС 727

ПРАВИЛЬНЫЙ ОТВЕТ: 3

Ашыаауа, ааганктаи аитатра змоу ама аиаааратә ааааа данылар калома, уи ааы ашыаамаа иамазар

1

Икалоит, ари амаааы ззин иаоу аласра сааткала 60км. еихамзар

2

Икалоит автомагистраль ааы мацара

3

Икалом

## განმარტება:

„საგზაო მოძრაობის შესახებ“ საქართველოს კანონის 24-ე მუხლის მე-14 პუნქტის თანახმად, ქვეითს ევრძალება ორმხრივმოძრაობიანი გზის გამყოფ ზოლზე ან მის გასწვრივ მოძრაობა, თუ მასზე ტროტუარი არ არის.

## ВОПРОС 728

ПРАВИЛЬНЫЙ ОТВЕТ: 4

Атранспорттә хархәага ихышәарам Пзхышәара дуут хәа иахьазоуп, аидара уи ашьтахьтәи ахышәара акааа иалыхәхәозарЖ

1

1 метраკ ала

2

1ბკт метраკ ала

3

2 метраკ рыла

4

2 метраკ иреиханы

## განმარტება:

„საგზაო მოძრაობის შესახებ“ საქართველოს კანონის 47-ე მუხლის მე-8 პუნქტის „გ“ ქვეპუნქტის თანახმად, სატრანსპორტო საშუალება არაგაბარიტულად (მსხვილგაბარიტიანად) ითვლება, თუ მისი პარამეტრები აღემატება შემდეგი მაჩვენებლებიდან ერთ-ერთს მაინც: გ) სიგრძე - ავტომატარებელის შემთხვევაში - 20 მეტრს, ყველა სხვა შემთხვევაში - 12 მეტრს, ან, თუ ტვირთი სატრანსპორტო საშუალების უკანა გაბარიტის წერტილიდან 2 მეტრზე მეტადაა გამოშვებული.

ПРАВИЛЬНЫЙ ОТВЕТ: 4



## ВОПРОС 730

ПРАВИЛЬНЫЙ ОТВЕТ: 4



I



II



III



IV

Иарбоу амѡатѡ дыргакѡа рѡынтѡ руа иарбан иშიашоу ахырхарта мацарала аитაცრა азин хазтѡ

1

III-ი შიშ-ი

2

III მაцара

3

III-ი მაцара

4

III-ი მაцара

## განმარტება:

„საგზაო მოძრაობის შესახებ“ საქართველოს კანონის პირველი დანართის მე-4 თავის (მიმთითებული ნიშნები) 4.1.1 პუნქტისა და ამავე პუნქტის შენიშვნის „ა“ ქვეპუნქტის თანახმად, საგზაო ნიშანი 4.1.1 „მოძრაობა პირდაპირ“ რთავს მხოლოდ ისრებით ნაჩვენები მიმართულებებით მოძრაობის ნებას.

## ВОПРОС 731

ПРАВИЛЬНЫЙ ОТВЕТ: 1



I



II



III



IV

Иарбоу амѡатѡ дыргакѡа ркынтѡ руа иарбан арѡыарахьтѡи ахырхарта мацарала аитатра азин хазтоѢ

1

I

2

II

3

III

4

IV

## განმარტება:

„საგზაო მოძრაობის შესახებ“ საქართველოს კანონის პირველი დანართის მე-4 თავის (მიმთითებული ნიშნები) 4.1.2 პუნქტისა და ამავე პუნქტის შენიშვნის „ა“ ქვეპუნქტის თანახმად, საგზაო ნიშანი 4.1.2 „მოძრაობა მარჯვნივ“ რთავს მხოლოდ ისრებით ნაჩვენები მიმართულებებით მოძრაობის ნებას.



Иарбоу амѡатѡ дырга иазгѡანатѡитЖ

1

Ганктѡи аитатра змоу амѡа ма амѡасырта  
алаларта

2

Аикѡшаратѡ цѡахѡа, ашѡартадаратѡ  
адгьылбжьахала ма иарбанзаалак пьынгылак  
авсра арѡьарахьтѡи аганакьнтѡ

3

Ганктѡи аитатра змоу амѡа

### განმარტება:

„საგზაო მოძრაობის შესახებ“ საქართველოს კანონის პირველი დანართის მე-4 თავის (მიმთითებული ნიშნები) 4.2.1 პუნქტის თანახმად, საგზაო ნიშანი 4.2.1 „დაბრკოლების შემოვლა მარჯვნიდან“ - მიუთითებს გამყოფი ზოლის, უსაფრთხოების კუნძულის ან რაიმე დაბრკოლების მხოლოდ მარჯვნიდან შემოვლის მიმართულებას.

## ВОПРОС 733

ПРАВИЛЬНЫЙ ОТВЕТ: 2



I



II



III



IV

Иарбоу адыргакәа ркынтә руа иарбан амаршруттә атранспорттә хархәагазы амч змамѳ

1

III мацара

2

IIIи IIIIIIи

3

IIIи IIIи

4

IIIIII мацара

## განმარტება:

„საგზაო მოძრაობის შესახებ“ საქართველოს კანონის პირველი დანართის მე-4 თავის (მიმთითებული ნიშნები) 4.1.1 – 4.1.6 პუნქტების შენიშვნის „გ“ ქვეპუნქტის თანახმად, 4.1.1-4.1.6 ნიშნების მოქმედება არ ვრცელდება სამარშრუტო სატრანსპორტო საშუალებებზე.





I



II



III



IV

Иარბოუ ამჟათე დყრაქაა რკინტე რუა იარბან აჟყნგჟლა აიკაშარატე ცაახა, აშაართადარატე ადგჟილბჟახალა მა იარბანზაალაკ დაეა ჟყნგჟლაკ არმარაჟალა ავსრა იაზგაჟტოჟ

1

I

2

II

3

III

4

IV

### განმარტება:

„საგზაო მოძრაობის შესახებ“ საქართველოს კანონის პირველი დანართის მე-4 თავის (მიმთითებელი ნიშნები) 4.2.2 პუნქტის თანახმად, საგზაო ნიშანი 4.2.2 „დაბრკოლების შემოვლა მარცხნიდან“ - მიუთითებს გამყოფი ზოლის, უსაფრთხოების კუნძულის ან რაიმე დაბრკოლების მხოლოდ მარცხნიდან შემოვლის მიმართულებას.



I



II



III



IV

Иарбоу адыргакәа рҕынтә руа иарбан арҕыарахь ма армарахь аитатра иазгәазтоҕ

1

I

2

II

3

III

4

IV

### განმარტება:

„საგზაო მოძრაობის შესახებ“ საქართველოს კანონის პირველი დანართის მე-4 თავის (მიმთითებული ნიშნები) 4.1.6 პუნქტისა და ამავე პუნქტის შენიშვნის „ა“ ქვეპუნქტის თანახმად, საგზაო ნიშანი 4.1.6 „მოძრაობა მარჯვნივ ან მარცხნივ“ - როგორც მხოლოდ ისრებით ნაჩვენები მიმართულებებით მოძრაობის ნიშანს,



I



II



III



IV

Иарбоу амѡатѡ дьргакѡа рѡынтѡ руа иарбан ашьаѡауаа реитѡтѡразь иазѡхьагѡѡѡ, амѡа иалѡау амѡахѡастѡ иазгѡазтѡ

1

I

2

II

3

III

4

IV

### განმარტება:

„საგზაო მოძრაობის შესახებ“ საქართველოს კანონის პირველი დანართის მე-4 თავის (მიმთითებული ნიშნები) 4.5 პუნქტის თანახმად, საგზაო ნიშანი 4.5 „ქვეითთა ბილიკი“ - ქვეითთა მოძრაობისათვის განკუთვნილი, გზისგან განცალკევებული ბილიკი. 4.5 ნიშანს ძირითად ნიშნად დგამენ ქვეითთა ბილიკის დასაწყისში, განმეორებითად კი – გზასთან ყოველი გადაკვეთის შემდეგ.



I



II



III



IV

Иარბოუ ამფათე დыргакეа ркынтә руа иарбан ишәартоу аидара имџанызго атранспорттә хархәага ала  
ззин икоу аитатра ахырхарта хзырбоџ

1

I

2

II

3

III

4

IV

### განმარტება:

„საგზაო მოძრაობის შესახებ“ საქართველოს კანონის პირველი დანართის მე-4 თავის (მიმთითებული ნიშნები) 4.9.1-4.9.3 პუნქტების თანახმად, საგზაო ნიშნები 4.9.1- 4.9.3 „სახიფათო ტვირთის გადამზიდავი სატრანსპორტო საშუალებით მოძრაობის მიმართულება“ – მიუთითებს იმ სახიფათო ტვირთის გადამზიდავი სატრანსპორტო საშუალებით ნებადართული მოძრაობის მიმართულებას, რომელიც, საქართველოს კანონმდებლობის თანახმად, აღნიშნული უნდა იყოს საცნობი ნიშნით „სახიფათო ტვირთი“: 4.9.1 – პირდაპირ, 4.9.2 – მარჯვნივ, 4.9.3 – მარცხნივ.





Аидаратә машыына арныкәаф ахыц ахырхартала айтатра азин имоумаџ

1

Азин имоуп

2

Азин имазам

### განმარტება:

„საგზაო მოძრაობის შესახებ“ საქართველოს კანონის პირველი დანართის მე-4 თავის (მიმთითებული ნიშნები) 4.1.2 პუნქტისა და ამავე პუნქტის შენიშვნის „ა“ ქვეპუნქტის თანახმად, საგზაო ნიშანი 4.1.2 „მოძრაობა მარჯვნივ“ - რთავს მხოლოდ ისრებით ნაჩვენები მიმართულებებით მოძრაობის ნებას. ამავე დანართის მე-8 თავის (დამატებითი ინფორმაციის ნიშნები) 8.4.1-8.4.8 პუნქტების თანახმად, დაფები 8.4.1–8.4.8 „სატრანსპორტო საშუალების სახეობა“ - მიუთითებს იმ სატრანსპორტო საშუალების სახეობას, რომლებზედაც ვრცელდება ნიშნის მოქმედება, ხოლო ამავე თავის შენიშვნის „ა“ ქვეპუნქტის თანახმად დაფა 8.4.1 ნიშნის მოქმედებას ავრცელებს სატვირთო ავტომობილებზე (მისაბმელით ან მის გარეშე), რომელთა ნებადართული მაქსიმალური მასა 3,5 ტ-ზე მეტია.



Ишәартоу аидара имѡанызго аидаратә машыына арныкәаф ахыц ахырхартала деитатыр амѡатә аитатра атцаскәа еилеигома, аидаратә машыына ззин иамоу амаксималтә масса 3,5 тонна еитцызарҭ

1

Еилеигом

2

Еилеიგოит

### განმარტება:

„საგზაო მოძრაობის შესახებ“ საქართველოს კანონის მე-19 მუხლის პირველი პუნქტის „გ“ ქვეპუნქტის თანახმად, მძღოლი, ხოლო ამ კანონის მე-18 მუხლის პირველი პუნქტის „დ“ ქვეპუნქტით გათვალისწინებულ შემთხვევებში – საწარმო ვალდებულია ამ პუნქტით განსაზღვრულ სატრანსპორტო საშუალებებზე დაამაგროს შემდეგი საცნობი ნიშნები: „სახიფათო ტვირთი“ – 400X300 მმ ზომის, სწორკუთხედი, ნარინჯისფერი ფირფიტა გარშემო 15 მმ სიგანის შავი არშიით – ასეთი ტვირთის გადამზიდავი სატრანსპორტო საშუალების წინა და უკანა მხარეს, ხოლო ცისტერნის შემთხვევაში – გვერდებზედაც (ფირფიტის ქვედა ნაწილში უნდა აღინიშნოს ტვირთის გაერთიანებული ერების ორგანიზაციის ნომერი, ხოლო ზედა ნაწილში – საშიშროების საიდენტიფიკაციო ნომერი. ისინი უნდა გაიყოს 15 მმ სისქის შავი ჰორიზონტალური ხაზით, რომელიც ფირფიტას ნახევარ სიმაღლეზე გადაკვეთს); ამავე კანონის პირველი დანართის მე-4 თავის (მიმთითებული ნიშნები) 4.9.1-4.9.3 პუნქტების თანახმად, საგზაო ნიშნები 4.9.1–4.9.3. „სახიფათო ტვირთის გადამზიდავი სატრანსპორტო საშუალებით მოძრაობის მიმართულება“ – მიუთითებს იმ სახიფათო ტვირთის გადამზიდავი სატრანსპორტო საშუალებით ნებადართული მოძრაობის მიმართულებას, რომელიც, საქართველოს კანონმდებლობის თანახმად, აღნიშნული უნდა იყოს საცნობი ნიშნით „სახიფათო ტვირთი“: 4.9.1 – პირდაპირ, 4.9.2 – მარჯვნივ, 4.9.3 – მარცხნივ.



I



II



III



IV

Иарбоу амѡатѡ дыргакѡа ркынтѡ руа иარბან иშѡართო აიდარა имѡанызგო атранспорттѡ хархѡაга აიტატრავი ჳინ იამოუ ახырхართა хзыრბოჲ

1

II

2

I

3

IV

4

III

### განმარტება:

„საგზაო მოძრაობის შესახებ“ საქართველოს კანონის პირველი დანართის მე-4 თავის (მიმთითებული ნიშნები) 4.9.1-4.9.3 პუნქტების თანახმად, საგზაო ნიშნები 4.9.1–4.9.3. „სახიფათო ტვირთის გადამზიდავი სატრანსპორტო საშუალებით მოძრაობის მიმართულება“ – მიუთითებს იმ სახიფათო ტვირთის გადამზიდავი სატრანსპორტო საშუალებით ნებადართული მოძრაობის მიმართულებას, რომელიც, საქართველოს კანონმდებლობის თანახმად, აღნიშნული უნდა იყოს საცნობი ნიშნით „სახიფათო ტვირთი“: 4.9.1 – პირდაპირ, 4.9.2 – მარჯვნივ, 4.9.3 – მარცხნივ.



I



II



III



IV

Иარბოუ ამფათე დыргакეа ркынтэ руа иарбан шытахька атәира шыкало иазгәазтоѲ

1

III и IIII

2

III и IIIIII

3

IIIIIII IIII

4

III и IIIIII

### განმარტება:

„საგზაო მოძრაობის შესახებ“ საქართველოს კანონის პირველი დანართის მე-7 თავის (საინფორმაციო-მაჩვენებელი ნიშნები) 7.3.1 პუნქტისა და ამავე პუნქტის შენიშვნის თანახმად, საგზაო ნიშანი 7.3.1 „მობრუნების ადგილი“ - მიუთითებს მობრუნების ადგილზე. ნიშნები 7.3.1 და 7.3.2 იდგმება მობრუნების ადგილის წინ ან მის ზემოთ, ან წინასწარ 8.1.1 დაფით. ნიშნები მარცხნივ მოხვევის ნებას არ რთავს. ამავე დანართის მე-4 თავის (მიმთითებელი ნიშნები) 4.1.3 პუნქტისა და ამავე პუნქტის შენიშვნის „ა“ ქვეპუნქტის თანახმად, საგზაო ნიშანი 4.1.3 „მოძრაობა მარცხნივ“ რთავს მხოლოდ ისრებით ნაჩვენები მიმართულებებით მოძრაობის ნებას, ხოლო ნიშნები, რომლებიც მარცხნივ მოხვევის ნებას რთავს, მობრუნების უფლებასაც იძლევა.



თემა 27:

ველოსიპედის, მოპედის, სატაპნე ოთხთვალის  
მოძრაობა და პირუტყვის გადარეკვა

---



Амашына лас абылтәытәтәрта ацакыра иалцуазар, ахыц ахырхартала еитатца амашынакәа  
рырныкәаџәа ркынтә амәа атара зыхәтадаҕ

1

Амашына лас арныкәаџ

2

Амопед арныкәаџ

### განმარტება:

„საგზაო მოძრაობის შესახებ“ საქართველოს კანონის 32-ე მუხლის მე-3 პუნქტის თანახმად, მიმდებარე ტერიტორიიდან გზაზე გასვლისას მძღოლი ვალდებულია გზა დაუთმოს გზაზე მოძრავ სატრანსპორტო საშუალებასა და ქვეითს, ხოლო გზიდან გადასვლისას – იმ ქვეითს, ველოსიპედისტს, მოპედისა და ორბორბლიანი ელექტროთვითმგორავის მძღოლებს, რომლებსაც გზას უჭრის.

## ВОПРОС 743

ПРАВИЛЬНЫЙ ОТВЕТ: 4

Аидаратә, иара убас, атәарта змоу аҳаиуантәи аурдынтәи атранспорт ргәыпқәа амџа ианыланы ицозар, аҟысра армариара амзызла агәыпқәа ирыбжәазароупЖ

1

2тә4т метрак

2

4тәкт метрак

3

ктәџт метрак

4

џтә1тт метрак

## განმარტება:

„საგზაო მოძრაობის შესახებ“ საქართველოს კანონის 22-ე მუხლის მე-4 პუნქტის თანახმად, სასაპალნე და დასაჯდომი პირუტყვის, აგრეთვე საჭაპანო ტრანსპორტის კოლონები გზის სავალ ნაწილზე მოძრაობისას უნდა დაიყოს ჯგუფებად, მაგრამ არაუმეტეს 10 სასაპალნე და დასაჯდომი პირუტყვისა და 5 საჭაპანო ტრანსპორტისა თითოეულში. გასწრების გასაადვილებლად ჯგუფებს შორის მანძილი უნდა იყოს 80-100 მეტრი.

## ВОПРОС 744

ПРАВИЛЬНЫЙ ОТВЕТ: 2

Ауардын иакәтәоу ауардынхьча амџа иаҟну ацакырадгьыл аҟынтә ма ихадам амџаҟынтә алаҟшбара иахьыцәҟьоу атыҟахь даниасуа аҳаиуан аҟәра икыр ихәтоумаҟ

1

Ихәтам

2

Ихәтоуп

## განმარტება:

„საგზაო მოძრაობის შესახებ“ საქართველოს კანონის 22-ე მუხლის მე-5 პუნქტის თანახმად, საჭაპანო ტრანსპორტის მებრემ გზის მიმდებარე ტერიტორიიდან ან მეორეხარისხოვანი გზიდან იმ ადგილზე გასვლისას, სადაც ცუდი ხილვადობაა, პირუტყვი აღვირით უნდა ატაროს.

## ВОПРОС 745

ПРАВИЛЬНЫЙ ОТВЕТ: 2

Иштасу еиџш, ахаиуан амѡашка аужѣтра калоитЖ

1

Ианылашьцоу

2

Ианылашоу

3

Ианылашьцоуи ианылашоуи

## განმარტება:

„საგზაო მოძრაობის შესახებ“ საქართველოს კანონის 22-ე მუხლის მე-6 პუნქტის თანახმად, პირუტყვის გზაზე გადარეკვა, როგორც წესი, უნდა განხორციელდეს დღე-ღამის ნათელ დროს.

## ВОПРОС 746

ПРАВИЛЬНЫЙ ОТВЕТ: 1

Амѡახѡастеи ашьакамѡеи икамзар, ма урт рхархѡаразы алшара ыкамзар, аитатра аинтенсивра уи азы алшара инатозар, ашьакауаѡ амаланыкѡамѡашка аиасра азин имоумаѢ

1

Азин имоуп

2

Азин имазам

## განმარტება:

„საგზაო მოძრაობის შესახებ“ საქართველოს კანონის 24-ე მუხლის მე-4 პუნქტის თანახმად, ქვეითთა ბილიკის, ტროტუარისა და გზისპირის არარსებობის ან მათი გამოყენების შეუძლებლობის შემთხვევაში ქვეითს შეუძლია გადაადგილდეს გზის სავალ ნაწილზე. თუ არსებობს ველობილიკი და მოძრაობის ინტენსივობა ამის საშუალებას იძლევა, ქვეითს უფლება აქვთ გადაადგილდეს მასზე, თუმცა არ უნდა გაართულოს ველოსიპედებისა და მოპედების მოძრაობა.



## ВОПРОС 747

ПРАВИЛЬНЫЙ ОТВЕТ: 1

Ауаа ахнымхо атып аёы, алапшбара цэгъазар ма атранспорттə хархəагакəа рацəаны еитатцуазар,  
амѳасырта иану ашьакауаа Пъари аныкəара акы иазкымзарТ, иауазар, еитатцроупЖ

## Цәахәак иқәгыланы

## Өецәахәак ирықәгыланы

Хецаахэак ирықәгыланы

**განმარტება:**

„საგზაო მოძრაობის შესახებ“ საქართველოს კანონის 24-ე მუხლის მე-5 პუნქტის თანახმად, მოძრაობის უსაფრთხოების უზრუნველსაყოფად, კერძოდ, ცუდი ხილვადობის პირობებში ან სატრანსპორტო საშუალებათა მოძრაობის მაღალი ინტენსივობის შემთხვევაში ქვეითებმა (გარდა მსვლელობით სიარულის შემთხვევებისა), რომლებიც გზის სავალ ნაწილზე მოძრაობენ, შეძლებისდაგვარად ერთ მწკრივად უნდა იმოძრაონ. ამავე მუხლის მე-6 პუნქტის თანახმად, ამ მუხლის მე-2, მე-4 და მე-5 პუნქტებით გათვალისწინებულ შემთხვევებში ქვეითები გზის სავალ ნაწილზე გადაადგილებისას უნდა იმყოფებოდნენ სავალი ნაწილის კიდესთან რაც შეიძლება ახლოს.

## ВОПРОС 748

ПРАВИЛЬНЫЙ ОТВЕТ: 2

Амбейхысырта нхыц, иасны ицо амбәҫы авеломбәхәста ахысыртаҫы, амаланыкәеи амопеди  
рырныкәәцәЖ

Аңыжэара рымоуп

Амба атара рыхәтәуп

**განმარტება:**

„საგზაო მოძრაობის შესახებ“ საქართველოს კანონის 43-ე მუხლის მე-6 პუნქტის თანახმად, გზაჯვარედინის მიღმა გამავალ გზასთან ველობილიკის არარეგულირებულ გადაკვეთაზე ველოსიპედისა და მოპედის მძღოლებმა გზა უნდა დაუთმონ ამ გზაზე მოძრავ სატრანსპორტო საშუალებათა მძღოლებს.

Амбасырта, авеломѡахѡаста ма амаланыѡѡатѡ цѡахѡа аганала иаангылаз атранспорттѡ хархѡага ашѡқѡа иаартны рааныжѡра каломЖ

1

5 минутк иреиханы

2

15 минут иреиханы

3

Апассажирцѡа рақѡыртѡареи рылбаагареи  
рзы иаѡаху аамѡа еиханы

4

2т минутк иреиханы

### განმარტება:

„საგზაო მოძრაობის შესახებ“ საქართველოს კანონის მე-20 მუხლის მე-6 პუნქტის თანახმად, აკრძალულია სატრანსპორტო საშუალების კარის გაღება მის სრულ გაჩერებამდე. კარის გაღებამ არ უნდა შეუქმნას დაბრკოლება ან საფრთხე სხვა საგზაო მოძრაობის მონაწილეებს. გზის სავალი ნაწილის, ველობილიკის ან ველოსიპედის მოძრაობის ზოლის მხარეს სატრანსპორტო საშუალების კარი არ უნდა იყოს გაღებული მგზავრთა ჩასხდომა-გადმოსხდომისთვის საჭირო დროზე მეტი ხნით. გზის სავალი ნაწილის მხარეს ან სატრანსპორტო საშუალების უკანა მხრიდან მგზავრთა ჩასხდომა-გადმოსხდომა ნებადართულია მხოლოდ იმ შემთხვევაში, თუ ეს არ შეუქმნის საფრთხეს სხვა საგზაო მოძრაობის მონაწილეებს.



Иარბოу амѡатѣ дырга иазгѣანатѡитЖ

1

Еитѡтѡа арныѣѡѡѡѡ амѡа атѡра  
иахьрыхѡтѡу амѡа

2

Амѡа аханы иасѡа аѡѡа ма аѡѡаѡаѡа

3

Автомагистраль аѣы аитѡѡра аиѣѡааратѡ  
номерѡѡа рыхѡараѡѡа анырра иахьрымоу  
автомагистраль

### განმარტება:

„საგზაო მოძრაობის შესახებ“ საქართველოს კანონის პირველი დანართის მე-5 თავის (განსაკუთრებული მითითებების ნიშნები) 5.1 პუნქტის თანახმად, საგზაო ნიშანი 5.1 „ავტომაგისტრალი“ - აღნიშნავს ავტომაგისტრალს, რომელზედაც მოქმედებს ავტომაგისტრალზე მოძრაობის მომწესრიგებელი ნორმების მოთხოვნები. ნიშანი იდგმება ავტომაგისტრალის დასაწყისში ან მის სიახლოვეს 8.1.1 დაფით.



Иარბოу амѡатѣ дырга иазгѣანатѡитЖ

1

Амашьынакѣи амотоциклкѣи мацара  
реитатра иазку амѡа

2

Амашьына лас мацарала аитатра иазку  
аитатратѣ цѣахѣа

3

Атранспорттѣ хархѣагакѣа ргыларта

### განმარტება:

„საგზაო მოძრაობის შესახებ“ საქართველოს კანონის პირველი დანართის მე-5 თავის (განსაკუთრებული მითითებების ნიშნები) 5.3 პუნქტის თანახმად, საგზაო ნიშანი 5.3 „საავტომობილო გზა“ - გზა, რომელიც განკუთვნილია მხოლოდ ავტომობილისა და მოტოციკლის მოძრაობისათვის.





I



II



III



IV

Иарбоу амѡатѡ дыргакѡа рѡынтѡ руа иარბან амашьынамѡа антѡамта ჰზырბოფ

1

I

2

II

3

III

4

IV

### განმარტება:

„საგზაო მოძრაობის შესახებ“ საქართველოს კანონის პირველი დანართის მე-5 თავის (განსაკუთრებული მითითებების ნიშნები) 5.4 პუნქტის თანახმად, საგზაო ნიშანი 5.4 „საავტომობილო გზის დასასრული“ - მითითებს 5.3 ნიშნით აღნიშნული გზის დასასრულს.



I



II



III



IV

Иарбоу амѡатѡ дыргакѡа ркынтѡ руа иарбан атранспорттѡ хархѡагакѡа, атбаара зегы инатцакны хырхартак ала иахьеитатца амѡа ма амѡасырта хзырбоѢ

1

I

2

II

3

III

4

IV

### განმარტება:

„საგზაო მოძრაობის შესახებ“ საქართველოს კანონის პირველი დანართის მე-5 თავის (განსაკუთრებული მითითებების ნიშნები) 5.5 პუნქტის თანახმად, საგზაო ნიშანი 5.5 „ცალმხრივმოძრაობიანი გზა“ - გზა ან სავალ ნაწილი, რომელ-ზედაც სატრანსპორტო საშუალებებით მოძრაობა მთელ სიგანეზე ერთი მიმართულებით მოძრაობს.



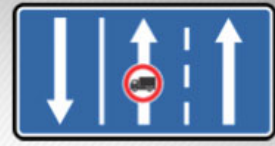
I



II



III



IV

Иარბოუ ამჟათე დыргაკჳა რკынტე რუა იარბან ამარшруტტე атранспорттѳ хархѳагаკჳა, чыдала иалкаау ацѳахѳაფы, атранспорттѳ хархѳагаკჳა рзеиѳш еишьтагыла иаѳынгыланы иахѳеитатѳа амѳа хзырбоѳ

1

I

2

II

3

III

4

IV

### განმარტება:

„საგზაო მოძრაობის შესახებ“ საქართველოს კანონის პირველი დანართის მე-5 თავის (განსაკუთრებული მითითებების ნიშნები) 5.11 პუნქტის თანახმად, საგზაო ნიშანი 5.11 „სამარშრუტო სატრანსპორტო საშუალებისათვის განკუთვნილი მოძრაობის ზოლის მქონე გზა“ - გზა, რომელზედაც სამარშრუტო სატრანსპორტო საშუალება მოძრაობს სპეციალურად გამოყოფილ ზოლზე სატრანსპორტო საშუალებათა საერთო ნაკადის საპირისპირო მიმართულებით. ნიშნის მოქმედება ვრცელდება იმ მოძრაობის ზოლზე, რომელზედაც ის დგას.



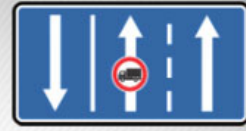
I



II



III



IV

Иарбоу амѡათѡ дьргакѡа ркынтѡ руа иарбан амаршруттѡ атранспорттѡ хархѡагакѡа, чьдала иалкаау аѡѡахѡаѡы, атранспорттѡ хархѡагакѡа рзеиѡш еишьтагыла иамариашаны иахьеиѡтаѡуа амѡа хзырбоѡ

1

I

2

II

3

III

4

IV

### განმარტება:

„საგზაო მოძრაობის შესახებ“ საქართველოს კანონის პირველი დანართის მე-5 თავის (განსაკუთრებული მითითებების ნიშნები) 5.14 პუნქტის თანახმად, საგზაო ნიშანი 5.14 „სამარშრუტო სატრანსპორტო საშუალებისათვის განკუთვნილი მოძრაობის ზოლი“ - გზა, რომელზედაც სამარშრუტო სატრანსპორტო საშუალება მოძრაობს სპეციალურად გამოყოფილ ზოლზე სატრანსპორტო საშუალებათა საერთო ნაკადის თანმხვედრი მიმართულებით. ნიშნის მოქმედება ვრცელდება იმ მოძრაობის ზოლზე, რომელზედაც ის დგას. გზის მარჯვენა მხარეს დადგმული ნიშნის მოქმედება ვრცელდება სავალი ნაწილის უკიდურეს მარჯვენა ზოლზე.





Амѡа арѣѡарахѣтѣи аѡанаѣи иѣѡыргылоу, иарѡоу амѡатѣ дыргакѣа амч рымоупЖ

1

Амѡасырта атѡаара зегѣы аѣы

2

Амѡасырта агантѣи арѣѡарахѣтѣи аѣѡахѡаѣы

### განმარტება:

„საგზაო მოძრაობის შესახებ“ საქართველოს კანონის პირველი დანართის მე-5 თავის (განსაკუთრებული მითითებების ნიშნები) 5.14 პუნქტის თანახმად, საგზაო ნიშანი 5.14 „სამარშრუტო სატრანსპორტო საშუალებისათვის განკუთვნილი მოძრაობის ზოლი“ - აღნიშნავს გზას, რომელზედაც სამარშრუტო სატრანსპორტო საშუალება მოძრაობს სპეციალურად გამოყოფილ ზოლზე სატრანსპორტო საშუალებათა საერთო ნაკადის თანმხვედრი მიმართულებით. ნიშნის მოქმედება ვრცელდება იმ მოძრაობის ზოლზე, რომელზედაც ის დგას. გზის მარჯვენა მხარეს დადგმული ნიშნის მოქმედება ვრცელდება სავალი ნაწილის უკიდურეს მარჯვენა ზოლზე.



I



II



III



IV

Иарбоу амѡатѡ дыргакѡа рѣынтѡ руа иарбан анхартатыѣ аѣы аитатцразы ишыакѡгылоу атцаскѡа амч  
иахѣрымоу атакырадгыл ПѣазонаТ хзырбоѣ

1

I

2

II

3

III

4

IV

### განმარტება:

„საგზაო მოძრაობის შესახებ“ საქართველოს კანონის პირველი დანართის მე-5 თავის (განსაკუთრებული მითითებების ნიშნები) 5.21 პუნქტის თანახმად, საგზაო ნიშანი 5.21 „საცხოვრებელი ზონა“ - ტერიტორიას (ზონა), სადაც მოქმედებს საცხოვრებელ ზონაში მოძრაობისათვის დადგენილი წესები. ნიშანი იდგმება საცხოვრებელი ზონის ყველა შესასვლელში.



I

სამტრედია

II

გურჯაანი

III

Иарбоу амѡатѣ дыргакѣа рѣынтѣ руа иарбан анхартатыѣ аѣы аитатра аиѣкааразы ишыѡкѣгылоу атцаскѣа амч иахѣрымоу анхартатыѣ алагамта хзырбоѣ

1

ში შიში მაцара

2

შიში შიში მაцара

3

ში ში ში მაцара

### განმარტება:

„საგზაო მოძრაობის შესახებ“ საქართველოს კანონის პირველი დანართის მე-5 თავის (განსაკუთრებული მითითებების ნიშნები) 5.23.1 და 5.23.2 პუნქტების თანახმად, საგზაო ნიშნები: - 5.23.1 „დასახლებული პუნქტის დასაწყისი“ - მიუთითებს იმ დასახლებული პუნქტის დასაწყისს, რომელშიც მოქმედებს დასახლებულ პუნქტებში მოძრაობისათვის დადგენილი წესები. - 5.23.2 „დასახლებული პუნქტის დასაწყისი“ - მიუთითებს განაშენიანებული გზის მონაკვეთის დასაწყისს, რომელიც არ შედის რომელიმე დასახლებულ პუნქტში და რომელშიც მოქმედებს დასახლებულ პუნქტებში მოძრაობისათვის დადგენილი წესები (სააგარაკო დაბები, ცალკე მდგომი დაწესებულებები და ა. შ.).

სამტრედიო

გურჯაანი



I

II

III

Иарбоу амѡатѣ дыргакѣа ркынтѣ руа иарбан нхартатыпк иатцанамкѣа, ауаа иахынхо атып аѣы аитатцразы ишыакѣгылоу атаскѣа амч иахьрымоу Пѣаѣсшыаратѣ хаблакѣа, хазы игылоу аусхѣартакѣа, уб егѣ. Т анхартатып алагамта хзырбоѣ

1

I

2

II

3

III

### განმარტება:

„საგზაო მოძრაობის შესახებ“ საქართველოს კანონის პირველი დანართის მე-5 თავის (განსაკუთრებული მითითებების ნიშნები) 5.23.2 პუნქტის თანახმად, საგზაო ნიშანი 5.23.2 „დასახლებული პუნქტის დასაწყისი“ - მიუთითებს განაშენიანებული გზის მონაკვეთის დასაწყისს, რომელიც არ შედის რომელიმე დასახლებულ პუნქტში და რომელშიც მოქმედებს დასახლებულ პუნქტებში მოძრაობისათვის დადგენილი წესები (საავტოზო დაბები, ცალკე მდგომი დაწესებულებები და ა. შ.).



## ВОПРОС 760

ПРАВИЛЬНЫЙ ОТВЕТ: 3



I



II



III



IV

Иარბოუ ამოათე დყრაგაჲ რჳინტე რუა იარბან აიტატრა ამაქსიმალტე ალასრა აჟკრა იახჲამოუ ატაკყრადგჳыл ჰჳყრბოჲ

1

I

2

II

3

III

4

IV

## განმარტება:

„საგზაო მოძრაობის შესახებ“ საქართველოს კანონის პირველი დანართის მე-5 თავის (განსაკუთრებული მითითებების ნიშნები) 5.27 და 5.29 პუნქტების თანახმად, საგზაო ნიშანი 5.31. „მაქსიმალური სიჩქარის შეზღუდვის ზონა“. აღნიშნავს ტერიტორიას, რომლის ფარგლებშიც შეზღუდულია მოძრაობის მაქსიმალური სიჩქარე.

## ВОПРОС 761

ПРАВИЛЬНЫЙ ОТВЕТ: 3

Амаршруттэ транспорттэ хархэага азჟჳრა კალოიტЖ

1

Амѳасыртაѳы

2

Ашьаѳамѳაѳы ма амѳа аѳанаѳы

3

Амѳасыртაѳы хэычык ирхаракны иѳоу аталартатэ платформаѳы, уи иѳамзар – ашьаѳамѳаѳы ма амѳа аѳанаѳы

## განმარტება:

„საგზაო მოძრაობის შესახებ“ საქართველოს კანონის 24-ე მუხლის მე-13 პუნქტის თანახმად, სამარშრუტო სატრანსპორტო საშუალებისა და ტაქსის მოცდა ნებადართულია მხოლოდ გზის სავალი ნაწილის შედარებით ამაღლებულ ჩასასხდომ ბაჟანზე, ხოლო მისი არარსებობისას – ტროტუარზე ან გვერდულაზე.

Ардырратә дырга „Автоицрахәа“ хымҕада ишыақәыргылатәупЖ

1

Автоицрахәаҕы мацара

2

Адхәалага змоу автобус аҕы мацара

3

Автоицрахәаҕы, иара убас, адхәалага змоу автобус аҕы

### განმარტება:

„საგზაო მოძრაობის შესახებ“ საქართველოს კანონის მე-19 მუხლის პირველი პუნქტის „ა“ ქვეპუნქტის თანახმად, მძღოლი, ხოლო ამ კანონის მე-18 მუხლის პირველი პუნქტის „დ“ ქვეპუნქტით გათვალისწინებულ შემთხვევებში - საწარმო, ვალდებულია ამ პუნქტით განსაზღვრულ სატრანსპორტო საშუალებებზე დაამაგრონ შემდეგი საცნობი ნიშნები: ა) „ავტომატარებელი“ – კაბინის თავზე ჰორიზონტალურად განლაგებული, ერთმანეთისაგან 150-დან 300 მმ-დე დაშორებული, სამი ნარინჯისფერი ფარანი – მაგრდება ავტომატარებელზე და შესახსრებულ ავტობუსზე.



I



II



III



IV

Иарабаოу амәтә дыргакәа ркынтә руа иарбан автомагистрალი даәа мџаки иахьеилало атыџ хзырбоџ

1

I

2

II

3

III

4

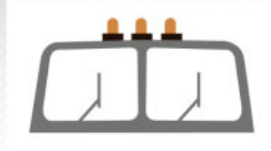
IV

### განმარტება:

„საგზაო მოძრაობის შესახებ“ საქართველოს კანონის პირველი დანართის მე-5 თავის (განსაკუთრებული მითითებების ნიშნები) 5.36 პუნქტის თანახმად, საგზაო ნიშანი 5.36 „შერწყმის აღგილი“ - ავტომაგისტრალთან სხვა გზიდან ამოსასვლელის (გაქანების ზოლის) შერწყმის აღგილი.



I



II



III

Абарт адыргакѳа рѳынтѳа руа иарбан автоцрахаѳаги еидхѳалоу автобуси рѳы ишьаѳѳыргылатѳѳѳ

1

III мацара

2

III мацара

3

IIIIII мацара

4

Рыхѳагы

### განმარტება:

„საგზაო მოძრაობის შესახებ“ საქართველოს კანონის მე-19 მუხლის პირველი პუნქტის „ა“ ქვეპუნქტის თანახმად, მძღოლი, ხოლო ამ კანონის მე-18 მუხლის პირველი პუნქტის „დ“ ქვეპუნქტით გათვალისწინებულ შემთხვევებში – საწარმო ვალდებულია ამ პუნქტით განსაზღვრულ სატრანსპორტო საშუალებებზე დაამაგროს შემდეგი საცნობი ნიშნები: ა) „ავტომატარებელი“ – კაბინის თავზე ჰორიზონტალურად განლაგებული, ერთმანეთისაგან 150-დან 300 მმ-მდე დაშორებული სამი ნარინჯისფერი მაშუქი – მაგრდება ავტომატარებელსა და შესასრებულ ავტობუსზე.





I



II



III

Абарт адыргакәа ркынтә руа иарбан зыкапан дуу айдара имѡанызго атранспорттә хархәага аҭхьатәи ашьтахьтәи аганқәа рҭы ишьақәыргылатәуҭ

1

IIIIII мацара

2

III мацара

3

II мацара

### განმარტება:

„საგზაო მოძრაობის შესახებ“ საქართველოს კანონის მე-19 მუხლის პირველი პუნქტის „დ“ ქვეპუნქტის თანახმად, მძღოლი, ხოლო ამ კანონის მე-18 მუხლის პირველი პუნქტის „დ“ ქვეპუნქტით გათვალისწინებულ შემთხვევებში – საწარმო ვალდებულია ამ პუნქტით განსაზღვრულ სატრანსპორტო საშუალებებზე დაამაგროს შემდეგი საცნობი ნიშნები: დ) „არაგაბარიტული (მსხვილგაბარიტიანი) ტვირთი“ – 400X400 მმ ზომის დაფა, რომელზედაც დიაგონალურადაა დახაზული 50 მმ სიგანის ურთიერთმონაცვლე წითელი და თეთრი ზოლები შუქამრეკლი ზედაპირით – მაგრდება არაგაბარიტული (მსხვილგაბარიტიანი) და ამ კანონის 47-ე მუხლის მე-13 პუნქტით განსაზღვრული სატრანსპორტო საშუალებების წინა და უკანა მხარეს.



I



II



III

Абарт адыргакәа рҕынтә руа иарбан аидарала, иара убас, аидара ада зоура 20 метрақ еихам, автоцрақәагаҕы да ма иреиханы ацрақәагақәа змоу атранспорттә харахәага ашьтахьтәи аган аҕы ишьақәыргылатәуҕ

1

IIIIII мацара

2

III мацара

3

II мацара

### განმარტება:

„საგზაო მოძრაობის შესახებ“ საქართველოს კანონის მე-19 მუხლის პირველი პუნქტის „ე“ ქვეპუნქტის თანახმად, მძღოლი, ხოლო ამ კანონის მე-18 მუხლის პირველი პუნქტის „დ“ ქვეპუნქტით გათვალისწინებულ შემთხვევებში – საწარმო ვალდებულია ამ პუნქტით განსაზღვრულ სატრანსპორტო საშუალებებზე დაამაგროს შემდეგი საცნობი ნიშნები: ე) „გრძელი სატრანსპორტო საშუალება“ – არანაკლებ 1200X200 მმ ზომის, ყვითელი მართკუთხედი 40 მმ სიგანის წითელი არშიით და შუქამრეკლი ზედაპირით – მაგრდება იმ არაგაბარითული (მსხვილგაბარითიანი) სატრანსპორტო საშუალების უკანა მხარეს, რომლის სიგრძე ტვირთით ან უიმისოდ აღემატება 20 მეტრს, აგრეთვე სატრანსპორტო საშუალებათა შემადგენლობაზე, რომელშიც ორი ან ორზე მეტი მისაბმელია. თუ აღნიშნული ზომის ნიშნის დამაგრება შეუძლებელია, დასაშვებია დამაგრდეს არანაკლებ 600X200 მმ ზომის ორი ერთნაირი ნიშანი სატრანსპორტო საშუალების ღერძის სიმეტრიულად.

„საგზაო მოძრაობის შესახებ“ საქართველოს კანონის მე-19 მუხლის პირველი პუნქტის „ვ“ ქვეპუნქტის თანახმად, მძღოლი, ხოლო ამ კანონის მე-18 მუხლის პირველი პუნქტის „დ“ ქვეპუნქტით გათვალისწინებულ შემთხვევებში – საწარმო ვალდებულია ამ პუნქტით განსაზღვრულ სატრანსპორტო საშუალებებზე დაამაგროს შემდეგი საცნობი ნიშნები: ვ) „ბავშვების გადაყვანა“ – ყვითელი კვადრატი წითელი არშიით (კვადრატის გვერდი არანაკლებ 250 მმ-ია, არშიის სიგანე – გვერდის 1/10), 1.24 საგზაო ნიშნის სიმბოლო შავი გამოსახულებით – მაგრდება იმ ავტობუსის წინა და უკანა მხარეს, რომელსაც ბავშვთა ჯგუფები გადაჰყავს.



I



II



III



IV

Иарбоу амѡатѡ дырგакѡа рѡынтѡ руа иарбан Қыртѡылатѡи амѡакѡа рѡы ишьақѡгылоу аласра азеитѡш аѡқрақѡа иазкны адырра казѡѡѡ

1

I

2

II

3

III

4

IV

### განმარტება:

„საგზაო მოძრაობის შესახებ“ საქართველოს კანონის პირველი დანართის მე-7 თავის (საინფორმაციო-მაჩვენებელი ნიშნები) 7.1 პუნქტის თანახმად, საგზაო ნიშანი 7.1 „მაქსიმალური სიჩქარის ზოგადი შეზღუდვები“ - იძლევა ინფორმაციას სიჩქარის ზოგადი შეზღუდვების თაობაზე, რომლებიც საგზაო მოძრაობის წესებით დადგენილია საქართველოს გზებზე. ნიშანი იდგმება საქართველოს ტერიტორიაზე შემოსასვლელში საკონტროლო გამშვებ პუნქტთან.





I



II



III



IV

Иарбоу амѡათѣ дыргакѣа ркынтѣ руа иарбан амѡа абри ацыџтѣахаџы аитатра злакало аласра хзырбоџ

1

I

2

II

3

III

4

IV

### განმარტება:

„საგზაო მოძრაობის შესახებ“ საქართველოს კანონის პირველი დანართის მე-7 თავის (საინფორმაციო-მაჩვენებელი ნიშნები) 7.2 პუნქტის თანახმად, საგზაო ნიშანი 7.2 „რეკომენდებული სიჩქარე“ - მიუთითებს სიჩქარეს, რომლითაც რეკომენდებულია მოძრაობა გზის მოცემულ მონაკვეთზე. ნიშანი იდგმება გზის დასაწყისში. ნიშნის მოქმედება ვრცელდება უახლოეს გზაჯვარედინამდე, ხოლო მატროხილებელ ნიშანთან ერთად – სახიფათო უბნის მთელ სიგრძეზე.

## ВОПРОС 770


ПРАВИЛЬНЫЙ ОТВЕТ: 4



I



II



III



IV

Иарбоу амѡатѣ дыргакѣа рѣынтѣ руа иარбан ашьаѣауаа мацара реитѣтѣра иахьыѣало аѣаѣырадгьыл хзырѣი

1

I

2

II

3

III

4

IV

## განმარტება:

„საგზაო მოძრაობის შესახებ“ საქართველოს კანონის პირველი დანართის მე-5 თავის (განსაკუთრებული მითითებების ნიშნები) 5.33 პუნქტის თანახმად, საგზაო ნიშანი 5.33 „ქვეითთა ზონა“ - ტერიტორია, რომლებზედაც მოძრაობა ნებადართულია, მხოლოდ ქვეითებისათვის.



I



II



III



IV

Иარბოუ ამდათე დыргакეа ркынтә руа иарбан ахысырта змам амда хзырбоѳ

1

I

2

II

3

III

4

IV

### განმარტება:

„საგზაო მოძრაობის შესახებ“ საქართველოს კანონის პირველი დანართის მე-7 თავის (საინფორმაციო-მაჩვენებელი ნიშნები) 7.8.1-7.8.3 პუნქტების თანახმად, საგზაო ნიშნები 7.8.1-7.8.3 „ჩიხი“ - გზა, რომელსაც არ აქვს გამჭოლი გასასვლელი. 7.8.1 ნიშანი იდგმება გზის დასაწყისში, ხოლო 7.8.2 და 7.8.3 ნიშნები—იმ გზის გადაკვეთის წინ, რომელსაც არ აქვს გამჭოლი გასასვლელი.



I



II



III



IV

Иარბოუ ამოათე დыргакәа ркынтә руа иарбан армарахь атәиразы ақәитымра казпоҭ

1

IIIIII მაцара

2

IIII მაцара

3

IIIეი IIМеи

4

IIIIII მაцара


### განმარტება:

„საგზაო მოძრაობის შესახებ“ საქართველოს კანონის პირველი დანართის მე-7 თავის (საინფორმაციო-მაჩვენებელი ნიშნები) 7.3.1 და 7.3.2 პუნქტების შენიშვნის თანახმად, საგზაო ნიშნები 7.3.1 „მობრუნების ადგილი“ და 7.3.2 „მობრუნების ზონა“ იდგმება მობრუნების ადგილის წინ ან მის ზემოთ, ან წინასწარ 8.1.1 დაფით. ნიშნები მარცხნივ მოხვევის ნებას არ რთავს.



## ВОПРОС 773

ПРАВИЛЬНЫЙ ОТВЕТ: 1



Ахыц ахырхартала аитатра аан абарт атранспорттә хархәагақәа рырныкәаџәа ркынтә амџа атара зыхәтадаҕ

1

Амаланыкәа арныкәаџ

2

Амашына лас арныкәаџ

## განმარტება:

„საგზაო მოძრაობის შესახებ“ საქართველოს კანონის 43-ე მუხლის მე-6 პუნქტის თანახმად, გზაჯვარედინის მიღმა გამავალ გზასთან ველობილიკის არარეგულირებულ გადაკვეთაზე ველოსიპედისა და მოპედის მძღოლებმა გზა უნდა დაუთმონ ამ გზაზე მოძრავ სატრანსპორტო საშუალებათა მძღოლებს.

## ВОПРОС 774

ПРАВИЛЬНЫЙ ОТВЕТ: 2

Амџасыртафы атранспорттә хархәага аҭхәа араҳә ргәарта иасуазар, арныкәаџ иазҭхәагәеитароупЖ

1

Арахә ргәарта иანიаслак, амџасыртафы  
ҭстәқәак шцәырымтҭуа

2

Арахә ргәарта иანიаслак, амџеисыртафы  
ҭстәқәак цәыртыр шыкало

## განმარტება:

თუ სატრანსპორტო საშუალების წინ გზის სავალ ნაწილზე გადადის საქონლის ჯოგი, მძღოლმა უნდა გაითვალისწინოს, რომ ჯოგის გადასვლის შემდეგ გზის სავალ ნაწილზე შეიძლება გამოვიდეს ერთეული ცხოველები.

Атранспорттә хархәага аҭхәа зықәра дуу ашьақауаҭ деиҭацуазар, арныкәаҭ иазҭхәагәиҭароупЖ

1

Уи, амҭатә аиҭатра егырт алахәылацәа  
реиҭш акәымкәа, ашышыхәа амҭасырта  
дахысуеит

2

Уи амҭабжа дахысны шыҭахька дхынхәыр  
илшоит

3

Уи дкахар илшоит

4

Абри абилет аҭы еиқәыҭхәзоу  
иарбанзаалак аҭагылазаашьа цәырҭыр  
шыкало

### განმარტება:

თუ სატრანსპორტო საშუალების წინ ქვეითთა გადასასვლელზე გადაადგილდება მოხუცი ქვეითი მძღოლმა უნდა გაითვალისწინოს, რომ ის სავალ ნაწილზე მოძრაობენ უფრო ნელა ვიდრე სხვა საგზაო მოძრაობის მონაწილეები, ასევე შეიძლება ნახევარი გზიდან მობრუნდნენ უკან და მან შეიძლება დაკარგონ წონასწორება და წაიქცნენ.

თემა 28:

## საგზაო მონიშვნა

---

Ашәартадаратә бжыхала ма ашыақәыргыламта ѿғанктәи айтатра змоу амѿаргәы алырафы ишьтазар,  
арныкәәд уи давсроупЖ

1

Арбьарахьтәи аган акынтә

2

Армарахьтәи аган акынтә

3

Арбьарахьтәи ма армарахьтәи аган акынтә

### განმარტება:

„საგზაო მოძრაობის შესახებ“ საქართველოს კანონის 32-ე მუხლის მე-17 პუნქტის „ბ“ ქვეპუნქტის თანახმად, ამ მუხლით დადგენილ მოთხოვნათა გათვალისწინებით, მძღოლს შეუძლია მარჯვნიდან ან მარცხნიდან შემოუაროს იმ სავალ ნაწილზე დაყენებულ უსაფრთხოების კუნძულს, ტუმბოს ან სხვა მოწყობილობას, რომელზედაც იგი მოძრაობს, გარდა იმ შემთხვევისა, როცა უსაფრთხოების კუნძული, ტუმბო ან სხვა მოწყობილობა ორმხრივმოძრაობიანი გზის სავალი ნაწილის ღერძზეა განლაგებული. ამ შემთხვევაში მძღოლმა უსაფრთხოების კუნძულს, ტუმბოს ან სხვა მოწყობილობას მხოლოდ მარჯვენა მხრიდან უნდა შემოუაროს.



Атранспорттə хархəага аитатра аиґкааҭ ила ма алашарбагала еиґкаамзар, арныкəаҭ ашьакауаа рхысырта даназааигəахалакЖ

1

Абжытə ардырга катаны, аангыларада давсroup

2

Ашьакауаа рґаҭхьа аҭыжəара змоу иеиҭш, ашьакауаа рхысырта давсroup иарбанзаалак аласрала

3

Аласра ирмацroup, ахысырта иалалаз ма иану ашьакауаа ашəарта иҭаимыргыларц азы, иатаххар, даангыланы ашьакауаа иоуижьтroup

### განმარტება:

„საგზაო მოძრაობის შესახებ“ საქართველოს კანონის 25-ე მუხლის მე-2 პუნქტის „ბ“ ქვეპუნქტის თანახმად, ქვეითთა გადასასვლელზე ამ კანონის 21-ე მუხლის მე-6 პუნქტით, 33-ე მუხლის მე-2 პუნქტითა და 34-ე მუხლის მე-11 პუნქტით დადგენილ მოთხოვნათა დაცვით უნდა შესრულდეს შემდეგი მოთხოვნები: ბ) თუ სატრანსპორტო საშუალებათა მოძრაობა არ რეგულირდება არც საგზაო შუქნიშნით და არც მარეგულირებლის მეშვეობით, მძღოლმა ქვეითთა გადასასვლელთან მიახლოებისას სათანადოდ უნდა შეამციროს სიჩქარე, რათა საფრთხე არ შეუქმნას ამ გადასასვლელზე შესულ ან შემავალ ქვეითებს, ხოლო საჭიროების შემთხვევაში უნდა გაჩერდეს და გაატაროს ქვეითები.

## ВОПРОС 778

ПРАВИЛЬНЫЙ ОТВЕТ: 1

Аიტატრა ахырхарта иашьашәалоу аганақынтә, иахәтоу атасла иазгәтоу аангылартаҕы игылоу атранспорттә хархәага авсра згәы итоу арныкәаҕаҕаЖ

1

Аласра ирмачны, иатаххар, иаангылароуп, апассажирцәа шәартада ауаажәларратә транспорт акәтәра ма албаара рылшарц азы

2

Аласра иацтаны, ирласны ари атыҕ иавсроуп, ауаажәларратә транспортә иакәтәо ма иалбаауа апассажирцәа ирҕырхагамхарц азы

3

Надаадатәи ацәахәаҕы иаангыланы, ауаажәларратә транспорт аитатра еиталанааҕза дгылазароуп

## განმარტება:

„საგზაო მოძრაობის შესახებ“ საქართველოს კანონის 25-ე მუხლის მე-4 პუნქტის თანახმად, მძღოლმა, რომელიც მოძრაობის მიმართულების შესაბამისი მხრიდან სათანადო წესით მონიშნულ გაჩერებაზე მყოფი სამარბრუტო სატრანსპორტო საშუალებისთვის გვერდის ავლას აპირებს, უნდა შეამციროს სიჩქარე და, აუცილებლობის შემთხვევაში, გაჩერდეს, რათა უზრუნველყოს მგზავრების საზოგადოებრივ ტრანსპორტში უსაფრთხო ჩასხდომის ან იქიდან გადმოსხდომის შესაძლებლობა.

## ВОПРОС 779

ПРАВИЛЬНЫЙ ОТВЕТ: 1

Иашьашәалоу адыргакәеи арбагакәеи иқамзар, арельскәа змам атранспорттә хархәагақәа реитатцразы ацәахәақәа рхыҕхьазара ихәаакәтцоупЖ

1

Арныкәаҕ ихата ила, амҕасырта атбаареи, атранспорттә хархәагақәа рхышәареи, урт рыбжьара ихымҕадоу аинтервали иазҕхьагәатаны

2

Атыҕантәи ахатәхеиҕкааратә орган ала

3

Азакәанла, уи инакәырҕшны, абри еиҕш амҕа ганклатәи аитатцразы иазҕхьагәтоу мҕас иҕхьазоуп

## განმარტება:

„საგზაო მოძრაობის შესახებ“ საქართველოს კანონის 31-ე მუხლის მე-3 პუნქტის თანახმად, ურელსო სატრანსპორტო საშუალების მოძრაობისათვის მოძრაობის ზოლების რაოდენობა განისაზღვრება საგზაო მონიშვნით ან/და 5.15.1, 5.15.2, 5.15.7 და 5.15.8 საგზაო ნიშნებით, ხოლო მისი/მათი არარსებობის შემთხვევაში – თვით მძღოლის მიერ, გზის სავალი ნაწილის სიგანის, სატრანსპორტო საშუალებების გაბარიტებისა და მათ შორის აუცილებელი ინტერვალის გათვალისწინებით.

ფეგაქთეი აიტაძრავი იაიჭუხაგათოუ ამფასურტა ალყრაფეი იშიუთოუ აშეარტადარატე ადგზილბჯახალა არნიქეაფ დავსროუქჟ

1

Армарахьтәи аганала мацара

2

Арбъарахьтәи аганала мацара

3

Арбъарахьтәи ма армарахьтәи аганала

### განმარტება:

„საგზაო მოძრაობის შესახებ“ საქართველოს კანონის 32-ე მუხლის მე-17 პუნქტის „ბ“ ქვეპუნქტის თანახმად, ამ მუხლით დადგენილ მოთხოვნათა გათვალისწინებით, მძღოლს შეუძლია მარჯვნიდან ან მარცხნიდან შემოუაროს იმ სავალ ნაწილზე დაყენებულ უსაფრთხოების კუნძულს, ტუმბოს ან სხვა მოწყობილობას, რომელზედაც იგი მოძრაობს, გარდა იმ შემთხვევისა, როცა: ბ) უსაფრთხოების კუნძული, ტუმბო ან სხვა მოწყობილობა ორმხრივმოძრაობიანი გზის სავალი ნაწილის ღერძზეა განლაგებული. ამ შემთხვევაში მძღოლმა უსაფრთხოების კუნძულს, ტუმბოს ან სხვა მოწყობილობას მხოლოდ მარჯვენა მხრიდან უნდა შემოუაროს.



Иацпаны адырра кызцо, иарбоу адыргақәа иазгәартоитЖ

1

Агәџанцаратә дыргала иазгәаҭоу амџа ишәарҭоу ацыҭцәаха аура

2

Амџа егы аганахьала иҭоу аобъект аҭынза ибжьоу

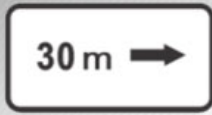
3

Адыргаҭынтә ишәарҭоу ацыҭцәаха алагамҭа аҭынза, аҭкрақәа ахьыҭоу аҭыҭаҭынза, ма аҭхьа, аитатра ахырхартала иҭоу аобъект аҭынза ибжьоу

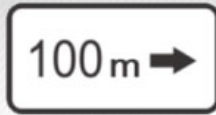
### განმარტება:

„საგზაო მოძრაობის შესახებ“ საქართველოს კანონის პირველი დანართის მე-8 თავის (დამატებითი ინფორმაციის ნიშნები (დაფები)) 8.1.1 პუნქტის თანახმად, დაფა 8.1.1 „მანძილი ობიექტამდე“ - მიუთითებს მანძილს ნიშნიდან სახიფათო მონაკვეთის დასაწყისამდე, სათანადო შემლუდვის შემოტანის ადგილამდე ან წინ, მოძრაობის მიმართულებით არსებულ გარკვეულ ობიექტამდე (ადგილამდე).





I



II



III



IV

Иаццаны адырра казцо, иарбоу адыргақәа ркынтә руа иарбан амџа нхыт, иацәыхараны икоу аобъект акынза абжъазаара ҳзырбоџ

1

Ши ШШШШи

2

Ши ШМи

3

IV

4

III

### განმარტება:

„საგზაო მოძრაობის შესახებ“ საქართველოს კანონის პირველი დანართის მე-8 თავის (დამატებითი ინფორმაციის ნიშნები (დაფები)) 8.1.3, 8.1.4 პუნქტების თანახმად, დაფები 8.1.3 და 8.1.4 „მანძილი ობიექტამდე“ - მიუთითებს მანძილს გზის მიღმა (მოშორებით) მდებარე ობიექტამდე.

„საგზაო მოძრაობის შესახებ“ საქართველოს კანონის პირველი დანართის მე-8 თავის (დამატებითი ინფორმაციის ნიშნები (დაფები)) 8.2.1 პუნქტის თანახმად, 8.2.1 „მოქმედების ზონა“ - მიუთითებს მატრახილებელი ნიშნით აღნიშნული გზის სახიფათო მონაკვეთის სიგრძეს, ან ამკრძალავი და საინფორმაციო-მაჩვენებელი ნიშნის მოქმედების ზონას.



I



II



III

Иарбоу аҕәкәа рҕынтә руа иарбан агылара икәитызымтәуа адырга амч иахьамоу атыҕ антәамта хзырбиҕ

1

I

2

II

3

III

### განმარტება:

„სავზაო მოძრაობის შესახებ“ საქართველოს კანონის პირველი დანართის მე-8 თავის (დამატებითი ინფორმაციის ნიშნები (დაფები)) 8.2.3 პუნქტის თანახმად, დაფა 8.2.3 „მოქმედების ზონა“ - მიუთითებს 3.27–3.30 ნიშნების მოქმედების ზონის დასასრულს.



I



II



III

Иарбоу, иацпаны адырра казцо адыргақәа ЂаҕәқәаҢ ркынтә руа иарбан агылареи аангылареи икәитызымтәуа адыргақәа амч иахьрымоу атыҕаҕы иказаара иазкны арныкәаа адырра изтоҕ

1

IIIIII мацара

2

II мацара

3

IIII мацара

4

IIIIи IIIIIIи

### განმარტება:

„საგზაო მოძრაობის შესახებ“ საქართველოს კანონის პირველი დანართის მე-8 თავის (დამატებითი ინფორმაციის ნიშნები (დაფები)) 8.2.4 პუნქტის თანახმად, დაფა 8.2.4 „მოქმედების ზონა“- მძღოლს აწვდის ინფორმაციას მისი 3.27–3.30 ამკრძალავი ნიშნების მოქმედების ზონაში ყოფნის თაობაზე.

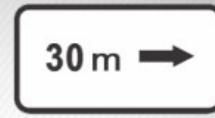




I



II



III

Иარბოუ, иаццаны адырра казцо адыргакәа ПҭаҭәкәаТ ркынтә руа иарбан амҭеихысырта аҭхьа игылоу адырга амч иахьамоу ахырхарта ма амҭаҭы иҭоу аобъект ашка аитатра ахырхарта хзырбоҭ

1

III IIIIII

2

III мацара

3

III мацара

4

IIIIII мацара

### განმარტება:

„საგზაო მოძრაობის შესახებ“ საქართველოს კანონის პირველი დანართის მე-8 თავის (დამატებითი ინფორმაციის ნიშნები (დაფები)) 8.3.1-8.3.3 პუნქტების თანახმად, დაფები 8.3.1-8.3.3 „მოქმედების მიმართულება“ - მიუთითებს გზაჯვარედინის წინ დადგმული ნიშნის მოქმედების მიმართულებას ან უშუალოდ გზასთან მდებარე აღნიშნული ობიექტისაკენ მოძრაობის მიმართულებას.



I



II



III



IV

Иарбоу амџатџ дыргакџа ркомбинациакџа ркынтџа руа иарбан амч змоу ззин иџкоу амасса 3,5 тонна еиџам аидаратџ машыназы, уи ацраџџага амазаргыџ

1

I

2

II

3

III

4

IV

### განმარტება:

„საგზაო მოძრაობის შესახებ“ საქართველოს კანონის პირველი დანართის მე-8 თავის (დამატებითი ინფორმაციის ნიშნები (დაფები)) 8.4.1-8.4.8 პუნქტებისა და ამავე პუნქტის შენიშვნის „ა“ ქვეპუნქტის თანახმად, დაფები 8.4.1–8.4.8 „სატრანსპორტო საშუალების სახეობა“ - მიუთითებს იმ სატრანსპორტო საშუალების სახეობას, რომლებზედაც ვრცელდება ნიშნის მოქმედება. დაფა 8.4.1 ნიშნის მოქმედებას ავრცელებს სატვირთო ავტომობილებზე (მისაბმელით ან მის გარეშე), რომლის ნებადართული მაქსიმალური მასა 3,5 ტ-ზე მეტია. ამავე დანართის 8.5.2. პუნქტის თანახმად დამატებითი ინფორმაციის ნიშანი (დაფა) 8.5.2. „სამუშაო დღეები“ – მიუთითებს კვირის დღეებზე, როცა მოქმედებს ნიშნები.



I



II



III



IV

Иарбоу амѡатѡ дыргакѡа ркомбинациакѡа ркынтѡ руа иარбан изеიწჷრაзаалаკ აცრაჲაგა ზმოუ აიდარატѡ ამაშყყა მა ატრაქტორ, იარა უბას, ამეხანიკატѡ ატრანსპორტტѡ ჰარჲაგა იაცრაჲაგა იზგო ატრანსპორტტѡ ჰარჲაგაგაზყ ამჲ ზმოუწ

1

III მაჲარა

2

III IIII

3

IIIIII მაჲარა

4

III IIII

### განმარტყბა:

„საგზაო მოძრაობის ჴესახეზ“ საქართველოს კანონის პირველი დანართის მე-8 თავის (დამატებითი ინფორმაციის ნიშნები (დაფები)) 8.4.1-8.4.8 პუნქტისა და ამავე პუნქტის ჴენიშვნის „ა“, „ბ“ და „დ“ ქვეპუნქტების თანახმად, დაფები 8.4.1-8.4.8. „სატრანსპორტო საშუალების სახეობა“ – მიუთითებს იმ სატრანსპორტო საშუალების სახეობას, რომელზედაც ვრცელდება ნიშნის მოქმედება. ჴენიშვნა: დაფები ნიშნის მოქმედებას ავრცელებენ: ა) 8.4.1 – სატვირთო ავტომობილზე (მისაბმელით ან მის გარეშე), რომლის ნებადართული მაქსიმალური მასა 3,5 ტ-ზე მეტია; ბ) 8.4.2 – სატვირთო ავტომობილზე ან ტრაქტორზე ნებისმიერი სახეობის მისაბმელით და ნახევარმისაბმელით, აგრეთვე მექანიკური სატრანსპორტო საშუალების მარუქსირებელ სატრანსპორტო საშუალებაზე; დ) 8.4.8 – საცნობი ნიშნით „სახიფათო ტვირთი“ აღნიშნულ სატრანსპორტო საშუალებაზე.

## ВОПРОС 789

ПРАВИЛЬНЫЙ ОТВЕТ: 3



I



II



III



IV

Иარბოუ ამფატე დყრაკეა რკომბინაციაკეა რკინტე რუა იარბან «Ишәартоу аидара» адырга зыкәгыло атранспорттә хархәагазы амч змоуѳ

1

III мацара

2

III IIIIII

3

III мацара

4

III мацара

## განმარტება:

„საგზაო მოძრაობის შესახებ“ საქართველოს კანონის პირველი დანართის მე-8 თავის (დამატებითი ინფორმაციის ნიშნები (დაფები)) 8.4.1-8.4.8 პუნქტებისა და ამავე პუნქტის შენიშვნის „დ“ ქვეპუნქტის თანახმად, დაფები 8.4.1–8.4.8 „სატრანსპორტო საშუალების სახეობა“ - მიუთითებს იმ სატრანსპორტო საშუალების სახეობას, რომლებზედაც ვრცელდება ნიშნის მოქმედება. დაფა 8.4.8 ნიშნის მოქმედებას ავრცელებს საცნობი ნიშნით „სახიფათო ტვირთი“ აღჭურვილ სატრანსპორტო საშუალებაზე.



## ВОПРОС 790

ПРАВИЛЬНЫЙ ОТВЕТ: 2



I



II



III



IV

Иарбоу амѡатѡ дыргакѡа ркомбинациакѡа ркынтѡ руа иарбан асабши амѡышеи аныхѡамшкѡеи рзы амч змоуѢ

1

IIIII მაцარა

2

III IIIII

3

IIIII IIIIII

4

III მაцარა

## განმარტება:

„საგზაო მოძრაობის შესახებ“ საქართველოს კანონის პირველი დანართის მე-8 თავის (დამატებითი ინფორმაციის ნიშნები (დაფები)) 8.5.1 პუნქტის თანახმად, დაფა 8.5.1 „შაბათი, კვირა და სადღესასწაულო დღეები“ - მიუთითებს კვირის დღეებზე, როცა მოქმედებს ნიშნები. ამავე თავის 8.5.5-8.5.7 პუნქტების თანახმად დაფები 8.5.5–8.5.7 „მოქმედების დრო“ - მიუთითებს კვირის დღეებსა და დღე-ღამის დროზე, როცა მოქმედებს ნიშანი.

## ВОПРОС 791

ПРАВИЛЬНЫЙ ОТВЕТ: 1



ორშაბათი -  
პარასკევი

I



8.00-17.30

II



8.00-17.30

III



8.00-17.30

IV

Иарбоу амѡатѡ дьргакѡа ркомбинациакѡа ркынтѡ руа иарбан уи амч ианамоу амчыбжь амшкѡеи, амш аамтѡи хзырбоѢ

1

III-ი III-ი

2

III მაцარა

3

III-ი III-ი-ი-ი-ი მაцარა

4

III-ი-ი-ი-ი მაцარა

## განმარტება:

„საგზაო მოძრაობის შესახებ“ საქართველოს კანონის პირველი დანართის მე-8 თავის (დამატებითი ინფორმაციის ნიშნები (დაფები)) 8.5.2 და 8.5.3 პუნქტების თანახმად, დაფები 8.5.2 „სამუშაო დღეები“ და 8.5.3 „კვირის დღეები“ - მიუთითებენ კვირის დღეებზე, როცა მოქმედებს ნიშანი. ამავე თავის 8.5.5-8.5.7 პუნქტების თანახმად დაფები 8.5.5–8.5.7 „მოქმედების დრო“ - მიუთითებს კვირის დღეებსა და დღე-ღამის დროზე, როცა მოქმედებს ნიშანი.

## ВОПРОС 792

ПРАВИЛЬНЫЙ ОТВЕТ: 3



ორშაბათი -  
პარასკევი

I



ორშაბათი  
8.30-9.30

II



III



\*  
8.00-17.30

IV

Иарбоу амѡатѡ дьргакѡа ркомбинациақѡа ркынтѡ руа иарбан уи амч ианамоу амчыбжѡ амшқѡеи, амш аамтѡеи хзырбоѢ

1

IIIIII მაцара

2

IIII მაцара

3

IIIIи IIми მაцара

4

II მაцара

## განმარტება:

„საგზაო მოძრაობის შესახებ“ საქართველოს კანონის პირველი დანართის მე-8 თავის (დამატებითი ინფორმაციის ნიშნები (დაფები)) 8.5.5-8.5.7 პუნქტების თანახმად დაფები 8.5.5-8.5.7 „მოქმედების დრო“ - მიუთითებს კვირის დღეებსა და დღე-ღამის დროზე, როცა მოქმედებს ნიშანი.



Иарбоу амѡатѡ дыргакѡа ркомбинация, ибаазоу амѡасыртаѡыЖ

1

Сааткала 50км. еиҳаны аласрала аитатра  
икѡитымнатѡеит

2

Амѡа абри ацыпѡтѡахаѡы аитатра злакало  
аласра ҳнарбоит


3

Сааткала 50км. аласрала аитатра азин  
ҳнаѡоит

### განმარტება:

„საგზაო მოძრაობის შესახებ“ საქართველოს კანონის პირველი დანართის 3.24 პუნქტის თანახმად საგზაო ნიშანი 3.24. „მაქსიმალური სიჩქარის შეზღუდვა“ – კრძალავს მოძრაობას ნიშანზე აღნიშნულზე მეტი სიჩქარით (კმ/სთ). ამავე დანართის მე-8 თავის (დამატებითი ინფორმაციის ნიშნები (დაფები)) 8.16 პუნქტის თანახმად, დაფა 8.16 „სველი საფარი“ - მიუთითებს, რომ ნიშნის მოქმედება ვრცელდება დროის იმ პერიოდში, როცა სავალი ნაწილის საფარი სველია. გამოიყენება 1.16, 3.20, 3.22 და 3.24 ნიშნებთან ერთად.





Иарбоу ატაგელაზააშაფყ, აბარტ ატრანსპორტტე хархэагакэа рырныкэаџца ркынтэ ахыц ахырхартала атџира азин змамдаџ

1

Амотоцикл арныкэаџ мацара.

2


Амашына шкэакэа арныкэаџ мацара.

3

Азэггы

### განმარტება:

„საგზაო მოძრაობის შესახებ“ საქართველოს კანონის მე-2 დანართის პირველი თავის (ჰორიზონტალური მონიშვნა) 1.11 პუნქტის თანახმად, საგზაო მონიშვნა 1.11 ყოფს საპირისპირო ან იმავე მიმართულებით მოძრავ სატრანსპორტო ნაკადებს გზის მონაკვეთზე, სადაც გადაჯგუფება ნებადართულია მხოლოდ ერთი ზოლიდან; აღნიშნავს მობრუნების ადგილს, სადგომი მოედნიდან გამოსასვლელსა და შესასვლელს და ა. შ., სადაც მოძრაობა ნებადართულია მხოლოდ ერთ მხარეს. 1.11 ხაზის გადაკვეთა ნებადართულია წყვეტილი ხაზის მხრიდან, ასევე უწყვეტი ხაზის მხრიდან, მაგრამ მხოლოდ გასწრების ან შემოვლის დამთავრებისას.



Иарбоу ატაგჲლაზააშაფჲ, აბარტ არნჲკჲაფცჲა რჲყინტჲ ახჲც ახჲრჲარტალა ამაშჲყინა ატჲირა აზინ ჰამადაჲ

1

ამაშჲყინა ფეჲჲ არნჲკჲაფ მაცარა.

2

ამაშჲყინა ჲაჲჲშჲ არნჲკჲაფ მაცარა.

3

აჲჲგჲყ

### განმარტება:

„საგზაო მოძრაობის შესახებ“ საქართველოს კანონის მე-2 დანართის პირველი თავის (ჰორიზონტალური მონიშვნა) 1.11 პუნქტის თანახმად, საგზაო მონიშვნა 1.5. ყოფს საპირისპირო მიმართულებით მოძრავ სატრანსპორტო ნაკადებს გზაზე, რომელსაც მოძრაობის ორი ან სამი ზოლი აქვს; აღნიშნავს მოძრაობის ზოლის საზღვარს ერთი მიმართულებით მოძრაობისათვის განკუთვნილი ორი ან ორზე მეტი ზოლის არსებობისას. 1.5 ხაზის გადაკვეთა ნებადართულია ნებისმიერი მხრიდან.



Амбасыртафы икоу ақёдырақәа иазгәартоитЖ

1

Ааигәаза икоу анхартапың ақынза ибжыоу

2

Амбә ПәамаршрутТ аномер

3

Иашьашәалоу аномер змоу амаршруттә хархәагазы иазгұхьагәаҭоу аитәҭратә цәәхәа

### განმარტება:

„საგზაო მოძრაობის შესახებ“ საქართველოს კანონის მე-2 დანართის პირველი თავის (ჰორიზონტალური მონიშვნა) 1.22 პუნქტის თანახმად, საგზაო მონიშვნა 1.22 აღნიშნავს გზის (მარშრუტის) ნომერს.





Амбасыртағы икоу азгәта ъежь иазгәанатоитЖ

1

Амаршруттә атранспорттә хархәага  
аангылар атыҭи атакси аангылартеи

2

Кыраамтәтәи аҭсшьаразы агылар атыҭ

### განმარტება:

„საგზაო მოძრაობის შესახებ“ საქართველოს კანონის მე-2 დანართის პირველი თავის (ჰორიზონტალური მონიშვნა) 1.17 პუნქტის თანახმად, საგზაო მონიშვნა 1.17 ყვითელი ხაზი აღნიშნავს სამარშრუტო სატრანსპორტო საშუალების გაჩერების ადგილს და ტაქსის სადგომს.





Амбасыртаҕы иҕоу атбаара азгҕата иазгҕанатоит атыҕЖ

1

Ашыакауаа рымҕахҕаста амбасырта  
иахҕахысуа

2

Амаланыҕҕатҕ мҕахҕаста амбасырта  
иахҕахысуа

### განმარტება:

„საგზაო მოძრაობის შესახებ“ საქართველოს კანონის მე-2 დანართის პირველი თავის (ჰორიზონტალური მონიშვნა) 1.15 პუნქტის თანახმად, საგზაო მონიშვნა 1.15 აღნიშნავს ადგილს, სადაც ველობილიკი კვეთს გზის სავალ ნაწილს.



Амფასырტაფы икоу ъбаны еиду еипѣкьоу ацѣахѣа иаанагоитЖ

1

Амѣеихысыртაფы амаланыѣѣатѣ цѣахѣа

2


Арныѣѣѣ хымѣѣада дахѣаангылаша атыѣ

3

Арѣверсла еиѣѣау аитатѣратѣ цѣахѣаѣѣа  
рхѣааѣѣа

### განმარტეზა:

„საგზაო მოძრაობის შესახებ“ საქართველოს კანონის მე-2 დანართის პირველი თავის (ჰორიზონტალური მონიშვნა) 1.9 პუნქტის თანახმად, საგზაო მონიშვნა 1.9 აღნიშნავს რევერსულად მოწესრიგებული მოძრაობის ბოლის საზღვარს; ყოფს საპირისპირო მიმართულებით მოძრავ სატრანსპორტო ნაკადებს (როდესაც გამორთულია რევერსული შუქნიშანი) გზაზე, რომელიც რევერსულად წესრიგდება.



ამ ფასურთა აფყკჲ იაზგჳანათო, ეიჟუმრქჳოუ აცჳახჳა ახყსრა კალოიტ არნყკჳაჲ დეიტატყუაზარჟ

1

A ახყრჟართალა

2

B ახყრჟართალა

### განმარტჳბა:

„საგზაო მოძრაობის შესახებ“ საქართველოს კანონის მე-2 დანართის პირველი თავის (ჰორიზონტალური მონიშვნა) 1.2.1 პუნქტის თანახმად, საგზაო მონიშვნა 1.2.1 მთლიანი ფართო ხაზი აღნიშნავს ავტომაგისტრალზე სავალი ნაწილის ნაპირს. 1.2.1 ხაზის გადაკვეთა აკრძალულია. დასაშვებია სავალი ნაწილის ნაპირის აღმნიშვნელი და მძღოლის მარჯვენა მხარეს განლაგებული 1.2.1 ხაზის გადაკვეთა სატრანსპორტო საშუალების გზის ნაპირზე გასაჩერებლად.





Амбасырта иану ақәдыра “ИҒЫ” чыдалатәи ацәахәа иазгәанатоит, уи Ж

1

Гҭшьала еитатцуа атранспорттә хархәагақәа ирызкуп

2

Амаланыҕәақәеи ампедқәеи ирызкуп

3

Амаршруттә атранспорттә хархәагақәа ирызкуп

### განმარტეზა:

„საგზაო მოძრაობის შესახებ“ საქართველოს კანონის მე-2 დანართის პირველი თავის (ჰორიზონტალური მონიშვნა) 1.23 პუნქტის თანახმად, საგზაო მონიშვნა 1.23 აღნიშნავს სპეციალურ ზოლს, რომელიც განკუთვნილია სამარშრუტო სატრანსპორტო საშუალების მოძრაობისათვის.





ამდგისრტა აიტატრატე აცეახეა აგეტანი იყო ახუც აფორმა ზმოუ აზგეტა აგეანტარა კანატოიტჟ

1

იშეარტოუ ატეირტა ახუიყო ამეა  
აყუტეაჲა აზააიგეაჲარა იაზკნუ

2

იარბოუ ახუჩართალა აიტატრატე ცეახეაკეა  
რხუტუჲაჲარა იახუეიტხოუ, ამდგისრტა  
იახუტშეოუ აყუტეაჲა აზააიგეაჲარა  
იაზკნუ

### განმარტება:

„საგზაო მოძრაობის შესახებ“ საქართველოს კანონის მე-2 დანართის პირველი თავის (ჰორიზონტალური მონიშვნა) 1.19 პუნქტის თანახმად, საგზაო მონიშვნა 1.19 იძლევა გაფრთხილებას სავალი ნაწილის შევიწროებასთან, იმ მონაკვეთთან, სადაც მცირდება მოცემული მიმართულებით მოძრაობის ზოლების რაოდენობა, ან საპირისპირო მიმართულებით მოძრაოვი სატრანსპორტო ნაკადების გამყოფ 1.1 ან 1.11 მონიშვნასთან მიახლოების თაობაზე. 1.19 მონიშვნა პირველ შემთხვევაში შეიძლება გამოყენებულ იქნეს 1.21.1–1.21.3 ნიშნებთან ერთად.



Абри хагәцәылатәи ардырга иаанагоитЖ

1

Амҭасытаҭы аитатратә цәахәакәа  
рхыпхьазара

2

5 метрак ахарақыраҭ амҭасырта иахагылоу,  
зыҭаҭа амҭасырта иасуа, ахытцыртеи,  
ацхеи, егырт ашьақьыргыларакәеи  
релементқәа ҭаҭатәи рҭықә

### განმარტება:

„საგზაო მოძრაობის შესახებ“ საქართველოს კანონის მე-2 დანართის მე-2 თავის (ვერტიკალური მონიშვნა) 2.2 პუნქტის თანახმად, საგზაო მონიშვნა 2.2 - აღნიშნავს გვირაბის, ხიდის, გზაგამტარისა და სხვა ნაგებობის ელემენტის ქვედა ნაპირს, რომელიც განთავსებულია გზის სავალი ნაწილიდან 5 მეტრზე ნაკლებ სიმაღლეზე და რომლის ქვეშ მთლიანად ან ნაწილობრივ გადის გზის სავალი ნაწილი.

თემა 29:

## სამედიცინო დახმარება

---

Амѡатѣ амашѣыр иалтѣшѣаны азарал зауз итагылазаашѣа аилкаара амзызла зегѣы раѣухѣа ихымѣадоупЖ

1

Аѣсыѣулаѣаѣагаратѣ мѣакѣа раартреи  
аѣсыѣулаѣаѣагара ахылаѣушреи

2

Ахдырра ахылаѣушრა

3

Адаѣушь аѣы адеисра ахылаѣушრა

4

Аѣсыѣулаѣаѣагаратѣ мѣакѣа раартреи  
аѣсыѣулаѣаѣагара ахылаѣушреи, ахдырра  
ахылаѣушреи, иара убас, адаѣушь аѣы  
адеисра ахылаѣушреи

### განმარტება:

მნიშვნელოვანია დაზარალებულის მდგომარეობა სწრაფად და მართებულად შეფასდეს. პირველი ეტაპი არის ცნობიერების შემოწმება (არის თუ არა დაზარალებული გონზე). მეორე ეტაპი - სასუნთქი გზების გახსნა მესამე ეტაპი - სუნთქვის კონტროლი. მეოთხე ეტაპი - საძილე არტერიაზე პულსაციის შემოწმება.



## ВОПРОС 805

ПРАВИЛЬНЫЙ ОТВЕТ: 3

ამოათე ამაშაჲრ იალტშაჲანი აზარალ ჯაუზ აუაფი 2ეტეი აფაჲარა იატანაკჲა აბჲლრა იმავარ ჭაჲაჲა ახაჲყრკჲრა ეილაგავარ, მა იჲაჲშჲხავარ, აბჲლრა ატჲაჲყ აბაჲჲათჲე ალა იტჲე ამჲშტა იჲავარ, ახჲაა ჲაგჲა იმავარტ, რაჲჲაჲათჲე ამედიცინატე ჲყჲრაარა იტარა ამჲჲლა უიჲ

1

აჲჲი ხჲშაჲშაჲალა აბჲლრა ატჲჲ ჲჲჲაჲანი, აიოდ ალა ირჲჲჲათჲე, ანეჲს, აჲაჲაჲაგა ჲჲაა აჲჲჲანი აბინტ ალა იჲაჲჲათჲე

2

ამჲშტაჲაჲა ჲჲჲაჲანი, აბჲლრა ატჲჲ ამატჲაჲინტე ირჲჲჲათჲე, აჲაჲაჲაგა ჲჲაა აჲჲჲანი, აბჲლრა ჲაუჲ აჲჲ ირჲჲათჲე

3

ამჲშტაჲაჲა იჲჲჲათჲემ, აბჲლრა ატჲჲ ამატჲაჲინტე ირჲჲჲათჲემ, ახჲრა აჲაჲაჲაგა ჲჲაა იაჲჲჲათჲე, აბინტ ალა იჲაჲჲათჲჲამ, ატაა იაჲჲჲათჲე, ახჲაა ეიჲჲჲჲრტეო ახჲშე იტატჲე ჭაჲარალ ჲაუჲ უი აჲჲ ალერგია იმამჲარტ, ანეჲს, აჲჲ ირჲჲათჲე

## განმარტჲჲა:

თუ საგზაო-სატრანსპორტო შემთხვევის შემდეგად დაშავებულს აღენიშნება ჯანის მე-2 ხარისხის დამწვრობა (ჯანის ქსოვილის დარღვევა და მონითალო შეფერილობა, დამწვრობის ადგილზე სითხით შევსებული ბუშტების წარმოქმნა, ძლიერი ტკივილი) პირველადი სამედიცინო დახმარების აღმოჩენის მიზნით მას ბუშტები არ უნდა გავუხსნათ, ტანსაცმლის ნარჩენები დამწვარი ზედაპირიდან არ მოვაცილოთ, ჭრილობაზე დავადოთ სტერილური საფენი, ბინტი არ შევუხვიოთ, მივადოთ ყინული ან ცივი საფენი, მივცეთ ტკივილგამაყუჩებელი საშუალება (თუ დაშავებულს მის მიმართ ალერგია არ გააჩნია) და დაშავებულს დავალეწინოთ წყალი.

## ВОПРОС 806

ПРАВИЛЬНЫЙ ОТВЕТ: 3

ამოათე ამაშაჲრ იალტშაჲანი ააჲა ჲაუჲ აუაფი აჲჲჲჲლაგაჲარა დაჲჲჲჲჲარ, ადაჲჲჲე აჲჲ ადეისრა ჲჲამჲარ, რაჲჲაჲათჲე ამედიცინატე ჲყჲრაარა იტარა ამჲჲლა უი იჲჲჲატატჲე

1

იჲჲაბარატჲემ აჲჲჲჲლაგაჲარა

2

აგჲე იშიაშამ ამასა

3

იჲჲაბარატჲემ აჲჲჲჲლაგაჲარეი აგჲე იშიაშამ ამასაჲი

## განმარტჲჲა:

თუ დაზარალებულს არ აღენიშნება სუნთქვა და პულსაცია საძილე არტერიაზე, მას უნდა ჩაუტარდეს ხელოვნური სუნთქვა და გულის არაპირდაპირი მასაჲი (ორი ჩაბერვა და 30 გულის მასაჲი, ჲამში უნდა გამოვიდეს გულის მასაჲი ერთ წუტში 100).

## ВОПРОС 807

ПРАВИЛЬНЫЙ ОТВЕТ: 1

Амѡათѡ амашѡыр иалтѡшѡаны ааха зауз ахаѡы аѡсыѡулагаѡагара даѡѡыѡзар, аха адаѡушь аѡы адеисра ыѡазар, уи изыѡатѡтѡупЖ

1

Иѡсабаратѡым аѡсыѡулагаѡагара

2

Ишиашам агѡы амасса

3

Иѡсабаратѡым аѡсыѡулагаѡагарей,  
ишиашам агѡы амассажи

## განმარტება:

თუ დაზარალებული არ სუნთქავს, მაგრამ აღენიშნება პულსაცია საძილე არტერიაზე, მას უნდა ჩაუტარდეს მხოლოდ ხელოვნური სუნთქვა, ერთი ჩასუნთქვა ყოველ 6 წამში, მანამ ვიდრე არ აღუდგება სპონტანური სუნთქვა.

## ВОПРОС 808

ПРАВИЛЬНЫЙ ОТВЕТ: 1

Амѡათѡ амашѡыр аан азарал зауз ауаѡы ихѡда ма ибѡашшара ааха аиуит хѡа агѡѡара ыѡазар, иѡстазаара ашѡарта иѡагылазар, азѡы затѡѡык имаѡара, аѡхырааѡ димамѡѡа, азарал зауз дырхѡазаны дышѡѡеиѡѡ

1

Ааха зауз дыртѡаны, ибѡაѡынтѡ инапѡѡა  
ижѡѡахырѡѡа ирыѡганы, ѡაѡათѡи иѡлымхѡეи  
ихѡდეи иრѡჟჟაаны, дыრхѡазаны шыѡახѡѡა  
диаგატѡუპ

2

Ааха зауз дыртѡаны, ишыапѡѡა рыбѡყара  
დყლаны, инапѡѡა იჯѡѡაхырѡѡა ირყგаны  
იბѡაჰნყ ეიბარჰნყ, Ишыапѡѡა რყლა  
დყшыѡყჰნყ, დყრხѡазаны шыѡახѡѡა  
დიაგატѡუპ

## განმარტება:

დამხმარეს გარეშე დაშავებულის გადათრევით გადაადგილება კისრის ან ხერხემლის დაზიანების ეჭვის შემთხვევაში, თუ მის სიცოცხლეს საფრთხე ემუქრება უნდა მოხდეს შემდეგნაირად - მოათავსეთ დაშავებული მჯდომარე პოზიციაში. დადებით დაშავებულის ზურგს უკან, მკლავები მხრებქვეშ შეუცურეთ, დავაფიქსიროთ ქვედა ყბა და კისერი და ისე გადათრევით გადავაადგილოთ უკან.



## ВОПРОС 811

ПРАВИЛЬНЫЙ ОТВЕТ: 2

Амდәтә амашәыр иалтшәаны ааха зауз ауады ихшыбаџ тысызар, уи машынала диагатәупЖ

1

Ибџа дықәырианы, ахәдеи абџазареи ахчқәа  
рыцатцаны

2

Ганла дықәырианы

## განმარტება:

თავის ტვინის შერყევის შემთხვევაში დაშავებული უნდა დავანვინოთ გვერდზე და გადავიყვანოთ ასეთ მდგომარეობაში უახლოეს სამედიცინო დაწესებულებაში.

## ВОПРОС 812

ПРАВИЛЬНЫЙ ОТВЕТ: 3

Амдәтә амашәыр иалтшәаны ааха зауз ауады игәышпы ахәра анызар, уи машынала диагатәупЖ

1

Имгәа дықәырианы

2

Ибџа дықәырианы

3

Ахәра змам аганала дырианы ма  
дкыдыртәаланы

## განმარტება:

დაშავებულის გულმკერდის გამჭოლი ჭრილობით ტრანსპორტირება შეიძლება ჯანმრთელ გვერდზე დანოლილ ან ნახევრადმჯდომარე მდგომარეობაში.



## ВОПРОС 813

ПРАВИЛЬНЫЙ ОТВЕТ: 1

Амѡათѣ амашѣыр аан напык ааха аиузар, апиѣѡак ма ахарѣ ишѣаххроупѢ

1

Зны ибзиоу, анеѡс, ааха зауз анаѡѣы

2

Зны ааха зауз, анеѡс, ибзиоу анаѡѣы

3

Аамѡакала анаѡѡѣа рыѡѡагы рѣы

## განმარტება:

ერთი ხელის დაზიანების შემთხვევაში დაზავებულს პიტაკი ან პერანგი ჯერ უნდა გავხადოთ ჯანსაღ, ხოლო შემდეგ დაზავებულ ხელზე.

## ВОПРОС 814

ПРАВИЛЬНЫЙ ОТВЕТ: 3

Ааха иахѡѡаз ашок аан раѣхѡѡათѣи амедиѡინათѣ цхыраара атара амзызла, ааха заузѢ

1

Ахѡაахератѣ ахѣშѣ иѡтаны, атѡარшѣ ма амаѡѣа иѡѡѡтаны иბѡა დაѡѣриათѣуп

2

Имаѡѣაѡѣа ишѣѡыхны, ахѡაахератѣ ахѣშѣ иѡтаны, иლაхѣ аѣахѣაага хѡშѣაშѣа иაѡѣѡათѣуп

3

Иатаххар, ашѡაѡара аанкыლаны, дзырѣхаша ак иѡѣѡათѣуп. Иѡныѡѡѡათѣи ѡѣეიѡхѣѡაѡѣа шыбзиоу აგѣრა განყ хаѡაზარ, арыѡѣѣѣ ѣухა иრѡѣѣѣуп

## განმარტება:

ტრამველი შოკის დროს დაზავებულს უნდა გაეწიოს შემდეგი პირველადი სამედიცინო დახმარება - აუცილებლობის შემთხვევაში შევაჩეროთ სისხლდენა, დავაფაროთ სათბურები, თუ არ ვეჭვობთ მუცლის ღრუს შიდა ორგანოების დაზიანებას - დავალევეინოთ თბილი სასმელი.

## ВОПРОС 815

ПРАВИЛЬНЫЙ ОТВЕТ: 1

Амѡათѣ амашѣыр иалтѣшѣаны ааха зауз идаѣушь аѣынтѣ ашьацара аѣазшьярбагатѣ дыргакѣа роупЖ

1

Иматѣакѣа ирылалойт апульсациатѣ арѣаш  
ейѣушь ихѣра иалыѣѣѣѣо ашьа ѣѣѣушь

2

Иматѣакѣа ирласѣаны ирылалойт ѣушьала  
ихѣра иалѣуа ашьа ейѣѣа

3

Иматѣакѣа ирылалойт ѣушьала ихѣра аѣыѣ  
маѣара иалѣуа ашьа

## განმარტება:

არტერიის დაზიანების დროს სისხლს აქვს ღია-აღისფერი და ჭრილობიდან გამოედინება პულსირებული ნაკადით. არტერიული სისხლდენა საშიშია სიცოცხლისათვის, განსაკუთრებით მსხვილი არტერიის დაზიანებისას, რადგა დაზარალებულმა დროის მოკლე მონაკვეთში შეიძლება დაკარგოს დიდი რაოდენობის სისხლი.

## ВОПРОС 816

ПРАВИЛЬНЫЙ ОТВЕТ: 2

Амѡათѣ амашѣыр иалтѣшѣаны ааха зауз аѣаѣы ихѣრაѣынтѣ аѣаѣушьтѣ ашьацараѣы иѣазшьярбагоѣ  
дыргакѣоупЖ

1

Иматѣакѣа ирылалойт апульсациатѣ арѣаш  
ейѣушь ихѣра иалыѣѣѣѣо ашьа ѣѣѣушь

2

Иматѣакѣа ѣушьала ирылалойт ихѣра иалѣуа  
აშია ейѣѣა

## განმარტება:

ჭრილობიდან ვენური სისხლდენის დამახასიათებელია მექი-ალუბლისფერი სისხლის სუსტი ნაკადი. აუცილებელია მჭიდრო სახვევის დადება უშუალოდ ჭრილობის ადგილზე. სახვევის ქვედა ფენის სისხლით გაჟღენთვისას, ის არ უნდა მოცილდეს და უნდა დაემატოს ახალი სახვევი.

## ВОПРОС 817

ПРАВИЛЬНЫЙ ОТВЕТ: 1

ამდეთ ატრანსპორტთ ამაშჲრ აან აზარალ ჯაუზ იმახჲარკჲეი იშჲახჲარკჲეი ააჲა როუზარ, ადაჲშჲ აჲყნტჲ აშჲაჲარა აანკჲლარაჲი აანკჲლაგა იაჲჲატატჲუჲ აჲჲრაჲ

1

Атыџ аханы

2

Атыџ аџака

3

АхѲра иѲჲატატჲუჲ

## განმარტება:

საგზაო-სატრანსპორტო შემთხვევის შემდეგად დაშავებულის კიდურების დაზიანების შემთხვევაში არტერიული სისხლდენის შემაჩერებელი ლახტი უნდა დავადოთ ჭრილობის ადგილის გემოთ.

## ВОПРОС 818

ПРАВИЛЬНЫЙ ОТВЕТ: 2

აშკჲ არმაჲეირაჲი იაჲაჲუ ამატჲახჲკჲა იჲამჲარ, ამდეთ ატრანსპორტთ ამაშჲრ იალტშჲანჲი ააჲა ჯაუზ აუაჲი იშჲაჲი ჲჲჲჲაჲარჲ

1

Ааჲა ჯაუზ აშჲაჲი იშეიბოუ აბინტ აკჲჲრშატჲუჲ

2

Ааჲა ჯაუზი იბზიოუი იშჲაჲკჲა აბინტ ალა ეიდჲახჲალატჲუჲ, აჲა აშჲაჲკჲა აბა ჲჲა რჲბჲჲატატჲუჲ

## განმარტება:

საგზაო-სატრანსპორტო შემთხვევის შემდეგად დაშავებულის ფეხის ძვლის მოტეხილობის შემთხვევაში, თუ არა გვაქვს არტაშანის დასამზადებელი მასალა დაშავებულს დაზიანებული და ჯანმრთელი ფეხი უნდა დავამაგროთ ერთმანეთს ბინტის სახვევის გამოყენებით. ამასთან აუცილებელია ფეხებს შორის ჩავუდოთ რბილი ქსოვილი.

## ВОПРОС 819

ПРАВИЛЬНЫЙ ОТВЕТ: 1

Амფატე ატრანსპორტტე ამაშაჲრ აან ააჲა ჯაუზ აუაფი იგეჲამაბაფი იჲეტეი ჟუჲაზარ, «ამედიცინატე ცხჲრაარა ლას» იაიაანჲა, უიჲ

1

იჲეაჲე დჲჲჲჲრანჲი, იშჲამჲი აჲეტა მა ამატეა იატატატეჲ, იჲჲაა ჲჲრტეაშა აჲეშე იტატეჲ

2

განლა დჲრიატეჲჲ იბჲიოუ აგანაჲჲნტე, ააჲა ჲაუზ ატჲჲ აჲაჲჲაგა ჲჲშეაშეა იაჲეტატეჲჲ, იჲჲაა ჲჲრტეაშა აჲეშე იტატეჲ

## განმარტეჲა:

მენჯისა და ბარძაყის ძვლის მოტეხილობის შემთხვევაში „სასწრაფო სამედიცინო დახმარების“ მოსვლამდე დაშავებული უნდა დავანვინოთ ზურგზე მუხლებ ქვეშ ამოვუდოთ მჭიდროდ დახვეული საფენი ან ტანსაცმელი, მივცეთ ტკივილგამაყუჩებელი საშუალება.

## ВОПРОС 820

ПРАВИЛЬНЫЙ ОТВЕТ: 3

Амფატეატრანსპორტტე ამაშაჲრ აან აზარალ ჲაუზ აჲაჲი ამაშჲჲა აკაბინა დანბატჲგატეჲჲ

1

ესნაგჲ, ააჲა ჲაუზ აჲაჲი იჲჲსი იანმაჲჲო

2

ააჲა ჲაუზ იშჲაჲჲჲა ჟუჲაზარ

3

ააჲა ჲაუზ იჲჲსი მაჲჲაზარ, აჲჲსჲჲლაგაჲაგარეი არჲეაგა დაჲჲშჲ აჲი ადეისრეი იუბარტამჲარ

## განმარტეჲა:

საგზაო-სატრანსპორტო შემთხვევის შედეგად დაშავებულის ავტომობილის კაბინიდან გადმოყვანა მიზანშეწონილია, როცა დაშავებულს გონება აქვს დავარგული და არ აღენიშნება სუნთქვა და პულსაცია საძილე არტერიაზე.



## ВОПРОС 821

ПРАВИЛЬНЫЙ ОТВЕТ: 2

Амდәтә атранспорттә амашәыр аан ааха зауз ахаҕы ибҕахәырш акгы амыхкәа ихәда кәыркәылкәа рхәахәара адырҕакәа иҕазарЖ

1

Ааха зауз имахәаркәа изиртысуам, аҕсыҕлагааҕара иҕәуадаау

2

Ааха зауз ахаҕы ихәдеи ибҕеи ихьонит, уанрылаккыслак ихьаа цәҕахоит

## განმარტება:

საგზაო-სატრანსპორტო შემთხვევის შედეგად დაშავებულის ზურგის ტვინის დაზიანებლად კისრის ხერხემლის მალეების ტრავმების სიმპტომებია - ტკივილი კისრისა და ზურგის არეში. ტკივილი მატულობს ხელით შეხებისას.

## ВОПРОС 822

ПРАВИЛЬНЫЙ ОТВЕТ: 4

Амдәтәатранспорттә амашәыр аан ахаҕы ихәда ма ибҕашшара ааха аиузар, ма уи азы агәдара иҕазар, иҕаломЖ

1

Ааха зауз ихь ихәдеи ртысра

2

Ааха зауз ихәра алаккысра

3

Ааха зауз ибаақәа рыриашареи аҕежь иатәым даәа матәарк алхреи

4

Ааха зауз ихь ихәдеи ртысреи, ихәра алаккысреи, иара убас, ибаақәа рыриашареи аҕежь иатәым даәа матәарк алхреи

## განმარტება:

საგზაო-სატრანსპორტო შემთხვევის შედეგად დაშავებულის კისრის ან ხერხემლის დაზიანებისას ან მასზე ეჭვის მიტანისას არ შეიძლება: - დაზარალებულისთვის თავისა და კისრის მოძრაობა; - ჭრილობაზე შეხება; - ძვლის ნამსხვრევების ჩასწორება; - უცხო სხეულების მოცილება.

## ВОПРОС 823

ПРАВИЛЬНЫЙ ОТВЕТ: 2

Амԁათԁ атранспорттԁ амашԁыр аан ахаԁы иԚაშшара ааха аиузარ, уиЖ

1

Ииашоу, иԚԁԁоу ак ганла дыԁԁырианы, ихы ахчы аԚаԚатԁуп

2

Ииашоу, иԚԁԁоу ак иԚала дыԁԁырианы, ихԁԁი иԚარი ахԚԁа рыԚаԚатԁуп

## განმარტება:

საგზაო-სატრანსპორტო შემთხვევის შემდეგად დაშავებულის ხერხემლის დაზიანების დროს დაშავებული უნდა დავანვინოთ ზურგზე, სწორ და მაგარ ზედაპირზე და ამოვუდოთ ბალიში კისრისა და წელის არეში.

## ВОПРОС 824

ПРАВИЛЬНЫЙ ОТВЕТ: 2

Амԁათԁ атранспорттԁ амашԁыр аан ахаԁы иԚაშшара ааха аиузარ, уи диагатԁупЖ

1

Ииашоу, иԚԁԁоу ак ганла дыԁԁырианы

2

Ииашоу, иԚԁԁоу ак иԚала дыԁԁырианы

3

Ииашоу, иԚԁԁоу ак дыԁԁыртԁаны

## განმარტება:

ყველაზე საშიშია დაზიანებული ხერხემლით დაშავებულის ტრანსპორტირება. ხერხემლის ოდნავ გადაადგილებამ შეიძლება გამოიწვიოს ზურგის ტვინის განყვეტა, ამიტომ თუ ეჭვი გვეპარება დაშავებულის ხერხემლის დაზიანებაზე, აკრძალულია მისი დაჯდომა ან ფეხზე დგომა. უპირველეს ყოვლისა აუცილებელია დავანვინოთ სწორ და მაგარ ზედაპირზე (ხის დაფა, ფიცარი და სხვა მსგავსი). იგივე საგნები გამოიყენება ტრანსპორტირებისათვის.

## ВОПРОС 825

ПРАВИЛЬНЫЙ ОТВЕТ: 3

Адаჭшь акынтә ашьацара аан, ауады иџстазаара ашәарта итагыларатәы убри акара ашьа ицәцар калоитЖ

1

2÷5 минутк рыла

2

5÷10 минутк рыла

3

10÷15 минутк рыла

## პანმარტივა:

დაშავებული სიცოცხლისათვის საშიში სისხლის რაოდენობა არტერიული სისხლდენის დროს შეიძლება დაიკარგოს 10-15 წთ-ის შემდეგ.

## ВОПРОС 826

ПРАВИЛЬНЫЙ ОТВЕТ: 2

Амџатәеатранспорттә амашәыр иалтшәаны ахафы ицәеи ижъеатцәқәеи ааха роузар, раџхәтәи амедицинатә цыхраара итара амзызла, уиЖ

1

Ихәра аиод иакәтәтәуп

2

Ахәра иаакәыршаны аиод ала ирыцканы, абактерицидтә аџахәага иакәтәтәуп Ѓуи иҝамзар, аџахәага цкә иакәтәтәупТ

3

Ижъеитцәқәа рыцканы абактерицидтә аџахәага иакәтәтәуп

## პანმარტივა:

საგზაო-სატრანსპორტო შემთხვევის შედეგად დაშავებულის კანის საფარველისა და კუნთოვანი ქსოვილის დაზიანების შემთხვევაში ჭრილობა უნდა დამუშავდეს გარშემო იოდის ხსნარით და დაედოს ბაქტერიციდული საფენი (მისი არ ქონის შემთხვევაში დაედოს სუფთა საფენი).

## ВОПРОС 827

ПРАВИЛЬНЫЙ ОТВЕТ: 2

Амԥათԥ амашԥыр аан ахаԥы ишььаргԥыцԥ аԥԥартԥра ааха аиузარ, иარбан ԥახԥагоу зхархԥара иахԥԥоуԾ

1

Ачახы асахьа змоу

2

Ацьар асахьа змоу

3

Ахахԥыршԥга асахьа змоу

## განმარტება:

საგზაო-სატრანსპორტო შემთხვევის შედეგად დაშავებულის წვივ-ტერფის სახსრის დაზიანებისას გამოიყენება რვიანისებური სახვევი.

## ВОПРОС 828

ПРАВИЛЬНЫЙ ОТВЕТ: 1

Амԥათԥ атранспорттԥ амашԥыр аан ааха зауз ахаԥы илтԥжԥԥа ԥԥԥазარ, уи диагатԥупЖ

1

Дьртԥаны

2

Ганла дықԥырианы

3

Ибԥа дықԥырианы

4

Имгԥа дықԥрианы.

## განმარტება:

საგზაო-სატრანსპორტო შემთხვევის შედეგად დაშავებულის ტრანსპორტირება ლავინის ძვლის მოტეხილობის დროს უნდა მოხდეს მჭდომარე მდგომარეობაში.

## ВОПРОС 829

ПРАВИЛЬНЫЙ ОТВЕТ: 2

Амѡათѡатранспорттѡ амашѡыр аан ахаѡы ихшыбаѡ ааха иахѡыаны иѡсы маѡхазар, уиЖ

1

Дыртѡатѡуп

2

Ганла дыриатѡуп

3

Ибѡа дыѡѡыриатѡуп

## განმარტება:

საგზაო-სატრანსპორტო შემთხვევის შედეგად დაშავებულის თავის ქალისა და ტვინის დაზიანების გამო, გონების დაკარგვის შემთხვევაში დაშავებული უნდა დავანვინოთ გვერდზე.

## ВОПРОС 830

ПРАВИЛЬНЫЙ ОТВЕТ: 3

Амѡათѡ-атранспорттѡ амашѡыр аан атыѡшатѡ тѡытѡѡырала абылра зауз ахаѡы иблыз иѡѡаЖ

1

Аспирт ала ирыѡѡѡатѡуп

2

Аиод ала ирыѡѡѡатѡуп

3

Ираѡѡаны аѡы аѡѡѡѡаны иѡѡѡѡатѡуп

## განმარტება:

საგზაო-სატრანსპორტო შემთხვევის შედეგად დაშავებულს გოგირდის მჟავით დაზიანებული კანის უბნები უნდა გადაერეცხოს წყლის უხვი რაოდენობით.





## ВОПРОС 833

ПРАВИЛЬНЫЙ ОТВЕТ: 2

Амღათეატრანსპორტტე амашәыр аан ааха зауз ахафы ишьахәырзынџа пџџазар, адапџшь аџынтә ашьацара аанызкыло аџахәага иакџџатәупџ

1

Ишьахәырзыз аџы, ахәра аханы

2

Иуатәаџы

## განმარტება:

საგზაო-სატრანსპორტო შემთხვევის შედეგად დაშავებულის წვივის ძვლის დაზიანების შემთხვევაში არტერიული სისხლდენის შემაჩერებელი ლახტი უნდა დავადოთ ბარძაყზე.

## ВОПРОС 834

ПРАВИЛЬНЫЙ ОТВЕТ: 1

Амღათეატრანსპორტტე амашәыр аан ааха зауз ахафы апџыпџ лагаџагара даџәытџзар, аха адапџшь аџы адеисра иџазар, идеисра гәатәтәупџ

1

2 минутк рахь знык

2

5 минутк рахь знык

3

6 минутк рахь знык

## განმარტება:

თუ საგზაო-სატრანსპორტო შემთხვევის შედეგად დაშავებული არ სუნთქავს, მაგრამ აღენიშნება პულსი საძილე არტერიაზე, ყოველ 2 წუთში ერთხელ უნდა მოხდეს პულსის შემოწმება.

„საგზაო მოძრაობის შესახებ“ საქართველოს კანონის 27-ე მუხლის პირველი პუნქტის „ე“ ქვეპუნქტის თანახმად, საგზაო-სატრანსპორტო შემთხვევაში მონაწილე მძღოლი ვალდებულია: ე) მიიღოს საჭირო ზომები, რათა პირველადი სამედიცინო დახმარება აღმოუჩინოს საგზაო-სატრანსპორტო შემთხვევის შედეგად დაშავებულს, გამოიძახოს სასწრაფო სამედიცინო დახმარება, გადაუდებელი აუცილებლობის შემთხვევაში დაშავებული გაგზავნოს უახლოეს სამკურნალო დაწესებულებაში გზად მიმავალი სხვა სატრანსპორტო საშუალებით, ხოლო თუ ეს შეუძლებელია – თავად წაიყვანოს იგი, გარდა იმ შემთხვევისა, როდესაც არსებობს საფუძვლიანი ეჭვი, რომ გადაყვანამ შეიძლება ზიანი მიაყენოს დაშავებულს.

## ВОПРОС 837

ПРАВИЛЬНЫЙ ОТВЕТ: 3

Иарбоу атагылазашьақәа ркынтә, амѳатѳеатранспорттә амашәыр алахәылацәа, амашәыр аан ааха зауз ахафы ахәшәтәыртахь иагара ируалымЖ

1 Лабѳаба иубартазар, уи ПѳарныкәаѳТ амашәыр шихарам

2 Уи итранспорттә хархәага аитатра аан, атакпхыкәра ақәцаразы зтак дуу ашьатақәа икәзаар

3 Атранспорттә хархәага аитатра ааха хауз ахафы ипырхагахар калап хәа агѳара иказар

4 Абри абилет афы еикәыпхьажоу атагылазашьақәа зегьы раан.

## განმარტება:

„საგზაო მოძრაობის შესახებ“ საქართველოს კანონის 27-ე მუხლის პირველი პუნქტის „ე“ ქვეპუნქტის თანახმად, საგზაო-სატრანსპორტო შემთხვევაში მონაწილე მძღოლი ვალდებულია: ე) მიიღოს საჭირო ზომები, რათა პირველადი სამედიცინო დახმარება აღმოუჩინოს საგზაო-სატრანსპორტო შემთხვევის შედეგად დაშავებულს, გამოიძახოს სასწრაფო სამედიცინო დახმარება, გადაუდებელი აუცილებლობის შემთხვევაში დაშავებული გაგზავნოს უახლოეს სამკურნალო დაწესებულებაში გზად მიმავალი სხვა სატრანსპორტო საშუალებით, ხოლო თუ ეს შეუძლებელია – თავად წაიყვანოს იგი, გარდა იმ შემთხვევისა, როდესაც არსებობს საფუძვლიანი ეჭვი, რომ გადაყვანამ შეიძლება ზიანი მიაყენოს დაშავებულს.

## ВОПРОС 838

ПРАВИЛЬНЫЙ ОТВЕТ: 2

Амѳатѳеатранспорттә амашәыр аан ааха зауз ахафы ивакыцкәа ма игѳабыцакыа абѳа пѳцәазар, уи диагатәупЖ

1 Ганла дыкәырианы

2 Дыртәаны ма дкыдыртәаланы

3 Икәакә дыкәырианы

## განმარტება:

საგზაო-სატრანსპორტო შემთხვევის შედეგად დაშავებულის ნეკნებისა და მკერდის ძვლის მოტეხილობის დროს დაშავებულის ტრანსპორტირება უნდა მოხდეს მჭიდროდ ან ნახევარმჭიდროდ მდგომარეობაში.

## ВОПРОС 839

ПРАВИЛЬНЫЙ ОТВЕТ: 3

Ам֊ათ֊ა ამაშ֊აჲრ აან ააჲა ჯაუჲ აუაფ֊ი იჲჲა აშ֊ა აც֊ოჲარ, აშ֊აჲარა აანჲარაჲი უიჲ

1

Дкыдырт֊ალათ֊უჲ. Ихы шыт֊ыхны აჲაჲაჲაგა  
ხჲშ֊აშ֊ა იაჲტათ֊უჲ

2

Ганла дырианы, იჲჲა აჲაჲაგა хჲშ֊აშ֊ა  
იაჲტათ֊უჲ

3

Дкыдырт֊ალათ֊უჲ. Иგ֊ышჲы აგანაჲალა ихы  
нарჲны იჲჲა აჲაჲაგა хჲშ֊აშ֊ა  
იაჲტათ֊უჲ

## განმარტება:

საგზაო-სატრანსპორტო შემთხვევის შედეგად დაზარალებული ცხვირიდან სისხლდენის შესაჩერებლად დაზარალებული უნდა დავსვათ ნახევარმჯდომარე მდგომარეობაში, მკერდისკენ თავის დახრით გამოვრიცხვოთ სისხლის სასუნთქ ორგანოებში მოხვედრას. ცხვირზე ცივი საფენის დადებით ვცდილობთ სისხლდენის შეჩერებას.

## ВОПРОС 840

ПРАВИЛЬНЫЙ ОТВЕТ: 2

Ам֊ათ֊ა ამაშ֊აჲრ იალტ֊შაჲნი ააჲა ჯაუჲ აუაფ֊ი აჲრაჲა იმაჲარ, ადჲინფეჲიატ֊ა ჲარჲაგა ეიჲშ აიოდ  
აჲარჲარა ჲალოიტჲ

1

Аჲრა აჲჲჲშჲრა არჲჲარაჲი

2

Аჲრა აჲჲჲშჲრეი უი აჲშაჲჲჲა იჲოუ  
აჲეი რჲჲჲარაჲი

## განმარტება:

საგზაო-სატრანსპორტო შემთხვევის შედეგად დაზარალებულის ჭრილობის შემთხვევაში იოდის ხსნარი, როგორც სადეზინფექციო საშუალება გამოიყენება ჭრილობის ნაპირებისა და მისი მიმდებარე ჯანის დასამუშავებლად.



## ВОПРОС 841

ПРАВИЛЬНЫЙ ОТВЕТ: 1

Амѡათѣ амашѣыр иалтѣшѣаны азарал зауз ауаѡы ибла ахѣра ианызар, уиЖ

1

Икѣаѣкѣ дыѣѣырианы, ихы шыѣыхѣтѣуп.  
Азарал зауз ауаѡы ибла аѣахѣага цѣѣа  
иаѣѣтѣатѣуп

2

Ганла дыриатѣуп ибзиоу ибла аганхѣала.  
Азарал зауз ауаѡы ибла аѣахѣага цѣѣа  
иаѣѣтѣатѣуп

3

Дѣыдыртѣалатѣуп. Ихы шыѣахѣѣка инаханы  
ибла аѣахѣага цѣѣа иаѣѣтѣатѣуп

## განმარტება:

საგზაო-სატრანსპორტო შემთხვევის შედეგად დაშავებულის თვალის ჭრილობის დროს დაშავებული უნდა დავანვინოთ ზურგზე და თავი წამოვუწიოთ წინ. დაზიანებულ თვალზე უნდა დავადოთ სუფთა საფენი.

## ВОПРОС 842

ПРАВИЛЬНЫЙ ОТВЕТ: 1

Амѡათѣ амашѣыр иалтѣшѣаны ааха зауз ауаѡы имышьхѣылтѣ атѣаѣа инапы пѣѣѣазар, адапѣшьтѣ  
шьанѣылага аѣѣтѣатѣупЖ

1

Имышьхѣылтѣ аханы, ижѣѣахыр аѣы

2

Ахѣра аханы, ишьамхѣылтѣынѣа

## განმარტება:

საგზაო-სატრანსპორტო შემთხვევის შედეგად დაშავებულის იდაყვის ქვემოთ ხელის ძვლის დაზიანების შემთხვევაში არტერიული სისხლდენის შემაჩერებელი ლახტი უნდა დავადოთ იდაყვის ზემოთ, მხართან.

თუ საგზაო-სატრანსპორტო ძემთხვევის შედეგად დაშავებულს აღენიშნება ტრამები თავის თმთან ადგილებზე, პირველადი სამედიცინო დახმარების აღმოჩენის მიზნით, მას უნდა კისერზე დაედოს იმპროვიზირებული ნახვევი, ჭრილობაზე სტერილური ბინტით დაედოს დამწოლი ნახვევი, დაშავებული დავანჯინოთ გვერდზე მუხლებში მოხრილი ფეხებით, თავზე მივადოთ ყინული ან ცივი საფენი.



Иарбоу атагылазаашьаҕы амашына лас арныкөө, ахыц ахырхартала деитатсуазар, аитатпра икэитызымтәуа алашарбага ардыргазы аангыларა ихәтоумаҕ

1

Ихәтоуп

2

Ихәтам

### განმარტება:

„საგზაო მოძრაობის შესახებ“ საქართველოს კანონის 36-ე მუხლის მე-3 პუნქტის „ე“ ქვეპუნქტის თანახმად, რეგულირებულ გზაჯვარედინზე შუქნიშნის ნებადართველ სიგნალზე გზაჯვარედინზე შესულ მძღოლს შეუძლია იმოძრაოს დასახული მიმართულებით, გზაჯვარედინიდან გასასვლელზე არსებული შუქნიშნის ამკრძალავი სიგნალების მიუხედავად, მაგრამ იმ პირობით, რომ ეს არ დააბრკოლებს სხვა საგზაო მოძრაობის მონაწილეთა იმ მიმართულებით მოძრაობას, რომელზედაც მოძრაობა გახსნილია. თუ გზაჯვარედინზე მისი მოძრაობისას გზაზე არსებული შუქნიშნების წინ „სდექ“ ხაზებია (ან/და 7.16 საგზაო ნიშნებია), მძღოლმა უნდა იხელმძღვა-ნელოს თითოეული შუქნიშნის სიგნალით.

## ВОПРОС 845

ПРАВИЛЬНЫЙ ОТВЕТ: 1

Амфатә амашәыр аан ааха зауз ауафы иңсыплагафатаратә цәеижькәа ркынтә атәым матәар атыгара  
амзызла хымҕадаЖ

1

Анапсыргэйтала икэакэ асра, уи алтшэа  
ахылымтар, ааха зауз ишьтахь хгыланы  
такатэи ивакыц ааазарафь хтачкэымкэа  
имгэа иакэтцаны, аамтакала ивакыцкэеи  
имгэеи хрыкэыбэбэароуп аоныткатэи  
хыхьтэи ахырхартала

# 2

Ааха зауз иҫы алада ирханы ишьамхы  
дықәыргыланы тацкәымла ибҫа ҳасуеит

**განმარტება:**

საგზაო-სატრანსპორტო შემთხვევის შედეგად დაშავებულის სასუნთქ გზებში უცხო სხეულის მოსაცილებლად აუცილებლად უნდა რამდენჯერმე ხელისგული დავარტყათ ზურგზე, უარყოფითი შედეგის შემთხვევაში დავდგეთ დაშავებულის უკან, ქვედა ნეკნის დონეზე მუცელთან ხელები მუშტად გადავაჭდოთ ერთმანეთს, ერთდროულად მოვახდინოთ დანოლა ნეკნებზე და მკვეთრად დავანწვეთ მუშტებით მუცლის არეში შიდა და ზედა მიმართულებით.

## ВОПРОС 846

ПРАВИЛЬНЫЙ ОТВЕТ: 2

Амбатә амашәыр иалтшәаны зыҕсы маҗхаз ауабы ахәшәкәа иҭара каломабҭ

1

## Иќалоит

2

Иќалом

**განმარტება:**

საგზაო-სატრანსპორტო შემთხვევის შედეგად უგონო მდგომარეობაში მყოფ დაშავებულისათვის სამკურნალო ჰრეპარატების მიცემა ნებადართული არ არის.

АрԥԵԥარატԥ харԥააга армазеира иатаху аматԥარԥა ыԥамзар, амԥатԥ амашԥыр аан ааха зауз инапы  
Եԥԥазар, уиЖ

1

Инапы ириашаны, абинт иакԥыршаны  
иԥԥеиჯь аԥы иრԥԥԥատԥуп

2

Имышьхԥылԥ аԥы инапы харԥԥаланы, ихԥԥა  
иаԥԥкнаҳаны, абинт аԥыршаны иԥԥеиჯь  
аԥы ирԥԥԥատԥуп

### განმარტება:

არტაშანის დასამზადებელი მასალის არარსებობისას საგზაო-სატრანსპორტო შემთხვევის შედეგად დაზარალებულის ხელის ძვლის მოტეხილობის შემთხვევაში, მას უნდა იდაყვში მოხრილი ხელი ჩამოვკიდოთ კისერზე და ბინტის დახვევით მივუმაგროთ ტანზე.





Аидаратә машына арныкәаф ахыц ахырхартала деитатцазар, абарт амашынакәа рырныкәаџәа ркынтә амџа атара зыхәтада, амедицинатә цхыраара лас амашына чыдалатәи алашаратәи абжытәи ардырга иаџакызарџ

1

Амашына лас арныкәаф затәы

2

Амедицинатә цхыраара лас амашына арныкәаф затәы

3

Амашына лас арныкәаџи, иара убас, амедицинатә цхыраара лас амашына арныкәаџи

### განმარტება:

„საგზაო მოძრაობის შესახებ“ საქართველოს კანონის 36-ე მუხლის მე-4 პუნქტის „ა“ ქვეპუნქტის თანახმად, არარეგულირებულ გზატკარციდებზე, არათანაბარმნიშვნელოვანი გზების გადაკვეთაზე მეორეხარისხოვან გზაზე მოძრავი სატრანსპორტო საშუალების მძღოლი ვალდებულია გზა დაუთმოს მთავარი გზიდან მოახლოებულ სატრანსპორტო საშუალებას, მიუხედავად მისი შემდგომი მოძრაობის მიმართულებისა. ამავე კანონის 51-ე მუხლის მე-2 პუნქტის თანახმად, საგზაო მოძრაობის მონაწილეები ვალდებული არიან, ოპერატიული ან სპეციალური სამსახურის სატრანსპორტო საშუალების მოახლოებისას, რომელსაც ჩართული აქვს ლურჯი მოელვარე სპეციალური ციმციმა სიგნალი და ხმოვანი სიგნალი ან/და რომელიც ხმამაღლამოლაპარაკე ხელსაწყოთი იძლევა სიგნალს, მას, აგრეთვე მის მიერ გასაცემებელ სატრანსპორტო საშუალებას, რომელსაც ჩართული აქვს ახლო განათების ფარები, გაუთავისუფლონ სავალ ნაწილზე ადგილი, ხოლო აუცილებლობის შემთხვევაში – გაჩერდნენ.



Аидаратә машына арныкәа ахыц ахырхартала деитатцазар, абарт атранспорттә хархәагақәа рырныкәацәа ркынтә амәа атара зыхәтадаҕ

1

Аоперативтә матцра амашына арныкәаа затцәы

2

Амашына лас арныкәаа затцәы


3

Аоперативтә матцра амашынеи амашына ласи рырныкәаацәа

### განმარტება:

„საგზაო მოძრაობის შესახებ“ საქართველოს კანონის 36-ე მუხლის მე-4 პუნქტის „ა“ ქვეპუნქტის თანახმად, არათანაბარმნიშვნელოვანი გზების გადაკვეთაზე მეორეხარისხოვან გზაზე მოძრავი სატრანსპორტო საშუალების მძღოლი ვალდებულია გზა დაუთმოს მთავარი გზიდან მოახლოებულ სატრანსპორტო საშუალებას, მიუხედავად მისი შემდგომი მოძრაობის მიმართულებისა. ამავე კანონის 51-ე მუხლის მე-2 პუნქტის თანახმად, საგზაო მოძრაობის მონაწილეები ვალდებული არიან, ოპერატიული ან სპეციალური სამსახურის სატრანსპორტო საშუალების მოახლოებისას, რომელსაც ჩართული აქვს ლურჯი მოელვარე სპეციალური ციმციმა სიგნალი და ხმოვანი სიგნალი ან/და რომელიც ხმამაღლამოლაპარაკე ხელსაწყოთი იძლევა სიგნალს, მას, აგრეთვე მის მიერ გასაცემებელ სატრანსპორტო საშუალებას, რომელსაც ჩართული აქვს ახლო განათების ფარები, გაუთავისუფლონ სავალ ნაწილზე ადგილი, ხოლო აუცილებლობის შემთხვევაში – გაჩერდნენ.





Аидаратә машына арныкәа ахыц ахырхартала деитатцазар, абарт атранспорттә хархәагақәа рырныкәаццә ркынтә амәа атара зыхәтадаҕ

1

Амашына дежь арныкәа зацәы

2


Амашына иатцә арныкәа зацәы

3

Амашына дежьи, иара убас, амашына иатцәи рырныкәаццә

### განმარტება:

„საგზაო მოძრაობის შესახებ“ საქართველოს კანონის პირველი დანართის 2.3 პუნქტის თანახმად, საგზაო ნიშანი 2.3 „დაუთმე გზა“ - გზა, რომელზე მოძრაობა მძღოლი ვალდებულია გზა დაუთმოს გადასაუვვეთ გზაზე მოძრაობ მძღოლს, ხოლო 8.13 დაფის არსებობისას – მთავარ გზაზე მოძრაობ მძღოლს.



Аидаратә машына арныкәа ахыц ахырхартала деитатцазар, абарт атранспорттә хархәагақәа рырныкәаџәа ркынтә амџа атара зыхәтадаҕ

1

Атрамваи арныкәаџ зацәы

2


Амашына лас арныкәаџ зацәы

3

Атрамваи арныкәаџи, амашына лас арныкәаџи

### განმარტება:

„საგზაო მოძრაობის შესახებ“ საქართველოს კანონის 36-ე მუხლის მე-4 პუნქტის „ა“ ქვეპუნქტის თანახმად, არარეგულირებულ გზაჯვარედინზე, არათანაბარმნიშვნელოვანი გზების გადაკვეთაზე მეორეხარისხოვან გზაზე მოძრავი სატრანსპორტო საშუალების მძღოლი ვალდებულია გზა დაუთმოს მთავარი გზიდან მოახლოებულ სატრანსპორტო საშუალებას, მიუხედავად მისი შემდგომი მოძრაობის მიმართულებისა.



Аидаратә машына арныкәа ахыц ахырхартала деитатцазар, абарт атранспорттә хархәагақәа рырныкәацәа ркынтә амәа атара зыхәтада, арѣарахьтәи аганақынтә амѣихысырта иалало амәа анышә иакәзарѣ

1

Автобус арныкәаа затцәы

2

Амотоцикл арныкәаа затцәы


3

Автобус арныкәааи, иара убас, амотоцикл арныкәааи

### ბანმარტუბა:

„საგზაო მოძრაობის შესახებ“ საქართველოს კანონის 36-ე მუხლის მე-4 პუნქტის „გ“ ქვეპუნქტის თანახმად, არარეგულირებულ გზაჯვარედინზე, თანაბარმნიშვნელოვანი გზების გადაკვეთაზე ურელსო სატრანსპორტო საშუალების მძღოლი ვალდებულია გზა დაუთმოს მარჯვნიდან მოახლოებულ სატრანსპორტო საშუალებას. ამავე წესით უნდა ხელმძღვანელონ ურთიერთშორის რელსიანი სატრანსპორტო საშუალებების მძღოლებმაც. ასეთ გზაჯვარედინზე რელსიან სატრანსპორტო საშუალებას უპირატესობა აქვს ურელსო სატრანსპორტო საშუალების მიმართ, მიუხედავად მისი მოძრაობის მიმართულებისა. ამავე მუხლის მე-6 პუნქტის თანახმად, თუ საგზაო ნიშნით სხვა რამ არ არის გათვალისწინებული, გრუნტოვანი გზიდან იმ გზაზე გასვლისას, რომელიც არ არის გრუნტოვანი გზა, მძღოლი ვალდებულია გზა დაუთმოს ამ გზაზე მოძრავ სატრანსპორტო საშუალებას. ამავე კანონის მე-5 მუხლის 37-ე პუნქტის თანახმად ღორღიან ან გრუნტოვან გზაზე უშუალოდ გზაჯვარედინის წინ, გზის მკვირვსაფარიანი უბნის არსებობა არ ათანაბრებს მას მკვირვსაფარიან გზასთან.





Аидаратә машына арныкәа ахыц ахырхартала деитатцазар, абарт атранспорттә хархәагақәа рырныкәацәа ркынтә амәа атара зыхәтадаҕ

1

Автобус арныкәаа зацәы

2

Амотоцикл арныкәаа зацәы

3

Автобус арныкәааи, иара убас, амотоцикл арныкәааи

### განმარტება:

„საგზაო მოძრაობის შესახებ“ საქართველოს კანონის 36-ე მუხლის მე-4 პუნქტის „ა“ ქვეპუნქტის თანახმად, არარეგულირებულ გზაჯვარედინზე, არათანაბარმნიშვნელოვანი გზების გადაკვეთაზე მეორეხარისხოვან გზაზე მოძრავი სატრანსპორტო საშუალების მძღოლი ვალდებულია გზა დაუთმოს მთავარი გზიდან მოახლოებულ სატრანსპორტო საშუალებას, მიუხედავად მისი შემდგომი მოძრაობის მიმართულებისა.



Аидаратә машына арныкәа ахыц ахырхартала деитатцазар, абарт атранспорттә хархәагақәа рырныкәацәа ркынтә амәа атара зыхәтадаҕ

1

Амашына дежь арныкәа зацәы. м

2


Атролеибус арныкәа зацәы

3

Амашына дежьи атролеибуси  
рырныкәацәа

### განმარტება:

„საგზაო მოძრაობის შესახებ“ საქართველოს კანონის 36-ე მუხლის მე-4 პუნქტის „ა“, „ბ“ და „გ“ ქვეპუნქტების თანახმად, არარეგულირებულ გზაჯვარედინზე: ა) არათანაბარმნიშვნელოვანი გზების გადაკვეთაზე მეორეხარისხოვან გზაზე მოძრავი სატრანსპორტო საშუალების მძღოლი ვალდებულია გზა დაუთმოს მთავარი გზიდან მოახლოებულ სატრანსპორტო საშუალებას, მიუხედავად მისი შემდგომი მოძრაობის მიმართულებისა; ბ) თუ გზაჯვარედინზე მთავარი გზა იცვლის მიმართულებას, ამ გზაზე მოძრავმა მძღოლებმა ურთიერთშორის უნდა იხელმძღვანელონ თანაბარმნიშვნელოვანი გზების გავლის წესებით. ამავე წესებით უნდა იხელმძღვანელონ ურთიერთშორის მეორეხარისხოვან გზაზე მოძრავმა მძღოლებმაც; გ) თანაბარმნიშვნელოვანი გზების გადაკვეთაზე ურელსო სატრანსპორტო საშუალების მძღოლი ვალდებულია გზა დაუთმოს მარჯვნიდან მოახლოებულ სატრანსპორტო საშუალებას. ამავე წესით უნდა იხელმძღვანელონ ურთიერთშორის რელსიანი სატრანსპორტო საშუალებების მძღოლებმაც.



Аидаратә машына арныкәа ахыц ахырхартала деитатцуазар, абарт атранспорттә хархәагақәа ырныкәаацәа ркынтә амәа атара зыхәтадаҕ

1

Амашына кәҕшь арныкәаа затәы

2

Амашына иатәа арныкәаа затәы


3

Азәҕы

### განმარტება:

„საგზაო მოძრაობის შესახებ“ საქართველოს კანონის 36-ე მუხლის მე-4 პუნქტის „ა“ ქვეპუნქტის თანახმად, არარეგულირებულ გზაჯვარედინზე, არათანაბარმნიშვნელოვანი გზების გადაკვეთაზე მეორეხარისხოვან გზაზე მოძრავი სატრანსპორტო საშუალების მძღოლი ვალდებულია გზა დაუთმოს მთავარი გზიდან მოახლოებულ სატრანსპორტო საშუალებას, მიუხედავად მისი შემდგომი მოძრაობის მიმართულებისა.





Аидаратә машына арныкәа ахыц ахырхартала деитатцазар, абарт атранспорттә хархәагақәа рырныкәацәа ркынтә амәа атара зыхәтадаҕ

1

Амашына иатцәа арныкәаа зацәы

2


Амашына дежь арныкәаа зацәы

3

Амашына иатцәеи амашына дежьи  
рырныкәаацәа

### განმარტება:

„საგზაო მოძრაობის შესახებ“ საქართველოს კანონის 36-ე მუხლის მე-4 პუნქტის „ა“ და „გ“ ქვეპუნქტების თანახმად, არარეგულირებულ გზაჯვარედინზე: ა) არათანაბარმნიშვნელოვანი გზების გადაკვეთაზე მეორეხარისხოვან გზაზე მოძრავი სატრანსპორტო საშუალების მძღოლი ვალდებულია გზა დაუთმოს მთავარი გზიდან მოახლოებულ სატრანსპორტო საშუალებას, მიუხედავად მისი შემდგომი მოძრაობის მიმართულებისა; გ) თანაბარმნიშვნელოვანი გზების გადაკვეთაზე ურელსო სატრანსპორტო საშუალების მძღოლი ვალდებულია გზა დაუთმოს მარჯვნიდან მოახლოებულ სატრანსპორტო საშუალებას. ამავე წესით უნდა იხელმძღვანელონ ურთიერთშორის რელსიანი სატრანსპორტო საშუალებების მძღოლებმაც.



Аидаратә машына арныкәә ахыц ахырхартала деитатцазар, абарт атранспорттә хархәагақәа рырныкәәцәа ркынтә амәа атара зыхәтәдаҕ

1

Атрамваи арныкәәд зацәы

2

Автобус арныкәәд зацәы

3

Атрамваи автобуси рырныкәәцәа

### განმარტება:

„საგზაო მოძრაობის შესახებ“ საქართველოს კანონის 36-ე მუხლის მე-2 პუნქტის თანახმად, გზაჯვარედინი, რომელზედაც მოძრაობის რიგითობა შექნიშნის ან მარეგულირებლის სიგნალებით განისაზღვრება, რეგულირებული გზაჯვარედინია. თუ ყვითელი მოციმციმე სიგნალი ანთია, ან შექნიშანი არ არის ან არ მუშაობს, ან მარეგულირებელი არ დგას, გზაჯვარედინი არარეგულირებულად ითვლება და მძღოლი ვალდებულია იხელმძღვანელოს არარეგულირებული გზაჯვარედინის გავლის წესებითა და გზაჯვარედინზე დაყენებული პრიორიტეტის ნიშნებით. ამავე მუხლის მე-4 პუნქტის „გ“ და „დ“ ქვეპუნქტების თანახმად, არარეგულირებულ გზაჯვარედინზე: გ) თანაბარმნიშვნელოვანი გზების გადაკვეთაზე ურელსო სატრანსპორტო საშუალების მძღოლი ვალდებულია გზა დაუთმოს მარჯვნიდან მოახლოებულ სატრანსპორტო საშუალებას. ასეთ გზაჯვარედინზე რელსიან სატრანსპორტო საშუალებას უპირატესობა აქვს ურელსო სატრანსპორტო საშუალების მიმართ, მიუხედავად მისი მოძრაობის მიმართულებისა. დ) მარცხნივ მოხვევისას ან მობრუნებისას ურელსო სატრანსპორტო საშუალების მძღოლი ვალდებულია გზა დაუთმოს თანაბარმნიშვნელოვან გზაზე საპირისპირო მიმართულებიდან პირდაპირ ან მარჯვნივ მოძრავ სატრანსპორტო საშუალებას.





Аидаратә машына арныкәа ахыц ахырхартала деитатцазар, абарт атранспорттә хархәагақәа рырныкәаацәа ркынтә амәа атара зыхәтадаҕ

1

Амотоцикл арныкәаа затцәы

2


Амашына лас арныкәаа затцәы

3

Азәгы

### განმარტება:

„საგზაო მოძრაობის შესახებ“ საქართველოს კანონის 36-ე მუხლის მე-3 პუნქტის „ა“ და „ბ“ ქვეპუნქტების თანახმად, რეგულირებულ გზაჯვარედინზე: ა) შექნიშნის მწვანე სიგნალის ჩართვის დროს მარცხნივ მოხვევისას ან მობრუნებისას ურელსო სატრანსპორტო საშუალების მძღოლი ვალდებულია გზა დაუთმოს საპირისპირო მიმართულებიდან პირდაპირ ან მარჯვნივ მოძრავ სატრანსპორტო საშუალებას. ამავე წესით უნდა იხელმძღვანელონ ურთიერთშორის მოძრავი ტრამვაის მძღოლებმაც; ბ) შექნიშნის დამატებითი სექციაში ძირითად ყვითელ ან წითელ მაშუქ სიგნალთან ერთად ჩართული ისრის მიმართულებით მოძრაობისას სატრანსპორტო საშუალების მძღოლი ვალდებულია გზა დაუთმოს სხვა მიმართულებიდან მოძრავ სატრანსპორტო საშუალებას.



Аидаратә машына арныкәа ахыц ахырхартала деитатцазар, абарт атранспорттә хархәагақәа рырныкәаџәа ркынтә амџа атара зыхәтадаҕ

1

Автобус арныкәаџа затәы

2

Амашына лас арныкәаџа затәы

3


Азәгы

4

Автобуси амашына ласи рырныкәаџәа

### განმარტება:

„საგზაო მოძრაობის შესახებ“ საქართველოს კანონის 36-ე მუხლის მე-4 პუნქტის „ა“ და „დ“ ქვეპუნქტების თანახმად, არარეგულირებულ გზაჯვარედინზე: ა) არათანაბარმნიშვნელოვანი გზების გადაკვეთაზე მეორეხარისხოვან გზაზე მოძრავი სატრანსპორტო საშუალების მძღოლი ვალდებულია გზა დაუთმოს მთავარი გზიდან მოახლოებულ სატრანსპორტო საშუალებას, მიუხედავად მისი შემდგომი მოძრაობის მიმართულებისა; დ) მარცხნივ მოხვევისას ან მობრუნებისას ურელსო სატრანსპორტო საშუალების მძღოლი ვალდებულია გზა დაუთმოს თანაბარ-მნიშვნელოვან გზაზე საპირისპირო მიმართულებიდან პირდაპირ ან მარჯვნივ მოძრავ სატრანსპორტო საშუალებას. ამავე წესით უნდა იხელმძღვანელონ ურთიერთშორის რელსიანი სატრანსპორტო საშუალებების მძღოლებმაც.



Аидаратә машына арныкәа ахыц ахырхартала деитатцазар, абарт атранспорттә хархәагақәа рырныкәацәа ркынтә амәа атара зыхәтадаҕ

1

Амотоцикл арныкәаа затцәы

2

Амашына лас арныкәаа затцәы


3

Амотоцикли амашына ласи рырныкәацәа

### განმარტება:

„საგზაო მოძრაობის შესახებ“ საქართველოს კანონის 36-ე მუხლის მე-4 პუნქტის „ა“, „ბ“ და „გ“ ქვეპუნქტების თანახმად, არარეგულირებულ გზაჯვარედინზე: ა) არათანაბარმნიშვნელოვანი გზების გადაკვეთაზე მეორეხარისხოვან გზაზე მოძრავი სატრანსპორტო საშუალების მძღოლი ვალდებულია გზა დაუთმოს მთავარი გზიდან მოახლოებულ სატრანსპორტო საშუალებას, მიუხედავად მისი შემდგომი მოძრაობის მიმართულებისა; ბ) თუ გზაჯვარედინზე მთავარი გზა იცვლის მიმართულებას, ამ გზაზე მოძრავმა მძღოლებმა ურთიერთშორის უნდა იხელმძღვანელონ თანაბარმნიშვნელოვანი გზების გავლის წესებით. ამავე წესებით უნდა იხელმძღვანელონ ურთიერთშორის მეორეხარისხოვან გზაზე მოძრავმა მძღოლებმაც; გ) თანაბარმნიშვნელოვანი გზების გადაკვეთაზე ურელსო სატრანსპორტო საშუალების მძღოლი ვალდებულია გზა დაუთმოს მარჯვნიდან მოახლოებულ სატრანსპორტო საშუალებას. ამავე წესით უნდა იხელმძღვანელონ ურთიერთშორის რელსიანი სატრანსპორტო საშუალებების მძღოლებმაც. ასეთ გზაჯვარედინზე რელსიან სატრანსპორტო საშუალებას აქვს უპირატესობა ურელსო სატრანსპორტო საშუალების მიმართ, მიუხედავად მისი მოძრაობის მიმართულებისა.





Аидаратә машына арныкәа ахыц ахырхартала деитатцазар, абарт атранспорттә хархәагақәа рырныкәацәа ркынтә амәа атара зыхәтадаҕ

1

Атрамваи арныкәаа зацәы

2


Амашына дежь арныкәаа зацәы

3

Атрамваи амашына дежьи рырныкәацәа

### განმარტება:

„საგზაო მოძრაობის შესახებ“ საქართველოს კანონის 36-ე მუხლის მე-3 პუნქტის „ა“ და „გ“ ქვეპუნქტის თანახმად, რეგულირებულ გზაჯვარედინზე: ა) შუქნიშნის მწვანე სიგნალის ჩართვის დროს მარცხნივ მოხვევისას ან მობრუნებისას ურელსო სატრანსპორტო საშუალების მძღოლი ვალდებულია გზა დაუთმოს საპირისპირო მიმართულებიდან პირდაპირ ან მარჯვნივ მოძრავ სატრანსპორტო საშუალებას. ამავე წესით უნდა იხელმძღვანელონ ურთიერთშორის მოძრავი ტრამვაის მძღოლებმაც; გ) თუ შუქნიშნის ან მარეგულირებლის სიგნალები ერთდროულად მოძრაობის ნებას რთავს რელსიან და ურელსო სატრანსპორტო საშუალებებს, რელსიან სატრანსპორტო საშუალებას აქვს უპირატესობა, მიუხედავად მისი მოძრაობის მიმართულებისა, მაგრამ შუქნიშნის დამატებით სექციაში ძირითად ყვითელ ან წითელ მაშუქ სიგნალთან ერთად ჩართული ისრის მიმართულებით მოძრაობისას რელსიანი სატრანსპორტო საშუალების მძღოლი ვალდებულია გზა დაუთმოს სხვა მიმართულებიდან მოძრავ სატრანსპორტო საშუალებას;



Аидаратә машына арныкәа ахыц ахырхартала деитатцазар, абарт атранспорттә хархәагақәа рырынкәаацәа ркынтә амәа атара зыхәтадаҕ

1

Амашына иатцәа арныкәаа затцәы

2

Амашына жәәанҕштәыла арныкәаа затцәы

3

Амашына иатцәеи амашына жәәанҕштәылеи рырынкәаацәа

4

Азәгы

### განმარტება:

„საგზაო მოძრაობის შესახებ“ საქართველოს კანონის 36-ე მუხლის მე-4 პუნქტის „ა“, „ბ“ და „გ“ ქვეპუნქტების თანახმად, არარეგულირებულ გზაჯვარედინზე: ა) არათანაბარმნიშვნელოვანი გზების გადაკვეთაზე მეორეხარისხოვან გზაზე მოძრავი სატრანსპორტო საშუალების მძღოლი ვალდებულია გზა დაუთმოს მთავარი გზიდან მოახლოებულ სატრანსპორტო საშუალებას, მიუხედავად მისი შემდგომი მოძრაობის მიმართულებისა; ბ) თუ გზაჯვარედინზე მთავარი გზა იცვლის მიმართულებას, ამ გზაზე მოძრავმა მძღოლებმა ურთიერთშორის უნდა იხელმძღვანელონ თანაბარმნიშვნელოვანი გზების გავლის წესებით. ამავე წესებით უნდა იხელმძღვანელონ ურთიერთშორის მეორეხარისხოვან გზაზე მოძრავმა მძღოლებმაც; გ) თანაბარმნიშვნელოვანი გზების გადაკვეთაზე ურელსო სატრანსპორტო საშუალების მძღოლი ვალდებულია გზა დაუთმოს მარჯვნიდან მოახლოებულ სატრანსპორტო საშუალებას. ამავე წესით უნდა იხელმძღვანელონ ურთიერთშორის რელსიანი სატრანსპორტო საშუალებების მძღოლებმაც. ასეთ გზაჯვარედინზე რელსიან სატრანსპორტო საშუალებას აქვს უპირატესობა ურელსო სატრანსპორტო საშუალების მიმართ, მიუხედავად მისი მოძრაობის მიმართულებისა.



თემა 30:

## მოდრობის უსაფრთხოება

---

## ВОПРОС 863

ПРАВИЛЬНЫЙ ОТВЕТ: 2

Арныкәа, иара итәу амашына аҭсабара иазаанаго азарал излауа ала аитатәра ихәтоумаҭ

1

Ихәтам

2

Ихәтоуп

## განმარტება:

„საგზაო მოძრაობის შესახებ“ საქართველოს კანონის მე-16 მუხლის პირველი პუნქტის თანახმად, მძღოლმა უნდა უზრუნველყოს, რომ მის მფლობელობაში მყოფმა სატრანსპორტო საშუალებამ მინიმალური ზიანი მიაყენონ გარემოს.

## ВОПРОС 864

ПРАВИЛЬНЫЙ ОТВЕТ: 4

Иашьашәалоу аорганкәа Ҩаматцуракәаҭ рзин, рыкәшахатра ада, ма абарт аорганкәа Ҩаматцуракәаҭ ркны еикәшахатрада икәитымупЖ

1

Алаҭшбара еицәазтәуа ма арныкәааи ашьақауааи реитатра иаҭырхагаша аҭхышә ма даәа матәарк амәаҭы аргыларა

2

Еиҭкәара змам апассажиртә аиагара, ишьақәырғылоу амаршрутла Ҩатыҭантәи ақалақьтә апассажиртә аиагара налатцаныҭ

3

Амәаҭы амассатә, аспорттә ма даәа усмәаҭгәтәкәак рымәаҭгара

4

Ари абилет аҭы еиқәыҭхьазоу иарбанзаалак ауранагзара

## განმარტება:

„საგზაო მოძრაობის შესახებ“ საქართველოს კანონის მე-17 მუხლის პირველი პუნქტის „გ“, „დ“ და „ე“ ქვეპუნქტების თანახმად, საგზაო მოძრაობის უსაფრთხოების უზრუნველსაყოფად მხოლოდ საქართველოს კანონმდებლობით დადგენილი წესით შესაბამისი უფლებამოსილი ორგანოსაგან (უწყებებისაგან) ნებართვის, დაშვების, თანხმობის მიღების შემდეგ ან ამ ორგანოსთან (უწყებასთან) შეთანხმებითაა დასაშვები შემდეგი საქმიანობა: გ) უშუალოდ გზასთან ჯიხურის დადგმა და სხვა საგნის დაყენება, რომლებმაც შეიძლება გააუარესონ ხილვადობა ან/და გააძნელონ მძღოლისა და ქვეითის მოძრაობა; დ) რეგულარული სამგზავრო გადაყვანა დადგენილი მარშრუტებით (მათ შორის ადგილობრივი საქალაქო რეგულარული სამგზავრო გადაყვანა); ე) გზაზე მასობრივ, სპორტულ და სხვა ღონისძიებათა ჩატარება.

Иашьашәалоу атак зыпхыкәу аорганкәа ркынтә азин, ақәшахатра ада, ма ари аорган аҕны еиқәшахатрада, иқәитымупЖ

1

Амеханикатә атранспорттә хархәагакәа ирҕыщны, еакала рыкатара

2

Чыдалатәи алашаратәи абжытәи ардыргакәеи, иара убас, абжырдуҕатә чыдалатә ахархәагакәеи рышыакәыргылара

3

Амеханикатә транспорттә хархәага ачарт аганкәа рҕы ирнааны ацәахәа шкәакәа атыхра

4

Ари абилет аҕы еиқәыпхыаҕоу иарбанзаалак ауранаҕзара

### განმარტება:

„საგზაო მოძრაობის შესახებ“ საქართველოს კანონის მე-17 მუხლის პირველი პუნქტის „ვ“ ქვეპუნქტის თანახმად, საგზაო მოძრაობის უსაფრთხოების უზრუნველსაყოფად მხოლოდ საქართველოს კანონმდებლობით დადგენილი წესით შესაბამისი უფლებამოსილი ორგანოსაგან (უწყებისაგან) ნებართვის, დაშვების, თანხმობის მიღების ან ამ ორგანოსთან (უწყებასთან) შეთანხმებითაა დასაშვნი შემდეგი საქმიანობა: ვ) სატრანსპორტო საშუალების გადაკეთება, მასზე სპეციალური ციმციმა ან/და ხმოვანი სიგნალის ან/და სპეციალური ხმამაღლამოლაპარაკე ხელსაწყო დაყენება, ან/და სატრანსპორტო საშუალებისათვის სპეციალური შეფერილობის მიცემა ან/და სატრანსპორტო საშუალების ძარას გვერდებზე დახრილი თეთრი ზოლების დახატვა.

## ВОПРОС 866

ПРАВИЛЬНЫЙ ОТВЕТ: 3

Иашьашәалоу атак зыпхыкәу аорганкәа ркынтә азин, ақәшахатра ада, ма ари аорган аҕны еиқәшахатрада, иқәитымупЖ

1

Ихышәарам Пзхышәара дуут ма анорма ацкыс еихау Пзыкапан дуут атранспорттә хархәага мацара аитатра

2

Ишәартоу аидара иазго атранспорттә хархәага аитатра

3

Ихышәарам Пзхышәара дуут ма анорма ацкыс еихау Пзыкапан дуут атранспорттә хархәагеи ишәартоу аидара иазго атранспорттә хархәагеи реитатра

## განმარტება:

„საგზაო მოძრაობის შესახებ“ საქართველოს კანონის მე-17 მუხლის პირველი პუნქტის „გ“ და „თ“ ქვეპუნქტების თანახმად, საგზაო მოძრაობის უსაფრთხოების უზრუნველსაყოფად მხოლოდ საქართველოს კანონმდებლობით დადგენილი წესით შესაბამისი უფლებამოსილი ორგანოსაგან (უწყებისაგან) ნებართვის, დაშვების, თანხმობის მიღების ან ამ ორგანოსთან (უწყებასთან) შეთანხმებითაა დასაშვანი შემდეგი საქმიანობა: 8) გზაზე არაგაბარიტული (მსხვილგაბარიტიანი) ან ზენორმატიული (მძიმეწონიანი) სატრანსპორტო საშუალების მოძრაობა; თ) სახიფათო ტვირთის გადამზიდავი სატრანსპორტო საშუალების მოძრაობა.

## ВОПРОС 867

ПРАВИЛЬНЫЙ ОТВЕТ: 3

Қыртәыла азакәантқарала ишьақәгылоу атқас инақәырғшыны, амғатә аитатра алахәыла азин имоупЖ

1

Ихы дақәитны, ғырхага имамкәа аитатра мацара

2

Амғатә аитатра ашәартадара аиқәыршәара аусхкы ағы атак зыпхыкәу ахағы ихымғапғашыа азашшра

3

Ихы дақәитны, ғырхага имамкәа аитатреи, иара убас, амғатә аитатра ашәартадара аиқәыршәара аусхкы ағы атак зыпхыкәу ахағы ихымғапғашыа азашшреи

## განმარტება:

„საგზაო მოძრაობის შესახებ“ საქართველოს კანონის მე-20 მუხლის პირველი პუნქტის „ა“ და „გ“ ქვეპუნქტების თანახმად, საგზაო მოძრაობის მონაწილეს უფლება აქვს, საქართველოს კანონმდებლობით დადგენილი წესით: ა) თავისუფლად და შეუფერხებლად გადაადგილდეს გზაზე; გ) გაასაჩივროს საგზაო მოძრაობის უსაფრთხოების უზრუნველყოფის სფეროში უფლებამოსილი თანამდებობის პირის ქმედება.

## ВОПРОС 868

ПРАВИЛЬНЫЙ ОТВЕТ: 4

Амѡатѣ аитѣтра алахѣыла азин имоуп Қырттѣыла азакѣанѣцарала ишьѡкѣгылоу атѣас инакѣырѣшны атак зыѣхыкѣу ахѣынѣтқарратѣ ма аѣыѣанѣтѣи ахатѣхеиѣкааратѣ орган аѣынѣтѣ, иара убас, азинмчы змоу ахаѣы иѣынѣтѣ адырѡкѣа иоурЖ

1

Амѡаѣы аитѣтра ашѣарѣадара аѣагылазѡашѣѡкѣа маѣара ирызкны

2

Амѡатѣ аитѣтра аѣуѣра ма аанкыларѡ зыхѣѡаз азы

3

Амѡатѣ аитѣтра ашѣарѣадара аиѣкѣыршѣара иадхѣалоу аалыѣи амѡѣзура ахѡтаѣзиарѣи ирызкны

4

Ари абилѣт аѣы еиѣкѣырѣхѡазоу адырѡкѣа зѣгы

## განმარტება:

„საგზაო მოძრაობის შესახებ“ საქართველოს კანონის მე-20 მუხლის პირველი პუნქტის „ბ.ა“, „ბ.ბ“ და „ბ.გ“ ქვეპუნქტების თანახმად, საგზაო მოძრაობის მონაწილეს უფლება აქვს საქართველოს კანონმდებლობით დადგენილი წესით უფლებამოსილი სახელმწიფო და ადგილობრივი თვითმმართველობის ორგანოებისაგან, აგრეთვე სხვა უფლებამოსილი პირებისგან მიიღოს: ბ.ა) ინფორმაცია გზაზე მოძრაობის უსაფრთხოების პირობების შესახებ; ბ.ბ) ინფორმაცია გზაზე მოძრაობის შემღუდვის ან შეწყვეტის დაწესების მიზეზთა შესახებ; ბ.გ) ინფორმაცია პროდუქციისა და მომსახურების ხარისხის შესახებ, რომელიც დაკავშირებულია საგზაო მოძრაობის უსაფრთხოების უზრუნველყოფასთან.

## ВОПРОС 869

ПРАВИЛЬНЫЙ ОТВЕТ: 2

Амѡатѣ аитѣтра алахѣыла, амѡатѣарқѡа амѡа ақѣѣара ала ма амѡаѣы рааныѣѣра ала, ма даѣа ѣырхагак ала амѡатѣ аитѣтра аѣуѣразы ма ашѣарѣа аѣуѣаразы азин имоумаѢ

1

Азин имоуп

2

Азин имаѡам

## განმარტება:

„საგზაო მოძრაობის შესახებ“ საქართველოს კანონის მე-20 მუხლის მე-3 პუნქტის თანახმად, საგზაო მოძრაობის მონაწილემ გზაზე ნივთების დაწყობით, დაყრით ან დატოვებით ან მასზე რაიმე სხვა დაბრკოლების შექმნით არ უნდა შეზღუდოს საგზაო მოძრაობა ან/და შექმნას საფრთხე.



## ВОПРОС 870

ПРАВИЛЬНЫЙ ОТВЕТ: 1

ამდგომარეობა იაფხაზაჲ, მა აშართა იაფხაზაჲ ამდგომარეობა ალაჲა, აობიექტივტა მზიკაჲ ირხაჲა აბრი ეიფშ აჟკრეი აშართეი რიჲაჲა ილმშოჲ, უი იჟმურჲაჲაჲ

1

აბრტ ამზიკაჲ რიჲაჲაჲა იჟმურჲაჲა ატაგლაჲაჲაჲა იაგზაროჲ

2

აიტატრა იაგზაროჲ, იზბანარ, აბრტ იტაგლაჲაჲაჲა რიჲაგზარა იუალჲ

## განმარტება:

„საგზარო მოძრაობის შესახებ“ საქართველოს კანონის მე-20 მუხლის მე-3 პუნქტის თანახმად, საგზარო მოძრაობის მონაწილემ გზაზე ნივთების დანაწილით, დაყრით ან დატოვებით ან მასზე რაიმე სხვა დაბრკოლების შექმნით არ უნდა შეზღუდოს საგზარო მოძრაობა ან/და შექმნას საფრთხე. საგზარო მოძრაობის მონაწილემ, რომელმაც ობიექტური მიზეზის გამო ვერ მოახერხა ასეთი შეზღუდვის ან ასეთი საფრთხის შექმნის თავიდან აცილება, დაუყოვნებლივ უნდა მიიღოს აუცილებელი ზომები მისი თავიდან აცილებისათვის, ხოლო თუ ამის დაუყოვნებლივ გაკეთება შეუძლებელია, მან უნდა უზრუნველყოს აღნიშნულის თაობაზე სხვა საგზარო მოძრაობის მონაწილეთა დროული გაფრთხილება.

## ВОПРОС 871

ПРАВИЛЬНЫЙ ОТВЕТ: 1

ამდგომარეობა იაფხაზაჲ, მა აშართა იაფხაზაჲ ამდგომარეობა ალაჲა, აობიექტივტა მზიკაჲ ირხაჲა აბრი აჟკრეი აშართეი რიჲაჲაჲა ალშარა იკამარ, უიჲ

1

ამდგომარეობა ეგჲრტ ალაჲაჲაჲა აბრი იაჲკნჲ იაამტანჲ აგჲანტარა რიტაროჲ

2

აიტატრა იაგზაროჲ, იზბანარ ამდგომარეობა ეგჲრტ ალაჲაჲაჲა აგჲანტარა რიტარა იუალჲ

## განმარტება:

„საგზარო მოძრაობის შესახებ“ საქართველოს კანონის მე-20 მუხლის მე-3 პუნქტის თანახმად, საგზარო მოძრაობის მონაწილემ გზაზე ნივთების დანაწილით, დაყრით ან დატოვებით ან მასზე რაიმე სხვა დაბრკოლების შექმნით არ უნდა შეზღუდოს საგზარო მოძრაობა ან/და შექმნას საფრთხე. საგზარო მოძრაობის მონაწილემ, რომელმაც ობიექტური მიზეზის გამო ვერ მოახერხა ასეთი შეზღუდვის ან ასეთი საფრთხის შექმნის თავიდან აცილება, დაუყოვნებლივ უნდა მიიღოს აუცილებელი ზომები მისი თავიდან აცილებისათვის, ხოლო თუ ამის დაუყოვნებლივ გაკეთება შეუძლებელია, მან უნდა უზრუნველყოს აღნიშნულის თაობაზე სხვა საგზარო მოძრაობის მონაწილეთა დროული გაფრთხილება.

## ВОПРОС 872

ПРАВИЛЬНЫЙ ОТВЕТ: 4

Алашарбага аҭҭхьа ахәычкәа амҭа иахысырц ргәы иҭазар, алашарбага иазааигәахаз автотранспорттә хархәага арныкәаҭ иазпҭхьагәеиҭароупЖ

1

Алашарбага ардырга иатәа ахатыҭҭан ардырга ҭежь ианҭәырҭҭлак ахәычкәа амҭеисырҭа икәлар рылшоит

2

Ахәычкәа, ргәыҭ аҭынҭә азә игәҭасны амҭеисырҭа дыкәларц идырцалоит

3

Ахәычкәа, амҭеисырҭа ахысра азин рызто алашарбага ардырга аҭакра иазымҭҭшкәа амҭеисырҭа икәлар шрылшо мацара.

4

Абри абилет аҭы еикәыҭҭхьаҭоу аҭагылазаашьақәа зегьы.

## განმარტება:

თუ შუენიშანის წინ ბავშვები აპირებენ გზაზე გადასვლას შუენიშანთან მიახლოებული სატრანსპორტო საშუალების მძღოლმა უნდა გაითვალისწინოს, რომ: - ბავშვები შეიძლება სავალ ნაწილზე გადმოვიდნენ შუენიშნის მწვანე მაშუეი სიგნალის ყვითელი სიგნალით შეცვლისთანავე; - ჭგუფიდან ხელის კვრით რომელიმე ბავშვს შეიძლება აიძულონ სავალ ნაწილზე გადმოსვლა; - შეიძლება ბავშვები სავალ ნაწილზე გადმოვიდნენ მათთვის შუენიშნის ნებადამრთველი სიგნალის ჩართვამდე.

## ВОПРОС 873

ПРАВИЛЬНЫЙ ОТВЕТ: 2

Арныкәаҭ, уи имашьына, аҭыжәара змоу амҭатә аитатҭра егырт алахәылацәа ирҭырхагамхаратәы иҭаитҭарц ихәҭоумаҭ

1

Ихәҭам

2

Ихәҭоуп

## განმარტება:

„საგზაო მოძრაობის შესახებ“ საქართველოს კანონის 21-ე მუხლის მე-7 პუნქტის თანახმად, მძღოლმა უნდა უზრუნველყოს, რომ მისმა სატრანსპორტო საშუალებამ დაბრკოლება არ შეუქმნას პრიორიტეტის მქონე სხვა საგზაო მოძრაობის მონაწილეებს.

## ВОПРОС 874

ПРАВИЛЬНЫЙ ОТВЕТ: 4

Қырттыла ағнытқатәи аусқәа рминистрра азинмчы змоу ахағы ида, азақәантұцарала иратәашьу ағұхықәрақәа инрытқакны, амәатә аитатра аиқәкаара рылшоитЖ

1

Аикәырхацәеи аикәырхаратә операция иалахәу ахақәеи

2

Аихамәа аусуцәа е аихамәа ахысыртағы

3

Апарантә аитатра аиқәкаацәа – абаңәазақәа рғы

4

Абри абилет ағы еикәыпұхьажоу дарбанзаалак.

## განმარტება:

„საგზაო მოძრაობის შესახებ“ საქართველოს კანონის 30-ე მუხლის მე-3 პუნქტის „გ“, „ვ“ და „ზ“ ქვეპუნქტების თანახმად, საგზაო მოძრაობას არეგულირებენ საქართველოს შინაგან საქმეთა სამინისტროს უფლებამოსილი პირები. საქართველოს კანონმდებლობით მინიჭებული უფლებამოსილების ფარგლებში საგზაო მოძრაობის რეგულირება აგრეთვე შეიძლება განახორციელონ/განახორციელოს: გ) მაშველებმა და პირებმა, რომლებიც მონაწილეობენ სამაშველო სამუშაოებში, – სამაშველო სამუშაოების შესრულების უზრუნველსაყოფად; ვ) რკინიგზის თანამშრომლებმა - რკინიგზის გადასასვლელზე; ზ) საბორანე გადაზიდვის ორგანიზატორებმა - ნავსადგურში.

## ВОПРОС 875

ПРАВИЛЬНЫЙ ОТВЕТ: 2

Ашыақауаә амәасырта данықәла аамышьтахь аангылара азин имоума, уи аитатра ашәартадара аикәыршәара иадхәаламзарҦ

1

Азин имоуп

2

Азин имазам

## განმარტება:

„საგზაო მოძრაობის შესახებ“ საქართველოს კანონის 24-ე მუხლის მე-10 პუნქტის თანახმად, გზის სავალ ნაწილზე გასვლის შემდეგ, ქვეითმა არ უნდა დააყოვნოს გადასვლა, არ უნდა შეყოვნდეს ან შეჩერდეს მასზე, თუ ეს არ უკავშირდება მოძრაობის უსაფრთხოების უზრუნველყოფას.

## ВОПРОС 876

ПРАВИЛЬНЫЙ ОТВЕТ: 4

Цага еикәыпхьазоу атагылазаашьакәа ркынтә руа иарбан арныкәә дааңсаны дшыкоу хзырбоҭ

1

Илацәа ахьантара мацара.

2

Лассыҭелассы аҭархасра мацара.

3

Акәҭытра ацәҭахара мацара.

4

Абри абилет аҭы еикәыпхьазоу иарбанзаалак атагылазаашьа.

## განმარტება:

სატრანსპორტო საშუალების მართვისას მძღოლის დადებითობაზე მიანიშნებს როგორც ქუთუთოების დაძვინება, ასევე ხშირი მოქნარება და რეცეის გაუარესება.

## ВОПРОС 877

ПРАВИЛЬНЫЙ ОТВЕТ: 4

Азакәан ала ихәаакәтоу амаксималтә аласра аҭкра ада, арныкәә аихатәра азин имамЖ

1

Атранспорттә хархәагазы ишыәкәгылоу амаксималтә конструктивтә аласра

2

Атранспорттә хархәагаҭы ишыәкәҭргылоу адырга «Аласра аҭкра» иану аласра

3

Амәатә дыргала ишыәкәгылоу амаксималтә аласра

4

Атранспорттә хархәагазы ишыәкәгылоу амаксималтә конструктивтә аласрей, атранспорттә хархәагаҭы ишыәкәҭргылоу адырга «Аласра аҭкра» иану аласрей, амәатә дыргала ишыәкәгылоу амаксималтә аласрей

## განმარტება:

„საგზაო მოძრაობის შესახებ“ საქართველოს კანონის 33-ე მუხლის მე-9 პუნქტის „ა“, „ბ“ და „გ“ ქვეპუნქტების თანახმად, გარდა ამ მუხლის მე-6-მე-8 პუნქტებით განსაზღვრული მაქსიმალური სიჩქარის შემღუდვისა, მძღოლს ეკრძალება: ა) სატრანსპორტო საშუალებისათვის დადგენილი მაქსიმალური კონსტრუქციული სიჩქარის გადაჭარბება; ბ) სატრანსპორტო საშუალებაზე დამაგრებულ საცნობ ნიშანზე „სიჩქარის შემღუდვა“ მითითებული სიჩქარის გადაჭარბება; გ) საგზაო ნიშნით დადგენილი მაქსიმალური სიჩქარის გადაჭარბება.

## ВОПРОС 878

ПРАВИЛЬНЫЙ ОТВЕТ: 1

Амѡათѣ аитатра алахѣyla амѡасырта ма уи иаѣну атакыра аѣамсар аѣѣжыра ма арѣашыра азин имоумаѢ

1

Азин имазам

2

Азин имазам, уи амѡათѣ аитатра егырт алахѣylaцѣа рзы ишѣартазар

3

Азин имоуп

## განმარტება:

„საგზაო მოძრაობის შესახებ“ საქართველოს კანონის მე-16 მუხლის მე-3 პუნქტის „ა“ ქვეპუნქტის თანახმად, საგზაო მოძრაობის მონაწილეს ეკრძალება გზის საფარის და გზის მიმდებარე ტერიტორიის დანაგვიანება ან სხვაგვარად დაზიანება.

## ВОПРОС 879

ПРАВИЛЬНЫЙ ОТВЕТ: 3

Амшыни, азиаѣи, азыѣахыртаѣи, азиасѣи, егырт азѣыпшыларатѣ обиектѣи рѣы, иара убас, 10 метрак еитѣмѣа урт ирзааигѣаны атранспортѣ харѣагаѣа рыѣѣѣара ѣаломаѢ

1

Иѣалоит, анхартатыѣѣи, иара убас, аѣаѣсыра иахынымхо аѣѣѣи рѣы

2

Анхартатыѣѣа рѣы иѣалом, аѣаѣсыра иахынымхо аѣѣѣа рѣы амашына ласѣа маѣара рыѣѣѣара ѣалоит

3

Иѣалом

## განმარტება:

„საგზაო მოძრაობის შესახებ“ საქართველოს კანონის მე-16 მუხლის მე-2 პუნქტის თანახმად, დაუშვებელია სატრანსპორტო საშუალების გარეცხვა ზღვაში, ტბაში, წყალსაცავში, მდინარეში, ზედაპირული წყლის სხვა ობიექტში და მათ ნაპირებთან წყლიდან 10 მეტრზე უფრო ახლო მანძილზე.



## ВОПРОС 880

ПРАВИЛЬНЫЙ ОТВЕТ: 3

Аტრანსპორტზე ხარხააგა აქსაბარა ზრქაშუა ამატაშარქა იალტუაზარ, უი არნქაარა კალომატ

1

Икалоит

2

Икалоит, азакәан инакәырпшны, ари атранспорти хархаага аитатразы иахынзае еиу агәатара иахәтамзар

3

Икалом

## განმარტება:

„საგზაო მოძრაობის შესახებ“ საქართველოს კანონის მე-16 მუხლის მე-3 პუნქტის „გ“ ქვეპუნქტის თანახმად, საგზაო მოძრაობის მონაწილეს ეკრძალება სატრანსპორტო საშუალების მართვა ისეთი ნივთიერებების გაჟონვის შემთხვევაში, რომელიც აბინძურებს გარემოს.

## ВОПРОС 881

ПРАВИЛЬНЫЙ ОТВЕТ: 3

Арნыკაა, ირნыკააშაზი ანურა ზმოუ აფაქორქა ტიახჟაპ, ააქსარა, აცაადარა, ახაშაქა რიდკილარა, არიჟეტა აჟერა, უბ. ეგ. ტ იხშია რზიშტრა იუალუმატ

1

Иуалым

2

Иуалуп, арныკაага ზმოუ ატრანსპორტზე ხარხააგა ზრნыკაო არნыკაა ზატყი

3

Иуалуп, ирныკაо атранспорти хархаага ахкы иахыпшымкәа

4

Иуалуп, еипкьарада апасажирца имѣанызго автобус ма аидара имѣанызго аидаратә машына арныკаа ზატყი

## განმარტება:

„საგზაო მოძრაობის შესახებ“ საქართველოს კანონის 21-ე მუხლის მე-5 პუნქტის თანახმად, მძღოლი ვალდებულია იცოდეს საგზაო მოძრაობის წესები, აგრეთვე გათვითცნობიერებული ჰქონდეს ისეთი ფაქტორები, რომლებიც ზეგავლენას ახდენს მძღოლის მოქმედებაზე, მაგალითად დადლილობა, უძილობა, სამედიცინო პრეპარატების მიღება, ალკოჰოლის მიღება და ა.შ..

## ВОПРОС 882

ПРАВИЛЬНЫЙ ОТВЕТ: 2

Амѡათѣ аитѣтра алахѣылацѣа ирымоу азинкѣа рхы иадырхѣар калома, уи ала амѡათѣ аитѣтра егырт алахѣылацѣа рзинкѣа еиларгозарѢ

1

Икалоит

2

Икалом

## განმარტება:

„საგზაო მოძრაობის შესახებ“ საქართველოს კანონის მე-20 მუხლის მე-2 პუნქტის თანახმად, საგზაო მოძრაობის მონაწილის მიერ თავისი უფლებების განხორციელება არ უნდა ზღუდავდეს ან არღვევდეს საგზაო მოძრაობის სხვა მონაწილეთა უფლებებს. საგზაო მოძრაობის მონაწილე თავისი მოქმედებით არ უნდა უქმნიდეს საფრთხეს ან დაბრკოლებას საგზაო მოძრაობას. მან არ უნდა შეუქმნას საფრთხე ადამიანებს და არ უნდა მიაყენოს ზიანი სახელმწიფო, საზოგადოებრივ ან კერძო ქონებას.

## ВОПРОС 883

ПРАВИЛЬНЫЙ ОТВЕТ: 4

Цѣка еикѣыѣхѣзѡу афакторкѣа ркынтѣ руа иарбан арныкѣаѡ изы анырра змамѢ

1

Амцѣадара

2

Ааѣсара

3

Алкогѡль злоу арыжѣтѣ адкылара

4

Хыхѣ еикѣыѣхѣзѡу атаккѣа ркынтѣ акызѣтѣыкгы ииашам

## განმარტება:

„საგზაო მოძრაობის შესახებ“ საქართველოს კანონის 21-ე მუხლის მე-5 პუნქტის თანახმად, მძღოლი ვალდებულია იცოდეს საგზაო მოძრაობის წესები, აგრეთვე გათვითცნობიერებული ჰქონდეს ისეთი ფაქტორები, რომლებიც გავლენას ახდენს მძღოლის მოქმედებაზე, მაგალითად, დაღლილობა, უძილობა, სამედიცინო პრეპარატების მიღება, ალკოჰოლის მიღება და ა. შ.

## ВОПРОС 884

ПРАВИЛЬНЫЙ ОТВЕТ: 2

Аტრანსპორტტე хархეага арныкәара аан арныкәаҭ амобильтә телла дцәажәар каломаҭ

1

Икалом, иарбанзаалак атагылазаашыаҭы

2

Икалоит, уи абжы дула ацәажәара афункциа ихы иаирхәозар, атранспорттә хархәага арныкәаразы иҭнапык тацәызар

3

Икалоит, атранспорттә хархәага арныкәаразы иҭнапык тацәызар

## განმარტება:

„საგზაო მოძრაობის შესახებ“ საქართველოს კანონის 21-ე მუხლის მე-8 პუნქტის თანახმად, სატრანსპორტო საშუალების გადაადგილებისას მძღოლი უნდა მოერიდოს ნებისმიერ მოქმედებას, რომელიც დაკავშირებული არ არის მართვასთან. მძღოლს ეკრძალება სატრანსპორტო საშუალების მართვისას მობილური კომუნიკაციის საშუალებით სარგებლობა. ეს აკრძალვა არ ვრცელდება ისეთ შემთხვევებზე, როდესაც მძღოლი სარგებლობს მობილური კომუნიკაციის საშუალების ყურსასმენით ან მობილური კომუნიკაციის ხმამაღალი (ან დისტანციური) საუბრის ფუნქციით და ორივე ხელი თავისუფალი აქვს სატრანსპორტო საშუალების სამართავად.

## ВОПРОС 885

ПРАВИЛЬНЫЙ ОТВЕТ: 2

Арныкәаҭ атранспорттә хархәагала аитатҭра азин имам итранспорттә хархәагаҭы еиҭкаамзарЖ

1

Абжытә ардырга ианыҭхастоу мацара.

2

Аҭҭскы амеханизм ианыҭхастоу мацара.

3

Анакәаеацәыхьчаратә арлашагакәа ианыҭхастоу мацара.

4

Абри абилет аҭы еиқәыҭхьаҭоу атагылазаашыақәа зегьы раан.

## განმარტება:

„საგზაო მოძრაობის შესახებ“ საქართველოს კანონის მე-21-ე მუხლის მე-13 პუნქტის თანახმად, მძღოლს ეკრძალება მოძრაობა მუშა სამუხრუჭო სისტემის, სატის მექანიზმის, სატრანსპორტო საშუალებათა შემადგენლობაში მისაბმელი მოწყობილობის გაუმართაობისას, აგრეთვე დღე-ღამის ბნელ დროს ერთდროულად მწყობრიდან გამოსული (ჩამქრალი) ახლო და შორი განათების ფარებით (ან მათი არარსებობისას) ან/და უკანა საგაბარიტო სინათლეებით იმ გზაზე, რომელზედაც არ არის ხელოვნური განათება ან არასაკმარისი ხილვადობაა. მძღოლის მხარეს არსებული მინასანმენდის უმოქმედობისას აკრძალულია მექანიკური სატრანსპორტო საშუალების მართვა ნისლის, წვიმისა და თოვის დროს.

## ВОПРОС 886

ПРАВИЛЬНЫЙ ОТВЕТ: 3

Анакәа ианыкоу, ақәа анауа, ма асы ианлеиуа атранспорттә хархәага арныкәара каломЖ

1

Анакәаеацәыхьчаратә арлашагақәа иқамзар

2

Амашәыртә аангыларә адырга иқамзар

3

Арныкәаҭ иганахьала икоу  
асаркьарыцкьагақәа ипұхастазар

4

Абри абилет аҭы еиқәыпұхьаҭоу  
аҭагылазаашьақәа зегьы раан.

## განმარტება:

„საგზაო მოძრაობის შესახებ“ საქართველოს კანონის მე-21-ე მუხლის მე-13 პუნქტის თანახმად, მძღოლს ევრძალება მოძრაობა მუშა სამუხრუჭო სისტემის, სატრანსპორტო საშუალებათა შემადგენლობაში მისაბმელი მონაცემების გაუმართაობისას, აგრეთვე დღე-ღამის ბნელ დროს ერთდროულად მწყობრიდან გამოსული (ჩამქრალი) ახლო და შორი განათების ფარებით (ან მათი არარსებობისას) ან/და უკანა საგაბარიტო სინათლეებით იმ გზაზე, რომელზედაც არ არის ხელოვნური განათება ან არასაკმარისი ხილვადობა. მძღოლის მხარეს არსებული მინასანმენდის უმოქმედობისას აკრძალულია მექანიკური სატრანსპორტო საშუალების მართვა ნისლის, წვიმისა და თოვლის დროს.

## ВОПРОС 887

ПРАВИЛЬНЫЙ ОТВЕТ: 2

Арныкәаҭ игәнигароуп зегьы рейха амҭа шҭаауЖ

1

Ипұсабаратәым арлашара иахьықам  
ахапкылцақәа рҭы

2

Ацҳеи, амҭангагеи, аестакадеи рҭы

3

Анхартатыпұ амҭа хадақәа рҭы

## განმარტება:

„საგზაო მოძრაობის შესახებ“ საქართველოს კანონის 25-ე მუხლის მე-10 პუნქტის „დ“ ქვეპუნქტის თანახმად, გზაზე მოძრაობისას მძღოლმა უნდა გაითვალისწინოს შემდეგი გარემოებები - მოყინულ გზის მონაკვეთზე მძღოლმა შეძლებისდაგვარად თავი უნდა აარიდოს დამუხრუჭებას, სიჩქარის ცვლილებასა და მიმართულების მკვეთრ შეცვლას. ამასთანავე, მძღოლმა უნდა გააცნობიეროს, რომ ყველაზე უფრო ხშირად გზა მოყინულია ხიდზე, გზაგამტარსა და ესტაკადაზე.

„საგზაო მოძრაობის შესახებ“ საქართველოს კანონის 25-ე მუხლის მე-10 პუნქტის „გ“ ქვეპუნქტის თანახმად, გზაზე მოძრაობისას მძღოლმა უნდა გაითვალისწინოს შემდეგი გარემოებები - ღამე, ცუდად განათებული ან არათანაბრად განათებული გზის მონაკვეთებზე მოძრაობისას გართულებულია საგზაო მოძრაობის მონაწილეთა მიერ ერთმანეთის შემჩნევა.



## ВОПРОС 890

ПРАВИЛЬНЫЙ ОТВЕТ: 1

Иტააუ ამდა აცუტაჲაჲყ არნჲჲაჲჲ

1

Иауазар, амашына аанкыларей, аласра  
аҭсахрей, иаалырҭканы ахырхарт аҭсахрей  
дрыҭцароуп

2

Аанкыларазы иаццаны ихы иаирхәароуп  
напылатәи аанкылага

3

Ахырхарт аҭсахроуп иаалырҭканы аҭсҭкы  
аҭәирей аласра аццарей рыла

## განმარტება:

„საგზაო მოძრაობის შესახებ“ საქართველოს კანონის 25-ე მუხლის მე-10 პუნქტის „დ“ ქვეპუნქტის თანახმად, გზაზე მოძრაობისას მძღოლმა უნდა გაითვალისწინოს შემდეგი გარემოებები - მოყინულ გზის მონაკვეთზე მძღოლმა შეძლებისდაგვარად თავი უნდა აარიდოს დამუხრუჭებას, სიჩქარის ცვლილებასა და მიმართულების მკვეთრ შეცვლას. ამასთან მძღოლმა უნდა გაათვინობიეროს, რომ ყველაზე უფრო ხშირად გზა მოყინულია ხიბზე, გზაგამტარებზე და ესტაკადებზე.

## ВОПРОС 891

ПРАВИЛЬНЫЙ ОТВЕТ: 2

Ақәоуреи асоуреи раан деитатцуазар, арнҭჲჲაჲჲ

1

Иарей иара иаҭҭҭа еитатц атранспорттә  
хархәаҭей рыбҭҭара адистанциа ирмачроуп

2

Аласра ирмачны, иарей иара иаҭҭҭа  
еитатц атранспорттә хархәаҭей ирыбҭҭоу  
адистанциа ирдуроуп

3

Амашәыртә алашаратә ардырга иаҭәеикроуп

## განმარტება:

„საგზაო მოძრაობის შესახებ“ საქართველოს კანონის 25-ე მუხლის მე-10 პუნქტის „ე“ ქვეპუნქტის თანახმად, გზაზე მოძრაობისას მძღოლმა უნდა გაითვალისწინოს შემდეგი გარემოებები - ვინაიდან წვიმისა და თოვის დროს მოძრაობისას იზრდება სატრანსპორტო საშუალების დამუხრუჭებისათვის საჭირო დრო და მანძილი, ამასთანავე, ნალექი აუარესებს ხილვადობას, მძღოლმა უნდა შეამციროს სიჩქარე და გაზარდოს დისტანცია თავის სატრანსპორტო საშუალებასა და მის წინ მიმავალ სატრანსპორტო საშუალებას შორის.

## ВОПРОС 892

ПРАВИЛЬНЫЙ ОТВЕТ: 3

Ақәоуреи асоуреи раан деитатцазар, арныкәаҭ иазпұхьагәеитароупЖ

1

Шьтахла аитатра калом

2

Иареи иара иапұхьа еитатца атранспорттә хархәагеи рыбжьара адистанциа аитатәра иахәтоуп

3

Атранспорттә хархәага аанкыларазы иатаху аамтеи абжьазареи иазхауеит, иара убас, алышәшәақәа ирыхкьаны алапұшбара цәгьахоит

## განმარტება:

„საგზაო მოძრაობის შესახებ“ საქართველოს კანონის 25-ე მუხლის მე-10 პუნქტის „ე“ ქვეპუნქტის თანახმად, გზაზე მოძრაობისას მძღოლმა უნდა გაითვალისწინოს შემდეგი გარემოებები - ვინაიდან წვიმისა და თოვის დროს მოძრაობისას იზრდება სატრანსპორტო საშუალების დამუხრუჭებისათვის საჭირო დრო და მანძილი, ამასთან ნაღველი აუარესებს ხილვადობას, მძღოლმა უნდა შეამციროს სიჩქარე და გაზარდოს დისტანცია მისი და მის წინ მიმავალ სატრანსპორტო საშუალებას შორის.

## ВОПРОС 893

ПРАВИЛЬНЫЙ ОТВЕТ: 1

Ақәоура аан амҭа кьашьуп, ақәтәраара ашәарта цәырцуеит, убри акынтә, арныкәаҭЖ

1

Аласра ирмачроуп, хәычыехәыцла амашьына аанкыло

2

Аласра ирмачроуп иаалыркьаны аанкыларала

3

Аласра ирдуроуп

## განმარტება:

„საგზაო მოძრაობის შესახებ“ საქართველოს კანონის 25-ე მუხლის მე-10 პუნქტის „ვ“ ქვეპუნქტის თანახმად, გზაზე მოძრაობისას მძღოლმა უნდა გაითვალისწინოს შემდეგი გარემოებები - წვიმის დაწყებისას გზის ზედაპირი ტალახიანდება და ქმნის მოცურების საშიშროებას, რის გამოც მძღოლმა უნდა შეამციროს სიჩქარე მდორე დამუხრუჭებით.

## ВОПРОС 894

ПРАВИЛЬНЫЙ ОТВЕТ: 1

Арныкәә иазпұхәгәйтәроупЖ

1

Ацәиртәҕы иалыркыаны аанкылага ахархәара ма аласра ду ала ацәирта алалара иахкыаны, арныкәә атранспорттә хархәага арныкәаразы ахылаҕшра ицәызыр илшоит

2

Ацәирта алаларазы аласра ирмачтәуп иаалыркыаны аанкыларала

3

Ацәира аласра ду ала инаҕзатәуп

## განმარტება:

„საგზაო მოძრაობის შესახებ“ საქართველოს კანონის 25-ე მუხლის მე-10 პუნქტის „თ“ ქვეპუნქტის თანახმად, გზაზე მოძრაობისას მძღოლმა უნდა გაითვალისწინოს შემდეგი გარემოებები - მოსახვევში მუხრუჭის მკვეთრად გამოყენებამ ან/და მაღალი სიჩქარით შესვლამ (განსაკუთრებით გზის სველი ზედაპირის არსებობისას) შესაძლოა გამოიწვიოს სატრანსპორტო საშუალებაზე კონტროლის დაკარგვა.

## ВОПРОС 895

ПРАВИЛЬНЫЙ ОТВЕТ: 2

Амҕаҕы азтатәа иказар, арныкәә иазпұхәгәйтәроупЖ

1

Азтатәаҕы аласра ардура иахәтоуп

2

Атранспорттә хархәага арныкәареи аанкылареи уадаҕуп, атранспорттә хархәага ақәцәраара ашәарта дууп

3

Иареи иара иаҕхәа ицо атранспорттә хархәагеи рыбжьара адистанциа ирмачтәуп

## განმარტება:

„საგზაო მოძრაობის შესახებ“ საქართველოს კანონის 25-ე მუხლის მე-10 პუნქტის „ი“ ქვეპუნქტის თანახმად, გზაზე მოძრაობისას მძღოლმა უნდა გაითვალისწინოს შემდეგი გარემოებები - გზაზე წყლის გუბეების არსებობისას მძღოლმა უნდა გაითვალისწინოს, რომ სატრანსპორტო საშუალების მართვა და დამუხრუჭება გართულებულია, ამასთანავე, დიდია სატრანსპორტო საშუალების მოცურების ალბათობა (განსაკუთრებით გაცვეთილი საბურავებით ან მაღალი სიჩქარით მოძრაობისას).

## ВОПРОС 896

ПРАВИЛЬНЫЙ ОТВЕТ: 3

Аტრანსპორტტე ხარხააგა არნჱკაარა აან არნჱკაად დააჟსაზარ, უი იხეთოუპჟ

1

Аტრანსპორტტე ხარხააგა ალასრა არდურა

2

Акофеин злоу арыжэтэ ажэра

3

Аტრანსპორტტე ხარხააგა აანკჱლარეი  
აჟსშარეი, ალშარა იჱკაზარ, დაჱაჟჱ აჟსჱ  
ირკრა

## განმარტება:

„საგზაო მოძრაობის შესახებ“ საქართველოს კანონის 25-ე მუხლის მე-10 პუნქტის „ვ“ ქვეპუნქტის თანახმად, გზაზე მოძრაობისას მძღოლმა უნდა გაითვალისწინოს შემდეგი გარემოებები - თუ სატრანსპორტო საშუალების მართვისას მძღოლი გრძნობს დაღლილობას, მიზანშეწონილია სატრანსპორტო საშუალების გაჩერება და დასვენება, ხოლო შესაძლებლობის შემთხვევაში – საჭესთან სხვა მძღოლის დასმა.

## ВОПРОС 897

ПРАВИЛЬНЫЙ ОТВЕТ: 1

Арнჱკაად, ამჱაჱჱ, ჯეჱრუაჱჱაჱა ჯჱ მჱაჟჱზგო ატრანსპორტტე ხარხააგა არნჱკაად დიბარ, უიჟ

1

Иჱერთჱნჱნჱ, იტრანსპორტტე ხარხააგა  
დახჱლაჟშროუპ

2

Иაუნჱ ჳერდჱრგაკი იკჱაჱნჱ რდჱრგაკი  
ჱატანჱ, ჯეჱრუაჱჱაჱა ჯჱ მჱაჟჱზგო  
ატრანსპორტტე ხარხააგა არნჱკაად იე  
ირტჱნჱჱრჱ იბჱჱეიგაროუპ

3

Иარა იხატაგჱ იჱჱრუაჱჱაჱა იჱჱ  
მჱაჟჱგაროუპ

## განმარტება:

„საგზაო მოძრაობის შესახებ“ საქართველოს კანონის 25-ე მუხლის მე-10 პუნქტის „ლ“ ქვეპუნქტის თანახმად, გზაზე მოძრაობისას მძღოლმა უნდა გაითვალისწინოს შემდეგი გარემოებები - თუ მძღოლი გზაზე ამჩნევს სხვა სატრანსპორტო საშუალების მძღოლს, რომელიც აგრესიულად არის განწყობილი და გამომწვევად იქცევა, მან უნდა შეინარჩუნოს სიმშვიდე და აკონტროლოს თავისი სატრანსპორტო საშუალება.

## ВОПРОС 898

ПРАВИЛЬНЫЙ ОТВЕТ: 2

Кыраамтала аласра дула атранспорттә хархәага арныкәара иахылҕаауеитЖ

1

Атранспорттә хархәага аанкыларатә система  
пҕаастахоит

2

Арныкәаф аизакреи аласра ду ацәанырреи  
ицәызуеит

3

Абри абилет аҕы еиқәыпҕхьаҕоу  
атагылазаашьақәа зегы

## განმარტება:

„საგზაო მოძრაობის შესახებ“ საქართველოს კანონის 25-ე მუხლის მე-10 პუნქტის „ნ“ ქვეპუნქტის თანახმად, გზაზე მოძრაობისას მძღოლმა უნდა გაითვალისწინოს შემდეგი გარემოებები - დიდი ხნის განმავლობაში მაღალი სიჩქარით მოძრაობა აქვეითებს კონცენტრაციასა და მაღალი სიჩქარის შეგრძნებას.

## ВОПРОС 899

ПРАВИЛЬНЫЙ ОТВЕТ: 3

Арныкәаф атранспорттә хархәага ирныкәароупЖ

1

Иеыруазкәауа, амѡаҕы аҕыжәара имазшәа

2

Тынч, аха, амѡаҕы аҕыжәара змоу иеипҕш  
ихы ааирпҕшыроуп

3

Тынч, иеыруазкәауа ихы мѡаҕиимгароуп,  
амѡаҕы аҕыжәара змоу иеипҕш ихы  
ааимырпҕшыроуп

## განმარტება:

„საგზაო მოძრაობის შესახებ“ საქართველოს კანონის 25-ე მუხლის მე-10 პუნქტის „ო“ ქვეპუნქტის თანახმად, გზაზე მოძრაობისას მძღოლმა უნდა გაითვალისწინოს შემდეგი გარემოებები - მძღოლი სატრანსპორტო საშუალებას უნდა მართავდეს მშვიდად, არ უნდა იჩენდეს აგრესიულობას და არ უნდა ცდილობდეს თავის გამოჩენას, როგორც უპირატესი გზაზე.



## ВОПРОС 900

ПРАВИЛЬНЫЙ ОТВЕТ: 2

Амедицинатә мзызқәа рзы, аҳақым ибжьгарала арџышыгәтә матәашьар здызкылаз, арџышыга иашьны икоу ахаҕы атранспорттә хархәага арныкәара азин имоумаҕ

1

Азин имоуп

2

Азин имам

## განმარტება:

„საგზაო მოძრაობის შესახებ“ საქართველოს კანონის 21-ე მუხლის მე-15 პუნქტის თანახმად, აკრძალულია სატრანსპორტო საშუალების მართვა ალკოჰოლური, ნარკოტიკული ან ფსიქოტროპული სიმთვრალის მდგომარეობაში, ან იმ სამკურნალო პრეპარატის ზემოქმედებისას, რომელიც აქვეითებს რეაქციას და ყურადღებას.

## ВОПРОС 901

ПРАВИЛЬНЫЙ ОТВЕТ: 2

Амедицинатә мзызқәа рзы, аҳақым ибжьгарала аҗсихотропиатә матәашьар здызкылаз, аҗсихотропиатә матәашьар иашьны икоу ахаҕы атранспорттә хархәага арныкәара азин имоумаҕ

1

Азин имоуп

2

Азин имам

## განმარტება:

„საგზაო მოძრაობის შესახებ“ საქართველოს კანონის 21-ე მუხლის მე-15 პუნქტის თანახმად, აკრძალულია სატრანსპორტო საშუალების მართვა ალკოჰოლური, ნარკოტიკული ან ფსიქოტროპული სიმთვრალის მდგომარეობაში, ან იმ სამკურნალო პრეპარატის ზემოქმედებისას, რომელიც აქვეითებს რეაქციას და ყურადღებას.

## ВОПРОС 902

ПРАВИЛЬНЫЙ ОТВЕТ: 1

Амედიцинატә мзызкәа рзы, ахақым ибжыгарала арџышыгәтә матәашьар здызкылаз ахафы арныкәаразы атранспорттә хархәага итара каломаџ

1

Икалом

2

Икалоит

## განმარტება:

„საგზაო მოძრაობის შესახებ“ საქართველოს კანონის მე-20 მუხლის მე-4 პუნქტის თანახმად, აკრძალულია სატრანსპორტო საშუალების სამართავად გადაცემა იმ პირისათვის, რომელიც იმყოფება ალკოჰოლური, ნარკოტიკული ან ფსიქოტროპული სიმთვრალის მდგომარეობაში,

## ВОПРОС 903

ПРАВИЛЬНЫЙ ОТВЕТ: 1

Амედიцинатә мзызкәа рзы, ахақым ибжыгарала аџсихотропиатә матәашьар здызкылаз ахафы арныкәаразы атранспорттә хархәага итара каломаџ

1

Икалом

2

Икалоит

## განმარტება:

„საგზაო მოძრაობის შესახებ“ საქართველოს კანონის მე-20 მუხლის მე-4 პუნქტის თანახმად, აკრძალულია სატრანსპორტო საშუალების სამართავად გადაცემა იმ პირისათვის, რომელიც იმყოფება ალკოჰოლური, ნარკოტიკული ან ფსიქოტროპული სიმთვრალის მდგომარეობაში,

## ВОПРОС 904

ПРАВИЛЬНЫЙ ОТВЕТ: 3

Ақәытрей агәанызаарей зырҭсыҭеуа ахәшәкәа рнырра аҭақа иҭоу ахаҭы атранспорттә хархәара арныкәара азин имоумаҭ

1

Азин имоуп, абарт ахәшәкәа идиқылазар амедицинатә мзызкәа рзы, ахақым ибжьгарала

2

Азин имоуп, уи агәанызаара ихымҭадоу атагылазаашьақәа зегьы рхархәарала деитатүазар

3

Азин имам

## განმარტება:

„საგზაო მოძრაობის შესახებ“ საქართველოს კანონის 21-ე მუხლის მე-15 პუნქტის თანახმად, ავრძალულია სატრანსპორტო საშუალების მართვა ალკოჰოლური, ნარკოტიკული ან ფსიქოტროპული სიმთვრალის მდგომარეობაში, ან იმ სამკურნალო პრეპარატის ზემოქმედებისას, რომელიც აქვეითებს რეაქციას და ყურადღებას.

## ВОПРОС 905

ПРАВИЛЬНЫЙ ОТВЕТ: 1

Ақәытрей агәанызаарей зырҭсыҭеуа ахәшәкәа рнырра аҭақа иҭоу ахаҭы арныкәаразы атранспорттә хархәага иҭара каломаҭ

1

Икалом

2

Икалоит, абарт ахәшәкәа идиқылазар амедицинатә мзызкәа рзы, ахақым ибжьгарала

3

Икалоит, уи агәанызаара ихымҭадоу атагылазаашьақәа зегьы рхархәарала деитатүазар

## განმარტება:

„საგზაო მოძრაობის შესახებ“ საქართველოს კანონის მე-20 მუხლის მე-4 პუნქტის თანახმად, ავრძალულია სატრანსპორტო საშუალების სამართავად გადაცემა იმ პირისათვის, რომელიც იმყოფება ალკოჰოლური, ნარკოტიკული ან ფსიქოტროპული სიმთვრალის მდგომარეობაში. ამავე კანონის 21-ე მუხლის მე-15 პუნქტის თანახმად, ავრძალულია სატრანსპორტო საშუალების მართვა ალკოჰოლური, ნარკოტიკული ან ფსიქოტროპული სიმთვრალის მდგომარეობაში, ან იმ სამკურნალო პრეპარატის ზემოქმედებისას, რომელიც აქვეითებს რეაქციას და ყურადღებას.

## ВОПРОС 906

ПРАВИЛЬНЫЙ ОТВЕТ: 3

Арფышыгы иашьны икоу ахафы атранспорттә хархәага арныкәара азин имоумаҭ

1

Азин имоуп, уи арфышыгы идикилазар амедицинатә мзызқәа рзы, ахақым ибжьгарала

2

Азин имоуп, уи убри азы заанаты адырра кайтар аполиция иашьашәалоу аматцурახы

3

Азин имам

## განმარტება:

„საგზაო მოძრაობის შესახებ“ საქართველოს კანონის 21-ე მუხლის მე-15 პუნქტის თანახმად, აკრძალულია სატრანსპორტო საშუალების მართვა ალკოჰოლური, ნარკოტიკული ან ფსიქოტროპული სიმთვრალის მდგომარეობაში, ან იმ სამკურნალო პრეპარატის ზემოქმედებისას, რომელიც აქვეითებს რეაქციას და ყურადღებას.

## ВОПРОС 907

ПРАВИЛЬНЫЙ ОТВЕТ: 1

Апсихотропиатә матәашьар здызкылаз ахафы атранспорттә хархәага арныкәара азин имоумаҭ

1

Азин имам

2

Азин имоуп, уи ари ахәшә идикилазар амедицинатә мзызқәа рзы, ахақым ибжьгарала

3

Азин имоуп, уи агәәанызаара ихымҭадоу аҭагылазаашьақәа зегьы рхархәарала деитатцуазар

## განმარტება:

„საგზაო მოძრაობის შესახებ“ საქართველოს კანონის 21-ე მუხლის მე-15 პუნქტის თანახმად, აკრძალულია სატრანსპორტო საშუალების მართვა ალკოჰოლური, ნარკოტიკული ან ფსიქოტროპული სიმთვრალის მდგომარეობაში, ან იმ სამკურნალო პრეპარატის ზემოქმედებისას, რომელიც აქვეითებს რეაქციას და ყურადღებას.

## ВОПРОС 908

ПРАВИЛЬНЫЙ ОТВЕТ: 1

Алкоголь злоу арыжәтә иашьыз ахаҭы атранспорттә хархәага арныкәара азин имоумаҭ

1

Азин имам

2

Азин имоуп, арныкәаҭ Қырттәыла аҭакырадгьыл аҭы дыказар жәларбжьаратәи аитатра инаткны

3

Азин имоуп, уи агәҭеанызаара ихымҭадоу аҭагылазаашьақәа зегьы рхархәарала деитатпуазар

## განმარტება:

„საგზაო მოძრაობის შესახებ“ საქართველოს კანონის 21-ე მუხლის მე-15 პუნქტის თანახმად, აკრძალულია სატრანსპორტო საშუალების მართვა ალკოჰოლური, ნარკოტიკული ან ფსიქოტროპული სიმთვრალის მდგომარეობაში, ან იმ სამკურნალო პრეპარატის ზემოქმედებისას, რომელიც აქვეითებს რეაქციას და ყურადღებას.

## ВОПРОС 909

ПРАВИЛЬНЫЙ ОТВЕТ: 1

Ибаазоу амҭаҭы аитаттраан арныкәаҭ иазпұхьагәҭтароупЖ

1

Аҭәиртәҭы иаалырқьаны аанкылага ахархәара ма аласра дула аҭәирта алалара иахқьаны арныкәаҭ амашьына ахылапұшра иҭәызыр калоит

2

Иаалырқьаны аанкылага ахархәара атранспорттә хархәага ақәҭәраара алшара еитнатәуеит

3

Аҭәиртә алалара аан, атранспорттә хархәага ақәҭәраара ашәарта аҭәцара амзызла, иаалырқьаны аанкылага ахархәарала аласра ирмаҭтәуп

## განმარტება:

„საგზაო მოძრაობის შესახებ“ საქართველოს კანონის 25-ე მუხლის მე-10 პუნქტის „თ“ ქვეპუნქტის თანახმად, გზაზე მოძრაობისას მძღოლმა უნდა გაითვალისწინოს შემდეგი გარემოებები: თ) მოსახვევში მუხრუჭის მკვეთრად გამოყენებამ ან/და მაღალი სიჩქარით შესვლამ (განსაკუთრებით გზის სველი ზედაპირის არსებობისას) შესაძლოა გამოიწვიოს სატრანსპორტო საშუალებაზე კონტროლის დაკარგვა.



## ВОПРОС 910

ПРАВИЛЬНЫЙ ОТВЕТ: 1

Атранспорттə хархəага акəтəраара ашəарта иаха идуупЖ

1

Акəоура ианалаго

2

Акəа ианауа, уи ианалага аамышьтахь 30 минут раамышьтахь

3

Акəоура ианалгалак

## განმარტება:

„საგზაო მოძრაობის შესახებ“ საქართველოს კანონის 25-ე მუხლის მე-10 პუნქტის „ვ“ ქვეპუნქტის თანახმად, გზაზე მოძრაობისას მძღოლმა უნდა გაითვალისწინოს შემდეგი გარემოებები: ვ) წვიმის დაწყებისას გზის ზედაპირი ტალახიანდება და ქმნის მოცურების საშიშროებას, რის გამოც მძღოლმა უნდა შეამციროს სიჩქარე მდორე დამუხრუჭებით.

## ВОПРОС 911

ПРАВИЛЬНЫЙ ОТВЕТ: 2

Акəоураан еитатцуа арныкəаа чыдала ихшыа рзишьтроупЖ

1

Аидара имəанызго амашына, избанзар уи ачарт иакəу аидара амəа иакəхар алшоит

2

Ашьакауаа, избанзар уи рыццакра иахкьаны ишəартоу атагылазаашьа калар алшоит

3

Гьшыала еитатцуа атранспорттə хархəага

## განმარტება:

„საგზაო მოძრაობის შესახებ“ საქართველოს კანონის 25-ე მუხლის მე-10 პუნქტის „ზ“ ქვეპუნქტის თანახმად, გზაზე მოძრაობისას მძღოლმა უნდა გაითვალისწინოს შემდეგი გარემოებები: ზ) წვიმიან ამინდში მოძრაობისას მძღოლმა განსაკუთრებული ყურადღება უნდა გამოიჩინოს ქვეითთა მიმართ, რადგან მათი შესაძლო სიჩქარის გამო შეიძლება შეიქმნას საფრთხის შემცველი სიტუაცია.

## ВОПРОС 912

ПРАВИЛЬНЫЙ ОТВЕТ: 1

Игылоу атранспорттә хархәагаҭы хылаҭшрада зааныжыра камло ахәычкәа рықәра зақароиҭ

1

6 шықәсанза

2

7 шықәсанза

3

9 шықәсанза

4

12 шықәсанза

## განმარტება:

„საგზაო მოძრაობის შესახებ“ საქართველოს კანონის 26-ე მუხლის მე-9 პუნქტის თანახმად, აკრძალულია გაჩერებულ სატრანსპორტო საშუალებაში 6 წლამდე ბავშვის უმეთვალყურეოდ დატოვება.

## ВОПРОС 913

ПРАВИЛЬНЫЙ ОТВЕТ: 1

Арныкәаф, даеа мѳак даныларц азы дтәиуазар, дызныло амѳа алалартаҭы ашыақауаа рхысырта иқазар, уи аитатра наигзароупЖ

1

Аласра хәычы ала, иатаххар, даангыланы ахысырта иалалаз ма иану ашыақауаа иоуижьтроуп

2

Иарбанзаалак аласрала, избанзар ахысырта иалалаз ма иану ашыақауаа рҭаҭхәа аҭыжәара имоуп

3

Аласра ду ала, амѳа абри ацыҭцәаха ирласзаны дахысырц азы

## განმარტება:

„საგზაო მოძრაობის შესახებ“ საქართველოს კანონის 25-ე მუხლის მე-2 პუნქტის „ა“ ქვეპუნქტის თანახმად, ქვეითთა გადასასვლელზე ამ კანონის 21-ე მუხლის მე-6 პუნქტით, 33-ე მუხლის მე-2 პუნქტითა და 34-ე მუხლის მე-11 პუნქტით დადგენილ მოთხოვნათა დაცვით უნდა შესრულდეს შემდეგი მოთხოვნები: ა) თუ სატრანსპორტო საშუალებათა მოძრაობა საგზაო შუქნიშნით ან მარეგულირებლის მეშვეობით რეგულირდება, მოძრაობის ამკრძალავი სიგნალის დროს მძღოლი უნდა გაჩერდეს ქვეითთა გადასასვლელის წინ ან მის წინ მდებარე განივ მონიშვნასთან, ხოლო როცა მოძრაობის გაგრძელების უფლებას მიიღებს, არ უნდა დააბრკოლოს და საფრთხე არ უნდა შეუქმნას ქვეითთა გადასასვლელზე შესულ ქვეითებს. თუ მძღოლი ასრულებს მოხვევას სხვა გზაზე შესასვლელად, რომლის შესასვლელთანაც მდებარეობს ქვეითთა გადასასვლელი, მან ეს მოხვევა უნდა შეასრულოს მხოლოდ დაბალი სიჩქარით, ხოლო საჭიროების შემთხვევაში უნდა გაჩერდეს და გაატაროს გადასასვლელზე შესული ან შემავალი ქვეითები.

## ВОПРОС 914

ПРАВИЛЬНЫЙ ОТВЕТ: 3

Цыдалатәи ацатҭҭы имамзар, арныкәаф, даараза ихәычу аласрала егырт атранспорттә хархәагакәа аитатҭраҭы дырҭырхагахар азин имоумаҭ

1

Азин имоуп, избанзар амҭатә аитатҭра атаскәа инрыкәырҭшны, икәитымуп ззин иҭоу амақсималтә аласра аццара мацара

2

Азин имоуп, уи атыхәтәантәи арҭыраҳытәи аитатҭратә цәахәаҭы деитатҭуазар

3

Азин имам

## განმარტება:

„საგზაო მოძრაობის შესახებ“ საქართველოს კანონის 33-ე მუხლის მე-3 პუნქტის თანახმად, მძღოლმა განსაკუთრებული საფუძვლის გარეშე მეტისმეტად დაბალი სიჩქარით მოძრაობით არ უნდა გაართულოს სხვა სატრანსპორტო საშუალებების გადაადგილება.

## ВОПРОС 915

ПРАВИЛЬНЫЙ ОТВЕТ: 1

Амҭатә аитатҭра атаскәа инрыкәырҭшны арныкәаф амҭатә аитатҭра егырт алахәылацәа амҭа рытара ихәтазар, уи амҭа ритар шитаху иааирҭшыроупЖ

1

Аласра армачра ма аангыларала

2

Абжытә ма алашаратә ардыргала

3

Абри абилет аҭы еикәыҭхьазоу иарбанзаалак ауранагҭарала

## განმარტება:

„საგზაო მოძრაობის შესახებ“ საქართველოს კანონის 36-ე მუხლის მე-9 პუნქტის თანახმად, მძღოლმა, რომელმაც ამ კანონის მოთხოვნათა შესაბამისად გზა უნდა დაუთმოს სხვა საგზაო მოძრაობის მონაწილეებს, ვალდებულია გზის დათმობის თაობაზე თავისი განზრახვა ნათლად გამოხატოს სიჩქარის შემცირებით ან გაჩერებით.

Ашьхатә мѡаѣы ма уи азы икәшъарбагоу анаара змоу амѡаѣы, категориак иатцанакәа ѡетарнспорттә хархәагак рырныкәаѡцәа ркынтә руажәы авсра амзызла шытахьла ацара икәшәазар, усқан шытахьла аитатра иуалупЖ

1

Ахалартаѣы еитатцуа атранспорттә хархәага арныкәаѡ

2

Албаартаѣы еитатцуа атранспорттә хархәага арныкәаѡ, аха ахалартаѣы еитатцуа атранспорттә хархәага арныкәаѡ иаха ирмарианы абри еипш аманиовр анагзара шилшо, лымкаала, уи авсра иахьыкәало атып дазааигәаны дшыкоу лабѣаба ианубартоу аҭагылазаашьа наламҭакәа

3

Албаартаѣы еитатцуа атранспорттә хархәага арныкәаѡ, авсра иахьыкәало атып иазааигәо атранспорттә хархәагақәеи, иаха имарианы ари аманиовр назыгзар зылшо арныкәаѡи ирхьыпшымкәа

### განმარტება:

„საგზაო მოძრაობის შესახებ“ საქართველოს კანონის 35-ე მუხლის მე-2 პუნქტის თანახმად, მთის გზასა და ანალოგიური მახასიათებლების მქონე დიდი დახრილობის გზაზე, აგრეთვე 1.14 და 1.15 საგზაო ნიშნებით აღნიშნულ გზებზე, სადაც გვერდის აქცევა შეუძლებელია ან გართულებულია, ერთი და იმავე კატეგორიის ან ქვეკატეგორიის სატრანსპორტო საშუალებების შემთხვევაში უკუსვლით უნდა იმოძრაოს დადმართზე მოძრავმა სატრანსპორტო საშუალებამ, გარდა იმ შემთხვევისა, როცა ამჟამად, რომ აღმართზე მოძრავი სატრანსპორტო საშუალების მძღოლს უფრო იოლად შეუძლია ასეთი მანევრის შესრულება, კერძოდ, თუ ის გვერდის ასაქცევად გილთან ახლოს იმყოფება.

## ВОПРОС 917

ПРАВИЛЬНЫЙ ОТВЕТ: 3

Ашьхатә мѡაфѣ ма уи азы икѡзшьѡрѡагоу анаара змоу амѡაфѣ, ѡетранспорттѣ хархѡагак рырныкѡаѡѡа ркынтѣ руазѣ авсра амзызла шытахьла ацара икѡшѡазар, ускан атранспорттѣ хархѡагакѡа реилазаара аѡыжѡара рымоуп Ж

1

Амашына ласкѡа рырныкѡаѡѡа рѡაѡхьа

2

Автобускѡеи аидаратѣ машынакѡеи рырныкѡаѡѡа рѡаѡхьа

3

Егьырт акатегориакѡа зегьы ирыѡанакѡа атранспорттѣ хархѡагакѡа рырныкѡаѡѡа рѡаѡхьа

## განმარტება:

„საგზაო მოძრაობის შესახებ“ საქართველოს კანონის 35-ე მუხლის მე-2 პუნქტის თანახმად, მთის გზასა და ანალოგიური მახასიათებლების მქონე დიდი დახრილობის გზაზე, აგრეთვე 1.14 და 1.15 საგზაო ნიშნებით აღნიშნულ გზებზე, სადაც გვერდის აქცევა შეუძლებელია ან გართულებულია, თუ გვერდის აქცევის მიზნით ორი სატრანსპორტო საშუალებიდან ერთ-ერთმა უნდა იმოძრაოს უკუსვლით, სატრანსპორტო საშუალებათა შემადგენლობის მძღოლს ენიჭება უპირატესობა ყველა სხვა სატრანსპორტო საშუალების მძღოლების მიმართ.

## ВОПРОС 918

ПРАВИЛЬНЫЙ ОТВЕТ: 2

Ашьхамѡеи уи еиѡш инааны иѡо амѡაკѡеи рѡы ѡе транспорттѣ хархѡагак ркынтѣ авсра амзызла руакы шытахьла ицар акѡзар, автобус арныкѡაѡ аѡыжѡара имоупЖ

1

Атранспорттѣ хархѡагакѡа реилазаара арныкѡаѡѡа рѡаѡхьа

2

Аидаратѣ машыნეи амашына ласи рырныкѡаѡѡа рѡаѡхьа

3

Атранспорттѣ хархѡаგაკѡа зегьы რѡაѡхьა

## განმარტება:

„საგზაო მოძრაობის შესახებ“ საქართველოს კანონის 35-ე მუხლის მე-2 პუნქტის თანახმად, მთის გზასა და ანალოგიური მახასიათებლების მქონე დიდი დახრილობის გზაზე, აგრეთვე 1.14 და 1.15 საგზაო ნიშნებით აღნიშნულ გზებზე, სადაც გვერდის აქცევა შეუძლებელია ან გართულებულია, თუ გვერდის აქცევის მიზნით ორი სატრანსპორტო საშუალებიდან ერთ-ერთმა უნდა იმოძრაოს უკუსვლით, სატრანსპორტო საშუალებათა შემადგენლობის მძღოლს ენიჭება უპირატესობა ყველა სხვა სატრანსპორტო საშუალების მძღოლების მიმართ, მძიმეწონიანი სატრანსპორტო საშუალების მძღოლს – მსუბუქი სატრანსპორტო საშუალების მძღოლის მიმართ, ხოლო ავტობუსის მძღოლს – სატვირთო და მსუბუქი ავტომობილების მძღოლების მიმართ.



## ВОПРОС 919

ПРАВИЛЬНЫЙ ОТВЕТ: 1

Арныкәә ицәанырратә тагылазашыа айтатра ашәартадаразы анырра амоумаҕ

1

Ааи, иамоуп

2

Мап, иамазам

## განმარტება:

მძღოლის ემოციური მდგომარეობაზე გავლენას ახდენს მოძრაობის უსაფრთხოებაზე.

## ВОПРОС 920

ПРАВИЛЬНЫЙ ОТВЕТ: 1

Арныкәә иааҕсара амҕатә айтатраан уи игәеанызаареи ақәғыртазы илшареи рзы ныррас иамоиҕ

1

Игәеанызаара еитҕхоит, ақәғытра аамта  
иазхауеит

2

Игәеанызаара еитҕхоит, ақәғытра аамта  
еитҕхоит

3

Агәеанызаареи ақәғытра аамтеи рҕ  
ырыҕсахуам

## განმარტება:

მძღოლის გადაღლილობა მის ყურადღებას აქვეითებს, რეაქციის დრო ზრდის.

## ВОПРОС 921

ПРАВИЛЬНЫЙ ОТВЕТ: 1

Атრანспорттә хархәагала аитатра анагзара икәйтүмүпЖ

1

Аусуратә аанкылагатә система пұхастазар

2

Ачаратә система агерметирра еилагазар

3

Абжыхәаеыга пұхастазар

4

Абри абилет ағы еикәыпұхәзоу  
иарбанзаалак аҭагылазаашьа аан

განმარტება:

„საგზაო მოძრაობის შესახებ“ საქართველოს კანონის 21-ე მუხლის მე-13 პუნქტის თანახმად, მძღოლს ევრძალება მოძრაობა მუშა სამუხრუჭო სისტემის, საჭის მექანიზმის, სატრანსპორტო საშუალებათა შემადგენლობაში მისაბმელი მოწყობილობის გაუმართაობისას, აგრეთვე დღე-ღამის ბნელ დროს ერთდროულად მწყობრიდან გამოსული (ჩამქრალი) ახლო და შორი განათების ფარებით (ან მათი არარსებობისას) ან/და უკანა საგაბარიტო სინათლეებით იმ გზაზე, რომელზედაც არ არის ხელოვნური განათება ან არასაკმარისი ხილვადობაა. მძღოლის მხარეს არსებული მინასანმენდის უმოქმედობისას აკრძალულია მექანიკური სატრანსპორტო საშუალების მართვა ნისლის, წვიმისა და თოვის დროს.

## ВОПРОС 922

ПРАВИЛЬНЫЙ ОТВЕТ: 2

Арныкәә атрანспорттә хархәага агәатарей атехникатә тагылазаашьа аикәыршәарей иуалупЖ

1

Аитатра далагаанза мацара

2

Аитатра далагаанза, иара убас, аитатра аан

3

Аитатра аан мацара

განმარტება:

„საგზაო მოძრაობის შესახებ“ საქართველოს კანონის 21-ე მუხლის მე-12 პუნქტის თანახმად, მძღოლი ვალდებულია მგზავრობის დაწყებამდე შეამოწმოს და მგზავრობისას უზრუნველყოს სატრანსპორტო საშუალების ტექნიკური გამართულობა.

## ВОПРОС 923

ПРАВИЛЬНЫЙ ОТВЕТ: 2

Атრანспорттә хархәага айтатра анагзара азин амамЖ

1

Аҗычра аҗааҗыҗыҗаратә система аус амуазар

2

Атрანспорттә хархәага аилазаара иалоу ацрахәага җухастазар

3

Аспидометр аус амуазар

4

Абри абилет аҗы еиҗыҗыҗаҗоу аҗагылазаашыаҗәа зегы раан.

## განმარტება:

„საგზაო მოძრაობის შესახებ“ საქართველოს კანონის 21-ე მუხლის მე-13 პუნქტის თანახმად, მძღოლს ეკრძალება მოძრაობა მუშა სამუხრუჭო სისტემის, საჭის მექანიზმის, სატრანსპორტო საშუალებათა შემადგენლობაში მისაბმელი მოწყობილობის გაუმართაობისას, აგრეთვე დღე-ღამის ბნელ დროს ერთდროულად მწყობრიდან გამოსული (ჩამქრალი) ახლო და შორი განათების ფარებით (ან მათი არარსებობისას) ან/და უკანა საგაბარიტო სინათლეებით იმ გზაზე, რომელზედაც არ არის ხელოვნური განათება ან არასაკმარისი ხილვადობაა. მძღოლის მხარეს არსებული მინასანმენდის უმოქმედობისას აკრძალულია მექანიკური სატრანსპორტო საშუალების მართვა ნისლის, წვიმისა და თოვის დროს.

## ВОПРОС 924

ПРАВИЛЬНЫЙ ОТВЕТ: 3

Арныкәә атрანспорттә харәагала айтатра анагзара азин имамЖ

1

Иблыз агаз атыҗратә система иҗухастазар

2

Атрანспорттә хархәага аиҗкаашыа ала иазҗухәаҗәоу ашыҗахьтәи асаркыа иҗамзар

3

Арныкәә иганала иҗоу асаркыарыҗкыага аус амуазар анакәеи, акәоуреи, асоуреи раан

4

Ашәартадаратә маҗақәа җухастазар

## განმარტება:

„საგზაო მოძრაობის შესახებ“ საქართველოს კანონის 21-ე მუხლის მე-13 პუნქტის თანახმად, მძღოლს ეკრძალება მოძრაობა მუშა სამუხრუჭო სისტემის, საჭის მექანიზმის, სატრანსპორტო საშუალებათა შემადგენლობაში მისაბმელი მოწყობილობის გაუმართაობისას, აგრეთვე დღე-ღამის ბნელ დროს ერთდროულად მწყობრიდან გამოსული (ჩამქრალი) ახლო და შორი განათების ფარებით (ან მათი არარსებობისას) ან/და უკანა საგაბარიტო სინათლეებით იმ გზაზე, რომელზედაც არ არის ხელოვნური განათება ან არასაკმარისი ხილვადობაა. მძღოლის მხარეს არსებული მინასანმენდის უმოქმედობისას აკრძალულია მექანიკური სატრანსპორტო საშუალების მართვა ნისლის, წვიმისა და თოვის დროს.

## ВОПРОС 925

ПРАВИЛЬНЫЙ ОТВЕТ: 2

Ианылашьцоу, иара убас, алапшбара ианыцэгъоу иапыланы иаауа атранспорттә хархәара аласра игәнаҳгоитЖ

1

Ииашатәкьаны ишыкоу ацкыс еиханы

2

Ииашатәкьаны ишыкоу ацкыс еитцны

3

Ииашатәкьаны ишыкоу еипш

## განმარტება:

დღის ნათელ დროს, შემხვედრი სატრანსპორტო საშუალების სიჩქარეს, ადამიანის თვალი განსაზღვრავს სივრცეში არსებულ სხვა ორიენტირებთან შედარებით (საგზაო ნიშნები, მონიშვნა, გზისპირზე გამწვანება და სხვა), ხოლო დღე-ღამის ბნელ დროს და არასაკმარისი ხილვადობის პირობებში ორიენტირება ხდება მხოლოდ ფარების შუქზე, ამიტომ შემხვედრი სატრანსპორტო საშუალების სიჩქარეს აღვიქვამთ უფრო ნაკლებად, ვიდრე რეალურადაა.

## ВОПРОС 926

ПРАВИЛЬНЫЙ ОТВЕТ: 1

Амеханикатә аимадаратә атра змоу атранспорттә хархәага аитатра ианалаго актәи аимадара иаҕакызар, кыраамтатәи аитатра аан абылтәы ахарцъЖ

1

Иазхауеит

2

Еитцхоит

3

Аеаҕсахуам

## განმარტება:

მექანიკური გადაცემათა კოლოფის მქონე სატრანსპორტო საშუალების ჩართული პირველი გადაცემით მოძრაობისას სიჩქარე დაბალია, ხოლო ძრავი მუშაობს მაღალი ბრუნთა რიცხვით და საჭიროებს მეტ სანვავს. მოძრაობის დაწყებისას, პირველი გადაცემით ჩართული სატრანსპორტო საშუალების ხანგრძლივი გაქნების დროს სანვავის ხარჯი იზრდება.

## ВОПРОС 927

ПРАВИЛЬНЫЙ ОТВЕТ: 1

Атრანспорттə хархəага аахəра ашəарта акынтə иаха ихьчазаауеит уи ахьантара ацентр иказарЖ

1

Цака

2

Хыхь

## განმარტება:

რაც უფრო მაღლაა განლაგებული სატრანსპორტო საშუალების სიმძიმის ცენტრი მით უფრო ნაკლებია მისი მდგრადობა გადაყირავების წინააღმდეგ, განურჩევლად ტვირთის ხასიათისა. ტვირთიანი სატრანსპორტო საშუალების სიმძიმის ცენტრი ყოველთვის უფრო მაღლაა განლაგებული ვიდრე უტვირთოსი.

## ВОПРОС 928

ПРАВИЛЬНЫЙ ОТВЕТ: 3

Аамтакала амашьынақəа рацəаны ианеитатцуа амашəыр ашəарта еитцхоит, шəара шəтрანспорттə хархəага аласра атрანспорттə аишьтагылаЖ

1

Аласра акыр еихазар

2

Аласра акыр еитцызар

3

Аласра иакаразар

## განმარტება:

მჭიდრო სატრანსპორტო ნაკადში მოძრაობისას ავრიული სიტუაციის წარმოქმნის ალბათობა ნაკლებია, თუ თქვენი სატრანსპორტო საშუალების სიჩქარე იქნება სატრანსპორტო ნაკადის სიჩქარის ტოლი.



## ВОПРОС 929

ПРАВИЛЬНЫЙ ОТВЕТ: 2

Атәиртәҭы аитатра аан шытахьла ицо алыра змоу амашьына ашьтахьтәи ацха ақәтәраара аан арныкәаҭЖ

1

Амашьына аанкылань ақәтәраара аганашкә иааирхәыроуп

2

Хәычзак абылтә ирмачны ақәтәраара аганашкә амашьына иааирхәыроуп

3

Абылтәы иаццаны, аҭскы аҭагылазаашьа имҭсахроуп

## განმარტება:

მოსახვევში მოძრაობისას უკანა წამყვანღეძიანი ავტომობილის უკანა ხიდის მოცურების შემთხვევაში მძღოლმა უნდა ოდნავ შეამციროს სანჯავის მიწოდება და საჭე მოაბრუნოს მოცურების მხარეს.

## ВОПРОС 930

ПРАВИЛЬНЫЙ ОТВЕТ: 1

Амҭасыртә асду ақәзар, аҭрунттә амҭаҭы аитатра аан атранспорттә хархәага арныкәаҭ деитатроупЖ

1

Заанатцы иаилихуа илақәу аибаркреи аласреи рыла, иаалырқьаны атәиреи аангылареи рыда

2

Амҭа аҭагылазаашьа иашьашәаланы аибаркреи аласреи ҭсахны

## განმარტება:

სავალ ნაწილზე ღრმა თოვლის არსებობისას, გრუნტოვან გზაზე მოძრაობის შემთხვევაში სატრანსპორტო საშუალების მძღოლმა უნდა იმოძრაოს წინასწარ შერჩეული გადაცემითა და სიჩქარით გაჩერებების გარეშე, გამორიცხოს საჭის თვლის მკვეთრი მობრუნება.

## ВОПРОС 931

ПРАВИЛЬНЫЙ ОТВЕТ: 3

Ахаларта ақәлараан аангыларатә нкылага арымаа алашьтра иахәтоупЖ

1

Аитатра далагаанза

2

Аитатра даналагалак аамышьтахь

3

Аитатра даналагалактәкьа

## განმარტება:

აღმართზე მოძრაობის დაწყების შემთხვევაში სადგომი მუხრუჭის ბერკეტის დაშვება მიზანშეწონილია ერთდროულად მოძრაობის დაწყებისას.

## ВОПРОС 932

ПРАВИЛЬНЫЙ ОТВЕТ: 2

Атәиртаҭы атранспорттә хархәага аццакра аҳаратәра аан ацентридантә амчЖ

1

Еитцхоит

2

Иазхауеит

3

Аҭаҭсахуам

## განმარტება:

სატრანსპორტო საშუალების მოსახვევში მოძრაობისას სიჩქარის გაზრდის შემთხვევაში ცენტრიდანული ძალა იზრდება.

## ВОПРОС 933

ПРАВИЛЬНЫЙ ОТВЕТ: 3

Аტრანსპორტთა ხარხააგა არნყკააფ ამა იაშა დშანუ იააღრყბანყ იკატარააუა აცყტააха кбаф данылар, უიЖ

1

Знык аанкылага дақәыңәәны аццакра ирмацроуп

2

Изныкымкәа аанкылага дақәыңәәны аццакра ирмацроуп

3

Аццакра имҕсахкәа, дызлацоз ахырхартала аитатра наигзароуп

## განმარტება:

თუ სატრანსპორტო საშუალების მძღოლი სწორ გზაზე მოძრაობისას მოულოდნელად მოხვდა მოლიპულ მოკლე მონაკვეთზე, მოძრაობის სიჩქარის შეუცვლელად უნდა გააგრძელოს მოძრაობა იმავე ტრაექტორიით.

## ВОПРОС 934

ПРАВИЛЬНЫЙ ОТВЕТ: 1

Азылеикәыршәара иадхәалоу ауадафракәа рҕыхра аамышьтахь, аанкыларатә колодкакәа баазазар, аტრანსპორტთა ხარხააგა არნყკააფ აანкылага аусура аиташьақәыргыларазыЖ

1

Аитатра нагзаны, шыапыла изныкымкәа апедаль дақәыңәәны аанкыларатә колодкакәа ирбароуп.

2

Деитатроуп аангыларатә нкылага бжала ишьтыху арымаала.

3

Гәыәанрыла деитатроуп, амашына арееира атыңақынза

## განმარტება:

წყლის დაბრკოლების გადალახვის შემდეგ სამუხრუჭო ხუნდების დასველების შემთხვევაში, სატრანსპორტო საშუალების მუხრუჭების ეფექტურობის აღსადგენად, მძღოლმა უნდა გააგრძელოს მოძრაობა და გააშროს სამუხრუჭე ხუნდები მუხრუჭის სატერფულზე ფეხის მრავალჯერადი ხანმოკლე დაჭერით.

## ВОПРОС 935

ПРАВИЛЬНЫЙ ОТВЕТ: 2

Ианылашьцоу, ма алапшбара аныцэгъоу аамтазы, атранспорттә хархәага арныкәаф дызлеитатша аласра иалихроуп, аангыларанза абжъазаараЖ

1

Алапшбара ақәыпшылара ианеихау

2

Алапшбара ақәыпшылара ианеитцу

## განმარტება:

დღე-ღამის ბნელ დროს ან არასაკმარისი ხილვადობის პირობებში, სატრანსპორტო საშუალების მოძრაობის სიჩქარე მძღოლმა უნდა შეარჩიოს ისე, რომ გასაჩერებელი მანძილი იყოს მხედველობის არეზე ნაკლები.

## ВОПРОС 936

ПРАВИЛЬНЫЙ ОТВЕТ: 2

Амашына аанкыларა иахылѣиааз ақәтәраара аанкыларазы, атранспорттә хархәага арныкәафЖ

1

Аиѣарѣага ирцәароуп

2

Аанкыларა дақәытцоуп

3

Аанкыларა наигзароуп аанкылага  
ақәыңѣәара имѣсахкуа

## განმარტება:

დამუხრუჭებით გამოწვეული მოცურების შესაწყვეტად სატრანსპორტო საშუალების მძღოლმა, უნდა შეწყვიტოს დამუხრუჭება.

## ВОПРОС 937

ПРАВИЛЬНЫЙ ОТВЕТ: 3

Автотранспорттә хархәагақәа ирзышьақәыргылоу атехникатә ахәарақәа инрықәырғшны, икаломЖ

1

Агежькьаҭҥҥәа зырҥәҭәо абрук ма абрухатҭак адымхарҭгы аҭамзаара ма иҥәҭәамкәа арххара мацара

2

Агежькьаҭҥҥәа рҭы ашьара аҭазаара мацара

3

Агежькьаҭҥҥәа зырҥәҭәо абрук ма абрухатҭак адымхарҭгы аҭамзаара ма иҥәҭәамкәа арххареи, иара убас, агежькьаҭҥҥәа рҭы ашьара аҭазаареи

## განმარტება:

„ავტოსატრანსპორტო საშუალებების მიმართ წაყენებული ტექნიკური მოთხოვნები, რომლებთან შესაბამისობის დადგენის მიზნითაც ტარდება გზისთვის ვარგისობაზე ტესტირება და მისი ჩატარების მეთოდების“ საქართველოს მთავრობის 2014 წლის 3 იანვარის №30 დადგენილებით დამტკიცებული ტექნიკური რეგლამენტის მე-8 მუხლის მე-6 და მე-7 პუნქტების თანახმად: 6. დაუშვებელია დისკების დასამაგრებელი თუნდაც ერთი ჭანჭიკის ან ქანჩის არქონა ან მათი სუსტი მოჭერა. 7. დაუშვებელია დისკებზე ბზარების არსებობა.

## ВОПРОС 938

ПРАВИЛЬНЫЙ ОТВЕТ: 2

Ацәиртаҭы аитатҭра аан ацәира ацентр еҭгы аҭанаҭы еитатҭуа аҭхьатәи, иара убас ацәира аҭанаҭы еитатҭуа ашьтахьтәи амашьынаблақәа рҭнынза ацәира ацентр аҭынтә иҭоу арадиусқәа реиҭшымра хәа иашьтоупЖ

1

Амашьына ацәира арадиус

2

Амашьына адинамикатә коридор

3

Ззин иҭоу амашьына абжьазара

## განმარტება:

მოსახვევში მოძრაობისას სატვირთო ავტომობილებისა და ავტობუსების მოძრაობისათვის საჭირო ზოლი მნიშვნელოვნად ფართოვდება. მოხვევისას ავტომობილის წინა თვლები იკავებს მოხვევის ცენტრის სანინაალმდეგო მხარეს, ხოლო ავტომობილის ან მისაბმელის უკანა თვლები მოხვევის ცენტრის მხარეს. მოხვევის ცენტრის სანინაალმდეგო მხარეს მოძრავი წინა და მოხვევის მხარეს მოძრავი უკანა თვლებამდე მოხვევის ცენტრიდან გავლებული რადიუსების სხვაობას ეწოდება ავტომობილის დინამიკური დერეფანი.



## ВОПРОС 939

ПРАВИЛЬНЫЙ ОТВЕТ: 3

Амеханиკატე транспорттэ хархэага арныкэашьа абарт ахккэа ркынтэ руа иарбан абылтэы ахарцэ еицазтэуаჲ

1

Ашьшыыхэа аласра ардуреи иаразнак аласра армачреи.

2

Иаразнак аласра ардуреи ашьшыыхэа аласра армачреи.

3

Ашьшыыхэа аласра ардуреи ашьшыыхэа аласра армачреи.

## განმარტება:

მექანიკური სატრანსპორტო საშუალების მოძრაობისას საწვავის ნაკლებ ხარჯს უზრუნველყოფს მართვის სტილი მდორე აჩქარება მდორე შენელებით.

## ВОПРОС 940

ПРАВИЛЬНЫЙ ОТВЕТ: 3

Икәтәраауа амѡаѣы иаразнак аҭскы атәира иахылѣиааз ақәтәраара аанкыларазы амашыына арныкәаѡЖ

1

Аиѣарҭага иаѣихроуп.

2

Иѣаку аиѣарҭага ала ашьшыыхэа амашыына ааникылароуп.

3

Ирласны, аха тынч аҭскы наирхәыроуп ақәтәраара аган ашка, уи аамышьтахь, аҭскы ала амашыына атраекториа ириашароуп.

## განმარტება:

მოლიპულ გზაზე, საჭის თვლის მკვეთრი მობრუნებით გამოწვეული მოცურების შესაწყვეტად ავტომობილი მძღოლმა, უნდა სწრაფად, მაგრამ მდორედ საჭის თვალი მოაბრუნოს მოვუერების მხარეს, შემდეგ საჭის თვლით გაასწოროს ავტომობილის ტრაექტორია.

## ВОПРОС 941

ПРАВИЛЬНЫЙ ОТВЕТ: 3

Азынrazy азынтә гежыкәа рхархәара атранспорттә хархәагазы бзиаரச иамоиҭ

1

Иҭырххоит атранспорттә хархәага ганла ақәтәраара ашәарта

2

Амш зеиҭшразаалак, атранспорттә хархәага амақсималтә аласрала аитатра алшоит.

3

Итаау амҭаҭы агежыкәа рықәтәраарей абуқсиррей ашәарта еитҭхоит.

## განმარტება:

სატრანსპორტო საშუალებაზე ზამთრის საბურავების გამოყენება ზამთრის პერიოდში ამცირებს მოლიპულ გზის საფარზე თვლების სრიალსა და ბუქსაობის შესაძლებლობას.

## ВОПРОС 942

ПРАВИЛЬНЫЙ ОТВЕТ: 4

Аитатра ашәартадара айқәыршәаразы аварахьтәи интервал ианбазырхатәуҭ

1

Аласра ду ала иҭылань иаау атранспорттә хархәага авсра мацара аан.

2

Аура ду змоу атранспорттә хархәага авсра мацара аан.

3

Ибаажоу, итаау ма ииашам амҭа ацыҭдәахаҭы аитатра мацара аан

4

Абри абилет аҭы еиқәыҭхьажоу аҭагылазаашьақәа зегьы раан.

## განმარტება:

მოძრაობის უსაფრთხოების უზრუნველსაყოფად გვერდითი ინტერვალის გაზრდა მიზანშეწონილია როგორც მაღალი სიჩქარით შემხვედრი სატრანსპორტო საშუალების გვერდის აქცევისას, ასევე გრძელი სატრანსპორტო საშუალების გვერდის აქცევისას და სველი, მოლიპული ან უსწორმასწორო გზის მონაკვეთზე მოძრაობისას.

## ВОПРОС 943

ПРАВИЛЬНЫЙ ОТВЕТ: 1

Аитатра аиҕынгыларатэ хырхартэ аҕаахэашка аиасрала аҕысра аманиовр аҕатара аан, амашэыртэ тагылазаашыа зыхкьо амзызқәа ируакзар алшоит арныкәаҕ ила аиҕынгыларатэ хырхартала еитатүа атранспорттэ хархэага аласра ашьткаараЖ

1

Ииашатҕэҕыаны ишыҕоу ацкыс иаҕа ихэыҕны.

2

Ииашатҕэҕыаны ишыҕоу ацкыс иаҕа идууны.

## განმარტება:

მოძრაობის საპირისპირო მიმართულების ზოლზე გადასვლით გასწრების მანევრის შესრულებისას, საავარიო სიტუაციის შექმნის ერთ-ერთ ძირითადი მიზეზია ის გარემოება, რომ მძღოლი საპირისპირო მიმართულებით მოძრავ სატრანსპორტო საშუალების სიჩქარეს ადვასებს, როგორცუფრო ნაკლებს ვიდრე სინამდვილეშია.

## ВОПРОС 944

ПРАВИЛЬНЫЙ ОТВЕТ: 2

Амҕа иаша аҕы, кыраамта аласра ду ала еитатүа атранспорттэ хархэага арныкәаҕ аласра игәнигоитЖ

1

Ииашатҕэҕыаны ишыҕоу еипуш акэымкәа, иаҕа идуузшәа.

2

Ииашатҕэҕыаны ишыҕоу еипуш акэымкәа, иаҕа ихэыҕушәа.

3

Ииашатҕэҕыаны ишыҕоу еипуштәҕкәа.

## განმარტება:

სწორ გზაზე, ხანგრძლივი დროის განმავლობაში მაღალი სიჩქარით მოძრაობისას სატრანსპორტო საშუალების სიჩქარეს მძღოლი აღიქვამს უფრო ნაკლებად, ვიდრე სინამდვილეშია.

## ВОПРОС 945

ПРАВИЛЬНЫЙ ОТВЕТ: 2

Атრანспорттə хархəага аласра азырхара арныкəа илапшхəаазы ныррас иамоиҕ

1

Илапшхəаа иаха итбаахоит.

2

Илапшхəаа иаха итшəахоит.

3

Илапшхəаа аеаҕсахуам.

## განმარტება:

სატრანსპორტო საშუალების სიჩქარის გაზრდისას მძღოლის მხედველობის მხედველობის არე ვიწროვდება.

## ВОПРОС 946

ПРАВИЛЬНЫЙ ОТВЕТ: 4

Еиқəыпхəзəу аҕагылазаашьақəа ркынтə руа иарбан атрანспорттə хархəага арныкəара алшара зырцəҕьоҕ

1

Ақəытҕрей ахшыҕзыштыҕрей еиҕазтəуа ахəшəқəа мацара.

2

Ааҕсарей ацəара агхарей мацара.

3

Арҕышыгыҕатəи, алкогольтəи, аҕсихотропиатəи ашьра мацара.

4

Абри абилет аҕы еиқəыпхəзəу иарбанзаалак аҕагылазаашьа

## განმარტება:

სატრანსპორტო საშუალების მართვის უნარის გაუარესება შეიძლება გამოიწვიოს როგორც იმ სამკურნალო პრეპარატის მიღებამ, რომელიც აქვეითებს რეაქციას და ყურადღებას, ასევე ძლიერმა დადლილობამ ან უძილობამ და ალკოჰოლურმა, ნარკოტიკულმა ან ფსიქოტროპულმა თრობამ.

## ВОПРОС 947

ПРАВИЛЬНЫЙ ОТВЕТ: 3

Амашәыртә тагылазашьа аҭцара ашәартә иазхауеитЖ

1

Арныкәаҭ ишахәтоу еиҭш адистанциа ма егырт атранспорттә хархәагакәа ркынза агантә интервал имхьчозар мацара.

2

Арныкәаҭ аманиовр аҭатцара далагаанза уи ишшәартам агәра имгар мацара.

3

Абри абилет аҭы еиқәыҭхьаҭоу атагылазашьақәа зегьы раан.

## განმარტება:

საავარიო სიტუაციის წარმოქმნის საფრთხე იზრდება იმ შემთხვევაში, თუ მძღოლი სათანადოდ არ იცავს დისტანციას ან გვერდით ინტერვალს სხვა სატრანსპორტო საშუალებების მიმართ, ასევე თუ მძღოლი მანევრს იწყებს ისე, რომ არ რწმუნდება მის უსაფრთხოებაში.

## ВОПРОС 948

ПРАВИЛЬНЫЙ ОТВЕТ: 1

Еиқәыҭхьаҭоу атагылазашьақәа ркынтә руа иарбан арныкәага ачаратә система аҭхастахара ма ииашамкәа арныкәага аиҭкаара иахкьаны абылтәы ахарцъ шацлаз хзырбџ

1

Абжьыхәаҭыга иалцуа алтәтәаратә аҭлаа еиқәатәа

2

Абжьыхәаҭыга иалытәтәо аконденсациатә баазашьар

3

Абри абилет аҭы еиқәыҭхьаҭоу иарбанзаалак атагылазашьа

## განმარტება:

ჩამოთვლილი გარემოებიდან, ძრავის კვების სისტემის გაუმართაობაზე ან ძრავის არასწორი რეგულირების შედეგად საწვავის ხარჯის მკვეთრ მომატებაზე მიანიშნებს მაყუჩიდან გამონაბოლქვი მძლავრი მუქი კვამლი.



## ВОПРОС 949

ПРАВИЛЬНЫЙ ОТВЕТ: 2

Ашьтахьтәи алыра хадакәа змоу амашына арныкәа итаау амәаҭы аитатраан ашьтахьтәи ацха ганла ақәҭәира дацәцарц азы икаитарц ихәтәиҭ

1

Аласра армачра аан еснагь ихы иаирхәароуп аангылартатә аанкылага.

2

Аиҭарҭага апедалаь амуфта иаалырҭкәаны аушьтәи акселератор апедаль ирҭәҭәаны ақәыҭәҭәари иеацәхьеикроуп.

3

Еиқәыҭхьазоу аҭәхымәаҭгашьақ ииашоуп.

## განმარტება:

უკანა წამყვანღერძიანი ავტომობილის მძღოლი, რათა აიცილოს მოყინულ გზაზე მოძრაობისას უკანა ხიდის გვერდულად მოცურება უნდა მოერიდოს გადაბმულობის ქუროს სატერფულის მკვეთრ აშვებას და აქსელერატორის სატერფულის მკვეთრ დაჭერას.

## ВОПРОС 950

ПРАВИЛЬНЫЙ ОТВЕТ: 3

Амәәттранспорттә амашәыр аан ашәартадаратә маҭа азкрас иамоиҭ

1

Арныкәаҭи апаassaжирцәи аинерциала реитатреи, атранспорттә хархәага аинтериер адеталькәи егырт апаassaжирцәи раахареи еиҭнарҭьоит.

2

Арныкәаҭи апаassaжирцәи ааннакылоит ашәартадара ахчкәа раартра иаҭырхагам апозициаҭы.

3

Еиқәыҭхьазоу аҭәзкрақ амоуп.

## განმარტება:

საგზაო-სატრანსპორტო შემთხვევის დროს უსაფრთხოების ღვედი როგორც აღკვეთს მძღოლისა და მგზავრების ინერციით გადადგილებას, შესაბამისად მათ შეჯახებას სატრანსპორტო საშუალების ინტერიერის დეტალებზე და სხვა მგზავრებთან, ასევე მძღოლსა და მგზავრებს აკავებს პოზიციაში, რომელიც უზრუნველყოფს აირბაგების (დამცავი ბალიშების) უსაფრთხოდ გახსნას.

## ВОПРОС 951

ПРАВИЛЬНЫЙ ОТВЕТ: 3

Ахагеи бжала ацрахәагеи излеидхәалоу ашьақәыргыламта аҭхастахара иахкыаны урт рейкәытхара ашәарта ыказар, арныкәаҭ икаитцарц ихәтәиҭ

1 Иаццаны арҭәҭәагакәа шыақәыргыланы, аминималтә аласрала амашына наигароуп арееиратә тыҭанза ма аргылартанза.

2 Бжала ацрахәага ашьтахытәи аҭанаҭы амашәыртә ардырга иргыланы, амашына наигароуп арееиратә тыҭашка.

3 Аитатра дақәытцоуп.

## განმარტება:

„საგზაო მოძრაობის შესახებ“ საქართველოს კანონის 21-ე მუხლის მე-13 პუნქტის თანახმად, მძღოლს ევრძალება მოძრაობა მუშა სამუხრუჭო სისტემის, სატის მექანიზმის, სატრანსპორტო საშუალებათა შემადგენლობაში მისაბმელი მოწყობილობის გაუმართაობისას.

## ВОПРОС 952

ПРАВИЛЬНЫЙ ОТВЕТ: 4

Еиқәыпхьазоу ахәарақәа ркынтә руа иарбан ихьчатәу амашына аидаратә ақәша аидара ақәцараанҭ

1 Аидара аидаратә ақәша адашыма иқәцатәуп излауа ала еиқараны.

2 Аидара излауа ала тақа иқәцатәуп.

3 Аидара ақәцараан иазпхьагәатазароуп абарт алырақәа рзы ззин иқоу ақәыҭәҭәара.

4 Абри абилет аҭы еиқәыпхьазоу ахәарақәа зегьы ихьчазароуп

## განმარტება:

ავტომობილის სატვირთო განყოფილებაში ტვირთის განთავსებისას ტვირთი უნდა განთავსდეს, მაქსიმალურად თანაბრად სატვირთო განყოფილების იატაკის ზედაპირზე რაც შეიძლება დაბლა, ასევე ტვირთის განთავსებისას მხედველობაში უნდა იქნეს მიღებული ღერძებზე ნებადართული დატვირთვები.

## ВОПРОС 953

ПРАВИЛЬНЫЙ ОТВЕТ: 1

Амашына апневматикатә аанкыларатә системаҕы адкылага азкрас иамоиҕ

1

Еицарҕаҕоу ахауа аҕхыак еиқәнаршәоит.

2

Ахауа аҕынтә аконденсант алтра еиқәнаршәоит.

3

Ахауа ақәыҕаҕара иазнархауеит.

4

Аанкылара амч иазнархауеит.

## განმარტება:

ავტომობილის პნევმატურ სამუხრუჭე სისტემაში, რესივერი უზრუნველყოფს შეკუმშული ჰაერის რემბრვის შექმნას.

## ВОПРОС 954

ПРАВИЛЬНЫЙ ОТВЕТ: 3

Амашына арныкәа, аанкылагакәа рблокада аҕагыларатә система ГҖФИСТ змам автомобиль аанкылара аан икаитцарц ихәтои, имашына аныкәара алшара ацәымзырц азыҕ

1

Амашына ааникылароуп арныкәага мацарала.

2

Амашына ааникылароуп аусуратә аанкылага ала, агыларатә аанкылага ахархәарала

3

Амашына ааникылароуп аанкыларатә педаль ақәырҕаҕарала, уи аан амашынаблқәа аблокада рзура ие азикроуп.

4

Иаразнак амашына аанкылара амзызла, аанкыларатә педаль дақәыҕаҕароуп.

## განმარტება:

მუხრუჭების ბლოკირების საწინააღმდეგო სისტემის (ABC) არ მქონე ავტომობილის დამუხრუჭებისას, რათა ავტომობილმა არ დაკარგოს მართვადობა მძღოლმა უნდა დაამუხრუჭოს სამუხრუჭე სატერფულზე პულსირებულად დაჭერით, ამასთან ეცადოს არ გამოიწვიოს თვლების ბლოკირება.

## ВОПРОС 955

ПРАВИЛЬНЫЙ ОТВЕТ: 3

Ианылашьцоу аамтазы аиҭынгыларатә хыртартакынтә иаауа атранспорттә хархәага аблақәа рылашарала аблахкра амч аитцатәра амзызла, арныкәаф икәнагоупЖ

1

Амашына асалон алашара аркра.

2

Иаразнак амашына аанкылареи, амра ае ацәыхьчратә абласаркыа атареи.

3

Излауа ала илапш иахигароуп амџеисырта арҭьаратәи аган ашка.

## განმარტება:

დღე-ღამის ბნელ დროს საპირისპირო მიმართულებიდან მომავალი სატრანსპორტო საშუალების ფარების შუქით თვალის მოჭრის სიძლიერის შემცირების მიზნით, მძღოლისათვის მიზანშეწონილია შეძლებისდაგვარად მიმართოს მზერა სავალი ნაწილის მარჯვენა ნაპირის მხარეს.

## ВОПРОС 956

ПРАВИЛЬНЫЙ ОТВЕТ: 2

Амџангаф итакпхыкәра аикәшахатрала аҭырхра ма аҭкра каломаҭ

1

Икалоит.

2

Икалом.

## განმარტება:

საქართველოს სამოქალაქო კოდექსის 669-ე მუხლის მე-3 პუნქტის თანახმად, გადამზიდველის პასუხისმგებლობა არ შეიძლება გამოირიცხოს ან შეიზღუდოს ხელშეკრულებით.

## ВОПРОС 957

ПРАВИЛЬНЫЙ ОТВЕТ: 1

Аидара амѡангареи апассаѡирцѡа рымѡангареи рзы аргама адгалара кѡзцо ауаѡы амѡангара ѡ аиагара иазку аиқѡшахатра адкылара иуалумаѢ

1

Иуалуп, мапкразы атыцгѡы ыкамзар.

2

Абри еицш аиқѡшахатра азакѡанцѡарала иазцухѡгѡатам.

## განმარტება:

საქართველოს სამოქალაქო კოდექსის 670-ე მუხლის თანახმად, პირი, რომელიც საჯაროდ სთავაზობს ტვირთის გადაზიდვასა და მგზავრთა გადაყვანას, ვალდებულია დადოს გადაყვანა-გადაზიდვის ხელშეკრულება, თუ არ არსებობს უარის თქმის საფუძველი.

## ВОПРОС 958

ПРАВИЛЬНЫЙ ОТВЕТ: 2

Аидара амѡангаразы ашѡкѡыцѡа ыказароупЖ

1

Ѣѡцырак, урт рнапы рыцѡарѡეიტ амѡанგაѡი адкылаѡი, цырак амѡанგაѡ изаанხოит, егы ацыра аидара адкыларა аан адкылаѡ изаанხოит.

2

Хѡцырак, урт рнапы рыцѡарѡეიტ адѡыкѡѡაѡи амѡанგაѡი, цырак адѡыкѡѡაѡ изаанხოит, აѡბათѡი ацыრა аидара иაცуп, ახцѡათѡი ацыრა амѡანგაѡ изაანხოит.

## განმარტება:

საქართველოს სამოქალაქო კოდექსის 673-ე მუხლის პირველი პუნქტის თანახმად, ტვირთის გადაზიდვისათვის ზედნადები დგება სამ ცალად, რომელთაც ხელს აწერენ გამგზავნი და გადამზიდველი. პირველი პირი რჩება გამგზავნს, მეორე თან ერთვის ტვირთს, მესამეს კი იტოვებს გადამზიდველი.



## ВОПРОС 959

ПРАВИЛЬНЫЙ ОТВЕТ: 1

Амფანგაფ, ატრანსპორტ მა აიდარა ახკკაა ირყყაშალოუ ახყყყაზარალა აშაქაყცაქაა რეიკყაყრშაარა აქაარა აзин имоумаფ

1

Азин имоуп, имфангатеу аидара иакымкәа атрანспорттә хархәагакәа рыла иагатеызар, ма аидара еиყшымзар, хазы апартиакәа рыла ишазар.

2

Азин имам, избанзар азақәанყцарала иазყყагаатоуп ашәкәыцта феекземплиарк мацара реиқәыршәара.

3

Азин имоуп, аиқәшахатра инақәырқшны аидара амфангаразы ишықәырғылоу афхәара амзартә 60емшы иреихазар.

## განმარტება:

საქართველოს სამოქალაქო კოდექსის 673-ე მუხლის მე-2 პუნქტის თანახმად, თუ გადასაზიდი ტვირთი ნაწილდება რამდენიმე ტრანსპორტზე, ან საქმე ეხება სხვადასხვა სახის ანდა ცალკეულ პარტიებად დაყოფილ ტვირთს, როგორც გამგზავნს, ასევე გადამზიდველს შეუძლიათ მოითხოვონ იმდენი ზედნადების შედგენა, რამდენი ტრანსპორტიც ან ტვირთის სახეობაა.

## ВОПРОС 960

ПРАВИЛЬНЫЙ ОТВЕТ: 4

Цака еиқәықყазоу адыррақәа рқынтә руа иарбан аидара амфангаразы еиқәыршәоу ашәкәыцта иантатәымф

1

Аидара агара амши атыყи, аидара иахьнагатеу атыყи.

2

Аидара ахккәа рыхьзкәеи, афәхәашьеи, ишәартоу аидара ықазар, зегьирзеиყшны иазхатоу атасла уи азгәатареи.

3

Аидара акапан ма фәкала иазгәатоу аидара ахықყаზара.

4

Иатаххар, ашәкәыцта ианызар калонт абри абилет афы еиқәықყазоу адыррақәа зегьы

## განმარტება:

საქართველოს სამოქალაქო კოდექსის 674-ე მუხლის პირველი პუნქტის „დ“, „ვ“ და „თ“ ქვეპუნქტების თანახმად, ზედნადები უნდა შეიცავდეს შემდეგ მონაცემებს: - დ. ტვირთის გადაცემის დღესა და ადგილს, ასევე ტვირთის მიტანის ადგილს; - ვ. ტვირთის სახეობის ჩვეულებრივ სახელწოდებასა და შეფუთვის სახეს, საფრთხეშემცველი ტვირთების დროს, მათ საყოველთაოდ აღიარებულ აღნიშვნას; - თ. ტვირთის წონას ან სხვაგვარად აღნიშნულ რაოდენობას.



## ВОПРОС 963

ПРАВИЛЬНЫЙ ОТВЕТ: 4

Цака еиқәыпхьазоу, иаццаны иаарпшу адырракәа ркынтә руа иарбан аидара амѡангаразы еиқәыршәоу ашәкәыцта зынтцара камлоҭ

1

Аидара ахә, иара убас, аидара амѡангара иадхәалоу чыдалатәи аинтерес азгәатара.

2

Аидара аҭгаҭса иазкны адәыкәтәа амѡангаѡ иито абжәагарақәа.

3

Амѡангаѡ ирто адокументқәа реиқәыпхьаза.

4

Иатаххар, ашәкәыцта ианызар калоит абри абилет аҭы еиқәыпхьазоу адырракәа зегьы

## განმარტება:

საქართველოს სამოქალაქო კოდექსის 674-ე მუხლის მე-2 პუნქტის „ა“, „ბ“ და „გ“ ქვეპუნქტების თანახმად, საჭიროებისას შედნადები უნდა შეიცავდეს დამატებით მონაცემებს: - დ. ტვირთის ღირებულებას და მიწოდებისადმი განსაკუთრებული ინტერესის აღნიშვნას; - ე. გამგზავნის მითითებებს გადამზიდველის მიმართ ტვირთის დაზღვევის შესახებ; - ზ. გადამზიდველისათვის გადაცემული საბუთების ჩამონათვალი.

## ВОПРОС 964

ПРАВИЛЬНЫЙ ОТВЕТ: 1

Адәыкәтәа азин имоума амѡангаѡ идцара аидара акапан ма еакала иარбоу уи ахыпхьазара аитахәапшраҭ

1

Азин имоуп.

2

Азин имам.

3

Азин имоуп, уи иазпхьагәатазар амѡангара иазку аиқәшахатрала

## განმარტება:

საქართველოს სამოქალაქო კოდექსის 676-ე მუხლის მე-3 პუნქტის თანახმად, გამგზავნის შეუძლია გადამზიდველს მოსთხოვოს, რომ გადამზიდველმა გადაამოწმოს ტვირთის წონა ან მისი სხვაგვარად მოცემული რაოდენობა. მას შეუძლია ასევე მოითხოვოს, რომ გადამზიდველმა შეამოწმოს გადასაზიდი ტვირთის შემცველობა. გადამზიდველს უფლება აქვს მოითხოვოს ამ შემოწმებასთან დაკავშირებული ხარჯების ანაზღაურება. გადამოწმების შედეგები უნდა აღინიშნოს შედნადებში.

## ВОПРОС 965

ПРАВИЛЬНЫЙ ОТВЕТ: 2

Адәыкәтәд азин имоума амѡангад идцара имѡангатәу аидара иҭоу аитахәаҭшраҭ

1

Азин имам.

2

Азин имоуп.

3

Азин имоуп, уи иазҭхьагәатазар амѡангара иазку аиқәшахатрала.

## განმარტება:

საქართველოს სამოქალაქო კოდექსის 676-ე მუხლის მე-3 პუნქტის თანახმად, გამგზავნს შეუძლია გადამზიდველს მოსთხოვოს, რომ გადამზიდველმა გადაამონმოს ტვირთის წონა ან მისი სხვაგვარად მოცემული რაოდენობა. მას შეუძლია ასევე მოითხოვოს, რომ გადამზიდველმა შეამონმოს გადასაზიდი ტვირთის შემცველობა. გადამზიდველს უფლება აქვს მოითხოვოს ამ შემონმებასთან დაკავშირებული ხარჯების ანაზღაურება. გადამონმების შედეგები უნდა აღინიშნოს ზედნადებში.

## ВОПРОС 966

ПРАВИЛЬНЫЙ ОТВЕТ: 1

Адәыкәтәд амѡангад идитар имѡангатәу аидара иҭоу, иара убас, уи акапан ма еакала иარбоу ахыҭхьазара аитахәаҭшра, усқанЖ

1

Аитахәаҭшра алтшәакәа ашәкәыҭцафы иარбатәуп.

2

Аитахәаҭшра ашьатала еиқәыршәатәуп «аитахәаҭшра акт».

3

Аитахәаҭшра алтшәакәа иаразнактәкәа ишьтәуп ааигәа иҭоу ашәахтә орган ашқа.

4

Абри абилет афы еиқәыҭхьаҭоу ахәарақәа зегьы наҭзатәуп

## განმარტება:

საქართველოს სამოქალაქო კოდექსის 676-ე მუხლის მე-3 პუნქტის თანახმად, გამგზავნს შეუძლია გადამზიდველს მოსთხოვოს, რომ გადამზიდველმა გადაამონმოს ტვირთის წონა ან მისი სხვაგვარად მოცემული რაოდენობა. მას შეუძლია ასევე მოითხოვოს, რომ გადამზიდველმა შეამონმოს გადასაზიდი ტვირთის შემცველობა. გადამზიდველს უფლება აქვს მოითხოვოს ამ შემონმებასთან დაკავშირებული ხარჯების ანაზღაურება. გადამონმების შედეგები უნდა აღინიშნოს ზედნადებში.

## ВОПРОС 967

ПРАВИЛЬНЫЙ ОТВЕТ: 3

Аидара адкыларა аан амѡангаѡ игѡеитѡроупЖ

1

Цырала аидара ахыпхъазареи, адыргакѡеи, аномеркѡеи ирызкны ашѡкѡыцѡа иану адырраკѡа რიашარა მაцარა.

2

Аидареи уи аѡахѡашѡеи рѡахѡалатѡи тагылазаашѡа мацара.

3

Еиқѡыпхъазѡу адырраკѡеи атагылазаашѡақѡеи зегѡы.

4

Абри абилет аѡы еиқѡыпхъазѡу атаққѡа рѡынтѡ акызатѡыкѡы ииашам

## განმარტება:

საქართველოს სამოქალაქო კოდექსის 676-ე მუხლის პირველი პუნქტის „ა“ და „ბ“ ქვეპუნქტების თანახმად, გადამზიდველი ვალდებულია ტვირტის მიღებისას შეამოწმოს: - ა. ტვირტის ცალობრივი რაოდენობა, მათი ნიშნებისა და ნომრების შესახებ ზედნადებში აღნიშნულ მონაცემთა სისწორე; - ბ. ტვირტისა და მისი შეფუტვის გარეგნული მდგომარეობა.

## ВОПРОС 968

ПРАВИЛЬНЫЙ ОТВЕТ: 1

Амѡанგара атагылазаашѡақѡа ашѡкѡыцѡაѡы иარბамзар, даѡაკ шѡақѡырѡѡѡѡахаанѡа ипхъазазар калоитЖ

1

Амѡангаѡ аидара анидиკылоз аидареи уи аѡахѡашѡеи рѡахѡалатѡи тагылазаашѡა ბზიან, ცырала аидара ахыпхъазареи, уи адыргакѡეи ანორмақѡეи აშѡკѡыцѡა იანუ აдыრраკѡა ირყშაშѡალოуп.

2

Амѡангаѡ аидара идимкылеит.

3

Амѡангаѡ ашѡкѡыцѡეи аидареи идимкылеит.

## განმარტება:

საქართველოს სამოქალაქო კოდექსის 677-ე მუხლის მე-2 პუნქტის თანახმად, თუ ზედნადებში არ არის აღნიშნული გადამზიდვის პირობები, საპირისპიროს დამტკიცებამდე ივარაუდება, რომ გადამზიდველის მიერ ტვირტის მიღებისას ტვირტი და მისი შეფუტვა გარეგნულად კარგ მდგომარეობაში იყო და რომ ტვირტის ცალობრივი რაოდენობა, მისი აღნიშვნები და ნომრები ემთხვევა ზედნადებში ჩანერილ მონაცემებს.



## ВОПРОС 969

ПРАВИЛЬНЫЙ ОТВЕТ: 2

Аидара амѡангара аан, ашѡкѡыцѡаѡы иазгѡаѡу, уи иаѡу ма амѡангаѡ ирѡаз аѡокументкѡа рѡѡыѡра ма ииаѡамкѡа рѡარѡარაѡы аѡак иѡѡыѡѡუѡ

1

Аѡѡкѡѡაѡ.

2

Амѡангаѡ.

3

Аидара аѡкѡлаѡ.

## განმარტება:

საქართველოს სამოქალაქო კოდექსის 679-ე მუხლის მე-3 პუნქტის თანახმად, გადამზიდველი პასუხს აგებს ზედნადებში აღნიშნული და მასზე დართული ან გადამზიდველისათვის გადაცემული საბუთების დაკარგვის ან მათი არასწორი გამოყენებისათვის; მას არ შეიძლება იმაზე მეტი პასუხისმგებლობა დაეკისროს, ვიდრე ტვირთის დაკარგვის დროს დადგებოდა.

## ВОПРОС 970

ПРАВИЛЬНЫЙ ОТВЕТ: 1

Аидара амѡангара аан, ашѡкѡыцѡаѡы иазгѡаѡу, уи иаѡу ма амѡангаѡ ирѡаз аѡокументкѡа рѡѡыѡра ма ииаѡамкѡа рѡარѡარაѡы амѡангаѡѡ

1

Аидара аѡѡыѡრა аан иѡѡырѡაѡაѡ  
აѡაქѡѡყკѡრა еиѡаны аѡაქѡѡყკѡრა иѡѡარა  
კალომ.

2

Аидара аѡѡыѡრა аан иѡѡырѡაѡაѡ  
აѡაქѡѡყკѡრა еиѡаны аѡაქѡѡყკѡრა иѡѡარა  
კალოიტ.

## განმარტება:

საქართველოს სამოქალაქო კოდექსის 679-ე მუხლის მე-3 პუნქტის თანახმად, გადამზიდველი პასუხს აგებს ზედნადებში აღნიშნული და მასზე დართული ან გადამზიდველისათვის გადაცემული საბუთების დაკარგვის ან მათი არასწორი გამოყენებისათვის; მას არ შეიძლება იმაზე მეტი პასუხისმგებლობა დაეკისროს, ვიდრე ტვირთის დაკარგვის დროს დადგებოდა.

## ВОПРОС 971

ПРАВИЛЬНЫЙ ОТВЕТ: 2

Аидара ацәызра, аҭхастахара ма анагара аҭхәара аилагаразы амџангаџ атак иҭхыкәумЖ

1

Амџангара иазку аиқәшахатрала иазҭхыагәатамзар аидара ацәызра, аҭхастахара ма анагара аҭхәара аилагаразы амџангаџ атакҭхыкәра иқәцара.

2

Абарт афактқәа қалазар азинмчы змоу ауаџы ихарала ма уи иқайтаз адтала.

3

Абарт афактқәа қалазар аидара мџанызго атранспорттә хархәага агра иахкәаны ма уи рхаразар атранспорттә хархәага қыралა ирызтаз ма қыралა изгаз аусуџәа.

## განმარტება:

საქართველოს სამოქალაქო კოდექსის 686-ე მუხლის მე-2 პუნქტის თანახმად, გადამზიდველი თავისუფლდება პასუხისმგებლობისაგან, თუ ტვირთის დაკარგვა, დაზიანება ან მიტანის ვადის გადაცილება უფლებამოსილი პირის ბრალით ანდა ამავე პირის ისეთი მითითებით მოხდა, რომელზედაც გადამზიდველი პასუხს არ აგებს; აგრეთვე, თუ ტვირთის ნაკლი ისეთი გარემოებებითაა გამოწვეული, რომელთა თავიდან აცილებაც გადამზიდველს არ შეეძლო და არც მათი შედეგები შეიძლებოდა თავიდან აეცილებინა.

## ВОПРОС 972

ПРАВИЛЬНЫЙ ОТВЕТ: 2

Еиқәыҭхыазоу атагылазаашыақәа рқынтә руа иарбан аидара аҭахәашыа цәгәа иахкәаны ауаа, аматәарқәа ма даеа тауарк азарал роузар, адәықәтәџ амџангаџ иҭаҭхыа атакҭхыкәра ниқәымЖ

1

Амџангара иазку аиқәшахатрала абри еиҭш аҭхыкәра иазҭхыагәатамзар.

2

Агра лабџаба иубаратәы иқазар, ма аидара адкыларა аан амџангаџ уи атәы идырны, иарбанзаалак ахәарак иқәимырғылазар.

3

Ашкәыцтәџы иқатоу чыдалатәи азгәата ашыәтала адәықәтәџ атакҭхыкәра иқәцара қамлозар.

## განმარტება:

საქართველოს სამოქალაქო კოდექსის 678-ე მუხლის მე-2 პუნქტის თანახმად, გამგზავნი პასუხს აგებს გადამზიდველის წინაშე ტვირთის უხარისხო შეფუთვით გამოწვეული ზიანისათვის, რომელიც მიაღდა პირებს, მასალებსა და სხვა ქონებას, ასევე უხარისხო შეფუთვით გამოწვეული ხარჯებისათვის, გარდა იმ შემთხვევებისა, როცა ნაკლი აშკარა იყო, ან ტვირთის მიღებისას გადამზიდველმა ამის შესახებ იცოდა და ამასთან დაკავშირებით რაიმე პირობა არ დაუთქვამს.

## ВОПРОС 973

ПРАВИЛЬНЫЙ ОТВЕТ: 1

Аидара агара амши атыџи, иара убас, аидара иахьнагатәу атыџи ирызкны ииашамкәа ашәкәыцта иану адырракәа ирхылџаауа ахарџи азарали рзы атак иџхыкәупЖ

1 Адәыкәтәд.

2 Амџангад.

3 Аидара адкылад.

## განმარტება:

საქართველოს სამოქალაქო კოდექსის 675-ე მუხლის პირველი ნაწილის „ა“ ქვეპუნქტის თანახმად გამგზავნი პასუხს აგებს ყველა იმ ხარჯისა და ზიანისათვის, რომლებიც დადგა იმის გამო, რომ არასწორად ან არასრულყოფილად იქნა წარმოდგენილი 674-ე მუხლის პირველი ნაწილის "ბ", "დ", "ე", "ვ", "ზ", "თ" და "კ" ქვეპუნქტებში აღნიშნული მონაცემები. ხოლო ამავე კოდექსის 674-ე მუხლის პირველი ნაწილის „დ“ ქვეპუნქტის თანახმად ზედნადები უნდა შეიცავდეს მონაცემებს ტვირთის გადაცემის დღისა და ადგილის, ასევე ტვირთის მიტანის ადგილის შესახებ.

## ВОПРОС 974

ПРАВИЛЬНЫЙ ОТВЕТ: 2

Цака еикәыџхьазоу агәаанагаракәа ркынтә руа иарбан ииашоуџ Адәыкәтәд атак иџхыкәуп ииашамкәа ашәкәыцта иану, ахарџи азарали зхылџааз адырракәа рзыЖ

1 Амџанგара иадхәалоу ахарџкәа ирызку  
ჟამџანგარა ახ, იაцтаны икоу ахарџкәеи,  
აიმпорт азы ашәахтәи, аикәшахатра  
адкыларა инаркны аидара анагаранџа иқало  
егьырт ахарџкәеиТ.

2 Аидара ахккәа рыхьжкәеи аґахәашьеи  
ირызу, иара убас, ишәартоу аидара  
ამџანგარა აან, ზეგьირზეიџшны иазхатოу  
азგәატარა იазку.

## განმარტება:

საქართველოს სამოქალაქო კოდექსის 675-ე მუხლის პირველი ნაწილის „ა“ ქვეპუნქტის თანახმად გამგზავნი პასუხს აგებს ყველა იმ ხარჯისა და ზიანისათვის, რომლებიც დადგა იმის გამო, რომ არასწორად ან არასრულყოფილად იქნა წარმოდგენილი 674-ე მუხლის პირველი ნაწილის "ბ", "დ", "ე", "ვ", "ზ", "თ" და "კ" ქვეპუნქტებში აღნიშნული მონაცემები. ხოლო ამავე კოდექსის 674-ე მუხლის პირველი ნაწილის „ვ“ ქვეპუნქტის თანახმად ზედნადები უნდა შეიცავდეს მონაცემებს ტვირთის სახეობის ჩვეულებრივ სახელწოდებასა და შეფუთვის სახის, საფრთხეშემცველი ტვირთების დროს, მათ საყოველთაოდ აღიარებულ აღნიშვნის შესახებ.

## ВОПРОС 975

ПРАВИЛЬНЫЙ ОТВЕТ: 3

Амѡангара иазку аикѡшахатрала аидара анагара аѣхѡара пѣѡазар, аидара анагара аѣхѡара еилагоуп хѡа ипѣхѡазахоитЖ

1

Аидара атыпѡашка инагамзар иззеикѡшахатхаз аѣхѡара аниаслак аамышьтахь амзартѡ 30ემшы иრეიტამკѡა რეѡნыტკალა.

2

Аидара атыпѡашка инагамзар иззеикѡшахатхаз аѣхѡара аниаслак аамышьтахь аусуратѡ 15ემшы иრეიტამკѡა რეѡნыტკალა.

3

Аидара атыпѡашка инагам иззеикѡшахатхаз аѣхѡара инатკანყ

## განმარტება:

საქართველოს სამოქალაქო კოდექსის 688-ე მუხლის თანახმად ტვირთის მიტანის ვადის გადაცილებად ითვლება, როცა ტვირთი არ არის მიტანილი შეთანხმებულ ვადაში, ან, თუ ვადა არ იყო დათქმული, - გადასაზიდად საჭირო ჩვეულებრივ დროში - იმ გარემოებათა გათვალისწინებით, რომლებიც დაკავშირებულია ნაწილ-ნაწილ დატვირთვისას ამ ნაწილების შესაკრებად აუცილებელი დროის განსაზღვრასთან, თუ დარღვეულია ვადა, რომელიც წინდახედულ გადამზიდველს უნდა დაეცვა ჩვეულებრივ შემთხვევებში.

## ВОПРОС 976

ПРАВИЛЬНЫЙ ОТВЕТ: 1

Амѡангара иазку аикѡшахатрала аидара анагара аѣхѡара пѣѡამзар, аидара анагара аѣхѡара еилагоуп хѡа ипѣхѡазахоитЖ

1

Аидара нагамзар абжѡаапѣны амѡангаразы иатаху аамტა инатკანყ – хѡტაѣхѡტала аидара აკѡტარა აან აბარტ ახѡტაკѡა რეизгаразы иатаху аамტა ახѡააკѡტარა иადхѡალოу атагылазаашѡაკѡა иазпѣхѡაგѡატаны, მა пѣхѡაკა ихѡყцуа амѡანგად абжѡаапѣныტა тагылазаашѡაѣყ ихѡчараны иკаз аѣхѡара еилагазар.

2

Аидара нагамзар уи адѡყკѡტარა инаркны амзартѡ шыкѡсык аѡныტკალა

## განმარტება:

საქართველოს სამოქალაქო კოდექსის 688-ე მუხლის თანახმად ტვირთის მიტანის ვადის გადაცილებად ითვლება, როცა ტვირთი არ არის მიტანილი შეთანხმებულ ვადაში, ან, თუ ვადა არ იყო დათქმული, - გადასაზიდად საჭირო ჩვეულებრივ დროში - იმ გარემოებათა გათვალისწინებით, რომლებიც დაკავშირებულია ნაწილ-ნაწილ დატვირთვისას ამ ნაწილების შესაკრებად აუცილებელი დროის განსაზღვრასთან, თუ დარღვეულია ვადა, რომელიც წინდახედულ გადამზიდველს უნდა დაეცვა ჩვეულებრივ შემთხვევებში.

## ВОПРОС 977

ПРАВИЛЬНЫЙ ОТВЕТ: 3

Амѡангара иазку аиқѡшахатрала аидара анагара аконкреттѡ аѣхѡара ѣцѡазар, азинмчы змоу ауаѡы, иаццаны ашахатгақѡа цѡырымгақѡа, аидара изуп хѡа иѣхѡазар илшоитЖ

1

Амѡангаразы иззеиқѡшахатхаз аѣхѡара анынцѡа аамышьтахъ 10ემшы рыѡныцკала аидара нагамзар иахѡатаху атыѣ ашკа.

2

Амѡангаразы иззеиқѡшахатхаз аѣхѡара анынцѡа аамышьтахъ 20ემшы рыѡныцკала аидара нагамзар иахѡатаху атыѣ ашკа.

3

Амѡангаразы иззеиқѡшахатхаз аѣхѡара анынцѡа аамышьтахъ 30ემшы рыѡныцკала аидара нагамзар иахѡатаху атыѣ ашკа.

## განმარტება:

საქართველოს სამოქალაქო კოდექსის 688-ე მუხლის პირველი ნაწილის თანახმად უფლებამოსილ პირს შეუძლია დამატებით მტკიცებულებათა წარმოდგენის გარეშეც ტვირთი ჩათვალოს დაკარგულად, თუ ტვირთი გადაზიდვის შეთანხმებული ვადის გასვლიდან ოცდაათი დღის ვადაში არ იქნება მიტანილი დანიშნულების ადგილზე ან, თუ ასეთი ვადა არ ყოფილა დათქმული, - გადაზიდველის მიერ ტვირთის მიღებიდან სამოცი დღის შემდეგ.

## ВОПРОС 978

ПРАВИЛЬНЫЙ ОТВЕТ: 2

Амѡангара иазку аиқѡшахатрала аидара анагара аѣхѡара ѣцѡამзар, азинмчы змоу ауаѡы, иаццаны ашахатгақѡа цѡырымгақѡа, аидара изуп хѡа иѣхѡазар илшоитЖ

1

Амѡანგაѡ аидара нидикыла инаркны 50ე მшы рыѡныцკала.

2

Амѡანგაѡ аидара нидикыла инаркны 60 ე მшы რაамышьтахъ.

3

Амѡანგაѡ аидара нидикыла инаркны шықѡсык еитѡамқѡа антѡлак аамышьтахъ.

## განმარტება:

საქართველოს სამოქალაქო კოდექსის 688-ე მუხლის პირველი ნაწილის თანახმად უფლებამოსილ პირს შეუძლია დამატებით მტკიცებულებათა წარმოდგენის გარეშეც ტვირთი ჩათვალოს დაკარგულად, თუ ტვირთი გადაზიდვის შეთანხმებული ვადის გასვლიდან ოცდაათი დღის ვადაში არ იქნება მიტანილი დანიშნულების ადგილზე ან, თუ ასეთი ვადა არ ყოფილა დათქმული, - გადაზიდველის მიერ ტვირთის მიღებიდან სამოცი დღის შემდეგ.



## ВОПРОС 979

ПРАВИЛЬНЫЙ ОТВЕТ: 1

Адәықәтәд ишәартоу аидара дәықәйтцозар, уи иуалупЖ

1

Амәангад ииашоу адыррақәеи, абри аидара ишшәартоу азы агәәантареи итара, иатахызар – абри аидара аҭгаҭса аикәыршәара.

2

Аидара амәангара аҭагылазаашьақәа рзы заанаты аикәшахатхара ашәахтә орган аҭы.

3

Абри абилет аҭы еикәыҭхьаҭоу аҭагылазаашьақәа зегьы наҭзатәуп

## განმარტება:

საქართველოს სამოქალაქო კოდექსის 691-ე მუხლის პირველი ნაწილის თანახმად, თუ გამგზავნი გზავნის საფრთხეშემცველ ტვირთს, მაშინ იგი ვალდებულია გადამზიდველს მიანოდოს ზუსტი ინფორმაცია და გააფრთხილოს ამ ტვირთის შესახებ, საჭიროების შემთხვევაში კი - დააზღვიოს ეს ტვირთი. თუ ეს ვალდებულება არ არის შეტანილი ზედნადებში, მაშინ გამგზავნსა და მიმღებს ევალებათ სხვა საშუალებებით დაამტკიცონ, რომ გადამზიდველმა ზუსტად იცოდა ტვირთის სახეობა და მოსალოდნელი საფრთხე.

## ВОПРОС 980

ПРАВИЛЬНЫЙ ОТВЕТ: 1

Амәангад, азарал ахартәааразы изакәызаалак такҭхықәрак ада, иарбанзаалак атыҭаҭы, аидара ақәхрей, ашәартадатәрей илшоитЖ

1

Ари аидара ишәартазар, аха адәықәтәд адырра ахыҭаимтҭаз ақынтә, амәангад уи атәы изымдыруазар.

2

Адәықәтәд аидара амәангара ахә ашәара иаамтаны изеიқәиршәом хәа агәдара ыҭказар.

## განმარტება:

საქართველოს სამოქალაქო კოდექსის 691-ე მუხლის მე-2 ნაწილის თანახმად, საფრთხეშემცველი ტვირთი, რომლის საფრთხის შესახებაც გამგზავნის მიერ ინფორმაციის მიუწოდებლობის გამო გადამზიდველმა არაფერი იცოდა, გადამზიდველს შეუძლია ნებისმიერ დროსა და ნებისმიერ ადგილას გადმოცალოს, მოსპოს ან გააუვნებელყოს იგი ზიანის ანაზღაურების ვალდებულების გარეშე; გამგზავნი ასევე აგებს პასუხს ამ ტვირთის გადასაზიდად გადაცემით ან გადაზიდვებით გამოწვეული ზიანისა და ხარჯებისათვის.

## ВОПРОС 981

ПРАВИЛЬНЫЙ ОТВЕТ: 3

Амѡангаѡ, аидара ишеибгоу ма уи хѣтак ацѣызра иахылѣиааз азарал ахѣ ахшѣара ихѣтазар, азарал шыақѣыргылахоитЖ

1

Адкылаѡ аидара иахыдикило атыѣаѣы ианидикило аамтазы ари аидаразы ишыақѣыргылоу ахѣ инақѣырѣшны.

2

Аидара амѡангара алагареи ахыркѣшареи ирыбжьоу аамтазы абри еиѣш аидаразы ишыақѣыргылоу амақсималтѣ ахѣ инақѣырѣшны.

3

Аидара аимдара атыѣаѣы уи аамтазы иѡоу аидара ахѣ инақѣырѣшны.

## განმარტება:

საქართველოს სამოქალაქო კოდექსის 692-ე მუხლის პირველი ნაწილის თანახმად, თუ გადამზიდველი ვალდებულია ტვირტის მთლიანად ან ნაწილობრივ დაკარგვისათვის ანაზღაუროს ზიანი, მაშინ ზიანის ანაზღაურება გამოითვლება ტვირტის გადაცემის ადგილსა და დროს მოქმედი ტვირტის ფასის მიხედვით.

## ВОПРОС 982

ПРАВИЛЬНЫЙ ОТВЕТ: 1

Адкылаѡ, амѡангаѡ дицны аидара аѣагылазаашѣа гѣамтакѣа аидара идикилазар, азеиѣш љазшѣа змоу ацѣызи аѣухастеи рзы амѡангаѡ иахѣ аѣѣынкыла имамзар, усѣан, даѣак шыақѣырѣѣѣахаанза иѣухѣазахоитЖ

1

Адкылаѡ аидара идикилеит ашѣѣѣыцѣაѣы иარбоу аѣагылазаашѣақѣа рыла.

2

Адкылаѡ аидара идикилеит аидара аѣагылазаашѣа гѣамтакѣа.

3

Адкылаѡ аидара идимкылеит.

## განმარტება:

საქართველოს სამოქალაქო კოდექსის 698-ე მუხლის პირველი ნაწილის თანახმად, თუ მიმღები მიიღებს ტვირტს ისე, რომ მის მდგომარეობას არ ამოწმებს გადამზიდველთან ერთად და არ უყენებს გადამზიდველს ზოგადი ხასიათის პრეტენზიას დანაკარგებისა და დაზიანების შესახებ, მაშინ საპირისპიროს დამტკიცებამდე ივარაუდება, რომ მიმღებმა ტვირტი ჩაიბარა ზედნადებში მითითებულ მდგომარეობაში.

## ВОПРОС 983

ПРАВИЛЬНЫЙ ОТВЕТ: 2

Аидара ацѣызра, аџхастахара ма анагара аѣхѣара аилагара аан, амѣангаразы ишыѣѣыргылоу азинѣѣа рынѣыра аѣхѣара иалагоитЖ

1

Адѣыѣѣѣ арекламация ЂѣѣѣынѣылаТ ианалигала амш инарѣны

2

Аидара адѣыѣѣѣ амш инарѣны.

3

Аидара ацѣызра ма аџхастахара амш инарѣны, аѣхѣара еилагазар – аидара анагаразы ишыѣѣыргылоу амш инарѣны.

## განმარტება:

საქართველოს სამოქალაქო კოდექსის 699-ე მუხლის „ა“ ქვეპუნქტის თანახმად, ამ თავში მოწესრიგებული გადაზიდვებიდან გამომდინარე უფლებების ხანდაზმულობის ვადა არის ერთი წელი. განზრახვის ან უხეში გაუფრთხილებლობისას ეს ვადა შეადგენს სამ წელს. ხანდაზმულობის ვადის დენა იწყება ტვირთის ნაწილობრივ დაკარგვის, დაზიანების ან ჩაბარების ვადის გადაცილებისას - მისი გამოგზავნის დღიდან.

## ВОПРОС 984

ПРАВИЛЬНЫЙ ОТВЕТ: 3

Хыѣѣыла ма атакѣхыѣѣарадара аан, амѣангаразы ишыѣѣыргылоу азинѣѣа рынѣыра аѣхѣара иаѣароупЖ

1

Шыѣѣыѣ.

2

Ѧышыѣѣѣ.

3

Хышыѣѣѣ.

4

Хѣышыѣѣѣ.

## განმარტება:

საქართველოს სამოქალაქო კოდექსის 699-ე მუხლის თანახმად, ამ თავში მოწესრიგებული გადაზიდვებიდან გამომდინარე უფლებების ხანდაზმულობის ვადა არის ერთი წელი. განზრახვის ან უხეში გაუფრთხილებლობისას ეს ვადა შეადგენს სამ წელს.

## ВОПРОС 985

ПРАВИЛЬНЫЙ ОТВЕТ: 1

Ишеибгоу аидара ацәыџра аан, амџангаразы ишьақәыргылоу азинқәа рынцџыра аџхәара иалагоитЖ

1

Амџангаразы иззеиқәшахатхаз аџхәара анынцәалак аамышьтахь 21етәи амш инаркны, ма, аџхәара пџтәамзар, е амџангаџ аидара нидикылалак аамышьтахь 60етәи амш азы.

2

Амџангаразы иззеиқәшахатхаз аџхәара анынцәалак аамышьтахь 60етәи амш инаркны, ма, аџхәара пџтәамзар, е амџангаџ аидара нидикылалак аамышьтахь шықәсык антцлак.

3

аидара нидикылалак инаркны 90етәи амш азы.

## განმარტება:

საქართველოს სამოქალაქო კოდექსის 699-ე მუხლის „ბ“ ქვეპუნქტის თანახმად, ამ თავში მოწესრიგებული გადაზიდვებიდან გამომდინარე უფლებების ხანდაზმულობის ვადა არის ერთი წელი. განზრახვის ან უხეში გაუფრთხილებლობისას ეს ვადა შეადგენს სამ წელს. ხანდაზმულობის ვადის დენა იწყება ტვირთის მთლიანად დაკარგვისას - გადაზიდვის შეთანხმებული ვადის გასვლის ოცდამეათე დღიდან ან, თუ ასეთი ვადა არ ყოფილა დათქმული, - გადამზიდველის მიერ ტვირთის მიღებიდან მესამოცე დღეს.

## ВОПРОС 986

ПРАВИЛЬНЫЙ ОТВЕТ: 1

Еиуеиџшым амџангаџцәа, еиқәшахатрак ала, еишьтагыланы аидара мџаныргозар, урт рыцыџхьаза атак иџхықәупЖ

1

Ишеибгоу амџанგара зегьы анагзаразы.

2

Хәтака, иара затә инаигзо амџангаразы.

## განმარტება:

საქართველოს სამოქალაქო კოდექსის 701-ე მუხლის თანახმად, თუ გადაზიდვა ერთი ხელშეკრულებით ხორციელდება ერთმანეთის მიმდევარი სხვადასხვა გადამზიდველების მიერ, თითოეული მათგანი პასუხს აგებს მთლიანი გადაზიდვის განხორციელებისათვის.

## ВОПРОС 987

ПРАВИЛЬНЫЙ ОТВЕТ: 1

Иара иаџхѡа иѡаз амѡанგად иѡынтѡ аидара здызкылаз амѡанგად, аѣхѡара зныџшуа, иара инапы зтаѡу, аидара адкыларა шыаѡѡыръѡѡѡѡ ашѡѡѡѡ аѡара иуалумаѢ

1

Иуалуп.

2

Иуалым.

## განმარტება:

საქართველოს სამოქალაქო კოდექსის 702-ე მუხლის პირველი ნაწილის თანახმად, გადამზიდველი, რომელიც წინა გადამზიდველისაგან იღებს ტვირთს, ვალდებულია გადასცეს ტვირთის მიღების დამადასტურებელი ვადამითითებული და მის მიერ ხელმოწერილი საბუთი. ზედნადების მეორე პირზე მან უნდა მიუთითოს თავისი სახელი და მისამართი. საჭიროების შემთხვევაში ზედნადების მეორე პირში გადამზიდველს შეაქვს 676-ე მუხლის მე-2 ნაწილით გათვალისწინებული პირობები და ტვირთის მიღების დადასტურება.

## ВОПРОС 988

ПРАВИЛЬНЫЙ ОТВЕТ: 1

Амѡанგად аидара аџгаџса иахылѣиаауа ахѡараѡѡ даѡѡрыхѡѡѡѡѡѡ, иარбанзаалак еиѡѡшахатрак амѡ амоумаѢ

1

Амч амам.

2

Амч амоуп.

## განმარტება:

საქართველოს სამოქალაქო კოდექსის 708-ე მუხლის მე-2 ნაწილის თანახმად, ბათილია ყოველი შეთანხმება, რომლითაც გადამზიდველი ტვირთის დაზღვევიდან წარმოშობილ მოთხოვნებს თმობს, და ყოველი სხვა მსგავსი შეთანხმება, რომლითაც მტკიცების ტვირთი სხვა პირზე იქნება გადატანილი.



## ВОПРОС 989

ПРАВИЛЬНЫЙ ОТВЕТ: 2

Арныкәә икәҕытра аамта иаанаҕойҕ

1

Ашәарта абара аҕынтә амашына аангылар аҕынза ибжьоу аамта.

2

Ашәарта абара аҕынтә уи аҕаҕаразы ихымҕадоу аҕаҕылазаашыаҕа рынаҕзара аҕынза ибжьоу аамта

3

Акселератор аҕаҕа аҕынтә аанкыларатә аҕаҕа ашҕа ашҕа аҕаҕаразы иаҕаху аамта.

## განმარტება:

მძღოლის რეაქციის დროში იგულისხმება - დრო საფრთხის აღმოჩენიდან მისი თავიდან აცილებისათვის საჭირო ზომების მიღებამდე.

## ВОПРОС 990

ПРАВИЛЬНЫЙ ОТВЕТ: 1

Анакәа аан атранспорттә хархәагала еитатҕа арныкәә аҕаҕаҕара рҕынза абжыазаара игәниҕойҕ

1

Ииашатәҕыны ишыҕоу еиҕш акәымкәа, иаҕа идуушәа.

2

Ииашатәҕыны ишыҕоу еиҕш акәымкәа, иаҕа ихәычушәа.

3

Ииашатәҕыны ишыҕоу еиҕштәҕа.

## განმარტება:

ნისლიან ამინდში სატრანსპორტო საშუალებით მოძრაობისას მანძილს საგნებამდე აღვიქვამთ უფრო მეტად, ვიდრე რეალურადაა.

Автомобиль аанкыларაан уи иახылтუа аихабжьы аҭыжбжьы иаанагоитЖ

1

Апневматикатә аанкыларатә система аҭауа алтцует

2

Аанкылагақәа ишахәтәу еиҭш еиҭкаам

3

Аанкылагақәа хәартам

4

Апневматикатә аанкыларатә системаҭы акондесат аҭазара шытытит

### განმარტება:

ავტომობილის დამუხრუჭებისას გამოცემული ლითონის ხმა და დამახასიათებელი ჭრიელი მიუთითებს სამუხრუჭო ხუნდების გაცვეთაზე.

თემა 31:

## ადმინისტრაციული კანონი

---

## ВОПРОС 992

ПРАВИЛЬНЫЙ ОТВЕТ: 1

Хылапшрада, ма арахә ахьчара атцасқәа еилаганы амџа ианыз арахә амџатә амашәыр иалтцшәаны ааха аиузар ма ипсызарЖ

1

Арныкәаџ арахә аҭсра ма аахара  
иахылџиааз азарал ахә ахшәара ихәтам

2

Арныкәаџ арахә аҭсра ма аахара  
иахылџиааз азарал ахә ахшәара ихәтоуп

## განმარტება:

„საგზაო მოძრაობის შესახებ“ საქართველოს კანონის 22-ე მუხლის მე-9 პუნქტის თანახმად, თუ საგზაო-სატრანსპორტო შემთხვევის შედეგად დაიღუპა ან დაშავდა პირუტყვი, რომელიც გზაზე უმეტადად უნაღებოდ ან პირუტყვის ძოვების ან გარეკვის წესების დარღვევით იმყოფებოდა, მძღოლი თავისუფლდება მისი დაღუპვით ან დაშავებით მიყენებული ზიანის ანაზღაურების ვალდებულებისაგან.

## ВОПРОС 993

ПРАВИЛЬНЫЙ ОТВЕТ: 2

Атранспорттә хархәага, аитатцразы ахәартара гәазто атестирра ишахысыз ишьякәзырҭҭәҭәо акыдџыла атара иауалупЖ

1

Кырттәыла аџнытқатәи аусқәа рминистрра

2

Атестирра ацентр

3

Аилахәыра – ахбарстатә транспорт агентра

## განმარტება:

„საგზაო მოძრაობის შესახებ“ საქართველოს კანონის მე-11 მუხლის მე-6 პუნქტის თანახმად, ავტოსატრანსპორტო საშუალების გზისთვის ვარგისობაზე ტესტირების გავლის დამადასტურებელ ფირმის გასცემს ტესტირების ცენტრი.

## ВОПРОС 994

ПРАВИЛЬНЫЙ ОТВЕТ: 2

Аоперативтәаҭшааратәи аусҭшааратәи аусмҭаҭгәтәкәа рынагзара аамышьтахь, атранспорттә хархәага арныкәаф, ахәара калар, аҭныткәтәи аусқәа рминистрра азинмчы змоу ахаҭы агәатаразы иирбароупЖ

1

Игәабзиара шықәзырҭҭәо амедицинатә аилыркаага

2

Ихатә гәраргага мацара

3

Атранспорттә хархәага ашәкәытәәра аилыркаага.

## განმარტება:

„საგზაო მოძრაობის შესახებ“ საქართველოს კანონის მე-13 მუხლის პირველი პუნქტის „ბ“ ქვეპუნქტისა და მე-2 პუნქტის თანახმად: 1. გზაზე სატრანსპორტო საშუალების მოძრაობის შემლუდვა ან დროებით შეწყვეტა ხორციელდება: ბ) ცალკეული ოპერატიულ-სამძებრო და საგამოძიებო მოქმედებების ჩასატარებლად; 2. ამ მუხლის პირველი პუნქტის „ბ“ და „ვ“ ქვეპუნქტებით გათვალისწინებულ შემთხვევებში სატრანსპორტო საშუალების მძღოლი ვალდებულია მოთხოვნისას საქართველოს შინაგან საქმეთა სამინისტროს უფლებამოსილ პირს შემონმებისათვის წარუდგინოს მხოლოდ პირადობის დამადასტურებელი დოკუმენტი.

## ВОПРОС 995

ПРАВИЛЬНЫЙ ОТВЕТ: 1

Амҭәтәәатранспорттә амашәыр иалахәу арныкәаф, амашәыр аан ааха зауз ма итәхаз хәа азәгы дшыкам агәра игар иуалумаҭ

1

Иуалуп

2

Иуалуп, уи дҳақымзар

3

Иуалым, амедицинатә цыхраара лас ааҭхьара еиқәиршәар

4

Иуалым, амҭәтәәатранспорттә амашәыр иара ихарамзар

## განმარტება:

„საგზაო მოძრაობის შესახებ“ საქართველოს კანონის 27-ე მუხლის პირველი პუნქტის „ბ“ ქვეპუნქტის თანახმად, საგზაო-სატრანსპორტო შემთხვევის მონაწილე მძღოლი ვალდებულია: ბ) დარწმუნდეს, რომ საგზაო-სატრანსპორტო შემთხვევის შედეგად არავინ დაშავებულია ან დაღუპულია.



## ВОПРОС 996

ПРАВИЛЬНЫЙ ОТВЕТ: 3

Ахәшәтәыртахь инеира, ма иара ихъаны ааха зауз ахафь иагара ахымҭадара иҭамзар, амәатәе атранспорттә амашәыр иалахәу арныкәаф иуалупЖ

- 1 Итранспорти хархәага ааигәа иҭоу апатрультә полициашҭа иаганы, иҭалаз афакт идирдыроуп
- 2 Амашәыр асхема еиқәыршәаны, ашахатцәа рҭахәы рымхны, абарт ашәкәкәа зегьы ааигәа иҭоу аполиция ақәшахы инаигароуп
- 3 Амашәыр атыҭафь даангыланы, азинмчы змоу ахафь инеира дазыҭшыроуп

## განმარტება:

„საგზაო მოძრაობის შესახებ“ საქართველოს კანონის 27-ე მუხლის პირველი პუნქტის „ვ“ ქვეპუნქტის თანახმად, საგზაო-სატრანსპორტო შემთხვევის მონაწილე მძღოლი ვალდებულია: გ) მომხდარის შესახებ დაუყოვნებლივ აცნობოს საქართველოს შინაგან საქმეთა სამინისტროს სისტემაში შემავალ შესაბამის სამსახურს და, თუ არ არსებობს სამკურნალო დაწესებულებაში მისი მისვლის ან მის მიერ დაშავებულის გადაყვანის გადაუდებელი აუცილებლობა, დარჩეს საგზაო-სატრანსპორტო შემთხვევის ადგილზე და დაელოდოს უფლებამოსილი პირის მისვლას.

## ВОПРОС 997

ПРАВИЛЬНЫЙ ОТВЕТ: 1

Амәатәеатранспорттә амашәыр иалахәу арныкәаф иҭалаз атәы ихҭмырқьакәа идирдыроупЖ

- 1 Қыртәыла аҭныкәатәи аусқәа рминистрра иалоу иашьашәалоу аматұра
- 2 Атыҭантәи ахатәхеиҭкааратә орган
- 3 Қыртәыла аҭауси, ағәабзиарахьчарей, асоциалтә ахьчарей рминистрра

## განმარტება:

„საგზაო მოძრაობის შესახებ“ საქართველოს კანონის 27-ე მუხლის პირველი პუნქტის „ვ“ ქვეპუნქტის თანახმად, საგზაო-სატრანსპორტო შემთხვევის მონაწილე მძღოლი ვალდებულია: გ) მომხდარის შესახებ დაუყოვნებლივ აცნობოს საქართველოს შინაგან საქმეთა სამინისტროს სისტემაში შემავალ შესაბამის სამსახურს და, თუ არ არსებობს სამკურნალო დაწესებულებაში მისი მისვლის ან მის მიერ დაშავებულის გადაყვანის გადაუდებელი აუცილებლობა, დარჩეს საგზაო-სატრანსპორტო შემთხვევის ადგილზე და დაელოდოს უფლებამოსილი პირის მისვლას.



## ВОПРОС 1000

ПРАВИЛЬНЫЙ ОТВЕТ: 1

Амღათეატრანსპორტტე ამაშჲყრ აან აზღჲყ ააჲა იმოუზარ, ასჲემა იანეიკადჲრშეალაკ, ამღათე ატრანსპორტტე ამაშჲყრ იალაჲჲ არნჲკეაფჲეა, ეიკეაშაჲატნჲჲ

1

Ааигеа икоу аполициа акешахы инеины, ари афакт ашәкәы итарыроуп

2

Еикешахатроуп аҭхаста ахә ахшәара атагылазаашьақәа рзы, уи аамтазы ааигеа икоу аполициа акешахы анеиреи ари афакт ашәкәы атаҭреи ихымҭадам.

## განმარტება:

„საგზაო მოძრაობის შესახებ“ საქართველოს კანონის 27-ე მუხლის მე-2 პუნქტის თანახმად, თუ საგზაო-სატრანსპორტო შემთხვევის შედეგად არავინ დაშავებულია, მძღოლებს, არსებულ გარემოებათა შეფასებით, შეთანხმების საფუძველზე შეუძლიათ წინასწარ შეადგინონ შემთხვევის სქემა, მოაწერონ ხელი და მივიღწენ საპატრულო პოლიციის უახლოეს დანაყოფში ამ ფაქტის გასაფორმებლად.

## ВОПРОС 1001

ПРАВИЛЬНЫЙ ОТВЕТ: 1

Амღათეატრანსპორტტე ამაშჲყრ იალაჲჲ არნჲკეაფ, ახეშეტჲყრტაჲყ ანეირა ამზყლა ამაშჲყრ ატყჲ აანჲჲრა იკეაშჲარ, ახეშეტჲყრტაჲყ უი იუალუჲჲ

1

Ихъџи ижәлеи рәхәаны Ҡахатә гәраргагеи атранспорттә хархәага ашәкәытаҭратә документи цәырганыт, илшозар, амашәыр атыҭахь дхынхәыроуп

2

Иара ихәтеи, ааჲა ჯაუჟი, ამაშჲყრ აშაჲატჲეი რჲჲჲჲჲეი რჲჲჲჲჲეი იჲჲანი, ამღათეატრანსპორტტე ამაშჲყრ ასჲემა იდირბაროуп

## განმარტება:

„საგზაო მოძრაობის შესახებ“ საქართველოს კანონის 27-ე მუხლის მე-3 პუნქტის თანახმად, თუ ამ მუხლის პირველი პუნქტის „გ“ და „ე“ ქვეპუნქტებით განსაზღვრული გარემოებების არსებობისას მძღოლი იძულებულია მიატოვოს საგზაო-სატრანსპორტო შემთხვევის ადგილი სამკურნალო დაწესებულებაში მისვლის აუცილებლობის გამო, იგი ვალდებულია სამკურნალო დაწესებულებაში განაცხადოს თავისი ვინაობა (წარადგინოს პირადობის დამადასტურებელი დოკუმენტი და სატრანსპორტო საშუალების სარეგისტრაციო დოკუმენტები) და, თუ ეს შეუძლებელი არ არის, დაბრუნდეს შემთხვევის ადგილზე.

## ВОПРОС 1002

ПРАВИЛЬНЫЙ ОТВЕТ: 1

Амფატეატრანსპორტტა амашәыр алахәылацәа, азин мчы змоу ахәынтқарратәи, атыңантәи ахатәхеиҕааратәи аорганқәа рҕынтә, иара убас, азин мчы змоу ахаҕқәа рҕынтә раҕхьазатәи амедицинатә, аиқәырхаратә, ма даҕа цхыраарак аиура азин рымоумаҕ

1

Азин рымоуп

2

Азин рымам

## განმარტება:

„საგზაო მოძრაობის შესახებ“ საქართველოს კანონის მე-20 მუხლის პირველი პუნქტის „ბ.დ“ ქვეპუნქტის თანახმად, საგზაო მოძრაობის მონაწილეს უფლება აქვთ კანონმდებლობით დადგენილი წესით უფლებამოსილი სახელმწიფო და ადგილობრივი თვითმმართველობის ორგანოებისაგან, აგრეთვე სხვა უფლებამოსილი პირებისგან მიიღოს პირველადი სამედიცინო, სამაშველო და სხვა დახმარება საგზაო-სატრანსპორტო შემთხვევის დროს.

## ВОПРОС 1003

ПРАВИЛЬНЫЙ ОТВЕТ: 1

Амфатә амашәыр иалтшәаны ааха хауз ауады изы амедицинатә цхыраара лас ааҕхьара аан адиспетчер иахәатәупЖ

1

Амфатә амашәыр ахыҕкалаз атыҕтәкьа  
Җамға, аҕны аномер, ари атыҕ ирласзаны  
изларбаша хырхартакТ, аахақәа зауз ауаа  
рхыҕхьазареи, рыжәлеи, рықәреи,  
аҕстазаара адырғақәеи, иара убас, ашыацара  
иазку адыррақәеи

2

Амфатә амашәыр ахыҕкалаз атыҕтәкьа  
иазааиҕәоу ахырхартәи, аахақәа зауз ауаа  
рхыҕхьазареи, рыжәлеи, рықәреи

## განმარტება:

საგზაო-სატრანსპორტო შემთხვევის შედეგად დაშავებულების სასწრაფო სამედიცინო დახმარების გამოძახებისათვის დისპეჩერს უნდა ვაცნობოთ საგზაო-სატრანსპორტო შემთხვევის ზუსტი ადგილი (ქუჩა, სახლის ნომერი და უახლოესი ორიენტირი), დაშავებულთა რაოდენობა, მათი სქესი, მიახლოებითი წლოვანება, სასიცოცხლო ნიშნების არსებობა, ასევე ძლიერი სისხლდენა.

## ВОПРОС 1004

ПРАВИЛЬНЫЙ ОТВЕТ: 1

Қырттәыла административтә азинеилагарақәа ирызку азакәанейдкыла инақәырҭшны, атранспорттә хархәага ала ахәыцқәа рымџангара ашәартадара атасқәа реилагара иахылҭаауеитЖ

1

40 лари иақароу ахараҭса.

2

50 лари иақароу ахараҭса.

3

50 лари иақароу ахараҭса ма атранспорттә хархәага арнықәара азин аанкыла 30€мш рыла.

## განმარტება:

საქართველოს ადმინისტრაციული სამართალდარღვევათა კოდექსის 1271-ე მუხლის 11 ნაწილის თანახმად, სატრანსპორტო საშუალებით ბავშვთა გადაყვანის უსაფრთხოების წესების დარღვევა – გამოიწვევს დაჯარიმებას 40 ლარის ოდენობით.

## ВОПРОС 1005

ПРАВИЛЬНЫЙ ОТВЕТ: 4

Қырттәыла ахәаа ахысра аан, ахазлхратә орган, атауар ма атранспорттә хархәага амхра, атира, ақәхра ма хәыҭсада аҗә итара алшоитЖ

1

Ари атауар Қырттәыла аҭақырадгьыл алагалара ма алгаразы ақәитымра ма аҭқра ықазар.

2

Ари атауар ма атранспорттә хархәага ианоурыжт аамышьтахь аусуратә хымш инрыҭакны ахазалхыртатә гәатара атыҭ иаларымгар

3

Адекларант имшала, ишьақәгылоу ақхәара инаҭакны атауар аужьтразы ихымҭадоу апроцедурақәа рынағзара қамлозар

4

Абри абилет аҭы еиқәыҭхьаҗоу атауар ахархәара иარбанзаалак аусмәаҭҭатә анағзара қалoit

## განმარტება:

საქართველოს საგადასახადო კოდექსის 221-ე მუხლის პირველი პუნქტის „ა“, „ბ“ და „გ“ ქვეპუნქტების თანახმად, საქართველოს საბაჟო ტერიტორიაზე გადაადგილებული საქონლის მიმართ შესაძლებელია გამოყენებულ იქნეს საქონლის განკარგვის შემდეგი ღონისძიებები: ა) საგადასახადო სანქციის სახით საგადასახადო სამართალდარღვევის საქონლის ან/და სატრანსპორტო საშუალების უსასყიდლოდ ჩამორთმევა; ბ) საგადასახადო დავალიანების გადახდევინების უზრუნველსაყოფად ყადაღადადებული საქონლის რეალიზაცია ან სახელმწიფო საკუთრებაში გადაცემა; გ) საქონლის განადგურება.



## ВОПРОС 1006

ПРАВИЛЬНЫЙ ОТВЕТ: 2

Қырттәыла ахәаа ахысра аан, ахазалхратә орган азинмчы змоу ахаҭы, апассажир, иҭнытқатәи ацәеижхәтәқәа ргәатара амзызла, ахазалхратә аорган азинмчы змоу ахаҭы диццаны, амедицинатә усурташқа дишьтыр азин имоумаҭ

1

Азин имам

2

Азин имоуп, апассажир иҭнытқатәи ацәеижхәтәқәа рҭы атауар итәахуеит хәа гәарас имазар

## განმარტება:

საქართველოს საგადასახადო კოდექსის 2071 მუხლის მე-3 პუნქტის თანახმად, თუ დეკლარანტის მიერ საგადასახადო ორგანოში წარდგენილი დოკუმენტები შედგენილია უცხოურ ენაზე და გაუგებარია საგადასახადო ორგანოს უფლებამოსილი პირისათვის, მას უფლება აქვს, მოითხოვოს ამ დოკუმენტების თარგმანი სახელმწიფო ენაზე.

## ВОПРОС 1007

ПРАВИЛЬНЫЙ ОТВЕТ: 1

Қырттәыла ахәаа ахысра аан апассажир мазала атауар иаиҭоит хәа гәарас дыркызар, уи, ахазалхыртатә орган азинмчы змоу ахаҭы изтәарақәа рзы атакқатареи ихәарақәа рынағзареи ихәтоумаҭ

1

Ихәтоуп

2

Ихәтам

## განმარტება:

საქართველოს საგადასახადო კოდექსის 222-ე მუხლის პირველი პუნქტის თანახმად, სასაქონლო ოპერაციის განხორციელებისას საგადასახადო ვალდებულების წარმოშობის დროდ ითვლება საბაჟო დეკლარაციის რეგისტრაციის დღე. თუ საქონლის სასაქონლო ოპერაციაში მოქცევა არ საჭიროებს საბაჟო დეკლარაციის წარდგენას, საგადასახადო ვალდებულების წარმოშობის დროდ ითვლება საბაჟო გამშვებ პუნქტში, საბაჟო ტერმინალში ან საქართველოს ფინანსთა მინისტრის მიერ განსაზღვრულ სხვა ადგილში შესაბამისი დოკუმენტის რეგისტრაციის დღე.

## ВОПРОС 1008

ПРАВИЛЬНЫЙ ОТВЕТ: 1

Атауар, Қырттәыла ахазалхырта атакырадгьыл изакәанымкәа иалагалазар, ма ахазалхратә орган ағы ицәыргамзар, ахазалхратә орган ари атауар аанкыларазы азин амоумаҕ

1

Азин амоуп

2

Азин амазам

## განმარტება:

თუ საბაჟო ზედამხედველობის ქვეშ მყოფი საქონელი განადგურდა ან დაზიანდა, საქონლის მფლობელი ვალდებულია, დაუყოვნებლივ შეატყობინოს უახლოეს საბაჟო ორგანოს და წარუდგინოს მას საქონლის განადგურების ან დაზიანების უტყუარი მტკიცებულებები, რომლებიც დამოწმებულია შესაბამისი უფლებამოსილი სახელმწიფო ორგანოს მიერ. სხვა შემთხვევებში საქონელი ჩაითვლება საბაჟო ზედამხედველობიდან უკანონოდ გასულად.

## ВОПРОС 1009

ПРАВИЛЬНЫЙ ОТВЕТ: 1

Ахәаәаужьтратә пункт ала Қырттәыла ахәаа иахысуа атранспорттә хархәага арныкәгад ахәааҕы икоу ахазалхратә пункт ағы аангылара ихәтоумаҕ

1

Ихәтоуп

2

Ихәтазам

## განმარტება:

საქართველოს საგადასახადო კოდექსის 214-ე მუხლის მე-4 პუნქტის თანახმად, საქართველოს საბაჟო სამღვრის გადაკვეთა ნებადართულია მხოლოდ იმ საქონლისათვის, რომლის შემოტანა ან გატანა არ არის აკრძალული.

## ВОПРОС 1010

ПРАВИЛЬНЫЙ ОТВЕТ: 2

Амѡатѡеаужьтратѡ пункт иѡамзар, Қыртѡыла ахазалхырѡа иахысуа атранспортѡѡ хархѡага арныѡѡгаѡ иуалупЖ

1

Даанымгылакѡа, дызлаѡѡз ахырхартала аитѡѡრა

2

Даанымгылакѡа, ихѡаақѡѡѡ ахазалхратѡ маршрут ала, днѡираны дахыѡѡѡ аѡақырадгыл ахазалхратѡ пункт аѡынѡа аитѡѡრა

## განმარტება:

საქართველოს საგადასახადო კოდექსის 215-ე მუხლის მე-2 პუნქტის თანახმად, საქონელი საბაჟო ზედამხედველობას ექვემდებარება საქართველოს საბაჟო ტერიტორიაზე შემოტანიდან გაფორმების დასრულებამდე, ხოლო მიზნობრივი დანიშნულებით გაფორმებისას – საბაჟო ტერიტორიაზე შემოტანიდან მიზნობრივი დანიშნულების დასრულებამდე.

## ВОПРОС 1011

ПРАВИЛЬНЫЙ ОТВЕТ: 3

Қыртѡыла ахѡаа ахысра аан атранспортѡѡ хархѡага зыда ѡсыхѡа ыѡамыз аанкыларა иазкны излауа ала ирласны адырра қатѡѡтѡпЖ

1

Ааигѡазатѡи апатрультѡ полиѡиа апункт ахь

2

Ааигѡазатѡи аѡыѡანтѡи анапхгаратѡ орган ахь

3

Ааигѡазатѡи ахазалхратѡ орган ахь

## განმარტება:

საქართველოს საგადასახადო კოდექსის 220-ე მუხლის მე-2 პუნქტის თანახმად, ერთი საბაჟო დეკლარაციით დეკლარირებული საქონელი გაშვებული უნდა იქნეს ერთდროულად, გარდა გამონაკლისი შემთხვევისა, რომელზედაც გადანყვეტილებას იღებს საგადასახადო ორგანო.

Қырттәыла административтә азинеилагара иазку азақәанейдкыла инақәырғшны, ауады арыжәтә дашьны атранспорттә хархәага нықәигозарЖ

1

Зықәра назоу арнықәа – атранспорттә хархәага арнықәара азин имырхуеит фымзтәи ақхәарала, 18 шықәса зхымтыц ауады – атранспорттә хархәага арнықәара азин имырхуеит шықәсыктәи ақхәарала.

2

Зықәра назоу арнықәа – атранспорттә хархәага арнықәара азин имырхуеит хымзтәи ақхәарала, 18 шықәса зхымтыц ауады – атранспорттә хархәага арнықәара азин имырхуеит фымзтәи ақхәарала.

3

Атранспорттә хархәага арнықәа 200 лари ахарағса иқәырцоит.

### განმარტება:

საქართველოს ადმინისტრაციულ სამართალდარღვევათა კოდექსის 116-ე მუხლის პირველი ნაწილის „ა“ და „ბ“ ქვეპუნქტების თანახმად, სატრანსპორტო საშუალების მართვა ალკოჰოლური სიმთვრალის მდგომარეობაში, ან სატრანსპორტო საშუალების მართვისას საქართველოს კანონმდებლობით დადგენილი წესით ალკოჰოლური სიმთვრალის დასადგენად შემონმებისათვის თავის არიდება –გამოიწვევს: ა) სატრანსპორტო საშუალების მართვის უფლების 6 თვით შეჩერებას; ბ) 18 წლის ასაკს მიუღწეველი პირისთვის – სატრანსპორტო საშუალების მართვის უფლების 1 წლით შეჩერებას.

Қырттәыла административтә азинеилагара иазку азакәанейдыла инақәырҕшны, арыжәтә дашьны атранспорттә хархәага ахьныкәигоз ақынтә атранспорттә хархәага арныкәаразы ззин аанкылоу ауады, азин иахьынзаанкылоу арыжәтә дашьны амашьына дақәтәарҖ

1

Арныкәа 800 лари иақароу ахараҕса иқәшәоит, иара убас, атранспорттә хархәага арныкәаразы азин аанкылара аамта итегы фымз ацлоит.

2

Арныкәа атранспорттә хархәага арныкәаразы азин имырхуеит.

3

Арныкәа 700 лари иақароу ахараҕса иқәшәоит, иара убас, атранспорттә хархәага арныкәаразы азин аанкылара аамта итегы шықәсык ацлоит.

### განმარტება:

საქართველოს ადმინისტრაციული სამართალდარღვევათა კოდექსის 116-ე მუხლის მე-2 ნაწილის თანახმად, იმ პირის მიერ, რომელსაც დადებული აქვს ამ მუხლის პირველი ნაწილით გათვალისწინებული ადმინისტრაციული სახდელი, (შეჩერებული აქვს მართვის უფლება სატრანსპორტო საშუალების ალკოჰოლური სიმთვრალის მდგომარეობაში მართვისთვის), სატრანსპორტო საშუალების მართვის უფლების შეჩერების პერიოდში იმავე ნაწილით გათვალისწინებული სამართალდარღვევის ჩადენა (სატრანსპორტო საშუალების მართვა ალკოჰოლური სიმთვრალის მდგომარეობაში) - გამოიწვევს მძღოლის დაჯარიმებას 700 ლარის ოდენობით და სატრანსპორტო საშუალების მართვის უფლების შეჩერების ვადის 1 წლით გაზრდას.



## ВОПРОС 1014

ПРАВИЛЬНЫЙ ОТВЕТ: 2

Қырттәыла административтә азинеилагара иазку азакәанейдыла инақәырғшны, арыжәтә ижәны икоу ауады арныкәаразы атранспорттә хархәага итара иахылҕаауеитЖ

1

1500 лари иакароу ахараҕса.

2

1000 лари иакароу ахараҕса.

3

1000 лари иакароу ахараҕсеи, фымз рыла атранспорттә хархәага арныкәара азин аанкылареи.

## განმარტება:

საქართველოს ადმინისტრაციული სამართალდარღვევათა კოდექსის 116-ე მუხლის მე-3 ნაწილის თანახმად, სატრანსპორტო საშუალების სამართავად გადაცემა წინასწარი შეცნობით ალკოჰოლური სიმთვრალის მდგომარეობაში მყოფი პირისათვის - გამოიწვევს დაჯარიმებას 1000 ლარის ოდენობით.

## ВОПРОС 1015

ПРАВИЛЬНЫЙ ОТВЕТ: 1

Қырттәыла административтә азинеилагара иазку азакәанейдыла инақәырғшны, раҕхәтәи азинеилагара аамышьтахь шыкәсык аҕнытҕкала, еитах арыжәтә ижәны икоу ауады арныкәаразы атранспорттә хархәага итара иахылҕаауеитЖ

1

1500 лари иакароу ахараҕса.

2

2000 лари иакароу ахараҕса.

3

1500 лари иакароу ахараҕсеи, фымз рыла атранспорттә хархәага арныкәара азин аанкылареи.

## განმარტება:

საქართველოს ადმინისტრაციული სამართალდარღვევათა კოდექსის 116-ე მუხლის მე-4 ნაწილის თანახმად, ამ მუხლის მე-3 ნაწილით გათვალისწინებული სამართალდარღვევის (სატრანსპორტო საშუალების სამართავად გადაცემა წინასწარი შეცნობით ალკოჰოლური სიმთვრალის მდგომარეობაში მყოფი პირისათვის) განმეორებით ჩადენა 1 წლის განმავლობაში – გამოიწვევს დაჯარიმებას 1500 ლარის ოდენობით.

Қырттыла административтә азинеилагара иазку азакәанейдыла инақәырғшны, даға еилагарақ азы атранспорттә хархәага арнықәара азин ианаанкылоу аамтазы, арыжәтә ижәны атранспорттә хархәага арнықәара иахылғаауеитЖ

1

1500 лари иақароу ахарағса.

2

Арнықәағ 1000 лари иқароу ахарағса иқәцареи, фымз рыла атранспорттә хархәага арнықәара азин аанкылареи

3

1000 лари иақароу ахарағса.

### განმარტება:

საქართველოს ადმინისტრაციული სამართალდარღვევათა კოდექსის 116-ე მუხლის მე-4<sup>2</sup> ნაწილის თანახმად, ამ მუხლის პირველი ნაწილით გათვალისწინებული სამართალდარღვევის ჩადენა (სატრანსპორტო საშუალების მართვა ალკოჰოლური სიმთვრალის მდგომარეობაში), როდესაც სატრანსპორტო საშუალების ექსპლუატაციის განმახორციელებელ პირს არ აქვს სატრანსპორტო საშუალების მართვის უფლება ან ეს უფლება შეჩერებული აქვს სხვა დარღვევისათვის, – გამოიწვევს დაჯარიმებას 1000 ლარის ოდენობით.

## ВОПРОС 1017

## ПРАВИЛЬНЫЙ ОТВЕТ: 2

Қырттәыла административтә азинеилагара иазку азакәанейдкыла инакәырҭшыны, арҭышыгытә ма аҭсихотропиатә матәашьарқәа рыла иашьу ауады ила атранспорттә хархәага арныкәара, ма атранспорттә хархәага арныкәара иазку Қырттәыла азакәанҭцарала ишыақәыргылоу атасла арҭышыгытә ма аҭсихотропиатә матәашьарқәа рыла ашьра афакт ашыақәыргыларазы агәатара аҭ ахгара иахылҭиаауеитЖ

1

Ҧышықәса рыла атранспорттә хархәага арныкәара азин аанкылара.

2

Хышықәса рыла атранспорттә хархәага арныкәара азин аанкылара.

3

1000 лари иакароу ахараҭсеи хышықәса рыла атранспорттә хархәага арныкәара азин аанкылареи.

## განმარტება:

საქართველოს ადმინისტრაციული სამართალდარღვევათა კოდექსის 116-ე მუხლის მე-5 ნაწილის თანახმად, სატრანსპორტო საშუალების მართვა ნარკოტიკული ან ფსიქოტროპული სიმთვრალის მდგომარეობაში, ანდა სატრანსპორტო საშუალების მართვისას საქართველოს კანონმდებლობით დადგენილი წესით ნარკოტიკული ან ფსიქოტროპული სიმთვრალის დასადგენად შემონმუშებისათვის თავის არიდება - გამოიწვევს სატრანსპორტო საშუალების მართვის უფლების 3 წლით შეჩერებას.

## ВОПРОС 1018

## ПРАВИЛЬНЫЙ ОТВЕТ: 3

Қырттәыла административтә азинеилагара иазку азакәанейдкыла инакәырҭшыны, арҭышыгытә ма аҭсихотропиатә матәашьарқәа рыла иашьу ауады арныкәаразы атранспорттә хархәага итара иахылҭиаауеитЖ

1

1500 лари иакароу ахараҭса.

2

1000 лари икароу ахараҭсеи шықәсык ала атранспорттә хархәага арныкәара азин аанкылареи

3

1000 лари иакароу ахараҭса.

## განმარტება:

საქართველოს ადმინისტრაციული სამართალდარღვევათა კოდექსის 116-ე მუხლის მე-51 ნაწილის თანახმად, სატრანსპორტო საშუალების სამართავად გადაცემა წინასწარი შეცნობით ნარკოტიკული ან ფსიქოტროპული სიმთვრალის მდგომარეობაში მყოფი პირისათვის - გამოიწვევს დაჯარიმებას 1000 ლარის ოდენობით.

## ВОПРОС 1019

ПРАВИЛЬНЫЙ ОТВЕТ: 1

Қырттәыла административтә азинеилагара иазку азакәанейдкыла инақәырқшны, амәатә аитатра алахәылацәа ршәартадара еикәзыршәо, амәатә аитатра атасқәа рыхьчара иахылапшуа аполиция аусуә иуалуп ауады атранспорттә хархәага арныкәара дақәихырцЖ

1

Арғышыгытә ма аҧсихотропиатә матәашьарқәа идиқылеит хәа шыатанкыла гәғарас димазар, усқан аполиция аусуә, агәатара амзызла, арныкәаҭ днаигароуп Қырттәыла аҭныцкәтәи аусқәа рминистр иҕынтә иашьашәалоу азинмчы змоу ахаҕы иахь.

2

Арыжәтә дашьны дықоуп хәа шыатанкыла гәғарас димазар, усқан, аполиция аусуә 15е мш рыла арныкәаҭ ибаандаәтәра ихәтоуп

## განმარტება:

საქართველოს ადმინისტრაციული სამართალდარღვევათა კოდექსის 116-ე მუხლის პენიშვნის პირველი ნაწილის თანახმად, პოლიციელი, რომელიც უზრუნველყოფს საგზაო მოძრაობის მონაწილეთა უსაფრთხოებას და ზედამხედველობს საგზაო მოძრაობის წესების დაცვას, ვალდებულია სატრანსპორტო საშუალების მართვას ჩამოაშოროს პირი რომლის მიმართაც არსებობს საგზაო საფუძველი, რომ იგი ნარკოტიკული ან ფსიქოტროპული სიმთვრალის მდგომარეობაშია, და გამოკვლევის მიზნით წარადგინოს საქართველოს შინაგან საქმეთა მინისტრის მიერ საამისოდ უფლებამოსილ პირთან.

## ВОПРОС 1020

ПРАВИЛЬНЫЙ ОТВЕТ: 1

Қырттәыла административтә азинеилагара иазку азакәанейдкыла инақәырқшны, арныкәаҭ арыжәтә дашьуп хәа иҕхьазахоитЖ

1

Арныкәаҭ ишья иалазар 0,3 промилле еиҳаны аетанол.

2

Арныкәаҭ ишья иалазар 0,2 промилле ма 0,2 промилле еиҳаны аетанол.

3

Арныкәаҭ ишья иалазар 0,1 промилле еиҳаны аетанол.

## განმარტება:

საქართველოს ადმინისტრაციული სამართალდარღვევათა კოდექსის 116-ე მუხლის პენიშვნის მე-10 ნაწილის თანახმად, ალკოჰოლური სიმთვრალის მდგომარეობად მიიჩნევა მძღოლის სისხლში 0,3 პრომილეზე მეტი ოდენობით ეთანოლის შემცველობა.

## ВОПРОС 1021

ПРАВИЛЬНЫЙ ОТВЕТ: 2

Қырттәыла административтә азинеилагара иазку азакәанейдкыла инақәырҕшны, автотранспорттә хархәага аитатра аан арныкәа ма ивара итәу апассажир ашәартадаратә маҕа рхы иадмырхәарЖ

1 Автотранспорттә хархәага арныкәа ма уи ивара итәу апассажир 20 лари иаҕароу ахараҕса иқәшәоит.

2 Автотранспорттә хархәага арныкәа 40 лари иаҕароу ахараҕса иқәшәоит.

3 Автотранспорттә хархәага арныкәа 60 лари иаҕароу ахараҕса иқәшәоит.

## განმარტება:

საქართველოს ადმინისტრაციული სამართალდარღვევათა კოდექსის 1181-ე მუხლის თანახმად, ავტოსატრანსპორტო საშუალებით მოძრაობისას მძღოლის ან მის გვერდით მჯდომი მგზავრის მიერ უსაფრთხოების ღვედის გამოუყენებლობა- გამოიწვევს ავტოსატრანსპორტო საშუალების მძღოლის დაჯარიმებას 40 ლარის ოდენობით.

## ВОПРОС 1022

ПРАВИЛЬНЫЙ ОТВЕТ: 3

Қырттәыла административтә азинеилагара иазку азакәанейдкыла инақәырҕшны, амеханикатә транспорттә хархәага арныкәара аан арныкәа амобилтә еимадара ахархәага ихы иаирхәозар, уи иахылҕаауеитЖ

1 Хымз рыла атранспорттә хархәага арныкәара азин аанкылара

2 50 лари иаҕароу ахараҕса.

3 10 лари иаҕароу ахараҕса.

## განმარტება:

საქართველოს ადმინისტრაციული სამართალდარღვევათა კოდექსის 1182-ე მუხლის თანახმად, მექანიკური სატრანსპორტო საშუალების მართვის დროს მძღოლის მიერ მობილური კომუნიკაციის საშუალებით სარგებლობა- გამოიწვევს დაჯარიმებას 10 ლარის ოდენობით.



## ВОПРОС 1023

ПРАВИЛЬНЫЙ ОТВЕТ: 1

Қырттәыла административтә азинеилагара иазку азакәанейдкыла инақәырҕшны, атранспорттә хархәага арныкәара азин змам ма егырт аилагарақәа рзы ззин аанкылоу ауады ила атранспорттә хархәага арныкәара иахылҕаауеитЖ

1

Атранспорттә хархәага зхы иазырхәаз ахаҕы 500 лари иакароу ахараҕса икәшәоит.

2

Атранспорттә хархәага зхы иазырхәаз ахаҕы 1000 лари иакароу ахараҕса икәшәоит

3

Атранспорттә хархәага зтәу ауады 1000 лари иакароу ахараҕса икәшәоит, уи зхы иазырхәаз ауады ажәала агәеанҕара ирҕоит.

## განმარტება:

საქართველოს ადმინისტრაციული სამართალდარღვევათა კოდექსის 121-ე მუხლის პირველი ნაწილის თანახმად, სატრანსპორტო საშუალების მართვა პირის მიერ, რომელსაც არ აქვს სატრანსპორტო საშუალების მართვის უფლება ან ეს უფლება შეჩერებული აქვს სხვა დარღვევისათვის, - გამოიწვევს სატრანსპორტო საშუალების ექსპლუატაციის განმახორციელებელი პირის დაჯარიმებას 500 ლარის ოდენობით.

## ВОПРОС 1024

ПРАВИЛЬНЫЙ ОТВЕТ: 3

Қырттәыла административтә азинеилагара иазку азакәанейдкыла инақәырҕшны, атранспорттә хархәага арныкәа иҕырху атранспорттә хархәага арныкәара агәраҕага зақәандарала ихы иаирхәар, уи икәшәоитЖ

1

15-мш рқынза административтә баандағтәра.

2

100 лари иакароу ахараҕсеи ажәала агәеанҕареи.

3

150 лари иакароу ахараҕса.

## განმარტება:

საქართველოს ადმინისტრაციული სამართალდარღვევათა კოდექსის 1211-ე მუხლის პირველი ნაწილის თანახმად, სატრანსპორტო საშუალების მძღოლის მიერ ადრე დაკარგული ან დაზიანებული და მის სანაცვლოდ გაცემული სატრანსპორტო საშუალებათა მართვის მოწმობებით ერთდროულად სარგებლობა ან გაუქმებული სატრანსპორტო საშუალების მართვის მოწმობით უკანონოდ სარგებლობა ან/და პირის მიერ სატრანსპორტო საშუალების მართვის მოწმობის დაკარგვის, დაზიანების ან განადგურების შესახებ უფლებამოსილი ორგანოსათვის ცრუ ინფორმაციის მიწოდება სანაცვლო სატრანსპორტო საშუალების მართვის მოწმობის მიღების მიზნით – გამოიწვევს დაჯარიმებას 150 ლარის ოდენობით.

## ВОПРОС 1025

ПРАВИЛЬНЫЙ ОТВЕТ: 1

Қырттәыла административтә азинеилагара иазку азакәанейдкыла инақәырғшны, ахәынтқарратә аномертә дырга ада ма ҟакала иҟсаху ахәынтқарратә аномертә дыргала, иара убас, аҟшатә саркыаҟы ишьақәырғылоу ахәынтқарратә аномертә дыргала атранспорттә хархәага арныкәара иахылҟаауеитҖ

1

100 лари иақароу ахараҟса.

2

100 лари иақароу ахараҟсеи 15ҟмш рқынза административтә баандаҟтәреи.

3

50 лари иақароу ахараҟса.

## განმარტება:

საქართველოს ადმინისტრაციული სამართალდარღვევათა კოდექსის 122-ე მუხლის პირველი ნაწილის თანახმად, სატრანსპორტო საშუალების მართვა წინასწარი შეცნობით სახელმწიფო სანომრე ნიშნის გარეშე, ან სხვაგვარად შეცვლილი სახელმწიფო სანომრე ნიშნით, ან სატრანსპორტო საშუალების საქარე მინაზე დამაგრებული სახელმწიფო სანომრე ნიშნით -გამოიწვევს დაჯარიმებას 100 ლარის ოდენობით.

## ВОПРОС 1026

ПРАВИЛЬНЫЙ ОТВЕТ: 2

Қырттәыла административтә азинеилагара иазку азакәанейдкыла инақәырғшны, амҟаётранспорттә амашәыр иалахәу арныкәаҟ амашәыр ахыкәлаз атыҟ аанижыыр ма зақәанла иазҟхәаҟათоу аҟагылазаашыақәа рыда амҟаётранспорттә амашәыр ахыкәлаз атыҟ атранспорттә хархәага иалигар, уи иахылҟаауеитҖ

1

Хымз рқынза административтә баандаҟтәра.

2

250 лари иақароу ахараҟса.

3

200 лари иақароу ахараҟсеи 15ҟмш рқынза административтә баандаҟтәреи.

## განმარტება:

საქართველოს ადმინისტრაციული სამართალდარღვევათა კოდექსის 123-ე მუხლის პირველი ნაწილის თანახმად, საგზაო-სატრანსპორტო შემთხვევის მონაწილე მძღოლის მიერ შემთხვევის ადგილის მიტოვება ან საგზაო-სატრანსპორტო შემთხვევის მონაწილე სატრანსპორტო საშუალების შემთხვევის ადგილიდან გადაადგილება, გარდა კანონით გათვალისწინებული შემთხვევებისა, - გამოიწვევს დაჯარიმებას 250 ლარის ოდენობით.

## ВОПРОС 1027

ПРАВИЛЬНЫЙ ОТВЕТ: 1

Қырғтәыла административтә азинеилагара иазку азакәанейдкыла инақәырғшны, амәатә аитатра ашәартадара еиқәзыршәо, амәатә аитатра атасқәа рыхьчара иахылағшуа аполиция аусуғ атранспорттә хархәага аанкылара иазкны икаитаз адта анамғзара иахылғиаауейтЖ

1

300 лари иақароу ахарағса ма шықәсык ала атранспорттә хархәага арнықәара азин аанкылара.

2

500 лари иақароу ахарағса ма хышықәса рыла атранспорттә хархәага арнықәара азин аанкылара.

3

1000 лари иақароу ахарағса.

## განმარტება:

საქართველოს ადმინისტრაციული სამართალდარღვევათა კოდექსის 123-ე მუხლის მე-2 ნაწილის თანახმად, სატრანსპორტო საშუალების გაჩერების შესახებ იმ პოლიციელის მოთხოვნის შეუსრულებლობა, რომელიც უზრუნველყოფს საგზაო მოძრაობის მონაწილეთა უსაფრთხოებას და შედამხედველობს საგზაო მოძრაობის წესების დაცვას, - გამოიწვევს დაჯარიმებას 300 ლარის ოდენობით ან სატრანსპორტო საშუალების მართვის უფლების 1 წლით შეჩერებას.

## ВОПРОС 1028

ПРАВИЛЬНЫЙ ОТВЕТ: 3

Қырғтәыла административтә азинеилагара иазку азакәанейдкыла инақәырғшны, атранспорттә хархәага арнықәа ила аитатразы ишықәырғылоу аласра аихатәра сааткала 15 км. еихау аласрала иахылғиаауейтЖ

1

Ажәала агәанцара.

2

10 лари иақароу ахарағса.

3

50 лари иақароу ахарағса.

## განმარტება:

საქართველოს ადმინისტრაციული სამართალდარღვევათა კოდექსის 125-ე მუხლის პირველი ნაწილის თანახმად, სატრანსპორტო საშუალების მძღოლის მიერ მოძრაობის დადგენილი სიჩქარის გადაჭარბება 15 კმ/სთ-ზე მეტი სიჩქარით - გამოიწვევს დაჯარიმებას 50 ლარის ოდენობით.

## ВОПРОС 1029

ПРАВИЛЬНЫЙ ОТВЕТ: 3

Қырттәыла административтә азинеилагара иазку азакәанейдкыла инақәырғшны, атранспорттә хархәага арныкәаф ила айтатразы ишықәырғылоу аласра, сааткала 15 км. еихау аласрала аихатәра иахкәаны амашәыртә тагылазаашәа калазар ма айтатра иаңырхагазар, уи иахылҕаауеитЖ

1

30€-мш рҕынза административтә баандаџтәра.

2

1000 лари иақароу ахараңса.

3

250 лари иақароу ахараңса.

## განმარტება:

საქართველოს ადმინისტრაციული სამართალდარღვევათა კოდექსის 125-ე მუხლის მე-4 ნაწილის თანახმად, ამ მუხლის პირველი ნაწილით გათვალისწინებული სამართალდარღვევა (სატრანსპორტო საშუალების მძღოლის მიერ მოძრაობის დადგენილი სიჩქარის გადაჭარბება 15 კმ/სთ-ზე მეტი სიჩქარით), რომელსაც მოჰყვა საავტომობილო ვითარების შექმნა ან მოძრაობის შეფერხება, –გამოიწვევს დაჯარიმებას 250 ლარის ოდენობით.

## ВОПРОС 1030

ПРАВИЛЬНЫЙ ОТВЕТ: 1

Қырттәыла административтә азинеилагара иазку азакәанейдкыла инақәырғшны, атранспорттә хархәага, аидара, амџа, амџатә ма даџа шықәғылартак, даџа мазарак рыңхастахара ма ауаџы иаахара зыхкәаз, атранспорттә хархәага арныкәаф ила айтатразы ишықәырғылоу аласра, сааткала 15 км. еихау аласрала аихатәра иахылҕаауеитЖ

1

Шықәсык ала атранспорттә хархәага арныкәара азин аанкылара.

2

500 лари иақароу ахараңса ма шықәсык ала атранспорттә хархәага арныкәара азин аанкылара

3

500 лари иақароу ахараңса ма 15€-мш рҕынза административтә баандаџтәра.

## განმარტება:

საქართველოს ადმინისტრაციული სამართალდარღვევათა კოდექსის 125-ე მუხლის მე-5 ნაწილის თანახმად, ამ მუხლის პირველი ნაწილით გათვალისწინებული სამართალდარღვევა (სატრანსპორტო საშუალების მძღოლის მიერ მოძრაობის დადგენილი სიჩქარის გადაჭარბება 15 კმ/სთ-ზე მეტი სიჩქარით), რომელსაც მოჰყვა სატრანსპორტო საშუალების, ტვირთის, გზის, საგზაო თუ სხვა ნაგებობის, სხვა ქონების ან ადამიანის სხეულის მსუბუქი დაზიანება, –გამოიწვევს სატრანსპორტო საშუალების მართვის უფლების 1 წლით შეჩერებას.

## ВОПРОС 1031

ПРАВИЛЬНЫЙ ОТВЕТ: 3

Қыртәыла административтә азинеилагара иазку азакәанейдыла инакәырҭшыны, арныкәаф ила ашыақауаа рхысырта ахысра атҭасы, амәатә дырга ма амәатә азгәатә ахәарақәеи реилагара ма амотоциклла аума даеа транспорттә хархәагак ала аума, гәыҭла аитатра аеалархәра амәатә аитатра иаҭырхагазар ма аитатразы ишәартазар, уи иахылҭиаауейтЖ

1

Ажәала агәеантара.

2

50 лари иакароу ахараҭса.

3

20 лари иакароу ахараҭса.

## განმარტება:

საქართველოს ადმინისტრაციული სამართალდარღვევათა კოდექსის 125-ე მუხლის მე-6 ნაწილის თანახმად, მძღოლის მიერ ქვეითთა გადასასვლელის გავლის, საგზაო ნიშნის ან საგზაო მონიშვნის, ბუქსირების, გარე სანათი ხელსაწყოთი, ხმოვანი სიგნალით ან საავარიო შუქსიგნალიზაციით სარგებლობის, სასწავლო სვლის, საცხოვრებელ ზონაში ან გზაზე მოძრაობის წესების, სამარშრუტო სატრანსპორტო საშუალების მოძრაობის პრიორიტეტის ან/და საჭაპანო ტრანსპორტის მართვის წესების დარღვევა, ან მოტოციკლით ან სხვა სატრანსპორტო საშუალებით ჯგუფურ მოძრაობაში მონაწილეობა, რაც აფერხებს საგზაო მოძრაობას ან საშიშროებას უქმნის მოძრაობის უსაფრთხოებას, –გამოიწვევს დაჯარიმებას 20 ლარის ოდენობით.

## ВОПРОС 1032

ПРАВИЛЬНЫЙ ОТВЕТ: 2

Қыртәыла административтә азинеилагара иазку азакәанейдыла инакәырҭшыны, амәеисыртаҭы атранспорттә хархәагакәа ртыҭ аанкылара, аитатра алагара ма аманиовр аҭатара атҭаскәа реилагара иахылҭиаауейтЖ

1

100 лари иакароу ахараҭса.

2

50 лари иакароу ахараҭса.

3

15смш ркынза атранспорттә хархәага арныкәара азინ аанкыларა

## განმარტება:

საქართველოს ადმინისტრაციული სამართალდარღვევათა კოდექსის 125-ე მუხლის მე-6 ნაწილის თანახმად, გზის სავალ ნაწილზე სატრანსპორტო საშუალებათა განლაგების, მოძრაობის დაწყების ან/და მანევრირების წესების დარღვევა - გამოიწვევს დაჯარიმებას 50 ლარის ოდენობით.



## ВОПРОС 1033

ПРАВИЛЬНЫЙ ОТВЕТ: 3

Қырттәыла административтә азинеилагара иазку азакәанейдыла инақәырҕшны, атранспорттә хархәагаҕы адыррақатаратә дырга ашыақәыргылара атқас еилаганы анықәара иахылҕаауейтЖ

1

Арнықәа ма ааглыхырта 100 лари иақароу ахараҕса рықәтара.

2

Арнықәа 50 лари иақароу ахараҕса иқәтара.

3

Арнықәа ма ааглыхырта 50 лари иақароу ахараҕса рықәтара.

## განმარტება:

საქართველოს ადმინისტრაციული სამართალდარღვევათა კოდექსის 125-ე მუხლის მე-6<sup>3</sup> ნაწილის თანახმად, სატრანსპორტო საშუალებაზე საცნობი ნიშნის დამაგრების წესის დარღვევით მოძრაობა - გამოიწვევს მძღოლის ან საწარმოს დაჯარიმებას 50 ლარის ოდენობით.

## ВОПРОС 1034

ПРАВИЛЬНЫЙ ОТВЕТ: 2

Қырттәыла административтә азинеилагара иазку азакәанейдыла инақәырҕшны, аиасразы аҕыжәара змоу атранспорттә хархәага аҕырхагахара иахылҕаауейтЖ

1

Шыкәсык ала атранспорттә хархәага арнықәара азინ аанкыларა.

2

50 лари иақароу ахараҕса.

3

100 лари иақароу ахараҕса ма хымз рыла атранспорттә хархәага арнықәара азინ аанкыларა.

## განმარტება:

საქართველოს ადმინისტრაციული სამართალდარღვევათა კოდექსის 125-ე მუხლის მე-7 ნაწილის თანახმად, მარეგულირებლის ან პუქნიშნის ამკრძალავ ნიშანზე გავლის წესების, პრიორიტეტული („დაუთმე გზა“, „მოძრაობა გაუჩერებლად აკრძალულია“) ან ამკრძალავი („შესვლა აკრძალულია“, „მოძრაობა აკრძალულია“) ნიშნის მოთხოვნის დაუცველობა, გასწრების, გზაჯვარედინის, რკინიგზაზე გადასასვლელის გავლის წესების დარღვევა, გავლის უპირატესობის მქონე სატრანსპორტო საშუალებისათვის დაბრკოლების შექმნა – გამოიწვევს დაჯარიმებას 50 ლარის ოდენობით.