

თეორია.On.ge

მართვის მოწმობის გამოცდის ბილეთები



C კატეგორია



English

თემა 1:

მძღოლის, მგზავრის და ქვეითის მოვალეობა,
საცნობი ნიშნები, კონვენცია

QUESTION 1

CORRECT ANSWER: 2



Which of these identification signs is „Distinguishing sign of registration state“ of the vehicle being in international traffic and registered in Georgia?

1

I

2

II

3

III

განმარტება:

„საგზაო მოძრაობის შესახებ“ საქართველოს კანონის მე-19 მუხლის მე-2 პუნქტის „გ“ ქვეპუნქტის თანახმად, „მარეგისტრირებული სახელმწიფოს განმასხვავებელი ნიშანი“ - საერთაშორისო მოძრაობაში მყოფი საქართველოში რეგისტრირებული სატრანსპორტო საშუალების განმასხვავებელი ნიშანი. ნიშანი არის ელიფსის ფორმის, რომლის ღერძების სიგრძე არანაკლებ 0,175მ X 0,115 მ-ია. ნიშანში ჩაწერილია საქართველოს საერთაშორისო კოდი „GE“. ლათინური ასოების სიმაღლე უნდა იყოს არანაკლებ 0,08 მ-ისა. ისინი გამოსახულია არა ნაკლებ 0,01 მ-ის სიგანის შტრიხებით. ასოები დაიტანება შავი საღებავით თეთრ ფონზე (თეთრი ფონი შეიძლება შექმარებული მასალისგან იყოს დამზადებული). სატრანსპორტო საშუალებაზე ნიშანი ისე უნდა დამაგრდეს რომ ის რეგისტრაციის ნომრად (სახელმწიფო სანომრე ნიშნად) არ იქნეს აღთქმული ან არ გაუარესდეს მისი წაკითხვა.

QUESTION 2

CORRECT ANSWER: 3

The driver is forbidden to drive a mechanical vehicle:

- 1 Only in case of suspension of relevant driving permit
- 2 Only in case of deprivation or termination (cancellation) of relevant driving permit
- 3 Both in case of suspension of the driving permit and in case of deprivation or termination (cancellation) of the mentioned driving permit

განმარტება:

„საგზაო მოძრაობის შესახებ“ საქართველოს კანონის 21-ე მუხლის მე-3 პუნქტის თანახმად, მძღოლს უნდა ჰქონდეს სატრანსპორტო საშუალების მართვისათვის საჭირო აუცილებელი ცოდნა და უნარ-ჩვევები. თუ სატრანსპორტო საშუალების მართვა დასაშვებია მხოლოდ საქართველოს კანონმდებლობით განსაზღვრული წესით შესაბამისი მართვის უფლების მინიჭების შემდეგ, მძღოლს ეკრძალება ამ კატეგორიის ან ქვეკატეგორიის სატრანსპორტო საშუალების მართვა შესაბამისი მართვის უფლების მოპოვების გარეშე, აგრეთვე ამ უფლების შეჩერების, ჩამორთმევის ან შეწყვეტის (გაუქმების) შემთხვევაში.

QUESTION 3

CORRECT ANSWER: 1

Is a driver obliged to go through breath-test at the request of an official of the Ministry of Internal Affairs of Georgia, if there is enough ground that the driver is under alcoholic, narcotic or psychotropic drunken condition?

- 1 Yes
- 2 No

განმარტება:

„საგზაო მოძრაობის შესახებ“ საქართველოს კანონის 21-ე მუხლის მე-16 პუნქტის თანახმად, თუ არსებობს საკმარისი საფუძველი, რომ მძღოლი ალკოჰოლური, ნარკოტიკული ან ფსიქოტროპული სიმთვრალის მდგომარეობაშია, მძღოლი ვალდებულია საქართველოს შინაგან საქმეთა სამინისტროს უფლებამოსილი პირის მოთხოვნის საფუძველზე, საქართველოს კანონმდებლობით დადგენილი წესით გაიაროს შემოწმება სიმთვრალე-სიფხიზლის დასადგენად.

QUESTION 4

CORRECT ANSWER: 3

On the territory of Georgia a driver is obliged to carry duly certified translation of vehicle registration and driving right certificate, if the data provided in it is not written:

- 1** It is not completed in Georgian letters, but in Latin letters
- 2** It is not completed in Latin letters, but in Georgian letters
- 3** It is not completed in Georgian or Latin letters

განმარტება:

„საგზაო მოძრაობის შესახებ“ საქართველოს კანონის 21-ე მუხლის მე-17 პუნქტის „ა“ და „ბ“ ქვეპუნქტების თანახმად, ამ კანონის 54-ე მუხლით განსაზღვრული კატეგორიის ან ქვეკატეგორიის სატრანსპორტო საშუალების მძღოლი ვალდებულია თან იქონიოს, ხოლო საქართველოს შინაგან საქმეთა სამინისტროს უფლებამოსილი პირის მოთხოვნის შემთხვევაში გააჩეროს სატრანსპორტო საშუალება და ამ პირს წარუდგინოს: ა) საქართველოს ტერიტორიაზე იურიდიული ძალის მქონე იმ კატეგორიის ან ქვეკატეგორიის სატრანსპორტო საშუალების მართვის უფლების დამადასტურებელი დოკუმენტი, რომელსაც იგი მართავს, აგრეთვე ამ სატრანსპორტო საშუალების რეგისტრაციის დამადასტურებელი დოკუმენტი (თუ საქართველოს კანონმდებლობით სხვა რამ არ არის გათვალისწინებული); ბ) ამ პუნქტის „ა“ ქვეპუნქტით განსაზღვრული დოკუმენტის/დოკუმენტების სათანადოდ დამოწმებული თარგმანი, თუ აღნიშნულ დოკუმენტში/დოკუმენტებში ასახული მონაცემები შესრულებული არ არის ქართული ან ლათინური ასოებით.

QUESTION 5

CORRECT ANSWER: 1

In case of absence of the owner and when crossing the state border in the vehicle not driven by the owner or when going to the country where Georgian jurisdiction does not spread, is the driver required to have the document proving that the driver enjoys the right to own, use and manage the vehicle?

1

Yes

2

No

განმარტება:

„საგზაო მოძრაობის შესახებ“ საქართველოს კანონის 21-ე მუხლის მე-17 პუნქტის „გ“ ქვეპუნქტის თანახმად, ამ კანონის 54-ე მუხლით განსაზღვრული კატეგორიის ან ქვეკატეგორიის სატრანსპორტო საშუალების მძღოლი ვალდებულია თან იქონიოს, ხოლო საქართველოს შინაგან საქმეთა სამინისტროს უფლებამოსილი პირის მოთხოვნის შემთხვევაში გააჩეროს სატრანსპორტო საშუალება და ამ პირს წარუდგინოს მოცემული სატრანსპორტო საშუალების ფლობის ან განკარგვის ან მისით სარგებლობის უფლებამოსილების დამადასტურებელი დოკუმენტი -მესაკუთრის არყოფნის შემთხვევაში მისი სატრანსპორტო საშუალებით სახელმწიფო საზღვრის გადაკვეთის ან ქვეყნის იმ ტერიტორიაზე გადასვლის შემთხვევაში, სადაც საქართველოს იურისდიქცია არ ვრცელდება.

QUESTION 6

CORRECT ANSWER: 3

An international traffic participant driver is obliged to provide following according to the requirements prescribed by the European Agreement concerning the Work of Crews of Vehicles engaged in International Road Transport (AETR):

1

Routing with tachograph in technically suitable condition only

2

Observation of labour and rest mode only

3

Both routing with tachograph in technically suitable condition, as well as observation of labour and rest mode

განმარტება:

„საგზაო მოძრაობის შესახებ“ საქართველოს კანონის 21-ე მუხლის მე-19 პუნქტის თანახმად, საერთაშორისო მოძრაობაში მონაწილე მძღოლი ვალდებულია უზრუნველყოს „საერთაშორისო საავტომობილო მიმოსვლის მწარმოებელი საშუალებების ეკიპაჟების მუშაობის შესახებ“ ევროპის შეთანხმებით (AETR) დადგენილი მოთხოვნების შესაბამისად ტექნიკურად გამართული საკონტროლო მონაცემებით (ტაქოგრაფით) მოძრაობა, აგრეთვე შრომისა და დასვენების რეჟიმის დაცვა.

QUESTION 7

CORRECT ANSWER: 3

A passenger is prohibited from:

1

Taking the driver's attention to other things when driving the vehicle only

2

Hindering the driver in driving the vehicle only

3

Both taking the driver's attention to other things when driving the vehicle, as well as hindering the driver in driving the vehicle

განმარტება:

„საგზაო მოძრაობის შესახებ“ საქართველოს კანონის 23-ე მუხლის მე-2 პუნქტის „ა“ და „ბ“ ქვეპუნქტების თანახმად, მგზავრს ეკრძალება: ა) მოძრავი სატრანსპორტო საშუალების მართვისას მძღოლის ყურადღების სხვა რამეზე გადატანა; ბ) მძღოლისათვის სატრანსპორტო საშუალების მართვაში ხელის შეშლა.

QUESTION 8

CORRECT ANSWER: 3

During walking on the driveway a pedestrian shall:

1

Use maximum caution only

2

Not hinder or make it difficult for vehicles to move without reasonable ground only

3

Both use maximum caution, as well as not hinder or make it difficult for vehicles to move without reasonable ground

განმარტება:

„საგზაო მოძრაობის შესახებ“ საქართველოს კანონის 24-ე მუხლის პირველი პუნქტის თანახმად, გარდა ამ კანონით გათვალისწინებული შემთხვევებისა ქვეითმა გადაადგილებისათვის არ უნდა ისარგებლონ სავალი ნაწილით. სავალ ნაწილზე გადაადგილებისას მან უნდა გამოიჩინოს მაქსიმალური სიფრთხილე, უსაფუძვლოდ არ უნდა შეაფერხოს და არ უნდა გააძნელოს სატრანსპორტო საშუალებების მოძრაობა.

QUESTION 9

CORRECT ANSWER: 1

Is a pedestrian allowed to walk on the driveway in case of absence of walkway, pavement and edge of the road or in case of unavailability of their use?

1

Yes, however while walking on the driveway he/she must be maximally closer to the edge of the driveway

2

No

განმარტება:

„საგზაო მოძრაობის შესახებ“ საქართველოს კანონის 24-ე მუხლის მე-4 პუნქტის თანახმად, ქვეითთა ბილიკის, ტროტუარისა და გზისპირის არარსებობის ან მათი გამოყენების შეუძლებლობის შემთხვევაში ქვეითს შეუძლია გადაადგილდეს გზის სავალ ნაწილზე. თუ არსებობს ველობილიკი და მოძრაობის ინტენსივობა ამის საშუალებას იძლევა, ქვეითს უფლება აქვთ გადაადგილდეს მასზე, თუმცა არ უნდა გაართულოს ველოსიპედებისა და მოპედების მოძრაობა. ამავე მუხლის მე-6 პუნქტის თანახმად, ამ მუხლის მე-2, მე-4 და მე-5 პუნქტებით გათვალისწინებულ შემთხვევებში ქვეითი გზის სავალ ნაწილზე გადაადგილებისას უნდა იმყოფებოდეს სავალი ნაწილის კიდესთან რაც შეიძლება ახლოს.

QUESTION 10

CORRECT ANSWER: 2

In case of absence or failure of the pedestrians' traffic lights, but when traffic is controlled by the traffic lights, the pedestrian should not go to the driveway:

1

Until he/she does not make sure in safety of distance of the approaching vehicle, define its speed and safety of crossing

2

Until traffic light or the signal of traffic controller does not allow motion on this driveway

განმარტება:

„საგზაო მოძრაობის შესახებ“ საქართველოს კანონის 24-ე მუხლის მე-7 პუნქტის „ბ“ ქვეპუნქტის თანახმად, ქვეითთა გადასასვლელზე გადასვლისას, თუ გადასასვლელზე არ არსებობს, ან არ მუშაობს ქვეითთათვის განკუთვნილი შუქნიშანი, მაგრამ სატრანსპორტო საშუალებათა მოძრაობის რეგულირება ხორციელდება სატრანსპორტო შუქნიშნით მეშვეობით, ქვეითი არ უნდა გადავიდეს გზის სავალ ნაწილზე, ვიდრე შუქნიშნის ან მარეგულირებლის სიგნალები ამ სავალ ნაწილზე სატრანსპორტო საშუალებათა მოძრაობის უფლებას იძლევა.

QUESTION 11

CORRECT ANSWER: 2

In case of absence of crosswalk on the intersection, a pedestrian is allowed to cross the driveway:

1

By the shortest trajectory to the destination only

2

Along pavement or sidewalk

განმარტება:

„საგზაო მოძრაობის შესახებ“ საქართველოს კანონის 24-ე მუხლის მე-8 პუნქტის თანახმად, ქვეითმა გზის სავალი ნაწილი უნდა გადაკვეთოს ქვეითთა გადასასვლელზე, მათ შორის, მიწისზედა და მიწისქვეშა გადასასვლელებზე, ხოლო მათი არარსებობის შემთხვევაში – გზატკარცილით, ტროტუარის ან გვერდულის გასწვრივ.

QUESTION 12

CORRECT ANSWER: 3

The traffic accident participant driver is obliged to:

1

Immediately stop (not to start) the vehicle only

2

Switch on hazard lights only

3

Both immediately stop (not to start) the vehicle and switch on hazard lights

განმარტება:

„საგზაო მოძრაობის შესახებ“ საქართველოს კანონის 27-ე მუხლის პირველი პუნქტის „ა“ ქვეპუნქტის თანახმად, საგზაო-სატრანსპორტო შემთხვევაში მონაწილე მძღოლი ვალდებულია დაუყოვნებლივ გააჩეროს (არ დაძრას ადგილიდან) სატრანსპორტო საშუალება, ჩართოს საავარიო შუქური სიგნალიზაცია.

QUESTION 13

CORRECT ANSWER: 1



How many driveways does this road have?

1

One

2

Two

3

Three

4

Four

განმარტება:

„საგზაო მოძრაობის შესახებ“ საქართველოს კანონის 5-ე მუხლის მე-15 პუნქტის თანახმად, გზის სავალი ნაწილი (სავალი ნაწილი) არის გზის ელემენტი, რომელიც განკუთვნილია ურელსო სატრანსპორტო საშუალების მოძრაობისათვის (გარდა ტროტუარისა, გვერდულისა, ველობილიკისა და ქვეითთა ბილიკისა). ამავე მუხლის მე-12 პუნქტის თანახმად, გზა არის მოძრაობისათვის გახსნილი გზის ან ქუჩის მთელი ზედაპირი. გზას შეიძლება ჰქონდეს როგორც ერთი სავალი ნაწილი, ასევე რამოდენიმე, გამოყოფი ბოლით მკვეთრად გამიჯნული, ან სხვადასხვა დონეზე არსებული სავალი ნაწილები. ეს ტერმინი შეიძლება მოიცავდეს ტრამვაის ლიანდაგს, ტროტუარს, გვერდულას, გამყოფ ბოლსა და ველობილიკს.

QUESTION 14

CORRECT ANSWER: 2



How many driveways does this road have?

1

One

2

Two

3

Four

განმარტება:

„საგზაო მოძრაობის შესახებ“ საქართველოს კანონის 5-ე მუხლის მე-15 პუნქტის თანახმად, გზის სავალი ნაწილი (სავალი ნაწილი) არის გზის ელემენტი, რომელიც განკუთვნილია ურელსო სატრანსპორტო საშუალების მოძრაობისათვის (გარდა ტროტუარისა, გვერდულისა, ველობილიკისა და ქვეითთა ბილიკისა). ამავე მუხლის მე-12 პუნქტის თანახმად, გზა არის მოძრაობისათვის გახსნილი გზის ან ქუჩის მთელი ზედაპირი. გზას შეიძლება ჰქონდეს როგორც ერთი სავალი ნაწილი, ასევე რამოდენიმე, გამოყოფი ბოლით მკვეთრად გამიჯნული, ან სხვადასხვა დონეზე არსებული სავალი ნაწილები. ეს ტერმინი შეიძლება მოიცავდეს ტრამვაის ლიანდაგს, ტროტუარს, გვერდულას, გამყოფ ბოლსა და ველობილიკს.

QUESTION 15

CORRECT ANSWER: 3

Before leaving the mechanical vehicle, a driver must make sure:

- 1 In the circumstance only, that he/she had applied all the necessary cautionary measures for prevention of the traffic accident
- 2 In the circumstance only, that he/she had applied all the measures in order to prevent use of the mechanical vehicle without permission
- 3 That he/she had applied all the necessary cautionary measures for prevention of the traffic accident, as well as all the measures in order to prevent use of the mechanical vehicle without permission

განმარტება:

„საგზაო მოძრაობის შესახებ“ საქართველოს კანონის 37-ე მუხლის მე-8 პუნქტის თანახმად, მძღოლმა არ უნდა დატოვოს თავისი სატრანსპორტო საშუალება, თუ არ მიიღებს სიფრთხილის ყველა აუცილებელ ზომას საგზაო-სატრანსპორტო შემთხვევის თავიდან ასაცილებლად, ამასთანავე, მექანიკური სატრანსპორტო საშუალების შემთხვევაში მიღებული უნდა იქნეს ყველა ზომა, რათა ის უნებართვოდ არ იქნეს გამოყენებული.

QUESTION 16

CORRECT ANSWER: 3

Prior to entering crosswalk, a driver shall make sure that:

- 1 The crossing surface is not covered with ice
- 2 There is no incoming vehicle on the crossing
- 3 Not to become obliged to stop on it

განმარტება:

„საგზაო მოძრაობის შესახებ“ საქართველოს კანონის 25-ე მუხლის მე-6 პუნქტის თანახმად, მძღოლი არ უნდა შევიდეს ქვეითთა გადასასვლელზე, თუ წინასწარ არ დაურწმუნდება, რომ ის იძულებული არ გახდება გაჩერდეს მასზე.

QUESTION 17

CORRECT ANSWER: 2

Priority means:

- | | |
|--|---|
| <div style="background-color: #f06292; color: white; padding: 5px; text-align: center; margin-bottom: 5px;">1</div> <p>A traffic participant is obliged not to perform maneuvering, if this forces other traffic participants to change speed and direction suddenly</p> | <div style="background-color: #f06292; color: white; padding: 5px; text-align: center; margin-bottom: 5px;">2</div> <p>The right of a traffic participant, to be the first to drive towards intended direction compared with other traffic participants</p> |
|--|---|

განმარტება:

„საგზაო მოძრაობის შესახებ“ საქართველოს კანონის 5-ე მუხლის 84-ე პუნქტის თანახმად, უპირატესობა (პრიორიტეტი) – საგზაო მოძრაობის მონაწილის უფლება, სხვა საგზაო მოძრაობის მონაწილეებთან შედარებით პირველმა იმოძრაოს დასახული მიმართულებით.

QUESTION 18

CORRECT ANSWER: 2

“Road-train” means:

- | | |
|--|--|
| <div style="background-color: #f06292; color: white; padding: 5px; text-align: center; margin-bottom: 5px;">1</div> <p>Combination of a bus with a trailer(s) with maximum allowable mass more than 1200 kg</p> | <div style="background-color: #f06292; color: white; padding: 5px; text-align: center; margin-bottom: 5px;">2</div> <p>Combination of a lorry with a trailer(s) with maximum allowable mass more than 750 kg</p> |
| <div style="background-color: #f06292; color: white; padding: 5px; text-align: center; margin-bottom: 5px;">3</div> <p>Combination of a motor car with a trailer(s) with maximum allowable mass more than 750 kg</p> | |

განმარტება:

„საგზაო მოძრაობის შესახებ“ საქართველოს კანონის 5-ე მუხლის მე-3 პუნქტის თანახმად, ავტომატარებელი – სატვირთო ავტომობილის 750 კგ-ზე მეტი ნებადართული მაქსიმალური მასის მქონე მისაბმელთან/ მისაბმელებთან კომბინაცია.

QUESTION 19

CORRECT ANSWER: 3

“Hauler” means:

- 1 Any mechanical vehicle with maximum allowable mass more than 12 000 kg designated for exploitation together with a trailer
- 2 Lorry used for conveyance of dangerous cargo
- 3 Specialized vehicle, designated for conveyance of car and light wheel tractor

განმარტება:

„საგზაო მოძრაობის შესახებ“ საქართველოს კანონის 5-ე მუხლის მე-4 პუნქტის თანახმად, ავტომობილი – სპეციალიზებული ავტოსატრანსპორტო საშუალება, რომელიც განკუთვნილია ავტომობილისა და თვლიანი მსუბუქი ტრაქტორის გადასაზიდად.

QUESTION 20

CORRECT ANSWER: 1

“Insufficient visibility” means reduction of visibility on the road during passing the tunnel, in dark hours, fog, rain and snow and other natural events:

- 1 At a distance less than 300 meters
- 2 At a distance less than 500 meters
- 3 At a distance less than 600 meters

განმარტება:

„საგზაო მოძრაობის შესახებ“ საქართველოს კანონის 5-ე მუხლის მე-7 პუნქტის თანახმად, არასაკმარისი ხილვადობა – გვირაბში გავლისას, დღე-ღამის ბნელ დროს, ნისლის, წვიმის, თოვის და სხვა ბუნებრივი მოვლენების დროს გზის ხილვადობის 300 მეტრზე ნაკლებ მანძილზე შემცირება.

QUESTION 21

CORRECT ANSWER: 3

“Lane line” means:

- 1 Part of the road, used for motion of the vehicles without rails
- 2 Any line marked or unmarked by the linear road marking from those linear lines, which may be the driveway
- 3 Constructively separated element of the road, dividing adjacent driveways and not designated for motion of the vehicles without rails

განმარტება:

„საგზაო მოძრაობის შესახებ“ საქართველოს კანონის 5-ე მუხლის მე-9 პუნქტის თანახმად, გამყოფი ზოლი – კონსტრუქციულად გამოყოფილი გზის ელემენტი, რომელიც ყოფს მომიჯნავე სავალ ნაწილებს და არ არის განკუთვნილი მასზე ურელსო სატრანსპორტო საშუალების მოძრაობისათვის.

QUESTION 22

CORRECT ANSWER: 4

Besides the driveways, which of the following elements may be included in the road?

- 1 Tram rails and pavements only
- 2 Sideways and lane lines only
- 3 Bicycle lanes only
- 4 Both tram rails and pavements, sideways, lane lines and bicycle lanes

განმარტება:

„საგზაო მოძრაობის შესახებ“ საქართველოს კანონის 5-ე მუხლის მე-12 პუნქტის თანახმად, გზა - მოძრაობისათვის გახსნილი გზის ან ქუჩის მთელი ზედაპირი. გზას შეიძლება ჰქონდეს როგორც ერთი სავალი ნაწილი, ისე რამდენიმე, გამოყოფილი ზოლით მკვეთრად გამიჯნული, ან სხვადასხვა დონეზე არსებული სავალი ნაწილები. ეს ტერმინი შეიძლება მოიცავდეს ტრამვაის ლიანდაგს, ტროტუარს, გვერდულას, გამყოფ ზოლსა და ველობილიკს.

QUESTION 23

CORRECT ANSWER: 1

„Intersection“ is:

1 Crossing, junction or branching of the roads on one level, including the territories formed after such crossing, junction or branching

2 Entries from adjacent territories and crossings of the road

3 Crossing of the driveways existing on various levels

განმარტება:

„საგზაო მოძრაობის შესახებ“ საქართველოს კანონის 5-ე მუხლის მე-13 პუნქტის თანახმად, გზაჯვარედინი - ერთ დონეზე გზების კვეთა, შეერთება ან განშტოება, ასეთი კვეთით, შეერთებით ან განშტოებით წარმოქმნილი ტერიტორიების ჩათვლით. გზაჯვარედინად არ ითვლება მიმდებარე ტერიტორიებიდან გამომავალი გამოსასვლელების გზებთან კვეთა.

QUESTION 24

CORRECT ANSWER: 3

„Inhabited area“ means:

1 Any territory inhabited with people

2 Any road designated for heavy traffic of pedestrians

3 Built-up territory, entry and exits of which are marked with appropriate traffic signs

განმარტება:

„საგზაო მოძრაობის შესახებ“ საქართველოს კანონის 5-ე მუხლის მე-17 პუნქტის თანახმად, დასახლებული პუნქტი - განაშენიანებული ტერიტორია, სადაც შესასვლელი და გამოსასვლელი აღნიშნულია შესაბამისი საგზაო ნიშნებით.

QUESTION 25

CORRECT ANSWER: 3

“Loaded mass” means:

- 1 Mass of the vehicle, without passengers and cargo, but with entire fuel supply and necessary tool set
- 2 Mass of the vehicle defined by the blank production plant without driver, passengers and cargo
- 3 Actual mass of the vehicle loaded during the given period of time including driver and passengers

განმარტება:

„საგზაო მოძრაობის შესახებ“ საქართველოს კანონის 5-ე მუხლის მე-18 პუნქტის თანახმად, დატვირთული მასა (ფაქტობრივი მასა) - მოცემულ დროის მონაკვეთში დატვირთული სატრანსპორტო საშუალების ფაქტობრივი მასა, მძღოლისა და მგზავრების ჩათვლით.

QUESTION 26

CORRECT ANSWER: 1

“Unloaded mass” means:

- 1 Mass of the vehicle defined by the blank production plant without driver, passengers and cargo, but with entire fuel supply and necessary tool set
- 2 Actual mass of the vehicle unloaded during the given period of time including driver and passengers
- 3 Mass of the vehicle defined by the registration service, without driver, passengers and cargo

განმარტება:

„საგზაო მოძრაობის შესახებ“ საქართველოს კანონის 5-ე მუხლის მე-19 პუნქტის თანახმად, დაუტვირთავი მასა (დაუტვირთავი წონა) - ქარხანა-დამამზადებელის მიერ განსაზღვრული სატრანსპორტო საშუალების მასა მძღოლის, მგზავრებისა და ტვირთის გარეშე, მაგრამ სანჯავის სრული მარაგისა და ხელსაწყოების აუცილებელი კომპლექტის ჩათვლით.

QUESTION 27

CORRECT ANSWER: 3

„Dark hours“ mean:

- 1 Time interval from 6 p.m. until 12 a.m
- 2 Time interval from dawn until twilight
- 3 Time interval from twilight until dawn

განმარტება:

„საგზაო მოძრაობის შესახებ“ საქართველოს კანონის 5-ე მუხლის 21-ე პუნქტის თანახმად, დღე-ღამის ბნელი დრო - დროის შუალედი დაბინდებიდან გათენებამდე.

QUESTION 28

CORRECT ANSWER: 1

“Adjacent territory” is:

- 1 The territory, that directly surrounds the road and is not designated for through route of vehicle (yard, residential area, car park, petrol station, institution, etc.)
- 2 Element of the road designated for motion of the vehicle without rails (other than pavements, sidewalks, bicycle lanes and pedestrian paths)
- 3 Crossing, junction or branching of the roads on one level, including the territories formed after such crossing, junction or branching

განმარტება:

„საგზაო მოძრაობის შესახებ“ საქართველოს კანონის 5-ე მუხლის 38-ე პუნქტის თანახმად, მიმდებარე ტერიტორია - ტერიტორია, რომელიც უშუალოდ გზას ეკვრის და არ არის განკუთვნილი სატრანსპორტო საშუალების გამჭოლი მოძრაობისათვის (ეზო, საცხოვრებელი მასივი, ავტოსადგომი, ბენზინგასამართი სადგური, დაწესებულება და სხვა)

QUESTION 29

CORRECT ANSWER: 3

“Lane” is:

- 1 Constructively separated element of the road, dividing the adjacent driveways
- 2 Total surface of road or street opened for traffic
- 3 Any line marked or unmarked by the linear road marking from those linear lines, into which the driveway may be divided into, but which have the width sufficient for motion of the vehicles on one line, different from the motorcycles

განმარტება:

„საგზაო მოძრაობის შესახებ“ საქართველოს კანონის 5-ე მუხლის 45-ე პუნქტის თანახმად, „მოძრაობის ზოლი“ - გრძივი საგზაო მონიშვნის საშუალებით მონიშნული ან მოუნიშნავი ნებისმიერი ზოლი იმ გრძივი ზოლებიდან, რომლებსაც შეიძლება დაეყოს სავალი ნაწილი, მაგრამ რომელსაც აქვს მოტოციკლისაგან განსხვავებული საავტომობილო ტრანსპორტის ერთ რიგში მოძრაობისათვის საკმარისი სიგანე.

QUESTION 30

CORRECT ANSWER: 1

“Semi-trailer” means:

- 1 A trailer designated for hitching to the vehicle in such a way, when its part is based on the vehicle and significant part of semi-trailer and its cargo mass comes on the vehicle
- 2 Trailer with two axes, designated for its towing with rigid hitch by any mechanical vehicle

განმარტება:

„საგზაო მოძრაობის შესახებ“ საქართველოს კანონის 5-ე მუხლის 51-ე პუნქტის თანახმად, „ნახევარმისაბმელი“ - მისაბმელი, რომელიც განკუთვნილია ავტომობილზე ისეთი სახით ჩასაბმელად, როდესაც მისი ნაწილი ეყრდნობა ავტომობილს და ავტომობილზევე მოდის ნახევარმისაბმელისა და მისი ტვირთის მასის მნიშვნელოვანი ნაწილი.

QUESTION 31

CORRECT ANSWER: 3

„Maximum allowable mass“ means:

- 1 Actual mass of the vehicle loaded during the given period of time including driver and passengers
- 2 Mass of the vehicle filled with cargo and passengers and equipped, which limit is defined by the blank production plant
- 3 Maximum mass of the loaded vehicle, announced as allowable by the competent authority of the state, in which the vehicle is registered

განმარტება:

„საგზაო მოძრაობის შესახებ“ საქართველოს კანონის 5-ე მუხლის 52-ე პუნქტის თანახმად, „ნებადართული მაქსიმალური მასა“ (დასაშვები წონა) - დატვირთული სატრანსპორტო საშუალების მაქსიმალური მასა, რომელიც დასაშვებად არის გამოცხადებული იმ სახელმწიფოს კომპეტენტური ორგანოს მიერ, რომელშიც დარეგისტრირებულია სატრანსპორტო საშუალება.

QUESTION 32

CORRECT ANSWER: 2

“Low-speed vehicle” is:

- 1 A vehicle with or without engine, which constructive speed does not exceed 45 km/h
- 2 Vehicle with engine, which constructive speed does not exceed 40 km/h or which is unable to exceed this speed or is prohibited from exceeding this speed for the reason not related to the traffic flows
- 3 Any vehicle, routing on the road no faster than 50 km/h

განმარტება:

„საგზაო მოძრაობის შესახებ“ საქართველოს კანონის 5-ე მუხლის 53-ე პუნქტის თანახმად, „ნელმავალი სატრანსპორტო საშუალება“ - ძრავიანი სატრანსპორტო საშუალება, რომლის კონსტრუქციული სიჩქარე არ აღემატება 40 კმ/სთ-ს ან რომელიც აღნიშულ სიჩქარეს ვერ აჭარბებს ან ეკრძალება გადაჭარბება ისეთი მიზეზით, რომელიც არ არის დაკავშირებული სატრანსპორტო საშუალებათა ნაკადებთან.

QUESTION 33

CORRECT ANSWER: 1

“Lorry” means:

- 1 Vehicle designated for conveyance of goods, with maximum allowable mass exceeding 3 500 kg
- 2 Any mechanical vehicle designated for conveyance of goods
- 3 Any mechanical vehicle designated for conveyance of goods, with maximum allowable mass exceeding 3 500 kg

განმარტება:

„საგზაო მოძრაობის შესახებ“ საქართველოს კანონის 5-ე მუხლის 71-ე პუნქტის თანახმად, „სატვირთო ავტომობილი“ - ტვირთის გადასაზიდად განკუთვნილი ავტოსატრანსპორტო საშუალება, რომლის ნებადართული მაქსიმალური მასა აღემატება 3 500 კგ-ს.

QUESTION 34

CORRECT ANSWER: 2

“Route vehicle” means:

- 1 Any bus in which the number of seats, other than the driver’s seat, exceeds 16
- 2 Vehicle moving on a fixed route and designated for conveyance of passengers
- 3 Any vehicle designated for conveyance of goods and passengers

განმარტება:

„საგზაო მოძრაობის შესახებ“ საქართველოს კანონის 5-ე მუხლის 67-ე პუნქტის თანახმად, „სამარშრუტო სატრანსპორტო საშუალება“ - გზაზე მგზავრთა გადასაცვანად განკუთვნილი, დადგენილი მარშრუტით მოძრავი სატრანსპორტო საშუალება.

QUESTION 35

CORRECT ANSWER: 1

„Pavement“ is:

1 Element of the road, which is connected to driveway or separated from it constructively or by lawn and is designated for pedestrian traffic

2 Path designated for pedestrian traffic and separated from road

3 Any road designated for pedestrian traffic

განმარტება:

„საგზაო მოძრაობის შესახებ“ საქართველოს კანონის 5-ე მუხლის 83-ე პუნქტის თანახმად, „ტროტუარი“ - გზის ელემენტი, რომელიც მიერთებულია სავალ ნაწილთან ან გამოყოფილია მისგან კონსტრუქციულად ან გაზონით და განკუთვნილია ქვეითის მოძრაობისათვის.

QUESTION 36

CORRECT ANSWER: 2

“Pedestrian path” means:

1 Element of the road, connected to driveway and designated for pedestrian traffic

2 Path designated for pedestrian traffic and separated from road. The pedestrian path may be marked with appropriate traffic sign

3 Any section of the road designated for pedestrian traffic

განმარტება:

„საგზაო მოძრაობის შესახებ“ საქართველოს კანონის 5-ე მუხლის 85-ე პუნქტის თანახმად, „ქვეითთა ბილიკი“ - ქვეითთა მოძრაობისათვის განკუთვნილი, გზისგან განცალკევებული ბილიკი. ქვეითთა ბილიკი შეიძლება აღნიშნული იქნეს შესაბამისი საგზაო ნიშნით.

QUESTION 37

CORRECT ANSWER: 1

“Axial loading” means:

- | | |
|---|--|
| <div style="background-color: #f08080; color: white; padding: 5px; display: inline-block; margin-bottom: 5px;">1</div> Part of actual mass of the vehicle, that forms loading on the road after pressing the axis | <div style="background-color: #f08080; color: white; padding: 5px; display: inline-block; margin-bottom: 5px;">2</div> Maximum mass of pressing the axis established by the blank production plant, sum of which defines the limit of vehicle gross mass |
|---|--|

განმარტება:

„საგზაო მოძრაობის შესახებ“ საქართველოს კანონის 5-ე მუხლის 88-ე პუნქტის თანახმად, „ღერძზე დატვირთვა“ - სატრანსპორტო საშუალების ფაქტიური მასის ნაწილი, რომელიც ღერძზე დაწოლის შედეგად წარმოშობს გზაზე დატვირთვას. თითოეულ წამყვან ან არანამყვან ღერძზე დატვირთვის განსაზღვრისას, სატრანსპორტო საშუალების განივ ჭრილში ერთ ხაზზე განლაგებული, კონსტრუქციულად განცალკევებული ღერძები, განიხილება, როგორც ერთი მთლიანი ღერძი.

QUESTION 38

CORRECT ANSWER: 2

“Limited visibility” means:

- | | |
|--|--|
| <div style="background-color: #f08080; color: white; padding: 5px; display: inline-block; margin-bottom: 5px;">1</div> Reduction of visibility of the road while passing the tunnel, during dark hours, fog, rain and snow and other natural events in distance less than 300 meters | <div style="background-color: #f08080; color: white; padding: 5px; display: inline-block; margin-bottom: 5px;">2</div> Circumstance, in which a short turn, end of the ascent, landscaping, roadside construction or obstacles on the road, reduces visibility on the road in the traffic direction in such a way, that routing at maximum allowed speed on this road section may cause danger |
|--|--|

განმარტება:

„საგზაო მოძრაობის შესახებ“ საქართველოს კანონის 5-ე მუხლის 89-ე პუნქტის თანახმად, „შეზღუდული ხილვადობა“ - გარემოება, რომლის დროსაც მოკლე მოსახვევი, აღმართის დასასრული, გამწვანება, გზისპირა ნაგებობა ან გზაზე არსებული დაბრკოლება მოძრაობის მიმართულებით გზის ხილვადობას ისე ამცირებს, რომ აღნიშნულ გზის მონაკვეთზე ნებადართული მაქსიმალური სიჩქარით მოძრაობამ შეიძლება საფრთხე წარმოშვას.

QUESTION 39

CORRECT ANSWER: 4

Which of the vehicles given bellow is the “Mechanical vehicle”?

1

Two-wheel electric self-propeller

2

Moped or similar vehicles

3

Tram

4

None out of the ones listed in given test

განმარტება:

„საგზაო მოძრაობის შესახებ“ საქართველოს კანონის 5-ე მუხლის 35-ე პუნქტის თანახმად, „მექანიკური სატრანსპორტო საშუალება“ - ძრავიანი (თვითმავალი) სატრანსპორტო საშუალება, გარდა ორბორბლიანი ელექტროთვითმგორავისა, მოპედისა და მასთან გათანაბრებული სხვა სატრანსპორტო საშუალებისა, აგრეთვე სალიანდაგო სატრანსპორტო საშუალებისა.

QUESTION 40

CORRECT ANSWER: 1

“Light trailer” is:

1

A trailer, which with maximum allowable mass does not exceed 750 kg

2

A trailer, which unloaded weight does not not exceed 850 kg

3

A trailer, which gross mass does not exceed 950 kg

განმარტება:

„საგზაო მოძრაობის შესახებ“ საქართველოს კანონის 5-ე მუხლის 48-ე პუნქტის თანახმად, „მსუბუქი მისაბმელი“ - მისაბმელი, რომლის ნებადართული მაქსიმალური მასა არ აღემატება 750 კგ-ს.

QUESTION 41

CORRECT ANSWER: 4

In which of the below-mentioned cases is a vehicle considered to be “in the international traffic” of any state:

- | | | | |
|---|---|---|---|
| 1 | Only in case, if it belongs to a natural person or a legal entity, whose ordinary place of residence is outside of such state | 2 | Only in case, if it is not registered in this state |
| 3 | Only in case if it is brought in the state temporary, but no longer than the period prescribed by the laws of this state | 4 | In any case listed in given test |

განმარტება:

„საგზაო მოძრაობის შესახებ“ საქართველოს კანონის 5-ე მუხლის 66-ე პუნქტის თანახმად, საერთაშორისო მოძრაობა – რომელიმე სახელმწიფოს ტერიტორიაზე მყოფი სატრანსპორტო საშუალება საერთაშორისო მოძრაობაში მყოფად მიიჩნევა, თუ იგი: ა) ეკუთვნის ფიზიკურ ან იურიდიულ პირს, რომელსაც ჩვეულებრივი საცხოვრებელი ადგილი ამ სახელმწიფოს გარეთ აქვს; ბ) არ არის რეგისტრირებული ამ სახელმწიფოში; გ) ამ სახელმწიფოში შეტანილია დროებით, მაგრამ არაუმეტეს მისი კანონმდებლობით დადგენილი ვადისა. შენიშვნა: სატრანსპორტო საშუალებათა შემადგენლობა საერთაშორისო მოძრაობაში მყოფად მიიჩნევა, თუ მასში შემავალი თუნდაც ერთი სატრანსპორტო საშუალება აკმაყოფილებს ამ პუნქტით განსაზღვრულ მოთხოვნებს.

QUESTION 42

CORRECT ANSWER: 2

“Vehicle” means:

- | | | | |
|---|---|---|---|
| 1 | The motor equipment only, being into motion or designated for motion on the road, which is generally issued for conveyance of people or goods | 2 | The equipment being into motion or designated for motion on the road, which moves using the engine or other force |
|---|---|---|---|

განმარტება:

„საგზაო მოძრაობის შესახებ“ საქართველოს კანონის 5-ე მუხლის 73-ე პუნქტის თანახმად, „სატრანსპორტო საშუალება“ - გზაზე მოძრავი ან გზაზე მოძრაობისათვის განკუთვნილი მოწყობილობა, რომელიც ძრავას ან სხვა ძალის მეშვეობით გადაადგილდება.

QUESTION 43

CORRECT ANSWER: 3

“Gross mass” of the vehicle means:

- | | |
|---|---|
| <p>1 Mass of the vehicle without crew, passengers and goods</p> | <p>2 Mass of the equipped vehicle, crew and passengers during a given period of time</p> |
| <p>3 Mass of the equipped vehicle, filled with cargo, crew and passengers, limit of which is established by the blank production plant</p> | <p>4 Part of the mass of the vehicle, which forms loading on the road after pulling the axis</p> |

განმარტება:

„საგზაო მოძრაობის შესახებ“ საქართველოს კანონის 5-ე მუხლის მე-80 პუნქტის თანახმად, „სრული მასა“ - ტვირთით, მძღოლითა და მგზავრებით შევსებული, აღჭურვილ მდგომარეობაში მყოფი სატრანსპორტო საშუალების მასა, რომლის ზღვარს ადგენს სატრანსპორტო საშუალების ქარხანა-დამამზადებელი. სატრანსპორტო საშუალებათა შემადგენლობის სრული მასა გამოიანგარიშება მასში შემავალი სატრანსპორტო საშუალებების სრულ მასათა ჯამით.

QUESTION 44

CORRECT ANSWER: 2

While defining loading on each driving and non-driving axis, the axis located on one line in the cross section of the vehicles and separated constructively shall be considered, as:

- | | |
|--|---------------------------------|
| <p>1 Independent axes</p> | <p>2 One entire axis</p> |
| <p>3 One entire axis - in case of non-driving axis and independent axes - in case of driving axis</p> | |

განმარტება:

„საგზაო მოძრაობის შესახებ“ საქართველოს კანონის მე-5 მუხლის 88-ე პუნქტის თანახმად, ღერძზე დატვირთვა არის სატრანსპორტო საშუალების ფაქტობრივი მასის ნაწილი, რომელიც ღერძზე დაწოლის შედეგად წარმოშობს გზაზე დატვირთვას. თითოეულ წამყვან ან არაწამყვან ღერძზე დატვირთვის განსაზღვრისას სატრანსპორტო საშუალების განივ ჭრილში ერთ ხაზზე განლაგებული, კონსტრუქციულად განცალკევებული ღერძები განიხილება, როგორც ერთი მთლიანი ღერძი.

QUESTION 45

CORRECT ANSWER: 1

On two-way road with lane line, reverse traffic side shall be:

1

Driveway on the left of the lane line

2

Driveway on the right of the lane line

3

None out of the ones listed in given test

განმარტება:

„საგზაო მოძრაობის შესახებ“ საქართველოს კანონის 31-ე მუხლის მე-3 პუნქტის თანახმად, ორმხრივმოძრაობიან გზაზე, რომელსაც აქვს გამყოფი ზოლი, საპირისპირო მიმართულების მოძრაობის მხარედ ითვლება გამყოფი ზოლის მარცხნივ არსებული სავალი ნაწილი.

QUESTION 46

CORRECT ANSWER: 1

If a driver is unable to define existence of surface on the road (because of darkness, snow, mud, etc.) and there are no priority signs as well, he/she will be considered to be:

1

On minor road

2

On major road

3

On the road equal to the highway

განმარტება:

„საგზაო მოძრაობის შესახებ“ საქართველოს კანონის 36-ე მუხლის მე-8 პუნქტის თანახმად, თუ მძღოლი ვერ განსაზღვრავს გზაზე საფრის არსებობას (სიბნელის, თოვლის, ტალახის გამო ან სხვა მიზეზით) და არც პრიორიტეტის ნიშნებია, ითვლება, რომ იგი მეორეხარისხოვან გზაზე იმყოფება.

QUESTION 47

CORRECT ANSWER: 2

In case, if the orders of the temporary traffic sign fixed on the vehicle of the organization performing road works contradict to the orders of the traffic sign posted stationary on the same road section, a driver shall be obliged to carry out:

1

Orders of the stationary posted traffic sign

2

Orders of the temporary traffic sign fixed on the vehicle of the organization performing road works

განმარტება:

„საგზაო მოძრაობის შესახებ“ საქართველოს კანონის 28-ე მუხლის მე-5 პუნქტის თანახმად, თუ გზაზე დროებით გადასატან სადგარზე ან საგზაო სამუშაოების მწარმოებელი ორგანიზაციის ავტომობილზე დაყენებულია საგზაო ნიშანი (შემდგომ – დროებითი საგზაო ნიშანი), რომლის მოთხოვნები ეწინააღმდეგება იმავე გზის მონაკვეთზე სტაციონარულად დაყენებული საგზაო ნიშნის მოთხოვნებს, მძღოლი ვალდებულია შეასრულოს დროებითი საგზაო ნიშნის მოთხოვნები.

QUESTION 48

CORRECT ANSWER: 1

On which side of the windscreen is the certificate of road suitability test of the vehicle placed:

1

In the lower left corner

2

In the lower right corner

3

In the upper left corner

4

In the upper right corner

განმარტება:

„საგზაო მოძრაობის შესახებ“ საქართველოს კანონის მე-11 მუხლის მე-7 პუნქტის თანახმად, გზისთვის ვარგისობაზე ტესტირების გავლის დამადასტურებელი ფირნიში თავსდება ავტომობილზე, საქარე მინის ქვედა მარცხენა კუთხეში.

QUESTION 49

CORRECT ANSWER: 3

Is driving the vehicle, with actual mass exceeding maximum allowable mass, prohibited?

- 1 No, if it is the vehicle with one driving axis, which maximum loading on driving axis does not exceed 11.5 tonnes
- 2 No, if it is the above-standard (heavy) vehicle, routing according to the rule established by the legislation after agreement with the authorized body, in accordance with the conditions stipulated by this agreement
- 3 Is prohibited in any case

განმარტება:

„საგზაო მოძრაობის შესახებ“ საქართველოს კანონის 47-ე მუხლის მე-3 პუნქტის „ა“ თანახმად, აკრძალულია გზაზე იმ სატრანსპორტო საშუალების მოძრაობა, რომლის: ა) თითოეულ წამყვან ან არაწამყვან ღერძზე მაქსიმალური დატვირთვა აღემატება 10 ტონას (გარდა ერთწამყვანღერძიანი ავტოსატრანსპორტო საშუალებისა, რომლის წამყვან ღერძზე მაქსიმალური დატვირთვა არ უნდა აღემატებოდეს 11,5 ტონას) ან/და ფაქტობრივი მასა აღემატება 44 ტონას ან/და ფაქტობრივი მასა აღემატება ნებადართულ მაქსიმალურ მასას. ამავე მუხლის მე-5 პუნქტის „ა“ ქვეპუნქტის თანახმად, გარდა ნებადართულ მაქსიმალურ მასაზე ფაქტობრივი მასის გადაჭარბების აკრძალვისა, ამ მუხლის მე-3 პუნქტის მოქმედება არ ვრცელდება: ა) იმ არაგაბარიტულ (მსხვილგაბარიტიან) ან ზენორმატიულ (მძიმეწონიან) სატრანსპორტო საშუალებაზე, რომელიც გზაზე მოძრაობს საქართველოს კანონმდებლობით დადგენილი წესით უფლებამოსილ ორგანოსთან (უწყებასთან) შეთანხმების შემდეგ, ამ შეთანხმების პირობების შესაბამისად.

QUESTION 50

CORRECT ANSWER: 3

Driving of motorcycles, buses, light vehicles and lorries are permitted only those persons:

1 Whose health state complies with the requirements regarding the health state, that is required for driving of the vehicles defined by the Georgian legislation

2 Who is awarded with the right to drive the specific category or/and sub-category vehicle according to the rule prescribed by the Georgian legislation and this right is not terminated or suspended

3 Who satisfy all of the requirements listed in given test

განმარტება:

„საგზაო მოძრაობის შესახებ“ საქართველოს კანონის 54-ე მუხლის პირველი პუნქტის თანახმად, ამ მუხლით განსაზღვრული კატეგორიის ან/და ქვეკატეგორიის სატრანსპორტო საშუალების მართვის უფლება აქვს მხოლოდ იმ პირს: ა) რომლის ჯანმრთელობის მდგომარეობაც შეესაბამება საქართველოს კანონმდებლობით განსაზღვრულ სატრანსპორტო საშუალების მართვისათვის საჭირო ჯანმრთელობის მდგომარეობის მოთხოვნებს; ბ) რომელსაც საქართველოს კანონმდებლობით დადგენილი წესით მიენიჭა შესაბამისი კატეგორიის ან/და ქვეკატეგორიის სატრანსპორტო საშუალების მართვის უფლება და ეს უფლება არ არის შეჩერებული, ჩამორთმეული ან შეწყვეტილი (გაუქმებული).

QUESTION 51

CORRECT ANSWER: 3



I



II



III

Which identification sign is fixed to the rear of the mechanical vehicle, to which studded tires are attached?

1

III only

2

I only

3

II only

4

All of them

განმარტება:

„საგზაო მოძრაობის შესახებ“ საქართველოს კანონის მე-19 მუხლის პირველი პუნქტის „ბ“ ქვეპუნქტის თანახმად, მძღოლი, ხოლო ამ კანონის მე-18 მუხლის პირველი პუნქტის „დ“ ქვეპუნქტით გათვალისწინებულ შემთხვევებში – საწარმო ვალდებულია ამ პუნქტით განსაზღვრულ სატრანსპორტო საშუალებებზე დაამაგროს შემდეგი საცნობი ნიშნები: ბ) „კოტები“ – წვერით ზევით მიმართული თეთრი ტოლგვერდა სამკუთხედი წითელი არხით, რომელშიც ჩაწერილია შავი ასო „კ“ (სამკუთხედის გვერდი არანაკლებ 200 მმ-ია, არხის სიგანე – გვერდის 1/10) – მაგრდება იმ სატრანსპორტო საშუალების უკანა მხარეს, რომელზედაც დამაგრებულია კოტებიანი სალტები.

QUESTION 52

CORRECT ANSWER: 2



I



II



III

Which identification sign is fixed to the vehicle carrying dangerous goods in the front and to the rear?

1

I only

2

II only

3

III only

4

I and II only

განმარტება:

„საგზაო მოძრაობის შესახებ“ საქართველოს კანონის მე-19 მუხლის პირველი პუნქტის „გ“ ქვეპუნქტის თანახმად, მძღოლი, ხოლო ამ კანონის მე-18 მუხლის პირველი პუნქტის „დ“ ქვეპუნქტით გათვალისწინებულ შემთხვევებში – საწარმო ვალდებულია ამ პუნქტით განსაზღვრულ სატრანსპორტო საშუალებებზე დაამაგროს შემდეგი საცნობი ნიშნები: გ) „სახიფათო ტვირთი“ – 400X300 მმ ზომის, სწორკუთხედი, ნარინჯისფერი ფირფიტა გარშემო 15 მმ სიგანის შავი არშიით – ასეთი ტვირთის გადამზიდავი სატრანსპორტო საშუალების წინა და უკანა მხარეს, ხოლო ცისტერნის შემთხვევაში – გვერდებზედაც (ფირფიტის ქვედა ნაწილში უნდა აღინიშნოს ტვირთის გაერთიანებული ერების ორგანიზაციის ნომერი, ხოლო ზედა ნაწილში – საშიშროების საიდენტიფიკაციო ნომერი. ისინი უნდა გაიყოს 15 მმ სისქის შავი ჰორიზონტალური ხაზით, რომელიც ფირფიტას ნახევარ სიმაღლეზე გადაკვეთს).

QUESTION 53

CORRECT ANSWER: 3



I



II



III

Which identification sign is fixed in the front and to the rear of the mechanical vehicle, driven by a deaf driver?

1

III only

2

II only

3

I only

განმარტება:

„საგზაო მოძრაობის შესახებ“ საქართველოს კანონის მე-19 მუხლის პირველი პუნქტის „გ“ ქვეპუნქტის თანახმად, მძღოლი, ხოლო ამ კანონის მე-18 მუხლის პირველი პუნქტის „დ“ ქვეპუნქტით გათვალისწინებულ შემთხვევებში – საწარმო ვალდებულია ამ პუნქტით განსაზღვრულ სატრანსპორტო საშუალებებზე დაამაგროს შემდეგი საცნობი ნიშნები: 8) „სმენადაქვეითებული მძღოლი“ – 160 მმ დიამეტრის ყვითელი წრე შიგნით ჩახაზული 40 მმ დიამეტრის სამი შავი წრით, რომლებიც განლაგებულია წარმოსახვითი წვერით ქვევით მიმართული ტოლგვერდა სამკუთხედის კუთხეებში – მაგრდება იმ მექანიკური სატრანსპორტო საშუალების წინა და უკანა მხარეს, რომელსაც მართავს საქართველოს შრომის, ჯანმრთელობისა და სოციალური დაცვის მინისტრისა და საქართველოს შინაგან საქმეთა მინისტრის ერთობლივი ბრძანებით განსაზღვრული სმენადაქვეითებული მძღოლი.

QUESTION 54

CORRECT ANSWER: 1



Which identification sign is fixed in the front and to the rear of the mechanical vehicle designated for learning motion?

1

III only

2

II only

3

I only

განმარტება:

„საგზაო მოძრაობის შესახებ“ საქართველოს კანონის მე-19 მუხლის პირველი პუნქტის „თ“ ქვეპუნქტის თანახმად, მძღოლი, ხოლო ამ კანონის მე-18 მუხლის პირველი პუნქტის „დ“ ქვეპუნქტით გათვალისწინებულ შემთხვევებში – საწარმო ვალდებულია ამ პუნქტით განსაზღვრულ სატრანსპორტო საშუალებებზე დაამაგროს შემდეგი საცნობი ნიშნები: თ) „სასწავლო-სატრანსპორტო საშუალება“ – წვერით ზევით მიმართული თეთრი ტოლფერდა სამკუთხედი წითელი არშიით, რომელშიც ჩანერილია შავი ასო „ს“ (სამკუთხედის გვერდი არანაკლებ 200 მმ-ია, არშიის სიგანე – გვერდის 1/10) – მაგრდება სასწავლო სატრანსპორტო საშუალების წინა და უკანა მხარეს. აგრეთვე დასაშვებია მსუბუქი ავტომობილის სახურავზე ორმხრივი ნიშნის დაყენება.

QUESTION 55

CORRECT ANSWER: 2



I



II



III

Which identification sign is fixed to the vehicle, which speed together with cargo and technical specification is less than the speed established by the legislation?

1

III only

2

II only

3

I only

განმარტება:

„საგზაო მოძრაობის შესახებ“ საქართველოს კანონის მე-19 მუხლის პირველი პუნქტის „ი“ ქვეპუნქტის თანახმად, მძღოლი, ხოლო ამ კანონის მე-18 მუხლის პირველი პუნქტის „დ“ ქვეპუნქტით გათვალისწინებულ შემთხვევებში – საწარმო ვალდებულია ამ პუნქტით განსაზღვრულ სატრანსპორტო საშუალებებზე დაამაგროს შემდეგი საცნობი ნიშნები: ი) „სიჩქარის შეზღუდვა“ – 3.24 საგზაო ნიშნის შემცირებული ფერადი გამოსახულება, რომელზედაც მითითებულია ნებადართული მოძრაობის სიჩქარე (ნიშნის დიამეტრი არანაკლებ 160 მმ-ია, არშიის სიგანე – დიამეტრის 1/10) – მაგრდება იმ არაგაბარიტული (მსხვილგაბარიტიანი) სატრანსპორტო საშუალების ან სახიფათო ტვირთის გადამზიდავი სატრანსპორტო საშუალების ძარას უკანა მხარეს, მარცხნივ, რომელსაც მართავს მძღოლად მუშაობის 2 წლამდე სტაჟის მქონე მძღოლი, აგრეთვე იმ შემთხვევაში, როცა ტექნიკური მახასიათებლით სატრანსპორტო საშუალების მაქსიმალური სიჩქარე ამ კანონის 33-ე მუხლის მე-7 პუნქტით განსაზღვრულზე ნაკლებია.

QUESTION 56

CORRECT ANSWER: 2



I



II



III

Which identification sign may be fixed in the front and to the rear of the mechanical vehicle, at the discretion of the driver, that is driven by the persons with disabilities or to the vehicle conveying such persons?

1

III only

2

II only

3

I only

განმარტება:

„საგზაო მოძრაობის შესახებ“ საქართველოს კანონის მე-19 მუხლის მე-2 პუნქტის „ა“ ქვეპუნქტის თანახმად, მძღოლის სურვილისამებრ სატრანსპორტო საშუალებაზე შეიძლება დამაგრდეს შემდეგი საცნობი ნიშნები: ა) „შეზღუდული შესაძლებლობის მქონე პირი“ – ყვითელი კვადრატი 150-მმ-იანი გვერდით და 8.17 საგზაო ნიშნის სიმბოლო შავი გამოსახულებით – შეიძლება დამაგრდეს იმ მექანიკური სატრანსპორტო საშუალების წინა და უკანა მხარეს, რომელსაც მნიშვნელოვნად გამოხატული ან მკვეთრად გამოხატული შეზღუდული შესაძლებლობის სტატუსის მქონე პირი მართავს, ან სატრანსპორტო საშუალებაზე, რომელსაც აღნიშნული პირები გადაჰყავს.

QUESTION 57

CORRECT ANSWER: 2



I



II



III

Which identification sign may be fixed to the vehicle, at the discretion of the driver, that is driven by a doctor?

1

III only

2

II only

3

I only

განმარტება:

„საგზაო მოძრაობის შესახებ“ საქართველოს კანონის მე-19 მუხლის მე-2 პუნქტის „ბ“ ქვეპუნქტის თანახმად, მძღოლის სურვილისამებრ სატრანსპორტო საშუალებაზე შეიძლება დამაგრდეს შემდეგი საცნობი ნიშნები: ბ) „ექიმი“ – ლურჯი კვადრატი 140-მმ-იანი გვერდით, შიგ ჩახაზული 125 მმ დიამეტრის თეთრი წრით, რომელზედაც გამოსახულია წითელი ჯვარი (სიმაღლე – 90 მმ, შტრიხის სიგანე – 25 მმ) – შეიძლება დამაგრდეს იმ სატრანსპორტო საშუალებაზე, რომელსაც ექიმი მძღოლი მართავს.

QUESTION 58

CORRECT ANSWER: 1

If children playing on lawn or pavement throw a ball on the driveway in front of the vehicle, a driver shall take into account, that:

1

Children may run after the ball on the driveway

2

There is no danger that children will move to the carriageway as they are required to stop at the edge of the carriageway and wait for the vehicle to pass

განმარტება:

თუ გაბონზე ან ტროტუარზე მყოფ მოთამაშე ბავშვებს სატრანსპორტო საშუალების წინ გზის სავალ ნაწილზე გადმოუვარდათ ბურთი, მძღოლმა უნდა გაითვალისწინოს, რომ ბავშვები შეიძლება გამოიქცნენ გზის სავალ ნაწილზე ბურთის ასაღებად.

QUESTION 59

CORRECT ANSWER: 3

If a vehicle is approaching the children playing on the pavement, a driver shall:

1

Proceed without paying attention to children, in order not to create obstacle to the vehicle behind

2

Give honk and proceed without stopping only

3

Slow down and be ready for braking

განმარტება:

თუ სატრანსპორტო საშუალება უახლოვდება ტროტუარზე მოთამაშე ბავშვებს, მძღოლმა უნდა შეანელოს სიჩქარე და მზად იყოს დამუხრუჭებისთვის.

QUESTION 60

CORRECT ANSWER: 3

It is forbidden to give a vehicle to other person:

1

Only if s/he is under alcohol, narcotic or psychotropic influence

2

Only when s/he does not have a relevant category or subcategory driving license or has suspended, deprived or terminated (cancelled) compliance to Georgian legislation

3

In any of the cases listed in given test

განმარტება:

„საგზაო მოძრაობის შესახებ“ საქართველოს კანონის მე-20 მუხლის მე-4 და მე-5 პუნქტების თანახმად: 4. აკრძალულია სატრანსპორტო საშუალების სამართავად გადაცემა იმ პირისათვის, რომელიც იმყოფება ალკოჰოლური, ნარკოტიკული ან ფსიქოტროპული სიმთვრალის მდგომარეობაში. 5. აკრძალულია სატრანსპორტო საშუალების სამართავად გადაცემა იმ პირისათვის, რომელსაც არ აქვს შესაბამისი კატეგორიის ან ქვეკატეგორიის სატრანსპორტო საშუალების მართვის უფლება ან ეს უფლება შეჩერებული, ჩამორთმეული ან შეწყვეტილი (გაუქმებული) აქვს საქართველოს კანონმდებლობით დადგენილი წესით.

QUESTION 61

CORRECT ANSWER: 2

Is the driver of the vehicle, whose health state does not comply with the requirements regarding the health state necessary for driving the vehicle, prohibited from driving?

1

No

2

Yes

განმარტება:

„საგზაო მოძრაობის შესახებ“ საქართველოს კანონის 21-ე მუხლის მე-2 პუნქტის თანახმად, მძღოლს, რომლის ჯანმრთელობის მდგომარეობა არ შეესაბამება სატრანსპორტო საშუალების მართვისათვის საჭირო ჯანმრთელობის მდგომარეობის მოთხოვნებს, ეკრძალება სატრანსპორტო საშუალების მართვა.

QUESTION 62

CORRECT ANSWER: 4

If an elderly pedestrian is walking on crosswalk in front of the vehicle, a driver shall take into account:

- | | | | |
|---|---|---|---|
| 1 | Only the fact, that the elderly pedestrian may not properly assess the speed of the approaching vehicle | 2 | Only the fact, that the elderly pedestrian may have impaired hearing or/and sight |
| 3 | Only the fact, that the elderly pedestrian's reaction is slower | 4 | In all the above-mentioned circumstances |

განმარტება:

თუ სატრანსპორტო საშუალების წინ ქვეითთა გადასასვლელზე გადაადგილდება მოხუცი ქვეითი, მძღოლმა უნდა გაითვალისწინოს როგორც ის, რომ მოხუცი ქვეითი შეიძლება სათანადოდ ვერ აფასებდეს მოახლოებული სატრანსპორტო საშუალების სიჩქარეს, ასევე ის, რომ მოხუცი ქვეითის რეაქცია უფრო შენელებულია და შესაძლებელია მას მკვეთრად ჰქონდეს დაქვეითებული სმენა და მხედველობა.

QUESTION 63

CORRECT ANSWER: 3

Why is driving of the vehicle by a driver under drug influence is dangerous?

- | | | | |
|---|---|---|--|
| 1 | Only due to the fact, that the reaction time of the driver being under drug influence increases | 2 | Only due to the fact, that the driver being under drug influence cannot adequately analyze the situation on the road |
| 3 | All of the listed factors are caused by narcotic influence | | |

განმარტება:

ნარკოტიკული სიმთვრალის მდგომარეობაში მყოფი მძღოლის მიერ სატრანსპორტო საშუალების მართვა სიფრთხილის შემცველია, რადგან ნარკოტიკული სიმთვრალის მდგომარეობაში მყოფი მძღოლის რეაქციის დრო იზრდება, ასევე იგი ადევკატურად ვერ აანალიზებს გზაზე არსებულ სიტუაციას.

QUESTION 64

CORRECT ANSWER: 1

During dark hours or in poor visibility conditions, while selecting the vehicle speed, the driver should give a decisive meaning to:

- | | |
|---|--|
| 1 Visual conditions | 2 Road marking requirements specified on the given section of the road |
| 3 Number of traffic lanes of opposite traffic direction | 4 None of the circumstances listed in given test should be considered |

განმარტება:

დღე-ღამის ბნელ დროს ან არასაკმარისი ხილვადობის პირობებში, სატრანსპორტო საშუალების მოძრაობის სიჩქარის შერჩევისას მძღოლმა გადამწყვეტი მნიშვნელობა უნდა მიანიჭოს მხედველობის პირობებს.

თემა 2:

უნესკო-ს და პირობები, რომელთა დროს
აკრძალულია სატრანსპორტო საშუალების
ეკსპლუატაცია

QUESTION 65

CORRECT ANSWER: 4

Content of harmful substances in the exhaust gas of the vehicle will be reduced, if following is used:

1

Vehicle in technically suitable condition only

2

Quality fuel only

3

Non-ethylated fuel (without lead compounds) only

4

Both vehicle in technically suitable condition, as well as quality and non-ethylated fuel (without lead compounds)

განმარტება:

სატრანსპორტო საშუალების გამონაბოლქ აირებში მავნე ნივთიერებათა შემადგენლობა შემცირდება, თუ გამოყენებული იქნება ტექნიკურად გამართული სატრანსპორტო საშუალება, ასევე ხარისხიანი და არაეთილირებული (ტყვიის მინარევების გარეშე) საწვავი.

QUESTION 66

CORRECT ANSWER: 1

In dark hours, if low and high beams of the mechanical vehicle are out of order (switched off) simultaneously, a driver is prohibited from:

1

Driving on the road without artificial illumination

2

Driving on any road, whether there is artificial illumination or not

3

Driving on artificially illuminated two-way road

განმარტება:

„საგზაო მოძრაობის შესახებ“ საქართველოს კანონის მე-21-ე მუხლის მე-13 პუნქტის თანახმად, მძღოლს ეკრძალება მოძრაობა მუშა სამუხრუჭო სისტემის, საჭის მექანიზმის, სატრანსპორტო საშუალებათა შემადგენლობაში მისაბმელი მოწყობილობის გაუმართაობისას, აგრეთვე დღე-ღამის ბნელ დროს ერთდროულად მწყობრიდან გამოსული (ჩამქრალი) ახლო და შორი განათების ფარებით (ან მათი არარსებობისას) ან/და უკანა საგაბარიტო სინათლეებით იმ გზაზე, რომელზედაც არ არის ხელოვნური განათება ან არასაკმარისი ხილვადობაა. მძღოლის მხარეს არსებული მინასანმენდის უმოქმედობისას აკრძალულია მექანიკური სატრანსპორტო საშუალების მართვა ნისლის, წვიმისა და თოვის დროს.

QUESTION 67

CORRECT ANSWER: 1



A motor car driver parked on the sideway with solid surface. Will he/she violate the Highway Code, if he/she does not switch sidelights on in low visibility conditions?

1

Yes

2

No

განმარტება:

„საგზაო მოძრაობის შესახებ“ საქართველოს კანონის 49-ე მუხლის მე-9 პუნქტის თანახმად, დაბინდებიდან გათენებამდე, აგრეთვე ნებისმიერი სხვა არასაკმარისი ხილვადობის პირობებში, გზაზე გაჩერების ან დგომის დროს მექანიკური სატრანსპორტო საშუალება და მისი მისაბმელი აღნიშნული უნდა იყოს წინა და უკანა საგაბარითო სინათლეებით. ამავე მუხლის მე-11 პუნქტის „ბ“ ქვეპუნქტის თანახმად, ამ მუხლის მე-9 და მე-10 პუნქტებით დადგენილ მოთხოვნათა მიუხედავად, მექანიკური სატრანსპორტო საშუალება შეიძლება გაჩერდეს ან იმყოფებოდეს სადგომზე ნებისმიერი გარე სანათი ხელსაწყოს ჩაურთველად: ბ) სავალი ნაწილის და მკვრივი საფარის მქონე გვერდულებს მიღმა.

QUESTION 68

CORRECT ANSWER: 2



Is a car driver allowed to proceed to the arrow direction, if rear side lights got out of order during driving in dark hours?

1

Yes

2

No

განმარტება:

„საგზაო მოძრაობის შესახებ“ საქართველოს კანონის 49-ე მუხლის პირველი პუნქტის თანახმად, დღე-ღამის ბნელ დროს, აგრეთვე არასაკმარისი ხილვადობის პირობებში მოძრაობა შეეზღუდება სატრანსპორტო საშუალებებზე, აგრეთვე მოპედზე ჩართული უნდა იყოს ახლო ან შორი განათების ფარა/ფარები და უკანა საგაბარიტო სინათლეები. ამავე კანონის 21-ე მუხლის მე-13 პუნქტის თანახმად მძღოლს ეკრძალება მოძრაობა მუშა სამუხრუჭო სისტემის, საჭის მექანიზმის, სატრანსპორტო საშუალებათა შემადგენლობაში მისაბმელი მოწყობილობის გაუმართაობისას, აგრეთვე დღე-ღამის ბნელ დროს ერთდროულად მწყობრიდან გამოსული (ჩამქრალი) ახლო და შორი განათების ფარებით (ან მათი არარსებობისას) ან/და უკანა საგაბარიტო სინათლეებით იმ გზაზე, რომელზედაც არ არის ხელოვნური განათება ან არასაკმარისი ხილვადობა.

QUESTION 69

CORRECT ANSWER: 2



Will a car driver violate the Highway Code, if the car is parked at the place shown in the picture without switching the external illumination on in low visibility conditions?

1

Yes

2

No

განმარტება:

„საგზაო მოძრაობის შესახებ“ საქართველოს კანონის 49-ე მუხლის მე-9 პუნქტის თანახმად, დაბინდებიდან გათენებამდე, აგრეთვე ნებისმიერი სხვა არასაკმარისი ხილვადობის პირობებში, გზაზე გაჩერების ან დგომის დროს მექანიკური სატრანსპორტო საშუალება და მისი მისაბმელი აღნიშნული უნდა იყოს წინა და უკანა საგაბარითო სინათლეებით. ამავე მუხლის მე-11 პუნქტის „ბ“ ქვეპუნქტის თანახმად, ამ მუხლის მე-9 და მე-10 პუნქტებით დადგენილ მოთხოვნათა მიუხედავად, მექანიკური სატრანსპორტო საშუალება შეიძლება გაჩერდეს ან იმყოფებოდეს სადგომზე ნებისმიერი გარე სანათი ხელსაწყო ჩაურთველად: ბ) სავალი ნაწილის და მკვრივი საფარის მქონე გვერდულებს მიღმა.

QUESTION 70

CORRECT ANSWER: 2

Subsequent driving of a vehicle is prohibited, if:

1

Honk is not operating properly

2

During dark hours low and high beams or/and rear sidelights are simultaneously switched off (or are not applicable) on the road, on which there is no artificial illumination or there is low visibility

3

Windscreen wipers are not operating in a fixed mode

4

Hermeticity of feed system is out of order

განმარტება:

„საგზაო მოძრაობის შესახებ“ საქართველოს კანონის 21-ე მუხლის მე-13 პუნქტის თანახმად, მძღოლს ეკრძალება მოძრაობა მუშა სამუხრუჭო სისტემის, საჭის მექანიზმის, სატრანსპორტო საშუალებათა შემადგენლობაში მისაბმელი მოწყობილობის გაუმართაობისას, აგრეთვე დღე-ღამის ბნელ დროს ერთდროულად მწყობრიდან გამოსული (ჩამქრალი) ახლო და შორი განათების ფარებით (ან მათი არარსებობისას) ან/და უკანა საგაბარიტო სინათლეებით იმ გზაზე, რომელზედაც არ არის ხელოვნური განათება ან არასაკმარისი ხილვადობაა. მძღოლის მხარეს არსებული მინასანმენდის უმოქმედობისას აკრძალულია მექანიკური სატრანსპორტო საშუალების მართვა ნისლის, წვიმისა და თოვის დროს.

QUESTION 71

CORRECT ANSWER: 2

Is driving of the vehicle prohibited if its tyre dimension or capacity does not correspond to the vehicle model?

1

No

2

Yes

განმარტება:

აკრძალულია სატრანსპორტო საშუალების ექსპლუატაცია, თუ საბურავი ზომით ან დასაშვები დატვირთვით არ შეესაბამება სატრანსპორტო საშუალების მოდელს.

QUESTION 72

CORRECT ANSWER: 2



I



II



III

Which drawing shows correct arrangement of hands on the steering wheel?

1

I

2

II

3

III

განმარტება:

საჭის თვალზე ხელების სწორი განლაგებაა, როდესაც ავარიული სიტუაციის წარმოშობის შემთხვევაში მძღოლს შეუძლია სწრაფად და მოხერხებულად მოაბრუნოს საჭე ყველა მიმართულებით და დააბრუნოს იგი საწყის მდგომარეობაში. გარდა ამისა სწორი განლაგება უზღუნველყოფს ხელებზე მინიმალურ დატვირთვას, ამცირებს დაღლილობას. მძღოლი ყოველთვის მზადაა რეაგირება მოახდინოს საგზაო სიტუაციის ცვლილებაზე. საჭის თვალზე ხელების სწორი განლაგება ნაჩვენებია მეორე ნახატზე.

QUESTION 73

CORRECT ANSWER: 2

According to the technical requirements of the vehicles which of the malfunction of the below listed braking system is not permitted?

- 1** Only not satisfactory operation of the brake control valve, leaking, damage of its control mechanism, deformation or excessive wear
- 2** Any of the malfunction listed in given test
- 3** Only malfunction of the hand brake squeaky mechanism, excessive movement of the lever

განმარტება:

„ავტოსატრანსპორტო საშუალებების მიმართ წაყენებული ტექნიკური მოთხოვნები, რომლებთან შესაბამისობის დადგენის მიზნითაც ტარდება გზისთვის ვარგისობაზე ტესტირება და მისი ჩატარების მეთოდების“ საქართველოს მთავრობის 2014 წლის 3 იანვარის №30 დადგენილებით დამტკიცებული ტექნიკური რეგლამენტის მე-4 მუხლის მე-15 და მე-16 პუნქტების თანახმად: 15. დაუშვებელია ხელით მართვადი მუხრუჭის საკონტროლო სარქველის არადაშვამაყოფილებელი მოქმედება, გაჟონვა, მისი მაკონტროლებლის დაზიანება, დეფორმირება ან ზედმეტი ცვეთა. 16. დაუშვებელია ხელის მუხრუჭის ხრუტუნა მექანიზმის გაუმართაობა, ბერკეტის ზედმეტი სვლა.

QUESTION 74

CORRECT ANSWER: 3

According to the technical requirements of the vehicles which of the malfunction of the below listed braking system is not permitted?

- 1 Only leak of liquid from hydraulic brake
- 2 Only malfunction of actuation manometer of pneumatic or pneumo-hydraulic brake
- 3 Any of the malfunction listed in given test

განმარტება:

„ავტოსატრანსპორტო საშუალებების მიმართ წაყენებული ტექნიკური მოთხოვნები, რომლებთან შესაბამისობის დადგენის მიზნითაც ტარდება გზისთვის ვარგისობაზე ტესტირება და მისი ჩატარების მეთოდების“ საქართველოს მთავრობის 2014 წლის 3 იანვარის №30 დადგენილებით დამტკიცებული ტექნიკური რეგლამენტის მე-4 მუხლის მე-9 და მე-17 პუნქტების თანახმად: 9. სამუხრუჭო სისტემების სასიგნალო და საკონტროლო სისტემა, პნევმატიკური და პნევმოჰიდრაულიკური სამუხრუჭო ამძრავის მანომეტრები, სადგომი სამუხრუჭო სისტემის მართვის ორგანოს ფიქსაციის მოწყობილობა უნდა იყოს გამართული. 17. დაუშვებელია სამუხრუჭო სარქველების (სარედუქციო სარქველები და რეგულატორები) დაზიანება, ჰაერის ზედმეტი გაღინება, კომპრესორიდან ზედმეტი ზეთის გაღინება, არასაიმედო მონტაჟი, ჰიდრაულიკური მუხრუჭიდან სითხის გაღინება.

QUESTION 75

CORRECT ANSWER: 1

Is it prohibited to operate the car if the quantity, type and operation regime of the exterior lights do not correspond to the requirements of the construction of the vehicle?

- 1 It is forbidden
- 2 It is not forbidden

განმარტება:

„ავტოსატრანსპორტო საშუალებების მიმართ წაყენებული ტექნიკური მოთხოვნები, რომლებთან შესაბამისობის დადგენის მიზნითაც ტარდება გზისთვის ვარგისობაზე ტესტირება და მისი ჩატარების მეთოდების“ საქართველოს მთავრობის 2014 წლის 3 იანვარის №30 დადგენილებით დამტკიცებული ტექნიკური რეგლამენტის მე-7 მუხლის მე-3 პუნქტის თანახმად, დასაშვებია წარმოებიდან მოხსნილ ავტოსატრანსპორტო საშუალებებზე სხვა მარკისა და მოდელების ავტოსატრანსპორტო საშუალებების გარე მაშუქი ხელსაწყოების დაყენება. გარე მაშუქი ხელსაწყოების რაოდენობა, ტიპი, განთავსება და მუშაობის რეჟიმი უნდა შეესაბამებოდეს ავტოსატრანსპორტო საშუალების კონსტრუქციის მიმართ დადგენილ მოთხოვნებს.

QUESTION 76

CORRECT ANSWER: 3

Is it permitted to set the tires with different tread on the same axle?

1

It is permitted

2

It is permitted only on light vehicles

3

It is not permitted

განმარტება:

„ავტოსატრანსპორტო საშუალებების მიმართ წაყენებული ტექნიკური მოთხოვნები, რომლებთან შესაბამისობის დადგენის მიზნითაც ტარდება გზისთვის ვარგისობაზე ტესტირება და მისი ჩატარების მეთოდების“ საქართველოს მთავრობის 2014 წლის 3 იანვარის №30 დადგენილებით დამტკიცებული ტექნიკური რეგლამენტის მე-8 მუხლის მე-5 პუნქტის თანახმად, „ავტოსატრანსპორტო საშუალება უნდა იყოს დაკომპლექტებული საბურავებით, რომელიც გამორიცხავს ავტოსატრანსპორტო საშუალების მოძრაობის ნებისმიერ რეჟიმში, საბურავების შეხებას დაკიდების ან ავტოსატრანსპორტო საშუალების ნებისმიერ სხვა ელემენტთან. დაუშვებელია ერთ ღერძზე სხვადასხვა პროტექტორის მქონე საბურავების დაყენება.

QUESTION 77

CORRECT ANSWER: 4

Out of the listed below in which cases is the exploitation of a vehicle forbidden?

1

Only in case of leak of fuel in petrol and diesel engine systems

2

Only in case of leak of fumes in air exhaust system element connection

3

Only in case of using such air-cylinders that exploitation period has expired

4

In any case listed in given test

განმარტება:

„ავტოსატრანსპორტო საშუალებების მიმართ წაყენებული ტექნიკური მოთხოვნები, რომლებთან შესაბამისობის დადგენის მიზნითაც ტარდება გზისთვის ვარგისობაზე ტესტირება და მისი ჩატარების მეთოდების“ საქართველოს მთავრობის 2014 წლის 3 იანვარის №30 დადგენილებით დამტკიცებული ტექნიკური რეგლამენტის მე-9 მუხლის მე-18 და 21-ე პუნქტების თანახმად: 18. დაუშვებელია ბენზინის და დიზელის ძრავების კვების სისტემაში საწვავის ჟონვა. 21. აირბალონიანი ასს-ების კვების სისტემა უნდა იყოს ჰერმეტიკული. დაუშვებელია აირბალონიანი ასს-ზე ისეთი ბალონების გამოყენება, რომელთაც გასული აქვთ პერიოდული შემოწმების ვადა. ამავე რეგლამენტის მე-14 მუხლის მე-3 პუნქტის თანახმად, დაუშვებელია გაჟონვა ნამწვი აირების გამონაბოლქვის სისტემის ელემენტების შეერთებებში, ხოლო კატალიზური კონვერტორებით აღჭურვილ ასს-ებზე დაუშვებელია ნამწვი აირების ატმოსფეროში გამოყოფა კატალიზური კონვერტორების გვერდის ავლით.

QUESTION 78

CORRECT ANSWER: 3

According to the technical requirements of the vehicles the exploitation of a vehicle is not permitted in which of the malfunction listed below?

1

Only when vehicle construction does not consider rear-view mirror

2

Only when the sound signal does not work

3

In any of the malfunctions listed in given test

განმარტება:

„ავტოსატრანსპორტო საშუალებების მიმართ წაყენებული ტექნიკური მოთხოვნები, რომლებთან შესაბამისობის დადგენის მიზნითაც ტარდება გზისთვის ვარგისობაზე ტესტირება და მისი ჩატარების მეთოდების“ საქართველოს მთავრობის 2014 წლის 3 იანვარის №30 დადგენილებით დამტკიცებული ტექნიკური რეგლამენტის მე-10 მუხლის პირველი პუნქტის თანახმად, ავტოსატრანსპორტო საშუალების ხმოვანი სასიგნალე მოწყობილობა უნდა იყოს გამართულ მდგომარეობაში. ამავე რეგლამენტის მე-13 მუხლის პირველი პუნქტის „ზ“ ქვეპუნქტის თანახმად, „ავტოსატრანსპორტო საშუალება აღჭურვილი უნდა იყოს კომპლექტაციის შემდეგი ელემენტებით: ზ) უკანა ხედვის სარკეებით.

QUESTION 79

CORRECT ANSWER: 1

Is it permitted the cracks and spots to be present on the driver's side in the windscreen cleaning area?

1

It is not permitted

2

It is permitted

განმარტება:

„ავტოსატრანსპორტო საშუალებების მიმართ წაყენებული ტექნიკური მოთხოვნები, რომლებთან შესაბამისობის დადგენის მიზნითაც ტარდება გზისთვის ვარგისობაზე ტესტირება და მისი ჩატარების მეთოდების“ საქართველოს მთავრობის 2014 წლის 3 იანვარის №30 დადგენილებით დამტკიცებული ტექნიკური რეგლამენტის მე-6 მუხლის მე-4 პუნქტის თანახმად, დასაშვებია საქარე მინის ზედა ნაწილში გამჭვირვალე ფერადი აფსკის დამაგრება სიგანით არა უმეტეს 140 მმ, ხოლო კატეგორიების ასს-ზე – სიგანით, რომელიც არ აღარებს საქარე მინის ზედა ნაწილსა და მისი მინასაწმენდით გაწმენდის ზედა ზონის ზღვარს შორის მანძილს. დაუშვებელია საქარე მინაზე, მძღოლის მხარეს, მინმწმენდის მოქმედების არეში, ბზარებისა და ლაქების არსებობა.

QUESTION 80

CORRECT ANSWER: 4

Low air pressure in the tires of the vehicle can lead to:

1

Increase of fuel consumption only

2

Steering complication only

3

Tire overheating only

4

Increase of fuel consumption, as well as the steering complication and tire overheating

განმარტება:

სატრანსპორტო საშუალების საბურავებში აირის დაბალმა წნევამ შეიძლება გამოიწვიოს როგორც საწვავის ხარჯის მატება, ასევე საჭის მართვის გაძნელება და საბურავების გადახურება.

თემა 3:

მაფრთხილებელი ნიშნები

QUESTION 81

CORRECT ANSWER: 1



I



II



III



IV

Which combination of the given traffic signs is posted in uninhabited area, at a distance of 150-300 meters from the railroad crossing without barrier, to the left side of the road?

1

I

2

II

3

III

4

IV

განმარტება:

„საგზაო მოძრაობის შესახებ“ საქართველოს კანონის პირველი დანართის 1.1, 1.2 და 1.41- 1.46 პუნქტების თანახმად, საგზაო ნიშანი: 1.1. „რკინიგზის უშლავაუმიანი გადასასვლელი“ – იძლევა გაფრთხილებას რკინიგზის უშლავაუმიან გადასასვლელთან მიახლოების თაობაზე. 1.2. „რკინიგზის უშლავაუმი გადასასვლელი“ – იძლევა გაფრთხილებას რკინიგზის უშლავაუმი გადასასვლელთან მიახლოების თაობაზე. 1.4.1–1.4.6. „რკინიგზის გადასასვლელთან მიახლოება“ – დამატებით აფრთხილებს მძღოლს დაუსახლებელ პუნქტში რკინიგზის გადასასვლელთან მიახლოების თაობაზე. ამავე დანართის პირველი თავის შენიშვნის „ა“ და „ვ“ ქვეპუნქტების თანახმად: ა) ნიშნები 1.1, 1.2, 1.5–1.34 ნიშნები დაუსახლებელ პუნქტში იდგმება სახიფათო მონაკვეთის დასაწყისამდე 150–300 მეტრ მანძილზე, დასახლებულ პუნქტში – 50–100 მეტრ მანძილზე. აუცილებლობისას ნიშნები იდგმება სხვა მანძილზედაც, რომელიც მითითებულია 8.1.1 დაფაზე; ვ) ნიშნები 1.4.1–1.4.3 ნიშნები იდგმება გზის მარჯვენა მხარეს, ხოლო 1.4.4–1.4.6 ნიშნები – გზის მარცხენა მხარეს. 1.4.1 და 1.4.4 ნიშნები იდგმება მოძრაობის მიმართულებით ძირითად და განმეორებით 1.1 ან 1.2 ნიშანთან ერთად, 1.4.3 და 1.4.6 ნიშნები – მოძრაობის მიმართულებით განმეორებით 1.1 ან 1.2 ნიშანთან ერთად, ხოლო 1.4.2 და 1.4.5 ნიშნები – დამოუკიდებლად, თანაბარ დაშორებაზე ძირითად და განმეორებით 1.1 ან 1.2 ნიშანს შორის.

QUESTION 82

CORRECT ANSWER: 2



I



II



III

Which is "Emergency stop sign" from these identification signs?

1

I

2

II

3

III

განმარტება:

„საგზაო მოძრაობის შესახებ“ საქართველოს კანონის 52-ე მუხლის მე-5 პუნქტის თანახმად, „ავარიული გაჩერების ნიშანი“ არის ტოლგვერდა სამკუთხედის ფორმის დაფა არანაკლებ 0,4 მეტრი სიგრძის გვერდებითა და არანაკლებ 0,05 მეტრი სიგანის წითელი არშიით. ამ სამკუთხედის შუა ნაწილი შეიძლება ღრუ იყოს ან ღია ფერის საღებავით შეიღებოს. წითელი არშია შექს არ უნდა ატარებდეს ან უნდა ჰქონდეს შექამრეკლი თვისების მქონე ზოლი. დაფა ისე უნდა იყოს მოწყობილი, რომ შეიძლებოდეს იყოს მისი ვერტიკალურ მდგომარეობაში მდგრად დაყენება.

QUESTION 83

CORRECT ANSWER: 2



I



II



III



IV

Which of these traffic signs warns a driver about approaching the railroad crossing with barrier?

1

I

2

II

3

III

4

IV

განმარტება:

„საგზაო მოძრაობის შესახებ“ საქართველოს კანონის პირველი დანართის პირველი თავის (მაფრთხილებელი ნიშნები) 1.1 პუნქტის თანახმად საგზაო ნიშანი 1.1 „რკინიგზის შლავგაუმთან გადასასვლელი“ - იძლევა გაფრთხილებას რკინიგზის შლავგაუმთან გადასასვლელთან მიახლოების თაობაზე.

QUESTION 84

CORRECT ANSWER: 4



I



II



III



IV

Which of these traffic signs is reposted in uninhabited area?

1

I and II only

2

I and III only

3

All of them

4

II and IV only

განმარტება:

„საგზაო მოძრაობის შესახებ“ საქართველოს კანონის პირველი დანართის პირველი თავის (მაფრთხილებელი ნიშნები) შენიშვნის „ბ“ ქვეპუნქტის თანახმად 1.1 „რკინიგზის პლაგბაუმიანი გადასასვლელი“ და 1.10 „სანაპიროზე გასასვლელი“ ნიშნები მეორდება დაუსახლებულ პუნქტში. მეორე ნიშანი იდგმება სახიფათო მონაკვეთის დასაწყისიდან არანაკლებ 50 მეტრ მანძილზე.

QUESTION 85

CORRECT ANSWER: 1



I



II



III



IV

Which of these traffic signs is reposted in uninhabited area?

1

None of them

2

I and III only

3

All of them

4

II and IV only

განმარტება:

„საგზაო მოძრაობის შესახებ“ საქართველოს კანონის პირველი დანართის პირველი თავის (მაფრთხილებელი ნიშნები) შენიშვნის „ბ“ ქვეპუნქტის თანახმად 1.1, 1.2, 1.10, 1.11, 1.23, 1.24 და 1.26 ნიშნები მეორდება დაუსახლებელ პუნქტში, ხოლო 1.24 და 1.26 ნიშნები – დასახლებულ პუნქტშიც. მეორე ნიშანი იდგმება სახიფათო მონაკვეთის დასაწყისიდან არანაკლებ 50 მეტრ მანძილზე.

QUESTION 86

CORRECT ANSWER: 2



I



II



III



IV

Which of these traffic signs is reposted in uninhabited area?

1

I and II only

2

II and III only

3

All of them

4

II and IV only

განმარტება:

„საგზაო მოძრაობის შესახებ“ საქართველოს კანონის პირველი დანართის პირველი თავის (მაფრთხილებელი ნიშნები) შენიშვნის „ბ“ ქვეპუნქტის თანახმად 1.1, 1.2, 1.10, 1.11, 1.23, 1.24 და 1.26 ნიშნები მეორდება დაუსახლებელ პუნქტში, ხოლო 1.24 „ბავშვები“ და 1.26 „საგზაო სამუშაოები“ ნიშნები – დასახლებულ პუნქტშიც. მეორე ნიშანი იდგმება სახიფათო მონაკვეთის დასაწყისიდან არანაკლებ 50 მეტრ მანძილზე.

QUESTION 87

CORRECT ANSWER: 1



I



II



III



IV

Which of these signs warns a driver about approaching the railroad crossing in uninhabited area?

1

I and II only

2

All of them

3

II and III only

4

I and IV only

განმარტება:

„საგზაო მოძრაობის შესახებ“ საქართველოს კანონის პირველი დანართის პირველი თავის მაფრთხილებელი ნიშნები) 1.4.1-1.4.6 პუნქტების თანახმად საგზაო ნიშნები 1.4.1 – 1.4.6. „რკინიგზის გადასასვლელთან მიახლოება“ - დამატებით აფრთხილებს მძღოლს დაუსახლებელ პუნქტში რკინიგზის გადასასვლელთან მიახლოების თაობაზე.

QUESTION 88

CORRECT ANSWER: 3



I



II



III



IV

Given road signs are placed in an uninhabited area repeatedly (second sign) from the start of dangerous road at least:

1

150 meters

2

100 meters

3

50 meters

განმარტება:

„საგზაო მოძრაობის შესახებ“ საქართველოს კანონის პირველი დანართის პირველი თავის (მაფრთხილებელი ნიშნები) შენიშვნის „ბ“ ქვეპუნქტის თანახმად 1.1 „რკინიგზის შლაგბაუმიანი გადასასვლელი“, 1.2 „რკინიგზის უშლაგბაუმი გადასასვლელი“, 1.10 „გასახსნელი ხიდი“, 1.11 „სანაპიროზე გასასვლელი“, 1.23 „ქვეითა გადასასვლელი“, 1.24 „ბავშვები“ და 1.26 „საგზაო სამუშაოები“ ნიშნები მეორდება დაუსახლებელ პუნქტში, ხოლო 1.24 და 1.26 ნიშნები - დასახლებულ პუნქტშიც. მეორე ნიშანი იდგმება სახიფათო მონაკვეთის დასაწყისიდან არანაკლებ 50 მეტრის მანძილზე.

QUESTION 89

CORRECT ANSWER: 2



During short-term road works on driveway, this traffic sign is posted without board 8.1.1 (distance to the object) at following distance from the site of works:

1 30 meters

2 10-15 meters

3 50 meters

განმარტება:

„საგზაო მოძრაობის შესახებ“ საქართველოს კანონის პირველი დანართის პირველი თავის (მაფრთხილებელი ნიშნები) შენიშვნის „დ“ ქვეპუნქტის თანახმად 1.26 „საგზაო სამუშაოები“ ნიშანი სავალ ნაწილზე ხანმოკლე სამუშაოს ჩატარებისას იდგმება სამუშაოს ჩატარების ადგილიდან 10–15 მეტრ მანძილზე, 8.1.1 დაფის გარეშე.

QUESTION 90

CORRECT ANSWER: 3



What combination of the given traffic signs is posted in uninhabited area, at a distance of 150-300 meters before the railroad crossing without barrier to the right side of the road?

1

I

2

II

3

III

4

IV

განმარტება:

„საგზაო მოძრაობის შესახებ“ საქართველოს კანონის პირველი დანართის პირველი თავის (მაფრთხილებელი ნიშნები) შენიშვნის „ა“, „ბ“ და „ვ“ ქვეპუნქტების თანახმად: ა) 1.1 „რკინიგზის შლავგაუმთავრებელი გადასასვლელი“ და 1.2 „რკინიგზის უშლავგაუმთავრებელი გადასასვლელი“ ნიშნები დაუსახლებელ პუნქტში იდგმება სახიფათო მონაკვეთის დასაწყისამდე 150–300 მეტრ მანძილზე, ბ) 1.1 „რკინიგზის შლავგაუმთავრებელი გადასასვლელი“, 1.2 „რკინიგზის უშლავგაუმთავრებელი გადასასვლელი“, 1.10 „გასახსნელი ხიდი“, 1.11 „სანაპიროზე გასასვლელი“, 1.23 „ქვეითა გადასასვლელი“, 1.24 „ბავშვები“ და 1.26 „საგზაო სამუშაოები“ ნიშნები მეორდება დაუსახლებელ პუნქტში, ხოლო 1.24 და 1.26 ნიშნები - დასახლებულ პუნქტშიც. მეორე ნიშანი იდგმება სახიფათო მონაკვეთის დასაწყისიდან არანაკლებ 50 მეტრის მანძილზე. ვ) 1.4.1-1.4.3 „რკინიგზის გადასასვლელთან მიახლოება“ ნიშნები იდგმება გზის მარჯვენა მხარეს, ხოლო 1.4.4-1.4.6 „რკინიგზის გადასასვლელთან მიახლოება“ ნიშნები - მარცხენა მხარეს. 1.4.1 და 1.4.4 ნიშნები იდგმება მოძრაობის მიმართულებით ძირითად და დუბლირებულ 1.1 ან 1.2 ნიშნებთან ერთად. ნიშნები 1.4.3 და 1.4.6 იდგმება მოძრაობის მიმართულებით განმეორებით 1.1 ან 1.2 ნიშნებთან, ხოლო ნიშნები 1.4.2 და 1.4.5 - დამოუკიდებლად, თანაბარ დაშორებაზე ძირითად და განმეორებითი 1.1 ან 1.2 ნიშნებს შორის.

QUESTION 91

CORRECT ANSWER: 1



I



II



III



IV

Which of these traffic signs marks the road section with dangerous turns?

1

I

2

II

3

III

4

IV

განმარტება:

„საგზაო მოძრაობის შესახებ“ საქართველოს კანონის პირველი დანართის პირველი თავის (მაფრთხილებელი ნიშნები) 1.13.1 და 1.13.2 პუნქტების თანახმად საგზაო ნიშნები 1.13.1, 1.13.2 „სახიფათო მოსახვევები“ - აღნიშნავს გზის მონაკვეთს სახიფათო მოსახვევებით: 1.13.1 – პირველი მოსახვევით მარჯვნივ, 1.13.2 – პირველი მოსახვევით მარცხნივ.

QUESTION 92

CORRECT ANSWER: 3



I



II



III



IV

Which of these traffic signs marks ice-covered area of road, on which tyre traction ratio is less than 0.4?

1

I

2

II

3

III

4

IV

განმარტება:

„საგზაო მოძრაობის შესახებ“ საქართველოს კანონის პირველი დანართის პირველი თავის (მაფრთხილებელი ნიშნები) 1.16 პუნქტის თანახმად საგზაო ნიშანი 1.16 „მოლიპული გზა“ - აღნიშნავს გზის მოლიპულ მონაკვეთს, რომელზედაც საბურავის გზის საფართან ჩაჭიდების კოეფიციენტი 0,4-ზე ნაკლებია.

QUESTION 93

CORRECT ANSWER: 2



I



II



III



IV

Which of these traffic signs marks the section of the road, on which rebound of gravel, road metal, etc. from vehicle wheels is possible?

1

I and III only

2

IV only

3

II only

4

II and IV only

განმარტება:

„საგზაო მოძრაობის შესახებ“ საქართველოს კანონის პირველი დანართის პირველი თავის (მაფრთხილებელი ნიშნები) 1.19 პუნქტის თანახმად საგზაო ნიშანი 1.19 „ქვის ასხლეტა“ - აღნიშნავს გზის მონაკვეთს, რომელზედაც შესაძლებელია სატრანსპორტო საშუალების თვლებიდან ღორღის, ხრეშის ასხლეტა და ა. შ..

QUESTION 94

CORRECT ANSWER: 1



I



II



III



IV

Which of these traffic signs marks the section of the road, on which width of driveway is narrowing from the right side?

1

I

2

II

3

III

4

IV

განმარტება:

„საგზაო მოძრაობის შესახებ“ საქართველოს კანონის პირველი დანართის პირველი თავის (მაფრთხილებელი ნიშნები) 1.21.1-1.21.3 პუნქტების თანახმად საგზაო ნიშნები 1.21.1–1.21.3 „გზის შევიწროება“ - აღნიშნავს გზის მონაკვეთს, რომლის სავალი ნაწილის სიგანე ვიწროვდება. 1.21.1 - ორივე მხრიდან; 1.21.2 - მარჯვნიდან; 1.21.3 - მარცხნიდან.

QUESTION 95

CORRECT ANSWER: 2



I



II



III



IV

Which of these traffic signs warns about approaching the crosswalk marked with traffic sign (5.19.1 or 5.19.2) or/and road marking (1.14.1-1.14.3)?

1

I

2

II

3

III

4

IV

განმარტება:

„საგზაო მოძრაობის შესახებ“ საქართველოს კანონის პირველი დანართის პირველი თავის (მაფრთხილებელი ნიშნები) 1.23 პუნქტის თანახმად საგზაო ნიშანი 1.23 „ქვეითთა გადასასვლელი“ - იძლევა გაფრთხილებას 5.19.1 და 5.19.2 ნიშნებით ან/და 1.14.1–1.14.3 მონიშვნებით აღნიშნულ ქვეითთა გადასასვლელთან მიახლოების თაობაზე.

QUESTION 96

CORRECT ANSWER: 4



I



II



III



IV

Which of these traffic signs warns about existence of children institutions near the road section, from which there is high chance of appearing children on driveway?

1

I

2

II

3

III

4

IV

განმარტება:

„საგზაო მოძრაობის შესახებ“ საქართველოს კანონის პირველი დანართის პირველი თავის (მაფრთხილებელი ნიშნები) 1.24 პუნქტის თანახმად საგზაო ნიშანი 1.24 „ბავშვები“ - იძლევა გაფრთხილებას გზის მონაკვეთთან საბავშვო დაწესებულების არსებობის თაობაზე, საიდანაც დიდი ბავშვების სავალ ნაწილზე გამოჩენის ალბათობა.

QUESTION 97

CORRECT ANSWER: 1



I



II



III



IV

Which of these traffic signs warns about approaching the crossing site of bicycle lane marked with traffic sign (4.4)?

1

I

2

II

3

III

4

IV

განმარტება:

„საგზაო მოძრაობის შესახებ“ საქართველოს კანონის პირველი დანართის პირველი თავის (მაფრთხილებელი ნიშნები) 1.25 პუნქტის თანახმად საგზაო ნიშანი 1.25 „ველობილიკის გადაკვეთა“ - იძლევა გაფრთხილებას 4.4 ნიშნით აღნიშნული ველობილიკის სავალი ნაწილის გადაკვეთის ადგილთან მიახლოების თაობაზე.

QUESTION 98

CORRECT ANSWER: 4



I



II



III



IV

Which of these traffic signs marks the road section, on which the road works are in process?

1

I

2

II

3

III

4

IV

განმარტება:

„საგზაო მოძრაობის შესახებ“ საქართველოს კანონის პირველი დანართის პირველი თავის (მაფრთხილებელი ნიშნები) 1.26 პუნქტის თანახმად საგზაო ნიშანი 1.26 „საგზაო სამუშაოები“ - აღნიშნავს გზის მონაკვეთს, რომლის ფარგლებში სამუშაოები მიმდინარეობს.

QUESTION 99

CORRECT ANSWER: 2



I



II



III



IV

Which of these traffic signs marks the road section, driveway of which is not protected from avalanche, landslide or stone falling?

1

I

2

II

3

III

4

IV

განმარტება:

„საგზაო მოძრაობის შესახებ“ საქართველოს კანონის პირველი დანართის პირველი თავის (მაფრთხილებელი ნიშნები) 1.29 პუნქტის თანახმად საგზაო ნიშანი 1.29 „ქვის ცვენა“ - აღნიშნავს გზის მონაკვეთს, რომლის სავალი ნაწილი არ არის დაცული ზვავისაგან, მენყერისაგან ან ქვების ცვენისაგან.

QUESTION 100

CORRECT ANSWER: 3



I



II



III



IV

Which of these traffic signs marks the road section, where hazard not defined by other warning signs may occur?

1

I

2

II

3

III

4

IV

განმარტება:

„საგზაო მოძრაობის შესახებ“ საქართველოს კანონის პირველი დანართის პირველი თავის (მაფრთხილებელი ნიშნები) 1.34 პუნქტის თანახმად საგზაო ნიშანი 1.34 „სხვა საფრთხეები“ - გზის მონაკვეთი, რომელზედაც შეიძლება წარმოიშვას ისეთი საფრთხე, რომელიც არ არის განსაზღვრული სხვა მაფრთხილებელი ნიშნებით.

QUESTION 101

CORRECT ANSWER: 4



I



II



III



IV

Which of these traffic signs marks traffic direction on short-radius curve roads with limited visibility, as well as in the road construction areas - direction of driving around?

1

I

2

II

3

III

4

IV

განმარტება:

„საგზაო მოძრაობის შესახებ“ საქართველოს კანონის პირველი დანართის პირველი თავის (მაფრთხილებელი ნიშნები) 1.35.1-1.35.6 პუნქტების თანახმად საგზაო ნიშნები 1.35.1- 1.35.6 „მოხვევის მიმართულება“ - მიუთითებს შემზღუდული ხილვადობის მქონე მცირე რადიუსიან გზის მრუდებზე მოძრაობის მიმართულებას (1.35.1–1.35.3 – მარჯვნივ, 1.35.4–1.35.6 – მარცხნივ) ან საგზაო სამუშაოების მიმდინარეობის ადგილის შემოვლის შესაბამის მიმართულებას.

QUESTION 102

CORRECT ANSWER: 1



I



II



III



IV

Which of these traffic signs marks the road, on which a driver has priority of passing the unregulated intersection?

1

I

2

II

3

III

4

IV

განმარტება:

„საგზაო მოძრაობის შესახებ“ საქართველოს კანონის პირველი დანართის მე-2 თავის (პრიორიტეტის ნიშანი) 2.1 პუნქტების თანახმად საგზაო ნიშანი 2.1 „მთავარი გზა“ - გზა, რომელზე მოძრავ მძღოლსაც ენიჭება არარეგულირებული გზაჯვარედინის გავლის უპირატესობა. ნიშანი იდგმება გზის დასაწყისში და მეორდება უშუალოდ ყოველი გზაჯვარედინის წინ. 2.1 ნიშანი 8.13 დაფით დასახლებულ პუნქტში იდგმება გზაჯვარედინის წინ, რომელზედაც მთავარი გზა იცვლის მიმართულებას, დაუსახლებელ პუნქტში – წინასწარ გზაჯვარედინამდე 150–300 მეტრ მანძილზე და გზაჯვარედინის წინ.

QUESTION 103

CORRECT ANSWER: 3

A pedestrian with roller skate, skateboard, scooter, sleight or similar devices, must not endanger:

1

People moving with wheelchair or walking on the pavement

2

People moving with wheelchair or walking on the pedestrian paths

3

People moving with wheelchair or walking on both pavement and pedestrian paths

განმარტება:

„საგზაო მოძრაობის შესახებ“ საქართველოს კანონის 24-ე მუხლის მე-12 პუნქტის თანახმად, ქვეითმა, რომელიც სარგებლობს გორგოლაჭებით, გორგოლაჭებიანი დაფით, თვითმგორავით, ციგით ან სხვა მსგავსი საშუალებით, არ უნდა შეუქმნას საფრთხე ტროტუარზე ან ქვეითთა ბილიკზე სავარძელ-ეტლით მოძრავ ადამიანებს ან ქვეითებს.

თემა 4:

პროგრესის ნიშნები

QUESTION 104

CORRECT ANSWER: 1



This traffic sign:

- 1 Marks the road, on which a driver has priority of passing the unregulated intersection
- 2 Prohibits motion of the vehicles with dangerous goods
- 3 Indicates the road where the moving driver is required to give a way to the vehicle moving on the road that is to be crossed

განმარტება:

„საგზაო მოძრაობის შესახებ“ საქართველოს კანონის პირველი დანართის მე-2 თავის (პრიორიტეტის ნიშანი) 2.1 პუნქტების თანახმად საგზაო ნიშანი 2.1 „მთავარი გზა“ - გზა, რომელზე მოძრაობს მძღოლსაც ენიჭება არარეგულირებული გზაჯვარედინის გავლის უპირატესობა. ნიშანი იდგმება გზის დასაწყისში და მეორდება უშუალოდ ყოველი გზაჯვარედინის წინ. 2.1 ნიშანი 8.13 დაფით დასახლებულ პუნქტში იდგმება გზაჯვარედინის წინ, რომელზედაც მთავარი გზა იცვლის მიმართულებას, დაუსახლებელ პუნქტში – წინასწარ გზაჯვარედინამდე 150–300 მეტრ მანძილზე და გზაჯვარედინის წინ.

QUESTION 105

CORRECT ANSWER: 3



I



II



III



IV

Which of these traffic signs marks the end of the road section, from which it is deprived of the status of major road?

1

I

2

II

3

III

4


IV

განმარტება:

„საგზაო მოძრაობის შესახებ“ საქართველოს კანონის პირველი დანართის მე-2 თავის (პრიორიტეტის ნიშანი) 2.2 პუნქტების თანახმად საგზაო ნიშანი 2.2 „მთავარი გზის დასასრული“ - გზის იმ მონაკვეთის ბოლო, საიდანაც იგი კარგავს მთავარი გზის სტატუსს. თუ მთავარი გზა იმ გზის გადაკვეთის წინმთავერდება, რომელზედაც დაწესებულია მოცემული გზაჯვარედინის გავლის უპირატესობა, 2.2 ნიშანს დაუსახლებელ პუნქტში დგამენ წინასწარ 2.4 ნიშანთან ერთად, დასახლებულ პუნქტში – გზაჯვარედინიდან 25 მეტრ მანძილზე ან/და 2.3 ან 2.4 ნიშანთან ერთად. ნიშანი შეიძლება დაიდგას სხვა, 8.1.1 დაფაზე მითითებულ მანძილზედაც.

QUESTION 106

CORRECT ANSWER: 3



This traffic sign marks:

- 1 Road, on which the driver has priority of passing the unregulated intersection
- 2 Narrow section of road, on which a driver has priority over the oncoming vehicle
- 3 End of the road section, from which it is deprived of the status of major road

განმარტება:

„საგზაო მოძრაობის შესახებ“ საქართველოს კანონის პირველი დანართის მე-2 თავის (პრიორიტეტის ნიშანი) 2.2 პუნქტების თანახმად საგზაო ნიშანი 2.2 „მთავარი გზის დასასრული“ - გზის იმ მონაკვეთის ბოლო, საიდანაც იგი კარგავს მთავარი გზის სტატუსს. თუ მთავარი გზა იმ გზის გადაკვეთის წინმთავერდება, რომელზედაც დაწესებულია მოცემული გზაჯვარედინის გავლის უპირატესობა, 2.2 ნიშანს დაუსახლებელ პუნქტში დგამენ წინასწარ 2.4 ნიშანთან ერთად, დასახლებულ პუნქტში – გზაჯვარედინიდან 25 მეტრ მანძილზე ან/და 2.3 ან 2.4 ნიშანთან ერთად. ნიშანი შეიძლება დაიდგას სხვა, 8.1.1 დაფაზე მითითებულ მანძილზედაც.

QUESTION 107

CORRECT ANSWER: 2



I



II



III



IV

Out of given signs which one indicates the crossing of such road where the moving driver is required to give a way?

1

I

2

II

3

III

4

IV

განმარტება:

„საგზაო მოძრაობის შესახებ“ საქართველოს კანონის პირველი დანართის პირველი თავის (მაფრთხილებელი ნიშნები) 1.7.1- 1.7.7 პუნქტების თანახმად საგზაო ნიშანი 1.7.1. „მეორეხარისხოვან გზასთან გადაკვეთა“, 1.7.2–1.7.7. „მეორეხარისხოვანი გზის შეერთება“ (შეერთება მარჯვნიდან – 1.7.2, 1.7.4 და 1.7.6, შეერთება მარცხნიდან – 1.7.3, 1.7.5 და 1.7.7) – ისეთ გზასთან გადაკვეთა ან ისეთ გზასთან შეერთება, რომელზე მოძრაობა მხოლოდ ერთი მიმართულებითაა დაშვებული. 1.7.1–1.7.7 ნიშნები სახიფათო მონაკვეთის დასაწყისამდე იდგმება დაუსახლებელ პუნქტში 150–300 მეტრ მანძილზე, დასახლებულ პუნქტში – 50–100 მეტრ მანძილზე.

QUESTION 108

CORRECT ANSWER: 2



I



II



III



IV

Out of given signs which one indicates the joining of such road where the moving driver is required to give a way?

1

II and IV only

2

I and III only

3

II only

4

III only

განმარტება:

„საგზაო მოძრაობის შესახებ“ საქართველოს კანონის პირველი დანართის პირველი თავის (მაფრთხილებელი ნიშნები) 1.7.1- 1.7.7 პუნქტების თანახმად საგზაო ნიშანი 1.7.1. „მეორეხარისხოვან გზასთან გადაკვეთა“, 1.7.2–1.7.7. „მეორეხარისხოვანი გზის შეერთება“ (შეერთება მარჯვნიდან – 1.7.2, 1.7.4 და 1.7.6, შეერთება მარცხნიდან – 1.7.3, 1.7.5 და 1.7.7) – ისეთ გზასთან გადაკვეთა ან ისეთ გზასთან შეერთება, რომელზე მოძრავ მძღოლსაც აქვს გზის დათმობის ვალდებულება. 1.7.1–1.7.7 ნიშნები სახიფათო მონაკვეთის დასაწყისამდე იდგმება დაუსახლებელ პუნქტში 150–300 მეტრ მანძილზე, დასახლებულ პუნქტში – 50–100 მეტრ მანძილზე.

QUESTION 109

CORRECT ANSWER: 3



I



II



III



IV

Out of given signs which one indicates the joining of such road where the moving driver is required to give a way?

1

II and III only

2

I and IV only

3

All of them

4

None of them

განმარტება:

„საგზაო მოძრაობის შესახებ“ საქართველოს კანონის პირველი დანართის პირველი თავის (მაფრთხილებელი ნიშნები) 1.7.1- 1.7.7 პუნქტების თანახმად საგზაო ნიშანი 1.7.1. „მეორეხარისხოვან გზასთან გადაკვეთა“, 1.7.2–1.7.7. „მეორეხარისხოვანი გზის შეერთება“ (შეერთება მარჯვნიდან – 1.7.2, 1.7.4 და 1.7.6, შეერთება მარცხნიდან – 1.7.3, 1.7.5 და 1.7.7) – ისეთ გზასთან გადაკვეთა ან ისეთ გზასთან შეერთება, რომელზე მოძრავ მძღოლსაც აქვს გზის დათმობის ვალდებულება. 1.7.1–1.7.7 ნიშნები სახიფათო მონაკვეთის დასაწყისამდე იდგმება დაუსახლებელ პუნქტში 150–300 მეტრ მანძილზე, დასახლებულ პუნქტში – 50–100 მეტრ მანძილზე.

QUESTION 110

CORRECT ANSWER: 3



I



II



III



IV

Which of these traffic signs obliges a driver to yield to the vehicle driver routing on the road to be crossed?

1

I

2

II

3

III

4

IV

განმარტება:

„საგზაო მოძრაობის შესახებ“ საქართველოს კანონის პირველი დანართის მე-2 თავის (პრიორიტეტის ნიშანი) 2.3 პუნქტების თანახმად საგზაო ნიშანი 2.3 „დაუთმე გზა“ - გზა, რომელზე მოძრავი მძღოლიც ვალდებულია გზა დაუთმოს გადასაჯვრეთ გზაზე მოძრავ მძღოლს, ხოლო 8.13 დაფის არსებობისას – მთავარ გზაზე მოძრავ მძღოლს. 2.3 ნიშანი დაუსახლებელ პუნქტში იდგმება წინასწარ გზაჯვარედინამდე 150–300 მეტრ მანძილზე 8.1.1 დაფით, თუ გზაჯვარედინის წინ დადგმულია 2.3 ნიშანი, ან 8.1.2 დაფით, თუ გზაჯვარედინის წინ დადგმულია 2.4 ნიშანი.

QUESTION 111

CORRECT ANSWER: 3



This traffic sign:

1

Prohibits a driver from entry to narrow section of the road

2

Prohibits motion with all kind of vehicles

3

Obliges a driver to yield to the vehicle drivers routing on the road to be crossed

განმარტება:

„საგზაო მოძრაობის შესახებ“ საქართველოს კანონის პირველი დანართის მე-2 თავის (პრიორიტეტის ნიშანი) 2.3 პუნქტების თანახმად საგზაო ნიშანი 2.3 „დაუთმე გზა“ - გზა, რომელზე მოძრავი მძღოლიც ვალდებულია გზა დაუთმოს გადასაღვეთ გზაზე მოძრავ მძღოლს, ხოლო 8.13 დაფის არსებობისას – მთავარ გზაზე მოძრავ მძღოლს. 2.3 ნიშანი დაუსახლებელ პუნქტში იდგმება წინასწარ გზაჯვარედინამდე 150–300 მეტრ მანძილზე 8.1.1 დაფით, თუ გზაჯვარედინის წინ დადგმულია 2.3 ნიშანი, ან 8.1.2 დაფით, თუ გზაჯვარედინის წინ დადგმულია 2.4 ნიშანი.

QUESTION 112

CORRECT ANSWER: 4



I



II



III



IV

Which of these traffic signs prohibits a driver from proceeding without having stopped at "STOP" line?

1

I

2

II

3

III

4

IV

განმარტება:

„საგზაო მოძრაობის შესახებ“ საქართველოს კანონის პირველი დანართის მე-2 თავის (პრიორიტეტის ნიშანი) 2.4 პუნქტების თანახმად საგზაო ნიშანი 2.4 „მოძრაობა გაუჩერებლად აკრძალულია“- უკრძალავს მძღოლს მოძრაობის გაგრძელებას „სდექ“ ხაზის წინ გაუჩერებლად, ხოლო თუ ის არ არის – გადასაკვეთი სავალი ნაწილის ნაპირთან. მძღოლი ვალდებულია გზა დაუთმოს გადასაკვეთ გზაზე მოძრავ მძღოლს, ხოლო 8. 13 დაფის არსებობისას – მთავარ გზაზე მოძრავ მძღოლს. ნიშანი იდგმება, თუ არაა უზრუნველყოფილი გადამკვეთ გზაზე მოძრავი სატრანსპორტო საშუალებათა ხილვადობა, ის აგრეთვე შეიძლება დაიდგას რკინიგზის გადასასვლელის ან საკარანტინო საგუშაგოს წინ (ამ შემთხვევაში მძღოლი ვალდებულია გაჩერდეს „სდექ“ ხაზის წინ, ხოლო თუ ის არ არის – ნიშნის წინ).

QUESTION 113

CORRECT ANSWER: 3



This traffic sign:

- 1 Prohibits entry of every vehicle in given direction
- 2 Prohibits proceeding with any kind of vehicle
- 3 Prohibits a driver from proceeding without having stopped as well as obliges a driver to yield to the vehicle drivers driving on the road to be crossed

განმარტება:

„საგზაო მოძრაობის შესახებ“ საქართველოს კანონის პირველი დანართის მე-2 თავის (პრიორიტეტის ნიშანი) 2.4 პუნქტების თანახმად საგზაო ნიშანი 2.4 „მოძრაობა გაუჩერებლად აკრძალულია“- უკრძალავს მძღოლს მოძრაობის გაგრძელებას „სდექ“ ხაზის წინ გაუჩერებლად, ხოლო თუ ის არ არის – გადასაკვეთი სავალი ნაწილის ნაპირთან. მძღოლი ვალდებულია გზა დაუთმოს გადასაკვეთ გზაზე მოძრავ მძღოლს, ხოლო 8. 13 დანართის არსებობისას – მთავარ გზაზე მოძრავ მძღოლს. ნიშანი იდგმება, თუ არაა უზრუნველყოფილი გადამკვეთ გზაზე მოძრავი სატრანსპორტო საშუალებათა ხილვადობა, ის აგრეთვე შეიძლება დაიდგას რკინიგზის გადასასვლელის ან საკარანტინო საგუშაგოს წინ (ამ შემთხვევაში მძღოლი ვალდებულია გაჩერდეს „სდექ“ ხაზის წინ, ხოლო თუ ის არ არის – ნიშნის წინ).

QUESTION 114

CORRECT ANSWER: 2



I



II



III



IV

Which of these traffic signs prohibits a driver to enter the narrow section of the road, if this hampers proceeding in reverse direction?

1

I

2

II

3

III

4

IV

განმარტება:

„საგზაო მოძრაობის შესახებ“ საქართველოს კანონის პირველი დანართის მე-2 თავის (პრიორიტეტის ნიშანი) 2.5 პუნქტების თანახმად საგზაო ნიშანი 2.5 „შემხვედრი მოძრაობის უპირატესობა“- უკრძალავს მძღოლს გზის ვიწრო მონაკვეთზე შესვლას, თუ ეს აძნელებს საპირისპირო მიმართულებით მოძრაობას. მძღოლი ვალდებულია გზა დაუთმოს შემხვედრ სატრანსპორტო საშუალებას, რომელიც მოპირდაპირე მისასვლელთან ან გზის ვიწრო მონაკვეთზე იმყოფება.

QUESTION 115

CORRECT ANSWER: 3



This traffic sign:

1

Marks beginning of the road section, on which motion direction to one or several lanes may be changed in reverse direction

2

Indicates the road, on which traffic is carried out in one direction

3

Prohibits a driver to enter the narrow section of the road, if this hampers reverse traffic

განმარტება:

„საგზაო მოძრაობის შესახებ“ საქართველოს კანონის პირველი დანართის მე-2 თავის (პრიორიტეტის ნიშანი) 2.5 პუნქტების თანახმად საგზაო ნიშანი 2.5 „შემხვედრი მოძრაობის უპირატესობა“- უკრძალავს მძღოლს გზის ვიწრო მონაკვეთზე შესვლას, თუ ეს აძნელებს საპირისპირო მიმართულებით მოძრაობას. მძღოლი ვალდებულია გზა დაუთმოს შემხვედრ სატრანსპორტო საშუალებას, რომელიც მოპირდაპირე მისასვლელთან ან გზის ვიწრო მონაკვეთზე იმყოფება.

QUESTION 116

CORRECT ANSWER: 3



I



II



III



IV

Which of the traffic signs entitles priority to a driver over oncoming vehicle, while driving on the narrow section of the road?

1

I

2

II

3

III

4

IV

განმარტება:

„საგზაო მოძრაობის შესახებ“ საქართველოს კანონის პირველი დანართის მე-2 თავის (პრიორიტეტის ნიშანი) 2.6 პუნქტების თანახმად საგზაო ნიშანი 2.6 „უპირატესობა შემხვედრ მოძრაობასთან“ - ანიჭებს მძღოლს უპირატესობას გზის ვიწრო მონაკვეთზე მოძრაობისას საპირისპირო მიმართულებით მოძრავ სატრანსპორტო საშუალებასთან შედარებით.

QUESTION 117

CORRECT ANSWER: 1



Given traffic sign:

1

Entitles priority to a driver over oncoming vehicle, when driving on the narrow section of the road

2

Obliges a driver to yield to the vehicle routing on the road to be crossed

3

Prohibits a driver from entering the narrow section of the road, if this hampers reverse traffic

განმარტება:

„საგზაო მოძრაობის შესახებ“ საქართველოს კანონის პირველი დანართის მე-2 თავის (პრიორიტეტის ნიშანი) 2.6 პუნქტების თანახმად საგზაო ნიშანი 2.6 „უპირატესობა შემხვედრ მოძრაობასთან“ - ანიჭებს მძღოლს უპირატესობას გზის ვიწრო მონაკვეთზე მოძრაობისას საპირისპირო მიმართულებით მოძრავ სატრანსპორტო საშუალებასთან შედარებით.

QUESTION 118

CORRECT ANSWER: 1



I



II



III



IV

In effective zone of which of these traffic signs has a driver priority of passing the unregulated intersection?

1

II and IV only

2

I and III only

3

None of them

4

All of them

განმარტება:

„საგზაო მოძრაობის შესახებ“ საქართველოს კანონის პირველი დანართის პირველი თავის (მაფრთხილებელი ნიშნები) 1.7.1- 1.7.7 პუნქტების თანახმად საგზაო ნიშანი 1.7.1. „მეორეხარისხოვან გზასთან გადაკვეთა“, 1.7.2–1.7.7. „მეორეხარისხოვანი გზის შეერთება“ (შეერთება მარცხნიდან – 1.7.2, 1.7.4 და 1.7.6, შეერთება მარცხნიდან – 1.7.3, 1.7.5 და 1.7.7) – ისეთ გზასთან გადაკვეთა ან ისეთ გზასთან შეერთება, რომელზე მოძრაობს მძღოლსაც აქვს გზის დათმობის ვალდებულება. ამავე კანონის პირველი დანართის მე-2 თავის (პრიორიტეტის ნიშანი) 2.1 პუნქტების თანახმად საგზაო ნიშანი 2.1 „მთავარი გზა“ - გზა, რომელზე მოძრაობს მძღოლსაც ენიჭება არარეგულირებული გზაჯვარედინის გავლის უპირატესობა. ნიშანი იდგმება გზის დასაწყისში და მეორდება უშუალოდ ყოველი გზაჯვარედინის წინ. 2.1 ნიშანი 8.13 დაფით დასახლებულ პუნქტში იდგმება გზაჯვარედინის წინ, რომელზედაც მთავარი გზა იცვლის მიმართულებას, დაუსახლებელ პუნქტში – წინასწარ გზაჯვარედინამდე 150–300 მეტრ მანძილზე და გზაჯვარედინის წინ.

QUESTION 119

CORRECT ANSWER: 2



I



II



III



IV

Which of these traffic signs is posted directly in front of narrow section of the road?

1

II and III

2

I and IV

3

I

4

I and II

განმარტება:

„საგზაო მოძრაობის შესახებ“ საქართველოს კანონის პირველი დანართის მე-2 თავის (პრიორიტეტის ნიშანი) შენიშვნის „ბ“ ქვეპუნქტის თანახმად საგზაო ნიშნები 2.5 „შემხვედრი მოძრაობის უპირატესობა“ და 2.6 „უპირატესობა შემხვედრ მოძრაობასთან“ იდგმება უშუალოდ გზის ვიწრო უბნის წინ. ნიშანი 2.5 შეიძლება დაიდგას წინასწარ 8.1.1 დაფით.

QUESTION 120

CORRECT ANSWER: 3



I



II



III



IV

If there is no other necessity, given road signs are placed in an uninhabited area from the start of dangerous road:

1

At a distance of 50-100 meters

2

At a distance of 100-150 meters

3

At a distance of 150-300 meters

4

At a distance of 300-400 meters

განმარტება:

„საგზაო მოძრაობის შესახებ“ საქართველოს კანონის პირველი დანართის პირველი თავის (მაფრთხილებელი ნიშნები) პენიშვნის „ა“ პუნქტის თანახმად 1.1, 1.2, 1.5–1.34 ნიშნები დაუსახლებელ პუნქტში იდგმება სახიფათო მონაკვეთის დასაწყისამდე 150–300 მეტრ მანძილზე, დასახლებულ პუნქტში – 50–100 მეტრ მანძილზე. აუცილებლობისას ნიშნები იდგმება სხვა მანძილზედაც, რომელიც მითითებულია 8.1.1 დაფაზე. სურათზე ნაჩვენები ნიშნებია: 1.7.1 „მეორეხარისხოვან გზებთან გადაკვეთა“, 1.7.2, 1.7.3 და 1.7.7 „მეორეხარისხოვანი გზის შეერთება“.

QUESTION 121

CORRECT ANSWER: 2

According to the international norms and procedures, dangerous goods is divided into following classes according to the type of hazard:

1 Into 7 classes

2 Into 9 classes

3 Into 11 classes

განმარტება:

საქართველოს ეკონომიკისა და მდგრადი განვითარების მინისტრის 2011 წლის 18 აგვისტოს № 1-1/1562 ბრძანებით დამტკიცებული ტექნიკური რეგლამენტის „ავტოსატრანსპორტო საშუალებებით ტვირთის გადაზიდვის წესის“ მე-9 მუხლის პირველი პუნქტის თანახმად, სახიფათო ტვირთი საშიშროების ტიპის მიხედვით იყოფა 9 კლასად საერთაშორისო ნორმებისა და წესების შესაბამისად.

QUESTION 122

CORRECT ANSWER: 3

The drivers shall be allowed to drive the vehicles transporting dangerous goods in case of having experience of at least:

1 1 year

2 2 years

3 3 years

განმარტება:

საქართველოს ეკონომიკისა და მდგრადი განვითარების მინისტრის 2011 წლის 18 აგვისტოს № 1-1/1562 ბრძანებით დამტკიცებული ტექნიკური რეგლამენტის „ავტოსატრანსპორტო საშუალებებით ტვირთის გადაზიდვის წესის“ მე-9 მუხლის მე-4 პუნქტის თანახმად, ავტოსატრანსპორტო საშუალებაზე, რომლითაც გადაიზიდება სახიფათო ტვირთი, სამართავად დაიშვებიან მძღოლები მუშაობის არანაკლებ სამი წლის სტაჟით.

QUESTION 123

CORRECT ANSWER: 4

While transporting the dangerous goods, in traffic accident or/and other emergency cases, a driver is obliged to act:

1

According to the rule applicable to transportation of specific type of dangerous goods only

2

According to the technical specifications of specific type of dangerous goods only

3

According to the written instructions issued by the consignor only

4

According to the rule applicable to transportation of specific type of dangerous goods, as well as the technical specifications and the written instructions issued by the consignor

განმარტება:

საქართველოს ეკონომიკისა და მდგრადი განვითარების მინისტრის 2011 წლის 18 აგვისტოს № 1-1/1562 ბრძანებით დამტკიცებული ტექნიკური რეგლამენტის „ავტოსატრანსპორტო საშუალებებით ტვირთის გადაზიდვის წესის“ მე-9 მუხლის მე-5 პუნქტის „ბ“ ქვეპუნქტის თანახმად, სახიფათო ტვირთის გადაზიდვისას მძღოლი წინამდებარე წესის პირველი მუხლის მე-3 პუნქტით განსაზღვრული მოთხოვნების შესრულებასთან ერთად ვალდებულია, საგზაო სატრანსპორტო ან/და საგანგებო შემთხვევებში იმოქმედოს კონკრეტული სახის სახიფათო ტვირთის გადაზიდვაზე არსებული წესის, ტექნიკური პირობების და ტვირთის გამგზავნის მიერ გაცემული წერილობითი ინსტრუქციის შესაბამისად.

QUESTION 124

CORRECT ANSWER: 4

When transporting the dangerous goods, a driver is prohibited from:

1

Abrupt start of motion or braking of the vehicle only

2

Overtaking the vehicle only, routing faster than 30 km/h

3

Routing with deactivated engine or/and hitch only

4

Abrupt start of motion or braking of the vehicle, as well as overtaking the vehicle, routing faster than 30 km/h and routing with deactivated engine or/and hitch

ბანმარტეზა:

საქართველოს ეკონომიკისა და მდგრადი განვითარების მინისტრის 2011 წლის 18 აგვისტოს № 1-1/1562 ბრძანებით დამტკიცებული ტექნიკური რეგლამენტის „ავტოსატრანსპორტო საშუალებებით ტვირთის გადაზიდვის წესის“ მე-9 მუხლის მე-6 პუნქტის თანახმად სახიფათო ტვირთის გადაზიდვისას მძღოლს ეკრძალება: ა) სანავიით გამართვა ავტოგასამართ სადგურებში საერთო სარგებლობის სვეტებიდან (ფეთქებადი და ცეცხლსაშიში ნივთიერების გადაზიდვის შემთხვევაში); ბ) ავტოსატრანსპორტო საშუალების მკვეთრი დაძვრა და დამუხრუჭება; გ) იმ ავტოსატრანსპორტო საშუალების გასწვრივ, რომელიც მოძრაობს 30 კმ/სთ-ზე მეტი სიჩქარით; დ) გამორთული ძრავით ან/და გადაბმულობით მოძრაობა; ე) თამბაქოს მოწევა ავტოსატრანსპორტო საშუალების სალონში; ვ) ავტოსატრანსპორტო საშუალების გაჩერება/დგომა ცეცხლის კერისგან 200 მეტრით ნაკლებ მანძილზე; ზ) ავტოსატრანსპორტო საშუალების უმეტესალყურედ დატოვება; თ) სხვა ტვირთის გადაზიდვა ან/და იმ პირების გადაყვანა, რომლებიც არ არიან ავტოსატრანსპორტო საშუალების ეკიპაჟის წევრები.

QUESTION 125

CORRECT ANSWER: 4

When transporting the dangerous goods, a driver is prohibited from:

1

Smoking in the vehicle compartment only

2

Stopping/parking of the vehicle at a distance less than 200 meters from the seat of fire only

3

Leaving the vehicle unattended only

4

Smoking in the vehicle compartment, as well as stopping/parking of the vehicle at a distance less than 200 meters from the seat of fire and leaving the vehicle unattended

განმარტება:

საქართველოს ეკონომიკისა და მდგრადი განვითარების მინისტრის 2011 წლის 18 აგვისტოს № 1-1/1562 ბრძანებით დამტკიცებული ტექნიკური რეგლამენტის „ავტოსატრანსპორტო საშუალებებით ტვირთის გადაზიდვის წესის“ მე-9 მუხლის მე-6 პუნქტის თანახმად სახიფათო ტვირთის გადაზიდვისას მძღოლს ეკრძალება: ა) საწვავით გამართვა ავტოგასამართ სადგურებში საერთო სარგებლობის სვეტებიდან (ფეთქებადი და ცეცხლსაშიშრო ნივთიერების გადაზიდვის შემთხვევაში); ბ) ავტოსატრანსპორტო საშუალების მკვეთრი დაძვრა და დამუხრუჭება; გ) იმ ავტოსატრანსპორტო საშუალების გასწრება, რომელიც მოძრაობს 30 კმ/სთ-ზე მეტი სიჩქარით; დ) გამორთული ძრავით ან/და გადაბმულობით მოძრაობა; ე) თამბაქოს მოწევა ავტოსატრანსპორტო საშუალების სალონში; ვ) ავტოსატრანსპორტო საშუალების გაჩერება/დგომა ცეცხლის კერისგან 200 მეტრით ნაკლებ მანძილზე; ზ) ავტოსატრანსპორტო საშუალების უმეტესაღმრთოდ დატოვება; თ) სხვა ტვირთის გადაზიდვა ან/და იმ პირების გადაყვანა, რომლებიც არ არიან ავტოსატრანსპორტო საშუალების ეკიპაჟის წევრები.

QUESTION 126

CORRECT ANSWER: 3

When transporting the dangerous goods, a driver is prohibited from:

- 1 Transporting of other goods only
- 2 Conveyance of those people only, who are not the crew members of the vehicle
- 3 Transporting of other goods and conveyance of those people, who are not the crew members of the vehicle

განმარტება:

საქართველოს ეკონომიკისა და მდგრადი განვითარების მინისტრის 2011 წლის 18 აგვისტოს № 1-1/1562 ბრძანებით დამტკიცებული ტექნიკური რეგლამენტის „ავტოსატრანსპორტო საშუალებებით ტვირთის გადაზიდვის წესის“ მე-9 მუხლის მე-6 პუნქტის თანახმად სახიფათო ტვირთის გადაზიდვისას მძღოლს ეკრძალება: ა) სანავიგო გამართვა ავტოგასამართ სადგურებში საერთო სარგებლობის სვეტებიდან (ფეთქებადი და ცეცხლსაშიში ნივთიერების გადაზიდვის შემთხვევაში); ბ) ავტოსატრანსპორტო საშუალების მკვეთრი დაძვრა და დამუხრუჭება; გ) იმ ავტოსატრანსპორტო საშუალების გასწრება, რომელიც მოძრაობს 30 კმ/სთ-ზე მეტი სიჩქარით; დ) გამორთული ძრავით ან/და გადაბმულობით მოძრაობა; ე) თამბაქოს მოწვევა ავტოსატრანსპორტო საშუალების სალონში; ვ) ავტოსატრანსპორტო საშუალების გაჩერება/დგომა ცეცხლის კერისგან 200 მეტრით ნაკლებ მანძილზე; ზ) ავტოსატრანსპორტო საშუალების უმეთვალყურეოდ დატოვება; თ) სხვა ტვირთის გადაზიდვა ან/და იმ პირების გადაყვანა, რომლებიც არ არიან ავტოსატრანსპორტო საშუალების ეკიპაჟის წევრები.

QUESTION 127

CORRECT ANSWER: 2

Is use of gas-powered vehicle allowed during transporting of dangerous goods?

- 1 Yes
- 2 No

განმარტება:

საქართველოს ეკონომიკისა და მდგრადი განვითარების მინისტრის 2011 წლის 18 აგვისტოს № 1-1/1562 ბრძანებით დამტკიცებული ტექნიკური რეგლამენტის „ავტოსატრანსპორტო საშუალებებით ტვირთის გადაზიდვის წესის“ მე-9 მუხლის მე-16 პუნქტის „ა“ ქვეპუნქტის თანახმად სახიფათო ტვირთის გადაზიდვის დროს დაუშვებელია აირზე მომუშავე ავტოსატრანსპორტო საშუალების გამოყენება.

QUESTION 128

CORRECT ANSWER: 1

Is more than one trailer or semi-trailer allowed to the vehicle during transporting of dangerous goods?

1

No

2

Yes

განმარტება:

საქართველოს ეკონომიკისა და მდგრადი განვითარების მინისტრის 2011 წლის 18 აგვისტოს № 1-1/1562 ბრძანებით დამტკიცებული ტექნიკური რეგლამენტის „ავტოსატრანსპორტო საშუალებებით ტვირთის გადაზიდვის წესის“ მე-9 მუხლის მე-16 პუნქტის „ბ“ ქვეპუნქტის თანახმად სახიფათო ტვირთის გადაზიდვის დროს დაუშვებელია ავტოსატრანსპორტო საშუალებაზე ერთზე მეტი მისაბმელის ან ნახევარმისაბმელის ჩაბმა.

QUESTION 129

CORRECT ANSWER: 3

On transporting of bulk and liquid cargo, in case of spreading/leakage of the cargo on the road, a vehicle driver is obliged to:

1

Inform the cargo sender by phone about the mentioned and continue driving

2

Continue driving at a speed of not more than 40 km/h in order the dropped/spelt cargo not to create any danger for other road users

3

Stop routing and apply the appropriate measures for correction of the reasons

განმარტება:

საქართველოს ეკონომიკისა და მდგრადი განვითარების მინისტრის 2011 წლის 18 აგვისტოს № 1-1/1562 ბრძანებით დამტკიცებული ტექნიკური რეგლამენტის „ავტოსატრანსპორტო საშუალებებით ტვირთის გადაზიდვის წესის“ მე-12 მუხლის მე-3 პუნქტის თანახმად, საყარი და თხევადი ტვირთების გადაზიდვისას ავტოსატრანსპორტო საშუალების მძღოლი ვალდებულია ტრანსპორტირებისას გამოიცილოს ტვირთის გაბნევა/დაღვრა სავალ ნაწილზე. გზაზე ტვირთის გაბნევა/დაღვრის შემთხვევაში, შეწყვიტოს მოძრაობა და მიიღოს ზომები აღნიშნულის გამომწვევი მიზეზების აღმოსაფხვრელად.

თემა 5:

ამკრძალავი ნიშნები

QUESTION 130

CORRECT ANSWER: 2



This traffic sign:

1

Prohibits motion at a speed faster than shown on the sign

2

Points to the end of the effective zone of the maximum speed restriction traffic signs

3

Points to the speed, motion at which is recommended on the given section of the road

განმარტება:

„საგზაო მოძრაობის შესახებ“ საქართველოს კანონის პირველი დანართის 3.25 პუნქტის თანახმად საგზაო ნიშანი 3.25 „მაქსიმალური სიჩქარის შეზღუდვის დასასრული“ – 3.24 ნიშნის („მაქსიმალური სიჩქარის შეზღუდვა“) მოქმედების ზონის დასასრული.

QUESTION 131

CORRECT ANSWER: 1



Is a motor car driver allowed to park the car at the car park shown in the picture, during even days of a month from 7 p.m. to 9 p.m.?

1

Yes

2


No

განმარტება:

„საგზაო მოძრაობის შესახებ“ საქართველოს კანონის პირველი დანართის მე-3 თავის (ამკრძალავი ნიშნები) 3.29 და 3.30 პუნქტების თანახმად საგზაო ნიშანი 3.29 „დგომა აკრძალულია კენტ რიცხვებში“ - კრძალავს სატრანსპორტო საშუალების დგომას თვის კენტ რიცხვებში, ხოლო საგზაო ნიშანი 3.30 „დგომა აკრძალულია ლუნ რიცხვებში“ - კრძალავს სატრანსპორტო საშუალების დგომას თვის ლუნ რიცხვებში. ამავე პუნქტების შენიშვნის თანახმად 3.29 და 3.30 ნიშნების ერთდროულად გამოყენებისას, სატრანსპორტო საშუალების გზის ერთი მხრიდან მეორეზე გადაყენების დროა 19-დან 21 საათამდე, ამ პერიოდში დგომა ნებადართულია სავალი ნაწილის ორივე მხარეს.

QUESTION 132

CORRECT ANSWER: 2



In the present situation, which vehicle driver is not prohibited from proceeding to the arrow direction, if actual mass of the lorry is 7 tonnes?

1

Lorry driver only

2

Red motor car driver only

3

None of them

განმარტება:

„საგზაო მოძრაობის შესახებ“ საქართველოს კანონის 31-ე მუხლის მე-7 პუნქტის თანახმად, სამი მოძრაობის ზოლის მქონე (გარდა 1.9 საგზაო მონიშვნისა) ორმხრივმოძრაობიან გზაზე სატრანსპორტო საშუალების მძღოლი არ უნდა გადავიდეს სავალი ნაწილის განაპირა ზოლზე, სადაც საპირისპირო მიმართულების მოძრაობა ხორციელდება. თუ სამი მოძრაობის ზოლის მქონე გზაზე შუა ზოლი ორივე მიმართულებით მოძრაობისათვის გამოიყენება, ამ ზოლზე გასვლა ნებადართულია მხოლოდ გასწრების, დაბრკოლების შემოვლის, მარცხნივ მოხვევის ან მობრუნების მიზნით. ამავე კანონის პირველი დანართის მე-3 თავის (ამკრძალავი ნიშნები) 3.11 პუნქტის თანახმად, საგზაო ნიშანი 3.11 „მასის შეზღუდვა“ - კრძალავს იმ სატრანსპორტო საშუალებით და სატრანსპორტო საშუალებათა შემადგენლობით მოძრაობას, რომელთა საერთო ფაქტობრივი მასა აღემატება ნიშანზე მითითებულს.

QUESTION 133

CORRECT ANSWER: 2



This traffic sign prohibits:

1

Motion of the vehicle with overall width exceeding the width indicated on the sign

2

Motion of the vehicle, with overall height (with or without cargo) exceeding the height indicated on the sign

3

Motion of the vehicles at a distance less than the one indicated on the sign

განმარტება:

„საგზაო მოძრაობის შესახებ“ საქართველოს კანონის პირველი დანართის მე-3 თავის (ამკრძალავი ნიშნები) 3.13 პუნქტის თანახმად საგზაო ნიშანი 3.13 „სიმაღლის შეზღუდვა“ - კრძალავს იმ სატრანსპორტო საშუალებით მოძრაობას, რომლის გაბარიტული სიმაღლე (ტვირთიანად ან უტვირთოდ) აღემატება ნიშანზე აღნიშნულს.

QUESTION 134

CORRECT ANSWER: 2



This traffic sign:

- 1 Prohibits motion of the vehicles, with overall height (with or without cargo) exceeding the height indicated on the sign
- 2 Prohibits motion of the vehicle with overall width (with or without cargo) exceeding the width indicated on the sign
- 3 Marks effective zone of traffic sign

განმარტება:

„საგზაო მოძრაობის შესახებ“ საქართველოს კანონის პირველი დანართის მე-3 თავის (ამკრძალავი ნიშნები) 3.14 პუნქტის თანახმად საგზაო ნიშანი 3.14 „სიგანის შეზღუდვა“ - კრძალავს იმ სატრანსპორტო საშუალებებით მოძრაობას, რომლის გაბარიტული სიგანე (ტვირთიანად ან უტვირთოდ) აღემატება ნიშანზე აღნიშნულს.

QUESTION 135

CORRECT ANSWER: 3



This traffic sign:

1

Indicates absence of axial line of driveway

2

Marks end of one-direction traffic

3

Prohibits parking of a vehicle on odd days of the month

განმარტება:

„საგზაო მოძრაობის შესახებ“ საქართველოს კანონის პირველი დანართის მე-3 თავის (ამკრძალავი ნიშნები) 3.29 პუნქტის თანახმად საგზაო ნიშანი 3.29 „დგომა აკრძალულია კენტ რიცხვებში“ - კრძალავს სატრანსპორტო საშუალების დგომას თვის კენტ რიცხვებში.

QUESTION 136

CORRECT ANSWER: 3



I



II



III



IV

Which of these traffic signs prohibits motion of vehicles carrying explosive and highly inflammable cargo, which should be marked with appropriate identification sign according to the applicable legislation?

1

I

2

II

3

III

4

IV

განმარტება:

„საგზაო მოძრაობის შესახებ“ საქართველოს კანონის პირველი დანართის მე-3 თავის (ამკრძალავი ნიშნები) 3.33 პუნქტის თანახმად საგზაო ნიშანი 3.33 „ფეთქებადი და ადვილად აალებადი ტვირთის გადამზიდი სატრანსპორტო საშუალებით მოძრაობა აკრძალულია“ - კრძალავს 19433-88 სახელმწიფო სტანდარტით განსაზღვრული 1.22–2.4, 3.1, 3.2, 5.2 კლასის ფეთქებადი და ადვილად აალებადი ტვირთის გადამზიდი სატრანსპორტო საშუალებით მოძრაობას, რომელიც, საქართველოს კანონმდებლობის თანახმად აღნიშნული უნდა იყოს საცნობი ნიშნით „სახიფათო ტვირთი“.

QUESTION 137

CORRECT ANSWER: 2



I



II



III



IV

Which of these traffic signs is not effective to route vehicle?

1

II only

2

I and III only

3

I and IV only

4

III only

განმარტება:

„საგზაო მოძრაობის შესახებ“ საქართველოს კანონის პირველი დანართის მე-3 თავის (ამკრძალავი ნიშნები) შენიშვნის „გ.ა“ ქვეპუნქტის თანახმად ნიშნების მოქმედება არ ვრცელდება: გ.ა) 3.1–3.3, 3.18.1, 3.18.2, 3.19, 3.27 ნიშნებისა – სამარშრუტო სატრანსპორტო საშუალებაზე. სურათზე ნაჩვენები საგზაო ნიშნებია: 3.1 „შესვლა აკრძალულია“, 3.14 „სიგანის შეზღუდვა“, 3.2 „მოძრაობა აკრძალულია“ და 3.11 „მასის შეზღუდვა“.

QUESTION 138

CORRECT ANSWER: 1



I



II



III



IV

Which of these traffic signs is not effective to route vehicle?

1

I and III only

2

II and IV only

3

II and III only

4

I and IV only

განმარტება:

„საგზაო მოძრაობის შესახებ“ საქართველოს კანონის პირველი დანართის მე-3 თავის (ამკრძალავი ნიშნები) შენიშვნის „გ.ა“ ქვეპუნქტის თანახმად ნიშნების მოქმედება არ ვრცელდება: გ.ა) 3.1–3.3, 3.18.1, 3.18.2, 3.19, 3.27 ნიშნებისა – სამარშრუტო სატრანსპორტო საშუალებაზე. სურათზე ნაჩვენები საგზაო ნიშნებია: 3.18.2 „მარცხნივ მოხვევა აკრძალულია“, 3.24 „მაქსიმალური სიჩქარის შეზღუდვა“, 3.19 „მობრუნება აკრძალულია“ და 3.29 „დგომა აკრძალულია კენტ რიცხვებში“.

QUESTION 139

CORRECT ANSWER: 4



I



II



III



IV

Which of these traffic signs is not effective to vehicle, serving to the company located in effective zone of the sign?

1

I and II only

2

I and IV only

3

II and III only

4

II and IV only

განმარტება:

„საგზაო მოძრაობის შესახებ“ საქართველოს კანონის პირველი დანართის მე-3 თავის (ამკრძალავი ნიშნები) შენიშვნის „გ.ბ“ ქვეპუნქტის თანახმად ნიშნების მოქმედება არ ვრცელდება: გ.ბ) 3.2–3.8 ნიშნებისა – სატრანსპორტო საშუალებაზე, რომელიც ემსახურება აღნიშნულ ზონაში მდებარე სანარმოს, ანდა ემსახურება ან ეკუთვნის ამავე ზონაში მცხოვრებ ან მომუშავე პირს. ამ შემთხვევაში სატრანსპორტო საშუალება შედის აღნიშნულ ზონაში და გამოდის იქიდან დანიშნულების ადგილისაკენ უახლოეს გზაჯვარედინზე. სურათზე ნაჩვენებია საგზაო ნიშნებია: 3.1 „შესვლა აკრძალულია“, 3.2 „მოძრაობა აკრძალულია“, 3.13 „სიმაღლის შეზღუდვა“ და 3.8 „საჭაპანო მოძრაობა აკრძალულია“.

QUESTION 140

CORRECT ANSWER: 4



I



II



III



IV

Which of these traffic signs is not effective to vehicle, serving to or owned by a person residing or working in effective zone of the sign?

1

I and II only

2

I and III only

3

III and IV only

4

All of them

განმარტება:

„საგზაო მოძრაობის შესახებ“ საქართველოს კანონის პირველი დანართის მე-3 თავის (ამკრძალავი ნიშნები) შენიშვნის „გ.ბ“ ქვეპუნქტის თანახმად ნიშნების მოქმედება არ ვრცელდება: გ.ბ) 3.2–3.8 ნიშნებისა – სატრანსპორტო საშუალებაზე, რომელიც ემსახურება აღნიშნულ ზონაში მდებარე სანარმოს, ანდა ემსახურება ან ეკუთვნის ამავე ზონაში მცხოვრებ ან მომუშავე პირს. ამ შემთხვევაში სატრანსპორტო საშუალება შედის აღნიშნულ ზონაში და გამოდის იქიდან დანიშნულების ადგილისაკენ უახლოეს გზაჯვარედინზე. სურათზე ნაჩვენები საგზაო ნიშნებია: 3.2 „მოძრაობა აკრძალულია“, 3.3 „მექანიკური სატრანსპორტო საშუალებით მოძრაობა აკრძალულია“, 3.5 „მოტოციკლით მოძრაობა აკრძალულია“ და 3.8 „საჭაპანო მოძრაობა აკრძალულია“.

QUESTION 141

CORRECT ANSWER: 1



In the present situation, is a driver prohibited from parking the vehicle at the place shown by arrow?

1

Yes

2

No

განმარტება:

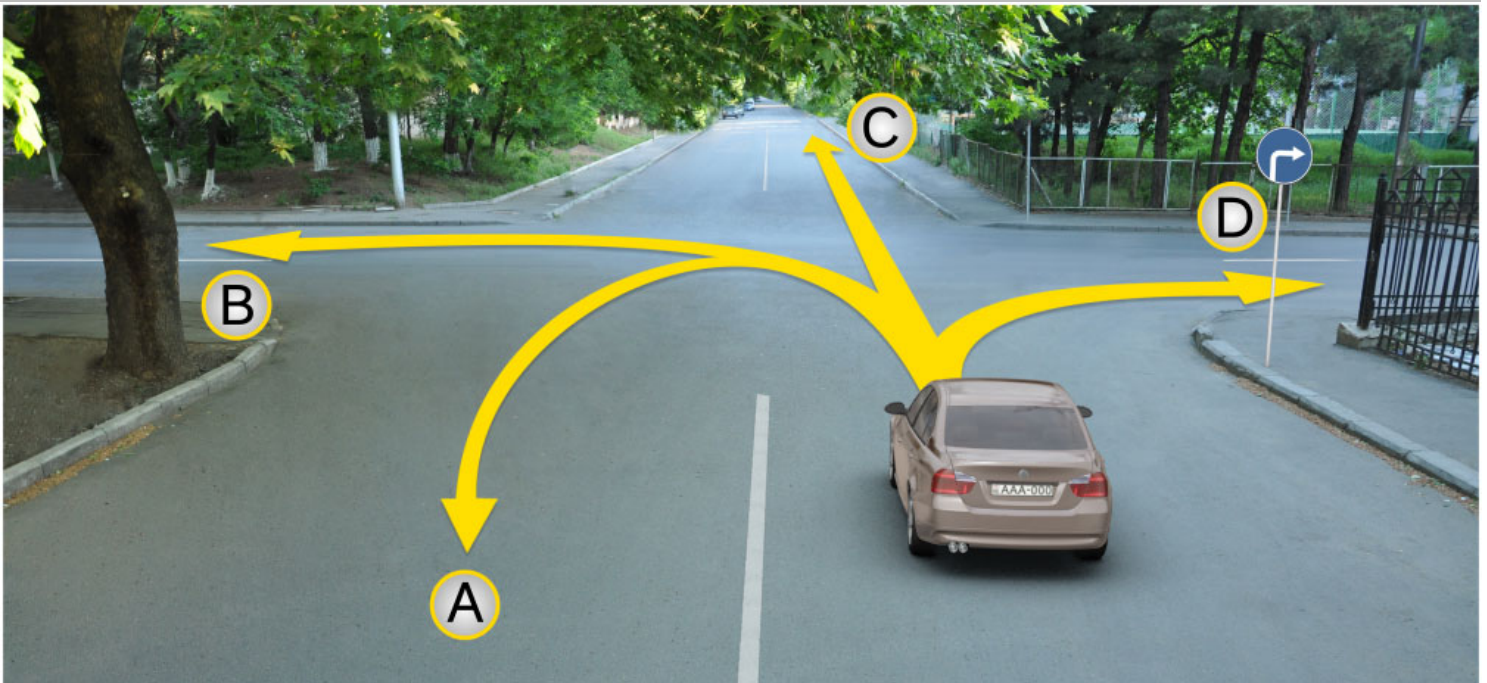
„საგზაო მოძრაობის შესახებ“ საქართველოს კანონის პირველი დანართის მე-3 თავის (ამკრძალავი ნიშნები) 3.27 პუნქტის თანახმად, საგზაო ნიშანი 3.27 „გაჩერება აკრძალულია“ - კრძალავს სატრანსპორტო საშუალების როგორც გაჩერებას, ასევე დგომას. ამავე თავის შენიშვნის „ე“ ქვეპუნქტის თანახმად 3.26–3.30 ნიშნების მოქმედება ვრცელდება სათანადო ნიშნის შემდეგ, ნიშნის დადგმის ადგილიდან უახლოეს გზაჯვარედინამდე, ხოლო დასახლებულ პუნქტში გზაჯვარედინის არარსებობისას – დასახლებული პუნქტის ბოლომდე. ნიშნების მოქმედება ვრცელდება აგრეთვე მიმდებარე ტერიტორიის გამოსასვლელთან, საველე, სატყეო და სხვა მეორეხარისხოვანი გზების გადაკვეთასთან (შეერთებასთან), რომელთა წინ არ დგას სათანადო ნიშანი. ამავე კანონის მე-5 მუხლის მე-13 პუნქტის თანახმად, გზაჯვარედინი არის ერთ ღონეზე გზების კვეთა, შეერთება ან განშტოება, ასეთი კვეთით, შეერთებით ან განშტოებით წარმოქმნილი ტერიტორიების ჩათვლით. გზაჯვარედინად არ ითვლება მიმდებარე ტერიტორიებიდან გამომავალი გამოსასვლელების გზებთან კვეთა.

თემა 6:

მიმთითებული ნიშნები

QUESTION 142

CORRECT ANSWER: 4



A motor car driver has the right to proceed further:

1

In directions A, C and D only

2

In directions A, B, C and D

3

In directions B and C only

4


In direction D only

განმარტება:

„საგზაო მოძრაობის შესახებ“ საქართველოს კანონის პირველი დანართის 4.1.2 პუნქტის თანახმად საგზაო ნიშანი 4.1.2 „მოძრაობა მარჯვნივ“ რთავს მხოლოდ ისრით ნაჩვენები მიმართულებით მოძრაობის ნებას.

QUESTION 143

CORRECT ANSWER: 3



The motor car driver is allowed to proceed:

1

In direction A

2

In direction B

3


In both A and B directions

განმარტება:

„საგზაო მოძრაობის შესახებ“ საქართველოს კანონის 32-ე მუხლის მე-17 პუნქტის „ა“ ქვეპუნქტის თანახმად, ამ მუხლით დადგენილ მოთხოვნათა გათვალისწინებით, მძღოლს შეუძლია მარჯვნიდან ან მარცხნიდან შემოუაროს იმ სავალ ნაწილზე დაყენებულ უსაფრთხოების კუნძულს, ტუმბოს ან სხვა მოწყობილობას, რომელზედაც იგი მოძრაობს, გარდა იმ შემთხვევისა, როცა საგზაო ნიშანი მიუთითებს, რომელი მხრიდან უნდა შემოუაროს მძღოლმა უსაფრთხოების კუნძულს, ტუმბოს ან სხვა მოწყობილობას. ამავე კანონის პირველი დანართის მე-4 თავის (მიმთითებელი ნიშნები) 4.2.3 პუნქტის თანახმად საგზაო ნიშანი 4.2.3 „დაბრკოლების შემოვლა მარჯვნიდან ან მარცხნიდან“ - მიუთითებს დაბრკოლების შემოვლის მიმართულებას მარჯვნიდან ან მარცხნიდან.

QUESTION 144

CORRECT ANSWER: 4



In the present situation, the vehicle driver, driven past the turning, in order to enter the right turning:

1

Is allowed to swerve in direction A

2

Is allowed to reverse in direction B

3

Is allowed to proceed in both A and B directions

4

Is prohibited from proceeding in both A and B directions

განმარტება:

„საგზაო მოძრაობის შესახებ“ საქართველოს კანონის 32-ე მუხლის მე-16 პუნქტის თანახმად, მძღოლი, რომელიც მობრუნებას ან უკუსვლით მოძრაობას აპირებს, უნდა დარწმუნდეს, რომ მას შეუძლია ისე შეასრულოს ეს მანევრი, რომ საფრთხე არ შეუქმნას და ხელი არ შეუშალოს სხვა საგზაო მოძრაობის მონაწილეებს. აუცილებლობის შემთხვევაში მიზანშეწონილია სხვა პირის დახმარება. აკრძალულია უკუსვლით მოძრაობა გზაჯვარედინზე, ავტომაგისტრალზე და ამ მუხლის მე-15 პუნქტით განსაზღვრულ ადგილებში. ამავე კანონის პირველი დანართის მე-4 თავის (მიმთითებული ნიშნები) 4.1.4 პუნქტის და ამავე პუნქტის შენიშვნის თანახმად საგზაო ნიშანი 4.1.4 „მოძრაობა პირდაპირ ან მარჯვნივ“ - რთავს მხოლოდ ისრებით ნაჩვენები მიმართულებებით მოძრაობის ნებას.

QUESTION 145

CORRECT ANSWER: 4



I



II



III



IV

Which of these traffic signs warns a driver about approaching the circular intersection?

1

I and II only

2

II only

3

I and III only

4

IV only

განმარტება:

„საგზაო მოძრაობის შესახებ“ საქართველოს კანონის პირველი დანართის პირველი თავის (მაფრთხილებელი ნიშნები) 1.8 პუნქტის თანახმად საგზაო ნიშანი 1.8 „წრიული მოძრაობიანი გადაკვეთა“ - იძლევა გაფრთხილებას 4.3 „წრიული მოძრაობა“ ნიშნით აღნიშნულ წრიულ მოძრაობიან გზაჯვარედინთან მიახლოების თაობაზე.

QUESTION 146

CORRECT ANSWER: 3



I



II



III



IV

Which of the given traffic signs marks the road section, on which the vehicle must have anti-slip chains on at least two driving tyres?

1

I

2

II

3

III

4


IV

განმარტება:

„საგზაო მოძრაობის შესახებ“ საქართველოს კანონის პირველი დანართის მე-4 თავის (მიმთითებული ნიშნები) 4.8 პუნქტის თანახმად, საგზაო ნიშანი 4.8 „მოცურების საწინააღმდეგო ჯაჭვები აუცილებელია“ - გზის მონაკვეთი, რომელზე მოძრავ სატრანსპორტო საშუალებას არანაკლებ ორ წამყვან ბორბალზე მოცურების საწინააღმდეგო ჯაჭვები უნდა ჰქონდეს დამაგრებული.

QUESTION 147

CORRECT ANSWER: 2



Which car driver will violate the Highway Code in case of proceeding to the arrow direction, if they enter the yard territory?

1

White car driver

2

Red car driver

3

Both of them

4

None of them

განმარტება:

„საგზაო მოძრაობის შესახებ“ საქართველოს კანონის პირველი დანართის მე-4 თავის (მიმთითებული ნიშნები) 4.1.1 პუნქტისა და ამავე პუნქტის შენიშვნის „ა“ და „დ“ ქვეპუნქტების თანახმად, საგზაო ნიშანი 4.1.1 „მოძრაობა პირდაპირ“ რთავს მხოლოდ ისრებით ნაჩვენები მიმართულებებით მოძრაობის ნებას. 4.1.1 ნიშნის მოქმედება, რომელიც გზის მონაკვეთის დასაწყისშია დადგმული, ვრცელდება უახლოეს გზაჯვარედინამდე. ნიშანი არ კრძალავს მარჯვნივ ეზოში მოხვევას და სხვა მიმდებარე ტერიტორიაზე შესვლას.

QUESTION 148

CORRECT ANSWER: 4



A motor car driver is allowed to proceed:

1

Straight and to the right only

2

Straight and to the left only

3

Straight only

4

All shown directions

განმარტება:

„საგზაო მოძრაობის შესახებ“ საქართველოს კანონის პირველი დანართის მე-4 თავის (მიმთითებული ნიშნები) 4.1.1 პუნქტისა და ამავე პუნქტის პენიშვნის „ა“ და „დ“ ქვეპუნქტების თანახმად, საგზაო ნიშანი 4.1.1 „მოძრაობა პირდაპირ“ რთავს მხოლოდ ისრებით ნაჩვენები მიმართულებებით მოძრაობის ნებას. 4.1.1 ნიშნის მოქმედება, რომელიც გზის მონაკვეთის დასაწყისშია დადგმული, ვრცელდება უახლოეს გზაჯვარედინამდე. ნიშანი არ კრძალავს მარჯვნივ ეზოში მოხვევას და სხვა მიმდებარე ტერიტორიაზე შესვლას.

QUESTION 149

CORRECT ANSWER: 1



A motor car driver is allowed to proceed:

1

Straight only

2

To the right only

3


Straight and to the right

განმარტება:

„საგზაო მოძრაობის შესახებ“ საქართველოს კანონის 28-ე მუხლის მე-5 პუნქტის თანახმად, თუ გზაზე დროებით გადასატან სადგარზე ან საგზაო სამუშაოების მწარმოებელი ორგანიზაციის ავტომობილზე დაყენებულია საგზაო ნიშანი (შემდგომ – დროებითი საგზაო ნიშანი), რომლის მოთხოვნები ეწინააღმდეგება იმავე გზის მონაკვეთზე სტაციონარულად დაყენებული საგზაო ნიშნის მოთხოვნებს, მძღოლი ვალდებულია შეასრულოს დროებითი საგზაო ნიშნის მოთხოვნები.

QUESTION 150

CORRECT ANSWER: 3



A motor car is allowed to proceed:

1

To the left only

2

Backward (U-turn) only

3

To the left and backward (U-turn)

განმარტება:

„საგზაო მოძრაობის შესახებ“ საქართველოს კანონის 28-ე მუხლის მე-5 პუნქტის თანახმად, თუ გზაზე დროებით გადასატან სადგარზე ან საგზაო სამუშაოების მწარმოებელი ორგანიზაციის ავტომობილზე დაყენებულია საგზაო ნიშანი (შემდგომ – დროებითი საგზაო ნიშანი), რომლის მოთხოვნები ეწინააღმდეგება იმავე გზის მონაკვეთზე სტაციონარულად დაყენებული საგზაო ნიშნის მოთხოვნებს, მძღოლი ვალდებულია შეასრულოს დროებითი საგზაო ნიშნის მოთხოვნები. ამავე კანონის პირველი დანართის მე-4 თავის (მიმთითებული ნიშნები) 4.1.1–4.1.6 პუნქტების შენიშვნის „ა“ ქვეპუნქტის თანახმად, 4.1.1–4.1.6 ნიშნები რთავს მხოლოდ ისრებით ნაჩვენები მიმართულებებით მოძრაობის ნებას, ხოლო ნიშნები, რომლებიც მარცხნივ მოხვევის ნებას რთავს, მობრუნების უფლებასაც იძლევა.

QUESTION 151

CORRECT ANSWER: 2



Which car driver is violating the Highway Code, if green car is entering the yard and yellow car is stopped?

1

Green car driver only

2

Yellow car driver only

3


Both of them

განმარტება:

„საგზაო მოძრაობის შესახებ“ საქართველოს კანონის პირველი დანართის მე-4 თავის (მიმთითებული ნიშნები) 4.1.1 პუნქტისა და ამავე პუნქტის შენიშვნის „ა“ და „დ“ ქვეპუნქტების თანახმად, საგზაო ნიშანი 4.1.1 „მოძრაობა პირდაპირ“ რთავს მხოლოდ ისრებით ნაჩვენები მიმართულებებით მოძრაობის ნებას. 4.1.1 ნიშნის მოქმედება, რომელიც გზის მონაკვეთის დასაწყისშია დადგმული, ვრცელდება უახლოეს გზაჯვარედინამდე. ნიშანი არ კრძალავს მარჯვნივ მოხვევას ეზოში და გზასთან მიმდებარე სხვა ტერიტორიებზე შესასვლელად. ამავე დანართის მე-3 თავის (ამკრძალავი ნიშნები) 3.27 პუნქტისა და ამავე თავის შენიშვნის „ე“ ქვეპუნქტის თანახმად: - 3.27. საგზაო ნიშანი 3.27 „გაჩერება აკრძალულია“ - კრძალავს სატრანსპორტო საშუალების, როგორც გაჩერებას, ასევე დგომას. - ე) 3.16, 3.20, 3.22, 3.24, 3.26–3.30 ნიშნების მოქმედება ვრცელდება სათანადო ნიშნის შემდეგ, ნიშნის დადგმის ადგილიდან უახლოეს გზაჯვარედინამდე, ხოლო დასახლებულ პუნქტში გზაჯვარედინის არარსებობისას – დასახლებული პუნქტის ბოლომდე. ნიშნების მოქმედება ვრცელდება აგრეთვე მიმდებარე ტერიტორიის გამოსასვლელთან, საველე, სატყეო და სხვა მეორეხარისხოვანი გზების გადაკვეთასთან (შეერთებასთან), რომელთა წინ არ დგას სათანადო ნიშანი.

QUESTION 152

CORRECT ANSWER: 1



In the present situation, is a motor car driver prohibited from swerving to the arrow direction?

1

Yes

2

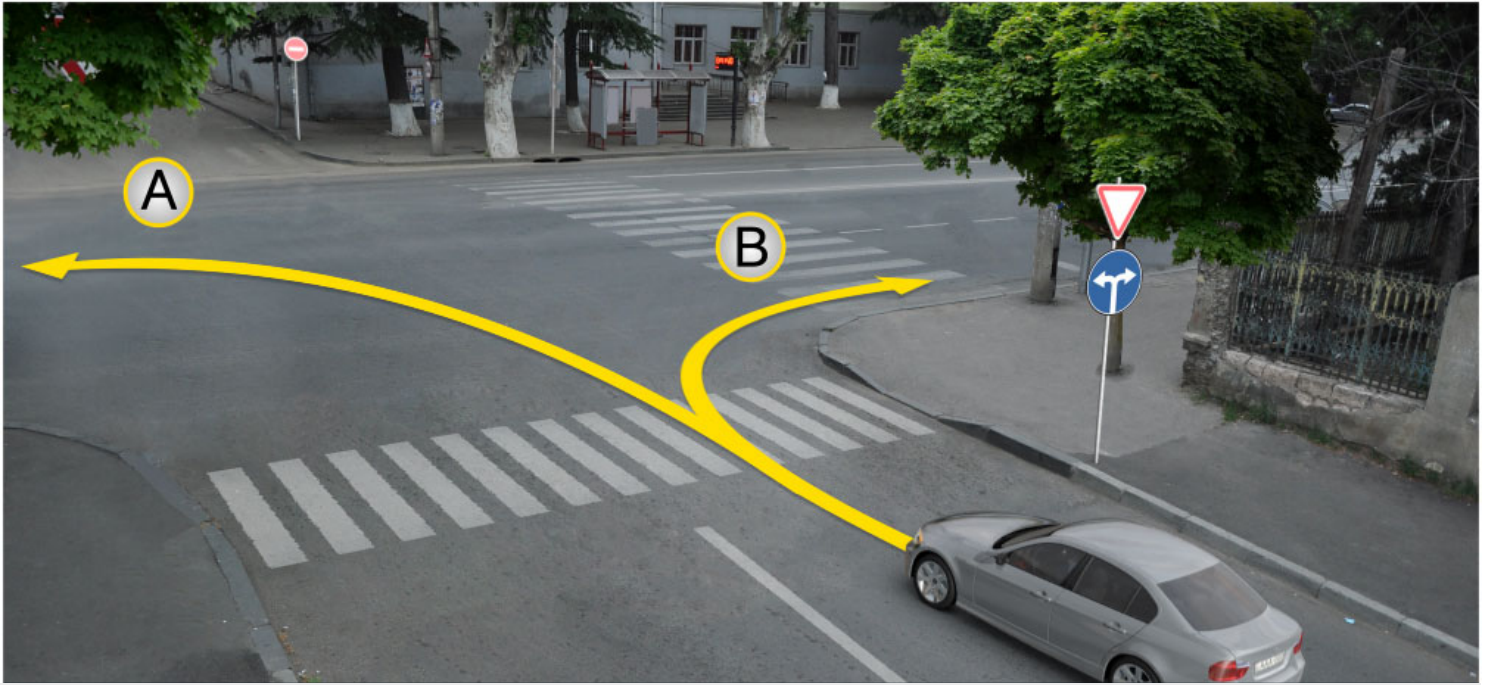
No

განმარტება:

„საგზაო მოძრაობის შესახებ“ საქართველოს კანონის პირველი დანართის მე-4 თავის (მიმთითებული ნიშნები) 4.1.5 პუნქტისა და 4.1.1-4.1.6 პუნქტების შენიშვნის „ა“ და „დ“ ქვეპუნქტების თანახმად, საგზაო ნიშანი 4.1.5 „მოძრაობა პირდაპირ ან მარცხნივ“ - რთავს მხოლოდ ისრებით ნაჩვენები მიმართულებებით მოძრაობის ნებას, ხოლო ნიშნები, რომლებიც მარცხნივ მოხვევის ნებას რთავს, მობრუნების უფლებასაც იძლევა.

QUESTION 153

CORRECT ANSWER: 3



In the present situation, a motor car driver is allowed to proceed:

1

In direction A only

2

In direction B only

3

In both directions

განმარტება:

„საგზაო მოძრაობის შესახებ“ საქართველოს კანონის პირველი დანართის მე-4 თავის (მიმთითებული ნიშნები) 4.1.6 პუნქტისა და ამავე პუნქტის შენიშვნის „ა“ ქვეპუნქტის თანახმად, საგზაო ნიშანი 4.1.6 „მოძრაობა მარჯვნივ ან მარცხნივ“ - რთავს მხოლოდ ისრებით ნაჩვენები მიმართულებებით მოძრაობის ნებას, ხოლო ნიშნები რომლებიც მარცხნივ მოხვევის ნებას რთავენ, მობრუნების ნებასაც იძლევა.

QUESTION 154

CORRECT ANSWER: 4



I



II



III



IV

Which of these traffic signs applies to the crossing of the driveways, in front of which they are posted?

1

I and II only

2

I and III only

3

II and IV only

4

All of them

განმარტება:

„საგზაო მოძრაობის შესახებ“ საქართველოს კანონის პირველი დანართის მე-4 თავის (მიმთითებელი ნიშნები) 4.1.1-4.1.6 პუნქტების შენიშვნის „ბ“ ქვეპუნქტის თანახმად, 4.1.1-4.1.6 ნიშნების მოქმედება ვრცელდება საჯარი ნაწილების იმ გადაკვეთაზე, რომლის წინაც დადგმულია სათანადო ნიშანი. ამავე დანართის მე-3 თავის (ამკრძალავი ნიშნები) შენიშვნის „დ“ ქვეპუნქტის თანახმად, 3.18.1 და 3.18.2 ნიშნების მოქმედება ვრცელდება საჯარი ნაწილების იმ გადაკვეთაზე, რომლის წინაც დადგმულია ნიშანი.

თემა 7:

საინფორმაციო-მარკეტინგული ნიშნები

QUESTION 155

CORRECT ANSWER: 2



Which vehicle driver will violate the Highway Code in case of proceeding to the arrow direction?

1

Motor car driver only

2

Lorry driver only

3

Motorcyclist only

4


None of them

განმარტება:

„საგზაო მოძრაობის შესახებ“ საქართველოს კანონის 31-ე მუხლის მე-12 პუნქტის თანახმად, თუ ამ კანონით სხვა რამ არ არის გათვალისწინებული, ნებისმიერ სავალ ნაწილზე, თანმხვედრი მიმართულებით მოძრაობისთვის განკუთვნილი სამი ან მეტი მოძრაობის ზოლის არსებობისას განაპირა მარცხენა მოძრაობის ზოლის დაკავება ნებადართულია მხოლოდ ინტენსიური მოძრაობისას, როცა სხვა მოძრაობის ზოლები დაკავებულია, აგრეთვე გასწრების, მარცხნივ მოხვევის ან მობრუნების მიზნით, ხოლო სატვირთო ავტომობილისათვის – მხოლოდ მარცხნივ მოხვევის ან მობრუნების დროს.

QUESTION 156

CORRECT ANSWER: 4



Which vehicle driver will violate the Highway Code in case of driving to the arrow direction

1

Lorry driver only

2

Motor car driver only

3

Both of them

4


None of them

განმარტება:

„საგზაო მოძრაობის შესახებ“ საქართველოს კანონის 32-ე მუხლის მე-5 პუნქტის თანახმად, გარდა იმ შემთხვევისა, როცა მოხვევა სრულდება გზატკარედინზე გასასვლელად, სადაც წრიული მოძრაობაა ორგანიზებული, მარჯვნივ ან მარცხნივ მოხვევის წინ, აგრეთვე მობრუნების წინ სატრანსპორტო საშუალების მძღოლი ვალდებულია დროულად დაიკავოს შესაბამისი განაპირა მდებარეობა სავალ ნაწილზე, რომელიც თანმხვედრი მიმართულებით მოძრაობისთვისაა განკუთვნილი. ამავე კანონის პირველი დანართის 7.15.1 – 7.15.3 პუნქტის თანახმად საგზაო ნიშანი 7.15.3 „სატვირთო ავტომობილით მოძრაობის მიმართულება“ - მიუთითებს სატვირთო ავტომობილის, ტრაქტორისა და თვითმავალი მანქანის მოძრაობის რეკომენდებულ მიმართულებას, თუ გზატკარედინზე ერთ-ერთი მიმართულებით მათი მოძრაობა აკრძალულია. ნიშნები იდგმება რეკომენდებული მიმართულების დასაწყისში გზატკარედინის წინ ან გზატკარედინამდე 100–150 მეტრ მანძილზე.

QUESTION 157

CORRECT ANSWER: 3



In the present situation, which vehicle driver is prohibited from proceeding to the arrow direction?

1

Blue car driver only

2

Red car driver only

3

Both of them

4

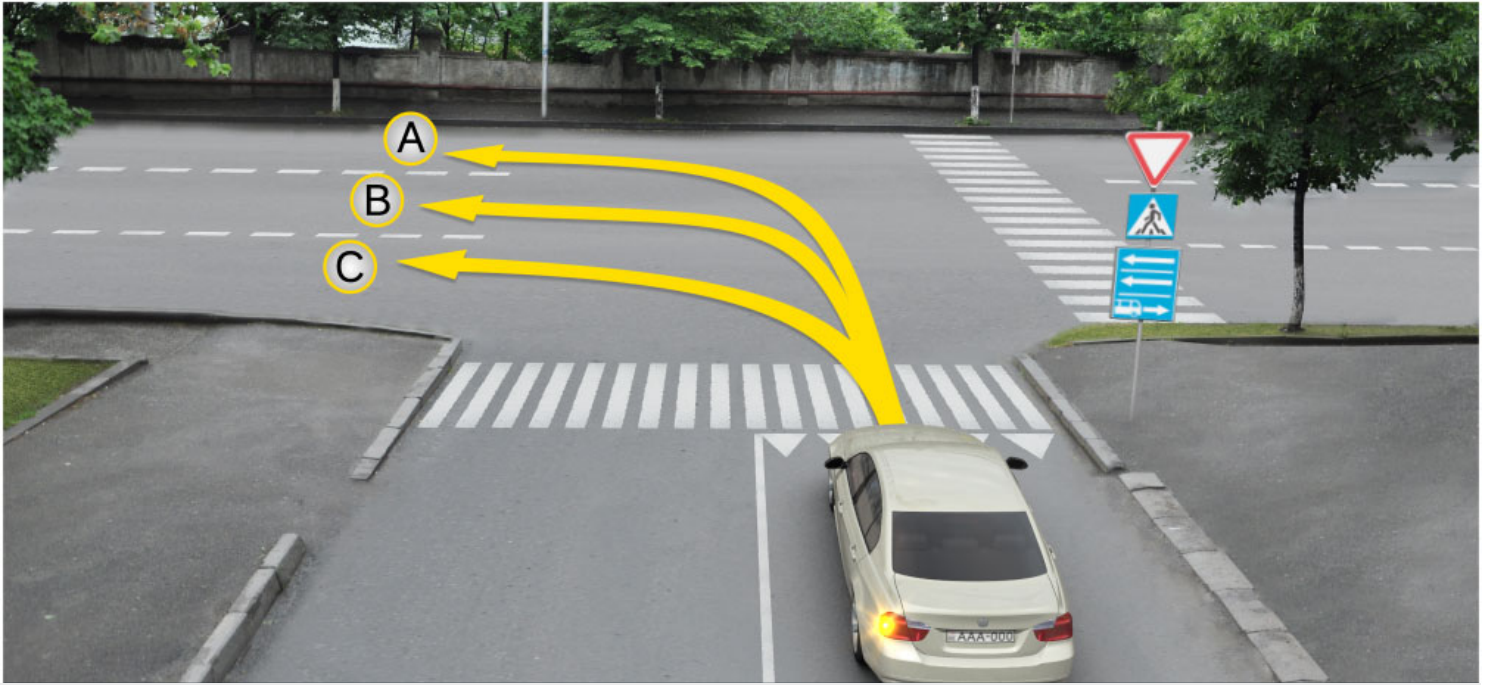
None of them

განმარტება:

„საგზაო მოძრაობის შესახებ“ საქართველოს კანონის პირველი დანართის მე-5 თავის (განსაკუთრებული მითითებების ნიშნები) 5.14 პუნქტის თანახმად საგზაო ნიშანი 5.14 „სამარშრუტო სატრანსპორტო საშუალებისათვის განკუთვნილი მოძრაობის ზოლი“ - აღნიშნავს გზას, რომელზედაც სამარშრუტო სატრანსპორტო საშუალება მოძრაობს სპეციალურად გამოყოფილ ზოლზე სატრანსპორტო საშუალებათა საერთო ნაკადის თანმხვედრი მიმართულებით. ნიშნის მოქმედება ვრცელდება იმ მოძრაობის ზოლზე, რომელზედაც ის დგას. გზის მარჯვენა მხარეს დადგმული ნიშნის მოქმედება ვრცელდება სავალი ნაწილის უკიდურეს მარჯვენა ზოლზე. ამავე კანონის მეორე დანართის პირველი თავის (ჰორიზონტალური მონიშვნა) 1.23 პუნქტის თანახმად საგზაო მონიშვნა 1.23 აღნიშნავს სპეციალურ ზოლს, რომელიც განკუთვნილია სამარშრუტო სატრანსპორტო საშუალების მოძრაობისათვის. ამავე კანონის 41-ე მუხლის მე-3 პუნქტის თანახმად, გზაზე, სადაც 5.11, 5.13.1, 5.13.2 და 5.14 საგზაო ნიშნებით აღნიშნული სამარშრუტო სატრანსპორტო საშუალებების მოძრაობისათვის განკუთვნილი ზოლია, აკრძალულია ამ ზოლზე სხვა სატრანსპორტო საშუალებათა მოძრაობა და გაჩერება. თუ ეს ზოლი დანარჩენი სავალი ნაწილისგან მონიშვნის წყვეტილი ხაზითაა გამოყოფილი, მოხვევისას სხვა სატრანსპორტო საშუალებები ამ ზოლზე უნდა გადაჭყუდნენ. ნებადართულია აგრეთვე ამ ზოლის ასეთ ადგილებში შესვლა გზაზე გასვლისას და მგზავრთა ჩასხდომა-გადმოსხდომისას სავალი ნაწილის მარჯვენა კიდედან, თუ ეს არ დააბრკოლებს სამარშრუტო სატრანსპორტო საშუალების მოძრაობას.

QUESTION 158

CORRECT ANSWER: 3



A motor car driver is allowed to proceed:

1

In directions A and C only

2

In directions B and C only

3

In directions A and B only

4


In direction A only

განმარტება:

„საგზაო მოძრაობის შესახებ“ საქართველოს კანონის პირველი დანართის მე-5 თავის (განსაკუთრებული მითითებების ნიშნები) 5.13.2 პუნქტის თანახმად 5.13.2 „სამარშრუტო სატრანსპორტო საშუალებისათვის განკუთვნილი მოძრაობის ზოლის მქონე გზაზე გასვლა“ - მიუთითებს 5.11 ნიშნით აღნიშნულ გზაზე გასვლას და იდგმება ყველა გვერდითი შესასვლელის წინ. ნიშანი შეიძლება არა დაიდგას მიმდებარე ტერიტორიებიდან გამოსასვლელების გზასთან გადაკვეთებზე, იმ შემთხვევაში თუ ამ ტერიტორიებზე შესვლა შესაძლებელია მხოლოდ 5.11 ნიშნით აღნიშნულ გზიდან. ამავე კანონის 32-ე მუხლის მე-7 პუნქტის „ბ“ ქვეპუნქტის თანახმად, სხვა გზაზე გასასვლელად ან გზის მიმდებარე ტერიტორიაზე შესასვლელად მარჯვნივ ან მარცხნივ მოხვევის წინ, ისე, რომ არ დაარღვიოს ამ კანონის მე-20 მუხლის მე-2 პუნქტითა და ამ მუხლის პირველი და მე-2 პუნქტებით დადგენილი მოთხოვნები, თუ სატრანსპორტო საშუალების მძღოლი აპირებს გზიდან გასვლას მარცხენა მხრიდან, სატრანსპორტო საშუალება, რამდენადაც ეს შესაძლებელია, უნდა მიუახლოვდეს გზის სავალი ნაწილის ღერძს (ორმხრივმოძრაობიან გზაზე) ან სავალი ნაწილის მარცხენა კიდე (ცალმხრივმოძრაობიან გზაზე), ხოლო თუ ის სხვა ორმხრივმოძრაობიან გზაზე აპირებს გასვლას, მოხვევა ისე უნდა შეასრულოს, რომ სავალი ნაწილების გადაკვეთიდან გამოსვლისას სატრანსპორტო საშუალება საპირისპირო მოძრაობის მხარეს არ აღმოჩნდეს.

QUESTION 159

CORRECT ANSWER: 4



A motor car driver is allowed to proceed:

1

Straight and to the right only

2

Straight and to the left only

3

To the left and backward (U-turn) only

4

Straight, to the left and backward (U-turn) only

განმარტება:

„საგზაო მოძრაობის შესახებ“ საქართველოს კანონის პირველი დანართის მე-5 თავის (განსაკუთრებული მითითებების ნიშნები) 5.13.2 პუნქტის თანახმად 5.13.2 „სამარშრუტო სატრანსპორტო საშუალებისათვის განკუთვნილი მოძრაობის ზოლის მქონე გზაზე გასვლა“ - მიუთითებს 5.11 ნიშნით აღნიშნულ გზაზე გასვლას და იდგმება ყველა გვერდითი შესასვლელის წინ. ნიშანი შეიძლება არა დაიდგას მიმდებარე ტერიტორიებიდან გამოსასვლელების გზასთან გადაკვეთებზე, იმ შემთხვევაში თუ ამ ტერიტორიებზე შესვლა შესაძლებელია მხოლოდ 5.11 ნიშნით აღნიშნულ გზიდან. ამავე კანონის 41-ე მუხლის მე-3 პუნქტის თანახმად, გზაზე, სადაც 5.11, 5.13.1, 5.13.2 და 5.14 საგზაო ნიშნებით აღნიშნული სამარშრუტო სატრანსპორტო საშუალებების მოძრაობისათვის განკუთვნილი ზოლია, აკრძალულია ამ ზოლზე სხვა სატრანსპორტო საშუალებათა მოძრაობა და გაჩერება. თუ ეს ზოლი დანარჩენი სავალი ნაწილისგან მონიშვნის წყვეტილი ხაზითაა გამოყოფილი, მოხვევისას სხვა სატრანსპორტო საშუალებები ამ ზოლზე უნდა გადაჯგუფდნენ. ნებადართულია აგრეთვე ამ ზოლის ასეთ ადგილებში შესვლა გზაზე გასვლისას და მგზავრთა ჩასხდომა-გადმოსხდომისას სავალი ნაწილის მარჯვენა კიდედან, თუ ეს არ დააბრკოლებს სამარშრუტო სატრანსპორტო საშუალების მოძრაობას.

QUESTION 160

CORRECT ANSWER: 2



This traffic sign marks:

1

Prohibited directions on lanes

2

End of the road marked with highway sign

3

End of reversible area of road

განმარტება:

„საგზაო მოძრაობის შესახებ“ საქართველოს კანონის პირველი დანართის მე-5 თავის (განსაკუთრებული მითითებების ნიშნები) 5.2 პუნქტის თანახმად, საგზაო ნიშანი 5.2 „ავტომაგისტრალის დასასრული“ - მიუთითებს 5.1 „ავტომაგისტრალი“ ნიშნით აღნიშნული გზის დასასრულს. 5.2 ნიშანი იდგმება ავტომაგისტრალის ბოლოში, ავტომაგისტრალიდან გასასვლელში და წინასწარ 8.1.1 დაფით ავტომაგისტრალის ბოლომდე 400 და 1000 მეტრის მანძილებზე.

QUESTION 161

CORRECT ANSWER: 3



This traffic sign marks:

1

End of reversible road

2

End of the lane for motion of cars

3

End of the motorroad

განმარტება:

„საგზაო მოძრაობის შესახებ“ საქართველოს კანონის პირველი დანართის მე-5 თავის (განსაკუთრებული მითითებების ნიშნები) 5.4 პუნქტის თანახმად, საგზაო ნიშანი 5.4 „საავტომობილო გზის დასასრული“ - მითითებს 5.3 ნიშნით აღნიშნული გზის დასასრულს.

QUESTION 162

CORRECT ANSWER: 1



These traffic signs:

1

Mark entry to one-way road or driveway

2

Mark beginning of the traffic lane

3

Mark the lane for buses

განმარტება:

„საგზაო მოძრაობის შესახებ“ საქართველოს კანონის პირველი დანართის მე-5 თავის (განსაკუთრებული მითითებების ნიშნები) 5.7.1, 5.7.2 პუნქტების თანახმად, საგზაო ნიშნები 5.7.1 და 5.7.2 „ცალმხრივმოძრაობიან გზაზე გასვლა“ - მიუთითებს ცალმხრივმოძრაობიან გზაზე ან სავალ ნაწილზე გასვლას. ნიშნები იდგმება ყველა გვერდითი შესასვლელის წინ. ნიშანი შეიძლება არა დაიდგას მიმდებარე ტერიტორიებიდან გამოსასვლელების გზასთან გადაკვეთებზე, თუ ამ ტერიტორიებზე შესვლა შესაძლებელია მხოლოდ 5.5 ნიშნით აღნიშნულ გზიდან.

QUESTION 163

CORRECT ANSWER: 1



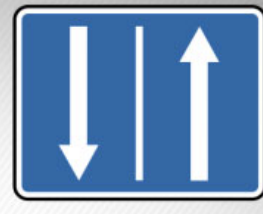
I



II



III



IV

Which of these traffic signs marks the beginning of the reversible section of the road?

1

I

2

II

3

III

4

IV

განმარტება:

„საგზაო მოძრაობის შესახებ“ საქართველოს კანონის პირველი დანართის მე-5 თავის (განსაკუთრებული მითითებების ნიშნები) 5.8 პუნქტის თანახმად, საგზაო ნიშანი 5.8 „რევერსული მოძრაობა“ – გზის მონაკვეთის დასაწყისი, სადაც ერთ ან რამდენიმე ზოლზე მოძრაობის მიმართულება შეიძლება საპირისპიროდ შეიცვალოს.

QUESTION 164

CORRECT ANSWER: 3



This traffic sign marks:

1

Entry to acceleration lane

2

Entry to two-way road

3

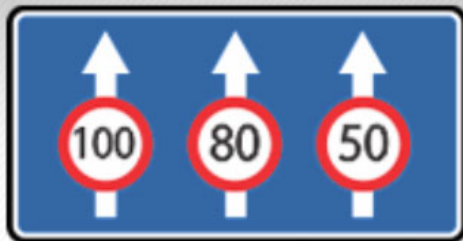
Entry to reversible section of the road

განმარტება:

„საგზაო მოძრაობის შესახებ“ საქართველოს კანონის პირველი დანართის მე-5 თავის (განსაკუთრებული მითითებების ნიშნები) 5.10 პუნქტის თანახმად, საგზაო ნიშანი 5.10 „გზაზე გასვლა, რომელზედაც რევერსული მოძრაობაა“ - მიუთითებს 5.8 ნიშნით აღნიშნულ გზის მონაკვეთებზე გასვლას. ნიშანი იდგმება ყველა გვერდითი გასასვლელის წინ. ნიშანი შეიძლება არა დაიდგას მიმდებარე ტერიტორიებიდან გამოსასვლელების გზასთან გადაკვეთებზე, თუ ამ ტერიტორიებზე შესვლა შესაძლებელია მხოლოდ 5.8 ნიშნით აღნიშნული გზიდან.

QUESTION 165

CORRECT ANSWER: 3



This traffic sign indicates:

1

Number of lanes only

2

Traffic modes on the lanes only

3

Both number of lanes and traffic modes on the lanes only

განმარტება:

„საგზაო მოძრაობის შესახებ“ საქართველოს კანონის პირველი დანართის მე-5 თავის (განსაკუთრებული მითითებების ნიშნები) 5.15.8 პუნქტის თანახმად, საგზაო ნიშანი 5.15.8 „ზოლების რაოდენობა“ - მიუთითებს მოცემული მიმართულებით ზოლების რაოდენობას და ზოლებზე მოძრაობისათვის დადგენილ რეჟიმებს. ნიშანი იდგმება დაუსახლებელ პუნქტში გზის უბნის დასაწყისიდან 150–300 მეტრ მანძილზე, დასახლებულ პუნქტში – 50–150 მეტრ მანძილზე.

QUESTION 166

CORRECT ANSWER: 2



This traffic sign marks:

1

Dangerous roadside

2

Artificial unevenness

3


Uneven road

განმარტება:

„საგზაო მოძრაობის შესახებ“ საქართველოს კანონის პირველი დანართის მე-5 თავის (განსაკუთრებული მითითებების ნიშნები) 5.20 პუნქტის თანახმად, საგზაო ნიშანი 5.20 „ხელოვნური უსწორმასწორობა“ - მიუთითებს გზის სავალ ნაწილზე არსებულ ხელოვნურ უსწორმასწორობას. ნიშანი იდგმება ხელოვნურ უსწორმასწორობასთან ან 1.25 მონიშვნასთან მოახლოებული სატრანსპორტო საშუალების მხარეს.

QUESTION 167

CORRECT ANSWER: 1



In the present situation, which vehicle driver is prohibited from proceeding to the arrow direction?

1

Motor car driver

2

Lorry driver

3

Both of them

4

None of them

განმარტება:

„საგზაო მოძრაობის შესახებ“ საქართველოს კანონის პირველი დანართის მე-5 თავის (განსაკუთრებული მითითებების ნიშნები) 5.15.2 პუნქტის თანახმად, საგზაო ნიშანი 5.15.2 „ზოლზე მოძრაობის მიმართულებები“ - მიუთითებს ზოლზე მოძრაობის ნებადართულ მიმართულებებს.

QUESTION 168

CORRECT ANSWER: 2

“Built-up area” means:

1

Any territory inhabited with people

2

Built-up territory, where special Highway Codes are applied and entry and exits of which are marked with appropriate traffic signs

3

Any road designated for heavy traffic of pedestrians

განმარტება:

„საგზაო მოძრაობის შესახებ“ საქართველოს კანონის 5-ე მუხლის 75-ე პუნქტის თანახმად, „საცხოვრებელი ზონა“ - განაშენიანებული ტერიტორია, სადაც მოქმედებს სპეციალური საგზაო მოძრაობის წესები და სადაც შესასვლელი და გამოსასვლელი აღნიშნულია შესაბამისი საგზაო ნიშნებით.

თემა 8:

სერვისის ნიშნები

QUESTION 169

CORRECT ANSWER: 2



I



II



III



IV

Which of these traffic signs gives information about first medical aid facility?

1

I

2

II

3

III

4

IV

განმარტება:


„საგზაო მოძრაობის შესახებ“ საქართველოს კანონის პირველი დანართის მე-6 თავის (სერვისის ნიშნები) 6.1 პუნქტის თანახმად, საგზაო ნიშანი 6.1 „პირველადი სამედიცინო დახმარების პუნქტი“ საგზაო მოძრაობის მონაწილეებს აძლევს ინფორმაციას შესაბამისი ობიექტის ან სერვისის შესახებ.

QUESTION 170

CORRECT ANSWER: 4



I



II



III



IV

Which of these traffic signs gives information about petrol station?

1

I

2

II

3

III

4

IV

განმარტება:

„საგზაო მოძრაობის შესახებ“ საქართველოს კანონის პირველი დანართის მე-6 თავის (სერვისის ნიშნები) 6.2 პუნქტის თანახმად, საგზაო ნიშანი 6.2 „ავტოგასამართი სადგური“ საგზაო მოძრაობის მონაწილეებს აძლევს ინფორმაციას შესაბამისი ობიექტის ან სერვისის შესახებ.

QUESTION 171

CORRECT ANSWER: 3




I



II



III



IV

Which of these traffic signs gives information about machine maintenance?

1

I

2

II

3

III

4

IV

განმარტება:

„საგზაო მოძრაობის შესახებ“ საქართველოს კანონის პირველი დანართის მე-6 თავის (სერვისის ნიშნები) 6.3 პუნქტის თანახმად, საგზაო ნიშანი 6.3 „ავტომობილის ტექნიკური მომსახურება“ საგზაო მოძრაობის მონაწილეებს აძლევს ინფორმაციას შესაბამისი ობიექტის ან სერვისის შესახებ.

QUESTION 172

CORRECT ANSWER: 3



I



II



III



IV

Which of these traffic signs gives information about car washing site?

1

I

2

II

3

III

4

IV

განმარტება:

„საგზაო მოძრაობის შესახებ“ საქართველოს კანონის პირველი დანართის მე-6 თავის (სერვისის ნიშნები) 6.4 პუნქტის თანახმად, საგზაო ნიშანი 6.4 „ავტომობილის რეცხვა“ საგზაო მოძრაობის მონაწილეებს აძლევს ინფორმაციას შესაბამისი ობიექტის ან სერვისის შესახებ.

QUESTION 173

CORRECT ANSWER: 3



I



II



III



IV

Which of these traffic signs gives information about telephone booth?

1

I

2

II

3

III

4

IV

განმარტება:

„საგზაო მოძრაობის შესახებ“ საქართველოს კანონის პირველი დანართის მე-6 თავის (სერვისის ნიშნები) 6.5 პუნქტის თანახმად, საგზაო ნიშანი 6.5 „ტელეფონი“ საგზაო მოძრაობის მონაწილეებს აძლევს ინფორმაციას შესაბამისი ობიექტის ან სერვისის შესახებ.

QUESTION 174

CORRECT ANSWER: 2



I



II



III



IV

Which of these traffic signs gives information about feeding station?

1

I

2

II

3

III

4

IV

განმარტება:

„საგზაო მოძრაობის შესახებ“ საქართველოს კანონის პირველი დანართის მე-6 თავის (სერვისის ნიშნები) 6.6 პუნქტის თანახმად, საგზაო ნიშანი 6.6 „კვების პუნქტი“ საგზაო მოძრაობის მონაწილეებს აძლევს ინფორმაციას შესაბამისი ობიექტის ან სერვისის შესახებ.

QUESTION 175

CORRECT ANSWER: 3



I



II



III



IV

Which of these traffic signs gives information about potable water?

1

I

2

II

3

III

4

IV

განმარტება:

„საგზაო მოძრაობის შესახებ“ საქართველოს კანონის პირველი დანართის მე-6 თავის (სერვისის ნიშნები) 6.7 პუნქტის თანახმად, საგზაო ნიშანი 6.7 „სასმელი წყალი“ საგზაო მოძრაობის მონაწილეებს აძლევს ინფორმაციას შესაბამისი ობიექტის ან სერვისის შესახებ.

QUESTION 176

CORRECT ANSWER: 4



I



II



III



IV

Which of these traffic signs gives information about hotel or motel?

1

I

2

II

3

III

4

IV

განმარტება:

„საგზაო მოძრაობის შესახებ“ საქართველოს კანონის პირველი დანართის მე-6 თავის (სერვისის ნიშნები) 6.8 პუნქტის თანახმად, საგზაო ნიშანი 6.8 „სასტუმრო ან მოტელი“ საგზაო მოძრაობის მონაწილეებს აძლევს ინფორმაციას შესაბამისი ობიექტის ან სერვისის შესახებ.

QUESTION 177

CORRECT ANSWER: 1



I



II



III



IV

Which of these traffic signs gives information about camping?

1

I

2

II

3

III

4

IV

განმარტება:

„საგზაო მოძრაობის შესახებ“ საქართველოს კანონის პირველი დანართის მე-6 თავის (სერვისის ნიშნები) 6.9 პუნქტის თანახმად, საგზაო ნიშანი 6.9 „კემპინგი“ საგზაო მოძრაობის მონაწილეებს აძლევს ინფორმაციას შესაბამისი ობიექტის ან სერვისის შესახებ.

QUESTION 178

CORRECT ANSWER: 1



This traffic sign gives information about:

1

Patrol police post

2

Radio-connection zone with emergency service

განმარტება:

„საგზაო მოძრაობის შესახებ“ საქართველოს კანონის პირველი დანართის მე-6 თავის (სერვისის ნიშნები) 6.11 პუნქტის თანახმად, საგზაო ნიშანი 6.11 „საპატრულო პოლიციის საგუშაგო“ საგზაო მოძრაობის მონაწილეებს აძლევს ინფორმაციას შესაბამისი ობიექტის ან სერვისის შესახებ.

QUESTION 179

CORRECT ANSWER: 1



I



II



III



IV

Which of these traffic signs gives information about the checkpoint of international motor transportation?

1

I

2

II

3

III

4

IV

განმარტება:

„საგზაო მოძრაობის შესახებ“ საქართველოს კანონის პირველი დანართის მე-6 თავის (სერვისის ნიშნები) 6.13 პუნქტის თანახმად, საგზაო ნიშანი 6.13 „საერთაშორისო საავტომობილო გადაზიდვების საკონტროლო პუნქტი“ საგზაო მოძრაობის მონაწილეებს აძლევს ინფორმაციას შესაბამისი ობიექტის ან სერვისის შესახებ.

QUESTION 180

CORRECT ANSWER: 1



This traffic sign gives information about:

1

Checkpoint of international motor transportation

2

Patrol police post

განმარტება:

„საგზაო მოძრაობის შესახებ“ საქართველოს კანონის პირველი დანართის მე-6 თავის (სერვისის ნიშნები) 6.13 პუნქტის თანახმად, საგზაო ნიშანი 6.13 „საერთაშორისო საავტომობილო გადაზიდვების საკონტროლო პუნქტი“ საგზაო მოძრაობის მონაწილეებს აძლევს ინფორმაციას შესაბამისი ობიექტის ან სერვისის შესახებ.

QUESTION 181

CORRECT ANSWER: 2



This traffic sign gives information about:

1

Radio-connection zone with emergency service

2

Reception zone of broadcasting station transmitting information about traffic

განმარტება:

„საგზაო მოძრაობის შესახებ“ საქართველოს კანონის პირველი დანართის მე-6 თავის (სერვისის ნიშნები) 6.14 პუნქტის თანახმად, საგზაო ნიშანი 6.14 „საგზაო მოძრაობის შესახებ ინფორმაციის გადამცემი რადიოსადგურის მიღების ზონა“ საგზაო მოძრაობის მონაწილეებს აძლევს ინფორმაციას შესაბამისი ობიექტის ან სერვისის შესახებ.

QUESTION 182

CORRECT ANSWER: 2



I



II



III



IV

Which of these traffic signs gives information about reception zone of broadcasting station transmitting information about traffic?

1

I

2

II

3

III

4

IV

განმარტება:

„საგზაო მოძრაობის შესახებ“ საქართველოს კანონის პირველი დანართის მე-6 თავის (სერვისის ნიშნები) 6.14 პუნქტის თანახმად, საგზაო ნიშანი 6.14 „საგზაო მოძრაობის შესახებ ინფორმაციის გადამცემი რადიოსადგურის მიღების ზონა“ საგზაო მოძრაობის მონაწილეებს აძლევს ინფორმაციას შესაბამისი ობიექტის ან სერვისის შესახებ.

QUESTION 183

CORRECT ANSWER: 1



This traffic sign gives information about:

1

Radio-connection zone with emergency service

2

Reception zone of broadcasting station transmitting information about traffic

განმარტება:

„საგზაო მოძრაობის შესახებ“ საქართველოს კანონის პირველი დანართის მე-6 თავის (სერვისის ნიშნები) 6.15 პუნქტის თანახმად, საგზაო ნიშანი 6.15 „საავარიო სამსახურთან რადიოკავშირის ზონა“ საგზაო მოძრაობის მონაწილეებს აძლევს ინფორმაციას შესაბამისი ობიექტის ან სერვისის შესახებ.

QUESTION 184

CORRECT ANSWER: 3



I



II



III



IV

Which of these traffic signs gives information about radio-connection zone with emergency service?

1

I

2

II

3

III

4

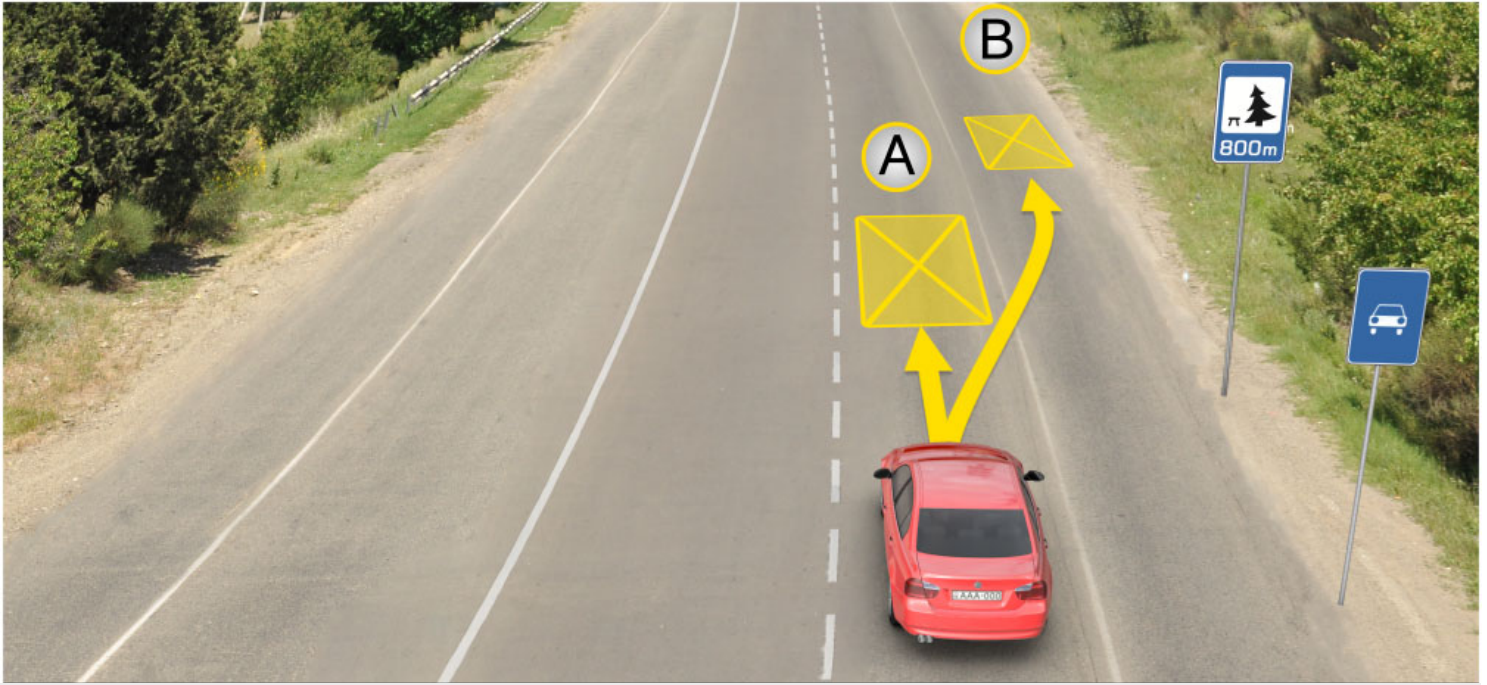
IV

განმარტება:

„საგზაო მოძრაობის შესახებ“ საქართველოს კანონის პირველი დანართის მე-6 თავის (სერვისის ნიშნები) 6.15 პუნქტის თანახმად, საგზაო ნიშანი 6.15 „საავარიო სამსახურთან რადიოკავშირის ზონა“ საგზაო მოძრაობის მონაწილეებს აძლევს ინფორმაციას შესაბამისი ობიექტის ან სერვისის შესახებ.

QUESTION 185

CORRECT ANSWER: 3



In the present situation a driver is allowed to stop vehicle for long-term rest purpose:

1

At place A

2

At place B

3

In 800 meters on specially arranged place or beyond the scope of the road

განმარტება:

„საგზაო მოძრაობის შესახებ“ საქართველოს კანონის 37-ე მუხლის მე-11 პუნქტის თანახმად, დაუსახლებელ პუნქტში ხანგრძლივი დასვენების (ღამის გასათევად ან სხვა) მიზნით დგომა ნებადართულია, მხოლოდ ამისათვის განკუთვნილ სადგომზე ან გზის ფარგლებს მიღმა.

QUESTION 186

CORRECT ANSWER: 2



Lorry and yellow motor car are proceeding to the arrow direction, and white motor car driver is stopped for long-term rest purpose. Which vehicle driver will violate the Highway Code, if the middle lane of the given road is used for the both direction traffic?

- | | | | |
|---|--|---|---|
| 1 | Lorry and white motor car drivers only | 2 | Yellow and white motor car drivers only |
| 3 | White motor car driver only | 4 | Yellow motor car driver only |

განმარტება:

„საგზაო მოძრაობის შესახებ“ საქართველოს კანონის 37-ე მუხლის მე-11 პუნქტის თანახმად, დაუსახლებელ პუნქტში ხანგრძლივი დასვენების (ღამის გასათევად ან სხვა) მიზნით დგომა ნებადართულია, მხოლოდ ამისათვის განკუთვნილ სადგომზე ან გზის ფარგლებს მიღმა. ამავე კანონის 31-ე მუხლის მე-7 პუნქტის თანახმად, თუ სამი მოძრაობის ზოლის მქონე გზაზე შუა ზოლი ორივე მიმართულებით მოძრაობისათვის გამოიყენება, ამ ზოლზე გასვლა ნებადართულია მხოლოდ გასწრების, დაბრკოლების შემოვლის, მარცხნივ მოხვევის ან მობრუნების მიზნით.

QUESTION 187

CORRECT ANSWER: 4



I



II



III



IV

Which of these traffic signs gives information about swimming pool or beach?

1

I

2

II

3

III

4

IV

განმარტება:

„საგზაო მოძრაობის შესახებ“ საქართველოს კანონის პირველი დანართის მე-6 თავის (სერვისის ნიშნები) 6.16 პუნქტის თანახმად, საგზაო ნიშანი 6.16 „საცურაო აუზი ან პლაჟი“ საგზაო მოძრაობის მონაწილეებს აძლევს ინფორმაციას შესაბამისი ობიექტის ან სერვისის შესახებ.

თემა 9:

დამატებითი ინფორმაციის ნიშნები

QUESTION 188

CORRECT ANSWER: 1



I



II



III



IV

Out of given road sign combinations, which one is applied only to a light vehicle?

1

IV only

2

I and III only

3

Only II and IV

4

I only

განმარტება:

„საგზაო მოძრაობის შესახებ“ საქართველოს კანონის პირველი დანართის მე-8 თავის (დამატებითი ინფორმაციის ნიშნები (დაფები)) 8.4.1-8.4.8 პუნქტისა და ამავე პუნქტის შენიშვნის „გ“ ქვეპუნქტის თანახმად, დაფები 8.4.1–8.4.8 „სატრანსპორტო საშუალების სახეობა“ - მიუთითებს იმ სატრანსპორტო საშუალების სახეობას, რომლებზედაც ვრცელდება ნიშნის მოქმედება. დაფა 8.4.3 ნიშნის მოქმედებას ავრცელებს მსუბუქ ავტომობილზე.



This traffic sign:

1

Obliges a driver to yield to the vehicle driving on the road to be crossed

2

Prohibits a driver from proceeding without having stopped

3

Marks the place of stop of the vehicle on controlled intersections and unregulated railroad crossings

განმარტება:

„საგზაო მოძრაობის შესახებ“ საქართველოს კანონის პირველი დანართის მე-7 თავის (საინფორმაციო-მაჩვენებელი ნიშნები) 7.16 პუნქტის თანახმად, 7.16 „სდექ ხაზი“ - მიუთითებს სატრანსპორტო საშუალების გაჩერების ადგილს რეგულირებულ გზაჯვარედინსა და არარეგულირებულ რკინიგზის გადასასვლელზე.

QUESTION 190

CORRECT ANSWER: 3



These traffic signs give information to a driver, that from the sign posting place ahead:


- | | |
|--|--|
| <p>1 There is uneven road at the distance of 400 meters and the recommended speed is 30 km/h</p> | <p>2 Uneven road starts after 400 meters and the recommended speed is 30 km/h</p> |
| <p>3 Uneven road of 400 meter length starts after 150-300 meters and the recommended speed is 30 km/h</p> | |

განმარტება:

„საგზაო მოძრაობის შესახებ“ საქართველოს კანონის პირველი დანართის პირველი თავის (მაფრთხილებელი ნიშნები) 1.17 პუნქტისა და ამავე თავის შენიშვნის „ა“ ქვეპუნქტის თანახმად, საგზაო ნიშანი 1.17 „უსწორმასწორო გზა“ - გზის მონაკვეთი, რომლის სავალი ნაწილი დაზიანებულია ტალღოვანი, ღრანტეებიანი, ხიდთან უსწორმასწორო შეუღლებებით და ა. შ.. 1.1, 1.2, 1.5–1.34 ნიშნები დაუსახლებელ პუნქტში იდგმება სახიფათო მონაკვეთის დასაწყისამდე 150–300 მეტრ მანძილზე. ამავე დანართის მე-8 თავის (დამატებითი ინფორმაციის ნიშნები (დაფები)) 8.2.1 პუნქტის თანახმად, დაფა 8.2.1 „მოქმედების ზონა“ - მიუთითებს მაფრთხილებელი ნიშნით აღნიშნული გზის სახიფათო მონაკვეთის სიგრძეს, ან ამკრძალავი და საინფორმაციო-მაჩვენებელი ნიშნის მოქმედების ზონას. ამავე დანართის მე-7 თავის (საინფორმაციო-მაჩვენებელი ნიშნები) 7.2 პუნქტის თანახმად, საგზაო ნიშანი 7.2 „რეკომენდებული სიჩქარე“ - მიუთითებს სიჩქარეს, რომლითაც რეკომენდებულია მოძრაობა გზის მოცემულ მონაკვეთზე. ნიშანი იდგმება გზის დასაწყისში. ნიშნის მოქმედება ვრცელდება უახლოეს გზაჯვარედინამდე, ხოლო მაფრთხილებელ ნიშანთან ერთად – სახიფათო უბნის მთელ სიგრძეზე.

QUESTION 191

CORRECT ANSWER: 1



In the present situation, is white car driver prohibited from proceeding to the arrow direction?

1

Yes

2

No

განმარტება:

„საგზაო მოძრაობის შესახებ“ საქართველოს კანონის პირველი დანართის მე-4 თავის (მიმთითებელი ნიშნები) 4.1.1 პუნქტის შენიშვნის „ა“ ქვეპუნქტის თანახმად, საგზაო ნიშანი 4.1.1 „მოძრაობა პირდაპირ“ რთავს მხოლოდ ისრებით ნაჩვენები მიმართულებებით მოძრაობის ნებას. ამავე დანართის მე-8 თავის (დამატებითი ინფორმაციის ნიშნები (დაფები)) 8.18 პუნქტის თანახმად, დაფა 8.18 „გარდა შემზღუდული შესაძლებლობის მქონე პირისა“ - მიუთითებს, რომ ნიშნის მოქმედება არ ვრცელდება სატრანსპორტო საშუალებაზე, რომელზედაც დამაგრებულია საცნობი ნიშანი „შემზღუდული შესაძლებლობის მქონე პირი“.

QUESTION 192

CORRECT ANSWER: 2



In the present situation, is yellow car driver prohibited from proceeding to the arrow direction?

1

Yes

2

No

განმარტება:

„საგზაო მოძრაობის შესახებ“ საქართველოს კანონის პირველი დანართის მე-4 თავის (მიმთითებელი ნიშნები) 4.1.1 პუნქტის შენიშვნის „ა“ ქვეპუნქტის თანახმად, საგზაო ნიშანი 4.1.1 „მოძრაობა პირდაპირ“ რთავს მხოლოდ ისრებით ნაჩვენები მიმართულებებით მოძრაობის ნებას. ამავე დანართის მე-8 თავის (დამატებითი ინფორმაციის ნიშნები (დაფები)) 8.18 პუნქტის თანახმად, დაფა 8.18 „გარდა შემზღუდული შესაძლებლობის მქონე პირისა“ - მიუთითებს, რომ ნიშნის მოქმედება არ ვრცელდება სატრანსპორტო საშუალებაზე, რომელზედაც დამაგრებულია საცნობი ნიშანი „შემზღუდული შესაძლებლობის მქონე პირი“.

QUESTION 193

CORRECT ANSWER: 1



This traffic sign warns a driver, that from the place of posting the sign:

1

Driving faster than 50 km/h is prohibited within 300 meters

2

Driving faster than 50 km/h is prohibited after 300 meters

განმარტება:

„საგზაო მოძრაობის შესახებ“ საქართველოს კანონის პირველი დანართის მე-3 თავის (ამკრძალავი ნიშნები) 3.24 პუნქტის თანახმად, საგზაო ნიშნი 3.24 „მაქსიმალური სიჩქარის შეზღუდვა“ - კრძალავს მოძრაობას ნიშანზე აღნიშნულზე მეტი სიჩქარით(კმ/სთ). ამავე დანართის მე-8 თავის (დამატებითი ინფორმაციის ნიშნები (დაფები)) 8.2.1 პუნქტის თანახმად, დაფა 8.2.1 „მოქმედების ზონა“ - მიუთითებს მათრთხილებელი ნიშნით აღნიშნული გზის სახიფათო მონაკვეთის სიგრძეს, ან ამკრძალავი და საინფორმაციო-მაჩვენებელი ნიშნის მოქმედების ზონას.

QUESTION 194

CORRECT ANSWER: 2



Combination of these traffic signs warns a driver, that from the place of posting the sign:

1

Driving is allowed no faster than 50 km/h within 300 meters

2

Driving is allowed no faster than 50 km/h after 300 meters

განმარტება:


„საგზაო მოძრაობის შესახებ“ საქართველოს კანონის პირველი დანართის მე-3 თავის (ამკრძალავი ნიშნები) 3.24 პუნქტის თანახმად, საგზაო ნიშნი 3.24 „მაქსიმალური სიჩქარის შეზღუდვა“ - კრძალავს მოძრაობას ნიშანზე აღნიშნულზე მეტი სიჩქარით (კმ/სთ). ამავე დანართის მე-8 თავის (დამატებითი ინფორმაციის ნიშნები (დაფები)) 8.1.1 პუნქტის თანახმად, დაფა 8.1.1 „მანძილი ობიექტამდე“ - მიუთითებს მანძილს ნიშნიდან სახიფათო მონაკვეთის დასაწყისამდე, სათანადო შეზღუდვის შემოღების ადგილამდე ან წინ, მოძრაობის მიმართულებით არსებულ გარკვეულ ობიექტამდე (ადგილამდე).

თემა 10:

პუნიშის სიგნალები

QUESTION 195

CORRECT ANSWER: 1



Is red car driver allowed to proceed to the arrow direction, if he/she could not stop at the "STOP" line without hard braking, by the time of switching the amber traffic light on after the green traffic light?

1

Yes

2


No

განმარტება:

„საგზაო მოძრაობის შესახებ“ საქართველოს კანონის 29-ე მუხლის მე-14 პუნქტის თანახმად, მძღოლს, რომელსაც ყვითელი მაშუქი სიგნალის ჩართვის დროს მკვეთრად დამუხრუჭების გარეშე არ შეუძლია გაჩერდეს ამ მუხლის მე-13 პუნქტით განსაზღვრულ ადგილებში, უფლება აქვს, განაგრძოს მოძრაობა. ამავე კანონის 36-ე მუხლის მე-3 პუნქტის „ვ“ ქვეპუნქტის თანახმად, რეგულირებულ გზაჯვარედინზე, შექნიშნის ნებადამრთველი სიგნალის ჩართვისას მძღოლი ვალდებულია გზა დაუთმოს იმ სატრანსპორტო საშუალებას, რომელიც ამთავრებს გზაჯვარედინზე გადასვლას, და ქვეითს, რომელმაც ვერ დაამთავრა სავალ ნაწილზე გადასვლა მოცემული მიმართულებით.

QUESTION 196

CORRECT ANSWER: 1



Is the motor car driver obliged to yield to the bus driver, which is completing to pass the intersection?

1

Yes

2


No

განმარტება:

„საგზაო მოძრაობის შესახებ“ საქართველოს კანონის 29-ე მუხლის მე-14 პუნქტის თანახმად, მძღოლს, რომელსაც ყვითელი მაშუქი სიგნალის ჩართვის დროს მკვეთრად დამუხრუჭების გარეშე არ შეუძლია გაჩერდეს ამ მუხლის მე-13 პუნქტით განსაზღვრულ ადგილებში, უფლება აქვს, განაგრძოს მოძრაობა. ამავე კანონის 36-ე მუხლის მე-3 პუნქტის „ვ“ ქვეპუნქტის თანახმად, რეგულირებულ გზაჯვარედინზე, შექნიშნის ნებადამრთველი სიგნალის ჩართვისას მძღოლი ვალდებულია გზა დაუთმოს იმ სატრანსპორტო საშუალებას, რომელიც ამთავრებს გზაჯვარედინზე გადასვლას, და ქვეითს, რომელმაც ვერ დაამთავრა სავალ ნაწილზე გადასვლა მოცემული მიმართულებით.

QUESTION 197

CORRECT ANSWER: 1



Which of the motor car drivers is prohibited from driving to the arrow direction at this signal of the traffic lights, if driveway is barred with vehicles after the intersection?

1

Grey car driver only

2

Yellow car driver only

3

None of them

4


Both of them

განმარტება:

„საგზაო მოძრაობის შესახებ“ საქართველოს კანონის 36-ე მუხლის მე-5 პუნქტის თანახმად, მძღოლი არ უნდა გავიდეს გზაჯვარედინზე, თუ შექმნილია ისეთი ხერგილი, რომ იგი, სავარაუდოდ, იძულებული გახდება, გაჩერდეს გზაჯვარედინზე და ამით დააბრკოლოს განივი მიმართულებით მოძრაობა. ეს წესი მოქმედებს მაშინაც, თუ შექნიშნის მაშუქი სიგნალები იძლევა მოძრაობის უფლებას.

QUESTION 198

CORRECT ANSWER: 2



Which vehicle driver has priority when driving to the arrow direction?

1

Motor car driver

2

Lorry driver

განმარტება:

„საგზაო მოძრაობის შესახებ“ საქართველოს კანონის 36-ე მუხლის მე-4 პუნქტის „გ“ ქვეპუნქტების თანახმად, არარეგულირებულ გზაჯვარედინზე, თანაბარმნიშვნელოვანი გზების გადაკვეთაზე ურელსო სატრანსპორტო საშუალების მძღოლი ვალდებულია გზა დაუთმოს მარჯვნიდან მოახლოებულ სატრანსპორტო საშუალებას. ამავდროულად უნდა იხელმძღვანელონ ურთიერთშორის რელსიანი სატრანსპორტო საშუალებების მძღოლებმაც. ასეთ გზაჯვარედინზე რელსიანი სატრანსპორტო საშუალებას უპირატესობა აქვს ურელსო სატრანსპორტო საშუალების მიმართ, მიუხედავად მისი მოძრაობის მიმართულებისა.

QUESTION 199

CORRECT ANSWER: 2



Which vehicle driver shall be obliged to yield when driving to the arrow direction?

1

Motor car driver

2

Tram driver

განმარტება:

„საგზაო მოძრაობის შესახებ“ საქართველოს კანონის 36-ე მუხლის მე-3 პუნქტის „გ“ ქვეპუნქტის თანახმად, რეგულირებულ გზაჯვარედინზე, თუ შექნიშნის ან მარეგულირებლის სიგნალები ერთდროულად მოძრაობის ნებას რთავს რელსიან და ურელსო სატრანსპორტო საშუალებებს, რელსიან სატრანსპორტო საშუალებას აქვს უპირატესობა, მიუხედავად მისი მოძრაობის მიმართულებისა, მაგრამ შექნიშნის დამატებით სექციაში ძირითად ყვითელ ან წითელ მაშუქ სიგნალთან ერთად ჩართული ისრის მიმართულებით მოძრაობისას რელსიანი სატრანსპორტო საშუალების მძღოლი ვალდებულია გზა დაუთმოს სხვა მიმართულებიდან მოძრავ სატრანსპორტო საშუალებას.

QUESTION 200

CORRECT ANSWER: 1



Which vehicle driver shall be obliged to yield when driving to the arrow direction?

1

Motor car driver

2


Tram driver

განმარტება:

„საგზაო მოძრაობის შესახებ“ საქართველოს კანონის 36-ე მუხლის მე-3 პუნქტის „გ“ ქვეპუნქტის თანახმად, რეგულირებულ გზაჯვარედინზე, თუ შექნიშნის ან მარეგულირებლის სიგნალები ერთდროულად მოძრაობის ნებას რთავს რელსიან და ურელსო სატრანსპორტო საშუალებებს, რელსიან სატრანსპორტო საშუალებას აქვს უპირატესობა, მიუხედავად მისი მოძრაობის მიმართულებისა, მაგრამ შექნიშნის დამატებით სექციაში ძირითად ყვითელ ან წითელ მაშუქ სიგნალთან ერთად ჩართული ისრის მიმართულებით მოძრაობისას რელსიანი სატრანსპორტო საშუალების მძღოლი ვალდებულია გზა დაუთმოს სხვა მიმართულებიდან მოძრავ სატრანსპორტო საშუალებას.

QUESTION 201

CORRECT ANSWER: 2



Which vehicle driver shall be obliged to yield when driving to the arrow direction?

1

Motor car driver

2


Tram driver

განმარტება:

„საგზაო მოძრაობის შესახებ“ საქართველოს კანონის 36-ე მუხლის მე-3 პუნქტის „გ“ ქვეპუნქტის თანახმად, რეგულირებულ გზაჯვარედინზე, თუ შექნიშნის ან მარეგულირებლის სიგნალები ერთდროულად მოძრაობის ნებას რთავს რელსიან და ურელსო სატრანსპორტო საშუალებებს, რელსიან სატრანსპორტო საშუალებას აქვს უპირატესობა, მიუხედავად მისი მოძრაობის მიმართულებისა, მაგრამ შექნიშნის დამატებით სექციაში ძირითად ყვითელ ან წითელ მაშუქ სიგნალთან ერთად ჩართული ისრის მიმართულებით მოძრაობისას რელსიანი სატრანსპორტო საშუალების მძღოლი ვალდებულია გზა დაუთმოს სხვა მიმართულებიდან მოძრავ სატრანსპორტო საშუალებას.

QUESTION 202

CORRECT ANSWER: 2



Which vehicle driver shall be obliged to yield when driving to the arrow direction?

1

Tram driver

2

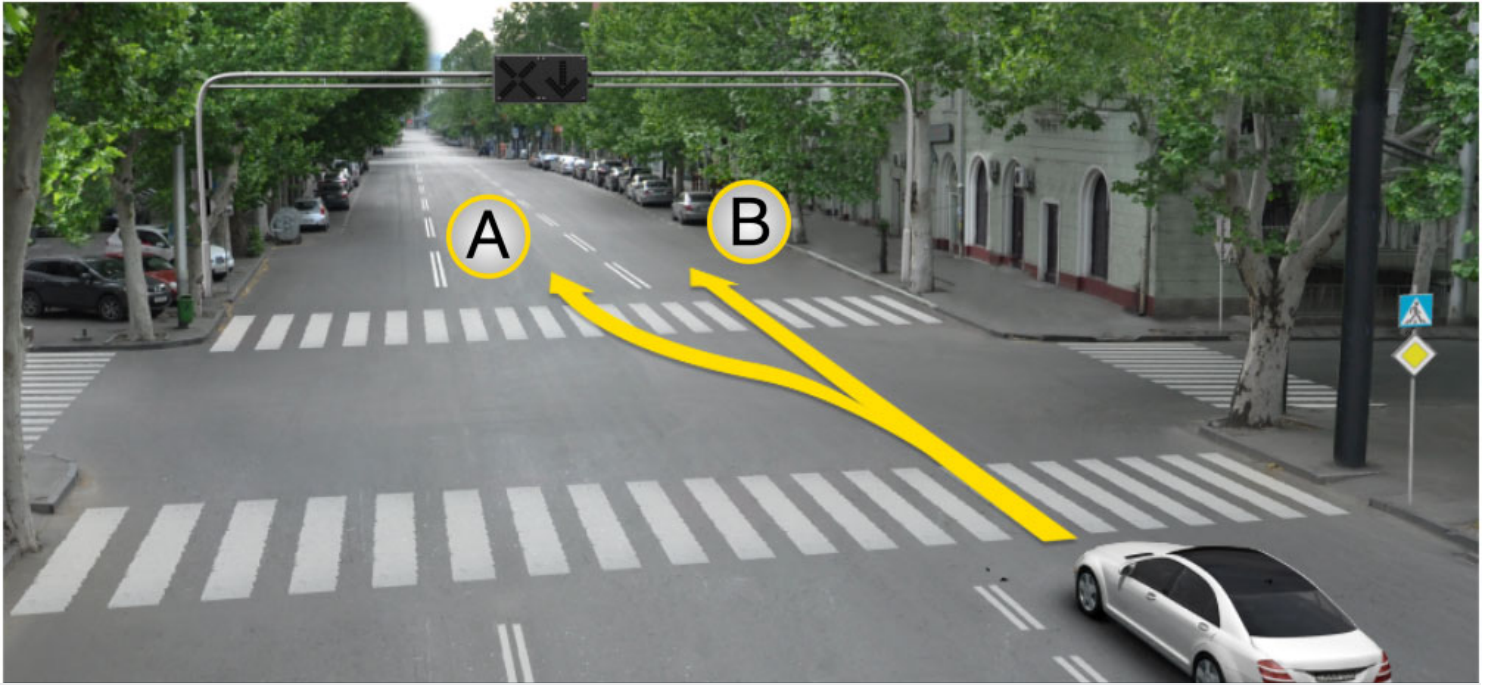
Motor car driver

განმარტება:

„საგზაო მოძრაობის შესახებ“ საქართველოს კანონის 36-ე მუხლის მე-3 პუნქტის „გ“ ქვეპუნქტის თანახმად, რეგულირებულ გზაჯვარედინზე, თუ შექნიშნის ან მარეგულირებლის სიგნალები ერთდროულად მოძრაობის ნებას რთავს რელსიან და ურელსო სატრანსპორტო საშუალებებს, რელსიან სატრანსპორტო საშუალებას აქვს უპირატესობა, მიუხედავად მისი მოძრაობის მიმართულებისა, მაგრამ შექნიშნის დამატებით სექციაში ძირითად ყვითელ ან წითელ მაშუქ სიგნალთან ერთად ჩართული ისრის მიმართულებით მოძრაობისას რელსიანი სატრანსპორტო საშუალების მძღოლი ვალდებულია გზა დაუთმოს სხვა მიმართულებიდან მოძრავ სატრანსპორტო საშუალებას.

QUESTION 203

CORRECT ANSWER: 2



A motor car driver is allowed to proceed:

1

In direction A

2

In direction B

3


In both A and B directions

განმარტება:

„საგზაო მოძრაობის შესახებ“ საქართველოს კანონის 29-ე მუხლის მე-4 პუნქტის ქვეპუნქტის თანახმად, სატრანსპორტო საშუალების მოძრაობის რეგულირებისათვის გზის საჯარი ნაწილის ზოლებზე, სადაც მოძრაობის მიმართულება საპირისპიროდ იცვლება, გამოიყენება რევერსული შუქნიშანი წითელი X ნიშნის მაშუქი სიგნალითა და ქვემოთ მიმართული მწვანე ისრით. ეს სიგნალი და ისარი შესაბამისად იმ ზოლზე მოძრაობას კრძალავს ან იმ ზოლზე მოძრაობის ნებას რთავს, რომლის ზემოთაც ისინია განლაგებული. რევერსული შუქნიშნის ძირითად ფერად მაშუქ სიგნალებს შეიძლება დაემატოს დიაგონალურად ქვემოთ – მარჯვნივ ან მარცხნივ დახრილი ისრის მქონე ყვითელი ან თეთრი მაშუქი სიგნალი, რომლის ჩართვა იტყობინება ფერადი მაშუქი სიგნალის შემდგომი შეცვლისა და ისრით მითითებულ ზოლზე გადასვლის ვალდებულების შესახებ. ორივე მხრიდან 1.9 საგზაო მონიშვნით აღნიშნული ზოლის ზემოთ მდებარე გამორთული რევერსული შუქნიშანი კრძალავს ამ ზოლზე გასვლას.

QUESTION 204

CORRECT ANSWER: 3



A motor car driver is allowed to proceed:

1

In direction A only

2

In direction B only

3


In both A and B directions

განმარტება:

„საგზაო მოძრაობის შესახებ“ საქართველოს კანონის 29-ე მუხლის მე-4 პუნქტის ქვეპუნქტის თანახმად, სატრანსპორტო საშუალების მოძრაობის რეგულირებისათვის გზის სავალი ნაწილის ზოლებზე, სადაც მოძრაობის მიმართულება საპირისპიროდ იცვლება, გამოიყენება რევერსული შუქნიშანი წითელი X ნიშნის მაშუქი სიგნალითა და ქვემოთ მიმართული მწვანე ისრით. ეს სიგნალი და ისარი შესაბამისად იმ ზოლზე მოძრაობას კრძალავს ან იმ ზოლზე მოძრაობის ნებას რთავს, რომლის ზემოთაც ისინია განლაგებული. რევერსული შუქნიშნის ძირითად ფერად მაშუქ სიგნალებს შეიძლება დაემატოს დიაგონალურად ქვემოთ – მარჯვნივ ან მარცხნივ დახრილი ისრის მქონე ყვითელი ან თეთრი მაშუქი სიგნალი, რომლის ჩართვა იტყობინება ფერადი მაშუქი სიგნალის შემდგომი შეცვლისა და ისრით მითითებულ ზოლზე გადასვლის ვალდებულების შესახებ. ორივე მხრიდან 1.9 საგზაო მონიშვნით აღნიშნული ზოლის ზემოთ მდებარე გამორთული რევერსული შუქნიშანი კრძალავს ამ ზოლზე გასვლას.

QUESTION 205

CORRECT ANSWER: 3



In which direction may the red car driver proceed at this signal of the traffic lights?

1

Straight and to the left only

2

To the right only

3

Straight and to the right only

4

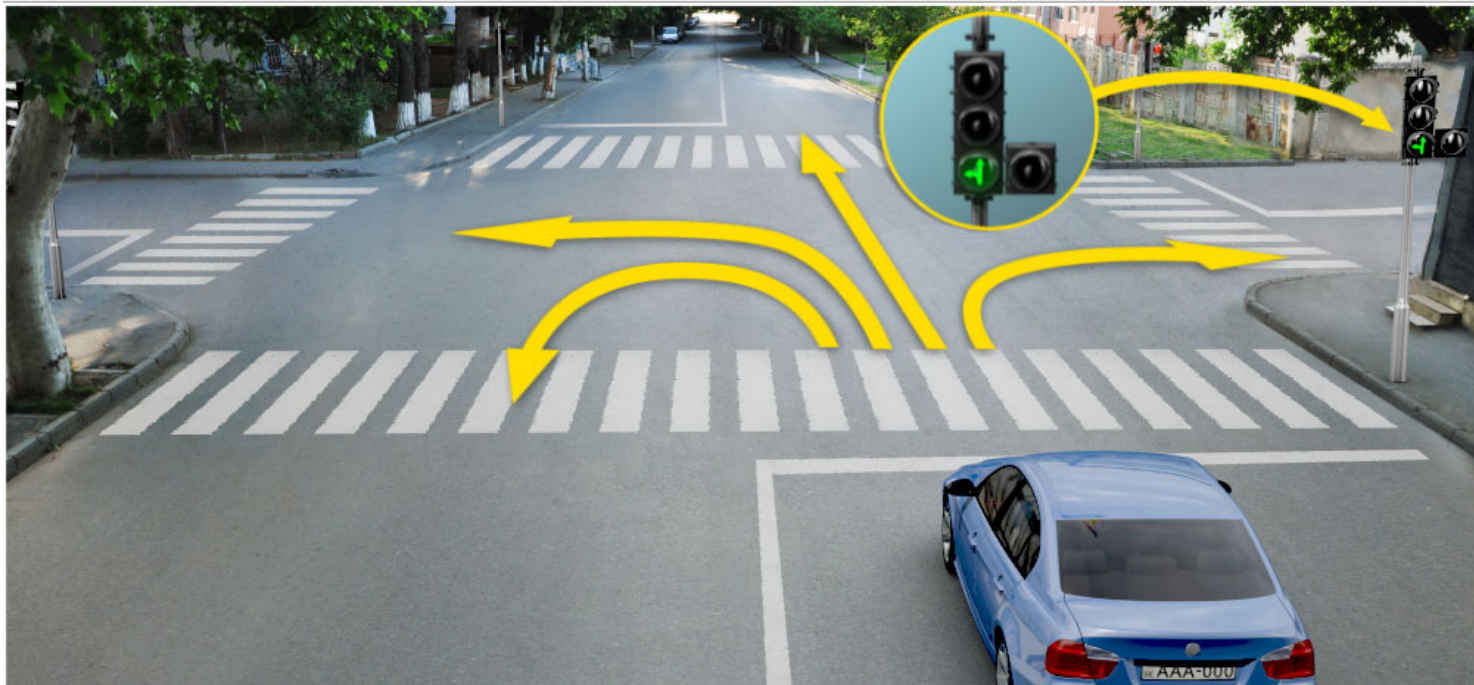
In all directions

განმარტება:

„საგზაო მოძრაობის შესახებ“ საქართველოს კანონის 29-ე მუხლის მე-2 პუნქტის „ე“ ქვეპუნქტისა და მე-10 პუნქტის თანახმად: 2. შეუნიშნის მაშუქ სიგნალებს აქვთ შემდეგი მნიშვნელობა: ე) მწვანე მაშუქი სიგნალი რთავს მოძრაობის ნებას. 10. მწვანე, ყვითელ და წითელ მაშუქ სიგნალებს, რომლებზედაც გამოსახულია ისარი/ისრები, იგივე მნიშვნელობა აქვს, რაც შესაბამისი ფერის უისრო მაშუქ სიგნალებს, მაგრამ მათი მოქმედება ვრცელდება მხოლოდ ისრით/ისრებით მითითებული მიმართულებით/მიმართულებებით. ამასთანავე, ისარი, რომელიც მარცხნივ მოხვევის ნებას რთავს, მობრუნების უფლებასაც იძლევა, თუ ეს აკრძალული არ არის შესაბამისი საგზაო ნიშნით ან საგზაო მონიშვნით. იგივე მნიშვნელობა აქვს შეუნიშნის დამატებითი სექციაში მწვანე მაშუქ სიგნალზე გამოსახულ ისარს. შეუნიშნის დამატებითი სექციის გამორთული მაშუქი სიგნალი იტყობინება, რომ ამ სექციით რეგულირებული მიმართულებით მოძრაობა აკრძალულია.

QUESTION 206

CORRECT ANSWER: 4



In which direction may the blue car driver proceed at this signal of the traffic lights?

1

Straight and to the left only

2

To the right only

3

Straight and to the right only

4


Straight, to the left and backward (U-turn) only

განმარტება:

„საგზაო მოძრაობის შესახებ“ საქართველოს კანონის 29-ე მუხლის მე-2 პუნქტის „ე“ ქვეპუნქტის და მე-10 პუნქტის თანახმად: 2. შექნიშნის მაშუქ სიგნალებს აქვთ შემდეგი მნიშვნელობა: ე) მწვანე მაშუქი სიგნალი რთავს მოძრაობის ნებას. 10. მწვანე, ყვითელ და წითელ მაშუქ სიგნალებს, რომლებზედაც გამოსახულია ისარი/ისრები, იგივე მნიშვნელობა აქვს, რაც შესაბამისი ფერის უისრო მაშუქ სიგნალებს, მაგრამ მათი მოქმედება ვრცელდება მხოლოდ ისრით/ისრებით მითითებული მიმართულებით/მიმართულებებით. ამასთანავე, ისარი, რომელიც მარცხნივ მოხვევის ნებას რთავს, მობრუნების უფლებასაც იძლევა, თუ ეს აკრძალული არ არის შესაბამისი საგზაო ნიშნით ან საგზაო მონიშვნით. იგივე მნიშვნელობა აქვს შექნიშნის დამატებით სექციაში მწვანე მაშუქ სიგნალზე გამოსახულ ისარს. შექნიშნის დამატებითი სექციის გამორთული მაშუქი სიგნალი იტყობინება, რომ ამ სექციით რეგულირებული მიმართულებით მოძრაობა აკრძალულია.

QUESTION 207

CORRECT ANSWER: 1



Is a motor car driver obliged to yield to the pedestrians when driving to the arrow direction?

1

Yes

2

No

პანმარტეზა:

„საგზაო მოძრაობის შესახებ“ საქართველოს კანონის 25-ე მუხლის მე-2 პუნქტის „ა“ ქვეპუნქტის თანახმად, ქვეითთა გადასასვლელზე ამ კანონის 21-ე მუხლის მე-6 პუნქტით, 33-ე მუხლის მე-2 პუნქტითა და 34-ე მუხლის მე-11 პუნქტით დადგენილ მოთხოვნათა დაცვით უნდა შესრულდეს შემდეგი მოთხოვნები: ა) თუ სატრანსპორტო საშუალებათა მოძრაობა საგზაო შუქნიშნით ან მარეგულირებლის მეშვეობით რეგულირდება, მოძრაობის ამკრძალავი სიგნალის დროს მძღოლი უნდა გაჩერდეს ქვეითთა გადასასვლელის წინ ან მის წინ მდებარე განივ მონიშვნასთან, ხოლო როცა მოძრაობის გაგრძელების უფლებას მიიღებს, არ უნდა დააბრკოლოს და საფრთხე არ უნდა შეუქმნას ქვეითთა გადასასვლელზე შესულ ქვეითებს. თუ მძღოლი ასრულებს მოხვევას სხვა გზაზე შესასვლელად, რომლის შესასვლელთანაც მდებარეობს ქვეითთა გადასასვლელი, მან ეს მოხვევა უნდა შეასრულოს მხოლოდ დაბალი სიჩქარით, ხოლო საჭიროების შემთხვევაში უნდა გაჩერდეს და გაატაროს გადასასვლელზე შესული ან შემავალი ქვეითები.

QUESTION 208

CORRECT ANSWER: 1



Is a motor car driver allowed to proceed to the arrow direction, if amber flashing light is switched on every traffic light?

1

Yes

2

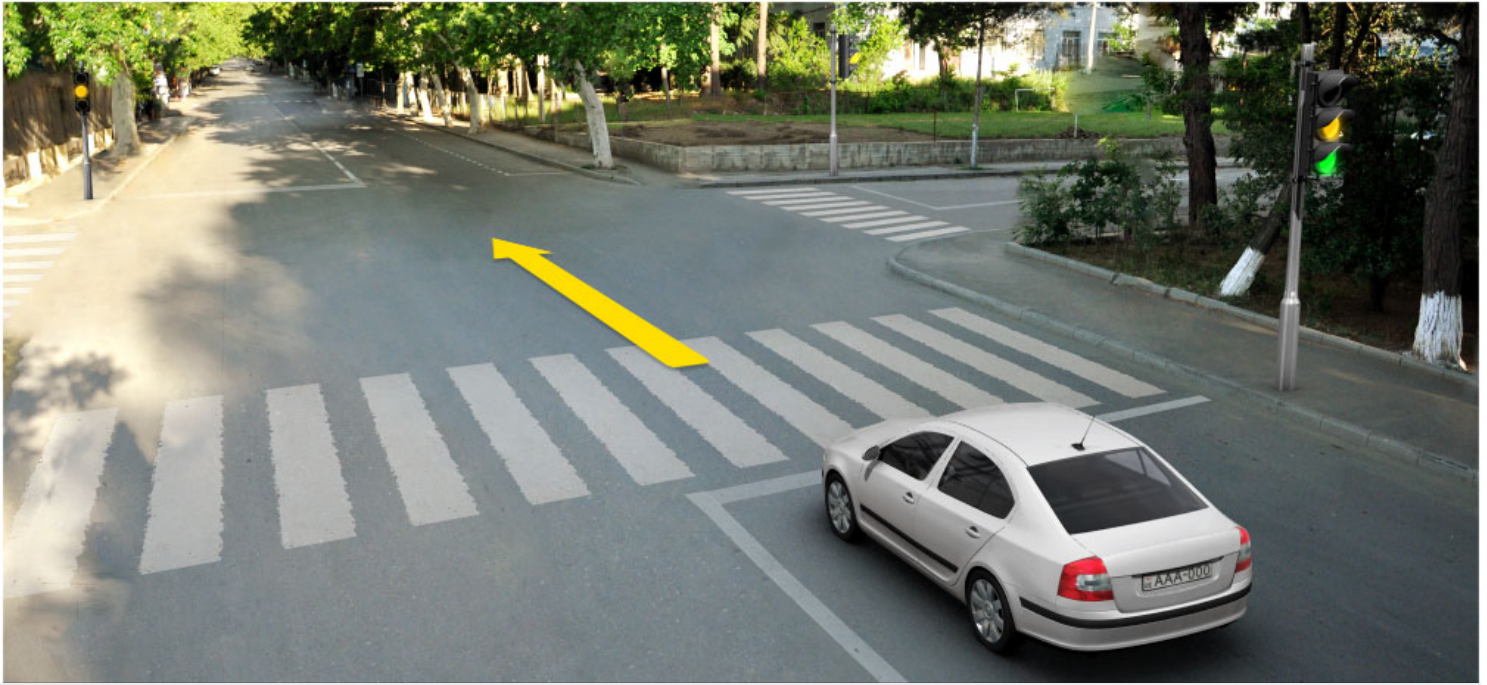
No

განმარტება:

„საგზაო მოძრაობის შესახებ“ საქართველოს კანონის 29-ე მუხლის მე-2 პუნქტის „დ“ ქვეპუნქტის თანახმად, ყვითელი მოციმციმე მაშუქი სიგნალი რთავს მოძრაობის ნებას და იტყობინება არარეგულირებული გზაჯვარედინის, ქვეითთა ან ველოსიპედისტთა გადასასვლელის არსებობის ან მოსალოდნელი საფრთხის შესახებ.

QUESTION 209

CORRECT ANSWER: 1



Is a motor car driver allowed to proceed to the arrow direction, if he/she is unable to stop at the "STOP" line without hard braking after green light signal, during switching of amber light signal?

1

Yes

2

No

განმარტება:

„საგზაო მოძრაობის შესახებ“ საქართველოს კანონის 29-ე მუხლის მე-14 პუნქტის თანახმად, მძღოლს, რომელსაც ყვითელი მაშუქი სიგნალის ჩართვის დროს მკვეთრად დამუხრუჭების გარეშე არ შეუძლია გაჩერდეს ამ მუხლის მე-13 პუნქტით განსაზღვრულ ადგილებში, უფლება აქვს, განაგრძოს მოძრაობა. ქვეითმა, რომელიც ამკრძალავი მაშუქი სიგნალის ჩართვის დროს გზის სავალ ნაწილზე იმყოფება, უნდა გაათავისუფლოს იგი, ხოლო თუ ეს შეუძლებელია – გაჩერდეს ურთიერთსაპირისპირო მიმართულებით მოძრავი სატრანსპორტო ნაკადების გამყოფ ხაზზე.

QUESTION 210

CORRECT ANSWER: 2



Is a motor car driver allowed to proceed to the arrow direction, at this signal of the traffic lights?

1

Yes

2

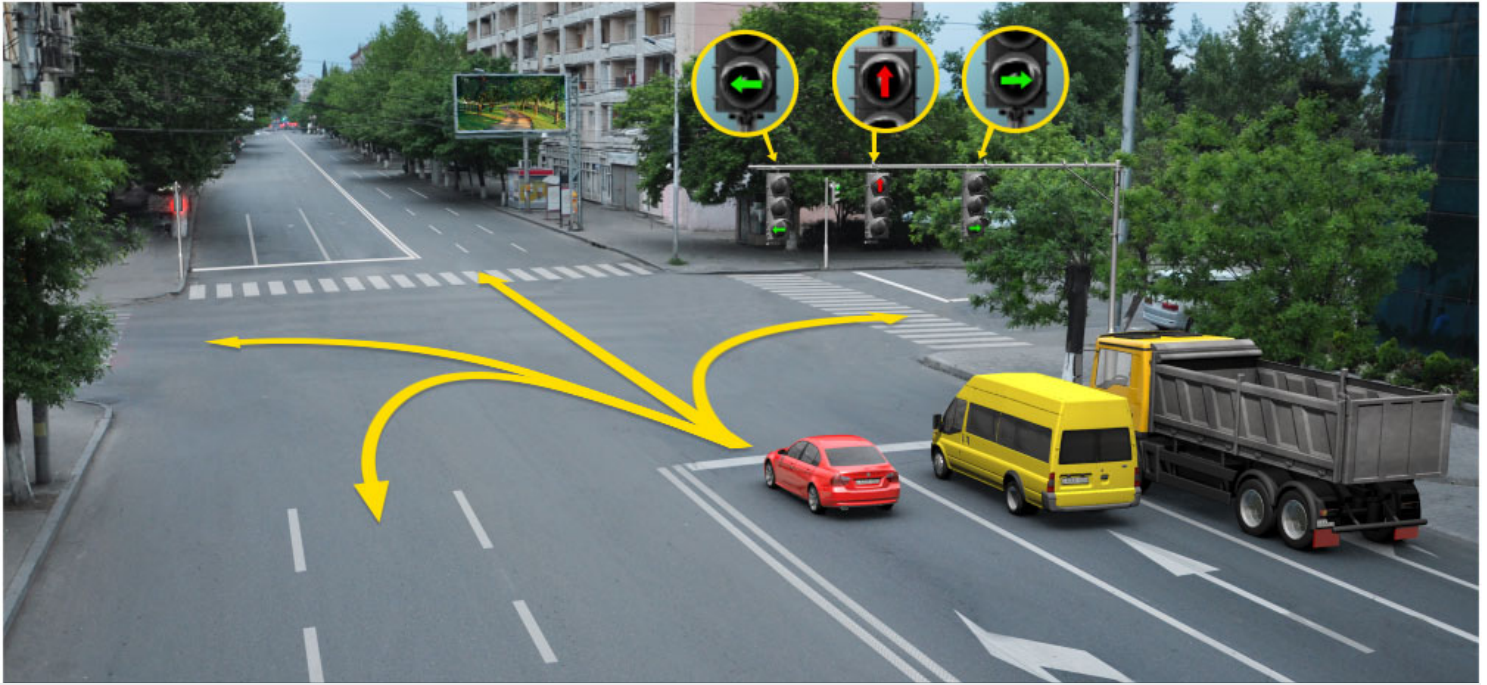
No

განმარტება:

„საგზაო მოძრაობის შესახებ“ საქართველოს კანონის 29-ე მუხლის მე-2 პუნქტის „ბ“ ქვეპუნქტის თანახმად, ერთობლივად ჩართული წითელი და ყვითელი მაშუქი სიგნალები კრძალავს მოძრაობას და იტყობინება მწვანე მაშუქი სიგნალის მოსალოდნელი ჩართვის შესახებ.

QUESTION 211

CORRECT ANSWER: 4



In what direction is red car driver allowed to proceed at this signal of the traffic lights?

1

Straight and to the left only

2

Straight and to the right only

3

To the left only

4


To the left and backward (U-turn) only

ბანძარტება:

„საგზაო მოძრაობის შესახებ“ საქართველოს კანონის 29-ე მუხლის მე-10 პუნქტის თანახმად, მწვანე, ყვითელ და წითელ მაშუქ სიგნალებს, რომლებზედაც გამოსახულია ისარი/ისრები, იგივე მნიშვნელობა აქვს, რაც შესაბამისი ფერის უისრო მაშუქ სიგნალებს, მაგრამ მათი მოქმედება ვრცელდება მხოლოდ ისრით/ისრებით მითითებული მიმართულებით/მიმართულებებით. ამასთანავე, ისარი, რომელიც მარცხნივ მოხვევის ნებას რთავს, მობრუნების უფლებასაც იძლევა, თუ ეს აკრძალული არ არის შესაბამისი საგზაო ნიშნით ან საგზაო მონიშვნით. იგივე მნიშვნელობა აქვს შექნიშნის დამატებით სექციაში მწვანე მაშუქ სიგნალზე გამოსახულ ისარს. შექნიშნის დამატებითი სექციის გამორთული მაშუქი სიგნალი იტყობინება, რომ ამ სექციით რეგულირებული მიმართულებით მოძრაობა აკრძალულია.

QUESTION 212

CORRECT ANSWER: 2



Which of the car drivers is not allowed to proceed to the arrow direction?

1

Blue car driver

2

Yellow car driver

3

Both of them

4


None of them

განმარტება:

„საგზაო მოძრაობის შესახებ“ საქართველოს კანონის პირველი დანართის 4.1.1 პუნქტის თანახმად საგზაო ნიშანი 4.1.1 „მოძრაობა პირდაპირ“ რთავს მხოლოდ ისრით ნაჩვენები მიმართულებით მოძრაობის ნებას. ამავე პუნქტის პენიშვნის „ბ“ ქვეპუნქტის თანახმად, 4.1.1-4.1.6 ნიშნების მოქმედება ვრცელდება სავალი ნაწილების იმ გადაკვეთაზე, რომლის წინაც დადგმულია სათანადო ნიშანი.

QUESTION 213

CORRECT ANSWER: 4



In the present situation the vehicle driver is allowed to proceed:

1

In direction A

2

In direction B

3

In direction C

4


None of the directions

განმარტება:

„საგზაო მოძრაობის შესახებ“ საქართველოს კანონის 29-ე მუხლის მე-2 პუნქტის „ა“ ქვეპუნქტის თანახმად, წითელი მაშუქი სიგნალი ან წითელი მოციმციმე მაშუქი სიგნალი კრძალავს მოძრაობას.

QUESTION 214

CORRECT ANSWER: 1



Is a motor car driver allowed to proceed further to the arrow direction at this signal of the traffic lights?

1

Yes

2

No

განმარტება:

„საგზაო მოძრაობის შესახებ“ საქართველოს კანონის 29-ე მუხლის მე-10 პუნქტის თანახმად, მწვანე, ყვითელ და წითელ მაშუქ სიგნალებს, რომლებზედაც გამოსახულია ისარი/ისრები, იგივე მნიშვნელობა აქვს, რაც შესაბამისი ფერის უისრო მაშუქ სიგნალებს, მაგრამ მათი მოქმედება ვრცელდება მხოლოდ ისრით/ისრებით მითითებული მიმართულებით/მიმართულებებით. ამასთანავე, ისარი, რომელიც მარცხნივ მოხვევის ნებას რთავს, მობრუნების უფლებასაც იძლევა, თუ ეს აკრძალული არ არის შესაბამისი საგზაო ნიშნით ან საგზაო მონიშვნით. იგივე მნიშვნელობა აქვს შუქნიშნის დამატებით სექციაში მწვანე მაშუქ სიგნალზე გამოსახულ ისარს. შუქნიშნის დამატებითი სექციის გამორთული მაშუქი სიგნალი იტყობინება, რომ ამ სექციით რეგულირებული მიმართულებით მოძრაობა აკრძალულია.

QUESTION 215

CORRECT ANSWER: 1



In the present situation, is blue car driver obliged to stop between the lane lines at the motion restriction signal of the traffic lights, when performing U-turn maneuver to the arrow direction?

1

Yes

2

No

3

Is not obliged if he/she does not create any obstruction for the oncoming vehicles

განმარტება:

„საგზაო მოძრაობის შესახებ“ საქართველოს კანონის 36-ე მუხლის მე-3 პუნქტის „ე“ ქვეპუნქტის თანახმად, შუქნიშნის ნებადართველ სიგნალზე გზაჯვარედინზე შესულ მძღოლს შეუძლია იმოძრაოს დასახული მიმართულებით, გზაჯვარედინიდან გასასვლელზე არსებული შუქნიშნის ამკრძალავი სიგნალების მიუხედავად, მაგრამ იმ პირობით, რომ ეს არ დააბრკოლებს სხვა საგზაო მოძრაობის მონაწილეთა იმ მიმართულებით მოძრაობას, რომელზედაც მოძრაობა გახსნილია. თუ გზაჯვარედინზე მისი მოძრაობისას გზაზე არსებული შუქნიშნების წინ „სდექ“ ხაზებია (ან/და 7.16 საგზაო ნიშნებია), მძღოლმა უნდა იხელმძღვა-ნელოს თითოეული შუქნიშნის სიგნალით.

QUESTION 216

CORRECT ANSWER: 2



In the present situation, is blue car driver obliged to stop between the lane lines at the motion restriction signal of the traffic lights, when performing U-turn maneuver to the arrow direction?

1

Yes

2


No

განმარტება:

„საგზაო მოძრაობის შესახებ“ საქართველოს კანონის 36-ე მუხლის მე-3 პუნქტის „ე“ ქვეპუნქტის თანახმად, შუქნიშნის ნებადართველ სიგნალზე გზაჯვარედინზე შესულ მძღოლს შეუძლია იმოძრაოს დასახული მიმართულებით, გზაჯვარედინიდან გასასვლელზე არსებული შუქნიშნის ამკრძალავი სიგნალების მიუხედავად, მაგრამ იმ პირობით, რომ ეს არ დააბრკოლებს სხვა საგზაო მოძრაობის მონაწილეთა იმ მიმართულებით მოძრაობას, რომელზედაც მოძრაობა გახსნილია. თუ გზაჯვარედინზე მისი მოძრაობისას გზაზე არსებული შუქნიშნების წინ „სდექ“ ხაზებია (ან/და 7.16 საგზაო ნიშნებია), მძღოლმა უნდა იხელმძღვანელოს თითოეული შუქნიშნის სიგნალით.

QUESTION 217

CORRECT ANSWER: 4



In which direction is the motor car driver allowed to proceed at this signal of the traffic lights?

1

Straight and to the left only

2

Straight and to the right only

3

In all directions

4

Straight, to the left and backward (U-turn) only

განმარტება:

„საგზაო მოძრაობის შესახებ“ საქართველოს კანონის 29-ე მუხლის მე-3 პუნქტის თანახმად თუ შეუქნიშნები გზის საგალი ნაწილის თანმხვედრი მიმართულებების მხარეს არსებული თითოეული მოძრაობის ზოლის ზევიტაა განლაგებული, თითოეული შეუქნიშნის მოქმედება ვრცელდება მხოლოდ იმ მოძრაობის ზოლზე, რომლის ზემოთაც არის იგი. ამავე მუხლის მე-10 პუნქტის თანახმად, მწვანე, ყვითელ და წითელ მაშუქ სიგნალებს, რომლებზედაც გამოსახულია ისარი/ისრები, იგივე მნიშვნელობა აქვს, რაც შესაბამისი ფერის უისრო მაშუქ სიგნალებს, მაგრამ მათი მოქმედება ვრცელდება მხოლოდ ისრით/ისრებით მითითებული მიმართულებით/ მიმართულებებით. ამასთანავე, ისარი, რომელიც მარცხნივ მოხვევის ნებას რთავს, მობრუნების უფლებასაც იძლევა, თუ ეს აკრძალული არ არის შესაბამისი საგზაო ნიშნით ან საგზაო მონიშვნით. იგივე მნიშვნელობა აქვს შეუქნიშნის დამატებით სეცციაში მწვანე მაშუქ სიგნალზე გამოსახულ ისარს. შეუქნიშნის დამატებითი სეცციის გამორთული მაშუქი სიგნალი იტყობინება, რომ ამ სეცციით რეგულირებული მიმართულებით მოძრაობა აკრძალულია.

QUESTION 218

CORRECT ANSWER: 1

If requirements of the traffic light signal contradict to the requirements of the traffic sign identifying the right-of-way, the traffic participants shall be guided with:

1

The requirements of the traffic light signal

2

The requirements of the traffic sign identifying the right-of-way

განმარტება:

„საგზაო მოძრაობის შესახებ“ საქართველოს კანონის 29-ე მუხლის მე-12 პუნქტის თანახმად, საგზაო მოძრაობის მონაწილეები ვალდებული არიან, შეასრულონ პუქნიშნის ფერადი მაშუქი სიგნალის მოთხოვნები იმ შემთხვევაშიც კი, თუ ეს მოთხოვნები ეწინააღმდეგება გავლის უპირატესობის განმსაზღვრელი საგზაო ნიშნებისა და მონიშვნების მოთხოვნებს.

QUESTION 219

CORRECT ANSWER: 2

If the requirements of the traffic light signal contradict to the requirements of the road marking identifying the right-of-way, the traffic participants shall be guided with:

1

The requirements of the road marking identifying the right-of-way

2

The requirements of the traffic light signal

განმარტება:

„საგზაო მოძრაობის შესახებ“ საქართველოს კანონის 29-ე მუხლის მე-12 პუნქტის თანახმად, საგზაო მოძრაობის მონაწილეები ვალდებული არიან, შეასრულონ პუქნიშნის ფერადი მაშუქი სიგნალის მოთხოვნები იმ შემთხვევაშიც კი, თუ ეს მოთხოვნები ეწინააღმდეგება გავლის უპირატესობის განმსაზღვრელი საგზაო ნიშნებისა და მონიშვნების მოთხოვნებს.

QUESTION 220

CORRECT ANSWER: 1

The traffic lights with two alternatively flashing or one red or amber flashing signal, directed to one side, located at the same height on one stand, is used:

1 At railroad crossings, at the access roads of swing bridges, at the outskirts of ship or ferry or exits of fire-engines on the road and in the place, where the road is crossed by the aircraft trajectory at low altitude

2 On the lanes of driveway, where motion direction is changed into the opposite direction

3 For motion of route vehicles on the specially designated lines

განმარტება:

„საგზაო მოძრაობის შესახებ“ საქართველოს კანონის 29-ე მუხლის მე-8 პუნქტის თანახმად, რკინიგზის გადასასვლელზე, გასახსნელი ხიდის მისასვლელთან, გემის ან ბორნის მისადგომთან, გზაზე სახანძრო ავტომობილის გამოსასვლელთან და იმ ადგილას, სადაც გზას დაბალ სიმაღლეზე კვეთს საფრენი აპარატის ტრაექტორია, გამოიყენება ერთ სადგარზე, ერთსა და იმავე სიმაღლეზე განლაგებული, ერთ მხარეს მიმართული ორი მორიგეობით მოციმციმე ან ერთი მოციმციმე წითელი ან ყვითელი მაშუქი სიგნალი, რომელთაგან წითელი მაშუქი სიგნალი კრძალავს „სდექ“ ხაზის გადაკვეთას, მისი არარსებობის შემთხვევაში კი – შექნიშნის იქით გადასვლას, ხოლო ყვითელი მაშუქი სიგნალი ნიშნავს, რომ მძღოლებს შეუძლიათ გააგრძელონ მოძრაობა, მაგრამ, ამასთანავე, ვალდებული არიან, დაიცვან განსაკუთრებული სიფრთხილე. თუ ფერადი მაშუქი სიგნალები გამორთულია, მოძრაობა ნებადართულია მხოლოდ მაშინ, როცა ხილვადობის ფარგლებში არ ჩანს გადასასვლელთან მოახლოებული მატარებელი (ლოკომოტივი, დრეზინა).

QUESTION 221

CORRECT ANSWER: 2

Reversible traffic lights, with red X mark signal and green arrow pointing down is used:

- 1** Only for regulation of motion of route vehicles on special lane
- 2** Only for regulation of motion of vehicle on the lanes of driveway, where motion direction is changed into the opposite direction
- 3** In any case listed in given test

განმარტება:

„საგზაო მოძრაობის შესახებ“ საქართველოს კანონის 29-ე მუხლის მე-4 პუნქტის თანახმად, სატრანსპორტო საშუალების მოძრაობის რეგულირებისათვის გზის სავალი ნაწილის ზოლებზე, სადაც მოძრაობის მიმართულება საპირისპიროდ იცვლება, გამოიყენება რევერსული შუქნიშანი წითელი X ნიშნის მაშუქი სიგნალითა და ქვემოთ მიმართული მწვანე ისრით. ეს სიგნალი და ისარი შესაბამისად იმ ზოლზე მოძრაობას კრძალავს ან იმ ზოლზე მოძრაობის ნებას რთავს, რომლის ზემოთაც ისინია განლაგებული. რევერსული შუქნიშნის ძირითად ფერად მაშუქ სიგნალებს შეიძლება დაემატოს დიაგონალურად ქვემოთ – მარჯვნივ ან მარცხნივ დახრილი ისრის მქონე ყვითელი ან თეთრი მაშუქი სიგნალი, რომლის ჩართვა იტყობინება ფერადი მაშუქი სიგნალის შემდგომი შეცვლისა და ისრით მითითებულ ზოლზე გადასვლის ვალდებულების შესახებ. ორივე მხრიდან 1.9 საგზაო მონიშვნით აღნიშნული ზოლის ზემოთ მდებარე გამორთული რევერსული შუქნიშანი კრძალავს ამ ზოლზე გასვლას.

QUESTION 222

CORRECT ANSWER: 2

The outlined arrow(s) shown on main green signal of the traffic lights:

- 1 Informs the driver about additional section on the traffic lights and indicates about the direction defined by the signal of the additional section
- 2 Informs the driver about possible existence of additional section and indicates the movement towards other permitted direction that is different from the colourful lighting signal of the given section
- 3 All of the listed answers are true

განმარტება:

„საგზაო მოძრაობის შესახებ“ საქართველოს კანონის 29-ე მუხლის მე-11 პუნქტის თანახმად, შექნიშნის ძირითად მწვანე მაშუქ სიგნალზე გამოსახული კონტურის ისარი/ისრები მძღოლს ამცნობს შექნიშანზე დამატებითი სექციის შესაძლო არსებობის შესახებ და მიუთითებს ამ სექციის ფერადი მაშუქი სიგნალისაგან განსხვავებული მოძრაობის სხვა ნებადართული მიმართულებების შესახებ.

QUESTION 223

CORRECT ANSWER: 2

Four „T“-shaped amber round light signals may be used for:

- 1 Regulation of traffic on „T“-shape intersection
- 2 Regulation of traffic on the special lane designated for motion of route vehicles
- 3 Regulation of motion of wheeled tractor

განმარტება:

„საგზაო მოძრაობის შესახებ“ საქართველოს კანონის 29-ე მუხლის მე-5 პუნქტის თანახმად, სამარშრუტო სატრანსპორტო საშუალებების მოძრაობისათვის სპეციალურად გამოყოფილ ზოლზე მოძრაობის რეგულირებისათვის შეიძლება გამოყენებულ იქნეს „T“-სებურად განლაგებული მოყვითალო ოთხი მრგვალი მაშუქი სიგნალი. მოძრაობა ნებადართულია მხოლოდ მაშინ, როცა ერთდროულად ჩართულია ქვედა და ერთი ან რამდენიმე ზედა მაშუქი სიგნალი, რომელთაგან მარცხენა მარცხნივ მოძრაობის უფლებას იძლევა, საშუალო – პირდაპირ, მარჯვენა კი – მარჯვნივ. თუ ჩართულია მხოლოდ სამი ზედა მაშუქი სიგნალი, მოძრაობა აკრძალულია.

QUESTION 224

CORRECT ANSWER: 1

During the regulation of the movement by 'T'-form traffic lights route vehicles are permitted to drive:

1 If the lower and one or several upper light signals are turned on simultaneously

2 If only three upper light signals are turned on

3 In any case listed in given test

განმარტება:

„საგზაო მოძრაობის შესახებ“ საქართველოს კანონის 29-ე მუხლის მე-5 პუნქტის თანახმად, სამარშრუტო სატრანსპორტო საშუალებების მოძრაობისათვის სპეციალურად გამოყოფილ ზოლზე მოძრაობის რეგულირებისათვის შეიძლება გამოყენებულ იქნეს „T“-სებურად განლაგებული მოყვითალო ოთხი მრგვალი მაშუქი სიგნალი. მოძრაობა ნებადართულია მხოლოდ მაშინ, როცა ერთდროულად ჩართულია ქვედა და ერთი ან რამდენიმე ზედა მაშუქი სიგნალი, რომელთაგან მარცხენა მარცხნივ მოძრაობის უფლებას იძლევა, საშუალო – პირდაპირ, მარჯვენა კი – მარჯვნივ. თუ ჩართულია მხოლოდ სამი ზედა მაშუქი სიგნალი, მოძრაობა აკრძალულია.

QUESTION 225

CORRECT ANSWER: 2

During traffic regulation by 'T'-form traffic lights route vehicles are not permitted to drive:

1 If the lower and one or several upper light signals are turned on simultaneously

2 If only three upper light signals are turned on

3 In any case listed in given test

განმარტება:

„საგზაო მოძრაობის შესახებ“ საქართველოს კანონის 29-ე მუხლის მე-5 პუნქტის თანახმად, სამარშრუტო სატრანსპორტო საშუალებების მოძრაობისათვის სპეციალურად გამოყოფილ ზოლზე მოძრაობის რეგულირებისათვის შეიძლება გამოყენებულ იქნეს „T“-სებურად განლაგებული მოყვითალო ოთხი მრგვალი მაშუქი სიგნალი. მოძრაობა ნებადართულია მხოლოდ მაშინ, როცა ერთდროულად ჩართულია ქვედა და ერთი ან რამდენიმე ზედა მაშუქი სიგნალი, რომელთაგან მარცხენა მარცხნივ მოძრაობის უფლებას იძლევა, საშუალო – პირდაპირ, მარჯვენა კი – მარჯვნივ. თუ ჩართულია მხოლოდ სამი ზედა მაშუქი სიგნალი, მოძრაობა აკრძალულია.

QUESTION 226

CORRECT ANSWER: 1

Is a driver allowed to proceed, if he/she is unable to stop at “STOP” line without hard braking when amber light signal is switched on?

1

Yes

2

No

განმარტება:

„საგზაო მოძრაობის შესახებ“ საქართველოს კანონის 29-ე მუხლის მე-14 პუნქტის თანახმად, მძღოლს, რომელსაც ყვითელი მაშუქი სიგნალის ჩართვის დროს მკვეთრად დამუხრუჭების გარეშე არ შეუძლია გაჩერდეს ამ მუხლის მე-13 პუნქტით განსაზღვრულ ადგილებში, უფლება აქვს, განაგრძოს მოძრაობა. ქვეითმა, რომელიც ამკრძალავი მაშუქი სიგნალის ჩართვის დროს გზის სავალ ნაწილზე იმყოფება, უნდა გაათავისუფლოს იგი, ხოლო თუ ეს შეუძლებელია – გაჩერდეს ურთიერთსაპირისპირო მიმართულებით მოძრავი სატრანსპორტო ნაკადების გამყოფ ხაზზე.

QUESTION 227

CORRECT ANSWER: 1



Which of the vehicle drivers is prohibited from proceeding to the arrow direction?

1

Both of them

2

None of them

3

Lorry driver only

4

Motor car driver only

ბანმარტეზა:

„საგზაო მოძრაობის შესახებ“ საქართველოს კანონის 32-ე მუხლის მე-5 პუნქტის თანახმად, გარდა იმ შემთხვევისა, როცა მოხვევა სრულდება გზატკეცილზე გასასვლელად, სადაც წრიული მოძრაობაა ორგანიზებული, მარჯვნივ ან მარცხნივ მოხვევის წინ, აგრეთვე მობრუნების წინ სატრანსპორტო საშუალების მძღოლი ვალდებულია დროულად დაიკავოს შესაბამისი განაპირა მდებარეობა სავალ ნაწილზე, რომელიც თანმხვედრი მიმართულებით მოძრაობისთვისაა განკუთვნილი. ამავე კანონის პირველი დანართის 4.9.1 პუნქტის თანახმად საგზაო ნიშანი 4.9.1 „სახიფათო ტვირთის გადამზიდავი სატრანსპორტო საშუალებით მოძრაობის მიმართულება“ - მიუთითებს იმ სახიფათო ტვირთის გადამზიდავი სატრანსპორტო საშუალებით ნებადართულ მოძრაობის მიმართულებას პირდაპირ, რომელიც მოქმედი კანონმდებლობის შესაბამისად აღნიშნულნი უნდა იქნეს საცნობი ნიშნით „სახიფათო ტვირთი“.

QUESTION 228

CORRECT ANSWER: 2

If there is the traffic light for pedestrians on the crossing, the pedestrian while moving on the crossing must fulfill:

1

Orders of vehicular traffic light signals

2

Orders of traffic light signals for pedestrians

განმარტება:

„საგზაო მოძრაობის შესახებ“ საქართველოს კანონის 24-ე მუხლის მე-7 პუნქტის „ა“ ქვეპუნქტის თანახმად, ქვეითთა გადასასვლელზე გადასვლისას, თუ გადასასვლელზე არსებობს ქვეითთათვის განკუთვნილი შუქნიშანი, ქვეითმა უნდა შეასრულოს ამ შუქნიშნის მაშუქი სიგნალების მოთხოვნები.

QUESTION 229

CORRECT ANSWER: 2



Which of the car drivers has stopped vehicle under Highway Code observation at restriction signal of the traffic light?

1

White car car driver

2

Yellow car car driver

3

None of them

განმარტება:

„საგზაო მოძრაობის შესახებ“ საქართველოს კანონის 29-ე მუხლის მე-13 პუნქტის თანახმად, შეუნიშნის (რევერსულის გარდა) ამკრძალავი მაშუქი სიგნალის დროს მძღოლი ვალდებულია გაჩერდეს „სდექ“ ხაზთან (ან 7.16 ნიშანთან).

QUESTION 230

CORRECT ANSWER: 2

Green flashing signal switched on the traffic lights:

1

Allows traffic and gives information about existence of unregulated intersection, crosswalk and bicyclists crossing or expected danger

2


Allows traffic and informs the traffic participants, that its effective time is expiring and restriction signal will soon be switched on

განმარტება:

„საგზაო მოძრაობის შესახებ“ საქართველოს კანონის 29-ე მუხლის მე-2 პუნქტის „ვ“ ქვეპუნქტის თანახმად, მწვანე მოციმციმე მაშუქი სიგნალი რთავს მოძრაობის ნებას და საგზაო მოძრაობის მონაწილეებს ამცნობს, რომ მისი მოქმედების დრო იწურება და მალე ჩაირთვება ამკრძალავი სიგნალი.

QUESTION 231

CORRECT ANSWER: 1



Motor car driver is allowed to proceed:

1

In direction A only

2

In direction B only

3

In direction C only

4

None of the them

განმარტება:

„საგზაო მოძრაობის შესახებ“ საქართველოს კანონის 31-ე მუხლის მე-17 პუნქტის თანახმად, შესვლის მიზნით იმ სავალ ნაწილზე მოხვევის დროს, რომელზედაც რევერსული მოძრაობაა, სატრანსპორტო საშუალების მძღოლმა ისე უნდა იმოძრაოს, რომ სავალი ნაწილების გადაკვეთიდან გამოსვლისას განაპირა მარჯვენა მოძრაობის ზოლი დაიკავოს. სხვა მოძრაობის ზოლზე გადაჯგუფება დასაშვებია მხოლოდ მას შემდეგ, რაც მძღოლი დარწმუნდება, რომ აღნიშნულ მოძრაობის ზოლზე ნებადართულია თანმხვედრი მოძრაობა. ამავე კანონის პირველი დანართის მე-5 თავის (განსაკუთრებული მითითებების ნიშნები) 5.10 პუნქტის თანახმად საგზაო ნიშანი 5.10 „გასვლა გზაზე, რომელზედაც რევერსული მოძრაობაა“ – მიუთითებს 5.8 „რევერსული მოძრაობა“ ნიშნით აღნიშნულ გზის მონაკვეთზე გასვლას. ნიშანი იდგმება ყველა გვერდითი გასასვლელის წინ. ნიშანი შეიძლება არ დაიდგას მიმდებარე ტერიტორიიდან გამოსასვლელის გზასთან გადაკვეთაზე, თუ ამ ტერიტორიაზე შესვლა შესაძლებელია მხოლოდ 5.8 „რევერსული მოძრაობა“ ნიშნით აღნიშნული გზიდან.

QUESTION 232

CORRECT ANSWER: 2



In what sequence should the vehicles pass the intersection when driving to the arrow direction?

1

First - lorry, then - tram and finally - bus

2

First - lorry, then - bus and finally - tram

3


First - tram, then - bus and finally - lorry

განმარტება:

„საგზაო მოძრაობის შესახებ“ საქართველოს კანონის 36-ე მუხლის მე-3 პუნქტის „ა“ და „გ“ ქვეპუნქტის თანახმად, რეგულირებულ გზაჯვარედინზე: ა) შექნიშნის მწვანე სიგნალის ჩართვის დროს მარცხნივ მოხვევისას ან მობრუნებისას ურელსო სატრანსპორტო საშუალების მძღოლი ვალდებულია გზა დაუთმოს საპირისპირო მიმართულებიდან პირდაპირ ან მარჯვნივ მოძრავ სატრანსპორტო საშუალებას. ამავე წესით უნდა იხელმძღვანელონ ურთიერთშორის მოძრავი ტრამვაის მძღოლებმაც; გ) თუ შექნიშნის ან მარეგულირებლის სიგნალები ერთდროულად მოძრაობის ნებას რთავს რელსიან და ურელსო სატრანსპორტო საშუალებებს, რელსიან სატრანსპორტო საშუალებას აქვს უპირატესობა, მიუხედავად მისი მოძრაობის მიმართულებისა, მაგრამ შექნიშნის დამატებით სექციაში ძირითად ყვითელ ან წითელ მაშუქ სიგნალთან ერთად ჩართული ისრის მიმართულებით მოძრაობისას რელსიანი სატრანსპორტო საშუალების მძღოლი ვალდებულია გზა დაუთმოს სხვა მიმართულებიდან მოძრავ სატრანსპორტო საშუალებას;

QUESTION 233

CORRECT ANSWER: 3



Which of the tram drivers will be obliged to yield to the motor car driver, when driving to the arrow direction?

1

First tram driver only

2

Second tram driver only

3

Both of the tram drivers

4


None of the tram drivers

განმარტება:

„საგზაო მოძრაობის შესახებ“ საქართველოს კანონის 36-ე მუხლის მე-3 პუნქტის „ე“ ქვეპუნქტის თანახმად, რეგულირებულ გზაჯვარედინზე, შექნიშნის ნებადართვით სიგნალზე გზაჯვარედინზე შესულ მძღოლს შეუძლია იმოძრაოს დასახული მიმართულებით, გზაჯვარედინიდან გასასვლელზე არსებული შექნიშნის ამკრძალავი სიგნალების მიუხედავად, მაგრამ იმ პირობით, რომ ეს არ დააბრკოლებს სხვა საგზაო მოძრაობის მონაწილეთა იმ მიმართულებით მოძრაობას, რომელზედაც მოძრაობა გახსნილია. თუ გზაჯვარედინზე მისი მოძრაობისას გზაზე არსებული შექნიშნების წინ „სდექ“ ხაზებია (ან/და 7.16 საგზაო ნიშნებია), მძღოლმა უნდა იხელმძღვა-ნელოს თითოეული შექნიშნის სიგნალით.

QUESTION 234

CORRECT ANSWER: 1



In the present situation, is a motor car driver obliged to stop at restriction signal of the traffic lights when driving to the arrow direction?

1

Yes

2


No

განმარტება:

„საგზაო მოძრაობის შესახებ“ საქართველოს კანონის 36-ე მუხლის მე-3 პუნქტის „ე“ ქვეპუნქტის თანახმად, რეგულირებულ გზაჯვარედინზე შუქნიშნის ნებადართველ სიგნალზე გზაჯვარედინზე შესულ მძღოლს შეუძლია იმოძრაოს დასახული მიმართულებით, გზაჯვარედინიდან გასასვლელზე არსებული შუქნიშნის ამკრძალავი სიგნალების მიუხედავად, მაგრამ იმ პირობით, რომ ეს არ დააბრკოლებს სხვა საგზაო მოძრაობის მონაწილეთა იმ მიმართულებით მოძრაობას, რომელზედაც მოძრაობა გახსნილია. თუ გზაჯვარედინზე მისი მოძრაობისას გზაზე არსებული შუქნიშნების წინ „სდექ“ ხაზებია (ან/და 7.16 საგზაო ნიშნებია), მძღოლმა უნდა იხელმძღვანელოს თითოეული შუქნიშნის სიგნალით.

QUESTION 235

CORRECT ANSWER: 3



In case of moving according to the arrows which vehicle driver is the light vehicle driver required to give a way to?

1

To all vehicle drivers

2

Only to the drivers of the second tram and the lorry

3

Only to the drivers of the first and second tram

განმარტება:

„საგზაო მოძრაობის შესახებ“ საქართველოს კანონის 36-ე მუხლის მე-4 პუნქტის „გ“ ქვეპუნქტის თანახმად, არარეგულირებულ გზაჯვარედინზე, თანაბარმნიშვნელოვანი გზების გადაკვეთაზე ურელსო სატრანსპორტო საშუალების მძღოლი ვალდებულია გზა დაუთმოს მარჯვნიდან მოახლოებულ სატრანსპორტო საშუალებას. ამავდროულად უნდა ხელმძღვანელონ ურთიერთშორის რელსიანი სატრანსპორტო საშუალებების მძღოლებმაც. ასეთ გზაჯვარედინზე რელსიანი სატრანსპორტო საშუალებას უპირატესობა აქვს ურელსო სატრანსპორტო საშუალების მიმართ, მიუხედავად მისი მოძრაობის მიმართულებისა.

QUESTION 236

CORRECT ANSWER: 2

If a driver approaches the traffic lights, on which the traffic permit signal has been switched on for a long period, he/she must:

- 1 Increase speed and observe the traffic lights signals
- 2 Proceed so as to be ready for safe stop of the vehicle at any moment
- 3 Increase speed despite of exceeding the permitted speed limit in order to pass the above section of road prior to switching the traffic prohibiting light signal

განმარტება:


თუ მძღოლი უახლოვდება ჭეჭნიანს, რომელზეც მოძრაობის ნებადამრთველი მაშუქი სიგნალი უკვე დიდი ხნის განმავლობაშია ჩართული, მან უნდა გააგრძელოს მოძრაობა, ისე, რომ მზად იყოს სატრანსპორტო საშუალების ნებისმიერ მომენტში უსაფრთხოდ გასაჩერებლად.

თემა 11:

მარეგულირებლის სიგნალები

QUESTION 237

CORRECT ANSWER: 2



Ambulance has special blue flashing light and honks switched on. Which of the vehicle drivers is allowed to drive to the arrow direction at this signal of the traffic controller?

1

Ambulance, lorry and red car drivers

2

Lorry and red car drivers

3


Ambulance, lorry and blue car drivers

განმარტება:

„საგზაო მოძრაობის შესახებ“ საქართველოს კანონის 30-ე მუხლის მე-5 პუნქტის „გ“ ქვეპუნქტის თანახმად, მარეგულირებლის სიგნალებს აქვთ შემდეგი მნიშვნელობა: გ) წინ გაშვებული მარჯვენა ხელი – ეს უესტი ნიშნავს „სდექ“ სიგნალს მარეგულირებლის მარჯვენა გვერდისა და ზურგის მხრიდან მოძრავი ყველა მძღოლისათვის; ამასთანავე, მარეგულირებლის მარცხენა გვერდის მხრიდან ტრამვაის უფლება აქვს, იმოძრაოს მარცხნივ, ხოლო ურელსო სატრანსპორტო საშუალებას უფლება აქვს, იმოძრაოს ყველა მიმართულებით. მარეგულირებლის მკერდის მხრიდან ყველა სატრანსპორტო საშუალებას უფლება აქვს, იმოძრაოს მხოლოდ მარჯვნივ. ქვეითს უფლება აქვს, გადავიდეს სავალ ნაწილზე მარეგულირებლის ზურგის უკან.

QUESTION 238

CORRECT ANSWER: 2



Which vehicle driver is allowed to proceed to the arrow direction at this signal of the traffic controller?

1

Lorry, yellow and red car drivers

2

Yellow and blue car drivers

3

Yellow and red car drivers

განმარტება:

„საგზაო მოძრაობის შესახებ“ საქართველოს კანონის 30-ე მუხლის მე-5 პუნქტის „გ“ ქვეპუნქტის თანახმად, მარეგულირებლის სიგნალებს აქვთ შემდეგი მნიშვნელობა: გ) წინ გაშვებული მარჯვენა ხელი – ეს აქვს ნიშნავს „სდექ“ სიგნალს მარეგულირებლის მარჯვენა გვერდისა და ზურგის მხრიდან მოძრავი ყველა მძღოლისათვის; ამასთანავე, მარეგულირებლის მარცხენა გვერდის მხრიდან ტრამვაის უფლება აქვს, იმოძრაოს მარცხნივ, ხოლო ურელსო სატრანსპორტო საშუალებას უფლება აქვს, იმოძრაოს ყველა მიმართულებით. მარეგულირებლის მკერდის მხრიდან ყველა სატრანსპორტო საშუალებას უფლება აქვს, იმოძრაოს მხოლოდ მარჯვნივ. ქვეითს უფლება აქვს, გადავიდეს სავალ ნაწილზე მარეგულირებლის ზურგის უკან.

QUESTION 239

CORRECT ANSWER: 3



Which vehicle driver may proceed to the arrow direction at this signal of the traffic controller?

1

Tram driver

2

Lorry driver

3

None of them

4

Motor car driver

განმარტება:

„საგზაო მოძრაობის შესახებ“ საქართველოს კანონის 30-ე მუხლის მე-5 პუნქტის „გ“ ქვეპუნქტის თანახმად, მარეგულირებლის სიგნალებს აქვთ შემდეგი მნიშვნელობა: ა) ზემოთ აწეული ერთი ხელი – ეს აწესი ყველა საგზაო მოძრაობის მონაწილისათვის ნიშნავს „ყურადღება, სდექ“ სიგნალს, გარდა იმ მძღოლებისა, რომლებიც უკვე ვეღარ შეძლებენ გაჩერებას მკვეთრი დამუხრუჭებისა და საკმაო უსაფრთხოების პირობების დაცვით. გარდა ამისა, თუ ეს სიგნალი მიცემულია გზაჯვარედინზე, მძღოლს, რომელიც უკვე შესულია გზაჯვარედინზე, შეუძლია განაგრძოს მოძრაობა. ქვეითმა, რომელიც სიგნალის მიცემისას გზის სავალ ნაწილზე იმყოფება, უნდა გაათავისუფლოს იგი, ხოლო თუ ეს შეუძლებელია – უნდა გაჩერდეს ურთიერთსაპირისპირო მიმართულებით მოძრავი სატრანსპორტო ნაკადების გამყოფ ხაზზე.

QUESTION 240

CORRECT ANSWER: 1



In the present situation which of the vehicle drivers has the right-of-way, if trajectories of their routing is crossed at this signal of the traffic controller?

1

Lorry driver

2

Motor car driver

განმარტება:

„საგზაო მოძრაობის შესახებ“ საქართველოს კანონის 36-ე მუხლის მე-3 პუნქტის „დ“ ქვეპუნქტის თანახმად, თუ მარეგულირებლის სიგნალი ერთდროულად მოძრაობის ნებას რთავს ურთიერთგადამკვეთი ტრაექტორიებით მოძრავ ურელსო სატრანსპორტო საშუალებებს, მძღოლებმა უნდა იხელმძღვანელონ არარეგულირებული გზაჯვარედინის გავლის წესებითა და გზაჯვარედინზე დაყენებული პრიორიტეტის ნიშნებით;

QUESTION 241

CORRECT ANSWER: 2



Is a motor car driver allowed to proceed to the right of the intersection at this signal of the traffic controller?

1

Yes

2


No

განმარტება:

„საგზაო მოძრაობის შესახებ“ საქართველოს კანონის 30-ე მუხლის მე-5 პუნქტის „გ“ ქვეპუნქტის თანახმად, მარეგულირებლის სიგნალებს აქვთ შემდეგი მნიშვნელობა - წინ გაშვებული მარჯვენა ხელი – ეს ჟესტი ნიშნავს „სდექ“ სიგნალს მარეგულირებლის მარჯვენა გვერდისა და ზურგის მხრიდან მოძრავი ყველა მძღოლისათვის; ამასთანავე, მარეგულირებლის მარცხენა გვერდის მხრიდან ტრამვაის უფლება აქვს, იმოძრაოს მარცხნივ, ხოლო ურელსო სატრანსპორტო საშუალებას უფლება აქვს, იმოძრაოს ყველა მიმართულებით. მარეგულირებლის მკერდის მხრიდან ყველა სატრანსპორტო საშუალებას უფლება აქვს, იმოძრაოს მხოლოდ მარჯვნივ. ქვეითს უფლება აქვს, გადავიდეს სავალ ნაწილზე მარეგულირებლის ზურგის უკან; ამავე კანონის 32-ე მუხლის მე-5 პუნქტის თანახმად, გარდა იმ შემთხვევისა, როცა მოხვევა სრულდება გზაჯვარედინზე გასასვლელად, სადაც წრიული მოძრაობაა ორგანიზებული, მარჯვნივ ან მარცხნივ მოხვევის წინ, აგრეთვე მობრუნების წინ სატრანსპორტო საშუალების მძღოლი ვალდებულია დროულად დაიკავოს შესაბამისი განაპირა მდებარეობა სავალ ნაწილზე, რომელიც თანმხვედრი მიმართულებით მოძრაობისთვისაა განკუთვნილი.

QUESTION 242

CORRECT ANSWER: 3



In which direction is white car driver allowed to proceed at this signal of the traffic controller?

1

To the left only

2

To the left and backward (U-turn) only

3

Straight and to the right only

4

Straight only

განმარტება:

„საგზაო მოძრაობის შესახებ“ საქართველოს კანონის 30-ე მუხლის მე-5 პუნქტის „გ“ ქვეპუნქტის თანახმად, მარეგულირებლის სიგნალებს აქვთ შემდეგი მნიშვნელობა - წინ გაშვებული მარჯვენა ხელი – ეს ჟესტი ნიშნავს „სდექ“ სიგნალს მარეგულირებლის მარჯვენა გვერდისა და ზურგის მხრიდან მოძრავი ყველა მძღოლისათვის; ამასთანავე, მარეგულირებლის მარცხენა გვერდის მხრიდან ტრამვაის უფლება აქვს, იმოძრაოს მარცხნივ, ხოლო ურელსო სატრანსპორტო საშუალებას უფლება აქვს, იმოძრაოს ყველა მიმართულებით. მარეგულირებლის მკერდის მხრიდან ყველა სატრანსპორტო საშუალებას უფლება აქვს, იმოძრაოს მხოლოდ მარჯვნივ. ქვეითს უფლება აქვს, გადავიდეს სავალ ნაწილზე მარეგულირებლის ზურგის უკან; ამავე კანონის 32-ე მუხლის მე-5 პუნქტის თანახმად, გარდა იმ შემთხვევისა, როცა მოხვევა სრულდება გზაჯვარედინზე გასასვლელად, სადაც წრიული მოძრაობაა ორგანიზებული, მარჯვნივ ან მარცხნივ მოხვევის წინ, აგრეთვე მობრუნების წინ სატრანსპორტო საშუალების მძღოლი ვალდებულია დროულად დაიკავოს შესაბამისი განაპირა მდებარეობა სავალ ნაწილზე, რომელიც თანმხვედრი მიმართულებით მოძრაობისთვისაა განკუთვნილი.

QUESTION 243

CORRECT ANSWER: 3



In which direction is a car driver allowed to proceed at this signal of the traffic controller?

1

To the left only

2

To the left and backward (U-turn) only

3

All shown directions

4


Straight and to the right only

ბანმარტეზა:

„საგზაო მოძრაობის შესახებ“ საქართველოს კანონის 30-ე მუხლის მე-5 პუნქტის „გ“ ქვეპუნქტის თანახმად, მარეგულირებლის სიგნალებს აქვთ შემდეგი მნიშვნელობა - წინ გაშვებული მარჯვენა ხელი – ეს ჟესტი ნიშნავს „სდექ“ სიგნალს მარეგულირებლის მარჯვენა გვერდისა და ზურგის მხრიდან მოძრავი ყველა მძღოლისათვის; ამასთანავე, მარეგულირებლის მარცხენა გვერდის მხრიდან ტრამვაის უფლება აქვს, იმოძრაოს მარცხნივ, ხოლო ურელსო სატრანსპორტო საშუალებას უფლება აქვს, იმოძრაოს ყველა მიმართულებით. მარეგულირებლის მკერდის მხრიდან ყველა სატრანსპორტო საშუალებას უფლება აქვს, იმოძრაოს მხოლოდ მარჯვნივ. ქვეითს უფლება აქვს, გადავიდეს სავალ ნაწილზე მარეგულირებლის ზურგის უკან.

QUESTION 244

CORRECT ANSWER: 3



Which of the car drivers is allowed to proceed to the arrow direction at this signal of the traffic controller?

1

Yellow car driver only

2

White car driver only

3

Both of them

4

None of them

განმარტება:

„საგზაო მოძრაობის შესახებ“ საქართველოს კანონის 30-ე მუხლის მე-5 პუნქტის „გ“ ქვეპუნქტის თანახმად, მარეგულირებლის სიგნალებს აქვთ შემდეგი მნიშვნელობა - წინ გაშვებული მარჯვენა ხელი – ეს ჟესტი ნიშნავს „სდექ“ სიგნალს მარეგულირებლის მარჯვენა გვერდისა და ზურგის მხრიდან მოძრავი ყველა მძღოლისათვის; ამასთანავე, მარეგულირებლის მარცხენა გვერდის მხრიდან ტრამვაის უფლება აქვს, იმოძრაოს მარცხნივ, ხოლო ურელსო სატრანსპორტო საშუალებას უფლება აქვს, იმოძრაოს ყველა მიმართულებით. მარეგულირებლის მკერდის მხრიდან ყველა სატრანსპორტო საშუალებას უფლება აქვს, იმოძრაოს მხოლოდ მარჯვნივ. ქვეითს უფლება აქვს, გადავიდეს სავალ ნაწილზე მარეგულირებლის ზურგის უკან.

QUESTION 245

CORRECT ANSWER: 2



Which vehicle driver is allowed to proceed to the arrow direction at this signal of the traffic controller, if operative vehicle has special blue flashing light and honks switched on?

1

Operative vehicle driver only

2

Lorry and red motor car drivers only

3

All of them

ბანმარტება:

„საგზაო მოძრაობის შესახებ“ საქართველოს კანონის 30-ე მუხლის მე-5 პუნქტის „გ“ ქვეპუნქტის თანახმად, მარეგულირებლის სიგნალებს აქვთ შემდეგი მნიშვნელობა - წინ გაშვებული მარჯვენა ხელი – ეს ჟესტი ნიშნავს „სდექ“ სიგნალს მარეგულირებლის მარჯვენა გვერდისა და ზურგის მხრიდან მოძრავი ყველა მძღოლისათვის; ამასთანავე, მარეგულირებლის მარცხენა გვერდის მხრიდან ტრამვაის უფლება აქვს, იმოძრაოს მარცხნივ, ხოლო ურელსო სატრანსპორტო საშუალებას უფლება აქვს, იმოძრაოს ყველა მიმართულებით. მარეგულირებლის მკერდის მხრიდან ყველა სატრანსპორტო საშუალებას უფლება აქვს, იმოძრაოს მხოლოდ მარჯვნივ. ქვეითს უფლება აქვს, გადავიდეს სავალ ნაწილზე მარეგულირებლის ზურგის უკან; ამავე კანონის 51-ე მუხლის პირველი პუნქტის თანახმად, ოპერატიული ან სპეციალური სამსახურის სატრანსპორტო საშუალების მძღოლს, რომელსაც სატრანსპორტო საშუალებაზე ჩართული აქვს ლურჯი მოელვარე სპეციალური ციმციმა სიგნალი და ასრულებს სამსახურებრივ დავალებას, შეუძლია საგზაო მოძრაობის უსაფრთხოების უზრუნველყოფის პირობების დაცვით გადაუხვიოს ამ კანონის 25-ე, 31-ე–41-ე და 44-ე მუხლებით, აგრეთვე ამ კანონის № 1 და № 2 დანართებით დადგენილ მოთხოვნებს.

QUESTION 246

CORRECT ANSWER: 1



Which vehicle driver shall be obliged to yield when driving to the arrow direction at this signal of traffic controller?

1

Motor car driver

2

Tram driver

განმარტება:

„საგზაო მოძრაობის შესახებ“ საქართველოს კანონის 30-ე მუხლის მე-5 პუნქტის „გ“ ქვეპუნქტის თანახმად, მარეგულირებლის სიგნალებს აქვთ შემდეგი მნიშვნელობა - წინ გაშვებული მარჯვენა ხელი - ეს ჟესტი ნიშნავს „სდექ“ სიგნალს მარეგულირებლის მარჯვენა გვერდისა და ზურგის მხრიდან მოძრავი ყველა მძღოლისათვის; ამასთანავე, მარეგულირებლის მარცხენა გვერდის მხრიდან ტრამვაის უფლება აქვს, იმოძრაოს მარცხნივ, ხოლო ურელსო სატრანსპორტო საშუალებას უფლება აქვს, იმოძრაოს ყველა მიმართულებით. მარეგულირებლის მკერდის მხრიდან ყველა სატრანსპორტო საშუალებას უფლება აქვს, იმოძრაოს მხოლოდ მარჯვნივ. ქვეითს უფლება აქვს, გადავიდეს სავალ ნაწილზე მარეგულირებლის ზურგის უკან. ამავე კანონის 36-ე მუხლის მე-3 პუნქტის „დ“ ქვეპუნქტის თანახმად, რეგულირებულ გზაჯვარედინზე თუ მარეგულირებლის სიგნალი ერთდროულად მოძრაობის ნებას რთავს ურთიერთგადამკვეთი ტრაექტორიებით მოძრავ ურელსო სატრანსპორტო საშუალებებს, მძღოლებმა უნდა იხელმძღვანელონ არარეგულირებული გზაჯვარედინის გავლის წესებითა და გზაჯვარედინზე დაყენებული პრიორიტეტის ნიშნებით;

QUESTION 247

CORRECT ANSWER: 1



Proceeding to the arrow direction at this signal of the traffic controller is allowed to:

1

Blue car driver

2

White car driver

3

None of them

4

Both of them

განმარტება:

„საგზაო მოძრაობის შესახებ“ საქართველოს კანონის 30-ე მუხლის მე-5 პუნქტის „ბ“ ქვეპუნქტის თანახმად, მარეგულირებლის სიგნალებს აქვთ შემდეგი მნიშვნელობა - განზე გაშვებული ან ჩამოშვებული ხელები - ეს ჟესტი ნიშნავს „სდექ“ სიგნალს იმ საგზაო მოძრაობის მონაწილეებისათვის, რომლებიც, მათი მოძრაობის მიმართულების მიუხედავად, მოძრაობენ იმ მიმართულებით, რომელიც კვეთს მარეგულირებლის განვლილი ხელით ან ხელებით მინიშნებულ მიმართულებას; ამასთანავე, მარეგულირებლის მარჯვენა და მარცხენა გვერდების მხრიდან ტრამვაის უფლება აქვს, იმოძრაოს პირდაპირ, ურელსო სატრანსპორტო საშუალებას უფლება აქვს, იმოძრაოს პირდაპირ და მარჯვნივ, ხოლო ქვეითს უფლება აქვს, გადავიდეს გზის სავალ ნაწილზე.

QUESTION 248

CORRECT ANSWER: 3



In which direction is a car driver allowed to proceed at this signal of the traffic controller?

1

Straight and to the left only

2

Straight and to the right only

3


Straight only

განმარტება:

„საგზაო მოძრაობის შესახებ“ საქართველოს კანონის 30-ე მუხლის მე-5 პუნქტის „ბ“ ქვეპუნქტის თანახმად, მარეგულირებლის სიგნალებს აქვთ შემდეგი მნიშვნელობა - განზე გაშვებული ან ჩამოშვებული ხელები - ეს უესტი ნიშნავს „სდექ“ სიგნალს იმ საგზაო მოძრაობის მონაწილეებისათვის, რომლებიც, მათი მოძრაობის მიმართულების მიუხედავად, მოძრაობენ იმ მიმართულებით, რომელიც კვეთს მარეგულირებლის განვდილი ხელით ან ხელებით მინიშნებულ მიმართულებას; ამასთანავე, მარეგულირებლის მარჯვენა და მარცხენა გვერდების მხრიდან ტრამვაის უფლება აქვს, იმოძრაოს პირდაპირ, ურელსო სატრანსპორტო საშუალებას უფლება აქვს, იმოძრაოს პირდაპირ და მარჯვნივ, ხოლო ქვეითს უფლება აქვს, გადავიდეს გზის სავალ ნაწილზე; ამავე კანონის 32-ე მუხლის მე-5 პუნქტის თანახმად, გარდა იმ შემთხვევისა, როცა მოხვევა სრულდება გზატკარციდინზე გასასვლელად, სადაც წრიული მოძრაობაა ორგანიზებული, მარჯვნივ ან მარცხნივ მოხვევის წინ, აგრეთვე მობრუნების წინ სატრანსპორტო საშუალების მძღოლი ვალდებულია დროულად დაიკავოს შესაბამისი განაპირა მდებარეობა სავალ ნაწილზე, რომელიც თანმხვედრი მიმართულებით მოძრაობისთვისაა განკუთვნილი.

QUESTION 249

CORRECT ANSWER: 2



In which direction is a car driver allowed to proceed at this signal of the traffic controller?

1

Straight only

2

Straight and to the right only

3

To the right and left only

4


All shown directions

განმარტება:

„საგზაო მოძრაობის შესახებ“ საქართველოს კანონის 30-ე მუხლის მე-5 პუნქტის „ბ“ ქვეპუნქტის თანახმად, მარეგულირებლის სიგნალებს აქვთ შემდეგი მნიშვნელობა - განზე გაშვებული ან ჩამოშვებული ხელები - ეს უესტი ნიშნავს „სდექ“ სიგნალს იმ საგზაო მოძრაობის მონაწილეებისათვის, რომლებიც, მათი მოძრაობის მიმართულების მიუხედავად, მოძრაობენ იმ მიმართულებით, რომელიც კვეთს მარეგულირებლის განვდილი ხელით ან ხელებით მინიშნებულ მიმართულებას; ამასთანავე, მარეგულირებლის მარჯვენა და მარცხენა გვერდების მხრიდან ტრამვაის უფლება აქვს, იმოძრაოს პირდაპირ, ურელსო სატრანსპორტო საშუალებას უფლება აქვს, იმოძრაოს პირდაპირ და მარჯვნივ, ხოლო ქვეითს უფლება აქვს, გადავიდეს გზის სავალ ნაწილზე; ამავე კანონის 32-ე მუხლის მე-5 პუნქტის თანახმად, გარდა იმ შემთხვევისა, როცა მოხვევა სრულდება გზატკარციდინზე გასასვლელად, სადაც წრიული მოძრაობაა ორგანიზებული, მარჯვნივ ან მარცხნივ მოხვევის წინ, აგრეთვე მობრუნების წინ სატრანსპორტო საშუალების მძღოლი ვალდებულია დროულად დაიკავოს შესაბამისი განაპირა მდებარეობა სავალ ნაწილზე, რომელიც თანმხვედრი მიმართულებით მოძრაობისთვისაა განკუთვნილი.

QUESTION 250

CORRECT ANSWER: 3



A motor car driver is allowed to proceed at this signal of the traffic controller:

1

In directions A and C only

2

In directions B and D only

3


In all shown directions

ბანმარტეზა:

„საგზაო მოძრაობის შესახებ“ საქართველოს კანონის 30-ე მუხლის მე-5 პუნქტის „გ“ ქვეპუნქტის თანახმად, მარეგულირებლის სიგნალებს აქვთ შემდეგი მნიშვნელობა - წინ გაშვებული მარჯვენა ხელი - ეს ჟესტი ნიშნავს „სდექ“ სიგნალს მარეგულირებლის მარჯვენა გვერდისა და ზურგის მხრიდან მოძრავი ყველა მძღოლისათვის; ამასთანავე, მარეგულირებლის მარცხენა გვერდის მხრიდან ტრამვაის უფლება აქვს, იმოძრაოს მარცხნივ, ხოლო ურელსო სატრანსპორტო საშუალებას უფლება აქვს, იმოძრაოს ყველა მიმართულებით. მარეგულირებლის მკერდის მხრიდან ყველა სატრანსპორტო საშუალებას უფლება აქვს, იმოძრაოს მხოლოდ მარჯვნივ. ქვეითს უფლება აქვს, გადავიდეს სავალ ნაწილზე მარეგულირებლის ზურგის უკან.

QUESTION 251

CORRECT ANSWER: 1



A motor car driver is allowed to proceed at this signal of the traffic controller:

1

None of the directions

2

In directions A and D only

3

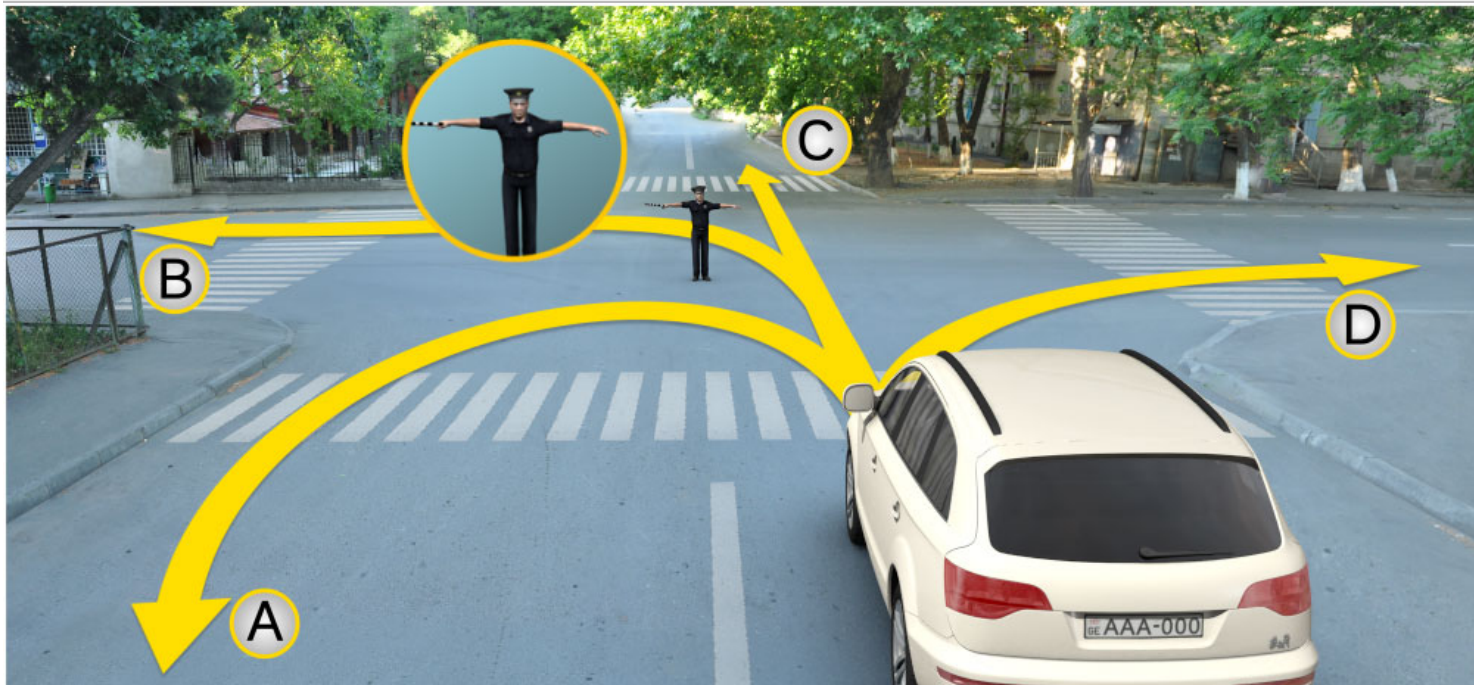
In directions B and C only

განმარტება:

„საგზაო მოძრაობის შესახებ“ საქართველოს კანონის 30-ე მუხლის მე-5 პუნქტის „ა“ ქვეპუნქტის თანახმად, მარეგულირებლის სიგნალებს აქვთ შემდეგი მნიშვნელობა - ზემოთ აწეული ერთი ხელი - ეს აესტი ყველა საგზაო მოძრაობის მონაწილისათვის ნიშნავს „ყურადღება, სდექ“ სიგნალს, გარდა იმ მძღოლებისა, რომლებიც უკვე ვეღარ შეძლებენ გაჩერებას მკვეთრი დამუხრუჭებისა და საკმაო უსაფრთხოების პირობების დაცვით. გარდა ამისა, თუ ეს სიგნალი მიცემულია გზაჯვარედინზე, მძღოლს, რომელიც უკვე შესულია გზაჯვარედინზე, შეუძლია განაგრძოს მოძრაობა. ქვეითმა, რომელიც სიგნალის მიცემისას გზის სავალ ნაწილზე იმყოფება, უნდა გაათავისუფლოს იგი, ხოლო თუ ეს შეუძლებელია – უნდა გაჩერდეს ურთიერთსაპირისპირო მიმართულებით მოძრავი სატრანსპორტო ნაკადების გამყოფ ხაზზე.

QUESTION 252

CORRECT ANSWER: 2



A motor car driver is allowed to proceed at this signal of the traffic controller:

1

In directions A and C only

2

None of the directions

3

In directions B and D only

განმარტება:

„საგზაო მოძრაობის შესახებ“ საქართველოს კანონის 30-ე მუხლის მე-5 პუნქტის „ბ“ ქვეპუნქტის თანახმად, მარეგულირებლის სიგნალებს აქვთ შემდეგი მნიშვნელობა - განზე გაშვებული ან ჩამოშვებული ხელები - ეს ჟესტი ნიშნავს „სდექ“ სიგნალს იმ საგზაო მოძრაობის მონაწილეებისათვის, რომლებიც, მათი მოძრაობის მიმართულების მიუხედავად, მოძრაობენ იმ მიმართულებით, რომელიც კვეთს მარეგულირებლის განვდილი ხელით ან ხელებით მინიშნებულ მიმართულებას; ამასთანავე, მარეგულირებლის მარჯვენა და მარცხენა გვერდების მხრიდან ტრამვაის უფლება აქვს, იმოძრაოს პირდაპირ, ურელსო სატრანსპორტო საშუალებას უფლება აქვს, იმოძრაოს პირდაპირ და მარჯვნივ, ხოლო ქვეითს უფლება აქვს, გადავიდეს გზის სავალ ნაწილზე.

QUESTION 253

CORRECT ANSWER: 1

If the orders of the traffic controller's signal contradict to the orders of the traffic lights, traffic signs and road markings, the traffic participants shall be obliged to carry out:

1

Orders of the traffic controller's signal

2

Orders of the traffic lights signal

3

Orders of the road marking

4

Orders of the traffic sign

განმარტება:

„საგზაო მოძრაობის შესახებ“ საქართველოს კანონის 28-ე მუხლის მე-2 პუნქტის თანახმად, მარეგულირებლის სიგნალებს აქვს უპირატესი ძალა შექნიშნის მაშუქი სიგნალების, საგზაო ნიშნებისა და საგზაო მონიშვნების მოთხოვნების და საგზაო მოძრაობის წესების მოთხოვნების მიმართ. გზაჯვარედინზე მარეგულირებლის მიერ მოძრაობის რეგულირებისას ამკრძალავი და მიმითითებელი საგზაო ნიშნები აგრძელებს მოქმედებას, გარდა იმ შემთხვევისა, როდესაც მარეგულირებელი კონკრეტულად მიუთითებს მათი მოთხოვნების უგულებელყოფაზე.

QUESTION 254

CORRECT ANSWER: 4

Traffic controller may give the signal with:

1

Black-and-white striped cudgel or red reflective disc only

2

Only by hand or disc, on which a traffic sign - traffic is prohibited - is depicted

3

Only red or yellow flags or red light motion

4

By any means listed in given test

განმარტება:

„საგზაო მოძრაობის შესახებ“ საქართველოს კანონის 30-ე მუხლის მე-9 პუნქტის თანახმად, მარეგულირებელი სიგნალს აძლევს: ა) შავი და თეთრი ბოლების მქონე ხელკეტი; ბ) შექამრეკლი წითელი დისკით; გ) დისკით, რომელზედაც გამოსახულია საგზაო ნიშანი „მოძრაობა აკრძალულია“; დ) ხელით; ე) წითელი ან ყვითელი ალმით; ვ) წითელი სინათლის მოძრაობით.

QUESTION 255

CORRECT ANSWER: 2

Additional signal given by the traffic controller by whistle shall:

1

Prohibit motion

2

Be intended for attraction of attention of the traffic participants

3

Allow motion

4

Warn about approaching hazard

განმარტება:

„საგზაო მოძრაობის შესახებ“ საქართველოს კანონის 30-ე მუხლის მე-10 პუნქტის თანახმად, მარეგულირებლის მიერ სასტვენით მიცემული დამატებითი სიგნალი გამიზნულია მოძრაობის მონაწილეების ყურადღების მისაპყრობად.

QUESTION 256

CORRECT ANSWER: 1

If the traffic controllers' signals contradict to the orders of the traffic lights signals, the traffic participants shall be obliged to carry out:

1

Orders of the traffic controller's signal

2

Orders of the traffic lights signal

განმარტება:

„საგზაო მოძრაობის შესახებ“ საქართველოს კანონის 28-ე მუხლის მე-2 პუნქტის თანახმად, მარეგულირებლის სიგნალებს აქვს უპირატესი ძალა შექნიშნის მაშუქი სიგნალების, საგზაო ნიშნებისა და საგზაო მონიშვნების მოთხოვნების და საგზაო მოძრაობის წესების მოთხოვნების მიმართ. გზაჯვარედინზე მარეგულირებლის მიერ მოძრაობის რეგულირებისას ამკრძალავი და მიმთითებელი საგზაო ნიშნები აგრძელებს მოქმედებას, გარდა იმ შემთხვევისა, როდესაც მარეგულირებელი კონკრეტულად მიუთითებს მათი მოთხოვნების უგულებელყოფაზე.

QUESTION 257

CORRECT ANSWER: 3



In the present situation, the motor car driver is obliged to:

1

Proceed

2

Stop at least 10 meters from the nearest rail

3

Stop at the "STOP" line

4

Stop at the traffic light

ბანმარტეზა:

„საგზაო მოძრაობის შესახებ“ საქართველოს კანონის 39-ე მუხლის მე-4 პუნქტის თანახმად, რკინიგზის გადასასვლელზე მოძრაობის ამკრძალავი სიგნალის მიცემისას მარეგულირებელი დგას მძღოლის მიმართ მკერდით ან ზურგშეცევით, თავის ზემოთ აწეული კვერთხით, წითელი ფარნით ან ალმით ან განზე გაწეული ხელებით. ამავე მუხლის პირველი პუნქტის „გ“ ქვეპუნქტის თანახმად, მარეგულირებლის ან შუქნიშნის ამკრძალავი სიგნალის დროს არცერთი საგზაო მოძრაობის მონაწილე არ უნდა შევიდეს რკინიგზის გადასასვლელზე, მიუხედავად შლაგბაუმის ან ნახევარშლაგბაუმის მდგომარეობისა ან მისი არსებობისა. ამავე მუხლის მე-3 პუნქტის თანახმად თუ რკინიგზის გადასასვლელზე მოძრაობა აკრძალულია, მძღოლი ჩერდება „სდექ“ ხაზთან, 2.4 საგზაო ნიშანთან ან შუქნიშანთან, ხოლო მათი არარსებობისას – შლაგბაუმიდან ან ნახევარშლაგბაუმიდან არანაკლებ 5 მეტრისა. თუ არ არის არც შლაგბაუმი და არც ნახევარშლაგბაუმი, მძღოლი უნდა გაჩერდეს უახლოეს რელსამდე არანაკლებ 10 მეტრისა.

QUESTION 258

CORRECT ANSWER: 2



In the present situation, the motor car driver is obliged to:

1

Proceed

2

Stop at the "STOP" line

3

Stop at least 10 meters from the nearest rail

4

Stop at the traffic light

ბანმარტუბა:

„საგზაო მოძრაობის შესახებ“ საქართველოს კანონის 39-ე მუხლის მე-4 პუნქტის თანახმად, რკინიგზის გადასასვლელზე მოძრაობის ამკრძალავი სიგნალის მიცემისას მარეგულირებელი დგას მძღოლის მიმართ მკერდით ან ზურგშეცევით, თავის ზემოთ აწეული კვერთხით, წითელი ფარნით ან ალმით ან განზე გაწეული ხელებით. ამავე მუხლის პირველი პუნქტის „გ“ ქვეპუნქტის თანახმად, მარეგულირებლის ან შუქნიშნის ამკრძალავი სიგნალის დროს არცერთი საგზაო მოძრაობის მონაწილე არ უნდა შევიდეს რკინიგზის გადასასვლელზე, მიუხედავად შლაგბაუმის ან ნახევარშლაგბაუმის მდგომარეობისა ან მისი არსებობისა. ამავე მუხლის მე-3 პუნქტის თანახმად თუ რკინიგზის გადასასვლელზე მოძრაობა აკრძალულია, მძღოლი ჩერდება „სდექ“ ხაზთან, 2.4 საგზაო ნიშანთან ან შუქნიშანთან, ხოლო მათი არარსებობისას – შლაგბაუმიდან ან ნახევარშლაგბაუმიდან არანაკლებ 5 მეტრისა. თუ არ არის არც შლაგბაუმი და არც ნახევარშლაგბაუმი, მძღოლი უნდა გაჩერდეს უახლოეს რელსამდე არანაკლებ 10 მეტრისა.

QUESTION 259

CORRECT ANSWER: 1



In the present situation, is a driver allowed to proceed without stopping if operative vehicle has special blue flashing light and honks switched on?

1

No

2

Yes

განმარტება:

„საგზაო მოძრაობის შესახებ“ საქართველოს კანონის 39-ე მუხლის მე-4 პუნქტის თანახმად, რკინიგზის გადასასვლელზე მოძრაობის ამკრძალავი სიგნალის მიცემისას მარეგულირებელი დგას მძღოლის მიმართ მკერდით ან ზურგშეცევით, თავის ზემოთ აწეული კვერთხით, წითელი ფარნით ან ალმით ან განზე გაწეული ხელებით. ამავე კანონის 30-ე მუხლის მე-7 პუნქტის „ბ“ ქვეპუნქტის თანახმად მძღოლი, რომელსაც მარეგულირებელმა სიგნალის მიცემით აუკრძალა მოძრაობა, ვალდებულია გაჩერდეს რკინიგზის გადასასვლელის წინ – ამ კანონის 39-ე მუხლის მე-3 პუნქტის შესაბამისად. ამავე კანონის 51 მუხლის პირველი პუნქტის თანახმად, ოპერატიული ან ოპერატიული ან სპეციალური სამსახურის სატრანსპორტო საშუალების მძღოლს, რომელსაც სატრანსპორტო საშუალებაზე ჩართული აქვს ლურჯი მოელვარე სპეციალური ციმციმა სიგნალი და ასრულებს სამსახურებრივ დავალებას, შეუძლია საგზაო მოძრაობის უსაფრთხოების უზრუნველყოფის პირობების დაცვით გადაუხვიოს ამ კანონის 25-ე, 31-ე–41-ე და 44-ე მუხლებით, აგრეთვე ამ კანონის №1 და №2 დანართებით დადგენილ მოთხოვნებს.

QUESTION 260

CORRECT ANSWER: 2

If traffic of the vehicles on the road with crosswalk is regulated by a traffic controller, on traffic restriction signal the drivers must stop:

- 1 In front of the traffic controller
- 2 In front of crosswalk or lateral marking posted before it
- 3 On reverse traffic lane

განმარტება:

„საგზაო მოძრაობის შესახებ“ საქართველოს კანონის 25-ე მუხლის მე-2 პუნქტის „ა“ ქვეპუნქტის თანახმად, ქვეითთა გადასასვლელზე ამ კანონის 21-ე მუხლის მე-6 პუნქტით, 33-ე მუხლის მე-2 პუნქტითა და 34-ე მუხლის მე-11 პუნქტით დადგენილ მოთხოვნათა დაცვით უნდა შესრულდეს შემდეგი მოთხოვნები: ა) თუ სატრანსპორტო საშუალებათა მოძრაობა საგზაო შუენიშნით ან მარეგულირებლის მეშვეობით რეგულირდება, მოძრაობის ამკრძალავი სიგნალის დროს მძღოლი უნდა გაჩერდეს ქვეითთა გადასასვლელის წინ ან მის წინ მდებარე განივ მონიშვნასთან.

QUESTION 261

CORRECT ANSWER: 1

“Traffic controller” is an official defined by the Georgian legislation with the right of traffic regulation, which is entitled within the scope of his/her competence to:

- 1 Limit motion of a traffic participant, change the direction and/or stop his/her motion
- 2 Impose administrative penalty to the violating driver only

განმარტება:

„საგზაო მოძრაობის შესახებ“ საქართველოს კანონის 5-ე მუხლის 32-ე პუნქტის თანახმად, მარეგულირებელი - საქართველოს კანონმდებლობით განსაზღვრული, საგზაო მოძრაობის რეგულირების უფლებამოსილების მქონე პირი, რომელსაც თავისი კომპეტენციის ფარგლებში უფლება აქვს, საგზაო მოძრაობის მონაწილეს შეუზღუდოს მოძრაობა, შეუცვალოს მიმართულება ან/და შეაჩეროს მისი მოძრაობა.

QUESTION 262

CORRECT ANSWER: 2

If signal of the traffic controller allows simultaneous motion to the vehicles without rails routing by intercrossing trajectories, the drivers shall be guided with:

- 1 The orders of the road markings defining the priorities only
- 2 The orders of passing the unregulated intersection and the priority signs posted on the intersection

განმარტება:

„საგზაო მოძრაობის შესახებ“ საქართველოს კანონის 36-ე მუხლის მე-3 პუნქტის „დ“ ქვეპუნქტის თანახმად, რეგულირებულ გზაჯვარედინზე, თუ მარეგულირებლის სიგნალი ერთდროულად მოძრაობის ნებას რთავს ურთიერთგადამკვეთი ტრაექტორიებით მოძრავ ურელსო სატრანსპორტო საშუალებებს, მძღოლებმა უნდა იხელმძღვანელონ არარეგულირებული გზაჯვარედინის გავლის წესებითა და გზაჯვარედინზე დაყენებული პრიორიტეტის ნიშნებით.

QUESTION 263

CORRECT ANSWER: 1

Is stopping of a lorry on the left side of the driveway of one-way road allowed?


- 1 Yes, during loading or unloading of the vehicle only
- 2 No
- 3 Yes, in any case, at the discretion of the driver

განმარტება:

„საგზაო მოძრაობის შესახებ“ საქართველოს კანონის 37-ე მუხლის მე-2 პუნქტის „გ“ ქვეპუნქტის თანახმად, სატრანსპორტო საშუალება, რომელიც ჩერდება ან დგას სავალ ნაწილზე, უნდა იმყოფებოდეს სავალი ნაწილის კიდეგან რაც შეიძლება ახლოს. მძღოლს შეუძლია გაჩერდეს ან დააყენოს სატრანსპორტო საშუალება სავალ ნაწილზე, მარჯვენა მხარეს. სატრანსპორტო საშუალების გაჩერება და დგომა სავალი ნაწილის მარცხენა მხარეს ნებადართულია ცალმხრივმოძრაობიანი გზის სავალ ნაწილზე (სატვირთო ავტომობილის ცალმხრივი მოძრაობის გზის მარცხენა მხარეს გაჩერება ნებადართულია მხოლოდ მისი დატვირთვის ან გადმოტვირთვის დროს).

QUESTION 264

CORRECT ANSWER: 2



In which direction is a motor car driver allowed to proceed further at this signal of the traffic controller?

1

In directions B and C only

2

In directions A, B and D only

3

In directions A and D only

4


In all the above directions

განმარტება:

„საგზაო მოძრაობის შესახებ“ საქართველოს კანონის 30-ე მუხლის მე-5 პუნქტის „გ“ ქვეპუნქტის თანახმად, მარეგულირებლის სიგნალებს აქვთ შემდეგი მნიშვნელობა - წინ გაშვებული მარჯვენა ხელი – ეს ჟესტი ნიშნავს „სდექ“ სიგნალს მარეგულირებლის მარჯვენა გვერდისა და ზურგის მხრიდან მოძრავი ყველა მძღოლისათვის; ამასთანავე, მარეგულირებლის მარცხენა გვერდის მხრიდან ტრამვაის უფლება აქვს, იმოძრაოს მარცხნივ, ხოლო ურელსო სატრანსპორტო საშუალებას უფლება აქვს, იმოძრაოს ყველა მიმართულებით. მარეგულირებლის მკერდის მხრიდან ყველა სატრანსპორტო საშუალებას უფლება აქვს, იმოძრაოს მხოლოდ მარჯვნივ. ქვეითს უფლება აქვს, გადავიდეს სავალ ნაწილზე მარეგულირებლის ზურგის უკან. ამავე კანონის 28-ე მუხლის მე-2 პუნქტის თანახმად, მარეგულირებლის სიგნალებს აქვს უპირატესი ძალა შეჩიშნის მაშუქი სიგნალების, საგზაო ნიშნებისა და საგზაო მონიშვნების მოთხოვნების და საგზაო მოძრაობის წესების მოთხოვნების მიმართ. გზაჯვარედინზე მარეგულირებლის მიერ მოძრაობის რეგულირებისას ამკრძალავი და მიმითითებელი საგზაო ნიშნები აგრძელებს მოქმედებას, გარდა იმ შემთხვევისა, როდესაც მარეგულირებელი კონკრეტულად მიუთითებს მათი მოთხოვნების უგულებელყოფაზე.

QUESTION 265

CORRECT ANSWER: 3



In which direction is a motor car driver allowed to proceed, if the traffic controller specifically indicates motion to the left?

1

Straight only

2

To the left only

3

To the left and backward (U-turn) only

4

In all shown directions

განმარტება:

„საგზაო მოძრაობის შესახებ“ საქართველოს კანონის 28-ე მუხლის მე-2 პუნქტის თანახმად, მარეგულირებლის სიგნალებს აქვს უპირატესი ძალა შუქნიშნის მაშუქი სიგნალების, საგზაო ნიშნებისა და საგზაო მონიშვნების მოთხოვნების და საგზაო მოძრაობის წესების მოთხოვნების მიმართ. გზატკარცილებზე მარეგულირებლის მიერ მოძრაობის რეგულირებისას ამკრძალავი და მიმითითებელი საგზაო ნიშნები აგრძელებს მოქმედებას, გარდა იმ შემთხვევისა, როდესაც მარეგულირებელი კონკრეტულად მიუთითებს მათი მოთხოვნების უგულებელყოფაზე.

თემა 12:

სპეციალური სიგნალის გამოყენება

QUESTION 266

CORRECT ANSWER: 1

Simultaneously switched red and amber traffic lights:

- | | | | |
|---|--|---|--|
| 1 | Prohibit motion and give information about expected switching of green traffic light | 2 | Allow traffic and give information about any hazard on the section of the road |
|---|--|---|--|

განმარტება:

„საგზაო მოძრაობის შესახებ“ საქართველოს კანონის 29-ე მუხლის მე-2 პუნქტის „ბ“ ქვეპუნქტის თანახმად, ერთობლივად ჩართული წითელი და ყვითელი მაშუქი სიგნალები კრძალავს მოძრაობას და იტყობინება მწვანე მაშუქი სიგნალის მოსალოდნელი ჩართვის შესახებ.

QUESTION 267

CORRECT ANSWER: 4

Following is not prohibited on the railroad crossing:

- | | | | |
|---|--|---|---|
| 1 | Driving round the vehicle stopped in front of the crossing by moving on the reverse lane | 2 | Casual opening of barrier or semi-barrier |
| 3 | Motion of slow-speed vehicle, which speed does not exceed 8 km/h and tractor sledge, without permission of the head, at the railway distance | 4 | To pass through it without stopping |

განმარტება:

„საგზაო მოძრაობის შესახებ“ საქართველოს კანონის 39-ე მუხლის მე-2 პუნქტის „ა“, „ბ“ და „დ“ ქვეპუნქტების თანახმად, რკინიგზის გადასასვლელზე აკრძალულია: ა) საპირისპირო მოძრაობის ზოლზე გასვლით, გადასასვლელის წინ მდგომი სატრანსპორტო საშუალების შემოვლა; ბ) შლაგბაუმის ან ნახევარშლაგბაუმის თვითნებური გახსნა; დ) რკინიგზის ლიანდაგის დისტანციის უფროსის ნებართვის გარეშე ნელმავალი სატრანსპორტო საშუალების, რომლის სიჩქარე არ აღემატება 8 კმ/სთ, და ტრაქტორის მარხილ-სათრეველას მოძრაობა.

QUESTION 268

CORRECT ANSWER: 3

The driver of an operative service vehicle despite the requirements of road signs and marking takes priority over traffic participants if s/he has turned on:

1

Special blue flashing light

2

Special blue and red flashing lights

3

Special blue flashing light and honks

განმარტება:

„საგზაო მოძრაობის შესახებ“ საქართველოს კანონის 51-ე მუხლის პირველი პუნქტის თანახმად, ოპერატიული ან სპეციალური სამსახურის სატრანსპორტო საშუალების მძღოლს, რომელსაც სატრანსპორტო საშუალებაზე ჩართული აქვს ლურჯი მოელვარე სპეციალური ციმციმა სიგნალი და ასრულებს სამსახურებრივ დავალებას, შეუძლია საგზაო მოძრაობის უსაფრთხოების უზრუნველყოფის პირობების დაცვით გადაუხვიოს ამ კანონის 25-ე, 31-ე–41-ე და 44-ე მუხლებით, აგრეთვე ამ კანონის №1 და №2 დანართებით დადგენილ მოთხოვნებს. ლურჯ მოელვარე სპეციალურ ციმციმა სიგნალთან ერთად დამატებით შეიძლება ჩაირთოს წითელი მოელვარე ციმციმა სიგნალიც. სხვა საგზაო მოძრაობის მონაწილეების მიმართ უპირატესობის მისაღებად ამ სატრანსპორტო საშუალების მძღოლმა უნდა ჩართოს ლურჯი მოელვარე სპეციალური ციმციმა სიგნალი და ხმოვანი სიგნალი. პრიორიტეტით სარგებლობა მხოლოდ მაშინ შეიძლება, როცა მძღოლი დარწმუნდება, რომ მას გზას უთმობენ.

QUESTION 269

CORRECT ANSWER: 1

Is the road traffic participant required to give way to the driven vehicle which has turned on dipped beam and is accompanied with operative service vehicle with turned on blue lights and sound signals?

1

Yes

2

No

განმარტება:

„საგზაო მოძრაობის შესახებ“ საქართველოს კანონის 51-ე მუხლის მე-2 პუნქტის თანახმად, საგზაო მოძრაობის მონაწილეები ვალდებული არიან, ოპერატიული ან სპეციალური სამსახურის სატრანსპორტო საშუალების მოახლოებისას, რომელსაც ჩართული აქვს ლურჯი მოელვარე სპეციალური ციმციმა სიგნალი და ხმოვანი სიგნალი ან/და რომელიც ხმამაღლამოლაპარაკე ხელსაწყოთი იძლევა სიგნალს, მას, აგრეთვე მის მიერ გასაცემებელ სატრანსპორტო საშუალებას, რომელსაც ჩართული აქვს ახლო განათების ფარები, გაუთავისუფლონ სავალ ნაწილზე ადგილი, ხოლო აუცილებლობის შემთხვევაში – გაჩერდნენ.

QUESTION 270

CORRECT ANSWER: 2

Upon approach of the operative or special vehicle, with special blue flashing light and honks switched on and/or giving signal with a loudspeaker, the traffic participants are obliged:

- 1 To stop immediately
- 2 To leave the driveway and in case of necessity to stop
- 3 To move to the extreme left lane of the same direction

განმარტება:

„საგზაო მოძრაობის შესახებ“ საქართველოს კანონის 51-ე მუხლის მე-2 პუნქტის თანახმად, საგზაო მოძრაობის მონაწილეები ვალდებული არიან, ოპერატიული ან სპეციალური სამსახურის სატრანსპორტო საშუალების მოახლოებისას, რომელსაც ჩართული აქვს ლურჯი მოელვარე სპეციალური ციმციმა სიგნალი და ხმოვანი სიგნალი ან/და რომელიც ხმამაღლამოლაპარაკე ხელსაწყოთი იძლევა სიგნალს, მას, აგრეთვე მის მიერ გასაცემებელ სატრანსპორტო საშუალებას, რომელსაც ჩართული აქვს ახლო განათების ფარები, გაუთავისუფლონ სავალ ნაწილზე ადგილი, ხოლო აუცილებლობის შემთხვევაში – გაჩერდნენ.

QUESTION 271

CORRECT ANSWER: 2

When approaching the special vehicle parked with special blue flashing light on, a driver shall:

- 1 Proceed without changing the speed
- 2 Slow down, in order to be able to stop the vehicle immediately in case of necessity
- 3 Increase the speed in order to pass the site in due time

განმარტება:

„საგზაო მოძრაობის შესახებ“ საქართველოს კანონის 51-ე მუხლის მე-3 პუნქტის თანახმად, ჩართული ლურჯი მოელვარე სპეციალური ციმციმა სიგნალით მდგომ სატრანსპორტო საშუალებასთან მიახლოებისას მძღოლმა უნდა შეანელოს სიჩქარე, რათა აუცილებლობის შემთხვევაში შეძლოს ტრანსპორტის დაუყოვნებლივ გაჩერება.

QUESTION 272

CORRECT ANSWER: 2

A driver of special vehicle has special orange flashing light switched on, when performing official duty, he/she may decline the requirements of the road signs and markings, if he/she:

1

Has low beams on

2

Provides traffic safety

3

Temporary road signs are fixed on the vehicle

განმარტება:

„საგზაო მოძრაობის შესახებ“ საქართველოს კანონის 51-ე მუხლის მე-4 პუნქტის თანახმად, მძღოლს, რომელსაც სატრანსპორტო საშუალებაზე ჩართული აქვს ნარინჯისფერი ან ყვითელი მოელვარე სპეციალური ციმციმა სიგნალი და რომელიც გზაზე ასრულებს სამშენებლო, სარემონტო ან დასასუფთავებელ სამუშაოებს, ან საინჟინსაციო სატრანსპორტო საშუალებით გადააქვს ძვირფასეულობა ან ფასიანი ქაღალდები, ან გადააქვს სახიფათო ტვირთი, ან გადაადგილდება არაგაბარიტული (მსხვილგაბარიტიანი) ან ზენორმატიული (მძიმეწონიანი) სატრანსპორტო საშუალებით, შეუძლია გადაუხვიოს საგზაო ნიშნებისა და მონიშვნების, აგრეთვე ამ კანონის 31-ე მუხლის მე-5–მე-10, მე-15 და მე-16 პუნქტებითა და 38-ე მუხლის პირველი პუნქტით დადგენილ მოთხოვნებს, თუ უზრუნველყოფს საგზაო მოძრაობის უსაფრთხოებას. ნარინჯისფერი ან ყვითელი მოელვარე სპეციალური ციმციმა სიგნალი არ იძლევა უპირატესობას საგზაო მოძრაობის სხვა მონაწილეების მიმართ და გამოიყენება ყურადღების მისაპყრობად მოსალოდნელი საშიშროების თავიდან აცილებისათვის.

QUESTION 273

CORRECT ANSWER: 2

Special yellow flashing light switched on the special vehicle are used:

1

For getting the priority over other traffic participants

2

To retain attention in order to avoid the expected hazard

განმარტება:

„საგზაო მოძრაობის შესახებ“ საქართველოს კანონის 51-ე მუხლის მე-4 პუნქტის თანახმად, მძღოლს, რომელსაც სატრანსპორტო საშუალებაზე ჩართული აქვს ნარინჯისფერი ან ყვითელი მოელვარე სპეციალური ციმციმა სიგნალი და რომელიც გზაზე ასრულებს სამშენებლო, სარემონტო ან დასასუფთავებელ სამუშაოებს, ან საინჟინსაციო სატრანსპორტო საშუალებით გადააქვს ძვირფასეულობა ან ფასიანი ქაღალდები, ან გადააქვს სახიფათო ტვირთი, ან გადაადგილდება არაგაბარიტული (მსხვილგაბარიტიანი) ან ზენორმატიული (მძიმეწონიანი) სატრანსპორტო საშუალებით, შეუძლია გადაუხვიოს საგზაო ნიშნებისა და მონიშვნების, აგრეთვე ამ კანონის 31-ე მუხლის მე-5–მე-10, მე-15 და მე-16 პუნქტებითა და 38-ე მუხლის პირველი პუნქტით დადგენილ მოთხოვნებს, თუ უზრუნველყოფს საგზაო მოძრაობის უსაფრთხოებას. ნარინჯისფერი ან ყვითელი მოელვარე სპეციალური ციმციმა სიგნალი არ იძლევა უპირატესობას საგზაო მოძრაობის სხვა მონაწილეების მიმართ და გამოიყენება ყურადღების მისაპყრობად მოსალოდნელი საშიშროების თავიდან აცილებისათვის.

QUESTION 274

CORRECT ANSWER: 2

Fixing of special flashing lights and honks on the vehicle, as well as special coloring of the vehicle shall be applied:

- 1 According to the rule defined by the Minister of Finance of Georgia
- 2 According to the rule defined by the Minister of Internal Affairs of Georgia
- 3 According to the rule defined by the Minister of Justice of Georgia

განმარტება:

„საგზაო მოძრაობის შესახებ“ საქართველოს კანონის 51-ე მუხლის მე-8 პუნქტის თანახმად, სატრანსპორტო საშუალებაზე სპეციალური ციმციმა სიგნალისა და ხმოვანი სიგნალის, აგრეთვე სპეციალური ხმამაღლამოლაპარაკე ხელსაწყო დაყენება და სატრანსპორტო საშუალებისათვის სპეციალური შეფერილობის მიცემა ხორციელდება საქართველოს შინაგან საქმეთა მინისტრის მიერ განსაზღვრული წესის შესაბამისად.

QUESTION 275

CORRECT ANSWER: 1

Together with special flashing light fixed on the special encashment vehicle, special honk shall be switched on:


- 1 Only in case of danger of attack or attack
- 2 In any case
- 3 While routing in low-visibility conditions

განმარტება:

„საგზაო მოძრაობის შესახებ“ საქართველოს კანონის 51-ე მუხლის მე-7 პუნქტის თანახმად, ინკასაციის სამსახურის სპეციალურ სატრანსპორტო საშუალებაზე დაყენებულ ნარინჯისფერ ან ყვითელ მოელვარე სპეციალურ ციმციმა სიგნალთან ერთად სპეციალური ხმოვანი სიგნალი ირთვება მხოლოდ თავდასხმის საშიშროების ან თავდასხმის შემთხვევაში.

QUESTION 276

CORRECT ANSWER: 3



The lorry with low beams on is accompanied by the operative vehicle, with special blue flashing light and honk on. When driving to the arrow direction, at this signal of the traffic lights, a bus driver must yield to:

1

None of the vehicle drivers

2

Operative vehicle driver only

3


Both operative vehicle and lorry drivers

განმარტება:

„საგზაო მოძრაობის შესახებ“ საქართველოს კანონის 51-ე მუხლის მე-2 პუნქტის თანახმად, საგზაო მოძრაობის მონაწილეები ვალდებული არიან, ოპერატიული ან სპეციალური სამსახურის სატრანსპორტო საშუალების მოახლოებისას, რომელსაც ჩართული აქვს ლურჯი მოელვარე სპეციალური ციმციმა სიგნალი და ხმოვანი სიგნალი ან/და რომელიც ხმამაღლამოლაპარაკე ხელსაწყოთი იძლევა სიგნალს, მას, აგრეთვე მის მიერ გასაცემს სატრანსპორტო საშუალებას, რომელსაც ჩართული აქვს ახლო განათების ფარები, გაუთავისუფლონ საგალ ნაწილზე ადგილი, ხოლო აუცილებლობის შემთხვევაში – გაჩერდნენ.

QUESTION 277

CORRECT ANSWER: 3



Which of the directions is operative vehicle driver allowed to proceed further at this signal of the traffic lights, if the car has special blue flashing lights switched on?

1

Straight and to the right only

2

To the right only

3

All shown directions

4

To the left and backward (U-turn) only

განმარტება:

„საგზაო მოძრაობის შესახებ“ საქართველოს კანონის 51-ე მუხლის პირველი პუნქტის თანახმად ოპერატიული ან სპეციალური სამსახურის სატრანსპორტო საშუალების მძღოლს, რომელსაც სატრანსპორტო საშუალებაზე ჩართული აქვს ლურჯი მოელვარე სპეციალური ციმციმა სიგნალი და ასრულებს სამსახურებრივ დავალებას, შეუძლია საგზაო მოძრაობის უსაფრთხოების უზრუნველყოფის პირობების დაცვით გადაუხვიოს ამ კანონის 25-ე, 31-ე—41-ე და 44-ე მუხლებით, აგრეთვე ამ კანონის №1 და №2 დანართებით დადგენილ მოთხოვნებს.

QUESTION 278

CORRECT ANSWER: 2



Is red car driver obliged to yield to the operative vehicle driver, if the special blue flashing light and honk are switched on the vehicle?

1

Yes

2

No

განმარტება:

„საგზაო მოძრაობის შესახებ“ საქართველოს კანონის 51-ე მუხლის მე-2 პუნქტის თანახმად, საგზაო მოძრაობის მონაწილეები ვალდებული არიან, ოპერატიული ან სპეციალური სამსახურის სატრანსპორტო საშუალების მოახლოებისას, რომელსაც ჩართული აქვს ლურჯი მოელვარე სპეციალური ციმციმა სიგნალი და ხმოვანი სიგნალი ან/და რომელიც ხმამაღლამოლაპარაკე ხელსაწყოთი იძლევა სიგნალს, მას, აგრეთვე მის მიერ გასაცემებელ სატრანსპორტო საშუალებას, რომელსაც ჩართული აქვს ახლო განათების ფარები, გაუთავისუფლონ სავალ ნაწილზე ადგილი, ხოლო აუცილებლობის შემთხვევაში – გაჩერდნენ.

QUESTION 279

CORRECT ANSWER: 1



Operative vehicle has special blue flashing light and honks switched on. Red car driver will not violate the Highway Code, if:

- | | |
|--|--|
| <p>1 Gives right-of-way to yellow bus and moves on the right lane</p> | <p>2 Does not yield to yellow bus and moves on the right lane</p> |
| <p>3 Proceed on the occupied lane</p> | |

განმარტება:

„საგზაო მოძრაობის შესახებ“ საქართველოს კანონის 51-ე მუხლის მე-2 პუნქტის თანახმად, საგზაო მოძრაობის მონაწილეები ვალდებული არიან, ოპერატიული ან სპეციალური სამსახურის სატრანსპორტო საშუალების მოახლოებისას, რომელსაც ჩართული აქვს ლურჯი მოელვარე სპეციალური ციმციმა სიგნალი და ხმოვანი სიგნალი ან/და რომელიც ხმამაღლამოლაპარაკე ხელსაწყოთი იძლევა სიგნალს, მას, აგრეთვე მის მიერ გასაცემებელ სატრანსპორტო საშუალებას, რომელსაც ჩართული აქვს ახლო განათების ფარები, გაუთავისუფლონ სავალ ნაწილზე ადგილი, ხოლო აუცილებლობის შემთხვევაში – გაჩერდნენ. ამავე კანონის 32-ე მუხლის მე-4 პუნქტის თანახმად მოძრაობის ზოლიდან ზოლში მოძრაობის მიმართულების შეუცვლელად გადასვლისას მძღოლმა გზა უნდა დაუთმოს გადასასვლელ მოძრაობის ზოლში თანმხვედრი მიმართულებით მოძრავ სატრანსპორტო საშუალებას.

QUESTION 280

CORRECT ANSWER: 3



Operative vehicle is stopped with special blue flashing light on. A motor car driver must proceed no faster than:

1

90 km/h

2

70 km/h

3

Speed, at which he/she will be able to stop the car immediately in case of necessity

განმარტება:

„საგზაო მოძრაობის შესახებ“ საქართველოს კანონის 51-ე მუხლის მე-3 პუნქტის თანახმად, ჩართული ლურჯი მოელვარე სპეციალური ციმციმა სიგნალით მდგომ სატრანსპორტო საშუალებასთან მიახლოებისას მძღოლმა უნდა შეანელოს სიჩქარე, რათა აუცილებლობის შემთხვევაში შეძლოს ტრანსპორტის დაუყოვნებლივ გაჩერება.

QUESTION 281

CORRECT ANSWER: 4



In which direction is operative vehicle driver allowed to proceed at this signal of the traffic lights, if the vehicle has special blue flashing lights on?

1

Straight and to the right only

2

Straight and to the left only

3

In all shown directions

4


Straight only

განმარტება:

„საგზაო მოძრაობის შესახებ“ საქართველოს კანონის 51-ე მუხლის პირველი პუნქტის თანახმად, ოპერატიული ან სპეციალური სამსახურის სატრანსპორტო საშუალების მძღოლს, რომელსაც სატრანსპორტო საშუალებაზე ჩართული აქვს ლურჯი მოელვარე სპეციალური ციმციმა სიგნალი და ასრულებს სამსახურებრივ დავალებას, შეუძლია საგზაო მოძრაობის უსაფრთხოების უზრუნველყოფის პირობების დაცვით გადაუხვიოს ამ კანონის 25-ე, 31-ე—41-ე და 44-ე მუხლებით, აგრეთვე ამ კანონის № 1 და № 2 დანართებით დადგენილ მოთხოვნებს. ამავე კანონის 32-ე მუხლის მე-5 პუნქტის თანახმად, გარდა იმ შემთხვევისა, როცა მოხვევა სრულდება გზატკარციდან გასასვლელად, სადაც წრიული მოძრაობაა ორგანიზებული, მარჯვნივ ან მარცხნივ მოხვევის წინ, აგრეთვე მობრუნების წინ სატრანსპორტო საშუალების მძღოლი ვალდებულია დროულად დაიკავოს შესაბამისი განაპირა მდებარეობა სავალ ნაწილზე, რომელიც თანმხვედრი მიმართულებით მოძრაობისთვისაა განკუთვნილი. ამავე კანონის პირველი დანართის მე-4 თავის (მიმთითებელი ნიშნები) 4.1.4 პუნქტისა და ამავე პუნქტის შენიშვნის „ა“ და „დ“ ქვეპუნქტების თანახმად, საგზაო ნიშანი 4.1.4 „მოძრაობა პირდაპირ ან მარჯვნივ“ რთავს მხოლოდ ისრებით ნაჩვენები მიმართულებებით მოძრაობის ნებას.

QUESTION 282

CORRECT ANSWER: 1



Lorry is carrying out the cleaning works on the highway. Is the lorry driver allowed to proceed to the arrow direction, if the vehicle has special blue flashing lights on?

1

Yes

2

No

განმარტება:

„საგზაო მოძრაობის შესახებ“ საქართველოს კანონის 51-ე მუხლის მე-4 პუნქტის თანახმად, მძღოლს, რომელსაც სატრანსპორტო საშუალებაზე ჩართული აქვს ნარინჯისფერი ან ყვითელი მოელვარე სპეციალური ციმციმა სიგნალი და რომელიც გზაზე ასრულებს სამშენებლო, სარემონტო ან დასასუფთავებელ სამუშაოებს, ან საინჟინსაციო სატრანსპორტო საშუალებით გადააქვს ძვირფასეულობა ან ფასიანი ქაღალდები, ან გადააქვს სახიფათო ტვირთი, ან გადაადგილდება არაგაბარითული (მსხვილგაბარითი) ან ზენორმატიული (მძიმეწონიანი) სატრანსპორტო საშუალებით, შეუძლია გადაუხვიოს საგზაო ნიშნებისა და მონიშვნების, აგრეთვე ამ კანონის 31-ე მუხლის მე-5–მე-10, მე-15 და მე-16 პუნქტებითა და 38-ე მუხლის პირველი პუნქტით დადგენილ მოთხოვნებს, თუ უზრუნველყოფს საგზაო მოძრაობის უსაფრთხოებას. ნარინჯისფერი ან ყვითელი მოელვარე სპეციალური ციმციმა სიგნალი არ იძლევა უპირატესობას საგზაო მოძრაობის სხვა მონაწილეების მიმართ და გამოიყენება ყურადღების მისაპყრობად მოსალოდნელი საშიშროების თავიდან აცილებისათვის.

თემა 13:

საავარიო ჰუქური სიგნალიზაცია

QUESTION 283

CORRECT ANSWER: 4



As indicated in the picture, a driver in case of stopping a vehicle in an uninhabited area:

- | | | | |
|---|--|---|--|
| 1 | Is required to turn the hazard lights on | 2 | Is required to put an 'emergency stop sign' behind a car |
| 3 | Is required to turn the hazard lights on and put an 'emergency stop sign' behind a car | 4 | Is not required to turn the hazard lights on and put an 'emergency stop sign' behind a car |

განმარტება:

„საგზაო მოძრაობის შესახებ“ საქართველოს კანონის 37-ე მუხლის პირველი პუნქტის თანახმად, სატრანსპორტო საშუალება, რომელიც ჩერდება ან დგას დაუსახლებელ პუნქტში, შესაძლებლობის ფარგლებში, სავალი ნაწილის გარეთ უნდა იმყოფებოდეს. ამავე კანონის 52-ე მუხლის პირველი პუნქტის „ბ“ და მე-2 პუნქტის „ბ“ ქვეპუნქტების თანახმად: 1. საავარიო შეჭური სიგნალიზაცია გამოიყენება მოსალოდნელი საფრთხის შესახებ სხვა საგზაო მოძრაობის მონაწილეთა გაფრთხილებისათვის. საავარიო შექსიგნალიზაცია უნდა ჩაირთოს იმ ადგილას იძულებითი გაჩერების დროს, სადაც გაჩერება აკრძალულია; 2. საავარიო შექსიგნალიზაციის ჩართვის შემდეგ, აგრეთვე თუ ასეთი სიგნალიზაცია არ არსებობს ან მწყობრიდანაა გამოსული, მძღოლმა დაუყოვნებლივ უნდა გამოდგას „საავარიო გაჩერების ნიშანი“, ხოლო არასაკმარისი მხედველობის პირობებში - მოციმციმე წითელი ფანარი იმ ადგილებში იძულებით გაჩერების დროს, სადაც გაჩერება აკრძალულია და იქ, სადაც ხილვადობის პირობების გათვალისწინებით, სხვა მძღოლები ვერ შესძლებენ სატრანსპორტო საშუალების დროულად შემჩნევას.

QUESTION 284

CORRECT ANSWER: 1

The vehicle is considered as forced stopped, if:


- 1 It stops motion for technical failure
- 2 If it stops motion deliberately for longer than 5 minutes, and this does not refer to passenger pick up and drop off or loading-unloading of the vehicle
- 3 It stops motion deliberately up to 5 minutes.

განმარტება:

„საგზაო მოძრაობის შესახებ“ საქართველოს კანონის მე-5 მუხლის მე-26 პუნქტის თანახმად იძულებით გაჩერება არის სატრანსპორტო საშუალების მოძრაობის შეწყვეტა მისი ტექნიკური გაუმართაობის, გადასაზიდი ტვირტის, მძღოლის (მგზავრის) მდგომარეობის ან გზაზე მოულოდნელად შექმნილი დაბრკოლებით განპირობებული საფრტხის გამო.

QUESTION 285

CORRECT ANSWER: 1



In the present situation is a driver violating the forced stop orders, if it is not possible to take the damaged vehicle from the road immediately?

1

No

2

Yes

განმარტება:

„საგზაო მოძრაობის შესახებ“ საქართველოს კანონის 42-ე მუხლის „ე“ პუნქტის თანახმად, საგზაო ნიშნით აღნიშნულ გვირაბებში მოქმედებს შემდეგი წესი იძულებითი გაჩერებისას მძღოლმა უნდა უზრუნველყოს ამ კანონით დადგენილი, აკრძალულ ადგილებში იძულებით გაჩერებასთან დაკავშირებული მოთხოვნების შესრულება. ამავე კანონის 52-ე მუხლის პირველი პუნქტის „ბ“ ქვეპუნქტის, მე-2 პუნქტის „ბ“ ქვეპუნქტისა და მე-3 პუნქტის თანახმად: - საავარიო შექერი სიგნალიზაცია უნდა ჩაერთოს იმ ადგილას იძულებითი გაჩერების დროს, სადაც გაჩერება აკრძალულია. - საავარიო შექსიგნალიზაციის ჩართვის შემდეგ, აგრეთვე თუ ასეთი სიგნალიზაცია არ არსებობს ან მწყობრიდანაა გამოსული, მძღოლმა დაუყოვნებლივ უნდა დადგას „საავარიო გაჩერების ნიშანი“, ხოლო არასაკმარისი ხილვადობის პირობებში – მოციმციმე წითელი ფარანი იმ ადგილას იძულებით გაჩერების დროს, სადაც გაჩერება აკრძალულია. - „საავარიო გაჩერების ნიშანი“ და მოციმციმე წითელი ფარანი უნდა დაიდგას სატრანსპორტო საშუალებიდან იმ მანძილზე, რომელიც კონკრეტულ პირობებში უზრუნველყოფს საშიშროების შესახებ სხვა მძღოლების დროულ გაფრთხილებას, მაგრამ ეს მანძილი დასახლებულ პუნქტში არ უნდა იყოს 15 მეტრზე ნაკლები, ხოლო დაუსახლებელ პუნქტში – 30 მეტრზე ნაკლები.

QUESTION 286

CORRECT ANSWER: 1

In case of absence or failure of hazard lights, following should be attached to the rear side of mechanical vehicle:

1

Emergency stop sign

2

Maximum speed restriction sign

3

Other hazard indication sign

განმარტება:

„საგზაო მოძრაობის შესახებ“ საქართველოს კანონის 45-ე მუხლის მე-7 პუნქტის თანახმად, დღე-ღამის ნებისმიერ პერიოდში მობეჭდილი მექანიკურ სატრანსპორტო საშუალებას ჩართული უნდა ჰქონდეს ახლო განათების ფარები, საბეჭდო მექანიკურ სატრანსპორტო საშუალებას ჩართული უნდა ჰქონდეს საავარიო შუქსიგნალიზაცია, ხოლო მისი არარსებობის ან გაუმართაობის შემთხვევაში ამ ტრანსპორტის უკანა ნაწილზე უნდა დამაგრდეს საავარიო გაჩერების ნიშანი.

QUESTION 287

CORRECT ANSWER: 2

„Forced stop“ means:

1

Deliberate termination of motion of the vehicle in vehicle current because of orders of technical devices organizing traffic or the traffic controller

2

Termination of motion of the vehicle because of its technical failure, state of cargo, driver (passenger) or sudden obstructions on the road

განმარტება:

„საგზაო მოძრაობის შესახებ“ საქართველოს კანონის 5-ე მუხლის 26-ე პუნქტის თანახმად, იძულებით გაჩერება - სატრანსპორტო საშუალების მოძრაობის შეწყვეტა მისი ტექნიკური გაუმართაობის, გადასაზიდი ტვირთის, მძღოლის (მგზავრის) მდგომარეობის ან გზაზე მოულოდნელად შექმნილი დაბრკოლებით განპირობებული საფრთხის გამო.

QUESTION 288

CORRECT ANSWER: 3

In case of being dazzled by oncoming mechanical vehicle, the driver is obliged to:

- | | |
|--|---|
| <p>1 Slow down, move to the rightmost traffic lane as fast as possible and stop in case of necessity</p> | <p>2 Give a sign with periodical switching of the lights to the driver of the oncoming transport about the mentioned problem</p> |
| <p>3 Slow down without leaving the lane, stop and turn the hazard lights on. Start of driving is permissible only when vision is fully restored</p> | <p>4 Turn the high, full beam on</p> |

განმარტება:

„საგზაო მოძრაობის შესახებ“ საქართველოს კანონის 36-ე მუხლის მე-5 პუნქტის თანახმად, მძღოლი არ უნდა გავიდეს გზაჯვარედინზე, თუ შექმნილია ისეთი ხერგილი, რომ იგი, სავარაუდოდ, იძულებული გახდება, გაჩერდეს გზაჯვარედინზე და ამით დააბრკოლოს განივი მიმართულებით მოძრაობა. ეს წესი მოქმედებს მაშინაც, თუ შექმნილის მაშუქი სიგნალები იძლევა მოძრაობის უფლებას.

QUESTION 289

CORRECT ANSWER: 2

A vehicle driver is obliged to switch hazard lights (if any) on:

- | | |
|--|--|
| <p>1 When moving from adjacent territory to the motorroad</p> | <p>2 If taking of traffic accident participant or failed vehicle away from the driveway is impossible immediately</p> |
| <p>3 On reverse routing</p> | |

განმარტება:

„საგზაო მოძრაობის შესახებ“ საქართველოს კანონის 52-ე მუხლის პირველი პუნქტის „ა“ ქვეპუნქტის თანახმად, საავარიო შეუსიგნალიზაცია გამოიყენება მოსალოდნელი საფრთხის შესახებ სხვა საგზაო მოძრაობის მონაწილეთა გაფრთხილებისათვის. საავარიო შეუსიგნალიზაცია უნდა ჩაირთოს: ა) თუ საგზაო-სატრანსპორტო შემთხვევის მონაწილე ან მწყობრიდან გამოსული სატრანსპორტო საშუალების გაყვანა ან ბუქსირება დაუყოვნებლივ შეუძლებელია და ეს აბრკოლებს საგზაო მოძრაობის სხვა მონაწილეებს.

QUESTION 290

CORRECT ANSWER: 3

A vehicle driver is obliged to switch hazard lights (if any) on:

- 1 During driving in an organized pack
- 2 Beyond intersection, in case of U-turn
- 3 In case of being dazzled by an oncoming mechanical vehicle if he/she is forced to stop

განმარტება:

„საგზაო მოძრაობის შესახებ“ საქართველოს კანონის 52-ე მუხლის პირველი პუნქტის „გ“ ქვეპუნქტის თანახმად, საავტომობილო შემთხვევების აღმოფხვრის მიზნით საჭიროების შემთხვევაში საჭიროა საგზაო მოძრაობის მონაწილეთა გაფრთხილებისათვის. საავტომობილო შემთხვევების აღმოფხვრის მიზნით საჭიროა საგზაო მოძრაობის მონაწილეთა გაფრთხილებისათვის. საავტომობილო შემთხვევების აღმოფხვრის მიზნით საჭიროა საგზაო მოძრაობის მონაწილეთა გაფრთხილებისათვის. საავტომობილო შემთხვევების აღმოფხვრის მიზნით საჭიროა საგზაო მოძრაობის მონაწილეთა გაფრთხილებისათვის.

QUESTION 291

CORRECT ANSWER: 3

In case of forced stop in the areas where it is prohibited and where other drivers will not be able to observe the vehicle in due time, the driver shall immediately put red flashing light (or other equipment with similar efficiency) on:

- 1 Only after switching the hazard light on
- 2 Only in case if hazard light is not available or is out of order
- 3 Both after switching the hazard light on, as well as in case if hazard light is not available or is out of order

განმარტება:

„საგზაო მოძრაობის შესახებ“ საქართველოს კანონის 52-ე მუხლის მე-2 პუნქტის „ბ“ ქვეპუნქტის თანახმად, საავტომობილო შემთხვევების აღმოფხვრის მიზნით საჭიროა საგზაო მოძრაობის მონაწილეთა გაფრთხილებისათვის. საავტომობილო შემთხვევების აღმოფხვრის მიზნით საჭიროა საგზაო მოძრაობის მონაწილეთა გაფრთხილებისათვის. საავტომობილო შემთხვევების აღმოფხვრის მიზნით საჭიროა საგზაო მოძრაობის მონაწილეთა გაფრთხილებისათვის. საავტომობილო შემთხვევების აღმოფხვრის მიზნით საჭიროა საგზაო მოძრაობის მონაწილეთა გაფრთხილებისათვის.

QUESTION 292

CORRECT ANSWER: 3

In case of forced stop in inhabited areas where it is prohibited, a driver shall put emergency stop sign (or other equipment with similar efficiency) from vehicle at a distance not less than:

1

5 meters

2

10 meters

3

15 meters

განმარტება:

„საგზაო მოძრაობის შესახებ“ საქართველოს კანონის 52-ე მუხლის მე-2 პუნქტის „ბ“ ქვეპუნქტისა და მე-3 და მე-4 პუნქტების თანახმად: 2. საავარიო შუქსიგნალიზაციის ჩართვის შემდეგ, აგრეთვე თუ ასეთი სიგნალიზაცია არ არსებობს ან მწყობრიდანაა გამოსული, მძღოლმა დაუყოვნებლივ უნდა დადგას „საავარიო გაჩერების ნიშანი“, ხოლო არასაკმარისი ხილვადობის პირობებში – მოციმციმე წითელი ფარანი: ბ) იმ ადგილას იძულებით გაჩერების დროს, სადაც გაჩერება აკრძალულია, და იქ, სადაც, ხილვადობის პირობების გათვალისწინებით, სხვა მძღოლები ვერ შეძლებენ სატრანსპორტო საშუალების დროულად შემჩნევას. 3. „საავარიო გაჩერების ნიშანი“ და მოციმციმე წითელი ფარანი უნდა დაიდგას სატრანსპორტო საშუალებიდან იმ მანძილზე, რომელიც კონკრეტულ პირობებში უზრუნველყოფს საშიშროების შესახებ სხვა მძღოლების დროულ გაფრთხილებას, მაგრამ ეს მანძილი დასახლებულ პუნქტში არ უნდა იყოს 15 მეტრზე ნაკლები, ხოლო დაუსახლებელ პუნქტში – 30 მეტრზე ნაკლები. 4. საავარიო გაჩერების ნიშნის ან მოციმციმე წითელი ფარანის არარსებობის შემთხვევაში მძღოლმა უნდა უზრუნველყოს სხვა მსგავსი ეფექტიანი საშუალებებით მოახლოებულ მძღოლთა დროული გაფრთხილება.

QUESTION 293

CORRECT ANSWER: 3

In case of forced stop in uninhabited area, where it is prohibited, a driver shall put emergency stop sign (or other equipment with similar efficiency) from the vehicle at a distance not less than:

1

15 meters

2

20 meters

3

30 meters

განმარტება:

„საგზაო მოძრაობის შესახებ“ საქართველოს კანონის 52-ე მუხლის მე-2, პუნქტის „ბ“ ქვეპუნქტისა და მე-3 და მე-4 პუნქტების თანახმად: 2. საავტომობილო შემთხვევების აღმოჩენისას, ავტომობილი უნდა დადგას „საავტომობილო გაჩერების ნიშანი“, ხოლო არასაკმარისი ხილვადობის პირობებში – მოციმციმე წითელი ფარანი: ბ) იმ ადგილას იძულებით გაჩერების დროს, სადაც გაჩერება აკრძალულია, და იქ, სადაც, ხილვადობის პირობების გათვალისწინებით, სხვა მძღოლები ვერ შეძლებენ სატრანსპორტო საშუალების დროულად შემჩნევას. 3. „საავტომობილო გაჩერების ნიშანი“ და მოციმციმე წითელი ფარანი უნდა დაიდგას სატრანსპორტო საშუალებიდან იმ მანძილზე, რომელიც კონკრეტულ პირობებში უზრუნველყოფს საშიშროების შესახებ სხვა მძღოლების დროულ გაფრთხილებას, მაგრამ ეს მანძილი დასახლებულ პუნქტში არ უნდა იყოს 15 მეტრზე ნაკლები, ხოლო დაუსახლებელ პუნქტში – 30 მეტრზე ნაკლები.

QUESTION 294

CORRECT ANSWER: 2

During forced stopping at the place, where stopping is prohibited, in case of absence of emergency stop sign or red flashing light:

1

Timely warning of approaching drivers is not necessary

2

A driver shall provide timely warning of the approaching drivers with other similar efficient devices

განმარტება:

„საგზაო მოძრაობის შესახებ“ საქართველოს კანონის 52-ე მუხლის მე-4 პუნქტის თანახმად, საავტომობილო გაჩერების ნიშნის ან მოციმციმე წითელი ფარანის არარსებობის შემთხვევაში მძღოლმა უნდა უზრუნველყოს სხვა მსგავსი ეფექტიანი საშუალებებით მოახლოებულ მძღოლთა დროული გაფრთხილება.

QUESTION 295

CORRECT ANSWER: 1

Taking of traffic accident participant or failed vehicle away from the driveway is not available and it is creating obstacle for other traffic participants. After switching the hazard light on, as well as if such light is not available or is out of order, a driver shall:

1

Immediately put „Emergency stop sign“ and in case of low visibility – switch red flashing light on

2

Switch sidelights on

3

Switch high beams on

განმარტება:

„საგზაო მოძრაობის შესახებ“ საქართველოს კანონის 52-ე მუხლის პირველი პუნქტის „ა“ ქვეპუნქტის თანახმად, საავარიო შეუსიგნალიზაცია გამოიყენება მოსალოდნელი საფრთხის შესახებ სხვა საგზაო მოძრაობის მონაწილეთა გაფრთხილებისათვის. საავარიო შეუსიგნალიზაცია უნდა ჩაირთოს: ა) თუ საგზაო-სატრანსპორტო შემთხვევის მონაწილე ან მწყობრიდან გამოსული სატრანსპორტო საშუალების გაყვანა ან ბუქსირება დაუყოვნებლივ შეუძლებელია და ეს აბრკოლებს საგზაო მოძრაობის სხვა მონაწილეებს. ამავე მუხლის მე-2 პუნქტის „ა“ ქვეპუნქტის თანახმად, საავარიო შეუსიგნალიზაციის ჩართვის შემდეგ, აგრეთვე თუ ასეთი სიგნალიზაცია არ არსებობს ან მწყობრიდანაა გამოსული, მძღოლმა დაუყოვნებლივ უნდა დადგას „საავარიო გაჩერების ნიშანი“, ხოლო არასაკმარისი ხილვადობის პირობებში – მოციმციმე წითელი ფარანი: ა) საგზაო-სატრანსპორტო შემთხვევის დროს.

QUESTION 296

CORRECT ANSWER: 3



Is the driver of a light vehicle obliged to turn the hazard lights on and put a emergency stop sign in the indicated place in case of forced stopping?

1

Is obliged to switch only hazard light on

2

Is obliged to put the emergency stop sign behind the vehicle at a distance of 15 meters

3

Is not obliged

განმარტება:

„საგზაო მოძრაობის შესახებ“ საქართველოს კანონის 52-ე მუხლის პირველი პუნქტის „ბ“ ქვეპუნქტის თანახმად, საავარიო შეუსიგნალიზაცია გამოიყენება მოსალოდნელი საფრთხის შესახებ სხვა საგზაო მოძრაობის მონაწილეთა გაფრთხილებისათვის. საავარიო შეუსიგნალიზაცია უნდა ჩაირთოს: ბ) იმ ადგილას იძულებით გაჩერების დროს, სადაც გაჩერება აკრძალულია. ამავე კანონის 37-ე მუხლის მე-6 პუნქტის „ა.გ“ ქვეპუნქტის თანახმად აკრძალულია სატრანსპორტო საშუალების გაჩერება, გზის სავალ ნაწილზე: ა.გ) სავალი ნაწილების გადაკვეთაზე, აგრეთვე მათი გადაკვეთის ნაპირებიდან 5 მეტრზე ახლოს, გარდა იმ შემთხვევისა, როცა გაჩერება ხდება იმ გვერდითი გასასვლელების მოპირდაპირე სამხრივ გადაკვეთებზე (გზაჯვარედინებზე), რომლებზედაც მონიშვნის უწყვეტი ხაზი ან გამყოფი ზოლია.

QUESTION 297

CORRECT ANSWER: 1



In the present situation is a driver violating forced stop orders, if immediate taking of the failed vehicle is not available?

1

Yes

2

No

განმარტება:

„საგზაო მოძრაობის შესახებ“ საქართველოს კანონის 38-ე მუხლის პირველი პუნქტის „გ.ა“ ქვეპუნქტის თანახმად, ავტომანქანის მძღოლმა, ავტომანქანის შესასვლელსა და გამოსასვლელზე მძღოლს ეკრძალება ავტომობილის (ან/და მისი მისაბმელის) გაჩერება ან დგომა, დგომისთვის გამოყოფილი, სპეციალურად მონიშნული ადგილების გარდა. მძღოლმა, რომელიც მისგან დამოუკიდებელი გარემოებების გამო იძულებულია, გაჩერდეს, უნდა მიიღოს ყველა ზომა ავტომობილის (ან/და მისი მისაბმელის) გზის სავალი ნაწილიდან გასაყვანად, ხოლო თუ ამის დაუყოვნებლივ გაკეთება შეუძლებელია – ჩართოს საავარიო შექსიგნალიზაცია (მისი არსებობის შემთხვევაში) და შესაბამისი ნიშნით მონიშნოს ავტომობილი (ან/და მისი მისაბმელი) საკმარის მანძილზე, რათა დროულად გააფრთხილოს მოახლოებული მძღოლები. ამავე კანონის 52-ე მუხლის მე-3 პუნქტის თანახმად, „საავარიო გაჩერების ნიშანი“ და მოციმციმე წითელი ფარანი უნდა დაიდგას სატრანსპორტო საშუალებიდან იმ მანძილზე, რომელიც კონკრეტულ პირობებში უზრუნველყოფს საშიშროების შესახებ სხვა მძღოლების დროულ გაფრთხილებას, მაგრამ ეს მანძილი დასახლებულ პუნქტში არ უნდა იყოს 15 მეტრზე ნაკლები, ხოლო დაუსახლებელ პუნქტში – 30 მეტრზე ნაკლები.

QUESTION 298

CORRECT ANSWER: 1

A driver forced to stop on the highway for technical failure of the vehicle is obliged to:

1 Apply all the measures to take the vehicle away from driveway, and if this is unavailable immediately, to switch hazard light (if any) on and mark the vehicle with appropriate sign at sufficient distance, in order to warn the approaching drivers in due time

2 To call the technical service immediately, and until arrival of its representative to take the vehicle away from the driveway in the extreme right lane, to switch hazard light and low beam on

განმარტება:

„საგზაო მოძრაობის შესახებ“ საქართველოს კანონის 38-ე მუხლის პირველი პუნქტის „გ.ა“ ქვეპუნქტის თანახმად, ავტომაგისტრალზე, ავტომაგისტრალის შესასვლელსა და გამოსასვლელზე მძღოლს ეკრძალება ავტომობილის (ან/და მისი მისაბმელის) გაჩერება ან დგომა, დგომისთვის გამოყოფილი, სპეციალურად მონიშნული ადგილების გარდა. მძღოლმა, რომელიც მისგან დამოუკიდებელი გარემოებების გამო იძულებულია, გაჩერდეს, უნდა მიიღოს ყველა ზომა ავტომობილის (ან/და მისი მისაბმელის) გზის სავალი ნაწილიდან გასაყვანად, ხოლო თუ ამის დაუყოვნებლივ გაკეთება შეუძლებელია – ჩართოს საავარიო შექსიგნალიზაცია (მისი არსებობის შემთხვევაში) და შესაბამისი ნიშნით მონიშნოს ავტომობილი (ან/და მისი მისაბმელი) საკმარის მანძილზე, რათა დროულად გააფრთხილოს მოახლოებული მძღოლები.

QUESTION 299

CORRECT ANSWER: 2

If immediate removal or towing of the traffic accident participant vehicle is not available and it is creating obstacle for other traffic participants, a driver is obliged to switch on:

1 Low or high beams and rear sidelights

2 Hazard light

3 Honk

განმარტება:

„საგზაო მოძრაობის შესახებ“ საქართველოს კანონის 52-ე მუხლის პირველი პუნქტის „ა“ ქვეპუნქტის თანახმად, საავარიო შექსიგნალიზაცია გამოიყენება მოსალოდნელი საფრთხის შესახებ სხვა საგზაო მოძრაობის მონაწილეთა გაფრთხილებისათვის. საავარიო შექსიგნალიზაცია უნდა ჩაირთოს: ა) თუ საგზაო-სატრანსპორტო შემთხვევის მონაწილე ან მწყობრიდან გამოსული სატრანსპორტო საშუალების გაყვანა ან ბუქსირება დაუყოვნებლივ შეუძლებელია და ეს აბრკოლებს საგზაო მოძრაობის სხვა მონაწილეებს.

QUESTION 300

CORRECT ANSWER: 3

After switching hazard light on the traffic accident participant vehicle, as well as in case if such light is not available or is out of order, a driver shall immediately:

1

Switch high beams on

2

Switch honk on

3

Put Emergency stop sign, and in low visibility conditions - red flashing light

განმარტება:

„საგზაო მოძრაობის შესახებ“ საქართველოს კანონის 52-ე მუხლის პირველი პუნქტის „ა“ ქვეპუნქტის თანახმად, საავარიო შეუსიგნალიზაცია გამოიყენება მოსალოდნელი საფრთხის შესახებ სხვა საგზაო მოძრაობის მონაწილეთა გაფრთხილებისათვის. საავარიო შეუსიგნალიზაცია უნდა ჩაირთოს: ა) თუ საგზაო-სატრანსპორტო შემთხვევის მონაწილე ან მწყობრიდან გამოსული სატრანსპორტო საშუალების გაყვანა ან ბუქსირება დაუყოვნებლივ შეუძლებელია და ეს აბრკოლებს საგზაო მოძრაობის სხვა მონაწილეებს; ამავე მუხლის მე-2 პუნქტის „ა“ ქვეპუნქტის თანახმად საავარიო შეუსიგნალიზაციის ჩართვის შემდეგ, აგრეთვე თუ ასეთი სიგნალიზაცია არ არსებობს ან მწყობრიდანაა გამოსული, მძღოლმა დაუყოვნებლივ უნდა დადგას „საავარიო გაჩერების ნიშანი“, ხოლო არასაკმარისი ხილვადობის პირობებში – მოციმციმე წითელი ფარანი: ა) საგზაო-სატრანსპორტო შემთხვევის დროს.

QUESTION 301

CORRECT ANSWER: 1

In low visibility conditions, after switching hazard light on the traffic accident participant vehicle, as well as if such light is not available or is out of order, a driver shall immediately:

1 Put red flashing light, and if it is not available, to provide timely warning of other approaching drivers with the devices of similar efficiency

2 Switch rear sidelights on


3 Switch front and rear fog-lights on

განმარტება:

„საგზაო მოძრაობის შესახებ“ საქართველოს კანონის 52-ე მუხლის პირველი პუნქტის „ა“ ქვეპუნქტის თანახმად, საავტომობილო უსიგნალიზაციო გამოიყენება მოსალოდნელი საფრთხის შესახებ სხვა საგზაო მოძრაობის მონაწილეთა გაფრთხილებისათვის. საავტომობილო უსიგნალიზაცია უნდა ჩაირთოს: ა) თუ საგზაო-სატრანსპორტო შემთხვევის მონაწილე ან მწყობრიდან გამოსული სატრანსპორტო საშუალების გაყვანა ან ბუქსირება დაუყოვნებლივ შეუძლებელია და ეს აბრკოლებს საგზაო მოძრაობის სხვა მონაწილეებს; ამავე მუხლის მე-2 პუნქტის „ა“ ქვეპუნქტისა და მე-4 პუნქტის თანახმად: 2. საავტომობილო უსიგნალიზაციის ჩართვის შემდეგ, აგრეთვე თუ ასეთი სიგნალიზაცია არ არსებობს ან მწყობრიდანაა გამოსული, მძღოლმა დაუყოვნებლივ უნდა დადგას „საავტომობილო გაჩერების ნიშანი“, ხოლო არასაკმარისი ხილვადობის პირობებში – მოციმციმე წითელი ფარანი: ა) საგზაო-სატრანსპორტო შემთხვევის დროს. 4. საავტომობილო გაჩერების ნიშნის ან მოციმციმე წითელი ფარანის არარსებობის შემთხვევაში მძღოლმა უნდა უზრუნველყოს სხვა მსგავსი ეფექტიანი საშუალებებით მოახლოებულ მძღოლთა დროული გაფრთხილება.

QUESTION 302

CORRECT ANSWER: 2



Will the lorry driver violate the traffic rules if to proceed the way according to the arrow?

1

Yes

2

No

განმარტება:

„საგზაო მოძრაობის შესახებ“ საქართველოს კანონის პირველი დანართის მე-3 თავის (ამკრძალავი ნიშნები) 3.22 პუნქტის თანახმად, საგზაო ნიშანი 3.22 „სატვირთო ავტომობილით გასწრება აკრძალულია“ - კრძალავს 3,5 ტონაზე მეტი ნებადართული მაქსიმალური მასის მქონე სატვირთო ავტომობილით სხვა სატრანსპორტო საშუალების გასწრებას (გარდა 30 კმ/სთ-ზე ნაკლები სიჩქარით მოძრავი ტრანსპორტისა), აგრეთვე ტრაქტორით სხვა სატრანსპორტო საშუალების გასწრებას (გარდა საჭაპანო ტრანსპორტისა და ველოსიპედისა).

თემა 14:

გარე სანათი ხელსაწყოები, ხმოვანი
სიგნალით სარგებლობა

QUESTION 303

CORRECT ANSWER: 3

The vehicle driver, which is allowed to enter the sites defined for pedestrians in the cases stipulated by the Highway Code, shall be obliged:

- 1 To give the honk and to drive at a speed of no more than 50 km/h
- 2 To switch the low beams on and to give the horn in order to attract the pedestrians' attention
- 3 To use maximum caution and to drive at a low speed, in order to stop in case of necessity

განმარტება:

„საგზაო მოძრაობის შესახებ“ საქართველოს კანონის 25-ე მუხლის მე-5 პუნქტის თანახმად, იმ სატრანსპორტო საშუალების მძღოლი, რომელსაც ამ კანონით განსაზღვრულ შემთხვევებში უფლება აქვს შევიდეს ქვეითთა მოძრაობისათვის განკუთვნილ ადგილებში, ვალდებულია გამოიჩინოს მაქსიმალური სიფრთხილე და იმოძრაოს დაბალი სიჩქარით, რათა აუცილებლობის შემთხვევაში გაჩერდეს.

QUESTION 304

CORRECT ANSWER: 1

In case of absence of turn light-indicator or its failure, is it possible that the signal given by hand by the driver on his/her intention to maneuver, stop immediately before beginning the maneuver?

1

Yes

2

No

განმარტება:

„საგზაო მოძრაობის შესახებ“ საქართველოს კანონის 32-ე მუხლის მე-2 პუნქტის თანახმად მანევრის დაწყებამდე მძღოლი ვალდებულია ჩართოს შესაბამისი მიმართულების მოხვევის შუქ-მაჩვენებელი, ხოლო თუ ის არ არის ან გამოსულია მწყობრიდან – ანიშნოს ხელით. მარცხნივ მოხვევის ან მობრუნების სიგნალს შეესაბამება გვერდზე ჰორიზონტალურად გაშვებული მარცხენა ხელი ან გვერდზე გაშვებული, იდაყვში სწორი კუთხით ზემოთ მოხრილი მარჯვენა ხელი. მარჯვნივ მოხვევის სიგნალს შეესაბამება გვერდზე ჰორიზონტალურად გაშვებული მარჯვენა ხელი ან გვერდზე გაშვებული, იდაყვში სწორი კუთხით ზემოთ მოხრილი მარცხენა ხელი. დამუხრუჭების სიგნალს შეესაბამება ზემოთ ვერტიკალურად აწეული მარცხენა ან მარჯვენა ხელი. მოხვევის შუქ-მაჩვენებლით ან ხელით სიგნალი მიცემული უნდა იქნეს დროულად, მანევრის დაწყების წინ და უნდა შეწყდეს დაუყოვნებლივ, მისი დასრულებისთანავე (სიგნალის ხელით მიცემა შეიძლება შეწყდეს უშუალოდ მანევრის დაწყების წინ). ამასთანავე, სიგნალმა არ უნდა შეაყვინთოს სხვა საგზაო მოძრაობის მონაწილეები. მოხვევის შუქ-მაჩვენებლით ან ხელით სიგნალის მიცემა მძღოლს არ აძლევს უპირატესობას და არ ათავისუფლებს სიფრთხილის აუცილებელი ზომების მიღების ვალდებულებისაგან.

QUESTION 305

CORRECT ANSWER: 2



Is the motor car driver obliged to switch on left-turning light when driving to the arrow direction?

1

No

2

Yes

განმარტება:

„საგზაო მოძრაობის შესახებ“ საქართველოს კანონის 32-ე მუხლის მე-2 პუნქტის თანახმად, მანევრის დაწყებამდე მძღოლი ვალდებულია ჩართოს შესაბამისი მიმართულების მოხვევის შუქ-მაჩვენებელი, ხოლო თუ ის არ არის ან გამოსულია მწყობრიდან – ანიშნოს ხელით.

QUESTION 306

CORRECT ANSWER: 3

Turn indicator or hand signal for maneuvering shall:

1

Entitle priority to the driver

2

Release the driver from mandatory caution

3

Neither entitle priority, nor release from mandatory caution

განმარტება:

„საგზაო მოძრაობის შესახებ“ საქართველოს კანონის 32-ე მუხლის მე-2 პუნქტის თანახმად, მოხვევის შეუ-
მაჩვენებლით ან ხელით სიგნალის მიცემა მძღოლს არ აძლევს უპირატესობას და არ ათავისუფლებს
სიფრთხილის აუცილებელი ზომების მიღების ვალდებულებისაგან.

QUESTION 307

CORRECT ANSWER: 2

A driver shall give the signal with appropriate turn light-indicator on intention to perform the maneuver:

1

Upon beginning of maneuver and stop prior to completion of maneuver

2

In due time, prior to beginning of maneuver and stop immediately after its completion

განმარტება:

„საგზაო მოძრაობის შესახებ“ საქართველოს კანონის 32-ე მუხლის მე-2 პუნქტის თანახმად, მოხვევის შეუ-
მაჩვენებლით ან ხელით სიგნალი მიცემული უნდა იქნეს დროულად, მანევრის დაწყების წინ და უნდა შეწყდეს
დაუყოვნებლივ, მისი დასრულებისთანავე (სიგნალის ხელით მიცემა შეიძლება შეწყდეს უშუალოდ მანევრის
დაწყების წინ). ამასთანავე, სიგნალმა არ უნდა შეაყვინოს სხვა საგზაო მოძრაობის მონაწილეები.

QUESTION 308

CORRECT ANSWER: 1



Is the motor car driver violating the Highway Code while driving in illuminated tunnel marked with the road sign, if only sidelights are switched on?

1

Yes

2

No

განმარტება:

„საგზაო მოძრაობის შესახებ“ საქართველოს კანონის 42-ე მუხლის „ბ“ პუნქტის თანახმად, საგზაო ნიშნით აღნიშნულ გვირაბებში მოქმედებს შემდეგი წესი მძღოლმა უნდა ჩართოს შორი ან ახლო განათების ფარები, მიუხედავად იმისა, განათებულია თუ არა გვირაბი.

QUESTION 309

CORRECT ANSWER: 2

While passing the vehicle stopped with external lighting devices switched on or open door, a driver must:

- 1 Give honk and increase the speed
- 2 Use special caution in order to avoid hazard caused by sudden appearance of pedestrians or children on the road in due time
- 3 Decrease speed and switch hazard light on, as in case of sudden proceeding of the stopped vehicle, to provide avoidance of hazard in due time

განმარტება:

„საგზაო მოძრაობის შესახებ“ საქართველოს კანონის 25-ე მუხლის მე-8 პუნქტის თანახმად, გზაზე გაჩერებული სატრანსპორტო საშუალების გასწვრივ მოძრაობისას მძღოლმა განსაკუთრებული სიფრთხილე უნდა გამოიჩინოს ჩართული გარე სანათი ხელსაწყო ან ღია კარის მქონე სატრანსპორტო საშუალების მიმართ, რათა აუცილებლობის შემთხვევაში დროულად უზრუნველყოს გზაზე ქვეითთა და ბავშვების მოულოდნელი გამოჩენით წარმოშობილი საფრთხის თავიდან აცილება.

QUESTION 310

CORRECT ANSWER: 1

Is a driver obliged to use special caution towards pedestrian children, elderly people and individuals with disabilities?

- 1 Yes
- 2 No

განმარტება:

„საგზაო მოძრაობის შესახებ“ საქართველოს კანონის 21-ე მუხლის მე-6 პუნქტის თანახმად, მძღოლმა განსაკუთრებული სიფრთხილე უნდა გამოიჩინოს საგზაო მოძრაობის ისეთი მონაწილეების მიმართ, როგორებიც არიან ქვეითები (განსაკუთრებით ბავშვები, ხანდაზმულები, შეზღუდული შესაძლებლობის მქონე პირები) და ველოსიპედისტები.

QUESTION 311

CORRECT ANSWER: 2

In case of insufficient or limited visibility, a driver must:

- 1 Switch hazard light on and decrease the distance between him/her and preceding vehicle
- 2 Decrease speed and increase distance between him/her and preceding vehicle
- 3 Switch hazard light on and proceed on the extreme left side of the driveway

განმარტება:

„საგზაო მოძრაობის შესახებ“ საქართველოს კანონის 25-ე მუხლის მე-10 პუნქტის „ა“ ქვეპუნქტის თანახმად, გზაზე მოძრაობისას მძღოლმა უნდა გაითვალისწინოს შემდეგი გარემოებები - არასაკმარისი ან შეზღუდული ხილვადობის პირობებში მძღოლმა უნდა შეამციროს სიჩქარე და გაზარდოს დისტანცია თავის სატრანსპორტო საშუალებასა და მის წინ მიმავალ სატრანსპორტო საშუალებას შორის.

QUESTION 312

CORRECT ANSWER: 2

A driver may use honk:

- 1 In any case, at his/her own discretion
- 2 For timely warning only, to avoid traffic accident
- 3 For requesting of priority on the intersection

განმარტება:

„საგზაო მოძრაობის შესახებ“ საქართველოს კანონის 48-ე მუხლის პირველი პუნქტის თანახმად, ხმოვანი სიგნალი შეიძლება გამოყენებულ იქნეს მხოლოდ: ა) საგზაო მოძრაობის მონაწილეთა დროული გაფრთხილებისთვის, საგზაო-სატრანსპორტო შემთხვევის თავიდან ასაცილებლად; ბ) დასახლებულ პუნქტებს გარეთ, როდესაც საჭიროა სხვა სატრანსპორტო საშუალების მძღოლის გაფრთხილება გასწრების განზრახვის შესახებ.

QUESTION 313

CORRECT ANSWER: 3

Duration of honk given by a driver should be:

1

No longer than 3 seconds

2

No longer than 5 seconds

3

No longer than needed

განმარტება:

„საგზაო მოძრაობის შესახებ“ საქართველოს კანონის 48-ე მუხლის მე-2 პუნქტის თანახმად, ხმოვანი სიგნალი არ უნდა იყოს უფრო ხანგრძლივი, ვიდრე ეს აუცილებელია.

QUESTION 314

CORRECT ANSWER: 2

While routing in inhabited area during a daytime, a driver may use the following for warning other driver about intended overtaking:

1

Honk

2

Periodical short-time alteration of beams

3

Hazard lights

4

Multiple changing of low beam with two beams

განმარტება:

„საგზაო მოძრაობის შესახებ“ საქართველოს კანონის 48-ე მუხლის მე-3 პუნქტის თანახმად, დასახლებულ პუნქტში გასწრების განზრახვის შესახებ სხვა სატრანსპორტო საშუალების მძღოლის გასაფრთხილებლად შეიძლება ჩაირთოს მანათობელი სიგნალი დღე-ღამის ნათელ დროს ფარების შუქის პერიოდული, ხანმოკლე ჩართვა-გამორთვით, ხოლო დღე-ღამის ბნელ დროს – ფარების ახლო შუქის შორ შუქზე მრავალჯერადი გადართვით, დაუსახლებულ პუნქტში კი – ხმოვანი სიგნალის ნაცვლად ან მასთან ერთად.

QUESTION 315

CORRECT ANSWER: 4

While routing in inhabited area during dark hours, driver may use the following for warning other driver about intended overtaking:

1 Honk

2 Periodical short-time alteration of beams

3 Hazard lights

4 Multiple changing of low beam with two beams

განმარტება:

„საგზაო მოძრაობის შესახებ“ საქართველოს კანონის 48-ე მუხლის მე-3 პუნქტის თანახმად, დასახლებულ პუნქტში გასწრების განზრახვის შესახებ სხვა სატრანსპორტო საშუალების მძღოლის გასაფრთხილებლად შეიძლება ჩაირთოს მანათობელი სიგნალი დღე-ღამის ნათელ დროს ფარების შუქის პერიოდული, ხანმოკლე ჩართვა-გამორთვით, ხოლო დღე-ღამის ბნელ დროს – ფარების ახლო შუქის შორ შუქზე მრავალჯერადი გადართვით, დაუსახლებულ პუნქტში კი – ხმოვანი სიგნალის ნაცვლად ან მასთან ერთად.

QUESTION 316

CORRECT ANSWER: 1

Is honk allowed for warning of other driver on intended overtaking?

1 Is allowed in uninhabited area only

2 Is allowed in inhabited area only

3 Is allowed both in inhabited and uninhabited areas

4 Is not allowed

განმარტება:

„საგზაო მოძრაობის შესახებ“ საქართველოს კანონის 48-ე მუხლის პირველი პუნქტის „ბ“ ქვეპუნქტის თანახმად, ხმოვანი სიგნალი შეიძლება გამოყენებულ იქნეს მხოლოდ დასახლებულ პუნქტს გარეთ, როდესაც საჭიროა სხვა სატრანსპორტო საშუალების მძღოლის გაფრთხილება გასწრების განზრახვის შესახებ.

QUESTION 317

CORRECT ANSWER: 4

At which of the below places is not a driver obliged to switch the turn indicator light of appropriate direction on before starting the maneuver?

1

In residential area

2

On adjacent territory

3

On yard territory

4

Is required in any of the places listed in given test

განმარტება:

„საგზაო მოძრაობის შესახებ“ საქართველოს კანონის 32-ე მუხლის მე-2 პუნქტის თანახმად, მანევრის დაწყებამდე მძღოლი ვალდებულია ჩართოს შესაბამისი მიმართულების მოხვევის შუქ-მაჩვენებელი, ხოლო თუ ის არ არის ან გამოსულია მწყობრიდან – ანიშნოს ხელით.

QUESTION 318

CORRECT ANSWER: 2

From twilight to dawn, as well as in other low-visibility conditions, the mechanical vehicles and their trailers must be marked as follows during stopping or parking on the road:

1

High beams

2

Front and rear sidelights

3

Low beams

4

With front fog-lights

განმარტება:

„საგზაო მოძრაობის შესახებ“ საქართველოს კანონის 49-ე მუხლის მე-9 პუნქტის თანახმად, დაბინდებიდან გათენებამდე, აგრეთვე ნებისმიერი სხვა არასაკმარისი ხილვადობის პირობებში, გზაზე გაჩერების ან დგომის დროს მექანიკური სატრანსპორტო საშუალება და მისი მისაბმელი აღნიშნული უნდა იყოს წინა და უკანა საგაბარიტო სინათლეებით.

QUESTION 319

CORRECT ANSWER: 3

Following should be switched on the mechanical vehicles during dark hours or in low visibility conditions:

1

Low or high beams only

2

Fog-lights only

3

Low or high beam and rear sidelights

4

Front and rear sidelights only

განმარტება:

„საგზაო მოძრაობის შესახებ“ საქართველოს კანონის 49-ე მუხლის პირველი პუნქტის თანახმად, დღე-ღამის ბნელ დროს, აგრეთვე არასაკმარისი ხილვადობის პირობებში მოძრავ მექანიკურ სატრანსპორტო საშუალებაზე, აგრეთვე მოპედზე ჩართული უნდა იყოს ახლო ან შორი განათების ფარა/ფარები და უკანა საგაბარიტო სინათლეები.

QUESTION 320

CORRECT ANSWER: 2

Front fog-lights should be fixed on the mechanical vehicle:

1

At the discretion of a driver

2

In such a way, that none of the points of its illuminating surface was above the highest point of the illuminating surface of low beams

3

In such a way, that none of the points of its illuminating surface was below the lowest point of the illuminating surface of sidelights

განმარტება:

„საგზაო მოძრაობის შესახებ“ საქართველოს კანონის 49-ე მუხლის მე-4 პუნქტის თანახმად, თუ მექანიკური სატრანსპორტო საშუალება აღჭურვილია წინა ნისლსაწინააღმდეგო ფარებით, ისინი უნდა იყოს თეთრი ან ყვითელი სელექციური სინათლის, ორი, ხოლო მოტოციკლზე – ერთი. წინა ნისლსაწინააღმდეგო ფარები ისე უნდა დაყენდეს, რომ მათი გამნათებელი ზედაპირის არცერთი წერტილი არ იყოს ახლო განათების ფარების გამნათებელი ზედაპირის ყველაზე მაღალი წერტილის ზემოთ. თუ მექანიკურ სატრანსპორტო საშუალებაზე ან მისაბმელზე დაყენებულია უკანა ნისლსაწინააღმდეგო ფარები, ისინი წითელი უნდა იყოს.

QUESTION 321

CORRECT ANSWER: 2

While driving in low visibility conditions or on the narrow twisted roads, fog-lights shall be switched on:

1

Together with hazard lights

2

Together with low or high beams

3

Together with front and rear sidelights only

განმარტება:

„საგზაო მოძრაობის შესახებ“ საქართველოს კანონის 49-ე მუხლის მე-5 პუნქტის თანახმად, არასაკმარისი ხილვადობის პირობებში ან ვიწრო მიხვეულ-მოხვეულ გზებზე მოძრაობისას, ნისლსაწინააღმდეგო ფარები ირთვება შორი ან ახლო განათების ფარებთან ერთად.

QUESTION 322

CORRECT ANSWER: 4

In case of the mechanical vehicle or the moped equipped with front sidelights, such lights should be switched:

1

Together with high beams only

2

Together with low beams only

3

To the front – together with fog-lights

4

Together with both high and low beams and front fog-lights

განმარტება:

„საგზაო მოძრაობის შესახებ“ საქართველოს კანონის 49-ე მუხლის მე-6 პუნქტის თანახმად, წინა საგაბარიტო სინათლეებით აღჭურვილ მექანიკურ სატრანსპორტო საშუალებაზე, აგრეთვე მოპედზე ასეთი სინათლეები უნდა ჩაირთოს შორი ან ახლო განათების ფარებთან ან წინა ნისლსაწინააღმდეგო ფარებთან ერთად.

QUESTION 323

CORRECT ANSWER: 2

The trailer of the mechanical vehicle routing in dark hours or low visibility conditions should have:

- 1 Special light reflector
- 2 Front sidelights (if stipulated by the Georgian legislation) and not less than two rear sidelights switched on
- 3 Only one front sidelight switched on

განმარტება:

„საგზაო მოძრაობის შესახებ“ საქართველოს კანონის 49-ე მუხლის პირველი პუნქტის თანახმად, დღე-ღამის ბნელ დროს, აგრეთვე არასაკმარისი ხილვადობის პირობებში მოძრავ მექანიკურ სატრანსპორტო საშუალებაზე, აგრეთვე მოპედზე ჩართული უნდა იყოს ახლო ან შორი განათების ფარა/ფარები და უკანა საგაბარიტო სინათლეები, ხოლო მისაბმელზე – წინა საგაბარიტო სინათლეები (თუ მათ არსებობას ითვალისწინებს საქართველოს კანონმდებლობა) და არანაკლებ ორი უკანა საგაბარიტო სინათლე.

QUESTION 324

CORRECT ANSWER: 1

If a vehicle is equipped with front fog-lights, they are required to be:

- 1 White or red selective color, in number of two
- 2 Red or yellow selective color, in number of four
- 3 Red selective light, in number of one

განმარტება:

„საგზაო მოძრაობის შესახებ“ საქართველოს კანონის 49-ე მუხლის მე-4 პუნქტის თანახმად, თუ მექანიკური სატრანსპორტო საშუალება აღჭურვილია წინა ნისლსაწინააღმდეგო ფარებით, ისინი უნდა იყოს თეთრი ან ყვითელი სელექციური სინათლის, ორი, ხოლო მოტოციკლზე – ერთი.

QUESTION 325

CORRECT ANSWER: 1

If rear fog-lights are fixed on the mechanical vehicle or trailer, they should be of:

1

Red color

2

White color

3

Yellow color

განმარტება:

„საგზაო მოძრაობის შესახებ“ საქართველოს კანონის 49-ე მუხლის მე-4 პუნქტის თანახმად, თუ მექანიკურ სატრანსპორტო საშუალებაზე ან მისაბმელზე დაყენებულია უკანა ნისლსაწინააღმდეგო ფარები, ისინი წითელი უნდა იყოს.

QUESTION 326

CORRECT ANSWER: 1

If a driver of oncoming vehicle does not indicate its necessity, high beams should be switched off and low beams should be switched on instead of them when passing the oncoming vehicle, before such vehicle at a distance not less than:

1

150 meters

2

200 meters

3

300 meters

განმარტება:

„საგზაო მოძრაობის შესახებ“ საქართველოს კანონის 49-ე მუხლის მე-2 პუნქტის „ბ“ ქვეპუნქტის თანახმად, შორი განათების ფარები უნდა გამოირთოს და მათ ნაცვლად უნდა ჩაირთოს ახლო განათების ფარები შემდეგ შემთხვევებში: ბ) შემხვედრისთვის გვერდის აქცევის დროს, სატრანსპორტო საშუალებამდე არანაკლებ 150 მეტრ მანძილზე, რათა ფარების შექმა შემხვედრი სატრანსპორტო საშუალების მძღოლს თვალი არ მოსჭრას და მას მიეცეს მოძრაობის მშვიდად და უსაფრთხოდ გაგრძელების საშუალება, აგრეთვე უფრო შორ მანძილზე, თუ საპირისპირო მიმართულებით მიმავალი სატრანსპორტო საშუალების მძღოლი ფარის/ფარების შექმის პერიოდული გადართვით მიაწინებს ამის აუცილებლობაზე.

QUESTION 327

CORRECT ANSWER: 1

High beams should be switched off and low beams should be switched on instead:

1

In order to avoid blurring of vision of other traffic participants or the users of navigational or railway routes along the road

2

When routing in built-up area

3

If visibility is less than 300 meters

განმარტება:

„საგზაო მოძრაობის შესახებ“ საქართველოს კანონის 49-ე მუხლის მე-2 პუნქტის „გ“ ქვეპუნქტის თანახმად, შორი განათების ფარები უნდა გამოირთოს და მათ ნაცვლად უნდა ჩაირთოს ახლო განათების ფარები შემდეგ შემთხვევებში: გ) ნებისმიერ სხვა პირობებში, როცა თავიდან უნდა იქნეს აცილებული სხვა საგზაო მოძრაობის მონაწილეთა ან გზის გასწვრივ გამავალი სანაოსნო ან სალიანდაგო გზით მოსარგებლეთა მხედველობის დაბინდვა.

QUESTION 328

CORRECT ANSWER: 1

Switching the reverse lights on is allowed:

1

Only in case, when a vehicle is performing or intending to reverse

2

Only in case, when a vehicle is braking

3

In all the above-mentioned cases

განმარტება:

„საგზაო მოძრაობის შესახებ“ საქართველოს კანონის 49-ე მუხლის მე-12 პუნქტის თანახმად, უკუსვლის მაშუქის ჩართვა ნებადართულია, მხოლოდ იმ შემთხვევაში, როცა სატრანსპორტო საშუალება ახორციელებს ან აპირებს უკუსვლით მოძრაობას.

QUESTION 329

CORRECT ANSWER: 2

Is equipment of the vehicle with front red lights and rear white lights allowed?

1

Yes

2

No

3

Yes, special service vehicles only

განმარტება:

„საგზაო მოძრაობის შესახებ“ საქართველოს კანონის 49-ე მუხლის მე-13 პუნქტის თანახმად, აკრძალულია სატრანსპორტო საშუალების წინ წითელი და უკან თეთრი სინათლეებით აღჭურვა. დაუშვებელია სატრანსპორტო საშუალების კონსტრუქციის შეცვლა ან აღჭურვა დამატებითი სინათლეებით, რომლებიც შეიძლება ეწინააღმდეგებოდეს მოცემულ მოთხოვნებს.

QUESTION 330

CORRECT ANSWER: 2

Is it permitted to change the construction of the vehicle or equip it with additional lights?

1

Is not allowed

2

Is allowed, only under observation of the orders stipulated by the legislation

განმარტება:

„საგზაო მოძრაობის შესახებ“ საქართველოს კანონის 49-ე მუხლის მე-13 პუნქტის თანახმად, აკრძალულია სატრანსპორტო საშუალების წინ წითელი და უკან თეთრი სინათლეებით აღჭურვა. დაუშვებელია სატრანსპორტო საშუალების კონსტრუქციის შეცვლა ან აღჭურვა დამატებითი სინათლეებით, რომლებიც შეიძლება ეწინააღმდეგებოდეს მოცემულ მოთხოვნებს.

QUESTION 331

CORRECT ANSWER: 3

In inhabited area use of projector and searchlights is allowed to:

1

Motor car drivers carrying dangerous goods only

2

Any driver, at his/her own discretion

3

Drivers of operative and special service vehicles only when performing official duty

განმარტება:

„საგზაო მოძრაობის შესახებ“ საქართველოს კანონის 49-ე მუხლის მე-15 პუნქტის თანახმად, ფარა-პროექტორითა და ფარა-მადიებლით სარგებლობა ნებადართულია მხოლოდ დაუსახლებელ პუნქტში, თუ არ არის საპირისპირო მიმართულებით მოძრავი სატრანსპორტო საშუალება. დასახლებულ პუნქტში ასეთი ფარებით სარგებლობა შეუძლიათ მხოლოდ ოპერატიული და სპეციალური სამსახურების სატრანსპორტო საშუალებათა მძღოლებს სამსახურებრივი მოვალეობის შესრულებისას.

QUESTION 332

CORRECT ANSWER: 3

Vehicles may stop or park on the car park without switching any external illuminating device on:

1

Only on the road illuminated in such a way, where seeing of the vehicle is possible in quite a long distance

2

Only beyond the driveway and the sideways with hard surface

3

In any case listed in given test

განმარტება:

„საგზაო მოძრაობის შესახებ“ საქართველოს კანონის 49-ე მუხლის მე-11 პუნქტის „ა“ და „ბ“ ქვეპუნქტების თანახმად, ამ მუხლის მე-9 და მე-10 პუნქტებით დადგენილ მოთხოვნათა მიუხედავად, მექანიკური სატრანსპორტო საშუალება შეიძლება გაჩერდეს ან იმყოფებოდეს სადგომზე ნებისმიერი გარე სანათი ხელსაწყო ჩაურთველად: ა) იმგვარად განათებულ გზაზე, სადაც სატრანსპორტო საშუალების კარგად დანახვა (გარჩევა) შესაძლებელია საკმაო მანძილზე; ბ) სავალი ნაწილისა და მკვრივი საფრის მქონე გვერდულების მიღმა.

QUESTION 333

CORRECT ANSWER: 1

Will lorry driver violate the Highway Code, if he/she proceeds until service station during failure of active braking system with hazard lights switched on?

1

Yes

2

No

განმარტება:

„საგზაო მოძრაობის შესახებ“ საქართველოს კანონის მე-21-ე მუხლის მე-13 პუნქტის თანახმად, მძღოლს ეკრძალება მოძრაობა მუშა სამუხრუჭო სისტემის, საჭის მექანიზმის, სატრანსპორტო საშუალებათა შემადგენლობაში მისაბმელი მოწყობილობის გაუმართაობისას, აგრეთვე დღე-ღამის ბნელ დროს ერთდროულად მწყობრიდან გამოსული (ჩამქრალი) ახლო და შორი განათების ფარებით (ან მათი არარსებობისას) ან/და უკანა საგაბარიტო სინათლეებით იმ გზაზე, რომელზედაც არ არის ხელოვნური განათება ან არასაკმარისი ხილვადობა. მძღოლის მხარეს არსებული მინასანმენდის უმოქმედობისას აკრძალულია მექანიკური სატრანსპორტო საშუალების მართვა ნისლის, წვიმისა და თოვის დროს.

QUESTION 334

CORRECT ANSWER: 2

Will lorry driver violate the Highway Code, if he/she proceeds until service station during failure of steering gear with hazard lights switched on?

1

No

2

Yes

განმარტება:

„საგზაო მოძრაობის შესახებ“ საქართველოს კანონის მე-21-ე მუხლის მე-13 პუნქტის თანახმად, მძღოლს ეკრძალება მოძრაობა მუშა სამუხრუჭო სისტემის, საჭის მექანიზმის, სატრანსპორტო საშუალებათა შემადგენლობაში მისაბმელი მოწყობილობის გაუმართაობისას, აგრეთვე დღე-ღამის ბნელ დროს ერთდროულად მწყობრიდან გამოსული (ჩამქრალი) ახლო და შორი განათების ფარებით (ან მათი არარსებობისას) ან/და უკანა საგაბარიტო სინათლეებით იმ გზაზე, რომელზედაც არ არის ხელოვნური განათება ან არასაკმარისი ხილვადობა. მძღოლის მხარეს არსებული მინასანმენდის უმოქმედობისას აკრძალულია მექანიკური სატრანსპორტო საშუალების მართვა ნისლის, წვიმისა და თოვის დროს.

QUESTION 335

CORRECT ANSWER: 1

During dark hours or low visibility conditions, while approaching the end of the uphill, a driver must switch the high beams off and switch low beams on:

1 In any case, when approaching the end of the uphill

2 Only upon appearance of oncoming vehicle

განმარტება:

დღე-ღამის ბნელ დროს ან არასაკმარისი ხილვადობის პირობებში, აღმართის ბოლოსთან მიახლოებისას სატრანსპორტო საშუალების მძღოლმა ნებისმიერ შემთხვევაში უნდა გამოართოს შორი ნათების ფარები და ჩართოს ახლო ნათების ფარები.

QUESTION 336

CORRECT ANSWER: 3

During dark hours, in the conditions of heavy snow, which of the external illuminating devices provides better visibility of road?

1 High beams

2 Fog-lights together with high beams

3 Fog-lights together with low beams

განმარტება:

დღე-ღამის ბნელ დროს, ძლიერი თოვის პირობებში გზის უკეთეს ხილვადობის უზრუნველსაყოფად მიზანშეწონილია ნისლსაწინააღმდეგო ფარების ახლო ნათების ფარებთან ერთად ჩართვა.

QUESTION 337

CORRECT ANSWER: 4

Out of the listed below what is the driver required to check regularly?

1

Only the control system of the steering wheel

2

Only of the wheels

3

Only the equipment of exterior lighting

4

All of the listed mechanisms in given test

განმარტება:

ავტომობილის მძღოლმა რეგულარულად უნდა შეამოწმოს როგორც საჭის მართვის მექანიზმის, ასევე საბურავების და გარე სანათი ხელსაწყოების გამართულობა.

QUESTION 338

CORRECT ANSWER: 2

Which of the following parameters shall be taken into account while measuring total capacity of loading compartment of the loading van?

1

Height of loading compartment of the van

2

Total length of the vehicle

3

Width of loading compartment of the van

4

Length of loading compartment of the van

განმარტება:

სატვირთო ფურგონის სატვირთო განყოფილების ტევადობის გამოთვლისას არ უნდა გავითვალისწინოთ ავტომობილის საერთო სიგრძე.

QUESTION 339

CORRECT ANSWER: 1

Which of the following braking systems provides faster activation of brakes?

1

Hydraulic braking system

2

Pneumatic braking system

3

Combined braking system

4

Speed of activation of brakes is not depended upon the construction of the braking system

განმარტება:

ჩამოთვლილი სამუხრუჭო სისტემებიდან, ავტომობილის მუხრუჭების უფრო სწრაფად ამოქმედებას უზრუნველყოფს ჰიდრავლიკური სამუხრუჭო სისტემა.

QUESTION 340

CORRECT ANSWER: 4

While loading the cargo on the truck, following shall be taken into account:

1

Location of the centre of gravity

2

Requirements regarding loading on the axis only

3

Possibility of movement of cargo in case of road accident only

4

All of the requirements and circumstances listed in given test

განმარტება:

სატვირთო ავტომობილზე ტვირთის მოთავსებისას გათვალისწინებული უნდა იქნეს როგორც სიმძიმის ცენტრის მდებარეობა, ასევე ღერძზე დატვირთვისთან დაკავშირებული მოთხოვნები და საგზაო-სატრანსპორტო შემთხვევის დროს, ტვირთის გადაადგილების ალბათობა.

QUESTION 341

CORRECT ANSWER: 2

How does large amount of rust on the braking disks affects operation of the braking system?

- 1** Positively, as large amount of rust improves the friction force between the disk and the pads
- 2** Negatively, as large amount of rust causes uneven operation of the braking system
- 3** Existence of large amount of rust does not affect operation of the braking system

განმარტება:

სამუხრუჭო სისტემის გამართულ მუშაობაზე სამუხრუჭო დისკებზე დიდი ოდენობით ჟანგის არსებობა ახდენს უარყოფით გავლენას, რადგანაც დიდი ოდენობით ჟანგი იწვევს სამუხრუჭო სისტემის არათანაბარ მუშაობას.

თემა 15:

მოძრაობის დანყება, მანევრირება,
სატრანსპორტო საშუალების განლაგება
სავალ ნაწილზე

QUESTION 342

CORRECT ANSWER: 1



Is red car driver obliged to yield to the pedestrians when driving from adjacent territory to the road?

1

Yes

2


No

განმარტება:

„საგზაო მოძრაობის შესახებ“ საქართველოს კანონის 25-ე მუხლის მე-7 პუნქტის თანახმად, მძღოლმა მიმდებარე ტერიტორიიდან გზაზე გამოსვლისას ან გზიდან ასეთ ტერიტორიაზე შესვლისას გზა უნდა დაუთმოს ქვეითებს.

QUESTION 343

CORRECT ANSWER: 2



The motor car driver is allowed to perform U-turn maneuver:

1

In direction A only

2

In direction B only

3

In both A and B directions

განმარტება:

„საგზაო მოძრაობის შესახებ“ საქართველოს კანონის პირველი დანართის 4.3 პუნქტის თანახმად, საგზაო ნიშანი 4.3 „წრიული მოძრაობა“ - რთავს ისრებით ნაჩვენები მიმართულებებით მოძრაობის ნებას გზატკარედინზე, რომელზედაც წრიული მოძრაობაა ორგანიზებული.

QUESTION 344

CORRECT ANSWER: 3



Which motor car driver will violate the Highway Code in case of driving to the arrow direction?

1

Yellow car driver

2

White car driver

3

Red car driver

4


Green car driver

განმარტება:

„საგზაო მოძრაობის შესახებ“ საქართველოს კანონის 31-ე მუხლის მე-12 პუნქტის თანახმად, თუ ამ კანონით სხვა რამ არ არის გათვალისწინებული, ნებისმიერ სავალ ნაწილზე, თანმხვედრი მიმართულებით მოძრაობისთვის განკუთვნილი სამი ან მეტი მოძრაობის ზოლის არსებობისას განაპირა მარცხენა მოძრაობის ზოლის დაკავება ნებადართულია მხოლოდ ინტენსიური მოძრაობისას, როცა სხვა მოძრაობის ზოლები დაკავებულია, აგრეთვე გასწრების, მარცხნივ მოხვევის ან მობრუნების მიზნით, ხოლო სატვირთო ავტომობილებისათვის - მხოლოდ მარცხნივ მოხვევის ან მობრუნების დროს.

QUESTION 345

CORRECT ANSWER: 2



Which vehicle driver shall be obliged to yield when driving to the arrow direction?

1

Yellow car driver

2


White car driver

განმარტება:

„საგზაო მოძრაობის შესახებ“ საქართველოს კანონის 32-ე მუხლის მე-4 პუნქტის თანახმად, მოძრაობის ზოლიდან ზოლში მოძრაობის მიმართულების შეუცვლელად გადასვლისას მძღოლმა გზა უნდა დაუთმოს გადასასვლელ მოძრაობის ზოლში თანმხვედრი მიმართულებით მოძრავ სატრანსპორტო საშუალებას. თანმხვედრი მიმართულებით მოძრავი სატრანსპორტო საშუალებების მიერ მოძრაობის ზოლების ერთდროულად შეცვლისას მოძრაობის ტრაექტორიების გადაკვეთის შემთხვევაში გავლის უპირატესობა ენიჭება მარჯნივ მყოფ სატრანსპორტო საშუალების მძღოლს.

QUESTION 346

CORRECT ANSWER: 3



When driving to the arrow direction, white motor car driver must yield to:

1

Motorcyclist only

2

Tram driver only

3

Both of them

განმარტება:

„საგზაო მოძრაობის შესახებ“ საქართველოს კანონის 32-ე მუხლის მე-3 და მე-9 პუნქტების თანახმად: 3. მიმდებარე ტერიტორიიდან გზაზე გასვლისას მძღოლი ვალდებულია გზა დაუთმოს გზაზე მოძრავ სატრანსპორტო საშუალებასა და ქვეითს, ხოლო გზიდან გადასვლისას – იმ ქვეითს, ველოსიპედისტს, მოპედისტსა და ორბორბლიანი ელექტროთვითმგორავის მძღოლებს, რომლებსაც გზას უჭრის. 9. მარცხნივ მოხვევისას ან გზაჯვარედინის მიღმა მობრუნებისას ურელსო სატრანსპორტო საშუალების მძღოლი ვალდებულია გზა დაუთმოს საპირისპირო მიმართულებით მოძრავ სატრანსპორტო საშუალებას და თანმხვედრი მიმართულებით მოძრავ ტრამვაის.

QUESTION 347

CORRECT ANSWER: 3



Which vehicle driver is violating the Highway Code in case of proceeding to the arrow direction:

1

Tractor driver only

2

„CE“ category car driver only

3

Tractor and „CE“ category car drivers only

4

„CE“ and “B” category car drivers only

განმარტება:

„საგზაო მოძრაობის შესახებ“ საქართველოს კანონის 38-ე მუხლის პირველი პუნქტის „ა“ და „გ.გ“ ქვეპუნქტების თანახმად, ავტომაგისტრალზე, ავტომაგისტრალის შესასვლელსა და გამოსასვლელზე: ა) აკრძალულია ქვეითის, ცხოველის, ველოსიპედის, მოპედის, ორბორბლიანი ელექტროთვითმგორავის, ავტომობილისა და მათი მისაბმელებისგან განსხვავებული ყველა სატრანსპორტო საშუალების მოძრაობა. გ.გ) მძღოლს ეკრძალება მეორე ზოლის იქით იმ ტვირთის გადამზიდავი ავტომობილით (მისაბმელებით ან მათ გარეშე) მოძრაობა, რომლის ნებადართული მაქსიმალური მასა 3,5 ტონას აღემატება ან იმ მისაბმელიანი ავტომობილებით მოძრაობა, რომელთა საერთო სიგრძე 7 მეტრზე მეტია.

QUESTION 348

CORRECT ANSWER: 2



Maximum allowable mass of this lorry exceeds 3.5 tonnes. Which of the vehicle drivers is not prohibited from proceeding to the arrow direction?

1

Moped driver

2

Motor car driver

3

Lorry driver

განმარტება:

„საგზაო მოძრაობის შესახებ“ საქართველოს კანონის პირველი დანართის 3.22 პუნქტის თანახმად, საგზაო ნიშანი 3.22 „სატვირთო ავტომობილით გასწრება აკრძალულია“ - კრძალავს 3,5 ტონაზე მეტი ნებადართული მაქსიმალური მასის მქონე სატვირთო ავტომობილით სხვა სატრანსპორტო საშუალების გასწრებას (გარდა 30 კმ/სთ-ზე ნაკლები სიჩქარით მოძრავი ტრანსპორტისა), აგრეთვე ტრაქტორით სხვა სატრანსპორტო საშუალების გასწრებას (გარდა საჭაპანო ტრანსპორტისა და ველოსიპედისა). ამავე კანონის 38-ე მუხლის მე-5 პუნქტის თანახმად, ამ მუხლის პირველი–მე-3 პუნქტების გამოყენებისას ავტომაგისტრალს უთანაბრდება საავტომობილო მოძრაობისათვის განკუთვნილი და 5.3 საგზაო ნიშნით აღნიშნული ის გზები, რომლებიც მიმდებარე ტერიტორიებს არ ემსახურება. ამავე დანართის 5.3 პუნქტის თანახმად საგზაო ნიშანი 5.3. „საავტომობილო გზა“ – გზა, რომელიც განკუთვნილია მხოლოდ ავტომობილისა და მოტოციკლის მოძრაობისათვის.

QUESTION 349

CORRECT ANSWER: 1

Entering the driveway in order to sit in the vehicle from parking point (stop) of the elevated boarding platform is allowed:

1

Only after stopping of the vehicle

2

In advance, upon appearance of the vehicle

განმარტება:

„საგზაო მოძრაობის შესახებ“ საქართველოს კანონის 24-ე მუხლის მე-13 პუნქტის თანახმად, ამაღლებული ჩასასხდომი ბაქნის გასაჩერებელი პუნქტიდან (გაჩერებიდან) სატრანსპორტო საშუალებაში ჩასაჯდომად გზის სავალ ნაწილზე გასვლა ნებადართულია მხოლოდ მისი გაჩერების შემდეგ. სატრანსპორტო საშუალებიდან გადმოსვლისას ქვეითმა დაუყოვნებლივ უნდა გაათავისუფლოს გზის სავალი ნაწილი.

QUESTION 350

CORRECT ANSWER: 2

If not otherwise defined by the traffic organization means, the side of concurrent traffic on two-way road with three lanes shall be:

1

Median and right lanes

2


Only the lane located on the right side

განმარტება:

„საგზაო მოძრაობის შესახებ“ საქართველოს კანონის 31-ე მუხლის მე-3 პუნქტის თანახმად, საგზაო მონიშვნით აღნიშნული სამი მოძრაობის ზოლის მქონე ორმხრივმოძრაობიან გზაზე თანხვედრი მიმართულებების მოძრაობის მხარედ ითვლება მხოლოდ მარჯვენა მხარეს მდებარე მოძრაობის ზოლი, თუ საგზაო მოძრაობის ორგანიზაციის საშუალებებით სხვა რამ არ არის დადგენილი.

QUESTION 351

CORRECT ANSWER: 4



When driving to the arrow direction, grey car driver has priority over?

1

Bicyclist only

2

White car driver only

3

Both of them

4

None of them

განმარტება:

„საგზაო მოძრაობის შესახებ“ საქართველოს კანონის 32-ე მუხლის მე-4 პუნქტის თანახმად, მოძრაობის მიმართულების შეუცვლელად მოძრაობის ზოლიდან ზოლში გადასვლისას, მძღოლმა გზა უნდა დაუთმოს გადასასვლელ მოძრაობის ზოლში თანმხვედრი მიმართულებით მოძრავ სატრანსპორტო საშუალებას.

QUESTION 352

CORRECT ANSWER: 1



In the present situation, when simultaneously entering the traffic lanes, following vehicle shall have the priority:

1

Motor car driver

2


Lorry driver

განმარტება:

„საგზაო მოძრაობის შესახებ“ საქართველოს კანონის 32-ე მუხლის მე-4 პუნქტის თანახმად, მოძრაობის მიმართულების შეუცვლელად მოძრაობის ზოლიდან ზოლში გადასვლისას, მძღოლმა გზა უნდა დაუთმოს გადასასვლელ მოძრაობის ზოლში თანმხვედრი მიმართულებით მოძრავ სატრანსპორტო საშუალებას. თანმხვედრი მიმართულებით მოძრავი სატრანსპორტო საშუალებების მიერ, მოძრაობის ზოლების ერთდროულად შეცვლისას, მოძრაობის ტრაექტორიების გადაკვეთის შემთხვევაში, გავლის უპირატესობა ენიჭება მარჯნივ მყოფ სატრანსპორტო საშუალების მძღოლს.

QUESTION 353

CORRECT ANSWER: 2



Is the lorry driver allowed to proceed to the arrow direction, if width of the driveway is not sufficient for U-turn from the left lane?

1

No

2


Yes

განმარტება:

„საგზაო მოძრაობის შესახებ“ საქართველოს კანონის 32-ე მუხლის მე-10 პუნქტის თანახმად, თუ გზატკარვედინის მიღმა, მობრუნებისას სავალი ნაწილის სიგანე არასაკმარისია უკიდურესი მარცხენა მდებარეობიდან მანევრისთვის, ეს უკანასკნელი შეიძლება შესრულდეს სავალი ნაწილის მარჯვენა ნაპირიდან ან მარჯვენა გვერდულიდან, ამასთან, მძღოლმა გზა უნდა დაუთმოს თანმხვედრი და საპირისპირო მიმართულებით მოძრავ სატრანსპორტო საშუალებებს. ამავე კანონის მე-2 დანართის 1.11 პუნქტის თანახმად, ჰორიზონტალური საგზაო მონიშვნა 1.11. ყოფს საპირისპირო ან თანმხვედრი მიმართულებით მოძრავ სატრანსპორტო ნაკადებს გზის მონაკვეთზე, სადაც გადაჯგუფება ნებადართულია მხოლოდ ერთი ზოლიდან; აღნიშნავს მობრუნების ადგილს, სადგომი მოედნიდან გამოსასვლელსა და შესასვლელს და ა. შ., სადაც მოძრაობა ნებადართულია მხოლოდ ერთ მხარეს. 1.11 ხაზის გადაკვეთა ნებადართულია წყვეტილი ხაზის მხრიდან, აგრეთვე უწყვეტი ხაზის მხრიდან, მაგრამ მხოლოდ გასწრების ან შემოვლის დამთავრებისას.

QUESTION 354

CORRECT ANSWER: 4



If width of the driveway is not sufficient for U-turn of the lorry from the left lane, when driving to the arrow direction, the lorry driver is obliged to yield to:

1

Tram driver only

2

White motor car driver only

3

Black motor car driver only

4


All of them

განმარტება:

„საგზაო მოძრაობის შესახებ“ საქართველოს კანონის 32-ე მუხლის მე-10 და მე-11 პუნქტების თანახმად: 10. თუ გზატკარედის მიღმა მობრუნებისას სავალი ნაწილის სიგანე არასაკმარისია უკიდურესი მარცხენა მდებარეობიდან მობრუნებისთვის, ეს მანევრი შეიძლება შესრულდეს სავალი ნაწილის მარჯვენა კიდიდან ან მარჯვენა გვერდულად. ამასთანავე, მძღოლმა გზა უნდა დაუთმოს თანმხვედრი და საპირისპირო მიმართულებებით მოძრავ სატრანსპორტო საშუალებებს. 11. თუ გზატკარედინზე სავალი ნაწილის სიგანე არასაკმარისია უკიდურესი მარცხენა მდებარეობიდან მობრუნებისთვის, მძღოლი ვალდებულია ეს მანევრი შეასრულოს გზატკარედის მიღმა, გარდა იმ შემთხვევისა, როცა გზატკარედის სიახლოვეს გზის სიგანე ამის შესაძლებლობას არ იძლევა. ყველა შემთხვევაში უზრუნველყოფილი უნდა იქნეს მოძრაობის უსაფრთხოება და დაბრკოლება არ უნდა შეექმნას სხვა საგზაო მოძრაობის მონაწილეებს. ამ პუნქტით განსაზღვრული წესი არ ვრცელდება იმ გზატკარედებზე, რომლებზედაც მობრუნება აკრძალულია შესაბამისი საგზაო ნიშნით ან საგზაო მონიშვნით.

QUESTION 355

CORRECT ANSWER: 1



Does the lorry driver have the right to proceed the way according to the arrows if the carriageway does not have enough width for turning from left lane?

1

Has the right if ensuring road safety and if such action shall not create any obstacles for road other users

2


Does not have the right

განმარტება:

„საგზაო მოძრაობის შესახებ“ საქართველოს კანონის 32-ე მუხლის მე-7 პუნქტის „ბ“ ქვეპუნქტისა და მე-8 პუნქტის თანახმად: 7. სხვა გზაზე გასასვლელად ან გზის მიმდებარე ტერიტორიაზე შესასვლელად მარჯვნივ ან მარცხნივ მოხვევის წინ, ისე, რომ არ დაარღვიოს ამ კანონის მე-20 მუხლის მე-2 პუნქტითა და ამ მუხლის პირველი და მე-2 პუნქტებით დადგენილი მოთხოვნები, თუ სატრანსპორტო საშუალების მძღოლი აპირებს გზიდან გასვლას: ბ) მარცხენა მხრიდან, სატრანსპორტო საშუალება, რამდენადაც ეს შესაძლებელია, უნდა მიუახლოვდეს გზის სავალი ნაწილის ღერძს (ორმხრივმოძრაობიან გზაზე) ან სავალი ნაწილის მარცხენა კიდე (ცალმხრივმოძრაობიან გზაზე), ხოლო თუ ის სხვა ორმხრივმოძრაობიან გზაზე აპირებს გასვლას, მოხვევა ისე უნდა შეასრულოს, რომ სავალი ნაწილების გადაკვეთიდან გამოსვლისას სატრანსპორტო საშუალება საპირისპირო მოძრაობის მხარეს არ აღმოჩნდეს. 8. თუ მძღოლი სატრანსპორტო საშუალების გაბარიტის ან სხვა მიზეზის გამო ვერ ასრულებს მოხვევას, ამ მუხლის მე-7 პუნქტით დადგენილ მოთხოვნათა გათვალისწინებით დასაშვებია ამ წესებიდან გადახვევა, თუ უზრუნველყოფილი იქნება მოძრაობის უსაფრთხოება და დაბრკოლება არ შეექმნება სხვა საგზაო მოძრაობის მონაწილეებს.

QUESTION 356

CORRECT ANSWER: 2



Width of the road does not allow U-turn adjacent to the intersection. Is the lorry driver allowed to proceed to the arrow direction?

1

Yes

2


No

განმარტება:

„საგზაო მოძრაობის შესახებ“ საქართველოს კანონის 32-ე მუხლის მე-11 პუნქტის თანახმად, თუ გზაჯვარედინზე სავალი ნაწილის სიგანე არასაკმარისია უკიდურესი მარცხენა მდებარეობიდან მობრუნებისთვის, მძღოლი ვალდებულია ეს მანევრი შეასრულოს გზაჯვარედინის მიღმა, გარდა იმ შემთხვევისა, როცა გზაჯვარედინის სიხლოეს გზის სიგანე ამის შესაძლებლობას არ იძლევა. ყველა შემთხვევაში უზრუნველყოფილი უნდა იქნას მოძრაობის უსაფრთხოება და დაბრკოლება არ უნდა შეექმნას სხვა საგზაო მოძრაობის მონაწილეებს. ამ პუნქტით განსაზღვრული წესი არ ვრცელდება იმ გზაჯვარედინებზე, რომლებზე მობრუნება აკრძალულია შესაბამისი საგზაო ნიშნით ან მონიშვნით. ამავე კანონის პირველი დანართის მე-3 თავის (ამკრძალავი ნიშანები) 3.19 პუნქტის თანახმად საგზაო ნიშანი 3.19 „მობრუნება აკრძალულია“ - კრძალავს სავალი ნაწილების უახლოეს გადაკვეთაზე მობრუნებას.

QUESTION 357

CORRECT ANSWER: 2



For the purpose of leaving the road, a light vehicle driver is permitted to move:

1

Only to direction A

2

Only to direction B

3

In both A and B directions

განმარტება:

„საგზაო მოძრაობის შესახებ“ საქართველოს კანონის 32-ე მუხლის მე-13 პუნქტის თანახმად, დამუხრუჭების ზოლის არსებობის შემთხვევაში მძღოლი, რომელიც მოხვევას აპირებს, დროულად უნდა გადაადგილდეს ამ ზოლზე და შემდეგ უნდა შეანელოს სიჩქარე.

QUESTION 358

CORRECT ANSWER: 1



Is the driver prohibited from swerving the vehicle to the arrow direction, if visibility is limited up to 90 meters?

1

Yes

2


No

განმარტება:

„საგზაო მოძრაობის შესახებ“ საქართველოს კანონის 32-ე მუხლის მე-15 პუნქტის „ე“ ქვეპუნქტის თანახმად, აკრძალულია სატრანსპორტო საშუალების მობრუნება გზაზე, სადაც ხილვადობა თუნდაც ერთი მიმართულებით 100 მეტრზე ნაკლებია.

QUESTION 359

CORRECT ANSWER: 1



In the present situation, U-turn of the vehicle is allowed:

1

In direction A only

2

In direction B only

3

In both of the directions

4


In none of the directions

განმარტება:

„საგზაო მოძრაობის შესახებ“ საქართველოს კანონის 32-ე მუხლის მე-15 პუნქტის „გ“ ქვეპუნქტის თანახმად, აკრძალულია სატრანსპორტო საშუალების მობრუნება ხიდზე, გზაგამტარზე, ესტაკადაზე და მათ ქვეშ. ამავდროულად კანონის მე-2 დანართის პირველი თავის (ჰორიზონტალური მონიშვნა) 1.5 პუნქტის თანახმად ჰორიზონტალური მონიშვნა 1.5. ყოფს საპირისპირო მიმართულებით მოძრავ სატრანსპორტო ნაკადებს გზაზე, რომელსაც მოძრაობის ორი ან სამი ზოლი აქვს; აღნიშნავს მოძრაობის ზოლების საზღვრებს ერთი მიმართულებით მოძრაობისათვის განკუთვნილი ორი და მეტი ზოლის არსებობისას. 1.5 ხაზის გადაკვეთა ნებადართულია ნებისმიერი მხრიდან.

QUESTION 360

CORRECT ANSWER: 4



In the present situation, U-turn of the vehicle is allowed:

1

In direction A only

2

In direction B only

3

In both of the directions

4


In none of the directions

განმარტება:

„საგზაო მოძრაობის შესახებ“ საქართველოს კანონის 32-ე მუხლის მე-15 პუნქტის „ა“ და „ვ“ ქვეპუნქტების თანახმად, აკრძალულია სატრანსპორტო საშუალების მობრუნება: ა) ქვეითთა გადასასვლელზე; ვ) იმ ადგილას, სადაც გასაჩერებელი პუნქტია. ამავე კანონის პირველი დანართის მე-5 თავის (განსაკუთრებული მითითებების ნიშნები) 5.16 პუნქტის თანახმად საგზაო ნიშანი 5.16 „ავტობუსის და (ან) ტროლეიბუსის გაჩერების ადგილი“ აღნიშნავს შესაბამისი სახის სამარშრუტო სატრანსპორტო საშუალების გასაჩერებელ ადგილს. ამავე თავის 5.19.1 და 5.19.2 პუნქტების თანახმად საგზაო ნიშნები 5.19.1 და 5.19.2 „ქვეითთა გადასასვლელი“ - აღნიშნავს გზაზე ქვეითთა გადასასვლელისთვის გამოყოფილ ადგილს. ნიშანი 5.19.1 იდგმება გზის მარჯვენა მხარეს, ხოლო 5.19.2 - გზის მარცხენა მხარეს. გადასასვლელზე 1.14 მონიშვნის არ არსებობისას ნიშანი 5.19.1 იდგმება გადასასვლელის ახლო საზღვართან, ხოლო ნიშანი 5.19.2 - გადასასვლელის შორ საზღვართან.

QUESTION 361

CORRECT ANSWER: 4



The motor car driver is allowed to proceed:

1

To the left only

2

Straight and to the right only

3

To the left and right only

4

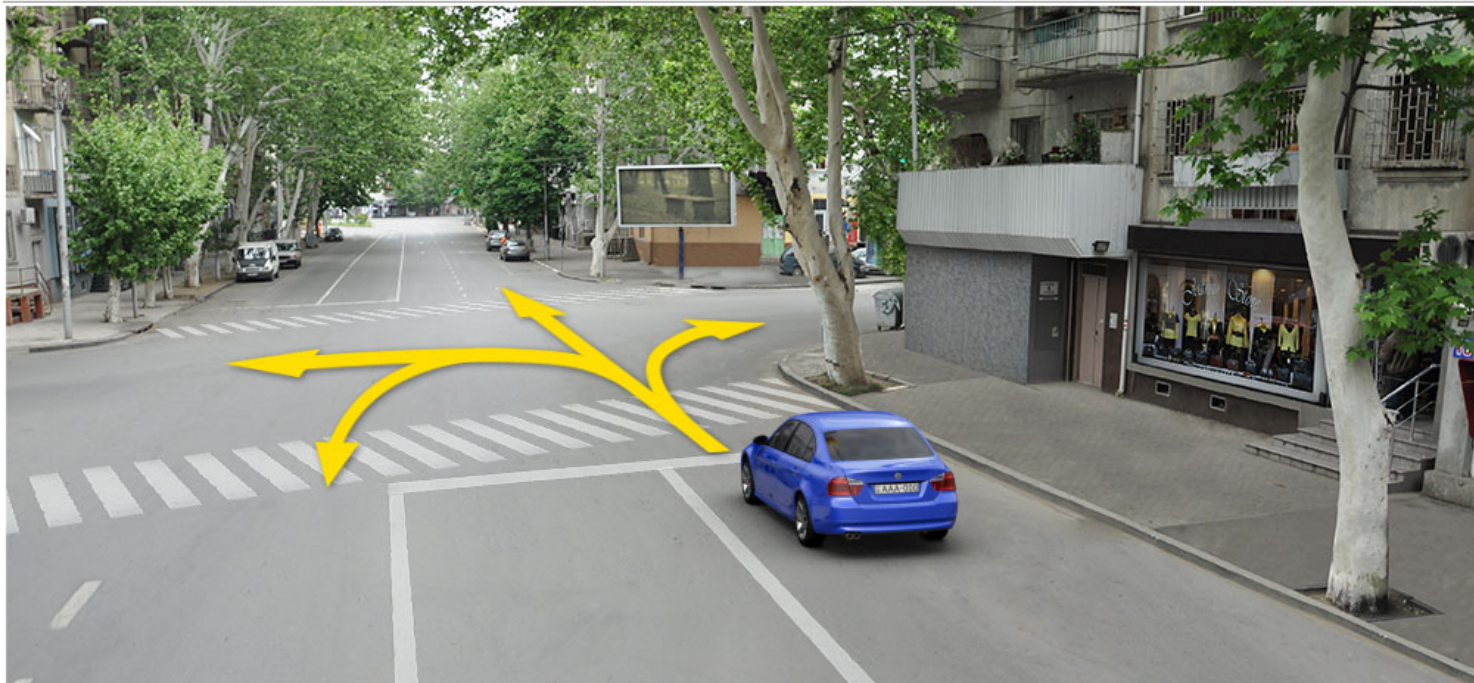
Straight, to the left and backward (U-turn) only

ბანმარტეზა:

„საგზაო მოძრაობის შესახებ“ საქართველოს კანონის 32-ე მუხლის მე-7 პუნქტების თანახმად, სხვა გზაზე გასასვლელად ან გზის მიმდებარე ტერიტორიაზე შესასვლელად მარჯვნივ ან მარცხნივ მოხვევის წინ, ისე, რომ არ დაარღვიოს ამ კანონის მე-20 მუხლის მე-2 პუნქტითა და ამ მუხლის პირველი და მე-2 პუნქტებით დადგენილი მოთხოვნები, თუ სატრანსპორტო საშუალების მძღოლი აპირებს გზიდან გასვლას: ა) მარჯვენა მხრიდან, სატრანსპორტო საშუალებამ უნდა იმოძრაოს რაც შეიძლება ახლოს სავალი ნაწილის მარჯვენა კიდეებთან და შემდეგ შეასრულოს შეძლებისდაგვარად მოკლე მანევრი; ბ) მარცხენა მხრიდან, სატრანსპორტო საშუალება, რამდენადაც ეს შესაძლებელია, უნდა მიუახლოვდეს გზის სავალი ნაწილის ღერძს (ორმხრივმოძრაობიან გზაზე) ან სავალი ნაწილის მარცხენა კიდე (ცალმხრივმოძრაობიან გზაზე), ხოლო თუ ის სხვა ორმხრივმოძრაობიან გზაზე აპირებს გასვლას, მოხვევა ისე უნდა შეასრულოს, რომ სავალი ნაწილების გადაკვეთიდან გამოსვლისას სატრანსპორტო საშუალება საპირისპირო მოძრაობის მხარეს არ აღმოჩნდეს. ამავე კანონის მე-2 დანართის პირველი თავის (ჰორიზონტალური მონიშვნა) 1.1 პუნქტის თანახმად ჰორიზონტალური მონიშვნა 1.1 ყოფს საპირისპირო მიმართულებით მოძრავ სატრანსპორტო ნაკადებს და გზის სახიფათო მონაკვეთზე - აღნიშნავს მოძრაობის ზოლების საზღვრებს ან სავალი ნაწილის საზღვრებს, რომლებზედაც შესვლა აკრძალულია; 1.1 ხაზის გადაკვეთა აკრძალულია. დასაშვებია სავალი ნაწილის ნაპირის აღმნიშვნელი და მძღოლის მარჯვენა მხარეს განლაგებული 1.1 ხაზის გადაკვეთა სატრანსპორტო საშუალების გზის ნაპირზე გასაჩერებლად.

QUESTION 362

CORRECT ANSWER: 3



The motor car driver is allowed to proceed:

1

To the right only

2

To the left and right only

3

Straight and to the right only

4

Straight, to the left and backward (U-turn) only

ბანამარტეზა:

„საგზაო მოძრაობის შესახებ“ საქართველოს კანონის 32-ე მუხლის მე-7 პუნქტების თანახმად, სხვა გზაზე გასასვლელად ან გზის მიმდებარე ტერიტორიაზე შესასვლელად მარჯვნივ ან მარცხნივ მოხვევის წინ, ისე, რომ არ დაარღვიოს ამ კანონის მე-20 მუხლის მე-2 პუნქტითა და ამ მუხლის პირველი და მე-2 პუნქტებით დადგენილი მოთხოვნები, თუ სატრანსპორტო საშუალების მძღოლი აპირებს გზიდან გასვლას: ა) მარჯვენა მხრიდან, სატრანსპორტო საშუალებამ უნდა იმოძრაოს რაც შეიძლება ახლოს სავალი ნაწილის მარჯვენა კიდეებთან და შემდეგ შეასრულოს შეძლებისდაგვარად მოკლე მანევრი; ბ) მარცხენა მხრიდან, სატრანსპორტო საშუალება, რამდენადაც ეს შესაძლებელია, უნდა მიუახლოვდეს გზის სავალი ნაწილის ღერძს (ორმხრივმოძრაობიან გზაზე) ან სავალი ნაწილის მარცხენა კიდე (ცალმხრივმოძრაობიან გზაზე), ხოლო თუ ის სხვა ორმხრივმოძრაობიან გზაზე აპირებს გასვლას, მოხვევა ისე უნდა შეასრულოს, რომ სავალი ნაწილების გადაკვეთიდან გამოსვლისას სატრანსპორტო საშუალება საპირისპირო მოძრაობის მხარეს არ აღმოჩნდეს. ამავე კანონის მე-2 დანართის პირველი თავის (ჰორიზონტალური მონიშვნა) 1.1 პუნქტის თანახმად ჰორიზონტალური მონიშვნა 1.1 ყოფს საპირისპირო მიმართულებით მოძრავ სატრანსპორტო ნაკადებს და გზის სახიფათო მონაკვეთზე - აღნიშნავს მოძრაობის ზოლების საზღვრებს ან სავალი ნაწილის საზღვრებს, რომლებზედაც შესვლა აკრძალულია; 1.1 ხაზის გადაკვეთა აკრძალულია. დასაშვებია სავალი ნაწილის ნაპირის აღმნიშვნელი და მძღოლის მარჯვენა მხარეს განლაგებული 1.1 ხაზის გადაკვეთა სატრანსპორტო საშუალების გზის ნაპირზე გასაჩერებლად.

QUESTION 363

CORRECT ANSWER: 1



The vehicle driver drove past the right turning. Is he/she prohibited from reversing to the arrow direction in order to enter the turning?

1

Yes

2

No

განმარტება:

„საგზაო მოძრაობის შესახებ“ საქართველოს კანონის 32-ე მუხლის მე-16 პუნქტის თანახმად, მძღოლი, რომელიც მობრუნებას ან უკუსვლით მოძრაობას აპირებს, უნდა დარწმუნდეს, რომ მას შეუძლია ისე შეასრულოს ეს მანევრი, რომ საფრთხე არ შეუქმნას და ხელი არ შეუშალოს სხვა საგზაო მოძრაობის მონაწილეებს. აუცილებლობის შემთხვევაში მიზანშეწონილია სხვა პირის დახმარება. აკრძალულია უკუსვლით მოძრაობა გზაჯვარედინზე, ავტომაგისტრალზე და ამ მუხლის მე-15 პუნქტით განსაზღვრულ ადგილებში.

QUESTION 364

CORRECT ANSWER: 1

In the middle of the driveway of two-way road, where the tram rails are located on the same level, following shall be considered as separator of reverse traffic sides:

1

Imaginary middle line among the tram rails moving in the opposite direction

2

Right rail of the tram moving in the same direction

3

Left rail of the tram moving in the opposite direction

განმარტება:

„საგზაო მოძრაობის შესახებ“ საქართველოს კანონის 31-ე მუხლის მე-3 პუნქტის თანახმად, ორმხრივმოძრაობიან გზაზე, სავალი ნაწილის შუაში, მასთან ერთ დონეზე ტრამვაის ლიანდაგის მდებარეობისას, საპირისპირო მოძრაობის მხარეების გამყოფად მიიჩნევა საპირისპიროდ მოძრავი ტრამვაის ლიანდაგებს შორის წარმოსახვითი შუა ხაზი.

QUESTION 365

CORRECT ANSWER: 2



Is the lorry driver allowed to proceed to the arrow direction if the median lane of the given two-way road is used for two-way traffic?

1

Yes

2

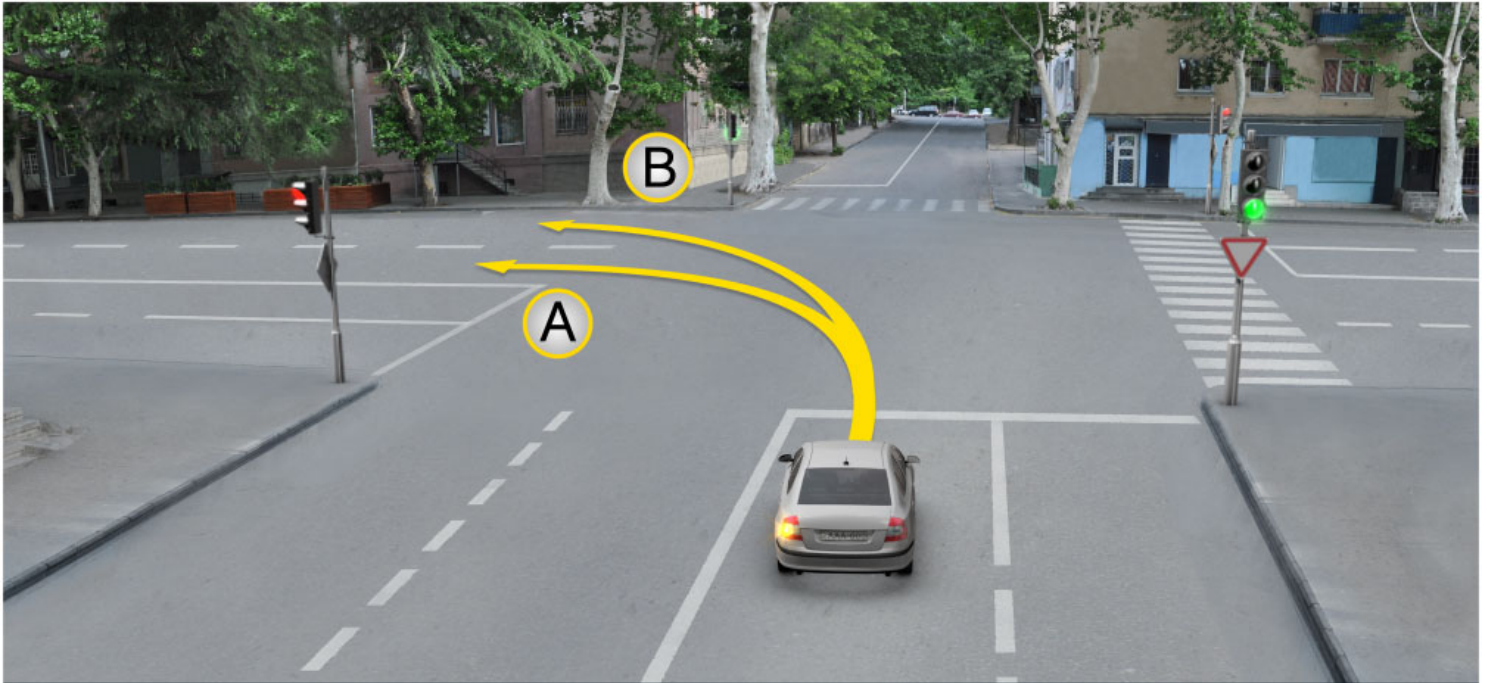
No

განმარტება:

„საგზაო მოძრაობის შესახებ“ საქართველოს კანონის 31-ე მუხლის მე-7 პუნქტის თანახმად, სამი მოძრაობის ზოლის მქონე (გარდა 1.9 საგზაო მონიშვნისა) ორმხრივმოძრაობიან გზაზე სატრანსპორტო საშუალების მძღოლი არ უნდა გადავიდეს სავალი ნაწილის განაპირა ზოლზე, სადაც საპირისპირო მიმართულების მოძრაობა ხორციელდება. თუ სამი მოძრაობის ზოლის მქონე გზაზე შუა ზოლი ორივე მიმართულებით მოძრაობისათვის გამოიყენება, ამ ზოლზე გასვლა ნებადართულია მხოლოდ გასწრების, დაბრკოლების შემოვლის, მარცხნივ მოხვევის ან მობრუნების მიზნით.

QUESTION 366

CORRECT ANSWER: 3



Motor car driver is allowed to proceed:

1

In direction A only

2

In direction B only

3

In both A and B directions

განმარტება:

„საგზაო მოძრაობის შესახებ“ საქართველოს კანონის 32-ე მუხლის მე-7 პუნქტის „ბ“ ქვეპუნქტის თანახმად, სხვა გზაზე გასასვლელად ან გზის მიმდებარე ტერიტორიაზე შესასვლელად მარჯვნივ ან მარცხნივ მოხვევის წინ, ისე, რომ არ დაარღვიოს ამ კანონის მე-20 მუხლის მე-2 პუნქტითა და ამ მუხლის პირველი და მე-2 პუნქტებით დადგენილი მოთხოვნები, თუ სატრანსპორტო საშუალების მძღოლი აპირებს გზიდან გასვლას მარცხენა მხრიდან, სატრანსპორტო საშუალება, რამდენადაც ეს შესაძლებელია, უნდა მიუახლოვდეს გზის სავალი ნაწილის ღერძს (ორმხრივმოძრაობიან გზაზე) ან სავალი ნაწილის მარცხენა კიდე (ცალმხრივმოძრაობიან გზაზე), ხოლო თუ ის სხვა ორმხრივმოძრაობიან გზაზე აპირებს გასვლას, მოხვევა ისე უნდა შეასრულოს, რომ სავალი ნაწილების გადაკვეთიდან გამოსვლისას სატრანსპორტო საშუალება საპირისპირო მოძრაობის მხარეს არ აღმოჩნდეს.

QUESTION 367

CORRECT ANSWER: 4

In which of the below-listed cases is motion with the vehicle without rails allowed to the left side of the road, on the tram rail of the same direction located on the same level as the driveway?

1

Only in case if every lane is occupied for motion in the same direction

2

In case of passing the obstruction or overtaking only

3

In case of U-turn or swerving to the right only

4

In any case listed in given test if such action does not create any obstacles for tram movement

განმარტება:

„საგზაო მოძრაობის შესახებ“ საქართველოს კანონის 31-ე მუხლის მე-15 პუნქტის თანახმად, ამ კანონის 32-ე მუხლის მე-6 პუნქტით დადგენილ მოთხოვნათა გათვალისწინებით, მოძრაობა ნებადართულია თანმხვედრი მიმართულების ტრამვაის ლიანდაგზე, რომელიც მარცხენა მხარეს სავალ ნაწილთან ერთ დონეზე მდებარეობს, თუ თანმხვედრი მიმართულებით მოძრაობისთვის განკუთვნილი ყველა მოძრაობის ზოლი დაკავებულია, აგრეთვე დაბრკოლების შემოვლის ან გასწრების, ან მარცხნივ მოხვევის ან მობრუნების დროს. ამასთანავე, ტრამვაის მოძრაობას არ უნდა შეექმნას დაბრკოლება. საპირისპირო მიმართულების ტრამვაის ლიანდაგზე გასვლა აკრძალულია.

QUESTION 368

CORRECT ANSWER: 4

At which below-mentioned places is U-turn of the vehicle prohibited?

1

On roads only, where visibility is less than 100 meters in at least one direction

2

At place, where there is the stopping point

3

On the highway only

4

In any place listed in given test

განმარტება:

„საგზაო მოძრაობის შესახებ“ საქართველოს კანონის 32-ე მუხლის მე-15 პუნქტის „ე“ და „ვ“ ქვეპუნქტების თანახმად, აკრძალულია სატრანსპორტო საშუალების მობრუნება: ე) გზაზე, სადაც ხილვადობა თუნდაც ერთი მიმართულებით 100 მეტრზე ნაკლებია; ვ) იმ ადგილას, სადაც გასაჩერებელი პუნქტია. ამავე კანონის 38-ე მუხლის პირველი პუნქტის „გ.ბ“ ქვეპუნქტის თანახმად ავტომაგისტრალზე, ავტომაგისტრალის შესასვლელზე და გამოსასვლელზე მძღოლს ეკრძალება მობრუნება ან უკუსვლით მოძრაობა, აგრეთვე ცენტრალურ გამყოფ ზოლსა და გზის ორივე სავალი ნაწილის განივ შეერთებაზე გასვლა.

QUESTION 369

CORRECT ANSWER: 1

On simultaneous changing of the traffic lanes by the vehicles moving in the same direction, when the motion trajectories are crossed, right-of-way is entitled to:

1

Right vehicle driver

2

Left vehicle driver

განმარტება:

„საგზაო მოძრაობის შესახებ“ საქართველოს კანონის 32-ე მუხლის მე-4 პუნქტის თანახმად, მოძრაობის ზოლიდან ზოლში მოძრაობის მიმართულებების შეუცვლელად გადასვლისას მძღოლმა გზა უნდა დაუთმოს გადასასვლელ მოძრაობის ზოლში თანმხვედრი მიმართულებით მოძრავ სატრანსპორტო საშუალებას. თანმხვედრი მიმართულებით მოძრავი სატრანსპორტო საშუალებების მიერ მოძრაობის ზოლების ერთდროულად შეცვლისას მოძრაობის ტრაექტორიების გადაკვეთის შემთხვევაში გავლის უპირატესობა ენიჭება მარჯვნივ მყოფი სატრანსპორტო საშუალების მძღოლს.

QUESTION 370

CORRECT ANSWER: 4

At which of the below-listed places is reversing of the vehicle prohibited?

1

In tunnel only

2

On the highway only

3

On the intersection only

4

In any place listed in given test

განმარტება:

„საგზაო მოძრაობის შესახებ“ საქართველოს კანონის 32-ე მუხლის მე-15 პუნქტის „ბ“ ქვეპუნქტისა და მე-16 პუნქტის თანახმად: 15. „ბ“ აკრძალულია სატრანსპორტო საშუალების მობრუნება გვირაბში; 16. მძღოლი, რომელიც მობრუნებას ან უკუსვლით მოძრაობას აპირებს, უნდა დარწმუნდეს, რომ მას შეუძლია ისე შეასრულოს ეს მანევრი, რომ საფრთხე არ შეუქმნას და ხელი არ შეუშალოს სხვა საგზაო მოძრაობის მონაწილეებს. აუცილებლობის შემთხვევაში მიზანშეწონილია სხვა პირის დახმარება. აკრძალულია უკუსვლით მოძრაობა გზატკარცილობაზე, ავტომაგისტრალზე და ამ მუხლის მე-15 პუნქტით განსაზღვრულ ადგილებში.

QUESTION 371

CORRECT ANSWER: 1



Is the motor car driver obliged to switch on right-turning light when driving to the arrow direction, if there is no any vehicle behind him/her?

1

Yes

2

No

განმარტება:

„საგზაო მოძრაობის შესახებ“ საქართველოს კანონის 32-ე მუხლის მე-2 პუნქტის თანახმად, მანევრის დაწყებამდე მძღოლი ვალდებულია ჩართოს შესაბამისი მიმართულების მოხვევის შუქ-მაჩვენებელი, ხოლო თუ ის არ არის ან გამოსულია მწყობრიდან – ანიშნოს ხელით.

QUESTION 372

CORRECT ANSWER: 1



I



II



III

Which drawing shows hand signal for left-turning given by the motorcyclist?

1

I

2

II

3

III

განმარტება:


„საგზაო მოძრაობის შესახებ“ საქართველოს კანონის 32-ე მუხლის მე-2 პუნქტის თანახმად, მანევრის დაწყებამდე მძღოლი ვალდებულია ჩართოს შესაბამისი მიმართულების მოხვევის შუქ-მაჩვენებელი, ხოლო თუ ის არ არის ან გამოსულია მწყობრიდან – ანიშნოს ხელით. მარცხნივ მოხვევის ან მობრუნების სიგნალს შეესაბამება გვერდზე ჰორიზონტალურად გაშვებული მარცხენა ხელი ან გვერდზე გაშვებული, იდაყვში სწორი კუთხით ზემოთ მოხრილი მარჯვენა ხელი. მარჯვნივ მოხვევის სიგნალს შეესაბამება გვერდზე ჰორიზონტალურად გაშვებული მარჯვენა ხელი ან გვერდზე გაშვებული, იდაყვში სწორი კუთხით ზემოთ მოხრილი მარცხენა ხელი. დამუხრუჭების სიგნალს შეესაბამება ზემოთ ვერტიკალურად აწეული მარცხენა ან მარჯვენა ხელი.

QUESTION 373

CORRECT ANSWER: 3



I



II



III

Which drawing shows hand signal for right-turning given by the motorcyclist?

1

I

2

II

3

III

განმარტება:

„საგზაო მოძრაობის შესახებ“ საქართველოს კანონის 32-ე მუხლის მე-2 პუნქტის თანახმად, მანევრის დაწყებამდე მძღოლი ვალდებულია ჩართოს შესაბამისი მიმართულების მოხვევის შუქ-მაჩვენებელი, ხოლო თუ ის არ არის ან გამოსულია მწყობრიდან – ანიშნოს ხელით. მარცხნივ მოხვევის ან მობრუნების სიგნალს შეესაბამება გვერდზე ჰორიზონტალურად გაშვებული მარცხენა ხელი ან გვერდზე გაშვებული, იდაყვში სწორი კუთხით ზემოთ მოხრილი მარჯვენა ხელი. მარჯვნივ მოხვევის სიგნალს შეესაბამება გვერდზე ჰორიზონტალურად გაშვებული მარჯვენა ხელი ან გვერდზე გაშვებული, იდაყვში სწორი კუთხით ზემოთ მოხრილი მარცხენა ხელი. დამუხრუჭების სიგნალს შეესაბამება ზემოთ ვერტიკალურად აწეული მარცხენა ან მარჯვენა ხელი.

QUESTION 374

CORRECT ANSWER: 2



I



II



III

Which drawing shows hand signal for braking given by the motorcyclist?

1

I

2

II

3

III

განმარტება:

„საგზაო მოძრაობის შესახებ“ საქართველოს კანონის 32-ე მუხლის მე-2 პუნქტის თანახმად, მანევრის დაწყებამდე მძღოლი ვალდებულია ჩართოს შესაბამისი მიმართულების მოხვევის შუქ-მაჩვენებელი, ხოლო თუ ის არ არის ან გამოსულია მწყობრიდან – ანიშნოს ხელით. მარცხნივ მოხვევის ან მობრუნების სიგნალს შეესაბამება გვერდზე ჰორიზონტალურად გაშვებული მარცხენა ხელი ან გვერდზე გაშვებული, იდაყვში სწორი კუთხით ზემოთ მოხრილი მარჯვენა ხელი. მარჯვნივ მოხვევის სიგნალს შეესაბამება გვერდზე ჰორიზონტალურად გაშვებული მარჯვენა ხელი ან გვერდზე გაშვებული, იდაყვში სწორი კუთხით ზემოთ მოხრილი მარცხენა ხელი. დამუხრუჭების სიგნალს შეესაბამება ზემოთ ვერტიკალურად აწეული მარცხენა ან მარჯვენა ხელი.

QUESTION 375

CORRECT ANSWER: 1



I



II



III

Which drawing shows hand signal for braking given by the vehicle driver?

1

I

2

II

3

III

განმარტება:

„საგზაო მოძრაობის შესახებ“ საქართველოს კანონის 32-ე მუხლის მე-2 პუნქტის თანახმად, მანევრის დაწყებამდე მძღოლი ვალდებულია ჩართოს შესაბამისი მიმართულების მოხვევის შუქ-მაჩვენებელი, ხოლო თუ ის არ არის ან გამოსულია მწყობრიდან – ანიშნოს ხელით. მარცხნივ მოხვევის ან მობრუნების სიგნალს შეესაბამება გვერდზე ჰორიზონტალურად გაშვებული მარცხენა ხელი ან გვერდზე გაშვებული, იდაყვში სწორი კუთხით ზემოთ მოხრილი მარჯვენა ხელი. მარჯვნივ მოხვევის სიგნალს შეესაბამება გვერდზე ჰორიზონტალურად გაშვებული მარჯვენა ხელი ან გვერდზე გაშვებული, იდაყვში სწორი კუთხით ზემოთ მოხრილი მარცხენა ხელი. დამუხრუჭების სიგნალს შეესაბამება ზემოთ ვერტიკალურად აწეული მარცხენა ან მარჯვენა ხელი.

QUESTION 376

CORRECT ANSWER: 2



I



II



III

Which drawing shows hand signal for right-turning given by the vehicle driver?

1

I

2

II

3

III

განმარტება:

„საგზაო მოძრაობის შესახებ“ საქართველოს კანონის 32-ე მუხლის მე-2 პუნქტის თანახმად, მანევრის დაწყებამდე მძღოლი ვალდებულია ჩართოს შესაბამისი მიმართულების მოხვევის შუქ-მაჩვენებელი, ხოლო თუ ის არ არის ან გამოსულია მწყობრიდან – ანიშნოს ხელით. მარცხნივ მოხვევის ან მობრუნების სიგნალს შეესაბამება გვერდზე ჰორიზონტალურად გაშვებული მარცხენა ხელი ან გვერდზე გაშვებული, იდაყვში სწორი კუთხით ზემოთ მოხრილი მარჯვენა ხელი. მარჯვნივ მოხვევის სიგნალს შეესაბამება გვერდზე ჰორიზონტალურად გაშვებული მარჯვენა ხელი ან გვერდზე გაშვებული, იდაყვში სწორი კუთხით ზემოთ მოხრილი მარცხენა ხელი. დამუხრუჭების სიგნალს შეესაბამება ზემოთ ვერტიკალურად აწეული მარცხენა ან მარჯვენა ხელი.

QUESTION 377

CORRECT ANSWER: 3



I



II



III

Which drawing shows hand signal for left-turning or U-turn given by the vehicle driver?

1

I

2

II

3

III

განმარტება:

„საგზაო მოძრაობის შესახებ“ საქართველოს კანონის 32-ე მუხლის მე-2 პუნქტის თანახმად, მანევრის დაწყებამდე მძღოლი ვალდებულია ჩართოს შესაბამისი მიმართულების მოხვევის შუქ-მაჩვენებელი, ხოლო თუ ის არ არის ან გამოსულია მწყობრიდან – ანიშნოს ხელით. მარცხნივ მოხვევის ან მობრუნების სიგნალს შეესაბამება გვერდზე ჰორიზონტალურად გაშვებული მარცხენა ხელი ან გვერდზე გაშვებული, იდაყვში სწორი კუთხით ზემოთ მოხრილი მარჯვენა ხელი. მარჯვნივ მოხვევის სიგნალს შეესაბამება გვერდზე ჰორიზონტალურად გაშვებული მარჯვენა ხელი ან გვერდზე გაშვებული, იდაყვში სწორი კუთხით ზემოთ მოხრილი მარცხენა ხელი. დამუხრუჭების სიგნალს შეესაბამება ზემოთ ვერტიკალურად აწეული მარცხენა ან მარჯვენა ხელი.

QUESTION 378

CORRECT ANSWER: 2

If insufficient width, profile of the road or driveway condition, considering the intensity of the opposite motion, does not allow overtaking of low-speed or large-dimension vehicle easily and safely, the vehicle driver:

- 1 Is required to increase speed for the purpose of passing through the given road section quickly
- 2 Must slow down and, if necessary, upon the first opportunity, give way to the vehicles driving behind him/her

განმარტება:

„საგზაო მოძრაობის შესახებ“ საქართველოს კანონის 34-ე მუხლის მე-12 პუნქტის თანახმად, თუ გზის არასაკმარისი სიგანე, პროფილი ან სავალი ნაწილის მდგომარეობა, საპირისპირო მოძრაობის ინტენსივობის გათვალისწინებით, არ იძლევა ნელმავალი ან დიდგაბარიტიანი სატრანსპორტო საშუალების ადვილად და უსაფრთხოდ გასწრების საშუალებას, ამ სატრანსპორტო საშუალების მძღოლმა უნდა შეანელოს მოძრაობა და აუცილებლობის შემთხვევაში პირველივე შესაძლებლობისას დაუთმოს გზა მის უკან მოძრავ სატრანსპორტო საშუალებებს.

QUESTION 379

CORRECT ANSWER: 3

Out of the circumstances listed below, in which place is considered by law the possibility of the drivers to use their favorable lane?

- 1 In any road of inhabited area if the driver is moving by a low-speed vehicle
- 2 In the sections of uninhabited and inhabited areas where it is permitted to move at a speed of more than 80 km/h
- 3 In the road of an inhabited area where there are not less than two lanes of the same direction and they are marked with longitudinal line marking

განმარტება:

„საგზაო მოძრაობის შესახებ“ საქართველოს კანონის 34-ე მუხლის მე-13 პუნქტის თანახმად, ამ კანონის 31-ე მუხლით (გარდა მე-5 პუნქტისა) დადგენილი მოთხოვნათა გათვალისწინებით, დასახლებულ პუნქტში, გზაზე, სადაც თანმხვედრი მიმართულებით მოძრაობისათვის არანაკლებ ორი მოძრაობის ზოლია და ისინი აღნიშნულია გრძივი მონიშვნით, მძღოლს შეუძლია ისარგებლოს მისთვის უფრო მოსახერხებელი მოძრაობის ზოლით (გარდა ამ კანონით გათვალისწინებული შემთხვევებისა). სხვა მოძრაობის ზოლზე ის უნდა გადავიდეს მხოლოდ მარჯვნივ ან მარცხნივ მოხვევის, გასწრების, გაჩერების ან დგომის მანევრის შესრულების მარეგულირებელი წესების შესაბამისად.

QUESTION 380

CORRECT ANSWER: 1



In the present situation, is white car driver prohibited from proceeding the arrow direction?

1

Yes

2

No

განმარტება:

„საგზაო მოძრაობის შესახებ“ საქართველოს კანონის 39-ე მუხლის მე-2 პუნქტის „ა“ ქვეპუნქტის თანახმად, რკინიგზის გადასასვლელზე აკრძალულია საპირისპირო მოძრაობის ზოლზე გასვლით, გადასასვლელის წინ მდგომი სატრანსპორტო საშუალების შემოვლა. ამავე კანონის მე-2 დანართის პირველი თავის (ჰორიზონტალური მონიშვნა) 1.1 პუნქტის თანახმად, საგზაო მონიშვნა 1.1 ყოფს საპირისპირო მიმართულებით მოძრავ სატრანსპორტო ნაკადებს და გზის სახიფათო მონაკვეთზე აღნიშნავს მოძრაობის ზოლის საზღვარს ან სავალი ნაწილის საზღვარს, რომელზე შესვლაც აკრძალულია; აღნიშნავს სატრანსპორტო საშუალების დგომის ადგილის საზღვარს და იმ გზის სავალი ნაწილის ნაპირს, რომელიც მოძრაობის პირობებით არ განეკუთვნება ავტომაგისტრალს. 1.1 ხაზის გადაკვეთა აკრძალულია. დასაშვებია სავალი ნაწილის ნაპირის აღმნიშვნელი და მძღოლის მარჯვენა მხარეს განლაგებული 1.1 ხაზის გადაკვეთა სატრანსპორტო საშუალების გზის ნაპირზე გასაჩერებლად.

QUESTION 381

CORRECT ANSWER: 2

If the driveway designated for right-turn on the intersection is separated from the rest of the driveway by elevated safety island and there is no traffic light on the right side in front of the intersection, the driver may perform the right-turn:

1

After switching the light signal on the traffic light on the intersection allowing the motion

2

By yielding to every vehicle moving from other directions independently from light signals

განმარტება:

„საგზაო მოძრაობის შესახებ“ საქართველოს კანონის 36-ე მუხლის მე-3 პუნქტის „ზ“ ქვეპუნქტის თანახმად, თუ გზატკარცილი მარჯვნივ მოხვევისთვის განკუთვნილი მოძრაობის ზოლი დანარჩენი სავალი ნაწილისგან გამოყოფილია ამღლებული უსაფრთხოების კუნძულით და გზატკარცილის წინ, მარჯვნივ შექნიშანი არ არის, მარჯვნივ მოხვევა სრულდება გზატკარცილზე არსებული შექნიშნის მაშუქი სიგნალებისაგან დამოუკიდებლად სხვა მიმართულებებიდან მოძრავი ყველა სატრანსპორტო საშუალებისთვის გზის დათმობით.

QUESTION 382

CORRECT ANSWER: 2

Is parking of the vehicles prohibited on or nearby tram and railway tracks passing the driveway, if it may impede motion of tram and train?

1

No

2

Yes

განმარტება:

„საგზაო მოძრაობის შესახებ“ საქართველოს კანონის 37-ე მუხლის მე-6 პუნქტის „ა.ბ“ ქვეპუნქტის თანახმად, აკრძალულია სატრანსპორტო საშუალებების გაჩერება გზის სავალ ნაწილზე გზაზე გამავალი ტრამვაის და რკინიგზის ლიანდაგებზე ან მათ ახლოს, თუ ამას შეუძლია გააძნელოს ტრამვაის ან მატარებლების მოძრაობა.

QUESTION 383

CORRECT ANSWER: 1



In the present situation, which of the vehicle drivers is not prohibited from proceeding to the arrow direction?

1

Quadrocycle rider only

2

Lorry driver only

3

Tractor driver only

4

All of them

განმარტება:

„საგზაო მოძრაობის შესახებ“ საქართველოს კანონის 38-ე მუხლის პირველი პუნქტის „გ.გ“ ქვეპუნქტის თანახმად, ავტომაგისტრალზე, ავტომაგისტრალის შესასვლელსა და გამოსასვლელზე მძღოლს ეკრძალება მეორე ზოლის იქით იმ ტვირთის გადამზიდავი ავტომობილით (მისაბმელებით ან მათ გარეშე) მოძრაობა, რომლის ნებადართული მაქსიმალური მასა 3,5 ტონას აღემატება ან იმ მისაბმელიანი ავტომობილებით მოძრაობა, რომელთა საერთო სიგრძე 7 მეტრზე მეტია. ამავე მუხლის პირველი პუნქტის „ა“ ქვეპუნქტის თანახმად, აკრძალულია ქვეითების, ცხოველების, ველოსიპედების, მოპედების, ავტომობილებისა და მათი მისაბმელებისგან განსხვავებული ყველა სატრანსპორტო საშუალების მოძრაობა, აგრეთვე იმ ავტომობილების (მისაბმელებით ან მათ გარეშე) მოძრაობა, რომელთა კონსტრუქციული სიჩქარე არ აღემატება 40 კმ/სთ (აღნიშნული შემთხვევა არ ვრცელდება იმ მექანიკურ სატრანსპორტო საშუალებებზე, რომლებიც ავტომაგისტრალზე გადაადგილდებიან უფლებამოსილი ორგანოსთან (უწყებასთან) კანონმდებლობით დადგენილი წესით შეთანხმებისა და ამ შეთანხმების პირობების შესაბამისად). ამავე კანონის 33-ე მუხლის მე-8 პუნქტის „ა“ ქვეპუნქტის თანახმად, თუ ამ კანონით სხვა რამ არ არის დადგენილი დასახლებულ ან დაუსახლებელ პუნქტებში მოძრაობა ნებადართულია T და S კატეგორიის სატრანსპორტო საშუალებებისა, ყველა გზაზე - არა უმეტეს 40 კმ/სთ სიჩქარით.

QUESTION 384

CORRECT ANSWER: 2



In inhabited area the minibus driver is starting to move from the stopping area, the motor car driver must:


- | | | | |
|---|------------------------------------|---|---|
| 1 | Proceed without changing the speed | 2 | Slow down and stop in case of necessity |
|---|------------------------------------|---|---|

განმარტება:

„საგზაო მოძრაობის შესახებ“ საქართველოს კანონის 41-ე მუხლის პირველი პუნქტის თანახმად, ამ კანონის 33-ე მუხლის მე-4 პუნქტით დადგენილ მოთხოვნათა გათვალისწინებით, დასახლებულ პუნქტში სამარშრუტო სატრანსპორტო საშუალებისთვის მოძრაობის გასაადვილებლად სხვა სატრანსპორტო საშუალებების მძღოლებმა უნდა შეანელონ მოძრაობა და აუცილებლობის შემთხვევაში გაჩერდნენ, რათა სამარშრუტო სატრანსპორტო საშუალებამ შეძლოს გასაჩერებელი პუნქტიდან გამოსვლისთვის საჭირო მანევრის შესრულება. სამარშრუტო სატრანსპორტო საშუალების მძღოლი ვალდებულია მოძრაობის განახლების განზრახვის შესახებ მოხვედრის შეუმაჩვენებლით სიგნალის მიცემის შემდეგ მიიღოს საგზაო-სატრანსპორტო შემთხვევის თავიდან აცილებისთვის საჭირო სიფრთხილის ზომები და მოძრაობა დაიწყოს მხოლოდ მას შემდეგ, რაც დარწმუნდება, რომ სხვა სატრანსპორტო საშუალებები გზას უთმობენ.

QUESTION 385

CORRECT ANSWER: 2



Which of the motor car drivers is obliged to yield when driving to the arrow direction in uninhabited area, if the route vehicle driver is starting to move from the stopping area?

1

Motor car driver

2

Route vehicle driver

განმარტება:

„საგზაო მოძრაობის შესახებ“ საქართველოს კანონის 41-ე მუხლის პირველი პუნქტის თანახმად, ამ კანონის 33-ე მუხლის მე-4 პუნქტით დადგენილ მოთხოვნათა გათვალისწინებით, დასახლებულ პუნქტში სამარშრუტო სატრანსპორტო საშუალებისთვის მოძრაობის გასაადვილებლად სხვა სატრანსპორტო საშუალებების მძღოლებმა უნდა შეანელონ მოძრაობა და აუცილებლობის შემთხვევაში გაჩერდნენ, რათა სამარშრუტო სატრანსპორტო საშუალებამ შეძლოს გასაჩერებელი პუნქტიდან გამოსვლისთვის საჭირო მანევრის შესრულება. სამარშრუტო სატრანსპორტო საშუალების მძღოლი ვალდებულია მოძრაობის განახლების განზრახვის შესახებ მოხვედრის შემთხვევაში სიგნალის მიცემის შემდეგ მიიღოს საგზაო-სატრანსპორტო შემთხვევის თავიდან აცილებისთვის საჭირო სიფრთხილის ზომები და მოძრაობა დაიწყოს მხოლოდ მას შემდეგ, რაც დარწმუნდება, რომ სხვა სატრანსპორტო საშუალებები გზას უთმობენ. ამავე კანონის 32-ე მუხლის პირველი პუნქტის თანახმად მძღოლმა, რომელსაც განზრახული აქვს რომელიმე მანევრის შესრულება, ეს მანევრი უნდა დაიწყოს მხოლოდ მას შემდეგ, რაც დარწმუნდება, რომ არ შეუქმნის საფრთხეს მის უკან, წინ და გვერდით როგორც თანმხვედრი, ისე საპირისპირო მიმართულებით მოძრავ საგზაო მოძრაობის მონაწილეებს, მათი მდებარეობის, მოძრაობის მიმართულებისა და სიჩქარის გათვალისწინებით.

QUESTION 386

CORRECT ANSWER: 1



Is the driver prohibited from U-turn to the arrow direction?

1

Yes

2


No

განმარტება:

„საგზაო მოძრაობის შესახებ“ საქართველოს კანონის 42-ე მუხლის „ა“ პუნქტის თანახმად, საგზაო ნიშნით აღნიშნულ გვირაბებში მოქმედებს შემდეგი წესი -მძღოლს ეკრძალება უკუსვლით მოძრაობა ან მობრუნება.

QUESTION 387

CORRECT ANSWER: 2



Which stopped vehicle driver has the right-of-way when starting motion to the arrow direction, if the route bus driver is starting to move from the marked stopping site in the inhabited area?

1

Motor car driver

2


Bus driver

განმარტება:

„საგზაო მოძრაობის შესახებ“ საქართველოს კანონის 41-ე მუხლის პირველი პუნქტის თანახმად, ამ კანონის 33-ე მუხლის მე-4 პუნქტით დადგენილ მოთხოვნათა გათვალისწინებით, დასახლებულ პუნქტში სამარშრუტო სატრანსპორტო საშუალებისთვის მოძრაობის გასაადვილებლად სხვა სატრანსპორტო საშუალებების მძღოლებმა უნდა შეანელონ მოძრაობა და აუცილებლობის შემთხვევაში გაჩერდნენ, რათა სამარშრუტო სატრანსპორტო საშუალებამ შეძლოს გასაჩერებელი პუნქტიდან გამოსვლისთვის საჭირო მანევრის შესრულება. სამარშრუტო სატრანსპორტო საშუალების მძღოლი ვალდებულია მოძრაობის განახლების განზრახვის შესახებ მოხვედრის შეუმაჩვენებელით სიგნალის მიცემის შემდეგ მიიღოს საგზაო-სატრანსპორტო შემთხვევის თავიდან აცილებისთვის საჭირო სიფრთხილის ზომები და მოძრაობა დაიწყოს მხოლოდ მას შემდეგ, რაც დარწმუნდება, რომ სხვა სატრანსპორტო საშუალებები გზას უთმობენ.

QUESTION 388

CORRECT ANSWER: 3



Which of the vehicle drivers is not prohibited from proceeding to the arrow direction?

1

Motorcyclists only

2

Lorry driver only

3


All of them

განმარტება:

„საგზაო მოძრაობის შესახებ“ საქართველოს კანონის 31-ე მუხლის მე-14 პუნქტის თანახმად, დასაშვებია მოძრაობის ზოლზე მოპედების ან/და უეტლო მოტოციკლების თანმხვედრი მიმართულებით ორ რიგად მოძრაობა. ამავე მუხლის მე-15 პუნქტის თანახმად ამ კანონის 32-ე მუხლის მე-6 პუნქტით დადგენილ მოთხოვნათა გათვალისწინებით, მოძრაობა ნებადართულია თანმხვედრი მიმართულების ტრამვაის ლიანდაგზე, რომელიც მარცხენა მხარეს სავალ ნაწილთან ერთ დონეზე მდებარეობს, თუ თანმხვედრი მიმართულებით მოძრაობისთვის განკუთვნილი ყველა მოძრაობის ზოლი დაკავებულია, აგრეთვე დაბრკოლების შემოვლის ან გასწრების, ან მარცხნივ მოხვევის ან მობრუნების დროს. ამასთანავე, ტრამვაის მოძრაობას არ უნდა შეექმნას დაბრკოლება. საპირისპირო მიმართულების ტრამვაის ლიანდაგზე გასვლა აკრძალულია.

QUESTION 389

CORRECT ANSWER: 3



Which vehicle driver is prohibited from proceeding to the arrow direction?

1

Yellow vehicle driver only

2

Lorry driver only

3

Towing vehicle driver only

4

None of them

განმარტება:

„საგზაო მოძრაობის შესახებ“ საქართველოს კანონის 31-ე მუხლის მე-7 პუნქტის თანახმად, სამი მოძრაობის ზოლის მქონე (გარდა 1.9 საგზაო მონიშვნისა) ორმხრივმოძრაობიან გზაზე სატრანსპორტო საშუალების მძღოლი არ უნდა გადავიდეს სავალი ნაწილის განაპირა ზოლზე, სადაც საპირისპირო მიმართულების მოძრაობა ხორციელდება. თუ სამი მოძრაობის ზოლის მქონე გზაზე შუა ზოლი ორივე მიმართულებით მოძრაობისათვის გამოიყენება, ამ ზოლზე გასვლა ნებადართულია მხოლოდ გასწრების, დაბრკოლების შემოვლის, მარცხნივ მოხვევის ან მობრუნების მიზნით. ამავე კანონის პირველი დანართის მე-3 თავის (ამკრძალავი ნიშნები) 3.7 პუნქტის თანახმად, საგზაო ნიშანი 3.7 „მისაბმელით მოძრაობა აკრძალულია“ - კრძალავს ყველა სახის მისაბმელიანი სატვირთო ავტომობილითა და მისაბმელიანი ტრაქტორით მოძრაობას, აგრეთვე მექანიკური სატრანსპორტო საშუალების ბუქსირებას.

QUESTION 390

CORRECT ANSWER: 1

If actual mass of mechanical vehicle with inactive braking system exceeds half of actual mass of towing vehicle, its towing is:

1

Prohibited

2

Allowed

განმარტება:

„საგზაო მოძრაობის შესახებ“ საქართველოს კანონის 45-ე მუხლის მე-6 პუნქტის „გ“ ქვეპუნქტის თანახმად, აკრძალულია ბუქსირება უმოქმედო სამუხრუჭო სისტემის მქონე მექანიკური სატრანსპორტო საშუალებისა, თუ მისი ფაქტობრივი მასა მობუქსირე სატრანსპორტო საშუალების ფაქტობრივი მასის ნახევარს აღემატება, ხოლო თუ მასა ნაკლებია, ბუქსირება დასაშვებია მხოლოდ ხისტი გადაბმით ან ნაწილობრივი დატვირთვით.

QUESTION 391

CORRECT ANSWER: 2

Vehicle with ramp platform for conveyance of passengers should be equipped with:

1

Seats fixed at a height of 0.2-0.3 meters from floor and at least 0.5 meters from the upper edge of ramp, furthermore the seats along rear or side ramps should have hard backs

2

Seats fixed at a height of 0.3-0.5 meters from floor and at least 0.3 meters from the upper edge of ramp, furthermore the seats along rear or side ramps should have hard backs

განმარტება:

„საგზაო მოძრაობის შესახებ“ საქართველოს კანონის 46-ე მუხლის მე-9 პუნქტის თანახმად, მგზავრთა გადასაცემი ბორტის პლატფორმის მქონე სატვირთო ავტომობილი უზრუნველყოფილი უნდა იყოს იატაკიდან 0,3–0,5 მეტრ სიმაღლეზე და ბორტის ზედა ნაპირიდან არანაკლებ 0,3 მეტრზე განლაგებული დასასხდომი ადგილებით, ხოლო ბავშვთა ჯგუფის გადაყვანისას ბორტების სიმაღლე იატაკიდან 0,8 მეტრზე ნაკლები არ უნდა იყოს. უკანა ან გვერდითი ბორტების გასწვრივ განლაგებულ დასასხდომ ადგილებს მყარი საბურღეები უნდა ჰქონდეს.

QUESTION 392

CORRECT ANSWER: 1

When conveying the passengers in a duly arranged body of lorry, prior to proceeding, a driver must:

- 1 Instruct the passengers on boarding and allocation procedures on the body, as well as start driving after making sure in observation of all conditions for safe conveyance of the passengers
- 2 If number of passengers exceed the number of seats in a body, instructions must be given on the allocation procedures of standing passengers in the body
- 3 Is required to perform all of the requirements listed in given test

განმარტება:

„საგზაო მოძრაობის შესახებ“ საქართველოს კანონის 46-ე მუხლის მე-5 პუნქტის თანახმად, სატვირთო ავტომობილის ძარათი გადასაცემ მგზავრთა რაოდენობა არ უნდა აღემატებოდეს დასასხდომად მოწყობილი ადგილების რაოდენობას. მგზავრობის დაწყების წინ სატვირთო ავტომობილის მძღოლი ვალდებულია მგზავრებს ჩაუტაროს ინსტრუქტაჟი ჩასხდომისა და ძარაზე განლაგების წესის შესახებ. მძღოლმა მხოლოდ მაშინ უნდა დაიწყოს მოძრაობა, როცა დარწმუნდება, რომ მგზავრთა უსაფრთხოდ გადაყვანის ყველა პირობა დაცულია.

QUESTION 393

CORRECT ANSWER: 1



Is a lorry driver violating the Highway Code in case of proceeding to the arrow direction, if he/she is proceeding at a speed of 50 km/h?

1

No

2


Yes

განმარტება:

„საგზაო მოძრაობის შესახებ“ საქართველოს კანონის 33-ე მუხლის მე-7 პუნქტის „დ.ბ“ ქვეპუნქტის თანახმად, გარდა ამ კანონით დადგენილი შემთხვევებისა, დაუსახლებელ პუნქტებში, აგრეთვე დასახლებულ პუნქტებში გზის იმ მონაკვეთზე, რომელზეც შესაბამისი ნიშნით მოძრაობა დაშვებულია 60 კმ/ზე მეტი სიჩქარით, ნებადართული C და CE კატეგორიის, აგრეთვე C1 და C1E ქვეკატეგორიების სატრანსპორტო საშუალებების მოძრაობა, დადგენილი წესით, ძარით მგზავრების გადაყვანის შემთხვევაში, ყველა გზაზე არა უმეტეს 60 კმ/სთ სიჩქარით.

QUESTION 394

CORRECT ANSWER: 4



In the present situation, how many Highway Codes are violated by towing lorry driver proceeding to the arrow direction, if it is proceeding at a speed of 70 km/h?

1

None

2

One

3

Two

4

Three

განმარტება:

„საგზაო მოძრაობის შესახებ“ საქართველოს კანონის 33-ე მუხლის მე-8 პუნქტის „დ“ ქვეპუნქტის თანახმად, თუ ამ კანონით სხვა რამ არ არის დადგენილი, დასახლებულ ან დაუსახლებელ პუნქტში ნებადართულია იმ მექანიკური სატრანსპორტო საშუალების მოძრაობა, რომელიც ახორციელებს სხვა მექანიკური სატრანსპორტო საშუალების ბუქსირებას, არაუმეტეს 50 კმ/სთ სიჩქარით. ამავე კანონის 45-ე მუხლის მე-4 პუნქტის თანახმად ხისტი ან მოქნილი გადაბმით ბუქსირებისას აკრძალულია მგზავრის გადაყვანა საბუქსირო ავტობუსით, ტროლეიბუსითა და სატვირთო ავტომობილის ძარათი. ამავე კანონის 45-ე მუხლის მე-5 პუნქტის თანახმად, მობუქსირე და საბუქსირო სატრანსპორტო საშუალებებს შორის მანძილი მოქნილი გადაბმით ბუქსირებისას უნდა იყოს 4–6 მეტრი. ამავე მუხლის მე-9 პუნქტის თანახმად, მექანიკური სატრანსპორტო საშუალების ბუქსირებისას დრეკადი შემაერთებული რგოლების აღსანიშნავად გამოიყენება ალმები, გამაფრთხილებელი მოწყობილობა ან 200X200 მმ ზომის დაფა, რომელზედაც დიაგონალურადაა დახაზული 50 მმ სიგანის ურთიერთმონაცვლე წითელი და თეთრი ზოლები შუქამრეკლი ზედაპირით. დრეკად შემაერთებულ რგოლზე მაგრდება არანაკლებ ორი გამაფრთხილებელი მოწყობილობა (ალამი). აქ დარღვევაა: სიჩქარე; საბუქსირო მოწყობილობაზე არ არის ალმები და მგზავრების გადაყვანა საბუქსირო სატვირთო ავტომობილის ძარათი.

QUESTION 395

CORRECT ANSWER: 3

In case of shipment of hauler or container, the vehicle shall be considered as oversized (large-volume), if its height from the driveway surface:

1 Exceeds 2.30 meters, but does not exceed 3.50 meters

2 Exceeds 3.50 meters, but does not exceed 4.30 meters

3 Exceeds 4.30 meters

განმარტება:

„საგზაო მოძრაობის შესახებ“ საქართველოს კანონის 47-ე მუხლის მე-8 პუნქტის „ა“ ქვეპუნქტის თანახმად, სატრანსპორტო საშუალება არაგაბარითულად (მსხვილგაბარითიანად) ითვლება, თუ მისი პარამეტრები აღემატება შემდეგი მაჩვენებლებიდან ერთ-ერთს მაინც: ა) სიმაღლე (სავალი ნაწილის ზედაპირიდან) - ავტომობილის ან კონტეინერის გადაზიდვის შემთხვევაში – 4,30 მეტრს, ყველა სხვა შემთხვევაში - 4 მეტრს.

QUESTION 396

CORRECT ANSWER: 3

Other than the cases of shipment of hauler or container, the vehicle shall be considered as oversized (large-volume), if its height from the driveway surface:

1 Exceeds 2 meters, but does not exceed 3 meters

2 Exceeds 3 meters, but does not exceed 3.70 meters

3 Exceeds 4 meters

განმარტება:

„საგზაო მოძრაობის შესახებ“ საქართველოს კანონის 47-ე მუხლის მე-8 პუნქტის „ა“ ქვეპუნქტის თანახმად, სატრანსპორტო საშუალება არაგაბარითულად (მსხვილგაბარითიანად) ითვლება, თუ მისი პარამეტრები აღემატება შემდეგი მაჩვენებლებიდან ერთ-ერთს მაინც: ა) სიმაღლე (სავალი ნაწილის ზედაპირიდან) - ავტომობილის ან კონტეინერის გადაზიდვის შემთხვევაში – 4,30 მეტრს, ყველა სხვა შემთხვევაში - 4 მეტრს.

QUESTION 397

CORRECT ANSWER: 2

The vehicle shall be considered as oversized (large-volume), if its length:

- | | |
|---|---|
| <p>1 In case of road-train – does not exceed 20 meters, in all other cases – does not exceed 12 meters</p> | <p>2 In case of road-train - exceeds 20 meters, in all other cases – exceeds 12 meters</p> |
| <p>3 In all cases - exceeds 12 meters, but does not exceed 20 meters</p> | |

განმარტება:

„საგზაო მოძრაობის შესახებ“ საქართველოს კანონის 47-ე მუხლის მე-8 პუნქტის „გ“ ქვეპუნქტის თანახმად, სატრანსპორტო საშუალება არაგაბარითულად (მსხვილგაბარითიანად) ითვლება, თუ მისი პარამეტრები აღემატება შემდეგი მაჩვენებლებიდან ერთ-ერთს მაინც: გ) სიგრძე - ავტომატარებელის შემთხვევაში - 20 მეტრს, ყველა სხვა შემთხვევაში - 12 მეტრს, ან, თუ ტვირთი სატრანსპორტო საშუალების უკანა გაბარითის წერტილიდან 2 მეტრზე მეტადაა გამოშვებული.

QUESTION 398

CORRECT ANSWER: 2

If not otherwise stipulated by the traffic organization, on the road with two or three driveways, a vehicle driver is prohibited from:

- | | |
|---|---|
| <p>1 Changing the lane on the driveway of the same traffic direction</p> | <p>2 Proceeding on the driveway in reverse traffic direction</p> |
|---|---|

განმარტება:

„საგზაო მოძრაობის შესახებ“ საქართველოს კანონის 31-ე მუხლის მე-6 პუნქტის თანახმად, თუ საგზაო მოძრაობის ორგანიზებით სხვა რამ არ არის გათვალისწინებული, ორი ან სამი სავალი ნაწილის მქონე გზაზე, სატრანსპორტო საშუალების მძღოლს ეკრძალება საპირისპირო მიმართულების მოძრაობის მხარის სავალ ნაწილზე გასვლა.

QUESTION 399

CORRECT ANSWER: 1

A driver intending to maneuver, shall start such maneuvering after making sure, that:

1 He/she is not creating hazard to the traffic participants routing behind, ahead and alongside, both in the same and reverse traffic direction, considering their location, routing direction and speed

2 He/she is not creating hazard to the vehicles routing behind or alongside, considering their location, routing direction and speed

განმარტება:

„საგზაო მოძრაობის შესახებ“ საქართველოს კანონის 32-ე მუხლის პირველი პუნქტის თანახმად, მძღოლმა, რომელსაც განზრახული აქვს რომელიმე მანევრის შესრულება, ეს მანევრი უნდა დაიწყოს მხოლოდ მას შემდეგ, რაც დარწმუნდება, რომ არ შეუქმნის საფრთხეს მის უკან, წინ და გვერდით როგორც თანმხვედრი, ისე საპირისპირო მიმართულებით მოძრავ საგზაო მოძრაობის მონაწილეებს, მათი მდებარეობის, მოძრაობის მიმართულებისა და სიჩქარის გათვალისწინებით.

QUESTION 400

CORRECT ANSWER: 1

U-turn is prohibited:

1 On intersection

2 On and under bridge, underpass and trestle bridge

3 On railroad crossing

4 In tunnel

განმარტება:

„საგზაო მოძრაობის შესახებ“ საქართველოს კანონის 32-ე მუხლის მე-15 პუნქტის „ბ“, „გ“ და „დ“ ქვეპუნქტების თანახმად, აკრძალულია სატრანსპორტო საშუალების მობრუნება: ბ) გვირაბში; გ) ხიდზე, გზაგამტარზე, ესტაკადაზე და მათ ქვეშ; დ) რკინიგზის გადასასვლელზე.

QUESTION 401

CORRECT ANSWER: 2

Is routing of the vehicle, with maximum loading on each driving and non-driving axes exceeding 10 tonnes (in case of the vehicle with one driving axis – 11.5 tonnes), prohibited?

- 1 No, if it is the vehicle with one driving axis, which maximum loading on driving axis must not exceed 11.5 tonnes
- 2 No, if it is the oversized (large-volume) vehicle, routing according to the rule established by the legislation after agreement with the authorized body, in accordance with the conditions stipulated by this agreement
- 3 Is prohibited in any case

განმარტება:

„საგზაო მოძრაობის შესახებ“ საქართველოს კანონის 47-ე მუხლის მე-3 პუნქტის „ა“ თანახმად, აკრძალულია გზაზე იმ სატრანსპორტო საშუალების მოძრაობა, რომლის: ა) თითოეულ წამყვან ან არაწამყვან ღერძზე მაქსიმალური დატვირთვა აღემატება 10 ტონას (გარდა ერთწამყვანღერძიანი ავტოსატრანსპორტო საშუალებისა, რომლის წამყვან ღერძზე მაქსიმალური დატვირთვა არ უნდა აღემატებოდეს 11,5 ტონას) ან/და ფაქტობრივი მასა აღემატება 44 ტონას ან/და ფაქტობრივი მასა აღემატება ნებადართულ მაქსიმალურ მასას. ამავე მუხლის მე-5 პუნქტის „ა“ ქვეპუნქტის თანახმად, გარდა ნებადართულ მაქსიმალურ მასაზე ფაქტობრივი მასის გადაჭარბების აკრძალვისა, ამ მუხლის მე-3 პუნქტის მოქმედება არ ვრცელდება: ა) იმ არაგაბარიტულ (მსხვილგაბარიტიან) ან ზენორმატიულ (მძიმეწონიან) სატრანსპორტო საშუალებაზე, რომელიც გზაზე მოძრაობს საქართველოს კანონმდებლობით დადგენილი წესით უფლებამოსილ ორგანოსთან (უწყებასთან) შეთანხმების შემდეგ, ამ შეთანხმების პირობების შესაბამისად.

QUESTION 402

CORRECT ANSWER: 4

If the lorry driver routing in front of your vehicle is intending to turn to the right on the street with narrow driveway, you shall take into account:

- | | | | |
|---|--|---|--|
| 1 | The circumstance only, that due to large turning radius of the vehicle, he/she may move to the left directly in front of the turning | 2 | The circumstance only, that he/she will slow down abruptly |
| 3 | The circumstance only, that for giving-of-way to the pedestrians, he/she may stop during turning maneuver | 4 | That any of the circumstances listed in given test may occur |

განმარტება:

თუ თქვენი სატრანსპორტო საშუალების წინ მიმავალი სატვირთო ავტომობილის მძღოლი აპირებს მარჯვნივ შეუხვიოს ვიწრო სავალი ნაწილის მქონე ქუჩაზე თქვენ უნდა გაითვალისწინოთ, რომ სატრანსპორტო საშუალების დიდი მოხვევის რადიუსის გამო ის უშუალოდ მოსახვევის წინ შეიძლება გადაადგილდეს მარცხნივ, ასევე შეიძლება მკვეთრად შეამციროს სიჩქარე და გადამავალი ქვეითების გზის დათმობის გამო შეიძლება გაჩერდეს მოხვევის შესრულების დროს.

QUESTION 403

CORRECT ANSWER: 2

In which of the following cases should not the driver give the light or hand signal before starting maneuvering?

- 1** Only in case, if another vehicle is not moving behind him/her
- 2** Only in case, if the signal may mislead other traffic participants
- 3** In any case listed in given test

განმარტება:

„საგზაო მოძრაობის შესახებ“ საქართველოს კანონის 32-ე მუხლის მე-2 პუნქტის თანახმად, მანევრის დაწყებამდე მძღოლი ვალდებულია ჩართოს შესაბამისი მიმართულების მოხვევის შუქ-მაჩვენებელი, ხოლო თუ ის არ არის ან გამოსულია მწყობრიდან – ანიშნოს ხელით. მარცხნივ მოხვევის ან მობრუნების სიგნალს შეესაბამება გვერდზე ჰორიზონტალურად გაშვებული მარცხენა ხელი ან გვერდზე გაშვებული, იდაყვში სწორი კუთხით შემოთ მოხრილი მარჯვენა ხელი. მარჯვნივ მოხვევის სიგნალს შეესაბამება გვერდზე ჰორიზონტალურად გაშვებული მარჯვენა ხელი ან გვერდზე გაშვებული, იდაყვში სწორი კუთხით შემოთ მოხრილი მარცხენა ხელი. დამუხრუჭების სიგნალს შეესაბამება შემოთ ვერტიკალურად აწეული მარცხენა ან მარჯვენა ხელი. მოხვევის შუქ-მაჩვენებლით ან ხელით სიგნალი მიცემული უნდა იქნეს დროულად, მანევრის დაწყების წინ და უნდა შეწყდეს დაუყოვნებლივ, მისი დასრულებისთანავე (სიგნალის ხელით მიცემა შეიძლება შეწყდეს უშუალოდ მანევრის დაწყების წინ). ამასთანავე, სიგნალმა არ უნდა შეაცდინოს სხვა საგზაო მოძრაობის მონაწილეები.

თემა 16:

გასწრება შემხვედრი ტრანსპორტის გვერდის
ავლით

QUESTION 404

CORRECT ANSWER: 1



Is white car driver prohibited from overtaking to the arrow direction?

1

Yes

2

No

განმარტება:

„საგზაო მოძრაობის შესახებ“ საქართველოს კანონის 34-ე მუხლის მე-3 პუნქტის „ბ“ ქვეპუნქტის თანახმად, გასწრების დაწყებამდე მძღოლი, ისე, რომ არ დაარღვიოს ამ კანონის მე-20 მუხლის მე-2 პუნქტითა და 32-ე მუხლით დადგენილი მოთხოვნები, უნდა დარწმუნდეს, რომ მოძრაობის იმავე ზოლზე მის წინ მიმავალი სატრანსპორტო საშუალების მძღოლს არ მიუცია სიგნალი, რომ აპირებს, გაუსწროს სხვა სატრანსპორტო საშუალებას. აკრძალულია იმ სატრანსპორტო საშუალების გასწრება, რომელიც ახორციელებს გასწრებას ან დაბრკოლების შემოვლას. ამავე მუხლის მე-9 პუნქტის „ა.გ“ ქვეპუნქტის თანახმად, ამ მუხლის მე-3 პუნქტით დადგენილ მოთხოვნათა გათვალისწინებით გასწრება აკრძალულია წრიულმოძრაობიანი გზაჯვარედინისაგან განსხვავებულ გზაჯვარედინზე ან უშუალოდ ამ გზაჯვარედინის წინ, გარდა, იმ შემთხვევისა, როდესაც გასწრება ხორციელდება რეგულირებულ გზაჯვარედინზე საპირისპირო მოძრაობის ზოლზე გაუსვლელად. ამავე კანონის 36-ე მუხლის მე-2 პუნქტის თანახმად, გზაჯვარედინი, რომელზედაც მოძრაობის რიგითობა შექნიშნის ან მარეგულირებლის სიგნალებით განისაზღვრება, რეგულირებული გზაჯვარედინია.

QUESTION 405

CORRECT ANSWER: 1



Is a motor car driver prohibited from overtaking in the present situation?

1

Yes

2


No

განმარტება:

„საგზაო მოძრაობის შესახებ“ საქართველოს კანონის 34-ე მე-9 პუნქტის „ბ“ ქვეპუნქტის თანახმად, ამ მუხლის მე-3 პუნქტით დადგენილ მოთხოვნათა გათვალისწინებით გასწრება აკრძალულია რკინიგზის გადასასვლელზე და მის წინ 100 მეტრზე ახლოს, გარდა იმ შემთხვევისა, როცა ამ ადგილებზე მოძრაობა რეგულირდება ისეთი ტიპის შუქნიშნით, რომელიც გზაჯვარედინებზე გამოიყენება.

QUESTION 406

CORRECT ANSWER: 2



Is a motor car driver allowed to proceed to the arrow direction?

1

Yes

2

No

განმარტება:

„საგზაო მოძრაობის შესახებ“ საქართველოს კანონის 31-ე მუხლის მე-18 პუნქტის თანახმად, ამ კანონის 37-ე მუხლის პირველი პუნქტითა და 43-ე მუხლის მე-2 პუნქტით გათვალისწინებული შემთხვევების გარდა, აკრძალულია მექანიკური სატრანსპორტო საშუალების მოძრაობა გვერდულაზე, ველოსიპედის მოძრაობის ზოლზე, ველობილიკზე, ტროტუარსა და ქვეითთა ბილიკზე. მოძრაობის უსაფრთხოების ზომების დაცვით ნებადართულია უშუალოდ გვერდულასთან, ველოსიპედის მოძრაობის ზოლთან, ველობილიკთან, ტროტუართან და ქვეითთა ბილიკთან განლაგებულ სანარმოსა და ობიექტთან ტვირთის მიმტანი მექანიკური სატრანსპორტო საშუალების უმოკლესი გზით მიდგომა, თუ ამისათვის სხვა შესაძლებლობა არ არსებობს. ამ პუნქტით დადგენილი აკრძალვა არ ვრცელდება საგზაო-საექსპლუატაციო და კომუნალური სამსახურების სატრანსპორტო საშუალებებზე.

QUESTION 407

CORRECT ANSWER: 2



Is white motor car driver prohibited from overtaking to the arrow direction?

1

Yes

2

No

განმარტება:

„საგზაო მოძრაობის შესახებ“ საქართველოს კანონის 34-ე მუხლის მე-9 პუნქტის „ე“ ქვეპუნქტის თანახმად, ამ მუხლის მე-3 პუნქტით დადგენილ მოთხოვნათა გათვალისწინებით გასწრება აკრძალულია შემზღუდული ხილვადობის პირობებში საპირისპირო მოძრაობის ზოლზე გასვლით.

QUESTION 408

CORRECT ANSWER: 2



Is grey motor car driver prohibited from overtaking to the arrow direction?

1

Yes

2

No

განმარტება:

„საგზაო მოძრაობის შესახებ“ საქართველოს კანონის 34-ე მუხლის მე-9 პუნქტის „ა“ და „ა.ბ“ ქვეპუნქტების თანახმად, ამ მუხლის მე-3 პუნქტით დადგენილ მოთხოვნათა გათვალისწინებით გასწრება აკრძალულია წრიულმოძრაობიანი გზაჯვარედინისაგან განსხვავებულ გზაჯვარედინზე ან უშუალოდ ამ გზაჯვარედინის წინ, გარდა იმ შემთხვევისა, როდესაც გასწრება ხორციელდება გზაზე, რომელზე მოძრაობის დროსაც მძღოლს ენიჭება გზაჯვარედინზე უპირატესი მოძრაობის უფლება. ამავე კანონის პირველი დანართის პირველი თავის 1.7.1 პუნქტის თანახმად საგზაო ნიშანი 1.7.1 „მეორეხარისხოვან გზასთან გადაკვეთა“ - ისეთ გზასთან გადაკვეთა ან ისეთ გზასთან შეერთება, რომელზე მოძრავ მძღოლსაც აქვს გზის დათმობის ვალდებულება.

QUESTION 409

CORRECT ANSWER: 1



Is green motor car drive allowed to overtake to the arrow direction?

1

Yes

2


No

განმარტება:

„საგზაო მოძრაობის შესახებ“ საქართველოს კანონის 34-ე მუხლის მე-9 პუნქტის „ა“ და „ა.ბ“ ქვეპუნქტების თანახმად, ამ მუხლის მე-3 პუნქტით დადგენილ მოთხოვნათა გათვალისწინებით გასწრება აკრძალულია წრიულმოძრაობიანი გზატკარედისაგან განსხვავებულ გზატკარედებზე ან უშუალოდ ამ გზატკარედის წინ, გარდა იმ შემთხვევისა, როდესაც გასწრება ხორციელდება გზაზე, რომელზე მოძრაობის დროსაც მძღოლს ენიჭება გზატკარედებზე უპირატესი მოძრაობის უფლება. ამავე კანონის მე-2 დანართის 1.5 პუნქტის თანახმად ჰორიზონტალური საგზაო მონიშვნა 1.5 ყოფს საპირისპირო მიმართულებით მოძრავ სატრანსპორტო ნაკადებს გზაზე, რომელსაც მოძრაობის ორი ან სამი ზოლი აქვს; აღნიშნავს მოძრაობის ზოლის საზღვარს ერთი მიმართულებით მოძრაობისათვის განკუთვნილი ორი და მეტი ზოლის არსებობისას. 1.5 ხაზის გადაკვეთა ნებადართულია ნებისმიერი მხრიდან.

QUESTION 410

CORRECT ANSWER: 2



Is grey motor car driver allowed to overtake to the arrow direction?

1

yes

2


No

განმარტება:

„საგზაო მოძრაობის შესახებ“ საქართველოს კანონის 34-ე მუხლის მე-9 პუნქტის „ა“ და „ა.ბ“ ქვეპუნქტების თანახმად, ამ მუხლის მე-3 პუნქტით დადგენილ მოთხოვნათა გათვალისწინებით გასწრება აკრძალულია წრიულმოძრაობიანი გზატკარედინისაგან განსხვავებულ გზატკარედინზე ან უშუალოდ ამ გზატკარედინის წინ, გარდა იმ შემთხვევისა, როდესაც გასწრება ხორციელდება გზაზე, რომელზე მოძრაობის დროსაც მძღოლს ენიჭება გზატკარედინზე უპირატესი მოძრაობის უფლება. ამავე კანონის მე-2 დანართის პირველი თავის 1.1 პუნქტის თანახმად ჰორიზონტალური საგზაო მონიშვნა 1.1. ყოფს საპირისპირო მიმართულებით მოძრავ სატრანსპორტო ნაკადებს და გზის სახიფათო მონაკვეთზე აღნიშნავს მოძრაობის ზოლის საზღვარს ან სავალი ნაწილის საზღვარს, რომელზე შესვლაც აკრძალულია; აღნიშნავს სატრანსპორტო საშუალების დგომის ადგილის საზღვარს და იმ გზის სავალი ნაწილის ნაპირს, რომელიც მოძრაობის პირობებით არ განეკუთვნება ავტომაგისტრალს. 1.1 ხაზის გადაკვეთა აკრძალულია. დასაშვებია სავალი ნაწილის ნაპირის აღმნიშვნელი და მძღოლის მარჯვენა მხარეს განლაგებული 1.1 ხაზის გადაკვეთა სატრანსპორტო საშუალების გზის ნაპირზე გასაჩერებლად.

QUESTION 411

CORRECT ANSWER: 2



Is red car driver allowed to overtake to the arrow direction?

1

Yes

2

No

განმარტება:

„საგზაო მოძრაობის შესახებ“ საქართველოს კანონის 34-ე მუხლის პირველი პუნქტის თანახმად, გასწრება უნდა განხორციელდეს მარცხენა მხრიდან. მარჯვენა მხრიდან გასწრება ნებადართულია იმ შემთხვევაში, თუ მძღოლმა, რომელსაც უსწრებენ, მისცა სიგნალი, რომ მარცხნივ მოხვევას აპირებს, და თავისი სატრანსპორტო საშუალება ისე მიმართა, რომ შეუხვიოს სხვა გზაზე ან შევიდეს გზის მიმდებარე ტერიტორიაზე ან გაჩერდეს ამ მხარეს.

QUESTION 412

CORRECT ANSWER: 1



Is the motor car driver prohibited from overtaking to the arrow direction, if the tractor is moving at a speed of 30 km/h ?

1

Yes

2

No

განმარტება:

„საგზაო მოძრაობის შესახებ“ საქართველოს კანონის 34-ე მუხლის პირველი პუნქტის თანახმად, კანონის 31-ე მუხლის მე-11 პუნქტის თანახმად, დაუსახლებელ და დასახლებულ პუნქტებში საგალი ნაწილის იმ მონაკვეთზე, რომელზედაც მოძრაობა ნებადართულია 80 კმ/სთ-ზე მეტი სიჩქარით, მძღოლმა უნდა იმოძრაოს საგალი ნაწილის მარჯვენა კიდედან რაც შეიძლება ახლოს. აკრძალულია მარცხენა ზოლის დაკავება, როცა მარჯვენა ზოლი თავისუფალია, გარდა დაბრკოლების შემთხვევის, მარცხნივ მოხვევის ან მობრუნების შემთხვევისა. ამავე კანონის 34-ე მუხლის პირველი პუნქტის თანახმად, გასწრება უნდა განხორციელდეს მარცხენა მხრიდან. მარჯვენა მხრიდან გასწრება ნებადართულია იმ შემთხვევაში, თუ მძღოლმა, რომელსაც უსწრებენ, მისცა სიგნალი, რომ მარცხნივ მოხვევას აპირებს, და თავისი სატრანსპორტო საშუალება ისე მიმართა, რომ შეუხვიოს სხვა გზაზე ან შევიდეს გზის მიმდებარე ტერიტორიაზე ან გაჩერდეს ამ მხარეს.

QUESTION 413

CORRECT ANSWER: 4



Which vehicle driver is violating the Highway Code in case of proceeding to the arrow direction?

1

Lorry driver only

2

Motor car driver only

3

Both of them

4

None of them

განმარტება:

„საგზაო მოძრაობის შესახებ“ საქართველოს კანონის 34-ე მუხლის პირველი პუნქტის თანახმად, გასწრება უნდა განხორციელდეს მარცხენა მხრიდან. მარჯვენა მხრიდან გასწრება ნებადართულია იმ შემთხვევაში, თუ მძღოლმა, რომელსაც უსწრებენ, მისცა სიგნალი, რომ მარცხნივ მოხვევას აპირებს, და თავისი სატრანსპორტო საშუალება ისე მიმართა, რომ შეუხვიოს სხვა გზაზე ან შევიდეს გზის მიმდებარე ტერიტორიაზე ან გაჩერდეს ამ მხარეს. ამავე მუხლის მე-9 პუნქტის „ა.ა“ და „ა.ბ“ ქვეპუნქტების თანახმად ამ მუხლის მე-3 პუნქტით დადგენილ მოთხოვნათა გათვალისწინებით გასწრება აკრძალულია წრიულმოძრაობიანი გზაჯვარედინისაგან განსხვავებულ გზაჯვარედინზე ან უშუალოდ ამ გზაჯვარედინის წინ, გარდა: ა.ა) ამ კანონით გათვალისწინებული მარჯვნიდან ნებადართული გასწრების შემთხვევისა; ა.ბ) იმ შემთხვევისა, როდესაც გასწრება ხორციელდება გზაზე, რომელზე მოძრაობის დროსაც მძღოლს ენიჭება გზაჯვარედინზე უპირატესი მოძრაობის უფლება.

QUESTION 414

CORRECT ANSWER: 2



Is the lorry driver, with maximum allowable mass exceeding 3.5 tonnes, allowed to overtake to the arrow direction?

1

Yes

2


No

განმარტება:

„საგზაო მოძრაობის შესახებ“ საქართველოს კანონის მე-3 თავის (ამკრძალავი ნიშნები) 3.22 პუნქტის თანახმად, საგზაო ნიშანი 3.22 „სატვირთო ავტომობილით გასწრება აკრძალულია“ - კრძალავს 3,5 ტონაზე მეტი ნებადართული მაქსიმალური მასის მქონე სატვირთო ავტომობილით სხვა სატრანსპორტო საშუალების გასწრებას (გარდა 30 კმ/სთ-ზე ნაკლები სიჩქარით მოძრავი ტრანსპორტისა), აგრეთვე ტრაქტორით სხვა სატრანსპორტო საშუალების გასწრებას (გარდა საჭაპანო ტრანსპორტისა და ველოსიპედისა). ამავე კანონის 34-ე მუხლის მე-9 პუნქტის „დ“ ქვეპუნქტის თანახმად, ამ მუხლის მე-3 პუნქტით დადგენილ მოთხოვნათა გათვალისწინებით გასწრება აკრძალულია გასწრების ამკრძალავი ნიშნით ან მონიშვნით განსაზღვრულ ადგილზე.

QUESTION 415

CORRECT ANSWER: 3



Which vehicle driver is prohibited from proceeding to the arrow direction, if the middle lane of the given road is used for two-way traffic?

1

Lorry driver only

2

Motor car driver only

3

Both of them

4

None of them

განმარტება:

„საგზაო მოძრაობის შესახებ“ საქართველოს კანონის 31-ე მუხლის მე-7 პუნქტის თანახმად, სამი მოძრაობის ზოლის მქონე (გარდა 1.9 საგზაო მონიშვნისა) ორმხრივმოძრაობიან გზაზე სატრანსპორტო საშუალების მძღოლი არ უნდა გადავიდეს სავალი ნაწილის განაპირა ზოლზე, სადაც საპირისპირო მიმართულების მოძრაობა ხორციელდება. თუ სამი მოძრაობის ზოლის მქონე გზაზე შუა ზოლი ორივე მიმართულებით მოძრაობისათვის გამოიყენება, ამ ზოლზე გასვლა ნებადართულია მხოლოდ გასწრების, დაბრკოლების შემოვლის, მარცხნივ მოხვევის ან მობრუნების მიზნით.

QUESTION 416

CORRECT ANSWER: 1



Will the motor car driver violate the Highway Code in case of proceeding to the arrow direction?

1

Yes

2

No

განმარტება:

„საგზაო მოძრაობის შესახებ“ საქართველოს კანონის 25-ე მუხლის მე-2 პუნქტის „ბ“ ქვეპუნქტის თანახმად . ქვეითთა გადასასვლელზე ამ კანონის 21-ე მუხლის მე-6 პუნქტით, 33-ე მუხლის მე-2 პუნქტითა და 34-ე მუხლის მე-11 პუნქტით დადგენილ მოთხოვნათა დაცვით უნდა შესრულდეს შემდეგი მოთხოვნები: ბ) თუ სატრანსპორტო საშუალებათა მოძრაობა არ რეგულირდება არც საგზაო შექნიშნით და არც მარეგულირებლის მეშვეობით, მძღოლმა ქვეითთა გადასასვლელთან მიახლოებისას სათანადოდ უნდა შეამციროს სიჩქარე, რათა საფრთხე არ შეუქმნას ამ გადასასვლელზე შესულ ან შემავალ ქვეითებს, ხოლო საჭიროების შემთხვევაში უნდა გაჩერდეს და გაატაროს ქვეითები. ამავე კანონის 34-ე მუხლის მე-11 პუნქტის თანახმად, სატრანსპორტო საშუალებას შეუძლია იმ სატრანსპორტო საშუალებას, რომელიც უახლოვდება ქვეითთა გადასასვლელს ან რომელიც შეჩერდა უშუალოდ ამ გადასასვლელის წინ, გაუსწროს მხოლოდ საკმარისად შემცირებული სიჩქარით, რათა უზრუნველყოს დროული გაჩერება გადასასვლელზე ქვეითის აღმოჩენის შემთხვევაში. აკრძალულია ქვეითთა გადასასვლელზე გასწრება, თუ მასზე ქვეითი მოძრაობს.

QUESTION 417

CORRECT ANSWER: 3

If the pedestrian did not manage to cross the road in time, he/she is allowed to stop:

- 1** On the safety island only
- 2** On lane or line dividing the traffic flow moving in opposite direction only
- 3** Both on the safety island, as well as on the lane or line dividing the traffic flow moving in opposite direction

განმარტება:

„საგზაო მოძრაობის შესახებ“ საქართველოს კანონის 24-ე მუხლის მე-10 პუნქტის თანახმად, ქვეითი, რომელმაც ვერ მოასწრო გზაზე გადასვლა, უნდა შეჩერდეს უსაფრთხოების კუნძულზე, ურთიერთსაპირისპირო მიმართულებით მოძრავი სატრანსპორტო ნაკადების გამყოფ ზოლზე ან ხაზზე და გადასვლა უნდა გააგრძელოს მხოლოდ შემდგომი მოძრაობის უსაფრთხოებაში დარწმუნების შემდეგ, შექნიშნის ან მარეგულირებლის სიგნალების გათვალისწინებით.

QUESTION 418

CORRECT ANSWER: 2



Is the motor car driver prohibited from overtaking to the arrow direction?

1

Yes

2


No

განმარტება:

„საგზაო მოძრაობის შესახებ“ საქართველოს კანონის 34-ე მუხლის მე-9 პუნქტის „ა.ბ“ ქვეპუნქტის თანახმად, ამ მუხლის მე-3 პუნქტით დადგენილ მოთხოვნათა გათვალისწინებით გასწრება აკრძალულია წრიულმოძრაობიანი გზაჯვარედინისაგან განსხვავებულ გზაჯვარედინზე ან უშუალოდ ამ გზაჯვარედინის წინ, გარდა იმ შემთხვევისა, როდესაც გასწრება ხორციელდება გზაზე, რომელზე მოძრაობის დროსაც მძღოლს ენიჭება გზაჯვარედინზე უპირატესი მოძრაობის უფლება. ამავე მუხლის მე-10 პუნქტის თანახმად ამ მუხლის მე-9 პუნქტის „ა“ და „ბ“ ქვეპუნქტებით განსაზღვრული აკრძალვები არ ვრცელდება ორთვლიანი ველოსიპედის, მოპედისა და ორთვლიანი უეტლო მოტოციკლის გასწრების შემთხვევებზე.

QUESTION 419

CORRECT ANSWER: 1



Is the motor car driver prohibited from overtaking to the arrow direction?

1

Yes

2


No

განმარტება:

„საგზაო მოძრაობის შესახებ“ საქართველოს კანონის 34-ე მუხლის მე-9 პუნქტის „ა.ბ“ ქვეპუნქტის თანახმად, ამ მუხლის მე-3 პუნქტით დადგენილ მოთხოვნათა გათვალისწინებით გასწრება აკრძალულია წრიულმოძრაობიანი გზაჯვარედინისაგან განსხვავებულ გზაჯვარედინზე ან უშუალოდ ამ გზაჯვარედინის წინ, გარდა იმ შემთხვევისა, როდესაც გასწრება ხორციელდება გზაზე, რომელზე მოძრაობის დროსაც მძღოლს ენიჭება გზაჯვარედინზე უპირატესი მოძრაობის უფლება. ამავე მუხლის მე-10 პუნქტის თანახმად ამ მუხლის მე-9 პუნქტის „ა“ და „ბ“ ქვეპუნქტებით განსაზღვრული აკრძალვები არ ვრცელდება ორთვლიანი ველოსიპედის, მოპედისა და ორთვლიანი უეტლო მოტოციკლის გასწრების შემთხვევებზე.

QUESTION 420

CORRECT ANSWER: 1



Is green car driver prohibited from fulfillment of overtaking maneuver by moving on reversible traffic lane?

1

Yes

2

No

განმარტება:

„საგზაო მოძრაობის შესახებ“ საქართველოს კანონის პირველი დანართის პირველი თავის (მაფრთხილებელი ნიშნები) 1.15 პუნქტის თანახმად საგზაო ნიშანი 1.15. „ციცაბო აღმართი“ – იძლევა გაფრთხილებას ციცაბოაღმართიან გზის მონაკვეთთან მიახლოების თაობაზე. ამავე კანონის 34-ე მუხლის მე-9 პუნქტის „ე“ ქვეპუნქტის თანახმად, ამ მუხლის მე-3 პუნქტით დადგენილ მოთხოვნათა გათვალისწინებით გასწრება აკრძალულია შეზღუდული ხილვადობის პირობებში საპირისპირო მოძრაობის ზოლზე გასვლით.

QUESTION 421

CORRECT ANSWER: 2



Will blue motor car driver violate the Highway Code in case of proceeding to the arrow direction, if distance to the end of the ascent is 80 meters?

1

Yes

2

No

განმარტება:

„საგზაო მოძრაობის შესახებ“ საქართველოს კანონის პირველი დანართის პირველი თავის (მაფრთხილებელი ნიშნები) 1.15 პუნქტის თანახმად საგზაო ნიშანი 1.15. „ციცაბო აღმართი“ – იძლევა გაფრთხილებას ციცაბოაღმართიან გზის მონაკვეთთან მიახლოების თაობაზე. ამავე კანონის 34-ე მუხლის მე-9 პუნქტის „ე“ ქვეპუნქტის თანახმად, ამ მუხლის მე-3 პუნქტით დადგენილ მოთხოვნათა გათვალისწინებით გასწრება აკრძალულია შეზღუდული ხილვადობის პირობებში საპირისპირო მოძრაობის ზოლზე გასვლით.

QUESTION 422

CORRECT ANSWER: 1



Is red car driver prohibited from fulfillment of overtaking maneuver by moving on reversible traffic lane?

1

Yes

2

No

განმარტება:

„საგზაო მოძრაობის შესახებ“ საქართველოს კანონის პირველი დანართის პირველი თავის (მაფრთხილებელი ნიშნები) 1.15 პუნქტის თანახმად საგზაო ნიშანი 1.15. „ციცაბო აღმართი“ – იძლევა გაფრთხილებას ციცაბოაღმართიან გზის მონაკვეთთან მიახლოების თაობაზე. ამავე კანონის 34-ე მუხლის მე-9 პუნქტის „ე“ ქვეპუნქტის თანახმად, ამ მუხლის მე-3 პუნქტით დადგენილ მოთხოვნათა გათვალისწინებით გასწრება აკრძალულია შეზღუდული ხილვადობის პირობებში საპირისპირო მოძრაობის ზოლზე გასვლით.

QUESTION 423

CORRECT ANSWER: 2



Is green car driver prohibited from overtaking to the arrow direction?

1

Yes

2

No

განმარტება:

„საგზაო მოძრაობის შესახებ“ საქართველოს კანონის პირველი დანართის პირველი თავის (მაფრთხილებელი ნიშნები) 1.15 პუნქტის თანახმად საგზაო ნიშანი 1.15. „ციცაბო აღმართი“ – იძლევა გაფრთხილებას ციცაბოაღმართიან გზის მონაკვეთთან მიახლოების თაობაზე. ამავე კანონის 34-ე მუხლის მე-9 პუნქტის „ე“ ქვეპუნქტის თანახმად, ამ მუხლის მე-3 პუნქტით დადგენილ მოთხოვნათა გათვალისწინებით გასწრება აკრძალულია შეზღუდული ხილვადობის პირობებში საპირისპირო მოძრაობის ზოლზე გასვლით.

QUESTION 424

CORRECT ANSWER: 1



Will white car driver violate the Highway Code in case of fulfillment of the maneuver shown by arrow, if the pedestrian has started crossing from the left side?

1

Yes

2

No

განმარტება:

„საგზაო მოძრაობის შესახებ“ საქართველოს კანონის 34-ე მუხლის მე-11 პუნქტის თანახმად, სატრანსპორტო საშუალებას შეუძლია იმ სატრანსპორტო საშუალებას, რომელიც უახლოვდება ქვეითთა გადასასვლელს ან რომელიც შეჩერდა უშუალოდ ამ გადასასვლელის წინ, გაუსწროს მხოლოდ საკმარისად შემცირებული სიჩქარით, რათა უზრუნველყოს დროული გაჩერება გადასასვლელზე ქვეითის აღმოჩენის შემთხვევაში. აკრძალულია ქვეითთა გადასასვლელზე გასწრება, თუ მასზე ქვეითი მოძრაობს.

QUESTION 425

CORRECT ANSWER: 1



Is motor car driver prohibited from overtaking in the present situation?

1

Yes

2


No

განმარტება:

„საგზაო მოძრაობის შესახებ“ საქართველოს კანონის 34-ე მუხლის მე-11 პუნქტის თანახმად, სატრანსპორტო საშუალებას შეუძლია იმ სატრანსპორტო საშუალებას, რომელიც უახლოვდება ქვეითთა გადასასვლელს ან რომელიც შეჩერდა უშუალოდ ამ გადასასვლელის წინ, გაუსწროს მხოლოდ საკმარისად შემცირებული სიჩქარით, რათა უზრუნველყოს დროული გაჩერება გადასასვლელზე ქვეითის აღმოჩენის შემთხვევაში. აკრძალულია ქვეითთა გადასასვლელზე გასწრება, თუ მასზე ქვეითი მოძრაობს.

QUESTION 426

CORRECT ANSWER: 1



Is the lorry driver allowed to start overtaking maneuver, if the motor car driver has left-turn indicator switched on and already started overtaking?

1

No

2

Yes

განმარტება:

„საგზაო მოძრაობის შესახებ“ საქართველოს კანონის 34-ე მუხლის მე-3 პუნქტის „ა“ ქვეპუნქტის თანახმად, გასწრების დაწყებამდე მძღოლი, ისე, რომ არ დაარღვიოს ამ კანონის მე-20 მუხლის მე-2 პუნქტითა და 32-ე მუხლით დადგენილი მოთხოვნები, უნდა დარწმუნდეს, რომ მის უკან მომავალი არცერთი სატრანსპორტო საშუალების მძღოლს გასწრება არ დაუწყია.

QUESTION 427

CORRECT ANSWER: 4

In absence of which below-listed circumstances should the driver make sure in before starting to overtake?

1 Only in fact, that none of vehicle drivers driving behind him/her has started overtaking

2 Only in fact, that the vehicle driver driving in front of him/her on the same traffic lane has not given a signal for warning about intention of overtaking to another vehicle

3 Only in fact, that the traffic line, where he/she is intending to go, is free within sufficient distance, besides ratio of speed of two vehicles provides overtaking opportunity in quite a short time

4 In all of the circumstances listed in given test

ბანმარტეზა:

„საგზაო მოძრაობის შესახებ“ საქართველოს კანონის 34-ე მუხლის მე-3 პუნქტის „ა“, „ბ“ და „გ“ ქვეპუნქტების თანახმად, გასწრების დაწყებამდე მძღოლი, ისე, რომ არ დაარღვიოს ამ კანონის მე-20 მუხლის მე-2 პუნქტითა და 32-ე მუხლით დადგენილი მოთხოვნები, უნდა დარწმუნდეს, რომ: ა) მის უკან მომავალი არცერთი სატრანსპორტო საშუალების მძღოლს გასწრება არ დაუწყია; ბ) მოძრაობის იმავე ზოლზე მის წინ მიმავალი სატრანსპორტო საშუალების მძღოლს არ მიუცია სიგნალი, რომ აპირებს, გაუსწროს სხვა სატრანსპორტო საშუალებას. აკრძალულია იმ სატრანსპორტო საშუალების გასწრება, რომელიც ახორციელებს გასწრებას ან დაბრკოლების შემოვლას; გ) მას შეუძლია გასწრება ისე განახორციელოს, რომ არ შეუქმნას საფრთხე ან დაბრკოლება სხვა საგზაო მოძრაობის მონაწილეებს. იგი აგრეთვე უნდა დარწმუნდეს, რომ მოძრაობის ზოლი, რომელზედაც აპირებს გასვლას, საკმარის მანძილზე თავისუფალია და ორი სატრანსპორტო საშუალების სიჩქარეთა ფარდობა საკმარისად მოკლე დროში გასწრების საშუალებას იძლევა.

QUESTION 428

CORRECT ANSWER: 2

Is overtaking of the vehicle allowed from the right side?

1 No

2 Yes, if the driver, being overtaken, gave the signal for warning about left turn and directed his/her vehicle in order to turn to other road or to enter into the territory adjacent to the road or to stay on this side

განმარტება:

„საგზაო მოძრაობის შესახებ“ საქართველოს კანონის 34-ე მუხლის პირველი პუნქტის თანახმად, გასწრება უნდა განხორციელდეს მარცხენა მხრიდან. მარჯვენა მხრიდან გასწრება ნებადართულია იმ შემთხვევაში, თუ მძღოლმა, რომელსაც უსწრებენ, მისცა სიგნალი, რომ მარცხნივ მოხვევას აპირებს, და თავისი სატრანსპორტო საშუალება ისე მიმართა, რომ შეუხვიოს სხვა გზაზე ან შევიდეს გზის მიმდებარე ტერიტორიაზე ან გაჩერდეს ამ მხარეს.

QUESTION 429

CORRECT ANSWER: 1

Is overtaking to the vehicle, approaching the crosswalk marked appropriately on the driveway or stopped directly in front of this crosswalk, allowed?

1 Is allowed if a pedestrian does not walk on crosswalk, also with sufficiently reduced speed only

2 Is not allowed at the crosswalk, as well as not less than 100 meters before it

3 Is allowed only in uninhabited area, if maximum allowable speed limit on the road is exceeding 60 km/h

განმარტება:

„საგზაო მოძრაობის შესახებ“ საქართველოს კანონის 34-ე მუხლის მე-11 პუნქტის თანახმად, სატრანსპორტო საშუალებას შეუძლია იმ სატრანსპორტო საშუალებას, რომელიც უახლოვდება ქვეითთა გადასასვლელს ან რომელიც შეჩერდა უშუალოდ ამ გადასასვლელის წინ, გაუსწროს მხოლოდ საკმარისად შემცირებული სიჩქარით, რათა უზრუნველყოს დროული გაჩერება გადასასვლელზე ქვეითის აღმოჩენის შემთხვევაში. აკრძალულია ქვეითთა გადასასვლელზე გასწრება, თუ მასზე ქვეითი მოძრაობს.

QUESTION 430

CORRECT ANSWER: 2



Is the driver of a light vehicle prohibited to drive according to the arrows?

1

Yes

2


No

განმარტება:

„საგზაო მოძრაობის შესახებ“ საქართველოს 34-ე მუხლის მე-9 პუნქტის „დ“ ქვეპუნქტის თანახმად, ამ მუხლის მე-3 პუნქტით დადგენილ მოთხოვნათა გათვალისწინებით გასწრება აკრძალულია გასწრების ამკრძალავი ნიშნით ან მონიშვნით განსაზღვრულ ადგილზე. ამავე კანონის პირველი დანართის 3.20 პუნქტის თანახმად, საგზაო ნიშანი 3.20 „გასწრება აკრძალულია“ - კრძალავს ყველა სახის მექანიკური სატრანსპორტო საშუალების გასწრებას (გარდა 30 კმ/სთ-ზე ნაკლები სიჩქარით მოძრავი ტრანსპორტისა). ნებადართულია გასწრება უეტლო მოტოციკლის, მოპედისა და ველოსიპედის შემხვედრი მოძრაობის ზოლში გადაუსვლელად.

QUESTION 431

CORRECT ANSWER: 2



Will motor car driver violate the Highway Code in case of proceeding to the arrow direction?

1

Yes

2

No

განმარტება:

„საგზაო მოძრაობის შესახებ“ საქართველოს კანონის 34-ე მუხლის მე-18 პუნქტის თანახმად, გზაზე ჩართული ლურჯი მოელვარე სპეციალური ციმციმა სიგნალით გაჩერებული ოპერატიული ან ჩართული ნარინჯისფერი ან ყვითელი მოელვარე სპეციალური ციმციმა სიგნალით გაჩერებული სპეციალური ან საგზაო-საექსპლუატაციო სამსახურის სატრანსპორტო საშუალების, ნელა მოძრავი ტექნიკური სამსახურის სატრანსპორტო საშუალების ან კომუნალური სამსახურის საგზაო საშუალების შემსრულებლის გასწრება, შემოვლა ან მისთვის გვერდის აქცევა, სავალ ნაწილზე მისი განლაგების, სიტუაციისა და საფრთხის გათვალისწინებით, ნებადართულია როგორც მარჯვნიდან, ისე მარცხნიდან, მიუხედავად აღნიშნულ გზის მონაკვეთზე არსებული საგზაო ნიშნებისა და ჰორიზონტალური საგზაო მონიშვნის მოთხოვნებისა. ამავე კანონის პირველი დანართის მე-4 თავის (მიმთითებელი ნიშნები) 4.2.2 პუნქტის თანახმად, საგზაო ნიშანი 4.2.2 „დაბრკოლების შემოვლა მარცხნიდან“ - მიუთითებს გამყოფი ზოლის, უსაფრთხოების კუნძულის ან რაიმე დაბრკოლების მხოლოდ მარცხნიდან შემოვლის მიმართულებას. ამავე კანონის მე-2 დანართის პირველი აბზაცის თანახმად, საგზაო მონიშვნა ადგენს მოძრაობის გარკვეულ რეჟიმებსა და წესრიგს, არის მძღოლის ვიზუალური ორიენტაციის საშუალება და შეიძლება გამოყენებულ იქნეს როგორც დამოუკიდებლად, ისე საგზაო მოძრაობის ორგანიზების სხვა ტექნიკურ საშუალებებთან ერთად. თუ გადასატან სადგარზე გამოსახული დროებითი საგზაო ნიშნებისა და მონიშვნის ხაზების მნიშვნელობა ურთიერთსაპირისპიროა, მძღოლი ხელმძღვანელობს საგზაო ნიშნებით.

QUESTION 432

CORRECT ANSWER: 2



Is the motor car driver prohibited from overtaking to the arrow direction, if visibility is limited on the given section of the road?

1

Yes

2


No

განმარტება:

„საგზაო მოძრაობის შესახებ“ საქართველოს კანონის 34-ე მუხლის მე-9 პუნქტის „ე“ ქვეპუნქტის თანახმად, ამ მუხლის მე-3 პუნქტით დადგენილ მოთხოვნათა გათვალისწინებით გასწრება აკრძალულია შემდეგდელი ხილვადობის პირობებში საპირისპირო მოძრაობის ზოლზე გასვლით. ამავე კანონის პირველი დანართის 1.12.1 პუნქტის თანახმად საგზაო ნიშანი 1.12.1, „სახიფათო მოსახვევი“ აღნიშნავს მცირე რადიუსიანი ან შემდეგდელი ხილვადობის მქონე გზის სახიფათო მოსახვევს - მარჯვნივ. ამავე კანონის მე-2 დანართის პირველი თავის (ჰორიზონტალური მონიშვნა) 1.5 პუნქტის თანახმად, ჰორიზონტალური მონიშვნა 1.5. ყოფს საპირისპირო მიმართულებით მოძრავ სატრანსპორტო ნაკადებს გზაზე, რომელსაც მოძრაობის ორი ან სამი ზოლი აქვს; აღნიშნავს მოძრაობის ზოლის საზღვარს ერთი მიმართულებით მოძრაობისათვის განკუთვნილი ორი ან ორზე მეტი ზოლის არსებობისას. 1.5 ხაზის გადაკვეთა ნებადართულია ნებისმიერი მხრიდან.

QUESTION 433

CORRECT ANSWER: 3



In the present situation, which of the vehicle drivers is prohibited from proceeding to the arrow direction, if towing motorcycle has started to pass the obstruction?

1

Towing and tow motorcyclists

2

Motor car driver

3

Both of them

განმარტება:

„საგზაო მოძრაობის შესახებ“ საქართველოს კანონის 34-ე მუხლის მე-3 პუნქტის „ბ“ ქვეპუნქტის თანახმად, გასწრების დაწყებამდე მძღოლი, ისე, რომ არ დაარღვიოს ამ კანონის მე-20 მუხლის მე-2 პუნქტითა და 32-ე მუხლით დადგენილი მოთხოვნები, უნდა დარწმუნდეს, რომ მოძრაობის იმავე ზოლზე მის წინ მიმავალი სატრანსპორტო საშუალების მძღოლს არ მიუცია სიგნალი, რომ აპირებს, გაუსწროს სხვა სატრანსპორტო საშუალებას. აკრძალულია იმ სატრანსპორტო საშუალების გასწრება, რომელიც ახორციელებს გასწრე-ბას ან დაბრკოლების შემოვლას. ამავე მუხლის მე-9 პუნქტის „გ“ ქვეპუნქტის თანახმად, ამ მუხლის მე-3 პუნქტით დადგენილ მოთხოვნათა გათვალისწინებით გასწრება აკრძალულია იმ სატრანსპორტო საშუალებისა, რომელიც ახორციელებს გასწრე-ბას ან შემოვლას. ამავე კანონის 45-ე მუხლის მე-6 პუნქტის „დ“ ქვეპუნქტის თანახმად აკრძალულია ბუქსირება მოტოციკლით, გვერდითი მისაბმელის გარეშე, აგრეთვე ასეთი მოტოციკლის ბუქსირება.

QUESTION 434

CORRECT ANSWER: 1



Which vehicle driver should be obliged to yield when driving to the arrow direction?

1

Motor car driver

2

Lorry driver

განმარტება:

„საგზაო მოძრაობის შესახებ“ საქართველოს კანონის 35-ე მუხლის მე-2 პუნქტის თანახმად, მთის გზასა და ანალოგიური მახასიათებლების მქონე დიდი დახრილობის გზაზე, აგრეთვე 1.14 და 1.15 საგზაო ნიშნებით აღნიშნულ გზებზე, სადაც გვერდის აქცევა შეუძლებელია ან გართულებულია, დადმართზე მოძრავი სატრანსპორტო საშუალების მძღოლი ვალდებულია გაჩერდეს და გზა დაუთმოს აღმართზე მოძრავი სატრანსპორტო საშუალების მძღოლს, გარდა იმ შემთხვევისა, როცა გვერდის ასაქცევი ადგილი სავალი ნაწილის გასწვრივ ისეა განლაგებული, რომ აღმართზე მოძრავი სატრანსპორტო საშუალების მძღოლი, სატრანსპორტო საშუალების სიჩქარისა და მდგომარეობის გათვალისწინებით, შეძლებდა მის წინ მდებარე ასაქცევ ადგილზე გაჩერებას, რითაც გამოირიცხებოდა ერთ-ერთი სატრანსპორტო საშუალების უკუსვლით მოძრაობის აუცილებლობა. ამავე კანონის პირველი დანართის პირველი თავის (მაფრთხილებელი ნიშნები) 1.15 პუნქტის თანახმად საგზაო ნიშანი 1.15 „ციცაბო აღმართი“- იძლევა გაფრთხილებას ციცაბოაღმართიან გზის მონაკვეთთან მიახლოების თაობაზე.

QUESTION 435

CORRECT ANSWER: 3

When driving, a driver must take into account that during overtaking dangerous situation is created most often due to:

- 1 Failure to observe the distance only
- 2 Lack of attention to oncoming vehicles only
- 3 Both failure to observe the distance, as well as lack of attention to oncoming vehicles

განმარტება:

„საგზაო მოძრაობის შესახებ“ საქართველოს კანონის 25-ე მუხლის მე-10 პუნქტის „მ“ ქვეპუნქტის თანახმად, გზაზე მოძრაობისას მძღოლმა უნდა გაითვალისწინოს შემდეგი გარემოებები: მ) გასწრებისას ყველაზე უფრო ხშირად ავარიული სიტუაცია იქმნება დისტანციის დაუცველობის მიზეზით და საპირისპირო მიმართულებით მოძრავი სატრანსპორტო საშუალებების მიმართ არასაკმარისი ყურადღების გამოჩენის გამო.

QUESTION 436

CORRECT ANSWER: 2

On the road with at least two lanes for motion in the same direction, is a driver allowed to stay on the traffic lane taken during first overtaking, if he/she has to start new overtaking upon returning on previous lane or in a short time?

- 1 No
- 2 Yes, if he/she makes sure in advance that he/she will not create obstacles to the vehicle driver moving behind him/her at higher speed

განმარტება:

„საგზაო მოძრაობის შესახებ“ საქართველოს კანონის 34-ე მუხლის მე-6 პუნქტის თანახმად, თუ გზაზე, რომელზედაც თანმხვედრი მიმართულებით მოძრაობისთვის სულ მცირე ორი ზოლია, სატრანსპორტო საშუალების მძღოლს, რომელსაც გასწრების დამთავრების შემდეგ ამ კანონის მე-31 მუხლის მე-10-მე-12 პუნქტებით დადგენილ მოთხოვნათა შესასრულებლად ადრე დაკავებულ მოძრაობის ზოლზე დაბრუნებისთანავე ან დაბრუნებიდან მოკლე დროში მოუწევს ახალი გასწრების დაწყება, ამ მანევრის შესასრულებლად შეუძლია დარჩეს პირველი გასწრების დროს დაკავებულ მოძრაობის ზოლზე, თუ წინასწარ დარწმუნდება, რომ ეს არ შეუქმნის დაბრკოლებას მის უკან მეტი სიჩქარით მოძრავი სატრანსპორტო საშუალების მძღოლს.

QUESTION 437

CORRECT ANSWER: 3

Except for entry to the road from the left side, the driver who makes sure that the driver moving behind him/her is going to overtake, is obliged to:

1 Approach the right edge of the driveway and increase the speed

2 Take the extreme left edge of the same direction and decrease the speed

3 Approach the right edge of the driveway as far as possible and not to increase the speed

განმარტება:

„საგზაო მოძრაობის შესახებ“ საქართველოს კანონის 34-ე მუხლის მე-12 პუნქტის თანახმად, მძღოლი, რომელიც დარწმუნდება, რომ მის უკან მომავალი მძღოლი აპირებს გასწრებას, გარდა ამ კანონის 32-ე მუხლის მე-7 პუნქტის „ბ“ ქვეპუნქტში გათვალისწინებული შემთხვევისა, შეძლებისდაგვარად უნდა მიუახლოვდეს გზის სავალი ნაწილის მარჯვენა კიდეს და არ გაზარდოს სიჩქარე. ხოლო ამავე კანონის 32-ე მუხლის მე-7 პუნქტის „ბ“ ქვეპუნქტის თანახმად, სხვა გზაზე გასასვლელად ან გზის მიმდებარე ტერიტორიაზე შესასვლელად მარჯვნივ ან მარცხნივ მოხვევის წინ, ისე, რომ არ დაარღვიოს ამ კანონის მე-20 მუხლის მე-2 პუნქტითა და ამ მუხლის პირველი და მე-2 პუნქტებით დადგენილი მოთხოვნები, თუ სატრანსპორტო საშუალების მძღოლი აპირებს გზიდან გასვლას მარცხენა მხრიდან, სატრანსპორტო საშუალება, რამდენადაც ეს შესაძლებელია, უნდა მიუახლოვდეს გზის სავალი ნაწილის ღერძს (ორმხრივმოძრაობიან გზაზე) ან სავალი ნაწილის მარცხენა კიდეს (ცალმხრივმოძრაობიან გზაზე).

QUESTION 438

CORRECT ANSWER: 2



In the present situation, is the motor car driver is prohibited from overtaking to the arrow direction?

1

Yes

2


No

განმარტება:

„საგზაო მოძრაობის შესახებ“ საქართველოს კანონის 34-ე მე-9 პუნქტის „ბ“ ქვეპუნქტის თანახმად, ამ მუხლის მე-3 პუნქტით დადგენილი მოთხოვნების გათვალისწინებით, გასწრება აკრძალულია რკინიგზის გადასასვლელზე და მის წინ 100 მეტრზე ახლოს, გარდა იმ შემთხვევებისა, როცა ამ ადგილებში მოძრაობა რეგულირდება ისეთი ტიპის შექნიშნით რომელიც გზაჯვარედინებზე გამოიყენება.

QUESTION 439

CORRECT ANSWER: 2



In the present situation, is the motor car driver prohibited from overtaking to the arrow direction?

1

Yes

2

No

განმარტება:

„საგზაო მოძრაობის შესახებ“ საქართველოს კანონის 34-ე მე-9 პუნქტის „ბ“ ქვეპუნქტის თანახმად, ამ მუხლის მე-3 პუნქტით დადგენილი მოთხოვნების გათვალისწინებით, გასწრება აკრძალულია რკინიგზის გადასასვლელზე და მის წინ 100 მეტრზე ახლოს, გარდა იმ შემთხვევებისა, როცა ამ ადგილებში მოძრაობა რეგულირდება ისეთი ტიპის შუქნიშნით რომელიც გზაჯვარედინებზე გამოიყენება. ამავე კანონის პირველი დანართის პირველი თავის (მაფრთხილებელი ნიშნები) 1.2 და 1.4.6-1.4.6 პუნქტების თანახმად საგზაო ნიშანი: 1.2 „რკინიგზის უშლავაუშო გადასასვლელი“ - აფრთხილებს უშლავაუშო რკინიგზის გადასასვლელთან მიახლოების შესახებ; 1.4.1 „რკინიგზის გადასასვლელთან მიახლოება“ - დამატებით აფრთხილებს მძღოლს დაუსახლებელ პუნქტში რკინიგზის გადასასვლელთან მიახლოების შესახებ. ამავე თავის შენიშვნის „ა“ და „ვ“ ქვეპუნქტების თანახმად: ა) ნიშნები 1.1, 1.2, 1.5–1.34 სახიფათო მონაკვეთის დასაწყისამდე იდგმება დაუსახლებელ პუნქტში 150-300 მეტრის მანძილზე. ვ) ნიშნები 1.4.1 და 1.4.4 იდგმება მოძრაობის მიმართულებით ძირითად და დუბლირებულ 1.1 ან 1.2 ნიშნებთან ერთად.

QUESTION 440

CORRECT ANSWER: 1

Is a driver of the vehicle to be overtaken prohibited from interfering in overtaking through increase of speed or other actions?

1

Yes

2

No

განმარტება:

„საგზაო მოძრაობის შესახებ“ საქართველოს კანონის 34-ე მუხლის მე-16 პუნქტის თანახმად, გასასწრები სატრანსპორტო საშუალების მძღოლს ეკრძა-ლება ხელი შეუშალოს გასწრებას მოძრაობის სიჩქარის მომატებით ან სხვა მოქმედებით.

QUESTION 441

CORRECT ANSWER: 3



Is the driver allowed to proceed to the arrow direction, if the tunnel is marked with the road sign 1.32 ("Tunnel")?

1

Yes, if the tunnel is located in inhabited area

2

Yes, if the tunnel is located in uninhabited area

3

No

განმარტება:

„საგზაო მოძრაობის შესახებ“ საქართველოს კანონის 42-ე მუხლის „ა“ პუნქტის თანახმად, საგზაო ნიშნით აღნიშნულ გვირაბებში მოქმედებს შემდეგი წესი -მძღოლს ეკრძალება უკუსვლით მოძრაობა ან მობრუნება.

QUESTION 442

CORRECT ANSWER: 3



Which vehicle driver will violate the Highway Code in case of proceeding to the arrow direction?

1

Motor car driver only

2

Motorcyclists only

3

None of them

განმარტება:

„საგზაო მოძრაობის შესახებ“ საქართველოს კანონის 31-ე მუხლის მე-14 პუნქტის თანახმად, დასაშვებია მოძრაობის ზოლზე მოპედების ან/და უეტლო მოტოციკლების თანმხვედრი მიმართულებით ორ რიგად მოძრაობა. ამავე კანონის მე-2 დანართის პირველი თავის (კორიზონტალური მონიშვნა) 1.5 პუნქტის თანახმად საგზაო მონიშვნა 1.5. ყოფს საპირისპირო მიმართულებით მოძრავ სატრანსპორტო ნაკადებს გზაზე, რომელსაც მოძრაობის ორი ან სამი ზოლი აქვს; აღნიშნავს მოძრაობის ზოლების საზღვრებს ერთი მიმართულებით მოძრაობისათვის განკუთვნილი ორი და მეტი ზოლის არსებობისას. 1.5 ხაზის გადაკვეთა ნებადართულია ნებისმიერი მხრიდან.

QUESTION 443

CORRECT ANSWER: 3



In which direction is a lorry driver allowed to proceed, if maximum allowable mass of lorry is 15 tonnes?

1

Straight and to the right only

2

Straight, to the left and backward (U-turn) only

3

Straight, to the right and backward (U-turn) only

4

In all directions

განმარტება:

„საგზაო მოძრაობის შესახებ“ საქართველოს კანონის პირველი დანართის მე-3 თავის (ამკრძალავი ნიშნები) 3.18.2 პუნქტის თანახმად საგზაო ნიშანი 3.18.2 „მარცხნივ მოხვევა აკრძალულია“ - კრძალავს სავალი ნაწილების უახლოეს გადაკვეთაზე მარცხნივ მოხვევას. ამავე დანართის მე-8 თავის (დამატებითი ინფორმაციის ნიშნები) 8.11 პუნქტის თანახმად საგზაო ნიშანი (დაფა) 8.11 „ნებადართული მაქსიმალური მასის შეზღუდვა“ - მიუთითებს, რომ ნიშნის მოქმედება ვრცელდება მხოლოდ იმ სატრანსპორტო საშუალებაზე, რომლის ნებადართული მაქსიმალური მასა აღემატება დაფაზე მითითებულს.

QUESTION 444

CORRECT ANSWER: 2



In which direction is a lorry driver allowed to proceed, if maximum allowable mass of lorry is 9 tonnes?

- | | |
|--|---|
| <p>1 Straight and to the right only</p> | <p>2 To the right, left and backward (U-turn) only</p> |
| <p>3 Straight, to the left and backward (U-turn) only</p> | |

განმარტება:

„საგზაო მოძრაობის შესახებ“ საქართველოს კანონის პირველი დანართის მე-3 თავის (ამკრძალავი ნიშნები) 3.18.2 და 3.32 პუნქტების თანახმად საგზაო ნიშანი: - 3.18.2 „მარცხნივ მოხვევა აკრძალულია“ - კრძალავს საგზაო ნაწილების უახლოეს გადაკვეთაზე მარცხნივ მოხვევას; - 3.32 „სახიფათო ტვირთის გადამზიდი სატრანსპორტო საშუალებით მოძრაობა აკრძალულია“ - კრძალავს იმ სახიფათო ტვირთის გადამზიდი სატრანსპორტო საშუალებით მოძრაობას, რომელიც კანონმდებლობის თანახმად აღნიშნული უნდა იყოს შესაბამისი საცნობი ნიშნით. ამავე დანართის მე-8 თავის (დამატებითი ინფორმაციის ნიშნები) 8.11 პუნქტის თანახმად საგზაო ნიშანი (დაფა) 8.11 „ნებადართული მაქსიმალური მასის შეზღუდვა“ - მიუთითებს, რომ ნიშნის მოქმედება ვრცელდება მხოლოდ იმ სატრანსპორტო საშუალებაზე, რომლის ნებადართული მაქსიმალური მასა აღემატება დაფაზე მითითებულს.

QUESTION 445

CORRECT ANSWER: 1

“Overtaking” means:

- 1 Overtaking one or several preceding vehicles driving in the same direction in the same lane, by leaving the taken lane
- 2 Faster motion of the vehicle in the concurrent traffic lanes than the vehicles moving in the lines adjacent to the edges of driveway
- 3 Driving round one or several oncoming vehicles in neighbour traffic lane

განმარტება:

„საგზაო მოძრაობის შესახებ“ საქართველოს კანონის 5-ე მუხლის მე-10 პუნქტის თანახმად, გასწრება - დაკავებული ზოლიდან გამოსვლით იმავე ზოლში თანხედენილი მიმართულებით წინ მოძრავი ერთი ან რამდენიმე სატრანსპორტო საშუალების გადასწრება.

QUESTION 446

CORRECT ANSWER: 2

Using audible and light signals during proceeding towards other traffic participants:

- 1 Entitles priority to the driver
- 2 Does not entitle priority to the driver
- 3 Does not entitle priority to the driver over operative vehicles only
- 4 Entitles priority to the driver over those specific traffic participants, towards which these audible and light signals are used

განმარტება:

„საგზაო მოძრაობის შესახებ“ საქართველოს კანონის 48-ე მუხლის მე-4 პუნქტის თანახმად, ხმოვანი და მანათობელი სიგნალების მიცემა მძღოლს არ ანიჭებს უპირატესობას სხვა საგზაო მოძრაობის მონაწილეების მიმართ.

QUESTION 447

CORRECT ANSWER: 3

If during overtaking there appears an obstruction of hazard, of which a driver could not be aware before starting to overtake, the driver shall be obliged:

1

To increase speed, in order to finish maneuvering in due time

2

To give honk and go on overtaking maneuver

3


To stop overtaking

განმარტება:

„საგზაო მოძრაობის შესახებ“ საქართველოს კანონის 34-ე მუხლის მე-17 პუნქტის თანახმად, თუ გასწრებისას აღმოჩნდა დაბრკოლება ან საფრთხე, რომლის გათვალისწინება მძღოლს არ შეეძლო გასწრების დაწყებამდე, ან თუ მან ვერ შეძლო სიტუაციის სწორი შეფასება, მძღოლი ვალდებულია შეწყვიტოს გასწრება. თუ მძღოლმა გასწრება შეწყვიტა და ადრე დაკავებულ მოძრაობის ზოლში დაბრუნებას აპირებს, მის უკან მომავალი სატრანსპორტო საშუალებების მძღოლებმა მას უნდა მისცენ ამის შესაძლებლობა.

QUESTION 448

CORRECT ANSWER: 2



In which direction is subcategory „C1“ motor car driver allowed to proceed further on this section of the road?

1

In direction A only

2

In direction B only

3

In both A and B directions

განმარტება:

„საგზაო მოძრაობის შესახებ“ საქართველოს კანონის პირველი დანართის მე-4 თავის (მიმთითებელი ნიშნები) 4.6 პუნქტის თანახმად 4.6 „მინიმალური სიჩქარის შეზღუდვა“ - ადგენს გზაზე მოძრაობის მინიმალური სიჩქარის ზღვარს. ნიშნის მოქმედება ვრცელდება ნიშნის შემდეგ, ნიშნის დადგმის ადგილიდან უახლოეს გზაჯვარედინამდე, ხოლო დასახლებულ პუნქტში გზაჯვარედინის არარსებობისას — დასახლებული პუნქტის ბოლომდე. ამავე დანართის მე-8 თავის (დამატებითი ინფორმაციის ნიშნები (დაფები)) 8.14 პუნქტის თანახმად 8.14 „მოძრაობის ზოლი“ - მიუთითებს მოძრაობის ზოლს, რომელზედაც ვრცელდება ნიშნის ან შექნიშნის მოქმედება. დაფა თავსდება მოძრაობის ზოლის ზემოთ. ამავე კანონის 33-ე მუხლის მე-7 პუნქტის „დ.ა“ ქვეპუნქტის თანახმად, გარდა ამ კანონით დადგენილი შემთხვევებისა, დაუსახლებელ პუნქტებში, აგრეთვე დასახლებულ პუნქტებში გზის იმ მონაკვეთზე, რომელზეც შესაბამისი ნიშნით მოძრაობა დაშვებულია 60 კმ/ზე მეტი სიჩქარით, ნებადართულია „C“ და „CE“ კატეგორიის, აგრეთვე „C1“ და „C1E“ ქვეკატეგორიების სატრანსპორტო საშუალებების მოძრაობა ავტომგისტრალზე არაუმეტეს 80კმ/სთ სიჩქარით, ხოლო სხვა გზაზე - არაუმეტეს 70 კმ/სთ სიჩქარით.

თემა 17:

მოდრობის სიჩქარე

QUESTION 449

CORRECT ANSWER: 2



In the present situation, is „C1“ subcategory lorry driver prohibited from proceeding to the arrow direction, if he/she is driving at a distance of 70 km/h?

1

No

2

Yes

განმარტება:

„საგზაო მოძრაობის შესახებ“ საქართველოს კანონის 33-ე მუხლის მე-7 პუნქტის „დ“ ქვეპუნქტის თანახმად, გარდა ამ კანონით დადგენილი შემთხვევებისა, დაუსახლებელ პუნქტსა და დასახლებულ პუნქტში გზის იმ მონაკვეთზე, რომელზედაც შესაბამისი საგზაო ნიშნით მოძრაობა დაშვებულია 60 კმ/სთ-ზე მეტი სიჩქარით, ნებადართულია: დ) „C“ და „CE“ კატეგორიების, აგრეთვე „C1“ და „C1E“ ქვეკატეგორიების სატრანსპორტო საშუალებების მოძრაობა: დ.ა) ავტომაგისტრალზე არაუმეტეს 80 კმ/სთ სიჩქარით, ხოლო სხვა გზაზე – არაუმეტეს 70 კმ/სთ სიჩქარით. ამავე კანონის 31-ე მუხლის მე-11 პუნქტის თანახმად, დაუსახლებელ პუნქტში, აგრეთვე დასახლებულ პუნქტში გზის სავალი ნაწილის იმ მონაკვეთზე, რომელზედაც მოძრაობა ნებადართულია 80 კმ/სთ-ზე მეტი სიჩქარით, მძღოლმა უნდა იმოძრაოს სავალი ნაწილის მარჯვენა კიდედან რაც შეიძლება ახლოს. აკრძალულია მარცხენა ბოლის დაკავება, როცა მარჯვენა ბოლი თავისუფალია, გარდა დაბრკოლების შემთხვევის, მარცხნივ მოხვევის ან მობრუნების შემთხვევისა.

QUESTION 450

CORRECT ANSWER: 4



Which vehicle driver is violating the Highway Code, if every vehicle is driving at a speed of 100 km/h

1

Motor car driver only

2

Motor car and lorry drivers only

3

Motor car and bus drivers only

4

Lorry and bus drivers only

განმარტება:

„საგზაო მოძრაობის შესახებ“ საქართველოს კანონის 33-ე მუხლის მე-7 პუნქტის „დ.ა“ ქვეპუნქტის თანახმად, გარდა ამ კანონით დადგენილი შემთხვევებისა, დაუსახლებელ პუნქტსა და დასახლებულ პუნქტში გზის იმ მონაკვეთზე, რომელზედაც შესაბამისი საგზაო ნიშნით მოძრაობა დაშვებულია 60 კმ/სთ-ზე მეტი სიჩქარით, ნებადართულია: დ) „C“ და „CE“ კატეგორიების, აგრეთვე „C1“ და „C1E“ ქვეკატეგორიების სატრანსპორტო საშუალებების მოძრაობა: დ.ა) ავტომაგისტრალზე არაუმეტეს 80 კმ/სთ სიჩქარით, ხოლო სხვა გზაზე – არაუმეტეს 70 კმ/სთ სიჩქარით.

QUESTION 451

CORRECT ANSWER: 2



Will „CE“ category lorry driver violate the Highway Code, if he/she proceeds at a speed of 70 km/h on this section of the road?

1

Yes

2

No

განმარტება:

„საგზაო მოძრაობის შესახებ“ საქართველოს კანონის 33-ე მუხლის მე-7 პუნქტის „დ.ა“ ქვეპუნქტის თანახმად, გარდა ამ კანონით დადგენილი შემთხვევებისა, დაუსახლებელ პუნქტსა და დასახლებულ პუნქტში გზის იმ მონაკვეთზე, რომელზედაც შესაბამისი საგზაო ნიშნით მოძრაობა დაშვებულია 60 კმ/სთ-ზე მეტი სიჩქარით, ნებადართულია, „C“ და „CE“ კატეგორიების, აგრეთვე „C1“ და „C1E“ ქვეკატეგორიების სატრანსპორტო საშუალებების მოძრაობა ავტომაგისტრალზე არაუმეტეს 80 კმ/სთ სიჩქარით, ხოლო სხვა გზაზე – არაუმეტეს 70 კმ/სთ სიჩქარით. ამავე კანონის პირველი დანართის 7.2 პუნქტის თანახმად საგზაო ნიშანი 7.2.„რეკომენდებული სიჩქარე“ – მიუთითებს სიჩქარეს, რომლითაც რეკომენდებულია მოძრაობა გზის მოცემულ მონაკვეთზე. ნიშანი იდგმება გზის დასაწყისში. ნიშნის მოქმედება ვრცელდება უახლოეს გზაჯვარედინამდე, ხოლო მაფრთხილებელ ნიშანთან ერთად – სახიფათო უბნის მთელ სიგრძეზე.

QUESTION 452

CORRECT ANSWER: 1



What maximum speed is allowed for „C1“ category vehicle driver to proceed when towing the yellow car in uninhabited area?

1

50 km/h

2

60 km/h

3

70 km/h

4

90 km/h

განმარტება:

„საგზაო მოძრაობის შესახებ“ საქართველოს კანონის 33-ე მუხლის მე-8 პუნქტის „დ“ ქვეპუნქტის თანახმად, თუ ამ კანონით სხვა რამ არ არის დადგენილი, დასახლებულ ან დაუსახლებელ პუნქტში ნებადართულია იმ მექანიკური სატრანსპორტო საშუალების მოძრაობა, რომელიც ახორციელებს სხვა მექანიკური სატრანსპორტო საშუალების ბუქსირებას, არაუმეტეს 50 კმ/სთ სიჩქარით.

QUESTION 453

CORRECT ANSWER: 1



In given situation, does the lorry driver of Category "C" violate traffic rules when driving according to the arrows?

1

Violates

2

Does not violate

განმარტება:

„საგზაო მოძრაობის შესახებ“ საქართველოს კანონის 31-ე მუხლის მე-11 პუნქტის თანახმად, დაუსახლებელ და დასახლებულ პუნქტებში სავალი ნაწილის იმ მონაკვეთზე, რომელზედაც მოძრაობა ნებადართულია 80 კმ/სთ-ზე მეტი სიჩქარით, მძღოლმა უნდა იმოძრაოს სავალი ნაწილის მარჯვენა კიდედან რაც შეიძლება ახლოს. აკრძალულია მარცხენა ზოლის დაკავება, როცა მარჯვენა ზოლი თავისუფალია, გარდა დაბრკოლების შემთხვევის, მარცხნივ მოხვევის ან მობრუნების შემთხვევისა.

QUESTION 454

CORRECT ANSWER: 1



What maximum speed is allowed for „B“ category towing vehicle driver to proceed in inhabited area, on the given section of the road?

1

50 km/h

2

60 km/h

3

70 km/h

4

90 km/h

განმარტება:

„საგზაო მოძრაობის შესახებ“ საქართველოს კანონის 33-ე მუხლის მე-8 პუნქტის „დ“ ქვეპუნქტის თანახმად, თუ ამ კანონით სხვა რამ არ არის დადგენილი, დასახლებულ ან დაუსახლებელ პუნქტში ნებადართულია იმ მექანიკური სატრანსპორტო საშუალების მოძრაობა, რომელიც ახორციელებს სხვა მექანიკური სატრანსპორტო საშუალების ბუქსირებას, არაუმეტეს 50 კმ/სთ სიჩქარით.

QUESTION 455

CORRECT ANSWER: 4

Which of the road conditions listed below should be taken into account by the driver when changing the vehicle speed?

- | | |
|--|--|
| 1 Site relief and traffic intensity only | 2 Atmospheric conditions, as well as poor or limited visibility only |
| 3 Road and vehicle conditions only | 4 All road conditions listed in given test |

განმარტება:

„საგზაო მოძრაობის შესახებ“ საქართველოს კანონის 33-ე მუხლის მე-2 პუნქტის თანახმად, სატრანსპორტო საშუალების სიჩქარის შეცვლისას მძღოლმა უნდა გაითვალისწინოს საგზაო პირობები (ადგილის რელიეფი, გზისა და სატრანსპორტო საშუალების მდგომარეობა, მისი დატვირთვა, ატმოსფერული პირობები, მოძრაობის ინტენსივობა, არასაკმარისი ან შემღუდული ხილვადობა), რათა საჭიროების შემთხვევაში, აგრეთვე ნებისმიერი დაბრკოლების წინ, რომლის განჭვრეტაც მას შეუძლია, შეამციროს სიჩქარე, ხოლო აუცილებლობის შემთხვევაში გაჩერდეს.

QUESTION 456

CORRECT ANSWER: 2



Within the effective zone of given traffic sign, motion with „C1“ and „C1E“ category vehicles is allowed no faster than:

1

110 km/h

2

80 km/h

3

70 km/h.

განმარტება:

„საგზაო მოძრაობის შესახებ“ საქართველოს კანონის პირველი დანართის 5.1 პუნქტის თანახმად საგზაო ნიშანი 5.1 „ავტომაგისტრალი“ - ავტომაგისტრალი, რომელზედაც მოქმედებს ავტომაგისტრალზე მოძრაობის მომწესრიგებელი ნორმების მოთხოვნები. ნიშანი იდგმება ავტომაგისტრალის დასაწყისში ან მის სიახლოვეს 8.1.1 დაფით. ამავე კანონის 33-ე მუხლის მე-7 პუნქტის „დ.ა“ ქვეპუნქტების თანახმად, გარდა ამ კანონით დადგენილი შემთხვევებისა, დაუსახლებელ პუნქტებში, აგრეთვე დასახლებულ პუნქტებში გზის იმ მონაკვეთზე, რომელზეც შესაბამისი ნიშნით მოძრაობა დაშვებულია 60 კმ/ზე მეტი სიჩქარით, მოძრაობა ნებადართულია C და CE კატეგორიის, აგრეთვე C1 და C1E ქვეკატეგორიების სატრანსპორტო საშუალებებისა, ავტომაგისტრალზე - არაუმეტეს 80კმ/სთ სიჩქარით.

QUESTION 457

CORRECT ANSWER: 1

What maximum speed is allowed for two-wheel self-propelled electric vehicle driver to proceed in inhabited or uninhabited areas?

1 20 km/h

2 30 km/h

3 40 km/h

განმარტება:

„საგზაო მოძრაობის შესახებ“ საქართველოს კანონის 33-ე მუხლის მე-8 პუნქტის „გ“ ქვეპუნქტის თანახმად, თუ ამ კანონით სხვა რამ არ არის დადგენილი, დასახლებულ ან დაუსახლებელ პუნქტში ნებადართულია, ორბორბლიანი ელექტროთვითმგორავისა მოძრაობა ყველა გზაზე, სადაც ამ კატეგორიის სატრანსპორტო საშუალების მოძრაობა დასაშვებია, არაუმეტეს 20 კმ/სთ სიჩქარით.

QUESTION 458

CORRECT ANSWER: 3

What maximum speed is allowed for oversized (big-volume) or above-standard (heavy) vehicle drivers to proceed in inhabited or uninhabited areas?

1 40 km/h

2 60 km/h

3 No faster than the speed, prescribed in the approval issued by the authorized body (entity) in compliance with the procedure established by the Georgian legislation

განმარტება:

„საგზაო მოძრაობის შესახებ“ საქართველოს კანონის 33-ე მუხლის მე-8 პუნქტის „ე“ ქვეპუნქტის თანახმად თუ ამ კანონით სხვა რამ არ არის დადგენილი დასახლებულ ან დაუსახლებელ პუნქტში ნებადართულია, არაგაბარიტული (მსხვილგაბარიტიანი) ან ზენორმატიული (მძიმეწონიანი) სატრანსპორტო საშუალების მოძრაობა არაუმეტეს იმ სიჩქარით, რომელიც მითითებულია საქართველოს კანონმდებლობით დადგენილი წესით უფლებამოსილი ორგანოს (უნწყების) მიერ გაცემულ შეთანხმებაში.

QUESTION 459

CORRECT ANSWER: 3

What maximum speed is allowed for the driver of mechanical vehicle with dangerous goods to proceed in inhabited or uninhabited areas?

1

40 km/h

2

60 km/h

3

No faster than the speed stipulated by the transportation procedures

განმარტება:

„საგზაო მოძრაობის შესახებ“ საქართველოს კანონის 33-ე მუხლის მე-8 პუნქტის „ვ“ ქვეპუნქტის თანახმად, თუ ამ კანონით სხვა რამ არ არის დადგენილი დასახლებულ ან დაუსახლებელ პუნქტში ნებადართულია, სახიფათო ტვირთის გადამზიდავი მექანიკური სატრანსპორტო საშუალების მოძრაობა არაუმეტეს გადაზიდვის პირობებით განსაზღვრული სიჩქარით.

QUESTION 460

CORRECT ANSWER: 1

Motion of those vehicles (with or without trailer) is prohibited on the highways, as well as on highway entrances and exits, without agreement with the authorized body (entity), with constructive speed exceeding:

1

40 km/h

2

60 km/h

3

90 km/h

4

110 km/h.

განმარტება:

„საგზაო მოძრაობის შესახებ“ საქართველოს კანონის 38-ე მუხლის პირველი პუნქტის „ა“ ქვეპუნქტის თანახმად, ავტომანქანებზე, ავტომანქანის შესასვლელსა და გამოსასვლელზე აკრძალულია ქვეითის, ცხოველის, ველოსიპედის, მოპედის, ორბორბლიანი ელექტროთვითმგორავის, ავტომობილისა და მათი მისაბმელებისგან განსხვავებული ყველა სატრანსპორტო საშუალების მოძრაობა, აგრეთვე იმ ავტომობილის (მისაბმელით ან მის გარეშე) მოძრაობა, რომლის კონსტრუქციული სიჩქარე არ აღემატება 40 კმ/სთ-ს (ეს შეზღუდვა არ ვრცელდება იმ მექანიკურ სატრანსპორტო საშუალებაზე, რომელიც ავტომანქანებზე მოძრაობს უფლებამოსილ ორგანოსთან (უნაწესთან) საქართველოს კანონმდებლობით დადგენილი წესით შეთანხმებისა და ამ შეთანხმების პირობების შესაბამისად).

QUESTION 461

CORRECT ANSWER: 1



What is maximum speed limit for a lorry driver, if towing is performed with rigid hitch?

1

50 km/h

2

60 km/h

3

80 km/h

განმარტება:

„საგზაო მოძრაობის შესახებ“ საქართველოს კანონის 33-ე მუხლის მე-8 პუნქტის „დ“ ქვეპუნქტის თანახმად, თუ ამ კანონით სხვა რამ არ არის დადგენილი, დასახლებულ ან დაუსახლებელ პუნქტში ნებადართულია იმ მექანიკური სატრანსპორტო საშუალების მოძრაობა, რომელიც ახორციელებს სხვა მექანიკური სატრანსპორტო საშუალების ბუქსირებას, არაუმეტეს 50 კმ/სთ სიჩქარით.

QUESTION 462

CORRECT ANSWER: 3

Prior to proceeding under bridges, trestle bridges and high voltage overhead lines, as well as through the tunnels, the bus and lorry drivers are obliged to:

1

Yield to motor car drivers

2

Switch hazard light on

3

Make sure in safety of motion of the vehicle

განმარტება:

„საგზაო მოძრაობის შესახებ“ საქართველოს კანონის 21-ე მუხლის მე-10 პუნქტის თანახმად, ხიდის, ესტაკადის, მაღალი ძაბვის გადამცემი ხაზის ქვეშ, აგრეთვე გვირაბში ან სხვა მსგავს ადგილას გავლამდე ავტობუსის, სატვირთო ავტომობილის მძღოლი ვალდებულია დარწმუნდეს სატრანსპორტო საშუალების გავლის უსაფრთხოებაში.

QUESTION 463

CORRECT ANSWER: 1

“Constructive speed” is:

1

Maximum speed of the vehicle defined by the blank production plant

2

Maximum allowable speed limit of the vehicle on this section of the road

3

Speed indicated on the identification sign attached to the vehicle - “Speed restriction”

განმარტება:

„საგზაო მოძრაობის შესახებ“ საქართველოს კანონის 5-ე მუხლის 29-ე პუნქტის თანახმად, კონსტრუქციული სიჩქარე – ქარხანა-დამამზადებლის მიერ განსაზღვრული სატრანსპორტო საშუალების მაქსიმალური სიჩქარე.

QUESTION 464

CORRECT ANSWER: 2

Identification sign „Road train“ must be switched on:

1

In case of routing of the road train in dark hours only

2

During routing of the road train, and in dark hours and low visibility conditions – as well as in the period of its stopping and parking

3

In case of routing of the road train in low visibility conditions only

განმარტება:

„საგზაო მოძრაობის შესახებ“ საქართველოს კანონის 49-ე მუხლის მე-16 პუნქტის თანახმად, საცნობი ნიშანი „ავტომატარებელი“ უნდა ჩაირთოს ავტომატარებლის მოძრაობისას, ხოლო დღე-ღამის ბნელ დროს და არასაკმარისი ხილვადობის პირობებში – მისი გაჩერებისა და დგომის პერიოდშიც.

QUESTION 465

CORRECT ANSWER: 3

In order to mark the vehicle with dangerous cargo routing in a daytime, following shall be mandatory:

1

Switching of only front sidelights on

2

Switching of only rear sidelights on

3

Switching of low beams and rear sidelights on

განმარტება:

„საგზაო მოძრაობის შესახებ“ საქართველოს კანონის 49-ე მუხლის მე-8 პუნქტის „გ“ ქვეპუნქტის თანახმად, დღის ნათელ დროს გზაზე მოძრავი სატრანსპორტო საშუალების აღნიშვნის მიზნით სავალდებულოა ახლო განათების ფარებისა და უკანა საგაბარიტო სინათლეების ჩართვა: გ) არაგაბარიტული (მსხვილგაბარიტიანი) ან ზენორმატიული (მძიმეწონიანი) სატრანსპორტო საშუალების, აგრეთვე სახიფათო ტვირთის გადამზიდავი სატრანსპორტო საშუალების გადაადგილებისას.

QUESTION 466

CORRECT ANSWER: 1

In order to mark the oversized (large-volume) or above-standard (heavy) mechanical vehicle routing on the road in a daytime, it is mandatory to switch on:

1

Low beam and rear sidelights

2

Fog-lights

3

High beams

განმარტება:

„საგზაო მოძრაობის შესახებ“ საქართველოს კანონის 49-ე-ე მუხლის მე-8 პუნქტის „გ“ ქვეპუნქტის თანახმად, დღის ნათელ დროს გზაზე მოძრავი სატრანსპორტო საშუალების აღნიშვნის მიზნით სავალდებულოა ახლო განათების ფარებისა და უკანა საგაბარიტო სინათლეების ჩართვა: გ) არაგაბარიტული (მსხვილგაბარიტიანი) ან ზენორმატიული (მძიმეწონიანი) სატრანსპორტო საშუალების, აგრეთვე სახიფათო ტვირთის გადამზიდავი სატრანსპორტო საშუალების გადაადგილებისას.

QUESTION 467

CORRECT ANSWER: 2

Is switching on low beams, front and rear fog-lights together with front and rear sidelights allowed on mechanical vehicles and their trailers in thick fog, heavy snow, heavy rain or similar conditions, during stopping or parking on the road?

1

No

2

Yes

განმარტება:

„საგზაო მოძრაობის შესახებ“ საქართველოს კანონის 49-ე მუხლის მე-9 პუნქტის თანახმად, დაბინდებიდან გათენებამდე, აგრეთვე ნებისმიერი სხვა არასაკმარისი ხილვადობის პირობებში, გზაზე გაჩერების ან დგომის დროს მექანიკური სატრანსპორტო საშუალება და მისი მისაბმელი აღნიშნული უნდა იყოს წინა და უკანა საგაბარიტო სინათლეებით. სქელი ნისლის, ხშირი თოვის, ძლიერი წვიმის დროს ან ანალოგიურ პირობებში შეიძლება ჩართულ იქნეს ახლო განათების ფარები ან წინა ნისლსაწინააღმდეგო ფარები. ასეთ პირობებში უკანა საგაბარიტო სინათლეებთან ერთად დამატებით შეიძლება ჩართულ იქნეს უკანა ნისლსაწინააღმდეგო ფარები.

QUESTION 468

CORRECT ANSWER: 3



Which external illuminations should a motor car driver switch on while routing in illuminated tunnel?

1

Hazard lights

2

Sidelights

3

High or low beams

4


None of them

განმარტება:

„საგზაო მოძრაობის შესახებ“ საქართველოს კანონის 42-ე მუხლის პირველი პუნქტის „ბ“ ქვეპუნქტის თანახმად, საგზაო ნიშნით აღნიშნულ გვირაბებში მოქმედებს შემდეგი წესები, მძღოლმა უნდა ჩართოს შორი ან ახლო განათების ფარები, მიუხედავად იმისა, განათებულია თუ არა გვირაბი.

QUESTION 469

CORRECT ANSWER: 1



Will the driver of the light vehicle violate traffic rules in case of proceeding the way according to the arrows at a speed of 90 km/h?

1

Yes

2

No

განმარტება:

„საგზაო მოძრაობის შესახებ“ საქართველოს კანონის 33-ე მუხლის მე-7 პუნქტის „ბ.ბ“ ქვეპუნქტის თანახმად, გარდა ამ კანონით დადგენილი შემთხვევებისა, დაუსახლებელ პუნქტებში, აგრეთვე დასახლებულ პუნქტებში გზის იმ მონაკვეთზე, რომელზეც შესაბამისი ნიშნით მოძრაობა დაშვებულია 60 კმ/ზე მეტი სიჩქარით, ნებადართულია B კატეგორიის სატრანსპორტო საშუალების მოძრაობა, თუ ის ახორციელებს მსუბუქი მისაბმელის ბუქსირებას, ყველა გზაზე არაუმეტეს 80 კმ/სთ სიჩქარით.

თემა 18:

სამუხრუჭე მანძილი, დისტანცია

QUESTION 470

CORRECT ANSWER: 2

Number of passengers to be conveyed in a body of vehicle:

1

Shall be defined by the driver

2

Shall not exceed the number of seats arranged for sitting

განმარტება:

„საგზაო მოძრაობის შესახებ“ საქართველოს კანონის 46-ე მუხლის მე-5 პუნქტის თანახმად, სატვირთო ავტომობილის ძარათი გადასაცემი მგზავრთა რაოდენობა არ უნდა აღემატებოდეს დასასხდომად მოწყობილი ადგილების რაოდენობას. მგზავრობის დაწყების წინ სატვირთო ავტომობილის მძღოლი ვალდებულია მგზავრებს ჩაუტაროს ინსტრუქტაჟი ჩასხდომისა და ძარაზე განლაგების წესის შესახებ. მძღოლმა მხოლოდ მაშინ უნდა დაიწყოს მოძრაობა, როცა დარწმუნდება, რომ მგზავრთა უსაფრთხოდ გადაყვანის ყველა პირობა დაცულია.

QUESTION 471

CORRECT ANSWER: 3

If a vehicle is equipped with seats located below the ramp level, the right of travel in non-arranged body of lorry is entitled to:

1

Any adult passenger other than elderly people and pregnant women

2

Crew member (reserve driver) only

3

Only person accompanying or accepting the cargo

განმარტება:

„საგზაო მოძრაობის შესახებ“ საქართველოს კანონის 46-ე მუხლის მე-6 პუნქტის თანახმად, მგზავრთა გადაყვანისათვის მოუწყობელი ბორტის პლატფორმის მქონე სატვირთო ავტომობილის ძარათი მგზავრობის უფლება აქვს მხოლოდ ტვირთის თანმხლებ ან მის მიმღებ პირს, თუ ავტომობილი ბორტების დონეზე დაბლა განლაგებული დასაჯდომი ადგილით არის უზრუნველყოფილი.

QUESTION 472

CORRECT ANSWER: 2

When conveying the group of children by vehicle with ramp platform, the ramp height from floor level must be:

1

No more than 0.8 meters

2

Not less than 0.8 meters

3

Not less than 0.3 meters and no more than 0.5 meters

4

Not less than 0.4 meters and no more than 0.7 meters

განმარტება:

„საგზაო მოძრაობის შესახებ“ საქართველოს კანონის 46-ე მუხლის მე-9 პუნქტის თანახმად, მგზავრთა გადასაცემი ბორტის პლატფორმის მქონე სატვირთო ავტომობილი უზრუნველყოფილი უნდა იყოს იატაკიდან 0,3–0,5 მეტრ სიმაღლეზე და ბორტის ზედა ნაპირიდან არანაკლებ 0,3 მეტრზე განლაგებული დასასხდომი ადგილებით, ხოლო ბავშვთა ჯგუფის გადაყვანისას ბორტების სიმაღლე იატაკიდან 0,8 მეტრზე ნაკლები არ უნდა იყოს. უკანა ან გვერდითი ბორტების გასწვრივ განლაგებულ დასასხდომ ადგილებს მყარი საბურღეები უნდა ჰქონდეს.

QUESTION 473

CORRECT ANSWER: 2

Conveyance of passengers in arranged body of lorry is allowed:

1

In standing position only

2

In sitting position only

3

Both in standing and sitting positions

განმარტება:

„საგზაო მოძრაობის შესახებ“ საქართველოს კანონის 23-ე მუხლის მე-2 პუნქტის „გ“ ქვეპუნქტის თანახმად, მგზავრს ეკრძალება ბორტის პლატფორმის მქონე სატვირთო ავტომობილით მგზავრობისას ძარაზე დგომა, ბორტზე ჩამოჯდომა ან მასზე ტვირთის დადება.

QUESTION 474

CORRECT ANSWER: 1

In case of conveyance of group of children in arranged body of lorry, they must be accompanied by at least following number of adult guides:

1

Two

2

Three

3

Four

განმარტება:

„საგზაო მოძრაობის შესახებ“ საქართველოს კანონის 46-ე მუხლის მე-7 პუნქტის თანახმად, ბავშვთა ჯგუფის ავტობუსით ან ფურგონდარიანი სატვირთო ავტომობილით გადაყვანისას ჯგუფს უნდა ახლდეს სრულწლოვანი გამცილებელი, ხოლო დასახელოვანი ადგილებით უზრუნველყოფილი ბორტის პლატფორმის მქონე სატვირთო ავტომობილის ძარათი გადაყვანისას – არანაკლებ ორი ასეთი პირი. სატრანსპორტო საშუალებაზე წინ და უკან უნდა დამაგრდეს საცნობი ნიშანი „ბავშვების გადაყვანა“.

QUESTION 475

CORRECT ANSWER: 2

In uninhabited area, time required for covering the distance between vehicles proceeding one after another within normal traffic conditions must be:

1

No more than 4 seconds

2

No less than 3 seconds

3

No less than 6 seconds

4

No more than 9 seconds

განმარტება:

„საგზაო მოძრაობის შესახებ“ საქართველოს კანონის 25-ე მუხლის მე-10 პუნქტის „ჰ“ ქვეპუნქტის თანახმად, გზაზე მოძრაობისას მძღოლმა უნდა გაითვალისწინოს შემდეგი გარემოებები: 3) ნორმალური მოძრაობის პირობებში ერთმანეთის მიყოლებით მოძრავ სატრანსპორტო საშუალებათა შორის არსებული დისტანციის დასაფარავად საჭირო დრო დასახელებულ პუნქტში უნდა იყოს არანაკლებ 2 წამისა, ხოლო დაუსახელებელ პუნქტში – არანაკლებ 3 წამისა. აღნიშნული წესი არ ვრცელდება გასწრების მიზნით იმ სატრანსპორტო საშუალების მოძრაობის ზოლიდან გამოსვლის შემთხვევაზე, რომლის მძღოლსაც გასწრების განზრახვის თაობაზე მიცემული აქვს შესაბამისი სიგნალი, აგრეთვე ამ პუნქტის „ჟ“ ქვეპუნქტით გათვალისწინებულ შემთხვევებზე.

QUESTION 476

CORRECT ANSWER: 3

In inhabited area, time required for covering the distance between vehicles proceeding one after another on ice-covered road must be:

1

No more than 2 seconds

2

No less than 4 seconds

3

No less than 6 seconds

4

No less than 9 seconds

განმარტება:

„საგზაო მოძრაობის შესახებ“ საქართველოს კანონის 25-ე მუხლის მე-10 პუნქტის „ჟ“ ქვეპუნქტის თანახმად, გზაზე მოძრაობისას მძღოლმა უნდა გაითვალისწინოს შემდეგი გარემოებები: ჟ) მოყინულ გზაზე მოძრაობისას ერთმანეთის მიყოლებით მოძრავ სატრანსპორტო საშუალებათა შორის არსებული დისტანციის დასაფარავად საჭირო დრო დასახლებულ პუნქტში უნდა იყოს არანაკლებ 6 წამისა, ხოლო დაუსახლებელ პუნქტში – არანაკლებ 9 წამისა. აღნიშნული წესი არ ვრცელდება გასწრების მიზნით იმ სატრანსპორტო საშუალების მოძრაობის ზოლიდან გამოსვლის შემთხვევაზე, რომლის მძღოლსაც გასწრების განზრახვის თაობაზე მიცემული აქვს შესაბამისი სიგნალი.

QUESTION 477

CORRECT ANSWER: 3

In uninhabited area, time required for covering the distance between vehicles proceeding one after another on ice-covered road must be:

1

No more than 4 seconds

2

No less than 6 seconds

3

No less than 9 seconds

4

Less than 12 seconds

განმარტება:

„საგზაო მოძრაობის შესახებ“ საქართველოს კანონის 25-ე მუხლის მე-10 პუნქტის „ჟ“ ქვეპუნქტის თანახმად, გზაზე მოძრაობისას მძღოლმა უნდა გაითვალისწინოს შემდეგი გარემოებები: ჟ) მოყინულ გზაზე მოძრაობისას ერთმანეთის მიყოლებით მოძრავ სატრანსპორტო საშუალებათა შორის არსებული დისტანციის დასაფარავად საჭირო დრო დასახლებულ პუნქტში უნდა იყოს არანაკლებ 6 წამისა, ხოლო დაუსახლებელ პუნქტში – არანაკლებ 9 წამისა. აღნიშნული წესი არ ვრცელდება გასწრების მიზნით იმ სატრანსპორტო საშუალების მოძრაობის ზოლიდან გამოსვლის შემთხვევაზე, რომლის მძღოლსაც გასწრების განზრახვის თაობაზე მიცემული აქვს შესაბამისი სიგნალი.

QUESTION 478

CORRECT ANSWER: 4

Which of the below circumstances may become the cause of collision of the vehicle from behind?

1 Sudden and abrupt braking of the vehicle driving ahead only

2 Inadequately maintained distance with the vehicle driving ahead only

3 Negligence of the driver only

4 Any of the circumstances listed in given test

განმარტება:

„საგზაო მოძრაობის შესახებ“ საქართველოს კანონის 33-ე მუხლის მე-11 პუნქტის თანახმად, იმ სატრანსპორტო საშუალების მძღოლმა, რომელიც მიჰყვება სხვა სატრანსპორტო საშუალებას, უნდა დაიცვას სათანადო დისტანცია, რათა თავიდან აიცილოს შეჯახება მის წინ მიმავალი სატრანსპორტო საშუალების მოულოდნელი დამუხრუჭების ან გაჩერების შემთხვევაში. მოძრაობის უსაფრთხოების უზრუნველსაყოფად აუცილებელია აგრეთვე გვერდითი ინტერვალის დაცვა. ამავე კანონის 25-ე მუხლის მე-10 პუნქტის „მ“ ქვეპუნქტის თანახმად, გასწრებისას ყველაზე უფრო ხშირად საავარიო სიტუაცია იქმნება დისტანციის დაუცველობის და საპირისპირო მიმართულებით მოძრავი სატრანსპორტო საშუალებების მიმართ არასაკმარისი ყურადღების გამოჩენის გამო.

QUESTION 479

CORRECT ANSWER: 3

“Braking distance” is:

1 Length of the deceleration lane of the road traffic

2 Maximum distance defined by the legislation, within which the vehicle should be stopped

3 Distance, passed by a vehicle from braking until its full stopping

განმარტება:

„საგზაო მოძრაობის შესახებ“ საქართველოს კანონის 5-ე მუხლის 68-ე პუნქტის თანახმად, „სამუხრუჭე მანძილი“ - მანძილი, რომელსაც გადის სატრანსპორტო საშუალება მუხრუჭების ამოქმედებიდან სრულ გაჩერებამდე.

QUESTION 480

CORRECT ANSWER: 3

The driver of a special service vehicle when driving with turned on special blue lights and sound signals enjoys the right to take priority:

1

In none of the cases listed in given test

2

In any case whether other traffic participants give way or not

3

Only when the driver makes sure that other traffic participants give way

განმარტება:

„საგზაო მოძრაობის შესახებ“ საქართველოს კანონის 51-ე მუხლის პირველი პუნქტის თანახმად, ოპერატიული ან სპეციალური სამსახურის სატრანსპორტო საშუალების მძღოლს, რომელსაც სატრანსპორტო საშუალებაზე ჩართული აქვს ლურჯი მოელვარე სპეციალური ციმციმა სიგნალი და ასრულებს სამსახურებრივ დავალებას, შეუძლია საგზაო მოძრაობის უსაფრთხოების უზრუნველყოფის პირობების დაცვით გადაუხვიოს ამ კანონის 25-ე, 31-ე–41-ე და 44-ე მუხლებით, აგრეთვე ამ კანონის №1 და №2 დანართებით დადგენილ მოთხოვნებს. ლურჯ მოელვარე სპეციალურ ციმციმა სიგნალთან ერთად დამატებით შეიძლება ჩაირთოს წითელი მოელვარე ციმციმა სიგნალიც. სხვა საგზაო მოძრაობის მონაწილეების მიმართ უპირატესობის მისაღებად ამ სატრანსპორტო საშუალების მძღოლმა უნდა ჩართოს ლურჯი მოელვარე სპეციალური ციმციმა სიგნალი და ხმოვანი სიგნალი. პრიორიტეტით სარგებლობა მხოლოდ მაშინ შეიძლება, როცა მძღოლი დარწმუნდება, რომ მას გზას უთმობენ.

QUESTION 481

CORRECT ANSWER: 2



Which vehicle driver shall be obliged to yield when driving to the arrow direction, if the ambulance has special blue flashing lights on?

1

Lorry driver

2

Ambulance driver

განმარტება:

„საგზაო მოძრაობის შესახებ“ საქართველოს კანონის 51-ე მუხლის პირველი პუნქტის თანახმად, ოპერატიული ან სპეციალური სამსახურის სატრანსპორტო საშუალების მძღოლს, რომელსაც სატრანსპორტო საშუალებაზე ჩართული აქვს ლურჯი მოელვარე სპეციალური ციმციმა სიგნალი და ასრულებს სამსახურებრივ დავალებას, შეუძლია საგზაო მოძრაობის უსაფრთხოების უზრუნველყოფის პირობების დაცვით გადაუხვიოს ამ კანონის 25-ე, 31-ე—41-ე და 44-ე მუხლებით, აგრეთვე ამ კანონის №1 და №2 დანართებით დადგენილ მოთხოვნებს. ლურჯ მოელვარე სპეციალურ ციმციმა სიგნალთან ერთად დამატებით შეიძლება ჩაირთოს წითელი მოელვარე ციმციმა სიგნალიც. სხვა საგზაო მოძრაობის მონაწილეების მიმართ უპირატესობის მისაღებად ამ სატრანსპორტო საშუალების მძღოლმა უნდა ჩართოს ლურჯი მოელვარე სპეციალური ციმციმა სიგნალი და ხმოვანი სიგნალი. ამავე კანონის 36-ე მუხლის მე-4 პუნქტის „გ“ ქვეპუნქტის თანახმად, არარეგულირებულ გზაჯვარედინზე, თანაბარმნიშვნელოვანი გზების გადაკვეთაზე ურელსო სატრანსპორტო საშუალების მძღოლი ვალდებულია გზა დაუთმოს მარჯვნიდან მოახლოებულ სატრანსპორტო საშუალებას.

QUESTION 482

CORRECT ANSWER: 3

Stopping of a vehicle with hard braking is allowed:

- | | |
|--|---|
| <p>1 If stopping is demanded by the traffic controller only</p> | <p>2 In case of simultaneous switching of red and yellow lights of the traffic lights only</p> |
| <p>3 For the purpose of prevention of traffic accident only</p> | <p>4 In any case listed in given test</p> |

განმარტება:

„საგზაო მოძრაობის შესახებ“ საქართველოს კანონის 33-ე მუხლის მე-4 პუნქტის თანახმად, მძღოლს ეკრძალება მკვეთრი დამუხრუჭება, გარდა საგზაო-სატრანსპორტო შემთხვევის თავიდან აცილების აუცილებლობით გამონწვეული დამუხრუჭებისა.

QUESTION 483

CORRECT ANSWER: 3

Which of the braking method is more effective while routing on the steep downhill with the vehicle with mechanical gear box?

- | | |
|---|---|
| <p>1 Periodic hard braking with switched-off hitch</p> | <p>2 Periodic slow braking with switched-on hitch and gear box</p> |
| <p>3 Engine braking</p> | |

განმარტება:

მექანიკური გადაცემათა კოლოფის მქონე სატრანსპორტო საშუალების ციცაბო დაღმართზე მოძრაობისას დამუხრუჭების ეფექტური ხერხია - დამუხრუჭება ძრავით. რაც უფრო მკვეთრია დაღმართი მით უფრო მეტი სიფრთხილეა საჭირო. მექანიკური გადაცემათა კოლოფის მქონე ავტომობილის მკვეთრ დაღმართზე ძრავით დამუხრუჭებისას მძღოლმა, რაც უფრო მკვეთრია დაღმართი, მით უფრო დაბალი გადაცემა უნდა ჩართოს.

QUESTION 484

CORRECT ANSWER: 2

Upon braking the vehicle with mechanical gear box on steep downhill with engine, a driver shall take into account when selecting transmission, that:

1 Steeper the downhill, higher the transmission

2 Steeper the downhill, lower the transmission

3 Selection of transmission is not depended upon steepness of downhill

განმარტება:

რაც უფრო მკვეთრია დაღმართი მით უფრო მეტი სიფრთხილეა საჭირო. მექანიკური გადაცემათა კოლოფის მეორე ავტომობილის მკვეთრ დაღმართზე ძრავით დამუხრუჭებისას მძღოლმა, რაც უფრო მკვეთრია დაღმართი, მით უფრო დაბალი გადაცემა უნდა ჩართოს.

QUESTION 485

CORRECT ANSWER: 2

When stopping the vehicle in extreme situation, a driver must reduce braking distance:

1 Through single hard braking until full blocking of wheels

2 Through multiple hard influence over brake pedal at the blocking limit of wheels

განმარტება:

ექსტრემალურ სიტუაციაში სატრანსპორტო საშუალების გაჩერებისას სამუხრუჭე მანძილის შემცირება მიიღწევა თვლების ბლოკირების ზღვარზე მრავალჯერადი მკვეთრი ზემოქმედებით მუხრუჭის სატერფულზე.

QUESTION 486

CORRECT ANSWER: 2

During speeding up of the vehicle, tyre traction:

1

Is increased

2

Is decreased

3

Is not changed

განმარტება:

სატრანსპორტო საშუალების მოძრაობის სიჩქარის გაზრდისას საბურავის გზასთან ჩაჭიდების ძალა მცირდება.

QUESTION 487

CORRECT ANSWER: 4

What defines the braking distance of the vehicle?

1

Speed of vehicle only

2

Condition of the road surface only

3

Tear and wear of the vehicle tires only

4

Over any of the circumstances listed in given test

განმარტება:

სამუხრუჭო მანძილის მნიშვნელობა დამოკიდებულია როგორც სატრანსპორტო საშუალების სიჩქარეზე, ასევე გზის საფარის მდგომარეობაზე და სატრანსპორტო საშუალების საბურავების ცვეთაზე.

QUESTION 488

CORRECT ANSWER: 2

While driving on a steep slope, prolonged braking of a vehicle with mechanical gearbox by switched-off clutch may cause:

- | | |
|--|--|
| 1 Failure of steering mechanism | 2 Overheating of brake system and reduction of braking efficiency |
| 3 Reduction in braking distance | 4 Any of the circumstances listed in given test |

განმარტება:

ციცაბო დაღმართზე მოძრაობისას, მექანიკური გადაცემათა კოლოფის მქონე სატრანსპორტო საშუალების ხანგრძლივმა დამუხრუჭებამ გამორთული გადაბმულობით შეიძლება გამოიწვიოს სამუხრუჭო სისტემის გადახურება და დამუხრუჭების ეფექტურობის შენეება.

QUESTION 489

CORRECT ANSWER: 2

If the right wheels of the vehicle move on instable and wet pavement, following shall be considered as appropriate:

- | | |
|---|---|
| 1 Sudden braking of vehicle until its complete stop | 2 Without braking, return of the vehicle slowly back on the lane |
| 3 Increase of speed and steering of the vehicle to the left side | |

განმარტება:

თუ ავტომობილის მარჯვენა თვლები გადავიდა არამდგრადი და სველი საფარის მქონე გვერდულზე, მიზანშეწონილია დამუხრუჭების გარეშე ავტომობილის მდორედ დაბრუნება გზის სავალ ნაწილზე.

QUESTION 490

CORRECT ANSWER: 3

If the vehicle is equipped with Antilock Braking System (ABS):

1

A driver may start braking later, as the braking distance is reduced

2

Braking system capacity increases

3

Such vehicle is better steered while braking

განმარტება:


მუხრუჭების ბლოკირების საწინააღმდეგო სისტემით (ABS) აღჭურვილი ავტომობილი დამუხრუჭებისას უკეთ სამართავია.

თემა 19:

გაჩერება, დგომა

QUESTION 491

CORRECT ANSWER: 1



Is the driver prohibited from parking at the place shown by arrow?

1

Yes

2

No

განმარტება:

„საგზაო მოძრაობის შესახებ“ საქართველოს კანონის 37-ე მუხლის მე-7 პუნქტის „ვ“ ქვეპუნქტის თანახმად, აკრძალულია სატრანსპორტო საშუალების დგომა, დაუსახლებელ პუნქტში 2.1, 5.1 და 5.3 საგზაო ნიშნებით აღნიშნულ გზის სავალ ნაწილზე, აგრეთვე დასახლებულ პუნქტში გზის სავალ ნაწილზე, სადაც მოძრაობა დაშვებულია 80 კმ/სთ-ზე მეტი სიჩქარით, გარდა სპეციალურად აღნიშნული ადგილებისა.

QUESTION 492

CORRECT ANSWER: 2



In this situation only yellow bus driver performs passenger pick up and drop off. Which of the vehicle drivers is not violating the stopping rules?

1

Motor car driver only

2

Yellow bus driver only

3

Lorry driver only

4

None of them

განმარტება:

„საგზაო მოძრაობის შესახებ“ საქართველოს კანონის 37-ე მუხლის მე-6 პუნქტის „ა.ა“ ქვეპუნქტის თანახმად, აკრძალულია სატრანსპორტო საშუალების გაჩერება გზის სავალ ნაწილზე ქვეითთა და ველოსიპედისტთა გადასასვლელებზე და მათ წინ 5 მეტრზე ახლოს. ამავე კანონის 41-ე მუხლის მე-3 პუნქტის თანახმად გზაზე, სადაც 5.11, 5.13.1, 5.13.2 და 5.14 საგზაო ნიშნებით აღნიშნული სამარშრუტო სატრანსპორტო საშუალებების მოძრაობისათვის განკუთვნილი ზოლია, აკრძალულია ამ ზოლზე სხვა სატრანსპორტო საშუალებათა მოძრაობა და გაჩერება. თუ ეს ზოლი დანარჩენი სავალი ნაწილისგან მონიშვნის წყვეტილი ხაზითაა გამოყოფილი, მოხვევისას სხვა სატრანსპორტო საშუალებები ამ ზოლზე უნდა გადაჯეუდნენ. ნებადართულია აგრეთვე ამ ზოლის ასეთ ადგილებში შესვლა გზაზე გასვლისას და მგზავრთა ჩასხდომა-გადმოსხდომისას სავალი ნაწილის მარჯვენა კიდედან, თუ ეს არ დააბრკოლებს სამარშრუტო სატრანსპორტო საშუალების მოძრაობას. ამავე კანონის პირველი დანართის 5.14 პუნქტის თანახმად საგზაო ნიშანი 5.14 „სამარშრუტო სატრანსპორტო საშუალებისათვის განკუთვნილი მოძრაობის ზოლი“ - გზა, რომელზედაც სამარშრუტო სატრანსპორტო საშუალებამოძრაობს სპეციალურად გამოყოფილ ზოლზე სატრანსპორტო საშუალებათა საერთო ნაკადის თანმხვედრი მიმართულებით. ნიშნის მოქმედება ვრცელდება იმ მოძრაობის ზოლზე, რომელზედაც ის დგას. გზის მარჯვენა მხარეს დადგმული ნიშნის მოქმედება ვრცელდება სავალი ნაწილის უკიდურეს მარჯვენა ზოლზე.

QUESTION 493

CORRECT ANSWER: 2



Is the motor car driver allowed to stop at the place shown by arrow for passenger pick up?

1

Yes

2

No

განმარტება:

„საგზაო მოძრაობის შესახებ“ საქართველოს კანონის 41-ე მუხლის მე-3 პუნქტის თანახმად გზაზე, სადაც 5.11, 5.13.1, 5.13.2 და 5.14 საგზაო ნიშნებით აღნიშნული სამარშრუტო სატრანსპორტო საშუალებების მოძრაობისათვის განკუთვნილი ზოლია, აკრძალულია ამ ზოლზე სხვა სატრანსპორტო საშუალებათა მოძრაობა და გაჩერება. თუ ეს ზოლი დანარჩენი სავალი ნაწილისგან მონიშვნის წყვეტილი ხაზითაა გამოყოფილი, მოხვევისას სხვა სატრანსპორტო საშუალებები ამ ზოლზე უნდა გადაჯგუფდნენ. ნებადართულია აგრეთვე ამ ზოლის ასეთ ადგილებში შესვლა გზაზე გასვლისას და მგზავრთა ჩასხდომა-გადმოსხდომისას სავალი ნაწილის მარჯვენა კიდედან, თუ ეს არ დააბრკოლებს სამარშრუტო სატრანსპორტო საშუალების მოძრაობას. ამავე კანონის პირველი დანართის 5.14 პუნქტის თანახმად საგზაო ნიშანი 5.14 „სამარშრუტო სატრანსპორტო საშუალებისათვის განკუთვნილი მოძრაობის ზოლი“ - გზა, რომელზედაც სამარშრუტო სატრანსპორტო საშუალებამოძრაობს სპეციალურად გამოყოფილ ზოლზე სატრანსპორტო საშუალებათა საერთო ნაკადის თანმხვედრი მიმართულებით. ნიშნის მოქმედება ვრცელდება იმ მოძრაობის ზოლზე, რომელზედაც ის დგას. გზის მარჯვენა მხარეს დადგმული ნიშნის მოქმედება ვრცელდება სავალი ნაწილის უკიდურეს მარჯვენა ზოლზე.

QUESTION 494

CORRECT ANSWER: 2



Which of the vehicles is parked in breach of the parking rule, if only red car driver has parked for long-term rest purpose?

1

Black car

2

Red car

3

Both of them

4


None of them

განმარტება:

„საგზაო მოძრაობის შესახებ“ საქართველოს კანონის 37-ე მუხლის პირველი პუნქტის თანახმად, სატრანსპორტო საშუალება, რომელიც ჩერდება ან დგას დაუსახლებელ პუნქტში, შესაძლებლობის ფარგლებში, სავალი ნაწილის გარეთ უნდა იმყოფებოდეს. ამავე მუხლის მე-11 პუნქტის თანახმად დაუსახლებელ პუნქტში ხანგრძლივი დასვენების (ღამის გათვით ან სხვა) მიზნით დგომა ნებადართულია მხოლოდ ამისათვის განკუთვნილ სადგომზე ან გზის ფარგლების მიღმა. ამავე კანონის პირველი დანართის 5.24.1 პუნქტის თანახმად საგზაო ნიშანი 5.24.1 „დასახლებული პუნქტის დასასრული“ - მიუთითებს შესაბამისად 5.23.1 ნიშნით აღნიშნული დასახლებული პუნქტების დასასრულს.

QUESTION 495

CORRECT ANSWER: 2



Is a motor car driver allowed to stop at the place shown by arrow for passenger pick up?

1

No

2


Yes

განმარტება:

„საგზაო მოძრაობის შესახებ“ საქართველოს კანონის 37-ე მუხლის მე-6 პუნქტის „ბ.ა“ ქვეპუნქტის თანახმად, აკრძალულია სატრანსპორტო საშუალებების გაჩერება ნებისმიერ ადგილზე, სადაც მას შეუძლია შექმნას საფრთხე, მათ შორის, ესტაკადაზე, ხიდსა და გზაგამტარზე, გარდა იმ შემთხვევისა, როცა აღნიშნულ ადგილებში ორზე მეტი თანმხვედრი მიმართულების მოძრაობის ზოლია.

QUESTION 496

CORRECT ANSWER: 2



Which car driver will violate the Highway Code on the bridge in case of stopping at the place shown by arrow?

1

White car driver

2

Red car driver

3

Both of them

4

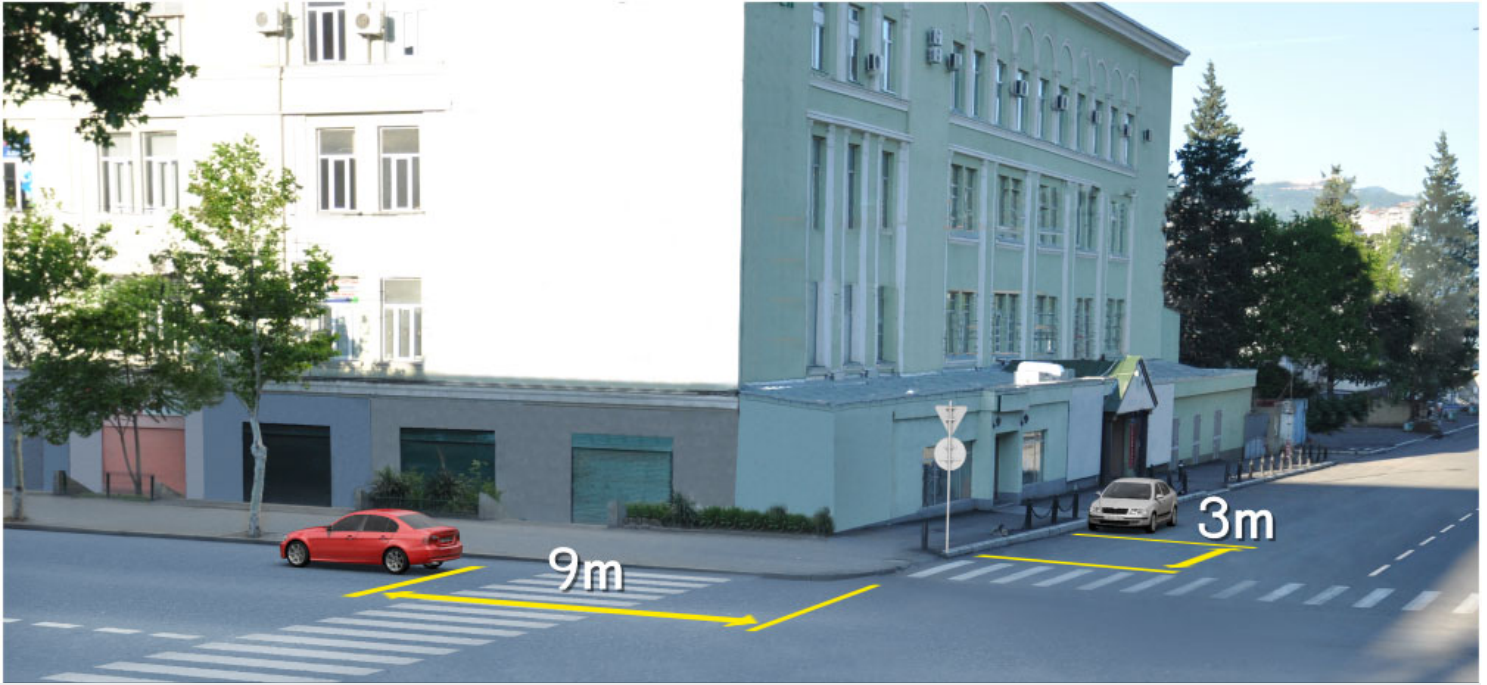
None of them

განმარტება:

„საგზაო მოძრაობის შესახებ“ საქართველოს კანონის 37-ე მუხლის მე-6 პუნქტის „ბ.ა“ ქვეპუნქტის თანახმად, აკრძალულია სატრანსპორტო საშუალებების გაჩერება ნებისმიერ ადგილზე, სადაც მას შეუძლია შექმნას საფრთხე, მათ შორის, ესტაკადაზე, ხიდსა და გზაგამტარზე, გარდა იმ შემთხვევისა, როცა აღნიშნულ ადგილებში ორზე მეტი თანმხვედრი მიმართულების მოძრაობის ზოლია.

QUESTION 497

CORRECT ANSWER: 4



Which motor car driver is violating the Highway Code in case of stopping at the place shown on the picture?

1

Both of them

2

None of them

3

Green car driver only

4

White car driver only

განმარტება:

„საგზაო მოძრაობის შესახებ“ საქართველოს კანონის 37-ე მუხლის მე-ნ პუნქტის „ა.ა“ და „ა.გ“ ქვეპუნქტების თანახმად, აკრძალულია სატრანსპორტო საშუალებების გაჩერება გზის სავალ ნაწილზე: ა.ა) ქვეითთა და ველოსიპედისტთა გადასასვლელებზე და მათ წინ 5 მეტრზე ახლოს; ა.გ) სავალი ნაწილების გადაკვეთაზე, აგრეთვე მათი გადაკვეთის ნაპირებიდან 5 მეტრზე ახლოს, გარდა იმ შემთხვევისა, როცა გაჩერება ხდება იმ გვერდითი გასასვლელების მოპირდაპირე სამხრივ გადაკვეთებზე (გზაჯვარედინებზე), რომლებზედაც მონიშვნის უწყვეტი ხაზი ან გამყოფი ზოლია.

QUESTION 498

CORRECT ANSWER: 1



Will motor car driver violate the Highway Code in case of parking the vehicle at the indicated place, if he/she creates obstruction to the pedestrians?

1

Yes

2

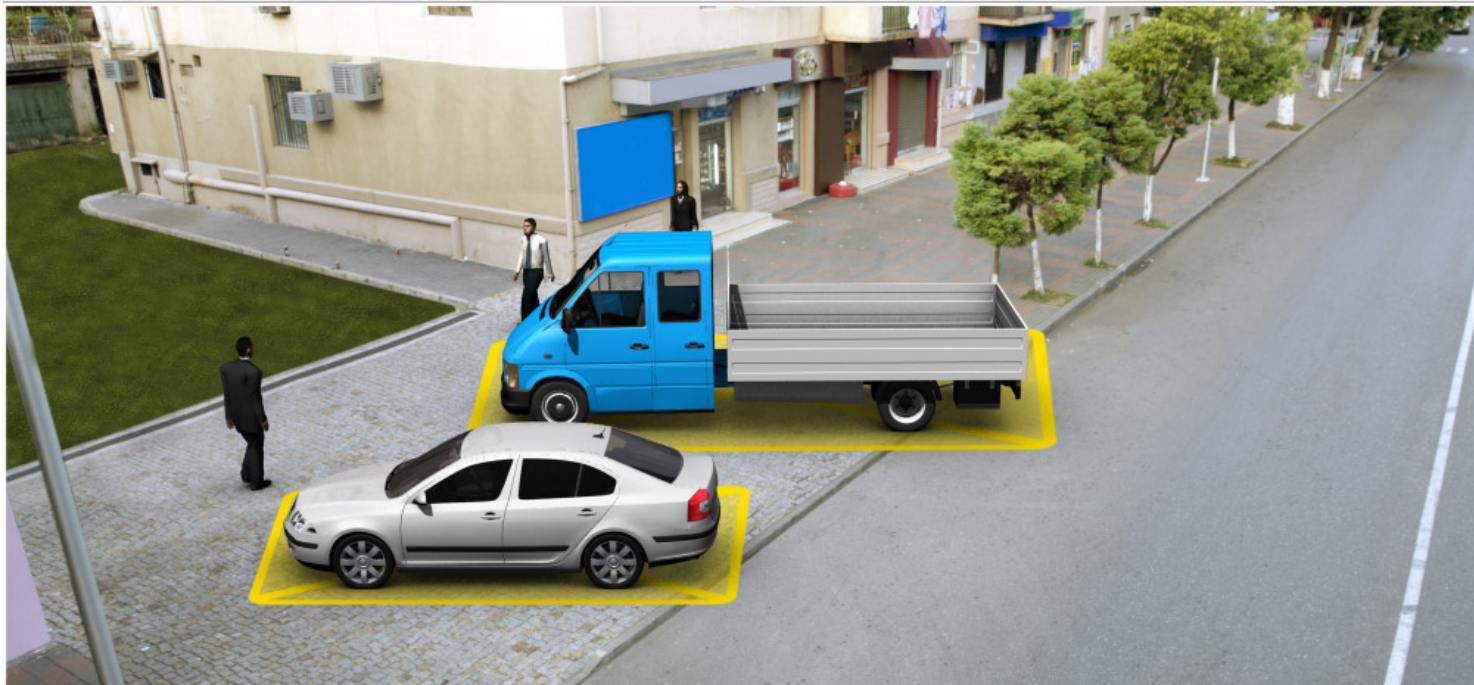
No

განმარტება:

„სავაზო მოძრაობის შესახებ“ საქართველოს კანონის 37-ე მუხლის მე-4 პუნქტის თანახმად, სავალ ნაწილთან მოსაზღვრე ტროტუარის ნაპირზე დგომა ნება-დარ-თულია მხოლოდ მსუბუქი ავტომობილისთვის, მოტოციკლისთვის, მოპედისა და ველოსიპედისთვის, თუ ისინი დაბრკოლებას არ უქმნიან ქვეითს.

QUESTION 499

CORRECT ANSWER: 2



Which of the vehicles is parked in breach of the parking rules?

1

Motor car

2

Lorry

3

Both of them

4


None of them

განმარტება:

„საგზაო მოძრაობის შესახებ“ საქართველოს კანონის 37-ე მუხლის მე-4 პუნქტის თანახმად, სატრანსპორტო საშუალებების დგომა ნებადართულია ერთ რიგად, სავალი ნაწილის კიდის პარალელურად, გარდა იმ ადგილისა, რომელიც სატრანსპორტო საშუალების სხვაგვარად დაყენების პირობებს ქმნის. დასაშვებია გვერდითი მისაბმელის გარეშე ორთვლიანი სატრანსპორტო საშუალებების ორ რიგად დაყენება. სავალ ნაწილთან მოსაზღვრე ტროტუარის ნაპირზე დგომა ნებადართულია მხოლოდ მსუბუქი ავტომობილისთვის, მოტოციკლისთვის, მოპედისა და ველოსიპედისთვის, თუ ისინი დაბრკოლებას არ უქმნიან ქვეითს.

QUESTION 500

CORRECT ANSWER: 1



Is the lorry driver allowed to stop at the place shown by arrow, if the given road has only one traffic lane in each direction?

1

No

2

Yes

განმარტება:

„საგზაო მოძრაობის შესახებ“ საქართველოს კანონის 37-ე მუხლის მე-2 პუნქტის „ბ“ ქვეპუნქტის თანახმად, სატრანსპორტო საშუალება, რომელიც ჩერდება ან დგას სავალ ნაწილზე, უნდა იმყოფებოდეს სავალი ნაწილის კიდესთან რაც შეიძლება ახლოს. მძღოლს შეუძლია გაჩერდეს ან დააყენოს სატრანსპორტო საშუალება სავალ ნაწილზე, მარჯვენა მხარეს. სატრანსპორტო საშუალების გაჩერება და დგომა სავალი ნაწილის მარცხენა მხარეს ნებადართულია დასახლებულ პუნქტში იმ გზაზე, სადაც თითოეული მიმართულებისათვის ერთი სამოძრაო ზოლია შუაში ტრამვაის ლიანდაგების გარეშე. ამავე კანონის პირველი დანართის 5.26 პუნქტის თანახმად საგზაო ნიშანი 5.26 „დასახლებული პუნქტის დასასრული“ - მიუთითებს 5.25 ნიშნით აღნიშნული დასახლებული პუნქტის დასასრულს.

QUESTION 501

CORRECT ANSWER: 1



Is the driver prohibited from parking the lorry at the marked place in the present situation?

1

Yes

2

No

განმარტება:

„საგზაო მოძრაობის შესახებ“ საქართველოს კანონის 37-ე მუხლის მე-6 პუნქტის „ბ.ბ“ ქვეპუნქტის თანახმად, აკრძალულია სატრანსპორტო საშუალების გაჩერება ნებისმიერ ადგილზე, სადაც მას შეუძლია შექმნას საფრთხე, მათ შორის, ესტაკადის, ხიდისა და გზაგამტარის ქვეშ, აგრეთვე გვირაბში, გარდა ამისათვის სპეციალურად გამოყოფილი ადგილებისა.

QUESTION 502

CORRECT ANSWER: 2



Will motor car driver violate the Highway Code in case of parking the car at the place shown by arrow?

1

Yes

2

No

განმარტება:

„საგზაო მოძრაობის შესახებ“ საქართველოს კანონის 37-ე მუხლის მე-6 პუნქტის „ბ.ბ“ ქვეპუნქტის თანახმად, აკრძალულია სატრანსპორტო საშუალების გაჩერება ნებისმიერ ადგილზე, სადაც მას შეუძლია შეეშნას საფრთხე, მათ შორის, ესტაკადის, ხიდისა და გზაგამტარის ქვეშ, აგრეთვე გვირაბში, გარდა ამისათვის სპეციალურად გამოყოფილი ადგილებისა.

QUESTION 503

CORRECT ANSWER: 3



Which of the vehicles is parked in breach of the parking rules?

1

Motorcycle only

2

Motor car only

3

Both of them

4

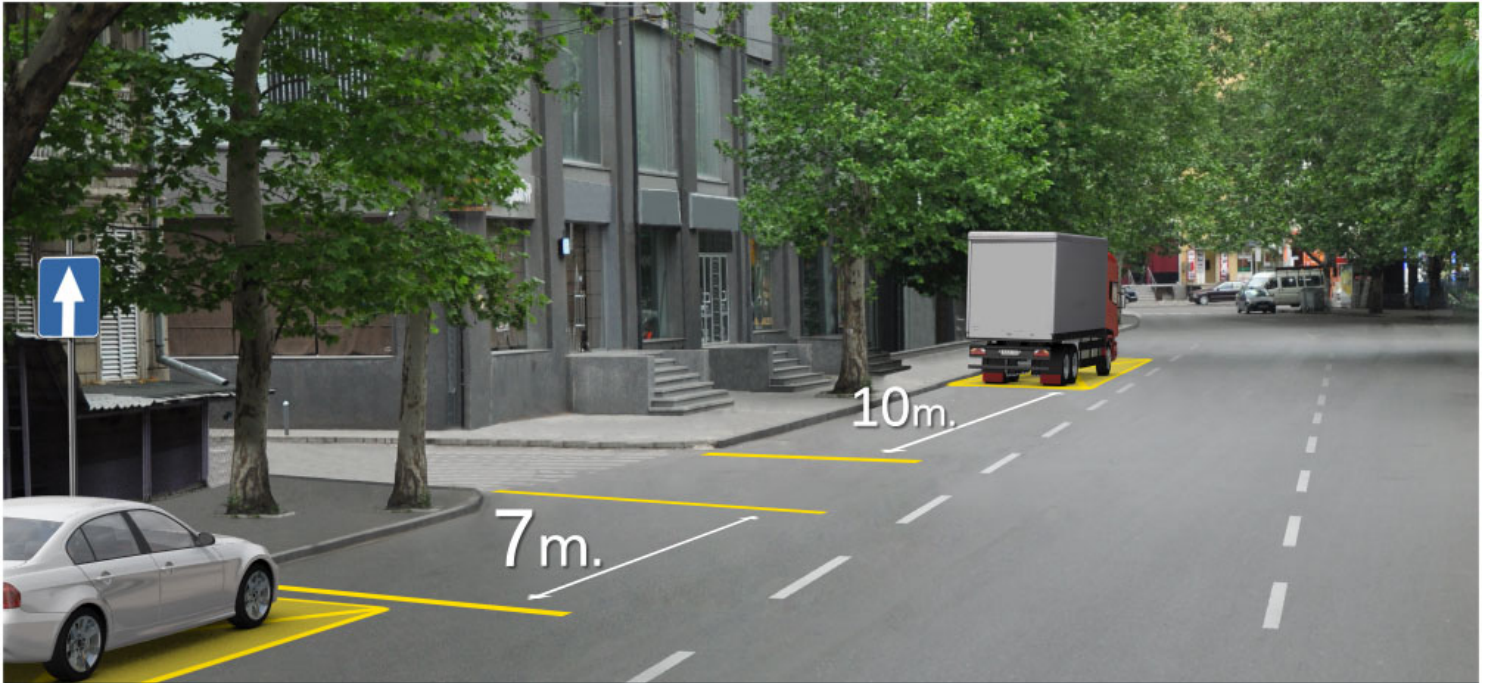
None of them

ბანმარტეზა:

„საგზაო მოძრაობის შესახებ“ საქართველოს კანონის 37-ე მუხლის მე-6 პუნქტის „ა.გ“ და „გ“ ქვეპუნქტების თანახმად, აკრძალულია სატრანსპორტო საშუალების გაჩერება: ა.გ) სავალი ნაწილების გადაკვეთაზე, აგრეთვე მათი გადაკვეთის ნაპირებიდან 5 მეტრზე ახლოს, გარდა იმ შემთხვევისა, როცა გაჩერება ხდება იმ გვერდითი გასასვლელების მოპირდაპირე სამხრივ გადაკვეთებზე (გზაჯვარედინებზე), რომლებზედაც მონიშვნის უწყვეტი ხაზი ან გამყოფი ზოლია; გ) გაჩერების ამკრძალავი საგზაო ნიშნის ან/და საგზაო მონიშვნის მოქმედების ზონაში. ამავე კანონის პირველი დანართის მე-3 თავის (ამკრძალავი ნიშანები) 3.28 პუნქტის თანახმად საგზაო ნიშანი 3.28 „დგომა აკრძალულია“ - კრძალავს სატრანსპორტო საშუალების დგომას. ამავე თავის პენიშვნის „ე“ და „ი“ ქვეპუნქტების თანახმად: ე) 3.16, 3.20, 3.22, 3.24, 3.26–3.30 ნიშნების მოქმედება ვრცელდება სათანადო ნიშნის შემდეგ, ნიშნის დადგმის ადგილიდან უახლოეს გზაჯვარედინამდე, ხოლო დასახლებულ პუნქტში გზაჯვარედინის არარსებობისას – დასახლებული პუნქტის ბოლომდე; ი) 3.10, 3.27–3.30 ნიშნების მოქმედება ვრცელდება მხოლოდ გზის იმ მხარეს, რომელზედაც ისინია დადგმული.

QUESTION 504

CORRECT ANSWER: 1



Which motor car driver is not violating the Highway Code in case of stopping at the place shown in the picture?

1

Motor car driver only

2

Lorry driver only

3

Both of them

4

None of them

განმარტება:

„საგზაო მოძრაობის შესახებ“ საქართველოს კანონის 37-ე მუხლის მე-2 პუნქტის „გ“ ქვეპუნქტის თანახმად, სატრანსპორტო საშუალება, რომელიც ჩერდება ან დგას სავალ ნაწილზე, უნდა იმყოფებოდეს სავალი ნაწილის კიდესთან რაც შეიძლება ახლოს. მძღოლს შეუძლია გაჩერდეს ან დააყენოს სატრანსპორტო საშუალება სავალ ნაწილზე, მარჯვენა მხარეს. სატრანსპორტო საშუალების გაჩერება და დგომა სავალი ნაწილის მარცხენა მხარეს ნებადართულია ცალმხრივმოძრაობიანი გზის სავალ ნაწილზე (სატვირთო ავტომობილის ცალმხრივი მოძრაობის გზის მარცხენა მხარეს გაჩერება ნებადართულია მხოლოდ მისი დატვირთვის ან გადმოტვირთვის დროს). ამავე მუხლის მე-6 პუნქტის „ა.გ“ ქვეპუნქტის თანახმად, აკრძალულია სატრანსპორტო საშუალებების გაჩერება გზის სავალ ნაწილზე, სავალი ნაწილების გადაკვეთაზე, აგრეთვე მათი გადაკვეთის ნაპირებიდან 5 მეტრზე ახლოს, გარდა იმ შემთხვევისა, როცა გაჩერება ხდება იმ გვერდითი გასასვლელების მოპირდაპირე სამმხრივ გადაკვეთებზე (გზაჯვარედინებზე), რომლებზედაც მონიშვნის უწყვეტი ხაზი ან გამყოფი ზოლია.

QUESTION 505

CORRECT ANSWER: 3



Which of the vehicles is parked in breach of parking rules in uninhabited area?

1

Both of them

2

None of them

3

Red vehicle

4

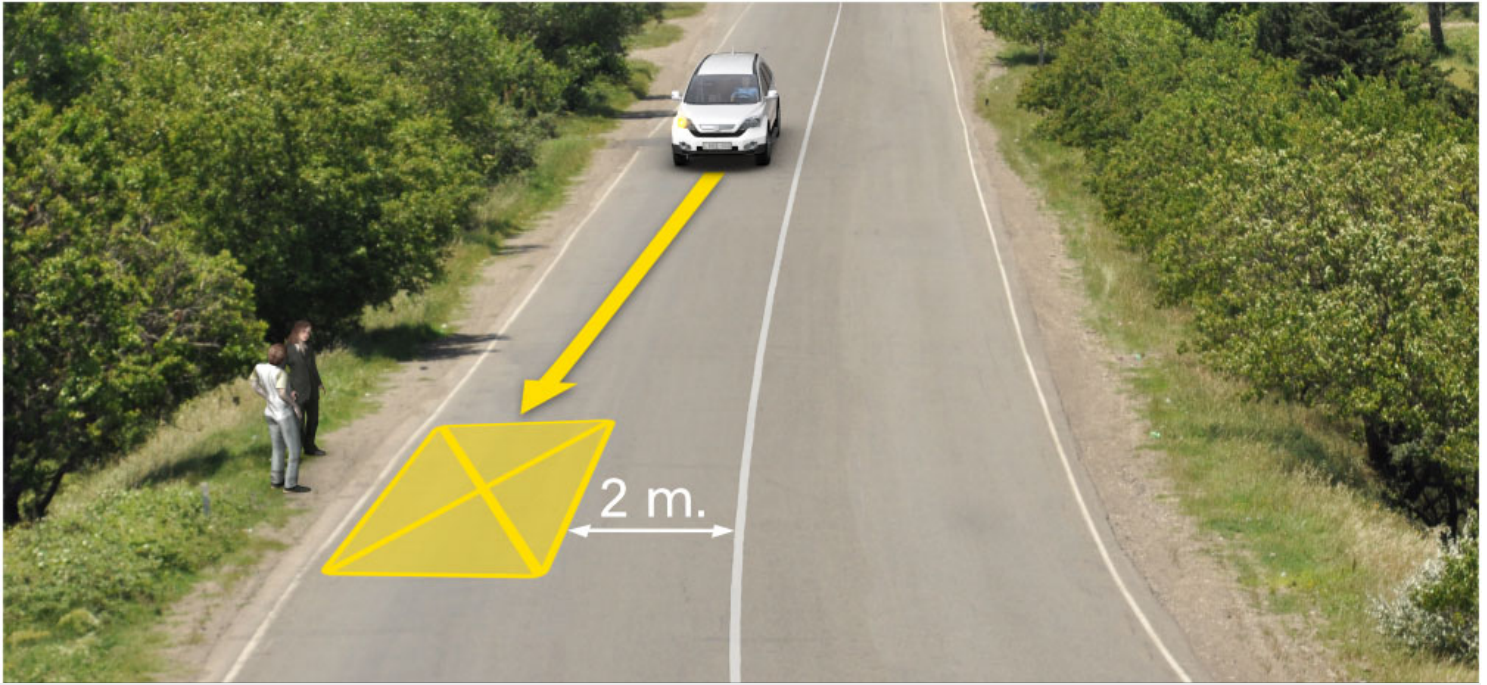
Green vehicle

განმარტება:

„საგზაო მოძრაობის შესახებ“ საქართველოს კანონის 37-ე მუხლის პირველი პუნქტის თანახმად, სატრანსპორტო საშუალება, რომელიც ჩერდება ან დგას დაუსახლებელ პუნქტში, შესაძლებლობის ფარგლებში, სავალი ნაწილის გარეთ უნდა იმყოფებოდეს. ამავე კანონის პირველი დანართის მე-5 თავის (განსაკუთრებული მითითებების ნიშნები) 5.26 პუნქტის თანახმად საგზაო ნიშანი 5.26 „დასახლებული პუნქტის დასასრული“ - მიუთითებს 5.25 ნიშნით აღნიშნული დასახლებული პუნქტის დასასრულს.

QUESTION 506

CORRECT ANSWER: 1



Is white vehicle driver violating the Highway Code in case of parking at the place shown in the picture?

1

Yes

2

No

განმარტება:

„საგზაო მოძრაობის შესახებ“ საქართველოს კანონის 37-ე მუხლის მე-6 პუნქტის „ბ.დ“ ქვეპუნქტის თანახმად, აკრძალულია სატრანსპორტო საშუალებების გაჩერება ნებისმიერ ადგილზე, სადაც მას შეუძლია შექმნას საფრთხე, მათ შორის, იმ ადგილას, სადაც მონიშვნის უწყვეტ ხაზს (სავალი ნაწილის ნაპირის აღმნიშვნელი მონიშვნის გარდა) და გაჩერებულ სატრანსპორტო საშუალებას შორის მანძილი 3 მეტრზე ნაკლებია.

QUESTION 507

CORRECT ANSWER: 1

The vehicle shall be considered as parked at the car park if:

1 If it stops motion deliberately for longer than 5 minutes, and this is not necessary for passenger pick up and drop off or loading-unloading of the vehicle

2 It stops motion deliberately up to 5 minutes

3 It stops motion for technical failure

ბანმარტუბა:

„საგზაო მოძრაობის შესახებ“ საქართველოს კანონის მე-5 მუხლის მე-20 პუნქტის თანახმად დგომა არის სატრანსპორტო საშუალების მოძრაობის გამიზნულად შეწყვეტა 5 წუთზე მეტი ხნით, თუ ეს აუცილებელი არ არის მგზავრთა ჩასხდომა-გადმოსხდომისათვის ან სატრანსპორტო საშუალების დატვირთვა-გადმოტვირთვისათვის.

QUESTION 508

CORRECT ANSWER: 4

Stopping of the vehicles on the driveway is prohibited:

1 Only on tram or railway tracks crossing the road, or adjacent to them, if it may make motion of tram or train difficult

2 Only in such sections where a vehicle covers traffic lights signals or road signs for other participants of road traffic

3 Only on the additional traffic lane marked with appropriate traffic sign and designated for motion of low-speed vehicles


4 In all the above-mentioned cases

ბანმარტუბა:

„საგზაო მოძრაობის შესახებ“ საქართველოს კანონის 37-ე მუხლის მე-6 პუნქტის „ა.ბ“ ქვეპუნქტის თანახმად აკრძალულია სატრანსპორტო საშუალებების გაჩერება გზის სავალ ნაწილზე, გზაზე გამავალი ტრამვაის და რკინიგზის ლიანდაგებზე ან მათ ახლოს, თუ ამას შეუძლია გააძნელოს ტრამვაის ან მატარებლების მოძრაობა. ამავე პუნქტის „ბ.ე“ და „ბ.ვ“ ქვეპუნქტების თანახმად აკრძალულია სატრანსპორტო საშუალებების გაჩერება ნებისმიერ ადგილზე, სადაც მას შეუძლია შექმნას საფრთხე, მათ შორის: ბ.ე) იმ ადგილზე, სადაც იგი სხვა საგზაო მოძრაობის მონაწილეებს უფარავს შექნიშნის ფერად მაშუქ სიგნალებს ან საგზაო ნიშნებს; ბ.ვ) ნელმავალი სატრანსპორტო საშუალებების მოძრაობისათვის განკუთვნილ, შესაბამის საგზაო ნიშნით აღნიშნულ დამატებით მოძრაობის ზოლზე.

QUESTION 509

CORRECT ANSWER: 4



Which of the car drivers will violate the Highway Code, in case of stopping at the place shown by arrow for passenger pick up on the bridge?

1

Both of them

2

White car driver only

3

Green car driver only

4


None of them

განმარტება:

„საგზაო მოძრაობის შესახებ“ საქართველოს კანონის 37-ე მუხლის მე-6 პუნქტის „ბ.ა“ ქვეპუნქტის თანახმად, აკრძალულია სატრანსპორტო საშუალებების გაჩერება ნებისმიერ ადგილზე, სადაც მას შეუძლია შექმნას საფრთხე, მათ შორის, ესტაკადებზე, ხიდეებზე და გზაგამტარებზე, გარდა იმ შემთხვევებისა როცა აღნიშნულ ადგილებში ორზე მეტი თანმხვედრი მიმართულების მოძრაობის ზოლია.

QUESTION 510

CORRECT ANSWER: 4



In the present situation, which of the vehicle drivers is violating the Highway Code, if the motor car is reversing to the arrow direction for passenger pick up on the bridge, and the motorcycle is performing U-turn to the arrow direction?

1

Motorcyclist

2

Motor car driver

3

None of them

4

Both of them

განმარტება:

„საგზაო მოძრაობის შესახებ“ საქართველოს კანონის 32-ე მუხლის მე-15 პუნქტის „გ“ ქვეპუნქტის თანახმად, აკრძალულია სატრანსპორტო საშუალების მობრუნება ხიდზე, გზაგამტარზე, ესტაკადაზე და მათ ქვეშ. ამავე მუხლის მე-16 პუნქტის თანახმად, მძღოლი, რომელიც მობრუნებას ან უკუსვლით მოძრაობას აპირებს, უნდა დარწმუნდეს, რომ მას შეუძლია ისე შეასრულოს ეს მანევრი, რომ საფრთხე არ შეუქმნას და ხელი არ შეუშალოს სხვა საგზაო მოძრაობის მონაწილეებს. აუცილებლობის შემთხვევაში მიზანშეწონილია სხვა პირის დახმარება. აკრძალულია უკუსვლით მოძრაობა გზაჯვარედინზე, ავტომაგისტრალზე და ამ მუხლის მე-15 პუნქტით განსაზღვრულ ადგილებში.

QUESTION 511

CORRECT ANSWER: 3

Is parking of the vehicles prohibited on the driveway marked with 2.1 traffic sign („Major road“) in uninhabited area?

1 No

2 No, is not prohibited only on the road, with at least two lanes for reverse traffic

3 Yes

განმარტება:

„საგზაო მოძრაობის შესახებ“ საქართველოს კანონის 37-ე მუხლის მე-7 პუნქტის „ვ“ ქვეპუნქტების თანახმად, აკრძალულია სატრანსპორტო საშუალებების დგომა, დაუსახლებელ პუნქტში 2.1, 5.1 და 5.3 საგზაო ნიშნებით აღნიშნულ გზის სავალ ნაწილზე, აგრეთვე დასახლებულ პუნქტში გზის სავალ ნაწილზე, სადაც მოძრაობა დაშვებულია 80 კმ/სთ-ზე მეტი სიჩქარით, გარდა სპეციალურად აღნიშნული ადგილებისა.

QUESTION 512

CORRECT ANSWER: 1

Is parking of the non-vehicles prohibited on the driveway near hazardous turn and the convex bending of longitudinal profile of the road, where the road visibility even in one direction:

1 Is less than 100 meters

2 Is more than 100 meters, but less than 150 meters

განმარტება:

„საგზაო მოძრაობის შესახებ“ საქართველოს კანონის 37-ე მუხლის მე-6 პუნქტის „ბ.გ“ ქვეპუნქტის თანახმად, აკრძალულია სატრანსპორტო საშუალებების გაჩერება გზის სავალ ნაწილზე სახიფათო მოსახვევისა და გზის გრძივი პროფილის ამობურცული გადატეხვის ახლოს, სადაც გზის ხილვადობა თუნდაც ერთი მიმართულებით 100 მეტრზე ნაკლებია.

QUESTION 513

CORRECT ANSWER: 2

Is a driver obliged to carry out passenger pick up and drop off only after complete stopping of the vehicle, and to proceed after the door is closed and not to open it until complete stopping?

1

No

2

Yes

განმარტება:

„საგზაო მოძრაობის შესახებ“ საქართველოს კანონის 46-ე მუხლის მე-8 პუნქტის თანახმად, მძღოლი ვალდებულია მგზავრთა ჩასხდომა–გადმოსხდომა განახორციელოს მხოლოდ სატრანსპორტო საშუალების სრული გაჩერების შემდეგ, ხოლო მოძრაობა დაიწყოს მაშინ, როცა კარი დახურულია, და არ გააღოს ის სრულ გაჩერებამდე.

QUESTION 514

CORRECT ANSWER: 3



Which vehicle is parked in breach of the parking rules?

1

Lorry only

2

Motor car only

3

Both of them

4


None of them

ბანმარტეზა:

„საგზაო მოძრაობის შესახებ“ საქართველოს კანონის 37-ე მუხლის მე-7 პუნქტის „გ“ ქვეპუნქტის თანახმად, აკრძალულია სატრანსპორტო საშუალებების დგომა, დგომის ამკრძალავი საგზაო ნიშნის ან/და საგზაო მონიშვნის მოქმედების ზონაში. ამავე კანონის პირველი დანართის მე-3 თავის (ამკრძალავი ნიშნები) 3.28 პუნქტის თანახმად საგზაო ნიშანი 3.28 „დგომა აკრძალულია“ - კრძალავს სატრანსპორტო საშუალებების დგომას. ამავე თავის შენიშვნის „ე“ და „ი“ ქვეპუნქტების თანახმად: ე) 3.16, 3.20, 3.22, 3.24, 3.26–3.30 ნიშნების მოქმედება ვრცელდება სათანადო ნიშნის შემდეგ, ნიშნის დადგმის ადგილიდან უახლოეს გზაჯვარედინამდე, ხოლო დასახლებულ პუნქტში გზაჯვარედინის არარსებობისას – დასახლებული პუნქტის ბოლომდე. ნიშნების მოქმედება ვრცელდება აგრეთვე მიმდებარე ტერიტორიის გამოსასვლელთან, საველე, სატყეო და სხვა მეორეხარისხოვანი გზების გადაკვეთასთან (შეერთებასთან), რომელთა წინ არ დგას სათანადო ნიშანი; ი) 3.10, 3.27–3.30 ნიშნების მოქმედება ვრცელდება მხოლოდ გზის იმ მხარეს, რომელმედაც ისინია დადგმული.

QUESTION 515

CORRECT ANSWER: 1



Is a motor car driver allowed to proceed to the arrow direction, if passenger pick up and drop off by the tram on the marked stop is not carried out?

1

Yes

2


No

განმარტება:

„საგზაო მოძრაობის შესახებ“ საქართველოს კანონის 25-ე მუხლის მე-4 პუნქტის თანახმად, მძღოლმა, რომელიც მოძრაობის მიმართულების შესაბამისი მხრიდან სათანადო წესით მონიშნულ გაჩერებაზე მყოფი სამარშრუტო სატრანსპორტო საშუალებისთვის გვერდის ავლას აპირებს, უნდა შეამციროს სიჩქარე და, აუცილებლობის შემთხვევაში, გაჩერდეს, რათა უზრუნველყოს მგზავრების საზოგადოებრივ ტრანსპორტში უსაფრთხო ჩასხდომის ან იქიდან გადმოსხდომის შესაძლებლობა.

QUESTION 516

CORRECT ANSWER: 1



Is a motor car driver allowed to stop in inhabited area, for passenger pick up at the place shown in the picture?

1

No

2

Yes

განმარტება:

„საგზაო მოძრაობის შესახებ“ საქართველოს კანონის პირველი დანართის მე-5 თავის (განსაკუთრებული მითითებების ნიშნები) 5.11 პუნქტის თანახმად 5.11 „სამარშრუტო სატრანსპორტო საშუალებისათვის განკუთვნილი მოძრაობის ზოლის მქონე გზა“ - აღნიშნავს გზას, რომელზედაც სამარშრუტო სატრანსპორტო საშუალება მოძრაობს სპეციალურად გამოყოფილ ზოლზე სატრანსპორტო საშუალებათა საერთო ნაკადის საპირისპირო მიმართულებით. ამავე კანონის 41-ე მუხლის მე-3 პუნქტის თანახმად, გზაზე, სადაც 5.11, 5.13.1, 5.13.2 და 5.14 საგზაო ნიშნებით აღნიშნული სამარშრუტო სატრანსპორტო საშუალებების მოძრაობისათვის განკუთვნილი ზოლია, აკრძალულია ამ ზოლზე სხვა სატრანსპორტო საშუალებათა მოძრაობა და გაჩერება. თუ ეს ზოლი დანარჩენი სავალი ნაწილისგან მონიშნის წყვეტილი ხაზითაა გამოყოფილი, მოხვევისას სხვა სატრანსპორტო საშუალებები ამ ზოლზე უნდა გადაჯგუფდნენ. ნებადართულია აგრეთვე ამ ზოლის ასეთ ადგილებში შესვლა გზაზე გასვლისას და მგზავრთა ჩასხდომა-გადმოსხდომისას სავალი ნაწილის მარჯვენა კიდედან, თუ ეს არ დააბრკოლებს სამარშრუტო სატრანსპორტო საშუალების მოძრაობას.

QUESTION 517

CORRECT ANSWER: 4

Prior to passing which of the below-listed places are the bus and lorry drivers obliged to make sure in passing safety?

- | | |
|---|---|
| <div style="border: 1px solid #ccc; padding: 10px; margin-bottom: 10px;"> <div style="background-color: red; color: white; display: inline-block; width: 30px; height: 30px; line-height: 30px; text-align: center; margin-bottom: 5px;">1</div> Under bridges and trestle bridges only </div> <div style="border: 1px solid #ccc; padding: 10px;"> <div style="background-color: red; color: white; display: inline-block; width: 30px; height: 30px; line-height: 30px; text-align: center; margin-bottom: 5px;">3</div> In tunnels and similar sites only </div> | <div style="border: 1px solid #ccc; padding: 10px; margin-bottom: 10px;"> <div style="background-color: red; color: white; display: inline-block; width: 30px; height: 30px; line-height: 30px; text-align: center; margin-bottom: 5px;">2</div> Under high voltage transmission lines only </div> <div style="border: 1px solid #ccc; padding: 10px;"> <div style="background-color: red; color: white; display: inline-block; width: 30px; height: 30px; line-height: 30px; text-align: center; margin-bottom: 5px;">4</div> In any place listed in given test </div> |
|---|---|

განმარტება:

„საგზაო მოძრაობის შესახებ“ საქართველოს კანონის 21-ე მუხლის მე-10 პუნქტის თანახმად, ხიდის, ესტაკადის, მაღალი ძაბვის გადამცემი ხაზის ქვეშ, აგრეთვე გვირაბში ან სხვა მსგავს ადგილას გავლამდე ავტობუსის, სატვირთო ავტომობილის მძღოლი ვალდებულია დარწმუნდეს სატრანსპორტო საშუალების გავლის უსაფრთხოებაში.

QUESTION 518

CORRECT ANSWER: 2

Is a driver allowed to stop or park the vehicle in the tunnel marked with the road sign in case of hazard, where the special stopping places are not available?

- | | |
|--|--|
| <div style="border: 1px solid #ccc; padding: 10px; margin-bottom: 10px;"> <div style="background-color: red; color: white; display: inline-block; width: 30px; height: 30px; line-height: 30px; text-align: center; margin-bottom: 5px;">1</div> No </div> | <div style="border: 1px solid #ccc; padding: 10px;"> <div style="background-color: red; color: white; display: inline-block; width: 30px; height: 30px; line-height: 30px; text-align: center; margin-bottom: 5px;">2</div> Yes </div> |
|--|--|

განმარტება:

„საგზაო მოძრაობის შესახებ“ საქართველოს კანონის 42-ე მუხლის „გ“ პუნქტის თანახმად, საგზაო ნიშნით აღნიშნულ გვირაბებში მოქმედებს შემდეგი წესები - მძღოლს შეუძლია გააჩეროს ან დააყენოს სატრანსპორტო საშუალება მხოლოდ საავარიო სიტუაციის ან საფრთხის შემთხვევაში. ამასთანავე, მან უნდა გამოიყენოს სპეციალურად მონიშნული ადგილი, თუ ამის შესაძლებლობა არსებობს.

QUESTION 519

CORRECT ANSWER: 2

Is waiting with activated engine allowed in case of long-term stop of the mechanical vehicle in the tunnel marked with the road sign?

1

Yes

2

No

განმარტება:

„საგზაო მოძრაობის შესახებ“ საქართველოს კანონის 42-ე მუხლის „დ“ პუნქტის თანახმად, საგზაო ნიშნით აღნიშნულ გვირაბებში მოქმედებს შემდეგი წესები - ხანგრძლივი გაჩერების შემთხვევაში მძღოლმა ძრავი უნდა გამორთოს.

QUESTION 520

CORRECT ANSWER: 1

From the constructively allocated parking areas for route vehicle or taxi, and in case of their absence - from the stop indicators of route vehicle or taxi, if it obstructs the traffic of route vehicles, stopping of route vehicles is prohibited:

1

Nearer than 10 meters

2

Nearer than 15 meters

3

At least 15 meters

განმარტება:

„საგზაო მოძრაობის შესახებ“ საქართველოს კანონის 37-ე მუხლის მე-6 პუნქტის „ბ.8“ ქვეპუნქტის თანახმად, აკრძალულია სატრანსპორტო საშუალებების გაჩერება ნებისმიერ ადგილზე, სადაც მას შეუძლია შექმნას საფრთხე, მათ შორის სამარშრუტო სატრანსპორტო საშუალების ან ტაქსის კონსტრუქციულად გამოყოფილი გაჩერების ადგილებიდან, ხოლო მათი არარსებობის შემთხვევაში – სამარშრუტო სატრანსპორტო საშუალების ან ტაქსის გაჩერების მაჩვენებლიდან 15 მეტრზე ახლოს, თუ ეს აბრკოლებს აღნიშნული სატრანსპორტო საშუალებების მოძრაობას.

QUESTION 521

CORRECT ANSWER: 2

Is stopping of the vehicles prohibited under those trestle bridges, bridges or underpasses, where special stopping areas do not exist?

1

Yes, only the vehicles with maximum allowable mass exceeding 3.5 tonnes

2

Yes

3

No

განმარტება:

„საგზაო მოძრაობის შესახებ“ საქართველოს კანონის 37-ე მუხლის მე-6 პუნქტის „ბ.ბ“ ქვეპუნქტის თანახმად, აკრძალულია სატრანსპორტო საშუალებების გაჩერება ნებისმიერ ადგილზე, სადაც მას შეუძლია შექმნას საფრთხე, მათ შორის ესტაკადის, ხიდისა და გზაგამტარის ქვეშ, აგრეთვე გვირაბში, გარდა ამისათვის სპეციალურად გამოყოფილი ადგილებისა.

QUESTION 522

CORRECT ANSWER: 2

Is passenger drop off and pick up allowed from the driveway side or rear side of the vehicle?

1

No

2

Yes, only in case, if it does not create any obstructions to other traffic participants

განმარტება:

„საგზაო მოძრაობის შესახებ“ საქართველოს კანონის მე-20 მუხლის მე-6 პუნქტის თანახმად, აკრძალულია სატრანსპორტო საშუალების კარის გაღება მის სრულ გაჩერებამდე. კარის გაღებამ არ უნდა შეუქმნას დაბრკოლება ან საფრთხე სხვა საგზაო მოძრაობის მონაწილეებს. გზის სავალი ნაწილის, ველობილიკის ან ველოსიპედის მოძრაობის ზოლის მხარეს სატრანსპორტო საშუალების კარი არ უნდა იყოს გაღებული მგზავრთა ჩასხდომა-გადმოსხდომისთვის საჭირო დროზე მეტი ხნით. გზის სავალი ნაწილის მხარეს ან სატრანსპორტო საშუალების უკანა მხრიდან მგზავრთა ჩასხდომა-გადმოსხდომა ნებადართულია მხოლოდ იმ შემთხვევაში, თუ ეს არ შეუქმნის საფრთხეს სხვა საგზაო მოძრაობის მონაწილეებს.

QUESTION 523

CORRECT ANSWER: 1

Is opening of the vehicle door prohibited until it is completely stopped?

1

Yes

2

No

3

No, if the vehicle moves at a low speed

განმარტება:

„საგზაო მოძრაობის შესახებ“ საქართველოს კანონის მე-20 მუხლის მე-6 პუნქტის თანახმად, აკრძალულია სატრანსპორტო საშუალების კარის გაღება მის სრულ გაჩერებამდე. კარის გაღებამ არ უნდა შეუქმნას დაბრკოლება ან საფრთხე სხვა საგზაო მოძრაობის მონაწილეებს. გზის სავალი ნაწილის, ველობილიკის ან ველოსიპედის მოძრაობის ზოლის მხარეს სატრანსპორტო საშუალების კარი არ უნდა იყოს გაღებული მგზავრთა ჩასხდომა-გადმოსხდომისთვის საჭირო დროზე მეტი ხნით. გზის სავალი ნაწილის მხარეს ან სატრანსპორტო საშუალების უკანა მხრიდან მგზავრთა ჩასხდომა-გადმოსხდომა ნებადართულია მხოლოდ იმ შემთხვევაში, თუ ეს არ შეუქმნის საფრთხეს სხვა საგზაო მოძრაობის მონაწილეებს.

QUESTION 524

CORRECT ANSWER: 2

Is pick up of a passenger by a vehicle allowed from the driveway side?

1

No

2

Yes, if pick up from pavement or sidewalk side is impossible and it does not create any obstructions to other traffic participants

3

Yes, in uninhabited areas only

განმარტება:

„საგზაო მოძრაობის შესახებ“ საქართველოს კანონის 23-ე მუხლის პირველი პუნქტის თანახმად, მგზავრი ვალდებულია სატრანსპორტო საშუალებაში ჩაჯდეს და იქიდან გადმოვიდეს მისი სრული გაჩერების შემდეგ, ტროტუარის ან გვერდულას მხრიდან, ხოლო თუ ეს შეუძლებელია – გზის სავალი ნაწილის მხრიდან, თუ იგი არ შეუქმნის დაბრკოლებას სხვა საგზაო მოძრაობის მონაწილეებს.

QUESTION 525

CORRECT ANSWER: 2

When driving the mechanical vehicle, equipped with the safety belts, on the road, use of the safety belts is not mandatory:

1

For a driver

2

For a passenger sitting on rear seat

3

For a passenger seating to the right or to the left side of the driver

განმარტება:

„საგზაო მოძრაობის შესახებ“ საქართველოს კანონის 21-ე მუხლის მე-9 პუნქტის თანახმად, მძღოლი ვალდებულია მექანიკური სატრანსპორტო საშუალების (გარდა იმ სატრანსპორტო საშუალებისა, რომლის კონსტრუქცია არ ითვალისწინებს უსაფრთხოების ღვედებს) მართვისას დადგენილი წესით ისარგებლოს უსაფრთხოების ღვედით და უზრუნველყოს მისგან მარჯვენა (ან მარცხენა) მხარეს მჯდომი მგზავრის მიერ უსაფრთხოების ღვედით სარგებლობა.

QUESTION 526

CORRECT ANSWER: 3

“Stopping” means:

1

Deliberate termination of motion of the vehicle in vehicle current

2

Deliberate termination of motion of the vehicle because of orders of technical devices organizing traffic or the traffic controller

3

Deliberate termination of motion of the vehicle for 5 minutes or more, if this is necessary for passenger pick up and drop off or loading-unloading of the vehicles

განმარტება:

„საგზაო მოძრაობის შესახებ“ საქართველოს კანონის 5-ე მუხლის მე-11 პუნქტის თანახმად, გაჩერება – სატრანსპორტო საშუალების მოძრაობის წინასწარგანზრახული შეწყვეტა 5 წუთამდე, ან უფრო მეტი ხნით, თუ ეს აუცილებელია მგზავრთა ჩასხდომა-გადმოსხდომისათვის ან სატრანსპორტო საშუალების დატვირთვა-გადმოტვირთვისათვის. გაჩერებად არ ითვლება სატრანსპორტო საშუალების მოძრაობის წინასწარგანზრახული შეწყვეტა სატრანსპორტო ნაკადში, საგზაო მოძრაობის ორგანიზების ტექნიკური საშუალებების ან მარეგულირებლის მოთხოვნათა გამო.

QUESTION 527

CORRECT ANSWER: 2

“Parking” means:

1

Deliberate termination of motion of the vehicle for 5 minutes or more, if this is necessary for passenger pick up and drop off or loading-unloading of the vehicles

2

Deliberate termination of motion of the vehicle for 5 minutes or more, if this is not related to passenger pick up and drop off or loading-unloading of the vehicles

განმარტება:

„საგზაო მოძრაობის შესახებ“ საქართველოს კანონის 5-ე მუხლის მე-20 პუნქტის თანახმად, დგომა - სატრანსპორტო საშუალების მოძრაობის გამიზნულად შეწყვეტა 5 წუთზე მეტი ხნით, თუ ეს აუცილებელი არ არის მგზავრთა ჩასხდომა-გადმოსხდომისათვის ან სატრანსპორტო საშუალების დატვირთვა-გადმოტვირთვისათვის.

QUESTION 528

CORRECT ANSWER: 2

Is parking of the vehicle on the left side of the driveway allowed?

1

Yes, in uninhabited areas only

2

Yes, only on the road of the inhabited area, with only one lane for each direction, without tram rails in the middle

3

Yes, on every road without tram rails in the middle

4

No

განმარტება:

„საგზაო მოძრაობის შესახებ“ საქართველოს კანონის 37-ე მუხლის მე-2 პუნქტის „ბ“ ქვეპუნქტის თანახმად, სატრანსპორტო საშუალება, რომელიც ჩერდება ან დგას სავალ ნაწილზე, უნდა იმყოფებოდეს სავალი ნაწილის კიდეგან რაც შეიძლება ახლოს. მძღოლს შეუძლია გაჩერდეს ან დააყენოს სატრანსპორტო საშუალება სავალ ნაწილზე, მარჯვენა მხარეს. სატრანსპორტო საშუალების გაჩერება და დგომა სავალი ნაწილის მარცხენა მხარეს ნებადართულია დასახლებულ პუნქტში იმ გზაზე, სადაც თითოეული მიმართულებისათვის ერთი სამოძრაო ზოლია შუაში ტრამვაის ლიანდაგების გარეშე.

QUESTION 529

CORRECT ANSWER: 3

During forced stop in the areas, where it is prohibited, a driver must immediately put emergency stop sign (or other equipment with similar efficiency):

1

Only after switching the hazard light on

2

Only in case if hazard light is not available or is out of order

3


Both after switching the hazard light on, as well as in case if hazard light is not available or is out of order

განმარტება:

„საგზაო მოძრაობის შესახებ“ საქართველოს კანონის 52-ე მუხლის მე-2 პუნქტის „ბ“ ქვეპუნქტის თანახმად, საავარიო შეუსიგნალიზაციის ჩართვის შემდეგ, აგრეთვე თუ ასეთი სიგნალიზაცია არ არსებობს ან მწყობრიდანაა გამოსული, მძღოლმა დაუყოვნებლივ უნდა დადგას „საავარიო გაჩერების ნიშანი“, ხოლო არასაკმარისი ხილვადობის პირობებში – მოციმციმე წითელი ფარანი: ბ) იმ ადგილას იძულებით გაჩერების დროს, სადაც გაჩერება აკრძალულია, და იქ, სადაც, ხილვადობის პირობების გათვალისწინებით, სხვა მძღოლები ვერ შეძლებენ სატრანსპორტო საშუალების დროულად შემჩნევას.

QUESTION 530

CORRECT ANSWER: 3



At which place shown in the picture will the bus driver carrying the group of children violate the Highway Code, when stopped, if he/she does not switch hazard light on?

1

At place A only

2

At place B only

3

At both of the places

ბანმარტეპა:

„საგზაო მოძრაობის შესახებ“ საქართველოს კანონის 26-ე მუხლის მე-4 პუნქტის თანახმად, ბავშვთა ჯგუფის გადაყვანისას ავტობუსზე დამაგრებული უნდა იყოს საცნობი ნიშანი „ბავშვების გადაყვანა“. ავტობუსის გაჩერების შემთხვევაში მძღოლმა უნდა ჩართოს საავარიო შექსიგნალიზაცია. ბავშვების თანმხლები სრულწლოვანი პირები ვალდებული არიან, უზრუნველყონ ბავშვების ავტობუსში ჩასვდომა და ავტობუსიდან გადმოსვდომა, აგრეთვე ბავშვების მიერ გზის სავალი ნაწილის უსაფრთხო გადაკვეთა.

QUESTION 531

CORRECT ANSWER: 1



Is the bus driver carrying the group of children violating the Highway Code in case of stopping at the place shown in the picture, if the bus has not hazard light on?

1

Yes

2


No

განმარტება:

„საგზაო მოძრაობის შესახებ“ საქართველოს კანონის 26-ე მუხლის მე-4 პუნქტის თანახმად, ბავშვთა ჯგუფის გადამყვან ავტობუსზე დამაგრებული უნდა იყოს საცნობი ნიშანი „ბავშვების გადაყვანა“. ავტობუსის გაჩერების შემთხვევაში მძღოლმა უნდა ჩართოს საავარიო შექსიგნალიზაცია. ბავშვების თანმხლები სრულწლოვანი პირები ვალდებული არიან, უზრუნველყონ ბავშვების ავტობუსში ჩასხდომა და ავტობუსიდან გადმოსხდომა, აგრეთვე ბავშვების მიერ გზის სავალი ნაწილის უსაფრთხო გადაკვეთა.

QUESTION 532

CORRECT ANSWER: 2



Is a motor car driver allowed to stop at the place shown by arrow for passenger drop off?

1

Yes

2

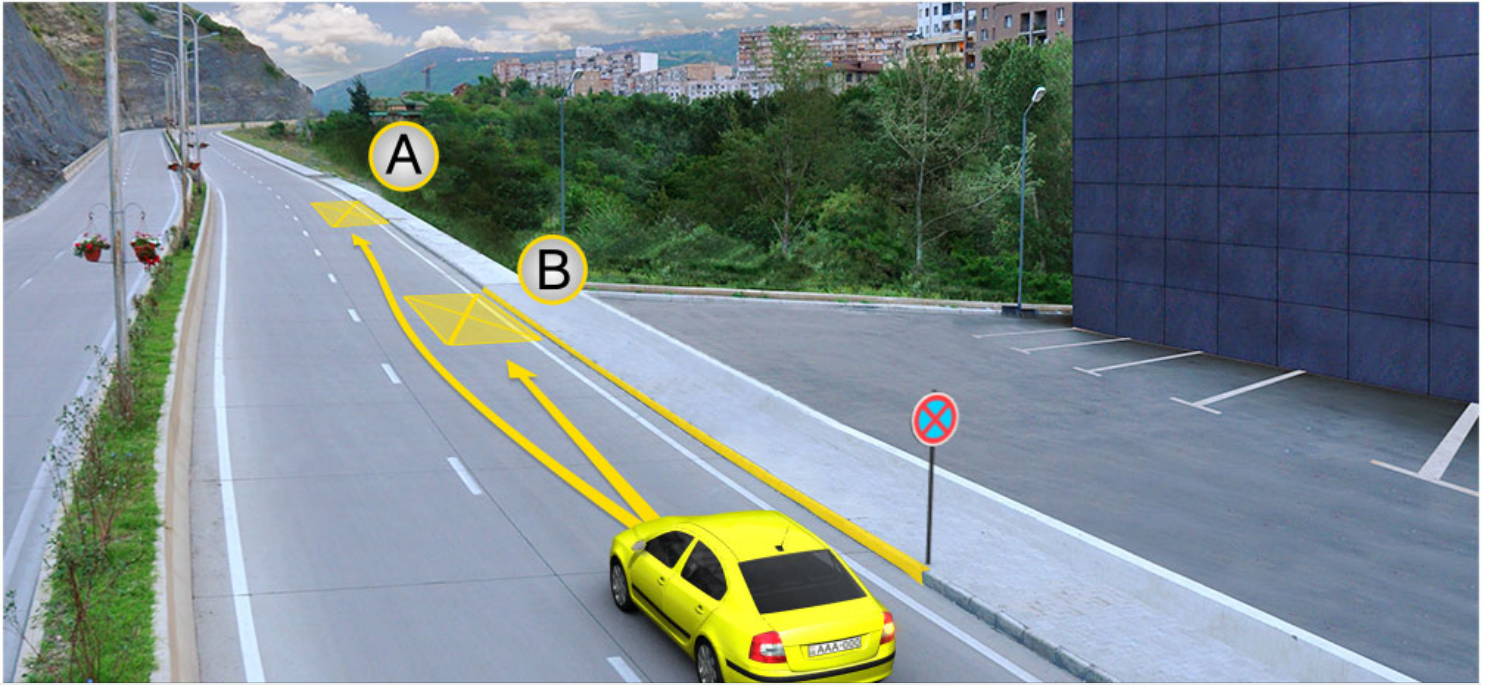
No

განმარტება:

„საგზაო მოძრაობის შესახებ“ საქართველოს კანონის მე-2 დანართის პირველი თავის (ჰორიზონტალური მონიშვნა) 1.4 პუნქტის თანახმად, საგზაო მონიშვნა 1.4 მთლიანი ყვითელი ხაზი აღნიშნავს ადგილს, სადაც აკრძალულია გაჩერება; გამოიყენება დამოუკიდებლად ან 3.27 ნიშანთან ერთად; იხაზება სავალი ნაწილის ნაპირთან ან ბორდიურზე ზემოდან.

QUESTION 533

CORRECT ANSWER: 1



A motor car driver is allowed to park:

1

At place A only

2

At place B only

3

At both A and B places

განმარტება:

„საგზაო მოძრაობის შესახებ“ საქართველოს კანონის მე-2 დანართის პირველი თავის (ჰორიზონტალური მონიშვნა) 1.4 პუნქტის თანახმად, საგზაო მონიშვნა 1.4 მთლიანი ყვითელი ხაზი აღნიშნავს ადგილს, სადაც აკრძალულია გაჩერება; გამოიყენება დამოუკიდებლად ან 3.27 ნიშანთან ერთად; იხაზება სავალი ნაწილის ნაპირთან ან ბორდიურზე ზემოდან. ამავე კანონის პირველი დანართის მე-3 თავის (ამკრძალავი ნიშნები) 3.27 პუნქტის და ამავე თავის შენიშვნის „თ“ ქვეპუნქტის თანახმად, საგზაო ნიშანი 3.27 „გაჩერება აკრძალულია“ - კრძალავს სატრანსპორტო საშუალების, როგორც გაჩერებას, ასევე დგომას. 3.27 ნიშნის გამოყენება შეიძლება 1.4 მონიშვნასთან, ხოლო 3.28 ნიშნისა – 1.10 მონიშვნასთან ერთად. ამასთანავე, ნიშნების მოქმედების ზონა მონიშვნის ხაზის სიგრძით განისაზღვრება.

QUESTION 534

CORRECT ANSWER: 2



A motor car driver is allowed to park:

1

At place A only

2

At place B only

3

At both A and B places

განმარტება:


„საგზაო მოძრაობის შესახებ“ საქართველოს კანონის 37-ე მუხლის მე-6 პუნქტის „ა.ა“ და „ა.გ“ ქვეპუნქტების თანახმად, აკრძალულია სატრანსპორტო საშუალების გაჩერება გზის სავალ ნაწილზე: ა.ა) ქვეითთა და ველოსიპედისტთა გადასასვლელებზე და მათ წინ 5 მეტრზე ახლოს; ა.გ) სავალი ნაწილების გადაკვეთაზე, აგრეთვე მათი გადაკვეთის ნაპირებიდან 5 მეტრზე ახლოს, გარდა იმ შემთხვევისა, როცა გაჩერება ხდება იმ გვერდითი გასასვლელების მოპირდაპირე სამმხრივ გადაკვეთებზე (გზაჯვარედინებზე), რომლებზედაც მონიშვნის უწყვეტი ხაზი ან გამყოფი ზოლია.

თემა 20:

გზავრედინის გავლა

QUESTION 535

CORRECT ANSWER: 4



Which of the vehicle drivers is obliged to yield to the pedestrians in case of driving to the arrow direction?

1

Lorry driver only

2

Motor car driver only

3

Motorcyclist only

4


All of them

განმარტება:

„საგზაო მოძრაობის შესახებ“ საქართველოს კანონის 25-ე მუხლის მე-2 პუნქტის „ბ“ ქვეპუნქტის თანახმად, ქვეითთა გადასასვლელზე ამ კანონის 21-ე მუხლის მე-6 პუნქტით, 33-ე მუხლის მე-2 პუნქტითა და 34-ე მუხლის მე-11 პუნქტით დადგენილ მოთხოვნათა დაცვით უნდა შესრულდეს შემდეგი მოთხოვნები: ბ) თუ სატრანსპორტო საშუალებათა მოძრაობა არ რეგულირდება არც საგზაო შექნიშნით, არც მარეგულირებლის მეშვეობით, მძღოლმა ქვეითთა გადასასვლელთან მიახლოებისას სათანადოდ უნდა შეამციროს სიჩქარე, რათა საფრთხე არ შეუქმნას ამ გადასასვლელზე შესულ ან შემავალ ქვეითებს, ხოლო საჭიროების შემთხვევაში უნდა გაჩერდნეს და გაატაროს ქვეითები.

QUESTION 536

CORRECT ANSWER: 4



When driving to the arrow direction, a motor car driver must yield to:

1

Lorry driver only

2

Tram driver only

3

All of them

4


None of them

ბანმარტეზა:

„საგზაო მოძრაობის შესახებ“ საქართველოს კანონის 36-ე მუხლის მე-4 პუნქტის „ა“ და „ბ“ ქვეპუნქტების თანახმად, არარეგულირებულ გზაჯვარედინზე: ა) არათანაბარმნიშვნელოვანი გზების გადაკვეთაზე მეორეხარისხოვან გზაზე მოძრავი სატრანსპორტო საშუალების მძღოლი ვალდებულია გზა დაუთმოს მთავარი გზიდან მოახლოებულ სატრანსპორტო საშუალებას, მიუხედავად მისი შემდგომი მოძრაობის მიმართულებისა; ბ) თუ გზაჯვარედინზე მთავარი გზა იცვლის მიმართულებას, ამ გზაზე მოძრავმა მძღოლებმა ურთიერთშორის უნდა იხელმძღვანელონ თანაბარმნიშვნელოვანი გზების გავლის წესებით. ამავე წესებით უნდა იხელმძღვანელონ ურთიერთშორის მეორეხარისხოვან გზაზე მოძრავმა მძღოლებმაც.

QUESTION 537

CORRECT ANSWER: 2



Which motor car driver has priority when driving to the arrow direction, if traffic signs are covered with snow?

1

White car driver

2

Red car driver

განმარტება:

„საგზაო მოძრაობის შესახებ“ საქართველოს კანონის 36-ე მუხლის მე-8 პუნქტის თანახმად, თუ მძღოლი ვერ განსაზღვრავს გზაზე საფარის არსებობას (სიბნელის, თოვლის, ტალახის გამო ან სხვა მიზეზით) და არც პრიორიტეტის ნიშნებია, ითვლება, რომ ის მეორეხარისხოვან გზაზე იმყოფება. ამავე კანონის 36-ე მუხლის მე-4 პუნქტის „გ“ ქვეპუნქტის თანახმად, არარეგულირებულ გზაჯვარედინზე, თანაბარმნიშვნელოვანი გზების გადაკვეთაზე ურელსო სატრანსპორტო საშუალების მძღოლი ვალდებულია გზა დაუთმოს მარჯვნიდან მოახლოებულ სატრანსპორტო საშუალებას. ამავე წესით უნდა იხელმძღვანელონ ურთიერთშორის რელსიანი სატრანსპორტო საშუალებების მძღოლებმაც.

QUESTION 538

CORRECT ANSWER: 3



In what sequence should the vehicles pass the intersection when driving to the arrow direction, if maintenance vehicle has special amber flashing light switched on?

1

First – bus, then – lorry and finally – maintenance vehicle

2

First – lorry, then – bus and finally – maintenance vehicle

3

First – lorry, then – maintenance vehicle and finally – bus

განმარტება:

„საგზაო მოძრაობის შესახებ“ საქართველოს კანონის 36-ე მუხლის მე-4 პუნქტის „ა“ და „გ“ ქვეპუნქტების თანახმად, არარეგულირებულ გზაჯვარედინზე: ა) არათანაბარმნიშვნელოვანი გზების გადაკვეთაზე მეორეხარისხოვან გზაზე მოძრავი სატრანსპორტო საშუალების მძღოლი ვალდებულია გზა დაუთმოს მთავარი გზიდან მოახლოებულ სატრანსპორტო საშუალებას, მიუხედავად მისი შემდგომი მოძრაობის მიმართულებისა; გ) თანაბარმნიშვნელოვანი გზების გადაკვეთაზე ურელსო სატრანსპორტო საშუალების მძღოლი ვალდებულია გზა დაუთმოს მარჯვნიდან მოახლოებულ სატრანსპორტო საშუალებას. ამავე წესით უნდა იხელმძღვანელონ ურთიერთშორის რელსიანი სატრანსპორტო საშუალებების მძღოლებმაც. ამავე კანონის 51-ე მუხლის მე-4 პუნქტის თანახმად, მძღოლს, რომელსაც სატრანსპორტო საშუალებაზე ჩართული აქვს ნარინჯისფერი ან ყვითელი მოელვარე სპეციალური ციმციმა სიგნალი და რომელიც გზაზე ასრულებს სამშენებლო, სარემონტო ან დასასუფთავებელ სამუშაოებს, ან საინჟინერო სატრანსპორტო საშუალებით გადააქვს ძვირფასეულობა ან ფასიანი ქაღალდები, ან გადააქვს სახიფათო ტვირთი, ან გადაადგილდება არაგაბარითული (მსხვილგაბარითი) ან ზენორმატიული (მძიმეწონიანი) სატრანსპორტო საშუალებით, შეუძლია გადაუხვიოს საგზაო ნიშნებისა და მონიშვნების, აგრეთვე ამ კანონის 31-ე მუხლის მე-5–მე-10, მე-15, მე-16 და 38-ე მუხლის პირველი პუნქტით დადგენილ მოთხოვნებს, თუ უზრუნველყოფს საგზაო მოძრაობის უსაფრთხოებას. ნარინჯისფერი ან ყვითელი მოელვარე სპეციალური ციმციმა სიგნალი არ იძლევა უპირატესობას საგზაო მოძრაობის სხვა მონაწილეების მიმართ და გამოიყენება ყურადღების მისაპყრობად მოსალოდნელი საშიშროების თავიდან ასაცილებლისათვის.

QUESTION 539

CORRECT ANSWER: 1



Which vehicle driver shall be obliged to yield when driving to the arrow direction?

1

Lorry driver

2


Yellow car driver

განმარტება:

„საგზაო მოძრაობის შესახებ“ საქართველოს კანონის 32-ე მუხლის მე-12 პუნქტის თანახმად, თუ სატრანსპორტო საშუალებების მოძრაობის ტრაექტორიები იკვეთება, ხოლო გავლის რიგითობა განსაზღვრული არ არის, მძღოლმა გზა უნდა დაუთმოს იმ სატრანსპორტო საშუალებას, რომელიც მას მარჯვნიდან უახლოვდება.

QUESTION 540

CORRECT ANSWER: 1



Which vehicle driver shall be obliged to yield when driving to the arrow direction?

1

White car driver

2

Grey car driver

განმარტება:

„საგზაო მოძრაობის შესახებ“ საქართველოს კანონის 32-ე მუხლის მე-4 პუნქტის თანახმად, მოძრაობის ზოლიდან ზოლში მოძრაობის მიმართულების შეუცვლელად გადასვლისას მძღოლმა გზა უნდა დაუთმოს გადასასვლელ მოძრაობის ზოლში თანმხვედრი მიმართულებით მოძრავ სატრანსპორტო საშუალებას. თანმხვედრი მიმართულებით მოძრავი სატრანსპორტო საშუალებების მიერ მოძრაობის ზოლების ერთდროულად შეცვლისას მოძრაობის ტრაექტორიების გადაკვეთის შემთხვევაში გავლის უპირატესობა ენიჭება მარჯნივ მყოფ სატრანსპორტო საშუალების მძღოლს.

QUESTION 541

CORRECT ANSWER: 3



In what sequence should the vehicles pass the intersection when driving to the arrow direction?

1

First - motor car, then - motorcycle and finally - lorry

2

First - lorry, then - motorcycle and finally - motor car

3


First - motorcycle, then - motor car and finally - lorry

განმარტება:

„საგზაო მოძრაობის შესახებ“ საქართველოს კანონის 36-ე მუხლის მე-4 პუნქტის „გ“ ქვეპუნქტების თანახმად, არარეგულირებულ გზაჯვარედინზე, თანაბარმნიშვნელოვანი გზების გადაკვეთაზე ურელსო სატრანსპორტო საშუალების მძღოლი ვალდებულია გზა დაუთმოს მარჯვნიდან მოახლოებულ სატრანსპორტო საშუალებას. ამავდროულად უნდა იხელმძღვანელონ ურთიერთშორის რელსიანი სატრანსპორტო საშუალებების მძღოლებმაც. ასეთ გზაჯვარედინზე რელსიანი სატრანსპორტო საშუალებას უპირატესობა აქვს ურელსო სატრანსპორტო საშუალების მიმართ, მიუხედავად მისი მოძრაობის მიმართულებისა.

QUESTION 542

CORRECT ANSWER: 2



Which vehicle driver has priority when driving to the arrow direction?

1

Motor car driver

2

Tram driver

განმარტება:

„საგზაო მოძრაობის შესახებ“ საქართველოს კანონის 41-ე მუხლის მე-2 პუნქტის თანახმად, გზაჯვარედინის მიღმა, სადაც ტრამვაის ლიანდაგი სავალ ნაწილს კვეთს, ტრამვაის აქვს უპირატესობა ურელსო სატრანსპორტო საშუალებების მიმართ, გარდა დეჰოდან გამოსვლის შემთხვევისა.

QUESTION 543

CORRECT ANSWER: 3



In what sequence should the vehicles pass the intersection when driving to the arrow direction?

- 1** First - tram, then - lorry and finally - yellow car

2 First - lorry, then - yellow car and finally - tram
- 3** First - yellow car, then - tram and finally - lorry

განმარტება:

„საგზაო მოძრაობის შესახებ“ საქართველოს კანონის 36-ე მუხლის მე-4 პუნქტის „ა“ და „გ“ ქვეპუნქტების თანახმად, არარეგულირებულ გზაჯვარედინზე: ა) არათანაბარმნიშვნელოვანი გზების გადაკვეთაზე მეორეხარისხოვან გზაზე მოძრავი სატრანსპორტო საშუალების მძღოლი ვალდებულია გზა დაუთმოს მთავარი გზიდან მოახლოებულ სატრანსპორტო საშუალებას, მიუხედავად მისი შემდგომი მოძრაობის მიმართულებისა; გ) თანაბარმნიშვნელოვანი გზების გადაკვეთაზე ურელსო სატრანსპორტო საშუალების მძღოლი ვალდებულია გზა დაუთმოს მარჯვნიდან მოახლოებულ სატრანსპორტო საშუალებას. ამავე წესით უნდა იხელმძღვანელონ ურთიერთშორის რელსიანი სატრანსპორტო საშუალებების მძღოლებმაც. ასეთ გზაჯვარედინზე რელსიან სატრანსპორტო საშუალებას აქვს უპირატესობა ურელსო სატრანსპორტო საშუალების მიმართ, მიუხედავად მისი მოძრაობის მიმართულებისა.

QUESTION 544

CORRECT ANSWER: 1



Is a motor car driver obliged to yield to the pedestrians when driving to the arrow direction?

1

Yes

2

No

განმარტება:

„საგზაო მოძრაობის შესახებ“ საქართველოს კანონის 25 მუხლის მე-3 პუნქტის თანახმად, ამ კანონის მე-20 მუხლის მე-2 პუნქტითა და 34-ე მუხლის მე-11 პუნქტით დადგენილ მოთხოვნათა დაცვით, გზის სავალ ნაწილზე შესაბამისი საგზაო მონიშვნით, საგზაო ნიშნით ან შუქნიშნით აღნიშნული ქვეითთა გადასასვლელის არარსებობისას მძღოლი, რომელიც სხვა გზაზე შესასვლელად მოხვევას ასრულებს, ვალდებულია გზა დაუთმოს ამ გზის სავალ ნაწილზე შესულ ქვეითებს. მან უნდა გამოიჩინოს განსაკუთრებული სიფრთხილე იმ ქვეითების მიმართ, რომლებიც გზის სავალ ნაწილზე გადადიან სამარშრუტო სატრანსპორტო საშუალებაში ჩასასხდომად ან იქიდან გადმოსხდომის შემდეგ.

QUESTION 545

CORRECT ANSWER: 4



When driving to the arrow direction, if width of the driveway is not sufficient for U-turn from the left lane, a lorry driver will have priority over?

1

White car driver only

2

Blue car driver only

3

Motorcycle only

4

None of them

განმარტება:

„საგზაო მოძრაობის შესახებ“ საქართველოს კანონის 32-ე მუხლის მე-7 პუნქტის „ბ“ ქვეპუნქტისა და მე-8 პუნქტის თანახმად: 7. სხვა გზაზე გასასვლელად ან გზის მიმდებარე ტერიტორიაზე შესასვლელად მარჯვნივ ან მარცხნივ მოხვევის წინ, ისე, რომ არ დაარღვიოს ამ კანონის მე-20 მუხლის მე-2 პუნქტითა და ამ მუხლის პირველი და მე-2 პუნქტებით დადგენილი მოთხოვნები, თუ სატრანსპორტო საშუალების მძღოლი აპირებს გზიდან გასვლას: ბ) მარცხენა მხრიდან, სატრანსპორტო საშუალება, რამდენადაც ეს შესაძლებელია, უნდა მიუახლოვდეს გზის სავალი ნაწილის ღერძს (ორმხრივმოძრაობიან გზაზე) ან სავალი ნაწილის მარცხენა კიდე (ცალმხრივმოძრაობიან გზაზე), ხოლო თუ ის სხვა ორმხრივმოძრაობიან გზაზე აპირებს გასვლას, მოხვევა ისე უნდა შეასრულოს, რომ სავალი ნაწილების გადაკვეთიდან გამოსვლისას სატრანსპორტო საშუალება საპირისპირო მოძრაობის მხარეს არ აღმოჩნდეს. 8. თუ მძღოლი სატრანსპორტო საშუალების გაბარიტის ან სხვა მიზეზის გამო ვერ ასრულებს მოხვევას, ამ მუხლის მე-7 პუნქტით დადგენილ მოთხოვნათა გათვალისწინებით დასაშვებია ამ წესებიდან გადახვევა, თუ უზრუნველყოფილი იქნება მოძრაობის უსაფრთხოება და დაბრკოლება არ შეექმნება სხვა საგზაო მოძრაობის მონაწილეებს.

QUESTION 546

CORRECT ANSWER: 2

Is a driver allowed to move to the intersection, on which there is such hummock, that probably he/she will be forced to stop on the intersection and create obstruction to the lateral traffic?

1

Yes, if signal of the traffic lights allows motion

2

No

განმარტება:

„საგზაო მოძრაობის შესახებ“ საქართველოს კანონის 36-ე მუხლის მე-5 პუნქტის თანახმად, მძღოლი არ უნდა გავიდეს გზაჯვარედინზე, თუ შექმნილია ისეთი ხერგილი, რომ იგი, სავარაუდოდ, იძულებული გახდება, გაჩერდეს გზაჯვარედინზე და ამით დააბრკოლოს განივი მიმართულებით მოძრაობა. ეს წესი მოქმედებს მაშინაც, თუ შექმნილის მაშუქი სიგნალები იძლევა მოძრაობის უფლებას.

QUESTION 547

CORRECT ANSWER: 2

A driver with the right to drive subcategory „C1“ vehicle is allowed to drive the vehicle (other than subcategory „D1“ or category „D“ vehicles), which maximum allowable mass:

1

Does not exceed 3500 kg

2

Exceeds 3500 kg, but does not exceed 7500 kg

3

Exceeds 7500 kg, but does not exceed 12000 kg

განმარტება:

„საგზაო მოძრაობის შესახებ“ საქართველოს კანონის 54-ე მუხლის მე-3 პუნქტის „გ“ ქვეპუნქტის თანახმად, „A“, „B“, „C“, „CE“, „D“ და „DE“ კატეგორიების ფარგლებში დაწესებული სატრანსპორტო საშუალებები, რომელთა სამართავად სავალდებულოა შესაბამისი მართვის უფლების მოპოვება, იყოფა შემდეგ ქვეკატეგორიებად: გ) „C1“ – ავტომობილი (გარდა იმ ავტომობილებისა, რომლებიც მიეკუთვნება „D1“ ქვეკატეგორიას ან „D“ კატეგორიას), რომლის ნებადართული მაქსიმალური მასა აღემატება 3500 კგ-ს, მაგრამ არ აღემატება 7500 კგ-ს, აგრეთვე „C1“ ქვეკატეგორიის ავტომობილი, გადაბმული მისაბმელთან, რომლის ნებადართული მაქსიმალური მასა არ აღემატება 750 კგ-ს.

QUESTION 548

CORRECT ANSWER: 3

A driver with the right to drive subcategory „C1“ vehicle is also allowed to drive subcategory „C1“ vehicle with trailer, which maximum allowable mass:

1

Exceeds 750 kg

2

Exceeds 750 kg, but does not exceed 2500 kg

3

Does not exceed 750 kg

განმარტება:

„საგზაო მოძრაობის შესახებ“ საქართველოს კანონის 54-ე მუხლის მე-3 პუნქტის „გ“ ქვეპუნქტის თანახმად, „A“, „B“, „C“, „CE“, „D“ და „DE“ კატეგორიების ფარგლებში დაწესებული სატრანსპორტო საშუალებები, რომელთა სამართავად სავალდებულოა შესაბამისი მართვის უფლების მოპოვება, იყოფა შემდეგ ქვეკატეგორიებად: გ) „C1“ – ავტომობილი (გარდა იმ ავტომობილებისა, რომლებიც მიეკუთვნება „D1“ ქვეკატეგორიას ან „D“ კატეგორიას), რომლის ნებადართული მაქსიმალური მასა აღემატება 3500 კგ-ს, მაგრამ არ აღემატება 7500 კგ-ს, აგრეთვე „C1“ ქვეკატეგორიის ავტომობილი, გადაბმული მისაბმელთან, რომლის ნებადართული მაქსიმალური მასა არ აღემატება 750 კგ-ს.

QUESTION 549

CORRECT ANSWER: 1

Is a driver with the right to drive subcategory „C1E“ vehicle allowed to drive the subcategory „C1“ vehicle with trailer, which maximum allowable mass exceeds 750 kg, if total maximum allowable mass of such composition does not exceed 12 000 kg?

1

Yes

2

No

განმარტება:

„საგზაო მოძრაობის შესახებ“ საქართველოს კანონის 54-ე მუხლის მე-3 პუნქტის „ე“ ქვეპუნქტის თანახმად, „A“, „B“, „C“, „CE“, „D“ და „DE“ კატეგორიების ფარგლებში დაწესებული სატრანსპორტო საშუალებები, რომელთა სამართავად სავალდებულოა შესაბამისი მართვის უფლების მოპოვება, იყოფა შემდეგ ქვეკატეგორიებად: ე) „C1E“ – „C1“ ქვეკატეგორიის ავტომობილი, გადაბმული მისაბმელთან, რომლის ნებადართული მაქსიმალური მასა აღემატება 750 კგ-ს, მაგრამ არ აღემატება ავტომობილის დაუტვირთავ მასას, ხოლო ასეთი შემადგენლობის საერთო ნებადართული მაქსიმალური მასა არ აღემატება 12 000 კგ-ს.

QUESTION 550

CORRECT ANSWER: 1

Is a person with the right to drive subcategory „C1E“ and „D1“ vehicles also allowed to drive subcategory „D1E“ vehicle?

1

Yes

2

No

განმარტება:

„საგზაო მოძრაობის შესახებ“ საქართველოს კანონის 56-ე მუხლის მე-5 პუნქტის თანახმად, „C1E“ ქვეკატეგორიის სატრანსპორტო საშუალების მართვის უფლების მქონე პირს, რომელსაც აქვს „D1“ ქვეკატეგორიის სატრანსპორტო საშუალების მართვის უფლება, აგრეთვე უფლება აქვს, მართოს „D1E“ ქვეკატეგორიის სატრანსპორტო საშუალებაც.

QUESTION 551

CORRECT ANSWER: 2

Is a person with the right to drive category „DE“ and subcategory „C1“ vehicles also allowed to drive subcategory C1E vehicle?

1

No

2

Yes

განმარტება:

„საგზაო მოძრაობის შესახებ“ საქართველოს კანონის 56-ე მუხლის მე-6 პუნქტის თანახმად, „DE“ კატეგორიის სატრანსპორტო საშუალების მართვის უფლების მქონე პირს, რომელსაც აქვს „C1“ ქვეკატეგორიის სატრანსპორტო საშუალების მართვის უფლება, აგრეთვე უფლება აქვს, მართოს „C1E“ ქვეკატეგორიის სატრანსპორტო საშუალებაც.

QUESTION 552

CORRECT ANSWER: 2

A person with the right to drive subcategory „C1“ vehicle is allowed to drive agricultural wheel tractor, which maximum allowable mass:

1

Exceeds 8250 kg, but does not exceed 12000 kg

2

Does not exceed 8250 kg

განმარტება:

„საგზაო მოძრაობის შესახებ“ საქართველოს კანონის 56-ე მუხლის მე-10 პუნქტის თანახმად, „C1“ ქვეკატეგორიის სატრანსპორტო საშუალების მართვის უფლების მქონე პირს უფლება აქვს, მართოს თვლიანი სასოფლო-სამეურნეო ტრაქტორი, რომლის ნებადართული მაქსიმალური მასა არ აღემატება 8250 კგ-ს, აგრეთვე აღნიშნული მექანიკური სატრანსპორტო საშუალება, გადაბმული მისაბმელთან, თუ ასეთი შემადგენლობის საერთო ნებადართული მაქსიმალური მასა არ აღემატება 8 250 კგ-ს.

QUESTION 553

CORRECT ANSWER: 1

A person with the right to drive subcategory „C1“ vehicle is allowed to drive agricultural wheel tractor with bonded trailer, if total maximum allowable mass of such composition:

1

Does not exceed 8250 kg

2

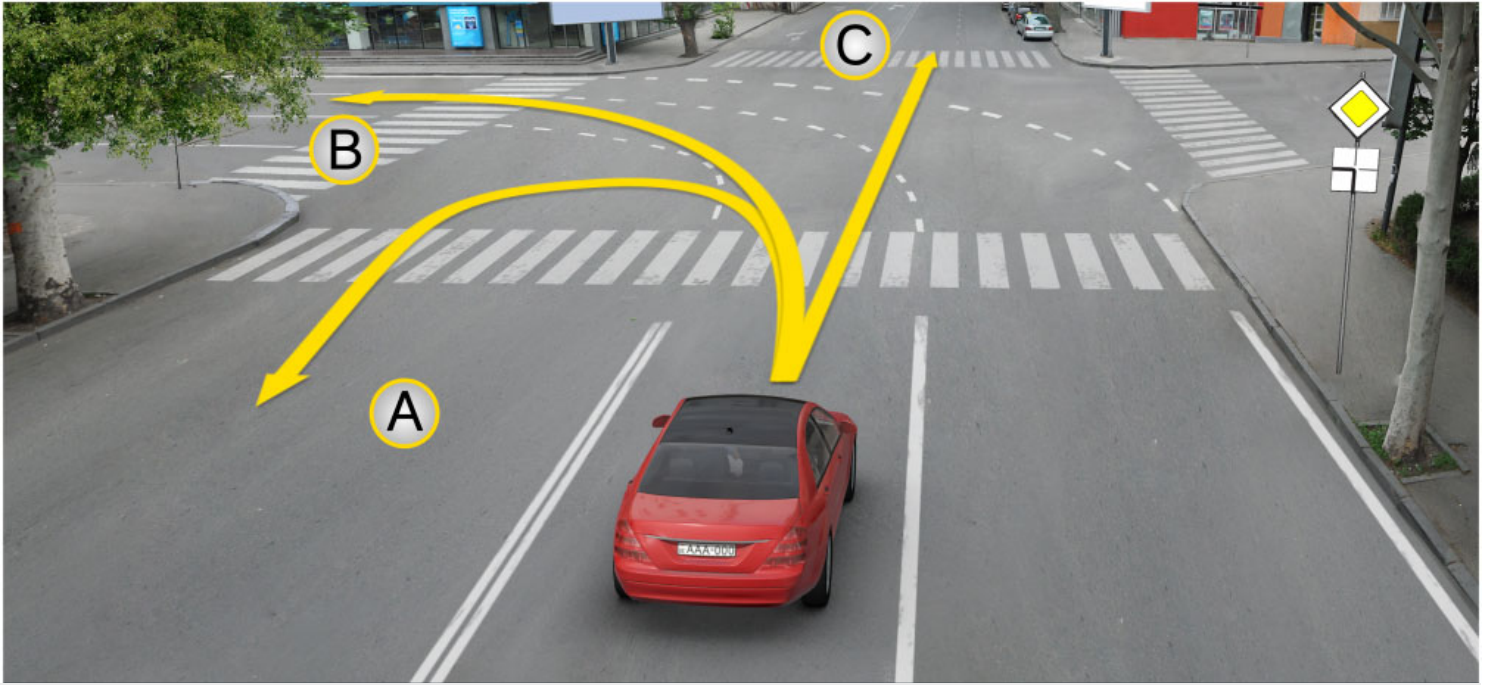
Exceeds 8250 kg, but does not exceed 12000 kg

განმარტება:

„საგზაო მოძრაობის შესახებ“ საქართველოს კანონის 56-ე მუხლის მე-10 პუნქტის თანახმად, „C1“ ქვეკატეგორიის სატრანსპორტო საშუალების მართვის უფლების მქონე პირს უფლება აქვს, მართოს თვლიანი სასოფლო-სამეურნეო ტრაქტორი, რომლის ნებადართული მაქსიმალური მასა არ აღემატება 8 250 კგ-ს, აგრეთვე აღნიშნული მექანიკური სატრანსპორტო საშუალება, გადაბმული მისაბმელთან, თუ ასეთი შემადგენლობის საერთო ნებადართული მაქსიმალური მასა არ აღემატება 8 250 კგ-ს.

QUESTION 554

CORRECT ANSWER: 4



On the intersection, in case of these road markings, a motor car driver is allowed to proceed:

1

In direction A only

2

In direction B only

3

In direction C only

4

In all the above directions

განმარტება:

„საგზაო მოძრაობის შესახებ“ საქართველოს კანონის მე-2 დანართის პირველი თავის (ჰორიზონტალური მონიშვნა) 1.7 პუნქტის თანახმად, საგზაო მონიშვნა 1.7 წყვეტილი ხაზი მოკლე შტრიხებითა და იმავე ზომის შუალედებით - აღნიშნავს მოძრაობის ზოლებს გზატკარედინის ფარგლებში. 1.7 ხაზის გადაკვეთა ნებადართულია ნებისმიერი მხრიდან.

QUESTION 555

CORRECT ANSWER: 2



Which of the vehicle drivers is obliged to yield in case of driving to the arrow direction?

1

Motor car driver

2

Tractor driver

განმარტება:

„საგზაო მოძრაობის შესახებ“ საქართველოს კანონის 36-ე მუხლის მე-4 პუნქტის „გ“ ქვეპუნქტის თანახმად, არარეგულირებულ გზაჯვარედინზე, თანაბარმნიშვნელოვანი გზების გადაკვეთაზე ურელსო სატრანსპორტო საშუალების მძღოლი ვალდებულია გზა დაუთმოს მარჯვნიდან მოახლოებულ სატრანსპორტო საშუალებას.

QUESTION 556

CORRECT ANSWER: 3

Under observation of requirements of which agreement are the labour and rest modes of the driver regulated in Georgia?

- 1 Agreement concerning operation of vehicles
- 2 Agreement concerning the International Carriage of Dangerous Goods by Road (ADR)
- 3 European Agreement concerning the Work of Crews of Vehicles engaged in International Road Transport (AETR)

განმარტება:

მძღოლთა შრომისა და დასვენების რეჟიმების რეგლამინაცია საქართველოში ხდება „საერთაშორისო საავტომობილო მიმოსვლის მწარმოებელი სატრანსპორტო საშუალებების ეკიპაჟის მუშაობის შესახებ“ ევროპული შეთანხმების (AETR). მოთხოვნათა შესაბამისად.

QUESTION 557

CORRECT ANSWER: 1

According to the European Agreement concerning the Work of Crews of Vehicles engaged in International Road Transport (AETR), term “International road transport” means:

- 1 Any road transport which involves crossing of at least one frontier
- 2 Any road transport at the distance above 100 km

განმარტება:

„საერთაშორისო საავტომობილო მიმოსვლის მწარმოებელი სატრანსპორტო საშუალებების ეკიპაჟის მუშაობის შესახებ“ ევროპული შეთანხმების (AETR) თანახმად ტერმინი „საერთაშორისო სატრანსპორტო მიმოსვლა“ ნიშნავს ნებისმიერ საავტომობილო მიმოსვლას ერთი საზღვრის გადაკვეთით მაინც.

QUESTION 558

CORRECT ANSWER: 4

If the contractual parties on the territory of which the traffic is carried out, do not otherwise agree, the requirements of the European Agreement concerning the Work of Crews of Vehicles engaged in International Road Transport (AETR) shall not be applied towards the international road transportation of goods, carried out by those vehicles, which are used:

- | | |
|---|--|
| <p>1 For transportation of goods only, which maximum allowable mass, including any trailer or semi-trailer, does not exceed 3.5 tonnes</p> | <p>2 For conveyance of passengers, which are not able to convey more than 9 people including driver due to their construction and equipment</p> |
| <p>3 For conveyance of passenger only on regular lines, the length of which does not exceed 50 km</p> | <p>4 In any case listed in given test</p> |

განმარტება:

თუ ხელშემკვერელი მხარეები, რომელთა ტერიტორიაზე ხორციელდება მიმოსვლა არ შეთანხმდნენ საპირისპიროს შესახებ, „საერთაშორისო საავტომობილო მიმოსვლის მწარმოებელი სატრანსპორტო საშუალებების ეკიპაჟის მუშაობის შესახებ“ ევროპული შეთანხმების (AETR) მოთხოვნები არ გამოიყენება საერთაშორისო საავტომობილო ტვირთბიდვის მიმართ, რომელიც სრულდება: ა) სატრანსპორტო საშუალებების მიერ, რომლებიც გამოიყენება ტვირთის გადასაზიდად და რომელთა ნებადართული მაქსიმალური მასა, მისაბმელებისა და ნახევარმისაბმელების მასის ჩათვლის, არ აღემატება 3,5 ტონას; ბ) სატრანსპორტო საშუალებების მიერ, რომლებიც გამოიყენება მგზავრთა გადასაყვანად და რომლებსაც თავიანთი კონსტრუქციისა და აღჭურვილობის გამო მძღოლის ჩათვლით ცხრა კაცზე მეტის გადაყვანა არ შეუძლია და განკუთვნილია ამ მიზნისთვის; გ) სატრანსპორტო საშუალებების მიერ, რომლებიც გამოიყენება მგზავრთა გადასაყვანად რეგულარულ ხაზებზე, რომელთა სიგრძე 50 კმ-ს არ აღემატება.

QUESTION 559

CORRECT ANSWER: 3

If the contractual parties on the territory of which the traffic is carried out, does not otherwise agree, the requirements of the European Agreement concerning the Work of Crews of Vehicles engaged in International Road Transport (AETR) shall not apply to transportation of international goods, which is carried out:

1 By specialized breakdown vehicles operating within 100 kilometres of their base

2 By those vehicles only, which maximum allowable mass does not exceed 7.5 tonnes and are used for non-commercial transportation of goods

3 In any case listed in given test

განმარტება:

თუ ხელშემკვერელი მხარეები, რომელთა ტერიტორიაზე ხორციელდება მიმოსვლა არ შეთანხმდნენ საპირისპიროს შესახებ, „საერთაშორისო საავტომობილო მიმოსვლის მწარმოებელი სატრანსპორტო საშუალებების ეკიპაჟის მუშაობის შესახებ“ ევროპული შეთანხმების (AETR) მოთხოვნები არ გამოიყენება საერთაშორისო საავტომობილო ტვირთბიდვის მიმართ, რომელიც სრულდება: ა) სპეციალური საავარიო სატრანსპორტო საშუალებების მიერ, რომელთა ექსპლუატაცია წარმოებს მათი მიწერის პუნქტიდან 100 კმ ფარგლებში. ბ) სატრანსპორტო საშუალებების მიერ, რომელთა ნებადართული მაქსიმალური მასა არ აღემატება 7,5 ტონას და რომლებიც გამოიყენება არაკომერციული გადაზიდვისათვის.

QUESTION 560

CORRECT ANSWER: 3

According to the European Agreement concerning the Work of Crews of Vehicles engaged in International Road Transport (AETR), the weekly driving time shall not exceed:

1 40 hours

2 46 hours

3 46 hours

განმარტება:

„საერთაშორისო საავტომობილო მიმოსვლის მწარმოებელი სატრანსპორტო საშუალებების ეკიპაჟის მუშაობის შესახებ“ ევროპული შეთანხმების (AETR) თანახმად ყოველკვირეული მართვის ხანგრძლივობა არ უნდა აღემატებოდეს 56 საათს.

QUESTION 561

CORRECT ANSWER: 4

According to the European Agreement concerning the Work of Crews of Vehicles engaged in International Road Transport (AETR), total accumulated driving time during any two consecutive weeks shall not exceed:

1

70 hours

2

78 hours

3

85 hours

4

90 hours

განმარტება:

„საერთაშორისო საავტომობილო მიმოსვლის მწარმოებელი სატრანსპორტო საშუალებების ეკიპაჟის მუშაობის შესახებ“ ევროპული შეთანხმების (AETR) თანახმად მართვის საერთო ჯამური ხანგრძლივობა ნებისმიერი ორი ერთმანეთის მომდევნო კვირის განმავლობაში არ უნდა აღემატებოდეს 90 საათს.

QUESTION 562

CORRECT ANSWER: 2

According to the European Agreement concerning the Work of Crews of Vehicles engaged in International Road Transport (AETR), unless the rest period begins, after how many hours of driving period shall the driver take a break of not less than 45 minutes?

1

3.5 hours

2

4.5 hours

3

5.5 hours

განმარტება:

„საერთაშორისო საავტომობილო მიმოსვლის მწარმოებელი სატრანსპორტო საშუალებების ეკიპაჟის მუშაობის შესახებ“ ევროპული შეთანხმების (AETR) თანახმად ოთხნახევარი საათის განმავლობაში მართვის პერიოდის შემდეგ მძღოლმა უნდა შეისვენოს არანაკლებ 45 წუთისა, თუ არა დგება დასვენების პერიოდი.

QUESTION 563

CORRECT ANSWER: 3

According to the European Agreement concerning the Work of Crews of Vehicles engaged in International Road Transport (AETR), after the driving period of four and a half hours, unless the rest period starts, a driver shall take an uninterrupted break of not less than:

1

20 minutes

2

30 minutes

3

45 minutes

განმარტება:

„საერთაშორისო საავტომობილო მიმოსვლის მწარმოებელი სატრანსპორტო საშუალებების ეკიპაჟის მუშაობის შესახებ“ ევროპული შეთანხმების (AETR) თანახმად, ოთხნახევარი საათის განმავლობაში მართვის პერიოდის შემდეგ მძღოლმა უნდა შეისვენოს არანაკლებ 45 წუთისა, თუ არა დგება დასვენების პერიოდი.

QUESTION 564

CORRECT ANSWER: 1

According to the European Agreement concerning the Work of Crews of Vehicles engaged in International Road Transport (AETR), is a driver obliged to take new daily rest period during each period of 24-hours after the end of the previous daily rest period or weekly rest period?

1

Yes

2

No

განმარტება:

„საერთაშორისო საავტომობილო მიმოსვლის მწარმოებელი სატრანსპორტო საშუალებების ეკიპაჟის მუშაობის შესახებ“ ევროპული შეთანხმების (AETR) თანახმად, დასვენების წინა ყოველდღიური პერიოდის ან ყოველკვირეული პერიოდის დასრულებიდან ყოველი 24-საათიანი პერიოდის განმავლობაში მძღოლმა უნდა გამოიყენოს ახალი ყოველდღიური დასვენების პერიოდი.

QUESTION 565

CORRECT ANSWER: 1

According to the European Agreement concerning the Work of Crews of Vehicles engaged in International Road Transport (AETR), term „Regular daily rest period“ shall mean any period of rest of at least:

1

11 hours

2

9 hours

3

7 hours

განმარტება:

„საერთაშორისო საავტომობილო მიმოსვლის მწარმოებელი სატრანსპორტო საშუალებების ეკიპაჟის მუშაობის შესახებ“ ევროპული შეთანხმების (AETR) თანახმად ტერმინი „დასვენების ნორმალური ყოველდღიური პერიოდი“ ნიშნავს დასვენების ნებისმიერ პერიოდს არანაკლებ 11 საათის ხანგრძლივობით.

QUESTION 566

CORRECT ANSWER: 2

According to the European Agreement concerning the Work of Crews of Vehicles engaged in International Road Transport (AETR), term „Reduced daily rest period“ means any period of at least:

1

7 hours, but less than 9 hours

2

9 hours, but less than 11 hours

3

11 hours

განმარტება:

„საერთაშორისო საავტომობილო მიმოსვლის მწარმოებელი სატრანსპორტო საშუალებების ეკიპაჟის მუშაობის შესახებ“ ევროპული შეთანხმების (AETR) თანახმად ტერმინი „დასვენების შემცირებული ყოველდღიური პერიოდი“ ნიშნავს დასვენების ნებისმიერ პერიოდს არანაკლებ 9 საათის, მაგრამ 11 საათზე ნაკლები ხანგრძლივობით.

QUESTION 567

CORRECT ANSWER: 3

According to the European Agreement concerning the Work of Crews of Vehicles engaged in International Road Transport (AETR), driving periods shall include any time of driving:

1 In the territories of contracting parties only

2 In the territories of non-contracting states only

3 Both in the territories of contracting parties and non-contracting states

განმარტება:

„საერთაშორისო საავტომობილო მიმოსვლის მწარმოებელი სატრანსპორტო საშუალებების ეკიპაჟის მუშაობის შესახებ“ ევროპული შეთანხმების (AETR) თანახმად, სატრანსპორტო საშუალების მართვის პერიოდები მოიცავს მართვის ნებისმიერ დროს ხელშემკვრელ მხარეთა ტერიტორიაზე და იმ სახელმწიფოთა ტერიტორიაზე, რომლებიც არ წარმოადგენენ ხელშემკვრელ მხარეებს.

QUESTION 568

CORRECT ANSWER: 3

According to the European Agreement concerning the Work of Crews of Vehicles engaged in International Road Transport (AETR), if a driver drives the vehicle equipped with control device, he/she shall be able to submit the record about driving and rest period:

1 In case of digital tachograph, for previous 14 calendar days

2 In case of analogue tachograph, for the current day only

3 In any case, for the current day and for previous 28 calendar days

განმარტება:

„საერთაშორისო საავტომობილო მიმოსვლის მწარმოებელი სატრანსპორტო საშუალებების ეკიპაჟის მუშაობის შესახებ“ ევროპული შეთანხმების (AETR) თანახმად, თუ მძღოლი მართავს საკონტროლო მოწყობილობით აღჭურვილ სატრანსპორტო საშუალებას მას უნდა შეეძლოს წარადგინოს ჩანაწერები მართვისა და დასვენების დროის შესახებ, რომელიც უნდა მოიცავდეს მიმდინარე დღეს და წინა 28 კალენდარულ დღეს.

QUESTION 569

CORRECT ANSWER: 4

According to the European Agreement concerning the Work of Crews of Vehicles engaged in International Road Transport (AETR), the control device attached to the vehicle shall provide to fix:

1

Speed and distance travelled by the vehicle

2

Driving duration only

3

Duration of rest and break period only

4

Both speed and distance travelled by the vehicle, as well as driving duration and duration of rest and break period

განმარტება:

„საერთაშორისო საავტომობილო მიმოსვლის მწარმოებელი სატრანსპორტო საშუალებების ეკიპაჟის მუშაობის შესახებ“ ევროპული შეთანხმების (AETR) თანახმად, სატრანსპორტო საშუალებაზე დაყენებული საკონტროლო მოწყობილობა უნდა უზრუნველყოფდეს, რომ დაფიქსირდეს: 1. სატრანსპორტო საშუალების სიჩქარე და გავლილი მანძილი. 2. მართვის ხანგრძლივობა. 3. დასვენების და შესვენების ხანგრძლივობა.

QUESTION 570

CORRECT ANSWER: 1

If sight is partially restricted due to the vehicle in front of unregulated crossing, the driver approaching the crossing has the right to proceed:

1

Only after making sure in absence of the pedestrians on the crossing

2

Only after use of horn

3

Without changing the speed, notwithstanding the situation on the crossing

განმარტება:

თუ არარეგულირებული ქვეითთა გადასასვლელის წინ გაჩერებული სატრანსპორტო საშუალების გამო, გადასასვლელზე ნაწილობრივ შეზღუდულია მხედველობა, გადასასვლელთან მოახლოებულ მძღოლს მოძრაობის გაგრძელების უფლება აქვს მხოლოდ მას შემდეგ, რაც დარწმუნდება, გადასასვლელზე შესული ან შემავალი ქვეითის არარსებობაში.

თემა 21:

რკინიგზის გადასასვლელი

QUESTION 571

CORRECT ANSWER: 3



If amber flashing traffic light is on:

1

Driver is obliged to stop at "STOP" line

2

Driver is obliged to stop at the traffic lights

3

Driver is allowed to proceed by using special caution

4

The driver is required to stop at not less than 10 meters from the closest rail

განმარტება:

„საგზაო მოძრაობის შესახებ“ საქართველოს კანონის 29-ე მუხლის მე-8 პუნქტის თანახმად, რკინიგზის გადასასვლელზე, გასახსნელი ხიდის მისასვლელთან, გემის ან ბორნის მისადგომთან, გზაზე სახანძრო ავტომობილის გამოსასვლელთან და იმ ადგილას, სადაც გზას დაბალ სიმაღლეზე კვეთს საფრენი აპარატის ტრაექტორია, გამოიყენება ერთ სადგარზე, ერთსა და იმავე სიმაღლეზე განლაგებული, ერთ მხარეს მიმართული ორი მორიგეობით მოციმციმე ან ერთი მოციმციმე წითელი ან ყვითელი მაშუქი სიგნალი, რომელთაგან წითელი მაშუქი სიგნალი კრძალავს „სდექ“ ხაზის გადაკვეთას, მისი არარსებობის შემთხვევაში კი – შექნიშნის იქით გადასვლას, ხოლო ყვითელი მაშუქი სიგნალი ნიშნავს, რომ მძღოლებს შეუძლიათ გააგრძელონ მოძრაობა, მაგრამ, ამასთანავე, ვალდებული არიან, დაიცვან განსაკუთრებული სიფრთხილე. თუ ფერადი მაშუქი სიგნალები გამორთულია, მოძრაობა ნებადართულია მხოლოდ მაშინ, როცა ხილვადობის ფარგლებში არ ჩანს გადასასვლელთან მოახლოებული მატარებელი (ლოკომოტივი, დრეზინა).

QUESTION 572

CORRECT ANSWER: 1

Honk given together with the red flashing signal of traffic lights at the railroad crossing additionally informs the traffic participants:

1

About prohibition of motion on the crossing

2

About the right to proceed on the crossing

განმარტება:

„საგზაო მოძრაობის შესახებ“ საქართველოს კანონის 29-ე მუხლის მე-9 პუნქტის თანახმად, რკინიგზის გადასასვლელზე შუქნიშნის წითელ მოციმციმე მაშუქ სიგნალთან ერთად შეიძლება მიეცეს ხმოვანი სიგნალი, რომელიც საგზაო მოძრაობის მონაწილეებს დამატებით ამცნობს რკინიგზის გადასასვლელზე მოძრაობის აკრძალვის შესახებ.

QUESTION 573

CORRECT ANSWER: 2

At railroad crossing the traffic lights with two alternatively flashing or one amber flashing signal, directed to one side, located at the same height on one stand, means that the drivers:

1

Are prohibited from motion

2

Are allowed to proceed but must use special caution

განმარტება:

„საგზაო მოძრაობის შესახებ“ საქართველოს კანონის 29-ე მუხლის მე-8 პუნქტის თანახმად, რკინიგზის გადასასვლელზე, გასახსნელი ხიდის მისასვლელთან, გემის ან ბორნის მისადგომთან, გზაზე სახანძრო ავტომობილის გამოსასვლელთან და იმ ადგილას, სადაც გზას დაბალ სიმაღლეზე კვეთს საფრენი აპარატის ტრაექტორია, გამოიყენება ერთ სადგარზე, ერთსა და იმავე სიმაღლეზე განლაგებული, ერთ მხარეს მიმართული ორი მორიგეობით მოციმციმე ან ერთი მოციმციმე წითელი ან ყვითელი მაშუქი სიგნალი, რომელთაგან წითელი მაშუქი სიგნალი კრძალავს „სდექ“ ხაზის გადაკვეთას, მისი არარსებობის შემთხვევაში კი – შუქნიშნის იქით გადასვლას, ხოლო ყვითელი მაშუქი სიგნალი ნიშნავს, რომ მძღოლებს შეუძლიათ გააგრძელონ მოძრაობა, მაგრამ, ამასთანავე, ვალდებული არიან, დაიცვან განსაკუთრებული სიფრთხილე. თუ ფერადი მაშუქი სიგნალები გამორთულია, მოძრაობა ნებადართულია მხოლოდ მაშინ, როცა ხილვადობის ფარგლებში არ ჩანს გადასასვლელთან მოახლოებული მატარებელი (ლოკომოტივი, დრეზინა).

QUESTION 574

CORRECT ANSWER: 1

If the traffic light signals are switched off on the railroad crossing:

1

Driving is allowed only in case if train (locomotive, handcar) approaching the crossing is not seen within the scope of visibility

2


Driving is prohibited

განმარტება:

„საგზაო მოძრაობის შესახებ“ საქართველოს კანონის 29-ე მუხლის მე-8 პუნქტის თანახმად, რკინიგზის გადასასვლელზე, გასახსნელი ხიდის მისასვლელთან, გემის ან ბორნის მისადგომთან, გზაზე სახანძრო ავტომობილის გამოსასვლელთან და იმ ადგილას, სადაც გზას დაბალ სიმაღლეზე კვეთს საფრენი აპარატის ტრაექტორია, გამოიყენება ერთ სადგარზე, ერთსა და იმავე სიმაღლეზე განლაგებული, ერთ მხარეს მიმართული ორი მორიგეობით მოციმციმე ან ერთი მოციმციმე წითელი ან ყვითელი მაშუქი სიგნალი, რომელთაგან წითელი მაშუქი სიგნალი კრძალავს „სდევ“ ხაზის გადაკვეთას, მისი არარსებობის შემთხვევაში კი – შექნიშნის იქით გადასვლას, ხოლო ყვითელი მაშუქი სიგნალი ნიშნავს, რომ მძღოლებს შეუძლიათ გააგრძელონ მოძრაობა, მაგრამ, ამასთანავე, ვალდებული არიან, დაიცვან განსაკუთრებული სიფრთხილე. თუ ფერადი მაშუქი სიგნალები გამორთულია, მოძრაობა ნებადართულია მხოლოდ მაშინ, როცა ხილვადობის ფარგლებში არ ჩანს გადასასვლელთან მოახლოებული მატარებელი (ლოკომოტივი, დრეზინა).

QUESTION 575

CORRECT ANSWER: 2



Which vehicle driver is prohibited from proceeding to the arrow direction?

1

Lorry driver only

2

Motor car driver only

3

Both of them

4

None of them

ბანმარტეზა:

„საგზაო მოძრაობის შესახებ“ საქართველოს კანონის 29-ე მუხლის მე-8 პუნქტის თანახმად რკინიგზის გადასასვლელზე, გასახსნელი ხიდის მისასვლელთან, გემის ან ბორნის მისადგომთან, გზაზე სახანძრო ავტომობილის გამოსასვლელთან და იმ ადგილას, სადაც გზას დაბალ სიმაღლეზე კვეთს საფრენი აპარატის ტრაექტორია, გამოიყენება ერთ სადგარზე, ერთსა და იმავე სიმაღლეზე განლაგებული, ერთ მხარეს მიმართული ორი მორიგეობით მოციმციმე ან ერთი მოციმციმე წითელი ან ყვითელი მაშუქი სიგნალი, რომელთაგან წითელი მაშუქი სიგნალი კრძალავს „სდექ“ ხაზის გადაკვეთას, მისი არარსებობის შემთხვევაში კი – შექნიშნის იქით გადასვლას, ხოლო ყვითელი მაშუქი სიგნალი ნიშნავს, რომ მძღოლებს შეუძლიათ გააგრძელონ მოძრაობა, მაგრამ, ამასთანავე, ვალდებული არიან, დაიცვან განსაკუთრებული სიფრთხილე. თუ ფერადი მაშუქი სიგნალები გამორთულია, მოძრაობა ნებადართულია მხოლოდ მაშინ, როცა ხილვადობის ფარგლებში არ ჩანს გადასასვლელთან მოახლოებული მატარებელი (ლოკომოტივი, დრეზინა). ამავე კანონის 32-ე მუხლის მე-15 პუნქტის „დ“ ქვეპუნქტის თანახმად, აკრძალულია სატრანსპორტო საშუალების მობრუნება რკინიგზის გადასასვლელზე.

QUESTION 576

CORRECT ANSWER: 3



In the present situation, the driver:

- | | | | |
|---|---|---|--|
| 1 | Is allowed to open the barrier himself/herself using caution and to proceed | 2 | Is allowed to drive around the barrier and proceed |
| 3 | Is obliged to stop at the "STOP" line | 4 | None of the above-mentioned answers is true |

ბანმარტეზა:

„საგზაო მოძრაობის შესახებ“ საქართველოს კანონის 39-ე მუხლის პირველი პუნქტის „ბ“ ქვეპუნქტის თანახმად, მიუხედავად მაშუქი და ხმოვანი სიგნალების მითითებისა, არცერთი საგზაო მოძრაობის მონაწილე არ უნდა შევიდეს რკინიგზის გადასასვლელზე, რომლის შლავგაუმი ან ნახევარშლავგაუმი დაკეტილია, იკეტება ან იწევა. ამავე მუხლის მე-2 პუნქტის „ბ“ ქვეპუნქტის თანახმად, რკინიგზის გადასასვლელზე აკრძალულია შლავგაუმის ან ნახევარშლავგაუმის თვითნებური გახსნა. ამავე მუხლის მე-3 პუნქტის თანახმად თუ რკინიგზის გადასასვლელზე მოძრაობა აკრძალულია, მძღოლი ჩერდება „სდექ“ ხაზთან, 2.4 საგზაო ნიშანთან ან შექნიშანთან, ხოლო მათი არარსებობისას – შლავგაუმიდან ან ნახევარშლავგაუმიდან არანაკლებ 5 მეტრისა. თუ არ არის არც შლავგაუმი და არც ნახევარშლავგაუმი, მძღოლი უნდა გაჩერდეს უახლოეს რელსამდე არანაკლებ 10 მეტრისა.

QUESTION 577

CORRECT ANSWER: 2



Closing of the semi-barrier has started. The motor car driver will not violate the Highway Code, if he/she:

1

Completes motion, as he/she manages to cross the railroad crossing in time

2

Stops at the traffic light

3

Makes sure that the train is not approaching the crossing within the scope of visibility and passes the railroad crossing

ბანმარტეზა:

„საგზაო მოძრაობის შესახებ“ საქართველოს კანონის 39-ე მუხლის პირველი პუნქტის „ბ“ ქვეპუნქტის თანახმად, მიუხედავად მაშუქი და ხმოვანი სიგნალების მითითებისა, არცერთი საგზაო მოძრაობის მონაწილე არ უნდა შევიდეს რკინიგზის გადასასვლელზე, რომლის შლავგაუმი ან ნახევარშლავგაუმი დაკეტილია, იკეტება ან იწევა. ამავე მუხლის მე-3 პუნქტის თანახმად თუ რკინიგზის გადასასვლელზე მოძრაობა აკრძალულია, მძღოლი ჩერდება „სდექ“ ხაზთან, 2.4 საგზაო ნიშანთან ან შექნიშანთან, ხოლო მათი არარსებობისას – შლავგაუმიდან ან ნახევარშლავგაუმიდან არანაკლებ 5 მეტრისა. თუ არ არის არც შლავგაუმი და არც ნახევარშლავგაუმი, მძღოლი უნდა გაჩერდეს უახლოეს რელსამდე არანაკლებ 10 მეტრისა.

QUESTION 578

CORRECT ANSWER: 1



Semi-barrier is closed. The car driver will not violate the Highway Code, if he/she:

- | | | | |
|---|--|---|---|
| 1 | Stops at a distance of at least 5 meters from the semi-barrier | 2 | Drives around the barrier and crosses the railroad crossing |
| 3 | Opens the barrier himself/herself using caution and proceeds | 4 | None of the given answers in the test is true |

განმარტება:

„საგზაო მოძრაობის შესახებ“ საქართველოს კანონის 39-ე მუხლის პირველი პუნქტის „ბ“ ქვეპუნქტის თანახმად, მიუხედავად მაშუქი და ხმოვანი სიგნალების მითითებისა, არცერთი საგზაო მოძრაობის მონაწილე არ უნდა შევიდეს რკინიგზის გადასასვლელზე, რომლის შლაგბაუმი ან ნახევარშლაგბაუმი დაკეტილია, ივეტება ან იწევა. ამავე მუხლის მე-2 პუნქტის „ბ“ ქვეპუნქტის თანახმად, რკინიგზის გადასასვლელზე აკრძალულია შლაგბაუმის ან ნახევარშლაგბაუმის თვითნებური გახსნა. ამავე მუხლის მე-3 პუნქტის თანახმად თუ რკინიგზის გადასასვლელზე მოძრაობა აკრძალულია, მძღოლი ჩერდება „სდექ“ ხაზთან, 2.4 საგზაო ნიშანთან ან შუქნიშანთან, ხოლო მათი არარსებობისას – შლაგბაუმიდან ან ნახევარშლაგბაუმიდან არანაკლებ 5 მეტრისა. თუ არ არის არც შლაგბაუმი და არც ნახევარშლაგბაუმი, მძღოლი უნდა გაჩერდეს უახლოეს რელსამდე არანაკლებ 10 მეტრისა.

QUESTION 579

CORRECT ANSWER: 2



In the present situation, the motor car driver is obliged to:

1

Proceed, as the barrier is open

2

Stop at the traffic lights

პანმარტუბა:

„საგზაო მოძრაობის შესახებ“ საქართველოს კანონის 39-ე მუხლის პირველი პუნქტის „გ“ ქვეპუნქტის თანახმად, მარეგულირებლის ან შექნიშნის ამკრძალავი სიგნალის დროს არცერთი საგზაო მოძრაობის მონაწილე არ უნდა შევიდეს რკინიგზის გადასასვლელზე, მიუხედავად შლაგბაუმის ან ნახევარშლაგბაუმის მდგომარეობისა ან მისი არსებობისა. ამავე მუხლის მე-3 პუნქტის თანახმად თუ რკინიგზის გადასასვლელზე მოძრაობა აკრძალულია, მძღოლი ჩერდება „სდექ“ ხაზთან, 2.4 საგზაო ნიშანთან ან შექნიშანთან, ხოლო მათი არარსებობისას – შლაგბაუმიდან ან ნახევარშლაგბაუმიდან არანაკლებ 5 მეტრისა. თუ არ არის არც შლაგბაუმი და არც ნახევარშლაგბაუმი, მძღოლი უნდა გაჩერდეს უახლოეს რელსამდე არანაკლებ 10 მეტრისა.

QUESTION 580

CORRECT ANSWER: 1



In the present situation, which of the car drivers stopped at the railroad crossing is violating the Highway Code?

1

Yellow car driver only

2

White car driver only

3

Both of them

4

None of them

ბანმარტება:

„საგზაო მოძრაობის შესახებ“ საქართველოს კანონის 39-ე მუხლის პირველი პუნქტის „გ“ ქვეპუნქტის თანახმად, მარეგულირებლის ან შექნიშნის ამკრძალავი სიგნალის დროს არცერთი საგზაო მოძრაობის მონაწილე არ უნდა შევიდეს რკინიგზის გადასასვლელზე, მიუხედავად შლაგბაუმის ან ნახევარშლაგბაუმის მდგომარეობისა ან მისი არსებობისა. ამავე მუხლის მე-3 პუნქტის თანახმად თუ რკინიგზის გადასასვლელზე მოძრაობა აკრძალულია, მძღოლი ჩერდება „სდექ“ ხაზთან, 2.4 საგზაო ნიშანთან ან შექნიშანთან, ხოლო მათი არარსებობისას – შლაგბაუმიდან ან ნახევარშლაგბაუმიდან არანაკლებ 5 მეტრისა. თუ არ არის არც შლაგბაუმი და არც ნახევარშლაგბაუმი, მძღოლი უნდა გაჩერდეს უახლოეს რელსამდე არანაკლებ 10 მეტრისა.

QUESTION 581

CORRECT ANSWER: 1



In the present situation, is blue car driver prohibited from proceeding to the arrow direction?

1

Yes

2

No

განმარტება:

„საგზაო მოძრაობის შესახებ“ საქართველოს კანონის 34-ე მე-9 პუნქტის „ბ“ ქვეპუნქტის თანახმად, ამ მუხლის მე-3 პუნქტით დადგენილი მოთხოვნების გათვალისწინებით, გასწრება აკრძალულია რკინიგზის გადასასვლელზე და მის წინ 100 მეტრზე ახლოს, გარდა იმ შემთხვევებისა, როცა ამ ადგილებში მოძრაობა რეგულირდება ისეთი ტიპის შუქნიშნით რომელიც გზაჯვარედინებზე გამოიყენება. ამავე კანონის 39-ე მუხლის მე-2 პუნქტის „ა“ ქვეპუნქტის თანახმად, რკინიგზის გადასასვლელზე აკრძალულია საპირისპირო მოძრაობის ზოლზე გასვლით, გადასასვლელის წინ მდგომი სატრანსპორტო საშუალების შემოვლა.

QUESTION 582

CORRECT ANSWER: 4



The traffic controller is standing with right side to the vehicle, with hands down, in this situation the motor car driver:

1

Is obliged to slow down and stop

2

Is obliged to stop at a distance of at least 10 meters from the nearest rail

3

Is obliged to stop at a distance of at least 5 meters from the semi-barrier

4


Is allowed to proceed

განმარტება:

„საგზაო მოძრაობის შესახებ“ საქართველოს კანონის 39-ე მუხლის მე-4 პუნქტის თანახმად, რკინიგზის გადასასვლელზე მოძრაობის ამკრძალავი სიგნალის მიცემისას მარეგულირებელი დგას მძღოლის მიმართ მკერდით ან ზურგშეცევით, თავის ზემოთ აწეული კვერთხით, წითელი ფარნით ან ალმით ან განზე გაწეული ხელებით.

QUESTION 583

CORRECT ANSWER: 2



The train is completing to pass the railroad crossing, the motor car driver is allowed to proceed:

1

Immediately after the train is passed

2

After the train is passed and yellow flashing signal of the traffic lights is switched on

განმარტება:

„საგზაო მოძრაობის შესახებ“ საქართველოს კანონის 39-ე მუხლის პირველი პუნქტის „გ“ ქვეპუნქტის თანახმად, მარეგულირებლის ან შექნიშნის ამკრძალავი სიგნალის დროს არცერთი საგზაო მოძრაობის მონაწილე არ უნდა შევიდეს რკინიგზის გადასასვლელზე, მიუხედავად შლაგბაუმის ან ნახევარშლაგბაუმის მდგომარეობისა ან მისი არსებობისა. ამავე კანონის 29-ე მუხლის მე-8 პუნქტის თანახმად რკინიგზის გადასასვლელზე, გასასხნელი ხიდის მისასვლელთან, გემის ან ბორნის მისადგომთან, გზაზე სახანძრო ავტომობილის გამოსასვლელთან და იმ ადგილას, სადაც გზას დაბალ სიმაღლეზე კვეთს საფრენი აპარატის ტრაექტორია, გამოიყენება ერთ სადგარზე, ერთსა და იმავე სიმაღლეზე განლაგებული, ერთ მხარეს მიმართული ორი მორიგეობით მოციმციმე ან ერთი მოციმციმე წითელი ან ყვითელი მაშუქი სიგნალი, რომელთაგან წითელი მაშუქი სიგნალი კრძალავს „სდექ“ ხაზის გადაკვეთას, მისი არარსებობის შემთხვევაში კი – შექნიშნის იქით გადასვლას, ხოლო ყვითელი მაშუქი სიგნალი ნიშნავს, რომ მძღოლებს შეუძლიათ გააგრძელონ მოძრაობა, მაგრამ, ამასთანავე, ვალდებული არიან, დაიცვან განსაკუთრებული სიფრთხილე.

QUESTION 584

CORRECT ANSWER: 3



In the present situation, the motor car driver is obliged to stop:

- | | | | |
|---|------------------------------------|---|--|
| 1 | At least 5 meters from the barrier | 2 | At least 10 meters from the nearest rail |
| 3 | At the traffic light | | |

განმარტება:

„საგზაო მოძრაობის შესახებ“ საქართველოს კანონის 39-ე მუხლის პირველი პუნქტის „ბ“ ქვეპუნქტის თანახმად, მიუხედავად მაშუქი და ხმოვანი სიგნალების მითითებისა, არცერთი საგზაო მოძრაობის მონაწილე არ უნდა შევიდეს რკინიგზის გადასასვლელზე, რომლის შლაგბაუმი ან ნახევარშლაგბაუმი დაკეტილია, იკეტება ან იწევა. ამავე მუხლის მე-3 პუნქტის თანახმად თუ რკინიგზის გადასასვლელზე მოძრაობა აკრძალულია, მძღოლი ჩერდება „სდექ“ ხაზთან, 2.4 საგზაო ნიშანთან ან შუქნიშანთან, ხოლო მათი არარსებობისას – შლაგბაუმიდან ან ნახევარშლაგბაუმიდან არანაკლებ 5 მეტრისა. თუ არ არის არც შლაგბაუმი და არც ნახევარშლაგბაუმი, მძღოლი უნდა გაჩერდეს უახლოეს რელსამდე არანაკლებ 10 მეტრისა.

QUESTION 585

CORRECT ANSWER: 2



In the present situation, the motor car driver is obliged to stop:

1

Immediately at the barrier

2

At the "STOP" line

პანმარტუბა:

„საგზაო მოძრაობის შესახებ“ საქართველოს კანონის 39-ე მუხლის პირველი პუნქტის „გ“ ქვეპუნქტის თანახმად, მარეგულირებლის ან პუქნიშნის ამკრძალავი სიგნალის დროს არცერთი საგზაო მოძრაობის მონაწილე არ უნდა შევიდეს რკინიგზის გადასასვლელზე, მიუხედავად შლაგბაუმის ან ნახევარშლაგბაუმის მდგომარეობისა ან მისი არსებობისა. ამავე მუხლის მე-3 პუნქტის თანახმად თუ რკინიგზის გადასასვლელზე მოძრაობა აკრძალულია, მძღოლი ჩერდება „სდექ“ ხაზთან, 2.4 საგზაო ნიშანთან ან პუქნიშანთან, ხოლო მათი არარსებობისას – შლაგბაუმიდან ან ნახევარშლაგბაუმიდან არანაკლებ 5 მეტრისა. თუ არ არის არც შლაგბაუმი და არც ნახევარშლაგბაუმი, მძღოლი უნდა გაჩერდეს უახლოეს რელსამდე არანაკლებ 10 მეტრისა.

QUESTION 586

CORRECT ANSWER: 3



In the present situation, which car driver is prohibited from proceeding to the arrow direction?

1

Both of them

2

None of them

3

Red car driver only

4


Blue car driver only

განმარტება:

„საგზაო მოძრაობის შესახებ“ საქართველოს კანონის 34-ე მე-9 პუნქტის „ბ“ ქვეპუნქტის თანახმად, ამ მუხლის მე-3 პუნქტით დადგენილი მოთხოვნების გათვალისწინებით, გასწრება აკრძალულია რკინიგზის გადასასვლელზე და მის წინ 100 მეტრზე ახლოს, გარდა იმ შემთხვევებისა, როცა ამ ადგილებში მოძრაობა რეგულირდება ისეთი ტიპის უქნიშნით რომელიც გზაჯვარედინებზე გამოიყენება. ამავე კანონის პირველი დანართის პირველი თავის (მაფრთხილებელი ნიშნები) 1.2 და 1.4.6-1.4.6 პუნქტების თანახმად საგზაო ნიშანი: 1.2 „რკინიგზის უშლავაუმო გადასასვლელი“ - აფრთხილებს უშლავაუმო რკინიგზის გადასასვლელთან მიახლოების შესახებ; 1.4.3 „რკინიგზის გადასასვლელთან მიახლოება“ - დამატებით აფრთხილებს მძღოლს დაუსახლებელ პუნქტში რკინიგზის გადასასვლელთან მიახლოების შესახებ. ამავე თავის პენიშნის „ბ“ და „ვ“ ქვეპუნქტების თანახმად: ბ) ნიშნები 1.1 და 1.2, დაუსახლებელ პუნქტში მეორდება, მეორე ნიშანი იდგმება სახიფათო მონაკვეთის დასაწყისიდან არანაკლებ 50 მეტრის მანძილზე; ვ) ნიშნები 1.4.3 და 1.4.6 იდგმება მოძრაობის მიმართულებით განმეორებით 1.1 ან 1.2 ნიშნებთან.

QUESTION 587

CORRECT ANSWER: 2



In the present situation, is the driver prohibited from reversing to the arrow direction and afterwards performing U-turn maneuver?

1

Yes

2

No

განმარტება:

„საგზაო მოძრაობის შესახებ“ საქართველოს კანონის 32-ე მუხლის მე-15 პუნქტის „დ“ ქვეპუნქტისა და მე-16 პუნქტის თანახმად: 15. აკრძალულია სატრანსპორტო საშუალების მობრუნება რკინიგზის გადასასვლელზე; 16. მძღოლი, რომელიც მობრუნებას ან უკუსვლით მოძრაობას აპირებს, უნდა დარწმუნდეს, რომ მას შეუძლია ისე შეასრულოს ეს მანევრი, რომ საფრთხე არ შეუქმნას და ხელი არ შეუშალოს სხვა საგზაო მოძრაობის მონაწილეებს. აუცილებლობის შემთხვევაში მიზანშეწონილია სხვა პირის დახმარება. აკრძალულია უკუსვლით მოძრაობა გზაჯვარედინზე, ავტომაგისტრალზე და ამ მუხლის მე-15 პუნქტით განსაზღვრულ ადგილებში.

QUESTION 588

CORRECT ANSWER: 1



Is red vehicle driver allowed to enter the railroad crossing, if there is the traffic jam after the crossing?

1

No

2

Yes

განმარტება:

„საგზაო მოძრაობის შესახებ“ საქართველოს კანონის 39-ე მუხლის პირველი პუნქტის „ე“ ქვეპუნქტის თანახმად, მძღოლი არ უნდა შევიდეს რკინიგზის გადასასვლელზე, თუ წინასწარ არ დარწმუნდება, რომ იძულებული არ იქნება, გაჩერდეს მასზე.

QUESTION 589

CORRECT ANSWER: 4

Following is prohibited on the railroad crossing:

1

Driving around the vehicle stopped in front of the crossing by moving to the reverse traffic lane only

2

Random opening of barrier or semi-barrier only

3

Transmission of agricultural, road-construction and other machines and devices in non-transport state, which may damage the crossing or impede from motion on it

4

The performance of any of the actions listed in given test

განმარტება:

„საგზაო მოძრაობის შესახებ“ საქართველოს კანონის 39-ე მუხლის მე-2 პუნქტის „ა“, „ბ“ და „გ“ ქვეპუნქტების თანახმად, რკინიგზის გადასასვლელზე აკრძალულია: ა) საპირისპირო მოძრაობის ზოლზე გასვლით რკინიგზის გადასასვლელის წინ მდგომი სატრანსპორტო საშუალების შემოვლა; ბ) შლაგბაუმის ან ნახევარშლაგბაუმის თვითნებური გახსნა; გ) იმ სასოფლო-სამეურნეო, საგზაო-სამშენებლო და სხვა მანქანებისა და მექანიზმების არასატრანსპორტო მდგომარეობაში გადატანა, რომლებმაც შეიძლება დააზიანონ რკინიგზის გადასასვლელი ან შეაფერხონ მასზე მოძრაობა;

QUESTION 590

CORRECT ANSWER: 2

“Railroad crossing” is:

1

Any section of railroad

2

Junction of road and railroad or tram rails with independent plane on one level

3

Junction of road and railroad or tram rails with independent plane on various levels

განმარტება:

„საგზაო მოძრაობის შესახებ“ საქართველოს კანონის 5-ე მუხლის 58-ე პუნქტის თანახმად, „რკინიგზის გადასასვლელი“ - გზისა და დამოუკიდებელი ვაკისის მქონე რკინიგზის ან ტრამვაის ლიანდაგების ერთ დონეზე გადაკვეთა.

QUESTION 591

CORRECT ANSWER: 1

During routing in turning, what kind of tank-truck profile is more stable against overturn?

1

With ellipse-shaped profile

2

With round profile

განმარტება:

რაც უფრო მაღლაა განლაგებული სატრანსპორტო საშუალების სიმძიმის ცენტრი მით უფრო ნაკლებია მისი მდგრადობა გადაყირავების წინააღმდეგ, განურჩევლად ტვირთის ხასიათისა. ტვირთიანი სატრანსპორტო საშუალების სიმძიმის ცენტრი ყოველთვის უფრო მაღლაა განლაგებული ვიდრე უტვირთოსი. ელიფსის ფორმის პროფილის მქონე ავტოცისტერნის სიმძიმის ცენტრი განლაგებულია უფრო დაბლა ვიდრე მრგვალი პროფილის მქონე ავტოცისტერნის, ამიტომ ელიფსის ფორმის პროფილის მქონე ავტოცისტერნა უფრო მდგრადია გადაყირავების წინააღმდეგ.

QUESTION 592

CORRECT ANSWER: 3

In case of transportation of liquid goods, a tank lorry is more stable against overturn, if fuel-tank is filled:

1

Half

2

By 75%

3

Fully

განმარტება:

რაც უფრო მაღლაა განლაგებული სატრანსპორტო საშუალების სიმძიმის ცენტრი მით უფრო ნაკლებია მისი მდგრადობა გადაყირავების წინააღმდეგ, განურჩევლად ტვირთის ხასიათისა. ტვირთიანი სატრანსპორტო საშუალების სიმძიმის ცენტრი ყოველთვის უფრო მაღლაა განლაგებული ვიდრე უტვირთოსი. ავტოცისტერნით თხევადი ტვირთის გადაზიდვის შემთხვევაში აგრეთვე გასათვალისწინებელია, რომ შეუვსებელ ცისტერნაში სითხეს აქვს გადაადგილების საშუალება, რაც დამატებით მომქმედ ინერციულ ძალას წარმოშობს და ამცირებს სატრანსპორტო საშუალების მდგრადობას გადაყირავების წინააღმდეგ.

QUESTION 593

CORRECT ANSWER: 4

At the time of routing on turning, sweep and stowage of road train may be caused by:

- | | |
|--|---|
| <div style="border: 1px solid #ccc; padding: 10px; margin-bottom: 10px;"> <div style="background-color: #f00; color: white; text-align: center; width: 30px; float: left; margin-right: 10px;">1</div> <div>Excess speed only</div> </div> <div style="border: 1px solid #ccc; padding: 10px;"> <div style="background-color: #f00; color: white; text-align: center; width: 30px; float: left; margin-right: 10px;">3</div> <div>Hard braking only</div> </div> | <div style="border: 1px solid #ccc; padding: 10px; margin-bottom: 10px;"> <div style="background-color: #f00; color: white; text-align: center; width: 30px; float: left; margin-right: 10px;">2</div> <div>Hard swerving of steering wheel only</div> </div> <div style="border: 1px solid #ccc; padding: 10px;"> <div style="background-color: #f00; color: white; text-align: center; width: 30px; float: left; margin-right: 10px;">4</div> <div>Excess speed, as well as hard swerving of steering wheel and hard braking</div> </div> |
|--|---|

განმარტება:

მოსახვევში მოძრაობისას სიჩქარის შერჩევა უნდა მოხდეს იმის გათვალისწინებით, რომ დიდია ავტომატარებლის მოცურების, დაკეცვის და გადაყირავების საშიშროება. მოსახვევები უნდა გავიაროთ მდორედ, არ უნდა გავაკეთოთ მკვეთრი დამუხრუჭება, ვიმოძრაოთ დაბალი სიჩქარით. საჭის თვლის მკვეთრი მობრუნება, მკვეთრი დამუხრუჭება ან გადამეტებული სიჩქარე მისაბმელის დიდი ინერციის გავლენით მოსალოდნელია გახდეს ავტომატარებლის მოცურების, გადაყირავების და დაკეცვის მიზეზი.

QUESTION 594

CORRECT ANSWER: 3

At the time of routing on the ascent, on the slippery ice-covered road, sweep and stowage of road train may be caused by:

- | | |
|---|--|
| <div style="border: 1px solid #ccc; padding: 10px; margin-bottom: 10px;"> <div style="background-color: #f00; color: white; text-align: center; width: 30px; float: left; margin-right: 10px;">1</div> <div>Hard swerving of steering wheel only</div> </div> <div style="border: 1px solid #ccc; padding: 10px;"> <div style="background-color: #f00; color: white; text-align: center; width: 30px; float: left; margin-right: 10px;">3</div> <div>Both hard swerving of steering wheel and hard braking</div> </div> | <div style="border: 1px solid #ccc; padding: 10px; margin-bottom: 10px;"> <div style="background-color: #f00; color: white; text-align: center; width: 30px; float: left; margin-right: 10px;">2</div> <div>Hard braking only</div> </div> |
|---|--|

განმარტება:

გამთრის პირობებში აღმართზე მოძრაობისას მძღოლმა უნდა ჩართოს დაბალი გადაცემა ან ჩართოს სარიგებელი კოლოფი, რათა გამოირიცხოს აღმართზე სიჩქარის გადართვის აუცილებლობა, რამაც თავის მხრივ შეიძლება გამოიწვიოს წამყვანი თვლების მოცურება. აღმართზე ყინულით დაფარული გზის პირობებში ავტომობილი ვერ შეძლებს მოძრაობის განახლებას და მისაბმელი თვითნებურად დაიწყებს მოცურებას უკან. მოლიპულ გზაზე საჭის თვლის მკვეთრი მობრუნება ან დამუხრუჭება ასევე შეიძლება გახდეს ავტომობილის და მისაბმელის მოცურების, დაკეცვის ან გადაყირავების მიზეზი.

QUESTION 595

CORRECT ANSWER: 2

When routing in turning, dynamic corridor of road train and articulated bus exceeds dynamic corridor of single car:

1

By 5%

2

By 10-40%

3

By 50-70%

განმარტება:

მოსახვევში მოძრაობისას ავტომატარებლისა და შესასხრებული ავტობუსების მოძრაობისათვის საჭირო ზოლი მნიშვნელოვნად ფართოვდება. მოხვევისას გამწვან ავტომობილის წინა თვლები იკავებს მოხვევის ცენტრის სანინალმდეგო მხარეს, ხოლო ავტომობილის უკანა და მისაბმელის თვლები მოხვევის ცენტრის მხარეს. ავტომატარებლისა და შესასხრებული ავტობუსის დინამიკური დერეფანი 10-40%-ით მეტია ვიდრე ერთეული ავტომობილის და ჩვეულებრივი ავტობუსის დინამიკური დერეფანი.

QUESTION 596

CORRECT ANSWER: 3

In case of overtaking by road train and articulated bus, safe side interval to the vehicle to be overtaken should not be:

1

Less than 1 meter

2

Less than 1.5 meters

3

Less than 2 meters

განმარტება:

„საგზაო მოძრაობის შესახებ“ საქართველოს კანონის 34-ე მუხლის მე-5 პუნქტის თანახმად, უსაფრთხოების უზრუნველყოფის მიზნით, გასწრების მომენტში მძღოლმა გასასწრებ სატრანსპორტო საშუალებისათვის (საშუალებებისათვის) უნდა დატოვოს საკმარისი გვერდითი სივრცე. გასწრების წინ მძღოლი უნდა დარწმუნდეს, რომ სავალი ნაწილის სიგანე იძლევა საშუალებას დაიკავოს გასასწრებ სატრანსპორტო საშუალებასთან მიმართებაში გვერდითი ინტერვალი არა ნაკლები 1-1,5 მეტრი. ავტომატარებლისა და შესასხრებული ავტობუსების მძღოლებმა დამატებით უნდა გაითვალისწინონ, რომ მისაბმელის გვერდითი გადაადგილება ზრდის სატრანსპორტო შემადგენლობის დინამიკურ კარიდორს 10-40%-ით. უსაფრთხო გვერდითი ინტერვალი ამ შემთხვევაში არ უნდა იყოს 2 მეტრზე ნაკლები.

QUESTION 597

CORRECT ANSWER: 1

According to the technical requirements of the vehicles twin wheels are supposed to be installed so that the condition of the ventilation holes of the disks ensure:

1 The possibility both to inflate the tires and measure their pressure

2 The possibility to measure only the pressure

3 The possibility to inflate the tires only

განმარტება:

„ავტოსატრანსპორტო საშუალებების მიმართ წაყენებული ტექნიკური მოთხოვნები, რომლებთან შესაბამისობის დადგენის მიზნითაც ტარდება გზისთვის ვარგისობაზე ტესტირება და მისი ჩატარების მეთოდების“ საქართველოს მთავრობის 2014 წლის 3 იანვარის №30 დადგენილებით დამტკიცებული ტექნიკური რეგლამენტის მე-8 მუხლის მე-3 პუნქტის თანახმად, შეწყვილებული თვლები ისე უნდა იყოს დაყენებული, რომ მათი დისკების სავენტილაციო ნახვრეტების მდგომარეობა უზრუნველყოფდეს საბურავების როგორც დაბერვის, ისე წნევის გაზომვის შესაძლებლობას.

QUESTION 598

CORRECT ANSWER: 4

According to the technical requirements of the vehicles it is compulsory to be in working conditions:

- | | |
|--------------------------------------|---|
| 1 Only door operating gear and locks | 2 Only lorry platform side locks |
| 3 Only tank filling lock | 4 All of the equipment listed in given test |

განმარტება:

„ავტოსატრანსპორტო საშუალებების მიმართ წაყენებული ტექნიკური მოთხოვნები, რომლებთან შესაბამისობის დადგენის მიზნითაც ტარდება გზისთვის ვარგისობაზე ტესტირება და მისი ჩატარების მეთოდების“ საქართველოს მთავრობის 2014 წლის 3 იანვარის №30 დადგენილებით დამტკიცებული ტექნიკური რეგლამენტის მე-9 მუხლის მე-19 პუნქტის თანახმად, „ავტოსატრანსპორტო საშუალებების კარების საკეტები, სატვირთო პლატფორმის ბორტის ჩამრაბი, ცისტერნების ჩასასხმელის ჩამრაბი, მძღოლთა და მგზავრთა სავარძლების ფიქსირებისა და რეგულირების მექანიზმები, ხმოვანი სიგნალი, საქარე მინის გაქრევისა და გათბობის მოწყობილობა, დამამზადებლის მიერ გათვალისწინებული გატაცების საწინააღმდეგო მოწყობილობა, კარების ავარიული გამომრთველი და გაჩერების მანიშნებელი სიგნალი, ავტობუსების ავარიული გამოსასვლელები და მათი მოქმედებაში მომყვანი მოწყობილობა, ავტობუსის სალონის შიგა განათების ჩამრთველები, კარების მართვის ამძრავი და მათი მუშაობის სიგნალიზაცია უნდა იყოს მუშა მდგომარეობაში.

QUESTION 599

CORRECT ANSWER: 2

According to the technical requirements of the vehicles the height of the tire tread of a lorry tire is required to be not less than:

- | | |
|----------|----------|
| 1 1.6 mm | 2 1,0 mm |
| 3 2,0 mm | |

განმარტება:

„ავტოსატრანსპორტო საშუალებების მიმართ წაყენებული ტექნიკური მოთხოვნები, რომლებთან შესაბამისობის დადგენის მიზნითაც ტარდება გზისთვის ვარგისობაზე ტესტირება და მისი ჩატარების მეთოდების“ საქართველოს მთავრობის 2014 წლის 3 იანვარის №30 დადგენილებით დამტკიცებული ტექნიკური რეგლამენტის პირველი მუხლის პირველი პუნქტის „გ“ ქვეპუნქტის თანახმად, საბურავების პროტექტორის ნახატის სიმაღლე უნდა იყოს არანაკლებ: გ) სატვირთო ავტომობილებისათვის – 1,0 მმ.

QUESTION 600

CORRECT ANSWER: 3

If it is not indicated in the exploitation documents of the manufacturer, the free play in the steering wheel control system of a lorry must not exceed:

1 15°

2 20°

3 25°

განმარტება:

„ავტოსატრანსპორტო საშუალებების მიმართ წაყენებული ტექნიკური მოთხოვნები, რომლებთან შესაბამისობის დადგენის მიზნითაც ტარდება გზისთვის ვარგისობაზე ტესტირება და მისი ჩატარების მეთოდების“ საქართველოს მთავრობის 2014 წლის 3 იანვარის №30 დადგენილებით დამტკიცებული ტექნიკური რეგლამენტის მე-5 მუხლის მე-3 პუნქტის „გ“ ქვეპუნქტის თანახმად, საჭით მართვის სისტემაში ჯამური ფოლხვა არ უნდა აღემატებოდეს დამამზადებლის საექსპლუატაციო დოკუმენტში მოცემულ ზღვრულ მნიშვნელობას, ხოლო თუ ასეთი მნიშვნელობები არ არის მითითებული, შემდეგ ზღვრულ მნიშვნელობებს: გ) სატვირთო ავტომობილებისთვის – 25°.

QUESTION 601

CORRECT ANSWER: 2

When driving the road train, is it necessary to observe more distance up to preceding vehicle, then in case of driving the motor car?

1 No, as reaction time of the road train driver is shorter than of other drivers, because of his/her experience

2 Yes, because the braking distance of a road train due to its large mass is longer than of the light vehicle

3 No, as braking distance of the road train is shorter than of the motor cars

განმარტება:

ავტომატარებლით მოძრაობისას საჭიროა დავიცვათ მეტი დისტანცია წინ მოძრავ სატრანსპორტო საშუალებამდე, ვიდრე მსუბუქი ავტომობილით მოძრაობისას რადგან ავტომატარებლის დიდი მასა და მუხრუჭების რეაგირებისათვის საჭირო დრო საშუალებას არ იძლევა სწრაფად დამუხრუჭების.

თემა 22:

მოდერაობა ავტომაგისტრალზე

QUESTION 602

CORRECT ANSWER: 3



In case of forced stop of the car at the place shown in the picture, the driver:

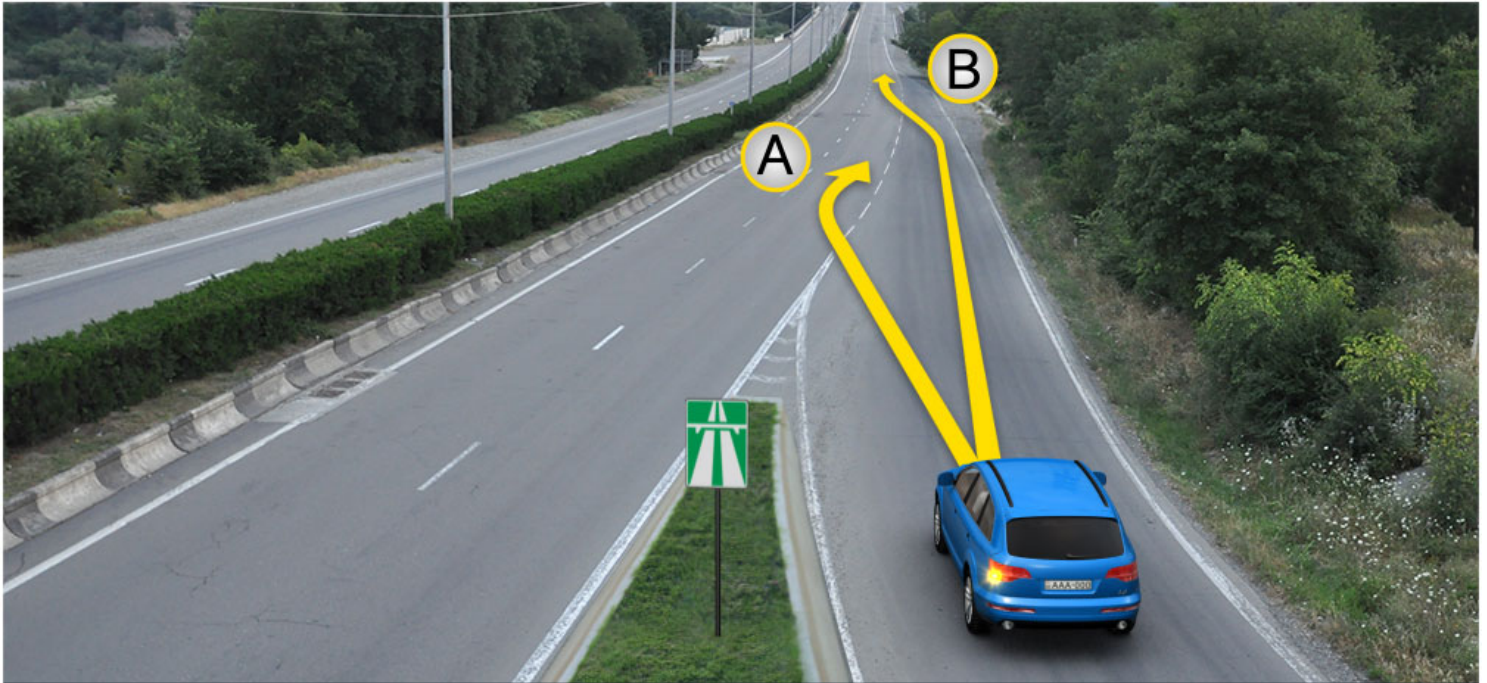
- | | |
|--|---|
| <div style="background-color: #f08080; color: white; border-radius: 50%; width: 30px; height: 30px; display: flex; align-items: center; justify-content: center; margin-bottom: 10px;">1</div> <p>Must switch on hazard lights only</p> | <div style="background-color: #f08080; color: white; border-radius: 50%; width: 30px; height: 30px; display: flex; align-items: center; justify-content: center; margin-bottom: 10px;">2</div> <p>Must mark the car with appropriate sign on sufficient distance only</p> |
| <div style="background-color: #f08080; color: white; border-radius: 50%; width: 30px; height: 30px; display: flex; align-items: center; justify-content: center; margin-bottom: 10px;">3</div> <p>Must switch on hazard lights and mark the car with appropriate sign on sufficient distance</p> | |

განმარტება:

„საგზაო მოძრაობის შესახებ“ საქართველოს კანონის პირველი დანართის მე-5 თავის (განსაკუთრებული მითითებების ნიშნები) 5.1 პუნქტის თანახმად საგზაო ნიშანი 5.1 „ავტომანქანა“ - ავტომანქანის, რომელზედაც მოქმედებს ავტომატური რეგულაცია მოძრაობის მომწესრიგებელი ნორმების მოთხოვნები. ნიშანი იდგმება ავტომანქანის დასაწყისში ან მის სიახლოვეს 8.1.1 დაფით. ამავე კანონის 38-ე მუხლის პირველი პუნქტის „გ.ა“ ქვეპუნქტის თანახმად ავტომანქანაზე, ავტომანქანის შესასვლელსა და გამოსასვლელზე მძღოლს ეკრძალება ავტომობილის (ან/და მისი მისაბმელის) გაჩერება ან დგომა, დგომისთვის გამოყოფილი, სპეციალურად მონიშნული ადგილების გარდა. მძღოლმა, რომელიც მისგან დამოუკიდებელი გარემოებების გამო იძულებულია, გაჩერდეს, უნდა მიიღოს ყველა ზომა ავტომობილის (ან/და მისი მისაბმელის) გზის სავალი ნაწილიდან გასაყვანად, ხოლო თუ ამის დაუყოვნებლივ გაკეთება შეუძლებელია – ჩართოს საავარიო შექსიგნალიზაცია (მისი არსებობის შემთხვევაში) და შესაბამისი ნიშნით მონიშნოს ავტომობილი (ან/და მისი მისაბმელი) საკმარის მანძილზე, რათა დროულად გააფრთხილოს მოახლოებული მძღოლები. ამავე კანონის 52-ე მუხლის პირველი პუნქტის „ა“ ქვეპუნქტისა და მე-2 პუნქტის „ბ“ ქვეპუნქტის თანახმად: 1. საავარიო შექსიგნალიზაცია გამოიყენება მოსალოდნელი საფრთხის შესახებ სხვა საგზაო მოძრაობის მონაწილეთა გაფრთხილებისათვის. საავარიო შექსიგნალიზაცია უნდა ჩაირთოს: ბ) იმ ადგილას იძულებით გაჩერების დროს, სადაც გაჩერება აკრძალულია; 2. საავარიო შექსიგნალიზაციის ჩართვის შემდეგ, აგრეთვე თუ ასეთი სიგნალიზაცია არ არსებობს ან მწყობრიდანაა გამოსული, მძღოლმა დაუყოვნებლივ უნდა დადგას „სავარიო გაჩერების ნიშანი“, ხოლო არასაკმარისი ხილვადობის პირობებში – მოციმციმე წითელი ფარანი: ბ) იმ ადგილას იძულებით გაჩერების დროს, სადაც გაჩერება აკრძალულია, და იქ, სადაც, ხილვადობის პირობების

QUESTION 603

CORRECT ANSWER: 2



At the entry site to road, in case of existence of acceleration lane, the motor car driver is allowed to proceed:

1

In direction A only

2

In direction B only

3

In both A and B directions

ბანმარტიბა:

„საგზაო მოძრაობის შესახებ“ საქართველოს კანონის 32-ე მუხლის მე-14 პუნქტის თანახმად, გზაზე გასასვლელ ადგილზე გაქანების ზოლის არსებობის შემთხვევაში მძღოლმა უნდა იმოძრაოს ამ ზოლზე და მეზობელ მოძრაობის ზოლზე გადაადგილებისას გზა უნდა დაუთმოს მასზე მოძრავ სატრანსპორტო საშუალებებს.

QUESTION 604

CORRECT ANSWER: 1



Red vehicle driver drove past the right turning. Is he/she prohibited from reversing to the arrow direction to enter the turning?

1

Yes

2

No

განმარტება:

„საგზაო მოძრაობის შესახებ“ საქართველოს კანონის 38-ე მუხლის პირველი პუნქტის „გ.ბ“ ქვეპუნქტის თანახმად ავტომაგისტრალზე, ავტომაგისტრალის შესასვლელზე და გამოსასვლელზე მძღოლს ეკრძალება მობრუნება ან უკუსვლით მოძრაობა, აგრეთვე ცენტრალურ გამყოფ ზოლსა და გზის ორივე სავალი ნაწილის განივ შეერთებაზე გასვლა. ამავე კანონის პირველი დანართის მე-5 თავის (განსაკუთრებული მითითებების ნიშნები) 5.1 პუნქტის თანახმად საგზაო ნიშანი 5.1 „ავტომაგისტრალი“ - აღნიშნავს ავტომაგისტრალს, რომელზედაც მოქმედებს ავტომაგისტრალზე მოძრაობის მომწესრიგებელი ნორმების მოთხოვნები.

QUESTION 605

CORRECT ANSWER: 1



The motor car driver drove past the lateral junction point of the driveway. Is he/she prohibited from reversing to the arrow direction?

1

Yes

2

No

განმარტება:

„საგზაო მოძრაობის შესახებ“ საქართველოს კანონის 38-ე მუხლის პირველი პუნქტის „გ.ბ“ ქვეპუნქტის თანახმად ავტომაგისტრალზე, ავტომაგისტრალის შესასვლელებზე და გამოსასვლელებზე მძღოლს ეკრძალება მობრუნება ან უკუსვლით მოძრაობა, აგრეთვე ცენტრალურ გამყოფ ზოლსა და გზის ორივე სავალი ნაწილის განივ შეერთებაზე გასვლა. ამავე კანონის პირველი დანართის მე-5 თავის (განსაკუთრებული მითითებების ნიშნები) 5.1 პუნქტის თანახმად საგზაო ნიშანი 5.1 „ავტომაგისტრალი“ - აღნიშნავს ავტომაგისტრალს, რომელზედაც მოქმედებს ავტომაგისტრალზე მოძრაობის მომწესრიგებელი ნორმების მოთხოვნები.

QUESTION 606

CORRECT ANSWER: 4

Which of the below traffic participants is not prohibited from proceeding on the highways, as well as on highway entrances and exits?

1

Moped riders

2

Pedestrians

3

Two-wheel self-propelled electric vehicle drivers

4


Road train drivers

განმარტება:

„საგზაო მოძრაობის შესახებ“ საქართველოს კანონის 38-ე მუხლის პირველი პუნქტის „ა“ ქვეპუნქტის თანახმად, ავტომაგისტრალზე, ავტომაგისტრალის შესასვლელსა და გამოსასვლელზე აკრძალულია ქვეითის, ცხოველის, ველოსიპედის, მოპედის, ორბორბლიანი ელექტროთვითმგორავის, ავტომობილისა და მათი მისაბმელებისგან განსხვავებული ყველა სატრანსპორტო საშუალების მოძრაობა, აგრეთვე იმ ავტომობილის (მისაბმელით ან მის გარეშე) მოძრაობა, რომლის კონსტრუქციული სიჩქარე არ აღემატება 40 კმ/სთ-ს (ეს შეზღუდვა არ ვრცელდება იმ მექანიკურ სატრანსპორტო საშუალებაზე, რომელიც ავტომაგისტრალზე მოძრაობს უფლებამოსილ ორგანოსთან (უნწყებასთან) საქართველოს კანონმდებლობით დადგენილი წესით შეთანხმებისა და ამ შეთანხმების პირობების შესაბამისად).

QUESTION 607

CORRECT ANSWER: 2



A motor car driver is allowed to proceed without leaving the highway:

1

In direction A

2

In direction B

3


In both A and B directions

განმარტება:

„საგზაო მოძრაობის შესახებ“ საქართველოს კანონის 38-ე მუხლის მე-3 პუნქტის თანახმად, ავტომაგისტრალიდან გამოსვლისას მძღოლი დროულად უნდა გადავიდეს ავტომაგისტრალიდან გამოსასვლელის მიმდებარე ზოლზე და რაც შეიძლება სწრაფად შევიდეს მოძრაობის შენელების ზოლზე, თუ ასეთი ზოლი არსებობს.

QUESTION 608

CORRECT ANSWER: 2



Which motor car driver is violating the Highway Code when driving to the arrow direction?

1

Lorry driver only

2

Both of them

3

Motor car driver only

4

None of them

ბანმარტეზა:

„საგზაო მოძრაობის შესახებ“ საქართველოს კანონის 38-ე მუხლის პირველი პუნქტის „გ.გ“ ქვეპუნქტის თანახმად, ავტომანქანის მძღოლმა, ავტომანქანის მძღოლის შესასვლელსა და გამოსასვლელზე მძღოლს ეკრძალება მეორე ზოლის იქით იმ ტვირთის გადამზიდავი ავტომობილით (მისაბმელებით ან მათ გარეშე) მოძრაობა, რომლის ნებადართული მაქსიმალური მასა 3,5 ტონას აღემატება ან იმ მისაბმელიანი ავტომობილებით მოძრაობა, რომელთა საერთო სიგრძე 7 მეტრზე მეტია. ამავე მუხლის მე-3 პუნქტის თანახმად, ავტომანქანის მძღოლიდან გამოსვლისას მძღოლი დროულად უნდა გადავიდეს ავტომანქანის მძღოლიდან გამოსასვლელის მიმდებარე ზოლზე და რაც შეიძლება სწრაფად შევიდეს მოძრაობის შენელების ზოლზე, თუ ასეთი ზოლი არსებობს.

QUESTION 609

CORRECT ANSWER: 2



Is the motor car driver violating the Highway Code in case of forced stop at the indicated place on the highway?

1

No

2


Yes

განმარტება:

„საგზაო მოძრაობის შესახებ“ საქართველოს კანონის 38-ე მუხლის პირველი პუნქტის „გ.ა“ და „გ.ბ“ ქვეპუნქტების თანახმად, ავტომაგისტრალზე, ავტომაგისტრალის შესასვლელსა და გამოსასვლელზე მძღოლს ეკრძალება: გ.ა) ავტომობილის (ან/და მისი მისაბმელის) გაჩერება ან დგომა, დგომისთვის გამოყოფილი, სპეციალურად მონიშნული ადგილების გარდა. გ.ბ) მობრუნება ან უკუსვლით მოძრაობა, აგრეთვე ცენტრალურ გამყოფ ზოლსა და გზის ორივე სავალი ნაწილის განივ შეერთებაზე გასვლა; ამავე კანონის მე-2 დანართის პირველი თავის (ჰორიზონტალური მონიშვნა) 1.2.1 პუნქტის თანახმად, 1.2.1 მთლიანი ფართო ხაზი - აღნიშნავს ავტომაგისტრალზე სავალი ნაწილის ნაპირებს. 1.2.1 ხაზის გადაკვეთა აკრძალულია. დასაშვებია სავალი ნაწილის ნაპირის აღმნიშვნელი და მძღოლის მარჯვენა მხარეს განლაგებული 1.2.1 ხაზის გადაკვეთა სატრანსპორტო საშუალების გზის ნაპირზე გასაჩერებლად.

QUESTION 610

CORRECT ANSWER: 3



In the present situation, which of the vehicle drivers is not prohibited from driving to the arrow direction?

1

Lorry driver only

2

Moped rider only

3

Motor car driver only

4


All of them

განმარტება:

„საგზაო მოძრაობის შესახებ“ საქართველოს კანონის 38-ე მუხლის პირველი პუნქტის „ა“ ქვეპუნქტის თანახმად, აკრძალულია ქვეითების, ცხოველების, ველოსიპედების, მოპედების, ავტომობილებისა და მათი მისაბმელებისგან განსხვავებული ყველა სატრანსპორტო საშუალების მოძრაობა, აგრეთვე იმ ავტომობილების (მისაბმელებით ან მათ გარეშე) მოძრაობა, რომელთა კონსტრუქციული სიჩქარე არ აღემატება 40 კმ/სთ (აღნიშნული შეზღუდვა არ ვრცელდება იმ მექანიკურ სატრანსპორტო საშუალებებზე, რომლებიც ავტომაგისტრალზე გადაადგილდებიან უფლებამოსილი ორგანოსთან (უნწყებასთან) კანონმდებლობით დადგენილი წესით შეთანხმებისა და ამ შეთანხმების პირობების შესაბამისად). ამავე პუნქტის „გ.გ“ ქვეპუნქტის თანახმად, ავტომაგისტრალზე, ავტომაგისტრალის შესასვლელსა და გამოსასვლელზე მძღოლს ეკრძალება მეორე ზოლის იქით იმ ტვირთის გადამზიდავი ავტომობილით (მისაბმელებით ან მათ გარეშე) მოძრაობა, რომლის ნებადართული მაქსიმალური მასა 3,5 ტონას აღემატება ან იმ მისაბმელიანი ავტომობილებით მოძრაობა, რომელთა საერთო სიგრძე 7 მეტრზე მეტია.

QUESTION 611

CORRECT ANSWER: 4



The lorry driver is performing the road works. Which of the vehicle drivers is prohibited from driving to the arrow direction?

1

Lorry driver only

2

Motor car driver only

3

Both of them

4

None of them

ბანმარტება:

„საგზაო მოძრაობის შესახებ“ საქართველოს კანონის 51-ე მუხლის მე-4 პუნქტის თანახმად, მძღოლს, რომელსაც სატრანსპორტო საშუალებაზე ჩართული აქვს ნარინჯისფერი ან ყვითელი ფერის მოელვარე სპეციალური შუქური სიგნალი და რომელიც გზაზე ასრულებს სამშენებლო, სარემონტო ან დასასუფთავებელ სამუშაოებს, ან საინჟინერო სატრანსპორტო საშუალებით გადა აქვს ძვრფასეულობა ან ფასიანი ქაღალდები, ან გადააქვს სახიფათო ტვირთი, ან გადაადგილდება არაგაბარითული (მსხვილგაბარითიანი) ან ზენორმატიული (მძიმეზონიანი) სატრანსპორტო საშუალებით, შეუძლია გადაუხვიოს საგზაო ნიშნებისა და მონიშვნების, აგრეთვე ამ კანონის 31-ე მუხლის მე-5–მე-10, მე-15, მე-16 და 38-ე მუხლის პირველი პუნქტების მოთხოვნებს თუ უზრუნველყოფს საგზაო მოძრაობის უსაფრთხოებას. ნარინჯისფერი ან ყვითელი მოელვარე სპეციალური შუქური სიგნალი არ იძლევა უპირატესობას საგზაო მოძრაობის სხვა მონაწილეების მიმართ და გამოიყენება ყურადღების მისაპყრობად მოსალოდნელი საშიშროების თავიდან ასაცილებლად.

QUESTION 612

CORRECT ANSWER: 2



In the present situation is the driver violating the forced stop orders, if it is not possible to take the damaged vehicle from the road?

1

No

2

Yes

განმარტება:

„საგზაო მოძრაობის შესახებ“ საქართველოს კანონის 38-ე მუხლის პირველი პუნქტის „გ.ა“ ქვეპუნქტის თანახმად, ავტომაგისტრალზე, ავტომაგისტრალის შესასვლელსა და გამოსასვლელზე მძღოლს ეკრძალება, ავტომობილის (ან/და მისი მისაბმელის) გაჩერება ან დგომა, დგომისთვის გამოყოფილი, სპეციალურად მონიშნული ადგილების გარდა. მძღოლმა, რომელიც მისგან დამოუკიდებელი გარემოებების გამო იძულებულია, გაჩერდეს, უნდა მიიღოს ყველა ზომა ავტომობილის (ან/და მისი მისაბმელის) გზის სავალი ნაწილიდან გასაყვანად, ხოლო თუ ამის დაუყოვნებლივ გაკეთება შეუძლებელია – ჩართოს საავარიო შექსიგნალიზაცია (მისი არსებობის შემთხვევაში) და შესაბამისი ნიშნით მონიშნოს ავტომობილი (ან/და მისი მისაბმელი) საკმარის მანძილზე, რათა დროულად გააფრთხილოს მოახლოებული მძღოლები.

QUESTION 613

CORRECT ANSWER: 1



In the given situation, is the motor car driver violating the rules of forced stop of the vehicle?

1

No

2

Yes

განმარტება:

„საგზაო მოძრაობის შესახებ“ საქართველოს კანონის 38-ე მუხლის პირველი პუნქტის „გ.ა“ ქვეპუნქტის თანახმად, ავტომაგისტრალზე, ავტომაგისტრალის შესასვლელსა და გამოსასვლელზე მძღოლს ეკრძალება, ავტომობილის (ან/და მისი მისაბმელის) გაჩერება ან დგომა, დგომისთვის გამოყოფილი, სპეციალურად მონიშნული ადგილების გარდა. მძღოლმა, რომელიც მისგან დამოუკიდებელი გარემოებების გამო იძულებულია, გაჩერდეს, უნდა მიიღოს ყველა ზომა ავტომობილის (ან/და მისი მისაბმელის) გზის სავალი ნაწილიდან გასაყვანად, ხოლო თუ ამის დაუყოვნებლივ გაკეთება შეუძლებელია – ჩართოს საავარიო შექსიგნალიზაცია (მისი არსებობის შემთხვევაში) და შესაბამისი ნიშნით მონიშნოს ავტომობილი (ან/და მისი მისაბმელი) საკმარის მანძილზე, რათა დროულად გააფრთხილოს მოახლოებული მძღოლები. ამავე კანონის 52-ე მუხლის მე-3 პუნქტის თანახმად, „საავარიო გაჩერების ნიშანი“ და მოციმციმე წითელი ფარანი უნდა დაიდგას სატრანსპორტო საშუალებიდან იმ მანძილზე, რომელიც კონკრეტულ პირობებში უზრუნველყოფს საშიშროების შესახებ სხვა მძღოლების დროულ გაფრთხილებას. მაგრამ ეს მანძილი დასახლებულ პუნქტში არ უნდა იყოს 15 მეტრზე, ხოლო დაუსახლებელში - 30 მეტრზე ნაკლები.

QUESTION 614

CORRECT ANSWER: 4



In given situation, which driver violates the traffic rules on the highway?

1

Bus driver only

2

Lorry driver only

3

Moped rider only

4

Lorry driver and moped rider only

განმარტება:

„საგზაო მოძრაობის შესახებ“ საქართველოს კანონის 38-ე მუხლის პირველი პუნქტის „ა“ და „გ-გ“ ქვეპუნქტების თანახმად, ავტომაგისტრალზე, ავტომაგისტრალის შესასვლელზე და გამოსასვლელზე: ა) აკრძალულია ქვეითების, ცხოველების, ველოსიპედების, მოპედების, ავტომობილებისა და მათი მისაბმელებისგან განსხვავებული ყველა სატრანსპორტო საშუალების მოძრაობა; გ.გ) მძღოლს ეკრძალება მეორე ზოლის იქით იმ ტვირთის გადამზიდავი ავტომობილით (მისაბმელებით ან მათ გარეშე) მოძრაობა, რომლის ნებადართული მაქსიმალური მასა 3,5 ტონას აღემატება ან იმ მისაბმელიანი ავტომობილებით მოძრაობა, რომელთა საერთო სიგრძე 7 მეტრზე მეტია. ამავე კანონის მე-5 მუხლის 71-ე პუნქტის თანახმად, სატვირთო ავტომობილი არის ტვირთის გადასაზიდად განკუთვნილი ავტოსატრანსპორტო საშუალება, რომლის ნებადართული მაქსიმალური მასა აღემატება 3 500 კგ-ს.

QUESTION 615

CORRECT ANSWER: 3

From the list given below, the customs control applies to:

- 1 Goods and vehicle subjected to customs supervision only
- 2 The territory only, where the goods and vehicle subjected to customs supervision are stored.
- 3 Goods and vehicle in any of the cases listed in given test

განმარტება:

საქართველოს საგადასახადო კოდექსის 214-ე მუხლის მე-2 პუნქტის „ა“ და „ბ“ ქვეპუნქტების თანახმად, საბაჟო კონტროლს ექვემდებარება: ბ) საბაჟო ზედამხედველობას დაქვემდებარებული საქონელი და სატრანსპორტო საშუალება; გ) ტერიტორია, სადაც განთავსებულია საბაჟო ზედამხედველობას დაქვემდებარებული საქონელი და სატრანსპორტო საშუალება.

QUESTION 616

CORRECT ANSWER: 2

If the goods of various types are declared in the customs declaration, each type of the goods may be considered:

- 1 As declared together
- 2 As declared separately

განმარტება:

საქართველოს საგადასახადო კოდექსის 220-ე მუხლის მე-3 პუნქტის თანახმად, თუ ერთი საბაჟო დეკლარაციით დეკლარირებულია სხვადასხვა სახეობის საქონელი, საქონლის თითოეული სახეობა ითვლება ცალ-ცალკე დეკლარირებულად.

QUESTION 617

CORRECT ANSWER: 3

Goods, in relation to which the commodity transaction has already been defined (other than export), by the request of the appropriate person, may be temporarily stored in the customs warehouse no longer than:

1

One month

2

Two months

3

Five years.

განმარტება:

საქართველოს საგადასახადო კოდექსის 217-ე მუხლის მე-3 პუნქტის თანახმად საქონელი, რომელზედაც უკვე განსაზღვრულია სასაქონლო ოპერაცია (გარდა ექსპორტისა), პირის მოთხოვნით, შეიძლება საბაჟო სანცოზში დროებით ინახებოდეს არა უმეტეს 5 კალენდარული წლისა, ხოლო ექსპორტის შემთხვევაში – არა უმეტეს 120 დღისა.

QUESTION 618

CORRECT ANSWER: 3

Registered customs declaration may be amended:

1

Just before the release of the goods, at the initiative of the tax authority, during examination of the customs declaration, if inaccurate data is discovered in the declaration

2

Just before the release of the goods, at the initiative of the applicant, if the tax authority had not informed the applicant about the intent of inspection of this customs declaration or had not established inaccuracy of the declared data

3

In any case listed in given test

განმარტება:

საქართველოს საგადასახადო კოდექსის 218-ე მუხლის მე-4 პუნქტის „ა“ და „ბ“ ქვეპუნქტების თანახმად, რეგისტრირებულ საბაჟო დეკლარაციაში შესაძლებელია ცვლილებები შეტანილ იქნეს: ა) საქონლის გაშვებამდე, საგადასახადო ორგანოს ინიციატივით, საბაჟო დეკლარაციის შემოწმებისას, თუ დადგინდა ამ დეკლარაციაში არასწორი მონაცემის არსებობა; ბ) საქონლის გაშვებამდე, დეკლარანტის ინიციატივით, თუ საგადასახადო ორგანოს არ შეუტყობინებია დეკლარანტისთვის ამ საბაჟო დეკლარაციის შემოწმების განზრახვა ან არ დაუდგენია დეკლარირებული მონაცემების მცდარობა.

QUESTION 619

CORRECT ANSWER: 4

Which of the following does not belong to the form of customs control?

1

Verbal inquiry only

2

Inspection of goods, vehicles and territory only

3

Sampling and taking of specimen for laboratory research purposes only

4

All of the forms listed in given test belong to the form custom control

განმარტება:

საქართველოს საგადასახადო კოდექსის 214-ე მუხლის მე-3 პუნქტის „ბ“, „ე“ და „ვ“ ქვეპუნქტების თანახმად, საბაჟო კონტროლის ფორმებია: ბ) ზეპირი გამოკითხვა; ე) საქონლის, სატრანსპორტო საშუალებისა და ტერიტორიის დათვალიერება; ვ) ლაბორატორიული კვლევის მიზნით სინჯისა და ნიმუშის აღება;

QUESTION 620

CORRECT ANSWER: 2

According to the Georgian Code of Administrative Offences, shipment of construction or other materials, waste in the vehicles, with faulty luggage rack or trailer, that creates the risk of contamination or damage of the road surface, will result in:

1

Penalty in the amount of 300 GEL and suspension of the motorcycle-driving license for the period of 3 months

2

Penalty in the amount of 300 GEL

3

Penalty in the amount of 250 GEL

განმარტება:

საქართველოს ადმინისტრაციული სამართალდარღვევათა კოდექსის 1191-ე მუხლის თანახმად, სამშენებლო ან სხვა სახის მასალების, ნარჩენების გადაზიდვა ისეთი სატრანსპორტო საშუალებებით, რომლებსაც აქვს გაუმართავი საბარგული ან მისაბმელი მოწყობილობა, რაც ქმნის გზის საფარის დანაგვიანების ან დაზიანების საფრთხეს, - გამოიწვევს დაჯარიმებას 300 ლარით.

QUESTION 621

CORRECT ANSWER: 2

According to the Georgian Code of Administrative Offences, international road shipment and transportation through violation of the requirements of the European Agreement concerning the Work of Crews of Vehicles engaged in International Road Transport (AETR) shall result in:

1

Suspension of the driving license for the period of 1 year

2

Penalty in the amount of 500 GEL

3

Penalty in the amount of 1000 GEL

განმარტება:

საქართველოს ადმინისტრაციული სამართალდარღვევათა კოდექსის 1271-ე მუხლის მე-7 ნაწილის თანახმად, საერთაშორისო საავტომობილო გადაზიდვა-გადაყვანის „საერთაშორისო საავტომობილო მიმოსვლის მწარმოებელი სატრანსპორტო საშუალებების ეკიპაჟების მუშაობის შესახებ“ ევროპის შეთანხმების (AETR) წესების დარღვევით განხორციელება გამოიწვევს დაჯარიმებას 500 ლარის ოდენობით.

თემა 23:

საცხოვრებელი ზონა, სამარშრუტო
ტრანსპორტის პრიორიტეტი

QUESTION 622

CORRECT ANSWER: 2

In case of absence of crosswalk or intersection within the visibility area, crossing the road is allowed perpendicularly to the driveway axis in the section where:

1

There is a lane line and road can be seen distinctly from both sides

2

There is no lane line or lattice and road can be seen distinctly from both sides

განმარტება:

„საგზაო მოძრაობის შესახებ“ საქართველოს კანონის 24-ე მუხლის მე-8 პუნქტის თანახმად, თუ ხილვადობის ზონაში არ არის ქვეითთა გადასასვლელი ან გზაჯვარედინი, გზაზე გადასვლა ნებადართულია გზის სავალი ნაწილის ღერძის პერპენდიკულარულად, იმ მონაკვეთში, სადაც არ არის გამყოფი ზოლი ან ღობურა და გზა ორივე მხრიდან კარგად ჩანს.

QUESTION 623

CORRECT ANSWER: 4

In case of absence of crosswalk, a pedestrian is allowed to cross the driveway:

1

Only after definition of the distance to the approaching vehicle

2

Only after definition of speed of the approaching vehicle

3

Only after making sure in safety of crossing

4

After definition of distance and speed of the approaching vehicle, as well making sure in safety of crossing

განმარტება:

„საგზაო მოძრაობის შესახებ“ საქართველოს კანონის 24-ე მუხლის მე-8 პუნქტის თანახმად, იქ სადაც არ არის ქვეითთა გადასასვლელი, ქვეითი არ უნდა გადავიდეს გზის სავალ ნაწილზე მოახლოებულ სატრანსპორტო საშუალებამდე მანძილის, მისი სიჩქარის განსაზღვრამდე და გადასვლის უსაფრთხოებაში დარწმუნებამდე.

QUESTION 624

CORRECT ANSWER: 4



When driving to the arrow direction, a motor car driver obliged to yield to?

1

Pedestrians only

2

Bicyclist only

3

Lorry driver only

4

Towards pedestrians, also towards the drivers of bicycles and lorries

განმარტება:

„საგზაო მოძრაობის შესახებ“ საქართველოს კანონის 32-ე მუხლის მე-3 პუნქტის თანახმად, მიმდებარე ტერიტორიიდან გზაზე გასვლისას მძღოლი ვალდებულია გზა დაუთმოს გზაზე მოძრავ სატრანსპორტო საშუალებასა და ქვეითს, ხოლო გზიდან გადასვლისას – იმ ქვეითს, ველოსიპედისტს, მოპედისა და ორბორბლიანი ელექტროთვითმგორავის მძღოლებს, რომლებსაც გზას უჭრის.

QUESTION 625

CORRECT ANSWER: 2



Are the pedestrians walking in the inhabited area allowed to hinder the motion of white car?

1

Yes, because the pedestrians have privilege over other traffic participants in the inhabited areas

2


No

განმარტება:

„საგზაო მოძრაობის შესახებ“ საქართველოს კანონის 44-ე მუხლის პირველი პუნქტის „დ“ ქვეპუნქტის თანახმად, შესაბამისი ნიშნით აღნიშნულ საცხოვრებელ ზონებში, ქვეითმა უსაფუძვლოდ არ უნდა შეაფერხოს ტრანსპორტის მოძრაობა. ამავე კანონის პირველი დანართის მე-5 თავის (განსაკუთრებული მითითებების ნიშნები) 5.21 პუნქტის თანახმად საგზაო ნიშანი 5.21 „საცხოვრებელი ზონა“ - აღნიშნავს ტერიტორიას (ზონას) სადაც მოქმედებს საცხოვრებელ ზონაში მოძრაობისათვის დადგენილი წესები. ნიშანი იდგმება ასეთი საცხოვრებელი ზონის ყველა შესასვლელში.

QUESTION 626

CORRECT ANSWER: 1



In the inhabited area, a motor car driver is allowed to drive at a speed no faster than:

1

20 km/h

2

40 km/h

3

60 km/h

განმარტება:

„საგზაო მოძრაობის შესახებ“ საქართველოს კანონის 33-ე მუხლის მე-6 პუნქტის თანახმად, თუ ამ კანონით სხვა რამ არ არის დადგენილი, დასახლებულ პუნქტში ნებადართულია სატრანსპორტო საშუალების მოძრაობა არაუმეტეს 60 კმ/სთ სიჩქარით, ხოლო საცხოვრებელ ზონაში - არაუმეტეს 20 კმ/სთ სიჩქარით. ამავე კანონის 44-ე მუხლის პირველი პუნქტის „ბ“ ქვეპუნქტის თანახმად, შესაბამისი ნიშნით აღნიშნულ საცხოვრებელ ზონებში, მძღოლი უნდა გადაადგილდეს არაუმეტეს 20კმ/სთ სიჩქარით. ამავე კანონის პირველი დანართის მე-5 თავის (განსაკუთრებული მითითებების ნიშნები) 5.21 პუნქტის თანახმად საგზაო ნიშანი 5.21 „საცხოვრებელი ზონა“ - აღნიშნავს ტერიტორიას (ზონას) სადაც მოქმედებს საცხოვრებელ ზონაში მოძრაობისათვის დადგენილი წესები. ნიშანი იდგმება ასეთი საცხოვრებელი ზონის ყველა შესასვლელში.

QUESTION 627

CORRECT ANSWER: 4



A lorry driver is allowed to proceed no faster than:

1

50 km/h

2

40 km/h

3

30 km/h

4


20 km/h

განმარტება:

„საგზაო მოძრაობის შესახებ“ საქართველოს კანონის 33-ე მუხლის მე-6 პუნქტის თანახმად, თუ ამ კანონით სხვა რამ არ არის დადგენილი, დასახლებულ პუნქტში ნებადართულია სატრანსპორტო საშუალების მოძრაობა არა უმეტეს 60 კმ/სთ სიჩქარით, ხოლო საცხოვრებელ ზონაში - არაუმეტეს 20 კმ/სთ სიჩქარით. ამავე კანონის 44-ე მუხლის პირველი პუნქტის „ბ“ ქვეპუნქტის თანახმად, შესაბამისი ნიშნით აღნიშნულ საცხოვრებელ ზონებში, მძღოლი უნდა გადაადგილდეს არაუმეტეს 20კმ/სთ სიჩქარით. ამავე კანონის პირველი დანართის მე-5 თავის (განსაკუთრებული მითითებების ნიშნები) 5.21 პუნქტის თანახმად საგზაო ნიშანი 5.21 „საცხოვრებელი ზონა“ - აღნიშნავს ტერიტორიას (ზონას) სადაც მოქმედებს საცხოვრებელ ზონაში მოძრაობისათვის დადგენილი წესები. ნიშანი იდგმება ასეთი საცხოვრებელი ზონის ყველა შესასვლელში.

QUESTION 628

CORRECT ANSWER: 4



When driving to the arrow direction, a motor car driver must yield to:

1

Pedestrians only

2

Bicyclist only

3

Moped rider only

4

Towards pedestrians, also towards the drivers of bicycles and mopeds

განმარტება:

„საგზაო მოძრაობის შესახებ“ საქართველოს კანონის პირველი დანართის მე-5 თავის (განსაკუთრებული მითითებების ნიშნები) 5.22 პუნქტის თანახმად საგზაო ნიშანი 5.22 „საცხოვრებელი ზონის დასასრული“ - აღნიშნავს 5.21 „საცხოვრებელი ნიშნით აღნიშნული საცხოვრებელი ზონის დასასრულს. ნიშანი იდგმება საცხოვრებელი ზონის ყველა გამოსასვლელში. ამავე კანონის 44-ე მუხლის პირველი პუნქტის „ე“ ქვეპუნქტის თანახმად, შესაბამისი ნიშნით აღნიშნულ საცხოვრებელ ზონებში, საცხოვრებელი ზონიდან გამოსვლისას საგზაო მოძრაობის მონაწილემ, გადაკვეთაზე გზა უნდა დაუთმოს სხვა საგზაო მოძრაობის მონაწილეს.

QUESTION 629

CORRECT ANSWER: 4

Performance of which of the below actions is not prohibited at the places announced as pedestrians' zones and built-up areas?

1

Through routing of vehicles

2

Learning motion

3

Waiting with activated engine

4

Motion by vehicle, with constructive speed exceeding 120 km/h

განმარტება:

„საგზაო მოძრაობის შესახებ“ საქართველოს კანონის 44-ე მუხლის მე-3 პუნქტის თანახმად, ქვეითთა ზონად გამოცხადებულ ადგილზე და საცხოვრებელ ზონაში აკრძალულია გამჭოლი მოძრაობა, სასწავლო სვლა და ჩართული ძრავითი დგომა; ამასთანავე, ქვეითს უპირატესობა აქვს სხვა საგზაო მოძრაობის მონაწილეების მიმართ.

QUESTION 630

CORRECT ANSWER: 2

Priority over other traffic participants at the places announced as pedestrians' zones and built-up areas is entitled to:

1

Drivers

2

Pedestrians

განმარტება:

„საგზაო მოძრაობის შესახებ“ საქართველოს კანონის 44-ე მუხლის მე-3 პუნქტის თანახმად, ქვეითთა ზონად გამოცხადებულ ადგილზე და საცხოვრებელ ზონაში აკრძალულია გამჭოლი მოძრაობა, სასწავლო სვლა და ჩართული ძრავითი დგომა; ამასთანავე, ქვეითს უპირატესობა აქვს სხვა საგზაო მოძრაობის მონაწილეების მიმართ.

QUESTION 631

CORRECT ANSWER: 1



What combination of the given traffic signs is posted in uninhabited area, at a distance of 150-300 meters before the railroad crossing without barrier to the left side of the road?

1

I

2

II

3

III

4

IV

განმარტება:

„საგზაო მოძრაობის შესახებ“ საქართველოს კანონის პირველი დანართის პირველი თავის (მაფრთხილებელი ნიშნები) შენიშვნის „ა“, „ბ“ და „ვ“ ქვეპუნქტების თანახმად: ა) 1.1 „რკინიგზის შლავგაბაუმის გადასასვლელი“ და 1.2 „რკინიგზის უშლავგაბაუმო გადასასვლელი“ ნიშნები დაუსახლებელ პუნქტში იდგმება სახიფათო მონაკვეთის დასაწყისამდე 150–300 მეტრ მანძილზე; ბ) 1.1 „რკინიგზის შლავგაბაუმის გადასასვლელი“, 1.2 „რკინიგზის უშლავგაბაუმო გადასასვლელი“, 1.10 „გასახსნელი ხიდი“, 1.11 „სანაპიროზე გასასვლელი“, 1.23 „ქვეითა გადასასვლელი“, 1.24 „ბავშვები“ და 1.26 „საგზაო სამუშაოები“ ნიშნები მეორდება დაუსახლებელ პუნქტში, ხოლო 1.24 და 1.26 ნიშნები - დასახლებულ პუნქტშიც. მეორე ნიშანი იდგმება სახიფათო მონაკვეთის დასაწყისიდან არანაკლებ 50 მეტრის მანძილზე; ვ) 1.4.1-1.4.3 „რკინიგზის გადასასვლელთან მიახლოება“ ნიშნები იდგმება გზის მარჯვენა მხარეს, ხოლო 1.4.4-1.4.6 „რკინიგზის გადასასვლელთან მიახლოება“ ნიშნები - მარცხენა მხარეს. 1.4.1 და 1.4.4 ნიშნები იდგმება მოძრაობის მიმართულებით ძირითად და დუბლირებულ 1.1 ან 1.2 ნიშნებთან ერთად. ნიშნები 1.4.3 და 1.4.6 იდგმება მოძრაობის მიმართულებით განმეორებით 1.1 ან 1.2 ნიშნებთან, ხოლო ნიშნები 1.4.2 და 1.4.5 - დამოუკიდებლად, თანაბარ დაშორებაზე ძირითად და განმეორებითი 1.1 ან 1.2 ნიშნებს შორის.

QUESTION 632

CORRECT ANSWER: 2



I



II



III



IV

Which of these traffic signs marks the passage to coastal area or reservoir shore?

1

I and II only

2

II only

3

III only

4

I and IV only

განმარტება:

„საგზაო მოძრაობის შესახებ“ საქართველოს კანონის პირველი დანართის პირველი თავის (მაფრთხილებელი ნიშნები) 1.11 პუნქტის თანახმად საგზაო ნიშანი 1.11 „სანაპიროზე გასასვლელი“ - აღნიშნავს სანაპიროზე ან წყალსაცავის ნაპირზე გასასვლელს.

QUESTION 633

CORRECT ANSWER: 1



I



II



III



IV

Which of these traffic signs warns about approaching the steep uphill section of the road?

1

I

2

II

3

III

4

IV

განმარტება:

„საგზაო მოძრაობის შესახებ“ საქართველოს კანონის პირველი დანართის პირველი თავის (მაფრთხილებელი ნიშნები) 1.15 პუნქტის თანახმად საგზაო ნიშანი 1.15 „ციცაბო აღმართი“- იძლევა გაფრთხილებას ციცაბოაღმართიან გზის მონაკვეთთან მიახლოების თაობაზე.

QUESTION 634

CORRECT ANSWER: 4



I



II



III



IV

Which of these traffic signs marks the section of the road, on which artificial unevenness is organized for forced reduction of speed?

1

II and III only

2

I and IV only

3

III only

4

II only

განმარტება:

„საგზაო მოძრაობის შესახებ“ საქართველოს კანონის პირველი დანართის პირველი თავის (მაფრთხილებელი ნიშნები) 1.18 პუნქტის თანახმად საგზაო ნიშანი 1.18 „ხელოვნური უსწორმასწორობა“ - აღნიშნავს გზის მონაკვეთს, რომელზედაც მოწყობილია ხელოვნური უსწორმასწორობა სიჩქარის იძულებით შემცირებისათვის.

QUESTION 635

CORRECT ANSWER: 2



I



II



III



IV

Which of these traffic signs marks the section of the road, on which edge of the road does not comply with the applicable standards?

1

I

2

II

3

III

4

IV

განმარტება:

„საგზაო მოძრაობის შესახებ“ საქართველოს კანონის პირველი დანართის პირველი თავის (მაფრთხილებელი ნიშნები) 1.20 პუნქტის თანახმად საგზაო ნიშანი 1.20 „სახიფათო გზისპირი“ - აღნიშნავს გზის მონაკვეთს, რომლის გზისპირის მდგომარეობა არ შეესაბამება არსებულ სტანდარტებს.

QUESTION 636

CORRECT ANSWER: 2



I



II



III



IV

Which of these traffic signs marks the road section, passing adjacent to housing for livestock (cattle), farms or/and permanent driving site of livestock (cattle), where they may appear on the driveway?

1

I

2

II

3

III

4

IV

განმარტება:

„საგზაო მოძრაობის შესახებ“ საქართველოს კანონის პირველი დანართის პირველი თავის (მაფრთხილებელი ნიშნები) 1.27 პუნქტის თანახმად საგზაო ნიშანი 1.27 „პირუტყვის გადარეკვა“ - გზის მონაკვეთი, რომელიც გადის პირუტყვის (საქონლის) სადგომთან, ფერმასთან ან/და პირუტყვის (საქონლის) მუდმივი გადარეკვის ადგილთან, სადაც მოსალოდნელია მისი სავალ ნაწილზე გამოჩენა.

QUESTION 637

CORRECT ANSWER: 1



I



II



III



IV

Which of these traffic signs marks the road sections or other areas near nature reserves, hunting economy, forest massives, where wild animals may appear?

1

I

2

II

3

III

4

IV

განმარტება:

„საგზაო მოძრაობის შესახებ“ საქართველოს კანონის პირველი დანართის პირველი თავის (მაფრთხილებელი ნიშნები) 1.28 პუნქტის თანახმად საგზაო ნიშანი 1.28 „გარეული ცხოველები“ - ნაკრძალთან, სანადირო მეურნეობასთან, ტყის მასივთან გამავალი გზის მონაკვეთიან სხვა უბანი, სადაც მოსალოდნელია გარეული ცხოველების გამოჩენა.

QUESTION 638

CORRECT ANSWER: 2



I



II



III



IV

Which of these traffic signs marks the tunnel, without artificial lighting or with entry visibility shorter than 150 meters for the site relief?

1

I

2

II

3

III

4

IV

განმარტება:


„საგზაო მოძრაობის შესახებ“ საქართველოს კანონის პირველი დანართის პირველი თავის (მაფრთხილებელი ნიშნები) 1.32 პუნქტის თანახმად საგზაო ნიშანი 1.32 „გვირაბი“ - აღნიშნავს გვირაბს, რომელშიც არ არსებობს ხელოვნური განათება ან რომლის შესასვლელი პორტალის ხილვადობა, ადგილის რელიეფის გამო, 150 მ-ზე ნაკლებია.

თემა 24:

ბუქსირება

QUESTION 639

CORRECT ANSWER: 2



Damaged vehicle on the highway is towed via homemade equipment (rope). Tow-vehicle driver is allowed to proceed:

1 In direction A

2 in direction B


3 In both A and B directions

განმარტება:

„საგზაო მოძრაობის შესახებ“ საქართველოს კანონის 38-ე მუხლის მე-4 პუნქტის თანახმად, თვითნაკვეთი მონეობილობით ბუქსირებულ სატრანსპორტო საშუალებას ეკრძალება ავტომაგისტრალზე შესვლა. თვითნაკვეთი მონეობილობით ბუქსირებულმა გაუმართავმა სატრანსპორტო საშუალებამ, რომელიც ავტომაგისტრალზე მწყობრიდან გამოვიდა, ავტომაგისტრალი უახლოეს გამოსასვლელზე უნდა დატოვოს. ამ პუნქტით გათვალისწინებულ თვითნაკვეთ მონეობილობაში იგულისხმება თოკი, მავთული და სხვა მსგავსი საშუალება.

QUESTION 640

CORRECT ANSWER: 2



Is tow motor car driver allowed to proceed to the arrow direction, if towing is performed with homemade equipment (rope)?

1

Yes

2

No

განმარტება:

„საგზაო მოძრაობის შესახებ“ საქართველოს კანონის 38-ე მუხლის მე-4 პუნქტის თანახმად, თვითნაკვეთი მონეობილობით ბუქსირებულ სატრანსპორტო საშუალებას ეკრძალება ავტომაგისტრალზე შესვლა. თვითნაკვეთი მონეობილობით ბუქსირებულმა გაუმართავმა სატრანსპორტო საშუალებამ, რომელიც ავტომაგისტრალზე მწყობრიდან გამოვიდა, ავტომაგისტრალი უახლოეს გამოსასვლელზე უნდა დატოვოს. ამ პუნქტით გათვალისწინებულ თვითნაკვეთი მონეობილობაში იგულისხმება თოკი, მავთული და სხვა მსგავსი საშუალება.

QUESTION 641

CORRECT ANSWER: 1



Is towing motor car driver driving to the arrow direction violating the towing orders for the mechanical vehicle?

1

Yes

2

No

განმარტება:

„საგზაო მოძრაობის შესახებ“ საქართველოს კანონის 45-ე მუხლის მე-6 პუნქტის „ბ“ ქვეპუნქტის თანახმად, აკრძალულია ბუქსირება, ორი ან მეტი მექანიკური სატრანსპორტო საშუალებისა, აგრეთვე მექანიკური სატრანსპორტო საშუალებისა, რომელსაც ორი ან მეტი მისაბმელი აქვს.

QUESTION 642

CORRECT ANSWER: 1



Is towing motor car driver driving to the arrow direction violating the towing orders for the mechanical vehicle?

1

Yes

2


No

განმარტება:

„საგზაო მოძრაობის შესახებ“ საქართველოს კანონის 45-ე მუხლის მე-4 პუნქტის თანახმად, ხისტი ან მოქნილი გადაბმით ბუქსირებისას აკრძალულია მგზავრის გადაყვანა საბუქსირო ავტობუსით, ტროლეიბუსითა და სატვირთო ავტომობილის ძარათი, ხოლო ნაწილობრივი დატვირთვით ბუქსირებისას – ადამიანის ყოფნა საბუქსირო მექანიკურ სატრანსპორტო საშუალებაში, აგრეთვე მობუქსირე სატრანსპორტო საშუალების ძარაზე.

QUESTION 643

CORRECT ANSWER: 2



Is it permitted to tow the light vehicle in a given way if its steering wheel control mechanism is out of order?

1

It is permitted

2

It is not permitted

განმარტება:

„საგზაო მოძრაობის შესახებ“ საქართველოს კანონის 45-ე მუხლის მე-6 პუნქტის „ა“ ქვეპუნქტის თანახმად, აკრძალულია ბუქსირება ხისტი ან მოქნილი გადაბმით, იმ მექანიკური სატრანსპორტო საშუალებისა, რომლის საჭის მართვის მექანიზმი გაუმართავია.

QUESTION 644

CORRECT ANSWER: 1



Is it permitted to tow the light vehicle in a given way if its steering wheel control mechanism is out of order?

1

It is permitted

2


It is not permitted

განმარტება:

„საგზაო მოძრაობის შესახებ“ საქართველოს კანონის 45-ე მუხლის მე-6 პუნქტის „ა“ ქვეპუნქტის თანახმად, აკრძალულია ბუქსირება ხისტი ან მოქნილი გადაბმით, იმ მექანიკური სატრანსპორტო საშუალებისა, რომლის საჭის მართვის მექანიზმი გაუმართავია.

QUESTION 645

CORRECT ANSWER: 1



Which vehicle driver will violate the Highway Code in case of driving to the arrow direction?

1

Towing, semi-trailer, tow-vehicle driver

2


Red motor car driver

განმარტება:

„საგზაო მოძრაობის შესახებ“ საქართველოს კანონის 45-ე მუხლის პირველი პუნქტის თანახმად, დასაშვებია მექანიკური სატრანსპორტო საშუალებით (მისაბმელის გარეშე) სხვა მექანიკური სატრანსპორტო საშუალების ბუქსირება ამ კანონით დადგენილი წესით.

QUESTION 646

CORRECT ANSWER: 3



In the present situation how many Highway Code orders are breached if towing composition with flexible hitch is proceeding at a speed of 50 km/h, and the distance between them is 5 meters?

1

Two

2

Three

3

Four

4

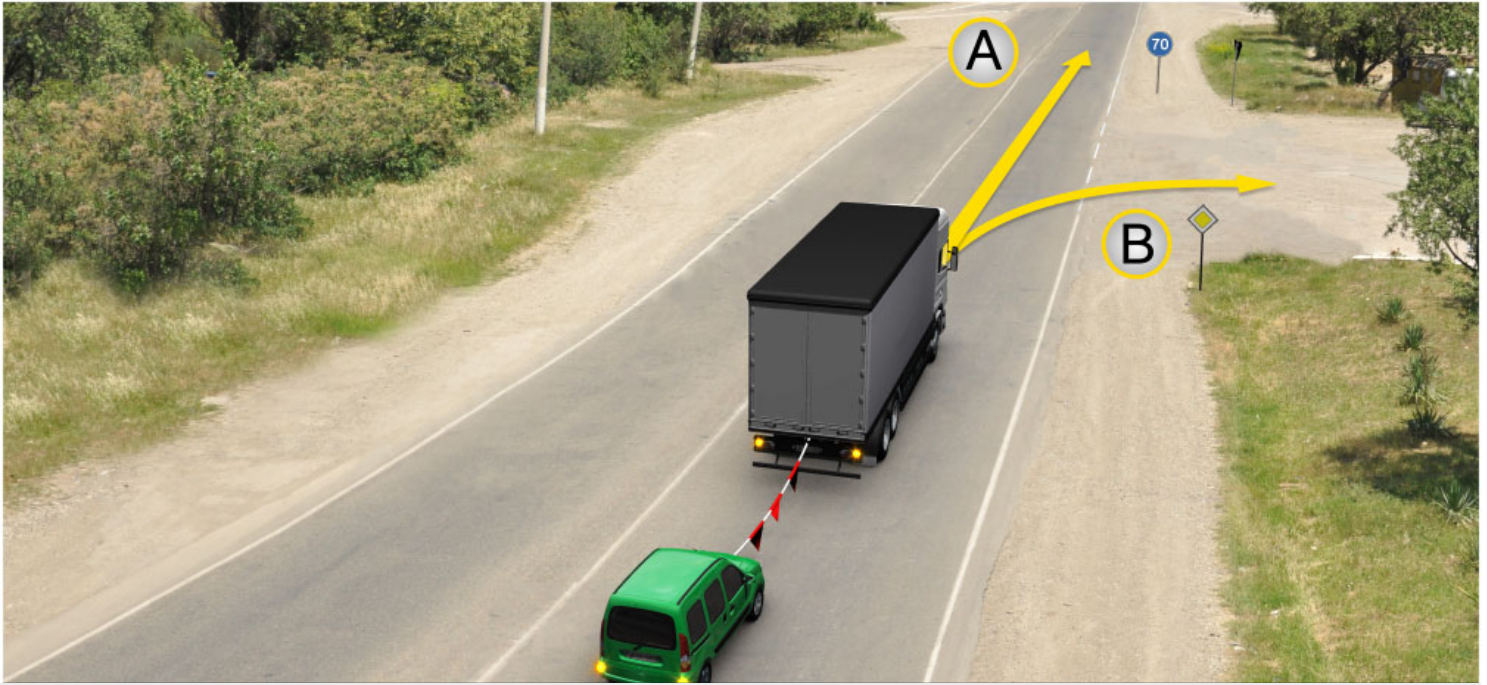
Five

განმარტება:

„საგზაო მოძრაობის შესახებ“ საქართველოს კანონის 45-ე მუხლის მე-7, მე-8 და მე-9 პუნქტების თანახმად: 7. დღე-ღამის ნებისმიერ პერიოდში მობუქსირე მექანიკურ სატრანსპორტო საშუალებას ჩართული უნდა ჰქონდეს ახლო განათების ფარები, საბუქსირო მექანიკურ სატრანსპორტო საშუალებას ჩართული უნდა ჰქონდეს საავარიო შუქსიგნალიზაცია, ხოლო მისი არარსებობის ან გაუმართაობის შემთხვევაში ამ ტრანსპორტის უკანა ნაწილზე უნდა დამაგრდეს საავარიო გაჩერების ნიშანი. 8. მექანიკური სატრანსპორტო საშუალების ბუქსირებისას საბუქსირო (შემაერთებელი) მოწყობილობა აღნიშნული უნდა იქნეს ალმებით ან სხვა გამაფრთხილებელი მოწყობილობით, ისე, რომ ადვილი შესამჩნევი იყოს სხვა საგზაო მოძრაობის მონაწილისათვის დღე-ღამის ნებისმიერ პერიოდში. 9. მექანიკური სატრანსპორტო საშუალების ბუქსირებისას დრეკადი შემაერთებელი რგოლების აღსანიშნავად გამოიყენება ალმები, გამაფრთხილებელი მოწყობილობა ან 200X200 მმ ზომის დაფა, რომელზედაც დიაგონალურადაა დახაზული 50 მმ სიგანის ურთიერთმონაცვლე წითელი და თეთრი ზოლები შუქამრეკლი ზედაპირით. დრეკად შემაერთებელ რგოლზე მაგრდება არანაკლებ ორი გამაფრთხილებელი მოწყობილობა (ალამი). ამავე კანონის 31-ე მუხლის მე-11 პუნქტის თანახმად, დაუსახლებელ პუნქტში, აგრეთვე დასახლებულ პუნქტში გზის სავალი ნაწილის იმ მონაკვეთზე, რომელზედაც მოძრაობა ნებადართულია 80 კმ/სთ-ზე მეტი სიჩქარით, მძღოლმა უნდა იმოძრაოს სავალი ნაწილის მარჯვენა კიდედან რაც შეიძლება ახლოს. აკრძალულია მარცხენა ზოლის დაკავება, როცა მარჯვენა ზოლი თავისუფალია, გარდა დაბრკოლების შემთხვევის, მარცხნივ მოხვევის ან მობრუნების შემთხვევისა. აქ დარღვევაა: სავალ ნაწილზე განლაგება; მობუქსირე ავტომობილს არა აქვს ჩართული ახლო განათების ფარები; საბუქსიროს - ავარიული სიგნალიზაცია და საბუქსირო მოწყობილობა აღნიშნული არ არის ალმებით.

QUESTION 647

CORRECT ANSWER: 2



In the present situation, towing vehicle driver is allowed to proceed:

1

In direction A only

2

In direction B only

3

In both A and B directions

განმარტება:

„საგზაო მოძრაობის შესახებ“ საქართველოს კანონის პირველი დანართის მე-4 თავის (მიმთითებული ნიშნები) 4.6 პუნქტის თანახმად საგზაო ნიშანი 4.6 „მინიმალური სიჩქარის შემლუღვა“ - ადგენს გზაზე მოძრაობის მინიმალური სიჩქარის ზღვარს. ნიშნის მოქმედება ვრცელდება ნიშნის შემდეგ, ნიშნის დადგმის ადგილიდან უახლოეს გზაჯვარედინამდე, ხოლო დასახლებულ პუნქტში გზაჯვარედინის არ არსებობისას - დასახლებულ პუნქტის ბოლომდე. ამავე კანონის 33-ე მუხლის მე-8 პუნქტის „დ“ ქვეპუნქტის თანახმად, თუ ამ კანონით სხვა რამ არ არის დადგენილი, დასახლებულ ან დაუსახლებელ პუნქტში ნებადართულია, იმ მექანიკური სატრანსპორტო საშუალების მოძრაობა, რომელიც ახორციელებს სხვა მექანიკური სატრანსპორტო საშუალების ბუქსირებას, არაუმეტეს 50 კმ/სთ სიჩქარით.

QUESTION 648

CORRECT ANSWER: 1



In the present situation, is towing vehicle driver prohibited from proceeding to the arrow direction if it is ice-covered road?

1

Yes

2

No

განმარტება:

„საგზაო მოძრაობის შესახებ“ საქართველოს კანონის 45-ე მუხლის მე-6 პუნქტის „ე“ ქვეპუნქტის თანახმად, აკრძალულია ბუქსირება მოქნილი გადაბმით, როცა გზა მოყინულია.

QUESTION 649

CORRECT ANSWER: 4

Towing of mechanical vehicle may be carried out with:

1

Rigid hitch only

2

Flexible hitch only

3

Fractional loading only

4

Both rigid and flexible hitch, as well as fractional loading

განმარტება:

„საგზაო მოძრაობის შესახებ“ საქართველოს კანონის 45-ე მუხლის მე-2 პუნქტის თანახმად, მექანიკური სატრანსპორტო საშუალების ბუქსირება შეიძლება განხორციელდეს ხისტი ან მოქნილი გადაბმით ან ნაწილობრივი დატვირთვით.

QUESTION 650

CORRECT ANSWER: 2

When towing with rigid hitch, is it mandatory that the towed vehicle was driven by a driver, as hitching construction provides tracking of the towed vehicle by trajectory of the towing vehicle?

1

Yes

2

No

განმარტება:

„საგზაო მოძრაობის შესახებ“ საქართველოს კანონის 45-ე მუხლის მე-3 პუნქტის თანახმად, მექანიკური სატრანსპორტო საშუალების ხისტი ან მოქნილი გადაბმით ბუქსირებისას საბუქსირო სატრანსპორტო საშუალებას მძღოლი უნდა მართავდეს, გარდა იმ შემთხვევისა, როცა მოძრაობისას ხისტი გადაბმის კონსტრუქცია უზრუნველყოფს საბუქსირო სატრანსპორტო საშუალების მობუქსირე სატრანსპორტო საშუალების ტრაექტორიით მიყოლას.

QUESTION 651

CORRECT ANSWER: 1

When towing with flexible hitch, is it mandatory that the towed vehicle was driven by a driver?

1 Yes

2 No

განმარტება:

„საგზაო მოძრაობის შესახებ“ საქართველოს კანონის 45-ე მუხლის მე-3 პუნქტის თანახმად, მექანიკური სატრანსპორტო საშუალების ხისტი ან მოქნილი გადაბმით ბუქსირებისას საბუქსირო სატრანსპორტო საშუალებას მძღოლი უნდა მართავდეს, გარდა იმ შემთხვევისა, როცა მოძრაობისას ხისტი გადაბმის კონსტრუქცია უზრუნველყოფს საბუქსირო სატრანსპორტო საშუალების მობუქსირე სატრანსპორტო საშუალების ტრაექტორიით მიყვლას.

QUESTION 652

CORRECT ANSWER: 4

It is forbidden to transport passengers during towing with rigid or flexible coupling:

1 By towed bus only

2 By towed trolleybus only

3 On the body of towed lorry only

4 Both by towed bus and trolleybus, as well as on the body of towed lorry

განმარტება:

„საგზაო მოძრაობის შესახებ“ საქართველოს კანონის 45-ე მუხლის მე-4 პუნქტის თანახმად, ხისტი ან მოქნილი გადაბმით ბუქსირებისას აკრძალულია მგზავრის გადაყვანა საბუქსირო ავტობუსით, ტროლეიბუსითა და სატვირთო ავტომობილის ძარათი, ხოლო ნაწილობრივი დატვირთვით ბუქსირებისას – ადამიანის ყოფნა საბუქსირო მექანიკურ სატრანსპორტო საშუალებაში, აგრეთვე მობუქსირე სატრანსპორტო საშუალების ძარაზე.

QUESTION 653

CORRECT ANSWER: 3

When towing with fractional loading, presence of people is prohibited:

1

In towed mechanical vehicle only

2

On the body of towing mechanical vehicle only

3

Both in towed mechanical vehicle and on the body of towing mechanical vehicle

განმარტება:

„საგზაო მოძრაობის შესახებ“ საქართველოს კანონის 45-ე მუხლის მე-4 პუნქტის თანახმად, ხისტი ან მოქნილი გადაბმით ბუქსირებისას აკრძალულია მგზავრის გადაყვანა საბუქსირო ავტობუსით, ტროლეიბუსითა და სატვირთო ავტომობილის ძარათი, ხოლო ნაწილობრივი დატვირთვით ბუქსირებისას – ადამიანის ყოფნა საბუქსირო მექანიკურ სატრანსპორტო საშუალებაში, აგრეთვე მობუქსირე სატრანსპორტო საშუალების ძარაზე.

QUESTION 654

CORRECT ANSWER: 1

When towing with rigid hitch, distance between towing and towed vehicles must no faster than:

1

4 meters

2

5 meters

3

6 meters

განმარტება:

„საგზაო მოძრაობის შესახებ“ საქართველოს კანონის 45-ე მუხლის მე-5 პუნქტის თანახმად, მობუქსირე და საბუქსირო სატრანსპორტო საშუალებებს შორის მანძილი მოქნილი გადაბმით ბუქსირებისას უნდა იყოს 4–6 მეტრი, ხოლო ხისტი გადაბმით ბუქსირებისას – არაუმეტეს 4 მეტრისა.

QUESTION 655

CORRECT ANSWER: 2

Towing of the mechanical vehicle with rigid or flexible hitch is prohibited when:

1

Hermeticity of feed system is out of order

2

Mechanism of steering wheel is out of order

3

Hazard lights are out of order

განმარტება:

„საგზაო მოძრაობის შესახებ“ საქართველოს კანონის 45-ე მუხლის მე-6 პუნქტის „ა“ ქვეპუნქტის თანახმად, აკრძალულია ბუქსირება ხისტი ან მოქნილი გადაბმით, იმ მექანიკური სატრანსპორტო საშუალებისა, რომლის საჭის მექანიზმი გაუმართავია.

QUESTION 656

CORRECT ANSWER: 2

Is the towing of those mechanical vehicles forbidden that have got two trailers?

1

No

2

Yes

განმარტება:

„საგზაო მოძრაობის შესახებ“ საქართველოს კანონის 45-ე მუხლის მე-6 პუნქტის „ბ“ ქვეპუნქტის თანახმად, ორი ან მეტი მექანიკური სატრანსპორტო საშუალებისა, აგრეთვე მექანიკური სატრანსპორტო საშუალებისა, რომელსაც ორი ან მეტი მისაბმელი აქვს.

QUESTION 657

CORRECT ANSWER: 3

Towing is allowed:

1

By motorcycle, without side trailer, as well as towing of such motorcycle

2

By flexible hitch, when roads are covered with ice

3

None of the given answers in the test is true

განმარტება:

„საგზაო მოძრაობის შესახებ“ საქართველოს კანონის 45-ე მუხლის მე-6 პუნქტის „დ“ და „ე“ ქვეპუნქტების თანახმად, აკრძალულია ბუქსირება: დ) მოტოციკლით, გვერდითი მისაბმელის გარეშე, აგრეთვე ასეთი მოტოციკლის ბუქსირება; ე) მოქნილი გადაბმით, როცა გზა მოყინულია.

QUESTION 658

CORRECT ANSWER: 2

Towing mechanical vehicle must have the following lights on at any time during day and night:

1

Sidelights

2

Low beams

3

Fog-lights

განმარტება:

„საგზაო მოძრაობის შესახებ“ საქართველოს კანონის 45-ე მუხლის მე-7 პუნქტის თანახმად, დღე-ღამის ნებისმიერ პერიოდში მობუქსირე მექანიკურ სატრანსპორტო საშუალებას ჩართული უნდა ჰქონდეს ახლო განათების ფარები, საბუქსირო მექანიკურ სატრანსპორტო საშუალებას ჩართული უნდა ჰქონდეს საავარიო შუქსიგნალიზაცია, ხოლო მისი არარსებობის ან გაუმართაობის შემთხვევაში ამ ტრანსპორტის უკანა ნაწილზე უნდა დამაგრდეს საავარიო გაჩერების ნიშანი.

QUESTION 659

CORRECT ANSWER: 1

At least how many warning device (flag) must be attached on flexible connector when towing mechanical vehicle by flexible hitch?

1

Two

2

Three

3


Four

განმარტება:

„საგზაო მოძრაობის შესახებ“ საქართველოს კანონის 45-ე მუხლის მე-9 პუნქტის თანახმად, მექანიკური სატრანსპორტო საშუალების ბუქსირებისას დრეკადი შემაერთებული რგოლების აღსანიშნავად გამოიყენება ალმები, გამაფრთხილებელი მოწყობილობა ან 200X200 მმ ზომის დაფა, რომელზედაც დიაგონალურადაა დახაზული 50 მმ სიგანის ურთიერთმონაცვლე წითელი და თეთრი ზოლები შექამრეკლი ზედაპირით. დრეკად შემაერთებულ რგოლზე მაგრდება არანაკლებ ორი გამაფრთხილებელი მოწყობილობა (ალამი).

QUESTION 660

CORRECT ANSWER: 3



In the present situation, how many Highway Codes are violated by towing lorry driver proceeding to the arrow direction, if it is proceeding at a speed of 60 km/h?

1

None

2

One

3

Two

4

Three

განმარტება:

„საგზაო მოძრაობის შესახებ“ საქართველოს კანონის 33-ე მუხლის მე-8 პუნქტის „დ“ ქვეპუნქტის თანახმად, თუ ამ კანონით სხვა რამ არ არის დადგენილი, დასახლებულ ან დაუსახლებელ პუნქტში ნებადართულია იმ მექანიკური სატრანსპორტო საშუალების მოძრაობა, რომელიც ახორციელებს სხვა მექანიკური სატრანსპორტო საშუალების ბუქსირებას, არაუმეტეს 50 კმ/სთ სიჩქარით. ამავე კანონის 45-ე მუხლის მე-5 პუნქტის თანახმად, მობუქსირე და საბუქსირო სატრანსპორტო საშუალებებს შორის მანძილი მოქნილი გადაბმით ბუქსირებისას უნდა იყოს 4–6 მეტრი, ხოლო ხისტი გადაბმით ბუქსირებისას – არაუმეტეს 4 მეტრისა. ამავე მუხლის მე-9 პუნქტის თანახმად, მექანიკური სატრანსპორტო საშუალების ბუქსირებისას დრეკადი შემაერთებელი რგოლების აღსანიშნავად გამოიყენება ალმები, გამაფრთხილებელი მოწყობილობა ან 200X200 მმ ზომის დაფა, რომელზედაც დიაგონალურადაა დახაზული 50 მმ სიგანის ურთიერთმონაცვლე წითელი და თეთრი ზოლები შექმარებული ზედაპირით. დრეკად შემაერთებელ რგოლზე მაგრდება არანაკლებ ორი გამაფრთხილებელი მოწყობილობა (ალამი). აქ დარღვევაა: სიჩქარე და საბუქსირო მოწყობილობაზე ერთი ალამი

QUESTION 661

CORRECT ANSWER: 3



This traffic sign:

1

Prohibits motion of the vehicles at a distance less than the one indicated on the sign

2

Prohibits motion of vehicles as well as vehicle composition, actual mass of which exceeds the mass indicated on the sign

3

Prohibits motion of the vehicles with actual loading on any axis exceeding the loading indicated on the sign

განმარტება:

„საგზაო მოძრაობის შესახებ“ საქართველოს კანონის პირველი დანართის მე-3 თავის (ამკრძალავი ნიშნები) 3.12 პუნქტის თანახმად საგზაო ნიშანი 3.12 „ღერძზე დატვირთვის შეზღუდვა“ - კრძალავს იმ სატრანსპორტო საშუალებით მოძრაობას, რომლის ფაქტობრივი დატვირთვა რომელიმე ღერძზე აღემატება ნიშანზე აღნიშნულს.

QUESTION 662

CORRECT ANSWER: 1



This traffic sign prohibits:

1

Motion of vehicle as well as vehicle composition, with overall length (with or without cargo) exceeding the length indicated on the sign

2

Motion of the vehicle with overall width exceeding the width indicated on the sign

3

Motion of the vehicles at a distance less than the one indicated on the sign

განმარტება:

„საგზაო მოძრაობის შესახებ“ საქართველოს კანონის პირველი დანართის მე-3 თავის (ამკრძალავი ნიშნები) 3.15 პუნქტის თანახმად საგზაო ნიშანი 3.15 „სიგრძის შეზღუდვა“ - კრძალავს იმ სატრანსპორტო საშუალებით და სატრანსპორტო საშუალებათა შემადგენლობით მოძრაობას, რომელთა გაბარიტული სიგრძე (ტვირთიანად ან უტვირთოდ) აღემატება ნიშანზე აღნიშნულს.

QUESTION 663

CORRECT ANSWER: 3



This traffic sign prohibits:

1

Motion of all kind of vehicles carrying cargo

2

Stopping and parking of lorries

3

Motion of vehicle as well as vehicle composition, with maximum allowable mass exceeding the maximum allowable mass indicated on the sign

განმარტება:

„საგზაო მოძრაობის შესახებ“ საქართველოს კანონის პირველი დანართის მე-3 თავის (ამკრძალავი ნიშნები) 3.4 პუნქტის თანახმად საგზაო ნიშანი 3.4 „სატვირთო მოძრაობა აკრძალულია“ - კრძალავს იმ სატრანსპორტო საშუალებით და სატრანსპორტო საშუალებათა შემადგენლობებით მოძრაობას, რომელთა ნებადართული მაქსიმალური მასა აღემატება ნიშანზე აღნიშნულ ნებადართული მაქსიმალური მასის ზღვარს.



This traffic sign prohibits:

1

Passing without stopping at the checkpoint (at police or quarantine post, entries in border or closed zones, passages to charged roads, etc.)

2

Passing without stopping at the customs checkpoint (customs checkpoint located at the customs border of Georgia)

განმარტება:

„საგზაო მოძრაობის შესახებ“ საქართველოს კანონის პირველი დანართის მე-3 თავის (ამკრძალავი ნიშნები) 3.17.1 პუნქტის თანახმად საგზაო ნიშანი 3.17.1 „საბაჟო გამშვები პუნქტი“ - კრძალავს საბაჟო გამშვებ პუნქტთან (საქართველოს საბაჟო საზღვართან მდებარე საბაჟო კონტროლის ზონა) გაუჩერებლად გავლას.

QUESTION 665

CORRECT ANSWER: 2



This traffic sign prohibits:

1

Subsequent motion of the vehicles for the hazard on the road

2

Passing without stopping at the checkpoint (at police or quarantine post, entries in border or closed zones, passages to charged roads, etc.)

3

Subsequent motion of the vehicles for a traffic accident

განმარტება:

„საგზაო მოძრაობის შესახებ“ საქართველოს კანონის პირველი დანართის მე-3 თავის (ამკრძალავი ნიშნები) 3.17.3 პუნქტის თანახმად საგზაო ნიშანი 3.17.3 „კონტროლი“ – კრძალავს საკონტროლო პუნქტთან (პოლიციის ან საკარანტინო საგუშაგოსთან, სასაზღვრო ან დახურულ ზონაში შესასვლელთან, ფასიან გზაზე გასასვლელთან და ა.შ.) გაუჩერებლად გავლას.

QUESTION 666

CORRECT ANSWER: 2



This traffic sign:

1

Prohibits U-turn at the nearest junction of the driveways

2

Prohibits swerving to the left at the nearest junction of the driveways

3

Obliges a driver to proceed to the left only

განმარტება:

„საგზაო მოძრაობის შესახებ“ საქართველოს კანონის პირველი დანართის მე-3 თავის (ამკრძალავი ნიშნები) 3.18.2 პუნქტის თანახმად საგზაო ნიშანი 3.18.2 „მარცხნივ მოხვევა აკრძალულია“ - კრძალავს სავალი ნაწილების უახლოეს გადაკვეთაზე მარცხნივ მოხვევას.

QUESTION 667

CORRECT ANSWER: 2



This traffic sign:

- 1 Allows motion at a speed indicated on the sign (km/h) or faster
- 2 Prohibits motion faster than the speed indicated on the sign (km/h)
- 3 Indicates distance from the sign until beginning of the danger zone

განმარტება:

„საგზაო მოძრაობის შესახებ“ საქართველოს კანონის პირველი დანართის მე-3 თავის (ამკრძალავი ნიშნები) 3.24 პუნქტის თანახმად საგზაო ნიშანი 3.24 „მაქსიმალური სიჩქარის შეზღუდვა“ - კრძალავს მოძრაობას ნიშანზე აღნიშნულზე მეტი სიჩქარით (კმ/სთ).

QUESTION 668

CORRECT ANSWER: 2



This traffic sign:

- | | |
|--|--|
| 1 Prohibits overtaking any vehicle | 2 Marks end of effective zone of the sign 3.22 (Lorry overtaking is prohibited) |
| 3 Marks end of effective zone of the sign 3.20 (Overtaking is prohibited) | |

განმარტება:

„საგზაო მოძრაობის შესახებ“ საქართველოს კანონის პირველი დანართის მე-3 თავის (ამკრძალავი ნიშნები) 3.23 პუნქტის თანახმად საგზაო ნიშანი 3.23 „სატვირთო ავტომობილით გასწრების აკრძალვის დასასრული“ - აღნიშნავს საგზაო ნიშნის 3.22-ის („სატვირთო ავტომობილით გასწრება აკრძალულია“) მოქმედების ზონის დასასრულს.

QUESTION 669

CORRECT ANSWER: 3



This traffic sign:

1

Indicates absence of double axial line of driveway

2

Prohibits parking of a vehicle on odd days of the month

3

Prohibits parking of a vehicle on even days of the month

განმარტება:

„საგზაო მოძრაობის შესახებ“ საქართველოს კანონის პირველი დანართის მე-3 თავის (ამკრძალავი ნიშნები) 3.30 პუნქტის თანახმად საგზაო ნიშანი 3.30 „დგომა აკრძალულია ლუნ რიცხვებში“ - კრძალავს სატრანსპორტო საშუალების დგომას თვის ლუნ რიცხვებში.

QUESTION 670

CORRECT ANSWER: 3



This traffic sign prohibits:

1

Motion of any kind of lorry

2

Motion of any kind of trailer lorry

3

Motion of vehicles carrying dangerous cargo, which should be marked with appropriate identification sign according to the applicable legislation

განმარტება:

„საგზაო მოძრაობის შესახებ“ საქართველოს კანონის პირველი დანართის მე-3 თავის (ამკრძალავი ნიშნები) 3.32 პუნქტის თანახმად საგზაო ნიშანი 3.32 „სახიფათო ტვირთის გადამზიდი სატრანსპორტო საშუალებით მოძრაობა აკრძალულია“ - კრძალავს იმ სახიფათო ტვირთის გადამზიდი სატრანსპორტო საშუალებით მოძრაობას, რომელიც, საქართველოს კანონმდებლობის თანახმად, აღნიშნული უნდა იყოს შესაბამისი საცნობი ნიშნით.

QUESTION 671

CORRECT ANSWER: 1



This traffic sign ptohibits:

1

Motion of vehicles carrying explosive and highly inflammable cargo, which should be marked with appropriate identification sign according to the applicable legislation

2

Motion of any vehicle carrying explosive and highly inflammable cargo

განმარტება:

„საგზაო მოძრაობის შესახებ“ საქართველოს კანონის პირველი დანართის მე-3 თავის (ამკრძალავი ნიშნები) 3.33 პუნქტის თანახმად საგზაო ნიშანი 3.33 „ფეთქებადი და ადვილად აალებადი ტვირთის გადამზიდი სატრანსპორტო საშუალებით მოძრაობა აკრძალულია“ - კრძალავს 19433-88 სახელმწიფო სტანდარტით განსაზღვრული 1.22–2.4, 3.1, 3.2, 5.2 კლასის ფეთქებადი და ადვილად აალებადი ტვირთის გადამზიდი სატრანსპორტო საშუალებით მოძრაობას, რომელიც, საქართველოს კანონმდებლობის თანახმად აღნიშნული უნდა იყოს საცნობი ნიშნით „სახიფათო ტვირთი“.

QUESTION 672

CORRECT ANSWER: 2



I



II



III



IV

Which of these traffic signs is not effective to vehicle, serving to the company located in effective zone of the sign?

1

I and II only

2

I and III only

3

II and IV only

4

III and IV only

განმარტება:

„საგზაო მოძრაობის შესახებ“ საქართველოს კანონის პირველი დანართის მე-3 თავის (ამკრძალავი ნიშნები) შენიშვნის „გ.ბ“ ქვეპუნქტის თანახმად ნიშნების მოქმედება არ ვრცელდება: გ.ბ) 3.2–3.8 ნიშნებისა – სატრანსპორტო საშუალებაზე, რომელიც ემსახურება აღნიშნულ ზონაში მდებარე სანარმოს, ანდა ემსახურება ან ეკუთვნის ამავე ზონაში მცხოვრებ ან მომუშავე პირს. ამ შემთხვევაში სატრანსპორტო საშუალება შედის აღნიშნულ ზონაში და გამოდის იქიდან დანიშნულების ადგილისაკენ უახლოეს გზაჯვარედინზე. სურათზე ნაჩვენებია საგზაო ნიშნებია: 3.4 „სატვირთო მოძრაობა აკრძალულია“, 3.24 „მაქსიმალური სიჩქარის შეზღუდვა“, 3.5 „მოტოციკლით მოძრაობა აკრძალულია“ და 3.26 „ხმოვანი სიგნალის მიცემა აკრძალულია“.

QUESTION 673

CORRECT ANSWER: 1



I



II



III



IV

Which of these traffic signs is not effective to vehicle, serving to or owned by a person residing or working in effective zone of the sign?

1

II and IV only

2

II only

3

I and IV only

4

III and IV only

განმარტება:

„საგზაო მოძრაობის შესახებ“ საქართველოს კანონის პირველი დანართის მე-3 თავის (ამკრძალავი ნიშნები) შენიშვნის „გ.ბ“ ქვეპუნქტის თანახმად ნიშნების მოქმედება არ ვრცელდება: გ.ბ) 3.2–3.8 ნიშნებისა – სატრანსპორტო საშუალებაზე, რომელიც ემსახურება აღნიშნულ ზონაში მდებარე სანარმოს, ანდა ემსახურება ან ეკუთვნის ამავე ზონაში მცხოვრებ ან მომუშავე პირს. ამ შემთხვევაში სატრანსპორტო საშუალება შედის აღნიშნულ ზონაში და გამოდის იქიდან დანიშნულების ადგილისაკენ უახლოეს გზაჯვარედინზე. სურათზე ნაჩვენებია საგზაო ნიშნებია: 3.24 „მაქსიმალური სიჩქარის შეზღუდვა“, 3.4 „სატვირთო მოძრაობა აკრძალულია“, 3.19 „მობრუნება აკრძალულია“ და 3.7 „მისაბმელით მოძრაობა აკრძალულია“

QUESTION 674

CORRECT ANSWER: 2



I



II



III



IV

Which of these traffic signs is not effective to vehicle, driven by an individual with status of significant or severe disabilities, or vehicle conveying above individuals?

1

I and II only

2

I and III only

3

II and IV only

4

III and IV only

განმარტება:

„საგზაო მოძრაობის შესახებ“ საქართველოს კანონის პირველი დანართის მე-3 თავის (ამკრძალავი ნიშნები) შენიშვნის „გ.დ“ ქვეპუნქტის თანახმად ნიშნების მოქმედება არ ვრცელდება: გ.დ) 3.2, 3.3, 3.28–3.30 ნიშნებისა – იმ სატრანსპორტო საშუალებაზე, რომელსაც მნიშვნელოვნად გამოხატული ან მკვეთრად გამოხატული შეზღუდული შესაძლებლობის სტატუსის მქონე პირი მართავს, ან იმ სატრანსპორტო საშუალებაზე, რომელსაც აღნიშნული პირები გადაჰყავს. სურათზე ნაჩვენები საგზაო ნიშნებია: 3.2 „მოძრაობა აკრძალულია“, 3.26 „ხმოვანი სიგნალის მიცემა აკრძალულია“, 3.28 „დგომა აკრძალულია“ და 3.20 „გასწრება აკრძალულია“.

QUESTION 675

CORRECT ANSWER: 1



I



II

Which of these traffic signs is effective to:

1

Junction of the driveways, in front of which the sign is posted

2

On the side of the road, where they are posted

განმარტება:

„საგზაო მოძრაობის შესახებ“ საქართველოს კანონის პირველი დანართის მე-3 თავის (ამკრძალავი ნიშნები) შენიშვნის „დ“ პუნქტის თანახმად 3.18.1 (მარჯვნივ მოხვევა აკრძალულია), 3.18.2 (მარცხნივ მოხვევა აკრძალულია) ნიშნების მოქმედება ვრცელდება სავალი ნაწილების იმ გადაკვეთაზე, რომლის წინაც დადგმულია სათანადო ნიშანი.

QUESTION 676

CORRECT ANSWER: 4



I



II



III



IV

Which of these traffic signs is effective to junction of the driveways, in front of which the sign is posted?

1

I only

2

III and IV only

3

II only

4

All of them

განმარტება:

„საგზაო მოძრაობის შესახებ“ საქართველოს კანონის პირველი დანართის მე-3 თავის (ამკრძალავი ნიშნები) შენიშვნის „დ“ პუნქტის თანახმად 3.18.1, 3.18.2 ნიშნების მოქმედება ვრცელდება სავალი ნაწილების იმ გადაკვეთაზე, რომლის წინაც დადგმულია სათანადო ნიშანი. ამავე დანართის მე-4 თავის (მიმითითებელი ნიშნები) 4.1.1-4.1.6 პუნქტების შენიშვნის „ბ“ ქვეპუნქტის თანახმად ბ) 4.1.1-4.1.6 ნიშნების მოქმედება ვრცელდება სავალი ნაწილების იმ გადაკვეთაზე, რომლის წინაც დადგმულია სათანადო ნიშანი. სურათზე ნაჩვენები ნიშნებია: 3.18.2 „მარცხნივ მოხვევა აკრძალულია“, 4.1.4 „მოძრაობა პირდაპირ ან მარჯვნივ“, 3.18.1 „მარჯვნივ მოხვევა აკრძალულია“ და 4.1.5 „მოძრაობა პირდაპირ ან მარცხნივ“.

QUESTION 677

CORRECT ANSWER: 2



I



II



III

These traffic signs are effective:

1

On junction of the driveways, in front of which the sign is posted

2

On the side of the road, where they are posted

განმარტება:

„საგზაო მოძრაობის შესახებ“ საქართველოს კანონის პირველი დანართის მე-3 თავის (ამკრძალავი ნიშნები) შენიშვნის „ი“ პუნქტის თანახმად 3.10, 3.27–3.30 ნიშნების მოქმედება ვრცელდება მხოლოდ გზის იმ მხარეს, რომელზედაც ისინია დადგმული. სურათზე ნაჩვენები ნიშნებია: 3.10 „ქვეითთა მოძრაობა აკრძალულია“, 3.27 „გაჩერება აკრძალულია“ და 3.29 „დგომა აკრძალულია კენტ რიცხვებში“.

QUESTION 678

CORRECT ANSWER: 1



I



II



III

These traffic signs are effective:

1

From the place of posting the sign until the nearest intersection, and if there is no intersection in inhabited area – until the end of the inhabited area

2

On junction of the driveways, in front of which the sign is posted

განმარტება:

„საგზაო მოძრაობის შესახებ“ საქართველოს კანონის პირველი დანართის მე-3 თავის (ამკრძალავი ნიშნები) შენიშვნის „ე“ პუნქტის თანახმად, 3.16, 3.20, 3.22, 3.24, 3.26–3.30 ნიშნების მოქმედება ვრცელდება სათანადო ნიშნის შემდეგ, ნიშნის დადგმის ადგილიდან უახლოეს გზაჯვარედინამდე, ხოლო დასახლებულ პუნქტში გზაჯვარედინის არარსებობისას – დასახლებული პუნქტის ბოლომდე. ნიშნების მოქმედება ვრცელდება აგრეთვე მიმდებარე ტერიტორიის გამოსას-ვლე-ლთან, საველე, სატყეო და სხვა მეორეხარისხოვანი გზების გადაკვეთასთან (შეერთებასთან), რომელთა წინ არ დგას სათანადო ნიშანი. სურათზე ნაჩვენები ნიშნებია: 3.16 „მინიმალური დისტანციის შეზღუდვა“, 3.24 „მაქსიმალური სიჩქარის შეზღუდვა“ და 3.28 „დგომა აკრძალულია“.

QUESTION 679

CORRECT ANSWER: 2



I



II



III



IV

If there is no intersection in inhabited area, effective zone of which of the traffic signs is applied until the end of the inhabited area?

1

I only

2

II, III and IV only

3

I and IV only

4

III only

განმარტება:

„საგზაო მოძრაობის შესახებ“ საქართველოს კანონის პირველი დანართის მე-3 თავის (ამკრძალავი ნიშნები) შენიშვნის „ე“ პუნქტის თანახმად, 3.16, 3.20, 3.22, 3.24, 3.26–3.30 ნიშნების მოქმედება ვრცელდება სათანადო ნიშნის შემდეგ, ნიშნის დადგმის ადგილიდან უახლოეს გზაჯვარედინამდე, ხოლო დასახლებულ პუნქტში გზაჯვარედინის არარსებობისას – დასახლებული პუნქტის ბოლომდე. ნიშნების მოქმედება ვრცელდება აგრეთვე მიმდებარე ტერიტორიის გამოსასვლელ-ლთან, საველე, სატყეო და სხვა მეორეხარისხოვანი გზების გადაკვეთასთან (შეერთებასთან), რომელთა წინ არ დგას სათანადო ნიშანი. სურათზე ნაჩვენები ნიშნებია: 3.4 „სატვირთო მოძრაობა აკრძალულია“, 3.20 „გასწრება აკრძალულია“, 3.27 „გაჩერება აკრძალულია“ და 3.30 „დგომა აკრძალულია ღუნ რიცხვებში“.

QUESTION 680

CORRECT ANSWER: 2



This traffic sign prohibits:

- 1 Overtaking to any vehicle by the lorry, notwithstanding the speed of the vehicle to be overtaken
- 2 Overtaking to other vehicle by the lorry with maximum allowable mass exceeding 3.5 tonnes (except those routing at a speed below 30 km/h)
- 3 Motion of motor car and lorry on the given section of the road

განმარტება:

„საგზაო მოძრაობის შესახებ“ საქართველოს კანონის პირველი დანართის მე-3 თავის (ამკრძალავი ნიშნები) 3.22 პუნქტის თანახმად, საგზაო ნიშანი 3.22 „სატვირთო ავტომობილით გასწრება აკრძალულია“ - კრძალავს 3,5 ტონაზე მეტი ნებადართული მაქსიმალური მასის მქონე სატვირთო ავტომობილით სხვა სატრანსპორტო საშუალების გასწრებას (გარდა 30 კმ/სთ-ზე ნაკლები სიჩქარით მოძრავი ტრანსპორტისა), აგრეთვე ტრაქტორით სხვა სატრანსპორტო საშუალების გასწრებას (გარდა საჭაპანო ტრანსპორტისა და ველოსიპედისა).

თემა 25:

სასწავლო სვლა

QUESTION 681

CORRECT ANSWER: 3



I



II



III



IV

Which of these traffic signs prohibits entry of every vehicle in given direction?

1

I

2

II

3

III

4

IV

განმარტება:

„საგზაო მოძრაობის შესახებ“ საქართველოს კანონის პირველი დანართის მე-3 თავის (ამკრძალავი ნიშნები) 3.1 პუნქტის თანახმად საგზაო ნიშანი 3.1 „შესვლა აკრძალულია“ - კრძალავს ყველა სახის სატრანსპორტო საშუალებით შესვლას მოცემული მიმართულებით.

QUESTION 682

CORRECT ANSWER: 1



I



II



III



IV

Which of these traffic signs prohibits motion of all vehicles?

1

I

2

II

3

III

4

IV

განმარტება:

„საგზაო მოძრაობის შესახებ“ საქართველოს კანონის პირველი დანართის მე-3 თავის (ამკრძალავი ნიშნები) 3.2 პუნქტის თანახმად საგზაო ნიშანი 3.2 „მოძრაობა აკრძალულია“ - კრძალავს ყველა სახის სატრანსპორტო საშუალებით მოძრაობას.

QUESTION 683

CORRECT ANSWER: 2



I



II



III



IV

Which of these traffic signs prohibits motion of all mechanical vehicles?

1

I

2

II

3

III

4

IV

განმარტება:

„საგზაო მოძრაობის შესახებ“ საქართველოს კანონის პირველი დანართის მე-3 თავის (ამკრძალავი ნიშნები) 3.3 პუნქტის თანახმად საგზაო ნიშანი 3.3 „მექანიკური სატრანსპორტო საშუალებით მოძრაობა აკრძალულია“ - კრძალავს ყველა სახის მექანიკური სატრანსპორტო საშუალებით მოძრაობას.

QUESTION 684

CORRECT ANSWER: 1



This traffic sign:

1

Prohibits motion of all mechanical vehicles

2

Prohibits motion of all vehicles

3

Marks the road for motion of motor cars

განმარტება:

„საგზაო მოძრაობის შესახებ“ საქართველოს კანონის პირველი დანართის მე-3 თავის (ამკრძალავი ნიშნები) 3.3 პუნქტის თანახმად საგზაო ნიშანი 3.3 „მექანიკური სატრანსპორტო საშუალებით მოძრაობა აკრძალულია“ - კრძალავს ყველა სახის მექანიკური სატრანსპორტო საშუალებით მოძრაობას.

QUESTION 685

CORRECT ANSWER: 3



This traffic sign prohibits:

1

Motion of all mechanical vehicles

2

Motion of motorcycle without sidecar

3

Motion of all motorcycles

განმარტება:

„საგზაო მოძრაობის შესახებ“ საქართველოს კანონის პირველი დანართის მე-3 თავის (ამკრძალავი ნიშნები) 3.5 პუნქტის თანახმად საგზაო ნიშანი 3.5 „მოტოციკლით მოძრაობა აკრძალულია“ - კრძალავს ყველა სახის მოტოციკლით მოძრაობას.

QUESTION 686

CORRECT ANSWER: 2



This traffic sign:

1

Prohibits motion of all mechanical vehicles

2

Prohibits motion of all tractors and self-propelled vehicles

3

Marks the road for motion of tractor

განმარტება:

„საგზაო მოძრაობის შესახებ“ საქართველოს კანონის პირველი დანართის მე-3 თავის (ამკრძალავი ნიშნები) 3.6 პუნქტის თანახმად საგზაო ნიშანი 3.6 „ტრაქტორით მოძრაობა აკრძალულია“ - კრძალავს ყველა სახის ტრაქტორითა და სპეციალიზებული თვითმავალი მანქანით მოძრაობას.

QUESTION 687

CORRECT ANSWER: 2



This traffic sign:

- 1 Marks the road for motion of trailer lorries only
- 2 Prohibits motion of all trailer vehicles and trailer tractors, as well as towing of mechanical vehicle
- 3 Prohibits motion of all kind of immobile vehicles

განმარტება:

„საგზაო მოძრაობის შესახებ“ საქართველოს კანონის პირველი დანართის მე-3 თავის (ამკრძალავი ნიშნები) 3.7 პუნქტის თანახმად საგზაო ნიშანი 3.7 „მისაბმელით მოძრაობა აკრძალულია“ - კრძალავს ყველა სახის მისაბმელიანი სატვირთო ავტომობილითა და მისაბმელიანი ტრაქტორით მოძრაობას, აგრეთვე მექანიკური სატრანსპორტო საშუალების ბუქსირებას.

QUESTION 688

CORRECT ANSWER: 3



I



II



III



IV

Which of these traffic signs prohibits motion of cartage, pack and seat animals, as well as – cattle drive?

1

I and IV only

2

II and III only

3

III only

4

I only

განმარტება:

„საგზაო მოძრაობის შესახებ“ საქართველოს კანონის პირველი დანართის მე-3 თავის (ამკრძალავი ნიშნები) 3.8 პუნქტის თანახმად საგზაო ნიშანი 3.8 „სატაქსო მოძრაობა აკრძალულია“ - კრძალავს სატაქსო ტრანსპორტით, სასაპალნე და დასაჯდომი ცხოველებით მოძრაობას, ასევე პირუტყვის გადარეკვას.

QUESTION 689

CORRECT ANSWER: 2



I



II



III



IV

Which of these traffic signs prohibits bicycle and moped riding?

1

I

2

II

3

III

4

IV

განმარტება:

„საგზაო მოძრაობის შესახებ“ საქართველოს კანონის პირველი დანართის მე-3 თავის (ამკრძალავი ნიშნები) 3.9 პუნქტის თანახმად საგზაო ნიშანი 3.9 „ველოსიპედით მოძრაობა აკრძალულია“ - კრძალავს ველოსიპედითა და მოპედით მოძრაობას.

QUESTION 690

CORRECT ANSWER: 3



I



II



III



IV

Which of these traffic signs prohibits motion of pedestrians?

1

I

2

II

3

III

4

IV

განმარტება:

„საგზაო მოძრაობის შესახებ“ საქართველოს კანონის პირველი დანართის მე-3 თავის (ამკრძალავი ნიშნები) 3.9 პუნქტის თანახმად საგზაო ნიშანი 3.9 „ველოსიპედით მოძრაობა აკრძალულია“ - კრძალავს ველოსიპედითა და მოპედით მოძრაობას.

QUESTION 691

CORRECT ANSWER: 2



I



II



III



IV

Which of these traffic signs prohibits motion of vehicles as well as vehicle composition, actual mass of which exceeds the mass indicated on the sign?

1

I

2

II

3

III

4

IV

განმარტება:

„საგზაო მოძრაობის შესახებ“ საქართველოს კანონის პირველი დანართის მე-3 თავის (ამკრძალავი ნიშნები) 3.11 პუნქტის თანახმად საგზაო ნიშანი 3.11 „მასის შეზღუდვა“ - კრძალავს იმ სატრანსპორტო საშუალებით და სატრანსპორტო საშუალებათა შემადგენლობით მოძრაობას, რომელთა საერთო ფაქტობრივი მასა აღემატება ნიშანზე აღნიშნულს.

QUESTION 692

CORRECT ANSWER: 4



I



II



III



IV

Which of these traffic signs prohibits motion of the vehicles with actual loading on any axis exceeding the loading indicated on the sign?

1

I

2

II

3

III

4

IV

განმარტება:

„საგზაო მოძრაობის შესახებ“ საქართველოს კანონის პირველი დანართის მე-3 თავის (ამჟრძალავი ნიშნები) 3.12 პუნქტის თანახმად საგზაო ნიშანი 3.12 „ღერძზე დატვირთვის შეზღუდვა“ - კრძალავს იმ სატრანსპორტო საშუალებით მოძრაობას, რომლის ფაქტობრივი დატვირთვა რომელიმე ღერძზე აღემატება ნიშანზე აღნიშნულს.

QUESTION 693

CORRECT ANSWER: 1



I



II



III



IV

Which of these traffic signs prohibits motion of the vehicles at a distance less than the one indicated on the sign?

1

I

2

II

3

III

4

IV

განმარტება:

„საგზაო მოძრაობის შესახებ“ საქართველოს კანონის პირველი დანართის მე-3 თავის (ამკრძალავი ნიშნები) 3.16 პუნქტის თანახმად საგზაო ნიშანი 3.16 „მინიმალური დისტანციის შეზღუდვა“ - კრძალავს სატრანსპორტო საშუალებებით მოძრაობას ნიშანზე აღნიშნულ მანძილზე ნაკლები დისტანციით.

QUESTION 694

CORRECT ANSWER: 3



This traffic sign:

1

Prohibits motion of pedestrians for the hazard on the road

2

Obliges the drivers to proceed under observation of maximum caution, no faster than 20 km/h

3

Prohibits subsequent motion of all kind of vehicles for a traffic accident or other hazard

განმარტება:

„საგზაო მოძრაობის შესახებ“ საქართველოს კანონის პირველი დანართის მე-3 თავის (ამკრძალავი ნიშნები) 3.17.2 პუნქტის თანახმად საგზაო ნიშანი 3.17.2 „საფრთხე“ - კრძალავს ყველა სახის სატრანსპორტო საშუალებით შემდგომ მოძრაობას საგზაო-სატრანსპორტო შემთხვევის ან სხვა საფრთხის გამო.

QUESTION 695

CORRECT ANSWER: 3



This traffic sign:

1

Prohibits U-turn at the nearest junction of the driveways

2

Obliges a driver to proceed to the right only

3

Prohibits swerving to the right at the nearest junction of the driveways

განმარტება:

„საგზაო მოძრაობის შესახებ“ საქართველოს კანონის პირველი დანართის მე-3 თავის (ამკრძალავი ნიშნები) 3.18.1 პუნქტის თანახმად საგზაო ნიშანი 3.18.1 „მარჯვნივ მოხვევა აკრძალულია“ - კრძალავს სავალი ნაწილების უახლოეს გადაკვეთაზე მარჯვნივ მოხვევას.

QUESTION 696

CORRECT ANSWER: 1



This traffic sign:

1

Prohibits U-turn at the nearest junction of the driveways

2

Prohibits swerving to the left at the nearest junction of the driveways

3

Obliges a driver to proceed to the left and backward only

განმარტება:

„საგზაო მოძრაობის შესახებ“ საქართველოს კანონის პირველი დანართის მე-3 თავის (ამკრძალავი ნიშნები) 3.19 პუნქტის თანახმად საგზაო ნიშანი 3.19 „მობრუნება აკრძალულია“ - კრძალავს სავალი ნაწილების უახლოეს გადაკვეთაზე მობრუნებას.

QUESTION 697

CORRECT ANSWER: 1



I



II



III



IV

Which of these traffic signs prohibits overtaking of other vehicle with the lorry with maximum allowable mass exceeding 3.5 tonnes (except those driving slower than 30 km/h), as well as overtaking of any vehicle with tractor (other than cartage and bicycle)?

1

I

2

II

3

III

4

IV

განმარტება:

„საგზაო მოძრაობის შესახებ“ საქართველოს კანონის პირველი დანართის მე-3 თავის (ამკრძალავი ნიშნები) 3.22 პუნქტის თანახმად საგზაო ნიშანი 3.22 „სატვირთო ავტომობილით გასწრება აკრძალულია“ - კრძალავს 3,5 ტონაზე მეტი ნებადართული მაქსიმალური მასის მქონე სატვირთო ავტომობილით სხვა სატრანსპორტო საშუალების გასწრებას (გარდა 30 კმ/სთ-ზე ნაკლები სიჩქარით მოძრაობისა), აგრეთვე - ტრაქტორით სხვა სატრანსპორტო საშუალების გასწრებას (გარდა საჭაპნე ტრანსპორტისა და ველოსიპედისა).

QUESTION 698

CORRECT ANSWER: 3



This traffic sign:

1

Indicates the end of effective zone of traffic sign restricting use of honk

2

Marks the road section, where organization of meetings and manifestations is prohibited

3

Prohibits using of honk, except the cases when signal is used to avoid traffic accident

განმარტება:

„საგზაო მოძრაობის შესახებ“ საქართველოს კანონის პირველი დანართის მე-3 თავის (ამკრძალავი ნიშნები) 3.26 პუნქტის თანახმად საგზაო ნიშანი 3.26 „ხმოვანი სიგნალის მიცემა აკრძალულია“ - კრძალავს ხმოვანი სიგნალით სარგებლობას, გარდა იმ შემთხვევისა, როცა სიგნალი გამოიყენება საგზაო-სატრანსპორტო შემთხვევის თავიდან ასაცილებლად.

QUESTION 699

CORRECT ANSWER: 2



This traffic sign:

- | | |
|---|--|
| <div data-bbox="97 680 177 763">1</div> Prohibits overtaking any vehicle | <div data-bbox="831 680 911 763">2</div> Marks end of effective zone of the sign 3.20 (Overtaking is prohibited) |
| <div data-bbox="97 831 177 913">3</div> Prohibits using of honk, except the cases when signal is used to avoid traffic accident | |

განმარტება:

„საგზაო მოძრაობის შესახებ“ საქართველოს კანონის პირველი დანართის მე-3 თავის (ამკრძალავი ნიშნები) 3.21 პუნქტის თანახმად საგზაო ნიშანი 3.21 „გასწრების აკრძალვის დასასრული“ - აღნიშნავს საგზაო ნიშნის 3.20-ის („გასწრება აკრძალულია“) მოქმედების ზონის დასასრულს.

QUESTION 700

CORRECT ANSWER: 4



I



II



III



IV

Which of these traffic signs marks end of effective zone of the traffic sign 3.24 („Maximum speed restriction“)?

1

I

2

II

3

III

4

IV

განმარტება:

„საგზაო მოძრაობის შესახებ“ საქართველოს კანონის პირველი დანართის მე-3 თავის (ამჟრძალავი ნიშნები) 3.25 პუნქტის თანახმად საგზაო ნიშანი 3.25. „მაქსიმალური სიჩქარის შეზღუდვის დასასრული“ - აღნიშნავს 3.24 „მაქსიმალური სიჩქარის შეზღუდვა“ ნიშნის მოქმედების ზონის დასასრულს.

QUESTION 701

CORRECT ANSWER: 1



This traffic sign:

1

Prohibits both stopping and parking of a vehicle

2

Prohibits stopping, but does not prohibit parking of a vehicle

3

Prohibits parking, but does not prohibit stopping of a vehicle

პანმარტივა:

„საგზაო მოძრაობის შესახებ“ საქართველოს კანონის პირველი დანართის მე-3 თავის (ამკრძალავი ნიშნები) 3.27 პუნქტის თანახმად საგზაო ნიშანი 3.27 „გაჩერება აკრძალულია“ - კრძალავს სატრანსპორტო საშუალების, როგორც გაჩერებას, ისე დგომას.

QUESTION 702

CORRECT ANSWER: 3



I



II



III



IV

In effective zone of which of these traffic signs is parking of a vehicle prohibited?

1

II only

2

IV only

3

I and III only

4

I and IV only

განმარტება:

„საგზაო მოძრაობის შესახებ“ საქართველოს კანონის პირველი დანართის მე-3 თავის (ამკრძალავი ნიშნები) 3.27 და 3.28 პუნქტების თანახმად: - საგზაო ნიშანი 3.27 „გაჩერება აკრძალულია“ - კრძალავს სატრანსპორტო საშუალების, როგორც გაჩერებას, ისე დგომას. - საგზაო ნიშანი 3.28 პუნქტის თანახმად საგზაო ნიშანი 3.28 „დგომა აკრძალულია“ კრძალავს სატრანსპორტო საშუალების დგომას.

QUESTION 703

CORRECT ANSWER: 2



I



II



III



IV

Which of these traffic signs prohibits parking of a vehicle on odd days of the month?

1

I

2

II

3

III

4

IV

განმარტება:

„საგზაო მოძრაობის შესახებ“ საქართველოს კანონის პირველი დანართის მე-3 თავის (ამკრძალავი ნიშნები) 3.29 პუნქტის თანახმად საგზაო ნიშანი 3.29 „დგომა აკრძალულია კენტ რიცხვებში“ - კრძალავს სატრანსპორტო საშუალების დგომას თვის კენტ რიცხვებში.

QUESTION 704

CORRECT ANSWER: 1



I



II



III



IV

Which of these traffic signs is not effective to route vehicle?

1

I and III only

2

II and IV only

3

II and III only

4

III and IV only

განმარტება:

„საგზაო მოძრაობის შესახებ“ საქართველოს კანონის პირველი დანართის მე-3 თავის (ამკრძალავი ნიშნები) შენიშვნის „გ.ა“ ქვეპუნქტის თანახმად ნიშნების მოქმედება არ ვრცელდება: გ.ა) 3.1–3.3, 3.18.1, 3.18.2, 3.19, 3.27 ნიშნებისა – სამარშრუტო სატრანსპორტო საშუალებაზე. სურათზე ნაჩვენები საგზაო ნიშნებია: 3.18.2 „მარცხნივ მოხვევა აკრძალულია“, 1.8 „წრიულიმოძრაობიანი გადაკვეთა“, 3.19 „მობრუნება აკრძალულია“ და 1.33 „ხერგილი“.

QUESTION 705

CORRECT ANSWER: 2

During the learning motion, an instructor-teacher is equal to:

1

Passenger

2

Driver

3

With none out of the ones listed in given test

განმარტება:

„საგზაო მოძრაობის შესახებ“ საქართველოს კანონის 5-ე მუხლის 49-ე პუნქტის თანახმად, მძღოლი - ფიზიკური პირი, რომელიც მართავს სატრანსპორტო საშუალებას. მძღოლთან გათანაბრებულია მებრე, სასწავლო სვლის განხორციელებისას მძღოლთან გათანაბრებულია ინსტრუქტორ-მასწავლებელიც.

QUESTION 706

CORRECT ANSWER: 1

Learning of practical driving of the vehicle (learning motion) is allowed on the roads, list of which is approved according to the established rule by:

1

Local self-government bodies

2

Manager of the drivers' training institution

3

Decision of the instructor-teacher

განმარტება:

„საგზაო მოძრაობის შესახებ“ საქართველოს კანონის 61-ე მუხლის მე-2 პუნქტის თანახმად, სატრანსპორტო საშუალების პრაქტიკული მართვის სწავლება (სასწავლო სვლა) ნებადართულია მხოლოდ საქართველოს კანონმდებლობით დადგენილი წესით, დახურულ მოედანსა და ავტოდრომზე, აგრეთვე იმ გზებზე, რომელთა სიასაც დადგენილი წესით ამტკიცებენ ადგილობრივი თვითმმართველობის ორგანოები.

QUESTION 707

CORRECT ANSWER: 4

A learning car for practical driving must be equipped with:

1

Hook-driving gear and additional brake pedals for the instructor-teacher only

2

Rear-view mirror for the instructor-teacher only

3

Identification sign- "Learning car" only

4

With all of the equipment listed in given test

განმარტება:

„საგზაო მოძრაობის შესახებ“ საქართველოს კანონის 61-ე მუხლის მე-3 პუნქტის თანახმად, სასწავლო სატრანსპორტო საშუალება, რომლითაც ხდება პრაქტიკული მართვის სწავლება (სასწავლო სვლა), უნდა აღიჭურვოს ინსტრუქტორ-მასწავლებლისათვის განკუთვნილი გადაბმულობისა და მუხრუჭის დამატებითი სატერფულებით, აგრეთვე უკუხედვის სარკით. ასეთ სატრანსპორტო საშუალებაზე ამ კანონის მე-19 მუხლის პირველი პუნქტის „თ“ ქვეპუნქტით დადგენილი წესით უნდა დამაგრდეს საცნობი ნიშანი.

QUESTION 708

CORRECT ANSWER: 2

Learning of primary abilities for practical driving of a vehicle is allowed:

1

On any road with less traffic intensity

2

On closed ground or motodrome

3

Is suburb of inhabited area

განმარტება:

„საგზაო მოძრაობის შესახებ“ საქართველოს კანონის 61-ე მუხლის მე-2 და მე-4 პუნქტების თანახმად: 2. სატრანსპორტო საშუალების პრაქტიკული მართვის სწავლება (სასწავლო სვლა) ნებადართულია მხოლოდ საქართველოს კანონმდებლობით დადგენილი წესით, დახურულ მოედანსა და ავტოდრომზე, აგრეთვე იმ გზებზე, რომელთა სიასაც დადგენილი წესით ამტკიცებენ ადგილობრივი თვითმმართველობის ორგანოები. 4. გზაზე სასწავლო სვლა დასაშვებია მხოლოდ სასწავლო სატრანსპორტო საშუალებით ინსტრუქტორ-მასწავლებელთან ერთად იმ შემთხვევაში, თუ პირი ფლობს სატრანსპორტო საშუალების პრაქტიკული მართვის სანდის ჩვენებს. ინსტრუქტორ-მასწავლებელს გზაზე სასწავლო სვლის განხორციელების უფლება აქვს მხოლოდ მას შემდეგ, რაც დარწმუნდება, რომ პირმა (მოსწავლემ) საკმარისად აითვისა სატრანსპორტო საშუალების პრაქტიკული მართვის სანდის ჩვენები.

QUESTION 709

CORRECT ANSWER: 1

Learning motion on the road is allowed:

1

Only with learning car together with the instructor-teacher

2

With any vehicle together with the owner

3


Both with learning car together with the instructor-teacher and with any vehicle together with the owner

განმარტება:

„საგზაო მოძრაობის შესახებ“ საქართველოს კანონის 61-ე მუხლის მე-4 პუნქტის თანახმად, გზაზე სასწავლო სვლა დასაშვებია მხოლოდ სასწავლო სატრანსპორტო საშუალებით ინსტრუქტორ-მასწავლებელთან ერთად იმ შემთხვევაში, თუ პირი ფლობს სატრანსპორტო საშუალების პრაქტიკული მართვის სანდის ჩვენებს. ინსტრუქტორ-მასწავლებელს გზაზე სასწავლო სვლის განხორციელების უფლება აქვს მხოლოდ მას შემდეგ, რაც დარწმუნდება, რომ პირმა (მოსწავლემ) საკმარისად აითვისა სატრანსპორტო საშუალების პრაქტიკული მართვის სანდის ჩვენები.

QUESTION 710

CORRECT ANSWER: 3



In which direction is not learning motion prohibited when learner is driving the learning car?

1

In direction A only

2

In direction B only

3


In both A and B directions

განმარტება:

„საგზაო მოძრაობის შესახებ“ საქართველოს კანონის 38-ე მუხლის პირველი პუნქტის „ბ“ ქვეპუნქტის თანახმად, ავტომაგისტრალზე, ავტომაგისტრალის შესასვლელსა და გამოსასვლელზე აკრძალულია სასწავლო სვლა.

QUESTION 711

CORRECT ANSWER: 1



Is motion of the learning car prohibited to the arrow direction, when learner is driving the learning car?

1

Yes

2

No

განმარტება:

„საგზაო მოძრაობის შესახებ“ საქართველოს კანონის 44-ე მუხლის მე-3 პუნქტის თანახმად, ქვეითთა ზონად გამოცხადებულ ადგილზე და საცხოვრებელ ზონაში აკრძალულია გამჭოლი მოძრაობა, სასწავლო სვლა და ჩართული ძრავითი დგომა; ამასთანავე, ქვეითს უპირატესობა აქვს სხვა საგზაო მოძრაობის მონაწილეების მიმართ.

QUESTION 712

CORRECT ANSWER: 1



Is motion of the learning car prohibited to the arrow direction, when learner is driving the learning car?

1

Yes

2

No

განმარტება:

„საგზაო მოძრაობის შესახებ“ საქართველოს კანონის 38-ე მუხლის პირველი პუნქტის „ბ“ ქვეპუნქტის თანახმად, ავტომანქანის მძღოლმა, ავტომანქანის მძღოლის შესასვლელსა და გამოსასვლელზე აკრძალულია სასწავლო სვლა.

თემა 26:

გადაზიდვები, ხალხი, ტვირთი

QUESTION 713

CORRECT ANSWER: 2

Is the driver obliged to yield to the children, crossing the driveway, at the indication of the children group's guide?

1

No

2

Yes

განმარტება:

„საგზაო მოძრაობის შესახებ“ საქართველოს კანონის 26-ე მუხლის მე-5 პუნქტის თანახმად, ბავშვთა ჯგუფების გამცილებლის მინიშნებისას მძღოლი ვალდებულია გზა დაუთმოს იმ ბავშვებს, რომლებიც კვეთენ გზის სავალ ნაწილს.

QUESTION 714

CORRECT ANSWER: 2

On two-way traffic without lane line, the children's group should proceed:

1

On the sideway located on the side of the traffic direction

2

On sideway located on the opposite side of the traffic direction

განმარტება:

„საგზაო მოძრაობის შესახებ“ საქართველოს კანონის 26-ე მუხლის მე-5 პუნქტის თანახმად, ორმხრივ მოძრაობიან გზაზე, რომელსაც არა აქვს გამყოფი ზოლი, ბავშვთა ჯგუფი უნდა გადაადგილდებოდეს მოძრაობის მიმართულების სანინალმდეგო მხარეს მდებარე გვერდულაზე.

QUESTION 715

CORRECT ANSWER: 1

Is conveyance of passengers allowed with such amount or in such a way, that impede driving or limit visibility area of the driver?

1

Is not allowed

2

Is allowed only under approval of the driver

3

Is allowed only in uninhabited areas, on secondary road provided, that speed of the vehicle must not exceed 40 km/h

განმარტება:

„საგზაო მოძრაობის შესახებ“ საქართველოს კანონის 46-ე მუხლის პირველი პუნქტის თანახმად, აკრძალულია მგზავრთა იმ რაოდენობით ან ისე გადაყვანა, რომ ეს ხელს უშლიდეს სატრანსპორტო საშუალების მართვას ან მძღოლს უზღუდავდეს ხედვის არეს.

QUESTION 716

CORRECT ANSWER: 4

It is not prohibited to convey passengers:

1

Outside of compartment or cabin of tractor or other self-propelled vehicle

2

By lorry trailer, as well as mobile home

3

In a motorcycle basket

4

With a towing bus

განმარტება:

„საგზაო მოძრაობის შესახებ“ საქართველოს კანონის 46-ე მუხლის მე-10 პუნქტის „ა“ ქვეპუნქტის თანახმად, აკრძალულია მგზავრთა გადაყვანა ავტომობილის (ფურგონდარიანი ან ბორტის პლატფორმის მქონე სატვირთო ავტომობილის ძარათი მგზავრთა გადაყვანის შემთხვევის გარდა), ტრაქტორის, სხვა თვითმავალი მანქანის სალონის ან კაბინის გარეთ, სატვირთო ავტომობილის მისაბმელით, მისაბმელ-აგარაკით, სატვირთო მოტოციკლის ძარათი და მოტოციკლის კონსტრუქციით გათვალისწინებული დასასხდომი ადგილების გარეთ.

QUESTION 717

CORRECT ANSWER: 2

Is conveyance of passengers prohibited with such vehicle, which actual mass exceeds its allowed maximum mass?

1 No

2 Yes

განმარტება:

„საგზაო მოძრაობის შესახებ“ საქართველოს კანონის 46-ე მუხლის მე-10 პუნქტის „გ“ ქვეპუნქტის თანახმად, აკრძალულია მგზავრთა გადაყვანა თუ სატრანსპორტო საშუალების ფაქტობრივი მასა აღემატება მის ნებადართულ მაქსიმალურ მასას.

QUESTION 718

CORRECT ANSWER: 4

Any cargo should be placed and in case of necessity fixed on the vehicle in such way, that upon its transportation:

1 Not to endanger other traffic participants, not to damage state, public and private property, no cargo is dragged or fallen on the road only

2 Not to limit visibility and sight, not to breach stability of the vehicle and not to make its driving difficult only

3 Not to cover the lights, stop-signal, swerve indicators, reflective devices, registration number and distinguishing sign of registration state, as well as signals to be given by hand stipulated by this law

4 All of the conditions listed in given test are required to be fulfilled

განმარტება:

„საგზაო მოძრაობის შესახებ“ საქართველოს კანონის 47-ე მუხლის მე-11 პუნქტის „ა“, „ბ“ და „გ“ ქვეპუნქტების თანახმად, სატრანსპორტო საშუალებაზე ნებისმიერი ტვირთი იმგვარად უნდა მოთავსდეს და აუცილებლობის შემთხვევაში დამაგრდეს, რომ მისი გადაზიდვისას: ა) საფრთხე არ შეექმნას სხვა საგზაო მოძრაობის მონაწილეებს, ზიანი არ მიაღდეს სახელმწიფო, საზოგადოებრივ და კერძო ქონებას, ტვირთი არ ეთრეოდეს და არ ცვიოდეს გზაზე; ბ) არ შეიზღუდოს ხილვადობა და ხედვის არე, არ დაირღვეს სატრანსპორტო საშუალების მდგრადობა და არ გაძნელდეს მისი მართვა; გ) არ დაიფაროს სატრანსპორტო საშუალების სინათლეები, „სდექ“ სიგნალი, მოხვევის შუქ-მაჩვენებლები, შუქამრეკლი მოწყობილობები, რეგისტრაციის ნომერი და მარეგისტრირებელი სახელმწიფოს განმასხვავებელი ნიშანი, აგრეთვე ამ კანონით განსაზღვრული ხელით მისაცემი სიგნალები.

QUESTION 719

CORRECT ANSWER: 1

Cargo must be marked with distinguishing sign - „Oversized (big-volume) load“, if it exceeds the vehicle dimension ahead or/and behind of it by:

1

More than 1.0 m

2

More than 1.5 m

3

More than 2.0 m

განმარტება:

„საგზაო მოძრაობის შესახებ“ საქართველოს კანონის 47-ე მუხლის მე-13 პუნქტის თანახმად, სატრანსპორტო საშუალების გაბარიტის გარეთ წინ ან/და უკან 1 მეტრზე მეტად ან გვერდიდან საგაბარიტო სინათლის გარე ნაპირიდან 0,4 მეტრზე მეტად გადმოშვებული ტვირთი უნდა აღინიშნოს საცნობი ნიშნით „არაგაბარიტული (მსხვილგაბარიტიანი) ტვირთი“, აგრეთვე დღე-ღამის ბნელ დროს ან არასაკმარისი ხილვადობის პირობებში, წინ – თეთრი ფარნით ან შუქამრეკლით, უკან – წითელი ფარნით ან შუქამრეკლით.

QUESTION 720

CORRECT ANSWER: 3

Cargo must be marked with distinguishing sign - „Oversized (big-volume) load“, if it exceeds outer edge of side light by:

1

More than 0.6 m

2

More than 0.5 m

3

More than 0.4 m

განმარტება:

„საგზაო მოძრაობის შესახებ“ საქართველოს კანონის 47-ე მუხლის მე-13 პუნქტის თანახმად, სატრანსპორტო საშუალების გაბარიტის გარეთ წინ ან/და უკან 1 მეტრზე მეტად ან გვერდიდან საგაბარიტო სინათლის გარე ნაპირიდან 0,4 მეტრზე მეტად გადმოშვებული ტვირთი უნდა აღინიშნოს საცნობი ნიშნით „არაგაბარიტული (მსხვილგაბარიტიანი) ტვირთი“, აგრეთვე დღე-ღამის ბნელ დროს ან არასაკმარისი ხილვადობის პირობებში, წინ – თეთრი ფარნით ან შუქამრეკლით, უკან – წითელი ფარნით ან შუქამრეკლით.

QUESTION 721

CORRECT ANSWER: 3

During dark hours or in low visibility conditions, the cargo exceeding the vehicle overall dimension by more than one meter ahead and/or behind, or by more than 0.4 meters from outer edge of side lights, must be additionally marked:

1

Ahead only - with white light or light reflector

2

Behind only - with red light or light reflector

3

Both ahead - with white light or light reflector, as well as behind - with red light or light reflector

განმარტება:

„საგზაო მოძრაობის შესახებ“ საქართველოს კანონის 47-ე მუხლის მე-13 პუნქტის თანახმად, სატრანსპორტო საშუალების გაბარიტის გარეთ წინ ან/და უკან 1 მეტრზე მეტად ან გვერდიდან საგაბარიტო სინათლის გარე ნაპირიდან 0,4 მეტრზე მეტად გადმოშვებული ტვირთი უნდა აღინიშნოს საცნობი ნიშნით „არაგაბარიტული (მსხვილგაბარიტიანი) ტვირთი“, აგრეთვე დღე-ღამის ბნელ დროს ან არასაკმარისი ხილვადობის პირობებში, წინ – თეთრი ფარნით ან შუქამრეკლით, უკან – წითელი ფარნით ან შუქამრეკლით.

QUESTION 722

CORRECT ANSWER: 3

Conveyance of group of children is allowed:

1

In standing position only

2

In sitting position if the vehicle construction stipulates the seats, and if not – in standing position

3

In sitting position only

განმარტება:

„საგზაო მოძრაობის შესახებ“ საქართველოს კანონის 26-ე მუხლის მე-3 პუნქტის თანახმად, სატრანსპორტო საშუალებით ბავშვთა გადაყვანა დასაშვებია მხოლოდ დამსხდარ მდგომარეობაში, კონსტრუქციულად განსაზღვრული დასასხდომი ადგილებით. ბავშვთა დამდგარ მდგომარეობაში გადაყვანა აკრძალულია.

QUESTION 723

CORRECT ANSWER: 2

In case of seeing a child on the road or nearby it, a driver is obliged to:

- 1 Stop the vehicle and switch hazard lights on
- 2 Take special care and proceed at a speed, which will avoid hazard and in case of necessity he/she will be able to stop without hard braking
- 3 Increase the speed in order to pass the above section in due time

განმარტება:

„საგზაო მოძრაობის შესახებ“ საქართველოს კანონის 26-ე მუხლის მე-2 პუნქტის თანახმად, გზაზე ან მის სიახლოვეს ბავშვის დანახვისას ან გაჩერებული ავტობუსის დანახვისას, რომელზედაც დამაგრებულია საცნობი ნიშანი „ბავშვების გადაყვანა“, მძღოლმა უნდა გამოიჩინოს განსაკუთრებული სიფრთხილე და იმოძრაოს ისეთი სიჩქარით, რომელიც თავიდან ააცილებს საფრთხეს და აუცილებლობის შემთხვევაში მკვეთრი დამუხრუჭების გარეშე გაჩერების შესაძლებლობას მისცემს.

QUESTION 724

CORRECT ANSWER: 3

When seeing a bus stopped on the road with an identification sign - „Children“, a driver is obliged:

- 1 Give honk and proceed without stopping
- 2 Stop the vehicle and not to move until this bus starts proceeding
- 3 Take special care and proceed at a speed, which will avoid hazard and in case of necessity he/she will be able to stop without hard braking

განმარტება:

„საგზაო მოძრაობის შესახებ“ საქართველოს კანონის 26-ე მუხლის მე-2 პუნქტის თანახმად, გზაზე ან მის სიახლოვეს ბავშვის დანახვისას ან გაჩერებული ავტობუსის დანახვისას, რომელზედაც დამაგრებულია საცნობი ნიშანი „ბავშვების გადაყვანა“, მძღოლმა უნდა გამოიჩინოს განსაკუთრებული სიფრთხილე და იმოძრაოს ისეთი სიჩქარით, რომელიც თავიდან ააცილებს საფრთხეს და აუცილებლობის შემთხვევაში მკვეთრი დამუხრუჭების გარეშე გაჩერების შესაძლებლობას მისცემს.

QUESTION 725

CORRECT ANSWER: 1

Is a vehicle driver proceeding on the road obliged to yield to blind pedestrian, walking with a white stick, which is crossing the driveway?

1 Yes, in all cases

2 Yes, only in the case, if the blind pedestrian is walking on controlled crosswalk

3 No

განმარტება:

„საგზაო მოძრაობის შესახებ“ საქართველოს კანონის 21-ე მუხლის მე-6 პუნქტის თანახმად, მძღოლმა განსაკუთრებული სიფრთხილე უნდა გამოიჩინოს საგზაო მოძრაობის ისეთი მონაწილეების მიმართ, როგორებიც არიან ქვეითები (განსაკუთრებით ბავშვები, ხანდაზმულები, შეზღუდული შესაძლებლობის მქონე პირები) და ველოსიპედისტები. მძღოლი ვალდებულია ყველა შემთხვევაში გზა დაუთმოს თეთრი ხელჯოხით ან გამყოლ-ძაღლთან ერთად მოძრავ უსინათლო ქვეითს.

QUESTION 726

CORRECT ANSWER: 1

In which case is a driver obliged to yield to blind pedestrian walking together with guide dog?

1 Is obliged in all cases

2 Is obliged only in the case, if the blind pedestrian is walking on controlled crosswalk

3 Is obliged only in the case, if the blind pedestrian is walking on unregulated crosswalk

განმარტება:

„საგზაო მოძრაობის შესახებ“ საქართველოს კანონის 21-ე მუხლის მე-6 პუნქტის თანახმად, მძღოლმა განსაკუთრებული სიფრთხილე უნდა გამოიჩინოს საგზაო მოძრაობის ისეთი მონაწილეების მიმართ, როგორებიც არიან ქვეითები (განსაკუთრებით ბავშვები, ხანდაზმულები, შეზღუდული შესაძლებლობის მქონე პირები) და ველოსიპედისტები. მძღოლი ვალდებულია ყველა შემთხვევაში გზა დაუთმოს თეთრი ხელჯოხით ან გამყოლ-ძაღლთან ერთად მოძრავ უსინათლო ქვეითს.

QUESTION 727

CORRECT ANSWER: 3

Is motion of a pedestrian on two-way lane line allowed, if there is no pavement on it?

1

Yes, if motion on this road is allowed no faster than 60 km/h

2

Yes, on the highways only

3

No

განმარტება:

„საგზაო მოძრაობის შესახებ“ საქართველოს კანონის 24-ე მუხლის მე-14 პუნქტის თანახმად, ქვეითს ეკრძალება ორმხრივმოძრაობიანი გზის გამყოფ ზოლზე ან მის გასწვრივ მოძრაობა, თუ მასზე ტროტუარი არ არის.

QUESTION 728

CORRECT ANSWER: 4

The vehicle shall be considered as oversized (large-volume), if cargo exceeds its rear dimension point by:

1

1 meter

2

1.70 meters

3

2 meters

4

More than 2 meters

განმარტება:

„საგზაო მოძრაობის შესახებ“ საქართველოს კანონის 47-ე მუხლის მე-8 პუნქტის „გ“ ქვეპუნქტის თანახმად, სატრანსპორტო საშუალება არაგაბარითულად (მსხვილგაბარითიანად) ითვლება, თუ მისი პარამეტრები აღემატება შემდეგი მაჩვენებლებიდან ერთ-ერთს მაინც: გ) სიგრძე - ავტომობილების შემთხვევაში - 20 მეტრს, ყველა სხვა შემთხვევაში - 12 მეტრს, ან, თუ ტვირთი სატრანსპორტო საშუალების უკანა გაბარის წერტილიდან 2 მეტრზე მეტადაა გამოშვებული.

QUESTION 729

CORRECT ANSWER: 4

Observation of which of the following orders is not mandatory in case of loading or/and fixing the cargo on the vehicle?

1 Other traffic participants should not be endangered, state, public and private property should not be damaged, the cargo should not be dragged or fallen on the road

2 Visibility and vision area should not be limited, sustainability of the vehicle should not be breached and its driving should not be complicated

3 Lights, STOP-signals, turn indicators, light-reflectors, registration numbers and distinguishing sign of the registration state, as well as hand-signals should not be concealed

4 It is compulsory to follow all of the requirements listed in given test

განმარტება:

„საგზაო მოძრაობის შესახებ“ საქართველოს კანონის 47-ე მუხლის მე-11 პუნქტის „ა“, „ბ“ და „გ“ ქვეპუნქტების თანახმად, სატრანსპორტო საშუალებაზე ნებისმიერი ტვირთი იმგვარად უნდა მოთავსდეს და აუცილებლობის შემთხვევაში დამაგრდეს, რომ მისი გადაზიდვისას: ა) საფრთხე არ შეექმნას სხვა საგზაო მოძრაობის მონაწილეებს, ზიანი არ მიაღდეს სახელმწიფო, საზოგადოებრივ და კერძო ქონებას, ტვირთი არ ეთრეოდეს და არ ცვიოდეს გზაზე; ბ) არ შეიზღუდოს ხილვადობა და ხედვის არე, არ დაირღვეს სატრანსპორტო საშუალების მდგრადობა და არ გაძნელდეს მისი მართვა; გ) არ დაიფაროს სატრანსპორტო საშუალების სინათლეები, „სდექ“ სიგნალი, მოხვევის შუქ-მაჩვენებლები, შუქამრეკლი მოწყობილობები, რეგისტრაციის ნომერი და მარეგისტრირებელი სახელმწიფოს განმასხვავებელი ნიშანი, აგრეთვე ამ კანონით განსაზღვრული ხელით მისაცემი სიგნალები;

QUESTION 730

CORRECT ANSWER: 4



I



II



III



IV

Which of the following traffic lights indicates traffic direction only straight ahead?

1

II and IV only

2

I only

3

IV only

4

III only

განმარტება:

„საგზაო მოძრაობის შესახებ“ საქართველოს კანონის პირველი დანართის მე-4 თავის (მიმთითებული ნიშნები) 4.1.1 პუნქტისა და ამავე პუნქტის შენიშვნის „ა“ ქვეპუნქტის თანახმად, საგზაო ნიშანი 4.1.1 „მოძრაობა პირდაპირ“ რთავს მხოლოდ ისრებით ნაჩვენები მიმართულებებით მოძრაობის ნებას.

QUESTION 731

CORRECT ANSWER: 1



I



II



III



IV

Which of the following traffic signs allows motion to the right only?

1

I

2

II

3

III

4

IV

განმარტება:

„საგზაო მოძრაობის შესახებ“ საქართველოს კანონის პირველი დანართის მე-4 თავის (მიმთითებული ნიშნები) 4.1.2 პუნქტისა და ამავე პუნქტის შენიშვნის „ა“ ქვეპუნქტის თანახმად, საგზაო ნიშანი 4.1.2 „მოძრაობა მარჯვნივ“ რთავს მხოლოდ ისრებით ნაჩვენები მიმართულებებით მოძრაობის ნებას.

QUESTION 732

CORRECT ANSWER: 2



This traffic sign marks:

1

Entry to one-way road or driveway

2

Direction of passing the lane line, safety island or any obstruction from the right only

3

One-way road

განმარტება:

„საგზაო მოძრაობის შესახებ“ საქართველოს კანონის პირველი დანართის მე-4 თავის (მიმთითებელი ნიშნები) 4.2.1 პუნქტის თანახმად, საგზაო ნიშანი 4.2.1 „დაბრკოლების შემოვლა მარჯვნიდან“ - მიუთითებს გამყოფი ზოლის, უსაფრთხოების კუნძულის ან რაიმე დაბრკოლების მხოლოდ მარჯვნიდან შემოვლის მიმართულებას.

QUESTION 733

CORRECT ANSWER: 2



I



II



III



IV

Which of these traffic signs does not apply to route vehicles?

1

I only

2

II and III only

3

II and IV only

4

III only

განმარტება:

„საგზაო მოძრაობის შესახებ“ საქართველოს კანონის პირველი დანართის მე-4 თავის (მიმთითებული ნიშნები) 4.1.1 – 4.1.6 პუნქტების შენიშვნის „გ“ ქვეპუნქტის თანახმად, 4.1.1-4.1.6 ნიშნების მოქმედება არ ვრცელდება სამარშრუტო სატრანსპორტო საშუალებებზე.

QUESTION 734

CORRECT ANSWER: 2



I



II



III



IV

Which of these traffic signs marks direction of passing the lane line, safety island or any obstruction to the left only?

1

I

2

II

3

III

4

IV

განმარტება:

„საგზაო მოძრაობის შესახებ“ საქართველოს კანონის პირველი დანართის მე-4 თავის (მიმთითებელი ნიშნები) 4.2.2 პუნქტის თანახმად, საგზაო ნიშანი 4.2.2 „დაბრკოლების შემოვლა მარცხნიდან“ - მიუთითებს გამყოფი ზოლის, უსაფრთხოების კუნძულის ან რაიმე დაბრკოლების მხოლოდ მარცხნიდან შემოვლის მიმართულებას.

QUESTION 735

CORRECT ANSWER: 1



I



II



III



IV

Which of these traffic signs marks traffic direction to the left or to the right?

1

I

2

II

3

III

4

IV

განმარტება:

„საგზაო მოძრაობის შესახებ“ საქართველოს კანონის პირველი დანართის მე-4 თავის (მიმთითებული ნიშნები) 4.1.6 პუნქტისა და ამავე პუნქტის შენიშვნის „ა“ ქვეპუნქტის თანახმად, საგზაო ნიშანი 4.1.6 „მოძრაობა მარჯვნივ ან მარცხნივ“ - რთავს მხოლოდ ისრებით ნაჩვენები მიმართულებებით მოძრაობის ნებას,

QUESTION 736

CORRECT ANSWER: 3



I



II



III



IV

Which of the given traffic signs marks the path for pedestrians, separated from the road?

1

I

2

II

3

III

4

IV

განმარტება:

„საგზაო მოძრაობის შესახებ“ საქართველოს კანონის პირველი დანართის მე-4 თავის (მიმთითებელი ნიშნები) 4.5 პუნქტის თანახმად, საგზაო ნიშანი 4.5 „ქვეითთა ბილიკი“ - ქვეითთა მოძრაობისათვის განკუთვნილი, გზისგან განცალკევებული ბილიკი. 4.5 ნიშანს ძირითად ნიშნად დგამენ ქვეითთა ბილიკის დასაწყისში, განმეორებითად კი – გზასთან ყოველი გადაკვეთის შემდეგ.

QUESTION 737

CORRECT ANSWER: 4



I



II



III



IV

Which of the given traffic signs indicates allowed direction of the vehicle with dangerous goods?

1

I

2

II

3

III

4

IV

განმარტება:

„საგზაო მოძრაობის შესახებ“ საქართველოს კანონის პირველი დანართის მე-4 თავის (მიმთითებული ნიშნები) 4.9.1-4.9.3 პუნქტების თანახმად, საგზაო ნიშნები 4.9.1- 4.9.3 „სახიფათო ტვირთის გადამზიდავი სატრანსპორტო საშუალებით მოძრაობის მიმართულება“ – მიუთითებს იმ სახიფათო ტვირთის გადამზიდავი სატრანსპორტო საშუალებით ნებადართული მოძრაობის მიმართულებას, რომელიც, საქართველოს კანონმდებლობის თანახმად, აღნიშნული უნდა იყოს საცნობი ნიშნით „სახიფათო ტვირთი“: 4.9.1 – პირდაპირ, 4.9.2 – მარჯვნივ, 4.9.3 – მარცხნივ.

QUESTION 738

CORRECT ANSWER: 2



Does the lorry driver have the right to proceed the way as it is shown by arrows?

1

Yes

2

No

განმარტება:

„საგზაო მოძრაობის შესახებ“ საქართველოს კანონის პირველი დანართის მე-4 თავის (მიმთითებული ნიშნები) 4.1.2 პუნქტისა და ამავე პუნქტის შენიშვნის „ა“ ქვეპუნქტის თანახმად, საგზაო ნიშანი 4.1.2 „მოძრაობა მარჯვნივ“ - რთავს მხოლოდ ისრებით ნაჩვენები მიმართულებებით მოძრაობის ნებას. ამავე დანართის მე-8 თავის (დამატებითი ინფორმაციის ნიშნები) 8.4.1-8.4.8 პუნქტების თანახმად, დაფები 8.4.1–8.4.8 „სატრანსპორტო საშუალების სახეობა“ - მიუთითებს იმ სატრანსპორტო საშუალების სახეობას, რომლებზედაც ვრცელდება ნიშნის მოქმედება, ხოლო ამავე თავის შენიშვნის „ა“ ქვეპუნქტის თანახმად დაფა 8.4.1 ნიშნის მოქმედებას ავრცელებს სატვირთო ავტომობილებზე (მისაბმელით ან მის გარეშე), რომელთა ნებადართული მაქსიმალური მასა 3,5 ტ-ზე მეტია.

QUESTION 739

CORRECT ANSWER: 2



Will a lorry driver with dangerous goods violate the Highway Code in case of proceeding to the arrow direction?

1

No

2

Yes

განმარტება:

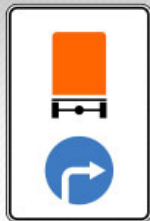
„საგზაო მოძრაობის შესახებ“ საქართველოს კანონის მე-19 მუხლის პირველი პუნქტის „გ“ ქვეპუნქტის თანახმად, მძღოლი, ხოლო ამ კანონის მე-18 მუხლის პირველი პუნქტის „დ“ ქვეპუნქტით გათვალისწინებულ შემთხვევებში – საწარმო ვალდებულია ამ პუნქტით განსაზღვრულ სატრანსპორტო საშუალებებზე დაამაგროს შემდეგი საცნობი ნიშნები: „სახიფათო ტვირთი“ – 400X300 მმ ზომის, სწორკუთხედი, ნარინჯისფერი ფირფიტა გარშემო 15 მმ სიგანის შავი არშიით – ასეთი ტვირთის გადამზიდავი სატრანსპორტო საშუალების წინა და უკანა მხარეს, ხოლო ცისტერნის შემთხვევაში – გვერდებზედაც (ფირფიტის ქვედა ნაწილში უნდა აღინიშნოს ტვირთის გაერთიანებული ერების ორგანიზაციის ნომერი, ხოლო ზედა ნაწილში – საშიშროების საიდენტიფიკაციო ნომერი. ისინი უნდა გაიყოს 15 მმ სისქის შავი ჰორიზონტალური ხაზით, რომელიც ფირფიტას ნახევარ სიმაღლეზე გადაკვეთს); ამავე კანონის პირველი დანართის მე-4 თავის (მიმთითებული ნიშნები) 4.9.1-4.9.3 პუნქტების თანახმად, საგზაო ნიშნები 4.9.1-4.9.3. „სახიფათო ტვირთის გადამზიდავი სატრანსპორტო საშუალებით მოძრაობის მიმართულება“ – მიუთითებს იმ სახიფათო ტვირთის გადამზიდავი სატრანსპორტო საშუალებით ნებადართული მოძრაობის მიმართულებას, რომელიც, საქართველოს კანონმდებლობის თანახმად, აღნიშნული უნდა იყოს საცნობი ნიშნით „სახიფათო ტვირთი“: 4.9.1 – პირდაპირ, 4.9.2 – მარჯვნივ, 4.9.3 – მარცხნივ.

QUESTION 740

CORRECT ANSWER: 1



I



II



III



IV

Which of these signs marks the allowed direction of traffic for the vehicle with dangerous goods?

1

II only

2

I only

3

IV only

4

III only

განმარტება:

„საგზაო მოძრაობის შესახებ“ საქართველოს კანონის პირველი დანართის მე-4 თავის (მიმთითებული ნიშნები) 4.9.1-4.9.3 პუნქტების თანახმად, საგზაო ნიშნები 4.9.1–4.9.3. „სახიფათო ტვირთის გადამზიდავი სატრანსპორტო საშუალებით მოძრაობის მიმართულება“ – მიუთითებს იმ სახიფათო ტვირთის გადამზიდავი სატრანსპორტო საშუალებით ნებადართული მოძრაობის მიმართულებას, რომელიც, საქართველოს კანონმდებლობის თანახმად, აღნიშნული უნდა იყოს საცნობი ნიშნით „სახიფათო ტვირთი“: 4.9.1 – პირდაპირ, 4.9.2 – მარჯვნივ, 4.9.3 – მარცხნივ.

QUESTION 741

CORRECT ANSWER: 4



I



II



III



IV

In effective zone of which of these signs is not U-turn prohibited?

1

II and IV only

2

I and III only

3

III and IV only

4

II and III only

განმარტება:

„საგზაო მოძრაობის შესახებ“ საქართველოს კანონის პირველი დანართის მე-7 თავის (საინფორმაციო-მაჩვენებელი ნიშნები) 7.3.1 პუნქტისა და ამავე პუნქტის შენიშვნის თანახმად, საგზაო ნიშანი 7.3.1 „მობრუნების ადგილი“ - მიუთითებს მობრუნების ადგილზე. ნიშნები 7.3.1 და 7.3.2 იდგმება მობრუნების ადგილის წინ ან მის ზემოთ, ან წინასწარ 8.1.1 დაფით. ნიშნები მარცხნივ მოხვევის ნებას არ რთავს. ამავე დანართის მე-4 თავის (მიმთითებელი ნიშნები) 4.1.3 პუნქტისა და ამავე პუნქტის შენიშვნის „ა“ ქვეპუნქტის თანახმად, საგზაო ნიშანი 4.1.3 „მოძრაობა მარცხნივ“ რთავს მხოლოდ ისრებით ნაჩვენები მიმართულებებით მოძრაობის ნებას, ხოლო ნიშნები, რომლებიც მარცხნივ მოხვევის ნებას რთავს, მობრუნების უფლებასაც იძლევა.

თემა 27:

ველოსიპედის, მოპედის, სატაპნე ოთხთვალის
მოძრაობა და პირუტყვის გადარეკვა

QUESTION 742

CORRECT ANSWER: 1



Which of the vehicle drivers shall be obliged to yield when driving to the arrow direction, if the motor car is coming out of the territory of petrol station?

1

Motor car driver

2

Moped rider

განმარტება:

„საგზაო მოძრაობის შესახებ“ საქართველოს კანონის 32-ე მუხლის მე-3 პუნქტის თანახმად, მიმდებარე ტერიტორიიდან გზაზე გასვლისას მძღოლი ვალდებულია გზა დაუთმოს გზაზე მოძრავ სატრანსპორტო საშუალებასა და ქვეითს, ხოლო გზიდან გადასვლისას – იმ ქვეითს, ველოსიპედისტს, მოპედისა და ორბორბლიანი ელექტროთვითმგორავის მძღოლებს, რომლებსაც გზას უჭრის.

QUESTION 743

CORRECT ANSWER: 4

During motion of the groups of pack and seat animals, as well as cartage on the driveway, in order to facilitate overtaking, the distance between the groups shall be:

1 20-40 meters

2 40-60 meters

3 60-80 meters

4 80-100 meters

განმარტება:

„საგზაო მოძრაობის შესახებ“ საქართველოს კანონის 22-ე მუხლის მე-4 პუნქტის თანახმად, სასაპალნე და დასაჯდომი პირუტყვის, აგრეთვე საჭაპანო ტრანსპორტის კოლონები გზის სავალ ნაწილზე მოძრაობისას უნდა დაიყოს ჯგუფებად, მაგრამ არაუმეტეს 10 სასაპალნე და დასაჯდომი პირუტყვისა და 5 საჭაპანო ტრანსპორტისა თითოეულში. გასწრების გასაადვილებლად ჯგუფებს შორის მანძილი უნდა იყოს 80-100 მეტრი.

QUESTION 744

CORRECT ANSWER: 2

Is the cartage drover obliged to drive the cattle with bridle, while moving from adjacent territory of the road or minor road to the place, where there is poor visibility?

1 No

2 Yes

განმარტება:

„საგზაო მოძრაობის შესახებ“ საქართველოს კანონის 22-ე მუხლის მე-5 პუნქტის თანახმად, საჭაპანო ტრანსპორტის მებრემ გზის მიმდებარე ტერიტორიიდან ან მეორეხარისხოვანი გზიდან იმ ადგილზე გასვლისას, სადაც ცუდი ხილვადობაა, პირუტყვი აღვირით უნდა ატაროს.

QUESTION 745

CORRECT ANSWER: 2

In general, cattle driving must be carried out:

1

During dark hours

2

In a daytime

3

Both in a daytime and during dark hours

განმარტება:

„საგზაო მოძრაობის შესახებ“ საქართველოს კანონის 22-ე მუხლის მე-6 პუნქტის თანახმად, პირუტყვის გზაზე გადარეკვა, როგორც წესი, უნდა განხორციელდეს დღე-ღამის ნათელ დროს.

QUESTION 746

CORRECT ANSWER: 1

Is a pedestrian allowed to walk on bicycle lane in case of absence of walkway, pavement and the edge of the road or if their use is unavailable and the traffic intensity allows this?

1

Yes

2

No

განმარტება:

„საგზაო მოძრაობის შესახებ“ საქართველოს კანონის 24-ე მუხლის მე-4 პუნქტის თანახმად, ქვეითთა ბილიკის, ტროტუარისა და გზისპირის არარსებობის ან მათი გამოყენების შეუძლებლობის შემთხვევაში ქვეითს შეუძლია გადაადგილდეს გზის სავალ ნაწილზე. თუ არსებობს ველობილიკი და მოძრაობის ინტენსივობა ამის საშუალებას იძლევა, ქვეითს უფლება აქვთ გადაადგილდეს მასზე, თუმცა არ უნდა გაართულოს ველოსიპედებისა და მოპედების მოძრაობა.

QUESTION 747

CORRECT ANSWER: 1

In uninhabited area, in low visibility conditions or high-intensity of vehicular traffic, pedestrians (other than marching cases), walking on the driveway (as close as possible to the edge of the driveway), must move as far as possible:

1

In a row

2

In two rows

3

In three rows

განმარტება:

„საგზაო მოძრაობის შესახებ“ საქართველოს კანონის 24-ე მუხლის მე-5 პუნქტის თანახმად, მოძრაობის უსაფრთხოების უზრუნველსაყოფად, კერძოდ, ცუდი ხილვადობის პირობებში ან სატრანსპორტო საშუალებათა მოძრაობის მაღალი ინტენსივობის შემთხვევაში ქვეითებმა (გარდა მსვლელობით სიარულის შემთხვევებისა), რომლებიც გზის სავალ ნაწილზე მოძრაობენ, შეძლებისდაგვარად ერთ მწკრივად უნდა იმოძრაონ. ამავე მუხლის მე-6 პუნქტის თანახმად, ამ მუხლის მე-2, მე-4 და მე-5 პუნქტებით გათვალისწინებულ შემთხვევებში ქვეითები გზის სავალ ნაწილზე გადაადგილებისას უნდა იმყოფებოდნენ სავალი ნაწილის კიდეგან რაც შეიძლება ახლოს.

QUESTION 748

CORRECT ANSWER: 2

On the unregulated crossing of the bicycle lane with the road beyond the intersection, towards the vehicles moving on this road the bicyclists and the moped riders:

1

Will have priority

2

Will be obliged to yield

განმარტება:

„საგზაო მოძრაობის შესახებ“ საქართველოს კანონის 43-ე მუხლის მე-6 პუნქტის თანახმად, გზაჯვარედინის მიღმა გამავალ გზასთან ველობილიკის არარეგულირებულ გადაკვეთაზე ველოსიპედისა და მოპედის მძღოლებმა გზა უნდა დაუთმონ ამ გზაზე მოძრავ სატრანსპორტო საშუალებათა მძღოლებს.

QUESTION 749

CORRECT ANSWER: 3

Door of the parked vehicle must not be opened from the side of driveway, bicycle lane or bicycle line:

1

For longer than 5 minutes

2

For longer than 15 minutes

3

For longer than the time required for passengers drop off and pick up

4

For longer than 20 minutes

განმარტება:

„საგზაო მოძრაობის შესახებ“ საქართველოს კანონის მე-20 მუხლის მე-6 პუნქტის თანახმად, აკრძალულია სატრანსპორტო საშუალების კარის გაღება მის სრულ გაჩერებამდე. კარის გაღებამ არ უნდა შეუქმნას დაბრკოლება ან საფრთხე სხვა საგზაო მოძრაობის მონაწილეებს. გზის სავალი ნაწილის, ველობილიკის ან ველოსიპედის მოძრაობის ზოლის მხარეს სატრანსპორტო საშუალების კარი არ უნდა იყოს გაღებული მგზავრთა ჩასხდომა-გადმოსხდომისთვის საჭირო დროზე მეტი ხნით. გზის სავალი ნაწილის მხარეს ან სატრანსპორტო საშუალების უკანა მხრიდან მგზავრთა ჩასხდომა-გადმოსხდომა ნებადართულია მხოლოდ იმ შემთხვევაში, თუ ეს არ შეუქმნის საფრთხეს სხვა საგზაო მოძრაობის მონაწილეებს.

QUESTION 750

CORRECT ANSWER: 3



This traffic sign marks:

1

The road on which a driver is obliged to yield

2

Bridge or trestle bridge above the road

3

The highway, to which the orders of highway traffic regulatory norms are applied

განმარტება:

„საგზაო მოძრაობის შესახებ“ საქართველოს კანონის პირველი დანართის მე-5 თავის (განსაკუთრებული მითითებების ნიშნები) 5.1 პუნქტის თანახმად, საგზაო ნიშანი 5.1 „ავტომაგისტრალი“ - აღნიშნავს ავტომაგისტრალს, რომელზედაც მოქმედებს ავტომაგისტრალზე მოძრაობის მომწესრიგებელი ნორმების მოთხოვნები. ნიშანი იდგმება ავტომაგისტრალის დასაწყისში ან მის სიახლოეს 8.1.1 დაფით.

QUESTION 751

CORRECT ANSWER: 1



This traffic sign marks:

1

The road for cars and motorcycles only

2

The lane for motor cars only

3

The parking location for vehicles

განმარტება:

„საგზაო მოძრაობის შესახებ“ საქართველოს კანონის პირველი დანართის მე-5 თავის (განსაკუთრებული მითითებების ნიშნები) 5.3 პუნქტის თანახმად, საგზაო ნიშანი 5.3 „საავტომობილო გზა“ - გზა, რომელიც განკუთვნილია მხოლოდ ავტომობილისა და მოტოციკლის მოძრაობისათვის.

QUESTION 752

CORRECT ANSWER: 3



I



II



III



IV

Which of these traffic signs marks the end of the motorroad?

1

I

2

II

3

III

4

IV

განმარტება:

„საგზაო მოძრაობის შესახებ“ საქართველოს კანონის პირველი დანართის მე-5 თავის (განსაკუთრებული მითითებების ნიშნები) 5.4 პუნქტის თანახმად, საგზაო ნიშანი 5.4 „საავტომობილო გზის დასასრული“ - მითითებს 5.3 ნიშნით აღნიშნული გზის დასასრულს.

QUESTION 753

CORRECT ANSWER: 4



I



II



III



IV

Which of these traffic signs marks the road or driveway, on which traffic is carried out on entire width towards one direction?

1

I

2

II

3

III

4

IV

განმარტება:

„საგზაო მოძრაობის შესახებ“ საქართველოს კანონის პირველი დანართის მე-5 თავის (განსაკუთრებული მითითებების ნიშნები) 5.5 პუნქტის თანახმად, საგზაო ნიშანი 5.5 „ცალმხრივმოძრაობიანი გზა“ - გზა ან სავალ ნაწილი, რომელ-ზედაც სატრანსპორტო საშუალებებით მოძრაობა მთელ სიგანეზე ერთი მიმართულებით მოძრაობს.

QUESTION 754

CORRECT ANSWER: 2



I



II



III



IV

Which of these traffic signs marks the road, on which motion of route vehicles is carried out on special lane against the total traffic current?

1

I

2

II

3

III

4

IV

განმარტება:

„საგზაო მოძრაობის შესახებ“ საქართველოს კანონის პირველი დანართის მე-5 თავის (განსაკუთრებული მითითებების ნიშნები) 5.11 პუნქტის თანახმად, საგზაო ნიშანი 5.11 „სამარშრუტო სატრანსპორტო საშუალებისათვის განკუთვნილი მოძრაობის ზოლის მქონე გზა“ - გზა, რომელზედაც სამარშრუტო სატრანსპორტო საშუალება მოძრაობს სპეციალურად გამოყოფილ ზოლზე სატრანსპორტო საშუალებათა საერთო ნაკადის საპირისპირო მიმართულებით. ნიშნის მოქმედება ვრცელდება იმ მოძრაობის ზოლზე, რომელზედაც ის დგას.

QUESTION 755

CORRECT ANSWER: 1



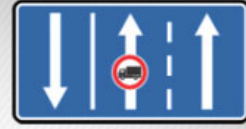
I



II



III



IV

Which of these traffic signs marks the road, on which motion of route vehicles is carried out on special lane in the same direction of the total traffic current?

1

I

2

II

3

III

4

IV

განმარტება:

„საგზაო მოძრაობის შესახებ“ საქართველოს კანონის პირველი დანართის მე-5 თავის (განსაკუთრებული მითითებების ნიშნები) 5.14 პუნქტის თანახმად, საგზაო ნიშანი 5.14 „სამარშრუტო სატრანსპორტო საშუალებისათვის განკუთვნილი მოძრაობის ზოლი“ - გზა, რომელზედაც სამარშრუტო სატრანსპორტო საშუალება მოძრაობს სპეციალურად გამოყოფილ ზოლზე სატრანსპორტო საშუალებათა საერთო ნაკადის თანმხვედრი მიმართულებით. ნიშნის მოქმედება ვრცელდება იმ მოძრაობის ზოლზე, რომელზედაც ის დგას. გზის მარჯვენა მხარეს დადგმული ნიშნის მოქმედება ვრცელდება სავალი ნაწილის უკიდურეს მარჯვენა ზოლზე.

QUESTION 756

CORRECT ANSWER: 2



The traffic signs posted to the right side of the road are effective to:

1

Entire width of the driveway

2

Extreme right lane of the driveway

განმარტება:

„საგზაო მოძრაობის შესახებ“ საქართველოს კანონის პირველი დანართის მე-5 თავის (განსაკუთრებული მითითებების ნიშნები) 5.14 პუნქტის თანახმად, საგზაო ნიშანი 5.14 „სამარშრუტო სატრანსპორტო საშუალებისათვის განკუთვნილი მოძრაობის ზოლი“ - აღნიშნავს გზას, რომელზედაც სამარშრუტო სატრანსპორტო საშუალება მოძრაობს სპეციალურად გამოყოფილ ზოლზე სატრანსპორტო საშუალებათა საერთო ნაკადის თანმხვედრი მიმართულებით. ნიშნის მოქმედება ვრცელდება იმ მოძრაობის ზოლზე, რომელზედაც ის დგას. გზის მარჯვენა მხარეს დადგმული ნიშნის მოქმედება ვრცელდება სავალი ნაწილის უკიდურეს მარჯვენა ზოლზე.

QUESTION 757

CORRECT ANSWER: 1



I



II



III



IV

Which of these traffic signs marks the territory (zone), on which the traffic rules applicable in inhabited area are effective?

1

I

2

II

3

III

4

IV

განმარტება:


„საგზაო მოძრაობის შესახებ“ საქართველოს კანონის პირველი დანართის მე-5 თავის (განსაკუთრებული მითითებების ნიშნები) 5.21 პუნქტის თანახმად, საგზაო ნიშანი 5.21 „საცხოვრებელი ზონა“ - ტერიტორიას (ზონა), სადაც მოქმედებს საცხოვრებელ ზონაში მოძრაობისათვის დადგენილი წესები. ნიშანი იდგმება საცხოვრებელი ზონის ყველა შესასვლელში.

QUESTION 758


CORRECT ANSWER: 3



I



II



III

Which of these traffic signs marks the beginning of the inhabited area, in which the orders of inhabited area traffic regulatory norms are applied?

1

I and III only

2

II and III only

3

I and II only

განმარტება:

„საგზაო მოძრაობის შესახებ“ საქართველოს კანონის პირველი დანართის მე-5 თავის (განსაკუთრებული მითითებების ნიშნები) 5.23.1 და 5.23.2 პუნქტების თანახმად, საგზაო ნიშნები: - 5.23.1 „დასახლებული პუნქტის დასაწყისი“ - მიუთითებს იმ დასახლებული პუნქტის დასაწყისს, რომელშიც მოქმედებს დასახლებულ პუნქტებში მოძრაობისათვის დადგენილი წესები. - 5.23.2 „დასახლებული პუნქტის დასაწყისი“ - მიუთითებს განაშენიანებული გზის მონაკვეთის დასაწყისს, რომელიც არ შედის რომელიმე დასახლებულ პუნქტში და რომელშიც მოქმედებს დასახლებულ პუნქტებში მოძრაობისათვის დადგენილი წესები (სააგარაკო დაბები, ცალკე მდგომი დაწესებულებები და ა. შ.).

QUESTION 759

CORRECT ANSWER: 3

სამტრედი

გურჯაანი



I

II

III

Which of these traffic signs marks the beginning of the inhabited area, which are not included in any inhabited area and where the inhabited area traffic regulatory rules are applied (cottage settlements, separate institutions, etc.)?

1

I

2

II

3

III

განმარტება:

„საგზაო მოძრაობის შესახებ“ საქართველოს კანონის პირველი დანართის მე-5 თავის (განსაკუთრებული მითითებების ნიშნები) 5.23.2 პუნქტის თანახმად, საგზაო ნიშანი 5.23.2 „დასახლებული პუნქტის დასაწყისი“ - მიუთითებს განაშენიანებული გზის მონაკვეთის დასაწყისს, რომელიც არ შედის რომელიმე დასახლებულ პუნქტში და რომელშიც მოქმედებს დასახლებულ პუნქტებში მოძრაობისათვის დადგენილი წესები (საავტოზო დაბები, ცალკე მდგომი დაწესებულებები და ა. შ.).

QUESTION 760

CORRECT ANSWER: 3



I



II



III



IV

Which of these traffic signs marks the territory, where maximum speed limit is restricted?

1

I

2

II

3

III

4

IV

განმარტება:

„საგზაო მოძრაობის შესახებ“ საქართველოს კანონის პირველი დანართის მე-5 თავის (განსაკუთრებული მითითებების ნიშნები) 5.27 და 5.29 პუნქტების თანახმად, საგზაო ნიშანი 5.31. „მაქსიმალური სიჩქარის შეზღუდვის ზონა“. აღნიშნავს ტერიტორიას, რომლის ფარგლებშიც შეზღუდულია მოძრაობის მაქსიმალური სიჩქარე.

QUESTION 761

CORRECT ANSWER: 3

Waiting for route vehicles is allowed:

1

On the driveway

2

On the pavement or sidewalk only

3

On relatively raised boarding platform of the driveway only, in case of their absence – on pavement or sidewalk

განმარტება:

„საგზაო მოძრაობის შესახებ“ საქართველოს კანონის 24-ე მუხლის მე-13 პუნქტის თანახმად, სამარშრუტო სატრანსპორტო საშუალებისა და ტაქსის მოცდა ნებადართულია მხოლოდ გზის სავალი ნაწილის შედარებით ამაღლებულ ჩასასხდომ ბაქანზე, ხოლო მისი არარსებობისას – ტროტუარზე ან გვერდულაზე.

QUESTION 762

CORRECT ANSWER: 3

Identification sign „Road train” is mandatory to be fixed:

1

To the road train only

2

To the articulated bus only

3

Both to the road train and articulated bus

განმარტება:

„საგზაო მოძრაობის შესახებ“ საქართველოს კანონის მე-19 მუხლის პირველი პუნქტის „ა“ ქვეპუნქტის თანახმად, მძღოლი, ხოლო ამ კანონის მე-18 მუხლის პირველი პუნქტის „დ“ ქვეპუნქტით გათვალისწინებულ შემთხვევებში - საწარმო, ვალდებულია ამ პუნქტით განსაზღვრულ სატრანსპორტო საშუალებებზე დაამაგრონ შემდეგი საცნობი ნიშნები: ა) „ავტომატარებელი“ – კაბინის თავზე ჰორიზონტალურად განლაგებული, ერთმანეთისაგან 150-დან 300 მმ-დე დაშორებული, სამი ნარინჯისფერი ფარანი – მაგრდება ავტომატარებელზე და შესახსრებულ ავტობუსზე.

QUESTION 763

CORRECT ANSWER: 1



I



II



III



IV

Which of these traffic signs marks the spot of merger of the passage from other road with the highway?

1

I

2

II

3

III

4

IV

განმარტება:

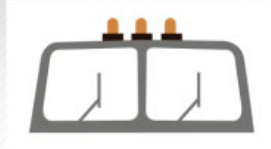
„საგზაო მოძრაობის შესახებ“ საქართველოს კანონის პირველი დანართის მე-5 თავის (განსაკუთრებული მითითებების ნიშნები) 5.36 პუნქტის თანახმად, საგზაო ნიშანი 5.36 „შერწყმის ადგილი“ - ავტომაგისტრალთან სხვა გზიდან ამოსასვლელის (გაქანების ზოლის) შერწყმის ადგილი.

QUESTION 764

CORRECT ANSWER: 2



I



II



III

Which identification sign should be fixed to road train and articulated bus?

1

I only

2

II only

3

III only

4

All of them

განმარტება:

„საგზაო მოძრაობის შესახებ“ საქართველოს კანონის მე-19 მუხლის პირველი პუნქტის „ა“ ქვეპუნქტის თანახმად, მძღოლი, ხოლო ამ კანონის მე-18 მუხლის პირველი პუნქტის „დ“ ქვეპუნქტით გათვალისწინებულ შემთხვევებში – საწარმო ვალდებულია ამ პუნქტით განსაზღვრულ სატრანსპორტო საშუალებებზე დაამაგროს შემდეგი საცნობი ნიშნები: ა) „ავტომატარებელი“ – კაბინის თავზე ჰორიზონტალურად განლაგებული, ერთმანეთისაგან 150-დან 300 მმ-მდე დაშორებული სამი ნარინჯისფერი მაშუქი – მაგრდება ავტომატარებელსა და შესასრებულ ავტობუსზე.

QUESTION 765

CORRECT ANSWER: 2



I



II



III

Which identification sign is fixed to the large-volume vehicle carrying dangerous goods in the front and to the rear?

1

III only

2

II only

3

I only

განმარტება:

„საგზაო მოძრაობის შესახებ“ საქართველოს კანონის მე-19 მუხლის პირველი პუნქტის „დ“ ქვეპუნქტის თანახმად, მძღოლი, ხოლო ამ კანონის მე-18 მუხლის პირველი პუნქტის „დ“ ქვეპუნქტით გათვალისწინებულ შემთხვევებში – საწარმო ვალდებულია ამ პუნქტით განსაზღვრულ სატრანსპორტო საშუალებებზე დაამაგროს შემდეგი საცნობი ნიშნები: დ) „არაგაბარიტული (მსხვილგაბარიტიანი) ტვირთი“ – 400X400 მმ ზომის დაფა, რომელზედაც დიაგონალურადაა დახაზული 50 მმ სიგანის ურთიერთმონაცვლე წითელი და თეთრი ზოლები შუქამრეკლი ზედაპირით – მაგრდება არაგაბარიტული (მსხვილგაბარიტიანი) და ამ კანონის 47-ე მუხლის მე-13 პუნქტით განსაზღვრული სატრანსპორტო საშუალებების წინა და უკანა მხარეს.

QUESTION 766

CORRECT ANSWER: 3



I



II



III

Which identification sign is fixed to the rear of the vehicle, which length with or without cargo exceeds 20 meters and on the road train with two or more trailers?

1

III only

2

II only

3

I only

განმარტება:

„საგზაო მოძრაობის შესახებ“ საქართველოს კანონის მე-19 მუხლის პირველი პუნქტის „ე“ ქვეპუნქტის თანახმად, მძღოლი, ხოლო ამ კანონის მე-18 მუხლის პირველი პუნქტის „დ“ ქვეპუნქტით გათვალისწინებულ შემთხვევებში – საწარმო ვალდებულია ამ პუნქტით განსაზღვრულ სატრანსპორტო საშუალებებზე დაამაგროს შემდეგი საცნობი ნიშნები: ე) „გრძელი სატრანსპორტო საშუალება“ – არანაკლებ 1200X200 მმ ზომის, ყვითელი მართკუთხედი 40 მმ სიგანის წითელი არშიით და შუქამრეკლი ზედაპირით – მაგრდება იმ არაგაბარითული (მსხვილგაბარითიანი) სატრანსპორტო საშუალების უკანა მხარეს, რომლის სიგრძე ტვირთით ან უიმისოდ აღემატება 20 მეტრს, აგრეთვე სატრანსპორტო საშუალებათა შემადგენლობაზე, რომელშიც ორი ან ორზე მეტი მისაბმელია. თუ აღნიშნული ზომის ნიშნის დამაგრება შეუძლებელია, დასაშვებია დამაგრდეს არანაკლებ 600X200 მმ ზომის ორი ერთნაირი ნიშანი სატრანსპორტო საშუალების ღერძის სიმეტრიულად.

QUESTION 767

CORRECT ANSWER: 1



I



II



III

Which of these identification signs is fixed in the front and to the rear of the bus carrying group of children?

1

III only

2

II only

3

I only

ბანმარტიბა:


„საგზაო მოძრაობის შესახებ“ საქართველოს კანონის მე-19 მუხლის პირველი პუნქტის „გ“ ქვეპუნქტის თანახმად, მძღოლი, ხოლო ამ კანონის მე-18 მუხლის პირველი პუნქტის „დ“ ქვეპუნქტით გათვალისწინებულ შემთხვევებში – საწარმო ვალდებულია ამ პუნქტით განსაზღვრულ სატრანსპორტო საშუალებებზე დაამაგროს შემდეგი საცნობი ნიშნები: ვ) „ბავშვების გადაყვანა“ – ყვითელი კვადრატი წითელი არშიით (კვადრატის გვერდი არანაკლებ 250 მმ-ია, არშიის სიგანე – გვერდის 1/10), 1.24 საგზაო ნიშნის სიმბოლო შავი გამოსახულებით – მაგრდება იმ ავტობუსის წინა და უკანა მხარეს, რომელსაც ბავშვთა ჯგუფები გადაჰყავს.

QUESTION 768

CORRECT ANSWER: 2



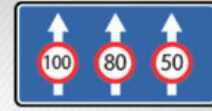
I



II



III



IV

Which of these traffic signs gives information about general speed limit on the roads of Georgia?

1

I

2

II

3

III

4

IV

განმარტება:

„საგზაო მოძრაობის შესახებ“ საქართველოს კანონის პირველი დანართის მე-7 თავის (საინფორმაციო-მაჩვენებელი ნიშნები) 7.1 პუნქტის თანახმად, საგზაო ნიშანი 7.1 „მაქსიმალური სიჩქარის ზოგადი შეზღუდვები“ - იძლევა ინფორმაციას სიჩქარის ზოგადი შეზღუდვების თაობაზე, რომლებიც საგზაო მოძრაობის წესებით დადგენილია საქართველოს გზებზე. ნიშანი იდგმება საქართველოს ტერიტორიაზე შემოსასვლელში საკონტროლო გამშვებ პუნქტთან.

QUESTION 769

CORRECT ANSWER: 3



I



II



III



IV

Which of these traffic signs indicates the speed recommended on the given section of the road?

1

I

2

II

3

III

4

IV

განმარტება:

„საგზაო მოძრაობის შესახებ“ საქართველოს კანონის პირველი დანართის მე-7 თავის (საინფორმაციო-მაჩვენებელი ნიშნები) 7.2 პუნქტის თანახმად, საგზაო ნიშანი 7.2 „რეკომენდებული სიჩქარე“ - მიუთითებს სიჩქარეს, რომლითაც რეკომენდებულია მოძრაობა გზის მოცემულ მონაკვეთზე. ნიშანი იდგმება გზის დასაწყისში. ნიშნის მოქმედება ვრცელდება უახლოეს გზაჯვარედინამდე, ხოლო მათრთხილებელ ნიშანთან ერთად – სახიფათო უბნის მთელ სიგრძეზე.

QUESTION 770

CORRECT ANSWER: 4




I



II



III



IV

Which of these traffic signs indicates the territory, on which motion is allowed to the pedestrians only?

1

I

2

II

3

III

4

IV

განმარტება:

„საგზაო მოძრაობის შესახებ“ საქართველოს კანონის პირველი დანართის მე-5 თავის (განსაკუთრებული მითითებების ნიშნები) 5.33 პუნქტის თანახმად, საგზაო ნიშანი 5.33 „ქვეითთა ზონა“ - ტერიტორია, რომლებზედაც მოძრაობა ნებადართულია, მხოლოდ ქვეითებისათვის.

QUESTION 771

CORRECT ANSWER: 3



I



II



III



IV

Which of these traffic signs marks the road, which does not have through passage?

1

I

2

II

3

III

4

IV

განმარტება:

„საგზაო მოძრაობის შესახებ“ საქართველოს კანონის პირველი დანართის მე-7 თავის (საინფორმაციო-მაჩვენებელი ნიშნები) 7.8.1-7.8.3 პუნქტების თანახმად, საგზაო ნიშნები 7.8.1-7.8.3 „ჩიხი“ - გზა, რომელსაც არ აქვს გამჭოლი გასასვლელი. 7.8.1 ნიშანი იდგმება გზის დასაწყისში, ხოლო 7.8.2 და 7.8.3 ნიშნები—იმ გზის გადაკვეთის წინ, რომელსაც არ აქვს გამჭოლი გასასვლელი.

QUESTION 772

CORRECT ANSWER: 3



I



II



III



IV

In effective zone of which of these traffic signs is not swerving to the left allowed?

1

III only

2

IV only

3

II and IV only

4


II only

განმარტება:

„საგზაო მოძრაობის შესახებ“ საქართველოს კანონის პირველი დანართის მე-7 თავის (საინფორმაციო-მაჩვენებელი ნიშნები) 7.3.1 და 7.3.2 პუნქტების შენიშვნის თანახმად, საგზაო ნიშნები 7.3.1 „მობრუნების ადგილი“ და 7.3.2 „მობრუნების ზონა“ იდგმება მობრუნების ადგილის წინ ან მის ზემოთ, ან წინასწარ 8.1.1 დაფით. ნიშნები მარცხნივ მოხვევის ნებას არ რთავს.

QUESTION 773

CORRECT ANSWER: 1



Which of the vehicle drivers is obliged to yield in case of proceeding to the arrow direction?

1

Bicycle rider

2

Motor car driver

განმარტება:

„საგზაო მოძრაობის შესახებ“ საქართველოს კანონის 43-ე მუხლის მე-6 პუნქტის თანახმად, გზატკარცილის მიღმა გამავალ გზასთან ველობილიკის არარეგულირებულ გადაკვეთაზე ველოსიპედისა და მოპედის მძღოლებმა გზა უნდა დაუთმონ ამ გზაზე მოძრავ სატრანსპორტო საშუალებათა მძღოლებს.

QUESTION 774

CORRECT ANSWER: 2

If herd of cattle is crossing the driveway in front of the vehicle, a driver shall take into account, that:

1

No animal may come on the driveway after crossing of the herd

2

Single animals, left behind the herd, may come on the driveway again after crossing of the herd

განმარტება:

თუ სატრანსპორტო საშუალების წინ გზის სავალ ნაწილზე გადადის საქონლის ჯოგი, მძღოლმა უნდა გაითვალისწინოს, რომ ჯოგის გადასვლის შემდეგ გზის სავალ ნაწილზე შეიძლება გამოვიდეს ერთეული ცხოველები.

QUESTION 775

CORRECT ANSWER: 4

If an elderly pedestrian is walking on the crosswalk in front of the vehicle, a driver shall take into account:

- | | | | |
|---|--|---|--|
| 1 | The circumstance only, that he/she is walking on the driveway slower than other traffic participants | 2 | The circumstance only, that he/she may return from half of the way |
| 3 | The circumstance only, that he/she may lose balance and fall down | 4 | That any of the circumstances listed in given test may occur |

განმარტება:

თუ სატრანსპორტო საშუალების წინ ქვეითთა გადასასვლელზე გადაადგილდება მოხუცი ქვეითი მძღოლმა უნდა გაითვალისწინოს, რომ ის სავალ ნაწილზე მოძრაობენ უფრო ნელა ვიდრე სხვა საგზაო მოძრაობის მონაწილეები, ასევე შეიძლება ნახევარი გზიდან მობრუნდნენ უკან და მან შეიძლება დაკარგონ წონასწორობა და წაიქცნენ.

თემა 28:

საგზაო მონიშვნა

QUESTION 776

CORRECT ANSWER: 1

If safety island, pump or equipment is located on the driveway axis of two-way road, the driver must drive around:

1

From the right side only

2

From the left side only

3

From the right or the left side

განმარტება:

„საგზაო მოძრაობის შესახებ“ საქართველოს კანონის 32-ე მუხლის მე-17 პუნქტის „ბ“ ქვეპუნქტის თანახმად, ამ მუხლით დადგენილ მოთხოვნათა გათვალისწინებით, მძღოლს შეუძლია მარჯვნიდან ან მარცხნიდან შემოუაროს იმ სავალ ნაწილზე დაყენებულ უსაფრთხოების კუნძულს, ტუმბოს ან სხვა მოწყობილობას, რომელზედაც იგი მოძრაობს, გარდა იმ შემთხვევისა, როცა უსაფრთხოების კუნძული, ტუმბო ან სხვა მოწყობილობა ორმხრივმოძრაობიანი გზის სავალი ნაწილის ღერძზეა განლაგებული. ამ შემთხვევაში მძღოლმა უსაფრთხოების კუნძულს, ტუმბოს ან სხვა მოწყობილობას მხოლოდ მარჯვენა მხრიდან უნდა შემოუაროს.

QUESTION 777

CORRECT ANSWER: 3

If traffic of the vehicles is regulated by neither traffic lights nor traffic controller, on approaching the crosswalk the driver shall:

- 1** Give honk and pass the crosswalk without having stopped
- 2** Has the right to pass the crosswalk at any speed as the one having the priority over the pedestrians
- 3** Reduce the speed appropriately, in order not to endanger the pedestrians entered or entering this crossing and in case of necessity to stop and give way to the pedestrians

განმარტება:

„საგზაო მოძრაობის შესახებ“ საქართველოს კანონის 25-ე მუხლის მე-2 პუნქტის „ბ“ ქვეპუნქტის თანახმად, ქვეითთა გადასასვლელზე ამ კანონის 21-ე მუხლის მე-6 პუნქტით, 33-ე მუხლის მე-2 პუნქტითა და 34-ე მუხლის მე-11 პუნქტით დადგენილ მოთხოვნათა დაცვით უნდა შესრულდეს შემდეგი მოთხოვნები: ბ) თუ სატრანსპორტო საშუალებათა მოძრაობა არ რეგულირდება არც საგზაო შუქნიშნით და არც მარეგულირებლის მეშვეობით, მძღოლმა ქვეითთა გადასასვლელთან მიახლოებისას სათანადოდ უნდა შეამციროს სიჩქარე, რათა საფრთხე არ შეუქმნას ამ გადასასვლელზე შესულ ან შემავალ ქვეითებს, ხოლო საჭიროების შემთხვევაში უნდა გაჩერდეს და გაატაროს ქვეითები.

QUESTION 778

CORRECT ANSWER: 1

The drivers, intending to drive around the route vehicle at the properly marked stop from the appropriate side of the traffic direction, shall:

- 1 Decrease speed and in case of necessity stop, in order to provide chance of safe pick up or drop off the passengers by the public transport
- 2 Increase the speed, in order to pass quickly and not to impede the process of the passenger pick up and drop off by the public transport
- 3 Stop at the sideway and not to move until proceeding of the public transport

განმარტება:

„საგზაო მოძრაობის შესახებ“ საქართველოს კანონის 25-ე მუხლის მე-4 პუნქტის თანახმად, მძღოლმა, რომელიც მოძრაობის მიმართულების შესაბამისი მხრიდან სათანადო წესით მონიშნულ გაჩერებაზე მყოფი სამარშრუტო სატრანსპორტო საშუალებისთვის გვერდის ავლას აპირებს, უნდა შეამციროს სიჩქარე და, აუცილებლობის შემთხვევაში, გაჩერდეს, რათა უზრუნველყოს მგზავრების საზოგადოებრივ ტრანსპორტში უსაფრთხო ჩასხდომის ან იქიდან გადმოსხდომის შესაძლებლობა.

QUESTION 779

CORRECT ANSWER: 1

In case of absence of appropriate traffic signs and road markings, number of the lanes for the vehicles without rails shall be defined by:

- 1 A driver himself/herself, taking width of the driveway, dimension of the vehicle and necessary interval between them into account
- 2 By self-government body
- 3 By to the law, according to which this road is considered as one-way road

განმარტება:

„საგზაო მოძრაობის შესახებ“ საქართველოს კანონის 31-ე მუხლის მე-3 პუნქტის თანახმად, ურელსო სატრანსპორტო საშუალების მოძრაობისათვის მოძრაობის ზოლების რაოდენობა განისაზღვრება საგზაო მონიშვნით ან/და 5.15.1, 5.15.2, 5.15.7 და 5.15.8 საგზაო ნიშნებით, ხოლო მისი/მათი არარსებობის შემთხვევაში – თვით მძღოლის მიერ, გზის სავალი ნაწილის სიგანის, სატრანსპორტო საშუალებების გაბარიტებისა და მათ შორის აუცილებელი ინტერვალის გათვალისწინებით.

QUESTION 780

CORRECT ANSWER: 2

A drive should drive around the safety island or pump located on the axis of the driveway of two-way road:

1

From the left side only

2

From the right side only

3


From the right or the left side

განმარტება:

„საგზაო მოძრაობის შესახებ“ საქართველოს კანონის 32-ე მუხლის მე-17 პუნქტის „ბ“ ქვეპუნქტის თანახმად, ამ მუხლით დადგენილ მოთხოვნათა გათვალისწინებით, მძღოლს შეუძლია მარჯვნიდან ან მარცხნიდან შემოუაროს იმ სავალ ნაწილზე დაყენებულ უსაფრთხოების კუნძულს, ტუმბოს ან სხვა მოწყობილობას, რომელზედაც იგი მოძრაობს, გარდა იმ შემთხვევისა, როცა: ბ) უსაფრთხოების კუნძული, ტუმბო ან სხვა მოწყობილობა ორმხრივმოძრაობიანი გზის სავალი ნაწილის ღერძზეა განლაგებული. ამ შემთხვევაში მძღოლმა უსაფრთხოების კუნძულს, ტუმბოს ან სხვა მოწყობილობას მხოლოდ მარჯვენა მხრიდან უნდა შემოუაროს.

QUESTION 781

CORRECT ANSWER: 3



Given additional sign (board) indicates:

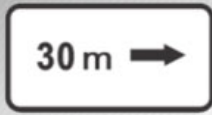
- | | |
|--|--|
| <p>1 Length of dangerous section of the road marked with the warning signs</p> | <p>2 Distance to the facility located on other side of the road</p> |
| <p>3 Distance from the sign to the beginning of dangerous area, before or after appliance of the appropriate limitation, until certain object existing in traffic direction</p> | |

განმარტება:

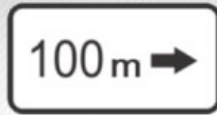
„საგზაო მოძრაობის შესახებ“ საქართველოს კანონის პირველი დანართის მე-8 თავის (დამატებითი ინფორმაციის ნიშნები (დაფები)) 8.1.1 პუნქტის თანახმად, დაფა 8.1.1 „მანძილი ობიექტამდე“ - მიუთითებს მანძილს ნიშნიდან სახიფათო მონაკვეთის დასაწყისამდე, სათანადო შეზღუდვის შემოტანის ადგილამდე ან წინ, მოძრაობის მიმართულებით არსებულ გარკვეულ ობიექტამდე (ადგილამდე).

QUESTION 782

CORRECT ANSWER: 1



I



II



III



IV

Which of the given additional information signs (boards) indicates distance to the facility located beyond the road (in remote distance)?

1

II and III only

2

I and IV only

3

IV only

4

III only

განმარტება:

„საგზაო მოძრაობის შესახებ“ საქართველოს კანონის პირველი დანართის მე-8 თავის (დამატებითი ინფორმაციის ნიშნები (დაფები)) 8.1.3, 8.1.4 პუნქტების თანახმად, დაფები 8.1.3 და 8.1.4 „მანძილი ობიექტამდე“ - მიუთითებს მანძილს გზის მიღმა (მოშორებით) მდებარე ობიექტამდე.

QUESTION 783

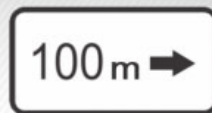
CORRECT ANSWER: 2



I



II



III



IV

Which of the given additional information signs (boards) indicates the length of the dangerous area marked with warning signs or the effective zone of restriction and information-indication signs?

1

I and III only

2

I only

3

II only

4

IV only

განმარტება:

„საგზაო მოძრაობის შესახებ“ საქართველოს კანონის პირველი დანართის მე-8 თავის (დამატებითი ინფორმაციის ნიშნები (დაფები)) 8.2.1 პუნქტის თანახმად, 8.2.1 „მოქმედების ზონა“ - მიუთითებს მათროხილებელი ნიშნით აღნიშნული გზის სახიფათო მონაკვეთის სიგრძეს, ან ამკრძალავი და საინფორმაციო-მაჩვენებელი ნიშნის მოქმედების ზონას.

QUESTION 784

CORRECT ANSWER: 2



I



II



III

Which of these boards indicates the end of effective zone of parking prohibition sign?

1

I

2

II

3

III

განმარტება:

„საგზაო მოძრაობის შესახებ“ საქართველოს კანონის პირველი დანართის მე-8 თავის (დამატებითი ინფორმაციის ნიშნები (დაფები)) 8.2.3 პუნქტის თანახმად, დაფა 8.2.3 „მოქმედების ზონა“ - მიუთითებს 3.27–3.30 ნიშნების მოქმედების ზონის დასასრულს.

QUESTION 785

CORRECT ANSWER: 3



I



II



III

Which of these additional information signs (boards) gives the driver information about being in effective zone of parking-stopping restriction signs?

1

III only

2

I only

3

II only

4

II and III only

განმარტება:

„საგზაო მოძრაობის შესახებ“ საქართველოს კანონის პირველი დანართის მე-8 თავის (დამატებითი ინფორმაციის ნიშნები (დაფები)) 8.2.4 პუნქტის თანახმად, დაფა 8.2.4 „მოქმედების ზონა“- მძღოლს აწვდის ინფორმაციას მისი 3.27–3.30 ამკრძალავი ნიშნების მოქმედების ზონაში ყოფნის თაობაზე.

QUESTION 786

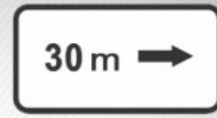
CORRECT ANSWER: 2



I



II



III

Which of these additional information signs (boards) indicates effective direction or traffic direction of the sign posted in front of the intersection to the marked facility located directly by the road?

1

I and III only

2

I only

3

II only

4

III only

განმარტება:

„საგზაო მოძრაობის შესახებ“ საქართველოს კანონის პირველი დანართის მე-8 თავის (დამატებითი ინფორმაციის ნიშნები (დაფები)) 8.3.1-8.3.3 პუნქტების თანახმად, დაფები 8.3.1-8.3.3 „მოქმედების მიმართულება“ - მიუთითებს გზაჯვარედინის წინ დადგმული ნიშნის მოქმედების მიმართულებას ან უშუალოდ გზასთან მდებარე აღნიშნული ობიექტისაკენ მოძრაობის მიმართულებას.

QUESTION 787

CORRECT ANSWER: 4



I



II



III



IV

Out of given road sign combinations, which one is applied to the lorries without a trailer total permissible load of which exceeds 3,5 t?

1

I and III

2

II and III

3

III and IV

4

II and IV

განმარტება:

„საგზაო მოძრაობის შესახებ“ საქართველოს კანონის პირველი დანართის მე-8 თავის (დამატებითი ინფორმაციის ნიშნები (დაფები)) 8.4.1-8.4.8 პუნქტებისა და ამავე პუნქტის შენიშვნის „ა“ ქვეპუნქტის თანახმად, დაფები 8.4.1–8.4.8 „სატრანსპორტო საშუალების სახეობა“ - მიუთითებს იმ სატრანსპორტო საშუალების სახეობას, რომლებზედაც ვრცელდება ნიშნის მოქმედება. დაფა 8.4.1 ნიშნის მოქმედებას ავრცელებს სატვირთო ავტომობილებზე (მისაბმელით ან მის გარეშე), რომლის ნებადართული მაქსიმალური მასა 3,5 ტ-ზე მეტია. ამავე დანართის 8.5.2. პუნქტის თანახმად დამატებითი ინფორმაციის ნიშანი (დაფა) 8.5.2. „სამუშაო დღეები“ – მიუთითებს კვირის დღეებზე, როცა მოქმედებს ნიშნები.

QUESTION 788

CORRECT ANSWER: 3



I



II



III



IV

Out of given road sign combinations, which one is applied to the lorry with any type of trailer that is transporting dangerous goods?

1

Only II

2

Only I and II

3

Only I, II and III

4

Only III

განმარტება:

„საგზაო მოძრაობის შესახებ“ საქართველოს კანონის პირველი დანართის მე-8 თავის (დამატებითი ინფორმაციის ნიშნები (დაფები)) 8.4.1-8.4.8 პუნქტისა და ამავე პუნქტის შენიშვნის „ა“, „ბ“ და „დ“ ქვეპუნქტების თანახმად, დაფები 8.4.1–8.4.8. „სატრანსპორტო საშუალების სახეობა“ – მიუთითებს იმ სატრანსპორტო საშუალების სახეობას, რომელზედაც ვრცელდება ნიშნის მოქმედება. შენიშვნა: დაფები ნიშნის მოქმედებას ავრცელებენ: ა) 8.4.1 – სატვირთო ავტომობილზე (მისაბმელით ან მის გარეშე), რომლის ნებადართული მაქსიმალური მასა 3,5 ტ-ზე მეტია; ბ) 8.4.2 – სატვირთო ავტომობილზე ან ტრაქტორზე ნებისმიერი სახეობის მისაბმელით და ნახევარმისაბმელით, აგრეთვე მექანიკური სატრანსპორტო საშუალების მახუქსირებელ სატრანსპორტო საშუალებაზე; დ) 8.4.8 – საცნობი ნიშნით „სახიფათო ტვირთი“ აღნიშნულ სატრანსპორტო საშუალებაზე.

QUESTION 789

CORRECT ANSWER: 3



I



II



III



IV

Out of given road sign combinations, which one is applied only to the vehicles that have the distinguishing sign “dangerous goods”?

1

IV only

2

I and III only

3

II only

4

I only

განმარტება:

„საგზაო მოძრაობის შესახებ“ საქართველოს კანონის პირველი დანართის მე-8 თავის (დამატებითი ინფორმაციის ნიშნები (დაფები)) 8.4.1-8.4.8 პუნქტებისა და ამავე პუნქტის შენიშვნის „დ“ ქვეპუნქტის თანახმად, დაფები 8.4.1–8.4.8 „სატრანსპორტო საშუალების სახეობა“ - მიუთითებს იმ სატრანსპორტო საშუალების სახეობას, რომლებზედაც ვრცელდება ნიშნის მოქმედება. დაფა 8.4.8 ნიშნის მოქმედებას ავრცელებს საცნობი ნიშნით „სახიფათო ტვირთი“ აღჭურვილ სატრანსპორტო საშუალებაზე.

QUESTION 790

CORRECT ANSWER: 2



I



II



III



IV

Which combination of these traffic signs is effective on weekends and holidays?

1

III only

2

I and IV only

3

II and III only

4

I only

პანმარტივა:

„საგზაო მოძრაობის შესახებ“ საქართველოს კანონის პირველი დანართის მე-8 თავის (დამატებითი ინფორმაციის ნიშნები (დაფები)) 8.5.1 პუნქტის თანახმად, დაფა 8.5.1 „შაბათი, კვირა და სადღესასწაულო დღეები“ - მიუთითებს კვირის დღეებზე, როცა მოქმედებს ნიშნები. ამავე თავის 8.5.5-8.5.7 პუნქტების თანახმად დაფები 8.5.5–8.5.7 „მოქმედების დრო“ - მიუთითებს კვირის დღეებსა და დღე-ღამის დროზე, როცა მოქმედებს ნიშანი.

QUESTION 791

CORRECT ANSWER: 1



I



II



III



IV

Which combination of these traffic signs indicates the time, when the sign is effective?

1

II and IV only

2

I only

3

II and III only

4

III only

პანმარტეხა:

„საგზაო მოძრაობის შესახებ“ საქართველოს კანონის პირველი დანართის მე-8 თავის (დამატებითი ინფორმაციის ნიშნები (დაფები)) 8.5.2 და 8.5.3 პუნქტების თანახმად, დაფები 8.5.2 „სამუშაო დღეები“ და 8.5.3 „კვირის დღეები“ - მიუთითებენ კვირის დღეებზე, როცა მოქმედებს ნიშანი. ამავე თავის 8.5.5-8.5.7 პუნქტების თანახმად დაფები 8.5.5-8.5.7 „მოქმედების დრო“ - მიუთითებს კვირის დღეებსა და დღე-ღამის დროზე, როცა მოქმედებს ნიშანი.

QUESTION 792

CORRECT ANSWER: 3



ორშაბათი -
პარასკევი

I



ორშაბათი
8.30-9.30

II



III



*
8.00-17.30

IV

Which combination of these traffic signs indicates the weekdays and time of the day and night, when this sign is effective?

1

III only

2

IV only

3

II and IV only

4

I only

განმარტება:

„საგზაო მოძრაობის შესახებ“ საქართველოს კანონის პირველი დანართის მე-8 თავის (დამატებითი ინფორმაციის ნიშნები (დაფები)) 8.5.5-8.5.7 პუნქტების თანახმად დაფები 8.5.5-8.5.7 „მოქმედების დრო“ - მიუთითებს კვირის დღეებსა და დღე-ღამის დროზე, როცა მოქმედებს ნიშანი.

QUESTION 793

CORRECT ANSWER: 2



Combination of these traffic signs, in case of wet driveway surface:

1

Prohibits proceeding at a speed more than 50 km/h

2

Indicates recommended motion speed on the given section of the road

3


Allows motion at a speed of 50 km/h or more only

განმარტება:

„საგზაო მოძრაობის შესახებ“ საქართველოს კანონის პირველი დანართის 3.24 პუნქტის თანახმად საგზაო ნიშანი 3.24. „მაქსიმალური სიჩქარის შეზღუდვა“ – კრძალავს მოძრაობას ნიშანზე აღნიშნულზე მეტი სიჩქარით (კმ/სთ). ამავე დანართის მე-8 თავის (დამატებითი ინფორმაციის ნიშნები (დაფები)) 8.16 პუნქტის თანახმად, დაფა 8.16 „სველი საფარი“ - მიუთითებს, რომ ნიშნის მოქმედება ვრცელდება დროის იმ პერიოდში, როცა სავალი ნაწილის საფარი სველია. გამოიყენება 1.16, 3.20, 3.22 და 3.24 ნიშნებთან ერთად.

QUESTION 794

CORRECT ANSWER: 1



In the present situation, which of the drivers is prohibited from U-turning of the vehicle to the arrow direction?

1

Motorcyclist only

2

White car driver only

3


None of them

განმარტება:

„საგზაო მოძრაობის შესახებ“ საქართველოს კანონის მე-2 დანართის პირველი თავის (ჰორიზონტალური მონიშვნა) 1.11 პუნქტის თანახმად, საგზაო მონიშვნა 1.11 ყოფს საპირისპირო ან იმავე მიმართულებით მოძრავ სატრანსპორტო ნაკადებს გზის მონაკვეთზე, სადაც გადაჯგუფება ნებადართულია მხოლოდ ერთი ზოლიდან; აღნიშნავს მობრუნების ადგილს, სადგომი მოედნიდან გამოსასვლელსა და შესასვლელს და ა. შ., სადაც მოძრაობა ნებადართულია მხოლოდ ერთ მხარეს. 1.11 ხაზის გადაკვეთა ნებადართულია წყვეტილი ხაზის მხრიდან, ასევე უწყვეტი ხაზის მხრიდან, მაგრამ მხოლოდ გასწრების ან შემოვლის დამთავრებისას.

QUESTION 795

CORRECT ANSWER: 3



In the present situation, which of the drivers is prohibited from U-turning of the vehicle to the arrow direction?

1

Yellow car driver only

2

Red car driver only

3

None of them

განმარტება:

„საგზაო მოძრაობის შესახებ“ საქართველოს კანონის მე-2 დანართის პირველი თავის (ჰორიზონტალური მონიშვნა) 1.11 პუნქტის თანახმად, საგზაო მონიშვნა 1.5. ყოფს საპირისპირო მიმართულებით მოძრავ სატრანსპორტო ნაკადებს გზაზე, რომელსაც მოძრაობის ორი ან სამი ზოლი აქვს; აღნიშნავს მოძრაობის ზოლის საზღვარს ერთი მიმართულებით მოძრაობისათვის განკუთვნილი ორი ან ორზე მეტი ზოლის არსებობისას. 1.5 ხაზის გადაკვეთა ნებადართულია ნებისმიერი მხრიდან.

QUESTION 796

CORRECT ANSWER: 2



Signs on the driveway point to:

1

Distance to the nearest inhabited area

2

Road (route) number

3

Traffic lanes designated for the route vehicles of appropriate number

განმარტება:

„საგზაო მოძრაობის შესახებ“ საქართველოს კანონის მე-2 დანართის პირველი თავის (ჰორიზონტალური მონიშვნა) 1.22 პუნქტის თანახმად, საგზაო მონიშვნა 1.22 აღნიშნავს გზის (მარშრუტის) ნომერს.

QUESTION 797

CORRECT ANSWER: 1



Yellow marking on the driveway means:

1

Route vehicle stop and taxi park

2

Waiting location for long-term rest purpose

განმარტება:

„საგზაო მოძრაობის შესახებ“ საქართველოს კანონის მე-2 დანართის პირველი თავის (ჰორიზონტალური მონიშვნა) 1.17 პუნქტის თანახმად, საგზაო მონიშვნა 1.17 ყვითელი ხაზი აღნიშნავს სამარბრუტო სატრანსპორტო საშუალების გაჩერების ადგილს და ტაქსის სადგომს.

QUESTION 798

CORRECT ANSWER: 2



Lateral marking on the driveway marks the place, where:

1

Pedestrian path crosses driveway

2

Bicycle lane crosses driveway

განმარტება:

„საგზაო მოძრაობის შესახებ“ საქართველოს კანონის მე-2 დანართის პირველი თავის (ჰორიზონტალური მონიშვნა) 1.15 პუნქტის თანახმად, საგზაო მონიშვნა 1.15 აღნიშნავს ადგილს, სადაც ველობილიკი კვეთს გზის სავალ ნაწილს.

QUESTION 799

CORRECT ANSWER: 3



Double dash line on driveway marks:

1

Bicycle lanes on driveway

2

Place, where a driver must stop in case of necessity

3


Bounds of lanes of reversely-regulated traffic

ბანმარტეზა:

„საგზაო მოძრაობის შესახებ“ საქართველოს კანონის მე-2 დანართის პირველი თავის (ჰორიზონტალური მონიშვნა) 1.9 პუნქტის თანახმად, საგზაო მონიშვნა 1.9 აღნიშნავს რევერსულად მოწესრიგებული მოძრაობის ბოლის საზღვარს; ყოფს საპირისპირო მიმართულებით მოძრავ სატრანსპორტო ნაკადებს (როდესაც გამორთულია რევერსული შუქნიშანი) გზაზე, რომელიც რევერსულად წესრიგდება.

QUESTION 800

CORRECT ANSWER: 2



Crossing of solid line, marking the edge of driveway, is allowed if a driver is driving:

1

In direction A

2

In direction B

განმარტება:

„საგზაო მოძრაობის შესახებ“ საქართველოს კანონის მე-2 დანართის პირველი თავის (ჰორიზონტალური მონიშვნა) 1.2.1 პუნქტის თანახმად, საგზაო მონიშვნა 1.2.1 მთლიანი ფართო ხაზი აღნიშნავს ავტომაგისტრალზე სავალი ნაწილის ნაპირს. 1.2.1 ხაზის გადაკვეთა აკრძალულია. დასაშვებია სავალი ნაწილის ნაპირის აღმნიშვნელი და მძღოლის მარჯვენა მხარეს განლაგებული 1.2.1 ხაზის გადაკვეთა სატრანსპორტო საშუალების გზის ნაპირზე გასაჩერებლად.

QUESTION 801

CORRECT ANSWER: 3



Sign on driveway - "BUS" - points to special lane, designated for:

1

Low-speed vehicles

2

Bicycles and mopeds

3

Route vehicles

განმარტება:

„საგზაო მოძრაობის შესახებ“ საქართველოს კანონის მე-2 დანართის პირველი თავის (ჰორიზონტალური მონიშვნა) 1.23 პუნქტის თანახმად, საგზაო მონიშვნა 1.23 აღნიშნავს სპეციალურ ზოლს, რომელიც განკუთვნილია სამარშრუტო სატრანსპორტო საშუალების მოძრაობისათვის.

QUESTION 802

CORRECT ANSWER: 2



Arrow-shaped marking in the middle of traffic lane on the driveway warns about:

1

Approaching the road section with dangerous turning

2

Approaching the narrow area of the driveway, a section, where the number of lanes in this direction is reduced

განმარტება:

„საგზაო მოძრაობის შესახებ“ საქართველოს კანონის მე-2 დანართის პირველი თავის (ჰორიზონტალური მონიშვნა) 1.19 პუნქტის თანახმად, საგზაო მონიშვნა 1.19 იძლევა გაფრთხილებას სავალი ნაწილის შევიწროებასთან, იმ მონაკვეთთან, სადაც მცირდება მოცემული მიმართულებით მოძრაობის ზოლების რაოდენობა, ან საპირისპირო მიმართულებით მოძრაობის სატრანსპორტო ნაკადების გამყოფ 1.1 ან 1.11 მონიშვნასთან მიახლოების თაობაზე. 1.19 მონიშვნა პირველ შემთხვევაში შეიძლება გამოყენებულ იქნეს 1.21.1–1.21.3 ნიშნებთან ერთად.

QUESTION 803

CORRECT ANSWER: 2



Vertical marking drawn on the bridge points to:

1

Number of lanes on the driveway

2

Lower part of tunnels, bridges, underpasses and other elements, located at a height less than 5 meters above the driveway and under which driveway is completely or partially passed

განმარტება:

„საგზაო მოძრაობის შესახებ“ საქართველოს კანონის მე-2 დანართის მე-2 თავის (ვერტიკალური მონიშვნა) 2.2 პუნქტის თანახმად, საგზაო მონიშვნა 2.2 - აღნიშნავს გვირაბის, ხიდის, გზაგამტარისა და სხვა ნაგებობის ელემენტის ქვედა ნაპირს, რომელიც განთავსებულია გზის სავალი ნაწილიდან 5 მეტრზე ნაკლებ სიმაღლეზე და რომლის ქვეშ მთლიანად ან ნაწილობრივ გადის გზის სავალი ნაწილი.

თემა 29:

სამედიცინო დახმარება

QUESTION 804

CORRECT ANSWER: 4

For assessment of the state of the injured person after a traffic accident, first of all it is necessary to:

1

Open airway and control respiration only

2

Check consciousness only

3

Check pulsation on carotid artery only

4

Both open airway and control respiration, as well as check pulsation on carotid artery and consciousness.

განმარტება:

მნიშვნელოვანია დაზარალებულის მდგომარეობა სწრაფად და მართებულად შეფასდეს. პირველი ეტაპი არის ცნობიერების შემოწმება (არის თუ არა დაზარალებული გონზე). მეორე ეტაპი - სასუნთქი გზების გახსნა მესამე ეტაპი - სუნთქვის კონტროლი. მეოთხე ეტაპი - საძილე არტერიაზე პულსაციის შემოწმება.

QUESTION 805

CORRECT ANSWER: 3

If an injured has second-degree skin burn after a traffic accident (disruption of skin tissue and red coloring, formation of blisters on the burnt area, severe pain), following measures shall be applied as first aid:

- 1 Wash over burnt surface with cold water, cleanse with iodine solution, apply bactericidal or clean band and fix with bandage
- 2 Open blisters, cleanse burnt surface from cloth remnants, apply bactericidal or clean band, give some water
- 3 Do not open blisters, do not cleanse burnt surface from cloth remnants, put a sterile band on the wound, do not fix with bandage, put ice or cold band, give analgesic drug (if the injured does not have allergy to it) and give some water to the injured

განმარტება:

თუ საგზაო-სატრანსპორტო შემთხვევის შედეგად დაშავებულს აღენიშნება კანის მე-2 ხარისხის დამწვრობა (კანის ქსოვილის დარღვევა და მოწითალო შეფერილობა, დამწვრობის ადგილზე სითხით შევსებული ბუშტების წარმოქმნა, ძლიერი ტკივილი) პირველადი სამედიცინო დახმარების აღმოჩენის მიზნით მას ბუშტები არ უნდა გავუხსნათ, ტანსაცმლის ნარჩენები დამწვარი ზედაპირიდან არ მოვაცილოთ, ჭრილობაზე დავადოთ სტერილური საფენი, ბინტით არ შევეხვიოთ, მივადოთ ყინული ან ცივი საფენი, მივცეთ ტკივილგამაყუჩებელი საშუალება (თუ დაშავებულს მის მიმართ ალერგია არ გააჩნია) და დაშავებულს დავალევინოთ წყალი.

QUESTION 806

CORRECT ANSWER: 3

If an injured person is not breathing and has no pulsation on carotid artery after a traffic accident, following measures shall be applied as first aid:

1

Artificial respiration only

2

Indirect cardiac massage only

3

Both of them

განმარტება:

თუ დაზარალებულს არ აღენიშნება სუნთქვა და პულსაცია საძილე არტერიაზე, მას უნდა ჩაუტარდეს ხელოვნური სუნთქვა და გულის არაპირდაპირი მასაჟი (ორი ჩაბერვა და 30 გულის მასაჟი, ჯამში უნდა გამოვიდეს გულის მასაჟი ერთ წუთში 100).

QUESTION 807

CORRECT ANSWER: 1

If an injured person is not breathing and has no pulsation on carotid artery after a traffic accident, following measures shall be applied as first aid:

1

Artificial respiration only

2

Indirect cardiac massage only

3

Both of them

განმარტება:

თუ დაზარალებული არ სუნთქავს, მაგრამ აღენიშნება პულსაცია საძილე არტერიაზე, მას უნდა ჩაუტარდეს მხოლოდ ხელოვნური სუნთქვა, ერთი ჩასუნთქვა ყოველ 6 წამში, მანამ ვიდრე არ აღუდგება სპონტანური სუნთქვა.

QUESTION 808

CORRECT ANSWER: 1

If there is a doubt on neck or spine injury of the person injured in an accident and his/her life is in danger, how the injured may be moved by dragging without another person (by one person only)?

1

In sitting position, we should slip the arms under the shoulders of the injured from the back, fix lower jaw and neck and move back by dragging

2

In sitting position, we should stand between the legs of the injured, slip the arms under his/her shoulders and grasp on the back. Raise the legs and move the injured back by dragging

განმარტება:

დამხმარეს გარეშე დაზავებულის გადათრევით გადაადგილება კისრის ან ხერხემლის დაზიანების ეჭვის შემთხვევაში, თუ მის სიცოცხლეს საფრთხე ემუქრება უნდა მოხდეს შემდეგნაირად - მოათავსეთ დაზავებული მჯდომარე პოზიციაში. დადებით დაზავებულის ზურგს უკან, მკლავები მხრებქვეშ შეუცურეთ, დავაფიქსიროთ ქვედა ყბა და კისერი და ისე გადათრევით გადავაადგილოთ უკან.

QUESTION 809

CORRECT ANSWER: 3

How can be an injured person transported in case of wound in abdomen after an accident?

1

In side lying position with bent knees

2

In semi-sitting position with straightened feet

3

In supine position with bent knees

4

In sitting position

განმარტება:

მუცლის არეში მიღებული ჭრილობის დროს დაზავებულის ტრანსპორტირება უნდა მოხდეს ზურგზე დაწოლილი მდგომარეობაში მუხლებში მოხრილი ფეხებით.

QUESTION 810

CORRECT ANSWER: 3

In order to provide first aid to the injured in case of fainting after an accident:

- 1** Lay him/her down on side with bent knees
- 2** Lay him/her in supine position, put the pillow under the head and get him/her to smell liquid ammonia
- 3** Lay him/her in supine position with feet raised, get him/her to smell liquid ammonia and rub temples with cologne (or liquid containing other alcohol)

განმარტება:

გულის წასვლის შემთხვევაში დაზარალებული უნდა დავანვინოთ ზურგზე, ფეხები წამოუწიოთ. ვასუნთქოთ ნიჟადურის სპირტი, საფეთქლები დავუზილოთ ადეკოლონით (ან სხვა სპირტის შემცველი სითხით).

QUESTION 811

CORRECT ANSWER: 2

What position is allowed while transporting a person injured after an accident with brain concussion?

- 1** Supine position, as well as put the pillow under neck and waist area
- 2** Side lying position

განმარტება:

თავის ტვინის შერყევის შემთხვევაში დაშავებული უნდა დავანვინოთ გვერდზე და გადავიყვანოთ ასეთ მდგომარეობაში უახლოეს სამედიცინო დაწესებულებაში.

QUESTION 812

CORRECT ANSWER: 3

What position is allowed while transporting a person injured after an accident with perforation wound on chest?

1

Lying down on stomach

2

In supine position

3

Lying down on healthy side or in semi-sitting position

განმარტება:

დაშავებულის გულმკერდის გამჭოლი ჭრილობით ტრანსპორტირება შეიძლება ჯანმრთელ გვერდზე დანოლილ ან ნახევრადმჯდომარე მდგომარეობაში.

QUESTION 813

CORRECT ANSWER: 1

In case of one hand injury after an accident, we must take custom or suit off the injured person:

1

First from healthy and then from injured hand

2

First from injured and then from healthy hand

3

Simultaneously from both hands

განმარტება:

ერთი ხელის დაზიანების შემთხვევაში დაშავებულს პიჯაკი ან პერანგი ჯერ უნდა გავხადოთ ჯანსაღ, ხოლო შემდეგ დაშავებულ ხელზე.

QUESTION 814

CORRECT ANSWER: 3

In order to give first aid in case of traumatic shock after an accident, the injured person shall:

- 1 Be given analgesic drug, lay in supine position, put closely rolled bands or cloths under the head
- 2 Take the cloths off, give analgesic drug, put cold bands on forehead
- 3 In case of necessity, stop bleeding, put warmers; if you do not doubt any injury of internal organs of abdomen, give him/her some warm water

განმარტება:

ტრამეული შოკის დროს დაზარებულს უნდა გაეწიოს შემდეგი პირველადი სამედიცინო დახმარება - აუცილებლობის შემთხვევაში შევაჩეროთ სისხლდენა, დავათაროთ სათბურები, თუ არ ვეჭვობთ მუცლის ღრუს შიდა ორგანოების დაზიანებას - დავალეწინოთ თბილი სასმელი.

QUESTION 815

CORRECT ANSWER: 1

Signs of bleeding from large artery of an individual injured after an accident are as follows:

- 1 Cloths are saturated with scarlet blood, bleeding from wound by pulsed stream
- 2 Cloths are quickly saturating with dark blood, bleeding from wound by weak stream
- 3 Cloths are saturated with blood only on site of wound, bleeding from wound by weak stream

განმარტება:

არტერიის დაზიანების დროს სისხლს აქვს ღია-ალისფერი და ჭრილობიდან გამოედინება პულსირებული ნაკადით. არტერიული სისხლდენა საშიშია სიცოცხლისათვის, განსაკუთრებით მსხვილი არტერიის დაზიანებისას, რადგა დაზარალებულმა დროის მოკლე მონაკვეთში შეიძლება დაკარგოს დიდი რაოდენობის სისხლი.

QUESTION 816

CORRECT ANSWER: 2

The signs of venous hemorrhage from wound of an individual injured after a traffic accident are as follows:

- | | |
|---|---|
| <div style="background-color: #f0f0f0; padding: 10px; border: 1px solid #ccc;"> <div style="background-color: #ff4500; color: white; padding: 5px; text-align: center; width: 40px; float: left; margin-right: 10px;">1</div> <div>Cloths are saturated with scarlet blood, bleeding from wound by pulsed stream</div> </div> | <div style="background-color: #f0f0f0; padding: 10px; border: 1px solid #ccc;"> <div style="background-color: #ff4500; color: white; padding: 5px; text-align: center; width: 40px; float: left; margin-right: 10px;">2</div> <div>Cloths are quickly saturating with dark blood, bleeding from wound by weak stream</div> </div> |
|---|---|

პანმარტივა:

ჭრილობიდან ვენური სისხლდენის დამახასიათებელია მექი-ალუბლისფერი სისხლის სუსტი ნაკადი. აუცილებელია მჭიდრო სახვევის დადება უშუალოდ ჭრილობის ადგილზე. სახვევის ქვედა ფენის სისხლით გაჟღენთვისას, ის არ უნდა მოცილდეს და უნდა დაემატოს ახალი სახვევი.

QUESTION 817

CORRECT ANSWER: 1

In case of extremities injury after an accident, tourniquet for stopping arterial bleeding should be put on:

- | | |
|--|--|
| <div style="background-color: #f0f0f0; padding: 10px; border: 1px solid #ccc;"> <div style="background-color: #ff4500; color: white; padding: 5px; text-align: center; width: 40px; float: left; margin-right: 10px;">1</div> <div>Above the site</div> </div> | <div style="background-color: #f0f0f0; padding: 10px; border: 1px solid #ccc;"> <div style="background-color: #ff4500; color: white; padding: 5px; text-align: center; width: 40px; float: left; margin-right: 10px;">2</div> <div>Below the site</div> </div> |
| <div style="background-color: #f0f0f0; padding: 10px; border: 1px solid #ccc;"> <div style="background-color: #ff4500; color: white; padding: 5px; text-align: center; width: 40px; float: left; margin-right: 10px;">3</div> <div>On the site</div> </div> | |

პანმარტივა:

საგზაო-სატრანსპორტო შემთხვევის შედეგად დაშავებულის კიდურების დაზიანების შემთხვევაში არტერიული სისხლდენის შემაჩერებელი ლახტი უნდა დავადოთ ჭრილობის ადგილის ზემოთ.

QUESTION 818

CORRECT ANSWER: 2

If material for making first-aid strip in case of leg-bone fracture after an accident is unavailable, it is essential to:

- 1 Apply the bandage on the whole leg
- 2 Tighten injured and healthy legs firmly together with bandage and put soft cloth between the legs

განმარტება:

საგზაო-სატრანსპორტო შემთხვევის შედეგად დაზარალებულის ფეხის ძვლის მოტეხილობის შემთხვევაში, თუ არა გვაქვს არტაშანის დასამზადებელი მასალა დაზარალებულს დაზიანებული და ჯანმრთელი ფეხი უნდა დავამაგროთ ერთმანეთს ბინტის სახვევის გამოყენებით. ამასთან აუცილებელია ფეხებს შორის ჩავუდოთ რბილი ქსოვილი.

QUESTION 819

CORRECT ANSWER: 1

In case of pelvis and thigh-bone fracture of a person injured after an accident, until arrival of ambulance:

- 1 Lay him/her in supine position, put tightly rolled spreading or some clothes under his/her knees and give some analgesic drugs
- 2 Lay him/her on uninjured side, put cold spreading on injured site and give some analgesic drugs

განმარტება:

მენჯისა და ბარძაყის ძვლის მოტეხილობის შემთხვევაში „სასწრაფო სამედიცინო დახმარების“ მოსვლამდე დაზარალებული უნდა დავანვინოთ ზურგზე მუხლებ ქვეშ ამოვუდოთ მჭიდროდ დახვეული საფენი ან ტანსაცმელი, მივცეთ ტკივილგამაყუჩებელი საშუალება.

QUESTION 820

CORRECT ANSWER: 3

In which case is it appropriate to take the person injured after an accident from the vehicle compartment?

- 1 Any time in case of loss of consciousness
- 2 In case of lower extremity fractures of the injured
- 3 When the injured has lost consciousness and is not breathing and there is no pulsation on the carotid artery

განმარტება:

საგზაო-სატრანსპორტო შემთხვევის შედეგად დაშავებულის ავტომობილის კაბინიდან გადმოყვანა მიზანშეწონილია, როცა დაშავებულს გონება აქვს დაკარგული და არ აღენიშნება სუნთქვა და პულსაცია საძილე არტერიაზე.

QUESTION 821

CORRECT ANSWER: 2

Symptoms of cervical vertebra trauma without spinal cord damage of an injured after an accident are as follows:

- 1 Injured person can not move upper limbs, has heavy breathing
- 2 Injured person has pain in neck and back areas, pain is increasing during touching

განმარტება:

საგზაო-სატრანსპორტო შემთხვევის შედეგად დაშავებულის ზურგის ტვინის დაზიანებლად კისრის ხერხემლის მალეების ტრავმების სიმპტომებია - ტკივილი კისრისა და ზურგის არეში. ტკივილი მატულობს ხელით შეხებისას.

QUESTION 822

CORRECT ANSWER: 4

If an injured gets neck or spine injury after a traffic accident or there is the doubt of its injury, following is not allowed:

- | | | | |
|---|--|---|--|
| 1 | Motion of head and neck of the injured only | 2 | Touching the wound of the injured only |
| 3 | Correction of bone ends and removal of foreign bodies from the injured | 4 | Motion of head and neck of the injured, as well as touching his/her wound and correction of bone ends and removal of foreign bodies from the injured |

განმარტება:

საგზაო-სატრანსპორტო შემთხვევის შედეგად დაშავებულის კისრის ან ხერხემლის დაზიანებისას ან მასზე ეჭვის მიტანისას არ შეიძლება: - დაზარალებულისთვის თავისა და კისრის მოძრაობა; - ჭრილობაზე შეხება; - ძვლის ნამსხვრევების ჩასწორება; - უცხო სხეულების მოცილება.

QUESTION 823

CORRECT ANSWER: 2

In case of spine injury after an accident, the injured shall be:

- | | | | |
|---|--|---|--|
| 1 | Laid on the side, on flat and hard surface and put pillow under the neck | 2 | Laid on the back, on flat and hard surface and put pillow under the neck and lumbar area |
|---|--|---|--|

განმარტება:

საგზაო-სატრანსპორტო შემთხვევის შედეგად დაშავებულის ხერხემლის დაზიანების დროს დაშავებული უნდა დავანჯინოთ ზურგზე, სწორ და მაგარ ზედაპირზე და ამოვუდოთ ბალიში კისრისა და წელის არეში.

QUESTION 824

CORRECT ANSWER: 2

If an injured gets spine injury after a traffic accident, he/she must be transported as follows:

1

In side lying position, on flat and hard surface

2

In supine position, on flat and hard surface

3

In sitting position, on flat and hard surface

განმარტება:

ყველაზე საშიშია დაზიანებული ხერხემლით დაშავებულის ტრანსპორტირება. ხერხემლის ოდნავ გადაადგილებამ შეიძლება გამოიწვიოს ზურგის ტვინის განწყვეტა, ამიტომ თუ ეჭვი გვეპარება დაშავებულის ხერხემლის დაზიანებაზე, აკრძალულია მისი დაჯდომა ან ფეხზე დგომა. უპირველეს ყოვლისა აუცილებელია დავანწინოთ სწორ და მაგარ ზედაპირზე (ხის დაფა, ფიცარი და სხვა მსგავსი). იგივე საგნები გამოიყენება ტრანსპორტირებისათვის.

QUESTION 825

CORRECT ANSWER: 3

In case of arterial hemorrhage, life-threatening amount of blood may be lost:

1

During 2-5 minutes

2

During 5-10 minutes

3

After 10-15 minutes

განმარტება:

დაშავებულის სიცოცხლისათვის საშიში სისხლის რაოდენობა არტერიული სისხლდენის დროს შეიძლება დაიკარგოს 10-15 წთ-ის შემდეგ.

QUESTION 826

CORRECT ANSWER: 2

In case of coverlet and muscular tissue injury after an accident, for providing the first aid, following measures must be carried out to the injured person:

- 1 Apply iodine solution on the wound
- 2 Cleanse wound around with iodine solution and apply bactericidal band (if it is unavailable, clean band)
- 3 Free muscular tissue from foreign bodies and apply bactericidal band

ბანმარტება:

საგზაო-სატრანსპორტო შემთხვევის შედეგად დაშავებულის კანის საფარველისა და კუნთოვანი ქსოვილის დაზიანების შემთხვევაში ჭრილობა უნდა დამუშავდეს გარშემო იოდის ხსნარით და დაედოს ბაქტერიციდული საფენი (მისი არ ქონის შემთხვევაში დაედოს სუფთა საფენი).

QUESTION 827

CORRECT ANSWER: 2

What kind of bandage is used in case of ankle-joint injury after an accident?

- 1 Spiral reverse bandage
- 2 Cross bandage
- 3 Catapult bandage

ბანმარტება:

საგზაო-სატრანსპორტო შემთხვევის შედეგად დაშავებულის წვივ-ტერფის სახსრის დაზიანებისას გამოიყენება რვიანისებური სახვევი.

QUESTION 828

CORRECT ANSWER: 1

If a person injured after an accident has clavicular bone fracture, he/she must be transported:

1

In sitting position

2

In side lying position

3

In supine position

4

Lying down on stomach

განმარტება:

საგზაო-სატრანსპორტო შემთხვევის შედეგად დაშავებულის ტრანსპორტირება ლავინის ძვლის მოტეხილობის დროს უნდა მოხდეს მჯდომარე მდგომარეობაში.

QUESTION 829

CORRECT ANSWER: 2

In case of loss of consciousness for skull and brain injury after an accident, it is necessary to:

1

Lay the injured in sitting position

2

Lay the injured on the side

3

Lay the injured on the back

განმარტება:

საგზაო-სატრანსპორტო შემთხვევის შედეგად დაშავებულის თავის ქალისა და ტვინის დაზიანების გამო, გონების დაკარგვის შემთხვევაში დაშავებული უნდა დავანწინოთ გვერდზე.

QUESTION 830

CORRECT ANSWER: 3

Areas of skin damaged by sulfuric acid after an accident must be:

1

Cleansed with alcohol

2

Treated with iodine solution

3

Washed over with larged amount of water

განმარტება:

საგზაო-სატრანსპორტო შემთხვევის შედეგად დაზარალებულს გოგირდის მჟავით დაზიანებული კანის უბნები უნდა გადაერეცხოს წყლის უხვი რაოდენობით.

QUESTION 831

CORRECT ANSWER: 1

During shin bone fracture after an accident, an injured must be immobilized:

1

From both sides from the foot to the middle of the thigh

2

From the outer side from the foot to the pelvis

განმარტება:

საგზაო-სატრანსპორტო შემთხვევის შედეგად დაზარალებულის წვივის ძვლების მოტეხილობის დროს დაზარალებულ ფეხზე არტაშანი უნდა დაედოს ორივე მხრიდან ტერფიდან შუა ბარძაყამდე.

QUESTION 832

CORRECT ANSWER: 1

Is it necessary to mark the exact time of appliance of hemorrhage stopping tourniquet on the limbs of a person injured after an accident?

1

Yes

2

No

განმარტება:

საგზაო-სატრანსპორტო შემთხვევის შედეგად დაშავებულის სისხლდენის შემაჩერებელი ლახტი დადება მიზანშეწონილია კიდურის იმ ნაწილში, სადაც მხოლოდ ერთი ძვალია (მხარი, ბარძაყი). ლახტი არ იდება უშუალოდ კანზე: მის ქვეშ აუცილებლად უნდა მოთავსდეს ბამბა, ნაჭერი, ტანსაცმელი. სწორად დადებისას ჭრილობიდან წყდება სისხლდენა, პერიფერიაზე ქრება პულსაცია. აუცილებლად უნდა აღინიშნოს ლახტის დადების ზუსტი დრო.

QUESTION 833

CORRECT ANSWER: 2

In case of injury of shin bone after an accident, arterial hemorrhage stopping tourniquet must be applied:

1

To ankle, above the wound

2

To thigh-bone

განმარტება:

საგზაო-სატრანსპორტო შემთხვევის შედეგად დაშავებულის წვივის ძვლის დაზიანების შემთხვევაში არტერიული სისხლდენის შემაჩერებელი ლახტი უნდა დავადოთ ბარძაყზე.

QUESTION 834

CORRECT ANSWER: 1

If an injured person is not breathing, but has pulsation on carotid artery after a traffic accident, interval of checking the pulse should be?

1

Once in every 2 minutes

2

Once in every 5 minutes

3

Once in every 6 minutes

განმარტება:

თუ საგზაო-სატრანსპორტო შემთხვევის შედეგად დაშავებული არ სუნთქავს, მაგრამ აღენიშნება პულსი საძილე არტერიაზე, ყოველ 2 წუთში ერთხელ უნდა მოხდეს პულსის შემოწმება.

QUESTION 835

CORRECT ANSWER: 1

Is a traffic accident participant driver obliged to provide first aid to a person injured after an accident?

1

Yes

2

Is not obliged only in case, if he/she calls medical emergency service

3

Is obliged only in case, if he/she is a doctor

4

No

განმარტება:

„საგზაო მოძრაობის შესახებ“ საქართველოს კანონის 27-ე მუხლის პირველი პუნქტის „ე“ ქვეპუნქტის თანახმად, საგზაო-სატრანსპორტო შემთხვევაში მონაწილე მძღოლი ვალდებულია: ე) მიიღოს საჭირო ზომები, რათა პირველადი სამედიცინო დახმარება აღმოუჩინოს საგზაო-სატრანსპორტო შემთხვევის შედეგად დაშავებულს, გამოიძახოს სასწრაფო სამედიცინო დახმარება, გადაუდებელი აუცილებლობის შემთხვევაში დაშავებული გაგზავნოს უახლოეს სამკურნალო დაწესებულებაში გზად მიმავალი სხვა სატრანსპორტო საშუალებით, ხოლო თუ ეს შეუძლებელია – თავად წაიყვანოს იგი, გარდა იმ შემთხვევისა, როდესაც არსებობს საფუძვლიანი ეჭვი, რომ გადაყვანამ შეიძლება ზიანი მიაყენოს დაშავებულს.

QUESTION 836

CORRECT ANSWER: 2

In case of urgency of taking an insured to the medical institution after an accident, a traffic accident participant driver is obliged:

1 To wait for the patrol police official on the accident scene and to take the injured to the medical institution only after his/her approval

2 To send the injured to the nearest medical institution by another vehicle routing on the road and if this is unavailable, to carry out the above action by himself/herself

განმარტება:

„საგზაო მოძრაობის შესახებ“ საქართველოს კანონის 27-ე მუხლის პირველი პუნქტის „ე“ ქვეპუნქტის თანახმად, საგზაო-სატრანსპორტო შემთხვევაში მონაწილე მძღოლი ვალდებულია: ე) მიიღოს საჭირო ზომები, რათა პირველადი სამედიცინო დახმარება აღმოუჩინოს საგზაო-სატრანსპორტო შემთხვევის შედეგად დაშავებულს, გამოიძახოს სასწრაფო სამედიცინო დახმარება, გადაუდებელი აუცილებლობის შემთხვევაში დაშავებული გაგზავნოს უახლოეს სამკურნალო დაწესებულებაში გზად მიმავალი სხვა სატრანსპორტო საშუალებით, ხოლო თუ ეს შეუძლებელია – თავად წაიყვანოს იგი, გარდა იმ შემთხვევისა, როდესაც არსებობს საფუძვლიანი ეჭვი, რომ გადაყვანამ შეიძლება ზიანი მიაყენოს დაშავებულს.

QUESTION 837

CORRECT ANSWER: 3

In which of the below cases is not a traffic accident participant driver obliged to take an injured after an accident to the medical institution?

1 If it is obvious that the accident did not occur through his/her (driver's) fault

2 If motion of his/her vehicle destroys the traces, which might be useful for definition of liability

3 In case of grounded doubt that the travel may damage the injured

4 In any case listed in given test

განმარტება:

„საგზაო მოძრაობის შესახებ“ საქართველოს კანონის 27-ე მუხლის პირველი პუნქტის „ე“ ქვეპუნქტის თანახმად, საგზაო-სატრანსპორტო შემთხვევაში მონაწილე მძღოლი ვალდებულია: ე) მიიღოს საჭირო ზომები, რათა პირველადი სამედიცინო დახმარება აღმოუჩინოს საგზაო-სატრანსპორტო შემთხვევის შედეგად დაშავებულს, გამოიძახოს სასწრაფო სამედიცინო დახმარება, გადაუდებელი აუცილებლობის შემთხვევაში დაშავებული გაგზავნოს უახლოეს სამკურნალო დაწესებულებაში გზად მიმავალი სხვა სატრანსპორტო საშუალებით, ხოლო თუ ეს შეუძლებელია – თავად წაიყვანოს იგი, გარდა იმ შემთხვევისა, როდესაც არსებობს საფუძვლიანი ეჭვი, რომ გადაყვანამ შეიძლება ზიანი მიაყენოს დაშავებულს.

QUESTION 838

CORRECT ANSWER: 2

In case of ribs and breastbone fracture after an accident, an injured must be transported:

1

In side lying position

2

In sitting or semi-sitting position

3

In supine position

ბანმარტეზა:

საგზაო-სატრანსპორტო შემთხვევის შედეგად დაშავებულის ნეკნებისა და მკერდის ძვლის მოტეხილობის დროს დაშავებულის ტრანსპორტირება უნდა მოხდეს მჭიდროდ ან ნახევარმჭიდროდ მდგომარეობაში.

QUESTION 839

CORRECT ANSWER: 3

In order to stop nasal haemorrhage, a person injured after an accident must be:

1

Laid in semi-sitting position, put the head back and put cold band on nose

2

Laid in side position, put cold band on the nose

3

Laid in semi-sitting position, lower his/her head towards the breast and put cold band on the nose

ბანმარტეზა:

საგზაო-სატრანსპორტო შემთხვევის შედეგად დაშავებულის ცხვირიდან სისხლდენის შესაჩერებლად დაშავებული უნდა დავსვათ ნახევარმჭიდროდ მდგომარეობაში, მკერდისკენ თავის დახრით გამოვრიცხვოთ სისხლის სასუნთქ ორგანოებში მოხვედრას. ცხვირზე ცივი საფენის დადებით ვცდილობთ სისხლდენის შეჩერებას.

QUESTION 840

CORRECT ANSWER: 2

Iodine solution as a disinfectant should be used in case of a wound after an accident:

1

For cleaning the whole wound surface

2

For cleaning the wound edges and adjacent skin

განმარტება:

საგზაო-სატრანსპორტო შემთხვევის შედეგად დაშავებულის ჭრილობის შემთხვევაში იოდის ხსნარი, როგორც სადეზინფექციო საშუალება გამოიყენება ჭრილობის ნაპირებისა და მისი მიმდებარე კანის დასამუშავებლად.

QUESTION 841

CORRECT ANSWER: 1

If an injured person has a wound on eye after an accident, we must:

1

Lay him/her in supine position and move his/her head ahead. Put clean band on injured eye

2

Lay him/her in side position, on the side of sound eye. Put clean band on injured eye

3

Put him/her in semi-sitting position. Move his/her head back and put clean band on injured eye

განმარტება:

საგზაო-სატრანსპორტო შემთხვევის შედეგად დაშავებულის თვალის ჭრილობის დროს დაშავებული უნდა დავანწინოთ ზურგზე და თავი წამოვუწიოთ წინ. დაზიანებულ თვალზე უნდა დავადოთ სუფთა საფენი.

QUESTION 842

CORRECT ANSWER: 1

In case of injury of hand bone below elbow after an accident, we should put arterial hemorrhage stopping tourniquet:

1

Above elbow, to the shoulder

2

Above wound, to the elbow

განმარტება:

საგზაო-სატრანსპორტო შემთხვევის შედეგად დაშავებულის იდაყვის ქვემოთ ხელის ძვლის დაზიანების შემთხვევაში არტერიული სისხლდენის შემაჩერებელი ლასტი უნდა დავადოთ იდაყვის ზემოთ, მხართან.

QUESTION 843

CORRECT ANSWER: 2

If a person injured after an accident has traumas in hairy area of head, in order to provide first aid, we must:

1

Put improvised bandage on his/her neck, sterile cotton pad on wound and lay the injured in supine position

2


Put improvised bandage on his/her neck, pressing bandage on wound with sterile band, lay the injured in supine position with bent knees, put ice or cold spreading on head

განმარტება:

თუ საგზაო-სატრანსპორტო შემთხვევის შედეგად დაშავებულს აღენიშნება ტრამები თავის თმიან ადგილებზე, პირველადი სამედიცინო დახმარების აღმოჩენის მიზნით, მას უნდა კისერზე დაედოს იმპროვიზირებული ნახვევი, ჭრილობაზე სტერილური ბინტით დაედოს დამწოლი ნახვევი, დაშავებული დავანვინოთ გვერდზე მუხლებში მოხრილი ფეხებით, თავზე მივადოთ ყინული ან ცივი საფენი.

QUESTION 844

CORRECT ANSWER: 1



In given situation, is the driver of a light vehicle, when moving according to the arrows, required to stop at the crossing from the intersection when the traffic lights is turned to the moving prohibiting signal?

1

Yes

2

No

განმარტება:

„საგზაო მოძრაობის შესახებ“ საქართველოს კანონის 36-ე მუხლის მე-3 პუნქტის „ე“ ქვეპუნქტის თანახმად, რეგულირებულ გზაჯვარედინზე შექნიშნის ნებადამრთველ სიგნალზე გზაჯვარედინზე შესულ მძღოლს შეუძლია იმოძრაოს დასახული მიმართულებით, გზაჯვარედინიდან გასასვლელზე არსებული შექნიშნის ამკრძალავი სიგნალების მიუხედავად, მაგრამ იმ პირობით, რომ ეს არ დააბრკოლებს სხვა საგზაო მოძრაობის მონაწილეთა იმ მიმართულებით მოძრაობას, რომელზედაც მოძრაობა გახსნილია. თუ გზაჯვარედინზე მისი მოძრაობისას გზაზე არსებული შექნიშნების წინ „სდექ“ ხაზებია (ან/და 7.16 საგზაო ნიშნებია), მძღოლმა უნდა იხელმძღვანელოს თითოეული შექნიშნის სიგნალით.

QUESTION 845

CORRECT ANSWER: 1

For removal of foreign body in respiratory tract of the person injured after an accident, we have to:

1 Push his/her the back for several times, in case of negative result, stand behind the injured, make the fists near abdomen at lower rib level, press the ribs simultaneously and press heavily on abdominal area in upper and lower directions

2 Lay the injured on his/her knees, with his/her face down and push the fist on the back for several times

ბანმარტეზა:

საგზაო-სატრანსპორტო შემთხვევის შედეგად დაშავებულის სასუნთქ გზებში უცხო სხეულის მოსაცილებლად აუცილებლად უნდა რამდენჯერმე ხელისგული დავარტყათ ზურგზე, უარყოფითი შედეგის შემთხვევაში დავდგეთ დაშავებულის უკან, ქვედა ნეკნის დონეზე მუცელთან ხელები მუშტად გადავაჭდოთ ერთმანეთს, ერთდროულად მოვახდინოთ დანოლა ნეკნებზე და მკვეთრად დავაწვეთ მუშტებით მუცლის არეში შიდა და ზედა მიმართულებით.

QUESTION 846

CORRECT ANSWER: 2

Is giving of medicines to the unconscious person injured after an accident allowed?

1 Yes

2 No

ბანმარტეზა:

საგზაო-სატრანსპორტო შემთხვევის შედეგად უგონო მდგომარეობაში მყოფ დაშავებულისათვის სამკურნალო პრეპარატების მიცემა ნებადართული არ არის.

QUESTION 847

CORRECT ANSWER: 2

If material for making the first-aid strip for hand bone fracture of the person injured after a traffic accident is not available, it is essential to:

1

Tighten the straightened hand to the body with gauze bandage

2

Hang the hand bent in elbow and fix it to the body with gauze bandage

განმარტება:

არტაშანის დასამზადებელი მასალის არარსებობისას საგზაო-სატრანსპორტო შემთხვევის შედეგად დაზარალებულის ხელის ძვლის მოტეხილობის შემთხვევაში, მას უნდა იდაყვში მოხრილი ხელი ჩამოვკიდოთ კისერზე და ბინტის დახვევით მივუმაგროთ ტანზე.

QUESTION 848

CORRECT ANSWER: 3



When driving to the arrow direction, if ambulance has special flash light and honks switched on, a lorry driver must yield to:

1

Motor car driver only

2

Ambulance driver only

3


Both motor car and ambulance drivers

განმარტება:

„საგზაო მოძრაობის შესახებ“ საქართველოს კანონის 36-ე მუხლის მე-4 პუნქტის „ა“ ქვეპუნქტის თანახმად, არარეგულირებულ გზაჯვარედინზე, არათანაბარმნიშვნელოვანი გზების გადაკვეთაზე მეორეხარისხოვან გზაზე მოძრავი სატრანსპორტო საშუალების მძღოლი ვალდებულია გზა დაუთმოს მთავარი გზიდან მოახლოებულ სატრანსპორტო საშუალებას, მიუხედავად მისი შემდგომი მოძრაობის მიმართულებისა. ამავე კანონის 51-ე მუხლის მე-2 პუნქტის თანახმად, საგზაო მოძრაობის მონაწილეები ვალდებული არიან, ოპერატიული ან სპეციალური სამსახურის სატრანსპორტო საშუალების მოახლოებისას, რომელსაც ჩართული აქვს ლურჯი მოელვარე სპეციალური ციმციმა სიგნალი და ხმოვანი სიგნალი ან/და რომელიც ხმამაღლამოლაპარაკე ხელსაწყოთი იძლევა სიგნალს, მას, აგრეთვე მის მიერ გასაცემებელ სატრანსპორტო საშუალებას, რომელსაც ჩართული აქვს ახლო განათების ფარები, გაუთავისუფლონ სავალ ნაწილზე ადგილი, ხოლო აუცილებლობის შემთხვევაში – გაჩერდნენ.

QUESTION 849

CORRECT ANSWER: 3



When driving to the arrow direction, a lorry driver must yield to following vehicle driver, if the operative vehicle has special blue flashing light and honks on:

1

Operative vehicle driver only

2

Motor car driver only

3

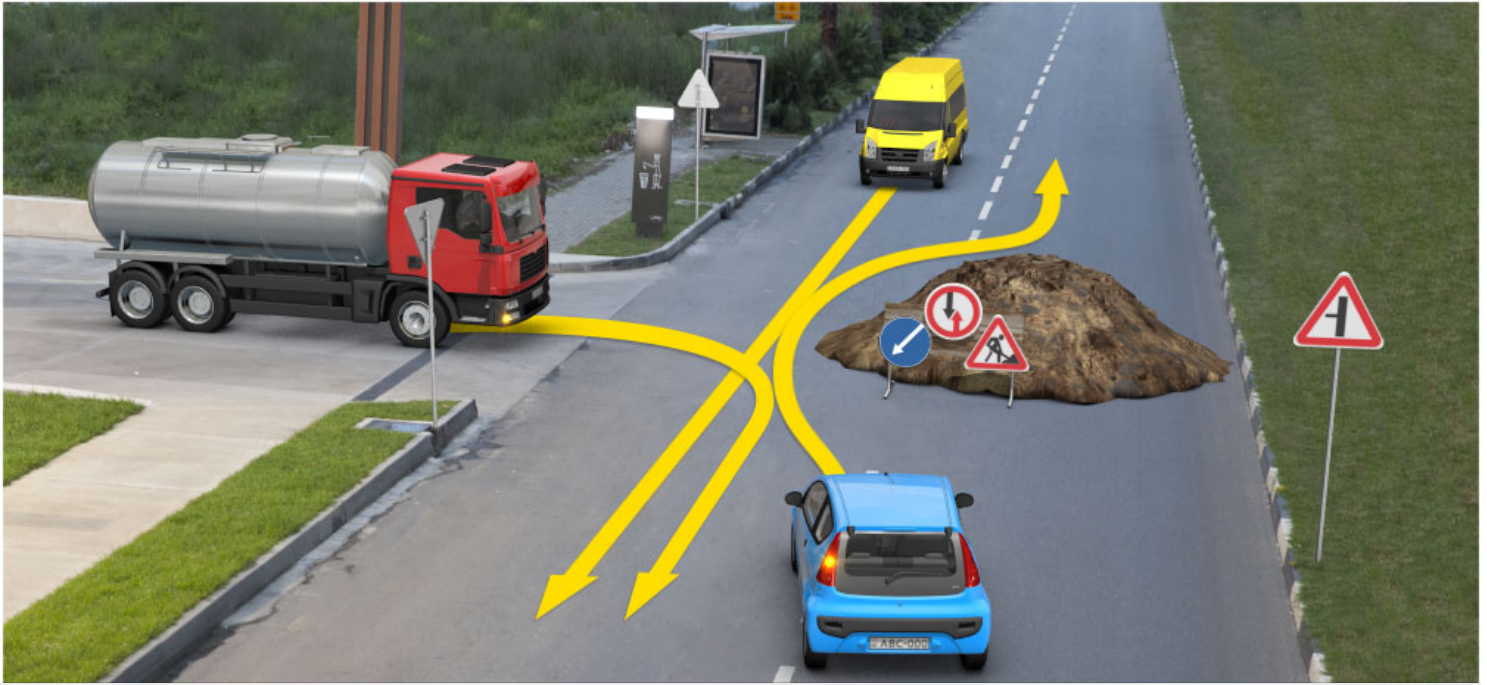
Both operative vehicle and motor car drivers

განმარტება:

„საგზაო მოძრაობის შესახებ“ საქართველოს კანონის 36-ე მუხლის მე-4 პუნქტის „ა“ ქვეპუნქტის თანახმად, არათანაბარმნიშვნელოვანი გზების გადაკვეთაზე მეორეხარისხოვან გზაზე მოძრავი სატრანსპორტო საშუალების მძღოლი ვალდებულია გზა დაუთმოს მთავარი გზიდან მოახლოებულ სატრანსპორტო საშუალებას, მიუხედავად მისი შემდგომი მოძრაობის მიმართულებისა. ამავე კანონის 51-ე მუხლის მე-2 პუნქტის თანახმად, საგზაო მოძრაობის მონაწილეები ვალდებული არიან, ოპერატიული ან სპეციალური სამსახურის სატრანსპორტო საშუალების მოახლოებისას, რომელსაც ჩართული აქვს ლურჯი მოელვარე სპეციალური ციმციმა სიგნალი და ხმოვანი სიგნალი ან/და რომელიც ხმამაღლამოლაპარაკე ხელსაწყოთი იძლევა სიგნალს, მას, აგრეთვე მის მიერ გასაცემებელ სატრანსპორტო საშუალებას, რომელსაც ჩართული აქვს ახლო განათების ფარები, გაუთავისუფლონ სავალ ნაწილზე ადგილი, ხოლო აუცილებლობის შემთხვევაში – გაჩერდნენ.

QUESTION 850

CORRECT ANSWER: 3



When driving to the arrow direction, a lorry driver must yield to:

1

Yellow car driver only

2

Blue car driver only

3


Both yellow and blue car drivers

განმარტება:

„საგზაო მოძრაობის შესახებ“ საქართველოს კანონის პირველი დანართის 2.3 პუნქტის თანახმად, საგზაო ნიშანი 2.3 „დაუთმე გზა“ - გზა, რომელზე მოძრაობა მძღოლი ვალდებულია გზა დაუთმოს გადასაუკვეთ გზაზე მოძრაობ მძღოლს, ხოლო 8.13 დაფის არსებობისას – მთავარ გზაზე მოძრაობ მძღოლს.

QUESTION 851

CORRECT ANSWER: 3



When driving to the arrow direction, a lorry driver must yield to:

1

Tram driver only

2

Motor car driver only

3


Both tram and motor car drivers

განმარტება:

„საგზაო მოძრაობის შესახებ“ საქართველოს კანონის 36-ე მუხლის მე-4 პუნქტის „ა“ ქვეპუნქტის თანახმად, არარეგულირებულ გზაჯვარედინზე, არათანაბარმნიშვნელოვანი გზების გადაკვეთაზე მეორეხარისხოვან გზაზე მოძრავი სატრანსპორტო საშუალების მძღოლი ვალდებულია გზა დაუთმოს მთავარი გზიდან მოახლოებულ სატრანსპორტო საშუალებას, მიუხედავად მისი შემდგომი მოძრაობის მიმართულებისა.

QUESTION 852

CORRECT ANSWER: 2



When driving to the arrow direction, if road surface coming from the right side of the intersection is ground, a lorry driver must yield to:

1

Bus driver only

2

Motorcyclist only

3


Both bus driver and motorcyclist

განმარტება:

„საგზაო მოძრაობის შესახებ“ საქართველოს კანონის 36-ე მუხლის მე-4 პუნქტის „გ“ ქვეპუნქტის თანახმად, არარეგულირებულ გზაჯვარედინზე, თანაბარმნიშვნელოვანი გზების გადაკვეთაზე ურელსო სატრანსპორტო საშუალების მძღოლი ვალდებულია გზა დაუთმოს მარჯვნიდან მოახლოებულ სატრანსპორტო საშუალებას. ამავე წესით უნდა ხელმძღვანელონ ურთიერთშორის რელსიანი სატრანსპორტო საშუალებების მძღოლებმაც. ასეთ გზაჯვარედინზე რელსიანი სატრანსპორტო საშუალებას უპირატესობა აქვს ურელსო სატრანსპორტო საშუალების მიმართ, მიუხედავად მისი მოძრაობის მიმართულებისა. ამავე მუხლის მე-6 პუნქტის თანახმად, თუ საგზაო ნიშნით სხვა რამ არ არის გათვალისწინებული, გრუნტოვანი გზიდან იმ გზაზე გასვლისას, რომელიც არ არის გრუნტოვანი გზა, მძღოლი ვალდებულია გზა დაუთმოს ამ გზაზე მოძრავ სატრანსპორტო საშუალებას. ამავე კანონის მე-5 მუხლის 37-ე პუნქტის თანახმად ღორღიან ან გრუნტოვან გზაზე უშუალოდ გზაჯვარედინის წინ, გზის მკვრივსაფარიანი უბნის არსებობა არ ათანაბრებს მას მკვრივსაფარიან გზასთან.

QUESTION 853

CORRECT ANSWER: 3



When driving to the arrow direction, a lorry driver must yield to:

1

Bus driver only

2

Motorcyclist only

3

Both bus driver and motorcyclist

განმარტება:

„საგზაო მოძრაობის შესახებ“ საქართველოს კანონის 36-ე მუხლის მე-4 პუნქტის „ა“ ქვეპუნქტის თანახმად, არარეგულირებულ გზაჯვარედინზე, არათანაბარმნიშვნელოვანი გზების გადაკვეთაზე მეორეხარისხოვან გზაზე მოძრავი სატრანსპორტო საშუალების მძღოლი ვალდებულია გზა დაუთმოს მთავარი გზიდან მოახლოებულ სატრანსპორტო საშუალებას, მიუხედავად მისი შემდგომი მოძრაობის მიმართულებისა.

QUESTION 854

CORRECT ANSWER: 1



When driving to the arrow direction, a lorry driver must yield to:

1

Yellow car driver only

2

Trolleybus driver only

3


Both yellow car and trolleybus drivers

ბანმარტეზა:

„საგზაო მოძრაობის შესახებ“ საქართველოს კანონის 36-ე მუხლის მე-4 პუნქტის „ა“, „ბ“ და „გ“ ქვეპუნქტების თანახმად, არარეგულირებულ გზაჯვარედინზე: ა) არათანაბარმნიშვნელოვანი გზების გადაკვეთაზე მეორეხარისხოვან გზაზე მოძრავი სატრანსპორტო საშუალების მძღოლი ვალდებულია გზა დაუთმოს მთავარი გზიდან მოახლოებულ სატრანსპორტო საშუალებას, მიუხედავად მისი შემდგომი მოძრაობის მიმართულებისა; ბ) თუ გზაჯვარედინზე მთავარი გზა იცვლის მიმართულებას, ამ გზაზე მოძრავმა მძღოლებმა ურთიერთშორის უნდა იხელმძღვანელონ თანაბარმნიშვნელოვანი გზების გავლის წესებით. ამავე წესებით უნდა იხელმძღვანელონ ურთიერთშორის მეორეხარისხოვან გზაზე მოძრავმა მძღოლებმაც; გ) თანაბარმნიშვნელოვანი გზების გადაკვეთაზე ურელსო სატრანსპორტო საშუალების მძღოლი ვალდებულია გზა დაუთმოს მარჯვნიდან მოახლოებულ სატრანსპორტო საშუალებას. ამავე წესით უნდა იხელმძღვანელონ ურთიერთშორის რელსიანი სატრანსპორტო საშუალებების მძღოლებმაც.

QUESTION 855

CORRECT ANSWER: 3



When driving to the arrow direction, a lorry driver must yield to:

1

Red car driver only

2

Green car driver only

3


None of them

ბანმარტეზა:

„საგზაო მოძრაობის შესახებ“ საქართველოს კანონის 36-ე მუხლის მე-4 პუნქტის „ა“ ქვეპუნქტის თანახმად, არარეგულირებულ გზაჯვარედინზე, არათანაბარმნიშვნელოვანი გზების გადაკვეთაზე მეორეხარისხოვან გზაზე მოძრავი სატრანსპორტო საშუალების მძღოლი ვალდებულია გზა დაუთმოს მთავარი გზიდან მოახლოებულ სატრანსპორტო საშუალებას, მიუხედავად მისი შემდგომი მოძრაობის მიმართულებისა.

QUESTION 856

CORRECT ANSWER: 1



When driving to the arrow direction, a lorry driver must yield to:

1

Blue car driver only

2

Yellow car driver only

3


Both blue and yellow car drivers

განმარტება:

„საგზაო მოძრაობის შესახებ“ საქართველოს კანონის 36-ე მუხლის მე-4 პუნქტის „ა“ და „გ“ ქვეპუნქტების თანახმად, არარეგულირებულ გზაჯვარედინზე: ა) არათანაბარმნიშვნელოვანი გზების გადაკვეთაზე მეორეხარისხოვან გზაზე მოძრავი სატრანსპორტო საშუალების მძღოლი ვალდებულია გზა დაუთმოს მთავარი გზიდან მოახლოებულ სატრანსპორტო საშუალებას, მიუხედავად მისი შემდგომი მოძრაობის მიმართულებისა; გ) თანაბარმნიშვნელოვანი გზების გადაკვეთაზე ურელსო სატრანსპორტო საშუალების მძღოლი ვალდებულია გზა დაუთმოს მარჯვნიდან მოახლოებულ სატრანსპორტო საშუალებას. ამავე წესით უნდა იხელმძღვანელონ ურთიერთშორის რელსიანი სატრანსპორტო საშუალებების მძღოლებმაც.

QUESTION 857

CORRECT ANSWER: 3



When driving to the arrow direction, a lorry driver must yield to:

1

Tram driver only

2

Bus driver only

3


Both tram and bus drivers

განმარტება:

„საგზაო მოძრაობის შესახებ“ საქართველოს კანონის 36-ე მუხლის მე-2 პუნქტის თანახმად, გზაჯვარედინი, რომელზედაც მოძრაობის რიგითობა შექნიშნის ან მარეგულირებლის სიგნალებით განისაზღვრება, რეგულირებული გზაჯვარედინია. თუ ყვითელი მოციმციმე სიგნალი ანთია, ან შექნიშანი არ არის ან არ მუშაობს, ან მარეგულირებელი არ დგას, გზაჯვარედინი არარეგულირებულად ითვლება და მძღოლი ვალდებულია იხელმძღვანელოს არარეგულირებული გზაჯვარედინის გავლის წესებითა და გზაჯვარედინზე დაყენებული პრიორიტეტის ნიშნებით. ამავე მუხლის მე-4 პუნქტის „გ“ და „დ“ ქვეპუნქტების თანახმად, არარეგულირებულ გზაჯვარედინზე: გ) თანაბარმნიშვნელოვანი გზების გადაკვეთაზე ურელსო სატრანსპორტო საშუალების მძღოლი ვალდებულია გზა დაუთმოს მარჯვნიდან მოახლოებულ სატრანსპორტო საშუალებას. ასეთ გზაჯვარედინზე რელსიან სატრანსპორტო საშუალებას უპირატესობა აქვს ურელსო სატრანსპორტო საშუალების მიმართ, მიუხედავად მისი მოძრაობის მიმართულებისა. დ) მარცხნივ მოხვევისას ან მობრუნებისას ურელსო სატრანსპორტო საშუალების მძღოლი ვალდებულია გზა დაუთმოს თანაბარმნიშვნელოვან გზაზე საპირისპირო მიმართულებიდან პირდაპირ ან მარჯვნივ მოძრავ სატრანსპორტო საშუალებას.

QUESTION 858

CORRECT ANSWER: 3



When driving to the arrow direction, a lorry driver must yield to:

1

Motorcyclist only

2

Motor car driver only

3


None of them

განმარტება:

„საგზაო მოძრაობის შესახებ“ საქართველოს კანონის 36-ე მუხლის მე-3 პუნქტის „ა“ და „ბ“ ქვეპუნქტების თანახმად, რეგულირებულ გზაჯვარედინზე: ა) შექნიშნის მწვანე სიგნალის ჩართვის დროს მარცხნივ მოხვევისას ან მობრუნებისას ურელსო სატრანსპორტო საშუალების მძღოლი ვალდებულია გზა დაუთმოს საპირისპირო მიმართულებიდან პირდაპირ ან მარჯვნივ მოძრავ სატრანსპორტო საშუალებას. ამავე წესით უნდა იხელმძღვანელონ ურთიერთშორის მოძრავი ტრამვაის მძღოლებმაც; ბ) შექნიშნის დამატებით სექციაში ძირითად ყვითელ ან წითელ მაშუქ სიგნალთან ერთად ჩართული ისრის მიმართულებით მოძრაობისას სატრანსპორტო საშუალების მძღოლი ვალდებულია გზა დაუთმოს სხვა მიმართულებიდან მოძრავ სატრანსპორტო საშუალებას.

QUESTION 859

CORRECT ANSWER: 1



When driving to the arrow direction, a lorry driver must yield to:

1

Bus driver only

2

Motor car driver only

3

None of them

4


Both bus and motor car drivers

განმარტება:

„საგზაო მოძრაობის შესახებ“ საქართველოს კანონის 36-ე მუხლის მე-4 პუნქტის „ა“ და „დ“ ქვეპუნქტების თანახმად, არარეგულირებულ გზაჯვარედინზე: ა) არათანაბარმნიშვნელოვანი გზების გადაკვეთაზე მეორეხარისხოვან გზაზე მოძრავი სატრანსპორტო საშუალების მძღოლი ვალდებულია გზა დაუთმოს მთავარი გზიდან მოახლოებულ სატრანსპორტო საშუალებას, მიუხედავად მისი შემდგომი მოძრაობის მიმართულებისა; დ) მარცხნივ მოხვევისას ან მობრუნებისას ურელსო სატრანსპორტო საშუალების მძღოლი ვალდებულია გზა დაუთმოს თანაბარმნიშვნელოვან გზაზე საპირისპირო მიმართულებიდან პირდაპირ ან მარჯვნივ მოძრავ სატრანსპორტო საშუალებას. ამავე წესით უნდა იხელმძღვანელონ ურთიერთშორის რელსიანი სატრანსპორტო საშუალებების მძღოლებმაც.

QUESTION 860

CORRECT ANSWER: 3



When driving to the arrow direction, a lorry driver must yield to:

1

Motorcyclist only

2

Motor car driver only

3


Both motorcyclist and motor car driver

განმარტება:

„საგზაო მოძრაობის შესახებ“ საქართველოს კანონის 36-ე მუხლის მე-4 პუნქტის „ა“, „ბ“ და „გ“ ქვეპუნქტების თანახმად, არარეგულირებულ გზაჯვარედინზე: ა) არათანაბარმნიშვნელოვანი გზების გადაკვეთაზე მეორეხარისხოვან გზაზე მოძრავი სატრანსპორტო საშუალების მძღოლი ვალდებულია გზა დაუთმოს მთავარი გზიდან მოახლოებულ სატრანსპორტო საშუალებას, მიუხედავად მისი შემდგომი მოძრაობის მიმართულებისა; ბ) თუ გზაჯვარედინზე მთავარი გზა იცვლის მიმართულებას, ამ გზაზე მოძრავმა მძღოლებმა ურთიერთშორის უნდა იხელმძღვანელონ თანაბარმნიშვნელოვანი გზების გავლის წესებით. ამავე წესებით უნდა იხელმძღვანელონ ურთიერთშორის მეორეხარისხოვან გზაზე მოძრავმა მძღოლებმაც; გ) თანაბარმნიშვნელოვანი გზების გადაკვეთაზე ურელსო სატრანსპორტო საშუალების მძღოლი ვალდებულია გზა დაუთმოს მარჯვნიდან მოახლოებულ სატრანსპორტო საშუალებას. ამავე წესით უნდა იხელმძღვანელონ ურთიერთშორის რელსიანი სატრანსპორტო საშუალებების მძღოლებმაც. ასეთ გზაჯვარედინზე რელსიან სატრანსპორტო საშუალებას აქვს უპირატესობა ურელსო სატრანსპორტო საშუალების მიმართ, მიუხედავად მისი მოძრაობის მიმართულებისა.

QUESTION 861

CORRECT ANSWER: 3



When driving to the arrow direction, a lorry driver must yield to:

1

Tram driver only

2

Yellow car driver only

3


Both tram and yellow car drivers

ბანმარტეზა:

„საგზაო მოძრაობის შესახებ“ საქართველოს კანონის 36-ე მუხლის მე-3 პუნქტის „ა“ და „გ“ ქვეპუნქტის თანახმად, რეგულირებულ გზაჯვარედინზე: ა) შექნიშნის მწვანე სიგნალის ჩართვის დროს მარცხნივ მოხვევისას ან მობრუნებისას ურელსო სატრანსპორტო საშუალების მძღოლი ვალდებულია გზა დაუთმოს საპირისპირო მიმართულებიდან პირდაპირ ან მარჯვნივ მოძრავ სატრანსპორტო საშუალებას. ამავე წესით უნდა იხელმძღვანელონ ურთიერთშორის მოძრავი ტრამვაის მძღოლებმაც; გ) თუ შექნიშნის ან მარეგულირებლის სიგნალები ერთდროულად მოძრაობის ნებას რთავს რელსიან და ურელსო სატრანსპორტო საშუალებებს, რელსიან სატრანსპორტო საშუალებას აქვს უპირატესობა, მიუხედავად მისი მოძრაობის მიმართულებისა, მაგრამ შექნიშნის დამატებით სექციაში ძირითად ყვითელ ან წითელ მაშუქ სიგნალთან ერთად ჩართული ისრის მიმართულებით მოძრაობისას რელსიანი სატრანსპორტო საშუალების მძღოლი ვალდებულია გზა დაუთმოს სხვა მიმართულებიდან მოძრავ სატრანსპორტო საშუალებას;

QUESTION 862

CORRECT ANSWER: 1



When driving to the arrow direction, a lorry driver must yield to:

1

Green car driver only

2

Blue car driver only

3

Both gre and blue car drivers

4

None of them

ბანმარტეზა:

„საგზაო მოძრაობის შესახებ“ საქართველოს კანონის 36-ე მუხლის მე-4 პუნქტის „ა“, „ბ“ და „გ“ ქვეპუნქტების თანახმად, არარეგულირებულ გზაჯვარედინზე: ა) არათანაბარმნიშვნელოვანი გზების გადაკვეთაზე მეორეხარისხოვან გზაზე მოძრავი სატრანსპორტო საშუალების მძღოლი ვალდებულია გზა დაუთმოს მთავარი გზიდან მოახლოებულ სატრანსპორტო საშუალებას, მიუხედავად მისი შემდგომი მოძრაობის მიმართულებისა; ბ) თუ გზაჯვარედინზე მთავარი გზა იცვლის მიმართულებას, ამ გზაზე მოძრავმა მძღოლებმა ურთიერთშორის უნდა იხელმძღვანელონ თანაბარმნიშვნელოვანი გზების გავლის წესებით. ამავე წესებით უნდა იხელმძღვანელონ ურთიერთშორის მეორეხარისხოვან გზაზე მოძრავმა მძღოლებმაც; გ) თანაბარმნიშვნელოვანი გზების გადაკვეთაზე ურელსო სატრანსპორტო საშუალების მძღოლი ვალდებულია გზა დაუთმოს მარჯვნიდან მოახლოებულ სატრანსპორტო საშუალებას. ამავე წესით უნდა იხელმძღვანელონ ურთიერთშორის რელსიანი სატრანსპორტო საშუალებების მძღოლებმაც. ასეთ გზაჯვარედინზე რელსიან სატრანსპორტო საშუალებას აქვს უპირატესობა ურელსო სატრანსპორტო საშუალების მიმართ, მიუხედავად მისი მოძრაობის მიმართულებისა.

თემა 30:

მოდრობის უსაფრთხოება

QUESTION 863

CORRECT ANSWER: 2

Is a driver obliged to provide that the vehicles possessed by him/her caused minimum damage to environment?

1

No

2

Yes

განმარტება:

„საგზაო მოძრაობის შესახებ“ საქართველოს კანონის მე-16 მუხლის პირველი პუნქტის თანახმად, მძღოლმა უნდა უზრუნველყოს, რომ მის მფლობელობაში მყოფმა სატრანსპორტო საშუალებამ მინიმალური ზიანი მიაყენონ გარემოს.

QUESTION 864

CORRECT ANSWER: 4

Without obtaining permission, access and approval from appropriate authorized body (entity) or entering into agreement with such body (entity), following is not allowed:

1

Allocation of a booth or installation of other subject just along the road only, which may worsen visibility or/and make it difficult for a driver and a pedestrian to move.

2

Regular passenger conveyance on fixed routes only (including the local civil regular passenger conveyance).

3

Performance of mass, sports and other activities on the road only.

4

Any activity listed in given test

განმარტება:

„საგზაო მოძრაობის შესახებ“ საქართველოს კანონის მე-17 მუხლის პირველი პუნქტის „გ“, „დ“ და „ე“ ქვეპუნქტების თანახმად, საგზაო მოძრაობის უსაფრთხოების უზრუნველსაყოფად მხოლოდ საქართველოს კანონმდებლობით დადგენილი წესით შესაბამისი უფლებამოსილი ორგანოსაგან (უწყებებისაგან) ნებართვის, დაშვების, თანხმობის მიღების შემდეგ ან ამ ორგანოსთან (უწყებასთან) შეთანხმებითაა დასაშვები შემდეგი საქმიანობა: გ) უშუალოდ გზასთან ჯიხურის დადგმა და სხვა საგნის დაყენება, რომლებმაც შეიძლება გააუარესონ ხილვადობა ან/და გააძნელონ მძღოლისა და ქვეითის მოძრაობა; დ) რეგულარული სამგზავრო გადაყვანა დადგენილი მარშრუტებით (მათ შორის ადგილობრივი საქალაქო რეგულარული სამგზავრო გადაყვანა); ე) გზაზე მასობრივ, სპორტულ და სხვა ღონისძიებათა ჩატარება.

QUESTION 865

CORRECT ANSWER: 4

Without obtaining permission, access and approval from appropriate authorized body (entity) or entering into agreement with such body (entity), following is not allowed:

- | | | | |
|---|--|---|--|
| 1 | Alteration of mechanical vehicle. | 2 | Installation of special lights and honks, as well as special loud-speaker. |
| 3 | Drawing of inclined white stripes on the sides of the mechanical vehicle body. | 4 | Any action listed in given test |

განმარტება:

„საგზაო მოძრაობის შესახებ“ საქართველოს კანონის მე-17 მუხლის პირველი პუნქტის „ვ“ ქვეპუნქტის თანახმად, საგზაო მოძრაობის უსაფრთხოების უზრუნველსაყოფად მხოლოდ საქართველოს კანონმდებლობით დადგენილი წესით შესაბამისი უფლებამოსილი ორგანოსაგან (უწყებისაგან) ნებართვის, დაშვების, თანხმობის მიღების ან ამ ორგანოსთან (უწყებასთან) შეთანხმებითაა დასაშვანი შემდეგი საქმიანობა: ვ) სატრანსპორტო საშუალების გადაკეთება, მასზე სპეციალური ციმციმა ან/და ხმოვანი სიგნალის ან/და სპეციალური ხმამაღლამოლაპარაკე ხელსაწყო დაყენება, ან/და სატრანსპორტო საშუალებისათვის სპეციალური შეფერილობის მიცემა ან/და სატრანსპორტო საშუალების ძარას გვერდებზე დახრილი თეთრი ზოლების დახატვა.

QUESTION 866

CORRECT ANSWER: 3

Without obtaining permission, admission and approval from appropriate authorized body (entity) or agreement with such body (entity), following is not allowed:

1 Motion of oversized (large-volume) or above-standard (heavy) vehicles on the road only

2 Motion of the vehicle carrying dangerous goods only

3 Motion of both oversized (large-volume) or above-standard (heavy) vehicles, as well as the vehicle carrying dangerous goods

განმარტება:

„საგზაო მოძრაობის შესახებ“ საქართველოს კანონის მე-17 მუხლის პირველი პუნქტის „გ“ და „თ“ ქვეპუნქტების თანახმად, საგზაო მოძრაობის უსაფრთხოების უზრუნველსაყოფად მხოლოდ საქართველოს კანონმდებლობით დადგენილი წესით შესაბამისი უფლებამოსილი ორგანოსაგან (უწყებისაგან) ნებართვის, დაშვების, თანხმობის მიღების ან ამ ორგანოსთან (უწყებასთან) შეთანხმებითაა დასაშვანი შემდეგი საქმიანობა: ზ) გზაზე არაგაბარითული (მსხვილგაბარითიანი) ან ზენორმატიული (მძიმეწონიანი) სატრანსპორტო საშუალების მოძრაობა; თ) სახიფათო ტვირთის გადამზიდავი სატრანსპორტო საშუალების მოძრაობა.

QUESTION 867

CORRECT ANSWER: 3

According to the rule prescribed by the Georgian legislation, a traffic participant has the right:

1 To move freely and uninterruptedly on the road only

2 To claim the action of the authorized official in the field of traffic safety only

3 Both to move freely and uninterruptedly on the road, as well as to claim the action of the authorized official in the field of traffic safety only

განმარტება:

„საგზაო მოძრაობის შესახებ“ საქართველოს კანონის მე-20 მუხლის პირველი პუნქტის „ა“ და „გ“ ქვეპუნქტების თანახმად, საგზაო მოძრაობის მონაწილეს უფლება აქვს, საქართველოს კანონმდებლობით დადგენილი წესით: ა) თავისუფლად და შეუფერხებლად გადაადგილდეს გზაზე; გ) გაასაჩივროს საგზაო მოძრაობის უსაფრთხოების უზრუნველყოფის სფეროში უფლებამოსილი თანამდებობის პირის ქმედება.

QUESTION 868

CORRECT ANSWER: 4

A traffic participant has the right to receive the information from state and local self-government bodies, as well as other officials according to the rule prescribed by the Georgian legislation:

- | | | | |
|---|---|---|--|
| 1 | About the traffic safety conditions only | 2 | About the reasons of provision of traffic restriction or termination only. |
| 3 | About quality of product and service related to provision of traffic safety only. | 4 | All information listed in given test |

განმარტება:

„საგზაო მოძრაობის შესახებ“ საქართველოს კანონის მე-20 მუხლის პირველი პუნქტის „ბ.ა“, „ბ.ბ“ და „ბ.გ“ ქვეპუნქტების თანახმად, საგზაო მოძრაობის მონაწილეს უფლება აქვს საქართველოს კანონმდებლობით დადგენილი წესით უფლებამოსილი სახელმწიფო და ადგილობრივი თვითმმართველობის ორგანოებისაგან, აგრეთვე სხვა უფლებამოსილი პირებისგან მიიღოს: ბ.ა) ინფორმაცია გზაზე მოძრაობის უსაფრთხოების პირობების შესახებ; ბ.ბ) ინფორმაცია გზაზე მოძრაობის შეზღუდვის ან შეწყვეტის დაწესების მიზეზთა შესახებ; ბ.გ) ინფორმაცია პროდუქციისა და მომსახურების ხარისხის შესახებ, რომელიც დაკავშირებულია საგზაო მოძრაობის უსაფრთხოების უზრუნველყოფასთან.

QUESTION 869

CORRECT ANSWER: 2

Is a traffic participant allowed to restrict traffic or/and to create hazard by putting, throwing or leaving the things on the road or forming any other impediments?

- | | | | |
|---|-----|---|----|
| 1 | Yes | 2 | No |
|---|-----|---|----|

განმარტება:

„საგზაო მოძრაობის შესახებ“ საქართველოს კანონის მე-20 მუხლის მე-3 პუნქტის თანახმად, საგზაო მოძრაობის მონაწილემ გზაზე ნივთების დაწყობით, დაყრით ან დატოვებით ან მასზე რაიმე სხვა დაბრკოლების შექმნით არ უნდა შეზღუდოს საგზაო მოძრაობა ან/და შექმნას საფრთხე.

QUESTION 870

CORRECT ANSWER: 1

A traffic participant, restricting traffic or/and creating hazard through forming some impediment and failing to prevent such restriction or hazard for objective reasons, shall immediately:

1

Apply all the necessary measures for its prevention

2

Proceed further, as he/she does not have such obligation

განმარტება:

„საგზაო მოძრაობის შესახებ“ საქართველოს კანონის მე-20 მუხლის მე-3 პუნქტის თანახმად, საგზაო მოძრაობის მონაწილემ გზაზე ნივთების დაწყობით, დაყრით ან დატოვებით ან მასზე რაიმე სხვა დაბრკოლების შექმნით არ უნდა შეზღუდოს საგზაო მოძრაობა ან/და შექმნას საფრთხე. საგზაო მოძრაობის მონაწილემ, რომელმაც ობიექტური მიზეზის გამო ვერ მოახერხა ასეთი შეზღუდვის ან ასეთი საფრთხის შექმნის თავიდან აცილება, დაუყოვნებლივ უნდა მიიღოს აუცილებელი ზომები მისი თავიდან აცილებისათვის, ხოლო თუ ამის დაუყოვნებლივ გაკეთება შეუძლებელია, მან უნდა უზრუნველყოს აღნიშნულის თაობაზე სხვა საგზაო მოძრაობის მონაწილეთა დროული გაფრთხილება.

QUESTION 871

CORRECT ANSWER: 1

A traffic participant, restricting traffic or/and creating hazard through forming some impediment and it is impossible to avoid this immediately for objective reasons, he/she shall immediately:

1

Provide timely warning to other traffic participants about this

2

Proceed further as he/she does not have the obligation of warning other traffic participants

განმარტება:

„საგზაო მოძრაობის შესახებ“ საქართველოს კანონის მე-20 მუხლის მე-3 პუნქტის თანახმად, საგზაო მოძრაობის მონაწილემ გზაზე ნივთების დაწყობით, დაყრით ან დატოვებით ან მასზე რაიმე სხვა დაბრკოლების შექმნით არ უნდა შეზღუდოს საგზაო მოძრაობა ან/და შექმნას საფრთხე. საგზაო მოძრაობის მონაწილემ, რომელმაც ობიექტური მიზეზის გამო ვერ მოახერხა ასეთი შეზღუდვის ან ასეთი საფრთხის შექმნის თავიდან აცილება, დაუყოვნებლივ უნდა მიიღოს აუცილებელი ზომები მისი თავიდან აცილებისათვის, ხოლო თუ ამის დაუყოვნებლივ გაკეთება შეუძლებელია, მან უნდა უზრუნველყოს აღნიშნულის თაობაზე სხვა საგზაო მოძრაობის მონაწილეთა დროული გაფრთხილება.

QUESTION 872

CORRECT ANSWER: 4

If children are standing in front of the traffic lights, the vehicle driver approaching the traffic lights must take into account:

1 Only the fact that the children may move on the driveway upon changing green traffic light with yellow traffic light

2 Only the fact that the group may force any child to move on the driveway by pushing

3 Only the case that children may move to the carriageway before the signal of the traffic lights permitting them to move turns on

4 All of the circumstances listed in given test

განმარტება:

თუ შუქნიშანის წინ ბავშვები აპირებენ გზაზე გადასვლას შუქნიშანთან მიახლოებული სატრანსპორტო საშუალების მძღოლმა უნდა გაითვალისწინოს, რომ: - ბავშვები შეიძლება სავალ ნაწილზე გადმოვიდნენ შუქნიშნის მწვანე მაშუქი სიგნალის ყვითელი სიგნალით შეცვლისთანავე; - ჯგუფიდან ხელის კვრით რომელიმე ბავშვს შეიძლება აიძულონ სავალ ნაწილზე გადმოსვლა; - შეიძლება ბავშვები სავალ ნაწილზე გადმოვიდნენ მათთვის შუქნიშნის ნებადართველი სიგნალის ჩართვამდე.

QUESTION 873

CORRECT ANSWER: 2

Is a driver obliged to provide that his/her vehicle does not create any obstruction to other traffic participants with the right-of-way?

1 No

2 Yes

განმარტება:

„საგზაო მოძრაობის შესახებ“ საქართველოს კანონის 21-ე მუხლის მე-7 პუნქტის თანახმად, მძღოლმა უნდა უზრუნველყოს, რომ მისმა სატრანსპორტო საშუალებამ დაბრკოლება არ შეუქმნას პრიორიტეტის მქონე სხვა საგზაო მოძრაობის მონაწილეებს.

QUESTION 874

CORRECT ANSWER: 4

In addition to the authorized officials of the Ministry of Internal Affairs of Georgia, regulation of traffic within the authority granted under the legislation can also be implemented by:

1 Rescuers and officials involved in rescue operations only

2 Railway employees - on railroad crossings only

3 Ferry transportation organizers - in ports only

4 Any person listed in given test

ბანმარტეზა:

„საგზაო მოძრაობის შესახებ“ საქართველოს კანონის 30-ე მუხლის მე-3 პუნქტის „გ“, „ვ“ და „ზ“ ქვეპუნქტების თანახმად, საგზაო მოძრაობას არეგულირებენ საქართველოს შინაგან საქმეთა სამინისტროს უფლებამოსილი პირები. საქართველოს კანონმდებლობით მინიჭებული უფლებამოსილების ფარგლებში საგზაო მოძრაობის რეგულირება აგრეთვე შეიძლება განახორციელონ/განახორციელოს: გ) მაშველებმა და პირებმა, რომლებიც მონაწილეობენ სამაშველო სამუშაოებში, – სამაშველო სამუშაოების შესრულების უზრუნველსაყოფად; ვ) რკინიგზის თანამშრომლებმა - რკინიგზის გადასასვლელზე; ზ) საბორანე გადაზიდვის ორგანიზატორებმა - ნავსადგურში.

QUESTION 875

CORRECT ANSWER: 2

While moving on a driveway, is a pedestrian allowed to withhold, suspend or stop, if this is not related to traffic safety?

1 Yes

2 No

ბანმარტეზა:

„საგზაო მოძრაობის შესახებ“ საქართველოს კანონის 24-ე მუხლის მე-10 პუნქტის თანახმად, გზის სავალ ნაწილზე გასვლის შემდეგ, ქვეითმა არ უნდა დააყოვნოს გადასვლა, არ უნდა შეყოვნდეს ან შეჩერდეს მასზე, თუ ეს არ უკავშირდება მოძრაობის უსაფრთხოების უზრუნველყოფას.

QUESTION 876

CORRECT ANSWER: 4

Which of the following circumstances indicate the driver's fatigue while driving a vehicle?

- | | |
|----------------------------------|---|
| 1 Aggravation of eyelids only | 2 Frequent yawning only |
| 3 Deterioration of reaction only | 4 Any of the circumstances listed in given test |

განმარტება:

სატრანსპორტო საშუალების მართვისას მძღოლის დაღლილობაზე მიანიშნებს როგორც ქუთუთოების დამძიმება, ასევე ხშირი მოქნარება და რეცეიის გაუარესება.

QUESTION 877

CORRECT ANSWER: 4

In addition to the maximum speed restriction prescribed by the law, a driver is prohibited from exceeding:

- | | |
|--|--|
| 1 Maximum constructive speed designated for the vehicle only | 2 Speed indicated on identification sign "Speed restriction" fixed on the vehicle only |
| 3 Maximum speed prescribed by the traffic sign | 4 Both maximum constructive speed designated for the vehicle as well as the speed indicated on identification sign "Speed restriction" fixed on the vehicle and maximum speed prescribed by the traffic sign |

განმარტება:

„საგზაო მოძრაობის შესახებ“ საქართველოს კანონის 33-ე მუხლის მე-9 პუნქტის „ა“, „ბ“ და „გ“ ქვეპუნქტების თანახმად, გარდა ამ მუხლის მე-6-მე-8 პუნქტებით განსაზღვრული მაქსიმალური სიჩქარის შეზღუდვისა, მძღოლს ეკრძალება: ა) სატრანსპორტო საშუალებისათვის დადგენილი მაქსიმალური კონსტრუქციული სიჩქარის გადაჭარბება; ბ) სატრანსპორტო საშუალებაზე დამაგრებულ საცნობ ნიშანზე „სიჩქარის შეზღუდვა“ მითითებული სიჩქარის გადაჭარბება; გ) საგზაო ნიშნით დადგენილი მაქსიმალური სიჩქარის გადაჭარბება.

QUESTION 878

CORRECT ANSWER: 1

Is a traffic participant prohibited from contamination or pollution of road surface and the adjacent territory of the road?

1 Yes

2 Is prohibited only in case if other traffic participants are not endangered

3 No

განმარტება:

„საგზაო მოძრაობის შესახებ“ საქართველოს კანონის მე-16 მუხლის მე-3 პუნქტის „ა“ ქვეპუნქტის თანახმად, საგზაო მოძრაობის მონაწილეს ეკრძალება გზის საფარის და გზის მიმდებარე ტერიტორიის დანაგვიანება ან სხვაგვარად დაბინძურება.

QUESTION 879

CORRECT ANSWER: 3

Is washing of the vehicle prohibited in sea, lake, reservoir, river and other surface water, as well as at least 10 meters from their shores?

1 No, is not prohibited either in inhabited or uninhabited areas

2 Is prohibited in inhabited areas, but allowed in uninhabited areas, but for motor cars only

3 Yes

განმარტება:

„საგზაო მოძრაობის შესახებ“ საქართველოს კანონის მე-16 მუხლის მე-2 პუნქტის თანახმად, დაუშვებელია სატრანსპორტო საშუალების გარეცხვა ზღვაში, ტბაში, წყალსაცავში, მდინარეში, ზედაპირული წყლის სხვა ობიექტში და მათ ნაპირებთან წყლიდან 10 მეტრზე უფრო ახლო მანძილზე.

QUESTION 880

CORRECT ANSWER: 3

Is driving of the vehicle allowed in case of leakage of such substance, which pollute the environmet?

1 Yes

2 Yes only in case, if the legislation does not stipulate the road suitability tests for this vehicle

3 No

განმარტება:

„საგზაო მოძრაობის შესახებ“ საქართველოს კანონის მე-16 მუხლის მე-3 პუნქტის „გ“ ქვეპუნქტის თანახმად, საგზაო მოძრაობის მონაწილეს ეკრძალება სატრანსპორტო საშუალების მართვა ისეთი ნივთიერებების გაჟონვის შემთხვევაში, რომელიც აბინძურებს გარემოს.

QUESTION 881

CORRECT ANSWER: 3

Is a driver obliged to be aware of such factors, which may affect his/her actions (e.g. fatigue, insomnia, taking of medicines, alcohol, etc.)?

1 No

2 Yes, only a driver driving the motor vehicle

3 Yes, notwithstanding the vehicle he/she is driving

4 Yes, only bus or lorry driver, which is regularly carrying out conveyance of passengers or transportation of goods

განმარტება:

„საგზაო მოძრაობის შესახებ“ საქართველოს კანონის 21-ე მუხლის მე-5 პუნქტის თანახმად, მძღოლი ვალდებულია იცოდეს საგზაო მოძრაობის წესები, აგრეთვე გათვითცნობიერებული ჰქონდეს ისეთი ფაქტორები, რომლებიც ზეგავლენას ახდენს მძღოლის მოქმედებაზე, მაგალითად დაღლილობა, უძილობა, სამედიცინო პრეპარატების მიღება, ალკოჰოლის მიღება და ა.შ..

QUESTION 882

CORRECT ANSWER: 2

Are the traffic participants allowed to realize their rights if this restricts or violates the rights of other traffic participants?

1

Yes

2

No

განმარტება:

„საგზაო მოძრაობის შესახებ“ საქართველოს კანონის მე-20 მუხლის მე-2 პუნქტის თანახმად, საგზაო მოძრაობის მონაწილის მიერ თავისი უფლებების განხორციელება არ უნდა ზღუდავდეს ან არღვევდეს საგზაო მოძრაობის სხვა მონაწილეთა უფლებებს. საგზაო მოძრაობის მონაწილე თავისი მოქმედებით არ უნდა უქმნიდეს საფრთხეს ან დაბრკოლებას საგზაო მოძრაობას. მან არ უნდა შეუქმნას საფრთხე ადამიანებს და არ უნდა მიაყენოს ზიანი სახელმწიფო, საზოგადოებრივ ან კერძო ქონებას.

QUESTION 883

CORRECT ANSWER: 4

Which of the below factors is not affecting action of a driver?

1

Insomnia

2

Fatigue

3

Alcohol intake

4

None of the above-mentioned answers is true

განმარტება:

„საგზაო მოძრაობის შესახებ“ საქართველოს კანონის 21-ე მუხლის მე-5 პუნქტის თანახმად, მძღოლი ვალდებულია იცოდეს საგზაო მოძრაობის წესები, აგრეთვე გათვითცნობიერებული ჰქონდეს ისეთი ფაქტორები, რომლებიც გავლენას ახდენს მძღოლის მოქმედებაზე, მაგალითად, დაღლილობა, უძილობა, სამედიცინო პრეპარატების მიღება, ალკოჰოლის მიღება და ა. შ.

QUESTION 884

CORRECT ANSWER: 2

While driving vehicle, is a driver allowed to use a mobile phone?

1

Is not allowed in any case

2

Is allowed, if he/she uses a mobile phone with loudspeaking function and has both hands free for driving the vehicle

3

Is allowed if he/she has one hand free for driving the vehicle

განმარტება:

„საგზაო მოძრაობის შესახებ“ საქართველოს კანონის 21-ე მუხლის მე-8 პუნქტის თანახმად, სატრანსპორტო საშუალების გადაადგილებისას მძღოლი უნდა მოერიდოს ნებისმიერ მოქმედებას, რომელიც დაკავშირებული არ არის მართვასთან. მძღოლს ეკრძალება სატრანსპორტო საშუალების მართვისას მობილური კომუნიკაციის საშუალებით სარგებლობა. ეს აკრძალვა არ ვრცელდება ისეთ შემთხვევებზე, როდესაც მძღოლი სარგებლობს მობილური კომუნიკაციის საშუალების ყურსასმენით ან მობილური კომუნიკაციის ხმამაღალი (ან დისტანციური) საუბრის ფუნქციით და ორივე ხელი თავისუფალი აქვს სატრანსპორტო საშუალების სამართავად.

QUESTION 885

CORRECT ANSWER: 2

In case of which failure given below is a driver prohibited from proceeding the vehicle?

1

If honk is out of order only

2

If steering gear is out of order only

3

If fog-lights are out of order only

4

In any case listed in given test

განმარტება:

„საგზაო მოძრაობის შესახებ“ საქართველოს კანონის მე-21-ე მუხლის მე-13 პუნქტის თანახმად, მძღოლს ეკრძალება მოძრაობა მუშა სამუხრუჭო სისტემის, საჭის მექანიზმის, სატრანსპორტო საშუალებათა შემადგენლობაში მისაბმელი მოწყობილობის გაუმართაობისას, აგრეთვე დღე-ღამის ბნელ დროს ერთდროულად მწყობრიდან გამოსული (ჩამქრალი) ახლო და შორი განათების ფარებით (ან მათი არარსებობისას) ან/და უკანა საგაბარიტო სინათლეებით იმ გზაზე, რომელზედაც არ არის ხელოვნური განათება ან არასაკმარისი ხილვადობა. მძღოლის მხარეს არსებული მინასანმენდის უმოქმედობისას აკრძალულია მექანიკური სატრანსპორტო საშუალების მართვა ნისლის, წვიმისა და თოვის დროს.

QUESTION 886

CORRECT ANSWER: 3

During fog, rain or snow, driving of a mechanical vehicle is prohibited:

1

In case of absence of fog-lights

2

In case of absence of emergency stop sign

3

If windscreen wipers on the side of the driver are out of order

4

In any case listed in given test

განმარტება:

„საგზაო მოძრაობის შესახებ“ საქართველოს კანონის მე-21-ე მუხლის მე-13 პუნქტის თანახმად, მძღოლს ეკრძალება მოძრაობა მუშა სამუხრუჭო სისტემის, საჭის მექანიზმის, სატრანსპორტო საშუალებათა შემადგენლობაში მისაბმელი მონაცობილობის გაუმართაობისას, აგრეთვე დღე-ღამის ბნელ დროს ერთდროულად მწყობრიდან გამოსული (ჩამქრალი) ახლო და შორი განათების ფარებით (ან მათი არარსებობისას) ან/და უკანა საგაბარიტო სინათლეებით იმ გზაზე, რომელზედაც არ არის ხელოვნური განათება ან არასაკმარისი ხილვადობა. მძღოლის მხარეს არსებული მინასანმენდის უმოქმედობისას აკრძალულია მექანიკური სატრანსპორტო საშუალების მართვა ნისლის, წვიმისა და თოვლის დროს.

QUESTION 887

CORRECT ANSWER: 2

A driver must be aware that the road is often covered with ice:

1

In tunnels, without artificial illumination

2

On bridges, underpasses and trestle bridges

3

On central roads of inhabited areas

განმარტება:

„საგზაო მოძრაობის შესახებ“ საქართველოს კანონის 25-ე მუხლის მე-10 პუნქტის „დ“ ქვეპუნქტის თანახმად, გზაზე მოძრაობისას მძღოლმა უნდა გაითვალისწინოს შემდეგი გარემოებები - მოყინულ გზის მონაკვეთზე მძღოლმა შეძლებისდაგვარად თავი უნდა აარიდოს დამუხრუჭებას, სიჩქარის ცვლილებასა და მიმართულების მკვეთრ შეცვლას. ამასთანავე, მძღოლმა უნდა გააცნობიეროს, რომ ყველაზე უფრო ხშირად გზა მოყინულია ხიდზე, გზაგამტარსა და ესტაკადაზე.

QUESTION 888

CORRECT ANSWER: 3

When moving from illuminated section of the road to unilluminated one, the driver shall take into account, that:

1 It is necessary to switch the fog-lights on

2 Time and distance required for braking of the vehicle increases

3 Eyes get used to darkness, therefore the obstructions ahead of the driver are easy to observe

განმარტება:

„საგზაო მოძრაობის შესახებ“ საქართველოს კანონის 25-ე მუხლის მე-10 პუნქტის „ბ“ ქვეპუნქტის თანახმად, გზაზე მოძრაობისას მძღოლმა უნდა გაითვალისწინოს შემდეგი გარემოებები - გზის ნათელი მონაკვეთიდან ბნელ მონაკვეთზე გასვლისას თვალი ნელა ეჩვევა სიბნელეს, რის გამოც მძღოლის წინ არსებული შესაძლო დაბრკოლება რთული შესამჩნევია.

QUESTION 889

CORRECT ANSWER: 1

While proceeding on poorly or unequally illuminated sections of the road at night, a driver shall take into account, that:

1 It is difficult for the traffic participants to notice each other

2 Time and distance required for braking of the vehicle increases

3 Switching hazard light on is mandatory

განმარტება:

„საგზაო მოძრაობის შესახებ“ საქართველოს კანონის 25-ე მუხლის მე-10 პუნქტის „გ“ ქვეპუნქტის თანახმად, გზაზე მოძრაობისას მძღოლმა უნდა გაითვალისწინოს შემდეგი გარემოებები - ღამე, ცუდად განათებული ან არათანაბრად განათებული გზის მონაკვეთებზე მოძრაობისას გართულებულია საგზაო მოძრაობის მონაწილეთა მიერ ერთმანეთის შემჩნევა.

QUESTION 890

CORRECT ANSWER: 1

On ice-covered road, a driver shall:

1 Avoid braking, speed changes and abrupt changing of direction as far as possible

2 Use hand brake additionally before braking

3 Change direction through abrupt swerving of the steering wheel and increase of speed

განმარტება:

„საგზაო მოძრაობის შესახებ“ საქართველოს კანონის 25-ე მუხლის მე-10 პუნქტის „დ“ ქვეპუნქტის თანახმად, გზაზე მოძრაობისას მძღოლმა უნდა გაითვალისწინოს შემდეგი გარემოებები - მოყინულ გზის მონაკვეთზე მძღოლმა შეძლებისდაგვარად თავი უნდა აარიდოს დამუხრუჭებას, სიჩქარის ცვლილებასა და მიმართულების მკვეთრ შეცვლას. ამასთან მძღოლმა უნდა გაათვინცნობიეროს, რომ ყველაზე უფრო ხშირად გზა მოყინულია ხიდზე, გზაგამტარებზე და ესტაკადებზე.

QUESTION 891

CORRECT ANSWER: 2

During driving in rain and snow, a driver shall:

1 Decrease a distance between him/her and preceding vehicle

2 Decrease speed and increase distance between him/her and preceding vehicle

3 Switch hazard light on

განმარტება:

„საგზაო მოძრაობის შესახებ“ საქართველოს კანონის 25-ე მუხლის მე-10 პუნქტის „ე“ ქვეპუნქტის თანახმად, გზაზე მოძრაობისას მძღოლმა უნდა გაითვალისწინოს შემდეგი გარემოებები - ვინაიდან წვიმისა და თოვლის დროს მოძრაობისას იზრდება სატრანსპორტო საშუალების დამუხრუჭებისათვის საჭირო დრო და მანძილი, ამასთანავე, ნალექი აუარესებს ხილვადობას, მძღოლმა უნდა შეამციროს სიჩქარე და გაზარდოს დისტანცია თავის სატრანსპორტო საშუალებასა და მის წინ მიმავალ სატრანსპორტო საშუალებას შორის.

QUESTION 892

CORRECT ANSWER: 3

While driving in rain and snow, a driver shall take into account that:

- 1 Reversing is prohibited
- 2 Decrease of speed between him/her and preceding vehicle is reasonable
- 3 Time and distance required for braking of the vehicle increases, besides precipitation worsens visibility

განმარტება:

„საგზაო მოძრაობის შესახებ“ საქართველოს კანონის 25-ე მუხლის მე-10 პუნქტის „ე“ ქვეპუნქტის თანახმად, გზაზე მოძრაობისას მძღოლმა უნდა გაითვალისწინოს შემდეგი გარემოებები - ვინაიდან წვიმისა და თოვის დროს მოძრაობისას იზრდება სატრანსპორტო საშუალების დამუხრუჭებისათვის საჭირო დრო და მანძილი, ამასთან ნალექი აუარესებს ხილვადობას, მძღოლმა უნდა შეამციროს სიჩქარე და გაზარდოს დისტანცია მისი და მის წინ მიმავალ სატრანსპორტო საშუალებას შორის.

QUESTION 893

CORRECT ANSWER: 1

When the rain starts, the road surface gets muddy and creates hazard of slipping, therefore a driver must:

- 1 Decrease speed by slow braking
- 2 Decrease speed by hard braking
- 3 Increase speed

განმარტება:

„საგზაო მოძრაობის შესახებ“ საქართველოს კანონის 25-ე მუხლის მე-10 პუნქტის „ვ“ ქვეპუნქტის თანახმად, გზაზე მოძრაობისას მძღოლმა უნდა გაითვალისწინოს შემდეგი გარემოებები - წვიმის დაწყებისას გზის ზედაპირი ტალახიანდება და ქმნის მოცურების საშიშროებას, რის გამოც მძღოლმა უნდა შეამციროს სიჩქარე მდლორე დამუხრუჭებით.

QUESTION 894

CORRECT ANSWER: 1

A driver shall take into account, that:

1

Using of hard breaks in turning or/and entry at high speed may cause losing of control over vehicle

2

Speed must be reduced with hard braking in order to enter the turning

3

Swerving shall be carried out at high speed

განმარტება:

„საგზაო მოძრაობის შესახებ“ საქართველოს კანონის 25-ე მუხლის მე-10 პუნქტის „თ“ ქვეპუნქტის თანახმად, გზაზე მოძრაობისას მძღოლმა უნდა გაითვალისწინოს შემდეგი გარემოებები - მოსახვევში მუხრუჭის მკვეთრად გამოყენებამ ან/და მაღალი სიჩქარით შესვლამ (განსაკუთრებით გზის სველი ზედაპირის არსებობისას) შესაძლოა გამოიწვიოს სატრანსპორტო საშუალებაზე კონტროლის დაკარგვა.

QUESTION 895

CORRECT ANSWER: 2

In case of presence of puddles on the road, a driver shall take into account, that:

1

Speed should be increased in puddle

2

Steering and braking of the vehicle is complicated, besides probability of slipping of the vehicle is high

3

It is reasonable to reduce the distance between it and the transport being driven in front

განმარტება:

„საგზაო მოძრაობის შესახებ“ საქართველოს კანონის 25-ე მუხლის მე-10 პუნქტის „ი“ ქვეპუნქტის თანახმად, გზაზე მოძრაობისას მძღოლმა უნდა გაითვალისწინოს შემდეგი გარემოებები - გზაზე წყლის გუბეების არსებობისას მძღოლმა უნდა გაითვალისწინოს, რომ სატრანსპორტო საშუალების მართვა და დამუხრუჭება გართულებულია, ამასთანავე, დიდია სატრანსპორტო საშუალების მოცურების ალბათობა (განსაკუთრებით გაცვეთილი საბურავებით ან მაღალი სიჩქარით მოძრაობისას).

QUESTION 896

CORRECT ANSWER: 3

If a vehicle driver feels fatigue, it is reasonable to:

1

Increase the vehicle speed

2

Take the coffein-containing liquid

3

Stop the vehicle and rest, if possible
make another driver to drive

განმარტება:

„საგზაო მოძრაობის შესახებ“ საქართველოს კანონის 25-ე მუხლის მე-10 პუნქტის „ვ“ ქვეპუნქტის თანახმად, გზაზე მოძრაობისას მძღოლმა უნდა გაითვალისწინოს შემდეგი გარემოებები - თუ სატრანსპორტო საშუალების მართვისას მძღოლი გრძნობს დაღლილობას, მიზანშეწონილია სატრანსპორტო საშუალების გაჩერება და დასვენება, ხოლო შესაძლებლობის შემთხვევაში – საჭესთან სხვა მძღოლის დასმა.

QUESTION 897

CORRECT ANSWER: 1

If a driver notices another driver, behaving aggressively and provocatively, he/she:

1

Must stay calm and control his/her
vehicle

2

Appeal the aggressive driver to keep
calm with two long and one short honk

3

Be aggressive himself/herself as well

განმარტება:

„საგზაო მოძრაობის შესახებ“ საქართველოს კანონის 25-ე მუხლის მე-10 პუნქტის „ლ“ ქვეპუნქტის თანახმად, გზაზე მოძრაობისას მძღოლმა უნდა გაითვალისწინოს შემდეგი გარემოებები - თუ მძღოლი გზაზე ამჩნევს სხვა სატრანსპორტო საშუალების მძღოლს, რომელიც აგრესიულად არის განწყობილი და გამომწვევად იქცევა, მან უნდა შეინარჩუნოს სიმშვიდე და აკონტროლოს თავისი სატრანსპორტო საშუალება.

QUESTION 898

CORRECT ANSWER: 2

Driving of the vehicle at high speed for long period of time shall cause:

1

Failure of braking system of the vehicle

2

Decrease of concentration and high speed sense of a driver

3

All of the circumstances listed in given test

განმარტება:

„საგზაო მოძრაობის შესახებ“ საქართველოს კანონის 25-ე მუხლის მე-10 პუნქტის „ნ“ ქვეპუნქტის თანახმად, გზაზე მოძრაობისას მძღოლმა უნდა გაითვალისწინოს შემდეგი გარემოებები - დიდი ხნის განმავლობაში მაღალი სიჩქარით მოძრაობა აქვეითებს კონცენტრაციასა და მაღალი სიჩქარის შეგრძნებას.

QUESTION 899

CORRECT ANSWER: 3

A driver must drive the vehicle:

1

Aggressively, as having priority on the road

2

Gently, but try to act as having priority on the road

3

Gently and not be aggressive, he/she must not try to act as having priority on the road

განმარტება:

„საგზაო მოძრაობის შესახებ“ საქართველოს კანონის 25-ე მუხლის მე-10 პუნქტის „ო“ ქვეპუნქტის თანახმად, გზაზე მოძრაობისას მძღოლმა უნდა გაითვალისწინოს შემდეგი გარემოებები - მძღოლი სატრანსპორტო საშუალებას უნდა მართავდეს მშვიდად, არ უნდა იჩენდეს აგრესიულობას და არ უნდა ცდილობდეს თავის გამოჩენას, როგორც უპირატესი გზაზე.

QUESTION 900

CORRECT ANSWER: 2

Is driving of the vehicle allowed by a person under narcotic drug influence, which has used such narcotic drug for medical purpose, according to the prescription of the doctor?

1

Yes

2

No

განმარტება:

„საგზაო მოძრაობის შესახებ“ საქართველოს კანონის 21-ე მუხლის მე-15 პუნქტის თანახმად, აკრძალულია სატრანსპორტო საშუალების მართვა ალკოჰოლური, ნარკოტიკული ან ფსიქოტროპული სიმთვრალის მდგომარეობაში, ან იმ სამკურნალო პრეპარატის ზემოქმედებისას, რომელიც აქვეითებს რეაქციას და ყურადღებას.

QUESTION 901

CORRECT ANSWER: 2

Is driving of the vehicle allowed by a person under psychotropic drug influence, which has used such psychotropic drug for medical purpose, according to the prescription of the doctor?

1

Yes

2

No

განმარტება:

„საგზაო მოძრაობის შესახებ“ საქართველოს კანონის 21-ე მუხლის მე-15 პუნქტის თანახმად, აკრძალულია სატრანსპორტო საშუალების მართვა ალკოჰოლური, ნარკოტიკული ან ფსიქოტროპული სიმთვრალის მდგომარეობაში, ან იმ სამკურნალო პრეპარატის ზემოქმედებისას, რომელიც აქვეითებს რეაქციას და ყურადღებას.

QUESTION 902

CORRECT ANSWER: 1

Is delivery of the vehicle for driving allowed to a person under narcotic drug influence, which has used such narcotic drug for medical purpose, according to the prescription of the doctor?

1

Yes

2

No

განმარტება:

„საგზაო მოძრაობის შესახებ“ საქართველოს კანონის მე-20 მუხლის მე-4 პუნქტის თანახმად, აკრძალულია სატრანსპორტო საშუალების სამართავად გადაცემა იმ პირისათვის, რომელიც იმყოფება ალკოჰოლური, ნარკოტიკული ან ფსიქოტროპული სიმთვრალის მდგომარეობაში,

QUESTION 903

CORRECT ANSWER: 1

Is delivery of the vehicle for driving allowed to a person under psychotropic drug influence, which has used such psychotropic drug for medical purpose, according to the prescription of the doctor?

1

Yes

2

No

განმარტება:

„საგზაო მოძრაობის შესახებ“ საქართველოს კანონის მე-20 მუხლის მე-4 პუნქტის თანახმად, აკრძალულია სატრანსპორტო საშუალების სამართავად გადაცემა იმ პირისათვის, რომელიც იმყოფება ალკოჰოლური, ნარკოტიკული ან ფსიქოტროპული სიმთვრალის მდგომარეობაში,

QUESTION 904

CORRECT ANSWER: 3

Is driving of the vehicle prohibited by a person under influence of such medicines, which weaken reaction and attention?

1 No, if such medicines were taken for medical purpose, according to the prescription of the doctor

2 No, if the person is driving under observation of necessary safety rules

3 Yes

განმარტება:

„საგზაო მოძრაობის შესახებ“ საქართველოს კანონის 21-ე მუხლის მე-15 პუნქტის თანახმად, აკრძალულია სატრანსპორტო საშუალების მართვა ალკოჰოლური, ნარკოტიკული ან ფსიქოტროპული სიმთვრალის მდგომარეობაში, ან იმ სამკურნალო პრეპარატის ზემოქმედებისას, რომელიც აქვეითებს რეაქციას და ყურადღებას.

QUESTION 905

CORRECT ANSWER: 1

Is delivery of the vehicle for driving prohibited to a person under influence of such medicines, which weaken reaction and attention?

1 Yes

2 No, if such medicines were taken for medical purpose, according to the prescription of the doctor

3 No, if the person is driving under observation of necessary safety rules

განმარტება:

„საგზაო მოძრაობის შესახებ“ საქართველოს კანონის მე-20 მუხლის მე-4 პუნქტის თანახმად, აკრძალულია სატრანსპორტო საშუალების სამართავად გადაცემა იმ პირისათვის, რომელიც იმყოფება ალკოჰოლური, ნარკოტიკული ან ფსიქოტროპული სიმთვრალის მდგომარეობაში. ამავე კანონის 21-ე მუხლის მე-15 პუნქტის თანახმად, აკრძალულია სატრანსპორტო საშუალების მართვა ალკოჰოლური, ნარკოტიკული ან ფსიქოტროპული სიმთვრალის მდგომარეობაში, ან იმ სამკურნალო პრეპარატის ზემოქმედებისას, რომელიც აქვეითებს რეაქციას და ყურადღებას.

QUESTION 906

CORRECT ANSWER: 3

Is driving of the vehicle prohibited by a person, who is under narcotic drug influence?

1 No, if he/she has taken such medicines for medical purpose, according to the prescription of the doctor

2 No, if he/she warns the appropriate police service about it in advance

3 Yes

განმარტება:

„საგზაო მოძრაობის შესახებ“ საქართველოს კანონის 21-ე მუხლის მე-15 პუნქტის თანახმად, აკრძალულია სატრანსპორტო საშუალების მართვა ალკოჰოლური, ნარკოტიკული ან ფსიქოტროპული სიმთვრალის მდგომარეობაში, ან იმ სამკურნალო პრეპარატის ზემოქმედებისას, რომელიც აქვეითებს რეაქციას და ყურადღებას.

QUESTION 907

CORRECT ANSWER: 1

Is driving of the vehicle prohibited by a person, who is under psychotropic drug influence?

1 Yes

2 No, if such medicines were taken for medical purpose, according to the prescription of the doctor

3 No, if the person is driving under observation of necessary safety rules

განმარტება:

„საგზაო მოძრაობის შესახებ“ საქართველოს კანონის 21-ე მუხლის მე-15 პუნქტის თანახმად, აკრძალულია სატრანსპორტო საშუალების მართვა ალკოჰოლური, ნარკოტიკული ან ფსიქოტროპული სიმთვრალის მდგომარეობაში, ან იმ სამკურნალო პრეპარატის ზემოქმედებისას, რომელიც აქვეითებს რეაქციას და ყურადღებას.

QUESTION 908

CORRECT ANSWER: 1

Is driving of the vehicle prohibited by a person, if he/she is under influence of alcohol?

1

Yes

2

No, if the driver is in the international traffic on the territory of Georgia

3

No, if he/she is driving under observation of necessary safety rules

განმარტება:

„საგზაო მოძრაობის შესახებ“ საქართველოს კანონის 21-ე მუხლის მე-15 პუნქტის თანახმად, აკრძალულია სატრანსპორტო საშუალების მართვა ალკოჰოლური, ნარკოტიკული ან ფსიქოტროპული სიმთვრალის მდგომარეობაში, ან იმ სამკურნალო პრეპარატის ზემოქმედებისას, რომელიც აქვეითებს რეაქციას და ყურადღებას.

QUESTION 909

CORRECT ANSWER: 1

While driving on the road with wet surface, a driver must take into account, that:

1

Using of hard breaks in turning or/and entry at high speed may cause losing of control over vehicle

2

Hard braking reduces chance of slipping of the vehicle

3

In order to avoid danger of slipping of the vehicle while entering the turning, speed shall be reduced using hard brakes

განმარტება:

„საგზაო მოძრაობის შესახებ“ საქართველოს კანონის 25-ე მუხლის მე-10 პუნქტის „თ“ ქვეპუნქტის თანახმად, გზაზე მოძრაობისას მძღოლმა უნდა გაითვალისწინოს შემდეგი გარემოებები: თ) მოსახვევში მუხრუჭის მკვეთრად გამოყენებამ ან/და მაღალი სიჩქარით შესვლამ (განსაკუთრებით გზის სველი ზედაპირის არსებობისას) შესაძლოა გამოიწვიოს სატრანსპორტო საშუალებაზე კონტროლის დაკარგვა.

QUESTION 910

CORRECT ANSWER: 1

Danger of slipping of the vehicle is higher:

1

When it first starts to rain

2

During rain, in 30 minutes after its beginning

3

After the rain has stopped

განმარტება:

„საგზაო მოძრაობის შესახებ“ საქართველოს კანონის 25-ე მუხლის მე-10 პუნქტის „ვ“ ქვეპუნქტის თანახმად, გზაზე მოძრაობისას მძღოლმა უნდა გაითვალისწინოს შემდეგი გარემოებები: ვ) წვიმის დაწყებისას გზის ზედაპირი ტალახიანდება და ქმნის მოცურების საშიშროებას, რის გამოც მძღოლმა უნდა შეამციროს სიჩქარე მდორე დამუხრუჭებით.

QUESTION 911

CORRECT ANSWER: 2

While driving in rainy weather, a driver shall pay special attention to:

1

Cargo vehicle, as danger of falling of cargo from the body of the vehicle is high

2

Pedestrians, as dangerous situations may occur due to possible speed of pedestrians

3

Towards low-speed vehicles

განმარტება:

„საგზაო მოძრაობის შესახებ“ საქართველოს კანონის 25-ე მუხლის მე-10 პუნქტის „ზ“ ქვეპუნქტის თანახმად, გზაზე მოძრაობისას მძღოლმა უნდა გაითვალისწინოს შემდეგი გარემოებები: ზ) წვიმიან ამინდში მოძრაობისას მძღოლმა განსაკუთრებული ყურადღება უნდა გამოიჩინოს ქვეითთა მიმართ, რადგან მათი შესაძლო სიჩქარის გამო შეიძლება შეიქმნას საფრთხის შემცველი სიტუაცია.

QUESTION 912

CORRECT ANSWER: 1

What is the age limit below which leaving of a child unattended is prohibited in the parked vehicle?

1

Under 6 years

2

Under 7 years

3

Under 9 years

4

Under 12 years

განმარტება:

„საგზაო მოძრაობის შესახებ“ საქართველოს კანონის 26-ე მუხლის მე-9 პუნქტის თანახმად, აკრძალულია გაჩერებულ სატრანსპორტო საშუალებაში 6 წლამდე ბავშვის უმეთვალყურეოდ დატოვება.

QUESTION 913

CORRECT ANSWER: 1

If a driver is performing swerving for entry to the road, at the entrance of which crosswalk is located, he/she shall carry out swerving:

1

At low speed only, in case of necessity to stop and give the way to the pedestrians entered or entering the crossing

2

At any speed, as he/she takes priority over the pedestrians entered or entering the crossing

3

At high speed only, in order to pass above section of the road in due time

განმარტება:

„საგზაო მოძრაობის შესახებ“ საქართველოს კანონის 25-ე მუხლის მე-2 პუნქტის „ა“ ქვეპუნქტის თანახმად, ქვეითთა გადასასვლელზე ამ კანონის 21-ე მუხლის მე-6 პუნქტით, 33-ე მუხლის მე-2 პუნქტითა და 34-ე მუხლის მე-11 პუნქტით დადგენილ მოთხოვნათა დაცვით უნდა შესრულდეს შემდეგი მოთხოვნები: ა) თუ სატრანსპორტო საშუალებათა მოძრაობა საგზაო შექნიშნით ან მარეგულირებლის მეშვეობით რეგულირდება, მოძრაობის ამკრძალავი სიგნალის დროს მძღოლი უნდა გაჩერდეს ქვეითთა გადასასვლელის წინ ან მის წინ მდებარე განივ მონიშვნასთან, ხოლო როცა მოძრაობის გაგრძელების უფლებას მიიღებს, არ უნდა დააბრკოლოს და საფრთხე არ უნდა შეუქმნას ქვეითთა გადასასვლელზე შესულ ქვეითებს. თუ მძღოლი ასრულებს მოხვევას სხვა გზაზე შესასვლელად, რომლის შესასვლელთანაც მდებარეობს ქვეითთა გადასასვლელი, მან ეს მოხვევა უნდა შეასრულოს მხოლოდ დაბალი სიჩქარით, ხოლო საჭიროების შემთხვევაში უნდა გაჩერდეს და გაატაროს გადასასვლელზე შესული ან შემავალი ქვეითები.

QUESTION 914

CORRECT ANSWER: 3

Is a driver allowed to hamper motion of other vehicles by routing at extremely low speed, without special grounds?

1 Yes, as according to the Highway Code, exceeding of allowed maximum speed is prohibited only

2 Yes, if he/she is driving on the extreme right lane

3 No

განმარტება:

„საგზაო მოძრაობის შესახებ“ საქართველოს კანონის 33-ე მუხლის მე-3 პუნქტის თანახმად, მძღოლმა განსაკუთრებული საფუძვლის გარეშე მეტისმეტად დაბალი სიჩქარით მოძრაობით არ უნდა გაართულოს სხვა სატრანსპორტო საშუალებების გადაადგილება.

QUESTION 915

CORRECT ANSWER: 1

If according to the orders of the Highway Code, a driver is obliged to yield to other traffic participants, he/she must express his/her intention of yielding clearly:

1 By reducing of speed or stopping the car

2 By giving honk or light signal

3 With any of the actions listed in given test

განმარტება:

„საგზაო მოძრაობის შესახებ“ საქართველოს კანონის 36-ე მუხლის მე-9 პუნქტის თანახმად, მძღოლმა, რომელმაც ამ კანონის მოთხოვნათა შესაბამისად გზა უნდა დაუთმოს სხვა საგზაო მოძრაობის მონაწილეებს, ვალდებულია გზის დათმობის თაობაზე თავისი განზრახვა ნათლად გამოხატოს სიჩქარის შემცირებით ან გაჩერებით.

QUESTION 916

CORRECT ANSWER: 2

If one of two vehicles of the same category has to reverse on mountain roads and the roads with large inclination having similar characteristics, for driving round, the obligation of reverse routing shall be imposed to:

1

A driver of the vehicle driving on the ascent

2

A driver of the vehicle driving on the descent, except for the case, when it is obvious that the driver of the vehicle driving on the ascent may carry out such maneuver more easily, in particular if he/she is near the driving round site

3

A driver of the vehicle driving on the descent, notwithstanding near which of the vehicles is the driving round site and for which of the drivers is performance of such maneuver easy

განმარტება:

„საგზაო მოძრაობის შესახებ“ საქართველოს კანონის 35-ე მუხლის მე-2 პუნქტის თანახმად, მთის გზასა და ანალოგიური მახასიათებლების მქონე დიდი დახრილობის გზაზე, აგრეთვე 1.14 და 1.15 საგზაო ნიშნებით აღნიშნულ გზებზე, სადაც გვერდის აქცევა შეუძლებელია ან გართულებულია, ერთი და იმავე კატეგორიის ან ქვეკატეგორიის სატრანსპორტო საშუალებების შემთხვევაში უკუსვლით უნდა იმოძრაოს დადმართზე მოძრავმა სატრანსპორტო საშუალებამ, გარდა იმ შემთხვევისა, როცა აშკარაა, რომ აღმართზე მოძრავი სატრანსპორტო საშუალების მძღოლს უფრო იოლად შეუძლია ასეთი მანევრის შესრულება, კერძოდ, თუ ის გვერდის ასაქცევად გილთან ახლოს იმყოფება.

QUESTION 917

CORRECT ANSWER: 3

If one of two vehicles has to reverse on mountain roads and the roads with large inclination having similar characteristics, for driving round, then the packs of the vehicles shall have priority over:

1

Motor car driver only

2

Bus and lorry drivers only

3

Drivers of the vehicles of all other categories

განმარტება:

„საგზაო მოძრაობის შესახებ“ საქართველოს კანონის 35-ე მუხლის მე-2 პუნქტის თანახმად, მთის გზასა და ანალოგიური მახასიათებლების მქონე დიდი დახრილობის გზაზე, აგრეთვე 1.14 და 1.15 საგზაო ნიშნებით აღნიშნულ გზებზე, სადაც გვერდის აქცევა შეუძლებელია ან გართულებულია, თუ გვერდის აქცევის მიზნით ორი სატრანსპორტო საშუალებიდან ერთ-ერთმა უნდა იმოძრაოს უკუსვლით, სატრანსპორტო საშუალებათა შემადგენლობის მძღოლს ენიჭება უპირატესობა ყველა სხვა სატრანსპორტო საშუალების მძღოლების მიმართ.

QUESTION 918

CORRECT ANSWER: 2

If one of two vehicles of the same category has to reverse on mountain roads and the roads with large inclination having similar characteristics, for driving round, the bus drivers shall have priority over:

1

The drivers of the pack of the vehicles only

2

Lorry and motor car drivers only

3

All vehicles

განმარტება:

„საგზაო მოძრაობის შესახებ“ საქართველოს კანონის 35-ე მუხლის მე-2 პუნქტის თანახმად, მთის გზასა და ანალოგიური მახასიათებლების მქონე დიდი დახრილობის გზაზე, აგრეთვე 1.14 და 1.15 საგზაო ნიშნებით აღნიშნულ გზებზე, სადაც გვერდის აქცევა შეუძლებელია ან გართულებულია, თუ გვერდის აქცევის მიზნით ორი სატრანსპორტო საშუალებიდან ერთ-ერთმა უნდა იმოძრაოს უკუსვლით, სატრანსპორტო საშუალებათა შემადგენლობის მძღოლს ენიჭება უპირატესობა ყველა სხვა სატრანსპორტო საშუალების მძღოლების მიმართ, მძიმეწონიანი სატრანსპორტო საშუალების მძღოლს – მსუბუქი სატრანსპორტო საშუალების მძღოლის მიმართ, ხოლო ავტობუსის მძღოლს – სატვირთო და მსუბუქი ავტომობილების მძღოლების მიმართ.

QUESTION 919

CORRECT ANSWER: 1

Does a driver's emotional state affect traffic safety?

1

Yes

2

No

ბანმარტიბა:

მძღოლის ემოციური მდგომარეობაზე გავლენას ახდენს მოძრაობის უსაფრთხოებაზე.

QUESTION 920

CORRECT ANSWER: 1

How does fatigue affect a driver's attention and reaction during participation in traffic?

1

Attention is weakened, reaction time is increased

2

Attention is weakened, reaction time is reduced

3

Neither attention nor reaction time is changed

ბანმარტიბა:

მძღოლის გადაღლილობა მის ყურადღებას აქვეითებს, რეაქციის დრო ზრდის.

QUESTION 921

CORRECT ANSWER: 1

Further motion of the vehicle is prohibited:

- | | |
|--|---|
| <div style="background-color: #f08080; color: white; padding: 5px; text-align: center; margin-bottom: 5px;">1</div> In case of failure of active braking system | <div style="background-color: #f08080; color: white; padding: 5px; text-align: center; margin-bottom: 5px;">2</div> In case of hermeticity of feed system is out of order |
| <div style="background-color: #f08080; color: white; padding: 5px; text-align: center; margin-bottom: 5px;">3</div> In case of failure of muffler | <div style="background-color: #f08080; color: white; padding: 5px; text-align: center; margin-bottom: 5px;">4</div> In case of any of the circumstances listed in given test |

განმარტება:

„საგზაო მოძრაობის შესახებ“ საქართველოს კანონის 21-ე მუხლის მე-13 პუნქტის თანახმად, მძღოლს ეკრძალება მოძრაობა მუშა სამუხრუჭო სისტემის, საჭის მექანიზმის, სატრანსპორტო საშუალებათა შემადგენლობაში მისაბმელი მოწყობილობის გაუმართაობისას, აგრეთვე დღე-ღამის ბნელ დროს ერთდროულად მწყობრიდან გამოსული (ჩამქრალი) ახლო და შორი განათების ფარებით (ან მათი არარსებობისას) ან/და უკანა საგაბარიტო სინათლეებით იმ გზაზე, რომელზედაც არ არის ხელოვნური განათება ან არასაკმარისი ხილვადობაა. მძღოლის მხარეს არსებული მინასანმენდის უმოქმედობისას აკრძალულია მექანიკური სატრანსპორტო საშუალების მართვა ნისლის, წვიმისა და თოვის დროს.

QUESTION 922

CORRECT ANSWER: 2

A driver is obliged to check and provide technical operability of the vehicle:

- | | |
|--|--|
| <div style="background-color: #f08080; color: white; padding: 5px; text-align: center; margin-bottom: 5px;">1</div> Prior to driving | <div style="background-color: #f08080; color: white; padding: 5px; text-align: center; margin-bottom: 5px;">2</div> Prior to and during driving |
| <div style="background-color: #f08080; color: white; padding: 5px; text-align: center; margin-bottom: 5px;">3</div> During driving only | |

განმარტება:

„საგზაო მოძრაობის შესახებ“ საქართველოს კანონის 21-ე მუხლის მე-12 პუნქტის თანახმად, მძღოლი ვალდებულია მგზავრობის დაწყებამდე შეამოწმოს და მგზავრობისას უზრუნველყოს სატრანსპორტო საშუალების ტექნიკური გამართულობა.

QUESTION 923

CORRECT ANSWER: 2

Subsequent driving of a vehicle is prohibited, if:

1

Anti-theft devices are not operating properly

2

Trailer included in the vehicle is out of order

3

Speedometer is out of order

4

In any case listed in given test

განმარტება:

„საგზაო მოძრაობის შესახებ“ საქართველოს კანონის 21-ე მუხლის მე-13 პუნქტის თანახმად, მძღოლს ეკრძალება მოძრაობა მუშა სამუხრუჭო სისტემის, საჭის მექანიზმის, სატრანსპორტო საშუალებათა შემადგენლობაში მისაბმელი მოწყობილობის გაუმართაობისას, აგრეთვე დღე-ღამის ბნელ დროს ერთდროულად მწყობრიდან გამოსული (ჩამქრალი) ახლო და შორი განათების ფარებით (ან მათი არარსებობისას) ან/და უკანა საგაბარიტო სინათლეებით იმ გზაზე, რომელზედაც არ არის ხელოვნური განათება ან არასაკმარისი ხილვადობაა. მძღოლის მხარეს არსებული მინასანმენდის უმოქმედობისას აკრძალულია მექანიკური სატრანსპორტო საშუალების მართვა ნისლის, წვიმისა და თოვის დროს.

QUESTION 924

CORRECT ANSWER: 3

A driver is prohibited from subsequent driving of a vehicle, if:

1

Processed air exhaust system is out of order

2

Vehicle does not have rear-view mirror, provided by construction of the vehicle

3

Windscreen wiper on the side of the driver is not operating during fog, rain or snow

4

Safety belts are not operating properly

განმარტება:

„საგზაო მოძრაობის შესახებ“ საქართველოს კანონის 21-ე მუხლის მე-13 პუნქტის თანახმად, მძღოლს ეკრძალება მოძრაობა მუშა სამუხრუჭო სისტემის, საჭის მექანიზმის, სატრანსპორტო საშუალებათა შემადგენლობაში მისაბმელი მოწყობილობის გაუმართაობისას, აგრეთვე დღე-ღამის ბნელ დროს ერთდროულად მწყობრიდან გამოსული (ჩამქრალი) ახლო და შორი განათების ფარებით (ან მათი არარსებობისას) ან/და უკანა საგაბარიტო სინათლეებით იმ გზაზე, რომელზედაც არ არის ხელოვნური განათება ან არასაკმარისი ხილვადობაა. მძღოლის მხარეს არსებული მინასანმენდის უმოქმედობისას აკრძალულია მექანიკური სატრანსპორტო საშუალების მართვა ნისლის, წვიმისა და თოვის დროს.

QUESTION 925

CORRECT ANSWER: 2

During dark hours and in low visibility conditions, speed of oncoming vehicle seems:

1

Higher than in reality

2

Lower than in reality

3

As it is in reality

განმარტება:

დღის ნათელ დროს, შემხვედრი სატრანსპორტო საშუალების სიჩქარეს, ადამიანის თვალი განსაზღვრავს სივრცეში არსებულ სხვა ორიენტირებთან შედარებით (საგზაო ნიშნები, მონიშვნა, გზისპირზე გამწვანება და სხვა), ხოლო დღე-ღამის ბნელ დროს და არასაკმარისი ხილვადობის პირობებში ორიენტირება ხდება მხოლოდ ფარების შუქზე, ამიტომ შემხვედრი სატრანსპორტო საშუალების სიჩქარეს აღვიქვამთ უფრო ნაკლებად, ვიდრე რეალურადაა.

QUESTION 926

CORRECT ANSWER: 1

Fuel consumption during long-term acceleration by first transmission switched upon starting of motion of the vehicle with mechanical gear box:

1

Is increased

2

Is decreased

3

Is not changed

განმარტება:

მექანიკური გადაცემათა კოლოფის მქონე სატრანსპორტო საშუალების ჩართული პირველი გადაცემით მოძრაობისას სიჩქარე დაბალია, ხოლო ძრავი მუშაობს მაღალი ბრუნთა რიცხვით და საჭიროებს მეტ სანავს. მოძრაობის დაწყებისას, პირველი გადაცემით ჩართული სატრანსპორტო საშუალების ხანგრძლივი გაქნების დროს სანავსის ხარჯი იზრდება.

QUESTION 927

CORRECT ANSWER: 1

A vehicle is more stable against overturn, if its center of gravity is located:

1

Down

2

Up

განმარტება:

რაც უფრო მაღლაა განლაგებული სატრანსპორტო საშუალების სიმძიმის ცენტრი მით უფრო ნაკლებია მისი მდგრადობა გადაყირავების წინააღმდეგ, განურჩევლად ტვირთის ხასიათისა. ტვირთიანი სატრანსპორტო საშუალების სიმძიმის ცენტრი ყოველთვის უფრო მაღლაა განლაგებული ვიდრე უტვირთოსი.

QUESTION 928

CORRECT ANSWER: 3

While driving through heavy traffic, chance of traffic accident will be less if vehicle speed:

1

Is noticeably more than speed of other vehicles

2

Is noticeably less than speed of other vehicles

3

Is equal to the speed

განმარტება:

მჭიდრო სატრანსპორტო ნაკადში მოძრაობისას ავრიული სიტუაციის წარმოქმნის ალბათობა ნაკლებია, თუ თქვენი სატრანსპორტო საშუალების სიჩქარე იქნება სატრანსპორტო ნაკადის სიჩქარის ტოლი.

QUESTION 929

CORRECT ANSWER: 2

In case of slipping of rear axle of the vehicle with rear driving axis during routing in turning, a driver shall:

- 1 Apply the break and turn the steering wheel to the slip side
- 2 Slightly reduce fuel supply and turn the steering wheel to the slip side
- 3 Slightly increase fuel supply and not to change the steering wheel state

განმარტება:

მოსახვევში მოძრაობისას უკანა წამყვანღებოანი ავტომობილის უკანა ხიდის მოცურების შემთხვევაში მძღოლმა უნდა ოდნავ შეამციროს საწვავის მიწოდება და საჭე მოაბრუნოს მოცურების მხარეს.

QUESTION 930

CORRECT ANSWER: 1

In case of heavy snow cover on driveway, while routing on the ground road, a vehicle driver must move:

- 1 With previously selected low gears and at speed without abrupt turning and stopping
- 2 According to the state of the road surface, by changing gear and speed

განმარტება:

სავალ ნაწილზე ღრმა თოვლის არსებობისას, გრუნტოვან გზაზე მოძრაობის შემთხვევაში სატრანსპორტო საშუალების მძღოლმა უნდა იმოძრაოს წინასწარ შერჩეული გადაცემითა და სიჩქარით გაჩერებების გარეშე, გამორიცხოს საჭის თვლის მკვეთრი მობრუნება.

QUESTION 931

CORRECT ANSWER: 3

In case of starting motion on the ascent, in which moment is lowering of park brake lever reasonable?

1

Prior to starting motion

2

After starting motion

3

Simultaneously with starting of motion

განმარტება:

აღმართზე მოძრაობის დაწყების შემთხვევაში სადგომი მუხრუჭის ბერკეტის დაშვება მიზანშეწონილია ერთდროულად მოძრაობის დაწყებისას.

QUESTION 932

CORRECT ANSWER: 2

In case of speeding up of the vehicle while turning, importance of centrifugal force:

1

Is decreasing

2

Is increasing

3

Is not changing

განმარტება:

სატრანსპორტო საშუალების მოსახვევაში მოძრაობისას სიჩქარის გაზრდის შემთხვევაში ცენტრიდანული ძალა იზრდება.

QUESTION 933

CORRECT ANSWER: 3

If a vehicle driver suddenly meets short ice-covered section of the road while routing on flat road, he/she should:

1

Slow down through one-time hard braking

2

Slow down through multiple slow braking

3

Proceed with the same trajectory without changing the speed

განმარტება:

თუ სატრანსპორტო საშუალების მძღოლი სწორ გზაზე მოძრაობისას მოულოდნელად მოხვდა მოლიპულ მოკლე მონაკვეთზე, მოძრაობის სიჩქარის შეუცვლელად უნდა გააგრძელოს მოძრაობა იმავე ტრაექტორიით.

QUESTION 934

CORRECT ANSWER: 1

In case the brake shoes get wet after going though the water obstacle, the vehicle driver in order to restore the efficiency of the brakes is required to:

1

Proceed and dry brake blocks through short multiple pedaling

2

Proceed with partly elevated hand brake lever

3

Proceed with caution, until the service station

განმარტება:

წყლის დაბრკოლების გადალახვის შემდეგ სამუხრუტო ხუნდების დასველების შემთხვევაში, სატრანსპორტო საშუალების მუხრუტების ეფექტურობის აღსადგენად, მძღოლმა უნდა გააგრძელოს მოძრაობა და გააშროს სამუხრუტე ხუნდები მუხრუტის სატერფულზე ფეხის მრავალჯერადი ხანმოკლე დაჭერით.

QUESTION 935

CORRECT ANSWER: 2

During dark hours or in low visibility conditions, a driver is obliged to select speed of the vehicle so that stopping distance would be:

1

More than visibility area

2

Less than visibility area

განმარტება:

დღე-ღამის ბნელ დროს ან არასაკმარისი ხილვადობის პირობებში, სატრანსპორტო საშუალების მოძრაობის სიჩქარე მძღოლმა უნდა შეარჩიოს ისე, რომ გასაჩერებელი მანძილი იყოს მხედველობის არეზე ნაკლები.

QUESTION 936

CORRECT ANSWER: 2

In order to stop slipping caused by braking, a vehicle driver must:

1

Switch the hitch off

2

Stop braking

3

Go on braking without changing of pedaling

განმარტება:

დამუხრუჭებით გამოწვეული მოცურების შესაწყვეტად სატრანსპორტო საშუალების მძღოლმა, უნდა შეწყვიტოს დამუხრუჭება.

QUESTION 937

CORRECT ANSWER: 3

According to the technical requirements of the vehicles it is inadmissible:

1

Absence of only disk fixing one bolt or nut or their weak tightening

2

Existence of cracks on disks only

3

Both absence of only disk fixing one bolt or nut or their weak tightening and existence of cracks on disks

განმარტება:

„ავტოსატრანსპორტო საშუალებების მიმართ წაყენებული ტექნიკური მოთხოვნები, რომლებთან შესაბამისობის დადგენის მიზნითაც ტარდება გზისთვის ვარგისობაზე ტესტირება და მისი ჩატარების მეთოდების“ საქართველოს მთავრობის 2014 წლის 3 იანვარის №30 დადგენილებით დამტკიცებული ტექნიკური რეგლამენტის მე-8 მუხლის მე-6 და მე-7 პუნქტების თანახმად: 6. დაუშვებელია დისკების დასამაგრებელი თუნდაც ერთი ტანჯიკის ან ქანჩის არქონა ან მათი სუსტი მოჭერა. 7. დაუშვებელია დისკებზე ბზარების არსებობა.

QUESTION 938

CORRECT ANSWER: 2

Difference of the radii from the centre of turning to front wheels routing opposite to turning centre and rear wheels routing towards the turning is called:

1

Turning radius of car

2

Dynamic corridor of car

3

Allowable corridor of car

განმარტება:

მოსახვევში მოძრაობისას სატვირთო ავტომობილებისა და ავტობუსების მოძრაობისათვის საჭირო ზოლი მნიშვნელოვნად ფართოვდება. მოხვევისას ავტომობილის წინა თვლები იკავებს მოხვევის ცენტრის საწინააღმდეგო მხარეს, ხოლო ავტომობილის ან მისაბმელის უკანა თვლები მოხვევის ცენტრის მხარეს. მოხვევის ცენტრის საწინააღმდეგო მხარეს მოძრავი წინა და მოხვევის მხარეს მოძრავი უკანა თვლებამდე მოხვევის ცენტრიდან გავლებული რადიუსების სხვაობას ეწოდება ავტომობილის დინამიკური დერეფანი.

QUESTION 939

CORRECT ANSWER: 3

Which of the driving styles of the mechanical vehicle ensures lower fuel consumption?

1

Smooth acceleration with abrupt slowdown

2

Frequent and abrupt acceleration with smooth slowdown

3

Smooth slowdown with smooth acceleration

განმარტება:

მექანიკური სატრანსპორტო საშუალების მოძრაობისას საწვავის ნაკლებ ხარჯს უზრუნველყოფს მართვის სტილი მდორე აჩქარება მდორე შენელებით.

QUESTION 940

CORRECT ANSWER: 3

On slippery road, in order to stop sliding caused by abrupt turning of the steering wheel, the vehicle must:

1

Turn off the clutch

2

Brake smoothly with active clutch

3

Turn the steering wheel to the sliding side quickly but smoothly, then make the trajectory of the vehicle straight with the steering wheel

განმარტება:

მოლიპულ გზაზე, საჭის თვლის მკვეთრი მობრუნებით გამოწვეული მოცურების შესაწყვეტად ავტომობილი მძღოლმა, უნდა სწრაფად, მაგრამ მდორედ საჭის თვალი მოაბრუნოს მოვურების მხარეს, შემდეგ საჭის თვლით გაასწოროს ავტომობილის ტრაექტორია.

QUESTION 941

CORRECT ANSWER: 3

What are the advantages of using winter tires for a vehicle during the winter time?

- 1 Danger of side sliding of the vehicle is excluded
- 2 Driving of a vehicle in all weather conditions is possible at a maximum construction speed
- 3 Possibility of sliding and towing of the wheels on slippery road surface is reduced

განმარტება:

სატრანსპორტო საშუალებაზე ზამთრის საბურავების გამოყენება ზამთრის პერიოდში ამცირებს მოლიპულ გზის საფარზე თვლების სრიალსა და ბუქსაობის შესაძლებლობას.

QUESTION 942

CORRECT ANSWER: 4

In which cases is the increase of side interval appropriate to ensure traffic safety?

- 1 While avoiding the oncoming vehicle at high speed only
- 2 While avoiding the long vehicle only
- 3 While moving on wet, slippery or uneven road only
- 4 In any case listed in given test

განმარტება:

მოძრაობის უსაფრთხოების უზრუნველსაყოფად გვერდითი ინტერვალის გაზრდა მიზანშეწონილია როგორც მაღალი სიჩქარით შემხვედრი სატრანსპორტო საშუალების გვერდის აქცევისას, ასევე გრძელი სატრანსპორტო საშუალების გვერდის აქცევისას და სველი, მოლიპული ან უსწორმასწორო გზის მონაკვეთზე მოძრაობისას.

QUESTION 943

CORRECT ANSWER: 1

According to the used energy source the agricultural aggregate can be:

1

Thermal, electric, hydraulic, animal-drawn

2

Gasoline, diesel, kerosene, wood spirit

განმარტება:

მოძრაობის საპირისპირო მიმართულებების ზოლზე გადასვლით გასწრების მანევრის შესრულებისას, საავარიო სიტუაციის შექმნის ერთ-ერთ ძირითადი მიზეზია ის გარემოება, რომ მძღოლი საპირისპირო მიმართულებით მოძრავ სატრანსპორტო საშუალების სიჩქარეს აფასებს, როგორცუფრო ნაკლებს ვიდრე სინამდვილეშია.

QUESTION 944

CORRECT ANSWER: 2

While driving on the straight road, at high speed, for long period of time, the vehicle driver shall perceive the speed of the vehicle:

1

Higher than it is actually

2

Lower than it is actually

3

As it is actually

განმარტება:

სწორ გზაზე, ხანგრძლივი დროის განმავლობაში მაღალი სიჩქარით მოძრაობისას სატრანსპორტო საშუალების სიჩქარეს მძღოლი აღიქვამს უფრო ნაკლებად, ვიდრე სინამდვილეშია.

QUESTION 945

CORRECT ANSWER: 2

How the visibility area of the driver is changed by increasing the speed of the vehicle?

1

Visibility area is expanded

2

Visibility area is narrowed

3

Visibility area does not change

განმარტება:

სატრანსპორტო საშუალების სიჩქარის გაზრდისას მძღოლის მხედველობის მხედველობის არე ვიწროვდება.

QUESTION 946

CORRECT ANSWER: 4

Which of the following may cause deterioration of driving skills?

1

Intake of the medicine, that lowers reaction time and attention only

2

Severe fatigue or insomnia only

3

Being under alcohol, drug or psychotropic substance influence only

4

Any of the circumstances listed in given test

განმარტება:

სატრანსპორტო საშუალების მართვის უნარის გაუარესება შეიძლება გამოიწვიოს როგორც იმ სამკურნალო პრეპარატის მიღებამ, რომელიც აქვეითებს რეაქციას და ყურადღებას, ასევე ძლიერმა დაღლილობამ ან უძილობამ და ალკოჰოლურმა, ნარკოტიკულმა ან ფსიქოტროპულმა თრობამ.

QUESTION 947

CORRECT ANSWER: 3

Risk of creation of emergency situation is increased:

- 1 Only in case, if the driver does not maintain proper distance or side interval with other vehicles
- 2 Only in case, if the driver starts maneuvering without making sure in its safety
- 3 In any case listed in given test

განმარტება:

საავარიო სიტუაციის წარმოქმნის საფრთხე იზრდება იმ შემთხვევაში, თუ მძღოლი სათანადოდ არ იცავს დისტანციას ან გვერდით ინტერვალს სხვა სატრანსპორტო საშუალებების მიმართ, ასევე თუ მძღოლი მანევრს იწყებს ისე, რომ არ რწმუნდება მის უსაფრთხოებაში.

QUESTION 948

CORRECT ANSWER: 1

Which of the circumstances given below indicates the engine supply system malfunctions or abrupt increase of fuel consumption due to incorrect regulation of the engine?

- 1 Strong black smoke from silencer
- 2 Condensed liquid leaking from silencer
- 3 Any of the circumstances listed in given test

განმარტება:

ჩამოთვლილი გარემოებიდან, ძრავის კვების სისტემის გაუმართაობაზე ან ძრავის არასწორი რეგულირების შედეგად საწვავის ხარჯის მკვეთრ მომატებაზე მიანიშნებს მაყუჩიდან გამონაბოლქვი მძლავრი მუქი კვამლი.

QUESTION 949

CORRECT ANSWER: 2

How the driver of the rear-driving wheel vehicle has to act, in order to avoid side slipping of rear bridge during motion on the frozen road?

- 1 Always use the parking brake for reduction of speed
- 2 Avoid abrupt releasing of pedal of clutch plate and abrupt pedalling of accelerator
- 3 Each of the above-mentioned actions is true

განმარტება:

უკანა წამყვანღერძიანი ავტომობილის მძღოლი, რათა აიცილოს მოყინულ გზაზე მოძრაობისას უკანა ხიდის გვერდულად მოცურება უნდა მოერიდოს გადაბმულობის ქუროს სატერფულის მკვეთრ აშვებას და აქსელერატორის სატერფულის მკვეთრ დაჭერას.

QUESTION 950

CORRECT ANSWER: 3

What is the function of the safety belt during the accident?

- 1 Prevents movement of the driver and passengers under inertia only, as well as their collision with the interior details of the vehicle and other passengers
- 2 Keeps the driver and passengers on the position only, providing safe opening of airbags
- 3 Fulfills all the above-mentioned functions

განმარტება:

საგზაო-სატრანსპორტო შემთხვევის დროს უსაფრთხოების ღვედი როგორც აღკვეთს მძღოლისა და მგზავრების ინერციით გადაადგილებას, შესაბამისად მათ შეჯახებას სატრანსპორტო საშუალების ინტერიერის დეტალებზე და სხვა მგზავრებთან, ასევე მძღოლსა და მგზავრებს აკავებს პოზიციაში, რომელიც უზრუნველყოფს აირბაგების (დამცავი ბალიშების) უსაფრთხოდ გახსნას.

QUESTION 951

CORRECT ANSWER: 3

How should the driver act, if such failure is discovered on the connection device of the towing vehicle and semi-trailer, which may lead to their separation?

- 1 Put extra pins immediately and drive the car to the service station or car parking area at a minimum speed
- 2 Fix the emergency sign to the rear of the semi-trailer and take the car to the service station

- 3 Stop driving

განმარტება:

„საგზაო მოძრაობის შესახებ“ საქართველოს კანონის 21-ე მუხლის მე-13 პუნქტის თანახმად, მძღოლს ევრძალება მოძრაობა მუშა სამუხრუჭო სისტემის, სატის მექანიზმის, სატრანსპორტო საშუალებათა შემადგენლობაში მისაბმელი მოწყობილობის გაუმართაობისას.

QUESTION 952

CORRECT ANSWER: 4

Which of the following requirements should be complied with, in case of placement of cargo in the cargo division of the vehicle?

- 1 Only the fact, that the cargo should be placed maximally evenly on the floor surface of the cargo section
- 2 Only the fact, that the cargo should be placed on maximally lower position
- 3 Only the fact, that allowed loads on axes should be taken into account during storage of cargo
- 4 All of the requirements listed in given test are required to be fulfilled

განმარტება:

ავტომობილის სატვირთო განყოფილებაში ტვირთის განთავსებისას ტვირთი უნდა განთავსდეს, მაქსიმალურად თანაბრად სატვირთო განყოფილების იატაკის ზედაპირზე რაც შეიძლება დაბლა, ასევე ტვირთის განთავსებისას მხედველობაში უნდა იქნეს მიღებული ღერძებზე ნებადართული დატვირთვები.

QUESTION 953

CORRECT ANSWER: 1

What are the functions of the receiver in the pneumatic braking system of the vehicle?

1

Provision of compressed air reserve

2

Provision of condensate emission from air

3

Increase of air pressure

4

Increase of braking power

განმარტება:

ავტომობილის პნევმატურ სამუხრუჭე სისტემაში, რესივერი უზრუნველყოფს შეკუმშული ჰაერის რეზერვის შექმნას.

QUESTION 954

CORRECT ANSWER: 3

How should the driver act while braking the vehicle without anti-lock brake system (ABC), in order the vehicle not to lose the steering capacity?

1

Brake with engine only

2

Brake with active brakes, by using additional parking brake

3

Brake by pulsating brake pedalling, besides try not to cause the blocking of the wheels

4

Must try to press the brake pedal abruptly, in order to stop the car quickly in this way

განმარტება:

მუხრუჭების ბლოკირების საწინააღმდეგო სისტემის (ABC) არ მქონე ავტომობილის დამუხრუჭებისას, რათა ავტომობილმა არ დაკარგოს მართვალობა მძღოლმა უნდა დაამუხრუჭოს სამუხრუჭე სატერფულზე პულსირებულად დაჭერით, ამასთან ეცადოს არ გამოიწვიოს თვლების ბლოკირება.

QUESTION 955

CORRECT ANSWER: 3

During dark hours, for reduction of strength of dazzling by the beams of the oncoming vehicle, the driver is recommended:

- 1 To switch the vehicle's cabin lights on
- 2 To carry out abrupt braking and to wear lightly tinted sunglasses
- 3 To apply the gaze to the right side of the driveway

განმარტება:

დღე-ღამის ბნელ დროს საპირისპირო მიმართულებიდან მომავალი სატრანსპორტო საშუალების ფარების შუქით თვალის მოჭრის სიძლიერის შემცირების მიზნით, მძღოლისათვის მიზანშეწონილია შეძლებისდაგვარად მიმართოს მზერა სავალი ნაწილის მარჯვენა ნაპირის მხარეს.

QUESTION 956

CORRECT ANSWER: 2

Is it possible to eliminate or limit the liability of the carrier by the contract?

- 1 Yes
- 2 No

განმარტება:

საქართველოს სამოქალაქო კოდექსის 669-ე მუხლის მე-3 პუნქტის თანახმად, გადამზიდველის პასუხისმგებლობა არ შეიძლება გამოირიცხოს ან შეიზღუდოს ხელშეკრულებით.

QUESTION 957

CORRECT ANSWER: 1

Is a person, offering transportation of cargo and conveyance of passengers publicly, obliged to enter into a conveyance-transportation contract?

1

Yes, if there are no grounds for refusal

2

The legislation does not stipulate such obligation

განმარტება:

საქართველოს სამოქალაქო კოდექსის 670-ე მუხლის თანახმად, პირი, რომელიც საჯაროდ სთავაზობს ტვირთის გადაზიდვასა და მგზავრთა გადაყვანას, ვალდებულია დადოს გადაყვანა-გადაზიდვის ხელშეკრულება, თუ არ არსებობს უარის თქმის საფუძველი.

QUESTION 958

CORRECT ANSWER: 2

A consignment note for transportation of goods shall be made:

1

In two counterparts and signed by the carrier and the consignee, and the first counterpart remains with the carrier, and the second one shall be delivered to the consignee together with delivery of the goods

2

In three counterparts and signed by the consignor and the carrier, and the first counterpart shall remain with the consignor, the second shall be attached to the cargo and the third shall be reserved by the carrier

განმარტება:

საქართველოს სამოქალაქო კოდექსის 673-ე მუხლის პირველი პუნქტის თანახმად, ტვირთის გადაზიდვისათვის ბედნადები დგება სამ ცალად, რომელთაც ხელს აწერენ გამგზავნი და გადამზიდველი. პირველი პირი რჩება გამგზავნს, მეორე თან ერთვის ტვირთს, მესამეს კი იტოვებს გადამზიდველი.

QUESTION 959

CORRECT ANSWER: 1

Does the cargo carrier have the right to request for execution of the consignment note in quantity appropriate to transport or cargo varieties?

1 Yes, if the cargo to be transported is distributed between several vehicles, or different types of cargo or the cargo divided into separate lots are referred

2 No, as only two counterparts of the consignment notes are allowed under the law

3 Yes, in case if the timeframe of transportation of the cargo stipulated by the contract exceeds 60 calendar days

განმარტება:

საქართველოს სამოქალაქო კოდექსის 673-ე მუხლის მე-2 პუნქტის თანახმად, თუ გადასაზიდი ტვირთი ნაწილდება რამდენიმე ტრანსპორტზე, ან საქმე ეხება სხვადასხვა სახის ანდა ცალკეულ პარტიებად დაყოფილ ტვირთს, როგორც გამგზავნს, ასევე გადამზიდველს შეუძლიათ მოითხოვონ იმდენი ზედნადების შედგენა, რამდენი ტრანსპორტიც ან ტვირთის სახეობაა.

QUESTION 960

CORRECT ANSWER: 4

Which of the details listed below is not included in the consignment note compiled for transportation of cargo?

1 and place of delivery of the cargo, as well as the place of shipment of the cargo

2 Ordinary name of the cargo type and types of packaging, in case of hazardous goods, their internationally recognized designation

3 Cargo weight or amount marked otherwise

4 All of the data is required to be included in the consignment note

განმარტება:

საქართველოს სამოქალაქო კოდექსის 674-ე მუხლის პირველი პუნქტის „დ“, „ვ“ და „თ“ ქვეპუნქტების თანახმად, ზედნადები უნდა შეიცავდეს შემდეგ მონაცემებს: - დ. ტვირთის გადაცემის დღესა და ადგილს, ასევე ტვირთის მიტანის ადგილს; - ვ. ტვირთის სახეობის ჩვეულებრივ სახელწოდებასა და შეფუთვის სახეს, საფრთხეშემცველი ტვირთების დროს, მათ საყოველთაოდ აღიარებულ აღნიშვნას; - თ. ტვირთის წონას ან სხვაგვარად აღნიშნულ რაოდენობას.

QUESTION 961

CORRECT ANSWER: 4

Which of the details listed below is not included in the consignment note compiled for transportation of cargo?

- | | |
|---|---|
| 1 The date and place of its issue | 2 Quantity, signs and numbers of cargo subjected to shipment |
| 3 Transportation costs (the cost of shipping, additional charges, import duties and other costs incurred from the moment of entry into the agreement until its delivery) | 4 All of the data is required to be included in the consignment note |

განმარტება:

საქართველოს სამოქალაქო კოდექსის 674-ე მუხლის პირველი პუნქტის „ა“, „ბ“ და „ი“ ქვეპუნქტების თანახმად, ზედნადები უნდა შეიცავდეს შემდეგ მონაცემებს: - ა. გაცემის დღესა და ადგილს; - ბ. გადასაზიდი ტვირთების რაოდენობას, ნიშნებსა და ნომრებს; - ი. გადაზიდვასთან დაკავშირებულ ხარჯებს (გადაზიდვის ფასს, დამატებით ხარჯებს, იმპორტის გადასახადებს და სხვა ხარჯებს, რომლებიც წარმოიშობა ხელშეკრულების დადებიდან ტვირთის მიტანამდე).

QUESTION 962

CORRECT ANSWER: 4

Which of the additional details listed below shall not be included in the consignment note compiled for transportation of cargo?

- | | |
|---|---|
| 1 Prohibition of re-loading on other vehicle | 2 The costs, assumed by the consignor |
| 3 Amount of surplus charges payable at the time of consignment | 4 In case of necessity, any data listed in given test is required to be included in the consignment note |

განმარტება:

საქართველოს სამოქალაქო კოდექსის 674-ე მუხლის მე-2 პუნქტის „ა“, „ბ“ და „გ“ ქვეპუნქტების თანახმად, საჭიროებისას ზედნადები უნდა შეიცავდეს დამატებით მონაცემებს: - ა. სხვა ტრანსპორტზე გადატვირთვის აკრძალვას; - ბ. ხარჯებს, რომლებსაც გამგზავნი თავის თავზე იღებს; - გ. ტვირთის გაგზავნის დროს გადასახდელი ფასდანიშნის ოდენობას.

QUESTION 963

CORRECT ANSWER: 4

Which of the additional details listed below shall not be included in the consignment note compiled for transportation of cargo?

1 Value of the cargo and special interest in its delivery

2 Instructions of the consignor towards the carrier regarding insurance of the cargo

3 The list of the documents handled to the carrier

4 In case of necessity, any data listed in given test is required to be included in the consignment note

განმარტება:

საქართველოს სამოქალაქო კოდექსის 674-ე მუხლის მე-2 პუნქტის „ა“, „ბ“ და „გ“ ქვეპუნქტების თანახმად, სატვირთოებისას ზედნაღები უნდა შეიცავდეს დამატებით მონაცემებს: - დ. ტვირთის ღირებულებას და მიწოდებისადმი განსაკუთრებული ინტერესის აღნიშვნას; - ე. გამგზავნის მითითებებს გადამზიდველის მიმართ ტვირთის დაზღვევის შესახებ; - ზ. გადამზიდველისათვის გადაცემული საბუთების ჩამონათვალი.

QUESTION 964

CORRECT ANSWER: 1

Does the consignor have the right to require for examination of the cargo weight or the amount provided otherwise from the carrier?

1 Yes

2 No

3 Yes, but only in case if this is stipulated by the consignment agreement

განმარტება:

საქართველოს სამოქალაქო კოდექსის 676-ე მუხლის მე-3 პუნქტის თანახმად, გამგზავნს შეუძლია გადამზიდველს მოსთხოვოს, რომ გადამზიდველმა გადაამოწმოს ტვირთის წონა ან მისი სხვაგვარად მოცემული რაოდენობა. მას შეუძლია ასევე მოითხოვოს, რომ გადამზიდველმა შეამოწმოს გადასაზიდი ტვირთის შემცველობა. გადამზიდველს უფლება აქვს მოითხოვოს ამ შემოწმებასთან დაკავშირებული ხარჯების ანაზღაურება. გადამოწმების შედეგები უნდა აღინიშნოს ზედნაღებში.

QUESTION 965

CORRECT ANSWER: 2

Does the consignor have the right to require for verification of composition of the cargo to be transported from the carrier?

1 Yes

2 No

3 Yes, but only in case if this is stipulated by the consignment agreement

განმარტება:

საქართველოს სამოქალაქო კოდექსის 676-ე მუხლის მე-3 პუნქტის თანახმად, გამგზავნს შეუძლია გადამზიდველს მოსთხოვოს, რომ გადამზიდველმა გადაამოწმოს ტვირთის წონა ან მისი სხვაგვარად მოცემული რაოდენობა. მას შეუძლია ასევე მოითხოვოს, რომ გადამზიდველმა შეამოწმოს გადასაზიდი ტვირთის შემცველობა. გადამზიდველს უფლება აქვს მოითხოვოს ამ შემოწმებასთან დაკავშირებული ხარჯების ანაზღაურება. გადამოწმების შედეგები უნდა აღინიშნოს ზედნადებში.

QUESTION 966

CORRECT ANSWER: 1

In case, if the consignor requestes for verification of content, weight or the amount of the cargo provided otherwise from the carrier:

1 The results of the verification must be provided in the consignment note

2 So-called "Revision Deed" must be made after such verification

3 Verification results must be immediately reported to the nearest tax authority

4 All of the requirements listed in given test are required to be fulfilled

განმარტება:

საქართველოს სამოქალაქო კოდექსის 676-ე მუხლის მე-3 პუნქტის თანახმად, გამგზავნს შეუძლია გადამზიდველს მოსთხოვოს, რომ გადამზიდველმა გადაამოწმოს ტვირთის წონა ან მისი სხვაგვარად მოცემული რაოდენობა. მას შეუძლია ასევე მოითხოვოს, რომ გადამზიდველმა შეამოწმოს გადასაზიდი ტვირთის შემცველობა. გადამზიდველს უფლება აქვს მოითხოვოს ამ შემოწმებასთან დაკავშირებული ხარჯების ანაზღაურება. გადამოწმების შედეგები უნდა აღინიშნოს ზედნადებში.

QUESTION 967

CORRECT ANSWER: 3

Upon receipt of the cargo, the carrier shall be obliged to check:

- | | | | |
|---|--|---|--|
| 1 | Unit amount of the cargo, accuracy of the data provided in the consignment note regarding their marks and numbers only | 2 | Appearance of the cargo and its packaging only |
| 3 | All of the above-mentioned data and circumstances | 4 | None of the given answers in the test is true |

განმარტება:

საქართველოს სამოქალაქო კოდექსის 676-ე მუხლის პირველი პუნქტის „ა“ და „ბ“ ქვეპუნქტების თანახმად, გადამზიდველი ვალდებულია ტვირთის მიღებისას შეამოწმოს: - ა. ტვირთის ცალობრივი რაოდენობა, მათი ნიშნებისა და ნომრების შესახებ ზედნადებში აღნიშნულ მონაცემთა სისწორე; - ბ. ტვირთისა და მისი შეფუთვის გარეგნული მდგომარეობა.

QUESTION 968

CORRECT ANSWER: 1

If the shipment conditions are not specified in the consignment note, it shall be presumed until contrary is proved, that:

- | | | | |
|---|--|---|--|
| 1 | The cargo and its packaging was in apparently good state and unit amount of the cargo, its marks and numbers matched with the data recorded on the consignment note upon its acceptance by the carrier | 2 | The carrier had not received the cargo |
| 3 | The carrier received neither consignment note nor cargo | | |

განმარტება:

საქართველოს სამოქალაქო კოდექსის 677-ე მუხლის მე-2 პუნქტის თანახმად, თუ ზედნადებში არ არის აღნიშნული გადაზიდვის პირობები, საპირისპიროს დამტკიცებამდე ივარაუდება, რომ გადამზიდველის მიერ ტვირთის მიღებისას ტვირთი და მისი შეფუთვა გარეგნულად კარგ მდგომარეობაში იყო და რომ ტვირთის ცალობრივი რაოდენობა, მისი აღნიშვნები და ნომრები ემთხვევა ზედნადებში ჩაწერილ მონაცემებს.

QUESTION 969

CORRECT ANSWER: 2

During shipment of the cargo, liability for lossing of the documents stipulated by the consignment note and attached to it or handled to the carrier or their inaccurate use shall be imposed to:

1

Consignor

2

Carrier

3

Consignee

განმარტება:

საქართველოს სამოქალაქო კოდექსის 679-ე მუხლის მე-3 პუნქტის თანახმად, გადამზიდველი პასუხს აგებს ზედნადებში აღნიშნული და მასზე დართული ან გადამზიდველისათვის გადაცემული საბუთების დაკარგვის ან მათი არასწორი გამოყენებისათვის; მას არ შეიძლება იმაზე მეტი პასუხისმგებლობა დაეკისროს, ვიდრე ტვირთის დაკარგვის დროს დადგებოდა.

QUESTION 970

CORRECT ANSWER: 1

In case of lossing or inaccurate use of the documents stipulated by the consignment note and attached to it or handled to the carrier:

1

More liability may not be imposed to the carrier, than it would be in case of lossing the cargo

2

More liability may be imposed to the carrier, than it would be in case of lossing the cargo

განმარტება:

საქართველოს სამოქალაქო კოდექსის 679-ე მუხლის მე-3 პუნქტის თანახმად, გადამზიდველი პასუხს აგებს ზედნადებში აღნიშნული და მასზე დართული ან გადამზიდველისათვის გადაცემული საბუთების დაკარგვის ან მათი არასწორი გამოყენებისათვის; მას არ შეიძლება იმაზე მეტი პასუხისმგებლობა დაეკისროს, ვიდრე ტვირთის დაკარგვის დროს დადგებოდა.

QUESTION 971

CORRECT ANSWER: 2

The carrier shall be exempted from liability for loss, damage or delay in delivery of the cargo only if:

1 The consignment agreement does not stipulate liability of the carrier for loss, damage or delay in delivery of cargo

2 This happened by fault of the authorized person and/or based on such instruction of the same person, for which the carrier did not bear liability

3 This happened due to the defect of the vehicle used for transportation or by fault of the leaser of the vehicle or the service staff of such leaser

განმარტება:

საქართველოს სამოქალაქო კოდექსის 686-ე მუხლის მე-2 პუნქტის თანახმად, გადამზიდველი თავისუფლდება პასუხისმგებლობისაგან, თუ ტვირთის დაკარგვა, დაზიანება ან მიტანის ვადის გადაცილება უფლებამოსილი პირის ბრალით ანდა ამავე პირის ისეთი მითითებით მოხდა, რომელზედაც გადამზიდველი პასუხს არ აგებს; აგრეთვე, თუ ტვირთის ნაკლი ისეთი გარემოებებითაა გამოწვეული, რომელთა თავიდან აცილებაც გადამზიდველს არ შეეძლო და არც მათი შედეგები შეიძლებოდა თავიდან აეცილებინა.

QUESTION 972

CORRECT ANSWER: 2

In which case the consignor does not bear liability towards the carrier for the damage caused by low-quality packaging, which will be imposed to individuals, materials and other property?

1

In case, if this obligation is not stipulated by the consignment agreement

2

In case, if the defect was apparent or known to the carrier, and had not made any arrangement regarding it

3

If there is the special designation in the consignment note, under which liability shall not be imposed to the consignor

განმარტება:

საქართველოს სამოქალაქო კოდექსის 678-ე მუხლის მე-2 პუნქტის თანახმად, გამგზავნი პასუხს აგებს გადაზიდვების წინაშე ტვირთის უხარისხო შეფუთვით გამოწვეული ზიანისათვის, რომელიც მიადგა პირებს, მასალებსა და სხვა ქონებას, ასევე უხარისხო შეფუთვით გამოწვეული ხარჯებისათვის, გარდა იმ შემთხვევებისა, როცა ნაკლი აშკარა იყო, ან ტვირთის მიღებისას გადაზიდველმა ამის შესახებ იცოდა და ამასთან დაკავშირებით რაიმე პირობა არ დაუთქვამს.

QUESTION 973

CORRECT ANSWER: 1

For all those expenses and damages, caused due to inaccurate or inadequate submission of the data in the consignment note about the date and place of sending the cargo, as well as about the place of delivery of the cargo, liability shall be imposed to:

1

Consignor

2

Carrier

3

Consignee

განმარტება:

საქართველოს სამოქალაქო კოდექსის 675-ე მუხლის პირველი ნაწილის „ა“ ქვეპუნქტის თანახმად გამგზავნი პასუხს აგებს ყველა იმ ხარჯისა და ზიანისათვის, რომლებიც დადგა იმის გამო, რომ არასწორად ან არასრულყოფილად იქნა წარმოდგენილი 674-ე მუხლის პირველი ნაწილის „ბ“, „დ“, „ე“, „ვ“, „ზ“, „თ“ და „კ“ ქვეპუნქტებში აღნიშნული მონაცემები. ხოლო ამავე კოდექსის 674-ე მუხლის პირველი ნაწილის „დ“ ქვეპუნქტის თანახმად ზედნადები უნდა შეიცავდეს მონაცემებს ტვირთის გადაცემის დღისა და ადგილის, ასევე ტვირთის მიტანის ადგილის შესახებ.

QUESTION 974

CORRECT ANSWER: 2

Which of the following assumptions is correct? The consignor shall be liable for all costs and damages, caused due to inaccurate or inadequate submission of the data in the consignment note:

1

About the costs regarding transportation (shipping price, additional costs, import duties and other costs incurred from the moment of execution of the agreement until the moment of delivery of the cargo)

2

About usual name of the type of cargo and packaging, as well as in case of dangerous goods, about their generally accepted markings

განმარტება:

საქართველოს სამოქალაქო კოდექსის 675-ე მუხლის პირველი ნაწილის „ა“ ქვეპუნქტის თანახმად გამგზავნი პასუხს აგებს ყველა იმ ხარჯისა და ზიანისათვის, რომლებიც დადგა იმის გამო, რომ არასწორად ან არასრულყოფილად იქნა წარმოდგენილი 674-ე მუხლის პირველი ნაწილის „ბ“, „დ“, „ე“, „ვ“, „ზ“, „თ“ და „კ“ ქვეპუნქტებში აღნიშნული მონაცემები. ხოლო ამავე კოდექსის 674-ე მუხლის პირველი ნაწილის „ვ“ ქვეპუნქტის თანახმად ზედნადები უნდა შეიცავდეს მონაცემებს ტვირთის სახეობის ჩვეულებრივ სახელწოდებასა და შეფუთვის სახის, საფრთხეშემცველი ტვირთების დროს, მათ საყოველთაოდ აღიარებულ აღნიშვნის შესახებ.

QUESTION 975

CORRECT ANSWER: 3

If the consignment agreement stipulates the specific timeframe for delivery of the cargo, following shall be considered as delay in delivery of such cargo:

1

Failure of delivery of the cargo at least 30 calendar days after expiration of the agreed timeframe

2

Failure of delivery of the cargo is at least 15 business days after expiration of the agreed timeframe

3

Failure of delivery of the Cargo within the agreed timeframe

განმარტება:

საქართველოს სამოქალაქო კოდექსის 688-ე მუხლის თანახმად ტვირთის მიტანის ვადის გადაცილებად ითვლება, როცა ტვირთი არ არის მიტანილი შეთანხმებულ ვადაში, ან, თუ ვადა არ იყო დათქმული, - გადასაზიდად საჭირო ჩვეულებრივ დროში - იმ გარემოებათა გათვალისწინებით, რომლებიც დაკავშირებულია ნაწილ-ნაწილ დატვირთვისას ამ ნაწილების შესაკრებად აუცილებელი დროის განსაზღვრასთან, თუ დარღვეულია ვადა, რომელიც წინდახედულ გადამზიდველს უნდა დაეცვა ჩვეულებრივ შემთხვევებში.

QUESTION 976

CORRECT ANSWER: 1

If the consignment agreement does not stipulate the specific timeframe for delivery of the cargo, following shall be considered as delay in delivery of the cargo:

1

The cargo is not delivered within the usual time needed for transportation - taking those circumstances into account, which are related to partial loading, definition of time required for collection of these parts, if the timeframe is breached, which should be complied with by the prudent carrier in usual cases

2

The cargo is not delivered within the period of one calendar month after its sending

განმარტება:

საქართველოს სამოქალაქო კოდექსის 688-ე მუხლის თანახმად ტვირთის მიტანის ვადის გადაცილებად ითვლება, როცა ტვირთი არ არის მიტანილი შეთანხმებულ ვადაში, ან, თუ ვადა არ იყო დათქმული, - გადასაზიდად საჭირო ჩვეულებრივ დროში - იმ გარემოებათა გათვალისწინებით, რომლებიც დაკავშირებულია ნაწილ-ნაწილ დატვირთვისას ამ ნაწილების შესაკრებად აუცილებელი დროის განსაზღვრასთან, თუ დარღვეულია ვადა, რომელიც წინდახედულ გადამზიდველს უნდა დაეცვა ჩვეულებრივ შემთხვევებში.

QUESTION 977

CORRECT ANSWER: 3

If the consignment agreement defines the specific timeframe for delivery of the cargo, the authorized person may consider the cargo as lost even without submission of additional evidences, if:

- 1 The cargo is not delivered to the place of destination within 10 days after expiry of the agreed timeframe
- 2 The cargo is not delivered to the place of destination within 20 days after expiry of the agreed timeframe
- 3 The cargo is not delivered to the place of destination within 30 days after expiry of the agreed timeframe

განმარტება:

საქართველოს სამოქალაქო კოდექსის 688-ე მუხლის პირველი ნაწილის თანახმად უფლებამოსილ პირს შეუძლია დამატებით მტკიცებულებათა წარმოდგენის გარეშეც ტვირთი ჩათვალოს დაკარგულად, თუ ტვირთი გადაზიდვის შეთანხმებული ვადის გასვლიდან ოცდაათი დღის ვადაში არ იქნება მიტანილი დანიშნულების ადგილზე ან, თუ ასეთი ვადა არ ყოფილა დათქმული, - გადამზიდველის მიერ ტვირთის მიღებიდან სამოცი დღის შემდეგ.

QUESTION 978

CORRECT ANSWER: 2

If the consignment agreement does not stipulate the specific timeframe for delivery of cargo, the authorized person may consider the cargo as lost even without submission of additional evidences, if:

- 1 No more than 50 days after receipt of the cargo by the carrier
- 2 In 60 days after receipt of the cargo by the carrier
- 3 In at least one year after receipt of the cargo by the carrier

განმარტება:

საქართველოს სამოქალაქო კოდექსის 688-ე მუხლის პირველი ნაწილის თანახმად უფლებამოსილ პირს შეუძლია დამატებით მტკიცებულებათა წარმოდგენის გარეშეც ტვირთი ჩათვალოს დაკარგულად, თუ ტვირთი გადაზიდვის შეთანხმებული ვადის გასვლიდან ოცდაათი დღის ვადაში არ იქნება მიტანილი დანიშნულების ადგილზე ან, თუ ასეთი ვადა არ ყოფილა დათქმული, - გადამზიდველის მიერ ტვირთის მიღებიდან სამოცი დღის შემდეგ.

QUESTION 979

CORRECT ANSWER: 1

If the consignor sends the dangerous goods, he/she shall be obliged to:

- | | |
|---|--|
| <p>1 Deliver the accurate information to the carrier and warn about such goods, if necessary - to insure the goods</p> | <p>2 Agree the requirements regarding transportation of the goods with the tax authority in advance</p> |
| <p>3 All of the conditions listed in given test are required to be fulfilled</p> | |

განმარტება:

საქართველოს სამოქალაქო კოდექსის 691-ე მუხლის პირველი ნაწილის თანახმად, თუ გამგზავნი გზავნის საფრთხეშემცველ ტვირთს, მაშინ იგი ვალდებულია გადამზიდველს მიანოდოს ზუსტი ინფორმაცია და გააფრთხილოს ამ ტვირთის შესახებ, საჭიროების შემთხვევაში კი - დააზღვიოს ეს ტვირთი. თუ ეს ვალდებულება არ არის შეტანილი ზედნაღებში, მაშინ გამგზავნსა და მიმღებს ევალეუბათ სხვა საშუალებებით დაამტკიცონ, რომ გადამზიდველმა ზუსტად იცოდა ტვირთის სახეობა და მოსალოდნელი საფრთხე.

QUESTION 980

CORRECT ANSWER: 1

The carrier may at any time and in any place unload, destroy or dispose of the cargo without liability for compensation of damages, if:

- | | |
|---|---|
| <p>1 The cargo is dangerous, about which he/she was not aware due to failure of delivery of information by the consignor</p> | <p>2 There is a reasonable doubt, that the consignor is not going to ensure the timely payment of the shipment costs</p> |
|---|---|

განმარტება:

საქართველოს სამოქალაქო კოდექსის 691-ე მუხლის მე-2 ნაწილის თანახმად, საფრთხეშემცველი ტვირთი, რომლის საფრთხის შესახებაც გამგზავნის მიერ ინფორმაციის მიუწოდებლობის გამო გადამზიდველმა არაფერი იცოდა, გადამზიდველს შეუძლია ნებისმიერ დროსა და ნებისმიერ ადგილას გადმოცალოს, მოსპოს ან გააუვნებელყოს იგი ზიანის ანაზღაურების ვალდებულების გარეშე; გამგზავნი ასევე აგებს პასუხს ამ ტვირთის გადასაზიდად გადაცემით ან გადაზიდვებით გამოწვეული ზიანისა და ხარჯებისათვის.

QUESTION 981

CORRECT ANSWER: 3

If the carrier is liable to pay damages for loss of the cargo in whole or in part, then compensation of the damage shall be calculated:

1 According to the applicable cargo price on the place and by the time of delivery of the cargo to the consignee

2 According to the maximum price of cargo of similar type, fixed within the period from commencement of shipping until its completion

3 According to the price of the cargo applicable at the place and by the time of delivery of the cargo

განმარტება:

საქართველოს სამოქალაქო კოდექსის 692-ე მუხლის პირველი ნაწილის თანახმად, თუ გადამზიდველი ვალდებულია ტვირტის მთლიანად ან ნაწილობრივ დაკარგვისათვის ანაზღაუროს ზიანი, მაშინ ზიანის ანაზღაურება გამოითვლება ტვირტის გადაცემის ადგილსა და დროს მოქმედი ტვირტის ფასის მიხედვით.

QUESTION 982

CORRECT ANSWER: 1

If the consignee accepts the cargo so, that he/she does not check its condition with the carrier and does not submit the general claims for losses and damages to the carrier, then it shall be presumed until the contrary is proved, that:

1 The consignee accepted the cargo in the state stipulated by the consignment note

2 The consignee accepted the cargo without definition of its state

3 The consignee did not accept the cargo

განმარტება:

საქართველოს სამოქალაქო კოდექსის 698-ე მუხლის პირველი ნაწილის თანახმად, თუ მიმღები მიიღებს ტვირტს ისე, რომ მის მდგომარეობას არ ამოწმებს გადამზიდველთან ერთად და არ უყენებს გადამზიდველს ზოგადი ხასიათის პრეტენზიას დანაკარგებისა და დაზიანების შესახებ, მაშინ საპირისპიროს დამტკიცებამდე ივარაუდება, რომ მიმღებმა ტვირტი ჩაიბარა ზედნადებში მითითებულ მდგომარეობაში.

QUESTION 983

CORRECT ANSWER: 2

In case of loss, damage or delay in delivery of the cargo, the limitation period of the rights caused by the shipment shall start:

1

From the date of announcement of claim by the consignee

2

From the date of sending the cargo

3

From the date of loss or damage of the cargo, and in case of delay – from the date defined for handling of the cargo

ბანმარტება:

საქართველოს სამოქალაქო კოდექსის 699-ე მუხლის „ა“ ქვეპუნქტის თანახმად, ამ თავში მოწესრიგებული გადაზიდვებიდან გამომდინარე უფლებების ხანდაზმულობის ვადა არის ერთი წელი. განზრახვის ან უხეში გაუფრთხილებლობისას ეს ვადა შეადგენს სამ წელს. ხანდაზმულობის ვადის დენა იწყება ტვირთის ნაწილობრივ დაკარგვის, დაზიანების ან ჩაბარების ვადის გადაცილებისას - მისი გამოგზავნის დღიდან.

QUESTION 984

CORRECT ANSWER: 3

In case of intent or gross negligence, the limitation period of the rights caused by the shipping shall be:

1

One year

2

Two years

3

Three years

4

Five years

ბანმარტება:

საქართველოს სამოქალაქო კოდექსის 699-ე მუხლის თანახმად, ამ თავში მოწესრიგებული გადაზიდვებიდან გამომდინარე უფლებების ხანდაზმულობის ვადა არის ერთი წელი. განზრახვის ან უხეში გაუფრთხილებლობისას ეს ვადა შეადგენს სამ წელს.

QUESTION 985

CORRECT ANSWER: 1

In case of complete loss of the cargo, the limitation period of the rights caused by the shipping shall start:

1 From thirtieth day after expiry of the agreed term regarding shipment or, if no such period has been specified, - the sixtieth day following to receipt of the cargo by the carrier

2 Sixtieth day after expiry of the agreed term for shipment or, if no such period has been specified, - in one year after receipt of the cargo by the carrier

3 Ninetieth day after receipt of the cargo by the carrier

განმარტება:

საქართველოს სამოქალაქო კოდექსის 699-ე მუხლის „ბ“ ქვეპუნქტის თანახმად, ამ თავში მოწესრიგებული გადაზიდვებიდან გამომდინარე უფლებების ხანდაზმულობის ვადა არის ერთი წელი. განზრახვის ან უხეში გაუფრთხილებლობისას ეს ვადა შეადგენს სამ წელს. ხანდაზმულობის ვადის დენა იწყება ტვირთის მთლიანად დაკარგვისას - გადაზიდვის შეთანხმებული ვადის გასვლის ოცდამეათე დღიდან ან, თუ ასეთი ვადა არ ყოფილა დათქმული, - გადაზიდვების მიერ ტვირთის მიღებიდან მესამოცე დღეს.

QUESTION 986

CORRECT ANSWER: 1

If shipment is carried out within one agreement by varrious carriers following each other, each of them shall bear liability for:

1 Fulfillment of entire shipment

2 Partially, only for the shipments carried out by him/her

განმარტება:

საქართველოს სამოქალაქო კოდექსის 701-ე მუხლის თანახმად, თუ გადაზიდვა ერთი ხელშეკრულებით ხორციელდება ერთმანეთის მიმდევარი სხვადასხვა გადაზიდველების მიერ, თითოეული მათგანი პასუხს აგებს მთლიანი გადაზიდვის განხორციელებისათვის.

QUESTION 987

CORRECT ANSWER: 1

Is the carrier, who receives the cargo from previous carrier, obliged to deliver the document stipulating the timeframe and certifying acceptance of the cargo and signed by him/her?

1

Yes

2

No

განმარტება:

საქართველოს სამოქალაქო კოდექსის 702-ე მუხლის პირველი ნაწილის თანახმად, გადამზიდველი, რომელიც წინა გადამზიდველისაგან იღებს ტვირთს, ვალდებულია გადასცეს ტვირთის მიღების დამადასტურებელი ვადამითითებული და მის მიერ ხელმოწერილი საბუთი. ზედნადების მეორე პირზე მან უნდა მიუთითოს თავისი სახელი და მისამართი. საჭიროების შემთხვევაში ზედნადების მეორე პირში გადამზიდველს შეაქვს 676-ე მუხლის მე-2 ნაწილით გათვალისწინებული პირობები და ტვირთის მიღების დადასტურება.

QUESTION 988

CORRECT ANSWER: 1

Is an agreement void, under which the carrier compromises the requirements arising from insurance of the cargo?

1

Yes

2

No

განმარტება:

საქართველოს სამოქალაქო კოდექსის 708-ე მუხლის მე-2 ნაწილის თანახმად, ბათილია ყოველი შეთანხმება, რომლითაც გადამზიდველი ტვირთის დაზღვევიდან წარმოშობილ მოთხოვნებს თმობს, და ყოველი სხვა მსგავსი შეთანხმება, რომლითაც მტკიცების ტვირთი სხვა პირზე იქნება გადატანილი.

QUESTION 989

CORRECT ANSWER: 2

What is considered in reaction time of the driver?

- 1 Time from threat detection until stopping of the vehicle
- 2 Time from threat detection until fulfillment of the measures necessary for its prevention
- 3 Time required for changing the acceleration pedal with the brake pedal

განმარტება:

მძღოლის რეაქციის დროში იგულისხმება - დრო საფრთხის აღმოჩენიდან მისი თავიდან აცილებისათვის საჭირო ზომების მიღებამდე.

QUESTION 990

CORRECT ANSWER: 1

During driving the vehicle in fog, we perceive the distance to the items:

- 1 Longer than in reality
- 2 Shorter than in reality
- 3 As it is in reality

განმარტება:

ნისლიან ამინდში სატრანსპორტო საშუალებით მოძრაობისას მანძილს საგნებამდე აღვიქვამთ უფრო მეტად, ვიდრე რეალურადაა.

QUESTION 991

CORRECT ANSWER: 3

Metal sound and characteristic squeak during vehicle braking is the sign of:

1

Air leakage from pneumatic braking system

2

Improper regulation of brakes

3

Deterioration of braking pads

4

Elevated condense level in the pneumatic braking system

განმარტება:

ავტომობილის დამუხრუჭებისას გამოცემული ლითონის ხმა და დამახასიათებელი ჭრიალი მიუთითებს სამუხრუჭო ხუნდების გაცვეთაზე.

თემა 31:

ადმინისტრაციული კანონი

QUESTION 992

CORRECT ANSWER: 1

If a cow, left on the road unattended or in breach of cattle grazing or driving rules, is accidentally injured or dies in a traffic accident:

- | | |
|---|---|
| <div style="border: 1px solid #ccc; padding: 10px; margin-bottom: 10px;"> <div style="background-color: #f08080; color: white; padding: 2px 10px; display: inline-block; font-weight: bold;">1</div> <div style="margin-left: 10px;">The driver is relieved from his/her liability to compensate for damages caused by its death or injury</div> </div> | <div style="border: 1px solid #ccc; padding: 10px;"> <div style="background-color: #f08080; color: white; padding: 2px 10px; display: inline-block; font-weight: bold;">2</div> <div style="margin-left: 10px;">The driver shall bear liability to compensate the damage caused by its death or injury</div> </div> |
|---|---|

განმარტება:

„საგზაო მოძრაობის შესახებ“ საქართველოს კანონის 22-ე მუხლის მე-9 პუნქტის თანახმად, თუ საგზაო-სატრანსპორტო შემთხვევის შედეგად დაიღუპა ან დაშავდა პირუტყვი, რომელიც გზაზე უმეტესწილად ან პირუტყვის ძოვების ან გარეკვის წესების დარღვევით იმყოფებოდა, მძღოლი თავისუფლდება მისი დაღუპვით ან დაშავებით მიყენებული ზიანის ანაზღაურების ვალდებულებისაგან.

QUESTION 993

CORRECT ANSWER: 2

The certificate of road suitability test is issued to the vehicle by:

- | | |
|---|---|
| <div style="border: 1px solid #ccc; padding: 10px; margin-bottom: 10px;"> <div style="background-color: #f08080; color: white; padding: 2px 10px; display: inline-block; font-weight: bold;">1</div> <div style="margin-left: 10px;">Ministry of Internal Affairs of Georgia</div> </div> | <div style="border: 1px solid #ccc; padding: 10px;"> <div style="background-color: #f08080; color: white; padding: 2px 10px; display: inline-block; font-weight: bold;">2</div> <div style="margin-left: 10px;">Testing Centre</div> </div> |
| <div style="border: 1px solid #ccc; padding: 10px;"> <div style="background-color: #f08080; color: white; padding: 2px 10px; display: inline-block; font-weight: bold;">3</div> <div style="margin-left: 10px;">LEPL – Land Transport Agency</div> </div> | |

განმარტება:

„საგზაო მოძრაობის შესახებ“ საქართველოს კანონის მე-11 მუხლის მე-6 პუნქტის თანახმად, ავტოსატრანსპორტო საშუალების გზისთვის ვარგისობაზე ტესტირების გავლის დამადასტურებელ ფირნიშს გასცემს ტესტირების ცენტრი.

QUESTION 994

CORRECT ANSWER: 2

In case of operative-search and investigation actions, a vehicle driver is obliged to submit following to the official of the Ministry of Internal Affairs upon request:

1

Medical certificate on health

2

ID document only

3

Registration certificate of the vehicle

განმარტება:

„საგზაო მოძრაობის შესახებ“ საქართველოს კანონის მე-13 მუხლის პირველი პუნქტის „ბ“ ქვეპუნქტისა და მე-2 პუნქტის თანახმად: 1. გზაზე სატრანსპორტო საშუალების მოძრაობის შეზღუდვა ან დროებით შეწყვეტა ხორციელდება: ბ) ცალკეული ოპერატიულ-სამძებრო და საგამოძიებო მოქმედებების ჩასატარებლად; 2. ამ მუხლის პირველი პუნქტის „ბ“ და „გ“ ქვეპუნქტებით გათვალისწინებულ შემთხვევებში სატრანსპორტო საშუალების მძღოლი ვალდებულია მოთხოვნისას საქართველოს შინაგან საქმეთა სამინისტროს უფლებამოსილ პირს შემოწმებისათვის წარუდგინოს მხოლოდ პირადობის დამადასტურებელი დოკუმენტი.

QUESTION 995

CORRECT ANSWER: 1

Is a traffic accident participant driver obliged to make sure in absence of injured or dead people after an accident?

1

Yes

2

Yes, only in case if he/she is a doctor

3

No, if he/she calls the medical emergency service

4

No, if accident has not occurred through his/he fault

განმარტება:

„საგზაო მოძრაობის შესახებ“ საქართველოს კანონის 27-ე მუხლის პირველი პუნქტის „ბ“ ქვეპუნქტის თანახმად, საგზაო-სატრანსპორტო შემთხვევის მონაწილე მძღოლი ვალდებულია: ბ) დარწმუნდეს, რომ საგზაო-სატრანსპორტო შემთხვევის შედეგად არავინ დაშავებულია ან დაღუპულა.

QUESTION 996

CORRECT ANSWER: 3

If there is no urgency to arrive to the medical institution or to take the injured, a traffic accident participant driver is obliged to:

1 Take his/her vehicle to the nearest department of the patrol police and declare about the fact occurred

2 Draw up the accident chart, take evidences from the witnesses and submit these documents to the nearest department of the patrol police

3 Stay on the accident scene and wait for arrival of the official

განმარტება:

„საგზაო მოძრაობის შესახებ“ საქართველოს კანონის 27-ე მუხლის პირველი პუნქტის „გ“ ქვეპუნქტის თანახმად, საგზაო-სატრანსპორტო შემთხვევის მონაწილე მძღოლი ვალდებულია: გ) მომხდარის შესახებ დაუყოვნებლივ აცნობოს საქართველოს შინაგან საქმეთა სამინისტროს სისტემაში შემავალ შესაბამის სამსახურს და, თუ არ არსებობს სამკურნალო დაწესებულებაში მისი მისვლის ან მის მიერ დაშავებულის გადაყვანის გადაუდებელი აუცილებლობა, დარჩეს საგზაო-სატრანსპორტო შემთხვევის ადგილზე და დაელოდოს უფლებამოსილი პირის მისვლას.

QUESTION 997

CORRECT ANSWER: 1

A traffic accident participant driver is obliged to notify immediately:

1 Appropriate service under auspices of the Ministry of Internal Affairs of Georgia

2 Local self-government body

3 Ministry of Labour, Health and Social Affairs of Georgia

განმარტება:

„საგზაო მოძრაობის შესახებ“ საქართველოს კანონის 27-ე მუხლის პირველი პუნქტის „გ“ ქვეპუნქტის თანახმად, საგზაო-სატრანსპორტო შემთხვევის მონაწილე მძღოლი ვალდებულია: გ) მომხდარის შესახებ დაუყოვნებლივ აცნობოს საქართველოს შინაგან საქმეთა სამინისტროს სისტემაში შემავალ შესაბამის სამსახურს და, თუ არ არსებობს სამკურნალო დაწესებულებაში მისი მისვლის ან მის მიერ დაშავებულის გადაყვანის გადაუდებელი აუცილებლობა, დარჩეს საგზაო-სატრანსპორტო შემთხვევის ადგილზე და დაელოდოს უფლებამოსილი პირის მისვლას.

QUESTION 998

CORRECT ANSWER: 2

In which of the below circumstances may the traffic accident participant driver leave the accident scene and not wait for arrival of the appropriate official?

1 If it is obvious that the accident had not occurred through his/her fault

2 If there is no urgency of arrival of the driver or taking the injured to the medical institution

3 If another participant of the traffic accident is concealed from the accident scene

4 In case of any of the circumstances listed in given test

ბანმარტება:

„საგზაო მოძრაობის შესახებ“ საქართველოს კანონის 27-ე მუხლის პირველი პუნქტის „გ“ და „ე“ ქვეპუნქტების თანახმად, საგზაო-სატრანსპორტო შემთხვევაში მონაწილე მძღოლი ვალდებულია: გ) მომხდარის შესახებ დაუყოვნებლივ აცნობოს საქართველოს შინაგან საქმეთა სამინისტროს სისტემაში შემავალ შესაბამის სამსახურს და, თუ არ არსებობს სამკურნალო დაწესებულებაში მისი მისვლის ან მის მიერ დაშავებულის გადაყვანის გადაუდებელი აუცილებლობა, დარჩეს საგზაო-სატრანსპორტო შემთხვევის ადგილზე და დაელოდოს უფლებამოსილი პირის მისვლას; ე) მიიღოს საჭირო ზომები, რათა პირველადი სამედიცინო დახმარება აღმოუჩინოს საგზაო-სატრანსპორტო შემთხვევის შედეგად დაშავებულს, გამოიძახოს სასწრაფო სამედიცინო დახმარება, გადაუდებელი აუცილებლობის შემთხვევაში დაშავებული გაგზავნოს უახლოეს სამკურნალო დაწესებულებაში გზად მიმავალი სხვა სატრანსპორტო საშუალებით, ხოლო თუ ეს შეუძლებელია – თავად წაიყვანოს იგი, გარდა იმ შემთხვევისა, როდესაც არსებობს საფუძვლიანი ეჭვი, რომ გადაყვანამ შეიძლება ზიანი მიაყენოს დაშავებულს.

QUESTION 999

CORRECT ANSWER: 2

May the traffic accident participant drivers draw up the accident chart in advance, through assessment of the circumstances, based on mutual agreement, sign it and appear at the nearest department of the patrol police for execution of this fact?

1 No, as they are obliged to stay on site before arrival of the appropriate official

2 Yes, if nobody is injured during the traffic accident

ბანმარტება:

„საგზაო მოძრაობის შესახებ“ საქართველოს კანონის 27-ე მუხლის მე-2 პუნქტის თანახმად, თუ საგზაო-სატრანსპორტო შემთხვევის შედეგად არავინ დაშავებულა, მძღოლებს, არსებულ გარემოებათა შეფასებით, შეთანხმების საფუძველზე შეუძლიათ წინასწარ შეადგინონ შემთხვევის სქემა, მოაწერონ ხელი და მივიდნენ საპატრულო პოლიციის უახლოეს დანაყოფში ამ ფაქტის გასაფორმებლად.

QUESTION 1000

CORRECT ANSWER: 1

If nobody is injured in traffic accident, after drawing up of the accident chart based on the mutual agreement, the traffic accident participant drivers should:

- | | |
|--|--|
| <p>1 Appear at the nearest department of the patrol police for execution of this fact</p> | <p>2 Agree about the compensation of damage, but going to the patrol police department and creating a special document of a road accident is not required</p> |
|--|--|

განმარტება:

„საგზაო მოძრაობის შესახებ“ საქართველოს კანონის 27-ე მუხლის მე-2 პუნქტის თანახმად, თუ საგზაო-სატრანსპორტო შემთხვევის შედეგად არავინ დაშავებულა, მძღოლებს, არსებულ გარემოებათა შეფასებით, შეთანხმების საფუძველზე შეუძლიათ წინასწარ შეადგინონ შემთხვევის სქემა, მოაწერონ ხელი და მივიდნენ საპატრულო პოლიციის უახლოეს დანაყოფში ამ ფაქტის გასაფორმებლად.

QUESTION 1001

CORRECT ANSWER: 1

If a traffic accident participant driver is obliged to leave the accident scene for urgency of arrival to the medical institution, he/she obliged at the medical institution:

- | | |
|--|--|
| <p>1 To declare his/her identity (to submit ID document and the registration document of the vehicle) and if it is unavailable, to return to the accident scene</p> | <p>2 To declare his/her, injured person's and accident witnesses' identities, to submit the approximate chart of the traffic accident</p> |
|--|--|

განმარტება:

„საგზაო მოძრაობის შესახებ“ საქართველოს კანონის 27-ე მუხლის მე-3 პუნქტის თანახმად, თუ ამ მუხლის პირველი პუნქტის „გ“ და „ე“ ქვეპუნქტებით განსაზღვრული გარემოებების არსებობისას მძღოლი იძულებულია მიატოვოს საგზაო-სატრანსპორტო შემთხვევის ადგილი სამკურნალო დაწესებულებაში მისვლის აუცილებლობის გამო, იგი ვალდებულია სამკურნალო დაწესებულებაში განაცხადოს თავისი ვინაობა (წარადგინოს პირადობის დამადასტურებელი დოკუმენტი და სატრანსპორტო საშუალების სარეგისტრაციო დოკუმენტები) და, თუ ეს შეუძლებელი არ არის, დაბრუნდეს შემთხვევის ადგილზე.

QUESTION 1002

CORRECT ANSWER: 1

Are the non-traffic accident participants allowed to receive first aid, rescue and other assistance from authorized state and local self-government bodies, as well as other officials?

1

Yes

2

No

განმარტება:

„საგზაო მოძრაობის შესახებ“ საქართველოს კანონის მე-20 მუხლის პირველი პუნქტის „ბ.დ“ ქვეპუნქტის თანახმად, საგზაო მოძრაობის მონაწილეს უფლება აქვთ კანონმდებლობით დადგენილი წესით უფლებამოსილი სახელმწიფო და ადგილობრივი თვითმმართველობის ორგანოებისაგან, აგრეთვე სხვა უფლებამოსილი პირებისგან მიიღოს პირველადი სამედიცინო, სამაშველო და სხვა დახმარება საგზაო-სატრანსპორტო შემთხვევის დროს.

QUESTION 1003

CORRECT ANSWER: 1

We have to give following information to a dispatcher for calling medical emergency service for the people injured in an accident:

1

Exact venue of accident scene (street, house number and nearest reference point), number of injured people, their gender, approximate age, presence of vital signs, as well as heavy hemorrhage

2

Only nearest reference point of accident scene, number of injured people, their gender and age

განმარტება:

საგზაო-სატრანსპორტო შემთხვევის შედეგად დაშავებულების სასწრაფო სამედიცინო დახმარების გამოძახებისათვის დისპეჩერს უნდა ვაცნობოთ საგზაო-სატრანსპორტო შემთხვევის ზუსტი ადგილი (ქუჩა, სახლის ნომერი და უახლოესი ორიენტირი), დაშავებულთა რაოდენობა, მათი სქესი, მიახლოებითი წლოვანება, სასიცოცხლო ნიშნების არსებობა, ასევე ძლიერი სისხლდენა.

QUESTION 1004

CORRECT ANSWER: 1

According to the Georgian Code of Administrative Offences, violation of safety rules regarding conveyance of children by a vehicle will result in:

1

Penalty in the amount of 40 GEL

2

Penalty in the amount of 50 GEL

3

Penalty in the amount of 50 GEL or suspension of driving license up to 30 days

განმარტება:

საქართველოს ადმინისტრაციული სამართალდარღვევათა კოდექსის 1271-ე მუხლის 11 ნაწილის თანახმად, სატრანსპორტო საშუალებით ბავშვთა გადაყვანის უსაფრთხოების წესების დარღვევა – გამოიწვევს დაჯარიმებას 40 ლარის ოდენობით.

QUESTION 1005

CORRECT ANSWER: 4

Which of the following measures of disposal of the goods may be applied towards the goods moving on the customs territory of Georgia?

1

Confiscation of goods and/or vehicle of tax violation in the form of tax sanctions only

2

Sale of goods seized for provision of payment of the tax liability or its transfer in the state ownership only

3

Destruction of the goods only

4

It is possible to apply any of the measures for disposal of goods listed in given test

განმარტება:

საქართველოს საგადასახადო კოდექსის 221-ე მუხლის პირველი პუნქტის „ა“, „ბ“ და „გ“ ქვეპუნქტების თანახმად, საქართველოს საბაჟო ტერიტორიაზე გადაადგილებული საქონლის მიმართ შესაძლებელია გამოყენებულ იქნეს საქონლის განკარგვის შემდეგი ღონისძიებები: ა) საგადასახადო სანქციის სახით საგადასახადო სამართალდარღვევის საქონლის ან/და სატრანსპორტო საშუალების უსასყიდლოდ ჩამორთმევა; ბ) საგადასახადო დავალიანების გადახდევინების უზრუნველსაყოფად ყადაღადადებული საქონლის რეალიზაცია ან სახელმწიფო საკუთრებაში გადაცემა; გ) საქონლის განადგურება.

QUESTION 1006

CORRECT ANSWER: 2

If the documents submitted by the applicant to the competent tax authority are made in foreign language and they are unclear for the tax official, does he/she have the right to request for translation of these documents into national language?

1

No

2

Yes

განმარტება:

საქართველოს საგადასახადო კოდექსის 2071 მუხლის მე-3 პუნქტის თანახმად, თუ დეკლარანტის მიერ საგადასახადო ორგანოში წარდგენილი დოკუმენტები შედგენილია უცხოურ ენაზე და გაუგებარია საგადასახადო ორგანოს უფლებამოსილი პირისათვის, მას უფლება აქვს, მოითხოვოს ამ დოკუმენტების თარგმანი სახელმწიფო ენაზე.

QUESTION 1007

CORRECT ANSWER: 1

If inclusion of the goods in commodity transaction requires submission of the customs declaration, the time of creation of tax liability during fulfillment of commodity transaction shall be:

1

The date of registration of customs declaration

2

The date of entry of the goods into the customs territory of Georgia

განმარტება:

საქართველოს საგადასახადო კოდექსის 222-ე მუხლის პირველი პუნქტის თანახმად, სასაქონლო ოპერაციის განხორციელებისას საგადასახადო ვალდებულების წარმოშობის დროდ ითვლება საბაჟო დეკლარაციის რეგისტრაციის დღე. თუ საქონლის სასაქონლო ოპერაციაში მოქცევა არ საჭიროებს საბაჟო დეკლარაციის წარდგენას, საგადასახადო ვალდებულების წარმოშობის დროდ ითვლება საბაჟო გამშვებ პუნქტში, საბაჟო ტერმინალში ან საქართველოს ფინანსთა მინისტრის მიერ განსაზღვრულ სხვა ადგილში შესაბამისი დოკუმენტის რეგისტრაციის დღე.

QUESTION 1008

CORRECT ANSWER: 1

In case of destruction or damage of the goods subjected to the customs supervision, the owner is obliged to:

1 Immediately inform the nearest tax authority and submit the true evidences of such destruction or damage, which should be approved by the appropriate state authority

2 Provide immediate removal of the destructed or damaged property from the customs territory of Georgia

განმარტება:

თუ საბაჟო ზედამხედველობის ქვეშ მყოფი საქონელი განადგურდა ან დაზიანდა, საქონლის მფლობელი ვალდებულია, დაუყოვნებლივ შეატყობინოს უახლოეს საბაჟო ორგანოს და წარუდგინოს მას საქონლის განადგურების ან დაზიანების უტყუარი მტკიცებულებები, რომლებიც დამოწმებულია შესაბამისი უფლებამოსილი სახელმწიფო ორგანოს მიერ. სხვა შემთხვევებში საქონელი ჩაითვლება საბაჟო ზედამხედველობიდან უკანონოდ გასულად.

QUESTION 1009

CORRECT ANSWER: 1

Crossing of the customs border of Georgia is allowed:

1 For those goods only, which import or export is not prohibited

2 For any goods

განმარტება:

საქართველოს საგადასახადო კოდექსის 214-ე მუხლის მე-4 პუნქტის თანახმად, საქართველოს საბაჟო საზღვრის გადაკვეთა ნებადართულია მხოლოდ იმ საქონლისათვის, რომლის შემოტანა ან გატანა არ არის აკრძალული.

QUESTION 1010

CORRECT ANSWER: 2

Goods shall subject to customs supervision:

- | | |
|---|---|
| <div style="background-color: #f0f0f0; padding: 10px; border: 1px solid #ccc;"> <div style="background-color: #e67e22; color: white; padding: 5px; text-align: center; margin-bottom: 5px;">1</div> <p>From the date of its import to the customs territory of Georgia until fulfillment of general declaration</p> </div> | <div style="background-color: #f0f0f0; padding: 10px; border: 1px solid #ccc;"> <div style="background-color: #e67e22; color: white; padding: 5px; text-align: center; margin-bottom: 5px;">2</div> <p>From the date of its import to the customs territory of Georgia until the end of its execution</p> </div> |
|---|---|

განმარტება:

საქართველოს საგადასახადო კოდექსის 215-ე მუხლის მე-2 პუნქტის თანახმად, საქონელი საბაჟო ზედამხედველობას ექვემდებარება საქართველოს საბაჟო ტერიტორიაზე შემოტანიდან გაფორმების დასრულებამდე, ხოლო მიზნობრივი დანიშნულებით გაფორმებისას – საბაჟო ტერიტორიაზე შემოტანიდან მიზნობრივი დანიშნულების დასრულებამდე.

QUESTION 1011

CORRECT ANSWER: 3

The goods declared through one customs declaration shall be released simultaneously, save for exceptional case, on which the decision will be made by:

- | | |
|--|---|
| <div style="background-color: #f0f0f0; padding: 10px; border: 1px solid #ccc;"> <div style="background-color: #e67e22; color: white; padding: 5px; text-align: center; margin-bottom: 5px;">1</div> <p>The applicant</p> </div> | <div style="background-color: #f0f0f0; padding: 10px; border: 1px solid #ccc;"> <div style="background-color: #e67e22; color: white; padding: 5px; text-align: center; margin-bottom: 5px;">2</div> <p>The Ministry of Internal Affairs</p> </div> |
| <div style="background-color: #f0f0f0; padding: 10px; border: 1px solid #ccc;"> <div style="background-color: #e67e22; color: white; padding: 5px; text-align: center; margin-bottom: 5px;">3</div> <p>Tax Authority</p> </div> | |

განმარტება:

საქართველოს საგადასახადო კოდექსის 220-ე მუხლის მე-2 პუნქტის თანახმად, ერთი საბაჟო დეკლარაციით დეკლარირებული საქონელი გაშვებული უნდა იქნეს ერთდროულად, გარდა გამონაკლისი შემთხვევისა, რომელზედაც გადაწყვეტილებას იღებს საგადასახადო ორგანო.

QUESTION 1012

CORRECT ANSWER: 1

According to the Georgian Code of Administrative Offences, driving of the vehicle under alcoholic drunken condition will result in:

1 In case of adult driver - suspension of driving license for the period of 6 months, and in case of persons under the age of 18 years - suspension of driving license for the period of one year

2 In case of adult driver - suspension of driving license for the period of 3 months and in case of persons under the age of 18 years - suspension of driving license for the period of 6 months

3 Imposing penalty to the vehicle driver in the amount of 200 GEL

განმარტება:

საქართველოს ადმინისტრაციულ სამართალდარღვევათა კოდექსის 116-ე მუხლის პირველი ნაწილის „ა“ და „ბ“ ქვეპუნქტების თანახმად, სატრანსპორტო საშუალების მართვა ალკოჰოლური სიმთვრალის მდგომარეობაში, ან სატრანსპორტო საშუალების მართვისას საქართველოს კანონმდებლობით დადგენილი წესით ალკოჰოლური სიმთვრალის დასადგენად შემოწმებისათვის თავის არიდება –გამოიწვევს: ა) სატრანსპორტო საშუალების მართვის უფლების 6 თვით შეჩერებას; ბ) 18 წლის ასაკს მიუღწეველი პირისთვის – სატრანსპორტო საშუალების მართვის უფლების 1 წლით შეჩერებას.

QUESTION 1013

CORRECT ANSWER: 3

According to the Georgian Code of Administrative Offences, driving of the vehicle by the person under alcoholic influence, whose driving license is suspended for driving the vehicle under alcoholic influence, during such suspension period, will result in:

1

Imposing penalty to the driver in the amount of 800 GEL and increase of the driving license suspension period by 6 months

2

Confiscation of the driving license of the vehicle from the driver

3

Imposing penalty to the driver in the amount of 700 GEL and increase of the driving license suspension period by 1 year

განმარტება:

საქართველოს ადმინისტრაციული სამართალდარღვევათა კოდექსის 116-ე მუხლის მე-2 ნაწილის თანახმად, იმ პირის მიერ, რომელსაც დადებული აქვს ამ მუხლის პირველი ნაწილით გათვალისწინებული ადმინისტრაციული სახდელი, (შეჩერებული აქვს მართვის უფლება სატრანსპორტო საშუალების ალკოჰოლური სიმთვრალის მდგომარეობაში მართვისთვის), სატრანსპორტო საშუალების მართვის უფლების შეჩერების პერიოდში იმავე ნაწილით გათვალისწინებული სამართალდარღვევის ჩადენა (სატრანსპორტო საშუალების მართვა ალკოჰოლური სიმთვრალის მდგომარეობაში) - გამოიწვევს მძღოლის დაჯარიმებას 700 ლარის ოდენობით და სატრანსპორტო საშუალების მართვის უფლების შეჩერების ვადის 1 წლით გაზრდას.

QUESTION 1014

CORRECT ANSWER: 2

According to the Georgian Code of Administrative Offences, delivery of the vehicle to a person to drive, obviously being under alcoholic influence, will result in:

1

Penalty in the amount of 1500 GEL

2

Penalty in the amount of 1000 GEL

3

Penalty in the amount of 1000 GEL and suspension of driving license for the period of 6 months

განმარტება:

საქართველოს ადმინისტრაციული სამართალდარღვევათა კოდექსის 116-ე მუხლის მე-3 ნაწილის თანახმად, სატრანსპორტო საშუალების სამართავად გადაცემა წინასწარი შეცნობით ალკოჰოლური სიმთვრალის მდგომარეობაში მყოფი პირისათვის - გამოიწვევს დაჯარიმებას 1000 ლარის ოდენობით.

QUESTION 1015

CORRECT ANSWER: 1

According to the Georgian Code of Administrative Offences, delivery of the vehicle to a person to drive, obviously being under alcoholic influence, repeatedly, within the period of one after commitment of the above offence, will result in:

1

Penalty in the amount of 1500 GEL

2

Penalty in the amount of 2000 GEL

3

Penalty in the amount of 1500 GEL and suspension of driving license for the period of 6 months

განმარტება:

საქართველოს ადმინისტრაციული სამართალდარღვევათა კოდექსის 116-ე მუხლის მე-4 ნაწილის თანახმად, ამუხლის მე-3 ნაწილით გათვალისწინებული სამართალდარღვევის (სატრანსპორტო საშუალების სამართავად გადაცემა წინასწარი შეცნობით ალკოჰოლური სიმთვრალის მდგომარეობაში მყოფი პირისათვის) განმეორებით ჩადენა 1 წლის განმავლობაში – გამოიწვევს დაჯარიმებას 1500 ლარის ოდენობით.

QUESTION 1016

CORRECT ANSWER: 3

According to the Georgian Code of Administrative Offences, a person driving a vehicle under alcoholic influence and being suspended from driving for the other offence, will result in:

1

Penalty in the amount of 1500 GEL

2

Penalty in the amount of 1000 GEL and suspension of driving license for the period of 6 months

3

Penalty in the amount of 1000 GEL

განმარტება:

საქართველოს ადმინისტრაციული სამართალდარღვევათა კოდექსის 116-ე მუხლის მე-4² ნაწილის თანახმად, ამ მუხლის პირველი ნაწილით გათვალისწინებული სამართალდარღვევის ჩადენა (სატრანსპორტო საშუალების მართვა ალკოჰოლური სიმთვრალის მდგომარეობაში), როდესაც სატრანსპორტო საშუალების ექსპლუატაციის განმახორციელებელ პირს არ აქვს სატრანსპორტო საშუალების მართვის უფლება ან ეს უფლება შეჩერებული აქვს სხვა დარღვევისათვის, – გამოიწვევს დაჯარიმებას 1000 ლარის ოდენობით.

QUESTION 1017

CORRECT ANSWER: 2

According to the Georgian Code of Administrative Offences, driving of the vehicle under drug or psychotropic substance influence or avoiding examination for drug or psychotropic substance influence as prescribed by the Georgian legislation while driving a vehicle, will result in:

1

Suspension of driving license for the period of 2 years

2

Suspension of driving license for the period of 3 years

3

Penalty in the amount of 1000 GEL and suspension of driving license for the period of 3 years

განმარტება:

საქართველოს ადმინისტრაციული სამართალდარღვევათა კოდექსის 116-ე მუხლის მე-5 ნაწილის თანახმად, სატრანსპორტო საშუალების მართვა ნარკოტიკული ან ფსიქოტროპული სიმთვრალის მდგომარეობაში, ანდა სატრანსპორტო საშუალების მართვისას საქართველოს კანონმდებლობით დადგენილი წესით ნარკოტიკული ან ფსიქოტროპული სიმთვრალის დასადგენად შემოწმებისათვის თავის არიდება - გამოიწვევს სატრანსპორტო საშუალების მართვის უფლების 3 წლით შეჩერებას.

QUESTION 1018

CORRECT ANSWER: 3

According to the Georgian Code of Administrative Offences, delivery of the vehicle to a person to drive, obviously being under drug or psychotropic substance influence, will result in:

1

Penalty in the amount of 1500 GEL

2

Penalty in the amount of 1000 GEL and suspension of driving license for the period of 1 year

3

Penalty in the amount of 1000 GEL

განმარტება:

საქართველოს ადმინისტრაციული სამართალდარღვევათა კოდექსის 116-ე მუხლის მე-51 ნაწილის თანახმად, სატრანსპორტო საშუალების სამართავად გადაცემა წინასწარი შეცნობით ნარკოტიკული ან ფსიქოტროპული სიმთვრალის მდგომარეობაში მყოფი პირისათვის - გამოიწვევს დაჯარიმებას 1000 ლარის ოდენობით.

QUESTION 1019

CORRECT ANSWER: 1

According to the Georgian Code of Administrative Offences, a police officer, who ensures safety of traffic participants and supervises compliance with the Highway Code, shall be obliged to prohibit a person from driving a vehicle:

1

In relation to whom there is the substantial evidence, that he/she is under drug or psychotropic substance influence and forwards him/her to the duly authorized persons of the Ministry of Internal Affairs for examination

2

In relation to whom there is the substantial evidence that he/she is under alcoholic influence and arrests him/her for 15 days

განმარტება:

საქართველოს ადმინისტრაციული სამართალდარღვევათა კოდექსის 116-ე მუხლის შენიშვნის პირველი ნაწილის თანახმად, პოლიციელი, რომელიც უზრუნველყოფს საგზაო მოძრაობის მონაწილეთა უსაფრთხოებას და ზედამხედველობს საგზაო მოძრაობის წესების დაცვას, ვალდებულია სატრანსპორტო საშუალების მართვას ჩამოაშოროს პირი რომლის მიმართაც არსებობს საკმაო საფუძველი, რომ იგი ნარკოტიკული ან ფსიქოტროპული სიმთვრალის მდგომარეობაშია, და გამოკვლევის მიზნით წარადგინოს საქართველოს შინაგან საქმეთა მინისტრის მიერ საამისოდ უფლებამოსილ პირთან.

QUESTION 1020

CORRECT ANSWER: 1

According to the Georgian Code of Administrative Offences, following shall be considered as alcoholic drunken state:

- 1 Content of more than 0.3 per mile ethanol in the driver's blood
- 2 If content of ethanol in the driver's blood is 0.2 per mile or more than 0.2 per mile
- 3 Content of more than 0.1 per mile ethanol in the driver's blood

განმარტება:

საქართველოს ადმინისტრაციული სამართალდარღვევათა კოდექსის 116-ე მუხლის პენიშვნის მე-10 ნაწილის თანახმად, ალკოჰოლური სიმთვრალის მდგომარეობად მიიჩნევა მძღოლის სისხლში 0,3 პრომილეზე მეტი ოდენობით ეთანოლის შემცველობა.

QUESTION 1021

CORRECT ANSWER: 2

According to the Georgian Code of Administrative Offences, while driving a vehicle, non-use of seatbelts by the driver or front passenger will result in:

- 1 Imposing penalty to the vehicle driver or front passenger in the amount of 20 GEL
- 2 Imposing penalty to the vehicle driver in the amount of 40 GEL
- 3 Imposing penalty to the vehicle driver in the amount of 60 GEL

განმარტება:

საქართველოს ადმინისტრაციული სამართალდარღვევათა კოდექსის 1181-ე მუხლის თანახმად, ავტოსატრანსპორტო საშუალებით მოძრაობისას მძღოლის ან მის გვერდით მჯდომი მგზავრის მიერ უსაფრთხოების ღვედის გამოუყენებლობა- გამოიწვევს ავტოსატრანსპორტო საშუალების მძღოლის დაჯარიმებას 40 ლარის ოდენობით.

QUESTION 1022

CORRECT ANSWER: 3

According to the Georgian Code of Administrative Offences, while driving the mechanical vehicle use of the mobile communication means by the driver will result in:

1 Suspension of the driving license for the period of 3 months

2 Penalty in the amount of 50 GEL

3 Penalty in the amount of 10 GEL

განმარტება:

საქართველოს ადმინისტრაციული სამართალდარღვევათა კოდექსის 118²-ე მუხლის თანახმად, მექანიკური სატრანსპორტო საშუალების მართვის დროს მძღოლის მიერ მობილური კომუნიკაციის საშუალებით სარგებლობა- გამოიწვევს დაჯარიმებას 10 ლარის ოდენობით.

QUESTION 1023

CORRECT ANSWER: 1

According to the Georgian Code of Administrative Offences, driving a vehicle by a person not having a driving license or having this right suspended due to other violation, will result in:

1 Imposing penalty to the person driving the vehicle in the amount of 500 GEL

2 Imposing penalty to the person driving the vehicle in the amount of 1000 GEL

3 Imposing penalty to the vehicle owner in the amount of 1000 GEL and verbal warning of the person driving the vehicle

განმარტება:

საქართველოს ადმინისტრაციული სამართალდარღვევათა კოდექსის 121-ე მუხლის პირველი ნაწილის თანახმად, სატრანსპორტო საშუალების მართვა პირის მიერ, რომელსაც არ აქვს სატრანსპორტო საშუალების მართვის უფლება ან ეს უფლება შეჩერებული აქვს სხვა დარღვევისათვის, - გამოიწვევს სატრანსპორტო საშუალების ექსპლუატაციის განმახორციელებელი პირის დაჯარიმებას 500 ლარის ოდენობით.

QUESTION 1024

CORRECT ANSWER: 3

According to the Georgian Code of Administrative Offences, illegal use of void driving license by the vehicle driver will result in:

1 Administrative imprisonment for the period up to 15 days

2 Penalty in the amount of 100 GEL and verbal warning

3 Penalty in the amount of 150 GEL

განმარტება:

საქართველოს ადმინისტრაციული სამართალდარღვევათა კოდექსის 1211-ე მუხლის პირველი ნაწილის თანახმად, სატრანსპორტო საშუალების მძღოლის მიერ ადრე დაკარგული ან დაზიანებული და მის სანაცვლოდ გაცემული სატრანსპორტო საშუალებათა მართვის მოწმობებით ერთდროულად სარგებლობა ან გაუქმებული სატრანსპორტო საშუალების მართვის მოწმობით უკანონოდ სარგებლობა ან/და პირის მიერ სატრანსპორტო საშუალების მართვის მოწმობის დაკარგვის, დაზიანების ან განადგურების შესახებ უფლებამოსილი ორგანოსათვის ცრუ ინფორმაციის მიწოდება სანაცვლო სატრანსპორტო საშუალების მართვის მოწმობის მიღების მიზნით – გამოიწვევს დაჯარიმებას 150 ლარის ოდენობით.

QUESTION 1025

CORRECT ANSWER: 1

According to the Georgian Code of Administrative Offences, driving a vehicle without the state registration plate or otherwise altered state registration plate intentionally, or with the state registration plate attached to the windshield of a vehicle will result in:

1 Penalty in the amount of 100 GEL

2 Penalty in the amount of 100 GEL or administrative imprisonment for the period up to 15 days

3 Penalty in the amount of 50 GEL

განმარტება:

საქართველოს ადმინისტრაციული სამართალდარღვევათა კოდექსის 122-ე მუხლის პირველი ნაწილის თანახმად, სატრანსპორტო საშუალების მართვა წინასწარი შეცნობით სახელმწიფო სანომრე ნიშნის გარეშე, ან სხვაგვარად შეცვლილი სახელმწიფო სანომრე ნიშნით, ან სატრანსპორტო საშუალების საქარე მინაზე დამაგრებული სახელმწიფო სანომრე ნიშნით -გამოიწვევს დაჯარიმებას 100 ლარის ოდენობით.

QUESTION 1026

CORRECT ANSWER: 2

According to the Georgian Code of Administrative Offences, leaving the scene of accident by the accident participant driver or movement of the traffic accident participant vehicle from the scene of accident, except as provided by the law, will result in:

1

Administrative imprisonment for the period up to 3 months

2

Penalty in the amount of 250 GEL

3

Penalty in the amount of 200 GEL or administrative imprisonment for the period up to 15 days

განმარტება:

საქართველოს ადმინისტრაციული სამართალდარღვევათა კოდექსის 123-ე მუხლის პირველი ნაწილის თანახმად, საგზაო-სატრანსპორტო შემთხვევის მონაწილე მძღოლის მიერ შემთხვევის ადგილის მიტოვება ან საგზაო-სატრანსპორტო შემთხვევის მონაწილე სატრანსპორტო საშუალების შემთხვევის ადგილიდან გადაადგილება, გარდა კანონით გათვალისწინებული შემთხვევებისა, - გამოიწვევს დაჯარიმებას 250 ლარის ოდენობით.

QUESTION 1027

CORRECT ANSWER: 1

According to the Georgian Code of Administrative Offences, failure of compliance with the demand of the police officer to stop the vehicle, which ensures the traffic safety and supervises compliance with the Highway Code, will result in:

1

Penalty in the amount of 300 GEL or suspension of driving license for the period of 1 year

2

Penalty in the amount of 500 GEL or suspension of driving license for the period of 3 years

3

Penalty in the amount of 1000 GEL

განმარტება:

საქართველოს ადმინისტრაციული სამართალდარღვევათა კოდექსის 123-ე მუხლის მე-2 ნაწილის თანახმად, სატრანსპორტო საშუალების გაჩერების შესახებ იმ პოლიციელის მოთხოვნის შეუსრულებლობა, რომელიც უზრუნველყოფს საგზაო მოძრაობის მონაწილეთა უსაფრთხოებას და ზედამხედველობს საგზაო მოძრაობის წესების დაცვას, - გამოიწვევს დაჯარიმებას 300 ლარის ოდენობით ან სატრანსპორტო საშუალების მართვის უფლების 1 წლით შეჩერებას.

QUESTION 1028

CORRECT ANSWER: 3

According to the Georgian Code of Administrative Offences, exceeding the established speed above 15 km/h by the vehicle driver will result in:

1

Verbal warning

2

Penalty in the amount of 10 GEL

3

Penalty in the amount of 50 GEL

განმარტება:

საქართველოს ადმინისტრაციული სამართალდარღვევათა კოდექსის 125-ე მუხლის პირველი ნაწილის თანახმად, სატრანსპორტო საშუალების მძღოლის მიერ მოძრაობის დადგენილი სიჩქარის გადაჭარბება 15 კმ/სთ-ზე მეტი სიჩქარით - გამოიწვევს დაჯარიმებას 50 ლარის ოდენობით.

QUESTION 1029

CORRECT ANSWER: 3

According to the Georgian Code of Administrative Offences, exceeding the established speed above 15 km/h by the vehicle driver, resulting in accident situation or delay in traffic, will lead to:

1

Administrative imprisonment for the period up to 30 days

2

Penalty in the amount of 1000 GEL

3

Penalty in the amount of 250 GEL

განმარტება:

საქართველოს ადმინისტრაციული სამართალდარღვევათა კოდექსის 125-ე მუხლის მე-4 ნაწილის თანახმად, ამ მუხლის პირველი ნაწილით გათვალისწინებული სამართალდარღვევა (სატრანსპორტო საშუალების მძღოლის მიერ მოძრაობის დადგენილი სიჩქარის გადაჭარბება 15 კმ/სთ-ზე მეტი სიჩქარით), რომელსაც მოჰყვა საავარიო ვითარების შექმნა ან მოძრაობის შეფერხება, -გამოიწვევს დაჯარიმებას 250 ლარის ოდენობით.

QUESTION 1030

CORRECT ANSWER: 1

According to the Georgian Code of Administrative Offences, exceeding the established speed above 15 km/h by the vehicle driver, resulting in light damage of vehicle, cargo, road, road or other structure, other property or human body, will result in:

1

Suspension of driving license for the period of 1 year

2

Penalty in the amount of 500 GEL or suspension of driving license for the period of 1 year

3

Penalty in the amount of 500 GEL or administrative imprisonment for the period up to 15 days

განმარტება:

საქართველოს ადმინისტრაციული სამართალდარღვევათა კოდექსის 125-ე მუხლის მე-5 ნაწილის თანახმად, ამ მუხლის პირველი ნაწილით გათვალისწინებული სამართალდარღვევა (სატრანსპორტო საშუალების მძღოლის მიერ მოძრაობის დადგენილი სიჩქარის გადაჭარბება 15 კმ/სთ-ზე მეტი სიჩქარით), რომელსაც მოჰყვა სატრანსპორტო საშუალების, ტვირთის, გზის, საგზაო თუ სხვა ნაგებობის, სხვა ქონების ან ადამიანის სხეულის მსუბუქი დაზიანება, –გამოიწვევს სატრანსპორტო საშუალების მართვის უფლების 1 წლით შეჩერებას.

QUESTION 1031

CORRECT ANSWER: 3

According to the Georgian Code of Administrative Offences, violation of the rules regarding passing the pedestrians' crossing, road sign or road marking, or participation in group motion with a motorcycle or any other vehicle, disrupting traffic or thus endangering traffic safety, will result in:

1

Verbal warning

2

Penalty in the amount of 50 GEL

3

Penalty in the amount of 20 GEL

განმარტება:

საქართველოს ადმინისტრაციული სამართალდარღვევათა კოდექსის 125-ე მუხლის მე-6 ნაწილის თანახმად, მძღოლის მიერ ქვეითთა გადასასვლელის გავლის, საგზაო ნიშნის ან საგზაო მონიშვნის, ბუქსირების, გარე სანათი ხელსაწყოთი, ხმოვანი სიგნალით ან საავარიო შუქსიგნალიზაციით სარგებლობის, სასწავლო სვლის, საცხოვრებელ ზონაში ან გზაზე მოძრაობის წესების, სამარშრუტო სატრანსპორტო საშუალების მოძრაობის პრიორიტეტის ან/და საჭაპანო ტრანსპორტის მართვის წესების დარღვევა, ან მოტოციკლით ან სხვა სატრანსპორტო საშუალებით ჯგუფურ მოძრაობაში მონაწილეობა, რაც აფერხებს საგზაო მოძრაობას ან საშიშროებას უქმნის მოძრაობის უსაფრთხოებას, –გამოიწვევს დაჯარიმებას 20 ლარის ოდენობით.

QUESTION 1032

CORRECT ANSWER: 2

According to the Georgian Code of Administrative Offences, violation of the rules of deployment, starting of motion or/and maneuvering of the vehicles on the driveway will result in:

1

Penalty in the amount of 100 GEL

2

Penalty in the amount of 50 GEL

3

Suspension of the driving license for the period up to 15 days

განმარტება:

საქართველოს ადმინისტრაციული სამართალდარღვევათა კოდექსის 125-ე მუხლის მე-6 ნაწილის თანახმად, გზის სავალ ნაწილზე სატრანსპორტო საშუალებათა განლაგების, მოძრაობის დაწყების ან/და მანევრირების წესების დარღვევა - გამოიწვევს დაჯარიმებას 50 ლარის ოდენობით.

QUESTION 1033

CORRECT ANSWER: 3

According to the Georgian Code of Administrative Offences, driving the vehicle by violation of the rule regarding fixing of the identification mark on the vehicle, will result in:

1 Imposing penalty to the driver or the company in the amount of 100 GEL

2 Imposing penalty to the driver in the amount of 50 GEL

3 Imposing penalty to the driver or the company in the amount of 50 GEL

განმარტება:

საქართველოს ადმინისტრაციული სამართალდარღვევათა კოდექსის 125-ე მუხლის მე-6³ ნაწილის თანახმად, სატრანსპორტო საშუალებაზე საცნობი ნიშნის დამაგრების წესის დარღვევით მოძრაობა - გამოიწვევს მძღოლის ან საწარმოს დაჯარიმებას 50 ლარის ოდენობით.

QUESTION 1034

CORRECT ANSWER: 2

According to the Georgian Code of Administrative Offences, hindering the vehicle with the right-of-way will result in:

1 Disqualification from driving for the period of 1 year

2 Penalty in the amount of 50 GEL

3 Penalty in the amount of 100 GEL or disqualification from driving for the period of 3 months

განმარტება:

საქართველოს ადმინისტრაციული სამართალდარღვევათა კოდექსის 125-ე მუხლის მე-7 ნაწილის თანახმად, მარეგულირებლის ან პოლიციის ამკრძალავ ნიშანზე გავლის წესების, პრიორიტეტული („დაუთმე გზა“, „მოძრაობა გაუჩერებლად აკრძალულია“) ან ამკრძალავი („შესვლა აკრძალულია“, „მოძრაობა აკრძალულია“) ნიშნის მოთხოვნის დაუცველობა, გასწრების, გზაჯვარედინის, რკინიგზაზე გადასასვლელის გავლის წესების დარღვევა, გავლის უპირატესობის მქონე სატრანსპორტო საშუალებისათვის დაბრკოლების შექმნა – გამოიწვევს დაჯარიმებას 50 ლარის ოდენობით.