


თეორია.On.ge

მართვის მოწმობის გამოცდის ბილეთები



C1 კატეგორია



English

თემა 1:

მძღოლის, მგზავრის და ქვეითის მოვალეობა,
საცნობი ნიშნები, კონვენცია

QUESTION 1

CORRECT ANSWER: 2



Which of these identification signs is „Distinguishing sign of registration state“ of the vehicle being in international traffic and registered in Georgia?

1

I

2

II

3

III

განმარტება:

„საგზაო მოძრაობის შესახებ“ საქართველოს კანონის მე-19 მუხლის მე-2 პუნქტის „გ“ ქვეპუნქტის თანახმად, „მარეგისტრირებული სახელმწიფოს განმასხვავებელი ნიშანი“ - საერთაშორისო მოძრაობაში მყოფი საქართველოში რეგისტრირებული სატრანსპორტო საშუალების განმასხვავებელი ნიშანი. ნიშანი არის ელიფსის ფორმის, რომლის ღერძების სიგრძე არანაკლებ 0,175მ X 0,115 მ-ია. ნიშანში ჩაწერილია საქართველოს საერთაშორისო კოდი „GE“. ლათინური ასოების სიმაღლე უნდა იყოს არანაკლებ 0,08 მ-ისა. ისინი გამოსახულია არა ნაკლებ 0,01 მ-ის სიგანის შტრიხებით. ასოები დაიტანება შავი საღებავით თეთრ ფონზე (თეთრი ფონი შეიძლება შექმარებული მასალისგან იყოს დამზადებული). სატრანსპორტო საშუალებაზე ნიშანი ისე უნდა დამაგრდეს რომ ის რეგისტრაციის ნომრად (სახელმწიფო სანომრე ნიშნად) არ იქნეს აღთქმული ან არ გაუარესდეს მისი წაკითხვა.

QUESTION 2

CORRECT ANSWER: 3

The driver is forbidden to drive a mechanical vehicle:

- 1 Only in case of suspension of relevant driving permit
- 2 Only in case of deprivation or termination (cancellation) of relevant driving permit
- 3 Both in case of suspension of the driving permit and in case of deprivation or termination (cancellation) of the mentioned driving permit

განმარტება:

„საგზაო მოძრაობის შესახებ“ საქართველოს კანონის 21-ე მუხლის მე-3 პუნქტის თანახმად, მძღოლს უნდა ჰქონდეს სატრანსპორტო საშუალების მართვისათვის საჭირო აუცილებელი ცოდნა და უნარ-ჩვევები. თუ სატრანსპორტო საშუალების მართვა დასაშვებია მხოლოდ საქართველოს კანონმდებლობით განსაზღვრული წესით შესაბამისი მართვის უფლების მინიჭების შემდეგ, მძღოლს ეკრძალება ამ კატეგორიის ან ქვეკატეგორიის სატრანსპორტო საშუალების მართვა შესაბამისი მართვის უფლების მოპოვების გარეშე, აგრეთვე ამ უფლების შეჩერების, ჩამორთმევის ან შეწყვეტის (გაუქმების) შემთხვევაში.

QUESTION 3

CORRECT ANSWER: 1

Is a driver obliged to go through breath-test at the request of an official of the Ministry of Internal Affairs of Georgia, if there is enough ground that the driver is under alcoholic, narcotic or psychotropic drunken condition?

- 1 Yes
- 2 No

განმარტება:

„საგზაო მოძრაობის შესახებ“ საქართველოს კანონის 21-ე მუხლის მე-16 პუნქტის თანახმად, თუ არსებობს საკმარისი საფუძველი, რომ მძღოლი ალკოჰოლური, ნარკოტიკული ან ფსიქოტროპული სიმთვრალის მდგომარეობაშია, მძღოლი ვალდებულია საქართველოს შინაგან საქმეთა სამინისტროს უფლებამოსილი პირის მოთხოვნის საფუძველზე, საქართველოს კანონმდებლობით დადგენილი წესით გაიაროს შემოწმება სიმთვრალე-სიფხიზლის დასადგენად.

QUESTION 4

CORRECT ANSWER: 3

On the territory of Georgia a driver is obliged to carry duly certified translation of vehicle registration and driving right certificate, if the data provided in it is not written:

- 1** It is not completed in Georgian letters, but in Latin letters
- 2** It is not completed in Latin letters, but in Georgian letters
- 3** It is not completed in Georgian or Latin letters

განმარტება:

„საგზაო მოძრაობის შესახებ“ საქართველოს კანონის 21-ე მუხლის მე-17 პუნქტის „ა“ და „ბ“ ქვეპუნქტების თანახმად, ამ კანონის 54-ე მუხლით განსაზღვრული კატეგორიის ან ქვეკატეგორიის სატრანსპორტო საშუალების მძღოლი ვალდებულია თან იქონიოს, ხოლო საქართველოს შინაგან საქმეთა სამინისტროს უფლებამოსილი პირის მოთხოვნის შემთხვევაში გააჩეროს სატრანსპორტო საშუალება და ამ პირს წარუდგინოს: ა) საქართველოს ტერიტორიაზე იურიდიული ძალის მქონე იმ კატეგორიის ან ქვეკატეგორიის სატრანსპორტო საშუალების მართვის უფლების დამადასტურებელი დოკუმენტი, რომელსაც იგი მართავს, აგრეთვე ამ სატრანსპორტო საშუალების რეგისტრაციის დამადასტურებელი დოკუმენტი (თუ საქართველოს კანონმდებლობით სხვა რამ არ არის გათვალისწინებული); ბ) ამ პუნქტის „ა“ ქვეპუნქტით განსაზღვრული დოკუმენტის/დოკუმენტების სათანადოდ დამოწმებული თარგმანი, თუ აღნიშნულ დოკუმენტში/დოკუმენტებში ასახული მონაცემები შესრულებული არ არის ქართული ან ლათინური ასოებით.

QUESTION 5

CORRECT ANSWER: 1

In case of absence of the owner and when crossing the state border in the vehicle not driven by the owner or when going to the country where Georgian jurisdiction does not spread, is the driver required to have the document proving that the driver enjoys the right to own, use and manage the vehicle?

1

Yes

2

No

განმარტება:

„საგზაო მოძრაობის შესახებ“ საქართველოს კანონის 21-ე მუხლის მე-17 პუნქტის „გ“ ქვეპუნქტის თანახმად, ამ კანონის 54-ე მუხლით განსაზღვრული კატეგორიის ან ქვეკატეგორიის სატრანსპორტო საშუალების მძღოლი ვალდებულია თან იქონიოს, ხოლო საქართველოს შინაგან საქმეთა სამინისტროს უფლებამოსილი პირის მოთხოვნის შემთხვევაში გააჩეროს სატრანსპორტო საშუალება და ამ პირს წარუდგინოს მოცემული სატრანსპორტო საშუალების ფლობის ან განკარგვის ან მისით სარგებლობის უფლებამოსილების დამადასტურებელი დოკუმენტი -მესაკუთრის არყოფნის შემთხვევაში მისი სატრანსპორტო საშუალებით სახელმწიფო საზღვრის გადაკვეთის ან ქვეყნის იმ ტერიტორიაზე გადასვლის შემთხვევაში, სადაც საქართველოს იურისდიქცია არ ვრცელდება.

QUESTION 6

CORRECT ANSWER: 3

An international traffic participant driver is obliged to provide following according to the requirements prescribed by the European Agreement concerning the Work of Crews of Vehicles engaged in International Road Transport (AETR):

1

Routing with tachograph in technically suitable condition only

2

Observation of labour and rest mode only

3

Both routing with tachograph in technically suitable condition, as well as observation of labour and rest mode

განმარტება:

„საგზაო მოძრაობის შესახებ“ საქართველოს კანონის 21-ე მუხლის მე-19 პუნქტის თანახმად, საერთაშორისო მოძრაობაში მონაწილე მძღოლი ვალდებულია უზრუნველყოს „საერთაშორისო საავტომობილო მიმოსვლის მწარმოებელი საშუალებების ეკიპაჟების მუშაობის შესახებ“ ევროპის შეთანხმებით (AETR) დადგენილი მოთხოვნების შესაბამისად ტექნიკურად გამართული საკონტროლო მოწყობილობით (ტაქოგრაფით) მოძრაობა, აგრეთვე შრომისა და დასვენების რეჟიმის დაცვა.

QUESTION 7

CORRECT ANSWER: 2

In case of absence or failure of the pedestrians' traffic lights, but when traffic is controlled by the traffic lights, the pedestrian should not go to the driveway:

- | | |
|---|--|
| <p>1 Until he/she does not make sure in safety of distance of the approaching vehicle, define its speed and safety of crossing</p> | <p>2 Until traffic light or the signal of traffic controller does not allow motion on this driveway</p> |
|---|--|

განმარტება:

„საგზაო მოძრაობის შესახებ“ საქართველოს კანონის 24-ე მუხლის მე-7 პუნქტის „ბ“ ქვეპუნქტის თანახმად, ქვეითთა გადასასვლელზე გადასვლისას, თუ გადასასვლელზე არ არსებობს, ან არ მუშაობს ქვეითთათვის განკუთვნილი შექნიშანი, მაგრამ სატრანსპორტო საშუალებათა მოძრაობის რეგულირება ხორციელდება სატრანსპორტო შექნიშნით მეშვეობით, ქვეითი არ უნდა გადავიდეს გზის სავალ ნაწილზე, ვიდრე შექნიშნის ან მარეგულირებლის სიგნალები ამ სავალ ნაწილზე სატრანსპორტო საშუალებათა მოძრაობის უფლებას იძლევა.

QUESTION 8

CORRECT ANSWER: 4

The traffic accident participant driver is obliged to:

- | | |
|--|--|
| <p>1 Apply the necessary measures only to ensure traffic safety at the accident scene</p> | <p>2 Avoid making some changes or destruction of footprints at the accident scene only, which might be useful for definition of liability</p> |
| <p>3 Write down the surnames of the witnesses</p> | <p>4 To perform all actions listed in given test</p> |

განმარტება:

„საგზაო მოძრაობის შესახებ“ საქართველოს კანონის 27-ე მუხლის პირველი პუნქტის „დ“ ქვეპუნქტის თანახმად, საგზაო-სატრანსპორტო შემთხვევაში მონაწილე მძღოლი ვალდებულია მიიღოს ზომები საგზაო-სატრანსპორტო შემთხვევის ადგილზე მოძრაობის უსაფრთხოების უზრუნველსაყოფად, მოერიდოს შემთხვევის ადგილზე რაიმეს შეცვლას ან იმ ნაკვალევის განადგურებას, რომელიც შესაძლოა სასარგებლო იყოს პასუხისმგებლობის დასადგენად, ჩაიწეროს თვითმხილველთა გვარები.

QUESTION 9

CORRECT ANSWER: 1



How many driveways does this road have?

1

One

2

Two

3

Three

4

Four

განმარტება:

„საგზაო მოძრაობის შესახებ“ საქართველოს კანონის 5-ე მუხლის მე-15 პუნქტის თანახმად, გზის სავალი ნაწილი (სავალი ნაწილი) არის გზის ელემენტი, რომელიც განკუთვნილია ურელსო სატრანსპორტო საშუალების მოძრაობისათვის (გარდა ტროტუარისა, გვერდულისა, ველობილიკისა და ქვეითთა ბილიკისა). ამავე მუხლის მე-12 პუნქტის თანახმად, გზა არის მოძრაობისათვის გახსნილი გზის ან ქუჩის მთელი ზედაპირი. გზას შეიძლება ჰქონდეს როგორც ერთი სავალი ნაწილი, ასევე რამოდენიმე, გამოყოფი ბოლით მკვეთრად გამიჯნული, ან სხვადასხვა დონეზე არსებული სავალი ნაწილები. ეს ტერმინი შეიძლება მოიცავდეს ტრამვაის ლიანდაგს, ტროტუარს, გვერდულას, გამყოფ ბოლსა და ველობილიკს.

QUESTION 10

CORRECT ANSWER: 2



How many driveways does this road have?

1

One

2

Two

3

Four

განმარტება:

„საგზაო მოძრაობის შესახებ“ საქართველოს კანონის 5-ე მუხლის მე-15 პუნქტის თანახმად, გზის სავალი ნაწილი (სავალი ნაწილი) არის გზის ელემენტი, რომელიც განკუთვნილია ურელსო სატრანსპორტო საშუალების მოძრაობისათვის (გარდა ტროტუარისა, გვერდულისა, ველობილიკისა და ქვეითთა ბილიკისა). ამავე მუხლის მე-12 პუნქტის თანახმად, გზა არის მოძრაობისათვის გახსნილი გზის ან ქუჩის მთელი ზედაპირი. გზას შეიძლება ჰქონდეს როგორც ერთი სავალი ნაწილი, ასევე რამოდენიმე, გამოყოფი ზოლით მკვეთრად გამიჯნული, ან სხვადასხვა დონეზე არსებული სავალი ნაწილები. ეს ტერმინი შეიძლება მოიცავდეს ტრამვაის ლიანდაგს, ტროტუარს, გვერდულას, გამყოფ ზოლსა და ველობილიკს.

QUESTION 11

CORRECT ANSWER: 3

Prior to entering crosswalk, a driver shall make sure that:

1

The crossing surface is not covered with ice

2

There is no incoming vehicle on the crossing

3

Not to become obliged to stop on it

განმარტება:

„საგზაო მოძრაობის შესახებ“ საქართველოს კანონის 25-ე მუხლის მე-6 პუნქტის თანახმად, მძღოლი არ უნდა შევიდეს ქვეითთა გადასასვლელზე, თუ წინასწარ არ დაურწმუნდება, რომ ის იძულებული არ გახდება გაჩერდეს მასზე.

QUESTION 12

CORRECT ANSWER: 2

Priority means:

1

A traffic participant is obliged not to perform maneuvering, if this forces other traffic participants to change speed and direction suddenly

2

The right of a traffic participant, to be the first to drive towards intended direction compared with other traffic participants

განმარტება:

„საგზაო მოძრაობის შესახებ“ საქართველოს კანონის 5-ე მუხლის 84-ე პუნქტის თანახმად, უპირატესობა (პრიორიტეტი) – საგზაო მოძრაობის მონაწილის უფლება, სხვა საგზაო მოძრაობის მონაწილეებთან შედარებით პირველმა იმოძრაოს დასახული მიმართულებით.

QUESTION 13

CORRECT ANSWER: 2

“Road-train” means:

1 Combination of a bus with a trailer(s) with maximum allowable mass more than 1200 kg

2 Combination of a lorry with a trailer(s) with maximum allowable mass more than 750 kg

3 Combination of a motor car with a trailer(s) with maximum allowable mass more than 750 kg

განმარტება:

„საგზაო მოძრაობის შესახებ“ საქართველოს კანონის 5-ე მუხლის მე-3 პუნქტის თანახმად, ავტომატარებელი – სატვირთო ავტომობილის 750 კგ-ზე მეტი ნებადართული მაქსიმალური მასის მქონე მისაბმელთან/ მისაბმელებთან კომბინაცია.

QUESTION 14

CORRECT ANSWER: 3

“Hauler” means:

1 Any mechanical vehicle with maximum allowable mass more than 12 000 kg designated for exploitation together with a trailer

2 Lorry used for conveyance of dangerous cargo

3 Specialized vehicle, designated for conveyance of car and light wheel tractor

განმარტება:

„საგზაო მოძრაობის შესახებ“ საქართველოს კანონის 5-ე მუხლის მე-4 პუნქტის თანახმად, ავტომზიდი – სპეციალიზებული ავტოსატრანსპორტო საშუალება, რომელიც განკუთვნილია ავტომობილისა და თვლიანი მსუბუქი ტრაქტორის გადასაზიდად.

QUESTION 15

CORRECT ANSWER: 1

“Insufficient visibility” means reduction of visibility on the road during passing the tunnel, in dark hours, fog, rain and snow and other natural events:

1

At a distance less than 300 meters

2

At a distance less than 500 meters

3

At a distance less than 600 meters

განმარტება:

„საგზაო მოძრაობის შესახებ“ საქართველოს კანონის 5-ე მუხლის მე-7 პუნქტის თანახმად, არასაკმარისი ხილვადობა – გვირაბში გავლისას, დღე-ღამის ბნელ დროს, ნისლის, წვიმის, თოვის და სხვა ბუნებრივი მოვლენების დროს გზის ხილვადობის 300 მეტრზე ნაკლებ მანძილზე შემცირება.

QUESTION 16

CORRECT ANSWER: 3

“Lane line” means:

1

Part of the road, used for motion of the vehicles without rails

2

Any line marked or unmarked by the linear road marking from those linear lines, which may be the driveway

3

Constructively separated element of the road, dividing adjacent driveways and not designated for motion of the vehicles without rails

განმარტება:

„საგზაო მოძრაობის შესახებ“ საქართველოს კანონის 5-ე მუხლის მე-9 პუნქტის თანახმად, გამყოფი ზოლი – კონსტრუქციულად გამოყოფილი გზის ელემენტი, რომელიც ყოფს მომიჯნავე სავალ ნაწილებს და არ არის განკუთვნილი მასზე ურელსო სატრანსპორტო საშუალების მოძრაობისათვის.

QUESTION 17

CORRECT ANSWER: 4

Besides the driveways, which of the following elements may be included in the road?

1

Tram rails and pavements only

2

Sideways and lane lines only

3

Bicycle lanes only

4

Both tram rails and pavements, sideways, lane lines and bicycle lanes

განმარტება:

„საგზაო მოძრაობის შესახებ“ საქართველოს კანონის 5-ე მუხლის მე-12 პუნქტის თანახმად, გზა - მოძრაობისათვის გახსნილი გზის ან ქუჩის მთელი ზედაპირი. გზას შეიძლება ჰქონდეს როგორც ერთი სავალი ნაწილი, ისე რამოდენიმე, გამოყოფი ზოლით მკვეთრად გამიჯნული, ან სხვადასხვა დონეზე არსებული სავალი ნაწილები. ეს ტერმინი შეიძლება მოიცავდეს ტრამვაის ლიანდაგს, ტროტუარს, გვერდულას, გამყოფ ზოლსა და ველობილიკს.

QUESTION 18

CORRECT ANSWER: 1

„Intersection“ is:

1

Crossing, junction or branching of the roads on one level, including the territories formed after such crossing, junction or branching

2

Entries from adjacent territories and crossings of the road

3

Crossing of the driveways existing on various levels

განმარტება:

„საგზაო მოძრაობის შესახებ“ საქართველოს კანონის 5-ე მუხლის მე-13 პუნქტის თანახმად, გზაჯვარედინი - ერთ დონეზე გზების კვეთა, შეერთება ან განშტოება, ასეთი კვეთით, შეერთებით ან განშტოებით წარმოქმნილი ტერიტორიების ჩათვლით. გზაჯვარედინად არ ითვლება მიმდებარე ტერიტორიებიდან გამომავალი გამოსასვლელების გზებთან კვეთა.

QUESTION 19

CORRECT ANSWER: 3

„Inhabited area“ means:

- 1 Any territory inhabited with people
- 2 Any road designated for heavy traffic of pedestrians
- 3 Built-up territory, entry and exits of which are marked with appropriate traffic signs

განმარტება:

„საგზაო მოძრაობის შესახებ“ საქართველოს კანონის 5-ე მუხლის მე-17 პუნქტის თანახმად, დასახლებული პუნქტი - განაშენიანებული ტერიტორია, სადაც შესასვლელი და გამოსასვლელი აღნიშნულია შესაბამისი საგზაო ნიშნებით.

QUESTION 20

CORRECT ANSWER: 3

“Loaded mass” means:

- 1 Mass of the vehicle, without passengers and cargo, but with entire fuel supply and necessary tool set
- 2 Mass of the vehicle defined by the blank production plant without driver, passengers and cargo
- 3 Actual mass of the vehicle loaded during the given period of time including driver and passengers

განმარტება:

„საგზაო მოძრაობის შესახებ“ საქართველოს კანონის 5-ე მუხლის მე-18 პუნქტის თანახმად, დატვირთული მასა (ფაქტობრივი მასა) - მოცემულ დროის მონაკვეთში დატვირთული სატრანსპორტო საშუალების ფაქტობრივი მასა, მძღოლისა და მგზავრების ჩათვლით.

QUESTION 21

CORRECT ANSWER: 1

“Unloaded mass” means:

1 Mass of the vehicle defined by the blank production plant without driver, passengers and cargo, but with entire fuel supply and necessary tool set

2 Actual mass of the vehicle unloaded during the given period of time including driver and passengers

3 Mass of the vehicle defined by the registration service, without driver, passengers and cargo

განმარტება:

„საგზაო მოძრაობის შესახებ“ საქართველოს კანონის 5-ე მუხლის მე-19 პუნქტის თანახმად, დაუტვირთავი მასა (დაუტვირთავი წონა) - ქარხანა-დამამზადებელის მიერ განსაზღვრული სატრანსპორტო საშუალების მასა მძღოლის, მგზავრებისა და ტვირთის გარეშე, მაგრამ საწვავის სრული მარაგისა და ხელსაწყოების აუცილებელი კომპლექტის ჩათვლით.

QUESTION 22

CORRECT ANSWER: 3

„Dark hours“ mean:

1 Time interval from 6 p.m. until 12 a.m

2 Time interval from dawn until twilight

3 Time interval from twilight until dawn

განმარტება:

„საგზაო მოძრაობის შესახებ“ საქართველოს კანონის 5-ე მუხლის 21-ე პუნქტის თანახმად, დღე-ღამის ბნელი დრო - დროის შუალედი დაბინდებიდან გათენებამდე.

QUESTION 23

CORRECT ANSWER: 1

“Bicycle lane” is:

- | | |
|--|--|
| 1 Road or road section designated for pedal cycling and marked with appropriate sign, which is constructively separated from other roads or road elements | 2 Driveway line, designated for pedal cycling. Bicycle lane is separated from other driveway with linear road marking |
|--|--|

განმარტება:

„საგზაო მოძრაობის შესახებ“ საქართველოს კანონის 5-ე მუხლის 23-ე პუნქტის თანახმად, ველოსიპედის ბილიკი (ველობილიკი) - ველოსიპედით მოძრაობისათვის განკუთვნილი, შესაბამისი საგზაო ნიშნით აღნიშნული გზა ან გზის ნაწილი, რომელიც კონსტრუქციულად გამოყოფილია სხვა გზისაგან ან გზის სხვა ელემენტებისაგან.

QUESTION 24

CORRECT ANSWER: 1

“Adjacent territory” is:

- | | |
|---|---|
| 1 The territory, that directly surrounds the road and is not designated for through route of vehicle (yard, residential area, car park, petrol station, institution, etc.) | 2 Element of the road designated for motion of the vehicle without rails (other than pavements, sidewalks, bicycle lanes and pedestrian paths) |
| 3 Crossing, junction or branching of the roads on one level, including the territories formed after such crossing, junction or branching | |

განმარტება:

„საგზაო მოძრაობის შესახებ“ საქართველოს კანონის 5-ე მუხლის 38-ე პუნქტის თანახმად, მიმდებარე ტერიტორია - ტერიტორია, რომელიც უშუალოდ გზას ეკვრის და არ არის განკუთვნილი სატრანსპორტო საშუალების გამჭოლი მოძრაობისათვის (ეზო, საცხოვრებელი მასივი, ავტოსადგომი, ბენზინგასამართი სადგური, დაწესებულება და სხვა)

QUESTION 25

CORRECT ANSWER: 3

“Lane” is:

- 1 Constructively separated element of the road, dividing the adjacent driveways
- 2 Total surface of road or street opened for traffic
- 3 Any line marked or unmarked by the linear road marking from those linear lines, into which the driveway may be divided into, but which have the width sufficient for motion of the vehicles on one line, different from the motorcycles

განმარტება:

„საგზაო მოძრაობის შესახებ“ საქართველოს კანონის 5-ე მუხლის 45-ე პუნქტის თანახმად, „მოძრაობის ზოლი“ - გრძივი საგზაო მონიშვნის საშუალებით მონიშნული ან მოუნიშნავი ნებისმიერი ზოლი იმ გრძივი ზოლებიდან, რომლებსაც შეიძლება დაეყოს სავალი ნაწილი, მაგრამ რომელსაც აქვს მოტოციკლისაგან განსხვავებული საავტომობილო ტრანსპორტის ერთ რიგში მოძრაობისათვის საკმარისი სიგანე.

QUESTION 26

CORRECT ANSWER: 1

“Semi-trailer” means:

- 1 A trailer designated for hitching to the vehicle in such a way, when its part is based on the vehicle and significant part of semi-trailer and its cargo mass comes on the vehicle
- 2 Trailer with two axes, designated for its towing with rigid hitch by any mechanical vehicle

განმარტება:

„საგზაო მოძრაობის შესახებ“ საქართველოს კანონის 5-ე მუხლის 51-ე პუნქტის თანახმად, „ნახევარმისაბმელი“ - მისაბმელი, რომელიც განკუთვნილია ავტომობილზე ისეთი სახით ჩასაბმელად, როდესაც მისი ნაწილი ეყრდნობა ავტომობილს და ავტომობილზევე მოდის ნახევარმისაბმელისა და მისი ტვირთის მასის მნიშვნელოვანი ნაწილი.

QUESTION 27

CORRECT ANSWER: 3

„Maximum allowable mass“ means:

- 1 Actual mass of the vehicle loaded during the given period of time including driver and passengers
- 2 Mass of the vehicle filled with cargo and passengers and equipped, which limit is defined by the blank production plant
- 3 Maximum mass of the loaded vehicle, announced as allowable by the competent authority of the state, in which the vehicle is registered

განმარტება:

„საგზაო მოძრაობის შესახებ“ საქართველოს კანონის 5-ე მუხლის 52-ე პუნქტის თანახმად, „ნებადართული მაქსიმალური მასა“ (დასაშვები წონა) - დატვირთული სატრანსპორტო საშუალების მაქსიმალური მასა, რომელიც დასაშვებად არის გამოცხადებული იმ სახელმწიფოს კომპეტენტური ორგანოს მიერ, რომელშიც დარეგისტრირებულია სატრანსპორტო საშუალება.

QUESTION 28

CORRECT ANSWER: 2

“Low-speed vehicle” is:

- 1 A vehicle with or without engine, which constructive speed does not exceed 45 km/h
- 2 Vehicle with engine, which constructive speed does not exceed 40 km/h or which is unable to exceed this speed or is prohibited from exceeding this speed for the reason not related to the traffic flows
- 3 Any vehicle, routing on the road no faster than 50 km/h

განმარტება:

„საგზაო მოძრაობის შესახებ“ საქართველოს კანონის 5-ე მუხლის 53-ე პუნქტის თანახმად, „ნელმავალი სატრანსპორტო საშუალება“ - ძრავიანი სატრანსპორტო საშუალება, რომლის კონსტრუქციული სიჩქარე არ აღემატება 40 კმ/სთ-ს ან რომელიც აღნიშულ სიჩქარეს ვერ აჭარბებს ან ეკრძალება გადაჭარბება ისეთი მიზეზით, რომელიც არ არის დაკავშირებული სატრანსპორტო საშუალებათა ნაკადებთან.

QUESTION 29

CORRECT ANSWER: 1

“Lorry” means:

- 1 Vehicle designated for conveyance of goods, with maximum allowable mass exceeding 3 500 kg
- 2 Any mechanical vehicle designated for conveyance of goods
- 3 Any mechanical vehicle designated for conveyance of goods, with maximum allowable mass exceeding 3 500 kg

განმარტება:

„საგზაო მოძრაობის შესახებ“ საქართველოს კანონის 5-ე მუხლის 71-ე პუნქტის თანახმად, „სატვირთო ავტომობილი“ - ტვირთის გადასაზიდად განკუთვნილი ავტოსატრანსპორტო საშუალება, რომლის ნებადართული მაქსიმალური მასა აღემატება 3 500 კგ-ს.

QUESTION 30

CORRECT ANSWER: 2

“Route vehicle” means:

- 1 Any bus in which the number of seats, other than the driver’s seat, exceeds 16
- 2 Vehicle moving on a fixed route and designated for conveyance of passengers
- 3 Any vehicle designated for conveyance of goods and passengers

განმარტება:

„საგზაო მოძრაობის შესახებ“ საქართველოს კანონის 5-ე მუხლის 67-ე პუნქტის თანახმად, „სამარშრუტო სატრანსპორტო საშუალება“ - გზაზე მგზავრთა გადასაცვანად განკუთვნილი, დადგენილი მარშრუტით მოძრავი სატრანსპორტო საშუალება.

QUESTION 31

CORRECT ANSWER: 1

„Pavement“ is:

- 1 Element of the road, which is connected to driveway or separated from it constructively or by lawn and is designated for pedestrian traffic
- 2 Path designated for pedestrian traffic and separated from road
- 3 Any road designated for pedestrian traffic

განმარტება:

„საგზაო მოძრაობის შესახებ“ საქართველოს კანონის 5-ე მუხლის 83-ე პუნქტის თანახმად, „ტროტუარი“ - გზის ელემენტი, რომელიც მიერთებულია სავალ ნაწილთან ან გამოყოფილია მისგან კონსტრუქციულად ან გაზონით და განკუთვნილია ქვეითის მოძრაობისათვის.

QUESTION 32

CORRECT ANSWER: 2

“Pedestrian path” means:

- 1 Element of the road, connected to driveway and designated for pedestrian traffic
- 2 Path designated for pedestrian traffic and separated from road. The pedestrian path may be marked with appropriate traffic sign
- 3 Any section of the road designated for pedestrian traffic

განმარტება:

„საგზაო მოძრაობის შესახებ“ საქართველოს კანონის 5-ე მუხლის 85-ე პუნქტის თანახმად, „ქვეითთა ბილიკი“ - ქვეითთა მოძრაობისათვის განკუთვნილი, გზისგან განცალკევებული ბილიკი. ქვეითთა ბილიკი შეიძლება აღნიშნული იქნეს შესაბამისი საგზაო ნიშნით.

QUESTION 33

CORRECT ANSWER: 1

“Axial loading” means:

- | | |
|---|--|
| <div style="background-color: #f08080; color: white; padding: 5px; display: inline-block; margin-bottom: 5px;">1</div> Part of actual mass of the vehicle, that forms loading on the road after pressing the axis | <div style="background-color: #f08080; color: white; padding: 5px; display: inline-block; margin-bottom: 5px;">2</div> Maximum mass of pressing the axis established by the blank production plant, sum of which defines the limit of vehicle gross mass |
|---|--|

განმარტება:

„საგზაო მოძრაობის შესახებ“ საქართველოს კანონის 5-ე მუხლის 88-ე პუნქტის თანახმად, „ღერძზე დატვირთვა“ - სატრანსპორტო საშუალების ფაქტიური მასის ნაწილი, რომელიც ღერძზე დაწოლის შედეგად წარმოშობს გზაზე დატვირთვას. თითოეულ წამყვან ან არანამყვან ღერძზე დატვირთვის განსაზღვრისას, სატრანსპორტო საშუალების განივ ჭრილში ერთ ხაზზე განლაგებული, კონსტრუქციულად განცალკევებული ღერძები, განიხილება, როგორც ერთი მთლიანი ღერძი.

QUESTION 34

CORRECT ANSWER: 2

“Limited visibility” means:

- | | |
|--|--|
| <div style="background-color: #f08080; color: white; padding: 5px; display: inline-block; margin-bottom: 5px;">1</div> Reduction of visibility of the road while passing the tunnel, during dark hours, fog, rain and snow and other natural events in distance less than 300 meters | <div style="background-color: #f08080; color: white; padding: 5px; display: inline-block; margin-bottom: 5px;">2</div> Circumstance, in which a short turn, end of the ascent, landscaping, roadside construction or obstacles on the road, reduces visibility on the road in the traffic direction in such a way, that routing at maximum allowed speed on this road section may cause danger |
|--|--|

განმარტება:

„საგზაო მოძრაობის შესახებ“ საქართველოს კანონის 5-ე მუხლის 89-ე პუნქტის თანახმად, „შეზღუდული ხილვადობა“ - გარემოება, რომლის დროსაც მოკლე მოსახვევი, აღმართის დასასრული, გამწვანება, გზისპირა ნაგებობა ან გზაზე არსებული დაბრკოლება მოძრაობის მიმართულებით გზის ხილვადობას ისე ამცირებს, რომ აღნიშნულ გზის მონაკვეთზე ნებადართული მაქსიმალური სიჩქარით მოძრაობამ შეიძლება საფრთხე წარმოშვას.

QUESTION 35

CORRECT ANSWER: 3

“Passenger” is:

1

A person driving the vehicle directly

2

A person using the rolls for motion

3

A person, who is in or getting on/off the vehicle, but is not driving it

განმარტება:

„საგზაო მოძრაობის შესახებ“ საქართველოს კანონის 5-ე მუხლის 34-ე პუნქტის თანახმად, „მგზავრი“ - პირი, რომელიც იმყოფება ან აღის სატრანსპორტო საშუალებაში (სატრანსპორტო საშუალებაზე) ან ჩამოდის სატრანსპორტო საშუალებიდან, მაგრამ არ მართავს მას.

QUESTION 36

CORRECT ANSWER: 4

Which of the vehicles given bellow is the “Mechanical vehicle”?

1

Two-wheel electric self-propeller

2

Moped or similar vehicles

3

Tram

4

None out of the ones listed in given test

განმარტება:

„საგზაო მოძრაობის შესახებ“ საქართველოს კანონის 5-ე მუხლის 35-ე პუნქტის თანახმად, „მექანიკური სატრანსპორტო საშუალება“ - ძრავიანი (თვითმავალი) სატრანსპორტო საშუალება, გარდა ორბორბლიანი ელექტროთვითმგორავისა, მოპედისა და მასთან გათანაბრებული სხვა სატრანსპორტო საშუალებისა, აგრეთვე სალიანდაგო სატრანსპორტო საშუალებისა.

QUESTION 37

CORRECT ANSWER: 1

“Light trailer” is:

- 1 A trailer, which with maximum allowable mass does not exceed 750 kg
- 2 A trailer, which unloaded weight does not not exceed 850 kg
- 3 A trailer, which gross mass does not exceed 950 kg

განმარტება:

„საგზაო მოძრაობის შესახებ“ საქართველოს კანონის 5-ე მუხლის 48-ე პუნქტის თანახმად, „მსუბუქი მისაბმელი“ - მისაბმელი, რომლის ნებადართული მაქსიმალური მასა არ აღემატება 750 კგ-ს.

QUESTION 38

CORRECT ANSWER: 4

In which of the below-mentioned cases is a vehicle considered to be “in the international traffic” of any state:

- 1 Only in case, if it belongs to a natural person or a legal entity, whose ordinary place of residence is outside of such state
- 2 Only in case, if it is not registered in this state
- 3 Only in case if it is brought in the state temporary, but no longer than the period prescribed by the laws of this state
- 4 In any case listed in given test

განმარტება:

„საგზაო მოძრაობის შესახებ“ საქართველოს კანონის 5-ე მუხლის 66-ე პუნქტის თანახმად, საერთაშორისო მოძრაობა – რომელიმე სახელმწიფოს ტერიტორიაზე მყოფი სატრანსპორტო საშუალება საერთაშორისო მოძრაობაში მყოფად მიიჩნევა, თუ იგი: ა) ეკუთვნის ფიზიკურ ან იურიდიულ პირს, რომელსაც ჩვეულებრივი საცხოვრებელი ადგილი ამ სახელმწიფოს გარეთ აქვს; ბ) არ არის რეგისტრირებული ამ სახელმწიფოში; გ) ამ სახელმწიფოში შეტანილია დროებით, მაგრამ არაუმეტეს მისი კანონმდებლობით დადგენილი ვადისა. შენიშვნა: სატრანსპორტო საშუალებათა შემადგენლობა საერთაშორისო მოძრაობაში მყოფად მიიჩნევა, თუ მასში შემავალი თუნდაც ერთი სატრანსპორტო საშუალება აკმაყოფილებს ამ პუნქტით განსაზღვრულ მოთხოვნებს.

QUESTION 39

CORRECT ANSWER: 2

“Vehicle” means:

- | | |
|--|--|
| 1 The motor equipment only, being into motion or designated for motion on the road, which is generally issued for conveyance of people or goods | 2 The equipment being into motion or designated for motion on the road, which moves using the engine or other force |
|--|--|

განმარტება:

„საგზაო მოძრაობის შესახებ“ საქართველოს კანონის 5-ე მუხლის 73-ე პუნქტის თანახმად, „სატრანსპორტო საშუალება“ - გზაზე მოძრავი ან გზაზე მოძრაობისათვის განკუთვნილი მონწყობილობა, რომელიც ძრავას ან სხვა ძალის მეშვეობით გადაადგილდება.

QUESTION 40

CORRECT ANSWER: 3

“Gross mass” of the vehicle means:

- | | |
|--|--|
| 1 Mass of the vehicle without crew, passengers and goods | 2 Mass of the equipped vehicle, crew and passengers during a given period of time |
| 3 Mass of the equipped vehicle, filled with cargo, crew and passengers, limit of which is established by the blank production plant | 4 Part of the mass of the vehicle, which forms loading on the road after pulling the axis |

განმარტება:

„საგზაო მოძრაობის შესახებ“ საქართველოს კანონის 5-ე მუხლის მე-80 პუნქტის თანახმად, „სრული მასა“ - ტვირთით, მძღოლითა და მგზავრებით შევსებული, აღჭურვილ მდგომარეობაში მყოფი სატრანსპორტო საშუალების მასა, რომლის ზღვარს ადგენს სატრანსპორტო საშუალების ქარხანა-დამამზადებელი. სატრანსპორტო საშუალებათა შემადგენლობის სრული მასა გამოიანგარიშება მასში შემავალი სატრანსპორტო საშუალებების სრულ მასათა ჯამით.

QUESTION 41

CORRECT ANSWER: 2

While defining loading on each driving and non-driving axis, the axis located on one line in the cross section of the vehicles and separated constructively shall be considered, as:

1

Independent axes

2

One entire axis

3

One entire axis – in case of non-driving axis and independent axes – in case of driving axis

განმარტება:

„საგზაო მოძრაობის შესახებ“ საქართველოს კანონის მე-5 მუხლის 88-ე პუნქტის თანახმად, ღერძზე დატვირთვა არის სატრანსპორტო საშუალების ფაქტობრივი მასის ნაწილი, რომელიც ღერძზე დაწოლის შედეგად წარმოშობს გზაზე დატვირთვას. თითოეულ წამყვან ან არაწამყვან ღერძზე დატვირთვის განსაზღვრისას სატრანსპორტო საშუალების განივ ჭრილში ერთ ხაზზე განლაგებული, კონსტრუქციულად განცალკევებული ღერძები განიხილება, როგორც ერთი მთლიანი ღერძი.

QUESTION 42

CORRECT ANSWER: 1

On two-way road with lane line, reverse traffic side shall be:

1

Driveway on the left of the lane line

2

Driveway on the right of the lane line

3

None out of the ones listed in given test

განმარტება:

„საგზაო მოძრაობის შესახებ“ საქართველოს კანონის 31-ე მუხლის მე-3 პუნქტის თანახმად, ორმხრივმოძრაობიან გზაზე, რომელსაც აქვს გამყოფი ზოლი, საპირისპირო მიმართულებების მოძრაობის მხარედ ითვლება გამყოფი ზოლის მარცხნივ არსებული სავალი ნაწილი.

QUESTION 43

CORRECT ANSWER: 1

If a driver is unable to define existence of surface on the road (because of darkness, snow, mud, etc.) and there are no priority signs as well, he/she will be considered to be:

1

On minor road

2

On major road

3

On the road equal to the highway

განმარტება:

„საგზაო მოძრაობის შესახებ“ საქართველოს კანონის 36-ე მუხლის მე-8 პუნქტის თანახმად, თუ მძღოლი ვერ განსაზღვრავს გზაზე საფრის არსებობას (სიბნელის, თოვლის, ტალახის გამო ან სხვა მიზეზით) და არც პრიორიტეტის ნიშნებია, ითვლება, რომ იგი მეორეხარისხოვან გზაზე იმყოფება.

QUESTION 44

CORRECT ANSWER: 2

In case, if the orders of the temporary traffic sign fixed on the vehicle of the organization performing road works contradict to the orders of the traffic sign posted stationary on the same road section, a driver shall be obliged to carry out:

1

Orders of the stationary posted traffic sign

2

Orders of the temporary traffic sign fixed on the vehicle of the organization performing road works

განმარტება:

„საგზაო მოძრაობის შესახებ“ საქართველოს კანონის 28-ე მუხლის მე-5 პუნქტის თანახმად, თუ გზაზე დროებით გადასატან სადგარზე ან საგზაო სამუშაოების მწარმოებელი ორგანიზაციის ავტომობილზე დაყენებულია საგზაო ნიშანი (შემდგომ – დროებითი საგზაო ნიშანი), რომლის მოთხოვნები ეწინააღმდეგება იმავე გზის მონაკვეთზე სტაციონარულად დაყენებული საგზაო ნიშნის მოთხოვნებს, მძღოლი ვალდებულია შეასრულოს დროებითი საგზაო ნიშნის მოთხოვნები.

QUESTION 45

CORRECT ANSWER: 1

If the registration document does not define the maximum allowable mass, maximum allowable mass of the vehicle shall be:

1 Total mass limit defined for this vehicle by the blank production plant

2 Mass defined by the bill of lading of conveyor or forwarding agent

3 Actual mass of the vehicle

განმარტება:

„საგზაო მოძრაობის შესახებ“ საქართველოს კანონის 47-ე მუხლის მე-2 პუნქტის თანახმად, სატრანსპორტო საშუალების ნებადართული მაქსიმალური მასა სარეგისტრაციო დოკუმენტით განისაზღვრება. თუ სარეგისტრაციო დოკუმენტი არ განსაზღვრავს ნებადართულ მაქსიმალურ მასას, სატრანსპორტო საშუალების ნებადართულ მაქსიმალურ მასად მიიჩნევა ქარხანა-დამამზადებლის მიერ აღნიშნული სატრანსპორტო საშუალებისათვის დადგენილი სრული მასის ზღვარი.

QUESTION 46

CORRECT ANSWER: 3

Driving of motorcycles, buses, light vehicles and lorries are permitted only those persons:

1 Whose health state complies with the requirements regarding the health state, that is required for driving of the vehicles defined by the Georgian legislation

2 Who is awarded with the right to drive the specific category or/and sub-category vehicle according to the rule prescribed by the Georgian legislation and this right is not terminated or suspended

3 Who satisfy all of the requirements listed in given test

განმარტება:

„საგზაო მოძრაობის შესახებ“ საქართველოს კანონის 54-ე მუხლის პირველი პუნქტის თანახმად, ამ მუხლით განსაზღვრული კატეგორიის ან/და ქვეკატეგორიის სატრანსპორტო საშუალების მართვის უფლება აქვს მხოლოდ იმ პირს: ა) რომლის ჯანმრთელობის მდგომარეობაც შეესაბამება საქართველოს კანონმდებლობით განსაზღვრულ სატრანსპორტო საშუალების მართვისათვის საჭირო ჯანმრთელობის მდგომარეობის მოთხოვნებს; ბ) რომელსაც საქართველოს კანონმდებლობით დადგენილი წესით მიენიჭა შესაბამისი კატეგორიის ან/და ქვეკატეგორიის სატრანსპორტო საშუალების მართვის უფლება და ეს უფლება არ არის შეჩერებული, ჩამორთმეული ან შეწყვეტილი (გაუქმებული).

QUESTION 47

CORRECT ANSWER: 2



I



II



III

Which identification sign is fixed to the vehicle carrying dangerous goods in the front and to the rear?

1

I only

2

II only

3

III only

4

I and II only

განმარტება:

„საგზაო მოძრაობის შესახებ“ საქართველოს კანონის მე-19 მუხლის პირველი პუნქტის „გ“ ქვეპუნქტის თანახმად, მძღოლი, ხოლო ამ კანონის მე-18 მუხლის პირველი პუნქტის „დ“ ქვეპუნქტით გათვალისწინებულ შემთხვევებში – საწარმო ვალდებულია ამ პუნქტით განსაზღვრულ სატრანსპორტო საშუალებებზე დაამაგროს შემდეგი საცნობი ნიშნები: გ) „სახიფათო ტვირთი“ – 400X300 მმ ზომის, სწორკუთხედი, ნარინჯისფერი ფირფიტა გარშემო 15 მმ სიგანის შავი არშიით – ასეთი ტვირთის გადამზიდავი სატრანსპორტო საშუალების წინა და უკანა მხარეს, ხოლო ცისტერნის შემთხვევაში – გვერდებზედაც (ფირფიტის ქვედა ნაწილში უნდა აღინიშნოს ტვირთის გაერთიანებული ერების ორგანიზაციის ნომერი, ხოლო ზედა ნაწილში – საშიშროების საიდენტიფიკაციო ნომერი. ისინი უნდა გაიყოს 15 მმ სისქის შავი ჰორიზონტალური ხაზით, რომელიც ფირფიტას ნახევარ სიმაღლეზე გადაკვეთს).

QUESTION 48

CORRECT ANSWER: 3



I



II



III

Which identification sign is fixed in the front and to the rear of the mechanical vehicle, driven by a deaf driver?

1

III only

2

II only

3

I only

განმარტება:

„საგზაო მოძრაობის შესახებ“ საქართველოს კანონის მე-19 მუხლის პირველი პუნქტის „გ“ ქვეპუნქტის თანახმად, მძღოლი, ხოლო ამ კანონის მე-18 მუხლის პირველი პუნქტის „დ“ ქვეპუნქტით გათვალისწინებულ შემთხვევებში – საწარმო ვალდებულია ამ პუნქტით განსაზღვრულ სატრანსპორტო საშუალებებზე დაამაგროს შემდეგი საცნობი ნიშნები: 8) „სმენადაქვეითებული მძღოლი“ – 160 მმ დიამეტრის ყვითელი წრე შიგნით ჩახაზული 40 მმ დიამეტრის სამი შავი წრით, რომლებიც განლაგებულია წარმოსახვითი წვერით ქვევით მიმართული ტოლგვერდა სამკუთხედის კუთხეებში – მაგრდება იმ მექანიკური სატრანსპორტო საშუალების წინა და უკანა მხარეს, რომელსაც მართავს საქართველოს შრომის, ჯანმრთელობისა და სოციალური დაცვის მინისტრისა და საქართველოს შინაგან საქმეთა მინისტრის ერთობლივი ბრძანებით განსაზღვრული სმენადაქვეითებული მძღოლი.

QUESTION 49

CORRECT ANSWER: 2



I



II



III

Which identification sign is fixed to the vehicle, which speed together with cargo and technical specification is less than the speed established by the legislation?

1

III only

2

II only

3

I only

განმარტება:

„საგზაო მოძრაობის შესახებ“ საქართველოს კანონის მე-19 მუხლის პირველი პუნქტის „ი“ ქვეპუნქტის თანახმად, მძღოლი, ხოლო ამ კანონის მე-18 მუხლის პირველი პუნქტის „დ“ ქვეპუნქტით გათვალისწინებულ შემთხვევებში – საწარმო ვალდებულია ამ პუნქტით განსაზღვრულ სატრანსპორტო საშუალებებზე დაამაგროს შემდეგი საცნობი ნიშნები: ი) „სიჩქარის შეზღუდვა“ – 3.24 საგზაო ნიშნის შემცირებული ფერადი გამოსახულება, რომელზედაც მითითებულია ნებადართული მოძრაობის სიჩქარე (ნიშნის დიამეტრი არანაკლებ 160 მმ-ია, არშიის სიგანე – დიამეტრის 1/10) – მაგრდება იმ არაგაბარიტული (მსხვილგაბარიტიანი) სატრანსპორტო საშუალების ან სახიფათო ტვირთის გადამზიდავი სატრანსპორტო საშუალების ძარას უკანა მხარეს, მარცხნივ, რომელსაც მართავს მძღოლად მუშაობის 2 წლამდე სტაჟის მქონე მძღოლი, აგრეთვე იმ შემთხვევაში, როცა ტექნიკური მახასიათებლით სატრანსპორტო საშუალების მაქსიმალური სიჩქარე ამ კანონის 33-ე მუხლის მე-7 პუნქტით განსაზღვრულზე ნაკლებია.

QUESTION 50

CORRECT ANSWER: 2



I



II



III

Which identification sign may be fixed to the vehicle, at the discretion of the driver, that is driven by a doctor?

1

III only

2

II only

3

I only

განმარტება:

„საგზაო მოძრაობის შესახებ“ საქართველოს კანონის მე-19 მუხლის მე-2 პუნქტის „ბ“ ქვეპუნქტის თანახმად, მძღოლის სურვილისამებრ სატრანსპორტო საშუალებაზე შეიძლება დამაგრდეს შემდეგი საცნობი ნიშნები: ბ) „ექიმი“ – ლურჯი კვადრატი 140-მმ-იანი გვერდით, შიგ ჩახაზული 125 მმ დიამეტრის თეთრი წრით, რომელზედაც გამოსახულია წითელი ჯვარი (სიმაღლე – 90 მმ, შტრიხის სიგანე – 25 მმ) – შეიძლება დამაგრდეს იმ სატრანსპორტო საშუალებაზე, რომელსაც ექიმი მძღოლი მართავს.

QUESTION 51

CORRECT ANSWER: 2



This traffic sign is posted:

1

By the patrol police posts

2

On the territory of Georgia, at the entrances, by the checkpoints

3

At the beginning of the highway

განმარტება:

„საგზაო მოძრაობის შესახებ“ საქართველოს კანონის პირველი დანართის მე-7 თავის (საინფორმაციო-მაჩვენებელი ნიშნები) 7.1 პუნქტის თანახმად, საგზაო ნიშანი 7.1 „მაქსიმალური სიჩქარის ზოგადი შეზღუდვები“ - იძლევა ინფორმაციას სიჩქარის ზოგადი შეზღუდვების თაობაზე, რომლებიც საგზაო მოძრაობის წესებით დადგენილია საქართველოს გზებზე. ნიშანი იდგმება საქართველოს ტერიტორიაზე შემოსასვლელში საკონტროლო გამშვებ პუნქტთან.

QUESTION 52

CORRECT ANSWER: 1

If children playing on lawn or pavement throw a ball on the driveway in front of the vehicle, a driver shall take into account, that:

1

Children may run after the ball on the driveway

2

There is no danger that children will move to the carriageway as they are required to stop at the edge of the carriageway and wait for the vehicle to pass

განმარტება:

თუ გაზონზე ან ტროტუარზე მყოფ მოთამაშე ბავშვებს სატრანსპორტო საშუალების წინ გზის სავალ ნაწილზე გადმოუვარდათ ბურთი, მძღოლმა უნდა გაითვალისწინოს, რომ ბავშვები შეიძლება გამოიქცნენ გზის სავალ ნაწილზე ბურთის ასაღებად.

QUESTION 53

CORRECT ANSWER: 3

If a vehicle is approaching the children playing on the pavement, a driver shall:

- 1 Proceed without paying attention to children, in order not to create obstacle to the vehicle behind
- 2 Give honk and proceed without stopping only
- 3 Slow down and be ready for braking

განმარტება:

თუ სატრანსპორტო საშუალება უახლოვდება ტროტუარზე მოთამაშე ბავშვებს, მძღოლმა უნდა შეანელოს სიჩქარე და მზად იყოს დამუხრუჭებისთვის.

QUESTION 54

CORRECT ANSWER: 3

It is forbidden to give a vehicle to other person:

- 1 Only if s/he is under alcohol, narcotic or psychotropic influence
- 2 Only when s/he does not have a relevant category or subcategory driving license or has suspended, deprived or terminated (cancelled) compliance to Georgian legislation
- 3 In any of the cases listed in given test

განმარტება:

„საგზაო მოძრაობის შესახებ“ საქართველოს კანონის მე-20 მუხლის მე-4 და მე-5 პუნქტების თანახმად: 4. აკრძალულია სატრანსპორტო საშუალების სამართავად გადაცემა იმ პირისათვის, რომელიც იმყოფება ალკოჰოლური, ნარკოტიკული ან ფსიქოტროპული სიმთვრალის მდგომარეობაში. 5. აკრძალულია სატრანსპორტო საშუალების სამართავად გადაცემა იმ პირისათვის, რომელსაც არ აქვს შესაბამისი კატეგორიის ან ქვეკატეგორიის სატრანსპორტო საშუალების მართვის უფლება ან ეს უფლება შეჩერებული, ჩამორთმეული ან შეწყვეტილი (გაუქმებული) აქვს საქართველოს კანონმდებლობით დადგენილი წესით.

QUESTION 55

CORRECT ANSWER: 2

Is the driver of the vehicle, whose health state does not comply with the requirements regarding the health state necessary for driving the vehicle, prohibited from driving?

1

No

2

Yes

განმარტება:

„საგზაო მოძრაობის შესახებ“ საქართველოს კანონის 21-ე მუხლის მე-2 პუნქტის თანახმად, მძღოლს, რომლის ჯანმრთელობის მდგომარეობა არ შეესაბამება სატრანსპორტო საშუალების მართვისათვის საჭირო ჯანმრთელობის მდგომარეობის მოთხოვნებს, ეკრძალება სატრანსპორტო საშუალების მართვა.

QUESTION 56

CORRECT ANSWER: 4

If an elderly pedestrian is walking on crosswalk in front of the vehicle, a driver shall take into account:

1

Only the fact, that the elderly pedestrian may not properly assess the speed of the approaching vehicle

2

Only the fact, that the elderly pedestrian may have impaired hearing or/and sight

3

Only the fact, that the elderly pedestrian's reaction is slower

4

In all the above-mentioned circumstances

განმარტება:

თუ სატრანსპორტო საშუალების წინ ქვეითთა გადასასვლელზე გადაადგილდება მოხუცი ქვეითი, მძღოლმა უნდა გაითვალისწინოს როგორც ის, რომ მოხუცი ქვეითი შეიძლება სათანადოდ ვერ აფასებდეს მოახლოებული სატრანსპორტო საშუალების სიჩქარეს, ასევე ის, რომ მოხუცი ქვეითის რეაქცია უფრო შენელებულია და შესაძლებელია მას მკვეთრად ჰქონდეს დაქვეითებული სმენა და მხედველობა.

QUESTION 57

CORRECT ANSWER: 3

Why is driving of the vehicle by a driver under drug influence is dangerous?

- 1 Only due to the fact, that the reaction time of the driver being under drug influence increases
- 2 Only due to the fact, that the driver being under drug influence cannot adequately analyze the situation on the road
- 3 All of the listed factors are caused by narcotic influence

განმარტება:

ნარკოტიკული სიმთვრალის მდგომარეობაში მყოფი მძღოლის მიერ სატრანსპორტო საშუალების მართვა სიფრთხილის შემცველია, რადგან ნარკოტიკული სიმთვრალის მდგომარეობაში მყოფი მძღოლის რეაქციის დრო იზრდება, ასევე იგი ადევკვატურად ვერ აანალიზებს გზაზე არსებულ სიტუაციას.

QUESTION 58

CORRECT ANSWER: 1

During dark hours or in poor visibility conditions, while selecting the vehicle speed, the driver should give a decisive meaning to:

- 1 Visual conditions
- 2 Road marking requirements specified on the given section of the road
- 3 Number of traffic lanes of opposite traffic direction
- 4 None of the circumstances listed in given test should be considered

განმარტება:

დღე-ღამის ბნელ დროს ან არასაკმარისი ხილვადობის პირობებში, სატრანსპორტო საშუალების მოძრაობის სიჩქარის შერჩევისას მძღოლმა გადამწყვეტი მნიშვნელობა უნდა მიანიჭოს მხედველობის პირობებს.

თემა 2:

უნესკო-ს და პირობები, რომელთა დროს
აკრძალულია სატრანსპორტო საშუალების
ეკსპლუატაცია

QUESTION 59

CORRECT ANSWER: 4

Content of harmful substances in the exhaust gas of the vehicle will be reduced, if following is used:

1

Vehicle in technically suitable condition only

2

Quality fuel only

3

Non-ethylated fuel (without lead compounds) only

4

Both vehicle in technically suitable condition, as well as quality and non-ethylated fuel (without lead compounds)

განმარტება:

სატრანსპორტო საშუალების გამონაბოლქვ აირებში მავნე ნივთიერებათა შემადგენლობა შემცირდება, თუ გამოყენებული იქნება ტექნიკურად გამართული სატრანსპორტო საშუალება, ასევე ხარისხიანი და არაეთილირებული (ტყვიის მინარევების გარეშე) საწვავი.

QUESTION 60

CORRECT ANSWER: 1

In dark hours, if low and high beams of the mechanical vehicle are out of order (switched off) simultaneously, a driver is prohibited from:

1

Driving on the road without artificial illumination

2

Driving on any road, whether there is artificial illumination or not

3

Driving on artificially illuminated two-way road

განმარტება:

„საგზაო მოძრაობის შესახებ“ საქართველოს კანონის მე-21-ე მუხლის მე-13 პუნქტის თანახმად, მძღოლს ეკრძალება მოძრაობა მუშა სამუხრუჭო სისტემის, საჭის მექანიზმის, სატრანსპორტო საშუალებათა შემადგენლობაში მისაბმელი მოწყობილობის გაუმართაობისას, აგრეთვე დღე-ღამის ბნელ დროს ერთდროულად მწყობრიდან გამოსული (ჩამქრალი) ახლო და შორი განათების ფარებით (ან მათი არარსებობისას) ან/და უკანა საგაბარიტო სინათლეებით იმ გზაზე, რომელზედაც არ არის ხელოვნური განათება ან არასაკმარისი ხილვადობა. მძღოლის მხარეს არსებული მინასანმენდის უმოქმედობისას აკრძალულია მექანიკური სატრანსპორტო საშუალების მართვა ნისლის, წვიმისა და თოვის დროს.

QUESTION 61

CORRECT ANSWER: 1



A motor car driver parked on the sideway with solid surface. Will he/she violate the Highway Code, if he/she does not switch sidelights on in low visibility conditions?

1

Yes

2

No

განმარტება:

„საგზაო მოძრაობის შესახებ“ საქართველოს კანონის 49-ე მუხლის მე-9 პუნქტის თანახმად, დაბინდებიდან გათენებამდე, აგრეთვე ნებისმიერი სხვა არასაკმარისი ხილვადობის პირობებში, გზაზე გაჩერების ან დგომის დროს მექანიკური სატრანსპორტო საშუალება და მისი მისაბმელი აღნიშნული უნდა იყოს წინა და უკანა საგაბარითო სინათლეებით. ამავე მუხლის მე-11 პუნქტის „ბ“ ქვეპუნქტის თანახმად, ამ მუხლის მე-9 და მე-10 პუნქტებით დადგენილ მოთხოვნათა მიუხედავად, მექანიკური სატრანსპორტო საშუალება შეიძლება გაჩერდეს ან იმყოფებოდეს სადგომზე ნებისმიერი გარე სანათი ხელსაწყო ჩაურთველად: ბ) სავალი ნაწილის და მკვრივი საფარის მქონე გვერდულებს მიღმა.

QUESTION 62

CORRECT ANSWER: 2



Is a car driver allowed to proceed to the arrow direction, if rear side lights got out of order during driving in dark hours?

1

Yes

2

No

განმარტება:

„საგზაო მოძრაობის შესახებ“ საქართველოს კანონის 49-ე მუხლის პირველი პუნქტის თანახმად, დღე-ღამის ბნელ დროს, აგრეთვე არასაკმარისი ხილვადობის პირობებში მოძრაე მექანიკურ სატრანსპორტო საშუალებაზე, აგრეთვე მოპედზე ჩართული უნდა იყოს ახლო ან შორი განათების ფარა/ფარები და უკანა საგაბარიტო სინათლეები. ამავე კანონის 21-ე მუხლის მე-13 პუნქტის თანახმად მძღოლს ეკრძალება მოძრაობა მუშა სამუხრუჭო სისტემის, საჭის მექანიზმის, სატრანსპორტო საშუალებათა შემადგენლობაში მისაბმელი მოწყობილობის გაუმართაობისას, აგრეთვე დღე-ღამის ბნელ დროს ერთდროულად მწყობრიდან გამოსული (ჩამქრალი) ახლო და შორი განათების ფარებით (ან მათი არარსებობისას) ან/და უკანა საგაბარიტო სინათლეებით იმ გზაზე, რომელზედაც არ არის ხელოვნური განათება ან არასაკმარისი ხილვადობაა.

QUESTION 63

CORRECT ANSWER: 2



Will a car driver violate the Highway Code, if the car is parked at the place shown in the picture without switching the external illumination on in low visibility conditions?

1

Yes

2

No

განმარტება:

„საგზაო მოძრაობის შესახებ“ საქართველოს კანონის 49-ე მუხლის მე-9 პუნქტის თანახმად, დაბინდებიდან გათენებამდე, აგრეთვე ნებისმიერი სხვა არასაკმარისი ხილვადობის პირობებში, გზაზე გაჩერების ან დგომის დროს მექანიკური სატრანსპორტო საშუალება და მისი მისაბმელი აღნიშნული უნდა იყოს წინა და უკანა საგაბარითო სინათლეებით. ამავე მუხლის მე-11 პუნქტის „ბ“ ქვეპუნქტის თანახმად, ამ მუხლის მე-9 და მე-10 პუნქტებით დადგენილ მოთხოვნათა მიუხედავად, მექანიკური სატრანსპორტო საშუალება შეიძლება გაჩერდეს ან იმყოფებოდეს სადგომზე ნებისმიერი გარე სანათი ხელსაწყოს ჩაურთველად: ბ) სავალი ნაწილის და მკვრივი საფარის მქონე გვერდულებს მიღმა.

QUESTION 64

CORRECT ANSWER: 2

Is driving the vehicle, with actual mass exceeding 44 tonnes, prohibited?

- 1** Yes, in any case
- 2** No, if it is above-standard (heavy) vehicle, routing according to the rule established by the legislation after agreement with the authorized body, in accordance with the conditions stipulated by this agreement
- 3** Routing on secondary roads is not prohibited only

განმარტება:

„საგზაო მოძრაობის შესახებ“ საქართველოს კანონის 47-ე მუხლის მე-3 პუნქტის „ა“ თანახმად, აკრძალულია გზაზე იმ სატრანსპორტო საშუალების მოძრაობა, რომლის: ა) თითოეულ წამყვან ან არაწამყვან ღერძზე მაქსიმალური დატვირთვა აღემატება 10 ტონას (გარდა ერთწამყვანღერძიანი ავტოსატრანსპორტო საშუალებისა, რომლის წამყვან ღერძზე მაქსიმალური დატვირთვა არ უნდა აღემატებოდეს 11,5 ტონას) ან/და ფაქტობრივი მასა აღემატება 44 ტონას ან/და ფაქტობრივი მასა აღემატება ნებადართულ მაქსიმალურ მასას. ამავე მუხლის მე-5 პუნქტის „ა“ ქვეპუნქტის თანახმად, გარდა ნებადართულ მაქსიმალურ მასაზე ფაქტობრივი მასის გადაჭარბების აკრძალვისა, ამ მუხლის მე-3 პუნქტის მოქმედება არ ვრცელდება: ა) იმ არაგაბარიტულ (მსხვილგაბარიტიან) ან ზენორმატიულ (მძიმეწონიან) სატრანსპორტო საშუალებაზე, რომელიც გზაზე მოძრაობს საქართველოს კანონმდებლობით დადგენილი წესით უფლებამოსილ ორგანოსთან (უწყებასთან) შეთანხმების შემდეგ, ამ შეთანხმების პირობების შესაბამისად.

QUESTION 65

CORRECT ANSWER: 2

Maximum loading on axis of the vehicle with one driving axis (other than above-standard (heavy) vehicle) should not exceed:

1 10 tonnes

2 11.5 tonnes

3 12.5 tonnes

4 15 tonnes

განმარტება:

„საგზაო მოძრაობის შესახებ“ საქართველოს კანონის 47-ე მუხლის მე-3 პუნქტის „ა“ ქვეპუნქტის თანახმად, აკრძალულია გზაზე იმ სატრანსპორტო საშუალების მოძრაობა, რომლის: ა) თითოეულ წამყვან ან არაწამყვან ღერძზე მაქსიმალური დატვირთვა აღემატება 10 ტონას (გარდა ერთწამყვანღერძიანი ავტოსატრანსპორტო საშუალებისა, რომლის წამყვან ღერძზე მაქსიმალური დატვირთვა არ უნდა აღემატებოდეს 11,5 ტონას) ან/და ფაქტობრივი მასა აღემატება 44 ტონას ან/და ფაქტობრივი მასა აღემატება ნებადართულ მაქსიმალურ მასას.

QUESTION 66

CORRECT ANSWER: 2

Subsequent driving of a vehicle is prohibited, if:

1 Honk is not operating properly

2 During dark hours low and high beams or/and rear sidelights are simultaneously switched off (or are not applicable) on the road, on which there is no artificial illumination or there is low visibility

3 Windscreen wipers are not operating in a fixed mode

4 Hermeticity of feed system is out of order

განმარტება:

„საგზაო მოძრაობის შესახებ“ საქართველოს კანონის 21-ე მუხლის მე-13 პუნქტის თანახმად, მძღოლს ეკრძალება მოძრაობა მუშა სამუხრუჭო სისტემის, საჭის მექანიზმის, სატრანსპორტო საშუალებათა შემადგენლობაში მისაბმელი მოწყობილობის გაუმართაობისას, აგრეთვე დღე-ღამის ბნელ დროს ერთდროულად მწყობრიდან გამოსული (ჩამქრალი) ახლო და შორი განათების ფარებით (ან მათი არარსებობისას) ან/და უკანა საგაბარიტო სინათლეებით იმ გზაზე, რომელზედაც არ არის ხელოვნური განათება ან არასაკმარისი ხილვადობა. მძღოლის მხარეს არსებული მინასანმენდის უმოქმედობისას აკრძალულია მექანიკური სატრანსპორტო საშუალების მართვა ნისლის, წვიმისა და თოვის დროს.

QUESTION 67

CORRECT ANSWER: 2

Is driving of the vehicle prohibited if its tyre dimension or capacity does not correspond to the vehicle model?

1

No

2

Yes

განმარტება:

აკრძალულია სატრანსპორტო საშუალების ექსპლუატაცია, თუ საბურავი ზომით ან დასაშვები დატვირთვით არ შეესაბამება სატრანსპორტო საშუალების მოდელს.

QUESTION 68

CORRECT ANSWER: 2



I



II



III

Which drawing shows correct arrangement of hands on the steering wheel?

1

I

2

II

3

III

განმარტება:

საჭის თვალზე ხელების სწორი განლაგებაა, როდესაც ავარიული სიტუაციის წარმოშობის შემთხვევაში მძღოლს შეუძლია სწრაფად და მოხერხებულად მოაბრუნოს საჭე ყველა მიმართულებით და დააბრუნოს იგი საწყის მდგომარეობაში. გარდა ამისა სწორი განლაგება უზღუნველყოფს ხელებზე მინიმალურ დატვირთვას, ამცირებს დაღლილობას. მძღოლი ყოველთვის მზადაა რეაგირება მოახდინოს საგზაო სიტუაციის ცვლილებაზე. საჭის თვალზე ხელების სწორი განლაგება ნაჩვენებია მეორე ნახატზე.

QUESTION 69

CORRECT ANSWER: 2

According to the technical requirements of the vehicles which of the malfunction of the below listed braking system is not permitted?

- 1** Only not satisfactory operation of the brake control valve, leaking, damage of its control mechanism, deformation or excessive wear
- 2** Any of the malfunction listed in given test
- 3** Only malfunction of the hand brake squeaky mechanism, excessive movement of the lever

განმარტება:

„ავტოსატრანსპორტო საშუალებების მიმართ წაყენებული ტექნიკური მოთხოვნები, რომლებთან შესაბამისობის დადგენის მიზნითაც ტარდება გზისთვის ვარგისობაზე ტესტირება და მისი ჩატარების მეთოდების“ საქართველოს მთავრობის 2014 წლის 3 იანვარის №30 დადგენილებით დამტკიცებული ტექნიკური რეგლამენტის მე-4 მუხლის მე-15 და მე-16 პუნქტების თანახმად: 15. დაუშვებელია ხელით მართვადი მუხრუჭის საკონტროლო სარქველის არადამაკმაყოფილებელი მოქმედება, გაჟონვა, მისი მაკონტროლებლის დაზიანება, დეფორმირება ან ზედმეტი ცვეთა. 16. დაუშვებელია ხელის მუხრუჭის ხრუტუნა მექანიზმის გაუმართაობა, ბერკეტის ზედმეტი სვლა.

QUESTION 70

CORRECT ANSWER: 3

According to the technical requirements of the vehicles which of the malfunction of the below listed braking system is not permitted?

- 1 Only leak of liquid from hydraulic brake
- 2 Only malfunction of actuation manometer of pneumatic or pneumo-hydraulic brake
- 3 Any of the malfunction listed in given test

განმარტება:

„ავტოსატრანსპორტო საშუალებების მიმართ წაყენებული ტექნიკური მოთხოვნები, რომლებთან შესაბამისობის დადგენის მიზნითაც ტარდება გზისთვის ვარგისობაზე ტესტირება და მისი ჩატარების მეთოდების“ საქართველოს მთავრობის 2014 წლის 3 იანვარის №30 დადგენილებით დამტკიცებული ტექნიკური რეგლამენტის მე-4 მუხლის მე-9 და მე-17 პუნქტების თანახმად: 9. სამუხრუჭო სისტემების სასიგნალო და საკონტროლო სისტემა, პნევმატიკური და პნევმოჰიდრაულიკური სამუხრუჭო ამძრავის მანომეტრები, სადგომი სამუხრუჭო სისტემის მართვის ორგანოს ფიქსაციის მოწყობილობა უნდა იყოს გამართული. 17. დაუშვებელია სამუხრუჭო სარქველების (სარედუქციო სარქველები და რეგულატორები) დაზიანება, ჰაერის ზედმეტი გაღინება, კომპრესორიდან ზედმეტი ზეთის გაღინება, არასაიმედო მონტაჟი, ჰიდრაულიკური მუხრუჭიდან სითხის გაღინება.

QUESTION 71

CORRECT ANSWER: 1

Is it prohibited to operate the car if the quantity, type and operation regime of the exterior lights do not correspond to the requirements of the construction of the vehicle?

- 1 It is forbidden
- 2 It is not forbidden

განმარტება:

„ავტოსატრანსპორტო საშუალებების მიმართ წაყენებული ტექნიკური მოთხოვნები, რომლებთან შესაბამისობის დადგენის მიზნითაც ტარდება გზისთვის ვარგისობაზე ტესტირება და მისი ჩატარების მეთოდების“ საქართველოს მთავრობის 2014 წლის 3 იანვარის №30 დადგენილებით დამტკიცებული ტექნიკური რეგლამენტის მე-7 მუხლის მე-3 პუნქტის თანახმად, დასაშვებია წარმოებიდან მოხსნილ ავტოსატრანსპორტო საშუალებებზე სხვა მარკისა და მოდელების ავტოსატრანსპორტო საშუალებების გარე მაშუქი ხელსაწყოების დაყენება. გარე მაშუქი ხელსაწყოების რაოდენობა, ტიპი, განთავსება და მუშაობის რეჟიმი უნდა შეესაბამებოდეს ავტოსატრანსპორტო საშუალების კონსტრუქციის მიმართ დადგენილ მოთხოვნებს.

QUESTION 72

CORRECT ANSWER: 3

Is it permitted to set the tires with different tread on the same axle?

1

It is permitted

2

It is permitted only on light vehicles

3

It is not permitted

განმარტება:

„ავტოსატრანსპორტო საშუალებების მიმართ წაყენებული ტექნიკური მოთხოვნები, რომლებთან შესაბამისობის დადგენის მიზნითაც ტარდება გზისთვის ვარგისობაზე ტესტირება და მისი ჩატარების მეთოდების“ საქართველოს მთავრობის 2014 წლის 3 იანვარის №30 დადგენილებით დამტკიცებული ტექნიკური რეგლამენტის მე-8 მუხლის მე-5 პუნქტის თანახმად, „ავტოსატრანსპორტო საშუალება უნდა იყოს დაკომპლექტებული საბურავებით, რომელიც გამორიცხავს ავტოსატრანსპორტო საშუალების მოძრაობის ნებისმიერ რეჟიმში, საბურავების შეხებას დაკიდების ან ავტოსატრანსპორტო საშუალების ნებისმიერ სხვა ელემენტთან. დაუშვებელია ერთ ღერძზე სხვადასხვა პროტექტორის მქონე საბურავების დაყენება.

QUESTION 73

CORRECT ANSWER: 4

Out of the listed below in which cases is the exploitation of a vehicle forbidden?

1

Only in case of leak of fuel in petrol and diesel engine systems

2

Only in case of leak of fumes in air exhaust system element connection

3

Only in case of using such air-cylinders that exploitation period has expired

4

In any case listed in given test

განმარტება:

„ავტოსატრანსპორტო საშუალებების მიმართ წაყენებული ტექნიკური მოთხოვნები, რომლებთან შესაბამისობის დადგენის მიზნითაც ტარდება გზისთვის ვარგისობაზე ტესტირება და მისი ჩატარების მეთოდების“ საქართველოს მთავრობის 2014 წლის 3 იანვარის №30 დადგენილებით დამტკიცებული ტექნიკური რეგლამენტის მე-9 მუხლის მე-18 და 21-ე პუნქტების თანახმად: 18. დაუშვებელია ბენზინის და დიზელის ძრავების კვების სისტემაში საწვავის ჟონვა. 21. აირბალონიანი ასს-ების კვების სისტემა უნდა იყოს ჰერმეტიკული. დაუშვებელია აირბალონიანი ასს-ზე ისეთი ბალონების გამოყენება, რომელთაც გასული აქვთ პერიოდული შემოწმების ვადა. ამავე რეგლამენტის მე-14 მუხლის მე-3 პუნქტის თანახმად, დაუშვებელია გაჟონვა ნამწვი აირების გამონაბოლქვის სისტემის ელემენტების შეერთებებში, ხოლო კატალიზური კონვერტორებით აღჭურვილ ასს-ებზე დაუშვებელია ნამწვი აირების ატმოსფეროში გამოყოფა კატალიზური კონვერტორების გვერდის ავლით.

QUESTION 74

CORRECT ANSWER: 3

According to the technical requirements of the vehicles the exploitation of a vehicle is not permitted in which of the malfunction listed below?

- 1 Only when vehicle construction does not consider rear-view mirror
- 2 Only when the sound signal does not work
- 3 In any of the malfunctions listed in given test

განმარტება:

„ავტოსატრანსპორტო საშუალებების მიმართ წაყენებული ტექნიკური მოთხოვნები, რომლებთან შესაბამისობის დადგენის მიზნითაც ტარდება გზისთვის ვარგისობაზე ტესტირება და მისი ჩატარების მეთოდების“ საქართველოს მთავრობის 2014 წლის 3 იანვარის №30 დადგენილებით დამტკიცებული ტექნიკური რეგლამენტის მე-10 მუხლის პირველი პუნქტის თანახმად, ავტოსატრანსპორტო საშუალების ხმოვანი სასიგნალე მოწყობილობა უნდა იყოს გამართულ მდგომარეობაში. ამავე რეგლამენტის მე-13 მუხლის პირველი პუნქტის „ზ“ ქვეპუნქტის თანახმად, „ავტოსატრანსპორტო საშუალება აღჭურვილი უნდა იყოს კომპლექტაციის შემდეგი ელემენტებით: ზ) უკანა ხედვის სარკეებით.

QUESTION 75

CORRECT ANSWER: 1

Is it permitted the cracks and spots to be present on the driver's side in the windscreen cleaning area?

- 1 It is not permitted
- 2 It is permitted

განმარტება:

„ავტოსატრანსპორტო საშუალებების მიმართ წაყენებული ტექნიკური მოთხოვნები, რომლებთან შესაბამისობის დადგენის მიზნითაც ტარდება გზისთვის ვარგისობაზე ტესტირება და მისი ჩატარების მეთოდების“ საქართველოს მთავრობის 2014 წლის 3 იანვარის №30 დადგენილებით დამტკიცებული ტექნიკური რეგლამენტის მე-6 მუხლის მე-4 პუნქტის თანახმად, დასაშვებია საჭარე მინის ზედა ნაწილში გამჭვირვალე ფერადი აფსკის დამაგრება სიგანით არა უმეტეს 140 მმ, ხოლო კატეგორიების ასს-ზე – სიგანით, რომელიც არ აღარებს საჭარე მინის ზედა ნაწილსა და მისი მინასაწმენდით გაწმენდის ზედა ზონის ზღვარს შორის მანძილს. დაუშვებელია საჭარე მინაზე, მძღოლის მხარეს, მინმწმენდის მოქმედების არეში, ბზარებისა და ლაქების არსებობა.

QUESTION 76

CORRECT ANSWER: 4

Low air pressure in the tires of the vehicle can lead to:

1

Increase of fuel consumption only

2

Steering complication only

3

Tire overheating only

4

Increase of fuel consumption, as well as the steering complication and tire overheating

განმარტება:

სატრანსპორტო საშუალების საბურავებში აირის დაბალმა წნევამ შეიძლება გამოიწვიოს როგორც საწვავის ხარჯის მატება, ასევე საჭის მართვის გაძნელება და საბურავების გადახურება.

თემა 3:

მაფრთხილებელი ნიშნები

QUESTION 77

CORRECT ANSWER: 1



I



II



III



IV

Which combination of the given traffic signs is posted in uninhabited area, at a distance of 150-300 meters from the railroad crossing without barrier, to the left side of the road?

1

I

2

II

3

III

4

IV

განმარტება:

„საგზაო მოძრაობის შესახებ“ საქართველოს კანონის პირველი დანართის 1.1, 1.2 და 1.41- 1.46 პუნქტების თანახმად, საგზაო ნიშანი: 1.1. „რკინიგზის უზღაბაუმიანი გადასასვლელი“ – იძლევა გაფრთხილებას რკინიგზის უზღაბაუმიანი გადასასვლელთან მიახლოების თაობაზე. 1.2. „რკინიგზის უზღაბაუმი გადასასვლელი“ – იძლევა გაფრთხილებას რკინიგზის უზღაბაუმი გადასასვლელთან მიახლოების თაობაზე. 1.4.1–1.4.6. „რკინიგზის გადასასვლელთან მიახლოება“ – დამატებით აფრთხილებს მძღოლს დაუსახლებელ პუნქტში რკინიგზის გადასასვლელთან მიახლოების თაობაზე. ამავე დანართის პირველი თავის შენიშვნის „ა“ და „ვ“ ქვეპუნქტების თანახმად: ა) ნიშნები 1.1, 1.2, 1.5–1.34 ნიშნები დაუსახლებელ პუნქტში იდგმება სახიფათო მონაკვეთის დასაწყისამდე 150–300 მეტრ მანძილზე, დასახლებულ პუნქტში – 50–100 მეტრ მანძილზე. აუცილებლობისას ნიშნები იდგმება სხვა მანძილზედაც, რომელიც მითითებულია 8.1.1 დაფაზე; ვ) ნიშნები 1.4.1–1.4.3 ნიშნები იდგმება გზის მარჯვენა მხარეს, ხოლო 1.4.4–1.4.6 ნიშნები – გზის მარცხენა მხარეს. 1.4.1 და 1.4.4 ნიშნები იდგმება მოძრაობის მიმართულებით ძირითად და განმეორებით 1.1 ან 1.2 ნიშანთან ერთად, 1.4.3 და 1.4.6 ნიშნები – მოძრაობის მიმართულებით განმეორებით 1.1 ან 1.2 ნიშანთან ერთად, ხოლო 1.4.2 და 1.4.5 ნიშნები – დამოუკიდებლად, თანაბარ დაშორებაზე ძირითად და განმეორებით 1.1 ან 1.2 ნიშანს შორის.

QUESTION 78

CORRECT ANSWER: 2



I



II



III

Which is "Emergency stop sign" from these identification signs?

1

I

2

II

3

III

განმარტება:

„საგზაო მოძრაობის შესახებ“ საქართველოს კანონის 52-ე მუხლის მე-5 პუნქტის თანახმად, „ავარიული გაჩერების ნიშანი“ არის ტოლგვერდა სამკუთხედის ფორმის დაფა არანაკლებ 0,4 მეტრი სიგრძის გვერდებითა და არანაკლებ 0,05 მეტრი სიგანის წითელი არშიით. ამ სამკუთხედის შუა ნაწილი შეიძლება ღრუ იყოს ან ღია ფერის საღებავით შეიღებოს. წითელი არშია შექს არ უნდა ატარებდეს ან უნდა ჰქონდეს შექამრეკლი თვისების მქონე ზოლი. დაფა ისე უნდა იყოს მოწყობილი, რომ შეიძლებოდეს იყოს მისი ვერტიკალურ მდგომარეობაში მდგრად დაყენება.

QUESTION 79

CORRECT ANSWER: 2



I



II



III



IV

Which of these traffic signs is reposted in uninhabited area?

1

I and II only

2

I and III only

3

All of them

4

II and IV only

განმარტება:

„საგზაო მოძრაობის შესახებ“ საქართველოს კანონის პირველი დანართის პირველი თავის (მაფრთხილებელი ნიშნები) პენიშვნის „ბ“ ქვეპუნქტის თანახმად 1.2 „რკინიგზის უზღაგბაუმო გადასასვლელი“ და 1.11 „სანაპიროზე გასასვლელი“ ნიშნები მეორდება დაუსახლებულ პუნქტში. მეორე ნიშანი იდგმება სახიფათო მონაკვეთის დასაწყისიდან არანაკლებ 50 მეტრ მანძილზე.

QUESTION 80

CORRECT ANSWER: 1



I



II



III



IV

Which of these traffic signs is reposted in uninhabited area?

1

None of them

2

I and III only

3

All of them

4

II and IV only

განმარტება:

„საგზაო მოძრაობის შესახებ“ საქართველოს კანონის პირველი დანართის პირველი თავის (მაფრთხილებელი ნიშნები) შენიშვნის „ბ“ ქვეპუნქტის თანახმად 1.1, 1.2, 1.10, 1.11, 1.23, 1.24 და 1.26 ნიშნები მეორდება დაუსახლებელ პუნქტში, ხოლო 1.24 და 1.26 ნიშნები – დასახლებულ პუნქტშიც. მეორე ნიშანი იდგმება სახიფათო მონაკვეთის დასაწყისიდან არანაკლებ 50 მეტრ მანძილზე.

QUESTION 81

CORRECT ANSWER: 4



I



II



III



IV

Which of these traffic signs is reposted in inhabited area?

1

I and II only

2

All of them

3

II and III only

4

I, II and IV only

განმარტება:

„საგზაო მოძრაობის შესახებ“ საქართველოს კანონის პირველი დანართის პირველი თავის (მაფრთხილებელი ნიშნები) პენიშვნის „ბ“ ქვეპუნქტის თანახმად 1.23 „ქვეითთა გადასასვლელი“, 1.24 „ბავშვები“ და 1.26 „საგზაო სამუშაოები“ ნიშნები მეორდება დაუსახლებელ პუნქტში, ხოლო 1.24 და 1.26 ნიშნები – დასახლებულ პუნქტშიც. მეორე ნიშანი იდგმება სახიფათო მონაკვეთის დასაწყისიდან არანაკლებ 50 მეტრ მანძილზე.

QUESTION 82

CORRECT ANSWER: 3



I



II

Given signs are posted:

1

Within 100-120 meters before the railroad crossing

2

No more than 150 meters before the railroad crossing

3

Directly before railroad crossing

განმარტება:

„საგზაო მოძრაობის შესახებ“ საქართველოს კანონის პირველი დანართის პირველი თავის (მაფრთხილებელი ნიშნები) პენიშვნის „ე“ ქვეპუნქტის თანახმად 1.3.1 „ერთლიანდაგიანი რკინიგზა“ და 1.3.2 „მრავალლიანდაგიანი რკინიგზა“ ნიშნები იდგმება უშუალოდ რკინიგზის გადასასვლელის წინ.

QUESTION 83

CORRECT ANSWER: 4



I



II



III



IV

Which of these signs warns a driver about approaching the railroad crossing with two or more rails without barrier?

1

I and II only

2

All of them

3

II and III only

4

IV only

განმარტება:

„საგზაო მოძრაობის შესახებ“ საქართველოს კანონის პირველი დანართის პირველი თავის მაფრთხილებელი ნიშნები) 1.3.2 პუნქტის საგზაო ნიშანი 1.3.2. „მრავალლიანდაგიანი რკინიგზა“—იძლევა გაფრთხილებას ორი ან ორზე მეტი ლიანდაგის მქონე რკინიგზის უშლავბაუმო გადასასვლელთან მიახლოების თაობაზე.

QUESTION 84

CORRECT ANSWER: 1



I



II



III



IV

At what distance are these traffic signs placed in inhabited area before beginning of danger zone?

1

At a distance of 50-100 m

2

At a distance of 100-150 m

3

At a distance of 150-300 m

განმარტება:

„საგზაო მოძრაობის შესახებ“ საქართველოს კანონის პირველი დანართის პირველი თავის (მაფრთხილებელი ნიშნები) შენიშვნის „ა“ ქვეპუნქტის თანახმად 1.1, 1.2, 1.5–1.34 ნიშნები დაუსახლებელ პუნქტში იდგმება სახიფათო მონაკვეთის დასაწყისამდე 150–300 მეტრ მანძილზე, დასახლებულ პუნქტში – 50–100 მეტრ მანძილზე. აუცილებლობისას ნიშნები იდგმება სხვა მანძილზედაც, რომელიც მითითებულია 8.1.1 დათვაზე.

QUESTION 85

CORRECT ANSWER: 3



I



II

Given traffic signs are reposted in uninhabited areas before beginning of danger zone at a distance not less than:

1

150 meters

2

100 meters

3

50 meters

განმარტება:

„საგზაო მოძრაობის შესახებ“ საქართველოს კანონის პირველი დანართის პირველი თავის (მაფრთხილებელი ნიშნები) შენიშვნის „ბ“ ქვეპუნქტის თანახმად 1.1 „რკინიგზის ზღაგბაუმიანი გადასასვლელი“, 1.2 „რკინიგზის უზღაგბაუმი გადასასვლელი“, 1.10 „გასახსნელი ხიდი“, 1.11 „სანაპიროზე გასასვლელი“, 1.23 „ქვეითა გადასასვლელი“, 1.24 „ბავშვები“ და 1.26 „საგზაო სამუშაოები“ ნიშნები მეორდება დაუსახლებელ პუნქტში, ხოლო 1.24 და 1.26 ნიშნები - დასახლებულ პუნქტშიც. მეორე ნიშანი იდგმება სახიფათო მონაკვეთის დასაწყისიდან არანაკლებ 50 მეტრის მანძილზე.

QUESTION 86

CORRECT ANSWER: 2



I



II

Is posting of the given traffic signs allowed directly at the beginning of uphill or downhill (or descent or ascent) without board 8.1.1 „distance to the object“, if they are following each other?

1

No

2

Yes

განმარტება:

„საგზაო მოძრაობის შესახებ“ საქართველოს კანონის პირველი დანართის პირველი თავის (მაფრთხილებელი ნიშნები) შენიშვნის „გ“ ქვეპუნქტის თანახმად, თუ აღმართი და დაღმართი (ან დაღმართი და აღმართი) ერთმანეთს მიჰყვება, 8.1.1 დაფის გარეშე 1.14 „ციცაბო დაღმართი“ და 1.15 „ციცაბო აღმართი“ ნიშნები შეიძლება დაიდგას შესაბამისად უშუალოდ აღმართის და დაღმართის წინ.

QUESTION 87

CORRECT ANSWER: 4



What combination of the given traffic signs is posted in uninhabited area, at a distance of 150-300 meters before the railroad crossing with barrier to the right side of the road?

1

I

2

II

3

III

4

IV

განმარტება:

„საგზაო მოძრაობის შესახებ“ საქართველოს კანონის პირველი დანართის პირველი თავის (მაფრთხილებელი ნიშნები) შენიშვნის „ა“, „ბ“ და „ვ“ ქვეპუნქტების თანახმად: ა) 1.1 „რკინიგზის შლავგაუმიანი გადასასვლელი“ და 1.2 „რკინიგზის უშლავგაუმო გადასასვლელი“ ნიშნები დაუსახლებელ პუნქტში იდგმება სახიფათო მონაკვეთის დასაწყისამდე 150–300 მეტრ მანძილზე, ბ) 1.1 „რკინიგზის შლავგაუმიანი გადასასვლელი“, 1.2 „რკინიგზის უშლავგაუმო გადასასვლელი“, 1.10 „გასახსნელი ხიდი“, 1.11 „სანაპიროზე გასასვლელი“, 1.23 „ქვეითა გადასასვლელი“, 1.24 „ბავშვები“ და 1.26 „საგზაო სამუშაოები“ ნიშნები მეორდება დაუსახლებელ პუნქტში, ხოლო 1.24 და 1.26 ნიშნები - დასახლებულ პუნქტშიც. მეორე ნიშანი იდგმება სახიფათო მონაკვეთის დასაწყისიდან არანაკლებ 50 მეტრის მანძილზე. ვ) 1.4.1-1.4.3 „რკინიგზის გადასასვლელთან მიახლოება“ ნიშნები იდგმება გზის მარჯვენა მხარეს, ხოლო 1.4.4-1.4.6 „რკინიგზის გადასასვლელთან მიახლოება“ ნიშნები - მარცხენა მხარეს. 1.4.1 და 1.4.4 ნიშნები იდგმება მოძრაობის მიმართულებით ძირითად და დუბლირებულ 1.1 ან 1.2 ნიშნებთან ერთად. ნიშნები 1.4.3 და 1.4.6 იდგმება მოძრაობის მიმართულებით განმეორებით 1.1 ან 1.2 ნიშნებთან, ხოლო ნიშნები 1.4.2 და 1.4.5 - დამოუკიდებლად, თანაბარ დაშორებაზე ძირითად და განმეორებითი 1.1 ან 1.2 ნიშნებს შორის.

QUESTION 88

CORRECT ANSWER: 2



I



II



III



IV

Which of these traffic signs marks the intersection with junction of equitable roads?

1

I

2

II

3

III

4

IV

განმარტება:

„საგზაო მოძრაობის შესახებ“ საქართველოს კანონის პირველი დანართის პირველი თავის (მაფრთხილებელი ნიშნები) 1.6 პუნქტის თანახმად საგზაო ნიშანი 1.6 „თანაბარმნიშვნელოვანი გზების გადაკვეთა“ - აღნიშნავს გზაჯვარედინს თანაბარმნიშვნელოვანი გზების გადაკვეთით.

QUESTION 89

CORRECT ANSWER: 3



I



II



III



IV

Which of these traffic signs warns a driver about approaching the swing bridge or the ferry crossing?

1

I and II only

2

II and III only

3

III only

4

IV only

განმარტება:

„საგზაო მოძრაობის შესახებ“ საქართველოს კანონის პირველი დანართის პირველი თავის (მაფრთხილებელი ნიშნები) 1.10 პუნქტის თანახმად საგზაო ნიშანი 1.10 „გასახსნელი ხიდი“ - იძლევა გაფრთხილებას გასახსნელ ხიდთან ან საბორნე გადასასვლელთან მიახლოების თაობაზე.

QUESTION 90

CORRECT ANSWER: 1



I



II



III



IV

Which of these traffic signs marks the road section with dangerous turns?

1

I

2

II

3

III

4

IV

განმარტება:

„საგზაო მოძრაობის შესახებ“ საქართველოს კანონის პირველი დანართის პირველი თავის (მაფრთხილებელი ნიშნები) 1.13.1 და 1.13.2 პუნქტების თანახმად საგზაო ნიშნები 1.13.1, 1.13.2 „სახიფათო მოსახვევები“ - აღნიშნავს გზის მონაკვეთს სახიფათო მოსახვევებით: 1.13.1 – პირველი მოსახვევით მარჯვნივ, 1.13.2 – პირველი მოსახვევით მარცხნივ.

QUESTION 91

CORRECT ANSWER: 3



I



II



III



IV

Which of these traffic signs warns about approaching the steep downhill section of the road?

1

I

2

II

3

III

4

IV

განმარტება:

„საგზაო მოძრაობის შესახებ“ საქართველოს კანონის პირველი დანართის პირველი თავის (მაფრთხილებელი ნიშნები) 1.14 პუნქტის თანახმად საგზაო ნიშანი 1.14 „ციცაბო დაღმართი“ - იძლევა გაფრთხილებას ციცაბოდაღმართიან გზის მონაკვეთთან მიახლოების თაობაზე.

QUESTION 92

CORRECT ANSWER: 3



I



II



III



IV

Which of these traffic signs marks ice-covered area of road, on which tyre traction ratio is less than 0.4?

1

I

2

II

3

III

4

IV

განმარტება:

„საგზაო მოძრაობის შესახებ“ საქართველოს კანონის პირველი დანართის პირველი თავის (მაფრთხილებელი ნიშნები) 1.16 პუნქტის თანახმად საგზაო ნიშანი 1.16 „მოლიპული გზა“ - აღნიშნავს გზის მოლიპულ მონაკვეთს, რომელზედაც საბურავის გზის საფართან ჩაჭიდების კოეფიციენტი 0,4-ზე ნაკლებია.

QUESTION 93

CORRECT ANSWER: 1



I



II



III



IV

Which of these traffic signs marks the section of the road, on which width of driveway is narrowing from the right side?

1

I

2

II

3

III

4

IV

განმარტება:

„საგზაო მოძრაობის შესახებ“ საქართველოს კანონის პირველი დანართის პირველი თავის (მაფრთხილებელი ნიშნები) 1.21.1-1.21.3 პუნქტების თანახმად საგზაო ნიშნები 1.21.1–1.21.3 „გზის შევიწროება“ - აღნიშნავს გზის მონაკვეთს, რომლის სავალი ნაწილის სიგანე ვიწროვდება. 1.21.1 - ორივე მხრიდან; 1.21.2 - მარჯვნიდან; 1.21.3 - მარცხნიდან.

QUESTION 94

CORRECT ANSWER: 3



I



II



III



IV

Which of these traffic signs marks the beginning of the road (driveway) section with two-way traffic, preceded by one-way traffic area?

1

I

2

II

3

III

4

IV

განმარტება:

„საგზაო მოძრაობის შესახებ“ საქართველოს კანონის პირველი დანართის პირველი თავის (მაფრთხილებელი ნიშნები) 1.22 პუნქტის თანახმად საგზაო ნიშანი 1.22 „ორმხრივი მოძრაობა“ - აღნიშნავს გზის (სავალი ნაწილის) ორმხრივმოძრაობიანი მონაკვეთის დასაწყისს, რომელსაც წინ უსწრებდა უბანი ცალმხრივი მოძრაობით.

QUESTION 95

CORRECT ANSWER: 2



I



II



III



IV

Which of these traffic signs warns about approaching the crosswalk marked with traffic sign (5.19.1 or 5.19.2) or/and road marking (1.14.1-1.14.3)?

1

I

2

II

3

III

4

IV

განმარტება:

„საგზაო მოძრაობის შესახებ“ საქართველოს კანონის პირველი დანართის პირველი თავის (მაფრთხილებელი ნიშნები) 1.23 პუნქტის თანახმად საგზაო ნიშანი 1.23 „ქვეითთა გადასასვლელი“ - იძლევა გაფრთხილებას 5.19.1 და 5.19.2 ნიშნებით ან/და 1.14.1–1.14.3 მონიშვნებით აღნიშნულ ქვეითთა გადასასვლელთან მიახლოების თაობაზე.

QUESTION 96

CORRECT ANSWER: 1



I



II



III



IV

Which of these traffic signs warns about approaching the crossing site of bicycle lane marked with traffic sign (4.4)?

1

I

2

II

3

III

4

IV

განმარტება:

„საგზაო მოძრაობის შესახებ“ საქართველოს კანონის პირველი დანართის პირველი თავის (მაფრთხილებელი ნიშნები) 1.25 პუნქტის თანახმად საგზაო ნიშანი 1.25 „ველობილიკის გადაკვეთა“ - იძლევა გაფრთხილებას 4.4 ნიშნით აღნიშნული ველობილიკის სავალი ნაწილის გადაკვეთის ადგილთან მიახლოების თაობაზე.

QUESTION 97

CORRECT ANSWER: 2



I



II



III



IV

Which of these traffic signs marks the road section, driveway of which is not protected from avalanche, landslide or stone falling?

1

I

2

II

3

III

4

IV

განმარტება:

„საგზაო მოძრაობის შესახებ“ საქართველოს კანონის პირველი დანართის პირველი თავის (მაფრთხილებელი ნიშნები) 1.29 პუნქტის თანახმად საგზაო ნიშანი 1.29 „ქვის ცვენა“ - აღნიშნავს გზის მონაკვეთს, რომლის სავალი ნაწილი არ არის დაცული ზვავისაგან, მენყერისაგან ან ქვების ცვენისაგან.

QUESTION 98

CORRECT ANSWER: 1



I



II



III



IV

Which of these traffic signs marks the road section adjacent to airport, where the aircrafts or helicopters fly at a low altitude?

1

I

2

II

3

III

4

IV

განმარტება:

„საგზაო მოძრაობის შესახებ“ საქართველოს კანონის პირველი დანართის პირველი თავის (მაფრთხილებელი ნიშნები) 1.31 პუნქტის თანახმად საგზაო ნიშანი 1.31 „დაბლამფრენი თვითმფრინავები“ - აეროდრომთან ახლოს გამავალი გზის მონაკვეთი, რომელზედაც თვითმფრინავები ან ვერტმფრენები დაბალ სიმაღლეზე დაფრინავენ.

QUESTION 99

CORRECT ANSWER: 3



I



II



III



IV

Which of these traffic signs marks the road section, which is temporary barred?

1

I

2

II

3

III

4

IV

განმარტება:

„საგზაო მოძრაობის შესახებ“ საქართველოს კანონის პირველი დანართის პირველი თავის (მაფრთხილებელი ნიშნები) 1.33 პუნქტის თანახმად საგზაო ნიშანი 1.33 „ხერგილი“ - აღნიშნავს გზის მონაკვეთს, რომელიც დროებით ჩახერგილია.

QUESTION 100

CORRECT ANSWER: 3



I



II



III



IV

Which of these traffic signs marks the road section, where hazard not defined by other warning signs may occur?

1

I

2

II

3

III

4

IV

განმარტება:

„საგზაო მოძრაობის შესახებ“ საქართველოს კანონის პირველი დანართის პირველი თავის (მაფრთხილებელი ნიშნები) 1.34 პუნქტის თანახმად საგზაო ნიშანი 1.34 „სხვა საფრთხეები“ - გზის მონაკვეთი, რომელზედაც შეიძლება წარმოიშვას ისეთი საფრთხე, რომელიც არ არის განსაზღვრული სხვა მაფრთხილებელი ნიშნებით.

QUESTION 101

CORRECT ANSWER: 4



I



II



III



IV

Which of these traffic signs marks traffic direction on “T”-shape intersection or road branch, or in road construction areas – direction of driving round?

1

I

2

II

3

III

4

IV

განმარტება:

„საგზაო მოძრაობის შესახებ“ საქართველოს კანონის პირველი დანართის პირველი თავის (მაფრთხილებელი ნიშნები) 1.36.1 და 1.36.2 პუნქტების თანახმად საგზაო ნიშნები 1.36.1 და 1.36.2 „მოხვევის მიმართულება“ - მიუთითებს "T"-სებურ გზაჯვარედინზე ან გზების განშტოებაზე მოძრაობის მიმართულებას (მარჯვნივ და მარცხნივ), ან საგზაო სამუშაოების მიმდინარეობის ადგილის შემოვლის შესაბამის მიმართულებას.

QUESTION 102

CORRECT ANSWER: 1



I



II



III



IV

Which of these traffic signs marks the road, on which a driver has priority of passing the unregulated intersection?

1

I

2

II

3

III

4

IV

განმარტება:

„საგზაო მოძრაობის შესახებ“ საქართველოს კანონის პირველი დანართის მე-2 თავის (პრიორიტეტის ნიშანი) 2.1 პუნქტების თანახმად საგზაო ნიშანი 2.1 „მთავარი გზა“ - გზა, რომელზე მოძრავ მძღოლსაც ენიჭება არარეგულირებული გზაჯვარედინის გავლის უპირატესობა. ნიშანი იდგმება გზის დასაწყისში და მეორდება უშუალოდ ყოველი გზაჯვარედინის წინ. 2.1 ნიშანი 8.13 დაფით დასახლებულ პუნქტში იდგმება გზაჯვარედინის წინ, რომელზედაც მთავარი გზა იცვლის მიმართულებას, დაუსახლებელ პუნქტში – წინასწარ გზაჯვარედინამდე 150–300 მეტრ მანძილზე და გზაჯვარედინის წინ.

თემა 4:

პროგრესის ნიშნები

QUESTION 103

CORRECT ANSWER: 1



This traffic sign:

1

Marks the road, on which a driver has priority of passing the unregulated intersection

2

Prohibits motion of the vehicles with dangerous goods

3

Indicates the road where the moving driver is required to give a way to the vehicle moving on the road that is to be crossed

განმარტება:

„საგზაო მოძრაობის შესახებ“ საქართველოს კანონის პირველი დანართის მე-2 თავის (პრიორიტეტის ნიშანი) 2.1 პუნქტების თანახმად საგზაო ნიშანი 2.1 „მთავარი გზა“ - გზა, რომელზე მოძრაობს მძღოლსაც ენიჭება არარეგულირებული გზაჯვარედინის გავლის უპირატესობა. ნიშანი იდგმება გზის დასაწყისში და მეორდება უშუალოდ ყოველი გზაჯვარედინის წინ. 2.1 ნიშანი 8.13 დაფით დასახლებულ პუნქტში იდგმება გზაჯვარედინის წინ, რომელზედაც მთავარი გზა იცვლის მიმართულებას, დაუსახლებელ პუნქტში – წინასწარ გზაჯვარედინამდე 150–300 მეტრ მანძილზე და გზაჯვარედინის წინ.

QUESTION 104

CORRECT ANSWER: 3



I



II



III



IV

Which of these traffic signs marks the end of the road section, from which it is deprived of the status of major road?

1

I

2

II

3

III

4


IV

განმარტება:

„საგზაო მოძრაობის შესახებ“ საქართველოს კანონის პირველი დანართის მე-2 თავის (პრიორიტეტის ნიშანი) 2.2 პუნქტების თანახმად საგზაო ნიშანი 2.2 „მთავარი გზის დასასრული“ - გზის იმ მონაკვეთის ბოლო, საიდანაც იგი კარგავს მთავარი გზის სტატუსს. თუ მთავარი გზა იმ გზის გადაკვეთის წინმთავერდება, რომელზედაც დაწესებულია მოცემული გზაჯვარედინის გავლის უპირატესობა, 2.2 ნიშანს დაუსახლებელ პუნქტში დგამენ წინასწარ 2.4 ნიშანთან ერთად, დასახლებულ პუნქტში – გზაჯვარედინიდან 25 მეტრ მანძილზე ან/და 2.3 ან 2.4 ნიშანთან ერთად. ნიშანი შეიძლება დაიდგას სხვა, 8.1.1 დაფაზე მითითებულ მანძილზედაც.

QUESTION 105

CORRECT ANSWER: 3



This traffic sign marks:

- 1 Road, on which the driver has priority of passing the unregulated intersection
- 2 Narrow section of road, on which a driver has priority over the oncoming vehicle
- 3 End of the road section, from which it is deprived of the status of major road

განმარტება:

„საგზაო მოძრაობის შესახებ“ საქართველოს კანონის პირველი დანართის მე-2 თავის (პრიორიტეტის ნიშანი) 2.2 პუნქტების თანახმად საგზაო ნიშანი 2.2 „მთავარი გზის დასასრული“ - გზის იმ მონაკვეთის ბოლო, საიდანაც იგი კარგავს მთავარი გზის სტატუსს. თუ მთავარი გზა იმ გზის გადაკვეთის წინმთავერდდება, რომელზედაც დაწესებულია მოცემული გზაჯვარედინის გავლის უპირატესობა, 2.2 ნიშანს დაუსახლებელ პუნქტში დგამენ წინასწარ 2.4 ნიშანთან ერთად, დასახლებულ პუნქტში – გზაჯვარედინიდან 25 მეტრ მანძილზე ან/და 2.3 ან 2.4 ნიშანთან ერთად. ნიშანი შეიძლება დაიდგას სხვა, 8.1.1 დაფაზე მითითებულ მანძილზედაც.

QUESTION 106

CORRECT ANSWER: 2



I



II



III



IV

Out of given signs which one indicates the crossing of such road where the moving driver is required to give a way?

1

I

2

II

3

III

4

IV

განმარტება:

„საგზაო მოძრაობის შესახებ“ საქართველოს კანონის პირველი დანართის პირველი თავის (მაფრთხილებელი ნიშნები) 1.7.1- 1.7.7 პუნქტების თანახმად საგზაო ნიშანი 1.7.1. „მეორეხარისხოვან გზასთან გადაკვეთა“, 1.7.2–1.7.7. „მეორეხარისხოვანი გზის შეერთება“ (შეერთება მარჯვნიდან – 1.7.2, 1.7.4 და 1.7.6, შეერთება მარცხნიდან – 1.7.3, 1.7.5 და 1.7.7) – ისეთ გზასთან გადაკვეთა ან ისეთ გზასთან შეერთება, რომელზე მოძრავ მძღოლსაც აქვს გზის დათმობის ვალდებულება. 1.7.1–1.7.7 ნიშნები სახიფათო მონაკვეთის დასაწყისამდე იდგმება დაუსახლებელ პუნქტში 150–300 მეტრ მანძილზე, დასახლებულ პუნქტში – 50–100 მეტრ მანძილზე.

QUESTION 107

CORRECT ANSWER: 2



I



II



III



IV

Out of given signs which one indicates the joining of such road where the moving driver is required to give a way?

1

II and IV only

2

I and III only

3

II only

4

III only

განმარტება:

„საგზაო მოძრაობის შესახებ“ საქართველოს კანონის პირველი დანართის პირველი თავის (მაფრთხილებელი ნიშნები) 1.7.1- 1.7.7 პუნქტების თანახმად საგზაო ნიშანი 1.7.1. „მეორეხარისხოვან გზასთან გადაკვეთა“, 1.7.2–1.7.7. „მეორეხარისხოვანი გზის შეერთება“ (შეერთება მარჯვნიდან – 1.7.2, 1.7.4 და 1.7.6, შეერთება მარცხნიდან – 1.7.3, 1.7.5 და 1.7.7) – ისეთ გზასთან გადაკვეთა ან ისეთ გზასთან შეერთება, რომელზე მოძრავ მძღოლსაც აქვს გზის დათმობის ვალდებულება. 1.7.1–1.7.7 ნიშნები სახიფათო მონაკვეთის დასაწყისამდე იდგმება დაუსახლებელ პუნქტში 150–300 მეტრ მანძილზე, დასახლებულ პუნქტში – 50–100 მეტრ მანძილზე.

QUESTION 108

CORRECT ANSWER: 3



I



II



III



IV

Out of given signs which one indicates the joining of such road where the moving driver is required to give a way?

1

II and III only

2

I and IV only

3

All of them

4

None of them

განმარტება:

„საგზაო მოძრაობის შესახებ“ საქართველოს კანონის პირველი დანართის პირველი თავის (მაფრთხილებელი ნიშნები) 1.7.1- 1.7.7 პუნქტების თანახმად საგზაო ნიშანი 1.7.1. „მეორეხარისხოვან გზასთან გადაკვეთა“, 1.7.2–1.7.7. „მეორეხარისხოვანი გზის შეერთება“ (შეერთება მარჯვნიდან – 1.7.2, 1.7.4 და 1.7.6, შეერთება მარცხნიდან – 1.7.3, 1.7.5 და 1.7.7) – ისეთ გზასთან გადაკვეთა ან ისეთ გზასთან შეერთება, რომელზე მოძრავ მძღოლსაც აქვს გზის დათმობის ვალდებულება. 1.7.1–1.7.7 ნიშნები სახიფათო მონაკვეთის დასაწყისამდე იდგმება დაუსახლებელ პუნქტში 150–300 მეტრ მანძილზე, დასახლებულ პუნქტში – 50–100 მეტრ მანძილზე.

QUESTION 109

CORRECT ANSWER: 3



I



II



III



IV

Which of these traffic signs obliges a driver to yield to the vehicle driver routing on the road to be crossed?

1

I

2

II

3

III

4

IV

განმარტება:

„საგზაო მოძრაობის შესახებ“ საქართველოს კანონის პირველი დანართის მე-2 თავის (პრიორიტეტის ნიშანი) 2.3 პუნქტების თანახმად საგზაო ნიშანი 2.3 „დაუთმე გზა“ - გზა, რომელზე მოძრავი მძღოლიც ვალდებულია გზა დაუთმოს გადასაჯვრეთ გზაზე მოძრავ მძღოლს, ხოლო 8.13 დაფის არსებობისას – მთავარ გზაზე მოძრავ მძღოლს. 2.3 ნიშანი დაუსახლებელ პუნქტში იდგმება წინასწარ გზაჯვარედინამდე 150–300 მეტრ მანძილზე 8.1.1 დაფით, თუ გზაჯვარედინის წინ დადგმულია 2.3 ნიშანი, ან 8.1.2 დაფით, თუ გზაჯვარედინის წინ დადგმულია 2.4 ნიშანი.

QUESTION 110

CORRECT ANSWER: 3



This traffic sign:

- 1 Prohibits a driver from entry to narrow section of the road
- 2 Prohibits motion with all kind of vehicles
- 3 Obliges a driver to yield to the vehicle drivers routing on the road to be crossed

განმარტება:

„საგზაო მოძრაობის შესახებ“ საქართველოს კანონის პირველი დანართის მე-2 თავის (პრიორიტეტის ნიშანი) 2.3 პუნქტების თანახმად საგზაო ნიშანი 2.3 „დაუთმე გზა“ - გზა, რომელზე მოძრავი მძღოლიც ვალდებულია გზა დაუთმოს გადასაღვეთ გზაზე მოძრავ მძღოლს, ხოლო 8.13 დაფის არსებობისას – მთავარ გზაზე მოძრავ მძღოლს. 2.3 ნიშანი დაუსახლებელ პუნქტში იდგმება წინასწარ გზაჯვარედინამდე 150–300 მეტრ მანძილზე 8.1.1 დაფით, თუ გზაჯვარედინის წინ დადგმულია 2.3 ნიშანი, ან 8.1.2 დაფით, თუ გზაჯვარედინის წინ დადგმულია 2.4 ნიშანი.

QUESTION 111

CORRECT ANSWER: 4



I



II



III



IV

Which of these traffic signs prohibits a driver from proceeding without having stopped at "STOP" line?

1

I

2

II

3

III

4

IV

განმარტება:

„საგზაო მოძრაობის შესახებ“ საქართველოს კანონის პირველი დანართის მე-2 თავის (პრიორიტეტის ნიშანი) 2.4 პუნქტების თანახმად საგზაო ნიშანი 2.4 „მოძრაობა გაუჩერებლად აკრძალულია“- უკრძალავს მძღოლს მოძრაობის გაგრძელებას „სდექ“ ხაზის წინ გაუჩერებლად, ხოლო თუ ის არ არის – გადასაკვეთი სავალი ნაწილის ნაპირთან. მძღოლი ვალდებულია გზა დაუთმოს გადასაკვეთ გზაზე მოძრავ მძღოლს, ხოლო 8. 13 დაფის არსებობისას – მთავარ გზაზე მოძრავ მძღოლს. ნიშანი იდგმება, თუ არაა უზრუნველყოფილი გადამკვეთ გზაზე მოძრავი სატრანსპორტო საშუალებათა ხილვადობა, ის აგრეთვე შეიძლება დაიდგას რკინიგზის გადასასვლელის ან საკარანტინო საგუშაგოს წინ (ამ შემთხვევაში მძღოლი ვალდებულია გაჩერდეს „სდექ“ ხაზის წინ, ხოლო თუ ის არ არის – ნიშნის წინ).

QUESTION 112

CORRECT ANSWER: 3



This traffic sign:

1

Prohibits entry of every vehicle in given direction

2

Prohibits proceeding with any kind of vehicle

3

Prohibits a driver from proceeding without having stopped as well as obliges a driver to yield to the vehicle drivers driving on the road to be crossed

განმარტება:

„საგზაო მოძრაობის შესახებ“ საქართველოს კანონის პირველი დანართის მე-2 თავის (პრიორიტეტის ნიშანი) 2.4 პუნქტების თანახმად საგზაო ნიშანი 2.4 „მოძრაობა გაუჩერებლად აკრძალულია“- უკრძალავს მძღოლს მოძრაობის გაგრძელებას „სდექ“ ხაზის წინ გაუჩერებლად, ხოლო თუ ის არ არის – გადასაკვეთი სავალი ნაწილის ნაპირთან. მძღოლი ვალდებულია გზა დაუთმოს გადასაკვეთ გზაზე მოძრავ მძღოლს, ხოლო 8. 13 დანართის არსებობისას – მთავარ გზაზე მოძრავ მძღოლს. ნიშანი იდგმება, თუ არაა უზრუნველყოფილი გადამკვეთ გზაზე მოძრავი სატრანსპორტო საშუალებათა ხილვადობა, ის აგრეთვე შეიძლება დაიდგას რკინიგზის გადასასვლელის ან საკარანტინო საგუშაგოს წინ (ამ შემთხვევაში მძღოლი ვალდებულია გაჩერდეს „სდექ“ ხაზის წინ, ხოლო თუ ის არ არის – ნიშნის წინ).

QUESTION 113

CORRECT ANSWER: 2



I



II



III



IV

Which of these traffic signs prohibits a driver to enter the narrow section of the road, if this hampers proceeding in reverse direction?

1

I

2

II

3

III

4

IV

განმარტება:

„საგზაო მოძრაობის შესახებ“ საქართველოს კანონის პირველი დანართის მე-2 თავის (პრიორიტეტის ნიშანი) 2.5 პუნქტების თანახმად საგზაო ნიშანი 2.5 „შემხვედრი მოძრაობის უპირატესობა“- უკრძალავს მძღოლს გზის ვიწრო მონაკვეთზე შესვლას, თუ ეს აძნელებს საპირისპირო მიმართულებით მოძრაობას. მძღოლი ვალდებულია გზა დაუთმოს შემხვედრ სატრანსპორტო საშუალებას, რომელიც მოპირდაპირე მისასვლელთან ან გზის ვიწრო მონაკვეთზე იმყოფება.

QUESTION 114

CORRECT ANSWER: 3



This traffic sign:

1

Marks beginning of the road section, on which motion direction to one or several lanes may be changed in reverse direction

2

Indicates the road, on which traffic is carried out in one direction

3

Prohibits a driver to enter the narrow section of the road, if this hampers reverse traffic

განმარტება:

„საგზაო მოძრაობის შესახებ“ საქართველოს კანონის პირველი დანართის მე-2 თავის (პრიორიტეტის ნიშანი) 2.5 პუნქტების თანახმად საგზაო ნიშანი 2.5 „შემხვედრი მოძრაობის უპირატესობა“- უკრძალავს მძღოლს გზის ვიწრო მონაკვეთზე შესვლას, თუ ეს აძნელებს საპირისპირო მიმართულებით მოძრაობას. მძღოლი ვალდებულია გზა დაუთმოს შემხვედრ სატრანსპორტო საშუალებას, რომელიც მოპირდაპირე მისასვლელთან ან გზის ვიწრო მონაკვეთზე იმყოფება.

QUESTION 115

CORRECT ANSWER: 3



I



II



III



IV

Which of the traffic signs entitles priority to a driver over oncoming vehicle, while driving on the narrow section of the road?

1

I

2

II

3

III

4

IV

განმარტება:

„საგზაო მოძრაობის შესახებ“ საქართველოს კანონის პირველი დანართის მე-2 თავის (პრიორიტეტის ნიშანი) 2.6 პუნქტების თანახმად საგზაო ნიშანი 2.6 „უპირატესობა შემხვედრ მოძრაობასთან“ - ანიჭებს მძღოლს უპირატესობას გზის ვიწრო მონაკვეთზე მოძრაობისას საპირისპირო მიმართულებით მოძრავ სატრანსპორტო საშუალებასთან შედარებით.

QUESTION 116

CORRECT ANSWER: 1



Given traffic sign:

- | | |
|--|---|
| <div data-bbox="97 680 177 763">1</div> <div data-bbox="196 680 738 790">Entitles priority to a driver over oncoming vehicle, when driving on the narrow section of the road</div> | <div data-bbox="831 680 911 763">2</div> <div data-bbox="930 680 1468 752">Obliges a driver to yield to the vehicle routing on the road to be crossed</div> |
| <div data-bbox="97 864 177 947">3</div> <div data-bbox="196 864 691 974">Prohibits a driver from entering the narrow section of the road, if this hampers reverse traffic</div> | |

განმარტება:

„საგზაო მოძრაობის შესახებ“ საქართველოს კანონის პირველი დანართის მე-2 თავის (პრიორიტეტის ნიშანი) 2.6 პუნქტების თანახმად საგზაო ნიშანი 2.6 „უპირატესობა შემხვედრ მოძრაობასთან“ - ანიჭებს მძღოლს უპირატესობას გზის ვიწრო მონაკვეთზე მოძრაობისას საპირისპირო მიმართულებით მოძრავ სატრანსპორტო საშუალებასთან შედარებით.

QUESTION 117

CORRECT ANSWER: 1



I



II



III



IV

In effective zone of which of these traffic signs has a driver priority of passing the unregulated intersection?

1

II and IV only

2

I and III only

3

None of them

4

All of them

განმარტება:

„საგზაო მოძრაობის შესახებ“ საქართველოს კანონის პირველი დანართის პირველი თავის (მაფრთხილებელი ნიშნები) 1.7.1- 1.7.7 პუნქტების თანახმად საგზაო ნიშანი 1.7.1. „მეორეხარისხოვან გზასთან გადაკვეთა“, 1.7.2–1.7.7. „მეორეხარისხოვანი გზის შეერთება“ (შეერთება მარცხნიდან – 1.7.2, 1.7.4 და 1.7.6, შეერთება მარცხნიდან – 1.7.3, 1.7.5 და 1.7.7) – ისეთ გზასთან გადაკვეთა ან ისეთ გზასთან შეერთება, რომელზე მოძრაობა მძღოლსაც აქვს გზის დათმობის ვალდებულება. ამავე კანონის პირველი დანართის მე-2 თავის (პრიორიტეტის ნიშანი) 2.1 პუნქტების თანახმად საგზაო ნიშანი 2.1 „მთავარი გზა“ - გზა, რომელზე მოძრაობა მძღოლსაც ენიჭება არარეგულირებული გზაჯვარედინის გავლის უპირატესობა. ნიშანი იდგმება გზის დასაწყისში და მეორდება უშუალოდ ყოველი გზაჯვარედინის წინ. 2.1 ნიშანი 8.13 დაფით დასახლებულ პუნქტში იდგმება გზაჯვარედინის წინ, რომელზედაც მთავარი გზა იცვლის მიმართულებას, დაუსახლებელ პუნქტში – წინასწარ გზაჯვარედინამდე 150–300 მეტრ მანძილზე და გზაჯვარედინის წინ.

QUESTION 118

CORRECT ANSWER: 2



I



II



III



IV

Which of these traffic signs is posted directly in front of narrow section of the road?

1

II and III

2

I and IV

3

I

4

I and II

განმარტება:

„საგზაო მოძრაობის შესახებ“ საქართველოს კანონის პირველი დანართის მე-2 თავის (პრიორიტეტის ნიშანი) შენიშვნის „ბ“ ქვეპუნქტის თანახმად საგზაო ნიშნები 2.5 „შემხვედრი მოძრაობის უპირატესობა“ და 2.6 „უპირატესობა შემხვედრ მოძრაობასთან“ იდგმება უშუალოდ გზის ვიწრო უბნის წინ. ნიშანი 2.5 შეიძლება დაიდგას წინასწარ 8.1.1 დაფით.

QUESTION 119

CORRECT ANSWER: 3



I



II



III



IV

If there is no other necessity, given road signs are placed in an uninhabited area from the start of dangerous road:

1

At a distance of 50-100 meters

2

At a distance of 100-150 meters

3

At a distance of 150-300 meters

4

At a distance of 300-400 meters

განმარტება:

„საგზაო მოძრაობის შესახებ“ საქართველოს კანონის პირველი დანართის პირველი თავის (მაფრთხილებელი ნიშნები) პენიშნის „ა“ პუნქტის თანახმად 1.1, 1.2, 1.5–1.34 ნიშნები დაუსახლებელ პუნქტში იდგმება სახიფათო მონაკვეთის დასაწყისამდე 150–300 მეტრ მანძილზე, დასახლებულ პუნქტში – 50–100 მეტრ მანძილზე. აუცილებლობისას ნიშნები იდგმება სხვა მანძილზედაც, რომელიც მითითებულია 8.1.1 დაფაზე. სურათზე ნაჩვენები ნიშნებია: 1.7.1 „მეორეხარისხოვან გზებთან გადაკვეთა“, 1.7.2, 1.7.3 და 1.7.7 „მეორეხარისხოვანი გზის შეერთება“.

QUESTION 120

CORRECT ANSWER: 1



I



II



III



IV

If there is no other necessity, given road signs are placed in an inhabited area from the start of dangerous road:

1

At a distance of 50-100 meters

2

At a distance of 100-150 meters

3

At a distance of 150-300 meters

განმარტება:

„საგზაო მოძრაობის შესახებ“ საქართველოს კანონის პირველი დანართის პირველი თავის (მაფრთხილებელი ნიშნები) პენიშვნის „ა“ პუნქტის თანახმად 1.1, 1.2, 1.5–1.34 ნიშნები დაუსახლებელ პუნქტში იდგმება სახიფათო მონაკვეთის დასაწყისამდე 150–300 მეტრ მანძილზე, დასახლებულ პუნქტში – 50–100 მეტრ მანძილზე. აუცილებლობისას ნიშნები იდგმება სხვა მანძილზედაც, რომელიც მითითებულია 8.1.1 დაფაზე. სურათზე ნაჩვენები ნიშნებია: 1.7.1 „მეორეხარისხოვან გზებთან გადაკვეთა“, 1.7.2, 1.7.3 და 1.7.7 „მეორეხარისხოვანი გზის შეერთება“.

QUESTION 121

CORRECT ANSWER: 2

According to the international norms and procedures, dangerous goods is divided into following classes according to the type of hazard:

1 Into 7 classes

2 Into 9 classes

3 Into 11 classes

განმარტება:

საქართველოს ეკონომიკისა და მდგრადი განვითარების მინისტრის 2011 წლის 18 აგვისტოს № 1-1/1562 ბრძანებით დამტკიცებული ტექნიკური რეგლამენტის „ავტოსატრანსპორტო საშუალებებით ტვირთის გადაზიდვის წესის“ მე-9 მუხლის პირველი პუნქტის თანახმად, სახიფათო ტვირთი საშიშროების ტიპის მიხედვით იყოფა 9 კლასად საერთაშორისო ნორმებისა და წესების შესაბამისად.

QUESTION 122

CORRECT ANSWER: 3

The drivers shall be allowed to drive the vehicles transporting dangerous goods in case of having experience of at least:

1 1 year

2 2 years

3 3 years

განმარტება:

საქართველოს ეკონომიკისა და მდგრადი განვითარების მინისტრის 2011 წლის 18 აგვისტოს № 1-1/1562 ბრძანებით დამტკიცებული ტექნიკური რეგლამენტის „ავტოსატრანსპორტო საშუალებებით ტვირთის გადაზიდვის წესის“ მე-9 მუხლის მე-4 პუნქტის თანახმად, ავტოსატრანსპორტო საშუალებაზე, რომლითაც გადაიზიდება სახიფათო ტვირთი, სამართავად დაიშვებიან მძღოლები მუშაობის არანაკლებ სამი წლის სტაჟით.

QUESTION 123

CORRECT ANSWER: 4

While transporting the dangerous goods, in traffic accident or/and other emergency cases, a driver is obliged to act:

- | | | | |
|---|---|---|--|
| 1 | According to the rule applicable to transportation of specific type of dangerous goods only | 2 | According to the technical specifications of specific type of dangerous goods only |
| 3 | According to the written instructions issued by the consignor only | 4 | According to the rule applicable to transportation of specific type of dangerous goods, as well as the technical specifications and the written instructions issued by the consignor |

განმარტება:

საქართველოს ეკონომიკისა და მდგრადი განვითარების მინისტრის 2011 წლის 18 აგვისტოს № 1-1/1562 ბრძანებით დამტკიცებული ტექნიკური რეგლამენტის „ავტოსატრანსპორტო საშუალებებით ტვირთის გადაზიდვის წესის“ მე-9 მუხლის მე-5 პუნქტის „ბ“ ქვეპუნქტის თანახმად, სახიფათო ტვირთის გადაზიდვისას მძღოლი წინამდებარე წესის პირველი მუხლის მე-3 პუნქტით განსაზღვრული მოთხოვნების შესრულებასთან ერთად ვალდებულია, საგზაო სატრანსპორტო ან/და საგანგებო შემთხვევებში იმოქმედოს კონკრეტული სახის სახიფათო ტვირთის გადაზიდვაზე არსებული წესის, ტექნიკური პირობების და ტვირთის გამგზავნის მიერ გაცემული წერილობითი ინსტრუქციის შესაბამისად.

QUESTION 124

CORRECT ANSWER: 4

When transporting the dangerous goods, a driver is prohibited from:

1

Abrupt start of motion or braking of the vehicle only

2

Overtaking the vehicle only, routing faster than 30 km/h

3

Routing with deactivated engine or/and hitch only

4

Abrupt start of motion or braking of the vehicle, as well as overtaking the vehicle, routing faster than 30 km/h and routing with deactivated engine or/and hitch

ბანმარტეზა:

საქართველოს ეკონომიკისა და მდგრადი განვითარების მინისტრის 2011 წლის 18 აგვისტოს № 1-1/1562 ბრძანებით დამტკიცებული ტექნიკური რეგლამენტის „ავტოსატრანსპორტო საშუალებებით ტვირთის გადაზიდვის წესის“ მე-9 მუხლის მე-6 პუნქტის თანახმად სახიფათო ტვირთის გადაზიდვისას მძღოლს ეკრძალება: ა) სანავიით გამართვა ავტოგასამართ სადგურებში საერთო სარგებლობის სვეტებიდან (ფეთქებადი და ცეცხლსაშიში ნივთიერების გადაზიდვის შემთხვევაში); ბ) ავტოსატრანსპორტო საშუალების მკვეთრი დაძვრა და დამუხრუჭება; გ) იმ ავტოსატრანსპორტო საშუალების გასწვრივ, რომელიც მოძრაობს 30 კმ/სთ-ზე მეტი სიჩქარით; დ) გამორთული ძრავით ან/და გადაბმულობით მოძრაობა; ე) თამბაქოს მოწევა ავტოსატრანსპორტო საშუალების სალონში; ვ) ავტოსატრანსპორტო საშუალების გაჩერება/დგომა ცეცხლის კერისგან 200 მეტრით ნაკლებ მანძილზე; ზ) ავტოსატრანსპორტო საშუალების უმეტესალყურედ დატოვება; თ) სხვა ტვირთის გადაზიდვა ან/და იმ პირების გადაყვანა, რომლებიც არ არიან ავტოსატრანსპორტო საშუალების ეკიპაჟის წევრები.

QUESTION 125

CORRECT ANSWER: 4

When transporting the dangerous goods, a driver is prohibited from:

- | | | | |
|---|---|---|--|
| 1 | Smoking in the vehicle compartment only | 2 | Stopping/parking of the vehicle at a distance less than 200 meters from the seat of fire only |
| 3 | Leaving the vehicle unattended only | 4 | Smoking in the vehicle compartment, as well as stopping/parking of the vehicle at a distance less than 200 meters from the seat of fire and leaving the vehicle unattended |

განმარტება:

საქართველოს ეკონომიკისა და მდგრადი განვითარების მინისტრის 2011 წლის 18 აგვისტოს № 1-1/1562 ბრძანებით დამტკიცებული ტექნიკური რეგლამენტის „ავტოსატრანსპორტო საშუალებებით ტვირთის გადაზიდვის წესის“ მე-9 მუხლის მე-6 პუნქტის თანახმად სახიფათო ტვირთის გადაზიდვისას მძღოლს ეკრძალება: ა) საწვავით გამართვა ავტოგასამართ სადგურებში საერთო სარგებლობის სვეტებიდან (ფეთქებადი და ცეცხლსაშიშრო ნივთიერების გადაზიდვის შემთხვევაში); ბ) ავტოსატრანსპორტო საშუალების მკვეთრი დაძვრა და დამუხრუჭება; გ) იმ ავტოსატრანსპორტო საშუალების გასწრება, რომელიც მოძრაობს 30 კმ/სთ-ზე მეტი სიჩქარით; დ) გამორთული ძრავით ან/და გადაბმულობით მოძრაობა; ე) თამბაქოს მოწევა ავტოსატრანსპორტო საშუალების სალონში; ვ) ავტოსატრანსპორტო საშუალების გაჩერება/დგომა ცეცხლის კერისგან 200 მეტრით ნაკლებ მანძილზე; ზ) ავტოსატრანსპორტო საშუალების უმეტესაღმრესოდ დატოვება; თ) სხვა ტვირთის გადაზიდვა ან/და იმ პირების გადაყვანა, რომლებიც არ არიან ავტოსატრანსპორტო საშუალების ეკიპაჟის წევრები.

QUESTION 126

CORRECT ANSWER: 3

When transporting the dangerous goods, a driver is prohibited from:

- 1 Transporting of other goods only
- 2 Conveyance of those people only, who are not the crew members of the vehicle
- 3 Transporting of other goods and conveyance of those people, who are not the crew members of the vehicle

განმარტება:

საქართველოს ეკონომიკისა და მდგრადი განვითარების მინისტრის 2011 წლის 18 აგვისტოს № 1-1/1562 ბრძანებით დამტკიცებული ტექნიკური რეგლამენტის „ავტოსატრანსპორტო საშუალებებით ტვირთის გადაზიდვის წესის“ მე-9 მუხლის მე-6 პუნქტის თანახმად სახიფათო ტვირთის გადაზიდვისას მძღოლს ეკრძალება: ა) სანავით გამართვა ავტოგასამართ სადგურებში საერთო სარგებლობის სვეტებიდან (ფეთქებადი და ცეცხლსაშიში ნივთიერების გადაზიდვის შემთხვევაში); ბ) ავტოსატრანსპორტო საშუალების მკვეთრი დაძვრა და დამუხრუჭება; გ) იმ ავტოსატრანსპორტო საშუალების გასწრება, რომელიც მოძრაობს 30 კმ/სთ-ზე მეტი სიჩქარით; დ) გამორთული ძრავით ან/და გადაბმულობით მოძრაობა; ე) თამბაქოს მოწვევა ავტოსატრანსპორტო საშუალების სალონში; ვ) ავტოსატრანსპორტო საშუალების გაჩერება/დგომა ცეცხლის კერისგან 200 მეტრით ნაკლებ მანძილზე; ზ) ავტოსატრანსპორტო საშუალების უმეთვალყურეოდ დატოვება; თ) სხვა ტვირთის გადაზიდვა ან/და იმ პირების გადაყვანა, რომლებიც არ არიან ავტოსატრანსპორტო საშუალების ეკიპაჟის წევრები.

QUESTION 127

CORRECT ANSWER: 2

Is use of gas-powered vehicle allowed during transporting of dangerous goods?

- 1 Yes
- 2 No

განმარტება:

საქართველოს ეკონომიკისა და მდგრადი განვითარების მინისტრის 2011 წლის 18 აგვისტოს № 1-1/1562 ბრძანებით დამტკიცებული ტექნიკური რეგლამენტის „ავტოსატრანსპორტო საშუალებებით ტვირთის გადაზიდვის წესის“ მე-9 მუხლის მე-16 პუნქტის „ა“ ქვეპუნქტის თანახმად სახიფათო ტვირთის გადაზიდვის დროს დაუშვებელია აირზე მომუშავე ავტოსატრანსპორტო საშუალების გამოყენება.

QUESTION 128

CORRECT ANSWER: 1

Is more than one trailer or semi-trailer allowed to the vehicle during transporting of dangerous goods?

1

No

2

Yes

განმარტება:

საქართველოს ეკონომიკისა და მდგრადი განვითარების მინისტრის 2011 წლის 18 აგვისტოს № 1-1/1562 ბრძანებით დამტკიცებული ტექნიკური რეგლამენტის „ავტოსატრანსპორტო საშუალებებით ტვირთის გადაზიდვის წესის“ მე-9 მუხლის მე-16 პუნქტის „ბ“ ქვეპუნქტის თანახმად სახიფათო ტვირთის გადაზიდვის დროს დაუშვებელია ავტოსატრანსპორტო საშუალებაზე ერთზე მეტი მისაბმელის ან ნახევარმისაბმელის ჩაბმა.

QUESTION 129

CORRECT ANSWER: 3

On transporting of bulk and liquid cargo, in case of spreading/leakage of the cargo on the road, a vehicle driver is obliged to:

1

Inform the cargo sender by phone about the mentioned and continue driving

2

Continue driving at a speed of not more than 40 km/h in order the dropped/spelt cargo not to create any danger for other road users

3

Stop routing and apply the appropriate measures for correction of the reasons

განმარტება:

საქართველოს ეკონომიკისა და მდგრადი განვითარების მინისტრის 2011 წლის 18 აგვისტოს № 1-1/1562 ბრძანებით დამტკიცებული ტექნიკური რეგლამენტის „ავტოსატრანსპორტო საშუალებებით ტვირთის გადაზიდვის წესის“ მე-12 მუხლის მე-3 პუნქტის თანახმად, საყარი და თხევადი ტვირთების გადაზიდვისას ავტოსატრანსპორტო საშუალების მძღოლი ვალდებულია ტრანსპორტირებისას გამოიცილოს ტვირთის გაბნევა/დაღვრა სავალ ნაწილზე. გზაზე ტვირთის გაბნევა/დაღვრის შემთხვევაში, შეწყვიტოს მოძრაობა და მიიღოს ზომები აღნიშნულის გამომწვევი მიზეზების აღმოსაფხვრელად.

თემა 5:

ამკრძალავი ნიშნები

QUESTION 130

CORRECT ANSWER: 2



This traffic sign:

- 1** Prohibits motion at a speed faster than shown on the sign
- 2** Points to the end of the effective zone of the maximum speed restriction traffic signs
- 3** Points to the speed, motion at which is recommended on the given section of the road

განმარტება:

„საგზაო მოძრაობის შესახებ“ საქართველოს კანონის პირველი დანართის 3.25 პუნქტის თანახმად საგზაო ნიშანი 3.25 „მაქსიმალური სიჩქარის შეზღუდვის დასასრული“ – 3.24 ნიშნის („მაქსიმალური სიჩქარის შეზღუდვა“) მოქმედების ზონის დასასრული.

QUESTION 131

CORRECT ANSWER: 1



Is a motor car driver allowed to park the car at the car park shown in the picture, during even days of a month from 7 p.m. to 9 p.m.?

1

Yes

2


No

განმარტება:

„საგზაო მოძრაობის შესახებ“ საქართველოს კანონის პირველი დანართის მე-3 თავის (ამკრძალავი ნიშნები) 3.29 და 3.30 პუნქტების თანახმად საგზაო ნიშანი 3.29 „დგომა აკრძალულია კენტ რიცხვებში“ - კრძალავს სატრანსპორტო საშუალების დგომას თვის კენტ რიცხვებში, ხოლო საგზაო ნიშანი 3.30 „დგომა აკრძალულია ლუნ რიცხვებში“ - კრძალავს სატრანსპორტო საშუალების დგომას თვის ლუნ რიცხვებში. ამავე პუნქტების შენიშვნის თანახმად 3.29 და 3.30 ნიშნების ერთდროულად გამოყენებისას, სატრანსპორტო საშუალებების გზის ერთი მხრიდან მეორეზე გადაყენების დროა 19-დან 21 საათამდე, ამ პერიოდში დგომა ნებადართულია სავალი ნაწილის ორივე მხარეს.

QUESTION 132

CORRECT ANSWER: 2



In the present situation, which vehicle driver is not prohibited from proceeding to the arrow direction, if actual mass of the lorry is 7 tonnes?

1

Lorry driver only

2

Red motor car driver only

3

None of them

განმარტება:

„საგზაო მოძრაობის შესახებ“ საქართველოს კანონის 31-ე მუხლის მე-7 პუნქტის თანახმად, სამი მოძრაობის ზოლის მქონე (გარდა 1.9 საგზაო მონიშვნისა) ორმხრივმოძრაობიან გზაზე სატრანსპორტო საშუალების მძღოლი არ უნდა გადავიდეს სავალი ნაწილის განაპირა ზოლზე, სადაც საპირისპირო მიმართულების მოძრაობა ხორციელდება. თუ სამი მოძრაობის ზოლის მქონე გზაზე შუა ზოლი ორივე მიმართულებით მოძრაობისათვის გამოიყენება, ამ ზოლზე გასვლა ნებადართულია მხოლოდ გასწრების, დაბრკოლების შემოვლის, მარცხნივ მოხვევის ან მობრუნების მიზნით. ამავე კანონის პირველი დანართის მე-3 თავის (ამკრძალავი ნიშნები) 3.11 პუნქტის თანახმად, საგზაო ნიშანი 3.11 „მასის შეზღუდვა“ - კრძალავს იმ სატრანსპორტო საშუალებით და სატრანსპორტო საშუალებათა შემადგენლობით მოძრაობას, რომელთა საერთო ფაქტობრივი მასა აღემატება ნიშანზე მითითებულს.

QUESTION 133

CORRECT ANSWER: 2



I



II



III



IV

Which of these traffic signs prohibits motion of the vehicle, which overall height (with or without cargo) exceeds the height indicated on the sign?

1

I

2

II

3

III

4

IV

განმარტება:

„საგზაო მოძრაობის შესახებ“ საქართველოს კანონის პირველი დანართის მე-3 თავის (ამკრძალავი ნიშნები) 3.13 პუნქტის თანახმად საგზაო ნიშანი 3.13 „სიმაღლის შეზღუდვა“ - კრძალავს იმ სატრანსპორტო საშუალებით მოძრაობას, რომლის გაბარიტული სიმაღლე (ტვირთიანად ან უტვირთოდ) აღემატება ნიშანზე აღნიშნულს.

QUESTION 134

CORRECT ANSWER: 3



I



II



III



IV

Which of these traffic signs prohibits motion of the vehicle with overall width (with or without cargo) exceeding the width indicated on the sign?

1

I

2

II

3

III

4

IV

განმარტება:

„საგზაო მოძრაობის შესახებ“ საქართველოს კანონის პირველი დანართის მე-3 თავის (ამკრძალავი ნიშნები) 3.14 პუნქტის თანახმად საგზაო ნიშანი 3.14 „სიგანის შეზღუდვა“ - კრძალავს იმ სატრანსპორტო საშუალებებით მოძრაობას, რომლის გაბარიტული სიგანე (ტვირთიანად ან უტვირთოდ) აღემატება ნიშანზე აღნიშნულს.

QUESTION 135

CORRECT ANSWER: 3



I



II



III



IV

Which of these traffic signs prohibits passing without stopping at the customs checkpoint (customs checkpoint located at the customs border of Georgia)?

1

I

2

II

3

III

4

IV

განმარტება:

„საგზაო მოძრაობის შესახებ“ საქართველოს კანონის პირველი დანართის მე-3 თავის (ამკრძალავი ნიშნები) 3.17.1 პუნქტის თანახმად საგზაო ნიშანი 3.17.1 „საბაჟო გამშვები პუნქტი“ - კრძალავს საბაჟო გამშვებ პუნქტთან (საქართველოს საბაჟო საზღვართან მდებარე საბაჟო კონტროლის ზონა) გაუჩერებლად გავლას.

QUESTION 136

CORRECT ANSWER: 2



I



II



III



IV

Which of these traffic signs prohibits subsequent motion of all kind of vehicles for a traffic accident or other hazard?

1

I

2

II

3

III

4

IV

განმარტება:

„საგზაო მოძრაობის შესახებ“ საქართველოს კანონის პირველი დანართის მე-3 თავის (ამკრძალავი ნიშნები) 3.17.2 პუნქტის თანახმად საგზაო ნიშანი 3.17.2 „საფრთხე“ - კრძალავს ყველა სახის სატრანსპორტო საშუალებით შემდგომ მოძრაობას საგზაო-სატრანსპორტო შემთხვევის ან სხვა საფრთხის გამო.

QUESTION 137

CORRECT ANSWER: 3



I



II



III



IV

Which of these traffic signs prohibits passing without stopping at the checkpoint (at police or quarantine post, entries in border or closed zones, passages to charged roads, etc.)?

1

I

2

II

3

III

4

IV

განმარტება:

„საგზაო მოძრაობის შესახებ“ საქართველოს კანონის პირველი დანართის მე-3 თავის (ამკრძალავი ნიშნები) 3.17.3 პუნქტის თანახმად საგზაო ნიშანი 3.17.3 „კონტროლი“ – კრძალავს საკონტროლო პუნქტთან (პოლიციის ან საკარანტინო საგუშაგოსთან, სასაზღვრო ან დახურულ ზონაში შესასვლელთან, ფასიან გზაზე გასასვლელთან და ა.შ.) გაუჩერებლად გავლას.

QUESTION 138

CORRECT ANSWER: 2



I



II



III



IV

Which of these traffic signs prohibits swerving to the right at the nearest junction of the driveways?

1

I

2

II

3

III

4

IV

განმარტება:

„საგზაო მოძრაობის შესახებ“ საქართველოს კანონის პირველი დანართის მე-3 თავის (ამკრძალავი ნიშნები) 3.18.1 პუნქტის თანახმად საგზაო ნიშანი 3.18.1 „მარჯვნივ მოხვევა აკრძალულია“ - კრძალავს სავალი ნაწილების უახლოეს გადაკვეთაზე მარჯვნივ მოხვევას.

QUESTION 139

CORRECT ANSWER: 3



I



II



III



IV

Which of these traffic signs prohibits swerving to the left at the nearest junction of the driveways?

1

I

2

II

3

III

4

IV

განმარტება:

„საგზაო მოძრაობის შესახებ“ საქართველოს კანონის პირველი დანართის მე-3 თავის (ამკრძალავი ნიშნები) 3.18.2 პუნქტის თანახმად საგზაო ნიშანი 3.18.2 „მარცხნივ მოხვევა აკრძალულია“ - კრძალავს სავალი ნაწილების უახლოეს გადაკვეთაზე მარცხნივ მოხვევას.

QUESTION 140

CORRECT ANSWER: 2



I



II



III



IV

Which of these traffic signs prohibits U-turn at the nearest junction of the driveways?

1

I

2

II

3

III

4

IV

განმარტება:

„საგზაო მოძრაობის შესახებ“ საქართველოს კანონის პირველი დანართის მე-3 თავის (ამკრძალავი ნიშნები) 3.19 პუნქტის თანახმად საგზაო ნიშანი 3.19 „მობრუნება აკრძალულია“ - კრძალავს სავალი ნაწილების უახლოეს გადაკვეთაზე მობრუნებას.

QUESTION 141

CORRECT ANSWER: 3



I



II



III



IV

Which of these traffic signs prohibits vehicles from overtaking (except those driving slower than 30 km/h)?

1

I

2

II

3

III

4

IV

განმარტება:

„საგზაო მოძრაობის შესახებ“ საქართველოს კანონის პირველი დანართის მე-3 თავის (ამკრძალავი ნიშნები) 3.20 პუნქტის თანახმად საგზაო ნიშანი 3.20 „გასწრება აკრძალულია“ - კრძალავს ყველა სახის მექანიკური სატრანსპორტო საშუალების გასწრებას (გარდა 30 კმ/სთ-ზე ნაკლები სიჩქარით მოძრავი ტრანსპორტისა). ნებადართულია გასწრება უეტლო მოტოციკლის, მოპედისა და ველოსიპედის შემხვედრი მოძრაობის ზოლში გადაუსვლელად.

QUESTION 142

CORRECT ANSWER: 4



I



II



III



IV

Which of these traffic signs prohibits motion faster than the speed indicated on the sign (km/h)?

1

I

2

II

3

III

4

IV

განმარტება:

„საგზაო მოძრაობის შესახებ“ საქართველოს კანონის პირველი დანართის მე-3 თავის (ამჟრძალავი ნიშნები) 3.24 პუნქტის თანახმად საგზაო ნიშანი 3.24 „მასიმალური სიჩქარის შეზღუდვა“ - კრძალავს მოძრაობას ნიშანზე აღნიშნულზე მეტი სიჩქარით (კმ/სთ).

QUESTION 143

CORRECT ANSWER: 2



I



II



III



IV

Which of these traffic signs prohibits using honks, except the cases when signal is used to avoid traffic accident?

1

I

2

II

3

III

4

IV

განმარტება:

„საგზაო მოძრაობის შესახებ“ საქართველოს კანონის პირველი დანართის მე-3 თავის (ამჟრძალავი ნიშნები) 3.26 პუნქტის თანახმად საგზაო ნიშანი 3.26 „ხმოვანი სიგნალის მიცემა აკრძალულია“ - კრძალავს ხმოვანი სიგნალით სარგებლობას, გარდა იმ შემთხვევისა, როცა სიგნალი გამოიყენება საგზაო-სატრანსპორტო შემთხვევის თავიდან ასაცილებლად.

QUESTION 144

CORRECT ANSWER: 3



I



II



III



IV

Which of these traffic signs marks end of effective zone of the traffic sign 3.20 „Overtaking is prohibited“

1

I

2

II

3

III

4

IV

განმარტება:

„საგზაო მოძრაობის შესახებ“ საქართველოს კანონის პირველი დანართის მე-3 თავის (ამკრძალავი ნიშნები) 3.21 პუნქტის თანახმად საგზაო ნიშანი 3.21 „გასწრების აკრძალვის დასასრული“ - აღნიშნავს საგზაო ნიშნის 3.20-ის („გასწრება აკრძალულია“) მოქმედების ზონის დასასრულს.

QUESTION 145

CORRECT ANSWER: 3



I



II



III



IV

Which of these traffic signs prohibits stopping and parking of a vehicle?

1

I

2

II

3

III

4

IV

განმარტება:

„საგზაო მოძრაობის შესახებ“ საქართველოს კანონის პირველი დანართის მე-3 თავის (ამკრძალავი ნიშნები) 3.27 პუნქტის თანახმად საგზაო ნიშანი 3.27 „გაჩერება აკრძალულია“ - კრძალავს სატრანსპორტო საშუალების, როგორც გაჩერებას, ისე დგომას.

QUESTION 146

CORRECT ANSWER: 4



I



II



III



IV

Which of these traffic signs prohibits parking of a vehicle on even days of the month?

1

I

2

II

3

III

4

IV

განმარტება:

„საგზაო მოძრაობის შესახებ“ საქართველოს კანონის პირველი დანართის მე-3 თავის (ამკრძალავი ნიშნები) 3.30 პუნქტის თანახმად საგზაო ნიშანი 3.30 „დგომა აკრძალულია ლუნ რიცხვებში“ - კრძალავს სატრანსპორტო საშუალების დგომას თვის ლუნ რიცხვებში.

QUESTION 147

CORRECT ANSWER: 2



I



II



III



IV

Which of these traffic signs prohibits motion of vehicles carrying dangerous cargo, which should be marked with appropriate identification sign according to the applicable legislation?

1

I

2

II

3

III

4

IV

განმარტება:

„საგზაო მოძრაობის შესახებ“ საქართველოს კანონის პირველი დანართის მე-3 თავის (ამკრძალავი ნიშნები) 3.32 პუნქტის თანახმად საგზაო ნიშანი 3.32 „სახიფათო ტვირთის გადამზიდი სატრანსპორტო საშუალებით მოძრაობა აკრძალულია“ - კრძალავს იმ სახიფათო ტვირთის გადამზიდი სატრანსპორტო საშუალებით მოძრაობას, რომელიც, საქართველოს კანონმდებლობის თანახმად, აღნიშნული უნდა იყოს შესაბამისი საცნობი ნიშნით.

QUESTION 148

CORRECT ANSWER: 3



I



II



III



IV

Which of these traffic signs prohibits motion of vehicles carrying explosive and highly inflammable cargo, which should be marked with appropriate identification sign according to the applicable legislation?

1

I

2

II

3

III

4

IV

განმარტება:

„საგზაო მოძრაობის შესახებ“ საქართველოს კანონის პირველი დანართის მე-3 თავის (ამკრძალავი ნიშნები) 3.33 პუნქტის თანახმად საგზაო ნიშანი 3.33 „ფეთქებადი და ადვილად აალებადი ტვირთის გადამზიდი სატრანსპორტო საშუალებით მოძრაობა აკრძალულია“ - კრძალავს 19433-88 სახელმწიფო სტანდარტით განსაზღვრული 1.22–2.4, 3.1, 3.2, 5.2 კლასის ფეთქებადი და ადვილად აალებადი ტვირთის გადამზიდი სატრანსპორტო საშუალებით მოძრაობას, რომელიც, საქართველოს კანონმდებლობის თანახმად აღნიშნული უნდა იყოს საცნობი ნიშნით „სახიფათო ტვირთი“.

QUESTION 149

CORRECT ANSWER: 3



I



II



III



IV

Which of these traffic signs is not effective to route vehicle?

1

II only

2

I and III only

3

II and IV only

4

III only

განმარტება:

„საგზაო მოძრაობის შესახებ“ საქართველოს კანონის პირველი დანართის მე-3 თავის (ამკრძალავი ნიშნები) შენიშვნის „გ.ა“ ქვეპუნქტის თანახმად ნიშნების მოქმედება არ ვრცელდება: გ.ა) 3.1–3.3, 3.18.1, 3.18.2, 3.19, 3.27 ნიშნებისა – სამარშრუტო სატრანსპორტო საშუალებაზე. სურათზე ნაჩვენები საგზაო ნიშნებია: 3.15 „სიგრძის შეზღუდვა“, 3.3 „მექანიკური სატრანსპორტო საშუალებით მოძრაობა აკრძალულია“, 3.16 „მინიმალური დისტანციის შეზღუდვა“ და 3.18.1 „მარჯვნივ მოხვევა აკრძალულია“.

QUESTION 150

CORRECT ANSWER: 1



I



II



III



IV

Which of these traffic signs is effective to route vehicle?

1

I, II and IV only

2

I and IV only

3

II and III only

4

III and IV only

განმარტება:

„საგზაო მოძრაობის შესახებ“ საქართველოს კანონის პირველი დანართის მე-3 თავის (ამკრძალავი ნიშნები) შენიშვნის „გ.ა“ ქვეპუნქტის თანახმად ნიშნების მოქმედება არ ვრცელდება: გ.ა) 3.1–3.3, 3.18.1, 3.18.2, 3.19, 3.27 ნიშნებისა – სამარშრუტო სატრანსპორტო საშუალებაზე. სურათზე ნაჩვენები საგზაო ნიშნებია: 3.18.2 „მარცხნივ მოხვევა აკრძალულია“, 3.19 „მობრუნება აკრძალულია“, 3.24 „მაქსიმალური სიჩქარის შეზღუდვა“, და 3.27 „გაჩერება აკრძალულია“.

QUESTION 151

CORRECT ANSWER: 4



I



II



III



IV

Which of these traffic signs is not effective to vehicle, serving to the company located in effective zone of the sign?

1

I and II only

2

I and IV only

3

II and III only

4

II and IV only

განმარტება:

„საგზაო მოძრაობის შესახებ“ საქართველოს კანონის პირველი დანართის მე-3 თავის (ამკრძალავი ნიშნები) შენიშვნის „გ.ბ“ ქვეპუნქტის თანახმად ნიშნების მოქმედება არ ვრცელდება: გ.ბ) 3.2–3.8 ნიშნებისა – სატრანსპორტო საშუალებაზე, რომელიც ემსახურება აღნიშნულ ზონაში მდებარე სანარმოს, ანდა ემსახურება ან ეკუთვნის ამავე ზონაში მცხოვრებ ან მომუშავე პირს. ამ შემთხვევაში სატრანსპორტო საშუალება შედის აღნიშნულ ზონაში და გამოდის იქიდან დანიშნულების ადგილისაკენ უახლოეს გზაჯვარედინზე. სურათზე ნაჩვენები საგზაო ნიშნებია: 3.1 „შესვლა აკრძალულია“, 3.2 „მოძრაობა აკრძალულია“, 3.13 „სიმაღლის შეზღუდვა“ და 3.8 „საჭაპანო მოძრაობა აკრძალულია“.

QUESTION 152

CORRECT ANSWER: 2



I



II



III



IV

Which of these traffic signs is not effective to vehicle, serving to the company located in effective zone of the sign?

1

I, II and III only

2

I, II and IV only

3

II, III and IV only

4

All of them

განმარტება:

„საგზაო მოძრაობის შესახებ“ საქართველოს კანონის პირველი დანართის მე-3 თავის (ამკრძალავი ნიშნები) შენიშვნის „გ.ბ“ ქვეპუნქტის თანახმად ნიშნების მოქმედება არ ვრცელდება: გ.ბ) 3.2–3.8 ნიშნებისა – სატრანსპორტო საშუალებაზე, რომელიც ემსახურება აღნიშნულ ზონაში მდებარე სანარმოს, ანდა ემსახურება ან ეკუთვნის ამავე ზონაში მცხოვრებ ან მომუშავე პირს. ამ შემთხვევაში სატრანსპორტო საშუალება შედის აღნიშნულ ზონაში და გამოდის იქიდან დანიშნულების ადგილისაკენ უახლოეს გზაჯვარედინზე. სურათზე ნაჩვენები საგზაო ნიშნებია: 3.3 „მექანიკური სატრანსპორტო საშუალებით მოძრაობა აკრძალულია“, 3.6 „ტრაქტორით მოძრაობა აკრძალულია“, 3.19 „მობრუნება აკრძალულია“ და 3.7 „მისაბმელით მოძრაობა აკრძალულია“.

QUESTION 153

CORRECT ANSWER: 4



I



II



III



IV

Which of these traffic signs is not effective to vehicle, serving to or owned by a person residing or working in effective zone of the sign?

1

I and II only

2

I and III only

3

III and IV only

4

All of them

განმარტება:

„საგზაო მოძრაობის შესახებ“ საქართველოს კანონის პირველი დანართის მე-3 თავის (ამკრძალავი ნიშნები) შენიშვნის „გ.ბ“ ქვეპუნქტის თანახმად ნიშნების მოქმედება არ ვრცელდება: გ.ბ) 3.2–3.8 ნიშნებისა – სატრანსპორტო საშუალებაზე, რომელიც ემსახურება აღნიშნულ ზონაში მდებარე სანარმოს, ანდა ემსახურება ან ეკუთვნის ამავე ზონაში მცხოვრებ ან მომუშავე პირს. ამ შემთხვევაში სატრანსპორტო საშუალება შედის აღნიშნულ ზონაში და გამოდის იქიდან დანიშნულების ადგილისაკენ უახლოეს გზაჯვარედინზე. სურათზე ნაჩვენები საგზაო ნიშნებია: 3.2 „მოძრაობა აკრძალულია“, 3.3 „მექანიკური სატრანსპორტო საშუალებით მოძრაობა აკრძალულია“, 3.5 „მოტოციკლით მოძრაობა აკრძალულია“ და 3.8 „საჭაპანო მოძრაობა აკრძალულია“.

QUESTION 154

CORRECT ANSWER: 4



I



II



III



IV

Which of these traffic signs is not effective to vehicle, serving to or owned by a person residing or working in effective zone of the sign?

1

I and II only

2

I and III only

3

II and IV only

4

III and IV only

განმარტება:

„საგზაო მოძრაობის შესახებ“ საქართველოს კანონის პირველი დანართის მე-3 თავის (ამკრძალავი ნიშნები) შენიშვნის „გ.ბ“ ქვეპუნქტის თანახმად ნიშნების მოქმედება არ ვრცელდება: გ.ბ) 3.2–3.8 ნიშნებისა – სატრანსპორტო საშუალებაზე, რომელიც ემსახურება აღნიშნულ ზონაში მდებარე სანარმოს, ანდა ემსახურება ან ეკუთვნის ამავე ზონაში მცხოვრებ ან მომუშავე პირს. ამ შემთხვევაში სატრანსპორტო საშუალება შედის აღნიშნულ ზონაში და გამოდის იქიდან დანიშნულების ადგილისაკენ უახლოეს გზაჯვარედინზე. სურათზე ნაჩვენებია საგზაო ნიშნები: 3.20 „გასწრება აკრძალულია“, 3.32 „სახიფათო ტვირთის გადამზიდი სატრანსპორტო საშუალებით მოძრაობა აკრძალულია“, 3.5 „მოტოციკლით მოძრაობა აკრძალულია“ და 3.8. „საჭაპანო ტრანსპორტით მოძრაობა აკრძალულია“.

QUESTION 155

CORRECT ANSWER: 1



I



II



III



IV

Which of these traffic signs is not effective to vehicle, driven by an individual with status of significant or severe disabilities, or vehicle conveying above individuals?

1

I, III and IV only

2

I, II and III only

3

I, II and IV only

4

II, III and IV only

განმარტება:

„საგზაო მოძრაობის შესახებ“ საქართველოს კანონის პირველი დანართის მე-3 თავის (ამკრძალავი ნიშნები) შენიშვნის „გ.დ“ ქვეპუნქტის თანახმად ნიშნების მოქმედება არ ვრცელდება: გ.დ) 3.2, 3.3, 3.28–3.30 ნიშნებისა – იმ სატრანსპორტო საშუალებაზე, რომელსაც მნიშვნელოვნად გამოხატული ან მკვეთრად გამოხატული შეზღუდული შესაძლებლობის სტატუსის მქონე პირი მართავს, ან იმ სატრანსპორტო საშუალებაზე, რომელსაც აღნიშნული პირები გადაჰყავს; სურათზე ნაჩვენები საგზაო ნიშნებია: 3.3 „მექანიკური სატრანსპორტო საშუალებით მოძრაობა აკრძალულია“, 3.24 „მაქსიმალური სიჩქარის შეზღუდვა“, 3.29 „დგომა აკრძალულია კენტ რიცხვებში“ და 3.30 „დგომა აკრძალულია ლუნ რიცხვებში“.

QUESTION 156

CORRECT ANSWER: 3



I



II



III



IV

Which of these traffic signs is effective to junction of the driveways, in front of which the sign is posted?

1

I, III and IV only

2

II only

3

I and IV only

4

III only

განმარტება:

„საგზაო მოძრაობის შესახებ“ საქართველოს კანონის პირველი დანართის მე-3 თავის (ამკრძალავი ნიშნები) შენიშვნის „დ“ პუნქტის თანახმად 3.18.1 (მარჯვნივ მოხვევა აკრძალულია), 3.18.2 (მარცხნივ მოხვევა აკრძალულია) ნიშნების მოქმედება ვრცელდება სავალი ნაწილების იმ გადაკვეთაზე, რომლის წინაც დადგმულია სათანადო ნიშანი.

QUESTION 157

CORRECT ANSWER: 2



I



II



III



IV

Which of these traffic signs is effective to junction of the driveways, in front of which the sign is posted?

1

I only

2

I, III and IV only

3

II only

4

All of them

განმარტება:

„საგზაო მოძრაობის შესახებ“ საქართველოს კანონის პირველი დანართის მე-3 თავის (ამკრძალავი ნიშნები) შენიშვნის „დ“ პუნქტის თანახმად 3.18.1, 3.18.2 ნიშნების მოქმედება ვრცელდება სავალი ნაწილების იმ გადაკვეთაზე, რომლის წინაც დადგმულია სათანადო ნიშანი. ამავე დანართის მე-4 თავის (მიმითითებელი ნიშნები) 4.1.1-4.1.6 პუნქტების შენიშვნის „ბ“ ქვეპუნქტის თანახმად ბ) 4.1.1-4.1.6 ნიშნების მოქმედება ვრცელდება სავალი ნაწილების იმ გადაკვეთაზე, რომლის წინაც დადგმულია სათანადო ნიშანი. სურათზე ნაჩვენები ნიშნებია: 3.18.2 „მარცხნივ მოხვევა აკრძალულია“, 3.1 „შესვლა აკრძალულია“, 3.18.1 „მარჯვნივ მოხვევა აკრძალულია“ და 4.1.5 „მოძრაობა პირდაპირ ან მარცხნივ“.

QUESTION 158

CORRECT ANSWER: 1



I



II



III

These traffic signs are effective:

1

On the side of the road, where they are posted

2

On junction of the driveways, in front of which the sign is posted

განმარტება:

„საგზაო მოძრაობის შესახებ“ საქართველოს კანონის პირველი დანართის მე-3 თავის (ამკრძალავი ნიშნები) შენიშვნის „ი“ პუნქტის თანახმად 3.10, 3.27–3.30 ნიშნების მოქმედება ვრცელდება მხოლოდ გზის იმ მხარეს, რომელზედაც ისინია დადგმული. სურათზე ნაჩვენები ნიშნებია: 3.28 „დგომა აკრძალულია“, 3.30 „დგომა აკრძალულია ღუნ რიცხვებში“ და 3.10 „ქვეითთა მოძრაობა აკრძალულია“.

QUESTION 159

CORRECT ANSWER: 3



I



II



III



IV

Which of these traffic signs is effective from the place of posting the sign until the nearest intersection, and if there is no intersection in inhabited area – until the end of the inhabited area.

1

I only

2

II and III only

3

I, II and IV only

4

All of them

განმარტება:

„საგზაო მოძრაობის შესახებ“ საქართველოს კანონის პირველი დანართის მე-3 თავის (ამკრძალავი ნიშნები) შენიშვნის „ე“ პუნქტის თანახმად, 3.16, 3.20, 3.22, 3.24, 3.26–3.30 ნიშნების მოქმედება ვრცელდება სათანადო ნიშნის შემდეგ, ნიშნის დადგმის ადგილიდან უახლოეს გზაჯვარედინამდე, ხოლო დასახლებულ პუნქტში გზაჯვარედინის არარსებობისას – დასახლებული პუნქტის ბოლომდე. ნიშნების მოქმედება ვრცელდება აგრეთვე მიმდებარე ტერიტორიის გამოსასვლე-ლთან, საველე, სატყეო და სხვა მეორეხარისხოვანი გზების გადაკვეთასთან (შეერთებასთან), რომელთა წინ არ დგას სათანადო ნიშანი. სურათზე ნაჩვენები ნიშნებია: 3.20 „გასწრება აკრძალულია“, 3.26 „ხმოვანი სიგნალის მიცემა აკრძალულია“, 3.2 „მოძრაობა აკრძალულია“ და 3.29 „დგომა აკრძალულია კენტ რიცხვებში“.

QUESTION 160

CORRECT ANSWER: 1



In the present situation, is a driver prohibited from parking the vehicle at the place shown by arrow?

1

Yes

2

No

განმარტება:

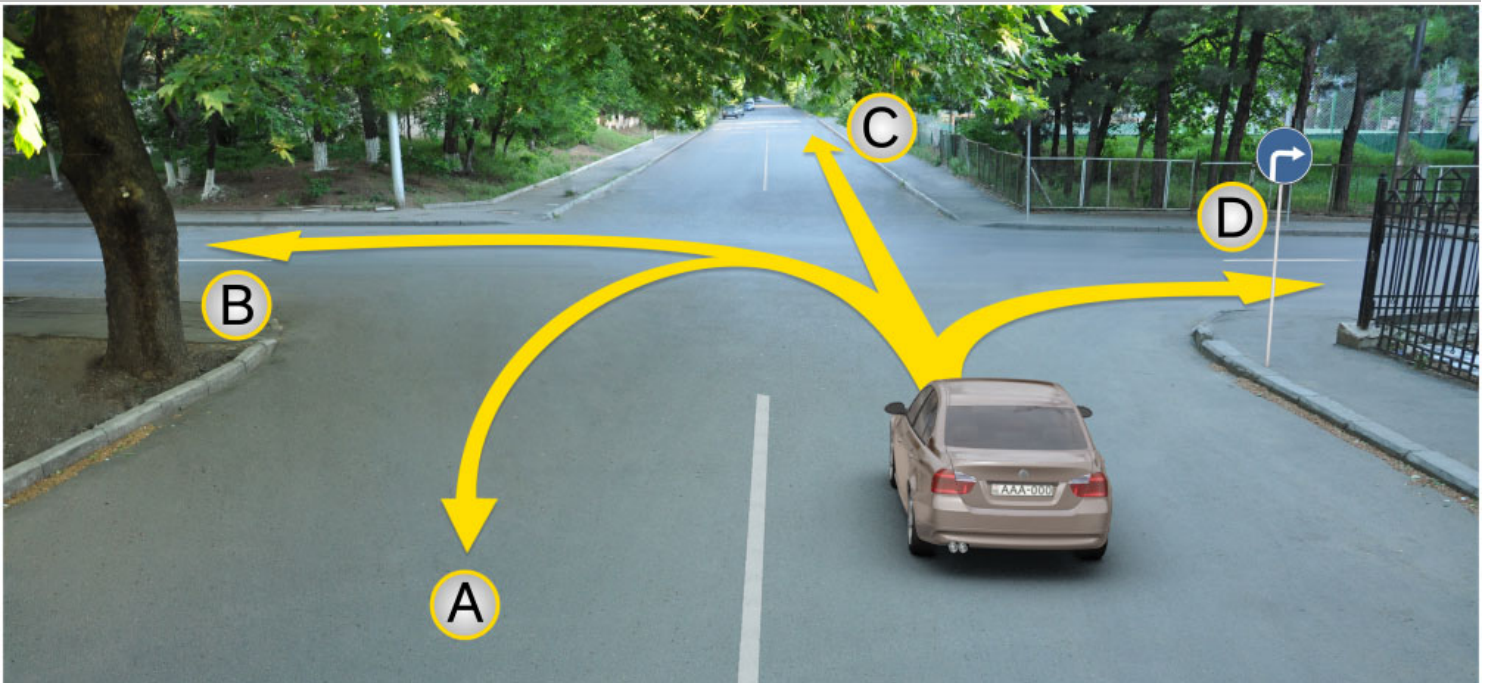
„საგზაო მოძრაობის შესახებ“ საქართველოს კანონის პირველი დანართის მე-3 თავის (ამკრძალავი ნიშნები) 3.27 პუნქტის თანახმად, საგზაო ნიშანი 3.27 „გაჩერება აკრძალულია“ - კრძალავს სატრანსპორტო საშუალების როგორც გაჩერებას, ასევე დგომას. ამავე თავის შენიშვნის „ე“ ქვეპუნქტის თანახმად 3.26–3.30 ნიშნების მოქმედება ვრცელდება სათანადო ნიშნის შემდეგ, ნიშნის დადგმის ადგილიდან უახლოეს გზაჯვარედინამდე, ხოლო დასახლებულ პუნქტში გზაჯვარედინის არარსებობისას – დასახლებული პუნქტის ბოლომდე. ნიშნების მოქმედება ვრცელდება აგრეთვე მიმდებარე ტერიტორიის გამოსასვლელთან, საველე, სატყეო და სხვა მეორეხარისხოვანი გზების გადაკვეთასთან (შეერთებასთან), რომელთა წინ არ დგას სათანადო ნიშანი. ამავე კანონის მე-5 მუხლის მე-13 პუნქტის თანახმად, გზაჯვარედინი არის ერთ დონეზე გზების კვეთა, შეერთება ან განშტოება, ასეთი კვეთით, შეერთებით ან განშტოებით წარმოქმნილი ტერიტორიების ჩათვლით. გზაჯვარედინად არ ითვლება მიმდებარე ტერიტორიებიდან გამომავალი გამოსასვლელების გზებთან კვეთა.

თემა 6:

მიმთითებული ნიშნები

QUESTION 161

CORRECT ANSWER: 4



A motor car driver has the right to proceed further:

1

In directions A, C and D only

2

In directions A, B, C and D

3

In directions B and C only

4


In direction D only

განმარტება:

„საგზაო მოძრაობის შესახებ“ საქართველოს კანონის პირველი დანართის 4.1.2 პუნქტის თანახმად საგზაო ნიშანი 4.1.2 „მოძრაობა მარჯვნივ“ რთავს მხოლოდ ისრით ნაჩვენები მიმართულებით მოძრაობის ნებას.

QUESTION 162

CORRECT ANSWER: 3



The motor car driver is allowed to proceed:

1

In direction A

2

In direction B

3


In both A and B directions

განმარტება:

„საგზაო მოძრაობის შესახებ“ საქართველოს კანონის 32-ე მუხლის მე-17 პუნქტის „ა“ ქვეპუნქტის თანახმად, ამ მუხლით დადგენილ მოთხოვნათა გათვალისწინებით, მძღოლს შეუძლია მარჯვნიდან ან მარცხნიდან შემოუაროს იმ სავალ ნაწილზე დაყენებულ უსაფრთხოების კუნძულს, ტუმბოს ან სხვა მოწყობილობას, რომელზედაც იგი მოძრაობს, გარდა იმ შემთხვევისა, როცა საგზაო ნიშანი მიუთითებს, რომელი მხრიდან უნდა შემოუაროს მძღოლმა უსაფრთხოების კუნძულს, ტუმბოს ან სხვა მოწყობილობას. ამავე კანონის პირველი დანართის მე-4 თავის (მიმთითებელი ნიშნები) 4.2.3 პუნქტის თანახმად საგზაო ნიშანი 4.2.3 „დაბრკოლების შემოვლა მარჯვნიდან ან მარცხნიდან“ - მიუთითებს დაბრკოლების შემოვლის მიმართულებას მარჯვნიდან ან მარცხნიდან.

QUESTION 163

CORRECT ANSWER: 4



In the present situation, the vehicle driver, driven past the turning, in order to enter the right turning:

1

Is allowed to swerve in direction A

2

Is allowed to reverse in direction B

3

Is allowed to proceed in both A and B directions

4

Is prohibited from proceeding in both A and B directions

განმარტება:

„საგზაო მოძრაობის შესახებ“ საქართველოს კანონის 32-ე მუხლის მე-16 პუნქტის თანახმად, მძღოლი, რომელიც მობრუნებას ან უკუსვლით მოძრაობას აპირებს, უნდა დარწმუნდეს, რომ მას შეუძლია ისე შეასრულოს ეს მანევრი, რომ საფრთხე არ შეუქმნას და ხელი არ შეუშალოს სხვა საგზაო მოძრაობის მონაწილეებს. აუცილებლობის შემთხვევაში მიზანშეწონილია სხვა პირის დახმარება. აკრძალულია უკუსვლით მოძრაობა გზაჯვარედინზე, ავტომაგისტრალზე და ამ მუხლის მე-15 პუნქტით განსაზღვრულ ადგილებში. ამავე კანონის პირველი დანართის მე-4 თავის (მიმთითებული ნიშნები) 4.1.4 პუნქტის და ამავე პუნქტის შენიშვნის თანახმად საგზაო ნიშანი 4.1.4 „მოძრაობა პირდაპირ ან მარჯვნივ“ - რთავს მხოლოდ ისრებით ნაჩვენები მიმართულებებით მოძრაობის ნებას.

QUESTION 164


CORRECT ANSWER: 4



I



II



III



IV

Which of the given traffic signs define minimum speed limit of traffic on the road?

1

I

2

II

3

III

4

IV

განმარტება:

„საგზაო მოძრაობის შესახებ“ საქართველოს კანონის პირველი დანართის მე-4 თავის (მიმთითებული ნიშნები) 4.6 პუნქტის თანახმად, საგზაო ნიშანი 4.6 „მინიმალური სიჩქარის შეზღუდვა“ - ადგენს გზაზე მოძრაობის მინიმალური სიჩქარის ზღვარს. ნიშნის მოქმედება ვრცელდება ნიშნის შემდეგ, ნიშნის დადგმის ადგილიდან უახლოეს გზაჯვარედინამდე, ხოლო დასახლებულ პუნქტში გზაჯვარედინის არარსებობისას – დასახლებული პუნქტის ბოლომდე.

QUESTION 165

CORRECT ANSWER: 3



I



II



III



IV

Which of the given traffic signs marks the road section, on which the vehicle must have anti-slip chains on at least two driving tyres?

1

I

2

II

3

III

4


IV

განმარტება:

„საგზაო მოძრაობის შესახებ“ საქართველოს კანონის პირველი დანართის მე-4 თავის (მიმთითებული ნიშნები) 4.8 პუნქტის თანახმად, საგზაო ნიშანი 4.8 „მოცურების საწინააღმდეგო ჯაჭვები აუცილებელია“ - გზის მონაკვეთი, რომელზე მოძრავ სატრანსპორტო საშუალებას არანაკლებ ორ წამყვან ბორბალზე მოცურების საწინააღმდეგო ჯაჭვები უნდა ჰქონდეს დამაგრებული.

QUESTION 166

CORRECT ANSWER: 2



Which car driver will violate the Highway Code in case of proceeding to the arrow direction, if they enter the yard territory?

1

White car driver

2

Red car driver

3

Both of them

4

None of them

განმარტება:

„საგზაო მოძრაობის შესახებ“ საქართველოს კანონის პირველი დანართის მე-4 თავის (მიმთითებული ნიშნები) 4.1.1 პუნქტისა და ამავე პუნქტის შენიშვნის „ა“ და „დ“ ქვეპუნქტების თანახმად, საგზაო ნიშანი 4.1.1 „მოძრაობა პირდაპირ“ რთავს მხოლოდ ისრებით ნაჩვენები მიმართულებებით მოძრაობის ნებას. 4.1.1 ნიშნის მოქმედება, რომელიც გზის მონაკვეთის დასაწყისშია დადგმული, ვრცელდება უახლოეს გზაჯვარედინამდე. ნიშანი არ კრძალავს მარჯვნივ ეზოში მოხვევას და სხვა მიმდებარე ტერიტორიაზე შესვლას.

QUESTION 167

CORRECT ANSWER: 4



A motor car driver is allowed to proceed:

1

Straight and to the right only

2

Straight and to the left only

3

Straight only

4

All shown directions

განმარტება:

„საგზაო მოძრაობის შესახებ“ საქართველოს კანონის პირველი დანართის მე-4 თავის (მიმთითებული ნიშნები) 4.1.1 პუნქტისა და ამავე პუნქტის პენიშენის „ა“ და „დ“ ქვეპუნქტების თანახმად, საგზაო ნიშანი 4.1.1 „მოძრაობა პირდაპირ“ რთავს მხოლოდ ისრებით ნაჩვენები მიმართულებებით მოძრაობის ნებას. 4.1.1 ნიშნის მოქმედება, რომელიც გზის მონაკვეთის დასაწყისშია დადგმული, ვრცელდება უახლოეს გზაჯვარედინამდე. ნიშანი არ კრძალავს მარჯვნივ ეზოში მოხვევას და სხვა მიმდებარე ტერიტორიაზე შესვლას.

QUESTION 168

CORRECT ANSWER: 1



A motor car driver is allowed to proceed:

1

Straight only

2

To the right only

3


Straight and to the right

განმარტება:

„საგზაო მოძრაობის შესახებ“ საქართველოს კანონის 28-ე მუხლის მე-5 პუნქტის თანახმად, თუ გზაზე დროებით გადასატან სადგარზე ან საგზაო სამუშაოების მწარმოებელი ორგანიზაციის ავტომობილზე დაყენებულია საგზაო ნიშანი (შემდგომ – დროებითი საგზაო ნიშანი), რომლის მოთხოვნები ეწინააღმდეგება იმავე გზის მონაკვეთზე სტაციონარულად დაყენებული საგზაო ნიშნის მოთხოვნებს, მძღოლი ვალდებულია შეასრულოს დროებითი საგზაო ნიშნის მოთხოვნები.

QUESTION 169

CORRECT ANSWER: 3



A motor car is allowed to proceed:

1

To the left only

2

Backward (U-turn) only

3


To the left and backward (U-turn)

განმარტება:

„საგზაო მოძრაობის შესახებ“ საქართველოს კანონის 28-ე მუხლის მე-5 პუნქტის თანახმად, თუ გზაზე დროებით გადასატან სადგარზე ან საგზაო სამუშაოების მწარმოებელი ორგანიზაციის ავტომობილზე დაყენებულია საგზაო ნიშანი (შემდგომ – დროებითი საგზაო ნიშანი), რომლის მოთხოვნები ეწინააღმდეგება იმავე გზის მონაკვეთზე სტაციონარულად დაყენებული საგზაო ნიშნის მოთხოვნებს, მძღოლი ვალდებულია შეასრულოს დროებითი საგზაო ნიშნის მოთხოვნები. ამავე კანონის პირველი დანართის მე-4 თავის (მიმთითებული ნიშნები) 4.1.1–4.1.6 პუნქტების შენიშვნის „ა“ ქვეპუნქტის თანახმად, 4.1.1–4.1.6 ნიშნები რთავს მხოლოდ ისრებით ნაჩვენები მიმართულებებით მოძრაობის ნებას, ხოლო ნიშნები, რომლებიც მარცხნივ მოხვევის ნებას რთავს, მობრუნების უფლებასაც იძლევა.

QUESTION 170

CORRECT ANSWER: 1



In the present situation, is a motor car driver prohibited from swerving to the arrow direction?

1

Yes

2

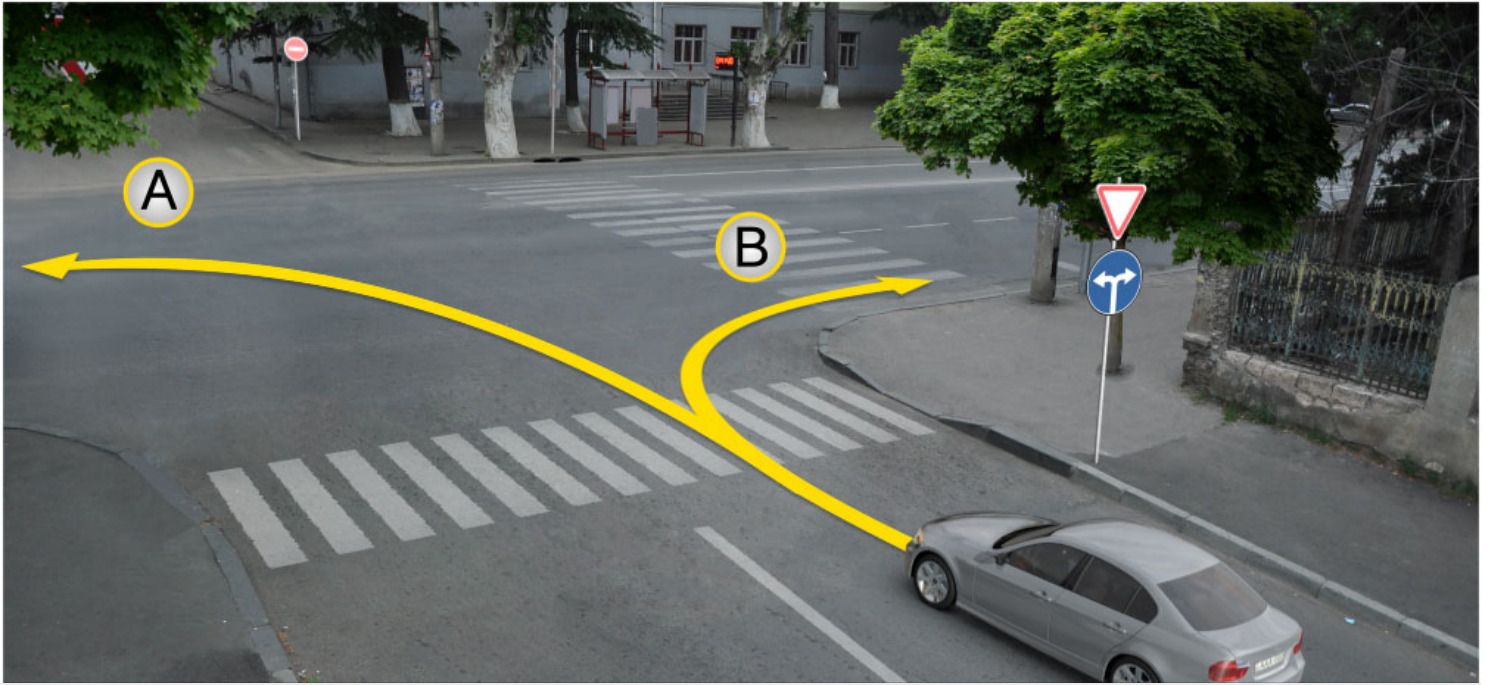
No

განმარტება:

„საგზაო მოძრაობის შესახებ“ საქართველოს კანონის პირველი დანართის მე-4 თავის (მიმთითებული ნიშნები) 4.1.5 პუნქტისა და 4.1.1-4.1.6 პუნქტების შენიშვნის „ა“ და „დ“ ქვეპუნქტების თანახმად, საგზაო ნიშანი 4.1.5 „მოძრაობა პირდაპირ ან მარცხნივ“ - რთავს მხოლოდ ისრებით ნაჩვენები მიმართულებებით მოძრაობის ნებას, ხოლო ნიშნები, რომლებიც მარცხნივ მოხვევის ნებას რთავს, მობრუნების უფლებასაც იძლევა.

QUESTION 171

CORRECT ANSWER: 3



In the present situation, a motor car driver is allowed to proceed:

1

In direction A only

2

In direction B only

3

In both directions

განმარტება:

„საგზაო მოძრაობის შესახებ“ საქართველოს კანონის პირველი დანართის მე-4 თავის (მიმთითებული ნიშნები) 4.1.6 პუნქტისა და ამავე პუნქტის შენიშვნის „ა“ ქვეპუნქტის თანახმად, საგზაო ნიშანი 4.1.6 „მოძრაობა მარჯვნივ ან მარცხნივ“ - რთავს მხოლოდ ისრებით ნაჩვენები მიმართულებებით მოძრაობის ნებას, ხოლო ნიშნები რომლებიც მარცხნივ მოხვევის ნებას რთავენ, მობრუნების ნებასაც იძლევა.

QUESTION 172

CORRECT ANSWER: 3



I



II



III



IV

Which of these signs marks the place of U-turn?

1

II only

2

I only

3

IV only

4

III only

განმარტება:

„საგზაო მოძრაობის შესახებ“ საქართველოს კანონის პირველი დანართის მე-7 თავის (საინფორმაციო-მაჩვენებელი ნიშნები) 7.3.1 პუნქტისა და ამავე პუნქტის შენიშვნის თანახმად, საგზაო ნიშანი 7.3.1 „მობრუნების ადგილი“ - მიუთითებს მობრუნების ადგილზე. ნიშნები 7.3.1 და 7.3.2 იდგმება მობრუნების ადგილის წინ ან მის ზემოთ, ან წინასწარ 8.1.1 დაფით. ნიშნები მარცხნივ მოხვევის ნებას არ რთავს.

QUESTION 173

CORRECT ANSWER: 4



I



II



III



IV

Which of these traffic signs applies to the crossing of the driveways, in front of which they are posted?

1

I and II only

2

I and III only

3

II and IV only

4

All of them

განმარტება:

„საგზაო მოძრაობის შესახებ“ საქართველოს კანონის პირველი დანართის მე-4 თავის (მიმთითებული ნიშნები) 4.1.1-4.1.6 პუნქტების შენიშვნის „ბ“ ქვეპუნქტის თანახმად, 4.1.1-4.1.6 ნიშნების მოქმედება ვრცელდება საჯარი ნაწილების იმ გადაკვეთაზე, რომლის წინაც დადგმულია სათანადო ნიშანი. ამავე დანართის მე-3 თავის (ამკრძალავი ნიშნები) შენიშვნის „დ“ ქვეპუნქტის თანახმად, 3.18.1 და 3.18.2 ნიშნების მოქმედება ვრცელდება საჯარი ნაწილების იმ გადაკვეთაზე, რომლის წინაც დადგმულია ნიშანი.

QUESTION 174

CORRECT ANSWER: 2



I



II



III



IV

Which of the these traffic signs is not effective from the place of posting until the nearest intersection?

1

I and IV only

2

IV only

3

II and III only

4

III only

განმარტება:

„საგზაო მოძრაობის შესახებ“ საქართველოს კანონის პირველი დანართის მე-4 თავის (მიმთითებული ნიშნები) 4.1.1 პუნქტის შენიშვნის „დ“ ქვეპუნქტის თანახმად, 4.1.1 „მოძრაობა პირდაპირ“ ნიშნის მოქმედება, რომელიც გზის მონაკვეთის დასაწყისშია დადგმული, ვრცელდება უახლოეს გზაჯვარედინამდე. ამავე კანონის პირველი დანართის მე-7 თავის (საინფორმაციო-მაჩვენებელი ნიშნები) 7.2 პუნქტის თანახმად, საგზაო ნიშანი 7.2 „რეკომენდებული სიჩქარე“ - მიუთითებს სიჩქარეს, რომლითაც რეკომენდებულია მოძრაობა გზის მოცემულ მონაკვეთზე. ნიშანი იდგმება გზის დასაწყისში. ნიშნის მოქმედება ვრცელდება უახლოეს გზაჯვარედინამდე, ხოლო მაფრთხილებელ ნიშანთან ერთად – სახიფათო უბნის მთელ სიგრძეზე. ამავე კანონის პირველი დანართის მე-3 თავის (ამჟღაღავი ნიშნები) შენიშვნის „ე“ ქვეპუნქტის თანახმად, საგზაო ნიშნის 3.16 „მინიმალური დისტანციის შეზღუდვა“ ნიშნების მოქმედება ვრცელდება სათანადო ნიშნის შემდეგ, ნიშნის დადგმის ადგილიდან უახლოეს გზაჯვარედინამდე, ხოლო დასახლებულ პუნქტში გზაჯვარედინის არარსებობისას – დასახლებული პუნქტის ბოლომდე.

თემა 7:

საინფორმაციო-მარკეტინგული ნიშნები

QUESTION 175

CORRECT ANSWER: 2



Which vehicle driver will violate the Highway Code in case of proceeding to the arrow direction?

1

Motor car driver only

2

Lorry driver only

3

Motorcyclist only

4


None of them

განმარტება:

„საგზაო მოძრაობის შესახებ“ საქართველოს კანონის 31-ე მუხლის მე-12 პუნქტის თანახმად, თუ ამ კანონით სხვა რამ არ არის გათვალისწინებული, ნებისმიერ სავალ ნაწილზე, თანმხვედრი მიმართულებით მოძრაობისთვის განკუთვნილი სამი ან მეტი მოძრაობის ზოლის არსებობისას განაპირა მარცხენა მოძრაობის ზოლის დაკავება ნებადართულია მხოლოდ ინტენსიური მოძრაობისას, როცა სხვა მოძრაობის ზოლები დაკავებულია, აგრეთვე გასწრების, მარცხნივ მოხვევის ან მობრუნების მიზნით, ხოლო სატვირთო ავტომობილისათვის – მხოლოდ მარცხნივ მოხვევის ან მობრუნების დროს.

QUESTION 176

CORRECT ANSWER: 4



Which vehicle driver will violate the Highway Code in case of driving to the arrow direction

1

Lorry driver only

2

Motor car driver only

3

Both of them

4


None of them

განმარტება:

„საგზაო მოძრაობის შესახებ“ საქართველოს კანონის 32-ე მუხლის მე-5 პუნქტის თანახმად, გარდა იმ შემთხვევისა, როცა მოხვევა სრულდება გზატკარედინზე გასასვლელად, სადაც წრიული მოძრაობაა ორგანიზებული, მარჯვნივ ან მარცხნივ მოხვევის წინ, აგრეთვე მობრუნების წინ სატრანსპორტო საშუალების მძღოლი ვალდებულია დროულად დაიკავოს შესაბამისი განაპირა მდებარეობა სავალ ნაწილზე, რომელიც თანმხვედრი მიმართულებით მოძრაობისთვისაა განკუთვნილი. ამავე კანონის პირველი დანართის 7.15.1 – 7.15.3 პუნქტის თანახმად საგზაო ნიშანი 7.15.3 „სატვირთო ავტომობილით მოძრაობის მიმართულება“ - მიუთითებს სატვირთო ავტომობილის, ტრაქტორისა და თვითმავალი მანქანის მოძრაობის რეკომენდებულ მიმართულებას, თუ გზატკარედინზე ერთ-ერთი მიმართულებით მათი მოძრაობა აკრძალულია. ნიშნები იდგმება რეკომენდებული მიმართულების დასაწყისში გზატკარედინის წინ ან გზატკარედინამდე 100–150 მეტრ მანძილზე.

QUESTION 177

CORRECT ANSWER: 3



In the present situation, which vehicle driver is prohibited from proceeding to the arrow direction?

1

Blue car driver only

2

Red car driver only

3

Both of them

4

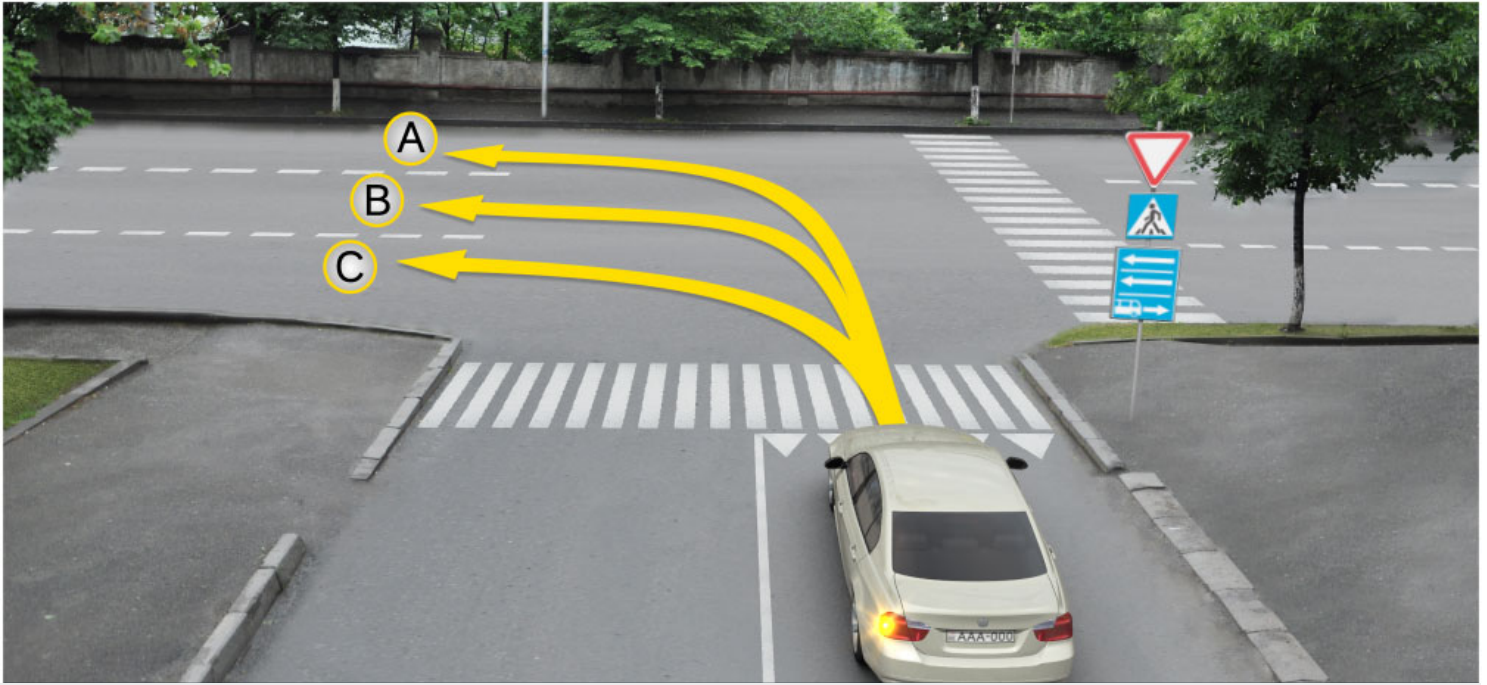
None of them

განმარტება:

„საგზაო მოძრაობის შესახებ“ საქართველოს კანონის პირველი დანართის მე-5 თავის (განსაკუთრებული მითითებების ნიშნები) 5.14 პუნქტის თანახმად საგზაო ნიშანი 5.14 „სამარშრუტო სატრანსპორტო საშუალებისათვის განკუთვნილი მოძრაობის ზოლი“ - აღნიშნავს გზას, რომელზედაც სამარშრუტო სატრანსპორტო საშუალება მოძრაობს სპეციალურად გამოყოფილ ზოლზე სატრანსპორტო საშუალებათა საერთო ნაკადის თანმხვედრი მიმართულებით. ნიშნის მოქმედება ვრცელდება იმ მოძრაობის ზოლზე, რომელზედაც ის დგას. გზის მარჯვენა მხარეს დადგმული ნიშნის მოქმედება ვრცელდება სავალი ნაწილის უკიდურეს მარჯვენა ზოლზე. ამავე კანონის მეორე დანართის პირველი თავის (ჰორიზონტალური მონიშვნა) 1.23 პუნქტის თანახმად საგზაო მონიშვნა 1.23 აღნიშნავს სპეციალურ ზოლს, რომელიც განკუთვნილია სამარშრუტო სატრანსპორტო საშუალების მოძრაობისათვის. ამავე კანონის 41-ე მუხლის მე-3 პუნქტის თანახმად, გზაზე, სადაც 5.11, 5.13.1, 5.13.2 და 5.14 საგზაო ნიშნებით აღნიშნული სამარშრუტო სატრანსპორტო საშუალებების მოძრაობისათვის განკუთვნილი ზოლია, აკრძალულია ამ ზოლზე სხვა სატრანსპორტო საშუალებათა მოძრაობა და გაჩერება. თუ ეს ზოლი დანარჩენი სავალი ნაწილისგან მონიშვნის წყვეტილი ხაზითაა გამოყოფილი, მოხვევისას სხვა სატრანსპორტო საშუალებები ამ ზოლზე უნდა გადაჭყუდნენ. ნებადართულია აგრეთვე ამ ზოლის ასეთ ადგილებში შესვლა გზაზე გასვლისას და მგზავრთა ჩასხდომა-გადმოსხდომისას სავალი ნაწილის მარჯვენა კიდედან, თუ ეს არ დააბრკოლებს სამარშრუტო სატრანსპორტო საშუალების მოძრაობას.

QUESTION 178

CORRECT ANSWER: 3



A motor car driver is allowed to proceed:

1

In directions A and C only

2

In directions B and C only

3

In directions A and B only

4


In direction A only

განმარტება:

„საგზაო მოძრაობის შესახებ“ საქართველოს კანონის პირველი დანართის მე-5 თავის (განსაკუთრებული მითითებების ნიშნები) 5.13.2 პუნქტის თანახმად 5.13.2 „სამარშრუტო სატრანსპორტო საშუალებისათვის განკუთვნილი მოძრაობის ზოლის მქონე გზაზე გასვლა“ - მიუთითებს 5.11 ნიშნით აღნიშნულ გზაზე გასვლას და იდგმება ყველა გვერდითი შესასვლელის წინ. ნიშანი შეიძლება არა დაიდგას მიმდებარე ტერიტორიებიდან გამოსასვლელების გზასთან გადაკვეთებზე, იმ შემთხვევაში თუ ამ ტერიტორიებზე შესვლა შესაძლებელია მხოლოდ 5.11 ნიშნით აღნიშნულ გზიდან. ამავე კანონის 32-ე მუხლის მე-7 პუნქტის „ბ“ ქვეპუნქტის თანახმად, სხვა გზაზე გასასვლელად ან გზის მიმდებარე ტერიტორიაზე შესასვლელად მარჯვნივ ან მარცხნივ მოხვევის წინ, ისე, რომ არ დაარღვიოს ამ კანონის მე-20 მუხლის მე-2 პუნქტითა და ამ მუხლის პირველი და მე-2 პუნქტებით დადგენილი მოთხოვნები, თუ სატრანსპორტო საშუალების მძღოლი აპირებს გზიდან გასვლას მარცხენა მხრიდან, სატრანსპორტო საშუალება, რამდენადაც ეს შესაძლებელია, უნდა მიუახლოვდეს გზის სავალი ნაწილის ღერძს (ორმხრივმოძრაობიან გზაზე) ან სავალი ნაწილის მარცხენა კიდე (ცალმხრივმოძრაობიან გზაზე), ხოლო თუ ის სხვა ორმხრივმოძრაობიან გზაზე აპირებს გასვლას, მოხვევა ისე უნდა შეასრულოს, რომ სავალი ნაწილების გადაკვეთიდან გამოსვლისას სატრანსპორტო საშუალება საპირისპირო მოძრაობის მხარეს არ აღმოჩნდეს.

QUESTION 179

CORRECT ANSWER: 4



A motor car driver is allowed to proceed:

1

Straight and to the right only

2

Straight and to the left only

3

To the left and backward (U-turn) only

4

Straight, to the left and backward (U-turn) only

განმარტება:

„საგზაო მოძრაობის შესახებ“ საქართველოს კანონის პირველი დანართის მე-5 თავის (განსაკუთრებული მითითებების ნიშნები) 5.13.2 პუნქტის თანახმად 5.13.2 „სამარშრუტო სატრანსპორტო საშუალებისათვის განკუთვნილი მოძრაობის ზოლის მქონე გზაზე გასვლა“ - მითითებს 5.11 ნიშნით აღნიშნულ გზაზე გასვლას და იდგმება ყველა გვერდითი შესასვლელის წინ. ნიშანი შეიძლება არა დაიდგას მიმდებარე ტერიტორიებიდან გამოსასვლელების გზასთან გადაკვეთებზე, იმ შემთხვევაში თუ ამ ტერიტორიებზე შესვლა შესაძლებელია მხოლოდ 5.11 ნიშნით აღნიშნულ გზიდან. ამავე კანონის 41-ე მუხლის მე-3 პუნქტის თანახმად, გზაზე, სადაც 5.11, 5.13.1, 5.13.2 და 5.14 საგზაო ნიშნებით აღნიშნული სამარშრუტო სატრანსპორტო საშუალებების მოძრაობისათვის განკუთვნილი ზოლია, აკრძალულია ამ ზოლზე სხვა სატრანსპორტო საშუალებათა მოძრაობა და გაჩერება. თუ ეს ზოლი დანარჩენი სავალი ნაწილისგან მონიშვნის წყვეტილი ხაზითაა გამოყოფილი, მოხვევისას სხვა სატრანსპორტო საშუალებები ამ ზოლზე უნდა გადაჯგუფდნენ. ნებადართულია აგრეთვე ამ ზოლის ასეთ ადგილებში შესვლა გზაზე გასვლისას და მგზავრთა ჩასხდომა-გადმოსხდომისას სავალი ნაწილის მარჯვენა კიდედან, თუ ეს არ დააბრკოლებს სამარშრუტო სატრანსპორტო საშუალების მოძრაობას.

QUESTION 180

CORRECT ANSWER: 2



I



II



III



IV

Which of these traffic signs marks the highway, to which the orders of highway traffic regulatory norms are applied?

1

II only

2

I only

3

IV only

4

III only

განმარტება:

„საგზაო მოძრაობის შესახებ“ საქართველოს კანონის პირველი დანართის მე-5 თავის (განსაკუთრებული მითითებების ნიშნები) 5.1 პუნქტის თანახმად, საგზაო ნიშანი 5.1 „ავტომაგისტრალი“ - ავტომაგისტრალი, რომელზედაც მოქმედებს ავტომაგისტრალზე მოძრაობის მომწესრიგებელი ნორმების მოთხოვნები. ნიშანი იდგმება ავტომაგისტრალის დასაწყისში ან მის სიახლოეს 8.1.1 დაფით.

QUESTION 181

CORRECT ANSWER: 2



This traffic sign marks:

1

Prohibited directions on lanes

2

End of the road marked with highway sign

3

End of reversible area of road

განმარტება:

„საგზაო მოძრაობის შესახებ“ საქართველოს კანონის პირველი დანართის მე-5 თავის (განსაკუთრებული მითითებების ნიშნები) 5.2 პუნქტის თანახმად, საგზაო ნიშანი 5.2 „ავტომაგისტრალის დასასრული“ - მიუთითებს 5.1 „ავტომაგისტრალი“ ნიშნით აღნიშნული გზის დასასრულს. 5.2 ნიშანი იდგმება ავტომაგისტრალის ბოლოში, ავტომაგისტრალიდან გასასვლელში და წინასწარ 8.1.1 დაფით ავტომაგისტრალის ბოლომდე 400 და 1000 მეტრის მანძილებზე.

QUESTION 182

CORRECT ANSWER: 3



This traffic sign marks:

1

End of reversible road

2

End of the lane for motion of cars

3

End of the motorroad

განმარტება:

„საგზაო მოძრაობის შესახებ“ საქართველოს კანონის პირველი დანართის მე-5 თავის (განსაკუთრებული მითითებების ნიშნები) 5.4 პუნქტის თანახმად, საგზაო ნიშანი 5.4 „საავტომობილო გზის დასასრული“ - მითითებს 5.3 ნიშნით აღნიშნული გზის დასასრულს.

QUESTION 183

CORRECT ANSWER: 3



This traffic sign marks:

1

Allowed traffic direction on the lane

2

Beginning of the brake lane on branches and junctions

3

Road or driveway, on which traffic is carried out on entire width towards one direction

განმარტება:

„საგზაო მოძრაობის შესახებ“ საქართველოს კანონის პირველი დანართის მე-5 თავის (განსაკუთრებული მითითებების ნიშნები) 5.5 პუნქტის თანახმად, საგზაო ნიშანი 5.5 „ცალმხრივმოძრაობიანი გზა“ - აღნიშნავს გზას ან სავალ ნაწილს, რომელზედაც სატრანსპორტო საშუალებებით მოძრაობა მთელ სიგანეზე ერთი მიმართულებით მოძრაობს.

QUESTION 184

CORRECT ANSWER: 1



These traffic signs:

1

Mark entry to one-way road or driveway

2

Mark beginning of the traffic lane

3

Mark the lane for buses

განმარტება:

„საგზაო მოძრაობის შესახებ“ საქართველოს კანონის პირველი დანართის მე-5 თავის (განსაკუთრებული მითითებების ნიშნები) 5.7.1, 5.7.2 პუნქტების თანახმად, საგზაო ნიშნები 5.7.1 და 5.7.2 „ცალმხრივმოძრაობიან გზაზე გასვლა“ - მიუთითებს ცალმხრივმოძრაობიან გზაზე ან სავალ ნაწილზე გასვლას. ნიშნები იდგმება ყველა გვერდითი შესასვლელის წინ. ნიშანი შეიძლება არა დაიდგას მიმდებარე ტერიტორიებიდან გამოსასვლელების გზასთან გადაკვეთებზე, თუ ამ ტერიტორიებზე შესვლა შესაძლებელია მხოლოდ 5.5 ნიშნით აღნიშნულ გზიდან.

QUESTION 185

CORRECT ANSWER: 1



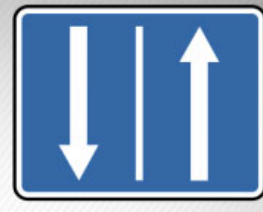
I



II



III



IV

Which of these traffic signs marks the beginning of the reversible section of the road?

1

I

2

II

3

III

4

IV

განმარტება:

„საგზაო მოძრაობის შესახებ“ საქართველოს კანონის პირველი დანართის მე-5 თავის (განსაკუთრებული მითითებების ნიშნები) 5.8 პუნქტის თანახმად, საგზაო ნიშანი 5.8 „რევერსული მოძრაობა“ – გზის მონაკვეთის დასაწყისი, სადაც ერთ ან რამდენიმე ზოლზე მოძრაობის მიმართულება შეიძლება საპირისპიროდ შეიცვალოს.

QUESTION 186

CORRECT ANSWER: 2



I



II



III



IV

Which of these traffic signs marks entry to the road with the lane for route vehicle?

1

I

2

II

3

III

4

IV

განმარტება:

„საგზაო მოძრაობის შესახებ“ საქართველოს კანონის პირველი დანართის მე-5 თავის (განსაკუთრებული მითითებების ნიშნები) 5.13.1, 5.13.2 პუნქტების თანახმად, საგზაო ნიშნები 5.13.1, 5.13.2 „სამარშრუტო სატრანსპორტო საშუალებისათვის განკუთვნილი მოძრაობის ზოლის მქონე გზაზე გასვლა“ - მითითებს 5.11 ნიშნით აღნიშნულ გზაზე გასვლას. ნიშნები იდგმება ყველა გვერდითი შესასვლელის წინ. ნიშანი შეიძლება არა დაიდგას მიმდებარე ტერიტორიებიდან გამოსასვლელების გზასთან გადაკვეთებზე, თუ ამ ტერიტორიაზე შესვლა შესაძლებელია მხოლოდ 5.11 ნიშნით აღნიშნული გზიდან.

QUESTION 187

CORRECT ANSWER: 1



The traffic signs posted on the traffic lane are effective to:

1

Traffic lane only, on which it is posted

2

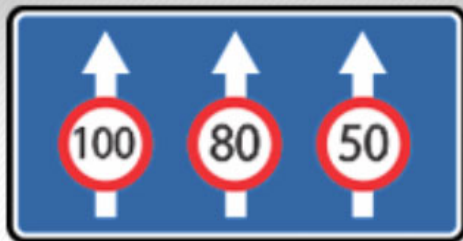
Entire width of the driveway

განმარტება:

„საგზაო მოძრაობის შესახებ“ საქართველოს კანონის პირველი დანართის მე-5 თავის (განსაკუთრებული მითითებების ნიშნები) 5.11 და 5.14 პუნქტების თანახმად, საგზაო ნიშანი: - 5.11 „სამარშრუტო სატრანსპორტო საშუალებისათვის განკუთვნილი მოძრაობის ზოლის მქონე გზა“ - გზა, რომელზედაც სამარშრუტო სატრანსპორტო საშუალება მოძრაობს სპეციალურად გამოყოფილ ზოლზე სატრანსპორტო საშუალებათა საერთო ნაკადის საპირისპირო მიმართულებით. ნიშნის მოქმედება ვრცელდება იმ მოძრაობის ზოლზე, რომელზედაც ის დგას. - 5.14 „სამარშრუტო სატრანსპორტო საშუალებისათვის განკუთვნილი მოძრაობის ზოლი“ - გზა, რომელზედაც სამარშრუტო სატრანსპორტო საშუალება მოძრაობს სპეციალურად გამოყოფილ ზოლზე სატრანსპორტო საშუალებათა საერთო ნაკადის თანმხვედრი მიმართულებით. ნიშნის მოქმედება ვრცელდება იმ მოძრაობის ზოლზე, რომელზედაც ის დგას.

QUESTION 188

CORRECT ANSWER: 3



This traffic sign indicates:

1

Number of lanes only

2

Traffic modes on the lanes only

3

Both number of lanes and traffic modes on the lanes only

განმარტება:

„საგზაო მოძრაობის შესახებ“ საქართველოს კანონის პირველი დანართის მე-5 თავის (განსაკუთრებული მითითებების ნიშნები) 5.15.8 პუნქტის თანახმად, საგზაო ნიშანი 5.15.8 „ზოლების რაოდენობა“ - მიუთითებს მოცემული მიმართულებით ზოლების რაოდენობას და ზოლებზე მოძრაობისათვის დადგენილ რეჟიმებს. ნიშანი იდგმება დაუსახლებელ პუნქტში გზის უბნის დასაწყისიდან 150–300 მეტრ მანძილზე, დასახლებულ პუნქტში – 50–150 მეტრ მანძილზე.

QUESTION 189


CORRECT ANSWER: 3



I



II



III



IV

Which of these traffic signs marks the territory, where parking is regulated?

1

II and IV only

2

IV only

3

I and II only

4


III only

განმარტება:

„საგზაო მოძრაობის შესახებ“ საქართველოს კანონის პირველი დანართის მე-5 თავის (განსაკუთრებული მითითებების ნიშნები) 5.27 და 5.29 პუნქტების თანახმად, საგზაო ნიშნები 5.27 „ზონა დგომის შეზღუდვით“ და 5.29 „რეგულირებადი სადგომის ზონა“ აღნიშნავს ტერიტორიას, რომლის ფარგლებშიც შესაბამისად რეგლამენტირებულია დგომა.

QUESTION 190

CORRECT ANSWER: 1



In the present situation, which vehicle driver is prohibited from proceeding to the arrow direction?

1

Motor car driver

2

Lorry driver

3

Both of them

4


None of them

განმარტება:

„საგზაო მოძრაობის შესახებ“ საქართველოს კანონის პირველი დანართის მე-5 თავის (განსაკუთრებული მითითებების ნიშნები) 5.15.2 პუნქტის თანახმად, საგზაო ნიშანი 5.15.2 „ზოლზე მოძრაობის მიმართულებები“ - მიუთითებს ზოლზე მოძრაობის ნებადართულ მიმართულებებს.

QUESTION 191

CORRECT ANSWER: 3



In the present situation, which car driver is not prohibited from U-turn maneuvering to the arrow direction?

1

None of them

2

Both of them

3

Red car driver only

4

Green car driver only

განმარტება:

„საგზაო მოძრაობის შესახებ“ საქართველოს კანონის პირველი დანართის მე-5 თავის (განსაკუთრებული მითითებების ნიშნები) 5.15.2 პუნქტის თანახმად, საგზაო ნიშანი 5.15.2 „ბოლზე მოძრაობის მიმართულებები“ - მიუთითებს ბოლზე მოძრაობის ნებადართულ მიმართულებებს. ამავე პუნქტის შენიშვნის „ა“ ქვეპუნქტის თანახმად, 5.15.1 და 5.15.2 ნიშნები, რომლებიც უკიდურესი მარცხენა ბოლიდან მოხვევის ნებას რთავს, ამავე ბოლიდან მობრუნების უფლებასაც იძლევა.

QUESTION 192

CORRECT ANSWER: 2

“Built-up area” means:

- | | |
|---|--|
| <div style="border: 1px solid #ccc; padding: 10px; margin-bottom: 10px;"> <div style="background-color: red; color: white; padding: 2px 10px; display: inline-block; margin-bottom: 5px;">1</div> Any territory inhabited with people </div> <div style="border: 1px solid #ccc; padding: 10px;"> <div style="background-color: red; color: white; padding: 2px 10px; display: inline-block; margin-bottom: 5px;">3</div> Any road designated for heavy traffic of pedestrians </div> | <div style="border: 1px solid #ccc; padding: 10px;"> <div style="background-color: red; color: white; padding: 2px 10px; display: inline-block; margin-bottom: 5px;">2</div> Built-up territory, where special Highway Codes are applied and entry and exits of which are marked with appropriate traffic signs </div> |
|---|--|

განმარტება:

„საგზაო მოძრაობის შესახებ“ საქართველოს კანონის 5-ე მუხლის 75-ე პუნქტის თანახმად, „საცხოვრებელი ზონა“ - განაშენიანებული ტერიტორია, სადაც მოქმედებს სპეციალური საგზაო მოძრაობის წესები და სადაც შესასვლელი და გამოსასვლელი აღნიშნულია შესაბამისი საგზაო ნიშნებით.

QUESTION 193

CORRECT ANSWER: 2



I



II



III



IV

Which of these traffic signs indicates absence of emergency stop line on steep downhills?

1

I

2

II

3

III

4

IV

განმარტება:

„საგზაო მოძრაობის შესახებ“ საქართველოს კანონის პირველი დანართის მე-7 თავის (საინფორმაციო-მარეგულირებელი ნიშნები) 7.5 პუნქტის თანახმად, საგზაო ნიშანი 7.5 „ავარიული გაჩერების ზოლი“ - მიუთითებს ციცაბო დაღმართზე საავარიო გაჩერების ზოლის არსებობის თაობაზე. ნიშანი იდგმება საავარიო გაჩერების ზოლის შესასვლელის წინ.

QUESTION 194

CORRECT ANSWER: 4



I



II



III



IV

Which of these traffic signs indicates the length of U-turn zone?

1

I

2

II

3

III

4

IV

განმარტება:

„საგზაო მოძრაობის შესახებ“ საქართველოს კანონის პირველი დანართის მე-7 თავის (საინფორმაციო-მაჩვენებელი ნიშნები) 7.3.2 პუნქტის თანახმად, საგზაო ნიშანი 7.3.2 „მობრუნების ზონა“ - მიუთითებს მობრუნების ზონის სიგრძეს.

QUESTION 195

CORRECT ANSWER: 2



I



II



III



IV

In effective zone of which of these traffic signs is U-turn allowed?

1

None of them

2

All of them

3

II and IV only

4

I and III only

განმარტება:

„საგზაო მოძრაობის შესახებ“ საქართველოს კანონის პირველი დანართის მე-4 თავის (მიმთითებული ნიშნები) 4.1.1-4.1.6 პუნქტების შენიშვნის „ა“ ქვეპუნქტის თანახმად, ნიშნები 4.1.1-4.1.6 რთავს მხოლოდ ისრებით ნაჩვენები მიმართულებებით მოძრაობის ნებას, ხოლო ნიშნები, რომლებიც მარცხნივ მოხვევის ნებას რთავს, მობრუნების უფლებასაც იძლევა. ამავე დანართის მე-7 თავის (საინფორმაციო-მაჩვენებელი ნიშნები) 7.3.1 და 7.3.2 პუნქტების შენიშვნის თანახმად, საგზაო ნიშნები 7.3.1 „მობრუნების ადგილი“ და 7.3.2 „მობრუნების ზონა“ იდგმება მობრუნების ადგილის წინ ან მის ზემოთ, ან წინასწარ 8.1.1 დაფით. ნიშნები მარცხნივ მოხვევის ნებას არ რთავს.

თემა 8:

სერვისის ნიშნები

QUESTION 196

CORRECT ANSWER: 2



I



II



III



IV

Which of these traffic signs gives information about first medical aid facility?

1

I

2

II

3

III

4

IV

განმარტება:

„საგზაო მოძრაობის შესახებ“ საქართველოს კანონის პირველი დანართის მე-6 თავის (სერვისის ნიშნები) 6.1 პუნქტის თანახმად, საგზაო ნიშანი 6.1 „პირველადი სამედიცინო დახმარების პუნქტი“ საგზაო მოძრაობის მონაწილეებს აძლევს ინფორმაციას შესაბამისი ობიექტის ან სერვისის შესახებ.

QUESTION 197

CORRECT ANSWER: 4



I



II



III



IV

Which of these traffic signs gives information about petrol station?

1

I

2

II

3

III

4

IV

განმარტება:

„საგზაო მოძრაობის შესახებ“ საქართველოს კანონის პირველი დანართის მე-6 თავის (სერვისის ნიშნები) 6.2 პუნქტის თანახმად, საგზაო ნიშანი 6.2 „ავტოგასამართი სადგური“ საგზაო მოძრაობის მონაწილეებს აძლევს ინფორმაციას შესაბამისი ობიექტის ან სერვისის შესახებ.

QUESTION 198

CORRECT ANSWER: 3




I



II



III



IV

Which of these traffic signs gives information about machine maintenance?

1

I

2

II

3

III

4

IV

განმარტება:

„საგზაო მოძრაობის შესახებ“ საქართველოს კანონის პირველი დანართის მე-6 თავის (სერვისის ნიშნები) 6.3 პუნქტის თანახმად, საგზაო ნიშანი 6.3 „ავტომობილის ტექნიკური მომსახურება“ საგზაო მოძრაობის მონაწილეებს აძლევს ინფორმაციას შესაბამისი ობიექტის ან სერვისის შესახებ.

QUESTION 199

CORRECT ANSWER: 3



I



II



III



IV

Which of these traffic signs gives information about car washing site?

1

I

2

II

3

III

4

IV

განმარტება:

„საგზაო მოძრაობის შესახებ“ საქართველოს კანონის პირველი დანართის მე-6 თავის (სერვისის ნიშნები) 6.4 პუნქტის თანახმად, საგზაო ნიშანი 6.4 „ავტომობილის რეცხვა“ საგზაო მოძრაობის მონაწილეებს აძლევს ინფორმაციას შესაბამისი ობიექტის ან სერვისის შესახებ.

QUESTION 200

CORRECT ANSWER: 3



I



II



III



IV

Which of these traffic signs gives information about telephone booth?

1

I

2

II

3

III

4

IV

განმარტება:

„საგზაო მოძრაობის შესახებ“ საქართველოს კანონის პირველი დანართის მე-6 თავის (სერვისის ნიშნები) 6.5 პუნქტის თანახმად, საგზაო ნიშანი 6.5 „ტელეფონი“ საგზაო მოძრაობის მონაწილეებს აძლევს ინფორმაციას შესაბამისი ობიექტის ან სერვისის შესახებ.

QUESTION 201

CORRECT ANSWER: 2



I



II



III



IV

Which of these traffic signs gives information about feeding station?

1

I

2

II

3

III

4

IV

განმარტება:

„საგზაო მოძრაობის შესახებ“ საქართველოს კანონის პირველი დანართის მე-6 თავის (სერვისის ნიშნები) 6.6 პუნქტის თანახმად, საგზაო ნიშანი 6.6 „კვების პუნქტი“ საგზაო მოძრაობის მონაწილეებს აძლევს ინფორმაციას შესაბამისი ობიექტის ან სერვისის შესახებ.

QUESTION 202

CORRECT ANSWER: 3



I



II



III



IV

Which of these traffic signs gives information about potable water?

1

I

2

II

3

III

4

IV

განმარტება:

„საგზაო მოძრაობის შესახებ“ საქართველოს კანონის პირველი დანართის მე-6 თავის (სერვისის ნიშნები) 6.7 პუნქტის თანახმად, საგზაო ნიშანი 6.7 „სასმელი წყალი“ საგზაო მოძრაობის მონაწილეებს აძლევს ინფორმაციას შესაბამისი ობიექტის ან სერვისის შესახებ.

QUESTION 203

CORRECT ANSWER: 4



I



II



III



IV

Which of these traffic signs gives information about hotel or motel?

1

I

2

II

3

III

4

IV

განმარტება:

„საგზაო მოძრაობის შესახებ“ საქართველოს კანონის პირველი დანართის მე-6 თავის (სერვისის ნიშნები) 6.8 პუნქტის თანახმად, საგზაო ნიშანი 6.8 „სასტუმრო ან მოტელი“ საგზაო მოძრაობის მონაწილეებს აძლევს ინფორმაციას შესაბამისი ობიექტის ან სერვისის შესახებ.

QUESTION 204

CORRECT ANSWER: 1



I



II



III



IV

Which of these traffic signs gives information about camping?

1

I

2

II

3

III

4


IV

განმარტება:

„საგზაო მოძრაობის შესახებ“ საქართველოს კანონის პირველი დანართის მე-6 თავის (სერვისის ნიშნები) 6.9 პუნქტის თანახმად, საგზაო ნიშანი 6.9 „კემპინგი“ საგზაო მოძრაობის მონაწილეებს აძლევს ინფორმაციას შესაბამისი ობიექტის ან სერვისის შესახებ.

QUESTION 205

CORRECT ANSWER: 1



This traffic sign marks:

1

Spot of merger of the passage from other road with the highway

2

Intersections with crossing of equitable roads

3

Marks the section of the road, on which width of driveway is narrowing from both side

განმარტება:

„საგზაო მოძრაობის შესახებ“ საქართველოს კანონის პირველი დანართის მე-5 თავის (განსაკუთრებული მითითებების ნიშნები) 5.36 პუნქტის თანახმად, საგზაო ნიშანი 5.36 „შერწყმის ადგილი“ - ავტომაგისტრალთან სხვა გზიდან ამოსასვლელის (გაქანების ზოლის) შერწყმის ადგილი.

QUESTION 206

CORRECT ANSWER: 1



This traffic sign gives information about:

1

Patrol police post

2

Radio-connection zone with emergency service

განმარტება:

„საგზაო მოძრაობის შესახებ“ საქართველოს კანონის პირველი დანართის მე-6 თავის (სერვისის ნიშნები) 6.11 პუნქტის თანახმად, საგზაო ნიშანი 6.11 „საპატრულო პოლიციის საგუშაგო“ საგზაო მოძრაობის მონაწილეებს აძლევს ინფორმაციას შესაბამისი ობიექტის ან სერვისის შესახებ.

QUESTION 207

CORRECT ANSWER: 1



I



II



III



IV

Which of these traffic signs gives information about the checkpoint of international motor transportation?

1

I

2

II

3

III

4

IV

განმარტება:

„საგზაო მოძრაობის შესახებ“ საქართველოს კანონის პირველი დანართის მე-6 თავის (სერვისის ნიშნები) 6.13 პუნქტის თანახმად, საგზაო ნიშანი 6.13 „საერთაშორისო საავტომობილო გადაზიდვების საკონტროლო პუნქტი“ საგზაო მოძრაობის მონაწილეებს აძლევს ინფორმაციას შესაბამისი ობიექტის ან სერვისის შესახებ.

QUESTION 208

CORRECT ANSWER: 1



This traffic sign gives information about:

1

Checkpoint of international motor transportation

2

Patrol police post

განმარტება:

„საგზაო მოძრაობის შესახებ“ საქართველოს კანონის პირველი დანართის მე-6 თავის (სერვისის ნიშნები) 6.13 პუნქტის თანახმად, საგზაო ნიშანი 6.13 „საერთაშორისო საავტომობილო გადაზიდვების საკონტროლო პუნქტი“ საგზაო მოძრაობის მონაწილეებს აძლევს ინფორმაციას შესაბამისი ობიექტის ან სერვისის შესახებ.

QUESTION 209

CORRECT ANSWER: 2



This traffic sign gives information about:

1

Radio-connection zone with emergency service

2

Reception zone of broadcasting station transmitting information about traffic

განმარტება:

„საგზაო მოძრაობის შესახებ“ საქართველოს კანონის პირველი დანართის მე-6 თავის (სერვისის ნიშნები) 6.14 პუნქტის თანახმად, საგზაო ნიშანი 6.14 „საგზაო მოძრაობის შესახებ ინფორმაციის გადამცემი რადიოსადგურის მიღების ზონა“ საგზაო მოძრაობის მონაწილეებს აძლევს ინფორმაციას შესაბამისი ობიექტის ან სერვისის შესახებ.

QUESTION 210

CORRECT ANSWER: 2



I



II



III



IV

Which of these traffic signs gives information about reception zone of broadcasting station transmitting information about traffic?

1

I

2

II

3

III

4

IV

განმარტება:

„საგზაო მოძრაობის შესახებ“ საქართველოს კანონის პირველი დანართის მე-6 თავის (სერვისის ნიშნები) 6.14 პუნქტის თანახმად, საგზაო ნიშანი 6.14 „საგზაო მოძრაობის შესახებ ინფორმაციის გადამცემი რადიოსადგურის მიღების ზონა“ საგზაო მოძრაობის მონაწილეებს აძლევს ინფორმაციას შესაბამისი ობიექტის ან სერვისის შესახებ.

QUESTION 211

CORRECT ANSWER: 1



This traffic sign gives information about:

1

Radio-connection zone with emergency service

2

Reception zone of broadcasting station transmitting information about traffic

განმარტება:

„საგზაო მოძრაობის შესახებ“ საქართველოს კანონის პირველი დანართის მე-6 თავის (სერვისის ნიშნები) 6.15 პუნქტის თანახმად, საგზაო ნიშანი 6.15 „საავარიო სამსახურთან რადიოკავშირის ზონა“ საგზაო მოძრაობის მონაწილეებს აძლევს ინფორმაციას შესაბამისი ობიექტის ან სერვისის შესახებ.

QUESTION 212

CORRECT ANSWER: 3



I



II



III



IV

Which of these traffic signs gives information about radio-connection zone with emergency service?

1

I

2

II

3

III

4

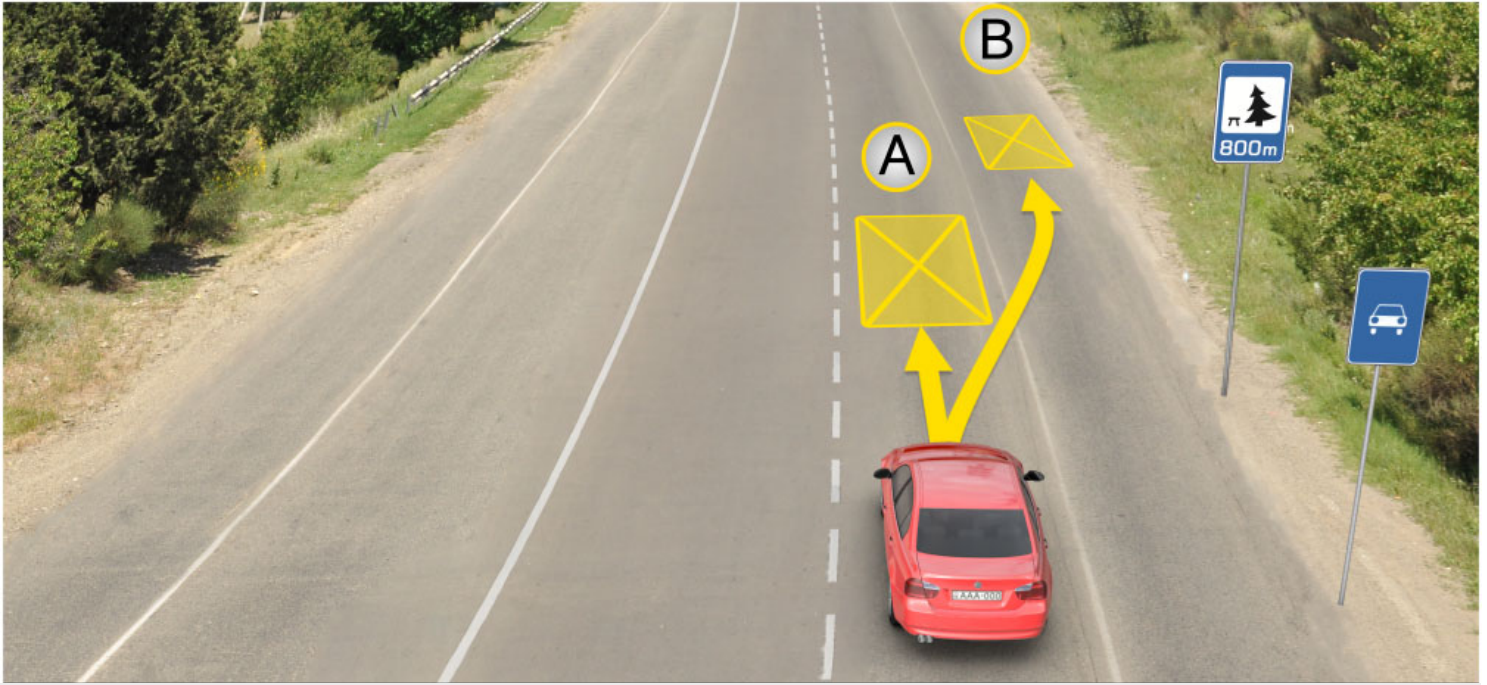
IV

განმარტება:

„საგზაო მოძრაობის შესახებ“ საქართველოს კანონის პირველი დანართის მე-6 თავის (სერვისის ნიშნები) 6.15 პუნქტის თანახმად, საგზაო ნიშანი 6.15 „საავარიო სამსახურთან რადიოკავშირის ზონა“ საგზაო მოძრაობის მონაწილეებს აძლევს ინფორმაციას შესაბამისი ობიექტის ან სერვისის შესახებ.

QUESTION 213

CORRECT ANSWER: 3



In the present situation a driver is allowed to stop vehicle for long-term rest purpose:

1

At place A

2

At place B

3

In 800 meters on specially arranged place or beyond the scope of the road

განმარტება:

„საგზაო მოძრაობის შესახებ“ საქართველოს კანონის 37-ე მუხლის მე-11 პუნქტის თანახმად, დაუსახლებელ პუნქტში ხანგრძლივი დასვენების (ღამის გასათევად ან სხვა) მიზნით დგომა ნებადართულია, მხოლოდ ამისათვის განკუთვნილ სადგომზე ან გზის ფარგლებს მიღმა.

QUESTION 214

CORRECT ANSWER: 2



Lorry and yellow motor car are proceeding to the arrow direction, and white motor car driver is stopped for long-term rest purpose. Which vehicle driver will violate the Highway Code, if the middle lane of the given road is used for the both direction traffic?

- | | | | |
|---|--|---|---|
| 1 | Lorry and white motor car drivers only | 2 | Yellow and white motor car drivers only |
| 3 | White motor car driver only | 4 | Yellow motor car driver only |

განმარტება:

„საგზაო მოძრაობის შესახებ“ საქართველოს კანონის 37-ე მუხლის მე-11 პუნქტის თანახმად, დაუსახლებელ პუნქტში ხანგრძლივი დასვენების (ღამის გასათევად ან სხვა) მიზნით დგომა ნებადართულია, მხოლოდ ამისათვის განკუთვნილ სადგომზე ან გზის ფარგლებს მიღმა. ამავე კანონის 31-ე მუხლის მე-7 პუნქტის თანახმად, თუ სამი მოძრაობის ზოლის მქონე გზაზე შუა ზოლი ორივე მიმართულებით მოძრაობისათვის გამოიყენება, ამ ზოლზე გასვლა ნებადართულია მხოლოდ გასწრების, დაბრკოლების შემოვლის, მარცხნივ მოხვევის ან მობრუნების მიზნით.

QUESTION 215

CORRECT ANSWER: 4



I



II



III



IV

Which of these traffic signs gives information about swimming pool or beach?

1

I

2

II

3

III

4

IV

განმარტება:

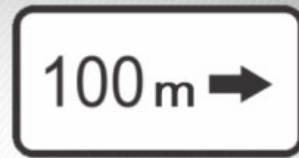
„საგზაო მოძრაობის შესახებ“ საქართველოს კანონის პირველი დანართის მე-6 თავის (სერვისის ნიშნები) 6.16 პუნქტის თანახმად, საგზაო ნიშანი 6.16 „საცურაო აუზი ან პლაჟი“ საგზაო მოძრაობის მონაწილეებს აძლევს ინფორმაციას შესაბამისი ობიექტის ან სერვისის შესახებ.

თემა 9:

დამატებითი ინფორმაციის ნიშნები

QUESTION 216

CORRECT ANSWER: 3



Given additional information signs (boards) indicate:

1

Effective direction of the sign posted in front of the intersection

2

Distance from the sign to the beginning of dangerous area

3

Distance to the facility located beyond the road (in remote distance)

განმარტება:

„საგზაო მოძრაობის შესახებ“ საქართველოს კანონის პირველი დანართის მე-8 თავის (დამატებითი ინფორმაციის ნიშნები (დაფები)) 8.1.3, 8.1.4 პუნქტების თანახმად, დაფები 8.1.3 და 8.1.4 „მანძილი ობიექტამდე“ - მიუთითებს მანძილს გზის მიღმა (მოშორებით) მდებარე ობიექტამდე.

QUESTION 217

CORRECT ANSWER: 2



Given additional information sign (board) indicates:

- | | |
|---|--|
| <p>1 Distance from the sign to the beginning of dangerous area</p> | <p>2 Length of the dangerous area marked with warning signs or the effective zone of restriction and information-indication signs</p> |
| <p>3 Effective direction of the sign posted in front of the intersection</p> | |

განმარტება:

„საგზაო მოძრაობის შესახებ“ საქართველოს კანონის პირველი დანართის მე-8 თავის (დამატებითი ინფორმაციის ნიშნები (დაფები)) 8.2.1 პუნქტის თანახმად, 8.2.1 „მოქმედების ზონა“ - მიუთითებს მატრთხილებელი ნიშნით აღნიშნული გზის სახიფათო მონაკვეთის სიგრძეს, ან ამკრძალავი და საინფორმაციო-მაჩვენებელი ნიშნის მოქმედების ზონას.

QUESTION 218

CORRECT ANSWER: 1



I



II



III



IV

Out of given road sign combinations, which one is applied only to a light vehicle?

1

IV only

2

I and III only

3

Only II and IV

4

I only

განმარტება:

„საგზაო მოძრაობის შესახებ“ საქართველოს კანონის პირველი დანართის მე-8 თავის (დამატებითი ინფორმაციის ნიშნები (დაფები)) 8.4.1-8.4.8 პუნქტისა და ამავე პუნქტის შენიშვნის „გ“ ქვეპუნქტის თანახმად, დაფები 8.4.1–8.4.8 „სატრანსპორტო საშუალების სახეობა“ - მიუთითებს იმ სატრანსპორტო საშუალების სახეობას, რომლებზედაც ვრცელდება ნიშნის მოქმედება. დაფა 8.4.3 ნიშნის მოქმედებას ავრცელებს მსუბუქ ავტომობილზე.

QUESTION 219

CORRECT ANSWER: 3



Combination of these traffic signs warns a driver that overtaking is prohibited:

1

During dark hours

2

In cloudy weather

3

When the driveway surface is wet

განმარტება:

„საგზაო მოძრაობის შესახებ“ საქართველოს კანონის პირველი დანართის 3.20 პუნქტის თანახმად, საგზაო ნიშანი 3.20. „გასწრება აკრძალულია“ – კრძალავს ყველა სახის მექანიკური სატრანსპორტო საშუალების გასწრებას (გარდა 30 კმ/სთ-ზე ნაკლები სიჩქარით მოძრავი ტრანსპორტისა). ნებადართულია გასწრება უეტლო მოტოციკლის, მოპედისა და ველოსიპედის შემხვედრი მოძრაობის ზოლში გადაუსვლელად. ამავე კანონის პირველი დანართის მე-8 თავის (დამატებითი ინფორმაციის ნიშნები (დაფები)) 8.16 პუნქტის თანახმად, დაფა 8.16 „სველი საფარი“ - მიუთითებს, რომ ნიშნის მოქმედება ვრცელდება დროის იმ პერიოდში, როცა სავალი ნაწილის საფარი სველია. გამოიყენება 1.16, 3.20, 3.22 და 3.24 ნიშნებთან ერთად.

QUESTION 220

CORRECT ANSWER: 3



These traffic signs give information to a driver, that from the sign posting place ahead:


- | | | | |
|---|--|---|--|
| 1 | There is uneven road at the distance of 400 meters and the recommended speed is 30 km/h | 2 | Uneven road starts after 400 meters and the recommended speed is 30 km/h |
| 3 | Uneven road of 400 meter length starts after 150-300 meters and the recommended speed is 30 km/h | | |

განმარტება:

„საგზაო მოძრაობის შესახებ“ საქართველოს კანონის პირველი დანართის პირველი თავის (მაფრთხილებელი ნიშნები) 1.17 პუნქტისა და ამავე თავის შენიშვნის „ა“ ქვეპუნქტის თანახმად, საგზაო ნიშანი 1.17 „უსწორმასწორო გზა“ - გზის მონაკვეთი, რომლის სავალი ნაწილი დაზიანებულია ტალღოვანი, ღრანტეებიანი, ხიდთან უსწორმასწორო შეუღლებებით და ა. შ.. 1.1, 1.2, 1.5–1.34 ნიშნები დაუსახლებელ პუნქტში იდგმება სახიფათო მონაკვეთის დასაწყისამდე 150–300 მეტრ მანძილზე. ამავე დანართის მე-8 თავის (დამატებითი ინფორმაციის ნიშნები (დაფები)) 8.2.1 პუნქტის თანახმად, დაფა 8.2.1 „მოქმედების ზონა“ - მიუთითებს მაფრთხილებელი ნიშნით აღნიშნული გზის სახიფათო მონაკვეთის სიგრძეს, ან ამკრძალავი და საინფორმაციო-მაჩვენებელი ნიშნის მოქმედების ზონას. ამავე დანართის მე-7 თავის (საინფორმაციო-მაჩვენებელი ნიშნები) 7.2 პუნქტის თანახმად, საგზაო ნიშანი 7.2 „რეკომენდებული სიჩქარე“ - მიუთითებს სიჩქარეს, რომლითაც რეკომენდებულია მოძრაობა გზის მოცემულ მონაკვეთზე. ნიშანი იდგმება გზის დასაწყისში. ნიშნის მოქმედება ვრცელდება უახლოეს გზაჯვარედინამდე, ხოლო მაფრთხილებელ ნიშანთან ერთად – სახიფათო უბნის მთელ სიგრძეზე.

QUESTION 221

CORRECT ANSWER: 1



In the present situation, is white car driver prohibited from proceeding to the arrow direction?

1

Yes

2

No

განმარტება:

„საგზაო მოძრაობის შესახებ“ საქართველოს კანონის პირველი დანართის მე-4 თავის (მიმთითებული ნიშნები) 4.1.1 პუნქტის შენიშვნის „ა“ ქვეპუნქტის თანახმად, საგზაო ნიშანი 4.1.1 „მოძრაობა პირდაპირ“ რთავს მხოლოდ ისრებით ნაჩვენები მიმართულებებით მოძრაობის ნებას. ამავე დანართის მე-8 თავის (დამატებითი ინფორმაციის ნიშნები (დაფები)) 8.18 პუნქტის თანახმად, დაფა 8.18 „გარდა შემზღუდული შესაძლებლობის მქონე პირისა“ - მიუთითებს, რომ ნიშნის მოქმედება არ ვრცელდება სატრანსპორტო საშუალებაზე, რომელზედაც დამაგრებულია საცნობი ნიშანი „შემზღუდული შესაძლებლობის მქონე პირი“.

QUESTION 222

CORRECT ANSWER: 2



In the present situation, is yellow car driver prohibited from proceeding to the arrow direction?

1

Yes

2

No

განმარტება:

„საგზაო მოძრაობის შესახებ“ საქართველოს კანონის პირველი დანართის მე-4 თავის (მიმთითებელი ნიშნები) 4.1.1 პუნქტის შენიშვნის „ა“ ქვეპუნქტის თანახმად, საგზაო ნიშანი 4.1.1 „მოძრაობა პირდაპირ“ რთავს მხოლოდ ისრებით ნაჩვენები მიმართულებებით მოძრაობის ნებას. ამავე დანართის მე-8 თავის (დამატებითი ინფორმაციის ნიშნები (დაფები)) 8.18 პუნქტის თანახმად, დაფა 8.18 „გარდა შეზღუდული შესაძლებლობის მქონე პირისა“ - მიუთითებს, რომ ნიშნის მოქმედება არ ვრცელდება სატრანსპორტო საშუალებაზე, რომელზედაც დამაგრებულია საცნობი ნიშანი „შეზღუდული შესაძლებლობის მქონე პირი“.

QUESTION 223

CORRECT ANSWER: 1



This traffic sign warns a driver, that from the place of posting the sign:

1

Driving faster than 50 km/h is prohibited within 300 meters

2

Driving faster than 50 km/h is prohibited after 300 meters

განმარტება:

„საგზაო მოძრაობის შესახებ“ საქართველოს კანონის პირველი დანართის მე-3 თავის (ამკრძალავი ნიშნები) 3.24 პუნქტის თანახმად, საგზაო ნიშნი 3.24 „მაქსიმალური სიჩქარის შეზღუდვა“ - კრძალავს მოძრაობას ნიშანზე აღნიშნულზე მეტი სიჩქარით(კმ/სთ). ამავე დანართის მე-8 თავის (დამატებითი ინფორმაციის ნიშნები (დაფები)) 8.2.1 პუნქტის თანახმად, დაფა 8.2.1 „მოქმედების ზონა“ - მიუთითებს მატრთხილებელი ნიშნით აღნიშნული გზის სახიფათო მონაკვეთის სიგრძეს, ან ამკრძალავი და საინფორმაციო-მაჩვენებელი ნიშნის მოქმედების ზონას.

QUESTION 224

CORRECT ANSWER: 2



Combination of these traffic signs warns a driver, that from the place of posting the sign:

1

Driving is allowed no faster than 50 km/h within 300 meters

2

Driving is allowed no faster than 50 km/h after 300 meters

განმარტება:


„საგზაო მოძრაობის შესახებ“ საქართველოს კანონის პირველი დანართის მე-3 თავის (ამკრძალავი ნიშნები) 3.24 პუნქტის თანახმად, საგზაო ნიშნი 3.24 „მაქსიმალური სიჩქარის შეზღუდვა“ - კრძალავს მოძრაობას ნიშანზე აღნიშნულზე მეტი სიჩქარით(კმ/სთ). ამავე დანართის მე-8 თავის (დამატებითი ინფორმაციის ნიშნები (დაფები)) 8.1.1 პუნქტის თანახმად, დაფა 8.1.1 „მანძილი ობიექტამდე“ - მიუთითებს მანძილს ნიშნიდან სახიფათო მონაკვეთის დასაწყისამდე, სათანადო შეზღუდვის შემოღების ადგილამდე ან წინ, მოძრაობის მიმართულებით არსებულ გარკვეულ ობიექტამდე (ადგილამდე).

თემა 10:

პუნიშის სიგნალები

QUESTION 225

CORRECT ANSWER: 1



Is red car driver allowed to proceed to the arrow direction, if he/she could not stop at the "STOP" line without hard braking, by the time of switching the amber traffic light on after the green traffic light?

1

Yes

2


No

განმარტება:

„საგზაო მოძრაობის შესახებ“ საქართველოს კანონის 29-ე მუხლის მე-14 პუნქტის თანახმად, მძღოლს, რომელსაც ყვითელი მაშუქი სიგნალის ჩართვის დროს მკვეთრად დამუხრუჭების გარეშე არ შეუძლია გაჩერდეს ამ მუხლის მე-13 პუნქტით განსაზღვრულ ადგილებში, უფლება აქვს, განაგრძოს მოძრაობა. ამავე კანონის 36-ე მუხლის მე-3 პუნქტის „ვ“ ქვეპუნქტის თანახმად, რეგულირებულ გზაჯვარედინზე, შექნიშნის ნებადამრთველი სიგნალის ჩართვისას მძღოლი ვალდებულია გზა დაუთმოს იმ სატრანსპორტო საშუალებას, რომელიც ამთავრებს გზაჯვარედინზე გადასვლას, და ქვეითს, რომელმაც ვერ დაამთავრა სავალ ნაწილზე გადასვლა მოცემული მიმართულებით.

QUESTION 226

CORRECT ANSWER: 3



Which of the vehicle drivers is obliged to yield to the pedestrians in case of driving to the arrow direction, if the ambulance has special blue flashing light switched on?

1

Ambulance driver only

2

Lorry driver only

3


Both of them

ბანმარტება:

„საგზაო მოძრაობის შესახებ“ საქართველოს კანონის 25-ე მუხლის მე-2 პუნქტის „ა“ ქვეპუნქტის თანახმად, ქვეითთა გადასასვლელზე ამ კანონის 21-ე მუხლის მე-6 პუნქტით, 33-ე მუხლის მე-2 პუნქტითა და 34-ე მუხლის მე-11 პუნქტით დადგენილ მოთხოვნათა დაცვით უნდა შესრულდეს შემდეგი მოთხოვნები: ა) თუ სატრანსპორტო საშუალებათა მოძრაობა საგზაო შუქნიშნით ან მარეგულირებლის მეშვეობით რეგულირდება, მოძრაობის ამკრძალავი სიგნალის დროს მძღოლი უნდა გაჩერდეს ქვეითთა გადასასვლელის წინ ან მის წინ მდებარე განივ მონიშვნასთან, ხოლო როცა მოძრაობის გაგრძელების უფლებას მიიღებს, არ უნდა დააბრკოლოს და საფრთხე არ უნდა შეუქმნას ქვეითთა გადასასვლელზე შესულ ქვეითებს. თუ მძღოლი ასრულებს მოხვევას სხვა გზაზე შესასვლელად, რომლის შესასვლელთანაც მდებარეობს ქვეითთა გადასასვლელი, მან ეს მოხვევა უნდა შეასრულოს მხოლოდ დაბალი სიჩქარით, ხოლო საჭიროების შემთხვევაში უნდა გაჩერდეს და გაატაროს გადასასვლელზე შესული ან შემავალი ქვეითები.

QUESTION 227

CORRECT ANSWER: 1



Is the motor car driver obliged to yield to the bus driver, which is completing to pass the intersection?

1

Yes

2


No

განმარტება:

„საგზაო მოძრაობის შესახებ“ საქართველოს კანონის 29-ე მუხლის მე-14 პუნქტის თანახმად, მძღოლს, რომელსაც ყვითელი მაშუქი სიგნალის ჩართვის დროს მკვეთრად დამუხრუჭების გარეშე არ შეუძლია გაჩერდეს ამ მუხლის მე-13 პუნქტით განსაზღვრულ ადგილებში, უფლება აქვს, განაგრძოს მოძრაობა. ამავე კანონის 36-ე მუხლის მე-3 პუნქტის „ვ“ ქვეპუნქტის თანახმად, რეგულირებულ გზაჯვარედინზე, შექნიშნის ნებადამრთველი სიგნალის ჩართვისას მძღოლი ვალდებულია გზა დაუთმოს იმ სატრანსპორტო საშუალებას, რომელიც ამთავრებს გზაჯვარედინზე გადასვლას, და ქვეითს, რომელმაც ვერ დაამთავრა სავალ ნაწილზე გადასვლა მოცემული მიმართულებით.

QUESTION 228

CORRECT ANSWER: 1



Which of the motor car drivers is prohibited from driving to the arrow direction at this signal of the traffic lights, if driveway is barred with vehicles after the intersection?

1

Grey car driver only

2

Yellow car driver only

3

None of them

4


Both of them

განმარტება:

„საგზაო მოძრაობის შესახებ“ საქართველოს კანონის 36-ე მუხლის მე-5 პუნქტის თანახმად, მძღოლი არ უნდა გავიდეს გზაჯვარედინზე, თუ შექმნილია ისეთი ხერგილი, რომ იგი, სავარაუდოდ, იძულებული გახდება, გაჩერდეს გზაჯვარედინზე და ამით დააბრკოლოს განივი მიმართულებით მოძრაობა. ეს წესი მოქმედებს მაშინაც, თუ შექნიშნის მაშუქი სიგნალები იძლევა მოძრაობის უფლებას.

QUESTION 229

CORRECT ANSWER: 2



In what sequence should the vehicles pass the intersection when driving to the arrow direction at this signal of the traffic light?

1

First - motor car, then - lorry and finally - tram

2

First - lorry, then - tram and motor car

3

First - tram and motor car and finally - lorry

ბანმარტება:

„საგზაო მოძრაობის შესახებ“ საქართველოს კანონის 36-ე მუხლის მე-3 პუნქტის „ბ“ და „გ“ ქვეპუნქტის თანახმად, რეგულირებულ გზაჯვარედინზე: ბ) შექნიშნის დამატებით სექციაში ძირითად ყვითელ ან წითელ მაშუქ სიგნალთან ერთად ჩართული ისრის მიმართულებით მოძრაობისას სატრანსპორტო საშუალების მძღოლი ვალდებულია გზა დაუთმოს სხვა მიმართულებიდან მოძრავ სატრანსპორტო საშუალებას; გ) თუ შექნიშნის ან მარეგულირებლის სიგნალები ერთდროულად მოძრაობის ნებას რთავს რელსიან და ურელსო სატრანსპორტო საშუალებებს, რელსიან სატრანსპორტო საშუალებას აქვს უპირატესობა, მიუხედავად მისი მოძრაობის მიმართულებისა, მაგრამ შექნიშნის დამატებით სექციაში ძირითად ყვითელ ან წითელ მაშუქ სიგნალთან ერთად ჩართული ისრის მიმართულებით მოძრაობისას რელსიანი სატრანსპორტო საშუალების მძღოლი ვალდებულია გზა დაუთმოს სხვა მიმართულებიდან მოძრავ სატრანსპორტო საშუალებას.

QUESTION 230

CORRECT ANSWER: 2



Which vehicle driver shall be obliged to yield when driving to the arrow direction?

1

Motor car driver

2

Tram driver

განმარტება:

„საგზაო მოძრაობის შესახებ“ საქართველოს კანონის 36-ე მუხლის მე-3 პუნქტის „გ“ ქვეპუნქტის თანახმად, რეგულირებულ გზაჯვარედინზე, თუ შექნიშნის ან მარეგულირებლის სიგნალები ერთდროულად მოძრაობის ნებას რთავს რელსიან და ურელსო სატრანსპორტო საშუალებებს, რელსიან სატრანსპორტო საშუალებას აქვს უპირატესობა, მიუხედავად მისი მოძრაობის მიმართულებისა, მაგრამ შექნიშნის დამატებით სექციაში ძირითად ყვითელ ან წითელ მაშუქ სიგნალთან ერთად ჩართული ისრის მიმართულებით მოძრაობისას რელსიანი სატრანსპორტო საშუალების მძღოლი ვალდებულია გზა დაუთმოს სხვა მიმართულებიდან მოძრავ სატრანსპორტო საშუალებას.

QUESTION 231

CORRECT ANSWER: 1



Which vehicle driver shall be obliged to yield when driving to the arrow direction?

1

Motor car driver

2


Tram driver

განმარტება:

„საგზაო მოძრაობის შესახებ“ საქართველოს კანონის 36-ე მუხლის მე-3 პუნქტის „გ“ ქვეპუნქტის თანახმად, რეგულირებულ გზაჯვარედინზე, თუ შექნიშნის ან მარეგულირებლის სიგნალები ერთდროულად მოძრაობის ნებას რთავს რელსიან და ურელსო სატრანსპორტო საშუალებებს, რელსიან სატრანსპორტო საშუალებას აქვს უპირატესობა, მიუხედავად მისი მოძრაობის მიმართულებისა, მაგრამ შექნიშნის დამატებით სექციაში ძირითად ყვითელ ან წითელ მაშუქ სიგნალთან ერთად ჩართული ისრის მიმართულებით მოძრაობისას რელსიანი სატრანსპორტო საშუალების მძღოლი ვალდებულია გზა დაუთმოს სხვა მიმართულებიდან მოძრავ სატრანსპორტო საშუალებას.

QUESTION 232

CORRECT ANSWER: 2



Which vehicle driver shall be obliged to yield when driving to the arrow direction?

1

Motor car driver

2


Tram driver

განმარტება:

„საგზაო მოძრაობის შესახებ“ საქართველოს კანონის 36-ე მუხლის მე-3 პუნქტის „გ“ ქვეპუნქტის თანახმად, რეგულირებულ გზაჯვარედინზე, თუ შექნიშნის ან მარეგულირებლის სიგნალები ერთდროულად მოძრაობის ნებას რთავს რელსიან და ურელსო სატრანსპორტო საშუალებებს, რელსიან სატრანსპორტო საშუალებას აქვს უპირატესობა, მიუხედავად მისი მოძრაობის მიმართულებისა, მაგრამ შექნიშნის დამატებით სექციაში ძირითად ყვითელ ან წითელ მაშუქ სიგნალთან ერთად ჩართული ისრის მიმართულებით მოძრაობისას რელსიანი სატრანსპორტო საშუალების მძღოლი ვალდებულია გზა დაუთმოს სხვა მიმართულებიდან მოძრავ სატრანსპორტო საშუალებას.

QUESTION 233

CORRECT ANSWER: 2



Which vehicle driver shall be obliged to yield when driving to the arrow direction?

1

Tram driver

2

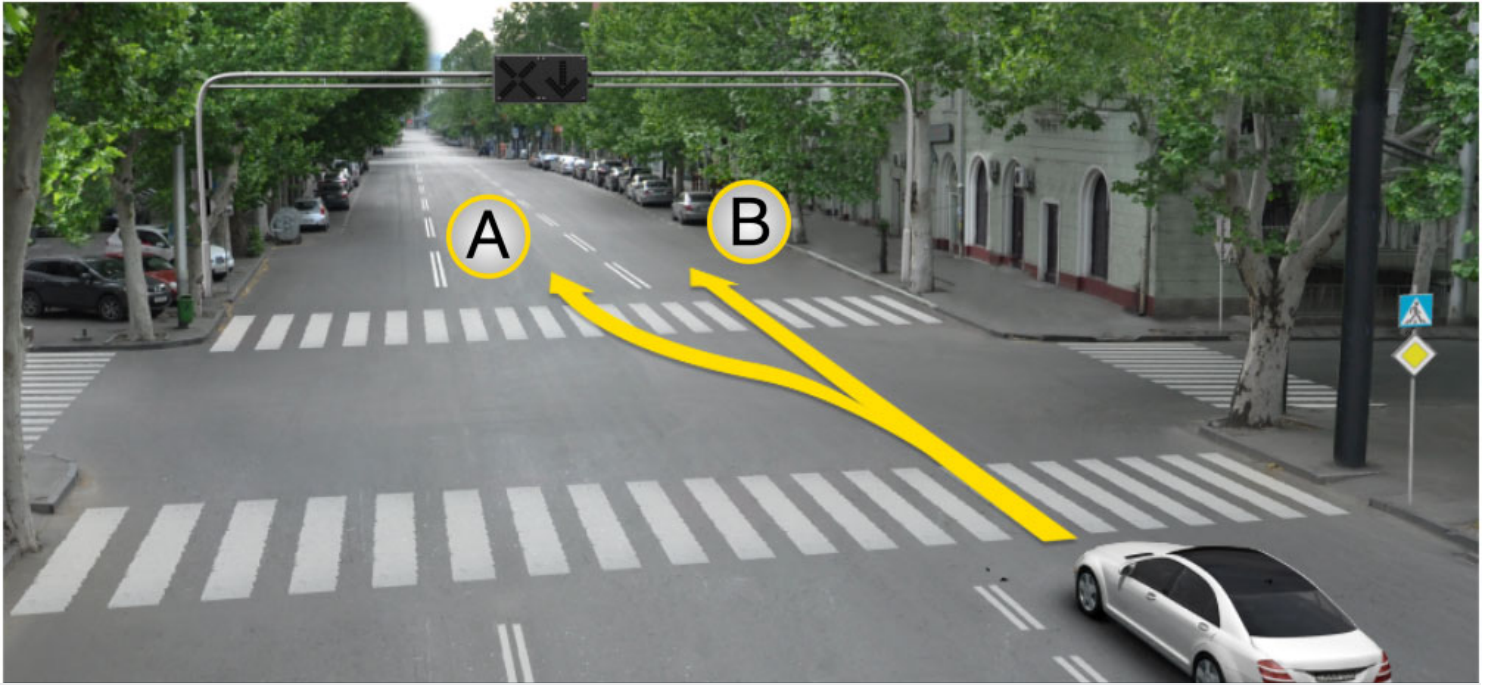
Motor car driver

განმარტება:

„საგზაო მოძრაობის შესახებ“ საქართველოს კანონის 36-ე მუხლის მე-3 პუნქტის „გ“ ქვეპუნქტის თანახმად, რეგულირებულ გზაჯვარედინზე, თუ შუქნიშნის ან მარეგულირებლის სიგნალები ერთდროულად მოძრაობის ნებას რთავს რელსიან და ურელსო სატრანსპორტო საშუალებებს, რელსიან სატრანსპორტო საშუალებას აქვს უპირატესობა, მიუხედავად მისი მოძრაობის მიმართულებისა, მაგრამ შუქნიშნის დამატებით სექციაში ძირითად ყვითელ ან წითელ მაშუქ სიგნალთან ერთად ჩართული ისრის მიმართულებით მოძრაობისას რელსიანი სატრანსპორტო საშუალების მძღოლი ვალდებულია გზა დაუთმოს სხვა მიმართულებიდან მოძრავ სატრანსპორტო საშუალებას.

QUESTION 234

CORRECT ANSWER: 2



A motor car driver is allowed to proceed:

1

In direction A

2

In direction B

3


In both A and B directions

განმარტება:

„საგზაო მოძრაობის შესახებ“ საქართველოს კანონის 29-ე მუხლის მე-4 პუნქტის ქვეპუნქტის თანახმად, სატრანსპორტო საშუალების მოძრაობის რეგულირებისათვის გზის სავალი ნაწილის ზოლებზე, სადაც მოძრაობის მიმართულება საპირისპიროდ იცვლება, გამოიყენება რევერსული შუქნიშანი წითელი X ნიშნის მაშუქი სიგნალითა და ქვემოთ მიმართული მწვანე ისრით. ეს სიგნალი და ისარი შესაბამისად იმ ზოლზე მოძრაობას კრძალავს ან იმ ზოლზე მოძრაობის ნებას რთავს, რომლის ზემოთაც ისინია განლაგებული. რევერსული შუქნიშნის ძირითად ფერად მაშუქ სიგნალებს შეიძლება დაემატოს დიაგონალურად ქვემოთ – მარჯვნივ ან მარცხნივ დახრილი ისრის მქონე ყვითელი ან თეთრი მაშუქი სიგნალი, რომლის ჩართვა იტყობინება ფერადი მაშუქი სიგნალის შემდგომი შეცვლისა და ისრით მითითებულ ზოლზე გადასვლის ვალდებულების შესახებ. ორივე მხრიდან 1.9 საგზაო მონიშვნით აღნიშნული ზოლის ზემოთ მდებარე გამორთული რევერსული შუქნიშანი კრძალავს ამ ზოლზე გასვლას.

QUESTION 235

CORRECT ANSWER: 3



A motor car driver is allowed to proceed:

1

In direction A only

2

In direction B only

3

In both A and B directions

განმარტება:

„საგზაო მოძრაობის შესახებ“ საქართველოს კანონის 29-ე მუხლის მე-4 პუნქტის ქვეპუნქტის თანახმად, სატრანსპორტო საშუალების მოძრაობის რეგულირებისათვის გზის სავალი ნაწილის ზოლებზე, სადაც მოძრაობის მიმართულება საპირისპიროდ იცვლება, გამოიყენება რევერსული შუქნიშანი წითელი X ნიშნის მაშუქი სიგნალითა და ქვემოთ მიმართული მწვანე ისრით. ეს სიგნალი და ისარი შესაბამისად იმ ზოლზე მოძრაობას კრძალავს ან იმ ზოლზე მოძრაობის ნებას რთავს, რომლის ზემოთაც ისინია განლაგებული. რევერსული შუქნიშნის ძირითად ფერად მაშუქ სიგნალებს შეიძლება დაემატოს დიაგონალურად ქვემოთ – მარჯვნივ ან მარცხნივ დახრილი ისრის მქონე ყვითელი ან თეთრი მაშუქი სიგნალი, რომლის ჩართვა იტყობინება ფერადი მაშუქი სიგნალის შემდგომი შეცვლისა და ისრით მითითებულ ზოლზე გადასვლის ვალდებულების შესახებ. ორივე მხრიდან 1.9 საგზაო მონიშვნით აღნიშნული ზოლის ზემოთ მდებარე გამორთული რევერსული შუქნიშანი კრძალავს ამ ზოლზე გასვლას.

QUESTION 236

CORRECT ANSWER: 2



Is the lorry driver allowed to proceed to the arrow direction, if reversible traffic lights are off?

1

Yes

2


No

განმარტება:

„საგზაო მოძრაობის შესახებ“ საქართველოს კანონის 29-ე მუხლის მე-4 პუნქტის ქვეპუნქტის თანახმად, სატრანსპორტო საშუალების მოძრაობის რეგულირებისათვის გზის სავალი ნაწილის ზოლებზე, სადაც მოძრაობის მიმართულება საპირისპიროდ იცვლება, გამოიყენება რევერსული შუქნიშანი წითელი X ნიშნის მაშუქი სიგნალითა და ქვემოთ მიმართული მწვანე ისრით. ეს სიგნალი და ისარი შესაბამისად იმ ზოლზე მოძრაობას კრძალავს ან იმ ზოლზე მოძრაობის ნებას რთავს, რომლის ზემოთაც ისინია განლაგებული. რევერსული შუქნიშნის ძირითად ფერად მაშუქ სიგნალებს შეიძლება დაემატოს დიაგონალურად ქვემოთ – მარჯვნივ ან მარცხნივ დახრილი ისრის მქონე ყვითელი ან თეთრი მაშუქი სიგნალი, რომლის ჩართვა იტყობინება ფერადი მაშუქი სიგნალის შემდგომი შეცვლისა და ისრით მითითებულ ზოლზე გადასვლის ვალდებულების შესახებ. ორივე მხრიდან 1.9 საგზაო მონიშნით აღნიშნული ზოლის ზემოთ მდებარე გამორთული რევერსული შუქნიშანი კრძალავს ამ ზოლზე გასვლას.

QUESTION 237

CORRECT ANSWER: 3



In which direction may the red car driver proceed at this signal of the traffic lights?

1

Straight and to the left only

2

To the right only

3

Straight and to the right only

4

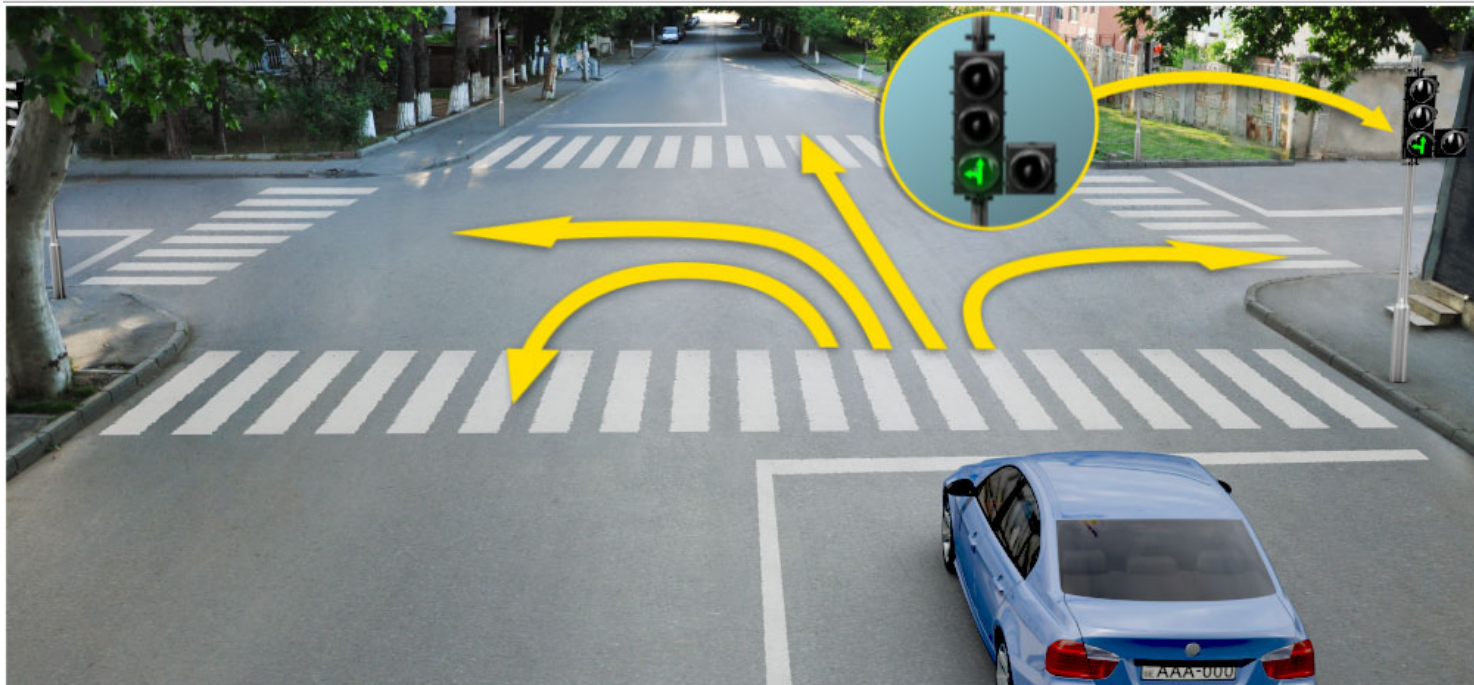
In all directions

განმარტება:

„საგზაო მოძრაობის შესახებ“ საქართველოს კანონის 29-ე მუხლის მე-2 პუნქტის „ე“ ქვეპუნქტისა და მე-10 პუნქტის თანახმად: 2. შეუნიშნის მაშუქ სიგნალებს აქვთ შემდეგი მნიშვნელობა: ე) მწვანე მაშუქი სიგნალი რთავს მოძრაობის ნებას. 10. მწვანე, ყვითელ და წითელ მაშუქ სიგნალებს, რომლებზედაც გამოსახულია ისარი/ისრები, იგივე მნიშვნელობა აქვს, რაც შესაბამისი ფერის უისრო მაშუქ სიგნალებს, მაგრამ მათი მოქმედება ვრცელდება მხოლოდ ისრით/ისრებით მითითებული მიმართულებით/მიმართულებებით. ამასთანავე, ისარი, რომელიც მარცხნივ მოხვევის ნებას რთავს, მობრუნების უფლებასაც იძლევა, თუ ეს აკრძალული არ არის შესაბამისი საგზაო ნიშნით ან საგზაო მონიშვნით. იგივე მნიშვნელობა აქვს შეუნიშნის დამატებითი სექციაში მწვანე მაშუქ სიგნალზე გამოსახულ ისარს. შეუნიშნის დამატებითი სექციის გამორთული მაშუქი სიგნალი იტყობინება, რომ ამ სექციით რეგულირებული მიმართულებით მოძრაობა აკრძალულია.

QUESTION 238

CORRECT ANSWER: 4



In which direction may the blue car driver proceed at this signal of the traffic lights?

1

Straight and to the left only

2

To the right only

3

Straight and to the right only

4


Straight, to the left and backward (U-turn) only

განმარტება:

„საგზაო მოძრაობის შესახებ“ საქართველოს კანონის 29-ე მუხლის მე-2 პუნქტის „ე“ ქვეპუნქტის და მე-10 პუნქტის თანახმად: 2. შექნიშნის მაშუქ სიგნალებს აქვთ შემდეგი მნიშვნელობა: ე) მწვანე მაშუქი სიგნალი რთავს მოძრაობის ნებას. 10. მწვანე, ყვითელ და წითელ მაშუქ სიგნალებს, რომლებზედაც გამოსახულია ისარი/ისრები, იგივე მნიშვნელობა აქვს, რაც შესაბამისი ფერის უისრო მაშუქ სიგნალებს, მაგრამ მათი მოქმედება ვრცელდება მხოლოდ ისრით/ისრებით მითითებული მიმართულებით/მიმართულებებით. ამასთანავე, ისარი, რომელიც მარცხნივ მოხვევის ნებას რთავს, მობრუნების უფლებასაც იძლევა, თუ ეს აკრძალული არ არის შესაბამისი საგზაო ნიშნით ან საგზაო მონიშვნით. იგივე მნიშვნელობა აქვს შექნიშნის დამატებით სექციაში მწვანე მაშუქ სიგნალზე გამოსახულ ისარს. შექნიშნის დამატებითი სექციის გამორთული მაშუქი სიგნალი იტყობინება, რომ ამ სექციით რეგულირებული მიმართულებით მოძრაობა აკრძალულია.

QUESTION 239

CORRECT ANSWER: 1



Is a motor car driver obliged to yield to the pedestrians when driving to the arrow direction?

1

Yes

2

No

პანმარტეზა:

„საგზაო მოძრაობის შესახებ“ საქართველოს კანონის 25-ე მუხლის მე-2 პუნქტის „ა“ ქვეპუნქტის თანახმად, ქვეითთა გადასასვლელზე ამ კანონის 21-ე მუხლის მე-6 პუნქტით, 33-ე მუხლის მე-2 პუნქტითა და 34-ე მუხლის მე-11 პუნქტით დადგენილ მოთხოვნათა დაცვით უნდა შესრულდეს შემდეგი მოთხოვნები: ა) თუ სატრანსპორტო საშუალებათა მოძრაობა საგზაო შუქნიშნით ან მარეგულირებლის მეშვეობით რეგულირდება, მოძრაობის ამკრძალავი სიგნალის დროს მძღოლი უნდა გაჩერდეს ქვეითთა გადასასვლელის წინ ან მის წინ მდებარე განივ მონიშვნასთან, ხოლო როცა მოძრაობის გაგრძელების უფლებას მიიღებს, არ უნდა დააბრკოლოს და საფრთხე არ უნდა შეუქმნას ქვეითთა გადასასვლელზე შესულ ქვეითებს. თუ მძღოლი ასრულებს მოხვევას სხვა გზაზე შესასვლელად, რომლის შესასვლელთანაც მდებარეობს ქვეითთა გადასასვლელი, მან ეს მოხვევა უნდა შეასრულოს მხოლოდ დაბალი სიჩქარით, ხოლო საჭიროების შემთხვევაში უნდა გაჩერდეს და გაატაროს გადასასვლელზე შესული ან შემავალი ქვეითები.

QUESTION 240

CORRECT ANSWER: 1



Is a motor car driver allowed to proceed to the arrow direction, if amber flashing light is switched on every traffic light?

1

Yes

2


No

განმარტება:

„საგზაო მოძრაობის შესახებ“ საქართველოს კანონის 29-ე მუხლის მე-2 პუნქტის „დ“ ქვეპუნქტის თანახმად, ყვეთელი მოციმციმე მაშუქი სიგნალი რთავს მოძრაობის ნებას და იტყობინება არარეგულირებული გზაჯვარედინის, ქვეითთა ან ველოსიპედისტთა გადასასვლელის არსებობის ან მოსალოდნელი საფრთხის შესახებ.

QUESTION 241

CORRECT ANSWER: 1



Is a motor car driver allowed to proceed to the arrow direction, if he/she is unable to stop at the "STOP" line without hard braking after green light signal, during switching of amber light signal?

1

Yes

2

No

განმარტება:

„საგზაო მოძრაობის შესახებ“ საქართველოს კანონის 29-ე მუხლის მე-14 პუნქტის თანახმად, მძღოლს, რომელსაც ყვითელი მაშუქი სიგნალის ჩართვის დროს მკვეთრად დამუხრუჭების გარეშე არ შეუძლია გაჩერდეს ამ მუხლის მე-13 პუნქტით განსაზღვრულ ადგილებში, უფლება აქვს, განაგრძოს მოძრაობა. ქვეითმა, რომელიც ამკრძალავი მაშუქი სიგნალის ჩართვის დროს გზის სავალ ნაწილზე იმყოფება, უნდა გაათავისუფლოს იგი, ხოლო თუ ეს შეუძლებელია – გაჩერდეს ურთიერთსაპირისპირო მიმართულებით მოძრავი სატრანსპორტო ნაკადების გამყოფ ხაზზე.

QUESTION 242

CORRECT ANSWER: 2



Is a motor car driver allowed to proceed to the arrow direction, at this signal of the traffic lights?

1

Yes

2

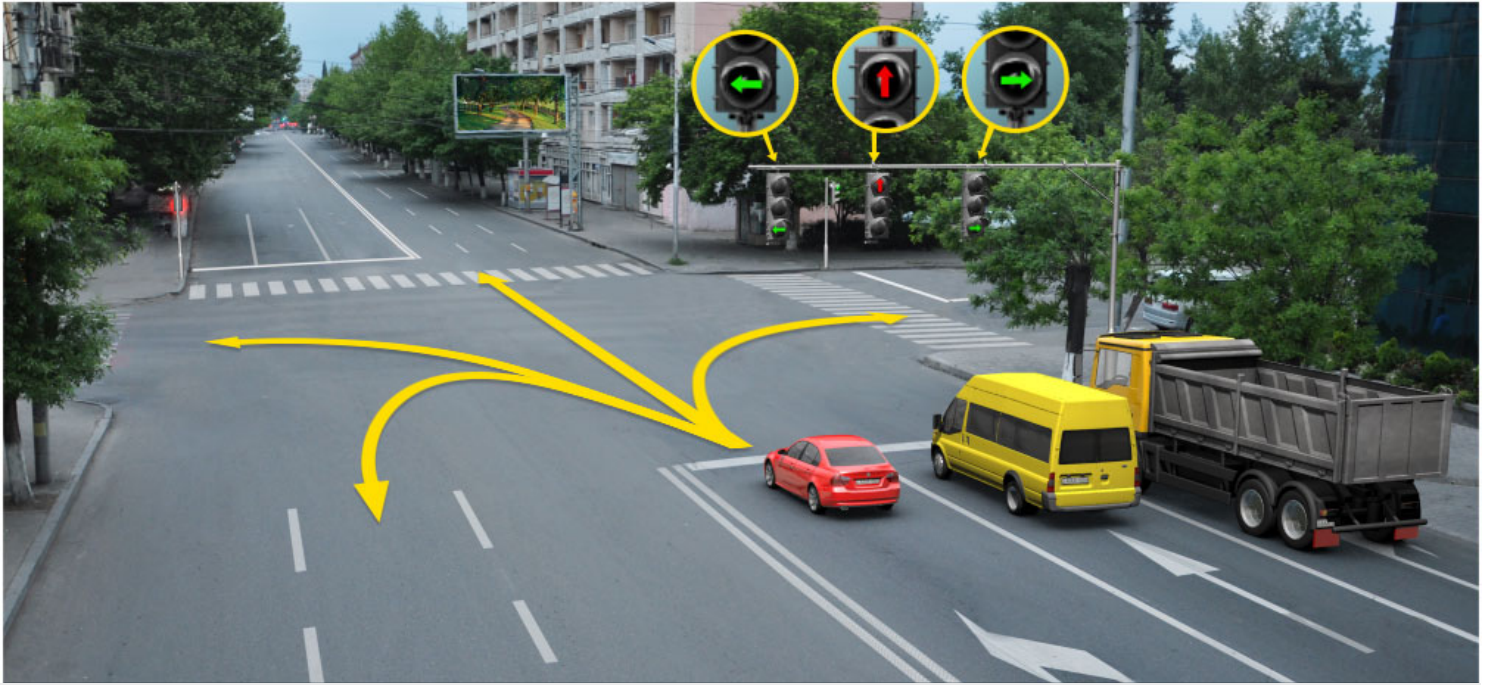
No

განმარტება:

„საგზაო მოძრაობის შესახებ“ საქართველოს კანონის 29-ე მუხლის მე-2 პუნქტის „ბ“ ქვეპუნქტის თანახმად, ერთობლივად ჩართული წითელი და ყვითელი მაშუქი სიგნალები კრძალავს მოძრაობას და იტყობინება მწვანე მაშუქი სიგნალის მოსალოდნელი ჩართვის შესახებ.

QUESTION 243

CORRECT ANSWER: 4



In what direction is red car driver allowed to proceed at this signal of the traffic lights?

1

Straight and to the left only

2

Straight and to the right only

3

To the left only

4

To the left and backward (U-turn) only

ბანძარტება:

„საგზაო მოძრაობის შესახებ“ საქართველოს კანონის 29-ე მუხლის მე-10 პუნქტის თანახმად, მწვანე, ყვითელ და წითელ მაშუქ სიგნალებს, რომლებზედაც გამოსახულია ისარი/ისრები, იგივე მნიშვნელობა აქვს, რაც შესაბამისი ფერის უისრო მაშუქ სიგნალებს, მაგრამ მათი მოქმედება ვრცელდება მხოლოდ ისრით/ისრებით მითითებული მიმართულებით/მიმართულებებით. ამასთანავე, ისარი, რომელიც მარცხნივ მოხვევის ნებას რთავს, მობრუნების უფლებასაც იძლევა, თუ ეს აკრძალული არ არის შესაბამისი საგზაო ნიშნით ან საგზაო მონიშვნით. იგივე მნიშვნელობა აქვს შექნიშნის დამატებით სექციაში მწვანე მაშუქ სიგნალზე გამოსახულ ისარს. შექნიშნის დამატებითი სექციის გამორთული მაშუქი სიგნალი იტყობინება, რომ ამ სექციით რეგულირებული მიმართულებით მოძრაობა აკრძალულია.

QUESTION 244

CORRECT ANSWER: 2



Which of the car drivers is not allowed to proceed to the arrow direction?

1

Blue car driver

2

Yellow car driver

3

Both of them

4


None of them

განმარტება:

„საგზაო მოძრაობის შესახებ“ საქართველოს კანონის პირველი დანართის 4.1.1 პუნქტის თანახმად საგზაო ნიშანი 4.1.1 „მოძრაობა პირდაპირ“ რთავს მხოლოდ ისრით ნაჩვენები მიმართულებით მოძრაობის ნებას. ამავე პუნქტის პენიშვნის „ბ“ ქვეპუნქტის თანახმად, 4.1.1-4.1.6 ნიშნების მოქმედება ვრცელდება სავალი ნაწილების იმ გადაკვეთაზე, რომლის წინაც დადგმულია სათანადო ნიშანი.

QUESTION 245

CORRECT ANSWER: 4



In the present situation the vehicle driver is allowed to proceed:

1

In direction A

2

In direction B

3

In direction C

4


None of the directions

განმარტება:

„საგზაო მოძრაობის შესახებ“ საქართველოს კანონის 29-ე მუხლის მე-2 პუნქტის „ა“ ქვეპუნქტის თანახმად, წითელი მაშუქი სიგნალი ან წითელი მოციმციმე მაშუქი სიგნალი კრძალავს მოძრაობას.

QUESTION 246

CORRECT ANSWER: 1



Is a motor car driver allowed to proceed further to the arrow direction at this signal of the traffic lights?

1

Yes

2


No

განმარტება:

„საგზაო მოძრაობის შესახებ“ საქართველოს კანონის 29-ე მუხლის მე-10 პუნქტის თანახმად, მწვანე, ყვითელ და წითელ მაშუქ სიგნალებს, რომლებზედაც გამოსახულია ისარი/ისრები, იგივე მნიშვნელობა აქვს, რაც შესაბამისი ფერის უისრო მაშუქ სიგნალებს, მაგრამ მათი მოქმედება ვრცელდება მხოლოდ ისრით/ისრებით მითითებული მიმართულებით/მიმართულებებით. ამასთანავე, ისარი, რომელიც მარცხნივ მოხვევის ნებას რთავს, მობრუნების უფლებასაც იძლევა, თუ ეს აკრძალული არ არის შესაბამისი საგზაო ნიშნით ან საგზაო მონიშვნით. იგივე მნიშვნელობა აქვს შუქნიშნის დამატებით სექციაში მწვანე მაშუქ სიგნალზე გამოსახულ ისარს. შუქნიშნის დამატებითი სექციის გამორთული მაშუქი სიგნალი იტყობინება, რომ ამ სექციით რეგულირებული მიმართულებით მოძრაობა აკრძალულია.

QUESTION 247

CORRECT ANSWER: 1



In the present situation, is blue car driver obliged to stop between the lane lines at the motion restriction signal of the traffic lights, when performing U-turn maneuver to the arrow direction?

1

Yes

2

No

3

Is not obliged if he/she does not create any obstruction for the oncoming vehicles

განმარტება:

„საგზაო მოძრაობის შესახებ“ საქართველოს კანონის 36-ე მუხლის მე-3 პუნქტის „ე“ ქვეპუნქტის თანახმად, შუქნიშნის ნებადართველ სიგნალზე გზაჯვარედინზე შესულ მძღოლს შეუძლია იმოძრაოს დასახული მიმართულებით, გზაჯვარედინიდან გასასვლელზე არსებული შუქნიშნის ამკრძალავი სიგნალების მიუხედავად, მაგრამ იმ პირობით, რომ ეს არ დააბრკოლებს სხვა საგზაო მოძრაობის მონაწილეთა იმ მიმართულებით მოძრაობას, რომელზედაც მოძრაობა გახსნილია. თუ გზაჯვარედინზე მისი მოძრაობისას გზაზე არსებული შუქნიშნების წინ „სდექ“ ხაზებია (ან/და 7.16 საგზაო ნიშნებია), მძღოლმა უნდა იხელმძღვა-ნელოს თითოეული შუქნიშნის სიგნალით.

QUESTION 248

CORRECT ANSWER: 2



In the present situation, is blue car driver obliged to stop between the lane lines at the motion restriction signal of the traffic lights, when performing U-turn maneuver to the arrow direction?

1

Yes

2


No

განმარტება:

„საგზაო მოძრაობის შესახებ“ საქართველოს კანონის 36-ე მუხლის მე-3 პუნქტის „ე“ ქვეპუნქტის თანახმად, შუქნიშნის ნებადართველ სიგნალზე გზაჯვარედინზე შესულ მძღოლს შეუძლია იმოძრაოს დასახული მიმართულებით, გზაჯვარედინიდან გასასვლელზე არსებული შუქნიშნის ამკრძალავი სიგნალების მიუხედავად, მაგრამ იმ პირობით, რომ ეს არ დააბრკოლებს სხვა საგზაო მოძრაობის მონაწილეთა იმ მიმართულებით მოძრაობას, რომელზედაც მოძრაობა გახსნილია. თუ გზაჯვარედინზე მისი მოძრაობისას გზაზე არსებული შუქნიშნების წინ „სდექ“ ხაზებია (ან/და 7.16 საგზაო ნიშნებია), მძღოლმა უნდა იხელმძღვანელოს თითოეული შუქნიშნის სიგნალით.

QUESTION 249

CORRECT ANSWER: 4



In which direction is the motor car driver allowed to proceed at this signal of the traffic lights?

1

Straight and to the left only

2

Straight and to the right only

3

In all directions

4

Straight, to the left and backward (U-turn) only

განმარტება:

„საგზაო მოძრაობის შესახებ“ საქართველოს კანონის 29-ე მუხლის მე-3 პუნქტის თანახმად თუ შეუქნიშნები გზის საგალი ნაწილის თანმხვედრი მიმართულებების მხარეს არსებული თითოეული მოძრაობის ზოლის ზევიტაა განლაგებული, თითოეული შეუქნიშნის მოქმედება ვრცელდება მხოლოდ იმ მოძრაობის ზოლზე, რომლის ზემოთაც არის იგი. ამავე მუხლის მე-10 პუნქტის თანახმად, მწვანე, ყვითელ და წითელ მაშუქ სიგნალებს, რომლებზედაც გამოსახულია ისარი/ისრები, იგივე მნიშვნელობა აქვს, რაც შესაბამისი ფერის უისრო მაშუქ სიგნალებს, მაგრამ მათი მოქმედება ვრცელდება მხოლოდ ისრით/ისრებით მითითებული მიმართულებით/ მიმართულებებით. ამასთანავე, ისარი, რომელიც მარცხნივ მოხვევის ნებას რთავს, მობრუნების უფლებასაც იძლევა, თუ ეს აკრძალული არ არის შესაბამისი საგზაო ნიშნით ან საგზაო მონიშვნით. იგივე მნიშვნელობა აქვს შეუქნიშნის დამატებით სეცციაში მწვანე მაშუქ სიგნალზე გამოსახულ ისარს. შეუქნიშნის დამატებითი სეცციის გამორთული მაშუქი სიგნალი იტყობინება, რომ ამ სეცციით რეგულირებული მიმართულებით მოძრაობა აკრძალულია.

QUESTION 250

CORRECT ANSWER: 1

If requirements of the traffic light signal contradict to the requirements of the traffic sign identifying the right-of-way, the traffic participants shall be guided with:

1

The requirements of the traffic light signal

2

The requirements of the traffic sign identifying the right-of-way

განმარტება:

„საგზაო მოძრაობის შესახებ“ საქართველოს კანონის 29-ე მუხლის მე-12 პუნქტის თანახმად, საგზაო მოძრაობის მონაწილეები ვალდებული არიან, შეასრულონ პუქნიშნის ფერადი მაშუქი სიგნალის მოთხოვნები იმ შემთხვევაშიც კი, თუ ეს მოთხოვნები ეწინააღმდეგება გავლის უპირატესობის განმსაზღვრელი საგზაო ნიშნებისა და მონიშვნების მოთხოვნებს.

QUESTION 251

CORRECT ANSWER: 2

If the requirements of the traffic light signal contradict to the requirements of the road marking identifying the right-of-way, the traffic participants shall be guided with:

1

The requirements of the road marking identifying the right-of-way

2

The requirements of the traffic light signal

განმარტება:

„საგზაო მოძრაობის შესახებ“ საქართველოს კანონის 29-ე მუხლის მე-12 პუნქტის თანახმად, საგზაო მოძრაობის მონაწილეები ვალდებული არიან, შეასრულონ პუქნიშნის ფერადი მაშუქი სიგნალის მოთხოვნები იმ შემთხვევაშიც კი, თუ ეს მოთხოვნები ეწინააღმდეგება გავლის უპირატესობის განმსაზღვრელი საგზაო ნიშნებისა და მონიშვნების მოთხოვნებს.

QUESTION 252

CORRECT ANSWER: 1

The traffic lights with two alternatively flashing or one red or amber flashing signal, directed to one side, located at the same height on one stand, is used:

1 At railroad crossings, at the access roads of swing bridges, at the outskirts of ship or ferry or exits of fire-engines on the road and in the place, where the road is crossed by the aircraft trajectory at low altitude

2 On the lanes of driveway, where motion direction is changed into the opposite direction

3 For motion of route vehicles on the specially designated lines

განმარტება:

„საგზაო მოძრაობის შესახებ“ საქართველოს კანონის 29-ე მუხლის მე-8 პუნქტის თანახმად, რკინიგზის გადასასვლელზე, გასახსნელი ხიდის მისასვლელთან, გემის ან ბორნის მისადგომთან, გზაზე სახანძრო ავტომობილის გამოსასვლელთან და იმ ადგილას, სადაც გზას დაბალ სიმაღლეზე კვეთს საფრენი აპარატის ტრაექტორია, გამოიყენება ერთ სადგარზე, ერთსა და იმავე სიმაღლეზე განლაგებული, ერთ მხარეს მიმართული ორი მორიგეობით მოციმციმე ან ერთი მოციმციმე წითელი ან ყვითელი მაშუქი სიგნალი, რომელთაგან წითელი მაშუქი სიგნალი კრძალავს „სდექ“ ხაზის გადაკვეთას, მისი არარსებობის შემთხვევაში კი – შექნიშნის იქით გადასვლას, ხოლო ყვითელი მაშუქი სიგნალი ნიშნავს, რომ მძღოლებს შეუძლიათ გააგრძელონ მოძრაობა, მაგრამ, ამასთანავე, ვალდებული არიან, დაიცვან განსაკუთრებული სიფრთხილე. თუ ფერადი მაშუქი სიგნალები გამორთულია, მოძრაობა ნებადართულია მხოლოდ მაშინ, როცა ხილვადობის ფარგლებში არ ჩანს გადასასვლელთან მოახლოებული მატარებელი (ლოკომოტივი, დრეზინა).

QUESTION 253

CORRECT ANSWER: 2

Reversible traffic lights, with red X mark signal and green arrow pointing down is used:

- 1** Only for regulation of motion of route vehicles on special lane
- 2** Only for regulation of motion of vehicle on the lanes of driveway, where motion direction is changed into the opposite direction
- 3** In any case listed in given test

განმარტება:

„საგზაო მოძრაობის შესახებ“ საქართველოს კანონის 29-ე მუხლის მე-4 პუნქტის თანახმად, სატრანსპორტო საშუალების მოძრაობის რეგულირებისათვის გზის სავალი ნაწილის ზოლებზე, სადაც მოძრაობის მიმართულება საპირისპიროდ იცვლება, გამოიყენება რევერსული შუქნიშანი წითელი X ნიშნის მაშუქი სიგნალითა და ქვემოთ მიმართული მწვანე ისრით. ეს სიგნალი და ისარი შესაბამისად იმ ზოლზე მოძრაობას კრძალავს ან იმ ზოლზე მოძრაობის ნებას რთავს, რომლის ზემოთაც ისინია განლაგებული. რევერსული შუქნიშნის ძირითად ფერად მაშუქ სიგნალებს შეიძლება დაემატოს დიაგონალურად ქვემოთ – მარჯვნივ ან მარცხნივ დახრილი ისრის მქონე ყვითელი ან თეთრი მაშუქი სიგნალი, რომლის ჩართვა იტყობინება ფერადი მაშუქი სიგნალის შემდგომი შეცვლისა და ისრით მითითებულ ზოლზე გადასვლის ვალდებულების შესახებ. ორივე მხრიდან 1.9 საგზაო მონიშვნით აღნიშნული ზოლის ზემოთ მდებარე გამორთული რევერსული შუქნიშანი კრძალავს ამ ზოლზე გასვლას.

QUESTION 254

CORRECT ANSWER: 2

The outlined arrow(s) shown on main green signal of the traffic lights:

- 1 Informs the driver about additional section on the traffic lights and indicates about the direction defined by the signal of the additional section
- 2 Informs the driver about possible existence of additional section and indicates the movement towards other permitted direction that is different from the colourful lighting signal of the given section
- 3 All of the listed answers are true

განმარტება:

„საგზაო მოძრაობის შესახებ“ საქართველოს კანონის 29-ე მუხლის მე-11 პუნქტის თანახმად, შექნიშნის ძირითად მწვანე მაშუქ სიგნალზე გამოსახული კონტურის ისარი/ისრები მძღოლს ამცნობს შექნიშანზე დამატებითი სექციის შესაძლო არსებობის შესახებ და მიუთითებს ამ სექციის ფერადი მაშუქი სიგნალისაგან განსხვავებული მოძრაობის სხვა ნებადართული მიმართულებების შესახებ.

QUESTION 255

CORRECT ANSWER: 2

Four „T“-shaped amber round light signals may be used for:

- 1 Regulation of traffic on „T“-shape intersection
- 2 Regulation of traffic on the special lane designated for motion of route vehicles
- 3 Regulation of motion of wheeled tractor

განმარტება:

„საგზაო მოძრაობის შესახებ“ საქართველოს კანონის 29-ე მუხლის მე-5 პუნქტის თანახმად, სამარშრუტო სატრანსპორტო საშუალებების მოძრაობისათვის სპეციალურად გამოყოფილ ზოლზე მოძრაობის რეგულირებისათვის შეიძლება გამოყენებულ იქნეს „T“-სებურად განლაგებული მოყვითალო ოთხი მრგვალი მაშუქი სიგნალი. მოძრაობა ნებადართულია მხოლოდ მაშინ, როცა ერთდროულად ჩართულია ქვედა და ერთი ან რამდენიმე ზედა მაშუქი სიგნალი, რომელთაგან მარცხენა მარცხნივ მოძრაობის უფლებას იძლევა, საშუალო – პირდაპირ, მარჯვენა კი – მარჯვნივ. თუ ჩართულია მხოლოდ სამი ზედა მაშუქი სიგნალი, მოძრაობა აკრძალულია.

QUESTION 256

CORRECT ANSWER: 1

During the regulation of the movement by 'T'-form traffic lights route vehicles are permitted to drive:

1 If the lower and one or several upper light signals are turned on simultaneously

2 If only three upper light signals are turned on

3 In any case listed in given test

განმარტება:

„საგზაო მოძრაობის შესახებ“ საქართველოს კანონის 29-ე მუხლის მე-5 პუნქტის თანახმად, სამარშრუტო სატრანსპორტო საშუალებების მოძრაობისათვის სპეციალურად გამოყოფილ ზოლზე მოძრაობის რეგულირებისათვის შეიძლება გამოყენებულ იქნეს „T“-სებურად განლაგებული მოყვითალო ოთხი მრგვალი მაშუქი სიგნალი. მოძრაობა ნებადართულია მხოლოდ მაშინ, როცა ერთდროულად ჩართულია ქვედა და ერთი ან რამდენიმე ზედა მაშუქი სიგნალი, რომელთაგან მარცხენა მარცხნივ მოძრაობის უფლებას იძლევა, საშუალო – პირდაპირ, მარჯვენა კი – მარჯვნივ. თუ ჩართულია მხოლოდ სამი ზედა მაშუქი სიგნალი, მოძრაობა აკრძალულია.

QUESTION 257

CORRECT ANSWER: 2

During traffic regulation by 'T'-form traffic lights route vehicles are not permitted to drive:

1 If the lower and one or several upper light signals are turned on simultaneously

2 If only three upper light signals are turned on

3 In any case listed in given test

განმარტება:

„საგზაო მოძრაობის შესახებ“ საქართველოს კანონის 29-ე მუხლის მე-5 პუნქტის თანახმად, სამარშრუტო სატრანსპორტო საშუალებების მოძრაობისათვის სპეციალურად გამოყოფილ ზოლზე მოძრაობის რეგულირებისათვის შეიძლება გამოყენებულ იქნეს „T“-სებურად განლაგებული მოყვითალო ოთხი მრგვალი მაშუქი სიგნალი. მოძრაობა ნებადართულია მხოლოდ მაშინ, როცა ერთდროულად ჩართულია ქვედა და ერთი ან რამდენიმე ზედა მაშუქი სიგნალი, რომელთაგან მარცხენა მარცხნივ მოძრაობის უფლებას იძლევა, საშუალო – პირდაპირ, მარჯვენა კი – მარჯვნივ. თუ ჩართულია მხოლოდ სამი ზედა მაშუქი სიგნალი, მოძრაობა აკრძალულია.

QUESTION 258

CORRECT ANSWER: 1

Is a driver allowed to proceed, if he/she is unable to stop at "STOP" line without hard braking when amber light signal is switched on?

1

Yes

2

No

განმარტება:

„საგზაო მოძრაობის შესახებ“ საქართველოს კანონის 29-ე მუხლის მე-14 პუნქტის თანახმად, მძღოლს, რომელსაც ყვითელი მაშუქი სიგნალის ჩართვის დროს მკვეთრად დამუხრუჭების გარეშე არ შეუძლია გაჩერდეს ამ მუხლის მე-13 პუნქტით განსაზღვრულ ადგილებში, უფლება აქვს, განაგრძოს მოძრაობა. ქვეითმა, რომელიც ამკრძალავი მაშუქი სიგნალის ჩართვის დროს გზის სავალ ნაწილზე იმყოფება, უნდა გაათავისუფლოს იგი, ხოლო თუ ეს შეუძლებელია – გაჩერდეს ურთიერთსაპირისპირო მიმართულებით მოძრავი სატრანსპორტო ნაკადების გამყოფ ხაზზე.

QUESTION 259

CORRECT ANSWER: 1



Which of the vehicle drivers is prohibited from proceeding to the arrow direction?

1

Both of them

2

None of them

3

Lorry driver only

4

Motor car driver only

განმარტება:

„საგზაო მოძრაობის შესახებ“ საქართველოს კანონის 32-ე მუხლის მე-5 პუნქტის თანახმად, გარდა იმ შემთხვევისა, როცა მოხვევა სრულდება გზატკარედინზე გასასვლელად, სადაც წრიული მოძრაობაა ორგანიზებული, მარჯვნივ ან მარცხნივ მოხვევის წინ, აგრეთვე მობრუნების წინ სატრანსპორტო საშუალების მძღოლი ვალდებულია დროულად დაიკავოს შესაბამისი განაპირა მდებარეობა სავალ ნაწილზე, რომელიც თანმხვედრი მიმართულებით მოძრაობისთვისაა განკუთვნილი. ამავე კანონის პირველი დანართის 4.9.1 პუნქტის თანახმად საგზაო ნიშანი 4.9.1 „სახიფათო ტვირთის გადამზიდავი სატრანსპორტო საშუალებით მოძრაობის მიმართულება“ - მიუთითებს იმ სახიფათო ტვირთის გადამზიდავი სატრანსპორტო საშუალებით ნებადართულ მოძრაობის მიმართულებას პირდაპირ, რომელიც მოქმედი კანონმდებლობის შესაბამისად აღნიშნულნი უნდა იქნეს საცნობი ნიშნით „სახიფათო ტვირთი“.

QUESTION 260

CORRECT ANSWER: 2

If there is the traffic light for pedestrians on the crossing, the pedestrian while moving on the crossing must fulfill:

1

Orders of vehicular traffic light signals

2

Orders of traffic light signals for pedestrians

განმარტება:

„საგზაო მოძრაობის შესახებ“ საქართველოს კანონის 24-ე მუხლის მე-7 პუნქტის „ა“ ქვეპუნქტის თანახმად, ქვეითთა გადასასვლელზე გადასვლისას, თუ გადასასვლელზე არსებობს ქვეითთათვის განკუთვნილი შუქნიშანი, ქვეითმა უნდა შეასრულოს ამ შუქნიშნის მაშუქი სიგნალების მოთხოვნები.

QUESTION 261

CORRECT ANSWER: 2



Which of the car drivers has stopped vehicle under Highway Code observation at restriction signal of the traffic light?

1

White car car driver

2

Yellow car car driver

3

None of them

განმარტება:

„საგზაო მოძრაობის შესახებ“ საქართველოს კანონის 29-ე მუხლის მე-13 პუნქტის თანახმად, შეუნიშნის (რევერსულის გარდა) ამკრძალავი მაშუქი სიგნალის დროს მძღოლი ვალდებულია გაჩერდეს „სდექ“ ხაზთან (ან 7.16 ნიშანთან).

QUESTION 262

CORRECT ANSWER: 1



Motor car driver is allowed to proceed:

1

In direction A only

2

In direction B only

3

In direction C only

4


None of the them

განმარტება:

„საგზაო მოძრაობის შესახებ“ საქართველოს კანონის 31-ე მუხლის მე-17 პუნქტის თანახმად, შესვლის მიზნით იმ სავალ ნაწილზე მოხვევის დროს, რომელზედაც რევერსული მოძრაობაა, სატრანსპორტო საშუალების მძღოლმა ისე უნდა იმოძრაოს, რომ სავალი ნაწილების გადაკვეთიდან გამოსვლისას განაპირა მარჯვენა მოძრაობის ზოლი დაიკავოს. სხვა მოძრაობის ზოლზე გადაჯგუფება დასაშვებია მხოლოდ მას შემდეგ, რაც მძღოლი დარწმუნდება, რომ აღნიშნულ მოძრაობის ზოლზე ნებადართულია თანმხვედრი მოძრაობა. ამავე კანონის პირველი დანართის მე-5 თავის (განსაკუთრებული მითითებების ნიშნები) 5.10 პუნქტის თანახმად საგზაო ნიშანი 5.10 „გასვლა გზაზე, რომელზედაც რევერსული მოძრაობაა“ – მიუთითებს 5.8 „რევერსული მოძრაობა“ ნიშნით აღნიშნულ გზის მონაკვეთზე გასვლას. ნიშანი იდგმება ყველა გვერდითი გასასვლელის წინ. ნიშანი შეიძლება არ დაიდგას მიმდებარე ტერიტორიიდან გამოსასვლელის გზასთან გადაკვეთაზე, თუ ამ ტერიტორიაზე შესვლა შესაძლებელია მხოლოდ 5.8 „რევერსული მოძრაობა“ ნიშნით აღნიშნული გზიდან.

QUESTION 263

CORRECT ANSWER: 3



Which of the tram drivers will be obliged to yield to the motor car driver, when driving to the arrow direction?

1

First tram driver only

2

Second tram driver only

3

Both of the tram drivers

4


None of the tram drivers

განმარტება:

„საგზაო მოძრაობის შესახებ“ საქართველოს კანონის 36-ე მუხლის მე-3 პუნქტის „ე“ ქვეპუნქტის თანახმად, რეგულირებულ გზაჯვარედინზე, შექნიშნის ნებადართვით სიგნალზე გზაჯვარედინზე შესულ მძღოლს შეუძლია იმოძრაოს დასახული მიმართულებით, გზაჯვარედინიდან გასასვლელზე არსებული შექნიშნის ამკრძალავი სიგნალების მიუხედავად, მაგრამ იმ პირობით, რომ ეს არ დააბრკოლებს სხვა საგზაო მოძრაობის მონაწილეთა იმ მიმართულებით მოძრაობას, რომელზედაც მოძრაობა გახსნილია. თუ გზაჯვარედინზე მისი მოძრაობისას გზაზე არსებული შექნიშნების წინ „სდექ“ ხაზებია (ან/და 7.16 საგზაო ნიშნებია), მძღოლმა უნდა იხელმძღვა-ნელოს თითოეული შექნიშნის სიგნალით.

QUESTION 264

CORRECT ANSWER: 1



Will a motor car driver violate the Highway Code in case of driving to the arrow direction?

1

Yes

2


No

განმარტება:

„საგზაო მოძრაობის შესახებ“ საქართველოს კანონის 34-ე მუხლის მე-9 პუნქტის „ა.გ“ ქვეპუნქტის თანახმად, ამ მუხლის მე-3 პუნქტით დადგენილ მოთხოვნათა გათვალისწინებით გასწრება აკრძალულია წრიულმოძრაობიანი გზაჯვარედინისაგან განსხვავებულ გზაჯვარედინზე ან უშუალოდ ამ გზაჯვარედინის წინ, გარდა იმ შემთხვევისა, როდესაც გასწრება ხორციელდება რეგულირებულ გზაჯვარედინზე საპირისპირო მოძრაობის ზოლზე გაუსვლელად.

QUESTION 265

CORRECT ANSWER: 2



In given situation, is the driver of a light vehicle, when moving according to the arrows, required to stop at the crossing from the intersection when the traffic lights is turned to the moving prohibiting signal?

1

Yes

2


No

განმარტება:

„საგზაო მოძრაობის შესახებ“ საქართველოს კანონის 36-ე მუხლის მე-3 პუნქტის „ე“ ქვეპუნქტის თანახმად, რეგულირებულ გზაჯვარედინზე შექნიშნის ნებადამრთველ სიგნალზე გზაჯვარედინზე შესულ მძღოლს შეუძლია იმოძრაოს დასახული მიმართულებით, გზაჯვარედინიდან გასასვლელზე არსებული შექნიშნის ამკრძალავი სიგნალების მიუხედავად, მაგრამ იმ პირობით, რომ ეს არ დააბრკოლებს სხვა საგზაო მოძრაობის მონაწილეთა იმ მიმართულებით მოძრაობას, რომელზედაც მოძრაობა გახსნილია. თუ გზაჯვარედინზე მისი მოძრაობისას გზაზე არსებული შექნიშნების წინ „სდექ“ ხაზებია (ან/და 7.16 საგზაო ნიშნებია), მძღოლმა უნდა იხელმძღვანელოს თითოეული შექნიშნის სიგნალით.

QUESTION 266

CORRECT ANSWER: 1



In the present situation, is a motor car driver obliged to stop at restriction signal of the traffic lights when driving to the arrow direction?

1

Yes

2

No

განმარტება:

„საგზაო მოძრაობის შესახებ“ საქართველოს კანონის 36-ე მუხლის მე-3 პუნქტის „ე“ ქვეპუნქტის თანახმად, რეგულირებულ გზაჯვარედინზე შუქნიშნის ნებადართველ სიგნალზე გზაჯვარედინზე შესულ მძღოლს შეუძლია იმოძრაოს დასახული მიმართულებით, გზაჯვარედინიდან გასასვლელზე არსებული შუქნიშნის ამკრძალავი სიგნალების მიუხედავად, მაგრამ იმ პირობით, რომ ეს არ დააბრკოლებს სხვა საგზაო მოძრაობის მონაწილეთა იმ მიმართულებით მოძრაობას, რომელზედაც მოძრაობა გახსნილია. თუ გზაჯვარედინზე მისი მოძრაობისას გზაზე არსებული შუქნიშნების წინ „სდექ“ ხაზებია (ან/და 7.16 საგზაო ნიშნებია), მძღოლმა უნდა იხელმძღვა-ნელოს თითოეული შუქნიშნის სიგნალით.

QUESTION 267

CORRECT ANSWER: 2

If a driver approaches the traffic lights, on which the traffic permit signal has been switched on for a long period, he/she must:

- 1** Increase speed and observe the traffic lights signals
- 2** Proceed so as to be ready for safe stop of the vehicle at any moment
- 3** Increase speed despite of exceeding the permitted speed limit in order to pass the above section of road prior to switching the traffic prohibiting light signal

განმარტება:

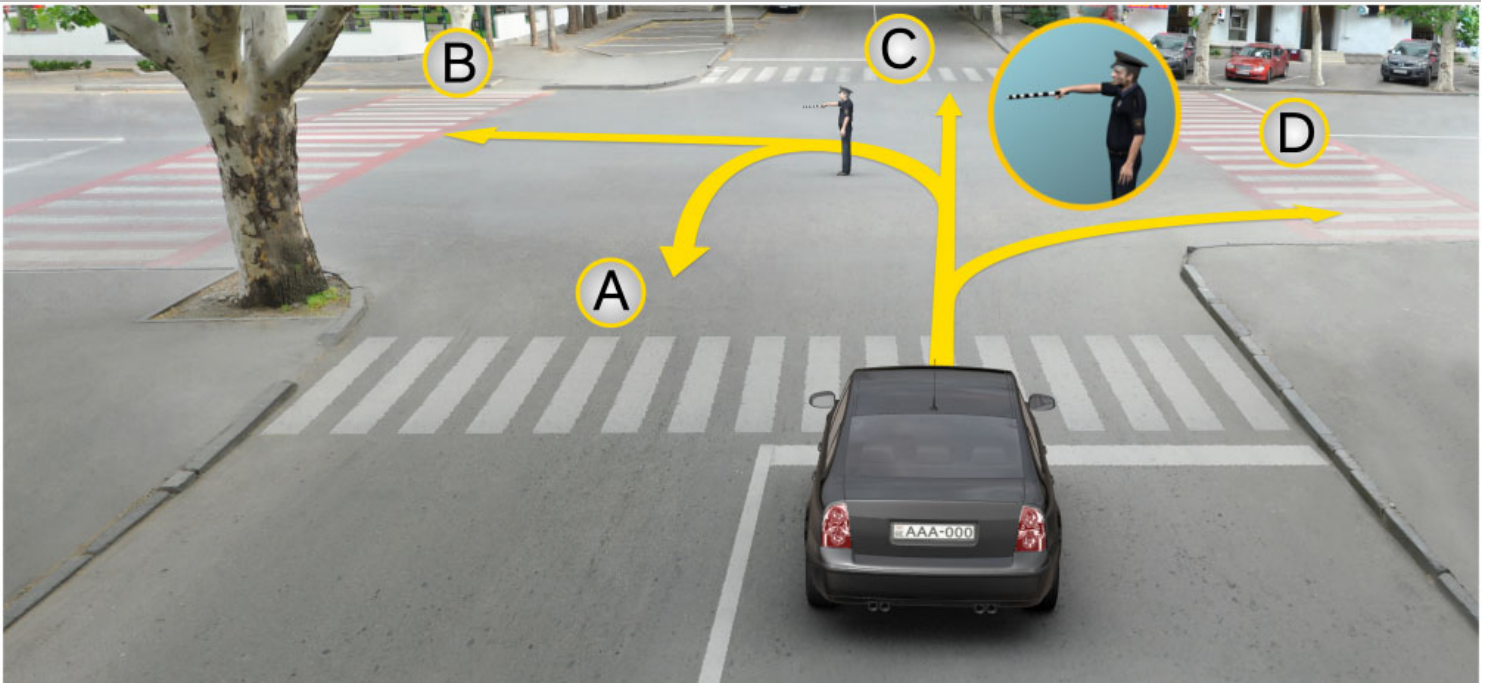
თუ მძღოლი უახლოვდება ჭეჭნიანს, რომელზეც მოძრაობის ნებადამრთველი მაშუქი სიგნალი უკვე დიდი ხნის განმავლობაშია ჩართული, მან უნდა გააგრძელოს მოძრაობა, ისე, რომ მზად იყოს სატრანსპორტო საშუალების ნებისმიერ მომენტში უსაფრთხოდ გასაჩერებლად.

თემა 11:

მარეგულირებლის სიგნალები

QUESTION 268

CORRECT ANSWER: 4



In which direction is the motor car driver allowed to proceed at this signal of the traffic controller?

1

In directions A, B and C only

2

In directions B and D only

3

In directions A, C and D only

4


In directions A, B, C and D only

განმარტება:

„საგზაო მოძრაობის შესახებ“ საქართველოს კანონის 30-ე მუხლის მე-5 პუნქტის „გ“ ქვეპუნქტის თანახმად, მარეგულირებლის სიგნალებს აქვთ შემდეგი მნიშვნელობა: გ) წინ გაშვებული მარჯვენა ხელი – ეს უესტი ნიშნავს „სდექ“ სიგნალს მარეგულირებლის მარჯვენა გვერდისა და ზურგის მხრიდან მოძრავი ყველა მძღოლისათვის; ამასთანავე, მარეგულირებლის მარცხენა გვერდის მხრიდან ტრამვაის უფლება აქვს, იმოძრაოს მარცხნივ, ხოლო ურელსო სატრანსპორტო საშუალებას უფლება აქვს, იმოძრაოს ყველა მიმართულებით. მარეგულირებლის მკერდის მხრიდან ყველა სატრანსპორტო საშუალებას უფლება აქვს, იმოძრაოს მხოლოდ მარჯვნივ. ქვეითს უფლება აქვს, გადავიდეს სავალ ნაწილზე მარეგულირებლის ზურგის უკან.

QUESTION 269

CORRECT ANSWER: 2



The operative vehicle has special blue flashing light and honks switched on. Which vehicle driver may proceed further to the arrow direction at this signal of the traffic controller?

1

All of them.

2

None of them.

3

Only operative vehicle driver is allowed.

განმარტება:

„საგზაო მოძრაობის შესახებ“ საქართველოს კანონის 30-ე მუხლის მე-5 პუნქტის „გ“ ქვეპუნქტის თანახმად, მარეგულირებლის სიგნალებს აქვთ შემდეგი მნიშვნელობა: ა) ზემოთ აწეული ერთი ხელი: - ეს აწეული ყველა საგზაო მოძრაობის მონაწილისათვის ნიშნავს „ყურადღება, სდექ“ სიგნალს, გარდა იმ მძღოლებისა, რომლებიც უკვე ვეღარ შეძლებენ გაჩერებას მკვეთრი დამუხრუჭებისა და საკმაო უსაფრთხოების პირობების დაცვით. გარდა ამისა, თუ ეს სიგნალი მიცემულია გზაჯვარედინზე, მძღოლს, რომელიც უკვე შესულია გზაჯვარედინზე, შეუძლია განაგრძოს მოძრაობა. ქვეითმა, რომელიც სიგნალის მიცემისას იმყოფება გზის სავალ ნაწილზე, უნდა გაათავისუფლოს იგი, ხოლო თუ ეს შეუძლებელია - უნდა გაჩერდეს ურთიერთსაპირისპირო მიმართულებით მოძრავი სატრანსპორტო ნაკადების გამყოფ ხაზზე.

QUESTION 270

CORRECT ANSWER: 2



Is a motor car driver allowed to proceed to the right of the intersection at this signal of the traffic controller?

1

Yes

2


No

განმარტება:

„საგზაო მოძრაობის შესახებ“ საქართველოს კანონის 30-ე მუხლის მე-5 პუნქტის „გ“ ქვეპუნქტის თანახმად, მარეგულირებლის სიგნალებს აქვთ შემდეგი მნიშვნელობა - წინ გაშვებული მარჯვენა ხელი – ეს ჟესტი ნიშნავს „სდექ“ სიგნალს მარეგულირებლის მარჯვენა გვერდისა და ზურგის მხრიდან მოძრავი ყველა მძღოლისათვის; ამასთანავე, მარეგულირებლის მარცხენა გვერდის მხრიდან ტრამვაის უფლება აქვს, იმოძრაოს მარცხნივ, ხოლო ურელსო სატრანსპორტო საშუალებას უფლება აქვს, იმოძრაოს ყველა მიმართულებით. მარეგულირებლის მკერდის მხრიდან ყველა სატრანსპორტო საშუალებას უფლება აქვს, იმოძრაოს მხოლოდ მარჯვნივ. ქვეითს უფლება აქვს, გადავიდეს სავალ ნაწილზე მარეგულირებლის ზურგის უკან; ამავე კანონის 32-ე მუხლის მე-5 პუნქტის თანახმად, გარდა იმ შემთხვევისა, როცა მოხვევა სრულდება გზაჯვარედინზე გასასვლელად, სადაც წრიული მოძრაობაა ორგანიზებული, მარჯვნივ ან მარცხნივ მოხვევის წინ, აგრეთვე მობრუნების წინ სატრანსპორტო საშუალების მძღოლი ვალდებულია დროულად დაიკავოს შესაბამისი განაპირა მდებარეობა სავალ ნაწილზე, რომელიც თანმხვედრი მიმართულებით მოძრაობისთვისაა განკუთვნილი.

QUESTION 271

CORRECT ANSWER: 3



In which direction is white car driver allowed to proceed at this signal of the traffic controller?

1

To the left only

2

To the left and backward (U-turn) only

3

Straight and to the right only

4

Straight only

განმარტება:

„საგზაო მოძრაობის შესახებ“ საქართველოს კანონის 30-ე მუხლის მე-5 პუნქტის „გ“ ქვეპუნქტის თანახმად, მარეგულირებლის სიგნალებს აქვთ შემდეგი მნიშვნელობა - წინ გაშვებული მარჯვენა ხელი – ეს ჟესტი ნიშნავს „სდექ“ სიგნალს მარეგულირებლის მარჯვენა გვერდისა და ზურგის მხრიდან მოძრავი ყველა მძღოლისათვის; ამასთანავე, მარეგულირებლის მარცხენა გვერდის მხრიდან ტრამვაის უფლება აქვს, იმოძრაოს მარცხნივ, ხოლო ურელსო სატრანსპორტო საშუალებას უფლება აქვს, იმოძრაოს ყველა მიმართულებით. მარეგულირებლის მკერდის მხრიდან ყველა სატრანსპორტო საშუალებას უფლება აქვს, იმოძრაოს მხოლოდ მარჯვნივ. ქვეითს უფლება აქვს, გადავიდეს სავალ ნაწილზე მარეგულირებლის ზურგის უკან; ამავე კანონის 32-ე მუხლის მე-5 პუნქტის თანახმად, გარდა იმ შემთხვევისა, როცა მოხვევა სრულდება გზაჯვარედინზე გასასვლელად, სადაც წრიული მოძრაობაა ორგანიზებული, მარჯვნივ ან მარცხნივ მოხვევის წინ, აგრეთვე მობრუნების წინ სატრანსპორტო საშუალების მძღოლი ვალდებულია დროულად დაიკავოს შესაბამისი განაპირა მდებარეობა სავალ ნაწილზე, რომელიც თანმხვედრი მიმართულებით მოძრაობისთვისაა განკუთვნილი.

QUESTION 272

CORRECT ANSWER: 3



In which direction is a car driver allowed to proceed at this signal of the traffic controller?


- | | |
|------------------------|--|
| 1 To the left only | 2 To the left and backward (U-turn) only |
| 3 All shown directions | 4 Straight and to the right only |

განმარტება:

„საგზაო მოძრაობის შესახებ“ საქართველოს კანონის 30-ე მუხლის მე-5 პუნქტის „გ“ ქვეპუნქტის თანახმად, მარეგულირებლის სიგნალებს აქვთ შემდეგი მნიშვნელობა - წინ გაშვებული მარჯვენა ხელი — ეს ჟესტი ნიშნავს „სდექ“ სიგნალს მარეგულირებლის მარჯვენა გვერდისა და ზურგის მხრიდან მოძრავი ყველა მძღოლისათვის; ამასთანავე, მარეგულირებლის მარცხენა გვერდის მხრიდან ტრამვაის უფლება აქვს, იმოძრაოს მარცხნივ, ხოლო ურელსო სატრანსპორტო საშუალებას უფლება აქვს, იმოძრაოს ყველა მიმართულებით. მარეგულირებლის მკერდის მხრიდან ყველა სატრანსპორტო საშუალებას უფლება აქვს, იმოძრაოს მხოლოდ მარჯვნივ. ქვეითს უფლება აქვს, გადავიდეს სავალ ნაწილზე მარეგულირებლის ზურგის უკან.

QUESTION 273

CORRECT ANSWER: 3



Which of the car drivers is allowed to proceed to the arrow direction at this signal of the traffic controller?

1

Yellow car driver only

2

White car driver only

3

Both of them

4

None of them

განმარტება:

„საგზაო მოძრაობის შესახებ“ საქართველოს კანონის 30-ე მუხლის მე-5 პუნქტის „გ“ ქვეპუნქტის თანახმად, მარეგულირებლის სიგნალებს აქვთ შემდეგი მნიშვნელობა - წინ გაშვებული მარჯვენა ხელი – ეს ჟესტი ნიშნავს „სდევ“ სიგნალს მარეგულირებლის მარჯვენა გვერდისა და ზურგის მხრიდან მოძრავი ყველა მძღოლისათვის; ამასთანავე, მარეგულირებლის მარცხენა გვერდის მხრიდან ტრამვაის უფლება აქვს, იმოძრაოს მარცხნივ, ხოლო ურელსო სატრანსპორტო საშუალებას უფლება აქვს, იმოძრაოს ყველა მიმართულებით. მარეგულირებლის მკერდის მხრიდან ყველა სატრანსპორტო საშუალებას უფლება აქვს, იმოძრაოს მხოლოდ მარჯვნივ. ქვეითს უფლება აქვს, გადავიდეს სავალ ნაწილზე მარეგულირებლის ზურგის უკან.

QUESTION 274

CORRECT ANSWER: 1



Which vehicle driver shall be obliged to yield when driving to the arrow direction at this signal of traffic controller?

1

Motor car driver

2

Tram driver

განმარტება:

„საგზაო მოძრაობის შესახებ“ საქართველოს კანონის 30-ე მუხლის მე-5 პუნქტის „გ“ ქვეპუნქტის თანახმად, მარეგულირებლის სიგნალებს აქვთ შემდეგი მნიშვნელობა - წინ გაშვებული მარჯვენა ხელი - ეს ჟესტი ნიშნავს „სდექ“ სიგნალს მარეგულირებლის მარჯვენა გვერდისა და ზურგის მხრიდან მოძრავი ყველა მძღოლისათვის; ამასთანავე, მარეგულირებლის მარცხენა გვერდის მხრიდან ტრამვაის უფლება აქვს, იმოძრაოს მარცხნივ, ხოლო ურელსო სატრანსპორტო საშუალებას უფლება აქვს, იმოძრაოს ყველა მიმართულებით. მარეგულირებლის მკერდის მხრიდან ყველა სატრანსპორტო საშუალებას უფლება აქვს, იმოძრაოს მხოლოდ მარჯვნივ. ქვეითს უფლება აქვს, გადავიდეს სავალ ნაწილზე მარეგულირებლის ზურგის უკან. ამავე კანონის 36-ე მუხლის მე-3 პუნქტის „დ“ ქვეპუნქტის თანახმად, რეგულირებულ გზაჯვარედინზე თუ მარეგულირებლის სიგნალი ერთდროულად მოძრაობის ნებას რთავს ურთიერთგადამკვეთი ტრაექტორიებით მოძრავ ურელსო სატრანსპორტო საშუალებებს, მძღოლებმა უნდა იხელმძღვანელონ არარეგულირებული გზაჯვარედინის გავლის წესებითა და გზაჯვარედინზე დაყენებული პრიორიტეტის ნიშნებით;

QUESTION 275

CORRECT ANSWER: 1



Proceeding to the arrow direction at this signal of the traffic controller is allowed to:

1

Blue car driver

2

White car driver

3

None of them

4

Both of them

განმარტება:

„საგზაო მოძრაობის შესახებ“ საქართველოს კანონის 30-ე მუხლის მე-5 პუნქტის „ბ“ ქვეპუნქტის თანახმად, მარეგულირებლის სიგნალებს აქვთ შემდეგი მნიშვნელობა - განზე გაშვებული ან ჩამოშვებული ხელები - ეს ჟესტი ნიშნავს „სდექ“ სიგნალს იმ საგზაო მოძრაობის მონაწილეებისათვის, რომლებიც, მათი მოძრაობის მიმართულების მიუხედავად, მოძრაობენ იმ მიმართულებით, რომელიც კვეთს მარეგულირებლის განვდილი ხელით ან ხელებით მინიშნებულ მიმართულებას; ამასთანავე, მარეგულირებლის მარჯვენა და მარცხენა გვერდების მხრიდან ტრამვაის უფლება აქვს, იმოძრაოს პირდაპირ, ურელსო სატრანსპორტო საშუალებას უფლება აქვს, იმოძრაოს პირდაპირ და მარჯვნივ, ხოლო ქვეითს უფლება აქვს, გადავიდეს გზის სავალ ნაწილზე.

QUESTION 276

CORRECT ANSWER: 3



In which direction is a car driver allowed to proceed at this signal of the traffic controller?

1

Straight and to the left only

2

Straight and to the right only

3


Straight only

განმარტება:

„საგზაო მოძრაობის შესახებ“ საქართველოს კანონის 30-ე მუხლის მე-5 პუნქტის „ბ“ ქვეპუნქტის თანახმად, მარეგულირებლის სიგნალებს აქვთ შემდეგი მნიშვნელობა - განზე გაშვებული ან ჩამოშვებული ხელები - ეს უესტი ნიშნავს „სდექ“ სიგნალს იმ საგზაო მოძრაობის მონაწილეებისათვის, რომლებიც, მათი მოძრაობის მიმართულების მიუხედავად, მოძრაობენ იმ მიმართულებით, რომელიც კვეთს მარეგულირებლის განვდილი ხელით ან ხელებით მინიშნებულ მიმართულებას; ამასთანავე, მარეგულირებლის მარჯვენა და მარცხენა გვერდების მხრიდან ტრამვაის უფლება აქვს, იმოძრაოს პირდაპირ, ურელსო სატრანსპორტო საშუალებას უფლება აქვს, იმოძრაოს პირდაპირ და მარჯვნივ, ხოლო ქვეითს უფლება აქვს, გადავიდეს გზის სავალ ნაწილზე; ამავე კანონის 32-ე მუხლის მე-5 პუნქტის თანახმად, გარდა იმ შემთხვევისა, როცა მოხვევა სრულდება გზატკარციდინზე გასასვლელად, სადაც წრიული მოძრაობაა ორგანიზებული, მარჯვნივ ან მარცხნივ მოხვევის წინ, აგრეთვე მობრუნების წინ სატრანსპორტო საშუალების მძღოლი ვალდებულია დროულად დაიკავოს შესაბამისი განაპირა მდებარეობა სავალ ნაწილზე, რომელიც თანმხვედრი მიმართულებით მოძრაობისთვისაა განკუთვნილი.

QUESTION 277

CORRECT ANSWER: 2



In which direction is a car driver allowed to proceed at this signal of the traffic controller?

1

Straight only

2

Straight and to the right only

3

To the right and left only

4

All shown directions

განმარტება:

„საგზაო მოძრაობის შესახებ“ საქართველოს კანონის 30-ე მუხლის მე-5 პუნქტის „ბ“ ქვეპუნქტის თანახმად, მარეგულირებლის სიგნალებს აქვთ შემდეგი მნიშვნელობა - განზე გაშვებული ან ჩამოშვებული ხელები - ეს უნდა ნიშნავს „სდექ“ სიგნალს იმ საგზაო მოძრაობის მონაწილეებისათვის, რომლებიც, მათი მოძრაობის მიმართულების მიუხედავად, მოძრაობენ იმ მიმართულებით, რომელიც კვეთს მარეგულირებლის განვლილი ხელით ან ხელებით მინიშნულ მიმართულებას; ამასთანავე, მარეგულირებლის მარჯვენა და მარცხენა გვერდების მხრიდან ტრამვაის უფლება აქვს, იმოძრაოს პირდაპირ, ურელსო სატრანსპორტო საშუალებას უფლება აქვს, იმოძრაოს პირდაპირ და მარჯვნივ, ხოლო ქვეითს უფლება აქვს, გადავიდეს გზის სავალ ნაწილზე; ამავე კანონის 32-ე მუხლის მე-5 პუნქტის თანახმად, გარდა იმ შემთხვევისა, როცა მოხვევა სრულდება გზატკარცილობა გასასვლელად, სადაც წრიული მოძრაობაა ორგანიზებული, მარჯვნივ ან მარცხნივ მოხვევის წინ, აგრეთვე მობრუნების წინ სატრანსპორტო საშუალების მძღოლი ვალდებულია დროულად დაიკავოს შესაბამისი განაპირა მდებარეობა სავალ ნაწილზე, რომელიც თანმხვედრი მიმართულებით მოძრაობისთვისაა განკუთვნილი.

QUESTION 278

CORRECT ANSWER: 1



Which of the vehicle drivers is allowed to proceed to the arrow direction at this signal of traffic controller?

1

Motor car driver

2

Bus driver

3

Lorry driver

4


None of them

განმარტება:

„საგზაო მოძრაობის შესახებ“ საქართველოს კანონის 30-ე მუხლის მე-5 პუნქტის „გ“ ქვეპუნქტის თანახმად, მარეგულირებლის სიგნალებს აქვთ შემდეგი მნიშვნელობა - წინ გაშვებული მარჯვენა ხელი - ეს ჟესტი ნიშნავს „სდექ“ სიგნალს მარეგულირებლის მარჯვენა გვერდისა და ზურგის მხრიდან მოძრავი ყველა მძღოლისათვის; ამასთანავე, მარეგულირებლის მარცხენა გვერდის მხრიდან ტრამვაის უფლება აქვს, იმოძრაოს მარცხნივ, ხოლო ურელსო სატრანსპორტო საშუალებას უფლება აქვს, იმოძრაოს ყველა მიმართულებით. მარეგულირებლის მკერდის მხრიდან ყველა სატრანსპორტო საშუალებას უფლება აქვს, იმოძრაოს მხოლოდ მარჯვნივ. ქვეითს უფლება აქვს, გადავიდეს სავალ ნაწილზე მარეგულირებლის ზურგის უკან.

QUESTION 279

CORRECT ANSWER: 3



A motor car driver is allowed to proceed at this signal of the traffic controller:

1

In directions A and C only

2

In directions B and D only

3


In all shown directions

განმარტება:

„საგზაო მოძრაობის შესახებ“ საქართველოს კანონის 30-ე მუხლის მე-5 პუნქტის „გ“ ქვეპუნქტის თანახმად, მარეგულირებლის სიგნალებს აქვთ შემდეგი მნიშვნელობა - წინ გაშვებული მარჯვენა ხელი - ეს ჟესტი ნიშნავს „სდექ“ სიგნალს მარეგულირებლის მარჯვენა გვერდისა და ზურგის მხრიდან მოძრავი ყველა მძღოლისათვის; ამასთანავე, მარეგულირებლის მარცხენა გვერდის მხრიდან ტრამვაის უფლება აქვს, იმოძრაოს მარცხნივ, ხოლო ურელსო სატრანსპორტო საშუალებას უფლება აქვს, იმოძრაოს ყველა მიმართულებით. მარეგულირებლის მკერდის მხრიდან ყველა სატრანსპორტო საშუალებას უფლება აქვს, იმოძრაოს მხოლოდ მარჯვნივ. ქვეითს უფლება აქვს, გადავიდეს სავალ ნაწილზე მარეგულირებლის ზურგის უკან.

QUESTION 280

CORRECT ANSWER: 1



A motor car driver is allowed to proceed at this signal of the traffic controller:

1

None of the directions

2

In directions A and D only

3

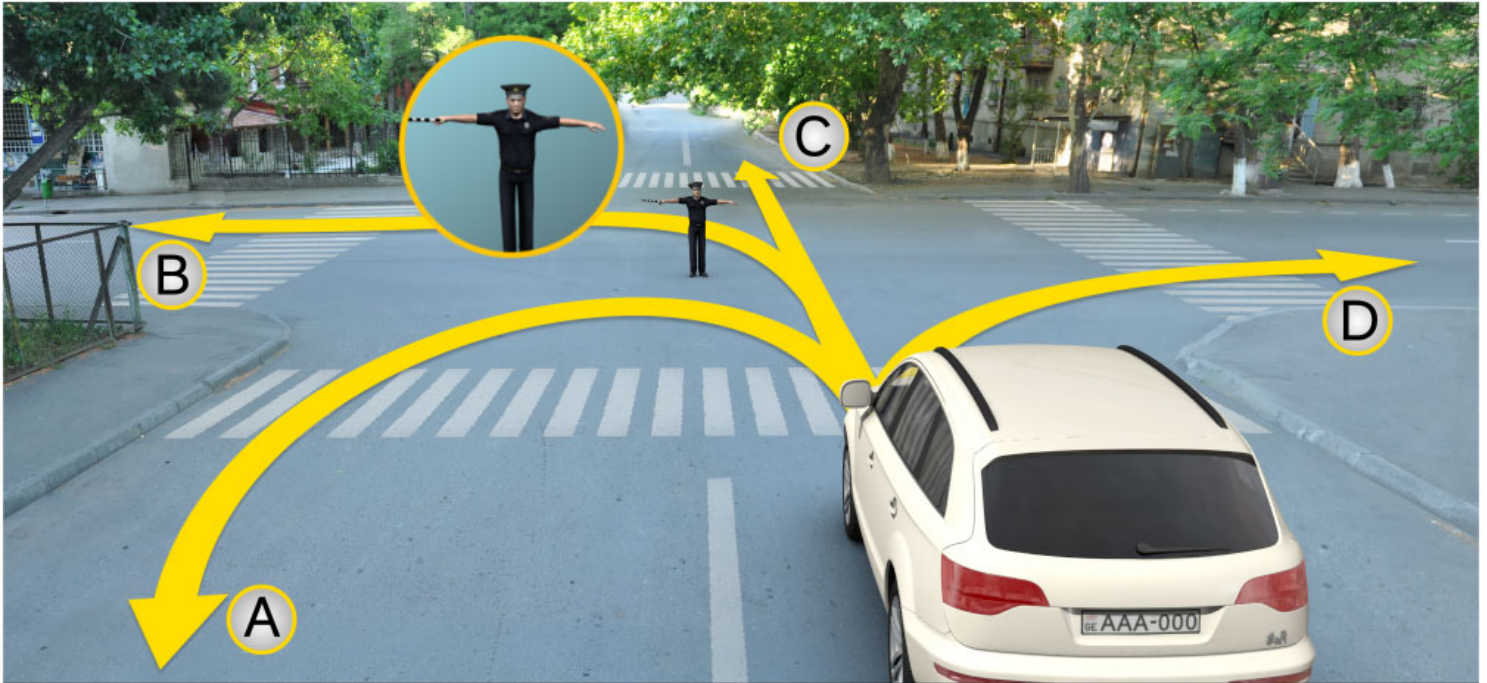
In directions B and C only

განმარტება:

„საგზაო მოძრაობის შესახებ“ საქართველოს კანონის 30-ე მუხლის მე-5 პუნქტის „ა“ ქვეპუნქტის თანახმად, მარეგულირებლის სიგნალებს აქვთ შემდეგი მნიშვნელობა - ზემოთ აწეული ერთი ხელი - ეს აესტი ყველა საგზაო მოძრაობის მონაწილისათვის ნიშნავს „ყურადღება, სდექ“ სიგნალს, გარდა იმ მძღოლებისა, რომლებიც უკვე ვეღარ შეძლებენ გაჩერებას მკვეთრი დამუხრუჭებისა და საკმაო უსაფრთხოების პირობების დაცვით. გარდა ამისა, თუ ეს სიგნალი მიცემულია გზაჯვარედინზე, მძღოლს, რომელიც უკვე შესულია გზაჯვარედინზე, შეუძლია განაგრძოს მოძრაობა. ქვეითმა, რომელიც სიგნალის მიცემისას გზის სავალ ნაწილზე იმყოფება, უნდა გაათავისუფლოს იგი, ხოლო თუ ეს შეუძლებელია – უნდა გაჩერდეს ურთიერთსაპირისპირო მიმართულებით მოძრავი სატრანსპორტო ნაკადების გამყოფ ხაზზე.

QUESTION 281

CORRECT ANSWER: 2



A motor car driver is allowed to proceed at this signal of the traffic controller:

1

In directions A and C only

2

None of the directions

3

In directions B and D only

განმარტება:

„საგზაო მოძრაობის შესახებ“ საქართველოს კანონის 30-ე მუხლის მე-5 პუნქტის „ბ“ ქვეპუნქტის თანახმად, მარეგულირებლის სიგნალებს აქვთ შემდეგი მნიშვნელობა - განზე გაშვებული ან ჩამოშვებული ხელები - ეს ჟესტი ნიშნავს „სდექ“ სიგნალს იმ საგზაო მოძრაობის მონაწილეებისათვის, რომლებიც, მათი მოძრაობის მიმართულების მიუხედავად, მოძრაობენ იმ მიმართულებით, რომელიც კვეთს მარეგულირებლის განვდილი ხელით ან ხელებით მინიშნებულ მიმართულებას; ამასთანავე, მარეგულირებლის მარჯვენა და მარცხენა გვერდების მხრიდან ტრამვაის უფლება აქვს, იმოძრაოს პირდაპირ, ურელსო სატრანსპორტო საშუალებას უფლება აქვს, იმოძრაოს პირდაპირ და მარჯვნივ, ხოლო ქვეითს უფლება აქვს, გადავიდეს გზის სავალ ნაწილზე.

QUESTION 282

CORRECT ANSWER: 1

If the orders of the traffic controller's signal contradict to the orders of the traffic lights, traffic signs and road markings, the traffic participants shall be obliged to carry out:

1

Orders of the traffic controller's signal

2

Orders of the traffic lights signal

3

Orders of the road marking

4

Orders of the traffic sign

განმარტება:

„საგზაო მოძრაობის შესახებ“ საქართველოს კანონის 28-ე მუხლის მე-2 პუნქტის თანახმად, მარეგულირებლის სიგნალებს აქვს უპირატესი ძალა შექნიშნის მაშუაეი სიგნალების, საგზაო ნიშნებისა და საგზაო მონიშვნების მოთხოვნების და საგზაო მოძრაობის წესების მოთხოვნების მიმართ. გზაჯვარედინზე მარეგულირებლის მიერ მოძრაობის რეგულირებისას ამკრძალავი და მიმითითებელი საგზაო ნიშნები აგრძელებს მოქმედებას, გარდა იმ შემთხვევისა, როდესაც მარეგულირებელი კონკრეტულად მიუთითებს მათი მოთხოვნების უგულებელყოფაზე.

QUESTION 283

CORRECT ANSWER: 3

If traffic controller gives the order on stopping the vehicle by microphone device or gesticulation pointed towards the vehicle, driver must stop:

1

Immediately on the spot

2

At the place convenient for him/her

3

At the place indicated by the traffic controller

განმარტება:

„საგზაო მოძრაობის შესახებ“ საქართველოს კანონის 30-ე მუხლის მე-8 პუნქტის თანახმად, თუ მარეგულირებელი სატრანსპორტო საშუალების გაჩერების შესახებ მოთხოვნას გადასცემს ხმამაღლამოლაპარაკე მოწყობილობით ან სატრანსპორტო საშუალებისაკენ მიმართული შესტიკულაციით, მძღოლი უნდა გაჩერდეს მარეგულირებლის მიერ მითითებულ ადგილზე.

QUESTION 284

CORRECT ANSWER: 4

Traffic controller may give the signal with:

- | | |
|---|--|
| <div style="background-color: #f08080; color: white; padding: 5px; text-align: center; margin-bottom: 5px;">1</div> Black-and-white striped cudgel or red reflective disc only | <div style="background-color: #f08080; color: white; padding: 5px; text-align: center; margin-bottom: 5px;">2</div> Only by hand or disc, on which a traffic sign - traffic is prohibited - is depicted |
| <div style="background-color: #f08080; color: white; padding: 5px; text-align: center; margin-bottom: 5px;">3</div> Only red or yellow flags or red light motion | <div style="background-color: #f08080; color: white; padding: 5px; text-align: center; margin-bottom: 5px;">4</div> By any means listed in given test |

განმარტება:

„საგზაო მოძრაობის შესახებ“ საქართველოს კანონის 30-ე მუხლის მე-9 პუნქტის თანახმად, მარეგულირებელი სიგნალს აძლევს: ა) შავი და თეთრი ზოლების მქონე ხელკეტი; ბ) შექამრეკლი წითელი დისკით; გ) დისკით, რომელზედაც გამოსახულია საგზაო ნიშანი „მოძრაობა აკრძალულია“; დ) ხელით; ე) წითელი ან ყვითელი ალმით; ვ) წითელი სინათლის მოძრაობით.

QUESTION 285

CORRECT ANSWER: 1

Motion of red light by the traffic controller for traffic participants, to which side this light is directed, shall mean the signal:

- | | |
|--|--|
| <div style="background-color: #f08080; color: white; padding: 5px; text-align: center; margin-bottom: 5px;">1</div> On stopping | <div style="background-color: #f08080; color: white; padding: 5px; text-align: center; margin-bottom: 5px;">2</div> On acceleration of motion |
| <div style="background-color: #f08080; color: white; padding: 5px; text-align: center; margin-bottom: 5px;">3</div> On approach of hazard | |

განმარტება:

„საგზაო მოძრაობის შესახებ“ საქართველოს კანონის 30-ე მუხლის მე-5 პუნქტის „დ“ ქვეპუნქტების თანახმად, მარეგულირებლის სიგნალებს აქვთ შემდეგი მნიშვნელობა - წითელი სინათლის მოძრაობა - ეს სიგნალი ყველა საგზაო მოძრაობის მონაწილისათვის, რომელთა მხარესაც მიმართულია ეს სინათლე, ნიშნავს „სდექ“ სიგნალს.

QUESTION 286

CORRECT ANSWER: 3



In the present situation, the motor car driver is obliged to:

1

Proceed

2

Stop at least 10 meters from the nearest rail

3

Stop at the "STOP" line

4

Stop at the traffic light

ბანმარტეზა:

„საგზაო მოძრაობის შესახებ“ საქართველოს კანონის 39-ე მუხლის მე-4 პუნქტის თანახმად, რკინიგზის გადასასვლელზე მოძრაობის ამკრძალავი სიგნალის მიცემისას მარეგულირებელი დგას მძღოლის მიმართ მკერდით ან ზურგშეცევით, თავის ზემოთ აწეული კვერთხით, წითელი ფარნით ან ალმით ან განზე გაწეული ხელებით. ამავე მუხლის პირველი პუნქტის „გ“ ქვეპუნქტის თანახმად, მარეგულირებლის ან შუქნიშნის ამკრძალავი სიგნალის დროს არცერთი საგზაო მოძრაობის მონაწილე არ უნდა შევიდეს რკინიგზის გადასასვლელზე, მიუხედავად შლაგბაუმის ან ნახევარშლაგბაუმის მდგომარეობისა ან მისი არსებობისა. ამავე მუხლის მე-3 პუნქტის თანახმად თუ რკინიგზის გადასასვლელზე მოძრაობა აკრძალულია, მძღოლი ჩერდება „სდექ“ ხაზთან, 2.4 საგზაო ნიშანთან ან შუქნიშანთან, ხოლო მათი არარსებობისას – შლაგბაუმიდან ან ნახევარშლაგბაუმიდან არანაკლებ 5 მეტრისა. თუ არ არის არც შლაგბაუმი და არც ნახევარშლაგბაუმი, მძღოლი უნდა გაჩერდეს უახლოეს რელსამდე არანაკლებ 10 მეტრისა.

QUESTION 287

CORRECT ANSWER: 2



In the present situation, the motor car driver is obliged to:

1

Proceed

2

Stop at the "STOP" line

3

Stop at least 10 meters from the nearest rail

4

Stop at the traffic light

ბანმარტუბა:

„საგზაო მოძრაობის შესახებ“ საქართველოს კანონის 39-ე მუხლის მე-4 პუნქტის თანახმად, რკინიგზის გადასასვლელზე მოძრაობის ამკრძალავი სიგნალის მიცემისას მარეგულირებელი დგას მძღოლის მიმართ მკერდით ან ზურგშეცევით, თავის ზემოთ აწეული კვერთხით, წითელი ფარნით ან ალმით ან განზე გაწეული ხელებით. ამავე მუხლის პირველი პუნქტის „გ“ ქვეპუნქტის თანახმად, მარეგულირებლის ან შუქნიშნის ამკრძალავი სიგნალის დროს არცერთი საგზაო მოძრაობის მონაწილე არ უნდა შევიდეს რკინიგზის გადასასვლელზე, მიუხედავად შლაგბაუმის ან ნახევარშლაგბაუმის მდგომარეობისა ან მისი არსებობისა. ამავე მუხლის მე-3 პუნქტის თანახმად თუ რკინიგზის გადასასვლელზე მოძრაობა აკრძალულია, მძღოლი ჩერდება „სდექ“ ხაზთან, 2.4 საგზაო ნიშანთან ან შუქნიშანთან, ხოლო მათი არარსებობისას – შლაგბაუმიდან ან ნახევარშლაგბაუმიდან არანაკლებ 5 მეტრისა. თუ არ არის არც შლაგბაუმი და არც ნახევარშლაგბაუმი, მძღოლი უნდა გაჩერდეს უახლოეს რელსამდე არანაკლებ 10 მეტრისა.

QUESTION 288

CORRECT ANSWER: 2

If traffic of the vehicles on the road with crosswalk is regulated by a traffic controller, on traffic restriction signal the drivers must stop:

- 1 In front of the traffic controller
- 2 In front of crosswalk or lateral marking posted before it
- 3 On reverse traffic lane

განმარტება:

„საგზაო მოძრაობის შესახებ“ საქართველოს კანონის 25-ე მუხლის მე-2 პუნქტის „ა“ ქვეპუნქტის თანახმად, ქვეითთა გადასასვლელზე ამ კანონის 21-ე მუხლის მე-6 პუნქტით, 33-ე მუხლის მე-2 პუნქტითა და 34-ე მუხლის მე-11 პუნქტით დადგენილ მოთხოვნათა დაცვით უნდა შესრულდეს შემდეგი მოთხოვნები: ა) თუ სატრანსპორტო საშუალებათა მოძრაობა საგზაო შექნიშნით ან მარეგულირებლის მეშვეობით რეგულირდება, მოძრაობის ამკრძალავი სიგნალის დროს მძღოლი უნდა გაჩერდეს ქვეითთა გადასასვლელის წინ ან მის წინ მდებარე განივ მონიშვნასთან.

QUESTION 289

CORRECT ANSWER: 1

“Traffic controller” is an official defined by the Georgian legislation with the right of traffic regulation, which is entitled within the scope of his/her competence to:

- 1 Limit motion of a traffic participant, change the direction and/or stop his/her motion
- 2 Impose administrative penalty to the violating driver only

განმარტება:

„საგზაო მოძრაობის შესახებ“ საქართველოს კანონის 5-ე მუხლის 32-ე პუნქტის თანახმად, მარეგულირებელი - საქართველოს კანონმდებლობით განსაზღვრული, საგზაო მოძრაობის რეგულირების უფლებამოსილების მქონე პირი, რომელსაც თავისი კომპეტენციის ფარგლებში უფლება აქვს, საგზაო მოძრაობის მონაწილეს შეუზღუდოს მოძრაობა, შეუცვალოს მიმართულება ან/და შეაჩეროს მისი მოძრაობა.

QUESTION 290

CORRECT ANSWER: 2

If signal of the traffic controller allows simultaneous motion to the vehicles without rails routing by intercrossing trajectories, the drivers shall be guided with:

- 1 The orders of the road markings defining the priorities only
- 2 The orders of passing the unregulated intersection and the priority signs posted on the intersection

განმარტება:

„საგზაო მოძრაობის შესახებ“ საქართველოს კანონის 36-ე მუხლის მე-3 პუნქტის „დ“ ქვეპუნქტის თანახმად, რეგულირებულ გზაჯვარედინზე, თუ მარეგულირებლის სიგნალი ერთდროულად მოძრაობის ნებას რთავს ურთიერთგადაკვეთი ტრაექტორიებით მოძრავ ურელსო სატრანსპორტო საშუალებებს, მძღოლებმა უნდა იხელმძღვანელონ არარეგულირებული გზაჯვარედინის გავლის წესებითა და გზაჯვარედინზე დაყენებული პრიორიტეტის ნიშნებით.

QUESTION 291

CORRECT ANSWER: 1

Is stopping of a lorry on the left side of the driveway of one-way road allowed?


- 1 Yes, during loading or unloading of the vehicle only
- 2 No
- 3 Yes, in any case, at the discretion of the driver

განმარტება:

„საგზაო მოძრაობის შესახებ“ საქართველოს კანონის 37-ე მუხლის მე-2 პუნქტის „გ“ ქვეპუნქტის თანახმად, სატრანსპორტო საშუალება, რომელიც ჩერდება ან დგას სავალ ნაწილზე, უნდა იმყოფებოდეს სავალი ნაწილის კიდეგან რაც შეიძლება ახლოს. მძღოლს შეუძლია გაჩერდეს ან დააყენოს სატრანსპორტო საშუალება სავალ ნაწილზე, მარჯვენა მხარეს. სატრანსპორტო საშუალების გაჩერება და დგომა სავალი ნაწილის მარცხენა მხარეს ნებადართულია ცალმხრივმოძრაობიანი გზის სავალ ნაწილზე (სატვირთო ავტომობილის ცალმხრივი მოძრაობის გზის მარცხენა მხარეს გაჩერება ნებადართულია მხოლოდ მისი დატვირთვის ან გადმოტვირთვის დროს).

QUESTION 292

CORRECT ANSWER: 2



In which direction is a motor car driver allowed to proceed further at this signal of the traffic controller?

1

In directions B and C only

2

In directions A, B and D only

3

In directions A and D only

4


In all the above directions

ბანმარტება:

„საგზაო მოძრაობის შესახებ“ საქართველოს კანონის 30-ე მუხლის მე-5 პუნქტის „გ“ ქვეპუნქტის თანახმად, მარეგულირებლის სიგნალებს აქვთ შემდეგი მნიშვნელობა - წინ გაშვებული მარჯვენა ხელი – ეს ჟესტი ნიშნავს „სდექ“ სიგნალს მარეგულირებლის მარჯვენა გვერდისა და ზურგის მხრიდან მოძრავი ყველა მძღოლისათვის; ამასთანავე, მარეგულირებლის მარცხენა გვერდის მხრიდან ტრამვაის უფლება აქვს, იმოძრაოს მარცხნივ, ხოლო ურელსო სატრანსპორტო საშუალებას უფლება აქვს, იმოძრაოს ყველა მიმართულებით. მარეგულირებლის მკერდის მხრიდან ყველა სატრანსპორტო საშუალებას უფლება აქვს, იმოძრაოს მხოლოდ მარჯვნივ. ქვეითს უფლება აქვს, გადავიდეს სავალ ნაწილზე მარეგულირებლის ზურგის უკან. ამავე კანონის 28-ე მუხლის მე-2 პუნქტის თანახმად, მარეგულირებლის სიგნალებს აქვს უპირატესი ძალა შეჩიშნის მაშუქი სიგნალების, საგზაო ნიშნებისა და საგზაო მონიშვნების მოთხოვნების და საგზაო მოძრაობის წესების მოთხოვნების მიმართ. გზაჯვარედინზე მარეგულირებლის მიერ მოძრაობის რეგულირებისას ამკრძალავი და მიმითითებელი საგზაო ნიშნები აგრძელებს მოქმედებას, გარდა იმ შემთხვევისა, როდესაც მარეგულირებელი კონკრეტულად მიუთითებს მათი მოთხოვნების უგულებელყოფაზე.

QUESTION 293

CORRECT ANSWER: 3



In which direction is a motor car driver allowed to proceed, if the traffic controller specifically indicates motion to the left?

1

Straight only

2

To the left only

3

To the left and backward (U-turn) only

4

In all shown directions

განმარტება:

„საგზაო მოძრაობის შესახებ“ საქართველოს კანონის 28-ე მუხლის მე-2 პუნქტის თანახმად, მარეგულირებლის სიგნალებს აქვს უპირატესი ძალა შუქნიშნის მაშუქი სიგნალების, საგზაო ნიშნებისა და საგზაო მონიშვნების მოთხოვნების და საგზაო მოძრაობის წესების მოთხოვნების მიმართ. გზატკარციდან მარეგულირებლის მიერ მოძრაობის რეგულირებისას ამკრძალავი და მიმითითებელი საგზაო ნიშნები აგრძელებს მოქმედებას, გარდა იმ შემთხვევისა, როდესაც მარეგულირებელი კონკრეტულად მიუთითებს მათი მოთხოვნების უგულებელყოფაზე.

თემა 12:

სპეციალური სიგნალის გამოყენება

QUESTION 294

CORRECT ANSWER: 1

Simultaneously switched red and amber traffic lights:

1

Prohibit motion and give information about expected switching of green traffic light

2

Allow traffic and give information about any hazard on the section of the road

განმარტება:

„საგზაო მოძრაობის შესახებ“ საქართველოს კანონის 29-ე მუხლის მე-2 პუნქტის „ბ“ ქვეპუნქტის თანახმად, ერთობლივად ჩართული წითელი და ყვითელი მაშუქი სიგნალები კრძალავს მოძრაობას და იტყობინება მწვანე მაშუქი სიგნალის მოსალოდნელი ჩართვის შესახებ.

QUESTION 295

CORRECT ANSWER: 2



In the present situation is a driver violating the forced stop orders, if it is not possible to take the damaged vehicle from the road immediately?

1

No

2

Yes

განმარტება:

„საგზაო მოძრაობის შესახებ“ საქართველოს კანონის 42-ე მუხლის „ე“ პუნქტის თანახმად, საგზაო ნიშნით აღნიშნულ გვირაბებში მოქმედებს შემდეგი წესი იძულებითი გაჩერებისას მძღოლმა უნდა უზრუნველყოს ამ კანონით დადგენილი, აკრძალულ ადგილებში იძულებით გაჩერებასთან დაკავშირებული მოთხოვნების შესრულება. ამავე კანონის 52-ე მუხლის პირველი პუნქტის „ბ“ ქვეპუნქტის თანახმად საავარიო შექუერი სიგნალიზაცია უნდა ჩაირთოს იმ ადგილას იძულებითი გაჩერების დროს, სადაც გაჩერება აკრძალულია. ამავე მუხლის მე-2 პუნქტის „ბ“ ქვეპუნქტის თანახმად, საავარიო შექსიგნალიზაციის ჩართვის შემდეგ, აგრეთვე თუ ასეთი სიგნალიზაცია არ არსებობს ან მწყობრიდანაა გამოსული, მძღოლმა დაუყოვნებლივ უნდა დადგას „სავარიო გაჩერების ნიშანი“, ხოლო არასაკმარისი ხილვადობის პირობებში – მოციმციმე წითელი ფარანი იმ ადგილას იძულებით გაჩერების დროს, სადაც გაჩერება აკრძალულია.

QUESTION 296

CORRECT ANSWER: 3

The driver of an operative service vehicle despite the requirements of road signs and marking takes priority over traffic participants if s/he has turned on:

1

Special blue flashing light

2

Special blue and red flashing lights

3

Special blue flashing light and honks

განმარტება:

„საგზაო მოძრაობის შესახებ“ საქართველოს კანონის 51-ე მუხლის პირველი პუნქტის თანახმად, ოპერატიული ან სპეციალური სამსახურის სატრანსპორტო საშუალების მძღოლს, რომელსაც სატრანსპორტო საშუალებაზე ჩართული აქვს ლურჯი მოელვარე სპეციალური ციმციმა სიგნალი და ასრულებს სამსახურებრივ დავალებას, შეუძლია საგზაო მოძრაობის უსაფრთხოების უზრუნველყოფის პირობების დაცვით გადაუხვიოს ამ კანონის 25-ე, 31-ე–41-ე და 44-ე მუხლებით, აგრეთვე ამ კანონის №1 და №2 დანართებით დადგენილ მოთხოვნებს. ლურჯ მოელვარე სპეციალურ ციმციმა სიგნალთან ერთად დამატებით შეიძლება ჩაირთოს წითელი მოელვარე ციმციმა სიგნალიც. სხვა საგზაო მოძრაობის მონაწილეების მიმართ უპირატესობის მისაღებად ამ სატრანსპორტო საშუალების მძღოლმა უნდა ჩართოს ლურჯი მოელვარე სპეციალური ციმციმა სიგნალი და ხმოვანი სიგნალი. პრიორიტეტით სარგებლობა მხოლოდ მაშინ შეიძლება, როცა მძღოლი დარწმუნდება, რომ მას გზას უთმობენ.

QUESTION 297

CORRECT ANSWER: 1

Is the road traffic participant required to give way to the driven vehicle which has turned on dipped beam and is accompanied with operative service vehicle with turned on blue lights and sound signals?

1

Yes

2

No

განმარტება:

„საგზაო მოძრაობის შესახებ“ საქართველოს კანონის 51-ე მუხლის მე-2 პუნქტის თანახმად, საგზაო მოძრაობის მონაწილეები ვალდებული არიან, ოპერატიული ან სპეციალური სამსახურის სატრანსპორტო საშუალების მოახლოებისას, რომელსაც ჩართული აქვს ლურჯი მოელვარე სპეციალური ციმციმა სიგნალი და ხმოვანი სიგნალი ან/და რომელიც ხმამაღლამოლაპარაკე ხელსაწყოთი იძლევა სიგნალს, მას, აგრეთვე მის მიერ გასაცემებელ სატრანსპორტო საშუალებას, რომელსაც ჩართული აქვს ახლო განათების ფარები, გაუთავისუფლონ სავალ ნაწილზე ადგილი, ხოლო აუცილებლობის შემთხვევაში – გაჩერდნენ.

QUESTION 298

CORRECT ANSWER: 2

Upon approach of the operative or special vehicle, with special blue flashing light and honks switched on and/or giving signal with a loudspeaker, the traffic participants are obliged:

- 1 To stop immediately
- 2 To leave the driveway and in case of necessity to stop
- 3 To move to the extreme left lane of the same direction

განმარტება:

„საგზაო მოძრაობის შესახებ“ საქართველოს კანონის 51-ე მუხლის მე-2 პუნქტის თანახმად, საგზაო მოძრაობის მონაწილეები ვალდებული არიან, ოპერატიული ან სპეციალური სამსახურის სატრანსპორტო საშუალების მოახლოებისას, რომელსაც ჩართული აქვს ლურჯი მოელვარე სპეციალური ციმციმა სიგნალი და ხმოვანი სიგნალი ან/და რომელიც ხმამაღლამოლაპარაკე ხელსაწყოთი იძლევა სიგნალს, მას, აგრეთვე მის მიერ გასაცემებელ სატრანსპორტო საშუალებას, რომელსაც ჩართული აქვს ახლო განათების ფარები, გაუთავისუფლონ სავალ ნაწილზე ადგილი, ხოლო აუცილებლობის შემთხვევაში – გაჩერდნენ.

QUESTION 299

CORRECT ANSWER: 2

When approaching the special vehicle parked with special blue flashing light on, a driver shall:

- 1 Proceed without changing the speed
- 2 Slow down, in order to be able to stop the vehicle immediately in case of necessity
- 3 Increase the speed in order to pass the site in due time

განმარტება:

„საგზაო მოძრაობის შესახებ“ საქართველოს კანონის 51-ე მუხლის მე-3 პუნქტის თანახმად, ჩართული ლურჯი მოელვარე სპეციალური ციმციმა სიგნალით მდგომ სატრანსპორტო საშუალებასთან მიახლოებისას მძღოლმა უნდა შეანელოს სიჩქარე, რათა აუცილებლობის შემთხვევაში შეძლოს ტრანსპორტის დაუყოვნებლივ გაჩერება.

QUESTION 300

CORRECT ANSWER: 2

A driver of special vehicle has special orange flashing light switched on, when performing official duty, he/she may decline the requirements of the road signs and markings, if he/she:

1

Has low beams on

2

Provides traffic safety

3

Temporary road signs are fixed on the vehicle

განმარტება:

„საგზაო მოძრაობის შესახებ“ საქართველოს კანონის 51-ე მუხლის მე-4 პუნქტის თანახმად, მძღოლს, რომელსაც სატრანსპორტო საშუალებაზე ჩართული აქვს ნარინჯისფერი ან ყვითელი მოელვარე სპეციალური ციმციმა სიგნალი და რომელიც გზაზე ასრულებს სამშენებლო, სარემონტო ან დასასუფთავებელ სამუშაოებს, ან საინკასაციო სატრანსპორტო საშუალებით გადააქვს ძვირფასეულობა ან ფასიანი ქაღალდები, ან გადააქვს სახიფათო ტვირთი, ან გადაადგილდება არაგაბარიტული (მსხვილგაბარიტიანი) ან ზენორმატიული (მძიმეწონიანი) სატრანსპორტო საშუალებით, შეუძლია გადაუხვიოს საგზაო ნიშნებისა და მონიშვნების, აგრეთვე ამ კანონის 31-ე მუხლის მე-5–მე-10, მე-15 და მე-16 პუნქტებითა და 38-ე მუხლის პირველი პუნქტით დადგენილ მოთხოვნებს, თუ უზრუნველყოფს საგზაო მოძრაობის უსაფრთხოებას. ნარინჯისფერი ან ყვითელი მოელვარე სპეციალური ციმციმა სიგნალი არ იძლევა უპირატესობას საგზაო მოძრაობის სხვა მონაწილეების მიმართ და გამოიყენება ყურადღების მისაპყრობად მოსალოდნელი საშიშროების თავიდან აცილებისათვის.

QUESTION 301

CORRECT ANSWER: 2

Special yellow flashing light switched on the special vehicle are used:

1

For getting the priority over other traffic participants

2

To retain attention in order to avoid the expected hazard

განმარტება:

„საგზაო მოძრაობის შესახებ“ საქართველოს კანონის 51-ე მუხლის მე-4 პუნქტის თანახმად, მძღოლს, რომელსაც სატრანსპორტო საშუალებაზე ჩართული აქვს ნარინჯისფერი ან ყვითელი მოელვარე სპეციალური ციმციმა სიგნალი და რომელიც გზაზე ასრულებს სამშენებლო, სარემონტო ან დასასუფთავებელ სამუშაოებს, ან საინკასაციო სატრანსპორტო საშუალებით გადააქვს ძვირფასეულობა ან ფასიანი ქაღალდები, ან გადააქვს სახიფათო ტვირთი, ან გადაადგილდება არაგაბარიტული (მსხვილგაბარიტიანი) ან ზენორმატიული (მძიმეწონიანი) სატრანსპორტო საშუალებით, შეუძლია გადაუხვიოს საგზაო ნიშნებისა და მონიშვნების, აგრეთვე ამ კანონის 31-ე მუხლის მე-5–მე-10, მე-15 და მე-16 პუნქტებითა და 38-ე მუხლის პირველი პუნქტით დადგენილ მოთხოვნებს, თუ უზრუნველყოფს საგზაო მოძრაობის უსაფრთხოებას. ნარინჯისფერი ან ყვითელი მოელვარე სპეციალური ციმციმა სიგნალი არ იძლევა უპირატესობას საგზაო მოძრაობის სხვა მონაწილეების მიმართ და გამოიყენება ყურადღების მისაპყრობად მოსალოდნელი საშიშროების თავიდან აცილებისათვის.

QUESTION 302

CORRECT ANSWER: 2

Fixing of special flashing lights and honks on the vehicle, as well as special coloring of the vehicle shall be applied:

- 1 According to the rule defined by the Minister of Finance of Georgia
- 2 According to the rule defined by the Minister of Internal Affairs of Georgia
- 3 According to the rule defined by the Minister of Justice of Georgia

განმარტება:

„საგზაო მოძრაობის შესახებ“ საქართველოს კანონის 51-ე მუხლის მე-8 პუნქტის თანახმად, სატრანსპორტო საშუალებაზე სპეციალური ციმციმა სიგნალისა და ხმოვანი სიგნალის, აგრეთვე სპეციალური ხმამაღლამოლაპარაკე ხელსაწყო დაყენება და სატრანსპორტო საშუალებისათვის სპეციალური შეფერილობის მიცემა ხორციელდება საქართველოს შინაგან საქმეთა მინისტრის მიერ განსაზღვრული წესის შესაბამისად.

QUESTION 303

CORRECT ANSWER: 1

Together with special flashing light fixed on the special encashment vehicle, special honk shall be switched on:


- 1 Only in case of danger of attack or attack
- 2 In any case
- 3 While routing in low-visibility conditions

განმარტება:

„საგზაო მოძრაობის შესახებ“ საქართველოს კანონის 51-ე მუხლის მე-7 პუნქტის თანახმად, ინკასაციის სამსახურის სპეციალურ სატრანსპორტო საშუალებაზე დაყენებულ ნარინჯისფერ ან ყვითელ მოელვარე სპეციალურ ციმციმა სიგნალთან ერთად სპეციალური ხმოვანი სიგნალი ირთვება მხოლოდ თავდასხმის საშიშროების ან თავდასხმის შემთხვევაში.

QUESTION 304

CORRECT ANSWER: 3



The lorry with low beams on is accompanied by the operative vehicle, with special blue flashing light and honk on. When driving to the arrow direction, at this signal of the traffic lights, a bus driver must yield to:

1

None of the vehicle drivers

2

Operative vehicle driver only

3


Both operative vehicle and lorry drivers

განმარტება:

„საგზაო მოძრაობის შესახებ“ საქართველოს კანონის 51-ე მუხლის მე-2 პუნქტის თანახმად, საგზაო მოძრაობის მონაწილეები ვალდებული არიან, ოპერატიული ან სპეციალური სამსახურის სატრანსპორტო საშუალების მოახლოებისას, რომელსაც ჩართული აქვს ლურჯი მოელვარე სპეციალური ციმციმა სიგნალი და ხმოვანი სიგნალი ან/და რომელიც ხმამაღლამოლაპარაკე ხელსაწყოთი იძლევა სიგნალს, მას, აგრეთვე მის მიერ გასაცემს სატრანსპორტო საშუალებას, რომელსაც ჩართული აქვს ახლო განათების ფარები, გაუთავისუფლონ საგალ ნაწილზე ადგილი, ხოლო აუცილებლობის შემთხვევაში – გაჩერდნენ.

QUESTION 305

CORRECT ANSWER: 3



Which of the directions is operative vehicle driver allowed to proceed further at this signal of the traffic lights, if the car has special blue flashing lights switched on?

1

Straight and to the right only

2

To the right only

3

All shown directions

4

To the left and backward (U-turn) only

განმარტება:

„საგზაო მოძრაობის შესახებ“ საქართველოს კანონის 51-ე მუხლის პირველი პუნქტის თანახმად ოპერატიული ან სპეციალური სამსახურის სატრანსპორტო საშუალების მძღოლს, რომელსაც სატრანსპორტო საშუალებაზე ჩართული აქვს ლურჯი მოელვარე სპეციალური ციმციმა სიგნალი და ასრულებს სამსახურებრივ დავალებას, შეუძლია საგზაო მოძრაობის უსაფრთხოების უზრუნველყოფის პირობების დაცვით გადაუხვიოს ამ კანონის 25-ე, 31-ე—41-ე და 44-ე მუხლებით, აგრეთვე ამ კანონის №1 და №2 დანართებით დადგენილ მოთხოვნებს.

QUESTION 306

CORRECT ANSWER: 2



Is red car driver obliged to yield to the operative vehicle driver, if the special blue flashing light and honk are switched on the vehicle?

1

Yes

2

No

განმარტება:

„საგზაო მოძრაობის შესახებ“ საქართველოს კანონის 51-ე მუხლის მე-2 პუნქტის თანახმად, საგზაო მოძრაობის მონაწილეები ვალდებული არიან, ოპერატიული ან სპეციალური სამსახურის სატრანსპორტო საშუალების მოახლოებისას, რომელსაც ჩართული აქვს ლურჯი მოელვარე სპეციალური ციმციმა სიგნალი და ხმოვანი სიგნალი ან/და რომელიც ხმამაღლამოლაპარაკე ხელსაწყოთი იძლევა სიგნალს, მას, აგრეთვე მის მიერ გასაცემებელ სატრანსპორტო საშუალებას, რომელსაც ჩართული აქვს ახლო განათების ფარები, გაუთავისუფლონ სავალ ნაწილზე ადგილი, ხოლო აუცილებლობის შემთხვევაში – გაჩერდნენ.

QUESTION 307

CORRECT ANSWER: 1



Operative vehicle has special blue flashing light and honks switched on. Red car driver will not violate the Highway Code, if:

- | | |
|--|--|
| <p>1 Gives right-of-way to yellow bus and moves on the right lane</p> | <p>2 Does not yield to yellow bus and moves on the right lane</p> |
| <p>3 Proceed on the occupied lane</p> | |

განმარტება:

„საგზაო მოძრაობის შესახებ“ საქართველოს კანონის 51-ე მუხლის მე-2 პუნქტის თანახმად, საგზაო მოძრაობის მონაწილეები ვალდებული არიან, ოპერატიული ან სპეციალური სამსახურის სატრანსპორტო საშუალების მოახლოებისას, რომელსაც ჩართული აქვს ლურჯი მოელვარე სპეციალური ციმციმა სიგნალი და ხმოვანი სიგნალი ან/და რომელიც ხმამაღლამოლაპარაკე ხელსაწყოთი იძლევა სიგნალს, მას, აგრეთვე მის მიერ გასაცემებელ სატრანსპორტო საშუალებას, რომელსაც ჩართული აქვს ახლო განათების ფარები, გაუთავისუფლონ სავალ ნაწილზე ადგილი, ხოლო აუცილებლობის შემთხვევაში – გაჩერდნენ. ამავე კანონის 32-ე მუხლის მე-4 პუნქტის თანახმად მოძრაობის ზოლიდან ზოლში მოძრაობის მიმართულების შეუცვლელად გადასვლისას მძღოლმა გზა უნდა დაუთმოს გადასასვლელ მოძრაობის ზოლში თანმხვედრი მიმართულებით მოძრავ სატრანსპორტო საშუალებას.

QUESTION 308

CORRECT ANSWER: 3



Operative vehicle is stopped with special blue flashing light on. A motor car driver must proceed no faster than:

1

90 km/h

2

70 km/h

3

Speed, at which he/she will be able to stop the car immediately in case of necessity

განმარტება:

„საგზაო მოძრაობის შესახებ“ საქართველოს კანონის 51-ე მუხლის მე-3 პუნქტის თანახმად, ჩართული ლურჯი მოელვარე სპეციალური ციმციმა სიგნალით მდგომ სატრანსპორტო საშუალებასთან მიახლოებისას მძღოლმა უნდა შეანელოს სიჩქარე, რათა აუცილებლობის შემთხვევაში შეძლოს ტრანსპორტის დაუყოვნებლივ გაჩერება.

QUESTION 309

CORRECT ANSWER: 4



In which direction is operative vehicle driver allowed to proceed at this signal of the traffic lights, if the vehicle has special blue flashing lights on?

1

Straight and to the right only

2

Straight and to the left only

3

In all shown directions

4


Straight only

განმარტება:

„საგზაო მოძრაობის შესახებ“ საქართველოს კანონის 51-ე მუხლის პირველი პუნქტის თანახმად, ოპერატიული ან სპეციალური სამსახურის სატრანსპორტო საშუალების მძღოლს, რომელსაც სატრანსპორტო საშუალებაზე ჩართული აქვს ლურჯი მოელვარე სპეციალური ციმციმა სიგნალი და ასრულებს სამსახურებრივ დავალებას, შეუძლია საგზაო მოძრაობის უსაფრთხოების უზრუნველყოფის პირობების დაცვით გადაუხვიოს ამ კანონის 25-ე, 31-ე—41-ე და 44-ე მუხლებით, აგრეთვე ამ კანონის № 1 და № 2 დანართებით დადგენილ მოთხოვნებს. ამავე კანონის 32-ე მუხლის მე-5 პუნქტის თანახმად, გარდა იმ შემთხვევისა, როცა მოხვევა სრულდება გზატკარცილობა გასასვლელად, სადაც წრიული მოძრაობაა ორგანიზებული, მარჯვნივ ან მარცხნივ მოხვევის წინ, აგრეთვე მობრუნების წინ სატრანსპორტო საშუალების მძღოლი ვალდებულია დროულად დაიკავოს შესაბამისი განაპირა მდებარეობა სავალ ნაწილზე, რომელიც თანმხვედრი მიმართულებით მოძრაობისთვისაა განკუთვნილი. ამავე კანონის პირველი დანართის მე-4 თავის (მიმთითებელი ნიშნები) 4.1.4 პუნქტისა და ამავე პუნქტის შენიშვნის „ა“ და „დ“ ქვეპუნქტების თანახმად, საგზაო ნიშანი 4.1.4 „მოძრაობა პირდაპირ ან მარჯვნივ“ რთავს მხოლოდ ისრებით ნაჩვენები მიმართულებებით მოძრაობის ნებას.

QUESTION 310

CORRECT ANSWER: 1



Lorry is carrying out the cleaning works on the highway. Is the lorry driver allowed to proceed to the arrow direction, if the vehicle has special blue flashing lights on?

1

Yes

2

No

განმარტება:

„საგზაო მოძრაობის შესახებ“ საქართველოს კანონის 51-ე მუხლის მე-4 პუნქტის თანახმად, მძღოლს, რომელსაც სატრანსპორტო საშუალებაზე ჩართული აქვს ნარინჯისფერი ან ყვითელი მოელვარე სპეციალური ციმციმა სიგნალი და რომელიც გზაზე ასრულებს სამშენებლო, სარემონტო ან დასასუფთავებელ სამუშაოებს, ან საინჟინსაციო სატრანსპორტო საშუალებით გადააქვს ძვირფასეულობა ან ფასიანი ქაღალდები, ან გადააქვს სახიფათო ტვირთი, ან გადაადგილდება არაგაბარითული (მსხვილგაბარითი) ან ზენორმატიული (მძიმეწონიანი) სატრანსპორტო საშუალებით, შეუძლია გადაუხვიოს საგზაო ნიშნებისა და მონიშვნების, აგრეთვე ამ კანონის 31-ე მუხლის მე-5–მე-10, მე-15 და მე-16 პუნქტებითა და 38-ე მუხლის პირველი პუნქტით დადგენილ მოთხოვნებს, თუ უზრუნველყოფს საგზაო მოძრაობის უსაფრთხოებას. ნარინჯისფერი ან ყვითელი მოელვარე სპეციალური ციმციმა სიგნალი არ იძლევა უპირატესობას საგზაო მოძრაობის სხვა მონაწილეების მიმართ და გამოიყენება ყურადღების მისაპყრობად მოსალოდნელი საშიშროების თავიდან აცილებისათვის.

QUESTION 311

CORRECT ANSWER: 1



Which of the vehicle drivers is obliged to yield when driving to the arrow direction, if operative vehicle has special blue flashing light and honks on?

1

Motor car driver

2

Operative vehicle driver

განმარტება:

„საგზაო მოძრაობის შესახებ“ საქართველოს კანონის 51-ე მუხლის მე-2 პუნქტის თანახმად, ოპერატიული ან სპეციალური სამსახურის სატრანსპორტო საშუალების მოახლოებისას, რომელსაც ჩართული აქვს ლურჯი ფერის მოელვარე სპეციალური შუქური და ხმოვანი სიგნალებით ან/და ხმამაღლამოლაპარაკე ხელსაწყოთი იძლევა სიგნალს, აგრეთვე მათ მიერ გასაცემებელ სატრანსპორტო საშუალებებს, რომლებსაც ჩართული აქვთ ახლო ნათების ფარები, საგზაო მოძრაობის მონაწილეები ვალდებული არიან გაანთავისუფლონ სავალ ნაწილზე ადგილი, ხოლო აუცილებლობის შემთხვევაში გაჩერდნენ.

თემა 13:

საავარიო შუქური სიგნალიზაცია

QUESTION 312

CORRECT ANSWER: 4



As indicated in the picture, a driver in case of stopping a vehicle in an uninhabited area:

1

Is required to turn the hazard lights on

2

Is required to put an 'emergency stop sign' behind a car

3

Is required to turn the hazard lights on and put an 'emergency stop sign' behind a car

4


Is not required to turn the hazard lights on and put an 'emergency stop sign' behind a car

განმარტება:

„საგზაო მოძრაობის შესახებ“ საქართველოს კანონის 37-ე მუხლის პირველი პუნქტის თანახმად, სატრანსპორტო საშუალება, რომელიც ჩერდება ან დგას დაუსახლებელ პუნქტში, შესაძლებლობის ფარგლებში, სავალი ნაწილის გარეთ უნდა იმყოფებოდეს. ამავე კანონის 52-ე მუხლის პირველი პუნქტის „ბ“ და მე-2 პუნქტის „ბ“ ქვეპუნქტების თანახმად: 1. საავარიო შეჭური სიგნალიზაცია გამოიყენება მოსალოდნელი საფრთხის შესახებ სხვა საგზაო მოძრაობის მონაწილეთა გაფრთხილებისათვის. საავარიო შექსიგნალიზაცია უნდა ჩაირთოს იმ ადგილას იძულებითი გაჩერების დროს, სადაც გაჩერება აკრძალულია; 2. საავარიო შექსიგნალიზაციის ჩართვის შემდეგ, აგრეთვე თუ ასეთი სიგნალიზაცია არ არსებობს ან მწყობრიდანაა გამოსული, მძღოლმა დაუყოვნებლივ უნდა გამოდგას „საავარიო გაჩერების ნიშანი“, ხოლო არასაკმარისი მხედველობის პირობებში - მოციმციმე წითელი ფანარი იმ ადგილებში იძულებით გაჩერების დროს, სადაც გაჩერება აკრძალულია და იქ, სადაც ხილვადობის პირობების გათვალისწინებით, სხვა მძღოლები ვერ შესძლებენ სატრანსპორტო საშუალების დროულად შემჩნევას.

QUESTION 313

CORRECT ANSWER: 1



In the present situation is a driver violating the forced stop orders, if it is not possible to take the damaged vehicle from the road immediately?

1

No

2

Yes

განმარტება:

„საგზაო მოძრაობის შესახებ“ საქართველოს კანონის 42-ე მუხლის „ე“ პუნქტის თანახმად, საგზაო ნიშნით აღნიშნულ გვირაბებში მოქმედებს შემდეგი წესი იძულებითი გაჩერებისას მძღოლმა უნდა უზრუნველყოს ამ კანონით დადგენილი, აკრძალულ ადგილებში იძულებით გაჩერებასთან დაკავშირებული მოთხოვნების შესრულება. ამავე კანონის 52-ე მუხლის პირველი პუნქტის „ბ“ ქვეპუნქტის, მე-2 პუნქტის „ბ“ ქვეპუნქტისა და მე-3 პუნქტის თანახმად: - საავარიო შექერი სიგნალიზაცია უნდა ჩაერთოს იმ ადგილას იძულებითი გაჩერების დროს, სადაც გაჩერება აკრძალულია. - საავარიო შექსიგნალიზაციის ჩართვის შემდეგ, აგრეთვე თუ ასეთი სიგნალიზაცია არ არსებობს ან მწყობრიდანაა გამოსული, მძღოლმა დაუყოვნებლივ უნდა დადგას „საავარიო გაჩერების ნიშანი“, ხოლო არასაკმარისი ხილვადობის პირობებში – მოციმციმე წითელი ფარანი იმ ადგილას იძულებით გაჩერების დროს, სადაც გაჩერება აკრძალულია. - „საავარიო გაჩერების ნიშანი“ და მოციმციმე წითელი ფარანი უნდა დაიდგას სატრანსპორტო საშუალებიდან იმ მანძილზე, რომელიც კონკრეტულ პირობებში უზრუნველყოფს საშიშროების შესახებ სხვა მძღოლების დროულ გაფრთხილებას, მაგრამ ეს მანძილი დასახლებულ პუნქტში არ უნდა იყოს 15 მეტრზე ნაკლები, ხოლო დაუსახლებელ პუნქტში – 30 მეტრზე ნაკლები.

QUESTION 314

CORRECT ANSWER: 1

In case of absence or failure of hazard lights, following should be attached to the rear side of mechanical vehicle:

1

Emergency stop sign

2

Maximum speed restriction sign

3

Other hazard indication sign

განმარტება:

„საგზაო მოძრაობის შესახებ“ საქართველოს კანონის 45-ე მუხლის მე-7 პუნქტის თანახმად, დღე-ღამის ნებისმიერ პერიოდში მობეჭდილი მექანიკურ სატრანსპორტო საშუალებას ჩართული უნდა ჰქონდეს ახლო განათების ფარები, საბეჭდო მექანიკურ სატრანსპორტო საშუალებას ჩართული უნდა ჰქონდეს საავარიო შუქსიგნალიზაცია, ხოლო მისი არარსებობის ან გაუმართაობის შემთხვევაში ამ ტრანსპორტის უკანა ნაწილზე უნდა დამაგრდეს საავარიო გაჩერების ნიშანი.

QUESTION 315

CORRECT ANSWER: 2

„Forced stop“ means:

1

Deliberate termination of motion of the vehicle in vehicle current because of orders of technical devices organizing traffic or the traffic controller

2

Termination of motion of the vehicle because of its technical failure, state of cargo, driver (passenger) or sudden obstructions on the road

განმარტება:

„საგზაო მოძრაობის შესახებ“ საქართველოს კანონის 5-ე მუხლის 26-ე პუნქტის თანახმად, იძულებით გაჩერება - სატრანსპორტო საშუალების მოძრაობის შეწყვეტა მისი ტექნიკური გაუმართაობის, გადასაზიდი ტვირთის, მძღოლის (მგზავრის) მდგომარეობის ან გზაზე მოულოდნელად შექმნილი დაბრკოლებით განპირობებული საფრთხის გამო.

QUESTION 316

CORRECT ANSWER: 3

In case of being dazzled by oncoming mechanical vehicle, the driver is obliged to:

- | | |
|--|---|
| <p>1 Slow down, move to the rightmost traffic lane as fast as possible and stop in case of necessity</p> | <p>2 Give a sign with periodical switching of the lights to the driver of the oncoming transport about the mentioned problem</p> |
| <p>3 Slow down without leaving the lane, stop and turn the hazard lights on. Start of driving is permissible only when vision is fully restored</p> | <p>4 Turn the high, full beam on</p> |

ბანმარტება:

„საგზაო მოძრაობის შესახებ“ საქართველოს კანონის 36-ე მუხლის მე-5 პუნქტის თანახმად, მძღოლი არ უნდა გავიდეს გზატკარედიზე, თუ შექმნილია ისეთი ხერგილი, რომ იგი, სავარაუდოდ, იძულებული გახდება, გაჩერდეს გზატკარედიზე და ამით დააბრკოლოს განივი მიმართულებით მოძრაობა. ეს წესი მოქმედებს მაშინაც, თუ შექმნილის მაშუქი სიგნალები იძლევა მოძრაობის უფლებას.

QUESTION 317

CORRECT ANSWER: 3

In low visibility conditions, in case of forced stop in the areas, where it is prohibited, a driver shall immediately put red flashing light (or other equipment with similar efficiency) on:

- | | |
|--|--|
| <p>1 Only after switching the hazard light on</p> | <p>2 Only in case if hazard light is not available or is out of order</p> |
| <p>3 Both after switching the hazard light on, as well as in case if hazard light is not available or is out of order</p> | |

ბანმარტება:

„საგზაო მოძრაობის შესახებ“ საქართველოს კანონის 52-ე მუხლის მე-2 პუნქტის „ბ“ ქვეპუნქტის თანახმად, საავარიო შექსიგნალიზაციის ჩართვის შემდეგ, აგრეთვე თუ ასეთი სიგნალიზაცია არ არსებობს ან მწყობრიდანაა გამოსული, მძღოლმა დაუყოვნებლივ უნდა დადგას „საავარიო გაჩერების ნიშანი“, ხოლო არასაკმარისი ხილვადობის პირობებში – მოციმციმე წითელი ფარანი: ბ) იმ ადგილას იძულებით გაჩერების დროს, სადაც გაჩერება აკრძალულია, და იქ, სადაც, ხილვადობის პირობების გათვალისწინებით, სხვა მძღოლები ვერ შეძლებენ სატრანსპორტო საშუალების დროულად შემჩნევას. ამავე მუხლის მე-4 პუნქტის თანახმად საავარიო გაჩერების ნიშნის ან მოციმციმე წითელი ფარანის არარსებობის შემთხვევაში მძღოლმა უნდა უზრუნველყოს სხვა მსგავსი ეფექტიანი საშუალებებით მოახლოებულ მძღოლთა დროული გაფრთხილება.

QUESTION 318

CORRECT ANSWER: 3

In case of forced stop in the areas where it is prohibited and where other drivers will not be able to observe the vehicle in due time, the driver shall immediately put red flashing light (or other equipment with similar efficiency) on:

1

Only after switching the hazard light on

2

Only in case if hazard light is not available or is out of order

3

Both after switching the hazard light on, as well as in case if hazard light is not available or is out of order

განმარტება:

„საგზაო მოძრაობის შესახებ“ საქართველოს კანონის 52-ე მუხლის მე-2 პუნქტის „ბ“ ქვეპუნქტის თანახმად, საავარიო შუქსიგნალიზაციის ჩართვის შემდეგ, აგრეთვე თუ ასეთი სიგნალიზაცია არ არსებობს ან მწყობრიდანაა გამოსული, მძღოლმა დაუყოვნებლივ უნდა დადგას „საავარიო გაჩერების ნიშანი“, ხოლო არასაკმარისი ხილვადობის პირობებში – მოციმციმე წითელი ფარანი: ბ) იმ ადგილას იძულებით გაჩერების დროს, სადაც გაჩერება აკრძალულია, და იქ, სადაც, ხილვადობის პირობების გათვალისწინებით, სხვა მძღოლები ვერ შეძლებენ სატრანსპორტო საშუალების დროულად შემჩნევას. ამავე მუხლის მე-4 პუნქტის თანახმად საავარიო გაჩერების ნიშნის ან მოციმციმე წითელი ფარანის არარსებობის შემთხვევაში მძღოლმა უნდა უზრუნველყოს სხვა მსგავსი ეფექტიანი საშუალებებით მოახლოებულ მძღოლთა დროული გაფრთხილება.

QUESTION 319

CORRECT ANSWER: 3

In case of forced stop in inhabited areas where it is prohibited, a driver shall put emergency stop sign (or other equipment with similar efficiency) from vehicle at a distance not less than:

1

5 meters

2

10 meters

3

15 meters

განმარტება:

„საგზაო მოძრაობის შესახებ“ საქართველოს კანონის 52-ე მუხლის მე-2 პუნქტის „ბ“ ქვეპუნქტისა და მე-3 და მე-4 პუნქტების თანახმად: 2. საავარიო შუქსიგნალიზაციის ჩართვის შემდეგ, აგრეთვე თუ ასეთი სიგნალიზაცია არ არსებობს ან მწყობრიდანაა გამოსული, მძღოლმა დაუყოვნებლივ უნდა დადგას „საავარიო გაჩერების ნიშანი“, ხოლო არასაკმარისი ხილვადობის პირობებში – მოციმციმე წითელი ფარანი: ბ) იმ ადგილას იძულებით გაჩერების დროს, სადაც გაჩერება აკრძალულია, და იქ, სადაც, ხილვადობის პირობების გათვალისწინებით, სხვა მძღოლები ვერ შეძლებენ სატრანსპორტო საშუალების დროულად შემჩნევას. 3. „საავარიო გაჩერების ნიშანი“ და მოციმციმე წითელი ფარანი უნდა დაიდგას სატრანსპორტო საშუალებიდან იმ მანძილზე, რომელიც კონკრეტულ პირობებში უზრუნველყოფს საშიშროების შესახებ სხვა მძღოლების დროულ გაფრთხილებას, მაგრამ ეს მანძილი დასახლებულ პუნქტში არ უნდა იყოს 15 მეტრზე ნაკლები, ხოლო დაუსახლებელ პუნქტში – 30 მეტრზე ნაკლები. 4. საავარიო გაჩერების ნიშნის ან მოციმციმე წითელი ფარანის არარსებობის შემთხვევაში მძღოლმა უნდა უზრუნველყოს სხვა მსგავსი ეფექტიანი საშუალებებით მოახლოებულ მძღოლთა დროული გაფრთხილება.

QUESTION 320

CORRECT ANSWER: 3

In case of forced stop in uninhabited area, where it is prohibited, a driver shall put emergency stop sign (or other equipment with similar efficiency) from the vehicle at a distance not less than:

1

15 meters

2

20 meters

3

30 meters

განმარტება:

„საგზაო მოძრაობის შესახებ“ საქართველოს კანონის 52-ე მუხლის მე-2, პუნქტის „ბ“ ქვეპუნქტისა და მე-3 და მე-4 პუნქტების თანახმად: 2. საავტომობილო შემოსასაღებო ხაზის ჩართვის შემდეგ, ავტომობილი თუ ასეთი სიგნალიზაცია არ არსებობს ან მწყობრიდანაა გამოსული, მძღოლმა დაუყოვნებლივ უნდა დადგას „საავტომობილო გაჩერების ნიშანი“, ხოლო არასაკმარისი ხილვადობის პირობებში – მოციმციმე წითელი ფარანი: ბ) იმ ადგილას იძულებით გაჩერების დროს, სადაც გაჩერება აკრძალულია, და იქ, სადაც, ხილვადობის პირობების გათვალისწინებით, სხვა მძღოლები ვერ შეძლებენ სატრანსპორტო საშუალების დროულად შემჩნევას. 3. „საავტომობილო გაჩერების ნიშანი“ და მოციმციმე წითელი ფარანი უნდა დაიდგას სატრანსპორტო საშუალებიდან იმ მანძილზე, რომელიც კონკრეტულ პირობებში უზრუნველყოფს საშიშროების შესახებ სხვა მძღოლების დროულ გაფრთხილებას, მაგრამ ეს მანძილი დასახლებულ პუნქტში არ უნდა იყოს 15 მეტრზე ნაკლები, ხოლო დაუსახლებელ პუნქტში – 30 მეტრზე ნაკლები.

QUESTION 321

CORRECT ANSWER: 2

During forced stopping at the place, where stopping is prohibited, in case of absence of emergency stop sign or red flashing light:

1

Timely warning of approaching drivers is not necessary

2

A driver shall provide timely warning of the approaching drivers with other similar efficient devices

განმარტება:

„საგზაო მოძრაობის შესახებ“ საქართველოს კანონის 52-ე მუხლის მე-4 პუნქტის თანახმად, საავტომობილო გაჩერების ნიშნის ან მოციმციმე წითელი ფარანის არარსებობის შემთხვევაში მძღოლმა უნდა უზრუნველყოს სხვა მსგავსი ეფექტიანი საშუალებებით მოახლოებულ მძღოლთა დროული გაფრთხილება.

QUESTION 322

CORRECT ANSWER: 1

Taking of traffic accident participant or failed vehicle away from the driveway is not available and it is creating obstacle for other traffic participants. After switching the hazard light on, as well as if such light is not available or is out of order, a driver shall:

1

Immediately put „Emergency stop sign“ and in case of low visibility – switch red flashing light on

2

Switch sidelights on

3

Switch high beams on

განმარტება:

„საგზაო მოძრაობის შესახებ“ საქართველოს კანონის 52-ე მუხლის პირველი პუნქტის „ა“ ქვეპუნქტის თანახმად, საავარიო შეუსიგნალიზაცია გამოიყენება მოსალოდნელი საფრთხის შესახებ სხვა საგზაო მოძრაობის მონაწილეთა გაფრთხილებისათვის. საავარიო შეუსიგნალიზაცია უნდა ჩაირთოს: ა) თუ საგზაო-სატრანსპორტო შემთხვევის მონაწილე ან მწყობრიდან გამოსული სატრანსპორტო საშუალების გაყვანა ან ბუქსირება დაუყოვნებლივ შეუძლებელია და ეს აბრკოლებს საგზაო მოძრაობის სხვა მონაწილეებს. ამავე მუხლის მე-2 პუნქტის „ა“ ქვეპუნქტის თანახმად, საავარიო შეუსიგნალიზაციის ჩართვის შემდეგ, აგრეთვე თუ ასეთი სიგნალიზაცია არ არსებობს ან მწყობრიდანაა გამოსული, მძღოლმა დაუყოვნებლივ უნდა დადგას „საავარიო გაჩერების ნიშანი“, ხოლო არასაკმარისი ხილვადობის პირობებში – მოციმციმე წითელი ფარანი: ა) საგზაო-სატრანსპორტო შემთხვევის დროს.

QUESTION 323

CORRECT ANSWER: 3



Is the driver of a light vehicle obliged to turn the hazard lights on and put a emergency stop sign in the indicated place in case of forced stopping?

1

Is obliged to switch only hazard light on

2

Is obliged to put the emergency stop sign behind the vehicle at a distance of 15 meters

3

Is not obliged

განმარტება:

„საგზაო მოძრაობის შესახებ“ საქართველოს კანონის 52-ე მუხლის პირველი პუნქტის „ბ“ ქვეპუნქტის თანახმად, საავარიო შეუსიგნალიზაცია გამოიყენება მოსალოდნელი საფრთხის შესახებ სხვა საგზაო მოძრაობის მონაწილეთა გაფრთხილებისათვის. საავარიო შეუსიგნალიზაცია უნდა ჩაირთოს: ბ) იმ ადგილას იძულებით გაჩერების დროს, სადაც გაჩერება აკრძალულია. ამავე კანონის 37-ე მუხლის მე-6 პუნქტის „ა.გ“ ქვეპუნქტის თანახმად აკრძალულია სატრანსპორტო საშუალების გაჩერება, გზის სავალ ნაწილზე: ა.გ) სავალი ნაწილების გადაკვეთაზე, აგრეთვე მათი გადაკვეთის ნაპირებიდან 5 მეტრზე ახლოს, გარდა იმ შემთხვევისა, როცა გაჩერება ხდება იმ გვერდითი გასასვლელების მოპირდაპირე სამხრივ გადაკვეთებზე (გზაჯვარედინებზე), რომლებზედაც მონიშვნის უწყვეტი ხაზი ან გამყოფი ზოლია.

QUESTION 324

CORRECT ANSWER: 1



In the present situation is a driver violating forced stop orders, if immediate taking of the failed vehicle is not available?

1

Yes

2

No

განმარტება:

„საგზაო მოძრაობის შესახებ“ საქართველოს კანონის 38-ე მუხლის პირველი პუნქტის „გ.ა“ ქვეპუნქტის თანახმად, ავტომანქანის მძღოლმა, ავტომანქანის მძღოლის შესასვლელსა და გამოსასვლელზე მძღოლს ეკრძალება ავტომანქანის (ან/და მისი მისაბმელის) გაჩერება ან დგომა, დგომისთვის გამოყოფილი, სპეციალურად მონიშნული ადგილების გარდა. მძღოლმა, რომელიც მისგან დამოუკიდებელი გარემოებების გამო იძულებულია, გაჩერდეს, უნდა მიიღოს ყველა ზომა ავტომანქანის (ან/და მისი მისაბმელის) გზის სავალი ნაწილიდან გასაყვანად, ხოლო თუ ამის დაუყოვნებლივ გაკეთება შეუძლებელია – ჩართოს საავარიო შექსიგნალიზაცია (მისი არსებობის შემთხვევაში) და შესაბამისი ნიშნით მონიშნოს ავტომანქანის (ან/და მისი მისაბმელი) საკმარის მანძილზე, რათა დროულად გააფრთხილოს მოახლოებული მძღოლები. ამავე კანონის 52-ე მუხლის მე-3 პუნქტის თანახმად, „საავარიო გაჩერების ნიშანი“ და მოციმციმე წითელი ფარანი უნდა დაიდგას სატრანსპორტო საშუალებიდან იმ მანძილზე, რომელიც კონკრეტულ პირობებში უზრუნველყოფს საშიშროების შესახებ სხვა მძღოლების დროულ გაფრთხილებას, მაგრამ ეს მანძილი დასახლებულ პუნქტში არ უნდა იყოს 15 მეტრზე ნაკლები, ხოლო დაუსახლებელ პუნქტში – 30 მეტრზე ნაკლები.

QUESTION 325

CORRECT ANSWER: 1

A driver forced to stop on the highway for technical failure of the vehicle is obliged to:

1 Apply all the measures to take the vehicle away from driveway, and if this is unavailable immediately, to switch hazard light (if any) on and mark the vehicle with appropriate sign at sufficient distance, in order to warn the approaching drivers in due time

2 To call the technical service immediately, and until arrival of its representative to take the vehicle away from the driveway in the extreme right lane, to switch hazard light and low beam on

განმარტება:

„საგზაო მოძრაობის შესახებ“ საქართველოს კანონის 38-ე მუხლის პირველი პუნქტის „გ.ა“ ქვეპუნქტის თანახმად, ავტომაგისტრალზე, ავტომაგისტრალის შესასვლელსა და გამოსასვლელზე მძღოლს ეკრძალება ავტომობილის (ან/და მისი მისაბმელის) გაჩერება ან დგომა, დგომისთვის გამოყოფილი, სპეციალურად მონიშნული ადგილების გარდა. მძღოლმა, რომელიც მისგან დამოუკიდებელი გარემოებების გამო იძულებულია, გაჩერდეს, უნდა მიიღოს ყველა ზომა ავტომობილის (ან/და მისი მისაბმელის) გზის სავალი ნაწილიდან გასაყვანად, ხოლო თუ ამის დაუყოვნებლივ გაკეთება შეუძლებელია – ჩართოს საავარიო შექსიგნალიზაცია (მისი არსებობის შემთხვევაში) და შესაბამისი ნიშნით მონიშნოს ავტომობილი (ან/და მისი მისაბმელი) საკმარის მანძილზე, რათა დროულად გააფრთხილოს მოახლოებული მძღოლები.

QUESTION 326

CORRECT ANSWER: 2

If immediate removal or towing of the traffic accident participant vehicle is not available and it is creating obstacle for other traffic participants, a driver is obliged to switch on:

1 Low or high beams and rear sidelights

2 Hazard light

3 Honk

განმარტება:

„საგზაო მოძრაობის შესახებ“ საქართველოს კანონის 52-ე მუხლის პირველი პუნქტის „ა“ ქვეპუნქტის თანახმად, საავარიო შექსიგნალიზაცია გამოიყენება მოსალოდნელი საფრთხის შესახებ სხვა საგზაო მოძრაობის მონაწილეთა გაფრთხილებისათვის. საავარიო შექსიგნალიზაცია უნდა ჩაირთოს: ა) თუ საგზაო-სატრანსპორტო შემთხვევის მონაწილე ან მწყობრიდან გამოსული სატრანსპორტო საშუალების გაყვანა ან ბუქსირება დაუყოვნებლივ შეუძლებელია და ეს აბრკოლებს საგზაო მოძრაობის სხვა მონაწილეებს.

QUESTION 327

CORRECT ANSWER: 3

After switching hazard light on the traffic accident participant vehicle, as well as in case if such light is not available or is out of order, a driver shall immediately:

1

Switch high beams on

2

Switch honk on

3

Put Emergency stop sign, and in low visibility conditions - red flashing light

განმარტება:

„საგზაო მოძრაობის შესახებ“ საქართველოს კანონის 52-ე მუხლის პირველი პუნქტის „ა“ ქვეპუნქტის თანახმად, საავარიო შეუსიგნალიზაცია გამოიყენება მოსალოდნელი საფრთხის შესახებ სხვა საგზაო მოძრაობის მონაწილეთა გაფრთხილებისათვის. საავარიო შეუსიგნალიზაცია უნდა ჩაირთოს: ა) თუ საგზაო-სატრანსპორტო შემთხვევის მონაწილე ან მწყობრიდან გამოსული სატრანსპორტო საშუალების გაყვანა ან ბუქსირება დაუყოვნებლივ შეუძლებელია და ეს აბრკოლებს საგზაო მოძრაობის სხვა მონაწილეებს; ამავე მუხლის მე-2 პუნქტის „ა“ ქვეპუნქტის თანახმად საავარიო შეუსიგნალიზაციის ჩართვის შემდეგ, აგრეთვე თუ ასეთი სიგნალიზაცია არ არსებობს ან მწყობრიდანაა გამოსული, მძღოლმა დაუყოვნებლივ უნდა დადგას „საავარიო გაჩერების ნიშანი“, ხოლო არასაკმარისი ხილვადობის პირობებში – მოციმციმე წითელი ფარანი: ა) საგზაო-სატრანსპორტო შემთხვევის დროს.

QUESTION 328

CORRECT ANSWER: 1

In low visibility conditions, after switching hazard light on the traffic accident participant vehicle, as well as if such light is not available or is out of order, a driver shall immediately:

1 Put red flashing light, and if it is not available, to provide timely warning of other approaching drivers with the devices of similar efficiency

2 Switch rear sidelights on


3 Switch front and rear fog-lights on

განმარტება:

„საგზაო მოძრაობის შესახებ“ საქართველოს კანონის 52-ე მუხლის პირველი პუნქტის „ა“ ქვეპუნქტის თანახმად, საავტომობილო უსიგნალიზაციო გამოიყენება მოსალოდნელი საფრთხის შესახებ სხვა საგზაო მოძრაობის მონაწილეთა გაფრთხილებისათვის. საავტომობილო უსიგნალიზაცია უნდა ჩაირთოს: ა) თუ საგზაო-სატრანსპორტო შემთხვევის მონაწილე ან მწყობრიდან გამოსული სატრანსპორტო საშუალების გაყვანა ან ბუქსირება დაუყოვნებლივ შეუძლებელია და ეს აბრკოლებს საგზაო მოძრაობის სხვა მონაწილეებს; ამავე მუხლის მე-2 პუნქტის „ა“ ქვეპუნქტისა და მე-4 პუნქტის თანახმად: 2. საავტომობილო უსიგნალიზაციის ჩართვის შემდეგ, აგრეთვე თუ ასეთი სიგნალიზაცია არ არსებობს ან მწყობრიდანაა გამოსული, მძღოლმა დაუყოვნებლივ უნდა დადგას „საავტომობილო გაჩერების ნიშანი“, ხოლო არასაკმარისი ხილვადობის პირობებში – მოციმციმე წითელი ფარანი: ა) საგზაო-სატრანსპორტო შემთხვევის დროს. 4. საავტომობილო გაჩერების ნიშნის ან მოციმციმე წითელი ფარანის არარსებობის შემთხვევაში მძღოლმა უნდა უზრუნველყოს სხვა მსგავსი ეფექტიანი საშუალებებით მოახლოებულ მძღოლთა დროული გაფრთხილება.

QUESTION 329

CORRECT ANSWER: 2



Will the lorry driver violate the traffic rules if to proceed the way according to the arrow?

1

Yes

2

No

განმარტება:

„საგზაო მოძრაობის შესახებ“ საქართველოს კანონის პირველი დანართის მე-3 თავის (ამკრძალავი ნიშნები) 3.22 პუნქტის თანახმად, საგზაო ნიშანი 3.22 „სატვირთო ავტომობილით გასწრება აკრძალულია“ - კრძალავს 3,5 ტონაზე მეტი ნებადართული მაქსიმალური მასის მქონე სატვირთო ავტომობილით სხვა სატრანსპორტო საშუალების გასწრებას (გარდა 30 კმ/სთ-ზე ნაკლები სიჩქარით მოძრავი ტრანსპორტისა), აგრეთვე ტრაქტორით სხვა სატრანსპორტო საშუალების გასწრებას (გარდა საჭაპანო ტრანსპორტისა და ველოსიპედისა).

თემა 14:

გარე სანათი ხელსაწყოები, ხმოვანი
სიგნალით სარგებლობა

QUESTION 330

CORRECT ANSWER: 3

The vehicle driver, which is allowed to enter the sites defined for pedestrians in the cases stipulated by the Highway Code, shall be obliged:

- 1 To give the honk and to drive at a speed of no more than 50 km/h
- 2 To switch the low beams on and to give the horn in order to attract the pedestrians' attention
- 3 To use maximum caution and to drive at a low speed, in order to stop in case of necessity

განმარტება:

„საგზაო მოძრაობის შესახებ“ საქართველოს კანონის 25-ე მუხლის მე-5 პუნქტის თანახმად, იმ სატრანსპორტო საშუალების მძღოლი, რომელსაც ამ კანონით განსაზღვრულ შემთხვევებში უფლება აქვს შევიდეს ქვეითთა მოძრაობისათვის განკუთვნილ ადგილებში, ვალდებულია გამოიჩინოს მაქსიმალური სიფრთხილე და იმოძრაოს დაბალი სიჩქარით, რათა აუცილებლობის შემთხვევაში გაჩერდეს.

QUESTION 331

CORRECT ANSWER: 2

Conveyance of children's group on the unilluminated road of the inhabited areas and on the road of uninhabited areas is allowed:

- 1 During dark hours only
- 2 In a daytime only
- 3 Both during dark hours and in a daytime

განმარტება:

„საგზაო მოძრაობის შესახებ“ საქართველოს კანონის 26-ე მუხლის მე-5 პუნქტის თანახმად, დასახლებული პუნქტის გაუნათებელ გზასა და დაუსახლებელი პუნქტის გზაზე ბავშვთა ჯგუფების გადაყვანა ნებადართულია მხოლოდ დღე-ღამის ნათელ დროს.

QUESTION 332

CORRECT ANSWER: 1

In case of absence of turn light-indicator or its failure, is it possible that the signal given by hand by the driver on his/her intention to maneuver, stop immediately before beginning the maneuver?

1

Yes

2

No

განმარტება:

„საგზაო მოძრაობის შესახებ“ საქართველოს კანონის 32-ე მუხლის მე-2 პუნქტის თანახმად მანევრის დაწყებამდე მძღოლი ვალდებულია ჩართოს შესაბამისი მიმართულების მოხვევის შუქ-მაჩვენებელი, ხოლო თუ ის არ არის ან გამოსულია მწყობრიდან – ანიშნოს ხელით. მარცხნივ მოხვევის ან მობრუნების სიგნალს შეესაბამება გვერდზე ჰორიზონტალურად გაშვებული მარცხენა ხელი ან გვერდზე გაშვებული, იდაყვში სწორი კუთხით ზემოთ მოხრილი მარჯვენა ხელი. მარჯვნივ მოხვევის სიგნალს შეესაბამება გვერდზე ჰორიზონტალურად გაშვებული მარჯვენა ხელი ან გვერდზე გაშვებული, იდაყვში სწორი კუთხით ზემოთ მოხრილი მარცხენა ხელი. დამუხრუჭების სიგნალს შეესაბამება ზემოთ ვერტიკალურად აწეული მარცხენა ან მარჯვენა ხელი. მოხვევის შუქ-მაჩვენებლით ან ხელით სიგნალი მიცემული უნდა იქნეს დროულად, მანევრის დაწყების წინ და უნდა შეწყდეს დაუყოვნებლივ, მისი დასრულებისთანავე (სიგნალის ხელით მიცემა შეიძლება შეწყდეს უშუალოდ მანევრის დაწყების წინ). ამასთანავე, სიგნალმა არ უნდა შეაყდინოს სხვა საგზაო მოძრაობის მონაწილეები. მოხვევის შუქ-მაჩვენებლით ან ხელით სიგნალის მიცემა მძღოლს არ აძლევს უპირატესობას და არ ათავისუფლებს სიფრთხილის აუცილებელი ზომების მიღების ვალდებულებისაგან.

QUESTION 333

CORRECT ANSWER: 2



Is the motor car driver obliged to switch on left-turning light when driving to the arrow direction?

1

No

2

Yes

განმარტება:

„საგზაო მოძრაობის შესახებ“ საქართველოს კანონის 32-ე მუხლის მე-2 პუნქტის თანახმად, მანევრის დაწყებამდე მძღოლი ვალდებულია ჩართოს შესაბამისი მიმართულების მოხვევის შუქ-მაჩვენებელი, ხოლო თუ ის არ არის ან გამოსულია მწყობრიდან – ანიშნოს ხელით.

QUESTION 334

CORRECT ANSWER: 3

Turn indicator or hand signal for maneuvering shall:

1

Entitle priority to the driver

2

Release the driver from mandatory caution

3

Neither entitle priority, nor release from mandatory caution

განმარტება:

„საგზაო მოძრაობის შესახებ“ საქართველოს კანონის 32-ე მუხლის მე-2 პუნქტის თანახმად, მოხვევის შეუმაჩვენებლით ან ხელით სიგნალის მიცემა მძღოლს არ აძლევს უპირატესობას და არ ათავისუფლებს სიფრთხილის აუცილებელი ზომების მიღების ვალდებულებისაგან.

QUESTION 335

CORRECT ANSWER: 1



Is the motor car driver violating the Highway Code while driving in illuminated tunnel marked with the road sign, if only sidelights are switched on?

1

Yes

2

No

განმარტება:

„საგზაო მოძრაობის შესახებ“ საქართველოს კანონის 42-ე მუხლის „ბ“ პუნქტის თანახმად, საგზაო ნიშნით აღნიშნულ გვირაბებში მოქმედებს შემდეგი წესი მძღოლმა უნდა ჩართოს შორი ან ახლო განათების ფარები, მიუხედავად იმისა, განათებულია თუ არა გვირაბი.

QUESTION 336

CORRECT ANSWER: 2

While passing the vehicle stopped with external lighting devices switched on or open door, a driver must:

- 1 Give honk and increase the speed
- 2 Use special caution in order to avoid hazard caused by sudden appearance of pedestrians or children on the road in due time
- 3 Decrease speed and switch hazard light on, as in case of sudden proceeding of the stopped vehicle, to provide avoidance of hazard in due time

განმარტება:

„საგზაო მოძრაობის შესახებ“ საქართველოს კანონის 25-ე მუხლის მე-8 პუნქტის თანახმად, გზაზე გაჩერებული სატრანსპორტო საშუალების გასწვრივ მოძრაობისას მძღოლმა განსაკუთრებული სიფრთხილე უნდა გამოიჩინოს ჩართული გარე სანათი ხელსაწყო ან ღია კარის მქონე სატრანსპორტო საშუალების მიმართ, რათა აუცილებლობის შემთხვევაში დროულად უზრუნველყოს გზაზე ქვეითთა და ბავშვების მოულოდნელი გამოჩენით წარმოშობილი საფრთხის თავიდან აცილება.

QUESTION 337

CORRECT ANSWER: 1

Is a driver obliged to use special caution towards pedestrian children, elderly people and individuals with disabilities?

- 1 Yes
- 2 No

განმარტება:

„საგზაო მოძრაობის შესახებ“ საქართველოს კანონის 21-ე მუხლის მე-6 პუნქტის თანახმად, მძღოლმა განსაკუთრებული სიფრთხილე უნდა გამოიჩინოს საგზაო მოძრაობის ისეთი მონაწილეების მიმართ, როგორებიც არიან ქვეითები (განსაკუთრებით ბავშვები, ხანდაზმულები, შეზღუდული შესაძლებლობის მქონე პირები) და ველოსიპედისტები.

QUESTION 338

CORRECT ANSWER: 2

In case of insufficient or limited visibility, a driver must:

- 1 Switch hazard light on and decrease the distance between him/her and preceding vehicle
- 2 Decrease speed and increase distance between him/her and preceding vehicle
- 3 Switch hazard light on and proceed on the extreme left side of the driveway

განმარტება:

„საგზაო მოძრაობის შესახებ“ საქართველოს კანონის 25-ე მუხლის მე-10 პუნქტის „ა“ ქვეპუნქტის თანახმად, გზაზე მოძრაობისას მძღოლმა უნდა გაითვალისწინოს შემდეგი გარემოებები - არასაკმარისი ან შეზღუდული ხილვადობის პირობებში მძღოლმა უნდა შეამციროს სიჩქარე და გაზარდოს დისტანცია თავის სატრანსპორტო საშუალებასა და მის წინ მიმავალ სატრანსპორტო საშუალებას შორის.

QUESTION 339

CORRECT ANSWER: 3

Before start of maneuvering, switching on the turn indicator light:

- 1 Entitles priority to the driver
- 2 Does not entitle priority to the driver over the operative vehicles only
- 3 Does not entitle priority to the driver and does not release from obligation of observation of the necessary measures of care

განმარტება:

„საგზაო მოძრაობის შესახებ“ საქართველოს კანონის 32-ე მუხლის მე-2 პუნქტის თანახმად, მოხვევის შეუ-
მაჩვენებლით ან ხელით სიგნალი მიცემული უნდა იქნეს დროულად, მანევრის დაწყების წინ და უნდა შეწყდეს
დაუყოვნებლივ, მისი დასრულებისთანავე (სიგნალის ხელით მიცემა შეიძლება შეწყდეს უშუალოდ მანევრის
დაწყების წინ). ამასთანავე, სიგნალმა არ უნდა შეაცდინოს სხვა საგზაო მოძრაობის მონაწილეები. მოხვევის შეუ-
მაჩვენებლით ან ხელით სიგნალის მიცემა მძღოლს არ აძლევს უპირატესობას და არ ათავისუფლებს
სიფრთხილის აუცილებელი ზომების მიღების ვალდებულებისაგან.

QUESTION 340

CORRECT ANSWER: 3

Duration of honk given by a driver should be:

1

No longer than 3 seconds

2

No longer than 5 seconds

3

No longer than needed

განმარტება:

„საგზაო მოძრაობის შესახებ“ საქართველოს კანონის 48-ე მუხლის მე-2 პუნქტის თანახმად, ხმოვანი სიგნალი არ უნდა იყოს უფრო ხანგრძლივი, ვიდრე ეს აუცილებელია.

QUESTION 341

CORRECT ANSWER: 2

While routing in inhabited area during a daytime, a driver may use the following for warning other driver about intended overtaking:

1

Honk

2

Periodical short-time alteration of beams

3

Hazard lights

4

Multiple changing of low beam with two beams

განმარტება:

„საგზაო მოძრაობის შესახებ“ საქართველოს კანონის 48-ე მუხლის მე-3 პუნქტის თანახმად, დასახლებულ პუნქტში გასწრების განზრახვის შესახებ სხვა სატრანსპორტო საშუალების მძღოლის გასაფრთხილებლად შეიძლება ჩაირთოს მანათობელი სიგნალი დღე-ღამის ნათელ დროს ფარების შუქის პერიოდული, ხანმოკლე ჩართვა-გამორთვით, ხოლო დღე-ღამის ბნელ დროს – ფარების ახლო შუქის შორ შუქზე მრავალჯერადი გადართვით, დაუსახლებულ პუნქტში კი – ხმოვანი სიგნალის ნაცვლად ან მასთან ერთად.

QUESTION 342

CORRECT ANSWER: 4

While routing in inhabited area during dark hours, driver may use the following for warning other driver about intended overtaking:

1 Honk

2 Periodical short-time alteration of beams

3 Hazard lights

4 Multiple changing of low beam with two beams

განმარტება:

„საგზაო მოძრაობის შესახებ“ საქართველოს კანონის 48-ე მუხლის მე-3 პუნქტის თანახმად, დასახლებულ პუნქტში გასწრების განზრახვის შესახებ სხვა სატრანსპორტო საშუალების მძღოლის გასაფრთხილებლად შეიძლება ჩაირთოს მანათობელი სიგნალი დღე-ღამის ნათელ დროს ფარების შუქის პერიოდული, ხანმოკლე ჩართვა-გამორთვით, ხოლო დღე-ღამის ბნელ დროს – ფარების ახლო შუქის შორ შუქზე მრავალჯერადი გადართვით, დაუსახლებულ პუნქტში კი – ხმოვანი სიგნალის ნაცვლად ან მასთან ერთად.

QUESTION 343

CORRECT ANSWER: 1

Is honk allowed for warning of other driver on intended overtaking?

1 Is allowed in uninhabited area only

2 Is allowed in inhabited area only

3 Is allowed both in inhabited and uninhabited areas

4 Is not allowed

განმარტება:

„საგზაო მოძრაობის შესახებ“ საქართველოს კანონის 48-ე მუხლის პირველი პუნქტის „ბ“ ქვეპუნქტის თანახმად, ხმოვანი სიგნალი შეიძლება გამოყენებულ იქნეს მხოლოდ დასახლებულ პუნქტს გარეთ, როდესაც საჭიროა სხვა სატრანსპორტო საშუალების მძღოლის გაფრთხილება გასწრების განზრახვის შესახებ.

QUESTION 344

CORRECT ANSWER: 4

At which of the below places is not a driver obliged to switch the turn indicator light of appropriate direction on before starting the maneuver?

1

In residential area

2

On adjacent territory

3

On yard territory

4

Is required in any of the places listed in given test

განმარტება:

„საგზაო მოძრაობის შესახებ“ საქართველოს კანონის 32-ე მუხლის მე-2 პუნქტის თანახმად, მანევრის დაწყებამდე მძღოლი ვალდებულია ჩართოს შესაბამისი მიმართულების მოხვევის შუქ-მაჩვენებელი, ხოლო თუ ის არ არის ან გამოსულია მწყობრიდან – ანიშნოს ხელით.

QUESTION 345

CORRECT ANSWER: 2

From twilight to dawn, as well as in other low-visibility conditions, the mechanical vehicles and their trailers must be marked as follows during stopping or parking on the road:

1

High beams

2

Front and rear sidelights

3

Low beams

4

With front fog-lights

განმარტება:

„საგზაო მოძრაობის შესახებ“ საქართველოს კანონის 49-ე მუხლის მე-9 პუნქტის თანახმად, დაბინდებიდან გათენებამდე, აგრეთვე ნებისმიერი სხვა არასაკმარისი ხილვადობის პირობებში, გზაზე გაჩერების ან დგომის დროს მექანიკური სატრანსპორტო საშუალება და მისი მისაბმელი აღნიშნული უნდა იყოს წინა და უკანა საგაბარიტო სინათლეებით.

QUESTION 346

CORRECT ANSWER: 3

Following should be switched on the mechanical vehicles during dark hours or in low visibility conditions:

1

Low or high beams only

2

Fog-lights only

3

Low or high beam and rear sidelights

4

Front and rear sidelights only

განმარტება:

„საგზაო მოძრაობის შესახებ“ საქართველოს კანონის 49-ე მუხლის პირველი პუნქტის თანახმად, დღე-ღამის ბნელ დროს, აგრეთვე არასაკმარისი ხილვადობის პირობებში მოძრავ მექანიკურ სატრანსპორტო საშუალებაზე, აგრეთვე მოპედზე ჩართული უნდა იყოს ახლო ან შორი განათების ფარა/ფარები და უკანა საგაბარიტო სინათლეები.

QUESTION 347

CORRECT ANSWER: 2

While driving in low visibility conditions or on the narrow twisted roads, fog-lights shall be switched on:

1

Together with hazard lights

2

Together with low or high beams

3

Together with front and rear sidelights only

განმარტება:

„საგზაო მოძრაობის შესახებ“ საქართველოს კანონის 49-ე მუხლის მე-5 პუნქტის თანახმად, არასაკმარისი ხილვადობის პირობებში ან ვიწრო მიხვეულ-მოხვეულ გზებზე მოძრაობისას, ნისლსაწინააღმდეგო ფარები ირთვება შორი ან ახლო განათების ფარებთან ერთად.

QUESTION 348

CORRECT ANSWER: 4

In case of the mechanical vehicle or the moped equipped with front sidelights, such lights should be switched:

- | | |
|---|--|
| <p>1 Together with high beams only</p> | <p>2 Together with low beams only</p> |
| <p>3 To the front – together with fog-lights</p> | <p>4 Together with both high and low beams and front fog-lights</p> |

განმარტება:

„საგზაო მოძრაობის შესახებ“ საქართველოს კანონის 49-ე მუხლის მე-6 პუნქტის თანახმად, წინა საგაბარიტო სინათლეებით აღჭურვილ მექანიკურ სატრანსპორტო საშუალებაზე, აგრეთვე მოპედზე ასეთი სინათლეები უნდა ჩაირთოს შორი ან ახლო განათების ფარებთან ან წინა ნისლსაწინააღმდეგო ფარებთან ერთად.

QUESTION 349

CORRECT ANSWER: 2

The trailer of the mechanical vehicle routing in dark hours or low visibility conditions should have:

- | | |
|--|--|
| <p>1 Special light reflector</p> | <p>2 Front sidelights (if stipulated by the Georgian legislation) and not less than two rear sidelights switched on</p> |
| <p>3 Only one front sidelight switched on</p> | |

განმარტება:

„საგზაო მოძრაობის შესახებ“ საქართველოს კანონის 49-ე მუხლის პირველი პუნქტის თანახმად, დღე-ღამის ბნელ დროს, აგრეთვე არასაკმარისი ხილვადობის პირობებში მოძრავ მექანიკურ სატრანსპორტო საშუალებაზე, აგრეთვე მოპედზე ჩართული უნდა იყოს ახლო ან შორი განათების ფარა/ფარები და უკანა საგაბარიტო სინათლეები, ხოლო მისაბმელზე – წინა საგაბარიტო სინათლეები (თუ მათ არსებობას ითვალისწინებს საქართველოს კანონმდებლობა) და არანაკლებ ორი უკანა საგაბარიტო სინათლე.

QUESTION 350

CORRECT ANSWER: 1

If a vehicle is equipped with front fog-lights, they are required to be:

- | | |
|--|--|
| <p>1 White or red selective color, in number of two</p> | <p>2 Red or yellow selective color, in number of four</p> |
| <p>3 Red selective light, in number of one</p> | |

განმარტება:

„საგზაო მოძრაობის შესახებ“ საქართველოს კანონის 49-ე მუხლის მე-4 პუნქტის თანახმად, თუ მექანიკური სატრანსპორტო საშუალება აღჭურვილია წინა ნისლსაწინააღმდეგო ფარებით, ისინი უნდა იყოს თეთრი ან ყვითელი სელექციური სინათლის, ორი, ხოლო მოტოციკლზე – ერთი.

QUESTION 351

CORRECT ANSWER: 4

Switching of low beams and rear sidelights is mandatory in order to mark the vehicle moving on the road during a daytime:

- | | |
|--|---|
| <p>1 Only upon conveyance of group of children by bus or in arranged body of lorry</p> | <p>2 Only upon towing of mechanical vehicle, on the towing vehicle</p> |
| <p>3 Only on the route vehicles on the lanes specially designated for them, when moving opposite to main flow</p> | <p>4 In all cases listed in given test</p> |

განმარტება:

„საგზაო მოძრაობის შესახებ“ საქართველოს კანონის 49-ე მუხლის მე-8 პუნქტის „ბ“, „დ“ და „ე“ ქვეპუნქტების თანახმად, დღის ნათელ დროს გზაზე მოძრავი სატრანსპორტო საშუალების აღნიშვნის მიზნით სავალდებულოა ახლო განათების ფარებისა და უკანა საგაბარიტო სინათლეების ჩართვა: ბ) ავტობუსით ან სათანადოდ მოწყობილი სატვირთო ავტომობილის ძარით ბავშვთა ჯგუფის გადაყვანისას; დ) მექანიკური სატრანსპორტო საშუალების ბუქსირებისას, მობუქსირე სატრანსპორტო საშუალებაზე; ე) სამარშრუტო სატრანსპორტო საშუალებაზე, სპეციალურად მისთვის გამოყოფილ ზოლზე, ძირითადი ნაკადის საპირისპირო მიმართულებით მოძრაობისას.

QUESTION 352

CORRECT ANSWER: 2

If road in inhabited area is sufficiently lighted:

1

Sidelights must be switched on

2

Low beams must be switched on

3

High beams must be switched on

განმარტება:

„საგზაო მოძრაობის შესახებ“ საქართველოს კანონის 49-ე მუხლის მე-2 პუნქტის „ა“ ქვეპუნქტის თანახმად, შორი განათების ფარები უნდა გამოირთოს და მათ ნაცვლად უნდა ჩაირთოს ახლო განათების ფარები შემდეგ შემთხვევებში: ა) დასახლებულ პუნქტში, თუ გზა საკმარისად არის განათებული, და დაუსახლებელ პუნქტში, თუ სავალი ნაწილი თანაბრად არის განათებული და ეს განათება საკმარისია მძღოლისათვის საკმარის მანძილზე კარგი ხილვადობის უზრუნველსაყოფად, აგრეთვე იმისათვის, რომ სხვა საგზაო მოძრაობის მონაწილეები საკმარის მანძილზე ხედავდნენ მოცემულ სატრანსპორტო საშუალებას.

QUESTION 353

CORRECT ANSWER: 2

Is equipment of the vehicle with front red lights and rear white lights allowed?

1

Yes

2

No

3

Yes, special service vehicles only

განმარტება:

„საგზაო მოძრაობის შესახებ“ საქართველოს კანონის 49-ე მუხლის მე-13 პუნქტის თანახმად, აკრძალულია სატრანსპორტო საშუალების წინ წითელი და უკან თეთრი სინათლეებით აღჭურვა. დაუშვებელია სატრანსპორტო საშუალების კონსტრუქციის შეცვლა ან აღჭურვა დამატებითი სინათლეებით, რომლებიც შეიძლება ეწინააღმდეგებოდეს მოცემულ მოთხოვნებს.

QUESTION 354

CORRECT ANSWER: 2

Is fixing of lights of various colors of same purpose and directed in the same direction on one and the same vehicle allowed?

1 Yes

2 No

3 Ye, on the operative vehicle only

განმარტება:

„საგზაო მოძრაობის შესახებ“ საქართველოს კანონის 49-ე მუხლის მე-14 პუნქტის თანახმად, ერთ სატრანსპორტო საშუალებაზე ერთნაირი დანიშნულებისა და ერთსა და იმავე მხარეს მიმართული ფარები ერთი ფერის უნდა იყოს. ლუწი რაოდენობის ფარები და შექამრეკლი მონაცობილობები სატრანსპორტო საშუალების შუა გრძივ კვეთასთან მიმართებით სიმეტრიულად უნდა იყოს განლაგებული, გარდა იმ სატრანსპორტო საშუალებისა, რომლის გარეგანი ფორმა არ არის სიმეტრიული. ერთნაირი დანიშნულების ფარების ყოველ წყვილს აშკარად ერთნაირი შექცალა უნდა ჰქონდეს.

QUESTION 355

CORRECT ANSWER: 2

Use of projector and searchlight is allowed:

1 In inhabited area, on the driveway of one-way road

2 In uninhabited area only, if there is no oncoming vehicle

3 In inhabited area on the road, where there is only one lane in each direction, without tram rails in the middle

განმარტება:

„საგზაო მოძრაობის შესახებ“ საქართველოს კანონის 49-ე მუხლის მე-15 პუნქტის თანახმად, ფარა-პროექტორითა და ფარა-მადიებლით სარგებლობა ნებადართულია მხოლოდ დაუსახლებელ პუნქტში, თუ არ არის საპირისპირო მიმართულებით მოძრავი სატრანსპორტო საშუალება. დასახლებულ პუნქტში ასეთი ფარებით სარგებლობა შეუძლიათ მხოლოდ ოპერატიული და სპეციალური სამსახურების სატრანსპორტო საშუალებათა მძღოლებს სამსახურებრივი მოვალეობის შესრულებისას.

QUESTION 356

CORRECT ANSWER: 3

Parking lights may be switched on instead of front and rear sidelights in inhabited areas, provided that:

1 Length of the vehicle does not exceed 6 meters and width – 2 meters

2 The vehicle does not have a trailer

3 All of the conditions listed in given test is considered

განმარტება:

„საგზაო მოძრაობის შესახებ“ საქართველოს კანონის 49-ე მუხლის მე-10 პუნქტის „ა“ და „ბ“ ქვეპუნქტების თანახმად, დასახლებულ პუნქტში წინა და უკანა საგაბარიტო სინათლეების ნაცვლად შეიძლება ჩართულ იქნეს პარკირების ნათურები იმ პირობით, რომ: ა) სატრანსპორტო საშუალების სიგრძე არ აღემატება 6 მეტრს, ხოლო სიგანე – 2 მეტრს; ბ) სატრანსპორტო საშუალებას არ აქვს მისაბმელი.

QUESTION 357

CORRECT ANSWER: 1

Hand trucks, exceeding one meter by width, shall be equipped with at least:

1 One front white or yellow selective light and one rear red light

2 One front yellow or white selective light only

3 One rear red light only

განმარტება:

„საგზაო მოძრაობის შესახებ“ საქართველოს კანონის 50-ე მუხლის მე-2 პუნქტის თანახმად, ურიკას, რომელიც ხელით გადაადგილდება, უნდა ჰქონდეს სულ მცირე ერთი წინა თეთრი ან ყვითელი სელექციური სინათლე და სულ მცირე ერთი უკანა წითელი სინათლე. ამ ორი სინათლის წყარო შეიძლება იყოს ერთი ფარანი, რომელიც განლაგებული უნდა იყოს ურიკის მარცხენა მხარეს. ფარანი არ არის აუცილებელი იმ ხელის ურიკისათვის, რომლის სიგანე 1 მეტრს არ აღემატება.

QUESTION 358

CORRECT ANSWER: 3

One light should be fixed on the front and rear sides of the cartage, exceeding one meter by width, in all cases:

1

On the right side

2

In the middle

3

On the left side

განმარტება:

„საგზაო მოძრაობის შესახებ“ საქართველოს კანონის 50-ე მუხლის მე-3 პუნქტის თანახმად, საჭაპანო ტრანსპორტს უნდა ჰქონდეს სულ მცირე ერთი წინა თეთრი ან ყვითელი სელექციური სინათლე და ერთი უკანა წითელი სინათლე. წინა და უკანა მხარეს თითო ფარანი განლაგებული უნდა იყოს მარცხენა მხარეს.

QUESTION 359

CORRECT ANSWER: 1

Will lorry driver violate the Highway Code, if he/she proceeds until service station during failure of active braking system with hazard lights switched on?

1

Yes

2

No

განმარტება:

„საგზაო მოძრაობის შესახებ“ საქართველოს კანონის მე-21-ე მუხლის მე-13 პუნქტის თანახმად, მძღოლს ეკრძალება მოძრაობა მუშა სამუხრუჭო სისტემის, საჭის მექანიზმის, სატრანსპორტო საშუალებათა შემადგენლობაში მისაბმელი მოწყობილობის გაუმართაობისას, აგრეთვე დღე-ღამის ბნელ დროს ერთდროულად მწყობრიდან გამოსული (ჩამქრალი) ახლო და შორი განათების ფარებით (ან მათი არარსებობისას) ან/და უკანა საგაბარიტო სინათლეებით იმ გზაზე, რომელზედაც არ არის ხელოვნური განათება ან არასაკმარისი ხილვადობა. მძღოლის მხარეს არსებული მინასანმენდის უმოქმედობისას აკრძალულია მექანიკური სატრანსპორტო საშუალების მართვა ნისლის, წვიმისა და თოვის დროს.

QUESTION 360

CORRECT ANSWER: 2

Will lorry driver violate the Highway Code, if he/she proceeds until service station during failure of steering gear with hazard lights switched on?

1 No

2 Yes

განმარტება:

„საგზაო მოძრაობის შესახებ“ საქართველოს კანონის მე-21-ე მუხლის მე-13 პუნქტის თანახმად, მძღოლს ეკრძალება მოძრაობა მუშა სამუხრუჭო სისტემის, საჭის მექანიზმის, სატრანსპორტო საშუალებათა შემადგენლობაში მისაბმელი მოწყობილობის გაუმართაობისას, აგრეთვე დღე-ღამის ბნელ დროს ერთდროულად მწყობრიდან გამოსული (ჩამქრალი) ახლო და შორი განათების ფარებით (ან მათი არარსებობისას) ან/და უკანა საგაბარიტო სინათლეებით იმ გზაზე, რომელზედაც არ არის ხელოვნური განათება ან არასაკმარისი ხილვადობა. მძღოლის მხარეს არსებული მინასანმენდის უმოქმედობისას აკრძალულია მექანიკური სატრანსპორტო საშუალების მართვა ნისლის, წვიმისა და თოვის დროს.

QUESTION 361

CORRECT ANSWER: 1

During dark hours or low visibility conditions, while approaching the end of the uphill, a driver must switch the high beams off and switch low beams on:

1 In any case, when approaching the end of the uphill

2 Only upon appearance of oncoming vehicle

განმარტება:

დღე-ღამის ბნელ დროს ან არასაკმარისი ხილვადობის პირობებში, აღმართის ბოლოსთან მიახლოებისას სატრანსპორტო საშუალების მძღოლმა ნებისმიერ შემთხვევაში უნდა გამოართოს შორი ნათების ფარები და ჩართოს ახლო ნათების ფარები.

QUESTION 362

CORRECT ANSWER: 3

During dark hours, in the conditions of heavy snow, which of the external illuminating devices provides better visibility of road?

1

High beams

2

Fog-lights together with high beams

3

Fog-lights together with low beams

განმარტება:

დღე-ღამის ბნელ დროს, ძლიერი თოვის პირობებში გზის უკეთეს ხილვადობის უზრუნველსაყოფად მიზანშეწონილია ნისლსანინააღმდეგო ფარების ახლო ნათების ფარებთან ერთად ჩართვა.

QUESTION 363

CORRECT ANSWER: 4

Out of the listed below what is the driver required to check regularly?

1

Only the control system of the steering wheel

2

Only of the wheels

3

Only the equipment of exterior lighting

4

All of the listed mechanisms in given test

განმარტება:

ავტომობილის მძღოლმა რეგულარულად უნდა შეამოწმოს როგორც საჭის მართვის მექანიზმის, ასევე საბურავების და გარე სანათი ხელსაწყოების გამართულობა.

QUESTION 364

CORRECT ANSWER: 2

Which of the following parameters shall be taken into account while measuring total capacity of loading compartment of the loading van?

1

Height of loading compartment of the van

2

Total length of the vehicle

3

Width of loading compartment of the van

4

Length of loading compartment of the van

განმარტება:

სატვირთო ფურგონის სატვირთო განყოფილების ტევადობის გამოთვლისას არ უნდა გავითვალისწინოთ ავტომობილის საერთო სიგრძე.

QUESTION 365

CORRECT ANSWER: 1

Which of the following braking systems provides faster activation of brakes?

1

Hydraulic braking system

2

Pneumatic braking system

3

Combined braking system

4

Speed of activation of brakes is not depended upon the construction of the braking system

განმარტება:

ჩამოთვლილი სამუხრუჭო სისტემებიდან, ავტომობილის მუხრუჭების უფრო სწრაფად ამოქმედებას უზრუნველყოფს ჰიდრავლიკური სამუხრუჭო სისტემა.

QUESTION 366

CORRECT ANSWER: 4

While loading the cargo on the truck, following shall be taken into account:

- | | |
|--|--|
| 1 Location of the centre of gravity | 2 Requirements regarding loading on the axis only |
| 3 Possibility of movement of cargo in case of road accident only | 4 All of the requirements and circumstances listed in given test |

განმარტება:

სატვირთო ავტომობილზე ტვირთის მოთავსებისას გათვალისწინებული უნდა იქნეს როგორც სიმძიმის ცენტრის მდებარეობა, ასევე ღერძზე დატვირთვისთან დაკავშირებული მოთხოვნები და საგზაო-სატრანსპორტო შემთხვევის დროს, ტვირთის გადაადგილების ალბათობა.

QUESTION 367

CORRECT ANSWER: 2

How does large amount of rust on the braking disks affects operation of the braking system?

- | | |
|---|---|
| 1 Positively, as large amount of rust improves the friction force between the disk and the pads | 2 Negatively, as large amount of rust causes uneven operation of the braking system |
| 3 Existence of large amount of rust does not affect operation of the braking system | |

განმარტება:

სამუხრუჭო სისტემის გამართულ მუშაობაზე სამუხრუჭო დისკებზე დიდი ოდენობით ჟანგის არსებობა ახდენს უარყოფით გავლენას, რადგანაც დიდი ოდენობით ჟანგი იწვევს სამუხრუჭო სისტემის არათანაბარ მუშაობას.

QUESTION 368

CORRECT ANSWER: 1

How is the capacity of loading compartment of the van-type vehicle calculated?

- | | |
|---|---|
| <p>1 Length of the loading compartment shall be multiplied by its width and height</p> | <p>2 Length of the loading compartment shall be multiplied by its width and half of height</p> |
| <p>3 Height of loading section shall be multiplied by its double width</p> | <p>4 Its calculation is impossible</p> |

განმარტება:

ფურგონის ტიპის ავტომობილის სატვირთო განყოფილების მოცულობის გამოსათვლელად, სატვირთო განყოფილების სიგრძე უნდა გავამრავლოთ მის სიგანეზე და სიმაღლეზე.

QUESTION 369

CORRECT ANSWER: 2

Which of the following statement is false?

- | | |
|--|--|
| <p>1 Bulk load shall be loaded in such a way to exclude possibility of its throwing during its conveyance</p> | <p>2 Ropes or chains used for fastening of the cargo and provision of its safety, shall not be tensed</p> |
| <p>3 Cargo shall be equally allocated on the body</p> | <p>4 None of the suggestions listed in given test is not wrong</p> |

განმარტება:

„საგზაო მოძრაობის შესახებ“ საქართველოს კანონის 47-ე მუხლის მე-11 პუნქტის „ა“ და „ბ“ ქვეპუნქტების თანახმად: ა) სატრანსპორტო საშუალებაზე ნებისმიერი ტვირთი იმგვარად უნდა მოთავსდეს და აუცილებლობის შემთხვევაში დამაგრდეს, რომ მისი გადაზიდვისას, საფრთხე არ შეექმნას სხვა საგზაო მოძრაობის მონაწილეებს, ზიანი არ მიადგეს სახელმწიფო, საზოგადოებრივ და კერძო ქონებას, ტვირთი არ ეთრეოდეს და არ ცვიოდეს გზაზე; ბ) არ შეიზღუდოს ხილვადობა და ხედვის არე, არ დაირღვეს სატრანსპორტო საშუალების მდგრადობა და არ გაძნელდეს მისი მართვა. თუ, თოვები ან ჭაჭვები, რომლებიც გამოიყენება ტვირთის დამაგრებისა და უვნებლობის უზრუნველსაყოფად არ იქნა სათანადოდ დაჭიმული გამოიწვევს როგორც ტვირთის გადმოყრას, ასევე ტვირთის გადაადგილებას მოძრაობისას, რაც დაარღვევს სატრანსპორტო საშუალების მდგრადობას და გააძნელებს მის მართვას.

QUESTION 370

CORRECT ANSWER: 2

While driving on the frozen road, it is recommended to place the cargo for reduction of possibility of sliding:

1

Near non-steering axis

2

Near steering axis

3

Shall be equally distributed on non-steering and steering axes

განმარტება:

მოყინულ გზაზე მოძრაობისას ტვირთი მიზანძენილია განთავსდეს წამყვან ღერძთან ახლოს, რაც გაზრდის წამყვან ღერძზე საბურავებზე დატვირთვას და გადაადგილებისას მოცურების ალბათობის შემცირებას.

თემა 15:

მოძრაობის დანყება, მანევრირება,
სატრანსპორტო საშუალების განლაგება
სავალ ნაწილზე

QUESTION 371

CORRECT ANSWER: 1



Is red car driver obliged to yield to the pedestrians when driving from adjacent territory to the road?

1

Yes

2


No

პანმარტივა:

„საგზაო მოძრაობის შესახებ“ საქართველოს კანონის 25-ე მუხლის მე-7 პუნქტის თანახმად, მძღოლმა მიმდებარე ტერიტორიიდან გზაზე გამოსვლისას ან გზიდან ასეთ ტერიტორიაზე შესვლისას გზა უნდა დაუთმოს ქვეითებს.

QUESTION 372

CORRECT ANSWER: 2



The motor car driver is allowed to perform U-turn maneuver:

1

In direction A only

2

In direction B only

3

In both A and B directions

განმარტება:

„საგზაო მოძრაობის შესახებ“ საქართველოს კანონის პირველი დანართის 4.3 პუნქტის თანახმად, საგზაო ნიშანი 4.3 „წრიული მოძრაობა“ - რთავს ისრებით ნაჩვენები მიმართულებებით მოძრაობის ნებას გზატკარედინზე, რომელზედაც წრიული მოძრაობაა ორგანიზებული.

QUESTION 373

CORRECT ANSWER: 3



Which motor car driver will violate the Highway Code in case of driving to the arrow direction?

1

Yellow car driver

2

White car driver

3

Red car driver

4

Green car driver

განმარტება:

„საგზაო მოძრაობის შესახებ“ საქართველოს კანონის 31-ე მუხლის მე-12 პუნქტის თანახმად, თუ ამ კანონით სხვა რამ არ არის გათვალისწინებული, ნებისმიერ სავალ ნაწილზე, თანმხვედრი მიმართულებით მოძრაობისთვის განკუთვნილი სამი ან მეტი მოძრაობის ზოლის არსებობისას განაპირა მარცხენა მოძრაობის ზოლის დაკავება ნებადართულია მხოლოდ ინტენსიური მოძრაობისას, როცა სხვა მოძრაობის ზოლები დაკავებულია, აგრეთვე გასწრების, მარცხნივ მოხვევის ან მობრუნების მიზნით, ხოლო სატვირთო ავტომობილებისათვის - მხოლოდ მარცხნივ მოხვევის ან მობრუნების დროს.

QUESTION 374

CORRECT ANSWER: 2



Which vehicle driver shall be obliged to yield when driving to the arrow direction?

1

Yellow car driver

2

White car driver

განმარტება:

„საგზაო მოძრაობის შესახებ“ საქართველოს კანონის 32-ე მუხლის მე-4 პუნქტის თანახმად, მოძრაობის ზოლიდან ზოლში მოძრაობის მიმართულების შეუცვლელად გადასვლისას მძღოლმა გზა უნდა დაუთმოს გადასასვლელ მოძრაობის ზოლში თანმხვედრი მიმართულებით მოძრავ სატრანსპორტო საშუალებას. თანმხვედრი მიმართულებით მოძრავი სატრანსპორტო საშუალებების მიერ მოძრაობის ზოლების ერთდროულად შეცვლისას მოძრაობის ტრაექტორიების გადაკვეთის შემთხვევაში გავლის უპირატესობა ენიჭება მარჯნივ მყოფ სატრანსპორტო საშუალების მძღოლს.

QUESTION 375

CORRECT ANSWER: 4



The road width nearby the intersection does not give opportunity for the lorry to make a turn. Does the lorry driver have the right to make a turn?

1

Does not have the right, as it is prohibited to make a turn on the intersection

2

Does not have the right, as making a turn is permitted only from the leftmost lane

3

Has the right only when the gross vehicle mass does not exceed 11 tons

4

Has the right if ensuring road safety and if such action shall not create any obstacles for road other users

განმარტება:

„საგზაო მოძრაობის შესახებ“ საქართველოს კანონის 32-ე მუხლის მე-7 პუნქტის „ბ“ ქვეპუნქტისა თანახმად, სხვა გზაზე გასასვლელად ან გზის მიმდებარე ტერიტორიაზე შესასვლელად მარჯვნივ ან მარცხნივ მოხვევის წინ, ისე, რომ არ დაარღვიოს ამ კანონის 20-ე მუხლის მე-2 პუნქტითა და, ამ მუხლის პირველი და მე-2 პუნქტებით დადგენილი მოთხოვნები, თუ სატრანსპორტო საშუალების მძღოლი აპირებს გზიდან გასვლას მარცხენა მხრიდან, სატრანსპორტო საშუალება, რამდენადაც ეს შესაძლებელია, უნდა მიუახლოვდეს გზის სავალი ნაწილის ღერძს (ორმხრივი მოძრაობის გზებზე) ან სავალი ნაწილის მარცხენა კიდე (ცალმხრივი მოძრაობის გზებზე), ხოლო თუ ის სხვა ორმხრივმოძრაობიან გზაზე აპირებს გასვლას, მოხვევა ისე უნდა შესრულოს, რომ სავალი ნაწილების გადაკვეთიდან გამოსვლისას სატრანსპორტო საშუალება საპირისპირო მოძრაობის მხარეს არ აღმოჩნდეს. ამავე მუხლის მე-10 და მე-11 პუნქტების თანახმად: 10. თუ გზაჯვარედინის მიღმა მობრუნებისას სავალი ნაწილის სიგანე არასაკმარისია უკიდურესი მარცხენა მდებარეობიდან მობრუნებისთვის, ეს მანევრი შეიძლება შესრულდეს სავალი ნაწილის მარჯვენა კიდიდან ან მარჯვენა გვერდულადან. ამასთანავე, მძღოლმა გზა უნდა დაუთმოს თანმხვედრი და საპირისპირო მიმართულებებით მოძრავ სატრანსპორტო საშუალებებს. 11. თუ გზაჯვარედინზე სავალი ნაწილის სიგანე არასაკმარისია უკიდურესი მარცხენა მდებარეობიდან მობრუნებისთვის, მძღოლი ვალდებულია ეს მანევრი შესრულოს გზაჯვარედინის მიღმა, გარდა იმ შემთხვევისა, როცა გზაჯვარედინის სიახლოვეს გზის სიგანე ამის შესაძლებლობას არ იძლევა. ყველა შემთხვევაში უზრუნველყოფილი უნდა იქნეს მოძრაობის უსაფრთხოება და დაბრკოლება არ უნდა შეექმნას სხვა საგზაო მოძრაობის მონაწილეებს. ამ პუნქტით განსაზღვრული წესი არ ვრცელდება იმ გზაჯვარედინებზე, რომლებზედაც მობრუნება აკრძალულია შესაბამისი საგზაო ნიშნით ან საგზაო მონიშვნით.

QUESTION 376

CORRECT ANSWER: 1



Which vehicle driver shall be obliged to yield when driving to the arrow direction?

1

Motor car driver

2


Lorry driver

განმარტება:

„საგზაო მოძრაობის შესახებ“ საქართველოს კანონის 36-ე მუხლის მე-4 პუნქტის „გ“ ქვეპუნქტის თანახმად, არარეგულირებულ გზაჯვარედინზე, თანაბარმნიშვნელოვანი გზების გადაკვეთაზე ურელსო სატრანსპორტო საშუალების მძღოლი ვალდებულია გზა დაუთმოს მარჯვნიდან მოახლოებულ სატრანსპორტო საშუალებას.

QUESTION 377

CORRECT ANSWER: 2



Which of the vehicle drivers shall be obliged to yield when driving to the arrow direction?

1

Motor car driver

2


Lorry driver

განმარტება:

„საგზაო მოძრაობის შესახებ“ საქართველოს კანონის 36-ე მუხლის მე-4 პუნქტის „გ“ ქვეპუნქტის თანახმად, არარეგულირებულ გზაჯვარედინზე, თანაბარმნიშვნელოვანი გზების გადაკვეთაზე ურელსო სატრანსპორტო საშუალების მძღოლი ვალდებულია გზა დაუთმოს მარჯვნიდან მოახლოებულ სატრანსპორტო საშუალებას. ამავდროულად უნდა იხელმძღვანელონ ურთიერთშორის რელსიანი სატრანსპორტო საშუალებების მძღოლებმაც. ასეთ გზაჯვარედინზე რელსიანი სატრანსპორტო საშუალებას აქვს უპირატესობა ურელსო სატრანსპორტო საშუალების მიმართ, მიუხედავად მისი მოძრაობის მიმართულებისა.

QUESTION 378

CORRECT ANSWER: 3



When driving to the arrow direction, white motor car driver must yield to:

1

Motorcyclist only

2

Tram driver only

3

Both of them

ბანამარტეზა:

„საგზაო მოძრაობის შესახებ“ საქართველოს კანონის 32-ე მუხლის მე-3 და მე-9 პუნქტების თანახმად: 3. მიმდებარე ტერიტორიიდან გზაზე გასვლისას მძღოლი ვალდებულია გზა დაუთმოს გზაზე მოძრავ სატრანსპორტო საშუალებასა და ქვეითს, ხოლო გზიდან გადასვლისას – იმ ქვეითს, ველოსიპედისტს, მოპედისტსა და ორბორბლიანი ელექტროთვითმგორავის მძღოლებს, რომლებსაც გზას უჭრის. 9. მარცხნივ მოხვევისას ან გზაჯვარედინის მიღმა მობრუნებისას ურელსო სატრანსპორტო საშუალების მძღოლი ვალდებულია გზა დაუთმოს საპირისპირო მიმართულებით მოძრავ სატრანსპორტო საშუალებას და თანმხვედრი მიმართულებით მოძრავ ტრამვაის.

QUESTION 379

CORRECT ANSWER: 3



Which vehicle driver is violating the Highway Code in case of proceeding to the arrow direction:

1

Tractor driver only

2

„CE“ category car driver only

3

Tractor and „CE“ category car drivers only

4

„CE“ and “B” category car drivers only

განმარტება:

„საგზაო მოძრაობის შესახებ“ საქართველოს კანონის 38-ე მუხლის პირველი პუნქტის „ა“ და „გ.გ“ ქვეპუნქტების თანახმად, ავტომაგისტრალზე, ავტომაგისტრალის შესასვლელსა და გამოსასვლელზე: ა) აკრძალულია ქვეითის, ცხოველის, ველოსიპედის, მოპედის, ორბორბლიანი ელექტროთვითმგორავის, ავტომობილისა და მათი მისაბმელებისგან განსხვავებული ყველა სატრანსპორტო საშუალების მოძრაობა. გ.გ) მძღოლს ეკრძალება მეორე ზოლის იქით იმ ტვირთის გადამზიდავი ავტომობილით (მისაბმელებით ან მათ გარეშე) მოძრაობა, რომლის ნებადართული მაქსიმალური მასა 3,5 ტონას აღემატება ან იმ მისაბმელიანი ავტომობილებით მოძრაობა, რომელთა საერთო სიგრძე 7 მეტრზე მეტია.

QUESTION 380

CORRECT ANSWER: 2



Maximum allowable mass of this lorry exceeds 3.5 tonnes. Which of the vehicle drivers is not prohibited from proceeding to the arrow direction?

1

Moped driver

2

Motor car driver

3

Lorry driver

განმარტება:

„საგზაო მოძრაობის შესახებ“ საქართველოს კანონის პირველი დანართის 3.22 პუნქტის თანახმად, საგზაო ნიშანი 3.22 „სატვირთო ავტომობილით გასწრება აკრძალულია“ - კრძალავს 3,5 ტონაზე მეტი ნებადართული მაქსიმალური მასის მქონე სატვირთო ავტომობილით სხვა სატრანსპორტო საშუალების გასწრებას (გარდა 30 კმ/სთ-ზე ნაკლები სიჩქარით მოძრავი ტრანსპორტისა), აგრეთვე ტრაქტორით სხვა სატრანსპორტო საშუალების გასწრებას (გარდა საჭაპანო ტრანსპორტისა და ველოსიპედისა). ამავე კანონის 38-ე მუხლის მე-5 პუნქტის თანახმად, ამ მუხლის პირველი–მე-3 პუნქტების გამოყენებისას ავტომაგისტრალს უთანაბრდება საავტომობილო მოძრაობისათვის განკუთვნილი და 5.3 საგზაო ნიშნით აღნიშნული ის გზები, რომლებიც მიმდებარე ტერიტორიებს არ ემსახურება. ამავე დანართის 5.3 პუნქტის თანახმად საგზაო ნიშანი 5.3. „საავტომობილო გზა“ – გზა, რომელიც განკუთვნილია მხოლოდ ავტომობილისა და მოტოციკლის მოძრაობისათვის.

QUESTION 381

CORRECT ANSWER: 2

If not otherwise defined by the traffic organization means, the side of concurrent traffic on two-way road with three lanes shall be:

1

Median and right lanes

2


Only the lane located on the right side

განმარტება:

„საგზაო მოძრაობის შესახებ“ საქართველოს კანონის 31-ე მუხლის მე-3 პუნქტის თანახმად, საგზაო მონიშვნით აღნიშნული სამი მოძრაობის ზოლის მქონე ორმხრივმოძრაობიან გზაზე თანხვედრი მიმართულების მოძრაობის მხარედ ითვლება მხოლოდ მარჯვენა მხარეს მდებარე მოძრაობის ზოლი, თუ საგზაო მოძრაობის ორგანიზაციის საშუალებებით სხვა რამ არ არის დადგენილი.

QUESTION 382

CORRECT ANSWER: 4



When driving to the arrow direction, grey car driver has priority over?

1

Bicyclist only

2

White car driver only

3

Both of them

4

None of them

ბანმარტეზა:

„საგზაო მოძრაობის შესახებ“ საქართველოს კანონის 32-ე მუხლის მე-4 პუნქტის თანახმად, მოძრაობის მიმართულების შეუცვლელად მოძრაობის ზოლიდან ზოლში გადასვლისას, მძღოლმა გზა უნდა დაუთმოს გადასასვლელ მოძრაობის ზოლში თანმხვედრი მიმართულებით მოძრავ სატრანსპორტო საშუალებას.

QUESTION 383

CORRECT ANSWER: 1



In the present situation, when simultaneously entering the traffic lanes, following vehicle shall have the priority:

1

Motor car driver

2


Lorry driver

განმარტება:

„საგზაო მოძრაობის შესახებ“ საქართველოს კანონის 32-ე მუხლის მე-4 პუნქტის თანახმად, მოძრაობის მიმართულების შეუცვლელად მოძრაობის ზოლიდან ზოლში გადასვლისას, მძღოლმა გზა უნდა დაუთმოს გადასასვლელ მოძრაობის ზოლში თანმხვედრი მიმართულებით მოძრავ სატრანსპორტო საშუალებას. თანმხვედრი მიმართულებით მოძრავი სატრანსპორტო საშუალებების მიერ, მოძრაობის ზოლების ერთდროულად შეცვლისას, მოძრაობის ტრაექტორიების გადაკვეთის შემთხვევაში, გავლის უპირატესობა ენიჭება მარჯნივ მყოფ სატრანსპორტო საშუალების მძღოლს.

QUESTION 384

CORRECT ANSWER: 2



Is the lorry driver allowed to proceed to the arrow direction, if width of the driveway is not sufficient for U-turn from the left lane?

1

No

2


Yes

განმარტება:

„საგზაო მოძრაობის შესახებ“ საქართველოს კანონის 32-ე მუხლის მე-10 პუნქტის თანახმად, თუ გზაჯვარედინის მიღმა, მობრუნებისას სავალი ნაწილის სიგანე არასაკმარისია უკიდურესი მარცხენა მდებარეობიდან მანევრისთვის, ეს უკანასკნელი შეიძლება შესრულდეს სავალი ნაწილის მარჯვენა ნაპირიდან ან მარჯვენა გვერდულიდან, ამასთან, მძღოლმა გზა უნდა დაუთმოს თანმხვედრი და საპირისპირო მიმართულებით მოძრავ სატრანსპორტო საშუალებებს. ამავე კანონის მე-2 დანართის 1.11 პუნქტის თანახმად, ჰორიზონტალური საგზაო მონიშვნა 1.11. ყოფს საპირისპირო ან თანმხვედრი მიმართულებით მოძრავ სატრანსპორტო ნაკადებს გზის მონაკვეთზე, სადაც გადაჯგუფება ნებადართულია მხოლოდ ერთი ზოლიდან; აღნიშნავს მობრუნების ადგილს, სადგომი მოედნიდან გამოსასვლელსა და შესასვლელს და ა. შ., სადაც მოძრაობა ნებადართულია მხოლოდ ერთ მხარეს. 1.11 ხაზის გადაკვეთა ნებადართულია წყვეტილი ხაზის მხრიდან, აგრეთვე უწყვეტი ხაზის მხრიდან, მაგრამ მხოლოდ გასწრების ან შემოვლის დამთავრებისას.

QUESTION 385

CORRECT ANSWER: 4



If width of the driveway is not sufficient for U-turn of the lorry from the left lane, when driving to the arrow direction, the lorry driver is obliged to yield to:

1

Tram driver only

2

White motor car driver only

3

Black motor car driver only

4


All of them

განმარტება:

„საგზაო მოძრაობის შესახებ“ საქართველოს კანონის 32-ე მუხლის მე-10 და მე-11 პუნქტების თანახმად: 10. თუ გზატკარედის მიღმა მობრუნებისას სავალი ნაწილის სიგანე არასაკმარისია უკიდურესი მარცხენა მდებარეობიდან მობრუნებისთვის, ეს მანევრი შეიძლება შესრულდეს სავალი ნაწილის მარჯვენა კიდიდან ან მარჯვენა გვერდულად. ამასთანავე, მძღოლმა გზა უნდა დაუთმოს თანმხვედრი და საპირისპირო მიმართულებებით მოძრავ სატრანსპორტო საშუალებებს. 11. თუ გზატკარედის სავალი ნაწილის სიგანე არასაკმარისია უკიდურესი მარცხენა მდებარეობიდან მობრუნებისთვის, მძღოლი ვალდებულია ეს მანევრი შეასრულოს გზატკარედის მიღმა, გარდა იმ შემთხვევისა, როცა გზატკარედის სიახლოვეს გზის სიგანე ამის შესაძლებლობას არ იძლევა. ყველა შემთხვევაში უზრუნველყოფილი უნდა იქნეს მოძრაობის უსაფრთხოება და დაბრკოლება არ უნდა შეექმნას სხვა საგზაო მოძრაობის მონაწილეებს. ამ პუნქტით განსაზღვრული წესი არ ვრცელდება იმ გზატკარედებზე, რომლებზედაც მობრუნება აკრძალულია შესაბამისი საგზაო ნიშნით ან საგზაო მონიშვნით.

QUESTION 386

CORRECT ANSWER: 1



Does the lorry driver have the right to proceed the way according to the arrows if the carriageway does not have enough width for turning from left lane?

1

Has the right if ensuring road safety and if such action shall not create any obstacles for road other users

2


Does not have the right

განმარტება:

„საგზაო მოძრაობის შესახებ“ საქართველოს კანონის 32-ე მუხლის მე-7 პუნქტის „ბ“ ქვეპუნქტისა და მე-8 პუნქტის თანახმად: 7. სხვა გზაზე გასასვლელად ან გზის მიმდებარე ტერიტორიაზე შესასვლელად მარჯვნივ ან მარცხნივ მოხვევის წინ, ისე, რომ არ დაარღვიოს ამ კანონის მე-20 მუხლის მე-2 პუნქტითა და ამ მუხლის პირველი და მე-2 პუნქტებით დადგენილი მოთხოვნები, თუ სატრანსპორტო საშუალების მძღოლი აპირებს გზიდან გასვლას: ბ) მარცხენა მხრიდან, სატრანსპორტო საშუალება, რამდენადაც ეს შესაძლებელია, უნდა მიუახლოვდეს გზის სავალი ნაწილის ღერძს (ორმხრივმოძრაობიან გზაზე) ან სავალი ნაწილის მარცხენა კიდე (ცალმხრივმოძრაობიან გზაზე), ხოლო თუ ის სხვა ორმხრივმოძრაობიან გზაზე აპირებს გასვლას, მოხვევა ისე უნდა შეასრულოს, რომ სავალი ნაწილების გადაკვეთიდან გამოსვლისას სატრანსპორტო საშუალება საპირისპირო მოძრაობის მხარეს არ აღმოჩნდეს. 8. თუ მძღოლი სატრანსპორტო საშუალების გაბარიტის ან სხვა მიზეზის გამო ვერ ასრულებს მოხვევას, ამ მუხლის მე-7 პუნქტით დადგენილ მოთხოვნათა გათვალისწინებით დასაშვებია ამ წესებიდან გადახვევა, თუ უზრუნველყოფილი იქნება მოძრაობის უსაფრთხოება და დაბრკოლება არ შეექმნება სხვა საგზაო მოძრაობის მონაწილეებს.

QUESTION 387

CORRECT ANSWER: 2



Width of the road does not allow U-turn adjacent to the intersection. Is the lorry driver allowed to proceed to the arrow direction?

1

Yes

2


No

განმარტება:

„საგზაო მოძრაობის შესახებ“ საქართველოს კანონის 32-ე მუხლის მე-11 პუნქტის თანახმად, თუ გზაჯვარედინზე სავალი ნაწილის სიგანე არასაკმარისია უკიდურესი მარცხენა მდებარეობიდან მობრუნებისთვის, მძღოლი ვალდებულია ეს მანევრი შეასრულოს გზაჯვარედინის მიღმა, გარდა იმ შემთხვევისა, როცა გზაჯვარედინის სიხლოეს გზის სიგანე ამის შესაძლებლობას არ იძლევა. ყველა შემთხვევაში უზრუნველყოფილი უნდა იქნას მოძრაობის უსაფრთხოება და დაბრკოლება არ უნდა შეექმნას სხვა საგზაო მოძრაობის მონაწილეებს. ამ პუნქტით განსაზღვრული წესი არ ვრცელდება იმ გზაჯვარედინებზე, რომლებზე მობრუნება აკრძალულია შესაბამისი საგზაო ნიშნით ან მონიშვნით. ამავე კანონის პირველი დანართის მე-3 თავის (ამკრძალავი ნიშანები) 3.19 პუნქტის თანახმად საგზაო ნიშანი 3.19 „მობრუნება აკრძალულია“ - კრძალავს სავალი ნაწილების უახლოეს გადაკვეთაზე მობრუნებას.

QUESTION 388

CORRECT ANSWER: 2



For the purpose of leaving the road, a light vehicle driver is permitted to move:

1

Only to direction A

2

Only to direction B

3

In both A and B directions

განმარტება:

„საგზაო მოძრაობის შესახებ“ საქართველოს კანონის 32-ე მუხლის მე-13 პუნქტის თანახმად, დამუხრუჭების ზოლის არსებობის შემთხვევაში მძღოლი, რომელიც მოხვევას აპირებს, დროულად უნდა გადაადგილდეს ამ ზოლზე და შემდეგ უნდა შეანელოს სიჩქარე.

QUESTION 389

CORRECT ANSWER: 1



Is the driver prohibited from swerving the vehicle to the arrow direction, if visibility is limited up to 90 meters?

1

Yes

2


No

განმარტება:

„საგზაო მოძრაობის შესახებ“ საქართველოს კანონის 32-ე მუხლის მე-15 პუნქტის „ე“ ქვეპუნქტის თანახმად, აკრძალულია სატრანსპორტო საშუალების მობრუნება გზაზე, სადაც ხილვადობა თუნდაც ერთი მიმართულებით 100 მეტრზე ნაკლებია.

QUESTION 390

CORRECT ANSWER: 1



In the present situation, U-turn of the vehicle is allowed:

1

In direction A only

2

In direction B only

3

In both of the directions

4


In none of the directions

განმარტება:

„საგზაო მოძრაობის შესახებ“ საქართველოს კანონის 32-ე მუხლის მე-15 პუნქტის „გ“ ქვეპუნქტის თანახმად, აკრძალულია სატრანსპორტო საშუალების მობრუნება ხიდზე, გზაგამტარზე, ესტაკადაზე და მათ ქვეშ. ამავდროულად კანონის მე-2 დანართის პირველი თავის (ჰორიზონტალური მონიშვნა) 1.5 პუნქტის თანახმად ჰორიზონტალური მონიშვნა 1.5. ყოფს საპირისპირო მიმართულებით მოძრავ სატრანსპორტო ნაკადებს გზაზე, რომელსაც მოძრაობის ორი ან სამი ზოლი აქვს; აღნიშნავს მოძრაობის ზოლების საზღვრებს ერთი მიმართულებით მოძრაობისათვის განკუთვნილი ორი და მეტი ზოლის არსებობისას. 1.5 ხაზის გადაკვეთა ნებადართულია ნებისმიერი მხრიდან.

QUESTION 391

CORRECT ANSWER: 4



In the present situation, U-turn of the vehicle is allowed:

1

In direction A only

2

In direction B only

3

In both of the directions

4


In none of the directions

განმარტება:

„საგზაო მოძრაობის შესახებ“ საქართველოს კანონის 32-ე მუხლის მე-15 პუნქტის „ა“ და „ვ“ ქვეპუნქტების თანახმად, აკრძალულია სატრანსპორტო საშუალების მობრუნება: ა) ქვეითთა გადასასვლელზე; ვ) იმ ადგილას, სადაც გასაჩერებელი პუნქტია. ამავე კანონის პირველი დანართის მე-5 თავის (განსაკუთრებული მითითებების ნიშნები) 5.16 პუნქტის თანახმად საგზაო ნიშანი 5.16 „ავტობუსის და (ან) ტროლეიბუსის გაჩერების ადგილი“ აღნიშნავს შესაბამისი სახის სამარშრუტო სატრანსპორტო საშუალების გასაჩერებელ ადგილს. ამავე თავის 5.19.1 და 5.19.2 პუნქტების თანახმად საგზაო ნიშნები 5.19.1 და 5.19.2 „ქვეითთა გადასასვლელი“ - აღნიშნავს გზაზე ქვეითთა გადასასვლელისთვის გამოყოფილ ადგილს. ნიშანი 5.19.1 იდგმება გზის მარჯვენა მხარეს, ხოლო 5.19.2 - გზის მარცხენა მხარეს. გადასასვლელზე 1.14 მონიშვნის არ არსებობისას ნიშანი 5.19.1 იდგმება გადასასვლელის ახლო საზღვართან, ხოლო ნიშანი 5.19.2 - გადასასვლელის შორ საზღვართან.

QUESTION 392

CORRECT ANSWER: 4



The motor car driver is allowed to proceed:

1

To the left only

2

Straight and to the right only

3

To the left and right only

4


Straight, to the left and backward (U-turn) only

ბანმარტეზა:

„საგზაო მოძრაობის შესახებ“ საქართველოს კანონის 32-ე მუხლის მე-7 პუნქტების თანახმად, სხვა გზაზე გასასვლელად ან გზის მიმდებარე ტერიტორიაზე შესასვლელად მარჯვნივ ან მარცხნივ მოხვევის წინ, ისე, რომ არ დაარღვიოს ამ კანონის მე-20 მუხლის მე-2 პუნქტითა და ამ მუხლის პირველი და მე-2 პუნქტებით დადგენილი მოთხოვნები, თუ სატრანსპორტო საშუალების მძღოლი აპირებს გზიდან გასვლას: ა) მარჯვენა მხრიდან, სატრანსპორტო საშუალებამ უნდა იმოძრაოს რაც შეიძლება ახლოს სავალი ნაწილის მარჯვენა კიდეებთან და შემდეგ შეასრულოს შეძლებისდაგვარად მოკლე მანევრი; ბ) მარცხენა მხრიდან, სატრანსპორტო საშუალება, რამდენადაც ეს შესაძლებელია, უნდა მიუახლოვდეს გზის სავალი ნაწილის ღერძს (ორმხრივმოძრაობიან გზაზე) ან სავალი ნაწილის მარცხენა კიდე (ცალმხრივმოძრაობიან გზაზე), ხოლო თუ ის სხვა ორმხრივმოძრაობიან გზაზე აპირებს გასვლას, მოხვევა ისე უნდა შეასრულოს, რომ სავალი ნაწილების გადაკვეთიდან გამოსვლისას სატრანსპორტო საშუალება საპირისპირო მოძრაობის მხარეს არ აღმოჩნდეს. ამავე კანონის მე-2 დანართის პირველი თავის (ჰორიზონტალური მონიშვნა) 1.1 პუნქტის თანახმად ჰორიზონტალური მონიშვნა 1.1 ყოფს საპირისპირო მიმართულებით მოძრავ სატრანსპორტო ნაკადებს და გზის სახიფათო მონაკვეთზე - აღნიშნავს მოძრაობის ზოლების საზღვრებს ან სავალი ნაწილის საზღვრებს, რომლებზედაც შესვლა აკრძალულია; 1.1 ხაზის გადაკვეთა აკრძალულია. დასაშვებია სავალი ნაწილის ნაპირის აღმნიშვნელი და მძღოლის მარჯვენა მხარეს განლაგებული 1.1 ხაზის გადაკვეთა სატრანსპორტო საშუალების გზის ნაპირზე გასაჩერებლად.

QUESTION 393

CORRECT ANSWER: 3



The motor car driver is allowed to proceed:

1

To the right only

2

To the left and right only

3

Straight and to the right only

4

Straight, to the left and backward (U-turn) only

ბანამარტეზა:

„საგზაო მოძრაობის შესახებ“ საქართველოს კანონის 32-ე მუხლის მე-7 პუნქტების თანახმად, სხვა გზაზე გასასვლელად ან გზის მიმდებარე ტერიტორიაზე შესასვლელად მარჯვნივ ან მარცხნივ მოხვევის წინ, ისე, რომ არ დაარღვიოს ამ კანონის მე-20 მუხლის მე-2 პუნქტითა და ამ მუხლის პირველი და მე-2 პუნქტებით დადგენილი მოთხოვნები, თუ სატრანსპორტო საშუალების მძღოლი აპირებს გზიდან გასვლას: ა) მარჯვენა მხრიდან, სატრანსპორტო საშუალებამ უნდა იმოძრაოს რაც შეიძლება ახლოს სავალი ნაწილის მარჯვენა კიდეებთან და შემდეგ შეასრულოს შეძლებისდაგვარად მოკლე მანევრი; ბ) მარცხენა მხრიდან, სატრანსპორტო საშუალება, რამდენადაც ეს შესაძლებელია, უნდა მიუახლოვდეს გზის სავალი ნაწილის ღერძს (ორმხრივმოძრაობიან გზაზე) ან სავალი ნაწილის მარცხენა კიდე (ცალმხრივმოძრაობიან გზაზე), ხოლო თუ ის სხვა ორმხრივმოძრაობიან გზაზე აპირებს გასვლას, მოხვევა ისე უნდა შეასრულოს, რომ სავალი ნაწილების გადაკვეთიდან გამოსვლისას სატრანსპორტო საშუალება საპირისპირო მოძრაობის მხარეს არ აღმოჩნდეს. ამავე კანონის მე-2 დანართის პირველი თავის (ჰორიზონტალური მონიშვნა) 1.1 პუნქტის თანახმად ჰორიზონტალური მონიშვნა 1.1 ყოფს საპირისპირო მიმართულებით მოძრავ სატრანსპორტო ნაკადებს და გზის სახიფათო მონაკვეთზე - აღნიშნავს მოძრაობის ზოლების საზღვრებს ან სავალი ნაწილის საზღვრებს, რომლებზედაც შესვლა აკრძალულია; 1.1 ხაზის გადაკვეთა აკრძალულია. დასაშვებია სავალი ნაწილის ნაპირის აღმნიშვნელი და მძღოლის მარჯვენა მხარეს განლაგებული 1.1 ხაზის გადაკვეთა სატრანსპორტო საშუალების გზის ნაპირზე გასაჩერებლად.

QUESTION 394

CORRECT ANSWER: 1



The vehicle driver drove past the right turning. Is he/she prohibited from reversing to the arrow direction in order to enter the turning?

1

Yes

2

No

განმარტება:

„საგზაო მოძრაობის შესახებ“ საქართველოს კანონის 32-ე მუხლის მე-16 პუნქტის თანახმად, მძღოლი, რომელიც მობრუნებას ან უკუსვლით მოძრაობას აპირებს, უნდა დარწმუნდეს, რომ მას შეუძლია ისე შეასრულოს ეს მანევრი, რომ საფრთხე არ შეუქმნას და ხელი არ შეუშალოს სხვა საგზაო მოძრაობის მონაწილეებს. აუცილებლობის შემთხვევაში მიზანშეწონილია სხვა პირის დახმარება. აკრძალულია უკუსვლით მოძრაობა გზაჯვარედინზე, ავტომაგისტრალზე და ამ მუხლის მე-15 პუნქტით განსაზღვრულ ადგილებში.

QUESTION 395

CORRECT ANSWER: 1

In the middle of the driveway of two-way road, where the tram rails are located on the same level, following shall be considered as separator of reverse traffic sides:

1

Imaginary middle line among the tram rails moving in the opposite direction

2

Right rail of the tram moving in the same direction

3

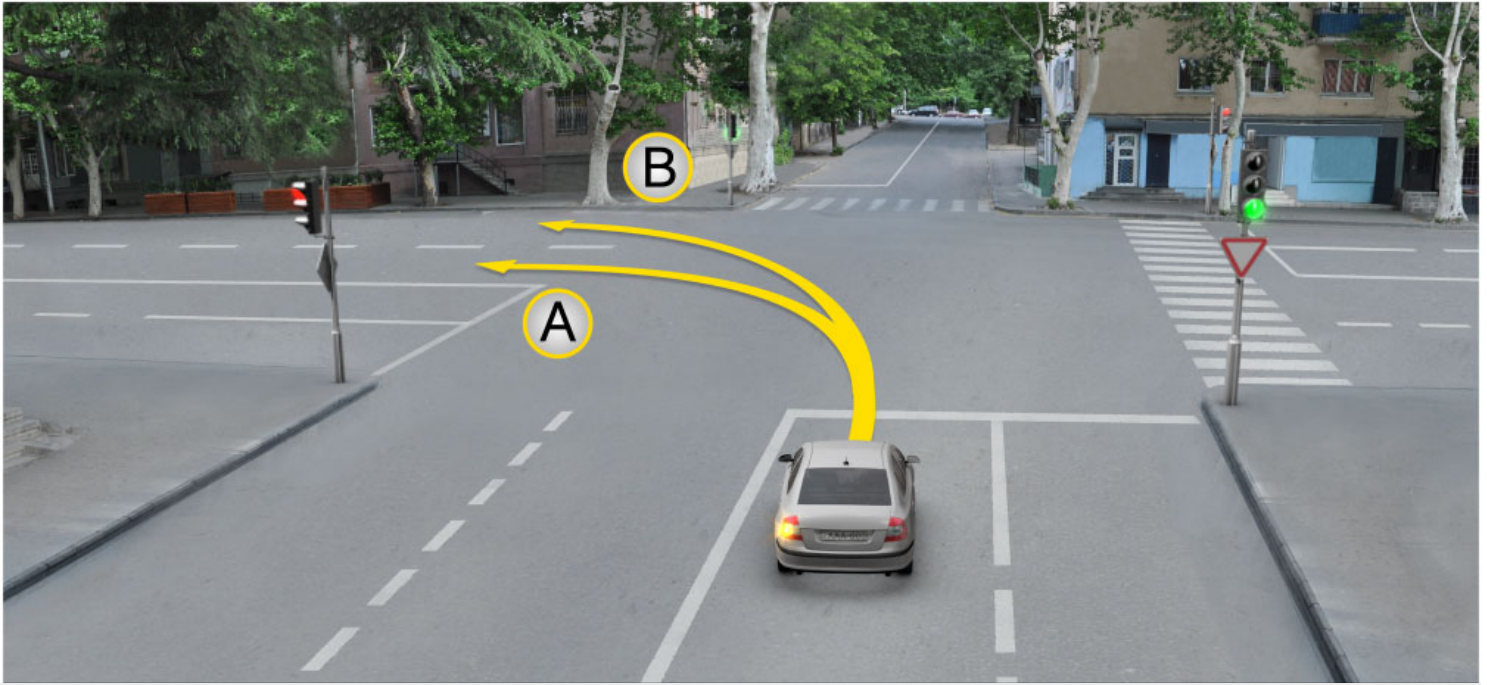
Left rail of the tram moving in the opposite direction

განმარტება:

„საგზაო მოძრაობის შესახებ“ საქართველოს კანონის 31-ე მუხლის მე-3 პუნქტის თანახმად, ორმხრივმოძრაობიან გზაზე, სავალი ნაწილის შუაში, მასთან ერთ დონეზე ტრამვაის ლიანდაგის მდებარეობისას, საპირისპირო მოძრაობის მხარეების გამყოფად მიიჩნევა საპირისპიროდ მოძრავი ტრამვაის ლიანდაგებს შორის წარმოსახვითი შუა ხაზი.

QUESTION 396

CORRECT ANSWER: 3



Motor car driver is allowed to proceed:

1

In direction A only

2

In direction B only

3

In both A and B directions

განმარტება:

„საგზაო მოძრაობის შესახებ“ საქართველოს კანონის 32-ე მუხლის მე-7 პუნქტის „ბ“ ქვეპუნქტის თანახმად, სხვა გზაზე გასასვლელად ან გზის მიმდებარე ტერიტორიაზე შესასვლელად მარჯვნივ ან მარცხნივ მოხვევის წინ, ისე, რომ არ დაარღვიოს ამ კანონის მე-20 მუხლის მე-2 პუნქტითა და ამ მუხლის პირველი და მე-2 პუნქტებით დადგენილი მოთხოვნები, თუ სატრანსპორტო საშუალების მძღოლი აპირებს გზიდან გასვლას მარცხენა მხრიდან, სატრანსპორტო საშუალება, რამდენადაც ეს შესაძლებელია, უნდა მიუახლოვდეს გზის სავალი ნაწილის ღერძს (ორმხრივმოძრაობიან გზაზე) ან სავალი ნაწილის მარცხენა კიდე (ცალმხრივმოძრაობიან გზაზე), ხოლო თუ ის სხვა ორმხრივმოძრაობიან გზაზე აპირებს გასვლას, მოხვევა ისე უნდა შეასრულოს, რომ სავალი ნაწილების გადაკვეთიდან გამოსვლისას სატრანსპორტო საშუალება საპირისპირო მოძრაობის მხარეს არ აღმოჩნდეს.

QUESTION 397

CORRECT ANSWER: 4

In which of the below-listed cases is motion with the vehicle without rails allowed to the left side of the road, on the tram rail of the same direction located on the same level as the driveway?

1

Only in case if every lane is occupied for motion in the same direction

2

In case of passing the obstruction or overtaking only

3

In case of U-turn or swerving to the right only

4

In any case listed in given test if such action does not create any obstacles for tram movement

განმარტება:

„საგზაო მოძრაობის შესახებ“ საქართველოს კანონის 31-ე მუხლის მე-15 პუნქტის თანახმად, ამ კანონის 32-ე მუხლის მე-6 პუნქტით დადგენილ მოთხოვნათა გათვალისწინებით, მოძრაობა ნებადართულია თანმხვედრი მიმართულების ტრამვაის ლიანდაგზე, რომელიც მარცხენა მხარეს სავალ ნაწილთან ერთ დონეზე მდებარეობს, თუ თანმხვედრი მიმართულებით მოძრაობისთვის განკუთვნილი ყველა მოძრაობის ზოლი დაკავებულია, აგრეთვე დაბრკოლების შემოვლის ან გასწრების, ან მარცხნივ მოხვევის ან მობრუნების დროს. ამასთანავე, ტრამვაის მოძრაობას არ უნდა შეექმნას დაბრკოლება. საპირისპირო მიმართულების ტრამვაის ლიანდაგზე გასვლა აკრძალულია.

QUESTION 398

CORRECT ANSWER: 4

At which below-mentioned places is U-turn of the vehicle prohibited?

1

On roads only, where visibility is less than 100 meters in at least one direction

2

At place, where there is the stopping point

3

On the highway only

4

In any place listed in given test

განმარტება:

„საგზაო მოძრაობის შესახებ“ საქართველოს კანონის 32-ე მუხლის მე-15 პუნქტის „ე“ და „ვ“ ქვეპუნქტების თანახმად, აკრძალულია სატრანსპორტო საშუალების მობრუნება: ე) გზაზე, სადაც ხილვადობა თუნდაც ერთი მიმართულებით 100 მეტრზე ნაკლებია; ვ) იმ ადგილას, სადაც გასაჩერებელი პუნქტია. ამავე კანონის 38-ე მუხლის პირველი პუნქტის „გ.ბ“ ქვეპუნქტის თანახმად ავტომაგისტრალზე, ავტომაგისტრალის შესასვლელზე და გამოსასვლელზე მძღოლს ეკრძალება მობრუნება ან უკუსვლით მოძრაობა, აგრეთვე ცენტრალურ გამყოფ ზოლსა და გზის ორივე სავალი ნაწილის განივ შეერთებაზე გასვლა.

QUESTION 399

CORRECT ANSWER: 1

On simultaneous changing of the traffic lanes by the vehicles moving in the same direction, when the motion trajectories are crossed, right-of-way is entitled to:

1

Right vehicle driver

2

Left vehicle driver

განმარტება:

„საგზაო მოძრაობის შესახებ“ საქართველოს კანონის 32-ე მუხლის მე-4 პუნქტის თანახმად, მოძრაობის ზოლიდან ზოლში მოძრაობის მიმართულებების შეუცვლელად გადასვლისას მძღოლმა გზა უნდა დაუთმოს გადასასვლელ მოძრაობის ზოლში თანმხვედრი მიმართულებით მოძრავ სატრანსპორტო საშუალებას. თანმხვედრი მიმართულებით მოძრავი სატრანსპორტო საშუალებების მიერ მოძრაობის ზოლების ერთდროულად შეცვლისას მოძრაობის ტრაექტორიების გადაკვეთის შემთხვევაში გავლის უპირატესობა ენიჭება მარჯვნივ მყოფი სატრანსპორტო საშუალების მძღოლს.

QUESTION 400

CORRECT ANSWER: 1

The driver, who is intending to reverse, must make sure in the fact, that:

1

He is not able to perform the maneuver without creating hazard and hinder other traffic participants

2

He/she will be yielded by other traffic participants as the one with the right-of-way

განმარტება:

„საგზაო მოძრაობის შესახებ“ საქართველოს კანონის 32-ე მუხლის მე-16 პუნქტის თანახმად, მძღოლი, რომელიც მობრუნებას ან უკუსვლით მოძრაობას აპირებს, უნდა დარწმუნდეს, რომ მას შეუძლია ისე შეასრულოს ეს მანევრი, რომ საფრთხე არ შეუქმნას და ხელი არ შეუშალოს სხვა საგზაო მოძრაობის მონაწილეებს. აუცილებლობის შემთხვევაში მიზანშეწონილია სხვა პირის დახმარება. აკრძალულია უკუსვლით მოძრაობა გზატკარცილობაზე, ავტომაგისტრალზე და ამ მუხლის მე-15 პუნქტით განსაზღვრულ ადგილებში.

QUESTION 401

CORRECT ANSWER: 2

Is the driver allowed to use support of others when reversing the vehicle?

1

No

2

Yes

განმარტება:

„საგზაო მოძრაობის შესახებ“ საქართველოს კანონის 32-ე მუხლის მე-16 პუნქტის თანახმად, მძღოლი, რომელიც მობრუნებას ან უკუსვლით მოძრაობას აპირებს, უნდა დარწმუნდეს, რომ მას შეუძლია ისე შეასრულოს ეს მანევრი, რომ საფრთხე არ შეუქმნას და ხელი არ შეუშალოს სხვა საგზაო მოძრაობის მონაწილეებს. აუცილებლობის შემთხვევაში მიზანშეწონილია სხვა პირის დახმარება. აკრძალულია უკუსვლით მოძრაობა გზაჯვარედინზე, ავტომაგისტრალზე და ამ მუხლის მე-15 პუნქტით განსაზღვრულ ადგილებში.

QUESTION 402

CORRECT ANSWER: 1



Is the motor car driver obliged to switch on right-turning light when driving to the arrow direction, if there is no any vehicle behind him/her?

1

Yes

2

No

განმარტება:

„საგზაო მოძრაობის შესახებ“ საქართველოს კანონის 32-ე მუხლის მე-2 პუნქტის თანახმად, მანევრის დაწყებამდე მძღოლი ვალდებულია ჩართოს შესაბამისი მიმართულების მოხვევის შუქ-მაჩვენებელი, ხოლო თუ ის არ არის ან გამოსულია მწყობრიდან – ანიშნოს ხელით.

QUESTION 403

CORRECT ANSWER: 1



I



II



III

Which drawing shows hand signal for left-turning given by the motorcyclist?

1

I

2

II

3

III

განმარტება:

„საგზაო მოძრაობის შესახებ“ საქართველოს კანონის 32-ე მუხლის მე-2 პუნქტის თანახმად, მანევრის დაწყებამდე მძღოლი ვალდებულია ჩართოს შესაბამისი მიმართულების მოხვევის შუქ-მაჩვენებელი, ხოლო თუ ის არ არის ან გამოსულია მწყობრიდან – ანიშნოს ხელით. მარცხნივ მოხვევის ან მობრუნების სიგნალს შეესაბამება გვერდზე ჰორიზონტალურად გაშვებული მარცხენა ხელი ან გვერდზე გაშვებული, იდაყვში სწორი კუთხით ზემოთ მოხრილი მარჯვენა ხელი. მარჯვნივ მოხვევის სიგნალს შეესაბამება გვერდზე ჰორიზონტალურად გაშვებული მარჯვენა ხელი ან გვერდზე გაშვებული, იდაყვში სწორი კუთხით ზემოთ მოხრილი მარცხენა ხელი. დამუხრუჭების სიგნალს შეესაბამება ზემოთ ვერტიკალურად აწეული მარცხენა ან მარჯვენა ხელი.

QUESTION 404

CORRECT ANSWER: 3



I



II



III

Which drawing shows hand signal for right-turning given by the motorcyclist?

1

I

2

II

3

III

განმარტება:

„საგზაო მოძრაობის შესახებ“ საქართველოს კანონის 32-ე მუხლის მე-2 პუნქტის თანახმად, მანევრის დაწყებამდე მძღოლი ვალდებულია ჩართოს შესაბამისი მიმართულების მოხვევის შუქ-მაჩვენებელი, ხოლო თუ ის არ არის ან გამოსულია მწყობრიდან – ანიშნოს ხელით. მარცხნივ მოხვევის ან მობრუნების სიგნალს შეესაბამება გვერდზე ჰორიზონტალურად გაშვებული მარცხენა ხელი ან გვერდზე გაშვებული, იდაყვში სწორი კუთხით ზემოთ მოხრილი მარჯვენა ხელი. მარჯვნივ მოხვევის სიგნალს შეესაბამება გვერდზე ჰორიზონტალურად გაშვებული მარჯვენა ხელი ან გვერდზე გაშვებული, იდაყვში სწორი კუთხით ზემოთ მოხრილი მარცხენა ხელი. დამუხრუჭების სიგნალს შეესაბამება ზემოთ ვერტიკალურად აწეული მარცხენა ან მარჯვენა ხელი.

QUESTION 405

CORRECT ANSWER: 2



I



II



III

Which drawing shows hand signal for braking given by the motorcyclist?

1

I

2

II

3

III

განმარტება:

„საგზაო მოძრაობის შესახებ“ საქართველოს კანონის 32-ე მუხლის მე-2 პუნქტის თანახმად, მანევრის დაწყებამდე მძღოლი ვალდებულია ჩართოს შესაბამისი მიმართულების მოხვევის შუქ-მაჩვენებელი, ხოლო თუ ის არ არის ან გამოსულია მწყობრიდან – ანიშნოს ხელით. მარცხნივ მოხვევის ან მობრუნების სიგნალს შეესაბამება გვერდზე ჰორიზონტალურად გაშვებული მარცხენა ხელი ან გვერდზე გაშვებული, იდაყვში სწორი კუთხით ზემოთ მოხრილი მარჯვენა ხელი. მარჯვნივ მოხვევის სიგნალს შეესაბამება გვერდზე ჰორიზონტალურად გაშვებული მარჯვენა ხელი ან გვერდზე გაშვებული, იდაყვში სწორი კუთხით ზემოთ მოხრილი მარცხენა ხელი. დამუხრუჭების სიგნალს შეესაბამება ზემოთ ვერტიკალურად აწეული მარცხენა ან მარჯვენა ხელი.

QUESTION 406

CORRECT ANSWER: 1



I



II



III

Which drawing shows hand signal for braking given by the vehicle driver?

1

I

2

II

3

III

განმარტება:

„საგზაო მოძრაობის შესახებ“ საქართველოს კანონის 32-ე მუხლის მე-2 პუნქტის თანახმად, მანევრის დაწყებამდე მძღოლი ვალდებულია ჩართოს შესაბამისი მიმართულების მოხვევის შუქ-მაჩვენებელი, ხოლო თუ ის არ არის ან გამოსულია მწყობრიდან – ანიშნოს ხელით. მარცხნივ მოხვევის ან მობრუნების სიგნალს შეესაბამება გვერდზე ჰორიზონტალურად გაშვებული მარცხენა ხელი ან გვერდზე გაშვებული, იდაყვში სწორი კუთხით ზემოთ მოხრილი მარჯვენა ხელი. მარჯვნივ მოხვევის სიგნალს შეესაბამება გვერდზე ჰორიზონტალურად გაშვებული მარჯვენა ხელი ან გვერდზე გაშვებული, იდაყვში სწორი კუთხით ზემოთ მოხრილი მარცხენა ხელი. დამუხრუჭების სიგნალს შეესაბამება ზემოთ ვერტიკალურად აწეული მარცხენა ან მარჯვენა ხელი.

QUESTION 407

CORRECT ANSWER: 2



I



II



III

Which drawing shows hand signal for right-turning given by the vehicle driver?

1

I

2

II

3

III

განმარტება:

„საგზაო მოძრაობის შესახებ“ საქართველოს კანონის 32-ე მუხლის მე-2 პუნქტის თანახმად, მანევრის დაწყებამდე მძღოლი ვალდებულია ჩართოს შესაბამისი მიმართულების მოხვევის შუქ-მაჩვენებელი, ხოლო თუ ის არ არის ან გამოსულია მწყობრიდან – ანიშნოს ხელით. მარცხნივ მოხვევის ან მობრუნების სიგნალს შეესაბამება გვერდზე ჰორიზონტალურად გაშვებული მარცხენა ხელი ან გვერდზე გაშვებული, იდაყვში სწორი კუთხით ზემოთ მოხრილი მარჯვენა ხელი. მარჯვნივ მოხვევის სიგნალს შეესაბამება გვერდზე ჰორიზონტალურად გაშვებული მარჯვენა ხელი ან გვერდზე გაშვებული, იდაყვში სწორი კუთხით ზემოთ მოხრილი მარცხენა ხელი. დამუხრუჭების სიგნალს შეესაბამება ზემოთ ვერტიკალურად აწეული მარცხენა ან მარჯვენა ხელი.

QUESTION 408

CORRECT ANSWER: 3



I



II



III

Which drawing shows hand signal for left-turning or U-turn given by the vehicle driver?

1

I

2

II

3

III

განმარტება:

„საგზაო მოძრაობის შესახებ“ საქართველოს კანონის 32-ე მუხლის მე-2 პუნქტის თანახმად, მანევრის დაწყებამდე მძღოლი ვალდებულია ჩართოს შესაბამისი მიმართულების მოხვევის შუქ-მაჩვენებელი, ხოლო თუ ის არ არის ან გამოსულია მწყობრიდან – ანიშნოს ხელით. მარცხნივ მოხვევის ან მობრუნების სიგნალს შეესაბამება გვერდზე ჰორიზონტალურად გაშვებული მარცხენა ხელი ან გვერდზე გაშვებული, იდაყვში სწორი კუთხით ზემოთ მოხრილი მარჯვენა ხელი. მარჯვნივ მოხვევის სიგნალს შეესაბამება გვერდზე ჰორიზონტალურად გაშვებული მარჯვენა ხელი ან გვერდზე გაშვებული, იდაყვში სწორი კუთხით ზემოთ მოხრილი მარცხენა ხელი. დამუხრუჭების სიგნალს შეესაბამება ზემოთ ვერტიკალურად აწეული მარცხენა ან მარჯვენა ხელი.

QUESTION 409

CORRECT ANSWER: 2

If insufficient width, profile of the road or driveway condition, considering the intensity of the opposite motion, does not allow overtaking of low-speed or large-dimension vehicle easily and safely, the vehicle driver:

1

Is required to increase speed for the purpose of passing through the given road section quickly

2

Must slow down and, if necessary, upon the first opportunity, give way to the vehicles driving behind him/her

განმარტება:

„საგზაო მოძრაობის შესახებ“ საქართველოს კანონის 34-ე მუხლის მე-12 პუნქტის თანახმად, თუ გზის არასაკმარისი სიგანე, პროფილი ან სავალი ნაწილის მდგომარეობა, საპირისპირო მოძრაობის ინტენსივობის გათვალისწინებით, არ იძლევა ნელმავალი ან დიდგაბარითიანი სატრანსპორტო საშუალების ადვილად და უსაფრთხოდ გასწვრივს საშუალებას, ამ სატრანსპორტო საშუალების მძღოლმა უნდა შეანელოს მოძრაობა და აუცილებლობის შემთხვევაში პირველივე შესაძლებლობისას დაუთმოს გზა მის უკან მოძრავ სატრანსპორტო საშუალებებს.

QUESTION 410

CORRECT ANSWER: 2

If the driveway designated for right-turn on the intersection is separated from the rest of the driveway by elevated safety island and there is no traffic light on the right side in front of the intersection, the driver may perform the right-turn:

1

After switching the light signal on the traffic light on the intersection allowing the motion

2

By yielding to every vehicle moving from other directions independently from light signals

განმარტება:

„საგზაო მოძრაობის შესახებ“ საქართველოს კანონის 36-ე მუხლის მე-3 პუნქტის „გ“ ქვეპუნქტის თანახმად, თუ გზაჯვარედინზე მარჯვნივ მოხვევისთვის განკუთვნილი მოძრაობის ზოლი დანარჩენი სავალი ნაწილისგან გამოყოფილია ამალელებული უსაფრთხოების კუნძულით და გზაჯვარედინის წინ, მარჯვნივ შექნიშანი არ არის, მარჯვნივ მოხვევა სრულდება გზაჯვარედინზე არსებული შექნიშნის მაშუქი სიგნალებისაგან დამოუკიდებლად სხვა მიმართულებებიდან მოძრავი ყველა სატრანსპორტო საშუალებისთვის გზის დათმობით.

QUESTION 411

CORRECT ANSWER: 1

When approaching as well as passing the railroad crossing, the vehicle driver:

- 1** Must proceed at average speed, as well as when the crossing railway, the driver must use the railroad crossing and give the way to train (locomotive, handcar)
- 2** Is obliged to cross the given section of the road rapidly, as well as in case of parking of other vehicle in front of the crossing, to drive around by moving to the reverse traffic lane

განმარტება:

„საგზაო მოძრაობის შესახებ“ საქართველოს კანონის 39-ე მუხლის პირველი პუნქტის „ა“ ქვეპუნქტის თანახმად, სატრანსპორტო საშუალების მძღოლი უნდა მოძრაობდეს ზომიერი სიჩქარით; ამასთანავე, რკინიგზის ლიანდაგზე გადასვლისას მძღოლმა უნდა ისარგებლოს მხოლოდ რკინიგზის გადასასვლელით და გზა უნდა დაუთმოს მატარებელს (ლოკომოტივს, დრეზინას).

QUESTION 412

CORRECT ANSWER: 2

Is parking of the vehicles prohibited on or nearby tram and railway tracks passing the driveway, if it may impede motion of tram and train?

- 1** No
- 2** Yes

განმარტება:

„საგზაო მოძრაობის შესახებ“ საქართველოს კანონის 37-ე მუხლის მე-6 პუნქტის „ა.ბ“ ქვეპუნქტის თანახმად, აკრძალულია სატრანსპორტო საშუალებების გაჩერება გზის სავალ ნაწილზე გზაზე გამავალი ტრამვაის და რკინიგზის ლიანდაგებზე ან მათ ახლოს, თუ ამას შეუძლია გააძნელოს ტრამვაის ან მატარებლების მოძრაობა.

QUESTION 413

CORRECT ANSWER: 1



In the present situation, which of the vehicle drivers is not prohibited from proceeding to the arrow direction?

1

Quadrocycle rider only

2

Lorry driver only

3

Tractor driver only

4

All of them

განმარტება:

„საგზაო მოძრაობის შესახებ“ საქართველოს კანონის 38-ე მუხლის პირველი პუნქტის „გ.გ“ ქვეპუნქტის თანახმად, ავტომაგისტრალზე, ავტომაგისტრალის შესასვლელსა და გამოსასვლელზე მძღოლს ეკრძალება მეორე ზოლის იქით იმ ტვირთის გადამზიდავი ავტომობილით (მისაბმელებით ან მათ გარეშე) მოძრაობა, რომლის ნებადართული მაქსიმალური მასა 3,5 ტონას აღემატება ან იმ მისაბმელიანი ავტომობილებით მოძრაობა, რომელთა საერთო სიგრძე 7 მეტრზე მეტია. ამავე მუხლის პირველი პუნქტის „ა“ ქვეპუნქტის თანახმად, აკრძალულია ქვეითების, ცხოველების, ველოსიპედების, მოპედების, ავტომობილებისა და მათი მისაბმელებისგან განსხვავებული ყველა სატრანსპორტო საშუალების მოძრაობა, აგრეთვე იმ ავტომობილების (მისაბმელებით ან მათ გარეშე) მოძრაობა, რომელთა კონსტრუქციული სიჩქარე არ აღემატება 40 კმ/სთ (აღნიშნული შემთხვევა არ ვრცელდება იმ მექანიკურ სატრანსპორტო საშუალებებზე, რომლებიც ავტომაგისტრალზე გადაადგილდებიან უფლებამოსილი ორგანოსთან (უნწყებასთან) კანონმდებლობით დადგენილი წესით შეთანხმებისა და ამ შეთანხმების პირობების შესაბამისად). ამავე კანონის 33-ე მუხლის მე-8 პუნქტის „ა“ ქვეპუნქტის თანახმად, თუ ამ კანონით სხვა რამ არ არის დადგენილი დასახლებულ ან დაუსახლებელ პუნქტებში მოძრაობა ნებადართულია T და S კატეგორიის სატრანსპორტო საშუალებებისა, ყველა გზაზე - არა უმეტეს 40 კმ/სთ სიჩქარით.

QUESTION 414

CORRECT ANSWER: 2



In inhabited area the minibus driver is starting to move from the stopping area, the motor car driver must:

1

Proceed without changing the speed

2


Slow down and stop in case of necessity

განმარტება:

„საგზაო მოძრაობის შესახებ“ საქართველოს კანონის 41-ე მუხლის პირველი პუნქტის თანახმად, ამ კანონის 33-ე მუხლის მე-4 პუნქტით დადგენილ მოთხოვნათა გათვალისწინებით, დასახლებულ პუნქტში სამარშრუტო სატრანსპორტო საშუალებისთვის მოძრაობის გასაადვილებლად სხვა სატრანსპორტო საშუალებების მძღოლებმა უნდა შეანელონ მოძრაობა და აუცილებლობის შემთხვევაში გაჩერდნენ, რათა სამარშრუტო სატრანსპორტო საშუალებამ შეძლოს გასაჩერებელი პუნქტიდან გამოსვლისთვის საჭირო მანევრის შესრულება. სამარშრუტო სატრანსპორტო საშუალების მძღოლი ვალდებულია მოძრაობის განახლების განზრახვის შესახებ მოხვედრის შეუმაჩვენებლით სიგნალის მიცემის შემდეგ მიიღოს საგზაო-სატრანსპორტო შემთხვევის თავიდან აცილებისთვის საჭირო სიფრთხილის ზომები და მოძრაობა დაიწყოს მხოლოდ მას შემდეგ, რაც დარწმუნდება, რომ სხვა სატრანსპორტო საშუალებები გზას უთმობენ.

QUESTION 415

CORRECT ANSWER: 2



Which of the motor car drivers is obliged to yield when driving to the arrow direction in uninhabited area, if the route vehicle driver is starting to move from the stopping area?

1

Motor car driver

2

Route vehicle driver

განმარტება:

„საგზაო მოძრაობის შესახებ“ საქართველოს კანონის 41-ე მუხლის პირველი პუნქტის თანახმად, ამ კანონის 33-ე მუხლის მე-4 პუნქტით დადგენილ მოთხოვნათა გათვალისწინებით, დასახლებულ პუნქტში სამარშრუტო სატრანსპორტო საშუალებისთვის მოძრაობის გასაადვილებლად სხვა სატრანსპორტო საშუალებების მძღოლებმა უნდა შეანელონ მოძრაობა და აუცილებლობის შემთხვევაში გაჩერდნენ, რათა სამარშრუტო სატრანსპორტო საშუალებამ შეძლოს გასაჩერებელი პუნქტიდან გამოსვლისთვის საჭირო მანევრის შესრულება. სამარშრუტო სატრანსპორტო საშუალების მძღოლი ვალდებულია მოძრაობის განახლების განზრახვის შესახებ მოხვედრის შემთხვევაში სიგნალის მიცემის შემდეგ მიიღოს საგზაო-სატრანსპორტო შემთხვევის თავიდან აცილებისთვის საჭირო სიფრთხილის ზომები და მოძრაობა დაიწყოს მხოლოდ მას შემდეგ, რაც დარწმუნდება, რომ სხვა სატრანსპორტო საშუალებები გზას უთმობენ. ამავე კანონის 32-ე მუხლის პირველი პუნქტის თანახმად მძღოლმა, რომელსაც განზრახული აქვს რომელიმე მანევრის შესრულება, ეს მანევრი უნდა დაიწყოს მხოლოდ მას შემდეგ, რაც დარწმუნდება, რომ არ შეუქმნის საფრთხეს მის უკან, წინ და გვერდით როგორც თანმხვედრი, ისე საპირისპირო მიმართულებით მოძრავ საგზაო მოძრაობის მონაწილეებს, მათი მდებარეობის, მოძრაობის მიმართულებისა და სიჩქარის გათვალისწინებით.

QUESTION 416

CORRECT ANSWER: 1



Is the driver prohibited from U-turn to the arrow direction?

1

Yes

2


No

განმარტება:

„საგზაო მოძრაობის შესახებ“ საქართველოს კანონის 42-ე მუხლის „ა“ პუნქტის თანახმად, საგზაო ნიშნით აღნიშნულ გვირაბებში მოქმედებს შემდეგი წესი -მძღოლს ეკრძალება უკუსვლით მოძრაობა ან მობრუნება.

QUESTION 417

CORRECT ANSWER: 2



In the present situation, is a motor car driver allowed to proceed without stopping?

1

Yes

2


No

განმარტება:

„საგზაო მოძრაობის შესახებ“ საქართველოს კანონის 25-ე მუხლის მე-4 პუნქტის თანახმად, მძღოლმა, რომელიც მოძრაობის მიმართულების შესაბამისი მხრიდან სათანადო წესით მონიშნულ გაჩერებაზე მყოფი სამარშრუტო სატრანსპორტო საშუალებისთვის გვერდის ავლას აპირებს, უნდა შეამციროს სიჩქარე და, აუცილებლობის შემთხვევაში, გაჩერდეს, რათა უზრუნველყოს მგზავრების საზოგადოებრივ ტრანსპორტში უსაფრთხო ჩასხდომის ან იქიდან გადმოსხდომის შესაძლებლობა.

QUESTION 418

CORRECT ANSWER: 2



Which stopped vehicle driver has the right-of-way when starting motion to the arrow direction, if the route bus driver is starting to move from the marked stopping site in the inhabited area?

1

Motor car driver

2


Bus driver

განმარტება:

„საგზაო მოძრაობის შესახებ“ საქართველოს კანონის 41-ე მუხლის პირველი პუნქტის თანახმად, ამ კანონის 33-ე მუხლის მე-4 პუნქტით დადგენილ მოთხოვნათა გათვალისწინებით, დასახლებულ პუნქტში სამარშრუტო სატრანსპორტო საშუალებისთვის მოძრაობის გასაადვილებლად სხვა სატრანსპორტო საშუალებების მძღოლებმა უნდა შეანელონ მოძრაობა და აუცილებლობის შემთხვევაში გაჩერდნენ, რათა სამარშრუტო სატრანსპორტო საშუალებამ შეძლოს გასაჩერებელი პუნქტიდან გამოსვლისთვის საჭირო მანევრის შესრულება. სამარშრუტო სატრანსპორტო საშუალების მძღოლი ვალდებულია მოძრაობის განახლების განზრახვის შესახებ მოხვედრის შეუმაჩვენებელით სიგნალის მიცემის შემდეგ მიიღოს საგზაო-სატრანსპორტო შემთხვევის თავიდან აცილებისთვის საჭირო სიფრთხილის ზომები და მოძრაობა დაიწყოს მხოლოდ მას შემდეგ, რაც დარწმუნდება, რომ სხვა სატრანსპორტო საშუალებები გზას უთმობენ.

QUESTION 419

CORRECT ANSWER: 3



Which of the vehicle drivers is not prohibited from proceeding to the arrow direction?

1

Motorcyclists only

2

Lorry driver only

3

All of them

განმარტება:

„საგზაო მოძრაობის შესახებ“ საქართველოს კანონის 31-ე მუხლის მე-14 პუნქტის თანახმად, დასაშვებია მოძრაობის ზოლზე მოპედების ან/და უეტლო მოტოციკლების თანმხვედრი მიმართულებით ორ რიგად მოძრაობა. ამავე მუხლის მე-15 პუნქტის თანახმად ამ კანონის 32-ე მუხლის მე-6 პუნქტით დადგენილ მოთხოვნათა გათვალისწინებით, მოძრაობა ნებადართულია თანმხვედრი მიმართულების ტრამვაის ლიანდაგზე, რომელიც მარცხენა მხარეს სავალ ნაწილთან ერთ დონეზე მდებარეობს, თუ თანმხვედრი მიმართულებით მოძრაობისთვის განკუთვნილი ყველა მოძრაობის ზოლი დაკავებულია, აგრეთვე დაბრკოლების შემოვლის ან გასწრების, ან მარცხნივ მოხვევის ან მობრუნების დროს. ამასთანავე, ტრამვაის მოძრაობას არ უნდა შეექმნას დაბრკოლება. საპირისპირო მიმართულების ტრამვაის ლიანდაგზე გასვლა აკრძალულია.

QUESTION 420

CORRECT ANSWER: 1

If actual mass of mechanical vehicle with inactive braking system exceeds half of actual mass of towing vehicle, its towing is:

1

Prohibited

2

Allowed

განმარტება:

„საგზაო მოძრაობის შესახებ“ საქართველოს კანონის 45-ე მუხლის მე-6 პუნქტის „გ“ ქვეპუნქტის თანახმად, აკრძალულია ბუქსირება უმოქმედო სამუხრუჭო სისტემის მქონე მექანიკური სატრანსპორტო საშუალებისა, თუ მისი ფაქტობრივი მასა მობუქსირე სატრანსპორტო საშუალების ფაქტობრივი მასის ნახევარს აღემატება, ხოლო თუ მასა ნაკლებია, ბუქსირება დასაშვებია მხოლოდ ხისტი გადაბმით ან ნაწილობრივი დატვირთვით.

QUESTION 421

CORRECT ANSWER: 3

Towed mechanical vehicle must have the following lights on at any time during day and night:

1

Sidelights

2

Low beams

3

Hazard lights

განმარტება:

„საგზაო მოძრაობის შესახებ“ საქართველოს კანონის 45-ე მუხლის მე-7 პუნქტის თანახმად, დღე-ღამის ნებისმიერ პერიოდში მობუქსირე მექანიკურ სატრანსპორტო საშუალებას ჩართული უნდა ჰქონდეს ახლო განათების ფარები, საბუქსირო მექანიკურ სატრანსპორტო საშუალებას ჩართული უნდა ჰქონდეს საავარიო შუქსიგნალიზაცია, ხოლო მისი არარსებობის ან გაუმართაობის შემთხვევაში ამ ტრანსპორტის უკანა ნაწილზე უნდა დამაგრდეს საავარიო გაჩერების ნიშანი.

QUESTION 422

CORRECT ANSWER: 2

Vehicle with ramp platform for conveyance of passengers should be equipped with:

- | | |
|---|---|
| <p>1 Seats fixed at a height of 0.2-0.3 meters from floor and at least 0.5 meters from the upper edge of ramp, furthermore the seats along rear or side ramps should have hard backs</p> | <p>2 Seats fixed at a height of 0.3-0.5 meters from floor and at least 0.3 meters from the upper edge of ramp, furthermore the seats along rear or side ramps should have hard backs</p> |
|---|---|

განმარტება:

„საგზაო მოძრაობის შესახებ“ საქართველოს კანონის 46-ე მუხლის მე-9 პუნქტის თანახმად, მგზავრთა გადასაცემი ბორტის პლატფორმის მქონე სატვირთო ავტომობილი უზრუნველყოფილი უნდა იყოს იატაკიდან 0,3–0,5 მეტრ სიმაღლეზე და ბორტის ზედა ნაპირიდან არანაკლებ 0,3 მეტრზე განლაგებული დასასხდომი ადგილებით, ხოლო ბავშვთა ჯგუფის გადაყვანისას ბორტების სიმაღლე იატაკიდან 0,8 მეტრზე ნაკლები არ უნდა იყოს. უკანა ან გვერდითი ბორტების გასწვრივ განლაგებულ დასასხდომ ადგილებს მყარი საბურღეები უნდა ჰქონდეს.

QUESTION 423

CORRECT ANSWER: 3

A person with right to drive „C“ category vehicle shall be allowed to convey no more than 8 passengers in a body of the lorry with arranged ramp platform:

- | | |
|--|--|
| <p>1 Upon obtaining the driving license of this category</p> | <p>2 In six months after obtaining the driving license of this category</p> |
| <p>3 In a year after obtaining the driving license of this category</p> | |

განმარტება:

„საგზაო მოძრაობის შესახებ“ საქართველოს კანონის 46-ე მუხლის მე-3 პუნქტის „ა“ ქვეპუნქტის თანახმად, სატვირთო ავტომობილის ძარათი მგზავრები შეიძლება გადაიყვანოს პირმა, რომელიც აკმაყოფილებს ამ კანონის 56-ე მუხლის მე-7 პუნქტით დადგენილ მოთხოვნებს, თუ მგზავრთა რაოდენობა, გარდა მძღოლისა, 8-ს არ აღემატება. ამავე კანონის 56-ე მუხლის მე-7 პუნქტის თანახმად, „C“ კატეგორიის სატრანსპორტო საშუალების მართვის უფლების მქონე პირს ამ კატეგორიის მართვის მოწმობის მიღებიდან 1 წლის შემდეგ უფლება აქვს, საქართველოს კანონმდებლობით დადგენილი წესით გადაიყვანოს მგზავრები სატვირთო ავტომობილის ძარათი, თუ მგზავრთა რაოდენობა, გარდა მძღოლისა, 8-ს არ აღემატება.

QUESTION 424

CORRECT ANSWER: 1

When conveying the passengers in a duly arranged body of lorry, prior to proceeding, a driver must:

- 1 Instruct the passengers on boarding and allocation procedures on the body, as well as start driving after making sure in observation of all conditions for safe conveyance of the passengers
- 2 If number of passengers exceed the number of seats in a body, instructions must be given on the allocation procedures of standing passengers in the body
- 3 Is required to perform all of the requirements listed in given test

განმარტება:

„საგზაო მოძრაობის შესახებ“ საქართველოს კანონის 46-ე მუხლის მე-5 პუნქტის თანახმად, სატვირთო ავტომობილის ძარათი გადასაცემი მგზავრთა რაოდენობა არ უნდა აღემატებოდეს დასასხდომად მოწყობილი ადგილების რაოდენობას. მგზავრობის დაწყების წინ სატვირთო ავტომობილის მძღოლი ვალდებულია მგზავრებს ჩაუტაროს ინსტრუქტაჟი ჩასხდომისა და ძარაზე განლაგების წესის შესახებ. მძღოლმა მხოლოდ მაშინ უნდა დაიწყოს მოძრაობა, როცა დარწმუნდება, რომ მგზავრთა უსაფრთხოდ გადაყვანის ყველა პირობა დაცულია.

QUESTION 425

CORRECT ANSWER: 1



Is a lorry driver violating the Highway Code in case of proceeding to the arrow direction, if he/she is proceeding at a speed of 50 km/h?

1

No

2


Yes

განმარტება:

„საგზაო მოძრაობის შესახებ“ საქართველოს კანონის 33-ე მუხლის მე-7 პუნქტის „დ.ბ“ ქვეპუნქტის თანახმად, გარდა ამ კანონით დადგენილი შემთხვევებისა, დაუსახლებელ პუნქტებში, აგრეთვე დასახლებულ პუნქტებში გზის იმ მონაკვეთზე, რომელზეც შესაბამისი ნიშნით მოძრაობა დაშვებულია 60 კმ/ზე მეტი სიჩქარით, ნებადართული C და CE კატეგორიის, აგრეთვე C1 და C1E ქვეკატეგორიების სატრანსპორტო საშუალებების მოძრაობა, დადგენილი წესით, ძარით მგზავრების გადაყვანის შემთხვევაში, ყველა გზაზე არა უმეტეს 60 კმ/სთ სიჩქარით.

QUESTION 426

CORRECT ANSWER: 4



In the present situation, how many Highway Codes are violated by towing lorry driver proceeding to the arrow direction, if it is proceeding at a speed of 70 km/h?

1

None

2

One

3

Two

4

Three

განმარტება:

„საგზაო მოძრაობის შესახებ“ საქართველოს კანონის 33-ე მუხლის მე-8 პუნქტის „დ“ ქვეპუნქტის თანახმად, თუ ამ კანონით სხვა რამ არ არის დადგენილი, დასახლებულ ან დაუსახლებელ პუნქტში ნებადართულია იმ მექანიკური სატრანსპორტო საშუალების მოძრაობა, რომელიც ახორციელებს სხვა მექანიკური სატრანსპორტო საშუალების ბუქსირებას, არაუმეტეს 50 კმ/სთ სიჩქარით. ამავე კანონის 45-ე მუხლის მე-4 პუნქტის თანახმად ხისტი ან მოქნილი გადაბმით ბუქსირებისას აკრძალულია მგზავრის გადაყვანა საბუქსირო ავტობუსით, ტროლეიბუსითა და სატვირთო ავტომობილის ძარათი. ამავე კანონის 45-ე მუხლის მე-5 პუნქტის თანახმად, მობუქსირე და საბუქსირო სატრანსპორტო საშუალებებს შორის მანძილი მოქნილი გადაბმით ბუქსირებისას უნდა იყოს 4–6 მეტრი. ამავე მუხლის მე-9 პუნქტის თანახმად, მექანიკური სატრანსპორტო საშუალების ბუქსირებისას დრეკადი შემაერთებული რგოლების აღსანიშნავად გამოიყენება ალმები, გამაფრთხილებელი მოწყობილობა ან 200X200 მმ ზომის დაფა, რომელზედაც დიაგონალურადაა დახაზული 50 მმ სიგანის ურთიერთმონაცვლე წითელი და თეთრი ზოლები შუქამრეკლი ზედაპირით. დრეკად შემაერთებულ რგოლზე მაგრდება არანაკლებ ორი გამაფრთხილებელი მოწყობილობა (ალამი). აქ დარღვევაა: სიჩქარე; საბუქსირო მოწყობილობაზე არ არის ალმები და მგზავრების გადაყვანა საბუქსირო სატვირთო ავტომობილის ძარათი.

QUESTION 427

CORRECT ANSWER: 3

In case of shipment of hauler or container, the vehicle shall be considered as oversized (large-volume), if its height from the driveway surface:

1 Exceeds 2.30 meters, but does not exceed 3.50 meters

2 Exceeds 3.50 meters, but does not exceed 4.30 meters

3 Exceeds 4.30 meters

ბანმარტეზა:

„საგზაო მოძრაობის შესახებ“ საქართველოს კანონის 47-ე მუხლის მე-8 პუნქტის „ა“ ქვეპუნქტის თანახმად, სატრანსპორტო საშუალება არაგაბარითულად (მსხვილგაბარითიანად) ითვლება, თუ მისი პარამეტრები აღემატება შემდეგი მაჩვენებლებიდან ერთ-ერთს მაინც: ა) სიმაღლე (სავალი ნაწილის ზედაპირიდან) - ავტომობილის ან კონტეინერის გადაზიდვის შემთხვევაში - 4,30 მეტრს, ყველა სხვა შემთხვევაში - 4 მეტრს.

QUESTION 428

CORRECT ANSWER: 3

Other than the cases of shipment of hauler or container, the vehicle shall be considered as oversized (large-volume), if its height from the driveway surface:

1 Exceeds 2 meters, but does not exceed 3 meters

2 Exceeds 3 meters, but does not exceed 3.70 meters

3 Exceeds 4 meters

ბანმარტეზა:

„საგზაო მოძრაობის შესახებ“ საქართველოს კანონის 47-ე მუხლის მე-8 პუნქტის „ა“ ქვეპუნქტის თანახმად, სატრანსპორტო საშუალება არაგაბარითულად (მსხვილგაბარითიანად) ითვლება, თუ მისი პარამეტრები აღემატება შემდეგი მაჩვენებლებიდან ერთ-ერთს მაინც: ა) სიმაღლე (სავალი ნაწილის ზედაპირიდან) - ავტომობილის ან კონტეინერის გადაზიდვის შემთხვევაში - 4,30 მეტრს, ყველა სხვა შემთხვევაში - 4 მეტრს.

QUESTION 429

CORRECT ANSWER: 2

The vehicle shall be considered as oversized (large-volume), if its length:

- | | |
|---|---|
| <p>1 In case of road-train – does not exceed 20 meters, in all other cases – does not exceed 12 meters</p> | <p>2 In case of road-train - exceeds 20 meters, in all other cases – exceeds 12 meters</p> |
| <p>3 In all cases - exceeds 12 meters, but does not exceed 20 meters</p> | |

განმარტება:

„საგზაო მოძრაობის შესახებ“ საქართველოს კანონის 47-ე მუხლის მე-8 პუნქტის „გ“ ქვეპუნქტის თანახმად, სატრანსპორტო საშუალება არაგაბარითულად (მსხვილგაბარითიანად) ითვლება, თუ მისი პარამეტრები აღემატება შემდეგი მაჩვენებლებიდან ერთ-ერთს მაინც: გ) სიგრძე - ავტომატარებელის შემთხვევაში - 20 მეტრს, ყველა სხვა შემთხვევაში - 12 მეტრს, ან, თუ ტვირთი სატრანსპორტო საშუალების უკანა გაბარითის წერტილიდან 2 მეტრზე მეტადაა გამოშვებული.

QUESTION 430

CORRECT ANSWER: 2

Traffic direction on every road of Georgia is defined on:

- | | |
|---|----------------------------|
| <p>1 Left side</p> | <p>2 Right side</p> |
| <p>3 Both left and right sides</p> | |

განმარტება:

„საგზაო მოძრაობის შესახებ“ საქართველოს კანონის 31-ე მუხლის პირველი პუნქტის თანახმად, საქართველოს ყველა გზაზე მოძრაობის მიმართულებად დადგენილია მარჯვენა მხარეს მოძრაობა.

QUESTION 431

CORRECT ANSWER: 2

If not otherwise stipulated by the traffic organization, on the road with two or three driveways, a vehicle driver is prohibited from:

- | | |
|---|---|
| <p>1 Changing the lane on the driveway of the same traffic direction</p> | <p>2 Proceeding on the driveway in reverse traffic direction</p> |
|---|---|

განმარტება:

„საგზაო მოძრაობის შესახებ“ საქართველოს კანონის 31-ე მუხლის მე-6 პუნქტის თანახმად, თუ საგზაო მოძრაობის ორგანიზებით სხვა რამ არ არის გათვალისწინებული, ორი ან სამი სავალი ნაწილის მქონე გზაზე, სატრანსპორტო საშუალების მძღოლს ეკრძალება საპირისპირო მიმართულების მოძრაობის მხარის სავალ ნაწილზე გასვლა.

QUESTION 432

CORRECT ANSWER: 1

A driver intending to maneuver, shall start such maneuvering after making sure, that:

- | | |
|--|--|
| <p>1 He/she is not creating hazard to the traffic participants routing behind, ahead and alongside, both in the same and reverse traffic direction, considering their location, routing direction and speed</p> | <p>2 He/she is not creating hazard to the vehicles routing behind or alongside, considering their location, routing direction and speed</p> |
|--|--|

განმარტება:

„საგზაო მოძრაობის შესახებ“ საქართველოს კანონის 32-ე მუხლის პირველი პუნქტის თანახმად, მძღოლმა, რომელსაც განზრახული აქვს რომელიმე მანევრის შესრულება, ეს მანევრი უნდა დაიწყოს მხოლოდ მას შემდეგ, რაც დარწმუნდება, რომ არ შეუქმნის საფრთხეს მის უკან, წინ და გვერდით როგორც თანმხვედრი, ისე საპირისპირო მიმართულებით მოძრავ საგზაო მოძრაობის მონაწილეებს, მათი მდებარეობის, მოძრაობის მიმართულებისა და სიჩქარის გათვალისწინებით.

QUESTION 433

CORRECT ANSWER: 1

U-turn is prohibited:

1

On intersection

2

On and under bridge, underpass and trestle bridge

3

On railroad crossing

4

In tunnel

განმარტება:

„საგზაო მოძრაობის შესახებ“ საქართველოს კანონის 32-ე მუხლის მე-15 პუნქტის „ბ“, „გ“ და „დ“ ქვეპუნქტების თანახმად, აკრძალულია სატრანსპორტო საშუალების მობრუნება: ბ) გვირაბში; გ) ხიდზე, გზაგამტარზე, ესტაკადაზე და მათ ქვეშ; დ) რკინიგზის გადასასვლელზე.

QUESTION 434

CORRECT ANSWER: 2

Is routing of the vehicle, with maximum loading on each driving and non-driving axes exceeding 10 tonnes (in case of the vehicle with one driving axis – 11.5 tonnes), prohibited?

- 1 No, if it is the vehicle with one driving axis, which maximum loading on driving axis must not exceed 11.5 tonnes
- 2 No, if it is the oversized (large-volume) vehicle, routing according to the rule established by the legislation after agreement with the authorized body, in accordance with the conditions stipulated by this agreement
- 3 Is prohibited in any case

განმარტება:

„საგზაო მოძრაობის შესახებ“ საქართველოს კანონის 47-ე მუხლის მე-3 პუნქტის „ა“ თანახმად, აკრძალულია გზაზე იმ სატრანსპორტო საშუალების მოძრაობა, რომლის: ა) თითოეულ წამყვან ან არაწამყვან ღერძზე მაქსიმალური დატვირთვა აღემატება 10 ტონას (გარდა ერთწამყვანღერძიანი ავტოსატრანსპორტო საშუალებისა, რომლის წამყვან ღერძზე მაქსიმალური დატვირთვა არ უნდა აღემატებოდეს 11,5 ტონას) ან/და ფაქტობრივი მასა აღემატება 44 ტონას ან/და ფაქტობრივი მასა აღემატება ნებადართულ მაქსიმალურ მასას. ამავე მუხლის მე-5 პუნქტის „ა“ ქვეპუნქტის თანახმად, გარდა ნებადართულ მაქსიმალურ მასაზე ფაქტობრივი მასის გადაჭარბების აკრძალვისა, ამ მუხლის მე-3 პუნქტის მოქმედება არ ვრცელდება: ა) იმ არაგაბარითულ (მსხვილგაბარითიან) ან ზენორმატიულ (მძიმეწონიან) სატრანსპორტო საშუალებაზე, რომელიც გზაზე მოძრაობს საქართველოს კანონმდებლობით დადგენილი წესით უფლებამოსილ ორგანოსთან (უწყებასთან) შეთანხმების შემდეგ, ამ შეთანხმების პირობების შესაბამისად.

QUESTION 435

CORRECT ANSWER: 4

If the lorry driver routing in front of your vehicle is intending to turn to the right on the street with narrow driveway, you shall take into account:

1 The circumstance only, that due to large turning radius of the vehicle, he/she may move to the left directly in front of the turning

2 The circumstance only, that he/she will slow down abruptly

3 The circumstance only, that for giving-of-way to the pedestrians, he/she may stop during turning maneuver

4 That any of the circumstances listed in given test may occur

განმარტება:

თუ თქვენი სატრანსპორტო საშუალების წინ მიმავალი სატვირთო ავტომობილის მძღოლი აპირებს მარჯვნივ შეუხვიოს ვიწრო სავალი ნაწილის მქონე ქუჩაზე თქვენ უნდა გაითვალისწინოთ, რომ სატრანსპორტო საშუალების დიდი მოხვევის რადიუსის გამო ის უშუალოდ მოსახვევის წინ შეიძლება გადაადგილდეს მარცხნივ, ასევე შეიძლება მკვეთრად შეამციროს სიჩქარე და გადამავალი ქვეითების გზის დათმობის გამო შეიძლება გაჩერდეს მოხვევის შესრულების დროს.

QUESTION 436

CORRECT ANSWER: 2

In which of the following cases should not the driver give the light or hand signal before starting maneuvering?

- 1** Only in case, if another vehicle is not moving behind him/her
- 2** Only in case, if the signal may mislead other traffic participants
- 3** In any case listed in given test

განმარტება:

„საგზაო მოძრაობის შესახებ“ საქართველოს კანონის 32-ე მუხლის მე-2 პუნქტის თანახმად, მანევრის დაწყებამდე მძღოლი ვალდებულია ჩართოს შესაბამისი მიმართულების მოხვევის შუქ-მაჩვენებელი, ხოლო თუ ის არ არის ან გამოსულია მწყობრიდან – ანიშნოს ხელით. მარცხნივ მოხვევის ან მობრუნების სიგნალს შეესაბამება გვერდზე ჰორიზონტალურად გაშვებული მარცხენა ხელი ან გვერდზე გაშვებული, იდაყვში სწორი კუთხით ზემოთ მოხრილი მარჯვენა ხელი. მარჯვნივ მოხვევის სიგნალს შეესაბამება გვერდზე ჰორიზონტალურად გაშვებული მარჯვენა ხელი ან გვერდზე გაშვებული, იდაყვში სწორი კუთხით ზემოთ მოხრილი მარცხენა ხელი. დამუხრუჭების სიგნალს შეესაბამება ზემოთ ვერტიკალურად აწეული მარცხენა ან მარჯვენა ხელი. მოხვევის შუქ-მაჩვენებლით ან ხელით სიგნალი მიცემული უნდა იქნეს დროულად, მანევრის დაწყების წინ და უნდა შეწყდეს დაუყოვნებლივ, მისი დასრულებისთანავე (სიგნალის ხელით მიცემა შეიძლება შეწყდეს უშუალოდ მანევრის დაწყების წინ). ამასთანავე, სიგნალმა არ უნდა შეაცდინოს სხვა საგზაო მოძრაობის მონაწილეები.

თემა 16:

გასწრება შემხვედრი ტრანსპორტის გვერდის
ავლით

QUESTION 437

CORRECT ANSWER: 1



Is a motor car driver prohibited from overtaking in the present situation?

1

Yes

2


No

განმარტება:

„საგზაო მოძრაობის შესახებ“ საქართველოს კანონის 34-ე მე-9 პუნქტის „ბ“ ქვეპუნქტის თანახმად, ამ მუხლის მე-3 პუნქტით დადგენილ მოთხოვნათა გათვალისწინებით გასწრება აკრძალულია რკინიგზის გადასასვლელზე და მის წინ 100 მეტრზე ახლოს, გარდა იმ შემთხვევისა, როცა ამ ადგილებზე მოძრაობა რეგულირდება ისეთი ტიპის შუქნიშნით, რომელიც გზაჯვარედინებზე გამოიყენება.

QUESTION 438

CORRECT ANSWER: 2



Is a motor car driver allowed to proceed to the arrow direction?

1

Yes

2

No

განმარტება:

„საგზაო მოძრაობის შესახებ“ საქართველოს კანონის 31-ე მუხლის მე-18 პუნქტის თანახმად, ამ კანონის 37-ე მუხლის პირველი პუნქტითა და 43-ე მუხლის მე-2 პუნქტით გათვალისწინებული შემთხვევების გარდა, აკრძალულია მექანიკური სატრანსპორტო საშუალების მოძრაობა გვერდულაზე, ველოსიპედის მოძრაობის ზოლზე, ველობილიკზე, ტროტუარსა და ქვეითთა ბილიკზე. მოძრაობის უსაფრთხოების ზომების დაცვით ნებადართულია უშუალოდ გვერდულასთან, ველოსიპედის მოძრაობის ზოლთან, ველობილიკთან, ტროტუართან და ქვეითთა ბილიკთან განლაგებულ სანარმოსა და ობიექტთან ტვირთის მიმტანი მექანიკური სატრანსპორტო საშუალების უმოკლესი გზით მიდგომა, თუ ამისათვის სხვა შესაძლებლობა არ არსებობს. ამ პუნქტით დადგენილი აკრძალვა არ ვრცელდება საგზაო-საექსპლუატაციო და კომუნალური სამსახურების სატრანსპორტო საშუალებებზე.

QUESTION 439

CORRECT ANSWER: 2



Is white motor car driver prohibited from overtaking to the arrow direction?

1

Yes

2

No

განმარტება:

„საგზაო მოძრაობის შესახებ“ საქართველოს კანონის 34-ე მუხლის მე-9 პუნქტის „ე“ ქვეპუნქტის თანახმად, ამ მუხლის მე-3 პუნქტით დადგენილ მოთხოვნათა გათვალისწინებით გასწრება აკრძალულია შემზღუდული ხილვადობის პირობებში საპირისპირო მოძრაობის ზოლზე გასვლით.

QUESTION 440

CORRECT ANSWER: 2



Is grey motor car driver prohibited from overtaking to the arrow direction?

1

Yes

2

No

განმარტება:

„საგზაო მოძრაობის შესახებ“ საქართველოს კანონის 34-ე მუხლის მე-9 პუნქტის „ა“ და „ა.ბ“ ქვეპუნქტების თანახმად, ამ მუხლის მე-3 პუნქტით დადგენილ მოთხოვნათა გათვალისწინებით გასწრება აკრძალულია წრიულმოძრაობიანი გზაჯვარედინისაგან განსხვავებულ გზაჯვარედინზე ან უშუალოდ ამ გზაჯვარედინის წინ, გარდა იმ შემთხვევისა, როდესაც გასწრება ხორციელდება გზაზე, რომელზე მოძრაობის დროსაც მძღოლს ენიჭება გზაჯვარედინზე უპირატესი მოძრაობის უფლება. ამავე კანონის პირველი დანართის პირველი თავის 1.7.1 პუნქტის თანახმად საგზაო ნიშანი 1.7.1 „მეორეხარისხოვან გზასთან გადაკვეთა“ - ისეთ გზასთან გადაკვეთა ან ისეთ გზასთან შეერთება, რომელზე მოძრაობა მძღოლსაც აქვს გზის დათმობის ვალდებულება.

QUESTION 441

CORRECT ANSWER: 1



Is green motor car drive allowed to overtake to the arrow direction?

1

Yes

2


No

განმარტება:

„საგზაო მოძრაობის შესახებ“ საქართველოს კანონის 34-ე მუხლის მე-9 პუნქტის „ა“ და „ა.ბ“ ქვეპუნქტების თანახმად, ამ მუხლის მე-3 პუნქტით დადგენილ მოთხოვნათა გათვალისწინებით გასწრება აკრძალულია წრიულმოძრაობიანი გზატკარედისაგან განსხვავებულ გზატკარედებზე ან უშუალოდ ამ გზატკარედის წინ, გარდა იმ შემთხვევისა, როდესაც გასწრება ხორციელდება გზაზე, რომელზე მოძრაობის დროსაც მძღოლს ენიჭება გზატკარედებზე უპირატესი მოძრაობის უფლება. ამავე კანონის მე-2 დანართის 1.5 პუნქტის თანახმად ჰორიზონტალური საგზაო მონიშვნა 1.5 ყოფს საპირისპირო მიმართულებით მოძრავ სატრანსპორტო ნაკადებს გზაზე, რომელსაც მოძრაობის ორი ან სამი ზოლი აქვს; აღნიშნავს მოძრაობის ზოლის საზღვარს ერთი მიმართულებით მოძრაობისათვის განკუთვნილი ორი და მეტი ზოლის არსებობისას. 1.5 ხაზის გადაკვეთა ნებადართულია ნებისმიერი მხრიდან.

QUESTION 442

CORRECT ANSWER: 2



Is grey motor car driver allowed to overtake to the arrow direction?

1

yes

2


No

განმარტება:

„საგზაო მოძრაობის შესახებ“ საქართველოს კანონის 34-ე მუხლის მე-9 პუნქტის „ა“ და „ა.ბ“ ქვეპუნქტების თანახმად, ამ მუხლის მე-3 პუნქტით დადგენილ მოთხოვნათა გათვალისწინებით გასწრება აკრძალულია წრიულმოძრაობიანი გზატკარედინისაგან განსხვავებულ გზატკარედინზე ან უშუალოდ ამ გზატკარედინის წინ, გარდა იმ შემთხვევისა, როდესაც გასწრება ხორციელდება გზაზე, რომელზე მოძრაობის დროსაც მძღოლს ენიჭება გზატკარედინზე უპირატესი მოძრაობის უფლება. ამავე კანონის მე-2 დანართის პირველი თავის 1.1 პუნქტის თანახმად ჰორიზონტალური საგზაო მონიშვნა 1.1. ყოფს საპირისპირო მიმართულებით მოძრავ სატრანსპორტო ნაკადებს და გზის სახიფათო მონაკვეთზე აღნიშნავს მოძრაობის ზოლის საზღვარს ან სავალი ნაწილის საზღვარს, რომელზე შესვლაც აკრძალულია; აღნიშნავს სატრანსპორტო საშუალების დგომის ადგილის საზღვარს და იმ გზის სავალი ნაწილის ნაპირს, რომელიც მოძრაობის პირობებით არ განეკუთვნება ავტომაგისტრალს. 1.1 ხაზის გადაკვეთა აკრძალულია. დასაშვებია სავალი ნაწილის ნაპირის აღმნიშვნელი და მძღოლის მარჯვენა მხარეს განლაგებული 1.1 ხაზის გადაკვეთა სატრანსპორტო საშუალების გზის ნაპირზე გასაჩერებლად.

QUESTION 443

CORRECT ANSWER: 2



Is red car driver allowed to overtake to the arrow direction?

1

Yes

2

No

განმარტება:

„საგზაო მოძრაობის შესახებ“ საქართველოს კანონის 34-ე მუხლის პირველი პუნქტის თანახმად, გასწრება უნდა განხორციელდეს მარცხენა მხრიდან. მარჯვენა მხრიდან გასწრება ნებადართულია იმ შემთხვევაში, თუ მძღოლმა, რომელსაც უსწრებენ, მისცა სიგნალი, რომ მარცხნივ მოხვევას აპირებს, და თავისი სატრანსპორტო საშუალება ისე მიმართა, რომ შეუხვიოს სხვა გზაზე ან შევიდეს გზის მიმდებარე ტერიტორიაზე ან გაჩერდეს ამ მხარეს.

QUESTION 444

CORRECT ANSWER: 1



Is the motor car driver prohibited from overtaking to the arrow direction, if the tractor is moving at a speed of 30 km/h ?

1

Yes

2

No

განმარტება:

„საგზაო მოძრაობის შესახებ“ საქართველოს კანონის 34-ე მუხლის პირველი პუნქტის თანახმად, კანონის 31-ე მუხლის მე-11 პუნქტის თანახმად, დაუსახლებელ და დასახლებულ პუნქტებში სავალი ნაწილის იმ მონაკვეთზე, რომელზედაც მოძრაობა ნებადართულია 80 კმ/სთ-ზე მეტი სიჩქარით, მძღოლმა უნდა იმოძრაოს სავალი ნაწილის მარჯვენა კიდედან რაც შეიძლება ახლოს. აკრძალულია მარცხენა ზოლის დაკავება, როცა მარჯვენა ზოლი თავისუფალია, გარდა დაბრკოლების შემთხვევის, მარცხნივ მოხვევის ან მობრუნების შემთხვევისა. ამავე კანონის 34-ე მუხლის პირველი პუნქტის თანახმად, გასწრება უნდა განხორციელდეს მარცხენა მხრიდან. მარჯვენა მხრიდან გასწრება ნებადართულია იმ შემთხვევაში, თუ მძღოლმა, რომელსაც უსწრებენ, მისცა სიგნალი, რომ მარცხნივ მოხვევას აპირებს, და თავისი სატრანსპორტო საშუალება ისე მიმართა, რომ შეუხვიოს სხვა გზაზე ან შევიდეს გზის მიმდებარე ტერიტორიაზე ან გაჩერდეს ამ მხარეს.

QUESTION 445

CORRECT ANSWER: 4



Which vehicle driver is violating the Highway Code in case of proceeding to the arrow direction?

1

Lorry driver only

2

Motor car driver only

3

Both of them

4

None of them

განმარტება:

„საგზაო მოძრაობის შესახებ“ საქართველოს კანონის 34-ე მუხლის პირველი პუნქტის თანახმად, გასწრება უნდა განხორციელდეს მარცხენა მხრიდან. მარჯვენა მხრიდან გასწრება ნებადართულია იმ შემთხვევაში, თუ მძღოლმა, რომელსაც უსწრებენ, მისცა სიგნალი, რომ მარცხნივ მოხვევას აპირებს, და თავისი სატრანსპორტო საშუალება ისე მიმართა, რომ შეუხვიოს სხვა გზაზე ან შევიდეს გზის მიმდებარე ტერიტორიაზე ან გაჩერდეს ამ მხარეს. ამავე მუხლის მე-9 პუნქტის „ა.ა“ და „ა.ბ“ ქვეპუნქტების თანახმად ამ მუხლის მე-3 პუნქტით დადგენილ მოთხოვნათა გათვალისწინებით გასწრება აკრძალულია წრიულმოძრაობიანი გზაჯვარედინისაგან განსხვავებულ გზაჯვარედინზე ან უშუალოდ ამ გზაჯვარედინის წინ, გარდა: ა.ა) ამ კანონით გათვალისწინებული მარჯვნიდან ნებადართული გასწრების შემთხვევისა; ა.ბ) იმ შემთხვევისა, როდესაც გასწრება ხორციელდება გზაზე, რომელზე მოძრაობის დროსაც მძღოლს ენიჭება გზაჯვარედინზე უპირატესი მოძრაობის უფლება.

QUESTION 446

CORRECT ANSWER: 2



Is the lorry driver, with maximum allowable mass exceeding 3.5 tonnes, allowed to overtake to the arrow direction?

1

Yes

2


No

განმარტება:

„საგზაო მოძრაობის შესახებ“ საქართველოს კანონის მე-3 თავის (ამკრძალავი ნიშნები) 3.22 პუნქტის თანახმად, საგზაო ნიშანი 3.22 „სატვირთო ავტომობილით გასწრება აკრძალულია“ - კრძალავს 3,5 ტონაზე მეტი ნებადართული მაქსიმალური მასის მქონე სატვირთო ავტომობილით სხვა სატრანსპორტო საშუალების გასწრებას (გარდა 30 კმ/სთ-ზე ნაკლები სიჩქარით მოძრავი ტრანსპორტისა), აგრეთვე ტრაქტორით სხვა სატრანსპორტო საშუალების გასწრებას (გარდა საჭაპანო ტრანსპორტისა და ველოსიპედისა). ამავე კანონის 34-ე მუხლის მე-9 პუნქტის „დ“ ქვეპუნქტის თანახმად, ამ მუხლის მე-3 პუნქტით დადგენილ მოთხოვნათა გათვალისწინებით გასწრება აკრძალულია გასწრების ამკრძალავი ნიშნით ან მონიშვნით განსაზღვრულ ადგილზე.

QUESTION 447

CORRECT ANSWER: 3



Which vehicle driver is prohibited from proceeding to the arrow direction, if the middle lane of the given road is used for two-way traffic?

1

Lorry driver only

2

Motor car driver only

3

Both of them

4

None of them

განმარტება:

„საგზაო მოძრაობის შესახებ“ საქართველოს კანონის 31-ე მუხლის მე-7 პუნქტის თანახმად, სამი მოძრაობის ზოლის მქონე (გარდა 1.9 საგზაო მონიშვნისა) ორმხრივმოძრაობიან გზაზე სატრანსპორტო საშუალების მძღოლი არ უნდა გადავიდეს სავალი ნაწილის განაპირა ზოლზე, სადაც საპირისპირო მიმართულების მოძრაობა ხორციელდება. თუ სამი მოძრაობის ზოლის მქონე გზაზე შუა ზოლი ორივე მიმართულებით მოძრაობისათვის გამოიყენება, ამ ზოლზე გასვლა ნებადართულია მხოლოდ გასწრების, დაბრკოლების შემოვლის, მარცხნივ მოხვევის ან მობრუნების მიზნით.

QUESTION 448

CORRECT ANSWER: 1



Will the motor car driver violate the Highway Code in case of proceeding to the arrow direction?

1

Yes

2

No

განმარტება:

„საგზაო მოძრაობის შესახებ“ საქართველოს კანონის 25-ე მუხლის მე-2 პუნქტის „ბ“ ქვეპუნქტის თანახმად . ქვეითთა გადასასვლელზე ამ კანონის 21-ე მუხლის მე-6 პუნქტით, 33-ე მუხლის მე-2 პუნქტითა და 34-ე მუხლის მე-11 პუნქტით დადგენილ მოთხოვნათა დაცვით უნდა შესრულდეს შემდეგი მოთხოვნები: ბ) თუ სატრანსპორტო საშუალებათა მოძრაობა არ რეგულირდება არც საგზაო შექნიშნით და არც მარეგულირებლის მეშვეობით, მძღოლმა ქვეითთა გადასასვლელთან მიახლოებისას სათანადოდ უნდა შეამციროს სიჩქარე, რათა საფრთხე არ შეუქმნას ამ გადასასვლელზე შესულ ან შემავალ ქვეითებს, ხოლო საჭიროების შემთხვევაში უნდა გაჩერდეს და გაატაროს ქვეითები. ამავე კანონის 34-ე მუხლის მე-11 პუნქტის თანახმად, სატრანსპორტო საშუალებას შეუძლია იმ სატრანსპორტო საშუალებას, რომელიც უახლოვდება ქვეითთა გადასასვლელს ან რომელიც შეჩერდა უშუალოდ ამ გადასასვლელის წინ, გაუსწროს მხოლოდ საკმარისად შემცირებული სიჩქარით, რათა უზრუნველყოს დროული გაჩერება გადასასვლელზე ქვეითის აღმოჩენის შემთხვევაში. აკრძალულია ქვეითთა გადასასვლელზე გასწრება, თუ მასზე ქვეითი მოძრაობს.

QUESTION 449

CORRECT ANSWER: 2



Is the motor car driver prohibited from overtaking to the arrow direction?

1

Yes

2


No

განმარტება:

„საგზაო მოძრაობის შესახებ“ საქართველოს კანონის 34-ე მუხლის მე-9 პუნქტის „ა.ბ“ ქვეპუნქტის თანახმად, ამ მუხლის მე-3 პუნქტით დადგენილ მოთხოვნათა გათვალისწინებით გასწრება აკრძალულია წრიულმოძრაობიანი გზაჯვარედინისაგან განსხვავებულ გზაჯვარედინზე ან უშუალოდ ამ გზაჯვარედინის წინ, გარდა იმ შემთხვევისა, როდესაც გასწრება ხორციელდება გზაზე, რომელზე მოძრაობის დროსაც მძღოლს ენიჭება გზაჯვარედინზე უპირატესი მოძრაობის უფლება. ამავე მუხლის მე-10 პუნქტის თანახმად ამ მუხლის მე-9 პუნქტის „ა“ და „ბ“ ქვეპუნქტებით განსაზღვრული აკრძალვები არ ვრცელდება ორთვლიანი ველოსიპედის, მოპედისა და ორთვლიანი უეტლო მოტოციკლის გასწრების შემთხვევებზე.

QUESTION 450

CORRECT ANSWER: 1



Is the motor car driver prohibited from overtaking to the arrow direction?

1

Yes

2


No

განმარტება:

„საგზაო მოძრაობის შესახებ“ საქართველოს კანონის 34-ე მუხლის მე-9 პუნქტის „ა.ბ“ ქვეპუნქტის თანახმად, ამ მუხლის მე-3 პუნქტით დადგენილ მოთხოვნათა გათვალისწინებით გასწრება აკრძალულია წრიულმოძრაობიანი გზაჯვარედინისაგან განსხვავებულ გზაჯვარედინზე ან უშუალოდ ამ გზაჯვარედინის წინ, გარდა იმ შემთხვევისა, როდესაც გასწრება ხორციელდება გზაზე, რომელზე მოძრაობის დროსაც მძღოლს ენიჭება გზაჯვარედინზე უპირატესი მოძრაობის უფლება. ამავე მუხლის მე-10 პუნქტის თანახმად ამ მუხლის მე-9 პუნქტის „ა“ და „ბ“ ქვეპუნქტებით განსაზღვრული აკრძალვები არ ვრცელდება ორთვლიანი ველოსიპედის, მოპედისა და ორთვლიანი უეტლო მოტოციკლის გასწრების შემთხვევებზე.

QUESTION 451

CORRECT ANSWER: 1



Is green car driver prohibited from fulfillment of overtaking maneuver by moving on reversible traffic lane?

1

Yes

2

No

განმარტება:

„საგზაო მოძრაობის შესახებ“ საქართველოს კანონის პირველი დანართის პირველი თავის (მაფრთხილებელი ნიშნები) 1.15 პუნქტის თანახმად საგზაო ნიშანი 1.15. „ციცაბო აღმართი“ – იძლევა გაფრთხილებას ციცაბოაღმართიან გზის მონაკვეთთან მიახლოების თაობაზე. ამავე კანონის 34-ე მუხლის მე-9 პუნქტის „ე“ ქვეპუნქტის თანახმად, ამ მუხლის მე-3 პუნქტით დადგენილ მოთხოვნათა გათვალისწინებით გასწრება აკრძალულია შეზღუდული ხილვადობის პირობებში საპირისპირო მოძრაობის ზოლზე გასვლით.

QUESTION 452

CORRECT ANSWER: 2



Will blue motor car driver violate the Highway Code in case of proceeding to the arrow direction, if distance to the end of the ascent is 80 meters?

1

Yes

2

No

განმარტება:

„საგზაო მოძრაობის შესახებ“ საქართველოს კანონის პირველი დანართის პირველი თავის (მაფრთხილებელი ნიშნები) 1.15 პუნქტის თანახმად საგზაო ნიშანი 1.15. „ციცაბო აღმართი“ – იძლევა გაფრთხილებას ციცაბოაღმართიან გზის მონაკვეთთან მიახლოების თაობაზე. ამავე კანონის 34-ე მუხლის მე-9 პუნქტის „ე“ ქვეპუნქტის თანახმად, ამ მუხლის მე-3 პუნქტით დადგენილ მოთხოვნათა გათვალისწინებით გასწრება აკრძალულია შეზღუდული ხილვადობის პირობებში საპირისპირო მოძრაობის ზოლზე გასვლით.

QUESTION 453

CORRECT ANSWER: 1



Is red car driver prohibited from fulfillment of overtaking maneuver by moving on reversible traffic lane?

1

Yes

2

No

განმარტება:

„საგზაო მოძრაობის შესახებ“ საქართველოს კანონის პირველი დანართის პირველი თავის (მაფრთხილებელი ნიშნები) 1.15 პუნქტის თანახმად საგზაო ნიშანი 1.15. „ციცაბო აღმართი“ – იძლევა გაფრთხილებას ციცაბოაღმართიან გზის მონაკვეთთან მიახლოების თაობაზე. ამავე კანონის 34-ე მუხლის მე-9 პუნქტის „ე“ ქვეპუნქტის თანახმად, ამ მუხლის მე-3 პუნქტით დადგენილ მოთხოვნათა გათვალისწინებით გასწრება აკრძალულია შეზღუდული ხილვადობის პირობებში საპირისპირო მოძრაობის ზოლზე გასვლით.

QUESTION 454

CORRECT ANSWER: 2



Is green car driver prohibited from overtaking to the arrow direction?

1

Yes

2

No

განმარტება:

„საგზაო მოძრაობის შესახებ“ საქართველოს კანონის პირველი დანართის პირველი თავის (მაფრთხილებელი ნიშნები) 1.15 პუნქტის თანახმად საგზაო ნიშანი 1.15. „ციცაბო აღმართი“ – იძლევა გაფრთხილებას ციცაბოაღმართიან გზის მონაკვეთთან მიახლოების თაობაზე. ამავე კანონის 34-ე მუხლის მე-9 პუნქტის „ე“ ქვეპუნქტის თანახმად, ამ მუხლის მე-3 პუნქტით დადგენილ მოთხოვნათა გათვალისწინებით გასწრება აკრძალულია შეზღუდული ხილვადობის პირობებში საპირისპირო მოძრაობის ზოლზე გასვლით.

QUESTION 455

CORRECT ANSWER: 1



Is motor car driver prohibited from overtaking in the present situation?

1

Yes

2


No

განმარტება:

„საგზაო მოძრაობის შესახებ“ საქართველოს კანონის 34-ე მუხლის მე-11 პუნქტის თანახმად, სატრანსპორტო საშუალებას შეუძლია იმ სატრანსპორტო საშუალებას, რომელიც უახლოვდება ქვეითთა გადასასვლელს ან რომელიც შეჩერდა უშუალოდ ამ გადასასვლელის წინ, გაუსწროს მხოლოდ საკმარისად შემცირებული სიჩქარით, რათა უზრუნველყოს დროული გაჩერება გადასასვლელზე ქვეითის აღმოჩენის შემთხვევაში. აკრძალულია ქვეითთა გადასასვლელზე გასწრება, თუ მასზე ქვეითი მოძრაობს.

QUESTION 456

CORRECT ANSWER: 1



Is the lorry driver allowed to start overtaking maneuver, if the motor car driver has left-turn indicator switched on and already started overtaking?

1

No

2

Yes

განმარტება:

„საგზაო მოძრაობის შესახებ“ საქართველოს კანონის 34-ე მუხლის მე-3 პუნქტის „ა“ ქვეპუნქტის თანახმად, გასწრების დაწყებამდე მძღოლი, ისე, რომ არ დაარღვიოს ამ კანონის მე-20 მუხლის მე-2 პუნქტითა და 32-ე მუხლით დადგენილი მოთხოვნები, უნდა დარწმუნდეს, რომ მის უკან მომავალი არცერთი სატრანსპორტო საშუალების მძღოლს გასწრება არ დაუწყია.

QUESTION 457

CORRECT ANSWER: 4

In absence of which below-listed circumstances should the driver make sure in before starting to overtake?

1 Only in fact, that none of vehicle drivers driving behind him/her has started overtaking

2 Only in fact, that the vehicle driver driving in front of him/her on the same traffic lane has not given a signal for warning about intention of overtaking to another vehicle

3 Only in fact, that the traffic line, where he/she is intending to go, is free within sufficient distance, besides ratio of speed of two vehicles provides overtaking opportunity in quite a short time

4 In all of the circumstances listed in given test

განმარტება:

„საგზაო მოძრაობის შესახებ“ საქართველოს კანონის 34-ე მუხლის მე-3 პუნქტის „ა“, „ბ“ და „გ“ ქვეპუნქტების თანახმად, გასწრების დაწყებამდე მძღოლი, ისე, რომ არ დაარღვიოს ამ კანონის მე-20 მუხლის მე-2 პუნქტითა და 32-ე მუხლით დადგენილი მოთხოვნები, უნდა დარწმუნდეს, რომ: ა) მის უკან მომავალი არცერთი სატრანსპორტო საშუალების მძღოლს გასწრება არ დაუწყია; ბ) მოძრაობის იმავე ზოლზე მის წინ მიმავალი სატრანსპორტო საშუალების მძღოლს არ მიუცია სიგნალი, რომ აპირებს, გაუსწროს სხვა სატრანსპორტო საშუალებას. აკრძალულია იმ სატრანსპორტო საშუალების გასწრება, რომელიც ახორციელებს გასწრებას ან დაბრკოლების შემოვლას; გ) მას შეუძლია გასწრება ისე განახორციელოს, რომ არ შეუქმნას საფრთხე ან დაბრკოლება სხვა საგზაო მოძრაობის მონაწილეებს. იგი აგრეთვე უნდა დარწმუნდეს, რომ მოძრაობის ზოლი, რომელზედაც აპირებს გასვლას, საკმარის მანძილზე თავისუფალია და ორი სატრანსპორტო საშუალების სიჩქარეთა ფარდობა საკმარისად მოკლე დროში გასწრების საშუალებას იძლევა.

QUESTION 458

CORRECT ANSWER: 1

Is overtaking to the vehicle, approaching the crosswalk marked appropriately on the driveway or stopped directly in front of this crosswalk, allowed?

- 1** Is allowed if a pedestrian does not walk on crosswalk, also with sufficiently reduced speed only
- 2** Is not allowed at the crosswalk, as well as not less than 100 meters before it
- 3** Is allowed only in uninhabited area, if maximum allowable speed limit on the road is exceeding 60 km/h

განმარტება:

„საგზაო მოძრაობის შესახებ“ საქართველოს კანონის 34-ე მუხლის მე-11 პუნქტის თანახმად, სატრანსპორტო საშუალებას შეუძლია იმ სატრანსპორტო საშუალებას, რომელიც უახლოვდება ქვეითთა გადასასვლელს ან რომელიც შეჩერდა უშუალოდ ამ გადასასვლელის წინ, გაუსწროს მხოლოდ საკმარისად შემცირებული სიჩქარით, რათა უზრუნველყოს დროული გაჩერება გადასასვლელზე ქვეითის აღმოჩენის შემთხვევაში. აკრძალულია ქვეითთა გადასასვლელზე გასწრება, თუ მასზე ქვეითი მოძრაობს.

QUESTION 459

CORRECT ANSWER: 2



Is the driver of a light vehicle prohibited to drive according to the arrows?

1

Yes

2


No

განმარტება:

„საგზაო მოძრაობის შესახებ“ საქართველოს 34-ე მუხლის მე-9 პუნქტის „დ“ ქვეპუნქტის თანახმად, ამ მუხლის მე-3 პუნქტით დადგენილ მოთხოვნათა გათვალისწინებით გასწრება აკრძალულია გასწრების ამკრძალავი ნიშნით ან მონიშვნით განსაზღვრულ ადგილზე. ამავე კანონის პირველი დანართის 3.20 პუნქტის თანახმად, საგზაო ნიშანი 3.20 „გასწრება აკრძალულია“ - კრძალავს ყველა სახის მექანიკური სატრანსპორტო საშუალების გასწრებას (გარდა 30 კმ/სთ-ზე ნაკლები სიჩქარით მოძრავი ტრანსპორტისა). ნებადართულია გასწრება უეტლო მოტოციკლის, მოპედისა და ველოსიპედის შემხვედრი მოძრაობის ზოლში გადაუსვლელად.

QUESTION 460

CORRECT ANSWER: 2



Will motor car driver violate the Highway Code in case of proceeding to the arrow direction?

1

Yes

2

No

განმარტება:

„საგზაო მოძრაობის შესახებ“ საქართველოს კანონის 34-ე მუხლის მე-18 პუნქტის თანახმად, გზაზე ჩართული ლურჯი მოელვარე სპეციალური ციმციმა სიგნალით გაჩერებული ოპერატიული ან ჩართული ნარინჯისფერი ან ყვითელი მოელვარე სპეციალური ციმციმა სიგნალით გაჩერებული სპეციალური ან საგზაო-საექსპლუატაციო სამსახურის სატრანსპორტო საშუალების, ნელა მოძრავი ტექნიკური სამსახურის სატრანსპორტო საშუალების ან კომუნალური სამსახურის საგზაო საშუალების შემსრულებლის გასწრება, შემოვლა ან მისთვის გვერდის აქცევა, სავალ ნაწილზე მისი განლაგების, სიტუაციისა და საფრთხის გათვალისწინებით, ნებადართულია როგორც მარჯვნიდან, ისე მარცხნიდან, მიუხედავად აღნიშნულ გზის მონაკვეთზე არსებული საგზაო ნიშნებისა და ჰორიზონტალური საგზაო მონიშვნის მოთხოვნებისა. ამავე კანონის პირველი დანართის მე-4 თავის (მიმთითებელი ნიშნები) 4.2.2 პუნქტის თანახმად, საგზაო ნიშანი 4.2.2 „დაბრკოლების შემოვლა მარცხნიდან“ - მიუთითებს გამყოფი ზოლის, უსაფრთხოების კუნძულის ან რაიმე დაბრკოლების მხოლოდ მარცხნიდან შემოვლის მიმართულებას. ამავე კანონის მე-2 დანართის პირველი აბზაცის თანახმად, საგზაო მონიშვნა ადგენს მოძრაობის გარკვეულ რეჟიმებსა და წესრიგს, არის მძღოლის ვიზუალური ორიენტაციის საშუალება და შეიძლება გამოყენებულ იქნეს როგორც დამოუკიდებლად, ისე საგზაო მოძრაობის ორგანიზების სხვა ტექნიკურ საშუალებებთან ერთად. თუ გადასატან სადგარზე გამოსახული დროებითი საგზაო ნიშნებისა და მონიშვნის ხაზების მნიშვნელობა ურთიერთსაპირისპიროა, მძღოლი ხელმძღვანელობს საგზაო ნიშნებით.

QUESTION 461

CORRECT ANSWER: 2



Is the motor car driver prohibited from overtaking to the arrow direction, if visibility is limited on the given section of the road?

1

Yes

2


No

განმარტება:

„საგზაო მოძრაობის შესახებ“ საქართველოს კანონის 34-ე მუხლის მე-9 პუნქტის „ე“ ქვეპუნქტის თანახმად, ამ მუხლის მე-3 პუნქტით დადგენილ მოთხოვნათა გათვალისწინებით გასწრება აკრძალულია შემდეგდელი ხილვადობის პირობებში საპირისპირო მოძრაობის ზოლზე გასვლით. ამავე კანონის პირველი დანართის 1.12.1 პუნქტის თანახმად საგზაო ნიშანი 1.12.1, „სახიფათო მოსახვევი“ აღნიშნავს მცირე რადიუსიანი ან შემდეგდელი ხილვადობის მქონე გზის სახიფათო მოსახვევს - მარჯვნივ. ამავე კანონის მე-2 დანართის პირველი თავის (ჰორიზონტალური მონიშვნა) 1.5 პუნქტის თანახმად, ჰორიზონტალური მონიშვნა 1.5. ყოფს საპირისპირო მიმართულებით მოძრავ სატრანსპორტო ნაკადებს გზაზე, რომელსაც მოძრაობის ორი ან სამი ზოლი აქვს; აღნიშნავს მოძრაობის ზოლის საზღვარს ერთი მიმართულებით მოძრაობისათვის განკუთვნილი ორი ან ორზე მეტი ზოლის არსებობისას. 1.5 ხაზის გადაკვეთა ნებადართულია ნებისმიერი მხრიდან.

QUESTION 462

CORRECT ANSWER: 3



In the present situation, which of the vehicle drivers is prohibited from proceeding to the arrow direction, if towing motorcycle has started to pass the obstruction?

1

Towing and tow motorcyclists

2

Motor car driver

3


Both of them

განმარტება:

„საგზაო მოძრაობის შესახებ“ საქართველოს კანონის 34-ე მუხლის მე-3 პუნქტის „ბ“ ქვეპუნქტის თანახმად, გასწრების დაწყებამდე მძღოლი, ისე, რომ არ დაარღვიოს ამ კანონის მე-20 მუხლის მე-2 პუნქტითა და 32-ე მუხლით დადგენილი მოთხოვნები, უნდა დარწმუნდეს, რომ მოძრაობის იმავე ზოლზე მის წინ მიმავალი სატრანსპორტო საშუალების მძღოლს არ მიუცია სიგნალი, რომ აპირებს, გაუსწროს სხვა სატრანსპორტო საშუალებას. აკრძალულია იმ სატრანსპორტო საშუალების გასწრება, რომელიც ახორციელებს გასწრე-ბას ან დაბრკოლების შემოვლას. ამავე მუხლის მე-9 პუნქტის „გ“ ქვეპუნქტის თანახმად, ამ მუხლის მე-3 პუნქტით დადგენილ მოთხოვნათა გათვალისწინებით გასწრება აკრძალულია იმ სატრანსპორტო საშუალებისა, რომელიც ახორციელებს გასწრე-ბას ან შემოვლას. ამავე კანონის 45-ე მუხლის მე-6 პუნქტის „დ“ ქვეპუნქტის თანახმად აკრძალულია ბუქსირება მოტოციკლით, გვერდითი მისაბმელის გარეშე, აგრეთვე ასეთი მოტოციკლის ბუქსირება.

QUESTION 463

CORRECT ANSWER: 1



Which vehicle driver should be obliged to yield when driving to the arrow direction?

1

Motor car driver

2

Lorry driver

განმარტება:

„საგზაო მოძრაობის შესახებ“ საქართველოს კანონის 35-ე მუხლის მე-2 პუნქტის თანახმად, მთის გზასა და ანალოგიური მახასიათებლების მქონე დიდი დახრილობის გზაზე, აგრეთვე 1.14 და 1.15 საგზაო ნიშნებით აღნიშნულ გზებზე, სადაც გვერდის აქცევა შეუძლებელია ან გართულებულია, დადმართზე მოძრავი სატრანსპორტო საშუალების მძღოლი ვალდებულია გაჩერდეს და გზა დაუთმოს აღმართზე მოძრავი სატრანსპორტო საშუალების მძღოლს, გარდა იმ შემთხვევისა, როცა გვერდის ასაქცევი ადგილი სავალი ნაწილის გასწვრივ ისეა განლაგებული, რომ აღმართზე მოძრავი სატრანსპორტო საშუალების მძღოლი, სატრანსპორტო საშუალების სიჩქარისა და მდგომარეობის გათვალისწინებით, შეძლებდა მის წინ მდებარე ასაქცევ ადგილზე გაჩერებას, რითაც გამოირიცხებოდა ერთ-ერთი სატრანსპორტო საშუალების უკუსვლით მოძრაობის აუცილებლობა. ამავე კანონის პირველი დანართის პირველი თავის (მაფრთხილებელი ნიშნები) 1.15 პუნქტის თანახმად საგზაო ნიშანი 1.15 „ციცაბო აღმართი“- იძლევა გაფრთხილებას ციცაბოაღმართიან გზის მონაკვეთთან მიახლოების თაობაზე.

QUESTION 464

CORRECT ANSWER: 3

When driving, a driver must take into account that during overtaking dangerous situation is created most often due to:

- 1 Failure to observe the distance only
- 2 Lack of attention to oncoming vehicles only
- 3 Both failure to observe the distance, as well as lack of attention to oncoming vehicles

განმარტება:

„საგზაო მოძრაობის შესახებ“ საქართველოს კანონის 25-ე მუხლის მე-10 პუნქტის „მ“ ქვეპუნქტის თანახმად, გზაზე მოძრაობისას მძღოლმა უნდა გაითვალისწინოს შემდეგი გარემოებები: მ) გასწრებისას ყველაზე უფრო ხშირად ავარიული სიტუაცია იქმნება დისტანციის დაუცველობის მიზეზით და საპირისპირო მიმართულებით მოძრავი სატრანსპორტო საშუალებების მიმართ არასაკმარისი ყურადღების გამოჩენის გამო.

QUESTION 465

CORRECT ANSWER: 2

On the road with at least two lanes for motion in the same direction, is a driver allowed to stay on the traffic lane taken during first overtaking, if he/she has to start new overtaking upon returning on previous lane or in a short time?

- 1 No
- 2 Yes, if he/she makes sure in advance that he/she will not create obstacles to the vehicle driver moving behind him/her at higher speed

განმარტება:

„საგზაო მოძრაობის შესახებ“ საქართველოს კანონის 34-ე მუხლის მე-6 პუნქტის თანახმად, თუ გზაზე, რომელზედაც თანმხვედრი მიმართულებით მოძრაობისთვის სულ მცირე ორი ზოლია, სატრანსპორტო საშუალების მძღოლს, რომელსაც გასწრების დამთავრების შემდეგ ამ კანონის მე-31 მუხლის მე-10-მე-12 პუნქტებით დადგენილ მოთხოვნათა შესასრულებლად ადრე დაკავებულ მოძრაობის ზოლზე დაბრუნებისთანავე ან დაბრუნებიდან მოკლე დროში მოუწევს ახალი გასწრების დაწყება, ამ მანევრის შესასრულებლად შეუძლია დარჩეს პირველი გასწრების დროს დაკავებულ მოძრაობის ზოლზე, თუ წინასწარ დარწმუნდება, რომ ეს არ შეუქმნის დაბრკოლებას მის უკან მეტი სიჩქარით მოძრავი სატრანსპორტო საშუალების მძღოლს.

QUESTION 466

CORRECT ANSWER: 3

Except for entry to the road from the left side, the driver who makes sure that the driver moving behind him/her is going to overtake, is obliged to:

1 Approach the right edge of the driveway and increase the speed

2 Take the extreme left edge of the same direction and decrease the speed

3 Approach the right edge of the driveway as far as possible and not to increase the speed

განმარტება:

„საგზაო მოძრაობის შესახებ“ საქართველოს კანონის 34-ე მუხლის მე-12 პუნქტის თანახმად, მძღოლი, რომელიც დარწმუნდება, რომ მის უკან მომავალი მძღოლი აპირებს გასწრებას, გარდა ამ კანონის 32-ე მუხლის მე-7 პუნქტის „ბ“ ქვეპუნქტში გათვალისწინებული შემთხვევისა, შეძლებისდაგვარად უნდა მიუახლოვდეს გზის სავალი ნაწილის მარჯვენა კიდეს და არ გაზარდოს სიჩქარე. ხოლო ამავე კანონის 32-ე მუხლის მე-7 პუნქტის „ბ“ ქვეპუნქტის თანახმად, სხვა გზაზე გასასვლელად ან გზის მიმდებარე ტერიტორიაზე შესასვლელად მარჯვნივ ან მარცხნივ მოხვევის წინ, ისე, რომ არ დაარღვიოს ამ კანონის მე-20 მუხლის მე-2 პუნქტითა და ამ მუხლის პირველი და მე-2 პუნქტებით დადგენილი მოთხოვნები, თუ სატრანსპორტო საშუალების მძღოლი აპირებს გზიდან გასვლას მარცხენა მხრიდან, სატრანსპორტო საშუალება, რამდენადაც ეს შესაძლებელია, უნდა მიუახლოვდეს გზის სავალი ნაწილის ღერძს (ორმხრივმოძრაობიან გზაზე) ან სავალი ნაწილის მარცხენა კიდეს (ცალმხრივმოძრაობიან გზაზე).

QUESTION 467

CORRECT ANSWER: 2



In the present situation, is the motor car driver prohibited from overtaking to the arrow direction?

1

Yes

2

No

განმარტება:

„საგზაო მოძრაობის შესახებ“ საქართველოს კანონის 34-ე მე-9 პუნქტის „ბ“ ქვეპუნქტის თანახმად, ამ მუხლის მე-3 პუნქტით დადგენილი მოთხოვნების გათვალისწინებით, გასწრება აკრძალულია რკინიგზის გადასასვლელზე და მის წინ 100 მეტრზე ახლოს, გარდა იმ შემთხვევებისა, როცა ამ ადგილებში მოძრაობა რეგულირდება ისეთი ტიპის შუქნიშნით რომელიც გზაჯვარედინებზე გამოიყენება. ამავე კანონის პირველი დანართის პირველი თავის (მაფრთხილებელი ნიშნები) 1.2 და 1.4.6-1.4.6 პუნქტების თანახმად საგზაო ნიშანი: 1.2 „რკინიგზის უშლავაუზო გადასასვლელი“ - აფრთხილებს უშლავაუზო რკინიგზის გადასასვლელთან მიახლოების შესახებ; 1.4.1 „რკინიგზის გადასასვლელთან მიახლოება“ - დამატებით აფრთხილებს მძღოლს დაუსახლებელ პუნქტში რკინიგზის გადასასვლელთან მიახლოების შესახებ. ამავე თავის შუენიშვნის „ა“ და „ვ“ ქვეპუნქტების თანახმად: ა) ნიშნები 1.1, 1.2, 1.5–1.34 სახიფათო მონაკვეთის დასაწყისამდე იდგმება დაუსახლებელ პუნქტში 150-300 მეტრის მანძილზე. ვ) ნიშნები 1.4.1 და 1.4.4 იდგმება მოძრაობის მიმართულებით ძირითად და დუბლირებულ 1.1 ან 1.2 ნიშნებთან ერთად.

QUESTION 468

CORRECT ANSWER: 1

Is a driver of the vehicle to be overtaken prohibited from interfering in overtaking through increase of speed or other actions?

1

Yes

2

No

განმარტება:

„საგზაო მოძრაობის შესახებ“ საქართველოს კანონის 34-ე მუხლის მე-16 პუნქტის თანახმად, გასასწრები სატრანსპორტო საშუალების მძღოლს ეკრძა-ლება ხელი შეუშალოს გასწრებას მოძრაობის სიჩქარის მომატებით ან სხვა მოქმედებით.

QUESTION 469

CORRECT ANSWER: 3



In which direction is a lorry driver allowed to proceed, if maximum allowable mass of lorry is 15 tonnes?

1

Straight and to the right only

2

Straight, to the left and backward (U-turn) only

3

Straight, to the right and backward (U-turn) only

4

In all directions

განმარტება:

„საგზაო მოძრაობის შესახებ“ საქართველოს კანონის პირველი დანართის მე-3 თავის (ამკრძალავი ნიშნები) 3.18.2 პუნქტის თანახმად საგზაო ნიშანი 3.18.2 „მარცხნივ მოხვევა აკრძალულია“ - კრძალავს სავალი ნაწილების უახლოეს გადაკვეთაზე მარცხნივ მოხვევას. ამავე დანართის მე-8 თავის (დამატებითი ინფორმაციის ნიშნები) 8.11 პუნქტის თანახმად საგზაო ნიშანი (დაფა) 8.11 „ნებადართული მაქსიმალური მასის შეზღუდვა“ - მიუთითებს, რომ ნიშნის მოქმედება ვრცელდება მხოლოდ იმ სატრანსპორტო საშუალებაზე, რომლის ნებადართული მაქსიმალური მასა აღემატება დაფაზე მითითებულს.

QUESTION 470

CORRECT ANSWER: 2



In which direction is a lorry driver allowed to proceed, if maximum allowable mass of lorry is 9 tonnes?

- | | |
|--|---|
| <p>1 Straight and to the right only</p> | <p>2 To the right, left and backward (U-turn) only</p> |
| <p>3 Straight, to the left and backward (U-turn) only</p> | |

განმარტება:

„საგზაო მოძრაობის შესახებ“ საქართველოს კანონის პირველი დანართის მე-3 თავის (ამკრძალავი ნიშნები) 3.18.2 და 3.32 პუნქტების თანახმად საგზაო ნიშანი: - 3.18.2 „მარცხნივ მოხვევა აკრძალულია“ - კრძალავს საგზაო ნაწილების უახლოეს გადაკვეთაზე მარცხნივ მოხვევას; - 3.32 „სახიფათო ტვირთის გადამზიდი სატრანსპორტო საშუალებით მოძრაობა აკრძალულია“ - კრძალავს იმ სახიფათო ტვირთის გადამზიდი სატრანსპორტო საშუალებით მოძრაობას, რომელიც კანონმდებლობის თანახმად აღნიშნული უნდა იყოს შესაბამისი საცნობი ნიშნით. ამავე დანართის მე-8 თავის (დამატებითი ინფორმაციის ნიშნები) 8.11 პუნქტის თანახმად საგზაო ნიშანი (დაფა) 8.11 „ნებადართული მაქსიმალური მასის შეზღუდვა“ - მიუთითებს, რომ ნიშნის მოქმედება ვრცელდება მხოლოდ იმ სატრანსპორტო საშუალებაზე, რომლის ნებადართული მაქსიმალური მასა აღემატება დაფაზე მითითებულს.

QUESTION 471

CORRECT ANSWER: 1

“Overtaking” means:

- 1 Overtaking one or several preceding vehicles driving in the same direction in the same lane, by leaving the taken lane
- 2 Faster motion of the vehicle in the concurrent traffic lanes than the vehicles moving in the lines adjacent to the edges of driveway
- 3 Driving round one or several oncoming vehicles in neighbour traffic lane

განმარტება:

„საგზაო მოძრაობის შესახებ“ საქართველოს კანონის 5-ე მუხლის მე-10 პუნქტის თანახმად, გასწრება - დაკავებული ზოლიდან გამოსვლით იმავე ზოლში თანხვედნილი მიმართულებით წინ მოძრავი ერთი ან რამდენიმე სატრანსპორტო საშუალების გადასწრება.

QUESTION 472

CORRECT ANSWER: 3

A driver may use honk:

- 1 For timely warning only, to avoid traffic accident
- 2 Only outside of inhabited areas, when warning of other vehicle drivers on intended overtaking is necessary
- 3 In any case listed in given test

განმარტება:

„საგზაო მოძრაობის შესახებ“ საქართველოს კანონის 48-ე მუხლის პირველი პუნქტის თანახმად, ხმოვანი სიგნალი შეიძლება გამოყენებულ იქნეს მხოლოდ: ა) საგზაო მოძრაობის მონაწილეთა დროული გაფრთხილებისთვის, საგზაო-სატრანსპორტო შემთხვევის თავიდან ასაცილებლად; ბ) დასახლებულ პუნქტებს გარეთ, როდესაც საჭიროა სხვა სატრანსპორტო საშუალების მძღოლის გაფრთხილება გასწრების განზრახვის შესახებ.

QUESTION 473

CORRECT ANSWER: 3

If during overtaking there appears an obstruction of hazard, of which a driver could not be aware before starting to overtake, the driver shall be obliged:

1

To increase speed, in order to finish maneuvering in due time

2

To give honk and go on overtaking maneuver

3

To stop overtaking

განმარტება:

„საგზაო მოძრაობის შესახებ“ საქართველოს კანონის 34-ე მუხლის მე-17 პუნქტის თანახმად, თუ გასწრებისას აღმოჩნდა დაბრკოლება ან საფრთხე, რომლის გათვალისწინება მძღოლს არ შეეძლო გასწრების დაწყებამდე, ან თუ მან ვერ შეძლო სიტუაციის სწორი შეფასება, მძღოლი ვალდებულია შეწყვიტოს გასწრება. თუ მძღოლმა გასწრება შეწყვიტა და ადრე დაკავებულ მოძრაობის ზოლში დაბრუნებას აპირებს, მის უკან მომავალი სატრანსპორტო საშუალებების მძღოლებმა მას უნდა მისცენ ამის შესაძლებლობა.

თემა 17:

მოდრობის სიჩქარე

QUESTION 474

CORRECT ANSWER: 4



Which vehicle driver is violating the Highway Code, if every vehicle is driving at a speed of 100 km/h?

1

Lorry driver only

2

Green car driver only

3

White minibus driver only

4

Lorry and white minibus drivers only

ბანმარტიბა:

„საგზაო მოძრაობის შესახებ“ საქართველოს კანონის 33-ე მუხლის მე-7 პუნქტის „ბ“, „დ“ და „ე“ ქვეპუნქტების თანახმად, გარდა ამ კანონით დადგენილი შემთხვევებისა, დაუსახლებელ პუნქტსა და დასახლებულ პუნქტში გზის იმ მონაკვეთზე, რომელზედაც შესაბამისი საგზაო ნიშნით მოძრაობა დაშვებულია 60 კმ/სთ-ზე მეტი სიჩქარით, ნებადართულია: ბ) „B“ კატეგორიის სატრანსპორტო საშუალების მოძრაობა: ბ.ა) თუ ის არ ახორციელებს მსუბუქი მისაბმელის ბუქსირებას, ავტომანქანაზე არაუმეტეს 110 კმ/სთ სიჩქარით, ხოლო სხვა გზაზე – არაუმეტეს 90 კმ/სთ სიჩქარით; დ) „C“ და „CE“ კატეგორიების, აგრეთვე „C1“ და „C1E“ ქვეკატეგორიების სატრანსპორტო საშუალებების მოძრაობა: დ.ა) ავტომანქანაზე არაუმეტეს 80 კმ/სთ სიჩქარით, ხოლო სხვა გზაზე – არაუმეტეს 70 კმ/სთ სიჩქარით; ე) „D1“ და „D1E“ ქვეკატეგორიების სატრანსპორტო საშუალებების მოძრაობა ყველა გზაზე არაუმეტეს 80 კმ/სთ სიჩქარით.

QUESTION 475

CORRECT ANSWER: 2



On the given section of the road „C“ category lorry driver is allowed to drive no faster than:

1

60 km/h

2

70 km/h

3

80 km/h

4

110 km/h

განმარტება:

„საგზაო მოძრაობის შესახებ“ საქართველოს კანონის 33-ე მუხლის მე-7 პუნქტის „დ.ა“ ქვეპუნქტის თანახმად, გარდა ამ კანონით დადგენილი შემთხვევებისა, დაუსახლებელ პუნქტსა და დასახლებულ პუნქტში გზის იმ მონაკვეთზე, რომელზედაც შესაბამისი საგზაო ნიშნით მოძრაობა დაშვებულია 60 კმ/სთ-ზე მეტი სიჩქარით, ნებადართულია: დ) „C“ და „CE“ კატეგორიების, აგრეთვე „C1“ და „C1E“ ქვეკატეგორიების სატრანსპორტო საშუალებების მოძრაობა: დ.ა) ავტომაგისტრალზე არაუმეტეს 80 კმ/სთ სიჩქარით, ხოლო სხვა გზაზე – არაუმეტეს 70 კმ/სთ სიჩქარით.

QUESTION 476

CORRECT ANSWER: 4



Which vehicle driver is violating the Highway Code, if every vehicle is driving at a speed of 100 km/h

1

Motor car driver only

2

Motor car and lorry drivers only

3

Motor car and bus drivers only

4

Lorry and bus drivers only

განმარტება:

„საგზაო მოძრაობის შესახებ“ საქართველოს კანონის 33-ე მუხლის მე-7 პუნქტის „დ.ა“ ქვეპუნქტის თანახმად, გარდა ამ კანონით დადგენილი შემთხვევებისა, დაუსახლებელ პუნქტსა და დასახლებულ პუნქტში გზის იმ მონაკვეთზე, რომელზედაც შესაბამისი საგზაო ნიშნით მოძრაობა დაშვებულია 60 კმ/სთ-ზე მეტი სიჩქარით, ნებადართულია: დ) „C“ და „CE“ კატეგორიების, აგრეთვე „C1“ და „C1E“ ქვეკატეგორიების სატრანსპორტო საშუალებების მოძრაობა: დ.ა) ავტომაგისტრალზე არაუმეტეს 80 კმ/სთ სიჩქარით, ხოლო სხვა გზაზე – არაუმეტეს 70 კმ/სთ სიჩქარით.

QUESTION 477

CORRECT ANSWER: 1



In case of conveyance of the passengers by arranged body on the highway, „C“ category lorry driver is allowed to drive no faster than:

1

60 km/h

2

70 km/h

3

80 km/h

4

90 km/h

განმარტება:

„საგზაო მოძრაობის შესახებ“ საქართველოს კანონის 33-ე მუხლის მე-7 პუნქტის „დ“ ქვეპუნქტის თანახმად, გარდა ამ კანონით დადგენილი შემთხვევებისა, დაუსახლებელ პუნქტსა და დასახლებულ პუნქტში გზის იმ მონაკვეთზე, რომელზედაც შესაბამისი საგზაო ნიშნით მოძრაობა დაშვებულია 60 კმ/სთ-ზე მეტი სიჩქარით, ნებადართულია: დ) „C“ და „CE“ კატეგორიების, აგრეთვე „C1“ და „C1E“ ქვეკატეგორიების სატრანსპორტო საშუალებების მოძრაობა: დ.ა) ავტომანქანებზე არაუმეტეს 80 კმ/სთ სიჩქარით, ხოლო სხვა გზაზე – არაუმეტეს 70 კმ/სთ სიჩქარით; დ.ბ) დადგენილი წესით, ძარათი მგზავრების გადაყვანის შემთხვევაში ყველა გზაზე არაუმეტეს 60 კმ/სთ სიჩქარით.

QUESTION 478

CORRECT ANSWER: 2



Will „CE“ category lorry driver violate the Highway Code, if he/she proceeds at a speed of 70 km/h on this section of the road?

1

Yes

2

No

განმარტება:

„საგზაო მოძრაობის შესახებ“ საქართველოს კანონის 33-ე მუხლის მე-7 პუნქტის „დ.ა“ ქვეპუნქტის თანახმად, გარდა ამ კანონით დადგენილი შემთხვევებისა, დაუსახლებელ პუნქტსა და დასახლებულ პუნქტში გზის იმ მონაკვეთზე, რომელზედაც შესაბამისი საგზაო ნიშნით მოძრაობა დაშვებულია 60 კმ/სთ-ზე მეტი სიჩქარით, ნებადართულია, „C“ და „CE“ კატეგორიების, აგრეთვე „C1“ და „C1E“ ქვეკატეგორიების სატრანსპორტო საშუალებების მოძრაობა ავტომაგისტრალზე არაუმეტეს 80 კმ/სთ სიჩქარით, ხოლო სხვა გზაზე – არაუმეტეს 70 კმ/სთ სიჩქარით. ამავე კანონის პირველი დანართის 7.2 პუნქტის თანახმად საგზაო ნიშანი 7.2.„რეკომენდებული სიჩქარე“ – მიუთითებს სიჩქარეს, რომლითაც რეკომენდებულია მოძრაობა გზის მოცემულ მონაკვეთზე. ნიშანი იდგმება გზის დასაწყისში. ნიშნის მოქმედება ვრცელდება უახლოეს გზაჯვარედინამდე, ხოლო მაფრთხილებელ ნიშანთან ერთად – სახიფათო უბნის მთელ სიგრძეზე.

QUESTION 479

CORRECT ANSWER: 3



What maximum speed is allowed for „C“ category lorry driver to proceed on the given section of the road?

1

60 km/h

2

70 km/h

3

80 km/h

4

90 km/h

განმარტება:

„საგზაო მოძრაობის შესახებ“ საქართველოს კანონის 33-ე მუხლის მე-7 პუნქტის „დ.ა“ ქვეპუნქტის თანახმად, გარდა ამ კანონით დადგენილი შემთხვევებისა, დაუსახლებელ პუნქტსა და დასახლებულ პუნქტში გზის იმ მონაკვეთზე, რომელზედაც შესაბამისი საგზაო ნიშნით მოძრაობა დაშვებულია 60 კმ/სთ-ზე მეტი სიჩქარით, ნებადართულია, „C“ და „CE“ კატეგორიების, აგრეთვე „C1“ და „C1E“ ქვეკატეგორიების სატრანსპორტო საშუალებების მოძრაობა ავტომაგისტრალზე არაუმეტეს 80 კმ/სთ სიჩქარით, ხოლო სხვა გზაზე – არაუმეტეს 70 კმ/სთ სიჩქარით.

QUESTION 480

CORRECT ANSWER: 1



What maximum speed is allowed for „C1“ category vehicle driver to proceed when towing the yellow car in uninhabited area?

1

50 km/h

2

60 km/h

3

70 km/h

4

90 km/h

განმარტება:

„საგზაო მოძრაობის შესახებ“ საქართველოს კანონის 33-ე მუხლის მე-8 პუნქტის „დ“ ქვეპუნქტის თანახმად, თუ ამ კანონით სხვა რამ არ არის დადგენილი, დასახლებულ ან დაუსახლებელ პუნქტში ნებადართულია იმ მექანიკური სატრანსპორტო საშუალების მოძრაობა, რომელიც ახორციელებს სხვა მექანიკური სატრანსპორტო საშუალების ბუქსირებას, არაუმეტეს 50 კმ/სთ სიჩქარით.

QUESTION 481

CORRECT ANSWER: 1



In given situation, does the lorry driver of Category "C" violate traffic rules when driving according to the arrows?

1

Violates

2

Does not violate

განმარტება:

„საგზაო მოძრაობის შესახებ“ საქართველოს კანონის 31-ე მუხლის მე-11 პუნქტის თანახმად, დაუსახლებელ და დასახლებულ პუნქტებში სავალი ნაწილის იმ მონაკვეთზე, რომელზედაც მოძრაობა ნებადართულია 80 კმ/სთ-ზე მეტი სიჩქარით, მძღოლმა უნდა იმოძრაოს სავალი ნაწილის მარჯვენა კიდედან რაც შეიძლება ახლოს. აკრძალულია მარცხენა ზოლის დაკავება, როცა მარჯვენა ზოლი თავისუფალია, გარდა დაბრკოლების შემთხვევის, მარცხნივ მოხვევის ან მობრუნების შემთხვევისა.

QUESTION 482

CORRECT ANSWER: 2



What maximum speed is allowed for „C“ category lorry driver to proceed in inhabited area on the given section of the road?

1

50 km/h

2

60 km/h

3

70 km/h

4

90 km/h

განმარტება:

„საგზაო მოძრაობის შესახებ“ საქართველოს კანონის 33-ე მუხლის მე-6 პუნქტის თანახმად, თუ ამ კანონით სხვა რამ არ არის დადგენილი, დასახლებულ პუნქტში ნებადართულია სატრანსპორტო საშუალების მოძრაობა არაუმეტეს 60 კმ/სთ სიჩქარით, ხოლო საცხოვრებელ ზონაში – არაუმეტეს 20 კმ/სთ სიჩქარით. თუ დასახლებულ პუნქტში საგზაო პირობები იძლევა მაღალი სიჩქარით მოძრაობის შესაძლებლობას, შესაბამისი საგზაო ნიშნის დადგმით მოძრაობის სიჩქარე შეიძლება გაიზარდოს გზის ცალკეულ მონაკვეთებზე. ამავე კანონის პირველი დანართის 5.23.1 პუნქტის თანახმად საგზაო ნიშანი 5.23.1 „დასახლებული პუნქტის დასაწყისი“ - მიუთითებს იმ დასახლებული პუნქტის დასაწყისს, რომელშიც მოქმედებს დასახლებულ პუნქტებში მოძრაობისათვის დადგენილი წესები.

QUESTION 483

CORRECT ANSWER: 1



What maximum speed is allowed for „B“ category towing vehicle driver to proceed in inhabited area, on the given section of the road?

1

50 km/h

2

60 km/h

3

70 km/h

4

90 km/h

განმარტება:

„საგზაო მოძრაობის შესახებ“ საქართველოს კანონის 33-ე მუხლის მე-8 პუნქტის „დ“ ქვეპუნქტის თანახმად, თუ ამ კანონით სხვა რამ არ არის დადგენილი, დასახლებულ ან დაუსახლებელ პუნქტში ნებადართულია იმ მექანიკური სატრანსპორტო საშუალების მოძრაობა, რომელიც ახორციელებს სხვა მექანიკური სატრანსპორტო საშუალების ბუქსირებას, არაუმეტეს 50 კმ/სთ სიჩქარით.

QUESTION 484

CORRECT ANSWER: 4

Which of the road conditions listed below should be taken into account by the driver when changing the vehicle speed?

- | | |
|---|---|
| 1 Site relief and traffic intensity only | 2 Atmospheric conditions, as well as poor or limited visibility only |
| 3 Road and vehicle conditions only | 4 All road conditions listed in given test |

განმარტება:

„საგზაო მოძრაობის შესახებ“ საქართველოს კანონის 33-ე მუხლის მე-2 პუნქტის თანახმად, სატრანსპორტო საშუალების სიჩქარის შეცვლისას მძღოლმა უნდა გაითვალისწინოს საგზაო პირობები (ადგილის რელიეფი, გზისა და სატრანსპორტო საშუალების მდგომარეობა, მისი დატვირთვა, ატმოსფერული პირობები, მოძრაობის ინტენსივობა, არასაკმარისი ან შემდეგდელი ხილვადობა), რათა საჭიროების შემთხვევაში, აგრეთვე ნებისმიერი დაბრკოლების წინ, რომლის განჭვრეტაც მას შეუძლია, შეამციროს სიჩქარე, ხოლო აუცილებლობის შემთხვევაში გაჩერდეს.

QUESTION 485

CORRECT ANSWER: 2



What maximum speed is allowed for „C“ category vehicle conveying passengers with body to proceed in the effective zone of the given sign?

1

50 km/h

2

60 km/h

3

80 km/h

4

90 km/h

განმარტება:

„საგზაო მოძრაობის შესახებ“ საქართველოს კანონის პირველი დანართის 5.1 პუნქტის თანახმად საგზაო ნიშანი 5.1 „ავტომაგისტრალი“ - ავტომაგისტრალი, რომელზედაც მოქმედებს ავტომაგისტრალზე მოძრაობის მომწესრიგებელი ნორმების მოთხოვნები. ნიშანი იდგმება ავტომაგისტრალის დასაწყისში ან მის სიახლოვეს 8.1.1 დაფით. ამავე კანონის 33-ე მუხლის მე-7 პუნქტის „დ.ბ“ ქვეპუნქტის თანახმად, გარდა ამ კანონით დადგენილი შემთხვევებისა, დაუსახლებელ პუნქტსა და დასახლებულ პუნქტში გზის იმ მონაკვეთზე, რომელზედაც შესაბამისი საგზაო ნიშნით მოძრაობა დაშვებულია 60 კმ/სთ-ზე მეტი სიჩქარით, ნებადართულია „C“ და „CE“ კატეგორიების, აგრეთვე „C1“ და „C1E“ ქვეკატეგორიების სატრანსპორტო საშუალებების მოძრაობა დადგენილი წესით, ძარათი მგზავრების გადაყვანის შემთხვევაში ყველა გზაზე არაუმეტეს 60 კმ/სთ სიჩქარით.

QUESTION 486

CORRECT ANSWER: 2



Within the effective zone of given traffic sign, motion with „C“ and „CE“ category vehicles is allowed no faster than:

1

70 km/h

2

80 km/h

3

90 km/h

4

110 km/h

განმარტება:

„საგზაო მოძრაობის შესახებ“ საქართველოს კანონის პირველი დანართის 5.1 პუნქტის თანახმად საგზაო ნიშანი 5.1 „ავტომაგისტრალი“ - ავტომაგისტრალი, რომელზედაც მოქმედებს ავტომაგისტრალზე მოძრაობის მომწესრიგებელი ნორმების მოთხოვნები. ნიშანი იდგმება ავტომაგისტრალის დასაწყისში ან მის სიახლოვეს 8.1.1 დაფით. ამავე კანონის 33-ე მუხლის მე-7 პუნქტის „დ.ა“ ქვეპუნქტების თანახმად, გარდა ამ კანონით დადგენილი შემთხვევებისა, დაუსახლებელ პუნქტსა და დასახლებულ პუნქტში გზის იმ მონაკვეთზე, რომელზედაც შესაბამისი საგზაო ნიშნით მოძრაობა დაშვებულია 60 კმ/სთ-ზე მეტი სიჩქარით, ნებადართულია „C“ და „CE“ კატეგორიების, აგრეთვე „C1“ და „C1E“ ქვეკატეგორიების სატრანსპორტო საშუალებების მოძრაობა ავტომაგისტრალზე არაუმეტეს 80 კმ/სთ სიჩქარით.

QUESTION 487

CORRECT ANSWER: 3

What maximum speed is allowed for oversized (big-volume) or above-standard (heavy) vehicle drivers to proceed in inhabited or uninhabited areas?

1

40 km/h

2

60 km/h

3

No faster than the speed, prescribed in the approval issued by the authorized body (entity) in compliance with the procedure established by the Georgian legislation

განმარტება:

„საგზაო მოძრაობის შესახებ“ საქართველოს კანონის 33-ე მუხლის მე-8 პუნქტის „ე“ ქვეპუნქტის თანახმად, თუ ამ კანონით სხვა რამ არ არის დადგენილი დასახლებულ ან დაუსახლებელ პუნქტში ნებადართულია, არაგაბარიტული (მსხვილგაბარიტიანი) ან ზენორმატიული (მძიმეწონიანი) სატრანსპორტო საშუალების მოძრაობა არაუმეტეს იმ სიჩქარით, რომელიც მითითებულია საქართველოს კანონმდებლობით დადგენილი წესით უფლებამოსილი ორგანოს (უნწყების) მიერ გაცემულ შეთანხმებაში.

QUESTION 488

CORRECT ANSWER: 3

What maximum speed is allowed for the driver of mechanical vehicle with dangerous goods to proceed in inhabited or uninhabited areas?

1

40 km/h

2

60 km/h

3

No faster than the speed stipulated by the transportation procedures

განმარტება:

„საგზაო მოძრაობის შესახებ“ საქართველოს კანონის 33-ე მუხლის მე-8 პუნქტის „ვ“ ქვეპუნქტის თანახმად, თუ ამ კანონით სხვა რამ არ არის დადგენილი დასახლებულ ან დაუსახლებელ პუნქტში ნებადართულია, სახიფათო ტვირთის გადამზიდავი მექანიკური სატრანსპორტო საშუალების მოძრაობა არაუმეტეს გადაზიდვის პირობებით განსაზღვრული სიჩქარით.

QUESTION 489

CORRECT ANSWER: 1



What is maximum speed limit for a lorry driver, if towing is performed with rigid hitch?

1

50 km/h

2

60 km/h

3

80 km/h

განმარტება:

„საგზაო მოძრაობის შესახებ“ საქართველოს კანონის 33-ე მუხლის მე-8 პუნქტის „დ“ ქვეპუნქტის თანახმად, თუ ამ კანონით სხვა რამ არ არის დადგენილი, დასახლებულ ან დაუსახლებელ პუნქტში ნებადართულია იმ მექანიკური სატრანსპორტო საშუალების მოძრაობა, რომელიც ახორციელებს სხვა მექანიკური სატრანსპორტო საშუალების ბუქსირებას, არაუმეტეს 50 კმ/სთ სიჩქარით.

QUESTION 490

CORRECT ANSWER: 3

Prior to proceeding under bridges, trestle bridges and high voltage overhead lines, as well as through the tunnels, the bus and lorry drivers are obliged to:

1

Yield to motor car drivers

2

Switch hazard light on

3

Make sure in safety of motion of the vehicle

განმარტება:

„საგზაო მოძრაობის შესახებ“ საქართველოს კანონის 21-ე მუხლის მე-10 პუნქტის თანახმად, ხიდის, ესტაკადის, მაღალი ძაბვის გადამცემი ხაზის ქვეშ, აგრეთვე გვირაბში ან სხვა მსგავს ადგილას გავლამდე ავტობუსის, სატვირთო ავტომობილის მძღოლი ვალდებულია დარწმუნდეს სატრანსპორტო საშუალების გავლის უსაფრთხოებაში.

QUESTION 491

CORRECT ANSWER: 1

“Constructive speed” is:

1

Maximum speed of the vehicle defined by the blank production plant

2

Maximum allowable speed limit of the vehicle on this section of the road

3

Speed indicated on the identification sign attached to the vehicle - “Speed restriction”

განმარტება:

„საგზაო მოძრაობის შესახებ“ საქართველოს კანონის 5-ე მუხლის 29-ე პუნქტის თანახმად, კონსტრუქციული სიჩქარე – ქარხანა-დამამზადებლის მიერ განსაზღვრული სატრანსპორტო საშუალების მაქსიმალური სიჩქარე.

QUESTION 492

CORRECT ANSWER: 2

Identification sign „Road train“ must be switched on:

1

In case of routing of the road train in dark hours only

2

During routing of the road train, and in dark hours and low visibility conditions – as well as in the period of its stopping and parking

3

In case of routing of the road train in low visibility conditions only

განმარტება:

„საგზაო მოძრაობის შესახებ“ საქართველოს კანონის 49-ე მუხლის მე-16 პუნქტის თანახმად, საცნობი ნიშანი „ავტომატარებელი“ უნდა ჩაირთოს ავტომატარებლის მოძრაობისას, ხოლო დღე-ღამის ბნელ დროს და არასაკმარისი ხილვადობის პირობებში – მისი გაჩერებისა და დგომის პერიოდშიც.

QUESTION 493

CORRECT ANSWER: 3

In order to mark the vehicle with dangerous cargo routing in a daytime, following shall be mandatory:

1

Switching of only front sidelights on

2

Switching of only rear sidelights on

3

Switching of low beams and rear sidelights on

განმარტება:

„საგზაო მოძრაობის შესახებ“ საქართველოს კანონის 49-ე მუხლის მე-8 პუნქტის „გ“ ქვეპუნქტის თანახმად, დღის ნათელ დროს გზაზე მოძრავი სატრანსპორტო საშუალების აღნიშვნის მიზნით სავალდებულოა ახლო განათების ფარებისა და უკანა საგაბარიტო სინათლეების ჩართვა: გ) არაგაბარიტული (მსხვილგაბარიტიანი) ან ზენორმატიული (მძიმეწონიანი) სატრანსპორტო საშუალების, აგრეთვე სახიფათო ტვირთის გადამზიდავი სატრანსპორტო საშუალების გადაადგილებისას.

QUESTION 494

CORRECT ANSWER: 1

In order to mark the oversized (large-volume) or above-standard (heavy) mechanical vehicle routing on the road in a daytime, it is mandatory to switch on:

1

Low beam and rear sidelights

2

Fog-lights

3

High beams

განმარტება:

„საგზაო მოძრაობის შესახებ“ საქართველოს კანონის 49-ე-ე მუხლის მე-8 პუნქტის „გ“ ქვეპუნქტის თანახმად, დღის ნათელ დროს გზაზე მოძრავი სატრანსპორტო საშუალების აღნიშვნის მიზნით სავალდებულოა ახლო განათების ფარებისა და უკანა საგაბარიტო სინათლეების ჩართვა: გ) არაგაბარიტული (მსხვილგაბარიტიანი) ან ზენორმატიული (მძიმეწონიანი) სატრანსპორტო საშუალების, აგრეთვე სახიფათო ტვირთის გადამზიდავი სატრანსპორტო საშუალების გადაადგილებისას.

თემა 18:

სამუხრუჭე მანძილი, დისტანცია

QUESTION 495

CORRECT ANSWER: 2

A person with right to drive „C“ and „D“ category vehicles simultaneously, is allowed to convey more than eight passengers in a body of the vehicle arranged according to established procedures no earlier than:

- | | |
|---|--|
| <div style="border: 1px solid #ccc; padding: 10px; margin-bottom: 10px;"> <div style="background-color: #f08080; color: white; padding: 2px 10px; display: inline-block; font-weight: bold;">1</div> One year after obtaining the driving license </div> <div style="border: 1px solid #ccc; padding: 10px;"> <div style="background-color: #f08080; color: white; padding: 2px 10px; display: inline-block; font-weight: bold;">3</div> Two years after obtaining the driving license </div> | <div style="border: 1px solid #ccc; padding: 10px;"> <div style="background-color: #f08080; color: white; padding: 2px 10px; display: inline-block; font-weight: bold;">2</div> Three years after obtaining the driving license </div> |
|---|--|

განმარტება:

„საგზაო მოძრაობის შესახებ“ საქართველოს კანონის 46-ე მუხლის მე-3 პუნქტის „ბ“ ქვეპუნქტის თანახმად, სატვირთო ავტომობილის ძარათი მგზავრები შეიძლება გადაიყვანოს პირმა, რომელიც აკმაყოფილებს ამ კანონის 56-ე მუხლის მე-8 პუნქტით დადგენილ მოთხოვნებს, თუ მგზავრთა რაოდენობა 8-ს აღემატება. ამავე კანონის 56-ე მუხლის მე-8 პუნქტის თანახმად, „C“ და „D“ კატეგორიების სატრანსპორტო საშუალებათა მართვის უფლების მქონე პირს „C“ კატეგორიის სატრანსპორტო საშუალების მართვის მოწმობის მიღებიდან 3 წლის შემდეგ უფლება აქვს, საქართველოს კანონმდებლობით დადგენილი წესით მოწყობილი სატვირთო ავტომობილის ძარათი გადაიყვანოს 8-ზე მეტი მგზავრი.

QUESTION 496

CORRECT ANSWER: 2

Number of passengers to be conveyed in a body of vehicle:

- | | |
|--|--|
| <div style="border: 1px solid #ccc; padding: 10px; margin-bottom: 10px;"> <div style="background-color: #f08080; color: white; padding: 2px 10px; display: inline-block; font-weight: bold;">1</div> Shall be defined by the driver </div> | <div style="border: 1px solid #ccc; padding: 10px;"> <div style="background-color: #f08080; color: white; padding: 2px 10px; display: inline-block; font-weight: bold;">2</div> Shall not exceed the number of seats arranged for sitting </div> |
|--|--|

განმარტება:

„საგზაო მოძრაობის შესახებ“ საქართველოს კანონის 46-ე მუხლის მე-5 პუნქტის თანახმად, სატვირთო ავტომობილის ძარათი გადასაცემ მგზავრთა რაოდენობა არ უნდა აღემატებოდეს დასასხდომად მოწყობილი ადგილების რაოდენობას. მგზავრობის დაწყების წინ სატვირთო ავტომობილის მძღოლი ვალდებულია მგზავრებს ჩაუტაროს ინსტრუქტაჟი ჩასხდომისა და ძარაზე განლაგების წესის შესახებ. მძღოლმა მხოლოდ მაშინ უნდა დაიწყოს მოძრაობა, როცა დარწმუნდება, რომ მგზავრთა უსაფრთხოდ გადაყვანის ყველა პირობა დაცულია.

QUESTION 497

CORRECT ANSWER: 3

If a vehicle is equipped with seats located below the ramp level, the right of travel in non-arranged body of lorry is entitled to:

1 Any adult passenger other than elderly people and pregnant women

2 Crew member (reserve driver) only

3 Only person accompanying or accepting the cargo

განმარტება:

„საგზაო მოძრაობის შესახებ“ საქართველოს კანონის 46-ე მუხლის მე-6 პუნქტის თანახმად, მგზავრთა გადაყვანისათვის მოუწყობელი ბორტის პლატფორმის მქონე სატვირთო ავტომობილის ძარათი მგზავრობის უფლება აქვს მხოლოდ ტვირთის თანმხლებ ან მის მიმღებ პირს, თუ ავტომობილი ბორტების დონეზე დაბლა განლაგებული დასაჯდომი ადგილით არის უზრუნველყოფილი.

QUESTION 498

CORRECT ANSWER: 2

When conveying the group of children by vehicle with ramp platform, the ramp height from floor level must be:

1 No more than 0.8 meters

2 Not less than 0.8 meters

3 Not less than 0.3 meters and no more than 0.5 meters

4 Not less than 0.4 meters and no more than 0.7 meters

განმარტება:

„საგზაო მოძრაობის შესახებ“ საქართველოს კანონის 46-ე მუხლის მე-9 პუნქტის თანახმად, მგზავრთა გადასაყვანი ბორტის პლატფორმის მქონე სატვირთო ავტომობილი უზრუნველყოფილი უნდა იყოს იატაკიდან 0,3–0,5 მეტრ სიმაღლეზე და ბორტის ზედა ნაპირიდან არანაკლებ 0,3 მეტრზე განლაგებული დასასხდომი ადგილებით, ხოლო ბავშვთა ჯგუფის გადაყვანისას ბორტების სიმაღლე იატაკიდან 0,8 მეტრზე ნაკლები არ უნდა იყოს. უკანა ან გვერდითი ბორტების გასწვრივ განლაგებულ დასასხდომ ადგილებს მყარი საბურღეები უნდა ჰქონდეს.

QUESTION 499

CORRECT ANSWER: 2

Conveyance of passengers in arranged body of lorry is allowed:

1

In standing position only

2

In sitting position only

3

Both in standing and sitting positions

განმარტება:

„საგზაო მოძრაობის შესახებ“ საქართველოს კანონის 23-ე მუხლის მე-2 პუნქტის „გ“ ქვეპუნქტის თანახმად, მგზავრს ეკრძალება ბორტის პლატფორმის მქონე სატვირთო ავტომობილით მგზავრობისას ძარაზე დგომა, ბორტზე ჩამოჯდომა ან მასზე ტვირთის დადება.

QUESTION 500

CORRECT ANSWER: 1

In case of conveyance of group of children in arranged body of lorry, they must be accompanied by at least following number of adult guides:

1

Two

2

Three

3

Four

განმარტება:

„საგზაო მოძრაობის შესახებ“ საქართველოს კანონის 46-ე მუხლის მე-7 პუნქტის თანახმად, ბავშვთა ჯგუფის ავტობუსით ან ფურგონდარიანი სატვირთო ავტომობილით გადაყვანისას ჯგუფს უნდა ახლდეს სრულწლოვანი გამცილებელი, ხოლო დასასხდომი ადგილებით უზრუნველყოფილი ბორტის პლატფორმის მქონე სატვირთო ავტომობილის ძარათი გადაყვანისას – არანაკლებ ორი ასეთი პირი. სატრანსპორტო საშუალებაზე წინ და უკან უნდა დამაგრდეს საცნობი ნიშანი „ბავშვების გადაყვანა“.

QUESTION 501

CORRECT ANSWER: 2

In inhabited area, time required for covering the distance between vehicles proceeding one after another within normal traffic conditions must be:

1

No more than 2 seconds

2

No less than 2 seconds

3

No more than 5 seconds

4

No less than 7 seconds

განმარტება:

„საგზაო მოძრაობის შესახებ“ საქართველოს კანონის 25-ე მუხლის მე-10 პუნქტის „პ“ ქვეპუნქტის თანახმად, გზაზე მოძრაობისას მძღოლმა უნდა გაითვალისწინოს შემდეგი გარემოებები: პ) ნორმალური მოძრაობის პირობებში ერთმანეთის მიყოლებით მოძრავ სატრანსპორტო საშუალებათა შორის არსებული დისტანციის დასაფარავად საჭირო დრო დასახლებულ პუნქტში უნდა იყოს არანაკლებ 2 წამისა, ხოლო დაუსახლებელ პუნქტში – არანაკლებ 3 წამისა. აღნიშნული წესი არ ვრცელდება გასწრების მიზნით იმ სატრანსპორტო საშუალების მოძრაობის ზოლიდან გამოსვლის შემთხვევაზე, რომლის მძღოლსაც გასწრების განზრახვის თაობაზე მიცემული აქვს შესაბამისი სიგნალი, აგრეთვე ამ პუნქტის „ჟ“ ქვეპუნქტით გათვალისწინებულ შემთხვევებზე.

QUESTION 502

CORRECT ANSWER: 3

In inhabited area, time required for covering the distance between vehicles proceeding one after another on ice-covered road must be:

1

No more than 2 seconds

2

No less than 4 seconds

3

No less than 6 seconds

4

No less than 9 seconds

განმარტება:

„საგზაო მოძრაობის შესახებ“ საქართველოს კანონის 25-ე მუხლის მე-10 პუნქტის „ჟ“ ქვეპუნქტის თანახმად, გზაზე მოძრაობისას მძღოლმა უნდა გაითვალისწინოს შემდეგი გარემოებები: ჟ) მოყინულ გზაზე მოძრაობისას ერთმანეთის მიყოლებით მოძრავ სატრანსპორტო საშუალებათა შორის არსებული დისტანციის დასაფარავად საჭირო დრო დასახლებულ პუნქტში უნდა იყოს არანაკლებ 6 წამისა, ხოლო დაუსახლებელ პუნქტში – არანაკლებ 9 წამისა. აღნიშნული წესი არ ვრცელდება გასწრების მიზნით იმ სატრანსპორტო საშუალების მოძრაობის ზოლიდან გამოსვლის შემთხვევაზე, რომლის მძღოლსაც გასწრების განზრახვის თაობაზე მიცემული აქვს შესაბამისი სიგნალი.

QUESTION 503

CORRECT ANSWER: 3

In uninhabited area, time required for covering the distance between vehicles proceeding one after another on ice-covered road must be:

1

No more than 4 seconds

2

No less than 6 seconds

3

No less than 9 seconds

4

Less than 12 seconds

განმარტება:

„საგზაო მოძრაობის შესახებ“ საქართველოს კანონის 25-ე მუხლის მე-10 პუნქტის „ე“ ქვეპუნქტის თანახმად, გზაზე მოძრაობისას მძღოლმა უნდა გაითვალისწინოს შემდეგი გარემოებები: ე) მოყინულ გზაზე მოძრაობისას ერთმანეთის მიყოლებით მოძრავ სატრანსპორტო საშუალებათა შორის არსებული დისტანციის დასაფარავად საჭირო დრო დასახლებულ პუნქტში უნდა იყოს არანაკლებ 6 წამისა, ხოლო დაუსახლებელ პუნქტში – არანაკლებ 9 წამისა. აღნიშნული წესი არ ვრცელდება გასწრების მიზნით იმ სატრანსპორტო საშუალების მოძრაობის ზოლიდან გამოსვლის შემთხვევაზე, რომლის მძღოლსაც გასწრების განზრახვის თაობაზე მიცემული აქვს შესაბამისი სიგნალი.

QUESTION 504

CORRECT ANSWER: 4

Which of the below circumstances may become the cause of collision of the vehicle from behind?

1

Sudden and abrupt braking of the vehicle driving ahead only

2

Inadequately maintained distance with the vehicle driving ahead only

3

Negligence of the driver only

4

Any of the circumstances listed in given test

განმარტება:

„საგზაო მოძრაობის შესახებ“ საქართველოს კანონის 33-ე მუხლის მე-11 პუნქტის თანახმად, იმ სატრანსპორტო საშუალების მძღოლმა, რომელიც მიჰყვება სხვა სატრანსპორტო საშუალებას, უნდა დაიცვას სათანადო დისტანცია, რათა თავიდან აიცილოს შეჯახება მის წინ მიმავალი სატრანსპორტო საშუალების მოულოდნელი დამუხრუჭების ან გაჩერების შემთხვევაში. მოძრაობის უსაფრთხოების უზრუნველსაყოფად აუცილებელია აგრეთვე გვერდითი ინტერვალის დაცვა. ამავე კანონის 25-ე მუხლის მე-10 პუნქტის „მ“ ქვეპუნქტის თანახმად, გასწრებისას ყველაზე უფრო ხშირად საავარიო სიტუაცია იქმნება დისტანციის დაუცველობის და საპირისპირო მიმართულებით მოძრავი სატრანსპორტო საშუალებების მიმართ არასაკმარისი ყურადღების გამოჩენის გამო.

QUESTION 505

CORRECT ANSWER: 3

“Braking distance” is:

1

Length of the deceleration lane of the road traffic

2

Maximum distance defined by the legislation, within which the vehicle should be stopped

3

Distance, passed by a vehicle from braking until its full stopping

განმარტება:

„საგზაო მოძრაობის შესახებ“ საქართველოს კანონის 5-ე მუხლის 68-ე პუნქტის თანახმად, „სამუხრუჭე მანძილი“ - მანძილი, რომელსაც გადის სატრანსპორტო საშუალება მუხრუჭების ამოქმედებიდან სრულ გაჩერებამდე.

QUESTION 506

CORRECT ANSWER: 3

The driver of a special service vehicle when driving with turned on special blue lights and sound signals enjoys the right to take priority:

1

In none of the cases listed in given test

2

In any case whether other traffic participants give way or not

3

Only when the driver makes sure that other traffic participants give way

განმარტება:

„საგზაო მოძრაობის შესახებ“ საქართველოს კანონის 51-ე მუხლის პირველი პუნქტის თანახმად, ოპერატიული ან სპეციალური სამსახურის სატრანსპორტო საშუალების მძღოლს, რომელსაც სატრანსპორტო საშუალებაზე ჩართული აქვს ლურჯი მოელვარე სპეციალური ციმციმა სიგნალი და ასრულებს სამსახურებრივ დავალებას, შეუძლია საგზაო მოძრაობის უსაფრთხოების უზრუნველყოფის პირობების დაცვით გადაუხვიოს ამ კანონის 25-ე, 31-ე—41-ე და 44-ე მუხლებით, აგრეთვე ამ კანონის №1 და №2 დანართებით დადგენილ მოთხოვნებს. ლურჯ მოელვარე სპეციალურ ციმციმა სიგნალთან ერთად დამატებით შეიძლება ჩაირთოს წითელი მოელვარე ციმციმა სიგნალიც. სხვა საგზაო მოძრაობის მონაწილეების მიმართ უპირატესობის მისაღებად ამ სატრანსპორტო საშუალების მძღოლმა უნდა ჩართოს ლურჯი მოელვარე სპეციალური ციმციმა სიგნალი და ხმოვანი სიგნალი. პრიორიტეტით სარგებლობა მხოლოდ მაშინ შეიძლება, როცა მძღოლი დარწმუნდება, რომ მას გზას უთმობენ.

QUESTION 507

CORRECT ANSWER: 2



Which vehicle driver shall be obliged to yield when driving to the arrow direction, if the ambulance has special blue flashing lights on?

1

Lorry driver

2

Ambulance driver

განმარტება:

„საგზაო მოძრაობის შესახებ“ საქართველოს კანონის 51-ე მუხლის პირველი პუნქტის თანახმად, ოპერატიული ან სპეციალური სამსახურის სატრანსპორტო საშუალების მძღოლს, რომელსაც სატრანსპორტო საშუალებაზე ჩართული აქვს ლურჯი მოელვარე სპეციალური ციმციმა სიგნალი და ასრულებს სამსახურებრივ დავალებას, შეუძლია საგზაო მოძრაობის უსაფრთხოების უზრუნველყოფის პირობების დაცვით გადაუხვიოს ამ კანონის 25-ე, 31-ე–41-ე და 44-ე მუხლებით, აგრეთვე ამ კანონის №1 და №2 დანართებით დადგენილ მოთხოვნებს. ლურჯ მოელვარე სპეციალურ ციმციმა სიგნალთან ერთად დამატებით შეიძლება ჩაირთოს წითელი მოელვარე ციმციმა სიგნალიც. სხვა საგზაო მოძრაობის მონაწილეების მიმართ უპირატესობის მისაღებად ამ სატრანსპორტო საშუალების მძღოლმა უნდა ჩართოს ლურჯი მოელვარე სპეციალური ციმციმა სიგნალი და ხმოვანი სიგნალი. ამავე კანონის 36-ე მუხლის მე-4 პუნქტის „გ“ ქვეპუნქტის თანახმად, არარეგულირებულ გზაჯვარედინზე, თანაბარმნიშვნელოვანი გზების გადაკვეთაზე ურელსო სატრანსპორტო საშუალების მძღოლი ვალდებულია გზა დაუთმოს მარჯვნიდან მოახლოებულ სატრანსპორტო საშუალებას.

QUESTION 508

CORRECT ANSWER: 3

Stopping of a vehicle with hard braking is allowed:

- | | |
|---|--|
| 1 If stopping is demanded by the traffic controller only | 2 In case of simultaneous switching of red and yellow lights of the traffic lights only |
| 3 For the purpose of prevention of traffic accident only | 4 In any case listed in given test |

განმარტება:

„საგზაო მოძრაობის შესახებ“ საქართველოს კანონის 33-ე მუხლის მე-4 პუნქტის თანახმად, მძღოლს ეკრძალება მკვეთრი დამუხრუჭება, გარდა საგზაო-სატრანსპორტო შემთხვევის თავიდან აცილების აუცილებლობით გამონეწეული დამუხრუჭებისა.

QUESTION 509

CORRECT ANSWER: 3

Which of the braking method is more effective while routing on the steep downhill with the vehicle with mechanical gear box?

- | | |
|--|--|
| 1 Periodic hard braking with switched-off hitch | 2 Periodic slow braking with switched-on hitch and gear box |
| 3 Engine braking | |

განმარტება:

მექანიკური გადაცემათა კოლოფის მქონე სატრანსპორტო საშუალების ციცაბო დაღმართზე მოძრაობისას დამუხრუჭების ეფექტური ხერხია - დამუხრუჭება ძრავით. რაც უფრო მკვეთრია დაღმართი მით უფრო მეტი სიფრთხილეა საჭირო. მექანიკური გადაცემათა კოლოფის მქონე ავტომობილის მკვეთრ დაღმართზე ძრავით დამუხრუჭებისას მძღოლმა, რაც უფრო მკვეთრია დაღმართი, მით უფრო დაბალი გადაცემა უნდა ჩართოს.

QUESTION 510

CORRECT ANSWER: 2

Upon braking the vehicle with mechanical gear box on steep downhill with engine, a driver shall take into account when selecting transmission, that:

1 Steeper the downhill, higher the transmission

2 Steeper the downhill, lower the transmission

3 Selection of transmission is not depended upon steepness of downhill

განმარტება:

რაც უფრო მკვეთრია დაღმართი მით უფრო მეტი სიფრთხილეა საჭირო. მექანიკური გადაცემათა კოლოფის მეორე ავტომობილის მკვეთრ დაღმართზე ძრავით დამუხრუჭებისას მძღოლმა, რაც უფრო მკვეთრია დაღმართი, მით უფრო დაბალი გადაცემა უნდა ჩართოს.

QUESTION 511

CORRECT ANSWER: 2

When stopping the vehicle in extreme situation, a driver must reduce braking distance:

1 Through single hard braking until full blocking of wheels

2 Through multiple hard influence over brake pedal at the blocking limit of wheels

განმარტება:

ექსტრემალურ სიტუაციაში სატრანსპორტო საშუალების გაჩერებისას სამუხრუჭე მანძილის შემცირება მიიღწევა თვლების ბლოკირების ზღვარზე მრავალჯერადი მკვეთრი ზემოქმედებით მუხრუჭის სატერფულზე.

QUESTION 512

CORRECT ANSWER: 2

During speeding up of the vehicle, tyre traction:

1

Is increased

2

Is decreased

3

Is not changed

განმარტება:

სატრანსპორტო საშუალების მოძრაობის სიჩქარის გაზრდისას საბურავის გზასთან ჩაჭიდების ძალა მცირდება.

QUESTION 513

CORRECT ANSWER: 4

What defines the braking distance of the vehicle?

1

Speed of vehicle only

2

Condition of the road surface only

3

Tear and wear of the vehicle tires only

4

Over any of the circumstances listed in given test

განმარტება:

სამუხრუჭო მანძილის მნიშვნელობა დამოკიდებულია როგორც სატრანსპორტო საშუალების სიჩქარეზე, ასევე გზის საფარის მდგომარეობაზე და სატრანსპორტო საშუალების საბურავების ცვეთაზე.

QUESTION 514

CORRECT ANSWER: 2

While driving on a steep slope, prolonged braking of a vehicle with mechanical gearbox by switched-off clutch may cause:

- | | | | |
|---|-------------------------------|---|---|
| 1 | Failure of steering mechanism | 2 | Overheating of brake system and reduction of braking efficiency |
| 3 | Reduction in braking distance | 4 | Any of the circumstances listed in given test |

განმარტება:

ციცაბო დაღმართზე მოძრაობისას, მექანიკური გადაცემათა კოლოფის მქონე სატრანსპორტო საშუალების ხანგრძლივმა დამუხრუჭებამ გამორთული გადაბმულობით შეიძლება გამოიწვიოს სამუხრუჭო სისტემის გადახურება და დამუხრუჭების ეფექტურობის შენეება.

QUESTION 515

CORRECT ANSWER: 2

If the right wheels of the vehicle move on instable and wet pavement, following shall be considered as appropriate:

- | | | | |
|---|--|---|--|
| 1 | Sudden braking of vehicle until its complete stop | 2 | Without braking, return of the vehicle slowly back on the lane |
| 3 | Increase of speed and steering of the vehicle to the left side | | |

განმარტება:

თუ ავტომობილის მარჯვენა თვლები გადავიდა არამდგრადი და სველი საფარის მქონე გვერდულზე, მიზანშეწონილია დამუხრუჭების გარეშე ავტომობილის მდორედ დაბრუნება გზის სავალ ნაწილზე.

QUESTION 516

CORRECT ANSWER: 3

If the vehicle is equipped with Antilock Braking System (ABS):

1

A driver may start braking later, as the braking distance is reduced

2

Braking system capacity increases

3

Such vehicle is better steered while braking

განმარტება:


მუხრუჭების ბლოკირების საწინააღმდეგო სისტემით (ABS) აღჭურვილი ავტომობილი დამუხრუჭებისას უკეთ სამართავია.

თემა 19:

გაჩერება, დგომა

QUESTION 517

CORRECT ANSWER: 1



Is the driver prohibited from parking at the place shown by arrow?

1

Yes

2

No

განმარტება:

„საგზაო მოძრაობის შესახებ“ საქართველოს კანონის 37-ე მუხლის მე-7 პუნქტის „ვ“ ქვეპუნქტის თანახმად, აკრძალულია სატრანსპორტო საშუალების დგომა, დაუსახლებელ პუნქტში 2.1, 5.1 და 5.3 საგზაო ნიშნებით აღნიშნულ გზის სავალ ნაწილზე, აგრეთვე დასახლებულ პუნქტში გზის სავალ ნაწილზე, სადაც მოძრაობა დაშვებულია 80 კმ/სთ-ზე მეტი სიჩქარით, გარდა სპეციალურად აღნიშნული ადგილებისა.

QUESTION 518

CORRECT ANSWER: 2



In this situation only yellow bus driver performs passenger pick up and drop off. Which of the vehicle drivers is not violating the stopping rules?

1

Motor car driver only

2

Yellow bus driver only

3

Lorry driver only

4

None of them

განმარტება:

„საგზაო მოძრაობის შესახებ“ საქართველოს კანონის 37-ე მუხლის მე-6 პუნქტის „ა.ა“ ქვეპუნქტის თანახმად, აკრძალულია სატრანსპორტო საშუალების გაჩერება გზის სავალ ნაწილზე ქვეითთა და ველოსიპედისტთა გადასასვლელებზე და მათ წინ 5 მეტრზე ახლოს. ამავე კანონის 41-ე მუხლის მე-3 პუნქტის თანახმად გზაზე, სადაც 5.11, 5.13.1, 5.13.2 და 5.14 საგზაო ნიშნებით აღნიშნული სამარშრუტო სატრანსპორტო საშუალებების მოძრაობისათვის განკუთვნილი ზოლია, აკრძალულია ამ ზოლზე სხვა სატრანსპორტო საშუალებათა მოძრაობა და გაჩერება. თუ ეს ზოლი დანარჩენი სავალი ნაწილისგან მონიშვნის წყვეტილი ხაზითაა გამოყოფილი, მოხვევისას სხვა სატრანსპორტო საშუალებები ამ ზოლზე უნდა გადაჯეუდნენ. ნებადართულია აგრეთვე ამ ზოლის ასეთ ადგილებში შესვლა გზაზე გასვლისას და მგზავრთა ჩასხდომა-გადმოსხდომისას სავალი ნაწილის მარჯვენა კიდედან, თუ ეს არ დააბრკოლებს სამარშრუტო სატრანსპორტო საშუალების მოძრაობას. ამავე კანონის პირველი დანართის 5.14 პუნქტის თანახმად საგზაო ნიშანი 5.14 „სამარშრუტო სატრანსპორტო საშუალებისათვის განკუთვნილი მოძრაობის ზოლი“ - გზა, რომელზედაც სამარშრუტო სატრანსპორტო საშუალებამოძრაობს სპეციალურად გამოყოფილ ზოლზე სატრანსპორტო საშუალებათა საერთო ნაკადის თანმხვედრი მიმართულებით. ნიშნის მოქმედება ვრცელდება იმ მოძრაობის ზოლზე, რომელზედაც ის დგას. გზის მარჯვენა მხარეს დადგმული ნიშნის მოქმედება ვრცელდება სავალი ნაწილის უკიდურეს მარჯვენა ზოლზე.

QUESTION 519

CORRECT ANSWER: 2

If the route vehicle is stopped or slowing down in front of the unregulated crosswalk, other vehicle drivers moving on adjacent lanes are allowed to proceed:

1

Without changing the speed, as the pedestrian is not obliged to come from the front side of the stopped vehicle, until he/she is assured in absence of the approaching vehicle

2

Only after assuring that there is no pedestrian in front of the stopped vehicle

განმარტება:

„საგზაო მოძრაობის შესახებ“ საქართველოს კანონის 25-ე მუხლის მე-9 პუნქტის თანახმად, თუ არარეგულირებული ქვეითთა გადასასვლელის წინ გაჩერდა ან მოძრაობა შეანელა სამარშრუტო სატრანსპორტო საშუალებამ, მეზობელ ზოლებზე მოძრავ სხვა სატრანსპორტო საშუალებათა მძღოლებმა მოძრაობა უნდა განაგრძონ მხოლოდ მას შემდეგ, რაც დარწმუნდებიან, რომ გაჩერებული სამარშრუტო სატრანსპორტო საშუალების წინ არ არის ქვეითი.

QUESTION 520

CORRECT ANSWER: 2



Which of the vehicles is parked in breach of the parking rule, if only red car driver has parked for long-term rest purpose?

1

Black car

2

Red car

3

Both of them

4


None of them

განმარტება:

„საგზაო მოძრაობის შესახებ“ საქართველოს კანონის 37-ე მუხლის პირველი პუნქტის თანახმად, სატრანსპორტო საშუალება, რომელიც ჩერდება ან დგას დაუსახლებელ პუნქტში, შესაძლებლობის ფარგლებში, სავალი ნაწილის გარეთ უნდა იმყოფებოდეს. ამავე მუხლის მე-11 პუნქტის თანახმად დაუსახლებელ პუნქტში ხანგრძლივი დასვენების (ღამის გათევის ან სხვა) მიზნით დგომა ნებადართულია მხოლოდ ამისათვის განკუთვნილ სადგომზე ან გზის ფარგლების მიღმა. ამავე კანონის პირველი დანართის 5.24.1 პუნქტის თანახმად საგზაო ნიშანი 5.24.1 „დასახლებული პუნქტის დასასრული“ - მიუთითებს შესაბამისად 5.23.1 ნიშნით აღნიშნული დასახლებული პუნქტების დასასრულს.

QUESTION 521

CORRECT ANSWER: 2



Is a motor car driver allowed to stop at the place shown by arrow for passenger pick up?

1

No

2


Yes

განმარტება:

„საგზაო მოძრაობის შესახებ“ საქართველოს კანონის 37-ე მუხლის მე-6 პუნქტის „ბ.ა“ ქვეპუნქტის თანახმად, აკრძალულია სატრანსპორტო საშუალებების გაჩერება ნებისმიერ ადგილზე, სადაც მას შეუძლია შექმნას საფრთხე, მათ შორის, ესტაკადაზე, ხიდსა და გზაგამტარზე, გარდა იმ შემთხვევისა, როცა აღნიშნულ ადგილებში ორზე მეტი თანმხვედრი მიმართულების მოძრაობის ზოლია.

QUESTION 522

CORRECT ANSWER: 2



Which car driver will violate the Highway Code on the bridge in case of stopping at the place shown by arrow?

1

White car driver

2

Red car driver

3

Both of them

4

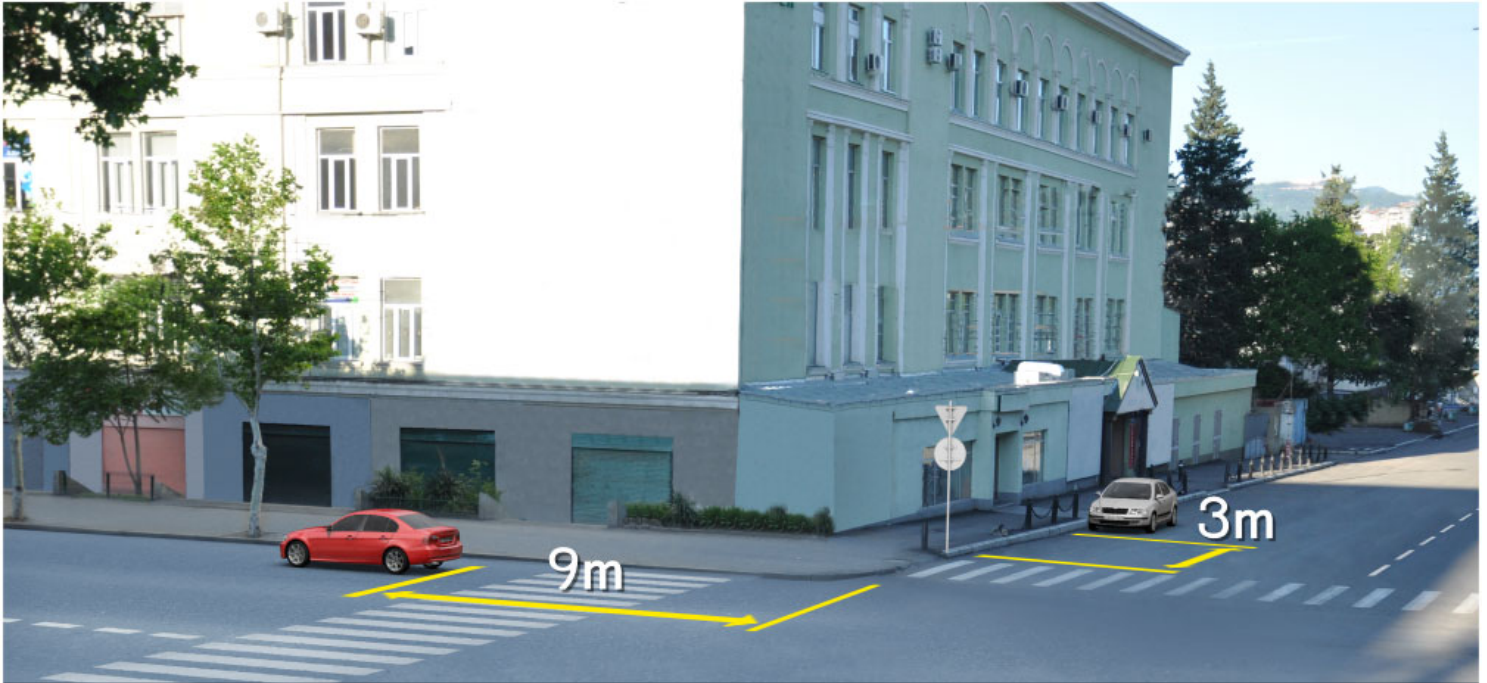
None of them

განმარტება:

„საგზაო მოძრაობის შესახებ“ საქართველოს კანონის 37-ე მუხლის მე-6 პუნქტის „ბ.ა“ ქვეპუნქტის თანახმად, აკრძალულია სატრანსპორტო საშუალებების გაჩერება ნებისმიერ ადგილზე, სადაც მას შეუძლია შექმნას საფრთხე, მათ შორის, ესტაკადაზე, ხიდსა და გზაგამტარზე, გარდა იმ შემთხვევისა, როცა აღნიშნულ ადგილებში ორზე მეტი თანმხვედრი მიმართულების მოძრაობის ზოლია.

QUESTION 523

CORRECT ANSWER: 4



Which motor car driver is violating the Highway Code in case of stopping at the place shown on the picture?

1

Both of them

2

None of them

3

Green car driver only

4

White car driver only

განმარტება:

„საგზაო მოძრაობის შესახებ“ საქართველოს კანონის 37-ე მუხლის მე-6 პუნქტის „ა.ა“ და „ა.გ“ ქვეპუნქტების თანახმად, აკრძალულია სატრანსპორტო საშუალებების გაჩერება გზის სავალ ნაწილზე: ა.ა) ქვეითთა და ველოსიპედისტთა გადასასვლელებზე და მათ წინ 5 მეტრზე ახლოს; ა.გ) სავალი ნაწილების გადაკვეთაზე, აგრეთვე მათი გადაკვეთის ნაპირებიდან 5 მეტრზე ახლოს, გარდა იმ შემთხვევისა, როცა გაჩერება ხდება იმ გვერდითი გასასვლელების მოპირდაპირე სამხრივ გადაკვეთებზე (გზაჯვარედინებზე), რომლებზედაც მონიშვნის უწყვეტი ხაზი ან გამყოფი ზოლია.

QUESTION 524

CORRECT ANSWER: 1



Will motor car driver violate the Highway Code in case of parking the vehicle at the indicated place, if he/she creates obstruction to the pedestrians?

1

Yes

2

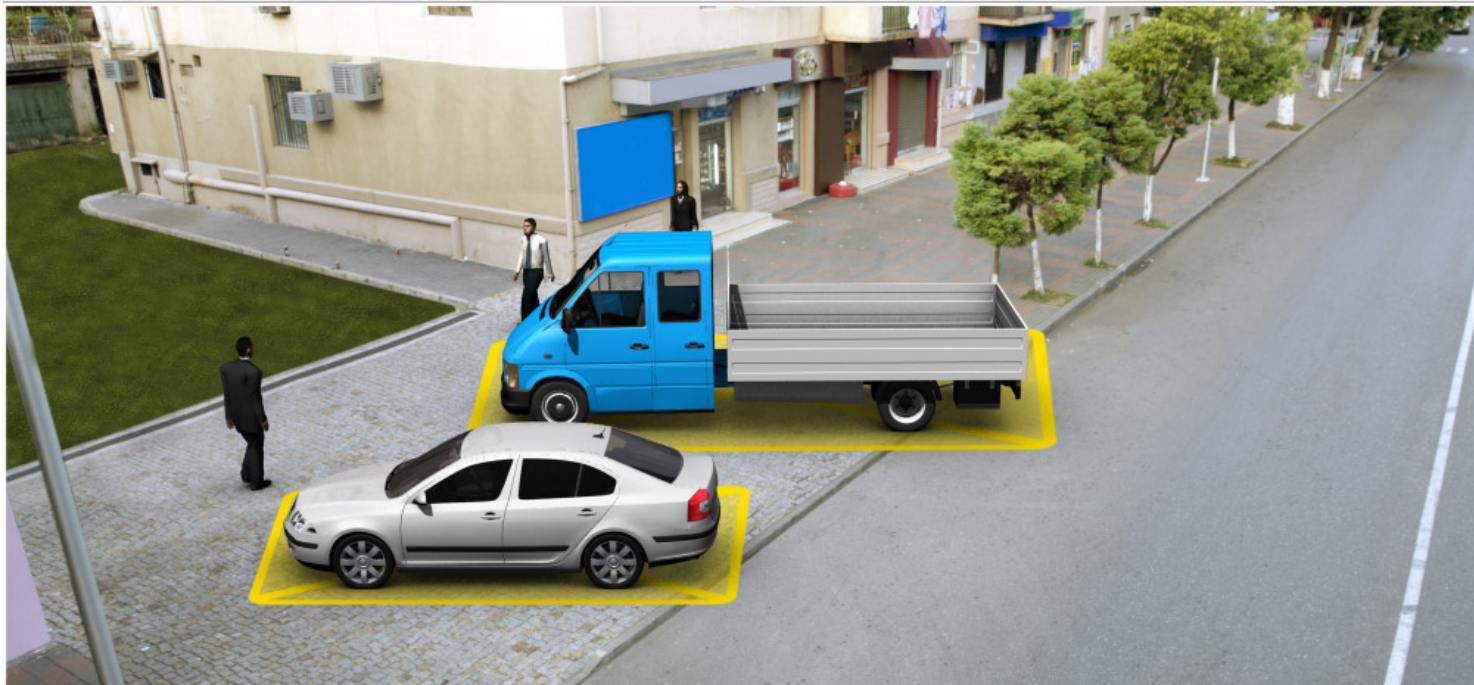
No

განმარტება:

„სავაზო მოძრაობის შესახებ“ საქართველოს კანონის 37-ე მუხლის მე-4 პუნქტის თანახმად, სავალ ნაწილთან მოსაზღვრე ტროტუარის ნაპირზე დგომა ნება-დარ-თულია მხოლოდ მსუბუქი ავტომობილისთვის, მოტოციკლისთვის, მოპედისა და ველოსიპედისთვის, თუ ისინი დაბრკოლებას არ უქმნიან ქვეითს.

QUESTION 525

CORRECT ANSWER: 2



Which of the vehicles is parked in breach of the parking rules?

1

Motor car

2

Lorry

3

Both of them

4


None of them

განმარტება:

„საგზაო მოძრაობის შესახებ“ საქართველოს კანონის 37-ე მუხლის მე-4 პუნქტის თანახმად, სატრანსპორტო საშუალებების დგომა ნებადართულია ერთ რიგად, სავალი ნაწილის კიდის პარალელურად, გარდა იმ ადგილისა, რომელიც სატრანსპორტო საშუალების სხვაგვარად დაყენების პირობებს ქმნის. დასაშვებია გვერდითი მისაბმელის გარეშე ორთვლიანი სატრანსპორტო საშუალებების ორ რიგად დაყენება. სავალ ნაწილთან მოსაზღვრე ტროტუარის ნაპირზე დგომა ნებადართულია მხოლოდ მსუბუქი ავტომობილისთვის, მოტოციკლისთვის, მოპედისა და ველოსიპედისთვის, თუ ისინი დაბრკოლებას არ უქმნიან ქვეითს.

QUESTION 526

CORRECT ANSWER: 1



Is the lorry driver allowed to stop at the place shown by arrow, if the given road has only one traffic lane in each direction?

1

No

2

Yes

განმარტება:

„საგზაო მოძრაობის შესახებ“ საქართველოს კანონის 37-ე მუხლის მე-2 პუნქტის „ბ“ ქვეპუნქტის თანახმად, სატრანსპორტო საშუალება, რომელიც ჩერდება ან დგას სავალ ნაწილზე, უნდა იმყოფებოდეს სავალი ნაწილის კიდესთან რაც შეიძლება ახლოს. მძღოლს შეუძლია გაჩერდეს ან დააყენოს სატრანსპორტო საშუალება სავალ ნაწილზე, მარჯვენა მხარეს. სატრანსპორტო საშუალების გაჩერება და დგომა სავალი ნაწილის მარცხენა მხარეს ნებადართულია დასახლებულ პუნქტში იმ გზაზე, სადაც თითოეული მიმართულებისათვის ერთი სამოძრაო ზოლია შუაში ტრამვაის ლიანდაგების გარეშე. ამავე კანონის პირველი დანართის 5.26 პუნქტის თანახმად საგზაო ნიშანი 5.26 „დასახლებული პუნქტის დასასრული“ - მიუთითებს 5.25 ნიშნით აღნიშნული დასახლებული პუნქტის დასასრულს.

QUESTION 527

CORRECT ANSWER: 1



Is the driver prohibited from parking the lorry at the marked place in the present situation?

1

Yes

2

No

განმარტება:

„საგზაო მოძრაობის შესახებ“ საქართველოს კანონის 37-ე მუხლის მე-6 პუნქტის „ბ.ბ“ ქვეპუნქტის თანახმად, აკრძალულია სატრანსპორტო საშუალების გაჩერება ნებისმიერ ადგილზე, სადაც მას შეუძლია შეეშალოს საფრთხე, მათ შორის, ესტაკადის, ხიდისა და გზაგამტარის ქვეშ, აგრეთვე გვირაბში, გარდა ამისათვის სპეციალურად გამოყოფილი ადგილებისა.

QUESTION 528

CORRECT ANSWER: 2



Will motor car driver violate the Highway Code in case of parking the car at the place shown by arrow?

1

Yes

2

No

განმარტება:

„საგზაო მოძრაობის შესახებ“ საქართველოს კანონის 37-ე მუხლის მე-6 პუნქტის „ბ.ბ“ ქვეპუნქტის თანახმად, აკრძალულია სატრანსპორტო საშუალების გაჩერება ნებისმიერ ადგილზე, სადაც მას შეუძლია შეეშნას საფრთხე, მათ შორის, ესტაკადის, ხიდისა და გზაგამტარის ქვეშ, აგრეთვე გვირაბში, გარდა ამისათვის სპეციალურად გამოყოფილი ადგილებისა.

QUESTION 529

CORRECT ANSWER: 3



Which of the vehicles is parked in breach of the parking rules?

1

Motorcycle only

2

Motor car only

3

Both of them

4


None of them

განმარტება:

„საგზაო მოძრაობის შესახებ“ საქართველოს კანონის 37-ე მუხლის მე-6 პუნქტის „ა.გ“ და „გ“ ქვეპუნქტების თანახმად, აკრძალულია სატრანსპორტო საშუალების გაჩერება: ა.გ) სავალი ნაწილების გადაკვეთაზე, აგრეთვე მათი გადაკვეთის ნაპირებიდან 5 მეტრზე ახლოს, გარდა იმ შემთხვევისა, როცა გაჩერება ხდება იმ გვერდითი გასასვლელების მოპირდაპირე სამხრივ გადაკვეთებზე (გზაჯვარედინებზე), რომლებზედაც მონიშვნის უწყვეტი ხაზი ან გამყოფი ზოლია; გ) გაჩერების ამკრძალავი საგზაო ნიშნის ან/და საგზაო მონიშვნის მოქმედების ზონაში. ამავე კანონის პირველი დანართის მე-3 თავის (ამკრძალავი ნიშანები) 3.28 პუნქტის თანახმად საგზაო ნიშანი 3.28 „დგომა აკრძალულია“ - კრძალავს სატრანსპორტო საშუალების დგომას. ამავე თავის პენიშვნის „ე“ და „ი“ ქვეპუნქტების თანახმად: ე) 3.16, 3.20, 3.22, 3.24, 3.26–3.30 ნიშნების მოქმედება ვრცელდება სათანადო ნიშნის შემდეგ, ნიშნის დადგმის ადგილიდან უახლოეს გზაჯვარედინამდე, ხოლო დასახლებულ პუნქტში გზაჯვარედინის არარსებობისას – დასახლებული პუნქტის ბოლომდე; ი) 3.10, 3.27–3.30 ნიშნების მოქმედება ვრცელდება მხოლოდ გზის იმ მხარეს, რომელზედაც ისინია დადგმული.

QUESTION 530

CORRECT ANSWER: 1



Which motor car driver is not violating the Highway Code in case of stopping at the place shown in the picture?

1

Motor car driver only

2

Lorry driver only

3

Both of them

4

None of them

განმარტება:

„საგზაო მოძრაობის შესახებ“ საქართველოს კანონის 37-ე მუხლის მე-2 პუნქტის „გ“ ქვეპუნქტის თანახმად, სატრანსპორტო საშუალება, რომელიც ჩერდება ან დგას სავალ ნაწილზე, უნდა იმყოფებოდეს სავალი ნაწილის კიდესთან რაც შეიძლება ახლოს. მძღოლს შეუძლია გაჩერდეს ან დააყენოს სატრანსპორტო საშუალება სავალ ნაწილზე, მარჯვენა მხარეს. სატრანსპორტო საშუალების გაჩერება და დგომა სავალი ნაწილის მარცხენა მხარეს ნებადართულია ცალმხრივმოძრაობიანი გზის სავალ ნაწილზე (სატვირთო ავტომობილის ცალმხრივი მოძრაობის გზის მარცხენა მხარეს გაჩერება ნებადართულია მხოლოდ მისი დატვირთვის ან გადმოტვირთვის დროს). ამავე მუხლის მე-6 პუნქტის „ა.გ“ ქვეპუნქტის თანახმად, აკრძალულია სატრანსპორტო საშუალებების გაჩერება გზის სავალ ნაწილზე, სავალი ნაწილების გადაკვეთაზე, აგრეთვე მათი გადაკვეთის ნაპირებიდან 5 მეტრზე ახლოს, გარდა იმ შემთხვევისა, როცა გაჩერება ხდება იმ გვერდითი გასასვლელების მოპირდაპირე სამმხრივ გადაკვეთებზე (გზაჯვარედინებზე), რომლებზედაც მონიშვნის უწყვეტი ხაზი ან გამყოფი ზოლია.

QUESTION 531

CORRECT ANSWER: 3



Which of the vehicles is parked in breach of parking rules in uninhabited area?

1

Both of them

2

None of them

3

Red vehicle

4

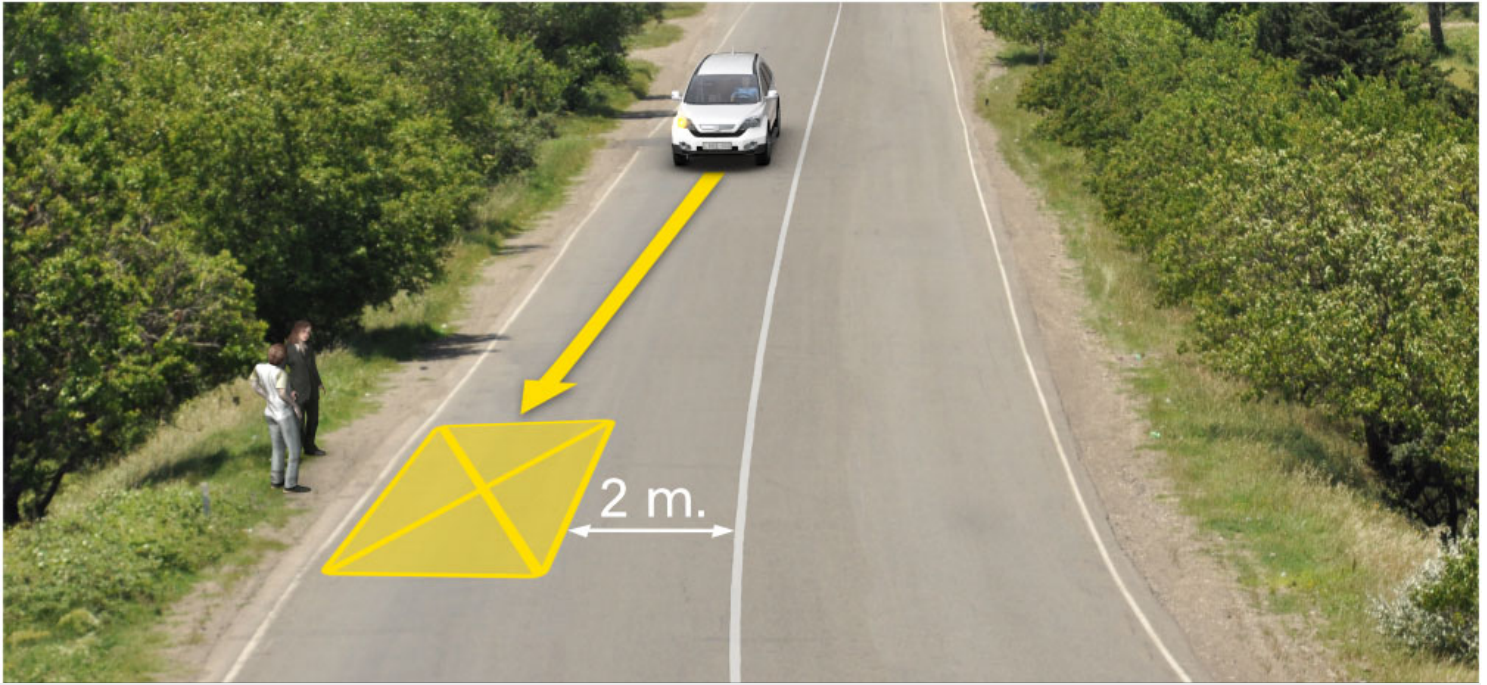
Green vehicle

განმარტება:

„საგზაო მოძრაობის შესახებ“ საქართველოს კანონის 37-ე მუხლის პირველი პუნქტის თანახმად, სატრანსპორტო საშუალება, რომელიც ჩერდება ან დგას დაუსახლებელ პუნქტში, შესაძლებლობის ფარგლებში, სავალი ნაწილის გარეთ უნდა იმყოფებოდეს. ამავე კანონის პირველი დანართის მე-5 თავის (განსაკუთრებული მითითებების ნიშნები) 5.26 პუნქტის თანახმად საგზაო ნიშანი 5.26 „დასახლებული პუნქტის დასასრული“ - მიუთითებს 5.25 ნიშნით აღნიშნული დასახლებული პუნქტის დასასრულს.

QUESTION 532

CORRECT ANSWER: 1



Is white vehicle driver violating the Highway Code in case of parking at the place shown in the picture?

1

Yes

2

No

განმარტება:

„საგზაო მოძრაობის შესახებ“ საქართველოს კანონის 37-ე მუხლის მე-6 პუნქტის „ბ.დ“ ქვეპუნქტის თანახმად, აკრძალულია სატრანსპორტო საშუალებების გაჩერება ნებისმიერ ადგილზე, სადაც მას შეუძლია შექმნას საფრთხე, მათ შორის, იმ ადგილას, სადაც მონიშვნის უწყვეტ ხაზს (სავალი ნაწილის ნაპირის აღმნიშვნელი მონიშვნის გარდა) და გაჩერებულ სატრანსპორტო საშუალებას შორის მანძილი 3 მეტრზე ნაკლებია.

QUESTION 533

CORRECT ANSWER: 4

Stopping of the vehicles on the driveway is prohibited:

1

Only on tram or railway tracks crossing the road, or adjacent to them, if it may make motion of tram or train difficult

2

Only in such sections where a vehicle covers traffic lights signals or road signs for other participants of road traffic

3

Only on the additional traffic lane marked with appropriate traffic sign and designated for motion of low-speed vehicles

4


In all the above-mentioned cases

განმარტება:

„საგზაო მოძრაობის შესახებ“ საქართველოს კანონის 37-ე მუხლის მე-6 პუნქტის „ა.ბ“ ქვეპუნქტის თანახმად აკრძალულია სატრანსპორტო საშუალებების გაჩერება გზის სავალ ნაწილზე, გზაზე გამავალი ტრამვაის და რკინიგზის ლიანდაგებზე ან მათ ახლოს, თუ ამას შეუძლია გააძნელოს ტრამვაის ან მატარებლების მოძრაობა. ამავე პუნქტის „ბ.ე“ და „ბ.ვ“ ქვეპუნქტების თანახმად აკრძალულია სატრანსპორტო საშუალებების გაჩერება ნებისმიერ ადგილზე, სადაც მას შეუძლია შექმნას საფრთხე, მათ შორის: ბ.ე) იმ ადგილზე, სადაც იგი სხვა საგზაო მოძრაობის მონაწილეებს უფარავს შექნიშნის ფერად მაშუქ სიგნალებს ან საგზაო ნიშნებს; ბ.ვ) ნელმავალი სატრანსპორტო საშუალებების მოძრაობისათვის განკუთვნილ, შესაბამის საგზაო ნიშნით აღნიშნულ დამატებით მოძრაობის ზოლზე.

QUESTION 534

CORRECT ANSWER: 4



Which of the car drivers will violate the Highway Code, in case of stopping at the place shown by arrow for passenger pick up on the bridge?

1

Both of them

2

White car driver only

3

Green car driver only

4


None of them

განმარტება:

„საგზაო მოძრაობის შესახებ“ საქართველოს კანონის 37-ე მუხლის მე-6 პუნქტის „ბ.ა“ ქვეპუნქტის თანახმად, აკრძალულია სატრანსპორტო საშუალებების გაჩერება ნებისმიერ ადგილზე, სადაც მას შეუძლია შექმნას საფრთხე, მათ შორის, ესტაკადებზე, ხიდეებზე და გზაგამტარებზე, გარდა იმ შემთხვევებისა როცა აღნიშნულ ადგილებში ორზე მეტი თანმხვედრი მიმართულების მოძრაობის ზოლია.

QUESTION 535

CORRECT ANSWER: 4



In the present situation, which of the vehicle drivers is violating the Highway Code, if the motor car is reversing to the arrow direction for passenger pick up on the bridge, and the motorcycle is performing U-turn to the arrow direction?

1

Motorcyclist

2

Motor car driver

3

None of them

4

Both of them

განმარტება:

„საგზაო მოძრაობის შესახებ“ საქართველოს კანონის 32-ე მუხლის მე-15 პუნქტის „გ“ ქვეპუნქტის თანახმად, აკრძალულია სატრანსპორტო საშუალების მობრუნება ხიდზე, გზაგამტარზე, ესტაკადაზე და მათ ქვეშ. ამავე მუხლის მე-16 პუნქტის თანახმად, მძღოლი, რომელიც მობრუნებას ან უკუსვლით მოძრაობას აპირებს, უნდა დარწმუნდეს, რომ მას შეუძლია ისე შეასრულოს ეს მანევრი, რომ საფრთხე არ შეუქმნას და ხელი არ შეუშალოს სხვა საგზაო მოძრაობის მონაწილეებს. აუცილებლობის შემთხვევაში მიზანშეწონილია სხვა პირის დახმარება. აკრძალულია უკუსვლით მოძრაობა გზაჯვარედინზე, ავტომაგისტრალზე და ამ მუხლის მე-15 პუნქტით განსაზღვრულ ადგილებში.

QUESTION 536

CORRECT ANSWER: 3

Is parking of the vehicles prohibited on the driveway marked with 2.1 traffic sign („Major road“) in uninhabited area?

1 No

2 No, is not prohibited only on the road, with at least two lanes for reverse traffic


3 Yes

განმარტება:

„საგზაო მოძრაობის შესახებ“ საქართველოს კანონის 37-ე მუხლის მე-7 პუნქტის „ვ“ ქვეპუნქტების თანახმად, აკრძალულია სატრანსპორტო საშუალებების დგომა, დაუსახლებელ პუნქტში 2.1, 5.1 და 5.3 საგზაო ნიშნებით აღნიშნულ გზის სავალ ნაწილზე, აგრეთვე დასახლებულ პუნქტში გზის სავალ ნაწილზე, სადაც მოძრაობა დაშვებულია 80 კმ/სთ-ზე მეტი სიჩქარით, გარდა სპეციალურად აღნიშნული ადგილებისა.

QUESTION 537

CORRECT ANSWER: 3



Which vehicle is parked in breach of the parking rules?

1

Lorry only

2

Motor car only

3

Both of them

4


None of them

ბანმარტეზა:

„საგზაო მოძრაობის შესახებ“ საქართველოს კანონის 37-ე მუხლის მე-7 პუნქტის „გ“ ქვეპუნქტის თანახმად, აკრძალულია სატრანსპორტო საშუალებების დგომა, დგომის ამკრძალავი საგზაო ნიშნის ან/და საგზაო მონიშვნის მოქმედების ზონაში. ამავე კანონის პირველი დანართის მე-3 თავის (ამკრძალავი ნიშნები) 3.28 პუნქტის თანახმად საგზაო ნიშანი 3.28 „დგომა აკრძალულია“ - კრძალავს სატრანსპორტო საშუალებების დგომას. ამავე თავის შენიშვნის „ე“ და „ი“ ქვეპუნქტების თანახმად: ე) 3.16, 3.20, 3.22, 3.24, 3.26–3.30 ნიშნების მოქმედება ვრცელდება სათანადო ნიშნის შემდეგ, ნიშნის დადგმის ადგილიდან უახლოეს გზაჯვარედინამდე, ხოლო დასახლებულ პუნქტში გზაჯვარედინის არარსებობისას – დასახლებული პუნქტის ბოლომდე. ნიშნების მოქმედება ვრცელდება აგრეთვე მიმდებარე ტერიტორიის გამოსასვლელთან, საველე, სატყეო და სხვა მეორეხარისხოვანი გზების გადაკვეთასთან (შეერთებასთან), რომელთა წინ არ დგას სათანადო ნიშანი; ი) 3.10, 3.27–3.30 ნიშნების მოქმედება ვრცელდება მხოლოდ გზის იმ მხარეს, რომელმედაც ისინია დადგმული.

QUESTION 538

CORRECT ANSWER: 1



Is a motor car driver allowed to proceed to the arrow direction, if passenger pick up and drop off by the tram on the marked stop is not carried out?

1

Yes

2


No

განმარტება:

„საგზაო მოძრაობის შესახებ“ საქართველოს კანონის 25-ე მუხლის მე-4 პუნქტის თანახმად, მძღოლმა, რომელიც მოძრაობის მიმართულების შესაბამისი მხრიდან სათანადო წესით მონიშნულ გაჩერებაზე მყოფი სამარშრუტო სატრანსპორტო საშუალებისთვის გვერდის ავლას აპირებს, უნდა შეამციროს სიჩქარე და, აუცილებლობის შემთხვევაში, გაჩერდეს, რათა უზრუნველყოს მგზავრების საზოგადოებრივ ტრანსპორტში უსაფრთხო ჩასხდომის ან იქიდან გადმოსხდომის შესაძლებლობა.

QUESTION 539

CORRECT ANSWER: 3



A motor car driver is intending to turn to the right on the intersection, he/she will not violate the Highway Code, if he/she:

1

Overtakes the bus, moves in the right lane and then turns to the right

2

Overtakes the bus and turns to the right from the second lane

3

Gives right-of-way to the bus, moves in the right lane and then turns to the right

4

Gives right-of-way to the bus and turns to the right from the second lane

განმარტება:

„საგზაო მოძრაობის შესახებ“ საქართველოს კანონის 32-ე მუხლის მე-7 პუნქტის „ა“ ქვეპუნქტის თანახმად, სხვა გზაზე გასასვლელად ან გზის მიმდებარე ტერიტორიაზე შესასვლელად მარჯვნივ ან მარცხნივ მოხვევის წინ, ისე, რომ არ დაარღვიოს ამ კანონის მე-20 მუხლის მე-2 პუნქტითა და ამ მუხლის პირველი და მე-2 პუნქტებით დადგენილი მოთხოვნები, თუ სატრანსპორტო საშუალების მძღოლი აპირებს გზიდან გასვლას მარჯვენა მხრიდან, სატრანსპორტო საშუალებამ უნდა იმოძრაოს რაც შეიძლება ახლოს სავალი ნაწილის მარჯვენა კიდესთან და შემდეგ შეასრულოს შეძლებისდაგვარად მოკლე მანევრი; ამავე კანონის მეორე დანართის პირველი თავის (ჰორიზონტალური მონიშვნა) 1.23 პუნქტის თანახმად საგზაო მონიშვნა 1.23 აღნიშნავს სპეციალურ ზოლს, რომელიც განკუთვნილია სამარშრუტო სატრანსპორტო საშუალების მოძრაობისათვის. ამავე კანონის 41-ე მუხლის მე-3 პუნქტის თანახმად, გზაზე, სადაც 5.11, 5.13.1, 5.13.2 და 5.14 საგზაო ნიშნებით აღნიშნული სამარშრუტო სატრანსპორტო საშუალებების მოძრაობისათვის განკუთვნილი ზოლია, აკრძალულია ამ ზოლზე სხვა სატრანსპორტო საშუალებათა მოძრაობა და გაჩერება. თუ ეს ზოლი დანარჩენი სავალი ნაწილისგან მონიშვნის წყვეტილი ხაზითაა გამოყოფილი, მოხვევისას სხვა სატრანსპორტო საშუალებები ამ ზოლზე უნდა გადაჭყუდდნენ. ნებადართულია აგრეთვე ამ ზოლის ასეთ ადგილებში შესვლა გზაზე გასვლისას და მგზავრთა ჩასხდომა-გადმოსხდომისას სავალი ნაწილის მარჯვენა კიდედან, თუ ეს არ დააბრკოლებს სამარშრუტო სატრანსპორტო საშუალების მოძრაობას.

QUESTION 540

CORRECT ANSWER: 1



Is a motor car driver allowed to stop in inhabited area, for passenger pick up at the place shown in the picture?

1

No

2

Yes

განმარტება:

„საგზაო მოძრაობის შესახებ“ საქართველოს კანონის პირველი დანართის მე-5 თავის (განსაკუთრებული მითითებების ნიშნები) 5.11 პუნქტის თანახმად 5.11 „სამარშრუტო სატრანსპორტო საშუალებისათვის განკუთვნილი მოძრაობის ზოლის მქონე გზა“ - აღნიშნავს გზას, რომელზედაც სამარშრუტო სატრანსპორტო საშუალება მოძრაობს სპეციალურად გამოყოფილ ზოლზე სატრანსპორტო საშუალებათა საერთო ნაკადის საპირისპირო მიმართულებით. ამავე კანონის 41-ე მუხლის მე-3 პუნქტის თანახმად, გზაზე, სადაც 5.11, 5.13.1, 5.13.2 და 5.14 საგზაო ნიშნებით აღნიშნული სამარშრუტო სატრანსპორტო საშუალებების მოძრაობისათვის განკუთვნილი ზოლია, აკრძალულია ამ ზოლზე სხვა სატრანსპორტო საშუალებათა მოძრაობა და გაჩერება. თუ ეს ზოლი დანარჩენი სავალი ნაწილისგან მონიშვნის წყვეტილი ხაზითაა გამოყოფილი, მოხვევისას სხვა სატრანსპორტო საშუალებები ამ ზოლზე უნდა გადაჯგუფდნენ. ნებადართულია აგრეთვე ამ ზოლის ასეთ ადგილებში შესვლა გზაზე გასვლისას და მგზავრთა ჩასხდომა-გადმოსხდომისას სავალი ნაწილის მარჯვენა კიდედან, თუ ეს არ დააბრკოლებს სამარშრუტო სატრანსპორტო საშუალების მოძრაობას.

QUESTION 541

CORRECT ANSWER: 4

Prior to passing which of the below-listed places are the bus and lorry drivers obliged to make sure in passing safety?

- | | |
|--|--|
| 1 Under bridges and trestle bridges only | 2 Under high voltage transmission lines only |
| 3 In tunnels and similar sites only | 4 In any place listed in given test |

განმარტება:

„საგზაო მოძრაობის შესახებ“ საქართველოს კანონის 21-ე მუხლის მე-10 პუნქტის თანახმად, ხიდის, ესტაკადის, მაღალი ძაბვის გადამცემი ხაზის ქვეშ, აგრეთვე გვირაბში ან სხვა მსგავს ადგილას გავლამდე ავტობუსის, სატვირთო ავტომობილის მძღოლი ვალდებულია დარწმუნდეს სატრანსპორტო საშუალების გავლის უსაფრთხოებაში.

QUESTION 542

CORRECT ANSWER: 1

From the constructively allocated parking areas for route vehicle or taxi, and in case of their absence – from the stop indicators of route vehicle or taxi, if it obstructs the traffic of route vehicles, stopping of route vehicles is prohibited:

- | | |
|-------------------------|-------------------------|
| 1 Nearer than 10 meters | 2 Nearer than 15 meters |
| 3 At least 15 meters | |

განმარტება:

„საგზაო მოძრაობის შესახებ“ საქართველოს კანონის 37-ე მუხლის მე-6 პუნქტის „ბ.გ“ ქვეპუნქტის თანახმად, აკრძალულია სატრანსპორტო საშუალებების გაჩერება ნებისმიერ ადგილზე, სადაც მას შეუძლია შექმნას საფრთხე, მათ შორის სამარშრუტო სატრანსპორტო საშუალების ან ტაქსის კონსტრუქციულად გამოყოფილი გაჩერების ადგილებიდან, ხოლო მათი არარსებობის შემთხვევაში – სამარშრუტო სატრანსპორტო საშუალების ან ტაქსის გაჩერების მაჩვენებლიდან 15 მეტრზე ახლოს, თუ ეს აბრკოლებს აღნიშნული სატრანსპორტო საშუალებების მოძრაობას.

QUESTION 543

CORRECT ANSWER: 2

Is stopping of the vehicles prohibited under those trestle bridges, bridges or underpasses, where special stopping areas do not exist?

1 Yes, only the vehicles with maximum allowable mass exceeding 3.5 tonnes

2 Yes

3 No

განმარტება:

„საგზაო მოძრაობის შესახებ“ საქართველოს კანონის 37-ე მუხლის მე-6 პუნქტის „ბ.ბ“ ქვეპუნქტის თანახმად, აკრძალულია სატრანსპორტო საშუალებების გაჩერება ნებისმიერ ადგილზე, სადაც მას შეუძლია შექმნას საფრთხე, მათ შორის ესტაკადის, ხიდისა და გზაგამტარის ქვეშ, აგრეთვე გვირაბში, გარდა ამისათვის სპეციალურად გამოყოფილი ადგილებისა.

QUESTION 544

CORRECT ANSWER: 1

Is opening of the vehicle door prohibited until it is completely stopped?

1 Yes

2 No

3 No, if the vehicle moves at a low speed

განმარტება:

„საგზაო მოძრაობის შესახებ“ საქართველოს კანონის მე-20 მუხლის მე-6 პუნქტის თანახმად, აკრძალულია სატრანსპორტო საშუალების კარის გაღება მის სრულ გაჩერებამდე. კარის გაღებამ არ უნდა შეუქმნას დაბრკოლება ან საფრთხე სხვა საგზაო მოძრაობის მონაწილეებს. გზის სავალი ნაწილის, ველობილიკის ან ველოსიპედის მოძრაობის ზოლის მხარეს სატრანსპორტო საშუალების კარი არ უნდა იყოს გაღებული მგზავრთა ჩასხდომა-გადმოსხდომისთვის საჭირო დროზე მეტი ხნით. გზის სავალი ნაწილის მხარეს ან სატრანსპორტო საშუალების უკანა მხრიდან მგზავრთა ჩასხდომა-გადმოსხდომა ნებადართულია მხოლოდ იმ შემთხვევაში, თუ ეს არ შეუქმნის საფრთხეს სხვა საგზაო მოძრაობის მონაწილეებს.

QUESTION 545

CORRECT ANSWER: 2

Is pick up of a passenger by a vehicle allowed from the driveway side?

1

No

2

Yes, if pick up from pavement or sidewalk side is impossible and it does not create any obstructions to other traffic participants

3

Yes, in uninhabited areas only

განმარტება:

„საგზაო მოძრაობის შესახებ“ საქართველოს კანონის 23-ე მუხლის პირველი პუნქტის თანახმად, მგზავრი ვალდებულია სატრანსპორტო საშუალებაში ჩაჯდეს და იქიდან გადმოვიდეს მისი სრული გაჩერების შემდეგ, ტროტუარის ან გვერდულას მხრიდან, ხოლო თუ ეს შეუძლებელია – გზის სავალი ნაწილის მხრიდან, თუ იგი არ შეუქმნის დაბრკოლებას სხვა საგზაო მოძრაობის მონაწილეებს.

QUESTION 546

CORRECT ANSWER: 3

“Stopping” means:

1

Deliberate termination of motion of the vehicle in vehicle current

2

Deliberate termination of motion of the vehicle because of orders of technical devices organizing traffic or the traffic controller

3

Deliberate termination of motion of the vehicle for 5 minutes or more, if this is necessary for passenger pick up and drop off or loading-unloading of the vehicles

განმარტება:

„საგზაო მოძრაობის შესახებ“ საქართველოს კანონის 5-ე მუხლის მე-11 პუნქტის თანახმად, გაჩერება – სატრანსპორტო საშუალების მოძრაობის წინასწარგანზრახული შეწყვეტა 5 წუთამდე, ან უფრო მეტი ხნით, თუ ეს აუცილებელია მგზავრთა ჩასხდომა-გადმოსხდომისათვის ან სატრანსპორტო საშუალების დატვირთვა-გადმოტვირთვისათვის. გაჩერებად არ ითვლება სატრანსპორტო საშუალების მოძრაობის წინასწარგანზრახული შეწყვეტა სატრანსპორტო ნაკადში, საგზაო მოძრაობის ორგანიზების ტექნიკური საშუალებების ან მარეგულირებლის მოთხოვნათა გამო.

QUESTION 547

CORRECT ANSWER: 2

“Parking” means:

1

Deliberate termination of motion of the vehicle for 5 minutes or more, if this is necessary for passenger pick up and drop off or loading-unloading of the vehicles

2

Deliberate termination of motion of the vehicle for 5 minutes or more, if this is not related to passenger pick up and drop off or loading-unloading of the vehicles

განმარტება:

„საგზაო მოძრაობის შესახებ“ საქართველოს კანონის 5-ე მუხლის მე-20 პუნქტის თანახმად, დგომა - სატრანსპორტო საშუალების მოძრაობის გამიზნულად შეწყვეტა 5 წუთზე მეტი ხნით, თუ ეს აუცილებელი არ არის მგზავრთა ჩასხდომა-გადმოსხდომისათვის ან სატრანსპორტო საშუალების დატვირთვა-გადმოტვირთვისათვის.

QUESTION 548

CORRECT ANSWER: 2

Is parking of the vehicle on the left side of the driveway allowed?

1

Yes, in uninhabited areas only

2

Yes, only on the road of the inhabited area, with only one lane for each direction, without tram rails in the middle

3

Yes, on every road without tram rails in the middle

4

No

განმარტება:

„საგზაო მოძრაობის შესახებ“ საქართველოს კანონის 37-ე მუხლის მე-2 პუნქტის „ბ“ ქვეპუნქტის თანახმად, სატრანსპორტო საშუალება, რომელიც ჩერდება ან დგას სავალ ნაწილზე, უნდა იმყოფებოდეს სავალი ნაწილის კიდედან რაც შეიძლება ახლოს. მძღოლს შეუძლია გაჩერდეს ან დააყენოს სატრანსპორტო საშუალება სავალ ნაწილზე, მარჯვენა მხარეს. სატრანსპორტო საშუალების გაჩერება და დგომა სავალი ნაწილის მარცხენა მხარეს ნებადართულია დასახლებულ პუნქტში იმ გზაზე, სადაც თითოეული მიმართულებისათვის ერთი სამოძრაო ზოლია შუაში ტრამვაის ლიანდაგების გარეშე.

QUESTION 549

CORRECT ANSWER: 4

Parking of the vehicle is not prohibited:

- | | |
|---|---|
| 1 In effective zone of stopping restriction traffic sign | 2 Nearer than 50 meters to the railroad crossing on the driveway |
| 3 At the exit of the vehicle from the yard | 4 Is prohibited in any of the places listed in given test |

განმარტება:

„საგზაო მოძრაობის შესახებ“ საქართველოს კანონის 36-ე მუხლის მე-7 პუნქტის „ა“, „ბ“, და „დ“ ქვეპუნქტების თანახმად, აკრძალულია სატრანსპორტო საშუალებების დგომა: ა) იმ ადგილას, სადაც გაჩერება აკრძალულია; ბ) გზის სავალ ნაწილზე რკინიგზის გადასასვლელთან 50 მეტრზე ახლოს; დ) ეზოდან ავტომობილის გამოსასვლელთან.

QUESTION 550

CORRECT ANSWER: 1

A vehicle driver must use hazard lights:

- | | |
|---|---|
| 1 For warning other traffic participants about expected hazard | 2 For retaining priority over other traffic participants |
|---|---|

განმარტება:

„საგზაო მოძრაობის შესახებ“ საქართველოს კანონის 52-ე მუხლის პირველი პუნქტის თანახმად, საავარიო ზუქსიგნალიზაცია გამოიყენება მოსალოდნელი საფრთხის შესახებ სხვა საგზაო მოძრაობის მონაწილეთა გაფრთხილებისათვის.

QUESTION 551

CORRECT ANSWER: 1

A vehicle driver is obliged to switch hazard lights (if any) on:


- 1** In case of forced stopping on the place, where stopping is prohibited
- 2** When swerving beyond the intersection
- 3** At crosswalk when passing at high speed

განმარტება:

„საგზაო მოძრაობის შესახებ“ საქართველოს კანონის 52-ე მუხლის პირველი პუნქტის „ბ“ ქვეპუნქტის თანახმად, საავარიო შეუსიგნალიზაცია გამოიყენება მოსალოდნელი საფრთხის შესახებ სხვა საგზაო მოძრაობის მონაწილეთა გაფრთხილებისათვის. საავარიო შეუსიგნალიზაცია უნდა ჩაირთოს: ბ) იმ ადგილას იძულებით გაჩერების დროს, სადაც გაჩერება აკრძალულია.

QUESTION 552

CORRECT ANSWER: 3



At which place shown in the picture will the bus driver carrying the group of children violate the Highway Code, when stopped, if he/she does not switch hazard light on?

1

At place A only

2

At place B only

3

At both of the places

ბანმარტეზა:

„საგზაო მოძრაობის შესახებ“ საქართველოს კანონის 26-ე მუხლის მე-4 პუნქტის თანახმად, ბავშვთა ჯგუფის გადაყვანისას ავტობუსზე დამაგრებული უნდა იყოს საცნობი ნიშანი „ბავშვების გადაყვანა“. ავტობუსის გაჩერების შემთხვევაში მძღოლმა უნდა ჩართოს საავარიო შექსიგნალიზაცია. ბავშვების თანმხლები სრულწლოვანი პირები ვალდებული არიან, უზრუნველყონ ბავშვების ავტობუსში ჩასხდომა და ავტობუსიდან გადმოსხდომა, აგრეთვე ბავშვების მიერ გზის სავალი ნაწილის უსაფრთხო გადაკვეთა.

QUESTION 553

CORRECT ANSWER: 1



Is the bus driver carrying the group of children violating the Highway Code in case of stopping at the place shown in the picture, if the bus has not hazard light on?

1

Yes

2


No

განმარტება:

„საგზაო მოძრაობის შესახებ“ საქართველოს კანონის 26-ე მუხლის მე-4 პუნქტის თანახმად, ბავშვთა ჯგუფის გადამყვან ავტობუსზე დამაგრებული უნდა იყოს საცნობი ნიშანი „ბავშვების გადაყვანა“. ავტობუსის გაჩერების შემთხვევაში მძღოლმა უნდა ჩართოს საავარიო შექსიგნალიზაცია. ბავშვების თანმხლები სრულწლოვანი პირები ვალდებული არიან, უზრუნველყონ ბავშვების ავტობუსში ჩასხდომა და ავტობუსიდან გადმოსხდომა, აგრეთვე ბავშვების მიერ გზის სავალი ნაწილის უსაფრთხო გადაკვეთა.

QUESTION 554

CORRECT ANSWER: 2



Is a motor car driver allowed to stop at the place shown by arrow for passenger drop off?

1

Yes

2

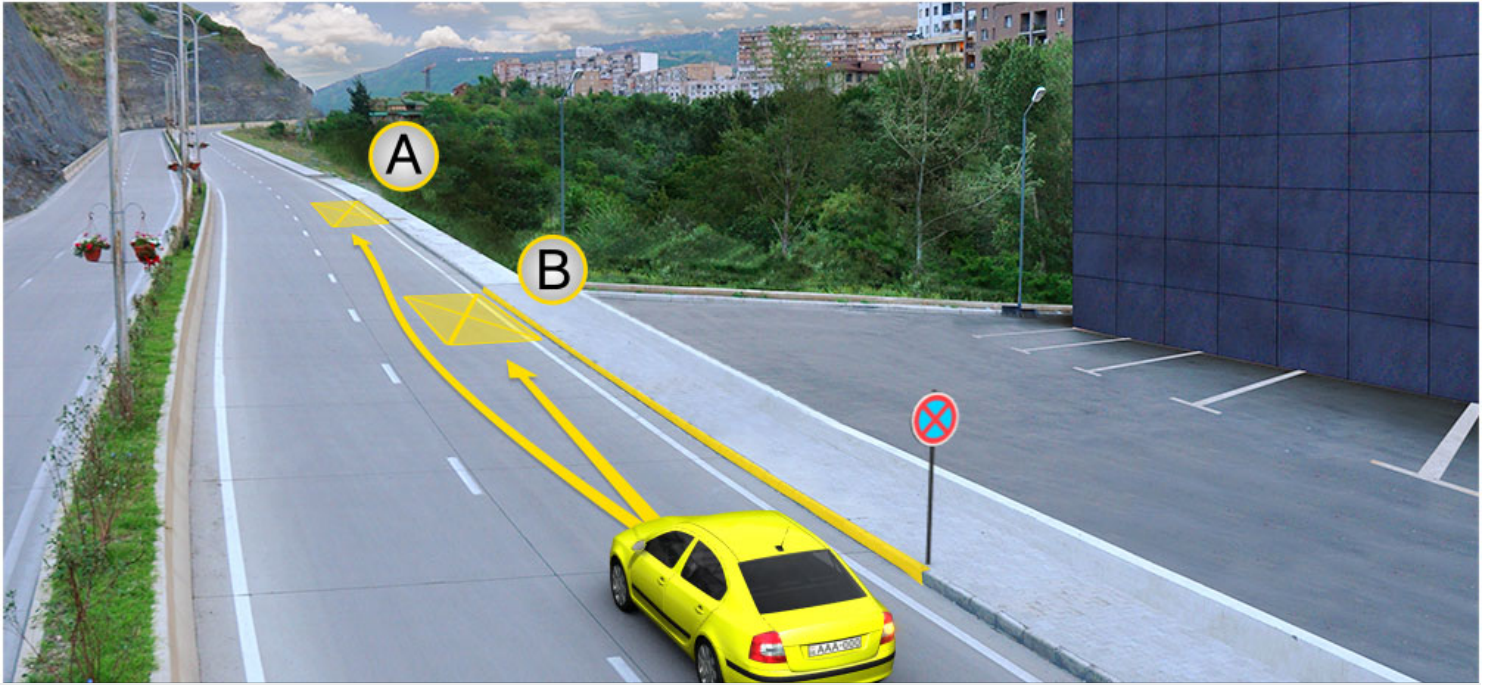
No

განმარტება:

„საგზაო მოძრაობის შესახებ“ საქართველოს კანონის მე-2 დანართის პირველი თავის (ჰორიზონტალური მონიშვნა) 1.4 პუნქტის თანახმად, საგზაო მონიშვნა 1.4 მთლიანი ყვითელი ხაზი აღნიშნავს ადგილს, სადაც აკრძალულია გაჩერება; გამოიყენება დამოუკიდებლად ან 3.27 ნიშანთან ერთად; იხაზება სავალი ნაწილის ნაპირთან ან ბორდიურზე ზემოდან.

QUESTION 555

CORRECT ANSWER: 1



A motor car driver is allowed to park:

1

At place A only

2

At place B only

3


At both A and B places

განმარტება:

„საგზაო მოძრაობის შესახებ“ საქართველოს კანონის მე-2 დანართის პირველი თავის (ჰორიზონტალური მონიშვნა) 1.4 პუნქტის თანახმად, საგზაო მონიშვნა 1.4 მთლიანი ყვითელი ხაზი აღნიშნავს ადგილს, სადაც აკრძალულია გაჩერება; გამოიყენება დამოუკიდებლად ან 3.27 ნიშანთან ერთად; იხაზება სავალი ნაწილის ნაპირთან ან ბორდიურზე ზემოდან. ამავე კანონის პირველი დანართის მე-3 თავის (ამკრძალავი ნიშნები) 3.27 პუნქტის და ამავე თავის შენიშვნის „თ“ ქვეპუნქტის თანახმად, საგზაო ნიშანი 3.27 „გაჩერება აკრძალულია“ - კრძალავს სატრანსპორტო საშუალების, როგორც გაჩერებას, ასევე დგომას. 3.27 ნიშნის გამოყენება შეიძლება 1.4 მონიშვნასთან, ხოლო 3.28 ნიშნისა – 1.10 მონიშვნასთან ერთად. ამასთანავე, ნიშნების მოქმედების ზონა მონიშვნის ხაზის სიგრძით განისაზღვრება.

QUESTION 556

CORRECT ANSWER: 2



A motor car driver is allowed to park:

1

At place A only

2

At place B only

3

At both A and B places

განმარტება:

„საგზაო მოძრაობის შესახებ“ საქართველოს კანონის 37-ე მუხლის მე-6 პუნქტის „ა.ა“ და „ა.გ“ ქვეპუნქტების თანახმად, აკრძალულია სატრანსპორტო საშუალების გაჩერება გზის სავალ ნაწილზე: ა.ა) ქვეითთა და ველოსიპედისტთა გადასასვლელებზე და მათ წინ 5 მეტრზე ახლოს; ა.გ) სავალი ნაწილების გადაკვეთაზე, აგრეთვე მათი გადაკვეთის ნაპირებიდან 5 მეტრზე ახლოს, გარდა იმ შემთხვევისა, როცა გაჩერება ხდება იმ გვერდითი გასასვლელების მოპირდაპირე სამმხრივ გადაკვეთებზე (გზაჯვარედინებზე), რომლებზედაც მონიშვნის უწყვეტი ხაზი ან გამყოფი ზოლია.

თემა 20:

გზავრედინის გავლა

QUESTION 557

CORRECT ANSWER: 1



In what sequence should the vehicles pass the intersection when driving to the arrow direction, if operative vehicle has special blue flashing light and honks switched on?

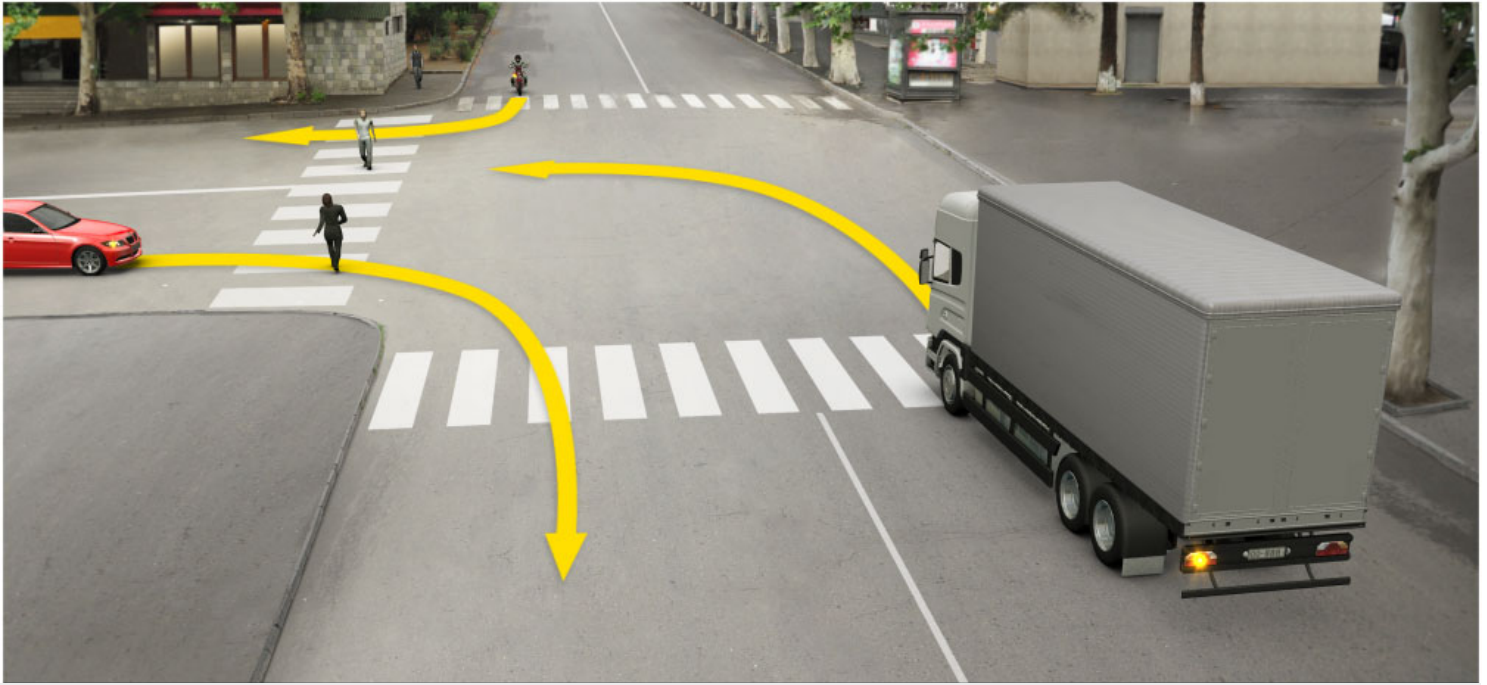
- 1 First - operative vehicle, then - motor car and finally - lorry
- 2 First - operative vehicle, then - lorry and finally - motor car
- 3 First - motor car, then - operative vehicle and finally - lorry

განმარტება:

„საგზაო მოძრაობის შესახებ“ საქართველოს კანონის 36-ე მუხლის მე-4 პუნქტის „ა“ ქვეპუნქტის თანახმად, არარეგულირებულ გზატკარავდინზე, არათანაბარმნიშვნელოვანი გზების გადაკვეთაზე მეორეხარისხოვან გზაზე მოძრავი სატრანსპორტო საშუალების მძღოლი ვალდებულია გზა დაუთმოს მთავარი გზიდან მოახლოებულ სატრანსპორტო საშუალებას, მიუხედავად მისი შემდგომი მოძრაობის მიმართულებისა. ამავე კანონის 51-ე მუხლის მე-2 პუნქტის თანახმად, საგზაო მოძრაობის მონაწილეები ვალდებული არიან, ოპერატიული ან სპეციალური სამსახურის სატრანსპორტო საშუალების მოახლოებისას, რომელსაც ჩართული აქვს ლურჯი მოელვარე სპეციალური ციმციმა სიგნალი და ხმოვანი სიგნალი ან/და რომელიც ხმამაღლამოლაპარაკე ხელსაწყოთი იძლევა სიგნალს, მას, აგრეთვე მის მიერ გასაცემებელ სატრანსპორტო საშუალებას, რომელსაც ჩართული აქვს ახლო განათების ფარები, გაუთავისუფლონ სავალ ნაწილზე ადგილი, ხოლო აუცილებლობის შემთხვევაში – გაჩერდნენ.

QUESTION 558

CORRECT ANSWER: 4



Which of the vehicle drivers is obliged to yield to the pedestrians in case of driving to the arrow direction?

1

Lorry driver only

2

Motor car driver only

3

Motorcyclist only

4


All of them

ბანმარტება:

„საგზაო მოძრაობის შესახებ“ საქართველოს კანონის 25-ე მუხლის მე-2 პუნქტის „ბ“ ქვეპუნქტის თანახმად, ქვეითთა გადასასვლელზე ამ კანონის 21-ე მუხლის მე-6 პუნქტით, 33-ე მუხლის მე-2 პუნქტითა და 34-ე მუხლის მე-11 პუნქტით დადგენილ მოთხოვნათა დაცვით უნდა შესრულდეს შემდეგი მოთხოვნები: ბ) თუ სატრანსპორტო საშუალებათა მოძრაობა არ რეგულირდება არც საგზაო პუქნიშნით, არც მარეგულირებლის მეშვეობით, მძღოლმა ქვეითთა გადასასვლელთან მიახლოებისას სათანადოდ უნდა შეამციროს სიჩქარე, რათა საფრთხე არ შეუქმნას ამ გადასასვლელზე შესულ ან შემავალ ქვეითებს, ხოლო საჭიროების შემთხვევაში უნდა გაჩერდეს და გაატაროს ქვეითები.

QUESTION 559

CORRECT ANSWER: 2



When driving to the arrow direction, yellow motor car driver must yield to:

1

Tram and blue motor car drivers only

2

Tram and lorry drivers only

3

Lorry and blue motor car drivers only

განმარტება:

„საგზაო მოძრაობის შესახებ“ საქართველოს კანონის 36-ე მუხლის მე-4 პუნქტის „გ“ ქვეპუნქტის თანახმად, არარეგულირებულ გზაჯვარედინზე, თანაბარმნიშვნელოვანი გზების გადაკვეთაზე ურელსო სატრანსპორტო საშუალების მძღოლი ვალდებულია გზა დაუთმოს მარჯვნიდან მოახლოებულ სატრანსპორტო საშუალებას. ამავე წესით უნდა იხელმძღვანელონ ურთიერთშორის რელსიანი სატრანსპორტო საშუალებების მძღოლებმაც. ასეთ გზაჯვარედინზე რელსიან სატრანსპორტო საშუალებას აქვს უპირატესობა ურელსო სატრანსპორტო საშუალების მიმართ, მიუხედავად მისი მოძრაობის მიმართულებისა.

QUESTION 560

CORRECT ANSWER: 1



Which vehicle driver will be obliged to yield when driving to the arrow direction?

1

Lorry driver

2

Motor car driver

განმარტება:

„საგზაო მოძრაობის შესახებ“ საქართველოს კანონის 32-ე მუხლის მე-12 პუნქტის თანახმად, თუ სატრანსპორტო საშუალებების მოძრაობის ტრაექტორიები იკვეთება, ხოლო გავლის რიგითობა განსაზღვრული არ არის, მძღოლმა გზა უნდა დაუთმოს იმ სატრანსპორტო საშუალებას, რომელიც მას მარჯვნიდან უახლოვდება.

QUESTION 561

CORRECT ANSWER: 1



In what sequence should the vehicles pass the intersection when driving to the arrow direction?

1

First - yellow car, then - lorry and finally - red car

2

First - lorry, then - red car and finally - yellow car

3


First - red car, then - lorry and finally - yellow car

განმარტება:

„საგზაო მოძრაობის შესახებ“ საქართველოს კანონის 36-ე მუხლის მე-4 პუნქტის „ა“ და „გ“ ქვეპუნქტების თანახმად, არარეგულირებულ გზაჯვარედინზე: ა) არათანაბარმნიშვნელოვანი გზების გადაკვეთაზე მეორეხარისხოვან გზაზე მოძრავი სატრანსპორტო საშუალების მძღოლი ვალდებულია გზა დაუთმოს მთავარი გზიდან მოახლოებულ სატრანსპორტო საშუალებას, მიუხედავად მისი შემდგომი მოძრაობის მიმართულებისა; გ) თანაბარმნიშვნელოვანი გზების გადაკვეთაზე ურელსო სატრანსპორტო საშუალების მძღოლი ვალდებულია გზა დაუთმოს მარჯვნიდან მოახლოებულ სატრანსპორტო საშუალებას.

QUESTION 562

CORRECT ANSWER: 3



In what sequence should the vehicles pass the intersection when driving to the arrow direction?


- | | |
|--|--|
| <p>1 First - motor car, then - motorcycle and finally - lorry</p> | <p>2 First - lorry, then - motor car and finally - motorcycle</p> |
| <p>3 First - motorcycle, then - motor car and finally - lorry</p> | |

განმარტება:

„საგზაო მოძრაობის შესახებ“ საქართველოს კანონის 36-ე მუხლის მე-4 პუნქტის „ა“, „ბ“ და „გ“ ქვეპუნქტების თანახმად, არარეგულირებულ გზაჯვარედინზე: ა) არათანაბარმნიშვნელოვანი გზების გადაკვეთაზე მეორეხარისხოვან გზაზე მოძრავი სატრანსპორტო საშუალების მძღოლი ვალდებულია გზა დაუთმოს მთავარი გზიდან მოახლოებულ სატრანსპორტო საშუალებას, მიუხედავად მისი შემდგომი მოძრაობის მიმართულებისა; ბ) თუ გზაჯვარედინზე მთავარი გზა იცვლის მიმართულებას, ამ გზაზე მოძრავმა მძღოლებმა ურთიერთშორის უნდა იხელმძღვანელონ თანაბარმნიშვნელოვანი გზების გავლის წესებით. ამავე წესით უნდა იხელმძღვანელონ ურთიერთშორის მეორეხარისხოვან გზაზე მოძრავმა მძღოლებმაც; გ) თანაბარმნიშვნელოვანი გზების გადაკვეთაზე ურელსო სატრანსპორტო საშუალების მძღოლი ვალდებულია გზა დაუთმოს მარჯვნიდან მოახლოებულ სატრანსპორტო საშუალებას. ამავე წესით უნდა იხელმძღვანელონ ურთიერთშორის რელსიანი სატრანსპორტო საშუალებების მძღოლებმაც.

QUESTION 563

CORRECT ANSWER: 4



In what sequence should vehicles pass the intersection when driving to the arrow direction, if the traffic light is out of order?

1

First - yellow car, then - white motor car, then - lorry and finally - tram

2

First - lorry, then - tram, then - white motor car and finally - yellow vehicle

3

First - white motor car, then - tram, then - yellow car and finally - lorry

4


First - tram, then - yellow car, then - white motor car and finally - lorry

განმარტება:

„საგზაო მოძრაობის შესახებ“ საქართველოს კანონის 36-ე მუხლის მე-4 პუნქტის „გ“ ქვეპუნქტის თანახმად, არარეგულირებულ გზაჯვარედინზე, თანაბარმნიშვნელოვანი გზების გადაკვეთაზე ურელსო სატრანსპორტო საშუალების მძღოლი ვალდებულია გზა დაუთმოს მარჯვნიდან მოახლოებულ სატრანსპორტო საშუალებას. ამავდროულად უნდა იხელმძღვანელონ ურთიერთშორის რელსიანი სატრანსპორტო საშუალებების მძღოლებმაც. ასეთ გზაჯვარედინზე რელსიანი სატრანსპორტო საშუალებას უპირატესობა აქვს ურელსო სატრანსპორტო საშუალების მიმართ, მიუხედავად მისი მოძრაობის მიმართულებისა.

QUESTION 564

CORRECT ANSWER: 2



Which motor car driver has priority when driving to the arrow direction, if traffic signs are covered with snow?

1

White car driver

2


Red car driver

განმარტება:

„საგზაო მოძრაობის შესახებ“ საქართველოს კანონის 36-ე მუხლის მე-8 პუნქტის თანახმად, თუ მძღოლი ვერ განსაზღვრავს გზაზე საფარის არსებობას (სიბნელის, თოვლის, ტალახის გამო ან სხვა მიზეზით) და არც პრიორიტეტის ნიშნებია, ითვლება, რომ ის მეორეხარისხოვან გზაზე იმყოფება. ამავე კანონის 36-ე მუხლის მე-4 პუნქტის „გ“ ქვეპუნქტის თანახმად, არარეგულირებულ გზაჯვარედინზე, თანაბარმნიშვნელოვანი გზების გადაკვეთაზე ურელსო სატრანსპორტო საშუალების მძღოლი ვალდებულია გზა დაუთმოს მარჯვნიდან მოახლოებულ სატრანსპორტო საშუალებას. ამავე წესით უნდა იხელმძღვანელონ ურთიერთშორის რელსიანი სატრანსპორტო საშუალებების მძღოლებმაც.

QUESTION 565

CORRECT ANSWER: 3



In what sequence should the vehicles pass the intersection when driving to the arrow direction?

1

First – bus, then – lorry and finally – tram

2

First – lorry, then – tram and finally – bus

3


First – tram, then – bus and finally – lorry

განმარტება:

„საგზაო მოძრაობის შესახებ“ საქართველოს კანონის 36-ე მუხლის მე-4 პუნქტის „გ“ და „დ“ ქვეპუნქტების თანახმად, არარეგულირებულ გზაჯვარედინზე: გ) თანაბარმნიშვნელოვანი გზების გადაკვეთაზე ურელსო სატრანსპორტო საშუალების მძღოლი ვალდებულია გზა დაუთმოს მარჯვნიდან მოახლოებულ სატრანსპორტო საშუალებას. ამავე წესით უნდა იხელმძღვანელონ ურთიერთშორის რელსიანი სატრანსპორტო საშუალებების მძღოლებმაც. ასეთ გზაჯვარედინზე რელსიან სატრანსპორტო საშუალებას უპირატესობა აქვს ურელსო სატრანსპორტო საშუალების მიმართ, მიუხედავად მისი მოძრაობის მიმართულებისა; დ) მარცხნივ მოხვევისას ან მობრუნებისას ურელსო სატრანსპორტო საშუალების მძღოლი ვალდებულია გზა დაუთმოს თანაბარმნიშვნელოვან გზაზე საპირისპირო მიმართულებიდან პირდაპირ ან მარჯვნივ მოძრავ სატრანსპორტო საშუალებას. ამავე წესით უნდა იხელმძღვანელონ ურთიერთშორის რელსიანი სატრანსპორტო საშუალებების მძღოლებმაც.

QUESTION 566

CORRECT ANSWER: 3



In what sequence should the vehicles pass the intersection when driving to the arrow direction?

1

First - yellow car, then - blue car and finally - lorry

2

First - lorry, then - blue car and finally - yellow car

3


First - blue car, then - lorry and finally - yellow car

განმარტება:

„საგზაო მოძრაობის შესახებ“ საქართველოს კანონის 36-ე მუხლის მე-4 პუნქტის „ა“ და „გ“ ქვეპუნქტების თანახმად, არარეგულირებულ გზაჯვარედინზე: ა) არათანაბარმნიშვნელოვანი გზების გადაკვეთაზე მეორეხარისხოვან გზაზე მოძრავი სატრანსპორტო საშუალების მძღოლი ვალდებულია გზა დაუთმოს მთავარი გზიდან მოახლოებულ სატრანსპორტო საშუალებას, მიუხედავად მისი შემდგომი მოძრაობის მიმართულებისა; გ) თანაბარმნიშვნელოვანი გზების გადაკვეთაზე ურელსო სატრანსპორტო საშუალების მძღოლი ვალდებულია გზა დაუთმოს მარჯვნიდან მოახლოებულ სატრანსპორტო საშუალებას. ამავე წესით უნდა იხელმძღვანელონ ურთიერთშორის რელსიანი სატრანსპორტო საშუალებების მძღოლებმაც.

QUESTION 567

CORRECT ANSWER: 2



Which vehicle driver has priority when driving to the arrow direction?

1

Motor car driver

2

Tram driver

განმარტება:

„საგზაო მოძრაობის შესახებ“ საქართველოს კანონის 41-ე მუხლის მე-2 პუნქტის თანახმად, გზაჯვარედინის მიღმა, სადაც ტრამვაის ლიანდაგი სავალ ნაწილს კვეთს, ტრამვაის აქვს უპირატესობა ურელსო სატრანსპორტო საშუალებების მიმართ, გარდა დეჰოდან გამოსვლის შემთხვევისა.

QUESTION 568

CORRECT ANSWER: 3



In what sequence should the vehicles pass the intersection when driving to the arrow direction?

- 1** First - tram, then - lorry and finally - yellow car


2 First - lorry, then - yellow car and finally - tram
- 3** First - yellow car, then - tram and finally - lorry

განმარტება:

„საგზაო მოძრაობის შესახებ“ საქართველოს კანონის 36-ე მუხლის მე-4 პუნქტის „ა“ და „გ“ ქვეპუნქტების თანახმად, არარეგულირებულ გზაჯვარედინზე: ა) არათანაბარმნიშვნელოვანი გზების გადაკვეთაზე მეორეხარისხოვან გზაზე მოძრავი სატრანსპორტო საშუალების მძღოლი ვალდებულია გზა დაუთმოს მთავარი გზიდან მოახლოებულ სატრანსპორტო საშუალებას, მიუხედავად მისი შემდგომი მოძრაობის მიმართულებისა; გ) თანაბარმნიშვნელოვანი გზების გადაკვეთაზე ურელსო სატრანსპორტო საშუალების მძღოლი ვალდებულია გზა დაუთმოს მარჯვნიდან მოახლოებულ სატრანსპორტო საშუალებას. ამავე წესით უნდა იხელმძღვანელონ ურთიერთშორის რელსიანი სატრანსპორტო საშუალებების მძღოლებმაც. ასეთ გზაჯვარედინზე რელსიან სატრანსპორტო საშუალებას აქვს უპირატესობა ურელსო სატრანსპორტო საშუალების მიმართ, მიუხედავად მისი მოძრაობის მიმართულებისა.

QUESTION 569

CORRECT ANSWER: 1



Is a motor car driver obliged to yield to the pedestrians when driving to the arrow direction?

1

Yes

2

No

განმარტება:

„საგზაო მოძრაობის შესახებ“ საქართველოს კანონის 25 მუხლის მე-3 პუნქტის თანახმად, ამ კანონის მე-20 მუხლის მე-2 პუნქტითა და 34-ე მუხლის მე-11 პუნქტით დადგენილ მოთხოვნათა დაცვით, გზის სავალ ნაწილზე შესაბამისი საგზაო მონიშვნით, საგზაო ნიშნით ან შუქნიშნით აღნიშნული ქვეითთა გადასასვლელის არარსებობისას მძღოლი, რომელიც სხვა გზაზე შესასვლელად მოხვევას ასრულებს, ვალდებულია გზა დაუთმოს ამ გზის სავალ ნაწილზე შესულ ქვეითებს. მან უნდა გამოიჩინოს განსაკუთრებული სიფრთხილე იმ ქვეითების მიმართ, რომლებიც გზის სავალ ნაწილზე გადადიან სამარშრუტო სატრანსპორტო საშუალებაში ჩასასხდომად ან იქიდან გადმოსხდომის შემდეგ.

QUESTION 570

CORRECT ANSWER: 4



When driving to the arrow direction, if width of the driveway is not sufficient for U-turn from the left lane, a lorry driver will have priority over?

1

White car driver only

2

Blue car driver only

3

Motorcycle only

4

None of them

განმარტება:

„საგზაო მოძრაობის შესახებ“ საქართველოს კანონის 32-ე მუხლის მე-7 პუნქტის „ბ“ ქვეპუნქტისა და მე-8 პუნქტის თანახმად: 7. სხვა გზაზე გასასვლელად ან გზის მიმდებარე ტერიტორიაზე შესასვლელად მარჯვნივ ან მარცხნივ მოხვევის წინ, ისე, რომ არ დაარღვიოს ამ კანონის მე-20 მუხლის მე-2 პუნქტითა და ამ მუხლის პირველი და მე-2 პუნქტებით დადგენილი მოთხოვნები, თუ სატრანსპორტო საშუალების მძღოლი აპირებს გზიდან გასვლას: ბ) მარცხენა მხრიდან, სატრანსპორტო საშუალება, რამდენადაც ეს შესაძლებელია, უნდა მიუახლოვდეს გზის სავალი ნაწილის ღერძს (ორმხრივმოძრაობიან გზაზე) ან სავალი ნაწილის მარცხენა კიდე (ცალმხრივმოძრაობიან გზაზე), ხოლო თუ ის სხვა ორმხრივმოძრაობიან გზაზე აპირებს გასვლას, მოხვევა ისე უნდა შეასრულოს, რომ სავალი ნაწილების გადაკვეთიდან გამოსვლისას სატრანსპორტო საშუალება საპირისპირო მოძრაობის მხარეს არ აღმოჩნდეს. 8. თუ მძღოლი სატრანსპორტო საშუალების გაბარიტის ან სხვა მიზეზის გამო ვერ ასრულებს მოხვევას, ამ მუხლის მე-7 პუნქტით დადგენილ მოთხოვნათა გათვალისწინებით დასაშვებია ამ წესებიდან გადახვევა, თუ უზრუნველყოფილი იქნება მოძრაობის უსაფრთხოება და დაბრკოლება არ შეექმნება სხვა საგზაო მოძრაობის მონაწილეებს.

QUESTION 571

CORRECT ANSWER: 2

Is a driver allowed to move to the intersection, on which there is such hummock, that probably he/she will be forced to stop on the intersection and create obstruction to the lateral traffic?

1

Yes, if signal of the traffic lights allows motion

2


No

განმარტება:

„საგზაო მოძრაობის შესახებ“ საქართველოს კანონის 36-ე მუხლის მე-5 პუნქტის თანახმად, მძღოლი არ უნდა გავიდეს გზაჯვარედინზე, თუ შექმნილია ისეთი ხერგილი, რომ იგი, სავარაუდოდ, იძულებული გახდება, გაჩერდეს გზაჯვარედინზე და ამით დააბრკოლოს განივი მიმართულებით მოძრაობა. ეს წესი მოქმედებს მაშინაც, თუ შექმნილის მაშუქი სიგნალები იძლევა მოძრაობის უფლებას.

QUESTION 572

CORRECT ANSWER: 1



In what sequence should the vehicles pass the intersection when driving to the arrow direction, if operative vehicle has special blue flashing light on?

1

First - motorcycle, then - motor car and finally - operative vehicle

2

First - motor car, then - motorcycle and finally - operative vehicle

3

First - operative vehicle, then - motor car and finally - motorcycle

განმარტება:

„საგზაო მოძრაობის შესახებ“ საქართველოს კანონის 51-ე მუხლის პირველი პუნქტის თანახმად, ოპერატიული ან სპეციალური სამსახურის სატრანსპორტო საშუალების მძღოლს, რომელსაც სატრანსპორტო საშუალებაზე ჩართული აქვს ლურჯი მოელვარე სპეციალური ციმციმა სიგნალი და ასრულებს სამსახურებრივ დავალებას, შეუძლია საგზაო მოძრაობის უსაფრთხოების უზრუნველყოფის პირობების დაცვით გადაუხვიოს ამ კანონის 25-ე, 31-ე–41-ე და 44-ე მუხლებით, აგრეთვე ამ კანონის №1 და №2 დანართებით დადგენილ მოთხოვნებს. ლურჯ მოელვარე სპეციალურ ციმციმა სიგნალთან ერთად დამატებით შეიძლება ჩაირთოს წითელი მოელვარე ციმციმა სიგნალიც. სხვა საგზაო მოძრაობის მონაწილეების მიმართ უპირატესობის მისაღებად ამ სატრანსპორტო საშუალების მძღოლმა უნდა ჩართოს ლურჯი მოელვარე სპეციალური ციმციმა სიგნალი და ხმოვანი სიგნალი. ამავე კანონის 36-ე მუხლის მე-4 პუნქტის „ა“, „ბ“ და „გ“ ქვეპუნქტების თანახმად არარეგულირებულ გზაჯვარედინზე: ა) არათანაბარმნიშვნელოვანი გზების გადაკვეთაზე მეორეხარისხოვან გზაზე მოძრავი სატრანსპორტო საშუალების მძღოლი ვალდებულია გზა დაუთმოს მთავარი გზიდან მოახლოებულ სატრანსპორტო საშუალებას, მიუხედავად მისი შემდგომი მოძრაობის მიმართულებისა; ბ) თუ გზაჯვარედინზე მთავარი გზა იცვლის მიმართულებას, ამ გზაზე მოძრავმა მძღოლებმა ურთიერთშორის უნდა იხელმძღვანელონ თანაბარმნიშვნელოვანი გზების გავლის წესებით. ამავე წესებით უნდა იხელმძღვანელონ ურთიერთშორის მეორეხარისხოვან გზაზე მოძრავმა მძღოლებმა; გ) თანაბარმნიშვნელოვანი გზების გადაკვეთაზე ურელსო სატრანსპორტო საშუალების მძღოლი ვალდებულია გზა დაუთმოს მარჯვნიდან მოახლოებულ სატრანსპორტო საშუალებას. ამავე წესით უნდა იხელმძღვანელონ ურთიერთშორის რელსიანი სატრანსპორტო საშუალებების მძღოლებმა. ასეთ გზაჯვარედინზე რელსიან სატრანსპორტო საშუალებას აქვს უპირატესობა ურელსო სატრანსპორტო საშუალების მიმართ, მიუხედავად მისი მოძრაობის მიმართულებისა.

თეორია.On.ge

QUESTION 573

CORRECT ANSWER: 1

A driver with the right to drive category „C“ vehicle, is allowed to drive the vehicle (other than the subcategory „D1“ or category „D“ vehicles), which maximum allowable mass:

1

Exceeds 3500 kg

2

Does not exceed 3500 kg

განმარტება:

„საგზაო მოძრაობის შესახებ“ საქართველოს კანონის 54-ე მუხლის მე-2 პუნქტის „გ“ ქვეპუნქტის თანახმად, სატრანსპორტო საშუალებები, რომელთა სამართავად სავალდებულოა შესაბამისი მართვის უფლების მოპოვება, იყოფა შემდეგ კატეგორიებად: გ) „C“ – ავტომობილი (გარდა იმ სატრანსპორტო საშუალებებისა, რომლებიც მიეკუთვნება „D1“ ქვეკატეგორიას ან „D“ კატეგორიას), რომლის ნებადართული მაქსიმალური მასა აღემატება 3 500 კგ-ს, აგრეთვე „C“ კატეგორიის ავტომობილი, გადაბმული მისაბმელთან, რომლის ნებადართული მაქსიმალური მასა არ აღემატება 750 კგ-ს.

QUESTION 574

CORRECT ANSWER: 3

A driver with the right to drive category „C“ vehicle, is also allowed to drive category „C“ vehicle with trailer, which maximum allowable mass:

- 1 Exceeds 750 kg
- 2 Exceeds 750 kg, but does not exceed 3500 kg
- 3 Does not exceed 750 kg

განმარტება:

„საგზაო მოძრაობის შესახებ“ საქართველოს კანონის 54-ე მუხლის მე-2 პუნქტის „გ“ ქვეპუნქტის თანახმად, სატრანსპორტო საშუალებები, რომელთა სამართავად სავალდებულოა შესაბამისი მართვის უფლების მოპოვება, იყოფა შემდეგ კატეგორიებად: გ) „C“ – ავტომობილი (გარდა იმ სატრანსპორტო საშუალებებისა, რომლებიც მიეკუთვნება „D1“ ქვეკატეგორიას ან „D“ კატეგორიას), რომლის ნებადართული მაქსიმალური მასა აღემატება 3 500 კგ-ს, აგრეთვე „C“ კატეგორიის ავტომობილი, გადაბმული მისაბმელთან, რომლის ნებადართული მაქსიმალური მასა არ აღემატება 750 კგ-ს.

QUESTION 575

CORRECT ANSWER: 2

A driver with the right to drive category „CE“ vehicle, is allowed to drive:

- 1 Category „C“ car with a trailer only, which maximum allowable mass exceeds 750 kg, but does not exceed 1200 kg.
- 2 Category „C“ car with a trailer, which maximum allowable mass exceeds 750 kg.

განმარტება:

„საგზაო მოძრაობის შესახებ“ საქართველოს კანონის 54-ე მუხლის მე-2 პუნქტის „ვ“ ქვეპუნქტის თანახმად, სატრანსპორტო საშუალებები, რომელთა სამართავად სავალდებულოა შესაბამისი მართვის უფლების მოპოვება, იყოფა შემდეგ კატეგორიებად: ვ) „CE“ – „C“ კატეგორიის ავტომობილი, გადაბმული მისაბმელთან, რომლის ნებადართული მაქსიმალური მასა აღემატება 750 კგ-ს.

QUESTION 576

CORRECT ANSWER: 2

A person with the right to drive category „C“ vehicle is also allowed to drive subcategory:

1

„A1“

2

„C1“

3

„C1“and „C1E“

4

„D1“ and „C1“

განმარტება:

„საგზაო მოძრაობის შესახებ“ საქართველოს კანონის 56-ე მუხლის პირველი პუნქტის თანახმად, „A“, „B“, „C“ ან „D“ კატეგორიის სატრანსპორტო საშუალების მართვის უფლების მქონე პირს აგრეთვე უფლება აქვს, მართოს მინიჭებული კატეგორიის ფარგლებში დაწესებული „A1“, „B1“, „C1“ ან „D1“ ქვეკატეგორიის სატრანსპორტო საშუალება.

QUESTION 577

CORRECT ANSWER: 1

A person with the right to drive category „CE“ vehicle is also allowed to drive subcategory:

1

„C1E“

2

„D1E“

3

„D1E“ and „C1E“

განმარტება:

„საგზაო მოძრაობის შესახებ“ საქართველოს კანონის 56-ე მუხლის მე-2 პუნქტის თანახმად, „CE“ ან „DE“ კატეგორიის სატრანსპორტო საშუალების მართვის უფლების მქონე პირს აგრეთვე უფლება აქვს, მართოს მინიჭებული კატეგორიის ფარგლებში დაწესებული „C1E“ ან „D1E“ ქვეკატეგორიის სატრანსპორტო საშუალება.

QUESTION 578

CORRECT ANSWER: 1

Is a person with the right to drive category „CE“ or „DE“ vehicle also allowed to drive category „BE“ vehicle?

1

Yes

2

No

განმარტება:

„საგზაო მოძრაობის შესახებ“ საქართველოს კანონის 56-ე მუხლის მე-3 პუნქტის თანახმად, „CE“ ან „DE“ კატეგორიის, აგრეთვე „C1E“ ან „D1E“ ქვეკატეგორიის სატრანსპორტო საშუალებათა მართვის უფლების მქონე პირს აგრეთვე უფლება აქვს, მართოს „BE“ კატეგორიის სატრანსპორტო საშუალებაც.

QUESTION 579

CORRECT ANSWER: 2

Is a person with the right to drive category „CE“ and „D“ vehicles also allowed to drive category „DE“ vehicle?

1

No

2

Yes

განმარტება:

„საგზაო მოძრაობის შესახებ“ საქართველოს კანონის 56-ე მუხლის მე-4 პუნქტის თანახმად, „CE“ კატეგორიის სატრანსპორტო საშუალების მართვის უფლების მქონე პირს, რომელსაც აქვს „D“ კატეგორიის სატრანსპორტო საშუალების მართვის უფლებაც, აგრეთვე უფლება აქვს, მართოს „DE“ კატეგორიის სატრანსპორტო საშუალებაც.

QUESTION 580

CORRECT ANSWER: 2

A person with the right to drive category „C“ car, in a year after being awarded with the driving license, is allowed to convey the passengers in the arranged body of lorry in an established order, if number of the passengers without driver:

1

Exceeds 8

2

Does not exceed 8

განმარტება:

„საგზაო მოძრაობის შესახებ“ საქართველოს კანონის 56-ე მუხლის მე-7 პუნქტის თანახმად, „C“ კატეგორიის სატრანსპორტო საშუალების მართვის უფლების მქონე პირს ამ კატეგორიის მართვის მოწმობის მიღებიდან 1 წლის შემდეგ უფლება აქვს, საქართველოს კანონმდებლობით დადგენილი წესით გადაიყვანოს მგზავრები სატვირთო ავტომობილის ძარათი, თუ მგზავრთა რაოდენობა, გარდა მძღოლისა, 8-ს არ აღემატება.

QUESTION 581

CORRECT ANSWER: 1

A person with the right to drive category „C“ and „D“ vehicles, in three years after being awarded with the driving license of category „C“ vehicle, is allowed to convey in the arranged body of lorry in an established order:

1

More than 8 passengers.

2

No more than 8 passengers

განმარტება:

„საგზაო მოძრაობის შესახებ“ საქართველოს კანონის 56-ე მუხლის მე-8 პუნქტის თანახმად, „C“ და „D“ კატეგორიების სატრანსპორტო საშუალებათა მართვის უფლების მქონე პირს „C“ კატეგორიის სატრანსპორტო საშუალების მართვის მოწმობის მიღებიდან 3 წლის შემდეგ უფლება აქვს, საქართველოს კანონმდებლობით დადგენილი წესით მოწყობილი სატვირთო ავტომობილის ძარათი გადაიყვანოს 8-ზე მეტი მგზავრი.

QUESTION 582

CORRECT ANSWER: 2

A person with the right to drive category „C“ vehicle is allowed to drive agricultural wheel tractor, which maximum allowable mass:

1

Exceeds 12000 kg

2

Does not exceed 12000 kg

განმარტება:

„საგზაო მოძრაობის შესახებ“ საქართველოს კანონის 56-ე მუხლის მე-11 პუნქტის თანახმად, „C“ კატეგორიის სატრანსპორტო საშუალების მართვის უფლების მქონე პირს უფლება აქვს, მართოს თვლიანი სასოფლო-სამეურნეო ტრაქტორი, რომლის ნებადართული მაქსიმალური მასა არ აღემატება 12 000 კგ-ს, აგრეთვე აღნიშნული მექანიკური სატრანსპორტო საშუალება, გადაბმული მისაბმელთან, თუ ასეთი შემადგენლობის საერთო ნებადართული მაქსიმალური მასა არ აღემატება 12 000 კგ-ს.

QUESTION 583

CORRECT ANSWER: 1

A person with the right to drive category „C“ vehicle is allowed to drive agricultural wheel tractor with bonded trailer, if total maximum allowable mass of such composition:

1

Exceeds 12000 kg

2

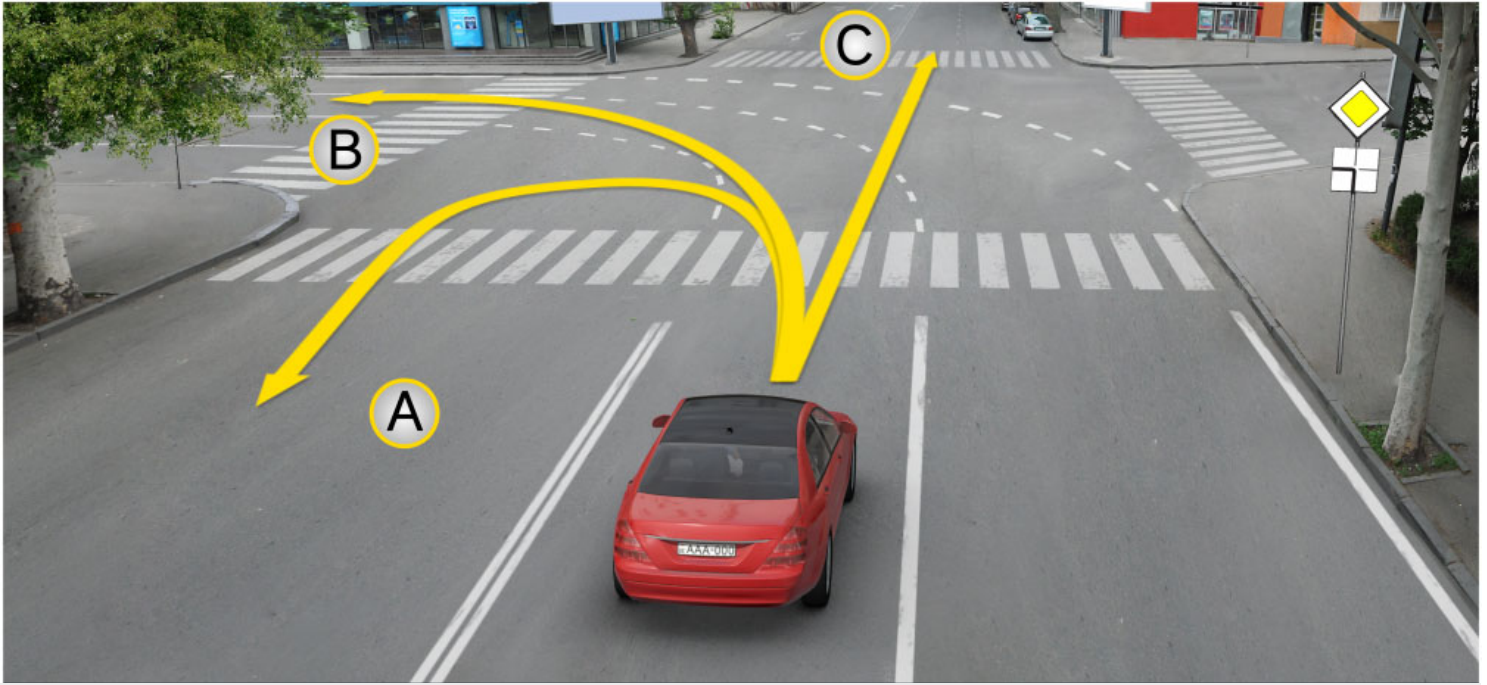
Does not exceed 12000 kg

განმარტება:

„საგზაო მოძრაობის შესახებ“ საქართველოს კანონის 56-ე მუხლის მე-11 პუნქტის თანახმად, „C“ კატეგორიის სატრანსპორტო საშუალების მართვის უფლების მქონე პირს უფლება აქვს, მართოს თვლიანი სასოფლო-სამეურნეო ტრაქტორი, რომლის ნებადართული მაქსიმალური მასა არ აღემატება 12 000 კგ-ს, აგრეთვე აღნიშნული მექანიკური სატრანსპორტო საშუალება, გადაბმული მისაბმელთან, თუ ასეთი შემადგენლობის საერთო ნებადართული მაქსიმალური მასა არ აღემატება 12 000 კგ-ს.

QUESTION 584

CORRECT ANSWER: 4



On the intersection, in case of these road markings, a motor car driver is allowed to proceed:

1

In direction A only

2

In direction B only

3

In direction C only

4


In all the above directions

განმარტება:

„საგზაო მოძრაობის შესახებ“ საქართველოს კანონის მე-2 დანართის პირველი თავის (ჰორიზონტალური მონიშვნა) 1.7 პუნქტის თანახმად, საგზაო მონიშვნა 1.7 წყვეტილი ხაზი მოკლე შტრიხებითა და იმავე ზომის შუალედებით - აღნიშნავს მოძრაობის ზოლებს გზატკარავდინის ფარგლებში. 1.7 ხაზის გადაკვეთა ნებადართულია ნებისმიერი მხრიდან.

QUESTION 585

CORRECT ANSWER: 2



Which of the vehicle drivers is obliged to yield in case of driving to the arrow direction?

1

Motor car driver

2

Tractor driver

განმარტება:

„საგზაო მოძრაობის შესახებ“ საქართველოს კანონის 36-ე მუხლის მე-4 პუნქტის „გ“ ქვეპუნქტის თანახმად, არარეგულირებულ გზაჯვარედინზე, თანაბარმნიშვნელოვანი გზების გადაკვეთაზე ურელსო სატრანსპორტო საშუალების მძღოლი ვალდებულია გზა დაუთმოს მარჯვნიდან მოახლოებულ სატრანსპორტო საშუალებას.

QUESTION 586

CORRECT ANSWER: 3

Under observation of requirements of which agreement are the labour and rest modes of the driver regulated in Georgia?

- 1 Agreement concerning operation of vehicles
- 2 Agreement concerning the International Carriage of Dangerous Goods by Road (ADR)
- 3 European Agreement concerning the Work of Crews of Vehicles engaged in International Road Transport (AETR)

განმარტება:

მძღოლთა შრომისა და დასვენების რეჟიმების რეგლამინაცია საქართველოში ხდება „საერთაშორისო საავტომობილო მიმოსვლის მწარმოებელი სატრანსპორტო საშუალებების ეკიპაჟის მუშაობის შესახებ“ ევროპული შეთანხმების (AETR). მოთხოვნათა შესაბამისად.

QUESTION 587

CORRECT ANSWER: 1

According to the European Agreement concerning the Work of Crews of Vehicles engaged in International Road Transport (AETR), term “International road transport” means:

- 1 Any road transport which involves crossing of at least one frontier
- 2 Any road transport at the distance above 100 km

განმარტება:

„საერთაშორისო საავტომობილო მიმოსვლის მწარმოებელი სატრანსპორტო საშუალებების ეკიპაჟის მუშაობის შესახებ“ ევროპული შეთანხმების (AETR) თანახმად ტერმინი „საერთაშორისო სატრანსპორტო მიმოსვლა“ ნიშნავს ნებისმიერ საავტომობილო მიმოსვლას ერთი საზღვრის გადაკვეთით მაინც.

QUESTION 588

CORRECT ANSWER: 4

If the contractual parties on the territory of which the traffic is carried out, do not otherwise agree, the requirements of the European Agreement concerning the Work of Crews of Vehicles engaged in International Road Transport (AETR) shall not be applied towards the international road transportation of goods, carried out by those vehicles, which are used:

- | | |
|---|--|
| <p>1 For transportation of goods only, which maximum allowable mass, including any trailer or semi-trailer, does not exceed 3.5 tonnes</p> | <p>2 For conveyance of passengers, which are not able to convey more than 9 people including driver due to their construction and equipment</p> |
| <p>3 For conveyance of passenger only on regular lines, the length of which does not exceed 50 km</p> | <p>4 In any case listed in given test</p> |

განმარტება:

თუ ხელშემკვერელი მხარეები, რომელთა ტერიტორიაზე ხორციელდება მიმოსვლა არ შეთანხმდნენ საპირისპიროს შესახებ, „საერთაშორისო საავტომობილო მიმოსვლის მწარმოებელი სატრანსპორტო საშუალებების ეკიპაჟის მუშაობის შესახებ“ ევროპული შეთანხმების (AETR) მოთხოვნები არ გამოიყენება საერთაშორისო საავტომობილო ტვირთბიდვის მიმართ, რომელიც სრულდება: ა) სატრანსპორტო საშუალებების მიერ, რომლებიც გამოიყენება ტვირთის გადასაზიდად და რომელთა ნებადართული მაქსიმალური მასა, მისაბმელებისა და ნახევარმისაბმელების მასის ჩათვლის, არ აღემატება 3,5 ტონას; ბ) სატრანსპორტო საშუალებების მიერ, რომლებიც გამოიყენება მგზავრთა გადასაყვანად და რომლებსაც თავიანთი კონსტრუქციისა და აღჭურვილობის გამო მძღოლის ჩათვლით ცხრა კაცზე მეტის გადაყვანა არ შეუძლია და განკუთვნილია ამ მიზნისთვის; გ) სატრანსპორტო საშუალებების მიერ, რომლებიც გამოიყენება მგზავრთა გადასაყვანად რეგულარულ ხაზებზე, რომელთა სიგრძე 50 კმ-ს არ აღემატება.

QUESTION 589

CORRECT ANSWER: 3

If the contractual parties on the territory of which the traffic is carried out, does not otherwise agree, the requirements of the European Agreement concerning the Work of Crews of Vehicles engaged in International Road Transport (AETR) shall not apply to transportation of international goods, which is carried out:

1 By specialized breakdown vehicles operating within 100 kilometres of their base

2 By those vehicles only, which maximum allowable mass does not exceed 7.5 tonnes and are used for non-commercial transportation of goods

3 In any case listed in given test

განმარტება:

თუ ხელშემკვერელი მხარეები, რომელთა ტერიტორიაზე ხორციელდება მიმოსვლა არ შეთანხმდნენ საპირისპიროს შესახებ, „საერთაშორისო საავტომობილო მიმოსვლის მწარმოებელი სატრანსპორტო საშუალებების ეკიპაჟის მუშაობის შესახებ“ ევროპული შეთანხმების (AETR) მოთხოვნები არ გამოიყენება საერთაშორისო საავტომობილო ტვირთზიდვის მიმართ, რომელიც სრულდება: ა) სპეციალური საავარიო სატრანსპორტო საშუალებების მიერ, რომელთა ექსპლუატაცია წარმოებს მათი მიწერის პუნქტიდან 100 კმ ფარგლებში. ბ) სატრანსპორტო საშუალებების მიერ, რომელთა ნებადართული მაქსიმალური მასა არ აღემატება 7,5 ტონას და რომლებიც გამოიყენება არაკომერციული გადაზიდვისათვის.

QUESTION 590

CORRECT ANSWER: 3

According to the European Agreement concerning the Work of Crews of Vehicles engaged in International Road Transport (AETR), the weekly driving time shall not exceed:

1 40 hours

2 46 hours

3 46 hours

განმარტება:

„საერთაშორისო საავტომობილო მიმოსვლის მწარმოებელი სატრანსპორტო საშუალებების ეკიპაჟის მუშაობის შესახებ“ ევროპული შეთანხმების (AETR) თანახმად ყოველკვირეული მართვის ხანგრძლივობა არ უნდა აღემატებოდეს 56 საათს.

QUESTION 591

CORRECT ANSWER: 4

According to the European Agreement concerning the Work of Crews of Vehicles engaged in International Road Transport (AETR), total accumulated driving time during any two consecutive weeks shall not exceed:

1

70 hours

2

78 hours

3

85 hours

4

90 hours

განმარტება:

„საერთაშორისო საავტომობილო მიმოსვლის მწარმოებელი სატრანსპორტო საშუალებების ეკიპაჟის მუშაობის შესახებ“ ევროპული შეთანხმების (AETR) თანახმად მართვის საერთო ჯამური ხანგრძლივობა ნებისმიერი ორი ერთმანეთის მომდევნო კვირის განმავლობაში არ უნდა აღემატებოდეს 90 საათს.

QUESTION 592

CORRECT ANSWER: 2

According to the European Agreement concerning the Work of Crews of Vehicles engaged in International Road Transport (AETR), unless the rest period begins, after how many hours of driving period shall the driver take a break of not less than 45 minutes?

1

3.5 hours

2

4.5 hours

3

5.5 hours

განმარტება:

„საერთაშორისო საავტომობილო მიმოსვლის მწარმოებელი სატრანსპორტო საშუალებების ეკიპაჟის მუშაობის შესახებ“ ევროპული შეთანხმების (AETR) თანახმად ოთხნახევარი საათის განმავლობაში მართვის პერიოდის შემდეგ მძღოლმა უნდა შეისვენოს არანაკლებ 45 წუთისა, თუ არა დგება დასვენების პერიოდი.

QUESTION 593

CORRECT ANSWER: 3

According to the European Agreement concerning the Work of Crews of Vehicles engaged in International Road Transport (AETR), after the driving period of four and a half hours, unless the rest period starts, a driver shall take an uninterrupted break of not less than:

1

20 minutes

2

30 minutes

3

45 minutes

განმარტება:

„საერთაშორისო საავტომობილო მიმოსვლის მწარმოებელი სატრანსპორტო საშუალებების ეკიპაჟის მუშაობის შესახებ“ ევროპული შეთანხმების (AETR) თანახმად, ოთხნახევარი საათის განმავლობაში მართვის პერიოდის შემდეგ მძღოლმა უნდა შეისვენოს არანაკლებ 45 წუთისა, თუ არა დგება დასვენების პერიოდი.

QUESTION 594

CORRECT ANSWER: 1

According to the European Agreement concerning the Work of Crews of Vehicles engaged in International Road Transport (AETR), is a driver obliged to take new daily rest period during each period of 24-hours after the end of the previous daily rest period or weekly rest period?

1

Yes

2

No

განმარტება:

„საერთაშორისო საავტომობილო მიმოსვლის მწარმოებელი სატრანსპორტო საშუალებების ეკიპაჟის მუშაობის შესახებ“ ევროპული შეთანხმების (AETR) თანახმად, დასვენების წინა ყოველდღიური პერიოდის ან ყოველკვირეული პერიოდის დასრულებიდან ყოველი 24-საათიანი პერიოდის განმავლობაში მძღოლმა უნდა გამოიყენოს ახალი ყოველდღიური დასვენების პერიოდი.

QUESTION 595

CORRECT ANSWER: 1

According to the European Agreement concerning the Work of Crews of Vehicles engaged in International Road Transport (AETR), term „Regular daily rest period“ shall mean any period of rest of at least:

1

11 hours

2

9 hours

3

7 hours

განმარტება:

„საერთაშორისო საავტომობილო მიმოსვლის მწარმოებელი სატრანსპორტო საშუალებების ეკიპაჟის მუშაობის შესახებ“ ევროპული შეთანხმების (AETR) თანახმად ტერმინი „დასვენების ნორმალური ყოველდღიური პერიოდი“ ნიშნავს დასვენების ნებისმიერ პერიოდს არანაკლებ 11 საათის ხანგრძლივობით.

QUESTION 596

CORRECT ANSWER: 2

According to the European Agreement concerning the Work of Crews of Vehicles engaged in International Road Transport (AETR), term „Reduced daily rest period“ means any period of at least:

1

7 hours, but less than 9 hours

2

9 hours, but less than 11 hours

3

11 hours

განმარტება:

„საერთაშორისო საავტომობილო მიმოსვლის მწარმოებელი სატრანსპორტო საშუალებების ეკიპაჟის მუშაობის შესახებ“ ევროპული შეთანხმების (AETR) თანახმად ტერმინი „დასვენების შემცირებული ყოველდღიური პერიოდი“ ნიშნავს დასვენების ნებისმიერ პერიოდს არანაკლებ 9 საათის, მაგრამ 11 საათზე ნაკლები ხანგრძლივობით.

QUESTION 597

CORRECT ANSWER: 3

According to the European Agreement concerning the Work of Crews of Vehicles engaged in International Road Transport (AETR), driving periods shall include any time of driving:

1 In the territories of contracting parties only

2 In the territories of non-contracting states only

3 Both in the territories of contracting parties and non-contracting states

განმარტება:

„საერთაშორისო საავტომობილო მიმოსვლის მწარმოებელი სატრანსპორტო საშუალებების ეკიპაჟის მუშაობის შესახებ“ ევროპული შეთანხმების (AETR) თანახმად, სატრანსპორტო საშუალების მართვის პერიოდები მოიცავს მართვის ნებისმიერ დროს ხელშემკვრელ მხარეთა ტერიტორიაზე და იმ სახელმწიფოთა ტერიტორიაზე, რომლებიც არ წარმოადგენენ ხელშემკვრელ მხარეებს.

QUESTION 598

CORRECT ANSWER: 3

According to the European Agreement concerning the Work of Crews of Vehicles engaged in International Road Transport (AETR), if a driver drives the vehicle equipped with control device, he/she shall be able to submit the record about driving and rest period:

1 In case of digital tachograph, for previous 14 calendar days

2 In case of analogue tachograph, for the current day only

3 In any case, for the current day and for previous 28 calendar days

განმარტება:

„საერთაშორისო საავტომობილო მიმოსვლის მწარმოებელი სატრანსპორტო საშუალებების ეკიპაჟის მუშაობის შესახებ“ ევროპული შეთანხმების (AETR) თანახმად, თუ მძღოლი მართავს საკონტროლო მოწყობილობით აღჭურვილ სატრანსპორტო საშუალებას მას უნდა შეეძლოს წარადგინოს ჩანაწერები მართვისა და დასვენების დროის შესახებ, რომელიც უნდა მოიცავდეს მიმდინარე დღეს და წინა 28 კალენდარულ დღეს.

QUESTION 599

CORRECT ANSWER: 4

According to the European Agreement concerning the Work of Crews of Vehicles engaged in International Road Transport (AETR), the control device attached to the vehicle shall provide to fix:

1

Speed and distance travelled by the vehicle

2

Driving duration only

3

Duration of rest and break period only

4

Both speed and distance travelled by the vehicle, as well as driving duration and duration of rest and break period

განმარტება:

„საერთაშორისო საავტომობილო მიმოსვლის მწარმოებელი სატრანსპორტო საშუალებების ეკიპაჟის მუშაობის შესახებ“ ევროპული შეთანხმების (AETR) თანახმად, სატრანსპორტო საშუალებაზე დაყენებული საკონტროლო მოწყობილობა უნდა უზრუნველყოფდეს, რომ დაფიქსირდეს: 1. სატრანსპორტო საშუალების სიჩქარე და გავლილი მანძილი. 2. მართვის ხანგრძლივობა. 3. დასვენების და შესვენების ხანგრძლივობა.

QUESTION 600

CORRECT ANSWER: 1

If sight is partially restricted due to the vehicle in front of unregulated crossing, the driver approaching the crossing has the right to proceed:

1

Only after making sure in absence of the pedestrians on the crossing

2

Only after use of horn

3

Without changing the speed, notwithstanding the situation on the crossing

განმარტება:

თუ არარეგულირებული ქვეითთა გადასასვლელის წინ გაჩერებული სატრანსპორტო საშუალების გამო, გადასასვლელზე ნაწილობრივ შეზღუდულია მხედველობა, გადასასვლელთან მოახლოებულ მძღოლს მოძრაობის გაგრძელების უფლება აქვს მხოლოდ მას შემდეგ, რაც დარწმუნდება, გადასასვლელზე შესული ან შემავალი ქვეითის არარსებობაში.

თემა 21:

რკინიგზის გადასასვლელი

QUESTION 601

CORRECT ANSWER: 3



If amber flashing traffic light is on:

1

Driver is obliged to stop at "STOP" line

2

Driver is obliged to stop at the traffic lights

3

Driver is allowed to proceed by using special caution

4

The driver is required to stop at not less than 10 meters from the closest rail

განმარტება:

„საგზაო მოძრაობის შესახებ“ საქართველოს კანონის 29-ე მუხლის მე-8 პუნქტის თანახმად, რკინიგზის გადასასვლელზე, გასახსნელი ხიდის მისასვლელთან, გემის ან ბორნის მისადგომთან, გზაზე სახანძრო ავტომობილის გამოსასვლელთან და იმ ადგილას, სადაც გზას დაბალ სიმაღლეზე კვეთს საფრენი აპარატის ტრაექტორია, გამოიყენება ერთ სადგარზე, ერთსა და იმავე სიმაღლეზე განლაგებული, ერთ მხარეს მიმართული ორი მორიგეობით მოციმციმე ან ერთი მოციმციმე წითელი ან ყვითელი მაშუქი სიგნალი, რომელთაგან წითელი მაშუქი სიგნალი კრძალავს „სდექ“ ხაზის გადაკვეთას, მისი არარსებობის შემთხვევაში კი – შექნიშნის იქით გადასვლას, ხოლო ყვითელი მაშუქი სიგნალი ნიშნავს, რომ მძღოლებს შეუძლიათ გააგრძელონ მოძრაობა, მაგრამ, ამასთანავე, ვალდებული არიან, დაიცვან განსაკუთრებული სიფრთხილე. თუ ფერადი მაშუქი სიგნალები გამორთულია, მოძრაობა ნებადართულია მხოლოდ მაშინ, როცა ხილვადობის ფარგლებში არ ჩანს გადასასვლელთან მოახლოებული მატარებელი (ლოკომოტივი, დრეზინა).

QUESTION 602

CORRECT ANSWER: 1

Honk given together with the red flashing signal of traffic lights at the railroad crossing additionally informs the traffic participants:

1

About prohibition of motion on the crossing

2

About the right to proceed on the crossing

განმარტება:

„საგზაო მოძრაობის შესახებ“ საქართველოს კანონის 29-ე მუხლის მე-9 პუნქტის თანახმად, რკინიგზის გადასასვლელზე შუქნიშნის წითელ მოციმციმე მაშუქ სიგნალთან ერთად შეიძლება მიეცეს ხმოვანი სიგნალი, რომელიც საგზაო მოძრაობის მონაწილეებს დამატებით ამცნობს რკინიგზის გადასასვლელზე მოძრაობის აკრძალვის შესახებ.

QUESTION 603

CORRECT ANSWER: 2

At railroad crossing the traffic lights with two alternatively flashing or one amber flashing signal, directed to one side, located at the same height on one stand, means that the drivers:

1

Are prohibited from motion

2

Are allowed to proceed but must use special caution

განმარტება:

„საგზაო მოძრაობის შესახებ“ საქართველოს კანონის 29-ე მუხლის მე-8 პუნქტის თანახმად, რკინიგზის გადასასვლელზე, გასახსნელი ხიდის მისასვლელთან, გემის ან ბორნის მისადგომთან, გზაზე სახანძრო ავტომობილის გამოსასვლელთან და იმ ადგილას, სადაც გზას დაბალ სიმაღლეზე კვეთს საფრენი აპარატის ტრაექტორია, გამოიყენება ერთ სადგარზე, ერთსა და იმავე სიმაღლეზე განლაგებული, ერთ მხარეს მიმართული ორი მორიგეობით მოციმციმე ან ერთი მოციმციმე წითელი ან ყვითელი მაშუქი სიგნალი, რომელთაგან წითელი მაშუქი სიგნალი კრძალავს „სდექ“ ხაზის გადაკვეთას, მისი არარსებობის შემთხვევაში კი – შუქნიშნის იქით გადასვლას, ხოლო ყვითელი მაშუქი სიგნალი ნიშნავს, რომ მძღოლებს შეუძლიათ გააგრძელონ მოძრაობა, მაგრამ, ამასთანავე, ვალდებული არიან, დაიცვან განსაკუთრებული სიფრთხილე. თუ ფერადი მაშუქი სიგნალები გამორთულია, მოძრაობა ნებადართულია მხოლოდ მაშინ, როცა ხილვადობის ფარგლებში არ ჩანს გადასასვლელთან მოახლოებული მატარებელი (ლოკომოტივი, დრეზინა).

QUESTION 604

CORRECT ANSWER: 1

If the traffic light signals are switched off on the railroad crossing:

1

Driving is allowed only in case if train (locomotive, handcar) approaching the crossing is not seen within the scope of visibility

2


Driving is prohibited

განმარტება:

„საგზაო მოძრაობის შესახებ“ საქართველოს კანონის 29-ე მუხლის მე-8 პუნქტის თანახმად, რკინიგზის გადასასვლელზე, გასახსნელი ხიდის მისასვლელთან, გემის ან ბორნის მისადგომთან, გზაზე სახანძრო ავტომობილის გამოსასვლელთან და იმ ადგილას, სადაც გზას დაბალ სიმაღლეზე კვეთს საფრენი აპარატის ტრაექტორია, გამოიყენება ერთ სადგარზე, ერთსა და იმავე სიმაღლეზე განლაგებული, ერთ მხარეს მიმართული ორი მორიგეობით მოციმციმე ან ერთი მოციმციმე წითელი ან ყვითელი მაშუქი სიგნალი, რომელთაგან წითელი მაშუქი სიგნალი კრძალავს „სდექ“ ხაზის გადაკვეთას, მისი არარსებობის შემთხვევაში კი – შექნიშნის იქით გადასვლას, ხოლო ყვითელი მაშუქი სიგნალი ნიშნავს, რომ მძღოლებს შეუძლიათ გააგრძელონ მოძრაობა, მაგრამ, ამასთანავე, ვალდებული არიან, დაიცვან განსაკუთრებული სიფრთხილე. თუ ფერადი მაშუქი სიგნალები გამორთულია, მოძრაობა ნებადართულია მხოლოდ მაშინ, როცა ხილვადობის ფარგლებში არ ჩანს გადასასვლელთან მოახლოებული მატარებელი (ლოკომოტივი, დრეზინა).

QUESTION 605

CORRECT ANSWER: 2



Which vehicle driver is prohibited from proceeding to the arrow direction?

1

Lorry driver only

2

Motor car driver only

3

Both of them

4


None of them

ბანმარტეზა:

„საგზაო მოძრაობის შესახებ“ საქართველოს კანონის 29-ე მუხლის მე-8 პუნქტის თანახმად რკინიგზის გადასასვლელზე, გასახსნელი ხიდის მისასვლელთან, გემის ან ბორნის მისადგომთან, გზაზე სახანძრო ავტომობილის გამოსასვლელთან და იმ ადგილას, სადაც გზას დაბალ სიმაღლეზე კვეთს საფრენი აპარატის ტრაექტორია, გამოიყენება ერთ სადგარზე, ერთსა და იმავე სიმაღლეზე განლაგებული, ერთ მხარეს მიმართული ორი მორიგეობით მოციმციმე ან ერთი მოციმციმე წითელი ან ყვითელი მაშუქი სიგნალი, რომელთაგან წითელი მაშუქი სიგნალი კრძალავს „სდექ“ ხაზის გადაკვეთას, მისი არარსებობის შემთხვევაში კი – შექნიშნის იქით გადასვლას, ხოლო ყვითელი მაშუქი სიგნალი ნიშნავს, რომ მძღოლებს შეუძლიათ გააგრძელონ მოძრაობა, მაგრამ, ამასთანავე, ვალდებული არიან, დაიცვან განსაკუთრებული სიფრთხილე. თუ ფერადი მაშუქი სიგნალები გამორთულია, მოძრაობა ნებადართულია მხოლოდ მაშინ, როცა ხილვადობის ფარგლებში არ ჩანს გადასასვლელთან მოახლოებული მატარებელი (ლოკომოტივი, დრეზინა). ამავე კანონის 32-ე მუხლის მე-15 პუნქტის „დ“ ქვეპუნქტის თანახმად, აკრძალულია სატრანსპორტო საშუალების მობრუნება რკინიგზის გადასასვლელზე.

QUESTION 606

CORRECT ANSWER: 3



In the present situation, the driver:

- | | | | |
|---|---|---|--|
| 1 | Is allowed to open the barrier himself/herself using caution and to proceed | 2 | Is allowed to drive around the barrier and proceed |
| 3 | Is obliged to stop at the "STOP" line | 4 | None of the above-mentioned answers is true |

ბანმარტეზა:

„საგზაო მოძრაობის შესახებ“ საქართველოს კანონის 39-ე მუხლის პირველი პუნქტის „ბ“ ქვეპუნქტის თანახმად, მიუხედავად მაშუქი და ხმოვანი სიგნალების მითითებისა, არცერთი საგზაო მოძრაობის მონაწილე არ უნდა შევიდეს რკინიგზის გადასასვლელზე, რომლის შლავბაუმი ან ნახევარშლავბაუმი დაკეტილია, იკეტება ან იწევა. ამავე მუხლის მე-2 პუნქტის „ბ“ ქვეპუნქტის თანახმად, რკინიგზის გადასასვლელზე აკრძალულია შლავბაუმის ან ნახევარშლავბაუმის თვითნებური გახსნა. ამავე მუხლის მე-3 პუნქტის თანახმად თუ რკინიგზის გადასასვლელზე მოძრაობა აკრძალულია, მძღოლი ჩერდება „სდექ“ ხაზთან, 2.4 საგზაო ნიშანთან ან შექნიშანთან, ხოლო მათი არარსებობისას – შლავბაუმიდან ან ნახევარშლავბაუმიდან არანაკლებ 5 მეტრისა. თუ არ არის არც შლავბაუმი და არც ნახევარშლავბაუმი, მძღოლი უნდა გაჩერდეს უახლოეს რელსამდე არანაკლებ 10 მეტრისა.

QUESTION 607

CORRECT ANSWER: 2



Closing of the semi-barrier has started. The motor car driver will not violate the Highway Code, if he/she:

1

Completes motion, as he/she manages to cross the railroad crossing in time

2

Stops at the traffic light

3

Makes sure that the train is not approaching the crossing within the scope of visibility and passes the railroad crossing

ბანმარტეზა:

„საგზაო მოძრაობის შესახებ“ საქართველოს კანონის 39-ე მუხლის პირველი პუნქტის „ბ“ ქვეპუნქტის თანახმად, მიუხედავად მაშუქი და ხმოვანი სიგნალების მითითებისა, არცერთი საგზაო მოძრაობის მონაწილე არ უნდა შევიდეს რკინიგზის გადასასვლელზე, რომლის შლავგაუმი ან ნახევარშლავგაუმი დაკეტილია, იკეტება ან იწევა. ამავე მუხლის მე-3 პუნქტის თანახმად თუ რკინიგზის გადასასვლელზე მოძრაობა აკრძალულია, მძღოლი ჩერდება „სდექ“ ხაზთან, 2.4 საგზაო ნიშანთან ან შექნიშანთან, ხოლო მათი არარსებობისას – შლავგაუმიდან ან ნახევარშლავგაუმიდან არანაკლებ 5 მეტრისა. თუ არ არის არც შლავგაუმი და არც ნახევარშლავგაუმი, მძღოლი უნდა გაჩერდეს უახლოეს რელსამდე არანაკლებ 10 მეტრისა.

QUESTION 608

CORRECT ANSWER: 1



Semi-barrier is closed. The car driver will not violate the Highway Code, if he/she:

- | | | | |
|---|--|---|---|
| 1 | Stops at a distance of at least 5 meters from the semi-barrier | 2 | Drives around the barrier and crosses the railroad crossing |
| 3 | Opens the barrier himself/herself using caution and proceeds | 4 | None of the given answers in the test is true |

განმარტება:

„საგზაო მოძრაობის შესახებ“ საქართველოს კანონის 39-ე მუხლის პირველი პუნქტის „ბ“ ქვეპუნქტის თანახმად, მიუხედავად მაშუქი და ხმოვანი სიგნალების მითითებისა, არცერთი საგზაო მოძრაობის მონაწილე არ უნდა შევიდეს რკინიგზის გადასასვლელზე, რომლის შლაგბაუმი ან ნახევარშლაგბაუმი დაკეტილია, იკეტება ან იწევა. ამავე მუხლის მე-2 პუნქტის „ბ“ ქვეპუნქტის თანახმად, რკინიგზის გადასასვლელზე აკრძალულია შლაგბაუმის ან ნახევარშლაგბაუმის თვითნებური გახსნა. ამავე მუხლის მე-3 პუნქტის თანახმად თუ რკინიგზის გადასასვლელზე მოძრაობა აკრძალულია, მძღოლი ჩერდება „სდექ“ ხაზთან, 2.4 საგზაო ნიშანთან ან შუქნიშანთან, ხოლო მათი არარსებობისას – შლაგბაუმიდან ან ნახევარშლაგბაუმიდან არანაკლებ 5 მეტრისა. თუ არ არის არც შლაგბაუმი და არც ნახევარშლაგბაუმი, მძღოლი უნდა გაჩერდეს უახლოეს რელსამდე არანაკლებ 10 მეტრისა.

QUESTION 609

CORRECT ANSWER: 1



In the present situation, which of the car drivers stopped at the railroad crossing is violating the Highway Code?

1

Yellow car driver only

2

White car driver only

3

Both of them

4

None of them

ბანმარტება:

„საგზაო მოძრაობის შესახებ“ საქართველოს კანონის 39-ე მუხლის პირველი პუნქტის „გ“ ქვეპუნქტის თანახმად, მარეგულირებლის ან შექნიშნის ამკრძალავი სიგნალის დროს არცერთი საგზაო მოძრაობის მონაწილე არ უნდა შევიდეს რკინიგზის გადასასვლელზე, მიუხედავად შლაგბაუმის ან ნახევარშლაგბაუმის მდგომარეობისა ან მისი არსებობისა. ამავე მუხლის მე-3 პუნქტის თანახმად თუ რკინიგზის გადასასვლელზე მოძრაობა აკრძალულია, მძღოლი ჩერდება „სდექ“ ხაზთან, 2.4 საგზაო ნიშანთან ან შექნიშანთან, ხოლო მათი არარსებობისას – შლაგბაუმიდან ან ნახევარშლაგბაუმიდან არანაკლებ 5 მეტრისა. თუ არ არის არც შლაგბაუმი და არც ნახევარშლაგბაუმი, მძღოლი უნდა გაჩერდეს უახლოეს რელსამდე არანაკლებ 10 მეტრისა.

QUESTION 610

CORRECT ANSWER: 1



In the present situation, is blue car driver prohibited from proceeding to the arrow direction?

1

Yes

2

No

განმარტება:

„საგზაო მოძრაობის შესახებ“ საქართველოს კანონის 34-ე მე-9 პუნქტის „ბ“ ქვეპუნქტის თანახმად, ამ მუხლის მე-3 პუნქტით დადგენილი მოთხოვნების გათვალისწინებით, გასწრება აკრძალულია რკინიგზის გადასასვლელზე და მის წინ 100 მეტრზე ახლოს, გარდა იმ შემთხვევებისა, როცა ამ ადგილებში მოძრაობა რეგულირდება ისეთი ტიპის შუქნიშნით რომელიც გზაჯვარედინებზე გამოიყენება. ამავე კანონის 39-ე მუხლის მე-2 პუნქტის „ა“ ქვეპუნქტის თანახმად, რკინიგზის გადასასვლელზე აკრძალულია საპირისპირო მოძრაობის ზოლზე გასვლით, გადასასვლელის წინ მდგომი სატრანსპორტო საშუალების შემოვლა.

QUESTION 611

CORRECT ANSWER: 4



The traffic controller is standing with right side to the vehicle, with hands down, in this situation the motor car driver:

1

Is obliged to slow down and stop

2

Is obliged to stop at a distance of at least 10 meters from the nearest rail

3

Is obliged to stop at a distance of at least 5 meters from the semi-barrier

4


Is allowed to proceed

განმარტება:

„საგზაო მოძრაობის შესახებ“ საქართველოს კანონის 39-ე მუხლის მე-4 პუნქტის თანახმად, რკინიგზის გადასასვლელზე მოძრაობის ამკრძალავი სიგნალის მიცემისას მარეგულირებელი დგას მძღოლის მიმართ მკერდით ან ზურგშეცევით, თავის ზემოთ აწეული კვერთხით, წითელი ფარნით ან ალმით ან განზე გაწეული ხელებით.

QUESTION 612

CORRECT ANSWER: 2



The train is completing to pass the railroad crossing, the motor car driver is allowed to proceed:

1

Immediately after the train is passed

2

After the train is passed and yellow flashing signal of the traffic lights is switched on

განმარტება:

„საგზაო მოძრაობის შესახებ“ საქართველოს კანონის 39-ე მუხლის პირველი პუნქტის „გ“ ქვეპუნქტის თანახმად, მარეგულირებლის ან შექნიშნის ამკრძალავი სიგნალის დროს არცერთი საგზაო მოძრაობის მონაწილე არ უნდა შევიდეს რკინიგზის გადასასვლელზე, მიუხედავად შლაგბაუმის ან ნახევარშლაგბაუმის მდგომარეობისა ან მისი არსებობისა. ამავე კანონის 29-ე მუხლის მე-8 პუნქტის თანახმად რკინიგზის გადასასვლელზე, გასასხნელი ხიდის მისასვლელთან, გემის ან ბორნის მისადგომთან, გზაზე სახანძრო ავტომობილის გამოსასვლელთან და იმ ადგილას, სადაც გზას დაბალ სიმაღლეზე კვეთს საფრენი აპარატის ტრაექტორია, გამოიყენება ერთ სადგარზე, ერთსა და იმავე სიმაღლეზე განლაგებული, ერთ მხარეს მიმართული ორი მორიგეობით მოციმციმე ან ერთი მოციმციმე წითელი ან ყვითელი მაშუქი სიგნალი, რომელთაგან წითელი მაშუქი სიგნალი კრძალავს „სდექ“ ხაზის გადაკვეთას, მისი არარსებობის შემთხვევაში კი – შექნიშნის იქით გადასვლას, ხოლო ყვითელი მაშუქი სიგნალი ნიშნავს, რომ მძღოლებს შეუძლიათ გააგრძელონ მოძრაობა, მაგრამ, ამასთანავე, ვალდებული არიან, დაიცვან განსაკუთრებული სიფრთხილე.

QUESTION 613

CORRECT ANSWER: 3



In the present situation, the motor car driver is obliged to stop:

- | | |
|--|--|
| <div style="border: 1px solid #ccc; padding: 10px; margin-bottom: 10px;"> <div style="background-color: red; color: white; padding: 5px; display: inline-block; width: 30px; height: 30px; text-align: center; line-height: 30px;">1</div> <div style="margin-left: 10px;">At least 5 meters from the barrier</div> </div> <div style="border: 1px solid #ccc; padding: 10px;"> <div style="background-color: red; color: white; padding: 5px; display: inline-block; width: 30px; height: 30px; text-align: center; line-height: 30px;">3</div> <div style="margin-left: 10px;">At the traffic light</div> </div> | <div style="border: 1px solid #ccc; padding: 10px; margin-bottom: 10px;"> <div style="background-color: red; color: white; padding: 5px; display: inline-block; width: 30px; height: 30px; text-align: center; line-height: 30px;">2</div> <div style="margin-left: 10px;">At least 10 meters from the nearest rail</div> </div> |
|--|--|

განმარტება:

„საგზაო მოძრაობის შესახებ“ საქართველოს კანონის 39-ე მუხლის პირველი პუნქტის „ბ“ ქვეპუნქტის თანახმად, მიუხედავად მაშუქი და ხმოვანი სიგნალების მითითებისა, არცერთი საგზაო მოძრაობის მონაწილე არ უნდა შევიდეს რკინიგზის გადასასვლელზე, რომლის შლაგბაუმი ან ნახევარშლაგბაუმი დაკეტილია, იკეტება ან იწევა. ამავე მუხლის მე-3 პუნქტის თანახმად თუ რკინიგზის გადასასვლელზე მოძრაობა აკრძალულია, მძღოლი ჩერდება „სდექ“ ხაზთან, 2.4 საგზაო ნიშანთან ან შუქნიშანთან, ხოლო მათი არარსებობისას – შლაგბაუმიდან ან ნახევარშლაგბაუმიდან არანაკლებ 5 მეტრისა. თუ არ არის არც შლაგბაუმი და არც ნახევარშლაგბაუმი, მძღოლი უნდა გაჩერდეს უახლოეს რელსამდე არანაკლებ 10 მეტრისა.

QUESTION 614

CORRECT ANSWER: 2



In the present situation, the motor car driver is obliged to stop:

1

Immediately at the barrier

2

At the "STOP" line

განმარტება:

„საგზაო მოძრაობის შესახებ“ საქართველოს კანონის 39-ე მუხლის პირველი პუნქტის „გ“ ქვეპუნქტის თანახმად, მარეგულირებლის ან პუქნიშნის ამკრძალავი სიგნალის დროს არცერთი საგზაო მოძრაობის მონაწილე არ უნდა შევიდეს რკინიგზის გადასასვლელზე, მიუხედავად შლაგბაუმის ან ნახევარშლაგბაუმის მდგომარეობისა ან მისი არსებობისა. ამავე მუხლის მე-3 პუნქტის თანახმად თუ რკინიგზის გადასასვლელზე მოძრაობა აკრძალულია, მძღოლი ჩერდება „სდექ“ ხაზთან, 2.4 საგზაო ნიშანთან ან პუქნიშანთან, ხოლო მათი არარსებობისას – შლაგბაუმიდან ან ნახევარშლაგბაუმიდან არანაკლებ 5 მეტრისა. თუ არ არის არც შლაგბაუმი და არც ნახევარშლაგბაუმი, მძღოლი უნდა გაჩერდეს უახლოეს რელსამდე არანაკლებ 10 მეტრისა.

QUESTION 615

CORRECT ANSWER: 3



In the present situation, which car driver is prohibited from proceeding to the arrow direction?

1

Both of them

2

None of them

3

Red car driver only

4


Blue car driver only

განმარტება:

„საგზაო მოძრაობის შესახებ“ საქართველოს კანონის 34-ე მე-9 პუნქტის „ბ“ ქვეპუნქტის თანახმად, ამ მუხლის მე-3 პუნქტით დადგენილი მოთხოვნების გათვალისწინებით, გასწრება აკრძალულია რკინიგზის გადასასვლელზე და მის წინ 100 მეტრზე ახლოს, გარდა იმ შემთხვევებისა, როცა ამ ადგილებში მოძრაობა რეგულირდება ისეთი ტიპის უქნიშნო რომელიც გზაჯვარედინებზე გამოიყენება. ამავე კანონის პირველი დანართის პირველი თავის (მაფრთხილებელი ნიშნები) 1.2 და 1.4.6-1.4.6 პუნქტების თანახმად საგზაო ნიშანი: 1.2 „რკინიგზის უშლავაუმო გადასასვლელი“ - აფრთხილებს უშლავაუმო რკინიგზის გადასასვლელთან მიახლოების შესახებ; 1.4.3 „რკინიგზის გადასასვლელთან მიახლოება“ - დამატებით აფრთხილებს მძღოლს დაუსახლებელ პუნქტში რკინიგზის გადასასვლელთან მიახლოების შესახებ. ამავე თავის პენიშნის „ბ“ და „ვ“ ქვეპუნქტების თანახმად: ბ) ნიშნები 1.1 და 1.2, დაუსახლებელ პუნქტში მეორდება, მეორე ნიშანი იდგმება სახიფათო მონაკვეთის დასაწყისიდან არანაკლებ 50 მეტრის მანძილზე; ვ) ნიშნები 1.4.3 და 1.4.6 იდგმება მოძრაობის მიმართულებით განმეორებით 1.1 ან 1.2 ნიშნებთან.

QUESTION 616

CORRECT ANSWER: 2



In the present situation, is the driver prohibited from reversing to the arrow direction and afterwards performing U-turn maneuver?

1

Yes

2

No

განმარტება:

„საგზაო მოძრაობის შესახებ“ საქართველოს კანონის 32-ე მუხლის მე-15 პუნქტის „დ“ ქვეპუნქტისა და მე-16 პუნქტის თანახმად: 15. აკრძალულია სატრანსპორტო საშუალების მობრუნება რკინიგზის გადასასვლელზე; 16. მძღოლი, რომელიც მობრუნებას ან უკუსვლით მოძრაობას აპირებს, უნდა დარწმუნდეს, რომ მას შეუძლია ისე შეასრულოს ეს მანევრი, რომ საფრთხე არ შეუქმნას და ხელი არ შეუშალოს სხვა საგზაო მოძრაობის მონაწილეებს. აუცილებლობის შემთხვევაში მიზანშეწონილია სხვა პირის დახმარება. აკრძალულია უკუსვლით მოძრაობა გზაჯვარედინზე, ავტომაგისტრალზე და ამ მუხლის მე-15 პუნქტით განსაზღვრულ ადგილებში.

QUESTION 617

CORRECT ANSWER: 1



In the present situation, is blue motor car driver prohibited from overtaking to the arrow direction?

1

Yes

2

No

განმარტება:

„საგზაო მოძრაობის შესახებ“ საქართველოს კანონის 34-ე მე-9 პუნქტის „ბ“ ქვეპუნქტის თანახმად, ამ მუხლის მე-3 პუნქტით დადგენილი მოთხოვნების გათვალისწინებით, გასწრება აკრძალულია რკინიგზის გადასასვლელზე და მის წინ 100 მეტრზე ახლოს, გარდა იმ შემთხვევებისა, როცა ამ ადგილებში მოძრაობა რეგულირდება ისეთი ტიპის შუქნიშნით რომელიც გზაჯვარედინებზე გამოიყენება. ამავე კანონის პირველი დანართის პირველი თავის (მაფრთხილებელი ნიშნები) 1.2 და 1.4.6-1.4.6 პუნქტების თანახმად საგზაო ნიშანი: 1.2 „რკინიგზის უშლავაუზო გადასასვლელი“ - აფრთხილებს უშლავაუზო რკინიგზის გადასასვლელთან მიახლოების შესახებ; 1.4.3 „რკინიგზის გადასასვლელთან მიახლოება“ - დამატებით აფრთხილებს მძღოლს დაუსახლებელ პუნქტში რკინიგზის გადასასვლელთან მიახლოების შესახებ. ამავე თავის შუენიშვნის „ბ“ და „ვ“ ქვეპუნქტების თანახმად: ბ) ნიშნები 1.1 და 1.2, დაუსახლებელ პუნქტში მეორდება, მეორე ნიშანი იდგმება სახიფათო მონაკვეთის დასაწყისიდან არანაკლებ 50 მეტრის მანძილზე; ვ) ნიშნები 1.4.3 და 1.4.6 იდგმება მოძრაობის მიმართულებით განმეორებით 1.1 ან 1.2 ნიშნებთან.

QUESTION 618

CORRECT ANSWER: 1



Is red vehicle driver allowed to enter the railroad crossing, if there is the traffic jam after the crossing?

1

No

2

Yes

განმარტება:

„საგზაო მოძრაობის შესახებ“ საქართველოს კანონის 39-ე მუხლის პირველი პუნქტის „ე“ ქვეპუნქტის თანახმად, მძღოლი არ უნდა შევიდეს რკინიგზის გადასასვლელზე, თუ წინასწარ არ დარწმუნდება, რომ იძულებული არ იქნება, გაჩერდეს მასზე.

QUESTION 619

CORRECT ANSWER: 2

“Railroad crossing” is:

1

Any section of railroad

2

Junction of road and railroad or tram rails with independent plane on one level

3

Junction of road and railroad or tram rails with independent plane on various levels

განმარტება:

„საგზაო მოძრაობის შესახებ“ საქართველოს კანონის 5-ე მუხლის 58-ე პუნქტის თანახმად, „რკინიგზის გადასასვლელი“ - გზისა და დამოუკიდებელი ვაკისის მქონე რკინიგზის ან ტრამვაის ლიანდაგების ერთ დონეზე გადაკვეთა.

QUESTION 620

CORRECT ANSWER: 1

During routing in turning, what kind of tank-truck profile is more stable against overturn?

1

With ellipse-shaped profile

2

With round profile

განმარტება:

რაც უფრო მაღლაა განლაგებული სატრანსპორტო საშუალების სიმძიმის ცენტრი მით უფრო ნაკლებია მისი მდგრადობა გადაყირავების წინააღმდეგ, განურჩევლად ტვირთის ხასიათისა. ტვირთიანი სატრანსპორტო საშუალების სიმძიმის ცენტრი ყოველთვის უფრო მაღლაა განლაგებული ვიდრე უტვირთოსი. ელიფსის ფორმის პროფილის მქონე ავტოცისტერნის სიმძიმის ცენტრი განლაგებულია უფრო დაბლა ვიდრე მრგვალი პროფილის მქონე ავტოცისტერნის, ამიტომ ელიფსის ფორმის პროფილის მქონე ავტოცისტერნა უფრო მდგრადია გადაყირავების წინააღმდეგ.

QUESTION 621

CORRECT ANSWER: 3

In case of transportation of liquid goods, a tank lorry is more stable against overturn, if fuel-tank is filled:

1 Half

2 By 75%

3 Fully

განმარტება:

რაც უფრო მაღლაა განლაგებული სატრანსპორტო საშუალების სიმძიმის ცენტრი მით უფრო ნაკლებია მისი მდგრადობა გადაყირავების წინააღმდეგ, განურჩევლად ტვირთის ხასიათისა. ტვირთიანი სატრანსპორტო საშუალების სიმძიმის ცენტრი ყოველთვის უფრო მაღლაა განლაგებული ვიდრე უტვირთოსი. ავტოცისტერნით თხევადი ტვირთის გადაზიდვის შემთხვევაში აგრეთვე გასათვალისწინებელია, რომ შეუვსებელ ცისტერნაში სითხეს აქვს გადაადგილების საშუალება, რაც დამატებით მომქმედ ინერციულ ძალას წარმოშობს და ამცირებს სატრანსპორტო საშუალების მდგრადობას გადაყირავების წინააღმდეგ.

QUESTION 622

CORRECT ANSWER: 4

At the time of routing on turning, sweep and stowage of road train may be caused by:

1 Excess speed only

2 Hard swerving of steering wheel only

3 Hard braking only

4 Excess speed, as well as hard swerving of steering wheel and hard braking

განმარტება:

მოსახვევში მოძრაობისას სიჩქარის შერჩევა უნდა მოხდეს იმის გათვალისწინებით, რომ დიდია ავტომატარებლის მოცურების, დაკეცვის და გადაყირავების საშიშროება. მოსახვევები უნდა გავიაროთ მდორედ, არ უნდა გავაკეთოთ მკვეთრი დამუხრუჭება, ვიმოძრაოთ დაბალი სიჩქარით. საჭის თვლის მკვეთრი მობრუნება, მკვეთრი დამუხრუჭება ან გადამეტებული სიჩქარე მისაბმელის დიდი ინერციის გავლენით მოსალოდნელია გახდეს ავტომატარებლის მოცურების, გადაყირავების და დაკეცვის მიზეზი.

QUESTION 623

CORRECT ANSWER: 3

At the time of routing on the ascent, on the slippery ice-covered road, sweep and stowage of road train may be caused by:

1

Hard swerving of steering wheel only

2

Hard braking only

3

Both hard swerving of steering wheel and hard braking

განმარტება:

გამთრის პირობებში აღმართზე მოძრაობისას მძღოლმა უნდა ჩართოს დაბალი გადაცემა ან ჩართოს სარიგებელი კოლოფი, რათა გამოირიცხოს აღმართზე სიჩქარის გადართვის აუცილებლობა, რამაც თავის მხრივ შეიძლება გამოიწვიოს წამყვანი თვლების მოცურება. აღმართზე ყინულით დაფარული გზის პირობებში ავტომობილი ვერ შეძლებს მოძრაობის განახლებას და მისაბმელი თვითნებურად დაიწყებს მოცურებას უკან. მოლიპულ გზაზე საჭის თვლის მკვეთრი მობრუნება ან დამუხრუჭება ასევე შეიძლება გახდეს ავტომობილის და მისაბმელის მოცურების, დაკეცვის ან გადაყირავების მიზეზი.

QUESTION 624

CORRECT ANSWER: 2

When routing in turning, dynamic corridor of road train and articulated bus exceeds dynamic corridor of single car:

1

By 5%

2

By 10-40%

3

By 50-70%

განმარტება:

მოსახვევში მოძრაობისას ავტომატარებლისა და შესახსრებული ავტობუსების მოძრაობისათვის საჭირო ზოლი მნიშვნელოვნად ფართოვდება. მოხვევისას გამწვანებული ავტომობილის წინა თვლები იკავებს მოხვევის ცენტრის საწინააღმდეგო მხარეს, ხოლო ავტომობილის უკანა და მისაბმელის თვლები მოხვევის ცენტრის მხარეს. ავტომატარებლისა და შესახსრებული ავტობუსის დინამიკური დერეფანი 10-40%-ით მეტია ვიდრე ერთეული ავტომობილის და ჩვეულებრივი ავტობუსის დინამიკური დერეფანი.

QUESTION 625

CORRECT ANSWER: 3

In case of overtaking by road train and articulated bus, safe side interval to the vehicle to be overtaken should not be:

1

Less than 1 meter

2

Less than 1.5 meters

3

Less than 2 meters

განმარტება:

„საგზაო მოძრაობის შესახებ“ საქართველოს კანონის 34-ე მუხლის მე-5 პუნქტის თანახმად, უსაფრთხოების უზრუნველყოფის მიზნით, გასწრების მომენტში მძღოლმა გასასწრებ სატრანსპორტო საშუალებისათვის (საშუალებებისათვის) უნდა დატოვოს საკმარისი გვერდითი სივრცე. გასწრების წინ მძღოლი უნდა დარწმუნდეს, რომ სავალი ნაწილის სიგანე იძლევა საშუალებას დაიკავოს გასასწრებ სატრანსპორტო საშუალებასთან მიმართებაში გვერდითი ინტერვალი არა ნაკლები 1-1,5 მეტრი. ავტომატარებლისა და შესახსრებული ავტობუსების მძღოლებმა დამატებით უნდა გაითვალისწინონ, რომ მისაბმელის გვერდითი გადაადგილება ზრდის სატრანსპორტო შემადგენლობის დინამიკურ კარიდორს 10-40%-ით. უსაფრთხო გვერდითი ინტერვალი ამ შემთხვევაში არ უნდა იყოს 2 მეტრზე ნაკლები.

QUESTION 626

CORRECT ANSWER: 1

According to the technical requirements of the vehicles twin wheels are supposed to be installed so that the condition of the ventilation holes of the disks ensure:

1

The possibility both to inflate the tires and measure their pressure

2

The possibility to measure only the pressure

3

The possibility to inflate the tires only

განმარტება:

„ავტოსატრანსპორტო საშუალებების მიმართ წაყენებული ტექნიკური მოთხოვნები, რომლებთან შესაბამისობის დადგენის მიზნითაც ტარდება გზისთვის ვარგისობაზე ტესტირება და მისი ჩატარების მეთოდების“ საქართველოს მთავრობის 2014 წლის 3 იანვარის №30 დადგენილებით დამტკიცებული ტექნიკური რეგლამენტის მე-8 მუხლის მე-3 პუნქტის თანახმად, შეწყვილებული თვლები ისე უნდა იყოს დაყენებული, რომ მათი დისკების სავენტილაციო ნახვრეტების მდგომარეობა უზრუნველყოფდეს საბურავების როგორც დაბერვის, ისე წნევის გაზომვის შესაძლებლობას.

QUESTION 627

CORRECT ANSWER: 4

According to the technical requirements of the vehicles it is compulsory to be in working conditions:

- | | |
|--------------------------------------|---|
| 1 Only door operating gear and locks | 2 Only lorry platform side locks |
| 3 Only tank filling lock | 4 All of the equipment listed in given test |

განმარტება:

„ავტოსატრანსპორტო საშუალებების მიმართ წაყენებული ტექნიკური მოთხოვნები, რომლებთან შესაბამისობის დადგენის მიზნითაც ტარდება გზისთვის ვარგისობაზე ტესტირება და მისი ჩატარების მეთოდების“ საქართველოს მთავრობის 2014 წლის 3 იანვარის №30 დადგენილებით დამტკიცებული ტექნიკური რეგლამენტის მე-9 მუხლის მე-19 პუნქტის თანახმად, „ავტოსატრანსპორტო საშუალებების კარების საკეტები, სატვირთო პლატფორმის ბორტის ჩამრაბი, ცისტერნების ჩასასხმელის ჩამრაბი, მძღოლთა და მგზავრთა სავარძლების ფიქსირებისა და რეგულირების მექანიზმები, ხმოვანი სიგნალი, საქარე მინის გაქრევისა და გათბობის მოწყობილობა, დამამზადებლის მიერ გათვალისწინებული გატაცების საწინააღმდეგო მოწყობილობა, კარების ავარიული გამომრთველი და გაჩერების მანიშნებელი სიგნალი, ავტობუსების ავარიული გამოსასვლელები და მათი მოქმედებაში მომყვანი მოწყობილობა, ავტობუსის სალონის შიგა განათების ჩამრთველები, კარების მართვის ამძრავი და მათი მუშაობის სიგნალიზაცია უნდა იყოს მუშა მდგომარეობაში.

QUESTION 628

CORRECT ANSWER: 2

According to the technical requirements of the vehicles the height of the tire tread of a lorry tire is required to be not less than:

- | | |
|----------|----------|
| 1 1.6 mm | 2 1,0 mm |
| 3 2,0 mm | |

განმარტება:

„ავტოსატრანსპორტო საშუალებების მიმართ წაყენებული ტექნიკური მოთხოვნები, რომლებთან შესაბამისობის დადგენის მიზნითაც ტარდება გზისთვის ვარგისობაზე ტესტირება და მისი ჩატარების მეთოდების“ საქართველოს მთავრობის 2014 წლის 3 იანვარის №30 დადგენილებით დამტკიცებული ტექნიკური რეგლამენტის პირველი მუხლის პირველი პუნქტის „გ“ ქვეპუნქტის თანახმად, საბურავების პროტექტორის ნახატის სიმაღლე უნდა იყოს არანაკლებ: გ) სატვირთო ავტომობილებისათვის – 1,0 მმ.

QUESTION 629

CORRECT ANSWER: 3

If it is not indicated in the exploitation documents of the manufacturer, the free play in the steering wheel control system of a lorry must not exceed:

1 15°

2 20°

3 25°

განმარტება:

„ავტოსატრანსპორტო საშუალებების მიმართ წაყენებული ტექნიკური მოთხოვნები, რომლებთან შესაბამისობის დადგენის მიზნითაც ტარდება გზისთვის ვარგისობაზე ტესტირება და მისი ჩატარების მეთოდების“ საქართველოს მთავრობის 2014 წლის 3 იანვარის №30 დადგენილებით დამტკიცებული ტექნიკური რეგლამენტის მე-5 მუხლის მე-3 პუნქტის „გ“ ქვეპუნქტის თანახმად, საჭით მართვის სისტემაში ჯამური ფოლხვა არ უნდა აღემატებოდეს დამამზადებლის საექსპლუატაციო დოკუმენტში მოცემულ ზღვრულ მნიშვნელობას, ხოლო თუ ასეთი მნიშვნელობები არ არის მითითებული, შემდეგ ზღვრულ მნიშვნელობებს: გ) სატვირთო ავტომობილებისთვის – 25°.

QUESTION 630

CORRECT ANSWER: 2

When driving the road train, is it necessary to observe more distance up to preceding vehicle, then in case of driving the motor car?

1 No, as reaction time of the road train driver is shorter than of other drivers, because of his/her experience

2 Yes, because the braking distance of a road train due to its large mass is longer than of the light vehicle

3 No, as braking distance of the road train is shorter than of the motor cars

განმარტება:

ავტომატარებლით მოძრაობისას საჭიროა დავიცვათ მეტი დისტანცია წინ მოძრავ სატრანსპორტო საშუალებამდე, ვიდრე მსუბუქი ავტომობილით მოძრაობისას რადგან ავტომატარებლის დიდი მასა და მუხრუჭების რეაგირებისათვის საჭირო დრო საშუალებას არ იძლევა სწრაფად დამუხრუჭების.

თემა 22:

მოდერაობა ავტომაგისტრალზე

QUESTION 631

CORRECT ANSWER: 3



In case of forced stop of the car at the place shown in the picture, the driver:

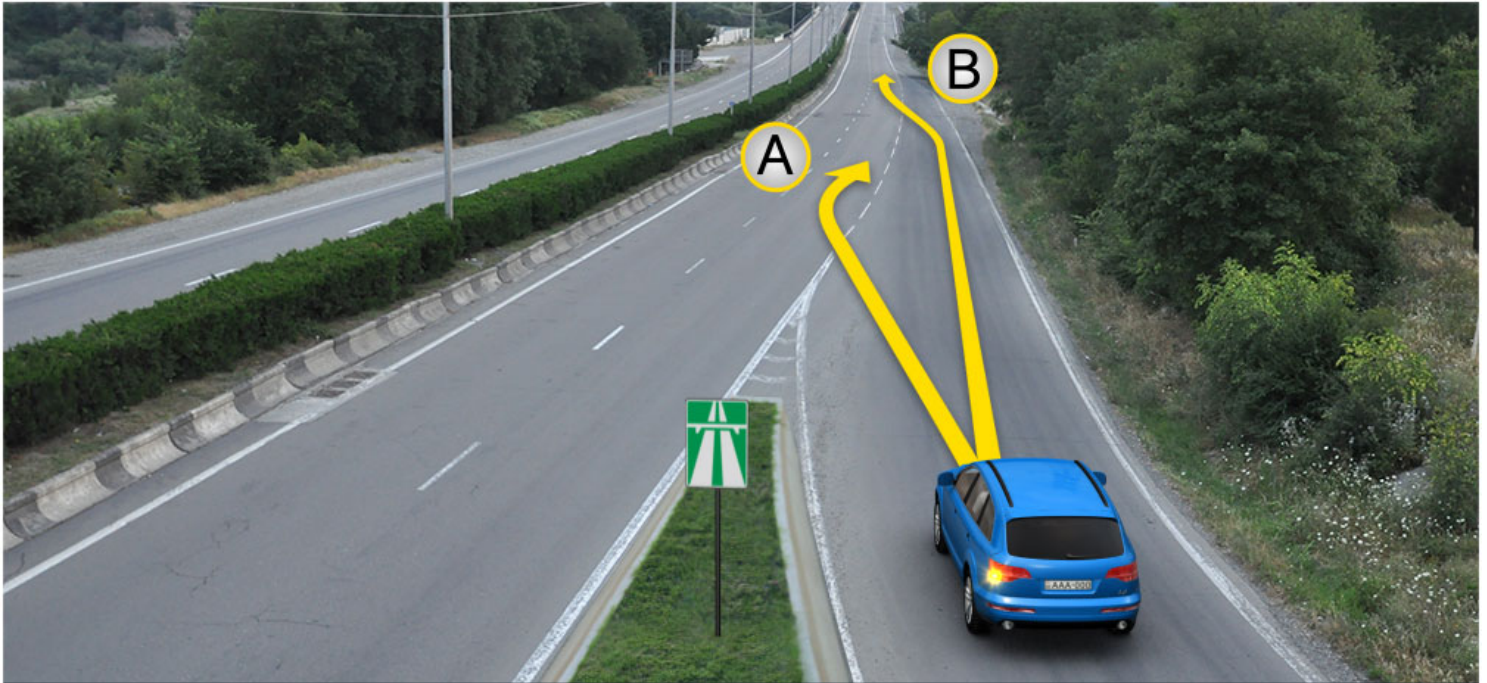
- | | |
|---|--|
| <div style="background-color: #f08080; color: white; padding: 5px; text-align: center; width: 30px; margin-bottom: 10px;">1</div> <p>Must switch on hazard lights only</p> | <div style="background-color: #f08080; color: white; padding: 5px; text-align: center; width: 30px; margin-bottom: 10px;">2</div> <p>Must mark the car with appropriate sign on sufficient distance only</p> |
| <div style="background-color: #f08080; color: white; padding: 5px; text-align: center; width: 30px; margin-bottom: 10px;">3</div> <p>Must switch on hazard lights and mark the car with appropriate sign on sufficient distance</p> | |

განმარტება:

„საგზაო მოძრაობის შესახებ“ საქართველოს კანონის პირველი დანართის მე-5 თავის (განსაკუთრებული მითითებების ნიშნები) 5.1 პუნქტის თანახმად საგზაო ნიშანი 5.1 „ავტომანქანა“ - ავტომანქანა, რომელზედაც მოქმედებს ავტომატური რეგისტრაცია მოძრაობის მომწესრიგებელი ნორმების მოთხოვნები. ნიშანი იდგმება ავტომანქანის დასაწყისში ან მის სიახლოვეს 8.1.1 დაფით. ამავე კანონის 38-ე მუხლის პირველი პუნქტის „გ.ა“ ქვეპუნქტის თანახმად ავტომანქანაზე, ავტომანქანის შესასვლელსა და გამოსასვლელზე მძღოლს ეკრძალება ავტომობილის (ან/და მისი მისაბმელის) გაჩერება ან დგომა, დგომისთვის გამოყოფილი, სპეციალურად მონიშნული ადგილების გარდა. მძღოლმა, რომელიც მისგან დამოუკიდებელი გარემოებების გამო იძულებულია, გაჩერდეს, უნდა მიიღოს ყველა ზომა ავტომობილის (ან/და მისი მისაბმელის) გზის სავალი ნაწილიდან გასაყვანად, ხოლო თუ ამის დაუყოვნებლივ გაკეთება შეუძლებელია – ჩართოს საავარიო შექსიგნალიზაცია (მისი არსებობის შემთხვევაში) და შესაბამისი ნიშნით მონიშნოს ავტომობილი (ან/და მისი მისაბმელი) საკმარის მანძილზე, რათა დროულად გააფრთხილოს მოახლოებული მძღოლები. ამავე კანონის 52-ე მუხლის პირველი პუნქტის „ა“ ქვეპუნქტისა და მე-2 პუნქტის „ბ“ ქვეპუნქტის თანახმად: 1. საავარიო შექსიგნალიზაცია გამოიყენება მოსალოდნელი საფრთხის შესახებ სხვა საგზაო მოძრაობის მონაწილეთა გაფრთხილებისათვის. საავარიო შექსიგნალიზაცია უნდა ჩაირთოს: ბ) იმ ადგილას იძულებით გაჩერების დროს, სადაც გაჩერება აკრძალულია; 2. საავარიო შექსიგნალიზაციის ჩართვის შემდეგ, აგრეთვე თუ ასეთი სიგნალიზაცია არ არსებობს ან მწყობრიდანაა გამოსული, მძღოლმა დაუყოვნებლივ უნდა დადგას „სავარიო გაჩერების ნიშანი“, ხოლო არასაკმარისი ხილვადობის პირობებში – მოციმციმე წითელი ფარანი: ბ) იმ ადგილას იძულებით გაჩერების დროს, სადაც გაჩერება აკრძალულია, და იქ, სადაც, ხილვადობის პირობების

QUESTION 632

CORRECT ANSWER: 2



At the entry site to road, in case of existence of acceleration lane, the motor car driver is allowed to proceed:

1

In direction A only

2

In direction B only

3

In both A and B directions

ბანმარტიბა:

„საგზაო მოძრაობის შესახებ“ საქართველოს კანონის 32-ე მუხლის მე-14 პუნქტის თანახმად, გზაზე გასასვლელ ადგილზე გაქანების ზოლის არსებობის შემთხვევაში მძღოლმა უნდა იმოძრაოს ამ ზოლზე და მეზობელ მოძრაობის ზოლზე გადაადგილებისას გზა უნდა დაუთმოს მასზე მოძრავ სატრანსპორტო საშუალებებს.

QUESTION 633

CORRECT ANSWER: 1



Red vehicle driver drove past the right turning. Is he/she prohibited from reversing to the arrow direction to enter the turning?

1

Yes

2

No

განმარტება:

„საგზაო მოძრაობის შესახებ“ საქართველოს კანონის 38-ე მუხლის პირველი პუნქტის „გ.ბ“ ქვეპუნქტის თანახმად ავტომანქანებისთვის, ავტომანქანების შესასვლელზე და გამოსასვლელზე მძღოლს ეკრძალება მობრუნება ან უკუსვლით მოძრაობა, აგრეთვე ცენტრალურ გამყოფ ზოლსა და გზის ორივე სავალი ნაწილის განივ შეერთებაზე გასვლა. ამავ კანონის პირველი დანართის მე-5 თავის (განსაკუთრებული მითითებების ნიშნები) 5.1 პუნქტის თანახმად საგზაო ნიშანი 5.1 „ავტომანქანისთვის“ - აღნიშნავს ავტომანქანისთვის, რომელზედაც მოქმედებს ავტომანქანისთვის მოძრაობის მომწესრიგებელი ნორმების მოთხოვნები.

QUESTION 634

CORRECT ANSWER: 1



The motor car driver drove past the lateral junction point of the driveway. Is he/she prohibited from reversing to the arrow direction?

1

Yes

2

No

განმარტება:

„საგზაო მოძრაობის შესახებ“ საქართველოს კანონის 38-ე მუხლის პირველი პუნქტის „გ.ბ“ ქვეპუნქტის თანახმად ავტომაგისტრალზე, ავტომაგისტრალის შესასვლელებზე და გამოსასვლელებზე მძღოლს ეკრძალება მობრუნება ან უკუსვლით მოძრაობა, აგრეთვე ცენტრალურ გამყოფ ზოლსა და გზის ორივე სავალი ნაწილის განივ შეერთებაზე გასვლა. ამავე კანონის პირველი დანართის მე-5 თავის (განსაკუთრებული მითითებების ნიშნები) 5.1 პუნქტის თანახმად საგზაო ნიშანი 5.1 „ავტომაგისტრალი“ - აღნიშნავს ავტომაგისტრალს, რომელზედაც მოქმედებს ავტომაგისტრალზე მოძრაობის მომწესრიგებელი ნორმების მოთხოვნები.

QUESTION 635

CORRECT ANSWER: 2

In case of existence of the brake lane, the driver intending to swerve, is obliged to:

- | | |
|---|--|
| <p>1 Slow down in advance and perform swerving maneuver without moving to the brake lane</p> | <p>2 To move quickly to the braking lane and then slow down the speed</p> |
| <p>3 Stop in the braking lane before performing the turning maneuver</p> | |

განმარტება:

„საგზაო მოძრაობის შესახებ“ საქართველოს კანონის 32-ე მუხლის მე-13 პუნქტის თანახმად, დამუხრუჭების ზოლის არსებობის შემთხვევაში მძღოლი, რომელიც მოხვევას აპირებს, დროულად უნდა გადაადგილდეს ამ ზოლზე და შემდეგ უნდა შეანელოს სიჩქარე.

QUESTION 636

CORRECT ANSWER: 4

Which of the below traffic participants is not prohibited from proceeding on the highways, as well as on highway entrances and exits?

- | | |
|---|------------------------------------|
| <p>1 Moped riders</p> | <p>2 Pedestrians</p> |
| <p>3 Two-wheel self-propelled electric vehicle drivers</p> | <p>4 Road train drivers</p> |

განმარტება:

„საგზაო მოძრაობის შესახებ“ საქართველოს კანონის 38-ე მუხლის პირველი პუნქტის „ა“ ქვეპუნქტის თანახმად, ავტომაგისტრალზე, ავტომაგისტრალის შესასვლელსა და გამოსასვლელზე აკრძალულია ქვეითის, ცხოველის, ველოსიპედის, მოპედის, ორბორბლიანი ელექტროთვითმგორავის, ავტომობილისა და მათი მისაბმელებისგან განსხვავებული ყველა სატრანსპორტო საშუალების მოძრაობა, აგრეთვე იმ ავტომობილის (მისაბმელით ან მის გარეშე) მოძრაობა, რომლის კონსტრუქციული სიჩქარე არ აღემატება 40 კმ/სთ-ს (ეს შეზღუდვა არ ვრცელდება იმ მექანიკურ სატრანსპორტო საშუალებაზე, რომელიც ავტომაგისტრალზე მოძრაობს უფლებამოსილ ორგანოსთან (უნწყებასთან) საქართველოს კანონმდებლობით დადგენილი წესით შეთანხმებისა და ამ შეთანხმების პირობების შესაბამისად).

QUESTION 637

CORRECT ANSWER: 3

Following is not prohibited on the highways, as well as on highway entrances and exits:

1

U-turn or reversing the vehicle

2

Motion on central lane line and lateral junction of both driveways of the road with the vehicle

3

Beyond the second lane, motion of the vehicle conveying the passengers, maximum allowable mass of which exceeds 3.5 tonnes

4


Learning motion

განმარტება:

„საგზაო მოძრაობის შესახებ“ საქართველოს კანონის 38-ე მუხლის პირველი პუნქტის „ბ“ ქვეპუნქტის თანახმად, ავტომანქანებზე, ავტომანქანის შესასვლელსა და გამოსასვლელზე აკრძალულია სასწავლო სვლა. ამავდროულად, ავტომანქანების შესასვლელზე, ავტომანქანების შესასვლელზე და გამოსასვლელზე მძღოლს ეკრძალება მობრუნება ან უკუსვლით მოძრაობა, აგრეთვე ცენტრალურ გამყოფ ზოლსა და გზის ორივე სავალი ნაწილის განივ შეერთებაზე გასვლა.

QUESTION 638

CORRECT ANSWER: 2



A motor car driver is allowed to proceed without leaving the highway:

1

In direction A

2

In direction B

3

In both A and B directions

განმარტება:

„საგზაო მოძრაობის შესახებ“ საქართველოს კანონის 38-ე მუხლის მე-3 პუნქტის თანახმად, ავტომაგისტრალიდან გამოსვლისას მძღოლი დროულად უნდა გადავიდეს ავტომაგისტრალიდან გამოსასვლელის მიმდებარე ზოლზე და რაც შეიძლება სწრაფად შევიდეს მოძრაობის შენელების ზოლზე, თუ ასეთი ზოლი არსებობს.

QUESTION 639

CORRECT ANSWER: 2



For entry to the highway, a motor car driver is allowed to proceed:

1

In direction A only

2

In direction B only

3


In both A and B directions

განმარტება:

„საგზაო მოძრაობის შესახებ“ საქართველოს კანონის 32-ე მუხლის მე-14 პუნქტის თანახმად, გზაზე გასასვლელ ადგილზე გაქანების ზოლის არსებობის შემთხვევაში მძღოლმა ამ ზოლზე უნდა იმოძრაოს და მეზობელ მოძრაობის ზოლზე გადაადგილებისას გზა უნდა დაუთმოს მასზე მოძრავ სატრანსპორტო საშუალებებს. ამავე კანონის 38-ე მუხლის მე-2 პუნქტის თანახმად, ავტომაგისტრალზე შესვლისას მძღოლი ვალდებულია გზა დაუთმოს ავტომაგისტრალზე მოძრავ ავტომობილებს. აჩქარების ზოლის არსებობისას მან უნდა ისარგებლოს ასეთი ზოლით.

QUESTION 640

CORRECT ANSWER: 2



Which motor car driver is violating the Highway Code when driving to the arrow direction?

1

Lorry driver only

2

Both of them

3

Motor car driver only

4

None of them

ბანმარტეზა:

„საგზაო მოძრაობის შესახებ“ საქართველოს კანონის 38-ე მუხლის პირველი პუნქტის „გ.გ“ ქვეპუნქტის თანახმად, ავტომაგისტრალზე, ავტომაგისტრალის შესასვლელსა და გამოსასვლელზე მძღოლს ეკრძალება მეორე ზოლის იქით იმ ტვირთის გადამზიდავი ავტომობილით (მისაბმელებით ან მათ გარეშე) მოძრაობა, რომლის ნებადართული მაქსიმალური მასა 3,5 ტონას აღემატება ან იმ მისაბმელიანი ავტომობილებით მოძრაობა, რომელთა საერთო სიგრძე 7 მეტრზე მეტია. ამავე მუხლის მე-3 პუნქტის თანახმად, ავტომაგისტრალიდან გამოსვლისას მძღოლი დროულად უნდა გადავიდეს ავტომაგისტრალიდან გამოსასვლელის მიმდებარე ზოლზე და რაც შეიძლება სწრაფად შევიდეს მოძრაობის შენელების ზოლზე, თუ ასეთი ზოლი არსებობს.

QUESTION 641

CORRECT ANSWER: 2



Is the motor car driver violating the Highway Code in case of forced stop at the indicated place on the highway?

1

No

2


Yes

განმარტება:

„საგზაო მოძრაობის შესახებ“ საქართველოს კანონის 38-ე მუხლის პირველი პუნქტის „გ.ა“ და „გ.ბ“ ქვეპუნქტების თანახმად, ავტომაგისტრალზე, ავტომაგისტრალის შესასვლელსა და გამოსასვლელზე მძღოლს ეკრძალება: გ.ა) ავტომობილის (ან/და მისი მისაბმელის) გაჩერება ან დგომა, დგომისთვის გამოყოფილი, სპეციალურად მონიშნული ადგილების გარდა. გ.ბ) მობრუნება ან უკუსვლით მოძრაობა, აგრეთვე ცენტრალურ გამყოფ ზოლსა და გზის ორივე სავალი ნაწილის განივ შეერთებაზე გასვლა; ამავე კანონის მე-2 დანართის პირველი თავის (ჰორიზონტალური მონიშვნა) 1.2.1 პუნქტის თანახმად, 1.2.1 მთლიანი ფართო ხაზი - აღნიშნავს ავტომაგისტრალზე სავალი ნაწილის ნაპირებს. 1.2.1 ხაზის გადაკვეთა აკრძალულია. დასაშვებია სავალი ნაწილის ნაპირის აღმნიშვნელი და მძღოლის მარჯვენა მხარეს განლაგებული 1.2.1 ხაზის გადაკვეთა სატრანსპორტო საშუალების გზის ნაპირზე გასაჩერებლად.

QUESTION 642

CORRECT ANSWER: 3



In the present situation, which of the vehicle drivers is not prohibited from driving to the arrow direction?

1

Lorry driver only

2

Moped rider only

3

Motor car driver only

4


All of them

განმარტება:

„საგზაო მოძრაობის შესახებ“ საქართველოს კანონის 38-ე მუხლის პირველი პუნქტის „ა“ ქვეპუნქტის თანახმად, აკრძალულია ქვეითების, ცხოველების, ველოსიპედების, მოპედების, ავტომობილებისა და მათი მისაბმელებისგან განსხვავებული ყველა სატრანსპორტო საშუალების მოძრაობა, აგრეთვე იმ ავტომობილების (მისაბმელებით ან მათ გარეშე) მოძრაობა, რომელთა კონსტრუქციული სიჩქარე არ აღემატება 40 კმ/სთ (აღნიშნული შეზღუდვა არ ვრცელდება იმ მექანიკურ სატრანსპორტო საშუალებებზე, რომლებიც ავტომაგისტრალზე გადაადგილდებიან უფლებამოსილი ორგანოსთან (უნწყებასთან) კანონმდებლობით დადგენილი წესით შეთანხმებისა და ამ შეთანხმების პირობების შესაბამისად). ამავე პუნქტის „გ.გ“ ქვეპუნქტის თანახმად, ავტომაგისტრალზე, ავტომაგისტრალის შესასვლელსა და გამოსასვლელზე მძღოლს ეკრძალება მეორე ზოლის იქით იმ ტვირთის გადამზიდავი ავტომობილით (მისაბმელებით ან მათ გარეშე) მოძრაობა, რომლის ნებადართული მაქსიმალური მასა 3,5 ტონას აღემატება ან იმ მისაბმელიანი ავტომობილებით მოძრაობა, რომელთა საერთო სიგრძე 7 მეტრზე მეტია.

QUESTION 643

CORRECT ANSWER: 4



The lorry driver is performing the road works. Which of the vehicle drivers is prohibited from driving to the arrow direction?

1

Lorry driver only

2

Motor car driver only

3

Both of them

4

None of them

განმარტება:

„საგზაო მოძრაობის შესახებ“ საქართველოს კანონის 51-ე მუხლის მე-4 პუნქტის თანახმად, მძღოლს, რომელსაც სატრანსპორტო საშუალებაზე ჩართული აქვს ნარინჯისფერი ან ყვითელი ფერის მოელვარე სპეციალური შუქური სიგნალი და რომელიც გზაზე ასრულებს სამშენებლო, სარემონტო ან დასასუფთავებელ სამუშაოებს, ან საინჟინერო სატრანსპორტო საშუალებით გადა აქვს ძვრფასეულობა ან ფასიანი ქაღალდები, ან გადააქვს სახიფათო ტვირთი, ან გადაადგილდება არაგაბარითული (მსხვილგაბარითიანი) ან ზენორმატიული (მძიმეწონიანი) სატრანსპორტო საშუალებით, შეუძლია გადაუხვიოს საგზაო ნიშნებისა და მონიშვნების, აგრეთვე ამ კანონის 31-ე მუხლის მე-5–მე-10, მე-15, მე-16 და 38-ე მუხლის პირველი პუნქტების მოთხოვნებს თუ უზრუნველყოფს საგზაო მოძრაობის უსაფრთხოებას. ნარინჯისფერი ან ყვითელი მოელვარე სპეციალური შუქური სიგნალი არ იძლევა უპირატესობას საგზაო მოძრაობის სხვა მონაწილეების მიმართ და გამოიყენება ყურადღების მისაპყრობად მოსალოდნელი საშიშროების თავიდან ასაცილებლად.

QUESTION 644

CORRECT ANSWER: 2



In the present situation is the driver violating the forced stop orders, if it is not possible to take the damaged vehicle from the road?

1

No

2

Yes

განმარტება:

„საგზაო მოძრაობის შესახებ“ საქართველოს კანონის 38-ე მუხლის პირველი პუნქტის „გ.ა“ ქვეპუნქტის თანახმად, ავტომაგისტრალზე, ავტომაგისტრალის შესასვლელსა და გამოსასვლელზე მძღოლს ეკრძალება, ავტომობილის (ან/და მისი მისაბმელის) გაჩერება ან დგომა, დგომისთვის გამოყოფილი, სპეციალურად მონიშნული ადგილების გარდა. მძღოლმა, რომელიც მისგან დამოუკიდებელი გარემოებების გამო იძულებულია, გაჩერდეს, უნდა მიიღოს ყველა ზომა ავტომობილის (ან/და მისი მისაბმელის) გზის სავალი ნაწილიდან გასაყვანად, ხოლო თუ ამის დაუყოვნებლივ გაკეთება შეუძლებელია – ჩართოს საავარიო შექსიგნალიზაცია (მისი არსებობის შემთხვევაში) და შესაბამისი ნიშნით მონიშნოს ავტომობილი (ან/და მისი მისაბმელი) საკმარის მანძილზე, რათა დროულად გააფრთხილოს მოახლოებული მძღოლები.

QUESTION 645

CORRECT ANSWER: 1



In the given situation, is the motor car driver violating the rules of forced stop of the vehicle?

1

No

2

Yes

განმარტება:

„საგზაო მოძრაობის შესახებ“ საქართველოს კანონის 38-ე მუხლის პირველი პუნქტის „გ.ა“ ქვეპუნქტის თანახმად, ავტომაგისტრალზე, ავტომაგისტრალის შესასვლელსა და გამოსასვლელზე მძღოლს ეკრძალება, ავტომობილის (ან/და მისი მისაბმელის) გაჩერება ან დგომა, დგომისთვის გამოყოფილი, სპეციალურად მონიშნული ადგილების გარდა. მძღოლმა, რომელიც მისგან დამოუკიდებელი გარემოებების გამო იძულებულია, გაჩერდეს, უნდა მიიღოს ყველა ზომა ავტომობილის (ან/და მისი მისაბმელის) გზის სავალი ნაწილიდან გასაყვანად, ხოლო თუ ამის დაუყოვნებლივ გაკეთება შეუძლებელია – ჩართოს საავარიო შექსიგნალიზაცია (მისი არსებობის შემთხვევაში) და შესაბამისი ნიშნით მონიშნოს ავტომობილი (ან/და მისი მისაბმელი) საკმარის მანძილზე, რათა დროულად გააფრთხილოს მოახლოებული მძღოლები. ამავე კანონის 52-ე მუხლის მე-3 პუნქტის თანახმად, „საავარიო გაჩერების ნიშანი“ და მოციმციმე წითელი ფარანი უნდა დაიდგას სატრანსპორტო საშუალებიდან იმ მანძილზე, რომელიც კონკრეტულ პირობებში უზრუნველყოფს საშიშროების შესახებ სხვა მძღოლების დროულ გაფრთხილებას. მაგრამ ეს მანძილი დასახლებულ პუნქტში არ უნდა იყოს 15 მეტრზე, ხოლო დაუსახლებელში - 30 მეტრზე ნაკლები.

QUESTION 646

CORRECT ANSWER: 3

From the list given below, the customs control applies to:

- 1 Goods and vehicle subjected to customs supervision only
- 2 The territory only, where the goods and vehicle subjected to customs supervision are stored.
- 3 Goods and vehicle in any of the cases listed in given test

განმარტება:

საქართველოს საგადასახადო კოდექსის 214-ე მუხლის მე-2 პუნქტის „ა“ და „ბ“ ქვეპუნქტების თანახმად, საბაჟო კონტროლს ექვემდებარება: ბ) საბაჟო ზედამხედველობას დაქვემდებარებული საქონელი და სატრანსპორტო საშუალება; გ) ტერიტორია, სადაც განთავსებულია საბაჟო ზედამხედველობას დაქვემდებარებული საქონელი და სატრანსპორტო საშუალება.

QUESTION 647

CORRECT ANSWER: 2

If the goods of various types are declared in the customs declaration, each type of the goods may be considered:

- 1 As declared together
- 2 As declared separately

განმარტება:

საქართველოს საგადასახადო კოდექსის 220-ე მუხლის მე-3 პუნქტის თანახმად, თუ ერთი საბაჟო დეკლარაციით დეკლარირებულია სხვადასხვა სახეობის საქონელი, საქონლის თითოეული სახეობა ითვლება ცალ-ცალკე დეკლარირებულად.

QUESTION 648

CORRECT ANSWER: 3

Goods, in relation to which the commodity transaction has already been defined (other than export), by the request of the appropriate person, may be temporarily stored in the customs warehouse no longer than:

1

One month

2

Two months

3

Five years.

განმარტება:

საქართველოს საგადასახადო კოდექსის 217-ე მუხლის მე-3 პუნქტის თანახმად საქონელი, რომელზედაც უკვე განსაზღვრულია სასაქონლო ოპერაცია (გარდა ექსპორტისა), პირის მოთხოვნით, შეიძლება საბაჟო სანცობში დროებით ინახებოდეს არა უმეტეს 5 კალენდარული წლისა, ხოლო ექსპორტის შემთხვევაში – არა უმეტეს 120 დღისა.

QUESTION 649

CORRECT ANSWER: 3

Registered customs declaration may be amended:

1

Just before the release of the goods, at the initiative of the tax authority, during examination of the customs declaration, if inaccurate data is discovered in the declaration

2

Just before the release of the goods, at the initiative of the applicant, if the tax authority had not informed the applicant about the intent of inspection of this customs declaration or had not established inaccuracy of the declared data

3

In any case listed in given test

განმარტება:

საქართველოს საგადასახადო კოდექსის 218-ე მუხლის მე-4 პუნქტის „ა“ და „ბ“ ქვეპუნქტების თანახმად, რეგისტრირებულ საბაჟო დეკლარაციაში შესაძლებელია ცვლილებები შეტანილ იქნეს: ა) საქონლის გაშვებამდე, საგადასახადო ორგანოს ინიციატივით, საბაჟო დეკლარაციის შემოწმებისას, თუ დადგინდა ამ დეკლარაციაში არასწორი მონაცემის არსებობა; ბ) საქონლის გაშვებამდე, დეკლარანტის ინიციატივით, თუ საგადასახადო ორგანოს არ შეუტყობინებია დეკლარანტისთვის ამ საბაჟო დეკლარაციის შემოწმების განზრახვა ან არ დაუდგენია დეკლარირებული მონაცემების მცდარობა.

QUESTION 650

CORRECT ANSWER: 4

Which of the following does not belong to the form of customs control?

1

Verbal inquiry only

2

Inspection of goods, vehicles and territory only

3

Sampling and taking of specimen for laboratory research purposes only

4

All of the forms listed in given test belong to the form custom control

განმარტება:

საქართველოს საგადასახადო კოდექსის 214-ე მუხლის მე-3 პუნქტის „ბ“, „ე“ და „ვ“ ქვეპუნქტების თანახმად, საბაჟო კონტროლის ფორმებია: ბ) ზეპირი გამოკითხვა; ე) საქონლის, სატრანსპორტო საშუალებისა და ტერიტორიის დათვალიერება; ვ) ლაბორატორიული კვლევის მიზნით სინჯისა და ნიმუშის აღება;

QUESTION 651

CORRECT ANSWER: 2

According to the Georgian Code of Administrative Offences, shipment of construction or other materials, waste in the vehicles, with faulty luggage rack or trailer, that creates the risk of contamination or damage of the road surface, will result in:

1

Penalty in the amount of 300 GEL and suspension of the motorcycle-driving license for the period of 3 months

2

Penalty in the amount of 300 GEL

3

Penalty in the amount of 250 GEL

განმარტება:

საქართველოს ადმინისტრაციული სამართალდარღვევათა კოდექსის 1191-ე მუხლის თანახმად, სამშენებლო ან სხვა სახის მასალების, ნარჩენების გადაზიდვა ისეთი სატრანსპორტო საშუალებებით, რომლებსაც აქვს გაუმართავი საბარგული ან მისაბმელი მოწყობილობა, რაც ქმნის გზის საფარის დანაგვიანების ან დაზიანების საფრთხეს, - გამოიწვევს დაჯარიმებას 300 ლარით.

QUESTION 652

CORRECT ANSWER: 2

According to the Georgian Code of Administrative Offences, international road shipment and transportation through violation of the requirements of the European Agreement concerning the Work of Crews of Vehicles engaged in International Road Transport (AETR) shall result in:

1

Suspension of the driving license for the period of 1 year

2

Penalty in the amount of 500 GEL

3

Penalty in the amount of 1000 GEL

განმარტება:

საქართველოს ადმინისტრაციული სამართალდარღვევათა კოდექსის 1271-ე მუხლის მე-7 ნაწილის თანახმად, საერთაშორისო საავტომობილო გადაზიდვა-გადაყვანის „საერთაშორისო საავტომობილო მიმოსვლის მწარმოებელი სატრანსპორტო საშუალებების ეკიპაჟების მუშაობის შესახებ“ ევროპის შეთანხმების (AETR) წესების დარღვევით განხორციელება გამოიწვევს დაჯარიმებას 500 ლარის ოდენობით.

თემა 23:

საცხოვრებელი ზონა, სამარშრუტო
ტრანსპორტის პრიორიტეტი

QUESTION 653

CORRECT ANSWER: 2

In case of absence of crosswalk or intersection within the visibility area, crossing the road is allowed perpendicularly to the driveway axis in the section where:

1

There is a lane line and road can be seen distinctly from both sides

2

There is no lane line or lattice and road can be seen distinctly from both sides

განმარტება:

„საგზაო მოძრაობის შესახებ“ საქართველოს კანონის 24-ე მუხლის მე-8 პუნქტის თანახმად, თუ ხილვადობის ზონაში არ არის ქვეითთა გადასასვლელი ან გზაჯვარედინი, გზაზე გადასვლა ნებადართულია გზის სავალი ნაწილის ღერძის პერპენდიკულარულად, იმ მონაკვეთში, სადაც არ არის გამყოფი ზოლი ან ღობურა და გზა ორივე მხრიდან კარგად ჩანს.

QUESTION 654

CORRECT ANSWER: 4

In case of absence of crosswalk, a pedestrian is allowed to cross the driveway:

1

Only after definition of the distance to the approaching vehicle

2

Only after definition of speed of the approaching vehicle

3

Only after making sure in safety of crossing

4

After definition of distance and speed of the approaching vehicle, as well making sure in safety of crossing

განმარტება:

„საგზაო მოძრაობის შესახებ“ საქართველოს კანონის 24-ე მუხლის მე-8 პუნქტის თანახმად, იქ სადაც არ არის ქვეითთა გადასასვლელი, ქვეითი არ უნდა გადავიდეს გზის სავალ ნაწილზე მოახლოებულ სატრანსპორტო საშუალებამდე მანძილის, მისი სიჩქარის განსაზღვრამდე და გადასვლის უსაფრთხოებაში დარწმუნებამდე.

QUESTION 655

CORRECT ANSWER: 4



When driving to the arrow direction, a motor car driver obliged to yield to?

1

Pedestrians only

2

Bicyclist only

3

Lorry driver only

4

Towards pedestrians, also towards the drivers of bicycles and lorries

განმარტება:

„საგზაო მოძრაობის შესახებ“ საქართველოს კანონის 32-ე მუხლის მე-3 პუნქტის თანახმად, მიმდებარე ტერიტორიიდან გზაზე გასვლისას მძღოლი ვალდებულია გზა დაუთმოს გზაზე მოძრავ სატრანსპორტო საშუალებასა და ქვეითს, ხოლო გზიდან გადასვლისას – იმ ქვეითს, ველოსიპედისტს, მოპედისა და ორბორბლიანი ელექტროთვითმგორავის მძღოლებს, რომლებსაც გზას უჭრის.

QUESTION 656

CORRECT ANSWER: 2



Are the pedestrians walking in the inhabited area allowed to hinder the motion of white car?

1

Yes, because the pedestrians have privilege over other traffic participants in the inhabited areas

2

No

განმარტება:

„საგზაო მოძრაობის შესახებ“ საქართველოს კანონის 44-ე მუხლის პირველი პუნქტის „დ“ ქვეპუნქტის თანახმად, შესაბამისი ნიშნით აღნიშნულ საცხოვრებელ ზონებში, ქვეითმა უსაფუძვლოდ არ უნდა შეაფერხოს ტრანსპორტის მოძრაობა. ამავე კანონის პირველი დანართის მე-5 თავის (განსაკუთრებული მითითებების ნიშნები) 5.21 პუნქტის თანახმად საგზაო ნიშანი 5.21 „საცხოვრებელი ზონა“ - აღნიშნავს ტერიტორიას (ზონას) სადაც მოქმედებს საცხოვრებელ ზონაში მოძრაობისათვის დადგენილი წესები. ნიშანი იდგმება ასეთი საცხოვრებელი ზონის ყველა შესასვლელში.

QUESTION 657

CORRECT ANSWER: 1



In the inhabited area, a motor car driver is allowed to drive at a speed no faster than:

1

20 km/h

2

40 km/h

3

60 km/h

განმარტება:

„საგზაო მოძრაობის შესახებ“ საქართველოს კანონის 33-ე მუხლის მე-6 პუნქტის თანახმად, თუ ამ კანონით სხვა რამ არ არის დადგენილი, დასახლებულ პუნქტში ნებადართულია სატრანსპორტო საშუალების მოძრაობა არაუმეტეს 60 კმ/სთ სიჩქარით, ხოლო საცხოვრებელ ზონაში - არაუმეტეს 20 კმ/სთ სიჩქარით. ამავე კანონის 44-ე მუხლის პირველი პუნქტის „ბ“ ქვეპუნქტის თანახმად, შესაბამისი ნიშნით აღნიშნულ საცხოვრებელ ზონებში, მძღოლი უნდა გადაადგილდეს არაუმეტეს 20კმ/სთ სიჩქარით. ამავე კანონის პირველი დანართის მე-5 თავის (განსაკუთრებული მითითებების ნიშნები) 5.21 პუნქტის თანახმად საგზაო ნიშანი 5.21 „საცხოვრებელი ზონა“ - აღნიშნავს ტერიტორიას (ზონას) სადაც მოქმედებს საცხოვრებელ ზონაში მოძრაობისათვის დადგენილი წესები. ნიშანი იდგმება ასეთი საცხოვრებელი ზონის ყველა შესასვლელში.

QUESTION 658

CORRECT ANSWER: 4



A lorry driver is allowed to proceed no faster than:

1

50 km/h

2

40 km/h

3

30 km/h

4

20 km/h

განმარტება:

„საგზაო მოძრაობის შესახებ“ საქართველოს კანონის 33-ე მუხლის მე-6 პუნქტის თანახმად, თუ ამ კანონით სხვა რამ არ არის დადგენილი, დასახლებულ პუნქტში ნებადართულია სატრანსპორტო საშუალების მოძრაობა არაუმეტეს 60 კმ/სთ სიჩქარით, ხოლო საცხოვრებელ ზონაში - არაუმეტეს 20 კმ/სთ სიჩქარით. ამავე კანონის 44-ე მუხლის პირველი პუნქტის „ბ“ ქვეპუნქტის თანახმად, შესაბამისი ნიშნით აღნიშნულ საცხოვრებელ ზონებში, მძღოლი უნდა გადაადგილდეს არაუმეტეს 20კმ/სთ სიჩქარით. ამავე კანონის პირველი დანართის მე-5 თავის (განსაკუთრებული მითითებების ნიშნები) 5.21 პუნქტის თანახმად საგზაო ნიშანი 5.21 „საცხოვრებელი ზონა“ - აღნიშნავს ტერიტორიას (ზონას) სადაც მოქმედებს საცხოვრებელ ზონაში მოძრაობისათვის დადგენილი წესები. ნიშანი იდგმება ასეთი საცხოვრებელი ზონის ყველა შესასვლელში.

QUESTION 659

CORRECT ANSWER: 2

Priority over other traffic participants at the places announced as pedestrians' zones and built-up areas is entitled to:

1

Drivers

2

Pedestrians

განმარტება:

„საგზაო მოძრაობის შესახებ“ საქართველოს კანონის 44-ე მუხლის მე-3 პუნქტის თანახმად, ქვეითთა ზონად გამოცხადებულ ადგილზე და საცხოვრებელ ზონაში აკრძალულია გამჭოლი მოძრაობა, სასწრაფო სვლა და ჩართული ძრავითი დგომა; ამასთანავე, ქვეითს უპირატესობა აქვს სხვა საგზაო მოძრაობის მონაწილეების მიმართ.

QUESTION 660

CORRECT ANSWER: 1



I



II



III



IV

Which of these traffic signs marks the dangerous turn of the road with short radius or limited visibility?

1

I

2

II

3

III

4

IV

განმარტება:

„საგზაო მოძრაობის შესახებ“ საქართველოს კანონის პირველი დანართის პირველი თავის (მაფრთხილებელი ნიშნები) 1.12.1 და 1.12.2 პუნქტების თანახმად საგზაო ნიშნები 1.12.1, 1.12.2 „სახიფათო მოსახვევი“ - აღნიშნავს მცირე რადიუსიან ან შეზღუდული ხილვადობის მქონე გზის სახიფათო მოსახვევს: 1.12.1 – მარჯვნივ, 1.12.2 – მარცხნივ.

QUESTION 661

CORRECT ANSWER: 4



I



II



III



IV

Which of these traffic signs marks the section of the road, on which artificial unevenness is organized for forced reduction of speed?

1

II and III only

2

I and IV only

3

III only

4

II only

განმარტება:

„საგზაო მოძრაობის შესახებ“ საქართველოს კანონის პირველი დანართის პირველი თავის (მაფრთხილებელი ნიშნები) 1.18 პუნქტის თანახმად საგზაო ნიშანი 1.18 „ხელოვნური უსწორმასწორობა“ - აღნიშნავს გზის მონაკვეთს, რომელზედაც მოწყობილია ხელოვნური უსწორმასწორობა სიჩქარის იძულებით შემცირებისათვის.

QUESTION 662

CORRECT ANSWER: 2



I



II



III



IV

Which of these traffic signs marks the section of the road, on which edge of the road does not comply with the applicable standards?

1

I

2

II

3

III

4

IV

განმარტება:

„საგზაო მოძრაობის შესახებ“ საქართველოს კანონის პირველი დანართის პირველი თავის (მაფრთხილებელი ნიშნები) 1.20 პუნქტის თანახმად საგზაო ნიშანი 1.20 „სახიფათო გზისპირი“ - აღნიშნავს გზის მონაკვეთს, რომლის გზისპირის მდგომარეობა არ შეესაბამება არსებულ სტანდარტებს.

QUESTION 663

CORRECT ANSWER: 2



I



II



III



IV

Which of these traffic signs marks the road section, passing adjacent to housing for livestock (cattle), farms or/and permanent driving site of livestock (cattle), where they may appear on the driveway?

1

I

2

II

3

III

4

IV

განმარტება:


„საგზაო მოძრაობის შესახებ“ საქართველოს კანონის პირველი დანართის პირველი თავის (მაფრთხილებელი ნიშნები) 1.27 პუნქტის თანახმად საგზაო ნიშანი 1.27 „პირუტყვის გადარეკვა“ - გზის მონაკვეთი, რომელიც გადის პირუტყვის (საქონლის) სადგომთან, ფერმასთან ან/და პირუტყვის (საქონლის) მუდმივი გადარეკვის ადგილთან, სადაც მოსალოდნელია მისი სავალ ნაწილზე გამოჩენა.

თემა 24:

ბუქსირება

QUESTION 664

CORRECT ANSWER: 2



Damaged vehicle on the highway is towed via homemade equipment (rope). Tow-vehicle driver is allowed to proceed:

1 In direction A

2 in direction B


3 In both A and B directions

განმარტება:

„საგზაო მოძრაობის შესახებ“ საქართველოს კანონის 38-ე მუხლის მე-4 პუნქტის თანახმად, თვითნაკვეთი მონეობილობით ბუქსირებულ სატრანსპორტო საშუალებას ეკრძალება ავტომაგისტრალზე შესვლა. თვითნაკვეთი მონეობილობით ბუქსირებულმა გაუმართავმა სატრანსპორტო საშუალებამ, რომელიც ავტომაგისტრალზე მწყობრიდან გამოვიდა, ავტომაგისტრალი უახლოეს გამოსასვლელზე უნდა დატოვოს. ამ პუნქტით გათვალისწინებულ თვითნაკვეთ მონეობილობაში იგულისხმება თოკი, მავთული და სხვა მსგავსი საშუალება.

QUESTION 665

CORRECT ANSWER: 2



Is tow motor car driver allowed to proceed to the arrow direction, if towing is performed with homemade equipment (rope)?

1

Yes

2

No

განმარტება:

„საგზაო მოძრაობის შესახებ“ საქართველოს კანონის 38-ე მუხლის მე-4 პუნქტის თანახმად, თვითნაკვეთი მონეობილობით ბუქსირებულ სატრანსპორტო საშუალებას ეკრძალება ავტომაგისტრალზე შესვლა. თვითნაკვეთი მონეობილობით ბუქსირებულმა გაუმართავმა სატრანსპორტო საშუალებამ, რომელიც ავტომაგისტრალზე მწყობრიდან გამოვიდა, ავტომაგისტრალი უახლოეს გამოსასვლელზე უნდა დატოვოს. ამ პუნქტით გათვალისწინებულ თვითნაკვეთ მონეობილობაში იგულისხმება თოკი, მავთული და სხვა მსგავსი საშუალება.

QUESTION 666

CORRECT ANSWER: 1



Is towing motor car driver driving to the arrow direction violating the towing orders for the mechanical vehicle?

1

Yes

2

No

განმარტება:

„საგზაო მოძრაობის შესახებ“ საქართველოს კანონის 45-ე მუხლის მე-4 პუნქტის თანახმად, ხისტი ან მოქნილი გადაბმით ბუქსირებისას აკრძალულია მგზავრის გადაყვანა საბუქსირო ავტობუსით, ტროლეიბუსითა და სატვირთო ავტომობილის ძარათი, ხოლო ნაწილობრივი დატვირთვით ბუქსირებისას – ადამიანის ყოფნა საბუქსირო მექანიკურ სატრანსპორტო საშუალებაში, აგრეთვე მობუქსირე სატრანსპორტო საშუალების ძარაზე.

QUESTION 667

CORRECT ANSWER: 3



Which vehicle driver is violating the Highway Code, if tractor is moving at a speed of 50 km/h, and lorry is performing overtaking?

1

Tractor driver only

2

Lorry driver only

3

Both of them

განმარტება:

„საგზაო მოძრაობის შესახებ“ საქართველოს კანონის 33-ე მუხლის მე-8 პუნქტის „ა“ და „დ“ ქვეპუნქტების თანახმად, თუ ამ კანონით სხვა რამ არ არის დადგენილი, დასახლებულ ან დაუსახლებელ პუნქტში ნებადართულია: ა) „T“ და „S“ კატეგორიების სატრანსპორტო საშუალებების მოძრაობა ყველა გზაზე არაუმეტეს 40 კმ/სთ სიჩქარით; დ) იმ მექანიკური სატრანსპორტო საშუალების მოძრაობა, რომელიც ახორციელებს სხვა მექანიკური სატრანსპორტო საშუალების ბუქსირებას, არაუმეტეს 50 კმ/სთ სიჩქარით.

QUESTION 668

CORRECT ANSWER: 1



Is it permitted to tow the light vehicle in a given way if its steering wheel control mechanism is out of order?

1

It is permitted

2


It is not permitted

განმარტება:

„საგზაო მოძრაობის შესახებ“ საქართველოს კანონის 45-ე მუხლის მე-6 პუნქტის „ა“ ქვეპუნქტის თანახმად, აკრძალულია ბუქსირება ხისტი ან მოქნილი გადაბმით, იმ მექანიკური სატრანსპორტო საშუალებისა, რომლის საჭის მართვის მექანიზმი გაუმართავია.

QUESTION 669

CORRECT ANSWER: 1



Which vehicle driver will violate the Highway Code in case of driving to the arrow direction?

1

Towing, semi-trailer, tow-vehicle driver

2


Red motor car driver

განმარტება:

„საგზაო მოძრაობის შესახებ“ საქართველოს კანონის 45-ე მუხლის პირველი პუნქტის თანახმად, დასაშვებია მექანიკური სატრანსპორტო საშუალებით (მისაბმელის გარეშე) სხვა მექანიკური სატრანსპორტო საშუალების ბუქსირება ამ კანონით დადგენილი წესით.

QUESTION 670

CORRECT ANSWER: 3



In the present situation how many Highway Code orders are breached if towing composition with flexible hitch is proceeding at a speed of 50 km/h, and the distance between them is 5 meters?

1

Two

2

Three

3

Four

4

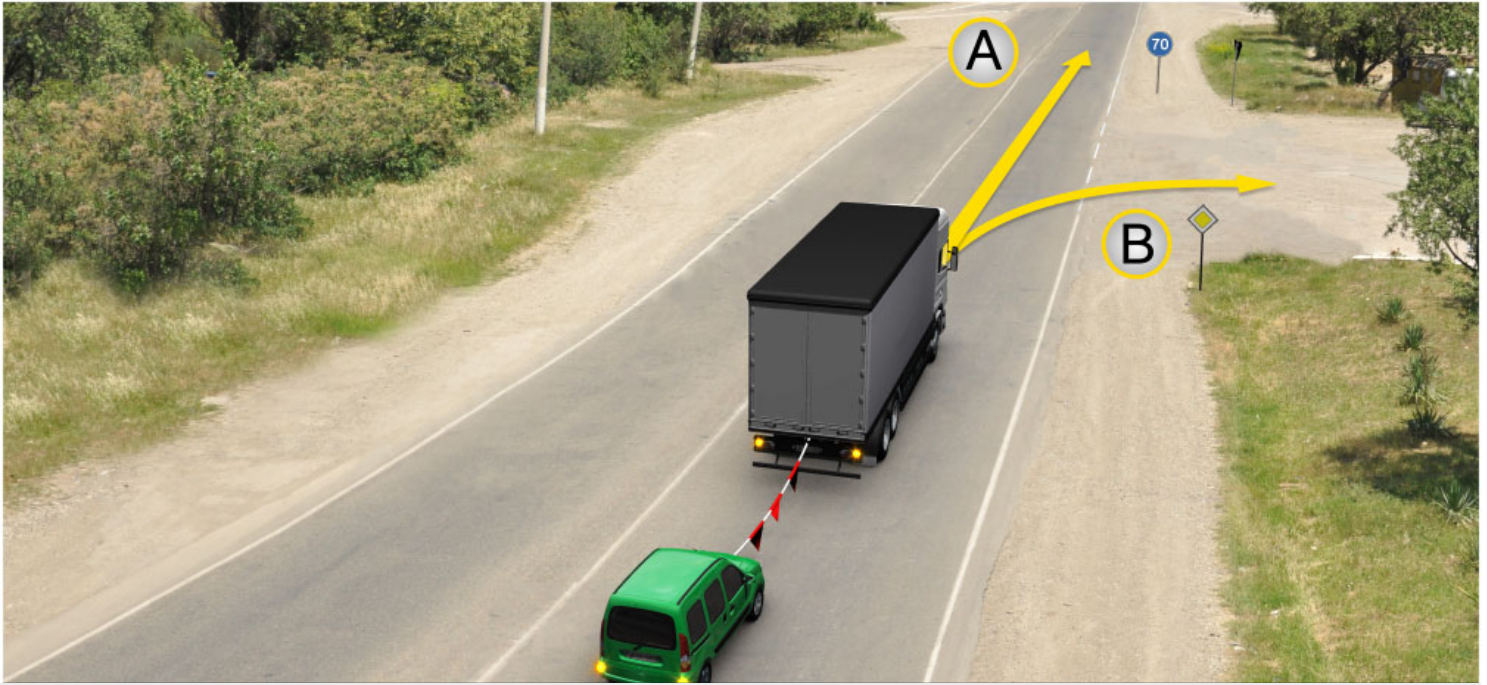
Five

განმარტება:

„საგზაო მოძრაობის შესახებ“ საქართველოს კანონის 45-ე მუხლის მე-7, მე-8 და მე-9 პუნქტების თანახმად: 7. დღე-ღამის ნებისმიერ პერიოდში მობუქსირე მექანიკურ სატრანსპორტო საშუალებას ჩართული უნდა ჰქონდეს ახლო განათების ფარები, საბუქსირო მექანიკურ სატრანსპორტო საშუალებას ჩართული უნდა ჰქონდეს საავარიო შუქსიგნალიზაცია, ხოლო მისი არარსებობის ან გაუმართაობის შემთხვევაში ამ ტრანსპორტის უკანა ნაწილზე უნდა დამაგრდეს საავარიო გაჩერების ნიშანი. 8. მექანიკური სატრანსპორტო საშუალების ბუქსირებისას საბუქსირო (შემაერთებელი) მოწყობილობა აღნიშნული უნდა იქნეს ალმებით ან სხვა გამაფრთხილებელი მოწყობილობით, ისე, რომ ადვილი შესამჩნევი იყოს სხვა საგზაო მოძრაობის მონაწილისათვის დღე-ღამის ნებისმიერ პერიოდში. 9. მექანიკური სატრანსპორტო საშუალების ბუქსირებისას დრეკადი შემაერთებელი რგოლების აღსანიშნავად გამოიყენება ალმები, გამაფრთხილებელი მოწყობილობა ან 200X200 მმ ზომის დაფა, რომელზედაც დიაგონალურადაა დახაზული 50 მმ სიგანის ურთიერთმონაცვლე წითელი და თეთრი ზოლები შუქამრეკლი ზედაპირით. დრეკად შემაერთებელ რგოლზე მაგრდება არანაკლებ ორი გამაფრთხილებელი მოწყობილობა (ალამი). ამავე კანონის 31-ე მუხლის მე-11 პუნქტის თანახმად, დაუსახლებელ პუნქტში, აგრეთვე დასახლებულ პუნქტში გზის სავალი ნაწილის იმ მონაკვეთზე, რომელზედაც მოძრაობა ნებადართულია 80 კმ/სთ-ზე მეტი სიჩქარით, მძღოლმა უნდა იმოძრაოს სავალი ნაწილის მარჯვენა კიდედან რაც შეიძლება ახლოს. აკრძალულია მარცხენა ზოლის დაკავება, როცა მარჯვენა ზოლი თავისუფალია, გარდა დაბრკოლების შემთხვევის, მარცხნივ მოხვევის ან მობრუნების შემთხვევისა. აქ დარღვევაა: სავალ ნაწილზე განლაგება; მობუქსირე ავტომობილს არა აქვს ჩართული ახლო განათების ფარები; საბუქსიროს - ავარიული სიგნალიზაცია და საბუქსირო მოწყობილობა აღნიშნული არ არის ალმებით.

QUESTION 671

CORRECT ANSWER: 2



In the present situation, towing vehicle driver is allowed to proceed:

1

In direction A only

2

In direction B only

3

In both A and B directions

განმარტება:

„საგზაო მოძრაობის შესახებ“ საქართველოს კანონის პირველი დანართის მე-4 თავის (მიმთითებული ნიშნები) 4.6 პუნქტის თანახმად საგზაო ნიშანი 4.6 „მინიმალური სიჩქარის შემლუქვა“ - ადგენს გზაზე მოძრაობის მინიმალური სიჩქარის ზღვარს. ნიშნის მოქმედება ვრცელდება ნიშნის შემდეგ, ნიშნის დადგმის ადგილიდან უახლოეს გზაჯვარედინამდე, ხოლო დასახლებულ პუნქტში გზაჯვარედინის არ არსებობისას - დასახლებულ პუნქტის ბოლომდე. ამავე კანონის 33-ე მუხლის მე-8 პუნქტის „დ“ ქვეპუნქტის თანახმად, თუ ამ კანონით სხვა რამ არ არის დადგენილი, დასახლებულ ან დაუსახლებელ პუნქტში ნებადართულია, იმ მექანიკური სატრანსპორტო საშუალების მოძრაობა, რომელიც ახორციელებს სხვა მექანიკური სატრანსპორტო საშუალების ბუქსირებას, არაუმეტეს 50 კმ/სთ სიჩქარით.

QUESTION 672

CORRECT ANSWER: 1



In the present situation, is towing vehicle driver prohibited from proceeding to the arrow direction if it is ice-covered road?

1

Yes

2

No

განმარტება:

„საგზაო მოძრაობის შესახებ“ საქართველოს კანონის 45-ე მუხლის მე-6 პუნქტის „ე“ ქვეპუნქტის თანახმად, აკრძალულია ბუქსირება მოქნილი გადაბმით, როცა გზა მოყინულია.

QUESTION 673

CORRECT ANSWER: 2

Is towing of other mechanical vehicle by the mechanical vehicle with trailer allowed?

1

Yes

2

No

3

Yes, only in case if maximum allowable mass of the trailer of towing mechanical vehicle is not exceeding 750 kg

განმარტება:

„საგზაო მოძრაობის შესახებ“ საქართველოს კანონის 45-ე მუხლის პირველი პუნქტის თანახმად, დასაშვებია მექანიკური სატრანსპორტო საშუალებით (მისაბმელის გარეშე) სხვა მექანიკური სატრანსპორტო საშუალების ბუქსირება ამ კანონით დადგენილი წესით.

QUESTION 674

CORRECT ANSWER: 4

Towing of mechanical vehicle may be carried out with:

1

Rigid hitch only

2

Flexible hitch only

3

Fractional loading only

4

Both rigid and flexible hitch, as well as fractional loading

განმარტება:

„საგზაო მოძრაობის შესახებ“ საქართველოს კანონის 45-ე მუხლის მე-2 პუნქტის თანახმად, მექანიკური სატრანსპორტო საშუალების ბუქსირება შეიძლება განხორციელდეს ხისტი ან მოქნილი გადაბმით ან ნაწილობრივი დატვირთვით.

QUESTION 675

CORRECT ANSWER: 1

When towing with flexible hitch, is it mandatory that the towed vehicle was driven by a driver?

1

Yes

2

No

განმარტება:

„საგზაო მოძრაობის შესახებ“ საქართველოს კანონის 45-ე მუხლის მე-3 პუნქტის თანახმად, მექანიკური სატრანსპორტო საშუალების ხისტი ან მოქნილი გადაბმით ბუქსირებისას საბუქსირო სატრანსპორტო საშუალებას მძღოლი უნდა მართავდეს, გარდა იმ შემთხვევისა, როცა მოძრაობისას ხისტი გადაბმის კონსტრუქცია უზრუნველყოფს საბუქსირო სატრანსპორტო საშუალების მობუქსირე სატრანსპორტო საშუალების ტრაექტორიით მიყვლას.

QUESTION 676

CORRECT ANSWER: 4

It is forbidden to transport passengers during towing with rigid or flexible coupling:

1

By towed bus only

2

By towed trolleybus only

3

On the body of towed lorry only

4

Both by towed bus and trolleybus, as well as on the body of towed lorry

განმარტება:

„საგზაო მოძრაობის შესახებ“ საქართველოს კანონის 45-ე მუხლის მე-4 პუნქტის თანახმად, ხისტი ან მოქნილი გადაბმით ბუქსირებისას აკრძალულია მგზავრის გადაყვანა საბუქსირო ავტობუსით, ტროლეიბუსითა და სატვირთო ავტომობილის ძარათი, ხოლო ნაწილობრივი დატვირთვით ბუქსირებისას – ადამიანის ყოფნა საბუქსირო მექანიკურ სატრანსპორტო საშუალებაში, აგრეთვე მობუქსირე სატრანსპორტო საშუალების ძარაზე.

QUESTION 677

CORRECT ANSWER: 3

When towing with fractional loading, presence of people is prohibited:

1

In towed mechanical vehicle only

2

On the body of towing mechanical vehicle only

3

Both in towed mechanical vehicle and on the body of towing mechanical vehicle

განმარტება:

„საგზაო მოძრაობის შესახებ“ საქართველოს კანონის 45-ე მუხლის მე-4 პუნქტის თანახმად, ხისტი ან მოქნილი გადაბმით ბუქსირებისას აკრძალულია მგზავრის გადაყვანა საბუქსირო ავტობუსით, ტროლეიბუსითა და სატვირთო ავტომობილის ძარათი, ხოლო ნაწილობრივი დატვირთვით ბუქსირებისას – ადამიანის ყოფნა საბუქსირო მექანიკურ სატრანსპორტო საშუალებაში, აგრეთვე მობუქსირე სატრანსპორტო საშუალების ძარაზე.

QUESTION 678

CORRECT ANSWER: 1

When towing with rigid hitch, distance between towing and towed vehicles must no faster than:

1

4 meters

2

5 meters

3

6 meters

განმარტება:

„საგზაო მოძრაობის შესახებ“ საქართველოს კანონის 45-ე მუხლის მე-5 პუნქტის თანახმად, მობუქსირე და საბუქსირო სატრანსპორტო საშუალებებს შორის მანძილი მოქნილი გადაბმით ბუქსირებისას უნდა იყოს 4–6 მეტრი, ხოლო ხისტი გადაბმით ბუქსირებისას – არაუმეტეს 4 მეტრისა.

QUESTION 679

CORRECT ANSWER: 2

Towing of the mechanical vehicle with rigid or flexible hitch is prohibited when:

1

Hermeticity of feed system is out of order

2

Mechanism of steering wheel is out of order

3

Hazard lights are out of order

განმარტება:

„საგზაო მოძრაობის შესახებ“ საქართველოს კანონის 45-ე მუხლის მე-6 პუნქტის „ა“ ქვეპუნქტის თანახმად, აკრძალულია ბუქსირება ხისტი ან მოქნილი გადაბმით, იმ მექანიკური სატრანსპორტო საშუალებისა, რომლის საჭის მექანიზმი გაუმართავია.

QUESTION 680

CORRECT ANSWER: 2

Is the towing of those mechanical vehicles forbidden that have got two trailers?

1

No

2

Yes

განმარტება:

„საგზაო მოძრაობის შესახებ“ საქართველოს კანონის 45-ე მუხლის მე-6 პუნქტის „ბ“ ქვეპუნქტის თანახმად, ორი ან მეტი მექანიკური სატრანსპორტო საშუალებისა, აგრეთვე მექანიკური სატრანსპორტო საშუალებისა, რომელსაც ორი ან მეტი მისაბმელი აქვს.

QUESTION 681

CORRECT ANSWER: 3

Towing is allowed:

1

By motorcycle, without side trailer, as well as towing of such motorcycle

2

By flexible hitch, when roads are covered with ice

3

None of the given answers in the test is true

განმარტება:

„საგზაო მოძრაობის შესახებ“ საქართველოს კანონის 45-ე მუხლის მე-6 პუნქტის „დ“ და „ე“ ქვეპუნქტების თანახმად, აკრძალულია ბუქსირება: დ) მოტოციკლით, გვერდითი მისაბმელის გარეშე, აგრეთვე ასეთი მოტოციკლის ბუქსირება; ე) მოქნილი გადაბმით, როცა გზა მოყინულია.

QUESTION 682

CORRECT ANSWER: 1

At least how many warning device (flag) must be attached on flexible connector when towing mechanical vehicle by flexible hitch?

1

Two

2

Three

3

Four

განმარტება:

„საგზაო მოძრაობის შესახებ“ საქართველოს კანონის 45-ე მუხლის მე-9 პუნქტის თანახმად, მექანიკური სატრანსპორტო საშუალების ბუქსირებისას დრეკადი შემაერთებელი რგოლების აღსანიშნავად გამოიყენება ალმები, გამაფრთხილებელი მოწყობილობა ან 200X200 მმ ზომის დაფა, რომელზედაც დიაგონალურადაა დახაზული 50 მმ სიგანის ურთიერთმონაცვლე წითელი და თეთრი ზოლები შექამრეკლი ზედაპირით. დრეკად შემაერთებელ რგოლზე მაგრდება არანაკლებ ორი გამაფრთხილებელი მოწყობილობა (ალამი).

QUESTION 683

CORRECT ANSWER: 2



I



II



III



IV

Which of these traffic signs is not effective to vehicle, serving to the company located in effective zone of the sign?

1

I and II only

2

I and III only

3

II and IV only

4

III and IV only

განმარტება:

„საგზაო მოძრაობის შესახებ“ საქართველოს კანონის პირველი დანართის მე-3 თავის (ამკრძალავი ნიშნები) შენიშვნის „გ.ბ“ ქვეპუნქტის თანახმად ნიშნების მოქმედება არ ვრცელდება: გ.ბ) 3.2–3.8 ნიშნებისა – სატრანსპორტო საშუალებაზე, რომელიც ემსახურება აღნიშნულ ზონაში მდებარე სანარმოს, ანდა ემსახურება ან ეკუთვნის ამავე ზონაში მცხოვრებ ან მომუშავე პირს. ამ შემთხვევაში სატრანსპორტო საშუალება შედის აღნიშნულ ზონაში და გამოდის იქიდან დანიშნულების ადგილისაკენ უახლოეს გზაჯვარედინზე. სურათზე ნაჩვენებია საგზაო ნიშნებია: 3.4 „სატვირთო მოძრაობა აკრძალულია“, 3.24 „მაქსიმალური სიჩქარის შეზღუდვა“, 3.5 „მოტოციკლით მოძრაობა აკრძალულია“ და 3.26 „ხმოვანი სიგნალის მიცემა აკრძალულია“.

QUESTION 684

CORRECT ANSWER: 1



I



II



III



IV

Which of these traffic signs is not effective to vehicle, serving to or owned by a person residing or working in effective zone of the sign?

1

II and IV only

2

II only

3

I and IV only

4

III and IV only

განმარტება:

„საგზაო მოძრაობის შესახებ“ საქართველოს კანონის პირველი დანართის მე-3 თავის (ამკრძალავი ნიშნები) შენიშვნის „გ.ბ“ ქვეპუნქტის თანახმად ნიშნების მოქმედება არ ვრცელდება: გ.ბ) 3.2–3.8 ნიშნებისა – სატრანსპორტო საშუალებაზე, რომელიც ემსახურება აღნიშნულ ზონაში მდებარე სანარმოს, ანდა ემსახურება ან ეკუთვნის ამავე ზონაში მცხოვრებ ან მომუშავე პირს. ამ შემთხვევაში სატრანსპორტო საშუალება შედის აღნიშნულ ზონაში და გამოდის იქიდან დანიშნულების ადგილისაკენ უახლოეს გზაჯვარედინზე. სურათზე ნაჩვენებია საგზაო ნიშნებია: 3.24 „მაქსიმალური სიჩქარის შეზღუდვა“, 3.4 „სატვირთო მოძრაობა აკრძალულია“, 3.19 „მობრუნება აკრძალულია“ და 3.7 „მისაბმელით მოძრაობა აკრძალულია“

QUESTION 685

CORRECT ANSWER: 2



I



II



III



IV

Which of these traffic signs is not effective to vehicle, driven by an individual with status of significant or severe disabilities, or vehicle conveying above individuals?

1

I and II only

2

I and III only

3

II and IV only

4

III and IV only

განმარტება:

„საგზაო მოძრაობის შესახებ“ საქართველოს კანონის პირველი დანართის მე-3 თავის (ამკრძალავი ნიშნები) შენიშვნის „გ.დ“ ქვეპუნქტის თანახმად ნიშნების მოქმედება არ ვრცელდება: გ.დ) 3.2, 3.3, 3.28–3.30 ნიშნებისა – იმ სატრანსპორტო საშუალებაზე, რომელსაც მნიშვნელოვნად გამოხატული ან მკვეთრად გამოხატული შეზღუდული შესაძლებლობის სტატუსის მქონე პირი მართავს, ან იმ სატრანსპორტო საშუალებაზე, რომელსაც აღნიშნული პირები გადაჰყავს. სურათზე ნაჩვენები საგზაო ნიშნებია: 3.2 „მოძრაობა აკრძალულია“, 3.26 „ხმოვანი სიგნალის მიცემა აკრძალულია“, 3.28 „დგომა აკრძალულია“ და 3.20 „გასწრება აკრძალულია“.

თემა 25:

სასწავლო სვლა

QUESTION 686

CORRECT ANSWER: 3



I



II



III



IV

Which of these traffic signs prohibits entry of every vehicle in given direction?

1

I

2

II

3

III

4

IV

განმარტება:

„საგზაო მოძრაობის შესახებ“ საქართველოს კანონის პირველი დანართის მე-3 თავის (ამკრძალავი ნიშნები) 3.1 პუნქტის თანახმად საგზაო ნიშანი 3.1 „შესვლა აკრძალულია“ - კრძალავს ყველა სახის სატრანსპორტო საშუალებით შესვლას მოცემული მიმართულებით.

QUESTION 687

CORRECT ANSWER: 1



I



II



III



IV

Which of these traffic signs prohibits motion of all vehicles?

1

I

2

II

3

III

4

IV

განმარტება:

„საგზაო მოძრაობის შესახებ“ საქართველოს კანონის პირველი დანართის მე-3 თავის (ამკრძალავი ნიშნები) 3.2 პუნქტის თანახმად საგზაო ნიშანი 3.2 „მოძრაობა აკრძალულია“ - კრძალავს ყველა სახის სატრანსპორტო საშუალებით მოძრაობას.

QUESTION 688

CORRECT ANSWER: 2



I



II



III



IV

Which of these traffic signs prohibits motion of all mechanical vehicles?

1

I

2

II

3

III

4

IV

განმარტება:

„საგზაო მოძრაობის შესახებ“ საქართველოს კანონის პირველი დანართის მე-3 თავის (ამკრძალავი ნიშნები) 3.3 პუნქტის თანახმად საგზაო ნიშანი 3.3 „მექანიკური სატრანსპორტო საშუალებით მოძრაობა აკრძალულია“ - კრძალავს ყველა სახის მექანიკური სატრანსპორტო საშუალებით მოძრაობას.

QUESTION 689

CORRECT ANSWER: 1



This traffic sign:

1

Prohibits motion of all mechanical vehicles

2

Prohibits motion of all vehicles

3

Marks the road for motion of motor cars

განმარტება:

„საგზაო მოძრაობის შესახებ“ საქართველოს კანონის პირველი დანართის მე-3 თავის (ამკრძალავი ნიშნები) 3.3 პუნქტის თანახმად საგზაო ნიშანი 3.3 „მექანიკური სატრანსპორტო საშუალებით მოძრაობა აკრძალულია“ - კრძალავს ყველა სახის მექანიკური სატრანსპორტო საშუალებით მოძრაობას.

QUESTION 690

CORRECT ANSWER: 3



This traffic sign prohibits:

1

Motion of all mechanical vehicles

2

Motion of motorcycle without sidecar

3

Motion of all motorcycles

განმარტება:

„საგზაო მოძრაობის შესახებ“ საქართველოს კანონის პირველი დანართის მე-3 თავის (ამკრძალავი ნიშნები) 3.5 პუნქტის თანახმად საგზაო ნიშანი 3.5 „მოტოციკლით მოძრაობა აკრძალულია“ - კრძალავს ყველა სახის მოტოციკლით მოძრაობას.

QUESTION 691

CORRECT ANSWER: 2



This traffic sign:

- 1 Prohibits motion of all mechanical vehicles
- 2 Prohibits motion of all tractors and self-propelled vehicles
- 3 Marks the road for motion of tractor

განმარტება:

„საგზაო მოძრაობის შესახებ“ საქართველოს კანონის პირველი დანართის მე-3 თავის (ამკრძალავი ნიშნები) 3.6 პუნქტის თანახმად საგზაო ნიშანი 3.6 „ტრაქტორით მოძრაობა აკრძალულია“ - კრძალავს ყველა სახის ტრაქტორითა და სპეციალიზებული თვითმავალი მანქანით მოძრაობას.

QUESTION 692

CORRECT ANSWER: 2



This traffic sign:

- 1 Marks the road for motion of trailer lorries only
- 2 Prohibits motion of all trailer vehicles and trailer tractors, as well as towing of mechanical vehicle
- 3 Prohibits motion of all kind of immobile vehicles

განმარტება:

„საგზაო მოძრაობის შესახებ“ საქართველოს კანონის პირველი დანართის მე-3 თავის (ამკრძალავი ნიშნები) 3.7 პუნქტის თანახმად საგზაო ნიშანი 3.7 „მისაბმელით მოძრაობა აკრძალულია“ - კრძალავს ყველა სახის მისაბმელიანი სატვირთო ავტომობილითა და მისაბმელიანი ტრაქტორით მოძრაობას, აგრეთვე მექანიკური სატრანსპორტო საშუალების ბუქსირებას.

QUESTION 693

CORRECT ANSWER: 3



I



II



III



IV

Which of these traffic signs prohibits motion of cartage, pack and seat animals, as well as – cattle drive?

1

I and IV only

2

II and III only

3

III only

4

I only

განმარტება:

„საგზაო მოძრაობის შესახებ“ საქართველოს კანონის პირველი დანართის მე-3 თავის (ამკრძალავი ნიშნები) 3.8 პუნქტის თანახმად საგზაო ნიშანი 3.8 „სატაჰანო მოძრაობა აკრძალულია“ - კრძალავს სატაჰანო ტრანსპორტით, სასაპალნე და დასაჯდომი ცხოველებით მოძრაობას, ასევე პირუტყვის გადარეკვას.

QUESTION 694

CORRECT ANSWER: 2



I



II



III



IV

Which of these traffic signs prohibits bicycle and moped riding?

1

I

2

II

3

III

4

IV

განმარტება:

„საგზაო მოძრაობის შესახებ“ საქართველოს კანონის პირველი დანართის მე-3 თავის (ამკრძალავი ნიშნები) 3.9 პუნქტის თანახმად საგზაო ნიშანი 3.9 „ველოსიპედით მოძრაობა აკრძალულია“ - კრძალავს ველოსიპედითა და მოპედით მოძრაობას.

QUESTION 695

CORRECT ANSWER: 3



I



II



III



IV

Which of these traffic signs prohibits motion of pedestrians?

1

I

2

II

3

III

4

IV

განმარტება:

„საგზაო მოძრაობის შესახებ“ საქართველოს კანონის პირველი დანართის მე-3 თავის (ამკრძალავი ნიშნები) 3.9 პუნქტის თანახმად საგზაო ნიშანი 3.9 „ველოსიპედით მოძრაობა აკრძალულია“ - კრძალავს ველოსიპედითა და მოპედით მოძრაობას.

QUESTION 696

CORRECT ANSWER: 2



I



II



III



IV

Which of these traffic signs prohibits motion of vehicles as well as vehicle composition, actual mass of which exceeds the mass indicated on the sign?

1

I

2

II

3

III

4

IV

განმარტება:

„საგზაო მოძრაობის შესახებ“ საქართველოს კანონის პირველი დანართის მე-3 თავის (ამკრძალავი ნიშნები) 3.11 პუნქტის თანახმად საგზაო ნიშანი 3.11 „მასის შეზღუდვა“ - კრძალავს იმ სატრანსპორტო საშუალებით და სატრანსპორტო საშუალებათა შემადგენლობით მოძრაობას, რომელთა საერთო ფაქტობრივი მასა აღემატება ნიშანზე აღნიშნულს.

QUESTION 697

CORRECT ANSWER: 4



I



II



III



IV

Which of these traffic signs prohibits motion of the vehicles with actual loading on any axis exceeding the loading indicated on the sign?

1

I

2

II

3

III

4

IV

განმარტება:

„საგზაო მოძრაობის შესახებ“ საქართველოს კანონის პირველი დანართის მე-3 თავის (ამჟრძალავი ნიშნები) 3.12 პუნქტის თანახმად საგზაო ნიშანი 3.12 „ღერძზე დატვირთვის შეზღუდვა“ - კრძალავს იმ სატრანსპორტო საშუალებით მოძრაობას, რომლის ფაქტობრივი დატვირთვა რომელიმე ღერძზე აღემატება ნიშანზე აღნიშნულს.

QUESTION 698

CORRECT ANSWER: 4



I



II



III



IV

Which of these traffic signs prohibits motion of vehicle as well as vehicle composition, with overall length (with or without cargo) exceeding the length indicated on the sign?

1

I

2

II

3

III

4

IV

განმარტება:

„საგზაო მოძრაობის შესახებ“ საქართველოს კანონის პირველი დანართის მე-3 თავის (ამკრძალავი ნიშნები) 3.15 პუნქტის თანახმად საგზაო ნიშანი 3.15 „სიგრძის შეზღუდვა“ - კრძალავს იმ სატრანსპორტო საშუალებით და სატრანსპორტო საშუალებათა შემადგენლობით მოძრაობას, რომელთა გაბარიტული სიგრძე (ტვირთიანად ან უტვირთოდ) აღემატება ნიშანზე აღნიშნულს.

QUESTION 699

CORRECT ANSWER: 3



I



II



III



IV

Which of these traffic signs prohibits motion of vehicle as well as vehicle composition, with maximum allowable mass exceeding the maximum allowable mass indicated on the sign?

1

I

2

II

3

III

4

IV

განმარტება:

„საგზაო მოძრაობის შესახებ“ საქართველოს კანონის პირველი დანართის მე-3 თავის (ამკრძალავი ნიშნები) 3.4 პუნქტის თანახმად საგზაო ნიშანი 3.4 „სატვირთო მოძრაობა აკრძალულია“ - კრძალავს იმ სატრანსპორტო საშუალებით და სატრანსპორტო საშუალებათა შემადგენლობებით მოძრაობას, რომელთა ნებადართული მაქსიმალური მასა აღემატება ნიშანზე აღნიშნულ ნებადართული მაქსიმალური მასის ზღვარს.

QUESTION 700

CORRECT ANSWER: 1



I



II



III



IV

Which of these traffic signs prohibits motion of the vehicles at a distance less than the one indicated on the sign?

1

I

2

II

3

III

4

IV

განმარტება:

„საგზაო მოძრაობის შესახებ“ საქართველოს კანონის პირველი დანართის მე-3 თავის (ამკრძალავი ნიშნები) 3.16 პუნქტის თანახმად საგზაო ნიშანი 3.16 „მინიმალური დისტანციის შეზღუდვა“ - კრძალავს სატრანსპორტო საშუალებებით მოძრაობას ნიშანზე აღნიშნულ მანძილზე ნაკლები დისტანციით.

QUESTION 701

CORRECT ANSWER: 1



I



II



III



IV

Which of these traffic signs prohibits overtaking of other vehicle with the lorry with maximum allowable mass exceeding 3.5 tonnes (except those driving slower than 30 km/h), as well as overtaking of any vehicle with tractor (other than cartage and bicycle)?

1

I

2

II

3

III

4

IV

განმარტება:

„საგზაო მოძრაობის შესახებ“ საქართველოს კანონის პირველი დანართის მე-3 თავის (ამკრძალავი ნიშნები) 3.22 პუნქტის თანახმად საგზაო ნიშანი 3.22 „სატვირთო ავტომობილით გასწრება აკრძალულია“ - კრძალავს 3,5 ტონაზე მეტი ნებადართული მაქსიმალური მასის მქონე სატვირთო ავტომობილით სხვა სატრანსპორტო საშუალების გასწრებას (გარდა 30 კმ/სთ-ზე ნაკლები სიჩქარით მოძრაობისა), აგრეთვე - ტრაქტორით სხვა სატრანსპორტო საშუალების გასწრებას (გარდა საჭაპნე ტრანსპორტისა და ველოსიპედისა).

QUESTION 702

CORRECT ANSWER: 2



I



II



III



IV

Which of these traffic signs marks end of effective zone of the traffic sign 3.22 („Lorry overtaking is prohibited“)?

1

I

2

II

3

III

4

IV

განმარტება:

„საგზაო მოძრაობის შესახებ“ საქართველოს კანონის პირველი დანართის მე-3 თავის (ამჟრძალავი ნიშნები) 3.23 პუნქტის თანახმად საგზაო ნიშანი 3.23 „სატვირთო ავტომობილით გასწრების აკრძალვის დასასრული“ - აღნიშნავს საგზაო ნიშნის 3.22-ის („სატვირთო ავტომობილით გასწრება აკრძალულია“) მოქმედების ზონის დასასრულს.

QUESTION 703

CORRECT ANSWER: 4



I



II



III



IV

Which of these traffic signs marks end of effective zone of the traffic sign 3.24 („Maximum speed restriction“)?

1

I

2

II

3

III

4

IV

განმარტება:

„საგზაო მოძრაობის შესახებ“ საქართველოს კანონის პირველი დანართის მე-3 თავის (ამჟრძალავი ნიშნები) 3.25 პუნქტის თანახმად საგზაო ნიშანი 3.25. „მაქსიმალური სიჩქარის შეზღუდვის დასასრული“ - აღნიშნავს 3.24 „მაქსიმალური სიჩქარის შეზღუდვა“ ნიშნის მოქმედების ზონის დასასრულს.

QUESTION 704

CORRECT ANSWER: 3



I



II



III



IV

In effective zone of which of these traffic signs is parking of a vehicle prohibited?

1

II only

2

IV only

3

I and III only

4

I and IV only

განმარტება:

„საგზაო მოძრაობის შესახებ“ საქართველოს კანონის პირველი დანართის მე-3 თავის (ამკრძალავი ნიშნები) 3.27 და 3.28 პუნქტების თანახმად: - საგზაო ნიშანი 3.27 „გაჩერება აკრძალულია“ - კრძალავს სატრანსპორტო საშუალების, როგორც გაჩერებას, ისე დგომას. - საგზაო ნიშანი 3.28 პუნქტის თანახმად საგზაო ნიშანი 3.28 „დგომა აკრძალულია“ კრძალავს სატრანსპორტო საშუალების დგომას.

QUESTION 705

CORRECT ANSWER: 2



I



II



III



IV

Which of these traffic signs prohibits parking of a vehicle on odd days of the month?

1

I

2

II

3

III

4

IV

განმარტება:

„საგზაო მოძრაობის შესახებ“ საქართველოს კანონის პირველი დანართის მე-3 თავის (ამკრძალავი ნიშნები) 3.29 პუნქტის თანახმად საგზაო ნიშანი 3.29 „დგომა აკრძალულია კენტ რიცხვებში“ - კრძალავს სატრანსპორტო საშუალების დგომას თვის კენტ რიცხვებში.

QUESTION 706

CORRECT ANSWER: 4



I



II



III

Which of these traffic signs is not effective to route vehicle?

1

I only

2

II only

3

III only

4

All of them

განმარტება:

„საგზაო მოძრაობის შესახებ“ საქართველოს კანონის პირველი დანართის მე-3 თავის (ამკრძალავი ნიშნები) შენიშვნის „გ.ა“ ქვეპუნქტის თანახმად ნიშნების მოქმედება არ ვრცელდება: გ.ა) 3.1–3.3, 3.18.1, 3.18.2, 3.19, 3.27 ნიშნებისა – სამარშრუტო სატრანსპორტო საშუალებაზე. სურათზე ნაჩვენები საგზაო ნიშნებია: 3.1 „შესვლა აკრძალულია“, 3.2 „მოძრაობა აკრძალულია“ და 3.3 „მექანიკური სატრანსპორტო საშუალებით მოძრაობა აკრძალულია“.

QUESTION 707

CORRECT ANSWER: 3



I



II



III



IV

Which of these traffic signs is not effective to route vehicle?

1

I and III only

2

II and IV only

3

II, III and IV only

4

I and IV only

განმარტება:

„საგზაო მოძრაობის შესახებ“ საქართველოს კანონის პირველი დანართის მე-3 თავის (ამკრძალავი ნიშნები) შენიშვნის „გ.ა“ ქვეპუნქტის თანახმად ნიშნების მოქმედება არ ვრცელდება: გ.ა) 3.1–3.3, 3.18.1, 3.18.2, 3.19, 3.27 ნიშნებისა – სამარშრუტო სატრანსპორტო საშუალებაზე. სურათზე ნაჩვენები საგზაო ნიშნებია: 3.20 „გასწრება აკრძალულია“, 3.3 „მექანიკური სატრანსპორტო საშუალებით მოძრაობა აკრძალულია“, 3.19 „მობრუნება აკრძალულია“ და 3.27 „გაჩერება აკრძალულია“.

QUESTION 708

CORRECT ANSWER: 2

During the learning motion, an instructor-teacher is equal to:

1

Passenger

2

Driver

3

With none out of the ones listed in given test

განმარტება:

„საგზაო მოძრაობის შესახებ“ საქართველოს კანონის 5-ე მუხლის 49-ე პუნქტის თანახმად, მძღოლი - ფიზიკური პირი, რომელიც მართავს სატრანსპორტო საშუალებას. მძღოლთან გათანაბრებულია მებრე, სასწავლო სვლის განხორციელებისას მძღოლთან გათანაბრებულია ინსტრუქტორ-მასწავლებელიც.

QUESTION 709

CORRECT ANSWER: 1

Learning of practical driving of the vehicle (learning motion) is allowed on the roads, list of which is approved according to the established rule by:

1

Local self-government bodies

2

Manager of the drivers' training institution

3

Decision of the instructor-teacher

განმარტება:

„საგზაო მოძრაობის შესახებ“ საქართველოს კანონის 61-ე მუხლის მე-2 პუნქტის თანახმად, სატრანსპორტო საშუალების პრაქტიკული მართვის სწავლება (სასწავლო სვლა) ნებადართულია მხოლოდ საქართველოს კანონმდებლობით დადგენილი წესით, დახურულ მოედანსა და ავტოდრომზე, აგრეთვე იმ გზებზე, რომელთა სიასაც დადგენილი წესით ამტკიცებენ ადგილობრივი თვითმმართველობის ორგანოები.

QUESTION 710

CORRECT ANSWER: 2

Learning of primary abilities for practical driving of a vehicle is allowed:

1

On any road with less traffic intensity

2

On closed ground or motodrome

3

Is suburb of inhabited area

განმარტება:

„საგზაო მოძრაობის შესახებ“ საქართველოს კანონის 61-ე მუხლის მე-2 და მე-4 პუნქტების თანახმად: 2. სატრანსპორტო საშუალების პრაქტიკული მართვის სწავლება (სასწავლო სვლა) ნებადართულია მხოლოდ საქართველოს კანონმდებლობით დადგენილი წესით, დახურულ მოედანსა და ავტოდრომზე, აგრეთვე იმ გზებზე, რომელთა სიასაც დადგენილი წესით ამტკიცებენ ადგილობრივი თვითმმართველობის ორგანოები. 4. გზაზე სასწავლო სვლა დასაშვებია მხოლოდ სასწავლო სატრანსპორტო საშუალებით ინსტრუქტორ-მასწავლებელთან ერთად იმ შემთხვევაში, თუ პირი ფლობს სატრანსპორტო საშუალების პრაქტიკული მართვის სანდის ჩვევებს. ინსტრუქტორ-მასწავლებელს გზაზე სასწავლო სვლის განხორციელების უფლება აქვს მხოლოდ მას შემდეგ, რაც დარწმუნდება, რომ პირმა (მოსწავლემ) საკმარისად აითვისა სატრანსპორტო საშუალების პრაქტიკული მართვის სანდის ჩვევები.

QUESTION 711

CORRECT ANSWER: 1

Learning motion on the road is allowed:

1

Only with learning car together with the instructor-teacher

2

With any vehicle together with the owner

3


Both with learning car together with the instructor-teacher and with any vehicle together with the owner

განმარტება:

„საგზაო მოძრაობის შესახებ“ საქართველოს კანონის 61-ე მუხლის მე-4 პუნქტის თანახმად, გზაზე სასწავლო სვლა დასაშვებია მხოლოდ სასწავლო სატრანსპორტო საშუალებით ინსტრუქტორ-მასწავლებელთან ერთად იმ შემთხვევაში, თუ პირი ფლობს სატრანსპორტო საშუალების პრაქტიკული მართვის სანყის ჩვევებს. ინსტრუქტორ-მასწავლებელს გზაზე სასწავლო სვლის განხორციელების უფლება აქვს მხოლოდ მას შემდეგ, რაც დარწმუნდება, რომ პირმა (მოსწავლემ) საკმარისად აითვისა სატრანსპორტო საშუალების პრაქტიკული მართვის სანყისი ჩვევები.

QUESTION 712

CORRECT ANSWER: 3



In which direction is not learning motion prohibited when learner is driving the learning car?

1

In direction A only

2

In direction B only

3


In both A and B directions

განმარტება:

„საგზაო მოძრაობის შესახებ“ საქართველოს კანონის 38-ე მუხლის პირველი პუნქტის „ბ“ ქვეპუნქტის თანახმად, ავტომაგისტრალზე, ავტომაგისტრალის შესასვლელსა და გამოსასვლელზე აკრძალულია სასწავლო სვლა.

QUESTION 713

CORRECT ANSWER: 1



Is motion of the learning car prohibited to the arrow direction, when learner is driving the learning car?

1

Yes

2

No

განმარტება:

„საგზაო მოძრაობის შესახებ“ საქართველოს კანონის 44-ე მუხლის მე-3 პუნქტის თანახმად, ქვეითთა ზონად გამოცხადებულ ადგილზე და საცხოვრებელ ზონაში აკრძალულია გამჭოლი მოძრაობა, სასწავლო სვლა და ჩართული ძრავითი დგომა; ამასთანავე, ქვეითს უპირატესობა აქვს სხვა საგზაო მოძრაობის მონაწილეების მიმართ.

QUESTION 714

CORRECT ANSWER: 1



Is motion of the learning car prohibited to the arrow direction, when learner is driving the learning car?

1

Yes

2

No

განმარტება:

„საგზაო მოძრაობის შესახებ“ საქართველოს კანონის 38-ე მუხლის პირველი პუნქტის „ბ“ ქვეპუნქტის თანახმად, ავტომანქანის მძღველს, ავტომანქანის მძღველის შესასვლელსა და გამოსასვლელზე აკრძალულია სასწავლო სვლა.

თემა 26:

გადაზიდვები, ხალხი, ტვირთი

QUESTION 715

CORRECT ANSWER: 2

Is the driver obliged to yield to the children, crossing the driveway, at the indication of the children group's guide?

1

No

2

Yes

განმარტება:

„საგზაო მოძრაობის შესახებ“ საქართველოს კანონის 26-ე მუხლის მე-5 პუნქტის თანახმად, ბავშვთა ჯგუფების გამცილებლის მინიშნებისას მძღოლი ვალდებულია გზა დაუთმოს იმ ბავშვებს, რომლებიც კვეთენ გზის სავალ ნაწილს.

QUESTION 716

CORRECT ANSWER: 2

On two-way traffic without lane line, the children's group should proceed:

1

On the sideway located on the side of the traffic direction

2

On sideway located on the opposite side of the traffic direction

განმარტება:

„საგზაო მოძრაობის შესახებ“ საქართველოს კანონის 26-ე მუხლის მე-5 პუნქტის თანახმად, ორმხრივ მოძრაობიან გზაზე, რომელსაც არა აქვს გამყოფი ზოლი, ბავშვთა ჯგუფი უნდა გადაადგილდებოდეს მოძრაობის მიმართულების სანინალმდეგო მხარეს მდებარე გვერდულაზე.

QUESTION 717

CORRECT ANSWER: 1

Is conveyance of the passengers prohibited if amount of the passengers exceeds the number stipulated by the technical specifications of the vehicle (not considering the children under 12 years)?

1

Yes

2

No

განმარტება:

„საგზაო მოძრაობის შესახებ“ საქართველოს კანონის 46-ე მუხლის მე-10 პუნქტის „ბ“ ქვეპუნქტის თანახმად, მგზავრთა გადაყვანა აკრძალულია, თუ მგზავრთა რაოდენობა აღემატება სატრანსპორტო საშუალების ტექნიკური მახასიათებლით გათვალისწინებულ ოდენობას (12 წლამდე ბავშვების გაუთვალისწინებლად).

QUESTION 718

CORRECT ANSWER: 1

Is conveyance of passengers allowed with such amount or in such a way, that impede driving or limit visibility area of the driver?

1

Is not allowed

2

Is allowed only under approval of the driver

3

Is allowed only in uninhabited areas, on secondary road provided, that speed of the vehicle must not exceed 40 km/h

განმარტება:

„საგზაო მოძრაობის შესახებ“ საქართველოს კანონის 46-ე მუხლის პირველი პუნქტის თანახმად, აკრძალულია მგზავრთა იმ რაოდენობით ან ისე გადაყვანა, რომ ეს ხელს უშლიდეს სატრანსპორტო საშუალების მართვას ან მძღოლს უზღუდავდეს ხედვის არეს.

QUESTION 719

CORRECT ANSWER: 4

It is not prohibited to convey passengers:

1

Outside of compartment or cabin of tractor or other self-propelled vehicle

2

By lorry trailer, as well as mobile home

3

In a motorcycle basket

4

With a towing bus

განმარტება:

„საგზაო მოძრაობის შესახებ“ საქართველოს კანონის 46-ე მუხლის მე-10 პუნქტის „ა“ ქვეპუნქტის თანახმად, აკრძალულია მგზავრთა გადაყვანა ავტომობილის (ფურგონდარიანი ან ბორტის პლატფორმის მქონე სატვირთო ავტომობილის ძრავით მგზავრთა გადაყვანის შემთხვევის გარდა), ტრაქტორის, სხვა თვითმავალი მანქანის სალონის ან კაბინის გარეთ, სატვირთო ავტომობილის მისაბმელით, მისაბმელ-აგარაკით, სატვირთო მოტოციკლის ძრავით და მოტოციკლის კონსტრუქციით გათვალისწინებული დასასხდომი ადგილების გარეთ.

QUESTION 720

CORRECT ANSWER: 2

Is conveyance of passengers prohibited with such vehicle, which actual mass exceeds its allowed maximum mass?

1

No

2

Yes

განმარტება:

„საგზაო მოძრაობის შესახებ“ საქართველოს კანონის 46-ე მუხლის მე-10 პუნქტის „გ“ ქვეპუნქტის თანახმად, აკრძალულია მგზავრთა გადაყვანა თუ სატრანსპორტო საშუალების ფაქტობრივი მასა აღემატება მის ნებადართულ მაქსიმალურ მასას.

QUESTION 721

CORRECT ANSWER: 4

Any cargo should be placed and in case of necessity fixed on the vehicle in such way, that upon its transportation:

- | | |
|---|--|
| <p>1 Not to endanger other traffic participants, not to damage state, public and private property, no cargo is dragged or fallen on the road only</p> | <p>2 Not to limit visibility and sight, not to breach stability of the vehicle and not to make its driving difficult only</p> |
| <p>3 Not to cover the lights, stop-signal, swerve indicators, reflective devices, registration number and distinguishing sign of registration state, as well as signals to be given by hand stipulated by this law</p> | <p>4 All of the conditions listed in given test are required to be fulfilled</p> |

განმარტება:

„საგზაო მოძრაობის შესახებ“ საქართველოს კანონის 47-ე მუხლის მე-11 პუნქტის „ა“, „ბ“ და „გ“ ქვეპუნქტების თანახმად, სატრანსპორტო საშუალებაზე ნებისმიერი ტვირთი იმგვარად უნდა მოთავსდეს და აუცილებლობის შემთხვევაში დამაგრდეს, რომ მისი გადაზიდვისას: ა) საფრთხე არ შეექმნას სხვა საგზაო მოძრაობის მონაწილეებს, ზიანი არ მიაღწეს სახელმწიფო, საზოგადოებრივ და კერძო ქონებას, ტვირთი არ ეთრეოდეს და არ ცვიოდეს გზაზე; ბ) არ შეიზღუდოს ხილვადობა და ხედვის არე, არ დაირღვეს სატრანსპორტო საშუალების მდგრადობა და არ გაძნელდეს მისი მართვა; გ) არ დაიფაროს სატრანსპორტო საშუალების სინათლეები, „სდექ“ სიგნალი, მოხვევის შუქ-მაჩვენებლები, შუქამრეკლი მოწყობილობები, რეგისტრაციის ნომერი და მარეგისტრირებელი სახელმწიფოს განმასხვავებელი ნიშანი, აგრეთვე ამ კანონით განსაზღვრული ხელით მისაცემი სიგნალები.

QUESTION 722

CORRECT ANSWER: 1

Cargo must be marked with distinguishing sign - „Oversized (big-volume) load“, if it exceeds the vehicle dimension ahead or/and behind of it by:

1

More than 1.0 m

2

More than 1.5 m

3

More than 2.0 m

განმარტება:

„საგზაო მოძრაობის შესახებ“ საქართველოს კანონის 47-ე მუხლის მე-13 პუნქტის თანახმად, სატრანსპორტო საშუალების გაბარიტის გარეთ წინ ან/და უკან 1 მეტრზე მეტად ან გვერდიდან საგაბარიტო სინათლის გარე ნაპირიდან 0,4 მეტრზე მეტად გადმოშვებული ტვირთი უნდა აღინიშნოს საცნობი ნიშნით „არაგაბარიტული (მსხვილგაბარიტიანი) ტვირთი“, აგრეთვე დღე-ღამის ბნელ დროს ან არასაკმარისი ხილვადობის პირობებში, წინ – თეთრი ფარნით ან შუქამრეკლით, უკან – წითელი ფარნით ან შუქამრეკლით.

QUESTION 723

CORRECT ANSWER: 3

Cargo must be marked with distinguishing sign - „Oversized (big-volume) load“, if it exceeds outer edge of side light by:

1

More than 0.6 m

2

More than 0.5 m

3

More than 0.4 m

განმარტება:

„საგზაო მოძრაობის შესახებ“ საქართველოს კანონის 47-ე მუხლის მე-13 პუნქტის თანახმად, სატრანსპორტო საშუალების გაბარიტის გარეთ წინ ან/და უკან 1 მეტრზე მეტად ან გვერდიდან საგაბარიტო სინათლის გარე ნაპირიდან 0,4 მეტრზე მეტად გადმოშვებული ტვირთი უნდა აღინიშნოს საცნობი ნიშნით „არაგაბარიტული (მსხვილგაბარიტიანი) ტვირთი“, აგრეთვე დღე-ღამის ბნელ დროს ან არასაკმარისი ხილვადობის პირობებში, წინ – თეთრი ფარნით ან შუქამრეკლით, უკან – წითელი ფარნით ან შუქამრეკლით.

QUESTION 724

CORRECT ANSWER: 3

Conveyance of group of children is allowed:

- 1 In standing position only
- 2 In sitting position if the vehicle construction stipulates the seats, and if not – in standing position
- 3 In sitting position only

განმარტება:

„საგზაო მოძრაობის შესახებ“ საქართველოს კანონის 26-ე მუხლის მე-3 პუნქტის თანახმად, სატრანსპორტო საშუალებით ბავშვთა გადაყვანა დასაშვებია მხოლოდ დამსხდარ მდგომარეობაში, კონსტრუქციულად განსაზღვრული დასასხდომი ადგილებით. ბავშვთა დამდგარ მდგომარეობაში გადაყვანა აკრძალულია.

QUESTION 725

CORRECT ANSWER: 2

In case of seeing a child on the road or nearby it, a driver is obliged to:

- 1 Stop the vehicle and switch hazard lights on
- 2 Take special care and proceed at a speed, which will avoid hazard and in case of necessity he/she will be able to stop without hard braking
- 3 Increase the speed in order to pass the above section in due time

განმარტება:

„საგზაო მოძრაობის შესახებ“ საქართველოს კანონის 26-ე მუხლის მე-2 პუნქტის თანახმად, გზაზე ან მის სიახლოვეს ბავშვის დანახვისას ან გაჩერებული ავტობუსის დანახვისას, რომელზედაც დამაგრებულია საცნობი ნიშანი „ბავშვების გადაყვანა“, მძღოლმა უნდა გამოიჩინოს განსაკუთრებული სიფრთხილე და იმოძრაოს ისეთი სიჩქარით, რომელიც თავიდან ააცილებს საფრთხეს და აუცილებლობის შემთხვევაში მკვეთრი დამუხრუჭების გარეშე გაჩერების შესაძლებლობას მისცემს.

QUESTION 726

CORRECT ANSWER: 3

When seeing a bus stopped on the road with an identification sign - „Children“, a driver is obliged:

- 1 Give honk and proceed without stopping
- 2 Stop the vehicle and not to move until this bus starts proceeding
- 3 Take special care and proceed at a speed, which will avoid hazard and in case of necessity he/she will be able to stop without hard braking

განმარტება:

„საგზაო მოძრაობის შესახებ“ საქართველოს კანონის 26-ე მუხლის მე-2 პუნქტის თანახმად, გზაზე ან მის სიახლოვეს ბავშვის დანახვისას ან გაჩერებული ავტობუსის დანახვისას, რომელზედაც დამაგრებულია საცნობი ნიშანი „ბავშვების გადაყვანა“, მძღოლმა უნდა გამოიჩინოს განსაკუთრებული სიფრთხილე და იმოძრაოს ისეთი სიჩქარით, რომელიც თავიდან ააცილებს საფრთხეს და აუცილებლობის შემთხვევაში მკვეთრი დამუხრუჭების გარეშე გაჩერების შესაძლებლობას მისცემს.

QUESTION 727

CORRECT ANSWER: 1

Is a vehicle driver proceeding on the road obliged to yield to blind pedestrian, walking with a white stick, which is crossing the driveway?

- 1 Yes, in all cases
- 2 Yes, only in the case, if the blind pedestrian is walking on controlled crosswalk
- 3 No

განმარტება:

„საგზაო მოძრაობის შესახებ“ საქართველოს კანონის 21-ე მუხლის მე-6 პუნქტის თანახმად, მძღოლმა განსაკუთრებული სიფრთხილე უნდა გამოიჩინოს საგზაო მოძრაობის ისეთი მონაწილეების მიმართ, როგორებიც არიან ქვეითები (განსაკუთრებით ბავშვები, ხანდაზმულები, შეზღუდული შესაძლებლობის მქონე პირები) და ველოსიპედისტები. მძღოლი ვალდებულია ყველა შემთხვევაში გზა დაუთმოს თეთრი ხელჯოხით ან გამყოლ-ძაღლთან ერთად მოძრავ უსინათლო ქვეითს.

QUESTION 728

CORRECT ANSWER: 1

In which case is a driver obliged to yield to blind pedestrian walking together with guide dog?

1

Is obliged in all cases

2

Is obliged only in the case, if the blind pedestrian is walking on controlled crosswalk

3

Is obliged only in the case, if the blind pedestrian is walking on unregulated crosswalk

განმარტება:

„საგზაო მოძრაობის შესახებ“ საქართველოს კანონის 21-ე მუხლის მე-6 პუნქტის თანახმად, მძღოლმა განსაკუთრებული სიფრთხილე უნდა გამოიჩინოს საგზაო მოძრაობის ისეთი მონაწილეების მიმართ, როგორებიც არიან ქვეითები (განსაკუთრებით ბავშვები, ხანდაზმულები, შეზღუდული შესაძლებლობის მქონე პირები) და ველოსიპედისტები. მძღოლი ვალდებულია ყველა შემთხვევაში გზა დაუთმოს თეთრი ხელჯოხით ან გამყოლ-ძაღლთან ერთად მოძრავ უსინათლო ქვეითს.

QUESTION 729

CORRECT ANSWER: 2

Is a pedestrian allowed to walk on the edge of the driveway in case of presence of pavement suitable for pedestrian traffic?

1

No

2

Yes, if he/she carries large-volume cargo, which will create obstructions to other pedestrians on the pavement

3

Is allowed in any case

განმარტება:

„საგზაო მოძრაობის შესახებ“ საქართველოს კანონის 24-ე მუხლის მე-2 პუნქტის „ა“ ქვეპუნქტის თანახმად, თუ გზის საგალი ნაწილის კიდესთან არსებობს ქვეითთა მოძრაობისთვის გამოსადეგი ქვეითთა ბილიკი, ტროტუარი ან გზისპირი, ქვეითმა უნდა გამოიყენოს იგი, თუმცა უნდა დაიცვას სიფრთხილის აუცილებელი ზომები. ქვეითს, რომელსაც გადააქვს დიდი მოცულობის ნივთი, შეუძლია გადაადგილდეს გზის საგალი ნაწილის კიდესთან, თუ მისი ქვეითთა ბილიკზე, ტროტუარზე ან გზისპირზე გადაადგილება დააბრკოლებს სხვა ქვეითებს.

QUESTION 730

CORRECT ANSWER: 2

Is motion of an individual with disabilities in a wheelchair to the edge of the driveway allowed in case of presence of pedestrian path suitable for traffic?

1 No

2 Yes, in any case

3 Yes in case of heavy pedestrian traffic on the pedestrian path

განმარტება:

„საგზაო მოძრაობის შესახებ“ საქართველოს კანონის 24-ე მუხლის მე-3 პუნქტის თანახმად, ამ მუხლის მე-2 პუნქტის მოქმედება არ ვრცელდება სავარძელ-ეტლით მოძრავ შემღუდული შესაძლებლობის მქონე პირზე. მას უფლება აქვს, ნებისმიერ შემთხვევაში გადაადგილდეს გზის სავალი ნაწილის კიდედან.

QUESTION 731

CORRECT ANSWER: 3

Is motion of a pedestrian on two-way lane line allowed, if there is no pavement on it?

1 Yes, if motion on this road is allowed no faster than 60 km/h

2 Yes, on the highways only

3 No

განმარტება:

„საგზაო მოძრაობის შესახებ“ საქართველოს კანონის 24-ე მუხლის მე-14 პუნქტის თანახმად, ქვეითს ეკრძალება ორმხრივმოძრაობიანი გზის გამყოფ ზოლზე ან მის გასწვრივ მოძრაობა, თუ მასზე ტროტუარი არ არის.

QUESTION 732

CORRECT ANSWER: 4

The vehicle shall be considered as oversized (large-volume), if cargo exceeds its rear dimension point by:

1

1 meter

2

1.70 meters

3

2 meters

4

More than 2 meters

განმარტება:

„საგზაო მოძრაობის შესახებ“ საქართველოს კანონის 47-ე მუხლის მე-8 პუნქტის „გ“ ქვეპუნქტის თანახმად, სატრანსპორტო საშუალება არაგაბარიტულად (მსხვილგაბარიტიანად) ითვლება, თუ მისი პარამეტრები აღემატება შემდეგი მაჩვენებლებიდან ერთ-ერთს მაინც: გ) სიგრძე - ავტომატარებელის შემთხვევაში - 20 მეტრს, ყველა სხვა შემთხვევაში - 12 მეტრს, ან, თუ ტვირთი სატრანსპორტო საშუალების უკანა გაბარიტის წერტილიდან 2 მეტრზე მეტადაა გამოშვებული.

QUESTION 733

CORRECT ANSWER: 4

Observation of which of the following orders is not mandatory in case of loading or/and fixing the cargo on the vehicle?

1 Other traffic participants should not be endangered, state, public and private property should not be damaged, the cargo should not be dragged or fallen on the road

2 Visibility and vision area should not be limited, sustainability of the vehicle should not be breached and its driving should not be complicated

3 Lights, STOP-signals, turn indicators, light-reflectors, registration numbers and distinguishing sign of the registration state, as well as hand-signals should not be concealed

4 It is compulsory to follow all of the requirements listed in given test

განმარტება:

„საგზაო მოძრაობის შესახებ“ საქართველოს კანონის 47-ე მუხლის მე-11 პუნქტის „ა“, „ბ“ და „გ“ ქვეპუნქტების თანახმად, სატრანსპორტო საშუალებაზე ნებისმიერი ტვირთი იმგვარად უნდა მოთავსდეს და აუცილებლობის შემთხვევაში დამაგრდეს, რომ მისი გადაზიდვისას: ა) საფრთხე არ შეექმნას სხვა საგზაო მოძრაობის მონაწილეებს, ზიანი არ მიაღწეს სახელმწიფო, საზოგადოებრივ და კერძო ქონებას, ტვირთი არ ეთრეოდეს და არ ცვიოდეს გზაზე; ბ) არ შეიზღუდოს ხილვადობა და ხედვის არე, არ დაირღვეს სატრანსპორტო საშუალების მდგრადობა და არ გაძნელდეს მისი მართვა; გ) არ დაიფაროს სატრანსპორტო საშუალების სინათლეები, „სდექ“ სიგნალი, მოხვევის შუქ-მაჩვენებლები, შუქამრეკლი მოწყობილობები, რეგისტრაციის ნომერი და მარეგისტრირებელი სახელმწიფოს განმასხვავებელი ნიშანი, აგრეთვე ამ კანონით განსაზღვრული ხელით მისაცემი სიგნალები;

QUESTION 734

CORRECT ANSWER: 4



I



II



III



IV

Which of the following traffic lights indicates traffic direction only straight ahead?

1

II and IV only

2

I only

3

IV only

4

III only

განმარტება:

„საგზაო მოძრაობის შესახებ“ საქართველოს კანონის პირველი დანართის მე-4 თავის (მიმთითებული ნიშნები) 4.1.1 პუნქტისა და ამავე პუნქტის შენიშვნის „ა“ ქვეპუნქტის თანახმად, საგზაო ნიშანი 4.1.1 „მოძრაობა პირდაპირ“ რთავს მხოლოდ ისრებით ნაჩვენები მიმართულებებით მოძრაობის ნებას.

QUESTION 735

CORRECT ANSWER: 1



I



II



III



IV

Which of the following traffic signs allows motion to the right only?

1

I

2

II

3

III

4

IV

განმარტება:

„საგზაო მოძრაობის შესახებ“ საქართველოს კანონის პირველი დანართის მე-4 თავის (მიმთითებული ნიშნები) 4.1.2 პუნქტისა და ამავე პუნქტის შენიშვნის „ა“ ქვეპუნქტის თანახმად, საგზაო ნიშანი 4.1.2 „მოძრაობა მარჯვნივ“ რთავს მხოლოდ ისრებით ნაჩვენები მიმართულებებით მოძრაობის ნებას.

QUESTION 736

CORRECT ANSWER: 2



This traffic sign marks:

1

Entry to one-way road or driveway

2

Direction of passing the lane line, safety island or any obstruction from the right only

3

One-way road

განმარტება:

„საგზაო მოძრაობის შესახებ“ საქართველოს კანონის პირველი დანართის მე-4 თავის (მიმთითებული ნიშნები) 4.2.1 პუნქტის თანახმად, საგზაო ნიშანი 4.2.1 „დაბრკოლების შემოვლა მარჯვნიდან“ - მიუთითებს გამყოფი ზოლის, უსაფრთხოების კუნძულის ან რაიმე დაბრკოლების მხოლოდ მარჯვნიდან შემოვლის მიმართულებას.

QUESTION 737

CORRECT ANSWER: 2



I



II



III



IV

Which of these traffic signs marks direction of passing the lane line, safety island or any obstruction to the left only?

1

I

2

II

3

III

4

IV

განმარტება:

„საგზაო მოძრაობის შესახებ“ საქართველოს კანონის პირველი დანართის მე-4 თავის (მიმთითებელი ნიშნები) 4.2.2 პუნქტის თანახმად, საგზაო ნიშანი 4.2.2 „დაბრკოლების შემოვლა მარცხნიდან“ - მიუთითებს გამყოფი ზოლის, უსაფრთხოების კუნძულის ან რაიმე დაბრკოლების მხოლოდ მარცხნიდან შემოვლის მიმართულებას.

QUESTION 738

CORRECT ANSWER: 1



I



II



III



IV

Which of these traffic signs marks traffic direction to the left or to the right?

1

I

2

II

3

III

4

IV

განმარტება:

„საგზაო მოძრაობის შესახებ“ საქართველოს კანონის პირველი დანართის მე-4 თავის (მიმთითებული ნიშნები) 4.1.6 პუნქტისა და ამავე პუნქტის შენიშვნის „ა“ ქვეპუნქტის თანახმად, საგზაო ნიშანი 4.1.6 „მოძრაობა მარჯვნივ ან მარცხნივ“ - რთავს მხოლოდ ისრებით ნაჩვენები მიმართულებებით მოძრაობის ნებას,

QUESTION 739

CORRECT ANSWER: 3



I



II



III



IV

Which of the given traffic signs marks the path for pedestrians, separated from the road?

1

I

2

II

3

III

4

IV

განმარტება:

„საგზაო მოძრაობის შესახებ“ საქართველოს კანონის პირველი დანართის მე-4 თავის (მიმთითებელი ნიშნები) 4.5 პუნქტის თანახმად, საგზაო ნიშანი 4.5 „ქვეითთა ბილიკი“ - ქვეითთა მოძრაობისათვის განკუთვნილი, გზისგან განცალკევებული ბილიკი. 4.5 ნიშანს ძირითად ნიშნად დგამენ ქვეითთა ბილიკის დასაწყისში, განმეორებითად კი – გზასთან ყოველი გადაკვეთის შემდეგ.

QUESTION 740

CORRECT ANSWER: 4



I



II



III



IV

Which of the given traffic signs indicates allowed direction of the vehicle with dangerous goods?

1

I

2

II

3

III

4

IV

განმარტება:

„საგზაო მოძრაობის შესახებ“ საქართველოს კანონის პირველი დანართის მე-4 თავის (მიმთითებული ნიშნები) 4.9.1-4.9.3 პუნქტების თანახმად, საგზაო ნიშნები 4.9.1- 4.9.3 „სახიფათო ტვირთის გადამზიდავი სატრანსპორტო საშუალებით მოძრაობის მიმართულება“ – მიუთითებს იმ სახიფათო ტვირთის გადამზიდავი სატრანსპორტო საშუალებით ნებადართული მოძრაობის მიმართულებას, რომელიც, საქართველოს კანონმდებლობის თანახმად, აღნიშნული უნდა იყოს საცნობი ნიშნით „სახიფათო ტვირთი“: 4.9.1 – პირდაპირ, 4.9.2 – მარჯვნივ, 4.9.3 – მარცხნივ.

QUESTION 741

CORRECT ANSWER: 2



Does the lorry driver have the right to proceed the way as it is shown by arrows?

1

Yes

2

No

განმარტება:

„საგზაო მოძრაობის შესახებ“ საქართველოს კანონის პირველი დანართის მე-4 თავის (მიმთითებული ნიშნები) 4.1.2 პუნქტისა და ამავე პუნქტის შენიშვნის „ა“ ქვეპუნქტის თანახმად, საგზაო ნიშანი 4.1.2 „მოძრაობა მარჯვნივ“ - რთავს მხოლოდ ისრებით ნაჩვენები მიმართულებებით მოძრაობის ნებას. ამავე დანართის მე-8 თავის (დამატებითი ინფორმაციის ნიშნები) 8.4.1-8.4.8 პუნქტების თანახმად, დაფები 8.4.1–8.4.8 „სატრანსპორტო საშუალების სახეობა“ - მიუთითებს იმ სატრანსპორტო საშუალების სახეობას, რომლებზედაც ვრცელდება ნიშნის მოქმედება, ხოლო ამავე თავის შენიშვნის „ა“ ქვეპუნქტის თანახმად დაფა 8.4.1 ნიშნის მოქმედებას ავრცელებს სატვირთო ავტომობილებზე (მისაბმელით ან მის გარეშე), რომელთა ნებადართული მაქსიმალური მასა 3,5 ტ-ზე მეტია.

QUESTION 742

CORRECT ANSWER: 2



Will a lorry driver with dangerous goods violate the Highway Code in case of proceeding to the arrow direction?

1

No

2

Yes

განმარტება:

„საგზაო მოძრაობის შესახებ“ საქართველოს კანონის მე-19 მუხლის პირველი პუნქტის „გ“ ქვეპუნქტის თანახმად, მძღოლი, ხოლო ამ კანონის მე-18 მუხლის პირველი პუნქტის „დ“ ქვეპუნქტით გათვალისწინებულ შემთხვევებში – საწარმო ვალდებულია ამ პუნქტით განსაზღვრულ სატრანსპორტო საშუალებებზე დაამაგროს შემდეგი საცნობი ნიშნები: „სახიფათო ტვირთი“ – 400X300 მმ ზომის, სწორკუთხედი, ნარინჯისფერი ფირფიტა გარშემო 15 მმ სიგანის შავი არშიით – ასეთი ტვირთის გადამზიდავი სატრანსპორტო საშუალების წინა და უკანა მხარეს, ხოლო ცისტერნის შემთხვევაში – გვერდებზედაც (ფირფიტის ქვედა ნაწილში უნდა აღინიშნოს ტვირთის გაერთიანებული ერების ორგანიზაციის ნომერი, ხოლო ზედა ნაწილში – საშიშროების საიდენტიფიკაციო ნომერი. ისინი უნდა გაიყოს 15 მმ სისქის შავი ჰორიზონტალური ხაზით, რომელიც ფირფიტას ნახევარ სიმაღლეზე გადაკვეთს); ამავე კანონის პირველი დანართის მე-4 თავის (მიმთითებული ნიშნები) 4.9.1-4.9.3 პუნქტების თანახმად, საგზაო ნიშნები 4.9.1–4.9.3. „სახიფათო ტვირთის გადამზიდავი სატრანსპორტო საშუალებით მოძრაობის მიმართულება“ – მიუთითებს იმ სახიფათო ტვირთის გადამზიდავი სატრანსპორტო საშუალებით ნებადართული მოძრაობის მიმართულებას, რომელიც, საქართველოს კანონმდებლობის თანახმად, აღნიშნული უნდა იყოს საცნობი ნიშნით „სახიფათო ტვირთი“: 4.9.1 – პირდაპირ, 4.9.2 – მარჯვნივ, 4.9.3 – მარცხნივ.

QUESTION 743

CORRECT ANSWER: 1



I



II



III



IV

Which of these signs marks the allowed direction of traffic for the vehicle with dangerous goods?

1

II only

2

I only

3

IV only

4

III only

განმარტება:

„საგზაო მოძრაობის შესახებ“ საქართველოს კანონის პირველი დანართის მე-4 თავის (მიმთითებული ნიშნები) 4.9.1-4.9.3 პუნქტების თანახმად, საგზაო ნიშნები 4.9.1–4.9.3. „სახიფათო ტვირთის გადამზიდავი სატრანსპორტო საშუალებით მოძრაობის მიმართულება“ – მიუთითებს იმ სახიფათო ტვირთის გადამზიდავი სატრანსპორტო საშუალებით ნებადართული მოძრაობის მიმართულებას, რომელიც, საქართველოს კანონმდებლობის თანახმად, აღნიშნული უნდა იყოს საცნობი ნიშნით „სახიფათო ტვირთი“: 4.9.1 – პირდაპირ, 4.9.2 – მარჯვნივ, 4.9.3 – მარცხნივ.

თემა 27:

ველოსიპედის, მოპედის, სატაპნე ოთხთვალის
მოძრაობა და პირუტყვის გადარეკვა

QUESTION 744

CORRECT ANSWER: 1



Which of the vehicle drivers shall be obliged to yield when driving to the arrow direction, if the motor car is coming out of the territory of petrol station?

1

Motor car driver

2

Moped rider

განმარტება:

„საგზაო მოძრაობის შესახებ“ საქართველოს კანონის 32-ე მუხლის მე-3 პუნქტის თანახმად, მიმდებარე ტერიტორიიდან გზაზე გასვლისას მძღოლი ვალდებულია გზა დაუთმოს გზაზე მოძრავ სატრანსპორტო საშუალებასა და ქვეითს, ხოლო გზიდან გადასვლისას – იმ ქვეითს, ველოსიპედისტს, მოპედისა და ორბორბლიანი ელექტროთვითმგორავის მძღოლებს, რომლებსაც გზას უჭრის.

QUESTION 745

CORRECT ANSWER: 4

During motion of the groups of pack and seat animals, as well as cartage on the driveway, in order to facilitate overtaking, the distance between the groups shall be:

1

20-40 meters

2

40-60 meters

3

60-80 meters

4

80-100 meters

განმარტება:

„საგზაო მოძრაობის შესახებ“ საქართველოს კანონის 22-ე მუხლის მე-4 პუნქტის თანახმად, სასაპალნე და დასაჯდომი პირუტყვის, აგრეთვე საჭაპანო ტრანსპორტის კოლონები გზის სავალ ნაწილზე მოძრაობისას უნდა დაიყოს ჯგუფებად, მაგრამ არაუმეტეს 10 სასაპალნე და დასაჯდომი პირუტყვისა და 5 საჭაპანო ტრანსპორტისა თითოეულში. გასწრების გასაადვილებლად ჯგუფებს შორის მანძილი უნდა იყოს 80-100 მეტრი.

QUESTION 746

CORRECT ANSWER: 2

Is the cartage drover obliged to drive the cattle with bridle, while moving from adjacent territory of the road or minor road to the place, where there is poor visibility?

1

No

2

Yes

განმარტება:

„საგზაო მოძრაობის შესახებ“ საქართველოს კანონის 22-ე მუხლის მე-5 პუნქტის თანახმად, საჭაპანო ტრანსპორტის მებრემ გზის მიმდებარე ტერიტორიიდან ან მეორეხარისხოვანი გზიდან იმ ადგილზე გასვლისას, სადაც ცუდი ხილვადობაა, პირუტყვი აღვირით უნდა ატაროს.

QUESTION 747

CORRECT ANSWER: 2

In general, cattle driving must be carried out:

1

During dark hours

2

In a daytime

3

Both in a daytime and during dark hours

განმარტება:

„საგზაო მოძრაობის შესახებ“ საქართველოს კანონის 22-ე მუხლის მე-6 პუნქტის თანახმად, პირუტყვის გზაზე გადარეკვა, როგორც წესი, უნდა განხორციელდეს დღე-ღამის ნათელ დროს.

QUESTION 748

CORRECT ANSWER: 1

Is a pedestrian allowed to walk on bicycle lane in case of absence of walkway, pavement and the edge of the road or if their use is unavailable and the traffic intensity allows this?

1

Yes

2

No

განმარტება:

„საგზაო მოძრაობის შესახებ“ საქართველოს კანონის 24-ე მუხლის მე-4 პუნქტის თანახმად, ქვეითთა ბილიკის, ტროტუარისა და გზისპირის არარსებობის ან მათი გამოყენების შეუძლებლობის შემთხვევაში ქვეითს შეუძლია გადაადგილდეს გზის სავალ ნაწილზე. თუ არსებობს ველობილიკი და მოძრაობის ინტენსივობა ამის საშუალებას იძლევა, ქვეითს უფლება აქვთ გადაადგილდეს მასზე, თუმცა არ უნდა გაართულოს ველოსიპედებისა და მოპედების მოძრაობა.

QUESTION 749

CORRECT ANSWER: 2

In case of motion of bicycles and mopeds in packs on the driveway, each group must consist of no more than:

1 5 units

2 10 units

3 15 units

განმარტება:

„საგზაო მოძრაობის შესახებ“ საქართველოს კანონის 43-ე მუხლის მე-4 პუნქტის თანახმად, ველოსიპედისა და მოპედის მძღოლებისათვის დასაშვებია კოლონად გადაადგილება. ველოსიპედებისა და მოპედების კოლონების გზის სავალ ნაწილზე მოძრაობის შემთხვევაში ისინი უნდა დაიყოს ჯგუფებად, მაგრამ არაუმეტეს 10 ერთეულისა თითოეულში. გასწრების გასაადვილებლად ჯგუფებს შორის მანძილი უნდა იყოს 80–100 მეტრი.

QUESTION 750

CORRECT ANSWER: 3

On which of the below roads is swerving or U-turn to the left prohibited?

1 On those roads only, where there are tram rails

2 On those roads only, where there is more than one lane for reverse traffic

3 On those roads, where there are tram rails, as well as more than one lane for reverse traffic

განმარტება:

„საგზაო მოძრაობის შესახებ“ საქართველოს კანონის 43-ე მუხლის მე-5 პუნქტის თანახმად, ველოსიპედისა და მოპედის მძღოლებს ეკრძალებათ მარცხნივ მოხვევა ან გზაზე მობრუნება იქ, სადაც ტრამვაის ლიანდაგია, აგრეთვე იმ გზაზე, რომელზედაც თანმხვედრი მიმართულებით მოძრაობისათვის განკუთვნილი ერთზე მეტი ზოლია.

QUESTION 751

CORRECT ANSWER: 2

On the unregulated crossing of the bicycle lane with the road beyond the intersection, towards the vehicles moving on this road the bicyclists and the moped riders:

1

Will have priority

2

Will be obliged to yield

განმარტება:

„საგზაო მოძრაობის შესახებ“ საქართველოს კანონის 43-ე მუხლის მე-6 პუნქტის თანახმად, გზაჯვარედინის მიღმა გამავალ გზასთან ველობილიკის არარეგულირებულ გადაკვეთაზე ველოსიპედისა და მოპედის მძღოლებმა გზა უნდა დაუთმონ ამ გზაზე მოძრავ სატრანსპორტო საშუალებათა მძღოლებს.

QUESTION 752

CORRECT ANSWER: 2

Are the bicycle, moped and two-wheel self-propelled electric vehicle riders prohibited from motion, if they hold the handlebar with one hand:

1

Yes

2

No

განმარტება:

„საგზაო მოძრაობის შესახებ“ საქართველოს კანონის 43-ე მუხლის მე-7 პუნქტის თანახმად, ველოსიპედის, მოპედისა და ორბორბლიანი ელექტროთვითმგორავის მძღოლებს ეკრძალებათ გადაადგილება, თუ საჭე ერთი ხელით მაინც არ უჭირავთ.

QUESTION 753

CORRECT ANSWER: 3

Door of the parked vehicle must not be opened from the side of driveway, bicycle lane or bicycle line:

1

For longer than 5 minutes

2

For longer than 15 minutes

3

For longer than the time required for passengers drop off and pick up

4

For longer than 20 minutes

განმარტება:

„საგზაო მოძრაობის შესახებ“ საქართველოს კანონის მე-20 მუხლის მე-6 პუნქტის თანახმად, აკრძალულია სატრანსპორტო საშუალების კარის გაღება მის სრულ გაჩერებამდე. კარის გაღებამ არ უნდა შეუქმნას დაბრკოლება ან საფრთხე სხვა საგზაო მოძრაობის მონაწილეებს. გზის სავალი ნაწილის, ველობილიკის ან ველოსიპედის მოძრაობის ზოლის მხარეს სატრანსპორტო საშუალების კარი არ უნდა იყოს გაღებული მგზავრთა ჩასხდომა-გადმოსხდომისთვის საჭირო დროზე მეტი ხნით. გზის სავალი ნაწილის მხარეს ან სატრანსპორტო საშუალების უკანა მხრიდან მგზავრთა ჩასხდომა-გადმოსხდომა ნებადართულია მხოლოდ იმ შემთხვევაში, თუ ეს არ შეუქმნის საფრთხეს სხვა საგზაო მოძრაობის მონაწილეებს.

QUESTION 754

CORRECT ANSWER: 1



This traffic sign marks:

1

The road for cars and motorcycles only

2

The lane for motor cars only

3

The parking location for vehicles

განმარტება:

„საგზაო მოძრაობის შესახებ“ საქართველოს კანონის პირველი დანართის მე-5 თავის (განსაკუთრებული მითითებების ნიშნები) 5.3 პუნქტის თანახმად, საგზაო ნიშანი 5.3 „საავტომობილო გზა“ - გზა, რომელიც განკუთვნილია მხოლოდ ავტომობილისა და მოტოციკლის მოძრაობისათვის.

QUESTION 755

CORRECT ANSWER: 2



This traffic sign marks:

1

End of two-way road

2

End of reversible section of the road

3

End of acceleration lane

განმარტება:

„საგზაო მოძრაობის შესახებ“ საქართველოს კანონის პირველი დანართის მე-5 თავის (განსაკუთრებული მითითებების ნიშნები) 5.9 პუნქტის თანახმად, საგზაო ნიშანი 5.9 „რევერსული მოძრაობის დასასრული“ - მიუთითებს 5.8 ნიშნით აღნიშნული გზის მონაკვეთის დასასრულს.

QUESTION 756

CORRECT ANSWER: 2



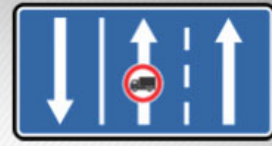
I



II



III



IV

Which of these traffic signs marks the road, on which motion of route vehicles is carried out on special lane against the total traffic current?

1

I

2

II

3

III

4

IV

განმარტება:

„საგზაო მოძრაობის შესახებ“ საქართველოს კანონის პირველი დანართის მე-5 თავის (განსაკუთრებული მითითებების ნიშნები) 5.11 პუნქტის თანახმად, საგზაო ნიშანი 5.11 „სამარშრუტო სატრანსპორტო საშუალებისათვის განკუთვნილი მოძრაობის ზოლის მქონე გზა“ - გზა, რომელზედაც სამარშრუტო სატრანსპორტო საშუალება მოძრაობს სპეციალურად გამოყოფილ ზოლზე სატრანსპორტო საშუალებათა საერთო ნაკადის საპირისპირო მიმართულებით. ნიშნის მოქმედება ვრცელდება იმ მოძრაობის ზოლზე, რომელზედაც ის დგას.

QUESTION 757

CORRECT ANSWER: 1



I



II



III



IV

Which of these traffic signs marks the territory (zone), on which the traffic rules applicable in inhabited area are effective?

1

I

2

II

3

III

4

IV

განმარტება:


„საგზაო მოძრაობის შესახებ“ საქართველოს კანონის პირველი დანართის მე-5 თავის (განსაკუთრებული მითითებების ნიშნები) 5.21 პუნქტის თანახმად, საგზაო ნიშანი 5.21 „საცხოვრებელი ზონა“ - ტერიტორიას (ზონა), სადაც მოქმედებს საცხოვრებელ ზონაში მოძრაობისათვის დადგენილი წესები. ნიშანი იდგმება საცხოვრებელი ზონის ყველა შესასვლელში.

QUESTION 758


CORRECT ANSWER: 3



I



II



III

Which of these traffic signs marks the beginning of the inhabited area, in which the orders of inhabited area traffic regulatory norms are applied?

1

I and III only

2

II and III only

3

I and II only

განმარტება:

„საგზაო მოძრაობის შესახებ“ საქართველოს კანონის პირველი დანართის მე-5 თავის (განსაკუთრებული მითითებების ნიშნები) 5.23.1 და 5.23.2 პუნქტების თანახმად, საგზაო ნიშნები: - 5.23.1 „დასახლებული პუნქტის დასაწყისი“ - მიუთითებს იმ დასახლებული პუნქტის დასაწყისს, რომელშიც მოქმედებს დასახლებულ პუნქტებში მოძრაობისათვის დადგენილი წესები. - 5.23.2 „დასახლებული პუნქტის დასაწყისი“ - მიუთითებს განაშენიანებული გზის მონაკვეთის დასაწყისს, რომელიც არ შედის რომელიმე დასახლებულ პუნქტში და რომელშიც მოქმედებს დასახლებულ პუნქტებში მოძრაობისათვის დადგენილი წესები (სააგარაკო დაბები, ცალკე მდგომი დაწესებულებები და ა. შ.).

QUESTION 759

CORRECT ANSWER: 3

სამტრედი

გურჯაანი



I

II

III

Which of these traffic signs marks the beginning of the inhabited area, which are not included in any inhabited area and where the inhabited area traffic regulatory rules are applied (cottage settlements, separate institutions, etc.)?

1

I

2

II

3

III

განმარტება:

„საგზაო მოძრაობის შესახებ“ საქართველოს კანონის პირველი დანართის მე-5 თავის (განსაკუთრებული მითითებების ნიშნები) 5.23.2 პუნქტის თანახმად, საგზაო ნიშანი 5.23.2 „დასახლებული პუნქტის დასაწყისი“ - მიუთითებს განაშენიანებული გზის მონაკვეთის დასაწყისს, რომელიც არ შედის რომელიმე დასახლებულ პუნქტში და რომელშიც მოქმედებს დასახლებულ პუნქტებში მოძრაობისათვის დადგენილი წესები (საავტოზო დაბები, ცალკე მდგომი დაწესებულებები და ა. შ.).

QUESTION 760

CORRECT ANSWER: 3



I



II



III



IV

Which of these traffic signs marks the territory, where maximum speed limit is restricted?

1

I

2

II

3

III

4

IV

განმარტება:

„საგზაო მოძრაობის შესახებ“ საქართველოს კანონის პირველი დანართის მე-5 თავის (განსაკუთრებული მითითებების ნიშნები) 5.27 და 5.29 პუნქტების თანახმად, საგზაო ნიშანი 5.31. „მაქსიმალური სიჩქარის შეზღუდვის ზონა“. აღნიშნავს ტერიტორიას, რომლის ფარგლებშიც შეზღუდულია მოძრაობის მაქსიმალური სიჩქარე.

QUESTION 761

CORRECT ANSWER: 3

Drovering on roads is allowed:

1

From the age of 12

2

From the age of 14

3

From the age of 16

განმარტება:

„საგზაო მოძრაობის შესახებ“ საქართველოს კანონის 22-ე მუხლის პირველი პუნქტის თანახმად, გზებზე სასაპალნე, შესაბმელ და დასაჯდომ, აგრეთვე გასარეკ პირუტყვს უნდა ჰყავდეს მეხრე, რომელიც მუდმივად უზრუნველყოფს მის მართვას. გზებზე მეხრეობა ნებადართულია 16 წლის ასაკიდან.

QUESTION 762

CORRECT ANSWER: 2

A drover is prohibited from:

- 1 Driving more than 5 pack cattle on the road
- 2 Driving of cattle on the railroad, except the specially designated areas
- 3 Driving of flock and herd simultaneously

განმარტება:

„საგზაო მოძრაობის შესახებ“ საქართველოს კანონის 22-ე მუხლის მე-8 პუნქტის „ბ“ ქვეპუნქტის თანახმად, მეხრეს ეკრძალება პირუტყვის გადარეკვა რკინიგზის ლიანდაგზე, ამისათვის სპეციალურად გამოყოფილი ადგილების გარდა, აგრეთვე დღე-ღამის ბნელ დროს ან არასაკმარისი ხილვადობის პირობებში (სხვადასხვა დონეზე განლაგებული გადასარეკების გარდა).

QUESTION 763

CORRECT ANSWER: 3

Identification sign „Road train” is mandatory to be fixed:

- 1 To the road train only
- 2 To the articulated bus only
- 3 Both to the road train and articulated bus

განმარტება:

„საგზაო მოძრაობის შესახებ“ საქართველოს კანონის მე-19 მუხლის პირველი პუნქტის „ა“ ქვეპუნქტის თანახმად, მძღოლი, ხოლო ამ კანონის მე-18 მუხლის პირველი პუნქტის „დ“ ქვეპუნქტით გათვალისწინებულ შემთხვევებში - საწარმო, ვალდებულია ამ პუნქტით განსაზღვრულ სატრანსპორტო საშუალებებზე დაამაგრონ შემდეგი საცნობი ნიშნები: ა) „ავტომატარებელი“ – კაბინის თავზე ჰორიზონტალურად განლაგებული, ერთმანეთისაგან 150-დან 300 მმ-დე დაშორებული, სამი ნარინჯისფერი ფარანი – მაგრდება ავტომატარებელზე და შესასრებელ ავტობუსზე.

QUESTION 764

CORRECT ANSWER: 3

Drovers of draught, pack or seat cattle or herd, routing on the driveway in dark hours, shall have following on the left side of the draught traffic:

- 1** Only on the front side – at least one white or amber selective light
- 2** Only on the rear side – at least one red light
- 3** In front – at least one white or yellow selective light, and in the back – at least one red light

განმარტება:

„საგზაო მოძრაობის შესახებ“ საქართველოს კანონის 50-ე მუხლის მე-4 პუნქტის „ბ“ ქვეპუნქტის თანახმად, სავალ ნაწილზე ღამის საათებში მოძრაობისას: ბ) შესაბამელი, სასაპალნე ან დასაჯდომი პირუტყვის ან ნახირის მეხრემ მოძრაობის მარცხენა მხრიდან უნდა იქონიოს სულ მცირე ერთი თეთრი ან ყვითელი სელექციური სინათლე წინ და ერთი წითელი სინათლე უკან ან ყვითელი შუქი წინ და უკან. ამ სინათლის წყაროდ შეიძლება გამოყენებულ იქნეს ერთი მოწყობილობა.

QUESTION 765

CORRECT ANSWER: 1



I



II



III



IV

Which of these traffic signs marks the spot of merger of the passage from other road with the highway?

1

I

2

II

3

III

4

IV

განმარტება:

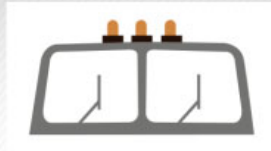
„საგზაო მოძრაობის შესახებ“ საქართველოს კანონის პირველი დანართის მე-5 თავის (განსაკუთრებული მითითებების ნიშნები) 5.36 პუნქტის თანახმად, საგზაო ნიშანი 5.36 „შერწყმის ადგილი“ - ავტომაგისტრალთან სხვა გზიდან ამოსასვლელის (გაქანების ზოლის) შერწყმის ადგილი.

QUESTION 766

CORRECT ANSWER: 2



I



II



III

Which identification sign should be fixed to road train and articulated bus?

1

I only

2

II only

3

III only

4

All of them

განმარტება:

„საგზაო მოძრაობის შესახებ“ საქართველოს კანონის მე-19 მუხლის პირველი პუნქტის „ა“ ქვეპუნქტის თანახმად, მძღოლი, ხოლო ამ კანონის მე-18 მუხლის პირველი პუნქტის „დ“ ქვეპუნქტით გათვალისწინებულ შემთხვევებში – საწარმო ვალდებულია ამ პუნქტით განსაზღვრულ სატრანსპორტო საშუალებებზე დაამაგროს შემდეგი საცნობი ნიშნები: ა) „ავტომატარებელი“ – კაბინის თავზე ჰორიზონტალურად განლაგებული, ერთმანეთისაგან 150-დან 300 მმ-მდე დაშორებული სამი ნარინჯისფერი მაშუქი – მაგრდება ავტომატარებელსა და შესასრებულ ავტობუსზე.

QUESTION 767

CORRECT ANSWER: 3



I



II



III

Which identification sign is fixed to the rear of the vehicle, which length with or without cargo exceeds 20 meters and on the road train with two or more trailers?

1

III only

2

II only

3


I only

განმარტება:

„საგზაო მოძრაობის შესახებ“ საქართველოს კანონის მე-19 მუხლის პირველი პუნქტის „ე“ ქვეპუნქტის თანახმად, მძღოლი, ხოლო ამ კანონის მე-18 მუხლის პირველი პუნქტის „დ“ ქვეპუნქტით გათვალისწინებულ შემთხვევებში – საწარმო ვალდებულია ამ პუნქტით განსაზღვრულ სატრანსპორტო საშუალებებზე დაამაგროს შემდეგი საცნობი ნიშნები: ე) „გრძელი სატრანსპორტო საშუალება“ – არანაკლებ 1200X200 მმ ზომის, ყვითელი მართკუთხედი 40 მმ სიგანის წითელი არშიით და შუქამრეკლი ზედაპირით – მაგრდება იმ არაგაბარითული (მსხვილგაბარითიანი) სატრანსპორტო საშუალების უკანა მხარეს, რომლის სიგრძე ტვირთით ან უიმისოდ აღემატება 20 მეტრს, აგრეთვე სატრანსპორტო საშუალებათა შემადგენლობაზე, რომელშიც ორი ან ორზე მეტი მისაბმელია. თუ აღნიშნული ზომის ნიშნის დამაგრება შეუძლებელია, დასაშვებია დამაგრდეს არანაკლებ 600X200 მმ ზომის ორი ერთნაირი ნიშანი სატრანსპორტო საშუალების ღერძის სიმეტრიულად.

QUESTION 768

CORRECT ANSWER: 1



Which of the vehicle drivers is obliged to yield in case of proceeding to the arrow direction?

1

Bicycle rider

2

Motor car driver

განმარტება:

„საგზაო მოძრაობის შესახებ“ საქართველოს კანონის 43-ე მუხლის მე-6 პუნქტის თანახმად, გზატკარცილის მიღმა გამავალ გზასთან ველობილიკის არარეგულირებულ გადაკვეთაზე ველოსიპედისა და მოპედის მძღოლებმა გზა უნდა დაუთმონ ამ გზაზე მოძრავ სატრანსპორტო საშუალებათა მძღოლებს.

QUESTION 769

CORRECT ANSWER: 2

If herd of cattle is crossing the driveway in front of the vehicle, a driver shall take into account, that:

1

No animal may come on the driveway after crossing of the herd

2

Single animals, left behind the herd, may come on the driveway again after crossing of the herd

განმარტება:

თუ სატრანსპორტო საშუალების წინ გზის სავალ ნაწილზე გადადის საქონლის ჯოგი, მძღოლმა უნდა გაითვალისწინოს, რომ ჯოგის გადასვლის შემდეგ გზის სავალ ნაწილზე შეიძლება გამოვიდეს ერთეული ცხოველები.

QUESTION 770

CORRECT ANSWER: 4

If an elderly pedestrian is walking on the crosswalk in front of the vehicle, a driver shall take into account:

1

The circumstance only, that he/she is walking on the driveway slower than other traffic participants

2

The circumstance only, that he/she may return from half of the way

3

The circumstance only, that he/she may lose balance and fall down

4

That any of the circumstances listed in given test may occur

განმარტება:

თუ სატრანსპორტო საშუალების წინ ქვეითთა გადასასვლელზე გადაადგილდება მოხუცი ქვეითი მძღოლმა უნდა გაითვალისწინოს, რომ ის სავალ ნაწილზე მოძრაობენ უფრო ნელა ვიდრე სხვა საგზაო მოძრაობის მონაწილეები, ასევე შეიძლება ნახევარი გზიდან მობრუნდნენ უკან და მან შეიძლება დაკარგონ წონასწორება და წაიქცნენ.

თემა 28:

საგზაო მონიშვნა

QUESTION 771

CORRECT ANSWER: 1

If orders of the traffic signs and road markings contradict each other, the driver is obliged to observe:

1

Traffic sign orders

2

Road marking orders

განმარტება:

„საგზაო მოძრაობის შესახებ“ საქართველოს კანონის 28-ე მუხლის მე-4 პუნქტის თანახმად, თუ საგზაო ნიშნებისა და საგზაო მონიშვნების მოთხოვნები ერთმანეთს ეწინააღმდეგება, მძღოლი ვალდებულია შეასრულოს საგზაო ნიშნების მოთხოვნები.

QUESTION 772

CORRECT ANSWER: 3

If traffic of the vehicles is regulated by neither traffic lights nor traffic controller, on approaching the crosswalk the driver shall:

1

Give honk and pass the crosswalk without having stopped

2

Has the right to pass the crosswalk at any speed as the one having the priority over the pedestrians

3

Reduce the speed appropriately, in order not to endanger the pedestrians entered or entering this crossing and in case of necessity to stop and give way to the pedestrians

განმარტება:

„საგზაო მოძრაობის შესახებ“ საქართველოს კანონის 25-ე მუხლის მე-2 პუნქტის „ბ“ ქვეპუნქტის თანახმად, ქვეითთა გადასასვლელზე ამ კანონის 21-ე მუხლის მე-6 პუნქტით, 33-ე მუხლის მე-2 პუნქტითა და 34-ე მუხლის მე-11 პუნქტით დადგენილ მოთხოვნათა დაცვით უნდა შესრულდეს შემდეგი მოთხოვნები: ბ) თუ სატრანსპორტო საშუალებათა მოძრაობა არ რეგულირდება არც საგზაო შუქნიშნით და არც მარეგულირებლის მეშვეობით, მძღოლმა ქვეითთა გადასასვლელთან მიახლოებისას სათანადოდ უნდა შეამციროს სიჩქარე, რათა საფრთხე არ შეუქმნას ამ გადასასვლელზე შესულ ან შემავალ ქვეითებს, ხოლო საჭიროების შემთხვევაში უნდა გაჩერდეს და გაატაროს ქვეითები.

QUESTION 773

CORRECT ANSWER: 1

The drivers, intending to drive around the route vehicle at the properly marked stop from the appropriate side of the traffic direction, shall:

1 Decrease speed and in case of necessity stop, in order to provide chance of safe pick up or drop off the passengers by the public transport

2 Increase the speed, in order to pass quickly and not to impede the process of the passenger pick up and drop off by the public transport

3 Stop at the sideway and not to move until proceeding of the public transport

განმარტება:

„საგზაო მოძრაობის შესახებ“ საქართველოს კანონის 25-ე მუხლის მე-4 პუნქტის თანახმად, მძღოლმა, რომელიც მოძრაობის მიმართულების შესაბამისი მხრიდან სათანადო წესით მონიშნულ გაჩერებაზე მყოფი სამარშრუტო სატრანსპორტო საშუალებისთვის გვერდის ავლას აპირებს, უნდა შეამციროს სიჩქარე და, აუცილებლობის შემთხვევაში, გაჩერდეს, რათა უზრუნველყოს მგზავრების საზოგადოებრივ ტრანსპორტში უსაფრთხო ჩასხდომის ან იქიდან გადმოსხდომის შესაძლებლობა.

QUESTION 774

CORRECT ANSWER: 1

In case of absence of appropriate traffic signs and road markings, number of the lanes for the vehicles without rails shall be defined by:

1 A driver himself/herself, taking width of the driveway, dimension of the vehicle and necessary interval between them into account

2 By self-government body

3 By to the law, according to which this road is considered as one-way road

განმარტება:

„საგზაო მოძრაობის შესახებ“ საქართველოს კანონის 31-ე მუხლის მე-3 პუნქტის თანახმად, ურელსო სატრანსპორტო საშუალების მოძრაობისათვის მოძრაობის ზოლების რაოდენობა განისაზღვრება საგზაო მონიშვნით ან/და 5.15.1, 5.15.2, 5.15.7 და 5.15.8 საგზაო ნიშნებით, ხოლო მისი/მათი არარსებობის შემთხვევაში – თვით მძღოლის მიერ, გზის სავალი ნაწილის სიგანის, სატრანსპორტო საშუალებების გაბარიტებისა და მათ შორის აუცილებელი ინტერვალის გათვალისწინებით.

QUESTION 775

CORRECT ANSWER: 2

A drive should drive around the safety island or pump located on the axis of the driveway of two-way road:

1

From the left side only

2


From the right side only

3

From the right or the left side

განმარტება:

„საგზაო მოძრაობის შესახებ“ საქართველოს კანონის 32-ე მუხლის მე-17 პუნქტის „ბ“ ქვეპუნქტის თანახმად, ამ მუხლით დადგენილ მოთხოვნათა გათვალისწინებით, მძღოლს შეუძლია მარჯვნიდან ან მარცხნიდან შემოუაროს იმ სავალ ნაწილზე დაყენებულ უსაფრთხოების კუნძულს, ტუმბოს ან სხვა მოწყობილობას, რომელზედაც იგი მოძრაობს, გარდა იმ შემთხვევისა, როცა: ბ) უსაფრთხოების კუნძული, ტუმბო ან სხვა მოწყობილობა ორმხრივმოძრაობიანი გზის სავალი ნაწილის ღერძზეა განლაგებული. ამ შემთხვევაში მძღოლმა უსაფრთხოების კუნძულს, ტუმბოს ან სხვა მოწყობილობას მხოლოდ მარჯვენა მხრიდან უნდა შემოუაროს.



Given additional sign (board) indicates:

- | | |
|--|---|
| <div data-bbox="97 680 177 763">1</div> <div data-bbox="194 680 758 752">Length of dangerous section of the road marked with the warning signs</div> | <div data-bbox="831 680 911 763">2</div> <div data-bbox="928 680 1490 752">Distance to the facility located on other side of the road</div> |
| <div data-bbox="97 831 177 913">3</div> <div data-bbox="194 831 758 1014">Distance from the sign to the beginning of dangerous area, before or after appliance of the appropriate limitation, until certain object existing in traffic direction</div> | |

განმარტება:

„საგზაო მოძრაობის შესახებ“ საქართველოს კანონის პირველი დანართის მე-8 თავის (დამატებითი ინფორმაციის ნიშნები (დაფები)) 8.1.1 პუნქტის თანახმად, დაფა 8.1.1 „მანძილი ობიექტამდე“ - მიუთითებს მანძილს ნიშნიდან სახიფათო მონაკვეთის დასაწყისამდე, სათანადო შეზღუდვის შემოტანის ადგილამდე ან წინ, მოძრაობის მიმართულებით არსებულ გარკვეულ ობიექტამდე (ადგილამდე).

QUESTION 777

CORRECT ANSWER: 2



I



II



III

Which of these boards indicates the end of effective zone of parking prohibition sign?

1

I

2

II

3

III

განმარტება:

„საგზაო მოძრაობის შესახებ“ საქართველოს კანონის პირველი დანართის მე-8 თავის (დამატებითი ინფორმაციის ნიშნები (დაფები)) 8.2.3 პუნქტის თანახმად, დაფა 8.2.3 „მოქმედების ზონა“ - მიუთითებს 3.27–3.30 ნიშნების მოქმედების ზონის დასასრულს.

QUESTION 778

CORRECT ANSWER: 3



I



II



III

Which of these additional information signs (boards) gives the driver information about being in effective zone of parking-stopping restriction signs?

1

III only

2

I only

3

II only

4

II and III only

განმარტება:

„საგზაო მოძრაობის შესახებ“ საქართველოს კანონის პირველი დანართის მე-8 თავის (დამატებითი ინფორმაციის ნიშნები (დაფები)) 8.2.4 პუნქტის თანახმად, დაფა 8.2.4 „მოქმედების ზონა“- მძღოლს აწვდის ინფორმაციას მისი 3.27–3.30 ამკრძალავი ნიშნების მოქმედების ზონაში ყოფნის თაობაზე.

QUESTION 779

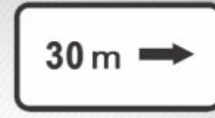
CORRECT ANSWER: 2



I



II



III

Which of these additional information signs (boards) indicates effective direction or traffic direction of the sign posted in front of the intersection to the marked facility located directly by the road?

1

I and III only

2

I only

3

II only

4

III only

განმარტება:

„საგზაო მოძრაობის შესახებ“ საქართველოს კანონის პირველი დანართის მე-8 თავის (დამატებითი ინფორმაციის ნიშნები (დაფები)) 8.3.1-8.3.3 პუნქტების თანახმად, დაფები 8.3.1-8.3.3 „მოქმედების მიმართულება“ - მიუთითებს გზაჯვარედინის წინ დადგმული ნიშნის მოქმედების მიმართულებას ან უშუალოდ გზასთან მდებარე აღნიშნული ობიექტისაკენ მოძრაობის მიმართულებას.

QUESTION 780

CORRECT ANSWER: 4



I



II



III



IV

Out of given road sign combinations, which one is applied to the lorries without a trailer total permissible load of which exceeds 3,5 t?

1

I and III

2

II and III

3

III and IV

4

II and IV

განმარტება:

„საგზაო მოძრაობის შესახებ“ საქართველოს კანონის პირველი დანართის მე-8 თავის (დამატებითი ინფორმაციის ნიშნები (დაფები)) 8.4.1-8.4.8 პუნქტებისა და ამავე პუნქტის შენიშვნის „ა“ ქვეპუნქტის თანახმად, დაფები 8.4.1–8.4.8 „სატრანსპორტო საშუალების სახეობა“ - მიუთითებს იმ სატრანსპორტო საშუალების სახეობას, რომლებზედაც ვრცელდება ნიშნის მოქმედება. დაფა 8.4.1 ნიშნის მოქმედებას ავრცელებს სატვირთო ავტომობილებზე (მისაბმელით ან მის გარეშე), რომლის ნებადართული მაქსიმალური მასა 3,5 ტ-ზე მეტია. ამავე დანართის 8.5.2. პუნქტის თანახმად დამატებითი ინფორმაციის ნიშანი (დაფა) 8.5.2. „სამუშაო დღეები“ – მიუთითებს კვირის დღეებზე, როცა მოქმედებს ნიშნები.

QUESTION 781

CORRECT ANSWER: 2



I



II



III



IV

Which combination of these traffic signs is effective on weekends and holidays?

1

III only

2

I and IV only

3

II and III only

4

I only

პანმარტივა:

„საგზაო მოძრაობის შესახებ“ საქართველოს კანონის პირველი დანართის მე-8 თავის (დამატებითი ინფორმაციის ნიშნები (დაფები)) 8.5.1 პუნქტის თანახმად, დაფა 8.5.1 „შაბათი, კვირა და სადღესასწაულო დღეები“ - მიუთითებს კვირის დღეებზე, როცა მოქმედებს ნიშნები. ამავე თავის 8.5.5-8.5.7 პუნქტების თანახმად დაფები 8.5.5–8.5.7 „მოქმედების დრო“ - მიუთითებს კვირის დღეებსა და დღე-ღამის დროზე, როცა მოქმედებს ნიშანი.

QUESTION 782

CORRECT ANSWER: 1



ორშაბათი -
პარასკევი

I



8.00-17.30

II



8.00-17.30

III



8.00-17.30

IV

Which combination of these traffic signs indicates the time, when the sign is effective?

1

II and IV only

2

I only

3

II and III only

4

III only

პანმარტეხა:

„საგზაო მოძრაობის შესახებ“ საქართველოს კანონის პირველი დანართის მე-8 თავის (დამატებითი ინფორმაციის ნიშნები (დაფები)) 8.5.2 და 8.5.3 პუნქტების თანახმად, დაფები 8.5.2 „სამუშაო დღეები“ და 8.5.3 „კვირის დღეები“ - მიუთითებენ კვირის დღეებზე, როცა მოქმედებს ნიშანი. ამავე თავის 8.5.5-8.5.7 პუნქტების თანახმად დაფები 8.5.5-8.5.7 „მოქმედების დრო“ - მიუთითებს კვირის დღეებსა და დღე-ღამის დროზე, როცა მოქმედებს ნიშანი.

QUESTION 783

CORRECT ANSWER: 3



ორშაბათი -
პარასკევი

I



ორშაბათი
8.30-9.30

II



III



*
8.00-17.30

IV

Which combination of these traffic signs indicates the weekdays and time of the day and night, when this sign is effective?

1

III only

2

IV only

3

II and IV only

4


I only

განმარტება:

„საგზაო მოძრაობის შესახებ“ საქართველოს კანონის პირველი დანართის მე-8 თავის (დამატებითი ინფორმაციის ნიშნები (დაფები)) 8.5.5-8.5.7 პუნქტების თანახმად დაფები 8.5.5-8.5.7 „მოქმედების დრო“ - მიუთითებს კვირის დღეებსა და დღე-ღამის დროზე, როცა მოქმედებს ნიშანი.

QUESTION 784

CORRECT ANSWER: 1



In the present situation, which of the drivers is prohibited from U-turning of the vehicle to the arrow direction?

1

Motorcyclist only

2

White car driver only

3


None of them

განმარტება:

„საგზაო მოძრაობის შესახებ“ საქართველოს კანონის მე-2 დანართის პირველი თავის (ჰორიზონტალური მონიშვნა) 1.11 პუნქტის თანახმად, საგზაო მონიშვნა 1.11 ყოფს საპირისპირო ან იმავე მიმართულებით მოძრავ სატრანსპორტო ნაკადებს გზის მონაკვეთზე, სადაც გადაჯგუფება ნებადართულია მხოლოდ ერთი ზოლიდან; აღნიშნავს მობრუნების ადგილს, სადგომი მოედნიდან გამოსასვლელსა და შესასვლელს და ა. შ., სადაც მოძრაობა ნებადართულია მხოლოდ ერთ მხარეს. 1.11 ხაზის გადაკვეთა ნებადართულია წყვეტილი ხაზის მხრიდან, ასევე უწყვეტი ხაზის მხრიდან, მაგრამ მხოლოდ გასწრების ან შემოვლის დამთავრებისას.

QUESTION 785

CORRECT ANSWER: 3



In the present situation, which of the drivers is prohibited from U-turning of the vehicle to the arrow direction?

1

Yellow car driver only

2

Red car driver only

3

None of them

განმარტება:

„საგზაო მოძრაობის შესახებ“ საქართველოს კანონის მე-2 დანართის პირველი თავის (ჰორიზონტალური მონიშვნა) 1.11 პუნქტის თანახმად, საგზაო მონიშვნა 1.5. ყოფს საპირისპირო მიმართულებით მოძრავ სატრანსპორტო ნაკადებს გზაზე, რომელსაც მოძრაობის ორი ან სამი ზოლი აქვს; აღნიშნავს მოძრაობის ზოლის საზღვარს ერთი მიმართულებით მოძრაობისათვის განკუთვნილი ორი ან ორზე მეტი ზოლის არსებობისას. 1.5 ხაზის გადაკვეთა ნებადართულია ნებისმიერი მხრიდან.

QUESTION 786

CORRECT ANSWER: 2



Signs on the driveway point to:

1

Distance to the nearest inhabited area

2

Road (route) number

3


Traffic lanes designated for the route vehicles of appropriate number

განმარტება:

„საგზაო მოძრაობის შესახებ“ საქართველოს კანონის მე-2 დანართის პირველი თავის (ჰორიზონტალური მონიშვნა) 1.22 პუნქტის თანახმად, საგზაო მონიშვნა 1.22 აღნიშნავს გზის (მარშრუტის) ნომერს.

QUESTION 787

CORRECT ANSWER: 1



Yellow marking on the driveway means:

1

Route vehicle stop and taxi park

2

Waiting location for long-term rest purpose

განმარტება:

„საგზაო მოძრაობის შესახებ“ საქართველოს კანონის მე-2 დანართის პირველი თავის (ჰორიზონტალური მონიშვნა) 1.17 პუნქტის თანახმად, საგზაო მონიშვნა 1.17 ყვითელი ხაზი აღნიშნავს სამარბრუტო სატრანსპორტო საშუალების გაჩერების ადგილს და ტაქსის სადგომს.

QUESTION 788

CORRECT ANSWER: 2



Lateral marking on the driveway marks the place, where:

1

Pedestrian path crosses driveway

2

Bicycle lane crosses driveway

განმარტება:

„საგზაო მოძრაობის შესახებ“ საქართველოს კანონის მე-2 დანართის პირველი თავის (ჰორიზონტალური მონიშვნა) 1.15 პუნქტის თანახმად, საგზაო მონიშვნა 1.15 აღნიშნავს ადგილს, სადაც ველობილიკი კვეთს გზის სავალ ნაწილს.

QUESTION 789

CORRECT ANSWER: 3



Double dash line on driveway marks:

1

Bicycle lanes on driveway

2

Place, where a driver must stop in case of necessity

3

Bounds of lanes of reversely-regulated traffic

ბანმარტეზა:

„საგზაო მოძრაობის შესახებ“ საქართველოს კანონის მე-2 დანართის პირველი თავის (ჰორიზონტალური მონიშვნა) 1.9 პუნქტის თანახმად, საგზაო მონიშვნა 1.9 აღნიშნავს რევერსულად მოწესრიგებული მოძრაობის ბოლის საზღვარს; ყოფს საპირისპირო მიმართულებით მოძრავ სატრანსპორტო ნაკადებს (როდესაც გამორთულია რევერსული შუქნიშანი) გზაზე, რომელიც რევერსულად წესრიგდება.

QUESTION 790

CORRECT ANSWER: 3



Sign on driveway - "BUS" - points to special lane, designated for:

1

Low-speed vehicles

2

Bicycles and mopeds

3

Route vehicles

განმარტება:

„საგზაო მოძრაობის შესახებ“ საქართველოს კანონის მე-2 დანართის პირველი თავის (ჰორიზონტალური მონიშვნა) 1.23 პუნქტის თანახმად, საგზაო მონიშვნა 1.23 აღნიშნავს სპეციალურ ზოლს, რომელიც განკუთვნილია სამარშრუტო სატრანსპორტო საშუალების მოძრაობისათვის.

QUESTION 791

CORRECT ANSWER: 2



Arrow-shaped marking in the middle of traffic lane on the driveway warns about:

1

Approaching the road section with dangerous turning

2

Approaching the narrow area of the driveway, a section, where the number of lanes in this direction is reduced

განმარტება:

„საგზაო მოძრაობის შესახებ“ საქართველოს კანონის მე-2 დანართის პირველი თავის (ჰორიზონტალური მონიშვნა) 1.19 პუნქტის თანახმად, საგზაო მონიშვნა 1.19 იძლევა გაფრთხილებას სავალი ნაწილის შევიწროებასთან, იმ მონაკვეთთან, სადაც მცირდება მოცემული მიმართულებით მოძრაობის ზოლების რაოდენობა, ან საპირისპირო მიმართულებით მოძრაობის სატრანსპორტო ნაკადების გამყოფ 1.1 ან 1.11 მონიშვნასთან მიახლოების თაობაზე. 1.19 მონიშვნა პირველ შემთხვევაში შეიძლება გამოყენებულ იქნეს 1.21.1–1.21.3 ნიშნებთან ერთად.

QUESTION 792

CORRECT ANSWER: 2



Vertical marking drawn on the bridge points to:

1

Number of lanes on the driveway

2

Lower part of tunnels, bridges, underpasses and other elements, located at a height less than 5 meters above the driveway and under which driveway is completely or partially passed

განმარტება:

„საგზაო მოძრაობის შესახებ“ საქართველოს კანონის მე-2 დანართის მე-2 თავის (ვერტიკალური მონიშვნა) 2.2 პუნქტის თანახმად, საგზაო მონიშვნა 2.2 - აღნიშნავს გვირაბის, ხიდის, გზაგამტარისა და სხვა ნაგებობის ელემენტის ქვედა ნაპირს, რომელიც განთავსებულია გზის სავალი ნაწილიდან 5 მეტრზე ნაკლებ სიმაღლეზე და რომლის ქვეშ მთლიანად ან ნაწილობრივ გადის გზის სავალი ნაწილი.

თემა 29:

სამედიცინო დახმარება

QUESTION 793

CORRECT ANSWER: 4

For assessment of the state of the injured person after a traffic accident, first of all it is necessary to:

1

Open airway and control respiration only

2

Check consciousness only

3

Check pulsation on carotid artery only

4

Both open airway and control respiration, as well as check pulsation on carotid artery and consciousness.

განმარტება:

მნიშვნელოვანია დაზარალებულის მდგომარეობა სწრაფად და მართებულად შეფასდეს. პირველი ეტაპი არის ცნობიერების შემოწმება (არის თუ არა დაზარალებული გონზე). მეორე ეტაპი - სასუნთქი გზების გახსნა მესამე ეტაპი - სუნთქვის კონტროლი. მეოთხე ეტაპი - საძილე არტერიაზე პულსაციის შემოწმება.

QUESTION 794

CORRECT ANSWER: 3

If an injured has second-degree skin burn after a traffic accident (disruption of skin tissue and red coloring, formation of blisters on the burnt area, severe pain), following measures shall be applied as first aid:

- 1 Wash over burnt surface with cold water, cleanse with iodine solution, apply bactericidal or clean band and fix with bandage
- 2 Open blisters, cleanse burnt surface from cloth remnants, apply bactericidal or clean band, give some water
- 3 Do not open blisters, do not cleanse burnt surface from cloth remnants, put a sterile band on the wound, do not fix with bandage, put ice or cold band, give analgesic drug (if the injured does not have allergy to it) and give some water to the injured

განმარტება:

თუ საგზაო-სატრანსპორტო შემთხვევის შედეგად დაშავებულს აღენიშნება კანის მე-2 ხარისხის დამწვრობა (კანის ქსოვილის დარღვევა და მოწითალო შეფერილობა, დამწვრობის ადგილზე სითხით შევსებული ბუშტების წარმოქმნა, ძლიერი ტკივილი) პირველადი სამედიცინო დახმარების აღმოჩენის მიზნით მას ბუშტები არ უნდა გავუხსნათ, ტანსაცმლის ნარჩენები დამწვარი ზედაპირიდან არ მოვაცილოთ, ჭრილობაზე დავადოთ სტერილური საფენი, ბინტით არ შევეხვიოთ, მივადოთ ყინული ან ცივი საფენი, მივცეთ ტკივილგამაყუჩებელი საშუალება (თუ დაშავებულს მის მიმართ ალერგია არ გააჩნია) და დაშავებულს დავალევინოთ წყალი.

QUESTION 795

CORRECT ANSWER: 3

If an injured person is not breathing and has no pulsation on carotid artery after a traffic accident, following measures shall be applied as first aid:

1

Artificial respiration only

2

Indirect cardiac massage only

3

Both of them

განმარტება:

თუ დაზარალებულს არ აღენიშნება სუნთქვა და პულსაცია საძილე არტერიაზე, მას უნდა ჩაუტარდეს ხელოვნური სუნთქვა და გულის არაპირდაპირი მასაჟი (ორი ჩაბერვა და 30 გულის მასაჟი, ჯამში უნდა გამოვიდეს გულის მასაჟი ერთ წუთში 100).

QUESTION 796

CORRECT ANSWER: 1

If an injured person is not breathing and has no pulsation on carotid artery after a traffic accident, following measures shall be applied as first aid:

1

Artificial respiration only

2

Indirect cardiac massage only

3

Both of them

განმარტება:

თუ დაზარალებული არ სუნთქავს, მაგრამ აღენიშნება პულსაცია საძილე არტერიაზე, მას უნდა ჩაუტარდეს მხოლოდ ხელოვნური სუნთქვა, ერთი ჩასუნთქვა ყოველ 6 წამში, მანამ ვიდრე არ აღუდგება სპონტანური სუნთქვა.

QUESTION 797

CORRECT ANSWER: 1

If there is a doubt on neck or spine injury of the person injured in an accident and his/her life is in danger, how the injured may be moved by dragging without another person (by one person only)?

1

In sitting position, we should slip the arms under the shoulders of the injured from the back, fix lower jaw and neck and move back by dragging

2

In sitting position, we should stand between the legs of the injured, slip the arms under his/her shoulders and grasp on the back. Raise the legs and move the injured back by dragging

განმარტება:

დამხმარეს გარეშე დაზავებულის გადათრევით გადაადგილება კისრის ან ხერხემლის დაზიანების ეჭვის შემთხვევაში, თუ მის სიცოცხლეს საფრთხე ემუქრება უნდა მოხდეს შემდეგნაირად - მოათავსეთ დაზავებული მჯდომარე პოზიციაში. დადებით დაზავებულის ზურგს უკან, მკლავები მხრებქვეშ შეუცურეთ, დავაფიქსიროთ ქვედა ყბა და კისერი და ისე გადათრევით გადავაადგილოთ უკან.

QUESTION 798

CORRECT ANSWER: 3

How can be an injured person transported in case of wound in abdomen after an accident?

1

In side lying position with bent knees

2

In semi-sitting position with straightened feet

3

In supine position with bent knees

4

In sitting position

განმარტება:

მუცლის არეში მიღებული ჭრილობის დროს დაზავებულის ტრანსპორტირება უნდა მოხდეს ზურგზე დაწოლილი მდგომარეობაში მუხლებში მოხრილი ფეხებით.

QUESTION 799

CORRECT ANSWER: 3

In order to provide first aid to the injured in case of fainting after an accident:

- 1 Lay him/her down on side with bent knees
- 2 Lay him/her in supine position, put the pillow under the head and get him/her to smell liquid ammonia
- 3 Lay him/her in supine position with feet raised, get him/her to smell liquid ammonia and rub temples with cologne (or liquid containing other alcohol)

განმარტება:

გულის წასვლის შემთხვევაში დაზარალებული უნდა დავაწვინოთ ზურგზე, ფეხები წამოუწიოთ. ვასუნთქოთ ნიშადურის სპირტი, საფეთქლები დავუბილოთ ადეკოლონით (ან სხვა სპირტის შემცველი სითხით).

QUESTION 800

CORRECT ANSWER: 2

What position is allowed while transporting a person injured after an accident with brain concussion?

- 1 Supine position, as well as put the pillow under neck and waist area
- 2 Side lying position

განმარტება:

თავის ტვინის შერყევის შემთხვევაში დაშავებული უნდა დავაწვინოთ გვერდზე და გადავიყვანოთ ასეთ მდგომარეობაში უახლოეს სამედიცინო დაწესებულებაში.

QUESTION 801

CORRECT ANSWER: 3

What position is allowed while transporting a person injured after an accident with perforation wound on chest?

1

Lying down on stomach

2

In supine position

3

Lying down on healthy side or in semi-sitting position

განმარტება:

დაშავებულის გულმკერდის გამჭოლი ჭრილობით ტრანსპორტირება შეიძლება ჯანმრთელ გვერდზე დანოლილ ან ნახევრადმჯდომარე მდგომარეობაში.

QUESTION 802

CORRECT ANSWER: 1

In case of one hand injury after an accident, we must take custom or suit off the injured person:

1

First from healthy and then from injured hand

2

First from injured and then from healthy hand

3

Simultaneously from both hands

განმარტება:

ერთი ხელის დაზიანების შემთხვევაში დაშავებულს პიჯაკი ან პერანგი ჯერ უნდა გავხადოთ ჯანსაღ, ხოლო შემდეგ დაშავებულ ხელზე.

QUESTION 803

CORRECT ANSWER: 3

In order to give first aid in case of traumatic shock after an accident, the injured person shall:

1 Be given analgesic drug, lay in supine position, put closely rolled bands or cloths under the head

2 Take the cloths off, give analgesic drug, put cold bands on forehead

3 In case of necessity, stop bleeding, put warmers; if you do not doubt any injury of internal organs of abdomen, give him/her some warm water

განმარტება:

ტრამეული შოკის დროს დაზარებულს უნდა გაეწიოს შემდეგი პირველადი სამედიცინო დახმარება - აუცილებლობის შემთხვევაში შევაჩეროთ სისხლდენა, დავათაროთ სათბურები, თუ არ ვეჭვობთ მუცლის ღრუს შიდა ორგანოების დაზიანებას - დავალეწინოთ თბილი სასმელი.

QUESTION 804

CORRECT ANSWER: 1

Signs of bleeding from large artery of an individual injured after an accident are as follows:

1 Cloths are saturated with scarlet blood, bleeding from wound by pulsed stream

2 Cloths are quickly saturating with dark blood, bleeding from wound by weak stream

3 Cloths are saturated with blood only on site of wound, bleeding from wound by weak stream

განმარტება:

არტერიის დაზიანების დროს სისხლს აქვს ღია-ალისფერი და ჭრილობიდან გამოედინება პულსირებული ნაკადით. არტერიული სისხლდენა საშიშია სიცოცხლისათვის, განსაკუთრებით მსხვილი არტერიის დაზიანებისას, რადგა დაზარალებულმა დროის მოკლე მონაკვეთში შეიძლება დაკარგოს დიდი რაოდენობის სისხლი.

QUESTION 805

CORRECT ANSWER: 2

The signs of venous hemorrhage from wound of an individual injured after a traffic accident are as follows:

- 1** Cloths are saturated with scarlet blood, bleeding from wound by pulsed stream
- 2** Cloths are quickly saturating with dark blood, bleeding from wound by weak stream

პანმარტივა:

ჭრილობიდან ვენური სისხლდენის დამახასიათებელია მექი-ალუბლისფერი სისხლის სუსტი ნაკადი. აუცილებელია მჭიდრო სახვევის დადება უშუალოდ ჭრილობის ადგილზე. სახვევის ქვედა ფენის სისხლით გაჟღენთვისას, ის არ უნდა მოცილდეს და უნდა დაემატოს ახალი სახვევი.

QUESTION 806

CORRECT ANSWER: 1

In case of extremities injury after an accident, tourniquet for stopping arterial bleeding should be put on:

- 1** Above the site
- 2** Below the site
- 3** On the site

პანმარტივა:

საგზაო-სატრანსპორტო შემთხვევის შედეგად დაშავებულის კიდურების დაზიანების შემთხვევაში არტერიული სისხლდენის შემაჩერებელი ლახტი უნდა დავადოთ ჭრილობის ადგილის ზემოთ.

QUESTION 807

CORRECT ANSWER: 2

If material for making first-aid strip in case of leg-bone fracture after an accident is unavailable, it is essential to:

- 1 Apply the bandage on the whole leg
- 2 Tighten injured and healthy legs firmly together with bandage and put soft cloth between the legs

განმარტება:

საგზაო-სატრანსპორტო შემთხვევის შედეგად დაზარალებულის ფეხის ძვლის მოტეხილობის შემთხვევაში, თუ არა გვაქვს არტაშანის დასამზადებელი მასალა დაზარალებულს დაზიანებული და ჯანმრთელი ფეხი უნდა დავამაგროთ ერთმანეთს ბინტის სახვევის გამოყენებით. ამასთან აუცილებელია ფეხებს შორის ჩავუდოთ რბილი ქსოვილი.

QUESTION 808

CORRECT ANSWER: 1

In case of pelvis and thigh-bone fracture of a person injured after an accident, until arrival of ambulance:

- 1 Lay him/her in supine position, put tightly rolled spreading or some clothes under his/her knees and give some analgesic drugs
- 2 Lay him/her on uninjured side, put cold spreading on injured site and give some analgesic drugs

განმარტება:

მენჯისა და ბარძაყის ძვლის მოტეხილობის შემთხვევაში „სასწრაფო სამედიცინო დახმარების“ მოსვლამდე დაზარალებული უნდა დავანვინოთ ზურგზე მუხლებ ქვეშ ამოვუდოთ მჭიდროდ დახვეული საფენი ან ტანსაცმელი, მივცეთ ტკივილგამაყუჩებელი საშუალება.

QUESTION 809

CORRECT ANSWER: 3

In which case is it appropriate to take the person injured after an accident from the vehicle compartment?

- 1 Any time in case of loss of consciousness
- 2 In case of lower extremity fractures of the injured
- 3 When the injured has lost consciousness and is not breathing and there is no pulsation on the carotid artery

განმარტება:

საგზაო-სატრანსპორტო შემთხვევის შედეგად დაშავებულის ავტომობილის კაბინიდან გადმოყვანა მიზანშეწონილია, როცა დაშავებულს გონება აქვს დაკარგული და არ აღენიშნება სუნთქვა და პულსაცია საძილე არტერიაზე.

QUESTION 810

CORRECT ANSWER: 2

Symptoms of cervical vertebra trauma without spinal cord damage of an injured after an accident are as follows:

- 1 Injured person can not move upper limbs, has heavy breathing
- 2 Injured person has pain in neck and back areas, pain is increasing during touching

განმარტება:

საგზაო-სატრანსპორტო შემთხვევის შედეგად დაშავებულის ზურგის ტვინის დაზიანებლად კისრის ხერხემლის მალეების ტრავმების სიმპტომებია - ტკივილი კისრისა და ზურგის არეში. ტკივილი მატულობს ხელით შეხებისას.

QUESTION 811

CORRECT ANSWER: 4

If an injured gets neck or spine injury after a traffic accident or there is the doubt of its injury, following is not allowed:

- | | |
|--|--|
| <div style="background-color: #f0f0f0; padding: 10px; border: 1px solid #ccc; margin-bottom: 10px;"> 1 Motion of head and neck of the injured only </div> | <div style="background-color: #f0f0f0; padding: 10px; border: 1px solid #ccc; margin-bottom: 10px;"> 2 Touching the wound of the injured only </div> |
| <div style="background-color: #f0f0f0; padding: 10px; border: 1px solid #ccc;"> 3 Correction of bone ends and removal of foreign bodies from the injured </div> | <div style="background-color: #f0f0f0; padding: 10px; border: 1px solid #ccc;"> 4 Motion of head and neck of the injured, as well as touching his/her wound and correction of bone ends and removal of foreign bodies from the injured </div> |

განმარტება:

საგზაო-სატრანსპორტო შემთხვევის შედეგად დაშავებულის კისრის ან ხერხემლის დაზიანებისას ან მასზე ეჭვის მიტანისას არ შეიძლება: - დაზარალებულისთვის თავისა და კისრის მოძრაობა; - ჭრილობაზე შეხება; - ძვლის ნამსხვრევების ჩასწორება; - უცხო სხეულების მოცილება.

QUESTION 812

CORRECT ANSWER: 2

In case of spine injury after an accident, the injured shall be:

- | | |
|---|--|
| <div style="background-color: #f0f0f0; padding: 10px; border: 1px solid #ccc; margin-bottom: 10px;"> 1 Laid on the side, on flat and hard surface and put pillow under the neck </div> | <div style="background-color: #f0f0f0; padding: 10px; border: 1px solid #ccc;"> 2 Laid on the back, on flat and hard surface and put pillow under the neck and lumbar area </div> |
|---|--|

განმარტება:

საგზაო-სატრანსპორტო შემთხვევის შედეგად დაშავებულის ხერხემლის დაზიანების დროს დაშავებული უნდა დავანჯინოთ ზურგზე, სწორ და მაგარ ზედაპირზე და ამოვუდოთ ბალიში კისრისა და წელის არეში.

QUESTION 813

CORRECT ANSWER: 2

If an injured gets spine injury after a traffic accident, he/she must be transported as follows:

1

In side lying position, on flat and hard surface

2

In supine position, on flat and hard surface

3

In sitting position, on flat and hard surface

ბანმარტეზა:

ყველაზე საშიშია დაზიანებული ხერხემლით დაშავებულის ტრანსპორტირება. ხერხემლის ოდნავ გადაადგილებამ შეიძლება გამოიწვიოს ზურგის ტვინის განწყვეტა, ამიტომ თუ ეჭვი გვეპარება დაშავებულის ხერხემლის დაზიანებაზე, აკრძალულია მისი დაჯდომა ან ფეხზე დგომა. უპირველეს ყოვლისა აუცილებელია დავანწინოთ სწორ და მაგარ ზედაპირზე (ხის დაფა, ფიცარი და სხვა მსგავსი). იგივე საგნები გამოიყენება ტრანსპორტირებისათვის.

QUESTION 814

CORRECT ANSWER: 3

In case of arterial hemorrhage, life-threatening amount of blood may be lost:

1

During 2-5 minutes

2

During 5-10 minutes

3

After 10-15 minutes

ბანმარტეზა:

დაშავებულის სიცოცხლისათვის საშიში სისხლის რაოდენობა არტერიული სისხლდენის დროს შეიძლება დაიკარგოს 10-15 წთ-ის შემდეგ.

QUESTION 815

CORRECT ANSWER: 2

In case of coverlet and muscular tissue injury after an accident, for providing the first aid, following measures must be carried out to the injured person:

- 1 Apply iodine solution on the wound
- 2 Cleanse wound around with iodine solution and apply bactericidal band (if it is unavailable, clean band)
- 3 Free muscular tissue from foreign bodies and apply bactericidal band

განმარტება:

საგზაო-სატრანსპორტო შემთხვევის შედეგად დაშავებულის კანის საფარველისა და კუნთოვანი ქსოვილის დაზიანების შემთხვევაში ჭრილობა უნდა დამუშავდეს გარშემო იოდის ხსნარით და დაედოს ბაქტერიციდული საფენი (მისი არ ქონის შემთხვევაში დაედოს სუფთა საფენი).

QUESTION 816

CORRECT ANSWER: 2

What kind of bandage is used in case of ankle-joint injury after an accident?

- 1 Spiral reverse bandage
- 2 Cross bandage
- 3 Catapult bandage

განმარტება:

საგზაო-სატრანსპორტო შემთხვევის შედეგად დაშავებულის წვივ-ტერფის სახსრის დაზიანებისას გამოიყენება რვიანისებური სახვევი.

QUESTION 817

CORRECT ANSWER: 1

If a person injured after an accident has clavicular bone fracture, he/she must be transported:

1

In sitting position

2

In side lying position

3

In supine position

4

Lying down on stomach

განმარტება:

საგზაო-სატრანსპორტო შემთხვევის შედეგად დაშავებულის ტრანსპორტირება ლავინის ძვლის მოტეხილობის დროს უნდა მოხდეს მჯდომარე მდგომარეობაში.

QUESTION 818

CORRECT ANSWER: 2

In case of loss of consciousness for skull and brain injury after an accident, it is necessary to:

1

Lay the injured in sitting position

2

Lay the injured on the side

3

Lay the injured on the back

განმარტება:

საგზაო-სატრანსპორტო შემთხვევის შედეგად დაშავებულის თავის ქალისა და ტვინის დაზიანების გამო, გონების დაკარგვის შემთხვევაში დაშავებული უნდა დავანვინოთ გვერდზე.

QUESTION 819

CORRECT ANSWER: 3

Areas of skin damaged by sulfuric acid after an accident must be:

1

Cleansed with alcohol

2

Treated with iodine solution

3

Washed over with larged amount of water

განმარტება:

საგზაო-სატრანსპორტო შემთხვევის შედეგად დაზარალებულს გოგირდის მჟავით დაზიანებული კანის უბნები უნდა გადაერეცხოს წყლის უხვი რაოდენობით.

QUESTION 820

CORRECT ANSWER: 1

During shin bone fracture after an accident, an injured must be immobilized:

1

From both sides from the foot to the middle of the thigh

2

From the outer side from the foot to the pelvis

განმარტება:

საგზაო-სატრანსპორტო შემთხვევის შედეგად დაზარალებულის წვივის ძვლების მოტეხილობის დროს დაზარალებულ ფეხზე არტაშანი უნდა დაედოს ორივე მხრიდან ტერფიდან შუა ბარძაყამდე.

QUESTION 821

CORRECT ANSWER: 1

Is it necessary to mark the exact time of appliance of hemorrhage stopping tourniquet on the limbs of a person injured after an accident?

1

Yes

2

No

განმარტება:

საგზაო-სატრანსპორტო შემთხვევის შედეგად დაშავებულის სისხლდენის შემაჩერებელი ლახტი დადება მიზანშეწონილია კიდურის იმ ნაწილში, სადაც მხოლოდ ერთი ძვალია (მხარი, ბარძაყი). ლახტი არ იდება უშუალოდ კანზე: მის ქვეშ აუცილებლად უნდა მოთავსდეს ბამბა, ნაჭერი, ტანსაცმელი. სწორად დადებისას ჭრილობიდან წყდება სისხლდენა, პერიფერიაზე ქრება პულსაცია. აუცილებლად უნდა აღინიშნოს ლახტის დადების ზუსტი დრო.

QUESTION 822

CORRECT ANSWER: 2

In case of injury of shin bone after an accident, arterial hemorrhage stopping tourniquet must be applied:

1

To ankle, above the wound

2

To thigh-bone

განმარტება:

საგზაო-სატრანსპორტო შემთხვევის შედეგად დაშავებულის წვივის ძვლის დაზიანების შემთხვევაში არტერიული სისხლდენის შემაჩერებელი ლახტი უნდა დავადოთ ბარძაყზე.

QUESTION 823

CORRECT ANSWER: 1

If an injured person is not breathing, but has pulsation on carotid artery after a traffic accident, interval of checking the pulse should be?

1

Once in every 2 minutes

2

Once in every 5 minutes

3

Once in every 6 minutes

განმარტება:

თუ საგზაო-სატრანსპორტო შემთხვევის შედეგად დაშავებული არ სუნთქავს, მაგრამ აღენიშნება პულსი საძილე არტერიაზე, ყოველ 2 წუთში ერთხელ უნდა მოხდეს პულსის შემოწმება.

QUESTION 824

CORRECT ANSWER: 1

Is a traffic accident participant driver obliged to provide first aid to a person injured after an accident?

1

Yes

2

Is not obliged only in case, if he/she calls medical emergency service

3

Is obliged only in case, if he/she is a doctor

4

No

განმარტება:

„საგზაო მოძრაობის შესახებ“ საქართველოს კანონის 27-ე მუხლის პირველი პუნქტის „ე“ ქვეპუნქტის თანახმად, საგზაო-სატრანსპორტო შემთხვევაში მონაწილე მძღოლი ვალდებულია: ე) მიიღოს საჭირო ზომები, რათა პირველადი სამედიცინო დახმარება აღმოუჩინოს საგზაო-სატრანსპორტო შემთხვევის შედეგად დაშავებულს, გამოიძახოს სასწრაფო სამედიცინო დახმარება, გადაუდებელი აუცილებლობის შემთხვევაში დაშავებული გაგზავნოს უახლოეს სამკურნალო დაწესებულებაში გზად მიმავალი სხვა სატრანსპორტო საშუალებით, ხოლო თუ ეს შეუძლებელია – თავად წაიყვანოს იგი, გარდა იმ შემთხვევისა, როდესაც არსებობს საფუძვლიანი ეჭვი, რომ გადაყვანამ შეიძლება ზიანი მიაყენოს დაშავებულს.

QUESTION 825

CORRECT ANSWER: 2

In case of urgency of taking an insured to the medical institution after an accident, a traffic accident participant driver is obliged:

1 To wait for the patrol police official on the accident scene and to take the injured to the medical institution only after his/her approval

2 To send the injured to the nearest medical institution by another vehicle routing on the road and if this is unavailable, to carry out the above action by himself/herself

განმარტება:

„საგზაო მოძრაობის შესახებ“ საქართველოს კანონის 27-ე მუხლის პირველი პუნქტის „ე“ ქვეპუნქტის თანახმად, საგზაო-სატრანსპორტო შემთხვევაში მონაწილე მძღოლი ვალდებულია: ე) მიიღოს საჭირო ზომები, რათა პირველადი სამედიცინო დახმარება აღმოუჩინოს საგზაო-სატრანსპორტო შემთხვევის შედეგად დაშავებულს, გამოიძახოს სასწრაფო სამედიცინო დახმარება, გადაუდებელი აუცილებლობის შემთხვევაში დაშავებული გაგზავნოს უახლოეს სამკურნალო დაწესებულებაში გზად მიმავალი სხვა სატრანსპორტო საშუალებით, ხოლო თუ ეს შეუძლებელია – თავად წაიყვანოს იგი, გარდა იმ შემთხვევისა, როდესაც არსებობს საფუძვლიანი ეჭვი, რომ გადაყვანამ შეიძლება ზიანი მიაყენოს დაშავებულს.

QUESTION 826

CORRECT ANSWER: 3

In which of the below cases is not a traffic accident participant driver obliged to take an injured after an accident to the medical institution?

1 If it is obvious that the accident did not occur through his/her (driver's) fault

2 If motion of his/her vehicle destroys the traces, which might be useful for definition of liability

3 In case of grounded doubt that the travel may damage the injured

4 In any case listed in given test

განმარტება:

„საგზაო მოძრაობის შესახებ“ საქართველოს კანონის 27-ე მუხლის პირველი პუნქტის „ე“ ქვეპუნქტის თანახმად, საგზაო-სატრანსპორტო შემთხვევაში მონაწილე მძღოლი ვალდებულია: ე) მიიღოს საჭირო ზომები, რათა პირველადი სამედიცინო დახმარება აღმოუჩინოს საგზაო-სატრანსპორტო შემთხვევის შედეგად დაშავებულს, გამოიძახოს სასწრაფო სამედიცინო დახმარება, გადაუდებელი აუცილებლობის შემთხვევაში დაშავებული გაგზავნოს უახლოეს სამკურნალო დაწესებულებაში გზად მიმავალი სხვა სატრანსპორტო საშუალებით, ხოლო თუ ეს შეუძლებელია – თავად წაიყვანოს იგი, გარდა იმ შემთხვევისა, როდესაც არსებობს საფუძვლიანი ეჭვი, რომ გადაყვანამ შეიძლება ზიანი მიაყენოს დაშავებულს.

QUESTION 827

CORRECT ANSWER: 2

In case of ribs and breastbone fracture after an accident, an injured must be transported:

1

In side lying position

2

In sitting or semi-sitting position

3

In supine position

განმარტება:

საგზაო-სატრანსპორტო შემთხვევის შედეგად დაშავებულის ნეკნებისა და მკერდის ძვლის მოტეხილობის დროს დაშავებულის ტრანსპორტირება უნდა მოხდეს მჭიდროდ ან ნახევარმჭიდროდ მდგომარეობაში.

QUESTION 828

CORRECT ANSWER: 3

In order to stop nasal haemorrhage, a person injured after an accident must be:

1

Laid in semi-sitting position, put the head back and put cold band on nose

2

Laid in side position, put cold band on the nose

3

Laid in semi-sitting position, lower his/her head towards the breast and put cold band on the nose

განმარტება:

საგზაო-სატრანსპორტო შემთხვევის შედეგად დაშავებულის ცხვირიდან სისხლდენის შესაჩერებლად დაშავებული უნდა დავსვათ ნახევარმჭიდროდ მდგომარეობაში, მკერდისკენ თავის დახრით გამოვრიცხოთ სისხლის სასუნთქ ორგანოებში მოხვედრას. ცხვირზე ცივი საფენის დადებით ვცდილობთ სისხლდენის შეჩერებას.

QUESTION 829

CORRECT ANSWER: 2

Iodine solution as a disinfectant should be used in case of a wound after an accident:

1

For cleaning the whole wound surface

2

For cleaning the wound edges and adjacent skin

ბანმარტეზა:

საგზაო-სატრანსპორტო შემთხვევის შედეგად დაშავებულის ჭრილობის შემთხვევაში იოდის ხსნარი, როგორც სადეზინფექციო საშუალება გამოიყენება ჭრილობის ნაპირებისა და მისი მიმდებარე კანის დასამუშავებლად.

QUESTION 830

CORRECT ANSWER: 1

If an injured person has a wound on eye after an accident, we must:

1

Lay him/her in supine position and move his/her head ahead. Put clean band on injured eye

2

Lay him/her in side position, on the side of sound eye. Put clean band on injured eye

3

Put him/her in semi-sitting position. Move his/her head back and put clean band on injured eye

ბანმარტეზა:

საგზაო-სატრანსპორტო შემთხვევის შედეგად დაშავებულის თვალის ჭრილობის დროს დაშავებული უნდა დავანწინოთ ზურგზე და თავი წამოვუწიოთ წინ. დაზიანებულ თვალზე უნდა დავადოთ სუფთა საფენი.

QUESTION 831

CORRECT ANSWER: 1

In case of injury of hand bone below elbow after an accident, we should put arterial hemorrhage stopping tourniquet:

1

Above elbow, to the shoulder

2

Above wound, to the elbow

განმარტება:

საგზაო-სატრანსპორტო შემთხვევის შედეგად დაშავებულის იდაყვის ქვემოთ ხელის ძვლის დაზიანების შემთხვევაში არტერიული სისხლდენის შემაჩერებელი ლახტი უნდა დავადოთ იდაყვის ზემოთ, მხართან.

QUESTION 832

CORRECT ANSWER: 2

If a person injured after an accident has traumas in hairy area of head, in order to provide first aid, we must:

1

Put improvised bandage on his/her neck, sterile cotton pad on wound and lay the injured in supine position

2

Put improvised bandage on his/her neck, pressing bandage on wound with sterile band, lay the injured in supine position with bent knees, put ice or cold spreading on head

განმარტება:

თუ საგზაო-სატრანსპორტო შემთხვევის შედეგად დაშავებულს აღენიშნება ტრამები თავის თმიან ადგილებზე, პირველადი სამედიცინო დახმარების აღმოჩენის მიზნით, მას უნდა კისერზე დაედოს იმპროვიზირებული ნახვევი, ჭრილობაზე სტერილური ბინტით დაედოს დამწოლი ნახვევი, დაშავებული დავანვინოთ გვერდზე მუხლებში მოხრილი ფეხებით, თავზე მივადოთ ყინული ან ცივი საფენი.

QUESTION 833

CORRECT ANSWER: 1

For removal of foreign body in respiratory tract of the person injured after an accident, we have to:

1 Push his/her the back for several times, in case of negative result, stand behind the injured, make the fists near abdomen at lower rib level, press the ribs simultaneously and press heavily on abdominal area in upper and lower directions

2 Lay the injured on his/her knees, with his/her face down and push the fist on the back for several times

ბანმარტივა:

საგზაო-სატრანსპორტო შემთხვევის შედეგად დაშავებულის სასუნთქ გზებში უცხო სხეულის მოსაცილებლად აუცილებლად უნდა რამდენჯერმე ხელისგული დავარტყათ ზურგზე, უარყოფითი შედეგის შემთხვევაში დავდგეთ დაშავებულის უკან, ქვედა ნეკნის დონეზე მუცელთან ხელები მუშტად გადავაჭდოთ ერთმანეთს, ერთდროულად მოვახდინოთ დანოლა ნეკნებზე და მკვეთრად დავაწვეთ მუშტებით მუცლის არეში შიდა და ზედა მიმართულებით.

QUESTION 834

CORRECT ANSWER: 2

Is giving of medicines to the unconscious person injured after an accident allowed?

1 Yes

2 No

ბანმარტივა:

საგზაო-სატრანსპორტო შემთხვევის შედეგად უგონო მდგომარეობაში მყოფ დაშავებულისათვის სამკურნალო პრეპარატების მიცემა ნებადართული არ არის.

QUESTION 835

CORRECT ANSWER: 2

If material for making the first-aid strip for hand bone fracture of the person injured after a traffic accident is not available, it is essential to:

1

Tighten the straightened hand to the body with gauze bandage

2

Hang the hand bent in elbow and fix it to the body with gauze bandage

განმარტება:

არტაშანის დასამზადებელი მასალის არარსებობისას საგზაო-სატრანსპორტო შემთხვევის შედეგად დაზარალებულის ხელის ძვლის მოტეხილობის შემთხვევაში, მას უნდა იდაყვში მოხრილი ხელი ჩამოვკიდოთ კისერზე და ბინტის დახვევით მივუმაგროთ ტანზე.

QUESTION 836

CORRECT ANSWER: 3



When driving to the arrow direction, if ambulance has special flash light and honks switched on, a lorry driver must yield to:

1

Motor car driver only

2

Ambulance driver only

3

Both motor car and ambulance drivers

განმარტება:

„საგზაო მოძრაობის შესახებ“ საქართველოს კანონის 36-ე მუხლის მე-4 პუნქტის „ა“ ქვეპუნქტის თანახმად, არარეგულირებულ გზაჯვარედინზე, არათანაბარმნიშვნელოვანი გზების გადაკვეთაზე მეორეხარისხოვან გზაზე მოძრავი სატრანსპორტო საშუალების მძღოლი ვალდებულია გზა დაუთმოს მთავარი გზიდან მოახლოებულ სატრანსპორტო საშუალებას, მიუხედავად მისი შემდგომი მოძრაობის მიმართულებისა. ამავე კანონის 51-ე მუხლის მე-2 პუნქტის თანახმად, საგზაო მოძრაობის მონაწილეები ვალდებული არიან, ოპერატიული ან სპეციალური სამსახურის სატრანსპორტო საშუალების მოახლოებისას, რომელსაც ჩართული აქვს ლურჯი მოელვარე სპეციალური ციმციმა სიგნალი და ხმოვანი სიგნალი ან/და რომელიც ხმამაღლამოლაპარაკე ხელსაწყოთი იძლევა სიგნალს, მას, აგრეთვე მის მიერ გასაცემებულ სატრანსპორტო საშუალებას, რომელსაც ჩართული აქვს ახლო განათების ფარები, გაუთავისუფლონ სავალ ნაწილზე ადგილი, ხოლო აუცილებლობის შემთხვევაში – გაჩერდნენ.

QUESTION 837

CORRECT ANSWER: 1



When driving to the arrow direction, a lorry driver must yield to:

1

Both motor car and bus drivers

2

Motor car driver only

3

Bus driver only

ბანმარტეზა:

„საგზაო მოძრაობის შესახებ“ საქართველოს კანონის 36-ე მუხლის მე-4 პუნქტის „ა“ და „დ“ ქვეპუნქტების თანახმად, არარეგულირებულ გზაჯვარედინზე: ა) არათანაბარმნიშვნელოვანი გზების გადაკვეთაზე მეორეხარისხოვან გზაზე მოძრავი სატრანსპორტო საშუალების მძღოლი ვალდებულია გზა დაუთმოს მთავარი გზიდან მოახლოებულ სატრანსპორტო საშუალებას, მიუხედავად მისი შემდგომი მოძრაობის მიმართულებისა; დ) მარცხნივ მოხვევისას ან მობრუნებისას ურელსო სატრანსპორტო საშუალების მძღოლი ვალდებულია გზა დაუთმოს თანაბარმნიშვნელოვან გზაზე საპირისპირო მიმართულებიდან პირდაპირ ან მარჯვნივ მოძრავ სატრანსპორტო საშუალებას.

QUESTION 838

CORRECT ANSWER: 3



When driving to the arrow direction, a lorry driver must yield to following vehicle driver, if the operative vehicle has special blue flashing light and honks on:

1

Operative vehicle driver only

2

Motor car driver only

3

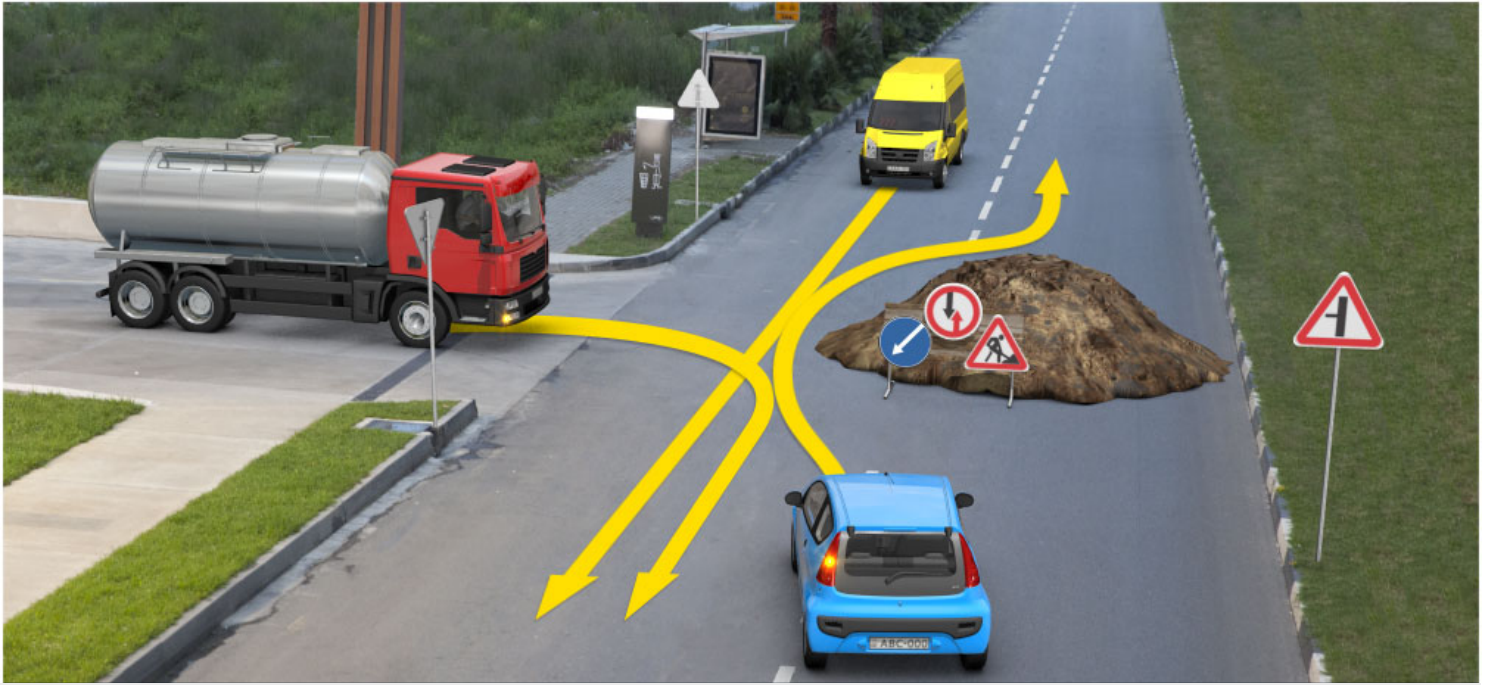
Both operative vehicle and motor car drivers

განმარტება:

„საგზაო მოძრაობის შესახებ“ საქართველოს კანონის 36-ე მუხლის მე-4 პუნქტის „ა“ ქვეპუნქტის თანახმად, არათანაბარმნიშვნელოვანი გზების გადაკვეთაზე მეორეხარისხოვან გზაზე მოძრავი სატრანსპორტო საშუალების მძღოლი ვალდებულია გზა დაუთმოს მთავარი გზიდან მოახლოებულ სატრანსპორტო საშუალებას, მიუხედავად მისი შემდგომი მოძრაობის მიმართულებისა. ამავე კანონის 51-ე მუხლის მე-2 პუნქტის თანახმად, საგზაო მოძრაობის მონაწილეები ვალდებული არიან, ოპერატიული ან სპეციალური სამსახურის სატრანსპორტო საშუალების მოახლოებისას, რომელსაც ჩართული აქვს ლურჯი მოელვარე სპეციალური ციმციმა სიგნალი და ხმოვანი სიგნალი ან/და რომელიც ხმამაღლამოლაპარაკე ხელსაწყოთი იძლევა სიგნალს, მას, აგრეთვე მის მიერ გასაცემებელ სატრანსპორტო საშუალებას, რომელსაც ჩართული აქვს ახლო განათების ფარები, გაუთავისუფლონ სავალ ნაწილზე ადგილი, ხოლო აუცილებლობის შემთხვევაში – გაჩერდნენ.

QUESTION 839

CORRECT ANSWER: 3



When driving to the arrow direction, a lorry driver must yield to:

1

Yellow car driver only

2

Blue car driver only

3


Both yellow and blue car drivers

განმარტება:

„საგზაო მოძრაობის შესახებ“ საქართველოს კანონის პირველი დანართის 2.3 პუნქტის თანახმად, საგზაო ნიშანი 2.3 „დაუთმე გზა“ - გზა, რომელზე მოძრაობა მძღოლი ვალდებულია გზა დაუთმოს გადასაუკვეთ გზაზე მოძრაობ მძღოლს, ხოლო 8.13 დაფის არსებობისას – მთავარ გზაზე მოძრაობ მძღოლს.

QUESTION 840

CORRECT ANSWER: 3



When driving to the arrow direction, a lorry driver must yield to:

1

Tram driver only

2

Motor car driver only

3


Both tram and motor car drivers

განმარტება:

„საგზაო მოძრაობის შესახებ“ საქართველოს კანონის 36-ე მუხლის მე-4 პუნქტის „ა“ ქვეპუნქტის თანახმად, არარეგულირებულ გზაჯვარედინზე, არათანაბარმნიშვნელოვანი გზების გადაკვეთაზე მეორეხარისხოვან გზაზე მოძრავი სატრანსპორტო საშუალების მძღოლი ვალდებულია გზა დაუთმოს მთავარი გზიდან მოახლოებულ სატრანსპორტო საშუალებას, მიუხედავად მისი შემდგომი მოძრაობის მიმართულებისა.

QUESTION 841

CORRECT ANSWER: 2



When driving to the arrow direction, if road surface coming from the right side of the intersection is ground, a lorry driver must yield to:

1

Bus driver only

2

Motorcyclist only

3

Both bus driver and motorcyclist

განმარტება:

„საგზაო მოძრაობის შესახებ“ საქართველოს კანონის 36-ე მუხლის მე-4 პუნქტის „გ“ ქვეპუნქტის თანახმად, არარეგულირებულ გზაჯვარედინზე, თანაბარმნიშვნელოვანი გზების გადაკვეთაზე ურელსო სატრანსპორტო საშუალების მძღოლი ვალდებულია გზა დაუთმოს მარჯვნიდან მოახლოებულ სატრანსპორტო საშუალებას. ამავე წესით უნდა ხელმძღვანელონ ურთიერთშორის რელსიანი სატრანსპორტო საშუალებების მძღოლებმაც. ასეთ გზაჯვარედინზე რელსიანი სატრანსპორტო საშუალებას უპირატესობა აქვს ურელსო სატრანსპორტო საშუალების მიმართ, მიუხედავად მისი მოძრაობის მიმართულებისა. ამავე მუხლის მე-6 პუნქტის თანახმად, თუ საგზაო ნიშნით სხვა რამ არ არის გათვალისწინებული, გრუნტოვანი გზიდან იმ გზაზე გასვლისას, რომელიც არ არის გრუნტოვანი გზა, მძღოლი ვალდებულია გზა დაუთმოს ამ გზაზე მოძრავ სატრანსპორტო საშუალებას. ამავე კანონის მე-5 მუხლის 37-ე პუნქტის თანახმად ღორღიან ან გრუნტოვან გზაზე უშუალოდ გზაჯვარედინის წინ, გზის მკვრივსაფარიანი უბნის არსებობა არ ათანაბრებს მას მკვრივსაფარიან გზასთან.

QUESTION 842

CORRECT ANSWER: 2



When driving to the arrow direction, a lorry driver must yield to:

1

Motor car driver only

2

Yellow car driver only

3

Both motor car and yellow car drivers

ბანმარტეზა:

„საგზაო მოძრაობის შესახებ“ საქართველოს კანონის 36-ე მუხლის მე-4 პუნქტის „ა“ და „გ“ ქვეპუნქტების თანახმად, არარეგულირებულ გზაჯვარედინზე: ა) არათანაბარმნიშვნელოვანი გზების გადაკვეთაზე მეორეხარისხოვან გზაზე მოძრავი სატრანსპორტო საშუალების მძღოლი ვალდებულია გზა დაუთმოს მთავარი გზიდან მოახლოებულ სატრანსპორტო საშუალებას, მიუხედავად მისი შემდგომი მოძრაობის მიმართულებისა; გ) თანაბარმნიშვნელოვანი გზების გადაკვეთაზე ურელსო სატრანსპორტო საშუალების მძღოლი ვალდებულია გზა დაუთმოს მარჯვნიდან მოახლოებულ სატრანსპორტო საშუალებას.

QUESTION 843

CORRECT ANSWER: 1



When driving to the arrow direction, a lorry driver must yield to:

1

Yellow car driver only

2

Trolleybus driver only

3

Both yellow car and trolleybus drivers

ბანმარტეზა:

„საგზაო მოძრაობის შესახებ“ საქართველოს კანონის 36-ე მუხლის მე-4 პუნქტის „ა“, „ბ“ და „გ“ ქვეპუნქტების თანახმად, არარეგულირებულ გზაჯვარედინზე: ა) არათანაბარმნიშვნელოვანი გზების გადაკვეთაზე მეორეხარისხოვან გზაზე მოძრავი სატრანსპორტო საშუალების მძღოლი ვალდებულია გზა დაუთმოს მთავარი გზიდან მოახლოებულ სატრანსპორტო საშუალებას, მიუხედავად მისი შემდგომი მოძრაობის მიმართულებისა; ბ) თუ გზაჯვარედინზე მთავარი გზა იცვლის მიმართულებას, ამ გზაზე მოძრავმა მძღოლებმა ურთიერთშორის უნდა იხელმძღვანელონ თანაბარმნიშვნელოვანი გზების გავლის წესებით. ამავე წესებით უნდა იხელმძღვანელონ ურთიერთშორის მეორეხარისხოვან გზაზე მოძრავმა მძღოლებმაც; გ) თანაბარმნიშვნელოვანი გზების გადაკვეთაზე ურელსო სატრანსპორტო საშუალების მძღოლი ვალდებულია გზა დაუთმოს მარჯვნიდან მოახლოებულ სატრანსპორტო საშუალებას. ამავე წესით უნდა იხელმძღვანელონ ურთიერთშორის რელსიანი სატრანსპორტო საშუალებების მძღოლებმაც.

QUESTION 844

CORRECT ANSWER: 3



When driving to the arrow direction, a lorry driver must yield to:

1

Motor car driver only

2

Yellow car driver only

3


Both motor car and yellow car drivers

განმარტება:

„საგზაო მოძრაობის შესახებ“ საქართველოს კანონის 36-ე მუხლის მე-4 პუნქტის „ა“ ქვეპუნქტის თანახმად, არარეგულირებულ გზაჯვარედინზე, არათანაბარმნიშვნელოვანი გზების გადაკვეთაზე მეორეხარისხოვან გზაზე მოძრავი სატრანსპორტო საშუალების მძღოლი ვალდებულია გზა დაუთმოს მთავარი გზიდან მოახლოებულ სატრანსპორტო საშუალებას, მიუხედავად მისი შემდგომი მოძრაობის მიმართულებისა.

QUESTION 845

CORRECT ANSWER: 2



When driving to the arrow direction, lorry driver must yield to:

1

Motor car driver only

2

Bus driver only

3


Both motor car and bus drivers

განმარტება:

„საგზაო მოძრაობის შესახებ“ საქართველოს კანონის 36-ე მუხლის მე-4 პუნქტის „ა“ და „დ“ ქვეპუნქტების თანახმად, არარეგულირებულ გზაჯვარედინზე: ა) არათანაბარმნიშვნელოვანი გზების გადაკვეთაზე მეორეხარისხოვან გზაზე მოძრავი სატრანსპორტო საშუალების მძღოლი ვალდებულია გზა დაუთმოს მთავარი გზიდან მოახლოებულ სატრანსპორტო საშუალებას, მიუხედავად მისი შემდგომი მოძრაობის მიმართულებისა; დ) მარცხნივ მოხვევისას ან მობრუნებისას ურელსო სატრანსპორტო საშუალების მძღოლი ვალდებულია გზა დაუთმოს თანაბარმნიშვნელოვან გზაზე საპირისპირო მიმართულებიდან პირდაპირ ან მარჯვნივ მოძრავ სატრანსპორტო საშუალებას. ამავე წესით უნდა იხელმძღვანელონ ურთიერთშორის რელსიანი სატრანსპორტო საშუალებების მძღოლებმაც.

QUESTION 846

CORRECT ANSWER: 3



When driving to the arrow direction, a lorry driver must yield to:

1

Tram driver only

2

Bus driver only

3

Both tram and bus drivers

განმარტება:

„საგზაო მოძრაობის შესახებ“ საქართველოს კანონის 36-ე მუხლის მე-2 პუნქტის თანახმად, გზაჯვარედინი, რომელზედაც მოძრაობის რიგიუბობა შეუძლიან ან მარეგულირებლის სიგნალებით განისაზღვრება, რეგულირებული გზაჯვარედინია. თუ ყვითელი მოციმციმე სიგნალი ანთია, ან შეუძლიან არ არის ან არ მუშაობს, ან მარეგულირებელი არ დგას, გზაჯვარედინი არარეგულირებულად ითვლება და მძღოლი ვალდებულია იხელმძღვანელოს არარეგულირებული გზაჯვარედინის გავლის წესებითა და გზაჯვარედინზე დაყენებული პრიორიტეტის ნიშნებით. ამავე მუხლის მე-4 პუნქტის „გ“ და „დ“ ქვეპუნქტების თანახმად, არარეგულირებულ გზაჯვარედინზე: გ) თანაბარმნიშვნელოვანი გზების გადაკვეთაზე ურელსო სატრანსპორტო საშუალების მძღოლი ვალდებულია გზა დაუთმოს მარჯვნიდან მოახლოებულ სატრანსპორტო საშუალებას. ასეთ გზაჯვარედინზე რელსიან სატრანსპორტო საშუალებას უპირატესობა აქვს ურელსო სატრანსპორტო საშუალების მიმართ, მიუხედავად მისი მოძრაობის მიმართულებისა. დ) მარცხნივ მოხვევისას ან მობრუნებისას ურელსო სატრანსპორტო საშუალების მძღოლი ვალდებულია გზა დაუთმოს თანაბარმნიშვნელოვან გზაზე საპირისპირო მიმართულებიდან პირდაპირ ან მარჯვნივ მოძრავ სატრანსპორტო საშუალებას.

QUESTION 847

CORRECT ANSWER: 3



When driving to the arrow direction, a lorry driver must yield to:

1

Motorcyclist only

2

Motor car driver only

3


Both motorcyclist and motor car driver

განმარტება:

„საგზაო მოძრაობის შესახებ“ საქართველოს კანონის 36-ე მუხლის მე-4 პუნქტის „ა“, „ბ“ და „გ“ ქვეპუნქტების თანახმად, არარეგულირებულ გზაჯვარედინზე: ა) არათანაბარმნიშვნელოვანი გზების გადაკვეთაზე მეორეხარისხოვან გზაზე მოძრავი სატრანსპორტო საშუალების მძღოლი ვალდებულია გზა დაუთმოს მთავარი გზიდან მოახლოებულ სატრანსპორტო საშუალებას, მიუხედავად მისი შემდგომი მოძრაობის მიმართულებისა; ბ) თუ გზაჯვარედინზე მთავარი გზა იცვლის მიმართულებას, ამ გზაზე მოძრავმა მძღოლებმა ურთიერთშორის უნდა იხელმძღვანელონ თანაბარმნიშვნელოვანი გზების გავლის წესებით. ამავე წესებით უნდა იხელმძღვანელონ ურთიერთშორის მეორეხარისხოვან გზაზე მოძრავმა მძღოლებმაც; გ) თანაბარმნიშვნელოვანი გზების გადაკვეთაზე ურელსო სატრანსპორტო საშუალების მძღოლი ვალდებულია გზა დაუთმოს მარჯვნიდან მოახლოებულ სატრანსპორტო საშუალებას. ამავე წესით უნდა იხელმძღვანელონ ურთიერთშორის რელსიანი სატრანსპორტო საშუალებების მძღოლებმაც. ასეთ გზაჯვარედინზე რელსიან სატრანსპორტო საშუალებას აქვს უპირატესობა ურელსო სატრანსპორტო საშუალების მიმართ, მიუხედავად მისი მოძრაობის მიმართულებისა.

QUESTION 848

CORRECT ANSWER: 3



When driving to the arrow direction, a lorry driver must yield to:

1

Tram driver only

2

Yellow car driver only

3


Both tram and yellow car drivers

ბანმარტეზა:

„საგზაო მოძრაობის შესახებ“ საქართველოს კანონის 36-ე მუხლის მე-3 პუნქტის „ა“ და „გ“ ქვეპუნქტის თანახმად, რეგულირებულ გზაჯვარედინზე: ა) შექნიშნის მწვანე სიგნალის ჩართვის დროს მარცხნივ მოხვევისას ან მობრუნებისას ურელსო სატრანსპორტო საშუალების მძღოლი ვალდებულია გზა დაუთმოს საპირისპირო მიმართულებიდან პირდაპირ ან მარჯვნივ მოძრავ სატრანსპორტო საშუალებას. ამავე წესით უნდა იხელმძღვანელონ ურთიერთშორის მოძრავი ტრამვაის მძღოლებმაც; გ) თუ შექნიშნის ან მარეგულირებლის სიგნალები ერთდროულად მოძრაობის ნებას რთავს რელსიან და ურელსო სატრანსპორტო საშუალებებს, რელსიან სატრანსპორტო საშუალებას აქვს უპირატესობა, მიუხედავად მისი მოძრაობის მიმართულებისა, მაგრამ შექნიშნის დამატებით სექციაში ძირითად ყვითელ ან წითელ მაშუქ სიგნალთან ერთად ჩართული ისრის მიმართულებით მოძრაობისას რელსიანი სატრანსპორტო საშუალების მძღოლი ვალდებულია გზა დაუთმოს სხვა მიმართულებიდან მოძრავ სატრანსპორტო საშუალებას;

QUESTION 849

CORRECT ANSWER: 1



When driving to the arrow direction, a lorry driver must yield to:

1

Green car driver only

2

Blue car driver only

3

Both gre and blue car drivers

4

None of them

ბანმარტეზა:

„საგზაო მოძრაობის შესახებ“ საქართველოს კანონის 36-ე მუხლის მე-4 პუნქტის „ა“, „ბ“ და „გ“ ქვეპუნქტების თანახმად, არარეგულირებულ გზაჯვარედინზე: ა) არათანაბარმნიშვნელოვანი გზების გადაკვეთაზე მეორეხარისხოვან გზაზე მოძრავი სატრანსპორტო საშუალების მძღოლი ვალდებულია გზა დაუთმოს მთავარი გზიდან მოახლოებულ სატრანსპორტო საშუალებას, მიუხედავად მისი შემდგომი მოძრაობის მიმართულებისა; ბ) თუ გზაჯვარედინზე მთავარი გზა იცვლის მიმართულებას, ამ გზაზე მოძრავმა მძღოლებმა ურთიერთშორის უნდა იხელმძღვანელონ თანაბარმნიშვნელოვანი გზების გავლის წესებით. ამავე წესებით უნდა იხელმძღვანელონ ურთიერთშორის მეორეხარისხოვან გზაზე მოძრავმა მძღოლებმაც; გ) თანაბარმნიშვნელოვანი გზების გადაკვეთაზე ურელსო სატრანსპორტო საშუალების მძღოლი ვალდებულია გზა დაუთმოს მარჯვნიდან მოახლოებულ სატრანსპორტო საშუალებას. ამავე წესით უნდა იხელმძღვანელონ ურთიერთშორის რელსიანი სატრანსპორტო საშუალებების მძღოლებმაც. ასეთ გზაჯვარედინზე რელსიან სატრანსპორტო საშუალებას აქვს უპირატესობა ურელსო სატრანსპორტო საშუალების მიმართ, მიუხედავად მისი მოძრაობის მიმართულებისა.

QUESTION 850

CORRECT ANSWER: 2



When driving to the arrow direction, a lorry driver must yield to:

1

Black car driver only

2

Green car driver only

3

Both green and black car drivers

4

None of them

ბანმარტეზა:

„საგზაო მოძრაობის შესახებ“ საქართველოს კანონის 36-ე მუხლის მე-4 პუნქტის „ა“ და „დ“ ქვეპუნქტების თანახმად, არარეგულირებულ გზაჯვარედინზე: ა) არათანაბარმნიშვნელოვანი გზების გადაკვეთაზე მეორეხარისხოვან გზაზე მოძრავი სატრანსპორტო საშუალების მძღოლი ვალდებულია გზა დაუთმოს მთავარი გზიდან მოახლოებულ სატრანსპორტო საშუალებას, მიუხედავად მისი შემდგომი მოძრაობის მიმართულებისა; დ) მარცხნივ მოხვევისას ან მობრუნებისას ურელსო სატრანსპორტო საშუალების მძღოლი ვალდებულია გზა დაუთმოს თანაბარმნიშვნელოვან გზაზე საპირისპირო მიმართულებიდან პირდაპირ ან მარცხნივ მოძრავ სატრანსპორტო საშუალებას. ამავე წესით უნდა იხელმძღვანელონ ურთიერთშორის რელსიანი სატრანსპორტო საშუალებების მძღოლებმაც.

თემა 30:

მოდრობის უსაფრთხოება

QUESTION 851

CORRECT ANSWER: 2

Is a driver obliged to provide that the vehicles possessed by him/her caused minimum damage to environment?

1

No

2

Yes

განმარტება:

„საგზაო მოძრაობის შესახებ“ საქართველოს კანონის მე-16 მუხლის პირველი პუნქტის თანახმად, მძღოლმა უნდა უზრუნველყოს, რომ მის მფლობელობაში მყოფმა სატრანსპორტო საშუალებამ მინიმალური ზიანი მიაყენონ გარემოს.

QUESTION 852

CORRECT ANSWER: 4

Without obtaining permission, access and approval from appropriate authorized body (entity) or entering into agreement with such body (entity), following is not allowed:

1

Alteration of mechanical vehicle.

2

Installation of special lights and honks, as well as special loud-speaker.

3

Drawing of inclined white stripes on the sides of the mechanical vehicle body.

4

Any action listed in given test

განმარტება:

„საგზაო მოძრაობის შესახებ“ საქართველოს კანონის მე-17 მუხლის პირველი პუნქტის „ვ“ ქვეპუნქტის თანახმად, საგზაო მოძრაობის უსაფრთხოების უზრუნველსაყოფად მხოლოდ საქართველოს კანონმდებლობით დადგენილი წესით შესაბამისი უფლებამოსილი ორგანოსაგან (უწყებისაგან) ნებართვის, დაშვების, თანხმობის მიღების ან ამ ორგანოსთან (უწყებასთან) შეთანხმებითაა დასაშვანი შემდეგი საქმიანობა: ვ) სატრანსპორტო საშუალების გადაკეთება, მასზე სპეციალური ციმცირა ან/და ხმოვანი სიგნალის ან/და სპეციალური ხმამაღლამოლაპარაკე ხელსაწყო დაყენება, ან/და სატრანსპორტო საშუალებისათვის სპეციალური შეფერილობის მიცემა ან/და სატრანსპორტო საშუალების ძარას გვერდებზე დახრილი თეთრი ზოლების დახატვა.

QUESTION 853

CORRECT ANSWER: 3

Without obtaining permission, admission and approval from appropriate authorized body (entity) or agreement with such body (entity), following is not allowed:

1 Motion of oversized (large-volume) or above-standard (heavy) vehicles on the road only

2 Motion of the vehicle carrying dangerous goods only

3 Motion of both oversized (large-volume) or above-standard (heavy) vehicles, as well as the vehicle carrying dangerous goods

განმარტება:

„საგზაო მოძრაობის შესახებ“ საქართველოს კანონის მე-17 მუხლის პირველი პუნქტის „ზ“ და „თ“ ქვეპუნქტების თანახმად, საგზაო მოძრაობის უსაფრთხოების უზრუნველსაყოფად მხოლოდ საქართველოს კანონმდებლობით დადგენილი წესით შესაბამისი უფლებამოსილი ორგანოსაგან (უწყებისაგან) ნებართვის, დაშვების, თანხმობის მიღების ან ამ ორგანოსთან (უწყებასთან) შეთანხმებითაა დასაშვნი შემდეგი საქმიანობა: ზ) გზაზე არაგაბარიტული (მსხვილგაბარიტიანი) ან ზენორმატიული (მძიმეწონიანი) სატრანსპორტო საშუალების მოძრაობა; თ) სახიფათო ტვირთის გადამზიდავი სატრანსპორტო საშუალების მოძრაობა.

QUESTION 854

CORRECT ANSWER: 4

A traffic participant has the right to receive the information from state and local self-government bodies, as well as other officials according to the rule prescribed by the Georgian legislation:

- | | | | |
|---|---|---|--|
| 1 | About the traffic safety conditions only | 2 | About the reasons of provision of traffic restriction or termination only. |
| 3 | About quality of product and service related to provision of traffic safety only. | 4 | All information listed in given test |

განმარტება:

„საგზაო მოძრაობის შესახებ“ საქართველოს კანონის მე-20 მუხლის პირველი პუნქტის „ბ.ა“, „ბ.ბ“ და „ბ.გ“ ქვეპუნქტების თანახმად, საგზაო მოძრაობის მონაწილეს უფლება აქვს საქართველოს კანონმდებლობით დადგენილი წესით უფლებამოსილი სახელმწიფო და ადგილობრივი თვითმმართველობის ორგანოებისაგან, აგრეთვე სხვა უფლებამოსილი პირებისგან მიიღოს: ბ.ა) ინფორმაცია გზაზე მოძრაობის უსაფრთხოების პირობების შესახებ; ბ.ბ) ინფორმაცია გზაზე მოძრაობის შეზღუდვის ან შეწყვეტის დაწესების მიზეზთა შესახებ; ბ.გ) ინფორმაცია პროდუქციისა და მომსახურების ხარისხის შესახებ, რომელიც დაკავშირებულია საგზაო მოძრაობის უსაფრთხოების უზრუნველყოფასთან.

QUESTION 855

CORRECT ANSWER: 2

Is a traffic participant allowed to restrict traffic or/and to create hazard by putting, throwing or leaving the things on the road or forming any other impediments?

- | | | | |
|---|-----|---|----|
| 1 | Yes | 2 | No |
|---|-----|---|----|

განმარტება:

„საგზაო მოძრაობის შესახებ“ საქართველოს კანონის მე-20 მუხლის მე-3 პუნქტის თანახმად, საგზაო მოძრაობის მონაწილემ გზაზე ნივთების დაწყობით, დაყრით ან დატოვებით ან მასზე რაიმე სხვა დაბრკოლების შექმნით არ უნდა შეზღუდოს საგზაო მოძრაობა ან/და შექმნას საფრთხე.

QUESTION 856

CORRECT ANSWER: 1

A traffic participant, restricting traffic or/and creating hazard through forming some impediment and failing to prevent such restriction or hazard for objective reasons, shall immediately:

1

Apply all the necessary measures for its prevention

2

Proceed further, as he/she does not have such obligation

განმარტება:

„საგზაო მოძრაობის შესახებ“ საქართველოს კანონის მე-20 მუხლის მე-3 პუნქტის თანახმად, საგზაო მოძრაობის მონაწილემ გზაზე ნივთების დაწყობით, დაყრით ან დატოვებით ან მასზე რაიმე სხვა დაბრკოლების შექმნით არ უნდა შეზღუდოს საგზაო მოძრაობა ან/და შექმნას საფრთხე. საგზაო მოძრაობის მონაწილემ, რომელმაც ობიექტური მიზეზის გამო ვერ მოახერხა ასეთი შეზღუდვის ან ასეთი საფრთხის შექმნის თავიდან აცილება, დაუყოვნებლივ უნდა მიიღოს აუცილებელი ზომები მისი თავიდან აცილებისათვის, ხოლო თუ ამის დაუყოვნებლივ გაკეთება შეუძლებელია, მან უნდა უზრუნველყოს აღნიშნულის თაობაზე სხვა საგზაო მოძრაობის მონაწილეთა დროული გაფრთხილება.

QUESTION 857

CORRECT ANSWER: 1

A traffic participant, restricting traffic or/and creating hazard through forming some impediment and it is impossible to avoid this immediately for objective reasons, he/she shall immediately:

1

Provide timely warning to other traffic participants about this

2

Proceed further as he/she does not have the obligation of warning other traffic participants

განმარტება:

„საგზაო მოძრაობის შესახებ“ საქართველოს კანონის მე-20 მუხლის მე-3 პუნქტის თანახმად, საგზაო მოძრაობის მონაწილემ გზაზე ნივთების დაწყობით, დაყრით ან დატოვებით ან მასზე რაიმე სხვა დაბრკოლების შექმნით არ უნდა შეზღუდოს საგზაო მოძრაობა ან/და შექმნას საფრთხე. საგზაო მოძრაობის მონაწილემ, რომელმაც ობიექტური მიზეზის გამო ვერ მოახერხა ასეთი შეზღუდვის ან ასეთი საფრთხის შექმნის თავიდან აცილება, დაუყოვნებლივ უნდა მიიღოს აუცილებელი ზომები მისი თავიდან აცილებისათვის, ხოლო თუ ამის დაუყოვნებლივ გაკეთება შეუძლებელია, მან უნდა უზრუნველყოს აღნიშნულის თაობაზე სხვა საგზაო მოძრაობის მონაწილეთა დროული გაფრთხილება.

QUESTION 858

CORRECT ANSWER: 4

If children are standing in front of the traffic lights, the vehicle driver approaching the traffic lights must take into account:

1 Only the fact that the children may move on the driveway upon changing green traffic light with yellow traffic light

2 Only the fact that the group may force any child to move on the driveway by pushing

3 Only the case that children may move to the carriageway before the signal of the traffic lights permitting them to move turns on

4 All of the circumstances listed in given test

განმარტება:

თუ შუქნიშანის წინ ბავშვები აპირებენ გზაზე გადასვლას შუქნიშანთან მიახლოებული სატრანსპორტო საშუალების მძღოლმა უნდა გაითვალისწინოს, რომ: - ბავშვები შეიძლება სავალ ნაწილზე გადმოვიდნენ შუქნიშნის მწვანე მაშუქი სიგნალის ყვითელი სიგნალით შეცვლისთანავე; - ჯგუფიდან ხელის კვრით რომელიმე ბავშვს შეიძლება აიძულონ სავალ ნაწილზე გადმოსვლა; - შეიძლება ბავშვები სავალ ნაწილზე გადმოვიდნენ მათთვის შუქნიშნის ნებადართველი სიგნალის ჩართვამდე.

QUESTION 859

CORRECT ANSWER: 2

Is a driver obliged to provide that his/her vehicle does not create any obstruction to other traffic participants with the right-of-way?

1 No

2 Yes

განმარტება:

„საგზაო მოძრაობის შესახებ“ საქართველოს კანონის 21-ე მუხლის მე-7 პუნქტის თანახმად, მძღოლმა უნდა უზრუნველყოს, რომ მისმა სატრანსპორტო საშუალებამ დაბრკოლება არ შეუქმნას პრიორიტეტის მქონე სხვა საგზაო მოძრაობის მონაწილეებს.

QUESTION 860

CORRECT ANSWER: 4

In addition to the authorized officials of the Ministry of Internal Affairs of Georgia, regulation of traffic within the authority granted under the legislation can also be implemented by:

- | | | | |
|---|---|---|--------------------------------------|
| 1 | Authorized officials of the Ministry of Defense of Georgia only | 2 | Members of medical service team only |
| 3 | Persons guiding (accompanying) the children's group only | 4 | Any person listed in given test |

განმარტება:

„საგზაო მოძრაობის შესახებ“ საქართველოს კანონის 30-ე მუხლის მე-3 პუნქტის „ა“, „დ“ და „ე“ ქვეპუნქტების თანახმად, საგზაო მოძრაობას არეგულირებენ საქართველოს შინაგან საქმეთა სამინისტროს უფლებამოსილი პირები. საქართველოს კანონმდებლობით მინიჭებული უფლებამოსილების ფარგლებში საგზაო მოძრაობის რეგულირება აგრეთვე შეიძლება განახორციელონ/განახორციელოს: ა) საქართველოს თავდაცვის სამინისტროს უფლებამოსილმა პირებმა – საქართველოს თავდაცვის სამინისტროს კუთვნილი სატრანსპორტო კოლონების გადაადგილებისას; დ) სასწრაფო დახმარების ბრიგადის წევრებმა – სასწრაფო სამედიცინო დახმარების განვებისას; ე) ბავშვთა ჯგუფის გამცილებელმა (თანმხლებმა) – ბავშვების უსაფრთხოების უზრუნველსაყოფად.

QUESTION 861

CORRECT ANSWER: 4

Which of the following circumstances indicate the driver's fatigue while driving a vehicle?

- | | | | |
|---|--------------------------------|---|---|
| 1 | Aggravation of eyelids only | 2 | Frequent yawning only |
| 3 | Deterioration of reaction only | 4 | Any of the circumstances listed in given test |

განმარტება:

სატრანსპორტო საშუალების მართვისას მძღოლის დაღლილობაზე მიანიშნებს როგორც ქუთუთოების დამძიმება, ასევე ხშირი მოქნარება და რეცქიის გაუარესება.

QUESTION 862

CORRECT ANSWER: 4

In addition to the maximum speed restriction prescribed by the law, a driver is prohibited from exceeding:

- | | | | |
|---|--|---|--|
| 1 | Maximum constructive speed designated for the vehicle only | 2 | Speed indicated on identification sign "Speed restriction" fixed on the vehicle only |
| 3 | Maximum speed prescribed by the traffic sign | 4 | Both maximum constructive speed designated for the vehicle as well as the speed indicated on identification sign "Speed restriction" fixed on the vehicle and maximum speed prescribed by the traffic sign |

განმარტება:

„საგზაო მოძრაობის შესახებ“ საქართველოს კანონის 33-ე მუხლის მე-9 პუნქტის „ა“, „ბ“ და „გ“ ქვეპუნქტების თანახმად, გარდა ამ მუხლის მე-6-მე-8 პუნქტებით განსაზღვრული მაქსიმალური სიჩქარის შემლუდვისა, მძღოლს ეკრძალება: ა) სატრანსპორტო საშუალებისათვის დადგენილი მაქსიმალური კონსტრუქციული სიჩქარის გადაჭარბება; ბ) სატრანსპორტო საშუალებაზე დამაგრებულ საცნობ ნიშანზე „სიჩქარის შემლუდვა“ მითითებული სიჩქარის გადაჭარბება; გ) საგზაო ნიშნით დადგენილი მაქსიმალური სიჩქარის გადაჭარბება.

QUESTION 863

CORRECT ANSWER: 1

Is a traffic participant prohibited from contamination or pollution of road surface and the adjacent territory of the road?

- | | | | |
|---|-----|---|---|
| 1 | Yes | 2 | Is prohibited only in case if other traffic participants are not endangered |
|---|-----|---|---|

3	No
---	----

განმარტება:

„საგზაო მოძრაობის შესახებ“ საქართველოს კანონის მე-16 მუხლის მე-3 პუნქტის „ა“ ქვეპუნქტის თანახმად, საგზაო მოძრაობის მონაწილეს ეკრძალება გზის საფარის და გზის მიმდებარე ტერიტორიის დანაგვიანება ან სხვაგვარად დაბინძურება.

QUESTION 864

CORRECT ANSWER: 3

Is washing of the vehicle prohibited in sea, lake, reservoir, river and other surface water, as well as at least 10 meters from their shores?

1 No, is not prohibited either in inhabited or uninhabited areas

2 Is prohibited in inhabited areas, but allowed in uninhabited areas, but for motor cars only

3 Yes

განმარტება:

„საგზაო მოძრაობის შესახებ“ საქართველოს კანონის მე-16 მუხლის მე-2 პუნქტის თანახმად, დაუშვებელია სატრანსპორტო საშუალების გარეცხვა ზღვაში, ტბაში, წყალსაცავში, მდინარეში, ზედაპირული წყლის სხვა ობიექტში და მათ ნაპირებთან წყლიდან 10 მეტრზე უფრო ახლო მანძილზე.

QUESTION 865

CORRECT ANSWER: 3

Is driving of the vehicle allowed in case of leakage of such substance, which pollute the environmet?

1 Yes

2 Yes only in case, if the legislation does not stipulate the road suitability tests for this vehicle

3 No

განმარტება:

„საგზაო მოძრაობის შესახებ“ საქართველოს კანონის მე-16 მუხლის მე-3 პუნქტის „გ“ ქვეპუნქტის თანახმად, საგზაო მოძრაობის მონაწილეს ეკრძალება სატრანსპორტო საშუალების მართვა ისეთი ნივთიერებების გაჟონვის შემთხვევაში, რომელიც აბინძურებს გარემოს.

QUESTION 866

CORRECT ANSWER: 3

Is a driver obliged to be aware of such factors, which may affect his/her actions (e.g. fatigue, insomnia, taking of medicines, alcohol, etc.)?

1 No

2 Yes, only a driver driving the motor vehicle

3 Yes, notwithstanding the vehicle he/she is driving

4 Yes, only bus or lorry driver, which is regularly carrying out conveyance of passengers or transportation of goods

განმარტება:

„საგზაო მოძრაობის შესახებ“ საქართველოს კანონის 21-ე მუხლის მე-5 პუნქტის თანახმად, მძღოლი ვალდებულია იცოდეს საგზაო მოძრაობის წესები, აგრეთვე გათვითცნობიერებული ჰქონდეს ისეთი ფაქტორები, რომლებიც ზეგავლენას ახდენს მძღოლის მოქმედებაზე, მაგალითად დაღლილობა, უძილობა, სამედიცინო პრეპარატების მიღება, ალკოჰოლის მიღება და ა.შ..

QUESTION 867

CORRECT ANSWER: 2

Are the traffic participants allowed to realize their rights if this restricts or violates the rights of other traffic participants?

1 Yes

2 No

განმარტება:

„საგზაო მოძრაობის შესახებ“ საქართველოს კანონის მე-20 მუხლის მე-2 პუნქტის თანახმად, საგზაო მოძრაობის მონაწილის მიერ თავისი უფლებების განხორციელება არ უნდა ზღუდავდეს ან არღვევდეს საგზაო მოძრაობის სხვა მონაწილეთა უფლებებს. საგზაო მოძრაობის მონაწილე თავისი მოქმედებით არ უნდა უქმნიდეს საფრთხეს ან დაბრკოლებას საგზაო მოძრაობას. მან არ უნდა შეუქმნას საფრთხე ადამიანებს და არ უნდა მიაყენოს ზიანი სახელმწიფო, საზოგადოებრივ ან კერძო ქონებას.

QUESTION 868

CORRECT ANSWER: 4

When driving on the road, in which of the following cases is not the driver of the mechanical vehicle obliged to use safety belts?

- | | |
|--|--|
| <p>1 If he/she is driving the vehicle in inhabited area</p> | <p>2 If he/she is driving the operative vehicle</p> |
| <p>3 If he/she is the person with disabilities</p> | <p>4 If the construction of the mechanical vehicle does not consider safety belts</p> |

ბანმარტუბა:

„საგზაო მოძრაობის შესახებ“ საქართველოს კანონის 21-ე მუხლის მე-9 პუნქტის თანახმად, მძღოლი ვალდებულია მექანიკური სატრანსპორტო საშუალების (გარდა იმ სატრანსპორტო საშუალებისა, რომლის კონსტრუქცია არ ითვალისწინებს უსაფრთხოების ღვედებს) მართვისას დადგენილი წესით ისარგებლოს უსაფრთხოების ღვედით და უზრუნველყოს მისგან მარჯვენა (ან მარცხენა) მხარეს მჯდომი მგზავრის მიერ უსაფრთხოების ღვედით სარგებლობა.

QUESTION 869

CORRECT ANSWER: 4

Which of the below factors is not affecting action of a driver?

- | | |
|--------------------------------|---|
| <p>1 Insomnia</p> | <p>2 Fatigue</p> |
| <p>3 Alcohol intake</p> | <p>4 None of the above-mentioned answers is true</p> |

ბანმარტუბა:

„საგზაო მოძრაობის შესახებ“ საქართველოს კანონის 21-ე მუხლის მე-5 პუნქტის თანახმად, მძღოლი ვალდებულია იცოდეს საგზაო მოძრაობის წესები, აგრეთვე გათვითცნობიერებული ჰქონდეს ისეთი ფაქტორები, რომლებიც გავლენას ახდენს მძღოლის მოქმედებაზე, მაგალითად, დაღლილობა, უძილობა, სამედიცინო პრეპარატების მიღება, ალკოჰოლის მიღება და ა. შ.

QUESTION 870

CORRECT ANSWER: 2

While driving vehicle, is a driver allowed to use a mobile phone?

1

Is not allowed in any case

2

Is allowed, if he/she uses a mobile phone with loudspeaking function and has both hands free for driving the vehicle

3

Is allowed if he/she has one hand free for driving the vehicle

განმარტება:

„საგზაო მოძრაობის შესახებ“ საქართველოს კანონის 21-ე მუხლის მე-8 პუნქტის თანახმად, სატრანსპორტო საშუალების გადაადგილებისას მძღოლი უნდა მოერიდოს ნებისმიერ მოქმედებას, რომელიც დაკავშირებული არ არის მართვასთან. მძღოლს ეკრძალება სატრანსპორტო საშუალების მართვისას მობილური კომუნიკაციის საშუალებით სარგებლობა. ეს აკრძალვა არ ვრცელდება ისეთ შემთხვევებზე, როდესაც მძღოლი სარგებლობს მობილური კომუნიკაციის საშუალების ყურსასმენით ან მობილური კომუნიკაციის ხმამაღალი (ან დისტანციური) საუბრის ფუნქციით და ორივე ხელი თავისუფალი აქვს სატრანსპორტო საშუალების სამართავად.

QUESTION 871

CORRECT ANSWER: 2

In case of which failure given below is a driver prohibited from proceeding the vehicle?

1

If honk is out of order only

2

If steering gear is out of order only

3

If fog-lights are out of order only

4

In any case listed in given test

განმარტება:

„საგზაო მოძრაობის შესახებ“ საქართველოს კანონის მე-21-ე მუხლის მე-13 პუნქტის თანახმად, მძღოლს ეკრძალება მოძრაობა მუშა სამუხრუჭო სისტემის, საჭის მექანიზმის, სატრანსპორტო საშუალებათა შემადგენლობაში მისაბმელი მოწყობილობის გაუმართაობისას, აგრეთვე დღე-ღამის ბნელ დროს ერთდროულად მწყობრიდან გამოსული (ჩამქრალი) ახლო და შორი განათების ფარებით (ან მათი არარსებობისას) ან/და უკანა საგაბარიტო სინათლეებით იმ გზაზე, რომელზედაც არ არის ხელოვნური განათება ან არასაკმარისი ხილვადობა. მძღოლის მხარეს არსებული მინასანმენდის უმოქმედობისას აკრძალულია მექანიკური სატრანსპორტო საშუალების მართვა ნისლის, წვიმისა და თოვის დროს.

QUESTION 872

CORRECT ANSWER: 3

During fog, rain or snow, driving of a mechanical vehicle is prohibited:

1

In case of absence of fog-lights

2

In case of absence of emergency stop sign

3

If windscreen wipers on the side of the driver are out of order

4

In any case listed in given test

განმარტება:

„საგზაო მოძრაობის შესახებ“ საქართველოს კანონის მე-21-ე მუხლის მე-13 პუნქტის თანახმად, მძღოლს ეკრძალება მოძრაობა მუშა სამუხრუჭო სისტემის, საჭის მექანიზმის, სატრანსპორტო საშუალებათა შემადგენლობაში მისაბმელი მონწყობილობის გაუმართაობისას, აგრეთვე დღე-ღამის ბნელ დროს ერთდროულად მწყობრიდან გამოსული (ჩამქრალი) ახლო და შორი განათების ფარებით (ან მათი არარსებობისას) ან/და უკანა საგაბარიტო სინათლეებით იმ გზაზე, რომელზედაც არ არის ხელოვნური განათება ან არასაკმარისი ხილვადობა. მძღოლის მხარეს არსებული მინასანმენდის უმოქმედობისას აკრძალულია მექანიკური სატრანსპორტო საშუალების მართვა ნისლის, წვიმისა და თოვლის დროს.

QUESTION 873

CORRECT ANSWER: 2

A driver must be aware that the road is often covered with ice:

1

In tunnels, without artificial illumination

2

On bridges, underpasses and trestle bridges

3

On central roads of inhabited areas

განმარტება:

„საგზაო მოძრაობის შესახებ“ საქართველოს კანონის 25-ე მუხლის მე-10 პუნქტის „დ“ ქვეპუნქტის თანახმად, გზაზე მოძრაობისას მძღოლმა უნდა გაითვალისწინოს შემდეგი გარემოებები - მოყინულ გზის მონაკვეთზე მძღოლმა შეძლებისდაგვარად თავი უნდა აარიდოს დამუხრუჭებას, სიჩქარის ცვლილებასა და მიმართულების მკვეთრ შეცვლას. ამასთანავე, მძღოლმა უნდა გააცნობიეროს, რომ ყველაზე უფრო ხშირად გზა მოყინულია ხიდზე, გზაგამტარსა და ესტაკადაზე.

QUESTION 874

CORRECT ANSWER: 3

When moving from illuminated section of the road to unilluminated one, the driver shall take into account, that:

1 It is necessary to switch the fog-lights on

2 Time and distance required for braking of the vehicle increases

3 Eyes get used to darkness, therefore the obstructions ahead of the driver are easy to observe

განმარტება:

„საგზაო მოძრაობის შესახებ“ საქართველოს კანონის 25-ე მუხლის მე-10 პუნქტის „ბ“ ქვეპუნქტის თანახმად, გზაზე მოძრაობისას მძღოლმა უნდა გაითვალისწინოს შემდეგი გარემოებები - გზის ნათელი მონაკვეთიდან ბნელ მონაკვეთზე გასვლისას თვალი ნელა ეჩვევა სიბნელეს, რის გამოც მძღოლის წინ არსებული შესაძლო დაბრკოლება რთული შესამჩნევია.

QUESTION 875

CORRECT ANSWER: 1

While proceeding on poorly or unequally illuminated sections of the road at night, a driver shall take into account, that:

1 It is difficult for the traffic participants to notice each other

2 Time and distance required for braking of the vehicle increases

3 Switching hazard light on is mandatory

განმარტება:

„საგზაო მოძრაობის შესახებ“ საქართველოს კანონის 25-ე მუხლის მე-10 პუნქტის „გ“ ქვეპუნქტის თანახმად, გზაზე მოძრაობისას მძღოლმა უნდა გაითვალისწინოს შემდეგი გარემოებები - ღამე, ცუდად განათებული ან არათანაბრად განათებული გზის მონაკვეთებზე მოძრაობისას გართულებულია საგზაო მოძრაობის მონაწილეთა მიერ ერთმანეთის შემჩნევა.

QUESTION 876

CORRECT ANSWER: 1

On ice-covered road, a driver shall:

1

Avoid braking, speed changes and abrupt changing of direction as far as possible

2

Use hand brake additionally before braking

3

Change direction through abrupt swerving of the steering wheel and increase of speed

განმარტება:

„საგზაო მოძრაობის შესახებ“ საქართველოს კანონის 25-ე მუხლის მე-10 პუნქტის „დ“ ქვეპუნქტის თანახმად, გზაზე მოძრაობისას მძღოლმა უნდა გაითვალისწინოს შემდეგი გარემოებები - მოყინულ გზის მონაკვეთზე მძღოლმა შეძლებისდაგვარად თავი უნდა აარიდოს დამუხრუჭებას, სიჩქარის ცვლილებასა და მიმართულების მკვეთრ შეცვლას. ამასთან მძღოლმა უნდა გაათვინცნობიეროს, რომ ყველაზე უფრო ხშირად გზა მოყინულია ხიდზე, გზაგამტარებზე და ესტაკადებზე.

QUESTION 877

CORRECT ANSWER: 2

During driving in rain and snow, a driver shall:

1

Decrease a distance between him/her and preceding vehicle

2

Decrease speed and increase distance between him/her and preceding vehicle

3

Switch hazard light on

განმარტება:

„საგზაო მოძრაობის შესახებ“ საქართველოს კანონის 25-ე მუხლის მე-10 პუნქტის „ე“ ქვეპუნქტის თანახმად, გზაზე მოძრაობისას მძღოლმა უნდა გაითვალისწინოს შემდეგი გარემოებები - ვინაიდან წვიმისა და თოვლის დროს მოძრაობისას იზრდება სატრანსპორტო საშუალების დამუხრუჭებისათვის საჭირო დრო და მანძილი, ამასთანავე, ნალექი აუარესებს ხილვადობას, მძღოლმა უნდა შეამციროს სიჩქარე და გაზარდოს დისტანცია თავის სატრანსპორტო საშუალებასა და მის წინ მიმავალ სატრანსპორტო საშუალებას შორის.

QUESTION 878

CORRECT ANSWER: 3

While driving in rain and snow, a driver shall take into account that:

- 1 Reversing is prohibited
- 2 Decrease of speed between him/her and preceding vehicle is reasonable
- 3 Time and distance required for braking of the vehicle increases, besides precipitation worsens visibility

განმარტება:

„საგზაო მოძრაობის შესახებ“ საქართველოს კანონის 25-ე მუხლის მე-10 პუნქტის „ე“ ქვეპუნქტის თანახმად, გზაზე მოძრაობისას მძღოლმა უნდა გაითვალისწინოს შემდეგი გარემოებები - ვინაიდან წვიმისა და თოვის დროს მოძრაობისას იზრდება სატრანსპორტო საშუალების დამუხრუჭებისათვის საჭირო დრო და მანძილი, ამასთან ნალექი აუარესებს ხილვადობას, მძღოლმა უნდა შეამციროს სიჩქარე და გაზარდოს დისტანცია მისი და მის წინ მიმავალ სატრანსპორტო საშუალებას შორის.

QUESTION 879

CORRECT ANSWER: 1

When the rain starts, the road surface gets muddy and creates hazard of slipping, therefore a driver must:

- 1 Decrease speed by slow braking
- 2 Decrease speed by hard braking
- 3 Increase speed

განმარტება:

„საგზაო მოძრაობის შესახებ“ საქართველოს კანონის 25-ე მუხლის მე-10 პუნქტის „ვ“ ქვეპუნქტის თანახმად, გზაზე მოძრაობისას მძღოლმა უნდა გაითვალისწინოს შემდეგი გარემოებები - წვიმის დაწყებისას გზის ზედაპირი ტალახიანდება და ქმნის მოცურების საშიშროებას, რის გამოც მძღოლმა უნდა შეამციროს სიჩქარე მდლრე დამუხრუჭებით.

QUESTION 880

CORRECT ANSWER: 1

A driver shall take into account, that:

1 Using of hard breaks in turning or/and entry at high speed may cause losing of control over vehicle

2 Speed must be reduced with hard braking in order to enter the turning

3 Swerving shall be carried out at high speed

განმარტება:

„საგზაო მოძრაობის შესახებ“ საქართველოს კანონის 25-ე მუხლის მე-10 პუნქტის „თ“ ქვეპუნქტის თანახმად, გზაზე მოძრაობისას მძღოლმა უნდა გაითვალისწინოს შემდეგი გარემოებები - მოსახვევში მუხრუჭის მკვეთრად გამოყენებამ ან/და მაღალი სიჩქარით შესვლამ (განსაკუთრებით გზის სველი ზედაპირის არსებობისას) შესაძლოა გამოიწვიოს სატრანსპორტო საშუალებაზე კონტროლის დაკარგვა.

QUESTION 881

CORRECT ANSWER: 2

In case of presence of puddles on the road, a driver shall take into account, that:

1 Speed should be increased in puddle

2 Steering and braking of the vehicle is complicated, besides probability of slipping of the vehicle is high

3 It is reasonable to reduce the distance between it and the transport being driven in front

განმარტება:

„საგზაო მოძრაობის შესახებ“ საქართველოს კანონის 25-ე მუხლის მე-10 პუნქტის „ი“ ქვეპუნქტის თანახმად, გზაზე მოძრაობისას მძღოლმა უნდა გაითვალისწინოს შემდეგი გარემოებები - გზაზე წყლის გუბეების არსებობისას მძღოლმა უნდა გაითვალისწინოს, რომ სატრანსპორტო საშუალების მართვა და დამუხრუჭება გართულებულია, ამასთანავე, დიდია სატრანსპორტო საშუალების მოცურების ალბათობა (განსაკუთრებით გაცვეთილი საბურავებით ან მაღალი სიჩქარით მოძრაობისას).

QUESTION 882

CORRECT ANSWER: 3

If a vehicle driver feels fatigue, it is reasonable to:

1

Increase the vehicle speed

2

Take the coffein-containing liquid

3

Stop the vehicle and rest, if possible
make another driver to drive

განმარტება:

„საგზაო მოძრაობის შესახებ“ საქართველოს კანონის 25-ე მუხლის მე-10 პუნქტის „ვ“ ქვეპუნქტის თანახმად, გზაზე მოძრაობისას მძღოლმა უნდა გაითვალისწინოს შემდეგი გარემოებები - თუ სატრანსპორტო საშუალების მართვისას მძღოლი გრძნობს დაღლილობას, მიზანშეწონილია სატრანსპორტო საშუალების გაჩერება და დასვენება, ხოლო შესაძლებლობის შემთხვევაში – საჭესთან სხვა მძღოლის დასმა.

QUESTION 883

CORRECT ANSWER: 1

If a driver notices another driver, behaving aggressively and provocatively, he/she:

1

Must stay calm and control his/her
vehicle

2

Appeal the aggressive driver to keep
calm with two long and one short honk

3

Be aggressive himself/herself as well

განმარტება:

„საგზაო მოძრაობის შესახებ“ საქართველოს კანონის 25-ე მუხლის მე-10 პუნქტის „ლ“ ქვეპუნქტის თანახმად, გზაზე მოძრაობისას მძღოლმა უნდა გაითვალისწინოს შემდეგი გარემოებები - თუ მძღოლი გზაზე ამჩნევს სხვა სატრანსპორტო საშუალების მძღოლს, რომელიც აგრესიულად არის განწყობილი და გამომწვევად იქცევა, მან უნდა შეინარჩუნოს სიმშვიდე და აკონტროლოს თავისი სატრანსპორტო საშუალება.

QUESTION 884

CORRECT ANSWER: 2

Driving of the vehicle at high speed for long period of time shall cause:

1

Failure of braking system of the vehicle

2

Decrease of concentration and high speed sense of a driver

3

All of the circumstances listed in given test

განმარტება:

„საგზაო მოძრაობის შესახებ“ საქართველოს კანონის 25-ე მუხლის მე-10 პუნქტის „ნ“ ქვეპუნქტის თანახმად, გზაზე მოძრაობისას მძღოლმა უნდა გაითვალისწინოს შემდეგი გარემოებები - დიდი ხნის განმავლობაში მაღალი სიჩქარით მოძრაობა აქვეითებს კონცენტრაციასა და მაღალი სიჩქარის შეგრძნებას.

QUESTION 885

CORRECT ANSWER: 3

A driver must drive the vehicle:

1

Aggressively, as having priority on the road

2

Gently, but try to act as having priority on the road

3

Gently and not be aggressive, he/she must not try to act as having priority on the road

განმარტება:

„საგზაო მოძრაობის შესახებ“ საქართველოს კანონის 25-ე მუხლის მე-10 პუნქტის „ო“ ქვეპუნქტის თანახმად, გზაზე მოძრაობისას მძღოლმა უნდა გაითვალისწინოს შემდეგი გარემოებები - მძღოლი სატრანსპორტო საშუალებას უნდა მართავდეს მშვიდად, არ უნდა იჩენდეს აგრესიულობას და არ უნდა ცდილობდეს თავის გამოჩენას, როგორც უპირატესი გზაზე.

QUESTION 886

CORRECT ANSWER: 2

Is driving of the vehicle allowed by a person under narcotic drug influence, which has used such narcotic drug for medical purpose, according to the prescription of the doctor?

1

Yes

2

No

განმარტება:

„საგზაო მოძრაობის შესახებ“ საქართველოს კანონის 21-ე მუხლის მე-15 პუნქტის თანახმად, აკრძალულია სატრანსპორტო საშუალების მართვა ალკოჰოლური, ნარკოტიკული ან ფსიქოტროპული სიმთვრალის მდგომარეობაში, ან იმ სამკურნალო პრეპარატის ზემოქმედებისას, რომელიც აქვეითებს რეაქციას და ყურადღებას.

QUESTION 887

CORRECT ANSWER: 2

Is driving of the vehicle allowed by a person under psychotropic drug influence, which has used such psychotropic drug for medical purpose, according to the prescription of the doctor?

1

Yes

2

No

განმარტება:

„საგზაო მოძრაობის შესახებ“ საქართველოს კანონის 21-ე მუხლის მე-15 პუნქტის თანახმად, აკრძალულია სატრანსპორტო საშუალების მართვა ალკოჰოლური, ნარკოტიკული ან ფსიქოტროპული სიმთვრალის მდგომარეობაში, ან იმ სამკურნალო პრეპარატის ზემოქმედებისას, რომელიც აქვეითებს რეაქციას და ყურადღებას.

QUESTION 888

CORRECT ANSWER: 1

Is delivery of the vehicle for driving allowed to a person under narcotic drug influence, which has used such narcotic drug for medical purpose, according to the prescription of the doctor?

1

Yes

2

No

განმარტება:

„საგზაო მოძრაობის შესახებ“ საქართველოს კანონის მე-20 მუხლის მე-4 პუნქტის თანახმად, აკრძალულია სატრანსპორტო საშუალების სამართავად გადაცემა იმ პირისათვის, რომელიც იმყოფება ალკოჰოლური, ნარკოტიკული ან ფსიქოტროპული სიმთვრალის მდგომარეობაში,

QUESTION 889

CORRECT ANSWER: 1

Is delivery of the vehicle for driving allowed to a person under psychotropic drug influence, which has used such psychotropic drug for medical purpose, according to the prescription of the doctor?

1

Yes

2

No

განმარტება:

„საგზაო მოძრაობის შესახებ“ საქართველოს კანონის მე-20 მუხლის მე-4 პუნქტის თანახმად, აკრძალულია სატრანსპორტო საშუალების სამართავად გადაცემა იმ პირისათვის, რომელიც იმყოფება ალკოჰოლური, ნარკოტიკული ან ფსიქოტროპული სიმთვრალის მდგომარეობაში,

QUESTION 890

CORRECT ANSWER: 3

Is driving of the vehicle prohibited by a person under influence of such medicines, which weaken reaction and attention?

1 No, if such medicines were taken for medical purpose, according to the prescription of the doctor

2 No, if the person is driving under observation of necessary safety rules

3 Yes

განმარტება:

„საგზაო მოძრაობის შესახებ“ საქართველოს კანონის 21-ე მუხლის მე-15 პუნქტის თანახმად, აკრძალულია სატრანსპორტო საშუალების მართვა ალკოჰოლური, ნარკოტიკული ან ფსიქოტროპული სიმთვრალის მდგომარეობაში, ან იმ სამკურნალო პრეპარატის ზემოქმედებისას, რომელიც აქვეითებს რეაქციას და ყურადღებას.

QUESTION 891

CORRECT ANSWER: 1

Is delivery of the vehicle for driving prohibited to a person under influence of such medicines, which weaken reaction and attention?

1 Yes

2 No, if such medicines were taken for medical purpose, according to the prescription of the doctor

3 No, if the person is driving under observation of necessary safety rules

განმარტება:

„საგზაო მოძრაობის შესახებ“ საქართველოს კანონის მე-20 მუხლის მე-4 პუნქტის თანახმად, აკრძალულია სატრანსპორტო საშუალების სამართავად გადაცემა იმ პირისათვის, რომელიც იმყოფება ალკოჰოლური, ნარკოტიკული ან ფსიქოტროპული სიმთვრალის მდგომარეობაში. ამავე კანონის 21-ე მუხლის მე-15 პუნქტის თანახმად, აკრძალულია სატრანსპორტო საშუალების მართვა ალკოჰოლური, ნარკოტიკული ან ფსიქოტროპული სიმთვრალის მდგომარეობაში, ან იმ სამკურნალო პრეპარატის ზემოქმედებისას, რომელიც აქვეითებს რეაქციას და ყურადღებას.

QUESTION 892

CORRECT ANSWER: 3

Is driving of the vehicle prohibited by a person, who is under narcotic drug influence?

1 No, if he/she has taken such medicines for medical purpose, according to the prescription of the doctor

2 No, if he/she warns the appropriate police service about it in advance

3 Yes

განმარტება:

„საგზაო მოძრაობის შესახებ“ საქართველოს კანონის 21-ე მუხლის მე-15 პუნქტის თანახმად, აკრძალულია სატრანსპორტო საშუალების მართვა ალკოჰოლური, ნარკოტიკული ან ფსიქოტროპული სიმთვრალის მდგომარეობაში, ან იმ სამკურნალო პრეპარატის ზემოქმედებისას, რომელიც აქვეითებს რეაქციას და ყურადღებას.

QUESTION 893

CORRECT ANSWER: 1

Is driving of the vehicle prohibited by a person, who is under psychotropic drug influence?

1 Yes

2 No, if such medicines were taken for medical purpose, according to the prescription of the doctor

3 No, if the person is driving under observation of necessary safety rules

განმარტება:

„საგზაო მოძრაობის შესახებ“ საქართველოს კანონის 21-ე მუხლის მე-15 პუნქტის თანახმად, აკრძალულია სატრანსპორტო საშუალების მართვა ალკოჰოლური, ნარკოტიკული ან ფსიქოტროპული სიმთვრალის მდგომარეობაში, ან იმ სამკურნალო პრეპარატის ზემოქმედებისას, რომელიც აქვეითებს რეაქციას და ყურადღებას.

QUESTION 894

CORRECT ANSWER: 1

Is driving of the vehicle prohibited by a person, if he/she is under influence of alcohol?

1

Yes

2

No, if the driver is in the international traffic on the territory of Georgia

3

No, if he/she is driving under observation of necessary safety rules

განმარტება:

„საგზაო მოძრაობის შესახებ“ საქართველოს კანონის 21-ე მუხლის მე-15 პუნქტის თანახმად, აკრძალულია სატრანსპორტო საშუალების მართვა ალკოჰოლური, ნარკოტიკული ან ფსიქოტროპული სიმთვრალის მდგომარეობაში, ან იმ სამკურნალო პრეპარატის ზემოქმედებისას, რომელიც აქვეითებს რეაქციას და ყურადღებას.

QUESTION 895

CORRECT ANSWER: 4

When driving a mechanical vehicle, using the safety belt is mandatory:

1

While proceeding on the road with ground surface

2

While proceeding on the road with breakstone surface

3

While proceeding on the road with cement-concrete surface

4

When driving in any road

განმარტება:

„საგზაო მოძრაობის შესახებ“ საქართველოს კანონის 21-ე მუხლის მე-9 პუნქტის თანახმად, მძღოლი ვალდებულია მექანიკური სატრანსპორტო საშუალების (გარდა იმ სატრანსპორტო საშუალებისა, რომლის კონსტრუქცია არ ითვალისწინებს უსაფრთხოების ღვედებს) მართვისას დადგენილი წესით ისარგებლოს უსაფრთხოების ღვედით და უზრუნველყოს მისგან მარჯვენა (ან მარცხენა) მხარეს მჯდომი მგზავრის მიერ უსაფრთხოების ღვედით სარგებლობა.

QUESTION 896

CORRECT ANSWER: 1

While driving on the road with wet surface, a driver must take into account, that:

1 Using of hard breaks in turning or/and entry at high speed may cause losing of control over vehicle

2 Hard braking reduces chance of slipping of the vehicle

3 In order to avoid danger of slipping of the vehicle while entering the turning, speed shall be reduced using hard brakes

განმარტება:

„საგზაო მოძრაობის შესახებ“ საქართველოს კანონის 25-ე მუხლის მე-10 პუნქტის „თ“ ქვეპუნქტის თანახმად, გზაზე მოძრაობისას მძღოლმა უნდა გაითვალისწინოს შემდეგი გარემოებები: თ) მოსახვევში მუხრუჭის მკვეთრად გამოყენებამ ან/და მაღალი სიჩქარით შესვლამ (განსაკუთრებით გზის სველი ზედაპირის არსებობისას) შესაძლოა გამოიწვიოს სატრანსპორტო საშუალებაზე კონტროლის დაკარგვა.

QUESTION 897

CORRECT ANSWER: 1

Danger of slipping of the vehicle is higher:

1 When it first starts to rain

2 During rain, in 30 minutes after its beginning

3 After the rain has stopped

განმარტება:

„საგზაო მოძრაობის შესახებ“ საქართველოს კანონის 25-ე მუხლის მე-10 პუნქტის „ვ“ ქვეპუნქტის თანახმად, გზაზე მოძრაობისას მძღოლმა უნდა გაითვალისწინოს შემდეგი გარემოებები: ვ) წვიმის დაწყებისას გზის ზედაპირი ტალახიანდება და ქმნის მოცურების საშიშროებას, რის გამოც მძღოლმა უნდა შეამციროს სიჩქარე მდორე დამუხრუჭებით.

QUESTION 898

CORRECT ANSWER: 2

While driving in rainy weather, a driver shall pay special attention to:

- | | |
|---|---|
| <p>1 Cargo vehicle, as danger of falling of cargo from the body of the vehicle is high</p> | <p>2 Pedestrians, as dangerous situations may occur due to possible speed of pedestrians</p> |
| <p>3 Towards low-speed vehicles</p> | |

განმარტება:

„საგზაო მოძრაობის შესახებ“ საქართველოს კანონის 25-ე მუხლის მე-10 პუნქტის „ზ“ ქვეპუნქტის თანახმად, გზაზე მოძრაობისას მძღოლმა უნდა გაითვალისწინოს შემდეგი გარემოებები: ზ) წვიმიან ამინდში მოძრაობისას მძღოლმა განსაკუთრებული ყურადღება უნდა გამოიჩინოს ქვეითთა მიმართ, რადგან მათი შესაძლო სიჩქარის გამო შეიძლება შეიქმნას საფრთხის შემცველი სიტუაცია.

QUESTION 899

CORRECT ANSWER: 1

What is the age limit below which leaving of a child unattended is prohibited in the parked vehicle?

- | | |
|-------------------------------|--------------------------------|
| <p>1 Under 6 years</p> | <p>2 Under 7 years</p> |
| <p>3 Under 9 years</p> | <p>4 Under 12 years</p> |

განმარტება:

„საგზაო მოძრაობის შესახებ“ საქართველოს კანონის 26-ე მუხლის მე-9 პუნქტის თანახმად, აკრძალულია გაჩერებულ სატრანსპორტო საშუალებაში 6 წლამდე ბავშვის უმეთვალყურეოდ დატოვება.

QUESTION 900

CORRECT ANSWER: 1

If a driver is performing swerving for entry to the road, at the entrance of which crosswalk is located, he/she shall carry out swerving:

1

At low speed only, in case of necessity to stop and give the way to the pedestrians entered or entering the crossing

2

At any speed, as he/she takes priority over the pedestrians entered or entering the crossing

3

At high speed only, in order to pass above section of the road in due time

განმარტება:

„საგზაო მოძრაობის შესახებ“ საქართველოს კანონის 25-ე მუხლის მე-2 პუნქტის „ა“ ქვეპუნქტის თანახმად, ქვეითთა გადასასვლელზე ამ კანონის 21-ე მუხლის მე-6 პუნქტით, 33-ე მუხლის მე-2 პუნქტითა და 34-ე მუხლის მე-11 პუნქტით დადგენილ მოთხოვნათა დაცვით უნდა შესრულდეს შემდეგი მოთხოვნები: ა) თუ სატრანსპორტო საშუალებათა მოძრაობა საგზაო შუქნიშნით ან მარეგულირებლის მეშვეობით რეგულირდება, მოძრაობის ამკრძალავი სიგნალის დროს მძღოლი უნდა გაჩერდეს ქვეითთა გადასასვლელის წინ ან მის წინ მდებარე განივ მონიშვნასთან, ხოლო როცა მოძრაობის გაგრძელების უფლებას მიიღებს, არ უნდა დააბრკოლოს და საფრთხე არ უნდა შეუქმნას ქვეითთა გადასასვლელზე შესულ ქვეითებს. თუ მძღოლი ასრულებს მოხვევას სხვა გზაზე შესასვლელად, რომლის შესასვლელთანაც მდებარეობს ქვეითთა გადასასვლელი, მან ეს მოხვევა უნდა შეასრულოს მხოლოდ დაბალი სიჩქარით, ხოლო საჭიროების შემთხვევაში უნდა გაჩერდეს და გაატაროს გადასასვლელზე შესული ან შემავალი ქვეითები.

QUESTION 901

CORRECT ANSWER: 3

Is a driver allowed to hamper motion of other vehicles by routing at extremely low speed, without special grounds?

1 Yes, as according to the Highway Code, exceeding of allowed maximum speed is prohibited only

2 Yes, if he/she is driving on the extreme right lane

3 No

განმარტება:

„საგზაო მოძრაობის შესახებ“ საქართველოს კანონის 33-ე მუხლის მე-3 პუნქტის თანახმად, მძღოლმა განსაკუთრებული საფუძვლის გარეშე მეტისმეტად დაბალი სიჩქარით მოძრაობით არ უნდა გაართულოს სხვა სატრანსპორტო საშუალებების გადაადგილება.

QUESTION 902

CORRECT ANSWER: 1

If according to the orders of the Highway Code, a driver is obliged to yield to other traffic participants, he/she must express his/her intention of yielding clearly:

1 By reducing of speed or stopping the car

2 By giving honk or light signal

3 With any of the actions listed in given test

განმარტება:

„საგზაო მოძრაობის შესახებ“ საქართველოს კანონის 36-ე მუხლის მე-9 პუნქტის თანახმად, მძღოლმა, რომელმაც ამ კანონის მოთხოვნათა შესაბამისად გზა უნდა დაუთმოს სხვა საგზაო მოძრაობის მონაწილეებს, ვალდებულია გზის დათმობის თაობაზე თავისი განზრახვა ნათლად გამოხატოს სიჩქარის შემცირებით ან გაჩერებით.

QUESTION 903

CORRECT ANSWER: 3

How does alcohol affect a driver's reaction?

1

Does not influence the reaction

2

Reduces the reaction time

3

Increases the reaction time

განმარტება:

ალკოჰოლის მიღება ზრდის მძღოლის რეაქციის დროს.

QUESTION 904

CORRECT ANSWER: 2

If one of two vehicles of the same category has to reverse on mountain roads and the roads with large inclination having similar characteristics, for driving round, the obligation of reverse routing shall be imposed to:

1

A driver of the vehicle driving on the ascent

2

A driver of the vehicle driving on the descent, except for the case, when it is obvious that the driver of the vehicle driving on the ascent may carry out such maneuver more easily, in particular if he/she is near the driving round site

3

A driver of the vehicle driving on the descent, notwithstanding near which of the vehicles is the driving round site and for which of the drivers is performance of such maneuver easy

განმარტება:

„საგზაო მოძრაობის შესახებ“ საქართველოს კანონის 35-ე მუხლის მე-2 პუნქტის თანახმად, მთის გზასა და ანალოგიური მახასიათებლების მქონე დიდი დახრილობის გზაზე, აგრეთვე 1.14 და 1.15 საგზაო ნიშნებით აღნიშნულ გზებზე, სადაც გვერდის აქცევა შეუძლებელია ან გართულებულია, ერთი და იმავე კატეგორიის ან ქვეკატეგორიის სატრანსპორტო საშუალებების შემთხვევაში უკუსვლით უნდა იმოძრაოს დადმართზე მოძრაობა სატრანსპორტო საშუალებამ, გარდა იმ შემთხვევისა, როცა აშკარაა, რომ აღმართზე მოძრავი სატრანსპორტო საშუალების მძღოლს უფრო იოლად შეუძლია ასეთი მანევრის შესრულება, კერძოდ, თუ ის გვერდის ასაქცევად გილთან ახლოს იმყოფება.

QUESTION 905

CORRECT ANSWER: 3

If one of two vehicles has to reverse on mountain roads and the roads with large inclination having similar characteristics, for driving round, then the packs of the vehicles shall have priority over:

1

Motor car driver only

2

Bus and lorry drivers only

3

Drivers of the vehicles of all other categories

განმარტება:

„საგზაო მოძრაობის შესახებ“ საქართველოს კანონის 35-ე მუხლის მე-2 პუნქტის თანახმად, მთის გზასა და ანალოგიური მახასიათებლების მქონე დიდი დახრილობის გზაზე, აგრეთვე 1.14 და 1.15 საგზაო ნიშნებით აღნიშნულ გზებზე, სადაც გვერდის აქცევა შეუძლებელია ან გართულებულია, თუ გვერდის აქცევის მიზნით ორი სატრანსპორტო საშუალებიდან ერთ-ერთმა უნდა იმოძრაოს უკუსვლით, სატრანსპორტო საშუალებათა შემადგენლობის მძღოლს ენიჭება უპირატესობა ყველა სხვა სატრანსპორტო საშუალების მძღოლების მიმართ.

QUESTION 906

CORRECT ANSWER: 2

If one of two vehicles of the same category has to reverse on mountain roads and the roads with large inclination having similar characteristics, for driving round, the bus drivers shall have priority over:

1

The drivers of the pack of the vehicles only

2

Lorry and motor car drivers only

3

All vehicles

განმარტება:

„საგზაო მოძრაობის შესახებ“ საქართველოს კანონის 35-ე მუხლის მე-2 პუნქტის თანახმად, მთის გზასა და ანალოგიური მახასიათებლების მქონე დიდი დახრილობის გზაზე, აგრეთვე 1.14 და 1.15 საგზაო ნიშნებით აღნიშნულ გზებზე, სადაც გვერდის აქცევა შეუძლებელია ან გართულებულია, თუ გვერდის აქცევის მიზნით ორი სატრანსპორტო საშუალებიდან ერთ-ერთმა უნდა იმოძრაოს უკუსვლით, სატრანსპორტო საშუალებათა შემადგენლობის მძღოლს ენიჭება უპირატესობა ყველა სხვა სატრანსპორტო საშუალების მძღოლების მიმართ, მძიმეწონიანი სატრანსპორტო საშუალების მძღოლს – მსუბუქი სატრანსპორტო საშუალების მძღოლის მიმართ, ხოლო ავტობუსის მძღოლს – სატვირთო და მსუბუქი ავტომობილების მძღოლების მიმართ.

QUESTION 907

CORRECT ANSWER: 1

Does a driver's emotional state affect traffic safety?

1

Yes

2

No

ბანმარტეზა:

მძღოლის ემოციური მდგომარეობაზე გავლენას ახდენს მოძრაობის უსაფრთხოებაზე.

QUESTION 908

CORRECT ANSWER: 1

How does fatigue affect a driver's attention and reaction during participation in traffic?

1

Attention is weakened, reaction time is increased

2

Attention is weakened, reaction time is reduced

3

Neither attention nor reaction time is changed

ბანმარტეზა:

მძღოლის გადაღლილობა მის ყურადღებას აქვეითებს, რეაქციის დრო ზრდის.

QUESTION 909

CORRECT ANSWER: 1

Further motion of the vehicle is prohibited:

- | | |
|--|---|
| <div style="background-color: #f08080; color: white; padding: 5px; display: inline-block; margin-bottom: 5px;">1</div> In case of failure of active braking system | <div style="background-color: #f08080; color: white; padding: 5px; display: inline-block; margin-bottom: 5px;">2</div> In case of hermeticity of feed system is out of order |
| <div style="background-color: #f08080; color: white; padding: 5px; display: inline-block; margin-bottom: 5px;">3</div> In case of failure of muffler | <div style="background-color: #f08080; color: white; padding: 5px; display: inline-block; margin-bottom: 5px;">4</div> In case of any of the circumstances listed in given test |

განმარტება:

„საგზაო მოძრაობის შესახებ“ საქართველოს კანონის 21-ე მუხლის მე-13 პუნქტის თანახმად, მძღოლს ეკრძალება მოძრაობა მუშა სამუხრუჭო სისტემის, საჭის მექანიზმის, სატრანსპორტო საშუალებათა შემადგენლობაში მისაბმელი მოწყობილობის გაუმართაობისას, აგრეთვე დღე-ღამის ბნელ დროს ერთდროულად მწყობრიდან გამოსული (ჩამქრალი) ახლო და შორი განათების ფარებით (ან მათი არარსებობისას) ან/და უკანა საგაბარიტო სინათლეებით იმ გზაზე, რომელზედაც არ არის ხელოვნური განათება ან არასაკმარისი ხილვადობაა. მძღოლის მხარეს არსებული მინასანმენდის უმოქმედობისას აკრძალულია მექანიკური სატრანსპორტო საშუალების მართვა ნისლის, წვიმისა და თოვის დროს.

QUESTION 910

CORRECT ANSWER: 2

A driver is obliged to check and provide technical operability of the vehicle:

- | | |
|--|--|
| <div style="background-color: #f08080; color: white; padding: 5px; display: inline-block; margin-bottom: 5px;">1</div> Prior to driving | <div style="background-color: #f08080; color: white; padding: 5px; display: inline-block; margin-bottom: 5px;">2</div> Prior to and during driving |
| <div style="background-color: #f08080; color: white; padding: 5px; display: inline-block; margin-bottom: 5px;">3</div> During driving only | |

განმარტება:

„საგზაო მოძრაობის შესახებ“ საქართველოს კანონის 21-ე მუხლის მე-12 პუნქტის თანახმად, მძღოლი ვალდებულია მგზავრობის დაწყებამდე შეამოწმოს და მგზავრობისას უზრუნველყოს სატრანსპორტო საშუალების ტექნიკური გამართულობა.

QUESTION 911

CORRECT ANSWER: 2

Subsequent driving of a vehicle is prohibited, if:

- | | |
|--|--|
| 1 Anti-theft devices are not operating properly | 2 Trailer included in the vehicle is out of order |
| 3 Speedometer is out of order | 4 In any case listed in given test |

განმარტება:

„საგზაო მოძრაობის შესახებ“ საქართველოს კანონის 21-ე მუხლის მე-13 პუნქტის თანახმად, მძღოლს ეკრძალება მოძრაობა მუშა სამუხრუჭო სისტემის, საჭის მექანიზმის, სატრანსპორტო საშუალებათა შემადგენლობაში მისაბმელი მოწყობილობის გაუმართაობისას, აგრეთვე დღე-ღამის ბნელ დროს ერთდროულად მწყობრიდან გამოსული (ჩამქრალი) ახლო და შორი განათების ფარებით (ან მათი არარსებობისას) ან/და უკანა საგაბარიტო სინათლეებით იმ გზაზე, რომელზედაც არ არის ხელოვნური განათება ან არასაკმარისი ხილვადობაა. მძღოლის მხარეს არსებული მინასანმენდის უმოქმედობისას აკრძალულია მექანიკური სატრანსპორტო საშუალების მართვა ნისლის, წვიმისა და თოვის დროს.

QUESTION 912

CORRECT ANSWER: 3

A driver is prohibited from subsequent driving of a vehicle, if:

- | | |
|---|--|
| 1 Processed air exhaust system is out of order | 2 Vehicle does not have rear-view mirror, provided by construction of the vehicle |
| 3 Windscreen wiper on the side of the driver is not operating during fog, rain or snow | 4 Safety belts are not operating properly |

განმარტება:

„საგზაო მოძრაობის შესახებ“ საქართველოს კანონის 21-ე მუხლის მე-13 პუნქტის თანახმად, მძღოლს ეკრძალება მოძრაობა მუშა სამუხრუჭო სისტემის, საჭის მექანიზმის, სატრანსპორტო საშუალებათა შემადგენლობაში მისაბმელი მოწყობილობის გაუმართაობისას, აგრეთვე დღე-ღამის ბნელ დროს ერთდროულად მწყობრიდან გამოსული (ჩამქრალი) ახლო და შორი განათების ფარებით (ან მათი არარსებობისას) ან/და უკანა საგაბარიტო სინათლეებით იმ გზაზე, რომელზედაც არ არის ხელოვნური განათება ან არასაკმარისი ხილვადობაა. მძღოლის მხარეს არსებული მინასანმენდის უმოქმედობისას აკრძალულია მექანიკური სატრანსპორტო საშუალების მართვა ნისლის, წვიმისა და თოვის დროს.

QUESTION 913

CORRECT ANSWER: 2

During dark hours and in low visibility conditions, speed of oncoming vehicle seems:

1 Higher than in reality

2 Lower than in reality

3 As it is in reality

განმარტება:

დღის ნათელ დროს, შემხვედრი სატრანსპორტო საშუალების სიჩქარეს, ადამიანის თვალი განსაზღვრავს სივრცეში არსებულ სხვა ორიენტირებთან შედარებით (საგზაო ნიშნები, მონიშვნა, გზისპირზე გამწვანება და სხვა), ხოლო დღე-ღამის ბნელ დროს და არასაკმარისი ხილვადობის პირობებში ორიენტირება ხდება მხოლოდ ფარების შუქზე, ამიტომ შემხვედრი სატრანსპორტო საშუალების სიჩქარეს აღვიქვამთ უფრო ნაკლებად, ვიდრე რეალურადაა.

QUESTION 914

CORRECT ANSWER: 1

Fuel consumption during long-term acceleration by first transmission switched upon starting of motion of the vehicle with mechanical gear box:

1 Is increased

2 Is decreased

3 Is not changed

განმარტება:

მექანიკური გადაცემათა კოლოფის მქონე სატრანსპორტო საშუალების ჩართული პირველი გადაცემით მოძრაობისას სიჩქარე დაბალია, ხოლო ძრავი მუშაობს მაღალი ბრუნთა რიცხვით და საჭიროებს მეტ სანავს. მოძრაობის დაწყებისას, პირველი გადაცემით ჩართული სატრანსპორტო საშუალების ხანგრძლივი გაქნების დროს სანავსის ხარჯი იზრდება.

QUESTION 915

CORRECT ANSWER: 1

A vehicle is more stable against overturn, if its center of gravity is located:

1

Down

2

Up

განმარტება:

რაც უფრო მაღლაა განლაგებული სატრანსპორტო საშუალების სიმძიმის ცენტრი მით უფრო ნაკლებია მისი მდგრადობა გადაყირავების წინააღმდეგ, განურჩევლად ტვირთის ხასიათისა. ტვირთიანი სატრანსპორტო საშუალების სიმძიმის ცენტრი ყოველთვის უფრო მაღლაა განლაგებული ვიდრე უტვირთოსი.

QUESTION 916

CORRECT ANSWER: 3

While driving through heavy traffic, chance of traffic accident will be less if vehicle speed:

1

Is noticeably more than speed of other vehicles

2

Is noticeably less than speed of other vehicles

3

Is equal to the speed

განმარტება:

მჭიდრო სატრანსპორტო ნაკადში მოძრაობისას ავრიული სიტუაციის წარმოქმნის ალბათობა ნაკლებია, თუ თქვენი სატრანსპორტო საშუალების სიჩქარე იქნება სატრანსპორტო ნაკადის სიჩქარის ტოლი.

QUESTION 917

CORRECT ANSWER: 2

In case of slipping of rear axle of the vehicle with rear driving axis during routing in turning, a driver shall:

- 1 Apply the break and turn the steering wheel to the slip side
- 2 Slightly reduce fuel supply and turn the steering wheel to the slip side
- 3 Slightly increase fuel supply and not to change the steering wheel state

განმარტება:

მოსახვევში მოძრაობისას უკანა წამყვანღებოანი ავტომობილის უკანა ხიდის მოცურების შემთხვევაში მძღოლმა უნდა ოდნავ შეამციროს საწვავის მიწოდება და საჭე მოაბრუნოს მოცურების მხარეს.

QUESTION 918

CORRECT ANSWER: 1

In case of heavy snow cover on driveway, while routing on the ground road, a vehicle driver must move:

- 1 With previously selected low gears and at speed without abrupt turning and stopping
- 2 According to the state of the road surface, by changing gear and speed

განმარტება:

სავალ ნაწილზე ღრმა თოვლის არსებობისას, გრუნტოვან გზაზე მოძრაობის შემთხვევაში სატრანსპორტო საშუალების მძღოლმა უნდა იმოძრაოს წინასწარ შერჩეული გადაცემითა და სიჩქარით გაჩერებების გარეშე, გამორიცხოს საჭის თვლის მკვეთრი მობრუნება.

QUESTION 919

CORRECT ANSWER: 3

In case of starting motion on the ascent, in which moment is lowering of park brake lever reasonable?

1

Prior to starting motion

2

After starting motion

3

Simultaneously with starting of motion

განმარტება:

აღმართზე მოძრაობის დაწყების შემთხვევაში სადგომი მუხრუჭის ბერკეტის დაშვება მიზანშეწონილია ერთდროულად მოძრაობის დაწყებისას.

QUESTION 920

CORRECT ANSWER: 2

In case of speeding up of the vehicle while turning, importance of centrifugal force:

1

Is decreasing

2

Is increasing

3

Is not changing

განმარტება:

სატრანსპორტო საშუალების მოსახვევში მოძრაობისას სიჩქარის გაზრდის შემთხვევაში ცენტრიდანული ძალა იზრდება.

QUESTION 921

CORRECT ANSWER: 3

If a vehicle driver suddenly meets short ice-covered section of the road while routing on flat road, he/she should:

1 Slow down through one-time hard braking

2 Slow down through multiple slow braking

3 Proceed with the same trajectory without changing the speed

განმარტება:

თუ სატრანსპორტო საშუალების მძღოლი სწორ გზაზე მოძრაობისას მოულოდნელად მოხვდა მოლიპულ მოკლე მონაკვეთზე, მოძრაობის სიჩქარის შეუცვლელად უნდა გააგრძელოს მოძრაობა იმავე ტრაექტორიით.

QUESTION 922

CORRECT ANSWER: 1

In case the brake shoes get wet after going though the water obstacle, the vehicle driver in order to restore the efficiency of the brakes is required to:

1 Proceed and dry brake blocks through short multiple pedaling

2 Proceed with partly elevated hand brake lever

3 Proceed with caution, until the service station

განმარტება:

წყლის დაბრკოლების გადალახვის შემდეგ სამუხრუტო ხუნდების დასველების შემთხვევაში, სატრანსპორტო საშუალების მუხრუტების ეფექტურობის აღსადგენად, მძღოლმა უნდა გააგრძელოს მოძრაობა და გააშროს სამუხრუტე ხუნდები მუხრუტის სატერფულზე ფეხის მრავალჯერადი ხანმოკლე დაჭერით.

QUESTION 923

CORRECT ANSWER: 2

During dark hours or in low visibility conditions, a driver is obliged to select speed of the vehicle so that stopping distance would be:

1

More than visibility area

2

Less than visibility area

განმარტება:

დღე-ღამის ბნელ დროს ან არასაკმარისი ხილვადობის პირობებში, სატრანსპორტო საშუალების მოძრაობის სიჩქარე მძღოლმა უნდა შეარჩიოს ისე, რომ გასაჩერებელი მანძილი იყოს მხედველობის არეზე ნაკლები.

QUESTION 924

CORRECT ANSWER: 2

In order to stop slipping caused by braking, a vehicle driver must:

1

Switch the hitch off

2

Stop braking

3

Go on braking without changing of pedaling

განმარტება:

დამუხრუჭებით გამოწვეული მოცურების შესაწყვეტად სატრანსპორტო საშუალების მძღოლმა, უნდა შეწყვიტოს დამუხრუჭება.

QUESTION 925

CORRECT ANSWER: 3

According to the technical requirements of the vehicles it is inadmissible:

1

Absence of only disk fixing one bolt or nut or their weak tightening

2

Existence of cracks on disks only

3

Both absence of only disk fixing one bolt or nut or their weak tightening and existence of cracks on disks

განმარტება:

„ავტოსატრანსპორტო საშუალებების მიმართ წაყენებული ტექნიკური მოთხოვნები, რომლებთან შესაბამისობის დადგენის მიზნითაც ტარდება გზისთვის ვარგისობაზე ტესტირება და მისი ჩატარების მეთოდების“ საქართველოს მთავრობის 2014 წლის 3 იანვარის №30 დადგენილებით დამტკიცებული ტექნიკური რეგლამენტის მე-8 მუხლის მე-6 და მე-7 პუნქტების თანახმად: 6. დაუშვებელია დისკების დასამაგრებელი თუნდაც ერთი ტანჯიკის ან ქანჩის არქონა ან მათი სუსტი მოჭერა. 7. დაუშვებელია დისკებზე ბზარების არსებობა.

QUESTION 926

CORRECT ANSWER: 2

Difference of the radii from the centre of turning to front wheels routing opposite to turning centre and rear wheels routing towards the turning is called:

1

Turning radius of car

2

Dynamic corridor of car

3

Allowable corridor of car

განმარტება:

მოსახვევში მოძრაობისას სატვირთო ავტომობილებისა და ავტობუსების მოძრაობისათვის საჭირო ზოლი მნიშვნელოვნად ფართოვდება. მოხვევისას ავტომობილის წინა თვლები იკავებს მოხვევის ცენტრის საწინააღმდეგო მხარეს, ხოლო ავტომობილის ან მისაბმელის უკანა თვლები მოხვევის ცენტრის მხარეს. მოხვევის ცენტრის საწინააღმდეგო მხარეს მოძრავი წინა და მოხვევის მხარეს მოძრავი უკანა თვლებამდე მოხვევის ცენტრიდან გავლებული რადიუსების სხვაობას ეწოდება ავტომობილის დინამიკური დერეფანი.

QUESTION 927

CORRECT ANSWER: 3

Which of the driving styles of the mechanical vehicle ensures lower fuel consumption?

- 1 Smooth acceleration with abrupt slowdown
- 2 Frequent and abrupt acceleration with smooth slowdown
- 3 Smooth slowdown with smooth acceleration

განმარტება:

მექანიკური სატრანსპორტო საშუალების მოძრაობისას საწვავის ნაკლებ ხარჯს უზრუნველყოფს მართვის სტილი მდორე აჩქარება მდორე შენელებით.

QUESTION 928

CORRECT ANSWER: 3

On slippery road, in order to stop sliding caused by abrupt turning of the steering wheel, the vehicle must:

- 1 Turn off the clutch
- 2 Brake smoothly with active clutch
- 3 Turn the steering wheel to the sliding side quickly but smoothly, then make the trajectory of the vehicle straight with the steering wheel

განმარტება:

მოლიპულ გზაზე, საჭის თვლის მკვეთრი მობრუნებით გამოწვეული მოცურების შესაწყვეტად ავტომობილი მძღოლმა, უნდა სწრაფად, მაგრამ მდორედ საჭის თვალი მოაბრუნოს მოვურების მხარეს, შემდეგ საჭის თვლით გაასწოროს ავტომობილის ტრაექტორია.

QUESTION 929

CORRECT ANSWER: 3

What are the advantages of using winter tires for a vehicle during the winter time?

- 1 Danger of side sliding of the vehicle is excluded
- 2 Driving of a vehicle in all weather conditions is possible at a maximum construction speed
- 3 Possibility of sliding and towing of the wheels on slippery road surface is reduced

განმარტება:

სატრანსპორტო საშუალებაზე ზამთრის საბურავების გამოყენება ზამთრის პერიოდში ამცირებს მოლიპულ გზის საფარზე თვლების სრიალსა და ბუქსაობის შესაძლებლობას.

QUESTION 930

CORRECT ANSWER: 4

In which cases is the increase of side interval appropriate to ensure traffic safety?

- 1 While avoiding the oncoming vehicle at high speed only
- 2 While avoiding the long vehicle only
- 3 While moving on wet, slippery or uneven road only
- 4 In any case listed in given test

განმარტება:

მოძრაობის უსაფრთხოების უზრუნველსაყოფად გვერდითი ინტერვალის გაზრდა მიზანშეწონილია როგორც მაღალი სიჩქარით შემხვედრი სატრანსპორტო საშუალების გვერდის აქცევისას, ასევე გრძელი სატრანსპორტო საშუალების გვერდის აქცევისას და სველი, მოლიპული ან უსწორმასწორო გზის მონაკვეთზე მოძრაობისას.

QUESTION 931

CORRECT ANSWER: 1

According to the used energy source the agricultural aggregate can be:

1

Thermal, electric, hydraulic, animal-drawn

2

Gasoline, diesel, kerosene, wood spirit

განმარტება:

მოძრაობის საპირისპირო მიმართულებების ზოლზე გადასვლით გასწრების მანევრის შესრულებისას, საავარიო სიტუაციის შექმნის ერთ-ერთ ძირითადი მიზეზია ის გარემოება, რომ მძღოლი საპირისპირო მიმართულებით მოძრავ სატრანსპორტო საშუალების სიჩქარეს აფასებს, როგორცუფრო ნაკლებს ვიდრე სინამდვილეშია.

QUESTION 932

CORRECT ANSWER: 2

While driving on the straight road, at high speed, for long period of time, the vehicle driver shall perceive the speed of the vehicle:

1

Higher than it is actually

2

Lower than it is actually

3

As it is actually

განმარტება:

სწორ გზაზე, ხანგრძლივი დროის განმავლობაში მაღალი სიჩქარით მოძრაობისას სატრანსპორტო საშუალების სიჩქარეს მძღოლი აღიქვამს უფრო ნაკლებად, ვიდრე სინამდვილეშია.

QUESTION 933

CORRECT ANSWER: 2

How the visibility area of the driver is changed by increasing the speed of the vehicle?

1

Visibility area is expanded

2

Visibility area is narrowed

3

Visibility area does not change

განმარტება:

სატრანსპორტო საშუალების სიჩქარის გაზრდისას მძღოლის მხედველობის მხედველობის არე ვიწროვდება.

QUESTION 934

CORRECT ANSWER: 4

Which of the following may cause deterioration of driving skills?

1

Intake of the medicine, that lowers reaction time and attention only

2

Severe fatigue or insomnia only

3

Being under alcohol, drug or psychotropic substance influence only

4

Any of the circumstances listed in given test

განმარტება:

სატრანსპორტო საშუალების მართვის უნარის გაუარესება შეიძლება გამოიწვიოს როგორც იმ სამკურნალო პრეპარატის მიღებამ, რომელიც აქვეითებს რეაქციას და ყურადღებას, ასევე ძლიერმა დაღლილობამ ან უძილობამ და ალკოჰოლურმა, ნარკოტიკულმა ან ფსიქოტროპულმა თრობამ.

QUESTION 935

CORRECT ANSWER: 3

Risk of creation of emergency situation is increased:

- 1 Only in case, if the driver does not maintain proper distance or side interval with other vehicles
- 2 Only in case, if the driver starts maneuvering without making sure in its safety
- 3 In any case listed in given test

განმარტება:

საავარიო სიტუაციის წარმოქმნის საფრთხე იზრდება იმ შემთხვევაში, თუ მძღოლი სათანადოდ არ იცავს დისტანციას ან გვერდით ინტერვალს სხვა სატრანსპორტო საშუალებების მიმართ, ასევე თუ მძღოლი მანევრს იწყებს ისე, რომ არ რწმუნდება მის უსაფრთხოებაში.

QUESTION 936

CORRECT ANSWER: 1

Which of the circumstances given below indicates the engine supply system malfunctions or abrupt increase of fuel consumption due to incorrect regulation of the engine?

- 1 Strong black smoke from silencer
- 2 Condensed liquid leaking from silencer
- 3 Any of the circumstances listed in given test

განმარტება:

ჩამოთვლილი გარემოებიდან, ძრავის კვების სისტემის გაუმართაობაზე ან ძრავის არასწორი რეგულირების შედეგად საწვავის ხარჯის მკვეთრ მომატებაზე მიანიშნებს მაყუჩიდან გამონაბოლქვი მძლავრი მუქი კვამლი.

QUESTION 937

CORRECT ANSWER: 2

How the driver of the rear-driving wheel vehicle has to act, in order to avoid side slipping of rear bridge during motion on the frozen road?

- 1 Always use the parking brake for reduction of speed
- 2 Avoid abrupt releasing of pedal of clutch plate and abrupt pedalling of accelerator
- 3 Each of the above-mentioned actions is true

განმარტება:

უკანა წამყვანღერძიანი ავტომობილის მძღოლი, რათა აიცილოს მოყინულ გზაზე მოძრაობისას უკანა ხიდის გვერდულად მოცურება უნდა მოერიდოს გადაბმულობის ქუროს სატერფულის მკვეთრ აშვებას და აქსელერატორის სატერფულის მკვეთრ დაჭერას.

QUESTION 938

CORRECT ANSWER: 3

What is the function of the safety belt during the accident?

- 1 Prevents movement of the driver and passengers under inertia only, as well as their collision with the interior details of the vehicle and other passengers
- 2 Keeps the driver and passengers on the position only, providing safe opening of airbags
- 3 Fulfills all the above-mentioned functions

განმარტება:

საგზაო-სატრანსპორტო შემთხვევის დროს უსაფრთხოების ღვედი როგორც აღკვეთს მძღოლისა და მგზავრების ინერციით გადაადგილებას, შესაბამისად მათ შეჯახებას სატრანსპორტო საშუალების ინტერიერის დეტალებზე და სხვა მგზავრებთან, ასევე მძღოლსა და მგზავრებს აკავებს პოზიციაში, რომელიც უზრუნველყოფს აირბაგების (დამცავი ბალიშების) უსაფრთხოდ გახსნას.

QUESTION 939

CORRECT ANSWER: 3

How should the driver act, if such failure is discovered on the connection device of the towing vehicle and semi-trailer, which may lead to their separation?

1 Put extra pins immediately and drive the car to the service station or car parking area at a minimum speed

2 Fix the emergency sign to the rear of the semi-trailer and take the car to the service station

3 Stop driving

განმარტება:

„საგზაო მოძრაობის შესახებ“ საქართველოს კანონის 21-ე მუხლის მე-13 პუნქტის თანახმად, მძღოლს ევრძალება მოძრაობა მუშა სამუხრუჭო სისტემის, სატის მექანიზმის, სატრანსპორტო საშუალებათა შემადგენლობაში მისაბმელი მოწყობილობის გაუმართაობისას.

QUESTION 940

CORRECT ANSWER: 4

Which of the following requirements should be complied with, in case of placement of cargo in the cargo division of the vehicle?

1 Only the fact, that the cargo should be placed maximally evenly on the floor surface of the cargo section

2 Only the fact, that the cargo should be placed on maximally lower position

3 Only the fact, that allowed loads on axes should be taken into account during storage of cargo

4 All of the requirements listed in given test are required to be fulfilled

განმარტება:

ავტომობილის სატვირთო განყოფილებაში ტვირთის განთავსებისას ტვირთი უნდა განთავსდეს, მაქსიმალურად თანაბრად სატვირთო განყოფილების იატაკის ზედაპირზე რაც შეიძლება დაბლა, ასევე ტვირთის განთავსებისას მხედველობაში უნდა იქნეს მიღებული ღერძებზე ნებადართული დატვირთვები.

QUESTION 941

CORRECT ANSWER: 1

What are the functions of the receiver in the pneumatic braking system of the vehicle?

1

Provision of compressed air reserve

2

Provision of condensate emission from air

3

Increase of air pressure

4

Increase of braking power

განმარტება:

ავტომობილის პნევმატურ სამუხრუჭე სისტემაში, რესივერი უზრუნველყოფს შეკუმშული ჰაერის რეზერვის შექმნას.

QUESTION 942

CORRECT ANSWER: 3

How should the driver act while braking the vehicle without anti-lock brake system (ABC), in order the vehicle not to lose the steering capacity?

1

Brake with engine only

2

Brake with active brakes, by using additional parking brake

3

Brake by pulsating brake pedalling, besides try not to cause the blocking of the wheels

4

Must try to press the brake pedal abruptly, in order to stop the car quickly in this way

განმარტება:

მუხრუჭების ბლოკირების საწინააღმდეგო სისტემის (ABC) არ მქონე ავტომობილის დამუხრუჭებისას, რათა ავტომობილმა არ დაკარგოს მართვალობა მძღოლმა უნდა დაამუხრუჭოს სამუხრუჭე სატერფულზე პულსირებულად დაჭერით, ამასთან ეცადოს არ გამოიწვიოს თვლების ბლოკირება.

QUESTION 943

CORRECT ANSWER: 3

During dark hours, for reduction of strength of dazzling by the beams of the oncoming vehicle, the driver is recommended:

1

To switch the vehicle's cabin lights on

2

To carry out abrupt braking and to wear lightly tinted sunglasses

3

To apply the gaze to the right side of the driveway

განმარტება:

დღე-ღამის ბნელ დროს საპირისპირო მიმართულებიდან მომავალი სატრანსპორტო საშუალების ფარების შუქით თვალის მოჭრის სიძლიერის შემცირების მიზნით, მძღოლისათვის მიზანშეწონილია შეძლებისდაგვარად მიმართოს მზერა სავალი ნაწილის მარჯვენა ნაპირის მხარეს.

QUESTION 944

CORRECT ANSWER: 2

Is it possible to eliminate or limit the liability of the carrier by the contract?

1

Yes

2

No

განმარტება:

საქართველოს სამოქალაქო კოდექსის 669-ე მუხლის მე-3 პუნქტის თანახმად, გადამზიდველის პასუხისმგებლობა არ შეიძლება გამოირიცხოს ან შეიზღუდოს ხელშეკრულებით.

QUESTION 945

CORRECT ANSWER: 1

Is a person, offering transportation of cargo and conveyance of passengers publicly, obliged to enter into a conveyance-transportation contract?

1

Yes, if there are no grounds for refusal

2

The legislation does not stipulate such obligation

განმარტება:

საქართველოს სამოქალაქო კოდექსის 670-ე მუხლის თანახმად, პირი, რომელიც საჯაროდ სთავაზობს ტვირთის გადაზიდვასა და მგზავრთა გადაყვანას, ვალდებულია დადოს გადაყვანა-გადაზიდვის ხელშეკრულება, თუ არ არსებობს უარის თქმის საფუძველი.

QUESTION 946

CORRECT ANSWER: 2

A consignment note for transportation of goods shall be made:

1

In two counterparts and signed by the carrier and the consignee, and the first counterpart remains with the carrier, and the second one shall be delivered to the consignee together with delivery of the goods

2

In three counterparts and signed by the consignor and the carrier, and the first counterpart shall remain with the consignor, the second shall be attached to the cargo and the third shall be reserved by the carrier

განმარტება:

საქართველოს სამოქალაქო კოდექსის 673-ე მუხლის პირველი პუნქტის თანახმად, ტვირთის გადაზიდვისათვის ბედნადები დგება სამ ცალად, რომელთაც ხელს აწერენ გამგზავნი და გადამზიდველი. პირველი პირი რჩება გამგზავნს, მეორე თან ერთვის ტვირთს, მესამეს კი იტოვებს გადამზიდველი.

QUESTION 947

CORRECT ANSWER: 1

Does the cargo carrier have the right to request for execution of the consignment note in quantity appropriate to transport or cargo varieties?

1 Yes, if the cargo to be transported is distributed between several vehicles, or different types of cargo or the cargo divided into separate lots are referred

2 No, as only two counterparts of the consignment notes are allowed under the law

3 Yes, in case if the timeframe of transportation of the cargo stipulated by the contract exceeds 60 calendar days

განმარტება:

საქართველოს სამოქალაქო კოდექსის 673-ე მუხლის მე-2 პუნქტის თანახმად, თუ გადასაზიდი ტვირთი ნაწილდება რამდენიმე ტრანსპორტზე, ან საქმე ეხება სხვადასხვა სახის ანდა ცალკეულ პარტიებად დაყოფილ ტვირთს, როგორც გამგზავნს, ასევე გადამზიდველს შეუძლიათ მოითხოვონ იმდენი ზედნადების შედგენა, რამდენი ტრანსპორტიც ან ტვირთის სახეობაა.

QUESTION 948

CORRECT ANSWER: 4

Which of the details listed below is not included in the consignment note compiled for transportation of cargo?

1 and place of delivery of the cargo, as well as the place of shipment of the cargo

2 Ordinary name of the cargo type and types of packaging, in case of hazardous goods, their internationally recognized designation

3 Cargo weight or amount marked otherwise

4 All of the data is required to be included in the consignment note

განმარტება:

საქართველოს სამოქალაქო კოდექსის 674-ე მუხლის პირველი პუნქტის „დ“, „ვ“ და „თ“ ქვეპუნქტების თანახმად, ზედნადები უნდა შეიცავდეს შემდეგ მონაცემებს: - დ. ტვირთის გადაცემის დღესა და ადგილს, ასევე ტვირთის მიტანის ადგილს; - ვ. ტვირთის სახეობის ჩვეულებრივ სახელწოდებასა და შეფუთვის სახეს, საფრთხეშემცველი ტვირთების დროს, მათ საყოველთაოდ აღიარებულ აღნიშვნას; - თ. ტვირთის წონას ან სხვაგვარად აღნიშნულ რაოდენობას.

QUESTION 949

CORRECT ANSWER: 4

Which of the details listed below is not included in the consignment note compiled for transportation of cargo?

- | | |
|--|--|
| 1 The date and place of its issue | 2 Quantity, signs and numbers of cargo subjected to shipment |
| 3 Transportation costs (the cost of shipping, additional charges, import duties and other costs incurred from the moment of entry into the agreement until its delivery) | 4 All of the data is required to be included in the consignment note |

განმარტება:

საქართველოს სამოქალაქო კოდექსის 674-ე მუხლის პირველი პუნქტის „ა“, „ბ“ და „ი“ ქვეპუნქტების თანახმად, ზედნადები უნდა შეიცავდეს შემდეგ მონაცემებს: - ა. გაცემის დღესა და ადგილს; - ბ. გადასაზიდი ტვირთების რაოდენობას, ნიშნებსა და ნომრებს; - ი. გადაზიდვასთან დაკავშირებულ ხარჯებს (გადაზიდვის ფასს, დამატებით ხარჯებს, იმპორტის გადასახადებს და სხვა ხარჯებს, რომლებიც წარმოიშობა ხელშეკრულების დადებიდან ტვირთის მიტანამდე).

QUESTION 950

CORRECT ANSWER: 4

Which of the additional details listed below shall not be included in the consignment note compiled for transportation of cargo?

- | | |
|--|--|
| 1 Prohibition of re-loading on other vehicle | 2 The costs, assumed by the consignor |
| 3 Amount of surplus charges payable at the time of consignment | 4 In case of necessity, any data listed in given test is required to be included in the consignment note |

განმარტება:

საქართველოს სამოქალაქო კოდექსის 674-ე მუხლის მე-2 პუნქტის „ა“, „ბ“ და „გ“ ქვეპუნქტების თანახმად, საჭიროებისას ზედნადები უნდა შეიცავდეს დამატებით მონაცემებს: - ა. სხვა ტრანსპორტზე გადატვირთვის აკრძალვას; - ბ. ხარჯებს, რომლებსაც გამგზავნი თავის თავზე იღებს; - გ. ტვირთის გაგზავნის დროს გადასახდელი ფასდანიშნის ოდენობას.

QUESTION 951

CORRECT ANSWER: 4

Which of the additional details listed below shall not be included in the consignment note compiled for transportation of cargo?

1 Value of the cargo and special interest in its delivery

2 Instructions of the consignor towards the carrier regarding insurance of the cargo

3 The list of the documents handled to the carrier

4 In case of necessity, any data listed in given test is required to be included in the consignment note

განმარტება:

საქართველოს სამოქალაქო კოდექსის 674-ე მუხლის მე-2 პუნქტის „ა“, „ბ“ და „გ“ ქვეპუნქტების თანახმად, სატვირთოებისას ზედნადები უნდა შეიცავდეს დამატებით მონაცემებს: - დ. ტვირთის ღირებულებას და მიწოდებისადმი განსაკუთრებული ინტერესის აღნიშვნას; - ე. გამგზავნის მითითებებს გადამზიდველის მიმართ ტვირთის დაზღვევის შესახებ; - ზ. გადამზიდველისათვის გადაცემული საბუთების ჩამონათვალი.

QUESTION 952

CORRECT ANSWER: 1

Does the consignor have the right to require for examination of the cargo weight or the amount provided otherwise from the carrier?

1 Yes

2 No

3 Yes, but only in case if this is stipulated by the consignment agreement

განმარტება:

საქართველოს სამოქალაქო კოდექსის 676-ე მუხლის მე-3 პუნქტის თანახმად, გამგზავნს შეუძლია გადამზიდველს მოსთხოვოს, რომ გადამზიდველმა გადაამოწმოს ტვირთის წონა ან მისი სხვაგვარად მოცემული რაოდენობა. მას შეუძლია ასევე მოითხოვოს, რომ გადამზიდველმა შეამოწმოს გადასაზიდი ტვირთის შემცველობა. გადამზიდველს უფლება აქვს მოითხოვოს ამ შემოწმებასთან დაკავშირებული ხარჯების ანაზღაურება. გადამოწმების შედეგები უნდა აღინიშნოს ზედნადებში.

QUESTION 953

CORRECT ANSWER: 2

Does the consignor have the right to require for verification of composition of the cargo to be transported from the carrier?

1 Yes

2 No

3 Yes, but only in case if this is stipulated by the consignment agreement

განმარტება:

საქართველოს სამოქალაქო კოდექსის 676-ე მუხლის მე-3 პუნქტის თანახმად, გამგზავნს შეუძლია გადამზიდველს მოსთხოვოს, რომ გადამზიდველმა გადაამოწმოს ტვირთის წონა ან მისი სხვაგვარად მოცემული რაოდენობა. მას შეუძლია ასევე მოითხოვოს, რომ გადამზიდველმა შეამოწმოს გადასაზიდი ტვირთის შემცველობა. გადამზიდველს უფლება აქვს მოითხოვოს ამ შემოწმებასთან დაკავშირებული ხარჯების ანაზღაურება. გადამოწმების შედეგები უნდა აღინიშნოს ზედნადებში.

QUESTION 954

CORRECT ANSWER: 1

In case, if the consignor requestes for verification of content, weight or the amount of the cargo provided otherwise from the carrier:

1 The results of the verification must be provided in the consignment note

2 So-called "Revision Deed" must be made after such verification

3 Verification results must be immediately reported to the nearest tax authority

4 All of the requirements listed in given test are required to be fulfilled

განმარტება:

საქართველოს სამოქალაქო კოდექსის 676-ე მუხლის მე-3 პუნქტის თანახმად, გამგზავნს შეუძლია გადამზიდველს მოსთხოვოს, რომ გადამზიდველმა გადაამოწმოს ტვირთის წონა ან მისი სხვაგვარად მოცემული რაოდენობა. მას შეუძლია ასევე მოითხოვოს, რომ გადამზიდველმა შეამოწმოს გადასაზიდი ტვირთის შემცველობა. გადამზიდველს უფლება აქვს მოითხოვოს ამ შემოწმებასთან დაკავშირებული ხარჯების ანაზღაურება. გადამოწმების შედეგები უნდა აღინიშნოს ზედნადებში.

QUESTION 955

CORRECT ANSWER: 3

Upon receipt of the cargo, the carrier shall be obliged to check:

- | | | | |
|---|--|---|--|
| 1 | Unit amount of the cargo, accuracy of the data provided in the consignment note regarding their marks and numbers only | 2 | Appearance of the cargo and its packaging only |
| 3 | All of the above-mentioned data and circumstances | 4 | None of the given answers in the test is true |

განმარტება:

საქართველოს სამოქალაქო კოდექსის 676-ე მუხლის პირველი პუნქტის „ა“ და „ბ“ ქვეპუნქტების თანახმად, გადამზიდველი ვალდებულია ტვირთის მიღებისას შეამოწმოს: - ა. ტვირთის ცალობრივი რაოდენობა, მათი ნიშნებისა და ნომრების შესახებ ზედნადებში აღნიშნულ მონაცემთა სისწორე; - ბ. ტვირთისა და მისი შეფუთვის გარეგნული მდგომარეობა.

QUESTION 956

CORRECT ANSWER: 1

If the shipment conditions are not specified in the consignment note, it shall be presumed until contrary is proved, that:

- | | | | |
|---|--|---|--|
| 1 | The cargo and its packaging was in apparently good state and unit amount of the cargo, its marks and numbers matched with the data recorded on the consignment note upon its acceptance by the carrier | 2 | The carrier had not received the cargo |
| 3 | The carrier received neither consignment note nor cargo | | |

განმარტება:

საქართველოს სამოქალაქო კოდექსის 677-ე მუხლის მე-2 პუნქტის თანახმად, თუ ზედნადებში არ არის აღნიშნული გადაზიდვის პირობები, საპირისპიროს დამტკიცებამდე ივარაუდება, რომ გადამზიდველის მიერ ტვირთის მიღებისას ტვირთი და მისი შეფუთვა გარეგნულად კარგ მდგომარეობაში იყო და რომ ტვირთის ცალობრივი რაოდენობა, მისი აღნიშვნები და ნომრები ემთხვევა ზედნადებში ჩანერილ მონაცემებს.

QUESTION 957

CORRECT ANSWER: 2

During shipment of the cargo, liability for lossing of the documents stipulated by the consignment note and attached to it or handled to the carrier or their inaccurate use shall be imposed to:

1

Consignor

2

Carrier

3

Consignee

განმარტება:

საქართველოს სამოქალაქო კოდექსის 679-ე მუხლის მე-3 პუნქტის თანახმად, გადამზიდველი პასუხს აგებს ზედნადებში აღნიშნული და მასზე დართული ან გადამზიდველისათვის გადაცემული საბუთების დაკარგვის ან მათი არასწორი გამოყენებისათვის; მას არ შეიძლება იმაზე მეტი პასუხისმგებლობა დაეკისროს, ვიდრე ტვირთის დაკარგვის დროს დადგებოდა.

QUESTION 958

CORRECT ANSWER: 1

In case of lossing or inaccurate use of the documents stipulated by the consignment note and attached to it or handled to the carrier:

1

More liability may not be imposed to the carrier, than it would be in case of lossing the cargo

2

More liability may be imposed to the carrier, than it would be in case of lossing the cargo

განმარტება:

საქართველოს სამოქალაქო კოდექსის 679-ე მუხლის მე-3 პუნქტის თანახმად, გადამზიდველი პასუხს აგებს ზედნადებში აღნიშნული და მასზე დართული ან გადამზიდველისათვის გადაცემული საბუთების დაკარგვის ან მათი არასწორი გამოყენებისათვის; მას არ შეიძლება იმაზე მეტი პასუხისმგებლობა დაეკისროს, ვიდრე ტვირთის დაკარგვის დროს დადგებოდა.

QUESTION 959

CORRECT ANSWER: 2

The carrier shall be exempted from liability for loss, damage or delay in delivery of the cargo only if:

1 The consignment agreement does not stipulate liability of the carrier for loss, damage or delay in delivery of cargo

2 This happened by fault of the authorized person and/or based on such instruction of the same person, for which the carrier did not bear liability

3 This happened due to the defect of the vehicle used for transportation or by fault of the leaser of the vehicle or the service staff of such leaser

განმარტება:

საქართველოს სამოქალაქო კოდექსის 686-ე მუხლის მე-2 პუნქტის თანახმად, გადამზიდველი თავისუფლდება პასუხისმგებლობისაგან, თუ ტვირთის დაკარგვა, დაზიანება ან მიტანის ვადის გადაცილება უფლებამოსილი პირის ბრალით ანდა ამავე პირის ისეთი მითითებით მოხდა, რომელზედაც გადამზიდველი პასუხს არ აგებს; აგრეთვე, თუ ტვირთის ნაკლი ისეთი გარემოებებითაა გამოწვეული, რომელთა თავიდან აცილებაც გადამზიდველს არ შეეძლო და არც მათი შედეგები შეიძლებოდა თავიდან აეცილებინა.

QUESTION 960

CORRECT ANSWER: 2

In which case the consignor does not bear liability towards the carrier for the damage caused by low-quality packaging, which will be imposed to individuals, materials and other property?

1

In case, if this obligation is not stipulated by the consignment agreement

2

In case, if the defect was apparent or known to the carrier, and had not made any arrangement regarding it

3

If there is the special designation in the consignment note, under which liability shall not be imposed to the consignor

განმარტება:

საქართველოს სამოქალაქო კოდექსის 678-ე მუხლის მე-2 პუნქტის თანახმად, გამგზავნი პასუხს აგებს გადაზიდვების წინაშე ტვირთის უხარისხო შეფუთვით გამოწვეული ზიანისათვის, რომელიც მიადგა პირებს, მასალებსა და სხვა ქონებას, ასევე უხარისხო შეფუთვით გამოწვეული ხარჯებისათვის, გარდა იმ შემთხვევებისა, როცა ნაკლი აშკარა იყო, ან ტვირთის მიღებისას გადაზიდველმა ამის შესახებ იცოდა და ამასთან დაკავშირებით რაიმე პირობა არ დაუთქვამს.

QUESTION 961

CORRECT ANSWER: 1

For all those expenses and damages, caused due to inaccurate or inadequate submission of the data in the consignment note about the date and place of sending the cargo, as well as about the place of delivery of the cargo, liability shall be imposed to:

1

Consignor

2

Carrier

3

Consignee

განმარტება:

საქართველოს სამოქალაქო კოდექსის 675-ე მუხლის პირველი ნაწილის „ა“ ქვეპუნქტის თანახმად გამგზავნი პასუხს აგებს ყველა იმ ხარჯისა და ზიანისათვის, რომლებიც დადგა იმის გამო, რომ არასწორად ან არასრულყოფილად იქნა წარმოდგენილი 674-ე მუხლის პირველი ნაწილის „ბ“, „დ“, „ე“, „ვ“, „ზ“, „თ“ და „კ“ ქვეპუნქტებში აღნიშნული მონაცემები. ხოლო ამავე კოდექსის 674-ე მუხლის პირველი ნაწილის „დ“ ქვეპუნქტის თანახმად ზედნადები უნდა შეიცავდეს მონაცემებს ტვირთის გადაცემის დღისა და ადგილის, ასევე ტვირთის მიტანის ადგილის შესახებ.

QUESTION 962

CORRECT ANSWER: 2

Which of the following assumptions is correct? The consignor shall be liable for all costs and damages, caused due to inaccurate or inadequate submission of the data in the consignment note:

1

About the costs regarding transportation (shipping price, additional costs, import duties and other costs incurred from the moment of execution of the agreement until the moment of delivery of the cargo)

2

About usual name of the type of cargo and packaging, as well as in case of dangerous goods, about their generally accepted markings

განმარტება:

საქართველოს სამოქალაქო კოდექსის 675-ე მუხლის პირველი ნაწილის „ა“ ქვეპუნქტის თანახმად გამგზავნი პასუხს აგებს ყველა იმ ხარჯისა და ზიანისათვის, რომლებიც დადგა იმის გამო, რომ არასწორად ან არასრულყოფილად იქნა წარმოდგენილი 674-ე მუხლის პირველი ნაწილის „ბ“, „დ“, „ე“, „ვ“, „ზ“, „თ“ და „კ“ ქვეპუნქტებში აღნიშნული მონაცემები. ხოლო ამავე კოდექსის 674-ე მუხლის პირველი ნაწილის „ვ“ ქვეპუნქტის თანახმად ზედნადები უნდა შეიცავდეს მონაცემებს ტვირთის სახეობის ჩვეულებრივ სახელწოდებასა და შეფუთვის სახის, საფრთხეშემცველი ტვირთების დროს, მათ საყოველთაოდ აღიარებულ აღნიშვნის შესახებ.

QUESTION 963

CORRECT ANSWER: 3

If the consignment agreement stipulates the specific timeframe for delivery of the cargo, following shall be considered as delay in delivery of such cargo:

1

Failure of delivery of the cargo at least 30 calendar days after expiration of the agreed timeframe

2

Failure of delivery of the cargo is at least 15 business days after expiration of the agreed timeframe

3

Failure of delivery of the Cargo within the agreed timeframe

განმარტება:

საქართველოს სამოქალაქო კოდექსის 688-ე მუხლის თანახმად ტვირთის მიტანის ვადის გადაცილებად ითვლება, როცა ტვირთი არ არის მიტანილი შეთანხმებულ ვადაში, ან, თუ ვადა არ იყო დათქმული, - გადასაზიდად საჭირო ჩვეულებრივ დროში - იმ გარემოებათა გათვალისწინებით, რომლებიც დაკავშირებულია ნაწილ-ნაწილ დატვირთვისას ამ ნაწილების შესაკრებად აუცილებელი დროის განსაზღვრასთან, თუ დარღვეულია ვადა, რომელიც წინდახედულ გადამზიდველს უნდა დაეცვა ჩვეულებრივ შემთხვევებში.

QUESTION 964

CORRECT ANSWER: 1

If the consignment agreement does not stipulate the specific timeframe for delivery of the cargo, following shall be considered as delay in delivery of the cargo:

1

The cargo is not delivered within the usual time needed for transportation - taking those circumstances into account, which are related to partial loading, definition of time required for collection of these parts, if the timeframe is breached, which should be complied with by the prudent carrier in usual cases

2

The cargo is not delivered within the period of one calendar month after its sending

განმარტება:

საქართველოს სამოქალაქო კოდექსის 688-ე მუხლის თანახმად ტვირთის მიტანის ვადის გადაცილებად ითვლება, როცა ტვირთი არ არის მიტანილი შეთანხმებულ ვადაში, ან, თუ ვადა არ იყო დათქმული, - გადასაზიდად საჭირო ჩვეულებრივ დროში - იმ გარემოებათა გათვალისწინებით, რომლებიც დაკავშირებულია ნაწილ-ნაწილ დატვირთვისას ამ ნაწილების შესაკრებად აუცილებელი დროის განსაზღვრასთან, თუ დარღვეულია ვადა, რომელიც წინდახედულ გადამზიდველს უნდა დაეცვა ჩვეულებრივ შემთხვევებში.

QUESTION 965

CORRECT ANSWER: 3

If the consignment agreement defines the specific timeframe for delivery of the cargo, the authorized person may consider the cargo as lost even without submission of additional evidences, if:

- 1 The cargo is not delivered to the place of destination within 10 days after expiry of the agreed timeframe
- 2 The cargo is not delivered to the place of destination within 20 days after expiry of the agreed timeframe
- 3 The cargo is not delivered to the place of destination within 30 days after expiry of the agreed timeframe

განმარტება:

საქართველოს სამოქალაქო კოდექსის 688-ე მუხლის პირველი ნაწილის თანახმად უფლებამოსილ პირს შეუძლია დამატებით მტკიცებულებათა წარმოდგენის გარეშეც ტვირთი ჩათვალოს დაკარგულად, თუ ტვირთი გადაზიდვის შეთანხმებული ვადის გასვლიდან ოცდაათი დღის ვადაში არ იქნება მიტანილი დანიშნულების ადგილზე ან, თუ ასეთი ვადა არ ყოფილა დათქმული, - გადამზიდველის მიერ ტვირთის მიღებიდან სამოცი დღის შემდეგ.

QUESTION 966

CORRECT ANSWER: 2

If the consignment agreement does not stipulate the specific timeframe for delivery of cargo, the authorized person may consider the cargo as lost even without submission of additional evidences, if:

- 1 No more than 50 days after receipt of the cargo by the carrier
- 2 In 60 days after receipt of the cargo by the carrier
- 3 In at least one year after receipt of the cargo by the carrier

განმარტება:

საქართველოს სამოქალაქო კოდექსის 688-ე მუხლის პირველი ნაწილის თანახმად უფლებამოსილ პირს შეუძლია დამატებით მტკიცებულებათა წარმოდგენის გარეშეც ტვირთი ჩათვალოს დაკარგულად, თუ ტვირთი გადაზიდვის შეთანხმებული ვადის გასვლიდან ოცდაათი დღის ვადაში არ იქნება მიტანილი დანიშნულების ადგილზე ან, თუ ასეთი ვადა არ ყოფილა დათქმული, - გადამზიდველის მიერ ტვირთის მიღებიდან სამოცი დღის შემდეგ.

QUESTION 967

CORRECT ANSWER: 1

If the consignor sends the dangerous goods, he/she shall be obliged to:

- | | |
|---|--|
| <p>1 Deliver the accurate information to the carrier and warn about such goods, if necessary - to insure the goods</p> | <p>2 Agree the requirements regarding transportation of the goods with the tax authority in advance</p> |
| <p>3 All of the conditions listed in given test are required to be fulfilled</p> | |

განმარტება:

საქართველოს სამოქალაქო კოდექსის 691-ე მუხლის პირველი ნაწილის თანახმად, თუ გამგზავნი გზავნის საფრთხეშემცველ ტვირთს, მაშინ იგი ვალდებულია გადამზიდველს მიანოდოს ზუსტი ინფორმაცია და გააფრთხილოს ამ ტვირთის შესახებ, საჭიროების შემთხვევაში კი - დააზღვიოს ეს ტვირთი. თუ ეს ვალდებულება არ არის შეტანილი ზედნაღებში, მაშინ გამგზავნსა და მიმღებს ევალეუბათ სხვა საშუალებებით დაამტკიცონ, რომ გადამზიდველმა ზუსტად იცოდა ტვირთის სახეობა და მოსალოდნელი საფრთხე.

QUESTION 968

CORRECT ANSWER: 1

The carrier may at any time and in any place unload, destroy or dispose of the cargo without liability for compensation of damages, if:

- | | |
|---|---|
| <p>1 The cargo is dangerous, about which he/she was not aware due to failure of delivery of information by the consignor</p> | <p>2 There is a reasonable doubt, that the consignor is not going to ensure the timely payment of the shipment costs</p> |
|---|---|

განმარტება:

საქართველოს სამოქალაქო კოდექსის 691-ე მუხლის მე-2 ნაწილის თანახმად, საფრთხეშემცველი ტვირთი, რომლის საფრთხის შესახებაც გამგზავნის მიერ ინფორმაციის მიუწოდებლობის გამო გადამზიდველმა არაფერი იცოდა, გადამზიდველს შეუძლია ნებისმიერ დროსა და ნებისმიერ ადგილას გადმოცალოს, მოსპოს ან გააუვნებელყოს იგი ზიანის ანაზღაურების ვალდებულების გარეშე; გამგზავნი ასევე აგებს პასუხს ამ ტვირთის გადასაზიდად გადაცემით ან გადაზიდვებით გამოწვეული ზიანისა და ხარჯებისათვის.

QUESTION 969

CORRECT ANSWER: 3

If the carrier is liable to pay damages for loss of the cargo in whole or in part, then compensation of the damage shall be calculated:

1 According to the applicable cargo price on the place and by the time of delivery of the cargo to the consignee

2 According to the maximum price of cargo of similar type, fixed within the period from commencement of shipping until its completion

3 According to the price of the cargo applicable at the place and by the time of delivery of the cargo

განმარტება:

საქართველოს სამოქალაქო კოდექსის 692-ე მუხლის პირველი ნაწილის თანახმად, თუ გადამზიდველი ვალდებულია ტვირტის მთლიანად ან ნაწილობრივ დაკარგვისათვის ანაზღაუროს ზიანი, მაშინ ზიანის ანაზღაურება გამოითვლება ტვირტის გადაცემის ადგილსა და დროს მოქმედი ტვირტის ფასის მიხედვით.

QUESTION 970

CORRECT ANSWER: 1

If the consignee accepts the cargo so, that he/she does not check its condition with the carrier and does not submit the general claims for losses and damages to the carrier, then it shall be presumed until the contrary is proved, that:

1 The consignee accepted the cargo in the state stipulated by the consignment note

2 The consignee accepted the cargo without definition of its state

3 The consignee did not accept the cargo

განმარტება:

საქართველოს სამოქალაქო კოდექსის 698-ე მუხლის პირველი ნაწილის თანახმად, თუ მიმღები მიიღებს ტვირტს ისე, რომ მის მდგომარეობას არ ამოწმებს გადამზიდველთან ერთად და არ უყენებს გადამზიდველს ზოგადი ხასიათის პრეტენზიას დანაკარგებისა და დაზიანების შესახებ, მაშინ საპირისპიროს დამტკიცებამდე ივარაუდება, რომ მიმღებმა ტვირტი ჩაიბარა ზედნადებში მითითებულ მდგომარეობაში.

QUESTION 971

CORRECT ANSWER: 2

In case of loss, damage or delay in delivery of the cargo, the limitation period of the rights caused by the shipment shall start:

1

From the date of announcement of claim by the consignee

2

From the date of sending the cargo

3

From the date of loss or damage of the cargo, and in case of delay – from the date defined for handling of the cargo

განმარტება:

საქართველოს სამოქალაქო კოდექსის 699-ე მუხლის „ა“ ქვეპუნქტის თანახმად, ამ თავში მოწესრიგებული გადაზიდვებიდან გამომდინარე უფლებების ხანდაზმულობის ვადა არის ერთი წელი. განზრახვის ან უხეში გაუფრთხილებლობისას ეს ვადა შეადგენს სამ წელს. ხანდაზმულობის ვადის დენა იწყება ტვირთის ნაწილობრივ დაკარგვის, დაზიანების ან ჩაბარების ვადის გადაცილებისას - მისი გამოგზავნის დღიდან.

QUESTION 972

CORRECT ANSWER: 3

In case of intent or gross negligence, the limitation period of the rights caused by the shipping shall be:

1

One year

2

Two years

3

Three years

4

Five years

განმარტება:

საქართველოს სამოქალაქო კოდექსის 699-ე მუხლის თანახმად, ამ თავში მოწესრიგებული გადაზიდვებიდან გამომდინარე უფლებების ხანდაზმულობის ვადა არის ერთი წელი. განზრახვის ან უხეში გაუფრთხილებლობისას ეს ვადა შეადგენს სამ წელს.

QUESTION 973

CORRECT ANSWER: 1

In case of complete loss of the cargo, the limitation period of the rights caused by the shipping shall start:

1 From thirtieth day after expiry of the agreed term regarding shipment or, if no such period has been specified, - the sixtieth day following to receipt of the cargo by the carrier

2 Sixtieth day after expiry of the agreed term for shipment or, if no such period has been specified, - in one year after receipt of the cargo by the carrier

3 Ninetieth day after receipt of the cargo by the carrier

განმარტება:

საქართველოს სამოქალაქო კოდექსის 699-ე მუხლის „ბ“ ქვეპუნქტის თანახმად, ამ თავში მოწესრიგებული გადაზიდვებიდან გამომდინარე უფლებების ხანდაზმულობის ვადა არის ერთი წელი. განზრახვის ან უხეში გაუფრთხილებლობისას ეს ვადა შეადგენს სამ წელს. ხანდაზმულობის ვადის დენა იწყება ტვირთის მთლიანად დაკარგვისას - გადაზიდვის შეთანხმებული ვადის გასვლის ოცდამეათე დღიდან ან, თუ ასეთი ვადა არ ყოფილა დათქმული, - გადაზიდვების მიერ ტვირთის მიღებიდან მესამოცე დღეს.

QUESTION 974

CORRECT ANSWER: 1

If shipment is carried out within one agreement by varrious carriers following each other, each of them shall bear liability for:

1 Fulfillment of entire shipment

2 Partially, only for the shipments carried out by him/her

განმარტება:

საქართველოს სამოქალაქო კოდექსის 701-ე მუხლის თანახმად, თუ გადაზიდვა ერთი ხელშეკრულებით ხორციელდება ერთმანეთის მიმდევარი სხვადასხვა გადაზიდველების მიერ, თითოეული მათგანი პასუხს აგებს მთლიანი გადაზიდვის განხორციელებისათვის.

QUESTION 975

CORRECT ANSWER: 1

Is the carrier, who receives the cargo from previous carrier, obliged to deliver the document stipulating the timeframe and certifying acceptance of the cargo and signed by him/her?

1

Yes

2

No

განმარტება:

საქართველოს სამოქალაქო კოდექსის 702-ე მუხლის პირველი ნაწილის თანახმად, გადამზიდველი, რომელიც წინა გადამზიდველისაგან იღებს ტვირთს, ვალდებულია გადასცეს ტვირთის მიღების დამადასტურებელი ვადამითითებული და მის მიერ ხელმოწერილი საბუთი. ზედნადების მეორე პირზე მან უნდა მიუთითოს თავისი სახელი და მისამართი. საჭიროების შემთხვევაში ზედნადების მეორე პირში გადამზიდველს შეაქვს 676-ე მუხლის მე-2 ნაწილით გათვალისწინებული პირობები და ტვირთის მიღების დადასტურება.

QUESTION 976

CORRECT ANSWER: 1

Is an agreement void, under which the carrier compromises the requirements arising from insurance of the cargo?

1

Yes

2

No

განმარტება:

საქართველოს სამოქალაქო კოდექსის 708-ე მუხლის მე-2 ნაწილის თანახმად, ბათილია ყოველი შეთანხმება, რომლითაც გადამზიდველი ტვირთის დაზღვევიდან წარმოშობილ მოთხოვნებს თმობს, და ყოველი სხვა მსგავსი შეთანხმება, რომლითაც მტკიცების ტვირთი სხვა პირზე იქნება გადატანილი.

QUESTION 977

CORRECT ANSWER: 2

What is considered in reaction time of the driver?

- 1 Time from threat detection until stopping of the vehicle
- 2 Time from threat detection until fulfillment of the measures necessary for its prevention
- 3 Time required for changing the acceleration pedal with the brake pedal

განმარტება:

მძღოლის რეაქციის დროში იგულისხმება - დრო საფრთხის აღმოჩენიდან მისი თავიდან აცილებისათვის საჭირო ზომების მიღებამდე.

QUESTION 978

CORRECT ANSWER: 1

During driving the vehicle in fog, we perceive the distance to the items:

- 1 Longer than in reality
- 2 Shorter than in reality
- 3 As it is in reality

განმარტება:

ნისლიან ამინდში სატრანსპორტო საშუალებით მოძრაობისას მანძილს საგნებამდე აღვიქვამთ უფრო მეტად, ვიდრე რეალურადაა.

QUESTION 979

CORRECT ANSWER: 3

Metal sound and characteristic squeak during vehicle braking is the sign of:

1

Air leakage from pneumatic braking system

2

Improper regulation of brakes

3

Deterioration of braking pads

4

Elevated condense level in the pneumatic braking system

განმარტება:

ავტომობილის დამუხრუჭებისას გამოცემული ლითონის ხმა და დამახასიათებელი ჭრიალი მიუთითებს სამუხრუჭო ხუნდების გაცვეთაზე.

თემა 31:

ადმინისტრაციული კანონი

QUESTION 980

CORRECT ANSWER: 1

If a cow, left on the road unattended or in breach of cattle grazing or driving rules, is accidentally injured or dies in a traffic accident:

- | | |
|---|---|
| <div style="border: 1px solid #ccc; padding: 10px; margin-bottom: 10px;"> <div style="background-color: #f08080; color: white; padding: 2px 10px; display: inline-block; font-weight: bold;">1</div> <div style="margin-left: 10px;">The driver is relieved from his/her liability to compensate for damages caused by its death or injury</div> </div> | <div style="border: 1px solid #ccc; padding: 10px;"> <div style="background-color: #f08080; color: white; padding: 2px 10px; display: inline-block; font-weight: bold;">2</div> <div style="margin-left: 10px;">The driver shall bear liability to compensate the damage caused by its death or injury</div> </div> |
|---|---|

განმარტება:

„საგზაო მოძრაობის შესახებ“ საქართველოს კანონის 22-ე მუხლის მე-9 პუნქტის თანახმად, თუ საგზაო-სატრანსპორტო შემთხვევის შედეგად დაიღუპა ან დაშავდა პირუტყვი, რომელიც გზაზე უმეტესწილად ან პირუტყვის ძოვების ან გარეკვის წესების დარღვევით იმყოფებოდა, მძღოლი თავისუფლდება მისი დაღუპვით ან დაშავებით მიყენებული ზიანის ანაზღაურების ვალდებულებისაგან.

QUESTION 981

CORRECT ANSWER: 2

The certificate of road suitability test is issued to the vehicle by:

- | | |
|---|---|
| <div style="border: 1px solid #ccc; padding: 10px; margin-bottom: 10px;"> <div style="background-color: #f08080; color: white; padding: 2px 10px; display: inline-block; font-weight: bold;">1</div> <div style="margin-left: 10px;">Ministry of Internal Affairs of Georgia</div> </div> | <div style="border: 1px solid #ccc; padding: 10px;"> <div style="background-color: #f08080; color: white; padding: 2px 10px; display: inline-block; font-weight: bold;">2</div> <div style="margin-left: 10px;">Testing Centre</div> </div> |
| <div style="border: 1px solid #ccc; padding: 10px;"> <div style="background-color: #f08080; color: white; padding: 2px 10px; display: inline-block; font-weight: bold;">3</div> <div style="margin-left: 10px;">LEPL – Land Transport Agency</div> </div> | |

განმარტება:

„საგზაო მოძრაობის შესახებ“ საქართველოს კანონის მე-11 მუხლის მე-6 პუნქტის თანახმად, ავტოსატრანსპორტო საშუალების გზისთვის ვარგისობაზე ტესტირების გავლის დამადასტურებელ ფირნიშს გასცემს ტესტირების ცენტრი.

QUESTION 982

CORRECT ANSWER: 2

In case of operative-search and investigation actions, a vehicle driver is obliged to submit following to the official of the Ministry of Internal Affairs upon request:

1

Medical certificate on health

2

ID document only

3

Registration certificate of the vehicle

განმარტება:

„საგზაო მოძრაობის შესახებ“ საქართველოს კანონის მე-13 მუხლის პირველი პუნქტის „ბ“ ქვეპუნქტისა და მე-2 პუნქტის თანახმად: 1. გზაზე სატრანსპორტო საშუალების მოძრაობის შემდგომ ან დროებით შეწყვეტა ხორციელდება: ბ) ცალკეული ოპერატიულ-სამძებრო და საგამოძიებო მოქმედებების ჩასატარებლად; 2. ამ მუხლის პირველი პუნქტის „ბ“ და „გ“ ქვეპუნქტებით გათვალისწინებულ შემთხვევებში სატრანსპორტო საშუალების მძღოლი ვალდებულია მოთხოვნისას საქართველოს შინაგან საქმეთა სამინისტროს უფლებამოსილ პირს შემოწმებისათვის წარუდგინოს მხოლოდ პირადობის დამადასტურებელი დოკუმენტი.

QUESTION 983

CORRECT ANSWER: 1

Is a traffic accident participant driver obliged to make sure in absence of injured or dead people after an accident?

1

Yes

2

Yes, only in case if he/she is a doctor

3

No, if he/she calls the medical emergency service

4

No, if accident has not occurred through his/he fault

განმარტება:

„საგზაო მოძრაობის შესახებ“ საქართველოს კანონის 27-ე მუხლის პირველი პუნქტის „ბ“ ქვეპუნქტის თანახმად, საგზაო-სატრანსპორტო შემთხვევის მონაწილე მძღოლი ვალდებულია: ბ) დარწმუნდეს, რომ საგზაო-სატრანსპორტო შემთხვევის შედეგად არავინ დაშავებულია ან დაღუპულია.

QUESTION 984

CORRECT ANSWER: 3

If there is no urgency to arrive to the medical institution or to take the injured, a traffic accident participant driver is obliged to:

1 Take his/her vehicle to the nearest department of the patrol police and declare about the fact occurred

2 Draw up the accident chart, take evidences from the witnesses and submit these documents to the nearest department of the patrol police

3 Stay on the accident scene and wait for arrival of the official

განმარტება:

„საგზაო მოძრაობის შესახებ“ საქართველოს კანონის 27-ე მუხლის პირველი პუნქტის „გ“ ქვეპუნქტის თანახმად, საგზაო-სატრანსპორტო შემთხვევის მონაწილე მძღოლი ვალდებულია: გ) მომხდარის შესახებ დაუყოვნებლივ აცნობოს საქართველოს შინაგან საქმეთა სამინისტროს სისტემაში შემავალ შესაბამის სამსახურს და, თუ არ არსებობს სამკურნალო დაწესებულებაში მისი მისვლის ან მის მიერ დაშავებულის გადაყვანის გადაუდებელი აუცილებლობა, დარჩეს საგზაო-სატრანსპორტო შემთხვევის ადგილზე და დაელოდოს უფლებამოსილი პირის მისვლას.

QUESTION 985

CORRECT ANSWER: 1

A traffic accident participant driver is obliged to notify immediately:

1 Appropriate service under auspices of the Ministry of Internal Affairs of Georgia

2 Local self-government body

3 Ministry of Labour, Health and Social Affairs of Georgia

განმარტება:

„საგზაო მოძრაობის შესახებ“ საქართველოს კანონის 27-ე მუხლის პირველი პუნქტის „გ“ ქვეპუნქტის თანახმად, საგზაო-სატრანსპორტო შემთხვევის მონაწილე მძღოლი ვალდებულია: გ) მომხდარის შესახებ დაუყოვნებლივ აცნობოს საქართველოს შინაგან საქმეთა სამინისტროს სისტემაში შემავალ შესაბამის სამსახურს და, თუ არ არსებობს სამკურნალო დაწესებულებაში მისი მისვლის ან მის მიერ დაშავებულის გადაყვანის გადაუდებელი აუცილებლობა, დარჩეს საგზაო-სატრანსპორტო შემთხვევის ადგილზე და დაელოდოს უფლებამოსილი პირის მისვლას.

QUESTION 986

CORRECT ANSWER: 2

In which of the below circumstances may the traffic accident participant driver leave the accident scene and not wait for arrival of the appropriate official?

1 If it is obvious that the accident had not occurred through his/her fault

2 If there is no urgency of arrival of the driver or taking the injured to the medical institution

3 If another participant of the traffic accident is concealed from the accident scene

4 In case of any of the circumstances listed in given test

ბანმარტეზა:

„საგზაო მოძრაობის შესახებ“ საქართველოს კანონის 27-ე მუხლის პირველი პუნქტის „გ“ და „ე“ ქვეპუნქტების თანახმად, საგზაო-სატრანსპორტო შემთხვევაში მონაწილე მძღოლი ვალდებულია: გ) მომხდარის შესახებ დაუყოვნებლივ აცნობოს საქართველოს შინაგან საქმეთა სამინისტროს სისტემაში შემავალ შესაბამის სამსახურს და, თუ არ არსებობს სამკურნალო დაწესებულებაში მისი მისვლის ან მის მიერ დაშავებულის გადაყვანის გადაუდებელი აუცილებლობა, დარჩეს საგზაო-სატრანსპორტო შემთხვევის ადგილზე და დაელოდოს უფლებამოსილი პირის მისვლას; ე) მიიღოს საჭირო ზომები, რათა პირველადი სამედიცინო დახმარება აღმოუჩინოს საგზაო-სატრანსპორტო შემთხვევის შედეგად დაშავებულს, გამოიძახოს სასწრაფო სამედიცინო დახმარება, გადაუდებელი აუცილებლობის შემთხვევაში დაშავებული გაგზავნოს უახლოეს სამკურნალო დაწესებულებაში გზად მიმავალი სხვა სატრანსპორტო საშუალებით, ხოლო თუ ეს შეუძლებელია – თავად წაიყვანოს იგი, გარდა იმ შემთხვევისა, როდესაც არსებობს საფუძვლიანი ეჭვი, რომ გადაყვანამ შეიძლება ზიანი მიაყენოს დაშავებულს.

QUESTION 987

CORRECT ANSWER: 2

May the traffic accident participant drivers draw up the accident chart in advance, through assessment of the circumstances, based on mutual agreement, sign it and appear at the nearest department of the patrol police for execution of this fact?

1 No, as they are obliged to stay on site before arrival of the appropriate official

2 Yes, if nobody is injured during the traffic accident

ბანმარტეზა:

„საგზაო მოძრაობის შესახებ“ საქართველოს კანონის 27-ე მუხლის მე-2 პუნქტის თანახმად, თუ საგზაო-სატრანსპორტო შემთხვევის შედეგად არავინ დაშავებულა, მძღოლებს, არსებულ გარემოებათა შეფასებით, შეთანხმების საფუძველზე შეუძლიათ წინასწარ შეადგინონ შემთხვევის სქემა, მოაწერონ ხელი და მივიდნენ საპატრულო პოლიციის უახლოეს დანაყოფში ამ ფაქტის გასაფორმებლად.

QUESTION 988

CORRECT ANSWER: 1

If nobody is injured in traffic accident, after drawing up of the accident chart based on the mutual agreement, the traffic accident participant drivers should:

1 Appear at the nearest department of the patrol police for execution of this fact

2 Agree about the compensation of damage, but going to the patrol police department and creating a special document of a road accident is not required

განმარტება:

„საგზაო მოძრაობის შესახებ“ საქართველოს კანონის 27-ე მუხლის მე-2 პუნქტის თანახმად, თუ საგზაო-სატრანსპორტო შემთხვევის შედეგად არავინ დაშავებულა, მძღოლებს, არსებულ გარემოებათა შეფასებით, შეთანხმების საფუძველზე შეუძლიათ წინასწარ შეადგინონ შემთხვევის სქემა, მოაწერონ ხელი და მივიდნენ საპატრულო პოლიციის უახლოეს დანაყოფში ამ ფაქტის გასაფორმებლად.

QUESTION 989

CORRECT ANSWER: 1

If a traffic accident participant driver is obliged to leave the accident scene for urgency of arrival to the medical institution, he/she obliged at the medical institution:

1 To declare his/her identity (to submit ID document and the registration document of the vehicle) and if it is unavailable, to return to the accident scene

2 To declare his/her, injured person's and accident witnesses' identities, to submit the approximate chart of the traffic accident

განმარტება:

„საგზაო მოძრაობის შესახებ“ საქართველოს კანონის 27-ე მუხლის მე-3 პუნქტის თანახმად, თუ ამ მუხლის პირველი პუნქტის „გ“ და „ე“ ქვეპუნქტებით განსაზღვრული გარემოებების არსებობისას მძღოლი იძულებულია მიატოვოს საგზაო-სატრანსპორტო შემთხვევის ადგილი სამკურნალო დაწესებულებაში მისვლის აუცილებლობის გამო, იგი ვალდებულია სამკურნალო დაწესებულებაში განაცხადოს თავისი ვინაობა (წარადგინოს პირადობის დამადასტურებელი დოკუმენტი და სატრანსპორტო საშუალების სარეგისტრაციო დოკუმენტები) და, თუ ეს შეუძლებელი არ არის, დაბრუნდეს შემთხვევის ადგილზე.

QUESTION 990

CORRECT ANSWER: 1

Are the non-traffic accident participants allowed to receive first aid, rescue and other assistance from authorized state and local self-government bodies, as well as other officials?

1

Yes

2

No

განმარტება:

„საგზაო მოძრაობის შესახებ“ საქართველოს კანონის მე-20 მუხლის პირველი პუნქტის „ბ.დ“ ქვეპუნქტის თანახმად, საგზაო მოძრაობის მონაწილეს უფლება აქვთ კანონმდებლობით დადგენილი წესით უფლებამოსილი სახელმწიფო და ადგილობრივი თვითმმართველობის ორგანოებისაგან, აგრეთვე სხვა უფლებამოსილი პირებისგან მიიღოს პირველადი სამედიცინო, სამაშველო და სხვა დახმარება საგზაო-სატრანსპორტო შემთხვევის დროს.

QUESTION 991

CORRECT ANSWER: 1

We have to give following information to a dispatcher for calling medical emergency service for the people injured in an accident:

1

Exact venue of accident scene (street, house number and nearest reference point), number of injured people, their gender, approximate age, presence of vital signs, as well as heavy hemorrhage

2

Only nearest reference point of accident scene, number of injured people, their gender and age

განმარტება:

საგზაო-სატრანსპორტო შემთხვევის შედეგად დაშავებულების სასწრაფო სამედიცინო დახმარების გამოძახებისათვის დისპეჩერს უნდა ვაცნობოთ საგზაო-სატრანსპორტო შემთხვევის ზუსტი ადგილი (ქუჩა, სახლის ნომერი და უახლოესი ორიენტირი), დაშავებულთა რაოდენობა, მათი სქესი, მიახლოებითი წლოვანება, სასიცოცხლო ნიშნების არსებობა, ასევე ძლიერი სისხლდენა.

QUESTION 992

CORRECT ANSWER: 1

According to the Georgian Code of Administrative Offences, violation of safety rules regarding conveyance of children by a vehicle will result in:

1

Penalty in the amount of 40 GEL

2

Penalty in the amount of 50 GEL

3

Penalty in the amount of 50 GEL or suspension of driving license up to 30 days

განმარტება:

საქართველოს ადმინისტრაციული სამართალდარღვევათა კოდექსის 1271-ე მუხლის 11 ნაწილის თანახმად, სატრანსპორტო საშუალებით ბავშვთა გადაყვანის უსაფრთხოების წესების დარღვევა – გამოიწვევს დაჯარიმებას 40 ლარის ოდენობით.

QUESTION 993

CORRECT ANSWER: 4

Which of the following measures of disposal of the goods may be applied towards the goods moving on the customs territory of Georgia?

1

Confiscation of goods and/or vehicle of tax violation in the form of tax sanctions only

2

Sale of goods seized for provision of payment of the tax liability or its transfer in the state ownership only

3

Destruction of the goods only

4

It is possible to apply any of the measures for disposal of goods listed in given test

განმარტება:

საქართველოს საგადასახადო კოდექსის 221-ე მუხლის პირველი პუნქტის „ა“, „ბ“ და „გ“ ქვეპუნქტების თანახმად, საქართველოს საბაჟო ტერიტორიაზე გადაადგილებული საქონლის მიმართ შესაძლებელია გამოყენებულ იქნეს საქონლის განკარგვის შემდეგი ღონისძიებები: ა) საგადასახადო სანქციის სახით საგადასახადო სამართალდარღვევის საქონლის ან/და სატრანსპორტო საშუალების უსასყიდლოდ ჩამორთმევა; ბ) საგადასახადო დავალიანების გადახდევინების უზრუნველსაყოფად ყადაღადადებული საქონლის რეალიზაცია ან სახელმწიფო საკუთრებაში გადაცემა; გ) საქონლის განადგურება.

QUESTION 994

CORRECT ANSWER: 2

If the documents submitted by the applicant to the competent tax authority are made in foreign language and they are unclear for the tax official, does he/she have the right to request for translation of these documents into national language?

1

No

2

Yes

განმარტება:

საქართველოს საგადასახადო კოდექსის 2071 მუხლის მე-3 პუნქტის თანახმად, თუ დეკლარანტის მიერ საგადასახადო ორგანოში წარდგენილი დოკუმენტები შედგენილია უცხოურ ენაზე და გაუგებარია საგადასახადო ორგანოს უფლებამოსილი პირისათვის, მას უფლება აქვს, მოითხოვოს ამ დოკუმენტების თარგმანი სახელმწიფო ენაზე.

QUESTION 995

CORRECT ANSWER: 1

If inclusion of the goods in commodity transaction requires submission of the customs declaration, the time of creation of tax liability during fulfillment of commodity transaction shall be:

1

The date of registration of customs declaration

2

The date of entry of the goods into the customs territory of Georgia

განმარტება:

საქართველოს საგადასახადო კოდექსის 222-ე მუხლის პირველი პუნქტის თანახმად, სასაქონლო ოპერაციის განხორციელებისას საგადასახადო ვალდებულების წარმოშობის დროდ ითვლება საბაჟო დეკლარაციის რეგისტრაციის დღე. თუ საქონლის სასაქონლო ოპერაციაში მოქცევა არ საჭიროებს საბაჟო დეკლარაციის წარდგენას, საგადასახადო ვალდებულების წარმოშობის დროდ ითვლება საბაჟო გამშვებ პუნქტში, საბაჟო ტერმინალში ან საქართველოს ფინანსთა მინისტრის მიერ განსაზღვრულ სხვა ადგილში შესაბამისი დოკუმენტის რეგისტრაციის დღე.

QUESTION 996

CORRECT ANSWER: 1

In case of destruction or damage of the goods subjected to the customs supervision, the owner is obliged to:

1 Immediately inform the nearest tax authority and submit the true evidences of such destruction or damage, which should be approved by the appropriate state authority

2 Provide immediate removal of the destructed or damaged property from the customs territory of Georgia

განმარტება:

თუ საბაჟო ზედამხედველობის ქვეშ მყოფი საქონელი განადგურდა ან დაზიანდა, საქონლის მფლობელი ვალდებულია, დაუყოვნებლივ შეატყობინოს უახლოეს საბაჟო ორგანოს და წარუდგინოს მას საქონლის განადგურების ან დაზიანების უტყუარი მტკიცებულებები, რომლებიც დამოწმებულია შესაბამისი უფლებამოსილი სახელმწიფო ორგანოს მიერ. სხვა შემთხვევებში საქონელი ჩაითვლება საბაჟო ზედამხედველობიდან უკანონოდ გასულად.

QUESTION 997

CORRECT ANSWER: 1

Crossing of the customs border of Georgia is allowed:

1 For those goods only, which import or export is not prohibited

2 For any goods

განმარტება:

საქართველოს საგადასახადო კოდექსის 214-ე მუხლის მე-4 პუნქტის თანახმად, საქართველოს საბაჟო საზღვრის გადაკვეთა ნებადართულია მხოლოდ იმ საქონლისათვის, რომლის შემოტანა ან გატანა არ არის აკრძალული.

QUESTION 998

CORRECT ANSWER: 2

Goods shall subject to customs supervision:

- | | |
|---|---|
| <div style="background-color: #f0f0f0; padding: 10px; border: 1px solid #ccc;"> <div style="background-color: #e04040; color: white; padding: 5px; text-align: center; margin-bottom: 5px;">1</div> <p>From the date of its import to the customs territory of Georgia until fulfillment of general declaration</p> </div> | <div style="background-color: #f0f0f0; padding: 10px; border: 1px solid #ccc;"> <div style="background-color: #e04040; color: white; padding: 5px; text-align: center; margin-bottom: 5px;">2</div> <p>From the date of its import to the customs territory of Georgia until the end of its execution</p> </div> |
|---|---|

განმარტება:

საქართველოს საგადასახადო კოდექსის 215-ე მუხლის მე-2 პუნქტის თანახმად, საქონელი საბაჟო ზედამხედველობას ექვემდებარება საქართველოს საბაჟო ტერიტორიაზე შემოტანიდან გაფორმების დასრულებამდე, ხოლო მიზნობრივი დანიშნულებით გაფორმებისას – საბაჟო ტერიტორიაზე შემოტანიდან მიზნობრივი დანიშნულების დასრულებამდე.

QUESTION 999

CORRECT ANSWER: 3

The goods declared through one customs declaration shall be released simultaneously, save for exceptional case, on which the decision will be made by:

- | | |
|--|---|
| <div style="background-color: #f0f0f0; padding: 10px; border: 1px solid #ccc;"> <div style="background-color: #e04040; color: white; padding: 5px; text-align: center; margin-bottom: 5px;">1</div> <p>The applicant</p> </div> | <div style="background-color: #f0f0f0; padding: 10px; border: 1px solid #ccc;"> <div style="background-color: #e04040; color: white; padding: 5px; text-align: center; margin-bottom: 5px;">2</div> <p>The Ministry of Internal Affairs</p> </div> |
| <div style="background-color: #f0f0f0; padding: 10px; border: 1px solid #ccc;"> <div style="background-color: #e04040; color: white; padding: 5px; text-align: center; margin-bottom: 5px;">3</div> <p>Tax Authority</p> </div> | |

განმარტება:

საქართველოს საგადასახადო კოდექსის 220-ე მუხლის მე-2 პუნქტის თანახმად, ერთი საბაჟო დეკლარაციით დეკლარირებული საქონელი გაშვებული უნდა იქნეს ერთდროულად, გარდა გამონაკლისი შემთხვევისა, რომელზედაც გადაწყვეტილებას იღებს საგადასახადო ორგანო.

QUESTION 1000

CORRECT ANSWER: 1

According to the Georgian Code of Administrative Offences, driving of the vehicle under alcoholic drunken condition will result in:

1 In case of adult driver - suspension of driving license for the period of 6 months, and in case of persons under the age of 18 years - suspension of driving license for the period of one year

2 In case of adult driver - suspension of driving license for the period of 3 months and in case of persons under the age of 18 years - suspension of driving license for the period of 6 months

3 Imposing penalty to the vehicle driver in the amount of 200 GEL

განმარტება:

საქართველოს ადმინისტრაციულ სამართალდარღვევათა კოდექსის 116-ე მუხლის პირველი ნაწილის „ა“ და „ბ“ ქვეპუნქტების თანახმად, სატრანსპორტო საშუალების მართვა ალკოჰოლური სიმთვრალის მდგომარეობაში, ან სატრანსპორტო საშუალების მართვისას საქართველოს კანონმდებლობით დადგენილი წესით ალკოჰოლური სიმთვრალის დასადგენად შემოწმებისათვის თავის არიდება –გამოიწვევს: ა) სატრანსპორტო საშუალების მართვის უფლების 6 თვით შეჩერებას; ბ) 18 წლის ასაკს მიუღწეველი პირისთვის – სატრანსპორტო საშუალების მართვის უფლების 1 წლით შეჩერებას.

QUESTION 1001

CORRECT ANSWER: 3

According to the Georgian Code of Administrative Offences, driving of the vehicle by the person under alcoholic influence, whose driving license is suspended for driving the vehicle under alcoholic influence, during such suspension period, will result in:

1

Imposing penalty to the driver in the amount of 800 GEL and increase of the driving license suspension period by 6 months

2

Confiscation of the driving license of the vehicle from the driver

3

Imposing penalty to the driver in the amount of 700 GEL and increase of the driving license suspension period by 1 year

განმარტება:

საქართველოს ადმინისტრაციული სამართალდარღვევათა კოდექსის 116-ე მუხლის მე-2 ნაწილის თანახმად, იმ პირის მიერ, რომელსაც დადებული აქვს ამ მუხლის პირველი ნაწილით გათვალისწინებული ადმინისტრაციული სახდელი, (შეჩერებული აქვს მართვის უფლება სატრანსპორტო საშუალების ალკოჰოლური სიმთვრალის მდგომარეობაში მართვისთვის), სატრანსპორტო საშუალების მართვის უფლების შეჩერების პერიოდში იმავე ნაწილით გათვალისწინებული სამართალდარღვევის ჩადენა (სატრანსპორტო საშუალების მართვა ალკოჰოლური სიმთვრალის მდგომარეობაში) - გამოიწვევს მძღოლის დაჯარიმებას 700 ლარის ოდენობით და სატრანსპორტო საშუალების მართვის უფლების შეჩერების ვადის 1 წლით გაზრდას.

QUESTION 1002

CORRECT ANSWER: 2

According to the Georgian Code of Administrative Offences, delivery of the vehicle to a person to drive, obviously being under alcoholic influence, will result in:

1

Penalty in the amount of 1500 GEL

2

Penalty in the amount of 1000 GEL

3

Penalty in the amount of 1000 GEL and suspension of driving license for the period of 6 months

განმარტება:

საქართველოს ადმინისტრაციული სამართალდარღვევათა კოდექსის 116-ე მუხლის მე-3 ნაწილის თანახმად, სატრანსპორტო საშუალების სამართავად გადაცემა წინასწარი შეცნობით ალკოჰოლური სიმთვრალის მდგომარეობაში მყოფი პირისათვის - გამოიწვევს დაჯარიმებას 1000 ლარის ოდენობით.

QUESTION 1003

CORRECT ANSWER: 1

According to the Georgian Code of Administrative Offences, delivery of the vehicle to a person to drive, obviously being under alcoholic influence, repeatedly, within the period of one after commitment of the above offence, will result in:

1

Penalty in the amount of 1500 GEL

2

Penalty in the amount of 2000 GEL

3

Penalty in the amount of 1500 GEL and suspension of driving license for the period of 6 months

განმარტება:

საქართველოს ადმინისტრაციული სამართალდარღვევათა კოდექსის 116-ე მუხლის მე-4 ნაწილის თანახმად, ამუხლის მე-3 ნაწილით გათვალისწინებული სამართალდარღვევის (სატრანსპორტო საშუალების სამართავად გადაცემა წინასწარი შეცნობით ალკოჰოლური სიმთვრალის მდგომარეობაში მყოფი პირისათვის) განმეორებით ჩადენა 1 წლის განმავლობაში – გამოიწვევს დაჯარიმებას 1500 ლარის ოდენობით.

QUESTION 1004

CORRECT ANSWER: 3

According to the Georgian Code of Administrative Offences, a person driving a vehicle under alcoholic influence and being suspended from driving for the other offence, will result in:

1

Penalty in the amount of 1500 GEL

2

Penalty in the amount of 1000 GEL and suspension of driving license for the period of 6 months

3

Penalty in the amount of 1000 GEL

განმარტება:

საქართველოს ადმინისტრაციული სამართალდარღვევათა კოდექსის 116-ე მუხლის მე-4² ნაწილის თანახმად, ამ მუხლის პირველი ნაწილით გათვალისწინებული სამართალდარღვევის ჩადენა (სატრანსპორტო საშუალების მართვა ალკოჰოლური სიმთვრალის მდგომარეობაში), როდესაც სატრანსპორტო საშუალების ექსპლუატაციის განმახორციელებელ პირს არ აქვს სატრანსპორტო საშუალების მართვის უფლება ან ეს უფლება შეჩერებული აქვს სხვა დარღვევისათვის, – გამოიწვევს დაჯარიმებას 1000 ლარის ოდენობით.

QUESTION 1005

CORRECT ANSWER: 2

According to the Georgian Code of Administrative Offences, driving of the vehicle under drug or psychotropic substance influence or avoiding examination for drug or psychotropic substance influence as prescribed by the Georgian legislation while driving a vehicle, will result in:

1

Suspension of driving license for the period of 2 years

2

Suspension of driving license for the period of 3 years

3

Penalty in the amount of 1000 GEL and suspension of driving license for the period of 3 years

განმარტება:

საქართველოს ადმინისტრაციული სამართალდარღვევათა კოდექსის 116-ე მუხლის მე-5 ნაწილის თანახმად, სატრანსპორტო საშუალების მართვა ნარკოტიკული ან ფსიქოტროპული სიმთვრალის მდგომარეობაში, ანდა სატრანსპორტო საშუალების მართვისას საქართველოს კანონმდებლობით დადგენილი წესით ნარკოტიკული ან ფსიქოტროპული სიმთვრალის დასადგენად შემოწმებისათვის თავის არიდება - გამოიწვევს სატრანსპორტო საშუალების მართვის უფლების 3 წლით შეჩერებას.

QUESTION 1006

CORRECT ANSWER: 3

According to the Georgian Code of Administrative Offences, delivery of the vehicle to a person to drive, obviously being under drug or psychotropic substance influence, will result in:

1

Penalty in the amount of 1500 GEL

2

Penalty in the amount of 1000 GEL and suspension of driving license for the period of 1 year

3

Penalty in the amount of 1000 GEL

განმარტება:

საქართველოს ადმინისტრაციული სამართალდარღვევათა კოდექსის 116-ე მუხლის მე-51 ნაწილის თანახმად, სატრანსპორტო საშუალების სამართავად გადაცემა წინასწარი შეცნობით ნარკოტიკული ან ფსიქოტროპული სიმთვრალის მდგომარეობაში მყოფი პირისათვის - გამოიწვევს დაჯარიმებას 1000 ლარის ოდენობით.

QUESTION 1007

CORRECT ANSWER: 1

According to the Georgian Code of Administrative Offences, a police officer, who ensures safety of traffic participants and supervises compliance with the Highway Code, shall be obliged to prohibit a person from driving a vehicle:

1

In relation to whom there is the substantial evidence, that he/she is under drug or psychotropic substance influence and forwards him/her to the duly authorized persons of the Ministry of Internal Affairs for examination

2

In relation to whom there is the substantial evidence that he/she is under alcoholic influence and arrests him/her for 15 days

განმარტება:

საქართველოს ადმინისტრაციული სამართალდარღვევათა კოდექსის 116-ე მუხლის შენიშვნის პირველი ნაწილის თანახმად, პოლიციელი, რომელიც უზრუნველყოფს საგზაო მოძრაობის მონაწილეთა უსაფრთხოებას და ზედამხედველობს საგზაო მოძრაობის წესების დაცვას, ვალდებულია სატრანსპორტო საშუალების მართვას ჩამოაშოროს პირი რომლის მიმართაც არსებობს საკმაო საფუძველი, რომ იგი ნარკოტიკული ან ფსიქოტროპული სიმთვრალის მდგომარეობაშია, და გამოკვლევის მიზნით წარადგინოს საქართველოს შინაგან საქმეთა მინისტრის მიერ საამისოდ უფლებამოსილ პირთან.

QUESTION 1008

CORRECT ANSWER: 1

According to the Georgian Code of Administrative Offences, following shall be considered as alcoholic drunken state:

- 1 Content of more than 0.3 per mile ethanol in the driver's blood
- 2 If content of ethanol in the driver's blood is 0.2 per mile or more than 0.2 per mile
- 3 Content of more than 0.1 per mile ethanol in the driver's blood

განმარტება:

საქართველოს ადმინისტრაციული სამართალდარღვევათა კოდექსის 116-ე მუხლის პენიშვნის მე-10 ნაწილის თანახმად, ალკოჰოლური სიმთვრალის მდგომარეობად მიიჩნევა მძღოლის სისხლში 0,3 პრომილეზე მეტი ოდენობით ეთანოლის შემცველობა.

QUESTION 1009

CORRECT ANSWER: 2

According to the Georgian Code of Administrative Offences, while driving a vehicle, non-use of seatbelts by the driver or front passenger will result in:

- 1 Imposing penalty to the vehicle driver or front passenger in the amount of 20 GEL
- 2 Imposing penalty to the vehicle driver in the amount of 40 GEL
- 3 Imposing penalty to the vehicle driver in the amount of 60 GEL

განმარტება:

საქართველოს ადმინისტრაციული სამართალდარღვევათა კოდექსის 1181-ე მუხლის თანახმად, ავტოსატრანსპორტო საშუალებით მოძრაობისას მძღოლის ან მის გვერდით მჯდომი მგზავრის მიერ უსაფრთხოების ღვედის გამოუყენებლობა- გამოიწვევს ავტოსატრანსპორტო საშუალების მძღოლის დაჯარიმებას 40 ლარის ოდენობით.

QUESTION 1010

CORRECT ANSWER: 3

According to the Georgian Code of Administrative Offences, while driving the mechanical vehicle use of the mobile communication means by the driver will result in:

1 Suspension of the driving license for the period of 3 months

2 Penalty in the amount of 50 GEL

3 Penalty in the amount of 10 GEL

განმარტება:

საქართველოს ადმინისტრაციული სამართალდარღვევათა კოდექსის 118²-ე მუხლის თანახმად, მექანიკური სატრანსპორტო საშუალების მართვის დროს მძღოლის მიერ მობილური კომუნიკაციის საშუალებით სარგებლობა- გამოიწვევს დაჯარიმებას 10 ლარის ოდენობით.

QUESTION 1011

CORRECT ANSWER: 1

According to the Georgian Code of Administrative Offences, driving a vehicle by a person not having a driving license or having this right suspended due to other violation, will result in:

1 Imposing penalty to the person driving the vehicle in the amount of 500 GEL

2 Imposing penalty to the person driving the vehicle in the amount of 1000 GEL

3 Imposing penalty to the vehicle owner in the amount of 1000 GEL and verbal warning of the person driving the vehicle

განმარტება:

საქართველოს ადმინისტრაციული სამართალდარღვევათა კოდექსის 121-ე მუხლის პირველი ნაწილის თანახმად, სატრანსპორტო საშუალების მართვა პირის მიერ, რომელსაც არ აქვს სატრანსპორტო საშუალების მართვის უფლება ან ეს უფლება შეჩერებული აქვს სხვა დარღვევისათვის, - გამოიწვევს სატრანსპორტო საშუალების ექსპლუატაციის განმახორციელებელი პირის დაჯარიმებას 500 ლარის ოდენობით.

QUESTION 1012

CORRECT ANSWER: 3

According to the Georgian Code of Administrative Offences, illegal use of void driving license by the vehicle driver will result in:

1 Administrative imprisonment for the period up to 15 days

2 Penalty in the amount of 100 GEL and verbal warning

3 Penalty in the amount of 150 GEL

განმარტება:

საქართველოს ადმინისტრაციული სამართალდარღვევათა კოდექსის 1211-ე მუხლის პირველი ნაწილის თანახმად, სატრანსპორტო საშუალების მძღოლის მიერ ადრე დაკარგული ან დაზიანებული და მის სანაცვლოდ გაცემული სატრანსპორტო საშუალებათა მართვის მოწმობებით ერთდროულად სარგებლობა ან გაუქმებული სატრანსპორტო საშუალების მართვის მოწმობით უკანონოდ სარგებლობა ან/და პირის მიერ სატრანსპორტო საშუალების მართვის მოწმობის დაკარგვის, დაზიანების ან განადგურების შესახებ უფლებამოსილი ორგანოსათვის ცრუ ინფორმაციის მიწოდება სანაცვლო სატრანსპორტო საშუალების მართვის მოწმობის მიღების მიზნით – გამოიწვევს დაჯარიმებას 150 ლარის ოდენობით.

QUESTION 1013

CORRECT ANSWER: 1

According to the Georgian Code of Administrative Offences, driving a vehicle without the state registration plate or otherwise altered state registration plate intentionally, or with the state registration plate attached to the windshield of a vehicle will result in:

1 Penalty in the amount of 100 GEL

2 Penalty in the amount of 100 GEL or administrative imprisonment for the period up to 15 days

3 Penalty in the amount of 50 GEL

განმარტება:

საქართველოს ადმინისტრაციული სამართალდარღვევათა კოდექსის 122-ე მუხლის პირველი ნაწილის თანახმად, სატრანსპორტო საშუალების მართვა წინასწარი შეცნობით სახელმწიფო სანომრე ნიშნის გარეშე, ან სხვაგვარად შეცვლილი სახელმწიფო სანომრე ნიშნით, ან სატრანსპორტო საშუალების საქარე მინაზე დამაგრებული სახელმწიფო სანომრე ნიშნით -გამოიწვევს დაჯარიმებას 100 ლარის ოდენობით.

QUESTION 1014

CORRECT ANSWER: 2

According to the Georgian Code of Administrative Offences, leaving the scene of accident by the accident participant driver or movement of the traffic accident participant vehicle from the scene of accident, except as provided by the law, will result in:

1

Administrative imprisonment for the period up to 3 months

2

Penalty in the amount of 250 GEL

3

Penalty in the amount of 200 GEL or administrative imprisonment for the period up to 15 days

განმარტება:

საქართველოს ადმინისტრაციული სამართალდარღვევათა კოდექსის 123-ე მუხლის პირველი ნაწილის თანახმად, საგზაო-სატრანსპორტო შემთხვევის მონაწილე მძღოლის მიერ შემთხვევის ადგილის მიტოვება ან საგზაო-სატრანსპორტო შემთხვევის მონაწილე სატრანსპორტო საშუალების შემთხვევის ადგილიდან გადაადგილება, გარდა კანონით გათვალისწინებული შემთხვევებისა, - გამოიწვევს დაჯარიმებას 250 ლარის ოდენობით.

QUESTION 1015

CORRECT ANSWER: 1

According to the Georgian Code of Administrative Offences, failure of compliance with the demand of the police officer to stop the vehicle, which ensures the traffic safety and supervises compliance with the Highway Code, will result in:

1

Penalty in the amount of 300 GEL or suspension of driving license for the period of 1 year

2

Penalty in the amount of 500 GEL or suspension of driving license for the period of 3 years

3

Penalty in the amount of 1000 GEL

განმარტება:

საქართველოს ადმინისტრაციული სამართალდარღვევათა კოდექსის 123-ე მუხლის მე-2 ნაწილის თანახმად, სატრანსპორტო საშუალების გაჩერების შესახებ იმ პოლიციელის მოთხოვნის შეუსრულებლობა, რომელიც უზრუნველყოფს საგზაო მოძრაობის მონაწილეთა უსაფრთხოებას და ზედამხედველობს საგზაო მოძრაობის წესების დაცვას, - გამოიწვევს დაჯარიმებას 300 ლარის ოდენობით ან სატრანსპორტო საშუალების მართვის უფლების 1 წლით შეჩერებას.

QUESTION 1016

CORRECT ANSWER: 3

According to the Georgian Code of Administrative Offences, exceeding the established speed above 15 km/h by the vehicle driver will result in:

1

Verbal warning

2

Penalty in the amount of 10 GEL

3

Penalty in the amount of 50 GEL

განმარტება:

საქართველოს ადმინისტრაციული სამართალდარღვევათა კოდექსის 125-ე მუხლის პირველი ნაწილის თანახმად, სატრანსპორტო საშუალების მძღოლის მიერ მოძრაობის დადგენილი სიჩქარის გადაჭარბება 15 კმ/სთ-ზე მეტი სიჩქარით - გამოიწვევს დაჯარიმებას 50 ლარის ოდენობით.

QUESTION 1017

CORRECT ANSWER: 3

According to the Georgian Code of Administrative Offences, exceeding the established speed above 15 km/h by the vehicle driver, resulting in accident situation or delay in traffic, will lead to:

1

Administrative imprisonment for the period up to 30 days

2

Penalty in the amount of 1000 GEL

3

Penalty in the amount of 250 GEL

განმარტება:

საქართველოს ადმინისტრაციული სამართალდარღვევათა კოდექსის 125-ე მუხლის მე-4 ნაწილის თანახმად, ამ მუხლის პირველი ნაწილით გათვალისწინებული სამართალდარღვევა (სატრანსპორტო საშუალების მძღოლის მიერ მოძრაობის დადგენილი სიჩქარის გადაჭარბება 15 კმ/სთ-ზე მეტი სიჩქარით), რომელსაც მოჰყვა საავარიო ვითარების შექმნა ან მოძრაობის შეფერხება, -გამოიწვევს დაჯარიმებას 250 ლარის ოდენობით.

QUESTION 1018

CORRECT ANSWER: 1

According to the Georgian Code of Administrative Offences, exceeding the established speed above 15 km/h by the vehicle driver, resulting in light damage of vehicle, cargo, road, road or other structure, other property or human body, will result in:

1

Suspension of driving license for the period of 1 year

2

Penalty in the amount of 500 GEL or suspension of driving license for the period of 1 year

3

Penalty in the amount of 500 GEL or administrative imprisonment for the period up to 15 days

განმარტება:

საქართველოს ადმინისტრაციული სამართალდარღვევათა კოდექსის 125-ე მუხლის მე-5 ნაწილის თანახმად, ამ მუხლის პირველი ნაწილით გათვალისწინებული სამართალდარღვევა (სატრანსპორტო საშუალების მძღოლის მიერ მოძრაობის დადგენილი სიჩქარის გადაჭარბება 15 კმ/სთ-ზე მეტი სიჩქარით), რომელსაც მოჰყვა სატრანსპორტო საშუალების, ტვირთის, გზის, საგზაო თუ სხვა ნაგებობის, სხვა ქონების ან ადამიანის სხეულის მსუბუქი დაზიანება, –გამოიწვევს სატრანსპორტო საშუალების მართვის უფლების 1 წლით შეჩერებას.

QUESTION 1019

CORRECT ANSWER: 3

According to the Georgian Code of Administrative Offences, violation of the rules regarding passing the pedestrians' crossing, road sign or road marking, or participation in group motion with a motorcycle or any other vehicle, disrupting traffic or thus endangering traffic safety, will result in:

1

Verbal warning

2

Penalty in the amount of 50 GEL

3

Penalty in the amount of 20 GEL

განმარტება:

საქართველოს ადმინისტრაციული სამართალდარღვევათა კოდექსის 125-ე მუხლის მე-6 ნაწილის თანახმად, მძღოლის მიერ ქვეითთა გადასასვლელის გავლის, საგზაო ნიშნის ან საგზაო მონიშვნის, ბუქსირების, გარე სანათი ხელსაწყოთი, ხმოვანი სიგნალით ან საავარიო შუქსიგნალიზაციით სარგებლობის, სასწავლო სვლის, საცხოვრებელ ზონაში ან გზაზე მოძრაობის წესების, სამარშრუტო სატრანსპორტო საშუალების მოძრაობის პრიორიტეტის ან/და საჭაპანო ტრანსპორტის მართვის წესების დარღვევა, ან მოტოციკლით ან სხვა სატრანსპორტო საშუალებით ჯგუფურ მოძრაობაში მონაწილეობა, რაც აფერხებს საგზაო მოძრაობას ან საშიშროებას უქმნის მოძრაობის უსაფრთხოებას, –გამოიწვევს დაჯარიმებას 20 ლარის ოდენობით.

QUESTION 1020

CORRECT ANSWER: 2

According to the Georgian Code of Administrative Offences, violation of the rules of deployment, starting of motion or/and maneuvering of the vehicles on the driveway will result in:

1

Penalty in the amount of 100 GEL

2

Penalty in the amount of 50 GEL

3

Suspension of the driving license for the period up to 15 days

განმარტება:

საქართველოს ადმინისტრაციული სამართალდარღვევათა კოდექსის 125-ე მუხლის მე-6 ნაწილის თანახმად, გზის სავალ ნაწილზე სატრანსპორტო საშუალებათა განლაგების, მოძრაობის დაწყების ან/და მანევრირების წესების დარღვევა - გამოიწვევს დაჯარიმებას 50 ლარის ოდენობით.

QUESTION 1021

CORRECT ANSWER: 3

According to the Georgian Code of Administrative Offences, driving the vehicle by violation of the rule regarding fixing of the identification mark on the vehicle, will result in:

1 Imposing penalty to the driver or the company in the amount of 100 GEL

2 Imposing penalty to the driver in the amount of 50 GEL

3 Imposing penalty to the driver or the company in the amount of 50 GEL

განმარტება:

საქართველოს ადმინისტრაციული სამართალდარღვევათა კოდექსის 125-ე მუხლის მე-6³ ნაწილის თანახმად, სატრანსპორტო საშუალებაზე საცნობი ნიშნის დამაგრების წესის დარღვევით მოძრაობა - გამოიწვევს მძღოლის ან საწარმოს დაჯარიმებას 50 ლარის ოდენობით.

QUESTION 1022

CORRECT ANSWER: 2

According to the Georgian Code of Administrative Offences, hindering the vehicle with the right-of-way will result in:

1 Disqualification from driving for the period of 1 year

2 Penalty in the amount of 50 GEL

3 Penalty in the amount of 100 GEL or disqualification from driving for the period of 3 months

განმარტება:

საქართველოს ადმინისტრაციული სამართალდარღვევათა კოდექსის 125-ე მუხლის მე-7 ნაწილის თანახმად, მარეგულირებლის ან პოლიციის ამკრძალავ ნიშანზე გავლის წესების, პრიორიტეტული („დაუთმე გზა“, „მოძრაობა გაუჩერებლად აკრძალულია“) ან ამკრძალავი („შესვლა აკრძალულია“, „მოძრაობა აკრძალულია“) ნიშნის მოთხოვნის დაუცველობა, გასწვების, გზაჯვარედინის, რკინიგზაზე გადასასვლელის გავლის წესების დარღვევა, გავლის უპირატესობის მქონე სატრანსპორტო საშუალებისათვის დაბრკოლების შექმნა – გამოიწვევს დაჯარიმებას 50 ლარის ოდენობით.