


# თეორია.On.ge

## მართვის მოწმობის გამოცდის ბილეთები



D კატეგორია



Ирон

თემა 1:

მძღოლის, მგზავრის და ქვეითის მოვალეობა,  
საცნობი ნიშნები, კონვენცია

---



**ВОПРОС 1**

ПРАВИЛЬНЫЙ ОТВЕТ: 2



ლავაერდ ბერაგგაენაენ ნისაენტთაჲ კაჲცი უ აჲხაენადაჲმონ ჰმალდჲ უაჲვაგ  
Гуырдыстоны регистрацигонд транспортон фაერაჲჲ «регистрациგაენაგ პადდჲაჲადჲ  
ხიჲაენგაენაენ ნისან»?

1

I

2

II

3

III

**განმარტება:**

„საგზაო მოძრაობის შესახებ“ საქართველოს კანონის მე-19 მუხლის მე-2 პუნქტის „გ“ ქვეპუნქტის თანახმად, „მარეგისტრირებული სახელმწიფოს განმასხვავებელი ნიშანი“ - საერთაშორისო მოძრაობაში მყოფი საქართველოში რეგისტრირებული სატრანსპორტო საშუალების განმასხვავებელი ნიშანი. ნიშანი არის ელიფსის ფორმის, რომლის ღერძების სიგრძე არანაკლებ 0,175მ X 0,115 მ-ია. ნიშანში ჩაწერილია საქართველოს საერთაშორისო კოდი „GE“. ლათინური ასოების სიმაღლე უნდა იყოს არანაკლებ 0,08 მ-ისა. ისინი გამოსახულია არა ნაკლებ 0,01 მ-ის სიგანის შტრიხებით. ასოები დაიტანება შავი საღებავით თეთრ ფონზე (თეთრი ფონი შეიძლება შექამრეკლი მასალისგან იყოს დამზადებული). სატრანსპორტო საშუალებაზე ნიშანი ისე უნდა დამაგრდეს რომ ის რეგისტრაციის ნომრად (სახელმწიფო სანომრე ნიშნად) არ იქნეს აღთქმული ან არ გაუარესდეს მისი წაკითხვა.

## ВОПРОС 2

ПРАВИЛЬНЫЙ ОТВЕТ: 3

Механикон транспортон фæрæзы скъæрын скъæრæгæн тобæгонд у:

1

Æрмæст аккаг скъæрыны бары æрурæды цауы

2

Æрмæст аккаг скъæрыны бары байсты кæнæ фескъуыды (фæмæцгонд) цауы

3

Куыд аккаг скъæрыны бары æрурæды цауы, афтæ-ма ацы бары байсты кæнæ фескъуыды (фæмæцгонд) цауы

## განმარტება:

„საგზაო მოძრაობის შესახებ“ საქართველოს კანონის 21-ე მუხლის მე-3 პუნქტის თანახმად, მძღოლს უნდა ჰქონდეს სატრანსპორტო საშუალების მართვისათვის საჭირო აუცილებელი ცოდნა და უნარ-ჩვევები. თუ სატრანსპორტო საშუალების მართვა დასაშვებია მხოლოდ საქართველოს კანონმდებლობით განსაზღვრული წესით შესაბამისი მართვის უფლების მინიჭების შემდეგ, მძღოლს ეკრძალება ამ კატეგორიის ან ქვეკატეგორიის სატრანსპორტო საშუალების მართვა შესაბამისი მართვის უფლების მოპოვების გარეშე, აგრეთვე ამ უფლების შეჩერების, ჩამორთმევის ან შეწყვეტის (გაუქმების) შემთხვევაში.

## ВОПРОС 3

ПРАВИЛЬНЫЙ ОТВЕТ: 1

Хæсджын у æви нæ скъæрæг рацæуа басгæрст расыг-æвронгдзинады сбæрæг кæнынаен Гуырдызстоны мидхъуыддæгты министрады æвджиддар гоймаджы æрдомыны бындырыл, кæд ис фаг бындур уый тыххæй, цæмæй скъæрæг алкогольон, наркотикон кæнæ психотропон расыг уавæры ис?

1

У хæсджын

2

Нæу хæсджын

## განმარტება:

„საგზაო მოძრაობის შესახებ“ საქართველოს კანონის 21-ე მუხლის მე-16 პუნქტის თანახმად, თუ არსებობს საკმაო საფუძველი, რომ მძღოლი ალკოჰოლური, ნარკოტიკული ან ფსიქოტროპული სიმთვრალის მდგომარეობაშია, მძღოლი ვალდებულია საქართველოს შინაგან საქმეთა სამინისტროს უფლებამოსილი პირის მოთხოვნის საფუძველზე, საქართველოს კანონმდებლობით დადგენილი წესით გაიაროს შემონმება სიმთვრალე-სიფხიზლის დასადგენად.

## ВОПРОС 4

ПРАВИЛЬНЫЙ ОТВЕТ: 3

Гуырдыстონы территорийыл скъæрæг хæсджын у йæхимæ уа транспортон фæрæзы регистрацийы æмæ скъæრæны барлæвæрды бæлвырдгæнæн документты аккаг сбæлвырдгонд тæлмац, кæд æмæ уым æвдыст ратгæтæ æххæсгонд не сты:

1

Фыст нæу гуырдыаг дамгъæтæй, фæлæ фыст у латинаг дамгъæтæй.

2

Фыст нæу латинаг дамгъæтæй, фæлæ фыст у гуырдыаг дамгъæтæй.

3

Фыст нæу гуырдыаг кæнæ латинаг дамгъæтæй.

## განმარტება:

„საგზაო მოძრაობის შესახებ“ საქართველოს კანონის 21-ე მუხლის მე-17 პუნქტის „ა“ და „ბ“ ქვეპუნქტების თანახმად, ამ კანონის 54-ე მუხლით განსაზღვრული კატეგორიის ან ქვეკატეგორიის სატრანსპორტო საშუალების მძღოლი ვალდებულია თან იქონიოს, ხოლო საქართველოს შინაგან საქმეთა სამინისტროს უფლებამოსილი პირის მოთხოვნის შემთხვევაში გააჩეროს სატრანსპორტო საშუალება და ამ პირს წარუდგინოს: ა) საქართველოს ტერიტორიაზე იურიდიული ძალის მქონე იმ კატეგორიის ან ქვეკატეგორიის სატრანსპორტო საშუალების მართვის უფლების დამადასტურებელი დოკუმენტი, რომელსაც იგი მართავს, აგრეთვე ამ სატრანსპორტო საშუალების რეგისტრაციის დამადასტურებელი დოკუმენტი (თუ საქართველოს კანონმდებლობით სხვა რამ არ არის გათვალისწინებული); ბ) ამ პუნქტის „ა“ ქვეპუნქტით განსაზღვრული დოკუმენტის/დოკუმენტების სათანადოდ დამოწმებული თარგმანი, თუ აღნიშნულ დოკუმენტში/დოკუმენტებში ასახული მონაცემები შესრულებული არ არის ქართული ან ლათინური ასოებით.

## ВОПРОС 5

ПРАВИЛЬНЫЙ ОТВЕТ: 1

Хицауы нæ уæвгæйы цауы, уый транспортон фæрæзæй паддзахады арæнæй ахизгæйæ кæнæ бæстæйы уыцы территоримæ рахизын, цыран Гуырдызстоны юрисдикци нæ хæлиу кæны, хæсджын у æви нæ скъæრæг йæхимæ уа лæвæрд транспортон фæрæзы хицауиуæджы, пайдакæныны кæнæ бардæттыны бæрæггæнæг гæххæтт?

1

У хæсджын

2

Нæу хæсджын

## განმარტება:

„საგზაო მოძრაობის შესახებ“ საქართველოს კანონის 21-ე მუხლის მე-17 პუნქტის „გ“ ქვეპუნქტის თანახმად, ამ კანონის 54-ე მუხლით განსაზღვრული კატეგორიის ან ქვეკატეგორიის სატრანსპორტო საშუალების მძღოლი ვალდებულია თან იქონიოს, ხოლო საქართველოს შინაგან საქმეთა სამინისტროს უფლებამოსილი პირის მოთხოვნის შემთხვევაში გააჩეროს სატრანსპორტო საშუალება და ამ პირს წარუდგინოს მოცემული სატრანსპორტო საშუალების ფლობის ან განკარგვის ან მისით სარგებლობის უფლებამოსილების დამადასტურებელი დოკუმენტი -მესაკუთრის არყოფნის შემთხვევაში მისი სატრანსპორტო საშუალებით სახელმწიფო საზღვრის გადაკვეთის ან ქვეყნის იმ ტერიტორიაზე გადასვლის შემთხვევაში, სადაც საქართველოს იურისდიქცია არ ვრცელდება.

## ВОПРОС 6

ПРАВИЛЬНЫЙ ОТВЕТ: 3

Æхсæнадæмон змæлды хайадисæг скъæрæг хæсджын у сифтонг кæна «Æхсæнадæмон автомобилон змæლæны (иу ранæй иннæ ранмæ цæуыны) кæнæг фæрæзты экипажты куысты тыххæй» Европæйы бадзырдæй (AETR) сфидаргонд домæнтæм гæсгæ:

1

Æрмæст техниконæй ифтонг  
такографæй змæлд

2

Æрмæст куысты æмæ улæфты  
режимы хъахъхъæд

3

Куыд техниконæй ифтонг  
такографæй змæлд, афтæ куысты  
æмæ улæфты режимы хъахъхъæд

## განმარტება:

„საგზაო მოძრაობის შესახებ“ საქართველოს კანონის 21-ე მუხლის მე-19 პუნქტის თანახმად, საერთაშორისო მოძრაობაში მონაწილე მძღოლი ვალდებულია უზრუნველყოს „საერთაშორისო საავტომობილო მიმოსვლის მწარმოებელი საშუალებების ეკიპაჟების მუშაობის შესახებ“ ევროპის შეთანხმებით (AETR) დადგენილი მოთხოვნების შესაბამისად ტექნიკურად გამართული საკონტროლო მოწყობილობით (ტაქოგრაფით) მოძრაობა, აგრეთვე შრომისა და დასვენების რეჟიმის დაცვა.

## ВОПРОС 7

ПРАВИЛЬНЫЙ ОТВЕТ: 3

Бәлццонаән бар нәй:

1

Æрмæст змæлгæ транспортон фæрæзы скъæргæйæ скъæრæджы хъусдард æндæр истæуыл аздахын

2

Æрмæст скъæрæгæн транспортон фæрæзы скъæрæны рæстæджы хъыгдарын

3

Куыд змæлгæ транспортон фæрæзы скъæргæйæ скъæрæджы хъусдард æндæр истæуыл аздахын, афтæ скъæрæгæн транспортон фæрæзы скъæрæны рæстæджы хъыгдарын

## განმარტება:

„საგზაო მოძრაობის შესახებ“ საქართველოს კანონის 23-ე მუხლის მე-2 პუნქტის „ა“ და „ბ“ ქვეპუნქტების თანახმად, მგზავრს ევრძალება: ა) მოძრავი სატრანსპორტო საშუალების მარტვისას მძღოლის ყურადღების სხვა რამეზე გადატანა; ბ) მძღოლისათვის სატრანსპორტო საშუალების მარტვაში ხელის შეშლა.

## ВОПРОС 8

ПРАВИЛЬНЫЙ ОТВЕТ: 3

Цæуæн хайыл ахизгæйæ фистæг:

1

Æрмæст хъуамæ равдиса максималон хъусдард (хъавгæ архайд)

2

Æрмæст æнæхъуаджы (æნæ бындурæй) ма хъуамæ къуылымпы кæна æмæ ма хъуамæ араза зындзинад транспортон фæрæзты змæлд

3

Куыд хъуамæ равдиса максималон хъусдард (хъавгæ архайд), афтæ æнæхъуаджы (æнæ бындурæй) ма хъуамæ къуылымпы кæна æмæ ма хъуамæ араза зындзинад транспортон фæрæзты змæлд

## განმარტება:

„საგზაო მოძრაობის შესახებ“ საქართველოს კანონის 24-ე მუხლის პირველი პუნქტის თანახმად, გარდა ამ კანონით გატვალისწინებული შემთხვევებისა ქვეითმა გადაადგილებისათვის არ უნდა ისარგებლონ სავალი ნაწილით. სავალ ნაწილზე გადაადგილებისას მან უნდა გამოიჩინოს მაქსიმალური სიფრთხილე, უსაფუძვლოდ არ უნდა შეაფერხოს და არ უნდა გააძნელოს სატრანსპორტო საშუალებების მოძრაობა.

## ВОПРОС 9

ПРАВИЛЬНЫЙ ОТВЕТ: 1

Гәенәен ис æви нæ фистæг цæуа (змæла) фæндаджы цæуæн хайыл (кæцы хæрзæввахс у цæуæн хайы былмæ) фистæджыты къахвæндаг, тротуар æмæ фæндаджы былгæрон нæ уæвгæйæ (куы нæ уой) кæнæ уыдонæй не спайдагæнæны цауы?

1

Гәенәен ис

2

Нæй гәенәен

## განმარტება:

„საგზაო მოძრაობის შესახებ“ საქართველოს კანონის 24-ე მუხლის მე-4 პუნქტის თანახმად, ქვეითთა ბილიკის, ტროტუარისა და გზისპირის არარსებობის ან მათი გამოყენების შეუძლებლობის შემთხვევაში ქვეითს შეუძლია გადაადგილდეს გზის სავალ ნაწილზე. თუ არსებობს ველობილიკი და მოძრაობის ინტენსივობა ამის საშუალებას იძლევა, ქვეითს უფლება აქვთ გადაადგილდეს მასზე, თუმცა არ უნდა გაართულოს ველოსიპედებისა და მოპედების მოძრაობა. ამავე მუხლის მე-6 პუნქტის თანახმად, ამ მუხლის მე-2, მე-4 და მე-5 პუნქტებით გათვალისწინებულ შემთხვევებში ქვეითი გზის სავალ ნაწილზე გადაადგილებისას უნდა იმყოფებოდეს სავალი ნაწილის კიდეგან რაც შეიძლება ახლოს.

## ВОПРОС 10

ПРАВИЛЬНЫЙ ОТВЕТ: 2

Кæд æмæ ахизæныл нæй кæнæ нæ кусы фистæджытæн нысангонд рухснысан (светофор), фæлæ транспортон фæრæзты змæлд транспортон рухснысаны (светофоры) æххуысæй (фæрцы) регулirгонд цæуы, фистæг фæндаджы цæуæн хайыл ма хъуамæ ахиза:

1

Æрбаввах транспортон фæრæзы онг дæрддзæгы, йæ тагъдадад сбæრæг кæнын æмæ æрбахизæны æдасдзинады сбæлвырдмæ

2

Цалынмæ рухснысаны (светофоры) кæнæ уаг дæттæджы сигналтæ ацы цæуæн хайыл транспортон фæრæзты змæлды бар дæтты

## განმარტება:

„საგზაო მოძრაობის შესახებ“ საქართველოს კანონის 24-ე მუხლის მე-7 პუნქტის „ბ“ ქვეპუნქტის თანახმად, ქვეითთა გადასასვლელზე გადასვლისას, თუ გადასასვლელზე არ არსებობს, ან არ მუშაობს ქვეითთათვის განკუთვნილი შექნიშანი, მაგრამ სატრანსპორტო საშუალებათა მოძრაობის რეგულირება ხორციელდება სატრანსპორტო შექნიშნით მეშვეობით, ქვეითი არ უნდა გადავიდეს გზის სავალ ნაწილზე, ვიდრე შექნიშნის ან მარეგულირებლის სიგნალები ამ სავალ ნაწილზე სატრანსპორტო საშუალებათა მოძრაობის უფლებას იძლევა.

## ВОПРОС 11

ПРАВИЛЬНЫЙ ОТВЕТ: 2

Алвანდაгыл (перекресток) фистагон ахизаены уæвынады цауы, фистаг цæуæн хай хъуамæ цæхгæр ахиза:

1

Æрмæст нысангонд бынаты онг иуыл цыбырдæр траекторийæ

2

Æрмæст тротуары кæнæ фæрсырдæм

## განმარტება:

„საგზაო მოძრაობის შესახებ“ საქართველოს კანონის 24-ე მუხლის მე-8 პუნქტის თანახმად, ქვეითმა გზის სავალი ნაწილი უნდა გადაკვეთოს ქვეითთა გადასას-ვლელზე, მათ შორის, მიწისზედა და მიწისქვეშა გადასასვლელებზე, ხოლო მათი არარსებობის შემთხვევაში – გზაჯვარედინზე, ტროტუარის ან გვერდულის გასწვრივ.

## ВОПРОС 12

ПРАВИЛЬНЫЙ ОТВЕТ: 3

Фænдагон-транспортон цауы (аварийы) хайадисаг скъæраг хæсджын у:

1

Æрмæст æвæстиатæй æрурома (მა ხъуამæ фæзмæლა бынатæй) транспортон фæრæз

2

Æრმæст сиу кæна аварион рухсысигнализаци

3

Куыд æвæстиатæй æрурома (მა ხъუამæ фæзмæლა бынатæй) транспортон фæრæз, афтæ сиу кæна аварион рухсы сигнализацийы

## განმარტება:

„საგზაო მოძრაობის შესახებ“ საქართველოს კანონის 27-ე მუხლის პირველი პუნქტის „ა“ ქვეპუნქტის თანახმად, საგზაო-სატრანსპორტო შემთხვევაში მონაწილე მძღოლი ვალდებულია დაუყოვნებლივ გააჩეროს (არ დაძრას ადგილიდან) სატრანსპორტო საშუალება, ჩართოს საავარიო შუქური სიგნალიზაცია.





Цал цæуæн хайы ис лæвæрд фæндагæн?

1

Иу

2

Дыууæ

3

Æртæ

4

Цыппар

### განმარტება:

„საგზაო მოძრაობის შესახებ“ საქართველოს კანონის 5-ე მუხლის მე-15 პუნქტის თანახმად, გზის სავალი ნაწილი (სავალი ნაწილი) არის გზის ელემენტი, რომელიც განკუთვნილია ურელსო სატრანსპორტო საშუალებების მოძრაობისათვის (გარდა ტროტუარისა, გვერდულისა, ველობილიკისა და ქვეითთა ბილიკისა). ამავე მუხლის მე-12 პუნქტის თანახმად, გზა არის მოძრაობისათვის გახსნილი გზის ან ქუჩის მთელი ზედაპირი. გზას შეიძლება ჰქონდეს როგორც ერთი სავალი ნაწილი, ასევე რამოდენიმე, გამოყოფი ბოლით მკვეთრად გამიჯნული, ან სხვადასხვა დონეზე არსებული სავალი ნაწილები. ეს ტერმინი შეიძლება მოიცავდეს ტრამვაის ლიანდაგს, ტროტუარს, გვერდულას, გამყოფ ბოლსა და ველობილიკს.



## ВОПРОС 14

ПРАВИЛЬНЫЙ ОТВЕТ: 2



Цал ცაუაენ хайы ис лæвæрд фæндагæн?

1

Иу

2

Дыууæ

3

Æртæ

## განმარტება:

„საგზაო მოძრაობის შესახებ“ საქართველოს კანონის 5-ე მუხლის მე-15 პუნქტის თანახმად, გზის სავალი ნაწილი (სავალი ნაწილი) არის გზის ელემენტი, რომელიც განკუთვნილია ურელსო სატრანსპორტო საშუალებების მოძრაობისათვის (გარდა ტროტუარისა, გვერდულისა, ველობილიკისა და ქვეითთა ბილიკისა). ამავე მუხლის მე-12 პუნქტის თანახმად, გზა არის მოძრაობისათვის გახსნილი გზის ან ქუჩის მთელი ზედაპირი. გზას შეიძლება ჰქონდეს როგორც ერთი სავალი ნაწილი, ასევე რამოდენიმე, გამოყოფი ზოლით მკვეთრად გამიჯნული, ან სხვადასხვა დონეზე არსებული სავალი ნაწილები. ეს ტერმინი შეიძლება მოიცავდეს ტრამვაის ლიანდაგს, ტროტუარს, გვერდულას, გამყოფ ზოლსა და ველობილიკს.

## ВОПРОС 15

ПРАВИЛЬНЫЙ ОТВЕТ: 3

სკჯერაგ გაენაენ ის ნუუადჯა იაე მეხანიკონ ტრანსპორტონ ფერაჲ, კად ამაე რაისდჯენის:

1

ერმაესტ ადасდჯინადი ალკაეცი ანამაენგხაეუგა მაძალი ფანდაგონ-ტრანსპორტონ ცაუი (ავარიი) სერაეი აიუვარს კაენინაენ

2

ერმაესტ ალი მაძალი, ცამაეი უიი ანაე ბარ რაისგაეი პაიდაგონდ მა აერცაუა

3

კუი დ ადасდჯინადი ალკაეცი ანამაენგხაეუგა მაძალი ფანდაგონ-ტრანსპორტონ ცაუი (ავარიი) სერაეი აიუვარს კაენინი, აფტაე ალი მაძალი, ცამაეი უიი ანაე ბარ რაისგაეი პაიდაგონდ მა აერცაუა

## განმარტება:

„საგზაო მოძრაობის შესახებ“ საქართველოს კანონის 37-ე მუხლის მე-8 პუნქტის თანახმად, მძღოლმა არ უნდა დატოვოს თავისი სატრანსპორტო საშუალება, თუ არ მიიღებს სიფრთხილის ყველა აუცილებელ ზომას საგზაო-სატრანსპორტო შემთხვევის თავიდან ასაცილებლად, ამასთანავე, მექანიკური სატრანსპორტო საშუალების შემთხვევაში მიღებული უნდა იქნეს ყველა ზომა, რათა ის უნებართვოდ არ იქნეს გამოყენებული.

## ВОПРОС 16

ПРАВИЛЬНЫЙ ОТВЕТ: 3

ფისტაგონ ახიჯაენილ ბაჰიზინმაე სკჯერაგ ხაესდჰინ უ ბაღვყრდაეი ბაზონა, ცამაეი:

1

ახიჯაენი უაღცყარ ნაუ საღ

2

ახიჯაენილ კომკომმაე აერდამადაეი ნე ჰმაღი აენდერ ტრანსპორტონ ფერაჲ

3

თყურად კაეი ნე რკაენდჯენის უუილ

## განმარტება:

„საგზაო მოძრაობის შესახებ“ საქართველოს კანონის 25-ე მუხლის მე-6 პუნქტის თანახმად, მძღოლი არ უნდა შევიდეს ქვეითთა გადასასვლელზე, თუ წინასწარ არ დაურწმუნდება, რომ ის იძულებული არ გახდება გაჩერდეს მასზე.

## ВОПРОС 17

ПРАВИЛЬНЫЙ ОТВЕТ: 2

Уაეღბარდზინად (პრიორიტეტ) უ:

1

ფანდაგტყ ზმალდყ ჰაყადისაეღჯყ  
 ჰაესდზინად მა სარაზა მანეღრ, კაედ  
 ამაე უყყ აენდარ ფანდაგტყ  
 ზმალდყ ჰაყადისაეღჯყ  
 ტყფალგყუყდ კაენყ აევიპაყდყ  
 ფაეივა ტაგდად კაენაე არდამად

2

ფანდაგტყ ზმალდყ ჰაყადისაეღჯყ  
 ბარ, აენდარ ფანდაგტყ ზმალდყ  
 ჰაყადისაეღჯყტიმაე აბარგაყაე  
 ფყცაგ ზმალაედ ნყსანგონდ  
 არდამადმაე

განმარტება:

„საგზაო მოძრაობის შესახებ“ საქართველოს კანონის 5-ე მუხლის 84-ე პუნქტის თანახმად, უპირატესობა (პრიორიტეტი) – საგზაო მოძრაობის მონაწილის უფლება, სხვა საგზაო მოძრაობის მონაწილეებთან შედარებით პირველმა იმოძრაოს დასახული მიმართულებით.

## ВОПРОС 18

ПРАВИЛЬНЫЙ ОТВЕТ: 2

„Автобус“ უ ავტოტრანსპორტონ ფარაეზ, კაეყყ ნყსანგონდ უ:

1

ბაელცაეტყ ლასყნაენ ამაე კაეყყყყ  
 ბადაენ ბყნაეტყ ნყმაეც,  
 სკაერაეღჯყ ბადაენაყ დარდდარ, 8-  
 აყ ფყლდარ ნაყ

2

ბაელცაეტყ ლასყნაენ ამაე კაეყყყყ  
 ბადაენ ბყნაეტყ ნყმაეც, 8-აყ  
 ფყლდარ ის

3

უაეზყ ლასყნაენ ამაე კაეყყყყ  
 ბარლავარდ მაქსიმალონ მასაე  
 ფყლდარ უ 12 000 კგ-ყ

განმარტება:

„საგზაო მოძრაობის შესახებ“ საქართველოს კანონის 5-ე მუხლის პირველი პუნქტის თანახმად, ავტობუსი – ავტოსატრანსპორტო საშუალება, რომელიც განკუთვნილია მგზავრთა გადასაცვანად და რომლის დასასხდომი ადგილების რაოდენობა, გარდა მძღოლის ადგილისა, 8-ს აღემატება.

## ВОПРОС 19

ПРАВИЛЬНЫЙ ОТВЕТ: 1

„Æნæფაг уынынадыл (æვზარინადыл)“ нымæд цæуы, тъунелы ахизгæйæ, бон-æхсæвы талынг рæстæджы, асæсты, къæвдайы, митуарды æмæ æндæр æрдзон фæзынды рæстæджы, фæндаджы уынынады (æвзარинады) фæкъаддæры:

1

300 метры къаддæр дæрддзæгмæ

2

500 метры къаддæр дæрддзæгмæ

3

600 метры къаддæр дæрддзæгмæ

## განმარტება:

„საგზაო მოძრაობის შესახებ“ საქართველოს კანონის 5-ე მუხლის მე-7 პუნქტის თანახმად, არასაკმარისი ხილვადობა – გვირაბში გავლისას, დღე-ღამის ბნელ დროს, ნისლის, წვიმის, თოვის და სხვა ბუნებრივი მოვლენების დროს გზის ხილვადობის 300 მეტრზე ნაკლებ მანძილზე შემცირება.

## ВОПРОС 20

ПРАВИЛЬНЫЙ ОТВЕТ: 3

“Дихгæнæг хахх” у:

1

Фæндаджы хай, кæцы хуымæтæг (алыбонон) æнæრельсон транспортон фæრæзты змæлынæн пайдагонд цæуы

2

Дæргъмæ фæндагон нысаны фæრæзæй фæнысангонд кæнæ æнæфæнысангонд кæцыфæнды хахх уыцы дæргъмæ хæххытæй, кæцытыл гæнæн ис дихгонд æрцæуа цæуæн хай (фæндаг)

3

Конструктивонæй дихгонд фæндаджы элемент, кæцы дих кæны æмарæн цæуæн хæйтты æмæ нæу нысангонд уæлæ æнæრельсон транспортон фæრæзы змæлдæн

## განმარტება:

„საგზაო მოძრაობის შესახებ“ საქართველოს კანონის 5-ე მუხლის მე-9 პუნქტის თანახმად, გამყოფი ზოლი – კონსტრუქციულად გამოყოფილი გზის ელემენტი, რომელიც ყოფს მომიჯნავე სავალ ნაწილებს და არ არის განკუთვნილი მასზე ურელსო სატრანსპორტო საშუალების მოძრაობისათვის.

## ВОПРОС 21

ПРАВИЛЬНЫЙ ОТВЕТ: 4

Цაუენ ხაჲტაჲ დარდდჲერ, დჲლდჲერ რანჲმად კაჲცჲ ელემენტტაჲ მა ის გაენაჲნ ჲა  
ფაენდადჲჲ სკონდჲ?

1

Æრმაჲსტ трамвайჲ რელსჲტაჲ აჲმაჲ  
тротуарტაჲ

2

Æრმაჲსტ фარსტჲ აჲმაჲ დიხგაენაგ  
хаххჲტაჲ

3

Æრმაჲსტ велосипеды ფაენდაგტაჲ

4

Куыд трамвайჲ რელსჲტაჲ, აფტაჲ  
тротуарტაჲ, დიხგაენაგ хаххჲტაჲ  
აჲმაჲ велосипеды ფაენდაგტაჲ

## განმარტჲბა:

„საგზაო მოძრაობის შესახებ“ საქართველოს კანონის 5-ე მუხლის მე-12 პუნქტის თანახმად, გზა - მოძრაობისათვის გახსნილი გზის ან ქუჩის მთელი ზედაპირი. გზას შეიძლება ჰქონდეს როგორც ერთი სავალი ნაწილი, ისე რამოდენიმე, გამოყოფი ზოლით მკვეთრად გამიჯნული, ან სხვადასხვა დონეზე არსებული სავალი ნაწილები. ეს ტერმინი შეიძლება მოიცავდეს ტრამვაის ლიანდაგს, ტროტუარს, გვერდულას, გამყოფ ზოლსა და ველობილიკს.

## ВОПРОС 22

ПРАВИЛЬНЫЙ ОТВЕТ: 1

“Алвანдаг (перекресток)” ჲ:

1

Иу აჲმვაჲზადჲლ ფაენდაგტჲლ  
цაхგარმაჲ цауჲნ, ბაიუ კაენჲნ  
კაენაჲ филиал, ახაჲმ цахგარმაჲ  
цыдჲაჲ, ბაიუგონდჲაჲ კაენაჲ  
филиалჲაჲ сырჲზგაჲ територитимაჲ  
ნჲმადჲაჲ

2

Æვвахс територитაჲაჲ рахизაჲнты  
აჲმაჲ ფაენდაგტჲლ цахგარმაჲ хизჲნ

3

Æნდარ აჲმაჲ აენდარ აჲმვაჲზადჲლ  
цауენაჲ ხაჲტჲ (ფაენდაგტჲ)  
цахგარმაჲ ჲგ კაენჲნ

## განმარტჲბა:

„საგზაო მოძრაობის შესახებ“ საქართველოს კანონის 5-ე მუხლის მე-13 პუნქტის თანახმად, გზაჯვარედინი - ერთ დონეზე გზების კვეთა, შეერთება ან განშტოება, ასეთი კვეთით, შეერთებით ან განშტოებით წარმოქმნილი ტერიტორიების ჩათვლით. გზაჯვარედინად არ ითვლება მიმდებარე ტერიტორიებიდან გამომავალი გამოსასვლელების გზებთან კვეთა.

## ВОПРОС 23

ПРАВИЛЬНЫЙ ОТВЕТ: 2

“Фენდაგ რატყნ (ბარყერთა ნე სკაენყნ)” უ:

1

ფენდაგტყ ჰმელდყ ჰაყადისაედჱყ ბარ ფენდაგტყ ჰმელდყ აენდერ ჰაყადისდჱყტყმა აბარგაყა, ფყცყაგ ჰმელა ნყსანგონდ აერდამადმა

2

ფენდაგტყ ჰმელდყ ჰაყადისაედჱყ ჰაესდჱინად მა ადარდდერ კაენა კაენა მა სნოგ კაენა ჰმელდ, კაენა მა სარაზა მანევრ, კად ამაყ აყყ უაყლბარყ (პრყორყტყტყ) უაყვაგ ჰმელდყ ჰაყადისაგაენ ავასტ ფაყყვყნ კაენა ჰმელდყ აერდამად კაენა ტაგყდად.

## განმარტყბა:

„საგზაო მოძრაობის შესახებ“ საქართველოს კანონის 5-ე მუხლის მე-14 პუნქტის თანახმად, გზის დათმობა (დაბრკოლების არშექმნა) - საგზაო მოძრაობის მონაწილის ვალდებულება, არ განაგრძოს ან არ განაახლოს მოძრაობა ან არ განახორციელოს მანევრი, თუ ეს უპირატესობის (პრყორყტყტის) მქონე მოძრაობის მონაწილეს იძულებულს გახდის, უეცრად შეცვალოს მოძრაობის მიმართულება ან სიჩქარე.

## ВОПРОС 24

ПРАВИЛЬНЫЙ ОТВЕТ: 3

“ცერაგდჱყნ პუნკტ” უ:

1

კაყყფაენდყ ფაჱუატ (ტერრყტორყ), კაყყყრან ცერყ ადამ

2

კაყყფაენდყ ფენდაგ, კაყყ ნყსანგონდ უ ფყსტაგონყნყნყსყვნ ჰმელყნაენ

3

ცერაენ ფაჱუატ (ტერრყტორყ), ცყრან ბაჱყზაენ ამაყ რაჱყზაენ ნყსან უ ფენდაგონ ნყსაენტტაყ

## განმარტყბა:

„საგზაო მოძრაობის შესახებ“ საქართველოს კანონის 5-ე მუხლის მე-17 პუნქტის თანახმად, დასახლებული პუნქტი - განაშენიანებული ტერიტორია, სადაც შესასვლელი და გამოსასვლელი აღნიშნულია შესაბამისი საგზაო ნიშნებით.

“Уარგაეაერდ მასაე” у:

1

Транспортон фæрæзы массæ скъæрæджы, бæлццæтты æмæ уæргъты æдде, фæлæ артагы æнæхъæн фæсауæрц æмæ инструментты æнæмæнгхъæуæг комплектимæ

2

Завод-сцæттæгæнæгæй арæнгонд транспортон фæрæзы массæ скъæрæджы, бæлццæтты æмæ уæргъты æдде

3

Лæвæрд рæстæгмæ уаргæвæрд транспортон фæрæзы фактивон массæ, скъæрæджы æмæ бæлццæттимæ иумæ нымæдæй

განმარტება:

„საგზაო მოძრაობის შესახებ“ საქართველოს კანონის 5-ე მუხლის მე-18 პუნქტის თანახმად, დატვირთული მასა (ფაქტობრივი მასა) - მოცემულ დროის მონაკვეთში დატვირთული სატრანსპორტო საშუალების ფაქტობრივი მასა, მძღოლისა და მგზავრების ჩათვლით.

## ВОПРОС 26

ПРАВИЛЬНЫЙ ОТВЕТ: 1

“Æნაუარგაევარდ массა” у:

1

Завод-сцæттæгæнæгæй арæнгонд транспортон фæрæзы массæ скъæრæджы, бæлццæтты æмæ уаргъты æдде, фæлæ артагы æнæхъæн фæсауæрц æмæ инструментты æнæмæнгхъæуæг комплектимæ иумæ

2

Лæвард рæстæгмæ æнæуаргæвард транспортон фæрæзы фактивон массæ, скъæრæг æмæ бæлццæттимæ иумæ

3

Регистрацион службæйы ‘рдыгæй арæнгонд транспортон фæрæзы массæ скъæрæджы, бæлццæтты æмæ уаргъты æдде

## განმარტება:

„საგზაო მოძრაობის შესახებ“ საქართველოს კანონის 5-ე მუხლის მე-19 პუნქტის თანახმად, დაუტვირთავი მასა (დაუტვირთავი წონა) - ქარხანა-დამამზადებელის მიერ განსაზღვრული სატრანსპორტო საშუალების მასა მძღოლის, მგზავრებისა და ტვირთის გარეშე, მაგრამ სანავის სრული მარაგისა და ხელსაწყოების აუცილებელი კომპლექტის ჩათვლით.

## ВОПРОС 27

ПРАВИЛЬНЫЙ ОТВЕТ: 3

“Бон-æхсæвы талынг рæстæг” нысан кæны:

1

Рæстæг 18 сахатæй 24 сахатмæ

2

Рæстæг сбонæй баталынгмæ

3

Рæстæг баталынгæй сбонмæ

## განმარტება:

„საგზაო მოძრაობის შესახებ“ საქართველოს კანონის 5-ე მუხლის 21-ე პუნქტის თანახმად, დღე-ღამის ბნელი დრო - დროის შუალედი დაბინდებიდან გათენებამდე.



“Æввхс территори” у:

1

Территори (фæзуат), кæцы фæндагмæ æввахс у æмæ нæу нысангонд транспортон фæрæзы змæлдæн (уынг (кæрт), цæрæн массив, автостоянка, бензокалонкæйы вагзал, уагдон æмæ æнд.)

2

Фæндаджы элемент, кæцы нысангонд у æнæрельсон транспортон фæрæзы змæлдæн (тротуар, фæрсмæ, велофæндаг æмæ фистæгон къахвæндагы йедтæмæ)

3

Иу æмвæзадыл фæндæгты цæхгæрмæ хизын, иу кæнын, ахæм цæхгæрмæ хизынæй, иу кæнынæй сырæзгæ территоритимæ иумæ

### განმარტება:

„საგზაო მოძრაობის შესახებ“ საქართველოს კანონის 5-ე მუხლის 38-ე პუნქტის თანახმად, მიმდებარე ტერიტორია - ტერიტორია, რომელიც უშუალოდ გზას ეკვრის და არ არის განკუთვნილი სატრანსპორტო საშუალების გამჭოლი მოძრაობისათვის (ეზო, საცხოვრებელი მასივი, ავტოსადგომი, ბენზინგასამართი სადგური, დაწესებულება და სხვა)

“Зმელდჲს ჰაჰჰ” უ:

1

Конструктивонаჲს რაჰცენგონდ  
ფენდადჲს ელემენტ, კაჲცჲს დიჰ კაჲს  
აჲმარაჲს ცაჲუაჲს ჰაჲტტჲს

2

Зმელდჲს თჲგდ ფენდადჲს კაჲს  
უჲნდჲს აჲნაჲჰაჲს უაჲლცჲარ

3

დერგჲმაჲ ფენდადჲს აჲრნჲსაჲს  
მადჲაჲლტტაჲს ფაჲნჲსანგონდ კაჲს  
აჲნაჲფაჲნჲსანგონდ კაჲცჲფაჲნდჲს ჰაჰჰ  
უჲცჲს დერგჲმაჲ ჰაჲჰჰჲტაჲს,  
კაჲცჲტაჲს გაჲნაჲს ის დიჰგონდ  
აჲრცაჲუა ცაჲუაჲს ჰაჲ, ფაჲლაჲ  
კაჲცჲჲაჲს ის მოტოციკლაჲს  
ჰიცაჲნჰუჲზონ ავტომობილონ  
ტრანსპორტჲს იუ რაჲნჰჲს ჲმაჲლჲნაჲს  
ფაგ ფაჲტაჲს

განმარტება:

„საგზაო მოძრაობის შესახებ“ საქართველოს კანონის 5-ე მუხლის 45-ე პუნქტის თანახმად, „მოძრაობის ზოლი“ - გრძივი საგზაო მონიშვნის საშუალებით მონიშნული ან მოუნიშნავი ნებისმიერი ზოლი იმ გრძივი ზოლებიდან, რომლებიც შეიძლება დაიყოს სავალი ნაწილი, მაგრამ რომელსაც აქვს მოტოციკლისაგან განსხვავებული საავტომობილო ტრანსპორტის ერთ რიგში მოძრაობისათვის საკმარისი სიგანე.

“Барლæвæрдон максималон массæ” у:

1

Лæвæрд рæстæгмæ уаргæвæрд  
транспортон фæрæзы фактивон  
массæ, скъæрæг æмæ  
бæлццæттимæ иумæ

2

Уаргæимæ æмæ бæлццæттæй едзаг,  
цæттæ уавæры транспортон  
фæрæзы массæ, кæцыйы арæн  
бæлвырд кæны транспортон  
фæрæзы завод-цæттæгæнæг

3

Уаргæвæрд транспортон фæрæзы  
максималон массæ, кæцы уагъд  
цæуы уыцы паддзахады компетентон  
органтæй, цыраны регистрацигонд у  
транспортон фæрæз

### განმარტება:

„საგზაო მოძრაობის შესახებ“ საქართველოს კანონის 5-ე მუხლის 52-ე პუნქტის თანახმად, „ნებადართული მაქსიმალური მასა“ (დასაშვები წონა) - დატვირთული სატრანსპორტო საშუალების მაქსიმალური მასა, რომელიც დასაშვებად არის გამოცხადებული იმ სახელმწიფოს კომპეტენტური ორგანოს მიერ, რომელშიც დარეგისტრირებულია სატრანსპორტო საშუალება.

## ВОПРОС 31

ПРАВИЛЬНЫЙ ОТВЕТ: 2

“Сындæгцæуæг транспортон фæрæз” у:

1

Моторджын кæнæ æнæ мотор транспортон фæрæз, кæцыйы конструктивон тагъдад нæ фылдæр кæны 45 км/сах-æй

2

Моторджын транспортон фæрæз, кæцыйы конструктивон тагъдад фылдæр нæу 40 км/сах-æй кæнæ кæцы нысангонд тагъдадæй нæ фылдæр кæны, кæнæ йын бар нæй æмæ фæфылдæр уа уыцы нысанæй, кæцы у бастгонд транспортон фæрæзты колонæимæ

3

Кæцыфæнды транспортон фæрæз, кæцы фæндагыл цæуы иуыл фылдæр 50 км/сах тагъдадæй

## განმარტება:

„საგზაო მოძრაობის შესახებ“ საქართველოს კანონის 5-ე მუხლის 53-ე პუნქტის თანახმად, „ნელმავალი სატრანსპორტო საშუალება“ - ძრავიანი სატრანსპორტო საშუალება, რომლის კონსტრუქციული სიჩქარე არ აღემატება 40 კმ/სთ-ს ან რომელიც აღნიშნულ სიჩქარეს ვერ აჭარბებს ან ეკრძალება გადაჭარბება ისეთი მიზეზით, რომელიც არ არის დაკავშირებული სატრანსპორტო საშუალებათა ნაკადებთან.

## ВОПРОС 32

ПРАВИЛЬНЫЙ ОТВЕТ: 2

“Маршрутон транспортон фæрæз” у:

1

Цахæмфæнды автобус, кæцыйы бадæн бынæтты нымæц, скъæრæджы бынатæй дарддæრ, 16-æй фылдæრ нæу

2

Фæндагыл бæлццæтты акæнынæн нысангонд, бæრæგ маршрутæй змæлგæ транспортон фæრæз

3

Цахæмфæнды транспортон фæრæз, кæцы нысангонд у уæргътæ ласынæн кæნæ адæймæгты акæнынæн

## განმარტება:

„საგზაო მოძრაობის შესახებ“ საქართველოს კანონის 5-ე მუხლის 67-ე პუნქტის თანახმად, „სამარშრუტო სატრანსპორტო საშუალება“ - გზაზე მგზავრთა გადასაცვანად განკუთვნილი, დადგენილი მარშრუტით მოძრავი სატრანსპორტო საშუალება.

## ВОПРОС 33

ПРАВИЛЬНЫЙ ОТВЕТ: 1

“Тротуар” у:

1

Фендаджы элемент, кæцы иугонд у цæуæн хаимæ кæнæ хицæнгонд уымæй конструктивонæй кæнæ газонæй æмæ нысангонд у фистæгæфсады змæлынæн

2

Фистæгон змæлынæн нысангонд, фæндагæй ахицæнгонд къахвæндаг

3

Фистæгон змæлынæн нысангонд, кæцыфæнды фæндаг

## განმარტება:

„საგზაო მოძრაობის შესახებ“ საქართველოს კანონის 5-ე მუხლის 83-ე პუნქტის თანახმად, „ტროტუარი“ - გზის ელემენტი, რომელიც მიერთებულია სავალ ნაწილთან ან გამოყოფილია მისგან კონსტრუქციულად ან გაბონით და განკუთვნილია ქვეითის მოძრაობისათვის.

## ВОПРОС 34

ПРАВИЛЬНЫЙ ОТВЕТ: 2

“Фистæгон къахвæндаг (фæндаг)” у:

1

Фендаджы элемент, кæцы иугонд у цæуæн хаимæ æмæ æмæ нысангонд у фистæგæфсады змæлынæн

2

Фистæгон змæлынæн нысангонд, фæндаგæй рахицæнгонд къахвæндаг, фистæгон къахвæндаг гæнæн ис бæრæг æрцæуа аккаг фæндагон нысанæй

3

Фендаджы кæцыфæнды фадыг, кæцы нысангонд у фистæгон змæлынæн.

## განმარტება:

„საგზაო მოძრაობის შესახებ“ საქართველოს კანონის 5-ე მუხლის 85-ე პუნქტის თანახმად, „ქვეითთა ბილიკი“ - ქვეითთა მოძრაობისათვის განკუთვნილი, გზისგან განცალკევებული ბილიკი. ქვეითთა ბილიკი შეიძლება აღნიშნული იქნეს შესაბამისი საგზაო ნიშნით.

## ВОПРОС 35

ПРАВИЛЬНЫЙ ОТВЕТ: 2

“Арæнгонд уынынад (æвзарынад)” у:

1

Тъунелы ахизгæйæ, бон-æхсæвы талынг рæстæджы, асæсты, къæвдайы, митуарды æмæ æндæр æрдзон фæзындты рæстæджы фæндаджы уынынад (æвзарынад) 300 метрæй чысылдæр дæрддзæгмæ фæкъаддæр кæнын

2

Уавæр (æууæл), кæцыйы рæстæджы цыбыр фæзилæн, хæрды фæуд, сагъд бæлæстæ, фæндаджы был хæдзæрттæ кæнæ фæндагыл уæвæг къуылымпыдзинад, змæлды æрдæмадмæ фæндаджы æвзарынад афтæ къаддæр кæны, æмæ нысангонд фæндаджы фæдыгыл барлæвæрд максималон тагъдадæй змæлгæ гæнæн ис æмæ фæзынын кæна тас

## განმარტება:

„საგზაო მოძრაობის შესახებ“ საქართველოს კანონის 5-ე მუხლის 89-ე პუნქტის თანახმად, „შეზღუდული ხილვადობა“ - გარემოება, რომლის დროსაც მოკლე მოსახვევი, აღმართის დასასრული, გამწვანება, გზისპირა ნაგებობა ან გზაზე არსებული დაბრკოლება მოძრაობის მიმართულებით გზის ხილვადობას ისე ამცირებს, რომ აღნიშნულ გზის მონაკვეთზე ნებადართული მაქსიმალური სიჩქარით მოძრაობამ შეიძლება საფრთხე წარმოშვას.

## ВОПРОС 36

ПРАВИЛЬНЫЙ ОТВЕТ: 4

Дæлдæр ранымад транспортон фæрæзтæй, кæцы у “механикон транспортон фæрæз”?

1

Дыцалхон электро хæдтулгæ

2

Мопед æмæ уымæ æнгæс транспортон фæрæзтæ

3

Трамвайы

4

Ацы билеты ранымадтæй иу дæр нæ

## განმარტება:

„საგზაო მოძრაობის შესახებ“ საქართველოს კანონის 5-ე მუხლის 35-ე პუნქტის თანახმად, „მექანიკური სატრანსპორტო საშუალება“ - ძრავიანი (თვითმავალი) სატრანსპორტო საშუალება, გარდა ორბორბლიანი ელექტროთვითმგორავისა, მოპედისა და მასთან გათანაბრებული სხვა სატრანსპორტო საშუალებისა, აგრეთვე სალიანდაგო სატრანსპორტო საშუალებისა.

## ВОПРОС 37

ПРАВИЛЬНЫЙ ОТВЕТ: 1

“Рог прицепа” у:

1

Прицеп, кәцыйы барлаәвәрдон  
максималон массә фылдәр нәу 750  
кг-әй

2

Прицеп, кәцыйы әнәуаргәәвәрд  
уәз нәу фылдәр 850 кг-әй

3

Прицеп, кәцыйы әххәст массә нәу  
фылдәр 950 кг-әй

## განმარტება:

„საგზაო მოძრაობის შესახებ“ საქართველოს კანონის 5-ე მუხლის 48-ე პუნქტის თანახმად, „მსუბუქი მისაბმელი“ - მისაბმელი, რომლის ნებადართული მაქსიმალური მასა არ აღემატება 750 კგ-ს.

## ВОПРОС 38

ПРАВИЛЬНЫЙ ОТВЕТ: 4

Дәлдәр ранымад кәцы цауы каст цәуы транспортон фәрәз искәцы паддзахады  
территорийыл “Әхсәнадаәмон змәлд”-ы нымадәй?

1

Әрмәст уыцы цауы, кәд әмә уый у  
физикон кәнә юридикон гоймаджы,  
кәцыйән цәрән бынат ис ацы  
паддзахады әдде

2

Әрмәст уыцы цауы, кәд әмә уый  
нәу регистрацигонд ацы паддзахады

3

Әрмәст уыцы цауы, кәд әмә уый  
бәстәмә әрбахәссәггаг (импорт)у  
рәстәгмә, фәлә иуыл фылдәр ацы  
паддзахады закѡндәттынадәй  
бәрәггонд әмгәуыдмә

4

Ацы билеты ранымад кәцыфәнды  
цауы

## განმარტება:

„საგზაო მოძრაობის შესახებ“ საქართველოს კანონის 5-ე მუხლის 66-ე პუნქტის თანახმად, საერთაშორისო მოძრაობა – რომელიმე სახელმწიფოს ტერიტორიაზე მყოფი სატრანსპორტო საშუალება საერთაშორისო მოძრაობაში მყოფად მიიჩნევა, თუ იგი: ა) ეკუთვნის ფიზიკურ ან იურიდიულ პირს, რომელსაც ჩვეულებრივი საცხოვრებელი ადგილი ამ სახელმწიფოს გარეთ აქვს; ბ) არ არის რეგისტრირებული ამ სახელმწიფოში; გ) ამ სახელმწიფოში შეტანილია დროებით, მაგრამ არაუმეტეს მისი კანონმდებლობით დადგენილი ვადისა. შენიშვნა: სატრანსპორტო საშუალებათა შემადგენლობა საერთაშორისო მოძრაობაში მყოფად მიიჩნევა, თუ მასში შემავალი თუნდაც ერთი სატრანსპორტო საშუალება აკმაყოფილებს ამ პუნქტით განსაზღვრულ მოთხოვნებს.

„საგზაო მოძრაობის შესახებ“ საქართველოს კანონის 5-ე მუხლის მე-80 პუნქტის თანახმად, „სრული მასა“ - ტვირთით, მძღოლითა და მგზავრებით შევსებული, აღჭურვილ მდგომარეობაში მყოფი სატრანსპორტო საშუალების მასა, რომლის ზღვარს ადგენს სატრანსპორტო საშუალების ქარხანა-დამამზადებელი. სატრანსპორტო საშუალებათა შემადგენლობის სრული მასა გამოიანგარიშება მასში შემავალი სატრანსპორტო საშუალებების სრულ მასათა ჯამით.



## ВОПРОС 41

ПРАВИЛЬНЫЙ ОТВЕТ: 1

Уыцы дывæрсон змæлæн фæндагыл, кæцыйæн ис дихгæнæг хахх, комкоммæ æрдæмады змæлды фарсæй нымæд цæуы:

1

Дигæнæг хаххы галиуæрдыгæй уæвæг цæуæн хай

2

Дигæнæг хаххы рахизæрдыгæй уæвæг цæуæн хай

3

Ацы билеты ранымæдæй иу дæр нæ

## განმარტება:

„საგზაო მოძრაობის შესახებ“ საქართველოს კანონის 31-ე მუხლის მე-3 პუნქტის თანახმად, ორმხრივმოძრაობიან გზაზე, რომელსაც აქვს გამყოფი ზოლი, საპირისპირო მიმართულებების მოძრაობის მხარედ ითვლება გამყოფი ზოლის მარცხნივ არსებული სავალი ნაწილი.

## ВОПРОС 42

ПРАВИЛЬНЫЙ ОТВЕТ: 1

Кæд скъæрæг нæ фæхата фæндагыл æмбæრзæны уæвынады (талынджы, миты, цъыфы кæნæ æндæრ аххосагæй) æмæ дзы нæдæр приоритеты нысæнттæ ис, нымæд цæуы, æмæ уый ис:

1

Фæрсагон фæндагыл

2

Сæйраг (централон) фæндагыл

3

Автомагисталимæ æмхузон фæндагыл

## განმარტება:

„საგზაო მოძრაობის შესახებ“ საქართველოს კანონის 36-ე მუხლის მე-8 პუნქტის თანახმად, თუ მძღოლი ვერ განსაზღვრავს გზაზე საფრის არსებობას (სიბნელის, თოვლის, ტალახის გამო ან სხვა მიზეზით) და არც პრიორიტეტის ნიშნებია, ითვლება, რომ იგი მეორეხარისხოვან გზაზე იმყოფება.

## ВОПРОС 43

ПРАВИЛЬНЫЙ ОТВЕТ: 2

Уыцы цауы, кæд фæндагыл фæндаджы куыстытæгæнæг организацийы автомобилыл æвæрд рæстæгмæ фæндагон нысаны домæнтæ ныхмæ сты уыцы фæндаджы фадыгыл стационарон æвæрд фæндагон нысаны домæнтæм скъæრæг хæсджын у сæххæст кæна:

1

Стационарон æвæрд фæндагон нысаны домæнтæ

2

Фæндаджы куыстытæгæнæг организацийы автомобилыл æвæрд рæстæгмæ фæндагон нысаны домæнтæ

## განმარტება:

„საგზაო მოძრაობის შესახებ“ საქართველოს კანონის 28-ე მუხლის მე-5 პუნქტის თანახმად, თუ გზაზე დროებით გადასატან სადგარზე ან საგზაო სამუშაოების მწარმოებელი ორგანიზაციის ავტომობილზე დაყენებულია საგზაო ნიშანი (შემდგომ – დროებითი საგზაო ნიშანი), რომლის მოთხოვნები ეწინააღმდეგება იმავე გზის მონაკვეთზე სტაციონარულად დაყენებული საგზაო ნიშნის მოთხოვნებს, მძღოლი ვალდებულია შეასრულოს დროებითი საგზაო ნიშნის მოთხოვნები.

## ВОПРОС 44

ПРАВИЛЬНЫЙ ОТВЕТ: 1

Фæндаგæн бæззындзинадыл тестиры ауадзыны бæлвырдгæнæн фирниш автомобилыл ныхæст цæуы ныхмæ (раззаг) авгыл:

1

Бинаг галиу къуымы

2

Бинаг рахиз къуымы

3

Уæллаг галиу къуымы

4

Уæллаг галиу къуымы

## განმარტება:

„საგზაო მოძრაობის შესახებ“ საქართველოს კანონის მე-11 მუხლის მე-7 პუნქტის თანახმად, გზისთვის ვარგისობაზე ტესტირების გავლის დამადასტურებელი ფირნიში თავსდება ავტომობილზე, საქარე მინის ქვედა მარცხენა კუთხეში.

## ВОПРОС 45

ПРАВИЛЬНЫЙ ОТВЕТ: 1

Уыцы цауы, кæд регистрацион документ нæ арæн кæны барлæвæрдон максималон массæйы, транспортон фæрæзы барлæвæрдон максималон массæйæ уыдзæн:

1

Завод-цæттæгæнæджы бæрæггонд транспортон фæрæзтæн фидаргонд æххæст массæйы арæн

2

Уаргъты (уæзты) ласæджы кæнæ экспедиторы уæлæвæрд арæнгонд массæ

3

Транспортон фæрæзы фактивон массæ

## განმარტება:

„საგზაო მოძრაობის შესახებ“ საქართველოს კანონის 47-ე მუხლის მე-2 პუნქტის თანახმად, სატრანსპორტო საშუალების ნებადართული მაქსიმალური მასა სარეგისტრაციო დოკუმენტით განისაზღვრება. თუ სარეგისტრაციო დოკუმენტი არ განსაზღვრავს ნებადართულ მაქსიმალურ მასას, სატრანსპორტო საშუალების ნებადართულ მაქსიმალურ მასად მიიჩნევა ქარხანა-დამამზადებლის მიერ აღნიშნული სატრანსპორტო საშუალებისათვის დადგენილი სრული მასის ზღვარი.

## ВОПРОС 46

## ПРАВИЛЬНЫЙ ОТВЕТ: 3

Бар ис æви нæ фæндагыл змæлын уыцы транспортон фæрæзæй, кæцыйы фактивон массæ фылдæр у барлæвæрдон максималон массæйæ?

1

Бар ис, кæд уый иукаæнагсæмæнджын автотранспортон фæрæз у, кæцыйы кæнаг сæмæныл максималон уаргъæвæрд нæу фылдæр 11,5 тоннæй

2

Бар ис, кæд уый экстра-нормативон (уæззау уæз) транспортон фæрæз у, кæцы фæндагыл змæлы закондæттывадæй сфидаргонд уагæй æвджиддар органтимæ бадзырды фæстæ, ацы бадзырды уавæртæм гæсгæйæ

3

Бар нæй кæцыфæнды цауы

## განმარტება:

„საგზაო მოძრაობის შესახებ“ საქართველოს კანონის 47-ე მუხლის მე-3 პუნქტის „ა“ თანახმად, აკრძალულია გზაზე იმ სატრანსპორტო საშუალების მოძრაობა, რომლის: ა) თითოეულ წამყვან ან არაწამყვან ღერძზე მაქსიმალური დატვირთვა აღემატება 10 ტონას (გარდა ერთწამყვანღერძიანი ავტოსატრანსპორტო საშუალებისა, რომლის წამყვან ღერძზე მაქსიმალური დატვირთვა არ უნდა აღემატებოდეს 11,5 ტონას) ან/და ფაქტობრივი მასა აღემატება 44 ტონას ან/და ფაქტობრივი მასა აღემატება ნებადართულ მაქსიმალურ მასას. ამავე მუხლის მე-5 პუნქტის „ა“ ქვეპუნქტის თანახმად, გარდა ნებადართულ მაქსიმალურ მასაზე ფაქტობრივი მასის გადაჭარბების აკრძალვისა, ამ მუხლის მე-3 პუნქტის მოქმედება არ ვრცელდება: ა) იმ არაგაბარიტულ (მსხვილგაბარიტიან) ან ბენორმატიულ (მძიმეწონიან) სატრანსპორტო საშუალებაზე, რომელიც გზაზე მოძრაობს საქართველოს კანონმდებლობით დადგენილი წესით უფლებამოსილ ორგანოსთან (უნწყებასთან) შეთანხმების შემდეგ, ამ შეთანხმების პირობების შესაბამისად.

Мотоциклы, автобусы, рог ამაე უაჯლასენ автомобилты სკაერын გაენენ ის აერმაესთ  
უიცი გოიმაგენ:

1

Кæцыйы æнæниздзинады уавæр у  
Гуырдыстоны закъондæттынадæй  
бæრæггонд транспортон фæрæзты  
скаерынæн хъæугæ  
æнæниздзинады уавæртæм  
домæнтæ

2

Кæцыйæн Гуырдыстоны  
закъондæттынадæй сфидаргонд  
уагæвæрдæй лæвæрд ис аккаг  
категорийы кæнæ та дæлкатегорийы  
транспортон фæрæзты скаерыны бар  
амае ацы бар нæу æрурæд кæнæ  
æхгæд

3

Кæцыдæриддæр æххæст кæны ацы  
билеты ранымад алкацы уавæры

### განმარტება:

„საგზაო მოძრაობის შესახებ“ საქართველოს კანონის 54-ე მუხლის პირველი პუნქტის თანახმად, ამ მუხლით განსაზღვრული კატეგორიის ან/და ქვეკატეგორიის სატრანსპორტო საშუალების მართვის უფლება აქვს მხოლოდ იმ პირს: ა) რომლის ჯანმრთელობის მდგომარეობაც შეესაბამება საქართველოს კანონმდებლობით განსაზღვრულ სატრანსპორტო საშუალების მართვისათვის საჭირო ჯანმრთელობის მდგომარეობის მოთხოვნებს; ბ) რომელსაც საქართველოს კანონმდებლობით დადგენილი წესით მიენიჭა შესაბამისი კატეგორიის ან/და ქვეკატეგორიის სატრანსპორტო საშუალების მართვის უფლება და ეს უფლება არ არის შეჩერებული, ჩამორთმეული ან შეწყვეტილი (გაუქმებული).

## ВОПРОС 48

ПРАВИЛЬНЫЙ ОТВЕТ: 3



I



II



III

Кæцы зониаг нысан фидар цæуы уыцы механикон транспортон фæрæзы фæсте фарс, кæцыйыл фидаргонд ис шинæтæ?

1

Æрмæст III

2

Æрмæст I

3

Æрмæст II

4

Æртæйы

## განმარტება:

„საგზაო მოძრაობის შესახებ“ საქართველოს კანონის მე-19 მუხლის პირველი პუნქტის „ბ“ ქვეპუნქტის თანახმად, მძღოლი, ხოლო ამ კანონის მე-18 მუხლის პირველი პუნქტის „დ“ ქვეპუნქტით გათვალისწინებულ შემთხვევებში – საწარმო ვალდებულია ამ პუნქტით განსაზღვრულ სატრანსპორტო საშუალებებზე დაამაგროს შემდეგი საცნობი ნიშნები: ბ) „კოტები“ – წვერით ზევით მიმართული თეთრი ტოლგვერდა სამკუთხედი წითელი არხით, რომელშიც ჩანერილია შავი ასო „კ“ (სამკუთხედის გვერდი არანაკლებ 200 მმ-ია, არხის სიგანე – გვერდის 1/10) – მაგრდება იმ სატრანსპორტო საშუალების უკანა მხარეს, რომელზედაც დამაგრებულია კოტებიანი სალტეები.

**I****II****III**

Кაეცყ ბაზონაენ ნყსან ფიდარ ცაუყყ უყცყ მეხანიკონ ტრანსპორტონ ფაერაეზყ რაზეყ  
აემაე ფაესტე ფარს, კაეცყყყ სკაერყ უაეზხაუს (კაუყრმაგონდ) სკაერაეგ?

**1**

აერმაესტ III

**2**

აერმაესტ II

**3**

აერმაესტ I

### ბანამარტიბა:

„საგზაო მოძრაობის შესახებ“ საქართველოს კანონის მე-19 მუხლის პირველი პუნქტის „გ“ ქვეპუნქტის თანახმად, მძღოლი, ხოლო ამ კანონის მე-18 მუხლის პირველი პუნქტის „დ“ ქვეპუნქტით გათვალისწინებულ შემთხვევებში – სანარმო ვალდებულია ამ პუნქტით განსაზღვრულ სატრანსპორტო საშუალებებზე დაამაგროს შემდეგი საცნობი ნიშნები: 8) „სმენადაქვეითებული მძღოლი“ – 160 მმ დიამეტრის ყვითელი წრე შიგნით ჩახაზული 40 მმ დიამეტრის სამი შავი წრით, რომლებიც განლაგებულია წარმოსახვითი წვერით ქვევით მიმართული ტოლგვერდა სამკუთხედის კუთხეებში – მაგრდება იმ მექანიკური სატრანსპორტო საშუალების წინა და უკანა მხარეს, რომელსაც მართავს საქართველოს შრომის, ჯანმრთელობისა და სოციალური დაცვის მინისტრისა და საქართველოს შინაგან საქმეთა მინისტრის ერთობლივი ბრძანებით განსაზღვრული სმენადაქვეითებული მძღოლი.



I



II



III

Кæцы базонæн нысан фидар цæуы скъæрын ахуыр кæнынæн нысангонд механикон транспортон фæрæзы разæй æмæ фæсте фарс?

1

Æрмæст III

2

Æрмæст II

3

Æрмæст I

### განმარტება:

„საგზაო მოძრაობის შესახებ“ საქართველოს კანონის მე-19 მუხლის პირველი პუნქტის „თ“ ქვეპუნქტის თანახმად, მძღოლი, ხოლო ამ კანონის მე-18 მუხლის პირველი პუნქტის „დ“ ქვეპუნქტით გათვალისწინებულ შემთხვევებში – საწარმო ვალდებულია ამ პუნქტით განსაზღვრულ სატრანსპორტო საშუალებებზე დაამაგროს შემდეგი საცნობი ნიშნები: თ) „სასწავლო-სატრანსპორტო საშუალება“ – წვერით ზევით მიმართული თეთრი ტოლფერდა სამკუთხედი წითელი არშიით, რომელშიც ჩანერილია შავი ასო „ს“ (სამკუთხედის გვერდი არანაკლებ 200 მმ-ია, არშიის სიგანე – გვერდის 1/10) – მაგრდება სასწავლო სატრანსპორტო საშუალების წინა და უკანა მხარეს. აგრეთვე დასაშვებია მსუბუქი ავტომობილის სახურავზე ორმხრივი ნიშნის დაყენება.





I



II



III

სკაერადჟი ფანდონმა გესგაჲაე კაეცი ბაზონაენ ნისან გაენაენ ის ამაე ფიდარ აერცაუა უიცი მეხანიკონ ტრანსპორტონ ფარაჲი რაჲაჲი ამაე ფაესტე ფარს, კაეციჲი არენგონდ გაენანდზინადტი უაეაეგ გოჲმაგ სკაჲი, კაენაე ტრანსპორტილ, კაეცი კაენი ახაემ გომაგტი?

1

ერმაესტ III

2

ერმაესტ II

3

ერმაესტ I

### ბანმარტუბა:

„საგზაო მოძრაობის შესახებ“ საქართველოს კანონის მე-19 მუხლის მე-2 პუნქტის „ა“ ქვეპუნქტის თანახმად, მძღოლის სურვილისამებრ სატრანსპორტო საშუალებაზე შეიძლება დამაგრდეს შემდეგი საცნობი ნიშნები: ა) „შეზღუდული შესაძლებლობის მქონე პირი“ – ყვითელი კვადრატი 150-მმ-იანი გვერდით და 8.17 საგზაო ნიშნის სიმბოლო შავი გამოსახულებით – შეიძლება დამაგრდეს იმ მექანიკური სატრანსპორტო საშუალების წინა და უკანა მხარეს, რომელსაც მნიშვნელოვნად გამოხატული ან მკვეთრად გამოხატული შეზღუდული შესაძლებლობის სტატუსის მქონე პირი მართავს, ან სატრანსპორტო საშუალებაზე, რომელსაც აღნიშნული პირები გადაჰყავს.

## ВОПРОС 52

ПРАВИЛЬНЫЙ ОТВЕТ: 1

Кәд газоныл кәнә тротуарыл хъазәг сабитә транспортон фәрәзы рәзты фәндаджы цәуән хайыл әрбахаудта порти, скъәрәг хъуамә рагацау зона, цәмәй:

1

Сабитә гәнән ис ралидзой фәндаджы цәуән хайыл партийы сисынмә

2

Сабиты цәуән хайыл рацәуыны тасдзинад нәй, уымән әмә уыдон хәсджын сты әрләууой фәндаджы цәуән хайы былыл әмә банхәлмә кәсой автомобили ацыдмә.

## განმარტება:

თუ გავონზე ან ტროტუარზე მყოფ მოთამაშე ბავშვებს სატრანსპორტო საშუალების წინ გზის სავალ ნაწილზე გადმოუვარდათ ბურთი, მძღოლმა უნდა გაითვალისწინოს, რომ ბავშვები შეიძლება გამოიქცნენ გზის სავალ ნაწილზე ბურთის ასაღებად.

## ВОПРОС 53

ПРАВИЛЬНЫЙ ОТВЕТ: 3

Кәд транспортон фәрәз әрбаввахс кәны тротуарыл хъазгә сабитәм, скъәрәг хъуамә:

1

Сабитәм әнәхъусәрдәргәйә адаргъ кәна змәлды цәмәй ма скәна къуылымпыдзинад уый фәстә змәләг транспортон фәрәзтән

2

Ратта әрмәст зәлон сигнал әмә әнәфәкъуылымпыйә адаргъ кәна змәлд

3

Æрсындәг кәна тагъдад әмә цәттә уа әртомоз кәнынмә

## განმარტება:

თუ სატრანსპორტო საშუალება უახლოვდება ტროტუარზე მოთამაშე ბავშვებს, მძღოლმა უნდა შეანელოს სიჩქარე და მზად იყოს დამუხრუჭებისთვის.

## ВОПРОС 54

ПРАВИЛЬНЫЙ ОТВЕТ: 3

Специалон сабийы коляскәйы, бандоны кәнә әрфидаргәнән арәзты спайдагәнәны цауы скъәрәг хъуамә рагацау зона:

1

Әрмәст, цәмәй коляскә, бандон кәнә әрфидаргәнән арәзт әмбәлон хъуамә уа сабийы бәрзәнд әмә уәзән

2

Әрмәст, цәмәй транспортон фәрәзы конструкцимә гәсгәйә гәнән ис сабийы кәнгәйә специалон сабийы коляскәйы, бандоны кәнә аккаг әрфидаргәнән арәзты спайда кәнын

3

Ацы билеты ранымад алкәцы уавәры

## განმარტება:

სპეციალური საბავშვო ეტლის, სავარძლის ან დამჭერი მოწყობილობის გამოყენების შემთხვევაში მძღოლმა უნდა გაითვალისწინოს, რომ სპეციალური საბავშვო ეტლი, სავარძლი ან შესაბამისი დამჭერი მოწყობილობა შეესაბამება ბავშვის სიმაღლეს და წონას, ასევე სატრანსპორტო საშუალების კონსტრუქციიდან გამომდინარე შესაძლებელია ბავშვის გადაყვანისას სპეციალური საბავშვო ეტლის, სავარძლის ან შესაბამისი დამჭერი მოწყობილობის გამოყენება.

## ВОПРОС 55

ПРАВИЛЬНЫЙ ОТВЕТ: 3

Æндæრ гоймагæн механикон транспортон фæрæзы скъæрынмæ раттын тобæгонд у:

1

Æрмæст уыцы цауы, кæд æмæ уый у алкогон, наркотикон кæнæ психотропон расыг уавæры

2

Æрмæст уыцы цауы, кæд æмæ уымæн нæй аккаг категорийы кæнæ дæлкатегорийы транспортон фæрæзы скъæрыны бар кæнæ уыцы бар урæд у, ист у Гуырдыстыны закондæттынадæй æвæрд фæткæй

3

Ацы билеты ранымад кæцыфæнды цауы

## განმარტება:

„საგზაო მოძრაობის შესახებ“ საქართველოს კანონის მე-20 მუხლის მე-4 და მე-5 პუნქტების თანახმად: 4. აკრძალულია სატრანსპორტო საშუალების სამართავად გადაცემა იმ პირისათვის, რომელიც იმყოფება ალკოჰოლური, ნარკოტიკული ან ფსიქოტროპული სიმთვრალის მდგომარეობაში. 5. აკრძალულია სატრანსპორტო საშუალების სამართავად გადაცემა იმ პირისათვის, რომელსაც არ აქვს შესაბამისი კატეგორიის ან ქვეკატეგორიის სატრანსპორტო საშუალების მართვის უფლება ან ეს უფლება შეჩერებული, ჩამორთმეული ან შეწყვეტილი (გაუქმებული) აქვს საქართველოს კანონმდებლობით დადგენილი წესით.

## ВОПРОС 56

ПРАВИЛЬНЫЙ ОТВЕТ: 2

Скъæრæгæн, кæцыйы æнæниздзинады уавæр нæу аккаг транспортон фæрæзы скъæрынæн, бар ын ис æви нæ транспортон фæრæзы скъæрын:

1

Ис ын бар

2

Нæй ын бар

## განმარტება:

„საგზაო მოძრაობის შესახებ“ საქართველოს კანონის 21-ე მუხლის მე-2 პუნქტის თანახმად, მძღოლს, რომლის ჯანმრთელობის მდგომარეობა არ შეესაბამება სატრანსპორტო საშუალების მართვისათვის საჭირო ჯანმრთელობის მდგომარეობის მოთხოვნებს, ეკრძალება სატრანსპორტო საშუალების მართვა.

## ВОПРОС 57

ПРАВИЛЬНЫЙ ОТВЕТ: 4

Кәд транспортон фәрәзы раз фистәгон ахизәныл рацәуы зәронд фистәг, скъәрәг хъуамә йә хъус әрдара:

**1** Әрмәст, цәмәй зәронд фистәг гәнәен ис әмә аккаг аргъ нә кәны әрбаввахсгонд транспортон фәрәзы тагъдадәен.

**2** Әрмәст, цәмәй гәнәен ис әмә зәронд фистәг хъусәй хорз ма хъуса кәнә та хорз ма уына цәстәй.

**3** Әрмәст, цәмәй зәронд фистәгәен йә реакци әрнылләггонд у.

**4** Алы ранымад уавәрмә.

## განმარტება:

თუ სატრანსპორტო საშუალების წინ ქვეითთა გადასასვლელზე გადაადგილდება მოხუცი ქვეითი, მძღოლმა უნდა გაითვალისწინოს როგორც ის, რომ მოხუცი ქვეითი შეიძლება სათანადოდ ვერ აფასებდეს მოახლოებული სატრანსპორტო საშუალების სიჩქარეს, ასევე ის, რომ მოხუცი ქვეითის რეაქცია უფრო შენელებულია და შესაძლებელია მას მკვეთრად ჰქონდეს დაქვეითებული სმენა და მხედველობა.

## ВОПРОС 58

ПРАВИЛЬНЫЙ ОТВЕТ: 3

Цәмәән у наркотикәй расыг уавәры уәвәг скъәрәджы ‘рдыгәй транспортон фәрәзы скъәрын тәссаг?

**1** Әрмәст уымәән, әмә наркотикәй расыг уавәры уәвәг скъәрәгы реакцийы рәстәг рәзы.

**2** Әрмәст уымәән, әмә наркотикон расыг уавәры уәвәг скъәрәг адекватонәй нә анализ кәны фәндагыл ситуацийы.

**3** Наркотикон расыгдзинад расайдзәән ацы билеты ранымад алкәцы факторы

## განმარტება:

ნარკოტიკული სიმთვრალის მდგომარეობაში მყოფი მძღოლის მიერ სატრანსპორტო საშუალების მართვა სიფრთხილის შემცველია, რადგან ნარკოტიკული სიმთვრალის მდგომარეობაში მყოფი მძღოლის რეაქციის დრო იზრდება, ასევე იგი ადევკატურად ვერ აანალიზებს გზაზე არსებულ სიტუაციას.

## ВОПРОС 59

ПРАВИЛЬНЫЙ ОТВЕТ: 1

Бонაѳ-ахсაѳы талынг рѳстაѳджы кѳнаѳ аѳнаѳаг уынынады периодты, транспортон фѳрѳзы змѳлды тагъдады аѳваргаѳѳ сѳъаѳრѳг сѳъуыддзаггонд нысаниуаг хъуамѳ ратта:

1

Уынынады уавѳртѳн.

2

Лѳваѳрд фѳндаджы фадыгыл фѳндагон бѳрджытѳѳ бѳრѳггонд дѳмѳнтѳн.

3

Иумѳмбѳлѳг аѳрдаѳмадмѳ змѳлды хѳххыты бѳрцѳн.

4

Ацы билеты ранымад уавѳртѳѳ иу дѳр рагацау аѳркѳсинаг нѳу

## განმარტება:

დღე-ღამის ბნელ დროს ან არასაკმარისი ხილვადობის პირობებში, სატრანსპორტო საშუალების მოძრაობის სიჩქარის შეზღუდვას მძღოლმა გადამწყვეტი მნიშვნელობა უნდა მიანიჭოს მხედველობის პირობებს.

თემა 2:

უნესკო-ს და პირობები, რომელთა დროს  
აკრძალულია სატრანსპორტო საშუალების  
ეკსპლუატაცია

---

**ВОПРОС 60**

ПРАВИЛЬНЫЙ ОТВЕТ: 4

Транспорტონ ფერაჲზჲ აჲპარაჲნტჲ გაზტჲ ჲიანგაჲნაგ მატერიალონ სკონდ ფაქაადდარ უჲდჲაჲნჲს, კაჲდ სპაჲდაგონდ უჲდჲაჲნ:

**1**

ერმაჲსტ ტექნიკონაჲჲ იფტონგგონდ ტრანსპორტონ ფერაჲზ

**2**

ერმაჲსტ ხაჲდონ არტაგ (топливо)

**3**

ერმაჲსტ აჲნაჲტილხაჲცაჲ არტაგ

**4**

კუჲდ ტექნიკონაჲჲ იფტონგგონდ ტრანსპორტონ ფერაჲზ, აფტაჲ ხაჲდონ აჲმაჲ აჲნაჲტილხაჲცაჲ არტაგ

**განმარტჲბა:**

სატრანსპორტო საშუალებჲს გამოჲნაბოლჲჲ აირებჲში მავნე ნივთიერებატა შჲმადგენლობა შჲმცირდება, ტუ გამოყენებულჲ იჲნება ტეჲნიკურად გამართულჲ სატრანსპორტო საშუალება, ასევე ხარისხიანი და არაეთილირებულჲ (ტყვიის მინარევების გარეშე) სანჯავი.

**ВОПРОС 61**

ПРАВИЛЬНЫЙ ОТВЕТ: 1

იზარაჲჲ ბონჲ რუხსმაჲ ტალინგ რაჲსტაჲდჲჲ, მექანიკონ ტრანსპორტონ ფერაჲზჲ აჲვვახსმაჲ აჲმაჲ დარდმაჲ რუხსგაჲნაჲნ ფარაჲტჲ აჲმრაჲსტაჲდჲჲ ახუჲსსჲნჲ რაჲსტაჲდჲჲ, სკაჲრაჲგაჲნ ბარ ნაჲ:

**1**

უჲცი ფაჲნდაგჲლ ჲმაჲლჲნ, კაჲცჲჲჲლ ნაჲ არაჲგაჲ რუხსგაჲნაჲნ

**2**

კაჲციფაჲნდჲ ფაჲნდაგჲლ ჲმაჲლჲნ, აჲნაჲკაჲსგაჲჲჲჲ უჲმაჲ, ის აჲვი ნაჲ უჲჲლ არაჲგაჲ რუხსგაჲნაჲნ

**3**

ჲმაჲლდ არაჲგაჲ რუხსგაჲნაჲნაჲჲ დჲვარსონ ჲმაჲლჲნ ფაჲნდაგჲლ

**განმარტჲბა:**

„საგზაო მოძრაობის შესახებ“ საქართველოს კანონის მე-21-ე მუხლის მე-13 პუნქტის თანახმად, მძღოლს ეკრძალება მოძრაობა მუშა სამუხრუჭო სისტემის, სატის მექანიზმის, სატრანსპორტო საშუალებატა შჲმადგენლობაში მისაბმელი მოწყობილობის გაუმართაობისას, აგრევე დღე-ღამის ბნელ დროს ერთდროულად მწყობრიდან გამოსული (ჩამქრალი) ახლო და შორი განათების ფარებით (ან მათი არარსებობისას) ან/და უკანა საგაბარტო სინათლეებით იმ გზაზე, რომელზედაც არ არის ხელოვნური განათება ან არასაკმარისი ხილვადობა. მძღოლის მხარეს არსებული მინასანმენდის უმოქმედობისას აკრძალულია მექანიკური სატრანსპორტო საშუალების მართვა ნისლის, წვიმისა და თოვის დროს.



Бар ис æви нæ цыдæй цæуæг фистæгон къордæн цæуæн хайыл (фæндагыл) цæуыны?

1

Бар ис, æрмæст транспортон фæрæзы змæлды æрдæмадмæ, рахизфарс, рæнхъы мидæг иуыл фылдæр цыппар лæгæй

2

Бар ис, æрмæст транспортон фæрæзы змæлды комкоммæ æрдæмадмæ, рахиз фарсæрдэгæй, рæнхъы мидæг иуыл фылдæр дыууæ лæгæй

3

Бар ис, æрмæст транспортон фæрæзы змæлды комкоммæ æрдæмадмæ, рахиз фарсæрдэгæй, рæнхъы мидæг иуыл фылдæр дыууæ лæгæй

### განმარტება:

„საგზაო მოძრაობის შესახებ“ საქართველოს კანონის 24-ე მუხლის მე-2 პუნქტის „ბ“ ქვეპუნქტის თანახმად, თუ გზის სავალი ნაწილის კიდესთან არსებობს ქვეითთა მოძრაობისთვის გამოსადეგი ქვეითთა ბილიკი, ტროტუარი ან გზისპირი, ქვეითმა უნდა გამოიყენოს იგი, თუმცა უნდა დაიცვას სიფრთხილის აუცილებელი ზომები. ქვეითთა ჯგუფებს, რომლებიც ორგანიზებულად გადაადგილდებიან ან მსვლელობით მიდიან, შეუძლიათ იარონ გზის სავალ ნაწილზე; ამასთანავე, გზის სავალ ნაწილზე მათი მოძრაობა ნებადართულია მხოლოდ სატრანსპორტო საშუალების მოძრაობის მიმართულებით, მარჯვენა მხარეს, რიგში არაუმეტეს ოთხი კაცისა. ქვეითთა ჯგუფს წინ და უკან, მარცხენა მხარეს უნდა მიჰყვებოდნენ გამცილებლები წითელი ალმებით, ხოლო დღე-ღამის ბნელ დროს ან არასაკმარისი ხილვადობის პირობებში – ჩართული ფარნებით (წინ – თეთრით, უკან – წითლით).

## ВОПРОС 63

ПРАВИЛЬНЫЙ ОТВЕТ: 2

Ис ын æви нæ бар фистæгæн цæуæн хайыл ахизгæйæ рахиза урæд транспортон фæрæзы рæзтырдыгæй?

1

Нæй ын бар

2

Ис ын бар, кæд бæлвырдæй зондзæн æрбаввахсгонд транспортон фæрæзы уæвынады

3

Ис ын бар æрмæст иуварсон змæлæн фæндæгтыл

## განმარტება:

„საგზაო მოძრაობის შესახებ“ საქართველოს კანონის მე-24 მუხლის მე-9 პუნქტის თანახმად, გზის სავალ ნაწილზე გადასვლისას ქვეითი არ უნდა გამოვიდეს გაჩერებული სატრანსპორტო საშუალების ან ხილვადობის შემზღუდველი სხვა დაბრკოლების წინა მხრიდან, ვიდრე არ დარწმუნდება მოახლოებული სატრანსპორტო საშუალების არარსებობაში.



Рог автомобиля скъæрæг урæд у хъæбæр æмбæрзт фæрсмæ хаххыл. Фехалдзæн æви нæ фæндæгты змæлды уагæвæрдтæ, кæд æнæфаг æвзарынады (уынынады) уавæрты не сиу кæндзæни габаритон рухсытæ?

1

Фехалдзæни

2

Нæ фехалдзæни

### განმარტება:

„საგზაო მოძრაობის შესახებ“ საქართველოს კანონის 49-ე მუხლის მე-9 პუნქტის თანახმად, დაბინდებიდან გათენებამდე, აგრეთვე ნებისმიერი სხვა არასაკმარისი ხილვადობის პირობებში, გზაზე გაჩერების ან დგომის დროს მექანიკური სატრანსპორტო საშუალება და მისი მისაბმელი აღნიშნული უნდა იყოს წინა და უკანა საგაბარიტო სინათლეებით. ამავე მუხლის მე-11 პუნქტის „ბ“ ქვეპუნქტის თანახმად, ამ მუხლის მე-9 და მე-10 პუნქტებით დადგენილ მოთხოვნათა მიუხედავად, მექანიკური სატრანსპორტო საშუალება შეიძლება გაჩერდეს ან იმყოფებოდეს სადგომზე ნებისმიერი გარე სანათი ხელსაწყოს ჩაურთველად: ბ) სავალი ნაწილის და მკვრივი საფარის მქონე გვერდულებს მიღმა.



Ис ын æви нæ бар автомобили скъæрæгæн адаргъ кæна змæлд фатæджы (стрелкæйы) æрдæмадмæ, кæд бон-æхсæвы талынг рæстæджы змæлгæйæ фехæлдис фæстаг габаритон рухсытæ?

1

Ис ын бар

2

Нæй ын бар

### განმარტება:

„საგზაო მოძრაობის შესახებ“ საქართველოს კანონის 49-ე მუხლის პირველი პუნქტის თანახმად, დღე-ღამის ბნელ დროს, აგრეთვე არასაკმარისი ხილვადობის პირობებში მოძრავე მექანიკურ სატრანსპორტო საშუალებაზე, აგრეთვე მოპედზე ჩართული უნდა იყოს ახლო ან შორი განათების ფარა/ფარები და უკანა საგაბარიტო სინათლეები. ამავე კანონის 21-ე მუხლის მე-13 პუნქტის თანახმად მძღოლს ეკრძალება მოძრაობა მუშა სამუხრუჭო სისტემის, საჭის მექანიზმის, სატრანსპორტო საშუალებათა შემადგენლობაში მისაბმელი მოწყობილობის გაუმართაობისას, აგრეთვე დღე-ღამის ბნელ დროს ერთდროულად მწყობრიდან გამოსული (ჩამქრალი) ახლო და შორი განათების ფარებით (ან მათი არარსებობისას) ან/და უკანა საგაბარიტო სინათლეებით იმ გზაზე, რომელზედაც არ არის ხელოვნური განათება ან არასაკმარისი ხილვადობაა.



Фехалдзენ æви нæ автомобили скъæрæг фæндæгты змæлды уагæвæрдтæ, кæд æнæфаг æвзарынады (уынынады) уавæрты нывыл амындгонд бынаты урæд у автомашинæ æдде рухсыты арæзтытæ æнæсиуæй?

1

Фехалдзæни

2

Нæ фехалдзæни

### განმარტება:

„საგზაო მოძრაობის შესახებ“ საქართველოს კანონის 49-ე მუხლის მე-9 პუნქტის თანახმად, დაბინდებიდან გათენებამდე, აგრეთვე ნებისმიერი სხვა არასაკმარისი ხილვადობის პირობებში, გზაზე გაჩერების ან დგომის დროს მექანიკური სატრანსპორტო საშუალება და მისი მისაბმელი აღნიშნული უნდა იყოს წინა და უკანა საგაბარიტო სინათლეებით. ამავე მუხლის მე-11 პუნქტის „ბ“ ქვეპუნქტის თანახმად, ამ მუხლის მე-9 და მე-10 პუნქტებით დადგენილ მოთხოვნათა მიუხედავად, მექანიკური სატრანსპორტო საშუალება შეიძლება გაჩერდეს ან იმყოფებოდეს სადგომზე ნებისმიერი გარე სანათი ხელსაწყოს ჩაურთველად: ბ) სავალი ნაწილის და მკვრივი საფარის მქონე გვერდულებს მიღმა.

## ВОПРОС 67

ПРАВИЛЬНЫЙ ОТВЕТ: 2

სკაერაგენ ბარ ნაე დაეტყ ტრანსპორტონ ფაერაჟყ დარდდაერყ ზმაელდ, კაედ:

1

ნაე კუსყ ჯალონ სიგნალ

2

ბონ-აჟსაჟყ ტალინგ რაესაედჟყ  
აჟმჟუყზონაჟ ჟუყსტ სტყ აჟვაჟსმაჟ  
აჟმაჟ დარდმაჟ რუჟსგაენაენ ფარაეტაჟ  
(კაენაჟ აენაჟ უყდონაჟ) კაენაჟ ტა  
ფაესტაგ გაბარიტონ რუჟსყტაჟ უყცყ  
ფაენდაგყლ, კაეცყყყლდარ ნაჟყ  
არაჟგაჟ რუჟსგაენაენ კაენაჟ აენაჟფაგ  
აჟვარყნად ის

3

ავგ სყგდაგგაენაენტაჟ ნაე კუსყნც  
აჟვარდ რეჟყმყ

4

ჟაელდ უ ჟაელცადონ სისტემაჟყ  
გერმეტონდჟინად

## განმარტება:

„საგზაო მოძრაობის შესახებ“ საქართველოს კანონის 21-ე მუხლის მე-13 პუნქტის თანახმად, მძღოლს ეკრძალება მოძრაობა მუჟა სამუხრუჟო სისტემის, სატყის მექანიზმის, სატრანსპორტო საშუალებატა შემადგენლობაში მისაბმელი მოწყობილობის გაუმართაობისას, აგრეეჟე დღე-ღამის ბნელ დროს ერთდროულად მწყობრიდან გამოსული (ჩამქრალი) ახლო და შორი განათების ფარეჟით (ან მათი არარესეობისას) ან/და უჟანა საგაბარიტო სინათლეეჟით იმ გზაზე, რომელზედაც არ არის ხელოვნური განათება ან არასაკმარისი ხილვადობაა. მძღოლის მხარეს არსეჟული მინასანმენდის უმოქმედობისას აკრძალულია მექანიჟური სატრანსპორტო საშუალების მართვა ნისლის, წვიმისა და თოვის დროს.

## ВОПРОС 68

ПРАВИЛЬНЫЙ ОТВЕТ: 2

ბარ ის აჟი ნაჟყ ტრანსპორტონ ფაერაჟყ ეჟსუატაციყყ, კაედ შინაჟ (покрышка) რაჟმერაჟყ კაენაჟ უადჟინაგ უარგაჟვარდაჟყ ნაჟუ ტრანსპორტონ ფაერაჟყ მოდელები ჟუყზაენ?

1

ბარ ის

2

ბარ ნაჟყ

## განმარტება:

აკრძალულია სატრანსპორტო საშუალების ეჟსპლუატაცია, თუ საბურავი ზომით ან დასაშვეჟი დატვირთვით არ შეესაბამება სატრანსპორტო საშუალების მოდელებს.

## ВОПРОС 69

ПРАВИЛЬНЫЙ ОТВЕТ: 2



I



II



III

Кæцы нывыл ис æвдыст къухты раст æвæрын рулы цалхыл?

1

I

2

II

3

III

## განმარტება:

საჭის თვალზე ხელების სწორი განლაგებაა, როდესაც ავარიული სიტუაციის წარმოშობის შემთხვევაში მძღოლს შეუძლია სწრაფად და მოხერხებულად მოაბრუნოს საჭე ყველა მიმართულებით და დააბრუნოს იგი საწყის მდგომარეობაში. გარდა ამისა სწორი განლაგება უზღუნველყოფს ხელებზე მინიმალურ დატვირთვას, ამცირებს დაღლილობას. მძღოლი ყოველთვის მზადაა რეაგირება მოახდინოს საგზაო სიტუაციის ცვლილებაზე. საჭის თვალზე ხელების სწორი განლაგება ნაჩვენებია მეორე ნახატზე.



## ВОПРОС 70

ПРАВИЛЬНЫЙ ОТВЕТ: 2

Автотранспортон фæрæзты 'рдæм бавдыстгонд техникон домæнтæм гæсгæ, дæлдæр ранымад тормозон системæйы, кæцы æнæრæвдздзинад у æнæруадзгæ?

1

Æрмæст къухæй скъæрæн тормузы контролон пробкæйы æнæххæстгæнæг архайд, рахъарын, йæ котролгæнæны базиан кæнын, деформаци кæнæ уæлдай тæдзын

2

Ацы билеты ранымад кæцыфæнды æнæрæвдздзинад

3

Æрмæст къухын тормузы хырхыргæнаг механизмы æнæрæвдздзинад, беркеты уæлдай цыд

## განმარტება:

„ავტოსატრანსპორტო საშუალებების მიმართ წაყენებული ტექნიკური მოთხოვნები, რომლებთან შესაბამისობის დადგენის მიზნითაც ტარდება გზისთვის ვარგისობაზე ტესტირება და მისი ჩატარების მეთოდების“ საქართველოს მთავრობის 2014 წლის 3 იანვარის №30 დადგენილებით დამტკიცებული ტექნიკური რეგლამენტის მე-4 მუხლის მე-15 და მე-16 პუნქტების თანახმად: 15. დაუშვებელია ხელით მართვადი მუხრუჭის საკონტროლო სარქველის არადაშვამაყოფილებელი მოქმედება, გაჟონვა, მისი მაკონტროლებლის დაზიანება, დეფორმირება ან ზედმეტი ცვეთა. 16. დაუშვებელია ხელის მუხრუჭის ხრუტუნა მექანიზმის გაუმართაობა, ბერკეტის ზედმეტი სვლა.



## ВОПРОС 71

ПРАВИЛЬНЫЙ ОТВЕТ: 3

Автотранспортон фæрæзты 'рдæм бавдыстгонд техникон домæнтæм гæсгæ, дæлдæр ранымад тормозон системæйы, кæцы æнæრæвдздзинад у æнæруадзгæ?

1 Æрмæст гидравликон тормузæй тæнгъæды ратæдзын

2 Æрмæст пневматикон кæнæ пневмогидравликон тормозон змæлынგæнæны монометрты æнæრæвдздзинад

3 Ацы билеты ранымад кæцыфæнды æнæрæвдздзинад

## განმარტება:

„ავტოსატრანსპორტო საშუალებების მიმართ წაყენებული ტექნიკური მოთხოვნები, რომლებთან შესაბამისობის დადგენის მიზნითაც ტარდება გზისთვის ვარგისობაზე ტესტირება და მისი ჩატარების მეთოდების“ საქართველოს მთავრობის 2014 წლის 3 იანვარის №30 დადგენილებით დამტკიცებული ტექნიკური რეგლამენტის მე-4 მუხლის მე-9 და მე-17 პუნქტების თანახმად: 9. სამუხრუჭო სისტემების სასიგნალო და საკონტროლო სისტემა, პნევმატიკური და პნევმოჰიდრაულიკური სამუხრუჭო ამძრავის მანომეტრები, სადგომი სამუხრუჭო სისტემის მართვის ორგანოს ფიქსაციის მოწყობილობა უნდა იყოს გამართული. 17. დაუშვებელია სამუხრუჭო სარქველების (სარედუქციო სარქველები და რეგულატორები) დაზიანება, ჰაერის ზედმეტი გადინება, კომპრესორიდან ზედმეტი ზეთის გადინება, არასაიმედო მონტაჟი, ჰიდრაულიკური მუხრუჭიდან სითხის გადინება.

## ВОПРОС 72

ПРАВИЛЬНЫЙ ОТВЕТ: 1

Тобæгонд у æви нæ транспортон фæрæзы эксплуатацийы, кæд æддаг рухсгæнæн инструментты бæрцад, тип æмæ куысты режим нæу аккаг транспортон фæрæзы конд дæмæнтæн?

1 Бар нæй

2 Бар ис

## განმარტება:

„ავტოსატრანსპორტო საშუალებების მიმართ წაყენებული ტექნიკური მოთხოვნები, რომლებთან შესაბამისობის დადგენის მიზნითაც ტარდება გზისთვის ვარგისობაზე ტესტირება და მისი ჩატარების მეთოდების“ საქართველოს მთავრობის 2014 წლის 3 იანვარის №30 დადგენილებით დამტკიცებული ტექნიკური რეგლამენტის მე-7 მუხლის მე-3 პუნქტის თანახმად, დასაშვებია წარმოებიდან მოხსნილ ავტოსატრანსპორტო საშუალებებზე სხვა მარკისა და მოდელების ავტოსატრანსპორტო საშუალებების გარე მაშუქი ხელსაწყოების დაყენება. გარე მაშუქი ხელსაწყოების რაოდენობა, ტიპი, განთავსება და მუშაობის რეჟიმი უნდა შეესაბამებოდეს ავტოსატრანსპორტო საშუალების კონსტრუქციის მიმართ დადგენილ მოთხოვნებს.

## ВОПРОС 73

ПРАВИЛЬНЫЙ ОТВЕТ: 3

Гәнаән ис æви нæ, иу сæмæныл æндæр æмæ æндæр протекторы уæвæг  
покрышкæты скæнын?

1

Гәнаән ис

2

Гәнаән ис æрмæст рог автомобилтыл

3

Нæй гәнаән

## განმარტება:

„ავტოსატრანსპორტო საშუალებების მიმართ წაყენებული ტექნიკური მოთხოვნები, რომლებთან შესაბამისობის დადგენის მიზნითაც ტარდება გზისთვის ვარგისობაზე ტესტირება და მისი ჩატარების მეთოდების“ საქართველოს მთავრობის 2014 წლის 3 იანვარის №30 დადგენილებით დამტკიცებული ტექნიკური რეგლამენტის მე-8 მუხლის მე-5 პუნქტის თანახმად, „ავტოსატრანსპორტო საშუალება უნდა იყოს დაკომპლექტებული საბურავებით, რომელიც გამორიცხავს ავტოსატრანსპორტო საშუალების მოძრაობის ნებისმიერ რეჟიმში, საბურავების შეხებას დაკიდების ან ავტოსატრანსპორტო საშუალების ნებისმიერ სხვა ელემენტთან. დაუშვებელია ერთ ღერძზე სხვადასხვა პროტექტორის მქონე საბურავების დაყენება.

Дәлдәер ранымадәй, кәцы цауы у тобәгонд транспортон фәрәзы эксплуатаци?

- |   |   |   |  |
|---|---|---|--|
| 1 | Æрмæст бензины æмæ дизелы моторты системæйы æртаг рахъаргæйæ                                      | 2 | Æрмæст уæлдæф уадзæны системæйы элементты байугæндты фæздæг рауадзгæйæ |
| 3 | Æрмæст ахæм аирбакты (уæлдæфон базты) спайдагæнгæйæ, кæцыйæн цыд у йæ периодикон сбæлвырды рæстæг | 4 | Ацы билеты ранымад кæцыфæнды цауы                                      |

### განმარტება:

„ავტოსატრანსპორტო საშუალებების მიმართ წაყენებული ტექნიკური მოთხოვნები, რომლებთან შესაბამისობის დადგენის მიზნითაც ტარდება გზისთვის ვარგისობაზე ტესტირება და მისი ჩატარების მეთოდების“ საქართველოს მთავრობის 2014 წლის 3 იანვარის №30 დადგენილებით დამტკიცებული ტექნიკური რეგლამენტის მე-9 მუხლის მე-18 და 21-ე პუნქტების თანახმად: 18. დაუშვებელია ბენზინის და დიზელის ძრავების კვების სისტემაში საწვავის ჟონვა. 21. აირბალონიანი ასს-ების კვების სისტემა უნდა იყოს ჰერმეტიკული. დაუშვებელია აირბალონიანი ასს-ზე ისეთი ბალონების გამოყენება, რომელთაც გასული აქვთ პერიოდული შემოწმების ვადა. ამავე რეგლამენტის მე-14 მუხლის მე-3 პუნქტის თანახმად, დაუშვებელია გაჟონვა ნამწვი აირების გამონაბოლქვის სისტემის ელემენტების შეერთებებში, ხოლო კატალიზური კონვერტორებით აღჭურვილ ასს-ებზე დაუშვებელია ნამწვი აირების ატმოსფეროში გამოყოფა კატალიზური კონვერტორების გვერდის ავლით.

## ВОПРОС 75

ПРАВИЛЬНЫЙ ОТВЕТ: 3

Автотранспортон фæрæзты 'рдæм бавдыстгонд техникон домæнтæм гæсгæ, дæлдæр ранымад кæцы цауы у тобæгонд транспортон фæрæзы эксплуатаци:

1

Æрмæст уыцы цауы, кæд нæй транспортон фæрæзы констукцийæ æркастгонд фæстæмæ уынæн кæсæн

2

Æрмæст уыцы цауы, кæд нæ кусы зæлон сигнал

3

Ацы билеты ранымад кæцыфæнды æнæфæткдзинады уæвгæйы цауы

## განმარტება:

„ავტოსატრანსპორტო საშუალებების მიმართ წაყენებული ტექნიკური მოთხოვნები, რომლებთან შესაბამისობის დადგენის მიზნითაც ტარდება გზისთვის ვარგისობაზე ტესტირება და მისი ჩატარების მეთოდების“ საქართველოს მთავრობის 2014 წლის 3 იანვარის №30 დადგენილებით დამტკიცებული ტექნიკური რეგლამენტის მე-10 მუხლის პირველი პუნქტის თანახმად, ავტოსატრანსპორტო საშუალების ხმოვანი სასიგნალო მოწყობილობა უნდა იყოს გამართულ მდგომარეობაში. ამავე რეგლამენტის მე-13 მუხლის პირველი პუნქტის „ზ“ ქვეპუნქტის თანახმად, „ავტოსატრანსპორტო საშუალება აღჭურვილი უნდა იყოს კომპლექტაციის შემდეგი ელემენტებით: ზ) უკანა ხედვის სარკეებით.

## ВОПРОС 76

ПРАВИЛЬНЫЙ ОТВЕТ: 1

Гæнæн ис æви нæ, ныхкъуырæн авгыл, скъæрæджы 'рдыгæй, авгсыгъдæггæнæны алыварс, фæстытæ æмæ хъулæтты уæвынад?

1

Нæй гæнæн

2

Ис гæнæн

## განმარტება:

„ავტოსატრანსპორტო საშუალებების მიმართ წაყენებული ტექნიკური მოთხოვნები, რომლებთან შესაბამისობის დადგენის მიზნითაც ტარდება გზისთვის ვარგისობაზე ტესტირება და მისი ჩატარების მეთოდების“ საქართველოს მთავრობის 2014 წლის 3 იანვარის №30 დადგენილებით დამტკიცებული ტექნიკური რეგლამენტის მე-6 მუხლის მე-4 პუნქტის თანახმად, დასაშვებია საქარე მინის ზედა ნაწილში გამჭვირვალე ფერადი აფსკის დამაგრება სიგანით არა უმეტეს 140 მმ, ხოლო კატეგორიების ასს-ზე – სიგანით, რომელიც არ აღარბებს საქარე მინის ზედა ნაწილსა და მისი მინასაწმენდით გაწმენდის ზედა ზონის ზღვარს შორის მანძილს. დაუშვებელია საქარე მინაზე, მძღოლის მხარეს, მინმწმენდის მოქმედების არეში, ბზარებისა და ლაქების არსებობა.

## ВОПРОС 77

ПРАВИЛЬНЫЙ ОТВЕТ: 2

Кәд транспортон фәрәз ифонгад у йәхи фидаргәәнәнтәй, уыдон регулироватгонд хъуамә уой афтә, цәмәй скъәрәджы әмә бәлццәтты сәр ууыл әнцой кәна:

1

Бәрзәйә

2

Къәбутәй

## განმარტება:

თუ სატრანსპორტო საშუალება აღჭურვილია თავის დასამაგრებელით, ისინი რეგულირებული უნდა იყოს ისე, რომ თავი ეყრდნობოდეს კუთხის არეში.

## ВОПРОС 78

ПРАВИЛЬНЫЙ ОТВЕТ: 1

Æдасдзинады сифтонг кәныны нысанән, нысанәмраст у әви нә йәхи фидаргәәнәнтәй ифтонггарз транспортон фәрәзы скъәрәг змәлды райдыды размә фидарәй базона, цәмәй йәхәдәг әмә бәлццәтты сәртә фидаргәәнәнтыл кәй әнцой кәнынц?

1

Ойы, нысанәмраст у

2

Нәу нысанәмраст

## განმარტება:

თავის დასამაგრებლებით აღჭურვილი სატრანსპორტო საშუალების მძღოლი მოძრაობის დაწყების წინ ვალდებულია დარწმუნდეს, რომ თვითონ და მგზავრები თავი დამჭერებს მიყრდნობილნი არიან კუთხის არეში.

## ВОПРОС 79

ПРАВИЛЬНЫЙ ОТВЕТ: 4

Транспортом фæрæзы цалхыты уæлдæфы ныллæг æлхъывдад гæнæн ис расайа:

1

Æрмæст артагы хардзы фылдæрад.

2

Æрмæст рулæй скъæрыны  
фæзындæрад

3

Æрмæст цалхыты тынг ыстæвдад.

4

Куыд артагы хардзы фылдæрад,  
афтæ рулæй скъæрыны  
фæзындæрад æмæ цалхыты тынг  
ыстæвдад.

## განმარტება:

სატრანსპორტო საშუალების საბურავებში აირის დაბალმა წნევამ შეიძლება გამოიწვიოს როგორც სანვავის ხარჯის მატება, ასევე საჭის მართვის გაძნელება და საბურავების გადახურება.

თემა 3:

## მაფრთხილებელი ნიშნები

---

## ВОПРОС 80

ПРАВИЛЬНЫЙ ОТВЕТ: 1



I



II



III



IV

Лავერდ ფანდაგონ ნისენტთი комбинацийაე კაეცთი ჯავერდ ცაუი ადჯარაგ პუნქთი, აფსენვანდადჯი ანაშლაგბაუმი ახიზანმა 150-300 მეტრთი დერდდჯეგыл, ფანდადჯი გალიუ фарсма?

1

I

2

II

3

III

4

IV

## განმარტება:

„საგზაო მოძრაობის შესახებ“ საქართველოს კანონის პირველი დანართის 1.1, 1.2 და 1.41- 1.46 პუნქტების თანახმად, საგზაო ნიშანი: 1.1. „რკინიგზის შლავგაუმიანი გადასასვლელი“ – იძლევა გაფრთხილებას რკინიგზის შლავგაუმიან გადასასვლელთან მიახლოების თაობაზე. 1.2. „რკინიგზის უშლავგაუმო გადასასვლელი“ – იძლევა გაფრთხილებას რკინიგზის უშლავგაუმო გადასასვლელთან მიახლოების თაობაზე. 1.4.1–1.4.6. „რკინიგზის გადასასვლელთან მიახლოება“ – დამატებით აფრთხილებს მძღოლს დაუსახლებელ პუნქტში რკინიგზის გადასასვლელთან მიახლოების თაობაზე. ამავე დანართის პირველი თავის პენიშნის „ა“ და „ვ“ ქვეპუნქტების თანახმად: ა) ნიშნები 1.1, 1.2, 1.5–1.34 ნიშნები დაუსახლებელ პუნქტში იდგმება სახიფათო მონაკვეთის დასაწყისამდე 150–300 მეტრ მანძილზე, დასახლებულ პუნქტში – 50–100 მეტრ მანძილზე. აუცილებლობისას ნიშნები იდგმება სხვა მანძილზედაც, რომელიც მითითებულია 8.1.1 დაფაზე; ვ) ნიშნები 1.4.1–1.4.3 ნიშნები იდგმება გზის მარჯვენა მხარეს, ხოლო 1.4.4–1.4.6 ნიშნები – გზის მარცხენა მხარეს. 1.4.1 და 1.4.4 ნიშნები იდგმება მოძრაობის მიმართულებით ძირითად და განმეორებით 1.1 ან 1.2 ნიშანთან ერთად, 1.4.3 და 1.4.6 ნიშნები – მოძრაობის მიმართულებით განმეორებით 1.1 ან 1.2 ნიშანთან ერთად, ხოლო 1.4.2 და 1.4.5 ნიშნები – დამოუკიდებლად, თანაბარ დაშორებაზე ძირითად და განმეორებით 1.1 ან 1.2 ნიშანს შორის.



## ВОПРОС 81

ПРАВИЛЬНЫЙ ОТВЕТ: 2



I



II



III

Лæвæрд бæрæггæнæн нысæнттæй кæцы у „Аварион урæды нысан“?

1

I

2

II

3

III

## განმარტება:

„საგზაო მოძრაობის შესახებ“ საქართველოს კანონის 52-ე მუხლის მე-5 პუნქტის თანახმად, „ავარიული გაჩერების ნიშანი“ არის ტოლგვერდა სამკუთხედის ფორმის დაფა არანაკლებ 0,4 მეტრი სიგრძის გვერდებითა და არანაკლებ 0,05 მეტრი სიგანის წითელი არშიით. ამ სამკუთხედის შუა ნაწილი შეიძლება ღრუ იყოს ან ღია ფერის საღებავით შეიღებოს. წითელი არშია შექს არ უნდა ატარებდეს ან უნდა ჰქონდეს შექამრეკლი თვისების მქონე ზოლი. დაფა ისე უნდა იყოს მოწყობილი, რომ შეიძლებოდეს იყოს მისი ვერტიკალურ მდგომარეობაში მდგრად დაყენება.

## ВОПРОС 82

ПРАВИЛЬНЫЙ ОТВЕТ: 2



I



II



III



IV

ლავარდ ფანდაგონ ნისაენტაჲ კაჲცა რაგფადჲახსტ კაჲნა შლაგბაუმონ  
აჲფსაენვანდადჲა ახიზაენმაჲ ჲერბავვახსა თыхჲაჲ?

1

I

2

II

3

III

4

IV

## განმარტება:

„საგზაო მოძრაობის შესახებ“ საქართველოს კანონის პირველი დანართის პირველი თავის (მაფრთხილებელი ნიშნები) 1.1 პუნქტის თანახმად საგზაო ნიშანი 1.1 „რკინიგზის შლაგბაუმიან გადასასვლელი“ - იძლევა გაფრთხილებას რკინიგზის შლაგბაუმიან გადასასვლელთან მიახლოების თაობაზე.

## ВОПРОС 83

ПРАВИЛЬНЫЙ ОТВЕТ: 2



I



II



III



IV

ლავერდ ფანდაგონ ნისაენტაჲ კაჲცჲ ავარდ ცაჲუჲ ფაღხატაჲჲ ადჲარაგჲ პუნკტჲ?

1

აჲრმაჲსტ I აჲმაჲ II

2

აჲრმაჲსტ I აჲმაჲ III

3

ალკაჲცჲ

4

აჲრმაჲსტ II აჲმაჲ IV

## განმარტება:

„საგზაო მოძრაობის შესახებ“ საქართველოს კანონის პირველი დანართის პირველი თავის (მაფრთხილებელი ნიშნები) შენიშვნის „ბ“ ქვეპუნქტის თანახმად 1.2 „რკინიგზის უზღაგბაუმო გადასასვლელი“ და 1.11 „სანაპიროზე გასასვლელი“ ნიშნები მეორდება დაუსახლებულ პუნქტში. მეორე ნიშანი იდგმება სახიფათო მონაკვეთის დასაწყისიდან არანაკლებ 50 მეტრ მანძილზე.

## ВОПРОС 84

ПРАВИЛЬНЫЙ ОТВЕТ: 4



I



II



III



IV

ლავერდ ფანდაგონ ნისაენტაჲ კაჲცჲ ავარდ ცაჲუჲ ფაჲლხატაჲჲ ადჲჲარაგჲ პუნკტჲ?

1

აჲრმაჲსტ I აჲმაჲ II

2

აჲრმაჲსტ I აჲმაჲ III

3

ალკაჲცჲ

4

აჲრმაჲსტ II აჲმაჲ IV

## განმარტება:

„საგზაო მოძრაობის შესახებ“ საქართველოს კანონის პირველი დანართის პირველი თავის (მაფრთხილებელი ნიშნები) შენიშვნის „ბ“ ქვეპუნქტის თანახმად 1.1 „რკინიგზის ჰლაგბაუმიანი გადასასვლელი“ და 1.10 „სანაპიროზე გასასვლელი“ ნიშნები მეორდება დაუსახლებულ პუნქტში. მეორე ნიშანი იდგმება სახიფათო მონაკვეთის დასაწყისიდან არანაკლებ 50 მეტრ მანძილზე.

## ВОПРОС 85

ПРАВИЛЬНЫЙ ОТВЕТ: 2



I



II



III



IV

ლავად ფანდაგონ ნისაენტაჲ კაჲცჲ ავად ცაჲყჲ ფაჲლხატაჲ ადჲარაჲგ პუნკტჲ?

1

აჲრმაჲსტ I აჲმაჲ II

2

აჲრმაჲსტ II აჲმაჲ III

3

ალკაჲცჲ

4

აჲრმაჲსტ II აჲმაჲ IV

## განმარტება:

„საგზაო მოძრაობის შესახებ“ საქართველოს კანონის პირველი დანართის პირველი თავის (მაფრთხილებელი ნიშნები) შენიშვნის „ბ“ ქვეპუნქტის თანახმად 1.1, 1.2, 1.10, 1.11, 1.23, 1.24 და 1.26 ნიშნები მეორდება დაუსახლებელ პუნქტში, ხოლო 1.24 „ბავშვები“ და 1.26 „საგზაო სამუშაოები“ ნიშნები – დასახლებულ პუნქტშიც. მეორე ნიშანი იდგმება სახიფათო მონაკვეთის დასაწყისიდან არანაკლებ 50 მეტრ მანძილზე.

## ВОПРОС 86

ПРАВИЛЬНЫЙ ОТВЕТ: 3



I



II



III



IV

Кæцы фæндагон нысæн рагфæдзæхст кæны æнæшлагбаум æфсæнвæндаджы ахизæнмæ æрбаввахсы тыххæй?

1

Æрмæст I

2

Æрмæст II

3

Æрмæст III

4

Æрмæст III æмæ IV

## განმარტება:

„საგზაო მოძრაობის შესახებ“ საქართველოს კანონის პირველი დანართის პირველი თავის (მაფრთხილებელი ნიშნები) 1.2 პუნქტის თანახმად საგზაო ნიშანი 1.2 „რკინიგზის უშლაგბაუმო გადასასვლელი“ – იძლევა გაფრთხილებას რკინიგზის უშლაგბაუმო გადასასვლელთან მიახლოების თაობაზე.

## ВОПРОС 87

ПРАВИЛЬНЫЙ ОТВЕТ: 1



I



II



III



IV

Лæвæрд фæндагон нысæнттæй кæцы рагфæдзæхст кæны скъæрæджы æдзæрæг пункты æфсæнвæндаджы ахизæнмæ æрбаввахсы тыххæй?

1

Æрмæст I æмæ II

2

Алкæцы

3

Æрмæст II æмæ III

4

Æрмæст I æмæ IV

## განმარტება:

„საგზაო მოძრაობის შესახებ“ საქართველოს კანონის პირველი დანართის პირველი თავის მაფრთხილებელი ნიშნები) 1.4.1-1.4.6 პუნქტების თანახმად საგზაო ნიშნები 1.4.1 – 1.4.6. „რკინიგზის გადასასვლელთან მიახლოება“ - დამატებით აფრთხილებს მძღოლს დაუსახლებელ პუნქტში რკინიგზის გადასასვლელთან მიახლოების თაობაზე.



## ВОПРОС 88

ПРАВИЛЬНЫЙ ОТВЕТ: 3



I



II



III



IV

ლავარდ ფანდაგონ ნისაენტთა, 8.1.1 (დერდძაგ ობჟექტის ონგ) ანაჲ ფაჲნაგაჲ (ტრაფარეტაჲ) ადჰარაგ პუნქტის ტაჲსაგ ფადიდჟის რაიდიდმაჲ ავარდ ცაჲუი:

1

50-100 მეტრის დერდძაგის

2

100 -150 მეტრის დერდძაგის

3

150-300 მეტრის დერდძაგის

## განმარტება:

„საგზაო მოძრაობის შესახებ“ საქართველოს კანონის პირველი დანართის პირველი თავის (მაფრთხილებელი ნიშნები) შენიშვნის „ა“ ქვეპუნქტის თანახმად 1.1, 1.2, 1.5–1.34 ნიშნები დაუსახლებელ პუნქტში იდგმება სახიფათო მონაკვეთის დასაწყისამდე 150–300 მეტრ მანძილზე, დასახლებულ პუნქტში – 50–100 მეტრ მანძილზე. აუცილებლობისას ნიშნები იდგმება სხვა მანძილზედაც, რომელიც მითითებულია 8.1.1 დაფაზე.



## ВОПРОС 89

ПРАВИЛЬНЫЙ ОТВЕТ: 3



I



II



III



IV

ლავარდ ფანდაგონ ნისაენტაე ადჰარაგ პუნქტი ფალხატაეი ავარდ ცაუი თაეაგ  
ფადიდჟი რაიდიდმაე იუილ კაადდარ?

1

150 метры дәрддзәгыл

2

100 метры дәрддзәгыл

3

50 метры дәрддзәгыл

## განმარტება:

„საგზაო მოძრაობის შესახებ“ საქართველოს კანონის პირველი დანართის პირველი თავის (მაფრთხილებელი ნიშნები) შენიშვნის „ბ“ ქვეპუნქტის თანახმად 1.1 „რკინიგზის შლავგაუმთანადე გადასასვლელი“, 1.2 „რკინიგზის უშლავგაუმთანადე გადასასვლელი“, 1.10 „გასახსნელი ხიდი“, 1.11 „სანაპიროზე გასასვლელი“, 1.23 „ქვეითა გადასასვლელი“, 1.24 „ბავშვები“ და 1.26 „საგზაო სამუშაოები“ ნიშნები მეორდება დაუსახლებელ პუნქტში, ხოლო 1.24 და 1.26 ნიშნები - დასახლებულ პუნქტშიც. მეორე ნიშანი იდგმება სახიფათო მონაკვეთის დასაწყისიდან არანაკლებ 50 მეტრის მანძილზე.



ლავაერდ ფანდაგონ ნყსან, 8.1.1 (დერდდჰაგ ფაქტყი ფნგ) ანაე ფაყნაგაყ ფანდადჰყ ცაყუნ ჰაყყლ ცყბყრ რაესტაგონ ყყსტყტაე აყადჰაყაე, ყყცყ რან ავარდ ცაყყ:

1

30 მეტრყ დერდდჰაგყლ

2

10 -15 მეტრყ დერდდჰაგყლ

3

50 მეტრყ დერდდჰაგყლ

### განმარტყბა:

„საგზაო მოძრაობის შესახებ“ საქართველოს კანონის პირველი დანართის პირველი თავის (მაფრთხილებელი ნიშნები) შენიშვნის „დ“ ქვეპუნქტის თანახმად 1.26 „საგზაო სამუშაოები“ ნიშანი სავალ ნაწილზე ხანმოკლე სამუშაოს ჩატარებისას იდგმება სამუშაოს ჩატარების ადგილიდან 10–15 მეტრ მანძილზე, 8.1.1 დავის გარეშე.

## ВОПРОС 91

ПРАВИЛЬНЫЙ ОТВЕТ: 3



I



II



III



IV

ლავარდ ფანდაგონ ნისანტთი კომბინაციიჲე კაეცი ჯვარდ ცაუი ჯდჷარაგ პუნქტი, ჯფსანვანდადჯი ანაშლაგბაუმი ახიზანმა 150-300 მეტრი დერდდჷაგჲი, ფანდადჯი რაჩიზ ფარსერდჲაგჲი?

1

I

2

II

3

III

4

IV

## განმარტება:

„საგზაო მოძრაობის შესახებ“ საქართველოს კანონის პირველი დანართის პირველი თავის (მაფრთხილებელი ნიშნები) შენიშვნის „ა“, „ბ“ და „ვ“ ქვეპუნქტების თანახმად: ა) 1.1 „რკინიგზის შლავგაუმიანი გადასასვლელი“ და 1.2 „რკინიგზის უშლავგაუმი გადასასვლელი“ ნიშნები დაუსახლებელ პუნქტში იდგმება სახიფათო მონაკვეთის დასაწყისამდე 150–300 მეტრ მანძილზე, ბ) 1.1 „რკინიგზის შლავგაუმიანი გადასასვლელი“, 1.2 „რკინიგზის უშლავგაუმი გადასასვლელი“, 1.10 „გასახსნელი ხიდი“, 1.11 „სანაპიროზე გასასვლელი“, 1.23 „ქვეითთა გადასასვლელი“, 1.24 „ბავშვები“ და 1.26 „საგზაო სამუშაოები“ ნიშნები მეორდება დაუსახლებელ პუნქტში, ხოლო 1.24 და 1.26 ნიშნები - დასახლებულ პუნქტშიც. მეორე ნიშანი იდგმება სახიფათო მონაკვეთის დასაწყისიდან არანაკლებ 50 მეტრის მანძილზე. ვ) 1.4.1-1.4.3 „რკინიგზის გადასასვლელთან მიახლოება“ ნიშნები იდგმება გზის მარჯვენა მხარეს, ხოლო 1.4.4-1.4.6 „რკინიგზის გადასასვლელთან მიახლოება“ ნიშნები - მარცხენა მხარეს. 1.4.1 და 1.4.4 ნიშნები იდგმება მოძრაობის მიმართულებით ძირითად და დუბლირებულ 1.1 ან 1.2 ნიშნებთან ერთად. ნიშნები 1.4.3 და 1.4.6 იდგმება მოძრაობის მიმართულებით განმეორებით 1.1 ან 1.2 ნიშნებთან, ხოლო ნიშნები 1.4.2 და 1.4.5 - დამოუკიდებლად, თანაბარ დაშორებაზე ძირითად და განმეორებითი 1.1 ან 1.2 ნიშნებს შორის.

## ВОПРОС 92

ПРАВИЛЬНЫЙ ОТВЕТ: 3



I



II



III



IV

ლავერდ ფანდაგონ ნისაენტთაჲ კაჲცჲ ბერაგ კაჲნჲ ჩჲსჲლ რადიუსდჲჲნ კაჲნაჲ არენგონდ უჲნჲნადჲ უაჲვაგ ფანდადჲჲ თაჲსაგ ფაჲზილაჲნჲ?

1

I

2

II

3

III

4

IV

## განმარტება:

„საგზაო მოძრაობის შესახებ“ საქართველოს კანონის პირველი დანართის პირველი თავის (მაფრთხილებელი ნიშნები) 1.12.1 და 1.12.2 პუნქტების თანახმად საგზაო ნიშნები 1.12.1, 1.12.2 „სახიფათო მოსახვევი“ - აღნიშნავს მცირერადიუსიან ან შემლუდული ხილვადობის მქონე გზის სახიფათო მოსახვევს: 1.12.1 – მარჯვნივ, 1.12.2 – მარცხნივ.

## ВОПРОС 93

ПРАВИЛЬНЫЙ ОТВЕТ: 2



I



II



III



IV

Лæвæрд фæндагон нысæнттæй кæцы бæрæг кæны фæндаджы фадыг, кæцыйы цæуæн хай хæлд у?

1

Æрмæст II æмæ III

2

Æрмæст III

3

Æрмæст I

4

Æрмæст I æмæ IV

## განმარტება:

„საგზაო მოძრაობის შესახებ“ საქართველოს კანონის პირველი დანართის პირველი თავის (მაფრთხილებელი ნიშნები) 1.17 პუნქტის თანახმად საგზაო ნიშანი 1.17 „უსწორმასწორო გზა“ - აღნიშნავს გზის მონაკვეთს, რომლის სავალი ნაწილი დაზიანებულია – ტალღოვანი, ღრანტეებიანი, ხიდთან უსწორმასწორო შეუღლებებით და ა. შ..

## ВОПРОС 94

ПРАВИЛЬНЫЙ ОТВЕТ: 2



I



II



III



IV

ლავარდ ფანდაგონ ნისაენტაჲ კაჲცჲ ბერაგ კაენჲ ფანდადჲჲ ფადჲგ, ცჲრან გაენაენ ის ტრანსპორტონ ფერაჲჲჲ ცაჲლხჲტაჲჲ ხუჲჲრჲ (ლჲსტაგ ცჲაჲლ დურტჲ) ჲჲვჲჲტ კაენჲჲჲ (აჲპპარჲჲჲ)?

1

ერმაჲსტ I აჲმაჲ III

2

ერმაჲსტ IV

3

ერმაჲსტ II

4

ერმაჲსტ II აჲმაჲ IV

## განმარტჲჲჲ:

„საგზაო მოძრაობის შესახებ“ საქართველოს კანონის პირველი დანართის პირველი თავის (მაფრთხილებელი ნიშნები) 1.19 პუნქტის თანახმად საგზაო ნიშანი 1.19 „ქვის ასხლეტა“ - აღნიშნავს გზის მონაკვეთს, რომელზედაც შესაძლებელია სატრანსპორტო საშუალების თვლებიდან ღორღის, ხრეშის ასხლეტა და ა. შ..

## ВОПРОС 95

ПРАВИЛЬНЫЙ ОТВЕТ: 3



I



II



III



IV

ლავარდ ფანდაგონ ნისაენტთაჲ კაჲცჲ ბარაგ კაჲნჲ ფანდადჲჲ ფადჲგ, ცჲრან ცაჲუჲჲნ ჰაჲჲ ფაჲტაჲნ უჲნგაგონდ ცაჲუჲ დჲუუარდჲგაჲ დარ?

1

I

2

II

3

III

4

IV

## განმარტება:

„საგზაო მოძრაობის შესახებ“ საქართველოს კანონის პირველი დანართის პირველი თავის (მაფრთხილებელი ნიშნები) 1.21.1-1.21.3 პუნქტების თანახმად საგზაო ნიშნები 1.21.1–1.21.3 „გზის შევიწროება“ - აღნიშნავს გზის მონაკვეთს, რომლის სავალი ნაწილის სიგანე ვიწროვდება. 1.21.1 - ორივე მხრიდან; 1.21.2 - მარჯვნიდან; 1.21.3 - მარცხნიდან.



## ВОПРОС 96

ПРАВИЛЬНЫЙ ОТВЕТ: 2



I



II



III



IV

ლავერდ ფანდაგონ ნისენტთაი კაცი რაგფედჯახსტ კაენი ფანდაგონ ნისანაი (5.19.1 კაენა 5.19.2) კაენა თა ფანდაგთი ბერდჯითაი (1.14.1-1.14.3) ფაენისანგონდ ფისტაგონ ახიზაენმაე არბავვახსი თიხაი?

1

I

2

II

3

III

4

IV

## განმარტება:

„საგზაო მოძრაობის შესახებ“ საქართველოს კანონის პირველი დანართის პირველი თავის (მაფრთხილებელი ნიშნები) 1.23 პუნქტის თანახმად საგზაო ნიშანი 1.23 „ქვეითთა გადასასვლელი“ - იძლევა გაფრთხილებას 5.19.1 და 5.19.2 ნიშნებით ან/და 1.14.1–1.14.3 მონიშვნებით აღნიშნულ ქვეითთა გადასასვლელთან მიახლოების თაობაზე.



## ВОПРОС 97

ПРАВИЛЬНЫЙ ОТВЕТ: 4



I



II



III



IV

ლავადრ ფანდაგონ ნისანტთაჲ კაჲცა რაგფადზაჲსტ კაჲნა ფანდადჲა ფადიგმაჲ  
 აჲვვაჲს სჲვალლაჲთა ჯაგდაჲთა ჯაჲვინადა თჲჲჲაჲ, ცჲრანაჲ სთჲრ უ ცაჲუაჲნ ჲაჲჲლ  
 (ფანდაგჲლ) სჲვალლაჲთა ჲერბაჲინდჲა აჲვაჲცაგდჲინად?

1

I

2

II

3

III

4

IV

## განმარტება:

„საგზაო მოძრაობის შესახებ“ საქართველოს კანონის პირველი დანართის პირველი თავის (მაფრთხილებელი ნიშნები) 1.24 პუნქტის თანახმად საგზაო ნიშანი 1.24 „ბავშვები“ - იძლევა გაფრთხილებას გზის მონაკვეთთან საბავშვო დაწესებულების არსებობის თაობაზე, საიდანაც დიდია ბავშვების სავალ ნაწილზე გამოჩენის ალბათობა.

## ВОПРОС 98

ПРАВИЛЬНЫЙ ОТВЕТ: 4



I



II



III



IV

ლავერდ ფანდაგონ ნისაენტთაჲ კაეცყი ბერაგ კაენი ფანდადჯი ფადყ, კაეცყი  
ალფაემბლაიჲ ახაჲსტ ცაუი ფანდადჯი კუისტყტაჲ?

1

I

2

II

3

III

4

IV

## განმარტება:

„საგზაო მოძრაობის შესახებ“ საქართველოს კანონის პირველი დანართის პირველი თავის (მაფრთხილებელი ნიშნები) 1.26 პუნქტის თანახმად საგზაო ნიშანი 1.26 „საგზაო სამუშაოები“ - აღნიშნავს გზის მონაკვეთს, რომლის ფარგლებში სამუშაოები მიმდინარეობს.

## ВОПРОС 99

ПРАВИЛЬНЫЙ ОТВЕТ: 4



I



II



III



IV

ლავაერდ ფანდაგონ ნისაენტთაჲ კაჲცჲ ბერაგ კაჲნჲ ფანდადჲჲ ფადჲგ, კაჲცჲჲჲჲლ  
გაჲნაჲნ ის ამაჲ სდჲმა სტჲრ ფერსაგონ დჲმგაჲ?

1

I

2

II

3

III

4

IV

## განმარტება:

„საგზაო მოძრაობის შესახებ“ საქართველოს კანონის პირველი დანართის პირველი თავის (მაფრთხილებელი ნიშნები) 1.30 პუნქტის თანახმად საგზაო ნიშანი 1.30 „გვერდითი ქარი“ - აღნიშნავს გზის მონაკვეთს, რომელზეც შეიძლება ძლიერი გვერდითი ქარი ამოვარდეს.



I



II



III



IV

ლავაერდ ფანდაგონ ნისანტთაჲ კაჲცჲ ბერაგ კაენჲ ფანდადჲჲ ფადჲგ, კაჲცჲჲჲჲლ  
განანჲ ის ამაჲ არცაჲჲა ახამისტჲ თაჲსაგ, კაჲცჲ ნაჲ ბერაგგონდ ანდარ  
რაგფადჲჲჲჲჲგ ნისანაჲ?

1

I

2

II

3

III

4

IV

### განმარტება:

„საგზაო მოძრაობის შესახებ“ საქართველოს კანონის პირველი დანართის პირველი თავის (მაფრთხილებელი ნიშნები) 1.34 პუნქტის თანახმად საგზაო ნიშანი 1.34 „სხვა საფრთხეები“ - გზის მონაკვეთი, რომელზედაც შეიძლება წარმოიშვას ისეთი საფრთხე, რომელიც არ არის განსაზღვრული სხვა მაფრთხილებელი ნიშნებით.



I



II



III



IV

Лæвæрд фæндагон нысæнттæй кæцы бæрæг кæны змæлды æрдæмадмæ арæнгонд уынынады чысыл радиусон фæндаджы зылынтыл, афтæ ма фæндагон куыстытæ цæугæйы бынæтты – иувæрсты ахызты æрдæмады?

1

I

2

II

3

III

4

IV

### განმარტება:

„საგზაო მოძრაობის შესახებ“ საქართველოს კანონის პირველი დანართის პირველი თავის (მაფრთხილებელი ნიშნები) 1.35.1-1.35.6 პუნქტების თანახმად საგზაო ნიშნები 1.35.1- 1.35.6 „მოხვევის მიმართულება“ - მიუთითებს შეზღუდული ხილვადობის მქონე მცირე რადიუსიან გზის მრუდებზე მოძრაობის მიმართულებას (1.35.1–1.35.3 – მარჯვნივ, 1.35.4–1.35.6 – მარცხნივ) ან საგზაო სამუშაოების მიმდინარეობის ადგილის შემოვლის შესაბამის მიმართულებას.

## ВОПРОС 102

ПРАВИЛЬНЫЙ ОТВЕТ: 1



I



II



III



IV

ლავერდ ფანდაგონ ნისენტთაჲ კაჲცჲ ბერაგ კაჲნჲ ფანდაგ, კაჲცჲიჲლ ჰმელგაჲ სკაერაგან ლავერდ ცაჲუჲ ანაერეგულირავატგონდ ალვანდაგჲლ (перекресток) ახიჲაჲნჲ უაჲლბარ?

1

I

2

II

3

III

4

IV

## განმარტება:

„საგზაო მოძრაობის შესახებ“ საქართველოს კანონის პირველი დანართის მე-2 თავის (პრიორიტეტის ნიშანი) 2.1 პუნქტების თანახმად საგზაო ნიშანი 2.1 „მთავარი გზა“ - გზა, რომელზე მოძრაჲ მძღოლსაც ენიჭება არარეგულირებული გზაჯვარედინის გავლის უპირატესობა. ნიშანი იდგმება გზის დასაწყისში და მეორდება უშუალოდ ყოველი გზაჯვარედინის წინ. 2.1 ნიშანი 8.13 დაფით დასახლებულ პუნქტში იდგმება გზაჯვარედინის წინ, რომელზედაც მთავარი გზა იცვლის მიმართულებას, დაუსახლებელ პუნქტში – წინასწარ გზაჯვარედინამდე 150–300 მეტრ მანძილზე და გზაჯვარედინის წინ.

## ВОПРОС 103

ПРАВИЛЬНЫЙ ОТВЕТ: 3

Фистაგ, кәцы пайда кәны роликтәй, роликтәджын фәйнагәй, хәдтулгәйә, чысыл дзоныгәй әмә әндәер уый хуызән фәраәзтәй, ма хәуамә скәна тас:

**1** Әрмәст тротуарыл кресло-коляскәйә кәнә фистагәй змәлгә адәймәгтән

**2** Әрмәст фистагты кәхвәндагыл кресло-коляскәйә кәнә фистагәй змәлгә адәймәгтән

**3** Куыд тротуарыл, афтә фистагты кәхвәндагыл кресло-коляскәйә кәнә фистагәй змәлгә адәймәгтән

## განმარტება:

„საგზაო მოძრაობის შესახებ“ საქართველოს კანონის 24-ე მუხლის მე-12 პუნქტის თანახმად, ქვეითმა, რომელიც სარგებლობს გორგოლაჭებით, გორგოლაჭებიანი დაფით, თვითმგორავით, ციგით ან სხვა მსგავსი საშუალებით, არ უნდა შეუქმნას საფრთხე ტროტუარზე ან ქვეითთა ბილივზე სავარძელ-ეტლით მოძრავ ადამიანებს ან ქვეითებს.

## ВОПРОС 104

ПРАВИЛЬНЫЙ ОТВЕТ: 1

Фәндагыл гужи (бәхты кәнә галты) транспорты скәәрын хәуамә уагъд әрцәуа:

**1** Цәуән хайы кәраәтты, алкәмәй әввахс дәрәддзәгыл кәнә фәрсмә (кәд әмә уый нә бәхыгдара фистәджды) иу рәнхыыл, змәлды әрдәмадмә гәсгәйә

**2** Цәуән хайыл змәлды әрдәмадмә комкоммә

**3** Галгәсы (бәхгәсы) фәндонмә гәсгә фәндаджды кәцыфәнды фадыгыл

## განმარტება:

„საგზაო მოძრაობის შესახებ“ საქართველოს კანონის 22-ე მუხლის მე-2 პუნქტის თანახმად, გზაზე მოძრავი პირუტყვის, აგრეთვე სატაპანო ტრანსპორტის მართვა უნდა განხორციელდეს სავალი ნაწილის კიდეებთან ყველაზე ახლო მანძილზე ან გვერდულაზე (თუ ეს არ აბრკოლებს ქვეითს) ერთრიგად, მოძრაობის მიმართულებით.

თემა 4:

## პროგრესის ნიშნები

---





ლავაერდ ფანდაგონ ნისან:

- 1 ბაერაგ კაენი ფანდაგ, კაეცყიყილ ჰმალგაე სკაერაგაენ ლავაერდ ცაეყი აენაერეგულირევატგონდ ალვანდაგყლ (перекрестокы) აყიზაენი ყაელებარ
- 2 ბარ ნაე დაეყყი ტაეσσαგ ყაეყყი ლასაგ ავტომობილყყი ჰმალდ
- 3 ბაერაგ კაენი ფანდაგ, კაეცყიყილ ჰმალგაე სკაერაგ ჰაესდყყი ყ ფანდაგ რატყა ცაეყგაერმაე ფანდაგყლ ჰმალგაე ტრანსპორტონ ფაერაეჰაენ

### განმარტეჰა:

„საგზაო მოძრაობის შესახებ“ საქართველოს კანონის პირველი დანართის მე-2 თავის (პრიორიტეტის ნიშანი) 2.1 პუნქტების თანახმად საგზაო ნიშანი 2.1 „მთავარი გზა“ - გზა, რომელზე მოძრავ მძღოლსაც ენიჭება არარეგულირებული გზაჯვარედინის გავლის უპირატესობა. ნიშანი იდგმება გზის დასაწყისში და მეორდება უშუალოდ ყოველი გზაჯვარედინის წინ. 2.1 ნიშანი 8.13 დაფით დასახლებულ პუნქტში იდგმება გზაჯვარედინის წინ, რომელზედაც მთავარი გზა იცვლის მიმართულებას, დაუსახლებელ პუნქტში – წინასწარ გზაჯვარედინამდე 150–300 მეტრ მანძილზე და გზაჯვარედინის წინ.

## ВОПРОС 106

ПРАВИЛЬНЫЙ ОТВЕТ: 3



I



II



III



IV

ლავერდ ფანდაგონ ნისაენტთაჲ კაჲცჲ ბერაგ კაენჲ ფანდადჲჲ უჲცჲ ფადჲგჲ კაჲრონჲ, კაჲცაჲჲ უჲჲ საფჲჲ საჲრაგ ფანდადჲჲჲ სტატუსჲ?

1

I

2

II

3


III

4

IV

## განმარტება:

„საგზაო მოძრაობის შესახებ“ საქართველოს კანონის პირველი დანართის მე-2 თავის (პრიორიტეტის ნიშანი) 2.2 პუნქტების თანახმად საგზაო ნიშანი 2.2 „მთავარი გზის დასასრული“ - გზის იმ მონაკვეთის ბოლო, საიდანაც იგი კარგავს მთავარი გზის სტატუსს. თუ მთავარი გზა იმ გზის გადაკვეთის წინმთავერდება, რომელზედაც დაწესებულია მოცემული გზაჯვარედინის გავლის უპირატესობა, 2.2 ნიშანს დაუსახლებელ პუნქტში დგამენ წინასწარ 2.4 ნიშანთან ერთად, დასახლებულ პუნქტში – გზაჯვარედინიდან 25 მეტრ მანძილზე ან/და 2.3 ან 2.4 ნიშანთან ერთად. ნიშანი შეიძლება დაიდგას სხვა, 8.1.1 დაფაზე მითითებულ მანძილზედაც.



ლავადრ ფანდაჯი ნისან ბარაგ კაენი:

1

ფანდაგ, კაეცყიყილ ჰმალგა სკაერაგაენ ლავადრ ცაუყი აენარეგულირავატგონდ ალვანდაგ (перекресток) ახიზყიყი ყაელბარ

2

ფანდადჯი ყყნგაგ ფადყი, კაეცყიყილ ჰმალგა სკაერაგაენ ლავადრ ცაუყი, ყაელბარ კომკომმა აერდამადმა ჰმალგა ტრანსპორტონ ფარაჰზმა აბარგაყიყი

3

ფანდადჯი ყყცი ფადყიყი კაერონყი, ცყრანაყი ყყიყი საფყი საყრაგ ფანდადჯი სტატუსყი

### განმარტება:

„საგზაო მოძრაობის შესახებ“ საქართველოს კანონის პირველი დანართის მე-2 თავის (პრიორიტეტის ნიშანი) 2.2 პუნქტების თანახმად საგზაო ნიშანი 2.2 „მთავარი გზის დასასრული“ - გზის იმ მონაკვეთის ბოლო, საიდანაც იგი კარგავს მთავარი გზის სტატუსს. თუ მთავარი გზა იმ გზის გადაკვეთის წინმთავერდება, რომელზედაც დაწესებულია მოცემული გზაჯვარედინის გავლის უპირატესობა, 2.2 ნიშანს დაუსახლებელ პუნქტში დგამენ წინასწარ 2.4 ნიშანთან ერთად, დასახლებულ პუნქტში – გზაჯვარედინიდან 25 მეტრ მანძილზე ან/და 2.3 ან 2.4 ნიშანთან ერთად. ნიშანი შეიძლება დაიდგას სხვა, 8.1.1 დაფაზე მითითებულ მანძილზედაც.



I



II



III



IV

ლავარდ ფანდაგონ ნისაენტაჲ კაჲცა ბარაგ კაჲნა ახაჲმ ფანდაგთაჲმ ცაჲხგარმაჲ ახიჲზინ, კაჲციჲჲლ ჴმალგაჲ სკაჲრაგაჲნ ის ფანდაგ რატთჲნი ხაჲსდჲინად?

1

I

2

II

3

III

4

IV

### განმარტება:

„საგზაო მოძრაობის შესახებ“ საქართველოს კანონის პირველი დანართის პირველი თავის (მაფრთხილებელი ნიშნები) 1.7.1- 1.7.7 პუნქტების თანახმად საგზაო ნიშანი 1.7.1. „მეორეხარისხოვან გზასთან გადაკვეთა“, 1.7.2–1.7.7. „მეორეხარისხოვანი გზის შეერთება“ (შეერთება მარჯვნიდან – 1.7.2, 1.7.4 და 1.7.6, შეერთება მარცხნიდან – 1.7.3, 1.7.5 და 1.7.7) – ისეთ გზასთან გადაკვეთა ან ისეთ გზასთან შეერთება, რომელზე მოძრაობა მძღოლსაც აქვს გზის დათმობის ვალდებულება. 1.7.1–1.7.7 ნიშნები სახიფათო მონაკვეთის დასაწყისამდე იდგმება დაუსახლებელ პუნქტში 150–300 მეტრ მანძილზე, დასახლებულ პუნქტში – 50–100 მეტრ მანძილზე.

## ВОПРОС 109

ПРАВИЛЬНЫЙ ОТВЕТ: 2



I



II



III



IV

ლავარდ ფანდაგონ ნისაენტაჲ კაჲცა ბარაგ კაჲნა ახაჲმ ფანდაგტაჲმ სიუ კაჲნაჲნ, კაჲცაჲჲლ ჴმალგაჲ სკაჲრაგაჲნ ის ფანდაგ რატაჲნაჲ ხაჲსდჴინად?

1

ერმაჲს II ჲმაჲ IV

2

ერმაჲს I ჲმაჲ III

3

ერმაჲს II

4

ერმაჲს III.

## განმარტება:

„საგზაო მოძრაობის შესახებ“ საქართველოს კანონის პირველი დანართის პირველი თავის (მაფრთხილებელი ნიშნები) 1.7.1- 1.7.7 პუნქტების თანახმად საგზაო ნიშანი 1.7.1. „მეორეხარისხოვან გზასთან გადაკვეთა“, 1.7.2–1.7.7. „მეორეხარისხოვანი გზის შეერთება“ (შეერთება მარჯვნიდან – 1.7.2, 1.7.4 და 1.7.6, შეერთება მარცხნიდან – 1.7.3, 1.7.5 და 1.7.7) – ისეთ გზასთან გადაკვეთა ან ისეთ გზასთან შეერთება, რომელზე მოძრავ მძღოლსაც აქვს გზის დათმობის ვალდებულება. 1.7.1–1.7.7 ნიშნები სახიფათო მონაკვეთის დასაწყისამდე იდგმება დაუსახლებელ პუნქტში 150–300 მეტრ მანძილზე, დასახლებულ პუნქტში – 50–100 მეტრ მანძილზე.

## ВОПРОС 110

ПРАВИЛЬНЫЙ ОТВЕТ: 3



I



II



III



IV

ლავარდ ფანდაგონ ნისაენტაეი კაეცი ბერაგ კაენი ფანდაგტამ სიუ კაენი,  
კაეციილ ზმალგა სკაერაგაენ ის ფანდაგ რატყი ხაესდზინად?

1

ერმაესტ II ამაე III

2

ერმაესტ I ამაე IV

3

ალკაეცი

4

ნიკაეცი

## განმარტება:

„საგზაო მოძრაობის შესახებ“ საქართველოს კანონის პირველი დანართის პირველი თავის (მაფრთხილებელი ნიშნები) 1.7.1- 1.7.7 პუნქტების თანახმად საგზაო ნიშანი 1.7.1. „მეორეხარისხოვან გზასთან გადაკვეთა“, 1.7.2–1.7.7. „მეორეხარისხოვანი გზის შეერთება“ (შეერთება მარჯვნიდან – 1.7.2, 1.7.4 და 1.7.6, შეერთება მარცხნიდან – 1.7.3, 1.7.5 და 1.7.7) – ისეთ გზასთან გადაკვეთა ან ისეთ გზასთან შეერთება, რომელზე მოძრავ მძღოლსაც აქვს გზის დათმობის ვალდებულება. 1.7.1–1.7.7 ნიშნები სახიფათო მონაკვეთის დასაწყისამდე იდგმება დაუსახლებელ პუნქტში 150–300 მეტრ მანძილზე, დასახლებულ პუნქტში – 50–100 მეტრ მანძილზე.



I



II



III



IV

Лæвæрд фæндагон нысæнттæй кæцы хæсджын кæны скъæрæджы фæндаг ратта, цæхгæрмæ фæндагыл змæлгæ транспортон фæрæзы скъæრæгæн?

1

I

2

II

3

III

4

IV

### განმარტება:

„საგზაო მოძრაობის შესახებ“ საქართველოს კანონის პირველი დანართის მე-2 თავის (პრიორიტეტის ნიშანი) 2.3 პუნქტების თანახმად საგზაო ნიშანი 2.3 „დაუთმე გზა“ - გზა, რომელზე მოძრაობა მძღოლიც ვალდებულია გზა დაუთმოს გადასაღვეთ გზაზე მოძრაობ მძღოლს, ხოლო 8.13 დაფის არსებობისას – მთავარ გზაზე მოძრაობ მძღოლს. 2.3 ნიშანი დაუსახლებელ პუნქტში იდგმება წინასწარ გზაჯვარედინამდე 150–300 მეტრ მანძილზე 8.1.1 დაფით, თუ გზაჯვარედინის წინ დადგმულია 2.3 ნიშანი, ან 8.1.2 დაფით, თუ გზაჯვარედინის წინ დადგმულია 2.4 ნიშანი.





ლავერდ ფანდაჯი აცი нысан:

- 1** Бар нэ дэтты скъæрæгæн  
фæндаджы уынгæг фадыгыл  
ахизынмæ
- 2** Бар нэ дэтты алы хуызы  
транспортон фæрæзтæй змæлыны
- 3** Хæсджын кæны скъæрæджы  
фæндаг ратта цæхгæрмæ фæндагыл  
змæлгæ транспортон фæрæзæн

### განმარტება:

„საგზაო მოძრაობის შესახებ“ საქართველოს კანონის პირველი დანართის მე-2 თავის (პრიორიტეტის ნიშანი) 2.3 პუნქტების თანახმად საგზაო ნიშანი 2.3 „დაუთმე გზა“ - გზა, რომელზე მოძრაობა მძღოლიც ვალდებულია გზა დაუთმოს გადასაღვეთ გზაზე მოძრაობ მძღოლს, ხოლო 8.13 დანართის არსებობისას – მთავარ გზაზე მოძრაობ მძღოლს. 2.3 ნიშანი დაუსახლებელ პუნქტში იდგმება წინასწარ გზატკარედიანად 150–300 მეტრ მანძილზე 8.1.1 დანართით, თუ გზატკარედიანის წინ დადგმულია 2.3 ნიშანი, ან 8.1.2 დანართით, თუ გზატკარედიანის წინ დადგმულია 2.4 ნიშანი.





I



II



III



IV

Лაეაერდ ფანდაგონ ნისაენტაეი კაეცყ ბარ ნა დეტყ სკაერაეგან „სტოპ“ ხახყ რაზ  
აენერუმგაეიე ჰმელდყ ადარგჱ კაენყნყ?

1

I

2

II

3

III

4

IV

### განმარტება:

„საგზაო მოძრაობის შესახებ“ საქართველოს კანონის პირველი დანართის მე-2 თავის (პრიორიტეტის ნიშანი) 2.4 პუნქტების თანახმად საგზაო ნიშანი 2.4 „მოძრაობა გაუჩერებლად აკრძალულია“- უკრძალავს მძღოლს მოძრაობის გაგრძელებას „სდექ“ ხაზის წინ გაუჩერებლად, ხოლო თუ ის არ არის – გადასაკვეთი სავალი ნაწილის ნაპირთან. მძღოლი ვალდებულია გზა დაუთმოს გადასაკვეთ გზაზე მოძრავ მძღოლს, ხოლო 8. 13 დაფის არსებობისას – მთავარ გზაზე მოძრავ მძღოლს. ნიშანი იდგმება, თუ არაა უზრუნველყოფილი გადამკვეთ გზაზე მოძრავი სატრანსპორტო საშუალებათა ხილვადობა, ის აგრეთვე შეიძლება დაიდგას რკინიგზის გადასასვლელის ან საკარანტინო საგუშაგოს წინ (ამ შემთხვევაში მძღოლი ვალდებულია გაჩერდეს „სდექ“ ხაზის წინ, ხოლო თუ ის არ არის – ნიშნის წინ).



ლავერდ ფენდადჟი აცი ნყსან:

1

ბარ ნაე დაეფფი ალი ტრანსპორფონ  
ფაერაეზაეი ბაჰიზყნ ლავერდ  
აერაედაეადმაე

2

ბარ ნაე დაეფფი კაეციფაენდყ ჰუყზყ  
ტრანსპორფონ ფაერაეზაეი ჰმაელინყ

3

ბარ ნაე დაეფფი სკაერაეგაენ ჰმაელდყ  
ადარგა კაენყნ აენაერუმგაეაე,  
აფტაე მა უყყ ჰაესდჟყნ კაენყ,  
ცაემაეი ფაენდაგ რატა ცაეჰგერმაე  
ფაენდაგყლ ჰმაელგაე ტრანსპორფონ  
ფაერაეზყ სკაერაედჟყფაენ

### განმარტება:

„საგზაო მოძრაობის შესახებ“ საქართველოს კანონის პირველი დანართის მე-2 თავის (პრიორიტეტის ნიშანი) 2.4 პუნქტების თანახმად საგზაო ნიშანი 2.4 „მოძრაობა გაუჩერებლად აკრძალულია“- უკრძალავს მძღოლს მოძრაობის გაგრძელებას „სდეჲ“ ხაზის წინ გაუჩერებლად, ხოლო თუ ის არ არის – გადასაკვეთი სავალი ნაწილის ნაპირთან. მძღოლი ვალდებულია გზა დაუფოს გადასაკვეთ გზაზე მოძრაე მძღოლს, ხოლო 8. 13 დაფის არსებობისას – მთავარ გზაზე მოძრაე მძღოლს. ნიშანი იდგმება, თუ არაა უზრუნველყოფილი გადამკვეთ გზაზე მოძრაეი სატრანსპორტო საშუალებათა ხილვადობა, ის აგრეთვე შეიძლება დაიდგას რკინიგზის გადასასვლელის ან საკარანტინო საგუშაგოს წინ (ამ შემთხვევაში მძღოლი ვალდებულია გაჩერდეს „სდეჲ“ ხაზის წინ, ხოლო თუ ის არ არის – ნიშნის წინ).



I



II



III



IV

ლავერდ ფანდაგონ ნისენტთაჲ კაჲცი ბარ ნაჲ დატთი სკაერაგან ფანდადჲი უინგაჲ  
ფადიგჲლ ბაჲიზჲნ, კაჲდ ამაჲ უჲი ჲინვადატ კაჲნი კომკომმაჲ აერდაჲადმაჲ ჲმაჲლჲინჲ?

1

I

2

II

3

III

4

IV

### განმარტება:

„საგზაო მოძრაობის შესახებ“ საქართველოს კანონის პირველი დანართის მე-2 თავის (პრიორიტეტის ნიშანი) 2.5 პუნქტების თანახმად საგზაო ნიშანი 2.5 „შემხვედრი მოძრაობის უპირატესობა“- უკრძალავს მძღოლს გზის ვიწრო მონაკვეთზე შესვლას, თუ ეს აძნელებს საპირისპირო მიმართულებით მოძრაობას. მძღოლი ვალდებულია გზა დაუთმოს შემხვედრ სატრანსპორტო საშუალებას, რომელიც მოპირდაპირე მისასვლელთან ან გზის ვიწრო მონაკვეთზე იმყოფება.



ლავაერდ ფანდაგონ ნყსან:

- 1 ბაერაგ კაენყ ფანდადჟყ ფადყგყ რაყდაყენყ, ცყრან იუ კაენა ცალდერ ხახყყლ ჰმელდყ აერდამად გაენაენ ის ამაე ფაყვა კომკომმაყაე
- 2 ამონყ ფანდაგმაე, კაეცყყყყლ ტრანსპორტაყ ჰმელდ იუ აერდამადმაე ჰმელყ
- 3 ბარ ნაე დაეტი სკაერაეგაენ ფანდადჟყ ყყნგაეგ ფადყგყლ ბახყზყნმაე, კად ამაე ყყყ ჰყნვადატ კაენყ კომკომმაე აერდამადმაე ჰმელყნყ

### განმარტყბა:

„საგზაო მოძრაობის შესახებ“ საქართველოს კანონის პირველი დანართის მე-2 თავის (პრიორიტეტის ნიშანი) 2.5 პუნქტების თანახმად საგზაო ნიშანი 2.5 „შემხვედრი მოძრაობის უპირატესობა“- უკრძალავს მძღოლს გზის ვიწრო მონაკვეთზე შესვლას, თუ ეს აძნელებს საპირისპირო მიმართულებით მოძრაობას. მძღოლი ვალდებულია გზა დაუთმოს შემხვედრ სატრანსპორტო საშუალებას, რომელიც მოპირდაპირე მისასვლელთან ან გზის ვიწრო მონაკვეთზე იმყოფება.

## ВОПРОС 117

ПРАВИЛЬНЫЙ ОТВЕТ: 3



I



II



III



IV

ლავერდ ფანდაგონ ნისენტთაი კაეცი დეტთი სკაერაგენ უელბარ კომკომმა  
ერდამადმა ჰმელგაე ტრანსპორტონ ფერაჰიმაე აბარგაიე, ფანდადჟი უყნგაე  
ფყდყგყლ ჰმელგაიე.

1

I

2

II

3

III

4

IV

## განმარტება:

„საგზაო მოძრაობის შესახებ“ საქართველოს კანონის პირველი დანართის მე-2 თავის (პრიორიტეტის ნიშანი) 2.6 პუნქტების თანახმად საგზაო ნიშანი 2.6 „უპირატესობა შემხვედრ მოძრაობასთან“ - ანიჭებს მძღოლს უპირატესობას გზის ვიწრო მონაკვეთზე მოძრაობისას საპირისპირო მიმართულებით მოძრავ სატრანსპორტო საშუალებასთან შედარებით.



ლავარ ფანდადჟი აცი ნყან:

- 1 დატყ სკარაგან უაღბარ კომკომამ არდამადმამ ჰმალგა ტრანსპონტონ ფარაჰჰიმამ აბარგაჰამ, ფანდადჟი უყნგაგ ფყდყგყლ ჰმალგაჰამ
- 2 ჰაჰსდჟყნ კაყნყ სკარაჰდჟყ ფანდაგ რატა ცაჰგარმამ ფანდაგყლ ჰმალგა ტრანსპონტონ ფარაჰჰან
- 3 ბარ ნაჰ დატყ სკარაგან ფანდადჟი უყნგაგ ფადყგყლ ბაჰყჰყნმამ, კაჰდ ჰამამ უყყ ჰყნვადატ კაყნყ კომკომამ არდამადმამ ჰმალყნყ

### განმარტება:

„საგბაო მოძრაობის შესახებ“ საქართველოს კანონის პირველი დანართის მე-2 თავის (პრიორიტეტის ნიშანი) 2.6 პუნქტების თანახმად საგბაო ნიშანი 2.6 „უპირატესობა შემხვედრ მოძრაობასთან“ - ანიჭებს მძღოლს უპირატესობას გზის ვიწრო მონაკვეთზე მოძრაობისას საპირისპირო მიმართულებით მოძრავ სატრანსპორტო საშუალებასთან შედარებით.

## ВОПРОС 119

ПРАВИЛЬНЫЙ ОТВЕТ: 1



I



II



III



IV

ლავაერდ ფანდაგონ ნისაენტთაჲ კაჲცა არჲაჲდჲ ზონაჲჲ ლავაერდ ცაჲუჲ სკაჲრაგან ანაერეგულირავატგონდ ალვანდაგჲლ (перекрестокჲლ) აჲიჲჲჲჲ უაჲლბარჲ?

1

ერმაჲსტ II ამაჲ IV

2

ერმაჲსტ I ამაჲ III

3

ნიკაჲცაჲ

4

ალკაჲცაჲ.

## განმარტება:

„საგზაო მოძრაობის შესახებ“ საქართველოს კანონის პირველი დანართის პირველი თავის (მაფრთხილებელი ნიშნები) 1.7.1- 1.7.7 პუნქტების თანახმად საგზაო ნიშანი 1.7.1. „მეორეხარისხოვან გზასთან გადაკვეთა“, 1.7.2–1.7.7. „მეორეხარისხოვანი გზის შეერთება“ (შეერთება მარჯვნიდან – 1.7.2, 1.7.4 და 1.7.6, შეერთება მარცხნიდან – 1.7.3, 1.7.5 და 1.7.7) – ისეთ გზასთან გადაკვეთა ან ისეთ გზასთან შეერთება, რომელზე მოძრავე მძღოლსაც აქვს გზის დათმობის ვალდებულება. ამავე კანონის პირველი დანართის მე-2 თავის (პრიორიტეტის ნიშანი) 2.1 პუნქტების თანახმად საგზაო ნიშანი 2.1 „მთავარი გზა“ - გზა, რომელზე მოძრავე მძღოლსაც ენიჭება არარეგულირებული გზაჯვარედინის გავლის უპირატესობა. ნიშანი იდგმება გზის დასაწყისში და მეორდება უშუალოდ ყოველი გზაჯვარედინის წინ. 2.1 ნიშანი 8.13 დაფით დასახლებულ პუნქტში იდგმება გზაჯვარედინის წინ, რომელზედაც მთავარი გზა იცვლის მიმართულებას, დაუსახლებელ პუნქტში – წინასწარ გზაჯვარედინამდე 150–300 მეტრ მანძილზე და გზაჯვარედინის წინ.



## ВОПРОС 120

ПРАВИЛЬНЫЙ ОТВЕТ: 2



I



II



III



IV

ლავარდ ფანდაგონ ნისანტთაი კაეცი ჟვარდ ცაუი თაკკაე ფანდადჯი უინგაგ სიხი რაზ?

1

II ჟამაე III

2

I ჟამაე IV

3

I

4

I ჟამაე II

## განმარტება:

„საგზაო მოძრაობის შესახებ“ საქართველოს კანონის პირველი დანართის მე-2 თავის (პრიორიტეტის ნიშანი) შენიშვნის „ბ“ ქვეპუნქტის თანახმად საგზაო ნიშნები 2.5 „შემხვედრი მოძრაობის უპირატესობა“ და 2.6 „უპირატესობა შემხვედრ მოძრაობასთან“ იდგმება უშუალოდ გზის ვიწრო უბნის წინ. ნიშანი 2.5 შეიძლება დაიდგას წინასწარ 8.1.1 დაფით.



## ВОПРОС 121

ПРАВИЛЬНЫЙ ОТВЕТ: 3



I



II



III



IV

ლავარდ ფანდაგონ ნისანტთა ჯდჯარაგ პუნქტი ჯვარდ ცაუი თაჲსაგ ფადიდჲი რაიდაიინმა:

1

50-100 метры дæрддзæгыл

2

100-150 метры дæрддзæгыл

3

150-300 метры дæрддзæгыл

4

300-400 метры дæрддзæгыл

## განმარტება:

„საგზაო მოძრაობის შესახებ“ საქართველოს კანონის პირველი დანართის პირველი თავის (მაფრთხილებელი ნიშნები) შენიშვნის „ა“ პუნქტის თანახმად 1.1, 1.2, 1.5–1.34 ნიშნები დაუსახლებელ პუნქტში იდგმება სახიფათო მონაკვეთის დასაწყისამდე 150–300 მეტრ მანძილზე, დასახლებულ პუნქტში – 50–100 მეტრ მანძილზე. აუცილებლობისას ნიშნები იდგმება სხვა მანძილზედაც, რომელიც მითითებულია 8.1.1 დაფაზე. სურათზე ნაჩვენები ნიშნებია: 1.7.1 „მორეხარისხოვან გზებთან გადაკვეთა“, 1.7.2, 1.7.3 და 1.7.7 „მორეხარისხოვანი გზის შეერთება“.

## ВОПРОС 122

ПРАВИЛЬНЫЙ ОТВЕТ: 1



I



II



III



IV

ლავარდ ფანდაგონ ნისენტთაე ცერაგდჟინ პუნქტი ავარდ ცაუი თაეეაგ ფადიდჟი რაიდაიინმაე:

1

50-100 метры дæрддзæгыл

2

100-150 метры дæрддзæгыл

3

150-300 метры дæрддзæгыл

## განმარტება:

„საგზაო მოძრაობის შესახებ“ საქართველოს კანონის პირველი დანართის პირველი თავის (მაფრთხილებელი ნიშნები) შენიშვნის „ა“ პუნქტის თანახმად 1.1, 1.2, 1.5–1.34 ნიშნები დაუსახლებელ პუნქტში იდგმება სახიფათო მონაკვეთის დასაწყისამდე 150–300 მეტრ მანძილზე, დასახლებულ პუნქტში – 50–100 მეტრ მანძილზე. აუცილებლობისას ნიშნები იდგმება სხვა მანძილზედაც, რომელიც მითითებულია 8.1.1 დაფაზე. სურათზე ნაჩვენებ ნიშნებია: 1.7.1 „მეორეხარისხოვან გზებთან გადაკვეთა“, 1.7.2, 1.7.3 და 1.7.7 „მეორეხარისხოვანი გზის შეერთება“.

თემა 5:

## ამკრძალავი ნიშნები

---



ლავერდ ფანდაგონ ნისან:

- 1** Бар нæ дæтты змæлынæн нисаныл амынд фылдæр тагъдадæй
- 2** Бæрæг кæны максималон тагъдады арæнгæнæг фæндагон нисаны архайдæ зонæйы фæуд
- 3** Амоны тагъдад, кæцыйæ рекомендацигонд цæуы змæлд фæндаджы лавæрд фадæгыл

### განმარტება:

„საგზაო მოძრაობის შესახებ“ საქართველოს კანონის პირველი დანართის 3.25 პუნქტის თანახმად საგზაო ნიშანი 3.25 „მაქსიმალური სიჩქარის შეზღუდვის დასასრული“ – 3.24 ნიშნის („მაქსიმალური სიჩქარის შეზღუდვა“) მოქმედების ზონის დასასრული.



Ис æви нæ рог автомобили скъæрæгæн, нывыл амынд бынаты, автомобили лæууæныл бауромыны бар, мæйы къай нымæцты (бонты) 19<sup>00</sup> сахатæй 21<sup>00</sup> сахатмæ?

1

Ис ын бар

2

Нæй ын бар

### განმარტება:

„საგზაო მოძრაობის შესახებ“ საქართველოს კანონის პირველი დანართის მე-3 თავის (ამკრძალავი ნიშნები) 3.29 და 3.30 პუნქტების თანახმად საგზაო ნიშანი 3.29 „დგომა აკრძალულია კენტ რიცხვებში“ - კრძალავს სატრანსპორტო საშუალების დგომას თვის კენტ რიცხვებში, ხოლო საგზაო ნიშანი 3.30 „დგომა აკრძალულია ლუნ რიცხვებში“ - კრძალავს სატრანსპორტო საშუალების დგომას თვის ლუნ რიცხვებში. ამავე პუნქტების შენიშვნის თანახმად 3.29 და 3.30 ნიშნების ერთდროულად გამოყენებისას, სატრანსპორტო საშუალებების გზის ერთი მხრიდან მეორეზე გადაყენების დროა 19-დან 21 საათამდე, ამ პერიოდში დგომა ნებადართულია სავალი ნაწილის ორივე მხარეს.



ლავერდ ფანდაგონ ნყან:

1

ბარ ნაე დაეფფი სკაერაეგან ჰმალდყ  
ადარგა კაენყნ აენაერუმგაეაე

2

ბარ ნაე დაეფფი ალყ ჰუყზყ  
ფანსპორფონ ფარაეჰაე ბაჰყზყნ  
ლავერდ არდამადმაე

3

ბარ ნაე დაეფფი ფანსპორფონ  
ფარაეჰაე არუმყნ აემაე  
არლაეუყნ

განმარტეზა:

„საგზაო მოძრაობის შესახებ“ საქართველოს კანონის პირველი დანართის მე-3 თავის (ამკრძალავი ნიშნები) 3.1 პუნქტის თანახმად საგზაო ნიშანი 3.1 „შესვლა აკრძალულია“ - კრძალავს ყველა სახის სატრანსპორტო საშუალებით შესვლას მოცემული მიმართულებით.





ლავერდ ფანდაგონ ნყსან:

1

ბარ ნაე დაეფფი სკაერაეგან ჰმელდყ  
ადარგა კაენყნ აერაერუმგაეაე

2

ბარ ნაე დაეფფი ტრანსპორფონ  
ფერაეჰფი აერუმყნ აემაე  
აერლაეუყნ

3

ბარ ნაე დაეფფი ალყ ჰუყჰყ  
ტრანსპორფონ ფერაეჰფი ჰმელყნყ

განმარტეჰა:

„საგზაო მოძრაობის შესახებ“ საქართველოს კანონის პირველი დანართის მე-3 თავის (ამკრძალავი ნიშნები) 3.2 პუნქტის თანახმად საგზაო ნიშანი 3.2 „მოძრაობა აკრძალულია“ - კრძალავს ყველა სახის სატრანსპორტო საშუალებით მოძრაობას.

## ВОПРОС 127

ПРАВИЛЬНЫЙ ОТВЕТ: 2



I



II



III



IV

ლავადრ ფანდაგონ ნისანტთაჲ, კაჲცჲი არხაიგაჲ ზონაჲი ბარ ნაჲ დჲტთჲ ალჲ ხუჲზჲ  
მეხანიკონ ტრანსპორტონ ფარაჲზაჲი ზმაჲლჲნი?

1

ერმაჲსტ I ჯმაჲ III

2

ერმაჲსტ II ჯმაჲ IV

3

ერმაჲსტ II

4

ერმაჲსტ III

## განმარტება:

„საგზაო მოძრაობის შესახებ“ საქართველოს კანონის პირველი დანართის მე-3 თავის (ამკრძალავი ნიშნები) 3.2 პუნქტის თანახმად საგზაო ნიშანი 3.2 „მოძრაობა აკრძალულია“ - კრძალავს ყველა სახის სატრანსპორტო საშუალებით მოძრაობას. ამავე თავის 3.3 პუნქტის თანახმად საგზაო ნიშანი 3.3 „მექანიკური სატრანსპორტო საშუალებით მოძრაობა აკრძალულია“ - კრძალავს ყველა სახის მექანიკური სატრანსპორტო საშუალებით მოძრაობას.





I



II



III



IV

ლავერდ ფანდაგონ ნისაენტთაჲ კაჲცჲი არჲაჲგაჲ ზონაჲი ბარ ნაჲ ალჲ ხუჲზჲ  
მოტოციკლაჲ ჳმალჲნ?

1

ერმაჲსტ I ჲმაჲ IV

2

ერმაჲსტ II ჲმაჲ III

3

ერმაჲსტ III

4

ერმაჲსტ IV

### განმარტება:

„საგზაო მოძრაობის შესახებ“ საქართველოს კანონის პირველი დანართის მე-3 თავის (ამკრძალავი ნიშნები) 3.2 პუნქტის თანახმად საგზაო ნიშანი 3.2 „მოძრაობა აკრძალულია“ - კრძალავს ყველა სახის სატრანსპორტო საშუალებით მოძრაობას. ამავე თავის 3.5 პუნქტის თანახმად საგზაო ნიშანი 3.5 „მოტოციკლით მოძრაობა აკრძალულია“ - კრძალავს ყველა სახის მოტოციკლით მოძრაობას.

## ВОПРОС 129

ПРАВИЛЬНЫЙ ОТВЕТ: 1



I



II



III



IV

ლავერდ ფანდაგონ ნისენტთაჲ, კაყიყი არხაიგაე ზონაჲი ბარ ნა დეტთი тракторაჲი  
აჲმაე ხადცაეუგაე ხადტულგაჲიე ჰმაჲლყნ?

1

აჲრმაჲსტ I აჲმაე III

2

აჲრმაჲსტ II აჲმაე IV

3

აჲრმაჲსტ III

4

აჲრმაჲსტ I

## განმარტება:

„საგზაო მოძრაობის შესახებ“ საქართველოს კანონის პირველი დანართის მე-3 თავის (ამკრძალავი ნიშნები) 3.2 პუნქტის თანახმად საგზაო ნიშანი 3.2 „მოძრაობა აკრძალულია“ - კრძალავს ყველა სახის სატრანსპორტო საშუალებით მოძრაობას. ამავე თავის 3.6 პუნქტის თანახმად საგზაო ნიშანი 3.6 „ტრაქტორით მოძრაობა აკრძალულია“ - კრძალავს ყველა სახის ტრაქტორითა და სპეციალიზებული თვითმავალი მანქანებით მოძრაობას.

## ВОПРОС 130

ПРАВИЛЬНЫЙ ОТВЕТ: 2



I



II



III



IV

ლავადრ ფანდაგონ ნისანტთაი კაეცე ბარ ნაე დაეტე ალე ხუიზე პრეცეპდჟინ უაეზლასან ავტომობილაი ამაე პრეცეპდჟინ ტრაქტორაი ზმაელე, აფტაე მა მეხანიკონ ტრანსპორტონ ფაერაეზე ბუქსირე?

1

I

2

II

3

III

4

IV

## განმარტება:

„საგზაო მოძრაობის შესახებ“ საქართველოს კანონის პირველი დანართის მე-3 თავის (ამკრძალავი ნიშნები) 3.7 პუნქტის თანახმად საგზაო ნიშანი 3.7 „მისაბმელით მოძრაობა აკრძალულია“ - კრძალავს ყველა სახის მისაბმელიანი სატვირთო ავტომობილითა და მისაბმელიანი ტრაქტორით მოძრაობას, აგრეთვე მექანიკური სატრანსპორტო საშუალების ბუქსირებას.

## ВОПРОС 131

ПРАВИЛЬНЫЙ ОТВЕТ: 3



I



II



III

ლავარდ ფანდაგონ ნისანტთაჲ კაყიჲ არჲაიჲ ზონაჲი ბარ ნა დეტჲ  
прицепджын тракторაჲ ზმაჲლჲნ?

1

ერმაჲს I ჯმაჲ III

2

ერმაჲს II ჯმაჲ III

3

ალკაყჲ ლავარდ ნისანჲ არჲაიჲ  
ჰონაჲი

## განმარტება:

„საგზაო მოძრაობის შესახებ“ საქართველოს კანონის პირველი დანართის მე-3 თავის (ამკრძალავი ნიშნები) 3.2 პუნქტის თანახმად საგზაო ნიშანი 3.2 „მოძრაობა აკრძალულია“ - კრძალავს ყველა სახის სატრანსპორტო საშუალებით მოძრაობას. ამავე თავის 3.6 პუნქტის თანახმად საგზაო ნიშანი 3.6 „ტრაქტორით მოძრაობა აკრძალულია“ - კრძალავს ყველა სახის ტრაქტორითა და თვითმავალი მანქანებით მოძრაობას. ამავე თავის 3.7 პუნქტის თანახმად საგზაო ნიშანი 3.7 „მისაბმელით მოძრაობა აკრძალულია“ - კრძალავს ყველა სახის მისაბმელიანი სატვირთო ავტომობილითა და მისაბმელიანი ტრაქტორით მოძრაობას, აგრეთვე მექანიკური სატრანსპორტო საშუალების ბუქსირებას.



ლავერდ ფანდაგონ ნყან:

1

ბერაგ კაენყ ფანდადჟყ ფადყ, კაეცყ ჰყზყ სურფოსყ ცერაენბყნატყ ცურმა, ცყრან გაენაენ ის ფანდაგყლ არბაზყნოყ

2

ბარ ნაე დაეეეყ გუჟეოყ (ბაეხეაყ კაენაე გალეაყ ლასგაე) ტრანსპორეაყ, ცერაეოყეყლ ბადგაყაე ჰმაყლყ, აფეა მა სურფოსყ რასკაყრყ

3

ბერაგ კაენყ ფანდაგ, კაეცყ ნყსანგონდ ყ გუჟეოყ (ბაეხეაყ კაენაე გალეაყ ლასგაე) ტრანსპორეაყ ჰმაყლყნაენ

### განმარეჟა:

„საგზაო მოძრაობის შესახებ“ საქართველოს კანონის პირველი დანართის მე-3 თავის (ამჟრძალავი ნიშნები) 3.8 პუნეეის თანახმად საგზაო ნიშანი 3.8 „საჭაჰანო მოძრაობა აჰრძალუელი“ - ჰრძაჰლავს საჭაჰანო ტრანსპორეიე, სასაჰალნე და დასაჭდომი ცხოველეებეეეე მოძრაობას, ასევე პირუეყყის გადარეჰვას.



ლავერდ ფანდაგონ ნყსან:

1

ბარ ნაე დაეეე ალყ ხუყზყ მოეოყკლყ  
ზმელდაენ

2

ბარ ნაე დაეეე ალყ ხუყზყ  
ველოსიპედყ Ⴡმაე მოპედაეყ ზმელდაენ

3

ბარ ნაე დაეეე ალყ ხუყზყ  
ტრანსპორეონ ფერაეზაეყ ზმელდაენ

### ბანმარეეეა:

„საგზაო მოძრაობის შესახებ“ საქართველოს კანონის პირველი დანართის მე-3 თავის (ამკრძალავი ნიშნები) 3.9 პუნქტის თანახმად საგზაო ნიშანი 3.9 „ველოსიპედით მოძრაობა აკრძალულია“ - კრძალავს ველოსიპედითა და მოპედით მოძრაობას.



ლავაერდ ფანდაგონ ნყსან:

1

რაგფადზახსტ კაენყ ფანდაგყლ  
საბყტყ ჟერბაყყნდყ გაენანდყნადყ  
ტყხყაყ

2

ბარ ნაე დაეტყ ფყსტაეგონ ჰმელდენ

3

ნყსან კაენყ ცაერანბყნატყ ჰონაყყ  
კაერონყ

### განმარტება:

„საგზაო მოძრაობის შესახებ“ საქართველოს კანონის პირველი დანართის მე-3 თავის (ამკრძალავი ნიშნები) 3.10 პუნქტის თანახმად საგზაო ნიშანი 3.10 „ქვეითთა მოძრაობა აკრძალულია“. - კრძალავს ქვეითთა მოძრაობას. ნიშანი იდგმება იმ ადგილას, სადაც ქვეითთა მოძრაობა დაუშვებელია, მათი უსაფრთხოებიდან გამომდინარე.





ლავერდ ფანდაგონ ნისან ბარ ნაქ დეტყ:

1

უიყყ ტრანსპორტონ ფერაქაქი  
ჰმელყ, კაქყიყ გაბარიტონ ფაქაქ  
ფყლდერ უ ნისანყლ ფაენყსანგონდაქ

2

უიყყ ტრანსპორტონ ფერაქაქი  
ჰმელყ, კაქყიყ გაბარიტონ  
ბერჰანდ (უაქიმაქ, კაენაქ  
აენაუაქაქი) ფყლდერ უ ნისანყლ  
ფაენყსანგონდაქ

3

ნისანყლ ფაენყსანგონდ კაადდერ  
დისტანციყაქ ტრანსპორტონ ფერაქაქი  
ჰმელყ

### განმარტყბა:

„საგზაო მოძრაობის შესახებ“ საქართველოს კანონის პირველი დანართის მე-3 თავის (ამკრძალავი ნიშნები) 3.13 პუნქტის თანახმად საგზაო ნიშანი 3.13 „სიმაღლის შეზღუდვა“ - კრძალავს იმ სატრანსპორტო საშუალებით მოძრაობას, რომლის გაბარიტული სიმაღლე (ტვირთიანად ან უტვირთოდ) აღემატება ნიშანზე აღნიშნულს.





ლავერდ ფანდაგონ ნისან:

- 1** Бар нæ дæтты уыцы транспортон фæрæзтæй змæлын, кæцыйы габаритон бæрзæнд (уæзимæ, кæнæ æнæуæзæй) фылдæр у нысаныл фæнысангондæй
- 2** Бар нæ дæтты уыцы транспортон фæрæзæй змæлын, кæцыйы габаритон фæтæн (уæзимæ, кæнæ æнæуæзæй) фылдæр у нысаныл фæнысангондæй
- 3** Амоны фæндагон нысаны архайдзы зонæйы ареалы

### განმარტება:

„საგზაო მოძრაობის შესახებ“ საქართველოს კანონის პირველი დანართის მე-3 თავის (ამკრძალავი ნიშნები) 3.14 პუნქტის თანახმად საგზაო ნიშანი 3.14 „სიგანის შეზღუდვა“ - კრძალავს იმ სატრანსპორტო საშუალებით მოძრაობას, რომლის გაბარიტული სიგანე (ტვირთიანად ან უტვირთოდ) აღემატება ნიშანზე აღნიშნულს.



ლავერდ ფანდაგონ ნყან:

1

ბარ ნაე დეტყ ჴმელდყ ნყსანყლ  
ბაცამყნდაყ ფყლდერ ტაგდადაყ  
(კმ/საყ)

2

ბერაყ კაენყ მყნყმალონ ტაგდადყ  
არენგონდყ ფაუდყ

3

ბერაყ კაენყ ფანდადჴყ ნყსანყ  
3.24 „მყსყმალონ ტაგდადყ არენ  
კაენყნ“ არჴაყდყ ჴონაყყ ფაუდყ

ბანმარტყბა:

„საგზაო მოძრაობის შესახებ“ საქართველოს კანონის პირველი დანართის მე-3 თავის (ამჴრძალავი ნიშნები) 3.25 პუნქტის თანახმად საგზაო ნიშანი 3.25. „მყსყმალური სიჩქარის შეზღუდვის დასასრული“ - აღნიშნავს 3.24 „მყსყმალური სიჩქარის შეზღუდვა“ ნიშნის მოქმედების ჴონის დასასრულს.



ლავადრ ფანდაგონ ნყსან ბარ ნა დატყ:

1

ტრანსპორტონ ფარაჟყ, კუყდ  
არუროყნ, აფტა არლარუყყ

2

ლავადრ არდარადმარ ტრანსპორტონ  
ფარარაჟარ ჰმარლყნყ

3

ტრანსპორტონ ფარარაჟყ არლარუყყ

### ბანმარტყბა:

„საგბაო მოძრაობის შესახებ“ საქართველოს კანონის პირველი დანართის მე-3 თავის (ამკრძალავი ნიშნები) 3.28 პუნქტის თანახმად საგბაო ნიშანი 3.28 „დგომა აკრძალულია“ - კრძალავს სატრანსპორტო საშუალების დგომას.



ლავერდ ფანდაგონ ნყან:

1

Амоны цæуæн хайыл централон  
(сæмæн) хаххы уæвынады тыххæй

2

Нысан кæны иуфарсон (иуырდæм)  
змæлæн фæндаджы фæуды

3

Бар нæ дæтты транспортон фæрæзы  
æрлæууын мæйы æнæкъай  
нымæцты

განმარტება:

„საგზაო მოძრაობის შესახებ“ საქართველოს კანონის პირველი დანართის მე-3 თავის (ამკრძალავი ნიშნები) 3.29 პუნქტის თანახმად საგზაო ნიშანი 3.29 „დგომა აკრძალულია კენტ რიცხვებში“ - კრძალავს სატრანსპორტო საშუალების დგომას თვის კენტ რიცხვებში.



I



II



III



IV

Лæвæрд фæндагон нысæнттæй кæцыйы архайд нæ хæлиу (парахат) кæны маршрутон транспортон фæрæзыл?

1

Æрмæст II

2

Æрмæст I æмæ III

3

Æрмæст I æмæ IV

4

Æрмæст III

### განმარტება:

„საგზაო მოძრაობის შესახებ“ საქართველოს კანონის პირველი დანართის მე-3 თავის (ამკრძალავი ნიშნები) შენიშვნის „გ.ა“ ქვეპუნქტის თანახმად ნიშნების მოქმედება არ ვრცელდება: გ.ა) 3.1–3.3, 3.18.1, 3.18.2, 3.19, 3.27 ნიშნებისა – სამარშრუტო სატრანსპორტო საშუალებაზე. სურათზე ნაჩვენები საგზაო ნიშნებია: 3.1 „შესვლა აკრძალულია“, 3.14 „სიგანის შეზღუდვა“, 3.2 „მოძრაობა აკრძალულია“ და 3.11 „მასის შეზღუდვა“.

## ВОПРОС 141

ПРАВИЛЬНЫЙ ОТВЕТ: 3



I



II



III



IV

ლავერდ ფანდაგონ ნისენტაჲი კაყიჲი არჲიდ ნა ჲელიუ (პარაჲატ) კაჲი მარშრუტონ ტრანსპორტონ ფარაჲჲლ?

1

ერმაჲს II

2

ერმაჲს I ჲმაჲ III

3

ერმაჲს II ჲმაჲ IV

4

ერმაჲს III.

## განმარტება:

„საგზაო მოძრაობის შესახებ“ საქართველოს კანონის პირველი დანართის მე-3 თავის (ამკრძალავი ნიშნები) შენიშვნის „გ.ა“ ქვეპუნქტის თანახმად ნიშნების მოქმედება არ ვრცელდება: გ.ა) 3.1–3.3, 3.18.1, 3.18.2, 3.19, 3.27 ნიშნებისა – სამარშრუტო სატრანსპორტო საშუალებაზე. სურათზე ნაჩვენები საგზაო ნიშნებია: 3.15 „სიგრძის შეზღუდვა“, 3.3 „მექანიკური სატრანსპორტო საშუალებით მოძრაობა აკრძალულია“, 3.16 „მინიმალური დისტანციის შეზღუდვა“ და 3.18.1 „მარჯვნივ მოხვევა აკრძალულია“.



I



II



III



IV

ლავარდ ფანდაგონ ნისენტთაჲ კაყიჲ არჲაიდ ნა ჲელიუ (პარაჲატ) კაჲნჲ  
მარშრუტონ ტრანსპორტონ ფარაჲჲჲლ?

1

ერმაჲსტ I ჲმაჲ III

2

ერმაჲსტ II ჲმაჲ IV

3

ერმაჲსტ II ჲმაჲ III

4

ერმაჲსტ I ჲმაჲ IV

### განმარტება:

„საგზაო მოძრაობის შესახებ“ საქართველოს კანონის პირველი დანართის მე-3 თავის (ამკრძალავი ნიშნები) შენიშვნის „გ.ა“ ქვეპუნქტის თანახმად ნიშნების მოქმედება არ ვრცელდება: გ.ა) 3.1–3.3, 3.18.1, 3.18.2, 3.19, 3.27 ნიშნებისა – სამარშრუტო სატრანსპორტო საშუალებაზე. სურათზე ნაჩვენები საგზაო ნიშნებია: 3.18.2 „მარცხნივ მოხვევა აკრძალულია“, 3.24 „მაქსიმალური სიჩქარის შეზღუდვა“, 3.19 „მობრუნება აკრძალულია“ და 3.29 „დგომა აკრძალულია კენტ რიცხვებში“.





I



II



III



IV

ლავარდ ფანდაგონ ნისაენტაჲ კაყიყი არჲიდ ნა ჲელიუ (პარაჲატ) კაენი  
მარშრუტონ ტრანსპორტონ ფარაჲჲლ?

1

არმაჲსტ I, II ჲმაჲ IV

2

არმაჲსტ I ჲმაჲ IV

3

არმაჲსტ II ჲმაჲ III

4

არმაჲსტ III ჲმაჲ IV

### განმარტება:

„საგზაო მოძრაობის შესახებ“ საქართველოს კანონის პირველი დანართის მე-3 თავის (ამკრძალავი ნიშნები) შენიშვნის „გ.ა“ ქვეპუნქტის თანახმად ნიშნების მოქმედება არ ვრცელდება: გ.ა) 3.1–3.3, 3.18.1, 3.18.2, 3.19, 3.27 ნიშნებისა – სამარშრუტო სატრანსპორტო საშუალებაზე. სურათზე ნაჩვენები საგზაო ნიშნებია: 3.18.2 „მარცხნივ მოხვევა აკრძალულია“, 3.19 „მობრუნება აკრძალულია“, 3.24 „მაქსიმალური სიჩქარის შეზღუდვა“, და 3.27 „გაჩერება აკრძალულია“.





I



II



III



IV

ლავერდ ფანდაგონ ნისენტთაჲ კაყიჲ არჲაიდ ნა ჲელიუ (პარაჲატ) კაჲნჲ ტრანსპორტონ ფერაჲჲჲლ, კაყჲ კუსჲ ნისანჲ არჲაიდჲ ჲონაჲჲ აჲვაჲს კუჲსტუატჲ?

1

ერმაჲს I აჲმაჲ II

2

ერმაჲს I აჲმაჲ IV

3

ერმაჲს II აჲმაჲ III

4

ერმაჲს II აჲმაჲ IV

### განმარტება:

„საგზაო მოძრაობის შესახებ“ საქართველოს კანონის პირველი დანართის მე-3 თავის (ამკრძალავი ნიშნები) შენიშვნის „გ.ბ“ ქვეპუნქტის თანახმად ნიშნების მოქმედება არ ვრცელდება: გ.ბ) 3.2–3.8 ნიშნებისა – სატრანსპორტო საშუალებაზე, რომელიც ემსახურება აღნიშნულ ზონაში მდებარე სანარმოს, ანდა ემსახურება ან ეკუთვნის ამავე ზონაში მცხოვრებ ან მომუშავე პირს. ამ შემთხვევაში სატრანსპორტო საშუალება შედის აღნიშნულ ზონაში და გამოდის იქიდან დანიშნულების ადგილისაკენ უახლოეს გზაჯვარედინზე. სურათზე ნაჩვენები საგზაო ნიშნებია: 3.1 „შესვლა აკრძალულია“, 3.2 „მოძრაობა აკრძალულია“, 3.13 „სიმაღლის შეზღუდვა“ და 3.8 „საჭაპანო მოძრაობა აკრძალულია“.



I



II



III



IV

ლავერდ ფანდაგონ ნისენტაჲ კეცყი არჲიდ ნე ჲელიუ (პარაჲატ) კენი ტრანსპორტონ ფერჲეზილ, კეცი ჲეგად კენი ნისანი არჲიდი ჲონჲი ჲევაჲს ამალიუეგენ (კუიჲუატენ)?

1

ერმესტ I, II ჲემაჲ III

2

ერმესტ I, II ჲემაჲ IV

3

ერმესტ II, III ჲემაჲ IV

4

ალკეცი

### განმარტება:

„საგზაო მოძრაობის შესახებ“ საქართველოს კანონის პირველი დანართის მე-3 თავის (ამკრძალავი ნიშნები) შენიშვნის „გ.ბ“ ქვეპუნქტის თანახმად ნიშნების მოქმედება არ ვრცელდება: გ.ბ) 3.2–3.8 ნიშნებისა – სატრანსპორტო საშუალებაზე, რომელიც ემსახურება აღნიშნულ ზონაში მდებარე საწარმოს, ანდა ემსახურება ან ეკუთვნის ამავე ზონაში მცხოვრებ ან მომუშავე პირს. ამ შემთხვევაში სატრანსპორტო საშუალება შედის აღნიშნულ ზონაში და გამოდის იქიდან დანიშნულების ადგილისაკენ უახლოეს გზაჯვარედინზე. სურათზე ნაჩვენები საგზაო ნიშნებია: 3.3 „მექანიკური სატრანსპორტო საშუალებით მოძრაობა აკრძალულია“, 3.6 „ტრაქტორით მოძრაობა აკრძალულია“, 3.19 „მობრუნება აკრძალულია“ და 3.7 „მისაბმელით მოძრაობა აკრძალულია“.



I



II



III



IV

ლავერდ ფანდაგონ ნისენტაჲი კაყიჲი არჲიდ ნე ჲელიუ (პარაჲატ) კაჲი ტრანსპორტონ ფერაჲჲილ, კაყი ლაგად კაჲი კაჲე უ ნისანი არჲიჲი ჲონაჲი ავვაჲჲ ცერაგ კაჲე კუაგ გოჲაგ?

1

ერმაჲს I ჲეჲე II

2

ერმაჲს I ჲეჲე III

3

ერმაჲს III ჲეჲე IV

4


ალკაყი ლავერდ ფანდაჲჲი აყი ნისანი

### განმარტჲა:

„საგზაო მოძრაობის შესახებ“ საქართველოს კანონის პირველი დანართის მე-3 თავის (ამკრძალავი ნიშნები) შენიშვნის „გ.ბ“ ქვეპუნქტის თანახმად ნიშნების მოქმედება არ ვრცელდება: გ.ბ) 3.2–3.8 ნიშნებისა – სატრანსპორტო საშუალებაზე, რომელიც ემსახურება აღნიშნულ ზონაში მდებარე საწარმოს, ანდა ემსახურება ან ეკუთვნის ამავე ზონაში მცხოვრებ ან მომუშავე პირს. ამ შემთხვევაში სატრანსპორტო საშუალება შედის აღნიშნულ ზონაში და გამოდის იქიდან დანიშნულების ადგილისაკენ უახლოეს გზაჯვარედინზე. სურათზე ნაჩვენები საგზაო ნიშნებია: 3.2 „მოძრაობა აკრძალულია“, 3.3 „მექანიკური სატრანსპორტო საშუალებით მოძრაობა აკრძალულია“, 3.5 „მოტოციკლით მოძრაობა აკრძალულია“ და 3.8 „საჭაპანო მოძრაობა აკრძალულია“.

IV





Фехалдзәни æви нæ сау аутомобилы скъæрæг фæндæгты змæлды уагæвæрдты фатæджы (стрелкæйы) æрдæмадмæ змæлды цауы?

1

Фехалдзәни

2

Нæ фехалдзәни

### განმარტება:

„საგზაო მოძრაობის შესახებ“ საქართველოს კანონის პირველი დანართის მე-3 თავის (ამკრძალავი ნიშნები) 3.20 პუნქტის თანახმად, საგზაო ნიშანი 3.20 „გასწრება აკრძალულია“ - კრძალავს ყველა სახის მექანიკური სატრანსპორტო საშუალების გასწრებას, გარდა 30 კმ/სთ-ზე ნაკლები სიჩქარით მოძრავი ტრანსპორტისა. ნებადართულია გასწრება უეტლო მოტოციკლის, მოპედის და ველოსიპედის შემხვედრ მოძრაობის ზოლში გადაუსვლელად. ამავე თავის შენიშვნის „ე“ ქვეპუნქტის თანახმად, ე) 3.16, 3.20, 3.22, 3.24, 3.26–3.30 ნიშნების მოქმედება ვრცელდება სათანადო ნიშნის შემდეგ, ნიშნის დადგმის ადგილიდან უახლოეს გზაჯვარედინამდე, ხოლო დასახლებულ პუნქტში გზაჯვარედინის არარსებობისას – დასახლებული პუნქტის ბოლომდე.



ლავარდ სიტუაციის, იყნ ბარ ის ჯევი ნაჲ სკჲერაგჲენ ფატაგჲაჲ ამყნდ ბყნატყ  
 аѡтотомобилы бауромყნ?

1

Бар ын нაჲყ

2

Бар ын ის

### განმარტყბა:

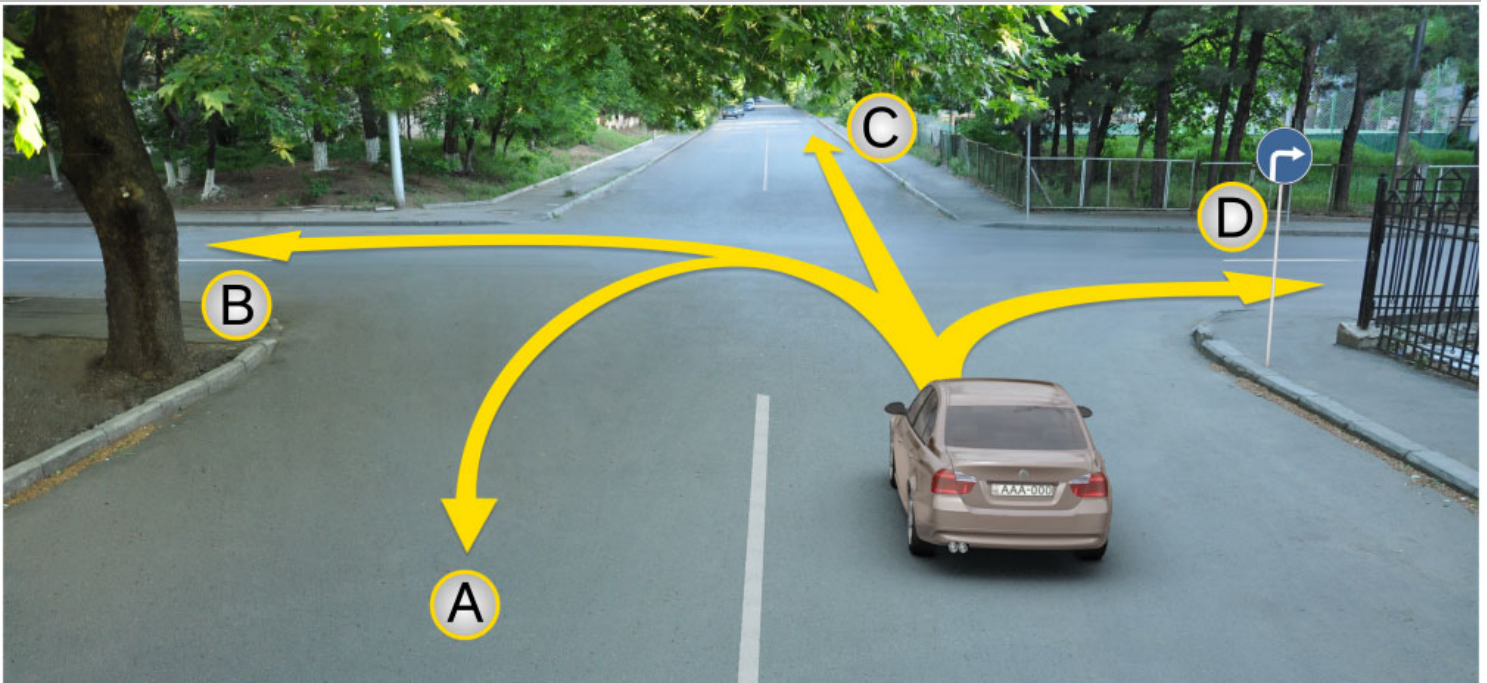
„საგზაო მოძრაობის შესახებ“ საქართველოს კანონის პირველი დანართის მე-3 თავის (ამკრძალავი ნიშნები) 3.27 პუნქტის თანახმად, საგზაო ნიშანი 3.27 „გაჩერება აკრძალულია“ - კრძალავს სატრანსპორტო საშუალების როგორც გაჩერებას, ასევე დგომას. ამავე თავის შენიშვნის „ე“ ქვეპუნქტის თანახმად 3.26–3.30 ნიშნების მოქმედება ვრცელდება სათანადო ნიშნის შემდეგ, ნიშნის დადგმის ადგილიდან უახლოეს გზაჯვარედინამდე, ხოლო დასახლებულ პუნქტში გზაჯვარედინის არარსებობისას – დასახლებული პუნქტის ბოლომდე. ნიშნების მოქმედება ვრცელდება აგრეთვე მიმდებარე ტერიტორიის გამოსასვლელთან, საველე, სატყეო და სხვა მეორეხარისხოვანი გზების გადაკვეთასთან (შეერთებასთან), რომელთა წინ არ დგას სათანადო ნიშანი. ამავე კანონის მე-5 მუხლის მე-13 პუნქტის თანახმად, გზაჯვარედინი არის ერთ დონეზე გზების კვეთა, შეერთება ან განშტოება, ასეთი კვეთით, შეერთებით ან განშტოებით წარმოქმნილი ტერიტორიების ჩათვლით. გზაჯვარედინად არ ითვლება მიმდებარე ტერიტორიებიდან გამომავალი გამოსასვლელების გზებთან კვეთა.

თემა 6:

## მიმთითებული ნიშნები

---





როგ ავტომობილი სკჯერაგენ ბარ ის ადარგუ კენა ჳმელდ:

**1**

ერმესტ A, C ჟმე D ჟრდჟმადმე

**2**

A, B, C ჟმე D ჟრდჟმადმე

**3**

ერმესტ B ჟმე C ჟრდჟმადმე


**4**

ერმესტ D ჟრდჟმადმე

**განმარტება:**

„საგზაო მოძრაობის შესახებ“ საქართველოს კანონის პირველი დანართის 4.1.2 პუნქტის თანახმად საგზაო ნიშანი 4.1.2 „მოძრაობა მარჯვნივ“ რთავს მხოლოდ ისრით ნაჩვენები მიმართულებით მოძრაობის ნებას.





Рог автомобиля съѣзжает бар ис змѣла:

1

A ჯერდამადმე

2


B ჯერდამადმე

3

კუყდ A, აფტე B ჯერდამადმე

### განმარტება:

„საგზაო მოძრაობის შესახებ“ საქართველოს კანონის 32-ე მუხლის მე-17 პუნქტის „ა“ ქვეპუნქტის თანახმად, ამ მუხლით დადგენილ მოთხოვნათა გათვალისწინებით, მძღოლს შეუძლია მარჯვნიდან ან მარცხნიდან შემოუაროს იმ სავალ ნაწილზე დაყენებულ უსაფრთხოების კუნძულს, ტუმბოს ან სხვა მოწყობილობას, რომელზედაც იგი მოძრაობს, გარდა იმ შემთხვევისა, როცა საგზაო ნიშანი მიუთითებს, რომელი მხრიდან უნდა შემოუაროს მძღოლმა უსაფრთხოების კუნძულს, ტუმბოს ან სხვა მოწყობილობას. ამავე კანონის პირველი დანართის მე-4 თავის (მიმთითებელი ნიშნები) 4.2.3 პუნქტის თანახმად საგზაო ნიშანი 4.2.3 „დაბრკოლების შემოვლა მარჯვნიდან ან მარცხნიდან“ - მიუთითებს დაბრკოლების შემოვლის მიმართულებას მარჯვნიდან ან მარცხნიდან.



ლავერდ სიტუაციის, ფაზილენაჲ ახიზგაე ავტომობილს სკაერაგ, რაჲიზ ფაზილენმაე ბაჲიზის თიხაჲი:

1

ბარ ын ის რაზილა ავტომობილს A აერდამადმაე

2

ბარ ын ის ჰმაელა ფაესტამაეცჲდჲი B აერდამადმაე

3

ბარ ын ის ჰმაელა კუჲდ A აერდამადმაე, აფტაე B აერდამადმაე

4

ჰმაელდ ын ბარ ნაჲი კუჲდ A აერდამადმაე, აფტაე B აერდამადმაე

### ბანმარტჲბა:

„საგზაო მოძრაობის შესახებ“ საქართველოს კანონის 32-ე მუხლის მე-16 პუნქტის თანახმად, მძღოლი, რომელიც მობრუნებას ან უკუსვლით მოძრაობას აპირებს, უნდა დარწმუნდეს, რომ მას შეუძლია ისე შეასრულოს ეს მანევრი, რომ საფრთხე არ შეუქმნას და ხელი არ შეუშალოს სხვა საგზაო მოძრაობის მონაწილეებს. აუცილებლობის შემთხვევაში მიზანშეწონილია სხვა პირის დახმარება. აკრძალულია უკუსვლით მოძრაობა გზატკარცილობაზე, ავტომაგისტრალზე და ამ მუხლის მე-15 პუნქტით განსაზღვრულ ადგილებში. ამავე კანონის პირველი დანართის მე-4 თავის (მიმთითებული ნიშნები) 4.1.4 პუნქტის და ამავე პუნქტის შენიშვნის თანახმად საგზაო ნიშანი 4.1.4 „მოძრაობა პირდაპირ ან მარჯვნივ“ - რთავს მხოლოდ ისრებით ნაჩვენები მიმართულებებით მოძრაობის ნებას.



I



II



III



IV

ლავერდ ფანდაგონ ნისაენტაჲ კაჲცჲ რაგფადჲახსტ კაჲნჲ სკაჲრადჲჲჲ ჲჲლდონ ჲმალაჲნ ალვაჲნდაგმაჲ (перекрестокმაჲ) ჲრბავვაჲსჲ თჲხჲაჲ?

1

ჲერმაჲსტ I ჲმაჲ II

2

ჲერმაჲსტ II

3

ჲერმაჲსტ I ჲმაჲ III

4

ჲერმაჲსტ IV

### განმარტება:

„საგზაო მოძრაობის შესახებ“ საქართველოს კანონის პირველი დანართის პირველი თავის (მაფრთხილებელი ნიშნები) 1.8 პუნქტის თანახმად საგზაო ნიშანი 1.8 „წრიულიმოძრაობიანი გადაკვეთა“ - იძლევა გაფრთხილებას 4.3 „წრიული მოძრაობა“ ნიშნით აღნიშნულ წრიულმოძრაობიან გზაჯვარედინთან მიახლოების თაობაზე.



ლავაერდ ფანდაგონ ნყსან:

1

ზმალდყ ბარ იუ კაენყ ჟერმაესტ  
კომკომმა ჟერდამადმა

2

ბაერაგ კაენყ ფანდაგ კაენაე ცაუაენ  
ხაყ, კაეცყყყლ ტრანსპორტონ  
ფაერაესტაყ ზმალდ აენაეხაენ  
ფაეტაენყლ უაგა დ ცაუყ იუ  
ჟერდამადმა

3

ბარ ნაე დაეტყ ტრანსპორტონ  
ფაერაესტყ ჟერურომყნ ამა  
ჟერლაუყყნ

### განმარტება:

„საგზაო მოძრაობის შესახებ“ საქართველოს კანონის პირველი დანართის მე-4 თავის (მიმთითებელი ნიშნები) 4.1.1 პუნქტისა და ამავე პუნქტის შენიშვნის „ა“ ქვეპუნქტის თანახმად, საგზაო ნიშანი 4.1.1 „მოძრაობა პირდაპირ“ რთავს მხოლოდ ისრებით ნაჩვენები მიმართულებებით მოძრაობის ნებას.





ლავაერდ ფანდაგონ ნყან:

1

Амоны фандаг каенæ цæуæн хай, кæцыйыл транспортон фæрæзтæй змæлд æнæхъæн фæтæныл уагъд цæуы иу æрдæмадмæ

2

Бар нæ дæтты транспортон фæрæзты æруромын æмæ æрлæууын

3

Змæлды бар иу кæны æрмæст комкоммæ æрдæмадмæ

განმარტება:

„საგზაო მოძრაობის შესახებ“ საქართველოს კანონის პირველი დანართის მე-4 თავის (მიმთითებული ნიშნები) 4.1.2 პუნქტისა და ამავე პუნქტის შენიშვნის „ა“ ქვეპუნქტის თანახმად, საგზაო ნიშანი 4.1.2 „მოძრაობა მარჯვნივ“ რთავს მხოლოდ ისრებით ნაჩვენები მიმართულებებით მოძრაობის ნებას.



I



II



III



IV

ლავერდ ფანდაგონ ნისაენტთაჲ კაჲცჲ ბერაგ კაჲნჲ დიხგანაგ ჰაჲხჲ, ადასდზინადჲ საკჲადაჲ კაჲნაჲ ისტჲ კჲუილჲმჲყდზინად არბაჲიზაჲნ არდამადაჲნ არმაჲსტ რაჲიზერდჲგაჲ?

1

I

2

II

3

III

4

IV

### განმარტება:

„საგზაო მოძრაობის შესახებ“ საქართველოს კანონის პირველი დანართის მე-4 თავის (მიმთითებელი ნიშნები) 4.2.1 პუნქტის თანახმად, საგზაო ნიშანი 4.2.1 „დაბრკოლების შემოვლა მარჯვნიდან“ - მიუთითებს გამყოფი ზოლის, უსაფრთხოების კუნძულის ან რაიმე დაბრკოლების მხოლოდ მარჯვნიდან შემოვლის მიმართულებას.



I



II



III



IV

Лæвæрд фæндагон нысæнттæй кæцы бæрæг кæны дихгæнæг хаххы, æдасдзинады сакъадах кæнæ исты къуылымпыдзинад æрбахизæн æрдæмадæн рахизæрдыгæй æмæ галиуæрдыгæй.

1

I

2

II

3

III

4

IV

### განმარტება:

„საგზაო მოძრაობის შესახებ“ საქართველოს კანონის პირველი დანართის მე-4 თავის (მიმთითებელი ნიშნები) 4.2.3 პუნქტის თანახმად, საგზაო ნიშანი 4.2.3 „დაბრკოლების შემოვლა მარჯვნიდან ან მარცხნიდან“ - მიუთითებს გამყოფი ზოლის, უსაფრთხოების კუნძულის ან რაიმე დაბრკოლების მარჯვნიდან ან მარცხნიდან შემოვლის მიმართულებას.



I



II



III



IV

ლავადრდ ფანდაგონ ნისანტთაჲ კაჲცჲ ბარაგ კაენჲ ველოსიპედაჲჲ ჰმელჲნან  
ნისანგონდ ფანდაგ, კაჲცჲ კონსტრუქციონაჲჲ რახიცანგონდ უ ინნაჲ ფანდაგაჲჲ კაენაჲ  
ფანდადჲჲჲ ანდარჲჲჲ ელემენტაჲჲ?

1

I

2

II

3

III

4

IV

### განმარტება:

„საგზაო მოძრაობის შესახებ“ საქართველოს კანონის პირველი დანართის მე-4 თავის (მიმთითებელი ნიშნები) 4.4 პუნქტის თანახმად, საგზაო ნიშანი 4.4 „ველობილიკი“ - ველოსიპედით მოძრაობისათვის განკუთვნილი ბილიკი, რომელიც კონსტრუქციულად გამოყოფილია სხვა გზისაგან ან გზის სხვა ელემენტებისაგან. 4.4 ნიშანს ძირითად ნიშნად დგამენ ველობილიკის დასაწყისში, განმეორებითად კი – გზასთან ყოველი გადაკვეთის შემდეგ.






I



II



III



IV

Лæвæрд фæндагон нысæнттæй кæцы бæрæг кæны фæндагыл змæлды минималон тагъдады арæн?

1

I

2

II

3

III


4

IV

### განმარტება:

„საგზაო მოძრაობის შესახებ“ საქართველოს კანონის პირველი დანართის მე-4 თავის (მიმთითებული ნიშნები) 4.6 პუნქტის თანახმად, საგზაო ნიშანი 4.6 „მინიმალური სიჩქარის შეზღუდვა“ - ადგენს გზაზე მოძრაობის მინიმალური სიჩქარის ზღვარს. ნიშნის მოქმედება ვრცელდება ნიშნის შემდეგ, ნიშნის დადგმის ადგილიდან უახლოეს გზაჯვარედინამდე, ხოლო დასახლებულ პუნქტში გზაჯვარედინის არარსებობისას – დასახლებული პუნქტის ბოლომდე.

„საგზაო მოძრაობის შესახებ“ საქართველოს კანონის პირველი დანართის მე-4 თავის (მიმთითებული ნიშნები) 4.8 პუნქტის თანახმად, საგზაო ნიშანი 4.8 „მოცურების საწინააღმდეგო ჯაჭვები აუცილებელია“ - გზის მონაკვეთი, რომელზე მოძრავ სატრანსპორტო საშუალებას არანაკლებ ორ წამყვან ბორბალზე მოცურების საწინააღმდეგო ჯაჭვები უნდა ჰქონდეს დამაგრებული.



Кæцы автомобили скъæрæг фехалдзæни фæндæгты змæлды уагæвæрдты фатæджы (стрелкæйы) æрдæмадмæ змæлды цауы, кæд уыдон хицынц кæрты территорийыл?

1

Урс автомобили скъæрæг

2

Сырх автомобили скъæрæг

3

Дыууæ автомобили скъæрæг

4

Нæдæр иу автомобили скъæрæг

### განმარტება:

„საგზაო მოძრაობის შესახებ“ საქართველოს კანონის პირველი დანართის მე-4 თავის (მიმთითებული ნიშნები) 4.1.1 პუნქტისა და ამავე პუნქტის შენიშვნის „ა“ და „დ“ ქვეპუნქტების თანახმად, საგზაო ნიშანი 4.1.1 „მოძრაობა პირდაპირ“ რთავს მხოლოდ ისრებით ნაჩვენები მიმართულებებით მოძრაობის ნებას. 4.1.1 ნიშნის მოქმედება, რომელიც გზის მონაკვეთის დასაწყისშია დადგმული, ვრცელდება უახლოეს გზაჯვარედინამდე. ნიშანი არ კრძალავს მარჯვნივ ეზოში მოხვევას და სხვა მიმდებარე ტერიტორიაზე შესვლას.





Рог автомобили скъæрæгæн змæлды адаргъ кæныны бар ис:

1

Æрмæст комкоммæ æмæ рахизмæ

2

Æрмæст комкоммæ æмæ галиумæ

3

Æрмæст комкоммæ

4

Алкæцы æрдæмадмæ

### განმარტება:

„საგზაო მოძრაობის შესახებ“ საქართველოს კანონის პირველი დანართის მე-4 თავის (მიმთითებული ნიშნები) 4.1.1 პუნქტისა და ამავე პუნქტის პენიშვნის „ა“ და „დ“ ქვეპუნქტების თანახმად, საგზაო ნიშანი 4.1.1 „მოძრაობა პირდაპირ“ რთავს მხოლოდ ისრებით ნაჩვენები მიმართულებებით მოძრაობის ნებას. 4.1.1 ნიშნის მოქმედება, რომელიც გზის მონაკვეთის დასაწყისშია დადგმული, ვრცელდება უახლოეს გზაჯვარედინამდე. ნიშანი არ კრძალავს მარჯვნივ ეზოში მოხვევას და სხვა მიმდებარე ტერიტორიაზე შესვლას.



Рог автомобили скъæрæгæн змæлды адаргъ кæныны бар ис:

1

Æрмæст комкоммæ

2

Æрмæст рахизмæ


3

Комкоммæ æмæ рахизмæ

### განმარტება:

„საგზაო მოძრაობის შესახებ“ საქართველოს კანონის 28-ე მუხლის მე-5 პუნქტის თანახმად, თუ გზაზე დროებით გადასატან სადგარზე ან საგზაო სამუშაოების მწარმოებელი ორგანიზაციის ავტომობილზე დაყენებულია საგზაო ნიშანი (შემდგომ – დროებითი საგზაო ნიშანი), რომლის მოთხოვნები ეწინააღმდეგება იმავე გზის მონაკვეთზე სტაციონარულად დაყენებული საგზაო ნიშნის მოთხოვნებს, მძღოლი ვალდებულია შეასრულოს დროებითი საგზაო ნიშნის მოთხოვნები.





Рог автомобиля съѣзжæгæн змæлды адæргъ кæныны бар ис:

1

Æрмæст галиумæ

2

Æрмæст фæстæмæ æрдæмадмæ  
(фæзылд)

3

Галиумæ æмæ фæстæмæ  
æрдæмадмæ (фæзылд)

### განმარტება:

„საგზაო მოძრაობის შესახებ“ საქართველოს კანონის 28-ე მუხლის მე-5 პუნქტის თანახმად, თუ გზაზე დროებით გადასატან სადგარზე ან საგზაო სამუშაოების მწარმოებელი ორგანიზაციის ავტომობილზე დაყენებულია საგზაო ნიშანი (შემდგომ – დროებითი საგზაო ნიშანი), რომლის მოთხოვნები ეწინააღმდეგება იმავე გზის მონაკვეთზე სტაციონარულად დაყენებული საგზაო ნიშნის მოთხოვნებს, მძღოლი ვალდებულია შეასრულოს დროებითი საგზაო ნიშნის მოთხოვნები. ამავე კანონის პირველი დანართის მე-4 თავის (მიმთითებული ნიშნები) 4.1.1–4.1.6 პუნქტების შენიშვნის „ა“ ქვეპუნქტის თანახმად, 4.1.1–4.1.6 ნიშნები რთავს მხოლოდ ისრებით ნაჩვენები მიმართულებებით მოძრაობის ნებას, ხოლო ნიშნები, რომლებიც მარცხნივ მოხვევის ნებას რთავს, მობრუნების უფლებასაც იძლევა.



Кæцы автомобили скъæრæг халы фæндæгты змæлды уагæвæрдты, кæд цъæх автомобиль фæхизы кæртмæ, фæлæ бур урæд у?

1

Æрмæст цъæх автомобили скъæრæг

2

Æрмæст бур автомобили скъæრæг


3

Дыууæ автомобили скъæрæг

### განმარტება:

„საგზაო მოძრაობის შესახებ“ საქართველოს კანონის პირველი დანართის მე-4 თავის (მიმთითებული ნიშნები) 4.1.1 პუნქტისა და ამავე პუნქტის შენიშვნის „ა“ და „დ“ ქვეპუნქტების თანახმად, საგზაო ნიშანი 4.1.1 „მოძრაობა პირდაპირ“ რთავს მხოლოდ ისრებით ნაჩვენები მიმართულებებით მოძრაობის ნებას. 4.1.1 ნიშნის მოქმედება, რომელიც გზის მონაკვეთის დასაწყისშია დადგმული, ვრცელდება უახლოეს გზაჯვარედინამდე. ნიშანი არ კრძალავს მარჯვნივ მოხვევას ეზოში და გზასთან მიმდებარე სხვა ტერიტორიებზე შესასვლელად. ამავე დანართის მე-3 თავის (ამკრძალავი ნიშნები) 3.27 პუნქტისა და ამავე თავის შენიშვნის „ე“ ქვეპუნქტის თანახმად: - 3.27. საგზაო ნიშანი 3.27 „გაჩერება აკრძალულია“ - კრძალავს სატრანსპორტო საშუალების, როგორც გაჩერებას, ასევე დგომას. - ე) 3.16, 3.20, 3.22, 3.24, 3.26–3.30 ნიშნების მოქმედება ვრცელდება სათანადო ნიშნის შემდეგ, ნიშნის დადგმის ადგილიდან უახლოეს გზაჯვარედინამდე, ხოლო დასახლებულ პუნქტში გზაჯვარედინის არარსებობისას – დასახლებული პუნქტის ბოლომდე. ნიშნების მოქმედება ვრცელდება აგრეთვე მიმდებარე ტერიტორიის გამოსასვლელულთან, საველე, სატყეო და სხვა მეორეხარისხოვანი გზების გადაკვეთასთან (შეერთებასთან), რომელთა წინ არ დგას სათანადო ნიშანი.





ლავაერდ სიტუაციი, იყნ ბარ ის ავი ნა როგ ავტომობილს სკაერაგენ ფატაედჟი (სტრელკაიყი) აერდამადმა ფაჟყლდყ მანევრყ საჟჟაესტ კაენყნ?

1

ნაჟ ყნ ბარ

2

ის ყნ ბარ


### განმარტება:

„საგზაო მოძრაობის შესახებ“ საქართველოს კანონის პირველი დანართის მე-4 თავის (მიმთითებული ნიშნები) 4.1.5 პუნქტისა და 4.1.1-4.1.6 პუნქტების შენიშვნის „ა“ და „დ“ ქვეპუნქტების თანახმად, საგზაო ნიშანი 4.1.5 „მოძრაობა პირდაპირ ან მარცხნივ“ - რთავს მხოლოდ ისრებით ნაჩვენები მიმართულებებით მოძრაობის ნებას, ხოლო ნიშნები, რომლებიც მარცხნივ მოხვევის ნებას რთავს, მობრუნების უფლებასაც იძლევა.



## ВОПРОС 167

ПРАВИЛЬНЫЙ ОТВЕТ: 1



ლავაერდ სიტუაციი, იყნ ბარ ის ავი ნა როგ ავტომობილს სკაერაგენ ფატადჯი (სტრელკაიყი) აერდამადმა ფაჟყლდ?

1


ნაჟ ყნ ბარ

2

ის ყნ ბარ

## განმარტება:

„საგზაო მოძრაობის შესახებ“ საქართველოს კანონის პირველი დანართის მე-4 თავის (მიმთითებული ნიშნები) 4.1.5 პუნქტისა და 4.1.1-4.1.6 პუნქტების შენიშვნის „ა“ და „დ“ ქვეპუნქტების თანახმად, საგზაო ნიშანი 4.1.5 „მოძრაობა პირდაპირ ან მარცხნივ“ - რთავს მხოლოდ ისრებით ნაჩვენები მიმართულებებით მოძრაობის ნებას, ხოლო ნიშნები, რომლებიც მარცხნივ მოხვევის ნებას რთავს, მობრუნების უფლებასაც იძლევა.



Кაეცჲ ტრანსპორტონ ფაერაჲჲ სკაერაგ ნაჲ ფეხალდჲაჲნი ფაენდაგტჲ ჲმალდჲ ჲაგაჲვარდტჲ ფატაედჲჲ (სტრელკაჲჲჲ) აერდაჲმადმაჲ ჲმალდჲ ცაჲჲ?

1

აერმაესტ როგ ავტომობილჲ სკაერაგ

2

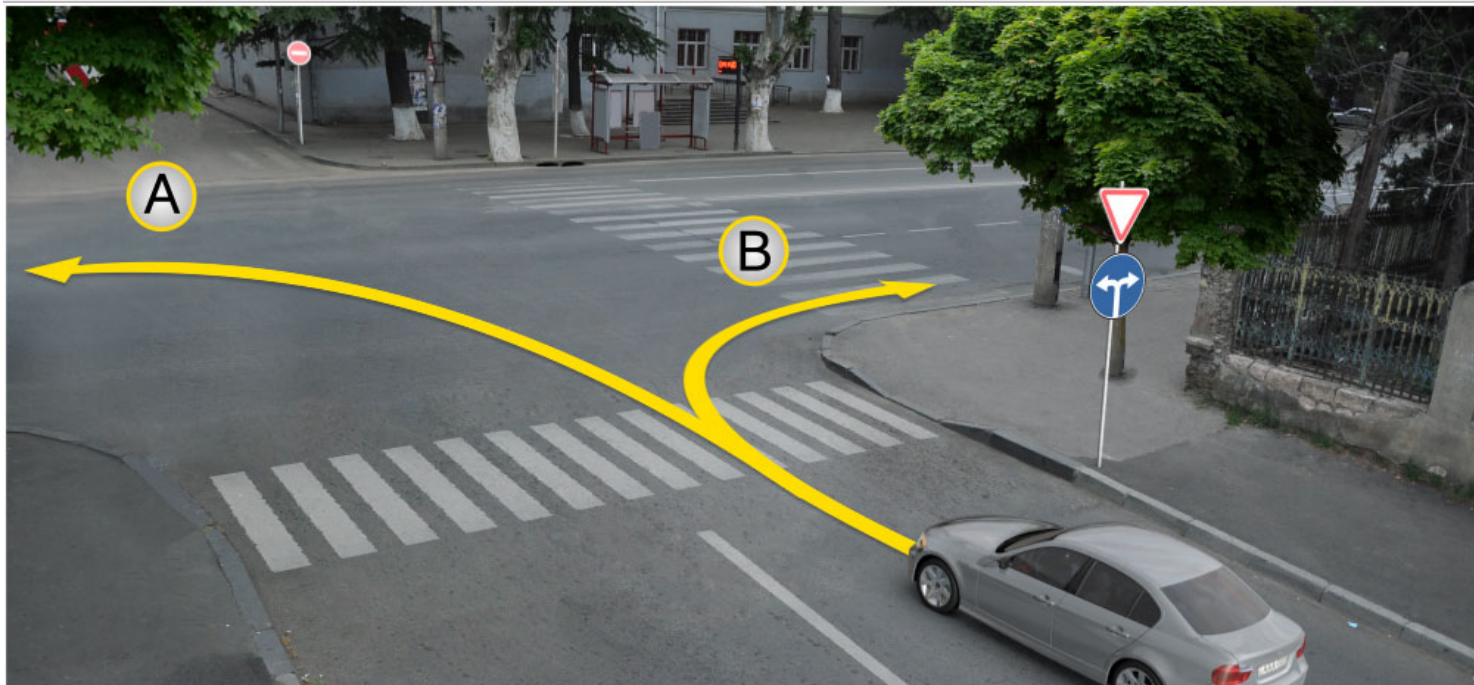
აერმაესტ მოტოციკლჲ სკაერაგ

3

დჲჲჲჲჲ ტრანსპორტონ ფაერაჲჲ სკაერაგ

### განმარტება:

„საგზაო მოძრაობის შესახებ“ საქართველოს კანონის პირველი დანართის მე-4 თავის (მიმთითებული ნიშნები) 4.2.2 პუნქტის თანახმად, საგზაო ნიშანი 4.2.2 „დაბრკოლების შემოვლა მარცხნიდან“ - მიუთითებს გამყოფი ზოლის, უსაფრთხოების კუნძულის ან რაიმე დაბრკოლების მხოლოდ მარცხნიდან შემოვლის მიმართულებას.



ლავადრდ სიტუაციის, როგორც ავტომობილის სკანერადგან ზმადდ ადარგვ კანისინი ბარ ის:

1

დერმადსტ A დერდამადმად

2

დერმადსტ B დერდამადმად

3

კუიდ A დერდამადმად, აფტად B დერდამადმად

### ბანმარტუბა:

„საგზაო მოძრაობის შესახებ“ საქართველოს კანონის პირველი დანართის მე-4 თავის (მიმთითებული ნიშნები) 4.1.6 პუნქტისა და ამავე პუნქტის შენიშვნის „ა“ ქვეპუნქტის თანახმად, საგზაო ნიშანი 4.1.6 „მოძრაობა მარჯვნივ ან მარცხნივ“ - რთავს მხოლოდ ისრებით ნაჩვენები მიმართულებებით მოძრაობის ნებას, ხოლო ნიშნები რომლებიც მარცხნივ მოხვევის ნებას რთავენ, მობრუნების ნებასაც იძლევა.



## ВОПРОС 170

ПРАВИЛЬНЫЙ ОТВЕТ: 3



I



II



III



IV

ლავერდ ფანდაგონ ნისაენტთაჲ კაეცჲ ბერაგ კაენჲ ფაჲზილაენჲ ბჲნატჲ?

1

ერმაესტ II

2

ერმაესტ I

3

ერმაესტ IV

4

ერმაესტ III.


## განმარტება:

„საგზაო მოძრაობის შესახებ“ საქართველოს კანონის პირველი დანართის მე-7 თავის (საინფორმაციო-მაჩვენებელი ნიშნები) 7.3.1 პუნქტისა და ამავე პუნქტის შენიშვნის თანახმად, საგზაო ნიშანი 7.3.1 „მობრუნების ადგილი“ - მიუთითებს მობრუნების ადგილზე. ნიშნები 7.3.1 და 7.3.2 იდგმება მობრუნების ადგილის წინ ან მის ზემოთ, ან წინასწარ 8.1.1 დაფით. ნიშნები მარცხნივ მოხვევის ნებას არ რთავს.

თემა 7:

## საინფორმაციო-მარკეტინგული ნიშნები

---



ლავარდ სიტუაციის, კაეცჲ ავტომობილჲ სკაერაგენ ნაჲ ბარ ფატადჲჲ (სტრელკაჲჲ) აერდამადმაჲ ჰმაელჲჲ?

1

ერმაესტ ცაჲჲ ავტომობილჲ სკაერაგენ

2

ერმაესტ სჲრჲ ავტომობილჲ სკაერაგენ

3

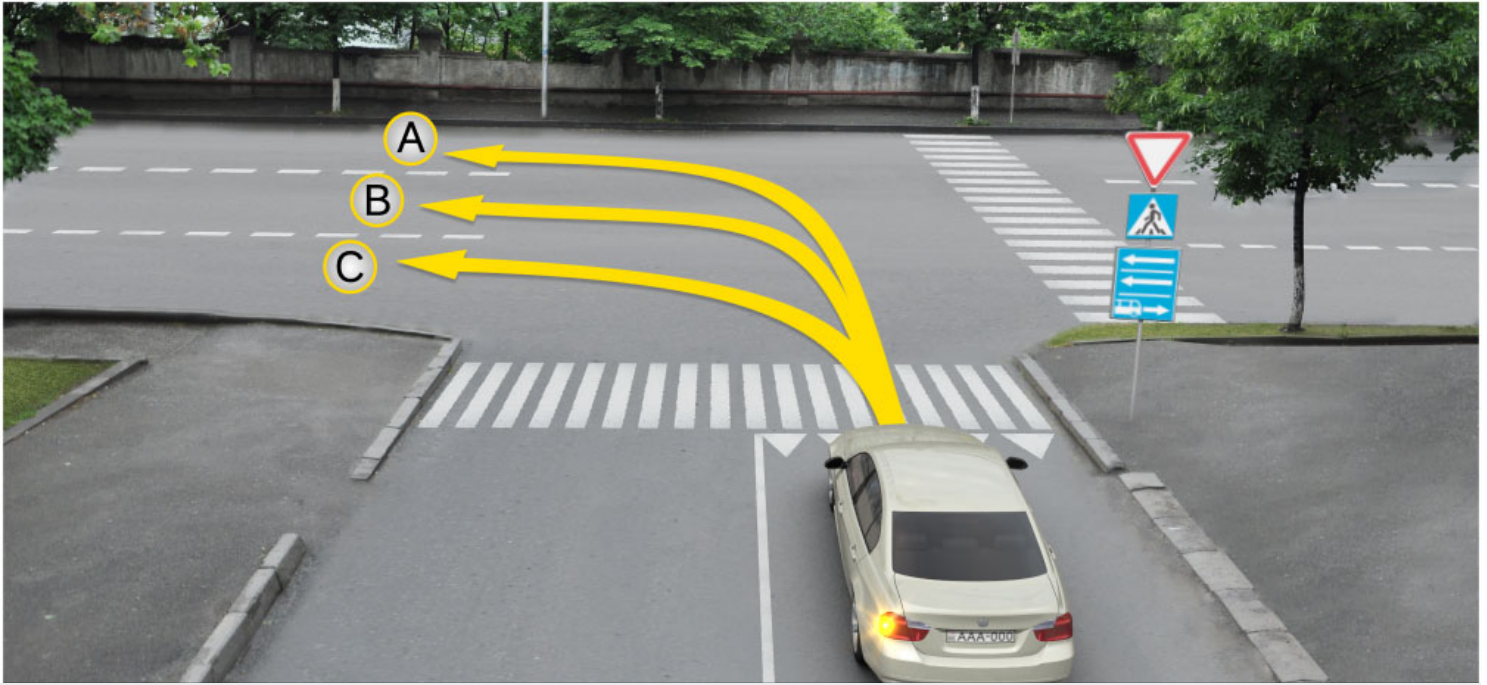
დჲუუაჲ ავტომობილჲ სკაერაგენ

4

ნადარ იუ (ნიკაეცჲ) ავტომობილჲ სკაერაგენ

### განმარტება:

„საგზაო მოძრაობის შესახებ“ საქართველოს კანონის პირველი დანართის მე-5 თავის (განსაკუთრებული მითითებების ნიშნები) 5.14 პუნქტის თანახმად საგზაო ნიშანი 5.14 „სამარშრუტო სატრანსპორტო საშუალებისათვის განკუთვნილი მოძრაობის ზოლი“ - აღნიშნავს გზას, რომელზედაც სამარშრუტო სატრანსპორტო საშუალება მოძრაობს სპეციალურად გამოყოფილ ზოლზე სატრანსპორტო საშუალებათა საერთო ნაკადის თანმხვედრი მიმართულებით. ნიშნის მოქმედება ვრცელდება იმ მოძრაობის ზოლზე, რომელზედაც ის დგას. გზის მარჯვენა მხარეს დადგმული ნიშნის მოქმედება ვრცელდება სავალი ნაწილის უკიდურეს მარჯვენა ზოლზე. ამავე კანონის მეორე დანართის პირველი თავის (ჰორიზონტალური მონიშვნა) 1.23 პუნქტის თანახმად საგზაო მონიშვნა 1.23 აღნიშნავს სპეციალურ ზოლს, რომელიც განკუთვნილია სამარშრუტო სატრანსპორტო საშუალების მოძრაობისათვის. ამავე კანონის 41-ე მუხლის მე-3 პუნქტის თანახმად, გზაზე, სადაც 5.11, 5.13.1, 5.13.2 და 5.14 საგზაო ნიშნებით აღნიშნული სამარშრუტო სატრანსპორტო საშუალებების მოძრაობისათვის განკუთვნილი ზოლია, აკრძალულია ამ ზოლზე სხვა სატრანსპორტო საშუალებათა მოძრაობა და გაჩერება. თუ ეს ზოლი დანარჩენი სავალი ნაწილისგან მონიშვნის წყვეტილი ხაზითაა გამოყოფილი, მოხვევისას სხვა სატრანსპორტო საშუალებები ამ ზოლზე უნდა გადაჭყუდდნენ. ნებადართულია აგრეთვე ამ ზოლის ასეთ ადგილებში შესვლა გზაზე გასვლისას და მგზავრთა ჩასხდომა-გადმოსხდომისას სავალი ნაწილის მარჯვენა კიდედან, თუ ეს არ დააბრკოლებს სამარშრუტო სატრანსპორტო საშუალების მოძრაობას.



Рог автомобиля скъæრæгæн бар ис змæлыны:

1

Æрмæст А æмæ С æрдæмадмæ

2

Æрмæст В æмæ С æрдæмадмæ

3

Æрмæст А æмæ В æрдæмадмæ


4

Æрмæст А æрдæмадмæ

### განმარტება:

„საგზაო მოძრაობის შესახებ“ საქართველოს კანონის პირველი დანართის მე-5 თავის (განსაკუთრებული მითითებების ნიშნები) 5.13.2 პუნქტის თანახმად 5.13.2 „სამარშრუტო სატრანსპორტო საშუალებისათვის განკუთვნილი მოძრაობის ზოლის მქონე გზაზე გასვლა“ - მიუთითებს 5.11 ნიშნით აღნიშნულ გზაზე გასვლას და იდგმება ყველა გვერდითი შესასვლელის წინ. ნიშანი შეიძლება არა დაიდგას მიმდებარე ტერიტორიებიდან გამოსასვლელების გზასთან გადაკვეთებზე, იმ შემთხვევაში თუ ამ ტერიტორიებზე შესვლა შესაძლებელია მხოლოდ 5.11 ნიშნით აღნიშნულ გზიდან. ამავე კანონის 32-ე მუხლის მე-7 პუნქტის „ბ“ ქვეპუნქტის თანახმად, სხვა გზაზე გასასვლელად ან გზის მიმდებარე ტერიტორიაზე შესასვლელად მარჯვნივ ან მარცხნივ მოხვევის წინ, ისე, რომ არ დაარღვიოს ამ კანონის მე-20 მუხლის მე-2 პუნქტითა და ამ მუხლის პირველი და მე-2 პუნქტებით დადგენილი მოთხოვნები, თუ სატრანსპორტო საშუალების მძღოლი აპირებს გზიდან გასვლას მარცხენა მხრიდან, სატრანსპორტო საშუალება, რამდენადაც ეს შესაძლებელია, უნდა მიუახლოვდეს გზის სავალი ნაწილის ღერძს (ორმხრივმოძრაობიან გზაზე) ან სავალი ნაწილის მარცხენა კიდე (ცალმხრივმოძრაობიან გზაზე), ხოლო თუ ის სხვა ორმხრივმოძრაობიან გზაზე აპირებს გასვლას, მოხვევა ისე უნდა შეასრულოს, რომ სავალი ნაწილების გადაკვეთიდან გამოსვლისას სატრანსპორტო საშუალება საპირისპირო მოძრაობის მხარეს არ აღმოჩნდეს.





Рог автомобиля съѣзжает на бар и змѣлыны:

1

Æრმæსტ კომკომმæ æმæ რაჰიზმæ

2

Æრმæსტ კომკომმæ æმæ გალიუმæ

3

Æრმæსტ გალიუმæ æმæ ფæსტæმæ  
æრდæმადმæ (რაზილყნ)

4

Æრმæსტ კომკომმæ, გალიუმæ æმæ  
ფæსტæმæ æრდæმადმæ (რაზილყნ)

### განმარტება:

„საგზაო მოძრაობის შესახებ“ საქართველოს კანონის პირველი დანართის მე-5 თავის (განსაკუთრებული მითითებების ნიშნები) 5.13.2 პუნქტის თანახმად 5.13.2 „სამარშრუტო სატრანსპორტო საშუალებისათვის განკუთვნილი მოძრაობის ზოლის მქონე გზაზე გასვლა“ - მიუთითებს 5.11 ნიშნით აღნიშნულ გზაზე გასვლას და იდგმება ყველა გვერდითი შესასვლელის წინ. ნიშანი შეიძლება არა დაიდგას მიმდებარე ტერიტორიებიდან გამოსასვლელების გზასთან გადაკვეთებზე, იმ შემთხვევაში თუ ამ ტერიტორიებზე შესვლა შესაძლებელია მხოლოდ 5.11 ნიშნით აღნიშნულ გზიდან. ამავე კანონის 41-ე მუხლის მე-3 პუნქტის თანახმად, გზაზე, სადაც 5.11, 5.13.1, 5.13.2 და 5.14 საგზაო ნიშნებით აღნიშნული სამარშრუტო სატრანსპორტო საშუალებების მოძრაობისათვის განკუთვნილი ზოლია, აკრძალულია ამ ზოლზე სხვა სატრანსპორტო საშუალებათა მოძრაობა და გაჩერება. თუ ეს ზოლი დანარჩენი სავალი ნაწილისგან მონიშვნის წყვეტილი ხაზითაა გამოყოფილი, მოხვევისას სხვა სატრანსპორტო საშუალებები ამ ზოლზე უნდა გადაჭკუდნენ. ნებადართულია აგრეთვე ამ ზოლის ასეთ ადგილებში შესვლა გზაზე გასვლისას და მგზავრთა ჩასხდომა-გადმოსხდომისას სავალი ნაწილის მარჯვენა კიდედან, თუ ეს არ დააბრკოლებს სამარშრუტო სატრანსპორტო საშუალების მოძრაობას.



## ВОПРОС 174

ПРАВИЛЬНЫЙ ОТВЕТ: 1



I



II



III



IV

ლავაერდ ფანდადჯი ნისაენტთაჲ კაჲცი ნისან კაენი ფანდაგ, კაჲცი უ ჯერმაჲს  
автомобилы ჯამაჲ мотоциკლაჲი ჰმაჲლინაჲნ?

1

I

2

II

3

III

4

IV

## განმარტება:

„საგზაო მოძრაობის შესახებ“ საქართველოს კანონის პირველი დანართის მე-5 თავის (განსაკუთრებული მითითებების ნიშნები) 5.3 პუნქტის თანახმად, საგზაო ნიშანი 5.3 „საავტომობილო გზა“ - გზა, რომელიც განკუთვნილია მხოლოდ ავტომობილისა და მოტოციკლის მოძრაობისათვის.



ლავერდ ფანდაგონ ნყსან ბერაგ კაენყ:

1

ერლაუუაენყ არენგაენაენ ზონაყყ  
ფაუდყ

2

მარშრუტონ ტრანსპორტონ ფერაჟტაენ  
აემბაღგაე ხაეხყტაე ფანდადჟყ  
ფაუდყ

3

იუფარსონ ჰმალაენ ფანდადჟყ კაენაე  
ცაუაენ ჰაყყ ფაუდყ

### განმარტება:

„საგზაო მოძრაობის შესახებ“ საქართველოს კანონის პირველი დანართის მე-5 თავის (განსაკუთრებული მითითებების ნიშნები) 5.6 პუნქტის თანახმად, საგზაო ნიშანი 5.6 „ცალმხრივმოძრაობიანი გზის დასასრული“ - მითითებს 5.5 ნიშნით აღნიშნული გზის ან სავალი ნაწილის დასასრულს.



ლავერდ ფანდაგტყ ნყსანტტა:

1

Амоньц иуфарсон змәлән  
фәндагыл кәнә цәуән хайыл  
ахизын

2

Бәраг кәнынц змәлды хахы  
райдайән

3

Бәраг кәнынц автобусты змәлдән  
рахицәнгонд хахх

### განმარტება:

„საგზაო მოძრაობის შესახებ“ საქართველოს კანონის პირველი დანართის მე-5 თავის (განსაკუთრებული მითითებების ნიშნები) 5.7.1, 5.7.2 პუნქტების თანახმად, საგზაო ნიშნები 5.7.1 და 5.7.2 „ცალმხრივმოძრაობიან გზაზე გასვლა“ - მითითებს ცალმხრივ-მოძრაობიან გზაზე ან სავალ ნაწილზე გასვლას. ნიშნები იდგმება ყველა გვერდითი შესასვლელის წინ. ნიშანი შეიძლება არა დაიდგას მიმდებარე ტერიტორიებიდან გამოსასვლელების გზასთან გადაკვეთებზე, თუ ამ ტერიტორიებზე შესვლა შესაძლებელია მხოლოდ 5.5 ნიშნით აღნიშნულ გზიდან.



Лაეაერდ ფანდაგონ ნყსან ბაერაგ კაენყ:

1

Дываерсыг змалален фандаг

2


Регулироватгәнинаг лаеууәен  
зонәйы

3

Реверсон змалален фандаджы  
фадыджы райдыды

### განმარტება:

„საგზაო მოძრაობის შესახებ“ საქართველოს კანონის პირველი დანართის მე-5 თავის (განსაკუთრებული მითითებების ნიშნები) 5.8 პუნქტის თანახმად, საგზაო ნიშანი 5.8 „რევერსული მოძრაობა“ – გზის მონაკვეთის დასაწყისი, სადაც ერთ ან რამდენიმე ზოლზე მოძრაობის მიმართულება შეიძლება საპირისპიროდ შეიცვალოს.



Лაეაერდ ფანდაგონ ნყსან ბაერაგ კაენყ:

1

Фаетагъддаеры хаххыл ахизын

2

Дываерсыг змален фандагыл  
ахизын

3

Реверсон змален фандаджы  
фадыгмае ахизын

### განმარტება:

„საგზაო მოძრაობის შესახებ“ საქართველოს კანონის პირველი დანართის მე-5 თავის (განსაკუთრებული მითითებების ნიშნები) 5.10 პუნქტის თანახმად, საგზაო ნიშანი 5.10 „გზაზე გასვლა, რომელზედაც რევერსული მოძრაობაა“ - მიუთითებს 5.8 ნიშნით აღნიშნულ გზის მონაკვეთებზე გასვლას. ნიშანი იდგმება ყველა გვერდითი გასასვლელის წინ. ნიშანი შეიძლება არა დაიდგას მიმდებარე ტერიტორიებიდან გამოსასვლელების გზასთან გადაკვეთებზე, თუ ამ ტერიტორიებზე შესვლა შესაძლებელია მხოლოდ 5.8 ნიშნით აღნიშნული გზიდან.



ლავაერდ ფანდაგონ ნყსან ბერაგ კაენყ:

1

ცერაენუათყ ზონაყყ ფაედყ

2

მარშრუტონ ტრანსპორტონ ფერაეტაენ  
ნყსანგონდ ხაეხყტაედჟყნ  
(დერგყტაე) ფანდადჟყ ფაედყ

3

ფერაზაყ კაენყნყ არაენგონდყ  
ჰონაყყ ფაედყ

### განმარტება:

„საგზაო მოძრაობის შესახებ“ საქართველოს კანონის პირველი დანართის მე-5 თავის (განსაკუთრებული მითითებების ნიშნები) 5.12 პუნქტის თანახმად, საგზაო ნიშანი 5.12 „სამარშრუტო სატრანსპორტო საშუალებისათვის განკუთვნილი მოძრაობის ზოლის მქონე გზის დასასრული“ – მიუთითებს 5.11 ნიშნით აღნიშნული გზის დასასრულს.



Лავაერდ ფანდაგონ ნყსან ბერაგ კაენყ:

1

Тәссаг фәндаджы былы

2

Аразгә зылын-мылындзинады

3

Зылын-мылын фәндаг

### განმარტება:

„საგზაო მოძრაობის შესახებ“ საქართველოს კანონის პირველი დანართის მე-5 თავის (განსაკუთრებული მითითებების ნიშნები) 5.20 პუნქტის თანახმად, საგზაო ნიშანი 5.20 „ხელოვნური უსწორმასწორობა“ - მიუთითებს გზის სავალ ნაწილზე არსებულ ხელოვნურ უსწორმასწორობას. ნიშანი იდგმება ხელოვნურ უსწორმასწორობასთან ან 1.25 მონიშვნასთან მოახლოებული სატრანსპორტო საშუალების მხარეს.





ლავერდ ფანდაგონ ნყან ბერაგ კაენყ:

1

ცარაენ ზონაყყ ფაუდყ

2

ცარაგდჟყნ პუნკტყ ფაუდყ

3

ფყსტაგონ კაახვანდადჟყ ფაუდყ

### განმარტება:

„საგზაო მოძრაობის შესახებ“ საქართველოს კანონის პირველი დანართის მე-5 თავის (განსაკუთრებული მითითებების ნიშნები) 5.22 პუნქტის თანახმად, საგზაო ნიშანი 5.22 „საცხოვრებელი ზონის დასასრული“ – მიუთითებს 5.21 ნიშნით აღნიშნული საცხოვრებელი ზონის დასასრულს. ნიშანი იდგმება საცხოვრებელი ზონის ყველა გამოსასვლელში.



I



II



III

ლავარდ ფაენდაგთი ნისაენტაჲი კაჲცი ბარაგ კაენი უცი ცარაგდჲინ პუნკტი  
ფაუდი, ცირან ნა არჲაი ცარაგდჲინ პუნკტი ჰმელდენ ჯვარდ უაგავარდტი  
დომაენტა?

1

I

2

II

3

III

### განმარტება:

„საგზაო მოძრაობის შესახებ“ საქართველოს კანონის პირველი დანართის მე-5 თავის (განსაკუთრებული მითითებების ნიშნები) 5.25 და 5.26 პუნქტების თანახმად, საგზაო ნიშნები: - 5.25 „დასახლებული პუნქტის დასაწყისი“ - აღნიშნავს დასახლებული პუნქტის დასაწყისს, რომელშიც არ მოქმედებს დასახლებულ პუნქტებში მოძრაობისათვის დადგენილი წესები; - 5.26 „დასახლებული პუნქტის დასასრული“ - აღნიშნავს შესაბამისად 5.25 ნიშნით აღნიშნული დასახლებული პუნქტების დასასრულს.

## ВОПРОС 183

ПРАВИЛЬНЫЙ ОТВЕТ: 3



I



II



III



IV

ლავარდ ფაენდაგტყ ნყსაენტთაყ კაყცყ ბარაგ კაენყ ტერყტორყყ, კაყცყყ ფაელგაეტყ რეგლამენტაცყგონდ ყ ლაყუყყნ?

1

არმაესტ II ამაე IV

2

არმაესტ IV

3


არმაესტ I ამაე II

4

არმაესტ III

## განმარტება:

„საგზაო მოძრაობის შესახებ“ საქართველოს კანონის პირველი დანართის მე-5 თავის (განსაკუთრებული მითითებების ნიშნები) 5.27 და 5.29 პუნქტების თანახმად, საგზაო ნიშნები 5.27 „ზონა დგომის შეზღუდვით“ და 5.29 „რეგულირებადი სადგომის ზონა“ აღნიშნავს ტერიტორიას, რომლის ფარგლებშიც შესაბამისად რეგლამენტირებულია დგომა.



Фატაედჟი (სტრელკაჟი) ჯერდამადმამა ზმალგა, კაეცი ტრანსპორტონ ფერაჟი სკაერაგ ხალი ფანდაგტი ზმალდი უაგაჟერდტი?

1

ჯერმასტ მოტოციკლი სკაერაგ

2

ჯერმასტ ბურ ავტომობილი სკაერაგ

3

ჯერმასტ საუ ავტომობილი სკაერაგ

4

ნიკაეცი ტრანსპორტონ ფერაჟი სკაერაგ

### განმარტება:

„საგზაო მოძრაობის შესახებ“ საქართველოს კანონის 32-ე მუხლის მე-6 პუნქტის თანახმად, მარცხენა მხარეს სავალ ნაწილთან ერთ დონეზე განლაგებული, თანმხვედრი მიმართულების ტრამვაის ლიანდაგების არსებობის შემთხვევაში სატრანსპორტო საშუალების მძღოლი მარცხნივ მოხვევასა და მობრუნებას ასრულებს ამ ვაკისზე, თუ 5.15.1 და 5.15.2 საგზაო ნიშნებით მოძრაობის სხვა წესრიგი დადგენილი არ არის. ამასთანავე, ტრამვაის მოძრაობას არ უნდა შეექმნას დაბრკოლება.

“Цæрæн зонæ” у:

1

Кæцыфæнды территори (фæзуат),  
кæцыйыл (цыран) цæрынц адæм

2

Цæрæн территори (фæзуат), цыран  
ис специалон (сæрмагонд)  
фæндæгты змæлды уагæвæрдтæ  
æмæ цыран бацæуæн æмæ рацæуæн  
нысангонд сты аккаг фæндагон  
нысæнттæй

3

Кæцыфæнды фæндаг, кæцы  
нысангонд у фистæгон интенсивон  
змæлынæн

### განმარტება:

„საგზაო მოძრაობის შესახებ“ საქართველოს კანონის 5-ე მუხლის 75-ე პუნქტის თანახმად, „საცხოვრებელი ზონა“ - განაშენიანებული ტერიტორია, სადაც მოქმედებს სპეციალური საგზაო მოძრაობის წესები და სადაც შესასვლელი და გამოსასვლელი აღნიშნულია შესაბამისი საგზაო ნიშნებით.


თემა 8:

## სერვისის ნიშნები

---

**ВОПРОС 186**

ПРАВИЛЬНЫЙ ОТВЕТ: 2

**I****II****III****IV**

Лæвæрд фæндагон нысæнттæй кæцы дæтты информаци фыццагон медицинон æххуысы пункты тыххæй?

**1****I****2****II****3****III****4****IV****განმარტება:**

„საგზაო მოძრაობის შესახებ“ საქართველოს კანონის პირველი დანართის მე-6 თავის (სერვისის ნიშნები) 6.1 პუნქტის თანახმად, საგზაო ნიშანი 6.1 „პირველადი სამედიცინო დახმარების პუნქტი“ საგზაო მოძრაობის მონაწილეებს აძლევენ ინფორმაციას შესაბამისი ობიექტის ან სერვისის შესახებ.




## ВОПРОС 187

ПРАВИЛЬНЫЙ ОТВЕТ: 4



I



II



III



IV

Лæвæрд фæндагон нысæнттæй кæцы дæтты информаци бензокалонкæйы вагзалы тыххæй?

1

I

2

II

3

III

4

IV

## განმარტება:

„საგზაო მოძრაობის შესახებ“ საქართველოს კანონის პირველი დანართის მე-6 თავის (სერვისის ნიშნები) 6.2 პუნქტის თანახმად, საგზაო ნიშანი 6.2 „ავტოგასამართი სადგური“ საგზაო მოძრაობის მონაწილეებს აძლევს ინფორმაციას შესაბამისი ობიექტის ან სერვისის შესახებ.

## ВОПРОС 188

ПРАВИЛЬНЫЙ ОТВЕТ: 3




I



II



III



IV

Лავაერд фæндагон нысæнттæй кæцы дæтты информаци автомобили техникон  
лæггады тыххæй?

1

I

2

II

3

III

4

IV

## განმარტება:

„საგზაო მოძრაობის შესახებ“ საქართველოს კანონის პირველი დანართის მე-6 თავის (სერვისის ნიშნები) 6.3 პუნქტის თანახმად, საგზაო ნიშანი 6.3 „ავტომობილის ტექნიკური მომსახურება“ საგზაო მოძრაობის მონაწილეებს აძლევს ინფორმაციას შესაბამისი ობიექტის ან სერვისის შესახებ.

## ВОПРОС 189

ПРАВИЛЬНЫЙ ОТВЕТ: 3



I



II



III



IV

Лæвæрд фæндагон нысæнттæй кæцы дæтты информаци автомобили æхсыны  
бынаты тыххæй?

1

I

2

II

3

III

4

IV

## განმარტება:

„საგზაო მოძრაობის შესახებ“ საქართველოს კანონის პირველი დანართის მე-6 თავის (სერვისის ნიშნები) 6.4 პუნქტის თანახმად, საგზაო ნიშანი 6.4 „ავტომობილის რეცხვა“ საგზაო მოძრაობის მონაწილეებს აძლევს ინფორმაციას შესაბამისი ობიექტის ან სერვისის შესახებ.

## ВОПРОС 190

ПРАВИЛЬНЫЙ ОТВЕТ: 3



I



II



III



IV

Лæвæрд фæндагон нысæнттæй кæцы дæтты информаци тилифоны пункты тыххæй?

1

I

2

II

3

III

4

IV

## განმარტება:

„საგზაო მოძრაობის შესახებ“ საქართველოს კანონის პირველი დანართის მე-6 თავის (სერვისის ნიშნები) 6.5 პუნქტის თანახმად, საგზაო ნიშანი 6.5 „ტელეფონი“ საგზაო მოძრაობის მონაწილეებს აძლევს ინფორმაციას შესაბამისი ობიექტის ან სერვისის შესახებ.

## ВОПРОС 191

ПРАВИЛЬНЫЙ ОТВЕТ: 2



I



II



III



IV

Ләвәрд фәндагон нысәнттәй кәцы дәтты информаци хәлцадон пункты тыххәй?

1

I

2

II

3

III

4

IV

## განმარტება:

„საგზაო მოძრაობის შესახებ“ საქართველოს კანონის პირველი დანართის მე-6 თავის (სერვისის ნიშნები) 6.6 პუნქტის თანახმად, საგზაო ნიშანი 6.6 „კვების პუნქტი“ საგზაო მოძრაობის მონაწილეებს აძლევს ინფორმაციას შესაბამისი ობიექტის ან სერვისის შესახებ.

## ВОПРОС 192

ПРАВИЛЬНЫЙ ОТВЕТ: 3



I



II



III



IV

Лæвæрд фæндагон нысæнттæй кæцы дæтты информаци нуазæн доны тыххæй?

1

I

2

II

3

III

4

IV

## განმარტება:

„საგზაო მოძრაობის შესახებ“ საქართველოს კანონის პირველი დანართის მე-6 თავის (სერვისის ნიშნები) 6.7 პუნქტის თანახმად, საგზაო ნიშანი 6.7 „სასმელი წყალი“ საგზაო მოძრაობის მონაწილეებს აძლევენ ინფორმაციას შესაბამისი ობიექტის ან სერვისის შესახებ.



## ВОПРОС 193

ПРАВИЛЬНЫЙ ОТВЕТ: 4



I



II



III



IV

Лæвæрд фæндагон нысæнттæй кæцы дæтты информаци уазæгдоны (гостиницæ) кæнæ мотелы тыххæй?

1

I

2

II

3

III

4

IV

## განმარტება:

„საგზაო მოძრაობის შესახებ“ საქართველოს კანონის პირველი დანართის მე-6 თავის (სერვისის ნიშნები) 6.8 პუნქტის თანახმად, საგზაო ნიშანი 6.8 „სასტუმრო ან მოტელი“ საგზაო მოძრაობის მონაწილეებს აძლევს ინფორმაციას შესაბამისი ობიექტის ან სერვისის შესახებ.

## ВОПРОС 194

ПРАВИЛЬНЫЙ ОТВЕТ: 1



I



II



III



IV

Лæвæрд фæндагон нысæнттæй кæцы дæтты информаци кемпингы тыххæй?

1

I

2

II

3

III

4

IV

## განმარტება:

„საგზაო მოძრაობის შესახებ“ საქართველოს კანონის პირველი დანართის მე-6 თავის (სერვისის ნიშნები) 6.9 პუნქტის თანახმად, საგზაო ნიშანი 6.9 „კემპინგი“ საგზაო მოძრაობის მონაწილეებს აძლევენ ინფორმაციას შესაბამისი ობიექტის ან სერვისის შესახებ.



ლავერდ ფანდაгон нысан дѣтты информаци:

1

Патрулон полицийы посты уѣвынады  
тыххѣй

2

Аварион куысты цур  
радиобастдзинады зонѣйы  
уѣвынады тыххѣй

### განმარტება:

„საგზაო მოძრაობის შესახებ“ საქართველოს კანონის პირველი დანართის მე-6 თავის (სერვისის ნიშნები) 6.11 პუნქტის თანახმად, საგზაო ნიშანი 6.11 „საპატრულო პოლიციის საგუშაგო“ საგზაო მოძრაობის მონაწილეებს აძლევს ინფორმაციას შესაბამისი ობიექტის ან სერვისის შესახებ.

## ВОПРОС 196

ПРАВИЛЬНЫЙ ОТВЕТ: 1



I



II



III



IV

Лæвæрд фæндагон нысæнттæй кæцы дæтты информаци æхсæнадæмон автомобилон ласинагты контролон пункты тыххæй?

1

I

2

II

3

III

4

IV

## განმარტება:

„საგზაო მოძრაობის შესახებ“ საქართველოს კანონის პირველი დანართის მე-6 თავის (სერვისის ნიშნები) 6.13 პუნქტის თანახმად, საგზაო ნიშანი 6.13 „საერთაშორისო საავტომობილო გადაზიდვების საკონტროლო პუნქტი“ საგზაო მოძრაობის მონაწილეებს აძლევს ინფორმაციას შესაბამისი ობიექტის ან სერვისის შესახებ.



Ләвәрд фәндагон нысан дәтты информации:

1

Æхсәнадæмон автомобилон ласинæгты контролон пункты уæвынады тыххæй

2

Патрулон полицийы посты уæвынады тыххæй

### განმარტება:

„საგზაო მოძრაობის შესახებ“ საქართველოს კანონის პირველი დანართის მე-6 თავის (სერვისის ნიშნები) 6.13 პუნქტის თანახმად, საგზაო ნიშანი 6.13 „საერთაშორისო საავტომობილო გადაზიდვების საკონტროლო პუნქტი“ საგზაო მოძრაობის მონაწილეებს აძლევენ ინფორმაციას შესაბამისი ობიექტის ან სერვისის შესახებ.



ლავერდ ფანდაგონ ნყსან დეტყ ინფორმაციყ:

1

Авариин куысты цур  
радиобастдзинады зонæйы  
уæвынады тыххæй

2

Фæндæгты змæлды тыххæй  
информацийы аддæттæг  
радиостанцийы райсæн зонæйы  
уæвынады тыххæй

### განმარტება:

„საგზაო მოძრაობის შესახებ“ საქართველოს კანონის პირველი დანართის მე-6 თავის (სერვისის ნიშნები) 6.14 პუნქტის თანახმად, საგზაო ნიშანი 6.14 „საგზაო მოძრაობის შესახებ ინფორმაციის გადამცემი რადიოსადგურის მიღების ზონა“ საგზაო მოძრაობის მონაწილეებს აძლევენ ინფორმაციას შესაბამისი ობიექტის ან სერვისის შესახებ.



ВОПРОС 199

ПРАВИЛЬНЫЙ ОТВЕТ: 2



I



II



III



IV

ლავერდ ფანდაგონ ნისაენტთაი კაეცი დატთი ინფორმაცი ფანდაგთი ზმელდთი თიხაი ინფორმაციი ადდაეტთაგ რადიოსტაციი რაისაენი ზონაიი უაევიანადთი თიხაი.

1

I

2

II

3

III

4

IV

განმარტება:

„საგზაო მოძრაობის შესახებ“ საქართველოს კანონის პირველი დანართის მე-6 თავის (სერვისის ნიშნები) 6.14 პუნქტის თანახმად, საგზაო ნიშანი 6.14 „საგზაო მოძრაობის შესახებ ინფორმაციის გადამცემი რადიოსადგურის მიღების ზონა“ საგზაო მოძრაობის მონაწილეებს აძლევს ინფორმაციას შესაბამისი ობიექტის ან სერვისის შესახებ.



ლავერდ ფანდაგონ ნისან დეტტი ინფორმაციი:

1

Аварион куысты цур  
радиобастдзинады зонæйы  
уæвынады тыххæй

2

Фæндæгты змæлды тыххæй  
информацийы аддæттæг  
радиостанцийы райсæн зонæйы  
уæвынады тыххæй

### განმარტება:

„საგზაო მოძრაობის შესახებ“ საქართველოს კანონის პირველი დანართის მე-6 თავის (სერვისის ნიშნები) 6.15 პუნქტის თანახმად, საგზაო ნიშანი 6.15 „საავარიო სამსახურთან რადიოკავშირის ზონა“ საგზაო მოძრაობის მონაწილეებს აძლევენ ინფორმაციას შესაბამისი ობიექტის ან სერვისის შესახებ.

ВОПРОС 201

ПРАВИЛЬНЫЙ ОТВЕТ: 3



I



II



III



IV

ლავერდ ფანდაგონ ნისენტთაჲ კაჲცჲ დჲტთჲ ინფორმაცი ავარიონ კუჲსთჲ ცურ რადიობასტდზინადჲ ზონაჲჲჲ უაჲვინადჲ თჲხჲაჲ?

1

I

2

II

3

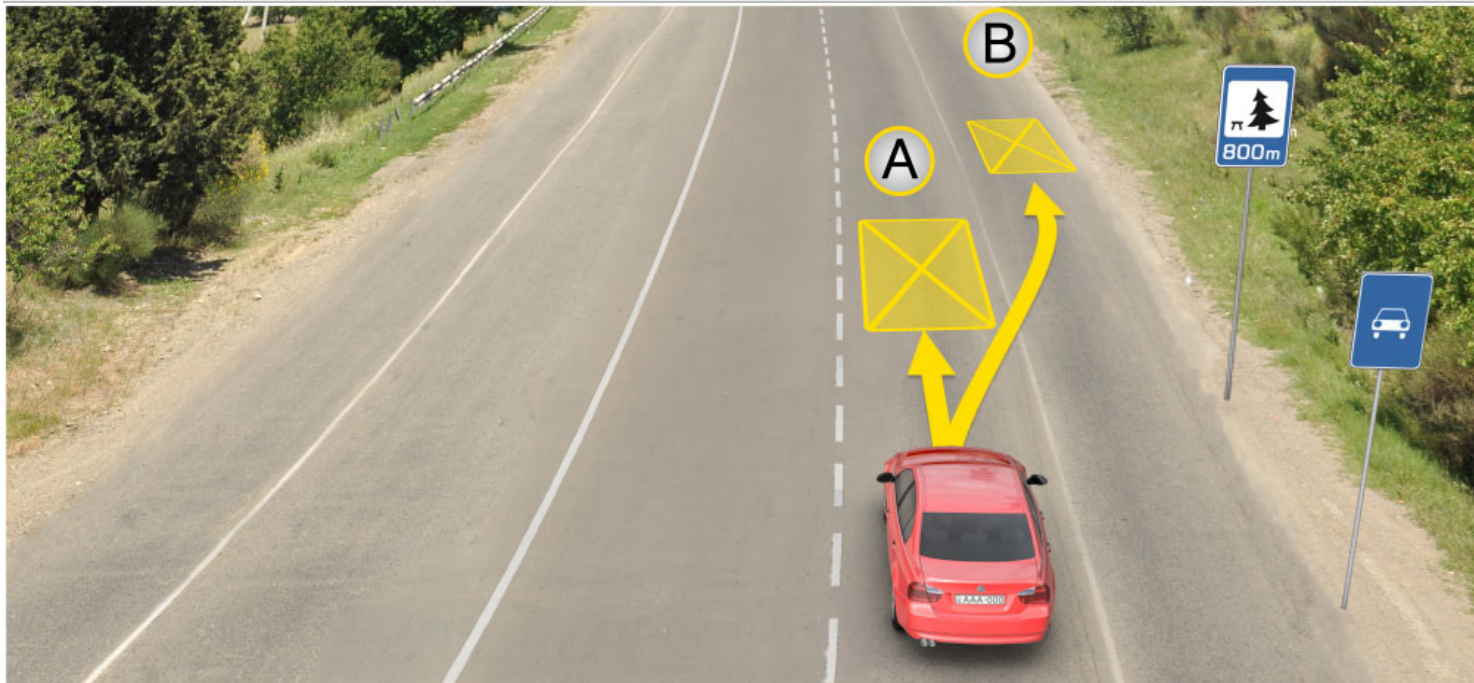
III

4

IV

განმარტება:

„საგზაო მოძრაობის შესახებ“ საქართველოს კანონის პირველი დანართის მე-6 თავის (სერვისის ნიშნები) 6.15 პუნქტის თანახმად, საგზაო ნიშანი 6.15 „საავარიო სამსახურთან რადიოკავშირის ზონა“ საგზაო მოძრაობის მონაწილეებს აძლევენ ინფორმაციას შესაბამისი ობიექტის ან სერვისის შესახებ.



ლავაერდ სიტუაციიყ, სკაერაეგენ ბარ ის დერგვაეტინ ულაფტი თыхხაყ автомобиль баурома:

1

A бынаты

2

B бынаты

3

800 метრмე специалон рахицаенгонд  
бынаты кәенә фәндадҗы фәлө

### განმარტება:

„საგზაო მოძრაობის შესახებ“ საქართველოს კანონის 37-ე მუხლის მე-11 პუნქტის თანახმად, დაუსახლებელ პუნქტში ხანგრძლივი დასვენების (ღამის გასათევად ან სხვა) მიზნით დგომა ნებადართულია, მხოლოდ ამისათვის განკუთვნილ სადგომზე ან გზის ფარგლებს მიღმა.

თემა 9:

## დამატებითი ინფორმაციის ნიშნები

---

**ВОПРОС 203**

ПРАВИЛЬНЫЙ ОТВЕТ: 1

**I****II****III****IV**

ლავარდ ტრაფარეტაჲ კაჲცა ამონა დარდძაგ ნასანაჲ თაჲსაგ ფადიდჲა რაიდიდმაჲ, ჯამბალონ არაენგონდ ბახაჲსაჲნ ბინატმაჲ კაენაჲ რაჲმაჲ, ჲმალდჲა ჯერდჲამადმაჲ უაჲვაგ კაჲცაიდარ აბჲექტჲა ანგ (ბინატჲა ანგ)?

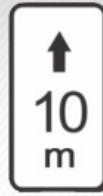
**1****I****2****II****3****III****4****IV****განმარტება:**

„საგზაო მოძრაობის შესახებ“ საქართველოს კანონის პირველი დანართის მე-8 თავის (დამატებითი ინფორმაციის ნიშნები (დაფები)) 8.1.1 პუნქტის თანახმად, დაფა 8.1.1 „მანძილი ობიექტამდე“ - მიუთითებს მანძილს ნიშნიდან სახიფათო მონაკვეთის დასაწყისამდე, სათანადო შეზღუდვის შემოტანის ადგილამდე ან წინ, მოძრაობის მიმართულებით არსებულ გარკვეულ ობიექტამდე (ადგილამდე).





I



II



III

ლავად უელამხას ინფორმაციის ნიშნით (ტრაფარეტით) კაცი ამონი ურად  
ამაე არლაუიანი ბარ ნე დეტაეგ ნიშნითი არხაიდი ზონაი?

1

ერმაესტ I ამაე III

2

ერმაესტ I

3

ერმაესტ II

4

ერმაესტ III

### განმარტება:

„სავაო მოძრაობის შესახებ“ საქართველოს კანონის პირველი დანართის მე-8 თავის (დამატებითი ინფორმაციის ნიშნები (დაფები)) 8.2.2 პუნქტის თანახმად, დაფა 8.2.2 „მოქმედების ზონა“- მიუთითებს 3.27–3.30 ამკრძალავი ნიშნების მოქმედების ზონას.



Лავერდ уәләмхас информацийы нысан (трафарет) амонь:

1

Дæрддзæг нысанæй тæссаг  
фæдыджы райдыдмæ

2

Урæды бар нæ дæттæг нысаны  
архайды зонæйы фæуды

3

Дæрддзæг фæндаджы иннæ фарс  
æввахс объектмæ

### განმარტება:

„საგზაო მოძრაობის შესახებ“ საქართველოს კანონის პირველი დანართის მე-8 თავის (დამატებითი ინფორმაციის ნიშნები (დაფები)) 8.2.3 პუნქტის თანახმად, დაფა 8.2.3 „მოქმედების ზონა“ - მიუთითებს 3.27–3.30 ამკრძალავი ნიშნების მოქმედების ზონის დასასრულს.



ლავად უელამხას ინფორმაციის ნისენტაი (ტრაფარეტაი) კაცი ამონი ურად ამე არლაუიანი ბარ ნე დეტაგ ნისენტის არხაიდი ზონაი ფეზუატი, ბესთხაი, ფასადი ამე ა.დ. იუ ფარსი აკომკამე?

1

ერმესტ II ამე IV

2

ერმესტ I ამე III

3

ერმესტ II

4

ერმესტ IV

### განმარტება:

„საგზაო მოძრაობის შესახებ“ საქართველოს კანონის პირველი დანართის მე-8 თავის (დამატებითი ინფორმაციის ნიშნები (დაფები)) 8.2.5 და 8.2.6 პუნქტის თანახმად, დაფები 8.2.5 და 8.2.6 „მოქმედების ზონა“ - 3.27–3.30 ნიშნების მოქმედების ზონა გაჩერებისა და დგომის აკრძალვისას მოედნის, შენობის ფასადისა და ა. შ. ერთი მხარის გასწვრივ.



I



II



III

ლავერდ უელამხას ინფორმაციის ნისენტაი (ტრაფარეტაი) კაცი ამონი  
ალვანდაგი რამა ავარდ ნისანი არხაიდი არდამადი კენა ჰმელდი არდამადი,  
ანამანგ ფანდაგმა ავახს ნისანგონდ ობიექტირდამ?

1

ერმესტ I

2

ერმესტ I ჯამა III

3

ერმესტ II

4

ერმესტ II ჯამა III

### განმარტება:

„საგზაო მოძრაობის შესახებ“ საქართველოს კანონის პირველი დანართის მე-8 თავის (დამატებითი ინფორმაციის ნიშნები (დაფები)) 8.3.1-8.3.3 პუნქტების თანახმად, დაფები 8.3.1-8.3.3 „მოქმედების მიმართულება“ - მიუთითებს გზაჯვარედინის წინ დადგმული ნიშნის მოქმედების მიმართულებას ან უშუალოდ გზასთან მდებარე აღნიშნული ობიექტისაკენ მოძრაობის მიმართულებას.

## ВОПРОС 208

ПРАВИЛЬНЫЙ ОТВЕТ: 3



I



II



III



IV

Лæвæрд фæндагон нысæнтты комбинацийæ, кæцыйы архайд парахат кæны куысты бонты?

1

Æрмæст III

2

Æрмæст I æмæ IV

3

Æрмæст II æмæ III

4

Æрмæст I

## განმარტება:

„საგზაო მოძრაობის შესახებ“ საქართველოს კანონის პირველი დანართის მე-8 თავის (დამატებითი ინფორმაციის ნიშნები (დაფები)) 8.5.2 პუნქტის თანახმად, დაფა 8.5.2 „სამუშაო დღეები“ - მიუთითებს კვირის დღეებზე, როცა მოქმედებს ნიშნები. ამავე თავის 8.5.5-8.5.7 პუნქტების თანახმად დაფები 8.5.5–8.5.7 „მოქმედების დრო“ - მიუთითებს კვირის დღეებსა და დღე-ღამის დროზე, როცა მოქმედებს ნიშანი.

## ВОПРОС 209

ПРАВИЛЬНЫЙ ОТВЕТ: 4



ორშაბათი -  
პარასკევი

I



8.00-17.30

II



8.00-17.30

III



8.00-17.30

IV

ლავაერდ ფანდაგონ ნისაენტთი კომბინაციე, კაეცი ამონი კუყურიყი ბონტი, კად არჰაიდჰენ ნისან?

1

ერმაესტ III ამაე IV

2

ერმაესტ I

3

ერმაესტ II ამაე III

4

ალკაეცი

## განმარტება:

„სავაო მოძრაობის შესახებ“ საქართველოს კანონის პირველი დანართის მე-8 თავის (დამატებითი ინფორმაციის ნიშნები (დაფები)) 8.5.2 და 8.5.3 პუნქტების თანახმად, დაფები 8.5.2 „სამუშაო დღეები“ და 8.5.3 „კვირის დღეები“ - მიუთითებენ კვირის დღეებზე, როცა მოქმედებს ნიშანი. ამავე თავის 8.5.5-8.5.7 პუნქტების თანახმად დაფები 8.5.5-8.5.7 „მოქმედების დრო“ - მიუთითებს კვირის დღეებსა და დღე-ღამის დროზე, როცა მოქმედებს ნიშანი.

## ВОПРОС 210

ПРАВИЛЬНЫЙ ОТВЕТ: 2



I



II

ლავადრ ფანდაგონ ნისაენტთი კომბინაციას, კაცყიყი არხაიდ ნა პარახატ კაენი ტრანსპორტონ ფერაჟთილ, კაცყითილ ავადრდ ის ბაზონინაგ ნისან “არაენგონდ გაენანდზინაჟდთი უავაგ გოიმაგ (инвалид)”?

1

ერმაესტ I

2

ერმაესტ II

3

დუუუაჟი

## განმარტება:

„საგზაო მოძრაობის შესახებ“ საქართველოს კანონის პირველი დანართის მე-8 თავის (დამატებითი ინფორმაციის ნიშნები (დაფები)) 8.18 პუნქტის თანახმად, დაფა 8.18 „გარდა შეზღუდული შესაძლებლობის მქონე პირისა“ - მიუთითებს, რომ ნიშნის მოქმედება არ ვრცელდება სატრანსპორტო საშუალებებზე, რომლებზედაც დადგმულია საცნობი ნიშანი „შეზღუდული შესაძლებლობის მქონე პირი“.





ლავერდ ფანდაგონ ნყან:

1

ჲეს კაენყ სკაერაგაენ ფანდაგ  
რატყ ცაეღერმაე აფყზაენ ფანდაგყლ  
ზმალგაე ტრანსპორტონ ფარაეზაენ

2

ბარ ნაე დაეყყ სკაერაგაენ ზმალდ  
ადარგყ კაენა აენაე არურომგაეყაე:

3

ამონყ ჲყნ ტრანსპორტონ ფარაეზყ  
ურამაენ ბყნატყ, რეგულიგვატგონდ  
ალვანდაგყ (перекрестокყ) ამაე  
აენარეგულირვატგონდ  
აეფსაენვანდაგონ აფყზაენტყლ

### განმარტაბა:

„საგზაო მოძრაობის შესახებ“ საქართველოს კანონის პირველი დანართის მე-7 თავის (საინფორმაციო-მაჩვენებელი ნიშნები) 7.16 პუნქტის თანახმად, 7.16 „სდეყ ხაზი“ - მიუთითებს სატრანსპორტო საშუალების გაჩერების ადგილს რეგულირებულ გზაჯვარედინსა და არარეგულირებულ რკინიგზის გადასასვლელზე.



ლავადრ ფანდაგონ ნისანტთი კომბინაცი სკაერაგან ამონი, ცამაჲ:

1

ნისანაჲ 300 მეტრი დერდძაგჲლ სკაერაგ ხაესდჲნ უ ფანდაგ რატა ფემბალაგ ტრანსპონტონ ფერაჲჲნ

2

ნისანაჲ 300 მეტრი ფაესტა ის ფანდადჲი უინგაგ ფადჲგ, ცჲრან სკაერაგ ხაესდჲნ უ ფანდაგ რატა ფემბალაგ ტრანსპონტონ ფერაჲჲნ

3

რაჲდაჲდჲან დჲვარსონ ჲმალან ფანდადჲი ფადჲგ, ამაჲ 300 მეტრი დერდძაგჲლ სკაერაგ ხაესდჲნ უ, ფანდაგ რატა ფემბალაგ ტრანსპონტონ ფერაჲჲნ

### განმარტება:

„საგზაო მოძრაობის შესახებ“ საქართველოს კანონის პირველი დანართის მე-2 თავის (პრიორიტეტის ნიშნები) 2.5 პუნქტის თანახმად, 2.5 „შემხვედრი მოძრაობის უპირატესობა“- უკრძალავს მძღოლს გზის ვიწრო მონაკვეთზე შესვლას, თუ ეს აძნელებს საპირისპირო მიმართულებით მოძრაობას. მძღოლი ვალდებულია გზა დაუთმოს შემხვედრ სატრანსპორტო საშუალებას, რომელიც მოპირდაპირე მისასვლელთან ან გზის ვიწრო მონაკვეთზე იმყოფება. ამავე დანართის მე-8 თავის (დამატებითი ინფორმაციის ნიშნები (დაფები)) 8.1.1 პუნქტის თანახმად, დაფა 8.1.1 „მანძილი ობიექტამდე“ - მიუთითებს მანძილს ნიშნიდან სახიფათო მონაკვეთის დასაწყისამდე, სათანადო შეზღუდვის შემოღების ადგილამდე ან წინ, მოძრაობის მიმართულებით არსებულ გარკვეულ ობიექტამდე (ადგილამდე).



ლავაერდ ფანდაგონ ნისაენტთა სკაერაგენ დატყინც ინფორმაციის, ცამაჲ ნისანი ავარდის ბინათაჲ რამაჲ:

**1**

400 მტრის დერდდაგჲს ანამავაჲ (კუჲუჲპჲტაჲ-დჲჲჲჲჲჲტაჲ) ფანდაგ, ცჲრან რეკომენდაციგონდ უ ჰმალდ 30 კმ/საჲ ტაგდადაჲ

**2**

400 მტრის ფაჲსტაჲ რაჲდაჲდჲან ანამავაჲ (კუჲუჲპჲტაჲ-დჲჲჲჲჲჲტაჲ) ფანდაგ, ცჲრან რეკომენდაციგონდ უ ჰმალდ 30 კმ/საჲ ტაგდადაჲ


**3**

150-300 მტრის ფაჲსტაჲ რაჲდაჲდჲან 400 მტრის დერგჲმაჲ ანამავაჲ (კუჲუჲპჲტაჲ-დჲჲჲჲჲჲტაჲ) ფანდაგ, ცჲრან რეკომენდაციგონდ უ ჰმალდ 30 კმ/საჲ ტაგდადაჲ

### განმარტჲბა:

„საგზაო მოძრაობის შესახებ“ საქართველოს კანონის პირველი დანართის პირველი თავის (მაფრთხილებელი ნიშნები) 1.17 პუნქტისა და ამავე თავის შენიშვნის „ა“ ქვეპუნქტის თანახმად, საგზაო ნიშანი 1.17 „უსწორმასწორო გზა“ - გზის მონაკვეთი, რომლის სავალი ნაწილი დაზიანებულია ტალღოვანი, ღრანტეებიანი, ხიდთან უსწორმასწორო შეუღლებებით და ა. შ.. 1.1, 1.2, 1.5–1.34 ნიშნები დაუსახლებელ პუნქტში იდგმება სახიფათო მონაკვეთის დასაწყისამდე 150–300 მეტრ მანძილზე. ამავე დანართის მე-8 თავის (დამატებითი ინფორმაციის ნიშნები (დაფები)) 8.2.1 პუნქტის თანახმად, დაფა 8.2.1 „მოქმედების ზონა“ - მიუთითებს მაფრთხილებელი ნიშნით აღნიშნული გზის სახიფათო მონაკვეთის სიგრძეს, ან ამკრძალავი და საინფორმაციო-მაჩვენებელი ნიშნის მოქმედების ზონას. ამავე დანართის მე-7 თავის (საინფორმაციო-მაჩვენებელი ნიშნები) 7.2 პუნქტის თანახმად, საგზაო ნიშანი 7.2 „რეკომენდებული სიჩქარე“ - მიუთითებს სიჩქარეს, რომლითაც რეკომენდებულია მოძრაობა გზის მოცემულ მონაკვეთზე. ნიშანი იდგმება გზის დასაწყისში. ნიშნის მოქმედება ვრცელდება უახლოეს გზაჯვარედინამდე, ხოლო მაფრთხილებელ ნიშანთან ერთად – სახიფათო უბნის მთელ სიგრძეზე.





ლავადრდ სიტუაციის, იყნ ბარ ის ჯვი ნა ურს ავტომობილს სკაერაგან ფატადჯი (სტრელკაჟი) ჯერდამადმა ჰმელყნ?

1

ბარ ყნ ნაჟ

2

ბარ ყნ ის

### განმარტება:

„საგზაო მოძრაობის შესახებ“ საქართველოს კანონის პირველი დანართის მე-4 თავის (მიმთითებელი ნიშნები) 4.1.1 პუნქტის შენიშვნის „ა“ ქვეპუნქტის თანახმად, საგზაო ნიშანი 4.1.1 „მოძრაობა პირდაპირ“ რთავს მხოლოდ ისრებით ნაჩვენები მიმართულებებით მოძრაობის ნებას. ამავე დანართის მე-8 თავის (დამატებითი ინფორმაციის ნიშნები (დაფები)) 8.18 პუნქტის თანახმად, დაფა 8.18 „გარდა შემლუდული შესაძლებლობის მქონე პირისა“ - მიუთითებს, რომ ნიშნის მოქმედება არ ვრცელდება სატრანსპორტო საშუალებაზე, რომელზედაც დამაგრებულია საცნობი ნიშანი „შემლუდული შესაძლებლობის მქონე პირი“.



ლავაერდ სიტუაციის, იყნ ბარ ის ავი ნა ბურ ავტომობილს სკაერაგენ ფატადჯი (стрелკაჲი) აერდამადმა ჰმელყნ?

1

ბარ ყნ ნაჲ

2

ბარ ყნ ის

### განმარტება:

„საგზაო მოძრაობის შესახებ“ საქართველოს კანონის პირველი დანართის მე-4 თავის (მიმთითებელი ნიშნები) 4.1.1 პუნქტის შენიშვნის „ა“ ქვეპუნქტის თანახმად, საგზაო ნიშანი 4.1.1 „მოძრაობა პირდაპირ“ რთავს მხოლოდ ისრებით ნაჩვენები მიმართულებებით მოძრაობის ნებას. ამავე დანართის მე-8 თავის (დამატებითი ინფორმაციის ნიშნები (დაფები)) 8.18 პუნქტის თანახმად, დაფა 8.18 „გარდა შემლუდული შესაძლებლობის მქონე პირისა“ - მიუთითებს, რომ ნიშნის მოქმედება არ ვრცელდება სატრანსპორტო საშუალებაზე, რომელზედაც დამაგრებულია საცნობი ნიშანი „შემლუდული შესაძლებლობის მქონე პირი“.



Лæвæрд фæндагон нысан скъæрæгæн амоны, цæмæй нысаны æвæрды бынатæй размæ:

1

300 метры дæрддзæгыл змæлды бар нæй 50 км/саҳ фылдæр тагъдадæй

2

300 метры фæстæ змæлды бар нæй 50 км/саҳ фылдæр тагъдадæй

### განმარტება:

„საგზაო მოძრაობის შესახებ“ საქართველოს კანონის პირველი დანართის მე-3 თავის (ამკრძალავი ნიშნები) 3.24 პუნქტის თანახმად, საგზაო ნიშნი 3.24 „მაქსიმალური სიჩქარის შეზღუდვა“ - კრძალავს მოძრაობას ნიშანზე აღნიშნულზე მეტი სიჩქარით(კმ/სთ). ამავე დანართის მე-8 თავის (დამატებითი ინფორმაციის ნიშნები (დაფები)) 8.2.1 პუნქტის თანახმად, დაფა 8.2.1 „მოქმედების ზონა“ - მიუთითებს მაფრთხილებელი ნიშნით აღნიშნული გზის სახიფათო მონაკვეთის სიგრძეს, ან ამკრძალავი და საინფორმაციო-მაჩვენებელი ნიშნის მოქმედების ზონას.



Лæвæрд фæндагон нысæнтты комбинаци скъæрæгæн амоны, цæмæй нысæнтты æвæрды бынатæй размæ:

1

300 метры дæрддзæгыл змæлды бар ис, иуыл фылдæр 50 км/сах тагъдадæй

2

300 метры фæстæ змæлды бар ис, иуыл фылдæр 50 км/сах фылдæр тагъдадæй

### ბანმარტუბა:


„საგზაო მოძრაობის შესახებ“ საქართველოს კანონის პირველი დანართის მე-3 თავის (ამკრძალავი ნიშნები) 3.24 პუნქტის თანახმად, საგზაო ნიშნი 3.24 „მექსიმალური სიჩქარის შეზღუდვა“ - კრძალავს მოძრაობას ნიშანზე აღნიშნულზე მეტი სიჩქარით(კმ/სთ). ამავე დანართის მე-8 თავის (დამატებითი ინფორმაციის ნიშნები (დაფები)) 8.1.1 პუნქტის თანახმად, დაფა 8.1.1 „მანძილი ობიექტამდე“ - მიუთითებს მანძილს ნიშნიდან სახიფათო მონაკვეთის დასაწყისამდე, სათანადო შეზღუდვის შემოღების ადგილამდე ან წინ, მოძრაობის მიმართულებით არსებულ გარკვეულ ობიექტამდე (ადგილამდე).



თემა 10:

## პუნიშის სიგნალები

---



Ис ын æви нæ сырх автомобили скъæрæгæн фатæджы (стрелкæйы) æрдæмадмæ змæлд адаргъ кæныны бар, кæд æмæ рухснысаны (светофоры) цъæх рухсы сигналы фæстæ, бур рухсы сигналы сиуы рæстæджы æнæ цæхгæр æртормоз кæнгæйæ уымæн йæ бон нæ уыд «стоп» хаххыл бауromын?

1


Ис ын бар

2

Нæй йын бар.

### განმარტება:

„საგზაო მოძრაობის შესახებ“ საქართველოს კანონის 29-ე მუხლის მე-14 პუნქტის თანახმად, მძღოლს, რომელსაც ყვითელი მაშუქი სიგნალის ჩართვის დროს მკვეთრად დამუხრუჭების გარეშე არ შეუძლია გაჩერდეს ამ მუხლის მე-13 პუნქტით განსაზღვრულ ადგილებში, უფლება აქვს, განაგრძოს მოძრაობა. ამავე კანონის 36-ე მუხლის მე-3 პუნქტის „ვ“ ქვეპუნქტის თანახმად, რეგულირებულ გზაჯვარედინზე, შექნიშნის ნებადართველი სიგნალის ჩართვისას მძღოლი ვალდებულია გზა დაუთმოს იმ სატრანსპორტო საშუალებას, რომელიც ამთავრებს გზაჯვარედინზე გადასვლას, და ქვეითს, რომელმაც ვერ დაამთავრა სავალ ნაწილზე გადასვლა მოცემული მიმართულებით.



Кæцы аутомобилы скъæრæгæн лæвæрд цæуы уæлбар фатæджы (стрелкæйы) æрдæмæдмæ змæлды рæстæджы?

1


Бур аутомобилы скъæრæгæн

2

Цъæх аутомобилы скъæრæгæн

### განმარტება:

„საგზაო მოძრაობის შესახებ“ საქართველოს კანონის 36-ე მუხლის მე-3 პუნქტის „ბ“ ქვეპუნქტების თანახმად, რეგულირებულ გზაჯვარედინზე, შეუნიშნის დამატებით სექციაში ძირითად ყვითელ ან წითელ მაშუქ სიგნალთან ერთად ჩართული ისრის მიმართულებით მოძრაობისას, სატრანსპორტო საშუალების მძღოლი ვალდებულია გზა დაუთმოს სხვა მიმართულებიდან მოძრავ სატრანსპორტო საშუალებას.



Хәсджын у æви нæ рог автомобили скъæрæг фæндаг ратта автобусы скъæрæгæн, кæцы фæуд кæны алвæндагыл (перекрестокыл) ахизын?

1

Хәсджын у


2

Нæу хәсджын

### განმარტება:

„საგზაო მოძრაობის შესახებ“ საქართველოს კანონის 29-ე მუხლის მე-14 პუნქტის თანახმად, მძღოლს, რომელსაც ყვითელი მაშუქი სიგნალის ჩართვის დროს მკვეთრად დამუხრუჭების გარეშე არ შეუძლია გაჩერდეს ამ მუხლის მე-13 პუნქტით განსაზღვრულ ადგილებში, უფლება აქვს, განაგრძოს მოძრაობა. ამავე კანონის 36-ე მუხლის მე-3 პუნქტის „ვ“ ქვეპუნქტის თანახმად, რეგულირებულ გზაჯვარედინზე, შექნიშნის ნებადამრთველი სიგნალის ჩართვისას მძღოლი ვალდებულია გზა დაუთმოს იმ სატრანსპორტო საშუალებას, რომელიც ამთავრებს გზაჯვარედინზე გადასვლას, და ქვეითს, რომელმაც ვერ დაამთავრა სავალ ნაწილზე გადასვლა მოცემული მიმართულებით.





Кæцы транспортон фæрæзы скъæრæг фехалдзæн фæндæгты змæлды уагæвæрдтæ фатæджы (стрелкæйы) æрдæмадмæ змæлды рæстæджы?

1


Урс автомобили скъæрæг

2

Бур автомобили скъæрæг

### განმარტება:

„საგზაო მოძრაობის შესახებ“ საქართველოს კანონის 32-ე მუხლის მე-5 პუნქტის თანახმად, გარდა იმ შემთხვევისა, როცა მოხვევა სრულდება გზატკარციდინზე გასასვლელად, სადაც წრიული მოძრაობაა ორგანიზებული, მარჯვნივ ან მარცხნივ მოხვევის წინ, აგრეთვე მობრუნების წინ სატრანსპორტო საშუალების მძღოლი ვალდებულია დროულად დაიკავოს შესაბამისი განაპირა მდებარეობა სავალ ნაწილზე, რომელიც თანმხვედრი მიმართულებით მოძრაობისთვისაა განკუთვნილი.



Кæцы автомобили скъæრæгæн бар нæй фатæджы (стрелкæйы) æрдæмадмæ змæлын рухснысаны (светофоры) ацы сигналмæ, кæд æмæ алвæндаджы (перекрестокы) фæстæ транспортон фæрæзтæй блокадæгонд у цæуæн хай?

1

Æрмæст фæныкхуыз автомобили скъæრæгæн

2

Æрмæст бур автомобили скъæრæгæн

3

Нæдæр иу (никæцы) автомобили скъæრæгæн

4

Дыууæ автомобили скъæрæгæн дæр

### ბანმარტუბა:

„საგზაო მოძრაობის შესახებ“ საქართველოს კანონის 36-ე მუხლის მე-5 პუნქტის თანახმად, მძღოლი არ უნდა გავიდეს გზაჯვარედინზე, თუ შექმნილია ისეთი ხერგილი, რომ იგი, სავარაუდოდ, იძულებული გახდება, გაჩერდეს გზაჯვარედინზე და ამით დააბრკოლოს განივი მიმართულებით მოძრაობა. ეს წესი მოქმედებს მაშინაც, თუ შექმნიშნის მაშუქი სიგნალები იძლევა მოძრაობის უფლებას.



Кæцы транспортон фæрæзы скъæრæгæн фæзындзæн фæндаг раттыны хæсдзинад фатæджы (стрелкæйы) æрдæмадмæ змæлды рæстæджы?

1

Рог автомобили скъæრæгæн

2

Трамвайы скъæрæгæн

### განმარტება:

„საგზაო მოძრაობის შესახებ“ საქართველოს კანონის 36-ე მუხლის მე-3 პუნქტის „გ“ ქვეპუნქტის თანახმად, რეგულირებულ გზაჯვარედინზე, თუ შექნიშნის ან მარეგულირებლის სიგნალები ერთდროულად მოძრაობის ნებას რთავს რელსიან და ურელსო სატრანსპორტო საშუალებებს, რელსიან სატრანსპორტო საშუალებას აქვს უპირატესობა, მიუხედავად მისი მოძრაობის მიმართულებისა, მაგრამ შექნიშნის დამატებით სექციაში ძირითად ყვითელ ან წითელ მაშუქ სიგნალთან ერთად ჩართული ისრის მიმართულებით მოძრაობისას რელსიანი სატრანსპორტო საშუალების მძღოლი ვალდებულია გზა დაუთმოს სხვა მიმართულებიდან მოძრავ სატრანსპორტო საშუალებას.





Кæцы транспортон фæрæзы скъæრæгæн фæзындзæн фæндаг раттыны хæсдзинад фатæджы (стрелкæйы) æрдæмадмæ змæлды рæстæджы?

1


Рог автомобили скъæрæгæн

2

Трамвайы скъæрæгæн

### განმარტება:

„საგზაო მოძრაობის შესახებ“ საქართველოს კანონის 36-ე მუხლის მე-3 პუნქტის „გ“ ქვეპუნქტის თანახმად, რეგულირებულ გზაჯვარედინზე, თუ შექნიშნის ან მარეგულირებლის სიგნალები ერთდროულად მოძრაობის ნებას რთავს რელსიან და ურელსო სატრანსპორტო საშუალებებს, რელსიან სატრანსპორტო საშუალებას აქვს უპირატესობა, მიუხედავად მისი მოძრაობის მიმართულებისა, მაგრამ შექნიშნის დამატებით სექციაში ძირითად ყვითელ ან წითელ მაშუქ სიგნალთან ერთად ჩართული ისრის მიმართულებით მოძრაობისას რელსიანი სატრანსპორტო საშუალების მძღოლი ვალდებულია გზა დაუთმოს სხვა მიმართულებიდან მოძრავ სატრანსპორტო საშუალებას.



Кæцы транспортон фæрæзы скъæრæгæн фæзындзæн фæндаг раттыны хæсдзинад фатæджы (стрелкæйы) æрдæмадмæ змæлды рæстæджы?

1

Рог аутомобилы скъæрæгæн


2

Трамвайы скъæрæгæн

### განმარტება:

„საგზაო მოძრაობის შესახებ“ საქართველოს კანონის 36-ე მუხლის მე-3 პუნქტის „გ“ ქვეპუნქტის თანახმად, რეგულირებულ გზაჯვარედინზე, თუ შექნიშნის ან მარეგულირებლის სიგნალები ერთდროულად მოძრაობის ნებას რთავს რელსიან და ურელსო სატრანსპორტო საშუალებებს, რელსიან სატრანსპორტო საშუალებას აქვს უპირატესობა, მიუხედავად მისი მოძრაობის მიმართულებისა, მაგრამ შექნიშნის დამატებით სექციაში ძირითად ყვითელ ან წითელ მაშუქ სიგნალთან ერთად ჩართული ისრის მიმართულებით მოძრაობისას რელსიანი სატრანსპორტო საშუალების მძღოლი ვალდებულია გზა დაუთმოს სხვა მიმართულებიდან მოძრავ სატრანსპორტო საშუალებას.





Кæцы транспортон фæрæзы скъæრæгæн фæзындзæн фæндаг раттыны хæсдзинад фатæджы (стрелкæйы) æрдæмадмæ змæлды рæстæджы?

1


Трамвайы скъæрæгæн

2

Рог автомобили скъæрæгæн

### განმარტება:

„საგზაო მოძრაობის შესახებ“ საქართველოს კანონის 36-ე მუხლის მე-3 პუნქტის „გ“ ქვეპუნქტის თანახმად, რეგულირებულ გზაჯვარედინზე, თუ შექნიშნის ან მარეგულირებლის სიგნალები ერთდროულად მოძრაობის ნებას რთავს რელსიან და ურელსო სატრანსპორტო საშუალებებს, რელსიან სატრანსპორტო საშუალებას აქვს უპირატესობა, მიუხედავად მისი მოძრაობის მიმართულებისა, მაგრამ შექნიშნის დამატებით სექციაში ძირითად ყვითელ ან წითელ მაშუქ სიგნალთან ერთად ჩართული ისრის მიმართულებით მოძრაობისას რელსიანი სატრანსპორტო საშუალების მძღოლი ვალდებულია გზა დაუთმოს სხვა მიმართულებიდან მოძრავ სატრანსპორტო საშუალებას.



Кæцы автомобили скъæрæгæн фæзындзæн фæндаг раттыны хæсдзинад фатæджы (стрелкæйы) æрдæмадмæ змæлды рæстæджы?

1

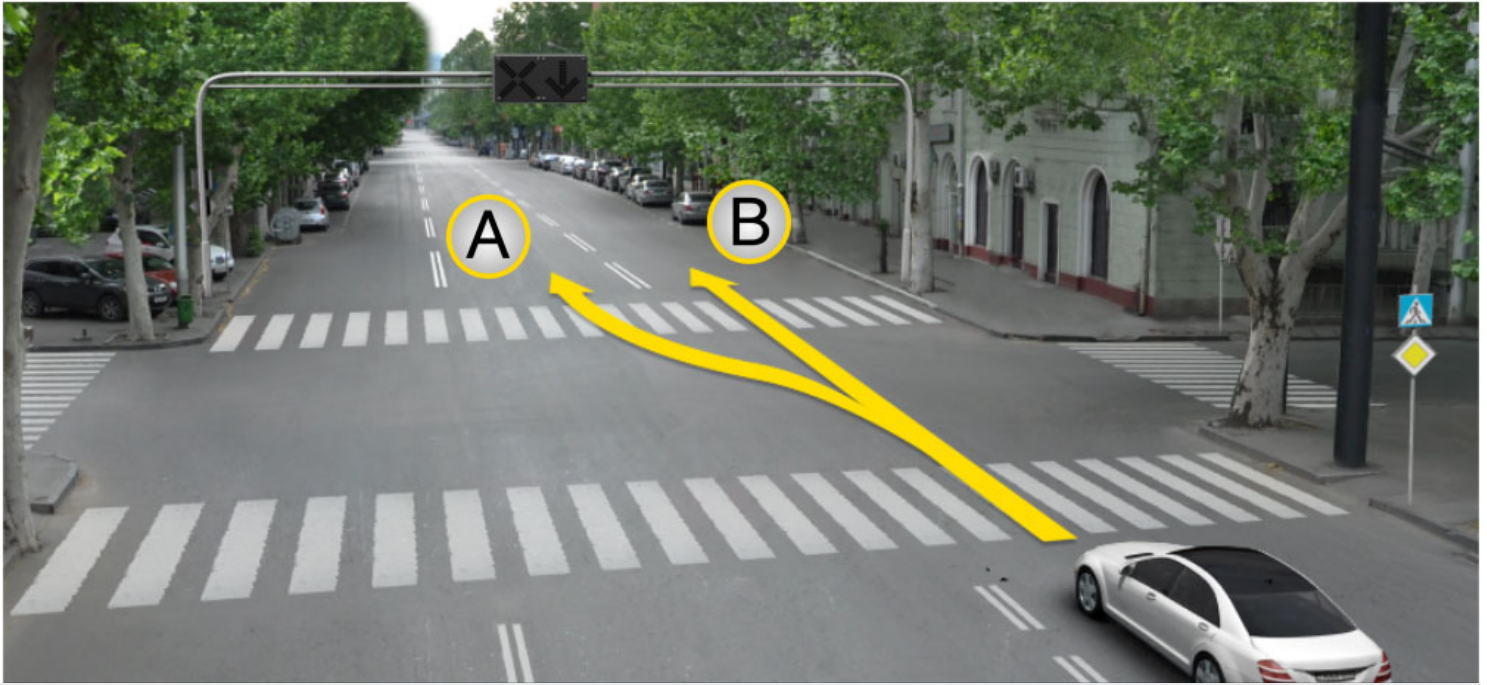
Бур автомобили скъæрæгæн

2

Æрвхуыз (цъæх) автомобили скъæрæгæн

### განმარტება:

„საგზაო მოძრაობის შესახებ“ საქართველოს კანონის 36-ე მუხლის მე-3 პუნქტის „ბ“ ქვეპუნქტის თანახმად, რეგულირებულ გზაჯვარედინზე, შეუნიშნის დამატებით სექციაში ძირითად ყვითელ ან წითელ მაშუქ სიგნალთან ერთად ჩართული ისრის მიმართულებით მოძრაობისას სატრანსპორტო საშუალების მძღოლი ვალდებულია გზა დაუთმოს სხვა მიმართულებიდან მოძრავ სატრანსპორტო საშუალებას.



Рог автомобили скъæрæгæн бар ис адаргъ кæна змæлд:

1

A æрдæмадмæ

2

B æрдæмадмæ


3

Куыд A, афтæ B æрдæмадмæ

### განმარტება:

„საგზაო მოძრაობის შესახებ“ საქართველოს კანონის 29-ე მუხლის მე-4 პუნქტის ქვეპუნქტის თანახმად, სატრანსპორტო საშუალების მოძრაობის რეგულირებისათვის გზის საჯარი ნაწილის ზოლებზე, სადაც მოძრაობის მიმართულება საპირისპიროდ იცვლება, გამოიყენება რევერსული შუქნიშანი წითელი X ნიშნის მაშუქი სიგნალითა და ქვემოთ მიმართული მწვანე ისრით. ეს სიგნალი და ისარი შესაბამისად იმ ზოლზე მოძრაობას კრძალავს ან იმ ზოლზე მოძრაობის ნებას რთავს, რომლის ზემოთაც ისინია განლაგებული. რევერსული შუქნიშნის ძირითად ფერად მაშუქ სიგნალებს შეიძლება დაემატოს დიაგონალურად ქვემოთ – მარჯვნივ ან მარცხნივ დახრილი ისრის მქონე ყვითელი ან თეთრი მაშუქი სიგნალი, რომლის ჩართვა იტყობინება ფერადი მაშუქი სიგნალის შემდგომი შეცვლისა და ისრით მითითებულ ზოლზე გადასვლის ვალდებულების შესახებ. ორივე მხრიდან 1.9 საგზაო მონიშვნით აღნიშნული ზოლის ზემოთ მდებარე გამორთული რევერსული შუქნიშანი კრძალავს ამ ზოლზე გასვლას.





როგო ავტომობილს სკაერაგენ ბარ ის ადარგა კენა ჰმელდ:

1

A ჯერდამადმა

2


B ჯერდამადმა

3

კუიდ A, აფტა B ჯერდამადმა

### განმარტება:

„საგზაო მოძრაობის შესახებ“ საქართველოს კანონის 29-ე მუხლის მე-4 პუნქტის ქვეპუნქტის თანახმად, სატრანსპორტო საშუალების მოძრაობის რეგულირებისათვის გზის სავალი ნაწილის ზოლებზე, სადაც მოძრაობის მიმართულება საპირისპიროდ იცვლება, გამოიყენება რევერსული შუქნიშანი წითელი X ნიშნის მაშუქი სიგნალითა და ქვემოთ მიმართული მწვანე ისრით. ეს სიგნალი და ისარი შესაბამისად იმ ზოლზე მოძრაობას კრძალავს ან იმ ზოლზე მოძრაობის ნებას რთავს, რომლის ზემოთაც ისინია განლაგებული. რევერსული შუქნიშნის ძირითად ფერად მაშუქ სიგნალებს შეიძლება დაემატოს დიაგონალურად ქვემოთ – მარჯვნივ ან მარცხნივ დახრილი ისრის მქონე ყვითელი ან თეთრი მაშუქი სიგნალი, რომლის ჩართვა იტყობინება ფერადი მაშუქი სიგნალის შემდგომი შეცვლისა და ისრით მითითებულ ზოლზე გადასვლის ვალდებულების შესახებ. ორივე მხრიდან 1.9 საგზაო მონიშვნით აღნიშნული ზოლის ზემოთ მდებარე გამორთული რევერსული შუქნიშანი კრძალავს ამ ზოლზე გასვლას.



Кაეცჲ აერდაჲმადმაჲ ჲაენ ის გაენაენ სჲრჲ ავტომობილჲ სკჲაერაგაენ, ადარგჲ კაენა ჲმაჲლდ რუხსნჲსანჲ (სვტოფორჲ) აცჲ სიგნალჲლ?

1

აერმაჲსტ კომკომმაჲ აჲმაჲ გალიუმჲ

2

აერმაჲსტ რაჲიზმაჲ

3

აერმაჲსტ კომკომმაჲ აჲმაჲ რაჲიზმაჲ

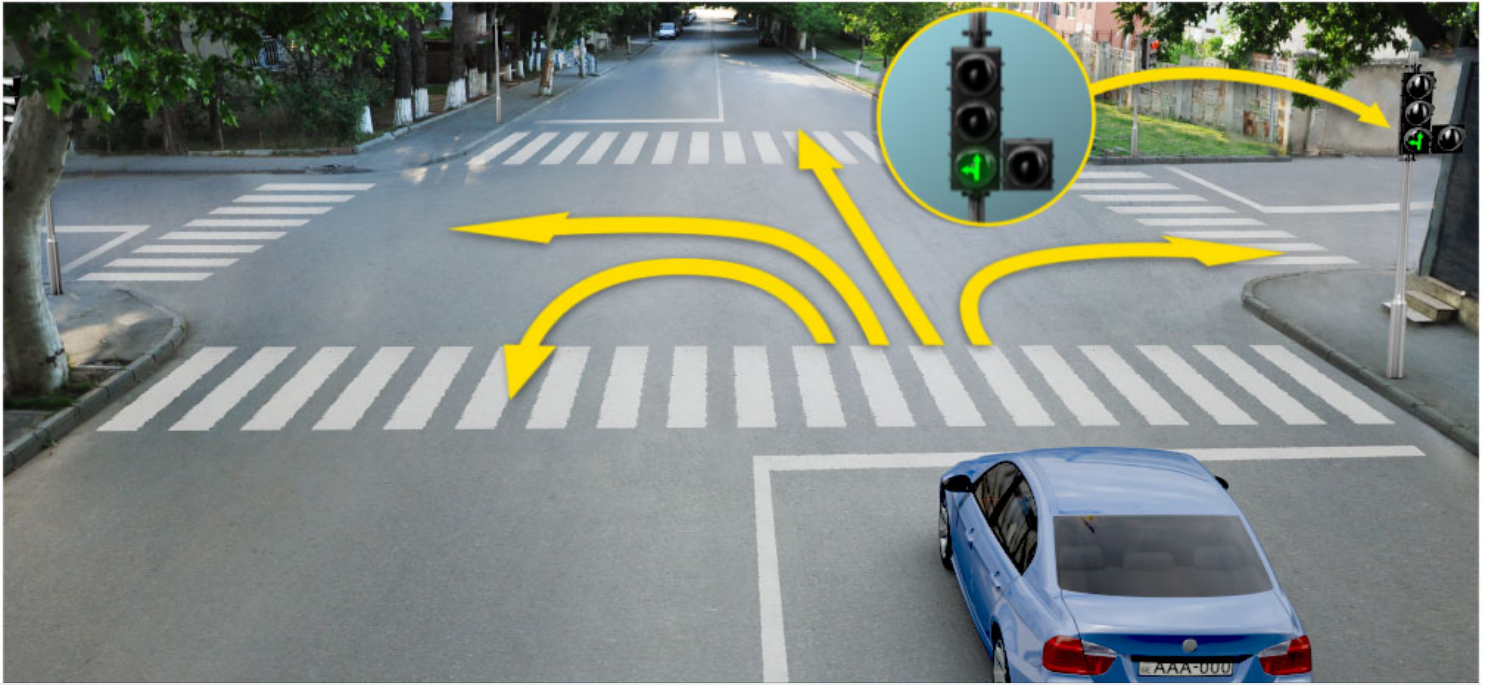
4

კაეცჲფაენდჲ აერდაჲმადმაჲ

### განმარტება:

„საგზაო მოძრაობის შესახებ“ საქართველოს კანონის 29-ე მუხლის მე-2 პუნქტის „ე“ ქვეპუნქტისა და მე-10 პუნქტის თანახმად: 2. შუენიშნის მაშუქ სიგნალებს აქვთ შემდეგი მნიშვნელობა: ე) მწვანე მაშუქი სიგნალი რთავს მოძრაობის ნებას. 10. მწვანე, ყვითელ და წითელ მაშუქ სიგნალებს, რომლებზედაც გამოსახულია ისარი/ისრები, იგივე მნიშვნელობა აქვს, რაც შესაბამისი ფერის უისრო მაშუქ სიგნალებს, მაგრამ მათი მოქმედება ვრცელდება მხოლოდ ისრით/ისრებით მითითებული მიმართულებით/მიმართულებებით. ამასთანავე, ისარი, რომელიც მარცხნივ მოხვევის ნებას რთავს, მობრუნების უფლებასაც იძლევა, თუ ეს აკრძალული არ არის შესაბამისი საგზაო ნიშნით ან საგზაო მონიშვნით. იგივე მნიშვნელობა აქვს შუენიშნის დამატებით სექციაში მწვანე მაშუქ სიგნალზე გამოსახულ ისარს. შუენიშნის დამატებითი სექციის გამორთული მაშუქი სიგნალი იტყობინება, რომ ამ სექციით რეგულირებული მიმართულებით მოძრაობა აკრძალულია.





Кæцы æрдæмадмæ йæн ис гæнæн цъæх автомобили скъæრæгæн, адаргъ кæна змæлд рухснысаны (светофоры) ацы сигналыл?

1

Æрмæст комкоммæ æмæ галиუმæ

2

Æрмæст рахизмæ

3


Æрмæст комкоммæ æмæ рахизмæ

4

Æрмæст комкоммæ, галиუმæ æмæ  
фæстæрдæмадмæ (разилын)

### ბანმარტუბა:

„საგზაო მოძრაობის შესახებ“ საქართველოს კანონის 29-ე მუხლის მე-2 პუნქტის „ე“ ქვეპუნქტის და მე-10 პუნქტის თანახმად: 2. შუქნიშნის მაშუქ სიგნალებს აქვთ შემდეგი მნიშვნელობა: ე) მწვანე მაშუქი სიგნალი რთავს მოძრაობის ნებას. 10. მწვანე, ყვითელ და წითელ მაშუქ სიგნალებს, რომლებზედაც გამოსახულია ისარი/ისრები, იგივე მნიშვნელობა აქვს, რაც შესაბამისი ფერის უისრო მაშუქ სიგნალებს, მაგრამ მათი მოქმედება ვრცელდება მხოლოდ ისრით/ისრებით მითითებული მიმართულებით/მიმართულებებით. ამასთანავე, ისარი, რომელიც მარცხნივ მოხვევის ნებას რთავს, მობრუნების უფლებასაც იძლევა, თუ ეს აკრძალული არ არის შესაბამისი საგზაო ნიშნით ან საგზაო მონიშვნით. იგივე მნიშვნელობა აქვს შუქნიშნის დამატებით სექციაში მწვანე მაშუქ სიგნალზე გამოსახულ ისარს. შუქნიშნის დამატებითი სექციის გამორთული მაშუქი სიგნალი იტყობინება, რომ ამ სექციით რეგულირებული მიმართულებით მოძრაობა აკრძალულია.



Хәсджын у æви нæ рог автомобили скъæрæг фæндаг ратта фистæджытæн фатæджы (стрелкæйы) æрдæмадмæ змæлды рæстæджы?

1

У хæсджын

2

Нæу хæсджын

### განმარტება:

„საგზაო მოძრაობის შესახებ“ საქართველოს კანონის 25-ე მუხლის მე-2 პუნქტის „ა“ ქვეპუნქტის თანახმად, ქვეითთა გადასასვლელზე ამ კანონის 21-ე მუხლის მე-6 პუნქტით, 33-ე მუხლის მე-2 პუნქტითა და 34-ე მუხლის მე-11 პუნქტით დადგენილ მოთხოვნათა დაცვით უნდა შესრულდეს შემდეგი მოთხოვნები: ა) თუ სატრანსპორტო საშუალებათა მოძრაობა საგზაო შუქნიშნით ან მარეგულირებლის მეშვეობით რეგულირდება, მოძრაობის ამკრძალავი სიგნალის დროს მძღოლი უნდა გაჩერდეს ქვეითთა გადასასვლელის წინ ან მის წინ მდებარე განივ მონიშვნასთან, ხოლო როცა მოძრაობის გაგრძელების უფლებას მიიღებს, არ უნდა დააბრკოლოს და საფრთხე არ უნდა შეუქმნას ქვეითთა გადასასვლელზე შესულ ქვეითებს. თუ მძღოლი ასრულებს მოხვევას სხვა გზაზე შესასვლელად, რომლის შესასვლელთანაც მდებარეობს ქვეითთა გადასასვლელი, მან ეს მოხვევა უნდა შეასრულოს მხოლოდ დაბალი სიჩქარით, ხოლო საჭიროების შემთხვევაში უნდა გაჩერდეს და გაატაროს გადასასვლელზე შესული ან შემავალი ქვეითები.



Ис ын æви нæ бар рог автомобили скъæрæг адаргъ кæна змæлд фатæджы (стрелкайы) æрдæмадмæ, кæд æмæ алкæцы рухснысаны (светофоры) иугонд ис бур æрттивгæ рухсы сигнал?

1

Ис ын бар


2

Нæй ын бар

### განმარტება:

„საგზაო მოძრაობის შესახებ“ საქართველოს კანონის 29-ე მუხლის მე-2 პუნქტის „დ“ ქვეპუნქტის თანახმად, ყვითელი მოციმციმე მაშუქი სიგნალი რთავს მოძრაობის ნებას და იტყობინება არარეგულირებული გზაჯვარედინის, ქვეითთა ან ველოსიპედისტთა გადასასვლელის არსებობის ან მოსალოდნელი საფრთხის შესახებ.





Ис ын æви нæ бар автомобили скъæрæг адаргъ кæна змæлд фатæджы (стрелкæйы) æрдæмадмæ, кæд æмæ рухснысаны (светофоры) цъæх рухсы сигналы фæстæ, бур рухсы сигналы сиуы рæстæджы, æнæ цæхгæр æртормоз кæнгæйæ йæ бон не суыдзæн æруромы „Стоп“ хаххы цур?

1

Ис ын бар

2

Нæй ын бар

### განმარტება:

„საგზაო მოძრაობის შესახებ“ საქართველოს კანონის 29-ე მუხლის მე-14 პუნქტის თანახმად, მძღოლს, რომელსაც ყვითელი მაშუქი სიგნალის ჩართვის დროს მკვეთრად დამუხრუჭების გარეშე არ შეუძლია გაჩერდეს ამ მუხლის მე-13 პუნქტით განსაზღვრულ ადგილებში, უფლება აქვს, განაგრძოს მოძრაობა. ქვეითმა, რომელიც ამკრძალავი მაშუქი სიგნალის ჩართვის დროს გზის სავალ ნაწილზე იმყოფება, უნდა გაათავისუფლოს იგი, ხოლო თუ ეს შეუძლებელია – გაჩერდეს ურთიერთსაპირისპირო მიმართულებით მოძრავი სატრანსპორტო ნაკადების გამყოფ ხაზზე.



Ис ын æви нæ бар рог автомобили скъæрæгæн, адаргъ кæна змæлд фатæджы (стрелкæйы) æрдæмадмæ, рухснысаны (светофоры) ацы сигналыл?

1

Ис ын бар

2

Нæй ын бар

### განმარტება:

„საგზაო მოძრაობის შესახებ“ საქართველოს კანონის 29-ე მუხლის მე-2 პუნქტის „ბ“ ქვეპუნქტის თანახმად, ერთობლივად ჩართული წითელი და ყვითელი მაშუქი სიგნალები კრძალავს მოძრაობას და იტყობინება მწვანე მაშუქი სიგნალის მოსალოდნელი ჩართვის შესახებ.



Рухსნისანი (სფეტოფორი) აცის სიგნალი, კაეცყიყი ჟერდჟეადმაჟე გენჟენ ის ტრამვაიყი სკჟერჟეგ ადარგჟ კაენა ჰმელდჟ?

1

ჟერმაჟსტ კომკომმაჟე

2

ჟერმაჟსტ რახიზ ჟემაჟე გალიუმჟე

3

ჟერმაჟსტ კომკომმაჟე ჟემაჟე გალიუმჟე

4

ნიკაეცი ჟერდჟეადმაჟე

### განმარტება:

„საგზაო მოძრაობის შესახებ“ საქართველოს კანონის 29-ე მუხლის მე-5 პუნქტის თანახმად, სამარშრუტო სატრანსპორტო საშუალებების მოძრაობისათვის სპეციალურად გამოყოფილ ზოლზე მოძრაობის რეგულირებისათვის შეიძლება გამოყენებულ იქნეს „T“-სებურად განლაგებული მოყვითალო ოთხი მრგვალი მაშუეყი სიგნალი. მოძრაობა ნებადართულია მხოლოდ მაშინ, როცა ერთდროულად ჩართულია ქვედა და ერთი ან რამდენიმე ზედა მაშუეყი სიგნალი, რომელთაგან მარცხენა მარცხნივ მოძრაობის უფლებას იძლევა, საშუალო – პირდაპირ, მარჯვენა კი – მარჯვნივ. თუ ჩართულია მხოლოდ სამი ზედა მაშუეყი სიგნალი, მოძრაობა აკრძალულია.





Ис ын æви нæ аутомобилы скъæрæгæн, фатæджы (стрелкæйы) æрдæмадмæ змæлды райдайыны бар, рухснысаны (светофоры) ацы сигналыл?

1

Ис ын бар

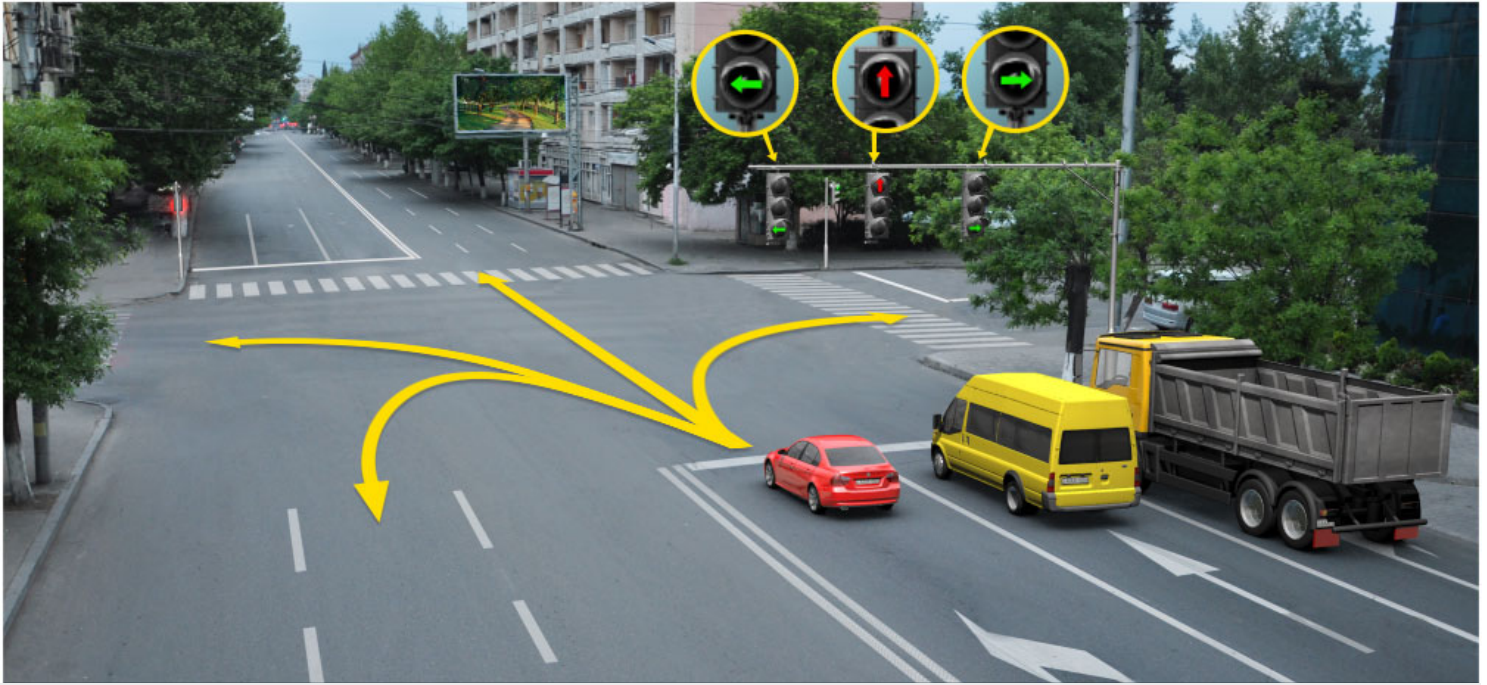
2

Нæй ын бар

### განმარტება:

„საგზაო მოძრაობის შესახებ“ საქართველოს კანონის 29-ე მუხლის მე-2 პუნქტის „გ“ ქვეპუნქტის თანახმად, ყვითელი მაშუქი სიგნალი კრძალავს მოძრაობას გარდა ამ მუხლის მე-14 პუნქტით გათვალისწინებული შემთხვევებისა და იტყობინება მაშუქი სიგნალის მოსალოდნელი შეცვლის შესახებ.





Цы æрдæмадмæ ис гæнæн адаргъ кæна змæлд сырх автомобили скъæрæг рухснысаны (светофоры) ацы сигналыл?

1

Æрмæст комкоммæ æмæ галиумæ

2

Æрмæст комкоммæ æмæ рахизмæ

3

Æрмæст галиумæ

4

Æрмæст галиумæ æмæ  
фæстæрдæмадмæ (разилын)

### განმარტება:

„საგზაო მოძრაობის შესახებ“ საქართველოს კანონის 29-ე მუხლის მე-10 პუნქტის თანახმად, მწვანე, ყვითელ და წითელ მაშუქ სიგნალებს, რომლებზედაც გამოსახულია ისარი/ისრები, იგივე მნიშვნელობა აქვს, რაც შესაბამისი ფერის უისრო მაშუქ სიგნალებს, მაგრამ მათი მოქმედება ვრცელდება მხოლოდ ისრით/ისრებით მითითებული მიმართულებით/მიმართულებებით. ამასთანავე, ისარი, რომელიც მარცხნივ მოხვევის ნებას რთავს, მობრუნების უფლებასაც იძლევა, თუ ეს აკრძალული არ არის შესაბამისი საგზაო ნიშნით ან საგზაო მონიშვნით. იგივე მნიშვნელობა აქვს შუქნიშნის დამატებით სექციაში მწვანე მაშუქ სიგნალზე გამოსახულ ისარს. შუქნიშნის დამატებითი სექციის გამორთული მაშუქი სიგნალი იტყობინება, რომ ამ სექციით რეგულირებული მიმართულებით მოძრაობა აკრძალულია.



Рухსნისან (სветофорი) აცხადებს სიგნალს და ტრანსპორტი გადაადგმის ფაქტზე და ფაქტზე (სტრელკაზე) გადაადგმის ზემოთ რაიდასი ბარ?

1

გადაადგმის ტრამვაის გადაადგმის

2

გადაადგმის ავტომობილის გადაადგმის


3

დამატებით ტრანსპორტი გადაადგმის გადაადგმის

### განმარტება:

„საგზაო მოძრაობის შესახებ“ საქართველოს კანონის 29-ე მუხლის მე-5 პუნქტის თანახმად, სამარშრუტო სატრანსპორტო საშუალებების მოძრაობისათვის სპეციალურად გამოყოფილ ზოლზე მოძრაობის რეგულირებისათვის შეიძლება გამოყენებულ იქნეს „T“-სებურად განლაგებული მოცვითალო ოთხი მრგვალი მაშუქი სიგნალი. მოძრაობა ნებადართულია მხოლოდ მაშინ, როცა ერთდროულად ჩართულია ქვედა და ერთი ან რამდენიმე ზედა მაშუქი სიგნალი, რომელთაგან მარცხენა მარცხნივ მოძრაობის უფლებას იძლევა, საშუალო – პირდაპირ, მარჯვენა კი – მარჯვნივ. თუ ჩართულია მხოლოდ სამი ზედა მაშუქი სიგნალი, მოძრაობა აკრძალულია. ამავე მუხლის მე-10 პუნქტის თანახმად მწვანე, ყვითელ და წითელ მაშუქ სიგნალებს, რომლებზედაც გამოსახულია ისარი/ისრები, იგივე მნიშვნელობა აქვს, რაც შესაბამისი ფერის უსრო მაშუქ სიგნალებს, მაგრამ მათი მოქმედება ვრცელდება მხოლოდ ისარი/ისრებით მითითებული მიმართულებით/ მიმართულებებით. ამასთანავე, ისარი, რომელიც მარცხნივ მოხვევის ნებას რთავს, მობრუნების უფლებასაც იძლევა, თუ ეს აკრძალული არ არის შესაბამისი საგზაო ნიშნით ან საგზაო მონიშნით. იგივე მნიშვნელობა აქვს შექნიშნის დამატებით სექციაში მწვანე მაშუქ სიგნალზე გამოსახულ ისარს. შექნიშნის დამატებითი სექციის გამორთული მაშუქი სიგნალი იტყობინება, რომ ამ სექციით რეგულირებული მიმართულებით მოძრაობა აკრძალულია.





Кæцы аутомобилы скъæрæгæн бар лæвæрд нæй фатæджы (стрелкæйы) æрдæмæдмæ змæлын?

1

Æрмæст цъæх аутомобилы скъæრæგæн

2


Æрмæст бур аутомобилы скъæრæგæн

3

Дыууæ аутомобилы скъæрæгæн дæр

### განმარტება:

„საგზაო მოძრაობის შესახებ“ საქართველოს კანონის პირველი დანართის 4.1.1 პუნქტის თანახმად საგზაო ნიშანი 4.1.1 „მოძრაობა პირდაპირ“ რთავს მხოლოდ ისრით ნაჩვენები მიმართულებით მოძრაობის ნებას. ამავე პუნქტის შენიშვნის „ბ“ ქვეპუნქტის თანახმად, 4.1.1-4.1.6 ნიშნების მოქმედება ვრცელდება სავალი ნაწილების იმ გადაკვეთაზე, რომლის წინაც დადგმულია სათანადო ნიშანი.



ლავადრდ სიტუაციიყი ავტომობილყი სკვადრადგადნ ზმადღყ ბარ ის:

1

A Ⴡრდადმადმად

2

B Ⴡრდადმადმად

3

C Ⴡრდადმადმად

4

ნადადრ იუ (ნიკადცი) Ⴡრდადმადმად

### ბანმარტუბა:

„საგბაო მოძრაობის შესახებ“ საქართველოს კანონის 29-ე მუხლის მე-2 პუნქტის „ა“ ქვეპუნქტის თანახმად, წითელი მაშუქი სიგნალი ან წითელი მოციმციმე მაშუქი სიგნალი კრძალავს მოძრაობას.



Ис ын æви нæ бар рог автомобили скъæрæгæн адаргъ кæна змæлд фатæджы (стрелкæйы) æрдæмадмæ, рухснысаны (светофоры) ацы сигналыл?

1

Ис ын бар


2

Нæй ын бар

### განმარტება:

„საგზაო მოძრაობის შესახებ“ საქართველოს კანონის 29-ე მუხლის მე-10 პუნქტის თანახმად, მწვანე, ყვითელ და წითელ მაშუქ სიგნალებს, რომლებზედაც გამოსახულია ისარი/ისრები, იგივე მნიშვნელობა აქვს, რაც შესაბამისი ფერის უისრო მაშუქ სიგნალებს, მაგრამ მათი მოქმედება ვრცელდება მხოლოდ ისრით/ისრებით მითითებული მიმართულებით/მიმართულებებით. ამასთანავე, ისარი, რომელიც მარცხნივ მოხვევის ნებას რთავს, მობრუნების უფლებასაც იძლევა, თუ ეს აკრძალული არ არის შესაბამისი საგზაო ნიშნით ან საგზაო მონიშვნით. იგივე მნიშვნელობა აქვს შუქნიშნის დამატებით სექციაში მწვანე მაშუქ სიგნალზე გამოსახულ ისარს. შუქნიშნის დამატებითი სექციის გამორთული მაშუქი სიგნალი იტყობინება, რომ ამ სექციით რეგულირებული მიმართულებით მოძრაობა აკრძალულია.





ლავერდ სიტუაციი, ხაედჟინ უ ავი ნა ცაახ ავტომობილს სკაერაგ ფატაედჟი (სტრელკაჟი) აერდამადმა, რაზილენი მანევრს სეხხაესტგენგაჟაჟე აერურომა დიხგენაგ ხაეხჟი 'ხსენ უავაგ ზმელდენ ბარ ნა დაეტაგ რუხსნისანი (სветофоры) რუხსი სიგნალჟ?

1

Хაедჟინ უ

2

ნაჟუ ხაედჟინ

3

ნაჟუ ხაედჟინ, კად ამაჟ ნა ბახჟიდარდჟენ ნიხმაეცაჟგაჟე აერდამადჟი ზმელგაჟ ტრანსპორტონ ფაერაჟჟი

### ბანმარტჟა:

„საგზაო მოძრაობის შესახებ“ საქართველოს კანონის 36-ე მუხლის მე-3 პუნქტის „ე“ ქვეპუნქტის თანახმად, შუქნიშნის ნებადართველ სიგნალზე გზაჯვარედინზე შესულ მძღოლს შეუძლია იმოძრაოს დასახული მიმართულებით, გზაჯვარედინიდან გასასვლელზე არსებული შუქნიშნის ამკრძალავი სიგნალების მიუხედავად, მაგრამ იმ პირობით, რომ ეს არ დააბრკოლებს სხვა საგზაო მოძრაობის მონაწილეთა იმ მიმართულებით მოძრაობას, რომელზედაც მოძრაობა გახსნილია. თუ გზაჯვარედინზე მისი მოძრაობისას გზაზე არსებული შუქნიშნების წინ „სდექ“ ხაზებია (ან/და 7.16 საგზაო ნიშნებია), მძღოლმა უნდა იხელმძღვა-ნელოს თითოეული შუქნიშნის სიგნალით.



ლავერდ სიტუაციი, ხაედჟინ უ ავი ნა ცაახ ავტომობილს სკაერაგ ფატაედჟი (სტრელკაჟი) ჟერდამადმა, რაზილენი მანევრს სეხხაესტგენგაჟაჟ ჟერურომა დიხგენაგ ხაეხჟი 'ხაენ უავაგ ზმელდენ ბარ ნა დაეტაგ რუხსნისანი (სветофоры) რუხსი სიგნალჟ?

1

Хაедჟინ უ


2

ნაჟუ ხაედჟინ

### ბანმარტჟა:

„საგზაო მოძრაობის შესახებ“ საქართველოს კანონის 36-ე მუხლის მე-3 პუნქტის „ე“ ქვეპუნქტის თანახმად, შუქნიშნის ნებადართველ სიგნალზე გზაჯვარედინზე შესულ მძღოლს შეუძლია იმოძრაოს დასახული მიმართულებით, გზაჯვარედინიდან გასასვლელზე არსებული შუქნიშნის ამკრძალავი სიგნალების მიუხედავად, მაგრამ იმ პირობით, რომ ეს არ დააბრკოლებს სხვა საგზაო მოძრაობის მონაწილეთა იმ მიმართულებით მოძრაობას, რომელზედაც მოძრაობა გახსნილია. თუ გზაჯვარედინზე მისი მოძრაობისას გზაზე არსებული შუქნიშნების წინ „სდექ“ ხაზებია (ან/და 7.16 საგზაო ნიშნებია), მძღოლმა უნდა იხელმძღვა-ნელოს თითოეული შუქნიშნის სიგნალით.





Цы æрдæмадмæ йын ис гæнæн адаргъ кæна змæлд рог автомобили скъæрæг рухснысаны (светофоры) ацы сигналыл?

1

Æрмæст комкоммæ æмæ галиумæ

2

Æрмæст комкоммæ æмæ рахизмæ

3

Æрмæст галиумæ

4

Æрмæст комкоммæ, галиумæ æмæ фæстæрдæмадмæ (разилын)

### განმარტება:

„საგზაო მოძრაობის შესახებ“ საქართველოს კანონის 29-ე მუხლის მე-3 პუნქტის თანახმად თუ შექნიშნები გზის სავალი ნაწილის თანმხვედრი მიმართულებების მხარეს არსებული თითოეული მოძრაობის ზოლის ზევიტაა განლაგებული, თითოეული შექნიშნის მოქმედება ვრცელდება მხოლოდ იმ მოძრაობის ზოლზე, რომლის ზემოთაც არის იგი. ამავე მუხლის მე-10 პუნქტის თანახმად, მწვანე, ყვითელ და წითელ მაშუქ სიგნალებს, რომლებზედაც გამოსახულია ისარი/ისრები, იგივე მნიშვნელობა აქვს, რაც შესაბამისი ფერის უისრო მაშუქ სიგნალებს, მაგრამ მათი მოქმედება ვრცელდება მხოლოდ ისრით/ისრებით მითითებული მიმართულებით/ მიმართულებებით. ამასთანავე, ისარი, რომელიც მარცხნივ მოხვევის ნებას რთავს, მობრუნების უფლებასაც იძლევა, თუ ეს აკრძალული არ არის შესაბამისი საგზაო ნიშნით ან საგზაო მონიშვნით. იგივე მნიშვნელობა აქვს შექნიშნის დამატებით სექციაში მწვანე მაშუქ სიგნალზე გამოსახულ ისარს. შექნიშნის დამატებითი სექციის გამორთული მაშუქი სიგნალი იტყობინება, რომ ამ სექციით რეგულირებული მიმართულებით მოძრაობა აკრძალულია.

## ВОПРОС 246

ПРАВИЛЬНЫЙ ОТВЕТ: 1

Кәд әмә рухснысаны (светофоры) рухсы сигналты домәнтә ныхмәвәрд уой ахизыны уәлбары бәрәггәнәг (арәнгәнәг) фәндагон нысәнтты дәмәнтәм, фәндәгты змәлды хайадисджытә хъяуамә къухдариуәг кәной:

1

Рухснысаны (светофоры) рухсы сигналты домәнтәм гәсгә

2

Ахизыны уәлбары бәрәггәнәг (арәнгәнәг) фәндагон нысәнтты дәмәнтәм гәсгә

## განმარტება:

„საგზაო მოძრაობის შესახებ“ საქართველოს კანონის 29-ე მუხლის მე-12 პუნქტის თანახმად, საგზაო მოძრაობის მონაწილეები ვალდებული არიან, შეასრულონ შექნიშნის ფერადი მაშუქი სიგნალის მოთხოვნები იმ შემთხვევაშიც კი, თუ ეს მოთხოვნები ეწინააღმდეგება გავლის უპირატესობის განმსაზღვრელი საგზაო ნიშნებისა და მონიშვნების მოთხოვნებს.

## ВОПРОС 247

ПРАВИЛЬНЫЙ ОТВЕТ: 2

Кәд әмә рухснысаны (светофоры) рухсы сигналты домәнтә ныхмәвәрд уой ахизыны уәлбары бәрәггәнәг (арәнгәнәг) фәндагон бәрджыты дәмәнтәм, фәндәгты змәлды хайадисджытә хъяуамә къухдариуәг кәной:

1

Ахизыны уәлбары бәрәггәнәг (арәнгәнәг) фәндагон бәрджыты дәмәнтәм гәсгә

2

Рухснысаны (светофоры) рухсы сигналты домәнтәм гәсгә

## განმარტება:

„საგზაო მოძრაობის შესახებ“ საქართველოს კანონის 29-ე მუხლის მე-12 პუნქტის თანახმად, საგზაო მოძრაობის მონაწილეები ვალდებული არიან, შეასრულონ შექნიშნის ფერადი მაშუქი სიგნალის მოთხოვნები იმ შემთხვევაშიც კი, თუ ეს მოთხოვნები ეწინააღმდეგება გავლის უპირატესობის განმსაზღვრელი საგზაო ნიშნებისა და მონიშვნების მოთხოვნებს.

აეაერაენილ უიცი იუხუიზონ ბერზენდილ თიგდ იუ ფარსირდემ არაეტ დიუუაე კერედზი რადგაი ივგაე მიგალკაე, კაენაე იუ მიგალკაე სირხ კაენაე ბურ რუხსი სიგნალი რუხსნისან (სუეოფორ) პაიდაგონდ ცაუი:

1

აეფსაენაენდადჯი ახიზაენთილ, კაენგაე ხიდი ბაეაუაენთი ცურ, ნაუი კაენაე ბორნი აერლაუუაენთი ცურ, აფტაე მა ფაენდაგილ ზინგფაედისონ ავტომობილთი ახიზაენთი ცურ აემაე ბინაეტთი, ცირან ფაენდადჯი ნილლაეგ ბერზენდილ იუ კაენი თაეხაეგ აპარატი (ხაედთაეხაეგი) ტრაექტორი

2

უიცი ცაუაენ ხაიი ხაეხხიტილ, ცირან ჰმელდი აერდამად ნიხმაეიე ივდ ცაუი

3

მარშრუტონ ტრანსპორტონ ფერაეზი ჰმელდენ სპეციალონაეი რაიეცაენგონდ ხაეხხიტილ

### განმარტება:

„საგზაო მოძრაობის შესახებ“ საქართველოს კანონის 29-ე მუხლის მე-8 პუნქტის თანახმად, რკინიგზის გადასასვლელზე, გასახსნელი ხიდის მისასვლელთან, გემის ან ბორნის მისადგომთან, გზაზე სახანძრო ავტომობილის გამოსასვლელთან და იმ ადგილას, სადაც გზას დაბალ სიმაღლეზე კვეთს საფრენი აპარატის ტრაექტორია, გამოიყენება ერთ სადგარზე, ერთსა და იმავე სიმაღლეზე განლაგებული, ერთ მხარეს მიმართული ორი მორიგეობით მოციმციმე ან ერთი მოციმციმე წითელი ან ყვითელი მაშუქი სიგნალი, რომელთაგან წითელი მაშუქი სიგნალი კრძალავს „სდექ“ ხაზის გადაკვეთას, მისი არარსებობის შემთხვევაში კი – შექნიშნის იქით გადასვლას, ხოლო ყვითელი მაშუქი სიგნალი ნიშნავს, რომ მძღოლებს შეუძლიათ გააგრძელონ მოძრაობა, მაგრამ, ამასთანავე, ვალდებული არიან, დაიცვან განსაკუთრებული სიფრთხილე. თუ ფერადი მაშუქი სიგნალები გამორთულია, მოძრაობა ნებადართულია მხოლოდ მაშინ, როცა ხილვადობის ფარგლებში არ ჩანს გადასასვლელთან მოახლოებული მატარებელი (ლოკომოტივი, დრეზინა).

Реверсон рухსნისან (светофор), სერხ ხუიზ X ნისანი სიგნალიმე ჟემე დელემე არეზტ ცეახ ფატეგეი (стрелкаეი) პაიდაგონდ ცეუი:

**1** ჟემესტ მარშრუტონ ტრანსპორტონ ფერეზტი სპეციალონ ხახხილ ზმელდი რეგულირვოტ კენინენ

**2** ჟემესტ ტრანსპორტონ ფერეზი ზმელდი რეგულირვოტ კენინენ ცეუენ ხაიი ხეხხიტილ, ცირან ზმელდი ჟერდემად ცეხგერმე ივდ ცეუი

**3** აცი ბილეთი რანიმად კეციფენდი ცაუი

### განმარტება:

„საგზაო მოძრაობის შესახებ“ საქართველოს კანონის 29-ე მუხლის მე-4 პუნქტის თანახმად, სატრანსპორტო საშუალების მოძრაობის რეგულირებისათვის გზის სავალი ნაწილის ზოლებზე, სადაც მოძრაობის მიმართულება საპირისპიროდ იცვლება, გამოიყენება რევერსული შუქნიშანი წითელი X ნიშნის მაშუქი სიგნალითა და ქვემოთ მიმართული მწვანე ისრით. ეს სიგნალი და ისარი შესაბამისად იმ ზოლზე მოძრაობას კრძალავს ან იმ ზოლზე მოძრაობის ნებას რთავს, რომლის ზემოთაც ისინია განლაგებული. რევერსული შუქნიშნის ძირითად ფერად მაშუქ სიგნალებს შეიძლება დაემატოს დიაგონალურად ქვემოთ – მარჯვნივ ან მარცხნივ დახრილი ისრის მქონე ყვითელი ან თეთრი მაშუქი სიგნალი, რომლის ჩართვა იტყობინება ფერადი მაშუქი სიგნალის შემდგომი შეცვლისა და ისრით მითითებულ ზოლზე გადასვლის ვალდებულების შესახებ. ორივე მხრიდან 1.9 საგზაო მონიშვნით აღნიშნული ზოლის ზემოთ მდებარე გამორთული რევერსული შუქნიშანი კრძალავს ამ ზოლზე გასვლას.

Рухснысаны (сфетофоры) сәйраг цъах рухсгәнаг сигналыл фәзынгә контуры фатәг/фатәгтә:

- 1 Скъәрәгән информаци дәтты рухсгәнагәныл уәләмхас секцийы уәвынады тыххәй әмә амоны ацы уәләмхас секцийы рухсгәнагәны сигналәй бәрәггәнд әрдәмады тыххәй
- 2 Скъәрәджы зонгә кәны рухснысаныл уәләмхас секцийы гәнәндзинады уәвынады тыххәй әмә амоны ацы секцийы хуызджын рухсгәнагән сигналәй хицәнгәнд змәлды әндәр барләвәрдон әрдәмәдты тыххәй
- 3 Ацы билеты ранымад алкәцы дзуапп дәр раст у

### განმარტება:

„საგზაო მოძრაობის შესახებ“ საქართველოს კანონის 29-ე მუხლის მე-11 პუნქტის თანახმად, შექნიშნის ძირითად მწვანე მაშუქ სიგნალზე გამოსახული კონტურის ისარი/ისრები მძღოლს ამცნობს შექნიშანზე დამატებითი სექციის შესაძლო არსებობის შესახებ და მიუთითებს ამ სექციის ფერადი მაშუქი სიგნალისაგან განსხვავებული მოძრაობის სხვა ნებადართული მიმართულებების შესახებ.

„Т“- йы хуызæнæй тыгъд бургонд цыппар тымбыл рухсы сигналы гæнæн ис æмæ пайдагонд цæуой:

**1**

„Т“- йы хуызæн алвæндагыл (перекрестокыл) змæлды регулироват кæнынæн

**2**

Маршрутон транспортон фæрæзты змæлдæн специалонæй рахицæнгонд хаххыл змæлды регулироват кæнынæн

**3**

Цалхджын тракторы змæлды регулироват кæнынæн

### განმარტება:

„საგზაო მოძრაობის შესახებ“ საქართველოს კანონის 29-ე მუხლის მე-5 პუნქტის თანახმად, სამარშრუტო სატრანსპორტო საშუალებების მოძრაობისათვის სპეციალურად გამოყოფილ ზოლზე მოძრაობის რეგულირებისათვის შეიძლება გამოყენებულ იქნეს „Т“-სებურად განლაგებული მოყვითალო ოთხი მრგვალი მაშუქი სიგნალი. მოძრაობა ნებადართულია მხოლოდ მაშინ, როცა ერთდროულად ჩართული ქვედა და ერთი ან რამდენიმე ზედა მაშუქი სიგნალი, რომელთაგან მარცხენა მარცხნივ მოძრაობის უფლებას იძლევა, საშუალო – პირდაპირ, მარჯვენა კი – მარჯვნივ. თუ ჩართულია მხოლოდ სამი ზედა მაშუქი სიგნალი, მოძრაობა აკრძალულია.



„Т“ – хуызæн формæйы рухснысанæй змæлды регулироватгæнгæйæ маршрутон транспортон фæрæзты змæлд барлæвæрд цæуы:

1

Кæд, æмрæстæджы иугонд ис бинаг æмæ иу, кæнæ цалдæр уæллаг рухсгæнæн сигналы

2

Кæд иугонд ис æрмæст æртæ уæллаг рухсгæнæн сигнал

3

Ацы билеты ранымад кæцыфæнды цауы

### განმარტება:

„საგზაო მოძრაობის შესახებ“ საქართველოს კანონის 29-ე მუხლის მე-5 პუნქტის თანახმად, სამარშრუტო სატრანსპორტო საშუალებების მოძრაობისათვის სპეციალურად გამოყოფილ ზოლზე მოძრაობის რეგულირებისათვის შეიძლება გამოყენებულ იქნეს „Т“-სებურად განლაგებული მოყვითალო ოთხი მრგვალი მაშუქი სიგნალი. მოძრაობა ნებადართულია მხოლოდ მაშინ, როცა ერთდროულად ჩართულია ქვედა და ერთი ან რამდენიმე ზედა მაშუქი სიგნალი, რომელთაგან მარცხენა მარცხნივ მოძრაობის უფლებას იძლევა, საშუალო – პირდაპირ, მარჯვენა კი – მარჯვნივ. თუ ჩართულია მხოლოდ სამი ზედა მაშუქი სიგნალი, მოძრაობა აკრძალულია.

## ВОПРОС 253

ПРАВИЛЬНЫЙ ОТВЕТ: 2

„Т“ – хуызән формәйы рухснысанәй змәлды регулироватгәнгәйә маршрутон транспортон фәрәзты змәлд барләвәрд цәуы:

1

Кәд, әмрәстәджы иугонд ис бинаг әмә иу, кәнә цалдәр уәллаг рухсгәнән сигналы

2

Кәд иугонд ис әрмәст әртә уәллаг рухсгәнән сигнал

3

Ацы билеты ранымад кәцыфәнды цауы

## განმარტება:

„საგზაო მოძრაობის შესახებ“ საქართველოს კანონის 29-ე მუხლის მე-5 პუნქტის თანახმად, სამარშრუტო სატრანსპორტო საშუალებების მოძრაობისათვის სპეციალურად გამოყოფილ ზოლზე მოძრაობის რეგულირებისათვის შეიძლება გამოყენებულ იქნეს „Т“-სებურად განლაგებული მოყვითალო ოთხი მრგვალი მაშუქი სიგნალი. მოძრაობა ნებადართულია მხოლოდ მაშინ, როცა ერთდროულად ჩართულია ქვედა და ერთი ან რამდენიმე ზედა მაშუქი სიგნალი, რომელთაგან მარცხენა მარცხნივ მოძრაობის უფლებას იძლევა, საშუალო – პირდაპირ, მარჯვენა კი – მარჯვნივ. თუ ჩართულია მხოლოდ სამი ზედა მაშუქი სიგნალი, მოძრაობა აკრძალულია.

## ВОПРОС 254

ПРАВИЛЬНЫЙ ОТВЕТ: 1

Ис әви нә скъәрәгән змәлды адаргъ кәныны бар, кәд әмә бур рухсы сигналы сиуы рәстәджы әнә цәхгәр әртормозәй уымән йә бон нә бауыдзән әрләууа «Стоп» хахы цур?

1

Ис йын бар

2

Нәй йын бар

## განმარტება:

„საგზაო მოძრაობის შესახებ“ საქართველოს კანონის 29-ე მუხლის მე-14 პუნქტის თანახმად, მძღოლს, რომელსაც ყვითელი მაშუქი სიგნალის ჩართვის დროს მკვეთრად დამუხრუჭების გარეშე არ შეუძლია გაჩერდეს ამ მუხლის მე-13 პუნქტით განსაზღვრულ ადგილებში, უფლება აქვს, განაგრძოს მოძრაობა. ქვეითმა, რომელიც ამკრძალავი მაშუქი სიგნალის ჩართვის დროს გზის სავალ ნაწილზე იმყოფება, უნდა გაათავისუფლოს იგი, ხოლო თუ ეს შეუძლებელია – გაჩერდეს ურთიერთსაპირისპირო მიმართულებით მოძრავი სატრანსპორტო ნაკადების გამყოფ ხაზზე.



Кæцы скъæრæг æрурæдта автомобили фæндæгты змæлды уагæвæрдтæ хъахъхъæнгæйæ рухснысаны (светофоры) бар нæ дæттæг сигналмæ?

1

Урс автомобили скъæрæг

2

Бур автомобили скъæрæг

3

Нæдæр иу (никæцы) автомобили скъæрæг

### განმარტება:

„საგზაო მოძრაობის შესახებ“ საქართველოს კანონის 29-ე მუხლის მე-13 პუნქტის თანახმად, შეუნიშნის (რევერსულის გარდა) ამკრძალავი მაშუქი სიგნალის დროს მძღოლი ვალდებულია გაჩერდეს „სდექ“ ხაზთან ( ან 7.16 ნიშანთან).

Рухსნისან (სветофорი) იუგონდ ცაახ აერტივგა რუხსი სიგნალი:

1


Иу кәны змәлды барләвәрд әмә дәтты информацийы әнәрегулироватгонд алвәндаджы (перекрестокы), фистәджыты кәнә велосипедистты уәвгәйы кәнә әрцәуинаг тасы тыххәй

2

Иу кәны змәлды барләвәрд әмә фәндәгты змәлды хайадисджытән хъусын кәны, цәмәй йә архайды рәстәг фуд кәны әмә тагъд сиу уыдзән бар нә дәттәг сიგნალი.

### განმარტება:

„საგზაო მოძრაობის შესახებ“ საქართველოს კანონის 29-ე მუხლის მე-2 პუნქტის „ვ“ ქვეპუნქტის თანახმად, მწვანე მოციმციმე მაშუქი სიგნალი რთავს მოძრაობის ნებას და საგზაო მოძრაობის მონაწილეებს ამცნობს, რომ მისი მოქმედების დრო იწურება და მალე ჩაირთვება ამკრძალავი სიგნალი.



Рог автомобиля съѣзжает на бар и с мѣла:

1

Автомобиль А ѣдет прямо

2

Автомобиль В ѣдет прямо

3

Автомобиль С ѣдет прямо


4

Никто из них (никто) не ѣдет прямо

### განმარტება:

„საგზაო მოძრაობის შესახებ“ საქართველოს კანონის 31-ე მუხლის მე-17 პუნქტის თანახმად, შესვლის მიზნით იმ სავალ ნაწილზე მოხვევის დროს, რომელზედაც რევერსული მოძრაობაა, სატრანსპორტო საშუალების მძღოლმა ისე უნდა იმოძრაოს, რომ სავალი ნაწილების გადაკვეთიდან გამოსვლისას განაპირა მარჯვენა მოძრაობის ზოლი დაიკავოს. სხვა მოძრაობის ზოლზე გადაჯეუება დასაშვებია მხოლოდ მას შემდეგ, რაც მძღოლი დარწმუნდება, რომ აღნიშნულ მოძრაობის ზოლზე ნებადართულია თანმხვედრი მოძრაობა. ამავე კანონის პირველი დანართის მე-5 თავის (განსაკუთრებული მითითებების ნიშნები) 5.10 პუნქტის თანახმად საგზაო ნიშანი 5.10 „გასვლა გზაზე, რომელზედაც რევერსული მოძრაობაა“ – მიუთითებს 5.8 „რევერსული მოძრაობა“ ნიშნით აღნიშნულ გზის მონაკვეთზე გასვლას. ნიშანი იდგმება ყველა გვერდითი გასასვლელის წინ. ნიშანი შეიძლება არ დაიდგას მიმდებარე ტერიტორიიდან გამოსასვლელის გზასთან გადაკვეთაზე, თუ ამ ტერიტორიაზე შესვლა შესაძლებელია მხოლოდ 5.8 „რევერსული მოძრაობა“ ნიშნით აღნიშნული გზიდან.





Цы фæткыл хъуамæ ахизой алвæндаг (перекресток) транспортон фæрæзтæ фатæджы (стрелкæйы) æрдæмадмæ змæлды цауы?

1

Нырма хъуамæ ахиза трамвайы, стæй – уæзласæн автомобиль, уый фæстæ бур автомобиль

2

Нырма хъуамæ ахиза бур автомобиль, стæй – уæзласæн автомобиль, уый фæстæ трамвайы


3

Нырма хъуамæ ахиза трамвайы, стæй – бур автомобиль, уый фæстæ уæзласæн автомобиль

### განმარტება:

„საგზაო მოძრაობის შესახებ“ საქართველოს კანონის 36-ე მუხლის მე-3 პუნქტის „ა“ და „გ“ ქვეპუნქტის თანახმად, რეგულირებულ გზაჯვარედინზე: ა) შუქნიშნის მწვანე სიგნალის ჩართვის დროს მარცხნივ მოხვევისას ან მობრუნებისას ურელსო სატრანსპორტო საშუალების მძღოლი ვალდებულია გზა დაუთმოს საპირისპირო მიმართულებიდან პირდაპირ ან მარჯვნივ მოძრავ სატრანსპორტო საშუალებას. ამავე წესით უნდა იხელმძღვანელონ ურთიერთშორის მოძრავი ტრამვაის მძღოლებმაც; გ) თუ შუქნიშნის ან მარეგულირებლის სიგნალები ერთდროულად მოძრაობის ნებას რთავს რელსიან და ურელსო სატრანსპორტო საშუალებებს, რელსიან სატრანსპორტო საშუალებას აქვს უპირატესობა, მიუხედავად მისი მოძრაობის მიმართულებისა, მაგრამ შუქნიშნის დამატებით სეცციაში ძირითად ყვითელ ან წითელ მაშუქ სიგნალთან ერთად ჩართული ისრის მიმართულებით მოძრაობისას რელსიანი სატრანსპორტო საშუალების მძღოლი ვალდებულია გზა დაუთმოს სხვა მიმართულებიდან მოძრავ სატრანსპორტო საშუალებას.





Цы æрдæмæдмæ йын ис гæнæн змæлын трамвайы скъæрæгæн рухснысаны (светофоры) ацы сигналыл?

1

Æрмæст комкоммæ

2

Æрмæст рахизмæ æмæ галиумæ

3


Æрмæст комкоммæ æмæ галиумæ

4

Змæлды адаргъ кæныны бар ын нæй

### განმარტება:

„საგზაო მოძრაობის შესახებ“ საქართველოს კანონის 29-ე მუხლის მე-5 პუნქტის თანახმად, სამარშრუტო სატრანსპორტო საშუალებების მოძრაობისათვის სპეციალურად გამოყოფილ ზოლზე მოძრაობის რეგულირებისათვის შეიძლება გამოყენებულ იქნეს „T“-სებურად განლაგებული მოყვითალო ოთხი მრგვალი მაშუქი სიგნალი. მოძრაობა ნებადართულია მხოლოდ მაშინ, როცა ერთდროულად ჩართულია ქვედა და ერთი ან რამდენიმე ზედა მაშუქი სიგნალი, რომელთაგან მარცხენა მარცხნივ მოძრაობის უფლებას იძლევა, საშუალო – პირდაპირ, მარჯვენა კი – მარჯვნივ. თუ ჩართულია მხოლოდ სამი ზედა მაშუქი სიგნალი, მოძრაობა აკრძალულია.



Кæцы трамвайы скъæрæджы 'рдæм фæзындзæн фæндаг раттыны хæсдзинад рог  
автомобилы скъæრæгæн фатæджы (стрелкæйы) æрдæмадмæ змæлды цауы?

1

Æрмæст фыццаг трамвайы  
скъæრæджы 'рдæм

2

Æрмæст дыккаг трамвайы  
скъæრæджы 'рдæм

3

Дыууæ трамвайы скъæрæджы 'рдæм


4

Нæдæр иу (никæцы) трамвайы  
скъæრæджы 'рдæм

### განმარტება:

„საგზაო მოძრაობის შესახებ“ საქართველოს კანონის 36-ე მუხლის მე-3 პუნქტის „ე“ ქვეპუნქტის თანახმად, რეგულირებულ გზაჯვარედინზე, შუქნიშნის ნებადართველ სიგნალზე გზაჯვარედინზე შესულ მძღოლს შეუძლია იმოძრაოს დასახული მიმართულებით, გზაჯვარედინიდან გასასვლელზე არსებული შუქნიშნის ამკრძალავი სიგნალების მიუხედავად, მაგრამ იმ პირობით, რომ ეს არ დააბრკოლებს სხვა საგზაო მოძრაობის მონაწილეთა იმ მიმართულებით მოძრაობას, რომელზედაც მოძრაობა გახსნილია. თუ გზაჯვარედინზე მისი მოძრაობისას გზაზე არსებული შუქნიშნების წინ „სდექ“ ხაზებია (ან/და 7.16 საგზაო ნიშნებია), მძღოლმა უნდა იხელმძღვა-ნელოს თითოეული შუქნიშნის სიგნალით.





Кæцы транспортон фæрæзы скъæრæг гæнæн ис æмæ адаргъ кæна змæлд фатæджы (стрелкайы) æрдæмадмæ , рухснысаны (светофоры) ацы сигналтæм?

1

Дыууæ транспортон фæрæзы скъæрæг

2

Нæдæр иу (никацы) транспортон фæрæзы скъæრæг

3


Æрмæст трамвайы скъæрæг

4

Æрмæст роგ автомобили скъæрæг

### განმარტება:

„საგზაო მოძრაობის შესახებ“ საქართველოს კანონის 29-ე მუხლის მე-2 პუნქტის „ე“ ქვეპუნქტისა, მე-5 და მე-10 პუნქტების თანახმად: 2. შუქნიშნის ფერად მაშუქ სიგნალებს აქვს შემდეგი მნიშვნელობა - მწვანე მაშუქი სიგნალი რთავს მოძრაობის ნებას; 5. სამარშრუტო სატრანსპორტო საშუალებების მოძრაობისათვის სპეციალურად გამოყოფილ ზოლზე მოძრაობის რეგულირებისათვის შეიძლება გამოყენებულ იქნეს „Т“-სებურად განლაგებული მოყვითალო ოთხი მრგვალი მაშუქი სიგნალი. მოძრაობა ნებადართულია მხოლოდ მაშინ, როცა ერთდროულად ჩართულია ქვედა და ერთი ან რამდენიმე ზედა მაშუქი სიგნალი, რომელთაგან მარცხენა მარცხნივ მოძრაობის უფლებას იძლევა, საშუალო – პირდაპირ, მარჯვენა კი – მარჯვნივ. თუ ჩართულია მხოლოდ სამი ზედა მაშუქი სიგნალი, მოძრაობა აკრძალულია. 10. მწვანე, ყვითელ და წითელ მაშუქ სიგნალებს, რომლებზედაც გამოსახულია ისარი/ისრები, იგივე მნიშვნელობა აქვს, რაც შესაბამისი ფერის უისრო მაშუქ სიგნალებს, მაგრამ მათი მოქმედება ვრცელდება მხოლოდ ისრიით/ისრებით მითითებული მიმართულებით/მიმართულებებით. ამასთანავე, ისარი, რომელიც მარცხნივ მოხვევის ნებას რთავს, მობრუნების უფლებასაც იძლევა, თუ ეს აკრძალული არ არის შესაბამისი საგზაო ნიშნით ან საგზაო მონიშვნით. იგივე მნიშვნელობა აქვს შუქნიშნის დამატებით სექციაში მწვანე მაშუქ სიგნალზე გამოსახულ ისარს. შუქნიშნის დამატებითი სექციის გამორთული მაშუქი სიგნალი იტყობინება, რომ ამ სექციით რეგულირებული მიმართულებით მოძრაობა აკრძალულია.



ლავაერდ სიტუაციის, ჰაესდჟინ უ ავი ნაე როგ ავტომობილს სკაერაგ ფატაეჯი (სტრელკაჟი) ჰერაჟადამაე ჰმალგაჟაე ჰერლაჟუა ჰმალის ბარ ნაე დაეტაგ რუხსნისანი (სვეტოფორი) რუხსი სიგნალი?

1

ჰაესდჟინ უ


2

ნაეუ ჰაესდჟინ

### განმარტება:

„საგზაო მოძრაობის შესახებ“ საქართველოს კანონის 36-ე მუხლის მე-3 პუნქტის „ე“ ქვეპუნქტის თანახმად, რეგულირებულ გზაჯვარედინზე შექნიშნის ნებადამრთველ სიგნალზე გზაჯვარედინზე შესულ მძღოლს შეუძლია იმოძრაოს დასახული მიმართულებით, გზაჯვარედინიდან გასასვლელზე არსებული შექნიშნის ამკრძალავი სიგნალების მიუხედავად, მაგრამ იმ პირობით, რომ ეს არ დააბრკოლებს სხვა საგზაო მოძრაობის მონაწილეთა იმ მიმართულებით მოძრაობას, რომელზედაც მოძრაობა გახსნილია. თუ გზაჯვარედინზე მისი მოძრაობისას გზაზე არსებული შექნიშნების წინ „სდექ“ ხაზებია (ან/და 7.16 საგზაო ნიშნებია), მძღოლმა უნდა იხელმძღვანელოს თითოეული შექნიშნის სიგნალით.





ლავაერდ სიტუაციის, ჰაესდჟინ უ ავი ნა როგ ავტომობილს სკაერაგ ფატაეჯი (სტრელკაჟი) ჰერაჟადამა ჰმალგაჟაჟა ჰერლაჟუა ჰმალის ბარ ნა დატტაგ რუხსნისანი (სვეტოფორი) რუხსი სიგნალი?

1

ჰაესდჟინ უ

2

ნაჟუ ჰაესდჟინ

### განმარტება:

„საგზაო მოძრაობის შესახებ“ საქართველოს კანონის 36-ე მუხლის მე-3 პუნქტის „ე“ ქვეპუნქტის თანახმად, რეგულირებულ გზაჯვარედინზე შექნიშნის ნებადამრთველ სიგნალზე გზაჯვარედინზე შესულ მძღოლს შეუძლია იმოძრაოს დასახული მიმართულებით, გზაჯვარედინიდან გასასვლელზე არსებული შექნიშნის ამკრძალავი სიგნალების მიუხედავად, მაგრამ იმ პირობით, რომ ეს არ დააბრკოლებს სხვა საგზაო მოძრაობის მონაწილეთა იმ მიმართულებით მოძრაობას, რომელზედაც მოძრაობა გახსნილია. თუ გზაჯვარედინზე მისი მოძრაობისას გზაზე არსებული შექნიშნების წინ „სდექ“ ხაზებია (ან/და 7.16 საგზაო ნიშნებია), მძღოლმა უნდა იხელმძღვანელოს თითოეული შექნიშნის სიგნალით.

Кæд скъæрæг æрбаввахс кæны рухснысанмæ (светоформæ), кæцыйыл змæлды бардæттæг рухсы сигнал рагæй иугонд у, уый хъуамæ:

1

Фæфылдæр кæна тагъдад æмæ йæ цæст дара рухснысаны (светофоры), рухсы сигналтæм.

2

Адаргъ кæна змæлд, афтæ, цæмæй цæттæ уа транспортон фæрæзы кæцыфæнды моменты æдасæй æруромынæн.

3

Фæфылдæр кæна тагъдад, фæнды уый уæлиуæг кæны барлæвæрдон тагъдады арæны, цæмæй бафæраза ахизын фæндаджы фæнысангонд фадыг рухснысаны (светофоры) змæлды æхгæнæг рухсы сигналы сиумæ.

### განმარტება:

თუ მძღოლი უახლოვდება შეუქნიშანს, რომელზეც მოძრაობის ნებადამრთველი მაშუქი სიგნალი უკვე დიდი ხნის განმავლობაშია ჩართული, მან უნდა გააგრძელოს მოძრაობა, ისე, რომ მზად იყოს სატრანსპორტო საშუალების ნებისმიერ მომენტში უსაფრთხოდ გასაჩერებლად.



თემა 11:

## მარეგულირებლის სიგნალები

---



Кæцы аутомобилы скъæრæгæн гæнæн ис адаргъ кæна змæлд фатæджы (стрелкæйы) æрдæмадмæ уаг дæттæджы (регулиргæнæджы) ацы сигналмæ?

1

Уæзласæн, бур æмæ сырх аутомобилты скъæрджытæ

2

Бур æмæ цъæх аутомобилы скъæрджытæ

3

Бур æмæ сырх аутомобилы скъæрджытæ

### განმარტება:

„საგზაო მოძრაობის შესახებ“ საქართველოს კანონის 30-ე მუხლის მე-5 პუნქტის „გ“ ქვეპუნქტის თანახმად, მარეგულირებლის სიგნალებს აქვთ შემდეგი მნიშვნელობა: გ) წინ გაშვებული მარჯვენა ხელი – ეს უესტი ნიშნავს „სდექ“ სიგნალს მარეგულირებლის მარჯვენა გვერდისა და ზურგის მხრიდან მოძრავი ყველა მძღოლისათვის; ამასთანავე, მარეგულირებლის მარცხენა გვერდის მხრიდან ტრამვაის უფლება აქვს, იმოძრაოს მარცხნივ, ხოლო ურელსო სატრანსპორტო საშუალებას უფლება აქვს, იმოძრაოს ყველა მიმართულებით. მარეგულირებლის მკერდის მხრიდან ყველა სატრანსპორტო საშუალებას უფლება აქვს, იმოძრაოს მხოლოდ მარჯვნივ. ქვეითს უფლება აქვს, გადავიდეს სავალ ნაწილზე მარეგულირებლის ზურგის უკან.



Кæцы транспортон фæрæзы скъæრæгæн ис гæнæн æмæ адаргъ кæна фатæджы (стрелкæйы) æрдæмадмæ змæлды уаг дæттæджы ацы сигналмæ?

1

Æрмæст трамвайы скъæრæгæн

2

Æрмæст бур автомобили скъæრæгæн

3

Дыууæ транспортон фæрæзы  
скъæрæгæн дæр

### განმარტება:

„საგზაო მოძრაობის შესახებ“ საქართველოს კანონის 30-ე მუხლის მე-5 პუნქტის „გ“ ქვეპუნქტის თანახმად, მარეგულირებლის სიგნალებს აქვთ შემდეგი მნიშვნელობა: გ) წინ გაშვებული მარჯვენა ხელი - ეს ჟესტი ნიშნავს „სდექ“ სიგნალს მარჯვენა გვერდისა და ზურგის მხრიდან მოძრავ ყველა მძღოლისათვის. ამასთანავე, მარეგულირებლის მარცხენა გვერდის მხრიდან ტრამვაის უფლება აქვს, იმოძრაოს მარცხნივ, ხოლო ურელსო სატრანსპორტო საშუალებას უფლება აქვს იმოძრაოს ყველა მიმართულებით. მარეგულირებლის მკერდის მხრიდან ყველა სატრანსპორტო საშუალებას უფლება აქვს, იმოძრაოს მხოლოდ მარჯვნივ. ქვეითს უფლება აქვს, გადავიდეს სავალ ნაწილზე მარეგულირებლის ზურგს უკან.





Ис æви нæ бар рог автомобили скъæрæгæн адаргъ кæна змæлды алвæндагыл (перекрестокыл) рахизырდæм, уаг дæттæджы ацы сигналмæ?

1


Ис ын бар

2

Нæй ын бар

### განმარტება:

„საგზაო მოძრაობის შესახებ“ საქართველოს კანონის 30-ე მუხლის მე-5 პუნქტის „გ“ ქვეპუნქტის თანახმად, მარეგულირებლის სიგნალებს აქვთ შემდეგი მნიშვნელობა - წინ გაშვებული მარჯვენა ხელი – ეს ჟესტი ნიშნავს „სდექ“ სიგნალს მარეგულირებლის მარჯვენა გვერდისა და ზურგის მხრიდან მოძრავი ყველა მძღოლისათვის; ამასთანავე, მარეგულირებლის მარცხენა გვერდის მხრიდან ტრამვაის უფლება აქვს, იმოძრაოს მარცხნივ, ხოლო ურელსო სატრანსპორტო საშუალებას უფლება აქვს, იმოძრაოს ყველა მიმართულებით. მარეგულირებლის მკერდის მხრიდან ყველა სატრანსპორტო საშუალებას უფლება აქვს, იმოძრაოს მხოლოდ მარჯვნივ. ქვეითს უფლება აქვს, გადავიდეს სავალ ნაწილზე მარეგულირებლის ზურგის უკან; ამავე კანონის 32-ე მუხლის მე-5 პუნქტის თანახმად, გარდა იმ შემთხვევისა, როცა მოხვევა სრულდება გზაჯვარედინზე გასასვლელად, სადაც წრიული მოძრაობაა ორგანიზებული, მარჯვნივ ან მარცხნივ მოხვევის წინ, აგრეთვე მობრუნების წინ სატრანსპორტო საშუალების მძღოლი ვალდებულია დროულად დაიკავოს შესაბამისი განაპირა მდებარეობა სავალ ნაწილზე, რომელიც თანმხვედრი მიმართულებით მოძრაობისთვისაა განკუთვნილი.



Кæцы æрдæмадмæ йын ис змæлды адаргъ кæныны бар урс автомобили скъæრæгæн уаг дæттæджы ацы сигналмæ?

1

Æрмæст галиуырდæм

2

Æрмæст галиуырდæм æмæ  
фæстæрдæм (разилын)

3

Æрмæст комкоммæ æмæ галиუმæ

4

Æрмæст комкоммæ

### ბანმარტუბა:

„საგზაო მოძრაობის შესახებ“ საქართველოს კანონის 30-ე მუხლის მე-5 პუნქტის „გ“ ქვეპუნქტის თანახმად, მარეგულირებლის სიგნალებს აქვთ შემდეგი მნიშვნელობა - წინ გაშვებული მარჯვენა ხელი – ეს ჟესტი ნიშნავს „სდექ“ სიგნალს მარეგულირებლის მარჯვენა გვერდისა და ზურგის მხრიდან მოძრავი ყველა მძღოლისათვის; ამასთანავე, მარეგულირებლის მარცხენა გვერდის მხრიდან ტრამვაის უფლება აქვს, იმოძრაოს მარცხნივ, ხოლო ურელსო სატრანსპორტო საშუალებას უფლება აქვს, იმოძრაოს ყველა მიმართულებით. მარეგულირებლის მკერდის მხრიდან ყველა სატრანსპორტო საშუალებას უფლება აქვს, იმოძრაოს მხოლოდ მარჯვნივ. ქვეითს უფლება აქვს, გადავიდეს სავალ ნაწილზე მარეგულირებლის ზურგის უკან; ამავე კანონის 32-ე მუხლის მე-5 პუნქტის თანახმად, გარდა იმ შემთხვევისა, როცა მოხვევა სრულდება გზაჯვარედინზე გასასვლელად, სადაც წრიული მოძრაობაა ორგანიზებული, მარჯვნივ ან მარცხნივ მოხვევის წინ, აგრეთვე მობრუნების წინ სატრანსპორტო საშუალების მძღოლი ვალდებულია დროულად დაიკავოს შესაბამისი განაპირა მდებარეობა სავალ ნაწილზე, რომელიც თანმხვედრი მიმართულებით მოძრაობისთვისაა განკუთვნილი.





Кæцы æрдæмадмæ йын ис змæлды адаргъ кæныны бар автомобили скъæრæгæн уаг дæттæджы ацы сигналмæ?

1

Æрмæст галиуырდæм

2

Æрмæст галиуырდæм æмæ  
фæстæрдæм (разилын)

3

Алкæцы æрдæмадмæ


4

Æрмæст комкоммæ æмæ рахизмæ

### განმარტება:

„საგზაო მოძრაობის შესახებ“ საქართველოს კანონის 30-ე მუხლის მე-5 პუნქტის „გ“ ქვეპუნქტის თანახმად, მარეგულირებლის სიგნალებს აქვთ შემდეგი მნიშვნელობა - წინ გაშვებული მარჯვენა ხელი – ეს ჟესტი ნიშნავს „სდექ“ სიგნალს მარეგულირებლის მარჯვენა გვერდისა და ზურგის მხრიდან მოძრავი ყველა მძღოლისათვის; ამასთანავე, მარეგულირებლის მარცხენა გვერდის მხრიდან ტრამვაის უფლება აქვს, იმოძრაოს მარცხნივ, ხოლო ურელსო სატრანსპორტო საშუალებას უფლება აქვს, იმოძრაოს ყველა მიმართულებით. მარეგულირებლის მკერდის მხრიდან ყველა სატრანსპორტო საშუალებას უფლება აქვს, იმოძრაოს მხოლოდ მარჯვნივ. ქვეითს უფლება აქვს, გადავიდეს სავალ ნაწილზე მარეგულირებლის ზურგის უკან.





Кæцы аутомобилы скъæრæгæн ис бар адаргъ кæна змæлд фатæджы (стрелкæйы) æрдæмадмæ уаг дæттæджы ацы сигналмæ?

1

Æрмæст бур аутомобилы скъæრæгæн

2

Æрмæст урс аутомобилы скъæრæგæн

3


Дыууæ аутомобилы скъæრæгæн

4

Нæдæр иу (никæцы) аутомобилы скъæრæгæн

### განმარტება:

„საგზაო მოძრაობის შესახებ“ საქართველოს კანონის 30-ე მუხლის მე-5 პუნქტის „გ“ ქვეპუნქტის თანახმად, მარეგულირებლის სიგნალებს აქვთ შემდეგი მნიშვნელობა - წინ გაშვებული მარჯვენა ხელი – ეს ჟესტი ნიშნავს „სდექ“ სიგნალს მარეგულირებლის მარჯვენა გვერდისა და ზურგის მხრიდან მოძრავი ყველა მძღოლისათვის; ამასთანავე, მარეგულირებლის მარცხენა გვერდის მხრიდან ტრამვაის უფლება აქვს, იმოძრაოს მარცხნივ, ხოლო ურელსო სატრანსპორტო საშუალებას უფლება აქვს, იმოძრაოს ყველა მიმართულებით. მარეგულირებლის მკერდის მხრიდან ყველა სატრანსპორტო საშუალებას უფლება აქვს, იმოძრაოს მხოლოდ მარჯვნივ. ქვეითს უფლება აქვს, გადავიდეს სავალ ნაწილზე მარეგულირებლის ზურგის უკან.



Кæцы транспортон фæрæзы скъæრæгæн ис бар адаргъ кæна змæлд фатæджы (стрелкæйы) æрдæмадмæ уаг дæттæджы ацы сигналмæ?

1

Æрмæст бур автомобили скъæრæгæн

2

Æрмæст трамвайы скъæრæгæн

3

Дыууæ транспортон фæрæзы скъæრæгæн


4

Нæдæр иу (никæцы) транспортон фæрæзы скъæრæгæн

### განმარტება:

„საგზაო მოძრაობის შესახებ“ საქართველოს კანონის 30-ე მუხლის მე-5 პუნქტის „გ“ ქვეპუნქტის თანახმად, მარეგულირებლის სიგნალებს აქვთ შემდეგი მნიშვნელობა - წინ გაშვებული მარჯვენა ხელი – ეს ჟესტი ნიშნავს „სდექ“ სიგნალს მარეგულირებლის მარჯვენა გვერდისა და ზურგის მხრიდან მოძრავი ყველა მძღოლისათვის; ამასთანავე, მარეგულირებლის მარცხენა გვერდის მხრიდან ტრამვაის უფლება აქვს, იმოძრაოს მარცხნივ, ხოლო ურელსო სატრანსპორტო საშუალებას უფლება აქვს, იმოძრაოს ყველა მიმართულებით. მარეგულირებლის მვერდის მხრიდან ყველა სატრანსპორტო საშუალებას უფლება აქვს, იმოძრაოს მხოლოდ მარჯვნივ. ქვეითს უფლება აქვს, გადავიდეს სავალ ნაწილზე მარეგულირებლის ზურგის უკან.





ის სინ ავი ნა ფისტაგონ ახიზაენილ აცაუიანი ბარ ფისტაეჯიტაენ უაგ დაეტაეჯი აცი სიგნალმა გაესგა?

1

ის სინ ბარ

2

ნაჲ სინ ბარ

### განმარტება:

„საგზაო მოძრაობის შესახებ“ საქართველოს კანონის 30-ე მუხლის მე-5 პუნქტის „ა“ ქვეპუნქტის თანახმად, მარეგულირებლის სიგნალებს აქვთ შემდეგი მნიშვნელობა - ზემოთ აწეული ერთი ხელი - ეს აესტი ყველა საგზაო მოძრაობის მონაწილისათვის ნიშნავს „ყურადღება, სდექ“ სიგნალს, გარდა იმ მძღოლებისა, რომლებიც უკვე ვეღარ შეძლებენ გაჩერებას მკვეთრი დამუხრუჭებისა და საკმაო უსაფრთხოების პირობების დაცვით. გარდა ამისა, თუ ეს სიგნალი მიცემულია გზაჯვარედინზე, მძღოლს, რომელიც უკვე შესულია გზაჯვარედინზე, შეუძლია განაგრძოს მოძრაობა. ქვეითმა, რომელიც სიგნალის მიცემისას გზის სავალ ნაწილზე იმყოფება, უნდა გაათავისუფლოს იგი, ხოლო თუ ეს შეუძლებელია – უნდა გაჩერდეს ურთიერთსაპირისპირო მიმართულებით მოძრავი სატრანსპორტო ნაკადების გამყოფ ხაზზე.



Кæцы транспортон фæрæзы скъæრæгæн фæзындзæн фæндаг раттыны хæсдзинад фатæджы (стрелкæйы) æрдæмадмæ змæлды цауы, уаг дæттæджы ацы сигналмæ гæсгæ?

1

Автомобилы скъæрæгæн

2

Трамвайы скъæрæгæн

### განმარტება:

„საგზაო მოძრაობის შესახებ“ საქართველოს კანონის 30-ე მუხლის მე-5 პუნქტის „გ“ ქვეპუნქტის თანახმად, მარეგულირებლის სიგნალებს აქვთ შემდეგი მნიშვნელობა - წინ გაშვებული მარჯვენა ხელი - ეს ჟესტი ნიშნავს „სდექ“ სიგნალს მარეგულირებლის მარჯვენა გვერდისა და ზურგის მხრიდან მოძრავი ყველა მძღოლისათვის; ამასთანავე, მარეგულირებლის მარცხენა გვერდის მხრიდან ტრამვაის უფლება აქვს, იმოძრაოს მარცხნივ, ხოლო ურელსო სატრანსპორტო საშუალებას უფლება აქვს, იმოძრაოს ყველა მიმართულებით. მარეგულირებლის მკერდის მხრიდან ყველა სატრანსპორტო საშუალებას უფლება აქვს, იმოძრაოს მხოლოდ მარჯვნივ. ქვეითს უფლება აქვს, გადავიდეს სავალ ნაწილზე მარეგულირებლის ზურგის უკან. ამავე კანონის 36-ე მუხლის მე-3 პუნქტის „დ“ ქვეპუნქტის თანახმად, რეგულირებულ გზაჯვარედინზე თუ მარეგულირებლის სიგნალი ერთდროულად მოძრაობის ნებას რთავს ურთიერთგადამკვეთი ტრაექტორიებით მოძრავ ურელსო სატრანსპორტო საშუალებებს, მძღოლებმა უნდა იხელმძღვანელონ არარეგულირებული გზაჯვარედინის გავლის წესებითა და გზაჯვარედინზე დაყენებული პრიორიტეტის ნიშნებით;





Уаг дæттæджы ацы сигналмæ фатæджы (стрелкæйы) æрдæмадмæ змæлды адаргъ кæныны бар ис:

- |   |  |   |                                 |
|---|--|---|---------------------------------|
| 1 | Æрмæст цъæх автомобили скъæრæгæн       | 2 | Æрмæст урс автомобили скъæრæгæн |
| 3 | Нæдæр иу (никæцы) автомобили скъæრæгæн |   |                                 |

### განმარტება:

„საგზაო მოძრაობის შესახებ“ საქართველოს კანონის 30-ე მუხლის მე-5 პუნქტის „ბ“ ქვეპუნქტის თანახმად, მარეგულირებლის სიგნალებს აქვთ შემდეგი მნიშვნელობა - განზე გაშვებული ან ჩამოშვებული ხელები - ეს ჟესტი ნიშნავს „სდექ“ სიგნალს იმ საგზაო მოძრაობის მონაწილეებისათვის, რომლებიც, მათი მოძრაობის მიმართულების მიუხედავად, მოძრაობენ იმ მიმართულებით, რომელიც კვეთს მარეგულირებლის განვდილი ხელით ან ხელებით მინიშნებულ მიმართულებას; ამასთანავე, მარეგულირებლის მარჯვენა და მარცხენა გვერდების მხრიდან ტრამვაის უფლება აქვს, იმოძრაოს პირდაპირ, ურელსო სატრანსპორტო საშუალებას უფლება აქვს, იმოძრაოს პირდაპირ და მარჯვნივ, ხოლო ქვეითს უფლება აქვს, გადავიდეს გზის სავალ ნაწილზე.





Кæцы æрдæмадмæ ис змæлды бар аутомобилы скъæრæгæн уаг дæттæджы ацы сигналмæ гæсгæ?

1

Æрмæст комкоммæ æмæ  
галиуырდæм

2


Æрмæст комкоммæ æмæ  
რაхизырდæმ

3

Æრმæст комкомმæ

### განმარტება:

„საგზაო მოძრაობის შესახებ“ საქართველოს კანონის 30-ე მუხლის მე-5 პუნქტის „ბ“ ქვეპუნქტის თანახმად, მარეგულირებლის სიგნალებს აქვთ შემდეგი მნიშვნელობა - განზე გაშვებული ან ჩამოშვებული ხელები - ეს ჟესტი ნიშნავს „სდექ“ სიგნალს იმ საგზაო მოძრაობის მონაწილეებისათვის, რომლებიც, მათი მოძრაობის მიმართულების მიუხედავად, მოძრაობენ იმ მიმართულებით, რომელიც კვეთს მარეგულირებლის განვდილი ხელით ან ხელებით მინიშნებულ მიმართულებას; ამასთანავე, მარეგულირებლის მარჯვენა და მარცხენა გვერდების მხრიდან ტრამვაის უფლება აქვს, იმოძრაოს პირდაპირ, ურელსო სატრანსპორტო საშუალებას უფლება აქვს, იმოძრაოს პირდაპირ და მარჯვნივ, ხოლო ქვეითს უფლება აქვს, გადავიდეს გზის სავალ ნაწილზე; ამავე კანონის 32-ე მუხლის მე-5 პუნქტის თანახმად, გარდა იმ შემთხვევისა, როცა მოხვევა სრულდება გზატკარციდინზე გასასვლელად, სადაც წრიული მოძრაობაა ორგანიზებული, მარჯვნივ ან მარცხნივ მოხვევის წინ, აგრეთვე მობრუნების წინ სატრანსპორტო საშუალების მძღოლი ვალდებულია დროულად დაიკავოს შესაბამისი განაპირა მდებარეობა სავალ ნაწილზე, რომელიც თანმხვედრი მიმართულებით მოძრაობისთვისაა განკუთვნილი.



Кæцы æрдæмадмæ ис змæлды адаргъ кæныны бар автомобили скъæრæгæн уаг дæттæджы ацы сигналмæ гæсгæ?

1

Æрмæст комкоммæ

2

Æрмæст комкоммæ æмæ рахизырდæმ

3

Æრმæст რაჩიზმæ æმæ გალიუყრდემ


4

Кæцыфæнды æрдæмадмæ

### განმარტება:

„საგზაო მოძრაობის შესახებ“ საქართველოს კანონის 30-ე მუხლის მე-5 პუნქტის „ბ“ ქვეპუნქტის თანახმად, მარეგულირებლის სიგნალებს აქვთ შემდეგი მნიშვნელობა - განზე გაშვებული ან ჩამოშვებული ხელები - ეს ჟესტი ნიშნავს „სდექ“ სიგნალს იმ საგზაო მოძრაობის მონაწილეებისათვის, რომლებიც, მათი მოძრაობის მიმართულების მიუხედავად, მოძრაობენ იმ მიმართულებით, რომელიც კვეთს მარეგულირებლის განვდილი ხელით ან ხელებით მინიშნებულ მიმართულებას; ამასთანავე, მარეგულირებლის მარჯვენა და მარცხენა გვერდების მხრიდან ტრამვაის უფლება აქვს, იმოძრაოს პირდაპირ, ურელსო სატრანსპორტო საშუალებას უფლება აქვს, იმოძრაოს პირდაპირ და მარჯვნივ, ხოლო ქვეითს უფლება აქვს, გადავიდეს გზის სავალ ნაწილზე; ამავე კანონის 32-ე მუხლის მე-5 პუნქტის თანახმად, გარდა იმ შემთხვევისა, როცა მოხვევა სრულდება გზაჯვარედინზე გასასვლელად, სადაც წრიული მოძრაობაა ორგანიზებული, მარჯვნივ ან მარცხნივ მოხვევის წინ, აგრეთვე მობრუნების წინ სატრანსპორტო საშუალების მძღოლი ვალდებულია დროულად დაიკავოს შესაბამისი განაპირა მდებარეობა სავალ ნაწილზე, რომელიც თანმხვედრი მიმართულებით მოძრაობისთვისაა განკუთვნილი.





Уаг дæттæджы ацы сигналмæ рог автомобили скъæрæгæн бар ис адаргъ кæна змæлд:

1

Æрмæст A æмæ B æрдæмадмæ

2


Æрмæст B æмæ D æрдæмадмæ

3

Алкæцы æрдæмадмæ

### განმარტება:

„საგზაო მოძრაობის შესახებ“ საქართველოს კანონის 30-ე მუხლის მე-5 პუნქტის „გ“ ქვეპუნქტის თანახმად, მარეგულირებლის სიგნალებს აქვთ შემდეგი მნიშვნელობა - წინ გაშვებული მარჯვენა ხელი - ეს ჟესტი ნიშნავს „სდექ“ სიგნალს მარეგულირებლის მარჯვენა გვერდისა და ზურგის მხრიდან მოძრავი ყველა მძღოლისათვის; ამასთანავე, მარეგულირებლის მარცხენა გვერდის მხრიდან ტრამვაის უფლება აქვს, იმოძრაოს მარცხნივ, ხოლო ურელსო სატრანსპორტო საშუალებას უფლება აქვს, იმოძრაოს ყველა მიმართულებით. მარეგულირებლის მკერდის მხრიდან ყველა სატრანსპორტო საშუალებას უფლება აქვს, იმოძრაოს მხოლოდ მარჯვნივ. ქვეითს უფლება აქვს, გადავიდეს სავალ ნაწილზე მარეგულირებლის ზურგის უკან.



Уаг дæттæджы ацы сигналмæ рог автомобили скъæрæгæн бар ис адаргъ кæна змæлд:

1

Нæдæр иу (никацы) æрдæмадмæ

2

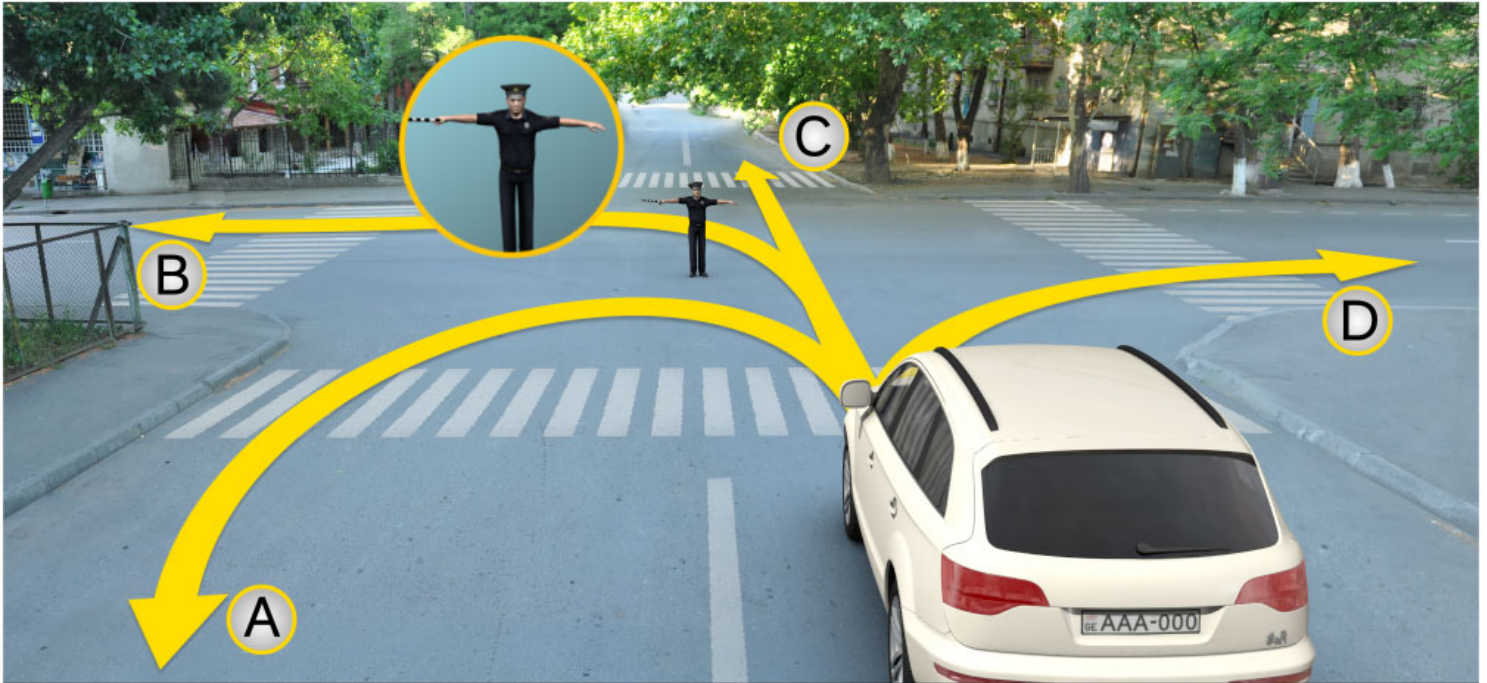
Æрмæст A æмæ D æрдæмадмæ

3

Æрмæст B æмæ C æрдæмадмæ

### განმარტება:

„საგზაო მოძრაობის შესახებ“ საქართველოს კანონის 30-ე მუხლის მე-5 პუნქტის „ა“ ქვეპუნქტის თანახმად, მარეგულირებლის სიგნალებს აქვთ შემდეგი მნიშვნელობა - ზემოთ აწეული ერთი ხელი - ეს ჟესტი ყველა საგზაო მოძრაობის მონაწილისათვის ნიშნავს „ყურადღება, სდექ“ სიგნალს, გარდა იმ მძღოლებისა, რომლებიც უკვე ვეღარ შეძლებენ გაჩერებას მკვეთრი დამუხრუჭებისა და საკმაო უსაფრთხოების პირობების დაცვით. გარდა ამისა, თუ ეს სიგნალი მიცემულია გზაჯვარედინზე, მძღოლს, რომელიც უკვე შესულია გზაჯვარედინზე, შეუძლია განაგრძოს მოძრაობა. ქვეითმა, რომელიც სიგნალის მიცემისას გზის სავალ ნაწილზე იმყოფება, უნდა გაათავისუფლოს იგი, ხოლო თუ ეს შეუძლებელია – უნდა გაჩერდეს ურთიერთსაპირისპირო მიმართულებით მოძრავი სატრანსპორტო ნაკადების გამყოფ ხაზზე.



Уаг дæттæджы ацы сигналмæ рог автомобили скъæрæгæн бар ис адаргъ кæна змæлд:

1

Æрмæст A æмæ C æрдæмадмæ

2

Нæдæр иу (никæцы) æрдæмадмæ

3

Æрмæст B æмæ D æрдæмадмæ

### განმარტება:

„საგზაო მოძრაობის შესახებ“ საქართველოს კანონის 30-ე მუხლის მე-5 პუნქტის „ბ“ ქვეპუნქტის თანახმად, მარეგულირებლის სიგნალებს აქვთ შემდეგი მნიშვნელობა - განზე გაშვებული ან ჩამოშვებული ხელები - ეს ჟესტი ნიშნავს „სდექ“ სიგნალს იმ საგზაო მოძრაობის მონაწილეებისათვის, რომლებიც, მათი მოძრაობის მიმართულების მიუხედავად, მოძრაობენ იმ მიმართულებით, რომელიც კვეთს მარეგულირებლის განვდილი ხელით ან ხელებით მინიშნებულ მიმართულებას; ამასთანავე, მარეგულირებლის მარჯვენა და მარცხენა გვერდების მხრიდან ტრამვაის უფლება აქვს, იმოძრაოს პირდაპირ, ურელსო სატრანსპორტო საშუალებას უფლება აქვს, იმოძრაოს პირდაპირ და მარჯვნივ, ხოლო ქვეითს უფლება აქვს, გადავიდეს გზის სავალ ნაწილზე.



## ВОПРОС 280

ПРАВИЛЬНЫЙ ОТВЕТ: 1

Кæд уаг дæттæджы сигналы домæн ныхмæвæрд у рухснысаны (светофоры) рухсы сигналтæн, фæндагон нысæнтты æмæ фæндагон бæрджыты домæнтæм, фæндæгты змæлды хайадисджытæ хæсджын сты сæххæст кæной:

1

Уаг дæттæджы сигналы домæнтæ

2

Рухснысаны (светофоры) рухсы  
сигналты домæнтæ

3

Фæндагон нысæнтты домæнтæ

4

Фæндагон бæрджыты домæнтæ

## განმარტება:

„საგზაო მოძრაობის შესახებ“ საქართველოს კანონის 28-ე მუხლის მე-2 პუნქტის თანახმად, მარეგულირებლის სიგნალებს აქვს უპირატესი ძალა შექნიშნის მაშუქი სიგნალების, საგზაო ნიშნებისა და საგზაო მონიშვნების მოთხოვნების და საგზაო მოძრაობის წესების მოთხოვნების მიმართ. გზაჯვარედინზე მარეგულირებლის მიერ მოძრაობის რეგულირებისას ამკრძალავი და მიმითითებელი საგზაო ნიშნები აგრძელებს მოქმედებას, გარდა იმ შემთხვევისა, როდესაც მარეგულირებელი კონკრეტულად მიუთითებს მათი მოთხოვნების უგულებელყოფაზე.

## ВОПРОС 281

ПРАВИЛЬНЫЙ ОТВЕТ: 4

Уаг дæттæг гæнæн ис æмæ сигнал ратта:

1

Æрмæст сау æмæ урс хæххытæгонд  
(хъулон) лæдзæгæй кæნæ сырх  
рухстæмæндæттæг дискæй

2

Æрмæст къухæй кæნæ дискæй,  
кæцыйыл æвдыст ис фæндагон  
нысан – змæлды бар нæй

3

Æрмæст сырх кæნæ бур хуыз  
тырысатæй, кæნæ сырх ферттывды  
змæлдæй

4

Ацы билеты ранымад кæцыфæнды  
фæрæзæй

## განმარტება:

„საგზაო მოძრაობის შესახებ“ საქართველოს კანონის 30-ე მუხლის მე-9 პუნქტის თანახმად, მარეგულირებელი სიგნალს აძლევს: ა) შავი და თეთრი ბოლების მქონე ხელკეტი; ბ) შექამრეკლი წითელი დისკით; გ) დისკით, რომელზედაც გამოსახულია საგზაო ნიშანი „მოძრაობა აკრძალულია“; დ) ხელით; ე) წითელი ან ყვითელი ალმით; ვ) წითელი სინათლის მოძრაობით.

## ВОПРОС 282

ПРАВИЛЬНЫЙ ОТВЕТ: 2

Уаг дæттæджы æхситгæнаенæй (уасæნæй) лæвæрд уæлæмхас сигнал:

1

Бар нæ дæтты змæлдæн

2

Нысангонд у змæлды архайджыты фæдзæхсынæн

3

Иу кæны змæлды барлæвæрд

4

Рагфæдзæхст кæны æрæввахсгонд тасы тыххæй

## განმარტება:

„საგზაო მოძრაობის შესახებ“ საქართველოს კანონის 30-ე მუხლის მე-10 პუნქტის თანახმად, მარეგულირებლის მიერ სასტვენით მიცემული დამატებითი სიგნალი გამიზნულია მოძრაობის მონაწილეების ყურადღების მისაპყრობად.

## ВОПРОС 283

ПРАВИЛЬНЫЙ ОТВЕТ: 1

Кæд æмæ уаг дæттæг гоймæгты сигналтæ ныхмæвæрд сты рухснысаны (светофоры) рухсы сигналты домæнтæм, фæндæгты змæлды хайадисджытæ хæсджын сты, сæххæст кæной:

1

Уаг дæттæджы сигналы домæнтæ

2

Рухснысаны (светофоры) рухсы сигналы домæнтæ

## განმარტება:

„საგზაო მოძრაობის შესახებ“ საქართველოს კანონის 28-ე მუხლის მე-2 პუნქტის თანახმად, მარეგულირებლის სიგნალებს აქვს უპირატესი ძალა შეუჩიშნის მაშუქი სიგნალების, საგზაო ნიშნებისა და საგზაო მონიშვნების მოთხოვნების და საგზაო მოძრაობის წესების მოთხოვნების მიმართ. გზაჯვარედინზე მარეგულირებლის მიერ მოძრაობის რეგულირებისას ამკრძალავი და მიმითითებელი საგზაო ნიშნები აგრძელებს მოქმედებას, გარდა იმ შემთხვევისა, როდესაც მარეგულირებელი კონკრეტულად მიუთითებს მათი მოთხოვნების უგულებელყოფაზე.



ლავაერდ სიტუაციი, ავტომობილს სკჯაერაგ ზაესდჟინ უ:

1

ადარგჯ კაენა ჰმელდ

2

აერურომა იუილ ავვახსდერ რელსმა, იუილ კაადდერ 10 მეტრს დერდდჟაგის

3

აერურომა „სტოპ“ ზაჰჰის ცურ

4

აერურომა რუხსნისანის (სვეტოფორის) ცურ

### ბანმარტაბა:

„საგზაო მოძრაობის შესახებ“ საქართველოს კანონის 39-ე მუხლის მე-4 პუნქტის თანახმად, რკინიგზის გადასასვლელზე მოძრაობის ამკრძალავი სიგნალის მიცემისას მარეგულირებელი დგას მძღოლის მიმართ მკერდით ან ზურგშეცევით, თავის ზემოთ აწეული კვერთხით, წითელი ფარნით ან ალმით ან განზე გაწეული ხელებით. ამავე მუხლის პირველი პუნქტის „გ“ ქვეპუნქტის თანახმად, მარეგულირებლის ან შუქნიშნის ამკრძალავი სიგნალის დროს არცერთი საგზაო მოძრაობის მონაწილე არ უნდა შევიდეს რკინიგზის გადასასვლელზე, მიუხედავად შლაგბაუმის ან ნახევარშლაგბაუმის მდგომარეობისა ან მისი არსებობისა. ამავე მუხლის მე-3 პუნქტის თანახმად თუ რკინიგზის გადასასვლელზე მოძრაობა აკრძალულია, მძღოლი ჩერდება „სდექ“ ზაზთან, 2.4 საგზაო ნიშანთან ან შუქნიშანთან, ხოლო მათი არარსებობისას – შლაგბაუმიდან ან ნახევარშლაგბაუმიდან არანაკლებ 5 მეტრისა. თუ არ არის არც შლაგბაუმი და არც ნახევარშლაგბაუმი, მძღოლი უნდა გაჩერდეს უახლოეს რელსამდე არანაკლებ 10 მეტრისა.





ლავადრდ სიტუაციის, ავტომობილს სკვადრადრდ ხადსდჟინ უ:

1

ადარგვ კაენა ჰმად

2

ადრურომა „სტოპ“ ხახჟი ცურ

3

ადრურომა იუილ ავვახსდარ რელსმად, იუილ კადდარდ 10 მერჟი დარდდჟადგჟილ

4

ადრურომა რუხსნისანი (სვოტოფორი) ცურ

### ბანმარტჟბა:

„საგზაო მოძრაობის შესახებ“ საქართველოს კანონის 39-ე მუხლის მე-4 პუნქტის თანახმად, რკინიგზის გადასასვლელზე მოძრაობის ამკრძალავი სიგნალის მიცემისას მარეგულირებელი დგას მძღოლის მიმართ მკერდით ან ზურგმუცევეით, თავის ზემოთ აწეული კვერთხით, წითელი ფარნით ან აღმით ან განზე განეული ხელებით. ამავე მუხლის პირველი პუნქტის „გ“ ქვეპუნქტის თანახმად, მარეგულირებლის ან შუქნიშნის ამკრძალავი სიგნალის დროს არცერთი საგზაო მოძრაობის მონაწილე არ უნდა შევიდეს რკინიგზის გადასასვლელზე, მიუხედავად შლაგბაუმის ან ნახევარშლაგბაუმის მდგომარეობისა ან მისი არსებობისა. ამავე მუხლის მე-3 პუნქტის თანახმად თუ რკინიგზის გადასასვლელზე მოძრაობა აკრძალულია, მძღოლი ჩერდება „სდექ“ ხაზთან, 2.4 საგზაო ნიშანთან ან შუქნიშანთან, ხოლო მათი არარსებობისას – შლაგბაუმიდან ან ნახევარშლაგბაუმიდან არანაკლებ 5 მეტრისა. თუ არ არის არც შლაგბაუმი და არც ნახევარშლაგბაუმი, მძღოლი უნდა გაჩერდეს უახლოეს რელსამდე არანაკლებ 10 მეტრისა.



ლავერდ სიტუაციის, ის ავი ნა სკაერაგან ანაბაურომგაია ზმელდ ადარდდარ კაენის ბარ, კად ამაე ოპერატივონ კუისტი ავტომობილს იუ ის ცუახ აერტივგა სპეციალონ მიგალკა ამაე ჯალონ სიგნალტა?

1

ნაჲს ბარ

2

ის ბარ

### განმარტება:

„საგზაო მოძრაობის შესახებ“ საქართველოს კანონის 39-ე მუხლის მე-4 პუნქტის თანახმად, რკინიგზის გადასასვლელზე მოძრაობის ამკრძალავი სიგნალის მიცემისას მარეგულირებელი დგას მძღოლის მიმართ მკერდით ან ზურგშეცევით, თავის ზემოთ აწეული კვერთხით, წითელი ფარნით ან ალმით ან განზე გაწეული ხელებით. ამავე კანონის 30-ე მუხლის მე-7 პუნქტის „ბ“ ქვეპუნქტის თანახმად მძღოლი, რომელსაც მარეგულირებელმა სიგნალის მიცემით აუკრძალა მოძრაობა, ვალდებულია გაჩერდეს რკინიგზის გადასასვლელის წინ – ამ კანონის 39-ე მუხლის მე-3 პუნქტის შესაბამისად. ამავე კანონის 51 მუხლის პირველი პუნქტის თანახმად, ოპერატიული ან ოპერატიული ან სპეციალური სამსახურის სატრანსპორტო საშუალების მძღოლს, რომელსაც სატრანსპორტო საშუალებაზე ჩართული აქვს ლურჯი მოელვარე სპეციალური ციმციმა სიგნალი და ასრულებს სამსახურებრივ დავალებას, შეუძლია საგზაო მოძრაობის უსაფრთხოების უზრუნველყოფის პირობების დაცვით გადაუხვიოს ამ კანონის 25-ე, 31-ე–41-ე და 44-ე მუხლებით, აგრეთვე ამ კანონის №1 და №2 დანართებით დადგენილ მოთხოვნებს.



## ВОПРОС 287

ПРАВИЛЬНЫЙ ОТВЕТ: 2

Кәд фистәгон ахизәнтыл уәвәг фәндагыл транспортон фәрәзты змәлд регулюроватгонд цәуы уаг дәттәджы әххуысәй, змәлд бар нә дәттәг сигналы рәстәджы скъәрджытә хъуамә әрләууой:

1

Уаг дәттәджы раз

2

Фистәгон ахизәны раз кәнә йә размә цәхгәрмә нысаны цур

3

Комкоммә әрдәмады хаххыл

## განმარტება:

„საგზაო მოძრაობის შესახებ“ საქართველოს კანონის 25-ე მუხლის მე-2 პუნქტის „ა“ ქვეპუნქტის თანახმად, ქვეითთა გადასასვლელზე ამ კანონის 21-ე მუხლის მე-6 პუნქტით, 33-ე მუხლის მე-2 პუნქტითა და 34-ე მუხლის მე-11 პუნქტით დადგენილ მოთხოვნათა დაცვით უნდა შესრულდეს შემდეგი მოთხოვნები: ა) თუ სატრანსპორტო საშუალებათა მოძრაობა საგზაო შუქნიშნით ან მარეგულირებლის მეშვეობით რეგულირდება, მოძრაობის ამკრძალავი სიგნალის დროს მძღოლი უნდა გაჩერდეს ქვეითთა გადასასვლელის წინ ან მის წინ მდებარე განივ მონიშვნასთან.

## ВОПРОС 288

ПРАВИЛЬНЫЙ ОТВЕТ: 1

“Уаг дәттәг (регулюровщик)”-у Гуырдызистоны закъондәттынадәй бәрәггонд фәндәгты змәлды регулюроваткәныны әвджиддар гоймаг, кәцыйән йә компетенцийы фәлгәтты бар ис:

1

Фәндәгты змәлды хайадисәджы змәлдән арән скәна, фәива йын әрдәмад кәнә та йын әрурома йе змәлды

2

Фәлә закъонхаләг скъәрәгән бафидын кәна административон фиддон

## განმარტება:

„საგზაო მოძრაობის შესახებ“ საქართველოს კანონის 5-ე მუხლის 32-ე პუნქტის თანახმად, მარეგულირებელი - საქართველოს კანონმდებლობით განსაზღვრული, საგზაო მოძრაობის რეგულირების უფლებამოსილების მქონე პირი, რომელსაც თავისი კომპეტენციის ფარგლებში უფლება აქვს, საგზაო მოძრაობის მონაწილეს შეუზღუდოს მოძრაობა, შეუცვალოს მიმართულება ან/და შეაჩეროს მისი მოძრაობა.

Кæд уаг дæттæджы сигнал æмрæстæджы змæлды иу кæны æмцæхгæрмæ траекторитæй змæलगæ æнæрельсон транспортон фæрæзты, скъæрджытæ хъуамæ къухдариæг кæной:

1


Æрмæст приоритеты бæрæггæнæг фæндагон бæрджыты домæнтæй

2

Æнæ регулироватгонд алвæндаджы (перекрестокы) ацæуыны æгъдæутты æмæ алвæндагыл (перекрестокыл) æвæрд приоритеты нысæнтæй.

### განმარტება:

„საგზაო მოძრაობის შესახებ“ საქართველოს კანონის 36-ე მუხლის მე-3 პუნქტის „დ“ ქვეპუნქტის თანახმად, რეგულირებულ გზაჯვარედინზე, თუ მარეგულირებლის სიგნალი ერთდროულად მოძრაობის ნებას რთავს ურთიერთგადაძვვეთი ტრაექტორიებით მოძრავ ურელსო სატრანსპორტო საშუალებებს, მძღოლებმა უნდა იხელმძღვანელონ არარეგულირებული გზაჯვარედინის გავლის წესებითა და გზაჯვარედინზე დაყენებული პრიორიტეტის ნიშნებით.




Цы æрдæмадмæ йын ис гæнæн адаргъ кæна змæлд рог автомобили скъæрæг уаг дæттæджы ацы сигналмæ?

- |  |   |
|--|---|
| <p><b>1</b> Æрмæст B æмæ C æрдæмадмæ</p> | <p><b>2</b> Æрмæст A, B æмæ D æрдæмадмæ</p> |
| <p><b>3</b> Æрмæст B æмæ D æрдæмадмæ</p> | <p><b>4</b> Алы æрдæмадмæ</p>               |

### განმარტება:

„საგზაო მოძრაობის შესახებ“ საქართველოს კანონის 30-ე მუხლის მე-5 პუნქტის „გ“ ქვეპუნქტის თანახმად, მარეგულირებლის სიგნალებს აქვთ შემდეგი მნიშვნელობა - წინ გაშვებული მარჯვენა ხელი – ეს ჟესტი ნიშნავს „სდექ“ სიგნალს მარეგულირებლის მარჯვენა გვერდისა და ზურგის მხრიდან მოძრავი ყველა მძღოლისათვის; ამასთანავე, მარეგულირებლის მარცხენა გვერდის მხრიდან ტრამვაის უფლება აქვს, იმოძრაოს მარცხნივ, ხოლო ურელსო სატრანსპორტო საშუალებას უფლება აქვს, იმოძრაოს ყველა მიმართულებით. მარეგულირებლის მკერდის მხრიდან ყველა სატრანსპორტო საშუალებას უფლება აქვს, იმოძრაოს მხოლოდ მარჯვნივ. ქვეითს უფლება აქვს, გადავიდეს სავალ ნაწილზე მარეგულირებლის ზურგის უკან. ამავე კანონის 28-ე მუხლის მე-2 პუნქტის თანახმად, მარეგულირებლის სიგნალებს აქვს უპირატესი ძალა შეჩიშნის მაშუქი სიგნალების, საგზაო ნიშნებისა და საგზაო მონიშვნების მოთხოვნების და საგზაო მოძრაობის წესების მოთხოვნების მიმართ. გზაჯვარედინზე მარეგულირებლის მიერ მოძრაობის რეგულირებისას ამკრძალავი და მიმითითებელი საგზაო ნიშნები აგრძელებს მოქმედებას, გარდა იმ შემთხვევისა, როდესაც მარეგულირებელი კონკრეტულად მიუთითებს მათი მოთხოვნების უგულებელყოფაზე.



Цы æрдæмадмæ гæнæн ис адаргъ кæна змæлд рог автомобили скъæрæг кæд уаг дæттæг конкретонæй амоны змæлд галиумæ?

1

Æрмæст комкоммæ

2

Æрмæст галиумæ

3

Æрмæст галиумæ æмæ  
фæстæмæцыдæй (разилын)

4

Алы æрдæмадмæ

### განმარტება:

„საგზაო მოძრაობის შესახებ“ საქართველოს კანონის 28-ე მუხლის მე-2 პუნქტის თანახმად, მარეგულირებლის სიგნალებს აქვს უპირატესი ძალა შუქნიშნის მაშუქი სიგნალების, საგზაო ნიშნებისა და საგზაო მონიშვნების მოთხოვნების და საგზაო მოძრაობის წესების მოთხოვნების მიმართ. გზატკარვედინზე მარეგულირებლის მიერ მოძრაობის რეგულირებისას ამკრძალავი და მიმითითებელი საგზაო ნიშნები აგრძელებს მოქმედებას, გარდა იმ შემთხვევისა, როდესაც მარეგულირებელი კონკრეტულად მიუთითებს მათი მოთხოვნების უგულებელყოფაზე.

თემა 12:

## სპეციალური სიგნალის გამოყენება

---



Амиугонд рухснысаны (светофоры) сырх æмæ бур рухсы сигнал:

**1**

Бар нæ дæтты змæлын æмæ хъусын  
кæны цъæх рухсы сигналы сиу  
кæныны тыххæй

**2**

Рахицæн кæны змæлыны барлæвæрд  
æмæ ратты информацийы  
фæндаджы фадыгыл тасы уæвыны  
тыххæй

### განმარტება:

„საგზაო მოძრაობის შესახებ“ საქართველოს კანონის 29-ე მუხლის მე-2 პუნქტის „ბ“ ქვეპუნქტის თანახმად, ერთობლივად ჩართული წითელი და ყვითელი მაშუქი სიგნალები კრძალავს მოძრაობას და იტყობინება მწვანე მაშუქი სიგნალის მოსალოდნელი ჩართვის შესახებ.



ლავარდ სიტუაციის ხალს ავი ნა სკარაგ თხურადან სფიდარგონდ დამანთა, კად ამა ანარავდз автомобили ავაстиათა რაკანის ფანდაგაი ნა გაანან კანის?

1

ნა ხალს

2

ხალს

### განმარტება:

„საგზაო მოძრაობის შესახებ“ საქართველოს კანონის 42-ე მუხლის „ე“ პუნქტის თანახმად, საგზაო ნიშნით აღნიშნულ გვირაბებში მოქმედებს შემდეგი წესი იძულებითი გაჩერებისას მძღოლმა უნდა უზრუნველყოს ამ კანონით დადგენილი, აკრძალულ ადგილებში იძულებით გაჩერებასთან დაკავშირებული მოთხოვნების შესრულება. ამავე კანონის 52-ე მუხლის პირველი პუნქტის „ბ“ ქვეპუნქტის თანახმად საავარიო შეჭერი სიგნალიზაცია უნდა ჩაერთოს იმ ადგილას იძულებითი გაჩერების დროს, სადაც გაჩერება აკრძალულია. ამავე მუხლის მე-2 პუნქტის „ბ“ ქვეპუნქტის თანახმად, საავარიო შექსიგნალიზაციის ჩართვის შემდეგ, აგრეთვე თუ ასეთი სიგნალიზაცია არ არსებობს ან მწყობრიდანაა გამოსული, მძღოლმა დაუყოვნებლივ უნდა დადგას „სავარიო გაჩერების ნიშანი“, ხოლო არასაკმარისი ხილვადობის პირობებში – მოციმციმე წითელი ფარანი იმ ადგილას იძულებით გაჩერების დროს, სადაც გაჩერება აკრძალულია.

Уыцы транспортон фæрæзы æрбаввахсгæнгæйæ, кæцыйæн иугонд ис цъæх æрттивгæ специалон мигалкæ æмæ зæлон сигналтæ, фæндагыл (цæуæн хайыл) уæвæг фистæг, хъуамæ:

1

Фæндаг ратта ахæм траспортон фæрæзæн кæнæ та æвæстиатæй ссæрибар кæна цæуæн хайы

2

Адаргъ кæна змæлд, куыд уæлбар уæвæг

3

Адаргъ кæна змæлд, куыд уæлбар уæвæг, кæд уый змæлы регулироватгонд фистæгон ахизæныл

### ბანმარტიბა:

„საგზაო მოძრაობის შესახებ“ საქართველოს კანონის 24-ე მუხლის მე-11 პუნქტის თანახმად, ქვეითმა თავი უნდა შეიკავოს გზის სავალ ნაწილზე გადასვლისაგან იმ სატრანსპორტო საშუალების მოახლოებისას, რომელსაც ჩართული აქვს ლურჯი მოელვარე სპეციალური ციმციმა სიგნალი და სპეციალური ხმოვანი სიგნალი, ხოლო სავალ ნაწილზე მყოფმა ქვეითმა ასეთ სატრანსპორტო საშუალებას უნდა დაუთმოს გზა ან/და დაუყოვნებლივ უნდა გაათავისუფლოს სავალი ნაწილი.

Æфсæнвæндаджы ахизæныл тобæгонд нæу:

1

Ахизæны раз лæууæг транспортон фæрæзы æрбахызт комкоммæ змæлды хахxmæ рахызтæй

2

Шлагбаумы кæнæ æрдæг шлагбаумы хигъæдæй баконд

3

Æфсæнвæндаджы рельсты дистанцийæ хистæрæй æнæ бар райстæй сындæгцæуæг хæдтулгæйæн (машинæйæн), кæцыйы тагъдад нæу фылдæр 8 км/сах, афтæ ма тракторы дзоныгъ-ласæны змæлд

4

Ууыл æнаæруромгæйæ ахизын

### განმარტება:

„საგზაო მოძრაობის შესახებ“ საქართველოს კანონის 39-ე მუხლის მე-2 პუნქტის „ა“, „ბ“ და „დ“ ქვეპუნქტების თანახმად, რკინიგზის გადასასვლელზე აკრძალულია: ა) საპირისპირო მოძრაობის ზოლზე გასვლით, გადასასვლელის წინ მდგომი სატრანსპორტო საშუალების შემოვლა; ბ) შლავბაუმის ან ნახევარშლავბაუმის თვითნებური გახსნა; დ) რკინიგზის ლიანდაგის დისტანციის უფროსის ნებართვის გარეშე ნელმავალი სატრანსპორტო საშუალების, რომლის სიჩქარე არ აღემატება 8 კმ/სთ, და ტრაქტორის მარხილ-სათრეველას მოძრაობა.

## ВОПРОС 296

ПРАВИЛЬНЫЙ ОТВЕТ: 3

Оперативон куысты автомобилы скъæрæг, фæндагон нысæнтты æмæ бæრæггæнæнты домынадмæ æнæгæсгæйæ, æндæრ фæндаджы змæлды хайадисджыты 'рдæм пайда кæны уæлбарæй (приоритетæй), кæд ын иугонд ис:

1

Цъæх æрттивгæ специалон сигнал

2

Цъæх æмæ сырх æрттивгæ специалон сигналтæ

3

Цъæх æрттивгæ специалон мигалкæ æмæ зæлон сигналтæ

## განმარტება:

„საგზაო მოძრაობის შესახებ“ საქართველოს კანონის 51-ე მუხლის პირველი პუნქტის თანახმად, ოპერატიული ან სპეციალური სამსახურის სატრანსპორტო საშუალების მძღოლს, რომელსაც სატრანსპორტო საშუალებაზე ჩართული აქვს ლურჯი მოელვარე სპეციალური ციმციმა სიგნალი და ასრულებს სამსახურებრივ დავალებას, შეუძლია საგზაო მოძრაობის უსაფრთხოების უზრუნველყოფის პირობების დაცვით გადაუხვიოს ამ კანონის 25-ე, 31-ე—41-ე და 44-ე მუხლებით, აგრეთვე ამ კანონის №1 და №2 დანართებით დადგენილ მოთხოვნებს. ლურჯ მოელვარე სპეციალურ ციმციმა სიგნალთან ერთად დამატებით შეიძლება ჩაირთოს წითელი მოელვარე ციმციმა სიგნალიც. სხვა საგზაო მოძრაობის მონაწილეების მიმართ უპირატესობის მისაღებად ამ სატრანსპორტო საშუალების მძღოლმა უნდა ჩართოს ლურჯი მოელვარე სპეციალური ციმციმა სიგნალი და ხმოვანი სიგნალი. პრიორიტეტით სარგებლობა მხოლოდ მაშინ შეიძლება, როცა მძღოლი დარწმუნდება, რომ მას გზას უთმობენ.

## ВОПРОС 297

ПРАВИЛЬНЫЙ ОТВЕТ: 1

Хæсджын у æви нæ, фæндагон змæлды хайадисæг фæндаг хъуамæ ратта æввахсмæ иугонд рухсгæнæн фарæтимæ змæლგæ уыцы транспортон фæრæзæн, кæцыты хизын кæнынц оперативон куысты транспортон фæрæз иугонд цъæх æрттивгæ специалон сигнал æмæ зæлон сигналтимæ?

1

Хæсджын у

2

Нæу хæсджын

## განმარტება:

„საგზაო მოძრაობის შესახებ“ საქართველოს კანონის 51-ე მუხლის მე-2 პუნქტის თანახმად, საგზაო მოძრაობის მონაწილეები ვალდებული არიან, ოპერატიული ან სპეციალური სამსახურის სატრანსპორტო საშუალების მოახლოებისას, რომელსაც ჩართული აქვს ლურჯი მოელვარე სპეციალური ციმციმა სიგნალი და ხმოვანი სიგნალი ან/და რომელიც ხმამაღლამოლაპარაკე ხელსაწყოთი იძლევა სიგნალს, მას, აგრეთვე მის მიერ გასაცემებელ სატრანსპორტო საშუალებას, რომელსაც ჩართული აქვს ახლო განათების ფარები, გაუთავისუფლონ სავალ ნაწილზე ადგილი, ხოლო აუცილებლობის შემთხვევაში – გაჩერდნენ.



## ВОПРОС 298

ПРАВИЛЬНЫЙ ОТВЕТ: 2

Оперативон кәенә специалон куысты транспортон фәрәзы әрбаввахсгәнгәйә, кәңыйән иугонд ис цъәх әрттивгә специалон сигнал әмә зәлон сигнал кәенә та хәәрәйдзурәг инструментәй дәтты сигнал, фәндагон змәлды хайадисджытә хәсджын сты:

1. Әвәстиатәй әруромәй сә бынәтты
2. Ссәрибар кәной цәуән хайыл бынат, фәлә әнәмәнгхәәугәйы цауы әрләууой
3. Ахизой фәрсмә әрдәмады кәройнаг галиу хаххыл

## განმარტება:

„საგზაო მოძრაობის შესახებ“ საქართველოს კანონის 51-ე მუხლის მე-2 პუნქტის თანახმად, საგზაო მოძრაობის მონაწილეები ვალდებული არიან, ოპერატიული ან სპეციალური სამსახურის სატრანსპორტო საშუალების მოახლოებისას, რომელსაც ჩართული აქვს ლურჯი მოელვარე სპეციალური ციმციმა სიგნალი და ხმოვანი სიგნალი ან/და რომელიც ხმამაღლამოლაპარაკე ხელსაწყოთი იძლევა სიგნალს, მას, აგრეთვე მის მიერ გასაცემებელ სატრანსპორტო საშუალებას, რომელსაც ჩართული აქვს ახლო განათების ფარები, გაუთავისუფლონ სავალ ნაწილზე ადგილი, ხოლო აუცილებლობის შემთხვევაში – გაჩერდნენ.

## ВОПРОС 299

ПРАВИЛЬНЫЙ ОТВЕТ: 2

Иугонд цъәх әрттивгә специалон мигалкә сигналәй ләууәг специалон куысты транспортон фәрәзмә әрбаввахсуәвгәйә, скъәрәг хъуамә:

1. Адаргъ кәна йә цыд тагъдады әнәфәивгәйә
2. Әрнылләг кәна тагъдад, цәмәй бахъуыды цауы йын уа транспорты әвәстиатәй әруромыны гәнән
3. Фәфылдәр кәна тагъдад, цәмәй рәстәгыл ахиза фәнысангонд бынат

## განმარტება:

„საგზაო მოძრაობის შესახებ“ საქართველოს კანონის 51-ე მუხლის მე-3 პუნქტის თანახმად, ჩართული ლურჯი მოელვარე სპეციალური ციმციმა სიგნალით მდგომ სატრანსპორტო საშუალებასთან მიახლოებისას მძღოლმა უნდა შეანელოს სიჩქარე, რათა აუცილებლობის შემთხვევაში შეძლოს ტრანსპორტის დაუყოვნებლივ გაჩერება.

„საგზაო მოძრაობის შესახებ“ საქართველოს კანონის 51-ე მუხლის მე-4 პუნქტის თანახმად, მძღოლს, რომელსაც სატრანსპორტო საშუალებაზე ჩართული აქვს ნარინჯისფერი ან ყვითელი მოელვარე სპეციალური ციმციმა სიგნალი და რომელიც გზაზე ასრულებს სამშენებლო, სარემონტო ან დასასუფთავებელ სამუშაოებს, ან საინჟინერიო სატრანსპორტო საშუალებით გადააქვს ძვირფასეულობა ან ფასიანი ქაღალდები, ან გადააქვს სახიფათო ტვირთი, ან გადაადგილდება არაგაბარიტული (მსხვილგაბარიტიანი) ან ზენორმატიული (მძიმეწონიანი) სატრანსპორტო საშუალებით, შეუძლია გადაუხვიოს საგზაო ნიშნებისა და მონიშვნების, აგრეთვე ამ კანონის 31-ე მუხლის მე-5–მე-10, მე-15 და მე-16 პუნქტებითა და 38-ე მუხლის პირველი პუნქტით დადგენილ მოთხოვნებს, თუ უზრუნველყოფს საგზაო მოძრაობის უსაფრთხოებას. ნარინჯისფერი ან ყვითელი მოელვარე სპეციალური ციმციმა სიგნალი არ იძლევა უპირატესობას საგზაო მოძრაობის სხვა მონაწილეების მიმართ და გამოიყენება ყურადღების მისაპყრობად მოსალოდნელი საშიშროების თავიდან აცილებისათვის.

## ВОПРОС 301

ПРАВИЛЬНЫЙ ОТВЕТ: 2

Специалон куысты транспортон фæрæзыл иугонд ис бур æрттивгæ специалон сигнал пайдагонд цæуы:

1

Фæндагон змæлды æндæр хайадисджытæм уæлбары ссарынæн

2

Хъусдард аздахынæн, æрцæуинаг тасы сæрæй аиуварс кæнынæн

## განმარტება:

„საგზაო მოძრაობის შესახებ“ საქართველოს კანონის 51-ე მუხლის მე-4 პუნქტის თანახმად, მძღოლს, რომელსაც სატრანსპორტო საშუალებაზე ჩართული აქვს ნარინჯისფერი ან ყვითელი მოელვარე სპეციალური ციმციმა სიგნალი და რომელიც გზაზე ასრულებს სამშენებლო, სარემონტო ან დასასუფთავებელ სამუშაოებს, ან საინჟინერო სატრანსპორტო საშუალებით გადააქვს ძვირფასეულობა ან ფასიანი ქაღალდები, ან გადააქვს სახიფათო ტვირთი, ან გადაადგილდება არაგაბარითული (მსხვილგაბარითი) ან ზენორმატიული (მძიმეწონიანი) სატრანსპორტო საშუალებით, შეუძლია გადაუხვიოს საგზაო ნიშნებისა და მონიშვნების, აგრეთვე ამ კანონის 31-ე მუხლის მე-5–მე-10, მე-15 და მე-16 პუნქტებითა და 38-ე მუხლის პირველი პუნქტით დადგენილ მოთხოვნებს, თუ უზრუნველყოფს საგზაო მოძრაობის უსაფრთხოებას. ნარინჯისფერი ან ყვითელი მოელვარე სპეციალური ციმციმა სიგნალი არ იძლევა უპირატესობას საგზაო მოძრაობის სხვა მონაწილეების მიმართ და გამოიყენება ყურადღების მისაპყრობად მოსალოდნელი საშიშროების თავიდან აცილებისათვის.

## ВОПРОС 302

ПРАВИЛЬНЫЙ ОТВЕТ: 2

Транспортон фæрæзтыл специалон мигалкæ æмæ зæлон сигналты сывæрын, афтæ ма автомашинæйæн специалон хуыз раттын, уагъд цæуы:

1

Гуырдызтоны финансты министры ‘рдыгæй бæრæггонд уагæвæрдмæ гæсгæйæ

2

Гуырдызтоны юстицийы министры ‘рдыгæй бæრæггонд уагæвæрдмæ гæсгæйæ

3

Гуырдызтоны юстицийы министры ‘рдыгæй бæრæггонд уагæвæрдмæ гæсгæйæ

## განმარტება:

„საგზაო მოძრაობის შესახებ“ საქართველოს კანონის 51-ე მუხლის მე-8 პუნქტის თანახმად, სატრანსპორტო საშუალებაზე სპეციალური ციმციმა სიგნალისა და ხმოვანი სიგნალის, აგრეთვე სპეციალური ხმაშლამოლაპარაკე ხელსაწყო დაყენება და სატრანსპორტო საშუალებისათვის სპეციალური შეფერილობის მიცემა ხორციელდება საქართველოს შინაგან საქმეთა მინისტრის მიერ განსაზღვრული წესის შესაბამისად.

Инкасаторы (инкасацიის) კუიისტი სპეციალონ ტრანსპორტონ ფერაჟილ არაჟთ ის ორანჟხუიზ (ბურბინ სირხ) კაენა ბურ აერტივგა სპეციალონ მიგალკა სიგნალიმა იუმა, სპეციალონ ჯალონ სიგნალ სიუ ვაიი:

1

ერმაჟთ ნიბბირსტი ტასი კაენა ნიბბირსტი ცაუი

2


ფენდაგონ ჯმაღდი აენდარ ჰაიადისდჟიტამ უაღბარი სსარიან

3

ენაფაგ ავზარიანდი უავერტი ჯმაღაჟა

### განმარტება:

„საგზაო მოძრაობის შესახებ“ საქართველოს კანონის 51-ე მუხლის მე-7 პუნქტის თანახმად, ინკასაციის სამსახურის სპეციალურ სატრანსპორტო საშუალებაზე დაყენებულ ნარინჯისფერ ან ყვითელ მოელვარე სპეციალურ ციმციმა სიგნალთან ერთად სპეციალური ხმოვანი სიგნალი ირთვება მხოლოდ თავდასხმის საშიშროების ან თავდასხმის შემთხვევაში.



Иугонд æввахсмæ рухсгæнæн фарæтимæ уæзласæн автомобили фæхизын кæны оперативон куысты автомобиль, иугонд цъæх æрттивгæ специалон мигалкæ æмæ зæлон сигналтимæ. Кæцы автомобили 'рдæм фæзындзæн фæндаджы раттыны хæсдзинад автобусы скъæრæгæн фатæджы (стрелкайы) æрдæмадмæ змæлды цауы рухснысаны (светофоры) ацы сигналмæ?

1

Нæдæр иу (никацы) автомобили скъæრæджы 'рдæм

2

Æрмæст оперативон автомобили скъæრæджы 'рдæм


3

Куыд оперативон куысты, афтæ уæзласæн автомобили скъæрджыты 'рдæм

### განმარტება:

„საგზაო მოძრაობის შესახებ“ საქართველოს კანონის 51-ე მუხლის მე-2 პუნქტის თანახმად, საგზაო მოძრაობის მონაწილეები ვალდებული არიან, ოპერატიული ან სპეციალური სამსახურის სატრანსპორტო საშუალების მოახლოებისას, რომელსაც ჩართული აქვს ლურჯი მოელვარე სპეციალური ციმციმა სიგნალი და ხმოვანი სიგნალი ან/და რომელიც ხმამაღლამოლაპარაკე ხელსაწყოთი იძლევა სიგნალს, მას, აგრეთვე მის მიერ გასაცემებელ სატრანსპორტო საშუალებას, რომელსაც ჩართული აქვს ახლო განათების ფარები, გაუთავისუფლონ სავალ ნაწილზე ადგილი, ხოლო აუცილებლობის შემთხვევაში – გაჩერდნენ.





Кæцы æрдæмадмæ змæлды адаргъ кæныны бар ис оперативон куысты автомобили скъæрæгæн рухснысаны (светофоры) ацы сигналмæ, кæд автомобилæн иугонд ис цъæх æрттивгæ специалон мигалкæ сигнал?

1

Æрмæст комкоммæ æмæ рахизмæ

2

Æрмæст рахизмæ

3

Алкæцы æрдæмадмæ

4

Æрмæст галиუმæ æмæ фæстæмæ æрдæмадмæ (разилын)

### პანმარტიბა:

„საგზაო მოძრაობის შესახებ“ საქართველოს კანონის 51-ე მუხლის პირველი პუნქტის თანახმად ოპერატიული ან სპეციალური სამსახურის სატრანსპორტო საშუალების მძღოლს, რომელსაც სატრანსპორტო საშუალებაზე ჩართული აქვს ლურჯი მოელვარე სპეციალური ციმციმა სიგნალი და ასრულებს სამსახურებრივ დავალებას, შეუძლია საგზაო მოძრაობის უსაფრთხოების უზრუნველყოფის პირობების დაცვით გადაუხვიოს ამ კანონის 25-ე, 31-ე–41-ე და 44-ე მუხლებით, აგრეთვე ამ კანონის №1 და №2 დანართებით დადგენილ მოთხოვნებს.



Ис æви нæ бар сырх автомобили скъæрæгæн, адаргъ кæна змæлд фатæджы (стрелкæйы) æрдæмадмæ, кæд оперативон куысты автомобили скъæрæгæн иугонд нæу цъæх æрттивгæ специалон мигалкæ сигнал?

1

Нæй ын бар

2

Ис ын бар

### განმარტება:

„საგზაო მოძრაობის შესახებ“ საქართველოს კანონის 51-ე მუხლის მე-2 პუნქტის თანახმად, საგზაო მოძრაობის მონაწილეები ვალდებული არიან, ოპერატიული ან სპეციალური სამსახურის სატრანსპორტო საშუალების მოახლოებისას, რომელსაც ჩართული აქვს ლურჯი მოელვარე სპეციალური ციმციმა სიგნალი და ხმოვანი სიგნალი ან/და რომელიც ხმამაღლამოლაპარაკე ხელსაწყოთი იძლევა სიგნალს, მას, აგრეთვე მის მიერ გასაცემებელ სატრანსპორტო საშუალებას, რომელსაც ჩართული აქვს ახლო განათების ფარები, გაუთავისუფლონ სავალ ნაწილზე ადგილი, ხოლო აუცილებლობის შემთხვევაში – გაჩერდნენ.



Оперативон куысты автомобилæн иугонд ис цъæх æрттивгæ специалон мигалкæ æмæ зæлон сигналтæ. Сырх автомобили скъæრæг нæ фехалдзæни фæндагон змæлды уагæвæрдтæ, кæд:

**1** Ауадздзæн бур автомобили æмæ ахиздзæн рахизмæ æввахс хаххмæ

**2** Нæ ратдзæн фæндаг бур автомобилæн æмæ ахиздзæн рахизмæ æввахс хаххмæ

**3** Адаргъ кæндзæн змæлд ахст хаххыл

### განმარტება:

„საგზაო მოძრაობის შესახებ“ საქართველოს კანონის 51-ე მუხლის მე-2 პუნქტის თანახმად, საგზაო მოძრაობის მონაწილეები ვალდებული არიან, ოპერატიული ან სპეციალური სამსახურის სატრანსპორტო საშუალების მოახლოებისას, რომელსაც ჩართული აქვს ლურჯი მოელვარე სპეციალური ციმციმა სიგნალი და ხმოვანი სიგნალი ან/და რომელიც ხმამაღლამოლაპარაკე ხელსაწყოთი იძლევა სიგნალს, მას, აგრეთვე მის მიერ გასაცემებელ სატრანსპორტო საშუალებას, რომელსაც ჩართული აქვს ახლო განათების ფარები, გაუთავისუფლონ სავალ ნაწილზე ადგილი, ხოლო აუცილებლობის შემთხვევაში – გაჩერდნენ. ამავე კანონის 32-ე მუხლის მე-4 პუნქტის თანახმად მოძრაობის ზოლიდან ზოლში მოძრაობის მიმართულების შეუცვლელად გადასვლისას მძღოლმა გზა უნდა დაუთმოს გადასასვლელ მოძრაობის ზოლში თანმხვედრი მიმართულებით მოძრავ სატრანსპორტო საშუალებას.





Оперативон куысты автомобиль урæд у иугонд цъæх æрттивгæ специалон мигалкæ сигналæй. Рог автомобилы скъæрæг хъуамæ змæла иуыл фылдæр:

1

90 км/сах тагъдадæй

2

70 км/сах тагъдадæй

3

Уыцы тагъдадæй, кæцыйæ бахъуыд  
цауы йын уыдзæни автомобилы  
æвæстиатæй æруромыны  
гæнæндзинад

### განმარტება:

„საგზაო მოძრაობის შესახებ“ საქართველოს კანონის 51-ე მუხლის მე-3 პუნქტის თანახმად, ჩართული ღურჯი მოელვარე სპეციალური ციმციმა სიგნალით მდგომ სატრანსპორტო საშუალებასთან მიახლოებისას მძღოლმა უნდა შეანელოს სიჩქარე, რათა აუცილებლობის შემთხვევაში შეძლოს ტრანსპორტის დაუყოვნებლივ გაჩერება.



Кæцы æрдæмадмæ йын ис змæлды адаргъ кæныны бар, оперативон куысты автомобилы скъæрæгæн рухснысаны (светофоры) ацы сигналмæ, кæд автомобилæн иугонд ис цъæх æрттивгæ специалон мигалкæ сигнал?

1

Æрмæст комкоммæ æмæ рахизмæ

2

Æрмæст комкоммæ æмæ галиუმæ

3

Алкæцы æрдæмадмæ


4

Æрмæст комкоммæ

### განმარტება:

„საგზაო მოძრაობის შესახებ“ საქართველოს კანონის 51-ე მუხლის პირველი პუნქტის თანახმად, ოპერატიული ან სპეციალური სამსახურის სატრანსპორტო საშუალების მძღოლს, რომელსაც სატრანსპორტო საშუალებაზე ჩართული აქვს ლურჯი მოელვარე სპეციალური ციმციმა სიგნალი და ასრულებს სამსახურებრივ დავალებას, შეუძლია საგზაო მოძრაობის უსაფრთხოების უზრუნველყოფის პირობების დაცვით გადაუხვიოს ამ კანონის 25-ე, 31-ე–41-ე და 44-ე მუხლებით, აგრეთვე ამ კანონის №1 და №2 დანართებით დადგენილ მოთხოვნებს. ამავე კანონის 32-ე მუხლის მე-5 პუნქტის თანახმად, გარდა იმ შემთხვევისა, როცა მოხვევა სრულდება გზატკარციდზე გასასვლელად, სადაც წრიული მოძრაობაა ორგანიზებული, მარჯვნივ ან მარცხნივ მოხვევის წინ, აგრეთვე მობრუნების წინ სატრანსპორტო საშუალების მძღოლი ვალდებულია დროულად დაიკავოს შესაბამისი განაპირა მდებარეობა სავალ ნაწილზე, რომელიც თანმხვედრი მიმართულებით მოძრაობისთვისაა განკუთვნილი. ამავე კანონის პირველი დანართის მე-4 თავის (მიმთითებელი ნიშნები) 4.1.4 პუნქტისა და ამავე პუნქტის შენიშვნის „ა“ და „დ“ ქვეპუნქტების თანახმად, საგზაო ნიშანი 4.1.4 „მოძრაობა პირდაპირ ან მარჯვნივ“ რთავს მხოლოდ ისრებით ნაჩვენები მიმართულებებით მოძრაობის ნებას.





Цы фæткыл хъуамæ рацæуой алвæндаг (перекресток) транспортон фæрæзтæ фатæджы (стрелкæйы) æрдæмадмæ змæлды цауы, кæд оперативон автомобилæн иугонд ис цъæх æрттивгæ специалон мигалкæ æмæ зæлон сигналтæ?

- 1 Нырма хъуамæ рацæуа рог автомобиль, стæй – мотоцикл, уый фæстæ – оперативон куысты автомобиль
- 2 Нырма хъуамæ рацæуа оперативон куысты автомобиль, стæй – рог автомобиль, уый фæстæ – мотоцикл
- 3 Нырма хъуамæ рацæуа мотоцикл, стæй – оперативон куысты автомобиль, уый фæстæ – рог автомобиль

### ბანმარტუბა:

„საგზაო მოძრაობის შესახებ“ საქართველოს კანონის 51-ე მუხლის მე-2 პუნქტის თანახმად, ოპერატიული ან სპეციალური სამსახურის სატრანსპორტო საშუალების მოახლოებისას, რომელსაც ჩართული აქვს ლურჯი ფერის მოელვარე სპეციალური შუქური და ხმოვანი სიგნალებით ან/და ხმამაღლამოლაპარაკე ხელსაწყოთი იძლევა სიგნალს, აგრეთვე მათ მიერ გასაცემებელ სატრანსპორტო საშუალებებს, რომლებსაც ჩართული აქვთ ახლო ნათების ფარები, საგზაო მოძრაობის მონაწილეები ვალდებული არიან გაანთავისუფლონ სავალ ნაწილზე ადგილი, ხოლო აუცილებლობის შემთხვევაში გაჩერდნენ. ამავე კანონის 36-ე მუხლის მე-4 პუნქტის „გ“ ქვეპუნქტის თანახმად არარეგულირებულ გზაჯვარედინზე, თანაბარმნიშვნელოვანი გზების გადაკვეთაზე ურელსო სატრანსპორტო საშუალების მძღოლი ვალდებულია გზა დაუთმოს მარჯვნიდან მოახლოებულ სატრანსპორტო საშუალებას. ამავე წესით უნდა იხელმძღვანელონ ურთიერთმორის რელსიანი სატრანსპორტო საშუალებების მძღოლებმაც. ასეთ გზაჯვარედინზე რელსიან სატრანსპორტო საშუალებას აქვს უპირატესობა ურელსო სატრანსპორტო საშუალების მიმართ, მიუხედავად მისი მოძრაობის მიმართულებისა.

თემა 13:

## საავარიო ჰუქური სიგნალიზაცია

---



Нывыл бацамынд бынаты, æдзæрæг пункты, автомобили æрурæды цауы скъæрæг:

1

Хæсджын у сиу кæна аварион рухсы сигнализаци

2

Хæсджын у автомобили фæсте равæра „Аварион æрурæды нысан“

3

Хæсджын у сиу кæна аварион рухсы сигнализаци æмæ автомобили фæсте равæра „Аварион æрурæды нысан“

4

Нæу хæсджын сиу кæна аварион рухсы сигнализаци æмæ автомобили фæсте равæра „Аварион æрурæды нысан“

### განმარტება:

„საგზაო მოძრაობის შესახებ“ საქართველოს კანონის 37-ე მუხლის პირველი პუნქტის თანახმად, სატრანსპორტო საშუალება, რომელიც ჩერდება ან დგას დაუსახლებელ პუნქტში, შესაძლებლობის ფარგლებში, სავალი ნაწილის გარეთ უნდა იმყოფებოდეს. ამავე კანონის 52-ე მუხლის პირველი პუნქტის „ბ“ და მე-2 პუნქტის „ბ“ ქვეპუნქტების თანახმად: 1. საავარიო შექური სიგნალიზაცია გამოიყენება მოსალოდნელი საფრთხის შესახებ სხვა საგზაო მოძრაობის მონაწილეთა გაფრთხილებისათვის. საავარიო შექსიგნალიზაცია უნდა ჩაირთოს იმ ადგილას იძულებითი გაჩერების დროს, სადაც გაჩერება აკრძალულია; 2. საავარიო შექსიგნალიზაციის ჩართვის შემდეგ, აგრეთვე თუ ასეთი სიგნალიზაცია არ არსებობს ან მწყობრიდანაა გამოსული, მძღოლმა დაუყოვნებლივ უნდა გამოდგას „საავარიო გაჩერების ნიშანი“, ხოლო არასაკმარისი მხედველობის პირობებში - მოციმციმე წითელი ფანარი იმ ადგილებში იძულებით გაჩერების დროს, სადაც გაჩერება აკრძალულია და იქ, სადაც ხილვადობის პირობების გათვალისწინებით, სხვა მძღოლები ვერ შესძლებენ სატრანსპორტო საშუალების დროულად შემჩნევას.

Транспортом фэрæз тыхурæдыл нымæд цæуы, кæд æмæ:

1

Змæлд урæд у техникон  
æдзæттæдзинадмæ гæсгæ

2

Змæлд барæй урæд у 5 минутæй  
фылдæр рæстæг, кæд æмæ уый нæ  
хауа бæлццæтты рахизын æмæ  
сбадын кæнынмæ, кæнæ  
транспортон фэрæзы байдзаг  
кæнын æмæ равдæлон кæнын  
тыххæй

3

Змæлд рагацау барæй урæд æрцыд  
5минутмæ

### განმარტება:

„საგზაო მოძრაობის შესახებ“ საქართველოს კანონის მე-5 მუხლის მე-26 პუნქტის თანახმად იძულებით გაჩერება არის სატრანსპორტო საშუალების მოძრაობის შეწყვეტა მისი ტექნიკური გაუმართაობის, გადასაზიდი ტვირთის, მძღოლის (მგზავრის) მდგომარეობის ან გზაზე მოულოდნელად შექმნილი დაბრკოლებით განპირობებული საფრთხის გამო.

Цæрæгджын пункты, фæнысангонд æрлæууæნæй ахизынаен змæлды сногы тыххæй фæзилæны æвдисæгæй ратгæ сигналы фæстæ маршрутон транспортон фæрæзы скаерджытæ хæсджын сты:

1

Спайда кæнын уæлбарæй æмæ æвæстиатæй змæлын райдайын фæндаджы ситуацимæ æнæ кæсгæйæ

2

Райсын фæндагон-транспортон цауы (аварийы) сæрæй аиуварс кæнынæн хъæугæ æдасдзинады мадзæлттæ æмæ змæлын райдайын æрмæст уый фæстæ, фидарæй куы базоней, цæмæй æндæр транспортон фæрæзтæ фæндаг кæй дæттынц

### განმარტება:

„საგზაო მოძრაობის შესახებ“ საქართველოს კანონის 41-ე მუხლის პირველი პუნქტის თანახმად, ამ კანონის 33-ე მუხლის მე-4 პუნქტით დადგენილ მოთხოვნათა გათვალისწინებით, დასახლებულ პუნქტში სამარშრუტო სატრანსპორტო საშუალებისთვის მოძრაობის გასაადვილებლად სხვა სატრანსპორტო საშუალებების მძღოლებმა უნდა შეანელონ მოძრაობა და აუცილებლობის შემთხვევაში გაჩერდნენ, რათა სამარშრუტო სატრანსპორტო საშუალებამ შეძლოს გასაჩერებელი პუნქტიდან გამოსვლისთვის საჭირო მანევრის შესრულება. სამარშრუტო სატრანსპორტო საშუალების მძღოლი ვალდებულია მოძრაობის განახლების განზრახვის შესახებ მოხვევის შუქ-მაჩვენებლით სიგნალის მიცემის შემდეგ მიიღოს საგზაო-სატრანსპორტო შემთხვევის თავიდან აცილებისთვის საჭირო სიფრთხილის ზომები და მოძრაობა დაიწყოს მხოლოდ მას შემდეგ, რაც დარწმუნდება, რომ სხვა სატრანსპორტო საშუალებები გზას უთმობენ.



## ВОПРОС 314

ПРАВИЛЬНЫЙ ОТВЕТ: 1

Аварион рухсдар сигнализацийы нә уәвынады кәнә әнәрәвдзы цауы, буксиргәнәг механикон транспортон фәрәзы фәстаг хайыл хъяуамә фидаргонд әрцәуа:

1

Аварион бауромыны нысан

2

Максималон тагъдады фәкъаддәр кәныны нысан

3

Æндәр тәссагдзинәдты әвдисәг нысан

## განმარტება:

„საგზაო მოძრაობის შესახებ“ საქართველოს კანონის 45-ე მუხლის მე-7 პუნქტის თანახმად, დღე-ღამის ნებისმიერ პერიოდში მობუქსირე მექანიკურ სატრანსპორტო საშუალებას ჩართული უნდა ჰქონდეს ახლო განათების ფარები, საბუქსირო მექანიკურ სატრანსპორტო საშუალებას ჩართული უნდა ჰქონდეს საავარიო შუქსიგნალიზაცია, ხოლო მისი არარსებობის ან გაუმართაობის შემთხვევაში ამ ტრანსპორტის უკანა ნაწილზე უნდა დამაგრდეს საავარიო გაჩერების ნიშანი.

## ВОПРОС 315

ПРАВИЛЬНЫЙ ОТВЕТ: 2

“Тыхурәд” нысан кәны:

1

Транспортон фәрәзы змәлды развәлгъау әруромын транспортон къадайы (колонәйы), фәндәгты змәлды организацийы техникон фәрәзты кәнә уаг дәттәдҗы домәнтәем гәсгә

2

Транспортон фәрәзы змәлды әрләуд йә техникон әнәрәвдзы, ласинаг уәзты, скъәрәдҗы (бәлццоны) уавәры кәнә фәндагыл әнәнхәләдҗы фәзынгә тасы тыххәй

## განმარტება:

„საგზაო მოძრაობის შესახებ“ საქართველოს კანონის 5-ე მუხლის 26-ე პუნქტის თანახმად, იძულებით გაჩერება - სატრანსპორტო საშუალების მოძრაობის შეწყვეტა მისი ტექნიკური გაუმართაობის, გადასაზიდვი ტვირთის, მძღოლის (მგზავრის) მდგომარეობის ან გზაზე მოულოდნელად შექმნილი დაბრკოლებით განპირობებული საფრთხის გამო.

Комкომმაე აერდაემადაეი რაцаეугაе механикон транспортон фæრæзы фарæты рухсæй цæстытæ атарыты цауы, скъæრæг хæсджын у:

1

Æныллæг кæна тагъдад, цас гæнæн ис тагъддæр ахиза кæройнаг рахиз цæуæн хаххмæ æмæ æнæмæнгхъæугæйы цауы æрурома

2

Фарæты рухсы фæлтæргай (периодиконæй) раиу кæнынæй бамбарын кæна фембæлæг транспортон фæრæзы скъæრæгæн уыцы проблемæйы тыххæй

3

Змæлды хаххы æнæфæивгæйæ æрныллæг кæна тагъдад, фæлæ æнæмæнгхъæугæ цауы æрурома æмæ сиу кæна аварион рухсы сигнализаци. Змæлд сонг кæнын гæнæн ис æрмæстдæр цæстырухсы сæндидзыны фæстæ

4

Сиу кæна дардмæ рухсгæнæны фарæтæ

### განმარტება:

„საგზაო მოძრაობის შესახებ“ საქართველოს კანონის 36-ე მუხლის მე-5 პუნქტის თანახმად, მძღოლი არ უნდა გავიდეს გზატკარციდან, თუ შექმნილია ისეთი ხერგილი, რომ იგი, სავარაუდოდ, იძულებული გახდება, გაჩერდეს გზატკარციდან და ამით დააბრკოლოს განივი მიმართულებით მოძრაობა. ეს წესი მოქმედებს მაშინაც, თუ შექნიშნის მაშუქი სიგნალები იძლევა მოძრაობის უფლებას.

## ВОПРОС 317

ПРАВИЛЬНЫЙ ОТВЕТ: 2

Транспорტონ ფერაჲზჲ სკჲერაჲგ ჲადჲჲჲნ უ ავარიონ რუხსიგნალიზაციჲჲ (ჲაე უაეგაჲჲ) სიუ კაენა:

1

აევაჲს ტერიტორიჲაე ავტომობილონ  
ფაენდაგჲლ რაჲიზგაჲჲაე

2

კად ავარიჲჲ ჲაჲადისაგ კაენაე  
ფეჲაელგაე ტანსპორტონ ფერაჲზჲ  
აკაენჲნ ფაენდადჲჲ ცაეუაენ ჲაჲაე  
აევაესტიათაჲჲ ნაე გაენაენ კაენჲ

3

ფაესტაემაეცჲდაჲჲ ჲმაელგაჲჲაე

## განმარტება:

„საგზაო მოძრაობის შესახებ“ საქართველოს კანონის 52-ე მუხლის პირველი პუნქტის „ა“ ქვეპუნქტის თანახმად, საავტომობილო შემსწავლელი ორგანიზაცია გამოიყენება მოსალოდნელი საფრთხის შესახებ სხვა საგზაო მოძრაობის მონაწილეთა გაფრთხილებისათვის. საავტომობილო შემსწავლელი ორგანიზაცია უნდა ჩაირთოს: ა) თუ საგზაო-სატრანსპორტო შემთხვევის მონაწილე ან მწყობრიდან გამოსული სატრანსპორტო საშუალების გაყვანა ან ბუქსირება დაუყოვნებლივ შეუძლებელია და ეს აბრკოლებს საგზაო მოძრაობის სხვა მონაწილეებს.

## ВОПРОС 318

ПРАВИЛЬНЫЙ ОТВЕТ: 3

Транспорტონ ფერაჲზჲ სკჲერაჲგ ჲადჲჲჲნ უ ავარიონ რუხსიგნალიზაციჲჲ (ჲაე უაეგაჲჲ) სიუ კაენა:

1

ორგანიზაციგონდ ტანსპორტონ  
კოლონაჲჲჲ ჲმაელგაჲჲაე

2

ალვაენდაგჲ (პერეკრესტოკჲ) ფალე  
რავილგაჲჲაე

3

ფემბაელაგ მეჲანიკონ ტანსპორტონ  
ფერაჲზჲ ფარაეჲჲ რუხსაჲჲ ცაესჲჲჲჲ  
კუჲრჲჲ რაესტაედჲჲ, კად უჲჲ  
ტჲჲურაედ კაენჲ

## განმარტება:

„საგზაო მოძრაობის შესახებ“ საქართველოს კანონის 52-ე მუხლის პირველი პუნქტის „გ“ ქვეპუნქტის თანახმად, საავტომობილო შემსწავლელი ორგანიზაცია გამოიყენება მოსალოდნელი საფრთხის შესახებ სხვა საგზაო მოძრაობის მონაწილეთა გაფრთხილებისათვის. საავტომობილო შემსწავლელი ორგანიზაცია უნდა ჩაირთოს: გ) მძღოლისთვის შემხვედრი მექანიკური სატრანსპორტო საშუალების ფარების შექით თვალის მოჭრის დროს, თუ იგი იძულებულია გაჩერდეს.

Уыцы бынæтты тыхурæды рæстæджы, цыран уый бар нæй æмæ цыран иннæ скъæрджытæн сæ бон нæ бауыдзæн транспортон фæрæзы рæстæгыл фæхатын, скъæრæг сырх æртивгæ (фонарь) цырагъ (кæнæ уый хуызæнгонд ефектон арæзт) æвæстиатæй хъуамæ æрывæра:

- 1** Æрмæст аварион рухссигнализацийы сиуы фæстæ
- 2** Æрмæст уыцы цауы, кæд аварион рухссигнализаци нæй кæнæ хæлд у
- 3** Куыд аварион рухссигнализацийы сиуы фæстæ, афтæ кæд ахæм сигнализаци нæй кæнæ хæлд у

### ბანმარტეზა:

„საგზაო მოძრაობის შესახებ“ საქართველოს კანონის 52-ე მუხლის მე-2 პუნქტის „ბ“ ქვეპუნქტის თანახმად, საავარიო შუქსიგნალიზაციის ჩართვის შემდეგ, აგრეთვე თუ ასეთი სიგნალიზაცია არ არსებობს ან მწყობრიდანაა გამოსული, მძღოლმა დაუყოვნებლივ უნდა დადგას „საავარიო გაჩერების ნიშანი“, ხოლო არასაკმარისი ხილვადობის პირობებში – მოციმციმე წითელი ფარანი: ბ) იმ ადგილას იძულებით გაჩერების დროს, სადაც გაჩერება აკრძალულია, და იქ, სადაც, ხილვადობის პირობების გათვალისწინებით, სხვა მძღოლები ვერ შეძლებენ სატრანსპორტო საშუალების დროულად შემჩნევას. ამავე მუხლის მე-4 პუნქტის თანახმად საავარიო გაჩერების ნიშნის ან მოციმციმე წითელი ფარნის არარსებობის შემთხვევაში მძღოლმა უნდა უზრუნველყოს სხვა მსგავსი ეფექტიანი საშუალებებით მოახლოებულ მძღოლთა დროული გაფრთხილება.

Цერაგდჟინ пункты, уицы бынаетты тыхураеды раетаеджы, цыран уый бар нэй скъаерაг аварион аеруроманы нысан (каена уый хуызангонд ефектон араэт) транспортон фараезаей хъуамае аерываера иуыл къаддარ:

1

5 метры дараддзаегыл

2

10 метры дараддзаегыл

3

15 метры дараддзаегыл

### განმარტება:

„საგზაო მოძრაობის შესახებ“ საქართველოს კანონის 52-ე მუხლის მე-2 პუნქტის „ბ“ ქვეპუნქტისა და მე-3 და მე-4 პუნქტების თანახმად: 2. საავარიო შეუსიგნალიზაციის ჩართვის შემდეგ, აგრეთვე თუ ასეთი სიგნალიზაცია არ არსებობს ან მწყობრიდანაა გამოსული, მძღოლმა დაუყოვნებლივ უნდა დადგას „საავარიო გაჩერების ნიშანი“, ხოლო არასაკმარისი ხილვადობის პირობებში – მოციმციმე წითელი ფარანი: ბ) იმ ადგილას იძულებით გაჩერების დროს, სადაც გაჩერება აკრძალულია, და იქ, სადაც, ხილვადობის პირობების გათვალისწინებით, სხვა მძღოლები ვერ შეძლებენ სატრანსპორტო საშუალების დროულად შემჩნევას. 3. „საავარიო გაჩერების ნიშანი“ და მოციმციმე წითელი ფარანი უნდა დაიდგას სატრანსპორტო საშუალებიდან იმ მანძილზე, რომელიც კონკრეტულ პირობებში უზრუნველყოფს საშიშროების შესახებ სხვა მძღოლების დროულ გაფრთხილებას, მაგრამ ეს მანძილი დასახლებულ პუნქტში არ უნდა იყოს 15 მეტრზე ნაკლები, ხოლო დაუსახლებელ პუნქტში – 30 მეტრზე ნაკლები. 4. საავარიო გაჩერების ნიშნის ან მოციმციმე წითელი ფარნის არარსებობის შემთხვევაში მძღოლმა უნდა უზრუნველყოს სხვა მსგავსი ეფექტიანი საშუალებებით მოახლოებულ მძღოლთა დროული გაფრთხილება.



## ВОПРОС 321

ПРАВИЛЬНЫЙ ОТВЕТ: 3

Цაერაგდჟინ პუნქტი, უიცი ბინაეტთი თიხურაედი რაესაედჟი, ცირან უიი ბარ ნაი, სკაერაგ ავარიონ არურომაენი ნისან (კაენა უიი ხუიზაენგონდ ეფექტონ არაესტ) ტრანსპორტონ ფარაესაი ხუამაე არივარა იუილ კაადდარ:

1

15 метры дәрәддәгыл

2

20 метры дәрәддәгыл

3

30 метры дәрәддәгыл

## განმარტება:

„საგზაო მოძრაობის შესახებ“ საქართველოს კანონის 52-ე მუხლის მე-2, პუნქტის „ბ“ ქვეპუნქტისა და მე-3 და მე-4 პუნქტების თანახმად: 2. საავარიო შუქსიგნალიზაციის ჩართვის შემდეგ, აგრეთვე თუ ასეთი სიგნალიზაცია არ არსებობს ან მწყობრიდანაა გამოსული, მძღოლმა დაუყოვნებლივ უნდა დადგას „საავარიო გაჩერების ნიშანი“, ხოლო არასაკმარისი ხილვადობის პირობებში – მოციმციმე წითელი ფარანი: ბ) იმ ადგილას იძულებით გაჩერების დროს, სადაც გაჩერება აკრძალულია, და იქ, სადაც, ხილვადობის პირობების გათვალისწინებით, სხვა მძღოლები ვერ შეძლებენ სატრანსპორტო საშუალების დროულად შემჩნევას. 3. „საავარიო გაჩერების ნიშანი“ და მოციმციმე წითელი ფარანი უნდა დაიდგას სატრანსპორტო საშუალებიდან იმ მანძილზე, რომელიც კონკრეტულ პირობებში უზრუნველყოფს საშიშროების შესახებ სხვა მძღოლების დროულ გაფრთხილებას, მაგრამ ეს მანძილი დასახლებულ პუნქტში არ უნდა იყოს 15 მეტრზე ნაკლები, ხოლო დაუსახლებელ პუნქტში – 30 მეტრზე ნაკლები.

## ВОПРОС 322

ПРАВИЛЬНЫЙ ОТВЕТ: 2

“Авариион аруромаяны нисан” каена аерттивгае сырх цырагъ (фонарь) куы нае уа уицы раесаедჟი:

1

Аербаввахс скъардჟიტი რაესაегыл  
бафәдзәхсын аенамаенгхуиддаг  
наеу

2

Скъарәг хуамае сифтонг каена  
аендар уиы хуиזәен эфектон  
фарәзтәи аербаввахс скъардჟიტი  
раесаегыл бафәдзәхса

## განმარტება:

„საგზაო მოძრაობის შესახებ“ საქართველოს კანონის 52-ე მუხლის მე-4 პუნქტის თანახმად, საავარიო გაჩერების ნიშნის ან მოციმციმე წითელი ფარანის არარსებობის შემთხვევაში მძღოლმა უნდა უზრუნველყოს სხვა მსგავსი ეფექტიანი საშუალებებით მოახლოებულ მძღოლთა დროული გაფრთხილება.

Аварийы хайадисაг кәнаә хәлд транспортон фәраәзы ракаәнын фәндадҗы цәуәән хайә нә гәәнәән кәны әмә фәндадҗы змәлды әндәәр хайадисдҗытәән аразы кәуылымпыдзинад. Аварион рухссигнализацийы сиуы фәстә, афтә ма кәд ахәм сигнализаци нәй кәнаә хәлд у, скәәрәг хәуамә:

1

Æвәстиатәй равәра “Аварион әруромәны нысан”, әнәфаг уынынады уавәрты – әрттивгә сырх цырагъ (фонарь)

2

Сиу кәна габаритон рухсытә

3

Сиу кәна дардмә рухсгәәнәән фарәтә

### განმარტება:

„საგზაო მოძრაობის შესახებ“ საქართველოს კანონის 52-ე მუხლის პირველი პუნქტის „ა“ ქვეპუნქტის თანახმად, საავარიო შეუსიგნალიზაცია გამოიყენება მოსალოდნელი საფრთხის შესახებ სხვა საგზაო მოძრაობის მონაწილეთა გაფრთხილებისათვის. საავარიო შეუსიგნალიზაცია უნდა ჩაირთოს: ა) თუ საგზაო-სატრანსპორტო შემთხვევის მონაწილე ან მწყობრიდან გამოსული სატრანსპორტო საშუალების გაყვანა ან ბუქსირება დაუყოვნებლივ შეუძლებელია და ეს აბრკოლებს საგზაო მოძრაობის სხვა მონაწილეებს. ამავე მუხლის მე-2 პუნქტის „ა“ ქვეპუნქტის თანახმად, საავარიო შეუსიგნალიზაციის ჩართვის შემდეგ, აგრეთვე თუ ასეთი სიგნალიზაცია არ არსებობს ან მწყობრიდანაა გამოსული, მძღოლმა დაუყოვნებლივ უნდა დადგას „საავარიო გაჩერების ნიშანი“, ხოლო არასაკმარისი ხილვადობის პირობებში – მოციმციმე წითელი ფარანი: ა) საგზაო-სატრანსპორტო შემთხვევის დროს.



Хæсджын у æви нæ рог автомобили скъæрæг, сиу кæна аварион рухсы сигнализаци æмæ равæра аварион æруромæны нысан нывыл амындгонд бынаты тыхурæд æркæныны цауы?

1

Хæсджын у сиу кæна æрмæст аварион рухсы сигнализаци

2

Хæсджын у æрмæст равæра аварион æруромæны нысан автомобили фæстæ, 15 метры дæрддæгыл

3

Нæу хæсджын

### განმარტება:

„საგზაო მოძრაობის შესახებ“ საქართველოს კანონის 52-ე მუხლის პირველი პუნქტის „ბ“ ქვეპუნქტის თანახმად, საავარიო შეუსიგნალიზაცია გამოიყენება მოსალოდნელი საფრთხის შესახებ სხვა საგზაო მოძრაობის მონაწილეთა გაფრთხილებისათვის. საავარიო შეუსიგნალიზაცია უნდა ჩაირთოს: ბ) იმ ადგილას იძულებით გაჩერების დროს, სადაც გაჩერება აკრძალულია. ამავე კანონის 37-ე მუხლის მე-6 პუნქტის „ა.გ“ ქვეპუნქტის თანახმად აკრძალულია სატრანსპორტო საშუალების გაჩერება, გზის სავალ ნაწილზე: ა.გ) სავალი ნაწილების გადაკვეთაზე, აგრეთვე მათი გადაკვეთის ნაპირებიდან 5 მეტრზე ახლოს, გარდა იმ შემთხვევისა, როცა გაჩერება ხდება იმ გვერდითი გასასვლელების მოპირდაპირე სამმხრივ გადაკვეთებზე (გზაჯვარედინებზე), რომლებზედაც მონიშვნის უწყვეტი ხაზი ან გამყოფი ზოლია.



ლავარდ სიტუაციი ზალს ჟვი ნა სკჟარაგ თიხურად ჟრკაენგაჟა ჟვარდ დოაენტი, კად ჟნარავდზ ავტომილს ჟვაჟსიათაჟ აკაენს ფაენდაგაჟ ნა გაენაენ კაენს?

1

Халы

2

Нә халы

### განმარტება:

„საგზაო მოძრაობის შესახებ“ საქართველოს კანონის 38-ე მუხლის პირველი პუნქტის „გ.ა“ ქვეპუნქტის თანახმად, ავტომაგისტრალზე, ავტომაგისტრალის შესასვლელსა და გამოსასვლელზე მძღოლს ეკრძალება ავტომობილის (ან/და მისი მისაბმელის) გაჩერება ან დგომა, დგომისთვის გამოყოფილი, სპეციალურად მონიშნული ადგილების გარდა. მძღოლმა, რომელიც მისგან დამოუკიდებელი გარემოებების გამო იძულებულია, გაჩერდეს, უნდა მიიღოს ყველა ზომა ავტომობილის (ან/და მისი მისაბმელის) გზის სავალი ნაწილიდან გასაყვანად, ხოლო თუ ამის დაუყოვნებლივ გაკეთება შეუძლებელია – ჩართოს საავარიო შუქსიგნალიზაცია (მისი არსებობის შემთხვევაში) და შესაბამისი ნიშნით მონიშნოს ავტომობილი (ან/და მისი მისაბმელი) საკმარის მანძილზე, რათა დროულად გააფრთხილოს მოახლოებული მძღოლები. ამავე კანონის 52-ე მუხლის მე-3 პუნქტის თანახმად, „საავარიო გაჩერების ნიშანი“ და მოციმციმე წითელი ფარანი უნდა დაიდგას სატრანსპორტო საშუალებიდან იმ მანძილზე, რომელიც კონკრეტულ პირობებში უზრუნველყოფს საშიშროების შესახებ სხვა მძღოლების დროულ გაფრთხილებას, მაგრამ ეს მანძილი დასახლებულ პუნქტში არ უნდა იყოს 15 მეტრზე ნაკლები, ხოლო დაუსახლებელ პუნქტში – 30 მეტრზე ნაკლები.

Автомагისტრალის ტექნიკის აღმშენებლის გაცემის მიხედვით უნდა ტრანსპორტის  
ფარგის სიგანე განისაზღვროს:

1

ხუთჯერ სიგანის კენტი ანუ სიგანის  
ფარგის სიგანის (ფარგის)  
აქედან განისაზღვროს უნდა ტრანსპორტის  
სიგანის კენტი, უნდა ხუთჯერ სიგანის  
კენტი ავარიის რისკის სიგანის  
(აქედან უნდა) ანუ ავარიის რისკის  
ფარგის კენტი ტრანსპორტის ფარგის  
ფარგის სიგანის, სიგანის რისკის  
ფარგის სიგანის რისკის  
ფარგის სიგანის რისკის  
ფარგის სიგანის რისკის

2

ავარიის რისკის ფარგის ტექნიკის  
სიგანის რისკის, ანუ სიგანის  
სიგანის რისკის სიგანის რისკის  
ტრანსპორტის ფარგის სიგანის რისკის  
კენტი რისკის რისკის, სიგანის  
ავარიის რისკის სიგანის რისკის  
ავარიის რისკის რისკის რისკის  
ავარიის რისკის რისკის რისკის

### პასუხი:

„საგზაო მოძრაობის შესახებ“ საქართველოს კანონის 38-ე მუხლის პირველი პუნქტის „გ.ა“ ქვეპუნქტის თანახმად, ავტომაგისტრალზე, ავტომაგისტრალის შესასვლელსა და გამოსასვლელზე მძღოლს ეკრძალება ავტომობილის (ან/და მისი მისაბმელის) გაჩერება ან დგომა, დგომისთვის გამოყოფილი, სპეციალურად მონიშნული ადგილების გარდა. მძღოლმა, რომელიც მისგან დამოუკიდებელი გარემოებების გამო იძულებულია, გაჩერდეს, უნდა მიიღოს ყველა ზომა ავტომობილის (ან/და მისი მისაბმელის) გზის სავალი ნაწილიდან გასაყვანად, ხოლო თუ ამის დაუყოვნებლივ გაკეთება შეუძლებელია – ჩართოს საავარიო შექსიგნალიზაცია (მისი არსებობის შემთხვევაში) და შესაბამისი ნიშნით მონიშნოს ავტომობილი (ან/და მისი მისაბმელი) საკმარის მანძილზე, რათა დროულად გააფრთხილოს მოახლოებული მძღოლები.



Кæд фæндагон-транспортон цауы (аварийы) хайадисæг транспортон фæрæзы  
ракæнын кæнæ буксиры æвæстиатæй нæ гæнæн кæны æмæ аразы  
къуылымпыдзинад фæдагон змæлды иннæ хайадисджытæн, уæд ахæм транспортон  
фæрæзы скъæრæг хæсджын у сиу кæна:

1

Æввахсмæ æмæ дардмæ рухсгæнæн  
фарæтæ æмæ фæстаг габаритон  
рухсытæ

2

Аварион рухсы сигнализаци

3

Зæлон сигнал

### ბანმარტეზა:

„საგზაო მოძრაობის შესახებ“ საქართველოს კანონის 52-ე მუხლის პირველი პუნქტის „ა“ ქვეპუნქტის თანახმად, საავარიო შექსიგნალიზაცია გამოიყენება მოსალოდნელი საფრთხის შესახებ სხვა საგზაო მოძრაობის მონაწილეთა გაფრთხილებისათვის. საავარიო შექსიგნალიზაცია უნდა ჩაირთოს: ა) თუ საგზაო-სატრანსპორტო შემთხვევის მონაწილე ან მწყობრიდან გამოსული სატრანსპორტო საშუალების გაყვანა ან ბუქსირება დაუყოვნებლივ შეუძლებელია და ეს აბრკოლებს საგზაო მოძრაობის სხვა მონაწილეებს.

Фендагон-транспортон цауы (аварийы) хайадисæг транспортон фæрæзыл аварион рухс сигнализацийы сиуы фæстæ, афтæ ма кæд ахæм сигнализаци нæй кæнæ хæлд у, скъæრæг æвæстиатæй хъуамæ:

1

Сиу кæна дардмæ рухсгæнæн фарæтæ

2

Сиу кæна зæлон сигнал

3

Равæра аварион уромæн нысан, фæлæ æнæфаг уынынады уавæрты – æрттивгæ сырх цырагъ (фонарь)

### განმარტება:

„საგზაო მოძრაობის შესახებ“ საქართველოს კანონის 52-ე მუხლის პირველი პუნქტის „ა“ ქვეპუნქტის თანახმად, საავარიო შეუსიგნალიზაცია გამოიყენება მოსალოდნელი საფრთხის შესახებ სხვა საგზაო მოძრაობის მონაწილეთა გაფრთხილებისათვის. საავარიო შეუსიგნალიზაცია უნდა ჩაირთოს: ა) თუ საგზაო-სატრანსპორტო შემთხვევის მონაწილე ან მწყობრიდან გამოსული სატრანსპორტო საშუალების გაყვანა ან ბუქსირება დაუყოვნებლივ შეუძლებელია და ეს აბრკოლებს საგზაო მოძრაობის სხვა მონაწილეებს; ამავე მუხლის მე-2 პუნქტის „ა“ ქვეპუნქტის თანახმად საავარიო შეუსიგნალიზაციის ჩართვის შემდეგ, აგრეთვე თუ ასეთი სიგნალიზაცია არ არსებობს ან მწყობრიდანაა გამოსული, მძღოლმა დაუყოვნებლივ უნდა დადგას „საავარიო გაჩერების ნიშანი“, ხოლო არასაკმარისი ხილვადობის პირობებში – მოციმციმე წითელი ფარანი: ა) საგზაო-სატრანსპორტო შემთხვევის დროს.

Æნæфæг уынынады уавæрты, фæндагон-транспортон цауы (аварийы) хайадисæг транспортон фæრæзыл аварион рухсы сигнализацийы сиуы фæстæ, афтæ ма кæд ахæм сигнализаци нæй кæнæ хæлд у, скъæრæг æвæстиатæй хъуамæ:

1

Равæра æрттивгæ сырх цырагъ (фонарь), фæлæ йæ нæ уæвынады цауы, хъуамæ сифтонг кæна æндæр уыйхуызæн ефектон амæлттæй æрбаввахсгæнæг скъæрджыты рæстæгыл бафæдзæхсын

2

Сиу кæна фæстаг габаритон рухсытæ

3

Сиу кæна раззаг æмæ фæстаг антиасæстон фарæтæ (туманниктæ)

### განმარტება:

„საგზაო მოძრაობის შესახებ“ საქართველოს კანონის 52-ე მუხლის პირველი პუნქტის „ა“ ქვეპუნქტის თანახმად, საავარიო შეუსიგნალიზაცია გამოიყენება მოსალოდნელი საფრთხის შესახებ სხვა საგზაო მოძრაობის მონაწილეთა გაფრთხილებისათვის. საავარიო შეუსიგნალიზაცია უნდა ჩაირთოს: ა) თუ საგზაო-სატრანსპორტო შემთხვევის მონაწილე ან მწყობრიდან გამოსული სატრანსპორტო საშუალების გაყვანა ან ბუქსირება დაუყოვნებლივ შეუძლებელია და ეს აბრკოლებს საგზაო მოძრაობის სხვა მონაწილეებს; ამავე მუხლის მე-2 პუნქტის „ა“ ქვეპუნქტისა და მე-4 პუნქტის თანახმად: 2. საავარიო შეუსიგნალიზაციის ჩართვის შემდეგ, აგრეთვე თუ ასეთი სიგნალიზაცია არ არსებობს ან მწყობრიდანაა გამოსული, მძღოლმა დაუყოვნებლივ უნდა დადგას „საავარიო გაჩერების ნიშანი“, ხოლო არასაკმარისი ხილვადობის პირობებში – მოციმციმე წითელი ფარანი: ა) საგზაო-სატრანსპორტო შემთხვევის დროს. 4. საავარიო გაჩერების ნიშნის ან მოციმციმე წითელი ფარნის არარსებობის შემთხვევაში მძღოლმა უნდა უზრუნველყოს სხვა მსგავსი ეფექტიანი საშუალებებით მოახლოებულ მძღოლთა დროული გაფრთხილება.

თემა 14:

გარე სანათი ხელსაწყოები, ხმოვანი  
სიგნალით სარგებლობა

---

## ВОПРОС 330

ПРАВИЛЬНЫЙ ОТВЕТ: 3

Уыцы транспортон фæрæзы скъæрæг, кæцыйæн ацы закъонæй бæрæггонд цауты бар ис бахиза фистæгон змæлдæн нысангонд бынæттæм, хæсджын у:

1

Равдиса æрмæст максималон сæрхызтдзинад

2

Змæла æрмæст ныллæг тагъдадæй, цæмæй бахъуыды цауы (рæстæджы ) æрурома

3

Равдиса куыд максималон сæрхызтдзинад, афтæ змæла æрмæст ныллæг тагъдадæй, цæмæй бахъуыды цауы (рæстæджы ) æрурома

## განმარტება:

„საგზაო მოძრაობის შესახებ“ საქართველოს კანონის 25-ე მუხლის მე-5 პუნქტის თანახმად, იმ სატრანსპორტო საშუალების მძღოლი, რომელსაც ამ კანონით განსაზღვრულ შემთხვევებში უფლება აქვს შევიდეს ქვეითთა მოძრაობისათვის განკუთვნილ ადგილებში, ვალდებულია გამოიჩინოს მაქსიმალური სიფრთხილე და იმოძრაოს დაბალი სიჩქარით, რათა აუცილებლობის შემთხვევაში გაჩერდეს.

## ВОПРОС 331

ПРАВИЛЬНЫЙ ОТВЕТ: 2

Цæрæгджын пункты æнæ рухс фæндаг æмæ æдзæრæг пункты фæндагыл сабиты къордты акæнын барис:

1

Æрмæст бон-æхсæвы талынг рæстæджы

2

Æрмæст бон-æхсæвы рухс рæстæджы

3

Куыд бон-æхсæвы талынг рæстæджы, афтæ бон-æхсæвы рухс рæстæджы

## განმარტება:

„საგზაო მოძრაობის შესახებ“ საქართველოს კანონის 26-ე მუხლის მე-5 პუნქტის თანახმად, დასახლებული პუნქტის გაუნათებელ გზასა და დაუსახლებელი პუნქტის გზაზე ბავშვთა ჯგუფების გადაყვანა ნებადართულია მხოლოდ დღე-ღამის ნათელ დროს.



Гәенәен ис æви нæ, фæзилæны рухс-æвдисæг нæ уæвгæйæ кæнæ йæ фехæлды цауы, скъæрæджырдыгæй маневры сыххæст кæнынмæ хъавын къухæй ратгæ сигнал фескъуыйæд (æрлæууæд) тæккæ маневры райдыды размæ?

1

Гәенәен ис

2

Гәенәен нæй

### ბანმართება:

„საგზაო მოძრაობის შესახებ“ საქართველოს კანონის 32-ე მუხლის მე-2 პუნქტის თანახმად მანევრის დაწყებამდე მძღოლი ვალდებულია ჩართოს შესაბამისი მიმართულების მოხვევის შუქ-მაჩვენებელი, ხოლო თუ ის არ არის ან გამოსულია მწყობრიდან – ანიშნოს ხელით. მარცხნივ მოხვევის ან მობრუნების სიგნალს შეესაბამება გვერდზე ჰორიზონტალურად გაშვებული მარცხენა ხელი ან გვერდზე გაშვებული, იდაყვში სწორი კუთხით ზემოთ მოხრილი მარჯვენა ხელი. მარჯვნივ მოხვევის სიგნალს შეესაბამება გვერდზე ჰორიზონტალურად გაშვებული მარჯვენა ხელი ან გვერდზე გაშვებული, იდაყვში სწორი კუთხით ზემოთ მოხრილი მარცხენა ხელი. დამუხრუჭების სიგნალს შეესაბამება ზემოთ ვერტიკალურად აწეული მარცხენა ან მარჯვენა ხელი. მოხვევის შუქ-მაჩვენებლით ან ხელით სიგნალი მიცემული უნდა იქნეს დროულად, მანევრის დაწყების წინ და უნდა შეწყდეს დაუყოვნებლივ, მისი დასრულებისთანავე (სიგნალის ხელით მიცემა შეიძლება შეწყდეს უშუალოდ მანევრის დაწყების წინ). ამასთანავე, სიგნალმა არ უნდა შეაყდინოს სხვა საგზაო მოძრაობის მონაწილეები. მოხვევის შუქ-მაჩვენებლით ან ხელით სიგნალის მიცემა მძღოლს არ აძლევს უპირატესობას და არ ათავისუფლებს სიფრთხილის აუცილებელი ზომების მიღების ვალდებულებისაგან.



Хæсджын у æви нæ рог автомобили скъæрæг, сиу кæна галиумæ базилæны рухсæвдисæг фатæджы (стрелкæйы) æрдæмадмæ змæлды цауы?

1

Нæу хæсджын

2

Хæсджын у

### განმარტება:

„საგზაო მოძრაობის შესახებ“ საქართველოს კანონის 32-ე მუხლის მე-2 პუნქტის თანახმად, მანევრის დაწყებამდე მძღოლი ვალდებულია ჩართოს შესაბამისი მიმართულების მოხვევის შუქ-მაჩვენებელი, ხოლო თუ ის არ არის ან გამოსულია მწყობრიდან – ანიშნოს ხელით.

## ВОПРОС 334

ПРАВИЛЬНЫЙ ОТВЕТ: 3

Маневры сыххæст кæнынмæ хъавгæйæ базилæны рухс-æвдисæნæй кæნæ къухæй ратгæ сигнал транспорты скъæრæг:

1

Дæтты йын уæлбар

2

Сæрибар æй кæны тæссагдзинады æнæмæнгхъæугæ мадзæлтæ райсынæй

3

Уæлдæр нысангонд дзуаппытæй иу дæр раст нæу

## განმარტება:

„საგზაო მოძრაობის შესახებ“ საქართველოს კანონის 32-ე მუხლის მე-2 პუნქტის თანახმად, მოხვევის შეუძლებლობით ან ხელით სიგნალის მიცემა მძღოლს არ აძლევს უპირატესობას და არ ათავისუფლებს სიფრთხილის აუცილებელი ზომების მიღების ვალდებულებისაგან.

## ВОПРОС 335

ПРАВИЛЬНЫЙ ОТВЕТ: 2

Скъæრæг маневры сыххæст кæнынмæ хъавгæйæ, аккаг æрдæмадмæ базилæны рухс-æвдисæნæй сигнал хъуამæ ратта:

1

Маневр райдыдæй æмæ фескъуыд (ურედ) æрцæუæდ маневры фæудмæ

2

Рæстæгыл, маневры райдыды размæ æмæ фескъуыд (ურედ) æрцæუæდ æвæстиатæй куыддæრ фæуа афтæ

## განმარტება:

„საგზაო მოძრაობის შესახებ“ საქართველოს კანონის 32-ე მუხლის მე-2 პუნქტის თანახმად, მოხვევის შეუძლებლობით ან ხელით სიგნალი მიცემული უნდა იქნეს დროულად, მანევრის დაწყების წინ და უნდა შეწყდეს დაუყოვნებლივ, მისი დასრულებისთანავე (სიგნალის ხელით მიცემა შეიძლება შეწყდეს უშუალოდ მანევრის დაწყების წინ). ამასთანავე, სიგნალმა არ უნდა შეაცდინოს სხვა საგზაო მოძრაობის მონაწილეები.

## ВОПРОС 336

ПРАВИЛЬНЫЙ ОТВЕТ: 1

Ис сын æви нæ бар велосипеды æмæ мопеды скъæрджытæн, фаг бынаты уæвгæйæ иувæрсты æрбахизой урæд кæнæ сындæг змæлгæ транспортон фæрæзтæн рахиз æрдыгæй?

1

Ис сын бар

2

Нæй сын бар

## განმარტება:

„საგზაო მოძრაობის შესახებ“ საქართველოს კანონის 34-ე მუხლის მე-2 პუნქტის თანახმად, საკმარისი ადგილის არსებობისას ველოსიპედისტსა და მოპედის მძღოლს შეუძლიათ გაჩერებულ ან დაბალი სიჩქარით მოძრავ სატრანსპორტო საშუალებებს მარჯვენა მხრიდან შემოუარონ.

## ВОПРОС 337

ПРАВИЛЬНЫЙ ОТВЕТ: 2

Иугонд æдде рухсгæнæн инструментты панел кæнæ гом дуарæй урæд транспортон фæрæзты фæрсты змæлგæйæ, скъæრæг хъуамæ:

1

Ратта зæлон сигнал æмæ  
фæфылдæр кæна тагъдад

2

Равдиса сæрмагонд хъусдард,  
цæмæй æнæмæнгдзинады цауы,  
რæстæгыл ფადат რატა ფენდაгыლ  
ფისტაგ æмæ сабиты  
æнæნхæლæджы разындæй  
сырæзгæ тасы сæრæй аиуварс  
кæнынæн

3

Фæкъаддæр кæна тагъдад æмæ сиу  
кæна аварион рухсы сигнализаци,  
цæмæй урæд транспортон фæრæзы  
æвиппайды фезмæлды цауы,  
რæстæгыл ფადат რატა тасы სერაი  
აიუварს კაენინæნ

## განმარტება:

„საგზაო მოძრაობის შესახებ“ საქართველოს კანონის 25-ე მუხლის მე-8 პუნქტის თანახმად, გზაზე გაჩერებული სატრანსპორტო საშუალების გასწვრივ მოძრაობისას მძღოლმა განსაკუთრებული სიფრთხილე უნდა გამოიჩინოს ჩართული გარე სანათი ხელსაწყოს ან ღია კარის მექანიზმების სატრანსპორტო საშუალების მიმართ, რათა აუცილებლობის შემთხვევაში დროულად უზრუნველყოს გზაზე ქვეითთა და ბავშვების მოულოდნელი გამოჩენით წარმოშობილი საფრთხის თავიდან აცილება.

## ВОПРОС 338

ПРАВИЛЬНЫЙ ОТВЕТ: 2

Æნæфаг кæнæ арæнгонд уынынады уавæрты, скъæრæг хъуамæ:

1

Сиу кæна аварион рухсы сигнализаци æмæ фæкъаддæр кæна дистанци йæхи æмæ йæ размæ цæуæг транспортон фæрæзы 'хсæн

2

Фæкъаддæр кæна тагъдад æмæ фæфылдæр кæна дистанци йæхи æмæ йæ размæ цæуæг транспортон фæрæзы 'хсæн

3

Сиу кæна аварион рухсы сигнализаци æмæ змæла цæуæн хайы кæронæй галиуæрдыгæй

## განმარტება:

„საგზაო მოძრაობის შესახებ“ საქართველოს კანონის 25-ე მუხლის მე-10 პუნქტის „ა“ ქვეპუნქტის თანახმად, გზაზე მოძრაობისას მძღოლმა უნდა გაითვალისწინოს შემდეგი გარემოებები - არასაკმარისი ან შეზღუდული ხილვადობის პირობებში მძღოლმა უნდა შეამციროს სიჩქარე და გაზარდოს დისტანცია თავის სატრანსპორტო საშუალებასა და მის წინ მიმავალ სატრანსპორტო საშუალებას შორის.

## ВОПРОС 339

ПРАВИЛЬНЫЙ ОТВЕТ: 2

Скъæрæг зæлон сигнал гæнæн ис спайда кæна:

1

Кæцыфæнды цауы йæхимæ гæсгæйæ

2

Æрмæст рæстæгыл бафæдзæхсынæн, фæндагон-транспортон цауы (аварийы) сæრæй аиуварс кæнынæн

3

Алвæндагыл (перекрестокыл) уæлбары æрдомынæн

## განმარტება:

„საგზაო მოძრაობის შესახებ“ საქართველოს კანონის 48-ე მუხლის პირველი პუნქტის თანახმად, ხმოვანი სიგნალი შეიძლება გამოყენებულ იქნეს მხოლოდ: ა) საგზაო მოძრაობის მონაწილეთა დროული გაფრთხილებისთვის, საგზაო-სატრანსპორტო შემთხვევის თავიდან ასაცილებლად; ბ) დასახლებულ პუნქტებს გარეთ, როდესაც საჭიროა სხვა სატრანსპორტო საშუალების მძღოლის გაფრთხილება გასწრების განზრახვის შესახებ.



## ВОПРОС 340

ПРАВИЛЬНЫЙ ОТВЕТ: 3

სკჯერადჯი რატგე ჯელონ სიგნალი დერგვჯეტინდჷნად:

1

მა ხუამე უა 3 სეკუნდჷ ფილდერ

2

მა ხუამე უა 5 სეკუნდჷ ფილდერ

3

ცალინმე ანამენგხაეუგე უ,  
უიმჷ ფილდერ მა ხუამე უა  
დერგვჯეტინ

## განმარტება:

„საგზაო მოძრაობის შესახებ“ საქართველოს კანონის 48-ე მუხლის მე-2 პუნქტის თანახმად, ხმოვანი სიგნალი არ უნდა იყოს უფრო ხანგრძლივი, ვიდრე ეს აუცილებელია.

## ВОПРОС 341

ПРАВИЛЬНЫЙ ОТВЕТ: 2

ბონ-ახსავე რუხს რესტადჯი ცერაგდჷნ პუნქტი ფერაჷ კენი თიხჷ ანდერ  
სკჯერადჯი რაგფედჯახსტენ გაენენ ის ამაე პაიდაგონდ ერცაუა:

1

ჯელონ სიგნალი

2

ფარეთი რუხსი პერიოდონ  
(ფელტერგაი), ციბერ რესტაგმაე სიუ-  
რაიუ კენი (სსუდჷნ ამაე ახუისჷნ  
კენი)

3

ავარიონ რუხსი სიგნალიზაცი

4

ფარეთი ავვახსმაე რუხსი დარდმაე  
რუხსჷ ბირე ხატე რაივინ

## განმარტება:

„საგზაო მოძრაობის შესახებ“ საქართველოს კანონის 48-ე მუხლის მე-3 პუნქტის თანახმად, დასახლებულ პუნქტში გასწრების განზრახვის შესახებ სხვა სატრანსპორტო საშუალების მძღოლის გასაფრთხილებლად შეიძლება ჩაირთოს მანათობელი სიგნალი დღე-ღამის ნათელ დროს ფარების შუქის პერიოდული, ხანმოკლე ჩართვა-გამორთვით, ხოლო დღე-ღამის ბნელ დროს – ფარების ახლო შუქის შორ შუქზე მრავალჯერადი გადართვით, დაუსახლებულ პუნქტში კი – ხმოვანი სიგნალის ნაცვლად ან მასთან ერთად.

## ВОПРОС 342

ПРАВИЛЬНЫЙ ОТВЕТ: 4

Бон-აქსაევი талынг рæстæджы цæрæгджын пункты фæразæй кæныны тыххæй æндæр скъæрæджы рагфæдзæхстæн гæнæн ис æмæ пайдагонд æрцæуа:

1

Зæлон сигнал

2

Фарæты рухсы периодикон (фæлтæргай), цыбыр рæстæгмæ сиу-раиу кæнын (ссудзын æмæ ахуыссын кæнын)

3

Аварион рухсы сигнализаци

4

Фарæты æввахсмæ рухсы дардмæ рухсæй бирæ хатты раивын

## განმარტება:

„საგზაო მოძრაობის შესახებ“ საქართველოს კანონის 48-ე მუხლის მე-3 პუნქტის თანახმად, დასახლებულ პუნქტში გასწრების განზრახვის შესახებ სხვა სატრანსპორტო საშუალების მძღოლის გასაფრთხილებლად შეიძლება ჩაირთოს მანათობელი სიგნალი დღე-ღამის ნათელ დროს ფარების შუქის პერიოდული, ხანმოკლე ჩართვა-გამორთვით, ხოლო დღე-ღამის ბნელ დროს – ფარების ახლო შუქის შორ შუქზე მრავალჯერადი გადართვით, დაუსახლებელ პუნქტში კი – ხმოვანი სიგნალის ნაცვლად ან მასთან ერთად.

## ВОПРОС 343

ПРАВИЛЬНЫЙ ОТВЕТ: 1

Бар ис æви нæ фæразæй кæныны тыххæй æндæრ скъæრæджы рагфæдзæхстæн зæлон сигналæй спайда кæнын:

1

Бар ис, æрмæст æдзæრæგ пункты

2

Бар ис, æрмæст цæრæгджын пункты

3

Бар ис, куыд цæრæгджын пункты, афтæ æдзæრæг пункты

4

Бар ис

## განმარტება:

„საგზაო მოძრაობის შესახებ“ საქართველოს კანონის 48-ე მუხლის პირველი პუნქტის „ბ“ ქვეპუნქტის თანახმად, ხმოვანი სიგნალი შეიძლება გამოყენებულ იქნეს მხოლოდ დასახლებულ პუნქტს გარეთ, როდესაც საჭიროა სხვა სატრანსპორტო საშუალების მძღოლის გაფრთხილება გასწრების განზრახვის შესახებ.

## ВОПРОС 344

ПРАВИЛЬНЫЙ ОТВЕТ: 4

Дәлдәер ранымад, кәцы бынаты нәу хәсджын скъәраг маневры райдыдмә сиу кәна аккаг әрдәмады фәзиләны рухс-әвдисәг?

1

Цәрәнуаты зонәйы

2

Æввахс территорийыл

3

Уынджы (кәрты) территорийыл

4

Хәсджын у ацы билеты ранымад кәцыфәнды бынаты

## განმარტება:

„საგზაო მოძრაობის შესახებ“ საქართველოს კანონის 32-ე მუხლის მე-2 პუნქტის თანახმად, მანევრის დაწყებამდე მძღოლი ვალდებულია ჩართოს შესაბამისი მიმართულების მოხვევის შუქ-მაჩვენებელი, ხოლო თუ ის არ არის ან გამოსულია მწყობრიდან – ანიშნოს ხელით.

## ВОПРОС 345

ПРАВИЛЬНЫЙ ОТВЕТ: 2

Æრталынгәй сбонмә, афтәма кәцыфәнды әндәер әнәфаг уынынады (әвзарынады) уавәрты, фәндагыл әруромыны әмә әрләууыны рәстәджы механикон транспортон фәрәзтә әмә сә прицептә фәнысангонд хъуамә уой:

1

Дардмә рухсгәәнән фарәтәй

2

Раззаг әмә фәстаг габаритон рухсытәй

3

Æввахсмә рухсгәәнән фарәтәй

4

Раззаг мигъы ныхмә фарәтәй

## განმარტება:

„საგზაო მოძრაობის შესახებ“ საქართველოს კანონის 49-ე მუხლის მე-9 პუნქტის თანახმად, დაბინდებიდან გათენებამდე, აგრეთვე ნებისმიერი სხვა არასაკმარისი ხილვადობის პირობებში, გზაზე გაჩერების ან დგომის დროს მექანიკური სატრანსპორტო საშუალება და მისი მისაბმელი აღნიშნული უნდა იყოს წინა და უკანა საგაბარიტო სინათლეებით.

## ВОПРОС 346

ПРАВИЛЬНЫЙ ОТВЕТ: 3

Змәлгә механикон транспортон фәрәзтыл бон-әхсәвы талынг рәстәдҗы кәнә әнәфаг уынынады (әвзариныады) уавәрты иугонд хъяуамә уа:

1. Әрмәст әввахсмә әмә дардмә рухсгәнен фарәтә

2. Әрмәст антиасәстон (антимигъон) фарәтә

3. Әввахсмә әмә дардмә рухсгәнен фарәтә әмә фәстаг габаритон рухсытә

4. Әрмәст раззаг әмә фәстаг габаритон рухсытә

## განმარტება:

„საგზაო მოძრაობის შესახებ“ საქართველოს კანონის 49-ე მუხლის პირველი პუნქტის თანახმად, დღე-ღამის ბნელ დროს, აგრეთვე არასაკმარისი ხილვადობის პირობებში მოძრავ მექანიკურ სატრანსპორტო საშუალებაზე, აგრეთვე მოპედზე ჩართული უნდა იყოს ახლო ან შორი განათების ფარა/ფარები და უკანა საგაბარიტო სინათლეები.

## ВОПРОС 347

ПРАВИЛЬНЫЙ ОТВЕТ: 2

Әнәфаг уынынады (әвзариныады) уавәрты кәнә уынгәг зылын-мылын фәндәгтыл змәлгәйә, антиасәстон фарәтә (туманниктә) иугонд цәуынц:

1. Аварион рухсы сигнализациимә иумә

2. Дардмә әмә әввахсмә рухсгәнен фарәтимә иумә

3. Әрмәст раззаг әмә фәстәг габаритон рухсытимә иумә

## განმარტება:

„საგზაო მოძრაობის შესახებ“ საქართველოს კანონის 49-ე მუხლის მე-5 პუნქტის თანახმად, არასაკმარისი ხილვადობის პირობებში ან ვიწრო მიხვეულ-მოხვეულ გზებზე მოძრაობისას, ნისლსაწინააღმდეგო ფარები ირთვება შორი ან ახლო განათების ფარებთან ერთად.

## ВОПРОС 348

ПРАВИЛЬНЫЙ ОТВЕТ: 4

Раззаг габаритონ рухсытәй фәлынд механикон транспортон фәрәзыл әмә мопедыл ахәм рухсытә хъуамә иу әрцәуой:

1

Әрмәст дардмә рухсгәәнән фарәтимә иумә

2

Әрмәст әввахсмә рухсгәәнән фарәтимә иумә

3

Әрмәст әввахсмә рухсгәәнән фарәтимә иумә

4

Куыд дардмә әмә әввахсмә рухсгәәнән фарәтимә, афтә раззаг антиасәстон фарәтимә (туманниктимә) иумә

## განმარტება:

„საგზაო მოძრაობის შესახებ“ საქართველოს კანონის 49-ე მუხლის მე-6 პუნქტის თანახმად, წინა საგაბარიტო სინათლეებით აღჭურვილ მექანიკურ სატრანსპორტო საშუალებაზე, აგრეთვე მოპედზე ასეთი სინათლეები უნდა ჩაირთოს შორი ან ახლო განათების ფარებთან ან წინა ნისლსაწინააღმდეგო ფარებთან ერთად.

## ВОПРОС 349

ПРАВИЛЬНЫЙ ОТВЕТ: 2

Бон-әхсәвы талынг рәстәджы кәнә әнәфаг уынынады (әвзарынады) уавәрты змәлгә механикон транспортон фәрәзы прицепыл:

1

Бафидаргонд хъуамә уа әрмәст специалон рухсдәттәг арәзт

2

Иугонд хъуамә уой раззаг габаритон рухсытә (кәд уыдоны уәвынад Гуырдыстоны закъондәттынад нымайы) әмә иуыл къаддәр дыууә фәстаг габаритон рухс

3

Иугонд хъуамә уа әрмәст иу фәстаг габаритон рухс

## განმარტება:

„საგზაო მოძრაობის შესახებ“ საქართველოს კანონის 49-ე მუხლის პირველი პუნქტის თანახმად, დღე-ღამის ბნელ დროს, აგრეთვე არასაკმარისი ხილვადობის პირობებში მოძრავ მექანიკურ სატრანსპორტო საშუალებაზე, აგრეთვე მოპედზე ჩართული უნდა იყოს ახლო ან შორი განათების ფარა/ფარები და უკანა საგაბარიტო სინათლეები, ხოლო მისაბმელზე – წინა საგაბარიტო სინათლეები (თუ მათ არსებობას ითვალისწინებს საქართველოს კანონმდებლობა) და არანაკლებ ორი უკანა საგაბარიტო სინათლე.



## ВОПРОС 350

ПРАВИЛЬНЫЙ ОТВЕТ: 1

Кәд автомобиль (раз әрдыгәй) фәлынд у антиасәстон фарәтәй (туманниктәй), уый хъуамә уа:

1

Урс кәнә бур селектрон рухсы, бәрцәй дыууә

2

Сырх кәнә бур селектрон рухсы, бәрцәй цыппар

3

Сырх селектрон рухсы, бәрцәй иу

## განმარტება:

„საგზაო მოძრაობის შესახებ“ საქართველოს კანონის 49-ე მუხლის მე-4 პუნქტის თანახმად, თუ მექანიკური სატრანსპორტო საშუალება აღჭურვილია წინა ნისლსაწინააღმდეგო ფარებით, ისინი უნდა იყოს თეთრი ან ყვითელი სელექციური სინათლის, ორი, ხოლო მოტოციკლზე – ერთი.

## ВОПРОС 351

ПРАВИЛЬНЫЙ ОТВЕТ: 1

Кәд механикон транспортон фәрәзыл кәнә прицепыл әвәрд ис (фидаргонд ис) фәстаг антиасәстон фарәтә (туманниктә), уыдон хъуамә уой:

1

Сырх хуыз

2

Урс хуыз

3

Бур хуыз

## განმარტება:

„საგზაო მოძრაობის შესახებ“ საქართველოს კანონის 49-ე მუხლის მე-4 პუნქტის თანახმად, თუ მექანიკური სატრანსპორტო საშუალებაზე ან მისაბმელზე დაყენებულია უკანა ნისლსაწინააღმდეგო ფარები, ისინი წითელი უნდა იყოს.

Боны рухс რაესტადჯი ფაენდაგыл змәлгә транспортон фәрәзы фәенысан кәныны тыххәй әнмәнгдзинад у әввахсмә рухсгәәнән фәрәты әмә фәстаг габаритон рухсыты сиу кәнын:

- |   |   |
|---|---|
| <p><b>1</b> Ермәст автобусәй кәнә аккаг арәзтуәзласән автомобили гуыффәйы сабиты кьорды кәныны раесტадჯи</p>                    | <p><b>2</b> Ермәст механикон транспортон фәрәзы буксиры раесტадჯи, буксиргәәнәг транспортон фәрәзыл</p> |
| <p><b>3</b> Ермәст маршрутон транспортон фәрәзтыл специалонәй уыдонән рахицәнгонд хаххыл, сәйраг колонәйы комкоммә змәлгәйә</p> | <p><b>4</b> Ацы билеты ранымад алкәцы цауы</p>  |

### განმარტება:

„საგზაო მოძრაობის შესახებ“ საქართველოს კანონის 49-ე მუხლის მე-8 პუნქტის „ბ“, „დ“ და „ე“ ქვეპუნქტების თანახმად, დღის ნათელ დროს გზაზე მოძრავი სატრანსპორტო საშუალების აღნიშვნის მიზნით სავალდებულოა ახლო განათების ფარებისა და უკანა საგაბარიტო სინათლეების ჩართვა: ბ) ავტობუსით ან სათანადოდ მოწყობილი სატვირთო ავტომობილის ძარით ბავშვთა ჯგუფის გადაყვანისას; დ) მექანიკური სატრანსპორტო საშუალების ბუქსირებისას, მობუქსირე სატრანსპორტო საშუალებაზე; ე) სამარშრუტო სატრანსპორტო საშუალებაზე, სპეციალურად მისთვის გამოყოფილ ზოლზე, ძირითადი ნაკადის საპირისპირო მიმართულებით მოძრაობისას.

Кæд комкоммæ змæлгæ транспортон фæрæзы скъæрæг нæ æмбарын кæны ацы æнæмæнгдзинады тыххæй, дардмæ рухсгæнæн фарæты хъуамæ ахуыссын кæна æмæ уыдоны бæсты хъуамæ сиу кæна æввахсмæ рухсгæнæн фарæты фембæлæджы иувæрсты ахизыны рæстæджы, транспортон фæрæзмæ иуыл къаддæр:

1

150 метры дæрддзæгыл

2

200 метры дæрддзæгыл

3

300 метры дæрддзæгыл

### განმარტება:

„საგზაო მოძრაობის შესახებ“ საქართველოს კანონის 49-ე მუხლის მე-2 პუნქტის „ბ“ ქვეპუნქტის თანახმად, შორი განათების ფარები უნდა გამოირთოს და მათ ნაცვლად უნდა ჩაირთოს ახლო განათების ფარები შემდეგ შემთხვევებში: ბ) შემხვედრისთვის გვერდის აქცევის დროს, სატრანსპორტო საშუალებამდე არანაკლებ 150 მეტრ მანძილზე, რათა ფარების შუქმა შემხვედრი სატრანსპორტო საშუალების მძღოლს თვალი არ მოსჭრას და მას მიეცეს მოძრაობის მშვიდად და უსაფრთხოდ გაგრძელების საშუალება, აგრეთვე უფრო შორ მანძილზე, თუ საპირისპირო მიმართულებით მიმავალი სატრანსპორტო საშუალების მძღოლი ფარის/ფარების შუქის პერიოდული გადართვით მიაწვდის ამის აუცილებლობაზე.

## ВОПРОС 354

ПРАВИЛЬНЫЙ ОТВЕТ: 1

დარდმე რუხსგენენ ფარეტე ხუამე ახუისსოი ჰემე სე ბესთი სსუდზოი ჰევახსმე რეხსგენენ ფარეტე:

1

სერაეი აიუვარსგონდ კუი 'რცაუა, ფენდაგონ ზმელდის ინნე ჰაიადისდჟიტის კენე ფენდადჟი აკომკომმე რახიზენ, ნაუდზაუენ კენე რელსონ ფენდაგაეი პაიდაგენდჟიტის ცესტირუხსი ათარითე (ხეცცაე)

2

ცერენ ზონაეის ზმელგაეი

3

კედ უინინად (ჰეზარინად) 300 მეტრაეი კადდერ უ

## განმარტება:

„საგზაო მოძრაობის შესახებ“ საქართველოს კანონის 49-ე მუხლის მე-2 პუნქტის „გ“ ქვეპუნქტის თანახმად, შორი განათების ფარები უნდა გამოირთოს და მათ ნაცვლად უნდა ჩაირთოს ახლო განათების ფარები შემდეგ შემთხვევებში: გ) ნებისმიერ სხვა პირობებში, როცა თავიდან უნდა იქნეს აცილებული სხვა საგზაო მოძრაობის მონაწილეთა ან გზის გასწვრივ გამავალი სანაოსნო ან სალიანდაგო გზით მოსარგებლეთა მხედველობის დაბინდვა.

## ВОПРОС 355

ПРАВИЛЬНЫЙ ОТВЕТ: 2

ცერეგდჟინ პუნქტის, კედ ფენდაგ უ ფაგ რუხსგონდ:

1

ხუამე სსიუ უა (სსუდზოი) გაბარითონ რუხსითე

2

ხუამე სსიუ უა (სსუდზოი) ჰევახსმე რუხსგენენ ფარეტე

3

ხუამე სსიუ უა (სსუდზოი) დარდმე რუხსგენენ ფარეტე

## განმარტება:

„საგზაო მოძრაობის შესახებ“ საქართველოს კანონის 49-ე მუხლის მე-2 პუნქტის „ა“ ქვეპუნქტის თანახმად, შორი განათების ფარები უნდა გამოირთოს და მათ ნაცვლად უნდა ჩაირთოს ახლო განათების ფარები შემდეგ შემთხვევებში: ა) დასახლებულ პუნქტში, თუ გზა საკმარისად არის განათებული, და დაუსახლებელ პუნქტში, თუ სავალი ნაწილი თანაბრად არის განათებული და ეს განათება საკმარისია მძღოლისათვის საკმარის მანძილზე კარგი ხილვადობის უზრუნველსაყოფად, აგრეთვე იმისათვის, რომ სხვა საგზაო მოძრაობის მონაწილეები საკმარის მანძილზე ხედავდნენ მოცემულ სატრანსპორტო საშუალებას.

## ВОПРОС 356

ПРАВИЛЬНЫЙ ОТВЕТ: 1

Фაქტმაქცყდაყ რუქსყყ სყ კაყნყ ბარლავად ის:

1

აერმაქტ ყყყყ ცაყყ, ტრანსპორტონ  
ფაერაქტ კუყ აქქაქტ კაენა კაენა  
ქავყ ფაქტმაქცყდაყ ჰმაყნ

2

აერმაქტ ყყყყ ცაყყ, ტრანსპორტონ  
ფაერაქტ კუყ ტორმოზ კაენა

3

დყუყა დჰუაჲ დერ რაქტ ყ

## განმარტება:

„საგზაო მოძრაობის შესახებ“ საქართველოს კანონის 49-ე მუხლის მე-12 პუნქტის თანახმად, უკუხვლის მაშუქის ჩართვა ნებადართულია, მხოლოდ იმ შემთხვევაში, როცა სატრანსპორტო საშუალება ახორციელებს ან აპირებს უკუხვლით მოძრაობას.

## ВОПРОС 357

ПРАВИЛЬНЫЙ ОТВЕТ: 2

ყაგდ ცაყყ ავი ნა ტრანსპორტონ ფაერაქტყ რაჰმა სყრქ ამაქ ფაქსყყაყ ყრს  
რუქსყყაყ ფაყნდყნ:

1

ყაგდ ცაყყ

2

ყაგდ ნა ცაყყ

3

ყაგდ ცაყყ, აერმაქტ სპეციალონ  
კუყსყ ტრანსპორტონ ფაერაქტყ

## განმარტება:

„საგზაო მოძრაობის შესახებ“ საქართველოს კანონის 49-ე მუხლის მე-13 პუნქტის თანახმად, აკრძალულია სატრანსპორტო საშუალების წინ წითელი და ჰყან თეთრი სინათლეებით აღჭურვა. დაუშვებელია სატრანსპორტო საშუალების კონსტრუქციის შეცვლა ან აღჭურვა დამატებითი სინათლეებით, რომლებიც შეიძლება ეწინააღმდეგებოდეს მოცემულ მოთხოვნებს.



## ВОПРОС 358

ПРАВИЛЬНЫЙ ОТВЕТ: 2

Уагъд цæуы æви нæ транспортон фæрæзы конструкцийы фæивын кæнæ фæлындын уæлæмхас рухсытæй?

1

Уагъд цæуы

2

Уагъд цæуы æрмæст  
закъондæттынадæй æркастгонд  
домæнты хъахъхъæдæй

## განმარტება:

„საგზაო მოძრაობის შესახებ“ საქართველოს კანონის 49-ე მუხლის მე-13 პუნქტის თანახმად, აკრძალულია სატრანსპორტო საშუალების წინ წითელი და უკან თეთრი სინათლეებით აღჭურვა. დაუშვებელია სატრანსპორტო საშუალების კონსტრუქციის შეცვლა ან აღჭურვა დამატებითი სინათლეებით, რომლებიც შეიძლება ეწინააღმდეგებოდეს მოცემულ მოთხოვნებს.

## ВОПРОС 359

ПРАВИЛЬНЫЙ ОТВЕТ: 3

Цæрæгджын пункты фарæ-прожекторæй æмæ фарæ-сгарæнæй спайда гæнæн ис:

1

Æрмæст тæссаг уæргътæ (უაზტა)  
ლასენ автотранспортон фæრæзты  
скъæрджытæн

2

Кæцыфæнды скъæრæгæн,  
фæндонмæ гæсгæ

3

Æрмæст оперативон æмæ специалон  
куысты транспортон фæრæзты  
скъæрджытæн куыстæй лæвæрд  
хæс æххæстгæнгæйæ

## განმარტება:

„საგზაო მოძრაობის შესახებ“ საქართველოს კანონის 49-ე მუხლის მე-15 პუნქტის თანახმად, ფარა-პროექტორითა და ფარა-მაცივლით სარგებლობა ნებადართულია მხოლოდ დაუსახლებელ პუნქტში, თუ არ არის საპირისპირო მიმართულებით მოძრავი სატრანსპორტო საშუალება. დასახლებულ პუნქტში ასეთი ფარებით სარგებლობა შეუძლიათ მხოლოდ ოპერატიული და სპეციალური სამსახურების სატრანსპორტო საშუალებათა მძღოლებს სამსახურებრივი მოვალეობის შესრულებისას.

## ВОПРОС 360

ПРАВИЛЬНЫЙ ОТВЕТ: 3

Транспорტონ ფარაჲზტაე გაენაენ ის აერუმოი კაენაე უდისტე არლაუაენილ ისტე ხუიზონ აედდე რუხსე არაჲზტე აენაე იუაეი (აენაესსუდგაეი):

**1** არმაესტ უიუხუიზაენ რუხსგონდ ფაენდაგილ, ცირან ტრანსპორტონ ფარაჲზტე ხორზ ფენაენ (რავზარაენ) გაენაენ ის ფაგ დარდდჲაეგმაე

**2** არმაესტ ცაუაენ ხაიე ამაე აენგომ აემბარჲტ ფარსტე აკომკომმაე

**3** აცი ბილეთე რანემად კაეციფაენდე ცაუე

## განმარტება:

„საგზაო მოძრაობის შესახებ“ საქართველოს კანონის 49-ე მუხლის მე-11 პუნქტის „ა“ და „ბ“ ქვეპუნქტების თანახმად, ამ მუხლის მე-9 და მე-10 პუნქტებით დადგენილ მოთხოვნათა მიუხედავად, მექანიკური სატრანსპორტო საშუალება შეიძლება გაჩერდეს ან იმყოფებოდეს სადგომზე ნებისმიერი გარე სანათი ხელსაწყო ჩაურთველად: ა) იმგვარად განათებულ გზაზე, სადაც სატრანსპორტო საშუალების კარგად დანახვა (გარჩევა) შესაძლებელია საკმაო მანძილზე; ბ) სავალი ნაწილისა და მკვრივი საფრის მქონე გვერდულების მიღმა.

## ВОПРОС 361

ПРАВИЛЬНЫЙ ОТВЕТ: 1

Бон-ახსაევი талынგ რაესტაეგ კაენაე აენაეფაგ ავზარიეიე уавარტი ხარდი კაерონმაე არბავვაхსგაენგაეიე ტრანსპორტონ ფარაჲზტე სკაარაეგ დარდმაე რუხსე ფარაჲტაე ხუამაე რაიუ კაენა ამაე სიუ კაენა ავვაхსმაე რუხსე ფარაჲტე:

**1** კაეციფაენდე ცაუე, ხარდი კაერონმაე არბავვაхსგაენგაეიე

**2** არმაესტ ფემბაელაეგ ტრანსპორტონ ფარაჲზტე არბაზынგაეიე

## განმარტება:

დღე-ღამის ბნელ დროს ან არასაკმარისი ხილვადობის პირობებში, აღმართის ბოლოსთან მიახლოებისას სატრანსპორტო საშუალების მძღოლმა ნებისმიერ შემთხვევაში უნდა გამოერთოს შორი ნათების ფარები და ჩართოს ახლო ნათების ფარები.

## ВОПРОС 362

ПРАВИЛЬНЫЙ ОТВЕТ: 3

Транспортон фæрæзы кæцы æддаг рухсгæнæн инструменты сиу кæнын ифтонг кæны фæндаджы хуыздæр æвзарын бон-æхсæвы талынг рæстæгы, тыхджын митуарды уавæрты?

1

Дардмæ рухсгæнæны фарæтæ

2

Антиасæстон фарæтæ (туманниктæ) дардмæ рухсгæнæны фарæтимæ иумæ

3

Антиасæстон фарæтæ (туманниктæ) æввахсмæ рухсгæнæны фарæтимæ иумæ

## განმარტება:

დღე-ღამის ბნელ დროს, ძლიერი თოვის პირობებში გზის უკეთეს ხილვადობის უზრუნველსაყოფად მიზანშეწონილია ნისლსანინააღმდეგო ფარების ახლო ნათების ფარებთან ერთად ჩართვა.

## ВОПРОС 363

ПРАВИЛЬНЫЙ ОТВЕТ: 4

Дæлдæр ранымадæй, автомобили кæцы æлхынцъы рæвдзад хъуамæ сбæრæг кæна скъæрæг регуляронæй?

1

Æрмæст рулы скъæრæны механизмы

2

Æрмæст цæлхыты

3

Æрмæст æддаг рухсгæнæн инструментты

4

Ацы билеты ранымад алкæцы æлхынцъыйы

## განმარტება:

ავტომობილის მძღოლმა რეგულარულად უნდა შეამოწმოს როგორც საჭის მართვის მექანიზმის, ასევე საბურავების და გარე სანათი ხელსაწყოების გამართულობა.

Цავაერ ахадындзинад аразы тормозон системაჲი რავდз куыстыл тормозон дисктыл стыр бæрцæй згæйы уæвынад?

1

Æвæрццæг, уымæн æмæ стыр бæрцæй згæ хуыздæр кæны диски æмæ калодкæты хсæн кæრæдзийыл ныдзæвыны тых

2

Æппæрццæг, уымæн æмæ стыр бæрцæй згæ сайы тормозон системæйы æнæмхуызон куысты

3

Дисктыл стыр бæрцæй згæйы уæвынад тормозон системæйы куыстыл не сахатдæнис

### განმარტება:

სამუხრუჭო სისტემის გამართულ მუშაობაზე სამუხრუჭო დისკებზე დიდი ოდენობით ჟანგის არსებობა ახდენს უარყოფით გავლენას, რადგანაც დიდი ოდენობით ჟანგი იწვევს სამუხრუჭო სისტემის არათანაბარ მუშაობას.

თემა 15:

მოძრაობის დანყება, მანევრირება,  
სატრანსპორტო საშუალების განლაგება  
სავალ ნაწილზე

---





Хæсджын у æви нæ сырх автомобили скъæрæг, æввахс территорийæ фæндагыл ахизгæйæ фæндаг ратта фистæджытæн (фистæгæй цæуджытæн)?

1


Хæсджын у

2

Нæу хæсджын

### განმარტება:

„საგზაო მოძრაობის შესახებ“ საქართველოს კანონის 25-ე მუხლის მე-7 პუნქტის თანახმად, მძღოლმა მიმდებარე ტერიტორიიდან გზაზე გამოსვლისას ან გზიდან ასეთ ტერიტორიაზე შესვლისას გზა უნდა დაუთმოს ქვეითებს.



Рог автомобили скъæрæгæн бар ис æрбазилæны маневры сæххæст кæна:

1

A æрдæмадмæ

2


B æрдæмадмæ

3

Куыд A, афтæ B æрдæмадмæ

### განმარტება:

„საგზაო მოძრაობის შესახებ“ საქართველოს კანონის პირველი დანართის 4.3 პუნქტის თანახმად, საგზაო ნიშანი 4.3 „წრიული მოძრაობა“ - რთავს ისრებით ნაჩვენები მიმართულებებით მოძრაობის ნებას გზატკარედინზე, რომელზედაც წრიული მოძრაობაა ორგანიზებული.



Рог автомобиля съѣзжæгæн змæлды бар нæй:

1

A æрдæмадмæ

2

B æрдæмадмæ

3

C æрдæмадмæ

### განმარტება:

„საგზაო მოძრაობის შესახებ“ საქართველოს კანონის 32-ე მუხლის მე-5 პუნქტის თანახმად, გარდა იმ შემთხვევისა, როცა მოხვევა სრულდება გზატკარციდან გასასვლელად, სადაც წრიული მოძრაობაა ორგანიზებული, მარჯვნივ ან მარცხნივ მოხვევის წინ, აგრეთვე მობრუნების წინ, სატრანსპორტო საშუალების მძღოლი ვალდებულია დროულად დაიკავოს შესაბამისი განაპირა მდებარეობა სავალ ნაწილზე, რომელიც თანმხვედრი მიმართულებით მოძრაობისთვისაა განკუთვნილი. ამავე კანონის მე-2 დანართის 1.1 პუნქტის თანახმად, ჰორიზონტალური საგზაო მონიშვნა 1.1 ყოფს საპირისპირო მიმართულებით მოძრავ სატრანსპორტო ნაკადებს და გზის სახიფათო მონაკვეთზე - აღნიშნავს მოძრაობის ზოლის საზღვრს ან სავალი ნაწილის საზღვრს, რომლებზე შესვლა აკრძალულია; აღნიშნავს სატრანსპორტო საშუალების დგომის ადგილის საზღვრს და იმ გზის სავალი ნაწილის ნაპირს, რომელიც მოძრაობის პირობებით არ განეკუთვნება ავტომაგისტრალს. 1.1 ხაზის გადაკვეთა აკრძალულია. დასაშვებია სავალი ნაწილის ნაპირის აღმნიშვნელი და მძღოლის მარჯვენა მხარეს განლაგებული 1.1 ხაზის გადაკვეთა სატრანსპორტო საშუალების გზის ნაპირზე გასაჩერებლად.





Кæцы автомобили скъæრæг фехалдзæн фæндæгты змæлды уагæвæрдтæ фатæджы (стрелкæйы) æрдæмадмæ змæлды рæстæджы?

1

Бур автомобили скъæრæг

2

Урс автомобили скъæრæг

3

Сырх автомобили скъæрæг

4

Цъæх автомобили скъæრæг

### განმარტება:

„საგზაო მოძრაობის შესახებ“ საქართველოს კანონის 31-ე მუხლის მე-12 პუნქტის თანახმად, თუ ამ კანონით სხვა რამ არ არის გათვალისწინებული, ნებისმიერ სავალ ნაწილზე, თანმხვედრი მიმართულებით მოძრაობისთვის განკუთვნილი სამი ან მეტი მოძრაობის ზოლის არსებობისას განაპირა მარცხენა მოძრაობის ზოლის დაკავება ნებადართულია მხოლოდ ინტენსიური მოძრაობისას, როცა სხვა მოძრაობის ზოლები დაკავებულია, აგრეთვე გასწრების, მარცხნივ მოხვევის ან მობრუნების მიზნით, ხოლო სატვირთო ავტომობილებისათვის - მხოლოდ მარცხნივ მოხვევის ან მობრუნების დროს.



Кæцы автомобили скъæრæгæн фæзындзæн фæндаг раттыны хæсдзинад фатæджы (стрелкæйы) æрдæмадмæ змæлды рæстæджы?

1

Бур автомобили скъæრæгæн

2

Урс автомобили скъæრæгæн

### განმარტება:

„საგზაო მოძრაობის შესახებ“ საქართველოს კანონის 32-ე მუხლის მე-4 პუნქტის თანახმად, მოძრაობის ზოლიდან ზოლში მოძრაობის მიმართულების შეუცვლელად გადასვლისას მძღოლმა გზა უნდა დაუთმოს გადასასვლელ მოძრაობის ზოლში თანმხვედრი მიმართულებით მოძრავ სატრანსპორტო საშუალებას. თანმხვედრი მიმართულებით მოძრავი სატრანსპორტო საშუალებების მიერ მოძრაობის ზოლების ერთდროულად შეცვლისას მოძრაობის ტრაექტორიების გადაკვეთის შემთხვევაში გავლის უპირატესობა ენიჭება მარჯნივ მყოფ სატრანსპორტო საშუალების მძღოლს.





Кæцы аутомобилы скъæрæгæн фæзындзæн фæндаг раттыны хæсдзинад фатæджы (стрелкæйы) æрдæмадмæ змæлды рæстæджы?

1


Урс аутомобилы скъæრæгæн

2

Цъæх аутомобилы скъæრæгæн

### განმარტება:

„საგზაო მოძრაობის შესახებ“ საქართველოს კანონის 32-ე მუხლის მე-12 პუნქტის თანახმად, თუ სატრანსპორტო საშუალებების მოძრაობის ტრაექტორიები იკვეთება, ხოლო გავლის რიგითობა განსაზღვრული არ არის, მძღოლმა გზა უნდა დაუთმოს იმ სატრანსპორტო საშუალებას, რომელიც მას მარჯვნიდან უახლოვდება.



Кæцы транспортон фæрæзы скъæრæджы 'рдæм фæзындзæн фæндаг раттыны хæсдзинад урс рог автомобили скъæრæгæн фатæджы (стрелкæйы) æрдæмадмæ змæлды рæстæджы?

1

Æрмæст мотоциклы скъæრæджы 'рдæм

2

Æрмæст трамвайы скъæრæджы 'рдæм

3


Куыд мотоциклы скъæრæджы 'рдæм, афтæ трамвайы скъæრæджы 'рдæм

### განმარტება:

„საგზაო მოძრაობის შესახებ“ საქართველოს კანონის 32-ე მუხლის მე-3 და მე-9 პუნქტების თანახმად: 3. მიმდებარე ტერიტორიიდან გზაზე გასვლისას მძღოლი ვალდებულია გზა დაუთმოს გზაზე მოძრავ სატრანსპორტო საშუალებასა და ქვეითს, ხოლო გზიდან გადასვლისას – იმ ქვეითს, ველოსიპედისტს, მოპედისა და ორბორბლიანი ელექტროთვითმგორავის მძღოლებს, რომლებსაც გზას უჭრის. 9. მარცხნივ მოხვევისას ან გზაჯვარედინის მიღმა მობრუნებისას ურელსო სატრანსპორტო საშუალების მძღოლი ვალდებულია გზა დაუთმოს საპირისპირო მიმართულებით მოძრავ სატრანსპორტო საშუალებას და თანმხვედრი მიმართულებით მოძრავ ტრამვაის.

„საგზაო მოძრაობის შესახებ“ საქართველოს კანონის 31-ე მუხლის მე-3 პუნქტის თანახმად, საგზაო მონიშვნით აღნიშნული სამი მოძრაობის ზოლის მქონე ორმხრივმოძრაობიან გზაზე თანხვედრი მიმართულების მოძრაობის მხარედ ითვლება მხოლოდ მარჯვენა მხარეს მდებარე მოძრაობის ზოლი, თუ საგზაო მოძრაობის ორგანიზაციის საშუალებებით სხვა რამ არ არის დადგენილი.





Кæцы транспорт фæрæзы скъæრæджы 'рдæм лæвæрд цæуы уæлбар фæныкхуыз  
автомобилы скъæრæгæн фатæджы (стрелкæйы) æрдæмадмæ змæлды цауы?

1

Æрмæст мотоциклеты скъæრæджы  
'рдæм

2

Æрмæст урс автомобили  
скъæრæджы 'рдæм

3

Куыд мотоциклеты скъæრæджы  
'рдæм, афтæ урс автомобили  
скъæრæджы 'рдæм

4

Нæдæр иу (никæцы) транспорт  
фæрæзы скъæრæджы 'рдæм

### განმარტება:

„საგზაო მოძრაობის შესახებ“ საქართველოს კანონის 32-ე მუხლის მე-4 პუნქტის თანახმად, მოძრაობის მიმართულების შეუცვლელად მოძრაობის ზოლიდან ზოლში გადასვლისას, მძღოლმა გზა უნდა დაუთმოს გადასასვლელ მოძრაობის ზოლში თანმხვედრი მიმართულებით მოძრავ სატრანსპორტო საშუალებას.



ლავაერდ სიტუაციიყ, ტრანსპორტონ ფაერაჲზტი რდყგაჲყ, ჰმალდყ ჰაჲჲყტი უყცი იურაჲსაედჲყ ფაეივგაჲყა, აჲყზტი უაღბარ ლავაერდ ცაჲუყ:

1

Рог автомобиля скъаerაგაen


2

უაჲზლასაen автомобиля скъаerაგაen

### განმარტეზა:

„საგზაო მოძრაობის შესახებ“ საქართველოს კანონის 32-ე მუხლის მე-4 პუნქტის თანახმად, მოძრაობის მიმართულების შეუცვლელად მოძრაობის ზოლიდან ზოლში გადასვლისას, მძღოლმა გზა უნდა დაუთმოს გადასასვლელ მოძრაობის ზოლში თანმხვედრი მიმართულებით მოძრავ სატრანსპორტო საშუალებას. თანმხვედრი მიმართულებით მოძრავი სატრანსპორტო საშუალებების მიერ, მოძრაობის ზოლების ერთდროულად შეცვლისას, მოძრაობის ტრაექტორიების გადაკვეთის შემთხვევაში, გავლის უპირატესობა ენიჭება მარჯნივ მყოფ სატრანსპორტო საშუალების მძღოლს.





Фænдаგæй ахизынæн рог аутомобилы скъæрæгæн бар ис змæла:

1

Æрмæст А æрдæмадмæ

2


Æрмæст В æрдæмадмæ

3

Куыд А, афтæ В æрдæмадмæ

### განმარტება:

„საგზაო მოძრაობის შესახებ“ საქართველოს კანონის 32-ე მუხლის მე-13 პუნქტის თანახმად, დამუხრუჭების ზოლის არსებობის შემთხვევაში მძღოლი, რომელიც მოხვევას აპირებს, დროულად უნდა გადაადგილდეს ამ ზოლზე და შემდეგ უნდა შეანელოს სიჩქარე.



Ис ын æви нæ бар рог автомобили скъæрæгæн адаргъ кæна змæлд фатæджы (стрелкæйы) æрдæмадмæ, кæд æмæ трактор змæлы 25 км/сах тагъдадæй?

1

Нæй ын бар

2

Ис ын бар

### განმარტება:

„საგზაო მოძრაობის შესახებ“ საქართველოს კანონის 32-ე მუხლის მე-17 პუნქტის „ბ“ ქვეპუნქტის თანახმად, ამ მუხლით დადგენილ მოთხოვნათა გათვალისწინებით, მძღოლს შეუძლია მარჯვნიდან ან მარცხნიდან შემოუაროს იმ სავალ ნაწილზე დაყენებულ უსაფრთხოების კუნძულს, ტუმბოს ან სხვა მოწყობილობას, რომელზედაც იგი მოძრაობს, გარდა იმ შემთხვევისა, როცა უსაფრთხოების კუნძული, ტუმბო ან სხვა მოწყობილობა ორმხრივმოძრაობიანი გზის სავალი ნაწილის ღერძზეა განლაგებული. ამ შემთხვევაში მძღოლმა უსაფრთხოების კუნძულს, ტუმბოს ან სხვა მოწყობილობას მხოლოდ მარჯვენა მხრიდან უნდა შემოუაროს.



Бар ын ис æви нæ скъæрæгæн фатæджы (стрелкæйы) æрдæмадмæ автомобили æрбазилын, кæд æмæ æвзарынад арæнгонд у 90 метры онг?

1

Бар ын нæй


2

Бар ын ис

### განმარტება:

„საგზაო მოძრაობის შესახებ“ საქართველოს კანონის 32-ე მუხლის მე-15 პუნქტის „ე“ ქვეპუნქტის თანახმად, აკრძალულია სატრანსპორტო საშუალების მობრუნება გზაზე, სადაც ხილვადობა თუნდაც ერთი მიმართულებით 100 მეტრზე ნაკლებია.





ლავადრდ სიტუაციის, ავტომობილს რაზილს აუგდ ცაუის:

1

აერმასტ A აერდაეადმას

2

აერმასტ B აერდაეადმას

3

კუის A აერდაეადმას, აფტას B აერდაეადმას

4

დისუას აერდაეადმას დერ ნასი გაენას

### განმარტება:

„საგზაო მოძრაობის შესახებ“ საქართველოს კანონის 32-ე მუხლის მე-15 პუნქტის „გ“ ქვეპუნქტის თანახმად, აკრძალულია სატრანსპორტო საშუალების მოძრუნება ხიდზე, გზაგამტარზე, ესტაკადაზე და მათ ქვეშ. ამავე კანონის მე-2 დანართის პირველი თავის (ჰორიზონტალური მონიშვნა) 1.5 პუნქტის თანახმად ჰორიზონტალური მონიშვნა 1.5. ყოფს საპირისპირო მიმართულებით მოძრავ სატრანსპორტო ნაკადებს გზაზე, რომელსაც მოძრაობის ორი ან სამი ზოლი აქვს; აღნიშნავს მოძრაობის ზოლების საზღვრებს ერთი მიმართულებით მოძრაობისათვის განკუთვნილი ორი და მეტი ზოლის არსებობისას. 1.5 ხაზის გადაკვეთა ნებადართულია ნებისმიერი მხრიდან.



ლავადრ სიტუაციას, ავტომობილს რაზილს აუგდ ცაუას:

1

აერმასტ A აერდამადმას

2

აერმასტ B აერდამადმას

3

კუას A აერდამადმას, აფტას B აერდამადმას


4

დუას აერდამადმას დარ ნასი გაანას

### განმარტება:

„საგზაო მოძრაობის შესახებ“ საქართველოს კანონის 32-ე მუხლის მე-15 პუნქტის „ა“ და „ვ“ ქვეპუნქტების თანახმად, აკრძალულია სატრანსპორტო საშუალების მოძრუნება: ა) ქვეითთა გადასასვლელზე; ვ) იმ ადგილას, სადაც გასაჩერებელი პუნქტია. ამავე კანონის პირველი დანართის მე-5 თავის (განსაკუთრებული მითითებების ნიშნები) 5.16 პუნქტის თანახმად საგზაო ნიშანი 5.16 „ავტობუსის და (ან) ტროლეიბუსის გაჩერების ადგილი“ აღნიშნავს შესაბამისი სახის სამარშრუტო სატრანსპორტო საშუალების გასაჩერებელ ადგილს. ამავე თავის 5.19.1 და 5.19.2 პუნქტების თანახმად საგზაო ნიშნები 5.19.1 და 5.19.2 „ქვეითთა გადასასვლელი“ - აღნიშნავს გზაზე ქვეითთა გადასასვლელისთვის გამოყოფილ ადგილს. ნიშანი 5.19.1 იდგმება გზის მარჯვენა მხარეს, ხოლო 5.19.2 - გზის მარცხენა მხარეს. გადასასვლელზე 1.14 მონიშვნის არ არსებობისას ნიშანი 5.19.1 იდგმება გადასასვლელის ახლო საზღვართან, ხოლო ნიშანი 5.19.2 - გადასასვლელის შორ საზღვართან.





Рог автомобиля съѣзжает на бар и змѣла:

1

დამატებულია

2

დამატებულია და რაიმე

3


დამატებულია და რაიმე

4

დამატებულია, დამატებულია და ფაქტობრივად (რეალურად)

### პანმარტეზა:

„საგზაო მოძრაობის შესახებ“ საქართველოს კანონის 32-ე მუხლის მე-7 პუნქტების თანახმად, სხვა გზაზე გასასვლელად ან გზის მიმდებარე ტერიტორიაზე შესასვლელად მარჯვნივ ან მარცხნივ მოხვევის წინ, ისე, რომ არ დაარღვიოს ამ კანონის მე-20 მუხლის მე-2 პუნქტითა და ამ მუხლის პირველი და მე-2 პუნქტებით დადგენილი მოთხოვნები, თუ სატრანსპორტო საშუალების მძღოლი აპირებს გზიდან გასვლას: ა) მარჯვნივ მხრიდან, სატრანსპორტო საშუალებამ უნდა იმოძრაოს რაც შეიძლება ახლოს სავალი ნაწილის მარჯვნივ კიდესთან და შემდეგ შეასრულოს შეძლებისდაგვარად მოკლე მანევრი; ბ) მარცხნივ მხრიდან, სატრანსპორტო საშუალება, რამდენადაც ეს შესაძლებელია, უნდა მიუახლოვდეს გზის სავალი ნაწილის ღერძს (ორმხრივმოძრაობიან გზაზე) ან სავალი ნაწილის მარცხნივ კიდეს (ცალმხრივმოძრაობიან გზაზე), ხოლო თუ ის სხვა ორმხრივმოძრაობიან გზაზე აპირებს გასვლას, მოხვევა ისე უნდა შეასრულოს, რომ სავალი ნაწილების გადაკვეთიდან გამოსვლისას სატრანსპორტო საშუალება საპირისპირო მოძრაობის მხარეს არ აღმოჩნდეს. ამავე კანონის მე-2 დანართის პირველი თავის (ჰორიზონტალური მონიშვნა) 1.1 პუნქტის თანახმად ჰორიზონტალური მონიშვნა 1.1 ყოფს საპირისპირო მიმართულებით მოძრავ სატრანსპორტო ნაკადებს და გზის სახიფათო მონაკვეთზე - აღნიშნავს მოძრაობის ზოლების საზღვრებს ან სავალი ნაწილის საზღვრებს, რომლებზედაც შესვლა აკრძალულია; 1.1 ხაზის გადაკვეთა აკრძალულია. დასაშვებია სავალი ნაწილის ნაპირის აღმნიშვნელი და მძღოლის მარჯვნივ მხარეს განლაგებული 1.1 ხაზის გადაკვეთა სატრანსპორტო საშუალების გზის ნაპირზე გასაჩერებლად.



Рог автомобиля съѣзжæгæн бар ис змæла:

1

Æрмæст рахизмæ

2

Æрмæст галиумæ æмæ рахизмæ

3

Æрмæст комкоммæ æмæ рахизмæ

4

Æрмæст комкоммæ, галиумæ æмæ  
фæстæрдæм (базилæн)

### განმარტება:

„საგზაო მოძრაობის შესახებ“ საქართველოს კანონის 32-ე მუხლის მე-7 პუნქტების თანახმად, სხვა გზაზე გასასვლელად ან გზის მიმდებარე ტერიტორიაზე შესასვლელად მარჯვნივ ან მარცხნივ მოხვევის წინ, ისე, რომ არ დაარღვიოს ამ კანონის მე-20 მუხლის მე-2 პუნქტითა და ამ მუხლის პირველი და მე-2 პუნქტებით დადგენილი მოთხოვნები, თუ სატრანსპორტო საშუალების მძღოლი აპირებს გზიდან გასვლას: ა) მარჯვენა მხრიდან, სატრანსპორტო საშუალებამ უნდა იმოძრაოს რაც შეიძლება ახლოს სავალი ნაწილის მარჯვენა კიდეებთან და შემდეგ შეასრულოს შეძლებისდაგვარად მოკლე მანევრი; ბ) მარცხენა მხრიდან, სატრანსპორტო საშუალება, რამდენადაც ეს შესაძლებელია, უნდა მიუახლოვდეს გზის სავალი ნაწილის ღერძს (ორმხრივმოძრაობიან გზაზე) ან სავალი ნაწილის მარცხენა კიდე (ცალმხრივმოძრაობიან გზაზე), ხოლო თუ ის სხვა ორმხრივმოძრაობიან გზაზე აპირებს გასვლას, მოხვევა ისე უნდა შეასრულოს, რომ სავალი ნაწილების გადაკვეთიდან გამოსვლისას სატრანსპორტო საშუალება საპირისპირო მოძრაობის მხარეს არ აღმოჩნდეს. ამავე კანონის მე-2 დანართის პირველი თავის (ჰორიზონტალური მონიშვნა) 1.1 პუნქტის თანახმად ჰორიზონტალური მონიშვნა 1.1 ყოფს საპირისპირო მიმართულებით მოძრავ სატრანსპორტო ნაკადებს და გზის სახიფათო მონაკვეთზე - აღნიშნავს მოძრაობის ზოლების საზღვრებს ან სავალი ნაწილის საზღვრებს, რომლებზედაც შესვლა აკრძალულია; 1.1 ხაზის გადაკვეთა აკრძალულია. დასაშვებია სავალი ნაწილის ნაპირის აღმნიშვნელი და მძღოლის მარჯვენა მხარეს განლაგებული 1.1 ხაზის გადაკვეთა სატრანსპორტო საშუალების გზის ნაპირზე გასაჩერებლად.





Автомобилы съезжают ахызти рахизмæ фæзилæны. Бар ын ис æви нæ уымæн фæзилæны бацæуынæн фатæджы (стрелкайы) æрдæмадмæ фæстæмæцыдæй змæлын?

1

Бар ын нæй

2

Бар ын ис

### განმარტება:

„საგზაო მოძრაობის შესახებ“ საქართველოს კანონის 32-ე მუხლის მე-16 პუნქტის თანახმად, მძღოლი, რომელიც მობრუნებას ან უკუსვლით მოძრაობას აპირებს, უნდა დარწმუნდეს, რომ მას შეუძლია ისე შეასრულოს ეს მანევრი, რომ საფრთხე არ შეუქმნას და ხელი არ შეუშალოს სხვა საგზაო მოძრაობის მონაწილეებს. აუცილებლობის შემთხვევაში მიზანშეწონილია სხვა პირის დახმარება. აკრძალულია უკუსვლით მოძრაობა გზაჯვარედინზე, ავტომაგისტრალზე და ამ მუხლის მე-15 პუნქტით განსაზღვრულ ადგილებში.

## ВОПРОС 384

ПРАВИЛЬНЫЙ ОТВЕТ: 1

Дывæрсыг змæлаен фæндаджы цæуæн хайы астæуы, уымæ иу æмвæзадыл трамвайы рельсыты бынаты, ныхмæ змæлды фæрсты дихыл нымад цæуы:

1

Ныхмæ змæლæг трамвайы рельсыты хсæн мæнг астæуккаг хахх

2

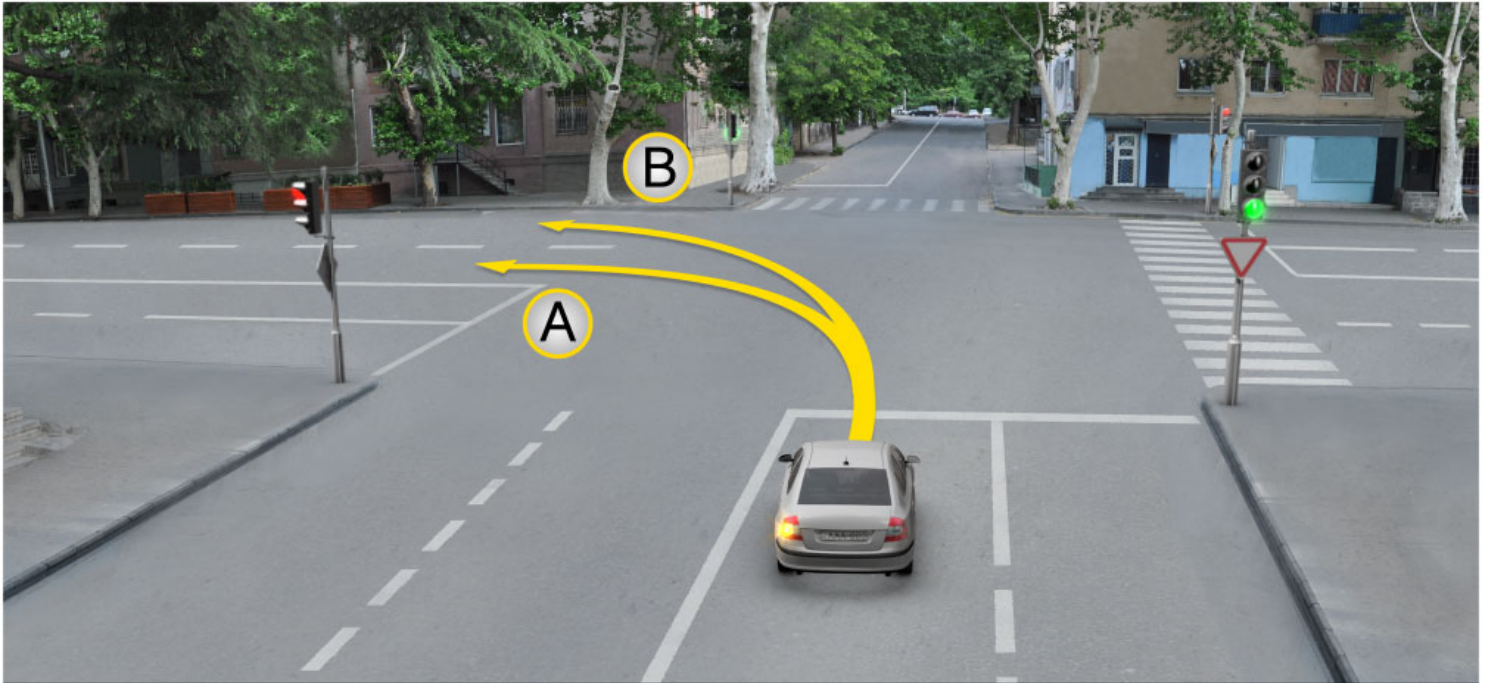
Æддаг æрдæмадмæ змæлæг трамвайы рахиз рельсы

3

Комкоммæ æрдæмадмæ змæлæг трамвайы галиу рельсы

## განმარტება:

„საგზაო მოძრაობის შესახებ“ საქართველოს კანონის 31-ე მუხლის მე-3 პუნქტის თანახმად, ორმხრივმოძრაობიან გზაზე, სავალი ნაწილის შუაში, მასთან ერთ დონეზე ტრამვაის ლიანდაგის მდებარეობისას, საპირისპირო მოძრაობის მხარეების გამყოფად მიიჩნევა საპირისპიროდ მოძრავი ტრამვაის ლიანდაგებს შორის წარმოსახვითი შუა ხაზი.



Рог автомобиля съѣзжæгæн бар ис змæла:

1

Æрмæст А æрдæмадмæ

2

Æрмæст В æрдæмадмæ

3

Куыд А æрдæмадмæ, афтæ В æрдæмадмæ

### განმარტება:

„საგზაო მოძრაობის შესახებ“ საქართველოს კანონის 32-ე მუხლის მე-7 პუნქტის „ბ“ ქვეპუნქტის თანახმად, სხვა გზაზე გასასვლელად ან გზის მიმდებარე ტერიტორიაზე შესასვლელად მარჯვნივ ან მარცხნივ მოხვევის წინ, ისე, რომ არ დაარღვიოს ამ კანონის მე-20 მუხლის მე-2 პუნქტითა და ამ მუხლის პირველი და მე-2 პუნქტებით დადგენილი მოთხოვნები, თუ სატრანსპორტო საშუალების მძღოლი აპირებს გზიდან გასვლას მარცხენა მხრიდან, სატრანსპორტო საშუალება, რამდენადაც ეს შესაძლებელია, უნდა მიუახლოვდეს გზის სავალი ნაწილის ღერძს (ორმხრივმოძრაობიან გზაზე) ან სავალი ნაწილის მარცხენა კიდე (ცალმხრივმოძრაობიან გზაზე), ხოლო თუ ის სხვა ორმხრივმოძრაობიან გზაზე აპირებს გასვლას, მოხვევა ისე უნდა შეასრულოს, რომ სავალი ნაწილების გადაკვეთიდან გამოსვლისას სატრანსპორტო საშუალება საპირისპირო მოძრაობის მხარეს არ აღმოჩნდეს.



## ВОПРОС 386

ПРАВИЛЬНЫЙ ОТВЕТ: 2

Барын ис æви нæ æнæрельсон транспортон фæрæзæй комкоммæ æрдæмадмæ змæлгæ трамвайы рельсытыл ахизын?

1

Ис ын бар, кæд æмæ æддаг æрдæмадмæ змæлынæн алкæцы хаххдæр ахст у (сæрибар нæу)

2

Нæй ын бар

## განმარტება:

„საგზაო მოძრაობის შესახებ“ საქართველოს კანონის 31-ე მუხლის მე-15 პუნქტის თანახმად, ამ კანონის 32-ე მუხლის მე-6 პუნქტით დადგენილ მოთხოვნათა გათვალისწინებით, მოძრაობა ნებადართულია თანმხვედრი მიმართულების ტრამვაის ლიანდაგზე, რომელიც მარცხენა მხარეს სავალ ნაწილთან ერთ დონეზე მდებარეობს, თუ თანმხვედრი მიმართულებით მოძრაობისთვის განკუთვნილი ყველა მოძრაობის ზოლი დაკავებულია, აგრეთვე დაბრკოლების შემოვლის ან გასწვების, ან მარცხნივ მოხვევის ან მობრუნების დროს. ამასთანავე, ტრამვაის მოძრაობას არ უნდა შეექმნას დაბრკოლება. საპირისპირო მიმართულების ტრამვაის ლიანდაგზე გასვლა აკრძალულია.

## ВОПРОС 387

ПРАВИЛЬНЫЙ ОТВЕТ: 4

Дæлдæр ранымадæй , кæцы бынаты нæй транспортон фæрæзы разилæн?

1

Æрмæст фæндагыл, цыран æвзарынад иу æрдæмадмæ 100 метრæй къаддæр у

2

Æрмæст уыцы бынаты, цыран æрлæууæны пункт ис

3

Æрмæст автомагистралыл

4

Ацы билеты ранымад кæцыфæнды бынаты

## განმარტება:

„საგზაო მოძრაობის შესახებ“ საქართველოს კანონის 32-ე მუხლის მე-15 პუნქტის „ე“ და „ვ“ ქვეპუნქტების თანახმად, აკრძალულია სატრანსპორტო საშუალების მობრუნება: ე) გზაზე, სადაც ხილვადობა თუნდაც ერთი მიმართულებით 100 მეტრზე ნაკლებია; ვ) იმ ადგილას, სადაც გასაჩერებელი პუნქტია. ამავე კანონის 38-ე მუხლის პირველი პუნქტის „გ.ბ“ ქვეპუნქტის თანახმად ავტომაგისტრალზე, ავტომაგისტრალის შესასვლელებზე და გამოსასვლელებზე მძღოლს ეკრძალება მობრუნება ან უკუსვლით მოძრაობა, აგრეთვე ცენტრალურ გამყოფ ზოლსა და გზის ორივე სავალი ნაწილის განივ შეერთებაზე გასვლა.

## ВОПРОС 388

ПРАВИЛЬНЫЙ ОТВЕТ: 1

Кәд æмæ транспортон фæрæзты змæлды траекторитæ иу кæнынц, фæлæ ахизыны рæнхъдзинад бæрæггонд нæу, уæд скъæрæг фæндаг хъуамæ ратта уыцы транспортон фæрæзæн, кæцы уымæ æрбаввахс кæны:

1

Рахизырдыгæй

2

Галиуырдыгæй

## განმარტება:

„საგზაო მოძრაობის შესახებ“ საქართველოს კანონის 32-ე მუხლის მე-12 პუნქტის თანახმად, თუ სატრანსპორტო საშუალებების მოძრაობის ტრაექტორიები იკვეთება, ხოლო გავლის რიგითობა განსაზღვრული არ არის, მძღოლმა გზა უნდა დაუთმოს იმ სატრანსპორტო საშუალებას, რომელიც მას მარჯვნიდან უახლოვდება.

## ВОПРОС 389

ПРАВИЛЬНЫЙ ОТВЕТ: 4

Дæлдæр ранымадæй, кæцы бынаты нæй транспортон фæрæзæн фæстæмæ цыдæй змæлын?

1

Æрмæст тъунелы

2

Æрмæст автомагистралыл

3

Æрмæст алвæндагыл  
(перекрестокыл)

4

Ацы билеты ранымад кæцыфæнды  
бынаты

## განმარტება:

„საგზაო მოძრაობის შესახებ“ საქართველოს კანონის 32-ე მუხლის მე-15 პუნქტის „ბ“ ქვეპუნქტისა და მე-16 პუნქტის თანახმად: 15. „ბ“ აკრძალულია სატრანსპორტო საშუალების მობრუნება გვირაბში; 16. მძღოლი, რომელიც მობრუნებას ან უკუსვლით მოძრაობას აპირებს, უნდა დარწმუნდეს, რომ მას შეუძლია ისე შეასრულოს ეს მანევრი, რომ საფრთხე არ შეუქმნას და ხელი არ შეუშალოს სხვა საგზაო მოძრაობის მონაწილეებს. აუცილებლობის შემთხვევაში მიზანშეწონილია სხვა პირის დახმარება. აკრძალულია უკუსვლით მოძრაობა გზაჯვარედინზე, ავტომაგისტრალზე და ამ მუხლის მე-15 პუნქტით განსაზღვრულ ადგილებში.



Хәсджын у æви нæ рог автомобили скъæрæг, сиу кæна рахизмæ базилæны рухсæвдисæг фатæджы (стрелкæйы) æрдæмадмæ змæлды цауы, кæд æмæ йæ фæстæ транспортон фæрæз не змæлы?

1

Хæсджын у

2

Нæу хæсджын

### განმარტება:

„საგზაო მოძრაობის შესახებ“ საქართველოს კანონის 32-ე მუხლის მე-2 პუნქტის თანახმად, მანევრის დაწყებამდე მძღოლი ვალდებულია ჩართოს შესაბამისი მიმართულების მოხვევის შუქ-მაჩვენებელი, ხოლო თუ ის არ არის ან გამოსულია მწყობრიდან – ანიშნოს ხელით.

## ВОПРОС 391

ПРАВИЛЬНЫЙ ОТВЕТ: 1



I



II



III

Кæцы нывыл ис æвдыстгонд мотоциклы скъæрæджы къухæй ратгæ галиумæ базилæны сигнал?

1

I

2

II

3

III

## განმარტება:

„საგზაო მოძრაობის შესახებ“ საქართველოს კანონის 32-ე მუხლის მე-2 პუნქტის თანახმად, მანევრის დაწყებამდე მძღოლი ვალდებულია ჩართოს შესაბამისი მიმართულების მოხვევის შუქ-მაჩვენებელი, ხოლო თუ ის არ არის ან გამოსულია მწყობრიდან – ანიშნოს ხელით. მარცხნივ მოხვევის ან მობრუნების სიგნალს შეესაბამება გვერდზე ჰორიზონტალურად გაშვებული მარცხენა ხელი ან გვერდზე გაშვებული, იდაყვში სწორი კუთხით ზემოთ მოხრილი მარჯვენა ხელი. მარჯვნივ მოხვევის სიგნალს შეესაბამება გვერდზე ჰორიზონტალურად გაშვებული მარჯვენა ხელი ან გვერდზე გაშვებული, იდაყვში სწორი კუთხით ზემოთ მოხრილი მარცხენა ხელი. დამუხრუჭების სიგნალს შეესაბამება ზემოთ ვერტიკალურად აწეული მარცხენა ან მარჯვენა ხელი.

## ВОПРОС 392

ПРАВИЛЬНЫЙ ОТВЕТ: 3



I



II



III

Кæцы нывыл ис æвдыстгонд мотоциклы скъæрæджы къухæй ратгæ рахизмæ базилæны сигнал?

1

I

2

II

3

III

## განმარტება:

„საგზაო მოძრაობის შესახებ“ საქართველოს კანონის 32-ე მუხლის მე-2 პუნქტის თანახმად, მანევრის დაწყებამდე მძღოლი ვალდებულია ჩართოს შესაბამისი მიმართულების მოხვევის შუქ-მაჩვენებელი, ხოლო თუ ის არ არის ან გამოსულია მწყობრიდან – ანიშნოს ხელით. მარცხნივ მოხვევის ან მობრუნების სიგნალს შეესაბამება გვერდზე ჰორიზონტალურად გაშვებული მარცხენა ხელი ან გვერდზე გაშვებული, იდაყვში სწორი კუთხით ზემოთ მოხრილი მარჯვენა ხელი. მარჯვნივ მოხვევის სიგნალს შეესაბამება გვერდზე ჰორიზონტალურად გაშვებული მარჯვენა ხელი ან გვერდზე გაშვებული, იდაყვში სწორი კუთხით ზემოთ მოხრილი მარცხენა ხელი. დამუხრუჭების სიგნალს შეესაბამება ზემოთ ვერტიკალურად აწეული მარცხენა ან მარჯვენა ხელი.



## ВОПРОС 393

ПРАВИЛЬНЫЙ ОТВЕТ: 2



I



II



III

Кæцы нывыл ис æвдыстгонд мотоциклы скъæрæджы къухæй ратгæ тормозы сигнал?

1

I

2

II

3

III

## განმარტება:

„საგზაო მოძრაობის შესახებ“ საქართველოს კანონის 32-ე მუხლის მე-2 პუნქტის თანახმად, მანევრის დაწყებამდე მძღოლი ვალდებულია ჩართოს შესაბამისი მიმართულების მოხვევის შუქ-მაჩვენებელი, ხოლო თუ ის არ არის ან გამოსულია მწყობრიდან – ანიშნოს ხელით. მარცხნივ მოხვევის ან მობრუნების სიგნალს შეესაბამება გვერდზე ჰორიზონტალურად გაშვებული მარცხენა ხელი ან გვერდზე გაშვებული, იდაყვში სწორი კუთხით ზემოთ მოხრილი მარჯვენა ხელი. მარჯვნივ მოხვევის სიგნალს შეესაბამება გვერდზე ჰორიზონტალურად გაშვებული მარჯვენა ხელი ან გვერდზე გაშვებული, იდაყვში სწორი კუთხით ზემოთ მოხრილი მარცხენა ხელი. დამუხრუჭების სიგნალს შეესაბამება ზემოთ ვერტიკალურად აწეული მარცხენა ან მარჯვენა ხელი.



I



II



III

Кæцы нывыл ис æвдыстгонд автомобили скъæрæджы къухæй ратгæ тормозы сигнал?

1

I

2

II

3

III

### განმარტება:

„საგზაო მოძრაობის შესახებ“ საქართველოს კანონის 32-ე მუხლის მე-2 პუნქტის თანახმად, მანევრის დაწყებამდე მძღოლი ვალდებულია ჩართოს შესაბამისი მიმართულების მოხვევის შუქ-მაჩვენებელი, ხოლო თუ ის არ არის ან გამოსულია მწყობრიდან – ანიშნოს ხელით. მარცხნივ მოხვევის ან მობრუნების სიგნალს შეესაბამება გვერდზე ჰორიზონტალურად გაშვებული მარცხენა ხელი ან გვერდზე გაშვებული, იდაყვში სწორი კუთხით ზემოთ მოხრილი მარჯვენა ხელი. მარჯვნივ მოხვევის სიგნალს შეესაბამება გვერდზე ჰორიზონტალურად გაშვებული მარჯვენა ხელი ან გვერდზე გაშვებული, იდაყვში სწორი კუთხით ზემოთ მოხრილი მარცხენა ხელი. დამუხრუჭების სიგნალს შეესაბამება ზემოთ ვერტიკალურად აწეული მარცხენა ან მარჯვენა ხელი.

## ВОПРОС 395

ПРАВИЛЬНЫЙ ОТВЕТ: 2



I



II



III

Кæцы нывыл ис æвдыстгонд автомобили скъæрæджы къухæй ратгæ рахизмæ базилæны сигнал?

1

I

2

II

3

III

## განმარტება:

„საგზაო მოძრაობის შესახებ“ საქართველოს კანონის 32-ე მუხლის მე-2 პუნქტის თანახმად, მანევრის დაწყებამდე მძღოლი ვალდებულია ჩართოს შესაბამისი მიმართულების მოხვევის შუქ-მაჩვენებელი, ხოლო თუ ის არ არის ან გამოსულია მწყობრიდან – ანიშნოს ხელით. მარცხნივ მოხვევის ან მობრუნების სიგნალს შეესაბამება გვერდზე ჰორიზონტალურად გაშვებული მარცხენა ხელი ან გვერდზე გაშვებული, იდაყვში სწორი კუთხით ზემოთ მოხრილი მარჯვენა ხელი. მარჯვნივ მოხვევის სიგნალს შეესაბამება გვერდზე ჰორიზონტალურად გაშვებული მარჯვენა ხელი ან გვერდზე გაშვებული, იდაყვში სწორი კუთხით ზემოთ მოხრილი მარცხენა ხელი. დამუხრუჭების სიგნალს შეესაბამება ზემოთ ვერტიკალურად აწეული მარცხენა ან მარჯვენა ხელი.

## ВОПРОС 396

ПРАВИЛЬНЫЙ ОТВЕТ: 3



I



II



III

Кæцы нывыл ис æвдыстгонд автомобили скъæрæджы къухæй ратгæ галиумæ базилæны сигнал?

1

I

2

II

3

III

## განმარტება:

„საგზაო მოძრაობის შესახებ“ საქართველოს კანონის 32-ე მუხლის მე-2 პუნქტის თანახმად, მანევრის დაწყებამდე მძღოლი ვალდებულია ჩართოს შესაბამისი მიმართულების მოხვევის შუქ-მაჩვენებელი, ხოლო თუ ის არ არის ან გამოსულია მწყობრიდან – ანიშნოს ხელით. მარცხნივ მოხვევის ან მობრუნების სიგნალს შეესაბამება გვერდზე ჰორიზონტალურად გაშვებული მარცხენა ხელი ან გვერდზე გაშვებული, იდაყვში სწორი კუთხით ზემოთ მოხრილი მარჯვენა ხელი. მარჯვნივ მოხვევის სიგნალს შეესაბამება გვერდზე ჰორიზონტალურად გაშვებული მარჯვენა ხელი ან გვერდზე გაშვებული, იდაყვში სწორი კუთხით ზემოთ მოხრილი მარცხენა ხელი. დამუხრუჭების სიგნალს შეესაბამება ზემოთ ვერტიკალურად აწეული მარცხენა ან მარჯვენა ხელი.

Дәлдәер ранымадәй, кәцы бынат рагацау бәрәггонд цәуы закон скъәрәджы гәнаәндзинадәен спайда кәна йәхицәен арәхстджындәер змәлды хаххәй?

1

Цәрәгджын пунктты кәцыфәнды фәндагыл, кәд әмә скъәрәг змәлы сындәгцәуәг транспортон фәрәзәй

2

Әдзәрәг әмә цәрәгджын пунктты фәндаджы цәуәны хайы уыцы фәдыгыл, кәцыйылдәр змәлды барләвәрд ис 80 км/сах-мә фылдәр тагъдадәй

3

Цәрәгджын пунктты, фәндагыл, цыран әмбәләг фәрсмә әрдәмадмә змәлынәен иуыл къаддәр дыууә змәләен хаххы ис әмә уыдон нысангонд сты дәргъмә нысанәй

### განმარტება:

„საგზაო მოძრაობის შესახებ“ საქართველოს კანონის 34-ე მუხლის მე-13 პუნქტის თანახმად, ამ კანონის 31-ე მუხლით (გარდა მე-5 პუნქტისა) დადგენილი მოთხოვნათა გათვალისწინებით, დასახლებულ პუნქტში, გზაზე, სადაც თანმხვედრი მიმართულებით მოძრაობისათვის არანაკლებ ორი მოძრაობის ზოლია და ისინი აღნიშნულია გრძივი მონიშვნით, მძღოლს შეუძლია ისარგებლოს მისთვის უფრო მოსახერხებელი მოძრაობის ზოლით (გარდა ამ კანონით გათვალისწინებული შემთხვევებისა). სხვა მოძრაობის ზოლზე ის უნდა გადავიდეს მხოლოდ მარჯვნივ ან მარცხნივ მოხვევის, გასწრების, გაჩერების ან დგომის მანევრის შესრულების მარეგულირებელი წესების შესაბამისად.





ლავაერდ სიტუაციის, ბარ ын ис æви нæ урс автомобили скъæრæгæн фатæджы (стрелкæйы) æрдæмæდмæ змæлын?

1

Нæй ын бар

2

Ис ын бар

### განმარტება:

„საგზაო მოძრაობის შესახებ“ საქართველოს კანონის 39-ე მუხლის მე-2 პუნქტის „ა“ ქვეპუნქტის თანახმად, რკინიგზის გადასასვლელზე აკრძალულია საპირისპირო მოძრაობის ზოლზე გასვლით, გადასასვლელის წინ მდგომი სატრანსპორტო საშუალების შემოვლა. ამავე კანონის მე-2 დანართის პირველი თავის (პორიბონტალურო მონიშვნა) 1.1 პუნქტის თანახმად, საგზაო მონიშვნა 1.1 ყოფს საპირისპირო მიმართულებით მოძრავ სატრანსპორტო ნაკადებს და გზის სახიფათო მონაკვეთზე აღნიშნავს მოძრაობის ზოლის საზღვარს ან სავალი ნაწილის საზღვარს, რომელზე შესვლაც აკრძალულია; აღნიშნავს სატრანსპორტო საშუალების დგომის ადგილის საზღვარს და იმ გზის სავალი ნაწილის ნაპირს, რომელიც მოძრაობის პირობებით არ განეკუთვნება ავტომაგისტრალს. 1.1 ხაზის გადაკვეთა აკრძალულია. დასაშვებია სავალი ნაწილის ნაპირის აღმნიშვნელი და მძღოლის მარჯვენა მხარეს განლაგებული 1.1 ხაზის გადაკვეთა სატრანსპორტო საშუალების გზის ნაპირზე გასაჩერებლად.

Кәд æмæ алвæндагыл (перекресток) рахизмæ фæзилынæн нысангонд змæлды хахх иннæ цæуæн хайæ рахицæнгонд у бæрзонддæргонд (уæлдæргонд) æдасдзинады сакъадахæй æмæ алвæндагы раз рахизмæ рухснысан (светофор) нæй, рахизмæ фæзылды тыххæй скъæрæгæн йæ бон у æмæ сæххæст кæна алвæндагыл уæвæг рухснысаны (светофоры):

1

Змæлыны бардæттæг рухсы сигналы сиуы фæстæ

2

Рухсы сигналтæй хæдбарæй æндæр æрдæмадтæй змæлгæ алкæцы транспортон фæрæз фæндаг ратгæйæ

### განმარტება:

„საგზაო მოძრაობის შესახებ“ საქართველოს კანონის 36-ე მუხლის მე-3 პუნქტის „ზ“ ქვეპუნქტის თანახმად, თუ გზაჯვარედინზე მარჯვნივ მოხვევისთვის განკუთვნილი მოძრაობის ზოლი დანარჩენი სავალი ნაწილისგან გამოყოფილია ამაღლებული უსაფრთხოების კუნძულით და გზაჯვარედინის წინ, მარჯვნივ შექნიშანი არ არის, მარჯვნივ მოხვევა სრულდება გზაჯვარედინზე არსებული შექნიშნის მაშუქი სიგნალებისაგან დამოუკიდებლად სხვა მიმართულებებიდან მოძრავი ყველა სატრანსპორტო საშუალებისთვის გზის დათმობით.

Цæрæгджын пунктты, æруромæн пунктæй рацæуынæн, змæлды сног кæныны тыххæй фæзилæны æвдисæнæй ратгæ сигналы фæстæ, маршрутон транспортон фæрæзы скъæрджытæ хæсджын сты:

1

Спайда кæной приоритеты бартæй æмæ æвæстиатæй сног кæной змæлд, фæндагыл цы ситуацийы ис уымæ æнæкæсгæйæ

2

Сиу кæной æввахсмæ рухсгæнæн фарæтæ æмæ уый фæстæ райдайой маневры æххæст кæнын

3

Райсой фæндагон – транспортон цауы сæрæй аиуварс кæнынæн хъæугæ сæрхизæны мадзæлттæ æмæ змæлын райдайой æрмæст уый фæстæ, фидарæй куы базон, цæмæй сын иннæ транспортон фæрæзтæ фæндаг кæй дæттынц

### განმარტება:

„საგზაო მოძრაობის შესახებ“ საქართველოს კანონის 41-ე მუხლის პირველი პუნქტის თანახმად, ამ კანონის 33-ე მუხლის მე-4 პუნქტით დადგენილ მოთხოვნათა გათვალისწინებით, დასახლებულ პუნქტში სამარშრუტო სატრანსპორტო საშუალებისთვის მოძრაობის გასაადვილებლად სხვა სატრანსპორტო საშუალებების მძღოლებმა უნდა შეანელონ მოძრაობა და აუცილებლობის შემთხვევაში გაჩერდნენ, რათა სამარშრუტო სატრანსპორტო საშუალებამ შეძლოს გასაჩერებელი პუნქტიდან გამოსვლისთვის საჭირო მანევრის შესრულება. სამარშრუტო სატრანსპორტო საშუალების მძღოლი ვალდებულია მოძრაობის განახლების განზრახვის შესახებ მოხვევის შეუ-  
მაჩვენებლით სიგნალის მიცემის შემდეგ მიიღოს საგზაო-სატრანსპორტო შემთხვევის თავიდან აცილებისთვის საჭირო სიფრთხილის ზომები და მოძრაობა დაიწყოს მხოლოდ მას შემდეგ, რაც დარწმუნდება, რომ სხვა სატრანსპორტო საშუალებები გზას უთმობენ.





Цაერაგდჟინ пункты маршрутон автобусы скъаერაг рацыд уромæн пунктæй, рог  
автомобилы скъаерæг, хъуамæ:

1


Тагъдады æнæфæивგაეადარგъ  
კაენა ჰმæლდ

2

Æрсындæг кæна ჰმæლდ ჰმæ  
æნæმæნგხაეугაეი цауы æрурома

### განმარტება:

„საგზაო მოძრაობის შესახებ“ საქართველოს კანონის 41-ე მუხლის პირველი პუნქტის თანახმად, ამ კანონის 33-ე მუხლის მე-4 პუნქტით დადგენილ მოთხოვნათა გათვალისწინებით, დასახლებულ პუნქტში სამარშრუტო სატრანსპორტო საშუალებისთვის მოძრაობის გასაადვილებლად სხვა სატრანსპორტო საშუალებების მძღოლებმა უნდა შეანელონ მოძრაობა და აუცილებლობის შემთხვევაში გაჩერდნენ, რათა სამარშრუტო სატრანსპორტო საშუალებამ შეძლოს გასაჩერებელი პუნქტიდან გამოსვლისთვის საჭირო მანევრის შესრულება. სამარშრუტო სატრანსპორტო საშუალების მძღოლი ვალდებულია მოძრაობის განახლების განზრახვის შესახებ მოხვედრის შეუ-  
მაჩვენებლით სიგნალის მიცემის შემდეგ მიიღოს საგზაო-სატრანსპორტო შემთხვევის თავიდან აცილებისთვის საჭირო სიფრთხილის ზომები და მოძრაობა დაიწყოს მხოლოდ მას შემდეგ, რაც დარწმუნდება, რომ სხვა სატრანსპორტო საშუალებები გზას უთმობენ.



Кæцы аутомобилы скъæრæгæн фæзындзæн фæндаг раттыны хæсдзинад, æдзæრæг пункты фатæджы (стрелкæйы) æрдæмадмæ змæлды цауы, кæд æмæ маршрутон транспортон фæрæзы скъæრæг рацыд æруромæн пунктæй?

1

Рог аутомобилы скъæრæгæн

2

Маршрутон транспортон фæрæзы скъæრæгæн

### განმარტება:

„საგზაო მოძრაობის შესახებ“ საქართველოს კანონის 41-ე მუხლის პირველი პუნქტის თანახმად, ამ კანონის 33-ე მუხლის მე-4 პუნქტით დადგენილ მოთხოვნათა გათვალისწინებით, დასახლებულ პუნქტში სამარშრუტო სატრანსპორტო საშუალებისთვის მოძრაობის გასაადვილებლად სხვა სატრანსპორტო საშუალებების მძღოლებმა უნდა შეანელონ მოძრაობა და აუცილებლობის შემთხვევაში გაჩერდნენ, რათა სამარშრუტო სატრანსპორტო საშუალებამ შეძლოს გასაჩერებელი პუნქტიდან გამოსვლისთვის საჭირო მანევრის შესრულება. სამარშრუტო სატრანსპორტო საშუალების მძღოლი ვალდებულია მოძრაობის განახლების განზრახვის შესახებ მოხვედრის შეუმაჩვენებლით სიგნალის მიცემის შემდეგ მიიღოს საგზაო-სატრანსპორტო შემთხვევის თავიდან აცილებისთვის საჭირო სიფრთხილის ზომები და მოძრაობა დაიწყოს მხოლოდ მას შემდეგ, რაც დარწმუნდება, რომ სხვა სატრანსპორტო საშუალებები გზას უთმობენ. ამავე კანონის 32-ე მუხლის პირველი პუნქტის თანახმად მძღოლმა, რომელსაც განზრახული აქვს რომელიმე მანევრის შესრულება, ეს მანევრი უნდა დაიწყოს მხოლოდ მას შემდეგ, რაც დარწმუნდება, რომ არ შეუქმნის საფრთხეს მის უკან, წინ და გვერდით როგორც თანმხვედრი, ისე საპირისპირო მიმართულებით მოძრავ საგზაო მოძრაობის მონაწილეებს, მათი მდებარეობის, მოძრაობის მიმართულებისა და სიჩქარის გათვალისწინებით.





Бар ын ис æви нæ скъæрæгæн фатæджы (стрелкæйы) æрдæмадмæ автобусы  
разылын?

1


Бар ын нæй

2

Бар ын ис

### განმარტება:

„საგზაო მოძრაობის შესახებ“ საქართველოს კანონის 42-ე მუხლის „ა“ პუნქტის თანახმად, საგზაო ნიშნით აღნიშნულ გვირაბებში მოქმედებს შემდეგი წესი -მძღოლს ეკრძალება უკუსვლით მოძრაობა ან მობრუნება.



ლავადრდ სიტუაციის, კაცი სკარაგან ის ახიზისი უაღბარ, კად ამა ბურ ავტომობილს სკარაგ რაიდითა ზმაღინ ბაღცაღტი სბადინ კაღისი ფაღსა, ფაღლა საუ ავტომობილს სკარაგ ჟურაღდა ბაღცაღტი სბადინ კაღისი თიხაღ?

1


ბურ ავტომობილს სკარაგან

2

საუ ავტომობილს სკარაგან

### განმარტაღა:

„საგზაო მოღრაღის შესახებ“ საქართვეღოს კანონის 32-ე მუღბღის პირვეღი პუნქტის თანახმაღ მდღოღმა, რომეღსაც განზრაღული აქვს რომეღღიმე მანეღრის შესრუღება, ეს მანეღრი უნდა დაინყოს მხოლოდ მას შემდეგ, რაც დარწმუნღება, რომ არ შეუქმნის საფრთხეს მის უკან, წინ და გვერდით როგორც თანმხვედრი, ისე საპირისპირო მიმართუღებით მოღრაღ საგზაო მოღრაღის მონაწიღეღებს, მათი მღებარეღობის, მოღრაღის მიმართუღებისა და სიჩქარის გათვალისწინებით.



ლავარდ სიტუაციის, ის ავი ნა როგ ავტომობილს სკარაგან ანარლაუგაიამ ზმელდს ადარგ კენისი ბარ?

1

Ис ын бар


2

Нәй ын бар

### განმარტება:

„სავაო მოძრაობის შესახებ“ საქართველოს კანონის 25-ე მუხლის მე-4 პუნქტის თანახმად, მძღოლმა, რომელიც მოძრაობის მიმართულების შესაბამისი მხრიდან სათანადო წესით მონიშნულ გაჩერებაზე მყოფი სამარშრუტო სატრანსპორტო საშუალებისთვის გვერდის ავლას აპირებს, უნდა შეამციროს სიჩქარე და, აუცილებლობის შემთხვევაში, გაჩერდეს, რათა უზრუნველყოს მგზავრების საზოგადოებრივ ტრანსპორტში უსაფრთხო ჩასხდომის ან იქიდან გადმოსხდომის შესაძლებლობა.





Кæцы автомобили скъæრæгæн лæвæрд цæуы уæлбар фатæджы (стрелкæйы) æрдæмæдмæ змæлды цауы, кæд æмæ маршрутон автобусы скъæრæг райдыдта цæрæгджын пункты нысангонд лæууæнæй?

1


Рог автомобили скъæრæгæн

2

Автобусы скъæрæгæн

### განმარტება:

„საგზაო მოძრაობის შესახებ“ საქართველოს კანონის 41-ე მუხლის პირველი პუნქტის თანახმად, ამ კანონის 33-ე მუხლის მე-4 პუნქტით დადგენილ მოთხოვნათა გათვალისწინებით, დასახლებულ პუნქტში სამარშრუტო სატრანსპორტო საშუალებისთვის მოძრაობის გასაადვილებლად სხვა სატრანსპორტო საშუალებების მძღოლებმა უნდა შეანელონ მოძრაობა და აუცილებლობის შემთხვევაში გაჩერდნენ, რათა სამარშრუტო სატრანსპორტო საშუალებამ შეძლოს გასაჩერებელი პუნქტიდან გამოსვლისთვის საჭირო მანევრის შესრულება. სამარშრუტო სატრანსპორტო საშუალების მძღოლი ვალდებულია მოძრაობის განახლების განზრახვის შესახებ მოხვევის შეუმაჩვენებლით სიგნალის მიცემის შემდეგ მიიღოს საგზაო-სატრანსპორტო შემთხვევის თავიდან აცილებისთვის საჭირო სიფრთხილის ზომები და მოძრაობა დაიწყოს მხოლოდ მას შემდეგ, რაც დარწმუნდება, რომ სხვა სატრანსპორტო საშუალებები გზას უთმობენ.



Кæцы транспортон фæрæзы скъæრæгæн бар нæй фатæджы (стрелкæйы) æрдæмадмæ змæлын?

1

Æрмæст бур автомобили скъæრæгæн

2

Æрмæст уæзласæн автомобили скъæრæгæн

3

Æрмæст буксиргæნæг автомобили скъæრæгæн

4

Нæдæр иу (никæцы) транспортон фæрæзы скъæრæгæн

### განმარტება:

„საგზაო მოძრაობის შესახებ“ საქართველოს კანონის 31-ე მუხლის მე-7 პუნქტის თანახმად, სამი მოძრაობის ზოლის მქონე (გარდა 1.9 საგზაო მონიშვნისა) ორმხრივმოძრაობიან გზაზე სატრანსპორტო საშუალების მძღოლი არ უნდა გადავიდეს სავალი ნაწილის განაპირა ზოლზე, სადაც საპირისპირო მიმართულების მოძრაობა ხორციელდება. თუ სამი მოძრაობის ზოლის მქონე გზაზე შუა ზოლი ორივე მიმართულებით მოძრაობისათვის გამოიყენება, ამ ზოლზე გასვლა ნებადართულია მხოლოდ გასწრების, დაბრკოლების შემოვლის, მარცხნივ მოხვევის ან მობრუნების მიზნით. ამავე კანონის პირველი დანართის მე-3 თავის (ამკრძალავი ნიშნები) 3.7 პუნქტის თანახმად, საგზაო ნიშანი 3.7 „მისაბმელით მოძრაობა აკრძალულია“ - კრძალავს ყველა სახის მისაბმელიანი სატვირთო ავტომობილითა და მისაბმელიანი ტრაქტორით მოძრაობას, აგრეთვე მექანიკური სატრანსპორტო საშუალების ბუქსირებას.



## ВОПРОС 408

ПРАВИЛЬНЫЙ ОТВЕТ: 3

Æдзæрæг пунктты, уыцы дывæрсон змæლæн фæндагыд, кæцыыйыл нæй дихгæнæг хахх æмæ тротуар, кресло-коляскæйæ змæლæг арæнгонд гæнæндзинæдты гоймаг (инвалид) змæлыны тыххæй хъуамæ æрцахса:

1

Кæцыфæнды змæлды хахх

2

Цæуæн хайы галиуфарс

3

Цæуæн хайы рахизфарс

## განმარტება:

„საგზაო მოძრაობის შესახებ“ საქართველოს კანონის 24-ე მუხლის მე-5 პუნქტის თანახმად, დაუსახლებელ პუნქტში, იმ ორმხრივმოძრაობიან გზაზე, რომელსაც არ აქვს გამყოფი ზოლი და ტროტუარი, ქვეითმა უნდა დაიკავოს მოძრაობის მიმართულების საწინააღმდეგო მხარეს მდებარე გვერდულა, ხოლო მისი არარსებობის ან გამოყენების შეუძლებლობის შემთხვევაში – გზის სავალი ნაწილის მარცხენა მხარე და გადაადგილდეს მოძრაობის მიმართულების საწინააღმდეგოდ (გარდა იმ შემთხვევისა, როცა მოცემულ სიტუაციაში გზის სავალი ნაწილის მარცხენა მხარეს მოძრაობის მიმართულებით გადაადგილება უფრო უსაფრთხოა), მაგრამ ველოსიპედის, მოპედის ან მოტოციკლის ხელით გადამყვანმა, აგრეთვე სავარძელ-ეტლით მოძრაობა შემზღუდული შესაძლებლობის მქონე პირმა გადაადგილების მიზნით უნდა დაიკავონ გზის სავალი ნაწილის მარცხენა მხარე.

## ВОПРОС 409

ПРАВИЛЬНЫЙ ОТВЕТ: 2

Гуырдыстоны алы фæндагыл змæлды æрдæмад арæзт у:

1

Галиуæрдæм

2

Рахизæрдæм

3

Куыд галиуæрдæм, афтæ рахизæрдæм

## განმარტება:

„საგზაო მოძრაობის შესახებ“ საქართველოს კანონის 31-ე მუხლის პირველი პუნქტის თანახმად, საქართველოს ყველა გზაზე მოძრაობის მიმართულებად დადგენილია მარცხენა მხარეს მოძრაობა.

## ВОПРОС 410

ПРАВИЛЬНЫЙ ОТВЕТ: 2

Кәд фәндәгты змәлды организацигондәй әндәер исты нәу әркастгонд дыууә кәнә әртә цәуәен хайә конд фәндагыл, транспортон фәрәзы скъәрәгәен бар нәй:

- |   |  |
|---|--|
| <div style="background-color: #f08080; color: white; padding: 5px; display: inline-block; margin-bottom: 5px;">1</div> Фәрсмә әрдәмады змәлды әрдыгәй цәуәен хайыл (фәндагыл) змәлды хәххыты фәивын | <div style="background-color: #f08080; color: white; padding: 5px; display: inline-block; margin-bottom: 5px;">2</div> Комкоммә әрдәмады змәлды әрдыгәй цәуәен хайыл (фәндагыл) ахизын |
|---|--|

## განმარტება:

„საგზაო მოძრაობის შესახებ“ საქართველოს კანონის 31-ე მუხლის მე-6 პუნქტის თანახმად, თუ საგზაო მოძრაობის ორგანიზებით სხვა რამ არ არის გათვალისწინებული, ორი ან სამი სავალი ნაწილის მქონე გზაზე, სატრანსპორტო საშუალების მძღოლს ეკრძალება საპირისპირო მიმართულების მოძრაობის მხარის სავალ ნაწილზე გასვლა.

## ВОПРОС 411

ПРАВИЛЬНЫЙ ОТВЕТ: 1

Скъәрәг, кәцы хъавы исты маневры сәххәст кәнын, уыцы маневры хъуамә райдайа әрмәстдәер уый фәстә, әмә фидарәй куы зона, цәмәй:

- |   |  |
|---|--|
| <div style="background-color: #f08080; color: white; padding: 5px; display: inline-block; margin-bottom: 5px;">1</div> Не скәндзәен тас йә фәстә, йә разәй әмә йә фарсмә куыд иумәйә, афтәма комкоммә әрдәмадмә змәლәг фәндагон змәлды хайадисджытәен, уыдоны бынәтты, змәлды әрдәмады әмә тагъдады рагацау зонгәйә | <div style="background-color: #f08080; color: white; padding: 5px; display: inline-block; margin-bottom: 5px;">2</div> Не скәндзәен тас әрмәст йә фәстә кәнә йә фарсмә змәләг транспортон фәრәзтәен, уыдонәен сә бынәтты, змәлды әрдәмады әмә тагъдады рагацау зонгәйә |
|---|--|

## განმარტება:

„საგზაო მოძრაობის შესახებ“ საქართველოს კანონის 32-ე მუხლის პირველი პუნქტის თანახმად, მძღოლმა, რომელსაც განზრახული აქვს რომელიმე მანევრის შესრულება, ეს მანევრი უნდა დაიწყოს მხოლოდ მას შემდეგ, რაც დარწმუნდება, რომ არ შეუქმნის საფრთხეს მის უკან, წინ და გვერდით როგორც თანმხვედრი, ისე საპირისპირო მიმართულებით მოძრავ საგზაო მოძრაობის მონაწილეებს, მათი მდებარეობის, მოძრაობის მიმართულებისა და სიჩქარის გათვალისწინებით.

## ВОПРОС 412

ПРАВИЛЬНЫЙ ОТВЕТ: 1

Ранымадгондтәй кәцы бынатыл ис бар разилын:

1

Алвәндагыл (перекрестокыл)

2

Хидыл, фәндагуадзәныл, эстакадыл  
әмә уыдон бын

3

Æфсәнвәндагон ахизәныл

4

Тъунелы

## განმარტება:

„საგზაო მოძრაობის შესახებ“ საქართველოს კანონის 32-ე მუხლის მე-15 პუნქტის „ბ“, „გ“ და „დ“ ქვეპუნქტების თანახმად, აკრძალულია სატრანსპორტო საშუალების მოძრუნება: ბ) გვირაბში; გ) ხიდზე, გზაგამტარზე, ესტაკადაზე და მათ ქვეშ; დ) რკინიგზის გადასასვლელზე.

## ВОПРОС 413

ПРАВИЛЬНЫЙ ОТВЕТ: 4

Кәд сымах транспортон фәрәзы размә цәугә уәзласән автомобили скърәг хъавы рахизәрдәм фәзила уынгәг цәуән хайы уынгыл сымах хъуамә зонат әрмәст, цәмәй:

1

Транспортон фәрәзы фәзиләны  
стыр радиусмә гәсгә уый гәнән ис  
әмә фәзила галиәрдәм

2

Уый цәхгәр фәкхәддәр  
кәндзәнис тагъдад

3

Ахизынмә хъавәг фистәгтән  
фәндаг раттын тәххәй гәнән ис  
әрурома фәлиләны  
әххәсгәнгәйы рәстәджы

4

Æмә гәнән ис фәзына ацы билеты  
ранымад кәцыфәнды уавәр

## განმარტება:

თუ თქვენი სატრანსპორტო საშუალების წინ მიმავალი სატვირთო ავტომობილის მძღოლი აპირებს მარჯვნივ შეუხვიოს ვიწრო სავალი ნაწილის მქონე ქუჩაზე თქვენ უნდა გაითვალისწინოთ, რომ სატრანსპორტო საშუალების დიდი მოხვევის რადიუსის გამო ის უშუალოდ მოსახვევის წინ შეიძლება გადაადგილდეს მარცხნივ, ასევე შეიძლება მკვეთრად შეამციროს სიჩქარე და გადამავალი ქვეითების გზის დათმობის გამო შეიძლება გაჩერდეს მოხვევის შესრულების დროს.

Дәлдәр ранымадәй, кәцы цауы ма хъуамә ратта скъәраг әрбазиләны рухсамонәгәй кәнә къухәй сигналы маневры райдыдмә?

1

Æрмәст уыцы цауы, кәд йә фәстә не змәлы әндәр транспортон фәрәз.

2

Æрмәст уыцы уацы, кәд сигнал гәнән ис әмә бахъыг дара әндәр фәндагон змәлды хайадисджыты

3

Ацы билеты ранымад кәцыфәнды цауы

### განმარტება:


„საგზაო მოძრაობის შესახებ“ საქართველოს კანონის 32-ე მუხლის მე-2 პუნქტის თანახმად, მანევრის დაწყებამდე მძღოლი ვალდებულია ჩართოს შესაბამისი მიმართულების მოხვევის შუქ-მაჩვენებელი, ხოლო თუ ის არ არის ან გამოსულია მწყობრიდან – ანიშნოს ხელით. მარცხნივ მოხვევის ან მობრუნების სიგნალს შეესაბამება გვერდზე ჰორიზონტალურად გაშვებული მარცხენა ხელი ან გვერდზე გაშვებული, იდაყვში სწორი კუთხით შემოთ მოხრილი მარჯვენა ხელი. მარჯვნივ მოხვევის სიგნალს შეესაბამება გვერდზე ჰორიზონტალურად გაშვებული მარჯვენა ხელი ან გვერდზე გაშვებული, იდაყვში სწორი კუთხით შემოთ მოხრილი მარცხენა ხელი. დამუხრუჭების სიგნალს შეესაბამება შემოთ ვერტიკალურად აწეული მარცხენა ან მარჯვენა ხელი. მოხვევის შუქ-მაჩვენებლით ან ხელით სიგნალი მიცემული უნდა იქნეს დროულად, მანევრის დაწყების წინ და უნდა შეწყდეს დაუყოვნებლივ, მისი დასრულებისთანავე (სიგნალის ხელით მიცემა შეიძლება შეწყდეს უშუალოდ მანევრის დაწყების წინ). ამასთანავე, სიგნალმა არ უნდა შეაცდინოს სხვა საგზაო მოძრაობის მონაწილეები.

თემა 16:

გასწრება შემხვედრი ტრანსპორტის გვერდის  
ავლით

---





Фехалдзენ ჯევი ნაე როგ ავტომობილს სკჯერაგ ფანდაგტს ზმელდს უაგაევერდტაე ფატაედჯს (სტრელკაეის) აერდაემადმაე ზმელდს რაესტაედჯს, კაედ ჯემაე ბურ ავტობუსს სკჯერაგ ხუამაე ფაერაჟაეი უა?

**1**

Фехалдзәни

**2**

ნაე фехалдзәни

**განმარტება:**

„საგზაო მოძრაობის შესახებ“ საქართველოს კანონის 34-ე მუხლის მე-3 პუნქტის „ა“ ქვეპუნქტის თანახმად, გასწრების დაწყებამდე მძღოლი, ისე, რომ არ დაარღვიოს ამ კანონის მე-20 მუხლის მე-2 პუნქტითა და 32-ე მუხლით დადგენილი მოთხოვნები, უნდა დარწმუნდეს, რომ მის უკან მომავალი არცერთი სატრანსპორტო საშუალების მძღოლს გასწრება არ დაუწყია.



Бар ис æви нæ автомобили скъæрæг фатæджы (стрелкæйы) æрдæмадмæ разæй кæнын (обгон аразын)?

1

Бар ис

2

Бар нæй

### განმარტება:

„საგზაო მოძრაობის შესახებ“ საქართველოს კანონის 34-ე მუხლის მე-3 პუნქტის „ბ“ ქვეპუნქტის თანახმად, გასწრების დაწყებამდე მძღოლი, ისე, რომ არ დაარღვიოს ამ კანონის მე-20 მუხლის მე-2 პუნქტითა და 32-ე მუხლით დადგენილი მოთხოვნები, უნდა დარწმუნდეს, რომ მოძრაობის იმავე ზოლზე მის წინ მიმავალი სატრანსპორტო საშუალების მძღოლს არ მიუცია სიგნალი, რომ აპირებს, გაუსწროს სხვა სატრანსპორტო საშუალებას. აკრძალულია იმ სატრანსპორტო საშუალების გასწრება, რომელიც ახორციელებს გასწრებას ან დაბრკოლების შემოვლას. ამავე მუხლის მე-9 პუნქტის „ა.გ“ ქვეპუნქტის თანახმად, ამ მუხლის მე-3 პუნქტით დადგენილ მოთხოვნათა გათვალისწინებით გასწრება აკრძალულია წრიულმოძრაობიანი გზაჯვარედინისაგან განსხვავებულ გზაჯვარედინზე ან უშუალოდ ამ გზაჯვარედინის წინ, გარდა, იმ შემთხვევისა, როდესაც გასწრება ხორციელდება რეგულირებულ გზაჯვარედინზე საპირისპირო მოძრაობის ზოლზე გაუსვლელად. ამავე კანონის 36-ე მუხლის მე-2 პუნქტის თანახმად, გზაჯვარედინი, რომელზედაც მოძრაობის რიგითობა შექნიშნის ან მარეგულირებლის სიგნალებით განისაზღვრება, რეგულირებული გზაჯვარედინია.





Лæвæрд ситуацийы, бар ис æви нæ рог автомобили скъæрæг фæразæй уа?

1


Бар ын ис

2

Бар ын нæй

### განმარტება:

„საგზაო მოძრაობის შესახებ“ საქართველოს კანონის 34-ე მე-9 პუნქტის „ბ“ ქვეპუნქტის თანახმად, ამ მუხლის მე-3 პუნქტით დადგენილ მოთხოვნათა გათვალისწინებით გასწრება აკრძალულია რკინიგზის გადასასვლელზე და მის წინ 100 მეტრზე ახლოს, გარდა იმ შემთხვევისა, როცა ამ ადგილებზე მოძრაობა რეგულირდება ისეთი ტიპის შუქნიშნით, რომელიც გზაჯვარედინებზე გამოიყენება.



Ис ын æви нæ бар рог автомобили скъæрæгæн, адаргъ кæна змæлд фатæджы (стрелкæйы) æрдæмадмæ?

1

Ис ын бар

2

Нæй ын бар

### განმარტება:

„საგზაო მოძრაობის შესახებ“ საქართველოს კანონის 31-ე მუხლის მე-18 პუნქტის თანახმად, ამ კანონის 37-ე მუხლის პირველი პუნქტითა და 43-ე მუხლის მე-2 პუნქტით გათვალისწინებული შემთხვევების გარდა, აკრძალულია მექანიკური სატრანსპორტო საშუალების მოძრაობა გვერდულაზე, ველოსიპედის მოძრაობის ზოლზე, ველობილიკზე, ტროტუარსა და ქვეითთა ბილიკზე. მოძრაობის უსაფრთხოების ზომების დაცვით ნებადართულია უშუალოდ გვერდულასთან, ველოსიპედის მოძრაობის ზოლთან, ველობილიკთან, ტროტუართან და ქვეითთა ბილიკთან განლაგებულ საწარმოსა და ობიექტთან ტვირთის მიმტანი მექანიკური სატრანსპორტო საშუალების უმოკლესი გზით მიდგომა, თუ ამისათვის სხვა შესაძლებლობა არ არსებობს. ამ პუნქტით დადგენილი აკრძალვა არ ვრცელდება საგზაო-საექსპლუატაციო და კომუნალური სამსახურების სატრანსპორტო საშუალებებზე.





Бар ын ис æви нæ фæныкхуыз роҕ автомобили скъæрæгæн фатæджы (стрелкæйы) æрдæмадмæ фæразæй кæнын (обгон аразын)?

1

Бар ын нæй

2

Бар ын ис

### განმარტება:

„საგზაო მოძრაობის შესახებ“ საქართველოს კანონის 34-ე მუხლის მე-9 პუნქტის „ა“ და „ა.ბ“ ქვეპუნქტების თანახმად, ამ მუხლის მე-3 პუნქტით დადგენილ მოთხოვნათა გათვალისწინებით გასწრება აკრძალულია წრიულმოძრაობიანი გზაჯვარედინისაგან განსხვავებულ გზაჯვარედინზე ან უშუალოდ ამ გზაჯვარედინის წინ, გარდა იმ შემთხვევისა, როდესაც გასწრება ხორციელდება გზაზე, რომელზე მოძრაობის დროსაც მძღოლს ენიჭება გზაჯვარედინზე უპირატესი მოძრაობის უფლება. ამავე კანონის პირველი დანართის პირველი თავის 1.7.1 პუნქტის თანახმად საგზაო ნიშანი 1.7.1 „მეორეხარისხოვან გზასთან გადაკვეთა“ - ისეთ გზასთან გადაკვეთა ან ისეთ გზასთან შეერთება, რომელზე მოძრავ მძღოლსაც აქვს გზის დათმობის ვალდებულება.





Ис ын æви нæ цъæх рог автомобили скъæрæгæн фатæджы (стрелкæйы) æрдæмадмæ разæй кæныны (обгон аразыны) бар?

1


Ис ын бар

2

Нæй ын бар

### განმარტება:

„საგზაო მოძრაობის შესახებ“ საქართველოს კანონის 34-ე მუხლის მე-9 პუნქტის „ა“ და „ა.ბ“ ქვეპუნქტების თანახმად, ამ მუხლის მე-3 პუნქტით დადგენილ მოთხოვნათა გათვალისწინებით გასწრება აკრძალულია წრიულმოძრაობიანი გზაჯვარედინისაგან განსხვავებულ გზაჯვარედინზე ან უშუალოდ ამ გზაჯვარედინის წინ, გარდა იმ შემთხვევისა, როდესაც გასწრება ხორციელდება გზაზე, რომელზე მოძრაობის დროსაც მძღოლს ენიჭება გზაჯვარედინზე უპირატესი მოძრაობის უფლება. ამავე კანონის მე-2 დანართის 1.5 პუნქტის თანახმად ჰორიზონტალური საგზაო მონიშვნა 1.5 ყოფს საპირისპირო მიმართულებით მოძრავ სატრანსპორტო ნაკადებს გზაზე, რომელსაც მოძრაობის ორი ან სამი ზოლი აქვს; აღნიშნავს მოძრაობის ზოლის საზღვარს ერთი მიმართულებით მოძრაობისათვის განკუთვნილი ორი და მეტი ზოლის არსებობისას. 1.5 ხაზის გადაკვეთა ნებადართულია ნებისმიერი მხრიდან.



Бар ис æви нæ фæныкхуыз рог автомобили скъæрæгæн фатæджы (стрелкæйы) æрдæмадмæ фæразæй кæныны (обгон аразын)?

1

Бар ын ис


2

Бар ын нæй

### განმარტება:

„საგზაო მოძრაობის შესახებ“ საქართველოს კანონის 34-ე მუხლის მე-9 პუნქტის „ა“ და „ა.ბ“ ქვეპუნქტების თანახმად, ამ მუხლის მე-3 პუნქტით დადგენილ მოთხოვნათა გათვალისწინებით გასწრება აკრძალულია წრიულმოძრაობიანი გზაჯვარედინისაგან განსხვავებულ გზაჯვარედინზე ან უშუალოდ ამ გზაჯვარედინის წინ, გარდა იმ შემთხვევისა, როდესაც გასწრება ხორციელდება გზაზე, რომელზე მოძრაობის დროსაც მძღოლს ენიჭება გზაჯვარედინზე უპირატესი მოძრაობის უფლება. ამავე კანონის მე-2 დანართის პირველი თავის 1.1 პუნქტის თანახმად ჰორიზონტალური საგზაო მონიშვნა 1.1. ყოფს საპირისპირო მიმართულებით მოძრავ სატრანსპორტო ნაკადებს და გზის სახიფათო მონაკვეთზე აღნიშნავს მოძრაობის ზოლის საზღვარს ან სავალი ნაწილის საზღვარს, რომელზე შესვლაც აკრძალულია; აღნიშნავს სატრანსპორტო საშუალების დგომის ადგილის საზღვარს და იმ გზის სავალი ნაწილის ნაპირს, რომელიც მოძრაობის პირობებით არ განეკუთვნება ავტომაგისტრალს. 1.1 ხაზის გადაკვეთა აკრძალულია. დასაშვებია სავალი ნაწილის ნაპირის აღმნიშვნელი და მძღოლის მარჯვენა მხარეს განლაგებული 1.1 ხაზის გადაკვეთა სატრანსპორტო საშუალების გზის ნაპირზე გასაჩერებლად.





Ис æви нæ сырх автомобили скъæрæгæн фатæджы (стрелкæйы) æрдæмадмæ фæразæй кæныны (обгон аразын) бар?

1

Бар ын ис

2

Бар ын нæй

### განმარტება:

„საგზაო მოძრაობის შესახებ“ საქართველოს კანონის 34-ე მუხლის პირველი პუნქტის თანახმად, გასწრება უნდა განხორციელდეს მარცხენა მხრიდან. მარჯვენა მხრიდან გასწრება ნებადართულია იმ შემთხვევაში, თუ მძღოლმა, რომელსაც უსწრებენ, მისცა სიგნალი, რომ მარცხნივ მოხვევას აპირებს, და თავისი სატრანსპორტო საშუალება ისე მიმართა, რომ შეუხვიოს სხვა გზაზე ან შევიდეს გზის მიმდებარე ტერიტორიაზე ან გაჩერდეს ამ მხარეს.



Ис ын æви нæ бар рог автомобили скъæрæгæн, адаргъ кæна змæлд фатæджы (стрелкæйы) æрдæмадмæ?

1

Ис ын бар

2

Нæй ын бар

### ბანმარტიბა:

„საგზაო მოძრაობის შესახებ“ საქართველოს კანონის 34-ე მუხლის მე-9 პუნქტის „ბ“ ქვეპუნქტის თანახმად, ამ მუხლის მე-3 პუნქტით დადგენილ მოთხოვნათა გათვალისწინებით გასწრება აკრძალულია რკინიგზის გადასასვლელზე და მის წინ 100 მეტრზე ახლოს, გარდა იმ შემთხვევისა, როდესაც ამ ადგილებში მოძრაობა რეგულირდება ისეთი ტიპის შუქნიშნით, რომელიც გზაჯვარედინებზე გამოიყენება. ამავე კანონის პირველი დანართის პირველი თავის (მაფრთხილებელი ნიშნები) 1.1 პუნქტის თანახმად საგზაო ნიშანი 1.1. „რკინიგზის შლაგბაუმიანი გადასასვლელი“ – იძლევა გაფრთხილებას რკინიგზის შლაგბაუმიან გადასასვლელთან მიახლოების თაობაზე. ამავე თავის შენიშვნის „ბ“ ქვეპუნქტის თანახმად ნიშნები 1.1, 1.2, 1.10, 1.11, 1.23, 1.24 და 1.26 ნიშნები მეორდება დაუსახლებელ პუნქტში, ხოლო 1.24 და 1.26 ნიშნები – დასახლებულ პუნქტშიც. მეორე ნიშანი იდგმება სახიფათო მონაკვეთის დასაწყისიდან არანაკლებ 50 მეტრ მანძილზე.



Бар ис æви нæ рог автомобили скъæрæгæн фатæджы (стрелкæйы) æрдæмадмæ фæразæй кæнын (обгон аразын), кæд æмæ трактор змæлы 30 км/сах тагъдадæй?

1

Бар нæй

2

Бар ис

### განმარტება:

„საგზაო მოძრაობის შესახებ“ საქართველოს კანონის 34-ე მუხლის პირველი პუნქტის თანახმად, კანონის 31-ე მუხლის მე-11 პუნქტის თანახმად, დაუსახლებელ და დასახლებულ პუნქტებში საავალი ნაწილის იმ მონაკვეთზე, რომელზედაც მოძრაობა ნებადართულია 80 კმ/სთ-ზე მეტი სიჩქარით, მძღოლმა უნდა იმოძრაოს საავალი ნაწილის მარჯვენა კიდედან რაც შეიძლება ახლოს. აკრძალულია მარცხენა ზოლის დაკავება, როცა მარჯვენა ზოლი თავისუფალია, გარდა დაბრკოლების შემთხვევის, მარცხნივ მოხვევის ან მობრუნების შემთხვევისა. ამავე კანონის 34-ე მუხლის პირველი პუნქტის თანახმად, გასწრება უნდა განხორციელდეს მარცხენა მხრიდან. მარჯვენა მხრიდან გასწრება ნებადართულია იმ შემთხვევაში, თუ მძღოლმა, რომელსაც უსწრებენ, მისცა სიგნალი, რომ მარცხნივ მოხვევას აპირებს, და თავისი სატრანსპორტო საშუალება ისე მიმართა, რომ შეუხვიოს სხვა გზაზე ან შევიდეს გზის მიმდებარე ტერიტორიაზე ან გაჩერდეს ამ მხარეს.





Кæцы аутомобилы скъæრæгæн бар лæвæрд нæ цæуы фатæджы (стрелкæйы) æрдæмадмæ змæлын?

1

Æрмæст цъæх аутомобилы скъæრæგæн

2

Æрмæст бур аутомобилы скъæრæგæн

3

Дыууæ аутомобилы скъæრæგæн

4

Нæдæр иу (никæцы) аутомобилы скъæრæგæн

### განმარტება:

„საგზაო მოძრაობის შესახებ“ საქართველოს კანონის 34-ე მუხლის პირველი პუნქტის თანახმად, გასწრება უნდა განხორციელდეს მარცხენა მხრიდან. მარჯვენა მხრიდან გასწრება ნებადართულია იმ შემთხვევაში, თუ მძღოლმა, რომელსაც უსწრებენ, მისცა სიგნალი, რომ მარცხნივ მოხვევას აპირებს, და თავისი სატრანსპორტო საშუალება ისე მიმართა, რომ შეუხვიოს სხვა გზაზე ან შევიდეს გზის მიმდებარე ტერიტორიაზე ან გაჩერდეს ამ მხარეს. ამავე კანონის 31-ე მუხლის მე-11 პუნქტის თანახმად, დაუსახლებელ პუნქტში, აგრეთვე დასახლებულ პუნქტში გზის სავალი ნაწილის იმ მონაკვეთზე, რომელზედაც მოძრაობა ნებადართულია 80 კმ/სთ-ზე მეტი სიჩქარით, მძღოლმა უნდა იმოძრაოს სავალი ნაწილის მარჯვენა კიდედან რაც შეიძლება ახლოს. აკრძალულია მარცხენა ზოლის დაკავება, როცა მარჯვენა ზოლი თავისუფალია, გარდა დაბრკოლების შემთხვევის, მარცხნივ მოხვევის ან მობრუნების შემთხვევისა. ამავე კანონის პირველი დანართის მე-5 თავის (განსაკუთრებული მითითებების ნიშნები) 5.25 პუნქტის თანახმად, საგზაო ნიშანი 5.25 „დასახლებული პუნქტის დასაწყისი“ - მიუთითებს იმ დასახლებული პუნქტის დასაწყისს, რომელშიც არ მოქმედებს დასახლებულ პუნქტებში მოძრაობისათვის დადგენილი წესები.



Кæцы автомобили скъæრæг халы фæндæгты змæлды уагæвæрдтæ фатæджы (стрелкæйы) æрдæмадмæ змæлды рæстæджы?

1

Æрмæст уæзласæн автомобили скъæრæг

2

Æрмæст рог автомобили скъæრæг

3

Дыууæ автомобили скъæრæг


4

Нæдæр иу (никæцы) автомобили скъæრæг

### განმარტება:

„საგზაო მოძრაობის შესახებ“ საქართველოს კანონის 34-ე მუხლის პირველი პუნქტის თანახმად, გასწრება უნდა განხორციელდეს მარცხენა მხრიდან. მარჯვენა მხრიდან გასწრება ნებადართულია იმ შემთხვევაში, თუ მძღოლმა, რომელსაც უსწრებენ, მისცა სიგნალი, რომ მარცხნივ მოხვევას აპირებს, და თავისი სატრანსპორტო საშუალება ისე მიმართა, რომ შეუხვიოს სხვა გზაზე ან შევიდეს გზის მიმდებარე ტერიტორიაზე ან გაჩერდეს ამ მხარეს. ამავე მუხლის მე-9 პუნქტის „ა.ა“ და „ა.ბ“ ქვეპუნქტების თანახმად ამ მუხლის მე-3 პუნქტით დადგენილ მოთხოვნათა გათვალისწინებით გასწრება აკრძალულია წრიულმოძრაობიანი გზაჯვარედინისაგან განსხვავებულ გზაჯვარედინზე ან უშუალოდ ამ გზაჯვარედინის წინ, გარდა: ა.ა) ამ კანონით გათვალისწინებული მარჯვნიდან ნებადართული გასწრების შემთხვევისა; ა.ბ) იმ შემთხვევისა, როდესაც გასწრება ხორციელდება გზაზე, რომელზე მოძრაობის დროსაც მძღოლს ენიჭება გზაჯვარედინზე უპირატესი მოძრაობის უფლება.





Кæцы аутомобилы скъæрæгæн бар лæвæрд нæ цæуы фатæджы (стрелкæйы) æрдæмадмæ змæлын, кæд æмæ лæвæрд фæндаджы астæуккаг хахх дыууæ æрдæмадмæ дæр змæлынæн пайдагонд æрцæудзæни?

1

Æрмæст уæзласæн аутомобилы скъæრæგæн

2

Æрмæст рог аутомобилы скъæრæგæн

3

Дыууæ аутомобилы скъæрæგæн

4

Нæдæр иу (никæцы) аутомобилы скъæрæგæн

### განმარტება:

„საგზაო მოძრაობის შესახებ“ საქართველოს კანონის 31-ე მუხლის მე-7 პუნქტის თანახმად, სამი მოძრაობის ზოლის მქონე (გარდა 1.9 საგზაო მონიშვნისა) ორმხრივმოძრაობიან გზაზე სატრანსპორტო საშუალების მძღოლი არ უნდა გადავიდეს სავალი ნაწილის განაპირა ზოლზე, სადაც საპირისპირო მიმართულების მოძრაობა ხორციელდება. თუ სამი მოძრაობის ზოლის მქონე გზაზე შუა ზოლი ორივე მიმართულებით მოძრაობისათვის გამოიყენება, ამ ზოლზე გასვლა ნებადართულია მხოლოდ გასწრების, დაბრკოლების შემოვლის, მარცხნივ მოხვევის ან მობრუნების მიზნით.



Фехалдзანი ავი ნაე როგ ავтомобилы скъაერაეგ фანდაегты змалды уаგაевარдтае фатаედжы (стрелкайы) аердаемадмае змалды раетаеджы?

1

Фехалдзანი

2

ნაე ფეხალდзანი

### განმარტება:

„საგზაო მოძრაობის შესახებ“ საქართველოს კანონის 25-ე მუხლის მე-2 პუნქტის „ბ“ ქვეპუნქტის თანახმად . ქვეითთა გადასასვლელზე ამ კანონის 21-ე მუხლის მე-6 პუნქტით, 33-ე მუხლის მე-2 პუნქტითა და 34-ე მუხლის მე-11 პუნქტით დადგენილ მოთხოვნათა დაცვით უნდა შესრულდეს შემდეგი მოთხოვნები: ბ) თუ სატრანსპორტო საშუალებათა მოძრაობა არ რეგულირდება არც საგზაო შექნიშნით და არც მარეგულირებლის მეშვეობით, მძღოლმა ქვეითთა გადასასვლელთან მიახლოებისას სათანადოდ უნდა შეამციროს სიჩქარე, რათა საფრთხე არ შეუქმნას ამ გადასასვლელზე შესულ ან შემავალ ქვეითებს, ხოლო საჭიროების შემთხვევაში უნდა გაჩერდეს და გაატაროს ქვეითები. ამავე კანონის 34-ე მუხლის მე-11 პუნქტის თანახმად, სატრანსპორტო საშუალებას შეუძლია იმ სატრანსპორტო საშუალებას, რომელიც უახლოვდება ქვეითთა გადასასვლელს ან რომელიც შეჩერდა უშუალოდ ამ გადასასვლელის წინ, გაუსწროს მხოლოდ საკმარისად შემცირებული სიჩქარით, რათა უზრუნველყოს დროული გაჩერება გადასასვლელზე ქვეითის აღმოჩენის შემთხვევაში. აკრძალულია ქვეითთა გადასასვლელზე გასწრება, თუ მასზე ქვეითი მოძრაობს.

Кæд æмæ фистæджытæн нæ бантыстис фæндагыл ахизын, бар ын ис æмæ æрлæууа:

1

Æрмæст æдасдзинады сакъадахыл

2

Æрмæст кæрæдзийы ныхмæ  
æрдæмадмæ змæлгæ транспортон  
къадаты хицæнгæнæн хаххыл

3

Куыд æдасдзинады сакъадахыл,  
афтæ кæрæдзийы ныхмæ  
æрдæмадмæ змæлгæ транспортон  
колонæты хицæнгæнæн хаххыл

### განმარტება:

„საგზაო მოძრაობის შესახებ“ საქართველოს კანონის 24-ე მუხლის მე-10 პუნქტის თანახმად, ქვეითი, რომელმაც ვერ მოასწრო გზაზე გადასვლა, უნდა შეჩერდეს უსაფრთხოების კუნძულზე, ურთიერთსაპირისპირო მიმართულებით მოძრავი სატრანსპორტო ნაკადების გამყოფ ზოლზე ან ხაზზე და გადასვლა უნდა გააგრძელოს მხოლოდ შემდგომი მოძრაობის უსაფრთხოებაში დარწმუნების შემდეგ, შექნიშნის ან მარეგულირებლის სიგნალების გათვალისწინებით.





Бар ის ავი ნაე როგ ავტომობილს სკაერაგენ ფატადჟი (стрелкаჟი) აერდამადმაე  
ფაერაჟი კაენინ (обгон არაჟინ)?

1


Бар ын ნაჟი

2

Бар ын ის

### განმარტება:

„საგზაო მოძრაობის შესახებ“ საქართველოს კანონის 34-ე მუხლის მე-9 პუნქტის „ა.ბ“ ქვეპუნქტის თანახმად, ამ მუხლის მე-3 პუნქტით დადგენილ მოთხოვნათა გათვალისწინებით გასწრება აკრძალულია წრიულმოძრაობიანი გზაჯვარედინისაგან განსხვავებულ გზაჯვარედინზე ან უშუალოდ ამ გზაჯვარედინის წინ, გარდა იმ შემთხვევისა, როდესაც გასწრება ხორციელდება გზაზე, რომელზე მოძრაობის დროსაც მძღოლს ენიჭება გზაჯვარედინზე უპირატესი მოძრაობის უფლება. ამავე მუხლის მე-10 პუნქტის თანახმად ამ მუხლის მე-9 პუნქტის „ა“ და „ბ“ ქვეპუნქტებით განსაზღვრული აკრძალვები არ ვრცელდება ორთვლიანი ველოსიპედის, მოპედისა და ორთვლიანი უეტლო მოტოციკლის გასწრების შემთხვევებზე.



Бар ис æви нæ рог автомобили скъæрæгæн фатæджы (стрелкæйы) æрдæмадмæ фæразæй кæнын (обгон аразын)?

1

Бар нæй


2

Бар ис

### განმარტება:

„საგზაო მოძრაობის შესახებ“ საქართველოს კანონის 34-ე მუხლის მე-9 პუნქტის „ა.ბ“ ქვეპუნქტის თანახმად, ამ მუხლის მე-3 პუნქტით დადგენილ მოთხოვნათა გათვალისწინებით გასწრება აკრძალულია წრიულმოძრაობიანი გზაჯვარედინისაგან განსხვავებულ გზაჯვარედინზე ან უშუალოდ ამ გზაჯვარედინის წინ, გარდა იმ შემთხვევისა, როდესაც გასწრება ხორციელდება გზაზე, რომელზე მოძრაობის დროსაც მძღოლს ენიჭება გზაჯვარედინზე უპირატესი მოძრაობის უფლება. ამავე მუხლის მე-10 პუნქტის თანახმად ამ მუხლის მე-9 პუნქტის „ა“ და „ბ“ ქვეპუნქტებით განსაზღვრული აკრძალვები არ ვრცელდება ორთვლიანი ველოსიპედის, მოპედისა და ორთვლიანი უეტლო მოტოციკლის გასწრების შემთხვევებზე.





Бар ис æви нæ цъæх аутомобилы скъæрæгæн комкоммæ змæлды хаххыл ахызтæй фæразæй кæныны (обгоны) маневры сыххæст кæнын?

1

Бар нæй

2

Бар ис

### განმარტება:

„საგზაო მოძრაობის შესახებ“ საქართველოს კანონის პირველი დანართის პირველი თავის (მაფრთხილებელი ნიშნები) 1.15 პუნქტის თანახმად საგზაო ნიშანი 1.15. „ციცაბო აღმართი“ – იძლევა გაფრთხილებას ციცაბოაღმართიან გზის მონაკვეთთან მიახლოების თაობაზე. ამავე კანონის 34-ე მუხლის მე-9 პუნქტის „ე“ ქვეპუნქტის თანახმად, ამ მუხლის მე-3 პუნქტით დადგენილ მოთხოვნათა გათვალისწინებით გასწრება აკრძალულია შეზღუდული ხილვადობის პირობებში საპირისპირო მოძრაობის ზოლზე გასვლით.



Фехалдჰანი ჯეი ნაქ ფანდჰგთი ჰმელდჱ უაგჰვარდტაქ ცჰაჰ როგ ავტომობილჱ სკჰერაგ ფატაედჱი (სტრელკაჱი) ჰერდჰმადმაქ ჰმელდჱ რაესტაედჱი, კაედ ჰმაქ ჰერდჱ კერონმაქ (ფაუდმაქ) დერდდჰაგ უ 80 მეტრჱ?

1

Фехалдჰანი

2

ნაქ ფეხალდჰანი

### განმარტება:

„საგზაო მოძრაობის შესახებ“ საქართველოს კანონის პირველი დანართის პირველი თავის (მაფრთხილებელი ნიშნები) 1.15 პუნქტის თანახმად საგზაო ნიშანი 1.15. „ციცაბო აღმართი“ – იძლევა გაფრთხილებას ციცაბოაღმართიან გზის მონაკვეთთან მიახლოების თაობაზე. ამავე კანონის 34-ე მუხლის მე-9 პუნქტის „ე“ ქვეპუნქტის თანახმად, ამ მუხლის მე-3 პუნქტით დადგენილ მოთხოვნათა გათვალისწინებით გასწრება აკრძალულია შეზღუდული ხილვადობის პირობებში საპირისპირო მოძრაობის ზოლზე გასვლით.



Бар ис æви нæ сырх автомобили скъæрæгæн комкоммæ змæлды хаххыл ахызтæй фæразæй кæныны (обгоны) маневры сыххæст кæнын?

1

Бар ын нæй

2

Бар ын ис

### განმარტება:

„საგზაო მოძრაობის შესახებ“ საქართველოს კანონის პირველი დანართის პირველი თავის (მაფრთხილებელი ნიშნები) 1.15 პუნქტის თანახმად საგზაო ნიშანი 1.15. „ციცაბო აღმართი“ – იძლევა გაფრთხილებას ციცაბოაღმართიან გზის მონაკვეთთან მიახლოების თაობაზე. ამავე კანონის 34-ე მუხლის მე-9 პუნქტის „ე“ ქვეპუნქტის თანახმად, ამ მუხლის მე-3 პუნქტით დადგენილ მოთხოვნათა გათვალისწინებით გასწრება აკრძალულია შეზღუდული ხილვადობის პირობებში საპირისპირო მოძრაობის ზოლზე გასვლით.





Бар ис æви нæ цъæх аутомобилы скъæрæгæн фатæджы (стрелкæйы) æрдæмадмæ фæаразæй кæнын (обгон аразын)?

1

Бар ын нæй

2

Бар ын ис

### განმარტება:

„საგზაო მოძრაობის შესახებ“ საქართველოს კანონის პირველი დანართის პირველი თავის (მაფრთხილებელი ნიშნები) 1.15 პუნქტის თანახმად საგზაო ნიშანი 1.15. „ციცაბო აღმართი“ – იძლევა გაფრთხილებას ციცაბოაღმართიან გზის მონაკვეთთან მიახლოების თაობაზე. ამავე კანონის 34-ე მუხლის მე-9 პუნქტის „ე“ ქვეპუნქტის თანახმად, ამ მუხლის მე-3 პუნქტით დადგენილ მოთხოვნათა გათვალისწინებით გასწრება აკრძალულია შეზღუდული ხილვადობის პირობებში საპირისპირო მოძრაობის ზოლზე გასვლით.



Фехалдзәни æви нæ фæндæгты змæлды уагæвæрдтæ урс аутомобилы скъæрæг фатæгæй амынд маневры сыххæст кæнæны цауы, кæд æмæ галиу фарсырдыгæй фистæг хъуамæ ахиза?

1

Фехалдзәни

2

Нæ фехалдзәни

### განმარტება:

„საგზაო მოძრაობის შესახებ“ საქართველოს კანონის 34-ე მუხლის მე-11 პუნქტის თანახმად, სატრანსპორტო საშუალებას შეუძლია იმ სატრანსპორტო საშუალებას, რომელიც უახლოვდება ქვეითთა გადასასვლელს ან რომელიც შეჩერდა უშუალოდ ამ გადასასვლელის წინ, გაუსწროს მხოლოდ საკმარისად შემცირებული სიჩქარით, რათა უზრუნველყოს დროული გაჩერება გადასასვლელზე ქვეითის აღმოჩენის შემთხვევაში. აკრძალულია ქვეითთა გადასასვლელზე გასწრება, თუ მასზე ქვეითი მოძრაობს.



ლავადრდ სიტუაციის, ბარ ის ჯევი ნაე როგ ავტომობილს სკჯერაგ ფერაზაეი უა?

1

ბარ ын ნაეი

2

ბარ ын ის

### განმარტება:

„საგზაო მოძრაობის შესახებ“ საქართველოს კანონის 34-ე მუხლის მე-11 პუნქტის თანახმად, სატრანსპორტო საშუალებას შეუძლია იმ სატრანსპორტო საშუალებას, რომელიც უახლოვდება ქვეითთა გადასასვლელს ან რომელიც შეჩერდა უშუალოდ ამ გადასასვლელის წინ, გაუსწროს მხოლოდ საკმარისად შემცირებული სიჩქარით, რათა უზრუნველყოს დროული გაჩერება გადასასვლელზე ქვეითის აღმოჩენის შემთხვევაში. აკრძალულია ქვეითთა გადასასვლელზე გასწრება, თუ მასზე ქვეითი მოძრაობს.



დელდერ რანყმად, კეცყ Ⴡუუაღყ ნე უავყნადყ ჰყუამე ბაზონა სკყერეგ ფერაზაყ კენყნყ (ობგონ არაზყნყ) რადყდყ რაზმე?

**1** Ⴡერმესტ, უყყ ცემაყ ჶე ფესტე ცეუაგ იუ ტრანსპორტონ ფერაზყ სკყერეგ დერ ნე ჰავყ ფერაზაყ კენყნმე

**2** Ⴡერმესტ, უყყ ცემაყ ჰმელდყ უყცყ ჰაჰყყლ ჶე რაზმე ჰმელგე ტრანსპორტონ ფერაზყ სკყერეგ ნე რატა სიგნალ, ცემაყ კეყ ჰავყ Ⴡენდერ ტრანსპორტონ ფერაზყ რაზაყ აჰყზყნმე

**3** Ⴡერმესტ, უყყ ცემაყ ჰმელენ ჰაჰყ, კეცყყყლ ჰავყ აჰყზყნ, ფაგ დერდდჰეგყლ სერიბარ უ, აიმე დყუუე ტრანსპორტონ ფერაზყ ტაგყდადყ Ⴡმჰყუყზონდჰინად ჰერჰ ცყბყრ რესტეგ დეტყ ფერაზაყ კენყნენ (ობგონ სარაზყნენ)

**4** აცყ ბილეთყ რანყმად ალკეცყ უავერყ

### განმარტება:

„საგზაო მოძრაობის შესახებ“ საქართველოს კანონის 34-ე მუხლის მე-3 პუნქტის „ა“, „ბ“ და „გ“ ქვეპუნქტების თანახმად, გასწრების დაწყებამდე მძღოლი, ისე, რომ არ დაარღვიოს ამ კანონის მე-20 მუხლის მე-2 პუნქტითა და 32-ე მუხლით დადგენილი მოთხოვნები, უნდა დარწმუნდეს, რომ: ა) მის უკან მომავალი არცერთი სატრანსპორტო საშუალების მძღოლს გასწრება არ დაუწყია; ბ) მოძრაობის იმავე ზოლზე მის წინ მიმავალი სატრანსპორტო საშუალების მძღოლს არ მიუცია სიგნალი, რომ აპირებს, გაუსწროს სხვა სატრანსპორტო საშუალებას. აკრძალულია იმ სატრანსპორტო საშუალების გასწრება, რომელიც ახორციელებს გასწრე-ბას ან დაბრკოლების შემოვლას; გ) მას შეუძლია გასწრება ისე განახორციელოს, რომ არ შეუქმნას საფრთხე ან დაბრკოლება სხვა საგზაო მოძრაობის მონაწილეებს. იგი აგრეთვე უნდა დარწმუნდეს, რომ მოძრაობის ზოლი, რომელზედაც აპირებს გასვლას, საკმარის მანძილზე თავისუფალია და ორი სატრანსპორტო საშუალების სიჩქარეთა ფარდობა საკმარისად მოკლე დროში გასწრების საშუალებას იძლევა.

Барлаэвæрд ис æви нæ транспортон фæрæзы разæй фæуын галиу æрдыгæй?

1

Нæй барлаэвæрд

2

Барлаэвæрд ис уыцы цауы, кæд скъæрæг, кæцыйы æййафынц ратта сигнал галиумæ разилæны нысаны тыххæй æмæ скъæры йæ транспортон фæрæзы уый тыххæй, цæмæй фæзила æндæр фæндагыл, кæнæ бахиза фæндаджы æввахс территорийыл, кæнæ æрлæууа ацы фарс

### განმარტება:

„საგზაო მოძრაობის შესახებ“ საქართველოს კანონის 34-ე მუხლის პირველი პუნქტის თანახმად, გასწრება უნდა განხორციელდეს მარცხენა მხრიდან. მარჯვენა მხრიდან გასწრება ნებადართულია იმ შემთხვევაში, თუ მძღოლმა, რომელსაც უსწრებენ, მისცა სიგნალი, რომ მარცხნივ მოხვევას აპირებს, და თავისი სატრანსპორტო საშუალება ისე მიმართა, რომ შეუხვიოს სხვა გზაზე ან შევიდეს გზის მიმდებარე ტერიტორიაზე ან გაჩერდეს ამ მხარეს.



Гәәнән ис æви нæ уыцы транспортон фæрæзы разæй фæуын, кæцы æрбаввахс кæны цæуæн хайыл фæнысангонд фистæгон ахизæнмæ, кæнæ кæцы фæурæдта тæккæ ацы ахизæны раз?

1

Гәәнән ис, кæд æмæ фистæгон ахизæныл не змæлы фистæг, аимæ æрмæст фаг фæкъаддæр тагъдадæй, цæмæй ифтонг æрцæуа рæстæгыл æрурæд ахизæныл фистæджыты уæвды рæстæджы

2

Фистæгон ахизæныл, афтæ ма йæ размæ иуыл къаддæр 100 метры дæрддзæгыл фæразæй кæнын (обгон саразын) нæй гәәнән

3

Гәәнән ис æрмæст æдзæрæг пункты, уыцы фæндагыл цыран барлæвæрдон максималон тагъдадады арæн 60 км/сах-æй фылдæр у

### პანმარტიპა:

„საგზაო მოძრაობის შესახებ“ საქართველოს კანონის 34-ე მუხლის მე-11 პუნქტის თანახმად, სატრანსპორტო საშუალებას შეუძლია იმ სატრანსპორტო საშუალებას, რომელიც უახლოვდება ქვეითთა გადასასვლელს ან რომელიც შეჩერდა უშუალოდ ამ გადასასვლელის წინ, გაუსწროს მხოლოდ საკმარისად შემცირებული სიჩქარით, რათა უზრუნველყოს დროული გაჩერება გადასასვლელზე ქვეითის აღმოჩენის შემთხვევაში. აკრძალულია ქვეითთა გადასასვლელზე გასწრება, თუ მასზე ქვეითი მოძრაობს.



Бар ис æви нæ рог аутомобилы скъæрæгæн фатæджы (стрелкæйы) æрдæмадмæ разæй фæуын (обгон саразын)?

1


Нæй ын бар

2

Ис ын бар

### განმარტება:

„საგზაო მოძრაობის შესახებ“ საქართველოს 34-ე მუხლის მე-9 პუნქტის „დ“ ქვეპუნქტის თანახმად, ამ მუხლის მე-3 პუნქტით დადგენილ მოთხოვნათა გათვალისწინებით გასწრება აკრძალულია გასწრების ამკრძალავი ნიშნით ან მონიშვნით განსაზღვრულ ადგილზე. ამავე კანონის პირველი დანართის 3.20 პუნქტის თანახმად, საგზაო ნიშანი 3.20 „გასწრება აკრძალულია“ - კრძალავს ყველა სახის მექანიკური სატრანსპორტო საშუალების გასწრებას (გარდა 30 კმ/სთ-ზე ნაკლები სიჩქარით მოძრავი ტრანსპორტისა). ნებადართულია გასწრება უეტლო მოტოციკლის, მოპედისა და ველოსიპედის შემხვედრი მოძრაობის ზოლში გადაუსვლელად.



Фехалдзәни æви нæ рог автомобили скъæрæг фæндæгты змæлды уагæвæрдтæ фатæджы (стрелкæйы) æрдæмадмæ змæлды цауы?

1

Фехалдзәни


2

Нæ фехалдзәни

### განმარტება:

„საგზაო მოძრაობის შესახებ“ საქართველოს კანონის 34-ე მუხლის მე-18 პუნქტის თანახმად, გზაზე ჩართული ლურჯი მოელვარე სპეციალური ციმციმა სიგნალით გაჩერებული ოპერატიული ან ჩართული ნარინჯისფერი ან ყვითელი მოელვარე სპეციალური ციმციმა სიგნალით გაჩერებული სპეციალური ან საგზაო-საექსპლუატაციო სამსახურის სატრანსპორტო საშუალების, წელა მოძრავი ტექნიკური სამსახურის სატრანსპორტო საშუალების ან კომუნალური სამსახურის საგზაო საშუალების შემსრულებლის გასწრება, შემოვლა ან მისთვის გვერდის აქცევა, სავალ ნაწილზე მისი განლაგების, სიტუაციისა და საფრთხის გათვალისწინებით, ნებადართულია როგორც მარჯვნიდან, ისე მარცხნიდან, მიუხედავად აღნიშნულ გზის მონაკვეთზე არსებული საგზაო ნიშნებისა და ჰორიზონტალური საგზაო მონიშვნის მოთხოვნებისა. ამავე კანონის პირველი დანართის მე-4 თავის (მიმთითებელი ნიშნები) 4.2.2 პუნქტის თანახმად, საგზაო ნიშანი 4.2.2 „დაბრკოლების შემოვლა მარცხნიდან“ - მიუთითებს გამყოფი ზოლის, უსაფრთხოების კუნძულის ან რაიმე დაბრკოლების მხოლოდ მარცხნიდან შემოვლის მიმართულებას. ამავე კანონის მე-2 დანართის პირველი აბზაცის თანახმად, საგზაო მონიშვნა ადგენს მოძრაობის გარკვეულ რეჟიმებსა და წესრიგს, არის მძღოლის ვიზუალური ორიენტაციის საშუალება და შეიძლება გამოყენებულ იქნეს როგორც დამოუკიდებლად, ისე საგზაო მოძრაობის ორგანიზების სხვა ტექნიკურ საშუალებებთან ერთად. თუ გადასატან სადგარზე გამოსახული დროებითი საგზაო ნიშნებისა და მონიშვნის ხაზების მნიშვნელობა ურთიერთსაპირისპიროა, მძღოლი ხელმძღვანელობს საგზაო ნიშნებით.





Халы æви нæ цъæх рог автомобили скъæрæг фæразæй кæныны (обгон аразыны) уагæвæрдтæ, кæд æмæ сырх рог автомобили скъæрæг хъуамæ фæразæй уа?

1

Халы

2

Нæ халы

### განმარტება:

„საგზაო მოძრაობის შესახებ“ საქართველოს კანონის 34-ე მუხლის მე-3 პუნქტის „ბ“ ქვეპუნქტის თანახმად, გასწრების დაწყებამდე მძღოლი, ისე, რომ არ დაარღვიოს ამ კანონის მე-20 მუხლის მე-2 პუნქტითა და 32-ე მუხლით დადგენილი მოთხოვნები, უნდა დარწმუნდეს, რომ მოძრაობის იმავე ზოლზე მის წინ მიმავალი სატრანსპორტო საშუალების მძღოლს არ მიუცია სიგნალი, რომ აპირებს, გაუსწროს სხვა სატრანსპორტო საშუალებას. აკრძალულია იმ სატრანსპორტო საშუალების გასწრება, რომელიც ახორციელებს გასწრე-ბას ან დაბრკოლების შემოვლას. ამავე მუხლის მე-9 პუნქტის „გ“ ქვეპუნქტის თანახმად, ამ მუხლის მე-3 პუნქტით დადგენილ მოთხოვნათა გათვალისწინებით გასწრება აკრძალულია იმ სატრანსპორტო საშუალებისა, რომელიც ახორციელებს გასწრე-ბას ან შემოვლას.



Бар ис æви нæ рог автомобили скъæрæгæн фатæджы (стрелкæйы) æрдæмадмæ разæй кæнын (обгон аразын), кæд æмæ лæвæрд фæндаджы фадыгыл æвзарынад (уынынад) арæнгонд у?

1

Нæй ын бар

2

Ис ын бар

### განმარტება:

„საგზაო მოძრაობის შესახებ“ საქართველოს კანონის 34-ე მუხლის მე-9 პუნქტის „ე“ ქვეპუნქტის თანახმად, ამ მუხლის მე-3 პუნქტით დადგენილ მოთხოვნათა გათვალისწინებით გასწრება აკრძალულია შემზღუდული ხილვადობის პირობებში საპირისპირო მოძრაობის ზოლზე გასვლით. ამავე კანონის მე-2 დანართის პირველი თავის (ჰორიზონტალური მონიშვნა) 1.1 პუნქტის თანახმად, ჰორიზონტალური მონიშვნა 1.1 ყოფს საპირისპირო მიმართულებით მოძრავ სატრანსპორტო ნაკადებს და გზის სახიფათო მონაკვეთზე აღნიშნავს მოძრაობის ზოლის საზღვარს ან სავალი ნაწილის საზღვარს, რომელზე შესვლაც აკრძალულია; აღნიშნავს სატრანსპორტო საშუალების დგომის ადგილის საზღვარს და იმ გზის სავალი ნაწილის ნაპირს, რომელიც მოძრაობის პირობებით არ განეკუთვნება ავტომაგისტრალს. 1.1 ხაზის გადაკვეთა აკრძალულია. დასაშვებია სავალი ნაწილის ნაპირის აღმნიშვნელი და მძღოლის მარჯვენა მხარეს განლაგებული 1.1 ხაზის გადაკვეთა სატრანსპორტო საშუალების გზის ნაპირზე გასაჩერებლად.





Бар ис æви нæ рог автомобили скъæрæгæн фатæджы (стрелкæйы) æрдæмадмæ разæй кæнын (обгон аразын), кæд æмæ лæвæрд фæндаджы фадыгыл æвзарынад (уынынад) арæнгонд у?

1


Нæй ын бар

2

Ис ын бар

### განმარტება:

„საგზაო მოძრაობის შესახებ“ საქართველოს კანონის 34-ე მუხლის მე-9 პუნქტის „ე“ ქვეპუნქტის თანახმად, ამ მუხლის მე-3 პუნქტით დადგენილ მოთხოვნათა გათვალისწინებით გასწრება აკრძალულია შეზღუდული ხილვადობის პირობებში საპირისპირო მოძრაობის ზოლზე გასვლით. ამავე კანონის პირველი დანართის 1.12.1 პუნქტის თანახმად საგზაო ნიშანი 1.12.1, „სახიფათო მოსახვევი“ აღნიშნავს მცირე რადიუსიანი ან შეზღუდული ხილვადობის მქონე გზის სახიფათო მოსახვევს - მარჯვნივ. ამავე კანონის მე-2 დანართის პირველი თავის (ჰორიზონტალური მონიშვნა) 1.5 პუნქტის თანახმად, ჰორიზონტალური მონიშვნა 1.5. ყოფს საპირისპირო მიმართულებით მოძრავ სატრანსპორტო ნაკადებს გზაზე, რომელსაც მოძრაობის ორი ან სამი ზოლი აქვს; აღნიშნავს მოძრაობის ზოლის საზღვარს ერთი მიმართულებით მოძრაობისათვის განკუთვნილი ორი ან ორზე მეტი ზოლის არსებობისას. 1.5 ხაზის გადაკვეთა ნებადართულია ნებისმიერი მხრიდან.



ლავერდ სიტუაციის, კაცი ტრანსპორტონ ფერაჟი სქერაგენ ბარ ნაი ფატადჯი (სტრელკაი) ჰერდამადმა ზმელის, კედ ჯამე ბუქსირგენაგ მობიკლი ჰუამაე ბარერი იუვარსტი ახიზა?

1

ბუქსირგენაგ ჯამე ბუქსირგენაგ მობიკლი სქერდჯიტაენ

2

როგ ავტომობილი სქერაგენ

3

კუიდ ბუქსირგენაგ ჯამე ბუქსირგენაგ მობიკლი სქერდჯიტაენ, აფტაე როგ ავტომობილი სქერაგენ

### განმარტება:

„საგზაო მოძრაობის შესახებ“ საქართველოს კანონის 34-ე მუხლის მე-3 პუნქტის „ბ“ ქვეპუნქტის თანახმად, გასწრების დაწყებამდე მძღოლი, ისე, რომ არ დაარღვიოს ამ კანონის მე-20 მუხლის მე-2 პუნქტითა და 32-ე მუხლით დადგენილი მოთხოვნები, უნდა დარწმუნდეს, რომ მოძრაობის იმავე ზოლზე მის წინ მიმავალი სატრანსპორტო საშუალების მძღოლს არ მიუცია სიგნალი, რომ აპირებს, გაუსწროს სხვა სატრანსპორტო საშუალებას. აკრძალულია იმ სატრანსპორტო საშუალების გასწრება, რომელიც ახორციელებს გასწრებას ან დაბრკოლების შემოვლას. ამავე მუხლის მე-9 პუნქტის „გ“ ქვეპუნქტის თანახმად, ამ მუხლის მე-3 პუნქტით დადგენილ მოთხოვნათა გათვალისწინებით გასწრება აკრძალულია იმ სატრანსპორტო საშუალებისა, რომელიც ახორციელებს გასწრებას ან შემოვლას. ამავე კანონის 45-ე მუხლის მე-6 პუნქტის „დ“ ქვეპუნქტის თანახმად აკრძალულია ბუქსირება მობიკლით, გვერდითი მისაბმელის გარეშე, აგრეთვე ასეთი მობიკლის ბუქსირება.

Фænдагыл змæлгæйæ скъæрæг хъуамæ йæ хъус æрдара, цæмæй разæй кæнгæйæ (обгон аразгæйæ) алкæмæй арæхдæр аварион ситуаци кæй арæзт цæуы:

1

Æрмæст дистанцийы æнæхъахъхæдмæ гæсгæ

2

Æрмæст комкоммæ æрдæмадмæ змæлгæ транспортон фæрæзтырдæм æнæ фаг хъусдардмæ гæсгæйæ

3

Куыд дистанцийы æнæхъахъхæдмæ гæсгæ, афтæ комкоммæ æрдæмадмæ змæлгæ транспортон фæрæзтырдæм æнæ фаг хъусдардмæ гæсгæйæ

### განმარტება:

„საგზაო მოძრაობის შესახებ“ საქართველოს კანონის 25-ე მუხლის მე-10 პუნქტის „მ“ ქვეპუნქტის თანახმად, გზაზე მოძრაობისას მძღოლმა უნდა გაითვალისწინოს შემდეგი გარემოებები: მ) გასწრებისას ყველაზე უფრო ხშირად ავარიული სიტუაცია იქმნება დისტანციის დაუცველობის მიზეზით და საპირისპირო მიმართულებით მოძრავი სატრანსპორტო საშუალებების მიმართ არასაკმარისი ყურადღების გამოჩენის გამო.



Фænдагыл, кæцыйыл иумæ æрдæмадмæ змæлынæн иууыл цъусдæр ис дыууæ хаххы, ис ын æви нæ бар скъæრæгæн баззайа фыццаг фæразæйы рæстæджы ахст змæлды хаххыл, кæд раздæры æрцахст хаххмæ фæстæмæ æрбаздæхгæйæ кæнæ тагъд рæстæджы хъуамæ ногæй фæразæй уа?

1

Нæй ын бар

2

Ис ын бар, кæд рагацау базондзæн, цæмæй амæй не скæндзæни къуылымпыдзинад йæ фæстæ фылдæр тагъдадæй змæлгæ транспортон фæрæзы скъæრæгæн

### განმარტება:

„საგზაო მოძრაობის შესახებ“ საქართველოს კანონის 34-ე მუხლის მე-6 პუნქტის თანახმად, თუ გზაზე, რომელზედაც თანმხვედრი მიმართულებით მოძრაობისთვის სულ მცირე ორი ზოლია, სატრანსპორტო საშუალების მძღოლს, რომელსაც გასწრების დამთავრების შემდეგ ამ კანონის მე-31 მუხლის მე-10-მე-12 პუნქტებით დადგენილ მოთხოვნათა შესასრულებლად ადრე დაკავებულ მოძრაობის ზოლზე დაბრუნების თანავე ან დაბრუნებიდან მოკლე დროში მოუწევს ახალი გასწრების დაწყება, ამ მანევრის შესასრულებლად შეუძლია დარჩეს პირველი გასწრების დროს დაკავებულ მოძრაობის ზოლზე, თუ წინასწარ დარწმუნდება, რომ ეს არ შეუქმნის დაბრკოლებას მის უკან მეტი სიჩქარით მოძრავი სატრანსპორტო საშუალების მძღოლს.

Фænдаგæй гæлиуæрдывгæй рацæуæны цауæй дарддæр, скъæрæг, кæцыйы фидарæй уырны, цæмæй уый фæстæ цæуæг скъæრæг хъавы фæразæй кæнынмæ хæсджын у гæнæнмæ гæсгæ:

1

Æрмæст хъуамæ æрбаввахс уа фæндаджы цæуæн хайы рахиз былмæ

2

Æрмæст ма хъуамæ фæфылдæр кæна тагъдад

3

Куыд хъуамæ æрбаввахс уа фæндаджы цæуæн хайы рахиз былмæ, афтæ ма хъуамæ фæфылдæр кæна тагъдад

### ბანმარტეზა:

„საგზაო მოძრაობის შესახებ“ საქართველოს კანონის 34-ე მუხლის მე-12 პუნქტის თანახმად, მძღოლი, რომელიც დარწმუნდება, რომ მის უკან მომავალი მძღოლი აპირებს გასწრებას, გარდა ამ კანონის 32-ე მუხლის მე-7 პუნქტის „ბ“ ქვეპუნქტში გათვალისწინებული შემთხვევისა, შეძლებისდაგვარად უნდა მიუახლოვდეს გზის სავალი ნაწილის მარჯვენა კიდეს და არ გაზარდოს სიჩქარე. ხოლო ამავე კანონის 32-ე მუხლის მე-7 პუნქტის „ბ“ ქვეპუნქტის თანახმად, სხვა გზაზე გასასვლელად ან გზის მიმდებარე ტერიტორიაზე შესასვლელად მარჯვნივ ან მარცხნივ მოხვევის წინ, ისე, რომ არ დაარღვიოს ამ კანონის მე-20 მუხლის მე-2 პუნქტითა და ამ მუხლის პირველი და მე-2 პუნქტებით დადგენილი მოთხოვნები, თუ სატრანსპორტო საშუალების მძღოლი აპირებს გზიდან გასვლას მარცხენა მხრიდან, სატრანსპორტო საშუალება, რამდენადაც ეს შესაძლებელია, უნდა მიუახლოვდეს გზის სავალი ნაწილის ღერძს (ორმხრივმოძრაობიან გზაზე) ან სავალი ნაწილის მარცხენა კიდე (ცალმხრივმოძრაობიან გზაზე).





ლავაერდ სიტუაციი, ბარ ის ჟვი ნა როგ ავტომობილს სკაერაგენ ფატაეჯი (стрелкаჟი) ჟრდამაეძმა ფაერაჟი კაენი (обгон არაჟი)?

1


ნაჟი ын ბარ

2

ის ын ბარ

### ბანმარტიბა:

„საგზაო მოძრაობის შესახებ“ საქართველოს კანონის 34-ე მე-9 პუნქტის „ბ“ ქვეპუნქტის თანახმად, ამ მუხლის მე-3 პუნქტით დადგენილი მოთხოვნების გათვალისწინებით, გასწრება აკრძალულია რკინიგზის გადასასვლელზე და მის წინ 100 მეტრზე ახლოს, გარდა იმ შემთხვევებისა, როცა ამ ადგილებში მოძრაობა რეგულირდება ისეთი ტიპის შექნიშნით რომელიც გზაჯვარედინებზე გამოიყენება.



ლავერდ სიტუაციის, ბარ ის ჯევი ნაე როგ ავტომობილს სკაერაგენ ფატადჯი (стрелкай) ჯერდამადმაე ფაერაჟეი კაენინ (обгон аразын)?

1

ნაეი ын ბარ

2

ის ын ბარ

### განმარტება:

„საგზაო მოძრაობის შესახებ“ საქართველოს კანონის 34-ე მე-9 პუნქტის „ბ“ ქვეპუნქტის თანახმად, ამ მუხლის მე-3 პუნქტით დადგენილი მოთხოვნების გათვალისწინებით, გასწრება აკრძალულია რკინიგზის გადასასვლელზე და მის წინ 100 მეტრზე ახლოს, გარდა იმ შემთხვევებისა, როცა ამ ადგილებში მოძრაობა რეგულირდება ისეთი ტიპის შუქნიშნით რომელიც გზაჯვარედინებზე გამოიყენება. ამავე კანონის პირველი დანართის პირველი თავის (მაფრთხილებელი ნიშნები) 1.2 და 1.4.6-1.4.6 პუნქტების თანახმად საგზაო ნიშანი: 1.2 „რკინიგზის უშლაგაუმო გადასასვლელი“ - აფრთხილებს უშლაგაუმო რკინიგზის გადასასვლელთან მიახლოების შესახებ; 1.4.1 „რკინიგზის გადასასვლელთან მიახლოება“ - დამატებით აფრთხილებს მძღოლს დაუსახლებელ პუნქტში რკინიგზის გადასასვლელთან მიახლოების შესახებ. ამავე თავის შენიშვნის „ა“ და „ვ“ ქვეპუნქტების თანახმად: ა) ნიშნები 1.1, 1.2, 1.5–1.34 სახიფათო მონაკვეთის დასაწყისამდე იდგმება დაუსახლებელ პუნქტში 150-300 მეტრის მანძილზე. ვ) ნიშნები 1.4.1 და 1.4.4 იდგმება მოძრაობის მიმართულებით ძირითად და დუბლირებულ 1.1 ან 1.2 ნიშნებთან ერთად.

## ВОПРОС 452

ПРАВИЛЬНЫЙ ОТВЕТ: 1

Бар ын ис æви нæ фæразæй кæныны (обгоны) рæстæджы транспортон фæрæзы скъæрæджы бахъыгдара змæлды тагъдад фæфылдæрæй кæнæ æндæр архайдæй?

1


Бар ын нæй

2

Бар ын ис

## განმარტება:

„საგზაო მოძრაობის შესახებ“ საქართველოს კანონის 34-ე მუხლის მე-16 პუნქტის თანახმად, გასასწრები სატრანსპორტო საშუალების მძღოლს ევრძა-ლება ხელი შეუშალოს გასწრებას მოძრაობის სიჩქარის მომატებით ან სხვა მოქმედებით.



Ис ын æви нæ бар рог автомобили скъæрæгæн адаргъ кæнын змæлды фатæджы (стрелкæйы) æрдæмадмæ, кæд æмæ тьунел нысангонд у аккаг фæндагон нысанæй?

1

Ис ын бар, кæд æмæ тьунел  
цæрæгджын пункты ис

2

Ис ын бар, кæд æмæ тьунел  
æдзæрæг пункты ис

3

Нæй ын бар

### განმარტება:

„საგზაო მოძრაობის შესახებ“ საქართველოს კანონის 42-ე მუხლის „ა“ პუნქტის თანახმად, საგზაო ნიშნით აღნიშნულ გვირაბებში მოქმედებს შემდეგი წესი -მძღოლს ეკრძალება უკუსვლით მოძრაობა ან მობრუნება.





Кæцы транспортон фæрæзы скъæრæг фехалдзæнис фæндæгты змæлды уагæвæрдтæ фатæджы (стрелкæйы) æрдæмадмæ змæлыны цауы?

1

Æрмæст рог автомобили скъæრæг

2

Æрмæст мотоциклты скъæрджытæ

3

Нæдæр иу (никæцы) транспортон фæрæзы скъæრæг

### განმარტება:

„საგზაო მოძრაობის შესახებ“ საქართველოს კანონის 31-ე მუხლის მე-14 პუნქტის თანახმად, დასაშვებია მოძრაობის ზოლზე მოპედების ან/და უეტლო მოტოციკლების თანმხვედრი მიმართულებით ორ რიგად მოძრაობა. ამავე კანონის მე-2 დანართის პირველი თავის (ჰორიზონტალური მონიშვნა) 1.5 პუნქტის თანახმად საგზაო მონიშვნა 1.5. ყოფს საპირისპირო მიმართულებით მოძრაე სატრანსპორტო ნაკადებს გზაზე, რომელსაც მოძრაობის ორი ან სამი ზოლი აქვს; აღნიშნავს მოძრაობის ზოლების საზღვრებს ერთი მიმართულებით მოძრაობისათვის განკუთვნილი ორი და მეტი ზოლის არსებობისას. 1.5 ხაზის გადაკვეთა ნებადართულია ნებისმიერი მხრიდან.



## ВОПРОС 455

ПРАВИЛЬНЫЙ ОТВЕТ: 1

“Разაჲ კაენჲ (ობგონ)” ნჲსან კაენჲ:

- 1 ახსტ ჰაჰჰაჲ რაჰიზგა, უჲცი ჰაჰჰმაჲ იუმაჲჲ აერდამადმაჲ, რაზაჲ ჰმალგა იუ კაენაჲ ცალდერ ტრანსპორტონ ფერაჲჲ რაზაჲ ფაჲუჲ (ობგონ სარაჲჲ)
- 2 იუმაჲჲ აერდამადმაჲ ჰმალჲჲ ჰაჰჰჲჲ ტრანსპორტონ ფერაჲჲ ბირაჲ ტაგჲდდერ ჰმალჲ, ცაჲუაენ ჰაჲჲ ზჲლმაჲ აჲვჲაჰს ჰაჰჰჲჲ ჰმალაგ ტრანსპორტონ ფერაჲჲ
- 3 სჲჰაგ ჰმალაენ ჰაჰჰჲ კომკომმაჲ აერდამადმაჲ ჰმალგა იუ კაენაჲ ცალდერ ტრანსპორტონ ფერაჲჲ ივარსტჲ აჰიჲჲ

## განმარტება:

„საგზაო მოძრაობის შესახებ“ საქართველოს კანონის 5-ე მუხლის მე-10 პუნქტის თანახმად, გასწრება - დაკავებული ზოლიდან გამოსვლით იმავე ზოლში თანხვედნილი მიმართულებით წინ მოძრაჲ ერთი ან რამდენიმე სატრანსპორტო საშუალების გადასწრება.

## ВОПРОС 456

ПРАВИЛЬНЫЙ ОТВЕТ: 2

ფაენდაგტჲ ჰმალდჲ რაესტადჲჲ ჰალონ ამაჲ რუჰსჲ სიგნალტჲ რატტჲ, ფაენდაგტჲ ჰმალდჲ აენდერ ჰაჲადისდჲჲჲ აერდამ, სკჲარაგ:

- 1 დეტტჲ ჲჲნ უაღბარდჲინად
- 2 ნა ჲჲნ დეტტჲ უაღბარდჲინად
- 3 ნა დეტტჲ უაღბარდჲინად, აერმაესტ ოპერატივონ კუჲსტჲ ტრანსპორტონ ფერაჲჲჲ ‘რდამ
- 4 დეტტჲ უაღბარდჲინად ფაენდაგტჲ ჰმალდჲ უჲცი კონკრეტონ ჰაჲადისაგჲმაჲ აბარგაჲჲ, კაჲ აერდამ უჲდ პაჲდაგონდ ნჲსანგონდ ჰალონ ამაჲ რუჰსჲ სიგნალტაჲ

## განმარტება:

„საგზაო მოძრაობის შესახებ“ საქართველოს კანონის 48-ე მუხლის მე-4 პუნქტის თანახმად, ჰმოჲანი და მანათობელი სიგნალების მიცემა მძღოლს არ ანიტებს უპირატესობას სხჲა საგზაო მოძრაობის მონაწილეების მიმართ.

Кæд æмæ фæразæй кæныны (обгоны) рæстæджы фæзынд къуылымпыдзинад (барьер) кæнæ тас, кæцы фæразæйы райдыдмæ скъæრæгæн нæ уыд зындгонд, скъæрæг хæсджын у:

1

Фæфылдæр кæна тагъдад, цæмæй рæстæгыл фæуа разæй фæуыны (обгон аразын) маневр

2

Ратта зæлон сигнал æмæ адаргъ кæна разæй фæуыны маневры æххæст кæнын

3

Фæразæй кæнын (обгон аразын) æрурома

### განმარტება:

„საგზაო მოძრაობის შესახებ“ საქართველოს კანონის 34-ე მუხლის მე-17 პუნქტის თანახმად, თუ გასწრებისას აღმოჩნდა დაბრკოლება ან საფრთხე, რომლის გათვალისწინება მძღოლს არ შეეძლო გასწრების დაწყებამდე, ან თუ მან ვერ შეძლო სიტუაციის სწორი შეფასება, მძღოლი ვალდებულია შეწყვიტოს გასწრება. თუ მძღოლმა გასწრება შეწყვიტა და ადრე დაკავებულ მოძრაობის ზოლში დაბრუნებას აპირებს, მის უკან მომავალი სატრანსპორტო საშუალებების მძღოლებმა მას უნდა მისცენ ამის შესაძლებლობა.

თემა 17:

## მოდრობის სიჩქარე

---



Кæцы транспортон фæрæзы скъæრæг халы фæндæгты змæлды уагæвæрдтæ, кæд æмæ алкæцы транспортон фæрæз змæлы 100 км/сах тагъдадæй?

1

Æрмæст уæзласæн автомобили скъæრæг

2

Æрмæст цъæх автомобили скъæრæг

3

Æрмæст урс автомобили скъæრæг

4

Æрмæст уæзласæн автомобили æмæ урс микроавтобусы скъæрджытæ

### განმარტება:

„საგზაო მოძრაობის შესახებ“ საქართველოს კანონის 33-ე მუხლის მე-7 პუნქტის „ბ“, „დ“ და „ე“ ქვეპუნქტების თანახმად, გარდა ამ კანონით დადგენილი შემთხვევებისა, დაუსახლებელ პუნქტსა და დასახლებულ პუნქტში გზის იმ მონაკვეთზე, რომელზედაც შესაბამისი საგზაო ნიშნით მოძრაობა დაშვებულია 60 კმ/სთ-ზე მეტი სიჩქარით, ნებადართულია: ბ) „B“ კატეგორიის სატრანსპორტო საშუალების მოძრაობა: ბ.ა) თუ ის არ ახორციელებს მსუბუქი მისაბმელის ბუქსირებას, ავტომაგისტრალზე არაუმეტეს 110 კმ/სთ სიჩქარით, ხოლო სხვა გზაზე – არაუმეტეს 90 კმ/სთ სიჩქარით; დ) „C“ და „CE“ კატეგორიების, აგრეთვე „C1“ და „C1E“ ქვეკატეგორიების სატრანსპორტო საშუალებების მოძრაობა: დ.ა) ავტომაგისტრალზე არაუმეტეს 80 კმ/სთ სიჩქარით, ხოლო სხვა გზაზე – არაუმეტეს 70 კმ/სთ სიჩქარით; ე) „D1“ და „D1E“ ქვეკატეგორიების სატრანსპორტო საშუალებების მოძრაობა ყველა გზაზე არაუმეტეს 80 კმ/სთ სიჩქარით.



Автомагистралы „D1E“ дѣлкатегорийы автомобили скъѣრѣгѣн, бар ис змѣла иуыл фылдѣр:

1

60 კმ/საქ თაგდადჲეი

2

70 კმ/საქ თაგდადჲეი

3

80 კმ/საქ თაგდადჲეი

4

90 კმ/საქ თაგდადჲეი

### განმარტება:

„საგზაო მოძრაობის შესახებ“ საქართველოს კანონის 33-ე მუხლის მე-7 პუნქტის „ე“ ქვეპუნქტის თანახმად, გარდა ამ კანონით დადგენილი შემთხვევებისა, დაუსახლებელ პუნქტსა და დასახლებულ პუნქტში გზის იმ მონაკვეთზე, რომელზედაც შესაბამისი საგზაო ნიშნით მოძრაობა დაშვებულია 60 კმ/სთ-ზე მეტი სიჩქარით, ნებადართულია: „D1“ და „D1E“ ქვეკატეგორიების სატრანსპორტო საშუალებების მოძრაობა ყველა გზაზე არაუმეტეს 80 კმ/სთ სიჩქარით.





Цы максималон тагъдадæй змæлыны бар ис „C1“ категорийы автомобили скъæрæгæн бур автомобили буксиры рæстæджы æдзæрæгджын пункты?

1

50 км/сах тагъдадæй

2

60 км/сах тагъдадæй

3

70 км/сах тагъдадæй

4

90 км/сах тагъдадæй

### განმარტება:

„საგზაო მოძრაობის შესახებ“ საქართველოს კანონის 33-ე მუხლის მე-8 პუნქტის „დ“ ქვეპუნქტის თანახმად, თუ ამ კანონით სხვა რამ არ არის დადგენილი, დასახლებულ ან დაუსახლებელ პუნქტში ნებადართულია იმ მექანიკური სატრანსპორტო საშუალების მოძრაობა, რომელიც ახორციელებს სხვა მექანიკური სატრანსპორტო საშუალების ბუქსირებას, არაუმეტეს 50 კმ/სთ სიჩქარით.



Цы максималон тагъдадæй змæлыны бар ис „D1“ дæлкатегорийы автомобили скъæრæгæн фæндаджы ацы фадыгыл?

1

60 км/сах тагъдадæй

2

80 км/сах тагъдадæй

3

90 км/сах тагъдадæй

4

110 км/сах тагъдадæй

### განმარტება:

„საგზაო მოძრაობის შესახებ“ საქართველოს კანონის 33-ე მუხლის მე-7 პუნქტის „ე“ ქვეპუნქტის თანახმად, გარდა ამ კანონით დადგენილი შემთხვევებისა, დაუსახლებელ პუნქტსა და დასახლებულ პუნქტში გზის იმ მონაკვეთზე, რომელზედაც შესაბამისი საგზაო ნიშნით მოძრაობა დაშვებულია 60 კმ/სთ-ზე მეტი სიჩქარით, ნებადართულია „D1“ და „D1E“ ქვეკატეგორიების სატრანსპორტო საშუალებების მოძრაობა ყველა გზაზე არაუმეტეს 80 კმ/სთ სიჩქარით.





Цы максималон тагъдадæй змæлыны адарддæры бар ис „В“ категорийы буксиргæнæг автомобили скъæრæгæн цæрæгджын пункты, фæндаджы ацы фадыгыл?

1

50 კმ/საх таგъდადæй

2

60 კმ/საх таგъდადæй

3

70 კმ/საх таგъდადæй

4

90 კმ/საх таგъდადæй

### განმარტება:

„საგზაო მოძრაობის შესახებ“ საქართველოს კანონის 33-ე მუხლის მე-8 პუნქტის „დ“ ქვეპუნქტის თანახმად, თუ ამ კანონით სხვა რამ არ არის დადგენილი, დასახლებულ ან დაუსახლებელ პუნქტში ნებადართულია იმ მექანიკური სატრანსპორტო საშუალების მოძრაობა, რომელიც ახორციელებს სხვა მექანიკური სატრანსპორტო საშუალების ბუქსირებას, არაუმეტეს 50 კმ/სთ სიჩქარით.

## ВОПРОС 463

ПРАВИЛЬНЫЙ ОТВЕТ: 4

Дәлдәер ранымадгонд фәндагон әууәлтәй, кәцымә хъуамә йә хъус әрдара скъәрәг транспортон фәрәзы тагъдадад фәивгәйә?

1 Ермәст бынаты ран әмә змәлды интенсивондзинад

2 Ермәст атмосферон уавәртә, афтә ма әнәфаг (хъуаг) кәнә арәнгонд әвзарынад

3 Ермәст фәндаджы әмә транспортон фәрәзы уавәры

4 Ацы билеты ранымад алы фәндагон бадзырд

## განმარტება:

„საგზაო მოძრაობის შესახებ“ საქართველოს კანონის 33-ე მუხლის მე-2 პუნქტის თანახმად, სატრანსპორტო საშუალების სიჩქარის შეცვლისას მძღოლმა უნდა გაითვალისწინოს საგზაო პირობები (ადგილის რელიეფი, გზისა და სატრანსპორტო საშუალების მდგომარეობა, მისი დატვირთვა, ატმოსფერული პირობები, მოძრაობის ინტენსივობა, არასაკმარისი ან შემღუდული ხილვადობა), რათა საჭიროების შემთხვევაში, აგრეთვე ნებისმიერი დაბრკოლების წინ, რომლის განჭვრეტაც მას შეუძლია, შეამციროს სიჩქარე, ხოლო აუცილებლობის შემთხვევაში გაჩერდეს.

## ВОПРОС 464

ПРАВИЛЬНЫЙ ОТВЕТ: 1

Цы максималон тагъдадәй змәлыны бар ис дыцалхон электрохәдтулгәйы скъәрәгән цәрәгджын әмә әдзәрәг пунктты?

1 20 კმ/საх таგъდადәй

2 30 კმ/საх таგъდადәй

3 40 კმ/საх таგъდადәй

## განმარტება:

„საგზაო მოძრაობის შესახებ“ საქართველოს კანონის 33-ე მუხლის მე-8 პუნქტის „გ“ ქვეპუნქტის თანახმად, თუ ამ კანონით სხვა რამ არ არის დადგენილი, დასახლებულ ან დაუსახლებელ პუნქტში ნებადართულია, ორბორბლიანი ელექტროთვითმგორავისა მოძრაობა ყველა გზაზე, სადაც ამ კატეგორიის სატრანსპორტო საშუალების მოძრაობა დასაშვებია, არაუმეტეს 20 კმ/სთ სიჩქარით.

## ВОПРОС 465

ПРАВИЛЬНЫЙ ОТВЕТ: 2

Боны рухсы рæстæджы маршрутон транспортон фæрæзтыл æввахсмæ рухсгæнæн фæрæты æмæ фæстаг габаритон рухсыты сиу кæнын æнæмæнгхъуыддаг у:

1 Специалонæй уыдонæн рахицæнгонд хаххыл, сæйрагдæр колонæйы фæрсмæ æрдæмадмæ змæлгæйæ

2 Специалонæй уыдонæн рахицæнгонд хаххыл, сæйрагдæр колонæйы комкоммæ змæлгæйæ

3 Уæлдæр фæнысангонд дыууæ цауы

4 Ацы билеты ранымад кæцыфæнды цауы

## განმარტება:

„საგზაო მოძრაობის შესახებ“ საქართველოს კანონის 49-ე მუხლის მე-8 პუნქტის „ე“ ქვეპუნქტის თანახმად, დღის ნათელ დროს გზაზე მოძრავი სატრანსპორტო საშუალების აღნიშვნის მიზნით სავალდებულოა ახლო განათების ფარებისა და უკანა საგაბარიტო სინათლეების ჩართვა სამარშრუტო სატრანსპორტო საშუალებაზე, სპეციალურად მისთვის გამოყოფილ ზოლზე, ძირითადი ნაკადის საპირისპირო მიმართულებით მოძრაობისას.

## ВОПРОС 466

ПРАВИЛЬНЫЙ ОТВЕТ: 3

Хидты, эстакадæтйы, бæрзонд тынгады адæттæг телты бынмæ, афтæ ма тъунелты ахизынмæ, автобусы æмæ уæзласæн автомобили скъæრæг хæсджын у:

1 Фæндаг ратта рог автомобили скъæрджытæн

2 Сиу кæна аварион рухсы сигнализаци

3 Фидарæй базона транспортон фæрæзы ахизыны æдасдзинады

## განმარტება:

„საგზაო მოძრაობის შესახებ“ საქართველოს კანონის 21-ე მუხლის მე-10 პუნქტის თანახმად, ხიდის, ესტაკადის, მაღალი ძაბვის გადამცემი ხაზის ქვეშ, აგრეთვე გვირაბში ან სხვა მსგავს ადგილას გავლამდე ავტობუსის, სატვირთო ავტომობილის მძღოლი ვალდებულია დარწმუნდეს სატრანსპორტო საშუალების გავლის უსაფრთხოებაში.



## ВОПРОС 467

ПРАВИЛЬНЫЙ ОТВЕТ: 1

“Конструктивон тагъдад” у:

1

Завод-сцәттәгәнагәгәй арәнгонд  
транспортон фәрәзы максималон  
тагъдад

2

Ләвәрд фәндаджы фадыгыл,  
транспортон фәрәзтәен әвәрд  
тагъдады максималон арән

3

Транспортон фәрәзыл бафидаргонд  
базонән нысаныл “тагъдады арән ”  
- амындгонд тагъдад

## განმარტება:

„საგზაო მოძრაობის შესახებ“ საქართველოს კანონის 5-ე მუხლის 29-ე პუნქტის თანახმად, კონსტრუქციული სიჩქარე — ქარხანა-დამამზადებლის მიერ განსაზღვრული სატრანსპორტო საშუალების მაქსიმალური სიჩქარე.

## ВОПРОС 468

ПРАВИЛЬНЫЙ ОТВЕТ: 2

Боны рухсы рәстәеджы маршрутон транспортон фәрәзтыл, специалонәй уыдонән рахицәнгонд хаххыл, сәйраг колонәйы комкоммә змәлгәйә иугонд хъуамә уа:

1

Аварион рухсы сигнализаци

2

Әввахсмә рухсгәнән фәрәтә әмә  
фәстаг габаритон рухсытә

3

Дардмә рухсгәнән фәрәтә әмә  
фәстаг габаритон рухсытә

4

Әрмәст раззаг әмә фәстаг  
габаритон рухсытә

## განმარტება:

„საგზაო მოძრაობის შესახებ“ საქართველოს კანონის 49-ე მუხლის მე-8 პუნქტის „ე“ ქვეპუნქტის თანახმად, დღის ნათელ დროს გზაზე მოძრავი სატრანსპორტო საშუალების აღნიშვნის მიზნით სავალდებულოა ახლო განათების ფარებისა და უკანა საგაბარითო სინათლეების ჩართვა: ე) სამარშრუტო სატრანსპორტო საშუალებაზე, სპეციალურად მისთვის გამოყოფილ ზოლზე, ძირითადი ნაკადის საპირისპირო მიმართულებით მოძრაობისას.

## ВОПРОС 469

ПРАВИЛЬНЫЙ ОТВЕТ: 2

Уагъд цæуы æви нæ тыхджын асæсты, бæзджын миты, тыхджын къæвдайы рæстæджы кæнæ аналогийон уавæрты, фæндагыл æруромын кæнæ æрлæуды рæстæджы, механикон транспортон фæრæзтыл æмæ уыдоны прицептыл, раззаг æмæ фæстаг габаритон рухсытимæ иумæ уæлæмхасæй хъуамæ ссудза æввахсмæ рухсгæнæны, раззаг æмæ фæстаг антиасæстон фарæтæ (туманниктæ)?

1

Уагъд нæ цæуы

2

Уагъд цæуы

## განმარტება:

„საგზაო მოძრაობის შესახებ“ საქართველოს კანონის 49-ე მუხლის მე-9 პუნქტის თანახმად, დაბინდებიდან გათენებამდე, აგრეთვე ნებისმიერი სხვა არასაკმარისი ხილვადობის პირობებში, გზაზე გაჩერების ან დგომის დროს მექანიკური სატრანსპორტო საშუალება და მისი მისაბმელი აღნიშნული უნდა იყოს წინა და უკანა საგაბარიტო სინათლეებით. სქელი ნისლის, ხშირი თოვლის, ძლიერი წვიმის დროს ან ანალოგიურ პირობებში შეიძლება ჩართულ იქნეს ახლო განათების ფარები ან წინა ნისლსანინალმდეგო ფარები. ასეთ პირობებში უკანა საგაბარიტო სინათლეებთან ერთად დამატებით შეიძლება ჩართულ იქნეს უკანა ნისლსანინალმდეგო ფარები.

## ВОПРОС 470

ПРАВИЛЬНЫЙ ОТВЕТ: 3

Уыцы гужи (бæхты кæнæ галты) транспортыл, кæцыйы фæтæн 1 метрæй фылдæр нæу, æнæмæнгхъæугæ у арæзтыл уа:

1

Иуыл цъусдæр иу раззаг урс кæнæ бур селекцион рухс

2

Разæй – иу урс рухс æмæ фæсте – иу сырх рухс

3

Фæсте, галиуфарс, кæнæ астæуы (центры) – иу рухсдæттæг арæзт

## განმარტება:

„საგზაო მოძრაობის შესახებ“ საქართველოს კანონის 50-ე მუხლის მე-3 პუნქტის თანახმად, ფარანი არ არის აუცილებელი იმ საჭაპანო ტრანსპორტისათვის, რომლის სიგანე 1 მეტრს არ აღემატება, მაგრამ ამ შემთხვევაში უკან, მარცხენა მხარეს, ან ცენტრში დაყენებული უნდა იყოს ერთი შექამრეკლი მონწყობილობა.

Цæуæн хайыл (фæндагыл) æхсæвы сахатты змæлды рæстæджы фистæгон къордтæ, кæцытæн къухдариуæггæнджытæ командæ кæнынц кæнæ колонæйæ цæуынц, галиуфарс æрдыгæй сын хъуамæ уа:

1

Иуыл цъусдæр иу урс селекцион рухс разæй æмæ иу урс селекцион рухс фæсте

2

Иуыл цъусдæр иу урс кæнæ бур селекцион рухс разæй æмæ иу сырх рухс фæсте кæнæ бур рухс разæй æмæ фæсте

3

Иуыл цъусдæр иу сырх селекцион рухс разæй æмæ иу бур рухс фæсте

### განმარტება:

„საგზაო მოძრაობის შესახებ“ საქართველოს კანონის 50-ე მუხლის მე-4 პუნქტის „ა“ ქვეპუნქტის თანახმად, სავალ ნაწილზე ღამის საათებში მოძრაობისას: ა) ქვეითთა ჯგუფმა, რომელსაც ხელმძღვანელი მეთაურობს ან რომელიც სვლით მიდის, მარცხენა მხრიდან უნდა იქონიოს სულ მცირე ერთი თეთრი ან ყვითელი სელექციური სინათლე წინ და სულ მცირე ერთი წითელი სინათლე უკან ან ყვითელი შუქი წინ და უკან.



Кæцы æдде рухсгæнæн инструменттæ хъуамæ сиу кæна автомобили скъæრæг рухс тъунелы змæлгæйæ?

1

Аварион рухсы сигнализаци

2

Габаритон рухсытæ

3

Дардмæ æмæ æввахсмæ рухсгæнæн фарæтæ

4

Иу дæр нæ

### განმარტება:

„საგზაო მოძრაობის შესახებ“ საქართველოს კანონის 42-ე მუხლის პირველი პუნქტის „ბ“ ქვეპუნქტის თანახმად, საგზაო ნიშნით აღნიშნულ გვირაბებში მოქმედებს შემდეგი წესები, მძღოლმა უნდა ჩართოს შორი ან ახლო განათების ფარები, მიუხედავად იმისა, განათებულია თუ არა გვირაბი.

თემა 18:

სამუხრუჭე მანძილი, დისტანცია

---



## ВОПРОС 473

ПРАВИЛЬНЫЙ ОТВЕТ: 4

Кәд әнәархайәг тормозон системәйи уәвәг механикон транспортон фәрәзы фактивон массә, буксиргәәнәг транспортон фәрәзы фактивон массәйә кәддәр у, уый буксирәй ласын уагъд цәуы:

1

Æрмәст арәхстджын бабәтгәйә

2

Æрмәст хәбәр бабәтгәйә

3

Æрмәст иу хай уаргәвәрдәй

4

Куыд хәбәр бабәтгәйә, афтә иу хай уаргәвәрдәй

## განმარტება:

„საგზაო მოძრაობის შესახებ“ საქართველოს კანონის 45-ე მუხლის მე-6 პუნქტის „გ“ ქვეპუნქტის თანახმად, აკრძალულია ბუქსირება უმოქმედო სამუხრუჭო სისტემის მქონე მექანიკური სატრანსპორტო საშუალებისა, თუ მისი ფაქტობრივი მასა მობუქსირე სატრანსპორტო საშუალების ფაქტობრივი მასის ნახევარს აღემატება, ხოლო თუ მასა ნაკლებია, ბუქსირება დასაშვებია მხოლოდ ხისტი გადაბმით ან ნაწილობრივი დატვირთვით.

## ВОПРОС 474

ПРАВИЛЬНЫЙ ОТВЕТ: 2

Цәрәгджын пункты, нормалон змәлды уавәрты, кәрәдзийи фәдыл змәлгә транспортон фәрәзты ‘хсән уәвәг дистанцийи бамбәрзынән (баххәст кәнынән) хәәугә рәстәг ма хәуамә уа:

1

Иуыл фылдәр 4 секунды

2

Иуыл кәддәр 3 секунды

3

Иуыл кәддәр 6 секунды

4

Иуыл фылдәр 9 секунды

## განმარტება:

„საგზაო მოძრაობის შესახებ“ საქართველოს კანონის 25-ე მუხლის მე-10 პუნქტის „პ“ ქვეპუნქტის თანახმად, გზაზე მოძრაობისას მძღოლმა უნდა გაითვალისწინოს შემდეგი გარემოებები: პ) ნორმალური მოძრაობის პირობებში ერთმანეთის მიყოლებით მოძრავ სატრანსპორტო საშუალებათა შორის არსებული დისტანციის დასაფარავად საჭირო დრო დასახლებულ პუნქტში უნდა იყოს არანაკლებ 2 წამისა, ხოლო დაუსახლებელ პუნქტში – არანაკლებ 3 წამისა. აღნიშნული წესი არ ვრცელდება გასწრების მიზნით იმ სატრანსპორტო საშუალების მოძრაობის ზოლიდან გამოსვლის შემთხვევაზე, რომლის მძღოლსაც გასწრების განზრახვის თაობაზე მიცემული აქვს შესაბამისი სიგნალი, აგრეთვე ამ პუნქტის „ჟ“ ქვეპუნქტით გათვალისწინებულ შემთხვევებზე.

Цæрæгджын пункты, салд фæндагыл, кæрæдзийы фæдыл змæлгæ транспортон фæрæзты хсæн уæвæг дистанцийы бамбæрзынæн (баххæст кæнынæн) хъæугæ рæстæг ма хъуамæ уа:

1

Иуыл фылдæр 2 секунды

2

Иуыл къаддæр 4 секунды

3

Иуыл фылдæр 6 секунды

4

Иуыл къаддæр 9 секунды

### განმარტება:

„საგზაო მოძრაობის შესახებ“ საქართველოს კანონის 25-ე მუხლის მე-10 პუნქტის „ჟ“ ქვეპუნქტის თანახმად, გზაზე მოძრაობისას მძღოლმა უნდა გაითვალისწინოს შემდეგი გარემოებები: ჟ) მოყინულ გზაზე მოძრაობისას ერთმანეთის მიყოლებით მოძრავ სატრანსპორტო საშუალებათა შორის არსებული დისტანციის დასაფარავად საჭირო დრო დასახლებულ პუნქტში უნდა იყოს არანაკლებ 6 წამისა, ხოლო დაუსახლებელ პუნქტში – არანაკლებ 9 წამისა. აღნიშნული წესი არ ვრცელდება გასწრების მიზნით იმ სატრანსპორტო საშუალების მოძრაობის ზოლიდან გამოსვლის შემთხვევაზე, რომლის მძღოლსაც გასწრების განზრახვის თაობაზე მიცემული აქვს შესაბამისი სიგნალი.

Цæрæгджын пункты, салд фæндагыл, кæрæдзийы фæдыл змæлгæ транспортон фæрæзты хсæн уæвæг дистанцийы бамбæрзынæн (баххæст кæнынæн) хъæугæ рæстæг ма хъуамæ уа:

1

Иуыл фылдæр 4 секунды

2

Иуыл къаддæр 6 секунды

3

Иуыл къаддæр 9 секунды

4

12 сикъундæй къаддæр

### განმარტება:

„საგზაო მოძრაობის შესახებ“ საქართველოს კანონის 25-ე მუხლის მე-10 პუნქტის „ჟ“ ქვეპუნქტის თანახმად, გზაზე მოძრაობისას მძღოლმა უნდა გაითვალისწინოს შემდეგი გარემოებები: ჟ) მოყინულ გზაზე მოძრაობისას ერთმანეთის მიყოლებით მოძრავ სატრანსპორტო საშუალებათა შორის არსებული დისტანციის დასაფარავად საჭირო დრო დასახლებულ პუნქტში უნდა იყოს არანაკლებ 6 წამისა, ხოლო დაუსახლებელ პუნქტში – არანაკლებ 9 წამისა. აღნიშნული წესი არ ვრცელდება გასწრების მიზნით იმ სატრანსპორტო საშუალების მოძრაობის ზოლიდან გამოსვლის შემთხვევაზე, რომლის მძღოლსაც გასწრების განზრახვის თაობაზე მიცემული აქვს შესაბამისი სიგნალი.

## ВОПРОС 477

ПРАВИЛЬНЫЙ ОТВЕТ: 4

Ранымаდაჲ, კაჲცა გენაენ ის ამაჲ სუა транспортон ფარაჲზыл йахи фәстәрдыгәй скъуырды аххосаг?

**1** Ермәст, разәй цәуәг транспортон фარәзы авиппайды амаჲ цәхგәр әртормоз кәнын.

**2** Ермәст, разәй цәуәг транспортон фარәзимә аნә аккаг хәххәхәд дистанци

**3** Ермәст, скъәрәджы аნәхъусдарддинад

**4** Ацы билеты ранымад кәцыфәнды уавәр

## განმარტება:

„საგზაო მოძრაობის შესახებ“ საქართველოს კანონის 33-ე მუხლის მე-11 პუნქტის თანახმად, იმ სატრანსპორტო საშუალების მძღოლმა, რომელიც მიჰყვება სხვა სატრანსპორტო საშუალებას, უნდა დაიცვას სათანადო დისტანცია, რათა თავიდან აიცილოს შეჯახება მის წინ მიმავალი სატრანსპორტო საშუალების მოულოდნელი დამუხრუჭების ან გაჩერების შემთხვევაში. მოძრაობის უსაფრთხოების უზრუნველსაყოფად აუცილებელია აგრეთვე გვერდითი ინტერვალის დაცვა. ამავე კანონის 25-ე მუხლის მე-10 პუნქტის „მ“ ქვეპუნქტის თანახმად, გასწრებისას ყველაზე უფრო ხშირად საავარიო სიტუაცია იქმნება დისტანციის დაუცველობის და საპირისპირო მიმართულებით მოძრავი სატრანსპორტო საშუალებების მიმართ არასაკმარისი ყურადღების გამოჩენის გამო.

## ВОПРОС 478

ПРАВИЛЬНЫЙ ОТВЕТ: 3

“Тормозон дәрддзәг”у:

**1** Фәндагыл змәлды әрнылләг кәныны хәхы дәргь

**2** Зақьондәттынадәй сфидаргонд максималон дәрддзәг, кәцыйы фәлгәтты мидәг аნәмәгдзинад у транспортон фарәзы әруромын

**3** Дәрддзәг, кәцыйы хъуамә ацәуа транспортон фәрәз тормозты скусынәй аххәст әрләудмә

## განმარტება:

„საგზაო მოძრაობის შესახებ“ საქართველოს კანონის 5-ე მუხლის 68-ე პუნქტის თანახმად, „სამუხრუჭე მანძილი“ - მანძილი, რომელსაც გადის სატრანსპორტო საშუალება მუხრუჭების ამოქმედებიდან სრულ გაჩერებამდე.

Иугонд цъæх æрттивгæ специалон сигнал æмæ зæлон сигналтæй змæლæг специалон куысты транспортон фæрæзы скъæრæгæн лæвæрдгонд уæлбарæй (приоритетæй) пайда кæныны бар ис:

1

Ацы билеты ранымад дзуаппытæй иу дæр раст нæу

2

Кæцыфæнды цауы, нæкæсгæ уымæ, дæттынц ын æви нæ уымæн фæндаг æндæр фæндагон змæлды хайадисджытæ


3

Æрмæстдæр уæд, кæд æмæ уый фидарæй бауырндзæни, фæндаг ын кæй дæттынц

### განმარტება:

„საგზაო მოძრაობის შესახებ“ საქართველოს კანონის 51-ე მუხლის პირველი პუნქტის თანახმად, ოპერატიული ან სპეციალური სამსახურის სატრანსპორტო საშუალების მძღოლს, რომელსაც სატრანსპორტო საშუალებაზე ჩართული აქვს ლურჯი მოელვარე სპეციალური ციმციმა სიგნალი და ასრულებს სამსახურებრივ დავალებას, შეუძლია საგზაო მოძრაობის უსაფრთხოების უზრუნველყოფის პირობების დაცვით გადაუხვიოს ამ კანონის 25-ე, 31-ე—41-ე და 44-ე მუხლებით, აგრეთვე ამ კანონის №1 და №2 დანართებით დადგენილ მოთხოვნებს. ლურჯ მოელვარე სპეციალურ ციმციმა სიგნალთან ერთად დამატებით შეიძლება ჩაირთოს წითელი მოელვარე ციმციმა სიგნალიც. სხვა საგზაო მოძრაობის მონაწილეების მიმართ უპირატესობის მისაღებად ამ სატრანსპორტო საშუალების მძღოლმა უნდა ჩართოს ლურჯი მოელვარე სპეციალური ციმციმა სიგნალი და ხმოვანი სიგნალი. პრიორიტეტით სარგებლობა მხოლოდ მაშინ შეიძლება, როცა მძღოლი დარწმუნდება, რომ მას გზას უთმობენ.





Цы фæткыл хъуамæ рацæуой алвæндаг (перекресток) транспортон фæрæзтæ фатæджы (стрелкæйы) æрдæмадмæ змæлды цауы, кæд оперативон куысты автомобилæн иугонд ис цъæх æрттивгæ специалон мигалкæ сигнал?

- 1 Нырма хъуамæ рацæуа оперативон куысты автомобиль, стæй трамвайы, уый фæстæ – автобус
- 2 Нырма хъуамæ рацæуа трамвайы, стæй оперативон куысты автомобиль, уый фæстæ – автобус
- 3 Нырма хъуамæ рацæуа оперативон куысты автомобиль, стæй автобус, уый фæстæ –трамвайы

### განმარტება:

„საგზაო მოძრაობის შესახებ“ საქართველოს კანონის 36-ე მუხლის მე-4 პუნქტის „ა“ და „გ“ ქვეპუნქტების თანახმად, არარეგულირებულ გზაჯვარედინზე: ა) არათანაბარმნიშვნელოვანი გზების გადაკვეთაზე მეორეხარისხოვან გზაზე მოძრავი სატრანსპორტო საშუალების მძღოლი ვალდებულია გზა დაუთმოს მთავარი გზიდან მოახლოებულ სატრანსპორტო საშუალებას, მიუხედავად მისი შემდგომი მოძრაობის მიმართულებისა; გ) თანაბარმნიშვნელოვანი გზების გადაკვეთაზე ურელსო სატრანსპორტო საშუალების მძღოლი ვალდებულია გზა დაუთმოს მარჯვნიდან მოახლოებულ სატრანსპორტო საშუალებას. ამავე წესით უნდა იხელმძღვანელონ ურთიერთშორის რელსიანი სატრანსპორტო საშუალებების მძღოლებმაც. ასეთ გზაჯვარედინზე რელსიან სატრანსპორტო საშუალებას აქვს უპირატესობა ურელსო სატრანსპორტო საშუალების მიმართ, მიუხედავად მისი მოძრაობის მიმართულებისა; ამავე კანონის 51-ე მუხლის პირველი პუნქტის თანახმად ოპერატიული ან სპეციალური სამსახურის სატრანსპორტო საშუალების მძღოლს, რომელსაც სატრანსპორტო საშუალებაზე ჩართული აქვს ლურჯი მოელვარე სპეციალური ციმციმა სიგნალი და ასრულებს სამსახურებრივ დავალებას, შეუძლია საგზაო მოძრაობის უსაფრთხოების უზრუნველყოფის პირობების დაცვით გადაუხვიოს ამ კანონის 25-ე, 31-ე–41-ე და 44-ე მუხლებით, აგრეთვე ამ კანონის №1 და №2 დანართებით დადგენილ მოთხოვნებს. ლურჯ მოელვარე სპეციალურ ციმციმა სიგნალთან ერთად დამატებით შეიძლება ჩაირთოს წითელი მოელვარე ციმციმა სიგნალიც. სხვა საგზაო მოძრაობის მონაწილეების მიმართ უპირატესობის მისაღებად ამ სატრანსპორტო საშუალების მძღოლმა უნდა ჩართოს ლურჯი მოელვარე სპეციალური ციმციმა სიგნალი და ხმოვანი სიგნალი.

## ВОПРОС 481

ПРАВИЛЬНЫЙ ОТВЕТ: 3

Цæхгæр æртомоз кæнгæйæ транспортон фæрæзы æруромын уагъд цæуы:

1

Æрмæст уаг дæттæджы транспортон фæрæзы бауромыны æркуырды цауы

2

Æрмæст рухснысаны (светофоры) сырх æмæ бур рухсы сигналты æмрæстæджы сиуы цауы

3

Æрмæст фæндагон-транспортон цауы (аварийы) сæрæй аиуварс кæныны нысанæн

4

Ацы билеты ранымад кæцыфæнды цауы

## განმარტება:

„საგზაო მოძრაობის შესახებ“ საქართველოს კანონის 33-ე მუხლის მე-4 პუნქტის თანახმად, მძღოლს ეკრძალება მკვეთრი დამუხრუჭება, გარდა საგზაო-სატრანსპორტო შემთხვევის თავიდან აცილების აუცილებლობით გამონწვეული დამუხრუჭებისა.

## ВОПРОС 482

ПРАВИЛЬНЫЙ ОТВЕТ: 2

Куыд ивы рог аутомобилы тормозы дæрддзæг прицепимæ змæлгæйæ, кæд прицепæн нæй тормозон системæ?

1

Чысылдæр кæны

2

Фылдæр кæны

3

Нæ ивы

## განმარტება:

რაც უფრო მეტია ავტომობილის მასა, მით უფრო მეტი ძალა და დროა საჭირო მისი დამუხრუჭებისათვის. მსუბუქი ავტომობილის სამუხრუჭე მანძილი მისაბმელით მოძრაობისას, თუ მისაბმელს არ გააჩნია სამუხრუჭე სისტემა იზრდება.

## ВОПРОС 483

ПРАВИЛЬНЫЙ ОТВЕТ: 3

Механиკონ ალავადრდტი კორბკაჲი უავინ ტრანსპორტონ ფარაჲი თიხუირდყილ ჰმალგაჲაჲ აერთომოზი ეფექტივონ არაჲსტდზინად უ:

1 Периодикон цахгარ аертормоз каенын раиугонд сцеплениима

2 Периодикон цауга аертормоз каенын иугонд сцеплениима ама алавадрдტი корбкаима

3 Аертормоз каенын мотораჲ

## განმარტება:

მექანიკური გადაცემათა კოლოფის მქონე სატრანსპორტო საშუალების ციცაბო დაღმართზე მოძრაობისას დამუხრუჭების ეფექტური ხერხია - დამუხრუჭება ძრავით. რაც უფრო მკვეთრია დაღმართი მით უფრო მეტი სიფრთხილეა საჭირო. მექანიკური გადაცემათა კოლოფის მქონე ავტომობილის მკვეთრ დაღმართზე ძრავით დამუხრუჭებისას მძღოლმა, რაც უფრო მკვეთრია დაღმართი, მით უფრო დაბალი გადაცემა უნდა ჩართოს.

## ВОПРОС 484

ПРАВИЛЬНЫЙ ОТВЕТ: 2

Механиკონ ალავადრდტი კორბკაჲი უავინ ავტომობილი ცახგარ უირდყილ моторაჲ აერთომოზკაენგაჲაჲ სკაერაგ ალავადრდტი რავარგაჲაჲ ხუამა ხუაიდი каена:

1 Цас тынгдар цахгар у уирдыг, уймаჲ ნодჲ ბერзонდდარ хуама уа алавадрд

2 Цас тынгдар цахгар у уирдыг, уймаჲ ნодჲ ныллагдар хуама уа алавадрд

3 Алавадрდტი сывзарын баст нау уирдыдჲ ცახგарыл

## განმარტება:

რაც უფრო მკვეთრია დაღმართი მით უფრო მეტი სიფრთხილეა საჭირო. მექანიკური გადაცემათა კოლოფის მქონე ავტომობილის მკვეთრ დაღმართზე ძრავით დამუხრუჭებისას მძღოლმა, რაც უფრო მკვეთრია დაღმართი, მით უფრო დაბალი გადაცემა უნდა ჩართოს.

## ВОПРОС 485

ПРАВИЛЬНЫЙ ОТВЕТ: 2

Экстремалон ситуацийы транспортон фæрæзы æруромгæйæ тормозон дæрддзæгы скъæრæг хъуамæ фæкъаддæр кæна:

1

Иухаттон цæхгæр æртормозкæнгæйæ цæлхыты бынтон блокирмæ

2

Цæлхыты блокиры арæныл бирæхатт цæхгæр ахадындынадæй тормозы педалыл

## განმარტება:

ექსტრემალურ სიტუაციაში სატრანსპორტო საშუალების გაჩერებისას სამუხრუჭე მანძილის შემცირება მიიღწევა თვლების ბლოკირების ზღვარზე მრავალჯერადი მკვეთრი ზემოქმედებით მუხრუჭის სატერფულზე.

## ВОПРОС 486

ПРАВИЛЬНЫЙ ОТВЕТ: 2

Транспортон фæрæзы змæлды тагъдады рæзგæйæ покрывкæйы фæндагмæ æрцахсыны тых:

1

Рæзы

2

Чысыл кæны

3

Нæ ивы

## განმარტება:

სატრანსპორტო საშუალების მოძრაობის სიჩქარის გაზრდისას საბურავის გზასთან ჩაჭიდების ძალა მცირდება.

## ВОПРОС 487

ПРАВИЛЬНЫЙ ОТВЕТ: 4

Цაეუыл баст у транспортон фæрæзы тормозы дæрддзæг?

1

Ацы билеты ранымад кæцыфæнды уавæрыл

2

Æрмæст фæндаджы уæлцъары уавæрыл.

3

Æрмæст транспортон фæрæзы цæлхыты ихсыдыл.

4

Алы ранымад уавæрыл.

## განმარტება:

სამუხრუჭო მანძილის მნიშვნელობა დამოკიდებულია როგორც სატრანსპორტო საშუალების სიჩქარეზე, ასევე გზის საფარის მდგომარეობაზე და სატრანსპორტო საშუალების საბურავების ცვეთაზე.

## ВОПРОС 488

ПРАВИЛЬНЫЙ ОТВЕТ: 2

Хауæн уырдыгыл змæлгæйæ, механикон алæвæрдты къоппимæ транспортон фæрæзы дæргъвæтин тормоз рахицæнгонд æмхæстдзинадæй (сцепленийæ) гæнæн ис расайа:

1

Здахæны системæйы механизмы фехæлд.

2

Тормозон системæйы стæвд æмæ тормоз кæныны эфекивондзинад фæкъаддæр кæнын.

3

Тормозгæнæн дæрддзæг фæкъаддæр кæнын.

4

Ацы билеты ранымад кæцыфæнды уавæр

## განმარტება:

ციცაბო დაღმართზე მოძრაობისას, მექანიკური გადაცემათა კოლოფის მექონე სატრანსპორტო საშუალების ხანგრძლივმა დამუხრუჭებამ გამორთული გადაბმულობით შეიძლება გამოიწვიოს სამუხრუჭო სისტემის გადახურება და დამუხრუჭების ეფექტურობის შენეება.



## ВОПРОС 489

ПРАВИЛЬНЫЙ ОТВЕТ: 2

Кәд автoмoбильы рaхиз цaлх aхызтис әнә хәбәр әмә хуылыдз уәлцъар трoтуарыл, нысанәмрaст у:

1

Автoмoбильы цәхгәр әртормоз кәнын цaлынмә әххәстәй не 'рләуа.

2

Әнә әртормозгәнгәйә автoмoбильы сындәггай раздахын фәндаджы цәуән хайыл.

3

Тагъдады фәфылдәр кәнын әмә автoмoбильы скъәрын галиуфарсырдәм.

## განმარტება:

თუ ავტომობილის მარჯვენა თვლები გადავიდა არამდგრადი და სველი საფარის მქონე გვერდულზე, მიზანშეწონილია დამუხრუჭების გარეშე ავტომობილის მდორედ დაბრუნება გზის სავალ ნაწილზე.

## ВОПРОС 490

ПРАВИЛЬНЫЙ ОТВЕТ: 3

Кәд автoмoбиль рәвдзгонд у тормозты блокирдинады ныхмә системәйә (ABC):

1

Скъәргән йә бон у әртормоз кәнын фәстәдәр, уымән әмә тормозгәнән дәрддзәг кәддәр кәны

2

Фылдәр кәны тормозон системәйы хьомысад

3

Ахәм автoмoбиль әртормозгәнгәйә әнцондәр скъәрән у


## განმარტება:

მუხრუჭების ბლოკირების საწინააღმდეგო სისტემით (ABC) აღჭურვილი ავტომობილი დამუხრუჭებისას უკეთ სამართავია.

თემა 19:

გაჩერება, დგომა

---



Бар ис æви нæ скъæрæгæн фатæгæй (стрелкæйæ) амынд бынатыл автомобилмæ лæууын?

1

Бар ын нæй

2

Бар ын ис

### განმარტება:

„საგზაო მოძრაობის შესახებ“ საქართველოს კანონის 37-ე მუხლის მე-7 პუნქტის „ვ“ ქვეპუნქტის თანახმად, აკრძალულია სატრანსპორტო საშუალების დგომა, დაუსახლებელ პუნქტში 2.1, 5.1 და 5.3 საგზაო ნიშნებით აღნიშნულ გზის სავალ ნაწილზე, აგრეთვე დასახლებულ პუნქტში გზის სავალ ნაწილზე, სადაც მოძრაობა დაშვებულია 80 კმ/სთ-ზე მეტი სიჩქარით, გარდა სპეციალურად აღნიშნული ადგილებისა.



Кæцы транспортон фæрæзы скъæრæг нæ халы уромæны уагæвæрдтæ, кæд æмæ рог автомобили скъæრæг нæ бадн æмæ нæ хизын кæны бæлццæтт?

1

Æрмæст рог автомобили скъæრæг

2

Æрмæст автобусы скъæრæг

3

Æрмæст уæзласæн автомобили скъæრæг

4

Æрмæст рог æмæ уæзласæн автомобили скъæрджытæ

### განმარტება:

„საგზაო მოძრაობის შესახებ“ საქართველოს კანონის 37-ე მუხლის მე-6 პუნქტის „ა.ა“ ქვეპუნქტის თანახმად, აკრძალულია სატრანსპორტო საშუალების გაჩერება გზის სავალ ნაწილზე ქვეითთა და ველოსიპედისტთა გადასასვლელებზე და მათ წინ 5 მეტრზე ახლოს. ამავე კანონის 41-ე მუხლის მე-3 პუნქტის თანახმად გზაზე, სადაც 5.11, 5.13.1, 5.13.2 და 5.14 საგზაო ნიშნებით აღნიშნული სამარშრუტო სატრანსპორტო საშუალებების მოძრაობისათვის განკუთვნილი ზოლია, აკრძალულია ამ ზოლზე სხვა სატრანსპორტო საშუალებათა მოძრაობა და გაჩერება. თუ ეს ზოლი დანარჩენი სავალი ნაწილისგან მონიშვნის წყვეტილი ხაზითაა გამოყოფილი, მოხვევისას სხვა სატრანსპორტო საშუალებები ამ ზოლზე უნდა გადაჭყუდნენ. ნებადართულია აგრეთვე ამ ზოლის ასეთ ადგილებში შესვლა გზაზე გასვლისას და მგზავრთა ჩასხდომა-გადმოსხდომისას სავალი ნაწილის მარჯვენა კიდედან, თუ ეს არ დააბრკოლებს სამარშრუტო სატრანსპორტო საშუალების მოძრაობას. ამავე კანონის პირველი დანართის 5.14 პუნქტის თანახმად საგზაო ნიშანი 5.14 „სამარშრუტო სატრანსპორტო საშუალებისათვის განკუთვნილი მოძრაობის ზოლი“ - გზა, რომელზედაც სამარშრუტო სატრანსპორტო საშუალებამოძრაობს სპეციალურად გამოყოფილ ზოლზე სატრანსპორტო საშუალებათა საერთო ნაკადის თანმხვედრი მიმართულებით. ნიშნის მოქმედება ვრცელდება იმ მოძრაობის ზოლზე, რომელზედაც ის დგას. გზის მარჯვენა მხარეს დადგმული ნიშნის მოქმედება ვრცელდება სავალი ნაწილის უკიდურეს მარჯვენა ზოლზე.

Кәд æмæ фистæгон æнæрегулироватгонд ахизæны раз æрлæууыд кæнæ йе змæлд æрныллæг (æрсындæг) кодта маршрутон транспортон фæрæз, сыхаг хæххытыл змæлæг æндæр транспортон фæрæзты скъæрджытæ змæлд хъуамæ адаргъ кæной:

1

Тагъдады æнæфæивгæйæ, уымæн æмæ фистæг хæсджын у ма рахиза урæд транспортон фæрæзы рæзты, цалынмæ йæ нæ бауырна æрбаввахсгонд транспортон фæрæзы æнæуæвды

2

Æрмæст уый фæстæ, куы йæ бауырна, цæмæй урæд маршрутон транспортон фæрæзы раз нæй фистæг

### განმარტება:

„საგზაო მოძრაობის შესახებ“ საქართველოს კანონის 25-ე მუხლის მე-9 პუნქტის თანახმად, თუ არარეგულირებული ქვეითთა გადასასვლელის წინ გაჩერდა ან მოძრაობა შეანელა სამარშრუტო სატრანსპორტო საშუალებამ, მეზობელ ზოლებზე მოძრავ სხვა სატრანსპორტო საშუალებათა მძღოლებმა მოძრაობა უნდა განაგრძონ მხოლოდ მას შემდეგ, რაც დარწმუნდებიან, რომ გაჩერებული სამარშრუტო სატრანსპორტო საშუალების წინ არ არის ქვეითი.





Ис æви нæ бар рог автомобили скъæрæгæн бæлцæтты сбадын кæныны тыххæй æрурома фатæгæй (стрелкæйы) амынд бынаты?

1

Ис ын бар

2

Нæй ын бар

### განმარტება:

„საგზაო მოძრაობის შესახებ“ საქართველოს კანონის 41-ე მუხლის მე-3 პუნქტის თანახმად გზაზე, სადაც 5.11, 5.13.1, 5.13.2 და 5.14 საგზაო ნიშნებით აღნიშნული სამარშრუტო სატრანსპორტო საშუალებების მოძრაობისათვის განკუთვნილი ზოლია, აკრძალულია ამ ზოლზე სხვა სატრანსპორტო საშუალებათა მოძრაობა და გაჩერება. თუ ეს ზოლი დანარჩენი სავალი ნაწილისგან მონიშვნის წყვეტილი ხაზითაა გამოყოფილი, მოხვევისას სხვა სატრანსპორტო საშუალებები ამ ზოლზე უნდა გადაჯგუფდნენ. ნებადართულია აგრეთვე ამ ზოლის ასეთ ადგილებში შესვლა გზაზე გასვლისას და მგზავრთა ჩასხდომა-გადმოსხდომისას სავალი ნაწილის მარჯვენა კიდედან, თუ ეს არ დააბრკოლებს სამარშრუტო სატრანსპორტო საშუალების მოძრაობას. ამავე კანონის პირველი დანართის 5.14 პუნქტის თანახმად საგზაო ნიშანი 5.14 „სამარშრუტო სატრანსპორტო საშუალებისათვის განკუთვნილი მოძრაობის ზოლი“ - გზა, რომელზედაც სამარშრუტო სატრანსპორტო საშუალებამოძრაობს სპეციალურად გამოყოფილ ზოლზე სატრანსპორტო საშუალებათა საერთო ნაკადის თანმხვედრი მიმართულებით. ნიშნის მოქმედება ვრცელდება იმ მოძრაობის ზოლზე, რომელზედაც ის დგას. გზის მარჯვენა მხარეს დადგმული ნიშნის მოქმედება ვრცელდება სავალი ნაწილის უკიდურეს მარჯვენა ზოლზე.



Кæцы транспортон фæрæз урæд у парковкæйы уагæвæрдды халгæйæ, кæд сырх автомобили скъæრæг æрлæууыд дæргъвæтин рæстæгмæ æрулæфыны нысанæн?

1

Сау автомобиль

2

Сырх автомобиль

3

Дыууæ автомобили

4

Нæдæр иу (никæцы) автомобиль

### განმარტება:

„საგზაო მოძრაობის შესახებ“ საქართველოს კანონის 37-ე მუხლის პირველი პუნქტის თანახმად, სატრანსპორტო საშუალება, რომელიც ჩერდება ან დგას დაუსახლებელ პუნქტში, შესაძლებლობის ფარგლებში, სავალი ნაწილის გარეთ უნდა იმყოფებოდეს. ამავე მუხლის მე-11 პუნქტის თანახმად დაუსახლებელ პუნქტში ხანგრძლივი დასვენების (ღამის გათევის ან სხვა) მიზნით დგომა ნებადართულია მხოლოდ ამისათვის განკუთვნილ სადგომზე ან გზის ფარგლების მიღმა. ამავე კანონის პირველი დანართის 5.24.1 პუნქტის თანახმად საგზაო ნიშანი 5.24.1 „დასახლებული პუნქტის დასასრული“ - მიუთითებს შესაბამისად 5.23.1 ნიშნით აღნიშნული დასახლებული პუნქტების დასასრულს.





Ис æви нæ бар рог автомобили скъæрæгæн æрурома фатæгæй (стрелкæйы) амынд бынаты бæлццæтты сбадын кæныны тыххæй?

1

Ис ын бар

2

Нæй ын бар

### განმარტება:

„საგზაო მოძრაობის შესახებ“ საქართველოს კანონის 37-ე მუხლის მე-6 პუნქტის „ბ.ა“ ქვეპუნქტის თანახმად, აკრძალულია სატრანსპორტო საშუალებების გაჩერება ნებისმიერ ადგილზე, სადაც მას შეუძლია შექმნას საფრთხე, მათ შორის, ესტაკადაზე, ხიდსა და გზაგამტარზე, გარდა იმ შემთხვევისა, როცა აღნიშნულ ადგილებში ორზე მეტი თანმხვედრი მიმართულების მოძრაობის ზოლია.



Ис æви нæ бар бур автобусы скъæрæгæн, æрурома фатæгæй (стрелкæйы) амынд  
бынаты бæлццæтты сбадын кæныны тыххæй?

1

Нæй ын бар


2

Ис ын бар

### განმარტება:

„საგზაო მოძრაობის შესახებ“ საქართველოს კანონის 37-ე მუხლის მე-6 პუნქტის „ბ.ა“ ქვეპუნქტის თანახმად, აკრძალულია სატრანსპორტო საშუალებების გაჩერება ნებისმიერ ადგილზე, სადაც მას შეუძლია შექმნას საფრთხე, მათ შორის, ესტაკადაზე, ხიდსა და გზაგამტარზე, გარდა იმ შემთხვევისა, როცა აღნიშნულ ადგილებში ორზე მეტი თანმხვედრი მიმართულების მოძრაობის ზოლია.





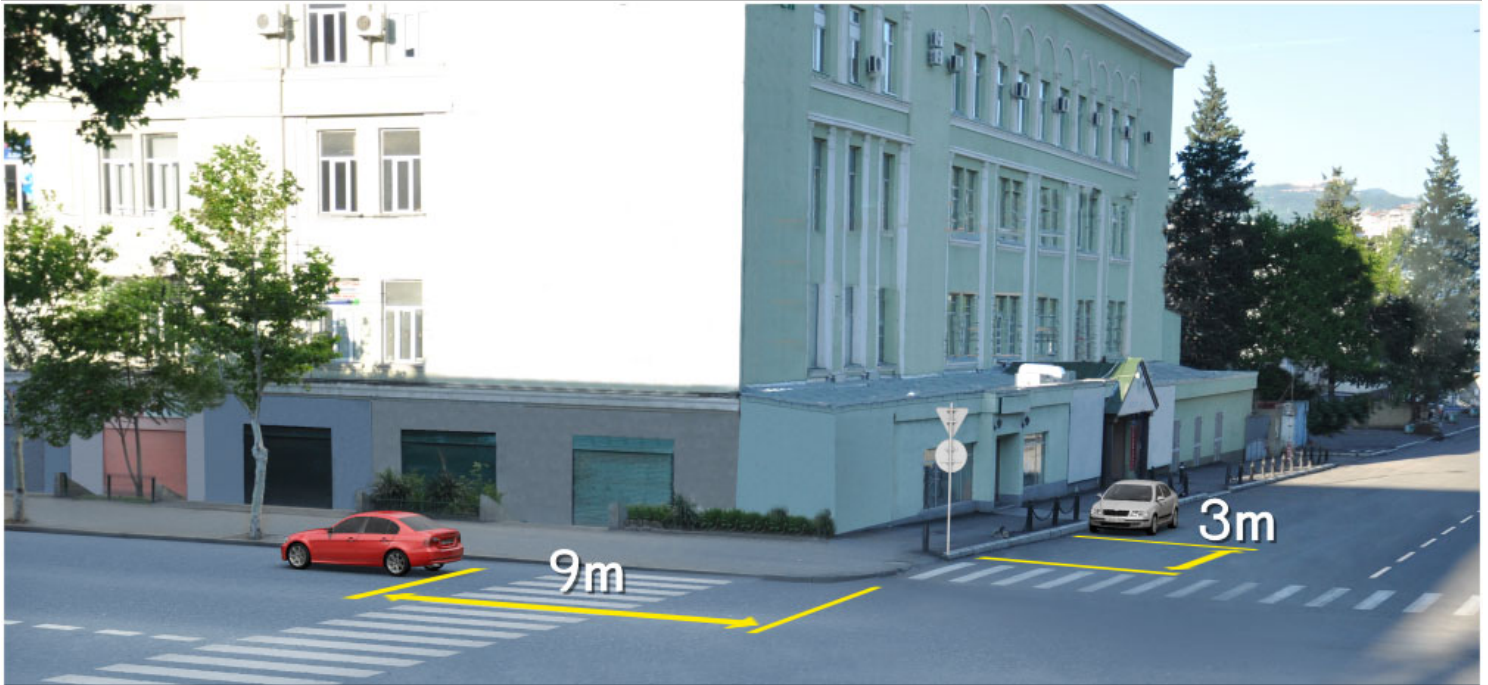
Кæцы аутомобилы скъæрæг фехалдзæни фæндæгты змæлды уагæвæрдты фатæгæй (стрелкæйы) амынд бынаты æрлæуды цауы?

- |  |   |
|--|---|
| <b>1</b> Æрмæст урс аутомобилы скъæრæг | <b>2</b> Æрмæст сырх аутомобилы скъæრæг       |
| <b>3</b> Дыууæ аутомобилы скъæрæг дæр  | <b>4</b> Нæдæр иу (никæцы) аутомобилы скъæრæг |

### განმარტება:

„საგზაო მოძრაობის შესახებ“ საქართველოს კანონის 37-ე მუხლის მე-6 პუნქტის „ბ.ა“ ქვეპუნქტის თანახმად, აკრძალულია სატრანსპორტო საშუალებების გაჩერება ნებისმიერ ადგილზე, სადაც მას შეუძლია შექმნას საფრთხე, მათ შორის, ესტაკადაზე, ხიდსა და გზაგამტარზე, გარდა იმ შემთხვევისა, როცა აღნიშნულ ადგილებში ორზე მეტი თანმხვედრი მიმართულების მოძრაობის ზოლია.





Кæцы аутомобилы скъæрæг халы фæндæгты змæлды уагæвæрдты нывыл амынд бынаты æрурæды цауы?

1

Дыууæ аутомобилы скъæрæг

2

Нæдæр иу (никæцы) аутомобилы скъæрæг

3

Æрмæст цъæх аутомобилы скъæрæг

4

Æрмæст урс аутомобилы скъæрæг

### განმარტება:

„საგზაო მოძრაობის შესახებ“ საქართველოს კანონის 37-ე მუხლის მე-6 პუნქტის „ა.ა“ და „ა.გ“ ქვეპუნქტების თანახმად, აკრძალულია სატრანსპორტო საშუალებების გაჩერება გზის სავალ ნაწილზე: ა.ა) ქვეითთა და ველოსიპედიტთა გადასასვლელებზე და მათ წინ 5 მეტრზე ახლოს; ა.გ) სავალი ნაწილების გადაკვეთაზე, აგრეთვე მათი გადაკვეთის ნაპირებიდან 5 მეტრზე ახლოს, გარდა იმ შემთხვევისა, როცა გაჩერება ხდება იმ გვერდითი გასასვლელების მოპირდაპირე სამხხრივ გადაკვეთებზე (გზაჯვარედინებზე), რომლებზედაც მონიშვნის უწყვეტი ხაზი ან გამყოფი ზოლია.



Фехалдзәни æви нæ рог аутомобилы скъæрæг фæндæгты змæлды уагæвæрдтæ амындгонд бынаты аутомобилы парковкæйы цауы, кæд æмæ уымæй къуылымпы кæны фистæджыты?

1

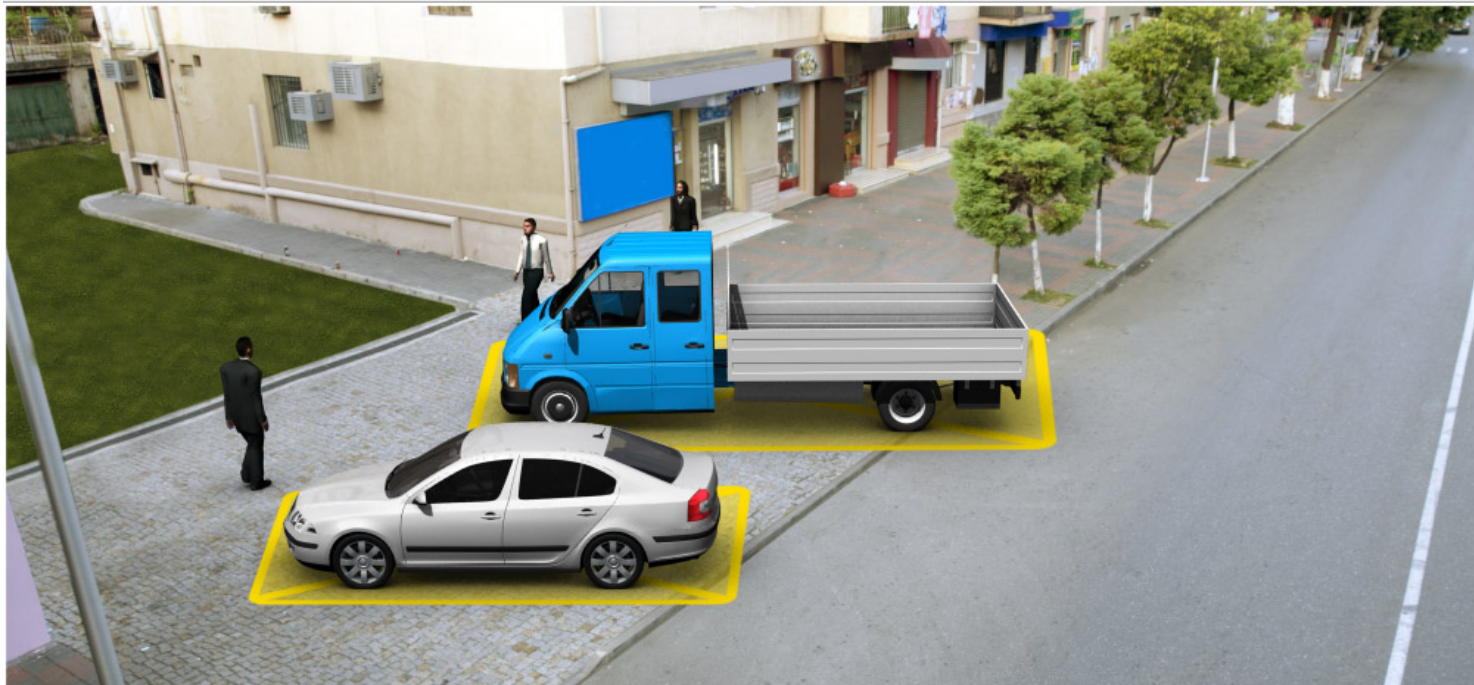
Фехалдзәни

2

Нæ фехалдзәни

### განმარტება:

„საგზაო მოძრაობის შესახებ“ საქართველოს კანონის 37-ე მუხლის მე-4 პუნქტის თანახმად, სავალ ნაწილთან მოსაზღვრე ტროტუარის ნაპირზე დგომა ნება-დარ-თულია მხოლოდ მსუბუქი ავტომობილისთვის, მოტოციკლისთვის, მოპედისა და ველოსიპედისთვის, თუ ისინი დაბრკოლებას არ უქმნიან ქვეითს.



Кæцы автомобиль урæд у лæууыны уагæвæрдтæ халгæйæ?

1

Рог автомобиль

2

Уæзласæн автомобиль

3

Дыууæ автомобили дæр

4

Нæдæр иу (никæцы) автомобиль

### განმარტება:

„საგზაო მოძრაობის შესახებ“ საქართველოს კანონის 37-ე მუხლის მე-4 პუნქტის თანახმად, სატრანსპორტო საშუალებების დგომა ნებადართულია ერთ რიგად, სავალი ნაწილის კიდის პარალელურად, გარდა იმ ადგილისა, რომელიც სატრანსპორტო საშუალების სხვაგვარად დაყენების პირობებს ქმნის. დასაშვებია გვერდითი მისაბმელის გარეშე ორთვლიანი სატრანსპორტო საშუალებების ორ რიგად დაყენება. სავალ ნაწილთან მოსაზღვრე ტროტუარის ნაპირზე დგომა ნებადართულია მხოლოდ მსუბუქი ავტომობილისთვის, მოტოციკლისთვის, მოპედისა და ველოსიპედისთვის, თუ ისინი დაბრკოლებას არ უქმნიან ქვეითს.





ლავაერდ სიტუაციიყ, ბარ ын ис æви нæ скъæრæგæн уæзласæн автомобили фæнысангонд бынаты сæвæрын?

1

Бар ын нæй

2

Бар ын ис

### განმარტება:

„საგზაო მოძრაობის შესახებ“ საქართველოს კანონის 37-ე მუხლის მე-6 პუნქტის „ბ.ბ“ ქვეპუნქტის თანახმად, აკრძალულია სატრანსპორტო საშუალების გაჩერება ნებისმიერ ადგილზე, სადაც მას შეუძლია შეეშნას საფრთხე, მათ შორის, ესტაკადის, ხიდისა და გზაგამტარის ქვეშ, აგრეთვე გვირაბში, გარდა ამისათვის სპეციალურად გამოყოფილი ადგილებისა.



Фехалдзәни æви нæ рог аутомобилы скъæрæг фæндæгты змæлды уагæвæрдтæ амындгонд бынаты аутомобилы лæууæныл сæвæрыны цауы?

1

Фехалдзәни

2

Нæ фехалдзәни

### განმარტება:

„საგზაო მოძრაობის შესახებ“ საქართველოს კანონის 37-ე მუხლის მე-6 პუნქტის „ბ.ბ“ ქვეპუნქტის თანახმად, აკრძალულია სატრანსპორტო საშუალების გაჩერება ნებისმიერ ადგილზე, სადაც მას შეუძლია შეეშნას საფრთხე, მათ შორის, ესტაკადის, ხიდისა და გზაგამტარის ქვეშ, აგრეთვე გვირაბში, გარდა ამისათვის სპეციალურად გამოყოფილი ადგილებისა.





Кæцы транспортон фæрæз урæд у лæууæны уагæвæрдтæ фехалгæйæ?

1

Æрмæст мотоцикл

2

Æрмæст рог автомобиль

3

Дыууæ транспортон фæрæз

4

Нæдæр иу (никæцы) транспортон фæрæз

### განმარტება:

„საგზაო მოძრაობის შესახებ“ საქართველოს კანონის 37-ე მუხლის მე-6 პუნქტის „ა.გ“ და „გ“ ქვეპუნქტების თანახმად, აკრძალულია სატრანსპორტო საშუალების გაჩერება: ა.გ) სავალი ნაწილების გადაკვეთაზე, აგრეთვე მათი გადაკვეთის ნაპირებიდან 5 მეტრზე ახლოს, გარდა იმ შემთხვევისა, როცა გაჩერება ხდება იმ გვერდითი გასასვლელების მოპირდაპირე სამხრივ გადაკვეთებზე (გზაჯვარედინებზე), რომლებზედაც მონიშვნის უწყვეტი ხაზი ან გამყოფი ზოლია; გ) გაჩერების ამკრძალავი საგზაო ნიშნის ან/და საგზაო მონიშვნის მოქმედების ზონაში. ამავე კანონის პირველი დანართის მე-3 თავის (ამკრძალავი ნიშანები) 3.28 პუნქტის თანახმად საგზაო ნიშანი 3.28 „დგომა აკრძალულია“ - კრძალავს სატრანსპორტო საშუალების დგომას. ამავე თავის პენიშვნის „ე“ და „ი“ ქვეპუნქტების თანახმად: ე) 3.16, 3.20, 3.22, 3.24, 3.26–3.30 ნიშნების მოქმედება ვრცელდება სათანადო ნიშნის შემდეგ, ნიშნის დადგმის ადგილიდან უახლოეს გზაჯვარედინამდე, ხოლო დასახლებულ პუნქტში გზაჯვარედინის არარსებობისას – დასახლებული პუნქტის ბოლომდე; ი) 3.10, 3.27–3.30 ნიშნების მოქმედება ვრცელდება მხოლოდ გზის იმ მხარეს, რომელზედაც ისინია დადგმული.



Кæцы автомобиль урæд у лæууæны уагæвæрдтæ фехалгæйæ цæрæгджын пункты?

1

Дыууæ автомобили

2

Нæдæр иу (никæцы) автомобиль

3

Сырх автомобиль

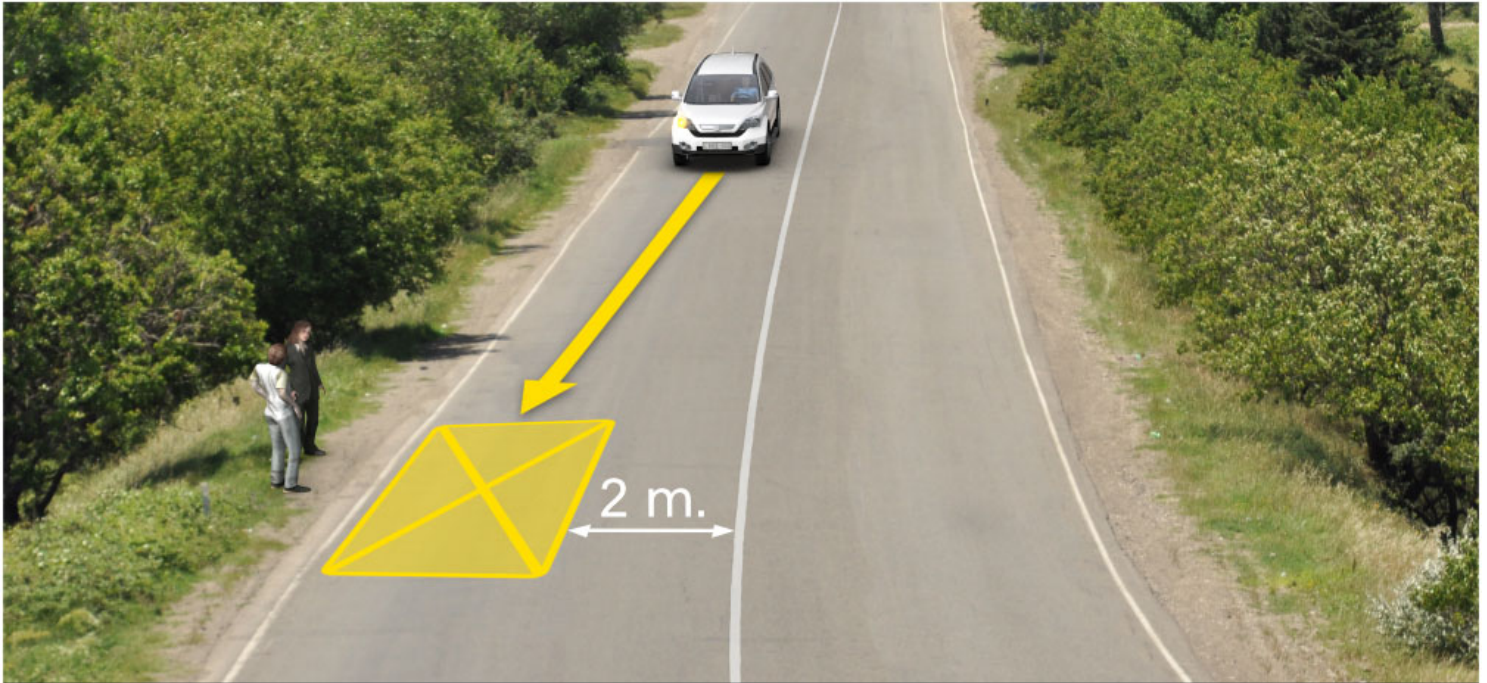
4

Цъæх автомобиль

### განმარტება:

„საგზაო მოძრაობის შესახებ“ საქართველოს კანონის 37-ე მუხლის პირველი პუნქტის თანახმად, სატრანსპორტო საშუალება, რომელიც ჩერდება ან დგას დაუსახლებელ პუნქტში, შესაძლებლობის ფარგლებში, სავალი ნაწილის გარეთ უნდა იმყოფებოდეს. ამავე კანონის პირველი დანართის მე-5 თავის (განსაკუთრებული მითითებების ნიშნები) 5.26 პუნქტის თანახმად საგზაო ნიშანი 5.26 „დასახლებული პუნქტის დასასრული“ - მიუთითებს 5.25 ნიშნით აღნიშნული დასახლებული პუნქტის დასასრულს.





Фехалдჰანი ჟეი ნჲ ურს ავტომობილს სკჲერჲგ ფჲნდჲგტს ჳმჲლდს უაგჲვჲრდტჲ, ნსვსლ ამსნდგონდ ბსნატს ჲერუმსსს ცაუს?

1

Фехалдჰანი

2

ნჲ ფჲხალდჰანი

**განმარტება:**

„საგზაო მოძრაობის შესახებ“ საქართველოს კანონის 37-ე მუხლის მე-6 პუნქტის „ბ.დ“ ქვეპუნქტის თანახმად, აკრძალულია სატრანსპორტო საშუალებების გაჩერება ნებისმიერ ადგილზე, სადაც მას შეუძლია შექმნას საფრთხე, მათ შორის, იმ ადგილას, სადაც მონიშვნის უწყვეტ ხაზსა (სავალი ნაწილის ნაპირის აღმნიშვნელი მონიშვნის გარდა) და გაჩერებულ სატრანსპორტო საშუალებას შორის მანძილი 3 მეტრზე ნაკლებია.

Транспортон фæрæзы лæууæныл лæудыл нымад цæуы, кæд æмæ:

1

Змæлд барæй урæд у 5 минутæй фылдæр рæстæг, кæд æмæ уый æнæмæнгхъæугæ нæ уа бæлццæтты рахизын æмæ сбадын кæнынæн, кæнæ транспортон фæрæзы байдзаг кæнын æмæ равдæлон кæнынæн

2

Змæлд рагацау барæй урæд æрцыд 5 минутмæ

3

Змæлд урæд æрцыд техникон æдзæттæдзинадмæ гæсгæ

### პანმარტივა:

„საგზაო მოძრაობის შესახებ“ საქართველოს კანონის მე-5 მუხლის მე-20 პუნქტის თანახმად დგომა არის სატრანსპორტო საშუალების მოძრაობის გამიზნულად შეწყვეტა 5 წუთზე მეტი ხნით, თუ ეს აუცილებელი არ არის მგზავრთა ჩასხდომა-გადმოსხდომისათვის ან სატრანსპორტო საშუალების დატვირთვა-გადმოტვირთვისათვის.


Фაენდადჯი ცაუაენ хайыл транспортон фæрæзты æруромын барлæвæрд нæ цæуы, æрмæст:

- |  |  |
|--|--|
| <p><b>1</b> Фæндагыл цæуаг трамвайы æмæ æфсæнвæндадჯы рельсытыл, кæнæ уыдонмæ æввахс, кæд æмæ уый къуылымпы кæна трамвайы кæнæ поезды змæлды</p> | <p><b>2</b> Æрмæст уыцы бынæттыл, цыран транспортон фæрæз фæндагты змæлды иннæ хайадисджытæн æмбæрзы рухснысаны (светофоры) сигналты кæнæ фæндагы нысæнтты</p> |
| <p><b>3</b> Сындæгцæуаг транспортон фæрæзты змæлынæн нысангонд, аккаг фæндагон нысанæй фæбæრæггонд уæлæмхас змæлды хаххыл</p>                    | <p><b>4</b> Ацы билеты ранымад кæцыфæнды цауы</p>  |

### განმარტება:

„საგზაო მოძრაობის შესახებ“ საქართველოს კანონის 37-ე მუხლის მე-6 პუნქტის „ა.ბ“ ქვეპუნქტის თანახმად აკრძალულია სატრანსპორტო საშუალებების გაჩერება გზის სავალ ნაწილზე, გზაზე გამავალი ტრამვაის და რკინიგზის ლიანდაგებზე ან მათ ახლოს, თუ ამას შეუძლია გააძნელოს ტრამვაის ან მატარებლების მოძრაობა. ამავე პუნქტის „ბ.ე“ და „ბ.ვ“ ქვეპუნქტების თანახმად აკრძალულია სატრანსპორტო საშუალებების გაჩერება ნებისმიერ ადგილზე, სადაც მას შეუძლია შექმნას საფრთხე, მათ შორის: ბ.ე) იმ ადგილზე, სადაც იგი სხვა საგზაო მოძრაობის მონაწილეებს უფარავს შექნიშნის ფერად მაშუქ სიგნალებს ან საგზაო ნიშნებს; ბ.ვ) ნელმავალი სატრანსპორტო საშუალებების მოძრაობისათვის განკუთვნილ, შესაბამის საგზაო ნიშნით აღნიშნულ დამატებით მოძრაობის ზოლზე.





Кæцы аутомобилы скъæрæг фехалдзæни фæндæгты змæлды уагæвæрдты, хидыл бæлццæтты сбадын кæныны нысанæй фатæгæй амынд бынаты æруромыны цауы?

1

Дыууæ аутомобилы скъæрæг

2

Æрмæст урс аутомобилы скъæрæг

3


Æрмæст цъæх аутомобилы скъæრæг

4

Нæдæр иу (никæцы) аутомобилы скъæრæг

### განმარტება:

„საგზაო მოძრაობის შესახებ“ საქართველოს კანონის 37-ე მუხლის მე-6 პუნქტის „ბ.ა“ ქვეპუნქტის თანახმად, აკრძალულია სატრანსპორტო საშუალებების გაჩერება ნებისმიერ ადგილზე, სადაც მას შეუძლია შექმნას საფრთხე, მათ შორის, ესტაკადებზე, ხიდეებზე და გზაგამტარებზე, გარდა იმ შემთხვევებისა როცა აღნიშნულ ადგილებში ორზე მეტი თანმხვედრი მიმართულების მოძრაობის ზოლია.



ლავარდ სიტუაციის, კაცი ტრანსპორტონ ფარაჟი სკარაგ ხალი ფანდაგტი ზმადი უაგავარდტი, კად ჯამე ხიდილ ბელცაეტტი სბადი კაენი ნისანეი როგ ავტომობილ ფატადჯი (სტრელკაი) ჯრდამადმა ზმელი ფაესამაეციდაი, ფელა – мотоцикл ახაესტ კაენი ფატადჯი (სტრელკაი) ჯრდამადმა რაზილენ?

1

Мотоциклы съезжает

2

Автомобилы съезжает

3

Недар иу (никацы) транспортон  
фарაჟი სკარაგ

4

Дууае транспортон фарაჟი  
სკარაგ

### განმარტება:

„საგზაო მოძრაობის შესახებ“ საქართველოს კანონის 32-ე მუხლის მე-15 პუნქტის „გ“ ქვეპუნქტის თანახმად, აკრძალულია სატრანსპორტო საშუალების მობრუნება ხილზე, გზაგამტარზე, ესტაკადაზე და მათ ქვეშ. ამავე მუხლის მე-16 პუნქტის თანახმად, მძღოლი, რომელიც მობრუნებას ან უკუსვლით მოძრაობას აპირებს, უნდა დარწმუნდეს, რომ მას შეუძლია ისე შეასრულოს ეს მანევრი, რომ საფრთხე არ შეუქმნას და ხელი არ შეუშალოს სხვა საგზაო მოძრაობის მონაწილეებს. აუცილებლობის შემთხვევაში მიზანშეწონილია სხვა პირის დახმარება. აკრძალულია უკუსვლით მოძრაობა გზაჯვარედინზე, ავტომაგისტრალზე და ამ მუხლის მე-15 პუნქტით განსაზღვრულ ადგილებში.

## ВОПРОС 511

ПРАВИЛЬНЫЙ ОТВЕТ: 3

Бар ის ჯევი ნაე აედჯერაგ пункты 2.1 ფანდაгон ნისანაი („საჲრაგ ფანდაგ“) ფაენისანგონდ ფანდადჯი ცაეუაენ ხაიыл транспортон фәраәзты ләууын?

1

Бар ис

2

Бар ис, аермаест уыцы фандагыл, кәцыйыл фәерсмае аердаамадмае змаелынаен иуыл кәаддәер дыууае хаххы ис

3

Бар нәй

## განმარტება:

„საგზაო მოძრაობის შესახებ“ საქართველოს კანონის 37-ე მუხლის მე-7 პუნქტის „ვ“ ქვეპუნქტების თანახმად, აკრძალულია სატრანსპორტო საშუალებების დგომა, დაუსახლებელ პუნქტში 2.1, 5.1 და 5.3 საგზაო ნიშნებით აღნიშნულ გზის სავალ ნაწილზე, აგრეთვე დასახლებულ პუნქტში გზის სავალ ნაწილზე, სადაც მოძრაობა დაშვებულია 80 კმ/სთ-ზე მეტი სიჩქარით, გარდა სპეციალურად აღნიშნული ადგილებისა.

## ВОПРОС 512

ПРАВИЛЬНЫЙ ОТВЕТ: 1

Бар нәй аенәттранспортон фәраәзты аеруромын фандадჯი ცაეუაენ хаиыл тәссаг фәзиләны амае фандадჯи дәргъмае профилы къуыпгонды састмае аеввахс, цыран фандадჯи аевзаринад иу аердаамадмае уәддәер:

1

100 метრაи кәаддәер у


2

100 метრაи фылдәер у, фәлә 150 метრაи кәаддәер у

## განმარტება:

„საგზაო მოძრაობის შესახებ“ საქართველოს კანონის 37-ე მუხლის მე-6 პუნქტის „ბ.გ“ ქვეპუნქტის თანახმად, აკრძალულია სატრანსპორტო საშუალებების გაჩერება გზის სავალ ნაწილზე სახიფათო მოსახვევისა და გზის გრძივი პროფილის ამოზერცული გადატეხვის ახლოს, სადაც გზის ხილვადობა თუნდაც ერთი მიმართულებით 100 მეტრზე ნაკლებია.





Ис ын æви нæ бар рог автомобили скъæрæгæн æрурома цæрæгджын пункты, нывыл амындгонд бынаты бæлццæтты сбадын кæныны тыххæй?

1

Нæй ын бар

2

Ис ын бар

### განმარტება:

„საგზაო მოძრაობის შესახებ“ საქართველოს კანონის პირველი დანართის მე-5 თავის (განსაკუთრებული მითითებების ნიშნები) 5.11 პუნქტის თანახმად 5.11 „სამარშრუტო სატრანსპორტო საშუალებისათვის განკუთვნილი მოძრაობის ზოლის მქონე გზა“ - აღნიშნავს გზას, რომელზედაც სამარშრუტო სატრანსპორტო საშუალება მოძრაობს სპეციალურად გამოყოფილ ზოლზე სატრანსპორტო საშუალებათა საერთო ნაკადის საპირისპირო მიმართულებით. ამავე კანონის 41-ე მუხლის მე-3 პუნქტის თანახმად, გზაზე, სადაც 5.11, 5.13.1, 5.13.2 და 5.14 საგზაო ნიშნებით აღნიშნული სამარშრუტო სატრანსპორტო საშუალებების მოძრაობისათვის განკუთვნილი ზოლია, აკრძალულია ამ ზოლზე სხვა სატრანსპორტო საშუალებათა მოძრაობა და გაჩერება. თუ ეს ზოლი დანარჩენი სავალი ნაწილისგან მონიშვნის წყვეტილი ხაზითაა გამოყოფილი, მოხვევისას სხვა სატრანსპორტო საშუალებები ამ ზოლზე უნდა გადაჯგუფდნენ. ნებადართულია აგრეთვე ამ ზოლის ასეთ ადგილებში შესვლა გზაზე გასვლისას და მგზავრთა ჩასხდომა-გადმოსხდომისას სავალი ნაწილის მარჯვენა კიდედან, თუ ეს არ დააბრკოლებს სამარშრუტო სატრანსპორტო საშუალების მოძრაობას.

## ВОПРОС 514

ПРАВИЛЬНЫЙ ОТВЕТ: 4

Дაქდაერ რანყმადგონდ, კაეცყ ბყნაეტყ აყყზყნყ რაზმაე ყ ჰაესდყყნ ავტობუსყ ამაე ყაეზლასაენ ავტომობილყ სკაერაეგ ფიდარაეყ სბაერაეგ კაენა აყყზაენყ აედასდყინადყ?

1 აერმაესტ ჰიდტყ ამაე ესტაკადაეტყ ბყნმაე

2 აერმაესტ ბაერზონდ ტყნგადყ (высоковольтный) ადაეტტაედყყ ბყნ

3 აერმაესტ ტყუნელტყ ამაე აენდერ აჰაემ ბყნაეტყ

4 აცყ ბილეთყ რანყმად კაეცყფაენდყ ბყნატყ

## განმარტება:

„საგზაო მოძრაობის შესახებ“ საქართველოს კანონის 21-ე მუხლის მე-10 პუნქტის თანახმად, ხიდის, ესტაკადის, მაღალი ძაბვის გადამცემი ხაზის ქვეშ, აგრეთვე გვირაბში ან სხვა მსგავს ადგილას გავლამდე ავტობუსის, სატვირთო ავტომობილის მძღოლი ვალდებულია დარწმუნდეს სატრანსპორტო საშუალების გავლის უსაფრთხოებაში.

## ВОПРОС 515

ПРАВИЛЬНЫЙ ОТВЕТ: 2

ის აევი ნაე ბარ სკაერაეგაენ, ავარიონ სიტუაციყყ კაენაე ტაესაგ ცაყყ, აერურომა კაენაე აერაეაერა ტრანსპორტონ ფაერაეზ ფანდაგონ ნყსანაეყ ბაერაეგ ყყცყ ტყუნელყ, კაეცყყყ ის სპეციალონაეყ აერლაეყყყნაენ ნყსანგონდ ბყნაეტტაე?

1 ნაეყ ყნ ბარ

2 ის ყნ ბარ

## განმარტება:

„საგზაო მოძრაობის შესახებ“ საქართველოს კანონის 42-ე მუხლის „გ“ პუნქტის თანახმად, საგზაო ნიშნით აღნიშნულ გვირაბებში მოქმედებს შემდეგი წესები - მძღოლს შეუძლია გააჩეროს ან დააყენოს სატრანსპორტო საშუალება მხოლოდ საავარიო სიტუაციის ან საფრთხის შემთხვევაში. ამასთანავე, მან უნდა გამოიყენოს სპეციალურად მონიშნული ადგილი, თუ ამის შესაძლებლობა არსებობს.



## ВОПРОС 516

ПРАВИЛЬНЫЙ ОТВЕТ: 2

Гәнаән ис æви нæ фæндагон нысанæй бæрæг тъунелы механикон транспортон фæрæзы дæргъвæтин урæды рæстæджы кусгæ моторимæ лæууын?

1

Гәнаән ис

2

Нæй гәнаән

## განმარტება:

„საგზაო მოძრაობის შესახებ“ საქართველოს კანონის 42-ე მუხლის „დ“ პუნქტის თანახმად, საგზაო ნიშნით აღნიშნულ გვირაბებში მოქმედებს შემდეგი წესები - ხანგრძლივი გაჩერების შემთხვევაში მძღოლმა ძრავი უნდა გამოერთოს.

## ВОПРОС 517

ПРАВИЛЬНЫЙ ОТВЕТ: 1

Маршрутон транспортон фæрæзы кәнæ таксийы конструктивонæй рахицәнгонд æрлæууәны бынәттәй, фәлæ сә уәвыны рæстæджы – маршрутон транспортон фæрæзы кәнæ таксийы æрлæууәны æвдыстәй, кәд æмæ уый къуылымпы кәны маршрутон транспортон фæрæзты змәлды, транспортон фæрæзты æруромыны бар нәй:

1

10 метрæй æввахсдær

2

15 метрæй æввахсдær

3

Иуыл къаддær 15 метры  
дæрддзæгыл

## განმარტება:

„საგზაო მოძრაობის შესახებ“ საქართველოს კანონის 37-ე მუხლის მე-6 პუნქტის „ბ.8“ ქვეპუნქტის თანახმად, აკრძალულია სატრანსპორტო საშუალებების გაჩერება ნებისმიერ ადგილზე, სადაც მას შეუძლია შექმნას საფრთხე, მათ შორის სამარშრუტო სატრანსპორტო საშუალების ან ტაქსის კონსტრუქციულად გამოყოფილი გაჩერების ადგილებიდან, ხოლო მათი არარსებობის შემთხვევაში – სამარშრუტო სატრანსპორტო საშუალების ან ტაქსის გაჩერების მაჩვენებლიდან 15 მეტრზე ახლოს, თუ ეს აბრკოლებს აღნიშნული სატრანსპორტო საშუალებების მოძრაობას.

## ВОПРОС 518

ПРАВИЛЬНЫЙ ОТВЕТ: 2

Бар ис æви нæ транспортон фæрæзты буроын уыцы эстакадæты, хидты æмæ фæндагуадзæнты бынмæ, цыран нæй специалонæй рахицæнгонд бынæттæ?

1

Бар нæй, æрмæст уыцы транспортон фæрæзты буроын, кæцыты максималон массæ у 3,5 тоннæй фылдæр

2

Бар нæй

3

Бар ис

## განმარტება:

„საგზაო მოძრაობის შესახებ“ საქართველოს კანონის 37-ე მუხლის მე-6 პუნქტის „ბ.“ ქვეპუნქტის თანახმად, აკრძალულია სატრანსპორტო საშუალებების გაჩერება ნებისმიერ ადგილზე, სადაც მას შეუძლია შექმნას საფრთხე, მათ შორის ესტაკადის, ხიდისა და გზაგამტარის ქვეშ, აგრეთვე გვირაბში, გარდა ამისათვის სპეციალურად გამოყოფილი ადგილებისა.

## ВОПРОС 519

ПРАВИЛЬНЫЙ ОТВЕТ: 2

Бар ис æви нæ фæндаджы цæуæн хайы æрдыгæй кæнæ транспортон фæრæзы фæстæ рдыгæй бæлццæтты сбадын æмæ рахизын кæнын?

1

Нæй бар

2

Бар ис, æрмæст уыцы цауы, кæд æмæ уый нæ тæссаг уыдзæн фæндаджы змæлды иннæ хайадисджытæн

## განმარტება:

„საგზაო მოძრაობის შესახებ“ საქართველოს კანონის მე-20 მუხლის მე-6 პუნქტის თანახმად, აკრძალულია სატრანსპორტო საშუალების კარის გაღება მის სრულ გაჩერებამდე. კარის გაღებამ არ უნდა შეუქმნას დაბრკოლება ან საფრთხე სხვა საგზაო მოძრაობის მონაწილეებს. გზის სავალი ნაწილის, ველობილიკის ან ველოსიპედის მოძრაობის ზოლის მხარეს სატრანსპორტო საშუალების კარი არ უნდა იყოს გაღებული მგზავრთა ჩასხდომა-გადმოსხდომისთვის საჭირო დროზე მეტი ხნით. გზის სავალი ნაწილის მხარეს ან სატრანსპორტო საშუალების უკანა მხრიდან მგზავრთა ჩასხდომა-გადმოსხდომა ნებადართულია მხოლოდ იმ შემთხვევაში, თუ ეს არ შეუქმნის საფრთხეს სხვა საგზაო მოძრაობის მონაწილეებს.

## ВОПРОС 520

ПРАВИЛЬНЫЙ ОТВЕТ: 1

Бар ის ავი ნე ტრანსპორტონ ფერაჟი დუარი ბაიგომ კაენი ცალინმე არლაუა  
უადმე?

1

Бар нәй

2

Бар ис

3

Бар ис әрмәст уыцы цауы, кәд әмә  
транспортон фәрәз ныләг  
тагъдадәй змәлы

## განმარტება:

„საგზაო მოძრაობის შესახებ“ საქართველოს კანონის მე-20 მუხლის მე-6 პუნქტის თანახმად, აკრძალულია სატრანსპორტო საშუალების კარის გაღება მის სრულ გაჩერებამდე. კარის გაღებამ არ უნდა შეუქმნას დაბრკოლება ან საფრთხე სხვა საგზაო მოძრაობის მონაწილეებს. გზის სავალი ნაწილის, ველობილიკის ან ველოსიპედის მოძრაობის ზოლის მხარეს სატრანსპორტო საშუალების კარი არ უნდა იყოს გაღებული მგზავრთა ჩასხდომა-გადმოსხდომისთვის საჭირო დროზე მეტი ხნით. გზის სავალი ნაწილის მხარეს ან სატრანსპორტო საშუალების უკანა მხრიდან მგზავრთა ჩასხდომა-გადმოსხდომა ნებადართულია მხოლოდ იმ შემთხვევაში, თუ ეს არ შეუქმნის საფრთხეს სხვა საგზაო მოძრაობის მონაწილეებს.

## ВОПРОС 521

ПРАВИЛЬНЫЙ ОТВЕТ: 2

Бар ის ავი ნე ბელცაეტთ ტრანსპორტონ ფერაჟი სბადი კაენი ცაუენ ხაი  
არდუგაი?

1

Бар нәй

2

Бар ис, кәд тротуары кәнә  
фәрсырдыгәй сбадыны  
гәнәндзинад нәй әмә кәд уый нә  
бахъыгдардзәни фәндәгты змәлды  
әндәр хайадисджыты

3

Бар ис әрмәст әдзәрәг пунктты

## განმარტება:

„საგზაო მოძრაობის შესახებ“ საქართველოს კანონის 23-ე მუხლის პირველი პუნქტის თანახმად, მგზავრი ვალდებულია სატრანსპორტო საშუალებაში ჩაჯდეს და იქიდან გადმოვიდეს მისი სრული გაჩერების შემდეგ, ტროტუარის ან გვერდულას მხრიდან, ხოლო თუ ეს შეუძლებელია – გზის სავალი ნაწილის მხრიდან, თუ იგი არ შეუქმნის დაბრკოლებას სხვა საგზაო მოძრაობის მონაწილეებს.

Æнгом æмбæрт (хъæбæр) фæндагыл механикон транспортон фæрæзы, кæцыйы конструкции ифтонг кæны æдасдзинады гæртæ, змæлды рæстæджы æдасдзинады гæртæй пайда кæнын æнæмæнгхъæугæ нæу:

1

Скъæрæгæн

2

Фæстаг бадæныл бадæг  
бæлццæттæн

3

Скъæрæгæй рахизмæ кæнæ  
галиумæ фарсæрдыгæй бадæг  
бæлццæттæн.

### განმარტება:

„საგზაო მოძრაობის შესახებ“ საქართველოს კანონის 21-ე მუხლის მე-9 პუნქტის თანახმად, მძღოლი ვალდებულია მექანიკური სატრანსპორტო საშუალების (გარდა იმ სატრანსპორტო საშუალებისა, რომლის კონსტრუქცია არ ითვალისწინებს უსაფრთხოების ღვედებს) მართვისას დადგენილი წესით ისარგებლოს უსაფრთხოების ღვედით და უზრუნველყოს მისგან მარჯვენა (ან მარცხენა) მხარეს მჭიდრო მგზავრის მიერ უსაფრთხოების ღვედით სარგებლობა.

“Æრუმონ” ნისან კენი:

1

ტრანსპორტონ ფერაჲზი ჰმელდი რაზვალგაუ ჲერუმონ ტრანსპორტონ კადაი (კოლონაი)

2

ტრანსპორტონ ფერაჲზი ჰმელდი რაზვალგაუ ჲერუმონ ფანდაგონ ჰმელდი ორგანიზაცი კენინი ტეხნიკონ ფერაჲზი კენაე უაგ დეტაედჟი დოაენტაემ გაესგა

3

ტრანსპორტონ ფერაჲზი ჰმელდი რაზვალგაუ ჲერუმონდჰენ 5 მინუტმა, კენაე ნოჯი ფილდერ რაესტაგმა, კად უი ჲენაენგაჲგაუგა უიძჰენ ბელცაეტტი სბადინ ჲემა ჲერჰიზინაენ კენაე ტრანსპორტონ ფერაჲზი ჲეგაენინ ჲემა რავდჲელონ კენინაენ

### განმარტება:

„საგზაო მოძრაობის შესახებ“ საქართველოს კანონის 5-ე მუხლის მე-11 პუნქტის თანახმად, გაჩერება – სატრანსპორტო საშუალების მოძრაობის წინასწარგანზრახული შეწყვეტა 5 წუთამდე, ან უფრო მეტი ხნით, თუ ეს აუცილებელია მგზავრთა ჩასხდომა-გადმოსხდომისათვის ან სატრანსპორტო საშუალების დატვირთვა-გადმოტვირთვისათვის. გაჩერებად არ ითვლება სატრანსპორტო საშუალების მოძრაობის წინასწარგანზრახული შეწყვეტა სატრანსპორტო ნაკადში, საგზაო მოძრაობის ორგანიზების ტექნიკური საშუალებების ან მარეგულირებლის მოთხოვნათა გამო.



## ВОПРОС 524

ПРАВИЛЬНЫЙ ОТВЕТ: 2

“ლაუი” ნისან კენი:

1

ტრანსპორტონ ფერაჟი ჰმელდი რაზვალგაუ ფაურომინ 5 მინუტმა, კენა ფილდერ რაესტაგმა, კედ უი ანაემანგხაუგა უიძანი ბელცაეტი სბადინ ამა არხიზინან კენა ტრანსპორტონ ფერაჟი უარგაეაერინ ამა რავდელონ კენინან

2

ტრანსპორტონ ფერაჟი ჰმელდი ბარაი არურომინ 5 მინუტაი ფილდერ რაესტაგმა, კედ უი ნა ჰაუი ბელცაეტი სბადინ ამა არხიზინმა კენა ტრანსპორტონ ფერაჟი უარგაეაერინ ამა რავდელონ კენინმა

განმარტება:

„საგზაო მოძრაობის შესახებ“ საქართველოს კანონის 5-ე მუხლის მე-20 პუნქტის თანახმად, დგომა - სატრანსპორტო საშუალების მოძრაობის გამიზნულად შეწყვეტა 5 წუთზე მეტი ხნით, თუ ეს აუცილებელი არ არის მგზავრთა ჩასხდომა-გადმოსხდომისათვის ან სატრანსპორტო საშუალების დატვირთვა-გადმოტვირთვისათვის.

## ВОПРОС 525

ПРАВИЛЬНЫЙ ОТВЕТ: 2

ბარლავერდ ის ავი ნა ტრანსპორტონ ფერაჟი ლაუდ ცაუენ ჰაიი გალიუ არდუგაი?

1

ბარლავერდ ის არმაესტ ადზარაგ პუნკტი

2

ბარლავერდ ის არმაესტ ცარაგდჟინ პუნკტი უიცი ფანდაგილ, ცირან ალკაცი არდამადან ის იუ ჰმელან ჰაჰჰ, სე 'ხსენი ანა ტრამვაიი რელსაეი

3

ბარლავერდ ის კაციფანდი ფანდაგილ, კაციიი 'ხსენი ნაი ტრამვაიი რელსაე

4

ბარლავერდ ნაი

განმარტება:


„საგზაო მოძრაობის შესახებ“ საქართველოს კანონის 37-ე მუხლის მე-2 პუნქტის „ბ“ ქვეპუნქტის თანახმად, სატრანსპორტო საშუალება, რომელიც ჩერდება ან დგას სავალ ნაწილზე, უნდა იმყოფებოდეს სავალი ნაწილის კიდესთან რაც შეიძლება ახლოს. მძღოლს შეუძლია გაჩერდეს ან დააყენოს სატრანსპორტო საშუალება სავალ ნაწილზე, მარჯვენა მხარეს. სატრანსპორტო საშუალების გაჩერება და დგომა სავალი ნაწილის მარცხენა მხარეს ნებადართულია დასახლებულ პუნქტში იმ გზაზე, სადაც თითოეული მიმართულებისათვის ერთი სამოძრაო ზოლია შუაში ტრამვაის ლიანდაგების გარეშე.

Уыцы бынæтты тыхурæды рæстæджы, цыран уый бар нæй, скъæрæг аварион æруромæны нысан (кæнæ уый хуызæнгонд ефектон арæзт) æвæстиатæй хъуамæ равæра:

- 1** Æрмæст аварион рухсигнализацийы сиуы фæстæ
- 2** Æрмæст уыцы цауы, кæд аварион рухсигнализаци нæй кæнæ хæлд у
- 3** Куыд аварион рухсигнализацийы сиуы фæстæ, афтæ уыцы цауы, кæд ахæм сигнализаци нæй кæнæ хæлд у

### განმარტება:

„საგზაო მოძრაობის შესახებ“ საქართველოს კანონის 52-ე მუხლის მე-2 პუნქტის „ბ“ ქვეპუნქტის თანახმად, საავარიო შუქსიგნალიზაციის ჩართვის შემდეგ, აგრეთვე თუ ასეთი სიგნალიზაცია არ არსებობს ან მწყობრიდანაა გამოსული, მძღოლმა დაუყოვნებლივ უნდა დადგას „საავარიო გაჩერების ნიშანი“, ხოლო არასაკმარისი ხილვადობის პირობებში – მოციმციმე წითელი ფარანი: ბ) იმ ადგილას იძულებით გაჩერების დროს, სადაც გაჩერება აკრძალულია, და იქ, სადაც, ხილვადობის პირობების გათვალისწინებით, სხვა მძღოლები ვერ შეძლებენ სატრანსპორტო საშუალების დროულად შემჩნევას.



Нывыл амындгонд кæцы бынаты æрлæуды цауы фехалдзæни сабиты къорды кæнæг (ласæг) автобусы скъæрæг фæндæгты змæлды уагæвæрдтæ, кæд уый не сиу кæндзæни аварион рухссигнализацийы?

1

Æрмæст А бынаты

2

Æрмæст В бынаты

3

Куыд А бынаты, афтæ В бынаты

### ბანმარტეზა:

„საგზაო მოძრაობის შესახებ“ საქართველოს კანონის 26-ე მუხლის მე-4 პუნქტის თანახმად, ბავშვთა ჯგუფის გადაყვან ავტობუსზე დამაგრებული უნდა იყოს საცნობი ნიშანი „ბავშვების გადაყვანა“. ავტობუსის გაჩერების შემთხვევაში მძღოლმა უნდა ჩართოს საავარიო შექსიგნალიზაცია. ბავშვების თანმხლები სრულწლოვანი პირები ვალდებული არიან, უზრუნველყონ ბავშვების ავტობუსში ჩასხდომა და ავტობუსიდან გადმოსხდომა, აგრეთვე ბავშვების მიერ გზის სავალი ნაწილის უსაფრთხო გადაკვეთა.



Халы æви нæ сабиты къорды кæнæг (ласæг) автобусы скъæрæг фæндæгты змæлды уагæвæрдтæ нывыл амындгонд бынаты æрлæуды цауы, кæд автобусыл иугонд нæй аварион рухссигнализаци?

1

Халы


2

Нæ халы

### განმარტება:

„საგზაო მოძრაობის შესახებ“ საქართველოს კანონის 26-ე მუხლის მე-4 პუნქტის თანახმად, ბავშვთა ჯგუფის გადამყვან ავტობუსზე დამაგრებული უნდა იყოს საცნობი ნიშანი „ბავშვების გადაყვანა“. ავტობუსის გაჩერების შემთხვევაში მძღოლმა უნდა ჩართოს საავარიო შექსიგნალიზაცია. ბავშვების თანმხლები სრულწლოვანი პირები ვალდებული არიან, უზრუნველყონ ბავშვების ავტობუსში ჩასხდომა და ავტობუსიდან გადმოსხდომა, აგრეთვე ბავშვების მიერ გზის სავალი ნაწილის უსაფრთხო გადაკვეთა.





Рог автомобиля съѣзжæгæн бар ис æрурома:

1

Æрмæст А бынаты

2

Æрмæст В бынаты


3

Куыд А бынаты, афтæ В бынаты

### განმარტება:

„საგზაო მოძრაობის შესახებ“ საქართველოს კანონის პირველი დანართის მე-3 თავის (ამკრძალავი ნიშნები) 3.27 პუნქტის თანახმად, საგზაო ნიშანი 3.27 „გაჩერება აკრძალულია“ - კრძალავს სატრანსპორტო საშუალების, როგორც გაჩერებას, ასევე დგომას. ამავე თავის შენიშვნის „ზ.დ“ ქვეპუნქტის თანახმად, 3.27–3.30 ნიშნების მოქმედების ზონა მცირდება, მათი მოქმედების ზონის ბოლოში 8.2.3 დაფიანი განმეორებითი 3.27–3.30 ნიშნების დადგმით ან 8.2.2 დაფის გამოყენებით, ან 7.4 „დგომის ადგილი“ ნიშნის 8.2.1 დაფით დადგმით.





Ис ын æви нæ бар автомобили скъæрæгæн бæлццоны æрхизын кæныны тыххæй æрлæууа фатæгæй (стрелкæйæ) амынд бынаты?

1

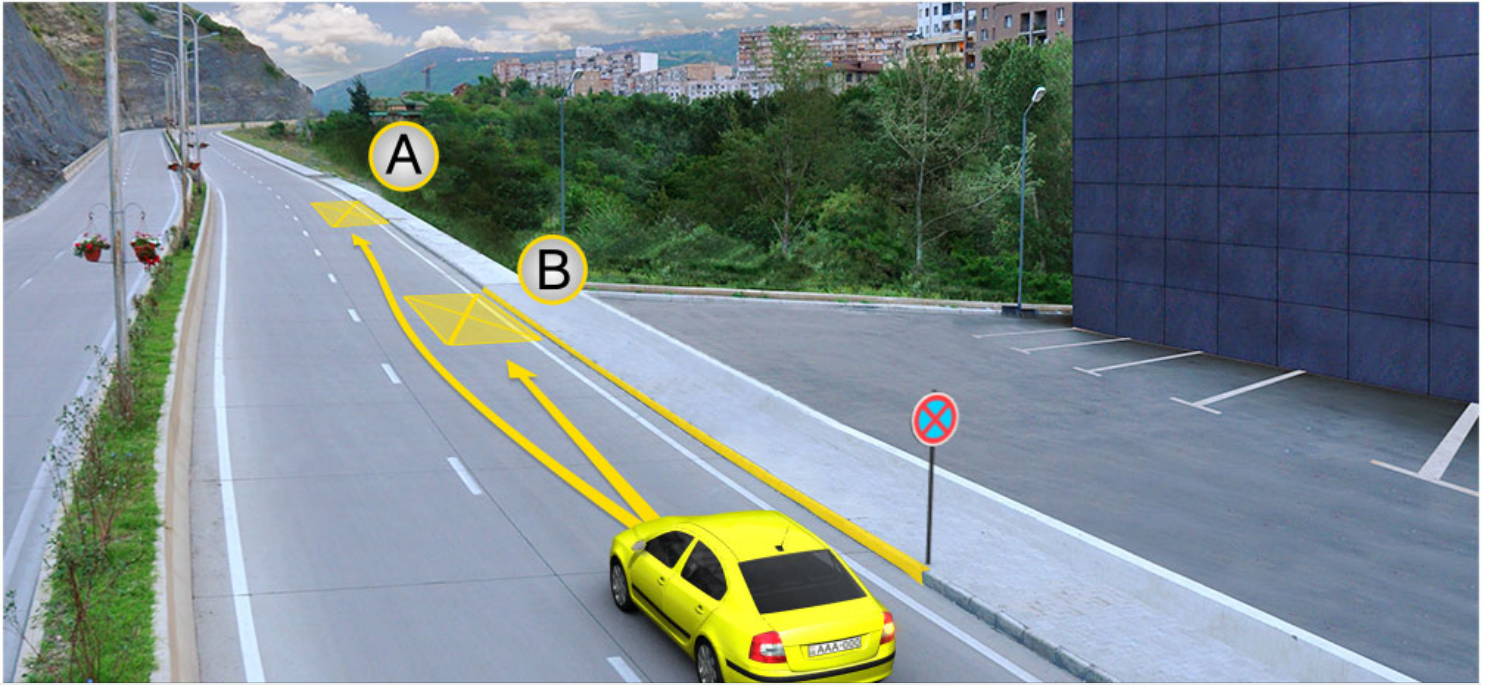
Ис ын бар

2

Нæй ын бар

### განმარტება:

„საგზაო მოძრაობის შესახებ“ საქართველოს კანონის მე-2 დანართის პირველი თავის (ჰორიზონტალური მონიშვნა) 1.4 პუნქტის თანახმად, საგზაო მონიშვნა 1.4 მთლიანი ყვითელი ხაზი აღნიშნავს ადგილს, სადაც აკრძალულია გაჩერება; გამოიყენება დამოუკიდებლად ან 3.27 ნიშანთან ერთად; იხაზება სავალი ნაწილის ნაპირთან ან ბორდიურზე ზემოდან.



Рог автомобиля съѣзжæгæн бар ис æрлæууа:

1

Æрмæст А бынаты

2

Æрмæст В бынаты


3

Нæдæр А бынаты æмæ нæдæр В бынаты

### განმარტება:

„საგზაო მოძრაობის შესახებ“ საქართველოს კანონის მე-2 დანართის პირველი თავის (ჰორიზონტალური მონიშვნა) 1.4 პუნქტის თანახმად, საგზაო მონიშვნა 1.4 მთლიანი ყვითელი ხაზი აღნიშნავს ადგილს, სადაც აკრძალულია გაჩერება; გამოიყენება დამოუკიდებლად ან 3.27 ნიშანთან ერთად; იხაზება სავალი ნაწილის ნაპირთან ან ბორდიურზე ზემოდან. ამავე კანონის პირველი დანართის მე-3 თავის (ამკრძალავი ნიშნები) 3.27 პუნქტის და ამავე თავის შენიშვნის „თ“ ქვეპუნქტის თანახმად, საგზაო ნიშანი 3.27 „გაჩერება აკრძალულია“ - კრძალავს სატრანსპორტო საშუალების, როგორც გაჩერებას, ასევე დგომას. 3.27 ნიშნის გამოყენება შეიძლება 1.4 მონიშვნასთან, ხოლო 3.28 ნიშნისა – 1.10 მონიშვნასთან ერთად. ამასთანავე, ნიშნების მოქმედების ზონა მონიშვნის ხაზის სიგრძით განისაზღვრება.





Рог автомобиля съѣхѣгѣн бар ис ѣрлѣууа:

1

Ѧрмѣст А бынаты

2

Ѧрмѣст В бынаты

3

Куыд А бынаты, афтѣ В бынаты


### განმარტება:

„საგზაო მოძრაობის შესახებ“ საქართველოს კანონის 37-ე მუხლის მე-6 პუნქტის „ა.ა“ და „ა.გ“ ქვეპუნქტების თანახმად, აკრძალულია სატრანსპორტო საშუალების გაჩერება გზის სავალ ნაწილზე: ა.ა) ქვეითთა და ველოსიპედისტთა გადასასვლელებზე და მათ წინ 5 მეტრზე ახლოს; ა.გ) სავალი ნაწილების გადაკვეთაზე, აგრეთვე მათი გადაკვეთის ნაპირებიდან 5 მეტრზე ახლოს, გარდა იმ შემთხვევისა, როცა გაჩერება ხდება იმ გვერდითი გასასვლელების მოპირდაპირე სამმხრივ გადაკვეთებზე (გზაჯვარედინებზე), რომლებზედაც მონიშვნის უწყვეტი ხაზი ან გამყოფი ზოლია.

თემა 20:

## გზავრედინის გავლა

---



Кæцы транспортон фæрæзы скъæრæгæн фæзындзæн фæндаг раттыны хæсдзинад фатæджы (стрелкæйы) æрдæмадмæ змæлды рæстæджы?

1

Рог автомобиля скъæრæгæн

2

Мотоциклы скъæრæгæн

### განმარტება:

„საგზაო მოძრაობის შესახებ“ საქართველოს კანონის პირველი დანართის 2.3 პუნქტის თანახმად, საგზაო ნიშანი 2.3 „დაუთმე გზა“ - გზა, რომელზე მოძრავი მძღოლის ვალდებულია გზა დაუთმოს გადასაღვეთ გზაზე მოძრავ მძღოლს. ამავე კანონის მე-2 დანართის 1.13 პუნქტის თანახმად ჰორიზონტალური საგზაო მონიშვნა 1.13. აღნიშნავს ადგილს, სადაც მძღოლი აუცილებლობის შემთხვევაში უნდა გაჩერდეს და გზა უნდა დაუთმოს გადამკვეთ გზაზე მოძრავ სატრანსპორტო საშუალებას.





Кæцы транспортон фæрæзы скъæრæгæн фæзындзæн фæндаг раттыны хæсдзинад, траекториты стрелкæтæй амындгонд бынатмæ цæхгæрмæ ахизыны рæстæджы?

1

Сырх автомобили скъæрæгæн

2

Цъæх автомобили скъæрæгæн

### განმარტება:

„საგზაო მოძრაობის შესახებ“ საქართველოს კანონის 32-ე მუხლის მე-12 პუნქტის თანახმად, თუ სატრანსპორტო საშუალებების მოძრაობის ტრაექტორიები იკვეთება, ხოლო გავლის რიგითობა განსაზღვრული არ არის, მძღოლმა გზა უნდა დაუთმოს იმ სატრანსპორტო საშუალებას, რომელიც მას მარჯვნიდან უახლოვდება. ამავე კანონის პირველი დანართის მე-2 თავის 2.3 პუნქტის თანახმად საგზაო ნიშანი 2.3 „დაუთმე გზა“ - გზა, რომელზე მოძრავი მძღოლიც ვალდებულია გზა დაუთმოს გადასაღვეთ გზაზე მოძრავ მძღოლს, ამავე თავის შენიშვნის „ა“ ქვეპუნქტის თანახმად 2.3 და 2.4 ნიშნების მოქმედება ვრცელდება სავალი ნაწილების იმ გადაკვეთაზე, რომლის წინაც დადგმულია სათანადო ნიშანი.



Кæцы транспортон фæрæзы скъæრæгæн фæзындзæн фæндаг раттыны хæсдзинад фатæджы (стрелкæйы) æрдæмадмæ змæлды рæстæджы?

1

Бур аутомобилы скъæрæгæн

2

Мотоциклы скъæрæгæн

### განმარტება:

„საგზაო მოძრაობის შესახებ“ საქართველოს კანონის 32-ე მუხლის მე-12 პუნქტის თანახმად, თუ სატრანსპორტო საშუალებების მოძრაობის ტრაექტორიები იკვეთება, ხოლო გავლის რიგითობა განსაზღვრული არ არის, მძღოლმა გზა უნდა დაუთმოს იმ სატრანსპორტო საშუალებას, რომელიც მას მარჯვნიდან უახლოვდება.



Цы фæткыл хъуамæ рацæуой алвæндаг (перекресток) транспортон фæрæзтæ фатæджы (стрелкæйы) æрдæмадмæ змæлды рæстæджы?

- |   |   |
|---|---|
| <p><b>1</b> Нырма хъуамæ рацæуа бур автомобиль, стæй – уæзласæн автомобиль, уый фæстæ – тролейбус</p> | <p><b>2</b> Нырма хъуамæ рацæуа уæзласæн автомобиль, стæй – бур автомобиль, уый фæстæ – тролейбус</p> |
| <p><b>3</b> Нырма хъуамæ рацæуа тролейбус, стæй – бур автомобиль, уый фæстæ – уæзласæн автомобиль</p> |   |

### განმარტება:

„საგზაო მოძრაობის შესახებ“ საქართველოს კანონის 36-ე მუხლის მე-4 პუნქტის „ა“, „ბ“ და „გ“ ქვეპუნქტების თანახმად, არარეგულირებულ გზაჯვარედინზე: ა) არათანაბარმნიშვნელოვანი გზების გადაკვეთაზე მეორეხარისხოვან გზაზე მოძრავი სატრანსპორტო საშუალების მძღოლი ვალდებულია გზა დაუთმოს მთავარი გზიდან მოახლოებულ სატრანსპორტო საშუალებას, მიუხედავად მისი შემდგომი მოძრაობის მიმართულებისა; ბ) თუ გზაჯვარედინზე მთავარი გზა იცვლის მიმართულებას, ამ გზაზე მოძრავმა მძღოლებმა ურთიერთშორის უნდა იხელმძღვანელონ თანაბარმნიშვნელოვანი გზების გავლის წესებით. ამავე წესებით უნდა იხელმძღვანელონ ურთიერთშორის მეორეხარისხოვან გზაზე მოძრავმა მძღოლებმაც; გ) თანაბარმნიშვნელოვანი გზების გადაკვეთაზე ურელსო სატრანსპორტო საშუალების მძღოლი ვალდებულია გზა დაუთმოს მარჯვნიდან მოახლოებულ სატრანსპორტო საშუალებას. ამავე წესით უნდა იხელმძღვანელონ ურთიერთშორის რელსიანი სატრანსპორტო საშუალებების მძღოლებმაც.





Кæцы аутомобилы скъæрæгæн лæвæрд цæуы уæлбар фатæджы (стрелкæйы) æрдæмæдмæ змæлды рæстæджы, кæд фæндагон нысæнттæ æмбæрзт сты митæй?

1

Урс аутомобилы скъæрæгæн

2

Сырх аутомобилы скъæრæг

### განმარტება:

„საგზაო მოძრაობის შესახებ“ საქართველოს კანონის 36-ე მუხლის მე-8 პუნქტის თანახმად, თუ მძღოლი ვერ განსაზღვრავს გზაზე საფარის არსებობას (სიბნელის, თოვლის, ტალახის გამო ან სხვა მიზეზით) და არც პრიორიტეტის ნიშნებია, ითვლება, რომ ის მეორეხარისხოვან გზაზე იმყოფება. ამავე კანონის 36-ე მუხლის მე-4 პუნქტის „გ“ ქვეპუნქტის თანახმად, არარეგულირებულ გზაჯვარედინზე, თანაბარმნიშვნელოვანი გზების გადაკვეთაზე ურელსო სატრანსპორტო საშუალების მძღოლი ვალდებულია გზა დაუთმოს მარჯვნიდან მოახლოებულ სატრანსპორტო საშუალებას. ამავე წესით უნდა იხელმძღვანელონ ურთიერთშორის რელსიანი სატრანსპორტო საშუალებების მძღოლებმაც.



Кæцы транспортон фæрæзы скъæრæджы 'рдæм фæзындзæн фæндаг раттыны хæсдзинад автобусы скъæრæгæн фатæджы (стрелкæйы) æрдæмадмæ змæлды рæстæджы?

1

Æрмæст рог автомобили скъæრæджы 'рдæм

2

Æрмæст уæзласæн автомобили скъæრæджы 'рдæм

3

Куыд рог, афтæ уæзласæн автомобили скъæრæджыты 'рдæм

### განმარტება:

„საგზაო მოძრაობის შესახებ“ საქართველოს კანონის 36-ე მუხლის მე-4 პუნქტის „ა“, „ბ“ და „გ“ ქვეპუნქტების თანახმად, არარეგულირებულ გზაჯვარედინზე: ა) არათანაბარმნიშვნელოვანი გზების გადაკვეთაზე მეორეხარისხოვან გზაზე მოძრავი სატრანსპორტო საშუალების მძღოლი ვალდებულია გზა დაუთმოს მთავარი გზიდან მოახლოებულ სატრანსპორტო საშუალებას, მიუხედავად მისი შემდგომი მოძრაობის მიმართულებისა; ბ) თუ გზაჯვარედინზე მთავარი გზა იცვლის მიმართულებას, ამ გზაზე მოძრავმა მძღოლებმა ურთიერთშორის უნდა იხელმძღვანელონ თანაბარმნიშვნელოვანი გზების გავლის წესებით. ამავე წესებით უნდა იხელმძღვანელონ ურთიერთშორის მეორეხარისხოვან გზაზე მოძრავმა მძღოლებმაც; გ) თანაბარმნიშვნელოვანი გზების გადაკვეთაზე ურელსო სატრანსპორტო საშუალების მძღოლი ვალდებულია გზა დაუთმოს მარჯვნიდან მოახლოებულ სატრანსპორტო საშუალებას. ამავე წესით უნდა იხელმძღვანელონ ურთიერთშორის რელსიანი სატრანსპორტო საშუალებების მძღოლებმაც.





Кæцы транспортон фæрæзы скъæრæгæн фæзындзæн фæндаг раттыны хæсдзинад фатæджы (стрелкæйы) æрдæмадмæ змæлды рæстæджы?

1


Уæзласæн автомобили скъæрæгæн

2

Бур автомобили скъæрæгæн

### განმარტება:

„სავგაო მოძრაობის შესახებ“ საქართველოს კანონის 32-ე მუხლის მე-12 პუნქტის თანახმად, თუ სატრანსპორტო საშუალებების მოძრაობის ტრაექტორიები იკვეთება, ხოლო გავლის რიგითობა განსაზღვრული არ არის, მძღოლმა გზა უნდა დაუთმოს იმ სატრანსპორტო საშუალებას, რომელიც მას მარჯვნიდან უახლოვდება.



Кæцы автомобили скъæრæгæн фæзындзæн фæндаг раттыны хæсдзинад фатæджы (стрелкæйы) æрдæмадмæ змæлды рæстæджы?

1


Урс автомобили скъæრæгæн

2

Фæныкхуыз автомобили скъæრæгæн

### განმარტება:

„სავაო მოძრაობის შესახებ“ საქართველოს კანონის 32-ე მუხლის მე-4 პუნქტის თანახმად, მოძრაობის ზოლიდან ზოლში მოძრაობის მიმართულების შეუცვლელად გადასვლისას მძღოლმა გზა უნდა დაუთმოს გადასასვლელ მოძრაობის ზოლში თანმხვედრი მიმართულებით მოძრავ სატრანსპორტო საშუალებას. თანმხვედრი მიმართულებით მოძრავი სატრანსპორტო საშუალებების მიერ მოძრაობის ზოლების ერთდროულად შეცვლისას მოძრაობის ტრაექტორიების გადაკვეთის შემთხვევაში გავლის უპირატესობა ენიჭება მარჯნივ მყოფ სატრანსპორტო საშუალების მძღოლს.



Цы фæткыл хъуамæ рацæуой алвæндаг (перекресток) автомобилтæ фатæджы (стрелкæйы) æрдæмадмæ змæлды рæстæджы?

1

Нырма хъуамæ рацæуа бур  
автомобиль, стæй – цъæх  
автомобиль, уый фæстæ та –  
уæзласæн автомобиль

2

Нырма хъуамæ рацæуа уæзласæн  
автомобиль, стæй – цъæх  
автомобиль, уый фæстæ та – бур  
автомобиль

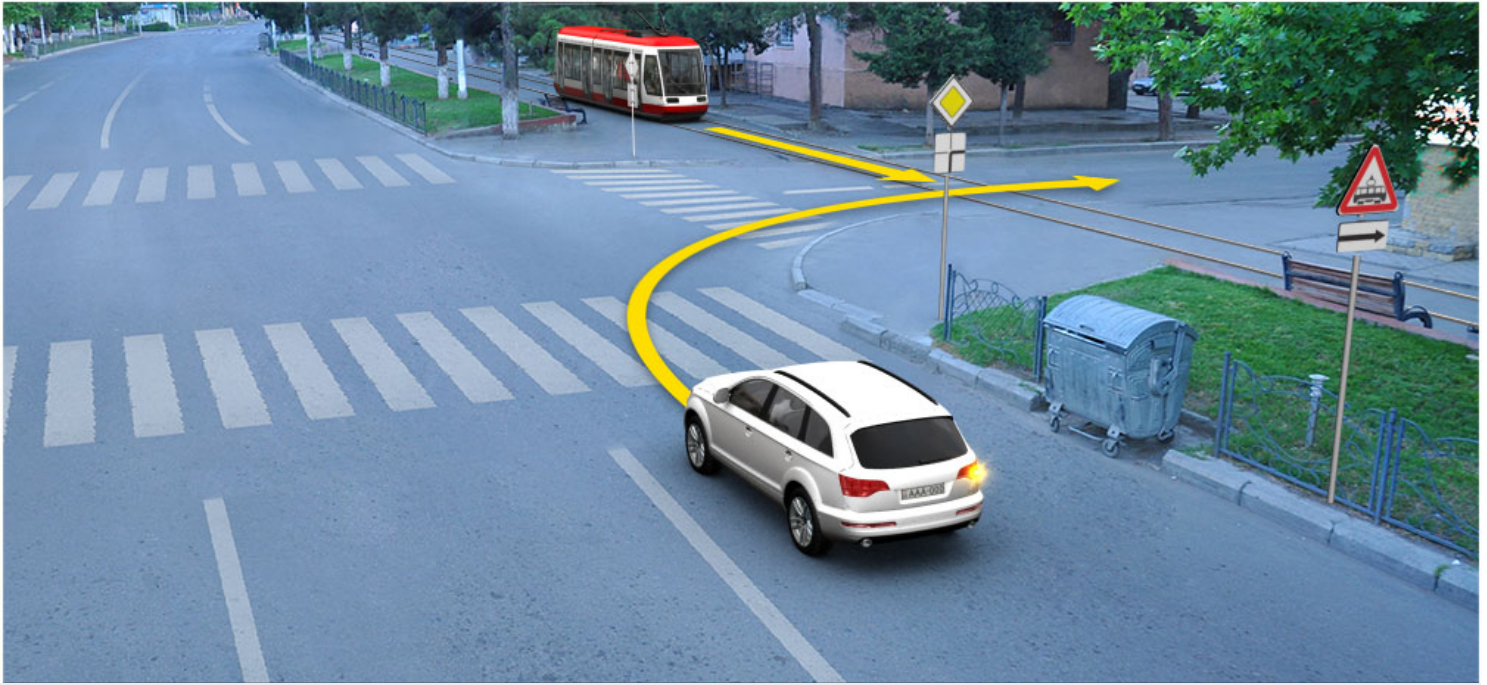
3

Нырма хъуамæ рацæуа цъæх  
автомобиль, стæй – уæзласæн  
автомобиль, уый фæстæ та – бур  
автомобиль

### განმარტება:

„საგზაო მოძრაობის შესახებ“ საქართველოს კანონის 36-ე მუხლის მე-4 პუნქტის „ა“ და „გ“ ქვეპუნქტების თანახმად, არარეგულირებულ გზაჯვარედინზე: ა) არათანაბარმნიშვნელოვანი გზების გადაკვეთაზე მეორეხარისხოვან გზაზე მოძრავი სატრანსპორტო საშუალების მძღოლი ვალდებულია გზა დაუთმოს მთავარი გზიდან მოახლოებულ სატრანსპორტო საშუალებას, მიუხედავად მისი შემდგომი მოძრაობის მიმართულებისა; გ) თანაბარმნიშვნელოვანი გზების გადაკვეთაზე ურელსო სატრანსპორტო საშუალების მძღოლი ვალდებულია გზა დაუთმოს მარჯვნიდან მოახლოებულ სატრანსპორტო საშუალებას. ამავე წესით უნდა იხელმძღვანელონ ურთიერთშორის რელსიანი სატრანსპორტო საშუალებების მძღოლებმაც.





Кæцы транспортон фæрæзы скъæრæгæн лæвæрд цæуы уæлбар фатæджы (стрелкæйы) æрдæмадмæ змæлды рæстæджы?

1


Рог автомобили скъæрæгæн

2

Трамвайы скъæрæгæн

### განმარტება:

„საგზაო მოძრაობის შესახებ“ საქართველოს კანონის 41-ე მუხლის მე-2 პუნქტის თანახმად, გზაჯვარედინის მიღმა, სადაც ტრამვაის ლიანდაგი სავალ ნაწილს კვეთს, ტრამვაის აქვს უპირატესობა ურელსო სატრანსპორტო საშუალებების მიმართ, გარდა დეჰოდან გამოსვლის შემთხვევისა.



Хәсджын у æви нæ рог автомобили скъæрæг фæндаг ратта фистæджытæн фатæджы (стрелкæйы) æрдæмадмæ змæлды рæстæджы?

1

Хәсджын у

2

Нæу хәсджын

### განმარტება:

„საგზაო მოძრაობის შესახებ“ საქართველოს კანონის 25 მუხლის მე-3 პუნქტის თანახმად, ამ კანონის მე-20 მუხლის მე-2 პუნქტითა და 34-ე მუხლის მე-11 პუნქტით დადგენილ მოთხოვნათა დაცვით, გზის სავალ ნაწილზე შესაბამისი საგზაო მონიშვნით, საგზაო ნიშნით ან შუენიშნით აღნიშნული ქვეითთა გადასასვლელის არარსებობისას მძღოლი, რომელიც სხვა გზაზე შესასვლელად მოხვევას ასრულებს, ვალდებულია გზა დაუთმოს ამ გზის სავალ ნაწილზე შესულ ქვეითებს. მან უნდა გამოიჩინოს განსაკუთრებული სიფრთხილე იმ ქვეითების მიმართ, რომლებიც გზის სავალ ნაწილზე გადადიან სამარშრუტო სატრანსპორტო საშუალებაში ჩასასხდომად ან იქიდან გადმოსხდომის შემდეგ.



## ВОПРОС 544

ПРАВИЛЬНЫЙ ОТВЕТ: 2

Ис æви нæ бар скъæრæгæн ахиза алвæндагыл (перекрестокыл), кæцыйыл арæзт ис ахæм цæнд, æмæ уый æвæццæгæн тыхфæлгъуыд уыдзæн æрурома алвæндагыл (перекрестокыл) æмæ уымæй цæхгæрмæ æрдæмадмæ змæлды бакъуылымпы кæна?

1

Ис ын бар, кæд æмæ рухснысаны (светофоры) сигнал дæтты змæлды бар

2

Нæй ын бар

## განმარტება:

„საგზაო მოძრაობის შესახებ“ საქართველოს კანონის 36-ე მუხლის მე-5 პუნქტის თანახმად, მძღოლი არ უნდა გავიდეს გზაჯვარედინზე, თუ შექმნილია ისეთი ხერგილი, რომ იგი, სავარაუდოდ, იძულებული გახდება, გაჩერდეს გზაჯვარედინზე და ამით დააბრკოლოს განივი მიმართულებით მოძრაობა. ეს წესი მოქმედებს მაშინაც, თუ შექმნილის მაშუქი სიგნალები იძლევა მოძრაობის უფლებას.

## ВОПРОС 545

ПРАВИЛЬНЫЙ ОТВЕТ: 1

„D1“ дәлкәтәгорийы транспортон фәрәзы скъәрыны бар цы скъәрәгән ис, уымән бар ис скъәра бәлцәтты акәнынән нысангонд автомобилы, кәцийы бадән бынәтты нымәц, әрмәст скъәрәджы бынатәй әмә дәргъәй дарддәр:

1

Фылдәр у 8-әй, фәлә нәу фылдәр 16-әй әмә кәцийы дәргъ нәу фылдәр 8-метрәй

2

Фылдәр у 16-әй, фәлә нәу фылдәр 30-әй әмә кәцийы дәргъ нәу фылдәр 8-метрәй

3

Нәу фылдәр 8-әй әмә кәцийы дәргъ нәу фылдәр 8-метрәй

## განმარტება:

„საგზაო მოძრაობის შესახებ“ საქართველოს კანონის 54-ე მუხლის მე-3 პუნქტის „დ“ ქვეპუნქტის თანახმად, „A“, „B“, „C“, „CE“, „D“ და „DE“ კატეგორიების ფარგლებში დაწესებული სატრანსპორტო საშუალებები, რომელთა სამართავად სავალდებულოა შესაბამისი მართვის უფლების მოპოვება, იყოფა შემდეგ ქვეკატეგორიებად: დ) „D1“ — ავტომობილი, რომელიც განკუთვნილია მგზავრთა გადასაცვანად, რომლის დასასხდომი ადგილების რაოდენობა, გარდა მძღოლის ადგილისა, აღემატება 8-ს, მაგრამ არ აღემატება 16-ს და რომლის სიგრძე არ აღემატება 8 მეტრს, აგრეთვე „D1“ ქვეკატეგორიის ავტომობილი, გადაბმული მისაბმელთან, რომლის ნებადართული მაქსიმალური მასა არ აღემატება 750 კგ-ს.

## ВОПРОС 546

ПРАВИЛЬНЫЙ ОТВЕТ: 2

„D1“ დელკატეგორიის ტრანსპორტონ ფერაჟის სკაჟის ბარ ცი სკაჟერაგენ ის, უყმენ ბარ ის სკაჟა „D1“ დელკატეგორიის ავტომობილ პრიცეპიმე, კეცყი ბარლავერდონ მაქსიმალონ მასაჟ:

1

ფილდერ უ 1200 კგ-ყ

2

ნეუ ფილდერ 750 კგ-აჟ

3

ფილდერ უ 750 კგ-ყ, ფელაჟ ნეუ ფილდერ 1200 კგ-აჟ

## განმარტება:

„საგზაო მოძრაობის შესახებ“ საქართველოს კანონის 54-ე მუხლის მე-3 პუნქტის „დ“ ქვეპუნქტის თანახმად, „A“, „B“, „C“, „CE“, „D“ და „DE“ კატეგორიების ფარგლებში დაწესებული სატრანსპორტო საშუალებები, რომელთა სამართავად სავალდებულოა შესაბამისი მართვის უფლების მოპოვება, იყოფა შემდეგ ქვეკატეგორიებად: დ) „D1“ – ავტომობილი, რომელიც განკუთვნილია მგზავრთა გადასაცვანად, რომლის დასასხდომი ადგილების რაოდენობა, გარდა მძღოლის ადგილისა, აღემატება 8-ს, მაგრამ არ აღემატება 16-ს და რომლის სიგრძე არ აღემატება 8 მეტრს, აგრეთვე „D1“ ქვეკატეგორიის ავტომობილი, გადაბმული მისაბმელთან, რომლის ნებადართული მაქსიმალური მასა არ აღემატება 750 კგ-ს.

## ВОПРОС 547

ПРАВИЛЬНЫЙ ОТВЕТ: 2

ის ავი ნე ბარ „D1E“ კატეგორიის ტრანსპორტონ ფერაჟის სკაჟის ბარი სკაჟერაგენ, სკაჟა „D1“ კატეგორიის ავტომობილ პრიცეპიმე, კეცყი ბარლავერდონ მაქსიმალონ მასაჟ ფილდერ უ 750 კგ-ყ, კედ ახემ სკონდყ იუმაჟაგონ ბარლავერდონ მაქსიმალონ მასაჟ ფილდერ ნეუ 12000 კგ-ყ?

1

ნეჟ ყნ ბარ

2

ის ყნ ბარ

## განმარტება:

„საგზაო მოძრაობის შესახებ“ საქართველოს კანონის 54-ე მუხლის მე-3 პუნქტის „ვ“ ქვეპუნქტის თანახმად, „A“, „B“, „C“, „CE“, „D“ და „DE“ კატეგორიების ფარგლებში დაწესებული სატრანსპორტო საშუალებები, რომელთა სამართავად სავალდებულოა შესაბამისი მართვის უფლების მოპოვება, იყოფა შემდეგ ქვეკატეგორიებად: ვ) „D1E“ – „D1“ ქვეკატეგორიის ავტომობილი, გადაბმული მისაბმელთან, რომელიც არ არის განკუთვნილი მგზავრთა გადასაცვანად და რომლის ნებადართული მაქსიმალური მასა აღემატება 750 კგ-ს, მაგრამ არ აღემატება ავტომობილის დაუტვირთავ მასას, ხოლო ასეთი შემადგენლობის საერთო ნებადართული მაქსიმალური მასა არ აღემატება 12 000 კგ-ს.

## ВОПРОС 548

ПРАВИЛЬНЫЙ ОТВЕТ: 1

Ис æви нæ бар „C1E“ æмæ „D1“ дæлкатегориты транспортон фæрæзты скъæрыны бар цы гоймагæн ис, афтæма скъæра „D1E“ дæлкатегорийы транспортон фæрæз?

1

Ис ын бар

2

Нæй ын бар

## განმარტება:

„საგზაო მოძრაობის შესახებ“ საქართველოს კანონის 56-ე მუხლის მე-5 პუნქტის თანახმად, „C1E“ ქვეკატეგორიის სატრანსპორტო საშუალების მართვის უფლების მქონე პირს, რომელსაც აქვს „D1“ ქვეკატეგორიის სატრანსპორტო საშუალების მართვის უფლებაც, აგრეთვე უფლება აქვს, მართოს „D1E“ ქვეკატეგორიის სატრანსპორტო საშუალებაც.

## ВОПРОС 549

ПРАВИЛЬНЫЙ ОТВЕТ: 2

Ис æви нæ бар „DE“ категорийы æмæ „C1“ дæლкатегორიის транспортон фæრæзты скъæрыны бар цы гоймаგæн ис, афтæма скъæра „C1E“ дæლкатегორიის транспортон фæრæз?

1

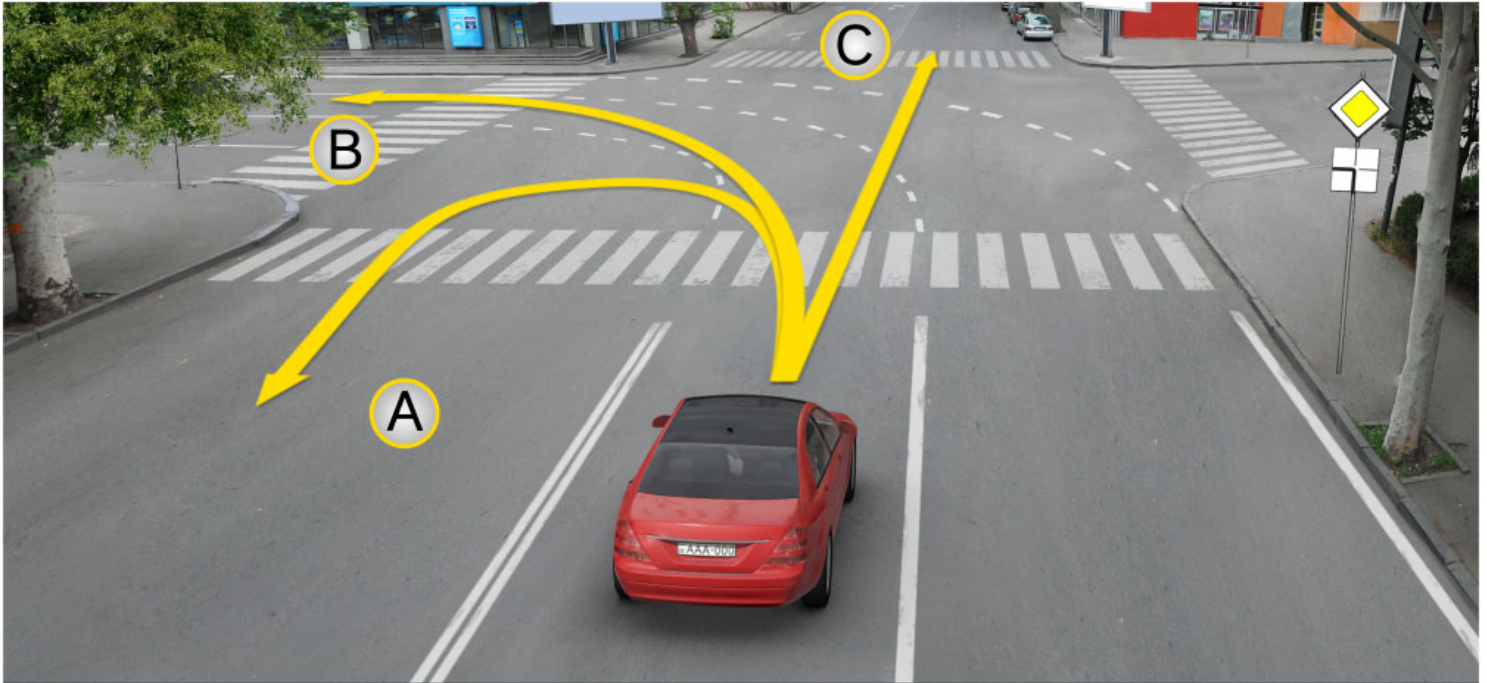
Нæй ын бар

2

Ис ын бар

## განმარტება:

„საგზაო მოძრაობის შესახებ“ საქართველოს კანონის 56-ე მუხლის მე-6 პუნქტის თანახმად, „DE“ კატეგორიის სატრანსპორტო საშუალების მართვის უფლების მქონე პირს, რომელსაც აქვს „C1“ ქვეკატეგორიის სატრანსპორტო საშუალების მართვის უფლებაც, აგრეთვე უფლება აქვს, მართოს „C1E“ ქვეკატეგორიის სატრანსპორტო საშუალებაც.



Алвæндагыл (перекрестокыл), лæвæрд фæндагон фæнысангонды уæвынады, рог  
автомобилы скъæрæгæн бар ис змæлды адаргъ кæна:

1

Æрмæст А æрдæмадмæ

2

Æрмæст В æрдæмадмæ

3

Æрмæст С æрдæмадмæ

4

Куыд А æмæ Вæрдæмадмæ, афтæ С  
æрдæмадмæ

### განმარტება:

„საგზაო მოძრაობის შესახებ“ საქართველოს კანონის მე-2 დანართის პირველი თავის (ჰორიზონტალური მონიშვნა) 1.7 პუნქტის თანახმად, საგზაო მონიშვნა 1.7 წყვეტილი ხაზი მოკლე შტრიხებითა და იმავე ზომის შუალედებით - აღნიშნავს მოძრაობის ზოლებს გზატკარედინის ფარგლებში. 1.7 ხაზის გადაკვეთა ნებადართულია ნებისმიერი მხრიდან.





Кæцы транспортон фæрæзы скъæრæгæн фæзындзæн фæндаг раттыны хæсдзинад фатæджы (стрелкæйы) æрдæмадмæ змæлды цауы?

1

Рог автомобили скъæрæгæн

2

Тракторы скъæрæгæн

### განმარტება:

„საგზაო მოძრაობის შესახებ“ საქართველოს კანონის 36-ე მუხლის მე-4 პუნქტის „გ“ ქვეპუნქტის თანახმად, არარეგულირებულ გზატვარედინზე, თანაბარმნიშვნელოვანი გზების გადაკვეთაზე ურელსო სატრანსპორტო საშუალების მძღოლი ვალდებულია გზა დაუთმოს მარჯვნიდან მოახლოებულ სატრანსპორტო საშუალებას.

## ВОПРОС 552

ПРАВИЛЬНЫЙ ОТВЕТ: 3

Кაეცყ ბადზყრდმაე გაესგაყაე ცაუყ სკაერდჯყტყ კუყსტყ ამაე ულაფტყ რეჟიმტყ რეგლაენაცი გუყრდზყსონყ?

1

ბადზყრდ ავტოტრანსპორტონ ფაერაეზტყ კუყსტყ ტყხყაყ

2

ბადზყრდ ტაესაგ უაერგყტყ აეხსაენადაემონ ფაენდაგონ უარგლასაენტყ ტყხყაყ

3

“აეხსაენადაემონ ავტომობილონ ზმელდყ (ცყდყ) არაეგ ტრანსპორტონ ფაერაეზტყ ეკყპაჟყ კუყსტყ ტყხყაყ” ევროპაგ ბადზყრდ (AETR)

## განმარტება:

მძლოლთა შრომისა და დასვენების რეჟიმების რეგლამინტაცია საქართველოში ხდება „საერთაშორისო საავტომობილო მიმოსვლის მწარმოებელი სატრანსპორტო საშუალებების ეკიპაჟის მუშაობის შესახებ“ ევროპული შეთანხმების (AETR). მოთხოვნათა შესაბამისად.

## ВОПРОС 553

ПРАВИЛЬНЫЙ ОТВЕТ: 1

“აეხსაენადაემონ ავტომობილონ ზმელდყ (ცყდყ) არაეგ ტრანსპორტონ ფაერაეზტყ ეკყპაჟყ კუყსტყ ტყხყაყ” ევროპაგ ბადზყრდმაე (AETR) გაესგაყაე ტერმინ “აეხსაენადაემონ ტრანსპორტონ ზმელდ” ნყსან კაენყ:

1

კაეცყფაენდყ ავტომობილონ ზმელდაენ იუ არაენაყ აყზტ უაედდერ

2

კაეცყფაენდყ ავტომობილონ ზმელდაენ 100 კმ-ყაე ფყლდერ დერდდზეგყლ

## განმარტება:

„საერთაშორისო საავტომობილო მიმოსვლის მწარმოებელი სატრანსპორტო საშუალებების ეკიპაჟის მუშაობის შესახებ“ ევროპული შეთანხმების (AETR) თანახმად ტერმინი „საერთაშორისო სატრანსპორტო მიმოსვლა“ ნიშნავს ნებისმიერ საავტომობილო მიმოსვლას ერთი საზღვრის გადაკვეთით მაინც.

Кәд әнәрегулиронгонд фистәгон ахизәны раз урәд транспортон фәрәзмә гәсгә, ахизәныл хайгай арәнгонд у уынынад, ахизәнмә әрбаввахсгонд скъәрәгән змәлды адаргъ кәныны бар ис:

1

Әрмәст уый фәстә, куы сбәрәг кәндзәнис әмә ахизәнмә әввахс фистәг нәй.

2

Әрмәст зәлон сигналәй спайда кәныны фәстә.

3

Тагъдады әнәфәивгәйә, әмә әнәкәсгәйә ахизыныл уәвәг ситуацимә.

### განმარტება:

თუ არარეგულირებული ქვეითთა გადასასვლელის წინ გაჩერებული სატრანსპორტო საშუალების გამო, გადასასვლელზე ნაწილობრივ შეზღუდულია მხედველობა, გადასასვლელთან მოახლოებულ მძღოლს მოძრაობის გაგრძელების უფლება აქვს მხოლოდ მას შემდეგ, რაც დარწმუნდება, გადასასვლელზე შესული ან შემავალი ქვეითის არარსებობაში.

თემა 21:

## რკინიგზის გადასასვლელი

---





Скъæрæг хæсджын у æрурома иуыл  
æввахсдæр рельсы размæ,  
иуылкъаддæр 10 метры  
дæрddзæфмæ

„საგზაო მოძრაობის შესახებ“ საქართველოს კანონის 29-ე მუხლის მე-8 პუნქტის თანახმად, რკინიგზის გადასასვლელზე, გასახსნელი ხიდის მისასვლელთან, გემის ან ბორნის მისადგომთან, გზაზე სახანძრო ავტომობილის გამოსასვლელთან და იმ ადგილას, სადაც გზას დაბალ სიმაღლეზე კვეთს საფრენი აპარატის ტრაექტორია, გამოიყენება ერთ სადგარზე, ერთსა და იმავე სიმაღლეზე განლაგებული, ერთ მხარეს მიმართული ორი მორიგეობით მოციმციმე ან ერთი მოციმციმე წითელი ან ყვითელი მაშუქი სიგნალი, რომელთაგან წითელი მაშუქი სიგნალი კრძალავს „სდექ“ ხაზის გადაკვეთას, მისი არარსებობის შემთხვევაში კი – შექნიშნის იქით გადასვლას, ხოლო ყვითელი მაშუქი სიგნალი ნიშნავს, რომ მძღოლებს შეუძლიათ გააგრძელონ მოძრაობა, მაგრამ, ამასთანავე, ვალდებული არიან, დაიცვან განსაკუთრებული სიფრთხილე. თუ ფერადი მაშუქი სიგნალები გამორთულია, მოძრაობა ნებადართულია მხოლოდ მაშინ, როცა ხილვადობის ფარგლებში არ ჩანს გადასასვლელთან მოახლოებული მატარებელი (ლოკომოტივი, დრეზინა).



## ВОПРОС 556

ПРАВИЛЬНЫЙ ОТВЕТ: 1

Æფსæвæндаджы ахизæныл, рухснысаны (светофоры) сырх æрттивгæ рухсы сигналимæ иумæ лæвæрд зæлон сигнал, змæлды хайадисджытæн уæлæмхас информацийы дæтты:

1

Ахизæныл змæлды бар нæ дæттыны тыххæй

2

Ахизæныл змæлд адаргъ кæныны барлæвæрд тыххæй

## განმარტება:

„საგზაო მოძრაობის შესახებ“ საქართველოს კანონის 29-ე მუხლის მე-9 პუნქტის თანახმად, რკინიგზის გადასასვლელზე შუქნიშნის წითელ მოციმციმე მაშუქ სიგნალთან ერთად შეიძლება მიეცეს ხმოვანი სიგნალი, რომელიც საგზაო მოძრაობის მონაწილეებს დამატებით ამცნობს რკინიგზის გადასასვლელზე მოძრაობის აკრძალვის შესახებ.

## ВОПРОС 557

ПРАВИЛЬНЫЙ ОТВЕТ: 2

Æფსæвæндаджы ахизæныл иу æвæრæныл, æмхуызон бæрзæндыл тыгъд, иу фарсы арæзт дыууæ кæრæдзи радгай ивгæ мигалкæ, кæნæ иу æрттивгæ бур рухсы сигнал нысан кæны, цæмæй скъæрджытæн:

1

Бар сын нæй змæлын

2

Бар сын ис адаргъ кæной змæлд, фæлæ уымæ иумæ хæсджын сты хъавгæйæ архайын

## განმარტება:

„საგზაო მოძრაობის შესახებ“ საქართველოს კანონის 29-ე მუხლის მე-8 პუნქტის თანახმად, რკინიგზის გადასასვლელზე, გასახსნელი ხიდის მისასვლელთან, გემის ან ბორნის მისადგომთან, გზაზე სახანძრო ავტომობილის გამოსასვლელთან და იმ ადგილას, სადაც გზას დაბალ სიმაღლეზე კვეთს საფრენი აპარატის ტრაექტორია, გამოიყენება ერთ სადგარზე, ერთსა და იმავე სიმაღლეზე განლაგებული, ერთ მხარეს მიმართული ორი მორიგეობით მოციმციმე ან ერთი მოციმციმე წითელი ან ყვითელი მაშუქი სიგნალი, რომელთაგან წითელი მაშუქი სიგნალი კრძალავს „სდექ“ ხაზის გადაკვეთას, მისი არარსებობის შემთხვევაში კი – შუქნიშნის იქით გადასვლას, ხოლო ყვითელი მაშუქი სიგნალი ნიშნავს, რომ მძღოლებს შეუძლიათ გააგრძელონ მოძრაობა, მაგრამ, ამასთანავე, ვალდებული არიან, დაიცვან განსაკუთრებული სიფრთხილე. თუ ფერადი მაშუქი სიგნალები გამორთულია, მოძრაობა ნებადართულია მხოლოდ მაშინ, როცა ხილვადობის ფარგლებში არ ჩანს გადასასვლელთან მოახლოებული მატარებელი (ლოკომოტივი, დრეზინა).

Кæд æмæ æфсæнвæндаджы ахизæныл рухснысаны (светофоры) рухсы сигналтæ хицæн сты:

1


Змæлын гæнæн ис æрмæстдæр уæд, куы нæ зына хорз ахизæнмæ æрбаввахсгонд поезд (локомотив, дрезина)

2

Змæлды бар нæй

### განმარტება:

„საგზაო მოძრაობის შესახებ“ საქართველოს კანონის 29-ე მუხლის მე-8 პუნქტის თანახმად, რკინიგზის გადასასვლელზე, გასახსნელი ხიდის მისასვლელთან, გემის ან ბორნის მისადგომთან, გზაზე სახანძრო ავტომობილის გამოსასვლელთან და იმ ადგილას, სადაც გზას დაბალ სიმაღლეზე კვეთს საფრენი აპარატის ტრაექტორია, გამოიყენება ერთ სადგარზე, ერთსა და იმავე სიმაღლეზე განლაგებული, ერთ მხარეს მიმართული ორი მორიგეობით მოციმციმე ან ერთი მოციმციმე წითელი ან ყვითელი მაშუქი სიგნალი, რომელთაგან წითელი მაშუქი სიგნალი კრძალავს „სდექ“ ხაზის გადაკვეთას, მისი არარსებობის შემთხვევაში კი – შექნიშნის იქით გადასვლას, ხოლო ყვითელი მაშუქი სიგნალი ნიშნავს, რომ მძღოლებს შეუძლიათ გააგრძელონ მოძრაობა, მაგრამ, ამასთანავე, ვალდებული არიან, დაიცვან განსაკუთრებული სიფრთხილე. თუ ფერადი მაშუქი სიგნალები გამორთულია, მოძრაობა ნებადართულია მხოლოდ მაშინ, როცა ხილვადობის ფარგლებში არ ჩანს გადასასვლელთან მოახლოებული მატარებელი (ლოკომოტივი, დრეზინა).



Кæцы аутомобилы скъæრæгæн бар нæй фатæджы (стрелкæйы) æрдæмадмæ змæлыны?

1

Æрмæст уæзласæн аутомобилы скъæრæგæн

2

Æрмæст аутомобилы скъæრæგæн

3

Дыууæ аутомобилы скъæრæგæн


4

Нæдæр иу (никæцы) аутомобилы скъæრæგæн

### განმარტება:

„საგზაო მოძრაობის შესახებ“ საქართველოს კანონის 29-ე მუხლის მე-8 პუნქტის თანახმად რკინიგზის გადასასვლელზე, გასახსნელი ხიდის მისასვლელთან, გემის ან ბორნის მისადგომთან, გზაზე სახანძრო ავტომობილის გამოსასვლელთან და იმ ადგილას, სადაც გზას დაბალ სიმაღლეზე კვეთს საფრენი აპარატის ტრაექტორია, გამოიყენება ერთ სადგარზე, ერთსა და იმავე სიმაღლეზე განლაგებული, ერთ მხარეს მიმართული ორი მორიგეობით მოციმციმე ან ერთი მოციმციმე წითელი ან ყვითელი მაშუქი სიგნალი, რომელთაგან წითელი მაშუქი სიგნალი კრძალავს „სდექ“ ხაზის გადაკვეთას, მისი არარსებობის შემთხვევაში კი – შექნიშნის იქით გადასვლას, ხოლო ყვითელი მაშუქი სიგნალი ნიშნავს, რომ მძღოლებს შეუძლიათ გააგრძელონ მოძრაობა, მაგრამ, ამასთანავე, ვალდებული არიან, დაიცვან განსაკუთრებული სიფრთხილე. თუ ფერადი მაშუქი სიგნალები გამორთულია, მოძრაობა ნებადართულია მხოლოდ მაშინ, როცა ხილვადობის ფარგლებში არ ჩანს გადასასვლელთან მოახლოებული მატარებელი (ლოკომოტივი, დრეზინა). ამავე კანონის 32-ე მუხლის მე-15 პუნქტის „დ“ ქვეპუნქტის თანახმად, აკრძალულია სატრანსპორტო საშუალების მობრუნება რკინიგზის გადასასვლელზე.





ლავარდ სიტუაციის, სკარაგ:

**1**

ბარ ын ис, аџасџинаџы маџаџлтџа хџахџхџаџгџаџ, йџахџаџг байгом кџаџџаџн шлагбаумы аџаџ аџаргџ кџаџџаџни змџџџ

**2**

ბარ ын ис, იუვარსტყ ახიზა шлагбаумџаџ аџаџ аџаргџ кџаџа змџџџ

**3**

ის ын хџаџџинаџ аџურома „Стоп“ хаххყ цур

**4**

უაџღარ ფაџყისაџგџџ ჟუაყყყყაџ იუ ჟარ რაџ ნაყ

### ბანყარტყბა:

„საგბაო მოღრაობის შესახებ“ საქართველოს კანონის 39-ე მუხლის პირველი პუნქტის „ბ“ ქვეპუნქტის თანახმად, მიუხედავად მაშუქი და ხმოვანი სიგნალების მითითებისა, არცერთი საგბაო მოღრაობის მონაწილე არ უნდა შევიდეს რკინიგზის გადასასვლელებზე, რომლის შლაგბაუმი ან ნახევარშლაგბაუმი დაკეტილია, იკეტება ან იწვეა. ამავე მუხლის მე-2 პუნქტის „ბ“ ქვეპუნქტის თანახმად, რკინიგზის გადასასვლელებზე აკრძალულია შლაგბაუმის ან ნახევარშლაგბაუმის თვითნებური გახსნა. ამავე მუხლის მე-3 პუნქტის თანახმად თუ რკინიგზის გადასასვლელებზე მოღრაობა აკრძალულია, მღლოლი ჩერდება „სდექ“ ხაზთან, 2.4 საგბაო ნიშანთან ან შექნიშანთან, ხოლო მათი არარსებობისას – შლაგბაუმიდან ან ნახევარშლაგბაუმიდან არანაკლებ 5 მეტრისა. თუ არ არის არც შლაგბაუმი და არც ნახევარშლაგბაუმი, მღლოლი უნდა გაჩერდეს უახლოეს რელსამდე არანაკლებ 10 მეტრისა.



Шлагбаум кәронмә ахгәд нәма рцыд. Автомобилы скъәрәг нә халы фәндгты змәлды уагәвәрдтә, кәд әмә:

1

Сыххәст кәндзәни змәлд кәронмә, уымән әмә йын бантысдзән әфсән вәндаджы ахизәныл ахизын

2

Әруромдзәни рухснысаны (светофоры) цур

3

Фидарәй йә бауырндзән, цәмәй кәй нәма әрбаввахс кәны ахизәнмә поезд әмә ахиздзән әфсәнвәндаджы ахизәныл

### განმარტება:

„საგზაო მოძრაობის შესახებ“ საქართველოს კანონის 39-ე მუხლის პირველი პუნქტის „ბ“ ქვეპუნქტის თანახმად, მიუხედავად მაშუქი და ხმოვანი სიგნალების მითითებისა, არცერთი საგზაო მოძრაობის მონაწილე არ უნდა შევიდეს რკინიგზის გადასასვლელზე, რომლის შლავაბაუმი ან ნახევარშლავაბაუმი დაკეტილია, იკეტება ან იწვეა. ამავე მუხლის მე-3 პუნქტის თანახმად თუ რკინიგზის გადასასვლელზე მოძრაობა აკრძალულია, მძღოლი ჩერდება „სდექ“ ხაზთან, 2.4 საგზაო ნიშანთან ან შექნიშანთან, ხოლო მათი არარსებობისას – შლავაბაუმიდან ან ნახევარშლავაბაუმიდან არანაკლებ 5 მეტრისა. თუ არ არის არც შლავაბაუმი და არც ნახევარშლავაბაუმი, მძღოლი უნდა გაჩერდეს უახლოეს რელსამდე არანაკლებ 10 მეტრისა.





ლავერდ სიტუაციის სკაერაგ ხუამაჲ ჯერუმა:

1

Рухснысаны (светофоры) акомкомма

2

Иуыл ჯვახსდარ рельсы онг, иуыл  
кьаддარ 10 метры дერддჲაгыл

3

„Стоп“ хаххы цур

4

Иуыл ჯვახსდარ рельсы онг, иуыл  
кьаддარ 5 метры дერддჲაгыл

### განმარტება:

„საგზაო მოძრაობის შესახებ“ საქართველოს კანონის 29-ე მუხლის მე-8 პუნქტის თანახმად, რკინიგზის გადასასვლელზე, გასახსნელი ხიდის მისასვლელთან, გემის ან ბორნის მისადგომთან, გზაზე სახანძრო ავტომობილის გამოსასვლელთან და იმ ადგილას, სადაც გზას დაბალ სიმაღლეზე კვეთს საფრენი აპარატის ტრაექტორია, გამოიყენება ერთ სადგარზე, ერთსა და იმავე სიმაღლეზე განლაგებული, ერთ მხარეს მიმართული ორი მორიგეობით მოციმციმე ან ერთი მოციმციმე წითელი ან ყვითელი მაშუქი სიგნალი, რომელთაგან წითელი მაშუქი სიგნალი კრძალავს „სდექ“ ხაზის გადაკვეთას, მისი არარსებობის შემთხვევაში კი – შექნიშნის იქით გადასვლას, ხოლო ყვითელი მაშუქი სიგნალი ნიშნავს, რომ მძღოლებს შეუძლიათ გააგრძელონ მოძრაობა, მაგრამ, ამასთანავე, ვალდებული არიან, დაიცვან განსაკუთრებული სიფრთხილე. ამავე კანონის 39-ე მუხლის პირველი პუნქტის „გ“ ქვეპუნქტის თანახმად, მარეგულირებლის ან შექნიშნის ამკრძალავი სიგნალის დროს არცერთი საგზაო მოძრაობის მონაწილე არ უნდა შევიდეს რკინიგზის გადასასვლელზე, მიუხედავად შლაგბაუმის ან ნახევარშლაგბაუმის მდგომარეობისა ან მისი არსებობისა. ამავე მუხლის მე-3 პუნქტის თანახმად თუ რკინიგზის გადასასვლელზე მოძრაობა აკრძალულია, მძღოლი ჩერდება „სდექ“ ხაზთან, 2.4 საგზაო ნიშანთან ან შექნიშანთან, ხოლო მათი არარსებობისას – შლაგბაუმიდან ან ნახევარშლაგბაუმიდან არანაკლებ 5 მეტრისა. თუ არ არის არც შლაგბაუმი და არც ნახევარშლაგბაუმი, მძღოლი უნდა გაჩერდეს უახლოეს რელსამდე არანაკლებ 10 მეტრისა.



ლავაერდ სიტუაციიჲს ავტომობილჲს სკჲაერაგ ჲაესდჲჲს უ:

- |   |  |
|---|--|
| <div style="background-color: #f08080; color: white; text-align: center; width: 30px; margin: 0 auto; font-weight: bold; font-size: 1.2em;">1</div> <p>ადარგჲ კაენაედ ჲმალდჲს, უჲმან ამაჲ შლაგბაუმ კონდ უ</p> | <div style="background-color: #f08080; color: white; text-align: center; width: 30px; margin: 0 auto; font-weight: bold; font-size: 1.2em;">2</div> <p>აჲრუმაედ რუხსნჲსანჲ (სვეტოფორჲ) ცურ</p> |
|---|--|

### განმარტება:

„საგზაო მოძრაობის შესახებ“ საქართველოს კანონის 39-ე მუხლის პირველი პუნქტის „გ“ ქვეპუნქტის თანახმად, მარეგულირებლის ან შექნიშნის ამკრძალავი სიგნალის დროს არცერთი საგზაო მოძრაობის მონაწილე არ უნდა შევიდეს რკინიგზის გადასასვლელზე, მიუხედავად შლაგბაუმის ან ნახევარშლაგბაუმის მდგომარეობისა ან მისი არსებობისა. ამავე მუხლის მე-3 პუნქტის თანახმად თუ რკინიგზის გადასასვლელზე მოძრაობა აკრძალულია, მძღოლი ჩერდება „სდექ“ ხაზთან, 2.4 საგზაო ნიშანთან ან შექნიშანთან, ხოლო მათი არარსებობისას – შლაგბაუმიდან ან ნახევარშლაგბაუმიდან არანაკლებ 5 მეტრისა. თუ არ არის არც შლაგბაუმი და არც ნახევარშლაგბაუმი, მძღოლი უნდა გაჩერდეს უახლოეს რელსამდე არანაკლებ 10 მეტრისა.





ლავაერდ სიტუაციი, ბარ ын ис æви нæ цъæх автомобили скъæრæгæн фатæджы (стрелкайы) æрдæмæдмæ фæразæй кæнын?

1

Бар ын нæй

2

Бар ын ис

### განმარტება:

„საგზაო მოძრაობის შესახებ“ საქართველოს კანონის 34-ე მე-9 პუნქტის „ბ“ ქვეპუნქტის თანახმად, ამ მუხლის მე-3 პუნქტით დადგენილი მოთხოვნების გათვალისწინებით, გასწრება აკრძალულია რკინიგზის გადასასვლელზე და მის წინ 100 მეტრზე ახლოს, გარდა იმ შემთხვევებისა, როცა ამ ადგილებში მოძრაობა რეგულირდება ისეთი ტიპის შექნიშნით რომელიც გზაჯვარედინებზე გამოიყენება. ამავე კანონის 39-ე მუხლის მე-2 პუნქტის „ა“ ქვეპუნქტის თანახმად, რკინიგზის გადასასვლელზე აკრძალულია საპირისპირო მოძრაობის ზოლზე გასვლით, გადასასვლელის წინ მდგომი სატრანსპორტო საშუალების შემოვლა.



Уаг дæттæг лæууы аутомобилы рдыгæй рахиз фарс, йæ къухтæ бынмæ уагъд сты, рог аутомобилы скъæрæг хъуамæ:

1

Æрсындæг кæна змæлд æмæ æрурома

2

Æрурома æввхсдæр релсмæ, иуыл къаддæр 10 метры дæрддзæгыл

3

Æрурома æрдæგæхгæд шлагбауммæ, иуыл къаддæр 5 метры дæрддзæгыл


4

Адаргъ кæна змæлд

### განმარტება:

„საგზაო მოძრაობის შესახებ“ საქართველოს კანონის 39-ე მუხლის მე-4 პუნქტის თანახმად, რკინიგზის გადასასვლელზე მოძრაობის ამკრძალავი სიგნალის მიცემისას მარეგულირებელი დგას მძღოლის მიმართ მკერდით ან ზურგშეცევით, თავის ზემოთ აწეული კვერთხით, წითელი ფარნით ან ალმით ან განზე გაწეული ხელებით.





Поезд фæхизы æфсæнвæндаджы ахизæныл, автомобили скъæрæгæн змæлд адаргъ кæныны бар ис:

1

Æвæстиатæй, поезды ахызты фæстæ

2

Поезды ахызты æмæ рухснысаныл (светофорыл) æрттивгæ бур рухсы сигналы сиуы фæстæ

### განმარტება:

„საგზაო მოძრაობის შესახებ“ საქართველოს კანონის 39-ე მუხლის პირველი პუნქტის „გ“ ქვეპუნქტის თანახმად, მარეგულირებლის ან შუქნიშნის ამკრძალავი სიგნალის დროს არცერთი საგზაო მოძრაობის მონაწილე არ უნდა შევიდეს რკინიგზის გადასასვლელზე, მიუხედავად შლაგბაუმის ან ნახევარშლაგბაუმის მდგომარეობისა ან მისი არსებობისა. ამავე კანონის 29-ე მუხლის მე-8 პუნქტის თანახმად რკინიგზის გადასასვლელზე, გასასხნელი ხიდის მისასვლელთან, გემის ან ბორნის მისადგომთან, გზაზე სახანძრო ავტომობილის გამოსასვლელთან და იმ ადგილას, სადაც გზას დაბალ სიმაღლეზე კვეთს საფრენი აპარატის ტრაექტორია, გამოიყენება ერთ სადგარზე, ერთსა და იმავე სიმაღლეზე განლაგებული, ერთ მხარეს მიმართული ორი მორიგეობით მოციმციმე ან ერთი მოციმციმე წითელი ან ყვითელი მაშუქი სიგნალი, რომელთაგან წითელი მაშუქი სიგნალი კრძალავს „სდექ“ ხაზის გადაკვეთას, მისი არარსებობის შემთხვევაში კი – შუქნიშნის იქით გადასვლას, ხოლო ყვითელი მაშუქი სიგნალი ნიშნავს, რომ მძღოლებს შეუძლიათ გააგრძელონ მოძრაობა, მაგრამ, ამასთანავე, ვალდებული არიან, დაიცვან განსაკუთრებული სიფრთხილე.





ლავერდ სიტუაციის, ავტომობილს სკაერაგ ხაესდჟინ უ აერომა:

1

დერაგაეხგედ შლაგბაუმს რაზ, იუილ  
კაადდერ 5 მეტრს დერდძაეგს

2

იუილ ავვახსდერ რელსაე, იუილ  
კაადდერ 10 მეტრს დერდძაეგს

3

რუხსნისანი (სветофоры) რაზ

### ბანმარტეზა:

„საგზაო მოძრაობის შესახებ“ საქართველოს კანონის 39-ე მუხლის პირველი პუნქტის „ბ“ ქვეპუნქტის თანახმად, მიუხედავად მაშუქი და ხმოვანი სიგნალების მითითებისა, არცერთი საგზაო მოძრაობის მონაწილე არ უნდა შევიდეს რკინიგზის გადასასვლელზე, რომლის შლავაბაუმი ან ნახევარშლავაბაუმი დაკეტილია, ივეტება ან იწევა. ამავე მუხლის მე-3 პუნქტის თანახმად თუ რკინიგზის გადასასვლელზე მოძრაობა აკრძალულია, მძღოლი ჩერდება „სდექ“ ხაზთან, 2.4 საგზაო ნიშანთან ან შუქნიშანთან, ხოლო მათი არარსებობისას – შლავაბაუმიდან ან ნახევარშლავაბაუმიდან არანაკლებ 5 მეტრისა. თუ არ არის არც შლავაბაუმი და არც ნახევარშლავაბაუმი, მძღოლი უნდა გაჩერდეს უახლოეს რელსამდე არანაკლებ 10 მეტრისა.



Лაქაერდ სიტუაციის, ავტომობილს სკაერაგ ჰაესდჟინ უ აერუროა:

1

აენაენგაი შლაგბაუმი რა

2

„Стоп“ ჰაჰჰი ცურ

### განმარტება:

„საგზაო მოძრაობის შესახებ“ საქართველოს კანონის 39-ე მუხლის პირველი პუნქტის „გ“ ქვეპუნქტის თანახმად, მარეგულირებლის ან შექნიშნის ამკრძალავი სიგნალის დროს არცერთი საგზაო მოძრაობის მონაწილე არ უნდა შევიდეს რკინიგზის გადასასვლელზე, მიუხედავად შლაგბაუმის ან ნახევარშლაგბაუმის მდგომარეობისა ან მისი არსებობისა. ამავე მუხლის მე-3 პუნქტის თანახმად თუ რკინიგზის გადასასვლელზე მოძრაობა აკრძალულია, მძღოლი ჩერდება „სდექ“ ხაზთან, 2.4 საგზაო ნიშანთან ან შექნიშანთან, ხოლო მათი არარსებობისას – შლაგბაუმიდან ან ნახევარშლაგბაუმიდან არანაკლებ 5 მეტრისა. თუ არ არის არც შლაგბაუმი და არც ნახევარშლაგბაუმი, მძღოლი უნდა გაჩერდეს უახლოეს რელსამდე არანაკლებ 10 მეტრისა.





ლავაერდ სიტუაციი, კაეცჲ ავტომობილჲ სკაერაეგან ბარ ნაჲ ფატაედჲჲ (სტრელკაჲჲ) აერდამაედმაჲ ჴმალჲნ?

1

დჲუუაე ავტომობილჲ სკაერაეგან

2

ნაედარ იუ (ნიკაეცჲ) ავტომობილჲ სკაერაეგან

3


აერმაესტ სჲრჲ ავტომობილჲ სკაერაეგან

4

აერმაესტ ცჲაჲ ავტომობილჲ სკაერაეგან

### განმარტება:

„საგზაო მოძრაობის შესახებ“ საქართველოს კანონის 34-ე მე-9 პუნქტის „ბ“ ქვეპუნქტის თანახმად, ამ მუხლის მე-3 პუნქტით დადგენილი მოთხოვნების გათვალისწინებით, გასწრება აკრძალულია რკინიგზის გადასასვლელზე და მის წინ 100 მეტრზე ახლოს, გარდა იმ შემთხვევებისა, როცა ამ ადგილებში მოძრაობა რეგულირდება ისეთი ტიპის შექნიშნით რომელიც გზაჯვარედინებზე გამოიყენება. ამავე კანონის პირველი დანართის პირველი თავის (მაფრთხილებელი ნიშნები) 1.2 და 1.4.6-1.4.6 პუნქტების თანახმად საგზაო ნიშანი: 1.2 „რკინიგზის უშლავაუშო გადასასვლელი“ - აფრთხილებს უშლავაუშო რკინიგზის გადასასვლელთან მიახლოების შესახებ; 1.4.3 „რკინიგზის გადასასვლელთან მიახლოება“ - დამატებით აფრთხილებს მძღოლს დაუსახლებელ პუნქტში რკინიგზის გადასასვლელთან მიახლოების შესახებ. ამავე თავის შენიშვნის „ბ“ და „ვ“ ქვეპუნქტების თანახმად: ბ) ნიშნები 1.1 და 1.2, დაუსახლებელ პუნქტში მეორდება, მეორე ნიშანი იდგმება სახიფათო მონაკვეთის დასაწყისიდან არანაკლებ 50 მეტრის მანძილზე; ვ) ნიშნები 1.4.3 და 1.4.6 იდგმება მოძრაობის მიმართულებით განმეორებით 1.1 ან 1.2 ნიშნებთან.



Лავაერд ситуацийы, бар ис æви нæ скъæрæгæн фатæджы (стрелкæйы) æрдæмæдмæ аутомобилы фæстæмæцыдæй змæлын æмæ стæй разылды маневры сæххæст кæнын?

1

Нæй ын бар


2

Ис ын бар

### განმარტება:

„საგზაო მოძრაობის შესახებ“ საქართველოს კანონის 32-ე მუხლის მე-15 პუნქტის „დ“ ქვეპუნქტისა და მე-16 პუნქტის თანახმად: 15. აკრძალულია სატრანსპორტო საშუალების მობრუნება რკინიგზის გადასასვლელზე; 16. მძღოლი, რომელიც მობრუნებას ან უკუსვლით მოძრაობას აპირებს, უნდა დარწმუნდეს, რომ მას შეუძლია ისე შეასრულოს ეს მანევრი, რომ საფრთხე არ შეუქმნას და ხელი არ შეუშალოს სხვა საგზაო მოძრაობის მონაწილეებს. აუცილებლობის შემთხვევაში მიზანშეწონილია სხვა პირის დახმარება. აკრძალულია უკუსვლით მოძრაობა გზაჯვარედინზე, ავტომაგისტრალზე და ამ მუხლის მე-15 პუნქტით განსაზღვრულ ადგილებში.





ლავერდ სიტუაციის, რუხსისანი (სვტოფორი) ჟერტივგე ბურ რუხსი სიგნალილ:

- |   |   |   |  |
|---|---|---|--|
| 1 | სკჯერაგ ზესდჟინ უ ბაურომა „სტოპ“ ზაჰჰი ცურ ჟემა ბანჰელმა ჰესა სიგნალი ივდმა | 2 | სკჯერაგ ზესდჟინ უ ბაურომა იუილ ჟევაჰსდერ რელსაი იუილ ჰადდერ 10 მეტრი დერდძაგыл |
| 3 | სკჯერაგენ ბარ ის ადარგ ჰენა ჰმელდი სერმაგონდ ჟედსდზინადი ჰჰაჰჰჰედჰი         | 4 | სკჯერაგ ზესდჟინ უ ჟერურომა რუხსისანი (სვტოფორი) ცურ                            |

### ბანმარტეზა:

„საგზაო მოძრაობის შესახებ“ საქართველოს კანონის 29-ე მუხლის მე-8 პუნქტის თანახმად რკინიგზის გადასასვლელზე, გასასხნელი ხიდის მისასვლელთან, გემის ან ბორნის მისადგომთან, გზაზე სახანძრო ავტომობილის გამოსასვლელთან და იმ ადგილას, სადაც გზას დაბალ სიმაღლეზე კვეთს საფრენი აპარატის ტრაექტორია, გამოიყენება ერთ სადგარზე, ერთსა და იმავე სიმაღლეზე განლაგებული, ერთ მხარეს მიმართული ორი მორიგეობით მოციმციმე ან ერთი მოციმციმე წითელი ან ყვითელი მაშუქი სიგნალი, რომელთაგან წითელი მაშუქი სიგნალი კრძალავს „სდექ“ ზამის გადაკვეთას, მისი არარსებობის შემთხვევაში კი – შექნიშნის იქით გადასვლას, ხოლო ყვითელი მაშუქი სიგნალი ნიშნავს, რომ მძღოლებს შეუძლიათ გააგრძელონ მოძრაობა, მაგრამ, ამასთანავე, ვალდებული არიან, დაიცვან განსაკუთრებული სიფრთხილე.



Ис æви нæ сырх автомобили скъæрæгæн æфсæнвæндаджы ахизæныл ахизыны бар, кæд æмæ ахизæны фæстæ сырæзти пробкæ?

1

Нæй ын бар

2

Ис ын бар

### განმარტება:

„საგზაო მოძრაობის შესახებ“ საქართველოს კანონის 39-ე მუხლის პირველი პუნქტის „ე“ ქვეპუნქტის თანახმად, მძღოლი არ უნდა შევიდეს რკინიგზის გადასასვლელზე, თუ წინასწარ არ დარწმუნდება, რომ იძულებული არ იქნება, გაჩერდეს მასზე.

## ВОПРОС 573

ПРАВИЛЬНЫЙ ОТВЕТ: 3

Æფსენვანდადჟი ახიზენილ транспортон фæрæзы тыхурæды цауы, иумæйаг фæдисы зæлон сигнал уыдзæн:

- 1 Дыууæ дæргъвæтин æмæ дыууæ цыбыр зæлон сигналы
- 2 Æртæ дæргъвæтин æмæ иу цыбыр зæлон сигналы
- 3 Иу дæргъвæтин æмæ æртæ цыбыр зæлон сигналы

## განმარტება:

„საგზაო მოძრაობის შესახებ“ საქართველოს კანონის 39-ე მუხლის მე-6 პუნქტის თანახმად, რკინიგზის გადასასვლელზე სატრანსპორტო საშუალების იძულებითი გაჩერების სიგნალია ხელის წრიული მოძრაობა (დღისით – მკვეთრი ფერის ქსოვილით ან რაიმე კარგად გასარჩევი საგნით, ღამით – ჩირაღდნით ან ფარნით). საერთო განგაშის სიგნალია ერთი გრძელი და სამი მოკლე ხმოვანი სიგნალი.

## ВОПРОС 574

ПРАВИЛЬНЫЙ ОТВЕТ: 2

“Æფსენვანდადჟი ახიზენ” у:

- 1 Æფსენვანდადჟი рельсты кæцыфæнды фадыг
- 2 Фæндаг æмæ сæрибар фæзуатимæ æфсენვანდაг кæнæ трамвайы рельсты иу æмвæзадыл цæхгæრмæ ахизын
- 3 Фæндаг æмæ сæрибар фæзуатимæ æфсენвანდაг кæнæ трамвайы рельсты æндæრ æмæ æндæრ æмвæзадыл цæхгæრმæ ацæуын.

## განმარტება:

„საგზაო მოძრაობის შესახებ“ საქართველოს კანონის 5-ე მუხლის 58-ე პუნქტის თანახმად, „რკინიგზის გადასასვლელი“ - გზისა და დამოუკიდებელი ვაკისის მქონე რკინიგზის ან ტრამვაის ლიანდაგების ერთ ღონეზე გადაკვეთა.

Маршрутон транспортон фæрæзы скъæрæг зымæджы уавæрты нысангонд лæууæныл змæлгæйæ хъуамæ зындгонд уа, цæмæй:

1

Бирæхаттон æртормоз кæныны фæстиуæгæн фæзындзæн бырынцæг фадыг

2

Змæлды стыр интенсивондзинадмæ гæсгæ фæндаджы цæуæн хайы уæлцъар сур у

3

Фæндаджы цæуæн хайы уæлцъар зымæджы уавæртаем гæсгæ нæ ивы

### განმარტება:

გამთრის პირობებში მოძრაობისას სამარშრუტო სატრანსპორტო საშუალებების მძღოლმა უნდა გაითვალისწინოს, რომ გაჩერებაზე მრავალჯერადი დამუხრუჭების შედეგად წარმოიქმნება მოლოპული მონაკვეთი. ამიტომ აღნუშნულ გაჩერებასთან მიახლოებისას მძღოლმა წინასწარ უნდა შეამციროს მოძრაობის სიჩქარე იმდენად, რომ გამორიცხოს მოცურების საშიშროება დამუხრუჭების დროს. წინააღმდეგ შემთხვევაში შეიძლება მოხდეს სატრანსპორტო საშუალების მოცურება, რის გამოც გაჩერებაზე მყოფი მგზავრები აღმოჩნდებიან საფრთხის ქვეშ.



## ВОПРОС 576

ПРАВИЛЬНЫЙ ОТВЕТ: 3

Автобусы кәцы арәзты кусгә уавәры уәвыны хәсдзинад нә бәрәг кәны рагацау автотранспортон фәрәзты 'рдәм бавдыстгонд техникон домәнтә?

1

Æрмәст аварион рахизәны әмә уыдоны архайдмә әркәәнәг арәзты

2

Æрмәст салоны мидәгон рухсгәәнәны иугәәнәнты

3

Ацы билеты ранымад алкәцы арәзты кусгә уавәры уәвынад әнәмәнгхәәугә у

## განმარტება:

„ავტოსატრანსპორტო საშუალებების მიმართ წაყენებული ტექნიკური მოთხოვნები, რომლებთან შესაბამისობის დადგენის მიზნითაც ტარდება გზისთვის ვარგისობაზე ტესტირება და მისი ჩატარების მეთოდების“ საქართველოს მთავრობის 2014 წლის 3 იანვარის №30 დადგენილებით დამტკიცებული ტექნიკური რეგლამენტის მე-9 მუხლის მე-19 პუნქტის თანახმად, „ავტოსატრანსპორტო საშუალების კარების საკეტები, სატვირთო პლატფორმის ბორტის ჩამრაბი, ცისტერნების ჩასასხმელის ჩამრაბი, მძღოლთა და მგზავრთა სავარძლების ფიქსირებისა და რეგულირების მექანიზმები, ხმოვანი სიგნალი, საქარე მინის გაქრევისა და გათბობის მოწყობილობა, დამამზადებლის მიერ გათვალისწინებული გატაცების საწინააღმდეგო მოწყობილობა, კარების ავარიული გამომრთველი და გაჩერების მანიშნებელი სიგნალი, ავტობუსების ავარიული გამოსასვლელები და მათი მოქმედებაში მომყვანი მოწყობილობა, ავტობუსის სალონის შიგა განათების ჩამრთველები, კარების მართვის ამძრავი და მათი მუშაობის სიგნალიზაცია უნდა იყოს მუშა მდგომარეობაში.

## ВОПРОС 577

ПРАВИЛЬНЫЙ ОТВЕТ: 1

Автотранспортон фәрәзты 'рдәм бавдыстгонд техникон домәнтәм гәсгә автобусты покрывкәйы протекторы нывы бәрзәнд хәуамә уа иуыл кәаддәр:

1

2,0 мм

2

3,0 мм

## განმარტება:

„ავტოსატრანსპორტო საშუალებების მიმართ წაყენებული ტექნიკური მოთხოვნები, რომლებთან შესაბამისობის დადგენის მიზნითაც ტარდება გზისთვის ვარგისობაზე ტესტირება და მისი ჩატარების მეთოდების“ საქართველოს მთავრობის 2014 წლის 3 იანვარის №30 დადგენილებით დამტკიცებული ტექნიკური რეგლამენტის პირველი მუხლის პირველი პუნქტის „დ“ ქვეპუნქტის თანახმად, საბურავების პროტექტორის ნახატის სიმაღლე უნდა იყოს არანაკლებ: დ) ავტობუსებისათვის – 2,0 მმ.

Уыцы цауы, кæд æмæ сцæттæгæнæджы эксплуатацион документы нæу фæнысангонд, автобусы рулæй скъæрыны системæйы суммæйон уадзæн ма хъуамæ уа фылдæр:

1

10°-ы

2

15°-ы

3

20°-ы

### განმარტება:

„ავტოსატრანსპორტო საშუალებების მიმართ წაყენებული ტექნიკური მოთხოვნები, რომლებთან შესაბამისობის დადგენის მიზნითაც ტარდება გზისთვის ვარგისობაზე ტესტირება და მისი ჩატარების მეთოდების“ საქართველოს მთავრობის 2014 წლის 3 იანვარის №30 დადგენილებით დამტკიცებული ტექნიკური რეგლამენტის მე-5 მუხლის მე-3 პუნქტის „ბ“ ქვეპუნქტის თანახმად, საჭით მართვის სისტემაში ჯამური ფოლხვა არ უნდა აღემატებოდეს დამამზადებლის საექსპლუატაციო დოკუმენტში მოცემულ ზღვრულ მნიშვნელობას, ხოლო თუ ასეთი მნიშვნელობები არ არის მითითებული, შემდეგ ზღვრულ მნიშვნელობებს: ბ) ავტობუსებისთვის – 20°.

თემა 22:

## მოდრობა ავტომაგისტრალზე

---



Нывыл амынд бынаты автомобили тыхурæды цауы скъæрæг хъуамæ:

1

Сиу кæна аварион рухсы сигнализаци

2

Аккаг нысанæй фæнысан кæна  
автомобилы фаг дæрддзæгмæ

3

Сиу кæна аварион рухсысигнализаци  
æмæ аккаг нысанæй фæнысан кæна  
автомобилы фаг дæрддзæгмæ

### განმარტება:

„საგზაო მოძრაობის შესახებ“ საქართველოს კანონის პირველი დანართის მე-5 თავის (განსაკუთრებული მითითებების ნიშნები) 5.1 პუნქტის თანახმად საგზაო ნიშანი 5.1 „ავტომაგისტრალი“ - ავტომაგისტრალი, რომელზედაც მოქმედებს ავტომაგისტრალზე მოძრაობის მომწესრიგებელი ნორმების მოთხოვნები. ნიშანი იდგმება ავტომაგისტრალის დასაწყისში ან მის სიახლოვეს 8.1.1 დაფით. ამავე კანონის 38-ე მუხლის პირველი პუნქტის „გ.ა“ ქვეპუნქტის თანახმად ავტომაგისტრალზე, ავტომაგისტრალის შესასვლელსა და გამოსასვლელზე მძღოლს ეკრძალება ავტომობილის (ან/და მისი მისაბმელის) გაჩერება ან დგომა, დგომისთვის გამოყოფილი, სპეციალურად მონიშნული ადგილების გარდა. მძღოლმა, რომელიც მისგან დამოუკიდებელი გარემოებების გამო იძულებულია, გაჩერდეს, უნდა მიიღოს ყველა ზომა ავტომობილის (ან/და მისი მისაბმელის) გზის სავალი ნაწილიდან გასაყვანად, ხოლო თუ ამის დაუყოვნებლივ გაკეთება შეუძლებელია – ჩართოს საავარიო შუქსიგნალიზაცია (მისი არსებობის შემთხვევაში) და შესაბამისი ნიშნით მონიშნოს ავტომობილი (ან/და მისი მისაბმელი) საკმარის მანძილზე, რათა დროულად გააფრთხილოს მოახლოებული მძღოლები. ამავე კანონის 52-ე მუხლის პირველი პუნქტის „ა“ ქვეპუნქტისა და მე-2 პუნქტის „ბ“ ქვეპუნქტის თანახმად: 1. საავარიო შუქსიგნალიზაცია გამოიყენება მოსალოდნელი საფრთხის შესახებ სხვა საგზაო მოძრაობის მონაწილეთა გაფრთხილებისათვის. საავარიო შუქსიგნალიზაცია უნდა ჩაირთოს: ბ) იმ ადგილას იძულებით გაჩერების დროს, სადაც გაჩერება აკრძალულია; 2. საავარიო შუქსიგნალიზაციის ჩართვის შემდეგ, აგრეთვე თუ ასეთი სიგნალიზაცია არ არსებობს ან მწყობრიდანაა გამოსული, მძღოლმა დაუყოვნებლივ უნდა დადგას „საავარიო გაჩერების ნიშანი“, ხოლო არასაკმარისი ხილვადობის პირობებში – მოციმციმე წითელი ფარანი: ბ) იმ ადგილას იძულებით გაჩერების დროს, სადაც გაჩერება აკრძალულია, და იქ, სადაც, ხილვადობის პირობების



ВОПРОС 580

ПРАВИЛЬНЫЙ ОТВЕТ: 2



Ис æви нæ бар рог автомобили скъæрæгæн, æрурома нывыл амындгонд бынаты, бæлццæтты сбадын кæныны тыххæй?

1

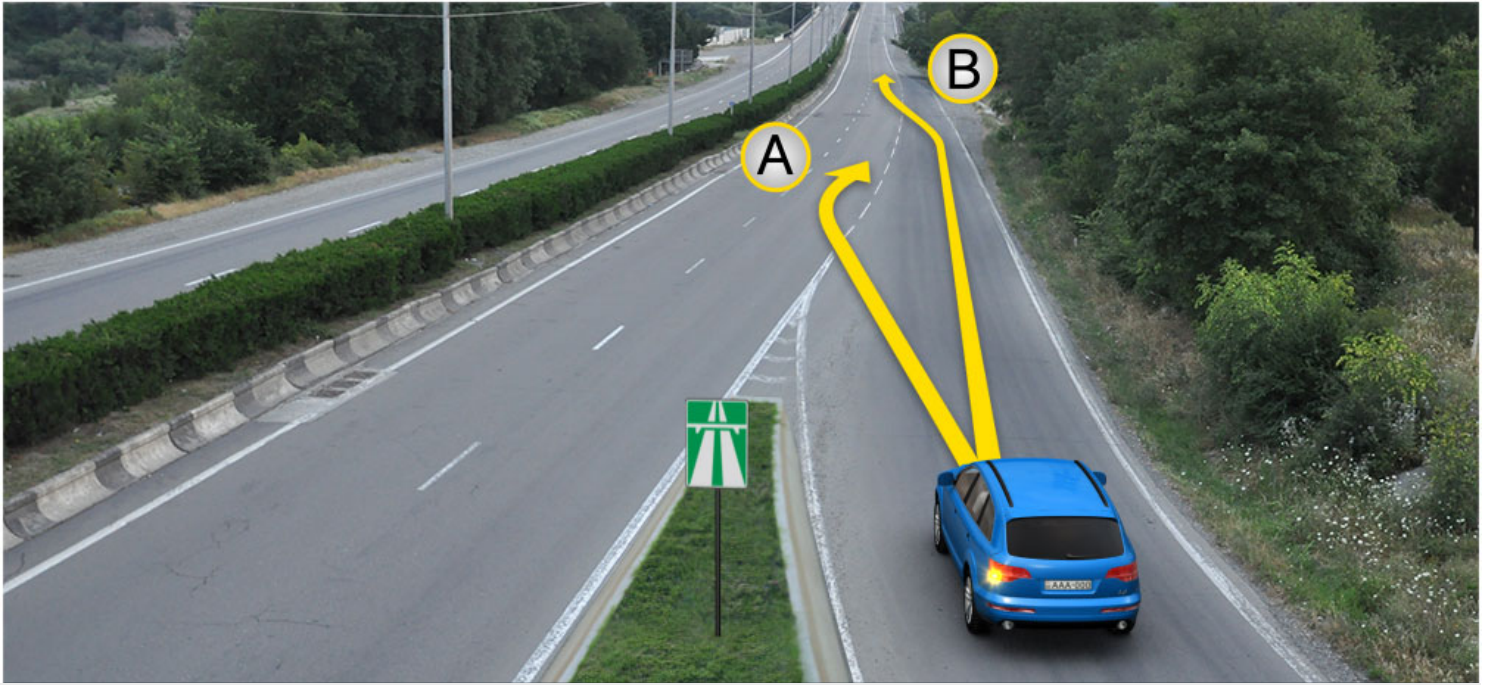
Ис ын бар

2

Нæй ын бар

ბანმარტუბა:

„საგზაო მოძრაობის შესახებ“ საქართველოს კანონის პირველი დანართის მე-5 თავის (განსაკუთრებული მითითებების ნიშნები) 5.1 პუნქტის თანახმად საგზაო ნიშანი 5.1 „ავტომაგისტრალი“ - ავტომაგისტრალი, რომელზედაც მოქმედებს ავტომაგისტრალზე მოძრაობის მომწესრიგებელი ნორმების მოთხოვნები. ნიშანი იდგმება ავტომაგისტრალის დასაწყისში ან მის სიახლოვეს 8.1.1 დაფით. ამავე კანონის 38-ე მუხლის პირველი პუნქტის „გ.ა“ ქვეპუნქტის თანახმად ავტომაგისტრალზე, ავტომაგისტრალის შესასვლელსა და გამოსასვლელზე მძღოლს ეკრძალება ავტომობილის (ან/და მისი მისაბმელის) გაჩერება ან დგომა, დგომისთვის გამოყოფილი, სპეციალურად მონიშნული ადგილების გარდა. მძღოლმა, რომელიც მისგან დამოუკიდებელი გარემოებების გამო იძულებულია, გაჩერდეს, უნდა მიიღოს ყველა ზომა ავტომობილის (ან/და მისი მისაბმელის) გზის სავალი ნაწილიდან გასაყვანად, ხოლო თუ ამის დაუყოვნებლივ გაკეთება შეუძლებელია — ჩართოს საავარიო შუქსიგნალიზაცია (მისი არსებობის შემთხვევაში) და შესაბამისი ნიშნით მონიშნოს ავტომობილი (ან/და მისი მისაბმელი) საკმარის მანძილზე, რათა დროულად გააფრთხილოს მოახლოებული მძღოლები.



Фænდაგæй ахизæн бынатыл, фæтагъдгонды хаххы уæвды цауы, рог автомобили скъæрæгæн бар ис змæла:

1

Æрмæст А æрдæмадмæ

2

Æрмæст В æрдæмадмæ

3

Куыд А, афтæ В æрдæмадмæ

### განმარტება:

„საგზაო მოძრაობის შესახებ“ საქართველოს კანონის 32-ე მუხლის მე-14 პუნქტის თანახმად, გზაზე გასასვლელ ადგილზე გაქანების ზოლის არსებობის შემთხვევაში მძღოლმა უნდა იმოძრაოს ამ ზოლზე და მეზობელ მოძრაობის ზოლზე გადაადგილებისას გზა უნდა დაუთმოს მასზე მოძრავ სატრანსპორტო საშუალებებს.





Сырх аутомобилы скъæрæг ахызти рахизмæ фæзилæнæй. Бар ын ис æви нæ уымæн фæзилæны бацæуынæн фатæджы (стрелкæйы) æрдæмадмæ фæстæмæцыдæй змæлын?

1

Бар ын нæй

2

Бар ын ис

### განმარტება:

„საგზაო მოძრაობის შესახებ“ საქართველოს კანონის 38-ე მუხლის პირველი პუნქტის „გ.ბ“ ქვეპუნქტის თანახმად ავტომაგისტრალზე, ავტომაგისტრალის შესასვლელებზე და გამოსასვლელებზე მძღოლს ეკრძალება მობრუნება ან უკუსვლით მოძრაობა, აგრეთვე ცენტრალურ გამყოფ ზოლსა და გზის ორივე სავალი ნაწილის განივ შეერთებაზე გასვლა. ამავე კანონის პირველი დანართის მე-5 თავის (განსაკუთრებული მითითებების ნიშნები) 5.1 პუნქტის თანახმად საგზაო ნიშანი 5.1 „ავტომაგისტრალი“ - აღნიშნავს ავტომაგისტრალს, რომელზედაც მოქმედებს ავტომაგისტრალზე მოძრაობის მომწესრიგებელი ნორმების მოთხოვნები.



როგო ავტომობილს სკჯერაგ ახვტი ცაუაენ ხაჲტყ ცაჲგარ იუგაენაენ ბყნატყ. ბარ ын ис ჯვი ნაე უყმან ფატაეჯყ (სტრელკაჲყ) ჯერდამადმაე ფაესტამაეცყდაჲ ჰმალყნ?

1

ბარ ын ნაჲ

2

ბარ ын ис

### განმარტება:

„საგზაო მოძრაობის შესახებ“ საქართველოს კანონის 38-ე მუხლის პირველი პუნქტის „გ.ბ“ ქვეპუნქტის თანახმად ავტომაგისტრალზე, ავტომაგისტრალის შესასვლელებზე და გამოსასვლელებზე მძღოლს ეკრძალება მობრუნება ან უკუსვლით მოძრაობა, აგრეთვე ცენტრალურ გამყოფ ზოლსა და გზის ორივე სავალი ნაწილის განივ შეერთებაზე გასვლა. ამავე კანონის პირველი დანართის მე-5 თავის (განსაკუთრებული მითითებების ნიშნები) 5.1 პუნქტის თანახმად საგზაო ნიშანი 5.1 „ავტომაგისტრალი“ - აღნიშნავს ავტომაგისტრალს, რომელზედაც მოქმედებს ავტომაგისტრალზე მოძრაობის მომწესრიგებელი ნორმების მოთხოვნები.



Автомагისტრалыл, აფთა მა автомагისტრалты бахизаентыл амаа рахизаентыл, бар  
ლაваерд цауы:

1

Транспортон фæрæзы тæссармæ  
кæнæ фæстæмæ цыдæй змæлд

2

Транспортон фæрæзæй централон  
дихгæнаг хаххыл амаа фæндаджы  
дыууæрдыхæй цауаен хайы цахгæр  
сиуыл рахизын

3


Дыккаг хаххæй æддæдæр (фалдæр),  
уыцы бæлццæтты акæнынæн  
нысангонд автомобилæй змæлын,  
кæцыйы барлаваердон максималон  
масса 3,5 тоннæй фылдæр нæу

4

Ахуыры змæлд

### განმარტება:

„საგზაო მოძრაობის შესახებ“ საქართველოს კანონის 38-ე მუხლის პირველი პუნქტის „ბ“ ქვეპუნქტის თანახმად, ავტომაგისტრალზე, ავტომაგისტრალის შესასვლელსა და გამოსასვლელზე აკრძალულია სასწავლო სვლა. ამავე პუნქტის „გ.ბ“ ქვეპუნქტის თანახმად ავტომაგისტრალზე, ავტომაგისტრალის შესასვლელზე და გამოსასვლელზე მძღოლს ეკრძალება მობრუნება ან უკუსვლით მოძრაობა, აგრეთვე ცენტრალურ გამყოფ ზოლსა და გზის ორივე სავალი ნაწილის განივ შეერთებაზე გასვლა.



Автомагისტრალაჲ რაჲიზინაენ როგ ავტომობილჲ სკაერაგაენ ბარ ის ჰმელა:

1

A ჲერდამადმაჲ

2

B ჲერდამადმაჲ

3

კუჲდ A ჲერდამადმაჲ, აჲტაჲ B ჲერდამადმაჲ

### ბანმარტჲბა:

„საგზაო მოძრაობის შესახებ“ საქართველოს კანონის 38-ე მუხლის მე-3 პუნქტის თანახმად, ავტომაგისტრალიდან გამოსვლისას მძღოლი დროულად უნდა გადავიდეს ავტომაგისტრალიდან გამოსასვლელის მიმდებარე ზოლზე და რაც შეიძლება სწრაფად შევიდეს მოძრაობის შენელების ზოლზე, თუ ასეთი ზოლი არსებობს.



Автомагистралы бахизынæн роу аутомобилы скъæрæгæн бар ис змæла:

1

Æрмæст А æрдæмадмæ

2

Æрмæст В æрдæмадмæ

3

Куыд А æрдæмадмæ, афтæ В æрдæмадмæ

### განმარტება:

„საგზაო მოძრაობის შესახებ“ საქართველოს კანონის 32-ე მუხლის მე-14 პუნქტის თანახმად, გზაზე გასასვლელ ადგილზე გაქანების ზოლის არსებობის შემთხვევაში მძღოლმა ამ ზოლზე უნდა იმოძრაოს და მეზობელ მოძრაობის ზოლზე გადაადგილებისას გზა უნდა დაუთმოს მასზე მოძრავ სატრანსპორტო საშუალებებს. ამავე კანონის 38-ე მუხლის მე-2 პუნქტის თანახმად, ავტომაგისტრალზე შესვლისას მძღოლი ვალდებულია გზა დაუთმოს ავტომაგისტრალზე მოძრავ ავტომობილებს. აჩქარების ზოლის არსებობისას მან უნდა ისარგებლოს ასეთი ზოლით.





Халы æви нæ фæндæгты змæлды уагæвæрдтæ рог автомобили скъæрæг автомагистралыл амындгонд бынаты тыхæрурæды цауы?

1

Халы

2

Нæ халы

### განმარტება:

„საგზაო მოძრაობის შესახებ“ საქართველოს კანონის 38-ე მუხლის პირველი პუნქტის „გ.ა“ და „გ.ბ“ ქვეპუნქტების თანახმად, ავტომაგისტრალზე, ავტომაგისტრალის შესასვლელსა და გამოსასვლელზე მძღოლს ეკრძალება: გ.ა) ავტომობილის (ან/და მისი მისაბმელის) გაჩერება ან დგომა, დგომისთვის გამოყოფილი, სპეციალურად მონიშნული ადგილების გარდა. გ.ბ) მობრუნება ან უკუსვლით მოძრაობა, აგრეთვე ცენტრალურ გამყოფ ზოლსა და გზის ორივე სავალი ნაწილის განივ შეერთებაზე გასვლა; ამავე კანონის მე-2 დანართის პირველი თავის (ჰორიზონტალური მონიშვნა) 1.2.1 პუნქტის თანახმად, 1.2.1 მთლიანი ფართო ხაზი - აღნიშნავს ავტომაგისტრალზე სავალი ნაწილის ნაპირებს. 1.2.1 ხაზის გადაკვეთა აკრძალულია. დასაშვებია სავალი ნაწილის ნაპირის აღმნიშვნელი და მძღოლის მარჯვენა მხარეს განლაგებული 1.2.1 ხაზის გადაკვეთა სატრანსპორტო საშუალების გზის ნაპირზე გასაჩერებლად.





ლავერდ სიტუაციიჲს ხალჲს ჯეჲს ნაჲ სკჲერაჲგ თჲხურაჲდჲნ ბჲლვჲრდგონდ დომჲნთჲს, კჲდ ჯმაჲ ჯენერაჲვდჲ ავტომობილჲს ჯეჲსტიატაჲ რაკჲნჲნ ფჲნდაგაჲს ნაჲ გჲნჲნ კჲნჲს?

1

ნაჲ ხალჲს

2

ხალჲს

### განმარტება:

„სავგაო მოძრაობის შესახებ“ საქართველოს კანონის 38-ე მუხლის პირველი პუნქტის „გ.ა“ ქვეპუნქტის თანახმად, ავტომანქანების მოძრაობისას, ავტომანქანის მძღოლის შესასვლელსა და გამოსასვლელზე მძღოლს ეკრძალება, ავტომობილის (ან/და მისი მისაბმელის) გაჩერება ან დგომა, დგომისთვის გამოყოფილი, სპეციალურად მონიშნული ადგილების გარდა. მძღოლმა, რომელიც მისგან დამოუკიდებელი გარემოებების გამო იძულებულია, გაჩერდეს, უნდა მიიღოს ყველა ზომა ავტომობილის (ან/და მისი მისაბმელის) გზის სავალი ნაწილიდან გასაყვანად, ხოლო თუ ამის დაუყოვნებლივ გაკეთება შეუძლებელია – ჩართოს საავარიო შექსიგნალიზაცია (მისი არსებობის შემთხვევაში) და შესაბამისი ნიშნით მონიშნოს ავტომობილი (ან/და მისი მისაბმელი) საკმარის მანძილზე, რათა დროულად გააფრთხილოს მოახლოებული მძღოლები.



Халы æви нæ фæндæгты змæлды уагæвæрдтæ рог автомобили скъæрæг нывыл амындгонд бынаты тыхурæды цауы?

1

Нæ халы

2

Халы

### განმარტება:

„საგზაო მოძრაობის შესახებ“ საქართველოს კანონის 38-ე მუხლის პირველი პუნქტის „გ.ა“ ქვეპუნქტის თანახმად, ავტომაგისტრალზე, ავტომაგისტრალის შესასვლელსა და გამოსასვლელზე მძღოლს ეკრძალება, ავტომობილის (ან/და მისი მისაბმელის) გაჩერება ან დგომა, დგომისთვის გამოყოფილი, სპეციალურად მონიშნული ადგილების გარდა. მძღოლმა, რომელიც მისგან დამოუკიდებელი გარემოებების გამო იძულებულია, გაჩერდეს, უნდა მიიღოს ყველა ზომა ავტომობილის (ან/და მისი მისაბმელის) გზის სავალი ნაწილიდან გასაყვანად, ხოლო თუ ამის დაუყოვნებლივ გაკეთება შეუძლებელია – ჩართოს საავარიო შექსიგნალიზაცია (მისი არსებობის შემთხვევაში) და შესაბამისი ნიშნით მონიშნოს ავტომობილი (ან/და მისი მისაბმელი) საკმარის მანძილზე, რათა დროულად გააფრთხილოს მოახლოებული მძღოლები. ამავე კანონის 52-ე მუხლის მე-3 პუნქტის თანახმად, „საავარიო გაჩერების ნიშანი“ და მოციმციმე წითელი ფარანი უნდა დაიდგას სატრანსპორტო საშუალებიდან იმ მანძილზე, რომელიც კონკრეტულ პირობებში უზრუნველყოფს საშიშროების შესახებ სხვა მძღოლების დროულ გაფრთხილებას. მაგრამ ეს მანძილი დასახლებულ პუნქტში არ უნდა იყოს 15 მეტრზე, ხოლო დაუსახლებელში - 30 მეტრზე ნაკლები.





Кæцы транспортон фæрæзы скъæრæг халы фæндæгты змæлды уагæвæрдтæ, кæд автобусы æмæ уæзласæн автомобиль змæлы 80 км/сах. тагъдадæй, фæлæ мопед – 40 км/сах. тагъдадæй?

1

Æрмæст автобусы скъæრæг

2

Æрмæст уæзласæн автомобили скъæრæг

3

Æрмæст мопеды скъæრæг

4

Æрмæст уæзласæн автомобили æмæ мопеды скъæрджытæ

### ბანმარტუბა:

„საგზაო მოძრაობის შესახებ“ საქართველოს კანონის 38-ე მუხლის პირველი პუნქტის „ა“ და „გ-გ“ ქვეპუნქტების თანახმად, ავტომანქანებში, ავტომანქანის შესასვლელსა და გამოსასვლელზე: ა) აკრძალულია ქვეითების, ცხოველების, ველოსიპედების, მოპედების, ავტომობილებისა და მათი მისაბმელებისგან განსხვავებული ყველა სატრანსპორტო საშუალების მოძრაობა; გ.გ) მძღოლს ეკრძალება მეორე ზოლის იქით იმ ტვირთის გადასაზიდავი ავტომობილით (მისაბმელებით ან მათ გარეშე) მოძრაობა, რომლის ნებადართული მაქსიმალური მასა 3,5 ტონას აღემატება ან იმ მისაბმელიანი ავტომობილებით მოძრაობა, რომელთა საერთო სიგრძე 7 მეტრზე მეტია. ამავე კანონის მე-5 მუხლის 71-ე პუნქტის თანახმად, სატვირთო ავტომობილი არის ტვირთის გადასაზიდად განკუთვნილი ავტოსატრანსპორტო საშუალება, რომლის ნებადართული მაქსიმალური მასა აღემატება 3 500 კგ-ს.

Ранымадæй илцийы (таможнийы) контролы дæлбары ис:

1

Æрмæст илцийы (таможнийы) цæстдарды дæлбар товар æмæ транспортон фæрæз.

2

Æрмæст территори, цыран æвæрд ис илцийы (таможнийы) цæстдарды дæлбар товар æмæ транспортон фæрæз.

3

Базайраг æмæ транспортон фæрæз ацы билеты ранымад кæцыфæнды цауы

### განმარტება:

საქართველოს საგადასახადო კოდექსის 214-ე მუხლის მე-2 პუნქტის „ა“ და „ბ“ ქვეპუნქტების თანახმად, საბაჟო კონტროლს ექვემდებარება: ბ) საბაჟო ზედამხედველობას დაქვემდებარებული საქონელი და სატრანსპორტო საშუალება; გ) ტერიტორია, სადაც განთავსებულია საბაჟო ზედამხედველობას დაქვემდებარებული საქონელი და სატრანსპორტო საშუალება.



Гуырдыстоны административон тугтæрхон (уголовон) кодексмæ гæсгæйæ, уыцы транспортон фæрæзы скъæრæджы 'рдыгæй змæлды æвæрд тагъдад 15 км/сах-æй фылдæр тагъдадæй куы хиза, кæцы æххæст кæны бынæттон горæтон, горæттыхсæнон кæнæ Гуырдыстоны æхсæнадæмон бадзырдты æмæ разыдзинæдтæй сфидаргонд æхсæнадæмон регулярон бæлцуатон аконд расайдзæн:

1

Фæивар кæнын 2000 ларийы бæрцæй.

2

Фæивар кæнын 200 ларийы бæрцæй.

3

Фæивар кæнын 200 ларийы бæрцæй кæнæ транспортон фæрæзы скъæрыны бар æруромын 3 мæйы æмгъуыдæй

### ბანმარტიბა:

საქართველოს ადმინისტრაციული სამართალდარღვევათა კოდექსის 125-ე მუხლის მე-2 ნაწილის თანახმად, ამ მუხლის პირველი ნაწილით გათვალისწინებული სამართალდარღვევის ჩადენა (სატრანსპორტო საშუალების მძღოლის მიერ მოძრაობის დადგენილი სიჩქარის გადაჭარბება 15 კმ/სთ-ზე მეტი სიჩქარით) იმ პირის მიერ, რომელიც ახორციელებს ადგილობრივ საქალაქო, საქალაქთაშორისო ან საქართველოს საერთაშორისო ხელშეკრულებებითა და შეთანხმებებით დადგენილ საერთაშორისო რეგულარულ სამგზავრო გადაყვანას, – გამოიწვევს დაჯარიმებას 200 ლარის ოდენობით.

Гуырдыстоны административон тугтæрхон (уголовон) кодексмæ гæсгæйæ, æхсæнадæмон автомобилон ласыны «æхсæнадæмон автомобилон змæлды амалиуæггæнæг транспортон фæрæзты экипажты куысты тыххæй» Европæйы бадзырды (AETR) æгъдæуттæ фехалын расайдзæн:

1

Транспортон фæрæзы скъæрыны бар æруромын 1 азмæ.

2

Фæивар кæнын 500 ларийы бæрцæй

3

Фæивар кæнын 1000 ларийы бæрцæй.


### განმარტება:

საქართველოს ადმინისტრაციული სამართალდარღვევათა კოდექსის 1271-ე მუხლის მე-7 ნაწილის თანახმად, საერთაშორისო საავტომობილო გადაზიდვა-გადაყვანის „საერთაშორისო საავტომობილო მიმოსვლის მწარმოებელი სატრანსპორტო საშუალებების ეკიპაჟების მუშაობის შესახებ“ ევროპის შეთანხმების (AETR) წესების დარღვევით განხორციელება გამოიწვევს დაჯარიმებას 500 ლარის ოდენობით.

თემა 23:

საცხოვრებელი ზონა, სამარშრუტო  
ტრანსპორტის პრიორიტეტი

---



კაეცჲ ფანდადჲჲ ჲმელდჲ ჲაჲადისაედჲჲ 'რდამ ფაჲჲინდჲან ფანდაგ რატჲჲჲ ჲესდჲინად ურს ავტომობილჲ სკაერაედჲჲ ფატაედჲჲ (სტრელკაჲჲ) აერდამადმა ჲმელდჲ ცაუჲ?

1

აერმაესტ მოპედჲ სკაერაედჲჲ 'რდამ

2

აერმაესტ ფისტაედჲჲ 'რდამ

3

კუჲდ მოპედჲ სკაერაედჲჲ, აფტაე ფისტაედჲჲ 'რდამ

### განმარტება:

„საგზაო მოძრაობის შესახებ“ საქართველოს კანონის 25-ე მუხლის მე-2 პუნქტის „ა“ ქვეპუნქტის თანახმად, თუ მძღოლი ასრულებს მოხვევას სხვა გზაზე შესასვლელად, რომლის შესასვლელთანაც მდებარეობს ქვეითთა გადასასვლელი, მან ეს მოხვევა უნდა შეასრულოს მხოლოდ დაბალი სიჩქარით, ხოლო საჭიროების შემთხვევაში უნდა გაჩერდეს და გაატაროს გადასასვლელზე შესული ან შემავალი ქვეითები. ამავე კანონის 32-ე მუხლის მე-12 პუნქტის თანახმად, თუ სატრანსპორტო საშუალებების მოძრაობის ტრანექტორიები იკვეთება, ხოლო გავლის რიგითობა განსაზღვრული არ არის, მძღოლმა გზა უნდა დაუთმოს იმ სატრანსპორტო საშუალებას, რომელიც მას მარჯვნიდან უახლოვდება.



## ВОПРОС 595

ПРАВИЛЬНЫЙ ОТВЕТ: 2

Кәд æмæ æвзарыны зонæйы нæй фистæгон ахизæн кæнæ алвæндаг (перекресток), фæндагыл ахизын бар лæвæрд цæуы фæндаджы цæуæн хайы сæмæны перпендикуляронæй, уыцы фадиджы, цыран:

1

Ис хицæнгæнæн хахх æмæ фæндаг дыууæ фарсырдыгæй дæр хорз зыны

2

Нæй хицæнгæнæн хахх кæнæ быругонд æмæ фæндаг дыууæ 'рдыгæй дæр хорз зыны

## განმარტება:

„საგზაო მოძრაობის შესახებ“ საქართველოს კანონის 24-ე მუხლის მე-8 პუნქტის თანახმად, თუ ხილვადობის ზონაში არ არის ქვეითთა გადასასვლელი ან გზაჯვარედინი, გზაზე გადასვლა ნებადართულია გზის სავალი ნაწილის ღერძის პერპენდიკულარულად, იმ მონაკვეთში, სადაც არ არის გამყოფი ზოლი ან ღობურა და გზა ორივე მხრიდან კარგად ჩანს.

## ВОПРОС 596

ПРАВИЛЬНЫЙ ОТВЕТ: 4

Уым цыран нæй фистæгон ахизæн, фæндаджы цæуæн хайыл фистæг хъуамæ ахиза:

1

Æрбаввахсгонд транспортон фæრæзы онг æрмæст дæрддзæджы сбæлвырды фæстæ

2

Æрбаввахсгонд транспортон фæრæзы æрмæст тагъдадад сбæлвырды фæстæ

3

Æрмæст ахызты æдасdziнады сбæრæг кæныны фæстæ

4

Куыд æрбаввахсгонд транспортон фæрæзы онг дæрддзæг, афтæ уый тагъдадад сбæлвырд кæнын æмæ ахызты æдасdziнады сбæრæг кæныны фæстæ

## განმარტება:

„საგზაო მოძრაობის შესახებ“ საქართველოს კანონის 24-ე მუხლის მე-8 პუნქტის თანახმად, იქ სადაც არ არის ქვეითთა გადასასვლელი, ქვეითი არ უნდა გადავიდეს გზის სავალ ნაწილზე მოახლოებულ სატრანსპორტო საშუალებამდე მანძილის, მისი სიჩქარის განსაზღვრამდე და გადასვლის უსაფრთხოებაში დარწმუნებამდე.



Фистაეджытæ змæлынц уынджы территорийыл, уыдон хъуамæ:

1


Адаргъ кæной змæлд комкоммæ

2

Ахизой рахизмæ кæнæ галиумæ æмæ ауадзой рог автомобили

### განმარტება:

„საგზაო მოძრაობის შესახებ“ საქართველოს კანონის 44-ე მუხლის პირველი პუნქტის „დ“ ქვეპუნქტის თანახმად, შესაბამისი ნიშნით აღნიშნულ საცხოვრებელ ზონებში, ქვეითმა უსაფუძვლოდ არ უნდა შეაფერხოს ტრანსპორტის მოძრაობა. ამავე კანონის პირველი დანართის მე-5 თავის (განსაკუთრებული მითითებების ნიშნები) 5.21 პუნქტის თანახმად საგზაო ნიშანი 5.21 „საცხოვრებელი ზონა“ - აღნიშნავს ტერიტორიას (ზონას) სადაც მოქმედებს საცხოვრებელ ზონაში მოძრაობისათვის დადგენილი წესები. ნიშანი იდგმება ასეთი საცხოვრებელი ზონის ყველა შესასვლელში.



Уынджы территорияыл рог автомобили скъæрæгæн бар ис адаргъ кæнын змæлды иуыл фылдæр:

1

20 км/сах тагъдадæй

2

40 км/сах тагъдадæй

3

60 км/сах тагъдадæй

### განმარტება:

„საგზაო მოძრაობის შესახებ“ საქართველოს კანონის 33-ე მუხლის მე-6 პუნქტის თანახმად, თუ ამ კანონით სხვა რამ არ არის დადგენილი, დასახლებულ პუნქტში ნებადართულია სატრანსპორტო საშუალების მოძრაობა არა უმეტეს 60 კმ/სთ სიჩქარით, ხოლო საცხოვრებელ ზონაში - არაუმეტეს 20 კმ/სთ სიჩქარით. ამავე კანონის 44-ე მუხლის პირველი პუნქტის „ბ“ ქვეპუნქტის თანახმად, შესაბამისი ნიშნით აღნიშნულ საცხოვრებელ ზონებში, მძღოლი უნდა გადაადგილდეს არაუმეტეს 20კმ/სთ სიჩქარით. ამავე კანონის პირველი დანართის მე-5 თავის (განსაკუთრებული მითითებების ნიშნები) 5.21 პუნქტის თანახმად საგზაო ნიშანი 5.21 „საცხოვრებელი ზონა“ - აღნიშნავს ტერიტორიას (ზონას) სადაც მოქმედებს საცხოვრებელ ზონაში მოძრაობისათვის დადგენილი წესები. ნიშანი იდგმება ასეთი საცხოვრებელი ზონის ყველა შესასვლელში.





Кæцы автомобили скъæრæгæн фæзындзæн фæндаг раттыны хæсдзинад фатæджы (стрелкæйы) æрдæмадмæ змæлды цауы, кæд æмæ рог автомобили скъæრæг рацæуы цæрæн зонæйæ?

1

Рог автомобили скъæრæгæн


2

Автобусы скъæрæгæн

### განმარტება:

„საგზაო მოძრაობის შესახებ“ საქართველოს კანონის 44-ე მუხლის პირველი პუნქტის „ე“ ქვეპუნქტის თანახმად, შესაბამისი ნიშნით აღნიშნულ საცხოვრებელ ზონებში, საცხოვრებელი ზონიდან გამოსვლისას საგზაო მოძრაობის მონაწილემ, გადაკვეთაზე გზა უნდა დაუთმოს სხვა საგზაო მოძრაობის მონაწილეს. ამავე კანონის პირველი დანართის მე-5 თავის (განსაკუთრებული მითითებების ნიშნები) 5.22 პუნქტის თანახმად საგზაო ნიშანი 5.22 „საცხოვრებელი ზონის დასასრული“ - აღნიშნავს 5.21 „საცხოვრებელი ნიშნით აღნიშნული საცხოვრებელი ზონის დასასრულს. ნიშანი იდგმება საცხოვრებელი ზონის ყველა გამოსასვლელში.





კაეცა ფანდაგონ ზმელდჳ ჰაჲადისაედჳ 'რდამ ფაჲჲინდჲან ფანდაგ რატჲჲჲ ჰაესდჲინად როგ ავტომობილჲ სჲაერაეგან ფატაედჳ (სტრელკაჲჲ) არდამადმა ზმელდჳ ცაჲჲ?

- |   |  |
|---|--|
| <p><b>1</b> არმასტ ფისტაეგტჲ 'რდამ</p>        | <p><b>2</b> არმასტ ველოსიპედჲ სჲაერაედჳ 'რდამ</p>                                    |
| <p><b>3</b> არმასტ მოპედჲ სჲაერაედჳ 'რდამ</p> | <p><b>4</b> კუჲდ ფისტაეგაჲ ცაედჳჲტჲ, აფტა ველოსიპედჲ ამაე მოპედჲ სჲაერდჳტჲ 'რდამ</p> |

### განმარტჲბა:

„საგზაო მოძრაობის შესახებ“ საქართველოს კანონის პირველი დანართის მე-5 თავის (განსაკუთრებული მითითებების ნიშნები) 5.22 პუნქტის თანახმად საგზაო ნიშანი 5.22 „საცხოვრებელი ზონის დასასრული“ - აღნიშნავს 5.21 „საცხოვრებელი ნიშნით აღნიშნული საცხოვრებელი ზონის დასასრულს. ნიშანი იდგმება საცხოვრებელი ზონის ყველა გამოსასვლელში. ამავე კანონის 44-ე მუხლის პირველი პუნქტის „ე“ ქვეპუნქტის თანახმად, შესაბამისი ნიშნით აღნიშნულ საცხოვრებელ ზონებში, საცხოვრებელი ზონიდან გამოსვლისას საგზაო მოძრაობის მონაწილემ, გადაკვეთაზე გზა უნდა დაუთმოს სხვა საგზაო მოძრაობის მონაწილეს.

Дæлдæр ранымадгонд кæцы архайыны ауагъд дæтты бар фистæгон зонæтæн расидгæ бынæтты æмæ цæрæн зонæты?

1

Автотранспортон фæрæзты сæрты (фæстæ) змæлды

2

Ахуыры цыд

3

Кусгæ моторимæ транспортон фæрæзы лæууын

4

Уыцы автомобилæй змæлын, кæцыйы конструктивон тагъдад фылдæр нæу 120 км/сах

### განმარტება:

„საგზაო მოძრაობის შესახებ“ საქართველოს კანონის 44-ე მუხლის მე-3 პუნქტის თანახმად, ქვეითთა ზონად გამოცხადებულ ადგილზე და საცხოვრებელ ზონაში აკრძალულია გამჭოლი მოძრაობა, სასწავლო სვლა და ჩართული ძრავითი დგომა; ამასთანავე, ქვეითს უპირატესობა აქვს სხვა საგზაო მოძრაობის მონაწილეების მიმართ.

## ВОПРОС 602

ПРАВИЛЬНЫЙ ОТВЕТ: 1



I



II



III



IV

ლავარდ ფანდაგონ ნისანტთი კომბინაციიჲე კაეცი ჯვარდ ცაუი ჯდჷარაგ პუნქტი, ჯფსანვანდადჷი ანაშლაგბაუმი ახიზანმა 150-300 მეტრი დერდძაგჷლ, ფანდადჷი გალიუ ფარსერდჷგაჲ?

1

I

2

II

3

III

4

IV

## განმარტება:

„საგზაო მოძრაობის შესახებ“ საქართველოს კანონის პირველი დანართის პირველი თავის (მაფრთხილებელი ნიშნები) შენიშვნის „ა“, „ბ“ და „ვ“ ქვეპუნქტების თანახმად: ა) 1.1 „რკინიგზის შლავგაუმიანი გადასასვლელი“ და 1.2 „რკინიგზის უშლავგაუმი გადასასვლელი“ ნიშნები დაუსახლებელ პუნქტში იდგმება სახიფათო მონაკვეთის დასაწყისამდე 150–300 მეტრ მანძილზე; ბ) 1.1 „რკინიგზის შლავგაუმიანი გადასასვლელი“, 1.2 „რკინიგზის უშლავგაუმი გადასასვლელი“, 1.10 „გასახსნელი ხიდი“, 1.11 „სანაპიროზე გასასვლელი“, 1.23 „ქვეითთა გადასასვლელი“, 1.24 „ბავშვები“ და 1.26 „საგზაო სამუშაოები“ ნიშნები მეორდება დაუსახლებელ პუნქტში, ხოლო 1.24 და 1.26 ნიშნები - დასახლებულ პუნქტშიც. მეორე ნიშანი იდგმება სახიფათო მონაკვეთის დასაწყისიდან არანაკლებ 50 მეტრის მანძილზე; ვ) 1.4.1-1.4.3 „რკინიგზის გადასასვლელთან მიახლოება“ ნიშნები იდგმება გზის მარჯვენა მხარეს, ხოლო 1.4.4-1.4.6 „რკინიგზის გადასასვლელთან მიახლოება“ ნიშნები - მარცხენა მხარეს. 1.4.1 და 1.4.4 ნიშნები იდგმება მოძრაობის მიმართულებით ძირითად და დუბლირებულ 1.1 ან 1.2 ნიშნებთან ერთად. ნიშნები 1.4.3 და 1.4.6 იდგმება მოძრაობის მიმართულებით განმეორებით 1.1 ან 1.2 ნიშნებთან, ხოლო ნიშნები 1.4.2 და 1.4.5 - დამოუკიდებლად, თანაბარ დაშორებაზე ძირითად და განმეორებითი 1.1 ან 1.2 ნიშნებს შორის.



I



II



III



IV

ლავერდ ფანდაგონ ნისაენტთაჲ კაჲცი ბერაგ კაჲნი დონი былмæ კაჲნæ დონმარაჲნი  
былмæ ახიზაჲნი?

1

ერმაჲსთ I ჯმაჲ II

2

ერმაჲსთ II

3

ერმაჲსთ III

4

ერმაჲსთ I ჯმაჲ IV

### განმარტება:

„საგზაო მოძრაობის შესახებ“ საქართველოს კანონის პირველი დანართის პირველი თავის (მაფრთხილებელი ნიშნები) 1.11 პუნქტის თანახმად საგზაო ნიშანი 1.11 „სანაპიროზე გასასვლელი“ - აღნიშნავს სანაპიროზე ან წყალსაცავის ნაპირზე გასასვლელს.





I



II



III



IV

ლავერდ ფანდაგონ ნისაენტთაჲ კაეცჲ ნისან კაენჲ ფანდადჲჲ ფადჲგაენ თაეसाგ  
ფაეჲილაენაჲ?

1

I

2

II

3

III

4

IV

### განმარტება:

„საგზაო მოძრაობის შესახებ“ საქართველოს კანონის პირველი დანართის პირველი თავის (მაფრთხილებელი ნიშნები) 1.13.1 და 1.13.2 პუნქტების თანახმად საგზაო ნიშნები 1.13.1, 1.13.2 „სახიფათო მოსახვევები“ - აღნიშნავს გზის მონაკვეთს სახიფათო მოსახვევებით: 1.13.1 – პირველი მოსახვევით მარჯვნივ, 1.13.2 – პირველი მოსახვევით მარცხნივ.



I



II



III



IV

ლავარდ ფანდაგონ ნისაენტაჲ კაჲცა რაგფაჲდჲაჲსტ კაჲნა თჲნგ ჲარდდჲჲნ  
ფანდადჲჲ ფადჲგმაჲ ჲერბავვაჲსჲ თჲჲჲაჲ?

1

I

2

II

3

III

4

IV

### განმარტება:

„საგზაო მოძრაობის შესახებ“ საქართველოს კანონის პირველი დანართის პირველი თავის (მაფრთხილებელი ნიშნები) 1.15 პუნქტის თანახმად საგზაო ნიშანი 1.15 „ციცაბო აღმართი“- იძლევა გაფრთხილებას ციცაბოაღმართიან გზის მონაკვეთთან მიახლოების თაობაზე.



I



II



III



IV

ლავერდ ფანდაგონ ნისაენტთაჲ კაჲცჲ ბერაგ კაენჲ ფანდადჲჲ ფადჲგ, ცჲრან ცაუაენ  
ხაჲჲ ფაჲტაენ უჲნგაგ კაენჲ გალიუ ფარსერდჲგაჲ?

1

I

2

II

3

III

4

IV

### განმარტება:

„საგზაო მოძრაობის შესახებ“ საქართველოს კანონის პირველი დანართის პირველი თავის (მაფრთხილებელი ნიშნები) 1.21.1-1.21.3 პუნქტების თანახმად საგზაო ნიშნები 1.21.1–1.21.3 „გზის შევიწროება“ - აღნიშნავს გზის მონაკვეთს, რომლის სავალი ნაწილის სიგანე ვიწროვდება. 1.21.1 - ორივე მხრიდან; 1.21.2 - მარჯვნიდან; 1.21.3 - მარცხნიდან.



I



II



III



IV

ლავარდ ფანდაგონ ნისაენტაჲ კაჲც ბარაგ კაჲნ რეზერვმაჲ, ცუანგანაჲნ  
 ხაჲდზარაჲდმაჲ, ხაჲდჲ ფაჲზუატმაჲ ცაჲუგაჲ ფანდადჲჲ ფადგუჲტაჲ კაჲნაჲ აჲნდარ სჲხტჲ,  
 ცჲრან განაჲნ ის აჲმაჲ ფაჲზჲნოჲ ხაჲდდაგ ცარაგოჲტაჲ?

1

I

2

II

3

III

4

IV

### განმარტება:

„საგზაო მოძრაობის შესახებ“ საქართველოს კანონის პირველი დანართის პირველი თავის (მაფრთხილებელი ნიშნები) 1.28 პუნქტის თანახმად საგზაო ნიშანი 1.28 „გარეული ცხოველები“ - ნაკრძალთან, სანადირო მეურნეობასთან, ტყის მასივთან გამავალი გზის მონაკვეთიან სხვა უბანი, სადაც მოსალოდნელია გარეული ცხოველების გამოჩენა.





I



II



III



IV

ლავარდ ფანდაგონ ნისაენტაჲ კაჲცჲ ბჲრჲგ კაჲნჲ ტჲუნელჲ, ცჲრან ნაჲ რუხსჲტაჲ, კაჲნაჲ კაჲცჲდარჲ ბაჲიზაჲნჲ პორტალჲ უჲნაჲნად, ბჲნატჲ რელჲეფმაჲ გაჲსგაჲ, 150-აჲ კჲადდარ უ?

1

I

2

II

3

III

4

IV

### განმარტება:

„საგზაო მოძრაობის შესახებ“ საქართველოს კანონის პირველი დანართის პირველი თავის (მაფრთხილებელი ნიშნები) 1.32 პუნქტის თანახმად საგზაო ნიშანი 1.32 „გვირაბი“ - აღნიშნავს გვირაბს, რომელშიც არ არსებობს ხელოვნური განათება ან რომლის შესასვლელი პორტალის ხილვადობა, ადგილის რელიეფის გამო, 150 მ-ზე ნაკლებია.

## ВОПРОС 609

ПРАВИЛЬНЫЙ ОТВЕТ: 3

Сбадæн платформæйы нæ уæвынады цауы, маршрутон транспортон фæрæзты æмæ таксимæ банхъæлмæ кæсын барлæвæрд ис:

1

Æрмæст цæуæн хайы кæроны рахиз фарс

2

Æрмæст цæуæн хайы астæуы арæзт æдасдзинады сакъадахыл

3

Æрмæст тротуарыл кæнæ фæрсмæйыл

4

Ацы билеты ранымад кæцыфæнды бынаты


## განმარტება:

„საგზაო მოძრაობის შესახებ“ საქართველოს კანონის 24-ე მუხლის მე-13 პუნქტის „ თანახმად, სამარშრუტო სატრანსპორტო საშუალებისა და ტაქსის მოცდა ნებადართულია მხოლოდ გზის სავალი ნაწილის შედარებით ამაღლებულ ჩასასხდომ ბაქანზე, ხოლო მისი არარსებობისას – ტროტუარზე ან გვერდულაზე.

თემა 24:

## ბუქსირება

---



Автомобилს ავტომობილით буксирით რაკინავენ ხაუი ხიარაჲტ (ბანდაენ, მარტული, ტელ ამაჲ აენდარ უიი ხუიზაენ ფარაჲტაჲი). Буксирგაენაგ ტრანსპორტონ ფარაჲტის სკარდჲიტაენ ბარ ის ჰმალენ:

1

არმაჲსტ A არდამადმაჲ

2

არმაჲსტ B არდამადმაჲ


3

კუი A არდამადმაჲ, აფტა B არდამადმაჲ

### განმარტაჲა:

„საგზაო მოძრაობის შესახებ“ საქართველოს კანონის 38-ე მუხლის მე-4 პუნქტის თანახმად, თვითნაკვეთი მონეობილობით ბუქსირებულ სატრანსპორტო საშუალებას ევრძალება ავტომაგისტრალზე შესვლა. თვითნაკვეთი მონეობილობით ბუქსირებულმა გაუმართავმა სატრანსპორტო საშუალებამ, რომელიც ავტომაგისტრალზე მნეობრიდან გამოვიდა, ავტომაგისტრალი უახლოეს გამოსასვლელზე უნდა დატოვოს. ამ პუნქტით გათვალისწინებულ თვითნაკვეთი მონეობილობაში იგულისხმება თოკი, მავთული და სხვა მსგავსი საშუალება.





Ис æви нæ бар буксиргæнæг автомобили скъæрæгæн адаргъ кæна змæлды фатæджы (стрелкæйы) æрдæмадмæ, кæд æмæ буксир æххæст цæуы хиарæзт бæндæнæй?

1

Ис ын бар

2

Нæй ын бар

### პანმარტეზა:

„საგზაო მოძრაობის შესახებ“ საქართველოს კანონის 38-ე მუხლის მე-4 პუნქტის თანახმად, თვითნაკეთი მონყობილობით ბუქსირებულ სატრანსპორტო საშუალებას ეკრძალება ავტომაგისტრალზე შესვლა. თვითნაკეთი მონყობილობით ბუქსირებულმა გაუმართავმა სატრანსპორტო საშუალებამ, რომელიც ავტომაგისტრალზე მწყობრიდან გამოვიდა, ავტომაგისტრალი უახლოეს გამოსასვლელზე უნდა დატოვოს. ამ პუნქტით გათვალისწინებულ თვითნაკეთი მონყობილობაში იგულისხმება თოკი, მავთული და სხვა მსგავსი საშუალება.



Халы æви нæ фатæджы (стрелкæйы) æрдæмадмæ змæлгæ буксиргæнæг автомобили скъæрæг механикон транспортон фæрæзы буксиры тыххæй сфидаргонд домæнты?

1

Халы

2

Нæ халы

### განმარტება:

„საგზაო მოძრაობის შესახებ“ საქართველოს კანონის 45-ე მუხლის მე-6 პუნქტის „ბ“ ქვეპუნქტის თანახმად, აკრძალულია ბუქსირება, ორი ან მეტი მექანიკური სატრანსპორტო საშუალებისა, აგრეთვე მექანიკური სატრანსპორტო საშუალებისა, რომელსაც ორი ან მეტი მისაბმელი აქვს.



Уагъд цæуы æви нæ, æнæრæвдз рулы скъæрæн механизмы уæвæг рог автомобили лæвæрд арæхстæй сыфцæй ласын (буксирæй ласын)?

1

Уагъд цæуы


2

Уагъд нæ цæуы

### განმარტება:

„საგზაო მოძრაობის შესახებ“ საქართველოს კანონის 45-ე მუხლის მე-6 პუნქტის „ა“ ქვეპუნქტის თანახმად, აკრძალულია ბუქსირება ხისტი ან მოქნილი გადაბმით, იმ მექანიკური სატრანსპორტო საშუალებისა, რომლის საჭის მართვის მექანიზმი გაუმართავია.





Буксиргаәнәг сконд змәлы 50 км/сах тагъдадәй. Ләвәрд ситуацийы фәндәгты змәлды уагәвәрдты цал домән ис хәлд, кәд ләвәрдгонд дыууәрдәм змәлән фәндаджы астәуккаг хахх дыууә әрдәмадмә змәлынаән пайдагонд цәуы?

1

Дыууә

2

Æртә

3

Цыппар

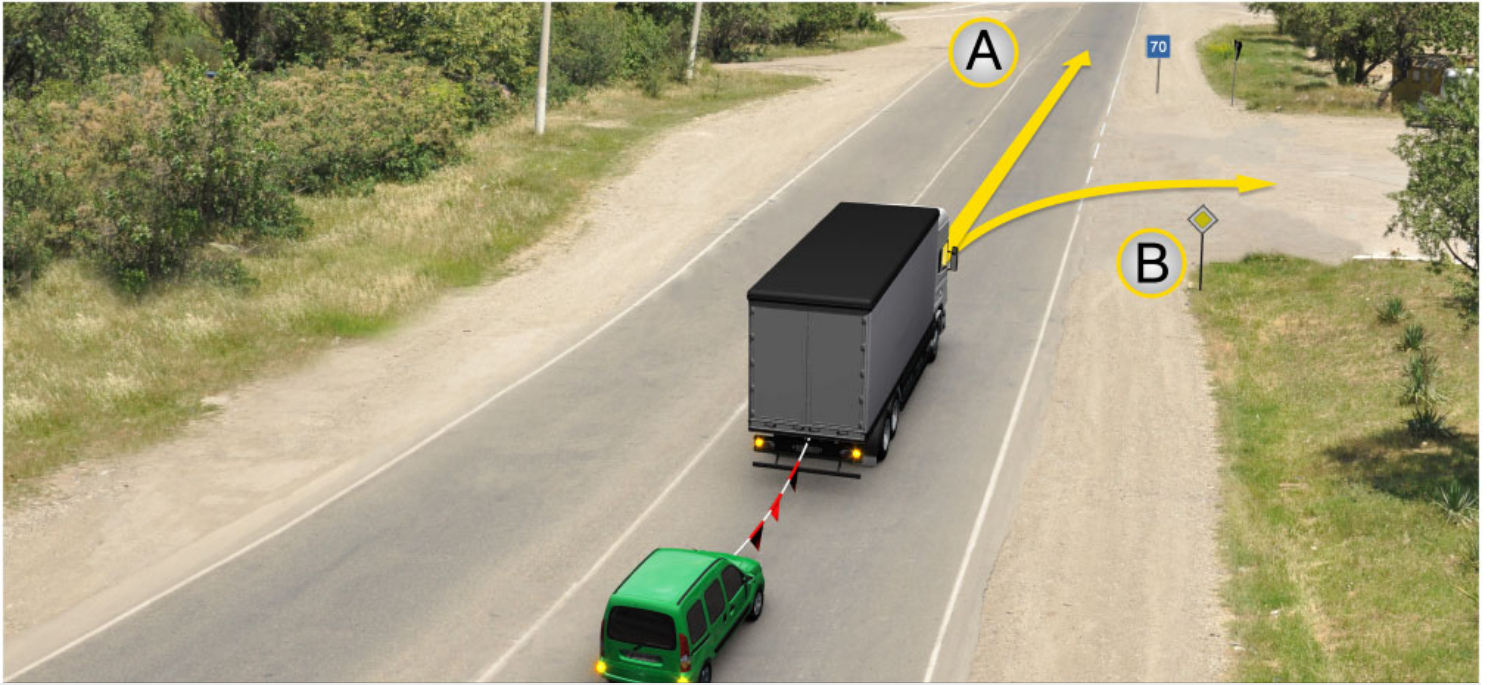
4

Фондз

### განმარტება:

„საგზაო მოძრაობის შესახებ“ საქართველოს კანონის 45-ე მუხლის მე-7, მე-8 და მე-9 პუნქტების თანახმად: 7. დღე-ღამის ნებისმიერ პერიოდში მობუქსირე მექანიკურ სატრანსპორტო საშუალებას ჩართული უნდა ჰქონდეს ახლო განათების ფარები, საბუქსირო მექანიკურ სატრანსპორტო საშუალებას ჩართული უნდა ჰქონდეს საავარიო შუქსიგნალიზაცია, ხოლო მისი არარსებობის ან გაუმართაობის შემთხვევაში ამ ტრანსპორტის უკანა ნაწილზე უნდა დამაგრდეს საავარიო გაჩერების ნიშანი. 8. მექანიკური სატრანსპორტო საშუალების ბუქსირებისას საბუქსირო (შემაერთებელი) მოწყობილობა აღნიშნული უნდა იქნეს ალმებით ან სხვა გამაფრთხილებელი მოწყობილობით, ისე, რომ ადვილი შესამჩნევი იყოს სხვა საგზაო მოძრაობის მონაწილისათვის დღე-ღამის ნებისმიერ პერიოდში. 9. მექანიკური სატრანსპორტო საშუალების ბუქსირებისას დრეკადი შემაერთებელი რგოლების აღსანიშნავად გამოიყენება ალმები, გამაფრთხილებელი მოწყობილობა ან 200X200 მმ ზომის დაფა, რომელზედაც დიაგონალურადაა დახაზული 50 მმ სიგანის ურთიერთმონაცვლე წითელი და თეთრი ზოლები შუქამრეკლი ზედაპირით. დრეკად შემაერთებელ რგოლზე მაგრდება არანაკლებ ორი გამაფრთხილებელი მოწყობილობა (ალამი). ამავე კანონის 31-ე მუხლის მე-11 პუნქტის თანახმად, დაუსახლებელ პუნქტში, აგრეთვე დასახლებულ პუნქტში გზის სავალი ნაწილის იმ მონაკვეთზე, რომელზედაც მოძრაობა ნებადართულია 80 კმ/სთ-ზე მეტი სიჩქარით, მძღოლმა უნდა იმოძრაოს სავალი ნაწილის მარჯვენა კიდედან რაც შეიძლება ახლოს. აკრძალულია მარცხენა ზოლის დაკავება, როცა მარჯვენა ზოლი თავისუფალია, გარდა დაბრკოლების შემთხვევის, მარცხნივ მოხვევის ან მობრუნების შემთხვევისა. აქ დარღვევაა: სავალ ნაწილზე განლაგება; მობუქსირე ავტომობილს არა აქვს ჩართული ახლო განათების ფარები; საბუქსიროს - ავარიული სიგნალიზაცია და საბუქსირო მოწყობილობა აღნიშნული არ არის ალმებით.





ლავაერდ სიტუაციის, буксирგანაგ ავტომობილს სკაერაგან ზმელდს ადარგა კაენის ბარ ის:

1

A ადამადმა

2

B ადამადმა

3

კუიდ A, აფტა B ადამადმა

### განმარტება:

„საგზაო მოძრაობის შესახებ“ საქართველოს კანონის პირველი დანართის მე-7 თავის (საინფორმაციო-მაჩვენებელი ნიშნები) 7.2 პუნქტის თანახმად საგზაო ნიშანი 7.2 „რეკომენდებული სიჩქარე“ - მიუთითებს სიჩქარეს, რომლითაც რეკომენდებულია მოძრაობა გზის მოცემულ მონაკვეთზე. ნიშანი იდგმება გზის დასაწყისში. ნიშნის მოქმედების ზონა ვრცელდება უახლოეს გზაჯვარედინამდე, ხოლო გამაფრთხილებელ ნიშანთან ერთად - სახიფათო უბნის მთელ სიგრძეზე.



ლავადრდ სიტუაციიყ, ბარ ის ჟვი ნჲ ბუქსირგჲენჲგ ავტომობილყ სკჲერჲგჲენ, ფატჲდჟყ (სტრელკჲიყ) ჲრდჲმადმჲ ჰმჲლყნ, კჲდ ჲმჲ ფჲნდღ სღდ ყ?

1

ბარ ყნ ნჲი

2

ბარ ყნ ის

**გჲნმჲრტიზბჲ:**

„საგზაო მოძრაობის შესახებ“ საქართველოს კანონის 45-ე მუხლის მე-6 პუნქტის „ე“ ქვეპუნქტის თანახმად, აკრძალულია ბუქსირება მოქნილი გადაბმით, როცა გზა მოყინულია.

## ВОПРОС 617

ПРАВИЛЬНЫЙ ОТВЕТ: 2

Гәнаән ис æви нæ прицепон механикон транспортон фæрæзæй æндæр механикон транспортон фæрæзы буксирæй ласын?

1

Гәнаән ис

2

Гәнаән нæй

3

Гәнаән ис, æрмæст уыцы цауы, кæд æмæ буксиргәнаәг механикон транспортон фæрæзы прицефы максималон массæ 750 кг-æй къаддæр у

## განმარტება:

„საგზაო მოძრაობის შესახებ“ საქართველოს კანონის 45-ე მუხლის პირველი პუნქტის თანახმად, დასაშვებია მექანიკური სატრანსპორტო საშუალებით (მისაბმელის გარეშე) სხვა მექანიკური სატრანსპორტო საშუალების ბუქსირება ამ კანონით დადგენილი წესით.

## ВОПРОС 618

ПРАВИЛЬНЫЙ ОТВЕТ: 4

Механикон транспортон фæрæзы буксирæй акæнын гәнаән ис:

1

Æрмæст хъæбæრ (фидар) бабæтгæйæ

2

Æрмæст арæхстджын бабæтгæйæ

3

Æрмæст æрдæгыл бабæтгæйæ

4

Куыд хъæбæр (фидар) бабæтгæйæ, афтæ арæхстджын бабæтгæйæ æмæ æрдæгыл бабæтгæйæ

## განმარტება:

„საგზაო მოძრაობის შესახებ“ საქართველოს კანონის 45-ე მუხლის მე-2 პუნქტის თანახმად, მექანიკური სატრანსპორტო საშუალების ბუქსირება შეიძლება განხორციელდეს ხისტი ან მოქნილი გადაბმით ან ნაწილობრივი დატვირთვით.

## ВОПРОС 619

ПРАВИЛЬНЫЙ ОТВЕТ: 2

Æნæმæнгхъæугæ у æви нæ, хъæбæр бабæттын буксиры рæстæджы, буксирон (сыфцæй ласинаг) транспортон фæрæзы скъæра скъæრæг, бабæттыны конструкций куы ифтонг кæна буксирон (сыфцæй ласинаг) транспортон фæрæзы буксиргæнæг транспорты траекторийы фæдылцæугæйæ?

1

Æнæмæнгхъæугæ у

2

Æнæмæнгхъæугæ нæу

## განმარტება:

„საგზაო მოძრაობის შესახებ“ საქართველოს კანონის 45-ე მუხლის მე-3 პუნქტის თანახმად, მექანიკური სატრანსპორტო საშუალების ხისტი ან მოქნილი გადაბმით ბუქსირებისას საბუქსირო სატრანსპორტო საშუალებას მძღოლი უნდა მართავდეს, გარდა იმ შემთხვევისა, როცა მოძრაობისას ხისტი გადაბმის კონსტრუქცია უზრუნველყოფს საბუქსირო სატრანსპორტო საშუალების მობუქსირე სატრანსპორტო საშუალების ტრავექტორიით მიყოლას.

## ВОПРОС 620

ПРАВИЛЬНЫЙ ОТВЕТ: 4

Хъæбæр кæнæ арæхстджын бабæтгæ буксиры рæстæджы бæлццæтты акæнын тобæгонд у:

1

Æрмæст буксирон (сыфцæй ласинаг) автобусæй

2

Æрмæст буксирон (сыфцæй ласинаг) тролейбусæй

3

Æрмæст буксирон (сыфцæй ласинаг) уæзласæн автомобили гуыфფæйы

4

Куыд буксирон (сыфцæй ласинаг) автобусæй æмæ буксирон (сыфцæй ласинаг) тролейбусæй, афтæ буксирон уæзласæн автомобили гуыфფæйæ

## განმარტება:

„საგზაო მოძრაობის შესახებ“ საქართველოს კანონის 45-ე მუხლის მე-4 პუნქტის თანახმად, ხისტი ან მოქნილი გადაბმით ბუქსირებისას აკრძალულია მგზავრის გადაყვანა საბუქსირო ავტობუსით, ტროლეიბუსითა და სატვირთო ავტომობილის ძარათი, ხოლო ნაწილობრივი დატვირთვით ბუქსირებისას – ადამიანის ყოფნა საბუქსირო მექანიკურ სატრანსპორტო საშუალებაში, აგრეთვე მობუქსირე სატრანსპორტო საშუალების ძარაზე.



## ВОПРОС 621

ПРАВИЛЬНЫЙ ОТВЕТ: 2

არაქსტდჟინ ბაბაეტგაჟაე ბუქსირი რაქსტაქსი დერდდჟაე ბუქსირგანაეგ ამაე ბუქსირონ (სიფცაჟი ლასინაგ) ტრანსპორტონ ფარაჟი 'ხსენ ხუამაე უა:

1

2-4 метры

2

4-6 метры

3

6-8 метры

## განმარტება:

„საგზაო მოძრაობის შესახებ“ საქართველოს კანონის 45-ე მუხლის მე-5 პუნქტის თანახმად, მობუქსირე და საბუქსირო სატრანსპორტო საშუალებებს შორის მანძილი მოქნილი გადაბმით ბუქსირებისას უნდა იყოს 4–6 მეტრი, ხოლო ხისტი გადაბმით ბუქსირებისას – არაუმეტეს 4 მეტრისა.

## ВОПРОС 622

ПРАВИЛЬНЫЙ ОТВЕТ: 2

ბარ ლავარდ ნაე ცაუი ხაბარ კენაე არაქსტდჟინ ბაბაეტგაჟაე (ბაფიდარ კენგაჟაე) უიცი მეხანიკონ ტრანსპორტონ ფარაჟი ბუქსირაჟი ლასინ, კაეცჟი:

1

Халцадон системაჟი герметонад халд უ

2

Рулы скъარენ механизм ადჟაეტაე უ

3

Аварион рухсы сигнализаци ადჟაეტაე უ

## განმარტება:

„საგზაო მოძრაობის შესახებ“ საქართველოს კანონის 45-ე მუხლის მე-6 პუნქტის „ა“ ქვეპუნქტის თანახმად, ავრძალულია ბუქსირება ხისტი ან მოქნილი გადაბმით, იმ მექანიკური სატრანსპორტო საშუალებისა, რომლის საჭის მექანიზმი გაუმართავია.

## ВОПРОС 623

ПРАВИЛЬНЫЙ ОТВЕТ: 2

Тобæгонд у æви нæ, уыцы механикон транспортон фæрæз сыфцæй ласын (буксирæй кæнын), кæцыйæн дыууæ бабæттæн ис?

1

Тобæгонд нæу

2

Тобæгонд у

## განმარტება:

„საგზაო მოძრაობის შესახებ“ საქართველოს კანონის 45-ე მუხლის მე-6 პუნქტის „ბ“ ქვეპუნქტის თანახმად, ორი ან მეტი მექანიკური სატრანსპორტო საშუალებისა, აგრეთვე მექანიკური სატრანსპორტო საშუალებისა, რომელსაც ორი ან მეტი მისაბმელი აქვს.

## ВОПРОС 624

ПРАВИЛЬНЫЙ ОТВЕТ: 3

Буксирæй ласын (сыфцæй ласт) уагъд цæуы:

1

Мотоциклæй, æнæ фæрсмæ  
прицепæй, афтæ ма ноджы ахæм  
мотоциклы

2

Арæхстджын бастæй, фæндæгтæ их  
(салд) куы уой

3

Ацы билеты ранымад дзуаппытæй иу  
дæр раст нæу

## განმარტება:

„საგზაო მოძრაობის შესახებ“ საქართველოს კანონის 45-ე მუხლის მე-6 პუნქტის „დ“ და „ე“ ქვეპუნქტების თანახმად, აკრძალულია ბუქსირება: დ) მოტოციკლით, გვერდითი მისაბმელის გარეშე, აგრეთვე ასეთი მოტოციკლის ბუქსირება; ე) მოქნილი გადაბმით, როცა გზა მოყინულია.

## ВОПРОС 625

ПРАВИЛЬНЫЙ ОТВЕТ: 2

Бонაჲ-აჲსაჲვმაჲ ცაფონფაენდჲ периоды буксирგაენაჲგ транспортон ფაერაჲზაენ  
ხჲუამაჲ იუგონდ უა:

1

Габаритон рухсытә

2

Æввахсмә рухсгаენаен фарәтә

3

Антимиგъон фарәтә

## განმარტება:

„საგზაო მოძრაობის შესახებ“ საქართველოს კანონის 45-ე მუხლის მე-7 პუნქტის თანახმად, დღე-ღამის ნებისმიერ პერიოდში მობუქსირე მექანიკურ სატრანსპორტო საშუალებას ჩართული უნდა ჰქონდეს ახლო განათების ფარები, საბუქსირო მექანიკურ სატრანსპორტო საშუალებას ჩართული უნდა ჰქონდეს საავარიო შუქსიგნალიზაცია, ხოლო მისი არარსებობის ან გაუმართაობის შემთხვევაში ამ ტრანსპორტის უკანა ნაწილზე უნდა დამაგრდეს საავარიო გაჩერების ნიშანი.

## ВОПРОС 626

ПРАВИЛЬНЫЙ ОТВЕТ: 1

Иуыл цъаесдәр, цал рагфәдзәхстгаენаჲგ არәзт (тырыса) хჲუამაჲ фидаргонд  
აერцаჲუа эластикон иугәენаჲგ чъилыл механикон транспортон ფაერაჲзы арәхстджын  
бабәтгаჲйәჲ буксиры рәстәджы?

1

Дыууә

2


Æртә

3

Цыппар

## განმარტება:

„საგზაო მოძრაობის შესახებ“ საქართველოს კანონის 45-ე მუხლის მე-9 პუნქტის თანახმად, მექანიკური სატრანსპორტო საშუალების ბუქსირებისას დრეკადი შემაერთებელი რგოლების აღსანიშნავად გამოიყენება ალმები, გამაფრთხილებელი მოწყობილობა ან 200X200 მმ ზომის დაფა, რომელზედაც დიაგონალურადაა დახაზული 50 მმ სიგანის ურთიერთმონაცვლე წითელი და თეთრი ზოლები შუქამრეკლი ზედაპირით. დრეკად შემაერთებელ რგოლზე მაგრდება არანაკლებ ორი გამაფრთხილებელი მოწყობილობა (ალამი).



ლავარდ სიტუაციის, ცალ ფანდადჯი ზმელდს უაგავარდს ხალს ფატადჯი (სტრელკაის) აერდამადმა ზმელგა ბუქსირგანაგ უაზლასენ ავტომილს სკარაგ, კად ამაე უი ზმელს 60 კმ/საგ თაგდადაე?

1

Иу дәр нә

2

Иу

3

Дыууә

4

Æртә

### განმარტება:

„საგზაო მოძრაობის შესახებ“ საქართველოს კანონის 33-ე მუხლის მე-8 პუნქტის „დ“ ქვეპუნქტის თანახმად, თუ ამ კანონით სხვა რამ არ არის დადგენილი, დასახლებულ ან დაუსახლებელ პუნქტში ნებადართულია იმ მექანიკური სატრანსპორტო საშუალების მოძრაობა, რომელიც ახორციელებს სხვა მექანიკური სატრანსპორტო საშუალების ბუქსირებას, არაუმეტეს 50 კმ/სთ სიჩქარით. ამავე კანონის 45-ე მუხლის მე-5 პუნქტის თანახმად, მობუქსირე და საბუქსირო სატრანსპორტო საშუალებებს შორის მანძილი მოქნილი გადაბმით ბუქსირებისას უნდა იყოს 4–6 მეტრი, ხოლო ხისტი გადაბმით ბუქსირებისას – არაუმეტეს 4 მეტრისა. ამავე მუხლის მე-9 პუნქტის თანახმად, მექანიკური სატრანსპორტო საშუალების ბუქსირებისას დრეკადი შემაერთებელი რგოლების აღსანიშნავად გამოიყენება ალუმბი, გამაფრთხილებელი მოწყობილობა ან 200X200 მმ ზომის დაფა, რომელზედაც დიაგონალურადაა დახაზული 50 მმ სიგანის ურთიერთმონაცვლე წითელი და თეთრი ზოლები შუქამრეკლი ზედაპირით. დრეკად შემაერთებელ რგოლზე მაგრდება არანაკლებ ორი გამაფრთხილებელი მოწყობილობა (ალამი). აქ დარღვევაა: სიჩქარე და საბუქსირო მოწყობილობაზე ერთი ალამი





ლავერდ ფანდაგონ ნისან:

1

ბარ ნაე დატთი ტრანსპორტონ  
ფერაჟთი ზმელდენ, ნისანის  
ფანისანგონდ კაადდერ დისტანციე

2

ბარ ნაე დატთი უიცი ტრანსპორტონ  
ფერაჟთაი, აფთა მა ტრანსპორტონ  
ფერაჟთი სკონდაი ზმელის, კაეციტი  
იუმაიგ ფაქტონ მასაე ფილდერ უ  
ნისანის ამინდაი

3

ბარ ნაე დატთი უიცი ტრანსპორტონ  
ფერაჟთაი ზმელის, კაეციი  
ფაქტივონ უარგაჟერდ კაეციდერ  
სამაენის ფილდერ უ ნისანის  
ფანისანგონდაი

### განმარტება:

„საგზაო მოძრაობის შესახებ“ საქართველოს კანონის პირველი დანართის მე-3 თავის (ამკრძალავი ნიშნები) 3.12 პუნქტის თანახმად საგზაო ნიშანი 3.12 „ღერძზე დატვირთვის შეზღუდვა“ - კრძალავს იმ სატრანსპორტო საშუალებით მოძრაობას, რომლის ფაქტობრივი დატვირთვა რომელიმე ღერძზე აღემატება ნიშანზე აღნიშნულს.



ლავადრ ფანდაგონ ნყსან ბარ ნაე დათყი:

- 1** უყცი ტრანსპორტონ ფარაეზაეი, აფტაე მა ტრანსპორტონ ფარაეზყი სკონდაეი ბმალყნ, კაეყყიყი გაბარიტონ ფაეტაენ (ყაებიმაე, კაენაე აენაეყაეზაეი) ფყლდარ ყ ნყსანყლ ფაენყსანგონდაეი
- 2** უყცი ტრანსპორტონ ფარაეზაეი ბმალყნ, კაეყყიყი გაბარიტონ ფაეტაენ ფყლდარ ყ ნყსანყლ ფაენყსანგონდაეი
- 3** ტრანსპორტონ ფარაეზტაეი ნყსანყლ ფაენყსანგონდ კაადდარ დისტანყიყაე ბმალყნ

### განმარტყბა:

„საგზაო მოძრაობის შესახებ“ საქართველოს კანონის პირველი დანართის მე-3 თავის (ამკრძალავი ნიშნები) 3.15 პუნქტის თანახმად საგზაო ნიშანი 3.15 „სიგრძის შეზღუდვა“ - კრძალავს იმ სატრანსპორტო საშუალებით და სატრანსპორტო საშუალებათა შემადგენლობით მოძრაობას, რომელთა გაბარიტული სიგრძე (ტვირთიანად ან უტვირთოდ) აღემატება ნიშანზე აღნიშნულს.



ლავერდ ფანდაგონ ნყსან ბარ ნაე დაეყყე:

1

ყაეყყაე ლასაეგ ალკაეყყე ჰყყყონ  
ყრანყონყონ ფაერაეყყე ჰყყყყყ

2

ყაეყლასაენ აყყმობყყყე აერყყყყყ  
აეყყე აერლაეყყყყყ

3

ალყ ყყყყე ყრანყონყონ ფაერაეყყე,  
აეყყე ყრანყონყონ ფაერაეყყე  
სყონდაეყ ჰყყყყყ, კაეყყყყ  
ბარლავაერდონ მაყსყმალონ მაყსაე  
ფყლდაერ ყ ნყსანყლ ფაენყსანგონდა  
ბარლავაერდონ მაყსყმალონ მაყსაეყყყ  
არაენაეყ

### ბანყმარყყბა:

„საგბაო მოძრაობის შესახებ“ საქართველოს კანონის პირველი დანართის მე-3 თავის (ამჟყრდალავი ნიშნები) 3.4 პუნყყეყის თანახმად საგბაო ნიშანი 3.4 „სატყვირთო მოძრაობა აყრდალუყყა“ - ყრდალავს იმ საყრანსპორყო საშუალებეყთ და საყრანსპორყო საშუალებათა შემადგენლობებეყთ მოძრაობას, რომელთა ნებადართუყი მაყსყმალუყრე მასა აღემაყეყბა ნიშანზე აღნიშნულ ნებადართუყი მაყსყმალუყრე მასის ზღვარს.



Лავაერд фæндагон нысан бар нæ дæтты:

1

Контролон пунктæй (полицийы кæнæ карантинон бынаты цурты, денджызон кæнæ æхгæд зонæмæ бахизæны æмæ а.д.) æнæ æруромгæйæ ахизын

2

Таможнæйы уадзæн пункты цурты (Гуырдыстоны таможнæйы арæнтæм æввахс таможнæйы контролы зонæ) æнææруромгæйæ ахизын

### ბანმარტიბა:

„საგზაო მოძრაობის შესახებ“ საქართველოს კანონის პირველი დანართის მე-3 თავის (ამკრძალავი ნიშნები) 3.17.1 პუნქტის თანახმად საგზაო ნიშანი 3.17.1 „საბაჟო გამშვები პუნქტი“ - კრძალავს საბაჟო გამშვებ პუნქტთან (საქართველოს საბაჟო საზღვართან მდებარე საბაჟო კონტროლის ზონა) გაუჩერებლად გავლას.





ლავაერდ ფანდაგონ ნყსან ბარ ნაე დაეტყ:

- 1** Автомобилაей дарддәр змәлын фәндагыл тасы уәвыны тыххәй
- 2** Контролон пункты (полицийы кәнәе карантинон бынаты цурты, денджызон кәнәе ахгәд зонәмә бахизәны әмә а.д.) әнәе әруромгәйә ахизын?
- 3** Транспортон фәрәзәй дарддәр змәлын, фәндагон-транспортон цауы (аварийы) тыххәй

### განმარტება:

„საგზაო მოძრაობის შესახებ“ საქართველოს კანონის პირველი დანართის მე-3 თავის (ამკრძალავი ნიშნები) 3.17.3 პუნქტის თანახმად საგზაო ნიშანი 3.17.3 „კონტროლი“ – კრძალავს საკონტროლო პუნქტთან (პოლიციის ან საკარანტინო საგუშაგოსთან, სასაზღვრო ან დახურულ ზონაში შესასვლელთან, ფასიან გზაზე გასასვლელთან და ა.შ.) გაუჩერებლად გავლას.



Лæвæрд фæндагон нысан:

1

Бар нæ дæтты цæуæн хæйтты иуыл  
æввахсдæр цæхгæрмæ ахизæныл  
разилын

2

Бар нæ дæтты цæуæн хæйтты иуыл  
æввахсдæр цæхгæрмæ ахизæныл  
галиумæ разилын

3

Хæсджын кæны скъæрæджы, змæла æрмæст галиумæ

**განმარტები:**

„საგზაო მოძრაობის შესახებ“ საქართველოს კანონის პირველი დანართის მე-3 თავის (ამჟრძალავი ნიშნები) 3.18.2 პუნქტის თანახმად საგზაო ნიშანი 3.18.2 „მარცხნივ მოხვევა აკრძალულია“ - კრძალავს სავალის ნაწილების უახლოეს გადაკვეთაზე მარცხნივ მოხვევას.



Ләвәрд фәндагон нысан:

1

Змәлды бар дәтты әрмәст  
нысаныл амындгонд, кәенә фылдәр  
(км/сах) тагъдадәй

2

Бар нә дәтты змәлды нысаныл  
амындгондәй фылдәр тагъдадәй  
(км/сах)

3

Амоны дәрddзәг ацы нысанәй  
тәссаг фадыдгы райдыдмә

განმარტება:

„საგზაო მოძრაობის შესახებ“ საქართველოს კანონის პირველი დანართის მე-3 თავის (ამკრძალავი ნიშნები) 3.24 პუნქტის თანახმად საგზაო ნიშანი 3.24 „მაქსიმალური სიჩქარის შეზღუდვა“ - კრძალავს მოძრაობას ნიშანზე აღნიშნულზე მეტი სიჩქარით (კმ/სთ).



ლავერდ ფანდაგონ ნყან:

1

ბარ ნაე დაეფი კაეციფანდჲ ხუიზ  
ტრანსპორტონ ფარაეზჲ რაზეჲ ახიზჲ

2

ნყან კაენჲ ფანდადჲჲ ნყანჲ  
3.22-ჲ (უაეზლასენ ავტომობილჲ რაზეჲ  
ახიზჲ ბარ ნაეჲ) არხაიდე ზონაჲჲ  
ფაუდე

3

ნყან კაენჲ ფანდადჲჲ აცი ნყან  
3.20-ჲ (ფარაზეჲ კაენჲ ბარ ნაეჲ)  
არხაიდე ზონაჲჲ ფაუდე

ბანმარტიბა:

„საგზაო მოძრაობის შესახებ“ საქართველოს კანონის პირველი დანართის მე-3 თავის (ამკრძალავი ნიშნები) 3.23 პუნქტის თანახმად საგზაო ნიშანი 3.23 „სატვირთო ავტომობილით გასწრების აკრძალვის დასასრული“ - აღნიშნავს საგზაო ნიშნის 3.22-ის („სატვირთო ავტომობილით გასწრება აკრძალულია“) მოქმედების ზონის დასასრულს.





ლავერდ ფანდაგონ ნყსან:

1

Амоны цæуæн хайыл дыдагъ  
централон (сæмæн) хаххы уæвынады  
тыххæй

2

Бар нæ дæтты транспортон фæрæзы  
æрлæууын мæйы æнæкъай  
нымæцты

3

Бар нæ дæтты транспортон фæрæзы  
æрлæууын мæйы къай нымæцты

განმარტება:

„საგზაო მოძრაობის შესახებ“ საქართველოს კანონის პირველი დანართის მე-3 თავის (ამკრძალავი ნიშნები) 3.30 პუნქტის თანახმად საგზაო ნიშანი 3.30 „დგომა აკრძალულია ლუწ რიცხვებში“ - კრძალავს სატრანსპორტო საშუალების დგომას თვის ლუწ რიცხვებში.



ლავადრ ფანდაგონ ნყსან ბარ ნა დათყ:

1

კაყყფანდყ ზუყზ უაზლასან  
ავტომობილაყ ჰმალყნყ

2

კაყყფანდყ ზუყზ პრყყყდჟყნ  
უაზლასან ავტომობილაყ ჰმალყნყ

3

უყყყ თაყყაგ უაზტყ ლაყგ  
ტრანსპორტონ ფარაყაყ ჰმალყნ,  
კაყყ ჰაკონ დათყნადმაყ გაყყგა  
ნყსანგონდ ჰყუამაყ უა აკაკ ბაზონაყნ  
ნყსანაყ

### განმარტაბა:

„საგბაო მოძრაობის შესახებ“ საქართველოს კანონის პირველი დანართის მე-3 თავის (ამკრძალავი ნიშნები) 3.32 პუნქტის თანახმად საგბაო ნიშანი 3.32 „სახიფათო ტვირთის გადამზიდი სატრანსპორტო საშუალებით მოძრაობა აკრძალულია“ - კრძალავს იმ სახიფათო ტვირთის გადამზიდი სატრანსპორტო საშუალებით მოძრაობას, რომელიც, საქართველოს კანონმდებლობის თანახმად, აღნიშნული უნდა იყოს შესაბამისი საცნობი ნიშნით.



ლავადრ ფანდაგონ ნისან ბარ ნა დეტთი:

1

Хәләән әмә әнцонай судзәг  
уәзты ласәг транспортон фәрәзәй  
змәлыны, кәцы архайгә  
закъондәттынадәй хъуамә уа  
нысангонд аккаг бәзонән нысанәй

2

Кәцыфәнды хуыз тәссаг уәзты  
ласәг транспортон фәрәзәй  
змәлыны

### განმარტება:

„საგზაო მოძრაობის შესახებ“ საქართველოს კანონის პირველი დანართის მე-3 თავის (ამკრძალავი ნიშნები) 3.33 პუნქტის თანახმად საგზაო ნიშანი 3.33 „ფეთქებადი და ადვილად აალებადი ტვირთის გადამზიდი სატრანსპორტო საშუალებით მოძრაობა აკრძალულია“ - კრძალავს 19433-88 სახელმწიფო სტანდარტით განსაზღვრული 1.22–2.4, 3.1, 3.2, 5.2 კლასის ფეთქებადი და ადვილად აალებადი ტვირთის გადამზიდი სატრანსპორტო საშუალებით მოძრაობას, რომელიც, საქართველოს კანონმდებლობის თანახმად აღნიშნული უნდა იყოს საცნობი ნიშნით „სახიფათო ტვირთი“.



I



II



III



IV

ლავერდ ფანდაგონ ნისენტაჲ კაყიჲ არჲიდ ნა ჲელიუ (პარაჲატ) კაჲნჲ ტრანსპორტონ ფარაჲჲჲლ, კაყჲ კუსჲ ნისანჲ არჲიდჲ ჲონაჲჲ აჲვაჲს კუჲსტუატჲ?

1

ერმაჲს I აჲაჲ II

2

ერმაჲს I აჲაჲ III

3

ერმაჲს II აჲაჲ IV

4

ერმაჲს III აჲაჲ IV

### განმარტება:

„საგზაო მოძრაობის შესახებ“ საქართველოს კანონის პირველი დანართის მე-3 თავის (ამკრძალავი ნიშნები) შენიშვნის „გ.ბ“ ქვეპუნქტის თანახმად ნიშნების მოქმედება არ ვრცელდება: გ.ბ) 3.2–3.8 ნიშნებისა – სატრანსპორტო საშუალებაზე, რომელიც ემსახურება აღნიშნულ ზონაში მდებარე სანარმოს, ანდა ემსახურება ან ეკუთვნის ამავე ზონაში მცხოვრებ ან მომუშავე პირს. ამ შემთხვევაში სატრანსპორტო საშუალება შედის აღნიშნულ ზონაში და გამოდის იქიდან დანიშნულების ადგილისაკენ უახლოეს გზაჯვარედინზე. სურათზე ნაჩვენებია საგზაო ნიშნებია: 3.4 „სატვირთო მოძრაობა აკრძალულია“, 3.24 „მაქსიმალური სიჩქარის შეზღუდვა“, 3.5 „მოტოციკლით მოძრაობა აკრძალულია“ და 3.26 „ხმოვანი სიგნალის მიცემა აკრძალულია“.





I



II



III



IV

ლავერდ ფანდაგონ ნისენტაჲი კაყიჲი არჲიდ ნე ჲელიუ (პარაჲატ) კაენი ტრანსპორტონ ფერაჲჲილ, კაყი ლაგად კაენი კაენე უ ნისანი არჲიდი ჲონაჲი ავვაჲჲ ცერაგ კაენე კუსაგ გოჲაგ?

1

ერმაჲს II ამაჲ IV

2

ერმაჲს II

3

ერმაჲს I ამაჲ IV

4

ერმაჲს III ამაჲ IV

### განმარტება:

„საგზაო მოძრაობის შესახებ“ საქართველოს კანონის პირველი დანართის მე-3 თავის (ამკრძალავი ნიშნები) შენიშვნის „გ.ბ“ ქვეპუნქტის თანახმად ნიშნების მოქმედება არ ვრცელდება: გ.ბ) 3.2–3.8 ნიშნებისა – სატრანსპორტო საშუალებაზე, რომელიც ემსახურება აღნიშნულ ზონაში მდებარე საწარმოს, ანდა ემსახურება ან ეკუთვნის ამავე ზონაში მცხოვრებ ან მომუშავე პირს. ამ შემთხვევაში სატრანსპორტო საშუალება შედის აღნიშნულ ზონაში და გამოდის იქიდან დანიშნულების ადგილისაკენ უახლოეს გზაჯვარედინზე. სურათზე ნაჩვენები საგზაო ნიშნებია: 3.24 „მაქსიმალური სიჩქარის შეზღუდვა“, 3.4 „სატვირთო მოძრაობა აკრძალულია“, 3.19 „მოზრუნება აკრძალულია“ და 3.7 „მისაბმელით მოძრაობა აკრძალულია“



I



II



III



IV

ლავერდ ფანდაგონ ნისენტთაჲ კაყიჲ არჲაიდ ნა ჲელიუ (პარაჲატ) კაჲნი ტრანსპორტონ ფარაჲჲჲლ, კაყიჲი კჲუჲდარიუაგ კაჲნი ნისანიუაგდჲჲნაჲჲ ავდჲსტ, კაჲნაჲ ირდაჲჲ ავდჲსტ არაენგონდ გაენაენდჲინაჲდტჲ სტატუსჲ უაჲაგ გოჲმაგ, კაჲნაჲ ტრანსპორტჲლ, კაყჲი ჲასჲ ნისანგონდ გოჲმაგტჲ?

1

ერმაჲსტ I აჲაჲ II

2

ერმაჲსტ I აჲაჲ III

3

ერმაჲსტ II აჲაჲ IV

4

ერმაჲსტ III აჲაჲ IV

### განმარტჲბა:

„საგზაო მოძრაობის შესახებ“ საქართველოს კანონის პირველი დანართის მე-3 თავის (ამკრძალავი ნიშნები) შენიშვნის „გ.დ“ ქვეპუნქტის თანახმად ნიშნების მოქმედება არ ვრცელდება: გ.დ) 3.2, 3.3, 3.28–3.30 ნიშნებისა – იმ სატრანსპორტო საშუალებაზე, რომელსაც მნიშვნელოვნად გამოხატული ან მკვეთრად გამოხატული შეზღუდული შესაძლებლობის სტატუსის მქონე პირი მართავს, ან იმ სატრანსპორტო საშუალებაზე, რომელსაც აღნიშნული პირები გადაჰყავს. სურათზე ნაჩვენები საგზაო ნიშნებია: 3.2 „მოძრაობა აკრძალულია“, 3.26 „ხმოვანი სიგნალის მიცემა აკრძალულია“, 3.28 „დგომა აკრძალულია“ და 3.20 „გასწრება აკრძალულია“.



I



II

Лæвæрд фæндаджы нысæнтты архайд хæлиу (парахат) кæны:

1

Фæндаджы уыцы цæхгæрмæ  
ахизæныл, кæцыйы размæ æвæрд ис  
нысан

2

Фæндаджы уыцы фарсыл, цырандæр  
уыдон сты æвæрд

### განმარტება:

„საგზაო მოძრაობის შესახებ“ საქართველოს კანონის პირველი დანართის მე-3 თავის (ამკრძალავი ნიშნები) შენიშვნის „დ“ პუნქტის თანახმად 3.18.1 (მარჯვნივ მოხვევა აკრძალულია), 3.18.2 (მარცხნივ მოხვევა აკრძალულია) ნიშნების მოქმედება ვრცელდება სავალი ნაწილების იმ გადაკვეთაზე, რომლის წინაც დადგმულია სათანადო ნიშანი.



I



II



III



IV

ლავერდ ფანდაგტყ ნყსანტთაყ კაყყყყ არჰაყდ ჰაყლიუ (პარაჰატ) კაყნყ ფანდადჰყ  
ყყყ ცაჰგარმა აჰყზაყნყლ, კაყყყყ რაზმა ავარდ ის ნყსან?

1

ერმაყსტ I

2

ერმაყსტ III ჟმაყ IV

3

ერმაყსტ II

4

ალკაყყყყ

### განმარტება:

„სავგაო მოძრაობის შესახებ“ საქართველოს კანონის პირველი დანართის მე-3 თავის (ამკრძალავი ნიშნები) შენიშვნის „დ“ პუნქტის თანახმად 3.18.1, 3.18.2 ნიშნების მოქმედება ვრცელდება სავალი ნაწილების იმ გადაკვეთაზე, რომლის წინაც დადგმულია სათანადო ნიშანი. ამავე დანართის მე-4 თავის (მიმითვებელი ნიშნები) 4.1.1-4.1.6 პუნქტების შენიშვნის „ბ“ ქვეპუნქტის თანახმად ბ) 4.1.1-4.1.6 ნიშნების მოქმედება ვრცელდება სავალი ნაწილების იმ გადაკვეთაზე, რომლის წინაც დადგმულია სათანადო ნიშანი. სურათზე ნაჩვენები ნიშნებია: 3.18.2 „მარცხნივ მოხვევა აკრძალულია“, 4.1.4 „მოძრაობა პირდაპირ ან მარჯვნივ“, 3.18.1 „მარჯვნივ მოხვევა აკრძალულია“ და 4.1.5 „მოძრაობა პირდაპირ ან მარცხნივ“.





I



II



III

Лæвæрд фæндаджы нысæнтты архайд хæлиу (парахат) кæны:

1

Фæндаджы уыцы цæхгæрмæ  
ахизæныл, кæцыйы размæ æвæрд ис  
нысан

2

Фæндаджы уыцы фарсыл, цыран  
уыдон сты æвæрд

### განმარტება:

„საგზაო მოძრაობის შესახებ“ საქართველოს კანონის პირველი დანართის მე-3 თავის (ამკრძალავი ნიშნები) შენიშვნის „ი“ პუნქტის თანახმად 3.10, 3.27–3.30 ნიშნების მოქმედება ვრცელდება მხოლოდ გზის იმ მხარეს, რომელზედაც ისინია დადგმული. სურათზე ნაჩვენები ნიშნებია: 3.10 „ქვეითთა მოძრაობა აკრძალულია“, 3.27 „გაჩერება აკრძალულია“ და 3.29 „დგომა აკრძალულია კენტ რიცხვებში“.



I



II



III

ლავერდ ფანდაჯი ნისენტთი არხაიდ ხელიუ (парахат) კაენი:

1

ნისანი ჯავრდთი ბინათაი უი ფაესთა იუილ ჯვახსდერ ალვანდაგმა (перекрестокმა) ჟრმაესთ ცერაგდჟინ პუნკტი, კად მა დზი ნაი ცახგერმა ახიზენ – ცერაგდჟინ პუნკტი კერონმა

2

ფანდაჯი უიცი ცახგერმა ახიზენილ, კაციყი რაზმა ჯავრდთი ის ნისან

### განმარტება:

„საგზაო მოძრაობის შესახებ“ საქართველოს კანონის პირველი დანართის მე-3 თავის (ამკრძალავი ნიშნები) შენიშვნის „ე“ პუნქტის თანახმად, 3.16, 3.20, 3.22, 3.24, 3.26–3.30 ნიშნების მოქმედება ვრცელდება სათანადო ნიშნის შემდეგ, ნიშნის დადგმის ადგილიდან უახლოეს გზაჯვარედინამდე, ხოლო დასახლებულ პუნქტში გზაჯვარედინის არარსებობისას – დასახლებული პუნქტის ბოლომდე. ნიშნების მოქმედება ვრცელდება აგრეთვე მიმდებარე ტერიტორიის გამოსასვლელ-ლთან, საველე, სატყეო და სხვა მეორეხარისხოვანი გზების გადაკვეთასთან (შეერთებასთან), რომელთა წინ არ დგას სათანადო ნიშანი. სურათზე ნაჩვენები ნიშნებია: 3.16 „მინიმალური დისტანციის შეზღუდვა“, 3.24 „მაქსიმალური სიჩქარის შეზღუდვა“ და 3.28 „დგომა აკრძალულია“.



I



II



III



IV

Цაერაგდჟინ პუნქტი, კად დჰი ნაჲ ალვაენდაგ (перекресток) ლაჲვარდ ფაენდაგონ ნჲსაენტთაჲ კაეცჲიჲ არჰაიდ ჰაელიუ (парахат) კაენჲ ცაერაგდჟინ პუნქტი კაერონმაჲ?

1

ერმაესტ I

2

ერმაესტ II, III ჯამაჲ IV

3

ერმაესტ I ჯამაჲ IV

4

ერმაესტ III

### განმარტება:

„საგზაო მოძრაობის შესახებ“ საქართველოს კანონის პირველი დანართის მე-3 თავის (ამკრძალავი ნიშნები) შენიშვნის „ე“ პუნქტის თანახმად, 3.16, 3.20, 3.22, 3.24, 3.26–3.30 ნიშნების მოქმედება ვრცელდება სათანადო ნიშნის შემდეგ, ნიშნის დადგმის ადგილიდან უახლოეს გზაჯვარედინამდე, ხოლო დასახლებულ პუნქტში გზაჯვარედინის არარსებობისას – დასახლებული პუნქტის ბოლომდე. ნიშნების მოქმედება ვრცელდება აგრეთვე მიმდებარე ტერიტორიის გამოსასვლელ-ლთან, საველე, სატყეო და სხვა მეორეხარისხოვანი გზების გადაკვეთასთან (შეერთებასთან), რომელთა წინ არ დგას სათანადო ნიშანი. სურათზე ნაჩვენები ნიშნებია: 3.4 „სატვირთო მოძრაობა აკრძალულია“, 3.20 „გასწრება აკრძალულია“, 3.27 „გაჩერება აკრძალულია“ და 3.30 „დგომა აკრძალულია ღუწ რიცხვებში“.

„საგზაო მოძრაობის შესახებ“ საქართველოს კანონის პირველი დანართის მე-3 თავის (ამკრძალავი ნიშნები) 3.22 პუნქტის თანახმად, საგზაო ნიშანი 3.22 „სატვირთო ავტომობილით გასწრება აკრძალულია“ - კრძალავს 3,5 ტონაზე მეტი ნებადართული მაქსიმალური მასის მქონე სატვირთო ავტომობილით სხვა სატრანსპორტო საშუალების გასწრებას (გარდა 30 კმ/სთ-ზე ნაკლები სიჩქარით მოძრავი ტრანსპორტისა), აგრეთვე ტრექტორით სხვა სატრანსპორტო საშუალების გასწრებას (გარდა საჭაპანო ტრანსპორტისა და ველოსიპედისა).



თემა 25:

## სასწავლო სვლა

---



ლავადრ ფანდაგონ ნისან:

1

ბარ ნაე დეტტი ტრანსპორტონ  
ფერაჟთი ჰმელდენ, ნისანის  
ფანისანგონდ კადდერ დისტანციას

2

ბარ ნაე დეტტი უიცი ტრანსპორტონ  
ფერაჟთაი, აფთა მა უიცი  
ტრანსპორტონ ფერაჟთი სკონდაი  
ჰმელის, კაციიი იუმაიგ ფაქტონ  
მასა ფილდერ უ ნისანის ამინდაი

3

ბარ ნაე დეტტი უიცი ტრანსპორტონ  
ფერაჟთაი ჰმელის, კაციიი ფაქტონ  
უაჟ ისკაცი სამანაი ფილდერ უ  
ნისანის ამინდაი

### განმარტება:

„საგზაო მოძრაობის შესახებ“ საქართველოს კანონის პირველი დანართის მე-3 თავის (ამკრძალავი ნიშნები) 3.11 პუნქტის თანახმად საგზაო ნიშანი 3.11 „მასის შეზღუდვა“ - კრძალავს იმ სატრანსპორტო საშუალებით და სატრანსპორტო საშუალებათა შემადგენლობით მოძრაობას, რომელთა საერთო ფაქტობრივი მასა აღემატება ნიშანზე აღნიშნულს.



ლავადრ ფანდაგონ ნყსან ბარ ნაე დაეყყ:

1

როგ ავყობილყ ჰმად 70 კმ/საყ-აე  
ფყლდარ დაგდადაე

2

ყრანსპორყნ ფარაეყყ ჰმალყნ,  
ნყსანყლ ფაენყსანგონდ ყადდარ  
დყსანყყაე

3

ყუ რანყყყ როგ ავყობილყ  
ჰმადან

### ბანმარყბა:

„საგზაო მოძრაობის შესახებ“ საქართველოს კანონის პირველი დანართის მე-3 თავის (ამკრძალავი ნიშნები) 3.16 პუნქტის თანახმად საგზაო ნიშანი 3.16 „მინიმალური დყსტანყიის შეზღუდვა“ - კრძალავს საყრანსპორყო საშუალეებეყთ მოძრაობას ნიშანზე აღნიშნულ მანძილზე ნაკლები დყსტანყიყთ.



ლავად ფანდაგონ ნისან:

1

ბარ ნაე დატყი ფისტაგონ ზმელდაენ  
ფანდაგონ უაეაგ თასი თიხაე

2

ხაესდჟინ კაენი სკაერდჟიტი ცაუოი  
მაქსიმალონ არაქსტდჟინაე, იუილ  
ფილდერ 20 კმ/საჰ თაგადაე

3

ბარ ნაე დატყი ალი ხუიზი  
ტრანსპორტონ ფერაეაე დარდდერ  
ზმელინ ფანდაგონ-ტრანსპორტონ  
ცაუი (ავარიი) კაენა აენდერ თასი  
თიხაე?

### განმარტება:

„საგზაო მოძრაობის შესახებ“ საქართველოს კანონის პირველი დანართის მე-3 თავის (ამკრძალავი ნიშნები) 3.17.2 პუნქტის თანახმად საგზაო ნიშანი 3.17.2 „საფრთხე“ - კრძალავს ყველა სახის სატრანსპორტო საშუალებით შემდგომ მოძრაობას საგზაო-სატრანსპორტო შემთხვევის ან სხვა საფრთხის გამო.





ლავერდ ფანდაგონ ნყან:

- 1** Бар нэ дэetty цэуэен хэйтты иуыл  
эввахсдэр цэхгэрмэ ахизэныл  
разилын
- 2** Хэсджын кэны скъэрэджы, змэла  
эрмэст рахизмэ
- 3** Бар нэ дэetty цэуэен хэйтты иуыл  
эввахсдэр цэхгэрмэ ахизэныл  
рахизмэ разилын

განმარტება:

„საგზაო მოძრაობის შესახებ“ საქართველოს კანონის პირველი დანართის მე-3 თავის (ამკრძალავი ნიშნები) 3.18.1 პუნქტის თანახმად საგზაო ნიშანი 3.18.1 „მარჯვნივ მოხვევა აკრძალულია“ - კრძალავს სავალი ნაწილების უახლოეს გადაკვეთაზე მარჯვნივ მოხვევას.



ლავადრ ფანდაგონ ნყან:

1

ბარ ნაე დათყი ცაუაენ ხაყთყი იუყლ  
აევაახსდარ ცაეხგარმაე ახიზაენყლ  
არყიყლყ

2

ბარ ნაე დათყი ცაუაენ ხაყთყი იუყლ  
აევაახსდარ ცაეხგარმაე ახიზაენყლ  
გალიუმაე არყიყლყ

3

ხაესდყყნ კაენყ სკაარადყყ, ჰმაელა  
არმაესტ გალიუმაე ამაე ფაესტარდამ

განმარტება:

„საგზაო მოძრაობის შესახებ“ საქართველოს კანონის პირველი დანართის მე-3 თავის (ამკრძალავი ნიშნები) 3.19 პუნქტის თანახმად საგზაო ნიშანი 3.19 „მობრუნება აკრძალულია“ - კრძალავს სავალი ნაწილების უახლოეს გადაკვეთაზე მობრუნებას.



ლავერდ ფანდაგონ ნყსან ბარ ნაე დაეყყე:

- 1** კაეყყფანდყ ჰუყზ ტრანსპორტონ  
ფაერაეზყ რაზაეყ აჰყზყნ, ყაე  
თაგყდადმაე აენაეკაესგაეყაე
- 2** როგ ავტომობილაეყ ჰყცაენგონდ აენდერ  
ტრანსპორტონ ფაერაეზაეყ ჰმაელყნ
- 3** კაეყყფანდყ ჰუყზ ტრანსპორტონ  
ფაერაეზყ რაზაეყ აჰყზყნ (გაენაენ მა ის  
30 კმ/საჰ-აეყ კყადდერ თაგყდადაეყ  
კუყ ჰმაელა)

### ბანმარტყბა:

„საგზაო მოძრაობის შესახებ“ საქართველოს კანონის პირველი დანართის მე-3 თავის (ამკრძალავი ნიშნები) 3.20 პუნქტის თანახმად საგზაო ნიშანი 3.20 „გასწრება აკრძალულია“ - კრძალავს ყველა სახის მექანიკური სატრანსპორტო საშუალების გასწრებას (გარდა 30 კმ/სთ-ზე ნაკლები სიჩქარით მოძრავი ტრანსპორტისა). ნებადართულია გასწრება უეტლო მოტოციკლის, მოპედისა და ველოსიპედის შემხვედრი მოძრაობის ზოლში გადაუსვლელად.



ლავერდ ფანდაგონ ნყსან:

1

ამონყ ჰალონ სიგნალყ რატყენყ ბარ  
ნა დეტყაგ ფანდაგონ ნყსანყ  
არჰაყდყ ჰონაყყ ფაუდყლ

2

ნყსან კაენყ ფანდადჰყ ფადყგ,  
კაყყყყლ ბარ ნა დეტყყ მყტყნგყ  
აყმა მანყფესაცყტაყ არაყნ

3

ბარ ნა დეტყყ ჰალონ სიგნალაყ  
პაყდა კაენყნაენ, ყყცყ ყავაყრყ  
ყედდამაყ, სიგნალ პაყდაგონდ კუყ  
ყაყა ფანდაგონ-ტრანსპორტონ ყაყყ  
აყუვარს კაენყნაენ

### განმარტყბა:

„საგზაო მოძრაობის შესახებ“ საქართველოს კანონის პირველი დანართის მე-3 თავის (ამკრძალავი ნიშნები) 3.26 პუნქტის თანახმად საგზაო ნიშანი 3.26 „ხმოვანი სიგნალის მიცემა აკრძალულია“ - კრძალავს ხმოვანი სიგნალით სარგებლობას, გარდა იმ შემთხვევისა, როცა სიგნალი გამოიყენება საგზაო-სატრანსპორტო შემთხვევის თავიდან ასაცილებლად.





ლავერდ ფანდაგონ ნყან:

1

ბარ ნაე დაეფი კაეფიფანდყ ზუყზ  
ფანფონფონ ფაერაეფყ რაზეყ ფაეყყნ

2

ნყან კაენყ ფანდადჟყ აცყ ნყან  
3.20-ყ (ფაერაეფყ კაენყნ ბარ ნაეყ)  
არჰაყდყ ზონაყყ ფაეუდყ

3

ბარ ნაე დაეფი ჰაელონ სიგნალაეყ  
პაყდა კაენყნაენ, ყყცყ ყაეაერყ  
ყედედემაე, სიგნალ პაყდაგონდე კუყ  
ცაეყა ფანდაგონ-ფანფონფონ ცაყყ  
აყუეარს კაენყნაენ

### განმარტეზა:

„საგზაო მოძრაობის შესახებ“ საქართველოს კანონის პირველი დანართის მე-3 თავის (ამკრძალავი ნიშნები) 3.21 პუნქტის თანახმად საგზაო ნიშანი 3.21 „გასწრების აკრძალვის დასასრული“ - აღნიშნავს საგზაო ნიშნის 3.20-ის („გასწრება აკრძალულია“) მოქმედების ზონის დასასრულს.

Лæвæрд фæндагон нысан:



I



II



III

ლავერდ ფანდაგონ ნისენტთაჲ კაყიჲ არჲაიდ ნა ჲელიუ (პარაჲატ) კაჲნჲ  
მარშრუტონ ტრანსპორტონ ფაერაჲჲლ?

1

ერმაჲსტ I

2

ერმაჲსტ II

3

ერმაჲსტ III

4

ერტაჲ ფანდაგონ ნისანჲ დჲრ

### განმარტება:

„საგზაო მოძრაობის შესახებ“ საქართველოს კანონის პირველი დანართის მე-3 თავის (ამკრძალავი ნიშნები) შენიშვნის „გ.ა“ ქვეპუნქტის თანახმად ნიშნების მოქმედება არ ვრცელდება: გ.ა) 3.1–3.3, 3.18.1, 3.18.2, 3.19, 3.27 ნიშნებისა – სამარშრუტო სატრანსპორტო საშუალებაზე. სურათზე ნაჩვენები საგზაო ნიშნებია: 3.1 „შესვლა აკრძალულია“, 3.2 „მოძრაობა აკრძალულია“ და 3.3 „მექანიკური სატრანსპორტო საშუალებით მოძრაობა აკრძალულია“.



I



II



III



IV

ლავარდ ფანდაგონ ნისაენტაჲ კაყიყი არჲიდ ნა ჲელიუ (პარაჲატ) კაენი  
მარშრუტონ ტრანსპორტონ ფარაჲჲლ?

1

არმაჲსტ I ჲმაჲ III

2

არმაჲსტ II ჲმაჲ IV

3

არმაჲსტ II ჲმაჲ III

4

არმაჲსტ III ჲმაჲ IV

### განმარტება:

„საგზაო მოძრაობის შესახებ“ საქართველოს კანონის პირველი დანართის მე-3 თავის (ამკრძალავი ნიშნები) შენიშვნის „გ.ა“ ქვეპუნქტის თანახმად ნიშნების მოქმედება არ ვრცელდება: გ.ა) 3.1–3.3, 3.18.1, 3.18.2, 3.19, 3.27 ნიშნებისა – სამარშრუტო სატრანსპორტო საშუალებაზე. სურათზე ნაჩვენები საგზაო ნიშნებია: 3.18.2 „მარცხნივ მოხვევა აკრძალულია“, 1.8 „წრიულიმოძრაობიანი გადაკვეთა“, 3.19 „მობრუნება აკრძალულია“ და 1.33 „ხერგილი“.





I



II



III



IV

ლავერდ ფანდაგონ ნისენტთაჲ კაყიჲ არჲაიდ ნა ჲელიუ (პარაჲატ) კაჲნჲ მარშრუტონ ტრანსპორტონ ფერაჲჲჲლ?

1

ერმაჲსტ I ჲმაჲ III

2

ერმაჲსტ II ჲმაჲ IV

3

ერმაჲსტ II, III ჲმაჲ IV

4

ერმაჲსტ I ჲმაჲ IV

### განმარტება:

„საგზაო მოძრაობის შესახებ“ საქართველოს კანონის პირველი დანართის მე-3 თავის (ამკრძალავი ნიშნები) შენიშვნის „გ.ა“ ქვეპუნქტის თანახმად ნიშნების მოქმედება არ ვრცელდება: გ.ა) 3.1–3.3, 3.18.1, 3.18.2, 3.19, 3.27 ნიშნებისა – სამარშრუტო სატრანსპორტო საშუალებაზე. სურათზე ნაჩვენები საგზაო ნიშნებია: 3.20 „გასწრება აკრძალულია“, 3.3 „მექანიკური სატრანსპორტო საშუალებით მოძრაობა აკრძალულია“, 3.19 „მობრუნება აკრძალულია“ და 3.27 „გაჩერება აკრძალულია“.

## ВОПРОС 660

ПРАВИЛЬНЫЙ ОТВЕТ: 2

Ахуыргæнæн цыды ауадзгæйæ инструктор-ахуыргæнæг æмбар (æмсæр) у:

1

Бæлццонимæ

2

Скъæргæгимæ

3

Ацы билеты ранымадтæй иу дæр нæ

## განმარტება:

„საგზაო მოძრაობის შესახებ“ საქართველოს კანონის 5-ე მუხლის 49-ე პუნქტის თანახმად, მძღოლი - ფიზიკური პირი, რომელიც მართავს სატრანსპორტო საშუალებას. მძღოლთან გათანაბრებულია მეხრე, სასწავლო სვლის განხორციელებისას მძღოლთან გათანაბრებულია ინსტრუქტორ-მასწავლებელიც.

## ВОПРОС 661

ПРАВИЛЬНЫЙ ОТВЕТ: 1

Транспортон фæрæзы практикон скъæрыны ахуыр (ахуыргæнæн цыд) бар ис уыцы фæндæгтыл, кæцыты список (ранымад) уынаффæйы æгъдауæй фидаргонд цæуы:

1

Бынаеттон хæдуынаффæйы  
оргانتæй

2

Скъæрджытæ сцæттæгæнæн  
уагдоны къудариуæгадæй

3

Инструктор-ахуыргæნæджы  
тæрхонæй

## განმარტება:

„საგზაო მოძრაობის შესახებ“ საქართველოს კანონის 61-ე მუხლის მე-2 პუნქტის თანახმად, სატრანსპორტო საშუალების პრაქტიკული მართვის სწავლება (სასწავლო სვლა) ნებადართულია მხოლოდ საქართველოს კანონმდებლობით დადგენილი წესით, დახურულ მოედანსა და ავტოდრომზე, აგრეთვე იმ გზებზე, რომელთა სიასაც დადგენილი წესით ამტკიცებენ ადგილობრივი თვითმმართველობის ორგანოები.

## ВОПРОС 662

ПРАВИЛЬНЫЙ ОТВЕТ: 4

Практикон скъаерыны ахуыраен нысангонд ахуыргæнæн транспортон фæрæз ифтог хъуамæ уа:

1 Æрмæст инструктор-ахуыргæнæгæн нысангонд бабæттæны æмæ тормозы уæлæмхас педалтимæ

2 Æрмæст инструктор-ахуыргæнæгæн нысангонд фæстæмæ уынæн кæсæнимæ

3 Æрмæст базонæн нысанæй – “Ахуыргæнæн транспортон фæрæз”

4 Ацы билеты ранымад алкæцы арæзтимæ

## განმარტება:

„საგზაო მოძრაობის შესახებ“ საქართველოს კანონის 61-ე მუხლის მე-3 პუნქტის თანახმად, სასწავლო სატრანსპორტო საშუალება, რომლითაც ხდება პრაქტიკული მართვის სწავლება (სასწავლო სვლა), უნდა აღიჭურვოს ინსტრუქტორ-მასწავლებლისათვის განკუთვნილი გადაბმულობისა და მუხრუჭის დამატებითი სატერფულებით, აგრეთვე უკუხედვის სარკით. ასეთ სატრანსპორტო საშუალებაზე ამ კანონის მე-19 მუხლის პირველი პუნქტის „თ“ ქვეპუნქტით დადგენილი წესით უნდა დამაგრდეს საცნობი ნიშანი.

## ВОПРОС 663

ПРАВИЛЬНЫЙ ОТВЕТ: 2

Транспортон фæрæзы практикон скъæрды райдианы цайдæгъты (привычки) сахуыр кæнын гæнæн ис:

1 Къаддæр интенсивондзинады кæцыфæнды фæндагыл

2 Æрмæст æхгæд фæзуатыл кæнæ автодромыл

3 Горæтгæროны цæრæгджын пункты

## განმარტება:

„საგზაო მოძრაობის შესახებ“ საქართველოს კანონის 61-ე მუხლის მე-2 და მე-4 პუნქტების თანახმად: 2. სატრანსპორტო საშუალების პრაქტიკული მართვის სწავლება (სასწავლო სვლა) ნებადართულია მხოლოდ საქართველოს კანონმდებლობით დადგენილი წესით, დახურულ მოედანსა და ავტოდრომზე, აგრეთვე იმ გზებზე, რომელთა სიასაც დადგენილი წესით ამტკიცებენ ადგილობრივი თვითმმართველობის ორგანოები. 4. გზაზე სასწავლო სვლა დასაშვებია მხოლოდ სასწავლო სატრანსპორტო საშუალებით ინსტრუქტორ-მასწავლებელთან ერთად იმ შემთხვევაში, თუ პირი ფლობს სატრანსპორტო საშუალების პრაქტიკული მართვის სანყის ჩვენებს. ინსტრუქტორ-მასწავლებელს გზაზე სასწავლო სვლის განხორციელების უფლება აქვს მხოლოდ მას შემდეგ, რაც დარწმუნდება, რომ პირმა (მოსწავლემ) საკმარისად აითვისა სატრანსპორტო საშუალების პრაქტიკული მართვის სანყისი ჩვენები.

Фендагыл ахуыргæнæн цыд уагъд цæуы:

1

Æрмæст ахуыргæнæн транспортон фæрæзæй, инструктор-ахуыргæнæгимæ иумæ

2

Кæцыфæнды транспортон фæрæзæй, хицауимæ иумæ


3

Куыд ахуыргæнæн транспортон фæрæзæй, инструктор-ахуыргæнæгимæ иумæ, афтæ кæцыфæнды транспортон фæрæзæй, хицауимæ иумæ

### განმარტება:

„საგზაო მოძრაობის შესახებ“ საქართველოს კანონის 61-ე მუხლის მე-4 პუნქტის თანახმად, გზაზე სასწავლო სვლა დასაშვებია მხოლოდ სასწავლო სატრანსპორტო საშუალებით ინსტრუქტორ-მასწავლებელთან ერთად იმ შემთხვევაში, თუ პირი ფლობს სატრანსპორტო საშუალების პრაქტიკული მართვის სანყის ჩვევებს. ინსტრუქტორ-მასწავლებელს გზაზე სასწავლო სვლის განხორციელების უფლება აქვს მხოლოდ მას შემდეგ, რაც დარწმუნდება, რომ პირმა (მოსწავლემ) საკმარისად აითვისა სატრანსპორტო საშუალების პრაქტიკული მართვის სანყისი ჩვევები.





Кæцы æрдæмадმæ бар ис ахуыргæნæნ автомобили змæлд, кæд руыл бады ахыргæнинаг?

1

Æрмæст A æрдæмадმæ

2


Æрмæст B æрдæмадმæ

3

Куыд A æрдæмадმæ, афтæ B æрдæмадმæ

### განმარტება:

„საგზაო მოძრაობის შესახებ“ საქართველოს კანონის 38-ე მუხლის პირველი პუნქტის „ბ“ ქვეპუნქტის თანახმად, ავტომაგისტრალზე, ავტომაგისტრალის შესასვლელსა და გამოსასვლელზე აკრძალულია სასწავლო სვლა.



Бар ис æви нæ ахуыргæнæн автомобили фатæджы (стрелкæйы) æрдæмадмæ змæлд, кæд руыл бадæ ахуыргæнинаг?

1

Бар нæй

2

Бар ис

### განმარტება:

„საგზაო მოძრაობის შესახებ“ საქართველოს კანონის 44-ე მუხლის მე-3 პუნქტის თანახმად, ქვეითთა ზონად გამოცხადებულ ადგილზე და საცხოვრებელ ზონაში აკრძალულია გამჭოლი მოძრაობა, სასწავლო სვლა და ჩართული ძრავითი დგომა; ამასთანავე, ქვეითს უპირატესობა აქვს სხვა საგზაო მოძრაობის მონაწილეების მიმართ.



Бар ис æви нæ ахуыргæнæн автомобили фатæджы (стрелкæйы) æрдæмадмæ змæлд, кæд рулыл бады ахуыргæнинаг?

1

Бар нæй

2

Бар ис

### განმარტება:

„საგზაო მოძრაობის შესახებ“ საქართველოს კანონის 38-ე მუხლის პირველი პუნქტის „ბ“ ქვეპუნქტის თანახმად, ავტომაგისტრალზე, ავტომაგისტრალის შესასვლელსა და გამოსასვლელზე აკრძალულია სასწავლო სვლა.

თემა 26:

გადაზიდვები, ხალხი, ტვირთი

---



## ВОПРОС 668

ПРАВИЛЬНЫЙ ОТВЕТ: 2

Хәсджын у æви нæ скъæрæг сабиты къордты фæндарастгæнæджы бæрæгæй фæндаг ратта уыцы сабитæн, кæцытæ цæхгæрмæ хизынц цæуæн хайæ?

1

Нæу хәсджын

2

У хәсджын

## განმარტება:

„საგზაო მოძრაობის შესახებ“ საქართველოს კანონის 26-ე მუხლის მე-5 პუნქტის თანახმად, ბავშვთა ჯგუფების გამცილებლის მინიშნებისას მძღოლი ვალდებულია გზა დაუთმოს იმ ბავშვებს, რომლებიც კვეთენ გზის სავალ ნაწილს.

## ВОПРОС 669

ПРАВИЛЬНЫЙ ОТВЕТ: 2

Дывæрсыг змæлæн фæндагыл, кæцыйæн нæй дихгæнæн хахх, сабиты къорд хъуамæ змæла змæლæны æрдæмадмæ;

1

Фæрсмæ æввахс къулфæндагыл

2

Ныхмæвæрд фарсы æввахс къулфæндагыл

## განმარტება:

„საგზაო მოძრაობის შესახებ“ საქართველოს კანონის 26-ე მუხლის მე-5 პუნქტის თანახმად, ორმხრივ მოძრაობიან გზაზე, რომელსაც არა აქვს გამყოფი ზოლი, ბავშვთა ჯგუფი უნდა გადაადგილდებოდეს მოძრაობის მიმართულების საწინააღმდეგო მხარეს მდებარე გვერდულაზე.

## ВОПРОС 670

ПРАВИЛЬНЫЙ ОТВЕТ: 1

Бар ლავერდის ავი ნა ბელცაეტთი უიცი ბერცაჲ კენა აფთა აკენინ, ამა უიი ხუიგდარა სკაერინაენ კენა სკაერადჟი ხუიგ დარა უინინაენ?

1 Нәй барлаверд

2 Бар лаверд ис, әрмәст скарәгимә разыдзинадәй

3 Бар лаверд ис, әрмәст әдзәрәг пунктты, фәрсаг фәндагыл, уици уавәрәй, цәмәй транспортон фәрәзы тагъдад ма хуамә хиза 40 км/сах

## განმარტება:

„საგზაო მოძრაობის შესახებ“ საქართველოს კანონის 46-ე მუხლის პირველი პუნქტის თანახმად, აკრძალულია მგზავრთა იმ რაოდენობით ან ისე გადაყვანა, რომ ეს ხელს უშლიდეს სატრანსპორტო საშუალების მართვას ან მძღოლს უზღუდავდეს ხედვის არეს.

## ВОПРОС 671

ПРАВИЛЬНЫЙ ОТВЕТ: 4

Быр ын ис бәлцәәтты акаәнын:

1 Тракторыл ама әндәр хәдтулгәты салоны, кәна кабинәйы әддә

2 Уәзласән автомобили прицепәй, афთә ма трайлерәй

3 Уәзласән мотоциклы гуыффәйы

4 Буксиргәнаәг автобусәй

## განმარტება:

„საგზაო მოძრაობის შესახებ“ საქართველოს კანონის 46-ე მუხლის მე-10 პუნქტის „ა“ ქვეპუნქტის თანახმად, აკრძალულია მგზავრთა გადაყვანა ავტომობილის (ფურგონძარიანი ან ბორტის პლატფორმის მქონე სატვირთო ავტომობილის ძრავითი მგზავრთა გადაყვანის შემთხვევის გარდა), ტრაქტორის, სხვა თვითმავალი მანქანის სალონის ან კაბინის გარეთ, სატვირთო ავტომობილის მისაბმელით, მისაბმელ-აგარაკით, სატვირთო მოტოციკლის ძრავით და მოტოციკლის კონსტრუქციით გათვალისწინებული დასასხდომი ადგილების გარეთ.

## ВОПРОС 672

ПРАВИЛЬНЫЙ ОТВЕТ: 2

Бар ын ис æви нæ бæлццæтты акæнын уыцы транспортон фæрæзæй, кæцыйы фактивон массæ фылдæр у йæ максималон массæйæ?

1

Ис ын бар

2

Нæй ын бар

## განმარტება:

„საგზაო მოძრაობის შესახებ“ საქართველოს კანონის 46-ე მუხლის მე-10 პუნქტის „გ“ ქვეპუნქტის თანახმად, აკრძალულია მგზავრთა გადაყვანა თუ სატრანსპორტო საშუალების ფაქტობრივი მასა აღემატება მის ნებადართულ მაქსიმალურ მასას.

## ВОПРОС 673

ПРАВИЛЬНЫЙ ОТВЕТ: 4

Бæлццæтты акæнæн борты платформæджын уæзласæн автомобилæй сабиты къорды акæнгæйæ бортты бæрзæнд астæрдæй (пъолæй) ма хъуамæ уа:

1

0,8 метრæй фылдæр

2

0,8 метრæй къаддæр

3

0,3 метრæй къадდæრ æмæ 0,5 метრæй фылдæრ

4

Хъахъхъæд æрцæуæд ацы билеты ранымад алкæцы уавæр

## განმარტება:

„საგზაო მოძრაობის შესახებ“ საქართველოს კანონის 47-ე მუხლის მე-11 პუნქტის „ა“, „ბ“ და „გ“ ქვეპუნქტების თანახმად, სატრანსპორტო საშუალებაზე ნებისმიერი ტვირთი იმგვარად უნდა მოთავსდეს და აუცილებლობის შემთხვევაში დამაგრდეს, რომ მისი გადაზიდვისას: ა) საფრთხე არ შეექმნას სხვა საგზაო მოძრაობის მონაწილეებს, ზიანი არ მიაღდეს სახელმწიფო, საზოგადოებრივ და კერძო ქონებას, ტვირთი არ ეთრეოდეს და არ ცვიოდეს გზაზე; ბ) არ შეიზღუდოს ხილვადობა და ხედვის არე, არ დაირღვეს სატრანსპორტო საშუალების მდგრადობა და არ გაძნელდეს მისი მართვა; გ) არ დაიფაროს სატრანსპორტო საშუალების სინათლეები, „სდექ“ სიგნალი, მოხვევის შუქ-მაჩვენებლები, შუქმარეკლი მოწყობილობები, რეგისტრაციის ნომერი და მარეგისტრირებელი სახელმწიფოს განმასხვავებელი ნიშანი, აგრეთვე ამ კანონით განსაზღვრული ხელით მისაცემი სიგნალები.

## ВОПРОС 674

ПРАВИЛЬНЫЙ ОТВЕТ: 1

Уаргъ хъуамæ нысангонд æрцæуа бæრæггæнæн нысанæй – „æნæгабаритон (ставдгабаритон) уаргъ“, кæд æмæ уый транспортон фæрæзы габариты æдде, размæ кæнæ та фæстæмæ уагъд у:

1

1,0 метрæй фылдæр

2

1,5 метрæй фылдæр

3

2,0 метрæй фылдæр

## განმარტება:

„საგზაო მოძრაობის შესახებ“ საქართველოს კანონის 47-ე მუხლის მე-13 პუნქტის თანახმად, სატრანსპორტო საშუალების გაბარიტის გარეთ წინ ან/და უკან 1 მეტრზე მეტად ან გვერდიდან საგაბარიტო სინათლის გარე ნაპირიდან 0,4 მეტრზე მეტად გადმოშვებული ტვირთი უნდა აღინიშნოს საცნობი ნიშნით „არაგაბარიტული (მსხვილგაბარიტიანი) ტვირთი“, აგრეთვე დღე-ღამის ბნელ დროს ან არასაკმარისი ხილვადობის პირობებში, წინ – თეთრი ფარნით ან შუქამრეკლით, უკან – წითელი ფარნით ან შუქამრეკლით.

## ВОПРОС 675

ПРАВИЛЬНЫЙ ОТВЕТ: 3

Уаргъ хъуамæ нысангонд æрцæуа бæრæგгæнæн нысанæй – „æნæгабаритон (ставдгабаритон) уарგъ“, кæд æмæ уый фæрсырдыгæй, габаритон рухсы æддаг былæй уагъд у:

1

0,6 метრæй фылдæр

2

0,5 метრæй фылдæრ

3

0,4 метრæй фылдæრ

## განმარტება:

„საგზაო მოძრაობის შესახებ“ საქართველოს კანონის 47-ე მუხლის მე-13 პუნქტის თანახმად, სატრანსპორტო საშუალების გაბარიტის გარეთ წინ ან/და უკან 1 მეტრზე მეტად ან გვერდიდან საგაბარიტო სინათლის გარე ნაპირიდან 0,4 მეტრზე მეტად გადმოშვებული ტვირთი უნდა აღინიშნოს საცნობი ნიშნით „არაგაბარიტული (მსხვილგაბარიტიანი) ტვირთი“, აგრეთვე დღე-ღამის ბნელ დროს ან არასაკმარისი ხილვადობის პირობებში, წინ – თეთრი ფარნით ან შუქამრეკლით, უკან – წითელი ფარნით ან შუქამრეკლით.



## ВОПРОС 676

ПРАВИЛЬНЫЙ ОТВЕТ: 3

Бон-აქსავე თაღინგ რაქსაქდჟი აენა ფაგ უინადად უავერ, ტრანსპორტონ ფარაჟი გაბარითი (ფარსტი) აქდე, რამა კენა თა ფაქსამა იუ მეტრეი ფილდერ, კენა ფარსრდჟი გაბარითონ რუხგენაენი აქდაგ კერონეი 0,4 მეტრეი ფილდერ ჟერაგდ უაჟ უელამხასეი ხუამა ნისანგონდ ჟერაჟა:

1

ერმაქსტ რამა - ურს ფარაჟი კენა რუხს ტამაენგაენგაჟი

2

ერმაქსტ ფაქსამა - სერხ ფარაჟი კენა რუხს ტამაენგაენგაჟი

3

კუი რამა - ურს ფარაჟი კენა რუხს ტამაენგაენგაჟი, აქტა ფაქსამა - სერხ ფარაჟი კენა რუხს ტამაენგაენგაჟი

## განმარტება:

„საგზაო მოძრაობის შესახებ“ საქართველოს კანონის 47-ე მუხლის მე-13 პუნქტის თანახმად, სატრანსპორტო საშუალების გაბარითის გარეთ წინ ან/და უკან 1 მეტრზე მეტად ან გვერდიდან საგაბარითო სინათლის გარე ნაპირიდან 0,4 მეტრზე მეტად გადმოშვებული ტვირთი უნდა აღინიშნოს საცნობი ნიშნით „არაგაბარითული (მსხვილგაბარითიანი) ტვირთი“, აგრეთვე დღე-ღამის ბნელ დროს ან არასაკმარისი ხილვადობის პირობებში, წინ – თეთრი ფარნით ან შუქამრეკლით, უკან – წითელი ფარნით ან შუქამრეკლით.

## ВОПРОС 677

ПРАВИЛЬНЫЙ ОТВЕТ: 3

ტრანსპორტონ ფარაჟთაჟი საბითი რაკენი ბარ ის:

1

ერმაქსტ ლაჟგაჟი უავერ

2

ბადგაჟი უავერ, კად ტრანსპორტონ ფარაჟი კონსტრუქცი რავალგაჟი იფტონგ კენი ბადენ ბინაქტაჟი, ფალა კად ნა იფტონგ კენი უად ლაჟგაჟი უავერ

3

ერმაქსტ ბადგაჟი უავერ

## განმარტება:

„საგზაო მოძრაობის შესახებ“ საქართველოს კანონის 26-ე მუხლის მე-3 პუნქტის თანახმად, სატრანსპორტო საშუალებით ბავშვთა გადაყვანა დასაშვებია მხოლოდ დამსხდარ მდგომარეობაში, კონსტრუქციულად განსაზღვრული დასასხდომი ადგილებით. ბავშვთა დამდგარ მდგომარეობაში გადაყვანა აკრძალულია.

Фænდაгыл кæნæ фæндагмæ æввахс сабиты фенгæйæ, скъæრæг хъуамæ:

- 1 Æрурома транспортон фæრæз æмæ сиу кæна аварион рухсы синализаци
- 2 Равдиса сæрмагонд хъусдард æмæ змæлын райдаи тагъдадæй, кæцы аиуварс кæндзæни тасы æмæ æнæмæнгдзинады рæстæджы æнæ цæхгæр æртормозæй йæ бон суыдзæн æруромын
- 3 Фæфылдæр кæна тагъдад, цæмæй рæстæгыл ахиза фæнысангонд фæндаджы фадыг

### განმარტება:

„საგზაო მოძრაობის შესახებ“ საქართველოს კანონის 26-ე მუხლის მე-2 პუნქტის თანახმად, გზაზე ან მის სიახლოვეს ბავშვის დანახვისას ან გაჩერებული ავტობუსის დანახვისას, რომელზედაც დამაგრებულია საცნობი ნიშანი „ბავშვების გადაყვანა“, მძღოლმა უნდა გამოიჩინოს განსაკუთრებული სიფრთხილე და იმოძრაოს ისეთი სიჩქარით, რომელიც თავიდან ააცილებს საფრთხეს და აუცილებლობის შემთხვევაში მკვეთრი დამუხრუჭების გარეშე გაჩერების შესაძლებლობას მისცემს.

Фәндагыл урәд автобусы суынгәйә, кәцыйыл фидаргонд ис базонән нысан – “Сабиты кәнынаән”, скъәрәг хәсджын у:

1

Ратта зәлон сигнал әмә ацәуа әнәруромгәйә

2

Æрурома транспортон фәрәз әмә ма фезмәла уәдмә, цалынмә автобус нә адарддәер кәна змәлды

3

Равдиса сәрмагонд хъусдард әмә змәлын райдаи тагъдадәй, кәцы аиуварс кәндзәни тасы әмә әнәмәнгдзинады рәстәджы әнә цәхгәр әртормозәй йә бон суыдзән әруромын

### განმარტება:

„საგზაო მოძრაობის შესახებ“ საქართველოს კანონის 26-ე მუხლის მე-2 პუნქტის თანახმად, გზაზე ან მის სიახლოვეს ბავშვის დანახვისას ან გაჩერებული ავტობუსის დანახვისას, რომელზედაც დამაგრებულია საცნობი ნიშანი „ბავშვების გადაყვანა“, მძღოლმა უნდა გამოიჩინოს განსაკუთრებული სიფრთხილე და იმოძრაოს ისეთი სიჩქარით, რომელიც თავიდან ააცილებს საფრთხეს და აუცილებლობის შემთხვევაში მკვეთრი დამუხრუჭების გარეშე გაჩერების შესაძლებლობას მისცემს.

Хæсджын у æви нæ фæндагыл змæлæг транспортон фæрæзы скъæрæг, фæндаг ратта урс хуыз лæдзæгимæ змæлæг куырм фистæгæн, кæцы цæхгæрмæ хизы цæуæн хайыл?

1

Хæсджын у алкæцы цауы

2

Хæсджын у, æрмæст уыцы цауы, кæд æмæ куырм фистæг змæлы регулироватгонд фистæгон ахизæныл

3

Нæу хæсджын.

### განმარტება:

„საგზაო მოძრაობის შესახებ“ საქართველოს კანონის 21-ე მუხლის მე-6 პუნქტის თანახმად, მძღოლმა განსაკუთრებული სიფრთხილე უნდა გამოიჩინოს საგზაო მოძრაობის ისეთი მონაწილეების მიმართ, როგორებიც არიან ქვეითები (განსაკუთრებით ბავშვები, ხანდაზმულები, შეზღუდული შესაძლებლობის მქონე პირები) და ველოსიპედისტები. მძღოლი ვალდებულია ყველა შემთხვევაში გზა დაუთმოს თეთრი ხელჯოხით ან გამყოლ-ძაღლთან ერთად მოძრავ უსინათლო ქვეითს.



## ВОПРОС 681

ПРАВИЛЬНЫЙ ОТВЕТ: 1

Кაეცყ ცაუყ ყ ჰაესდჟყნ სკჿაერაეგ, ფაენდაგ რატტა რაზდზოგ კუყდჟყმაე იუმაე ჰმალგაე კუყრმ ფყსტაეგაენ?

1

ჰაესდჟყნ ყ ალკაეცყ ცაუყ

2

ჰაესდჟყნ ყ, აერმაესტ ყყცყ ცაუყ, კაედ  
აემაე კუყრმ ფყსტაეგ ჰმალყ  
რეგულყრვატგონდ ფყსტაეგონ  
აჰყზაენყლ

3

ჰაესდჟყნ ყ, აერმაესტ ყყცყ ცაუყ, კაედ  
აემაე კუყრმ ფყსტაეგ ჰმალყ  
აენაერეგულყრვატგონდ ფყსტაეგონ  
აჰყზაენყლ

## განმარტება:

„საგზაო მოძრაობის შესახებ“ საქართველოს კანონის 21-ე მუხლის მე-6 პუნქტის თანახმად, მძღოლმა განსაკუთრებული სიფრთხილე უნდა გამოიჩინოს საგზაო მოძრაობის ისეთი მონაწილეების მიმართ, როგორებიც არიან ქვეითები (განსაკუთრებით ბავშვები, ხანდაზმულები, შეზღუდული შესაძლებლობის მქონე პირები) და ველოსიპედისტები. მძღოლი ვალდებულია ყველა შემთხვევაში გზა დაუთმოს თეთრი ხელჯოხით ან გამყოლ-ძაღლთან ერთად მოძრავ უსინათლო ქვეითს.

## ВОПРОС 682

ПРАВИЛЬНЫЙ ОТВЕТ: 4

ტრანსპორტონ ფაერაეზ ნყმად ცაუყ აენაეგაბარყტყლ (სტავდგაბარყტყლ), კაედ ყაე ყარგჿ ფაესტაგ გაბარყტყ თაეპაეყ აერჟყნდყ:

1

1 метры

2

1,70 метры

3

2 метры

4

2 метраყ ფყლდაერ

## განმარტება:

„საგზაო მოძრაობის შესახებ“ საქართველოს კანონის 47-ე მუხლის მე-8 პუნქტის „გ“ ქვეპუნქტის თანახმად, სატრანსპორტო საშუალება არაგაბარყტყლად (მსხვილგაბარყტყანად) ითვლება, თუ მისი პარამეტრები აღემატება შემდეგი მაჩვენებლებიდან ერთ-ერთს მაყნც: გ) სიგრძე - ავტომატარებელის შემთხვევაში - 20 მეტრს, ყველა სხვა შემთხვევაში - 12 მეტრს, ან, თუ ტვირთი სატრანსპორტო საშუალების უკანა გაბარყტყს წერტილიდან 2 მეტრზე მეტადაა გამოშვერყლი.

Транспортон фæрæзыл ласинаг уаргъты сывæргæйæ кæнæ та бафидаргæнгæйæ дæлдæр ранымадгонд кæцы домæн нæу æнмæнг æххæсткæнинаг?

- |  |  |
|--|--|
| <p><b>1</b> Тас ма хъуамæ скæна æндæр фæндæгты змæлды хайадисджытæн, ма хъуамæ разиан кæна хицауадæн, æхсæнадон æмæ сæрмагонд фæллойæн, уаргътæ ма кæлой (ма пырх кæной) фænдагыл</p>  | <p><b>2</b> Ма хъуамæ æрцæуа арæнгонд æвзарынад æмæ цæстынгасы алфæмбылай, ма хъуамæ фехæла транспортон фæрæзы фидардзинад æмæ вазыгджын ма суа йе скъæрын</p> |
| <p><b>3</b> Ма хъуамæ бамбæрзой рухситæ, стоп-сигнал, фæзилæны рухс-æвдисджытæ, регистрацийы номер æмæ регистрацигæнæг паддзахады хицæнгæнæг нысан, афтæ ма къухæй дæттгæ сигналтæ</p> | <p><b>4</b> Ацы билеты ранымад алкæцы домæны æххæст кæнын æнæмæнгхъуыддаг у</p>  |

### განმარტება:

„საგზაო მოძრაობის შესახებ“ საქართველოს კანონის 47-ე მუხლის მე-11 პუნქტის „ა“, „ბ“ და „გ“ ქვეპუნქტების თანახმად, სატრანსპორტო საშუალებაზე ნებისმიერი ტვირთი იმგვარად უნდა მოთავსდეს და აუცილებლობის შემთხვევაში დამაგრდეს, რომ მისი გადაზიდვისას: ა) საფრთხე არ შეექმნას სხვა საგზაო მოძრაობის მონაწილეებს, ზიანი არ მიაღგეს სახელმწიფო, საზოგადოებრივ და კერძო ქონებას, ტვირთი არ ეთრეოდეს და არ ცვიოდეს გზაზე; ბ) არ შეიზღუდოს ხილვადობა და ხედვის არე, არ დაირღვეს სატრანსპორტო საშუალების მდგრადობა და არ გაძნელდეს მისი მართვა; გ) არ დაიფაროს სატრანსპორტო საშუალების სინათლეები, „სდექ“ სიგნალი, მოხვევის შუქ-მაჩვენებლები, შუქამრეკლი მოწყობილობები, რეგისტრაციის ნომერი და მარეგისტრირებული სახელმწიფოს განმასხვავებელი ნიშანი, აგრეთვე ამ კანონით განსაზღვრული ხელით მისაცემი სიგნალები;



I



II



III



IV

ლავადრ ფანდაგონ ნისანტთაი კაყიყი არჰაიდ ნა პარახატ კაენი მარშრუტონ ტრანსპორტონ ფერაჟილ?

1

ერმაესტ I

2

ერმაესტ II ამაჲ III

3

ერმაესტ II ამაჲ IV

4

ერმაესტ III

### განმარტება:

„საგზაო მოძრაობის შესახებ“ საქართველოს კანონის პირველი დანართის მე-4 თავის (მიმთითებელი ნიშნები) 4.1.1 – 4.1.6 პუნქტების შენიშვნის „გ“ ქვეპუნქტის თანახმად, 4.1.1-4.1.6 ნიშნების მოქმედება არ ვრცელდება სამარშრუტო სატრანსპორტო საშუალებებზე.



I



II



III



IV

ლავარდ ფანდაგონ ნისაენტთაჲ კაჲცჲიჲ არჲაჲდჲ ზონაჲიჲ ნაჲ ბარ ფაჲზილჲიჲ?

1

ერმაჲსტ II ჯმაჲ IV

2

ერმაჲსტ I ჯმაჲ III

3

ერმაჲსტ III ჯმაჲ IV


4

ერმაჲსტ II ჯმაჲ III

### განმარტება:

„საგზაო მოძრაობის შესახებ“ საქართველოს კანონის პირველი დანართის მე-7 თავის (საინფორმაციო-მაჩვენებელი ნიშნები) 7.3.1 პუნქტისა და ამავე პუნქტის შენიშვნის თანახმად, საგზაო ნიშანი 7.3.1 „მობრუნების ადგილი“ - მიუთითებს მობრუნების ადგილზე. ნიშნები 7.3.1 და 7.3.2 იდგმება მობრუნების ადგილის წინ ან მის ზემოთ, ან წინასწარ 8.1.1 დაფით. ნიშნები მარცხნივ მოხვევის ნებას არ რთავს. ამავე დანართის მე-4 თავის (მიმთითებელი ნიშნები) 4.1.3 პუნქტისა და ამავე პუნქტის შენიშვნის „ა“ ქვეპუნქტის თანახმად, საგზაო ნიშანი 4.1.3 „მოძრაობა მარცხნივ“ რთავს მხოლოდ ისრებით ნაჩვენები მიმართულებებით მოძრაობის ნებას, ხოლო ნიშნები, რომლებიც მარცხნივ მოხვევის ნებას რთავს, მობრუნების უფლებასაც იძლევა.





Цы æрдæмадмæ бар ис адаргъ кæнын змæлд „D1“ дæлкатегорийы автомобили скъæрæгæн фæндаджы уыцы фадыгыл?

1

Æрмæст A æрдæмадмæ

2

Æрмæст B æрдæмадмæ

3

Куыд A æрдæмадмæ, афтæ B æрдæмадмæ

### განმარტება:

„საგზაო მოძრაობის შესახებ“ საქართველოს კანონის 33-ე მუხლის მე-7 პუნქტის „ე“ ქვეპუნქტის თანახმად, გარდა ამ კანონით დადგენილი შემთხვევებისა, დაუსახლებელ პუნქტებში, აგრეთვე დასახლებულ პუნქტებში გზის იმ მონაკვეთზე, რომელზეც შესაბამისი ნიშნით მოძრაობა დაშვებულია 60 კმ/ზე მეტი სიჩქარით, ნებადართულია „D1“ და „D1E“ ქვეკატეგორიის სატრანსპორტო საშუალების მოძრაობა ყველა გზაზე არაუმეტეს 80კმ/სთ სიჩქარით. ამავე კანონის პირველი დანართის მე-4 თავის (მიმთითებული ნიშნები) 4.6 პუნქტის თანახმად 4.6 „მინიმალური სიჩქარის შეზღუდვა“ - ადგენს გზაზე მოძრაობის მინიმალური სიჩქარის ზღვარს. ნიშნის მოქმედება ვრცელდება ნიშნის შემდეგ, ნიშნის დადგმის ადგილიდან უახლოეს გზაჯვარედინამდე, ხოლო დასახლებულ პუნქტში გზაჯვარედინის არარსებობისას – დასახლებული პუნქტის ბოლომდე. ამავე დანართის მე-8 თავის (დამატებითი ინფორმაციის ნიშნები (დაფები)) 8.14 პუნქტის თანახმად 8.14 „მოძრაობის ზოლი“ - მიუთითებს მოძრაობის ზოლს, რომელზედაც ვრცელდება ნიშნის ან შუქნიშნის მოქმედება. დაფა თავსდება მოძრაობის ზოლის ზემოთ.

თემა 27:

ველოსიპედის, მოპედის, სატაპნე ოთხთვალის  
მოძრაობა და პირუტყვის გადარეკვა

---



Кæцы автомобили скъæрæгæн фæзындзæн фæндаг раттыны хæсдзинад фатæджы (стрелкæйы) æрдæмадмæ змæлды рæстæджы, кæд æмæ рог автомобиль рацæуы бензоколонкæйы территорийæ?

1

Рог автомобили скъæрæгæн

2

Мопеды скъæрæгæн

### განმარტება:

„საგზაო მოძრაობის შესახებ“ საქართველოს კანონის 32-ე მუხლის მე-3 პუნქტის თანახმად, მიმდებარე ტერიტორიიდან გზაზე გასვლისას მძღოლი ვალდებულია გზა დაუთმოს გზაზე მოძრავ სატრანსპორტო საშუალებასა და ქვეითს, ხოლო გზიდან გადასვლისას – იმ ქვეითს, ველოსიპედისტს, მოპედისა და ორბორბლიანი ელექტროთვითმგორავის მძღოლებს, რომლებსაც გზას უჭრის.

## ВОПРОС 688

ПРАВИЛЬНЫЙ ОТВЕТ: 4

Уаргъласæн æмæ сбадæн фос, афтæ ма гужи (бæхы кæнæ галы) транспорты къордтæ фæндаджы цæуæн хайыл змæлды цауы, фæразæй кæныны фенцондæрæн къордты 'хсæн дæрддзæг хъуамæ уа:

1

20-40 метры

2

40-60 метры

3

60-80 метры

4

80-100 метры

## განმარტება:

„საგზაო მოძრაობის შესახებ“ საქართველოს კანონის 22-ე მუხლის მე-4 პუნქტის თანახმად, სასაპალნე და დასაჯდომი პირუტყვის, აგრეთვე საჭაპანო ტრანსპორტის კოლონები გზის სავალ ნაწილზე მოძრაობისას უნდა დაიყოს ჯგუფებად, მაგრამ არაუმეტეს 10 სასაპალნე და დასაჯდომი პირუტყვისა და 5 საჭაპანო ტრანსპორტისა თითოეულში. გასწრების გასაადვილებლად ჯგუფებს შორის მანძილი უნდა იყოს 80-100 მეტრი.

## ВОПРОС 689

ПРАВИЛЬНЫЙ ОТВЕТ: 2

Хæсджын у æви нæ бæхты кæнæ галты (гужево́й) транспорты тæрæг (скъæрæг), фæндаджы æввахс территорийæ кæнæ фæрсаг фæндагæй уыцы бынатыл ахизгæйæ, цыран æвзæр æвзары цæст, фосы гæрзбастæй скъæра?

1

Нæу хæсджын

2

У хæсджын

## განმარტება:

„საგზაო მოძრაობის შესახებ“ საქართველოს კანონის 22-ე მუხლის მე-5 პუნქტის თანახმად, საჭაპანო ტრანსპორტის მეხრემ გზის მიმდებარე ტერიტორიიდან ან მეორეხარისხოვანი გზიდან იმ ადგილზე გასვლისას, სადაც ცუდი ხილვალობაა, პირუტყვი ადვირით უნდა ატაროს.



## ВОПРОС 690

ПРАВИЛЬНЫЙ ОТВЕТ: 2

Фосы фәндагыл аскъæрын, уагмæ гæсгæйæ, хъуамæ уагъд æрцæуа:

1

Бон - æхсæвы талынг рæстæджы

2

Бон- æхсæвы рухсы рæстæджы

3

Уагъд цæуы куыд бон-æхсæвы рухсы  
афтæ талынг рæстæджы

## განმარტება:

„საგზაო მოძრაობის შესახებ“ საქართველოს კანონის 22-ე მუხლის მე-6 პუნქტის თანახმად, პირუტყვის გზაზე გადარეკვა, როგორც წესი, უნდა განხორციელდეს დღე-ღამის ნათელ დროს.

## ВОПРОС 691

ПРАВИЛЬНЫЙ ОТВЕТ: 1

Æдзæрæгджын пункты, хъуаг цæстфæлиуæны уавæრты кæнæ транспортон фæрæзты змæлды бæрзонд интенсивондзинады цауы фистæджытæ, кæцытæ змæлынц (цæуынц) фæндаджы цæуæн хайыл (цас гæнæн уа уыйас æввахс цæуæн хайы былмæ), гæнæнмæ гæсгæ хъуамæ змæлой:

1

Иу рæнхъæй

2

Дыууæ рæнхъæй

3

Æртæ рæнхъæй

## განმარტება:

„საგზაო მოძრაობის შესახებ“ საქართველოს კანონის 24-ე მუხლის მე-5 პუნქტის თანახმად, მოძრაობის უსაფრთხოების უზუნველსაყოფად, კერძოდ, ცუდი ხილვადობის პირობებში ან სატრანსპორტო საშუალებათა მოძრაობის მაღალი ინტენსივობის შემთხვევაში ქვეითებმა (გარდა მსვლელობით სიარულის შემთხვევებისა), რომლებიც გზის სავალ ნაწილზე მოძრაობენ, შეძლებისდაგვარად ერთ მწკრივად უნდა იმოძრაონ. ამავე მუხლის მე-6 პუნქტის თანახმად, ამ მუხლის მე-2, მე-4 და მე-5 პუნქტებით გათვალისწინებულ შემთხვევებში ქვეითები გზის სავალ ნაწილზე გადაადგილებისას უნდა იმყოფებოდნენ სავალი ნაწილის კიდეგან რაც შეიძლება ახლოს.

## ВОПРОС 692

ПРАВИЛЬНЫЙ ОТВЕТ: 2

Бар ის ავი ნაე велосипედტყ ამაე დყცალხონ ელექტრო ხადტულგაეტყ ფაენდაგტყლ  
კოლონაჲაე ზმაელყნყ?

1

Бар нәй

2

Бар ис

## განმარტება:

„საგზაო მოძრაობის შესახებ“ საქართველოს კანონის 43-ე მუხლის მე-4 პუნქტის თანახმად, ველოსიპედისა და მოპედის მძღოლეებისათვის დასაშვებია კოლონად გადაადგილება. ველოსიპედებისა და მოპედების კოლონების გზის სავალ ნაწილზე მოძრაობის შემთხვევაში ისინი უნდა დაიყოს ჯგუფებად, მაგრამ არაუმეტეს 10 ერთეულისა თითოეულში. გასწრების გასაადვილებლად ჯგუფებს შორის მანძილი უნდა იყოს 80–100 მეტრი. ამავე მუხლის მე-14 პუნქტის თანახმად გვერდულას, ტროტუარის, ქვეითთა ბილიკის, ველობილიკისა და ველოსიპედის მოძრაობის ზოლის არარსებობის შემთხვევაში დასაშვებია ორბორბლიანი ელექტროთვითმგორავით გზის სავალი ნაწილის კიდესთან მოძრაობა, თუ მოძრაობის ინტენსივობა ამის საშუალებას იძლევა. ამ პუნქტით განსაზღვრულ შემთხვევებში ორბორბლიანი ელექტროთვითმგორავის მძღოლმა უნდა იხელმძღვანელოს ველოსიპედითა და მოპედით გზის სავალ ნაწილზე მოძრაობის წესებით.

## ВОПРОС 693

ПРАВИЛЬНЫЙ ОТВЕТ: 3

Велосипеды амае мопеды кьордтყ ფაენდადჯყ ცაუაენ хайыл ზმაელყნყ ცაუყ,  
ფაერაჲაჲ გაენაენ (обгоны) аенцондаერ каенынаен, кьордтყ 'хсаен дзაерддзაег хьуамаე  
ყა:

1

40-60 метры

2

60-80 метры

3

80-100 метры

## განმარტება:

„საგზაო მოძრაობის შესახებ“ საქართველოს კანონის 43-ე მუხლის მე-4 პუნქტის თანახმად, ველოსიპედისა და მოპედის მძღოლეებისათვის დასაშვებია კოლონად გადაადგილება. ველოსიპედებისა და მოპედების კოლონების გზის სავალ ნაწილზე მოძრაობის შემთხვევაში ისინი უნდა დაიყოს ჯგუფებად, მაგრამ არაუმეტეს 10 ერთეულისა თითოეულში. გასწრების გასაადვილებლად ჯგუფებს შორის მანძილი უნდა იყოს 80–100 მეტრი.

## ВОПРОС 694

ПРАВИЛЬНЫЙ ОТВЕТ: 1

Велосипеды зმელენ ხაхხი კენაე велоფანდადჯი კენაე ფერსმაე ცაუაენი ნაე უავგაჲი, ფანდადჯი ცაუაენ ხაჲილ ვაზიგდჲინ ზმელდჲი ცაუი, კად ჯმაე ნაე ბაკჲუილჲი კენდჲენ ფისტაგაჲი ცაუდჲი ზმელდ ტროუარჲი ზმელდჲი ბარ ის:

1

Велосипеды სკაერაგენ

2

Мопеды სკაერაგენ

3

Ацы билеты ранымад дыууае транспортон фერაჲი სკაერაგენ

4

Ацы билеты ранымад ნადერ იუ транспортон фერაჲი სკაერაგენ

## განმარტება:

„საგზაო მოძრაობის შესახებ“ საქართველოს კანონის 43-ე მუხლის მე-3 პუნქტის თანახმად, ველოსიპედის მოძრაობის ზოლის ან ველობილიკის ან გვერდულას არარსებობისას, ამასთანავე, თუ გზის სავალ ნაწილზე გართულებულია მოძრაობა, დასაშვებია ველოსიპედით ტროტუარზე გადაადგილება იმ პირობით, რომ არ შეფერხდება ქვეითთა მოძრაობა. აკრძალულია მოპედით ტროტუარზე მოძრაობა.

## ВОПРОС 695

ПРАВИЛЬНЫЙ ОТВЕТ: 2

Алваენდადჯი (перекресток) фале, цахგერმაე ცაუაენი ფანდადჯი ცურ велоკახვანდადჯი აენაე регулироватгонд цахგერმაე ცაუაენი, велосипеды ჯმაე мопеды სკაერდჲიტენ უიცი ფანდაგჲი ზმელგაე транспортон ფერაჲი რდემ:

1

Ләвәәрд сын цәуи уәлбар

2

Фәзындзәен сын фәндадџи раттыны хәсдзинад

## განმარტება:

„საგზაო მოძრაობის შესახებ“ საქართველოს კანონის 43-ე მუხლის მე-6 პუნქტის თანახმად, გზაჯვარედინის მიღმა გამავალ გზასთან ველობილიკის არარეგულირებულ გადაკვეთაზე ველოსიპედისა და მოპედის მძღოლებმა გზა უნდა დაუთმონ ამ გზაზე მოძრავ სატრანსპორტო საშუალებათა მძღოლებს.

Уრედ транспортон ფაერაჟი დუარ ფაენდადჟი ცაუენ ჰაიყი, велоფაენდადჟი კაენაე велосипеды хаххы 'რდყგაჟი მა ხუამაე уа гом:

1

5 минутაჟი ფылდერ რაესაეგმაე

2

15 минутაჟი ფылდერ რაესაეგმაე

3

ბაელცაეტყი რაჰიზყნაენ აემაე  
сбадынაენ хуаеугаე რაესაეგაჟი  
ფылდერმაე

4

20 минутაჟი ფылდერ რაესაეგმაე

### ბანმარტყბა:

„საგზაო მოძრაობის შესახებ“ საქართველოს კანონის მე-20 მუხლის მე-6 პუნქტის თანახმად, აკრძალულია სატრანსპორტო საშუალების კარის გაღება მის სრულ გაჩერებამდე. კარის გაღებამ არ უნდა შეუქმნას დაბრკოლება ან საფრთხე სხვა საგზაო მოძრაობის მონაწილეებს. გზის სავალი ნაწილის, ველობილიკის ან ველოსიპედის მოძრაობის ზოლის მხარეს სატრანსპორტო საშუალების კარი არ უნდა იყოს გაღებული მგზავრთა ჩასხდომა-გადმოსხდომისთვის საჭირო დროზე მეტი ხნით. გზის სავალი ნაწილის მხარეს ან სატრანსპორტო საშუალების უკანა მხრიდან მგზავრთა ჩასხდომა-გადმოსხდომა ნებადართულია მხოლოდ იმ შემთხვევაში, თუ ეს არ შეუქმნის საფრთხეს სხვა საგზაო მოძრაობის მონაწილეებს.





ლავადრ ფანდაგონ ნისან ნისან კაენი:

1

ფანდაგ, ცირან ჰმელგა სკაერაგენ  
ის ფანდაგ რატყინი ჰესდჰინად

2

ფანადჟი სერტი აჰიზაენ ჰიდყი კაენა  
ესაკადყი

3

ავტომობილყი, კაეცყიყილ კუსყი  
ავტომაგისტრალყილ ჰმელდყი  
ყაგდჰეტაგ ნორმეტყი დომანტაგ

### განმარტყბა:

„საგზაო მოძრაობის შესახებ“ საქართველოს კანონის პირველი დანართის მე-5 თავის (განსაკუთრებული მითითებების ნიშნები) 5.1 პუნქტის თანახმად, საგზაო ნიშანი 5.1 „ავტომაგისტრალი“ - აღნიშნავს ავტომაგისტრალს, რომელზედაც მოქმედებს ავტომაგისტრალზე მოძრაობის მომწესრიგებელი ნორმების მოთხოვნები. ნიშანი იდგმება ავტომაგისტრალის დასაწყისში ან მის სიახლოეს 8.1.1 დაცვით.



I



II



III



IV

ლავერდ ფანდაჯი ნისაენტაჲ კაჲცი ამონი ავტომობილონ ფანდაჯი ფაუდმაჲ?

1

I

2

II

3

III

4

IV

### განმარტება:

„საგზაო მოძრაობის შესახებ“ საქართველოს კანონის პირველი დანართის მე-5 თავის (განსაკუთრებული მითითებების ნიშნები) 5.4 პუნქტის თანახმად, საგზაო ნიშანი 5.4 „საავტომობილო გზის დასასრული“ - მითითებს 5.3 ნიშნით აღნიშნული გზის დასასრულს.



I



II



III



IV

ლავერდ ფანდადჟი ნისენტთაჲ კაჲცი ამონი ფანდაგ კენაჲ ცაუაენ ჰაჲ, კაჲციჲიჲლ ტრანსპორტონ ფერაჲზტი ჰმალდ აგას ფაჲტაჲნიჲლ ცაუჲი იუ აერდამადმაჲ?

1

I

2

II

3

III

4

IV

### განმარტება:

„საგზაო მოძრაობის შესახებ“ საქართველოს კანონის პირველი დანართის მე-5 თავის (განსაკუთრებული მითითებების ნიშნები) 5.5 პუნქტის თანახმად, საგზაო ნიშანი 5.5 „ცალმხრივმოძრაობიანი გზა“ - გზა ან სავალ ნაწილი, რომელ-ზედაც სატრანსპორტო საშუალებებით მოძრაობა მთელ სიგანეზე ერთი მიმართულებით მოძრაობს.



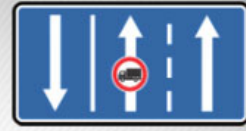
I



II



III



IV

ლავარდ ფანდაგტყ ნყსანტაყ კაყყ ბარაგ კაყყ ფანდაგ, კაყყყყლ მარშრუტონ ტრანსპორტონ ფარაყყყ ჰმალდ ცაყყ სპეციალონ რახიცანგონდ ჰაჰჰყლ, ტრანსპორტონ ფარაყყყ ყუმაყაგ კადაყყ (პოტოყყ) ჯერდამადმაყ?

1

I

2

II

3

III

4

IV

### განმარტება:

„საგზაო მოძრაობის შესახებ“ საქართველოს კანონის პირველი დანართის მე-5 თავის (განსაკუთრებული მითითებების ნიშნები) 5.14 პუნქტის თანახმად, საგზაო ნიშანი 5.14 „სამარშრუტო სატრანსპორტო საშუალებებისათვის განკუთვნილი მოძრაობის ზოლი“ - გზა, რომელზედაც სამარშრუტო სატრანსპორტო საშუალება მოძრაობს სპეციალურად გამოყოფილ ზოლზე სატრანსპორტო საშუალებათა საერთო ნაკადის თანმხვედრი მიმართულებით. ნიშნის მოქმედება ვრცელდება იმ მოძრაობის ზოლზე, რომელზედაც ის დგას. გზის მარჯვენა მხარეს დადგმული ნიშნის მოქმედება ვრცელდება სავალი ნაწილის უკიდურეს მარჯვენა ზოლზე.



Фәндадҗы рахиз фарс әвәрд ләвәрдгонд фәндагон нысәнтты архайд парaxат кәны:

1

Цәуәен хайы (фәндадҗы) әнәхъән фәтәныл

2

Фәндадҗы цәуәен хайы кәройнаг рахиз хаххыл (тагыл)

### განმარტება:

„საგზაო მოძრაობის შესახებ“ საქართველოს კანონის პირველი დანართის მე-5 თავის (განსაკუთრებული მითითებების ნიშნები) 5.14 პუნქტის თანახმად, საგზაო ნიშანი 5.14 „სამარშრუტო სატრანსპორტო საშუალებისათვის განკუთვნილი მოძრაობის ზოლი“ - აღნიშნავს გზას, რომელზედაც სამარშრუტო სატრანსპორტო საშუალება მოძრაობს სპეციალურად გამოყოფილ ზოლზე სატრანსპორტო საშუალებათა საერთო ნაკადის თანმხვედრი მიმართულებით. ნიშნის მოქმედება ვრცელდება იმ მოძრაობის ზოლზე, რომელზედაც ის დგას. გზის მარჯვენა მხარეს დადგმული ნიშნის მოქმედება ვრცელდება სავალი ნაწილის უკიდურეს მარჯვენა ზოლზე.



## ВОПРОС 702

ПРАВИЛЬНЫЙ ОТВЕТ: 3



I



II



III



IV

ლავაერდ ფაენდაგთჲ ნჲსაენტთაჲჲ კაეცჲ ბაერაგ კაენჲ ტერრითორიჲჲ, კაეცჲჲჲჲ ფაელგაეტთჲ არაენგონდჲ უ ჰმალდჲ მაქსიმალონ თაგჲდად?

1

I

2

II

3

III

4

IV

## განმარტება:

„საგზაო მოძრაობის შესახებ“ საქართველოს კანონის პირველი დანართის მე-5 თავის (განსაკუთრებული მითითებების ნიშნები) 5.27 და 5.29 პუნქტების თანახმად, საგზაო ნიშანი 5.31. „მაქსიმალური სიჩქარის შეზღუდვის ზონა“. აღნიშნავს ტერიტორიას, რომლის ფარგლებშიც შეზღუდულია მოძრაობის მაქსიმალური სიჩქარე.

## ВОПРОС 703

ПРАВИЛЬНЫЙ ОТВЕТ: 1

Хәсджын у аеви нә механикон транспортон фәраәзы скъәраг, равдиса сәрмагонд хъусдард велосипедистты 'рдәм?

1

У хәсджын

2

Нәу хәсджын

## განმარტება:

„საგზაო მოძრაობის შესახებ“ საქართველოს კანონის 21-ე მუხლის მე-6 პუნქტის თანახმად, მძღოლმა განსაკუთრებული სიფრთხილე უნდა გამოიჩინოს საგზაო მოძრაობის ისეთი მონაწილეების მიმართ, როგორებიც არიან ქვეითები (განსაკუთრებით ბავშვები, ხანდაზმულები, შეზღუდული შესაძლებლობის მქონე პირები) და ველოსიპედისტები.



I



II



III



IV

ლავერდ ფანდაგონ ნისენტთაჲ კაჲცჲ ბერაგ კაჲნჲ ავტომაგისტრალმჲ ანდჲერ  
ფანდაგაჲჲ სხიზაჲნჲ (სსაჲუაჲნჲ) ბაიუგაჲნაჲნ ბჲნატჲ?

1

I

2

II

3

III

4

IV

### განმარტება:

„საგზაო მოძრაობის შესახებ“ საქართველოს კანონის პირველი დანართის მე-5 თავის (განსაკუთრებული მითითებების ნიშნები) 5.36 პუნქტის თანახმად, საგზაო ნიშანი 5.36 „შერწყმის ადგილი“ - ავტომაგისტრალთან სხვა გზიდან ამოსასვლელის (გაქანების ზოლის) შერწყმის ადგილი.



I



II



III

Кæцы базონæн нысан фидар цæуы ставдгабаритон уæргътæ ласæн транспортон фæрæзы разæй æмæ фæсте фарс?

1

Æрмæст III

2

Æрмæст II

3

Æрмæст I

### განმარტება:

„საგზაო მოძრაობის შესახებ“ საქართველოს კანონის მე-19 მუხლის პირველი პუნქტის „დ“ ქვეპუნქტის თანახმად, მძღოლი, ხოლო ამ კანონის მე-18 მუხლის პირველი პუნქტის „დ“ ქვეპუნქტით გათვალისწინებულ შემთხვევებში – საწარმო ვალდებულია ამ პუნქტით განსაზღვრულ სატრანსპორტო საშუალებებზე დაამაგროს შემდეგი საცნობი ნიშნები: დ) „არაგაბარიტული (მსხვილგაბარიტიანი) ტვირთი“ – 400X400 მმ ზომის დაფა, რომელზედაც დიაგონალურადაა დახაზული 50 მმ სიგანის ურთიერთმონაცვლე წითელი და თეთრი ზოლები შუქამრეკლი ზედაპირით – მაგრდება არაგაბარიტული (მსხვილგაბარიტიანი) და ამ კანონის 47-ე მუხლის მე-13 პუნქტით განსაზღვრული სატრანსპორტო საშუალებების წინა და უკანა მხარეს.



I



II



III

Лæвæрд базонæн нысæнттæй кæцы фидар цæуы сабиты къорды кæнæг автобусы разæй æмæ фæсте фарс?

1

Æрмæст III

2

Æрмæст II

3

Æрмæст I

### განმარტება:

„საგზაო მოძრაობის შესახებ“ საქართველოს კანონის მე-19 მუხლის პირველი პუნქტის „გ“ ქვეპუნქტის თანახმად, მძღოლი, ხოლო ამ კანონის მე-18 მუხლის პირველი პუნქტის „დ“ ქვეპუნქტით გათვალისწინებულ შემთხვევებში – საწარმო ვალდებულია ამ პუნქტით განსაზღვრულ სატრანსპორტო საშუალებებზე დაამაგროს შემდეგი საცნობი ნიშნები: ვ) „ბავშვების გადაყვანა“ – ყვითელი კვადრატი წითელი არშიით (კვადრატის გვერდი არანაკლებ 250 მმ-ია, არშიის სიგანე – გვერდის 1/10), 1.24 საგზაო ნიშნის სიმბოლო შავი გამოსახულებით – მაგრდება იმ ავტობუსის წინა და უკანა მხარეს, რომელსაც ბავშვთა ჯგუფები გადაჰყავს.



I



II



III



IV

ლავარდ ფანდაგონ ნყსანტაჲ კაჲყი დატყი ინფორმაციყი გუყრდყიstonყი  
ფანდაგტყლ ჯვარდ თაგდადყი იუმაჲაგ არანტყ თყხჲაჲ?

1

I

2

II

3

III

4

IV

### განმარტება:

„საგზაო მოძრაობის შესახებ“ საქართველოს კანონის პირველი დანართის მე-7 თავის (საინფორმაციო-მაჩვენებელი ნიშნები) 7.1 პუნქტის თანახმად, საგზაო ნიშანი 7.1 „მაქსიმალური სიჩქარის ზოგადი შემღუდვები“ - იძლევა ინფორმაციას სიჩქარის ზოგადი შემღუდვების თაობაზე, რომლებიც საგზაო მოძრაობის წესებით დადგენილია საქართველოს გზებზე. ნიშანი იდგმება საქართველოს ტერიტორიაზე შემოსასვლელში საკონტროლო გამშვებ პუნქტთან.





I



II



III



IV

ლავერდ ფანდაგონ ნყსენტთაჲ კაჲცყ ამონყ თაგჲდადყ, კაჲცყჲჲ რეკომენდაციგონდ ყ ჲმალდ ფანდადჲყ ჲლავერდ ფადყგყლ?

1

I

2

II

3

III

4

IV

### განმარტება:

„საგზაო მოძრაობის შესახებ“ საქართველოს კანონის პირველი დანართის მე-7 თავის (საინფორმაციო-მაჩვენებელი ნიშნები) 7.2 პუნქტის თანახმად, საგზაო ნიშანი 7.2 „რეკომენდებული სიჩქარე“ - მიუთითებს სიჩქარეს, რომლითაც რეკომენდებულია მოძრაობა გზის მოცემულ მონაკვეთზე. ნიშანი იდგმება გზის დასაწყისში. ნიშნის მოქმედება ვრცელდება უახლოეს გზაჯვარედინამდე, ხოლო მათრთხილებელ ნიშანთან ერთად – სახიფათო უბნის მთელ სიგრძეზე.

## ВОПРОС 709

ПРАВИЛЬНЫЙ ОТВЕТ: 4



I



II



III



IV

Лæвæрд фæндагон нысæнттæй кæцы амонь территорийы, кæцыйыл змæлд барлæвæрд у æрмæст фистæгæй цæуджытæн?

1

I

2

II

3

III

4

IV

## განმარტება:

„საგზაო მოძრაობის შესახებ“ საქართველოს კანონის პირველი დანართის მე-5 თავის (განსაკუთრებული მითითებების ნიშნები) 5.33 პუნქტის თანახმად, საგზაო ნიშანი 5.33 „ქვეითთა ზონა“ - ტერიტორია, რომლებზედაც მოძრაობა ნებადართულია, მხოლოდ ქვეითებისათვის.



I



II



III



IV

ლავარდ ფანდაგონ ნისაენტაჲ კაჲცჲ ბარაგ კაჲნჲ ფანდაგ, კაჲცჲჲჲნ ნაჲ ახიზაჲნ?

1

I

2

II

3

III

4

IV

### განმარტება:

„საგზაო მოძრაობის შესახებ“ საქართველოს კანონის პირველი დანართის მე-7 თავის (საინფორმაციო-მაჩვენებელი ნიშნები) 7.8.1-7.8.3 პუნქტების თანახმად, საგზაო ნიშნები 7.8.1-7.8.3 „ჩიხი“ - გზა, რომელსაც არ აქვს გამჭოლი გასასვლელი. 7.8.1 ნიშანი იდგმება გზის დასაწყისში, ხოლო 7.8.2 და 7.8.3 ნიშნები—იმ გზის გადაკვეთის წინ, რომელსაც არ აქვს გამჭოლი გასასვლელი.

## ВОПРОС 711

ПРАВИЛЬНЫЙ ОТВЕТ: 3



I



II



III



IV

Лæвæрд фæндагон нысæнттæй кæцыйы архайды зонæйы нæй барлæвæрд галиумæ разилын?

1

Æрмæст III

2

Æрмæст IV

3

Æрмæст II æмæ IV

4

Æრმæст II

## განმარტება:

„საგზაო მოძრაობის შესახებ“ საქართველოს კანონის პირველი დანართის მე-7 თავის (საინფორმაციო-მაჩვენებელი ნიშნები) 7.3.1 და 7.3.2 პუნქტების შენიშვნის თანახმად, საგზაო ნიშნები 7.3.1 „მობრუნების ადგილი“ და 7.3.2 „მობრუნების ზონა“ იდგმება მობრუნების ადგილის წინ ან მის ზემოთ, ან წინასწარ 8.1.1 დაფით. ნიშნები მარცხნივ მოხვევის ნებას არ რთავს.



Кæцы транспортон фæрæзы скъæრæгæн фæзындзæн фæндаг раттыны хæсдзинад фатæджы (стрелкæйы) æрдæмадмæ змæлды цауы?

1

Велосипеды скъæрæгæн

2

Рог автомобили скъæрæгæн

### განმარტება:

„საგზაო მოძრაობის შესახებ“ საქართველოს კანონის 43-ე მუხლის მე-6 პუნქტის თანახმად, გზაჯვარედინის მიღმა გამავალ გზასთან ველობილიკის არარეგულირებულ გადაკვეთაზე ველოსიპედისა და მოპედის მძღოლებმა გზა უნდა დაუთმონ ამ გზაზე მოძრავ სატრანსპორტო საშუალებათა მძღოლებს.



## ВОПРОС 713

ПРАВИЛЬНЫЙ ОТВЕТ: 2

Кәд транспортон фәрәзы рәзты фәндаджы цәуәен хайыл фәхизы фосы рәгъау, скъәрәг хъуамә зона, цәмәй:

1

Рәгъауы ахызты фәстә фәндаджы цәуәен хайыл нал ахиздзәни иугай цәрәгойтә

2

Рәгъауы ахызты фәстә фәндаджы цәуәен хайыл гәнәен ис әмә фәзына ноджы иугай цәрәгойтә

## განმარტება:

თუ სატრანსპორტო საშუალების წინ გზის სავალ ნაწილზე გადადის საქონლის ჯოგი, მძღოლმა უნდა გაითვალისწინოს, რომ ჯოგის გადასვლის შემდეგ გზის სავალ ნაწილზე შეიძლება გამოვიდეს ერთეული ცხოველები.

## ВОПРОС 714

ПРАВИЛЬНЫЙ ОТВЕТ: 4

Кәд транспортон фәрәзы размә фистәгон ахизәныл фәцәуы зәронд адәймаг (фистәг) скъәрәг хъуамә са әрмәстуымә, цәмәй:

1

Уыцы цәуәен хайыл змәлы сындәгдәр иннә фәндагон змәлды хайадисджытәй

2

Уый гәнәен ис әмә әмбис фәндагәй фәстәмә аздәха

3

Уый гәнәен ис әмә фесәфа әмуәзад әмә фәкәла

4

Әмә гәнәен ис фәзына ацы билеты ранымад кәцыфәнды уавәр

## განმარტება:

თუ სატრანსპორტო საშუალების წინ ქვეითთა გადასასვლელზე გადაადგილდება მოხუცი ქვეითი მძღოლმა უნდა გაითვალისწინოს, რომ ის სავალ ნაწილზე მოძრაობენ უფრო ნელა ვიდრე სხვა საგზაო მოძრაობის მონაწილეები, ასევე შეიძლება ნახევარი გზიდან მობრუნდნენ უკან და მან შეიძლება დაკარგონ წონასწორობა და წაიქცნენ.

თემა 28:

## საგზაო მონიშვნა

---

## ВОПРОС 715

ПРАВИЛЬНЫЙ ОТВЕТ: 1

Кæд æмæ æдаздзинады сакъадах, насос кæнæ устройство (арæзт) у дывæрссыг змæлгæ фæндаджы цæуæн хайы сæмæныл, скъæрæг хъуамæ уый алыварс æрзила:

1

Æрмæст рахиз фарсырдыгæй

2

Æрмæст галиу фарсырдыгæй

3

Рахиз фарсырдыгæй, кæнæ галиу фарсырдыгæй

## განმარტება:

„საგზაო მოძრაობის შესახებ“ საქართველოს კანონის 32-ე მუხლის მე-17 პუნქტის „ბ“ ქვეპუნქტის თანახმად, ამ მუხლით დადგენილ მოთხოვნათა გათვალისწინებით, მძღოლს შეუძლია მარჯვნიდან ან მარცხნიდან შემოუაროს იმ სავალ ნაწილზე დაყენებულ უსაფრთხოების კუნძულს, ტუმბოს ან სხვა მოწყობილობას, რომელზედაც იგი მოძრაობს, გარდა იმ შემთხვევისა, როცა უსაფრთხოების კუნძული, ტუმბო ან სხვა მოწყობილობა ორმხრივმოძრაობიანი გზის სავალი ნაწილის ღერძზეა განლაგებული. ამ შემთხვევაში მძღოლმა უსაფრთხოების კუნძულს, ტუმბოს ან სხვა მოწყობილობას მხოლოდ მარჯვენა მხრიდან უნდა შემოუაროს.

Кәед транспортон фәрәзты змәлд регулироватгонд нә цәуы нәдәер фәндәгты рухснысанәй (светофорәй), нәдәер уаг дәттәдҗы 'рдыгәй, скъәрәг фистәгон ахизәнмә әрбаввахсгәнгәйә:

1

Хъуамә ратта зәлон сигнал әмә ахиза фистәгон ахизәныл әнә әруромгәйә

2

Куыд фистәдҗыты 'рдәм уәлбар уәвынадмә гәсгә, йын бар ис ацәуа фистәгон ахизәныл цыфәнды тагъдадәй

3

Хъуамә фәкъаддәер кәна тагъдад, цәмәй мацы тас уа ахизәныл бахизәг кәнә бацәуәг фистәгтән, фәлә бахъуыды рәстәдҗы хъуамә әрләууа әмә ауадза фистәгты

### განმარტება:

„საგზაო მოძრაობის შესახებ“ საქართველოს კანონის 25-ე მუხლის მე-2 პუნქტის „ბ“ ქვეპუნქტის თანახმად, ქვეითთა გადასასვლელზე ამ კანონის 21-ე მუხლის მე-6 პუნქტით, 33-ე მუხლის მე-2 პუნქტითა და 34-ე მუხლის მე-11 პუნქტით დადგენილ მოთხოვნათა დაცვით უნდა შესრულდეს შემდეგი მოთხოვნები: ბ) თუ სატრანსპორტო საშუალებათა მოძრაობა არ რეგულირდება არც საგზაო შუქნიშნით და არც მარეგულირებლის მეშვეობით, მძღოლმა ქვეითთა გადასასვლელთან მიახლოებისას სათანადოდ უნდა შეამციროს სიჩქარე, რათა საფრთხე არ შეუქმნას ამ გადასასვლელზე შესულ ან შემავალ ქვეითებს, ხოლო საჭიროების შემთხვევაში უნდა გაჩერდეს და გაატაროს ქვეითები.

Скъæрджытæ, кæцытæ змæлды æрдæмады æмбæлон фарсæй аккаг æгъдауæй бæრæггонд æрлæууæны уæвæг маршрутон транспортон фæрæзæн йæ иувæрсты ахизынмæ хъавынц, хъуамæ:

1

Фæкъаддæр кæной тагъдад æмæ æнæмæнгхъæугæ рæстæджы æрлæууой, цæмæй сифтонг кæной æхсæнадон транспорты бæлццæтты æдасон сбадыны æмæ рахизыны гæнæндзинад

2

Фæфылдæр кæной тагъдад, цæмæй цæрдæг ахизой æмæ ма бакъуылымпы кæной æхсæнадон транспорты бæлццæтты сбадыны æмæ рахизыны процессы

3

Æрлæууой фæрсмæ æмæ ма фезмæлын кæной цалынмæ æхсæнадон транспорт змæлд нæ адаргъ кæна

### ბანმარტიბა:

„საგზაო მოძრაობის შესახებ“ საქართველოს კანონის 25-ე მუხლის მე-4 პუნქტის თანახმად, მძღოლმა, რომელიც მოძრაობის მიმართულების შესაბამისი მხრიდან სათანადო წესით მონიშნულ გაჩერებაზე მყოფი სამარშრუტო სატრანსპორტო საშუალებისთვის გვერდის ავლას აპირებს, უნდა შეამციროს სიჩქარე და, აუცილებლობის შემთხვევაში, გაჩერდეს, რათა უზრუნველყოს მგზავრების საზოგადოებრივ ტრანსპორტში უსაფრთხო ჩასხდომის ან იქიდან გადმოსხდომის შესაძლებლობა.



Аккаг фænდაგონ нысæнтты æмæ бæрджыты нæ уæвынады цауы, æнæრельсон транспортон фæრæзты змæлынаæn хæххыты бæრц (нымæц) бæრæггонд цæуы:

1

Скъæрæгаæn йæхæдæг, цæуæн хайы (фæндаджы) фæтæны, транспортон фæрæзты габариты æмæ уыдоны 'хсæн æнæмæнгхъæугæ интервалы хыгъдмæ гæсгæ

2

Бынаеттон хæдуынаффæйы органы

3

Закъонæй, кæцымæ гæсгæ ахæм хуызон фæндаг нымад цæуы иувæрсон (иуæрдæм) змæлаæn фæндагыл

### განმარტება:

„საგზაო მოძრაობის შესახებ“ საქართველოს კანონის 31-ე მუხლის მე-3 პუნქტის თანახმად, ურელსო სატრანსპორტო საშუალების მოძრაობისათვის მოძრაობის ზოლების რაოდენობა განისაზღვრება საგზაო მონიშვნით ან/და 5.15.1, 5.15.2, 5.15.7 და 5.15.8 საგზაო ნიშნებით, ხოლო მისი/მათი არარსებობის შემთხვევაში – თვით მძღოლის მიერ, გზის სავალი ნაწილის სიგანის, სატრანსპორტო საშუალებების გაბარიტებისა და მათ შორის აუცილებელი ინტერვალის გათვალისწინებით.

Дывæрсон змæлæн фæндаджы цæуæн хайы сæмæныл лæууæг æдасдзинады сакъадахæн кæнæ насосæн (цъирæн) скъæрæг хъуамæ йæ фæрсты æрбахиза:

1

Æрмæст галиуæрдугæй

2

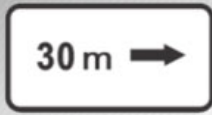
Æрмæст рахизæрдугæй

3

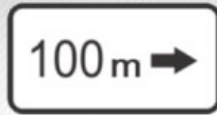
Рахиз кæнæ галиуæрдугæй

### განმარტება:

„საგზაო მოძრაობის შესახებ“ საქართველოს კანონის 32-ე მუხლის მე-17 პუნქტის „ბ“ ქვეპუნქტის თანახმად, ამ მუხლით დადგენილ მოთხოვნათა გათვალისწინებით, მძღოლს შეუძლია მარჯვნიდან ან მარცხნიდან შემოუაროს იმ სავალ ნაწილზე დაყენებულ უსაფრთხოების კუნძულს, ტუმბოს ან სხვა მოწყობილობას, რომელზედაც იგი მოძრაობს, გარდა იმ შემთხვევისა, როცა: ბ) უსაფრთხოების კუნძული, ტუმბო ან სხვა მოწყობილობა ორმხრივმოძრაობიანი გზის სავალი ნაწილის ღერძზეა განლაგებული. ამ შემთხვევაში მძღოლმა უსაფრთხოების კუნძულს, ტუმბოს ან სხვა მოწყობილობას მხოლოდ მარჯვენა მხრიდან უნდა შემოუაროს.



I



II



III



IV

ლავერდ უელაემხას ინფორმაციის ნისენტაი (ტრაფარეტაი) კაცი ამონი დერდდჰაგ ფანდადჰი ფალე (დერდდჰაფმა) ავვახს ობჟექტმა?

1

ერმაესტ II ამა III

2

ერმაესტ I ამა IV

3

ერმაესტ IV

4

ერმაესტ III

### განმარტება:

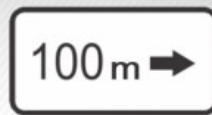
„საგზაო მოძრაობის შესახებ“ საქართველოს კანონის პირველი დანართის მე-8 თავის (დამატებითი ინფორმაციის ნიშნები (დაფები)) 8.1.3, 8.1.4 პუნქტების თანახმად, დაფები 8.1.3 და 8.1.4 „მანძილი ობიექტამდე“ - მიუთითებს მანძილს გზის მიღმა (მოშორებით) მდებარე ობიექტამდე.



I



II



III



IV

ლავერდ უელამხას ინფორმაციის ნისენტთაი (ტრაფარეტთაი) კაეცა ამონა რაგფადჯახსაგ ნისენტთაი ბერაეგონდ ფანდადჯი თაეसाგ ფადიდჯი დერგჷ, კაენა ბარ ნა დეტთაგ ჯმაე ინფორმაციონ-ავდისაგ ნისენტთი არხაიდი ზონაი?

1

ერმაესტ I ჯმაე III

2

ერმაესტ I

3

ერმაესტ II

4

ერმაესტ IV

### განმარტება:

„საგზაო მოძრაობის შესახებ“ საქართველოს კანონის პირველი დანართის მე-8 თავის (დამატებითი ინფორმაციის ნიშნები (დაფები)) 8.2.1 პუნქტის თანახმად, 8.2.1 „მოქმედების ზონა“ - მიუთითებს მატროხილებელი ნიშნით აღნიშნული გზის სახიფათო მონაკვეთის სიგრძეს, ან ამკრძალავი და საინფორმაციო-მაჩვენებელი ნიშნის მოქმედების ზონას.



I



II



III



IV

ლავერდ ფანდაგონ ნისენტთი комбинацийა, კაციყი არხაიდ პარახატ კაენი უაზლასენ ავტომობილთ კაენა ტრაქტორთ, კაციფანდი პიцეპიმა ამაა ჯერდაეპრიცეპიმა, აფტა მეხანიკონ ტრანსპორტონ ფაერაჟთი ბუკსირაენა ტრანსპორტონ ფაერაჟთი?

1

ჯერმასტ I

2

ჯერმასტ I ამაა II

3

ჯერმასტ III

4

ჯერმასტ I ამაა IV

### ბანმარტუბა:

„საგზაო მოძრაობის შესახებ“ საქართველოს კანონის პირველი დანართის მე-8 თავის (დამატებითი ინფორმაციის ნიშნები (დაფები)) 8.4.1-8.4.8 პუნქტისა და ამავე პუნქტის შენიშვნის „ა“, „ბ“ და „დ“ ქვეპუნქტების თანახმად, დაფები 8.4.1–8.4.8. „სატრანსპორტო საშუალების სახეობა“ – მიუთითებს იმ სატრანსპორტო საშუალების სახეობას, რომელზედაც ვრცელდება ნიშნის მოქმედება. შენიშვნა: დაფები ნიშნის მოქმედებას ავრცელებენ: ა) 8.4.1 – სატვირთო ავტომობილზე (მისაბმელით ან მის გარეშე), რომლის ნებადართული მაქსიმალური მასა 3,5 ტ-ზე მეტია; ბ) 8.4.2 – სატვირთო ავტომობილზე ან ტრაქტორზე ნებისმიერი სახეობის მისაბმელით და ნახევარმისაბმელით, აგრეთვე მექანიკური სატრანსპორტო საშუალების მანქანის ნაწილებზე; გ) 8.4.3 – სატვირთო ავტომობილზე ან ტრაქტორზე ნებისმიერი სახეობის მისაბმელით და ნახევარმისაბმელით, აგრეთვე მექანიკური სატრანსპორტო საშუალების მანქანის ნაწილებზე; დ) 8.4.8 – საცნობი ნიშნით „სახიფათო ტვირთი“ აღნიშნულ სატრანსპორტო საშუალებაზე.





I



II



III



IV

ლავარდ ფანდაგონ ნისაენტთი комбинацийა, კაეცყიყი არხაიდ პარახატ კაენი  
базонинаг нисანაჲი “тәссаг уәргътә” ифтонг транспортон фәრәзтыл?

1

ერმაესტ IV

2

ერმაესტ I ჯამა III

3

ერმაესტ II

4

ერმაესტ I

### განმარტება:

„საგზაო მოძრაობის შესახებ“ საქართველოს კანონის პირველი დანართის მე-8 თავის (დამატებითი ინფორმაციის ნიშნები (დაფები)) 8.4.1-8.4.8 პუნქტებისა და ამავე პუნქტის შენიშვნის „დ“ ქვეპუნქტის თანახმად, დაფები 8.4.1–8.4.8 „სატრანსპორტო საშუალების სახეობა“ - მიუთითებს იმ სატრანსპორტო საშუალების სახეობას, რომლებზედაც ვრცელდება ნიშნის მოქმედება. დაფა 8.4.8 ნიშნის მოქმედებას ავრცელებს საცნობი ნიშნით „სახიფათო ტვირთი“ აღჭურვილ სატრანსპორტო საშუალებაზე.



ლავერდ ფანდაგონ ნისანტთი комбинаци, уымәл цәуәен хайы уәлцъары цауы:

1

Бар нә дәтты змәлын 50 км/сах-әй  
фылдәр тагъдадәй

2


Амоны рекомендацигонд змәлды  
тагъдадмә фәндадҗы ләвәрд  
фадыгыл

3

Змәлыны бар иу кәны әрмәст 50  
км/сах кәнә фылдәр тагъдадәй

### განმარტება:

„საგზაო მოძრაობის შესახებ“ საქართველოს კანონის პირველი დანართის 3.24 პუნქტის თანახმად საგზაო ნიშანი 3.24. „მაქსიმალური სიჩქარის შეზღუდვა“ – კრძალავს მოძრაობას ნიშანზე აღნიშნულზე მეტი სიჩქარით (კმ/სთ). ამავე დანართის მე-8 თავის (დამატებითი ინფორმაციის ნიშნები (დაფები)) 8.16 პუნქტის თანახმად, დაფა 8.16 „სველი საფარი“ - მიუთითებს, რომ ნიშნის მოქმედება ვრცელდება დროის იმ პერიოდში, როცა სავალი ნაწილის საფარი სველია. გამოიყენება 1.16, 3.20, 3.22 და 3.24 ნიშნებთან ერთად.



ლავაერდ სიტუაციიყ, კაეცყ სკჿაერაეგან ბარ ნაყ ფატაედჟყ (სტრელკაყყ) ჯერდაემადმაე ტრანსპორტონ ფაერაეზყ რაზილან?

1

აერმაესტ მოტოციკლყ სკჿაერაეგან

2


აერმაესტ ურს ავტომობილყ სკჿაერაეგან

3

ნაედაერ იუ (ნიკაეცყ) ტრანსპორტონ  
ფაერაეზყ სკჿაერაეგან

### განმარტება:

„საგზაო მოძრაობის შესახებ“ საქართველოს კანონის მე-2 დანართის პირველი თავის (ჰორიზონტალური მონიშვნა) 1.11 პუნქტის თანახმად, საგზაო მონიშვნა 1.11 ყოფს საპირისპირო ან იმავე მიმართულებით მოძრავ სატრანსპორტო ნაკადებს გზის მონაკვეთზე, სადაც გადაჯგუფება ნებადართულია მხოლოდ ერთი ზოლიდან; აღნიშნავს მობრუნების ადგილს, სადგომი მოედნიდან გამოსასვლელსა და შესასვლელს და ა. შ., სადაც მოძრაობა ნებადართულია მხოლოდ ერთ მხარეს. 1.11 ხაზის გადაკვეთა ნებადართულია წყვეტილი ხაზის მხრიდან, ასევე უწყვეტი ხაზის მხრიდან, მაგრამ მხოლოდ გასწრების ან შემოვლის დამთავრებისას.



ლავაერდ სიტუაციიყ, კაეცყ სკუაერაგაენ ბარ ნაყ ფატაედჯყ (სტრელკაყყ) აერდაემადმაე  
ავტომობილყ რაზილაენ?

1

აერმაესტ ბურ ავტომობილყ სკუაერაგაენ

2

აერმაესტ სყრყ ავტომობილყ  
სკუაერაგაენ

3

ნაედარ იუ (ნიკაეცყ) ავტომობილყ  
სკუაერაგაენ

### განმარტება:

„საგზაო მოძრაობის შესახებ“ საქართველოს კანონის მე-2 დანართის პირველი თავის (ჰორიზონტალური მონიშვნა) 1.11 პუნქტის თანახმად, საგზაო მონიშვნა 1.5. ყოფს საპირისპირო მიმართულებით მოძრავ სატრანსპორტო ნაკადებს გზაზე, რომელსაც მოძრაობის ორი ან სამი ზოლი აქვს; აღნიშნავს მოძრაობის ზოლის საზღვარს ერთი მიმართულებით მოძრაობისათვის განკუთვნილი ორი ან ორზე მეტი ზოლის არსებობისას. 1.5 ხაზის გადაკვეთა ნებადართულია ნებისმიერი მხრიდან.





Фაენდადჯი ცაეუაენ ჰაილ ფისტყტაე ნყსან კაენყნც:

1

დერდძაეგ იუყლ აევაჰსდერ  
ცერაეგდჟყნ პუნკტმაე

2

ფაენდადჯი (მარშრუტყ) ნომყრყ


3

აკკაგ ნომყრყ მარშრუტონ  
ტრანსპორტონ ფერაეზტაენ ნყსანგონდ  
ზმაელყნყ ჰაეჰჰყტაე

ბანმარტყბა:

„საგზაო მოძრაობის შესახებ“ საქართველოს კანონის მე-2 დანართის პირველი თავის (ჰორიზონტალური მონიშვნა) 1.22 პუნქტის თანახმად, საგზაო მონიშვნა 1.22 აღნიშნავს გზის (მარშრუტის) ნომერს.





Фænдаджы цæуæн хайыл бур нысан бæрæг кæны:

1

Маршрутон транспортон фæрæзты æрлæууæн æмæ таксийы парковкæ

2

Дæргъвæтин улæфтæн æрлæууæны бынат

### განმარტება:

„საგზაო მოძრაობის შესახებ“ საქართველოს კანონის მე-2 დანართის პირველი თავის (ჰორიზონტალური მონიშვნა) 1.17 პუნქტის თანახმად, საგზაო მონიშვნა 1.17 ყვითელი ხაზი აღნიშნავს სამარბრუტო სატრანსპორტო საშუალების გაჩერების ადგილს და ტაქსის სადგომს.



ფანდადჯი ცაუენ ჰაილ ცაჰგაჲი ნისან ბჲრჲგ კაენი ბინათი, ცირან:

1

ფისტაგონ ფანდაგ (კაჲაჲფანდაგ)  
აჲმბაჲლი ფანდადჯი ცაუენ ჰაიიმაჲ

2

ბელოსიპედის ფანდაგ აჲმბაჲლი  
ფანდადჯი ცაუენ ჰაიიმაჲ

### განმარტება:

„საგზაო მოძრაობის შესახებ“ საქართველოს კანონის მე-2 დანართის პირველი თავის (ჰორიზონტალური მონიშვნა) 1.15 პუნქტის თანახმად, საგზაო მონიშვნა 1.15 აღნიშნავს ადგილს, სადაც ველობილიკი კვეთს გზის სავალ ნაწილს.



Фანდაдჯი ცაუაენ хайыл дыдагъ пунктирон хахх бæрæг кæны:

1

Алвæндагыл (перекрестокыл)  
велосипеды фæндæгтæ

2

Бынаты, цыран скъæрæг  
бахъæуæджы рæстæджы хъуамæ  
æрурома

3

Реверсонæй æрбæстонгонд змæлды  
хæххыты арæнты

### ბანმარტიბა:

„საგზაო მოძრაობის შესახებ“ საქართველოს კანონის მე-2 დანართის პირველი თავის (ჰორიზონტალური მონიშვნა) 1.9 პუნქტის თანახმად, საგზაო მონიშვნა 1.9 აღნიშნავს რევერსულად მოწესრიგებული მოძრაობის ზოლის საზღვარს; ყოფს საპირისპირო მიმართულებით მოძრაავ სატრანსპორტო ნაკადებს (როდესაც გამორთულია რევერსული შუქნიშანი) გზაზე, რომელიც რევერსულად წესრიგდება.





Фენდადჟი ცაუაენ ჰაილ ფისტ “BUS” ბერაგ კაენი სპეციალონ ხიხხი, კაეცი ნისანგონდ უ:

1

Сындæгцæуæг транспортон фæрæзтæн

2

Велосипедтæн æмæ мопедтæн

3

Маршрутон транспортон фæрæзтæн

### განმარტება:

„საგზაო მოძრაობის შესახებ“ საქართველოს კანონის მე-2 დანართის პირველი თავის (ჰორიზონტალური მონიშვნა) 1.23 პუნქტის თანახმად, საგზაო მონიშვნა 1.23 აღნიშნავს სპეციალურ ზოლს, რომელიც განკუთვნილია სამარშრუტო სატრანსპორტო საშუალების მოძრაობისათვის.



წინადადების დასაწყისიდან წინადადების დასასრულამდე ხაზის ასეთი ნიშნის (სტრელკის) ფორმის დასაწყისიდან:

1

თავის დასაწყისიდან წინადადების დასასრულამდე ხაზის ასეთი ნიშნის (სტრელკის) ფორმის დასაწყისიდან:

2

დასაწყისიდან წინადადების დასასრულამდე ხაზის ასეთი ნიშნის (სტრელკის) ფორმის დასაწყისიდან:

### პასუხი:

„საგზაო მოძრაობის შესახებ“ საქართველოს კანონის მე-2 დანართის პირველი თავის (ჰორიზონტალური მონიშვნა) 1.19 პუნქტის თანახმად, საგზაო მონიშვნა 1.19 იძლევა გადართხილებას სავალი ნაწილის შევიწროებასთან, იმ მონაკვეთთან, სადაც მცირდება მოცემული მიმართულებით მოძრაობის ზოლების რაოდენობა, ან საპირისპირო მიმართულებით მოძრაობის სატრანსპორტო ნაკადების გამყოფი 1.1 ან 1.11 მონიშვნასთან მიახლოების თაობაზე. 1.19 მონიშვნა პირველ შემთხვევაში შეიძლება გამოყენებულ იქნეს 1.21.1–1.21.3 ნიშნებთან ერთად.





Ахæм вертикалон фæнысангонд нысан кæны:

1

Фæндаджы цæуæн хайыл змæлды  
хæххыты бæрцы

2

Тъунелы, хиды æмæ  
фæндагуадзæны æмæ æндæр  
арæзтыты элементты бинаг кæрон,  
кæцыты ис 5-æй къаддæр брзæндыл  
фæндаджы цæуæн хайæ æмæ  
кæцыты бынмæ æнæхъæнæй кæнæ  
цъусгай хизы фæндаджы цæуæн хай

### ბანმარტუბა:

„საგზაო მოძრაობის შესახებ“ საქართველოს კანონის მე-2 დანართის მე-2 თავის (ვერტიკალური მონიშვნა) 2.2 პუნქტის თანახმად, საგზაო მონიშვნა 2.2 - აღნიშნავს გვირაბის, ხიდის, გზაგამტარისა და სხვა ნაგებობის ელემენტის ქვედა ნაპირს, რომელიც განთავსებულია გზის სავალი ნაწილიდან 5 მეტრზე ნაკლებ სიმაღლეზე და რომლის ქვეშ მთლიანად ან ნაწილობრივ გადის გზის სავალი ნაწილი.

თემა 29:

## სამედიცინო დახმარება

---

Фანდაгон - транспорტონ цауы (аварийы) фæстиуæгæн цæфы уавæрæн саргъ кæныны нысанæй фыццаджыдæр хъæуы:

**1**

Æрмæст улæфæнты рауæრæх кæнын æмæ улæфты контроль

**2**

Æрмæст æмбарынады басгарын

**3**

Æрмæст фынаёгæнæн артерийыл пульсацийы басгарын

**4**

Куыд улæфæнты рауæрæх кæнын æмæ улæфты контроль, афтæ фынаёгæнæн артерийыл пульсацийы æмæ æмбарынады басгарын

### განმარტება:

მნიშვნელოვანია დაზარალებულის მდგომარეობა სწრაფად და მართებულად შეფასდეს. პირველი ეტაპი არის ცნობიერების შემოწმება (არის თუ არა დაზარალებული გონზე). მეორე ეტაპი - სასუნთქი გზების გახსნა მესამე ეტაპი - სუნთქვის კონტროლი. მეოთხე ეტაპი - საძილე არტერიამდე პულსაციის შემოწმება.

Кәд æмæ фәндагон-транспортон цауы фәстиуәгәен цәфәен ис цармы 2-аг гъæды сыгъддзинад фыццаг медицинон æххуысы тыххæй уымæн хъуамæ:

- 1 Сыгъд цармы уәлцъар хъуамæ æрæхсæм уазал донæй, стæй йæ байсæрдæм йоды тæнгъæдæй, æрывæрæм ыл бактериоцидон кәнæ сыгъдæг æрытауән, æмæ йæ стухæм бинтæй
- 2 Фæкъæртт кәнæм тæппæлтты, ссыгъдæг кәнæм сыгъд уәлцъар дзаумæтты баззайæггæгтæй, æрывæрæм ыл бактериоцидон кәнæ сыгъдæг æрытауән, æмæ йын дон баназын кәнæм
- 3 Тæппæлтты ма фæкъæртт кәнæм, дзаумайы баззайæггæгтæй сыгъд уәлцъарæй ма ссыгъдæг кәнæм, лыгыл æрывæрæм стерилон æрытауән, бинтæй йæ ма стухæм, æрывæрæм ыл ихджын кәнæ уазал æрытауән, раттæм ын рыстуромæн хос (кәд æмæ йын уыцы рыстуромæн хос аллерги нæ дæтты) æмæ йын дон раттæм нуазынæн

### განმარტება:

თუ საგზაო-სატრანსპორტო შემთხვევის შედეგად დაშავებულს აღენიშნება კანის მე-2 ხარისხის დამწვრობა (კანის ქსოვილის დარღვევა და მონითალო შეფერილობა, დამწვრობის ადგილზე სითხით შევსებული ბუშტების წარმოქმნა, ძლიერი ტკივილი) პირველადი სამედიცინო დახმარების აღმოჩენის მიზნით მას ბუშტები არ უნდა გავუხსნათ, ტანსაცმლის ნარჩენები დამწვარი ზედაპირიდან არ მოვაცილოთ, ჭრილობაზე დავადოთ სტერილური საფენი, ბინტით არ შევუხვიოთ, მივადოთ ყინული ან ცივი საფენი, მივცეთ ტკივილგამაყუჩებელი საშუალება (თუ დაშავებულს მის მიმართ ალერგია არ გააჩნია) და დაშავებულს დავალევივით წყალი.

## ВОПРОС 736

ПРАВИЛЬНЫЙ ОТВЕТ: 3

Кәд æмæ фæндагон – транспортон цауы (аварийы) фæстиуæгæн цæфæн (гоймаг) нæ зыны йæ улæфты нысæнтæ æмæ фынæйгæнæн артерийыл пулсаци, фыццаг медицинон æххуысы нысанæн, уымæн хъуамæ уагъд æрцæуа:

1

Æрмæст кæнгæ улæфты

2

Æрмæст зæрдæйы æнæкомкоммæ массажи

3

Куыд кæнгæ улæфты, афтæ зæрдæйы æнæкомкоммæ массажи

## განმარტება:

თუ დაზარალებულს არ აღენიშნება სუნთქვა და პულსაცია საძილე არტერიაზე, მას უნდა ჩაუტარდეს ხელოვნური სუნთქვა და გულის არაპირდაპირი მასაჟი (ორი ჩაბერვა და 30 გულის მასაჟი, ჯამში უნდა გამოვიდეს გულის მასაჟი ერთ წუთში 100).

## ВОПРОС 737

ПРАВИЛЬНЫЙ ОТВЕТ: 1

Кәд æмæ фæндагон – транспортон цауы (аварийы) фæстиуæгæн цæф (рынчын) нæ улæфы, фæლæ фынæйгæнæн артерийыл ис пулсаци, уымæн хъуамæ уагъд æрцæуа:

1

Æрмæст არავგæ ულæფты

2

Æრმæსტ зæрдæйы æнæкомкоммæ массажи

3

Куыд არავგæ ულæფты, აფტæ зæрдæйы æნæ комкоммæ массажи

## განმარტება:

თუ დაზარალებული არ სუნთქავს, მაგრამ აღენიშნება პულსაცია საძილე არტერიაზე, მას უნდა ჩაუტარდეს მხოლოდ ხელოვნური სუნთქვა, ერთი ჩასუნთქვა ყოველ 6 წამში, მანამ ვიდრე არ აღუდგება სპონტანური სუნთქვა.



## ВОПРОС 738

ПРАВИЛЬНЫЙ ОТВЕТ: 1

Кәд әмә гуырысхо (дызәрдыг) кәнаәм фәндагон – транспортон цауы (аварийы) фәстиуәгәән цәф бәрзәйы кәнаә рагыстәджы базианы тыххәй әмә йын тас у, куыд әй хуамә акәна (аласа) иу адәймаг әнә искәй әххуысәй?

1

Бадгә позицийы мидәг цәфәән чылдымырдыгәй цәнгты (кхухты) уәхсджыты бынты хуамә акәнаәм, сфиксир кәнаәм дәллаг (бинаг) әфсәр әмә бәрзәй әмә йә афтәмәй аласәм фәстәмә

2

Бадгә позицийы мидәг цәфәән йә кхәхты 'хсән әрләууәм цәнгты (кхухты) уәхсджыты бынты хуамә акәнаәм әмә чылдымырдыгәй (кхухтәй) фидар ныххәцәм. Схәцәм ыл кхәхтырдыгәй әмә цәфы аласәм фәстәмә

## განმარტება:

დამხმარეს გარეშე დაშავებულის გადათრევით გადაადგილება კისრის ან ხერხემლის დაზიანების ეჭვის შემთხვევაში, თუ მის სიცოცხლეს საფრთხე ემუქრება უნდა მოხდეს შემდეგნაირად - მოათავსეთ დაშავებული მჯდომარე პოზიციაში. დადებით დაშავებულის ზურგს უკან, მკლავები მხრებქვეშ შეუცურეთ, დავაფიქსიროთ ქვედა ყბა და კისერი და ისე გადათრევით გადავაადგილოთ უკან.

## ВОПРОС 739

ПРАВИЛЬНЫЙ ОТВЕТ: 3

Кәд әмә фәндагон-транспортон цауы (аварийы) фәстиуәгәән цәфәән гуыбыны алфәмблайы уыдзәни лыг цәф, уый хуамә транспортиргонд әрцәуа:

1

Йә фарсыл хуысгә уавәры мидәг әрзоныгуыл кәнгәйә

2

Æрдәгбадгәйы уавәры мидәг кхәхыл ләугәйә

3

Чылдымыл хуысгә уавәры мидәг әрзоныгуыл кәнгәйә

4

Бадгә уавәры мидәг

## განმარტება:

მუცლის არეში მიღებული ჭრილობის დროს დაშავებულის ტრანსპორტირება უნდა მოხდეს ზურგზე დაწოლილი მდგომარეობაში მუხლებში მოხრილი ფეხებით.

## ВОПРОС 740

ПРАВИЛЬНЫЙ ОТВЕТ: 3

Кәд æмæ фæндагон-транспортон цауы (аварийы) фæстиуæгæн цæф бавзæрис (фæсурис), фыццаг медицинон æххуысы нысанæн уый хъуамæ:

1 Æрхуыссын кæнæм йæ фарсыл къæхтæ гуыбырæй

2 Æрхуыссын кæнæм чъылдымыл, йæ сæры бын ын бакæнæм баз, æмæ йæ смудын кæнæм мысатырон (нишадурæ) спиртмæ

3 Æрхуыссын кæнæм чъылдымыл, къæхты размæ ракæнæм, æмæ йын смудын кæнæм мысатыры спирт

## განმარტება:

გულის წასვლის შემთხვევაში დაზარალებული უნდა დავანვინოთ ზურგზე, ფეხები წამოუწიოთ. ვასუნთქოთ ნიშადურის სპირტი, საფეთქლები დავუბილოთ ადეკოლონით (ან სხვა სპირტის შემცველი სითხით).

## ВОПРОС 741

ПРАВИЛЬНЫЙ ОТВЕТ: 2

Фæндагон-транспортон цауы (аварийы) фæстиуæгæн, цæф бавзæрис, æмæ хъуамæ транспортиргонд æрцæуа:

1 Чъылдымыл æрхуысгæ уавæры, баз ын бакæнæм йæ бæრзæйы æмæ астæуы бын, афтæмæй

2 Фарсыл æрхуысгæ уавæры

## განმარტება:

თავის ტვინის შერყევის შემთხვევაში დაშავებული უნდა დავანვინოთ გვერდზე და გადავიყვანოთ ასეთ მდგომარეობაში უახლოეს სამედიცინო დაწესებულებაში.

## ВОПРОС 742

ПРАВИЛЬНЫЙ ОТВЕТ: 3

Кәд æмæ фæндагон-транспортон цауы (аварийы) фæстиуæгæн цæф бавзæрис (фæсурис), фыццаг медицинон æххуысы нысанæн уый хъуамæ: фыццаг медицинон æххуысы нысанæн уый хъуамæ: уый хъуамæ транспортиргонд æрцæуа:

1

Æрхуыссын кæнæм йæ фарсыл къæхтæ гуыбырæй

2

Æрхуыссын кæнæм чъылдымыл, йæ сæры бын ын бакæнæм баз, æмæ йæ смудын кæнæм мысатырон (нишадур) спиртмæ

3

Æрхуыссын кæнæм чъылдымыл, къæхты размæ ракæнæм, æмæ йын смудын кæнæм мысатыры спирт

## განმარტება:

დაშავებულის გულმკერდის გამჭოლი ჭრილობით ტრანსპორტირება შეიძლება ჯანმრთელ გვერდზე დანოლილ ან ნახევრადმჯდომარე მდგომარეობაში.

## ВОПРОС 743

ПРАВИЛЬНЫЙ ОТВЕТ: 1

Иу къухы фæрисыны (ныццавыны) рæстæджы фæндагон-транспортон цауы (аварийы) фæстиуæгæн цæфæн йæ пиджак кæнæ хæдоны хъуамæ раласæм:

1

Нырма æнæниз, стæй уый фæстæ цæф къухыл

2

Нырма цæф, стæй уый фæстæ æнæниз къухыл

3

Æмრæстæджы дыууæ къухыл.

## განმარტება:

ერთი ხელის დაზიანების შემთხვევაში დაშავებულს პიჯაკი ან პერანგი ჯერ უნდა გავხადოთ ჯანსაღ, ხოლო შემდეგ დაშავებულ ხელზე.

## ВОПРОС 744

ПРАВИЛЬНЫЙ ОТВЕТ: 3

Травмәйон шоки рәстәдҗы җыцҗаҗ медицинаҗ аҗхуыс бакәнынаҗ, фәндагон-транспортон цауы (аварийы) фәстиуәҗәҗ цәфәҗ (рынчынаҗ) хәуамә:

1 Раттәҗ рыстуромәҗ фәрәз (хос), аҗхуыссын аҗ кәнаҗ уәлгоммә, йә сәры быҗ ын бавәрәҗ аҗгом тыхт аҗмбәрзәҗ кәнаҗ дзаума

2 Раласәҗ ын йә дзауматы, раттәҗ ын рыстурәҗмәҗ фәрәз (хос), йә ныхыл ын аҗывәрәҗ уазал аҗмбәрзәҗ

3 Аҗнаҗаҗҗхәҗаҗҗ цауы аҗруромәҗ тугҗыды, бамбәрзәҗ ыл хәҗрмуаттә; кәд ын нә уыдзәҗ гуыбыны мидәҗгон орҗаҗнты аҗвхәлҗ, бадарәҗ ын хәҗрм тәҗҗәҗ

## განმარტება:

ტრამველი შოკის დროს დაშავებულს უნდა გაეწიოს შემდეგი პირველადი სამედიცინო დახმარება - აუცილებლობის შემთხვევაში შევაჩეროთ სისხლდენა, დავათვალოთ სათბურები, თუ არ ვეჭვობთ მუცლის ღრუს შიდა ორგანოების დაზიანებას - დავალეწინოთ თბილი სასმელი.

## ВОПРОС 745

ПРАВИЛЬНЫЙ ОТВЕТ: 1

Фәндагон - транспортон цауы (аварийы) фәстиуәҗәҗ цәфы (рынчыны) ставд артерийә тугҗыды хуызәҗ нысәҗнттә ис:

1 Йә дзаумәттә сты уымәл сырх-сырхид тугәй, кәҗы цәфәй (лыгәй) цыхҗырәҗау ләдәҗрсы

2 Йә дзаумәттә таҗҗд уымәл кәҗынҗ тарсыҗх хуыз тугәй, кәҗы цәфәй (лыгәй) цәҗсҗаҗ ләдәҗрсы

3 Йә дзаумәттә уымәл сты тугәй аҗрмәст цәфы (лыг) бынаты, кәҗы цәфәй (лыгәй) цәҗсҗаҗ ләдәҗрсы

## განმარტება:

არტერიის დაზიანების დროს სისხლს აქვს ღია-აღისფერი და ჭრილობიდან გამოედინება პულსირებული ნაკადით. არტერიული სისხლდენა საშიშია სიცოცხლისათვის, განსაკუთრებით მსხვილი არტერიის დაზიანებისას, რადგა დაზარალებულმა დროის მოკლე მონაკვეთში შეიძლება დაკარგოს დიდი რაოდენობის სისხლი.

## ВОПРОС 746

ПРАВИЛЬНЫЙ ОТВЕТ: 2

Фænдагон-транспортон цауы (аварийы) фæстиуæгæн цæфы хъæдгомæй венæйы тугдзыды нысæнттæ ис:

1

Дзаумæттæ сты сырх-сырхид тугæйдзаг, кæцы хъæдгомæй лæдæрсы пулсацигонд къадайæ

2

Дзаумæттæй сындæггай тар хуыз туг рахъардта, кæцы хъæдгомæй лæдæрсы лæмæгъ къадайæ

## განმარტება:

ჭრილობიდან ვენური სისხლდენის დამახასიათებელია მექი-ალუბლისფერი სისხლის სუსტი ნაკადი. აუცილებელია მჭიდრო სახვევის დადება უშუალოდ ჭრილობის ადგილზე. სახვევის ქვედა ფენის სისხლით გაჟღენთვისას, ის არ უნდა მოცილდეს და უნდა დაემატოს ახალი სახვევი.

## ВОПРОС 747

ПРАВИЛЬНЫЙ ОТВЕТ: 1

Фænдагон-транспортон цауы (аварийы) фæстиуæгæн цæфы (рынчыны) къабæзтæ базианы рæстæджы артерион тугцыды уромæг лахти хъуამæ сывæრæм хъæдгомыл:

1

Бынатæй уæлдæр

2

Бынатæй дæлдæრ

3

Бынатыл

## განმარტება:

საგზაო-სატრანსპორტო შემთხვევის შედეგად დაშავებულის კიდურების დაზიანების შემთხვევაში არტერიული სისხლდენის შემაჩერებელი ლახტი უნდა დავადოთ ჭრილობის ადგილის ზემოთ.



## ВОПРОС 748

ПРАВИЛЬНЫЙ ОТВЕТ: 2

Æრæფы æрцæттæ кæныны æрмæг куы нæ уа уæд фæндагон-транспортон цауы (аварийы) фæстиуæгæн базангæнæгæн къахы стæджы цъæлы рæстæджы, хъæуы:

1

Цæф къахыл æнæхъæн дæргъмæ сывæრæм бинты бæттæн

2

Цæф æмæ æнæниз къах кæრæдзимæ бинты бæттæნæй бафидар кæнæм, уымæ æнæмæнгхъæугæ у къæхты 'хсæн бавæрæм фæлмæн хъуымац (уафт)

## განმარტება:

საგზაო-სატრანსპორტო შემთხვევის შედეგად დაშავებულის ფეხის ძვლის მოტეხილობის შემთხვევაში, თუ არა გვაქვს არტაშანის დასამზადებელი მასალა დაშავებულს დაზიანებული და ჯანმრთელი ფეხი უნდა დავამაგროთ ერთმანეთს ბინტის სახვევის გამოყენებით. ამასთან აუცილებელია ფეხებს შორის ჩავუდოთ რბილი ქსოვილი.

## ВОПРОС 749

ПРАВИЛЬНЫЙ ОТВЕТ: 1

Фæндагон-транспортон цауы (аварийы) фæстиуæгæн цæфæн сины æмæ აგъდს стæджы აცъæлы цауы (რæстæджы) “таგъд медицинон æххуысы” æрбацыდმæ, уый хъуამæ:

1

Æрхუыссын кæნæм чъылдымыл (фæсонтыл) уæрджыты бын бакæნæм æнгом тыхтæй æрытаუæн кæნæ дзаума, რატთæმ ын რыстурომæн фæრæз (ანალгетик)

2

Æრхუыссын кæნæм æნæцæფ ფარсыл, სывæრæმ ცæფ быნатыლ уазალ æрытаუæн, რატთæმ ын რыстурომæნ ფერæз (ანალгетик)

## განმარტება:

მენჯისა და ბარძაყის ძვლის მოტეხილობის შემთხვევაში „სასწრაფო სამედიცინო დახმარების“ მოსვლამდე დაშავებული უნდა დავანჯინოთ ზურგზე მუხლებ ქვეშ ამოვუდოთ მჭიდროდ დახვეული საფენი ან ტანსაცმელი, მივცეთ ტკივილგამაყუჩებელი საშუალება.

## ВОПРОС 750

ПРАВИЛЬНЫЙ ОТВЕТ: 3

Кæцы цауы ис гæнæн фæндагон-транспортон цауы (аварийы) фæстиуæгæн цæфы (рынчыны) автомобилы кабинæйæ рахизын кæнын (райсын)?

1 Алыхатдæр цæфы фæсур (æмбарынад фесафыны) цауы

2 Цæфы дæллаг къабæзты (къæхты) асасты цауы

3 Цæфæн йе мбарынад сæфт куы уа (куы фæсур уа) æмæ йæ улæфт æмæ пулсаци бæрæг куы нæ уа

## განმარტება:

საგზაო-სატრანსპორტო შემთხვევის შედეგად დაშავებულის ავტომობილის კაბინიდან გადმოყვანა მიზანშეწონილია, როცა დაშავებულს გონება აქვს დაკარგული და არ აღენიშნება სუნთქვა და პულსაცია საძილე არტერიამდე.

## ВОПРОС 751

ПРАВИЛЬНЫЙ ОТВЕТ: 2

Фæндагон-транспортон цауы (аварийы) фæстиуæгæн цæфы астæуы магъзы æнæбазианæй бæრзæйы рагъыстæджы травмæйы сиптомтæ (нысæнттæ) ис:

1 Цæф (рынчын) не змæлын кæны уæллаг къабæзты (къухты) æмæ зынтæй улæфы

2 Цæфæн (рынчынæн) бæრзæйы æмæ чъылдымы бынат риссынц, кæцыйы рыст фыддæр кæны къухæй февналгæйæ

## განმარტება:

საგზაო-სატრანსპორტო შემთხვევის შედეგად დაშავებულის ზურგის ტვინის დაუზიანებლად კისრის ხერხემლის მალეების ტრავმების სიმპტომებია - ტკივილი კისრისა და ზურგის არეში. ტკივილი მატულობს ხელით შეხებისას.

## ВОПРОС 752

ПРАВИЛЬНЫЙ ОТВЕТ: 4

Кәд фәндагон-транспортон цауы (аварийы) фәстиуәгәен цәфәен фәрыст (фәджиздәрд) йә бәрзәй кәнә астау, кәнә гуырысхойаг у сә базианы тыххәй, нәй гәнәен:

1

Æрмәст цәфәен (рынчынаен) сәры әмә бәрзәйы змәлын кәнын

2

Æрмәст цәфы (рынчыны) хъәдгоммә февналын

3

Æрмәст цәфәен (рынчынаен) стәджы пырхәнты сраст кәнын әмә әцәгәлон буарәдтәй расыгдәг кәнын

4

Куыд цәфәен сәры әмә бәрзәйы змәлын кәнын, афтә уый лыгмә февналын, стәджы пырхәнты сраст кәнын әмә әцәгәлон буарәдтәй расыгдәг кәнын

## განმარტება:

საგზაო-სატრანსპორტო შემთხვევის შედეგად დაშავებულის კისრის ან ხერხემლის დაზიანებისას ან მასზე ეჭვის მიტანისას არ შეიძლება: - დამარაღებულისთვის თავისა და კისრის მოძრაობა; - ჭრილობაზე შეხება; - ძვლის ნამსხვრევების ჩასწორება; - უცხო სხეულების მოცილება.

## ВОПРОС 753

ПРАВИЛЬНЫЙ ОТВЕТ: 2

Кәд фәндагон-транспортон цауы (аварийы) фәстиуәгәен зиан баййафәгәен йә рагыстәг базиан ис, уый хъуамә:

1

Æрхуыссын әй кәнәм йә фарсыл, раст әмә хъәбәр уәлцъарыл, йә сәры бын ын бакәнәм баз

2

Æрхуыссын әй кәнәм йә чъылдымыл, раст әмә хъәбәр уәлцъарыл, йә сәры бын ын бакәнәм баз

## განმარტება:

საგზაო-სატრანსპორტო შემთხვევის შედეგად დაშავებულის ხერხემლის დაზიანების დროს დაშავებული უნდა დავანჯინოთ ზურგზე, სწორ და მაგარ ზედაპირზე და ამოვუდოთ ბალიში კისრისა და წელის არეში.

## ВОПРОС 754

ПРАВИЛЬНЫЙ ОТВЕТ: 2

Кәд фәндагон-транспортон цауы (аварийы) фәстиуәгәән зиан баййафәгәән йә рагыстәг базиан ис, уый хәуамә транспортәй конд әрцәуа:

1

Йә фарсыл әрхуысгә уавәры, раст әмә хәәбәр уәлцәрыл

2

Йә чылдымыл әрхуысгә уавәры, раст әмә хәәбәр уәлцәрыл

3

Бадгә уавәры, раст әмә хәәбәр уәлцәрыл

## განმარტება:

ყველაზე საშიშია დაზიანებული ხერხემლით დაშავებულის ტრანსპორტირება. ხერხემლის ოდნავ გადაადგილებამ შეიძლება გამოიწვიოს ზურგის ტვინის განწყვეტა, ამიტომ თუ ეჭვი გვეპარება დაშავებულის ხერხემლის დაზიანებაზე, აკრძალულია მისი დაჯდომა ან ფეხზე დგომა. უპირველეს ყოვლისა აუცილებელია დავანვინოთ სწორ და მაგარ ზედაპირზე (ხის დაფა, ფიცარი და სხვა მსგავსი). იგივე საგნები გამოიყენება ტრანსპორტირებისათვის.

## ВОПРОС 755

ПРАВИЛЬНЫЙ ОТВЕТ: 3

Артерион тугцыды рәстәдҗы цәрәәнбонаән тәссаг тудҗы бәрц (бирә) гәәнән ис фәсәфа:

1

2-5 мин-ты дәрҗы

2

5-10 мин-ты дәрҗы

3

10-15 мин-ты фәстә

## განმარტება:

დაშავებულის სიცოცხლისათვის საშიში სისხლის რაოდენობა არტერიული სისხლდენის დროს შეიძლება დაიკარგოს 10-15 წთ-ის შემდეგ.

## ВОПРОС 756

ПРАВИЛЬНЫЙ ОТВЕТ: 2

Кәд фәндагон-транспортон цауы (аварийы) фәстиуәгән зиан баййафәгән йә рагыстәг базиан ис, уый хъуамә транспортәй конд әрцәуа:

1

Йә фарсыл әрхуысгә уавәры, раст әмә хъәбәр уәлцъарыл

2

Йә чъылдымыл әрхуысгә уавәры, раст әмә хъәбәр уәлцъарыл

3

Бадгә уавәры, раст әмә хъәбәр уәлцъарыл

## განმარტება:

საგზაო-სატრანსპორტო შემთხვევის შედეგად დაშავებულის კანის საფარველისა და კუნთოვანი ქსოვილის დაზიანების შემთხვევაში ჭრილობა უნდა დამუშავდეს გარშემო იოდის ხსნარით და დაედოს ბაქტერიციდული საფენი (მისი არ ქონის შემთხვევაში დაედოს სუფთა საფენი).

## ВОПРОС 757

ПРАВИЛЬНЫЙ ОТВЕТ: 2

Цахәм хуызы бәттәнтәй пайда кәнынц фәндагон-транспортон цауы (аварийы) фәстиуәгән зиан баййафәгән (рынчынаән) зәнг-фады әрхәгы базианы рәстәджы?

1

Дзыккубыды хуызән

2

Асты хуызән

3

Уырәхсәны хуызән

## განმარტება:

საგზაო-სატრანსპორტო შემთხვევის შედეგად დაშავებულის წვივ-ტერფის სახსრის დაზიანებისას გამოიყენება რვიანისებური სახვევი.



## ВОПРОС 758

ПРАВИЛЬНЫЙ ОТВЕТ: 1

Кәд фәндагон-транспортон цауы (аварийы) фәстиуәгәән зиан баййафәгәән (рынчынаән) асастис бәхбәттәәны стәг уый хәуамә танспортиргонд әрцәуа:

1

Бадгә уавәры мидәг

2

Фарсыл хуысгә уавәры мидәг

3

Чыылдымыл хуысгә уавәры мидәг

4

Гуыбыныл хуысгә уавәры мидәг

## განმარტება:

საგზაო-სატრანსპორტო შემთხვევის შედეგად დაშავებულის ტრანსპორტირება ლავინის ძვლის მოტეხილობის დროს უნდა მოხდეს მჭდომარე მდგომარეობაში.

## ВОПРОС 759

ПРАВИЛЬНЫЙ ОТВЕТ: 2

Фәндагон-транспортон цауы (аварийы) фәстиуәгәән зиан баййафәг (рынчын) райста сәры тенка әмә магъзы травмә йә зонд фесафыны цауы, уый хәуамә:

1

Æрбадын кәнәм

2

Æрхуыссын әй кәнәм фарсыл

3

Æрхуыссын әй кәнәм чыылдымыл

## განმარტება:

საგზაო-სატრანსპორტო შემთხვევის შედეგად დაშავებულის თავის ქალისა და ტვინის დაზიანების გამო, გონების დაკარგვის შემთხვევაში დაშავებული უნდა დავანვინოთ გვერდზე.

## ВОПРОС 760

ПРАВИЛЬНЫЙ ОТВЕТ: 3

Фænдагон-транспортон цауы (аварийы) фæстиуæгæн рынчынæн сондоны туагадæй (серная кислота) базиангонд цармы бынæтты хъуамæ:

1

Ссыгъдæг кæна спиртæй

2

Байсæрда йæ йоды тæнгъæдæй

3

Æрыхса йæ бирæ донæй

## განმარტება:

საგზაო-სატრანსპორტო შემთხვევის შემდეგად დაშავებულს გოგირდის მჟავით დაზიანებული კანის უბნები უნდა გადაერეცხოს წყლის უხვი რაოდენობით.

## ВОПРОС 761

ПРАВИЛЬНЫЙ ОТВЕТ: 1

Фænдагон-транспортон цауы (аварийы) фæстиуæгæн зиан баййафæг (рынчынæн) зæнджы стæджы асасты рæстæджы цæф къахыл арташан хъумæ æвæрд æрцæуа:

1

Дыууæрдыхæй фадæй æмбис (æрдæг) агъдмæ

2

Æддæрдыхæй фадæй сины стæгмæ

## განმარტება:

საგზაო-სატრანსპორტო შემთხვევის შემდეგად დაშავებულის წვივის ძვლების მოტეხილობის დროს დაშავებულ ფეხზე არტაშანი უნდა დაედოს ორივე მხრიდან ტერფიდან შუა ბარძაყამდე.

## ВОПРОС 762

ПРАВИЛЬНЫЙ ОТВЕТ: 1

Æнæмæнгхъуыддаг у æви нæ фæндагон-транспортон цауы (аварийы) фæстиуæгæн зиаан байфæгæн (рынчинæн) къабæзтыл тугцыд фæуромæг лахты сывæрыны дырыс рæстæг снысан кæнын?

1

Æнæмæнгхъуыддаг у

2

Æнæмæнгхъуыддаг нæу

## განმარტება:

საგზაო-სატრანსპორტო შემთხვევის შედეგად დაშავებულის სისხლდენის შემაჩერებელი ლახტი დადება მიზანშეწონილია კიდურის იმ ნაწილში, სადაც მხოლოდ ერთი ძვალია (მხარი, ბარძაყი). ლახტი არ იდება უშუალოდ კანზე: მის ქვეშ აუცილებლად უნდა მოთავსდეს ბამბა, ნაჭერი, ტანსაცმელი. სწორად დადებისას ჭრილობიდან წყდება სისხლდენა, პერიფერიაზე ქრება პულსაცია. აუცილებლად უნდა აღინიშნოს ლახტის დადების ზუსტი დრო.

## ВОПРОС 763

ПРАВИЛЬНЫЙ ОТВЕТ: 2

Фæндагон-транспортон цауы (аварийы) фæстиуæгæн зæнджы стæджы асасты травмæй цауы артерион тугцыд фæуромæг лахт хъуамæ сывæრæм:

1

Зæнгыл, лыгæй уæлдæრ

2

Агъдыл

## განმარტება:

საგზაო-სატრანსპორტო შემთხვევის შედეგად დაშავებულის წვივის ძვლის დაზიანების შემთხვევაში არტერიული სისხლდენის შემაჩერებელი ლახტი უნდა დავადოთ ბარძაყზე.

## ВОПРОС 764

ПРАВИЛЬНЫЙ ОТВЕТ: 1

Кәд фәндагон-транспортон цауы (аварийы) рынчын нә уләфы, фәлә йын пульс ис фәнаһы артерийыл, цас рәстәдҗы иу хатт хәуамә басғарай пульс?

1

Алы 2 минутмә

2

Алы 5минутмә

3

Алы 6 минутмә

## განმარტება:

თუ საგზაო-სატრანსპორტო შემთხვევის შედეგად დაშავებული არ სუნთქავს, მაგრამ აღენიშნება პულსი საძილე არტერიაზე, ყოველ 2 წუთში ერთხელ უნდა მოხდეს პულსის შემოწმება.

## ВОПРОС 765

ПРАВИЛЬНЫЙ ОТВЕТ: 1

Хәсдҗын у әви нә фәндагон-транспортон цауы (аварийы) хайадисәг скъәрәг җыцҗагон медицинон әххуыс бакәна аварийы фәстиуәгән рынчынтән?

1

Хәсдҗын у

2

Әрмәст уыцы цауы, нәу хәсдҗын, кәд сифтонг кәндзәни таҗд медицинон әххуысмә фәдзырдәй

3

Әрмәст хәсдҗын у уыцы цауы, кәд уый дохтыр у

4

Нәу хәсдҗын

## განმარტება:

„საგზაო მოძრაობის შესახებ“ საქართველოს კანონის 27-ე მუხლის პირველი პუნქტის „ე“ ქვეპუნქტის თანახმად, საგზაო-სატრანსპორტო შემთხვევაში მონაწილე მძღოლი ვალდებულია: ე) მიიღოს საჭირო ზომები, რათა პირველადი სამედიცინო დახმარება აღმოუჩინოს საგზაო-სატრანსპორტო შემთხვევის შედეგად დაშავებულს, გამოიძახოს სასწრაფო სამედიცინო დახმარება, გადაუდებელი აუცილებლობის შემთხვევაში დაშავებული გაგზავნოს უახლოეს სამკურნალო დაწესებულებაში გზად მიმავალი სხვა სატრანსპორტო საშუალებით, ხოლო თუ ეს შეუძლებელია – თავად წაიყვანოს იგი, გარდა იმ შემთხვევისა, როდესაც არსებობს საფუძვლიანი ეჭვი, რომ გადაყვანამ შეიძლება ზიანი მიაყენოს დაშავებულს.

Кæд æмæ хосгæнæн уагдонмæ уый ацæуыны æмæ рынчынты акæныны æнæмæнгдзинад ис, фæндагон-транспортон цауы (аварийы) хайадисæг скъæრæг, хæсджын у:

1

Баззайа æрцæугæ цауы (аварийы) бынатыл æмæ банхæлмæ кæса патрулон полицийы æвджиддар гоймаджы æрбацыдмæ æмæ æрмæст уый бардзырдæй хъуамæ акæна рынчынты хосгæнæн уагдонмæ

2

Арвита рынчынты æввахсдæр хосгæнæн уагдонмæ фæндагыл рацæугæ æндæр транспортон фæрæзæй æмæ кæд афтæ нæ гæнæн кæны, уæд сæ йæхæдæг хъуамæ акæна

### განმარტება:

„საგზაო მოძრაობის შესახებ“ საქართველოს კანონის 27-ე მუხლის პირველი პუნქტის „ე“ ქვეპუნქტის თანახმად, საგზაო-სატრანსპორტო შემთხვევაში მონაწილე მძღოლი ვალდებულია: ე) მიიღოს საჭირო ზომები, რათა პირველადი სამედიცინო დახმარება აღმოუჩინოს საგზაო-სატრანსპორტო შემთხვევის შედეგად დაშავებულს, გამოიძახოს სასწრაფო სამედიცინო დახმარება, გადაუდებელი აუცილებლობის შემთხვევაში დაშავებული გაგზავნოს უახლოეს სამკურნალო დაწესებულებაში გზად მიმავალი სხვა სატრანსპორტო საშუალებით, ხოლო თუ ეს შეუძლებელია – თავად წაიყვანოს იგი, გარდა იმ შემთხვევისა, როდესაც არსებობს საფუძვლიანი ეჭვი, რომ გადაყვანამ შეიძლება ზიანი მიაყენოს დაშავებულს.



## ВОПРОС 767

ПРАВИЛЬНЫЙ ОТВЕТ: 3

Дәлдәер ранымадгонд, кәцы цауы нә фәзындзәен фәндагон-транспортон цауы (аварийы) хайадисәг скъәрәгәен аварийы фәстиуәгәен рынчынты хосгәәнән уагдонмә акәныны хәсдзинад?

1

Кәд аварийы әрцыды уый аххос ницы ис

2

Кәд уый транспортон фәрәзы ацыды цауы скуынәг уыдзәен фәд (фәд фесәфдзәен), кәцы гәәнән ис пайда уа бәрндзинады сбәлвырд кәнынән

3

Кәд мә ис бындурон дызәрдыгдзинад уый фәдыл, цәмәй дардфәндаг гәәнән ис базиан кәна рынчынән

4

Ацы билеты ранымад кәцыфәнды цауы

## განმარტება:

„საგზაო მოძრაობის შესახებ“ საქართველოს კანონის 27-ე მუხლის პირველი პუნქტის „ე“ ქვეპუნქტის თანახმად, საგზაო-სატრანსპორტო შემთხვევაში მონაწილე მძღოლი ვალდებულია: ე) მიიღოს საჭირო ზომები, რათა პირველადი სამედიცინო დახმარება აღმოუჩინოს საგზაო-სატრანსპორტო შემთხვევის შედეგად დაშავებულს, გამოიძახოს სასწრაფო სამედიცინო დახმარება, გადაუდებელი აუცილებლობის შემთხვევაში დაშავებული გაგზავნოს უახლოეს სამკურნალო დაწესებულებაში გზად მიმავალი სხვა სატრანსპორტო საშუალებით, ხოლო თუ ეს შეუძლებელია – თავად წაიყვანოს იგი, გარდა იმ შემთხვევისა, როდესაც არსებობს საფუძვლიანი ეჭვი, რომ გადაყვანამ შეიძლება ზიანი მიაყენოს დაშავებულს.

## ВОПРОС 768

ПРАВИЛЬНЫЙ ОТВЕТ: 2

Кәд фәндагон-транспортон цауы (аварийы) фәстиуәгәен рынчынән ис фәсчыты әмә риуы стәеджы саст уый транспортигонд хъуамә әрцәуа:

1

Йә фарсыл хуысгә уавәры мидәг

2

Бадгәйә кәнә әрдәгбадгә уавәры мидәг

3

Чъылдымыл хуысгә уавәры мидәг

## განმარტება:

საგზაო-სატრანსპორტო შემთხვევის შედეგად დაშავებულის ნევნებისა და მკერდის ძვლის მოტეხილობის დროს დაშავებულის ტრანსპორტირება უნდა მოხდეს მჭიდროდ ან ნახევარმჭიდროდ მდგომარეობაში.

## ВОПРОС 769

ПРАВИЛЬНЫЙ ОТВЕТ: 3

Фәндагон-транспортон цауы (аварийы) фәстиуәгән рынчынаҥ йә фындзәй тугдзыды әруромынаҥ уый хъяамә:

1. Әрбадын кәнаәм әмбисбадгә уавәры, йә сәрыл ын фәстамаә ахәцәм әмә йын йә фындзыл сәвәрәм уазал әмбәрзән

2. Әрхуыссын кәнаәм йә фарсыл, фындзыл сәвәрәм уазал әмбәрзән

3. Әрбадын кәнаәм әмбисбадгә уавәры, йә сәр риумә әгуыбыр кәнаәд әмә йын афтәмаәй фындзыл сәвәрәм уазал әмбәрзән

## განმარტება:

საგზაო-სატრანსპორტო შემთხვევის შედეგად დაშავებულის ცხვირიდან სისხლდენის შესაჩერებლად დაშავებული უნდა დავსვათ ნახევარმჭდომარე მდგომარეობაში, მკერდისკენ თავის დახრით გამოვრიცხვოთ სისხლის სასუნთქ ორგანოებში მოხვედრას. ცხვირზე ცივი საფენის დადებით ვცდილობთ სისხლდენის შეჩერებას.

## ВОПРОС 770

ПРАВИЛЬНЫЙ ОТВЕТ: 2

Фәндагон-транспортон цауы (аварийы) фәстиуәгән цәфы хъяәдгомы рәстәәджы йодәй, куыд дезинфекцигәнаҥ фәрәз, пайдагонд цәуы:

1. Хъяәдгомы әнаәхәҥ уәлцъары бакусынаҥ

2. Хъяәдгомы кәраәтты әмә цармы алфәмбылай бакусынаҥ

## განმარტება:

საგზაო-სატრანსპორტო შემთხვევის შედეგად დაშავებულის ჭრილობის შემთხვევაში იოდის ხსნარი, როგორც სადეზინფექციო საშუალება გამოიყენება ჭრილობის ნაპირებისა და მისი მიმდებარე კანის დასამუშავებლად.

## ВОПРОС 771

ПРАВИЛЬНЫЙ ОТВЕТ: 1

Фендагон-транспортон цауы (аварийы) фæстиуæгæн рынчынæн йæ цæстыл зыны хъæдгом, уый хъуамæ:

**1** Æрхуыссын кæнæм чъылдымыл æмæ йын йæ сæрыл размæ рахæцæм. Цæф цæстыл æрывæრæм сыгъдæg æмбæრзæн

**2** Æрхуыссын кæнæм йæ фарсыл æнæниз цæсты рдыгæй. Цæф цæстыл æрывæрæм сыгъдæg æмбæრзæн

**3** Æрбадын æй кæнæм æмбисбадгæ уавæры. Йæ сæрыл ын фæстæмæ ахæцæм æмæ йын цæф цæстыл æрывæრæм сыгъдæg æмбæრзæн

## განმარტება:

საგზაო-სატრანსპორტო შემთხვევის შედეგად დაშავებულის თვალის ჭრილობის დროს დაშავებული უნდა დავანვინოთ ზურგზე და თავი წამოვუწიოთ წინ. დაზიანებულ თვალზე უნდა დავადოთ სუფთა საფენი.

## ВОПРОС 772

ПРАВИЛЬНЫЙ ОТВЕТ: 1

Фендагон-транспортон цауы (аварийы) фæстиуæгæн рынчынæн цонджы хъულæй дæлдæრ къухы стæг базинаны რაქტადჯы артерион тугдзыды уромæნ ლახტæ ხъუამæ სæვæრæმ:

**1** Цонджы хъულæй უაღდარ, უაქსკმæ

**2** ლყგაყ უაღდარ ცონლყი ხъულმæ

## განმარტება:

საგზაო-სატრანსპორტო შემთხვევის შედეგად დაშავებულის იდაყვის ქვემოთ ხელის ძვლის დაზიანების შემთხვევაში არტერიული სისხლდენის შემაჩერებელი ლახტი უნდა დავადოთ იდაყვის ზემოთ, მხართან.

Кәд фәндагон-транспортон цауы (аварийы) фәстиуәгән зиан райсәгән (цәфәән) ис травмәтә сәры хъуынджын бынатыл фыццаг медицинон аххуыс бакәныны тыххәй, уымәән хъуамә:

1

Бәрзәйыл сәвәәрәм хиаразгә джиппыагъд, лыгыл әрәвәәрәм стерилон бәмбәгәй тампон, рынчыны әрхуыссын кәнәм чылдымыл

2

Бәрзәйыл сәвәәрәм хиаразгә джиппыагъд, лыгыл стерилон бинтәй тампон сәвәәрәм, рынчыны әрхуыссын кәнәм йә фарсыл уәрджыты әрбакъәдзгәнгәйә, сәрыл ын әрывәәрәм их кәнә уазал әмбәрзәән

### განმარტება:

თუ საგზაო-სატრანსპორტო შემთხვევის შედეგად დაშავებულს აღენიშნება ტრამები თავის თმიან ადგილებზე, პირველადი სამედიცინო დახმარების აღმოჩენის მიზნით, მას უნდა კისერზე დაედოს იმპროვიზირებული ნახვევი, ჭრილობაზე სტერილური ბინტით დაედოს დამწოლი ნახვევი, დაშავებული დავანვინოთ გვერდზე მუხლებში მოხრილი ფეხებით, თავზე მივადოთ ყინული ან ცივი საფენი.

## ВОПРОС 774

ПРАВИЛЬНЫЙ ОТВЕТ: 1

Фәндагон-транспортон цауы (аварийы) фәстиуәгән рынчыны уләфәән органты әнәзонгә буарадәй расыгъдәг кәнынәән әнәмәәнгәй хъуамә:

1

Цалдәр хатты къухы армытәпәәнәй әрцәвәәм фәсонтыл, әппәрццәг фәстиуәгы рәстәджы әрләууәм рынчыны фәстә, бинаг фәрскы әмвәзадыл гуыбынмә къухтә кәрәәдзимә әрбатухәм (әрхәцәм), әмрәстәджы әрәңцайәм фәрсчытыл әмә цәхгәр әрбалхъивәм тымбылкъухәй гуыбыны алфәмбылайы мидәг әмә әддә әрдәмадмә

2

Рынчыны әрләууын кәнәм зонгуытыл цәсгом бынмә афтәмәй әмә йын цалдәр хатты тымбылкъцхәй әрцәвәәм фәсонтыл

## განმარტება:

საგზაო-სატრანსპორტო შემთხვევის შედეგად დაშავებულის სასუნთქ გზებში უცხო სხეულის მოსაცილებლად აუცილებლად უნდა რამდენჯერმე ხელისგული დავარტყათ ზურგზე, უარყოფითი შედეგის შემთხვევაში დავდგეთ დაშავებულის უკან, ქვედა ნეკნის დონეზე მუცელთან ხელები მუშტად გადავაჭდოთ ერთმანეთს, ერთდროულად მოვახდინოთ დაწოლა ნეკნებზე და მკვეთრად დავაწვეთ მუშტებით მუცლის არეში შიდა და ზედა მიმართულებით.

## ВОПРОС 775

ПРАВИЛЬНЫЙ ОТВЕТ: 2

Барләвәрд ис әви нә фәндагон-транспортон цауы (аварийы) фәстиуәгән уадзыг уавәры мидәг уәвәг цәфәән (рынчынәән) хосгәәнәән препаратты раттын?

1

Барләвәрд ис

2

Нәй барләвәрд

## განმარტება:

საგზაო-სატრანსპორტო შემთხვევის შედეგად უგონო მდგომარეობაში მყოფ დაშავებულისათვის სამკურნალო პრეპარატების მიცემა ნებადართული არ არის.



Æрæф (стропило) æрцæттæгæн æрмæг куы нæ уа уæд фæндагон-транспортон цауы (аварийы) фæстиуæгæн рыечынæн къухы стæджы асасты рæстæджы, уымæн хъæуы:

1


Къух срастгæнгæйæ бинтæй стухын æмæ риумæ бафидар кæнын

2

Рæмбыныкъæдзы къæдз къухы акæнæм æмæ йæ бæрзæймæ æрцауындзæм бинты тыхтæй иæ бафидар кæнæм риумæ

### განმარტება:

არტაშანის დასამზადებელი მასალის არარსებობისას საგზაო-სატრანსპორტო შემთხვევის შედეგად დაზარალებულის ხელის ძვლის მოტეხილობის შემთხვევაში, მას უნდა იდაყვში მოხრილი ხელი ჩამოვკიდოთ კისერზე და ბინტის დახვევით მივუმავროთ ტანზე.



Кæцы транспортон фæрæзы скъæრæджы 'рдæм фæзындзæни фæндаг раттыны хæсдзинад автобусы скъæრæгæн фатæджы (стрелкæйы) æрдæмадмæ змæлды цауы?

1

Æрмæст квадроциклы скъæრæджы 'рдæм

2


Æрмæст рог автомобили скъæრæджы 'рдæм

3

Куыд квадроциклы, афтæ рог автомобили скъæрджыты 'рдæм

### განმარტება:

„საგზაო მოძრაობის შესახებ“ საქართველოს კანონის 36-ე მუხლის მე-4 პუნქტის „გ“ და „დ“ ქვეპუნქტების თანახმად, არარეგულირებულ გზატკეცილებზე: გ) თანაბარმნიშვნელოვანი გზების გადაკვეთაზე ურელსო სატრანსპორტო საშუალების მძღოლი ვალდებულია გზა დაუთმოს მარჯვნიდან მოახლოებულ სატრანსპორტო საშუალებას. ამავე წესით უნდა იხელმძღვანელონ ურთიერთშორის რელსიანი სატრანსპორტო საშუალებების მძღოლებმაც; დ) მარცხნივ მოხვევისას ან მობრუნებისას ურელსო სატრანსპორტო საშუალების მძღოლი ვალდებულია გზა დაუთმოს თანაბარ-მნიშვნელოვან გზაზე საპირისპირო მიმართულებიდან პირდაპირ ან მარჯვნივ მოძრავ სატრანსპორტო საშუალებას. ამავე კანონის 44-ე მუხლის პირველი პუნქტის „ე“ ქვეპუნქტის თანახმად, საცხოვრებელი ზონიდან გამოსვლისას საგზაო მოძრაობის მონაწილემ, გადაკვეთებზე გზა უნდა დაუთმოს სხვა საგზაო მოძრაობის მონაწილეს.



Кæцы автомобили скъæрæджы 'рдæм фæзындзæни фæндаг раттыны хæсдзинад бур  
автомобилы скъæрæгæн фатæджы (стрелкæйы) æрдæмадмæ змæлды цауы?

1

Æрмæст уæзласæн автомобили  
скъæрæджы 'рдæм

2

Æрмæст цъæх аутомобилы  
скъæрæджы 'рдæм


3

Нæдæр иу (никæцы) автомобили  
скъæрæджы 'рдæм

**განმარტება:**

„საგზაო მოძრაობის შესახებ“ საქართველოს კანონის პირველი დანართის 1.7.2-1.7.7 პუნქტის თანახმად, საგზაო ნიშანი 1.7.3 „მეორეხარისხოვანი გზის შეერთება“ (შეერთება მარცხნიდან – 1.7.3, 1.7.5 და 1.7.7) – ისეთ გზასთან გადაკვეთა ან ისეთ გზასთან შეერთება, რომელზე მოძრაე მძღოლსაც აქვს გზის დათმობის ვალდებულება. ამავე დანართის 2.5 პუნქტის თანახმად, საგზაო ნიშანი 2.5 „შემხვედრი მოძრაობის უპირატესობა“ - უკრძალავს მძღოლს გზის ვიწრო მონაკვეთზე შესვლას, თუ ეს აძნელებს საპირისპირო მიმართულებით მოძრაობას. მძღოლი ვალდებულია გზა დაუთმოს შემხვედრ სატრანსპორტო საშუალებას, რომელიც მოპირდაპირე მისასვლელთან ან გზის ვიწრო მონაკვეთზე იმყოფება.





Кæцы транспортон фæрæзы скъæრæджы 'рдæм фæзындзæни фæндаг раттыны хæсдзинад бур автомобили скъæრæгæн фатæджы (стрелкæйы) æрдæмадмæ змæлды цауы?

1

Æрмæст В трамвайы скъæრæджы 'рдæм

2


Æрмæст А æмæ В трамвайы скъæрджыты 'рдæм

3

Æрмæст А трамвайы æмæ роგ автомобили скъæрджыты 'рдæм

### განმარტება:

„საგზაო მოძრაობის შესახებ“ საქართველოს კანონის 36-ე მუხლის მე-4 პუნქტის „გ“ და „დ“ ქვეპუნქტების თანახმად, არარეგულირებულ გზაჯვარედინზე: გ) თანაბარმნიშვნელოვანი გზების გადაკვეთაზე ურელსო სატრანსპორტო საშუალების მძღოლი ვალდებულია გზა დაუთმოს მარჯვნიდან მოახლოებულ სატრანსპორტო საშუალებას. ამავე წესით უნდა იხელმძღვანელონ ურთიერთმორის რელსიანი სატრანსპორტო საშუალებების მძღოლებმაც. ასეთ გზაჯვარედინზე რელსიან სატრანსპორტო საშუალებას უპირატესობა აქვს ურელსო სატრანსპორტო საშუალების მიმართ, მიუხედავად მისი მოძრაობის მიმართულებისა. დ) მარცხნივ მოხვევისას ან მობრუნებისას ურელსო სატრანსპორტო საშუალების მძღოლი ვალდებულია გზა დაუთმოს თანაბარ-მნიშვნელოვან გზაზე საპირისპირო მიმართულებიდან პირდაპირ ან მარჯვნივ მოძრავ სატრანსპორტო საშუალებას. ამავე წესით უნდა იხელმძღვანელონ ურთიერთმორის რელსიანი სატრანსპორტო საშუალებების მძღოლებმაც.



Кæцы автомобили скъæრæджы 'рдæм пайда кæны уæлбарæй бур автомобили скъæრæг, фатæджы (стрелкæйы) æрдæмадмæ змæлды цауы?

1

Æрмæст урс автомобили скъæრæджы 'рдæм

2

Æрмæст цъæх автомобили скъæრæджы 'рдæм


3

Куыд урс, афтæ цъæх автомобили скъæрджыты 'рдæм

### განმარტება:

„საგზაო მოძრაობის შესახებ“ საქართველოს კანონის 32-ე მუხლის მე-12 პუნქტის თანახმად, თუ სატრანსპორტო საშუალებების მოძრაობის ტრაექტორიები იკვეთება, ხოლო გავლის რიგითობა განსაზღვრული არ არის, მძღოლმა გზა უნდა დაუთმოს იმ სატრანსპორტო საშუალებას, რომელიც მას მარჯვნიდან უახლოვდება.





Кæцы аутомобилы скъæрæджы 'рдæм фæзындзæни фæндаг раттыны хæсдзинад бур аутомобилы скъæრæгæн фатæджы (стрелкæйы) æрдæмадмæ змæлды цауы?

1

Æрмæст рог аутомобилы скъæრæджы 'рдæм

2


Æрмæст уæзласæн аутомобилы скъæრæджы 'рдæм

3

Нæдæр иу (никæцы) аутомобилы скъæრæджы 'рдæм

### განმარტება:

„საგზაო მოძრაობის შესახებ“ საქართველოს კანონის 36-ე მუხლის მე-4 პუნქტის „ა“ ქვეპუნქტის თანახმად, არარეგულირებულ გზაჯვარედინზე, არათანაბარმნიშვნელოვანი გზების გადაკვეთაზე მეორეხარისხოვან გზაზე მოძრავი სატრანსპორტო საშუალების მძღოლი ვალდებულია გზა დაუთმოს მთავარი გზიდან მოახლოებულ სატრანსპორტო საშუალებას, მიუხედავად მისი შემდგომი მოძრაობის მიმართულებისა.



Кæцы транспортон фæрæзы скъæრæджы 'рдæм фæзындзæни фæндаг раттыны хæсдзинад бур аутомобилы скъæრæгæн фатæджы (стрелкæйы) æрдæмадмæ змæлды цауы?

1

Æрмæст роу аутомобилы скъæრæджы 'рдæм

2

Æрмæст мотоциклы скъæრæджы 'рдæм


3

Нæдæр иу (никæцы) транспортон фæрæзы скъæрджыты 'рдæм

### განმარტება:

„საგზაო მოძრაობის შესახებ“ საქართველოს კანონის 36-ე მუხლის მე-4 პუნქტის „ა“ ქვეპუნქტის თანახმად, არარეგულირებულ გზატკარედიზე, არათანაბარმნიშვნელოვანი გზების გადაკვეთაზე მეორეხარისხოვან გზაზე მოძრავი სატრანსპორტო საშუალების მძღოლი ვალდებულია გზა დაუთმოს მთავარი გზიდან მოახლოებულ სატრანსპორტო საშუალებას, მიუხედავად მისი შემდგომი მოძრაობის მიმართულებისა.





Кæцы автомобили скъæрæджы 'рдæм фæзындзæни фæндаг раттыны хæсдзинад бур  
автомобилы скъæრæгæн фатæджы (стрелкæйы) æрдæмадмæ змæлды цауы?

1

Æрмæст рог автомобили  
скъæრæджы 'рдæм

2

Æрмæст уæзласæн автомобили  
скъæრæджы 'рдæм

3

Куыд рог, афтæ уæзласæн  
автомобилы скъæрджыты 'рдæм

### განმარტება:

„საგზაო მოძრაობის შესახებ“ საქართველოს კანონის 36-ე მუხლის მე-4 პუნქტის „ა“ და „გ“ ქვეპუნქტების თანახმად, არარეგულირებულ გზაჯვარედინზე: ა) არათანაბარმნიშვნელოვანი გზების გადაკვეთაზე მეორეხარისხოვან გზაზე მოძრავი სატრანსპორტო საშუალების მძღოლი ვალდებულია გზა დაუთმოს მთავარი გზიდან მოახლოებულ სატრანსპორტო საშუალებას, მიუხედავად მისი შემდგომი მოძრაობის მიმართულებისა; გ) თანაბარმნიშვნელოვანი გზების გადაკვეთაზე ურელსო სატრანსპორტო საშუალების მძღოლი ვალდებულია გზა დაუთმოს მარჯვნიდან მოახლოებულ სატრანსპორტო საშუალებას. ამავე წესით უნდა იხელმძღვანელონ ურთიერთშორის რელსიანი სატრანსპორტო საშუალებების მძღოლებმაც.



Кæцы транспортон фæрæзы скъæრæджы 'рдæм фæзындзæни фæндаг раттыны хæсдзинад бур автомобили скъæრæгæн фатæджы (стрелкæйы) æрдæмадмæ змæлды цауы?

1

Æрмæст трамвайы скъæრæджы 'рдæм

2


Æрмæст уæзласæн автомобили скъæრæджы 'рдæм

3

Нæдæр иу (никæцы) транспортон фæрæзы скъæрджыты 'рдæм

### ბანმარტუბა:

„საგზაო მოძრაობის შესახებ“ საქართველოს კანონის 36-ე მუხლის მე-4 პუნქტის „ა“ ქვეპუნქტის თანახმად, არარეგულირებულ გზაჯვარედინზე, არათანაბარმნიშვნელოვანი გზების გადაკვეთაზე მეორეხარისხოვან გზაზე მოძრავი სატრანსპორტო საშუალების მძღოლი ვალდებულია გზა დაუთმოს მთავარი გზიდან მოახლოებულ სატრანსპორტო საშუალებას, მიუხედავად მისი შემდგომი მოძრაობის მიმართულებისა.



Кæцы транспортон фæрæзы скъæрджы 'рдæм фæзындзæни фæндаг раттыны хæсдзинад бур аутомобилы скъæრæгæн фатæджы (стрелкæйы) æрдæмадмæ змæлды цауы?

1

Æрмæст мотоциклы скъæрджы 'рдæм

2

Æрмæст роу аутомобилы скъæрджы 'рдæм


3

Нæдæр иу (никæцы) транспортон фæрæзы скъæрджыты 'рдæм

### განმარტება:

„საგზაო მოძრაობის შესახებ“ საქართველოს კანონის 36-ე მუხლის მე-4 პუნქტის „გ“ ქვეპუნქტის თანახმად, არარეგულირებულ გზაჯვარედინზე, თანაბარმნიშვნელოვანი გზების გადაკვეთაზე ურელსო სატრანსპორტო საშუალების მძღოლი ვალდებულია გზა დაუთმოს მარჯვნიდან მოახლოებულ სატრანსპორტო საშუალებას. ამავე წესით უნდა იხელმძღვანელონ ურთიერთშორის რელსიანი სატრანსპორტო საშუალებების მძღოლებმაც. ასეთ გზაჯვარედინზე რელსიან სატრანსპორტო საშუალებას აქვს უპირატესობა ურელსო სატრანსპორტო საშუალების მიმართ, მიუხედავად მისი მოძრაობის მიმართულებისა.





Кæцы транспортон фæрæзы скъæრæджы 'рдæм фæзындзæни фæндаг раттыны хæсдзинад бур автомобили скъæრæгæн фатæджы (стрелкæйы) æрдæмадмæ змæлды цауы?

1

Æрмæст фæныкгъуыз автомобили скъæრæджы 'рдæм

2

Æрмæст сырх автомобили скъæრæджы 'рдæм

3

Куыд фæныкгъуыз, афтæ сырх автомобили скъæрджыты 'рдæм

### ბანმარტუბა:

„საგზაო მოძრაობის შესახებ“ საქართველოს კანონის 36-ე მუხლის მე-4 პუნქტის „ა“ ქვეპუნქტის თანახმად, არარეგულირებულ გზატკარციდზე, არათანაბარმნიშვნელოვანი გზების გადაკვეთაზე მეორეხარისხოვან გზაზე მოძრავი სატრანსპორტო საშუალების მძღოლი ვალდებულია გზა დაუთმოს მთავარი გზიდან მოახლოებულ სატრანსპორტო საშუალებას, მიუხედავად მისი შემდგომი მოძრაობის მიმართულებისა.

თემა 30:

## მოდრობის უსაფრთხოება

---

## ВОПРОС 787

ПРАВИЛЬНЫЙ ОТВЕТ: 2

Хәсджын у æви нæ скъæрæг ифтонг кæна, цæмæй йæ къухдариуæджды бын уæвæг транспортон фæрæзтæ минималон зиан æрхæсстой алфæмблайæн?

1

Нæу хәсджын

2

У хәсджын

## განმარტება:

„საგზაო მოძრაობის შესახებ“ საქართველოს კანონის მე-16 მუხლის პირველი პუნქტის თანახმად, მძღოლმა უნდა უზრუნველყოს, რომ მის მფლობელობაში მყოფმა სატრანსპორტო საშუალებამ მინიმალური ზიანი მიაყენონ გარემოს.

## ВОПРОС 788

ПРАВИЛЬНЫЙ ОТВЕТ: 4

Æмбæлон æвджиддар уагдонæй барлæвæрд, уадзæн (пропуск), разыдзинад райсгæйæ кæнæ ацы уагдонимæ æнæ бадзырдæй, уагъд нæ цæуы:

1

Æрмæст тæккæ фæндаггæрон будკæ æрывæрын æмæ æндæრ исты предметы æруадзын, кæцытæ гæнæн ис æмæ фæфыддæр кæной цæстæй æвзæრсты кæნæ та фæзындæრ кæна скъæრæджды æмæ фистæджды змæлд

2

Æрмæст регулярон фæндаггон ракæнын арæзт маршруттæй (уыдоны 'хсæн бынæттон горæты регулярон фæндаггон ракæнын)

3

Æрмæст фæндагыл массивон, спортивон æмæ æндæრ мадзæлтты ауадзын

4

Ацы билеты ранымад кæцыфæнды архайддзинад

## განმარტება:

„საგზაო მოძრაობის შესახებ“ საქართველოს კანონის მე-17 მუხლის პირველი პუნქტის „გ“, „დ“ და „ე“ ქვეპუნქტების თანახმად, საგზაო მოძრაობის უსაფრთხოების უზრუნველსაყოფად მხოლოდ საქართველოს კანონმდებლობით დადგენილი წესით შესაბამისი უფლებამოსილი ორგანოსაგან (უწყებებისაგან) ნებართვის, დაშვების, თანხმობის მიღების შემდეგ ან ამ ორგანოსთან (უწყებასთან) შეთანხმებითაა დასაშვები შემდეგი საქმიანობა: გ) უშუალოდ გზასთან ჭიხურის დადგმა და სხვა საგნის დაყენება, რომლებმაც შეიძლება გააუარესონ ხილვადობა ან/და გააძნელონ მძღოლისა და ქვეითის მოძრაობა; დ) რეგულარული სამგზავრო გადაყვანა დადგენილი მარშრუტებით (მათ შორის ადგილობრივი საქალაქო რეგულარული სამგზავრო გადაყვანა); ე) გზაზე მასობრივ, სპორტულ და სხვა ღონისძიებათა ჩატარება.

Æмбæлон æвджиддар уагдонæй барлæвæрд, уадзæн (пропуск), бардзинад райсгæйæ кæнæ ацы уагдонимæ æнæ бадзырдæй, уагъд нæ цæуы:

1

Механикон транспортон фæрæзы раивын (фендæр кæнын)

2

Специалон рухсдар æмæ зæлон сигналты, афтæ ма ноджы специалон хъæрæйдзурæг инструмент бакæнын

3

Механикон транспортон фæрæзы гуыффæйы æддаг фæрстыл курсивон урс хæххытæ ныххах кæнын

4

Ацы билеты ранымад кæцыфæнды архайд

### განმარტება:

„საგზაო მოძრაობის შესახებ“ საქართველოს კანონის მე-17 მუხლის პირველი პუნქტის „ვ“ ქვეპუნქტის თანახმად, საგზაო მოძრაობის უსაფრთხოების უზრუნველსაყოფად მხოლოდ საქართველოს კანონმდებლობით დადგენილი წესით შესაბამისი უფლებამოსილი ორგანოსაგან (უწყებისაგან) ნებართვის, დაშვების, თანხმობის მიღების ან ამ ორგანოსთან (უწყებასთან) შეთანხმებითაა დასაშვანი შემდეგი საქმიანობა: ვ) სატრანსპორტო საშუალების გადაკეთება, მასზე სპეციალური ციმციმა ან/და ხმოვანი სიგნალის ან/და სპეციალური ხმამაღლამოლაპარაკე ხელსაწყოთა დაყენება, ან/და სატრანსპორტო საშუალებისათვის სპეციალური შეფერილობის მიცემა ან/და სატრანსპორტო საშუალების ძარას გვერდებზე დახრილი თეთრი ზოლების დახატვა.

Фაენდაგტყ ზმელდყ ჰაყადყსაგაენ Гуырдыстоны закѡндаеттынадаყ сфидаргонд  
ყაგაეაერდაყ барлаეаердყс:

1

Аермаестдаер сaерყбарაყ амае  
аенaекъуылымпыае змела  
фаендагыл

2

Аермаест бахъаст каена фаендагтყ  
змелдყ аедасдзынады сифтонгады  
сферაყყ аевджиддар гаес гоймаджყ  
архаყд

3

Куыд сaерყбарაყ амае  
аенaекъуылымпыае ахызა  
фаендагтыл, афтaе бахъаст каена  
фаендагтყ ზმелдყ аедасдзынады  
сифтонгады сферაყყ аевджиддар  
гаесყ гоймаджყ архаყд

### განმარტება:

„საგზაო მოძრაობის შესახებ“ საქართველოს კანონის მე-20 მუხლის პირველი პუნქტის „ა“ და „გ“ ქვეპუნქტების თანახმად, საგზაო მოძრაობის მონაწილეს უფლება აქვს, საქართველოს კანონმდებლობით დადგენილი წესით: ა) თავისუფლად და შეუფერხებლად გადაადგილდეს გზაზე; გ) გაასაჩივროს საგზაო მოძრაობის უსაფრთხოების უზრუნველყოფის სფეროში უფლებამოსილი თანამდებობის პირის ქმედება.



## ВОПРОС 791

ПРАВИЛЬНЫЙ ОТВЕТ: 4

Фენდაгон ზმელდჷ ჰაიდისეგენ ბარ ის გუყრდჷსთონი ზაკჷონდჷეტყინადჷ სფიდარგონდ უაგჷვარდჷ ჯედჯიდდარ პადდჷახადონ ჯმჷ ბყნაეტთონ ჰედჰიჯაუიუედჷ ჯერგანტჷ, აფტჷ მა ჯენდერ ჯედჯიდდარ გოიმჷგტჷ რაჷსა ინფორმაცი:

1

ერმჷსტ ფენდაგყლ ზმელდჷ  
ჷდჷსდჷინადჷ უავერტჷ ფედყლ

2

ერმჷსტ ფენდაგყლ ზმელდჷ  
არენგონდჷ კენჷ ფესკჷყუნჷგ  
უაგდონჷ აჰჰოსადჷ ფედყლ

3

ერმჷსტ ფენდჷგტჷ ზმელდჷ  
ჷდჷსდჷინადჷ სიფტონგადმჷ  
გჷსგჷჷჷჷ პროდუქციჷ ჯმჷ ლჷგადჷ  
ტყჰჰჷ

4

აცი ბილეთჷ რანყმად ალკჷცი  
ინფორმაცი

## განმარტება:

„საგზაო მოძრაობის შესახებ“ საქართველოს კანონის მე-20 მუხლის პირველი პუნქტის „ბ.ა“, „ბ.ბ“ და „ბ.გ“ ქვეპუნქტების თანახმად, საგზაო მოძრაობის მონაწილეს უფლება აქვს საქართველოს კანონმდებლობით დადგენილი წესით უფლებამოსილი სახელმწიფო და ადგილობრივი თვითმმართველობის ორგანოებისაგან, აგრეთვე სხვა უფლებამოსილი პირებისგან მიიღოს: ბ.ა) ინფორმაცია გზაზე მოძრაობის უსაფრთხოების პირობების შესახებ; ბ.ბ) ინფორმაცია გზაზე მოძრაობის შემღუდვის ან შეწყვეტის დაწესების მიზეზთა შესახებ; ბ.გ) ინფორმაცია პროდუქციისა და მომსახურების ხარისხის შესახებ, რომელიც დაკავშირებულია საგზაო მოძრაობის უსაფრთხოების უზრუნველყოფასთან.

## ВОПРОС 792

ПРАВИЛЬНЫЙ ОТВЕТ: 2

ის ყნ ბარ ჯვი ნჷ ფენდჷგტჷ ზმელდჷ ჰაიდისეგენ ფენდაგყლ ისტყტჷ ჯერკალყნ, ისტყ ჯერყვარყნ, კენჷ ისტყ ნყუუადჷყნ ჯმჷ აფტჷმჷჷ სკჷნა ფენდაგონ ზმელდჷნ ტჷსდჷინად კენჷ კჷყყლყმყდჷინად?

1

ის ყნ ბარ

2

ნჷჷ ყნ ბარ

## განმარტება:

„საგზაო მოძრაობის შესახებ“ საქართველოს კანონის მე-20 მუხლის მე-3 პუნქტის თანახმად, საგზაო მოძრაობის მონაწილემ გზაზე ნივთების დაწყობით, დაყრით ან დატოვებით ან მასზე რაიმე სხვა დაბრკოლების შექმნით არ უნდა შეზღუდოს საგზაო მოძრაობა ან/და შექმნას საფრთხე.

Кæд фæндагон змæлды хайадисæг фæндагыл дзаумæттæ æркалгæйæ кæнæ йыл исты æндæр къуыхцыдзинад саразгæйæ арæн кæны фæндагон змæлды кæнæ та скодта тасдзинад, уый æвæстиатæй хъуамæ:

1

Райса æнæмæнгхъæугæ мадзæлттæ йæ аиуварс кæнынæн, фæлæ кæд нæу æвæстиатæй уый саразын йæ бон уæд уый хъуамæ бацархайа цæмæй иннæ фæндагон хайадисджыты рæстæгыл бафæдзæхса

2

Фехъусын кæна æмбæлон бынæттон хæдуагдæттынады органы сыгъдæггæнæн куыстмæ æмæ сæрмагонд æдасдзинад хъахъхъæнгæйæ адаргъ кæна змæлд

### განმარტება:

„საგზაო მოძრაობის შესახებ“ საქართველოს კანონის მე-20 მუხლის მე-3 პუნქტის თანახმად, საგზაო მოძრაობის მონაწილემ გზაზე ნივთების დაწყობით, დაყრით ან დატოვებით ან მასზე რაიმე სხვა დაბრკოლების შექმნით არ უნდა შეზღუდოს საგზაო მოძრაობა ან/და შექმნას საფრთხე. საგზაო მოძრაობის მონაწილემ, რომელმაც ობიექტური მიზეზის გამო ვერ მოახერხა ასეთი შეზღუდვის ან ასეთი საფრთხის შექმნის თავიდან აცილება, დაუყოვნებლივ უნდა მიიღოს აუცილებელი ზომები მისი თავიდან აცილებისათვის, ხოლო თუ ამის დაუყოვნებლივ გაკეთება შეუძლებელია, მან უნდა უზრუნველყოს აღნიშნულის თაობაზე სხვა საგზაო მოძრაობის მონაწილეთა დროული გაფრთხილება.

Кæд фæндагон змæлды хайадисæг фæндагыл дзаумæтты æрæвæргæйæ кæнæ æркалгæйæ арæн кæны фæндагон змæлды кæнæ та скодта тасдзинад æмæ обективон аххосагмæ гæсгæ æвæстиатæй нæ арæхсы ацы тасдзинады аиуварс кæнынæн æнæмæнгхъæугæ мадзæлттæ райсын, уый хъуамæ:

1

Сифтонг кæна банысангонды фæдыл фæндагон змæлды æндæр хайадисджыты рæстæгыл ныффæдзæхсын

2

Адаргъ кæна змæлд сæрмагонд арæхстдзинадимæ, аимæ уый хæсджын нæу банысангонд арæнгонды кæнæ тасдзинады тыххæй ныффæдзæхса фæндагон змæлды æндæр хайадисджыты

### განმარტება:

„საგზაო მოძრაობის შესახებ“ საქართველოს კანონის მე-20 მუხლის მე-3 პუნქტის თანახმად, საგზაო მოძრაობის მონაწილემ გზაზე ნივთების დაწყობით, დაყრით ან დატოვებით ან მასზე რაიმე სხვა დაბრკოლების შექმნით არ უნდა შეზღუდოს საგზაო მოძრაობა ან/და შექმნას საფრთხე. საგზაო მოძრაობის მონაწილემ, რომელმაც ობიექტური მიზეზის გამო ვერ მოახერხა ასეთი შეზღუდვის ან ასეთი საფრთხის შექმნის თავიდან აცილება, დაუყოვნებლივ უნდა მიიღოს აუცილებელი ზომები მისი თავიდან აცილებისათვის, ხოლო თუ ამის დაუყოვნებლივ გაკეთება შეუძლებელია, მან უნდა უზრუნველყოს აღნიშნულის თაობაზე სხვა საგზაო მოძრაობის მონაწილეთა დროული გაფრთხილება.

## ВОПРОС 795

ПРАВИЛЬНЫЙ ОТВЕТ: 4

Кәд әмә рухснысаны (светофоры) раз сывәлләттә хъавынц фәндагыл ахизын рухснысанмә (светоформә) әрбаввахсуәвәг транспортон фәрәзы скъәрәг хъуамә йә хъус әрдара:

1

Әрмәст, уыцы уавәр цәмәй сабитә гәнәен ис цәуәен хайыл рахизой рухснысаны (светофоры) цъәх рухсы сигналы бур сигналәй куддәр фәиwa афтә

2

Әрмәст, уыцы уавәр әмә къордәй искәцы сывәллоны гәнәен ис әмә къухәй атьәпп кәной әмә йә тыхәй ахизын кәной цәуәен хайыл

3

Әрмәст, уыцы уавәр цәмәй гәнәен ис әмә сабитә фәндаджы цәуәен хайыл рахизой цалынмә уыдонән змәлды бардәттәг рухснысаны (светофоры) сигнал сиу уа уәдмә

4

Ацы билеты ранымад алы уавәр

## განმარტება:

თუ შეუნიშანის წინ ბავშვები აპირებენ გზაზე გადასვლას შეუნიშანთან მიახლოებული სატრანსპორტო საშუალების მძღოლმა უნდა გაითვალისწინოს, რომ: - ბავშვები შეიძლება სავალ ნაწილზე გადმოვიდნენ შეუნიშნის მწვანე მაშუქი სიგნალის ყვითელი სიგნალით შეცვლისთანავე; - ჭკუფიდან ხელის კვრით რომელიმე ბავშვს შეიძლება აიძულონ სავალ ნაწილზე გადმოსვლა; - შეიძლება ბავშვები სავალ ნაწილზე გადმოვიდნენ მათთვის შეუნიშნის ნებადამრთველი სიგნალის ჩართვამდე.

## ВОПРОС 796

ПРАВИЛЬНЫЙ ОТВЕТ: 2

Хәсджын у әви нә скъәрәг сифтонг кәна, цәмәй йә транспортон фәрәз бакъуылымпы кәна уәлбары уәвәг фәндаджы змәлды иннә хайадисджытәен?

1

Нәу хәсджын

2

У хәсджын

## განმარტება:

„საგზაო მოძრაობის შესახებ“ საქართველოს კანონის 21-ე მუხლის მე-7 პუნქტის თანახმად, მძღოლმა უნდა უზრუნველყოს, რომ მისმა სატრანსპორტო საშუალებამ დაბრკოლება არ შეუქმნას პრიორიტეტის მქონე სხვა საგზაო მოძრაობის მონაწილეებს.

## ВОПРОС 797

ПРАВИЛЬНЫЙ ОТВЕТ: 4

Гуырдыстоны мидхъуыддæгты министрады æвджиддар гоймагæй дарддæр, закъондæттынадæй лæвæрд хицауады арæнты мидæг фæндæгты змæлды регулироват кæнын афтæ ма гæнæн ис ауадзой:

1

Æрмæст ирвæзынгæнджытæ (æххуысгæнджытæ) æмæ гоймæгтæ, кæцытæ хайад исынц ирвæзынгæнæн куыстуæтты

2

Æрмæст æфсæнвæндаджы æмкусджытæ - æфсæнвæндаджы ахизæнтыл

3

Æрмæст быраны аласыны организатортæ - наулæууæнтæм

4

Ацы билеты ранымадгонд кæцыфæнды гоймаг

## განმარტება:

„საგზაო მოძრაობის შესახებ“ საქართველოს კანონის 30-ე მუხლის მე-3 პუნქტის „გ“, „ვ“ და „ზ“ ქვეპუნქტების თანახმად, საგზაო მოძრაობას არეგულირებენ საქართველოს შინაგან საქმეთა სამინისტროს უფლებამოსილი პირები. საქართველოს კანონმდებლობით მინიჭებული უფლებამოსილების ფარგლებში საგზაო მოძრაობის რეგულირება აგრეთვე შეიძლება განახორციელონ/განახორციელონ: გ) მაშველებმა და პირებმა, რომლებიც მონაწილეობენ სამაშველო სამუშაოებში, – სამაშველო სამუშაოების შესრულების უზრუნველსაყოფად; ვ) რკინიგზის თანამშრომლებმა - რკინიგზის გადასასვლელზე; ზ) საბორანე გადაზიდვის ორგანიზატორებმა - ნავსადგურში.

## ВОПРОС 798

ПРАВИЛЬНЫЙ ОТВЕТ: 2

Ис ын æви нæ бар фистæгæн цæуæн хайыл ахизыны фæстæ, бафæстиат кæна ахизын, фылдæр алæууа кæნæ æрлæууа, кæд æмæ уый баст нæ уа змæлды æдасдзинады сифтонг кæнынæн?

1

Ис ын бар

2

Нæй ын бар

## განმარტება:

„საგზაო მოძრაობის შესახებ“ საქართველოს კანონის 24-ე მუხლის მე-10 პუნქტის თანახმად, გზის სავალ ნაწილზე გასვლის შემდეგ, ქვეითმა არ უნდა დააყოვნოს გადასვლა, არ უნდა შეყოვნდეს ან შეჩერდეს მასზე, თუ ეს არ უკავშირდება მოძრაობის უსაფრთხოების უზრუნველყოფას.



## ВОПРОС 799

ПРАВИЛЬНЫЙ ОТВЕТ: 4

Транспортон фæрæзы скъæргæйæ, дæлдæр ранымады кæцы уавæр амоны скъæрæджы фæлладдзинад?

1

Æрмæст, дæлтъыфалы æмæ уæлтъыфалы æруæззау.

2

Æрмæст, арæх зæмбын кæнын.

3

Æрмæст, реакцийы фæфыддæр.

4

Ацы билеты ранымад кæцыфæнды уавæр

## განმარტება:

სატრანსპორტო საშუალების მართვისას მძღოლის დაღლილობაზე მიანიშნებს როგორც ქუთუთოების დამძიმება, ასევე ხშირი მოქნარება და რეცციის გაუარესება.

## ВОПРОС 800

ПРАВИЛЬНЫЙ ОТВЕТ: 4

Закъонæй дарддæр ма бæრæггонд максималон тагъдадад арæн кæныны, скъæრæгæн бар нæй йæ фæфылдæр кæнын:

1

Æрмæст транспортон фæრæзтæн сфидаргонд максималон конструктивон тагъдадад

2

Æрмæст транспортон фæრæзыл бафидаргонд нысаныл „тагъдадад арæнгонд æркæнын“ амындгонд тагъдадад

3

Æрмæст фæндагон нысанæй сфидаргонд максималон тагъдадад

4

Куыд транспортон фæრæзтæн сфидаргонд максималон конструктивон тагъдадад, афтæ транспортон фæრæзыл бафидаргонд нысаныл „тагъдадад арæнгонд æркæнын“ амындгонд тагъдадад

## განმარტება:

„საგზაო მოძრაობის შესახებ“ საქართველოს კანონის 33-ე მუხლის მე-9 პუნქტის „ა“, „ბ“ და „გ“ ქვეპუნქტების თანახმად, გარდა ამ მუხლის მე-6-მე-8 პუნქტებით განსაზღვრული მაქსიმალური სიჩქარის შეზღუდვისა, მძღოლს ეკრძალება: ა) სატრანსპორტო საშუალებისათვის დადგენილი მაქსიმალური კონსტრუქციული სიჩქარის გადაჭარბება; ბ) სატრანსპორტო საშუალებაზე დამაგრებულ საცნობ ნიშანზე „სიჩქარის შეზღუდვა“ მითითებული სიჩქარის გადაჭარბება; გ) საგზაო ნიშნით დადგენილი მაქსიმალური სიჩქარის გადაჭარბება.

## ВОПРОС 801

ПРАВИЛЬНЫЙ ОТВЕТ: 1

Бар ын ис æви нæ фæндæгты змæлды хайадисæгæн фæндаджы æмæ фæндаджы афæмбылайы территорийыл ныбырон кæнын, кæнæ йæ æндæр хуызы счъизи кæнын?

1 Бар ын нæй

2 Бар ын нæй, æрмæст уыцы цауы, кæд æмæ уымæй баджиздардзæн (бахъыгдардзæн) уый фæндагон змæлды иннæ хайадисджытæн

3 Ис ын бар

## განმარტება:

„საგზაო მოძრაობის შესახებ“ საქართველოს კანონის მე-16 მუხლის მე-3 პუნქტის „ა“ ქვეპუნქტის თანახმად, საგზაო მოძრაობის მონაწილეს ეკრძალება გზის საფარის და გზის მიმდებარე ტერიტორიის დანაგვიანება ან სხვაგვარად დაზიანება.

## ВОПРОС 802

ПРАВИЛЬНЫЙ ОТВЕТ: 3

Бар ис æви нæ транспортон фæრæзы æхсын денджызы, цæдты, цæугæდæтты æмæ уæлæнгай доны æндæრ объектты æмæ ма уыдоны былты цур донæй иуыл къаддæр 10 метры?

1 Бар ис, кудыд цæრæгджын, афтæ æдзæრæგ пунктты

2 Цæრæгджын пунктты бар нæй, фæлæ æдзæრæг пунктты бар ис, æрмæст рог автомобилтæн

3 Бар нæй

## განმარტება:

„საგზაო მოძრაობის შესახებ“ საქართველოს კანონის მე-16 მუხლის მე-2 პუნქტის თანახმად, დაუშვებელია სატრანსპორტო საშუალების გარეცხვა ზღვაში, ტბაში, წყალსაცავში, მდინარეში, ზედაპირული წყლის სხვა ობიექტში და მათ ნაპირებთან წყლიდან 10 მეტრზე უფრო ახლო მანძილზე.

## ВОПРОС 803

ПРАВИЛЬНЫЙ ОТВЕТ: 3

Уაგდ ცაუი ავი ნე транспортон фæрæзы скъæрын ахæм буарадты рахъарды цауи (რæსტადჟი), კაეცითაე чъизи кæнынц алфæмблайы?

1

Уагд ცაуი

2

Уагд ცაуი, æрмæст уыцы цауи, кæд æмæ закъондæттæг нæ кæсы фæнысангонд транспортон фæрæзы фæндагæн бæззондзинадыл тестирдзинады рацыды хæсдзинадмæ

3

Уагд нæ ცაуи

## განმარტება:

„საგზაო მოძრაობის შესახებ“ საქართველოს კანონის მე-16 მუხლის მე-3 პუნქტის „გ“ ქვეპუნქტის თანახმად, საგზაო მოძრაობის მონაწილეს ეკრძალება სატრანსპორტო საშუალების მართვა ისეთი ნივთიერებების გაჟონვის შემთხვევაში, რომელიც აბინძურებს გარემოს.

## ВОПРОС 804

ПРАВИЛЬНЫЙ ОТВЕТ: 3

Хæсджын у ави нæ скъæრæг, развæлгъау хъуыдыгонд ын уа ахæм фактортæ, кæцытæ æндæвдад æвдисынц йæ архайдыл (фæладдзинад, æгъуссæгдзинад, медицинон препаратты исын, акоголь исын æмæ а.д.)?

1

Нæу хæсджын

2

Хæсджын у æрмæст уыцы скъæრæг, кæцы скъæры моторджын транспортон фæрæзы

3

Хæсджын у æнæкæсгæйæ уымæ, æмæ кæцы транспортон фæрæзыл бады æмæ скъæры уый

4

Хæсджын у æрмæст уыцы автобусы кæнæ уæзласæн автомобили скъæრæг, кæцы регуляронæй ласы бæлццæтты кæнæ ласы уæзтæ

## განმარტება:

„საგზაო მოძრაობის შესახებ“ საქართველოს კანონის 21-ე მუხლის მე-5 პუნქტის თანახმად, მძღოლი ვალდებულია იცოდეს საგზაო მოძრაობის წესები, აგრეთვე გათვითცნობიერებული ჰქონდეს ისეთი ფაქტორები, რომლებიც ზეგავლენას ახდენს მძღოლის მოქმედებაზე, მაგალითად დაღლილობა, უძილობა, სამედიცინო პრეპარატების მიღება, ალკოჰოლის მიღება და ა.შ..

## ВОПРОС 805

ПРАВИЛЬНЫЙ ОТВЕТ: 2

Уагъд цæуы æви нæ фæндæгты змæлды хайадисджы барты реализаци кæнын, кæд æмæ уымæй арæнгонд цæуы кæნæ хæлы æндæр фæндагон змæлды хайадисджыты бартæ?

1

Уагъд цæуы

2

Уагъд нæ цæуы

## განმარტება:

„საგზაო მოძრაობის შესახებ“ საქართველოს კანონის მე-20 მუხლის მე-2 პუნქტის თანახმად, საგზაო მოძრაობის მონაწილის მიერ თავისი უფლებების განხორციელება არ უნდა ზღუდავდეს ან არღვევდეს საგზაო მოძრაობის სხვა მონაწილეთა უფლებებს. საგზაო მოძრაობის მონაწილე თავისი მოქმედებით არ უნდა უქმნიდეს საფრთხეს ან დაბრკოლებას საგზაო მოძრაობას. მან არ უნდა შეუქმნას საფრთხე ადამიანებს და არ უნდა მიაყენოს ზიანი სახელმწიფო, საზოგადოებრივ ან კერძო ქონებას.

## ВОПРОС 806

ПРАВИЛЬНЫЙ ОТВЕТ: 4

Дæлдæр ранымад кæцы факторы æндæвдад нæ ахადы скъæრæджы архайдыл?

1

Æгъуыссæгдзинад

2

Фæлладдзинад

3

Расыгдзинад

4

Уæлдæр фæнысангонд дзуаппытæй иу дæр (никæцы) раст нæу

## განმარტება:

„საგზაო მოძრაობის შესახებ“ საქართველოს კანონის 21-ე მუხლის მე-5 პუნქტის თანახმად, მძღოლი ვალდებულია იცოდეს საგზაო მოძრაობის წესები, აგრეთვე გათვითცნობიერებული ჰქონდეს ისეთი ფაქტორები, რომლებიც გავლენას ახდენს მძღოლის მოქმედებაზე, მაგალითად, დაღლილობა, უძილობა, სამედიცინო პრეპარატების მიღება, ალკოჰოლის მიღება და ა. შ.

Гæнæн ис æви нæ транспортон фæрæзы скъæргæйæ скъæრæгæн мобилон коммуникацийы фæрæзæй пайда кæнын?

1

Нæй гæнæн кæцыфæнды цауы

2

Гæнæн ис, кæд уый пайда кæны мобилон коммуникацийы хъæрæй дзурыны функцийæ æмæ йæ къухтæ сæрибар сты транспортон фæрæзы скъæрынæн

3

Гæнæн ис, кæд йæ иу къух сæрибар у транспортон фæрæзы скъæрынæн

### განმარტება:

„საგზაო მოძრაობის შესახებ“ საქართველოს კანონის 21-ე მუხლის მე-8 პუნქტის თანახმად, სატრანსპორტო საშუალების გადაადგილებისას მძღოლი უნდა მოერიდოს ნებისმიერ მოქმედებას, რომელიც დაკავშირებული არ არის მართვასთან. მძღოლს ეკრძალება სატრანსპორტო საშუალების მართვისას მობილური კომუნიკაციის საშუალებით სარგებლობა. ეს აკრძალვა არ ვრცელდება ისეთ შემთხვევებზე, როდესაც მძღოლი სარგებლობს მობილური კომუნიკაციის საშუალების ყურსასმენით ან მობილური კომუნიკაციის ხმამაღალი (ან დისტანციური) საუბრის ფუნქციით და ორივე ხელი თავისუფალი აქვს სატრანსპორტო საშუალების სამართავად.



## ВОПРОС 808

ПРАВИЛЬНЫЙ ОТВЕТ: 2

Дაქდაერ რანყმადგონდ კაეცყ ზაეცყაეძყინადყ რაესაეძგყ ნაყ ბარ სკაერაეგან ტრანსპორტონ ფარაესაეყ ზმაყლყნყ?

1

ზაელონ სყგნალყ აეძაესაეყყ რაესაეძგყ

2

ზყლაყნყ (რულყ) მეღანყზმყ აეძაესაეყყ რაესაეძგყ

3

ანაყსაესაელონ ფარაესაეყ აეძაესაეყყ რაესაეძგყ

4

აყყ ბყლესაე რანყმად კაეცყფაენდყ ცაყყ

## განმარტება:

„საგზაო მოძრაობის შესახებ“ საქართველოს კანონის მე-21-ე მუხლის მე-13 პუნქტის თანახმად, მძღოლს ეკრძალება მოძრაობა მუშა სამუხრუჭო სისტემის, სატყის მექანიზმის, სატრანსპორტო საშუალებათა შემადგენლობაში მისაბმელი მონყობილობის გაუმართაობისას, აგრევე დღე-ღამის ბნელ დროს ერთდროულად მწყობრიდან გამოსული (ჩამეჭრალი) ახლო და შორი განათების ფარეებით (ან მათი არარსებობისას) ან/და უკანა საგაბარეო სინათლეეებით იმ გზაზე, რომელზედაც არ არის ხელოვნური განათება ან არასაკმარისი ხილვადობაა. მძღოლის მხარეს არსებული მინასანმენდის უმოქმედობისას აკრძალულია მექანიკური სატრანსპორტო საშუალების მართვა ნისლის, წვიმისა და თოვის დროს.

## ВОПРОС 809

ПРАВИЛЬНЫЙ ОТВЕТ: 3

ასაესაეყ, კაეავდაყყ კაენაე მიტ უარყნყ რაესაეძგყ, მეღანიკონ ტრანსპორტონ ფარაეზყ სკაერყნყ ბარ ნაყ:

1

ანაყსაესაელონ (ანაყმიგაონ) ფარაესაეყ ნაე ყაევგაყყ რაესაეძგყ

2

ავარიონ აერლაეუაენ ნყსანყ ნაე ყაევგაყყ რაესაეძგყ

3

სკაერაეძგყ 'რდყგაყ ავგ სყგაეგგაენაენაეყ აენაკუსგაყყ რაესაეძგყ

4

აყყ ბყლესაე რანყმად კაეცყფაენდყ ცაყყ

## განმარტება:

„საგზაო მოძრაობის შესახებ“ საქართველოს კანონის მე-21-ე მუხლის მე-13 პუნქტის თანახმად, მძღოლს ეკრძალება მოძრაობა მუშა სამუხრუჭო სისტემის, სატყის მექანიზმის, სატრანსპორტო საშუალებათა შემადგენლობაში მისაბმელი მონყობილობის გაუმართაობისას, აგრევე დღე-ღამის ბნელ დროს ერთდროულად მწყობრიდან გამოსული (ჩამეჭრალი) ახლო და შორი განათების ფარეებით (ან მათი არარსებობისას) ან/და უკანა საგაბარეო სინათლეეებით იმ გზაზე, რომელზედაც არ არის ხელოვნური განათება ან არასაკმარისი ხილვადობაა. მძღოლის მხარეს არსებული მინასანმენდის უმოქმედობისას აკრძალულია მექანიკური სატრანსპორტო საშუალების მართვა ნისლის, წვიმისა და თოვის დროს.

## ВОПРОС 810

ПРАВИЛЬНЫЙ ОТВЕТ: 2

სკჯერაგ ხუამაე ზონა, ცამაეი ალკამაეი თინგ არაჲდერ ფანდაგ სად უ:

1

ტუნელთი, ცი რან ნაე ვაეიყი არაზგა რუხსგაენაენ

2

ხიდილ, ფანდაგუადჲაენილ ჯამაე აჲსაკადაეტილ

3

ცერაგდჲინ პუნკტი ცენტრალონ უინგტილ

## განმარტება:

„საგზაო მოძრაობის შესახებ“ საქართველოს კანონის 25-ე მუხლის მე-10 პუნქტის „დ“ ქვეპუნქტის თანახმად, გზაზე მოძრაობისას მძღოლმა უნდა გაითვალისწინოს შემდეგი გარემოებები - მოყინულ გზის მონაკვეთზე მძღოლმა შეძლებისდაგვარად თავი უნდა აარიდოს დამუხრუჭებას, სიჩქარის ცვლილებასა და მიმართულების მკვეთრ შეცვლას. ამასთანავე, მძღოლმა უნდა გააცნობიეროს, რომ ყველაზე უფრო ხშირად გზა მოყინულია ხიდზე, გზაგამტარსა და ესტაკადაზე.

## ВОПРОС 811

ПРАВИЛЬНЫЙ ОТВЕТ: 3

ფანდადჲი რუხს ფადიგაეი თალინგ ფადიგმაე ახიზგაეიჲ, სკჯერაგ ხუამაე ბაელვირდაეი ზონა, ცამაეი:

1

აენაენხაეუგაე უ ანტიასაესტონ (ანტიმიგჲონ) ფარაეტი სიუ კაენინ

2

რაეზი ტრანსპორტონ ფარაეზი აერტორმოზ კაენინაენ ხაეუგაე რაესტაგ ჯამაე დერდჲაეგ

3

ცაესტ ცჲუსგაი (სინდაგგაი) ახუყრ კაენი თალინგაი, ცამაე გაესგაე დერ სკჯერაედჲი რაჲმაე გაენაენუაევაგ ბარჲერტაე ჲინ რავზარაენ სტი

## განმარტება:

„საგზაო მოძრაობის შესახებ“ საქართველოს კანონის 25-ე მუხლის მე-10 პუნქტის „ბ“ ქვეპუნქტის თანახმად, გზაზე მოძრაობისას მძღოლმა უნდა გაითვალისწინოს შემდეგი გარემოებები - გზის ნათელი მონაკვეთიდან ბნელ მონაკვეთზე გასვლისას თვალი ნელა ეჩვევა სიბნელეს, რის გამოც მძღოლის წინ არსებული შესაძლო დაბრკოლება რთული შესამჩნევია.

## ВОПРОС 812

ПРАВИЛЬНЫЙ ОТВЕТ: 1

Æхсæвы æвзæр рухсмæ кæнæ нæма хорз несрухсмæ фæндаджы фадыгыл змæлгæйæ, скъæრæг хъуамæ бæлвырдæй зона, цæмæй:

1

Вазыгджын у фæндæгты змæлды хайадисджытæ кæрæдзийы уынын

2

Рæзы транспортон фæрæзы тормоз кæнынæн хъæугæ рæстæг æмæ дæрддзæг

3

Æнæмæнгхъæугæ у аварион рухсы сигнализацийы сиу кæнын.

## ბანმარტუბა:

„საგზაო მოძრაობის შესახებ“ საქართველოს კანონის 25-ე მუხლის მე-10 პუნქტის „გ“ ქვეპუნქტის თანახმად, გზაზე მოძრაობისას მძღოლმა უნდა გაითვალისწინოს შემდეგი გარემოებები - ღამე, ცუდად განათებული ან არათანაბრად განათებული გზის მონაკვეთებზე მოძრაობისას გართულებულია საგზაო მოძრაობის მონაწილეთა მიერ ერთმანეთის შემჩნევა.

## ВОПРОС 813

ПРАВИЛЬНЫЙ ОТВЕТ: 1

Салд фæндаджы фадыгыл скъæრæг:

1

Гæнæнмæ гæсгæ хъуамæ йæхи бахиза æртормоз кæнынæй, тагъдады ивынæй æмæ æрдæмады æваст фæивынæй

2

Тормоз кæнынæн уæლæмхасæй хъуамæ спайда кæна къухын тормозæй

3

Æрдæмады фæивыны тыххæй хъуамæ рулы цæхгæრ фæзила æмæ тагъдадмæ бафтауа

## ბანმარტუბა:

„საგზაო მოძრაობის შესახებ“ საქართველოს კანონის 25-ე მუხლის მე-10 პუნქტის „დ“ ქვეპუნქტის თანახმად, გზაზე მოძრაობისას მძღოლმა უნდა გაითვალისწინოს შემდეგი გარემოებები - მოყინულ გზის მონაკვეთზე მძღოლმა შეძლებისდაგვარად თავი უნდა აარიდოს დამუხრუჭებას, სიჩქარის ცვლილებასა და მიმართულების მკვეთრ შეცვლას. ამასთან მძღოლმა უნდა გაათვინცნობიეროს, რომ ყველაზე უფრო ხშირად გზა მოყინულია ხიდზე, გზაგამტარებზე და ესტაკადებზე.

## ВОПРОС 814

ПРАВИЛЬНЫЙ ОТВЕТ: 2

Къæвдайы æмæ митуарыны рæстæджы змæлгæйæ, скъæრæг хъуамæ:

1

Фæкъаддæр кæна дистанци уый æмæ йæ размæ цæуæг транспортон фæрæзы 'хсæн

2

Фæкъаддæр кæна тагъдад æмæ фæфылдæр кæна дистанци уый æмæ йæ размæ цæуæг транспортон фæрæзы 'хсæн

3

Сиу кæна аварион рухсы сигнализаци

## განმარტება:

„საგზაო მოძრაობის შესახებ“ საქართველოს კანონის 25-ე მუხლის მე-10 პუნქტის „ე“ ქვეპუნქტის თანახმად, გზაზე მოძრაობისას მძღოლმა უნდა გაითვალისწინოს შემდეგი გარემოებები - ვინაიდან წვიმისა და თოვის დროს მოძრაობისას იზრდება სატრანსპორტო საშუალების დამუხრუჭებისათვის საჭირო დრო და მანძილი, ამასთანავე, ნალექი აუარესებს ხილვადობას, მძღოლმა უნდა შეამციროს სიჩქარე და გაზარდოს დისტანცია თავის სატრანსპორტო საშუალებასა და მის წინ მიმავალ სატრანსპორტო საშუალებას შორის.

## ВОПРОС 815

ПРАВИЛЬНЫЙ ОТВЕТ: 3

Къæвдайы æмæ митуарды рæстæджы змæлგæйæ, скъæრæг хъуамæ бæлвырдæй зона, цæмæй:

1

Бар нæй фæстæмæцыдæй змæлын

2

Рекомендацигонд у уый æмæ йæ размæ цæуæг транспортон фæрæзы 'хсæн дистанцийы фæкъаддæр кæнын

3

Рæзы транспортон фæრæзы тормоз кæнынæн хъæугæ рæстæг æмæ дæрддзæг, уымæ ма, лакъон фыддæр кæны уынынады.

## განმარტება:

„საგზაო მოძრაობის შესახებ“ საქართველოს კანონის 25-ე მუხლის მე-10 პუნქტის „ე“ ქვეპუნქტის თანახმად, გზაზე მოძრაობისას მძღოლმა უნდა გაითვალისწინოს შემდეგი გარემოებები - ვინაიდან წვიმისა და თოვის დროს მოძრაობისას იზრდება სატრანსპორტო საშუალების დამუხრუჭებისათვის საჭირო დრო და მანძილი, ამასთან ნალექი აუარესებს ხილვადობას, მძღოლმა უნდა შეამციროს სიჩქარე და გაზარდოს დისტანცია მისი და მის წინ მიმავალ სატრანსპორტო საშუალებას შორის.

## ВОПРОС 816

ПРАВИЛЬНЫЙ ОТВЕТ: 1

Къæвдайы райдыдæй фæндаджы уæлцъар цъыф кæны æмæ фæбырынæн тас у, уымæ гæсгæ скъæრæг хъуамæ :

1

Фæкъаддæр кæна тагъдад сындæггай æртомозгæнгæйæ

2

Фæкъаддæр кæна тагъдад æваст æртомозгæнгæйæ

3

Фæфылдæр кæна тагъдад

## განმარტება:

„საგზაო მოძრაობის შესახებ“ საქართველოს კანონის 25-ე მუხლის მე-10 პუნქტის „ვ“ ქვეპუნქტის თანახმად, გზაზე მოძრაობისას მძღოლმა უნდა გაითვალისწინოს შემდეგი გარემოებები - წვიმის დაწყებისას გზის ზედაპირი ტალახიანდება და ქმნის მოცურების საშიშროებას, რის გამოც მძღოლმა უნდა შეამციროს სიჩქარე მდორე დამუხრუჭებით.

## ВОПРОС 817

ПРАВИЛЬНЫЙ ОТВЕТ: 1

Скъæрæг хъуамæ развæлгъау зона, цæмæй:

1

Фæзилæны æваст æртомозæй кæнæ та стыр (бæрзонд) тагъдадæй бацæуын гæнæн ис расайа транспортон фæრæзыл скъæрыны контрол фесафын

2

Фæзилæны бацæуынæн тагъдад хъуамæ цухгонд æрцæуа цæхгæრ æртормозæй

3

Æрбазилын рекомендацигонд цæуы стыр (бæрзонд) тагъдадæй

## განმარტება:

„საგზაო მოძრაობის შესახებ“ საქართველოს კანონის 25-ე მუხლის მე-10 პუნქტის „თ“ ქვეპუნქტის თანახმად, გზაზე მოძრაობისას მძღოლმა უნდა გაითვალისწინოს შემდეგი გარემოებები - მოსახვევში მუხრუჭის მკვეთრად გამოყენებამ ან/და მაღალი სიჩქარით შესვლამ (განსაკუთრებით გზის სველი ზედაპირის არსებობისას) შესაძლოა გამოიწვიოს სატრანსპორტო საშუალებაზე კონტროლის დაკარგვა.



## ВОПРОС 818

ПРАВИЛЬНЫЙ ОТВЕТ: 2

Фендагыл доны цæдтæ уæвгæйæ скъæრæг хъуамæ зона, цæмæй:

1

Рекомендацгонд у цады тагъдады  
фæфылдæр кæнын

2

Вазыгджын у транспортон фæрæзы  
скъæрын æмæ æртомоз кæнын,  
уымæ ма, стыр у транспортон  
фæрæзы фæбырыны  
æвæццæгдзинад

3

Нысанæмраст у массæ æмæ йæ  
размæ цæуæг транспортон фæрæзы  
'хсæн дæрддзæг фæкъаддæр кæнын

## განმარტება:

„საგზაო მოძრაობის შესახებ“ საქართველოს კანონის 25-ე მუხლის მე-10 პუნქტის „ი“ ქვეპუნქტის თანახმად, გზაზე მოძრაობისას მძღოლმა უნდა გაითვალისწინოს შემდეგი გარემოებები - გზაზე წყლის გუბეების არსებობისას მძღოლმა უნდა გაითვალისწინოს, რომ სატრანსპორტო საშუალების მართვა და დამუხრუჭება გართულებულია, ამასთანავე, დიდია სატრანსპორტო საშუალების მოცურების ალბათობა (განსაკუთრებით გაცვეთილი საბურავებით ან მაღალი სიჩქარით მოძრაობისას).

## ВОПРОС 819

ПРАВИЛЬНЫЙ ОТВЕТ: 3

Кæд транспортон фæრæзы скъæргæйæ скъæრæг æнкъары фæлладдзинад,  
рекомендацигонд у:

1

Транспортон фæრæзы тагъдад  
сыстыр кæнын

2

Кофеины ивæг тæнгъæд райсын  
(баназын)

3

Транспортон фæრæзы æруромын  
æмæ æруლæфын, гæнæндзинадмæ  
гæсгæ руыл æндæრ скъæრæг  
сбадын кæнын

## განმარტება:

„საგზაო მოძრაობის შესახებ“ საქართველოს კანონის 25-ე მუხლის მე-10 პუნქტის „ვ“ ქვეპუნქტის თანახმად, გზაზე მოძრაობისას მძღოლმა უნდა გაითვალისწინოს შემდეგი გარემოებები - თუ სატრანსპორტო საშუალების მართვისას მძღოლი გრძნობს დაღლილობას, მიზანშეწონილია სატრანსპორტო საშუალების გაჩერება და დასვენება, ხოლო შესაძლებლობის შემთხვევაში – საჭესთან სხვა მძღოლის დასმა.

## ВОПРОС 820

ПРАВИЛЬНЫЙ ОТВЕТ: 1

Кәд скъәрәг фәндагыл бафиппайа әндәр транспортон фәрәзы скъәрәджы, кәцыйән агресивон у йә архайд, уый:

1

Хъуамә сабырәй уа әмә контрол кәна йә транспортон фәрәзы

2

Дыууә дәргъвәтин әмә иу цыбыр зәлон сигнал раттынәй йын хъуамә бамбарын кәна агресивон скъәрәгән цәмәй әрсабыр уа

3

Йәхәдәг дәр хъуамә равдиса агресивондзинад.

## განმარტება:

„საგზაო მოძრაობის შესახებ“ საქართველოს კანონის 25-ე მუხლის მე-10 პუნქტის „ლ“ ქვეპუნქტის თანახმად, გზაზე მოძრაობისას მძღოლმა უნდა გაითვალისწინოს შემდეგი გარემოებები - თუ მძღოლი გზაზე ამჩნევს სხვა სატრანსპორტო საშუალების მძღოლს, რომელიც აგრესიულად არის განწყობილი და გამომწვევად იქცევა, მან უნდა შეინარჩუნოს სიმშვიდე და აკონტროლოს თავისი სატრანსპორტო საშუალება.

## ВОПРОС 821

ПРАВИЛЬНЫЙ ОТВЕТ: 2

Бирә рәстәджы дәргъы стыр тагъдадәй транспортон фәрәзәй змәлд расайы:

1

Транспортон фәрәзы тормозон системәйы фехәлд (саст)

2

Скъәрәджы концентрацийы әмә стыр тагъдады нал әмбарыны әнкъарынад

3

Ацы билеты ранымад алкәцы уавәры

## განმარტება:

„საგზაო მოძრაობის შესახებ“ საქართველოს კანონის 25-ე მუხლის მე-10 პუნქტის „ნ“ ქვეპუნქტის თანახმად, გზაზე მოძრაობისას მძღოლმა უნდა გაითვალისწინოს შემდეგი გარემოებები - დიდი ხნის განმავლობაში მაღალი სიჩქარით მოძრაობა აქვეითებს კონცენტრაციასა და მაღალი სიჩქარის შეგრძნებას.

## ВОПРОС 822

ПРАВИЛЬНЫЙ ОТВЕТ: 3

სკაერაგ ტრანსპორტონ ფაერაჟი ხუამაჟ სკაერა:

1

Агрессивонаჟი, კუიდი უაღბარუაჟაგ  
ფანდაგი

2

Сабыრაჟი (აენცადაჟი), ფაღაჟ ხუამაჟ  
არაჟი იაჟი რავდისინ, კუიდი  
უაღბარუაჟაგ ფანდაგი

3

Сабыრაჟი (აენცადაჟი) აჟაჟ მა  
ხუამაჟ ვდისა აგრესივონდზინად, მა  
ხუამაჟ არაჟი იაჟი რავდისინ, კუიდი  
უაღბარ ფანდაგი

განმარტაჟა:

„საგზაო მოძრაობის შესახებ“ საქართველოს კანონის 25-ე მუხლის მე-10 პუნქტის „ო“ ქვეპუნქტის თანახმად, გზაზე მოძრაობისას მძღოლმა უნდა გაითვალისწინოს შემდეგი გარემოებები - მძღოლი სატრანსპორტო საშუალებას უნდა მართავდეს მშვიდად, არ უნდა იჩენდეს აგრესიულობას და არ უნდა ცდილობდეს თავის გამოჩენას, როგორც უპირატესი გზაზე.

## ВОПРОС 823

ПРАВИЛЬНЫЙ ОТВЕТ: 2

ბარ ын ის აჟი ნაჟ ტრანსპორტონ ფაერაჟი სკაერინ ნარკოტიკონ რასიგ უაღაჟი უაჟაგ  
გოჟმაგან, კაჟი ნარკოტიკონ პრეპარატი ფაღას კაჟი მედიკონი ნისანან, დოჟირი  
სნისანგონდაჟი?

1

ბარ ын ის

2

ბარ ын ნაჟი

განმარტაჟა:

„საგზაო მოძრაობის შესახებ“ საქართველოს კანონის 21-ე მუხლის მე-15 პუნქტის თანახმად, აკრძალულია სატრანსპორტო საშუალების მართვა ალკოჟოლური, ნარკოტიკული ან ფსიქოტროპული სიმთვრალის მდგომარეობაში, ან იმ სამკურნალო პრეპარატის ზემოქმედებისას, რომელიც აქვეითებს რეაქციას და ყურადღებას.

## ВОПРОС 824

ПРАВИЛЬНЫЙ ОТВЕТ: 2

Бар ын ис æви нæ транспортон фæрæзы скъæрын психотропон расыг уавæры уæвæг уыцы гоймагæн, кæцы психотропон препарат фæлхас кæны медицинон нысанæн, дохтыры снысангондæй?

1

Бар ын ис

2

Бар ын нæй

## განმარტება:

„საგზაო მოძრაობის შესახებ“ საქართველოს კანონის 21-ე მუხლის მე-15 პუნქტის თანახმად, აკრძალულია სატრანსპორტო საშუალების მართვა ალკოჰოლური, ნარკოტიკული ან ფსიქოტროპული სიმთვრალის მდგომარეობაში, ან იმ სამკურნალო პრეპარატის ზემოქმედებისას, რომელიც აქვეითებს რეაქციას და ყურადღებას.

## ВОПРОС 825

ПРАВИЛЬНЫЙ ОТВЕТ: 1

Бар ис æви нæ транспортон фæрæзы скъæрымæ адæттын наркотикон расыг уавæры уæვæг гоймагмæ, кæцы наркотикон препарат райста медицинон нысанæн, дохтыры снысангондæй?

1

Бар нæй

2

Бар ис

## განმარტება:

„საგზაო მოძრაობის შესახებ“ საქართველოს კანონის მე-20 მუხლის მე-4 პუნქტის თანახმად, აკრძალულია სატრანსპორტო საშუალების სამართავად გადაცემა იმ პირისათვის, რომელიც იმყოფება ალკოჰოლური, ნარკოტიკული ან ფსიქოტროპული სიმთვრალის მდგომარეობაში,

## ВОПРОС 826

ПРАВИЛЬНЫЙ ОТВЕТ: 1

Бар ის ავი ნე ტრანსპორტონ ფერაჲჲ სკჲერინმე ადჲტყნ პსიხოტროპონ რასყ  
უაჲერყ უჲვჲგ გოყმამე, კჲცყ პსიხოტროპონ პრეპარატ რაყსტა მედიცინონ ნყსანჲნ,  
დოხტყრყ სნყსანგონდჲყ?

1

Бар нәй

2

Бар ис

## განმარტება:

„საგზაო მოძრაობის შესახებ“ საქართველოს კანონის მე-20 მუხლის მე-4 პუნქტის თანახმად, ავრძალულია სატრანსპორტო საშუალების სამართავად გადაცემა იმ პირისათვის, რომელიც იმყოფება ალკოჰოლური, ნარკოტიკული ან ფსიქოტროპული სიმთვრალის მდგომარეობაში,

## ВОПРОС 827

ПРАВИЛЬНЫЙ ОТВЕТ: 3

Бар ის ავი ნე ტრანსპორტონ ფერაჲჲ სკჲერინ უყცყ გოყმაგჲნ, კჲცყ ჯვზარყ ახჲმ  
ხოგჲნჲნ პრეპარატყ უჲლარხაყდყ, კჲცყტჲ დჲლდჲრ (тых) კჲნყნც რეაქცყყ ჯმჲ  
ხჲუსდარდყ?

1

Ис бар, კჲდ ნყსანგონდ პრეპარატჲ  
ფჲლხასგონდ ჯრცყდყსტყ მედიცინონ  
ნყსანჲნ, დოხტყრყ სნყსანგონდჲყ

2

Ис бар, კჲდ გოყმაგ ჰმჲლყ  
ჲდასდჲინადყ ჯნჲმჲნგდჲინადყ  
ნორმჲტჲყ პაყდაგჲნგჲყჲ

3

Нәй бар

## განმარტება:

„საგზაო მოძრაობის შესახებ“ საქართველოს კანონის 21-ე მუხლის მე-15 პუნქტის თანახმად, ავრძალულია სატრანსპორტო საშუალების მართვა ალკოჰოლური, ნარკოტიკული ან ფსიქოტროპული სიმთვრალის მდგომარეობაში, ან იმ სამკურნალო პრეპარატის ზემოქმედებისას, რომელიც აქვეითებს რეაქციას და ყურადღებას.



## ВОПРОС 828

ПРАВИЛЬНЫЙ ОТВЕТ: 1

Бар ის ავი ნე ტრანსპორტონ ფერაჟი სკაჟინმა ადეტტინ უიცი გოიმაგენ, კეცი ავარი ახამ ხოსგენენ პრეპარატტი უელარხაიდი, კეციტა დელდერ კენინც რეაქციი ამა ხუდარდი?

1

ნეი ბარ

2

ის ბარ, კედ ნისანგონდ პრეპარატტი რაისინ ჟერციდ მედიცინონ ნისანენ დოხტირი სნისანგონდაი

3

ის ბარ, კედ გოიმაგ ცეუი ადესდზინადი ანამენგხაეუგე ნორმატაი პაიდაგენგაი

## განმარტება:

„საგზაო მოძრაობის შესახებ“ საქართველოს კანონის მე-20 მუხლის მე-4 პუნქტის თანახმად, აკრძალულია სატრანსპორტო საშუალების სამართავად გადაცემა იმ პირისათვის, რომელიც იმყოფება ალკოჰოლური, ნარკოტიკული ან ფსიქოტროპული სიმთვრალის მდგომარეობაში. ამავე კანონის 21-ე მუხლის მე-15 პუნქტის თანახმად, აკრძალულია სატრანსპორტო საშუალების მართვა ალკოჰოლური, ნარკოტიკული ან ფსიქოტროპული სიმთვრალის მდგომარეობაში, ან იმ სამკურნალო პრეპარატის ზემოქმედებისას, რომელიც აქვეითებს რეაქციას და ყურადღებას.

## ВОПРОС 829

ПРАВИЛЬНЫЙ ОТВЕТ: 3

Бар ын ის ავი ნე ტრანსპორტონ ფერაჟი სკაჟინ უიცი გოიმაგენ, კეცი ის ნარკოტიკონ რასიგ უავარი?

1

ის ын ბარ, კედ უიი ნარკოტიკონ პრეპარატ ფელხას კენი მედიცინონ ნისანაი, დოხტირი სნისანგონდაი

2

ის ын ბარ, კედ უიი აცი ხუიდადჯი თიხაი რადერ ბაფედახსდენ პოლიციი აკაგ კუისუათი

3

ბარ ын ნეი

## განმარტება:

„საგზაო მოძრაობის შესახებ“ საქართველოს კანონის 21-ე მუხლის მე-15 პუნქტის თანახმად, აკრძალულია სატრანსპორტო საშუალების მართვა ალკოჰოლური, ნარკოტიკული ან ფსიქოტროპული სიმთვრალის მდგომარეობაში, ან იმ სამკურნალო პრეპარატის ზემოქმედებისას, რომელიც აქვეითებს რეაქციას და ყურადღებას.

## ВОПРОС 830

ПРАВИЛЬНЫЙ ОТВЕТ: 1

Бар ын ис æви нæ транспортон фæрæзы скъæрын уыцы гоймагæн, кæцы ис психотропон расыг уавæры?

1

Бар ын нæй

2

Ис ын бар, кæд уый наркотикон препарат фæлхас кæны медицинон нысанæн, дохтыры снысангондæй

3

Ис ын бар, кæд уый цæуы æдасдзинады æнæмæнгхъæугæ нормæтæй пайдагæнгæйæ

## განმარტება:

„საგზაო მოძრაობის შესახებ“ საქართველოს კანონის 21-ე მუხლის მე-15 პუნქტის თანახმად, აკრძალულია სატრანსპორტო საშუალების მართვა ალკოჰოლური, ნარკოტიკული ან ფსიქოტროპული სიმთვრალის მდგომარეობაში, ან იმ სამკურნალო პრეპარატის ზემოქმედებისას, რომელიც აქვეითებს რეაქციას და ყურადღებას.

## ВОПРОС 831

ПРАВИЛЬНЫЙ ОТВЕТ: 1

Бар ис æви нæ транспортон фæრæзы скъæрын уыцы гоймаგæн, кæцы ис алкогольон расыг уавæры?

1

Нæй бар

2

Ис бар, кæд скъæრæг Гуырдызистоны территорийыл уæвы æхсæнадæмон змæлды

3

Ис бар, кæд уый змæлы æдасдзинады æнæмæнгхъæугæ нормæтæй пайдагæнгæйæ

## განმარტება:

„საგზაო მოძრაობის შესახებ“ საქართველოს კანონის 21-ე მუხლის მე-15 პუნქტის თანახმად, აკრძალულია სატრანსპორტო საშუალების მართვა ალკოჰოლური, ნარკოტიკული ან ფსიქოტროპული სიმთვრალის მდგომარეობაში, ან იმ სამკურნალო პრეპარატის ზემოქმედებისას, რომელიც აქვეითებს რეაქციას და ყურადღებას.

## ВОПРОС 832

ПРАВИЛЬНЫЙ ОТВЕТ: 4

Механикон транспортон фæрæзы скъæргæйæ æдасдзинады гæрзæй пайда кæнын æнæмæнгхъæугæ у:

- |  |   |
|--|---|
| <p><b>1</b> Дурджын æмбæрзæнæй арæзт фæндагыл змæлгæйæ</p>       | <p><b>2</b> Хуырджын (лыстæг цъæл дур) æмбæрзæнæй арæзт фæндагыл змæлгæйæ</p> |
| <p><b>3</b> Цемент-бетоны æмбæрзæнæй арæзт фæндагыл змæлгæйæ</p> | <p><b>4</b> Кæцыфæнды фæндагыл змæлгæйæ</p>                                   |

## განმარტება:

„საგზაო მოძრაობის შესახებ“ საქართველოს კანონის 21-ე მუხლის მე-9 პუნქტის თანახმად, მძღოლი ვალდებულია მექანიკური სატრანსპორტო საშუალების (გარდა იმ სატრანსპორტო საშუალებისა, რომლის კონსტრუქცია არ ითვალისწინებს უსაფრთხოების ღვედებს) მართვისას დადგენილი წესით ისარგებლოს უსაფრთხოების ღვედით და უზრუნველყოს მისგან მარჯვენა (ან მარცხენა) მხარეს მჭიდრო მგზავრის მიერ უსაფრთხოების ღვედით სარგებლობა.

## ВОПРОС 833

ПРАВИЛЬНЫЙ ОТВЕТ: 1

Фæндаджы уымæл уæлцъарыл змæлгæйæ скъæრæг хъуамæ бæлвырдæй зона, цæмæй:

- |  |   |
|--|---|
| <p><b>1</b> Фæзилæны цæхгæр æртормоз гæнгæйæ кæнæ та тагъдадæй бацæуын гæнæн ис æмæ расайа транспортон фæრæзыл контрол фесафын</p>                         | <p><b>2</b> Тормозы цæхгæр спайдагæнгæйæ къаддæр кæны транспортон фæрæзы фæбырыны æвæццæგæнад</p> |
| <p><b>3</b> Фæзилæны бацæугæйæ транспортон фæრæзы фæбырыны тас аиуварс кæнынæн рекомендацигонд у тормозæй æваст спайдагæнгæйæ тагъдады фæкъаддæр кæнын</p> |   |

## განმარტება:

„საგზაო მოძრაობის შესახებ“ საქართველოს კანონის 25-ე მუხლის მე-10 პუნქტის „თ“ ქვეპუნქტის თანახმად, გზაზე მოძრაობისას მძღოლმა უნდა გაითვალისწინოს შემდეგი გარემოებები: თ) მოსახვევში მუხრუჭის მკვეთრად გამოყენებამ ან/და მაღალი სიჩქარით შესვლამ (განსაკუთრებით გზის სველი ზედაპირის არსებობისას) შესაძლოა გამოიწვიოს სატრანსპორტო საშუალებაზე კონტროლის დაკარგვა.

## ВОПРОС 834

ПРАВИЛЬНЫЙ ОТВЕТ: 1

Транспортон фæрæзы фæбырыны тасдзинад бæрзонддæр у:

1

Къæвдайы райдайæны

2

Къæвдайы рæстæджы, йæ райдайæнæй 30 минуты фæстæ

3

Къæвдайы фæуды фæстæ

## განმარტება:

„საგზაო მოძრაობის შესახებ“ საქართველოს კანონის 25-ე მუხლის მე-10 პუნქტის „ვ“ ქვეპუნქტის თანახმად, გზაზე მოძრაობისას მძღოლმა უნდა გაითვალისწინოს შემდეგი გარემოებები: ვ) წვიმის დაწყებისას გზის ზედაპირი ტალახიანდება და ქმნის მოცურების საშიშროებას, რის გამოც მძღოლმა უნდა შეამციროს სიჩქარე მდორე დამუხრუჭებით.

## ВОПРОС 835

ПРАВИЛЬНЫЙ ОТВЕТ: 2

Къæвдаджын боны змæлгæйæ скъæრæг сæрмагонд хъусдард хъуамæ равдиса:

1

Уæзтæ ласæг автомобилтæм, уымæн æмæ стыр у автомобили гуыффæйæ уаргъ фæндагыл рахауыны тас

2

Фистæгтæм, уымæн æмæ фистæгон тагъдадмæ гæсгæ гæнæн ис сырæза тæссаг ситуаци

3

Сындæгцæуæг транспортон фæрæзы 'рдæм

## განმარტება:

„საგზაო მოძრაობის შესახებ“ საქართველოს კანონის 25-ე მუხლის მე-10 პუნქტის „ზ“ ქვეპუნქტის თანახმად, გზაზე მოძრაობისას მძღოლმა უნდა გაითვალისწინოს შემდეგი გარემოებები: ზ) წვიმიან ამინდში მოძრაობისას მძღოლმა განსაკუთრებული ყურადღება უნდა გამოიჩინოს ქვეითთა მიმართ, რადგან მათი შესაძლო სიჩქარის გამო შეიძლება შეიქმნას საფრთხის შემცველი სიტუაცია.

## ВОПРОС 836

ПРАВИЛЬНЫЙ ОТВЕТ: 1

Цы кары сабиты нәй ныууадзән әнәе хъусдардәй урәд транспортон фәрәзы мидәг?

1

6 азы кармә

2

7 азы кармә

3

9 азы кармә

4

12 азы кармә

## განმარტება:

„საგზაო მოძრაობის შესახებ“ საქართველოს კანონის 26-ე მუხლის მე-9 პუნქტის თანახმად, აკრძალულია გაჩერებულ სატრანსპორტო საშუალებაში 6 წლამდე ბავშვის უმეთვალყურეოდ დატოვება.

## ВОПРОС 837

ПРАВИЛЬНЫЙ ОТВЕТ: 1

Кәд скъәрәг иннә фәндагыл ахизынаән хъуамә әрази́ла, кәцыйы бахизәны ис фистәгон ахизән, уый хъуамә сәххәст кәна:

1

Æрмәст нылләг тагъдадәй, фәлә бахъуыды рәстәджы әрләууа әмә ауадза ахизәныл бахизгә кәнә бацәуәг фистәгты

2

Цасфәнды тагъдадәй, кәд ахизәныл бахизәг кәнә бацәуәг фистәгтә пайда кәнынц приоритетәй

3

Æрмәст бәрзонд тагъдадәй, цәмәй рәстәгыл ахиза фәндаджы фәнысангонд фадыг

## განმარტება:

„საგზაო მოძრაობის შესახებ“ საქართველოს კანონის 25-ე მუხლის მე-2 პუნქტის „ა“ ქვეპუნქტის თანახმად, ქვეითთა გადასასვლელზე ამ კანონის 21-ე მუხლის მე-6 პუნქტით, 33-ე მუხლის მე-2 პუნქტითა და 34-ე მუხლის მე-11 პუნქტით დადგენილ მოთხოვნათა დაცვით უნდა შესრულდეს შემდეგი მოთხოვნები: ა) თუ სატრანსპორტო საშუალებათა მოძრაობა საგზაო შუქნიშნით ან მარეგულირებლის მეშვეობით რეგულირდება, მოძრაობის ამკრძალავი სიგნალის დროს მძღოლი უნდა გაჩერდეს ქვეითთა გადასასვლელის წინ ან მის წინ მდებარე განივ მონიშვნასთან, ხოლო როცა მოძრაობის გაგრძელების უფლებას მიიღებს, არ უნდა დააბრკოლოს და საფრთხე არ უნდა შეუქმნას ქვეითთა გადასასვლელზე შესულ ქვეითებს. თუ მძღოლი ასრულებს მოხვევას სხვა გზაზე შესასვლელად, რომლის შესასვლელთანაც მდებარეობს ქვეითთა გადასასვლელი, მან ეს მოხვევა უნდა შეასრულოს მხოლოდ დაბალი სიჩქარით, ხოლო საჭიროების შემთხვევაში უნდა გაჩერდეს და გაატაროს გადასასვლელზე შესული ან შემავალი ქვეითები.



## ВОПРОС 838

ПРАВИЛЬНЫЙ ОТВЕТ: 3

Ис æви нæ бар скъæрæгæн æнæ сæрмагонд бындурæй, хæрз ныллæг тагъдады змæлдæй къуылымпы кæна æндæр транспортон фæрæзты змæлынæн?

**1** Ис ын бар, уымæн æмæ фæндæгты змæлды уагæвæрдтæм гæсгæ бар нæй æрмæст барлæвæрдон максималон тагъдады фæфылдæр кæнын

**2** Ис ын бар, кæд æмæ уый змæлы кæройнаг рахиз змæლæн хаххыл

**3** Нæй ын бар

## განმარტება:

„საგზაო მოძრაობის შესახებ“ საქართველოს კანონის 33-ე მუხლის მე-3 პუნქტის თანახმად, მძღოლმა განსაკუთრებული საფუძვლის გარეშე მეთისმეტად დაბალი სიჩქარით მოძრაობით არ უნდა გაართულოს სხვა სატრანსპორტო საშუალებების გადაადგილება.

## ВОПРОС 839

ПРАВИЛЬНЫЙ ОТВЕТ: 1

Кæд фæндæгты змæлды уагæвæрдты домæнтæм гæсгæ скъæრæг хæсджын у фæндаг ратта æндæრ фænდაгон змæлды хайადისджытæн, уый фænდაг раттыны фæдыл йæ хъавд (фæнд) хъуамæ ирдæй равдისа:

**1** Тагъдады æрныллæგæй кæнæ æрлæудæй

**2** Зæлон кæнæ рухсы сигналы раттынæй

**3** Ацы билеты ранымад кæцыфæнды архайддзинадæй

## განმარტება:

„საგზაო მოძრაობის შესახებ“ საქართველოს კანონის 36-ე მუხლის მე-9 პუნქტის თანახმად, მძღოლმა, რომელმაც ამ კანონის მოთხოვნათა შესაბამისად გზა უნდა დაუთმოს სხვა საგზაო მოძრაობის მონაწილეებს, ვალდებულია გზის დათმობის თაობაზე თავისი განზრახვა ნათლად გამოხატოს სიჩქარის შემცირებით ან გაჩერებით.

Кუიდ ახადы алкоголь სკაერადჯი რეაქციიыл?

1

Ницы ахадындзинад ын ис  
реа́кцийыл

2

Къаддæр кæны реакцийы рæстджы

3

Фылдæр кæны реакцийы рæстджы

განმარტება:

ალკოჰოლის მიღება ზრდის მძღოლის რეაქციის დროს.

Кәд хохы фәндәгтыл әмә аналогийон ахастәвдисәг стыр кьул (уырдыг) фәндәгтыл, дыууә әмхуызон категорийы транспортон фәрәзтәй иувәрсты ахизыны тыххәй сә иу хьуамә змәла фәстәмәцәугәйә, уәд фәстәмәцәйдәй змәлды хәсдзинад фәзындзән:

1

Хәрдыл змәлгә транспортон фәрәзы скъәрәгән

2

Уырдыгыл змәлгә транспортон фәрәзы скъәрәгән, уыцы цауы йеддәмә, ирдәй әвдыст куы уа, әмә хәрдыл змәлгә транспортон фәрәзы скъәрәгән бирә хатт әнцондәр у әхәм маневры сәххәст кәнын, хицәнәй кәд әмә уый ис иувәрсты ахизән бынатмә әввахс

3

Уырдыгыл змәлгә транспортон фәрәзы скъәрәгән, әнәкәсгә уымә, әмә кәцы транспортон фәрәзмә у әввахс иувәрсты ахизән бынат әмә кәцы скъәрәгән у әнцондәр ацы маневры сәххәст кәнын

### განმარტება:

„საგზაო მოძრაობის შესახებ“ საქართველოს კანონის 35-ე მუხლის მე-2 პუნქტის თანახმად, მთის გზასა და ანალოგიური მახასიათებლების მქონე დიდი დახრილობის გზაზე, აგრეთვე 1.14 და 1.15 საგზაო ნიშნებით აღნიშნულ გზებზე, სადაც გვერდის აქცევა შეუძლებელია ან გართულებულია, ერთი და იმავე კატეგორიის ან ქვეკატეგორიის სატრანსპორტო საშუალებების შემთხვევაში უკუსვლით უნდა იმოძრაოს დადმართზე მოძრაობა სატრანსპორტო საშუალებამ, გარდა იმ შემთხვევისა, როცა ამკარაა, რომ აღმართზე მოძრავი სატრანსპორტო საშუალების მძღოლს უფრო იოლად შეუძლია ასეთი მანევრის შესრულება, კერძოდ, თუ ის გვერდის ასაქცევ ადგილთან ახლოს იმყოფება.

## ВОПРОС 842

ПРАВИЛЬНЫЙ ОТВЕТ: 3

Кәд хохы фәндәгтыл әмә аналогиион ахастәвдисәг стыр кьул (уырдыг) фәндәгтыл, дыууә транспортон фәрәзтәй иувәрсты ахизыны тыххәй сә иу хьуамә змәла фәстәмәцыдәй, уәд транспортон фәрәзты скондәен уәлбар ләвәр цәуы:

1

Әрмәст рог автомобилты скьәрджытәен

2

Әрмәст автобусты, әмә уәзласәен автомобилты скьәрджытәен

3

Алкәцы әндәр категорийы транспортон фәрәзты скьәрджытәен

## განმარტება:

„საგზაო მოძრაობის შესახებ“ საქართველოს კანონის 35-ე მუხლის მე-2 პუნქტის თანახმად, მთის გზასა და ანალოგიური მახასიათებლების მქონე დიდი დახრილობის გზაზე, აგრეთვე 1.14 და 1.15 საგზაო ნიშნებით აღნიშნულ გზებზე, სადაც გვერდის აქცევა შეუძლებელია ან გართულებულია, თუ გვერდის აქცევის მიზნით ორი სატრანსპორტო საშუალებიდან ერთ-ერთმა უნდა იმოძრაოს უკუსვლით, სატრანსპორტო საშუალებათა შემადგენლობის მძღოლს ენიჭება უპირატესობა ყველა სხვა სატრანსპორტო საშუალების მძღოლების მიმართ.

## ВОПРОС 843

ПРАВИЛЬНЫЙ ОТВЕТ: 2

Кәд хохы фәндагыл әмә аналогиион ахастәвдисәг стыр зылынтә фәндәгтыл, дыууә транспортон фәрәзтәй иувәрсты ахизынаен сә иу хьуамә змәла фәстәмә цыдәй, уәд автобусты скьәрджытәен уәлбар ләвәр цәуы:

1

Әрмәст транспортон фәрәзты скәндты скьәрджытәен

2

Әрмәст уәзласәен әмә рог автомобилты скьәрджытәен

3

Алкәцы транспортон фәрәзтәен

## განმარტება:

„საგზაო მოძრაობის შესახებ“ საქართველოს კანონის 35-ე მუხლის მე-2 პუნქტის თანახმად, მთის გზასა და ანალოგიური მახასიათებლების მქონე დიდი დახრილობის გზაზე, აგრეთვე 1.14 და 1.15 საგზაო ნიშნებით აღნიშნულ გზებზე, სადაც გვერდის აქცევა შეუძლებელია ან გართულებულია, თუ გვერდის აქცევის მიზნით ორი სატრანსპორტო საშუალებიდან ერთ-ერთმა უნდა იმოძრაოს უკუსვლით, სატრანსპორტო საშუალებათა შემადგენლობის მძღოლს ენიჭება უპირატესობა ყველა სხვა სატრანსპორტო საშუალების მძღოლების მიმართ, მძიმეწონიანი სატრანსპორტო საშუალების მძღოლს – მსუბუქი სატრანსპორტო საშუალების მძღოლის მიმართ, ხოლო ავტობუსის მძღოლს – სატვირთო და მსუბუქი ავტომობილების მძღოლების მიმართ.

## ВОПРОС 844

ПРАВИЛЬНЫЙ ОТВЕТ: 1

Ахადы æви нæ змæлды æдасдзинадыл скъæрæгы эммоцион уавæр?

1

Ойы, ахადы

2

Нæ ахადы

## განმარტება:

მძღოლის ემოციური მდგომარეობაზე გავლენას ახდენს მოძრაობის უსაფრთხოებაზე.

## ВОПРОС 845

ПРАВИЛЬНЫЙ ОТВЕТ: 1

Куыд ахады скъæрæджы фæладдзинад уымæн йæ хъусдардыл æмæ реакцийыл фæндæгты змæлды хайадисгæйæ?

1

Хъусдард къаддæр кæны, реакцийы рæстæг фылдæр кæны

2

Хъусдард къаддæр кæны, реакцийы рæстæг цъусдæр кæны

3

Нæ фæивы хъусдард æмæ нæдæр реакцийы рæстæг

## განმარტება:

მძღოლის გადაღლილობა მის ყურადღებას აქვეითებს, რეაქციის დრო ზრდის.



## ВОПРОС 846

ПРАВИЛЬНЫЙ ОТВЕТ: 1

Тობაгонდ у транспортон фæрæзы ахæм змæлд:

1

Кусгæ тормозон системæйы æнæრæвдзæй

2

Хæладон системæйы геметондзинады халгæйæ

3

Мынæггæнæджы (глушители) æнæрæвдзæй

4

Ацы билеты ранымад кæцыфæнды уавæры уæвды

## განმარტება:

„საგზაო მოძრაობის შესახებ“ საქართველოს კანონის 21-ე მუხლის მე-13 პუნქტის თანახმად, მძღოლს ეკრძალება მოძრაობა მუშა სამუხრუჭო სისტემის, საჭის მექანიზმის, სატრანსპორტო საშუალებათა შემადგენლობაში მისაბმელი მოწყობილობის გაუმართაობისას, აგრეთვე დღე-ღამის ბნელ დროს ერთდროულად მწყობრიდან გამოსული (ჩამქრალი) ახლო და შორი განათების ფარებით (ან მათი არარსებობისას) ან/და უკანა საგაბარიტო სინათლეებით იმ გზაზე, რომელზედაც არ არის ხელოვნური განათება ან არასაკმარისი ხილვადობაა. მძღოლის მხარეს არსებული მინასანმენდის უმოქმედობისას აკრძალულია მექანიკური სატრანსპორტო საშუალების მართვა ნისლის, წვიმისა და თოვის დროს.

## ВОПРОС 847

ПРАВИЛЬНЫЙ ОТВЕТ: 2

Скъæрæг хæсджын у басгара æмæ сифтонг кæна транспортон фæрæзы техникон рæвдздзинад (цæттæдзинад):

1

Æрмæст ацыды райдыдмæ

2

Ацыды райдыдмæ æмæ уый фæстæ дæр

3

Æрмæст ацыды рæстæджы

## განმარტება:

„საგზაო მოძრაობის შესახებ“ საქართველოს კანონის 21-ე მუხლის მე-12 პუნქტის თანახმად, მძღოლი ვალდებულია მგზავრობის დაწყებამდე შეამოწმოს და მგზავრობისას უზრუნველყოს სატრანსპორტო საშუალების ტექნიკური გამართულობა.

## ВОПРОС 848

ПРАВИЛЬНЫЙ ОТВЕТ: 2

Бар ნაე დეტთы транспортон фæрæзы дарддæры змæлд, кæд:

1

Нæ кусы скъæфты ныхмæ арæзт

2

Æнæრæвдз у (æдзæттæ у) транспортон фæрæзы сконды прицефы арæзт

3

Нæ кусы спидометр

4

Ацы билеты ранымад кæцыфæнды цауы

## განმარტება:

„საგზაო მოძრაობის შესახებ“ საქართველოს კანონის 21-ე მუხლის მე-13 პუნქტის თანახმად, მძღოლს ეკრძალება მოძრაობა მუშა სამუხრუჭო სისტემის, საჭის მექანიზმის, სატრანსპორტო საშუალებათა შემადგენლობაში მისაბმელი მოწყობილობის გაუმართაობისას, აგრეთვე დღე-ღამის ბნელ დროს ერთდროულად მწყობრიდან გამოსული (ჩამქრალი) ახლო და შორი განათების ფარებით (ან მათი არარსებობისას) ან/და უკანა საგაბარიტო სინათლეებით იმ გზაზე, რომელზედაც არ არის ხელოვნური განათება ან არასაკმარისი ხილვადობაა. მძღოლის მხარეს არსებული მინასანმენდის უმოქმედობისას აკრძალულია მექანიკური სატრანსპორტო საშუალების მართვა ნისლის, წვიმისა და თოვის დროს.

## ВОПРОС 849

ПРАВИЛЬНЫЙ ОТВЕТ: 3

Скъæрæгæн бар ნაე დეტთы транспортон фæрæзы дарддæры змæлд, кæд:

1

Æнæრæვдз у уæлдæфы уадзæн системæ

2

Нæу транспортон фæрæзы конструкцийы æркастгонд фæсте уынаены кæсæн

3

Скъæრæджы рдыгæй авгсæрфæн нæ кусы асæсты, къæвдайы æмæ митуарды рæстæджы

4

Æдасдзинады гæрзтæ æнæкусгæ уавæры сты

## განმარტება:

„საგზაო მოძრაობის შესახებ“ საქართველოს კანონის 21-ე მუხლის მე-13 პუნქტის თანახმად, მძღოლს ეკრძალება მოძრაობა მუშა სამუხრუჭო სისტემის, საჭის მექანიზმის, სატრანსპორტო საშუალებათა შემადგენლობაში მისაბმელი მოწყობილობის გაუმართაობისას, აგრეთვე დღე-ღამის ბნელ დროს ერთდროულად მწყობრიდან გამოსული (ჩამქრალი) ახლო და შორი განათების ფარებით (ან მათი არარსებობისას) ან/და უკანა საგაბარიტო სინათლეებით იმ გზაზე, რომელზედაც არ არის ხელოვნური განათება ან არასაკმარისი ხილვადობაა. მძღოლის მხარეს არსებული მინასანმენდის უმოქმედობისას აკრძალულია მექანიკური სატრანსპორტო საშუალების მართვა ნისლის, წვიმისა და თოვის დროს.

## ВОПРОС 850

ПРАВИЛЬНЫЙ ОТВЕТ: 2

Бон-აეხსაевы талынг рæстæджы æмæ æнæфаг æвзарыны уавæрты фембæлæг транспортон фæрæзы тагъдад хатæм (фиппайæм):

1

Ноджы фылдæр, æцæгдæრæй  
(реалонæй)

2

Ноджы къаддæр, æцæгдæრæй  
(реалонæй)

3

Афтæмæй, куыд æцæгдæр у  
(реалонæй у)

## განმარტება:

დღის ნათელ დროს, შემხვედრი სატრანსპორტო საშუალების სიჩქარეს, ადამიანის თვალი განსაზღვრავს სივრცეში არსებულ სხვა ორიენტირებთან შედარებით (საგზაო ნიშნები, მონიშვნა, გზისპირზე გამწვანება და სხვა), ხოლო დღე-ღამის ბნელ დროს და არასაკმარისი ხილვადობის პირობებში ორიენტირება ხდება მხოლოდ ფარების შუქზე, ამიტომ შემხვედრი სატრანსპორტო საშუალების სიჩქარეს აღვიქვამთ უფრო ნაკლებად, ვიდრე რეალურადაა.

## ВОПРОС 851

ПРАВИЛЬНЫЙ ОТВЕТ: 1

Механикон алæвæрдимæ транспортон фæрæзы змæлды райдыдæй иугонд фыццаг алæвæрдæй дæргъвæтин рæстæджы артагы хардз:

1

Рæзы (фылдæр кæны)

2

Къаддæр кæны

3

Нæ ивы

## განმარტება:

მექანიკური გადაცემათა კოლოფის მქონე სატრანსპორტო საშუალების ჩართული პირველი გადაცემით მოძრაობისას სიჩქარე დაბალია, ხოლო ძრავი მუშაობს მაღალი ბრუნთა რიცხვით და საჭიროებს მეტ სანვავს. მოძრაობის დაწყებისას, პირველი გადაცემით ჩართული სატრანსპორტო საშუალების ხანგრძლივი გაქნების დროს სანვავის ხარჯი იზრდება.

## ВОПРОС 852

ПРАВИЛЬНЫЙ ОТВЕТ: 3

Фæзилæны змæлгæйæ рог автомобиль кæцы цауы лæууы фидардæр сфæлдæхты ныхмæ?

1

Бæлццæттимæ, фæлæ æнæ уæргътæй

2

Уæргътимæ, фæлæ æнæ бæлццæттæй

3

Æнæ бæлццæттæй æмæ уæргътæй

## განმარტება:

რაც უფრო მაღლაა განლაგებული სატრანსპორტო საშუალების სიმძიმის ცენტრი მით უფრო ნაკლებია მისი მდგრადობა გადაყირავების წინააღმდეგ, განურჩევლად ტვირთის ხასიათისა. ტვირთიანი სატრანსპორტო საშუალების სიმძიმის ცენტრი ყოველთვის უფრო მაღლაა განლაგებული ვიდრე უტვირთოსი.

## ВОПРОС 853

ПРАВИЛЬНЫЙ ОТВЕТ: 1

Транспортом фæрæз сфæлдæхыны ныхмæ фидардæр у, кæд йæ уæзы центр æввахс у:

1

Бынмæ

2

Уæлæмæ

## განმარტება:

რაც უფრო მაღლაა განლაგებული სატრანსპორტო საშუალების სიმძიმის ცენტრი მით უფრო ნაკლებია მისი მდგრადობა გადაყირავების წინააღმდეგ, განურჩევლად ტვირთის ხასიათისა. ტვირთიანი სატრანსპორტო საშუალების სიმძიმის ცენტრი ყოველთვის უფრო მაღლაა განლაგებული ვიდრე უტვირთოსი.

## ВОПРОС 854

ПРАВИЛЬНЫЙ ОТВЕТ: 3

Хәстәг (әнгом) транспортон колонәйы змәлгәйә аварион ситуацийы фәзынды әвәццәгәнад кәаддәр у, кәд сыхах транспортон фәрәзы тагъдад транспортон колонәйы:

1

Тагъдад бирәхатт фылдәр у

2

Тагъдад бирәхатт кәаддәр у

3

Тагъдад әмхуызон у

## განმარტება:

მჭიდრო სატრანსპორტო ნაკადში მოძრაობისას ავრიული სიტუაციის წარმოქმნის აღბათობა ნაკლებია, თუ თქვენი სატრანსპორტო საშუალების სიჩქარე იქნება სატრანსპორტო ნაკადის სიჩქარის ტოლი.

## ВОПРОС 855

ПРАВИЛЬНЫЙ ОТВЕТ: 3

Фәзиләны змәлгәйә раззаг хидимә автомобили фәстаг хиды фәбырыны цауы скъәраг хъуамә:

1

Æртормоз кәна әмә рулы фәзила фәбырән әрдәм

2

Фәкәаддәр кәна артаг әмә ма фәива рулы уавәр

3

Хәзцъус фәфылдәр кәна артаг әмә руләй сраст кәна змәлды әрдәмад

## განმარტება:

წინა წამყვანდებიანი ავტომობილის უკანა ხიდის მოცურების შემთხვევაში მძღოლმა უნდა ოდნავ მოუმატოს სანჯავის მიწოდება და საჭით გაასწოროს მოძრაობის მიმართულება.



## ВОПРОС 856

ПРАВИЛЬНЫЙ ОТВЕТ: 2

Фæзилæны змæлгæйæ фæстаг хидимæ автомобили фæстаг хиды фæбырыны цауы скъæრæг хъуамæ:

1

Æртормоз кæна æмæ разила рулы фæбырæны æрдæм

2

Хæзцъус фæкъаддæр кæна артаг æмæ рулы разила фæбырæны æрдæм

3

Хæзцъус фæфылдæр кæна артаг æмæ æмæ ма фæива рулы уавæр

## განმარტება:

მოსახვევში მოძრაობისას უკანა წამყვანღედანი ავტომობილის უკანა ხიდის მოცურების შემთხვევაში მძღოლმა უნდა ოდნავ შეამციროს საწვავის მიწოდება და საჭე მოაბრუნოს მოცურების მხარეს.

## ВОПРОС 857

ПРАВИЛЬНЫЙ ОТВЕТ: 1

Цæуæн хайыл арф миты уæвгæйæ, мæрон (грунтон) фæндагыл змæлды цауы транспортон фæრæзы скъæრæг хъуамæ змæла:

1

Рагацау сывзæрстгонд ныллæг алæвæрдимæ æмæ тагъдадæй, æнæ цæхгæр фæзилæнты æмæ æрлæудтыты

2

Фæндаджы æмбæრзæны уавæრмæ гæсгæйæ алæвæრды æмæ тагъдады ивдимæ

## განმარტება:

სავალ ნაწილზე ღრმა თოვლის არსებობისას, გრუნტოვან გზაზე მოძრაობის შემთხვევაში სატრანსპორტო საშუალების მძღოლმა უნდა იმოძრაოს წინასწარ შერჩეული გადაცემითა და სიჩქარით გაჩერებების გარეშე, გამორიცხოს საჭის თვლის მკვეთრი მობრუნება.

## ВОПРОС 858

ПРАВИЛЬНЫЙ ОТВЕТ: 3

Хәердыл змәлды райдыды цауы, кәцы моменты ис нысанәмраст ләууәен тормозы беркеты әруадзын?

1

Змәлды райдыдмә

2

Змәлды райдыды фәстә

3

Змәлды райдыдимә әмрәстәджы

## განმარტება:

აღმართზე მოძრაობის დაწყების შემთხვევაში სადგომი მუხრუჭის ბერკეტის დაშვება მიზანშეწონილია ერთდროულად მოძრაობის დაწყებისას.

## ВОПРОС 859

ПРАВИЛЬНЫЙ ОТВЕТ: 2

Фәзиләны транспортон фәрәзы змәлды тагъдады рәзты цауы әддәскъәф тыхы нысаниуәг:

1

Чысылдәр кәны

2

Стырдәр кәны

3

Нә ивы

## განმარტება:

სატრანსპორტო საშუალების მოსახვევში მოძრაობისას სიჩქარის გაზრდის შემთხვევაში ცენტრიდანული ძალა იზრდება.

## ВОПРОС 860

ПРАВИЛЬНЫЙ ОТВЕТ: 3

Кәд транспортон фәрәзы скъәрәг раст фәндагыл змәлгәйә әнәнхәләджы  
бахаудта бырынцәг цыбыр фадыгмә, уый хъуамә:

1

Иухаттон цәхгәр әртомозәй  
әрсындаг кәна змәлды тагъдад

2

Бирәхатт цәугә әртомоз кәнгәйә  
әрсындаг кәна змәлды тагъдад

3

Змәлды тагъдады әнәфәивгәйә  
адаргъ кәна змәлды уыцы  
траекторийы

## განმარტება:

თუ სატრანსპორტო საშუალების მძღოლი სწორ გზაზე მოძრაობისას მოულოდნელად მოხვდა მოლიპულ მოკლე მონაკვეთზე, მოძრაობის სიჩქარის შეუცვლელად უნდა გააგრძელოს მოძრაობა იმავე ტრაექტორიით.

## ВОПРОС 861

ПРАВИЛЬНЫЙ ОТВЕТ: 1

Доны уромәнәй ахызты фәстә тормозгәнән калодкәты сумәлы цауы,  
транспортон фәрәзы скъәрәг тормозы эффективдзинады сцалцәг кәнынән  
хъуамә:

1

Әмә басур кәна тормозы  
накладкәтә педалыл къахәй цыбыр  
რәстәгмә бирәхатт әрхәцынәй

2

Къухәй тормозы әрдәг әлвәст  
ричагәй

3

Хъавгәйә, цалцәггәნән бынаты  
онг

## განმარტება:

წყლის დაბრკოლების გადალახვის შემდეგ სამუხრუტო ხუნდების დასვლების შემთხვევაში, სატრანსპორტო საშუალების მუხრუტების ეფექტურობის აღსადგენად, მძღოლმა უნდა გააგრძელოს მოძრაობა და გააშროს სამუხრუტე ხუნდები მუხრუტის სატერფულზე ფეხის მრავალჯერადი ხანმოკლე დაჭერით.

## ВОПРОС 862

ПРАВИЛЬНЫЙ ОТВЕТ: 2

Бон-ახსავე თაღინგ რაესაგ კაენა აენაფაგ ავზარინი უავართი, ტრანსპორტონ ფარაჟი ჰმელდი თაგადად სკარაგ ხუამა სივარა აფთა, ცამაჟი ურამენ დარდდჟაგ უა:

1

Цаестырухсы уындჟი ფылდარ

2

Цаестырухсы уындჟი კაადდარ

## განმარტება:

დღე-ღამის ბნელ დროს ან არასაკმარისი ხილვადობის პირობებში, სატრანსპორტო საშუალების მოძრაობის სიჩქარე მძღოლმა უნდა შეარჩიოს ისე, რომ გასაჩერებელი მანძილი იყოს მხედველობის არეზე ნაკლები.

## ВОПРОС 863

ПРАВИЛЬНЫЙ ОТВЕТ: 2

Артომოჟი რასაიგა ფაბყრენი ბაურომენ ტრანსპორტონ ფარაჟი სკარაგ, ხუამა:

1

Рахицан каена сцеплений

2

Баурома тормозы

3

Адардდარ каена тормоз каенын  
педалыл аерхацгаჟა

## განმარტება:

დამუხრუჭებით გამოწვეული მოცურების შესაწყვეტად სატრანსპორტო საშუალების მძღოლმა, უნდა შეწყვიტოს დამუხრუჭება.

## ВОПРОС 864

ПРАВИЛЬНЫЙ ОТВЕТ: 3

Автотранспортон фæрæзты 'рдæм бавдыстгонд техникон домæнтæм гæсгæйæ, æнæруадзгæ у:

1

Æрмæст дискты бафидаргæнæн фæнды иу гайкæйы кæнæ болты нæ уæвынад кæнæ сæ лæмæгъ æлхъывд

2

Æрмæст диски тыл фæстыты уæвынад

3

Куыд дискты бафидаргæнæн фæнды иу гайкæйы кæнæ болты нæ уæвын кæнæ сæ лæмæгъ æлхъывд, афтæ ма диски тыл фæстыты уæвынад

## განმარტება:

„ავტოსატრანსპორტო საშუალებების მიმართ წაყენებული ტექნიკური მოთხოვნები, რომლებთან შესაბამისობის დადგენის მიზნითაც ტარდება გზისთვის ვარგისობაზე ტესტირება და მისი ჩატარების მეთოდების“ საქართველოს მთავრობის 2014 წლის 3 იანვარის №30 დადგენილებით დამტკიცებული ტექნიკური რეგლამენტის მე-8 მუხლის მე-6 და მე-7 პუნქტების თანახმად: 6. დაუშვებელია დისკების დასამაგრებელი თუნდაც ერთი ჭანჭიკის ან ქანჩის არქონა ან მათი სუსტი მოჭერა. 7. დაუშვებელია დისკებზე ბზარების არსებობა.

## ВОПРОС 865

ПРАВИЛЬНЫЙ ОТВЕТ: 2

Фæзилæны змæлгæйæ разылды центры ныхмæ фарс змæлгæ раззаг æмæ разылды фарсы змæлгæ фæстаг цæлхыты онг разылды центрæй ауагъд радиусты хицæндзинады хонынц:

1

Автомобилы разилæны радиус

2

Автомобилы динамикон къæлидор

3

Автомобилы уадзинаг интервал

## განმარტება:

მოსახვევში მოძრაობისას სატვირთო ავტომობილებისა და ავტობუსების მოძრაობისათვის საჭირო ზოლი მნიშვნელოვნად ფართოვდება. მოხვევისას ავტომობილის წინა თვლები იკავენ მოხვევის ცენტრის საწინააღმდეგო მხარეს, ხოლო ავტომობილის ან მისაბმელის უკანა თვლები მოხვევის ცენტრის მხარეს. მოხვევის ცენტრის საწინააღმდეგო მხარეს მოძრავი წინა და მოხვევის მხარეს მოძრავი უკანა თვლებამდე მოხვევის ცენტრიდან გავლებული რადიუსების სხვაობას ეწოდება ავტომობილის დინამიკური დერეფანი.



## ВОПРОС 866

ПРАВИЛЬНЫЙ ОТВЕТ: 3

Механикон транспортон фæрæзы скъæрыны цахæм стил сифтонг кæндзæни артаг къаддæры хардзæн?

- 1 Æнæсхъиугæйæ цыд цæхгæр æрсындаг кæнынæй.
- 2 Арæх æмæ цæхгæр фæтагъд кæнын цæхгæр æрсындагæй.
- 3 Æнæсхъиугæйæ цыд æнæсхъиугæ æрсындаг кæнынæй

## განმარტება:

მექანიკური სატრანსპორტო საშუალების მოძრაობისას სანჯავის ნაკლებ ხარჭს უზრუნველყოფს მართვის სტილი მდორე აჩქარება მდორე შენელებით.

## ВОПРОС 867

ПРАВИЛЬНЫЙ ОТВЕТ: 3

Бырынцъаг фæндагыл, здахæны цалхы цæхгæრ æрбазылдæй расайдгонд абырæны æруромынæн автомобили скъæრæг, хъуамæ:

- 1 Рахицæн кæна æмхæстдзинад (сцеплени).
- 2 Иугонд æмхæстдзинадæй (сцепленийæ) сындæггай æртомоз кæна.
- 3 Цырდ, фæლæ сындæგгай здахæны цалхы æрбазила бырæнырдæм, уый фæстæ ыздахæны цалхæй сраст кæна автомобили траектори.

## განმარტება:

მოლიპულ გზაზე, საჭის თვლის მკვეთრი მობრუნებით გამონვეული მოცურების შესაწყვეტად ავტომობილი მძღოლმა, უნდა სწრაფად, მაგრამ მდორედ საჭის თვალი მოაბრუნოს მოვურების მხარეს, შემდეგ საჭის თვლით გაასწოროს ავტომობილის ტრაექტორია.

## ВОПРОС 868

ПРАВИЛЬНЫЙ ОТВЕТ: 3

Цы позитивон фарс ис транспортон фæрæзы зымæджы периоды зымæгон цæлхытæй спайдайæ?

1

Тæссаг нал уыдзæн транспортон фæрæзы фæрсмæ фæбырынаы.

2

Гæнæн уыдзæни цахæмфæнды боныгъады транспортон фæрæзы змæлд максималон конструкцион тагъдадæй.

3

Къæддæр кæны бырынцаг фæндаджы фæлцъарыл цæлхыты бырын æмæ буксиры гæнæндзинад.

## განმარტება:

სატრანსპორტო საშუალებაზე ზამთრის საბურავების გამოყენება ზამთრის პერიოდში ამცირებს მოლიპულ გზის საფარზე თვლების სრიალსა და ბუქსაობის შესაძლებლობას.

## ВОПРОС 869

ПРАВИЛЬНЫЙ ОТВЕТ: 4

Змæлды æдасдзинады сифтонгæн кæцы цауы у нысанæмраст фæрсмæ интервалы сырæзт?

1

Æрмæст стыр тагъдадæй фембæლæг транспортон фæრæзы фæрсты ахизгæйæ.

2

Æрмæст даргъ транспортон фæრæзы фæრсты ахизгæйæ.

3

Æрмæст хуылыдз, бырынцаг кæნæ къуыппытæ-дзыхъхъытæ фæндаджы фадыгыл змæლგæйæ.

4

Ацы билеты ранымад кæцыфæнды цауы

## განმარტება:

მოძრაობის უსაფრთხოების უზრუნველსაყოფად გვერდითი ინტერვალის გაზრდა მიზანშეწონილია როგორც მაღალი სიჩქარით შემხვედრი სატრანსპორტო საშუალების გვერდის აქცევისას, ასევე გრძელი სატრანსპორტო საშუალების გვერდის აქცევისას და სველი, მოლიპული ან უსწორმასწორო გზის მონაკვეთზე მოძრაობისას.

## ВОПРОС 870

ПРАВИЛЬНЫЙ ОТВЕТ: 1

Змәлды комкоммә әрдәмады хаххыл рахызтәй разәй кәныны (обгоны) маневры әххәстгәнгәйә, аварион ситуацийы скәныны иуәй-иу сәйраг аххосаг у уыцы уавәр, әмә скъәрәг комкоммә әрдәмадмә змәлгә транспортон фәрәзы тагъдадәен аргъ кәны, куыд:

1

Ноджы къаддәр суанг куыд у уымәй.

2

Ноджы фылдәр суанг куыд у уымәй.

## განმარტება:

მოდრაობის საპირისპირო მიმართულების ზოლზე გადასვლით გასწრების მანევრის შესრულებისას, საავარიო სიტუაციის შექმნის ერთ-ერთ ძირითადი მიზეზია ის გარემოება, რომ მძღოლი საპირისპირო მიმართულებით მოძრავ სატრანსპორტო საშუალების სიჩქარეს აფასებს, როგორცუფრო ნაკლებს ვიდრე სინამდვილეშია.

## ВОПРОС 871

ПРАВИЛЬНЫЙ ОТВЕТ: 2

Раст фәндагыл, дәргъвәтин рәстәджы дәргъы стыр тагъдадәй змәлгәйә транспортон фәрәзы тагъдад скъәрәг әнкъары:

1

Уыйас фылдәрәй, цас әцәгәй дәр у.

2

Уыйас къаддәрәй, цас әцәгәй дәр у.

3

Куыддәриддәр әцәгәй у.

## განმარტება:

სწორ გზაზე, ხანგრძლივი დროის განმავლობაში მაღალი სიჩქარით მოძრაობისას სატრანსპორტო საშუალების სიჩქარეს მძღოლი აღიქვამს უფრო ნაკლებად, ვიდრე სინამდვილეშია.

## ВОПРОС 872

ПРАВИЛЬНЫЙ ОТВЕТ: 2

Транспорტონ ფაერაჲზი ტაგდადჲ ფაფილდერგენგჲ, კუიდი ივი სკჲერაჲდჲჲ  
ცაჲსტაენგასი ალფაემბლაი?

- |  |  |
|--|--|
| <p><b>1</b> Цაჲსტაენგასი ალფაემბლაი უაერაჲჲ კაენი.</p> | <p><b>2</b> Цაჲსტაენგასი ალფაემბლაი კჲუყინდაგ კაენი.</p> |
| <p><b>3</b> Цაჲსტაენგასი ალფაემბლაი ნა ივი.</p>        |  |

## განმარტება:

სატრანსპორტო საშუალების სიჩქარის გაზრდისას მძღოლის მხედველობის მხედველობის არე ვიწროვდება.

## ВОПРОС 873

ПРАВИЛЬНЫЙ ОТВЕТ: 4

რანჲმადაჲჲ კაჲციყაენ ია ბონ უ რასაჲა ტრანსპორტონ ფაერაჲზი სკჲაერჲნი  
აჲვზყგდდჲზინადჲ ფაფყდდერდჲზინად?

- |   |  |
|---|--|
| <p><b>1</b> ჲერმაჲსტ, უყცი ჲოსგაენაენ პრეპარატი რაჲსყნ, კაჲცი დაჲლდერ კაენი რეაქციყჲჲ ამაჲ ჲჲუსდარდი.</p> | <p><b>2</b> ჲერმაჲსტ, ტყდჲყნ ფაჲლადდჲზინად კაენაჲ აგყუყსაგდჲზინად.</p> |
| <p><b>3</b> ჲერმაჲსტ, ალკოგოლონ, ნაკოტიკონ კაენაჲ პსიჲოტერაპიონ რასყგდჲზინად.</p>                         | <p><b>4</b> აცი ბილეთი რანჲმადგონდ კაჲციფაენდი უაჲაერყ</p>             |

## განმარტება:

სატრანსპორტო საშუალების მართვის უნარის გაუარესება შეიძლება გამოიწვიოს როგორც იმ სამკურნალო პრეპარატის მიღებამ, რომელიც აქვეყითებს რეაქციას და ყურადღებას, ასევე ძლიერმა დაღლილობამ ან უძილობამ და ალკოჲოლურმა, ნარკოტიკულმა ან ფსიჲოტროპულმა თრობამ.

## ВОПРОС 874

ПРАВИЛЬНЫЙ ОТВЕТ: 3

Аварион ситуацийы фæзыныны тасдзинад рæзы:

1

Æрмæст уыцы цауы, кæд скъæрæг аккагæй нæ хъахъхъæны дистанцийы кæнæ фæрсмæ интервалы æндæр транспортон фæрæзы 'рдæм.

2

Æрмæст уыцы цауы, кæд скъæрæг маневр райдайы афтæ, æмæ йын нæ зоны рагацау йе 'дасдзинады.

3

Ацы билеты ранымад кæцыфæнды цауы

## განმარტება:

საავარიო სიტუაციის წარმოქმნის საფრთხე იზრდება იმ შემთხვევაში, თუ მძღოლი სათანადოდ არ იცავს დისტანციას ან გვერდით ინტერვალს სხვა სატრანსპორტო საშუალებების მიმართ, ასევე თუ მძღოლი მანევრს იწყებს ისე, რომ არ რწმუნდება მის უსაფრთხოებაში.

## ВОПРОС 875

ПРАВИЛЬНЫЙ ОТВЕТ: 1

Ранымад уавæртæй, кæцы амоны моторы хæлцады системæйы æнæრæвдздзинадыл кæнæ моторы æнæраст регулировкæйы фæстиуæгæн артагы хардзы цæхгæр фæфылдæрыл?

1

Глушителæй рауадзгæ тыхджын тарбын фæздæг

2

Глушителæй рахъаргæ конденсацигонд тæнгъæд

3

Ацы билеты ранымад кæцыфæнды уавæр

## განმარტება:

ჩამოთვლილი გარემოებიდან, ძრავის კვების სისტემის გაუმართაობაზე ან ძრავის არასწორი რეგულირების შედეგად საწვავის ხარჯის მკვეთრ მომატებაზე მიანიშნებს მაყუჩიდან გამონაბოლქვი მძლავრი მუქი კვამლი.



## ВОПРОС 876

ПРАВИЛЬНЫЙ ОТВЕТ: 2

Куыд хъуамæ йæхи дара фæстаг кæнæгсæмæнджын автомобили скъæრæг, цæмæй сæრæй аиуварс кæна ихгонд фæндагыл змæлгæйæ фæстаг хиды фæрсмæ абырын?

**1** Тагъдады фæкъаддæргæнгæйæ æрвылхатт спайда кæна къухын тормоз.

**2** Аиуварс кæнæд æндæдзынады муфтæйы къахы цæхгæр суагъды æмæ акселераторы къахы цæхгæр æрхæцын.

**3** Алы ранымад архайд раст у.

## განმარტება:

უკანა წამყვანდერძიანი ავტომობილის მძღოლი, რათა აიცილოს მოყინულ გზაზე მოძრაობისას უკანა ხიდის გვერდულად მოცურება უნდა მოერიდოს გადაბმულობის ქუროს სატერფულის მკვეთრ ამშვებას და აქსელერატორის სატერფულის მკვეთრ დაჭერას.

## ВОПРОС 877

ПРАВИЛЬНЫЙ ОТВЕТ: 3

Цы функцийы 'ххæст кæны æдасдзинады гæрзбæндæн (ремен) фæндагон-транспортон цауы рæстæджы?

**1** Æрмæст, аиуварс кæндзæн скъæრæг æмæ бæлццæты инерцийæ цыдæн, цæмæй уыдон сæхи ма скъуырой транспортон фæრæзы интериеры деталтыл æмæ иннæ бæлццæттимæ.

**2** Æрмæст, скъæრæг æмæ бæлццæтты уромы позицийы, кæцы ифтонг кæны æрдзонгазы балоны (хъахъхъæნæг базты) æдасæй байгом кæнынæн.

**3** Æххæст кæны алы ранымад функцийы.

## განმარტება:

საგზაო-სატრანსპორტო შემთხვევის დროს უსაფრთხოების ღვედი როგორც აღკვეთს მძღოლისა და მგზავრების ინერციით გადაადგილებას, შესაბამისად მათ შეჯახებას სატრანსპორტო საშუალების ინტერიერის დეტალებზე და სხვა მგზავრებთან, ასევე მძღოლსა და მგზავრებს აკავებს პოზიციაში, რომელიც უზრუნველყოფს აირბაგების (დამცავი ბალიშების) უსაფრთხოდ გახსნას.

## ВОПРОС 878

ПРАВИЛЬНЫЙ ОТВЕТ: 1

Цы функцитæ æххæст кæны исæн (приемник) автомобили пневматикон тормозон системæйы?

1

Сифтонг кæндзæн æлхъывд уæлдæфы резервы скæнын.

2

Сифтонг кæндзæн уæлдæфæй конденсаты рахицæн кæнын.

3

Рæзын кæны уæлдæфы æлхъывдады.

4

Рæзын кæны æртормозы тыхы.

## განმარტება:

ავტომობილის პნევმატურ სამუხრუჭე სისტემაში, რესივერი უზრუნველყოფს შეკუმშული ჰაერის რეზერვის შექმნას.

## ВОПРОС 879

ПРАВИЛЬНЫЙ ОТВЕТ: 3

Куыд хъуамæ йæхи дара скъæრæг тормозы блокировкæйы ныхмæ системæйы (АВС) нæ уæвгæ автомобили æртомозгæнгæйæ, цæмæй автомобиль ма фесафа уагдæттынад?

1

Æртормоз кæна æрмæст змæлынგæნæгæй.

2

Æртормоз кæна кусæг тормозæй, уæლæмхасæй парковкæйы тормозы спайдайæ.

3

Æртормоз кæна тормозон педалыл пулсирæй æрхæцгæйæ, æмæ бацархайа нæ расайын цæлхыты блокировкæ.

4

Хъуамæ бацархайа дзæвгар æрхæца тормозы педалыл, цæмæй რæვдзæй æрурома автомобили.

## განმარტება:

მუხრუჭების ბლოკირების საწინააღმდეგო სისტემის (АВС) არ მქონე ავტომობილის დამუხრუჭებისას, რათა ავტომობილმა არ დაკარგოს მართვადობა მძღოლმა უნდა დაამუხრუჭოს სამუხრუჭე სატერფულზე პულსირებულად დაჭერით, ამასთან ეცადოს არ გამოიწვიოს თვლების ბლოკირება.

## ВОПРОС 880

ПРАВИЛЬНЫЙ ОТВЕТ: 2

Куыд хъуамæ йæхи дара автобусы скъæрæг, кæд иуæй-иу бæлццон у агрессивон æмæ хъыг дары иннæ бæлццæтт?

**1** Агрессивон бæлццон фæтæрсын кæнынæн цæхгæр æртомоз кæнын.

**2** Скъæრæг хъуамæ агрессивон бæлццонæн зæгъа, цæмæй æрсабыр уа, кæннот полицæмæ кæй фехъусын кæндзæни. Кæд æмæ бæлццон не 'рсабыр уа, уæд скъæრæг хъуамæ адзура полицæмæ

**3** Скъæрæг хъуамæ бæлццæттæн зæгъа кæй фæнд кæны полицæмæ адзурын, фæлæ кæд бæлццон адарддæр кæндзæн агрессивон ахаст, уæд æй хъуамæ æрхизын кæна автобусæй.

## განმარტება:

თუ ერთ-ერთი მგზავრი იქცევა აგრესიულად და აწუხებს სხვა მგზავრებს ავტობუსის მძღოლმა სიმშვიდისკენ უნდა მოუწოდოს აგრესიულად განწყობილ მგზავრს, და გააფრთხილოს რომ წინააღმდეგ შემთხვევაში გამოიძახებს პოლიციას. თუ მგზავრი არ დამშვიდდა და სიტუაცია ხდება საფრთხის შემცველი, მძღოლმა უნდა დარეკოს პოლიციაში.

## ВОПРОС 881

ПРАВИЛЬНЫЙ ОТВЕТ: 1

Аварион ахизынæн автобусы гæнæн ис пайдагонд уой:

**1** Аварион ахизæны дуæрттæ, люк æмæ рудзгуйтæ.

**2** Æрмæст уыцы дуæрттæ, кæцытæ аварийы рæстæджы автоматиконæй гом кæнынц.

**3** Æрмæст аварион ахизæны рудзгуйтæ.

## განმარტება:

ავარიულ გასასვლელად ავტობუსში შეიძლება გამოყენებულ იქნეს ავარიული გასასვლელის კარები, ლუკი და ფანჯრები.

## ВОПРОС 882

ПРАВИЛЬНЫЙ ОТВЕТ: 1

Куыд хъуамæ йæхи дара автобусы скъæрæг, кæд мæ йæ разæй цæуæг автомобиль æнæ бындурæй змæлы хæрз ныллæг тагъдадæй?

1

Хъуамæ адаргъ кæна йæ фæстæ змæлд уæдмæ цалынмæ йын нæ фæзына æдасæй фæразæй кæныны гæнæндзинад.

2

Максималонæй йæм æрбаввахс уа фæстейæ, цæмæй уый фæтагъддæр кæна тагъдад.

3

Змæла æдасон дистанцийыл æмæ зæлон сигналы раттынæй æрдома уымæй змæлды къуылымпы кæныны фескъуынын

## განმარტება:

თუ მის წინ მიმავალი ავტომობილი უსაფუძვლოდ მოძრაობს მეტისმეტად დაბალი სიჩქარით ავტობუსის მძღოლმა უნდა გააგრძელოს მის უკან მოძრაობა მანამდე სანამ არ მიეცემა უსაფრთხოდ გასწრების შესაძლებლობა.

## ВОПРОС 883

ПРАВИЛЬНЫЙ ОТВЕТ: 3

Бонæй æхсæвы талынг рæстæджы комкоммæ æрдæмадæй рацæугæ транспортон фæრæзы фарæты рухсæй цæстыты куырмкæнын фæкъаддæры тыххæй, скъæრæгæн гæнæн ис (нысанæмраст у):

1

Сиу кæна автомобили салони рухсгæнæн.

2

Цæхгæр æртормоз кæнын æмæ бакæна рог тониронгонд хуры кæсæнцæстытæ.

3

Гæнæн куыд уа уымæ гæсгæ аздаха йæ цæстæнгас цæуæн хайы рахиз кæронырдæм.

## განმარტება:

დღე-ღამის ბნელ დროს საპირისპირო მიმართულებიდან მომავალი სატრანსპორტო საშუალების თარების შუქით თვალის მოჭრის სიძლიერის შემცირების მიზნით, მძღოლისათვის მიზანშეწონილია შეძლებისდაგვარად მიმართოს მზერა სავალი ნაწილის მარჯვენა ნაპირის მხარეს.

## ВОПРОС 884

ПРАВИЛЬНЫЙ ОТВЕТ: 2

Гәәнәән ис æви нә ласәг ма уа дзуаппдәттәг кәәнә арәнгонд әрцәуа бадзырдәй?

1

Гәәнәән ис.

2

Нәй гәәнәән.

## განმარტება:

საქართველოს სამოქალაქო კოდექსის 669-ე მუხლის მე-3 პუნქტის თანახმად, გადამზიდველის პასუხისმგებლობა არ შეიძლება გამოირიცხოს ან შეიზღუდოს ხელშეკრულებით.

## ВОПРОС 885

ПРАВИЛЬНЫЙ ОТВЕТ: 1

Ласәг дзуаппдәттәг у:

1

Бәлццоны райсгә зианәән, афтә ма йә уаргъы базианәән кәәнә фесәфтәән.

2

Æрмәст бәлццоны райсгә зианы тыххәй. Бәлццоны уаргъы базианәән кәәнә фесәфтәән уаргъласәгыл нәй гәәнәән бәრндзинад сәвәрын (æвджид бакәнын).

## განმარტება:

საქართველოს სამოქალაქო კოდექსის 669-ე მუხლის პირელი პუნქტის თანახმად, გადამზიდველი პასუხს აგებს მგზავრისათვის მიყენებული ზიანისათვის, ასევე მისი ბარგის დაზიანების ან დაკარგვისათვის.



## ВОПРОС 886

ПРАВИЛЬНЫЙ ОТВЕТ: 1

Хәсджын у æви нæ гоймаг, кæцы æргомæй хъары уаргъты æмæ бæлццæтты акæнынæн, æривæра аласыны-акæныны бадзырд?

1

Хәсджын у, кæд æмæ нæ уыдзæн нæй зæгъыны бындур.

2

Ахæм хәсджинады закъондæттынад нæу развæлгъау æркастгонд.

## განმარტება:

საქართველოს სამოქალაქო კოდექსის 670-ე მუხლის თანახმად, პირი, რომელიც საჯაროდ სთავაზობს ტვირთის გადაზიდვასა და მგზავრთა გადაყვანას, ვალდებულია დადოს გადაყვანა-გადაზიდვის ხელშეკრულება, თუ არ არსებობს უარის თქმის საფუძველი.

## ВОПРОС 887

ПРАВИЛЬНЫЙ ОТВЕТ: 2

Цы нысан кæны, скъæрæджы реакцийы рæстæджы?

1

Рæстæг тасы фæзындæй транспортон фæрæзы æххæстæй æрлæуды.

2

Рæстæг тасы фæзындæй уый сæრæй аиуварс кæнынæн хъæугæ мадзæлтты райсты.

3

Æнæмæнгхъæугæ рæстæг акселераторы педалæй тормозы педалыл къахы æривæрын.

## განმარტება:

მძღოლის რეაქციის დროში იგულისხმება - დრო საფრთხის აღმოჩენიდან მისი თავიდან აცილებისათვის საჭირო ზომების მიღებამდე.

## ВОПРОС 888

ПРАВИЛЬНЫЙ ОТВЕТ: 1

Асæст боны транспортон фæрæзæй змæлгæйæ дæрддзæг предметы онг æнкъарæм:

1

Уымæй фылдæр, цас реалонæй у.

2

Уымæй къаддæр, цас реалонæй у.

3

Афтæ, куыддæриддæр у реалонæй.

## განმარტება:

ნისლიან ამინდში სატრანსპორტო საშუალებით მოძრაობისას მანძილს საგნებამდე აღვიქვამთ უფრო მეტად, ვიდრე რეალურადაა.

## ВОПРОС 889

ПРАВИЛЬНЫЙ ОТВЕТ: 3

Автомобилы æртормозгæнгæйæ ратгæ згъæры зæл æмæ ахастæвдисæг хъыррыст амонь:

1

Пневматикон тормозон системæйæ уæлдæфы рахъардыл

2

Тормозты æнæ аккаг регулировкæйыл

3

Тормозгæнæн калодкæты баихсыдыл

4

Пневматикон тормозгæнæн системæйы фылдæр кондесаты æмвæзадыл

## განმარტება:

ავტომობილის დამუხრუჭებისას გამოცემული ლითონის ხმა და დამახასიათებელი ჭრიალი მიუთითებს სამუხრუჭო ხუნდების გაცვეთაზე.

თემა 31:

## ადმინისტრაციული კანონი

---

## ВОПРОС 890

ПРАВИЛЬНЫЙ ОТВЕТ: 1

Кәд фәндагон-транспортон цауы (аварийы) фәстиуәгәен амарди кәнә фәцәф стурфос, кәцы фәндагыл әнә хәусдарәгәй (әнәхицауәй) уыдис:

1

Скәерәг сәрибар у мард стурь аргъ бафидыны хәсдзинадәй

2

Скәерәг хәсджын у әмә бафида мард стурь аргъ

## განმარტება:

„საგზაო მოძრაობის შესახებ“ საქართველოს კანონის 22-ე მუხლის მე-9 პუნქტის თანახმად, თუ საგზაო-სატრანსპორტო შემთხვევის შედეგად დაიღუპა ან დაშავდა პირუტყვი, რომელიც გზაზე უმეტადად უნაღებოდ ან პირუტყვის ძოვების ან გარეკვის წესების დარღვევით იმყოფებოდა, მძღოლი თავისუფლდება მისი დაღუპვით ან დაშავებით მიყენებული ზიანის ანაზღაურების ვალდებულებისაგან.

## ВОПРОС 891

ПРАВИЛЬНЫЙ ОТВЕТ: 2

Автотранспортон фәрәзы фәндагәен бәззындзинадыл тестиры ауадзыны бәлвырдгәенәен фирниш ратдзәни:

1

Гуырдыстоны мидхъуыддәгты министрად

2

Тестируадзәен центр

3

СТА – Сурзәххон транспорты агентад

## განმარტება:

„საგზაო მოძრაობის შესახებ“ საქართველოს კანონის მე-11 მუხლის მე-6 პუნქტის თანახმად, ავტოსატრანსპორტო საშუალების გზისთვის ვარგისობაზე ტესტირების გავლის დამადასტურებელ ფირმის გასცემს ტესტირების ცენტრი.

## ВОПРОС 892

ПРАВИЛЬНЫЙ ОТВЕТ: 2

Оперативон-სგარენ ჟამე ფედაგუყრდონ კუყსტყტე აუადჟყნყ ცაყყ, ტრანსპორტონ ფერეჟყ სკჟერეჟ ჰესდჟყნ ყ, ჟერკურა მყდჟყყდდჟგტყ მყნყსტრადყ ჟედჟყდდარ გოყმარეჟ ბასგარყნენ რავდყსა:

1

ენენყზდჟყნადყ ბელყყრდგენენ მედყნყნონ სპრავკე

2

ერმესტ გოყმადჟყ ბელყყრდგენენ დოკუმენტ

3

ტრანსპორტონ ფერეჟყ რეგყსტრაციყყ ჟედყსენდარ.

## განმარტება:

„საგზაო მოძრაობის შესახებ“ საქართველოს კანონის მე-13 მუხლის პირველი პუნქტის „ბ“ ქვეპუნქტისა და მე-2 პუნქტის თანახმად: 1. გზაზე სატრანსპორტო საშუალების მოძრაობის შემღეუვა ან დროებით შეწყვეტა ხორციელდება: ბ) ცალკეული ოპერატიულ-სამძებრო და საგამოძიებო მოქმედებების ჩასატარებლად; 2. ამ მუხლის პირველი პუნქტის „ბ“ და „გ“ ქვეპუნქტებით გათვალისწინებულ შემთხვევებში სატრანსპორტო საშუალების მძღოლი ვალდებულია მოთხოვნისას საქართველოს შინაგან საქმეთა სამინისტროს უფლებამოსილ პირს შემოწმებისათვის წარუდგინოს მხოლოდ პირადობის დამადასტურებელი დოკუმენტი.

## ВОПРОС 893

ПРАВИЛЬНЫЙ ОТВЕТ: 1

ჰესდჟყნ ყ ჟეყ ნე ფენდაგონ-ტრანსპორტონ ცაყყ (ავარიყყ) ჰყადყსეჟ სკჟერეჟ ფყდარეჟ ბაჟონა ცემეჟ ავარიყყ ცაყყ ფესტყუეჟენ ნყჩყ ბაჟყან კოდტა ჟემე დჟყ ნეჟ მერდტე?

1

ჰესდჟყნ ყ

2

ჰესდჟყნ ყ, ჟერმესტ ყყცყ ცაყყ, კედ ყყყ დოჟტყრ ყ

3

ნეუ ჰესდჟყნ, კედ სყფტონგ კენდჟენყ ტაგდ მედყნყნონ ჟეჟყყსმე ფედჟურყნეჟ

4

ნეუ ჰესდჟყნ, კედ ფენდაგონ-ტრანსპორტონ ცაყ (ავარი) ნე რყყდ ყყყ აჟჟოსეჟ

## განმარტება:

„საგზაო მოძრაობის შესახებ“ საქართველოს კანონის 27-ე მუხლის პირველი პუნქტის „ბ“ ქვეპუნქტის თანახმად, საგზაო-სატრანსპორტო შემთხვევის მონაწილე მძღოლი ვალდებულია: ბ) დარწმუნდეს, რომ საგზაო-სატრანსპორტო შემთხვევის შედეგად არავინ დაზარალებულა ან დაღუპულა.



Кәд æмæ хосгæнæн уагдонмæ нæй уый ацæуыны æмæ рынчынты акæныны æнæмæнгдзинад, фæндагон-транспортон цауы (аварийы) хайадисæг скъæрæг, хæсджын у:

1

Акæна йæхи транспортон фæрæз патрулон полицийы æввахсдæр хайадмæ æмæ уым бафдиса æрцæугæ факты тыххæй

2

. Сараза аварийы схемæ, райса бавдыстытæ æвдисæнтæй æмæ нысангонд документтæ бахæсса патрулон полицийы æввахсдæр хайадмæ

3

Баззайа æрцыд цауы (аварийы) бынатыл æмæ банхæлмæ кæса æвджиддар гоймаджы æрбацыдмæ

### განმარტება:

„საგზაო მოძრაობის შესახებ“ საქართველოს კანონის 27-ე მუხლის პირველი პუნქტის „გ“ ქვეპუნქტის თანახმად, საგზაო-სატრანსპორტო შემთხვევის მონაწილე მძღოლი ვალდებულია: გ) მომხდარის შესახებ დაუყოვნებლივ აცნობოს საქართველოს შინაგან საქმეთა სამინისტროს სისტემაში შემავალ შესაბამის სამსახურს და, თუ არ არსებობს სამკურნალო დაწესებულებაში მისი მისვლის ან მის მიერ დაშავებულის გადაყვანის გადაუდებელი აუცილებლობა, დარჩეს საგზაო-სატრანსპორტო შემთხვევის ადგილზე და დაელოდოს უფლებამოსილი პირის მისვლას.

Фәндагон-транспортон цауы (аварийы) хайадисәг скъәрәг хәсджын у аварийы тыххәй әвәстиатәй фехъусын кәна:

1 Гуырдыстоны мидхъуыддәгты  
министрады системәйы әмбәлон  
куыстуатән

2 Бынәттон хәдуынаффәйы  
органтән

3 Гуырдыстоны куысты,  
әнәниздзинады әмә социалон  
хъахъхъәды министрадән

### განმარტება:

„საგზაო მოძრაობის შესახებ“ საქართველოს კანონის 27-ე მუხლის პირველი პუნქტის „გ“ ქვეპუნქტის თანახმად, საგზაო-სატრანსპორტო შემთხვევის მონაწილე მძღოლი ვალდებულია: გ) მომხდარის შესახებ დაუყოვნებლივ აცნობოს საქართველოს შინაგან საქმეთა სამინისტროს სისტემაში შემავალ შესაბამის სამსახურს და, თუ არ არსებობს სამკურნალო დაწესებულებაში მისი მისვლის ან მის მიერ დაშავებულის გადაყვანის გადაუდებელი აუცილებლობა, დარჩეს საგზაო-სატრანსპორტო შემთხვევის ადგილზე და დაელოდოს უფლებამოსილი პირის მისვლას.

Дәлдәр ранымадгонд, кәцы уавәрти ис гәәнән фәндагон-транспортон цауы (аварийы) хайадисәг скъәрәг ныууадза аварийы бынат әмә ма банхәәлмә кәса әвджиддар гоймаджы әрбацыдмә?

1

Кәд әмә авари не рцыд уый аххосәй

2

Кәд әмә хосгәәнән уагдонмә нәй уый ацәуыны әмә рынчынты акәныны әнәмәнгдзинад

3

Кәд аварийы хайадисәг иннә фарс бамбәхстис аварийы бынатәй

4

Ацы билеты ранымад кәцыфәнды уавәры уәвды

### განმარტება:

„საგზაო მოძრაობის შესახებ“ საქართველოს კანონის 27-ე მუხლის პირველი პუნქტის „გ“ და „ე“ ქვეპუნქტების თანახმად, საგზაო-სატრანსპორტო შემთხვევაში მონაწილე მძღოლი ვალდებულია: გ) მომხდარის შესახებ დაუყოვნებლივ აცნობოს საქართველოს შინაგან საქმეთა სამინისტროს სისტემაში შემავალ შესაბამის სამსახურს და, თუ არ არსებობს სამკურნალო დაწესებულებაში მისი მისვლის ან მის მიერ დაშავებულის გადაყვანის გადაუდებელი აუცილებლობა, დარჩეს საგზაო-სატრანსპორტო შემთხვევის ადგილზე და დაელოდოს უფლებამოსილი პირის მისვლას; ე) მიიღოს საჭირო ზომები, რათა პირველადი სამედიცინო დახმარება აღმოუჩინოს საგზაო-სატრანსპორტო შემთხვევის შედეგად დაშავებულს, გამოიძახოს სასწრაფო სამედიცინო დახმარება, გადაუდებელი აუცილებლობის შემთხვევაში დაშავებული გაგზავნოს უახლოეს სამკურნალო დაწესებულებაში გზად მიმავალი სხვა სატრანსპორტო საშუალებით, ხოლო თუ ეს შეუძლებელია – თავად წაიყვანოს იგი, გარდა იმ შემთხვევისა, როდესაც არსებობს საფუძვლიანი ეჭვი, რომ გადაყვანამ შეიძლება ზიანი მიაყენოს დაშავებულს.

## ВОПРОС 897

ПРАВИЛЬНЫЙ ОТВЕТ: 2

Гәәнән ис æви нæ фæндагон-транспортон цауы (аварийы) хайадисæг скъæрджытæ уæвæг уавæртæн саргъгæнгæйæ æмзæрдиуæг бадзырды бындырыл, рагацау скæной аварийы схемæ, æрфыссой къух æмæ бацæуой патрулон полицийы æввахсдæр хайадмæ ацы факты саформит кæнынæн?

1

Нæй сын гæнæн, уымæн æмæ æвджиддар гоймаджы æрбацыдмæ, уыдонæн ис аварийы бынаты баззайыны хæсдзинад

2

Ис сын гæнæн, æрмæст уыцы цауы, кæд æмæ фæндагон-транспортон цауы (аварийы) фæстиуæгæн ничи базан кодта

## განმარტება:

„საგზაო მოძრაობის შესახებ“ საქართველოს კანონის 27-ე მუხლის მე-2 პუნქტის თანახმად, თუ საგზაო-სატრანსპორტო შემთხვევის შედეგად არავინ დაშავებულა, მძღოლებს, არსებულ გარემოებათა შეფასებით, შეთანხმების საფუძველზე შეუძლიათ წინასწარ შეადგინონ შემთხვევის სქემა, მოანერგონ ხელი და მივიღნენ საპატრულო პოლიციის უახლოეს დანაყოფში ამ ფაქტის გასაფორმებლად.

## ВОПРОС 898

ПРАВИЛЬНЫЙ ОТВЕТ: 1

Кæд фæндагон-транспортон цауы (аварийы) фæстиуæгæн ничи базан ис, æмзæრдиуæг бадзыრды бындырыл, аварийы схемæйы скæныны фæстæ, фæндагон-транспортон цауы (аварийы) хайадисæг скъæрджытæ, хъуамæ:

1

Бацæуой патрулон полицийы æввахсдæр хайадмæ, ацы факты саформит кæнынмæ

2

Баныхас кодтой разианы бафысты уавæртыл, аимæ иумæ патрулон полицийы хайадмæ бацæуын æмæ фæндагон-транспортон аварийы факты саформит кæнын æнæмæнг æххæстгæнгæ нæу.

## განმარტება:

„საგზაო მოძრაობის შესახებ“ საქართველოს კანონის 27-ე მუხლის მე-2 პუნქტის თანახმად, თუ საგზაო-სატრანსპორტო შემთხვევის შედეგად არავინ დაშავებულა, მძღოლებს, არსებულ გარემოებათა შეფასებით, შეთანხმების საფუძველზე შეუძლიათ წინასწარ შეადგინონ შემთხვევის სქემა, მოანერგონ ხელი და მივიღნენ საპატრულო პოლიციის უახლოეს დანაყოფში ამ ფაქტის გასაფორმებლად.

## ВОПРОС 899

ПРАВИЛЬНЫЙ ОТВЕТ: 1

Кәд фәндагон-транспортон цауы (аварийы) хайадисәг скъәрәг тыхуагъдәй ныууадза аварийы бынат хосгәәнән уагдонмә әнәәмәнг ацыдмә гәсгә, уый хәсджын у хосгәәнән уагдоны:

1

Йәхи тыххәй хъуамә зәгъа (йәхи бацамона), (равдиса йә гоймагон бәлвырдгәәнәны документи әмә транспортон фәрәзы регистрацийы документ) әмә кәд гәәнән уыдзәнис, фәстәмә раздәха аварийы бынатмә

2

Бацамона йәхи, рынчыны әмә аварийы әвдисәнты, равдиса фәндагон-транспортон цауы (аварийы) әввахс схемә

## განმარტება:

„საგზაო მოძრაობის შესახებ“ საქართველოს კანონის 27-ე მუხლის მე-3 პუნქტის თანახმად, თუ ამ მუხლის პირველი პუნქტის „გ“ და „ე“ ქვეპუნქტებით განსაზღვრული გარემოებების არსებობისას მძღოლი იძულებულია მიატოვოს საგზაო-სატრანსპორტო შემთხვევის ადგილი სამკურნალო დაწესებულებაში მისვლის აუცილებლობის გამო, იგი ვალდებულია სამკურნალო დაწესებულებაში განაცხადოს თავისი ვინაობა (წარადგინოს პირადობის დამადასტურებელი დოკუმენტი და სატრანსპორტო საშუალების სარეგისტრაციო დოკუმენტები) და, თუ ეს შეუძლებელი არ არის, დაბრუნდეს შემთხვევის ადგილზე.

## ВОПРОС 900

ПРАВИЛЬНЫЙ ОТВЕТ: 1

Ис сын әви нә фәндагон-транспортон цауы (аварийы) хайадисджытән, әвджиддар паддзахадон әмә бынәттон хәдуынафхәйы органтәй, афтә ма әндәр әвджиддар гоймәгтәй фыццагон медицинон, әххуысы әмә әндәр хуыз әххуысы райсыны бар?

1

Ис сын

2

Нәй сын

## განმარტება:

„საგზაო მოძრაობის შესახებ“ საქართველოს კანონის მე-20 მუხლის პირველი პუნქტის „ბ.დ“ ქვეპუნქტის თანახმად, საგზაო მოძრაობის მონაწილეს უფლება აქვთ კანონმდებლობით დადგენილი წესით უფლებამოსილი სახელმწიფო და ადგილობრივი თვითმმართველობის ორგანოებისაგან, აგრეთვე სხვა უფლებამოსილი პირებისგან მიიღოს პირველადი სამედიცინო, სამაშველო და სხვა დახმარება საგზაო-სატრანსპორტო შემთხვევის დროს.



## ВОПРОС 901

ПРАВИЛЬНЫЙ ОТВЕТ: 1

Фანდაгон-транспортон цауы (аварийы) фæстиуæгæн зиан райсджыты (цæфты) тыххæй тагъд медицинон æххуысмæ фæсидынæн диспечерæн хъуамæ фехъусын кæнæм:

**1** Фандагон-транспортон цауы (аварийы) дырыс бынат (уынг, хæдзары номыр æмæ иуыл æввахсдæр ориентаци), зиан райсджыты (цæфты) нымæц, сæ æрд, сæ кар, уавæры тыххæй, афтæма тыхджын тугдзыды тыххæй

**2** Æрмæст фандагон-транспортон цауы (аварийы) бынаты иуыл æввахсдæр ориентаци, цæфты нымæц, сæ æрд æмæ сæ кар

## განმარტება:

საგზაო-სატრანსპორტო შემთხვევის შედეგად დაშავებულების სასწრაფო სამედიცინო დახმარების გამოძახებისათვის დისპეჩერს უნდა ვაცნობოთ საგზაო-სატრანსპორტო შემთხვევის ზუსტი ადგილი (ქუჩა, სახლის ნომერი და უახლოესი ორიენტირი), დაშავებულთა რაოდენობა, მათი სქესი, მიახლოებითი წლოვანება, სასიცოცხლო ნიშნების არსებობა, ასევე ძლიერი სისხლდენა.

## ВОПРОС 902

ПРАВИЛЬНЫЙ ОТВЕТ: 1

Гуырдыстоны административон тугтæрхонон (уголовон) кодексмæ гæсгæ, транспортон фæრæзæй сабиты акæныны æдасдзинады уагæвæრды фехалын расайдзæни:

**1** Фæивар кæнын 40 ларийы бæрцæй.

**2** Фæивар кæнын 50 ларийы бæрцæй

**3** Фæивар кæнын 50 ларийы бæრцæй кæнæ транспортон фæრæзы скъæрыны бар 30 боны æмгъуыdmæ æруромын.

## განმარტება:

საქართველოს ადმინისტრაციული სამართალდარღვევათა კოდექსის 1271-ე მუხლის 11 ნაწილის თანახმად, სატრანსპორტო საშუალებით ბავშვთა გადაყვანის უსაფრთხოების წესების დარღვევა – გამოიწვევს დაჯარიმებას 40 ლარის ოდენობით.

## ВОПРОС 903

ПРАВИЛЬНЫЙ ОТВЕТ: 4

Дәлдәер ранымад товары бардзырдәен кәцы мадзал ис гәенәен әрцәуа пайдагонд Гуырдыстоны илцийы (таможнийы) территорийыл аласгә товары 'рдәем?

**1** Ермәест фидтонты санкцийы хуызәй фидтонты барадхаләджы товары кәенә/та транспортон фәерәзы әнәцхабафидгәйә байсын.

**2** Ермәест фидтонты хәсы бафидын кәеныны сифтонгәен хьодыгонд товары реализаци кәенә паддзахадон исадмә адәттын.

**3** Ермәест уыцы фәллои (товары) тыххәй, кәцийы ауадзынәен, бавдисәджы аххосәй нә гәенәен кәены әвәрд әмгъуыдмә таможенәйы процедурәты скәнын

**4** Гәенәен ис ацы билеты ранымад товары адих кәнын кәцыфәнды мадзаләй спайда кәнын

## განმარტება:

საქართველოს საგადასახადო კოდექსის 221-ე მუხლის პირველი პუნქტის „ა“, „ბ“ და „გ“ ქვეპუნქტების თანახმად, საქართველოს საბაჟო ტერიტორიაზე გადაადგილებული საქონლის მიმართ შესაძლებელია გამოყენებულ იქნეს საქონლის განკარგვის შემდეგი ღონისძიებები: ა) საგადასახადო სანქციის სახით საგადასახადო სამართალდარღვევის საქონლის ან/და სატრანსპორტო საშუალების უსასყიდლოდ ჩამორთმევა; ბ) საგადასახადო დავალიანების გადახდევინების უზრუნველსაყოფად ყადაღადადებული საქონლის რეალიზაცია ან სახელმწიფო საკუთრებაში გადაცემა; გ) საქონლის განადგურება.

## ВОПРОС 904

ПРАВИЛЬНЫЙ ОТВЕТ: 2

Кәд декларанты 'рдыгәй фидтонты органтәем бавдыстгонд документтә фыст сты фәсарәйнаг әвзагыл әмә әнәмбәрстгонд у фидтонты органы әвджиддар гоймагәен, уәд уымәен ис әви нә бар әрдома уыцы документты тәлмац паддзахадон әвзагыл?

**1** Нәй ын бар

**2** Ис ын бар.

## განმარტება:

საქართველოს საგადასახადო კოდექსის 2071 მუხლის მე-3 პუნქტის თანახმად, თუ დეკლარანტის მიერ საგადასახადო ორგანოში წარდგენილი დოკუმენტები შედგენილია უცხოურ ენაზე და გაუგებარია საგადასახადო ორგანოს უფლებამოსილი პირისათვის, მას უფლება აქვს, მოითხოვოს ამ დოკუმენტების თარგმანი სახელმწიფო ენაზე.

## ВОПРОС 905

ПРАВИЛЬНЫЙ ОТВЕТ: 1

Кæд базайрагæн товарон операцийы кæнынæн хъæуы илцийы (таможнийы) декларацийы бавдисынæн, товарон операцийы сыххæстгæнгæйæ фидтæнты хæсдзинады равзæргæ рæстæгыл нымад цæуы:

1

Илцийы (таможнийы) декларацийы регистрацийы бон.

2

Товары Гуырдызстоны илцийы (таможнийы) территоримæ æрбахæссыны бон.

## განმარტება:

საქართველოს საგადასახადო კოდექსის 222-ე მუხლის პირველი პუნქტის თანახმად, სასაქონლო ოპერაციის განხორციელებისას საგადასახადო ვალდებულების წარმოშობის დროდ ითვლება საბაჟო დეკლარაციის რეგისტრაციის დღე. თუ საქონლის სასაქონლო ოპერაციაში მოქცევა არ საჭიროებს საბაჟო დეკლარაციის წარდგენას, საგადასახადო ვალდებულების წარმოშობის დროდ ითვლება საბაჟო გამშვებ პუნქტში, საბაჟო ტერმინალში ან საქართველოს ფინანსთა მინისტრის მიერ განსაზღვრულ სხვა ადგილში შესაბამისი დოკუმენტის რეგისტრაციის დღე.

## ВОПРОС 906

ПРАВИЛЬНЫЙ ОТВЕТ: 1

Кæд илцийы (таможнийы) цæстдарддзинады бын уæвæг товар куынæг æрцыд кæნæ базиан, товары хицау хæсджын у:

1

Æвæстиатæй хъуамæ фехъусын кæна иуыл æввахсдæრ фидтæнты органмæ æмæ бавдისа уырდæм товары скуынæджы кæნæ базианы бæлвырдგæნæнтæ, кæцытæ уыдзысты сфидаргонд akkaг æвджиддарон паддзахады органы 'рдыгæй.

2

Æвæстиатæй хъуамæ аласын кæна скуынæггонд кæნæ базиангонд товары Гуырдызстоны илцийы (таможнийы) территорийæ.

## განმარტება:

თუ საბაჟო ზედამხედველობის ქვეშ მყოფი საქონელი განადგურდა ან დაზიანდა, საქონლის მფლობელი ვალდებულია, დაუყოვნებლივ შეატყობინოს უახლოეს საბაჟო ორგანოს და წარუდგინოს მას საქონლის განადგურების ან დაზიანების უტყუარი მტკიცებულებები, რომლებიც დამოწმებულია შესაბამისი უფლებამოსილი სახელმწიფო ორგანოს მიერ. სხვა შემთხვევებში საქონელი ჩაითვლება საბაჟო ზედამხედველობიდან უკანონოდ გასულად.

## ВОПРОС 907

ПРАВИЛЬНЫЙ ОТВЕТ: 1

Гуырдыстоны илцийы (таможнийы) арæны ахизын гæнæн ис:

1

Æрмæст уыцы товарæн, кæцыйы æрбаласын æмæ аласын нæу хъодыгонд.

2

Кæцыфæнды товарæн.

## განმარტება:

საქართველოს საგადასახადო კოდექსის 214-ე მუხლის მე-4 პუნქტის თანახმად, საქართველოს საბაჟო საზღვრის გადაკვეთა ნებადართულია მხოლოდ იმ საქონლისათვის, რომლის შემოტანა ან გატანა არ არის აკრძალული.

## ВОПРОС 908

ПРАВИЛЬНЫЙ ОТВЕТ: 2

Товар илцийы (таможнийы) цæстдарæджы дæлбар ис:

1

Гуырдыстоны илцийы (таможнийы) территорийыл æрбаластæй иумæйаг декларацийы скæнынмæ.

2

Гуырдыстоны илцийы (таможнийы) територимæ æрбаластæй саформиты фæудмæ

## განმარტება:

საქართველოს საგადასახადო კოდექსის 215-ე მუხლის მე-2 პუნქტის თანახმად, საქონელი საბაჟო ზედამხედველობას ექვემდებარება საქართველოს საბაჟო ტერიტორიაზე შემოტანიდან გაფორმების დასრულებამდე, ხოლო მიზნობრივი დანიშნულებით გაფორმებისას – საბაჟო ტერიტორიაზე შემოტანიდან მიზნობრივი დანიშნულების დასრულებამდე.

## ВОПРОС 909

ПРАВИЛЬНЫЙ ОТВЕТ: 3

Иу илцийы (таможнийы) декларацийæ декларацигонд товар уагъд хъуамæ 'рцæуа æмрæстæджы, иу цухдзинады цауæй дарддæр, кæцыйыл скъуыддзаг исы:

1

Декларант.

2

Мидхъуыддæгты министрад.

3

Фидтæнты орган.

## განმარტება:

საქართველოს საგადასახადო კოდექსის 220-ე მუხლის მე-2 პუნქტის თანახმად, ერთი საბაჟო დეკლარაციით დეკლარირებული საქონელი გაშვებული უნდა იქნეს ერთდროულად, გარდა გამონაკლისი შემთხვევისა, რომელზედაც გადაწყვეტილებას იღებს საგადასახადო ორგანო.

## ВОПРОС 910

ПРАВИЛЬНЫЙ ОТВЕТ: 1

Гуырдызстоны административон тугтæрхонон (уголовон) кодексмæ гæсгæйæ, транспортон фæрæзы скъæрын алкогон расыгдзинады уавæры мидæг расайдзæни:

1

Æххæсткар скъæრæგæн – транспортон фæრæзы скъæрыны бар 6 мæймæ æруромын, фæლæ 18 азы кармæ чи нæма бахæццæ уымæн та – транспортон фæრæзы скъæрыны бар иу азмæ æруромын.

2

Æххæсткар скъæრæგæн – транспортон фæрæзы скъæрыны бар 3 мæймæ æруромын, фæლæ 18 азы кармæ чи нæма бахæццæ уымæн та – транспортон фæрæзы скъæрыны бар 6 мæймæ æруромын.

3

Транспортон фæрæзы скъæრæгы фæивар кæнын 200 ларийы бæрцæй.

## განმარტება:

საქართველოს ადმინისტრაციულ სამართალდარღვევათა კოდექსის 116-ე მუხლის პირველი ნაწილის „ა“ და „ბ“ ქვეპუნქტების თანახმად, სატრანსპორტო საშუალების მართვა ალკოჰოლური სიმთვრალის მდგომარეობაში, ან სატრანსპორტო საშუალების მართვისას საქართველოს კანონმდებლობით დადგენილი წესით ალკოჰოლური სიმთვრალის დასადგენად შემოწმებისათვის თავის არიდება –გამოიწვევს: ა) სატრანსპორტო საშუალების მართვის უფლების 6 თვით შეჩერებას; ბ) 18 წლის ასაკს მიუღწეველი პირისთვის – სატრანსპორტო საშუალების მართვის უფლების 1 წლით შეჩერებას.



Гуырдыстონы административон тугтæрхон (уголовон) кодексмæ гæсгæйæ, уыцы гоймаджы 'рдыгæй, кæцийæн урæд у скъæрыны бар транспортон фæрæзы алкоголон расыг уавæры скъæрды тыххæй, урæд периоды транспортон фæрæзы скъæрын акогон расыг уавæры расайдзæн:

1

Расайдзæн скъæрæджы фæивар кæнын 800 ларийы бæрцæй æмæ транспортон фæрæзы скъæрыны бар æрурæды æмгъуыды 6 мæймæ фæфылдæр кæнын.

2

Расайдзæн скъæრæгæн транспортон фæрæзы скъæрыны бар байсын.

3

Расайдзæн скъæрæджы фæивар кæнын 700 ларийы бæрцæй æмæ транспортон фæрæзы скъæрыны бар æрурæды æмгъуыды 1 афæдзмæ фæфылдæр кæнын.

### განმარტება:

საქართველოს ადმინისტრაციული სამართალდარღვევათა კოდექსის 116-ე მუხლის მე-2 ნაწილის თანახმად, იმ პირის მიერ, რომელსაც დადებული აქვს ამ მუხლის პირველი ნაწილით გათვალისწინებული ადმინისტრაციული სახდელი, (შეჩერებული აქვს მართვის უფლება სატრანსპორტო საშუალების ალკოჰოლური სიმთვრალის მდგომარეობაში მართვისთვის), სატრანსპორტო საშუალების მართვის უფლების შეჩერების პერიოდში იმავე ნაწილით გათვალისწინებული სამართალდარღვევის ჩადენა (სატრანსპორტო საშუალების მართვა ალკოჰოლური სიმთვრალის მდგომარეობაში) - გამოიწვევს მძღოლის დაჯარიმებას 700 ლარის ოდენობით და სატრანსპორტო საშუალების მართვის უფლების შეჩერების ვადის 1 წლით გაზრდას.

## ВОПРОС 912

ПРАВИЛЬНЫЙ ОТВЕТ: 2

Гуырдыстоны административон тугтæрхон (уголовон) кодексмæ гæсгæйæ, транспортон фæрæзы скъæрынмæ раттын развæлгъау æмбаргæйæ алкогон расыг уавæры уæвæг гоймагæн расайдзæн:

1

Фæивар кæнын 1500 ларийы бæрцæй.

2

Фæивар кæнын 1000 ларийы бæрцæй.

3

Фæивар кæнын 1000 ларийы бæрцæй æмæ транспортон фæрæзы скъæрыны бар 6 мæймæ æруромын.

## განმარტება:

საქართველოს ადმინისტრაციული სამართალდარღვევათა კოდექსის 116-ე მუხლის მე-3 ნაწილის თანახმად, სატრანსპორტო საშუალების სამართავად გადაცემა წინასწარი შეცნობით ალკოჰოლური სიმთვრალის მდგომარეობაში მყოფი პირისათვის - გამოიწვევს დაჯარიმებას 1000 ლარის ოდენობით.

## ВОПРОС 913

ПРАВИЛЬНЫЙ ОТВЕТ: 1

Гуырдыстоны административон тугтæрхон (уголовон) кодексмæ гæсгæйæ, транспортон фæрæзы скъæрынмæ раттын развæлгъау æмбаргæйæ алкогон расыг уавæры уæвæგ გოймаგენ, кæцы фæлхатт æрцыд дыккаг хат иу афæдзы дæргъы уый расайдзæн:

1

Фæивар кæнын 1500 лирийы бæрцæй.

2

Фæивар кæнын 2000 ларийы бæრцæй

3

Скъæრæджы фæивар кæнын 1500 ларийы бæრцæй æмæ транспортон фæრæзы скъæрыны бар 6 мæймæ æруромын.

## განმარტება:

საქართველოს ადმინისტრაციული სამართალდარღვევათა კოდექსის 116-ე მუხლის მე-4 ნაწილის თანახმად, ამუხლის მე-3 ნაწილით გათვალისწინებული სამართალდარღვევის (სატრანსპორტო საშუალების სამართავად გადაცემა წინასწარი შეცნობით ალკოჰოლური სიმთვრალის მდგომარეობაში მყოფი პირისათვის) განმეორებით ჩადენა 1 წლის განმავლობაში – გამოიწვევს დაჯარიმებას 1500 ლარის ოდენობით.

Гуырдыстоны административон тугтæрхон (уголовон) кодексмæ гæсгæйæ, гоймаг, кæцы æххæст кæны транспортон фæрæзы скъæры алкогон расыг уавæры, куы йын уа урæд транспортон фæрæзы скъæрыны бар æндæр уагхæлды тыххæй райсдзæн:

1

Фæивар кæнын 1500 лирийы бæрцæй.

2

Скъæрæджы фæивар кæнын 1000 ларийы бæрцæй æмæ транспортон фæрæзы скъæрыны бар 6 мæймæ æруромын.

3

Фæивар кæнын 1000 ларийы бæрцæй.

### განმარტება:

საქართველოს ადმინისტრაციული სამართალდარღვევათა კოდექსის 116-ე მუხლის მე-4<sup>2</sup> ნაწილის თანახმად, ამ მუხლის პირველი ნაწილით გათვალისწინებული სამართალდარღვევის ჩადენა (სატრანსპორტო საშუალების მართვა ალკოჰოლური სიმთვრალის მდგომარეობაში), როდესაც სატრანსპორტო საშუალების ექსპლუატაციის განმახორციელებელ პირს არ აქვს სატრანსპორტო საშუალების მართვის უფლება ან ეს უფლება შეჩერებული აქვს სხვა დარღვევისათვის, – გამოიწვევს დაჯარიმებას 1000 ლარის ოდენობით.

## ВОПРОС 915

ПРАВИЛЬНЫЙ ОТВЕТ: 2

Гуырдыстоны административон тугтæрхон (уголовон) кодексмæ гæсгæйæ, транспортон фæрæзы скъæрын наркотикон кæнæ психотропон расыг уавæры, кæнæ та транспортон фæрæзы скъæргæйæ Гуырдыстоны закъондæттынадæй сфидаргонд уагæй наркотикон кæнæ психотропон расыг сбæრæг кæнынæй хи аиуварс кæнын расайдзæн:

1

Транспортон фæрæзы скъæрыны бар 2 азмæ æруромын.

2

Транспортон фæрæзы скъæрыны бар 3 азмæ æруромын

3

Фæивар кæнын 1000 ларийы бæрцæй æмæ транспортон фæрæзы скъæрыны бар 3 азмæ æруромын.

## განმარტება:

საქართველოს ადმინისტრაციული სამართალდარღვევათა კოდექსის 116-ე მუხლის მე-5 ნაწილის თანახმად, სატრანსპორტო საშუალების მართვა ნარკოტიკული ან ფსიქოტროპული სიმთვრალის მდგომარეობაში, ანდა სატრანსპორტო საშუალების მართვისას საქართველოს კანონმდებლობით დადგენილი წესით ნარკოტიკული ან ფსიქოტროპული სიმთვრალის დასადგენად შემონმუშებისათვის თავის არიდება - გამოიწვევს სატრანსპორტო საშუალების მართვის უფლების 3 წლით შეჩერებას.

## ВОПРОС 916

ПРАВИЛЬНЫЙ ОТВЕТ: 3

Гуырдыстоны административон тугтæрхон (уголовон) кодексмæ гæсгæйæ, транспортон фæрæзы скъæрынмæ раттын развæлгъау æмбарგæйæ наркотикон кæнæ психотропон расыг уавæры уæвæგ гойმაгæн расайдзæн:

1

Фæивар кæнын 1500 ларийы бæრцæй.

2

Фæивар кæнын 1000 ларийы бæრцæй æмæ транспортон фæრæзы скъæрыны бар 1 азмæ æруромын.

3

Фæивар кæнын 1000 ларийы бæრцæй

## განმარტება:

საქართველოს ადმინისტრაციული სამართალდარღვევათა კოდექსის 116-ე მუხლის მე-51 ნაწილის თანახმად, სატრანსპორტო საშუალების სამართავად გადაცემა წინასწარი შეცნობით ნარკოტიკული ან ფსიქოტროპული სიმთვრალის მდგომარეობაში მყოფი პირისათვის - გამოიწვევს დაჯარიმებას 1000 ლარის ოდენობით.

## ВОПРОС 917

ПРАВИЛЬНЫЙ ОТВЕТ: 1

Гуырдыстоны административон тугтæрхон (уголовон) кодексмæ гæсгæйæ, полицæйаг, кæцы ифтонг кæны фæндæгты змæлды хайадисджыты æдасдзинад æмæ æвджиддар у фæндæгты змæлды уаг дæттынады хъахъхъæдæн, хæсджын у транспортон фæрæзы скъæрынæй аиуварс кæна гоймаг:

1

Кæцыйы 'рдæм ис фаг бындур, цæмæй уый наркотикон кæнæ психотропон расыг уавæры ис, æмæ йе 'сбæрæг кæныны тыххæй хъуамæ бавдиса Гуырдыстоны мидхъуыддæгты министри æвджиддар гоймагæн.

2

Кæцыйы 'рдæмдæр ис фаг бындур, цæмæй уый алкогольон расыг уавæры ис, æмæ йе 'рцахсын 15 бонмæ.

## განმარტება:

საქართველოს ადმინისტრაციული სამართალდარღვევათა კოდექსის 116-ე მუხლის შენიშვნის პირველი ნაწილის თანახმად, პოლიციელი, რომელიც უზრუნველყოფს საგზაო მოძრაობის მონაწილეთა უსაფრთხოებას და ზედამხედველობს საგზაო მოძრაობის წესების დაცვას, ვალდებულია სატრანსპორტო საშუალების მართვას ჩამოაშოროს პირი რომლის მიმართაც არსებობს საკმაო საფუძველი, რომ იგი ნარკოტიკული ან ფსიქოტროპული სიმთვრალის მდგომარეობაშია, და გამოკვლევის მიზნით წარადგინოს საქართველოს შინაგან საქმეთა მინისტრის მიერ საამისოდ უფლებამოსილ პირთან.

## ВОПРОС 918

ПРАВИЛЬНЫЙ ОТВЕТ: 1

Гуырдыстоны административон тугтæрхон (уголовон) кодексмæ гæсгæйæ, алкогольон расыг уавæрыл нымад цæуы:

1

Скъæრæджы туджы 0,3 промилæй фылдæр этанолы концентраци ис.

2

Кæд скъæრæджы туджы этанолы концентраци 0,2 промиле кæнæ 0,2 промилæй фылдæр у.

3

Скъæრæджы туджы 0,1 промилæй фылдæр этанолы концентраци ис.

## განმარტება:

საქართველოს ადმინისტრაციული სამართალდარღვევათა კოდექსის 116-ე მუხლის შენიშვნის მე-10 ნაწილის თანახმად, ალკოჰოლური სიმთვრალის მდგომარეობად მიიჩნევა მძღოლის სისხლში 0,3 პრომილეზე მეტი ოდენობით ეთანოლის შემცველობა.



## ВОПРОС 919

ПРАВИЛЬНЫЙ ОТВЕТ: 2

Гуырдыстоны административон тугтæрхон (уголовон) кодексмæ гæсгæйæ, полицæйаг, автотранспортон фæрæзæй змæлгæйæ скъæრæг кæнæ йæ фарсмæ бадæг бæлццон куы нæ спайда кæна æдасдзинады гæрзбæндæнæй, уæд:

1

Автотранспортон фæрæзы скъæრæг кæнæ йæ фарсмæ бадæг бæлццон иваргонд æрцæудзæн 20 ларийы бæрцæй.

2

Автотранспортон фæрæзы скъæრæг иваргонд æрцæудзæн 40 ларийы бæрцæй.

3

Автотранспортон фæрæзы скъæრæг иваргонд æрцæудзæн 60 ларийы бæрцæй.

## განმარტება:

საქართველოს ადმინისტრაციული სამართალდარღვევათა კოდექსის 1181-ე მუხლის თანახმად, ავტოსატრანსპორტო საშუალებით მოძრაობისას მძღოლის ან მის გვერდით მჯდომი მგზავრის მიერ უსაფრთხოების ღვედის გამოუყენებლობა- გამოიწვევს ავტოსატრანსპორტო საშუალების მძღოლის დაჯარიმებას 40 ლარის ოდენობით.

## ВОПРОС 920

ПРАВИЛЬНЫЙ ОТВЕТ: 3

Гуырдыстоны административон тугтæрхон (уголовон) кодексмæ гæсгæйæ, механикон транспортон фæрæзы скъæрыны რæстæджы скъæრæგ мобилон телефонæй куы пайда кæна уæд:

1

Транспортон фæრæзы скъæрыны бар урæд æрцæудзæн 3 მაჱყ Ⴡმგყუყდæყ.

2

Иваргонд æрцæудзæн 50 ларийы бæრცæყ.

3

Иваргонд æрцæудзæн 10 ларийы бæრცæყ.

## განმარტება:

საქართველოს ადმინისტრაციული სამართალდარღვევათა კოდექსის 118<sup>2</sup>-ე მუხლის თანახმად, მექანიკური სატრანსპორტო საშუალების მართვის დროს მძღოლის მიერ მობილური კომუნიკაციის საშუალებით სარგებლობა- გამოიწვევს დაჯარიმებას 10 ლარის ოდენობით.

Гуырдыстоны административон тугтæрхон (уголовон) кодексмæ гæсгæйæ, транспортон фæрæзы скъæрын гоймаджы 'рдыгæй, кæцыйæн нæй транспортон фæрæзы скъæრæны бар кæнæ йын ацы бар урæдгонд æрцыд раздæр, уæд:

1

Транспортон фæрæзы эксплуатацийы æххæстгæнæг гоймаджы фæивар кæнын 500 ларийы бæрцæй.

2

Транспортон фæрæзы эксплуатацийы æххæстгæнæг гоймаджы фæивар кæнын 1000 ларийы бæрцæй.

3

Транспортон фæрæзы хицауы фæивар кæнын 1000 ларийы бæрцæй, фæлæ эксплуатацийы æххæстгæнæг гоймагæн та ныхасæй фæдзæхст.

### განმარტება:

საქართველოს ადმინისტრაციული სამართალდარღვევათა კოდექსის 121-ე მუხლის პირველი ნაწილის თანახმად, სატრანსპორტო საშუალების მართვა პირის მიერ, რომელსაც არ აქვს სატრანსპორტო საშუალების მართვის უფლება ან ეს უფლება შეჩერებული აქვს სხვა დარღვევისათვის, - გამოიწვევს სატრანსპორტო საშუალების ექსპლუატაციის განმახორციელებელი პირის დაჯარიმებას 500 ლარის ოდენობით.

Гуырдыстоны административон тугтæрхон (уголовон) кодексмæ гæсгæйæ, транспортон фæрæзы скъæრæджы 'рдыгæй фæмацыгонд транспортон фæрæзы скъæრæн бары бæлвырдгæнæнæй æнæзакъонæй пайдакæнынад расайдзæн:

1

Административон ахæсты 15 бонмæ æмгъуыдæй.

2

Фæивар кæнын 100 ларийы бæрцæй æмæ ныхасæй фæдзæхст.

3

Фæивар кæнын 150 ларийы бæрцæй.

### განმარტება:

საქართველოს ადმინისტრაციული სამართალდარღვევათა კოდექსის 1211-ე მუხლის პირველი ნაწილის თანახმად, სატრანსპორტო საშუალების მძღოლის მიერ აღრე დაკარგული ან დაზიანებული და მის სანაცვლოდ გაცემული სატრანსპორტო საშუალებათა მართვის მოწმობებით ერთდროულად სარგებლობა ან გაუქმებული სატრანსპორტო საშუალების მართვის მოწმობით უკანონოდ სარგებლობა ან/და პირის მიერ სატრანსპორტო საშუალების მართვის მოწმობის დაკარგვის, დაზიანების ან განადგურების შესახებ უფლებამოსილი ორგანოსათვის ცრუ ინფორმაციის მიწოდება სანაცვლო სატრანსპორტო საშუალების მართვის მოწმობის მიღების მიზნით – გამოიწვევს დაჯარიმებას 150 ლარის ოდენობით.

Гуырдыстоны административон тугтæрхон (уголовон) кодексмæ гæсгæйæ, транспортон фæрæзы скъæрын развæлгъау æмбаргæйæ æнæ паддзахадон номырон нысанымæ, кæнæ æндæرخуызонæй фæивдгонд паддзахадон номырон нысанымæ, кæнæ транспортон фæрæзы авгыл бафидаргонд паддзахадон номырон нысанымæ расайдзæн:

1

Фæивар кæнын 100 ларийы бæрцæй.

2

Фæивар кæнын 100 ларийы бæрцæй  
кæнæ административон ахæст 15  
бонмæ æмгъуыдæй

3

Фæивар кæнын 50 ларийы бæрцæй.

### განმარტება:

საქართველოს ადმინისტრაციული სამართალდარღვევათა კოდექსის 122-ე მუხლის პირველი ნაწილის თანახმად, სატრანსპორტო საშუალების მართვა წინასწარი შეცნობით სახელმწიფო სანომრე ნიშნის გარეშე, ან სხვაგვარად შეცვლილი სახელმწიფო სანომრე ნიშნით, ან სატრანსპორტო საშუალების საქარე მინაზე დამაგრებული სახელმწიფო სანომრე ნიშნით -გამოიწვევს დაჯარიმებას 100 ლარის ოდენობით.

Гуырдыстоны административон тугтæрхон (уголовон) кодексмæ гæсгæйæ, фæндагон-транспортон цауы хайадисæг скъæрæджы 'рдыгæй цауы бынаты ныуадзын кæнæ фæндагон - цауы архайæг транспортон фæрæзы æрцæугæ цауы бынатæй ацæуын, закъонæй æркастгонд цаутæй дарддæр расайдзæн:

1

Административон ахæст 3 мæймæ æмгъуыдæй.

2

Фæивар кæнын 250 ларийы бæрцæй.

3

Фæивар кæнын 200 ларийы бæрцæй æмæ административон ахæст 15 бонмæ æмгъуыдæй.

### განმარტება:

საქართველოს ადმინისტრაციული სამართალდარღვევათა კოდექსის 123-ე მუხლის პირველი ნაწილის თანახმად, საგზაო-სატრანსპორტო შემთხვევის მონაწილე მძღოლის მიერ შემთხვევის ადგილის მიტოვება ან საგზაო-სატრანსპორტო შემთხვევის მონაწილე სატრანსპორტო საშუალების შემთხვევის ადგილიდან გადაადგილება, გარდა კანონით გათვალისწინებული შემთხვევებისა, - გამოიწვევს დაჯარიმებას 250 ლარის ოდენობით.



## ВОПРОС 925

ПРАВИЛЬНЫЙ ОТВЕТ: 1

Гуырдыстоны административон тугтæрхон (уголовон) кодексмæ гæсгæйæ, транспортон фæрæзы æруромыны тыххæй уыцы полицайагы домынады æнæсыххæсткæнынад, кæцы ифтонг кæны фæндæгты змæлды хайадисджыты æдасдзинад æмæ æвджиддар у фæндæгты змæлды уаг дæттынады хъахъхъæд расайдзæн:

1

Иваргонд æрцæудзæн 300 ларийы бæрцæй кæнæ транспортон фæрæзы скъæрыны бар урæд æрцæудзæн 1 азмæ.

2

Иваргонд æрцæудзæн 500 ларийы бæрцæй кæнæ транспортон фæрæзы скъæрыны бар урæд æрцæудзæн 3 азмæ.

3

Иваргонд æрцæудзæн 1000 ларийы бæрцæй.

## განმარტება:

საქართველოს ადმინისტრაციული სამართალდარღვევათა კოდექსის 123-ე მუხლის მე-2 ნაწილის თანახმად, სატრანსპორტო საშუალების გაჩერების შესახებ იმ პოლიციელის მოთხოვნის შეუსრულებლობა, რომელიც უზრუნველყოფს საგზაო მოძრაობის მონაწილეთა უსაფრთხოებას და ზედამხედველობს საგზაო მოძრაობის წესების დაცვას, - გამოიწვევს დაჯარიმებას 300 ლარის ოდენობით ან სატრანსპორტო საშუალების მართვის უფლების 1 წლით შეჩერებას.

## ВОПРОС 926

ПРАВИЛЬНЫЙ ОТВЕТ: 3

Гуырдыстоны административон тугтæрхон (уголовон) кодексмæ гæсгæйæ, транспортон фæрæзы скъæრæджы 'рдыгæй змæлды æвæрд тагъдад 15 км/сах-æй фылдæр куы хиза расайдзæн:

1

Ныхасæй рагфæдзæхст.

2

Иваргонд æрцæудзæн 10 ларийы бæრцæй.

3

Иваргонд æрцæудзæн 50 ларийы бæრцæй.

## განმარტება:

საქართველოს ადმინისტრაციული სამართალდარღვევათა კოდექსის 125-ე მუხლის პირველი ნაწილის თანახმად, სატრანსპორტო საშუალების მძღოლის მიერ მოძრაობის დადგენილი სიჩქარის გადაჭარბება 15 კმ/სთ-ზე მეტი სიჩქარით - გამოიწვევს დაჯარიმებას 50 ლარის ოდენობით.

Гуырдыстоны административон тугтæрхон (уголовон) кодексмæ гæсгæйæ, транспортон фæрæзы скъæрæджы 'рдыгæй змæлды æвæрд тагъдад 15 км/сах-æй фылдæр тагъдады фæстиуæгæн, кæцы кæны аварион ситуацийы кæнæ змæлды къуылымпы, расайы:

1

Административон ахæст 30 бонмæ æмгъуыдæй.

2

Фæивар кæнын 1000 ларийы бæрцæй.

3

Фæивар кæнын 250 ларийы бæрцæй.

### განმარტება:

საქართველოს ადმინისტრაციული სამართალდარღვევათა კოდექსის 125-ე მუხლის მე-4 ნაწილის თანახმად, ამ მუხლის პირველი ნაწილით გათვალისწინებული სამართალდარღვევა (სატრანსპორტო საშუალების მძღოლის მიერ მოძრაობის დადგენილი სიჩქარის გადაჭარბება 15 კმ/სთ-ზე მეტი სიჩქარით), რომელსაც მოჰყვა საავარიო ვითარების შექმნა ან მოძრაობის შეფერხება, –გამოიწვევს დაჯარიმებას 250 ლარის ოდენობით.

Гуырдыстоны административон тугтæрхон (уголовон) кодексмæ гæсгæйæ, транспортон фæрæзы скъæრæджы 'рдыгæй змæлды æвæрд тагъдад 15 км/сах-æй фылдæр тагъдады фæстиуæгæн, кæцы расайдта транспортон фæрæзы, уаргъы, фæндаджы, фæндагон æви æндæр арæзтадты, æндæр исбоны кæнæ адæймаджы буары рог зиан ракæнын, расайы:

1

Транспортон фæрæзы скъæрыны бар 1 азмæ æруромын.

2

Фæивар кæнын 500 ларийы бæрцæй кæнæ транспортон фæрæзы скъæрыны бар 1 азмæ æруромын.

3

Фæивар кæнын 500 ларийы бæрцæй кæнæ административон ахæст 15 бонмæ æмгъуыдæй

### განმარტება:

საქართველოს ადმინისტრაციული სამართალდარღვევათა კოდექსის 125-ე მუხლის მე-5 ნაწილის თანახმად, ამ მუხლის პირველი ნაწილით გათვალისწინებული სამართალდარღვევა (სატრანსპორტო საშუალების მძღოლის მიერ მოძრაობის დადგენილი სიჩქარის გადაჭარბება 15 კმ/სთ-ზე მეტი სიჩქარით), რომელსაც მოჰყვა სატრანსპორტო საშუალების, ტვირთის, გზის, საგზაო თუ სხვა ნაგებობის, სხვა ქონების ან ადამიანის სხეულის მსუბუქი დაზიანება, –გამოიწვევს სატრანსპორტო საშუალების მართვის უფლების 1 წლით შეჩერებას.

## ВОПРОС 929

ПРАВИЛЬНЫЙ ОТВЕТ: 3

Гуырдыстоны административон тугтæрхон (уголовон) кодексмæ гæсгæйæ, скъæრæджы 'рдыгæй фистæгон ахизæны ахызты фæтк, фæндагон нысаны кæнæ фæндагон бæрджыты домынады фехалын, кæнæ мотоциклæй кæнæ æндæр транспортон фæრæзæй къордæй змæлды хайад исын, кæцы къуылымпы кæны фæндæгты змæлды кæнæ тæссаг кæны змæлды æдасдзинады расайдзæн:

1

Ныхасæй рагфæдзæхст.

2

Фæивар кæнын 50 ларийы бæрцæй.

3

Фæивар кæнын 20 ларийы бæрцæй

## განმარტება:

საქართველოს ადმინისტრაციული სამართალდარღვევათა კოდექსის 125-ე მუხლის მე-6 ნაწილის თანახმად, მძღოლის მიერ ქვეითთა გადასასვლელის გავლის, საგზაო ნიშნის ან საგზაო მონიშვნის, ბუქსირების, გარე სანათი ხელსაწყოთი, ხმოვანი სიგნალით ან საავარიო შუქსიგნალიზაციით სარგებლობის, სასწავლო სვლის, საცხოვრებელ ზონაში ან გზაზე მოძრაობის წესების, სამარშრუტო სატრანსპორტო საშუალების მოძრაობის პრიორიტეტის ან/და სატაქსო ტრანსპორტის მართვის წესების დარღვევა, ან მოტოციკლით ან სხვა სატრანსპორტო საშუალებით ჯგუფურ მოძრაობაში მონაწილეობა, რაც აფერხებს საგზაო მოძრაობას ან საშიშროებას უქმნის მოძრაობის უსაფრთხოებას, –გამოიწვევს დაჯარიმებას 20 ლარის ოდენობით.

## ВОПРОС 930

ПРАВИЛЬНЫЙ ОТВЕТ: 2

Гуырдыстоны административон тугтæрхон (уголовон) кодексмæ гæсгæйæ, фæндаджы цæуæн хайыл транспортон фæრæзты райтындыны, змæлды райдыды кæნæ та маневრი кæныны фæтკი фехалын расайдзæн:

1

Фæивар кæнын 100 ларийы бæრцæй.

2

Фæивар кæнын 50 ларийы бæრцæй.

3

Транспортон фæრæзы скъæрыны бар æруромын 15 бонмæ æмгъуыდæй.

## განმარტება:

საქართველოს ადმინისტრაციული სამართალდარღვევათა კოდექსის 125-ე მუხლის მე-6 ნაწილის თანახმად, გზის სავალ ნაწილზე სატრანსპორტო საშუალებათა განლაგების, მოძრაობის დაწყების ან/და მანევრირების წესების დარღვევა - გამოიწვევს დაჯარიმებას 50 ლარის ოდენობით.

## ВОПРОС 931

ПРАВИЛЬНЫЙ ОТВЕТ: 3

Гуырдыстоны административон тугтæрхон (уголовон) кодексмæ гæсгæйæ, транспортон фæрæзыл базонæн нысаны бафидар кæныны фæткы фехалынæй змæлд расайдзæн

1

Скъæрæгы кæнæ амалиуæгы фæивар кæнын 100 ларийы бæрцæй

2

Скъæрæгы фæивар кæнын 50 ларийы бæрцæй

3

Скъæрæгы кæнæ амалиуæгы фæивар кæнын 50 ларийы бæрцæй

## განმარტება:

საქართველოს ადმინისტრაციული სამართალდარღვევათა კოდექსის 125-ე მუხლის მე-6<sup>3</sup> ნაწილის თანახმად, სატრანსპორტო საშუალებაზე საცნობი ნიშნის დამაგრების წესის დარღვევით მოძრაობა - გამოიწვევს მძღოლის ან საწარმოს დაჯარიმებას 50 ლარის ოდენობით.

## ВОПРОС 932

ПРАВИЛЬНЫЙ ОТВЕТ: 2

Гуырдыстоны административон тугтæрхон (уголовон) кодексмæ гæсгæйæ, ахизыны уæлбардзинады уæвæг транспортон фæრæზæн бакъуылымпы кæнын расайдзæн:

1

Транспортон фæრæзы скъæрыны бар æруромын 1 азы æмгъуыdmæ

2

Фæивар кæнын 50 ларийы бæრцæй.

3

Фæивар кæнын 100 ларийы бæრцæй кæნæ транспортон фæრæзы скъæрыны бар æруромын 3 мæйы æмгъуыdmæ.

## განმარტება:

საქართველოს ადმინისტრაციული სამართალდარღვევათა კოდექსის 125-ე მუხლის მე-7 ნაწილის თანახმად, მარეგულირებლის ან შუენიშნის ამკრძალავ ნიშანზე გავლის წესების, პრიორიტეტული („დაუთმე გზა“, „მოძრაობა გაუჩერებლად აკრძალულია“) ან ამკრძალავი („შესვლა აკრძალულია“, „მოძრაობა აკრძალულია“) ნიშნის მოთხოვნის დაუცველობა, გასწრების, გზატკარუდინის, რკინიგზაზე გადასასვლელის გავლის წესების დარღვევა, გავლის უპირატესობის მქონე სატრანსპორტო საშუალებისათვის დაბრკოლების შექმნა – გამოიწვევს დაჯარიმებას 50 ლარის ოდენობით.